

வினாத் தொகுப்பு எண் :

15052022

GRIIGTGS/2022

பதிவு
எண்

--	--	--	--	--	--	--	--	--	--

2022

பொதுத்தமிழ் (பத்தாம் வகுப்பு தரம்) மற்றும்

பொது அறிவு (பட்டப்படிப்புத் தரம்)

இந்த வினாப் புத்தகம்

பகுதி - அ (பொதுத்தமிழ் - பத்தாம் வகுப்பு தரம்) மற்றும்

பகுதி-ஆ-வினை (பொது அறிவு - பட்டப்படிப்புத் தரம்) உள்ளடக்கியது

கால அளவு : மூன்று மணி நேரம்]

[மொத்த மதிப்பெண்கள் : 300


வினாக்களுக்கு பதிலளிக்கும் முன் கீழ்க்கண்ட அறிவுரைகளைக் கவனமாகப் படிக்கவும்

முக்கிய அறிவுரைகள்

- இந்த வினாத் தொகுப்பு, தேர்வு தொடங்குவதற்கு 15 நிமிடங்களுக்கு முன்னதாக வழங்கப்படும்.
- இந்த வினாத் தொகுப்பு, 200 வினாக்களைக் கொண்டுள்ளது.
- பகுதி-அ-வில் குறைந்தபட்ச மதிப்பெண் (40% அதாவது 60 மதிப்பெண்) பெறாத தேர்வர்களின் பகுதி-ஆ-விற்கான விடைத்தாள் மதிப்பீடு செய்யப்படமாட்டாது. பகுதி-அ-வில் தேர்ச்சி பெற்ற விண்ணப்பதாரர்களின், பகுதி-ஆ-வில் பெற்ற மொத்த மதிப்பெண்கள் மட்டும் தரவரிசை பட்டியலுக்கு எடுத்துக் கொள்ளப்படும்.
- விடையளிக்கத் தொடங்கும் முன் இவ்வினாத்தொகுப்பில் எல்லா வினாக்களும் வரிசையாக இடம் பெற்றுள்ளனவா என்பதையும், இடையில் வெற்றுத்தாள்கள் எவையும் இல்லை என்பதையும் உறுதி செய்து கொள்ளவும். வினாத் தொகுப்பில் ஏதேனும் குறைபாடு இருப்பின், அதனை முதல் பத்து நிமிடங்களுக்குள் அவறக்கண்காணிப்பாளரிடம் தெரிவித்து, சரியாக உள்ள வேறொரு வினாத்தொகுப்பினை பெற்றுக்கொள்ள வேண்டும். தேர்வு தொடங்கிய பின்பு இது குறித்து முறையிட்டால் வினாத் தொகுப்பு மாற்றித் தரப்படமாட்டாது.
- எல்லா வினாக்களுக்கும் விடையளிக்கவும். எல்லா வினாக்களும் சமமான மதிப்பெண்கள் கொண்டவை.
- உங்களுடைய பதிவு எண்ணை இந்தப் பக்கத்தின் வலது மேல் மூலையில் அதற்கென அமைந்துள்ள இடத்தில் நீங்கள் எழுத வேண்டும். வேறு எதையும் வினாத்தொகுப்பில் எழுதக்கூடாது.
- விடைத்தாள் ஒன்று விடைகளை குறிப்பதற்கு அறைக்கண்காணிப்பாளரால் உங்களுக்கு வழங்கப்படும். விடைகளைக் குறிப்பது உள்ளிட்ட அவசியம் பின்பற்றப்பட வேண்டிய அறிவுரைகள் விடைத்தாளிலும், தேர்வுக்கூட அனுமதிச் சீட்டிலும் வழங்கப்பட்டுள்ளன.
- உங்களுடைய வினாத்தொகுப்பு எண்ணை (Question Booklet Number) விடைத்தாளின் முதல் பக்கத்தில் அதற்கென அமைந்துள்ள இடத்தில் கருமை நிற மையுடைய பந்துமுனைப் பேனாவினால் குறித்துக்காட்ட வேண்டும். வினாத்தொகுப்பு எண்ணை விடைத்தாளில் சரியாகக் குறித்துக் காட்டத் தவறினாலோ அல்லது குறிக்கத் தவறினாலோ உங்களுடைய விடைத்தாள் செல்லாததாகக்கப்படும்.
- ஒவ்வொரு வினாவும் (A), (B), (C), (D), (E) என ஐந்து பதில்களை (விடைகள்) கொண்டுள்ளது. நீங்கள் (A) அல்லது (B) அல்லது (C) அல்லது (D) இவைகளில் ஒரே ஒரு சரியான விடையைத் தெரிவு செய்து விடைத்தாளில் குறித்துக்காட்ட வேண்டும். ஒரு கேள்விக்கு ஒன்றுக்கு மேற்பட்ட சரியான விடை இருப்பதாக நீங்கள் கருதினால், மிகச்சரியானது என நீங்கள் எதைக்கருதுகிறீர்களோ அந்த விடையை விடைத்தாளில் குறித்துக்காட்ட வேண்டும். உங்களுக்கு விடை தெரியவில்லை எனில், நீங்கள் (E) என்பதை அவசியம் நிரப்பவேண்டும். எப்படியாயினும் ஒரு கேள்விக்கு ஒரே ஒரு விடை தான் தேர்ந்தெடுக்க வேண்டும். நீங்கள் ஒரு கேள்விக்கு ஒன்றுக்கு மேற்பட்ட விடையளித்தால், அவற்றுள் ஒரு விடை சரியானதாக இருந்தாலும் அந்த விடை தவறானதாகவே கருதப்படும்.
- நீங்கள் வினாத்தொகுப்பின் எந்தப்பக்கத்தையும் நீக்கவோ அல்லது கிழிக்கவோ கூடாது. தேர்வு நேரத்தில் இந்த வினாத்தொகுப்பினையோ அல்லது விடைத்தாளையோ தேர்வு அறையைவிட்டு வெளியில் எடுத்துச் செல்லக்கூடாது. தேர்வு முடிந்தபின் நீங்கள் உங்களுடைய விடைத்தாளை கண்காணிப்பாளரிடம் கொடுத்துவிடவேண்டும். இவ்வினாத்தொகுப்பினை தேர்வு முடிந்த பின்னர் மட்டுமே நீங்கள் எடுத்துச் செல்ல அனுமதிக்கப்படுவீர்கள்.
- குறிப்புகள் எழுதிப்பார்ப்பதற்கு வினாத்தொகுப்பின் கடைசிப்பக்கத்திற்கு முன் உள்ள பக்கங்களை பயன்படுத்திக் கொள்ளலாம். இதைத்தவிர, வினாத்தொகுப்பின் எந்த இடத்திலும் எந்தவித குறிப்புகளையும் எழுதக்கூடாது. இந்த அறிவுரை கண்டிப்பாக பின்பற்றப்பட வேண்டும்.
- கேள்வி வரிசை எண்கள். 101 முதல் 200 வரை (பகுதி-ஆ) ஆங்கில வடிவே இறுதியானது.
- நீங்கள் மேற்கண்ட அறிவுரைகளில் எவற்றையாவது பின்பற்றத் தவறினால் தேர்வாணையம் எடுக்கும் நடவடிக்கைகளுக்கு உள்ளாக நேரிடும் என அறிவுறுத்தப்படுகிறது.

ENGLISH VERSION OF THE ABOVE INSTRUCTIONS ARE PROVIDED ON THE BACKSIDE OF THIS BOOKLET

[Turn over




TARGET STUDY CENTRE - VILLUPURAM

7639000355


(வெற்றி இலக்கை நோக்கி சங்கமம்)

7639000366

SPACE FOR ROUGH WORK



Padasalai.Net



பகுதி - அ

01. "உலையிலிட ஊரடங்கும் ஓர் அகப்பை அன்னம்" இப்பாடலை இயற்றியவர் யார்?
- A. டெபரோ பர்ணாந்து
B. மகாகவி
C. காளமேகப் புலவர்
D. பாரதிதாசன்
02. கீழ்க்கண்ட யார் எங்கும் எப்பொழுதும் சிறப்புப் பெறுவான்?
- A. படைபலம் மிக்க அரசன்
B. அழியாச் செல்வமாகிய கல்வியைக் கற்றவன்
C. தொண்டர் பலம் மிக்க தலைவன்
D. வறுமையிலும் தானம் செய்பவன்
03. கீழ்க்கண்டவற்றுள் பொருந்தாது எது?
- A. சல்லி
B. துட்டு
C. அணா
D. மாகாணி
04. "கறங்கு போல விற்பிடித்த கால தூதர் கையாலே" - இச்செய்யுளில் கோடிட்ட சொல்லின் பொருள் யாது?
- A. மலை
B. காடு
C. வேல்
D. காற்றாடி
05. துன்பத்தை வெல்லும் கல்வி கற்றிட வேணும் - நீ சோம்பலைக் கொல்லும் திறன் பெற்றிட வேணும் - என எளிய தமிழில் சமூகச் சீர்திருத்தக் கருத்துகளை வலியுறுத்தி பாடியவர் யார்?
- A. அ. மருதகாசி
B. உடுமலை நாராயணகவி
C. முடியரசன்
D. பட்டுக்கோட்டை கல்யாணசுந்தரம்
06. அயோத்தியதாசர் ஆங்கிலேயர் ஆட்சி காலத்தில் எந்நூற்றாண்டின் இறுதிப்பகுதியிலும் எந்நூற்றாண்டின் முற்பகுதியிலும் வாழ்ந்தவர் ஆவார்?
- A. பதினெட்டாம், பத்தொன்பதாம்
B. பதினேழாம், பதினெட்டாம்
C. பத்தொன்பதாம், இருபதாம்
D. பதினாறாம், பதினேழாம்
07. 'பரிபாடல்' அடியில் "விசும்பும் இசையும்" என்னும் தொடர் எதனைக் குறிக்கிறது?
- A. வானத்தையும், பாட்டையும்
B. வானத்தையும், புகழையும்
C. வானத்தையும், பூமியையும்
D. வானத்தையும், பேரொலியையும்
08. தூற்றும் படி - என்பதன் எதிர்ச்சொல் எது?
- A. இகழும்படி
B. குறை கூறும்படி
C. புகழும்படி
D. வைய்யும்படி
09. போரில்லா மகிழ்ச்சியில் இந்த உலகம் திளைக்கட்டும் என்றவர் யார்?
- A. ஓளவையார்
B. கோவூர் கிழார்
C. அதியமான்
D. தொண்டைமான்
10. காலக்கணிதம் கவிதையில் இடம்பெற்ற தொடரை ஒழுங்குபடுத்துக:-
- A. இகழ்ந்தால் என்மனம் இறந்துவிடாது
B. என் மனம் இகழ்ந்தால் இறந்துவிடாது
C. இகழ்ந்தால் இறந்துவிடாது என்மனம்
D. என் மனம் இறந்துவிடாது இகழ்ந்தால்
11. கன்னியாகுமரியில் காமராஜருக்கு மணிமண்டபம் அமைக்கப்பட்ட நாள் எது?
- A. 02.10.1976
B. 15.07.1976
C. 02.10.2000
D. 15.07.2000
12. எம். ஜி. ஆரின் நூற்றாண்டு விழாவை ஒட்டி (2017 - 2018) தமிழக அரசால் கீழ்க்கண்ட எங்கு உள்ள பேருந்து நிலையங்களுக்கு எம். ஜி. ஆர் பெயர் சூட்டப்பட்டது?
- A. சென்னை, மதுரை
B. சென்னை, கோவை
C. சென்னை, திருச்சி
D. சென்னை, சேலம்

13. வயது வந்தோர் கல்விதிட்டத்தில் ஒருங்கிணைப்பாளராகப் பணியாற்றியவர் யார்?
 A. கந்தசாமி B. கந்தர்வன் C. கமலாலயன் D. அழகிரி சாமி
14. கீழ்க்கண்ட யார் இந்திய நூலகவியலின் தந்தை (Father of Indian Library Science) என்று அழைக்கப்படுகிறார்?
 A. இரா. அரங்கநாதன் B. இரா. மேகநாதன்
 C. இரா. சண்முகநாதன் D. இரா. சாமிநாதன்
15. இளமைக்காலத்தில் பசியின் கொடுமையால் வாடியதை மறவாமல், தாம் ஆட்சிக்கு வந்ததும் பள்ளிக்குழந்தைகளின் பசியைத் தீர்க்கத் திட்டம் தீட்டியவர் யார்?
 A. காமராஜர் B. அண்ணா C. கலைஞர் D. எம். ஜி. ஆர்
16. கருத்தாழமும் வாசகச் சுவையும் கலந்து இலக்கியங்கள் படைத்தவர் யார்?
 A. ஜெயகாந்தன் B. அழகிரிசாமி C. புதுமைப்பித்தன் D. கி. ரா
17. கீழ்க்கண்டவர்களுள் பொருத்தமில்லாதவர் யார்?
 A. அண்ணா B. அண்ணல் C. காரல்மார்க்ஸ் D. பட்டேல்
18. மீரா எழுதிய விடுதலை திருநாள் என்ற தலைப்பிலான கவிதை இடம் பெற்ற நூல் எது?
 A. கோடையும் வசந்தமும் B. வா இந்த பக்கம்
 C. மூன்றும் ஆறும் D. குக்கை
19. Sapens - என்ற ஆங்கிலச் சொல்லிற்கு இணையான தமிழ்ச்சொல் எது?
 A. சான்றோன் B. அறிவுடையோன்
 C. A & B இரண்டும் D. A & B இரண்டும் இல்லை
20. தமிழ் எழுத்துக்களில் கீழ்க்கண்ட எதற்கு மட்டுமே இணை எழுத்து இல்லை?
 A. உயிரெழுத்து B. மெய்யெழுத்து
 C. உயிர்மெய்யெழுத்து D. ஆய்த எழுத்து
21. ஆசிரியராக்கினார் என்ற சொல்லில் பகுதி எது?
 A. ஆச B. ஆசிரி C. ஆசி D. ஆசிரியராக்கு
22. ஆற்றுணா வேண்டுவது இல் - என்ற தொடர் இடம் பெற்ற நூல் எது?
 A. திருக்குறள் B. நாலடியார்
 C. பழமொழி நானூறு D. மூதுரை
23. வியங்கோள், தொழிற்பெயர், பெயரெச்சம், வினையெச்சம் போன்ற பல்வேறு இலக்கணப் பொருண்மைகளை உணர்த்துவது எது?
 A. பகுதி B. இடைநிலை C. சந்தி D. விகுதி
24. மாளிகைகளில் பல சிற்பங்களில் சுண்ணாம்புக் கலவை இருந்ததை கூறும் நூல் எது?
 A. சிலப்பதிகாரம் B. தொல்காப்பியம்
 C. மணிமேகலை D. சிற்பச் செந்நூல்
25. 'Voyage' என்ற ஆங்கிலச் சொல்லுக்கு இணையான தமிழ்ச் சொல் எது?
 A. பயணப்படகுகள் B. பண்டம் C. கலப்படம் D. கடற்பயணம்
26. "மாசுணம்" என்பதன் பொருள் யாது?
 A. பாம்பு B. கழுதை C. புலி D. யானை
27. எருதுகட்டி என்னும் மாடு தழுவுதல் நிகழ்வைக் குறிப்பிடும் நூல் எது?
 A. சிலப்பதிகாரம் B. கலித்தொகை
 C. கண்ணுடையம்மன் பள்ளு D. புறப்பொருள் வெண்பாமாலை



28. கீழ்க்கண்டவற்றில் பொருந்தா இணை எது?
- A. முத்தேன் - கொம்புத்தேன், மலைத்தேன், கொசுத்தேன்
 B. முக்கனி - மா, பலா, வாழை
 C. முத்தமிழ் - இயல், இசை, நாடகம்
 D. A, B, C - இவற்றில் ஏதுமில்லை
29. உடனிலை மெய்யக்க சொற்களில் பொருந்தாதது எது?
- A. அச்சம் B. கப்பல் C. மொத்தம் D. ஆழ்தல்
30. கதையை வாசிப்பது நமது சிந்தனையில் சலனத்தை ஊக்குவதற்கு ஒரு தூண்டுகோல் என்று கூறியவர் யார்?
- A. ஜெயகாந்தன் B. புதுமைப்பித்தன்
 C. அழகிரிசாமி D. புலிமைப்பித்தன்
31. கீழ்க்கண்டவற்றில் பொருந்தா இணை எது?
- A. மகர சங்கராந்தி - ஆந்திரம், கர்நாடகம், மராட்டியம், உத்திரபிரதேசம்
 B. லோரி - பஞ்சாப்
 C. உத்ராயன் - குஜராத், இராஜஸ்தான்
 D. A, B, C - இவற்றில் ஏதுமில்லை
32. அகநானூற்றில் 40 பாடல்களைக் கொண்ட திணைப் பாடல்கள் எது / எவை?
- A. முல்லை, மருதம் B. குறிஞ்சி, முல்லை
 C. முல்லை, மருதம், நெய்தல் D. மருதம் நெய்தல்
33. இந்திய தேசிய இராணுவத்தைச் சேர்ந்த எத்தனை இளைஞர்கள் 1943 - 45 ஆண்டுகளில் தூக்கிலிடப்பட்டனர்?
- A. பதினாறு B. பதினொன்று C. பதினெட்டு D. பதிமூன்று
34. கீழ்க்கண்டவற்றில் சரியான கூற்று எது?
- A. ட என்னும் எழுத்துக்கு முன் ண் வரும்
 B. ற என்னும் எழுத்துக்கு முன் ண் வரும்
 C. தகரத்தை அடுத்த வரும் நகரம் தந்நகரம் என்று அழைக்கப்படுகிறது
 D. (ட், ண்) (த், ற்) (ற், ண்) ஆகியவை மயங்கொலி எழுத்துக்கள்
35. ஹிஜிரத் என்ற அரபுச் சொல்லின் பொருள் யாது?
- A. வாழ்தல் B. சண்டையிடுதல்
 C. ஓரிடத்தில் கூடுதல் D. இடம் பெயர்தல்
36. கடித வடிவில் இலக்கியங்களை படைத்துள்ளவர்களில் பொருத்தமற்றவர் யார்?
- A. ரா. பி. சே B. நேரு C. தாசூர் D. டி. கே. சி
37. பொருள் வேறுபாடறிந்து சரியானதை தேர்க.
- | | | | | |
|-------------------|---|----------------|---|----------------|
| இலை | - | இளை | - | இழை |
| A. நூல் இழை | - | மெலிந்து போதல் | - | செடியின் இலை |
| B. செடியின் இலை | - | நூல் இழை | - | மெலிந்து போதல் |
| C. செடியின் இலை | - | மெலிந்து போதல் | - | நூல் இழை |
| D. மெலிந்து போதல் | - | செடியின் இலை | - | நூல் இழை |
38. திருக்குறளின் சிறப்பை உணர்த்தும் திருவள்ளுவமாலையை எழுதிய புலவர்களின் எண்ணிக்கை மற்றும் பாடல்களின் எண்ணிக்கை யாது?
- A. 55, 53 B. 53, 55 C. 40, 43 D. 43, 40
39. இந்தியாவின் செவ்வாய் சுற்றுக்கலன் திட்டத்தின் திட்ட இயக்குநராக இருப்பவர் யார்?
- A. மயில்சாமி அண்ணாதுரை B. சிவன்
 C. வளர்மதி D. அருணன் சுப்பையா

40. பொருள் வேறுபாடறிந்து தவறானதை தேர்க.
- A. ஏறி - தீ B. ஏறி - மேலே ஏறி
 C. கூரை - வீட்டின் கூரை D. கூரை - புடவை
41. திருவள்ளுவரின் சிறப்பு பெயர்களில் அல்லாதது எது?
- A. தேவர், நாயனார்
 B. பொய்யில் புலவர், பொய்யாமொழிப் புலவர்
 C. மாதானுபங்கி, முதற்பாவலர்
 D. இவற்றில் ஏதுமில்லை
42. நிலவின் புறவெளியை ஆராய்வதை நோக்கமாக கொண்டது எது?
- A. சந்திராயன் - I B. சந்திராயன் - II C. சந்திராயன் I & II D. GSLV - Mark - II
43. 'Makeup' என்ற ஆங்கிலச் சொல்லுக்கு இணையான தமிழ்ச் சொல் எது?
- A. அலங்காரம் B. ஒப்பேற்றுதல்
 C. ஒப்பனை D. அழகுபடுத்துதல்
44. ஆணந்தரங்கர் எந்நாளில் இருந்து எந்நாள் வரை நாட்குறிப்பை பதிவு செய்துள்ளார்?
- A. 06. 09. 1736 - 11. 01. 1767
 B. 05. 10. 1746 - 10. 02. 1762
 C. 10. 12. 1745 - 15. 02. 1763
 D. 09. 06. 1736 - 01. 11. 1761
45. கூற்றுகளை ஆராய்க.
- I. சென்னை மாநகராட்சியின் முதல் மேயர் - முத்துலட்சுமி
 II. குழந்தைத் திருமணத் தடைச்சட்டம் ஆகியவை இயற்ற காரணமாக இருந்தவர் - சாரதா
 III. தமிழக அரசு 8 ஆம் வகுப்பு வரை படித்த இளம் பெண்களுக்கான திருமண உதவித் தொகையை இராமாமிர்தம் பெயரில் வழங்கி வருகிறது
- A. I, II சரி III தவறு B. I, II தவறு III சரி
 C. I, III சரி II தவறு D. II, III சரி I தவறு
46. உலகில் வாழும் மக்கள் அனைவருக்கும் சிறப்பான அறங்களை வலியுறுத்தியவர் யார்?
- A. முன்றுறையனார் B. ஒளவையார்
 C. திருவள்ளுவர் D. கபிலர்
47. ஜி.யு போப் பற்றிய கூற்றுகளில் சரியானது எது / எவை?
- I. ஐரோப்பியரும் படித்துப் பயன்பெற வேண்டுமென்ற எண்ணத்தில் தமிழ் நூல்களை ஆங்கிலத்தில் மொழி பெயர்த்ததாக குறிப்பிடுகிறார்
 II. ஜி.யு போப் மொழி பெயர்ப்புகளுள் திருக்குறள், திருவாசக ஆங்கில மொழிபெயர்ப்புகள் சிறப்பு வாய்ந்தவை
 III. ஐரோப்பியர் தமிழ் மொழியைக் கற்றுக் கொள்வதற்குரிய நூல் ஒன்றை (Tamil Handbook) எழுதினார்
 IV. பள்ளிக்கூடங்களில் பயிலும் மாணவர்கள் தாய்மொழி வழியாகவே அனைத்து துறைக்கல்வியை பெறுதலே முறையென்றும், அதுவே பயனளிக்கும் என்று ஜி.யு. போப் கருதினார்.
- A. I மட்டும் சரி B. II மட்டும் சரி C. III மட்டும் சரி D. அனைத்தும் சரி
48. விதையாமை நாறுவ வித்துள: மேதைக்கு உரையாமை சொல்லும் உணர்வு - என்ற சிறுபஞ்சமூலம் பாடலில் பயின்று வந்துள்ள அணி என்ன?
- A. உவமையணி B. எடுத்துக்காட்டு உவமையணி
 C. ஏகதேச உருவக அணி D. பிறிதுமொழிதல் அணி



49. ஆக்கம் யாரிடம் வழிகேட்டுச் செல்லும்?
- A. தளராத ஊக்கம் உடையவனிடம்
B. தளராத முயற்சி உடையவனிடம்
C. நன்மை எது என ஆராயும் அறிவு உடையவனிடம்
D. கல்வி அறிவில் சிறந்தவனிடம்
50. தவறான இணையைக் காண்க
- A. சாபவிமோசனம் - புதுமைப்பித்தன்
B. ஜெயமோகன் - பத்மவியூகம்
C. கு.அழகரிசாமி - வெந்தழால் வேகாது
D. எஸ் . ராமகிருஷ்ணன் - விட்டகுறை
51. கூற்றுக்களை கவனி
- I. சிறுபஞ்ச மூலத்தின் ஆசிரியர் - காரியாசன்
II. காரி என்பது இயற்பெயர், ஆசான் என்பது தொழிலின் அடிப்படை பெயர்
III. இவரை மாக்காரியாசன் என்று சிறப்புப்புபாடலும் சிறப்பிக்கிறது
- A. I, II, III சரி B. I, II சரி III தவறு C. I, II, III தவறு D. I, III சரி II தவறு
52. நானிலம் படைத்தவன் என்ற தலைப்பிலான பாடல் இடம் பெறும் நூல் எது?
- A. பூங்கொடி B. வீராகாவியம்
C. காவிய பாவை D. புதியதொரு விதி செய்வோம்
53. பிழையற்ற தொடரைக் காண்க
- A. கோவிந்தன் குடியிருக்க சுவர் கட்ட சுவரை அமைத்தார்
B. வாழைக்காட்டில் குயில்கள் சுவிக்கொண்டும் காகங்கள் கரைந்து கொண்டும் இருந்தன
C. முருகன் சோறு சாப்பிட்டு பாலைப் பருகினான்
D. வனவிலங்கு காப்பகத்தில் சிங்கக்குருளையும் யானைக் கன்றையும் கண்டேன்
54. அண்ணாவின் சிறுகதைத் திறன் - என்ற நூலின் ஆசிரியர் யார்?
- A. மு. வரதசாரணர் B. மு. கருணாநிதி
C. மா. இராசமாணிக்கனார் D. முனைவர் பெ. குமார்
55. பொருத்துக :
- | | a | b | c | d | e | |
|-------------------------------|-------------------|------|---|---|---|---|
| a. புரட்சிக்கவி | 1. கல்யாணசுந்தரம் | A. 5 | 3 | 4 | 1 | 2 |
| b. பாவலரேறு | 2. துரை ராசு | B. 1 | 2 | 3 | 4 | 5 |
| c. தெய்வப்பலவர் | 3. மாணிக்கம் | C. 5 | 4 | 3 | 2 | 1 |
| d. மக்கள் கவிஞர் | 4. வள்ளுவர் | D. 2 | 1 | 4 | 3 | 5 |
| e. திராவிட நாட்டின் வாணம்பாடி | 5. சுப்புரத்தினம் | | | | | |
56. மயிலை சீனி . வேங்கடசாமி எழுதிய முதல் நூல் எது?
- A. பௌத்தமும் தமிழும் B. இசுலாமும் தமிழும்
C. கிறிஸ்தவமும் தமிழும் D. சமணமும் தமிழும்
57. கீழ்க்கண்டவற்றில் பொருந்தாதது எது?
- A. மணம் B. தேன் C. மணம் D. அழகு
58. சிங்க மராட்டியர்தம் கவிதை கொண்டு சேர்த்துத் தந்தங்கள் பரிசளிப்போம்! எனப் பாடியவர் யார்?
- A. காசி ஆனந்தன் B. வாணிதாசன் C. அறிவுமதி D. பாரதியார்



59. தவறாக பொருந்தியுள்ளதை தேர்க
- A. Stapler - கம்பி தைப்புக் கருவி
B. Folder - கோப்பு
C. Rubber Stamp - இலுவை முத்திரை
D. Stamp Pad - மைபொதி
60. கீழ்க்கண்டவற்றில் நெய்தல் திணைக்குரிய பூ எது?
- A. பருத்திப்பூ B. தாமும்பூ C. கமலம் D. கொன்றை
61. சிறுகதை என்றால் சிறிய கதை கொஞ்சப் பக்கங்களில் முடிந்துவிடுவது என்றல்ல, சிறுகதை என்ற பிரிவு இலக்கியத்தில் அதில் எடுத்தாளப்படும் பொருள் பற்றியது - என்ற வரிகள் யாருடையது?
- A. தி. ஜானகிராமன் B. புதுமைப்பித்தன்
C. நா. முத்துக்குமார் D. சு. சமுத்திரம்
62. நாட்டுப்புற இயல் ஆய்வு என்ற நூலை தொகுத்தவர் யார்?
- A. ச. சக்திவேல் B. சு. சக்திவேல்
C. சி. சக்திவேல் D. சொ. சக்திவேல்
63. கீழ்க்கண்டவற்றுள் சரியான இணை எது?
- A. தந்நாடு விளைந்த வெண்ணெல் தந்து - அகநானூறு
B. பொண்ணோடு வந்து கறியொடு பெயரும் - குறுந்தொகை
C. பாலோடு வந்து கூழோடு பெயரும் - நற்றிணை
D. நடுவு நின்ற நன்னெஞ்சினோர் - பட்டினப்பாலை
64. ".....யை கொடுங்கோள் கோவலர் பின் நின்று உய்தர இன்னே வருகுவர் தாயார்" - என்று யார் யாரிடம் கூறியது?
- A. இடைமகள் கன்றிடம் B. தோழிகள் தலைவியிடம்
C. முதுபெண்டிர் தலைவியிடம் D. தலைவி கன்றிடம்
65. அது, அவை என்பது என்ன?
- A. அகச்சுட்டு B. புறச்சுட்டு
C. அண்மைச்சுட்டு D. சேய்மைச்சுட்டு
66. பொருத்துக
- | | | a | b | c | d | |
|-------------------------|----------------------------|---|---|---|---|---|
| a. தனித்தமிழ் தந்தை | 1. தேவநேயப் பாவாணர் | A | 1 | 2 | 3 | 4 |
| b. ஆராய்ச்சிப் பேரறிஞர் | 2. திரு.வி.க | B | 4 | 3 | 2 | 1 |
| c. தமிழ்த்தென்றல் | 3. மயிலை. சீனி. வேங்கடசாமி | C | 3 | 4 | 1 | 2 |
| d. மொழிஞாயிறு | 4. மறைமலையடிகள் | D | 2 | 1 | 4 | 3 |
67. விலங்கொடித்து என்னும் சொல்லைப் பிரித்து எழுதுக.
- A. விலம் + கொடித்து B. விலம் + ஒடித்து
C. விலன் + ஒடித்து D. விலங்கு + ஒடித்து
68. எ, யா, ஆ, ஓ, ஏ ஆகிய ஐந்தும் கீழ்க்கண்ட எதுவாகும்?
- A. சுட்டெழுத்துக்கள் B. வினா எழுத்துக்கள்
C. மயங்கொலி எழுத்துக்கள் D. இணை எழுத்துக்கள்
69. பொருத்துக:
- | | | a | b | c | d | |
|---------|------------------|---|---|---|---|---|
| a பேகன் | 1. பிரான்மலை | A | 4 | 3 | 2 | 1 |
| b பாரி | 2. பழனி மலை | B | 2 | 1 | 4 | 3 |
| c ஆய் | 3. நளி மலை | C | 1 | 2 | 3 | 4 |
| d நள்ளி | 4. அகத்தியர் மலை | D | 3 | 4 | 1 | 2 |

70. சுதந்திர இந்தியாவின் மகத்தான சாதனையும் சவாலுமாக ஜெயகாந்தன் கூறுவது எது?
 A. அரசின் நலத்திட்டங்களை செயல்படுத்துதல்
 B. அறிவியல் முன்னேற்றம்
 C. பெற்ற சுதந்திரத்தினை பேணிக்காத்தல்
 D. வெளிநாட்டு முதலீடுகள்
71. அறிக அறிவியல் என்ற இதழை நடத்தியவர் யார்?
 A. நெல்லை சு. முத்து
 B. தவத்திரு குன்றக்குடி அடிகளார்
 C. டி. கே. சிதம்பரனார்
 D. அறிஞர் அண்ணா
72. பரிதிமாற் கலைஞர் பற்றிய கூற்றுக்களில் தவறானது எது, எவை?
 I. சென்னை கிறிஸ்தவ கல்லூரியில் B.A பயின்று தமிழிலும் வேதாந்த தத்துவ சாத்திரத்திலும் பல்கலை கழக அளவில் முதல் மாணவராகத் தேர்ச்சி பெற்றுத் தங்கப்பதக்கத்தினை பரிசாகப் பெற்றார்
 II. 1893ஆம் ஆண்டு சென்னை கிறித்தவக் கல்லூரியில் உதவித் தமிழாசிரியராகப் பணியாற்றத் தொடங்கி, பின்பு தலைமை தமிழாசிரியராகப் பதவி உயர்வு பெற்றார்
 III. ரூபாவதி, கலாவதி ஆகிய நாடக நூலையும், கார் நாற்பது, நூலைத் தழுவி மாண விஜயம் என்னும் நூலையும் ஆங்கில நாடக இலக்கணத்தை அடிப்படையாகக் கொண்டு நாடகவியல் என்னும் இலக்கண நூலை இயற்றி உள்ளார்
 IV. மு.சி. பூர்ணலிங்கனாருடன் இணைந்து நடத்திய ஞானபோதினி எனும் இதழ் அக்காலத்தில் குறிப்பிடத்தக்க அறிவியல் இதழாகத் திகழ்ந்தது
 A. I மட்டும் தவறு B. II மட்டும் தவறு C. III மட்டும் D. இவற்றுள் ஏதும் இல்லை
73. எண்ணமும் - எழுத்தும் உயர்ந்திருக்கும் - ஏழை கண்ணீரும் பாடலிலே கலந்திருக்கும் - என்ற பாடல் வரிகள் யாருடையது?
 A. பாரதிதாசன் B. பட்டுக்கோட்டை கல்யாணசுந்தரம் C. அசோகமித்திரன் D. ஜெயகாந்தன்
74. ஒருவர் எல்லாருக்காகவும், எல்லோரும் ஒருவருக்காகவும் என்னும் பொதுவுடைமை நெறியே கீழ்க்கண்ட யாரின் வாழும் நெறி?
 A. இராமலிங்கனார் B. காந்தியடிகள் C. திருவள்ளுவர் D. ஔவையார்
75. திருமுனைப்பாடி என்னும் ஊரைச் சேர்ந்த சமணப்புவவர் முனைப்பாடியாரின் காலம் என்ன?
 A. இரண்டாம் நூற்றாண்டு B. ஐந்தாம் நூற்றாண்டு
 C. பத்தாம் நூற்றாண்டு D. பதின்மூன்றாம் நூற்றாண்டு
76. கம்பரின் காலம் எது?
 A. 12 ஆம் நூற்றாண்டு B. 18 ஆம் நூற்றாண்டு
 C. 09 ஆம் நூற்றாண்டு D. 2 ஆம் நூற்றாண்டு
77. அறநெறிகளை தொகுத்து கூறும் நூல் எது?
 A. ஆசாரக்கோவை B. மூதுரை C. முதுமொழிக்காஞ்சி D. அறநெறிச்சாரம்
78. ஒப்புரவு வாழ்க்கை முறையை அப்பர் அடிகள் எடுத்துக் கூறினார். கீழ்க்கண்ட யார் வழி மொழிந்தார்?
 A. அண்ணல் அம்பேத்கர் B. அறிஞர் அண்ணா
 C. அண்ணல் காந்தியடிகள் D. பாவேந்தர் பாரதிதாசன்
79. நீர்ப்பாசனம் என்ற தமிழ் கலைச்சொல்லிற்கு இணையான ஆங்கிலச் சொல் எது?
 A. Harvest B. Paddy C. Irrigation D. Cultivation
80. பொருத்துக:

a. பின்னலாடை நகரம்	1. தஞ்சாவூர்	A.	1	2	3	4	5
b. நெற்களஞ்சியம்	2. காரைக்கால்	B.	2	4	3	1	5
c. மாங்கனித் திருவிழா	3. திருப்பூர்	C.	3	1	2	5	4
d. கர்ம வீரர் நகரம்	4. ஏற்காடு	D.	3	1	2	4	5
e. ஏழைகளின் ஊட்டி	5. விருதுநகர்						

81. கீழ்க்கண்டவற்றில் எவை உவம உருபுகளாக வருவதில்லை?
 A. போல, புரைய
 B. அன்ன, இன்ன, அற்று
 C. மான, கடுப்ப, ஒப்ப, உறழ்
 D. A, B, C – இவற்றில் ஏதுமில்லை
82. மலரன்ன பாதம் என்ற தொடரில் உவமேயம் எது?
 A. மலர் B. அன்ன C. பாதம் D. இவற்றில் ஏதுமில்லை
83. இல்பொருள் உவமையணி தவறானது எது?
 A. பொன்மழை பொழிந்தது போல்
 B. கொம்பு முளைத்த குதிரை போல்
 C. மீன் போன்ற கண்
 D. A, B, C – இவற்றில் ஏதுமில்லை
84. குற்றால முனிவர் என்று புகழப்படுபவர் யார்?
 A. அகத்தியர் B. திரிசுடராசப்ப கவிராயர்
 C. கவிராசப் பண்டிதர் D. டி. கே. சிதம்பரனார்
85. கடித இலக்கியத்தின் முன்னோடி என புகழப்படுபவர் யார்?
 A. பெப்பிசு B. அனந்தராங்கர் C. டி. கே. சிதம்பரனார் D. அண்ணா
86. கீழ்க்கண்டவற்றில் பொருந்தா இணை எது?
 A. திக் கெல்லாம் புகழுறும் திருநெல்வேலி – திருஞானசம்பந்தர்
 B. தன்பொருளைப் புனல் நாடு – சேக்கிழார்
 C. பதியெழு அறியாப் பழங்குடி – இளங்கோவடிகள்
 D. திங்கள் நாள்விழா மல்கு திருநெல் – மாணிக்கவாசகர்
87. முத்துப்படு பரப்பிற் கொற்கை முன்றுறை – எனக் கூறும் நூல் எது?
 A. பெரியபுராணம் B. சிலப்பதிகாரம் C. அகநானூறு D. நற்றிணை
88. ஜி. யு. போப், கால்டுவெல், வீரமாமுனிவர் போன்றோரை தமிழின்பால் ஈர்த்த பெருமைக்குரியது எது?
 A. மதுரை B. கன்னியாகுமரி
 C. திருநெல்வேலி D. தஞ்சாவூர்
89. கீழ்க்கண்ட யார் தமிழை அழுத்தமாக ஆர்வத்தோடு கற்ற இடம் திருநெல்வேலி நகர்தான்?
 A. பாரதியார் B. தேசிகவிநாயகனார்
 C. குமரகுருபரர் D. கவிராசப் பண்டிதர்
90. கீழ்க்கண்ட யார் வெங்கடேசுர எட்டப்ப ராஜாவைப் பற்றிப் பல பாடல்கள் பாடி இருக்கிறார்?
 A. பாரதியார் B. தேசிகவிநாயகனார்
 C. கடிகை முத்துப்புலவர் D. கவிராசப் பண்டிதர்
91. திருநெல்வேலியிலிருந்து திருச்செந்தூருக்குப் போகிற மார்க்கத்திலே எத்தனையாவது மைலில் ஆற்றுக்கு வட கரையில் சீவைகுண்டம் இருக்கிறது?
 A. எட்டு B. பத்து C. பதினெட்டு D. இருபது
92. தமிழர்களின் பண்பாட்டுக் கூறுகளில் கீழ்க்கண்ட எது முதன்மையாகும்?
 A. இயற்கை வணங்குதல் B. அறம் செய்தல்
 C. மறம் செய்தல் D. விருந்தோம்பல்

93. கீழ்க்கண்டவற்றில் சரியான பழமொழியை தேர்க.
- A. ஒன்றுறா முன்றிலோ இல்
 B. இல் ஒன்றுறா முன்றிலோ
 C. முன்றிலோ ஒன்றுறா இல்
 D. முன்றிலோ இல் ஒன்றுறா
94. பழமொழி நானூறு கீழ்க்கண்ட எந்நூல்களுள் ஒன்று?
- A. எட்டுத்தொகை நூல்களுள் ஒன்று
 B. பதினெண்மேல்கணக்கு நூல்களுள் ஒன்று
 C. பத்துப்பாட்டு நூல்களுள் ஒன்று
 D. பதினெண்மேல்கணக்கு நூல்களுள் ஒன்று
95. பல்வேறு தொழில்கள் குறித்த நாட்டுப்புற பாடல்கள் இடம் பெறும் நூல் எது?
- A. நாட்டுப்புற இயல் ஆய்வு
 B. மலை அருவி
 C. தனிப்பாடல் திரட்டு
 D. இவையனைத்தும்
96. கழலுதல் என்பதன் எதிர்ச்சொல் என்ன?
- A. உதிர்தல்
 B. சேர்தல்
 C. மறைதல்
 D. தோன்றுதல்
97. நாலாயிரத் திவ்வியப் பிரபந்தத்தில் உள்ள முதல் திருவந்தாதி கீழ்க்கண்ட யார் பாடியதாகும்?
- A. பேயாழ்வார்
 B. பூதத்தாழ்வார்
 C. பொய்கையாழ்வார்
 D. நம்மாழ்வார்
98. கீழ்க்கண்டவற்றில் தவறானது எது?
- A. அம்பேத்கர் நாசிக் கோயில் நுழைவுப் போராட்டத்தினை நடத்தி வெற்றி கண்ட ஆண்டு 1930
 B. இந்தியா விடுதலை பெற்ற நாள் 1947, ஆகஸ்டு 15
 C. அரசியல் நிர்ணய மன்ற தீர்மானப்படி அம்பேத்கர் தலைமையில் அரசியலமைப்புச் சட்ட வரைவுக்குழு உருவாக்கப்பட்ட நாள் 1947, ஆகஸ்டு 29
 D. அரசியலமைப்புச் சட்ட வரைவுக்குழு தனது அறிக்கையை ஒப்படைத்த நாள் 1949, நவம்பர் 26
99. சங்கொடு சக்கரம் ஏந்தும் தடக்கையன் பங்கயக் கண்ணாளைப் பாடேலோ ரெம்பாவாய் - என்ற பாடலடி இடம்பெற்றுள்ள நூல் எது?
- A. திருப்பாவை
 B. திருவெம்பாவை
 C. கன்னிப்பாவை
 D. திருக்கோவை
100. நகரம் - நூல் பொருத்துக :
- | | a | b | c | d | |
|---------------|------------------|------|---|---|---|
| a. கொல்லிமலை | 1. மதுரைக்காஞ்சி | A. 3 | 1 | 4 | 2 |
| b. தொண்டி | 2. புறநானூறு | B. 3 | 4 | 2 | 1 |
| c. பறம்பு மலை | 3. அகநானூறு | C. 2 | 1 | 3 | 4 |
| d. ஆலங்காணம் | 4. சிலப்பதிகாரம் | D. 4 | 2 | 3 | 1 |

பகுதி - ஆ

101. 250 லிட்டரின் 12% என்பது 150 லிட்டரின் எத்தனை சதவீதத்திற்கு சமம்?
 A. 10% B. 15% C. 20% D. 30%
102. 400ன் 30% மதிப்பின் 25% என்ன?
 A. 40 B. 30 C. 60 D. 45
103. ஒரு பொருளின் மீது வழங்கப்படும் இரு தொடர் தன்படிகள் முறையே 25% மற்றும் 20% எனில் இதற்கு நிகரான ஒரே சமமானத் தள்ளுபடி சதவீதம் என்ன?
 A. 30% B. 50% C. 40% D. 45%
104. காலம் 3 ஆண்டு எனில் கூட்டுவட்டிக்கும் தனி வட்டிக்கும் இடையேயான வித்தியாசம்
 A. $P \left(\frac{r}{100} \right)^3$ B. $P \left(\frac{r}{100} \right)^2$ C. $P \left(1 + \frac{r}{100} \right)$ D. $P \left(\frac{r}{100} \right)^2 \left(3 + \frac{r}{100} \right)$
105. ரூபாய் 3000 அசலுக்கு 8% என வழங்கப்படும் தனி வட்டியானது ரூபாய் 4000 அசலுக்கு 12% என 4 ஆண்டுகளுக்கு வழங்கப்படும் தனி வட்டிக்கு நிகராகும் எனில் காலம் என்ன?
 A. 6 ஆண்டுகள் B. 8 ஆண்டுகள் C. 9 ஆண்டுகள் D. 3 ஆண்டுகள்
106. கடனாக வழங்கப்பட்ட அசல் ரூ. 46900க்கு 2 ஆண்டுகளுக்குப் பின் தனிவட்டி மூலம் பெறப்பட்ட மொத்த தொகை 53466 எனில் வட்டி வீதம் என்ன?
 A. 8% B. 13% C. 7% D. 5%
107. ஒரு தொகையானது 2 ஆண்டுகளில் 10% கூட்டுவட்டிவீதத்தில் தொகை 2420 ஆக கிடைக்கிறது எனில் அந்தத் தொகையை காண்க?
 A. 1800 B. 2000 C. 1700 D. 1900
108. ஒரு குறிப்பிட்ட தனிவட்டி வீதத்தில் 2 ஆண்டுகளில் ரூ. 6200 எனவும் 3 ஆண்டுகளில் ரூ. 6800 எனவும் எனில் தொகை என்ன?
 A. 4000 B. 6000 C. 3000 D. 5000
109. $y^3 + 1$ மற்றும் $y^2 - 1$ ன் மீ.பொ.வ என்ன
 A. $y-1$ B. y^2+1 C. $y+1$ D. y^2-1
110. $x^2 + y^2$, மற்றும் $x^4 + x^2y^2 + y^2$ ன் மீ.பொ.ம. $(x^2 + y^2)(x^2 + xy + y^2)$ மீ.பொ.வ என்ன?
 A. $x^2 - xy + y^2$ B. $x^2 + y^2$ C. $x^2 + xy + y^2$ D. $(x-y)^2$
111. இந்தியர்களை தங்களுக்கான அரசமைப்பை உருவாக்குவார்கள் என்ற அடிப்படைத் கருத்தை காந்தியடிகள் முன்வைத்த ஆண்டு எது?
 A. 1920 B. 1922 C. 1934 D. 1936
112. பொருத்துக :
- | | a | b | c | d | e | |
|---------------|----------------|------|---|---|---|---|
| a. அகமது நகர் | 1. இமத் சாஹி | A. 1 | 2 | 3 | 4 | 5 |
| b. பீஜப்பூர் | 2. அடில் சாஹி | B. 5 | 4 | 3 | 2 | 1 |
| c. பீரார் | 3. நிறாம் சாஹி | C. 3 | 2 | 1 | 4 | 5 |
| d. கோல்கொண்டா | 4. குதுப் சாஹி | D. 1 | 3 | 2 | 4 | 5 |
| e. பீடார் | 5. பரித் சாஹி | | | | | |
113. பின்வருவனவற்றுள் யார் பதவிப்பிரமாணம் எடுத்துக்கொள்வது இல்லை?
 A. குடியரசு தலைவர்
 B. ஆளுநர்
 C. சபாநாயகர்
 D. தலைமை கணக்கு தணிக்கை அதிகாரி

114. ஹெக்சோஸ் நிலையில் இருந்து ட்ரையோஸ் நிலைக்கு குளுக்கோசை மாற்றும் நொதி?
 A. ஹெக்சோஸ் B. கைனேஸ் C. ஈனோலேஸ் D. ஆல்டலோஸ்
115. 20 ஆம் நூற்றாண்டின் தொடக்கத்தில் வங்காளத்தில் சுதேசி இயக்கம் தொடங்கப்பட்டது இதை ஆதரித்த முஸ்லிம்கள் எவ்வாறு அழைக்கப்பட்டனர்?
 A. காங்கிரஸின் நண்பர்கள்
 B. காங்கிரஸின் விரோதிகள்
 C. காங்கிரஸின் தரகர்கள்
 D. காங்கிரஸின் துரோகிகள்
116. பின்வரும் விஜயநகர ஆட்சி முறை பற்றிய கூற்றுகளை ஆராய்ந்து சரியானதை கண்டறிக.
 I. தேவதாசி முறை இருந்தது - டொமிங்கோபயஸ்
 II. அடிமை முறை பற்றிய குறிப்பு - நிக்கோலகோண்டி
 III. நாட்டிய பெண்கள், பல்லக்கு சுமக்கும் பெண்கள் இருந்தனர் - நுனிஸ்
 IV. இந்திய பயண நூல் - நிகிடின்
 A. I, II மட்டும் சரி B. IV மட்டும் தவறு
 C. I, IV, III சரியானது D. அனைத்தும் சரி
117. அரசியலமைப்புச் சட்டத்தின் பிரிவு 356 ஐ பயன்படுத்துவது தொடர்பாக உச்சநீதிமன்றம் வழங்கிய மிக முக்கியத்துவம் வாய்ந்த தீர்ப்பு கீழ்க்காணும் எந்த வழக்கில் வழங்கப்பட்டது?
 A. இந்திரா ஷானே வழக்கு
 B. எஸ். ஆர். பொம்மை வழக்கு
 C. மினர்வா மில்ஸ் வழக்கு
 D. கேசவனந்த பாரதி வழக்கு
118. மைட்டாசிஸ் செல்பகுப்பை கண்டறிந்தவர் யார்?
 A. ஹெபர்லேண்ட் B. ராங்கியர் C. பிளமிங் D. தியோபிராஸ்சஸ்
119. 1939 ஆம் ஆண்டு இரண்டாம் உலகப் போரில் இந்தியாவும் கலந்து கொள்ளும் என அறிவித்த அரசுப்பிரதிநிதி யார்?
 A. லிட்டன் பிரபு B. லின்லித்கோ பிரபு C. வேவல் பிரபு D. ஹார்டிஞ்சு பிரபு
120. பின்வரும் முகலாய அரசர்களின் பெயர்களில் உள்ள பொருள் கூற்றுகளில் எது தவறானது என்பதை கண்டறிக?
 I. உமாய்யுன் - அதிர்ஷ்டசாலி
 II. பாபர் - புலி
 III. ஜஹாங்கீர் - உலகத்தின் அரசர்
 IV. ஷாஜகான் - உலகத்தை வென்றவர்
 A. III மட்டும் B. IV மட்டும் C. III, IV இரண்டும் D. I, II இரண்டும்
121. கூற்று (A) : இந்திய குடியரசு தலைவர் அரசின் செயலாட்சி துறை தலைவர் ஆவார்
 காரணம் (R) : அவர் முப்படைகளின் தலைவர் ஆவார்
 A. கூற்று (A) தவறு, காரணம் (R) சரி
 B. கூற்று (A) காரணம் (R) இரண்டும் சரி. காரணம் (R) கூற்றுக்கான (A) சரியான விளக்கமல்ல
 C. கூற்று (A) சரி காரணம் (R) தவறு
 D. கூற்று (A) காரணம் (R) இரண்டும் தவறு. காரணம் (R) கூற்றுக்கான (A) சரியான விளக்கமல்ல
122. அமைச்சரவை தூதுக்குழு யார் தலைமையில் இந்தியா வந்தது?
 A. ஸ்டா போர்டு கிரிப்ஸ் B. பெத்திக் லாரன்ஸ்
 C. A. V. அலெக்ஸாண்டர் D. வேவல் பிரபு

123. பொருத்துக :
- | | | | | | | |
|-------------------------------|-------------|----|---|---|---|---|
| a. நிதிசூழ உறுப்பினர்கள் | 1. விதி 324 | A. | 3 | 1 | 4 | 2 |
| b. தேர்தல் ஆணைய உறுப்பினர்கள் | 2. விதி 338 | B. | 3 | 4 | 2 | 1 |
| c. UPSC உறுப்பினர்கள் | 3. விதி 316 | C. | 1 | 2 | 3 | 4 |
| d. SC/ST ஆணைய உறுப்பினர்கள் | 4. விதி 280 | D. | 4 | 1 | 3 | 2 |
124. கீழ்க்கண்டவற்றில் மொகலாய கட்டிடக் கலைகள் யாருடையது என்பதில் சரியான கூற்றை கண்டறிக.
- I. பஞ்சு மகால் அக்பர் காலத்தை சார்ந்தது
 II. டிப்பண்ணா, புராணகிலா போன்றவை உமாயூன் காலத்துக்குரியது
 III. ரோட்டஸ்கர் - வெர்ஷாவின் கட்டிடக் கலை
 IV. செங்கோட்டை ஷாஜகான் காலத்தை சார்ந்தது
- A. I, II, IV சரியானது
 B. II, IV சரியானது
 C. III மட்டும் சரியானது
 D. அனைத்தும் சரி
125. கீழ்க்கண்டவற்றில் செல்லின் துப்புரவாளர் என அழைக்கப்படுவது எது?
- A. மைட்டோகாண்டிரியா
 B. பாக்டீரியா
 C. லைசோசோம்
 D. எ. வலை
126. காந்தியடிகள் தனிநபர் சத்யாகிரகத்தை தொடங்கிய நாள் எது?
- A. 1940, அக்டோபர் 17
 B. 1940, டிசம்பர் 17
 C. 1941, ஜனவரி 17
 D. 1941, ஆகஸ்டு 17
127. கீழ்க்கண்டவற்றில் மருந்தாக பயன்படும் எஸ்டர் எது?
- A. எத்தில் அசிடேட்
 B. மெத்தில் சாலிசிலேட்
 C. எத்தில் பென்சோயேட்
 D. மெத்தில் பென்சோயேட்
128. கூற்று (A) : முதலாம் சந்திரகுப்தர் வலிமை மிகுந்த 'லிச்சாவி' அரசு குடும்பத்தைச் சார்ந்த குமார தேவியை மணந்தார்.
 காரணம் (R) : இவர் தனது தங்க நாணயங்களில் தனது மனைவி குமாரதேவி மற்றும் தன்னுடைய உருவத்தை பொருத்தி வெளியிட்டார்
- A. கூற்று (A) தவறு, காரணம் (R) சரி
 B. கூற்று (A) காரணம் (R) இரண்டும் சரி. காரணம் கூற்றுக்கான (A) சரியான விளக்கமல்ல
 C. கூற்று (A) சரி காரணம் (R) தவறு
 D. கூற்று (A) காரணம் (R) இரண்டும் தவறு. காரணம் (R) கூற்றுக்கான (A) சரியான விளக்கம்
129. பின்வரும் கூற்றுகளை காலமுறைப்படி வரிசைப்படுத்துக.
- I. இந்திய பிரிவினைக்கேற்ப வரைபடத்தை மாற்றி வரைவதற்கு இலண்டனிலிருந்து வழக்கறிஞர் சர் சிரில் ராட்க்ளிஃப் இந்தியா வருதல்
 II. நேருவின் தலைமையில் இடைக்கால அரசாங்கம் அமைதல்
 III. இந்தியா சுதந்திரம் குறித்து அட்லியின் அறிவிப்பு
- A. II, III, I
 B. I, II, III,
 C. III, II, I
 D. II, III, I,
130. மக்களவையில் அவையை நடத்துவதற்கு தேவையான குறைந்தபட்ச உறுப்பினர்களின் எண்ணிக்கை?
- A. மொத்த உறுப்பினர்களில் பத்தில் ஒரு பங்கு
 B. மொத்த உறுப்பினர்களில் ஐந்தில் ஒரு பங்கு
 C. மொத்த உறுப்பினர்களில் மூன்றில் ஒரு பங்கு
 D. மொத்த உறுப்பினர்களில் பாதி பேர்
131. வெப்பத்தின் அடிப்படையில் சூழ்நிலையை 4 வகையாக வகைப்படுத்தியவர் யார்?
- A. யூஜின் P. ஓடம்
 B. அரிஸ்டாடில்
 C. ராங்கியர்
 D. பென்டா

132. இரண்டாம் சந்திரகுப்தர் (விக்ரமாதித்யர்) அவையை அலங்கார நவரத்தினங்களை பொருத்துக :
- | | | a | b | c | d | e |
|------------------|------------------------|------|---|---|---|---|
| a. அமரசிம்ஹர் | 1. சோதிடர் | A. 1 | 2 | 3 | 4 | 5 |
| b. காகபானர் | 2. அகராதியில் ஆசிரியர் | B. 5 | 4 | 3 | 2 | 1 |
| c. சன்கு | 3. கட்டிடக்கலை நிபுணர் | C. 2 | 1 | 3 | 5 | 4 |
| d. விட்டல் பர்க் | 4. இலக்கண ஆசிரியர் | D. 1 | 3 | 2 | 4 | 5 |
| e. வராசீசி | 5. மாயவித்தைகாரர் | | | | | |
133. 73 வது திருத்த சட்டத்தின்படி மக்கள் தொகையின் அடிப்படையில் எந்த அளவிற்கு கீழ் உள்ள ஒரு மாநிலம் இடைநிலை (பஞ்சாயத்து சமீதி) அமைப்பை உள்ளாட்சி அமைப்பால் உண்டாக்க முடியாது?
- A. 5 இலட்சத்திற்கு குறைவாக
 B. 10 இலட்சத்திற்கு குறைவாக
 C. 15 இலட்சத்திற்கு குறைவாக
 D. இருபது இலட்சத்திற்கு குறைவாக
134. ஒரு மின் பகுளியின் சமான மின் கடத்து திறன் நீர்த்தலால் ஏற்படுவது என்ன?
- A. மாறுபாடு அடையாது
 B. ஒரு குறிப்பிட்ட மதிப்பு வரை அதிகரிக்கும்
 C. குறையும்
 D. முதலில் குறைந்து பின்பு அதிகரிக்கும்
135. மனித வாழ்க்கையைப் பிரதிபலிக்கும் காலக் கண்ணாடியே இலக்கியம் என்று கூறியவர் யார்?
- A. சி. சி. நார்த் B. விவேகானந்தர் C. வால்டேர் D. ஜி. ஈ. டொரவெலியன்
136. 1952 ஆம் ஆண்டு பொது தேர்தலின் போது இந்தியாவில் எத்தனை அங்கீகரிக்கப்பட்ட கட்சிகள் இருந்தன?
- A. 4 B. 12 C. 14 D. 54
137. இரத்தத்தில் உள்ள PH மதிப்பு எவ்வளவு?
- A. 8 B. 7 ஐ விட குறைவு C. 7 க்கு சமம் D. 7 ஐ விட அதிகம்
138. நூல்கள் - ஆசிரியர்கள் பொருத்துக:
- | | | a | b | c | d | e |
|------------------|--------------------|------|---|---|---|---|
| a. நாலடியார் | 1. கடற்படை தினம் | A. 1 | 2 | 3 | 4 | 5 |
| b. ஆத்திச்சூடி | 2. திருத்தக்கதேவர் | B. 5 | 4 | 3 | 2 | 1 |
| c. மணிமேகலை | 3. சமணமுனிவர்கள் | C. 1 | 2 | 4 | 3 | 5 |
| d. சீவகசிந்தாமணி | 4. ஔவையார் | D. 3 | 4 | 1 | 2 | 5 |
| e. சிலப்பதிகாரம் | 5. இளங்கோவடிகள் | | | | | |
139. 2021 பாலின வேறுபாட்டு குறியீட்டில் இந்தியாவின் இடம்
- A. 130 B. 132 C. 136 D. 140
140. கீழ்க்கண்டவற்றில் திடப்பொருளில் வெப்பம் பரவும் முறை எது?
- A. வெப்பக் கடத்தல் B. வெப்பக் கதிர்வீச்சு
 C. வெப்பச் சலனம் D. இவையனைத்தும்
141. நூல்கள் - சிறப்புகள் பொருத்துக:
- | | | a | b | c | d | e |
|----------------|------------------------|------|---|---|---|---|
| a. அகநானூறு | 1. தமிழர் திருமண முறை | A. 1 | 2 | 3 | 4 | 5 |
| b. புறநானூறு | 2. பொதுமை நோக்கம் | B. 5 | 4 | 3 | 2 | 1 |
| c. ஐங்குறுநூறு | 3. அன்பின் சிறப்பு | C. 1 | 2 | 4 | 3 | 5 |
| d. நற்றிணை | 4. விருந்தோம்பல் பண்பு | D. 1 | 3 | 2 | 4 | 5 |
| e. கலித்தொகை | 5. இராணுவ தினம் | | | | | |

142. மாநில தகவல் ஆணையத்தை உருவாக்கியது எது?
 A. தகவல் உரிமைச் சட்டம் 2005
 B. தகவல் தொழில்நுட்ப சட்டம் 2000
 C. தகவல் வெளிகொணர்வோர் பாதுகாப்பு சட்டம் 2011
 D. சாசஸ்த்ரா சீமா பால் சட்டம் 2007
143. கீழ்வருவனவற்றில் எது பூச்சிக்கொல்லி அல்லாதது?
 A. 2, 4, D B. TTD C. மாலத்தியான் D. போர்டாக்ஸ் கலவை
144. வட இந்திய மொழிகளை எழுத உதவும் எழுத்தும் முறை எது?
 A. தேவநாகிரி B. ஹிரோ இனிப்பிக்ஸ் C. சித்திர எழுத்து D. எதுவுமில்லை
145. பின்வரும் கூற்றுக்களில் எது சரி?
 I. ஆளுநரின் பதவி காலம் 5 ஆண்டுகள்
 II. ஆளுநரின் பதவி காலம் முடிவடைந்த போதிலும் கூட பின்னர் வருபவர் பதவியேற்கும் வரை பதவியில் தொடர்கிறார்
 A. I மட்டும் சரி B. II மட்டும் சரி C. I மற்றும் II சரி D. I மற்றும் II தவறு
146. கீழ்க்கண்டவற்றில் அமெரிக்கா பயன்படுத்தும் வெப்பநிலை அளவீட்டு முறை எது?
 A. செல்சியஸ் முறை B. கெல்வின் முறை
 C. ஃபாரன்ஹீட் முறை D. A & B
147. அறுவடை திருநாள் - மாநிலங்கள் பொருத்துக:

	a	b	c	d	e	
a. ஓணம்	1. கேரளா	A. 3	2	1	4	5
b. லொஹரி	2. மத்தியபிரதேசம்	B. 5	4	3	2	1
c. பைசாகி	3. பஞ்சாப்	C. 1	2	3	4	5
d. போஹாலி பிஹீ	4. அஸ்ஸாம்	D. 1	3	2	4	5
e. நபண்ணா	5. வங்கம்					
148. இந்திய உலக மன்றத்தின் வருடாந்திர உச்சி மாநாடு?
 A. மும்பை B. கேரளா C. கர்நாடகா D. தமிழ்நாடு
149. அதிக அலைநீளம் மற்றும் அதிக சிதறலடையும் நிறம் எது?
 A. பச்சை, சிவப்பு B. ஊதா, நீலம் C. சிவப்பு, நீலம் D. ஊதா, சிவப்பு
150. எந்த நாட்டின் என்எஸ்ஓ நிறுவனத்தால் உருவாக்கப்பட்டது பெகாசஸ் உளவு மென்பொருள் ஆகும்?
 A. ரஷ்யா B. அமெரிக்கா C. இஸ்ரேல் D. ஜெர்மனி
151. மகாத்மா காந்தியின் முதல் சிலை?
 A. குஜராத் B. பண்டிச்சேரி C. தமிழ்நாடு D. லட்சத்தீவு
152. கீழ்க்கண்டவற்றில் ஓசோனை அழிக்கும் முக்கிய காரணி எது?
 A. தூசுப்படலம் B. ஹைட்ரஜன் சல்ஃபைடு
 C. ஹைட்ரஜன் சல்ஃபேட் D. கார்பன்-டை-ஆக்சைடு
153. தேசிய ஊரக நல அமைப்பு (NKHM) ஆரம்பிக்கப்பட்ட ஆண்டு?
 A. 15 வது ஆகஸ்டு 2004 B. 12 வது ஏப்ரல் 2005
 C. 16 வது ஜூலை 2006 D. 14 வது நவம்பர் 2008
154. இலக்கியத்திற்காக நோபல் பரிசு 2021 பெற்றவர் யார்?
 A. சுயூரோ மணாபே B. டேவிட் ஜீலியஸ்
 C. அப்துல்ரஸாக் கர்னா D. மரியா ரஸா

155. NSSO இன் விரிவாக்கம் ?
 A. National Statistical Survey Observation B. National Sample Survey Organisation
 C. National Simple Survey Organisation D. இவற்றில் எதுவுமில்லை
156. கருடா செயலி என்பது?
 A. பெண்களுக்கான பாதுகாப்பு செயலி
 B. மாசுபாட்டை கட்டுப்படுத்த அமைக்கப்பட்டது
 C. யோகா நெறிமுறைகளுக்கான கல்வி சேவை
 D. வாக்குச் சாவடிகளை மின்னணு முறையில் மதிப்பிடுவது
157. பூகம்ப பாதிப்புகளோடு தொடர்பற்ற விளைவை தெரிவு செய்க
 A. பிளவுகள் B. தரைமட்டமாதல்
 C. சுனாமிகள் D. தாழ்வு மண்டலம் உருவாதல்
158. கீழ்க்கண்டவர்களில் பாரத மாதா கழகத்தை தொடங்கியவர் யார்?
 A. வ. உ. சிதம்பரம் பிள்ளை B. வாஞ்சிநாத ஐய்யர்
 C. நீலகண்ட பிரம்மச்சாரி D. சுப்பிரமணிய பாரதியார்
159. மஹல்வாரி முறையை அறிமுகப்படுத்தியவர் யார்?
 A. லார்டு காரன் வாலிஸ் B. லார்டு வில்லியம் பெண்டிங்
 C. சர் தாமஸ் மன்றோ D. கேப்டன் அலெக்சாண்டர் ரீட்
160. சரணாலயம் - மாநிலங்கள் பொருத்துக
- | | a | b | c | d | |
|-----------------|--------------|------|---|---|---|
| a. பித்தர்கனிகா | 1. கோவா | A. 3 | 1 | 4 | 2 |
| b. நோக்ரெக் | 2. ஒடிசா | B. 2 | 3 | 4 | 1 |
| c. டால்மா | 3. மேகாலயா | C. 4 | 3 | 1 | 2 |
| d. பொண்ட்லா | 4. ஜார்கண்ட் | D. 4 | 2 | 3 | 1 |
161. உதய் திட்டம் என்பது
 A. மலைவாழ் மக்கள்தங்கள் வாழ்வாதாரத்தை மேம்படுத்துவது
 B. பாதுகாப்பு துறையில் புதுமைகளை புகுத்துவது
 C. மின்சார செலவை குறைப்பது, மின்பகர்மான கடன் செலவை குறைப்பது
 D. LPG திட்டத்தை செயல்படுத்துவது
162. பொருத்துக :
- | | a | b | c | d | |
|---------------------------------|---------|------|---|---|---|
| a. சென்னை வாசிகள் சங்கம் | 1. 1884 | A. 3 | 1 | 4 | 2 |
| b. சென்னை மாகாண சபை | 2. 1852 | B. 3 | 4 | 2 | 1 |
| c. வங்கப் பிரிவினை | 3. 1927 | C. 2 | 1 | 4 | 3 |
| d. நீல் சிலை அகற்றும் போராட்டம் | 4. 1905 | D. 4 | 2 | 3 | 1 |
163. சிவாலிக் மலை எங்கு அமைந்துள்ளது?
 A. வெளிப்புற இமயமலை
 B. உயர் இமயமலை
 C. உப இமயமலை
 D. மத்திய இமயமலை
164. சரியாக பொருந்தாத ஒன்றைக் காண்க (நீதிக்கட்சி அமைச்சரவை)
 A. 1923 - பனகல் அரசர்
 B. 1926 - ஏ. சுப்பராயன்
 C. 1930 - பி. முனுசாமி நாயுடு
 D. 1932 - சுப்ராயலு ரெட்டியார்

165. ஷோலா என அழைக்கப்படும் காடு வகை எது?
 A. அயனி மிதவெப்ப மலைக் காடுகள்
 B. அயனி ஈரப்பத மிதவெப்ப காடுகள்
 C. அயன தேவதாரு காடுகள்
 D. அயன வறண்ட பசுமை மாறாக் காடுகள்
166. 'சர்வசிக்ஷா அபியான்' எந்த ஐந்தாண்டு திட்டத்தில் அறிமுகப்படுத்தப்பட்டது எது?
 A. முதல் ஐந்தாண்டுத் திட்டம்
 B. பத்தாம் ஐந்தாண்டுத் திட்டம்
 C. மூன்றாம் ஐந்தாண்டுத் திட்டம்
 D. ஒன்பதாவது ஐந்தாண்டுத் திட்டம்
167. 15வது நிதிக்குழுவின் பரிந்துரை காலம்
 A. 2015 - 2020 (ஏப்ரல் - மார்ச்)
 B. 2016 - 2021 (ஏப்ரல் - மார்ச்)
 C. 2020 - 2025(ஏப்ரல் - மார்ச்)
 D. 2020 - 2025 (ஜனவரி - டிசம்பர்)
168. கங்கை டெல்டாவிற்கு மிகச் சிறந்த உதாரணம் என்ன?
 A. பறவைப் பாத டெல்டா
 B. விசிறி வடிவ டெல்டா
 C. பொங்குமுக டெல்டா
 D. முனை முறிவு டெல்டா
169. எழுத்தறிவு விகிதம் குறைவாக உள்ள இந்திய மாநிலம் எது?
 A. கேரளா
 B. கோவா
 C. ஹிமாச்சல பிரதேசம்
 D. பீகார்
170. பொருத்துக :


a. ஒருங்கிணைந்த ஊரக வளர்ச்சி திட்டம்	1. 1976	A.	3	1	4	2
b. பிரதான் மந்திரி ஆதர்ஷ் கிராம் சதஜ் யோஜனா	2. 2010	B.	3	4	2	1
c. பாரத் நிர்மன் யோஜனா	3. 2005	C.	1	2	3	4
d. தேசிய உணவு பாதுகாப்பு திட்டம்	4. 2013	D.	4	2	3	1
171. கீழ்க்கண்டவற்றில் சரியான கூற்றை தேர்ந்தெடு.
 I. 21 ஜூன் - வட கோளத்தின் அதிகமான வெப்பநிலை பெறப்படுகிறது
 II. 23 செப்டம்பர் மாதம் சமமான அளவில் வட மற்றும் தென் துருவங்களில் வெப்பநிலை இருப்பதில்லை
 III. 22 டிசம்பர் - குளிர் காலத்தில் தென் துருவம் அதிக வெப்பநிலை பெறுகிறது-
 A. I, II சரி
 B. I, III சரி
 C. II, III சரி
 D. I, II, III சரி
172. 48 வது உச்சநீதிமன்ற தலைமை நீதிபதி யார்?
 A. ரஞ்சன் கோகய்
 B. N.V ரமணா
 C. ஏ.எஸ் போப்டே
 D. தீபக் மிஸ்ரா
173. பின்வரும் நூல்கள் மற்றும் அவர்களின் நூல் ஆசிரியர்கள் தொடர்பான கூற்று இணைகளில் தவறானது எது?
 A. மதுரா விஜயம் - கங்கா தேவி
 B. மனுசரிதம் - நந்தி திம்மண்ணா
 C. பாதுஷா நாமா - அமீர் குஸ்ரு
 D. ராஜசேகர் சரிதம் - மல்லண்ணா
174. கோவிட் 19க்கு எதிராக 100% தடுப்பூசியை அடைந்த நாட்டின் முதல் நகரம்
 A. புவனேஸ்வர்
 B. போபால்
 C. எர்ணாகுளம்
 D. சென்னை
175. முத்ரா (MUDRA) வங்கி எப்போது தொடங்கப்பட்டது?
 A. 8. 05. 2015
 B. 03 . 08. 2015
 C. 13. 08. 2015
 D. 08.04.2015

176. பொருத்துக:
- | | |
|---------------------------|-------------------------------------|
| a. சிஜதா | 1. அரசன் பாதங்களை முத்தமிடும் முறை |
| b. பைபோஸ் | 2. நிலத்தில் விழுந்து வணங்கும் முறை |
| c. இந்துஸ்தானத்தின் பறவை | 3. அமீர் குஸ்கு |
| d. பாசீக கவி | 4. பால்பன் |
| e. முதல் முஸ்லிம் பேரரசர் | 5. அலாவுதன் கில்ஜி |
- a b c d e
 A. 1 2 3 4 5
 B. 5 4 3 2 1
 C. 2 1 4 3 5
 D. 1 3 2 4 5
177. இராஜாஜி மதுவிலக்கை பரிசோதனை முயற்சியாக அறிமுகம் செய்த இடம் எது?
 A. ஈரோடு B. சேலம் C. நாமக்கல் D. காஞ்சிபுரம்
178. உலகின் முதல் தானியங்கி மற்றும் ஓட்டுனர் இல்லாத ரயிலை அறிமுகப்படுத்திய நாடு?
 A. சீனா B. ஜப்பான் C. ஜெர்மனி D. அமெரிக்கா
179. பின்வரும் சிந்து சமவெளி நாகரிக தொடர்பான கூற்றுகளை ஆராய்ந்து சரியானதை காண்க.
 I. தாய் வழிபாடு முறையை கொண்டது
 II. நகர நாகரிகத்தை அடிப்படையாக கொண்டது
 III. இரும்பு, குதிரை போன்றவற்றை அறிந்திராத மக்களாக இருந்தனர்
 IV. செம்பு மனிதர்களால் கண்டறியப்பட்டு மற்றும் பயன்படுத்தப்பட்ட முதல் உலோகம்
 A. I, II சரியானது B. III மட்டுமே சரியானது
 C. I, III, IV சரியானது D. அனைத்தும் சரியானது
180. உப்புச் சட்டங்களை மீறியதற்காக அபராதம் கட்டிய முதல் பெண்மணி யார்?
 A. ருக்மணி லட்சுமிபதி B. அஞ்சலையம்மாள்
 C. அலமேலு மங்கை தயாராம்மாள் D. அன்னிபெசன்ட் அம்மையார்
181. தமிழ்நாடு சட்டமன்ற சபாநாயகரின் முதல் பெண் துபாஷி யார்?
 A. பிரியா B. ராஜேஸ்வரி C. சாஞ்சனா D. ராஜலட்சுமி
182. கீழ்க்கண்டவற்றில் சிந்து நாகரிகம் வீழ்ச்சியடைந்த காலம் எது?
 A. கி. மு. 1800 B. கி. மு. 1900 C. கி. மு. 1700 D. கி. மு. 1600
183. திருச்சிராப்பள்ளி பேரறிக்கை வெளியிடப்பட்ட ஆண்டு எது?
 A. 1806, ஜூலை B. 1801, ஜூன் C. 1801, ஜூலை D. 1805, ஜூன்
184. 108 அடி உயர அனுமன் சிலை பிரதமர் திறந்து வைத்தது?
 A. குஜராத் B. உத்திரபிரதேசம் C. உத்திரகண்ட் D. பீகார்
185. 'ஆந்திர கவிதாபிதாமகன்' என்று அல்லசாணி பெத்தன்னாவை அழைத்தவர் யார்?
 A. இரண்டாம் தேவராயர் B. அலாவுதீன் அசன்
 C. கிருஷ்ணதேவராயர் D. நந்தி திம்மண்ணா
186. 24, 15, 36 ஆகிய எண்களால் மீதியின்றி வகுபடக்கூடிய ஆறிலக்க எண் எது
 A. 999740 B. 999720 C. 999920 D. 999820

187. ஒரு தொடர் வரிசையில் n ஆம் உறுப்பு $\frac{n^2-1}{n+3}$ எனில் அதன் 15 ஆம் உறுப்பு என்ன
 A. $\frac{112}{9}$ B. $\frac{125}{18}$ C. 224 D. $\frac{224}{12}$
188. 4, 8, 16 _____ 8192 என்ற பெருக்குத் தொடரில் உறுப்புகளின் எண்ணிக்கை
 A. 8 B. 6 C. 12 D. 4
189. 1 செ.மீ ஆரமும் உயரமும் கொண்ட ஒரு மர உருளையில் இருந்து அதிகபட்ச கனஅளவு கொண்ட கோளம் வெட்டி எடுக்கப்படுகிறது எனில் அதன் கன அளவு என்ன?
 A. $\frac{4}{3}\pi$ B. $\frac{10}{3}\pi$ C. 5π D. $\frac{20}{3}\pi$
190. ஒரு கோளத்தின் ஆரம் 25% அதிகரிக்கும்போது அதன் புறப்பரப்பு எத்தனை சதவீதம் அதிகரிக்கும்?
 A. 50% B. 53% C. $56\frac{1}{4}\%$ D. 56%
191. கமலம் குலுக்கல் போட்டியில் கலந்து கொண்டாள் அங்கு மொத்தம் 135 சீட்டுகள் விற்கப்பட்டன. கமலம் வெற்றி பெறுவதற்கான வாய்ப்பு $\frac{1}{9}$ எனில் கமலம்வாங்கிய சீட்டுகளின் எண்ணிக்கை
 A. 5 B. 10 C. 15 D. 20
192. A என்பவர் ஒரு வேலையை 35 நாட்களில் முடிப்பார் B ஆனவர் A யைவிட 40% கூடுதல் திறன் வாய்ந்தவர் எனில் B ஆனவர் அந்த வேலையை எத்தனை நாட்களில் முடிப்பார்?
 A. 24 நாட்கள் B. 25 C. 20 D. 18
193. A என்பவர் ஒரு வேலையை 3 நாட்களில் B என்பவர் 6 நாட்களில் முடிப்பார் எனில் இருவரும் சேர்ந்து அந்த வேலையை எத்தனை நாட்களில் முடிப்பார்
 A. 1 B. 2 C. $1\frac{1}{2}$ D. 4
194. $A : B : C = 2 : 3 : 4$ எனில் $\frac{A}{B} : \frac{B}{C} : \frac{C}{A} = ?$
 A. 8 : 9 : 24 B. 4 : 6 : 8 C. 6 : 9 : 12 D. 8 : 12 : 6
195. 1,2,6,24, 120 ___ என்ற தொடரின் அடுத்த எண்
 A. 240 B. 570 C. 720 D. 360
196. ANIMAL என்பது 114913112 எனில் BIRDS என்பது எதை குறிக்கும்?
 A. 2917419 B. 2918419 C. 2987419 D. 2943819
197. இரண்டு எண்களின் விகிதம் 1:2 இரண்டு எண்களிலும் 7ஐ கூட்டினால் விகிதம் 3:5 என மாறுகிறது எனில் பெரிய எண் எது?
 A. 35 B. 14 C. 28 D. 40
198. 24 ஆண்கள் 12 நாட்களில் 48 பொருள்களை செய்வார்கள் எனில் 6 ஆண்கள் 6 பொருள்களை எத்தனை நாட்களில் செய்வார்கள்?
 A. 4 B. 8 C. 7 D. 6
199. 2,5, x, 20 என்ற எண்கள் இதே வரிசையில் விகித சமமாக அமைந்தால் x ன் மதிப்பு
 A. 50 B. 4 C. 10 D. 8
200. கீழே கொடுக்கப்பட்டவைகளில் எது பரவல் அளவை இல்லை?
 A. வீச்சு
 B. மாறுபாட்டுகொழு
 C. கூட்டுசராசரி
 D. திட்டவிலக்கம்

ALL THE BEST...!!!






TARGET STUDY CENTRE - VILLUPURAM

7639000355

(வெற்றி இலக்கை நோக்கி சங்கமம்)

7639000366

SPACE FOR ROUGH WORK



Padasalai.Net

GRIIGTGS/2022

Register
Number

--	--	--	--	--	--	--	--	--	--

2022

**GENERAL TAMIL (SSLC Standard) and
GENERAL STUDIES (Degree Standard)**

This Booklet Contains

**Part-A (GENERAL TAMIL - SSLC Std)
and
Part-B (General Studies - Degree Std)**


Duration: Three Hours]

[Total Marks : 300

Read the following instructions carefully before you begin to answer the questions.

IMPORTANT INSTRUCTIONS

1. You will be supplied with this question booklet 15 minutes prior to the commencement of the examination.
2. This question booklet contains 200 questions.
3. **Part-B of answer sheet of the candidates will not be evaluated, if the candidate does not secure minimum qualifying mark (40% - i.e. 60 marks) in Part-A. For Part-A qualified candidates, marks obtained in Part-B only will be considered for ranking list.**
4. Before answering the questions, you shall check whether all the questions are printed serially and ensure that there are no blank pages in the question booklet. **If any defect is noticed in the question booklet, it shall be reported to the invigilator within the first 10 minutes and get it replaced with a complete question booklet. If the defect is reported after the commencement of the examination, it will not be replaced.**
5. Answer all the questions. All the questions carry equal marks.
6. You must write your register number in the space provided on the top right side of this page. Do not write anything else on the question booklet.
7. An answer sheet will be supplied to you separately by the room invigilator to shade the answers. Instructions regarding filling of answers etc., which are to be followed mandatorily, are provided in the answer sheet and in the memorandum of admission (Hall Ticket).
8. You shall write and shade your question booklet number in the space provided on page one of the answer sheet with **BLACK INK BALL POINT PEN**. If you do not shade correctly or fail to shade the question booklet number, your answer sheet will be invalidated.
9. Each question comprises of five responses (answers) : i.e. (A), (B), (C), (D) and (E). You have to select **ONLY ONE** correct answer from (A) or (B) or (C) or (D) and shade the same in your answer sheet. If you feel that there are more than one correct answer, shade the one which you consider the best. **If you do not know the answer, you have to mandatorily shade (E).** In any case, choose **ONLY ONE** answer for each question. If you shade more than one answer for a question, it will be treated as a wrong answer even if one of the given answers happens to be correct.
10. You should not remove or tear off any sheet from this question booklet. You are not allowed to take this question booklet and the answer sheet out of the examination room during the time of examination. After the examination, you must hand over your answer sheet to the invigilator. You are allowed to take the question booklet with you only after the examination is over.
11. **You should not make any marking in the question booklet except in the sheets before the last page of the question booklet, which can be used for rough work. This should be strictly adhered to.**
12. Question in Sl. No 101 to 200 (Part-B) the English version is final.
13. Failure to comply with any of the above instructions will render you liable for such action as the Commission may decide at their discretion.




TARGET STUDY CENTRE - VILLUPURAM

☎ 7639000355

(வெற்றி இலக்கை நோக்கி சங்கமம்)

☎ 7639000366



TARGET STUDY CENTRE

(வெற்றி இலக்கை நோக்கி சங்கமம்) ☎ 7639000355

TNPSC Gr IV, VAO

DAILY BATCH I : 10 Am - 1 Pm

II : 6 Pm - 8 Pm

WEEKEND III : 9 Am - 5 Pm



CLASS & TEST BATCH அடம்ஷன் நடைபெறுகிறது

இடம்: 323 A, காமராஜர் வீதி, விழுப்புரம் (கணேஷ் ஜுவல்லரி மாடி)

Cell: 7639000355, 7639000366



TARGET STUDY CENTRE

(வெற்றி இலக்கை நோக்கி சங்கமம்) ☎ 7639000355

TNPSC Gr II, IV

GENERAL TAMIL MODEL TEST

பொதுத்தமிழ் முழு மாதிரித் தேர்வுகள்

www.targettnpsc.com



☎ / Call: 7639000355, 7639000366



www.Padasalai.Net TARGET STUDY CENTRE - VILLUPURAM www.CBSEtips.in

7639000355

(வெற்றி இலக்கை நோக்கி சங்கமம்)

7639000366

TNPSC Gr II MODEL TEST II – ANSWER KEY

1	2	3	4	5	6	7	8	9	10	11	12	13	14	15	16	17	18	19	20
C	B	D	D	D	C	D	C	A	A	C	A	C	A	D	A	D	A	B	D
21	22	23	24	25	26	27	28	29	30	31	32	33	34	35	36	37	38	39	40
A	C	D	C	D	A	C	D	D	B	D	C	C	C	D	A	C	B	D	A
41	42	43	44	45	46	47	48	49	50	51	52	53	54	55	56	57	58	59	60
D	A	C	A	B	C	D	B	A	D	B	D	D	D	A	C	A	D	B	B
61	62	63	64	65	66	67	68	69	70	71	72	73	74	75	76	77	78	79	80
B	B	D	A	D	B	D	B	B	C	B	D	D	C	D	A	D	C	C	C
81	82	83	84	85	86	87	88	89	90	91	92	93	94	95	96	97	98	99	100
D	C	C	D	C	D	D	C	B	C	C	D	A	D	B	B	D	D	A	B
101	102	103	104	105	106	107	108	109	110	111	112	113	114	115	116	117	118	119	120
C	B	C	D	B	C	B	D	C	A	B	C	C	D	C	D	B	C	B	C
121	122	123	124	125	126	127	128	129	130	131	132	133	134	135	136	137	138	139	140
B	B	D	D	C	A	B	B	A	A	C	C	D	B	D	C	D	D	D	A
141	142	143	144	145	146	147	148	149	150	151	152	153	154	155	156	157	158	159	160
A	A	D	A	C	C	C	C	D	C	D	A	B	C	B	D	D	C	B	B
161	162	163	164	165	166	167	168	169	170	171	172	173	174	175	176	177	178	179	180
C	C	A	D	A	B	C	B	D	C	B	B	B	A	D	C	B	C	D	A
181	182	183	184	185	186	187	188	189	190	191	192	193	194	195	196	197	198	199	200
D	B	B	A	C	B	A	C	A	C	C	B	B	A	C	B	C	D	D	C



TARGET STUDY CENTRE

(வெற்றி இலக்கை நோக்கி சங்கமம்)

VILLUPURAM

TNPSC Gr I, II, IV, VAO


SI POLICE - TET PAPER I, II

APTITUDE MATHS

FREE CLASS 27-04-22 முதல்

காலை 10 Am - 1 Pm புதன்தோறும் இலவச வகுப்பு

WhatsApp / Call: 7639000355, 7639000366



TARGET ACHIEVEMENT TEST BATCH

TNPSC Gr IV, VAO

பொதுத் தமிழ் மாதிரித் தேர்வு

சமூக அறிவியல் மாதிரித் தேர்வு

தேர்வு எண்	தேர்வு நாள்	BATCH - I சனிக்கிழமை	BATCH - II புதன் கிழமை
1.	28.05.22 01.06.22	பொதுத்தமிழ் மாதிரித் தேர்வு - I	6 th சமூக அறிவியல்
2.	04.06.22 08.06.22	பொதுத்தமிழ் மாதிரித் தேர்வு - II	7 th சமூக அறிவியல்
3.	11.06.22 15.06.22	பொதுத்தமிழ் மாதிரித் தேர்வு - III	8 th சமூக அறிவியல்
4.	18.06.22 22.06.22	பொதுத்தமிழ் மாதிரித் தேர்வு - IV	9 th சமூக அறிவியல்
5.	25.06.22 29.06.22	பொதுத்தமிழ் மாதிரித் தேர்வு - V	10 th சமூக அறிவியல்
6.	02.07.22 06.07.22	பொதுத்தமிழ் மாதிரித் தேர்வு - VI	6 th - 10 th சமூக அறிவியல்
7.	10.07.22	TNPSC Gr IV MODEL TEST - I	
8.	17.07.22	TNPSC Gr IV MODEL TEST - II	

குறிப்பு : ★ 100 பொது தமிழ் வினாக்கள் தேர்வு நடைபெறும்

★ 100 சமூக அறிவியல் வினாக்கள் தேர்வு நடைபெறும்

★ TNPSC Model Test 200 வினாக்கள் தேர்வு நடைபெறும்

சனி / புதன் தோறும்

காலை 8.00 மணி

2019 Gr IV
State IVth Rank

அட்மிஷன் நடைபெறுகிறது

Whats App / Call : 7639000355, 7639000366



TARGET STUDY CENTRE - VILLUPURAM

7639000355

(வெற்றி இலக்கை நோக்கி சங்கமம்)

7639000366

OMR ANSWER SHEET /

விடைத்தாள்

Admission No

General Tamil	100
General Studies	75
Aptitude Maths	25
Total	200

Name of the Candidate :

Register Number :

Subject :

Date :

Section-II / பிரிவு - II

Candidate to fill this area first

Write your Question Booklet number and shade the circle with Black Ballpoint pen only.

0	0	0	0	0	0	0	0
1	1	1	1	1	1	1	1
2	2	2	2	2	2	2	2
3	3	3	3	3	3	3	3
4	4	4	4	4	4	4	4
5	5	5	5	5	5	5	5
6	6	6	6	6	6	6	6
7	7	7	7	7	7	7	7
8	8	8	8	8	8	8	8
9	9	9	9	9	9	9	9

Section-III / பிரிவு - III

The Number of As, Bs, Cs, Ds and Es as shaded by the candidate in Section III(b) is written below by me (Invigilator)

As -			
Bs -			
Cs -			
Ds -			
Es -			
Total -			

தேர்வரின் கையொப்பம்/
Signature of the Candidate
(After the examination is over/
தேர்வு முடிந்த பின்னர்)

கண்காணிப்பாளரின் கையொப்பம்/
Signature of the Invigilator
(After the examination is over/
தேர்வு முடிந்த பின்னர்)

Q.No.	Answer	Q.No.	Answer	Q.No.	Answer
1	A B C D E	68	A B C D E	135	A B C D E
2	A B C D E	69	A B C D E	136	A B C D E
3	A B C D E	70	A B C D E	137	A B C D E
4	A B C D E	71	A B C D E	138	A B C D E
5	A B C D E	72	A B C D E	139	A B C D E
6	A B C D E	73	A B C D E	140	A B C D E
7	A B C D E	74	A B C D E	141	A B C D E
8	A B C D E	75	A B C D E	142	A B C D E
9	A B C D E	76	A B C D E	143	A B C D E
10	A B C D E	77	A B C D E	144	A B C D E
11	A B C D E	78	A B C D E	145	A B C D E
12	A B C D E	79	A B C D E	146	A B C D E
13	A B C D E	80	A B C D E	147	A B C D E
14	A B C D E	81	A B C D E	148	A B C D E
15	A B C D E	82	A B C D E	149	A B C D E
16	A B C D E	83	A B C D E	150	A B C D E
17	A B C D E	84	A B C D E	151	A B C D E
18	A B C D E	85	A B C D E	152	A B C D E
19	A B C D E	86	A B C D E	153	A B C D E
20	A B C D E	87	A B C D E	154	A B C D E
21	A B C D E	88	A B C D E	155	A B C D E
22	A B C D E	89	A B C D E	156	A B C D E
23	A B C D E	90	A B C D E	157	A B C D E
24	A B C D E	91	A B C D E	158	A B C D E
25	A B C D E	92	A B C D E	159	A B C D E
26	A B C D E	93	A B C D E	160	A B C D E
27	A B C D E	94	A B C D E	161	A B C D E
28	A B C D E	95	A B C D E	162	A B C D E
29	A B C D E	96	A B C D E	163	A B C D E
30	A B C D E	97	A B C D E	164	A B C D E
31	A B C D E	98	A B C D E	165	A B C D E
32	A B C D E	99	A B C D E	166	A B C D E
33	A B C D E	100	A B C D E	167	A B C D E
34	A B C D E	101	A B C D E	168	A B C D E
35	A B C D E	102	A B C D E	169	A B C D E
36	A B C D E	103	A B C D E	170	A B C D E
37	A B C D E	104	A B C D E	171	A B C D E
38	A B C D E	105	A B C D E	172	A B C D E
39	A B C D E	106	A B C D E	173	A B C D E
40	A B C D E	107	A B C D E	174	A B C D E
41	A B C D E	108	A B C D E	175	A B C D E
42	A B C D E	109	A B C D E	176	A B C D E
43	A B C D E	110	A B C D E	177	A B C D E
44	A B C D E	111	A B C D E	178	A B C D E
45	A B C D E	112	A B C D E	179	A B C D E
46	A B C D E	113	A B C D E	180	A B C D E
47	A B C D E	114	A B C D E	181	A B C D E
48	A B C D E	115	A B C D E	182	A B C D E
49	A B C D E	116	A B C D E	183	A B C D E
50	A B C D E	117	A B C D E	184	A B C D E
51	A B C D E	118	A B C D E	185	A B C D E
52	A B C D E	119	A B C D E	186	A B C D E
53	A B C D E	120	A B C D E	187	A B C D E
54	A B C D E	121	A B C D E	188	A B C D E
55	A B C D E	122	A B C D E	189	A B C D E
56	A B C D E	123	A B C D E	190	A B C D E
57	A B C D E	124	A B C D E	191	A B C D E
58	A B C D E	125	A B C D E	192	A B C D E
59	A B C D E	126	A B C D E	193	A B C D E
60	A B C D E	127	A B C D E	194	A B C D E
61	A B C D E	128	A B C D E	195	A B C D E
62	A B C D E	129	A B C D E	196	A B C D E
63	A B C D E	130	A B C D E	197	A B C D E
64	A B C D E	131	A B C D E	198	A B C D E
65	A B C D E	132	A B C D E	199	A B C D E
66	A B C D E	133	A B C D E	200	A B C D E
67	A B C D E	134	A B C D E		

The Number of As, Bs, Cs, Ds and Es as shaded by the candidate are to be written below boxes

--	--	--	--	--	--	--	--	--	--	--	--	--