

2022-23
EDITION

SURA'S 10TH STD SCHOOL GUIDES

10 ஆம்
வகுப்பு

100% வெற்றி

2022-23
புதிப்பு

SURA'S
SUPER
GUIDE

சுராவின்

சமூக அறிவியல்

புதிதாக திருத்தியமைக்கப்பட்ட பாடநூலின்படி தயாரிக்கப்பட்டுள்ளது.

Updated
New Edition



தில்வசதினையு
சுய மதிப்பீடு
பயிற்சி நூல்
மற்றும்
வரைப்படப்
பயிற்சி
புத்தகம்



ENGLISH
& TAMIL
MEDIUM

- பாடப்பகுதிகளிலுள்ள அனைத்து வினாக்களுக்கும் முழுமையான, எளிமையான விடைகள் கொடுக்கப்பட்டுள்ளன.
- ஒவ்வொரு பாடத்திலும் மிகுதியான அளவில் சுவடுதல் வினா விடைகள் தரப்பட்டுள்ளன.
- ஒவ்வொரு பாடத்தின் இறுதியிலும் அலகுத் தேர்வு வினாத்தாள் விடைகளுடன் தரப்பட்டுள்ளது.
- அரசு மாதிரி வினாத்தாள் 2019 (Govt, MQP 2019), காலாண்டுத் தேர்வு 2019 (QY- 2019), அரையாண்டுத் தேர்வு 2019 (HY- 2019) மற்றும் அரசு துணைத் தேர்வு செப்டம்பர் 2020 & 2021 (Sep-2020 & 21) வினாக்கள் ஆங்காங்கே சுட்டிக்காட்டப்பட்டுள்ளன.
- மாதிரி வினாத்தாள்கள் 1 முதல் 6 வரை (PTA) வினாக்கள் ஆங்காங்கே சுட்டிக்காட்டப்பட்டுள்ளன.
- அரசு துணைத்தேர்வு செப்டம்பர் - 2021 வினாத்தாள் விடைகளுடன் தரப்பட்டுள்ளது.



Call @
9600175757
8124301000

orders@surabooks.com

Buy Online @

surabooks.com

Kindly send me your answer keys to our email id - padasalai.net@gmail.com

சுராவின் சமூக அறிவியல்


10ஆம் வகுப்பு



புதிதாக
திருத்தியமைக்கப்பட்ட
பாடநூலின்படி
தயாரிக்கப்பட்டுள்ளது.

இலவச இணைப்பு
சுய மதிப்பீடு பயிற்சி நூல்
மற்றும்
வரைப்படப் பயிற்சி
புத்தகம்

சென்னை



சிறப்பம்சங்கள்

- பாடப்பகுதிகளிலுள்ள அனைத்து வினாக்களுக்கும் முழுமையான, எளிமையான விடைகள் கொடுக்கப்பட்டுள்ளன.
- ஒவ்வொரு பாடத்திலும் மிகுதியான அளவில் கூடுதல் வினா விடைகள் தரப்பட்டுள்ளன.
- ஒவ்வொரு பாடத்தின் இறுதியிலும் அலகுத் தேர்வு வினாத்தாள் விடைகளுடன் தரப்பட்டுள்ளது.
- மாதிரி வினாத்தாள்கள் 1 முதல் 6 வரை (PTA) வினாக்கள் ஆங்காங்கே சுட்டிக்காட்டப்பட்டுள்ளன.
- அரசு மாதிரி வினாத்தாள் 2019 (Govt, MQP 2019), காலாண்டுத் தேர்வு 2019 (QY- 2019), அரையாண்டுத் தேர்வு 2019 (HY -2019) மற்றும் அரசு துணைத் தேர்வு செப்டம்பர் 2020 & 2021 (Sep-2020 & 21) வினாக்கள் ஆங்காங்கே சுட்டிக்காட்டப்பட்டுள்ளன.
- அரசு துணைத்தேர்வு செப்டம்பர் - 2021 வினாத்தாள் விடைகளுடன் தரப்பட்டுள்ளது.



சுரா பப்ளிகேஷன்ஸ்
சென்னை

2022-23 புதிய பதிப்பு
© வெளியீட்டாளர்கள்

All rights reserved © SURA Publications.

No part of this book may be reproduced, stored in a retrieval system, or transmitted in any form or by any means, digitally, electronically, mechanically, photocopying, recorded or otherwise, without the written permission of the publishers. Strict action will be taken.

ISBN : 978-93-92559-10-5

குறியீட்டு எண். SG 331

<p>எழுதி வாழங்கியவர்</p> <p>திருமதி. ப. சுபத்ரா, M.A., M.Ed. சென்னை</p> <p>திரு. அ. சண்முகம், M.A, B.Ed. நாமக்கல்</p> <p>திருமதி. த. அகிலாண்டேஸ்வரி, M.A, M.Ed. சென்னை</p>	<p>திருத்தியவர்</p> <p>திரு. க. கண்ணப்பன், M.A., B.Ed., சென்னை</p> <p>மதிப்பாளர்</p> <p>முனைவர். வ. வேல்முருகன் M.A., M.Phil., Ph.D. துறைத்தலைவர், சேலம்</p>
---	--

Also available for Std - XI & XII

Guides :

- ❖ சுராவின் தமிழ் உரைநூல்
- ❖ Sura's Smart English
- ❖ Sura's Mathematics (EM/TM)
- ❖ Sura's Physics (EM/TM)
- ❖ Sura's Chemistry (EM/TM)
- ❖ Sura's Bio-Botany & Botany (EM/TM)
(Short Version & Long Version)
- ❖ Sura's Bio-Zoology & Zoology (EM/TM)
(Short Version & Long Version)
- ❖ Sura's Computer Science (EM/TM)
- ❖ Sura's Computer Applications (EM/TM)
- ❖ Sura's Commerce (EM/TM)
- ❖ Sura's Economics (EM/TM)
- ❖ Sura's Accountancy (EM/TM)
- ❖ Sura's Business Maths (EM)



தலைமை அலுவலகம்

சுரா பதிப்பகம்

1620, 'ஜே' பிளாக், 16-ஆவது பிரதான சாலை,
அண்ணா நகர்,
சென்னை-600 040.

Phones : 044-4862 9977, 486 27755

Mobile : 80562 94222 / 80562 15222

Whatsapp: 8124201000 / 9840926027

e-mail : orders@surabooks.com

website : www.surabooks.com

(23/12/2021)

மேலும் விவரங்களுக்கு / தொடர்புக்கு

புத்தகத்தில் உள்ள சந்தேகங்களுக்கு : enquiry@surabooks.com

புத்தகங்கள் வாங்க : orders@surabooks.com

தொடர்புக்கு : 96001 75757 / 8124301000

வாட்ஸ்அப் : 8124201000 / 9840926027

ஆன்லைன் வலைதளம் : www.surabooks.com

பாடக் குறிப்புகளின் தொகுக்கப்பட்ட பகுதிகளை எமது <http://tnkalvi.in>

இணையதளத்திலிருந்து இலவசமாக பதிவிறக்கிக்கொள்ளலாம்

(II)

orders@surabooks.com

Ph:9600175757 / 8124301000

Kindly send me your answer keys to our email id - padasalai.net@gmail.com

பதிப்பாசிரியர் உரை

10ஆம் வகுப்பிற்கான **சுராவின் சமூக அறிவியல் வழிகாட்டியை** வெளியிடுவதில் பெருமிதமும் மகிழ்ச்சியும் அடைகிறோம்.

புதிதாக திருத்தியமைக்கப்பட்ட பாடநூலின்படி, பாடங்களை தெளிவாகவும், முழுமையாகவும் புரிந்து கொள்வதற்கு தேவைப்படும் அனைத்து அம்சங்களையும் உள்ளடக்கி நமது வழிகாட்டி தயாரிக்கப்பட்டுள்ளது.

ஆசிரியர்களுக்கு கற்பிக்க உறுதுணையாகவும், மாணவர்களுக்கு கற்க உறுதுணையாகவும் இந்த வழிகாட்டி இருக்கும் வகையில் வினாக்களுக்கான விடைகள் விளக்கமாகவும், எளிமையாகவும் தரப்பட்டுள்ளன.

பாடப்புத்தகத்தின் அனைத்து பாடங்களையும் திறமையுடன் கற்றுக் கொள்வதற்கு உதவும் வகையில் விரிவான கூடுதல் வினா விடைகள் அனைத்து பிரிவின் கீழும் தரப்பட்டுள்ளன.

நமது வழிகாட்டி பல சிறப்பம்சங்களை கொண்டிருப்பினும், ஆசிரியர்கள் மாணவர்களுக்கு கற்பிப்பதின் பாங்கினை குறைத்து மதிப்பிட முடியாது. அது நிறைந்த மதிப்புடையது.

மாணவச் செல்வங்களின் தேவைகளை நிறைவு செய்யவும், ஆசிரியப் பெருந்தகையினரின் கற்பிக்கும் பாங்கினை மேம்படுத்தவும் இந்த வழிகாட்டி பெரிதும் உதவும் என்று உறுதியுடன் நம்புகிறோம்.

மாணவமணிகள் தேர்வில் முழு வெற்றி பெற இறையருளை வேண்டுகிறோம்.

- **சுபாஷ் ராஜ்**, B.E., M.S.

பதிப்பகத்தார்

சுரா பப்ளிகேஷன்ஸ்

வாழ்த்துக்கள் !!!

TO ORDER WITH US

SCHOOLS and TEACHERS:

We are grateful for your support and patronage to 'SURA PUBLICATIONS'

Kindly prepare your order in your School letterhead and send it to us.





For Orders contact: 81242 01000 / 81243 01000

DIRECT DEPOSIT

A/c Name : Sura Publications	A/c Name : Sura Publications
Our A/c No. : 36550290536	Our A/c No. : 21000210001240
Bank Name : STATE BANK OF INDIA	Bank Name : UCO BANK
Bank Branch : PADI	Bank Branch : Anna Nagar West
IFSC : SBIN0005083	IFSC : UCBA0002100
A/c Name : Sura Publications	A/c Name : Sura Publications
Our A/c No. : 6502699356	Our A/c No. : 1154135000017684
Bank Name : INDIAN BANK	Bank Name : KVB BANK
Bank Branch : ASIAD COLONY	Bank Branch : Anna Nagar
IFSC : IDIB000A098	IFSC : KVBL0001154

After Deposit, please send challan and order to our address.

email : orders@surabooks.com / Whatsapp : 81242 01000.

 For Google Pay : 98409 26027 	 For PhonePe : 98409 26027 
---	--


DEMAND DRAFT / CHEQUE

Please send Demand Draft / cheque in favour of 'SURA PUBLICATIONS' payable at **Chennai**.

The Demand Draft / cheque should be sent with your order in School letterhead.

STUDENTS :

Order via Money Order (M/O) to



SURA PUBLICATIONS
 1620, 'J' Block, 16th Main Road, Anna Nagar,
 Chennai - 600 040.
 Phones : 044-4862 9977, 044-486 27755.
 Mobile : 96001 75757/ 81242 01000/81243 01000.
 email : orders@surabooks.com Website : www.surabooks.com

பொருளடக்கம்

வரலாறு

அலகு 1	முதல் உலகப்போரின் வெடிப்பும் அதன் பின்விளைவுகளும்	1-14	ஜூன்
அலகு 2	இரு உலகப் போர்களுக்கு இடையில் உலகம்	15-28	ஜூலை
அலகு 3	இரண்டாம் உலகப்போர்	29-42	ஜூலை
அலகு 4	இரண்டாம் உலகப்போருக்குப் பிந்தைய உலகம்	43-54	ஆகஸ்ட்
அலகு 5	19ஆம் நூற்றாண்டில் சமூக, சமய சீர்திருத்த இயக்கங்கள்	55-68	ஆகஸ்ட் மற்றும் செப்டம்பர்
அலகு 6	ஆங்கிலேய ஆட்சிக்கு எதிராக தமிழகத்தில் நிகழ்ந்த தொடக்ககால கிளர்ச்சிகள்	69-82	அக்டோபர்
அலகு 7	காலனியத்துக்கு எதிரான இயக்கங்களும் தேசியத்தின் தோற்றமும்	83-96	அக்டோபர்
அலகு 8	தேசியம்: காந்திய காலகட்டம்	97-112	நவம்பர்
அலகு 9	தமிழ்நாட்டில் விடுதலைப் போராட்டம்	113-122	நவம்பர்
அலகு 10	தமிழ்நாட்டில் சமூக மாற்றங்கள்	123-138	நவம்பர் மற்றும் டிசம்பர்

புவியியல்

அலகு 1	இந்தியா - அமைவிடம், நிலத்தோற்றம் மற்றும் வடிகாலமைப்பு	139-158	ஜூன்
அலகு 2	இந்தியா - காலநிலை மற்றும் இயற்கைத் தாவரங்கள்	159-170	ஜூன்
அலகு 3	இந்தியா - வேளாண்மை	171-186	ஜூலை
அலகு 4	இந்தியா - வளங்கள் மற்றும் தொழிலகங்கள்	187-202	ஆகஸ்ட்
அலகு 5	இந்தியா - மக்கள் தொகை, போக்குவரத்து, தகவல் தொடர்பு மற்றும் வணிகம்	203-220	ஆகஸ்ட்
அலகு 6	தமிழ்நாடு - இயற்கைப் பிரிவுகள்	221-240	அக்டோபர்
அலகு 7	தமிழ்நாடு - மானுடப் புவியியல்	241-260	நவம்பர்

(V)

குடிமையியல்

அலகு 1	இந்திய அரசியலமைப்பு	261-270	ஜூன்
அலகு 2	நடுவண் அரசு	271-282	ஜூலை
அலகு 3	மாநில அரசு	283-294	ஆகஸ்ட்
அலகு 4	இந்தியாவின் வெளியுறவுக் கொள்கை	295-304	அக்டோபர்
அலகு 5	இந்தியாவின் சர்வதேச உறவுகள்	305-318	நவம்பர்

பொருளியல்

அலகு 1	மொத்த உள்நாட்டு உற்பத்தி மற்றும் அதன் வளர்ச்சி: ஓர் அறிமுகம்	319-332	ஜூன்
அலகு 2	உலகமயமாதல் மற்றும் வர்த்தகம்	333-342	ஜூலை
அலகு 3	உணவு பாதுகாப்பு மற்றும் ஊட்டச்சத்து	343-354	ஆகஸ்ட்
அலகு 4	அரசாங்கமும் வரிகளும்	355-366	அக்டோபர்
அலகு 5	தமிழ்நாட்டில் தொழில்துறை தொகுப்புகள்	367-378	நவம்பர்
அரசு துணைத்தேர்வு , செப்டம்பர் - 2021 வினாத்தாள் விடைகளுடன்		379-394	

வரலாறு

அலகு
1

முதல் உலகப்போரின்
வெடிப்பும் அதன்
பின்விளைவுகளும்



கற்றலின் நோக்கங்கள்

- ஐரோப்பிய வல்லரசுகளிடையே பகைமையும் மோதல்களும் ஏற்படுவதற்கு இட்டுச் சென்ற காலனியாதிக்கப் போட்டி.
- கிழக்கு ஆசியாவில் ஜப்பான் அதிக வலிமை மிகுந்த நாடாகவும் ஆக்கிரமிப்பு செய்யும் தன்மை கொண்ட நாடாகவும் மேலெழுதல்.
- காலனியாதிக்கம் ஆப்பிரிக்காவின் மீது தாக்கத்தை ஏற்படுத்துதல்.
- முதல் உலகப்போருக்கான காரணங்கள், போரின் போக்கு, விளைவுகள்.
- வெர்செய்ல்ஸ் உடன்படிக்கையும் அதன் சரத்துக்களும்
- ரஷ்யப் புரட்சிக்கான காரணங்களும் அதன் போக்கும் விளைவுகளும்.
- பன்னாட்டுச் சங்கம் உருவாக்கப்படுதலும் அதன் செயல்பாடுகளும் தோல்வியும்.

பயிற்சி

I. சரியான விடையைத் தேர்வு செய்யவும்

1. முதல் உலகப்போரின் இறுதியில் நிலைகுலைந்து போன மூன்று பெரும் பேரரசுகள் யாவை?
 - அ) ஜெர்மனி, ஆஸ்திரிய-ஹங்கேரி, உதுமானியர்
 - ஆ) ஜெர்மனி, ஆஸ்திரிய-ஹங்கேரி, ரஷ்யா
 - இ) ஸ்பெயின், போர்ச்சுகல், இத்தாலி
 - ஈ) ஜெர்மனி, ஆஸ்திரிய-ஹங்கேரி, இத்தாலி [விடை : அ) ஜெர்மனி, ஆஸ்திரிய-ஹங்கேரி, உதுமானியர்]
2. பத்தொன்பதாம் நூற்றாண்டு முடிவடையுந்தருவாயில் கிழக்கு ஆசியாவில் உதயமான வலிமை வாய்ந்த நாடு எது?
 - அ) சீனா
 - ஆ) ஜப்பான்
 - இ) கொரியா
 - ஈ) மங்கோலியா [விடை: ஆ) ஜப்பான்]
3. “ஏகாதிபத்தியம் முதலாளித்துவத்தின் உச்ச கட்டம்” எனக் கூறியவர் யார்? (PTA-6)
 - அ) லெனின்
 - ஆ) மார்க்ஸ்
 - இ) சன் யாட் சென்
 - ஈ) மா சே தூங் [விடை: அ) லெனின்]
4. மார்ன் போர் எதற்காக நினைவு கூறப்படுகிறது?
 - அ) ஆகாயப் போர்முறை
 - ஆ) பதுங்குக் குழிப் போர்முறை
 - இ) நீர்மூழ்கிக் கப்பல் போர்முறை
 - ஈ) கடற்படைப் போர்முறை

[விடை : ஆ) பதுங்குக் குழிப் போர்முறை]

சுராவின் □ சமூக அறிவியல் □ 10 ஆம் வகுப்பு

5. பன்னாட்டுச் சங்கத்தின் முதல் பொதுச்செயலர் எந்த நாட்டைச் சேர்ந்தவர்?
அ) பிரிட்டன் ஆ) பிரான்ஸ் இ) டச்சு ஈ) அமெரிக்க ஐக்கிய நாடுகள்
[விடை: அ) பிரிட்டன்]
6. பின்லாந்தைத் தாக்கியதற்காக பன்னாட்டுச் சங்கத்திலிருந்து வெளியேற்றப்பட்ட நாடு எது?
[Sep-2021]
அ) ஜெர்மனி ஆ) ரஷ்யா இ) இத்தாலி ஈ) பிரான்ஸ் [விடை: ஆ) ரஷ்யா]

II. கோடிட்ட இடங்களை நிரப்புக

1. _____ ஆம் ஆண்டில் ஜப்பான் சீனாவுடன் வலுக்கட்டாயமாகப் போரிட்டது. [விடை: 1894]
2. 1913ஆம் ஆண்டு மே மாதம் கையெழுத்திடப்பட்ட _____ உடன்படிக்கையின்படி அல்பேனியா எனும் புதியநாடு உருவாக்கப்பட்டது. [விடை: இலண்டன்]
3. _____ ஆண்டில் ஜப்பான் இங்கிலாந்துடன் நட்பினை ஒப்பந்தம் செய்து கொண்டது. [விடை: 1902]
4. பால்கனில் _____ நாடு பல்வகை இனமக்களைக் கொண்டிருந்தது. [விடை: மாசிடோனியா]
5. டானென்பர்க் போரில் _____ பேரிழப்புகளுக்கு உள்ளானது. [விடை: ரஷ்யா]
6. பாரிஸ் அமைதி மாநாட்டில் பிரதிநிதியாகப் பங்கேற்ற பிரான்ஸின் பிரதமர் _____ ஆவார். [விடை: கிளமென்சோ]
7. _____ ஆம் ஆண்டில் லொக்கர்னோ உடன்படிக்கை கையெழுத்திடப்பட்டது. [விடை: 1925]
[PTA-1]

III. சரியான கூற்றைத் தேர்வு செய்யவும்

1. i) துருக்கியப் பேரரசு, பால்கனில் துருக்கியரல்லாத பல இனமக்களைக் கொண்டிருந்தது.
ii) துருக்கி மையநாடுகள் பக்கம் நின்று போரிட்டது.
iii) பிரிட்டன் துருக்கியைத் தாக்கி கான்ஸ்டாண்டிநோபிளைக் கைப்பற்றியது.
iv) சூயஸ் கால்வாயைத் தாக்க துருக்கி மேற்கொண்ட முயற்சி முறியடிக்கப்பட்டது.
அ) (i), (ii) ஆகியன சரி ஆ) (i), (iii) ஆகியன சரி
இ) (iv) சரி ஈ) (i), (ii), (iv) ஆகியன சரி
[விடை: ஈ) (i), (ii) (iv) ஆகியன சரி]
2. கூற்று : ஜெர்மனியும் அமெரிக்காவும் மலிவான தொழிற்சாலைப் பொருள்களை உற்பத்தி செய்து இங்கிலாந்தின் சந்தையைக் கைப்பற்றின.
காரணம் : இருநாடுகளும் தங்கள் தொழிற்சாலைகளுக்குத் தேவையான மூலப்பொருள்களை உற்பத்தி செய்தன.
அ) கூற்று, காரணம் ஆகிய இரண்டும் சரி.
ஆ) கூற்று சரி, ஆனால் காரணம் கூற்றுக்கான விளக்கம் அல்ல.
இ) கூற்று, காரணம் ஆகிய இரண்டும் தவறு.
ஈ) காரணம் சரி, ஆனால் கூற்று தவறு.
[விடை: ஆ) கூற்று சரி, ஆனால் காரணம் கூற்றுக்கான விளக்கம் அல்ல.]
3. கூற்று : ஆப்பிரிக்காவில் குடியேற்றங்களை ஏற்படுத்துவதற்காக ஐரோப்பிய நாடுகள் மேற்கொண்ட முதற்கட்ட முயற்சிகள் ரத்தக்களரியான போர்களில் முடிந்தன.
காரணம் : சொந்த நாட்டு மக்களிடமிருந்து கடுமையான எதிர்ப்பு இருந்தது.
அ) காரணம், கூற்று ஆகிய இரண்டும் சரி.
ஆ) கூற்று சரி, ஆனால் காரணம் கூற்றுக்கான விளக்கம் அல்ல.
இ) கூற்று, காரணம் இரண்டுமே தவறு.
ஈ) காரணம் சரி, ஆனால் கூற்று தவறு. [விடை: அ) காரணம், கூற்று ஆகிய இரண்டும் சரி]



IV. பொருத்துக

1.	பிரெஸ்ட் - லிடோவஸ்க் உடன்படிக்கை	-	வொர்செய்ல்ஸ்
2.	ஜிங்கோயிசம்	-	துருக்கி
3.	கமால் பாட்சா	-	ரஷ்யாவும் ஜெர்மனியும்
4.	எம்டன்	-	இங்கிலாந்து
5.	கண்ணாடி மாளிகை	-	சென்னை

விடை:

1.	பிரெஸ்ட் - லிடோவஸ்க் உடன்படிக்கை	-	ரஷ்யாவும் ஜெர்மனியும்
2.	ஜிங்கோயிசம்	-	இங்கிலாந்து
3.	கமால் பாட்சா	-	துருக்கி
4.	எம்டன்	-	சென்னை
5.	கண்ணாடி மாளிகை	-	வொர்செய்ல்ஸ்

V. சுருக்கமாக விடையளிக்கவும்

- சீன - ஜப்பானியப் போரின் முக்கியத்துவத்தை நீ எவ்வாறு மதிப்பீடு செய்வாய்?
 - 1894 இல் ஜப்பான் சீனாவின் மீது வலுக்கட்டாயமாக ஒரு போரை மேற்கொண்டது. இச்சீன - ஜப்பானியப் போரில் (1894 - 1895) சீனாவைச் சிறிய நாடான ஜப்பான் தோற்கடித்தது உலகை வியக்க வைத்தது.
 - தொடர்ந்து ரஷ்யா, ஜெர்மனி, பிரான்ஸ் ஆகிய வல்லரசுகளின் எச்சரிக்கையை மீறி ஜப்பான் லியோடாங் தீபகற்பத்தை ஆர்தர் துறைமுகத்துடன் சேர்த்து இணைத்துக் கொண்டது.
 - இந்த நடவடிக்கை மூலம் கிழக்கு ஆசியாவில் தானே வலிமை அரசு என ஜப்பான் மெய்ப்பித்தது.
- மூவர் கூட்டு நாடுகளின் பெயர்களைக் குறிப்பிடுக. (QY, HY-2019)
மூவர் கூட்டு நாடுகளின் பெயர்கள் : இங்கிலாந்து, பிரான்ஸ், ரஷ்யா.
- ஐரோப்பிய போர்க்குணம் வாய்ந்த தேசியவாதத்தின் மூன்று வடிவங்கள் எவை?
ஐரோப்பியப் போர்க்குணம் வாய்ந்த தேசியவாதத்தின் மூன்று வடிவங்கள் :
 - இங்கிலாந்து - ஆரவாரமான நாட்டுப்பற்று (jingoism)
 - பிரான்ஸ் - வெறிகொண்ட நாட்டுப்பற்று (chauvinism)
 - ஜெர்மனி-ஜெர்மானியக் கலாச்சாரத்தை மிக உயர்வாக நினைப்பது (Kultur)
- பதுங்குக் குழிப்போர் முறை குறித்து நீங்கள் அறிந்ததென்ன? (PTA-3; Sep-2021)
பதுங்குக் குழிப்போர் :
 - போர்வீரர்களால் தோண்டப்படும் பதுங்குக் குழிகள் எதிரிகளின் சுடுதலில் இருந்து தங்களை காத்துக் கொண்டு பாதுகாப்பாக நிற்க உதவின.
 - பிரதானப் பதுங்குக்குழிகள் ஒன்றோடொன்றும் பின்புறமுள்ள குழிகளோடும் இணைக்கப்பட்டிருக்கும். அவற்றின் வழியாக உணவு ஆயுதங்கள், கடிதங்கள், ஆணைகள் ஆகியவை வந்துசேரும். புதிய வீரர்களும் வந்து சேர்வர்.
- முஸ்தபா கமால் பாட்சா வகித்தப் பாத்திரமென்ன?
 - துருக்கி மீண்டும் ஒரு நாடாக மறுபிறவி எடுப்பதற்கு முஸ்தபா கமால் பாட்சா முக்கிய பங்கு வகித்தார்.
 - கமால் பாட்சா துருக்கி நாட்டிற்கு விடுதலையை மட்டும் பெற்றுத்தரவில்லை. அவர் துருக்கியை நவீனமயமாக்கி அதை எதிர்மறையான அங்கீகாரத்திலிருந்தும் மாற்றியமைத்தார்.
 - சுல்தானியத்திற்கும் கலீபாத்திற்கும் முற்றுப் புள்ளி வைத்தார். சோவியத் யூனியனின் ஆதரவு அவருக்குப் பேருதவியாய் அமைந்தது.

சுராவின □ சமூக அறிவியல் □ 10 ஆம் வகுப்பு

6. பன்னாட்டுச் சங்கத்தின் தோல்விக்கான ஏதேனும் இரண்டு காரணங்களைப் பட்டியலிடுக.
- பன்னாட்டுச் சங்கம் முதல் உலகப்போரில் வெற்றி பெற்ற நாடுகளின் அமைப்பாகவே காணப்பட்டது.
 - சங்கத்திற்கென்று இராணுவம் இல்லை என்பதால் தான் எடுத்த முடிவுகளை நடைமுறைப்படுத்த அதனால் இயலவில்லை.

VI. பின்வரும் வினாக்களுக்கு விரிவான விடையளிக்கவும்

1. முதல் உலகப்போருக்கான முக்கியக் காரணங்களை விவாதி. (PTA-1; Sep-2020, 21)
- முதல் உலகப்போருக்கான காரணங்கள் -
- அ) ஐரோப்பிய நாடுகளின் அணி சேர்க்கைகளும் எதிர் அணி சேர்க்கைகளும் :
- 1900-ல் ஐரோப்பிய வல்லரசுகளில் ஐந்து அரசுகள், இரண்டு ஆயுதமேந்திய முகாம்களாகப் பிரிந்தன.
 - ஒரு முகாம் மையநாடுகளான ஜெர்மனி, ஆஸ்திரிய-ஹங்கேரி, இத்தாலி ஆகியவற்றைக் கொண்டிருந்தது. அவை 1882 இல் மூவர் உடன்படிக்கையை மேற்கொண்டன.
 - இதன்படி ஜெர்மனியும் ஆஸ்திரியாவும் பரஸ்பரம் உதவிகள் செய்து கொள்ளும். மற்றொரு முகாமில் பிரான்சும் ரஷ்யாவும் அங்கம் வகித்தன.
 - 1894 இல் மேற்கொண்ட உடன்படிக்கையின்படி இவ்விரு நாடுகளில் ஏதாவது ஒன்று ஜெர்மனியால் தாக்கப்படும் பட்சத்தில் பரஸ்பரம் துணை நிற்கும் என உறுதி செய்யப்பட்டது.
 - இவ்வாறு இங்கிலாந்து, பிரான்ஸ், ரஷ்யா ஆகிய மூவரைக் கொண்ட மூவர் கூட்டு உருவாக்கப்பட்டது.
- ஆ) வன்முறை சார்ந்த தேசியம் :
- தேசப்பற்றின் வளர்ச்சியோடு "எனது நாடு சரியோ தவறோ நான் அதை ஆதரிப்பேன்" என்ற மனப்பாங்கும் வளர்ந்தது.
 - இங்கிலாந்தின் ஆரவாரமான நாட்டுப்பற்று, பிரான்ஸின் அதி தீவிரப்பற்று, ஜெர்மனியின் வெறிகொண்ட நாட்டுப்பற்று ஆகிய அனைத்தும் தீவிர தேசியமாக போர்வெடிப்பதற்கு தீர்மானமாக பங்காற்றியது.
- இ) ஜெர்மன் பேரரசின் ஆக்கிரமிப்பு மனப்பாங்கு:
- ஜெர்மன் பேரரசரான இரண்டாம் கெய்சர் வில்லியம் ஜெர்மனியே உலகத்தின் தலைவன் எனப் பிரகடனம் செய்தார்.
 - இந்நிலையில் ஜெர்மனியின் ஆக்கிரமிப்பு இயல்பு கொண்ட அரசியல் விவேகத்தையும் விரைவாகக் கட்டப்படும் அதன் கப்பற்படை தளங்களையும் கண்ணுற்ற இங்கிலாந்து, ஜெர்மன் கப்பற்படை தனக்கு எதிரானது என முடிவு செய்தது.
 - ஆகவே இங்கிலாந்தும் கப்பற்படை விரிவாக்கப் போட்டியில் இறங்கவே இரு நாடுகளுக்கிடையிலான பதற்றம் மேலும் அதிகரித்தது.
- ஈ) பிரான்ஸ் ஜெர்மனியோடு கொண்ட பகை ;
- பிரான்சும் ஜெர்மனியும் பழைய பகைவர்கள்.
 - 1871 இல் ஜெர்மனியால் தோற்கடிக்கப்பட்ட பிரான்ஸ் அல்சேஸ், லொரைன் பகுதிகளை ஜெர்மனியிடம் இழக்க நேரிட்டது.
 - மொராக்கோ விவகாரத்தில் ஜெர்மனியின் தலையீடு இக்கசப்புணர்வை மேலும் அதிகரித்தது.
 - மொராக்கோவில் பிரான்சின் நலன்கள் சார்ந்து, இங்கிலாந்து பிரான்சோடு மேற்கொண்ட ஒப்பந்தத்தை ஜெர்மனி எதிர்த்தது.
- உ) பால்கன் பகுதியில் ஏகாதிபத்திய அரசியல் அதிகாரத்திற்கான வாய்ப்பு :
- 1908 ஆம் ஆண்டில் துருக்கியில் ஒரு வலுவான, நவீன அரசை உருவாக்கும் முயற்சியாக இளம்துருக்கியர் புரட்சி நடைபெற்றது.



- (ii) பாஸ்னியாவையும் ஹெர்சுகோவினாவையும் தான் இணைத்துக் கொண்டதாக ஆஸ்திரியா அறிவித்தது. ஆஸ்திரியாவின் இவ்வறிவிப்பு செர்பியாவில் தீவிரமான எதிர்ப்பைத் தூண்டியது.
- (iii) ஆஸ்திரியாவிற்கும் செர்பியாவிற்குமான இப்பகை 1914 இல் போர் வெடிக்கக் காரணமாயிற்று.
- ஊ) பால்கன் போர்கள் :**
- (i) பதினெட்டாம் நூற்றாண்டின் முதல்பாதியில் தென்மேற்கு ஐரோப்பியாவில் துருக்கி வலிமை வாய்ந்த நாடாகத் திகழ்ந்தது.
- (ii) பதினெட்டாம் நூற்றாண்டின் பிற்பாதியில் துருக்கியப் பேரரசின் உறுதியற்ற அரசியல் பொருளாதாரச் சூழலைச் சாதகமாகக் கொண்டு கிரீசும் அதனைத் தொடர்ந்து ஏனைய நாடுகளும் ஒன்றன் பின் ஒன்றாகத் தங்களைத் துருக்கியின் கட்டுப்பாட்டிலிருந்து விடுவித்துக் கொண்டன.
- (iii) 1912 ஆம் ஆண்டு மார்ச் திங்களில் பால்கன் கழகம் என்ற அமைப்பை உருவாக்கின.
- (iv) இக்கழகம் முதல் பால்கன் போரில் (1912 - 1913) துருக்கிய படைகளைத் தாக்கித் தோற்கடித்தன.
- (v) 1913 மே திங்களில் கையெழுத்தான இலண்டன் உடன்படிக்கையின்படி அல்பேனியா எனும் புதிய நாடு உருவாக்கப்பட்டது.
- எ) உடனடிக்காரணம் :**
- (i) பால்கனில் நடைபெற்ற இந்நிகழ்வுகளில் உச்சக்கட்டம் பாஸ்னியாவிலுள்ள செராஜிவோ என்னும் இடத்தில் அரங்கேறியது.
- (ii) 1914 ஆம் ஆண்டு ஜூன் 28ம் நாள் ஆஸ்திரியப் பேரரசரின் மகனான பிரான்ஸ் பெர்டினாண்டு, பிரின்ஸ்ப் எனும் பெயரைக் கொண்ட பாஸ்னிய செர்பியனால் கொலை செய்யப்பட்டார்.
- (iii) ஆஸ்திரியா இதனை செர்பியாவைக் கைப்பற்றுவதற்கான வாய்ப்பாக எண்ணியது.
- (iv) ஆகஸ்டு திங்கள் முதல் நாள் ஜெர்மனி ரஷ்யாவிற்கு எதிராக போர் அறிவிப்பு செய்தது.
- (v) பெல்ஜியத்தின் நடுநிலைமையை மதியாது அதனை ஜெர்மனி தாக்கவே இப்போரில் இங்கிலாந்து பங்கேற்பது கட்டாயமாயிற்று.

2. ஜெர்மனியுடன் தொடர்புடைய வெர்செய்ல்ஸ் உடன்படிக்கையின் சரத்துக்களை கோடிட்டுக் காட்டுக.

வெர்செய்ல்ஸ் உடன்படிக்கையின் சரத்துக்கள் :

(PTA-2,6)

- (i) போரைத் தொடங்கிய குற்றத்தைச் செய்தது ஜெர்மனி என்பதால் போரால் ஏற்பட்ட இழப்புகளுக்கு ஜெர்மனி இழப்பீடு வழங்க வேண்டும். எனவும் மைய நாடுகள் அனைத்தும் போர் இழப்பீட்டுத் தொகையை வழங்கவும் வலியுறுத்தப்பட்டன.
- (ii) ஜெர்மன் படை 1,00,000 வீரர்களை மட்டுமே கொண்டதாக அளவில் சுருக்கப்பட்டது. சிறிய கப்பற்படையொன்றை மட்டும் வைத்துக்கொள்ள அனுமதிக்கப்பட்டது.
- (iii) ஆஸ்திரியா, ஜெர்மனி ஆகிய இரண்டின் ஒருங்கிணைப்பு தடை செய்யப்பட்டது.
- (iv) ஜெர்மனியின் அனைத்துக் காலனிகளும் பன்னாட்டுச் சங்கத்தின் பாதுகாப்பு நாடுகளாக ஆக்கப்பட்டன.
- (v) ரஷ்யாவுடன் செய்து கொள்ளப்பட்ட பிரெஸ்ட் - லிடோவஸ்க் உடன்படிக்கையையும் பல்கேரியாவுடன் மேற்கொள்ளப்பட்ட புகாரெஸ்ட் உடன்படிக்கையையும் திரும்பப் பெற்றுக் கொள்ள ஜெர்மனி வற்புறுத்தப்பட்டது.
- (vi) அல்சேஸ்-லொரைன் பகுதிகள் பிரான்சுக்குத் திருப்பித் தரப்பட்டன.
- (vii) முன்னர் ரஷ்யாவின் பகுதிகளாக இருந்த பின்லாந்து, எஸ்தோனியா, லாட்வியா, லிதுவேனியா ஆகியன சுதந்திரநாடுகளாகச் செயல்பட அனுமதிக்கப்பட்டது.
- (viii) வடக்கு ஷ்லெஸ்விக் டென்மார்க்கிற்கும் சிறிய மாவட்டங்கள் பெல்ஜியத்திற்கும் வழங்கப்பட்டன.
- (ix) போலந்து மீண்டும் உருவாக்கப்பட்டது.
- (x) நேசநாடுகளின் ஆக்கிரமிப்பின்கீழ் ரைன்லாந்து இருக்கும் என்றும், ரைன்நதியின் கிழக்குக்கரைப் பகுதி படை நீக்கம் செய்யப்பட்டப் பகுதியாக்கப்படும் என்றும் அறிவிக்கப்பட்டது.

அலகு 2

இரு உலகப்போர்களுக்கு இடையில் உலகம்



கற்றலின் நோக்கங்கள்

- முதல் உலகப்போருக்குப் பிந்தைய நிகழ்வுகள் பொருளாதாரப் பெருமந்தத்திற்கு இட்டுச் சென்றது.
- தோல்வியடைந்த நாடுகளின் மீது தீணிக்கப்பட்ட, நீதிக்குப் புறம்பான வெர்செய்ல்ஸ், உடன்படிக்கையின் சரத்துக்கள். இத்தாலியில் முசோலியின் தலைமையிலும், ஜெர்மனியில் ஹிட்லரின் தலைமையிலும் பாசிச அரசுகள் எழுச்சி பெறுதல்.
- காலனிகளாக்கப்பட்ட உலகில் காலனிய எதிர்ப்புப் போராட்டங்களும், காலனிய நீக்கச் செயல்பாடுகளும், ஆய்வுக்கு எடுத்துக் கொள்ளப்பட்ட பகுதிகளாக தென்கிழக்காசியாவில் இந்தோ - பிரான்சும், தெற்காசியாவில் இந்தியாவும்,
- ஆப்பிரிக்காவில் ஐரோப்பியக் காலனிகள் உருவாக்கப்படுதல். அவ்வகையில் தென்னாப்பிரிக்காவில் இங்கிலாந்து காலனிகளை ஏற்படுத்துதல்.
- தென் அமெரிக்காவில் விடுதலைப் போராட்டங்களும் அரசியல் வளர்ச்சிகளும்.

பயிற்சி

I. சரியான விடையைத் தேர்வு செய்யவும்

1. இத்தாலி யாருடன் லேட்டரன் உடன்படிக்கையைச் செய்து கொண்டது? (Govt.MQP, QY-2019)
அ) ஜெர்மனி ஆ) ரஷ்யா
இ) போப் ஈ) ஸ்பெயின் [விடை : இ) போப்]
2. யாருடைய ஆக்கிரமிப்போடு மெக்சிகோ நாகரிகம் நிலைகுலைந்து போயிற்று?
அ) ஹெர்மன் கோர்ட்டஸ் ஆ) பிரான்சிஸ்கோ பிசாரோ
இ) தெளசெயின்ட் லாவெர்ட்யூர் ஈ) முதலாம் பெட்ரோ [விடை : அ) ஹெர்மன் கோர்ட்டஸ்]
3. பெரு நாட்டை யார் தங்களுடைய பகுதிகளில் ஒன்றாக ஆக்கிக்கொண்டனர்?
அ) ஆங்கிலேயர் ஆ) ஸ்பானியர்
இ) ரஷ்யர் ஈ) பிரெஞ்சுக்காரர் [விடை : ஆ) ஸ்பானியர்]
4. லத்தீன் அமெரிக்காவுடன் 'அண்டை நாட்டுடன் நட்புறவு' எனும் கொள்கையைக் கடைப்பிடித்த அமெரிக்கக் குடியரசுத்தலைவர் யார்?
அ) ரூஸ்வெல்ட் ஆ) ட்ரூமன்
இ) உட்ரோவில்சன் ஈ) ஐசனோவர் [விடை: அ) ரூஸ்வெல்ட்]
5. உலகத்தின் எந்தப் பகுதி டாலர் அரசியல் ஏகாதிபத்தியத்தை விரும்பவில்லை? (PTA-2)
அ) ஐரோப்பா ஆ) லத்தீன் அமெரிக்கா
இ) இந்தியா ஈ) சீனா [விடை : ஆ) லத்தீன் அமெரிக்கா]

[15]

சுராவின் □ சமூக அறிவியல் □ 10 ஆம் வகுப்பு

II. கோடிட்ட இடங்களை நிரப்புக

1. சமூக ஜனநாயகக் கட்சியை நிறுவியவர் _____ . [விடை: பெர்டினன்ட் லாஸ்ஸல்]
2. நாசிச கட்சியின் பிரச்சாரங்களுக்குத் தலைமையேற்றவர் _____ [விடை: ஜோசப் கோயபெல்ஸ்]
3. வியட்நாம் தேசியவாதிகள் கட்சி _____ இல் நிறுவப்பட்டது. [விடை: 1927] (HY-2019)
4. நாசிச ஜெர்மனியின் ரகசியக் காவல்படை _____ என அழைக்கப்பட்டது. (QY-2019)
5. தென்னாப்பிரிக்க ஒன்றியம் _____ ஆம் ஆண்டு மே மாதம் உருவானது. [விடை: 1910]
6. ஆப்பிரிக்க தேசியக் காங்கிரஸ் தலைவரான நெல்சன் மண்டேலா _____ ஆண்டுகள் சிறையில் அடைக்கப்பட்டிருந்தார். [விடை: 27]
7. போயர்கள் _____ என்றும் அழைக்கப்பட்டனர். [விடை: ஆப்பிரிக்கநேர்கள்]

III. சரியான கூற்றைத் தேர்வு செய்ய்க

1. i) முதல் உலகப்போரின்போது ஆஸ்திரியாவை தெற்கு முனைப் போரில் தொடர்ந்து முனைப்புடன் ஈடுபட வைப்பதே இத்தாலியின் முக்கியக் கடமையாக இருந்தது. (PTA-1)
 - ii) இத்தாலியைக் காட்டிலும் நீண்ட காலங்கழித்தே ஜெர்மனி பாசிசத்தைக் கைக்கொண்டது.
 - iii) அமெரிக்காவில் மிகப்பெரும் பங்குச் சந்தை வீழ்ச்சி 1929ஆம் ஆண்டு அக்டோபர் மாதம் 24 ஆம் நாளில் ஏற்பட்டது.
 - iv) ஆப்பிரிக்க தேசிய காங்கிரசின் மீதானத் தடை 1966-இல் விலக்கிக் கொள்ளப்பட்டது.
 அ) (i), (ii) ஆகியவை சரி ஆ) (iii) சரி
 இ) (iii), (iv) ஆகியவை சரி ஈ) (i), (ii), (iii) ஆகியவை சரி
 [விடை: ஈ) (i), (ii), (iii) ஆகியவை சரி]
2. கூற்று : தற்காப்புப் பொருளாதாரக் கொள்கையை முன்னிறுத்தியப் பொருளாதார தேசியம் எனும் புதிய அலையால் உலக வணிகம் பாதிக்கப்பட்டது.
 காரணம் : அமெரிக்கா, கடன்பட்ட நாடுகளுக்குப் பொருளாதார உதவி செய்ய விருப்பமில்லாமல் இருந்ததனால் இந்நிலை உண்டானது. (PTA-5)
 - அ) கூற்று, காரணம் இரண்டுமே சரி.
 - ஆ) கூற்று சரி, ஆனால் காரணம் கூற்றுக்கான சரியான விளக்கமல்ல.
 - இ) கூற்று, காரணம் ஆகிய இரண்டுமே தவறு.
 - ஈ) காரணம் சரி, ஆனால் கூற்றுக்குப் பொருந்தவில்லை.
 [விடை: ஆ) கூற்று சரி, ஆனால் காரணம் கூற்றுக்கான சரியான விளக்கமல்ல.]
3. கூற்று : 1884-85இல் நடைபெற்ற பெர்லின் காலனிய மாநாடு காலனியாதிக்க சக்திகள் ஆப்பிரிக்காவைத் தங்களின் செல்வாக்கு மண்டலங்களாகப் பிரித்துக் கொள்ளலாம் எனத் தீர்மானித்தது.
 காரணம் : ஆங்கிலேயருக்கும், போயர்களுக்கும் தென்னாப்பிரிக்காவில் நடைபெற்ற போர் இத்தீர்மானத்திற்கு எதிர்ப்பானதாகும்.
 - அ) கூற்று, காரணம் இரண்டுமே சரி.
 - ஆ) கூற்று சரி, ஆனால் காரணம் சரியான விளக்கமல்ல.
 - இ) கூற்று, காரணம் ஆகிய இரண்டுமே தவறு.
 - ஈ) கூற்று தவறு ஆனால் காரணம் கூற்றுடன் பொருந்தவில்லை.
 [விடை: அ) கூற்று, காரணம் இரண்டுமே சரி.]



IV. பொருத்துக

விடை:

1.	டிரான்ஸ்வால்	-	ஜெர்மனி
2.	டோங்கிங்	-	ஹிட்லர்
3.	ஹின்டன்பர்க்	-	இத்தாலி
4.	மூன்றாம் ரெய்க்	-	தங்கம்
5.	மாட்டியோட்டி	-	கொரில்லா நடவடிக்கைகள்

1.	டிரான்ஸ்வால்	-	தங்கம்
2.	டோங்கிங்	-	கொரில்லா நடவடிக்கைகள்
3.	ஹின்டன்பர்க்	-	ஜெர்மனி
4.	மூன்றாம் ரெய்க்	-	ஹிட்லர்
5.	மாட்டியோட்டி	-	இத்தாலி

V. சுருக்கமாக விடையளிக்கவும்

- இந்தோ-சீனாவில் நடைபெற்ற 'வெள்ளை பயங்கரம்' குறித்து நீங்கள் அறிந்ததென்ன? (PTA-6)
 - 1929 இல் வியட்நாம் வீரர்கள் இராணுவப் புரட்சி செய்தனர்.
 - பிரெஞ்சு கவர்னர் ஜெனரலைக் கொலை செய்வதற்கான முயற்சியும் தோல்வி அடைந்தது.
 - இதனைத் தொடர்ந்து கம்யூனிஸ்ட்களின் தலைமையில் மிகப்பெரும் விவசாயிகளின் புரட்சியும் நடைபெற்றது.
 - இப்புரட்சி ஒடுக்கப்பட்டதைத் தொடர்ந்து 'வெள்ளை பயங்கரவாதம்' என்பது அரங்கேறியது. புரட்சியாளர்கள் ஆயிரக்கணக்கில் கொல்லப்பட்டனர்.
- ஓட்டாவா பொருளாதார உச்சி மாநாட்டின் முக்கியத்துவம் குறித்து விவாதிக்கவும்.
 - இங்கிலாந்து பெருமந்தத்தின் தீய விளைவுகளைத் தடுத்து காலனிய நாடுகளின் தோள்களுக்கு மாற்றியது.
 - இங்கிலாந்திற்கும் ஆங்கிலபேரரசின் உறுப்பு நாடுகளுக்கும் 1932 இல் நடைபெற்ற ஓட்டாவா பொருளாதார உச்சி மாநாட்டில் இருதரப்பு ஒப்பந்தங்கள் கையெழுத்தாயின.
 - இம்மாநாட்டில் பங்கேற்ற நாடுகள் (இந்தியா உட்பட) ஏனைய நாட்டு பொருள்களைக் காட்டிலும் இங்கிலாந்து பொருள்களுக்கு முன்னுரிமை வழங்க ஒத்துக்கொண்டன.
- முசோலினியின் ரோமாபுரி நோக்கிய அணிவகுப்பின் விளைவுகள் யாவை?
 - 1922 அக்டோபரில் ஒரு நீண்ட அமைச்சரவைச் சிக்கலின் போது முசோலினி பாசிஸ்டுகளின் மாபெரும் அணிவகுப்பு ஒன்றை ரோமாபுரியை நோக்கி நடத்தினார்.
 - முசோலினியின் வலிமையைக் கண்டு வியந்து போன அரசர் முசோலினியை ஆட்சியமைக்க வரவேற்றார்
 - மக்களாட்சிக் கட்சியின் ஒருங்கிணைக்க முடியாத தன்மையும் உறுதியுடன் செயல்பட முடியாத இயலாமையும் முசோலினியின் வெற்றிக்கு உதவின.
- 1884-85இல் நடைபெற்ற பெர்லின் காலனிய மாநாட்டின் சாரத்தைக் குறிப்பிடுக.
 - 1884 - 1885 ஆண்டுகளில் நடைபெற்ற பெர்லின் காலனிய மாநாட்டில் காலனியாதிக்க சக்திகள் ஆப்பிரிக்காவைத் தங்கள் செல்வாக்கு மண்டலங்களாகப் பிரித்துக் கொள்ளலாம் எனத் தீர்மானிக்கப்பட்டது.
 - ஆனால் ஆங்கிலேயருக்கும் தென்னாப்பிரிக்க போயர்களுக்கும் இடையே நடைபெற்றப் போர் இத்தீர்மானத்திற்கு எதிரான செயலாகும்.
- பொருளாதாரப் பெருமந்தம் இந்திய வேளாண்மையின் மீது எத்தகையத் தாக்கத்தை ஏற்படுத்தியது? (Sep-2021)

இந்தியா வேளாண்மையின் மீது பெருமந்தம் ஏற்படுத்தியத் தாக்கம் :

- பொருளாதாரப் பெருமந்தம் இந்திய வேளாண்மைக்கும் உள்நாட்டு உற்பத்தித் தொழில்களுக்கும் மரண அடியைக் கொடுத்தது. எடுத்துக்காட்டாக வேளாண் உற்பத்திப் பொருட்களின் விலைபாதிக்கக் குறைந்தது.



- (ii) ஆனால் விவசாயிநிலத்திற்குக் கொடுக்க வேண்டிய குத்தகைத் தொகையில் மாற்றமேதுமில்லை. விவசாய விளைபொருள்களின் விலையைப் பொறுத்தமட்டிலும் அரசுக்கு விவசாயிகள் செலுத்த வேண்டிய பணம் இரண்டு மடங்காகிற்று.
- (iii) விலைவாசியில் ஏற்பட்ட மிகப்பெரும் வீழ்ச்சி இந்திய தேசியவாதிகளை உள்நாட்டுப் பொருளாதாரத்தைப் பாதுகாக்கும் கோரிக்கையை வைக்கத் தூண்டியது.

6. “டாலர் ஏகாதிபத்தியம்” - தெளிவுபட விளக்குக.

PTA-2

டாலர் ஏகாதிபத்தியம் என்ற சொல் தொலைதூர நாடுகளுக்குப் பொருளாதார உதவி செய்வதன் மூலம் அவற்றின் மீது ஆதிக்கம் செலுத்தவும், தக்கவைத்துக் கொள்ளவும் அமெரிக்க பின்பற்றியக் கொள்கையை விளக்குவதற்குப் பயன்படுத்தப்படுவதாகும்.

VI. விரிவான விடையளிக்கவும்

1. ஜெர்மனியில் ஹிட்லரின் எழுச்சிக்கு இட்டுச் சென்ற சூழ்நிலைகளைக் கண்டறியவும்.

ஜெர்மனியில் ஹிட்லரின் எழுச்சிக்கு இட்டுச் சென்ற சூழ்நிலைகள்:

- (i) ஜெர்மனியின் பாசிசத்தின் தோற்றம் 1919ம் ஆண்டிலிருந்து தொடங்குகிறது.
- (ii) 1919 ஆம் ஆண்டில் ஏழு நபர்களைக் கொண்ட ஒரு குழுவானது, மியூனிச் நகரில் சந்தித்து தேசிய சோசலிஸ்ட் ஜெர்மன் உழைப்பாளர் கட்சி சுருக்கமாக நாசி கட்சியை நிறுவியது.
- (iii) ஹிட்லர் முதல் உலகப்போரின்போது பவேரியாவின் படையில் பணியாற்றினார். அவரின் ஆற்றல் மிக்க உரை வீரர்களைத் தட்டி எழுப்பியது.
- (iv) மியூனிச் நகரில் முன் கூட்டியே திட்டமிடப்படாமல் அவர் மேற்கொண்ட தேசியப் புரட்சி அவரைச் சிறையில் தள்ளியது.
- (v) சிறையில் இருந்தபோது தனது அரசியல் சிந்தனைகளை உள்ளடக்கிய சுயசரிதை நூலான ‘மெயின் காம்ப்’ (Mein Kampf - எனது போராட்டம்) என்னும் நூலை எழுதினார்.
- (vi) முதலாளிகள் சொத்து உரிமையாளர்கள் நாசிசத்தை ஆதரிக்க தொடங்கினார். இவ்வாய்ப்பைப் பயன்படுத்தி ஹிட்லர் தவறான வழியில் அதிகாரத்தைக் கைப்பற்றினார்.

ஹிட்லரின் நாசிச அரசு :

- (i) கம்யூனிஸ்டுகள் சமூக ஜனநாயகக் கட்சியுடன் கூட்டணி வைக்க மறுத்ததால் ஜெர்மனியில் குடியரசு ஆட்சி கவிழ்ந்தது.
- (ii) அதன் விளைவாகத் தொழிலதிபர்களும் வங்கியாளர்களும் குடியாட்சிக் கட்சியினரும் ஹிட்லரைத் தங்கள் கட்டுப்பாட்டில் வைத்துக் கொள்ள முடியும் என்ற நம்பிக்கையில் 1933 இல் ஹிட்லரை சான்சிலராக (முக்கிய அமைச்சர்) பதவியில் அமர்த்தும்படி குடியரசுத் தலைவர் வான் ஹிண்டன்பர்க் என்பவரை வற்புறுத்தினார்.
- (iii) ஹிட்லர் வெய்மர் குடியரசின் கொடிக்குப் பதிலாக ஸ்வஸ்திக் சின்னம் பொறிக்கப்பட்ட தேசிய சோசலிசக் கட்சியின் கொடியை அறிமுகம் செய்தார்.
- (iv) ஜெர்மனி மிகவும் மையப்படுத்தப்பட்ட நாடாக மாற்றப்பட்டது.
- (v) நாசிச கட்சியைத் தவிர பிறகட்சிகள் அனைத்தும் சட்டத்திற்குப் புறம்பானவை என்று அறிவிக்கப்பட்டன.
- (vi) பழுப்புநிறச் சட்டை அணிந்த போர் வீரர்கள், முழங்கால்களுக்கு மேல்வரும் காலணிகள் அணிந்த புயல் படையினர் ஆகியோரின் எண்ணிக்கை அதிகப்படுத்தப்பட்டது.
- (vii) ஹிட்லர் இளைஞர் அணியும், தொழிலாளர் அமைப்பும் நிறுவப்பட்டன. தொழிற்சங்கங்கள் ஒழிக்கப்பட்டன.
- (viii) தொழிலாளர்களின் உதயத்தை அரசே நிர்ணயித்தது. பத்திரிக்கைகள், அரங்குகள், திரைப்படங்கள், வானொலி, கல்வி ஆகிய அனைத்தும் அரசின் கட்டுப்பாட்டின் கீழ் கொண்டுவரப்பட்டன.
- (ix) 1934 ஆம் ஆண்டு ஆகஸ்டு திங்கள் ஹின்டென்பர்க் இயற்கை எய்தவே, சான்சிலராக இருந்த ஹிட்லர் குடியரசுத் தலைவராகவும் ராணுவத்தின் தலைமைத் தளபதியாகவும் பொறுப்பேற்றார்.

அலகு 3

இரண்டாம் உலகப்போர்



கற்றலின் நோக்கங்கள்

- முதல் உலகப்போருக்குப் பிந்தைய அரசியல், பொருளாதார வளர்ச்சிகளை அறிமுகப்படுத்திக் கொள்ளுதல். அவையே இறுதியில் இரண்டாம் உலகப்போருக்கு இட்டுச் சென்றதை அறிந்து கொள்ளுதல்.
- பொதுவாகப் போரின் போக்கைப் புரிந்து கொள்ளுதல். குறிப்பாகப் போரின் திருப்புமுனைகளாய் அமைந்த முக்கிய நிகழ்வுகளை அறிந்து கொள்ளுதல்.
- இரண்டாம் உலகப் போரின் விளைவுகளை அறிந்து கொள்ளுதல்.
- பேரழிவு (Holocaust) என்பதையும், நாசிச ஜெர்மனியில் யூதர்கள் பெரும் எண்ணிக்கையில் கொல்லப்பட்டதையும் புரிந்து கொள்ளுதல்.
- இரண்டாம் உலகப்போருக்குப் பின்னர் ஒரு புதிய பன்னாட்டு அமைப்பு முறையை உருவாக்குவதற்காக அமைக்கப்பட்ட பன்னாட்டு நிறுவனங்கள் குறித்த அறிவைப் பெறுதல்.

பயிற்சி

I. சரியான விடையைத் தேர்வு செய்யவும்

1. ஜப்பான் சரணடைவதாக எப்போது முறைப்படி கையெழுத்திட்டது?

அ) செப்டம்பர் 2, 1945	ஆ) அக்டோபர் 2, 1945	
இ) ஆகஸ்டு 15, 1945	ஈ) அக்டோபர் 12, 1945	[விடை : அ) செப்டம்பர் 2, 1945]
2. பன்னாட்டுச் சங்கம் உருவாக்கப்படுவதில் முன்முயற்சி எடுத்தவர் யார்?

அ) ஈன்ஸ்வெல்ட்	ஆ) சேம்பர்லின்	
இ) உட்ரோ வில்சன்	ஈ) பால்டுவின்	[விடை : இ) உட்ரோ வில்சன்]
3. ஜப்பானியக் கப்பற்படை அமெரிக்க கப்பற்படையால் எங்கே தோற்கடிக்கப்பட்டது?

அ) க்வால்கெனால போர்	ஆ) மிட்வே போர்	
இ) லெனின்கிரேடு போர்	ஈ) எல் அலாமெய்ன்போர்	[விடை : ஆ) மிட்வே போர்]
4. அமெரிக்கா தனது முதல் அணுகுண்டை எங்கே வீசியது?

அ) கவாசாகி	ஆ) இன்னோசிமா	
இ) ஹிரோஷிமா	ஈ) நாகசாகி	[விடை : இ) ஹிரோஷிமா]

சுராவின்கு சமூக அறிவியல் 10 ஆம் வகுப்பு

5. ஹிட்லர் எவரை மிகவும் கொடுமைப்படுத்தினார்?
அ) ரஷ்யர்கள் ஆ) அரேபியர்கள்
இ) துருக்கியர்கள் ஈ) யூதர்கள் [விடை : ஈ) யூதர்கள்]
6. ஜெர்மனியோடு மியூனிச் உடன்படிக்கையில் கையெழுத்திட்ட பிரிட்டன் பிரதமர் யார்?
அ) சேம்பர்லின் ஆ) வின்ஸ்டன் சர்ச்சில்
இ) லாயிட் ஜார்ஜ் ஈ) ஸ்டேன்லி பால்டுவின் [விடை : அ) சேம்பர்லின்]
7. எப்போது ஐக்கிய நாடுகள் சபையின் பட்டய சாசனம் கையெழுத்தானது? (Sep-2020)
அ) ஜூன் 26, 1942 ஆ) ஜூன் 26, 1945
இ) ஜனவரி 1, 1942 ஈ) ஜனவரி 1, 1945 [விடை : ஆ) ஜூன் 26, 1945]

II. கோடிட்ட இடங்களை நிரப்புக

1. இராணுவ நீக்கம் செய்யப்பட்ட _____ பகுதியை ஹிட்லர் தாக்கினார். [விடை: ரைன்லாந்து]
2. இத்தாலி, ஜெர்மனி, ஜப்பான் ஆகியவற்றிற்கிடையேயான ஒப்பந்தம் _____ என அழைக்கப்பட்டது. [விடை: ரோம் - பெர்லின் டோக்கியோ அச்சு]
3. _____ கடன் குத்தகைத் திட்டத்தைத் தொடக்கி வைத்தார். [விடை: ரூஸ்வெல்ட்]
4. 1940இல் ராஜினாமா செய்த பிரிட்டன் பிரதமர் _____ ஆவார். [விடை: சேம்பர்லின்]
5. _____ என்பது தொலைவிலிருந்தே எதிரிகளின் போர் விமானங்களைக் கண்டுபிடிப்பதற்கான ஒரு கருவி. [விடை: ரேடார்]

III. பொருத்துக

1.	பிளிட்ஸ்கிரிக்	-	ரூஸ்வெல்ட்
2.	ராயல் கப்பற்படை	-	ஸ்டாலின் கிரேடு
3.	கடன் குத்தகை	-	சாலமோன் தீவு
4.	வோல்கா	-	பிரிட்டன்
5.	க்வாடல்கெனால	-	மின்னல் வேகத்தாக்குதல்

விடை:

1.	பிளிட்ஸ்கிரிக்	-	மின்னல் வேகத்தாக்குதல்
2.	ராயல் கப்பற்படை	-	பிரிட்டன்
3.	கடன் குத்தகை	-	ரூஸ்வெல்ட்
4.	வோல்கா	-	ஸ்டாலின் கிரேடு
5.	க்வாடல்கெனால	-	சாலமோன் தீவு

IV. சரியான கூற்றைத் தேர்வு செய்யவும்

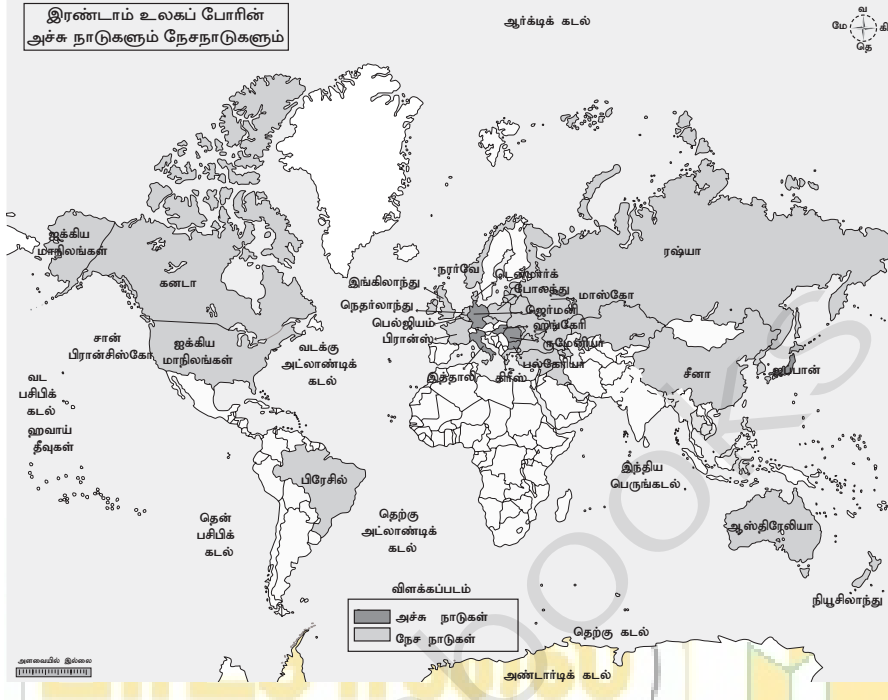
1. கூற்று : குடியரசுத்தலைவர் ரூஸ்வெல்ட் அமெரிக்கா தனது தனித்திருக்கும் கொள்கையை மாற்றியமைக்க வேண்டும் என்பதை உணர்ந்தார்.
காரணம் : அவர் 1941இல் கடன் குத்தகைத் திட்டத்தை தொடங்கினார். (QY-2019)
- அ) கூற்றும் காரணமும் சரி.
ஆ) கூற்று சரி, ஆனால் காரணம் தவறு.
இ) காரணம் கூற்று ஆகிய இரண்டுமே தவறானவை.
ஈ) காரணம் சரி, ஆனால் அது கூற்றுடன் பொருந்தவில்லை.

[விடை: அ) கூற்றும் காரணமும் சரி]



VII. மாணவர்களின் செயல்பாடுகள்

1. உலக வரைபடத்தில் அச்ச நாடுகள், நேசநாடுகள், இரண்டாம் உலகப் போரின் முக்கிய போர்க்களங்கள் ஆகியவற்றைக் குறிக்கவும்.



VIII. வரைபடப் பணி

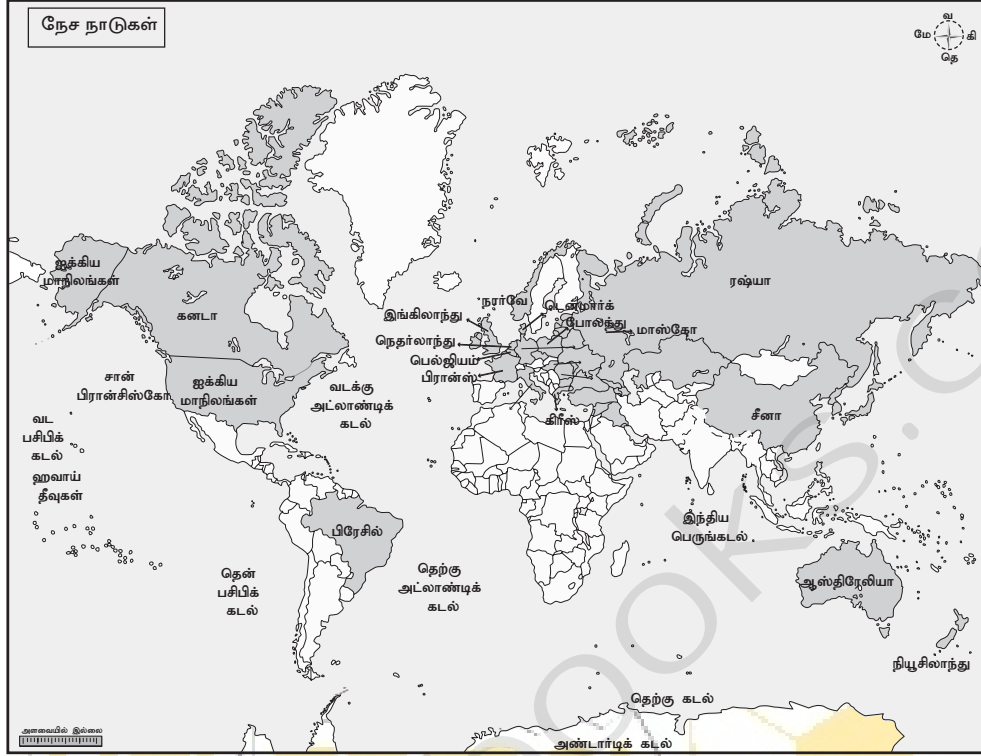
உலக வரைபடத்தில் கீழ்க்கண்டவற்றைக் குறிக்கவும்.

1. அச்ச நாடுகள்





2. நேச நாடுகள்



3. ஹிரோஷிமா, நாகசாகி, ஹவாய் தீவு, மாஸ்கோ, சான் பிரான்சிஸ்கோ.



அலகு 4

இரண்டாம் உலகப்போருக்குப் பிந்தைய உலகம்



கற்றலின் நோக்கங்கள்

- சீனாவின் பொதுவுடைமைப் புரட்சி
- பனிப்போரும் அணிசேரா இயக்கமும்
- கொரியப் போரும் கியூபாவின் ஏவுகணைச் சிக்கலும்
- இஸ்ரேலியப் போரும் வியட்நாம் போரும்
- ஐரோப்பியப் பொருளாதாரக் குழுவும் மற்றும் ஐரோப்பிய ஒருங்கிணைப்பு
- பெர்லின் சுவர் வீழ்ச்சியும் பனிப்போர் யுக முடிவும்

பயிற்சி

I. சரியான விடையைத் தெரிவு செய்க

1. எந்த அமெரிக்கக் குடியரசுத்தலைவர் பொதுவுடைமைக் கொள்கையைக் கட்டுக்குள் அடக்க ஒரு கொள்கை வரைவை முன் வைத்தார்? (QY-2019)
 - அ) உட்ரோ வில்சன்
 - ஆ) ட்ரூமென்
 - இ) தியோடர் ரூஸ்வெல்ட்
 - ஈ) பிராங்க்லின் ரூஸ்வெல்ட்

[விடை : ஆ) ட்ரூமென்]
2. சீனாவில் மக்கள் அரசியல் கலந்தாய்வு மாநாடு எப்போது நடைபெற்றது? (PTA-6)
 - அ) செப்டம்பர் 1959
 - ஆ) செப்டம்பர் 1949
 - இ) செப்டம்பர் 1954
 - ஈ) செப்டம்பர் 1944

[விடை : ஆ) செப்டம்பர் 1949]
3. அமெரிக்க ஐக்கிய நாடும் அதன் ஐரோப்பிய நேச நாடுகளும் சேர்ந்து சோவியத் நாட்டின் ஆக்கிரமிப்பைத் தவிர்க்க ஏற்படுத்திய அமைப்பின் பெயர் _____ ஆகும்.
 - அ) சீட்டோ
 - ஆ) நேட்டோ
 - இ) சென்டோ
 - ஈ) வார்சா ஒப்பந்தம்

[விடை : ஆ) நேட்டோ]
4. பாலஸ்தீன விடுதலை இயக்கத்தின் செயற்குழுவிற்கு 1969இல் தலைவராகப் பதவியேற்றவர் யார்?
 - அ) ஹபீஸ் அல் -ஆஸாத்
 - ஆ) யாசர் அராபத்
 - இ) நாசர்
 - ஈ) சதாம் உசேன்

[விடை : ஆ) யாசர் அராபத்]

சுராவின் □ சமூக அறிவியல் □ 10 ஆம் வகுப்பு

5. வடக்கு மற்றும் தெற்கு வியட்நாம் எந்த ஆண்டு ஒன்று சேர்க்கப்பட்டது? (PTA-3)
அ) 1975 ஆ) 1976 இ) 1973 ஈ) 1974 [விடை : ஆ) 1976]
6. எந்த ஆண்டு வார்சா ஒப்பந்தம் கலைக்கப்பட்டது?
அ) 1979 ஆ) 1989 இ) 1990 ஈ) 1991 [விடை : ஈ) 1991]

II. கோடிட்ட இடங்களை நிரப்புக.

1. நவீன சீனாவின் தந்தை என்று அழைக்கப்படுபவர் _____ ஆவார். [விடை: டாக்டர் சன் யாட் சென்]
2. 1918இல் _____ பல்கலைக்கழகத்தில் மார்க்ஸியக் கோட்பாட்டை அறியும் அமைப்பு நிறுவப்பட்டது. [விடை: பீகிங்]
3. டாக்டர் சன் யாட் சென்னின் மறைவுக்குப் பின்னர் கோமிங்டாங் கட்சியின் தலைவராக இருந்தவர் _____ ஆவார். [விடை: ஷியாங் - கே - ஷேக்]
4. அமைதியையும் பாதுகாப்பையும் விரும்பிய அரபுநாடுகளுக்கு திறந்தே இருந்த ஒப்பந்தம் _____ ஆகும். [விடை: சென்டோ]
5. துருக்கிய அரபுப்பேரரசை ஏற்படுத்தும் நோக்கைக் கொண்டிருந்த ஒப்பந்தம் _____ ஆகும். [விடை: வெர்செயில்ஸ்]
6. ஜெர்மனி நேட்டோவில் _____ ஆம் ஆண்டு இணைந்தது. [விடை: 1955]
7. ஐரோப்பியக் குழுமத்தின் தலைமையகம் _____ நகரில் அமைந்துள்ளது. (Govt.MQP-2019)
[விடை: ஸ்ட்ராஸ்பர்க்]
8. ஐரோப்பிய இணைவை உறுதி செய்ய 7 பிப்ரவரி 1992-இல் கையெழுத்திடப்பட்ட ஒப்பந்தம் _____ ஆகும். [விடை: மாஸ்டிரிக்ட்]

III. சரியான வாக்கியம்/வாக்கியங்களைத் தெரிவு செய்க.

1. i) கற்றறிந்த சிறுபான்மையினரின் தாக்கத்தில் சீனாவின் (1898) இளம் பேரரசர் துவக்கிய சீர்திருத்தங்கள் நூறு நாள் சீர்திருத்தம் என்று அறியப்படுகிறது.
ii) கோமிங்டாங் கட்சி தொழிலாளர்களையும் விவசாயிகளையும் பிரதிநிதித்துவப்படுத்தியது.
iii) மஞ்சூரியா மீதும் ஷாண்டங் மீதும் ஜப்பான் பொருளாதாரக் கட்டுப்பாட்டை விதிக்க யுவான் ஷி-கே உடன்பட்டதால் தேசியவாதிகள் பார்வையில் அவர் செல்வாக்கு இழந்தார்.
iv) சோவியத் நாடு இருபது ஆண்டு காலத்திற்கும் மேலாக சீன மக்கள் குடியரசை அங்கீகரிக்க மறுத்தது.
அ) (i) மற்றும் (ii) சரி ஆ) (ii) மற்றும் (iii) சரி
இ) (i) மற்றும் (iii) சரி ஈ) (i) மற்றும் (iv) சரி [விடை: இ) (i) மற்றும் (iii) சரி]
2. i) கிழக்கு ஐரோப்பாவில் 1948இல் சோவியத்நாடு நிறுவிய இடதுசாரி அரசுகளை சோவியத் இராணுவம் விடுதலை செய்தது.
ii) வடக்கு அட்லாண்டிக் பகுதியில் அமைதியையும், பாதுகாப்பையும் உறுதி செய்யவே நேட்டோ உருவாக்கப்பட்டது
iii) சீட்டோவின் உறுப்பு நாடுகள் அப்பகுதியில் மக்களாட்சி பரவுவதைத் தடுக்கும் நோக்கோடு செயல்பட்டார்கள்.
iv) ஜப்பானுக்கெதிராக பிரிட்டன் அணுகுண்டைப் பயன்படுத்தியதின் மூலம் அது ரஷ்யாவுக்கு தன்னுடைய அழிக்கும் திறனை எடுத்துக்காட்ட விரும்பியது.
அ) (ii), (iii) மற்றும் (iv) சரி ஆ) (i) மற்றும் (ii) சரி
இ) (iii) மற்றும் (iv) சரி ஈ) (i), (ii) மற்றும் (iii) சரி [விடை: ஆ) (i) மற்றும் (ii) சரி]



3. கூற்று : அமெரிக்காவின் மார்ஷல் திட்டம் போரில் பாதிக்கப்பட்ட ஐரோப்பிய நாடுகளின் மறுநிர்மாணத்திற்காக முன் வைக்கப்பட்டது
காரணம் : அமெரிக்க நாடு அத்திட்டத்தின் மூலம் மேற்கு ஐரோப்பிய நாடுகளைத் தன் செல்வாக்கின் கீழ் கொண்டு வர நினைத்தது. (PTA-2)
- அ) கூற்றும் காரணமும் இரண்டுமே சரி. ஆனால் காரணம், கூற்றிற்கான சரியான விளக்கமல்ல.
ஆ) கூற்றும் காரணமும் தவறானவை.
இ) கூற்றும் காரணமும் சரி. காரணம் கூற்றை சரியாக விளக்குகிறது.
ஈ) கூற்று தவறு ஆனால் காரணம் சரி.
[விடை: இ) கூற்றும் காரணமும் சரி. காரணம் கூற்றை சரியாக விளக்குகிறது.]

IV. பொருத்துக

1.	டாக்டர் சன் யாட் சென்	-	தெற்கு வியட்நாம்
2.	சிங்மென் ஈ	-	கோமிங்டாங்
3.	அன்வர் சாதத்	-	கொரியா
4.	ஹோ சி மின்	-	எகிப்து
5.	நிகோ டின் டியம்	-	வடக்கு வியட்நாம்

விடை:

1.	டாக்டர் சன் யாட் சென்	-	கோமிங்டாங்
2.	சிங்மென் ஈ	-	கொரியா
3.	அன்வர் சாதத்	-	எகிப்து
4.	ஹோ சி மின்	-	வடக்கு வியட்நாம்
5.	நிகோ டின் டியம்	-	தெற்கு வியட்நாம்

V. கீழ்க்கண்ட வினாக்களுக்கு சுருக்கமாக விடை தருக.

1. சீனாவில் 1911ஆம் ஆண்டில் நடந்த புரட்சிக்கு ஏதேனும் மூன்று காரணிகளைக் குறிப்பிடுக.
- (i) ஆட்சியதிகாரமானது அறிவுமிக்க அதிகாரிகளாக கருதப்பட்ட மாண்டரின்சுகள் எனும் நிலவுடைமையாளர் வசம் இருந்தது.
(ii) சாதாரண விவசாயிகள் அதிகமான வரிவிதிப்பினாலும் மிதமிஞ்சிய குத்தகை வசூலிப்பாலும் குறைந்த நிலம் கொண்டவர்களாக விளங்கியதாலும் கடுமையான பாதிப்புகளுக்குட்பட்டு வறுமையின் பிடியில் சிக்கித் தவித்தனர்.
(iii) சில இருப்புப்பாதைப் பணிகளும் பொறியியல் நிபுணத்துவம் கொண்ட சில பணிகளும் நடைபெற்றிருந்தாலும் தொழிற்சாலைகள் போதிய அளவில் உருவாகவில்லை.
2. மாவோவின் நீண்ட பயணம் பற்றிக் குறிப்பு வரைக. (PTA-3)
- (i) மாவோ ஒரு நீண்டப் பயணத்தை முன்னெடுத்து 1,00,000 பொதுவுடைமை இராணுவத்தினர் 1934-இல் கிளம்பினர்.
(ii) அப்பயணம் ஒரு சகாப்தமாக மாறியது.
(iii) இவ்வாறு கிளம்பிய 1,00,000 பேரில் வெறும் 20,000 பேர் மட்டுமே 1935 இன் பிற்பகுதியில், 6000 மைல்களைக் கடந்து வடக்கு வேனிப் பகுதியை சென்றடைந்தனர். மேற்கொண்டு அவர்களோடு மற்ற பொதுவுடைமைவாதப் படைகளும் சேர்ந்து கொண்டன.

சுராவின் □ சமூக அறிவியல் □ 10 ஆம் வகுப்பு

3. பாக்தாத் உடன்படிக்கை பற்றி அறிந்ததை எழுதுக.

சென்டோ (CENTO) அல்லது பாக்தாத் ஒப்பந்தம் :

- துருக்கி, ஈராக், பிரிட்டன், பாகிஸ்தான், ஈரான் ஆகிய நாடுகள் 1955-இல் ஏற்படுத்திய ஒப்பந்தமே பாக்தாத் ஒப்பந்தம் என்றழைக்கப்படுகிறது.
- அமெரிக்க ஐக்கிய நாடு இவ்வுடன்படிக்கையில் 1958-இல் இணைந்ததோடு இவ்வொப்பந்தம் 'மத்திய உடன்படிக்கை அமைப்பு' என்று அறியப்பட்டது.
- இவ்வொப்பந்தம் அமைதியையும் பாதுகாப்பையும் விரும்பும் அனைத்து அரபு நாடுகளுக்கும் திறந்தே இருப்பதாக அறிவிக்கப்பட்டதெனினும் இவ்வொப்பந்தம் 1979 இல் கலைக்கப்பட்டது.

4. மார்ஷல் திட்டம் என்றால் என்ன?

Govt.MQP-2019

மார்ஷல் திட்டம்:

- மேற்கு ஐரோப்பிய நாடுகளை தன்செல்வாக்கினுள் வைத்துக் கொள்ள ஐக்கிய அமெரிக்க நாடு மார்ஷல் திட்டத்தை உருவாக்கியது.
- இத்திட்டம் இரண்டாம் உலகப்போரின் பாதிப்புகளில் இருந்து மீண்டு வருவதற்காக அமெரிக்க பால்களைப் பயன்படுத்திக் கொள்ள வழிவகை செய்தது.
- அமெரிக்க ஐக்கிய நாட்டின் செயலர் ஜார்ஜ் சி-மார்ஷல் ஐரோப்பாவின் சுய முன்னேற்ற முயற்சிக்குத் தம் நாடு பண உதவி செய்யுமென்று அறிவித்தார்.

5. மூன்றாம் உலக நாடுகள் பற்றி ஒரு குறிப்பு வரைக.

PTA-2

மூன்றாம் உலக நாடுகள் :

- அமெரிக்கா, சோவியத் யூனியன் ஆகிய இரண்டு அணிகளிலும் சேராத நாடுகள் மூன்றாம் உலக நாடுகள் என அழைக்கப்பட்டன.
- மூன்றாம் உலக நாடுகள் என்பது வளர்ச்சிப் பாதையிலிருந்து ஆப்பிரிக்க ஆசிய லத்தீன் அமெரிக்க முன்னாள் காலனி ஆதிக்கத்திற்குட்பட்ட நாடுகளாகும்.
- சோவியத் ஐக்கியத்தின் வீழ்ச்சிக்குப் பின்னர் உலகமயமாக்கல், பொருளாதாரப் போட்டி போன்ற புதிய சூழலால் அச்சொல்லால் அதன் முக்கியத்துவத்தை இழந்தது.

6. கியூபாவின் ஏவுகணைச் சிக்கல் எவ்வாறு செயலிழக்கச் செய்யப்பட்டது?

- கியூபாவிலிருந்து வெளியேற்றப்பட்டிருந்த மக்களைக் கொண்ட ஒரு படையை பிக்ஸ் வளைகுடாவில் ஏப்ரல் 1961 இல் இறக்கிய அதே வேளையில் காஸ்ட்ரோவின் ஆட்சியை முடிவுக்குக் கொண்டு வரும் நோக்கோடு அதன் விமான தளங்களை ஐக்கிய அமெரிக்கா நாடுகள் குண்டு வீசித் தாக்கியது.
- அமெரிக்காவின் போர்க்கப்பல்கள் கியூபாவைச் சுற்றி வளைத்தன. சோவியத் நாடு கியூபாவில் அணு சக்தியோடு இணைக்கப்பட்ட ஏவுகணைகளை இரகசியமாக நிறுவப் போவதாய் கென்னடி தலைமையிலான அமெரிக்க அரசிற்கு உளவுத்துறை தகவல் கொடுத்தது.
- இறுதியாக சோவியத் நாட்டின் குடியரசுத்தலைவர் குருசேவ் ஏவுகணைகளைத் திரும்பப்பெற உறுதியளித்ததால் பிரச்சனைக்கு முற்றுப்புள்ளி வைக்கப்பட்டது.

VI. விரிவான தருக

1. சீனாவை ஒரு பொதுவுடைமை நாடாக்க மா சே துங்கின் பங்களிப்பை அளவிடுக.

PTA-5

கோமிங் டாங்கும் ஷியாங் -கே-ஷேக்கும் :

- சீன பொதுவுடைமைக் கட்சியின் தலைவர்களாக சூ-யென்-லாயும், மா-சே-துங்கும் விளங்கினர்.
- பொதுவுடைமைவாதத்தின் தீவிர விமர்சகரான ஷியாங் தனது கட்சிக்குள்ளிருந்த பொதுவுடைமைவாதிகளை முக்கிய பொறுப்புகளிலிருந்து விடுவித்தார்.



விவசாயிகளை வழிநடத்திய மாவோ :

- கோமிங்டாங்கின் கட்டுப்பாடு நகராங்களின் மீது கடுமையாக இருந்ததை மாவோ உணர்ந்தார்.
- அதனால் அவர் விவசாயிகளை ஒருங்கிணைக்க முயற்சி செய்தார். மாவோவின் தலைமையில் சில நூறு கம்யூனிஸ்டுகள் காடுகள் கழிந்த மலைப்பகுதிகளில் ஏழு ஆண்டுகள் பதுங்கியிருந்தனர்.
- கோமிங்டாங்கால் அக்காட்டு மலைப்பகுதியில் நுழைய முடியாத அதேவேளையில் மாவோவின் படை பெருகிக் கொண்டே சென்றது.

1934 இல் நீண்ட பயணம் :

- ஷியாங்-கே-ஷேக் பொதுவுடைமை வாதிக்களைச் சுற்றி முற்றுக்கையிடும் விதமாக ஆங்காங்கே பல பாதுகாக்கப்பட்ட அரண்களை அமைத்திருந்தார்.
- மாவோவும் ஹீனான் பகுதியை விட்டு அகன்று பாதுகாப்பான ஒரு பகுதிக்குச் செல்ல நினைத்தார். ஏறத்தாழ 1933ஆம் ஆண்டு வாக்கில் சீன பொதுவுடைமை கட்சியின் மீதான முழுக் கட்டுப்பாடும் மாவோ வசம் வந்து சேர்ந்தது.
- ஒரு நீண்ட பயணத்தை முன்னெடுத்து 1,00,000 பொதுவுடைமை இராணுவத்தினர் 1934-ல் கிளம்பினார்.
- அப்பயணம் ஒரு சகாப்தமாக மாறியது.
- இவ்வாறு கிளம்பிய 1,00,000 பேரில் வெறும் 20,000 பேர் மட்டும் 1935 இன் பிற்பகுதியில் 6,000 மைல்களைக் கடந்து ஷேனிப் பகுதியைச் சென்றடைந்தனர்.
- 1937-ஆம் ஆண்டில் ஏறக்குறைய ஒரு கோடி மக்களின் தலைவராக மாவோ அங்கீகரிக்கப்பட்டார்

2. ஐரோப்பியக் குழுமம் எவ்வாறு ஐரோப்பிய இணைவானது என்ற வரலாற்றை எடுத்தியம்புக. (PTA-4)

ஐரோப்பிய குழுமம் :

- இரண்டாம் உலகப்போருக்குப் பின்வந்த காலத்தில் எடுக்க முயன்ற முடிவுகளில் முக்கியமானது. மேற்கு ஐரோப்பிய நாடுகளை ஒருங்கிணைக்க நினைத்ததேயாகும். அதன் மூலம், ஐரோப்பியர்களுக்கிடையே மூண்ட போர்களைத் தவிர்க்கவும் அதிலும் குறிப்பாக பிரான்சுக்கும் ஜெர்மனிக்கும் ஏற்பட்டுக் கொண்டிருந்த பகைமையை ஒடுக்கவும்,
- ஒருங்கிணைந்த ஐரோப்பாவைக் கொண்டு சோவியத் நாட்டின் அச்சுறுத்தலை எதிர்கொள்ளவும்,
- அமெரிக்க ஐக்கிய நாட்டின் படைகளுக்கும் சோவியத் நாட்டின் படைகளுக்கும் சமமாக ஒரு படைபலத்தை நிறுவவும்,
- கண்டங்களிடையே அல்லது கண்டங்களில் பொருளாதார மற்றும் இராணுவ வளங்களையும் திறன்களையும் முழுதாகப் பயன்படுத்த முடியும் என்று கருதப்பட்டது. பத்து நாடுகள் லண்டனில் மே 1949 இல் கூடி ஐரோப்பிய சமூகத்தை உருவாக்க கையொப்பமிடப்பட்டன.

ஐரோப்பிய நிலக்கரி மற்றும் எஃகு சமூகம் :

- ஐரோப்பியப் பாதுகாப்பு சமூகமும் ஐரோப்பிய நிலக்கரி மற்றும் எஃகு சமூகமும் துவங்கப்பட்டன.
- ஐரோப்பிய நிலக்கரி மற்றும் எஃகு சமூகத்தைச் சேர்ந்த ஆறு நாடுகள் (பிரான்ஸ், மேற்கு ஜெர்மனி, இத்தாலி, பெல்ஜியம், ஹாலாந்து, லக்ஸம்பர்க்) கூடி ரோம் ஒப்பந்தத்தை ஏற்படுத்தியதோடு அதன் மூலம் ஐரோப்பியப் பொருளாதார சமூகம் அல்லது ஐரோப்பியப் பொதுச்சந்தையை பிரெஸெல்ஸ் நகரைத் தலைமையகமாகக் கொண்டு ஏற்படுத்தின.

ஐரோப்பிய பொருளாதார சமூகம் :

- இச்சமூகம் பண்டங்கள், சேவைகள், முதலீடு, தொழிலாளர்கள் போன்றவற்றின் நகர்வை எல்லைகள் கொண்டு நிறுத்துவதை மாற்றியது.
- சந்தைப்போட்டியைக் கட்டுக்குள் கொண்டுவர முயன்ற போது கொள்கைகளையும் தனியார் ஒப்பந்தங்களையும் புறக்கணித்தது.

அலகு 5

19ஆம் நூற்றாண்டில் சமூக, சமய சீர்திருத்த இயக்கங்கள்



கற்றலின் நோக்கங்கள்

- 19ஆம் நூற்றாண்டு பிரிட்டிஷ் இந்தியாவில் புதிய விழிப்புணர்ச்சியை உருவாக்கியதில் மேற்கத்தியச் சிந்தனைகள், மற்றும் கிறித்தவ மதத்தின் செல்வாக்கு.
- சமுதாய, மற்றும் சமயத்துறைகளில் ஏற்பட்ட போட்டிகள், உடன்கட்டை ஏறுதல் (சதி), அடிமைமுறை, தீண்டாமை, குழந்தைத்திருமணம் போன்ற பழக்கங்களுக்கு எதிர்ப்பு.
- உருவ வழிபாடு, சடங்குகள், மூடநம்பிக்கைகள் ஆகியனவற்றிற்கு எதிர்ப்பு.
- இந்தியா புத்துயிர் பெற்றதில் பிரம்ம சமாஜம், ஆரிய சமாஜம், இராமகிருஷ்ணா மிஷன், பிரம்மஞானசபை, அலிகார் இயக்கம் ஆகியவற்றின் பங்களிப்பு.
- பார்சிகள், சீக்கியர்கள் ஆகிய சமூகங்களில் விழிப்புணர்வை ஏற்படுத்தியதில் முக்கிய ஆளுமைகளின் பங்கு.
- ஜோதிபா பூலேயின் சமூகஇயக்கமும், கேரளா, தமிழ்நாட்டில் தோன்றிய சீர்திருத்த இயக்கங்களும்.

பயிற்சி

I. சரியான விடையைத் தேர்வு செய்யவும்

1. எந்த ஆண்டில் உடன்கட்டை ஏறுதல் (சதி) ஒழிக்கப்பட்டது? (Sep-2021)
அ) 1827 ஆ) 1829 இ) 1826 ஈ) 1927 [விடை : ஆ) 1829]
2. தயானந்த சரஸ்வதியால் நிறுவப்பெற்ற சமாஜத்தின் பெயர் யாது?
அ) ஆரிய சமாஜம் ஆ) பிரம்ம சமாஜம்
இ) பிரார்த்தனை சமாஜம் ஈ) ஆதி பிரம்ம சமாஜம் [விடை : அ) ஆரிய சமாஜம்]
3. யாருடைய பணியும் இயக்கமும், 1856ஆம் ஆண்டு விதவை மறுமண சீர்திருத்தச் சட்டம் இயற்றப்படுவதற்கு வழிகோலியது?
அ) ஈஸ்வர் சந்திர வித்யாசாகர் ஆ) இராஜா ராம்மோகன் ராய்
இ) அன்னிபெசன்ட் ஈ) ஜோதிபா பூலே [விடை : அ) ஈஸ்வர் சந்திர வித்யாசாகர்]
4. 'ராஸ்ட் கோப்தார்' யாருடைய முழுக்கம்?
அ) பார்சி இயக்கம் ஆ) அலிகார் இயக்கம்
இ) இராமகிருஷ்ணர் ஈ) திராவிட மகாஜன சபை [விடை : அ) பார்சி இயக்கம்]
5. நாம்தாரி இயக்கத்தை உருவாக்கியவர் யார்?
அ) பாபா தயாள் தாஸ் ஆ) பாபா ராம்சிங்
இ) குருநானக் ஈ) ஜோதிபா பூலே [விடை : ஆ) பாபா ராம்சிங்]

[55]



6. விதவை மறுமணச் சங்கத்தை ஏற்படுத்தியவர் யார்?

PTA-3

அ) M.G. ரானடே ஆ) தேவேந்திரநாத் தாசர்

இ) ஜோதிபா பூலே ஈ) அய்யன்காளி

[விடை : அ) M.G. ரானடே]

7. 'சத்யார்த்தபிரகாஷ்' எனும் நூலின் ஆசிரியர் யார்?

PTA-2; Sep-2020

அ) தயானந்த சரஸ்வதி ஆ) அயோத்திதாசர்

இ) அன்னி பெசன்ட் ஈ) சுவாமி சாரதாநந்தா [விடை : அ) தயானந்த சரஸ்வதி]

II. கோட்டிடங்களை நிரப்புக

1. _____ சமரச வேத சன்மார்க்க சங்கத்தை நிறுவினார். [விடை: இராமலிங்க அடிகள்]

2. புனே சர்வஜனிக் சபாவை நிறுவியவர் _____. [விடை: மகாதேவ் கோவிந்த் ரானடே]

3. குலாங்கிரி நூலை எழுதியவர் _____. [விடை: ஜோதிபா பூலே]

4. இராமகிருஷ்ணா மிஷன் _____ ஆல் நிறுவப்பட்டது. [விடை: சுவாமி விவேகானந்தர்]

5. _____ அகாலி இயக்கத்தின் முன்னோடியாகும். [விடை: சிங்சபா]

6. 'ஒரு பைசா தமிழன்' பத்திரிகையைத் துவக்கியவர் _____ ஆவார். [விடை: அயோத்தி தாசர்]

III. சரியான கூற்றைத் தேர்ந்தெடுக்கவும்

1. i) இராஜா ராம்மோகன்ராய் ஒரு கடவுள் கோட்பாட்டை போதித்தார். [விடை: QY-2019]

ii) அவர் உருவ வழிபாட்டை ஆதரித்தார்.

iii) சமூகத் தீமைகளைக் கண்டனம் செய்வதை எதிர்த்து அவர் சிற்றேடுகளை வெளியிட்டார்.

iv) இராஜா ராம்மோகன் ராய் கவர்னர் வில்லியம் பெண்டிங்கால் ஆதரிக்கப்பட்டார்.

அ) (i) சரி ஆ) (i), (ii) ஆகியன சரி

இ) (i), (ii), (iii) ஆகியன சரி ஈ) (i), (iii) ஆகியன சரி

[விடை: ★ (i), (iii) மற்றும் (iv) ஆகியன சரி]

2. i) பிரார்த்தனை சமாஜம் டாக்டர் ஆத்மாராம் பாண்டூரங்கால் நிறுவப்பெற்றது. [விடை: PTA-6]

ii) இந்த சமாஜம் அனைத்துச் சாதியினரும் பங்கேற்கும் சமபந்திகளையும் சாதிக் கலப்புத் திருமணங்களையும் ஊக்குவித்தது.

iii) ஜோதிபா பூலே ஆண்களின் மேம்பாட்டிற்காகப் பணியாற்றினார்.

iv) பிரார்த்தனை சமாஜம் பஞ்சாபைப் பிறப்பிடமாகக் கொண்டது.

அ) (i) சரி ஆ) (ii) சரி

இ) (i), (ii) ஆகியன சரி ஈ) (iii), (iv) ஆகியன சரி

[விடை: இ) (i), (ii) ஆகியன சரி]

3. i) இராமகிருஷ்ணா மிஷன் கல்வி, உடல் நலம், பேரிடர்களின்போது நிவாரணப் பணி செய்தல் போன்ற சமூகப் பணிகளில் செயலூக்கத்துடன் ஈடுபட்டது.

ii) பேரின்பநிலை எய்தும் பழக்கங்களின் மூலம் ஆன்ம ரீதியாக இறைவனோடு இணைவதை இராமகிருஷ்ணர் வலியுறுத்தினார்.

iii) இராமகிருஷ்ணர் இராமகிருஷ்ணாமிஷனை ஏற்படுத்தினார்.

iv) இராமகிருஷ்ணர் வங்கப்பிரிவினையை எதிர்த்தார்.

அ) (i) சரி ஆ) (i) மற்றும் (ii) சரி

இ) (iii) சரி ஈ) (i), (iii) மற்றும் (iv) சரி

[விடை: ஆ) (i) மற்றும் (ii) சரி]

4. கூற்று : ஜோதிபா பூலே ஆதரவற்றோருக்கான விடுதிகளையும், விதவைகளுக்கான விடுதிகளையும் திறந்தார்.
- காரணம் : ஜோதிபா பூலே குழந்தைத் திருமணத்தை எதிர்த்தார். விதவை மறுமணத்தை ஆதரித்தார்.
- அ) கூற்று சரி. ஆனால் காரணம் கூற்றுக்குப் பொருத்தமானதாக இல்லை.
- ஆ) கூற்று சரி. காரணம் கூற்றுக்குப் பொருத்தமானதாக உள்ளது.
- இ) இரண்டுமே தவறு.
- ஈ) காரணம் சரி. ஆனால் கூற்று பொருத்தமற்றதாக உள்ளது.

[விடை: ஆ) கூற்று சரி. காரணம் கூற்றுக்குப் பொருத்தமானதாக உள்ளது]

IV. பொருத்துக

1.	ஒரு பைசா தமிழன்	-	விதவை மறுமண சீர்திருத்தச் சட்டம்
2.	திருவருட்பா	-	நிரங்கரி இயக்கம்
3.	பாபா தயாள்தாஸ்	-	ஆதி பிரம்மசமாஜம்
4.	ஈஸ்வர் சந்திர வித்யாசாகர்	-	பத்திரிக்கை
5.	தேவேந்திரநாத்	-	ஜீவகாருண்யப் பாடல்கள்

விடை:

1.	ஒரு பைசா தமிழன்	-	பத்திரிக்கை
2.	திருவருட்பா	-	ஜீவகாருண்யப் பாடல்கள்
3.	பாபா தயாள்தாஸ்	-	நிரங்கரி இயக்கம்
4.	ஈஸ்வர் சந்திர வித்யாசாகர்	-	விதவை மறுமண சீர்திருத்தச் சட்டம்
5.	தேவேந்திரநாத்	-	ஆதி பிரம்மசமாஜம்

V. கீழ்க்காணும் வினாக்களுக்கு சுருக்கமாக விடையளிக்கவும்.

1. மகரிஷி தேவேந்திரநாத் தாகூர் முன்வைத்த நம்பிக்கையின் நான்கு கூறுகளைக் குறிப்பிடுக. (PTA-4)
- மகரிஷி தேவேந்திரநாத் தாகூர் முன்வைத்த நம்பிக்கையின் நான்கு கூறுகள்:
- (i) தொடக்கத்தில் எதுவுமில்லை, எல்லாம் வல்ல ஒரு கடவுள் மட்டுமே உள்ளார். அவரே இவ்வுலகத்தைப் படைத்தார்.
- (ii) அவர் ஒருவரே உண்மையின், எல்லையற்ற ஞானத்தின், நற்பண்பின், சக்தியின் கடவுளாவார். அவரே நிலையானவர், எங்கும் நிறைந்திருப்பவர், அவருக்கிணையாருமில்லை.
- (iii) நம்முடைய வீடுபேறு, இப்பிறவியிலும் அடுத்த பிறவியிலும் அவரை நம்புவதையும் அவரை வணங்குவதையும் சார்ந்துள்ளது.
- (iv) அவரை நம்புவதென்பது அவரை நேசிப்பதிலும் அவர் விருப்பத்தைச் செயல்படுத்துவதிலும் அடங்கி உள்ளது.
2. சமூகச் சீர்திருத்தங்களுக்கு மகாதேவ் ரானடேயின் பங்களிப்பைக் குறிப்பிடுக.
- சமூகச் சீர்திருத்தங்களுக்கு மகாதேவ் ரானடேயின் பங்களிப்பு :
- (i) சாதிமறுப்பு, சமபந்தி, சாதிமறுப்புத் திருமணம், விதவை மறுமணம், பெண்கள் மற்றும் ஒடுக்கப்பட்ட மக்களின் முன்னேற்றம் போன்ற நடவடிக்கைகளுக்காகத் தங்களை அர்பணித்துக் கொண்டார்.
- (ii) மகாதேவ் கோவிந்த் ரானடே (1842-1901), விதவை மறுமணச் சங்கம் (1861), புனே சர்வஜனிக்சபா (1870), தக்காணக் கல்விக் கழகம் (1884) ஆகிய அமைப்புகளை நிறுவினார்.

சுராவின □ சமூக அறிவியல் □ 10 ஆம் வகுப்பு

3. இராமலிங்க சுவாமிகளின் சீர்திருத்தங்கள் குறித்து சிறுகுறிப்பு வரைக.
- இராமலிங்க சுவாமிகள் தன்னுடைய அன்பையும் இரக்கத்தையும் செடி கொடிகள் உட்பட அனைத்து உயிரினங்களின் மேலும் காட்டினார். இதை அவர் ஜீவகாருண்யம் என்றார்.
 - 1865 இல் சமரச வேத சன்மார்க்க சங்கம் என்னும் அமைப்பை நிறுவினார். பின்னர் அது சமரச சுத்தசன்மார்க்க சத்ய சங்கம் எனப் பெயர் மாற்றம் செய்யப்பட்டது.
 - 1866 இல் தென்னிந்தியாவில் ஏற்பட்ட கொடிய பஞ்சத்தைக் கணக்கில் கொண்டு 1867 இல் சாதி எல்லைகளைத் தாண்டி அனைத்து மக்களுக்கும்மான இலவச உணவகத்தை வடலூரில் நிறுவினார்.
4. பிரம்ம சமாஜத்தால் ஒழிக்கப்பட்ட சமூகத் தீமைகள் யாவை? PTA-6; HY-2019
- பிரம்ம சமாஜத்தால் ஒழிக்கப்பட்ட சமூகத் தீமைகள் உடன்கட்டை ஏறுதல், (சதி) குழந்தைத் திருமணம், பலதாரமணம் முதலியன.
5. ஏழைகள் மற்றும் அடித்தட்டு மக்களின் நலன்களுக்காக ஜோதிபா பூலே ஆற்றிய பணிகளைக் கோட்டுக் காட்டுக.
- ஏழைகள் மற்றும் அடித்தட்டு மக்களின் நலன்களுக்காக ஜோதி பா பூலே ஆற்றிய பணிகள் :
- ஜோதிபா கோவிந்தராவ் பூலே 1852 ஆம் ஆண்டு ஒடுக்கப்பட்டோருக்கான முதல் பள்ளியை புனையில் திறந்தார். சத்தியசோதக சமாஜ் (உண்மையை நாடுவோர் சங்கம், Truth Seekers Society) எனும் அமைப்பை, பிராமணரல்லாத மக்களும் சுயமரியாதையோடும் குறிக்கோளோடும் வாழத் தூண்டுவதற்காய் நிறுவினார்.
 - பூலே குழந்தைத் திருமணத்தை எதிர்த்தார். விதவை மறுமணத்தை ஆதரித்தார்.
 - ஜோதிபாவும் அவருடைய மனைவி சாவித்திரிபாயும் ஒடுக்கப்பட்ட மக்களின், பெண்களின் முன்னேற்றத்திற்காகத் தங்கள் வாழ்க்கையை அர்ப்பணித்தனர்.
 - ஜோதிபா பெற்றோரில்லாத குழந்தைகளுக்கென்று விடுதிகளையும் விதவைகளுக்கென காப்பகங்களையும் உருவாக்கினார்.

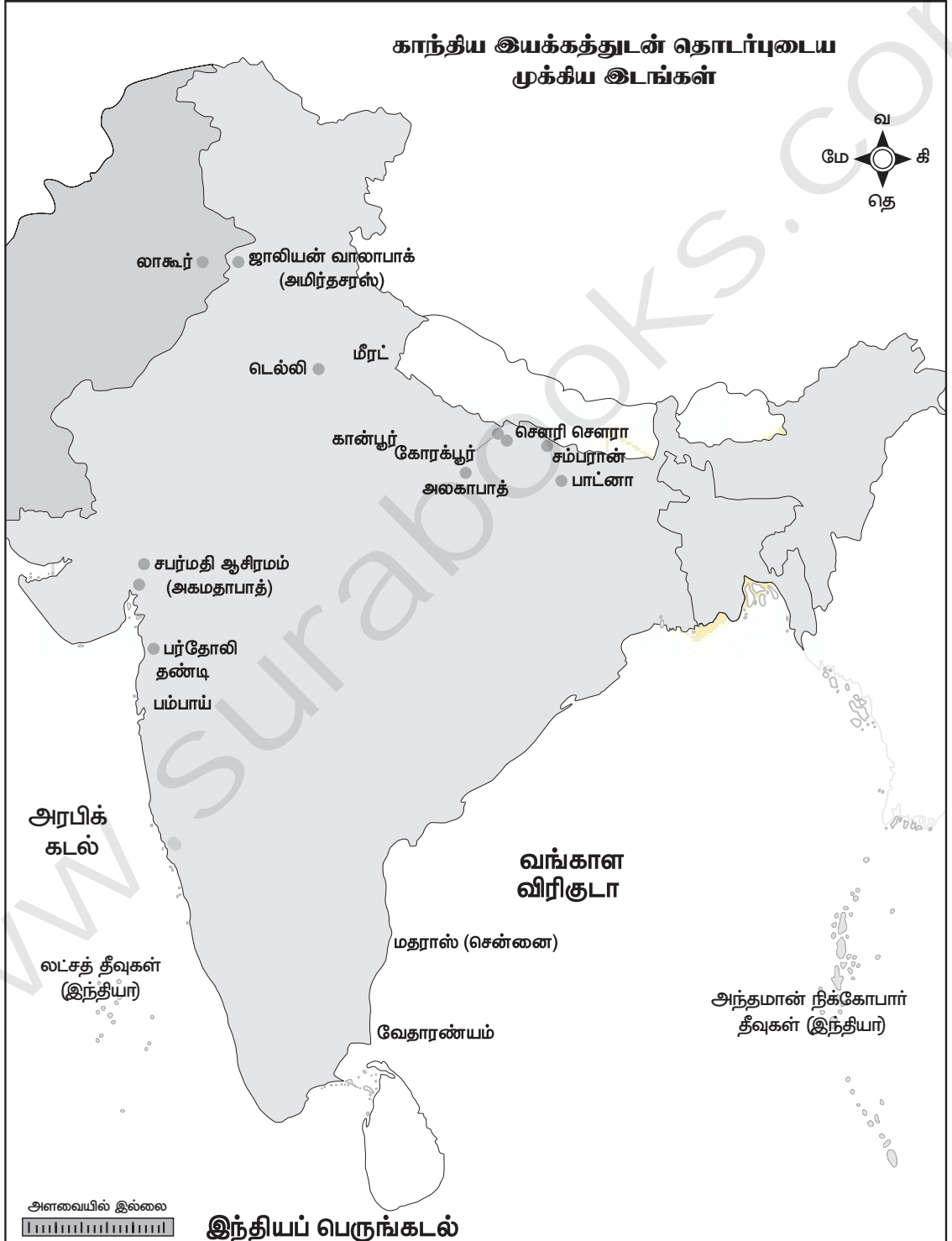
VI. விரிவாக விடையளிக்கவும்

1. 19ஆம் நூற்றாண்டில் சீர்திருத்த இயக்கங்கள் நடைபெறுவதற்கு இட்டுச் சென்ற சூழ்நிலைகளை விவாதிக்கவும். PTA-5
- எழுத்தாளர்களை உருவாக்கும் நோக்கில் அறிமுகம் செய்யப்பட்ட ஆங்கிலக் கல்வி ஒரு புதிய ஆங்கிலக் கல்வி பயின்ற நடுத்தரவர்க்கத்தை உருவாக்கியது.
 - இவ்வர்க்கம் மேற்கத்தியக் கருத்துக்களின், சிந்தனைகளின் தாக்கங்களுக்குள்ளானது.
 - கல்வியறிவு பெற்ற இந்நடுத்தர வர்க்கம் எண்ணிக்கையில் சிறிதாக இருந்தாலும் அரசியலிலும், சீர்திருத்த இயக்கங்களிலும் தலைமை வகிக்கத் தொடங்கியது.
 - இருந்தபோதிலும் இந்தியச் சீர்திருத்தவாதிகள் தங்களுடைய பழைய கருத்துக்களையும், பழக்க வழக்கங்களையும் விமர்சன பூர்வமான ஆய்வுக்கு உட்படுத்தப் பெரிதும் தயங்கினர்.
 - அதற்குப் பதிலாக அவர்கள் இந்தியப் பண்பாட்டிற்கும் மேலைப் பண்பாடுகளுக்கும் இடையே இணக்கத்தை ஏற்படுத்த முயன்றனர்.
 - இருந்தபோதிலும் அவர்களுடைய கருத்துகளும், செயல்பாடுகளும் உடன்கட்டை ஏறுதல் (சதி), பெண் சிசுக்கொலை, குழந்தைத் திருமணம் போன்ற அனைத்து வகையான கண்மூடித்தனமான மதநம்பிக்கைகள் மற்றும் சமூகத் தீமைகளை கட்டுப்படுத்த உதவியது.
 - இதுவே 19 ஆம் நூற்றாண்டில் சீர்திருத்த இயக்கங்கள் நடைபெறுவதற்கு இட்டுச் சென்ற சூழ்நிலைகள் ஆகும்.

VII. செயல்பாடுகள்

- ஒரு வரை படத்தில் காந்திய இயக்கத்துடன் தொடர்புடைய முக்கிய இடங்களைக் குறிப்பிடுமாறும் அங்கு என்ன நடந்தது என்று ஓரிரு வாக்கியங்கள் எழுதுமாறும் மாணவர்களைக் கேட்டுக்கொள்ளலாம்.

Sep-2021



**சம்பரான் சத்தியா கிரகம்:**

- பீகாரில் உள்ள சம்பரானில் 'தீன் காத்தியா' முறை பின்பற்றப்பட்டது. இந்த சுரண்டல் முறையில் இந்திய விவசாயிகள் தங்களின் நிலத்தில் இருபதில் மூன்று பங்கு பகுதியில் அவரிடம் பயிரிட வேண்டும் என்று ஐரோப்பிய பண்ணையாளர்கள் அவர்களைக் கட்டாயப்படுத்தினர்.
- இதை எதிர்த்த காந்தியடிகளுக்கு ஆதரவாக ஆயிரக்கணக்கானோர் அந்த இடத்தில் கூடினர். இண்டிகோ பண்ணையாளர்கள் விவசாயிகளின் மீது நடத்திய அடக்குமுறையை முடிவுக்குக் கொண்டு வரும் வகையில் 'தீன் காத்தியா' முறையை ரத்து செய்ய அந்தக் குழு பரிந்துரைத்தது.

ஜாலியன் வாலாபாக்:

- அமிர்தசரஸில் உள்ள ஜாலியன் வாலாபாக்கில் 1919 ஏப்ரல் 13ஆம் நாள் ஒரு பொதுக் கூட்டத்துக்கு ஏற்பாடு செய்யப்பட்டிருந்தது.
- இந்தக் கூட்டம் பற்றி அறிந்தவுடன் அந்த இடத்தை பீரங்கி வண்டி மற்றும் ஆயுதமேந்திய வீரர்களுடன் ஜெனரல் ரெஜினால்டு சுற்றி வளைத்தார். பின்னர் 10 மணித்துளிகளுக்கு மேலாக துப்பாக்கிச் சூடு நிகழ்ந்தது.

செளரி செளரா:

1922 பிப்ரவரி 5ஆம் நாள் தற்போதைய உத்திரப்பிரதேசத்தில் உள்ள கோரக்பூர் அருகே செளரி செளரா என்ற கிராமத்தில் தேசியவாதிகள் நடத்தியப் பேரணி காவல் துறையினரின் தூண்டுதலில் வன்முறையாக மாறியது.

உப்புச் சத்தியாகிரகம்:

- தமிழ்நாட்டில் திருச்சிராப்பள்ளியில் இருந்து வேதாரண்யம் வரை இதே போன்ற ஒரு யாத்திரையை சி.ராஜாஜி மேற்கொண்டார்.
- காந்தியடிகள் 1930 மார்ச் மாதம் 12ஆம் நாள் 78 பேர்களுடன் சபர்மதி ஆசிரமத்திலிருந்து தனது புகழ்பெற்ற தண்டி யாத்திரையைத் தொடங்கினார்.

- மாணவர்கள் குழுக்களாகப் பிரிக்கப்பட்டு காந்தியடிகள், ஜின்னா, B.R.அம்பேத்கர், புரட்சிகர தேசியவாத தலைவர்கள், பொதுவுடைமைவாத தலைவர்கள் ஆகியோரின் கருத்துகள் பற்றி விவாதம் நடத்துமாறு கேட்டுக்கொள்ளலாம்.

மாணவர்கள் இச்செயல்பாட்டினைத் தாங்களாகவே செய்து பார்க்க வேண்டும்.

PTA வினா- விடைகள்**1 மதிப்பெண்**

- ஃபீனிக்ஸ் குடியிருப்பு யாரால் நிறுவப்பட்டது? (PTA-2)

- | | |
|-----------------|-----------------|
| அ) காந்தியடிகள் | ஆ) ஜான் ரஸ்கின் |
| இ) டால்ஸ்டாய் | ஈ) தாரோ |

[விடை: அ) காந்தியடிகள்]

2 மதிப்பெண்கள்

- சம்பரான் சத்தியாகிரகம் பற்றி நீவிர் அறிவன என்ன? (PTA-2)

- பீகாரில் உள்ள சம்பரானில் 'தீன் காத்தியா' முறை பின்பற்றப்பட்டது. இந்த சுரண்டல் முறையில் இந்திய விவசாயிகள் தங்களின் நிலத்தின் இருபதில் மூன்று பங்கு பகுதியில் அவரிடம் (இண்டிகோ) பயிரிட வேண்டும் என்று ஐரோப்பியப் பண்ணையாளர்கள் அவர்களைக் கட்டாயப்படுத்தினர்.
- சம்பரானில் இண்டிகோ பயிரிட்ட ஐரோப்பியப் பண்ணையாளர்கள் நீலச்சாயம் பயிரிடும் கடமையிலிருந்து விவசாயிகளை விடுவிக்கும் தேவையை உணர்ந்து அந்த நிலைமையை தங்களுக்குச் சாதகமாகப் பயன்படுத்திக்கொள்ள விரும்பினார்கள்.
- இண்டிகோ பண்ணையாளர்கள் விவசாயிகள் மீது நடத்திய அடக்குமுறையை முடிவுக்குக் கொண்டுவரும் வகையில் 'தீன் காத்தியா' முறையை ரத்து செய்ய அந்தக் குழு பரிந்துரைத்தது.

II. கோடிட்ட இடங்களை நிரப்புக

1. முதன் முதலாக அச்சேறிய ஐரோப்பிய மொழி அல்லாத மொழி _____ ஆகும். [விடை: தமிழ்]
2. புனித ஜார்ஜ் கோட்டைக் கல்லூரியை உருவாக்கியவர் _____ ஆவார். [விடை: F.W. எல்லிஸ்]
3. _____ தமிழ் மொழியியல் தூய்மை வாதத்தின் தந்தையெனக் கருதப்படுகிறார். [விடை: மறைமலை அடிகள்]
4. தேர்தல் அரசியலில் பெண்கள் பங்கேற்பதை முதலில் அங்கீகரித்தது _____ ஆகும். [விடை: நீதிக்கட்சியின் கீழிருந்த சட்டமன்றம்]
5. சூரியநாராயண சாஸ்திரி எனும் பெயர் _____ என மாற்றம் பெற்றது. [விடை: பரிதிமாற் கலைஞர்]
6. _____ தமிழ் இசைக்கு முக்கியத்துவம் கொடுத்தார். [விடை: ஆபிரகாம் பண்டிதர்]
7. இந்தியாவின் முதல் பெண் சட்டமன்ற உறுப்பினர் _____ ஆவார். [விடை: முத்துலட்சுமி அம்மையார்]

III. சரியான கூற்றைத் தேர்வு செய்யவும்.

1. (i) மிக முன்னதாகவே வெளியிடப்பட்ட தமிழ் இலக்கிய நூல்களில் ஒன்றான திருக்குறள் 1812-இல் வெளியிடப்பட்டது.
 - (ii) பனையோலைகளில் எழுதப்பெற்ற பல்வேறு தமிழ் இலக்கண இலக்கிய கையெழுத்துப் பிரதிகளை மறைமலையடிகள் சேகரித்துத் தொகுத்தார்.
 - (iii) இராபர்ட் கால்டுவெல் திராவிட மொழிகளுக்கும் சமஸ்கிருதத்திற்கும் இடையில் இல்லாத ஒப்புமை திராவிட மொழிகளுக்கிடையே நெருக்கமாக நிலவுவதை நிரூபித்தார். தமிழின் தொன்மையையும் நிரூபித்தார்.
 - (iv) திரு.வி. கல்யாணசுந்தரம் தொழில் சங்க இயக்கத்தின் தொடக்ககால முன்னோடியாக இருந்தார்.

அ) (i), (ii) ஆகியன சரி	ஆ) (i), (iii) ஆகியன சரி
இ) (iv) சரி	ஈ) (ii), (iii) ஆகியன சரி
- [விடை: ஆ) (i), (iii) ஆகியன சரி]
2. கூற்று : சென்னை மாகாணத்தில் 1920 முதல் 1937 வரை நீதிக்கட்சி தொடர்ந்து ஆட்சியில் இருந்தது.
 - காரணம் : இக்காலகட்டத்தில் இரட்டையாட்சிக்கு எதிராக காங்கிரஸ் கட்சி சட்டமன்றத்தைப் புறக்கணித்தது.
- (HY-2019)
- அ) காரணம், கூற்று ஆகியவை சரி.
 - ஆ) கூற்று சரி ஆனால் காரணம் கூற்றின் சரியான விளக்கமல்ல.
 - இ) காரணம், கூற்று இரண்டுமே தவறு.
 - ஈ) காரணம் சரி. ஆனால் கூற்றுடன் அது பொருந்தவில்லை.
- [விடை: அ) காரணம், கூற்று ஆகியவை சரி.]

IV. பொருத்துக

1. திராவிடர் இல்லம்	-	மறைமலையடிகள்
2. தொழிலாளன்	-	இரட்டைமலை சீனிவாசன்
3. தனித் தமிழ் இயக்கம்	-	சிங்காரவேலர்
4. ஜீவிய சரித சுருக்கம்	-	நடேசனார்



விடை:

1.	திராவிடர் இல்லம்	-	நடேசனார்
2.	தொழிலாளன்	-	சிங்காரவேலர்
3.	தனித் தமிழ் இயக்கம்	-	மறைமலையடிகள்
4.	ஜீவிய சரித சுருக்கம்	-	இரட்டைமலை சீனிவாசன்

V. சுருக்கமாக விடையளிக்கவும்.

- 1. தமிழ் மறுமலர்ச்சி குறித்து சிறுகுறிப்பு வரைக.**
 - (i) காலனியத்தின் பண்பாட்டு ஆதிக்கமும் மனிதநேயத்தின் எழுச்சியும் இந்தியத் துணைக்கண்டத்தின் சமூகப்-பண்பாட்டு வாழ்வில் பல மாற்றங்களைக் கொண்டு வந்தது.
 - (ii) நவீன தமிழ்நாடும் அத்தகைய வரலாற்று மாற்றத்தை அனுபவித்தது.
 - (iii) தமிழ்மொழி மற்றும் கலாச்சாரம் அவர்களின் அடையாள கட்டுமானத்தில் குறிப்பிடத்தக்க பங்கைக் கொண்டிருந்தன.
 - (iv) அச்ச இயந்திரத்தின் அறிமுகமும், திராவிட மொழிகளின் மீது மேற்கொள்ளப்பட்ட மொழியியல் ஆய்வுகளும் மற்றும் பலவும் தமிழ் மறுமலர்ச்சி செயல்பாடுகளுக்கு அடிபரமாய் விளங்கின.
- 2. தென்னிந்திய மொழிகளுக்காக கால்டுவெல்லின் பங்களிப்பினை நன்குப் புலப்படுத்துக.**
 - (i) ராபர்ட் கால்டுவெல் (1814 - 1891) திராவிட அல்லது தென்னிந்திய மொழிகளின் ஒப்பீட்டு இலக்கணம் எனத் தலைப்பிடப்பட்ட நூலில் இக்கோட்பாட்டை 1856இல் விரிவுபடுத்தினார்.
 - (ii) திராவிட மொழிகளுக்கிடையில் நெருக்கமான ஒப்புமை இருப்பதையும் அப்படியான ஒப்புமை சமஸ்கிருதத்துடன் இல்லை என்பதையும் நிறுவினார். மேலும் தமிழின் தொன்மையையும் நிலைநாட்டினார்.
- 3. தங்களுடைய எழுத்துக்களின் மூலம் தமிழ் இலக்கியத்தின் புத்துயிர்ப்புக்குப் பங்களிப்புச் செய்த ஆளுமைகளைப் பட்டியலிடவும்.**
 - (i) சி.வை.தாமோதரனார், உ.வே.சாமிநாதர், திரு.வி.கல்யாண சுந்தரம் (1883 - 1953),
 - (ii) பரிதிமாற்கலைஞர் (1870 - 1903),
 - (iii) மறைமலையடிகள் (1876 - 1950),
 - (iv) சுப்பிரமணிய பாரதி (1882 - 1921),
 - (v) ச.வையாபுரி (1891 - 1956),
 - (vi) கவிஞர் பாரதிதாசன் (1891 - 1964) ஆகியோர் தங்களுக்கே உரித்தான வழிகளில், தங்களின் எழுத்துக்கள் மூலம் தமிழ் இலக்கியத்தின் புத்தெழுச்சிக்குப் பங்களிப்பு செய்தனர்.
- 4. நீதிக்கட்சியால் நிறைவேற்றப்பட்ட இந்துசமய அறநிலைய சட்டத்தின் முக்கியத்துவத்தை விவாதிக்கவும்.**
 - (i) நீதிக்கட்சி 1926இல் இந்து சமய அறநிலையச் சட்டத்தை இயற்றியது.
 - (ii) அதன்படி எந்தவொரு தனிநபரும், சாதி வேறுபாடன்றி கோவில்களின் நிர்வாகக் குழுக்களில் உறுப்பினராகவும் கோவிலின் சொத்துக்களை நிர்வகிக்கவும் வழிவகை செய்யப்பட்டது.
- 5. தென்னிந்திய நல உரிமைச் சங்கத்தால் வெளியிடப்பட்ட செய்தித்தாள்களின் பெயர்களைக் குறிப்பிடுக.**

(PTA-1)

தமிழில் திராவிடன், ஆங்கிலத்தில் ஜஸ்டிஸ், தெலுங்கில் ஆந்திர பிரகாசிகா ஆகிய பத்திரிகைகளை வெளியிட்டது.
- 6. பெரியாரை ஒரு பெண்ணியவாதியாக மதிப்பிடுக.**
 - (i) பெரியார் ஆணாதிக்க சமூகத்தை விமர்சித்தார். குழந்தைத் திருமணத்தையும் தேவதாசி முறையையும் கண்டனம் செய்தார்.



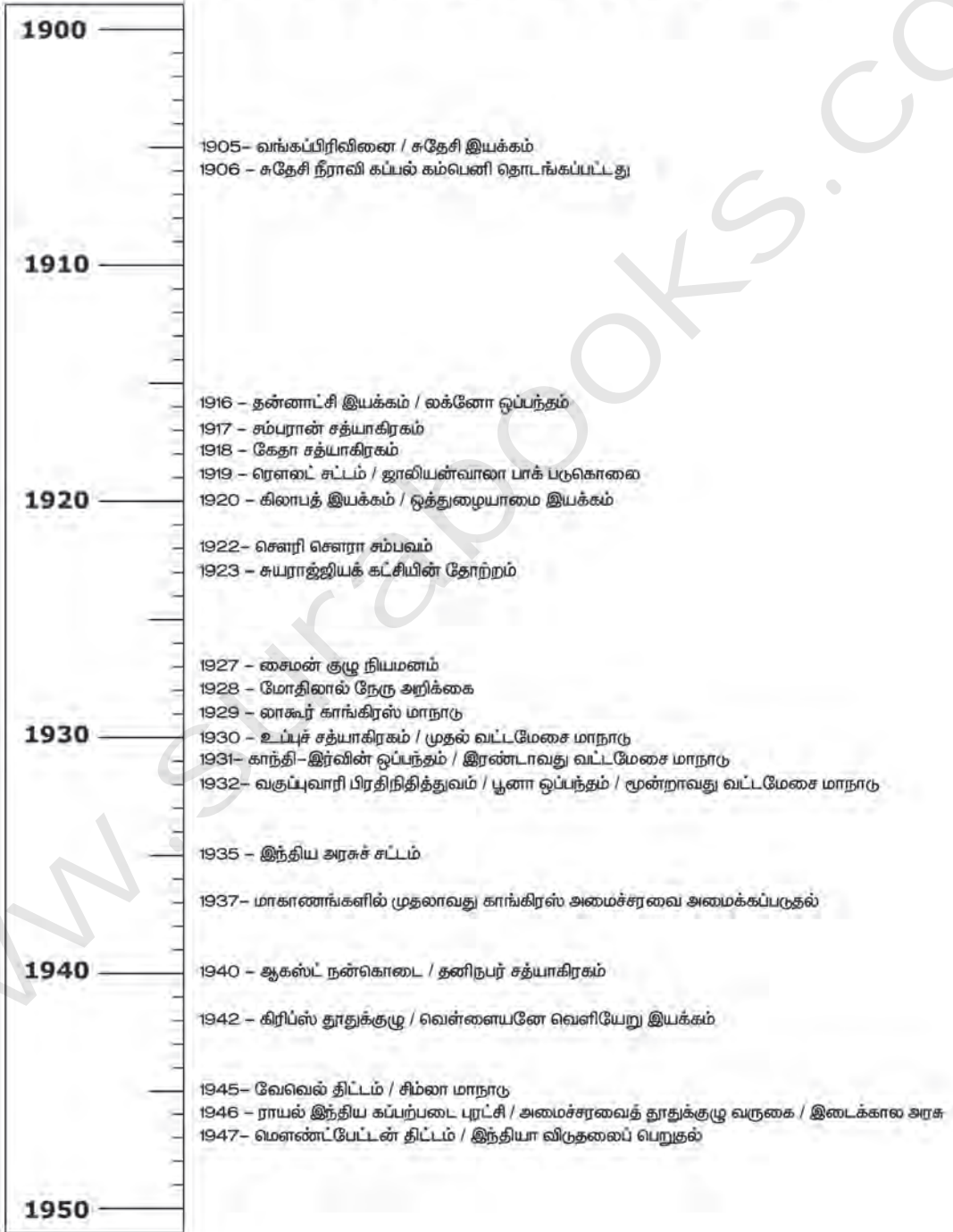
காலக்கோடு

1920 முதல் 1940 வரையிலான ஆண்டுகளில் உட்பட்ட முக்கிய ஐந்து நிகழ்வுகளைக் காலக்கோட்டில் எழுதுக.

Sep-2020, 21

1 அகடு = 10 ஆண்டுகள்

இந்திய தேசிய இயக்கத்தின் முக்கிய நிகழ்வுகள் (1900-1947)




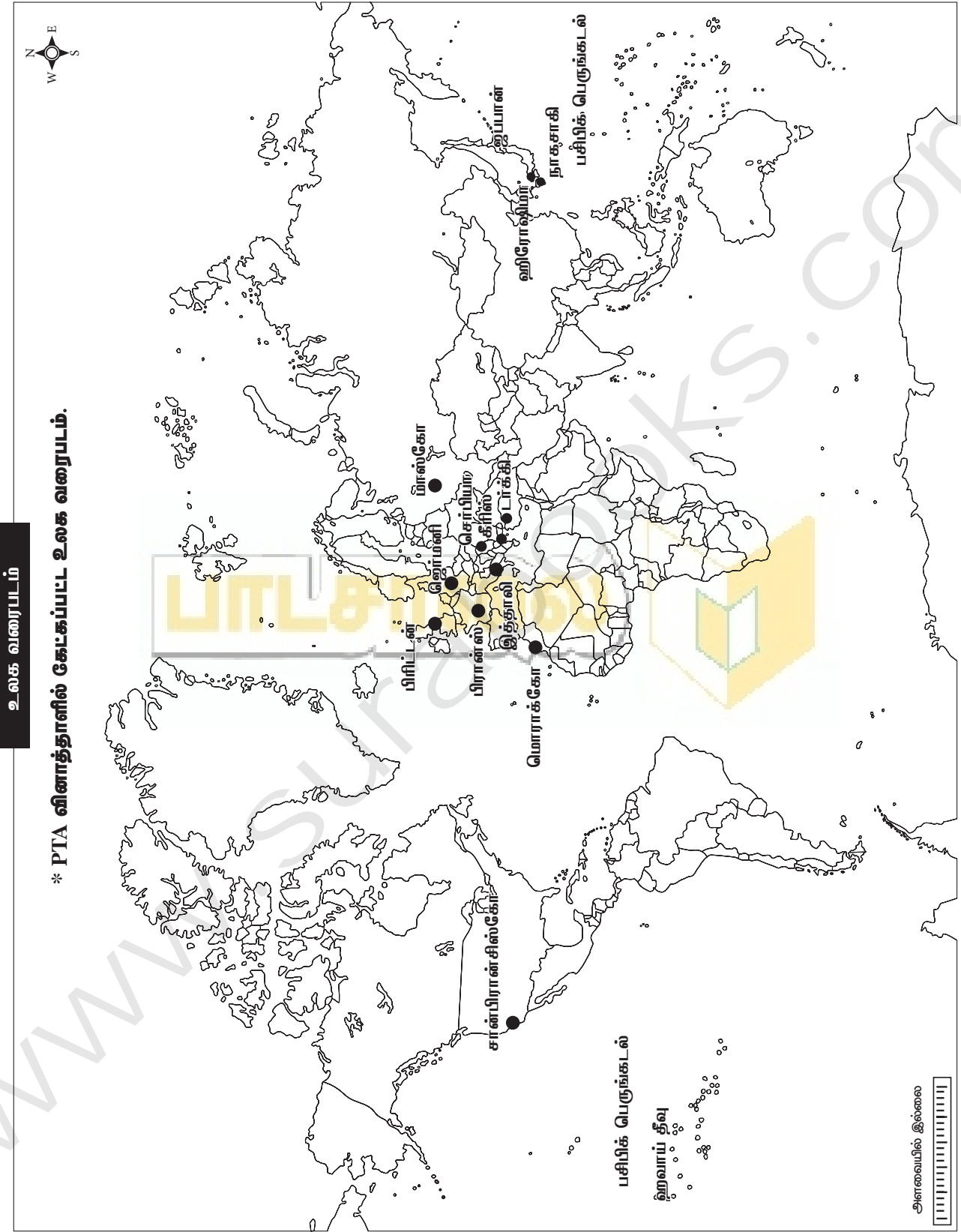
தமிழ்நாட்டில் சமூக மாற்றங்கள்

வரலாறு



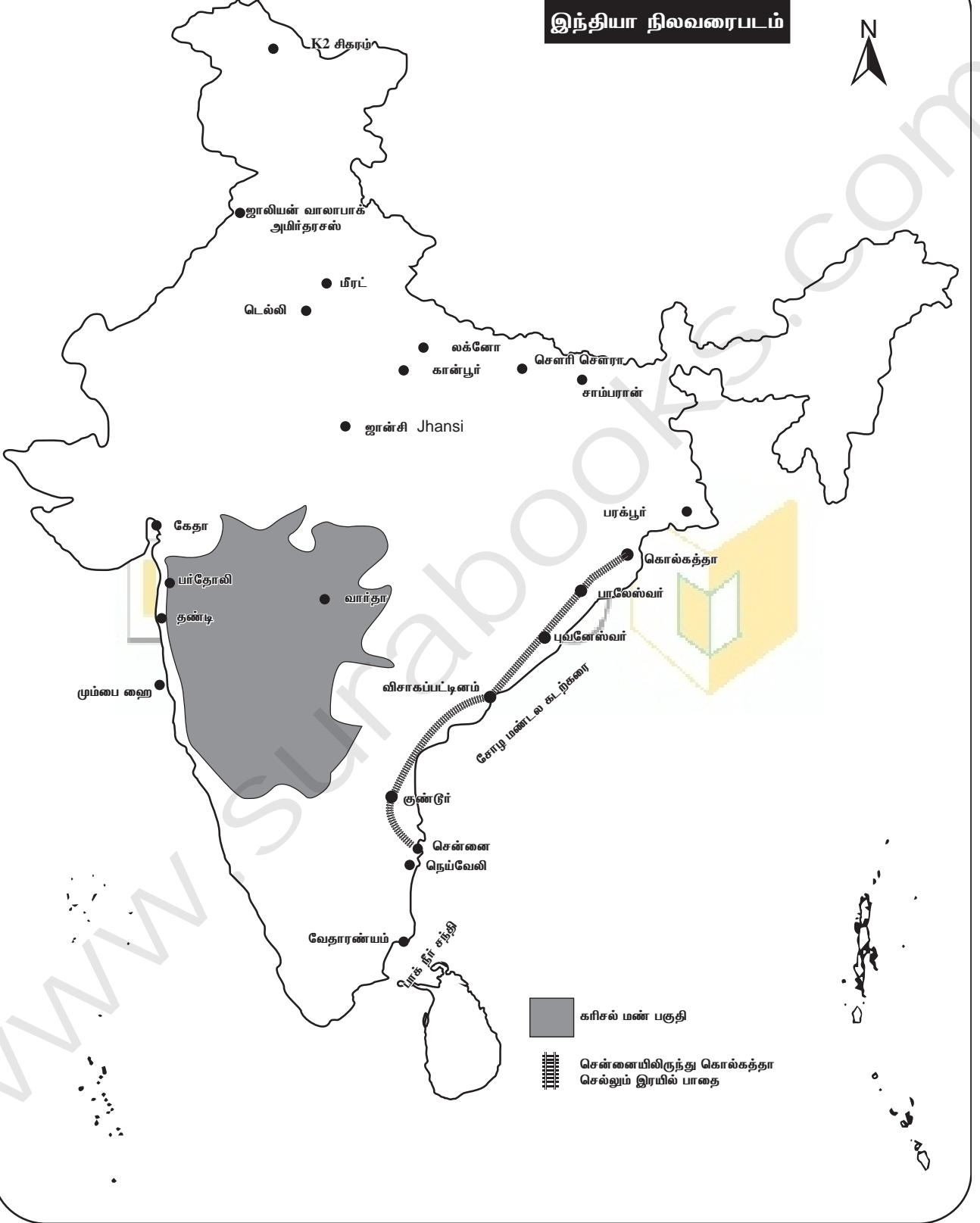
உலக வரலாற்றில் முக்கிய நிகழ்வுகள் (1900-1950)





* PTA வினாத்தாளில் கேட்கப்பட்ட இந்திய வரைபடம்.


இந்தியா நிலவரைபடம்



புனியியல்

அலகு
1

இந்தியா - அமைவிடம்,
நிலத்தோற்றம் மற்றும்
வடிகாலமைப்பு



கற்றலின் நோக்கங்கள்

- புனியில், இந்தியாவின் அமைவிட முக்கியத்துவத்தைப் பற்றி புரிந்துகொள்ளல்.
- இந்தியாவின் முக்கிய தனித்துவப் பண்புகளைக் கொண்ட இயற்கையமைப்புப் பிரிவுகளைப் பற்றி அறிந்துக் கொள்ளல்.
- இந்திய பெரும் சமவெளிப் பகுதிகளை ஒப்பிடுதல்.
- இந்தியாவின் வடிகாலமைப்பு பற்றி புரிந்துகொள்ளல்.
- இமயமலையில் உருவாகும் ஆறுகள் மற்றும் தீபகற்ப ஆறுகளுக்கு இடையேயான வேற்றுமைகளைப் புரிந்துகொள்ளல்.

பயிற்சி

I. சரியான விடையைத் தேர்வு செய்ய்க

1. இந்தியாவின் வடக்கு தெற்கு பரவல்.

அ) 2500 கி.மீ	ஆ) 2933 கி.மீ	
இ) 3214 கி.மீ	ஈ) 2814 கி.மீ	[விடை: இ) 3214 கி.மீ]
2. பீகாரின் துயரம் என்று அழைக்கப்படும் ஆறு

அ) நர்மதா	ஆ) கோதாவரி	
இ) கோசி	ஈ) தாமோதர்	[விடை: இ) கோசி]
3. மூன்று பக்கம் நீரால் சூழப்பட்ட பகுதி _____ என அழைக்கப்படுகிறது. (PTA-3)

அ) கடற்கரை	ஆ) தீபகற்பம்	இ) தீவு	ஈ) நீர்ச்சந்தி	[விடை: ஆ) தீபகற்பம்]
------------	--------------	---------	----------------	----------------------
4. பாக் நீர்சந்தி மற்றும் மன்னார் வளைகுடா _____ ஐ இந்தியாவிடமிருந்து பிரிக்கிறது. (PTA-4)

அ) கோவா	ஆ) மேற்கு வங்காளம்	
இ) இலங்கை	ஈ) மாலத்தீவு	[விடை: இ) இலங்கை]
5. தென்னிந்தியாவின் மிக உயரமான சிகரம் _____. (PTA-2; Govt.MQP-2019)

அ) ஊட்டி	ஆ) ஆனை முடி	
இ) கொடைக்கானல்	ஈ) ஜின்டா கடா	[விடை: ஆ) ஆனை முடி]

சுராவின □ சமூக அறிவியல் □ 10 ஆம் வகுப்பு

6. பழைய வண்டல் படிவுகளால் உருவான சமவெளி _____.
அ) பாபர் ஆ) தராய் இ) பாங்கர் ஈ) காதர் [விடை: இ) பாங்கர்]
7. பழுவேற்காடு ஏரி _____ மாநிலங்களுக்கிடையே அமைந்துள்ளது. (PTA-I)
அ) மேற்கு வங்காளம் மற்றும் ஒடிசா ஆ) கர்நாடகா மற்றும் கேரளா
இ) ஒடிசா மற்றும் ஆந்திரப் பிரதேசம் ஈ) தமிழ்நாடு மற்றும் ஆந்திரப் பிரதேசம்
[விடை: ஈ) தமிழ்நாடு மற்றும் ஆந்திரப் பிரதேசம்]

II. பொருத்துக

1. சாங்போ	-	கங்கை ஆற்றின் துணை ஆறு
2. யமுனை	-	இந்தியாவின் உயர்ந்த சிகரம்
3. புதிய வண்டல் படிவுகள்	-	பிரம்மபுத்திரா
4. காட்வின் ஆஸ்டின் (K2)	-	தென்கிழக்கு கடற்கரைச் சமவெளி
5. சோழ மண்டலக் கடற்கரை	-	காதர்

விடை:

1. சாங்போ	-	பிரம்மபுத்திரா
2. யமுனை	-	கங்கை ஆற்றின் துணை ஆறு
3. புதிய வண்டல் படிவுகள்	-	காதர்
4. காட்வின் ஆஸ்டின் (K2)	-	இந்தியாவின் உயர்ந்த சிகரம்
5. சோழ மண்டலக் கடற்கரை	-	தென்கிழக்கு கடற்கரைச் சமவெளி

III. காரணம் கூறுக.

1. இமயமலைகள் மடிப்பு மலைகள் என அழைக்கப்படுகின்றன.
காரணம் : இமயமலைகள் சில மில்லியன் ஆண்டுகளுக்கு முன்னர்தான் உருவாகியவை. மேலும் புவி மேலோட்டு பேரியக்க விசைகள் காரணமாக புவி மேலோடு மடிக்கப்பட்டு மடிப்பு மலைகளாக உருவாகின. எனவே இமயமலைகள் மடிப்பு மலைகள் என அழைக்கப்படுகின்றன.
2. வட இந்திய ஆறுகள் வற்றாத ஆறுகள். (PTA-2; HY-2019)
காரணம் : வடக்கே உள்ள இமயமலையில் வட இந்திய ஆறுகள் உற்பத்தியாவதால் வருடம் முழுவதும் இவற்றில் நீர் வரத்து உள்ளது. கோடை காலத்தில் பனி உருகி நீராகவும் குளிர் காலத்தில் மழையினால் நீராகவும் இருப்பதால் வட இந்திய ஆறுகள் வற்றாத ஆறுகள் ஆகும்.
3. தென்னிந்திய நதிகள் கிழக்கு நோக்கிப் பாயும் நதிகள்.
காரணம் : தென்னிந்திய ஆறுகள் மேற்கு தொடர்ச்சி மலையில் உற்பத்தியாகி கிழக்கு நோக்கி சரிகின்றன. அதனால் தென்னிந்திய நதிகள் கிழக்கு நோக்கி பாயும் நதிகளாகும்.
4. மேற்கு நோக்கிப் பாயும் நதிகள் டெல்டாவை உருவாக்குவதில்லை.
காரணம் : மேற்கு தொடர்ச்சி மலைகள் மிகவும் உயரமாக இருப்பதாலும், கடினப் பாறைகள் இருப்பதாலும் மற்றும் மேற்கு நோக்கி பாயும் ஆறுகளின் நீளம் குறைவாக இருப்பதால் இவைகள் டெல்டாவை உருவாக்குவதில்லை.

IV. வேறுபடுத்துக

1. இமயமலை ஆறுகள் மற்றும் தீபகற்ப ஆறுகள்.

PTA-5

	இமயமலை ஆறுகள்	தீபகற்ப ஆறுகள்
(i)	சிந்து, கங்கை, பிரம்மபுத்திரா ஆகிய ஆறுகள் இமயமலை ஆறுகள் எனப்படும்.	மகாநதி, கோதாவரி, கிருஷ்ணா, காவேரி, நர்மதை, தபதி ஆகிய ஆறுகள் தீபகற்ப ஆறுகள் எனப்படும்.
(ii)	இவ்வாறுகள் இமயமலையில் உற்பத்தியாகின்றன.	இவ்வாறுகள் மேற்கு தொடர்ச்சி மலையில் உற்பத்தியாகின்றன.
(iii)	இவை வற்றாத நதிகள் ஆகும்.	இவை வற்றும்த நதிகள் ஆகும்.
(iv)	இவை நீளமானவை மற்றும் அகலமானவை.	இவை குறுகலான மற்றும் நீளம் குறைந்தவை.

2. மேற்குத் தொடர்ச்சி மலைகள் மற்றும் கிழக்கு தொடர்ச்சி மலைகள்.

PTA-1

	மேற்கு தொடர்ச்சி மலைகள்	கிழக்கு தொடர்ச்சி மலைகள்
(i)	மேற்கு தொடர்ச்சி மலை தீபகற்ப பீடபூமியின் மேற்கு விளிம்பு பகுதியில் காணப்படுகிறது.	கிழக்கு தொடர்ச்சி மலை தீபகற்ப பீடபூமியில் கிழக்கு விளிம்பு பகுதியில் காணப்படுகின்றது.
(ii)	இவை மேற்கு கடற்கரைக்கு இணையாகச் செல்கிறது.	இவை கிழக்கு கடற்கரைக்கு இணையாகச் செல்கிறது.
(iii)	இவை தொடர்ச்சியானவை.	இவை தொடர்ச்சி அற்றவை.
(iv)	இதன் உயரமான சிகரம் ஆனைமுடி.	இதன் உயரமான சிகரம் மகேந்திரகிரி.

3. மேற்கு கடற்கரைச் சமவெளி மற்றும் கிழக்கு கடற்கரைச் சமவெளி.

Sep-2021

	மேற்கு கடற்கரைச் சமவெளி	கிழக்கு கடற்கரைச் சமவெளி
(i)	மேற்கு கடற்கரைச் சமவெளி மேற்கு தொடர்ச்சி மலைக்கும் அரபிக் கடலுக்கும் இடையே அமைந்துள்ளது.	கிழக்கு கடற்கரைச் சமவெளி கிழக்கு தொடர்ச்சி மலைக்கும் வங்காளா விரிகுடாவிற்கும் இடையே அமைந்துள்ளது.
(ii)	இச்சமவெளி ரானா ஆப் கட்ச் முதல் கன்னியாகுமரி வரை பரவியுள்ளது.	இச்சமவெளி மேற்கு வங்கம் முதல் கன்னியாகுமரி வரை பரவியுள்ளது.
(iii)	மேற்குக் கடற்கரையின் வடபகுதி கொங்கணக் கடற்கரை எனவும், மத்தியப்பகுதி கனரா கடற்கரை எனவும் அழைக்கப்படுகிறது.	மகாநதிக்கும் கிருஷ்ணா நதிக்கும் இடைப்பட்டப்பகுதி வடசர்க்கார் எனவும், கிருஷ்ணா மற்றும் காவேரி ஆற்றிற்கு இடைப்பட்டப்பகுதி சோழமண்டலக் கடற்கரை எனவும் அழைக்கப்படுகிறது.
(iv)	வேம்பநாடு ஏரி இப்பகுதியில் உள்ள முக்கியமான ஏரியாகும்.	சிலிகா ஏரி, கொல்லேறு ஏரி, பழவேற்காடு ஏரி ஆகியவை முக்கியமான ஏரிகளாகும்.

அலகு 2

இந்தியா - காலநிலை மற்றும் இயற்கைத் தாவரங்கள்



கற்றலின் நோக்கங்கள்

- இந்தியக் காலநிலையைக் கட்டுப்படுத்தும் காரணிகளை விவரித்தல்.
- இந்திய பருவகாலங்களின் பண்புகளை புரிந்து கொள்ளுதல்.
- இந்தியாவின் மழைப்பரவலைத் தெரிந்து கொள்ளுதல்.
- இந்தியாவின் பல்வேறு இயற்கைத் தாவரவகைகள் மற்றும் வன உயிரினங்கள் பற்றி கற்றறிதல்.

பயிற்சி

I. சரியான விடையைத் தேர்வு செய்க

1. மேற்கத்திய இடையூறுகளால் மழைப்பொழிவைப் பெறும் பகுதி _____
 (a) தமிழ்நாடு (ஆ) கேரளா
 (இ) பஞ்சாப் (ஈ) மத்தியப் பிரதேசம் [விடை: இ] பஞ்சாப்
2. கேரளா மற்றும் கர்நாடக கடற்கரைப் பகுதிகளில் விளையும் மாங்காய்கள் விரைவில் முதிர்வதற்கு _____ காற்றுகள் உதவுகின்றன.
 (அ) லூ (ஆ) நார்வெஸ்டர்ஸ்
 (இ) மாஞ்சாரல் (ஈ) ஜெட் காற்றோட்டம் [விடை: இ] மாஞ்சாரல்
3. ஒரே அளவு மழைபெறும் இடங்களை இணைக்கும் கோடு _____ ஆகும்.
 (அ) சமவெப்ப கோடுகள் (ஆ) சம மழைக்கோடுகள் [PTA-1; Govt.MQP-2019]
 (இ) சம அழுத்தக் கோடுகள் (ஈ) அட்சக் கோடுகள்
 [விடை: ஆ] சம மழைக்கோடுகள்
4. இந்தியாவின் காலநிலை _____ ஆக பெயரிடப்பட்டுள்ளது.
 (அ) அயன மண்டல ஈரக் காலநிலை (ஆ) நிலநடுக்கோட்டுக் காலநிலை [QY-2019]
 (இ) அயனமண்டல பருவக்காற்றுக் காலநிலை
 (ஈ) மித அயனமண்டலக் காலநிலை [விடை: இ] அயனமண்டல பருவக்காற்றுக் காலநிலை
5. பருவக்காற்று காடுகள் இவ்வாறு அழைக்கப்படுகின்றன.
 (அ) அயன மண்டல பசுமை மாறாக் காடுகள் [PTA-4]
 (ஆ) இலையுதிர்க் காடுகள்
 (இ) மாங்குரோவ் காடுகள் (ஈ) மலைக் காடுகள் [விடை: ஆ] இலையுதிர்க் காடுகள்

சுராவின் □ சமூக அறிவியல் □ 10 ஆம் வகுப்பு

6. சேஷாசலம் உயிர்க்கோள பெட்டகம் அமைந்துள்ள மாநிலம் _____
 அ) தமிழ்நாடு ஆ) ஆந்திரப் பிரதேசம்
 இ) மத்தியப் பிரதேசம் ஈ) கர்நாடகா [விடை: ஆ) ஆந்திரப் பிரதேசம்]
7. யுனெஸ்கோவின் (UNESCO) உயிர்க்கோளப் பாதுகாப்பு பெட்டகத்தின் ஒரு அங்கமாக இல்லாதது _____
 அ) நீலகிரி ஆ) அகத்திய மலை
 இ) பெரிய நிக்கோபார் ஈ) கட்ச் [விடை: ஈ) கட்ச்]

II. பொருத்துக.

1. சுந்தரவனம்	-	பாலை மற்றும் அரைப்பாலைவனத் தாவரங்கள்
2. உயிர்பன்மைச் சிறப்பு பகுதிகள்	-	அக்டோபர், டிசம்பர்
3. வடகிழக்குப் பருவக் காற்று	-	கடற்கரைக் காடுகள்
4. அயன மண்டல முட்புதர் காடுகள்	-	மேற்கு வங்காளம்
5. கடலோரக் காடுகள்	-	இமயமலைகள்

விடை:

1. சுந்தரவனம்	-	மேற்கு வங்காளம்
2. உயிர்பன்மைச் சிறப்பு பகுதிகள்	-	இமயமலைகள்
3. வடகிழக்குப் பருவக் காற்று	-	அக்டோபர், டிசம்பர்
4. அயன மண்டல முட்புதர் காடுகள்	-	பாலை மற்றும் அரைப் பாலைவனத் தாவரங்கள்
5. கடலோரக் காடுகள்	-	கடற்கரைக் காடுகள்

III. கீழ்க்காணும் வாக்கியங்களைக் கருத்தில் கொண்டு கொடுக்கப்பட்டுள்ளவற்றில் சரியான விடையைத் தேர்வு செய்யவும்.

1. கூற்று : இமயமலையானது ஒரு காலநிலை அரணாகச் செயல்படுகிறது. (PTA-1)
 காரணம் : இமயமலை மத்திய ஆசியாவிலிருந்து வீசும் குளிர்காற்றை தடுத்து இந்தியத் துணைக் கண்டத்தை மித வெப்பமாக வைத்திருக்கிறது.
 அ) கூற்று மற்றும் காரணம் இரண்டும் சரி, கூற்றுக்கான காரணம் சரி.
 ஆ) கூற்று மற்றும் காரணம் இரண்டும் சரி, கூற்றுக்கான காரணம் தவறு.
 இ) கூற்று சரி காரணம் தவறு.
 ஈ) கூற்று தவறு காரணம் சரி.
 [விடை: அ) கூற்று மற்றும் காரணம் இரண்டும் சரி, கூற்றுக்கான காரணம் சரி]

IV. பொருந்தாத விடையைத் தேர்வு செய்க.

1. ஒதக்காடுகள் இதனைச் சுற்றி காணப்படுகிறது.
 அ) பாலைவனம் ஆ) கங்கை பிரம்மபுத்ரா டெல்டா
 இ) கோதாவரி டெல்டா ஈ) மகாநதி டெல்டா [விடை: அ) பாலைவனம்]
2. இந்தியாவின் காலநிலையைப் பாதிக்கும் காரணிகள் (PTA-3)
 அ) அட்ச பரவல் ஆ) உயரம்
 இ) கடலிலிருந்து அமைந்துள்ள தூரம் ஈ) மண் [விடை: ஈ) மண்]



V. சுருக்கமாக விடையளிக்கவும்.

1. காலநிலையை பாதிக்கும் காரணிகளை பட்டியலிடுக. (Sep-2021)
அட்சங்கள், கடலிலிருந்து அமைந்துள்ள தொலைவு, கடல் மட்டத்திலிருந்து உயரம், பருவக்காற்று, நிலத்தோற்றம், ஜெட் காற்றுகள் போன்றவை இந்திய காலநிலையை பாதிக்கும் காரணிகளாகும்.
2. "வெப்ப குறைவு விகிதம்" என்றால் என்ன?
புவிப்பரப்பில் இருந்து உயரே செல்ல செல்ல வளிமண்டலத்தில் ஒவ்வொரு 1000 மீட்டர் உயரத்திற்கும் 6.5°C என்ற அளவில் வெப்பநிலை குறைகிறது. இதற்கு "வெப்ப குறைவு விகிதம்" என்று பெயர்.
3. "ஜெட் காற்றோட்டங்கள்" என்றால் என்ன? (PTA-1; HY-2019)
வளிமண்டலத்தின் உயர் அடுக்குகளில் குறுகிய பகுதிகளில் வேகமாக நகரும் காற்றுகள் ஜெட் காற்றுகள் என்கிறோம்.
4. 'பருவக் காற்று' குறித்து ஒரு சிறு குறிப்பு எழுதுக.
(i) "மான்சூன்" என்ற சொல் "மௌசீம்" என்ற அரபு சொல்லிலிருந்து பெறப்பட்டது. இதன் பொருள் பருவக்காலம் ஆகும்.
(ii) இக்காற்று கோடைக்காலத்தில் தென்மேற்கு திசையில் இருந்து வடகிழக்கு நோக்கியும், குளிர்காலத்தில் வடகிழக்கு திசையில் இருந்து தென்மேற்கு நோக்கியும் வீசுகிறது.
(iii) பருவங்களுக்கேற்றவாறு தங்களது திசைகளை மாற்றிக் கொண்டு வீசும் கோள் காற்றுகளைப் பருவக்காற்று என்கிறோம்.
5. இந்தியாவின் நான்கு பருவக் காலங்களைக் குறிப்பிடுக. (PTA-3)
(i) குளிர்காலம் - ஜனவரி முதல் பிப்ரவரி வரை.
(ii) கோடைக்காலம் - மார்ச் முதல் மே வரை
(iii) தென்மேற்கு பருவக்காற்று காலம் அல்லது மழைக்காலம் - ஜூன் முதல் செப்டம்பர் வரை.
(iv) வடகிழக்கு பருவக்காற்று காலம் - அக்டோபர் முதல் டிசம்பர் வரை.
6. 'பருவமழை வெடிப்பு' என்றால் என்ன? (PTA-4; Sep-2020)
(i) தென்மேற்கு பருவக்காற்று தொடங்குவதற்கு முன் வட இந்தியாவின் வெப்பநிலையானது 46°C வரை உயருகிறது.
(ii) இப்பருவக்காற்றின் இடி மற்றும் மின்னலுடன் கூடிய துவக்கம் (தென் இந்தியாவில்) "பருவமழை வெடிப்பு" எனப்படுகிறது.
7. அதிக மழைப்பெறும் பகுதிகளைக் குறிப்பிடுக.
அதிக மழைப்பெறும் பகுதிகள் : மேற்கு கடற்கரை, அசாம், மேகாலயாவின் தென்பகுதி, திரிபுரா, நாகலாந்து, அருணாச்சலப் பிரதேசம் போன்ற பகுதிகள் 200 செ.மீட்டருக்கும் அதிகமான மழைப்பொழிவை பெறுகின்றன.
8. இந்தியாவில் சதுப்புநிலக் காடுகள் காணப்படும் இடங்களைக் குறிப்பிடுக.
(i) சதுப்பு நிலக்காடுகள் டெல்டாக்கள், பொங்கு முகங்கள் மற்றும் கடற்கழிமுகப் பகுதிகளில் காணப்படுகின்றன.
(ii) காங்கை - பிரம்மபுத்திரா டெல்டா பகுதிகளில் உலகில் மிகப் பெரிய சதுப்பு நிலக் காடுகள் உள்ளன.
(iii) மகாநதி, கோதாவரி மற்றும் கிருஷ்ணா நதிகளின் டெல்டா பகுதிகளிலும் இவ்வகை காடுகள் காணப்படுகின்றன.
9. இந்தியாவில் உள்ள உயிர்க்கோள காப்பகங்கள் ஏதேனும் ஐந்தினை எழுதுக. (PTA-6)

வ. எண்	உயிர்க்கோளக் காப்பகங்கள்	மாநிலம்
(i)	அகத்தியமலை	கேரளா
(ii)	கட்ச்	குஜராத்
(iii)	மன்னார் வளைகுடா	தமிழ்நாடு
(iv)	மானாஸ்	அசாம்
(v)	நீலகிரி	தமிழ்நாடு

VI. வேறுபடுத்துக.

1. வானிலை மற்றும் காலநிலை.

Govt.MQP, QY-2019

வ. எண்	வானிலை	காலநிலை
(i)	வானிலை என்பது ஒரு குறிப்பிட்ட இடத்தில் உள்ள வளிமண்டலத்தின் தன்மையைக் குறிப்பதாகும்.	காலநிலை என்பது ஒரு குறிப்பிட்ட பகுதியின் சுமார் 30-35 ஆண்டு சராசரி வானிலையைக் குறிப்பதாகும்.
(ii)	வெப்பம், மழைப்பொழிவு, ஈரப்பதம், காற்று, அழுத்தம் ஆகியவை ஒரு இடத்தின் வானிலையை நிர்ணயிக்கும் காரணிகள் ஆகும்.	அட்சம் பரவல், கடலிலிருந்து அமைந்துள்ள தொலைவு, கடல் மட்டத்திலிருந்து உயரம், பருவக்காற்று, நிலத்தோற்றம் போன்றவை காலநிலையை பாதிக்கும் காரணிகள் ஆகும்.
(iii)	இது அன்றாடம் மாறிக் கொண்டே இருக்கும்.	இது மாறாது.

2. அயன மண்டல பசுமை மாறாக் காடுகள் மற்றும் இலையுதிர்க் காடுகள்

PTA-4

வ. எண்	அயன மண்டல பசுமை மாறாக் காடுகள்	இலையுதிர்க் காடுகள்
(i)	இக்காடுகள் காணப்படும் இடங்களில் ஆண்டு, மழைப்பொழிவு 200 செ.மீ. அதிகமாக இருக்கும்.	இக்காடுகள் காணப்படும் இடங்களில் ஆண்டு மழைப்பொழிவு 100 செ.மீ. முதல் 200 செ.மீ. வரை இருக்கும்.
(ii)	ஆண்டு வெப்பநிலை 22° C க்கு அதிகமாக இருக்கும்.	ஆண்டு சராசரி வெப்பநிலை 27° C ஆக இருக்கும்.
(iii)	இரப்பர், எபனி, ரோஸ் மரம், தென்னை, மூங்கில், சின்கோனா, சிடார் போன்ற மரங்கள் இங்குக் காணப்படுகின்றன.	தேக்கு, சால், சந்தனமரம், ரோஸ்மரம், குசம், மாகு, பாலாங், ஆம்லா, மூங்கில், சிசம் மற்றும் படாக் ஆகிய மரங்கள் இங்கு காணப்படுகின்றன.

3. வடகிழக்கு பருவக் காற்று மற்றும் தென்மேற்கு பருவக்காற்று.

PTA-6

வ. எண்	வடகிழக்கு பருவக் காற்று	தென்மேற்கு பருவக் காற்று
(i)	இக்காற்று நிலப்பகுதியில் இருந்து கடலை நோக்கி வீசுகிறது.	இக்காற்று கடலில் இருந்து நிலத்தை நோக்கி வீசுகிறது.
(ii)	இக்காற்று குறைவான மழைப் பொழிவைத் தருகின்றன.	இக்காற்று அதிகமான மழைப் பொழிவைத் தருகின்றன.
(iii)	இக்காற்று வீசும் காலம் அக்டோபர் முதல் நவம்பர் வரை.	இக்காற்று வீசும் காலம் ஜூன் முதல் செப்டம்பர் வரை.

VII. காரணம் கண்டறிக.

1. மேற்கு கடற்கரைச் சமவெளி குறுகலானது.

காரணம் : மேற்கு கடற்கரைச் சமவெளி குறுகலானது ஏன் என்றால் அங்கு வண்டல் படிவுகள் அல்லது டெல்டாக்கள் இல்லாத காரணத்தால் இச்சமவெளி குறுகலாக காணப்படுகிறது.

குடிமையியல்

அலகு
1

இந்திய அரசியலமைப்பு



கற்றலின் நோக்கங்கள்

- இந்திய அரசியலமைப்பு உருவாக்கப்பட்டதை அறிதல்.
- இந்திய அரசியலமைப்பின் சிறப்புக் கூறுகளை அறிதல்.
- அடிப்படை உரிமைகள் மற்றும் கடமைகளைப் புரிதல்.
- அரசு நெறிமுறையுறத்தும் கோட்பாடுகளை அறிதல்.
- மத்திய, மாநில அரசுகளின் உறவுகள் மற்றும் அவசரநிலை பற்றிப் புரிதல்.

மதிப்பீடு

I. சரியான விடையைத் தேர்ந்தெடுக்கவும்

1. கீழ்க்காணும் வரிசையில் 'முகவுரை' பற்றிய சரியான தொடர் எது?

- அ) குடியரசு, ஜனநாயக, சமயச் சார்பற்ற, சமதர்ம, இறையாண்மை.
ஆ) இறையாண்மை, சமதர்ம, சமயச் சார்பற்ற, குடியரசு, ஜனநாயக.
இ) இறையாண்மை, குடியரசு, சமயச் சார்பற்ற, சமதர்ம, ஜனநாயக.
ஈ) இறையாண்மை, சமதர்ம, சமயச் சார்பற்ற, ஜனநாயக, குடியரசு.

[விடை: ஈ) இறையாண்மை, சமதர்ம, சமயச் சார்பற்ற, ஜனநாயக, குடியரசு]

2. இந்திய அரசியலமைப்பின் முகவுரை எத்தனை முறை திருத்தப்பட்டது?

- அ) ஒருமுறை
ஆ) இருமுறை
இ) மூன்று முறை
ஈ) எப்பொழுதும் இல்லை

[விடை: அ) ஒருமுறை]

3. ஒரு வெளிநாட்டவர், கீழ்க்காணும் எதன் மூலம் இந்திய குடியுரிமை பெறமுடியும்?

- அ) வம்சாவளி
ஆ) பதிவு
இ) இயல்புரிமை
ஈ) மேற்கண்ட அனைத்தும்

[விடை: இ) இயல்புரிமை]

4. மாறுபட்ட ஒன்றைக் கண்டுபிடி.

- அ) சமத்துவ உரிமை
ஆ) சுரண்டலுக்கெதிரான உரிமை
இ) சொத்துரிமை
ஈ) கல்வி மற்றும் கலாச்சார உரிமை

[விடை: இ) சொத்துரிமை]

[261]



5. கீழ்க்காண்பவற்றில் ஒன்று, அடிப்படை உரிமையைப் பயன்படுத்துவதற்கு உதாரணம் இல்லை. (PTA-6)
- அ) கர்நாடகாவிலிருந்து, கேரளா பண்ணைகளில் வேலையாட்கள் பணி செய்தல்.
ஆ) கிறித்துவ சமயக்குழு, தொடர்ச்சியாக, பள்ளிகளை அமைத்தல்.
இ) ஆண், பெண் இருபாலரும் அரசுப் பணிகளுக்கு சம உதியம் பெறுதல்.
ஈ) பெற்றோர்களின் பூர்வீக சொத்துகள் அவர்களது பிள்ளைகளுக்குச் செல்லுதல்.
- [விடை: ஈ) பெற்றோர்களின் பூர்வீக சொத்துகள் அவர்களது பிள்ளைகளுக்குச் செல்லுதல்]
6. பின்வருவனவற்றுள் எந்த உரிமை டாக்டர். B.R. அம்பேத்கர் அவர்களால் 'இந்திய அரசியலமைப்பின் இதயம் மற்றும் ஆன்மா' என விவரிக்கப்பட்டது? (Sep-2020)
- அ) சமய உரிமை
ஆ) சமத்துவ உரிமை
இ) அரசியலமைப்புக்குட்பட்டு தீர்வு காணும் உரிமை
ஈ) சொத்துரிமை [விடை: இ) அரசியலமைப்புக்குட்பட்டு தீர்வு காணும் உரிமை]
7. அடிப்படை உரிமைகள் எவ்வாறு நிறுத்தி வைக்கப்பட முடியும்?
- அ) உச்சநீதிமன்றம் விரும்பினால்
ஆ) பிரதம மந்திரியின் ஆணையினால்
இ) தேசிய அவசரநிலையின் போது குடியரசு தலைவரின் ஆணையினால்
ஈ) மேற்கண்ட அனைத்தும்.
- [விடை: இ) தேசிய அவசரநிலையின் போது குடியரசு தலைவரின் ஆணையினால்]
8. நமது அடிப்படை கடமைகளை _____ இடமிருந்து பெற்றோம். (HY-2019)
- அ) அமெரிக்க அரசியலமைப்பு ஆ) கனடா அரசியலமைப்பு
இ) ரஷ்யா அரசியலமைப்பு ஈ) ஜரிஷ் அரசியலமைப்பு
- [விடை: இ) ரஷ்யா அரசியலமைப்பு]
9. எந்த பிரிவின் கீழ் நிதிநிலை அவசரநிலையை அறிவிக்க முடியும்?
- அ) சட்டப்பிரிவு 352 ஆ) சட்டப்பிரிவு 356
இ) சட்டப்பிரிவு 360 ஈ) சட்டப்பிரிவு 368 [விடை: இ) சட்டப்பிரிவு 360]
10. எந்தக் குழுக்கள்/கமிஷன்கள் மத்திய-மாநில உறவுகள் பற்றி பரிந்துரை செய்தன?
1. சர்க்காரியா குழு
2. ராஜமன்னார் குழு
3. M.N. வெங்கடாசலையா குழு
- கீழே கொடுக்கப்பட்டுள்ள குறியீடுகளிலிருந்து சரியான விடையைத் தேர்ந்தெடு.
- அ) 1, 2 & 3 ஆ) 1 & 2 இ) 1 & 3 ஈ) 2 & 3 [விடை: ஆ) 1 & 2]

II. கோடிட்ட இடத்தை நிரப்புக

1. முதன் முதலில் அரசியலமைப்பு எனும் கொள்கை _____ ல் தோன்றியது. (QY-2019)
- [விடை: அமெரிக்க ஐக்கிய நாடுகளில்]
2. அரசியல் நிர்ணய சபையின் தற்காலிக தலைவராக _____ தேர்ந்தெடுக்கப்பட்டார்.
- [விடை: டாக்டர் சச்சிதானந்தா சின்கா]
3. இந்திய அரசியலமைப்பு ஏற்றுக்கொள்ளப்பட்ட நாள் மற்றும் ஆண்டு _____.
- [விடை: நவம்பர் 26, 1949]
4. _____ பேராணைகள் சட்டப்பிரிவு 32-ல் குறிப்பிடப்படுகின்றன. [விடை: நீதிப்]
5. இந்திய குடிமக்களுக்கு அடிப்படை கடமைகள் _____ பிரிவின் கீழ் வழங்கப்பட்டுள்ளன.
- [விடை: 51A]

பொருளியல்

அலகு 1

மொத்த உள்நாட்டு உற்பத்தி மற்றும் அதன் வளர்ச்சி : ஓர் அறிமுகம்



கற்றலின் நோக்கங்கள்

- மொத்த உள்நாட்டு உற்பத்தியை பற்றி தெரிந்துகொள்ளுதல்.
- நாட்டு வருமானத்தின் பல்வேறு நடவடிக்கைகளை புரிந்துகொள்ளுதல்.
- மொத்த உள்நாட்டு உற்பத்தியின் அமைப்பை புரிந்துகொள்ளுதல்.
- மொத்த உள்நாட்டு உற்பத்தியில் பல்வேறு துறைகளின் பங்களிப்பை தெரிந்து கொள்ளுதல்.
- பொருளாதார வளர்ச்சி, முன்னேற்றம் மற்றும் அதன் வேறுபாடுகள் பற்றி அறிந்து கொள்ளுதல்.
- மொத்த உள்நாட்டு உற்பத்தி மற்றும் வேலைவாய்ப்பு அடிப்படையில் வளர்ச்சி பாதைப் பற்றி தெரிந்துகொள்ளுதல்.
- மொத்த உள்நாட்டு உற்பத்தி மற்றும் பொருளாதார கொள்கைகளின் வளர்ச்சிப் பற்றி புரிந்துகொள்ளுதல்.

பயிற்சிகள்

I. சரியான விடையைத் தேர்ந்தெடுக்கவும்

1. GNP யின் சமம்

- அ) பணவீக்கத்திற்காக சரிசெய்யப்பட்ட NNP
- ஆ) பணவீக்கத்திற்காக சரிசெய்யப்பட்ட GDP
- இ) GDP மற்றும் வெளிநாட்டில் ஈட்டப்பட்ட நிகர சொத்து வருமானம்
- ஈ) NNP மற்றும் வெளிநாட்டில் ஈட்டப்பட்ட நிகர சொத்து வருமானம்

[விடை: இ) GDP மற்றும் வெளிநாட்டில் ஈட்டப்பட்ட நிகர சொத்து வருமானம்]

2. நாட்டு வருமானம் அளவிடுவது

- அ) பணத்தின் மொத்த மதிப்பு
- ஆ) உற்பத்தியாளர் பண்டத்தின் மொத்த மதிப்பு
- இ) நுகர்வு பண்டத்தின் மொத்த மதிப்பு
- ஈ) பண்டங்கள் மற்றும் பணிகளின் மொத்த மதிப்பு

[விடை: ஈ) பண்டங்கள் மற்றும் பணிகளின் மொத்த மதிப்பு]

3. முதன்மை துறை இதனை உள்ளடக்கியது

- அ) வேளாண்மை
- ஆ) தானியங்கிகள்
- இ) வர்த்தகம்
- ஈ) வங்கி

[விடை: அ) வேளாண்மை]

[319]



4. _____ முறையில் ஒவ்வொரு இடைநிலை பண்டத்தின் மதிப்பை கூட்டும்போது, இறுதி பண்டத்தின் மதிப்பை கணக்கிடலாம்.
அ) செலவு முறை ஆ) மதிப்பு கூட்டு முறை
இ) வருமான முறை ஈ) நாட்டு வருமானம் [விடை: ஆ) மதிப்பு கூட்டு முறை]
5. GDP யில் எந்த துறை மூலம் அதிகமான வேலைவாய்ப்பு ஏற்படுகிறது? (PTA-5)
அ) வேளாண் துறை ஆ) தொழில்துறை
இ) பணிகள் துறை ஈ) மேற்கண்ட எதுவுமில்லை [விடை: இ) பணிகள் துறை]
6. பணிகள் துறையில் நடப்பு விலையில் மொத்த மதிப்பு கூடுதல் 2018 -19 ல் _____ லட்சம் கோடி என மதிப்பிடப்பட்டுள்ளது.
அ) 91.06 ஆ) 92.26 இ) 80.07 ஈ) 98.29 [விடை: ஆ) 92.26]
7. வேளாண் பண்டங்களின் உற்பத்தியில் இந்தியா _____ அதிகமாக உற்பத்தியாளர் ஆகும்.
அ) 1 வது ஆ) 3 வது இ) 4 வது ஈ) 2 வது [விடை: ஈ) 2 வது]
8. இந்தியாவில் பிறப்பின் போது எதிர்பார்க்கப்பட்ட ஆயுட்காலம் _____ ஆண்டுகள் ஆகும்.
அ) 65 ஆ) 60 இ) 70 ஈ) 55 [விடை: அ) 65]
9. கீழ்க்கண்டவற்றுள் எது வர்த்தக கொள்கை?
அ) நீர்பாசன கொள்கை ஆ) இறக்குமதி மற்றும் ஏற்றுமதி கொள்கை
இ) நில சீர்திருத்தக் கொள்கை ஈ) கூலிக் கொள்கை
[விடை: ஆ) இறக்குமதி மற்றும் ஏற்றுமதி கொள்கை]
10. இந்திய பொருளாதாரம் என்பது
அ) வளர்ந்து வரும் பொருளாதாரம் ஆ) தோன்றும் பொருளாதாரம்
இ) இணை பொருளாதாரம் ஈ) அனைத்தும் சரி [விடை: ஈ) அனைத்தும் சரி]

II. கோடிட்ட இடங்களை நிரப்புக.

1. இந்தியாவில் _____ துறை முதன்மை துறையாகும். [விடை: வேளாண்மைத்]
2. _____ மக்களின் வாழ்க்கைத் தரத்தை உணர்த்தும் ஒரு கருவியாகும் [விடை: தலா வருமானம்]
3. இரண்டாம் துறையை வேறுவிதமான _____ துறை என அழைக்கலாம். [விடை: தொழில்]

III. பொருத்துக.

1.	மின்சாரம் / எரிவாயு மற்றும் நீர்	-	நாட்டு வருமானம் / மக்கள் தொகை
2.	விலைக் கொள்கை	-	மொத்த உள்நாட்டு உற்பத்தி
3.	GST	-	தொழில் துறை
4.	தலா வருமானம்	-	வேளாண்மை
5.	$C + I + G + (X - M)$	-	பண்டம் மற்றும் பணிகள் மீதானவரி

விடை:

1.	மின்சாரம் / எரிவாயு மற்றும் நீர்	-	தொழில்துறை
2.	விலைக் கொள்கை	-	வேளாண்மை
3.	GST	-	பண்டம் மற்றும் பணிகள் மீதானவரி
4.	தலா வருமானம்	-	நாட்டு வருமானம்/ மக்கள் தொகை
5.	$C + I + G + (X - M)$	-	மொத்த உள்நாட்டு உற்பத்தி



IV. கீழ்க்கண்ட வினாக்களுக்கு குறுகிய விடையளி.

1. நாட்டு வருமானம் - வரையறு.

QY, HY-2019

- (i) நாட்டு வருமானம் என்பது ஒரு நாட்டில் ஓர் ஆண்டில் உற்பத்தி செய்யப்பட்ட பண்டங்கள் மற்றும் பணிகளின் மொத்த மதிப்பாகும்.
- (ii) பொதுவாக நாட்டு வருமானம் மொத்த நாட்டு உற்பத்தி (GNP) அல்லது நாட்டு வருமான ஈவு எனப்படுகிறது.

2. மொத்த உள்நாட்டு உற்பத்தி என்றால் என்ன?

PTA-6

ஒரு ஆண்டில் நாட்டின் புவியியல் எல்லைக்குள் உள்ள உற்பத்தி காரணிகளினால் உற்பத்தி செய்யப்பட்ட வெளியீடு (பண்டங்கள் + பணிகள்)களின் மொத்த மதிப்பே மொத்த உள்நாட்டு உற்பத்தியாகும்.

3. GDPயின் முக்கியத்துவத்தை எழுதுக.

GDPயின் முக்கியத்துவம் :

- (i) பொருளாதார வளர்ச்சி பற்றிய ஆய்வு பற்றி அறிந்து கொள்ளப் பயன்படுகிறது.
- (ii) பணவீக்கம் மற்றும் பணவாட்டத்தின் சிக்கல்கள் பற்றி அறிய உதவுகிறது.
- (iii) உலகின் வளர்ந்த நாடுகளுடன் ஒப்பீடு செய்வதற்கு பயன்படுகிறது.
- (iv) வாங்கும் திறனை மதிப்பீடு செய்வதற்கு உதவுகிறது.
- (v) பொதுத்துறை பற்றி அனைவரும் தெரிந்து கொள்ளப் பயன்படுகிறது.
- (vi) பொருளாதார திட்டமிட வழிக்காட்டியாகவும் பயன்படுகிறது.

4. தனிநபர் வருமானம் என்றால் என்ன?

PTA-3; Govt.MQP-2019

தனிநபர் வருமானம் என்பது மக்களின் வாழ்க்கைத் தரத்தை உணர்த்தும் ஒரு கருவியாகும். நாட்டு வருமானத்தை மக்கள் தொகையில் வகுப்பதன் மூலம் தலா வருமானம் பெறப்படுகிறது.

$$\text{தனிநபர் வருமானம்} = \frac{\text{நாட்டு வருமானம்}}{\text{மக்கள் தொகை}}$$

5. மதிப்பு கூட்டுமுறையை எடுத்துக்காட்டுடன் வரையறு.

- (i) மதிப்புக் கூட்டுமுறையில் ஒவ்வொரு இடைநிலைப் பண்டத்தின் மதிப்பை கூட்டினால், இறுதிப் பண்டத்தின் மதிப்பை அளவிடலாம்.
- (ii) உற்பத்தியில் பயன்படுத்தப்பட்ட அனைத்து இடைநிலைப் பண்டங்களின் மதிப்பைச் சேர்க்கும் பொழுது, பொருளாதாரத்தில் உற்பத்தி செய்யப்பட்ட இறுதிப் பண்டங்களின் மொத்த மதிப்பு கிடைக்கிறது.
- (iii) எ.கா. டீதுள் + பால் + சர்க்கரை = தேனீர்
இடைநிலை பண்டங்கள் = இறுதிப்பண்டம்.

6. இந்தியாவின் பொருளாதாரக் கொள்கைகளின் பெயர்களை எழுதுக.

வார்த்தக கொள்கைகள் :

- (i) வேளாண்கொள்கை
- (ii) தொழில்துறைக் கொள்கை
- (iii) புதிய பொருளாதாரக் கொள்கை

7. சிறுகுறிப்பு வரைக. 1) மொத்த தேசிய மகிழ்ச்சி (GNH) 2) மனித மேம்பாட்டுக் குறியீடு (HDI)

1. மொத்த தேசிய மகிழ்ச்சி GNH : ஒரு மக்கள் தொகை கூட்டு மகிழ்ச்சி மற்றும் நல்வாழ்வை அளவிடப் பயன்படும் குறியீட்டை உள்ளடக்கியது.
2. மனித மேம்பாட்டுக் குறியீடு HDI : பிறப்பின் போது வாழ்நாள் எதிர்பார்ப்பு, வயது வந்தோரின் கல்வியறிவு மற்றும் வாழ்க்கைத்தரம், GDPயின் மடக்கை செயல்பாடு என கணக்கிடப்பட்டு வாங்கும் சக்தி சமநிலைக்கு (PPP) சரி செய்யப்படுகிறது.

10 ஆம்
வகுப்பு

அரசு துணைத்தேர்வு, செப்டம்பர் - 2021

பதிவு எண்.

Part - III

கால அளவு : 3.00 மணி நேரம்]

சமூக அறிவியல் (விடைகளுடன்)

[மொத்த மதிப்பெண்கள் : 100

அறிவுரைகள் : (1) அனைத்து வினாக்களும் சரியாக அச்சுப்பதிவாகி உள்ளதா என்பதனை சரிபார்த்துக் கொள்ளவும். அச்சுப்பதிவில் குறைபாடு இருப்பின், அறைக் கண்காணிப்பாளரிடம் உடனடியாகத் தெரிவிக்கவும்.

(2) நீலம் அல்லது கருப்பு மையினை மட்டுமே எழுதுவதற்கும் அடிக் கோடிடுவதற்கும் பயன்படுத்த வேண்டும். படங்கள் வரைவதற்கு பென்சில் பயன்படுத்த வேண்டும்.

குறிப்பு : இவ்வினாத்தாள் நான்கு பகுதிகளைக் கொண்டது.

பகுதி - I

குறிப்பு: (i) அனைத்து வினாக்களுக்கும் விடையளிக்கவும்.

(ii) கொடுக்கப்பட்ட நான்கு விடைகளில் மிகவும் ஏற்புடைய விடையினை தேர்ந்தெடுத்து குறியீட்டுடன் விடையினையும் சேர்த்து எழுதவும். (14 × 1 = 14)

1. பின்லாந்தைத் தாக்கியதற்காக பன்னாட்டுச் சங்கத்திலிருந்து வெளியேற்றப்பட்ட நாடு :

- (அ) ஜெர்மனி (ஆ) ரஷ்யா
(இ) இத்தாலி (ஈ) பிரான்சு

2. அமெரிக்க பங்குசந்தைகளில் முதல் பெரும் வீழ்ச்சி ஏற்பட்ட நாள் :

- (அ) 24 அக்டோபர் 1929
(ஆ) 14 அக்டோபர் 1929
(இ) 24 நவம்பர் 1925
(ஈ) 24 நவம்பர் 1928

3. அணிசேரா இயக்கத்தின் மாநாட்டில் இந்திய பிரதிநிதியாக கலந்து கொண்டவர் :

- (அ) லால்பகதூர் சாஸ்திரி
(ஆ) மோதிலால் நேரு
(இ) ஜவஹர்லால் நேரு
(ஈ) வல்லபாய் பட்டேல்

4. உடன்கட்டை ஏறுதல் (சுதி) ஒழிக்கப்பட்ட ஆண்டு :
(அ) 1827 (ஆ) 1829
(இ) 1826 (ஈ) 1927

5. கூற்று : பிரிட்டிஷ் அரசு 1857-ஆம் ஆண்டின் கிளர்ச்சியை இரும்புக்கரம் கொண்டு அடக்கியது.

காரணம் : மையப்படுத்தப்பட்ட நிர்வாகம் இல்லாததால் கிளர்ச்சி தோல்வியடைந்தது.

(அ) கூற்று, காரணம் இரண்டுமே தவறு.

(ஆ) கூற்று தவறு, காரணம் சரி

(இ) கூற்று மற்றும் காரணம் இரண்டுமே சரி, மேலும் காரணம் கூற்றுக்கான சரியான விளக்கமாகும்.

(ஈ) கூற்று மற்றும் காரணம் சரி, ஆனால் காரணம் கூற்றுக்கான சரியான விளக்கம் இல்லை.

6. பொருத்துக.

- (1) சாம்பல் புரட்சி (i) முட்டை
(2) வெள்ளிப் புரட்சி (ii) இறைச்சி
(3) சிவப்புப் புரட்சி (iii) தோல்
(4) பழுப்புப் புரட்சி (iv) உரங்கள்
(அ) (1)-(iii), (2)-(i), (3)-(iv), (4)-(ii)
(ஆ) (1)-(iv), (2)-(iii), (3)-(i), (4)-(ii)
(இ) (1)-(iv), (2)-(i), (3)-(ii), (4)-(iii)
(ஈ) (1)-(ii), (2)-(iv), (3)-(i), (4)-(iii)

7. மேற்கத்திய இடையூறுகளால் மழைப் பொழிவைப் பெறும் பகுதி:

- (அ) தமிழ்நாடு (ஆ) கேரளா
(இ) பஞ்சாப் (ஈ) மத்திய பிரதேசம்

8. மாங்கனீசு-ல் பயன்படுகிறது.

- (அ) மின் கலன்கள்
(ஆ) சிமெண்ட் தயாரிப்பு
(இ) செம்பு உருக்குதல்
(ஈ) பெட்ரோலிய சுத்திகரிப்பு

9. இந்தியாவில் அதிக மக்கள் தொகை கொண்ட மாநிலம் :

- (அ) குஜராத் (ஆ) சிக்கிம்
(இ) உத்திரப் பிரதேசம் (ஈ) தமிழ்நாடு

10. இந்தியாவில் தமிழ்நாடு உற்பத்தியில் இரண்டாம் இடம் வகிக்கிறது.

- (அ) காபி (ஆ) தேயிலை
(இ) கரும்பு (ஈ) பருத்தி

11. ஆங்கிலோ - இந்தியன் வகுப்பினரிலிருந்து ஒரு பிரதிநிதியை சட்டமன்றத்திற்கு நியமிப்பவர் :

- (அ) குடியரசு தலைவர்
(ஆ) ஆளுநர்
(இ) முதலமைச்சர்
(ஈ) சட்டமன்ற சபாநாயகர்

12. மகம்கான் எல்லைக்கோடு நாடுகளுக்கு இடையே உள்ள எல்லை ஆகும்.

- (அ) பர்மா - இந்தியா
(ஆ) இந்தியா - சீனா
(இ) இந்தியா - பாகிஸ்தான்
(ஈ) இந்தியா - நேபாளம்

13. மொத்த உள்நாட்டு உற்பத்தி தொடர்பான தவறான கூற்றைக் கண்டறியவும்.

- (அ) பொருளாதார வளர்ச்சி பற்றி அறிந்து கொள்ளப் பயன்படுகிறது.
(ஆ) பணவீக்கம் மற்றும் பணவாட்டத்தின் சிக்கல்கள் பற்றி அறிய உதவுகிறது.
(இ) பொருட்களின் தரத்தை அளவிடப் பயன்படுகிறது.
(ஈ) வாங்கும் திறனை மதிப்பீடு செய்ய உதவுகிறது.

14. அந்நிய செலாவணி மேலாண்மைச் சட்டம் கொண்டு வரப்பட்ட ஆண்டு :

- (அ) 1999 (ஆ) 2019
(இ) 1992 (ஈ) 2005

பகுதி - II

குறிப்பு : எவையேனும் பத்து வினாக்களுக்கு விடையளிக்கவும். வினா எண் 28-க்கு கட்டாயமாக விடையளிக்கவும். (10 × 2 = 20)

15. பதுங்குக் குழிப்போர் முறை குறித்து நீங்கள் அறிந்ததென்ன?
16. பாளையக்காரர்களின் கடமைகள் யாவை?
17. வாரிசு இழப்பு கொள்கையின் அடிப்படையில் பிரிட்டிஷ் அரசில் இணைத்துக் கொள்ளப்பட்ட பகுதிகளை பட்டியலிடுக.
18. பொருளாதார பெருமந்தம் இந்திய வேளாண்மையின் மீது எத்தகைய தாக்கத்தை ஏற்படுத்தியது?
19. இந்தியாவின் விடுதலை போராட்டத்தில் அன்னிபெசன்டின் பங்களிப்பு யாது?

20. வேறுபடுத்துக: மேற்கு கடற்கரைச் சமவெளி, கிழக்கு கடற்கரைச் சமவெளி.

21. இந்தியாவின் காலநிலைகளை பாதிக்கும் காரணிகள் யாவை?

22. புயலுக்கு முன் வானிலை மையம் மீனவர்களை எவ்வாறு எச்சரிக்கிறது?

23. தமிழ்நாட்டின் முக்கிய பல்நோக்குத் திட்டங்களின் பெயர்கள் ஏதேனும் நான்கினைக் கூறுக.

24. உயர் நீதிமன்றத்தின் தனக்கே உரிய நீதிவரையறை அதிகாரங்கள் யாவை?

25. பஞ்சசீல கொள்கைகளைப் பட்டியலிடுக.

26. தமிழ்நாட்டிலுள்ள ஊட்டச்சத்து திட்டங்கள் எவையேனும் நான்கின் பெயரை எழுதுக.

27. தமிழ்நாட்டில் தொழில் மயமாதலின் சிக்கல்கள் யாவை?

28. படிக்கட்டு முறை வேளாண்மை பற்றி சிறு குறிப்பு வரைக.

பகுதி - III

குறிப்பு : எவையேனும் பத்து வினாக்களுக்கு விடையளிக்கவும். வினா எண் 42-க்கு கட்டாயமாக விடையளிக்கவும். (10 × 5 = 50)

29. முதல் உலகப் போருக்கான முக்கிய காரணங்களை விவாதிக்கவும்.

30. இரண்டாம் உலகப் போரின் விளைவுகள் யாவை?

31. பெண்களின் மேம்பாட்டிற்கு 19-ம் நூற்றாண்டு சீர்த்திருத்தவாதிகள் ஆற்றிய பணிகள் குறித்து ஒரு கட்டுரை வரைக.

32. வேலூரில் 1806-ல் வெடித்த புரட்சியின் கூறுகளை விளக்குக.

33. தமிழ்நாட்டில் சுதேசி இயக்கம் எவ்வாறு எதிர்கொள்ளப்பட்டது?

34. வடக்கு மலைகளின் (இமயமலை) உட்பிரிவுகளையும், அதன் முக்கியத்துவம் பற்றியும் விவரிக்கவும்.

35. இந்திய மண் வகைகள் ஏதேனும் ஐந்தினைக் குறிப்பிட்டு, மண்ணின் பண்புகள் மற்றும் பரவல் பற்றி விவரிக்கவும்.

36. தமிழ்நாட்டின் தோட்ட வேளாண்மை பற்றி விளக்குக.

37. இந்திய அரசியலமைப்பின் சிறப்புக் கூறுகளை விளக்குக.

38. இந்திய குடியரசுத் தலைவரின் சட்டமன்ற மற்றும் நீதி அதிகாரங்களை விவரிக்கவும்.

39. நாட்டு வருமானத்தை கணக்கிடுவதற்கு தொடர்புடைய பல்வேறு கருத்துகளை விவரிக்கவும்.

2022-23 EDITION

SURAR'S

10TH STD SCHOOL GUIDES

10th STD. 100% வெற்றி 2022-23 படிப்பு ஆண்டு

சுராவின்

தமிழ் உரைநூல்

புதிதான தரப்பு பாடநூல்களின் துணைக்காக



- 100% வெற்றி உறுதிப்படுத்தப்பட்ட தரப்பு பாடநூல்களின் துணைக்காக
- தமிழ் உரைநூல் பாடநூல்களின் துணைக்காக
- புதிதான தரப்பு பாடநூல்களின் துணைக்காக
- புதிதான தரப்பு பாடநூல்களின் துணைக்காக
- புதிதான தரப்பு பாடநூல்களின் துணைக்காக

10th STD. 100% SUCCESS 2022-23 EDITION

SURAR'S SMART ENGLISH

Based on the Latest Syllabus and New Updated Textbook




- Answers for all Section Questions
- Key points and Summary for all the units of Prose
- Model Question Papers 1 to 4 (PTA)
- Question Paper (sample) - Questions are easy to solve
- Model Question Paper - 2019 (Nov. - 2019)
- Model Question Paper - 2020 (Sep. - 2020 & 2021)
- Model Question Paper - 2021 (Sep. - 2021)

10th STD. 100% SUCCESS 2022-23 EDITION

SURAR'S MATHEMATICS

Based on the updated new textbook



- Prepared as per the New Textbook
- Complete Solutions to Textbook Exercises
- Exhaustive Additional Questions in all Chapters
- Chapter-wise Link Tests with Answers
- Model Question Papers 1 to 4 (PTA)
- Question Papers incorporated in the appropriate sections
- Model Question Paper - 2019 (Nov. - 2019)
- Model Question Paper - 2020 (Sep. - 2020 & 2021)
- Model Question Paper - 2021 (Sep. - 2021)

10th STD. 100% SUCCESS 2022-23 EDITION

SURAR'S SCIENCE

Based on the updated new textbook



- Complete Solutions to Textbook Exercises
- Exhaustive Additional Questions and Answers in all Units
- Practice with Answers
- Model Question Papers 1 to 4 (PTA)
- Question Papers incorporated in the appropriate sections
- Model Question Paper - 2019 (Nov. - 2019)
- Model Question Paper - 2020 (Sep. - 2020 & 2021)
- Model Question Paper - 2021 (Sep. - 2021)

10th STD. 100% SUCCESS 2022-23 EDITION

SURAR'S SOCIAL SCIENCE

Based on the updated new textbook



- Complete Solutions to Textbook Exercises
- Exhaustive Additional Questions and Answers in all Units
- Unit Test Questions with Answers for all Units
- Model Question Papers 1 to 4 (PTA)
- Question Papers incorporated in the appropriate sections
- Model Question Paper - 2019 (Nov. - 2019)
- Model Question Paper - 2020 (Sep. - 2020 & 2021)
- Model Question Paper - 2021 (Sep. - 2021)

10th STD. 100% வெற்றி 2022-23 படிப்பு ஆண்டு

சுராவின்

கணக்கு

புதிதான தரப்பு பாடநூல்களின் துணைக்காக



- 100% வெற்றி உறுதிப்படுத்தப்பட்ட தரப்பு பாடநூல்களின் துணைக்காக
- கணக்கு பாடநூல்களின் துணைக்காக
- புதிதான தரப்பு பாடநூல்களின் துணைக்காக
- புதிதான தரப்பு பாடநூல்களின் துணைக்காக
- புதிதான தரப்பு பாடநூல்களின் துணைக்காக

10th STD. 100% வெற்றி 2022-23 படிப்பு ஆண்டு

சுராவின்

அறிவியல்

புதிதான தரப்பு பாடநூல்களின் துணைக்காக



- 100% வெற்றி உறுதிப்படுத்தப்பட்ட தரப்பு பாடநூல்களின் துணைக்காக
- அறிவியல் பாடநூல்களின் துணைக்காக
- புதிதான தரப்பு பாடநூல்களின் துணைக்காக
- புதிதான தரப்பு பாடநூல்களின் துணைக்காக
- புதிதான தரப்பு பாடநூல்களின் துணைக்காக

10th STD. 100% வெற்றி 2022-23 படிப்பு ஆண்டு

சுராவின்

சமூக அறிவியல்

புதிதான தரப்பு பாடநூல்களின் துணைக்காக



- 100% வெற்றி உறுதிப்படுத்தப்பட்ட தரப்பு பாடநூல்களின் துணைக்காக
- சமூக அறிவியல் பாடநூல்களின் துணைக்காக
- புதிதான தரப்பு பாடநூல்களின் துணைக்காக
- புதிதான தரப்பு பாடநூல்களின் துணைக்காக
- புதிதான தரப்பு பாடநூல்களின் துணைக்காக

Call @ 9600175757 8124301000 orders@surabooks.com

Updated New Edition

Buy Online @

surabooks.com

Kindly send me your answer keys to our email id - padasalai.net@gmail.com