



வகுப்பு  
1

தொகுத்தறி மதிப்பீடு

பருவம்  
2

கூழ்நிலையியல்

காலம் : 2 மணி

மதிப்பெண்கள்

60

பெயர் : .....

பிரிவு : .....



I. நாம் உண்ணக்கூடிய பூக்களை மட்டும் வட்டமிடுக.

2



II. பொருத்தமற்றதைக் கண்டறிந்து வட்டமிடுக.

6

அ



ஈ



ஆ



உ



இ



ஊ



III. கோதுமையைப் பயன்படுத்தி தயாரிக்கப்படும் உணவுப் பொருள்களுக்கு மட்டும் (✓) குறியிடுக.

5





செயல்களை அதற்குரிய பொருள்களுடன் இணைக்க.

5



நீர் வீணாக்கப்படுவதை வெளிப்படுத்தும் படங்களை (x) குறியிட்டுக் காட்டுக.

5



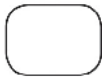
வான்மதி திருவிழாவில் பார்த்தவற்றை (✓) குறியிட்டுக் காட்டுக.

2



நோயாளிகளைக் குணப்படுத்துபவர் யார்?

2



2

VIII.

படங்களை 1 முதல் 5 வரை எண்களிட்டு சரியாக வரிசைப்படுத்துக.

5



IX.

கெட்ட பழக்கத்தை அதற்குரிய நல்ல பழக்கத்துடன் கோடிட்டு இணை.

3



X.

செய்யக்கூடிய செயல்களுக்கு (✓) செய்க. செய்யக்கூடாத செயல்களுக்கு (x) செய்க. 5





XI.

உரிய இணையுடன் பொருத்துக.

4



XII. ஒவ்வொரு வரிசையிலும் மையப் படத்திற்கு தொடர்புடையவரை கோடிட்டு இணைக்க. 3



XIII. பொங்கல் திருநாளின் நான்கு நாட்களை 1 முதல் 4 வரை எண்களிட்டு வரிசைப்படுத்துக. 3



XIV. ரமலான் திருநாளுடன் தொடர்புடைய பொருள்களை வட்டமிடுக. 2



XV. கிறிஸ்துமஸ் திருநாளுடன் தொடர்புடைய பொருள்களை வட்டமிடுக. 2



XVI. வாய்மொழித் தேர்வு. 6

1. நீரின் பல்வேறு பயன்களை கூறுக.
2. உலக நீர் தினம் எப்போது கடைப்பிடிக்கப்படுகிறது?
3. குழாயில் நீர் ஒழுகும் போது நீ என்ன செய்வாய்?