



வகுப்பு
1

தொகுத்தறி மதிப்பீடு

பருவம்
2

கணக்கு

காலம் : 2 மணி

மதிப்பெண்கள்

60

பெயர் :

பிரிவு :



I. ஆங்கில எழுத்துகளில் உள்ள கோடுகளை உற்று நோக்கி, எண்ணிக்கையை எண்ணி, கட்டத்தில் எழுதுக.

5

ஆங்கில எழுத்துகளில் உள்ள கோடுகள்	_____		/\
A			
E			
M			
H			
Z			



II. ஒவ்வொரு இணை பறவைகளிலும் பெரிய எண்ணை வட்டமிடுக.

3

--	--	--



III. ஒவ்வொரு இணை பறவைகளிலும் சிறிய எண்ணை வட்டமிடுக.


3

--	--	--



IV. விடுபட்ட எண்களை எழுதுக.

6




V. விடுபட்ட எண்களை எழுதுக.

6



VI. கீழே கொடுக்கப்பட்டுள்ள படத்தில் ஒத்த வடிவங்களுக்கு ஒரே வண்ணம் தீட்டுக. அவற்றின் எண்ணிக்கையை எழுதுக.

10



VII. கூட்டுக.

6

$$\begin{array}{r} 8 \\ + 5 \\ \hline \end{array}$$

$$\begin{array}{r} 12 \\ + 4 \\ \hline \end{array}$$

$$\begin{array}{r} 14 \\ + 5 \\ \hline \end{array}$$

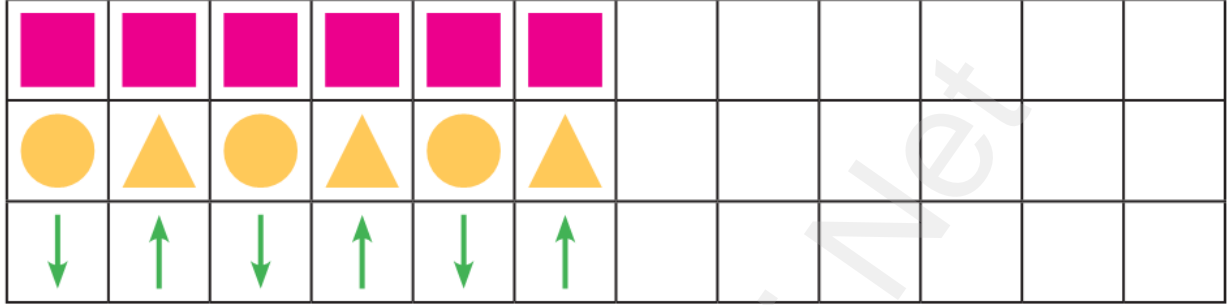
$3 + 9 = \square$

$11 + 0 = \square$

$17 + 1 = \square$


VIII. வடிவங்களின் அமைப்பை உற்று நோக்கி, நிறைவு செய்க.

3



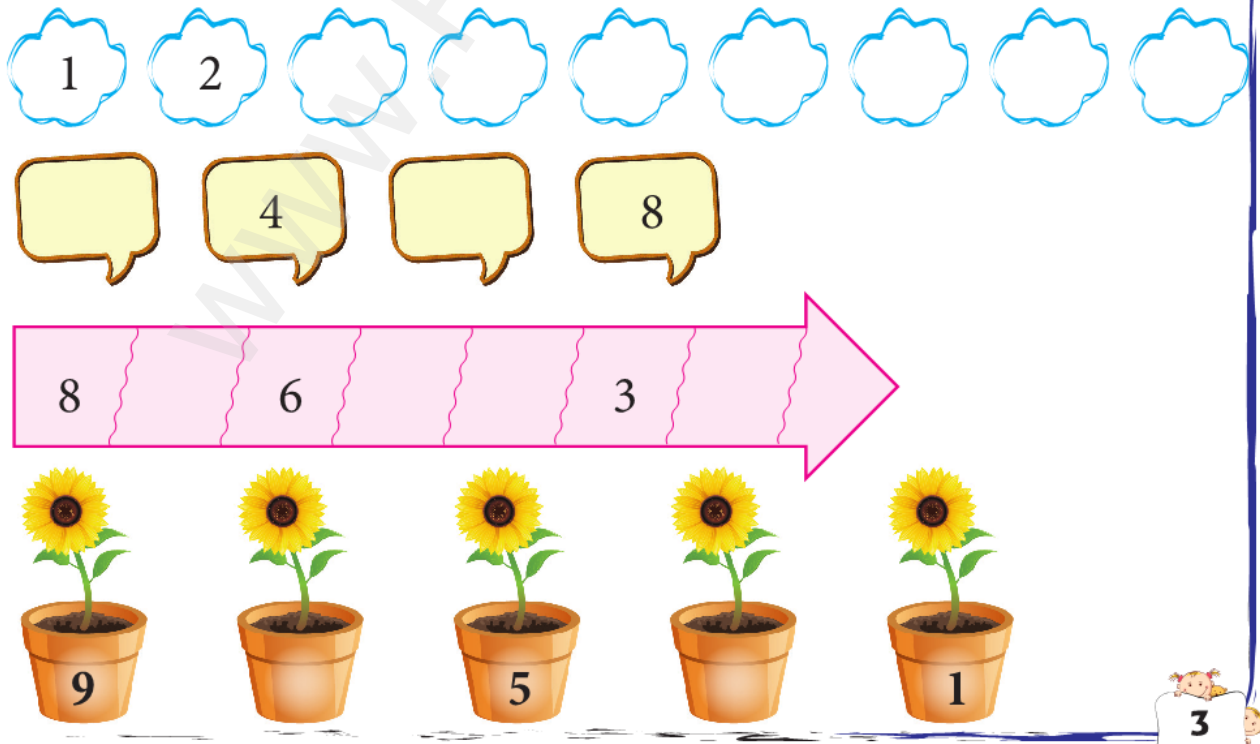
IX. ஒத்த அமைப்புடன் பொருத்துக.

3



X. எண் அமைப்புகளை நிறைவு செய்க.

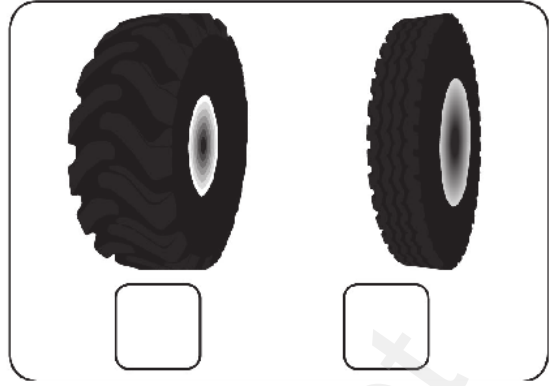

5







XI. தடிமனான புத்தகத்தை (✓) செய்க.

மெல்லிய சக்கரத்தை (✓) செய்க. 2




XII. குறைந்த அளவு நீர் கொண்டுள்ள தண்ணீர் பாட்டிலை (✓) செய்க.

அதிக அளவு நீர் கொள்ளும் பாத்திரத்தை (✓) செய்க. 2



XIII. மிகக் குட்டையானதை (✓) செய்க.

மிக உயரமானதை (✓) செய்க. 2



XIV. பின்வரும் அளவீடுகளின் அலகு எழுதுக.

4

