

தொகுத்தறி மதிப்பீடு

சூழ்நிலையியல்

பருவம்
2


காலம் : 2 மணி

மதிப்பெண்கள்

60

பெயர் :

பிரிவு :



I. சரியான விடையைத் தேர்ந்தெடுத்து எழுதுக.

5

- நாம் நெய்யை _____லிருந்து பெறுகிறோம்.
அ) தேன் ஆ) விதைகள் இ) பால் ஈ) கரும்பு
- _____ நீரின் முதன்மை ஆதாரம் ஆகும்..
அ) கிணறு ஆ) கடல் இ) மழை ஈ) ஆறு
- மத விழாக்களுள் ஒன்று _____ .
அ) சுதந்திர தினம் ஆ) காந்தி ஜெயந்தி இ) தீபாவளி ஈ) குடியரசு தினம்
- விவசாயி _____யில் வேலை செய்கிறார்.
அ) சாலை ஆ) இருப்புப்பாதை இ) வயல்வெளி ஈ) விளையாட்டுத் திடல்
- நீரில் வாழும் தாவரம் _____ .
அ) ரோஜா ஆ) மல்லிகை இ) தாமரை ஈ) செம்பருத்தி



II. கோடிட்ட இடங்களை நிரப்புக.

5

- கேரட்டினை உண்பதால் நம் _____ அதிகரிக்கும்.
- _____ என்பது மெதுவாக நகரும் பனிக்கட்டி ஆகும்.
- ஆறு மலையில் இருந்து விழும்போது _____ யாக மாறுகிறது.
- இந்திய அரசியலமைப்புச் சட்டம் நடைமுறைப்படுத்தப்பட்ட நாள் _____ .
- அனைத்து உயிரினங்களும் உயிர் வாழ _____ அவசியம்.



III. சரியா? தவறா? என எழுதுக.

5

- ஒணம் என்பது மத விழா ஆகும். _____
- பனீர் என்பது பால் பொருள்களுள் ஒன்று ஆகும். _____
- பேருந்தில் பயணச்சீட்டு வழங்குபவர் ஓட்டுநர். _____
- புயல், சூறாவளியின் போது காற்றின் வேகம் மெதுவாக இருக்கும். _____
- மகாத்மா காந்தியின் பிறந்தநாள் அக்டோபர் 2. _____



IV. பொருத்துக.

4

1. காந்தி ஜெயந்தி - ஜனவரி 26 _____
2. சுதந்திர தினம் - பிப்ரவரி 28 _____
3. குடியரசு தினம் - ஆகஸ்ட் 15 _____
4. தேசிய அறிவியல் தினம் - அக்டோபர் 2 _____



V. நான் யார்?

5

இராணுவ வீரர் குழாய் செப்பனிடுபவர் நடத்துநர் தச்சர் தையற்காரர்

1. மரக்கட்டையில் இருந்து பொருள்களைச் செய்பவர் _____.
2. ஒழுகும் குழாயைச் சரி செய்பவர் _____.
3. உங்களுக்கான ஆடைகளைத் தைப்பவர் _____.
4. தேசத்தைக் காப்பவர் _____.
5. பேருந்தில் பயணச்சீட்டு வழங்குபவர் _____.



VI. படத்திற்கு ஏற்ற பெயரை எழுதுக.

9

ஆறு நீர்வீழ்ச்சி ஏரி குளம் பனிப்பாறை
கடல் ஓடை கிணறு அடிகுழாய்





















VII. படங்களை உற்றுநோக்கி உணவு வகைகளின் பெயர்களை எழுதுக.

5


பால் இறைச்சி முட்டை நெய் தயிர்













VIII. ஒவ்வொரு நான்காவது எழுத்தையும் வட்டமிடுக. அந்த எழுத்துகளை எடுத்தெழுதி ஒளிந்துள்ளதைக் கண்டுபிடி.

2

ச நு க வா ல ஓ க் றை தி ரு ம ப் ந் சு த ப ட ய ர ழ ன மு எ ம்


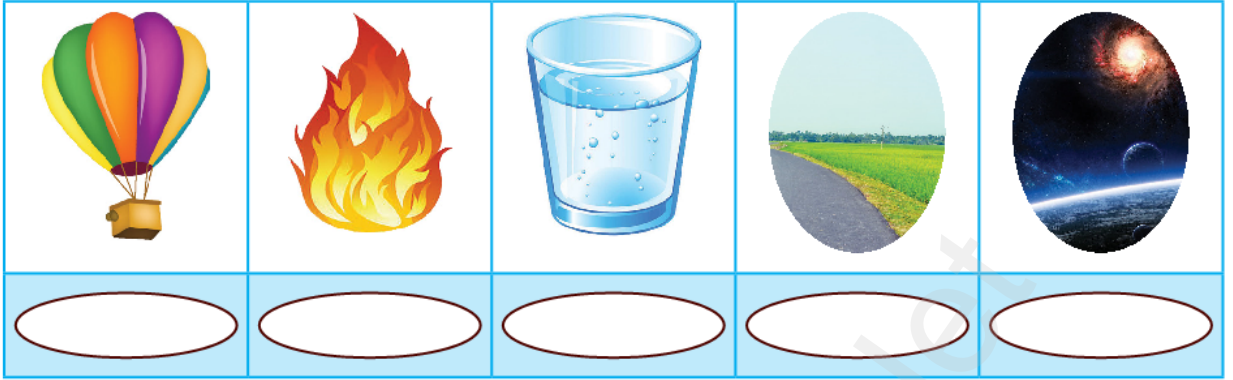
--	--	--	--	--	--



படத்துடன் தொடர்புடைய ஐம்பூதங்களின் பெயர்களை எழுதுக.

5

ஆகாயம் காற்று நிலம் நீர் நெருப்பு




சரியான சொல்லைத் தேர்ந்தெடுத்து கோடிட்ட இடங்களை நிரப்புக.

5

பசு நெல் தேனீ கோழி விதைகள்

1. நாம் அரிசியை _____ லில் இருந்து பெறுகிறோம்.
2. நாம் பாலை _____ விடம் இருந்து பெறுகிறோம்.
3. நாம் முட்டையை _____ யிடம் இருந்து பெறுகிறோம்.
4. நாம் தேனை _____ யிடம் இருந்து பெறுகிறோம்.
5. நாம் எண்ணையை _____ இடம் இருந்து பெறுகிறோம்.



விழாக்களை வகைப்படுத்துக.

10

தீபாவளி சுதந்திர தின விழா ஓணம் மகாவீர் ஜெயந்தி
குடியரசுதினம் பொங்கல் காந்தி ஜெயந்தி பக்ரீத்

மத விழாக்கள்	தேசிய விழாக்கள்