

இரண்டாம் பருவத் தேர்வு - 2022

தொகுத்தறி மதிப்பீடு - தமிழ்

வகுப்பு - 5

பெயர் : _____

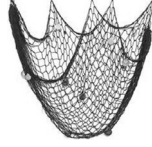
நேரம் : 2 மணி நேரம்

வகுப்பு : _____ பிரிவு : _____

மதிப்பெண் : 60

I. ஒத்த ஓசையில் முடியும் பெயர்களைக் கொண்ட படங்களுக்கு (✓) குறியிடுக. 3 x 1 = 3

1.



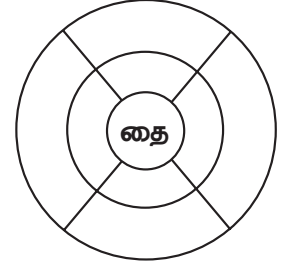
II. சொல் உருவாக்கி நிரப்புக. 4 x 1 = 4

2. மெதுவாக ஊர்ந்து செல்லும் ஓர் உயிரி _____

3. ஒரு விலங்கு _____

4. பகலில் கண் தெரியாத பறவை _____

5. பாரதியாரின் சிறப்பு _____



5 x 1 = 5

III. பொருத்துக.

- | | | |
|-------------|---|---------------|
| 6. வானவில் | - | இசைவு |
| 7. வேளாண்மை | - | ஏழு வண்ணங்கள் |
| 8. இலை | - | திமில் |
| 9. காளை | - | உதிரும் |
| 10. அனுமதி | - | உழவு |

IV. சரியான சொல்லைத் தெரிவு செய்து எழுதுக. 5 x 1 = 5

11. 'வையகம்' இச் சொல்லுக்குரிய பொருள் _____

(அ) ஊர் (ஆ) உலகம்

12. செடியில் பூக்கள் பூத்திருந்தன. _____ அழகாக இருந்தன.

(அ) அது (ஆ) அவை

13. உலகப் பொதுமறை எனப் போற்றப்படும் நூல் _____

(அ) நன்னெறி (ஆ) திருக்குறள்

14. 'மஞ்சு விரட்டு' என்பதைக் குறிக்கும் விளையாட்டு _____

(அ) சிலம்பாட்டம் (ஆ) ஏறுதழுவுதல்

15. நேர்மை என்னும் பொருள் தரும் சொல் _____

(அ) நயன்

(ஆ) நன்றி

V. உரைப்பத்தியைப் படித்து வினாக்களுக்கு விடையளிக்க.

3 x 1 = 3

16. தமிழர்களின் வீர விளையாட்டுக்களுள் ஒன்று சிலம்பம். சிலம்பு என்றால் ஒலித்தல் என்பது பொருள். கம்பு சுழலும்போது ஏற்படும் ஓசையை அடிப்படையாகக் கொண்டே சிலம்பம் எனப் பெயரிட்டனர்.

(அ) சிலம்பு என்ற சொல்லின் பொருள் _____

(ஆ) தமிழர்களின் வீர விளையாட்டுக்களுள் ஒன்று _____

(இ) உரைப்பத்திக்கு உரிய தலைப்பு _____

VI. விடையளிக்க.

10 x 2 = 20

17. புதிய சொற்களை உருவாக்குக.

கவிதைத்திரட்டு -

18. தொகைச்சொல்லை விரித்து எழுதுக.

முத்தமிழ் - _____, _____, _____.

19. பிறமொழிச் சொற்களுக்கு நிகரான தமிழ்ச்சொற்களை எழுதுக.

அ. ஓய்வு நேரத்தில் ரேடியோ கேட்பேன்.

ஆ. ஹோட்டலில் உணவு தயாராக உள்ளது.

20. ஏறு தழுவுதல் என்றால் என்ன?



21. படத்தைப் பார்த்து சொந்த நடையில் எழுதுக.



22. சரியான இணைப்புச் சொல்லைத் தேர்ந்தெடுத்து எழுதுக.

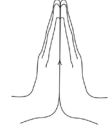
பெருமழை பெய்தது _____ ஏரி, குளங்கள் நிரம்பின. (ஏனெனில்/அதனால்)

23. அட்டவணையில் எழுதுக.

அடுக்குத் தொடர்	இரட்டைக் கிளவி



புல புல



வருக வருக

24. பாடலை நிறைவு செய்க.

திருவிழாவாம் திருவிழா

எங்கள் ஊர்த் திருவிழா



25. சொற்றொடரில் அமைத்து எழுதுக.

பறவை - -----

26. ஒரு பொருள்தரும் பல சொற்களை எழுதுக.

(அ) உழவு: -----

(ஆ) வீடு: -----

VII. விடையளிக்க.

2 x 4 = 8

27. நிரப்புக.

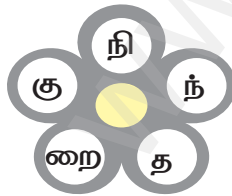
(அ) அன்புடைமை -----

----- வழக்கு.

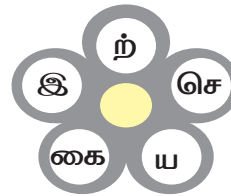
(ஆ) பண்புஉடையார்ப் -----

----- மன்.

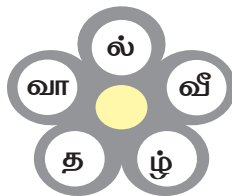
28. எதிர்ச்சொல் எழுதுக.



(அ) குறைந்த X _____



(ஆ) இயற்கை X _____



(இ) வாழ்தல் X _____



(ஈ) இன்சொல் X _____

VIII. விடையளிக்க.

2 x 6 = 12

29. குறிப்புகளைப் படித்து விடையைக் கண்டறிந்து எழுதுக .

வா	ன	ம்	ளி	ஒ	ம	வி
ன	ந்	பு	கு	தி	ரை	மா
வி	ஆ	ப்	ல்	ய	ப	ன
ல்	கி	டு	ப	ட்	ட	ம்
ல	ரீ	து	ப்	ம	கு	க

(அ) பறக்கவிட்டு மகிழ்வோம் _____

(ஆ) நீல நிறத்தில் காட்சியளிக்கும் _____

(இ) உயிரினங்களுள் ஒன்று _____

(ஈ) இதன் உதவியால் வானில் பயணிக்கலாம் _____

(உ) இதுபோன்ற உடலமைப்பு கொண்டுள்ளவை பறவைகள் _____

(ஊ) ஏழு நிறங்கள் கொண்டது _____

30. விண்ணப்பத்தை நிறைவு செய்க.

பள்ளியில் படிப்பதற்கான சான்று வேண்டி விண்ணப்பம்

இடம் _____,

அனுப்புநர்

நாள் _____.

-----'

-----'

-----'

-----'

பெறுநர்

தலைமையாசிரியர்,

----- பள்ளி,

-----'

மதிப்பிற்குரியர்,

பொருள் : வங்கியில் சேமிப்புக் கணக்கு தொடங்குதல் - பள்ளியில்
படிப்பதற்கான சான்று வேண்டி விண்ணப்பித்தல் - சார்பு

நன்றி!

இப்படிக்கு,

தங்கள் பணிவுள்ள மாணவர்,

Second Term Examination – 2022
Summative Assessment – English
Class - 5

Name:

Time : 2hrs

Class & Section: 5

Marks : 60

I. Choose the meaning of:**5 x 1 =5**

1. wondered - _____ a. surprised b. warned c. advised d. requested
2. feeble - _____ a. strong b. weak c. brave d. energetic
3. denied - _____ a. accepted b. agreed c. allowed d. refused
4. excel - _____ a. good b. poor c. unskilled d. untalented
5. victory - _____ a. failure b. loss c. success d. weakness

II. Add appropriate suffix to each word using the clues given.**3 x 1 =3**

<u>words</u>		
beauty	develop	teach

<u>suffixes</u>		
er	ful	ment

1. Make something better. _____
2. A person one who teaches. _____
3. Very pretty. _____

III. Tick (✓) the correct suffix and write new words.**3 x 1 =3**

1.

thank	
ful	ous

2.

sing	
ment	er

3.

judge	
ful	ment

IV. Write the similar meanings for the underline words.**3 x 1 =3**

chop	large	joy
------	-------	-----

1. I ate the big apple. _____
2. I am so happy. _____
3. I cut the vegetables. _____

V. Write the opposites for the following pictures.

3 x 1 =3

fix near young



1. old x _____



2. break x _____



3. far x _____

VI. Fill in the blanks with have or has.

5 x 1 =5

have / has

1. You _____ arrived at the right time.
2. She _____ never forgotten her bag.
3. They _____ written three letters already.
4. I _____ read the story.
5. She _____ written her exam.

VII. Complete the sentences using connecting words.

5 x 1 =5

because / so

1. I worked hard _____ I got promotion.
2. I was late _____ there was a heavy traffic.
3. The rat ran fast _____ a cat was chasing it.
4. I cannot go out _____ It is raining.
5. He missed his purse _____ he was sad.

VIII. Match the following.

3 x 1 =3

1. The cat was hungry - because he had to attend a function. 1. _____
2. He was afraid of snakes - so it ate a fish. 2. _____
3. He went home earlier - so he ran away. 3. _____

IX. Match the following rhyming words.

5 x 1 =5

1. tall - race 1. _____
2. light - creature 2. _____
3. face - all 3. _____
4. tree - flight 4. _____
5. nature - free 5. _____

X. Choose the correct answer.

5 x 1 =5

- 1. Uthaman was skilled in _____.
 a) painting b) archery c) dance
- 2. The oldman is _____.
 a) a vegetable vender b) a merchant c) an oil seller
- 3. The old man put _____ on the mouth of the gourd.
 a) a piece of paper b) a small coin c) a small stick
- 4. Akilan’s passion is to learn _____.
 a) Judo b) Karate c) Kalari
- 5. Master trained Akilan on _____.
 a) two strokes b) many strokes c) a single stroke

XI. Look at the picture and write three sentences.

3 x 1 =3



- 1. _____
- 2. _____
- 3. _____

XII. Write a thank you letter to your aunt for the time you spent at her home during holidays.

7 x 1 =7

Dear _____,

Yours lovingly,

_____.

XIII. Answer the following questions.

5 x 2 =10

1. Who was Akilan's inspiration?

2. Where was the old man sleeping?

3. What was the dish served to the old man?

4. How was the richman's house?

5. What was the advice of Akilan's master?

www.Padasalai.Net

SECOND TERM EXAMINATION - 2022
SUMMATIVE ASSESSMENT - MATHS
CLASS : 5




NAME : _____

TIME : 2 Hours

CLASS & SEC : _____

MARKS : 60

I. Choose the correct answer.**5 x 1 = 5**

1. The measure of the complementary angle of 32° is _____.
 a) 48° b) 24° c) 58° 1. _____
2. The number divisible by 5 with no remainder is _____.
 a) 14 b) 425 c) 254 2. _____
3. In the following numbers, _____ is a square number.
 a) 23 b) 49 c) 54 3. _____
4. $3\text{km } 500\text{m} =$ _____ m.
 a) 3500 b) 350 c) 3050 4. _____
5. Which shape has 6 triangles?
 a)  b)  c)  5. _____

II. Fill in the blanks.**5 x 1 = 5**

6. _____ is the only even prime number.
7. $6250\text{g} =$ _____ kg _____ g.
8. _____ is the smallest metric measure of capacity.
9. Write down the collection of words ending with "ENT"
 WENT, SENT, B _____, T _____.
10. The square number of 5 is _____.

III. Match the following.**5 x 1 = 5**

- | | | |
|-------------------|--|----------------|
| 11. 8200 ml | a) 1 centilitre | 11. Ans: _____ |
| 12. 10 ml | b) 3^2 | 12. Ans: _____ |
| 13. 9 | c) 18 | 13. Ans: _____ |
| 14. Speed | d) 8l 200 ml | 14. Ans: _____ |
| 15. Multiple of 6 | e) $\frac{\text{Distance}}{\text{Time}}$ | 15. Ans: _____ |

IV. Write true or false.


$5 \times 1 = 5$

16. Factors of 6 are 1, 2, 3, 6.

Ans: _____

17. The supplementary angle of 135° is 55° .

Ans: _____

18.  The angle made by the hands of the clock is a right angle.

Ans: _____

19. $1000\text{mg} = 1\text{g}$.

Ans: _____

20. $\frac{1}{2}$ part of ₹10 is 50 paise.

Ans: _____

V. Answer the following.

$10 \times 2 = 20$

21. Find the common factors for 24 and 30.

22. Find the common multiples of 9 and 12.

23. Draw the hands of the clock for the given time and also name the angle made by them.

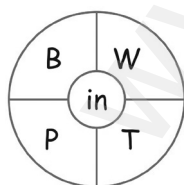


11 o' clock



09:00

24. Form the words ending with 'in' to make a pattern.



_____, _____

_____, _____

25. Multiply : $5\text{kg } 200\text{g} \times 7$

26. Convert into litre.
7000 ml

27. Find the answer.

i) $\frac{1}{4}$ part of ₹1 = _____

ii) $\frac{1}{2}$ part of ₹100 = _____

28. If $\triangle = 3$, $\square = 4$, then $\square + \triangle + \triangle - \square =$ _____

29. Subtract 3kl from 15485l.

30. Draw a factor tree for 16.

VI. Answer the following.

4 x 5 = 20

31. Find the L.C.M. of 8 and 12.

32. (i) If Sabari walked 5 hours at a speed of 5km/hour, then how much distance did he cover?

(ii) Akbar spent ₹5 per km for a trip and he travelled 110 km in that trip. How much is the total cost of the trip.

33. Find the answer for the following.

(i) $7\text{kg } 400\text{g} + 5\text{kg } 350\text{g}$

(ii) $39\text{kg } 500\text{g} - 33\text{kg } 750\text{g}$

34. Find the answer for the following.

(i) $66\text{g } 720\text{mg} \div 6$

(ii) Convert 42 minutes into hours.

இரண்டாம் பருவத் தேர்வு - 2022

தொகுத்தறி மதிப்பீடு - கணிதம்

வகுப்பு : 5

பெயர் : _____

காலம் : 2 மணி

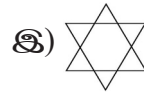
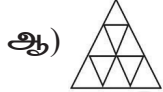
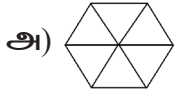
வகுப்பு & பிரிவு : _____

மதிப்பெண் : 60

I. சரியான விடையைத் தேர்ந்தெடுத்து எழுதுக.

5 × 1 = 5

- 32° கோணத்திற்கான நிரப்பு கோணத்தின் அளவு _____. 1. _____
அ) 48° ஆ) 24° இ) 58°
- மீதி இல்லாமல் 5 ஆல் வகுபடக் கூடிய எண் _____. 2. _____
அ) 14 ஆ) 425 இ) 254
- பின்வரும் எண்களில் சதுர எண் _____. 3. _____
அ) 23 ஆ) 49 இ) 54
- 3 கி.மீ 500மீ = _____ மீ. 4. _____
அ) 3500 ஆ) 350 இ) 3050
- 6 முக்கோணங்களைக் கொண்ட வடிவம் எது? 5. _____



II. கோடிட்ட இடத்தை நிரப்புக.

5 × 1 = 5

- ஒரே ஒரு இரட்டை பகா எண் _____.
- 6250 கி = _____ கி.கி _____ கி.
- _____ கொள்ளளவின் மிகச் சிறிய அலகு.
- “ENT” முடியும் சொற்களின் தொகுப்பை எழுதுக
WENT, SENT, B _____, T _____.
- 5 இன் சதுர எண் _____.

III. பொருத்துக.

5 × 1 = 5

- | | | |
|------------------|---|------------------|
| 11. 8200 மி.லி | அ) 1 சென்டி லிட்டர் | 11. விடை : _____ |
| 12. 10 மி.லி | ஆ) 3 ² | 12. விடை : _____ |
| 13. 9 | இ) 18 | 13. விடை : _____ |
| 14. வேகம் | ஈ) 8 லி 200 மி. லி | 14. விடை : _____ |
| 15. 6 இன் மடங்கு | உ) $\frac{\text{தொலைவு}}{\text{நேரம்}}$ | 15. விடை : _____ |

IV. சரியா? தவறா?


5 × 1 = 5

16. 6 இன் காரணிகள் 1, 2, 3, 6.

விடை : _____

17. 135° இன் மிகை நிரப்புக் கோணம் 55°.

விடை : _____

18.  கடிகார முள் காட்டும் கோணம் செங்கோணம்.

விடை : _____

19. 1000 மி.கி = 1கி.

விடை : _____

20. ₹10 இல் $\frac{1}{2}$ பகுதி 50 பைசா.

விடை : _____


V. விடையளிக்க.

10 × 2 = 20

21. 24 மற்றும் 30இன் பொதுக் காரணிகள் காண்க.

22. 9 மற்றும் 12 இன் பொது மடங்கு காண்க.

23. கொடுக்கப்பட்டிருக்கும் நேரத்திற்கு நிமிட முள்ளும் மணி முள்ளும் கடிகாரத்தில் வரைந்து அவை ஏற்படுத்தும் கோணத்தை காண்க.

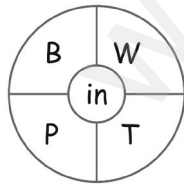


11:00 மணி



09:00 மணி

24. ஓர் அமைப்பை ஏற்படுத்துமாறு 'in' என முடியுமாறு சொற்களின் தொகுப்பை எழுதுக.



_____, _____

_____, _____

25. பெருக்கற்பலன் காண்க : 5 கி.கி 200 கி × 7

26. 7000 மில்லி லிட்டரை லிட்டராக மாற்றுக.

27. விடை காண்க.

i) ₹1 இல் $\frac{1}{4}$ பகுதி = _____

ii) ₹100 இல் $\frac{1}{2}$ பகுதி = _____

28. $\triangle = 3$, $\square = 4$, எனில் $\square + \triangle + \triangle - \square =$ _____

29. 15485 லிட்டரிலிருந்து 3 கி.லி ஐ கழிக்க.

30. 16 என்ற எண்ணிற்கு காரணிச் செடி வரைக.

VI. விடையளிக்க.

4 x 5 = 20

31. 8 மற்றும் 12 இன் மீ. பொ. ம காண்க.

32. (i) சபரி என்பவர் 5 கி.மீ / மணி வேகத்தில் 5 மணி நேரம் நடந்தார் எனில் அவர் கடந்த தூரம் எவ்வளவு?

(ii) அக்பர் ஒரு பயணத்திற்காக 1 கி.மீ க்கு ₹5 செலவழித்தார். அவர் 110 கி.மீ தொலைவு பயணம் மேற்கொள்ள செலவிட்ட தொகை எவ்வளவு?

33. விடை காண்க.

(i) 7 கி.கி 400 கி + 5 கிகி 350 கி

(ii) 39 கி.கி 500 கி – 33 கி.கி 750 கி

34. விடை காண்க.

(i) 66 கி 720 மி.கி ÷ 6

(ii) 42 நிமிடங்களை மணி நேரமாக மாற்றுக.

SECOND TERM EXAMINATION - 2022
SUMMATIVE ASSESSMENT - SCIENCE
CLASS : 5

NAME :

TIME : 2 Hours

CLASS & SECTION :

MARKS : 60

I. Choose the correct answer.**5 x 1 = 5**

1. The biotic factor which spoils the food items is _____.
- a) drying b) temperature c) humidity d) bacteria **Ans:** _____
2. Which of the following micro-organisms causes waterborne diseases?
- a) Bacteria b) Virus c) Protozoa d) All **Ans:** _____
3. Dispersal of seed by water is known as
- a) anemochory b) hydrochory c) zoochory d) autochory **Ans:** _____
4. _____ water is free from suspended impurities.
- a) Sea b) Well c) River d) Underground **Ans:** _____
5. Male reproductive organ of the flower is _____.
- a) sepal b) petal c) androecium d) gynoecium **Ans:** _____

II. Fill in the blanks.**5 x 1 = 5**

6. Marasmus is a _____ deficiency disease.
7. The accumulated underground water comes out in the form of _____.
8. The soil which contains bigger sized particle is _____.
9. The process of changing water into water vapour by the heat of the sun is called _____.
10. Spreading of seeds from one place to another is known as _____.

III. Say True or False.**5 x 1 = 5**

11. Growing children need more proteins in their food. **Ans:** _____
12. The process of collecting and storing rain water is called rainwater harvesting. **Ans:** _____
13. Leaf is the reproductive part of a plant. **Ans:** _____
14. Vinegar is added as a preservative for pickles. **Ans:** _____
15. Cholera is caused by the micro-organism hepatitis. **Ans:** _____

IV. Match the following.**5 x 1 = 5**

16. Kerosene - Honey **Ans:** _____
17. Reservoir - Dispersal by water **Ans:** _____
18. Bees - Inflammable material **Ans:** _____
19. Earthworm - Man-made lake **Ans:** _____
20. Coconut - Vermi-compost **Ans:** _____

V. Complete the table given below by choosing the correct answer.**5 x 1 = 5**

(Rickets, Sterility, Night blindness, Scurvy, Beriberi)

Question Number	Name of the vitamin	Name of the vitamin deficiency disease
21.	Vitamin A	
22.	Vitamin B	
23.	Vitamin C	
24.	Vitamin D	
25.	Vitamin E	

VI. Answer in brief.**5 x 3 = 15**

26. What is disease?
- _____
- _____

27. What are the processes involved in water cycle?

28. Define pollination.

29. What should we do in case of minor burns?

30. How soil is formed?

VII. Answer in detail.

4 x 5 = 20

31. How can we prevent water borne diseases?

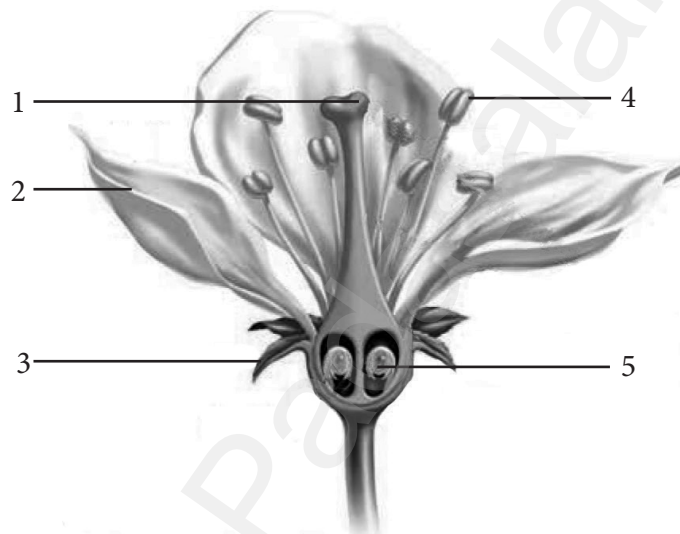
32. Write any three sources of major nutrients given in the following table.

S. No	Major Nutrients	Sources
1	Carbohydrates	
2	Proteins	
3	Fats	

33. Write the advantages of rainwater harvesting.

34. Label the diagram given below.

(Ovules, Petal, Stigma, Sepal, Anther)



இரண்டாம் பருவத் தேர்வு - 2022

தொகுத்தறி மதிப்பீடு - அறிவியல்

வகுப்பு : 5

பெயர் :

காலம் : 2 மணி

வகுப்பு & பிரிவு :

மதிப்பெண் : 60

- I. சரியான விடையைத் தேர்ந்தெடு. 5 x 1 =5
1. உணவுப் பொருள்களைக் கெட்டுப்போகச் செய்யும் உயிரிசார் காரணி
 அ) காயவைத்தல் ஆ) வெப்பநிலை
 இ) ஈரப்பதம் ஈ) பாக்டீரியா
விடை : _____
 2. கீழ்க்காணும் நுண்ணுயிரிகளுள் எது நீரால் பரவும் நோய்களைத் தோற்றுவிக்கின்றது?
 அ) பாக்டீரியா ஆ) வைரஸ்
 இ) புரோட்டோசோவா ஈ) அனைத்தும்
விடை : _____
 3. நீர் மூலம் விதை பரவும் முறைக்கு _____ என்று பெயர்.
 அ) அனிமோகோரி ஆ) ஹைட்ரோகோரி
 இ) ஸூகோரி ஈ) ஆட்டோகோரி
விடை : _____
 4. _____ நீரில் மாசுக்கள் இருக்காது.
 அ) கடல் ஆ) கிணற்று
 இ) ஆற்று ஈ) நிலத்தடி
விடை : _____
 5. மலரின் ஆண் இனப்பெருக்க உறுப்பு _____ ஆகும்.
 அ) அல்லி இதழ் ஆ) புல்லி இதழ்
 இ) மகரந்தத்தாள் வட்டம் ஈ) சூலக வட்டம்
விடை : _____
- II. கோடிட்ட இடங்களை நிரப்புக. 5x1=5
6. மராஸ்மஸ் என்பது _____ குறைபாட்டு நோய் ஆகும்.
 7. பூமிக்கு அடியிலுள்ள நிலத்தடி நீர் _____ வடிவில் புவியின் மேற்பரப்பிற்கு வெளியே வரும்.
 8. பெரிய அளவு மண்துகள்களைக் கொண்டது _____ ஆகும்.
 9. நீரானது சூரிய வெப்பத்தினால் நீராவிாக மாறுவதற்கு _____ என்று பெயர்.
 10. விதை ஒரு இடத்திலிருந்து மற்றொரு இடத்திற்குப் பரவுவதற்கு _____ என்று பெயர்.

III. சரி அல்லது தவறு எனக் கூறுக.

5x1=5

11. வளரும் குழந்தைகளின் உணவில் புரதம் அதிக அளவு தேவை. விடை : _____
12. மழை நீரைச் சேகரித்து அதைச் சேமிக்கும் முறைக்கு மழை நீர் சேகரிப்பு என்று பெயர். விடை : _____
13. தாவரத்தின் இனப்பெருக்க பாகம் இலை ஆகும். விடை : _____
14. ஊறுகாய் கெட்டுப்போகாமல் இருக்க அதனுடன் வினிகர் சேர்க்கப்படுகிறது. விடை : _____
15. காலரா நோயைத் தோற்றுவிப்பது ஹெபாடைடிஸ் எனப்படும் நுண்ணுயிரி ஆகும். விடை : _____

IV. பொருத்துக.

5x1=5

16. மண்ணெண்ணெய் - தேன் விடை : _____
17. நீர்த்தேக்கம் - நீரின் மூலம் பரவுதல் விடை : _____
18. தேனீக்கள் - தீப்பிடிக்கும் பொருள் விடை : _____
19. மண்புழு - அணைக்கட்டு விடை : _____
20. தேங்காய் - மண்புழு உரம் விடை : _____

V. பொருத்தமான ஒன்றைத் தேர்ந்தெடுத்து எழுதுக.

5x1=5

(ரிக்கட்ஸ், மலட்டுத்தன்மை, மாலைக்கண்ணோய், ஸ்கர்வி, பெரிபெரி)

வினா எண்	வைட்டமின் பெயர்	வைட்டமின் குறைபாட்டு நோயின் பெயர்
21.	வைட்டமின் ஏ	
22.	வைட்டமின் பி	
23.	வைட்டமின் சி	
24.	வைட்டமின் டி	
25.	வைட்டமின் ஈ	

VI. சுருக்கமாக விடையளி.

5x3=15

26. நோய் என்றால் என்ன?

27. நீர் சுழற்சியின் படிநிலைகள் யாவை?

28. மகரந்தச்சேர்க்கை என்றால் என்ன?

29. சிறிய அளவிலான தீக்காயத்திற்கு நாம் என்ன செய்யலாம் ?

30. மண் எவ்வாறு உருவாகிறது?

VII. விரிவாக விடையளி.

4 x 5 = 20

31. நீர் மூலம் பரவும் நோய்களை எவ்வாறு தவிர்க்கலாம்?

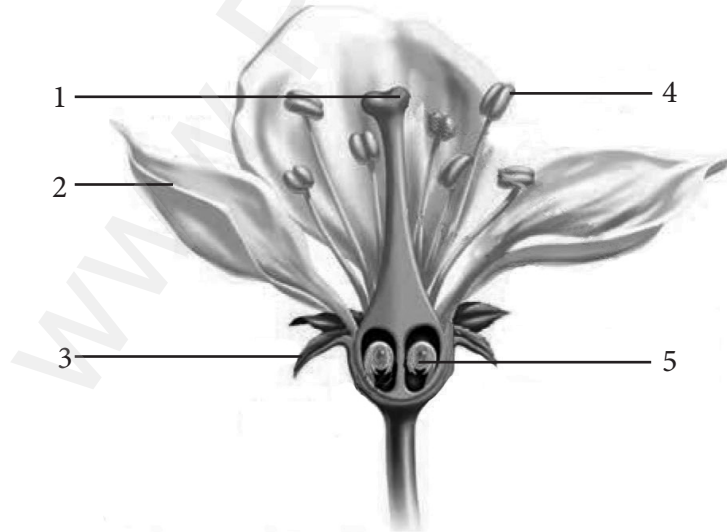
32. பின்வரும் அட்டவணையில் கொடுக்கப்பட்டுள்ள முக்கிய ஊட்டச் சத்துக்களின் மூலங்கள் ஏதேனும் மூன்றினை எழுதுக.

வ. எண்	முக்கிய ஊட்டச்சத்து	மூலங்கள்
1.	கார்போஹைட்ரேட்டுகள்	
2.	புரதம்	
3.	கொழுப்பு	

33. மழைநீர் சேகரிப்பின் நன்மைகள் யாவை?

34. கீழே கொடுக்கப்பட்டுள்ள படத்தில் சரியான பாகங்களைக் குறிக்கவும்.

(சூல்கள், அல்லிவட்டம், சூல்முடி, புல்லிவட்டம், மகரந்தப்பை)



SECOND TERM EXAMINATION - 2022**SUMMATIVE ASSESSMENT – SOCIAL SCIENCE****CLASS : 5**

NAME : _____

TIME : 2 Hours

CLASS & SEC : _____

MARKS : 60

I. Choose the correct answer:**5 x 1 = 5**

- 1) Indus Civilisation is also called as _____ civilisation. 1. _____
 a) Egypt b) Harappan c) American
- 2) Find the odd one. 2. _____
 a) Ganga b) Atlantic c) Pacific
- 3) The largest Continent is _____ 3. _____
 a) Africa b) Asia c) North America
- 4) Adichanallur is in _____ district. 4. _____
 a) Thoothukudi b) Chennai c) Puducherry
- 5) There are _____ major oceans in the world. 5. _____
 a) four b) five c) six

II. Fill in the blanks:**5 x 1 = 5**

- 6) _____ is an archaeological site situated near Puducherry. 6. _____
- 7) _____ % of water is fresh water that is found in ground. 7. _____
- 8) _____ is the capital of India. 8. _____
- 9) _____ is the world's longest river. 9. _____
- 10) _____ forms when river falls from great height. 10. _____

III. Write True or False.**5 x 1 = 5**

- 11) During excavations many artefacts were found. 11. _____
- 12) Water in the sea is sweet. 12. _____
- 13) Water evaporates and forms clouds. 13. _____
- 14) Australia is the biggest continent. 14. _____
- 15) India has one of the seven wonders of the world. 15. _____

IV. Match the following:**5 x 1 = 5**

- 16) Pyramids - Chilika in Odisha 16. _____
- 17) A lagoon - Sahara desert 17. _____
- 18) Australia - Frozen continent 18. _____
- 19) Africa - Egypt 19. _____
- 20) Antarctica - Kangaroo 20. _____

V. Complete the table:**10 x ½ = 5**

21) Fill in the Columns

(Arctic, Europe, Japan, Russia, Asia, Italy, Atlantic, Africa, Pacific, Egypt)

Continents	Oceans	Countries

VI. Give Short Answers:**5 x 3 = 15**

22) What is excavation?

23) Define Hydrosphere.

24) Name the Continents of the world.

25) Name the different types of water bodies.

26) What are the artefacts that were found in Adichanallur?

VII. Answer in Detail:

3 x 5 = 15

27) Give a detailed study of Keeladi.

28) Give few steps to save water.

29) Give a detailed study of Australia.

VIII. Map:

5 x 1 = 5

30) Mark the following in the given world Map:

- 1) Asia
- 2) Africa
- 3) North America
- 4) Australia
- 5) Indian Ocean



இரண்டாம் பருவத் தேர்வு - 2022

தொகுத்தறி மதிப்பீடு - சமூக அறிவியல்

வகுப்பு : 5

பெயர் : _____

காலம் : 2 மணி

வகுப்பு & பிரிவு : _____

மதிப்பெண் : 60

I. சரியான விடையைத் தேர்ந்தெடுத்து எழுதுக :

5x1=5

1) சிந்துவெளி நாகரிகம் _____ நாகரிகம் என்றும் அழைக்கப்படுகிறது.

1. _____

அ) எகிப்து ஆ) ஹரப்பா இ) அமெரிக்கா

2) பொருந்தாததைக் கண்டுபிடி.

2. _____

அ) கங்கை ஆ) அட்லாண்டிக் இ) பசிபிக்

3) மிகப்பெரிய கண்டம் _____

3. _____

அ) ஆப்பிரிக்கா ஆ) ஆசியா இ) வடஅமெரிக்கா

4) ஆதிச்சநல்லூர் _____ மாவட்டத்தில் உள்ளது.

4. _____

அ) தூத்துக்குடி ஆ) சென்னை இ) புதுச்சேரி

5) பூமியில் _____ பெருங்கடல்கள் உள்ளன.

5. _____

அ) நான்கு ஆ) ஐந்து இ) ஆறு

II. கோடிட்ட இடங்களை நிரப்புக :

5x1=5

6) புதுச்சேரி அருகில் உள்ள தொல்பொருள் ஆய்வுக்களம் _____ ஆகும்.

6. _____

7) _____ % நீர் மட்டுமே நன்னீராக நிலத்தில் காணப்படுகிறது .

7. _____

8) இந்தியாவின் தலைநகரம் _____ ஆகும்.

8. _____

9) உலகின் மிக நீளமான நதி _____ ஆகும்.

9. _____

10) நதி நீரானது உயரமான இடத்திலிருந்து விழும்பொழுது _____ உருவாகிறது.

10. _____

III. சரியா / தவறா என எழுதுக :

5x1=5

- 11) அகழ்வாராய்ச்சியின்போது தொல்கைவினைப் பொருள்கள் கண்டறியப்பட்டன. 11. _____
- 12) கடல் நீர் இனிப்பாக இருக்கும். 12. _____
- 13) நீர் ஆவியாகி மேகங்களாக உருவாகிறது. 13. _____
- 14) ஆஸ்திரேலியா மிகப்பெரிய கண்டம் ஆகும். 14. _____
- 15) உலகின் ஏழு அதிசயங்களுள் ஒன்று இந்தியாவில் உள்ளது. 15. _____

IV. பொருத்துக :

5x1=5

- 16) பிரமிடுகள் - ஒடிசாவில் உள்ள சிலிகா 16. _____
- 17) உப்பங்கழி - சகாரப் பாலைவனம் 17. _____
- 18) ஆஸ்திரேலியா - உறைந்த கண்டம் 18. _____
- 19) ஆப்பிரிக்கா - எகிப்து 19. _____
- 20) அண்டார்டிகா - கங்காரு 20. _____

V. அட்டவணையை நிரப்புக :

10x 1/2 =5

- 21) கட்டங்களைப் பூர்த்தி செய்க :

(ஆர்க்டிக், ஐரோப்பா, ஜப்பான், இரஷ்யா, ஆசியா, இத்தாலி, அட்லாண்டிக், ஆப்பிரிக்கா, பசிபிக், எகிப்து)

கண்டங்கள்	பெருங்கடல்கள்	நாடுகள்

VI. குறுகிய விடையளி :

5x3=15

- 22) அகழ்வாராய்ச்சி என்றால் என்ன?

23) நீர்க் கோளம் வரையறு.

24) கண்டங்களின் பெயர்களை எழுதுக.

25) பல்வேறு வகையான நீர்நிலைகளின் பெயர்களை எழுதுக.

26) ஆதிச்சநல்லூரில் கண்டறியப்பட்ட தொல்கைவினைப் பொருள்கள் யாவை?

VII. விரிவான விடையளி:

3x5=15

27) கீழடி பற்றி விவரி.

28) நீரைச் சேமிக்க உதவும் வழிமுறைகளுள் சிலவற்றைக் கூறுக.

29) ஆஸ்திரேலியாவைப் பற்றி விவரிக்க.

VIII. நில வரைபட வினா :

5x1=5

30) கீழ்க்காணும் இடங்களை உலக வரைபடத்தில் குறிக்க :

- 1) ஆசியா
- 2) ஆப்பிரிக்கா
- 3) வட அமெரிக்கா
- 4) ஆஸ்திரேலியா
- 5) இந்தியப் பெருங்கடல்

