

எண்ணும் எழுத்தும் - பருவம் 1
கணக்கு
மாதாந்திரத் தேர்வு - ஜூலை 2023

பெயர் :

வகுப்பு & பிரிவு:

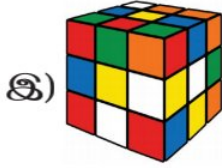
மதிப்பெண் : 15

அரும்பு

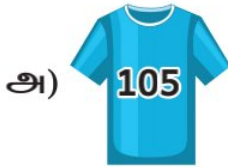
நேரம் : 45 நிமிடங்கள்

சரியான விடையைத் தேர்ந்தெடு.

1) கீதா அச்சுப்பதித்ததில் முனைகள் இல்லாத வடிவம் இருந்தது எனில், கீழ்க்காணும் எந்தப் பொருளை அவள் அச்செடுத்திருப்பாள்?



2) மதன் பதினைந்து எனக் குறிக்கப்பட்டுள்ள ஆடையை வாங்கினான் எனில், அந்த ஆடை எது?



3) அகிலனின் ஒரு தாளில் 6 பூக்களை வரைந்தான். அவனுடைய நண்பன் அதில் மேலும் 3 பூக்களை வரைந்தான் எனில், தற்போது அகிலன் தாளில் உள்ள பூக்களின் எண்ணிக்கை _____

அ) 9

ஆ) 3

இ) 63

ஈ) 18

மொட்டு

நேரம் : 45 நிமிடங்கள்

1) முகில் கூறியதில் தவறான கூற்று எது?

அ)  நான்கு பக்கங்களை உடையது.

ஆ)  ஆறு முனைகள் உடையது.

இ)  மூன்று பக்கங்களை உடையது.

ஈ)  முனைகள் இல்லை.

2) ரஹீம் 75 என்ற எண்ணையும் ஜான் 57 என்ற எண்ணையும் எழுதினார்கள் எனில், இருவர் எழுதியதில் பெரிய எண் எது?

அ) $50+7$ ஆ) $70+5$ இ) $7+5$ ஈ) $5+7$

3) ஆதிரையிடம் 32 ஆடுகள் இருந்தன. அவர் மேலும் 49 ஆடுகளை வாங்கினார் எனில், அவரிடம் தற்போது எத்தனை ஆடுகள் இருக்கும்?

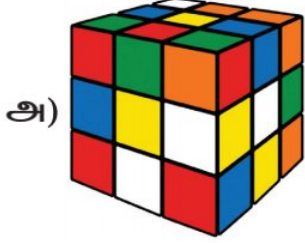


அ) 81 ஆ) 49 இ) 17 ஈ) 71

மலர்

நேரம் : 60 நிமிடங்கள்

1) யுவா கீழ்க்காணும் பொருள்களின் ஒவ்வொரு முனைக்கும் ஒரு பொட்டு ஒட்ட விரும்புகிறார். அவரால் எந்தப் பொருளுக்கு பொட்டு ஒட்ட இயலாது?



2) ஏறுவரிசையில் அமைந்துள்ள எண்களைத் தேர்ந்தெடு.

அ) 425, 509, 327, 813

ஆ) 945, 403, 95, 3

இ) 298, 473, 720, 585

ஈ) 74, 346, 615, 672

3) தியா ₹450 வைத்திருந்தார். அதில் ₹275க்கு ஒரு பொம்மை வாங்கினார் எனில், அவரிடம் மீதமுள்ள தொகை எவ்வளவு?



அ) ₹725

ஆ) ₹175

இ) ₹625

ஈ) ₹675

நான்காம் வகுப்பு

நேரம் : 60 நிமிடங்கள்

அருண் தனது அணியினருடன் மாநில அளவிலான கோகோ போட்டிக்காக விழுப்புரத்திலிருந்து சென்னைக்குத் தொடர்வண்டியில் சென்றார். அவர் செலவிற்காக ₹9000 எடுத்துச் சென்றார். சென்னை சென்று வர தொடர்வண்டி பயணக்கட்டணத்திற்காக ₹4250 செலவழித்தார். கோகோ போட்டி 20மீ நீளமும் 16மீ அகலமும் உடைய ஆடுகளத்தில் நடைபெற்றது. கோகோ போட்டியில் பங்கேற்று வெற்றி பெற்ற பிறகு, சென்னை புத்தகக் கண்காட்சிக்குச் சென்று அங்கு ₹1378க்குப் புத்தகங்கள் வாங்கினார். வெற்றிக்கோப்பையையும் புத்தகங்களும் வாங்கிய மகிழ்ச்சியுடன் அருண் தன் அணியினருடன் விழுப்புரம் திரும்பினார்.

1) கோகோ ஆடுகளத்தின் சுற்றளவு என்ன?

அ) 40 மீ ஆ) 36 மீ இ) 80 மீ ஈ) 72 மீ

2) சென்னை சென்றுவர தொடர்வண்டி கட்டணம் எவ்வளவு?

அ) ஆயிரத்து முந்நூற்று எழுபத்து எட்டு

ஆ) நான்காயிரத்து இருநூற்று ஐம்பது

இ) நான்காயிரத்து இருநூற்று ஐந்து

ஈ) ஆயிரத்து முந்நூற்று எண்பத்தேழு

3) விழுப்புரம் திரும்பும்பொழுது அருணிதம் மீதமிருந்தத் தொகை எவ்வளவு?

அ) ₹2750 ஆ) ₹5622 இ) ₹3372 ஈ) ₹5628

