

எண்ணும் எழுத்தும் - பருவம் 1  
கணக்கு  
மாதாந்திரத் தேர்வு - ஜூலை 2023

பெயர் :

வகுப்பு & பிரிவு:

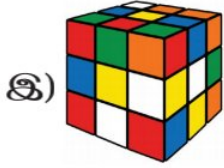
மதிப்பெண் : 15

அரும்பு

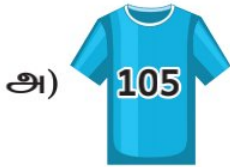
நேரம் : 45 நிமிடங்கள்

சரியான விடையைத் தேர்ந்தெடு.

1) கீதா அச்சுப்பதித்ததில் முனைகள் இல்லாத வடிவம் இருந்தது எனில், கீழ்க்காணும் எந்தப் பொருளை அவள் அச்செடுத்திருப்பாள்?



2) மதன் பதினைந்து எனக் குறிக்கப்பட்டுள்ள ஆடையை வாங்கினான் எனில், அந்த ஆடை எது?



3) அகிலனின் ஒரு தாளில் 6 பூக்களை வரைந்தான். அவனுடைய நண்பன் அதில் மேலும் 3 பூக்களை வரைந்தான் எனில், தற்போது அகிலன் தாளில் உள்ள பூக்களின் எண்ணிக்கை \_\_\_\_\_

அ) 9

ஆ) 3

இ) 63

ஈ) 18

மொட்டு

நேரம் : 45 நிமிடங்கள்

1) முகில் கூறியதில் தவறான கூற்று எது?

அ)  நான்கு பக்கங்களை உடையது.

ஆ)  ஆறு முனைகள் உடையது.

இ)  மூன்று பக்கங்களை உடையது.

ஈ)  முனைகள் இல்லை.

2) ரஹீம் 75 என்ற எண்ணையும் ஜான் 57 என்ற எண்ணையும் எழுதினார்கள் எனில், இருவர் எழுதியதில் பெரிய எண் எது?

அ)  $50+7$       ஆ)  $70+5$       இ)  $7+5$       ஈ)  $5+7$

3) ஆதிரையிடம் 32 ஆடுகள் இருந்தன. அவர் மேலும் 49 ஆடுகளை வாங்கினார் எனில், அவரிடம் தற்போது எத்தனை ஆடுகள் இருக்கும்?

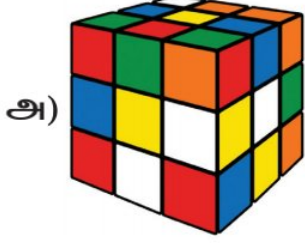


அ) 81      ஆ) 49      இ) 17      ஈ) 71

மலர்

நேரம் : 60 நிமிடங்கள்

1) யுவா கீழ்க்காணும் பொருள்களின் ஒவ்வொரு முனைக்கும் ஒரு பொட்டு ஒட்ட விரும்புகிறார். அவரால் எந்தப் பொருளுக்கு பொட்டு ஒட்ட இயலாது?



2) ஏறுவரிசையில் அமைந்துள்ள எண்களைத் தேர்ந்தெடு.

அ) 425, 509, 327, 813

ஆ) 945, 403, 95, 3

இ) 298, 473, 720, 585

ஈ) 74, 346, 615, 672

3) தியா ₹450 வைத்திருந்தார். அதில் ₹275க்கு ஒரு பொம்மை வாங்கினார் எனில், அவரிடம் மீதமுள்ள தொகை எவ்வளவு?



அ) ₹725

ஆ) ₹175

இ) ₹625

ஈ) ₹675

ஐந்தாம் வகுப்பு

நேரம் : 60 நிமிடங்கள்

நான்கு மற்றும் ஐந்தாம் வகுப்பு பயிலும் 15 மாணவர்கள் ஆசிரியருடன் மலர்க் கண்காட்சிக்குச் சென்றனர். நுழைவுக்கட்டணமாக ஒவ்வொருவருக்கும் ₹60 வீதம் ஆசிரியர் மொத்தத் தொகையை செலுத்தினார். அவர் மாணவர்களிடம் அவரவர் நுழைவுச்சீட்டைக் கொடுத்துவிட்டு தன்னுடைய நுழைவுச்சீட்டை வைத்துக்கொண்டார். நுழைவுச்சீட்டில் மலர்க் கண்காட்சி தொடங்கும் நேரம் காலை 9:00 மணி எனக் குறிக்கப்பட்டிருந்தது. மாணவர்களும் ஆசிரியரும் மகிழ்வுடன் கண்காட்சியைப் பார்க்கச் சென்றனர்.

1) நுழைவுச்சீட்டில் மலர்க் கண்காட்சி தொடங்கும் நேரத்தைப் பார்த்தவுடன் உங்களின் நினைவுக்கு வரும் கோணம்

அ) விரிகோணம்

ஆ) குறுங்கோணம்

இ) பூச்சியக்கோணம்

ஈ) செங்கோணம்

2) நுழைவுக்கட்டணமாக ஆசிரியர் செலுத்திய மொத்தத் தொகை எவ்வளவு?

அ) ₹960

ஆ) ₹9000

இ) ₹900

ஈ) ₹9060

3) ஆசிரியரிடம் ₹540 மட்டும் இருந்தது எனில், கீழ்க்கண்ட கூற்றுகளில் சரியானது எது?

அ) அனைவருக்கும் நுழைவுச்சீட்டு கிடைக்கும்.

ஆ) பாதி பேருக்கு நுழைவுச்சீட்டு கிடைக்கும்.

இ) 9 பேருக்கு மட்டும் நுழைவுச்சீட்டு கிடைக்கும்.

ஈ) 8 பேருக்கு மட்டும் நுழைவுச்சீட்டு கிடைக்கும்.