

மகிழ்ந்து செய்வேன்

1

கிண்ணம் - முதல் எழுத்தை மாற்றினால் கிடைக்கும் சொல்லைத் தேர்ந்தெடுக்க.

அ) திண்ணை

ஆ) வண்ணம்

அ ஆ இ ஈ

இ) பண்ணை

ஈ) எண்ணெய்

2

"பனை" இதன் முதல் எழுத்தை மாற்றினால் பெறப்படும் சிறு தானியம் எது?

அ) வினை

ஆ) தென்னை

அ ஆ இ ஈ

இ) பூனை

ஈ) தினை

3

ஓர் எழுத்தைத் தெரிவுசெய்து சரியான சொற்களை உருவாக்குக.

கா____, மா____, த____, கு____, ம____, வி____

அ) லை

ஆ) ல்

அ ஆ இ ஈ

இ) ண்

ஈ) ட்

4

மாதுளை - என்ற சொல்லில் இருந்து உருவாகும் சொல் எது?

அ) மாமா

ஆ) மாலை

அ ஆ இ ஈ

இ) துளை

ஈ) துணி

5

ஒரே எழுத்தால் நிரப்புக.

பனங் _____ ற் _____ ண்டு

அ _____ க்க _____

6

சொல்லில் விளையாடச் சொல்லித் தந்தவளே - என்ற தொடரில் உள்ள ஒத்த ஓசைச்சொற்களைத் தேர்ந்தெடுத்து (✓) குறியிடுக.

அ) விளையாட - சொல்லி

ஆ) சொல்லில் - சொல்லி

இ) சொல்லி - தந்தவளே

ஈ) தந்தவளே - விளையாட

அ ஆ இ ஈ

7

"தேடாதே" என்ற சொல் முன்பின்னாகப் படித்தாலும் ஒரே சொல் தான் வரும். இதே போன்ற மற்றொரு சொல்லைக் கூறுக.

அ) கவிதை

ஆ) விகடன்

இ) விகடம்

ஈ) கைரேகை

அ ஆ இ ஈ

8

"குரைத்தது" இவ்வினைச்சொல் உணர்த்தும் பால்.

அ) ஆண்பால்

ஆ) ஒன்றன்பால்

இ) பெண்பால்

ஈ) பலர் பால்

அ ஆ இ ஈ

9

பொருத்தமான சொல் எது?

மழை பெய்தது; _____ நீர் தேங்கவில்லை.

அ) எனவே

ஆ) அப்படியானால்

இ) ஆயினும்

ஈ) அதனால்

அ ஆ இ ஈ

10

இரண்டிற்கும் விடையாகும் ஒரே சொல்லைக் கண்டறிக.

பூக்களைத் தொடுத்தால் கிடைப்பது

அந்தி சாயும் வேளை

அ) மலர்

ஆ) மாழை

இ) மலை

ஈ) மாலை

அ ஆ இ ஈ

11

பொருத்தமான இணைப்புச்சொல்லைப் பொருத்துக.

பரிதி, விரைவாக வருகிறேன் என்று சொன்னான்.
_____ இன்னும் வரவில்லை.

12

உடல் உறுப்புகள் - என்ற சொல்லில் இருந்து புதிய சொற்களை உருவாக்குக.

_____, _____,
_____, _____.

13





சரியான சொல்லைக் கொண்டு நிரப்புக.

ஆற்றின் ஓரம் _____,

ஆடையில் படிவது _____.

14

தவறான தொடரைக் கண்டறிக.

			
அமலா படித்தாள்	அருண் நடனம் ஆடினான்	பறவை பறந்தது	குரங்குகள் தாவிக் குதித்தார்கள்
அ	ஆ	இ	ஈ

அ ஆ இ ஈ
○ ○ ○ ○

15 பிழையற்ற தொடரைத் தேர்ந்தெடுக்க.

அ) கள்ளனை கரிகாலனால் கட்டப்பட்டது.

ஆ) கல்லனை கரிகாலனால் கட்டப்பட்டது.

இ) கல்லனை கரிகாலனால் கட்டப்பட்டது.

ஈ) கல்லனை கரிகாளனால் கட்டப்பட்டது.

அ ஆ இ ஈ

16 வேறுபட்ட சொற்றொகுப்பைக் கண்டறிக.

அ) உருண்டை, விளையாட்டு, பந்து

ஆ) வீடு, சிறுத்தை, குளம்

இ) பூ, தேன், தேனீ

ஈ) வெளிச்சம், இரவு, நிலா

அ ஆ இ ஈ

17 எனக்குக் குடு அடக்கோடிட்ட சொல்லுக்கான சரியான எழுத்து வழக்குச் சொல் எது?

அ) கூடு

ஆ) குடு

இ) கொடு

ஈ) தா

அ ஆ இ ஈ

18 அடக்கோடிட்ட சொல்லுக்கான எதிர்ச்சொல்லைக் கொண்டு தொடரை நிரப்புக.

முன்னால் நின்ற பசு, _____ வந்த கன்றைத் திரும்பிப் பார்த்தது.

அ) இங்கே

ஆ) பின்னால்

இ) அங்கே

ஈ) எங்கே

அ ஆ இ ஈ

19 படத்திற்குரிய சரியான தொடர் எது?



அ) பறவைகள் பறந்தது

ஆ) பறவைகள் பறந்தார்கள்

இ) பறவைகள் வானில் பறந்தன

ஈ) பறவை பறந்தன

அ ஆ இ ஈ

20

யார் யாரிடம் கூறியது?

"முயலே, உனக்கு எவ்வளவு தைரியம்... இவ்வளவு காலம்
என்னைக் கண்டாலே ஓட்டம் எடுப்பாய். இப்பொழுது
கால்மேல்கால் போட்டு உட்கார்ந்து இருக்கிறாயா?"

அ) புலி, முயலிடம்

ஆ) மான், முயலிடம்

அ ஆ இ ஈ

இ) புலி, மானிடம்

ஈ) முயல், புலியிடம்

○ ○ ○ ○

21

தொடர்களை உரியவாறு அட்டவணைப்படுத்துக.

- அ) கமலவல்லிக்கு மல்லிகை மிகவும் பிடிக்கும்.
ஆ) வள்ளி, பள்ளத்தில் மண்ணைக் கொட்டினாள்.
இ) என் தோழி, கோழியைப் பார்த்துப் பயப்படுவாள்.
ஈ) வள்ளிக்கு வெல்லம் பிடிக்கும்.

ல	ள	ழ

22

தேர்ந்தெடுத்து நிரப்புக.

(நான், அவன், அது, அவை, அவர்கள்)

_____ தான் வள்ளி. _____ என் நண்பர்கள். _____ தான்

கவியமுதன் _____ அவனது செல்ல நாய்க்குட்டி. நாய்க்குட்டி பறவைகளைப்



பார்த்து குரைத்தது. _____ பயந்து பறந்தன.

23

பொருத்துக.



முறம் போன்ற காதுடையவன் நான்

காட்டிற்கு அரசன் நான், எனக்கு
பிடரி உண்டு

பாலவனத்தில் வேகமாக நடப்பேன்

கோடுகளை உடையவன் நான்; பதுங்கி
இரையைப் பிடிப்பேன்உயரமான மரக்கிளைகளில் உள்ள இலைகளை
என்னால் உண்ணமுடியும்

24

தொடர்களைப் படித்துப் பார்த்து வரிசைப்படுத்துக.

- அ) தெனாலிராமன் கிழிந்து போன ஆடைகளுடன் அரசவைக்கு வந்தான்.
ஆ) தெனாலிராமன் ஏழு இறக்கை குருவி தேடி காட்டுக்குச் சென்றான்.
இ) விஜயரத்தனர் ஏழு இறக்கை குருவி தனக்கு வேண்டும் எனக் கேட்டார்.
ஈ) தெனாலிராமன், அறிவுக்கூர்மையை அரசர் பாராட்டினார்.

அ) இ, ஆ, அ, ஈ

ஆ) ஆ, அ, ஈ, இ

இ) ஈ, அ, ஆ, இ

ஈ) ஈ, அ, இ, ஆ

அ ஆ இ ஈ
○ ○ ○ ○

25

பத்தியைப் படித்து வினாக்களுக்கு விடையளிக்க.

காவிரியில் அடிக்கடி பெருவெள்ளம் வரும். ஆனால் அந்த நீர் எதற்கும் பயன்படாமல் கடலுக்குச் சென்றுவிடும். மக்கள் மழைக்காலத்தில் வெள்ளப்பெருக்காலும் கோடைக்காலத்தில் நீர் இன்றியும் துன்பப்பட்டனர்.

அ) காவிரியின் வெள்ளநீர் சென்று சேருமிடம் _____

ஆ) சரியா? தவறா? கூறுக -

I கோடைக்காலம் வறண்டும் மழைக்காலம் நீர்நிறைந்தும் இருந்தது -

II பத்தியில் உள்ள உயிரெழுத்துச் சொல்வரிசை = அடிக்கடி, ஆனால், இன்றியும் -

III பத்தியில் உள்ள க-வரிசைச் சொற்கள் = கடல், காவிரி, கோடைக்காலம் -

இ) வெள்ளப்பெருக்காலும் நீர் இன்றியும் துன்பப்பட்டவர்கள் யார்?

26

பத்தியைப் படித்து வினாக்களுக்கு விடையளிக்க.

செல்வன் குடையுடன் காய் வாங்கச் சென்றான். வழியில் ஒரு நாய்க்குட்டி நடுங்கிக் கொண்டு நின்றது. அது அவனிடம் ஓடிவந்தது. செல்வனும் ஆசையாக அதைக் கையில் எடுத்தான்.

1. செல்வன் எங்கு சென்றான்?

அ) காய்கறி கடை ஆ) துணிக்கடை அ ஆ இ ஈ
 இ) மிட்டாய் கடை ஈ) வளர்ப்பு விலங்கு விற்கும் கடை

2. எது யாரிடம் ஓடிவந்தது?

- * நாய்க்குட்டி கடைக்கு ஓடி வந்தது.
- * செல்வன் நாயிடம் ஓடினான்.
- * நாய்க்குட்டி செல்வனிடம் ஓடி வந்தது.
- * செல்வன் அருகே நாய் வரவில்லை

3. நாய் ஏன் நடுங்கியது?

4. செல்வன் ஏன் குடையுடன் சென்றான்?

Summative Assessment

ENGLISH

I Choose and shade the correct spelling.

1. One who sails in a ship _____.
- sailar sailor saylor
2. A _____ can walk like a human.
- rowbot robut robot

II Complete the sentences.



water

melon

This is a _____.








light

house

This is a _____.

III Write the plural form.

	b				c	
	l				e	
					g	
	S					

across

- leaf
- goose
- sheep

down

- egg
- box
- car

IV Choose and write the correct word.

1. We _____ (one / won) the match yesterday.
2. I _____ (right / write) with my pen.
3. She had a long _____ (hare / hair).
4. The children go to school _____ 9o' clock. (in / on / at)
5. We eat idly _____ the morning. (in / on / at)
6. Ramesh goes to the market _____ Sundays. (in / on / at)

V Tick (✓) the correct answer.

He are reading a book.

He is reading a book.



They are playing see-saw.

They is playing see-saw.

The birds are flying in the sky.

The birds am flying in the sky.



Suja is dancing for the school day.

Suja are dancing for the school day.

The dog are sleeping under the table.

The dog is sleeping under the table.



**VI Shade the meaning for the underlined words.**

1. He likes to travel around places.

explore

remain


come back

2. Rani went to an island with her family.

land surrounded by trees

land surrounded by water

land surrounded by mountains



3. The boat sank into the sea.

floated on water

went up in water

went down in water

VII Read and tick (✓) the correct sentence for the picture.

Raju's family went for a trip. They travelled in a car. They were happy to see a new place.

Raju arranged a trip with friends. They travelled in a bus. They were happy to see a new place.



The children are taking rest under the big tree. They have great fun.

All the children are sleeping under the big tree. They have great time.

VIII Circle the odd one out.

call

tall

meal

fall

race

rice

lace

face

late

goat

coat


boat



IX

Read and tick (✓) the correct picture for the sentences.

Tony has a garden. He has tomato plants. He waters the plants every day. He loves gardening.



Rani has a bicycle. It is yellow. She rides her bicycle to school. She enjoys cycling.



X

Circle the opposite for the underlined words.

1. The children played before the school bell rang.

a) during

b) after

c) on time

2. The boy cried.

a) laughed

b) shouted

c) sobbed

3. Sam was happy as he won the game.

a) cheerful

b) joyful

a) sad



XI Read the passage and tick (✓) the correct answer.




Kumar went to a village fair with his parents. There he saw many children. He played many games with them. He played a 'ball throw' game and won a toy car. He ate popcorn and drank sugarcane juice. His mom got him a toy aeroplane. His father gave him a watch. He liked everything in the fair and had a lot of fun.

1. Where did Kumar go with his parents?
 a) to a market b) to a beach c) to a village fair
2. Kumar played a 'ball game' and won a toy _____.
 a) watch b) car c) aeroplane
3. Who gave him a watch?
 a) his father b) his mother c) his friends
4. What is the plural form of the word **child**?
 a) childs b) children c) childrens
5. Kumar did not like the village fair.
 yes no



XII Combine the sentences using (and / but / or).



1. Do you want a pineapple? Do you want a jackfruit?

Do you want a pineapple _____ a jackfruit?

2. The fish can swim. The fish cannot walk.

The fish can swim _____ it cannot walk.



XIII Look at the picture and tick (✓) true or false.



1. There is a clock on the wall.

true

false

2. There is a book on the table.

true

false

3. There is a cat in the room.

true

false

4. There is a toy car on the floor.

true

false

5. There are no flowers.

true

false

XIV

Choose and copy the correct sentence for each picture.


When it looked into the river, it saw a similar face with a bone.

It barked at it immediately and the bone slipped into the water.

It crossed the bridge with a bone.

A dog caught a bone on its way.







XV

Write a letter to your friend inviting for your birthday party.

A large rectangular writing area with a blue border, containing ten horizontal lines for writing a letter.

மகிழ்ந்து செய்வேன்

வகுப்பு : 4

மொத்த மதிப்பெண் : 60

நேரம்: 2:30 மணி

I. சரியான விடையைத் தேர்ந்தெடு. (10 x 1 = 10)

1) $99 + 1 =$ _____.

அ) 100

ஆ) 101

இ) 98

ஈ) 90

2) கீழ்க்காணும் கூற்றுகளில் சரியானது எது?

அ) சதுரத்தின் மூலைவிட்டங்கள் சமமல்ல.

ஆ) சாய்சதுரத்தின் மூலைவிட்டங்கள் சமமல்ல.

இ) இணைகரத்தின் ஒரு ஜோடி எதிர் பக்கங்கள் மட்டும் இணையானவை.

ஈ) அனைத்து நாற்கரங்களுக்கும் ஐந்து முனைகள் உண்டு.

3)

6	0	5	8
---	---	---	---

 ஆகிய எண்களை ஒருமுறை மட்டும் பயன்படுத்தி உருவாக்க இயலும் மிகப்பெரிய எண் எது?

அ) 6850

ஆ) 8605


இ) 8650

ஈ) 8560

4)  _____?

அ) 

ஆ) 

இ) 

ஈ) 


5) சென்டிமீட்டரில் அளவிடக்கூடிய பொருள் _____.

அ) பென்சில்

ஆ) மேசை

இ) கரும்பலகை

ஈ) கதவு

6)  கடிகாரம் காட்டும் நேரம் _____.

அ) 10:35


ஆ) 6:55

இ) 7:50



ஈ) 6:50

- 7) வாரத்தின் கடைசி நாள் _____ .
 அ) ஞாயிறு ஆ) புதன் இ) வெள்ளி ஈ) சனி
- 8) இத்தளத்தை எந்த வடிவத்தைக் கொண்டு நிரப்ப இயலாது?
 அ) வட்டம் ஆ) சதுரம் இ) செவ்வகம் ஈ) முக்கோணம்
- 9) 896 என்ற எண்ணில் இடமதிப்பும் முகமதிப்பும் ஒன்றாக உள்ள எண் எது?
 அ) 9 ஆ) 8 இ) 6 ஈ) எதுவுமில்லை
- 10) இரட்டை எண் எது?
 அ) 27 ஆ) 55 இ) 97 ஈ) 42

II. கோடிட்ட இடங்களை நிரப்புக. (5 x 1 = 5)

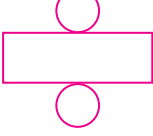
- 11) 8457 ல் அடிக்கோடிட்ட இலக்கத்தின் இடமதிப்பு _____ .
- 12) ஒரு வட்டத்தின் மிகப்பெரிய நாண் _____ .
- 13) 4 செ.மீ பக்க அளவுடைய சதுரத்தின் சுற்றளவு _____ .
- 14) 2, 4, 6, 8, 10 _____ 14.
- 15)  இவற்றுள் ஏதேனும் இருபழங்களை _____ வழிகளில் தேர்வு செய்யலாம்.

III. பொருத்துக. (5 x 1 = 5)

- 16)  600 செ.மீ
- 17)  1 மணி
- 18) 6 மீ இருபரிமாணம்
- 19) 10 மி.மீ + 10 மி.மீ + 10 மி.மீ + 10 மி.மீ + 10 மி.மீ முப்பரிமாணம்
- 20) 60 நிமிடம் 6 செ.மீ

IV. சரி / தவறு எனக் குறிப்பிடுக.

(5 x 1 = 5)

- 21)  இந்த வலையமைப்பைக் கொண்டு உருவாக்கப்படும் முப்பரிமாண வடிவம் கனசெவ்வகம் ஆகும். _____
- 22) 6 ஆயிரங்கள், 5 நூறுகள் மற்றும் 7 ஒன்றுகள் சேர்ந்தது 6507. _____
- 23) 54 என்பது 9 ன் மடங்கு ஆகும். _____
- 24) ஒரு வருடத்தில் 50 முழு வாரங்கள் உள்ளன. _____
- 25) 2430 < 840 _____

V. பொருந்தாததை வட்டமிடுக.

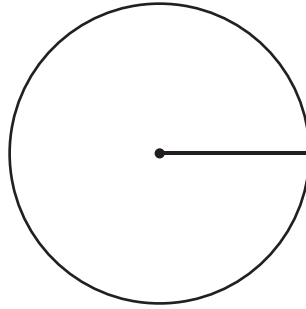
(5 x 1 = 5)

- 26) கனசதுரம் கனசெவ்வகம் முக்கோணம் கோளம்
- 27) மில்லிலிட்டர் சென்டிமீட்டர் மில்லிமீட்டர் மீட்டர்
- 28) ஜனவரி மார்ச் அக்டோபர் ஜூன்
- 29) ஒன்றுகள் பத்துகள் இருபதுகள் நூறுகள்
- 30) 15 - 5 25 - 5 5 + 5 2 x 5

VI. பின்வரும் வினாக்களுக்கு விடையளி.

(5 x 2 = 10)

- 31) வட்டத்தின் ஆரத்தை அளந்து எழுதி, விட்டத்தைக் கணக்கிட்டு எழுது.

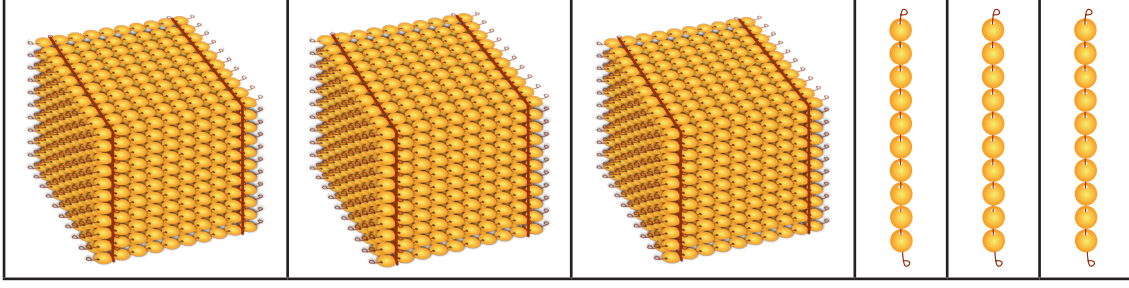


ஆரம் =

விட்டம் =

- 32) 2468, 4279, 5090, 4365, 6670 ஆகிய எண்களை ஏறுவரிசை மற்றும் இறங்குவரிசையில் எழுதுக.

33) கொடுக்கப்பட்ட மணிகள் குறிப்பிடும் எண் மற்றும் எண்பெயரை எழுதுக.



எண் _____

எண் பெயர் _____

34) கழித்து விடை காண்க. $9412 - 3867$

35) கூடுதல் காண்க. $7\text{ மீ } 75\text{ செ.மீ} + 6\text{ மீ } 25\text{ செ.மீ}$

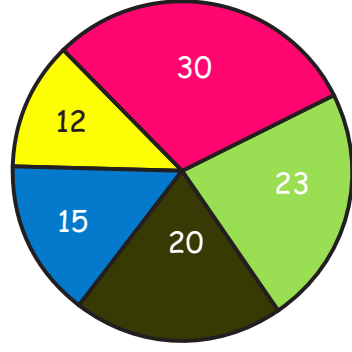
VII. பின்வரும் வினாக்களுக்குத் தீர்வு காண்க.

(4 x 5 = 20)

36) ஒரு பொருள்காட்சிக்கு முதல் நாள் 2575 பேரும் இரண்டாம் நாள் 3150 பேரும் மூன்றாம் நாள் 3425 பேரும் வருகை தந்தனர் எனில், மூன்று நாள்களிலும் வருகை தந்தவர்கள் மொத்தம் எத்தனை பேர்?

37) வட்ட விளக்கப்படத்தை உற்றுநோக்கிப் பின்வரும் வினாக்களுக்கு விடையளி.

போட்டியில் கலந்து கொண்ட மாணவர்களின் விவரங்கள்.



- நடனப் போட்டி
- ஓவியப் போட்டி
- பாட்டுப் போட்டி
- கோலப் போட்டி
- பேச்சுப் போட்டி

- அ) கோலப்போட்டியில் கலந்து கொண்டவர்கள் எத்தனை பேர்?
- ஆ) அதிக மாணவர்கள் கலந்துகொண்ட போட்டி எது?
- இ) கோலப்போட்டியைவிட, பாட்டுப்போட்டியில் எத்தனை மாணவர்கள் அதிகமாக கலந்து கொண்டனர்?
- ஈ) எந்த இரண்டு போட்டிகளில் கலந்து கொண்ட மாணவர்களின் எண்ணிக்கை 27 ஆகும்?
- உ) போட்டிகளில் கலந்துகொண்ட மாணவர்கள் மொத்தம் எத்தனை பேர்?

38) செல்வி 15 மீ 25 செ.மீ நீளமுள்ள துணியிலிருந்து 8 மீ 50 செ.மீ நீளமுள்ள துணியை வெட்டி எடுத்துவிட்டான் எனில், மீதமுள்ள துணியின் நீளம் எவ்வளவு?

39) கவராயத்தைப் பயன்படுத்தி 5 செ.மீ ஆர அளவுள்ள ஒரு வட்டம் வரைக.

இந்நூல் 80 ஜி.எஸ்.எம் எலிகண்ட் மேப்லித்தோ தாளில் அச்சிடப்பட்டுள்ளது
ஆப்செட் முறையில் அச்சிட்டோர்:

மகிழ்ந்து செய்வேன்!

அறிவியல்

வகுப்பு : 4

பெயர் :

நேரம் : 2 மணி

வகுப்பு & பிரிவு :

மதிப்பெண் : 60

I. சரியான விடையைத் தேர்ந்தெடுத்து எழுதுக.

5 x 1 = 5

1. உணவானது செரிக்கப்படும் இடம் _____.

விடை : _____

அ) கழுத்து

ஆ) இதயம்

இ) இரைப்பை

2. பச்சையாக உண்ணக்கூடிய உணவு _____.

விடை : _____

அ) வெள்ளரி

ஆ) இட்டலி

இ) ரொட்டி

3. பாடல்களைக் கேட்க உதவும் சிறு பொறிக் கருவி

விடை : _____

அ) பென் டிரைவ்

ஆ) புகைப்படக் கருவி

இ) கையடக்க இசைக்கருவி

4. பொருள்களைத் தெளிவாகப் பார்க்க உதவும் இயற்கை

ஒளி மூலம் _____

விடை : _____

அ) மின் விளக்கு

ஆ) சூரியன்

இ) மெழுகுவத்தி

5. நம் உடலின் கட்டளை மையம் _____.

விடை : _____

அ) இதயம்

ஆ) நுரையீரல்

இ) மூளை

II. கோடிட்ட இடங்களை நிரப்புக.

5 x 1 = 5

6. எளிதில் அழுத்த அல்லது வெட்டக்கூடிய பொருள்கள் _____
பொருள்கள் எனப்படும்.

7. பாலாடைக்கட்டி மற்றும் பனீர் _____ இருந்து
தயாரிக்கப்படுகின்றன.

8. நமக்கு _____ சிறுநீரகங்கள் உள்ளன.

9. எளிய இயந்திரத்திற்கு ஓர் எடுத்துக்காட்டு _____.

10. பாலில் அதிகம் உள்ள சத்து _____ ஆகும்.

III. சரி அல்லது தவறு என எழுதுக.

5 x 1 = 5

11. தினமும் ஒரு முறை மட்டும் பற்களைத் துலக்குதல் நல்லது.
12. உப்புத்தாள் மென்மையான பொருளுக்கு எடுத்துக்காட்டாகும்.
13. இதயம் தசைகளால் ஆனது.
14. உணவு என்பது நமது வாழ்க்கையின் அடிப்படைத் தேவைகளுள் ஒன்று.
15. மங்கலான பொருள்கள் ஒளியைப் பிரதிபலிக்கின்றன.

விடை : _____

விடை : _____

விடை : _____

விடை : _____

விடை : _____

IV. பொருத்துக.

5 x 1 = 5

16. கப்பி - நுரையீரல்கள்
17. பஞ்சு போன்ற உறுப்பு - நீர்
18. நீர் புகாத்தன்மை - 20
19. புதுப்பிக்க இயலும் வளம் - நீர் இறைத்தல்
20. பால் பற்கள் - குடை

விடை : _____

விடை : _____

விடை : _____

விடை : _____

விடை : _____

V. பொருந்தாத ஒன்றைத் தேர்ந்தெடு.

5 x 1 = 5

21. இதயம் , கால்கள், மூளை, சிறுநீரகம்.
22. கல், இரப்பர் வளையம், சைக்கிள் டியூப், மின்கம்பி.
23. சூரியன், காற்று, பெட்ரோல், நீர்.
24. சூரியன், மெழுகுவத்தி, டார்ச், பேனா.
25. வெட்டும் பற்கள், கோரை பற்கள், முன்கடவாய் பற்கள், பால் பற்கள்.

VI. ஒரிரு வாக்கியங்களில் விடையளி.

5 x 3 = 15

26. உடலின் உள்ளுறுப்புகள் ஏதேனும் மூன்றினை எழுதுக.

27. மூளையின் பணிகள் யாவை?

28. பாலிலிருந்து பெறப்படும் உணவுப்பொருள்கள் யாவை?

29. முதல் வகை நெம்புகோலுக்கும் இரண்டாம் வகை நெம்புகோலுக்கும் உள்ள வேறுபாட்டை எழுதுக.

30. ஒளி மூலங்கள் என்றால் என்ன?

VII. விரிவாக விடையளி.

4 x 5 = 20

31. சமைக்கும் முறைகளின் பெயர்களை எழுதுக?

32. கீழே கொடுக்கப்பட்டுள்ள பொருள்களுள் எவை ஒளிபுகும் பொருள்கள், ஒளி கசியும் பொருள்கள் அல்லது ஒளிபுகாப் பொருள்கள் என வகைப்படுத்துக.

காற்று : _____

எண்ணெய்யில் நனைத்த காகிதம் : _____

கண்ணாடிக் குவளை : _____

கல் : _____

மரம் : _____

33. கீழே கொடுக்கப்பட்டுள்ள பொருள்களை முதல் வகை நெம்புகோல், இரண்டாம் வகை நெம்புகோல் அல்லது மூன்றாம் வகை நெம்புகோல் என வகைப்படுத்துக.

வ.எண்	எடுத்துக்காட்டுகள்	நெம்புகோல் வகை
i.	மண்வெட்டி	
ii.	சாய்ந்தாடி	
iii.	தள்ளுவண்டி	
iv.	இடுக்கி	
v.	நகவெட்டி	

34. முன்பின் தெரியாத ஒருவர் உங்களைத் தொந்தரவு செய்தால் எப்படி நடந்து கொள்வீர்கள்? உங்கள் சொந்த வார்த்தைகளில் எழுதுக.

இந்நூல் 80 ஜி.எஸ்.எம் எலிகண்ட்
மேப்லித்தோ தாளில் அச்சிடப்பட்டுள்ளது
ஆப்செட் முறையில் அச்சிட்டோர்:

மகிழ்ந்து செய்வேன்

வகுப்பு : 4

மொத்த மதிப்பெண்கள் : 60

நேரம்: 2:30 மணி

(10 x 1 = 10)

I. சரியான விடையைத் தேர்ந்தெடு.

1. பொய்கை ஆற்றங்கரையில் உருவான அரசு எது ?

அ) சேரர் ஆ) சோழர் இ) பாண்டியர் ஈ) பல்லவர்

2. சோழர்களின் துறைமுகம் எது ?

அ) முசிறி ஆ) காவிரிப்பூம்பட்டினம்
இ) தொண்டி ஈ) கொற்கை

3) சங்க கால பயிர் அல்லாதது எது?

அ) நெல் ஆ) வரகு இ) கோதுமை ஈ) திணை

4) குறிஞ்சியும் முல்லையும் திரிந்ததே _____ ஆகும்.

அ) மருதம் ஆ) பாலை இ) நெய்தல் ஈ) காடு

5) குறவர்களின் முக்கிய தொழில் எது?

அ) தேன் எடுத்தல் ஆ) விவசாயம் இ) ஆநிரை கவர்தல் ஈ) மீன் பிடித்தல்

6) மருத நிலத்துடன் தொடர்பில்லாதது எது?

அ) இந்திரன் ஆ) குவளை இ) எறுமை ஈ) கிளி

7) கொற்றவை எந்த நிலத்தின் கடவுள்?

அ) மருதம் ஆ) பாலை இ) குறிஞ்சி ஈ) முல்லை

8) 5000 க்கும் மேற்பட்ட மக்கள் தொகையைக் கொண்டது எது?

அ) ஊராட்சி ஆ) பேரூராட்சி இ) நகராட்சி ஈ) மாநகராட்சி

9) தமிழ்நாட்டின் மிகப் பழமையான மாநகராட்சி எது?

அ) சென்னை ஆ) மதுரை இ) கோவை ஈ) வேலூர்

10) வேறுபட்ட ஒன்று எது?

அ) சேலம் ஆ) மதுரை இ) தஞ்சாவூர் ஈ) குமாரபாளையம்

II. கோடிட்ட இடத்தை நிரப்புக.

(5 x 1 = 5)

11) மாநகராட்சியின் பணிகளில் ஒன்று _____.

12) மாநகராட்சியின் மக்கள் தொகை _____ ஐ விட அதிகமாக இருக்கும்.

13) நெய்தல் நிலத்தின் கடவுள் _____ ஆவார்.

14) மருத நிலத்தில் வாழ்ந்த மக்கள் _____ என அழைக்கப்பட்டனர்.

15) மலையும் மலை சார்ந்த இடமும் _____ என அழைக்கப்படும்.

III. சரியா தவறா என எழுதுக.

(5 x 1 = 5)

- 16) மலைகள் உள்ள பகுதியை முல்லை நிலம் என்று அழைப்பர். _____
- 17) உழவுத் தொழில் செய்பவர்கள் மருத நிலத்தில் வாழ்ந்தனர். _____
- 18) நகராட்சியில் 50000 முதல் 100000 வரை மக்கள் வாழ்கின்றனர். _____
- 19) பேரூராட்சியை விட மாநகராட்சியின் மக்கள் தொகை குறைவு. _____
- 20) கல்லணையைக் கட்டியவர் கரிகாலன் ஆவார். _____

IV. பொருத்துக

(5 x 1 = 5)

- 21) பாண்டிய நாடு - கொய்யா
- 22) பல்லவர் - நெல்லிக்கனி கொடுத்த வள்ளல்
- 23) அதியமான் - புலிக்குகை
- 24) சாலை அமைத்தல் - தமிழ்ச்சங்கம்
- 25) முல்லை - உள்ளாட்சி அமைப்பின் பணி

V. வேறுபட்ட ஒன்றினை வட்டமிடுக

(5 x 1 = 5)

- 26) திருமால், முல்லை மலர், முயல், கிளி, எருமை
- 27) எயினர், சேர்ப்பன், புலம்பன், பரதவர்
- 28) சாலை அமைத்தல், தெருவிளக்கு வசதி செய்து தருதல், தபால் நிலையம் அமைத்தல், குடிநீர் வசதி செய்து தருதல்
- 29) காவிரி, கங்கை, வைகை, பாலாறு
- 30) வராகா குடைவரைக் கோவில், தஞ்சை பெரிய கோவில், புலிக்குகை, ஒற்றைக் கல் ரதம்

VI. வினாக்களுக்கு விடையளி

(5 x 2 = 10)

- 31) கடையெழு வள்ளல்களின் பெயர்களை எழுதுக.
- 32) சங்க கால மக்களின் உணவுப் பயிர்களின் பெயர்களை எழுதுக.
- 33) நெய்தல் நில மக்களின் கடவுள், தொழில், இசைக்கருவி ஆகியவற்றை எழுதுக.

34) கல்லணை பற்றி எழுதுக.

35) நகராட்சியின் பணிகளுள் ஏதேனும் இரண்டை எழுதுக.

VII. வினாக்களுக்கு விடையளி

(4 x 5 = 20)

36) மாநகராட்சியின் பணிகளை எழுதுக.

37) மருத நிலத்தின் கருப்பொருள்களை எழுதுக.

38) சங்க காலத்தில் பெண்களின் நிலை பற்றி எழுதுக.

39) பாண்டிய அரசர்களின் கொடி, தலைநகரம், துறைமுகம், புகழ் பெற்ற மன்னர் ஆகியவற்றை எழுதுக.

இந்நூல் 80 ஜி.எஸ்.எம் எலிகண்ட் மேப்லித்தோ
தாளில் அச்சிடப்பட்டுள்ளது
ஆப்செட் முறையில் அச்சிட் டோர்: