

## எண்ணும் எழுத்தும் - கணக்கு - 2023 - 24

முதல் பருவம் - தொகுத்தறி மதிப்பீடு

வகுப்பு - 5

பெயர் : \_\_\_\_\_

நேரம் : 2 மணி




வகுப்பு &amp; பிரிவு : \_\_\_\_\_

மதிப்பெண்கள் : 60

## அரும்பு

I. சரியான விடையைத் தேர்ந்தெடு.

1) குமாரின் விளையாட்டுப் பொருள் வளைவானது எனில், அந்தப் பொருளைத் தேர்ந்தெடு.



2) அமைப்பை உற்றுநோக்கி அடுத்துவர வேண்டியதைத் தேர்ந்தெடு.



3) கழித்தல் கூற்றை நிறைவு செய்யும் எண் எது?

$$8 - \square = 6$$

அ) 1

ஆ) 2

இ) 3

ஈ) 4

III. சரியா? தவறா?

4) 

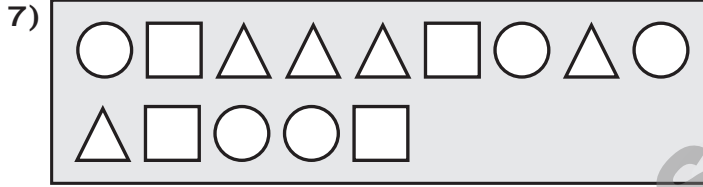

4	6
---	---

 இதில் விடுபட்ட எண் 7 ஆகும் \_\_\_\_\_.

5) 3 முனைகள் கொண்ட வடிவம் ஆகும் \_\_\_\_\_.

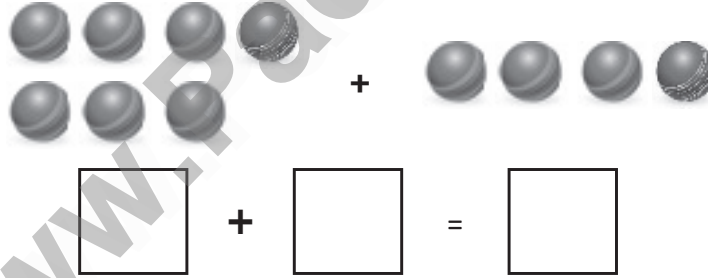
## IV. விடை காண்க.

6) நீளத்தின் அடிப்படையில் 1, 2, 3 என வரிசைப்படுத்துக.



△ எண்ணிக்கை \_\_\_\_\_, ○ எண்ணிக்கை \_\_\_\_\_, □ எண்ணிக்கை \_\_\_\_\_.

8) எண்ணி எழுதிக் கூட்டுக.



9) கழிக்க.

$$6 - 3 = \square$$

10) திவ்யாவிடம் 7 பொம்மைகள் இருந்தன. ரம்யாவிடம் 3 பொம்மைகள் இருந்தன. இருவரிடமும் உள்ள மொத்த பொம்மைகள் எத்தனை?

$$\square + \square = \square$$

## எண்ணும் எழுத்தும் - கணக்கு - 2023 - 24

முதல் பருவம் - தொகுத்தறி மதிப்பீடு

வகுப்பு - 5

பெயர் : \_\_\_\_\_

நேரம் : 2 மணி

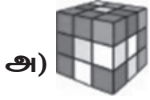
வகுப்பு &amp; பிரிவு : \_\_\_\_\_

மதிப்பெண்கள் : 60

## மொட்டு

i. சரியான விடையைத் தேர்ந்தெடு.

1) கொடுக்கப்பட்டுள்ள பொருள்களில் வடிவொற்றி வட்டம் வரைய எதனைத் தேர்ந்தெடுப்பாய்?



அ)

ஆ)



இ)



ஈ)



2) படத்தில் உள்ள எண்களுள் 4 ஒன்றுகள் கொண்ட எண்ணைத் தேர்ந்தெடு.



அ) 54

ஆ) 41

இ) 43

ஈ) 14

II. கோடிட்ட இடத்தை நிரப்புக.

3) மே மாதத்திற்கு அடுத்து வரும் மாதத்தில் உள்ள நாள்களின் எண்ணிக்கை \_\_\_\_\_


III. சரியா? தவறா?

4) 36 என்ற எண்ணில் அடிக்கோடிட்ட இலக்கத்தின் இடமதிப்பு பத்துகள் ஆகும் \_\_\_\_\_

5) சனவரி மாதத்திற்கு அடுத்து வரும் மாதத்தில் உள்ள நாள்களின் எண்ணிக்கை 28/29 ஆகும். \_\_\_\_\_

IV. விடை காண்க

6) எட்டு கொய்யாப்பழங்களை 2 தட்டுகளில் வைப்பதற்கான வழிமுறைகள் எத்தனை? \_\_\_\_\_

7)  இடமிருந்து 6வது பலூனில் உள்ள எண்ணிற்கும், 3வது பலூனில் உள்ள எண்ணிற்கும் உள்ள வேறுபாட்டை காண்க.

8) அமைப்பை உற்றுநோக்கி நிறைவு செய்க.



9)  ₹ 55 வைத்திருக்கிறான். அவன் ₹ 85க்கு  வாங்க, மேலும் எவ்வளவு ரூபாய் தேவைப்படும்?

10)



i) 14வது இடத்தில் நிற்கும் ராமிற்கு முன் நிற்பவரின் வரிசை எண் \_\_\_\_\_.

ii) ராமுவைத் தொடர்ந்து அடுத்து நிற்பவரின் வரிசை எண் \_\_\_\_\_.

## எண்ணும் எழுத்தும் - கணக்கு - 2023 - 24

முதல் பருவம் - தொகுத்தறி மதிப்பீடு

வகுப்பு - 5

பெயர் : \_\_\_\_\_

நேரம் : 2 மணி

வகுப்பு &amp; பிரிவு : \_\_\_\_\_

மதிப்பெண்கள் : 60

## மலர்

i. சரியான விடையைத் தேர்ந்தெடு.

1)  கொடுக்கப்பட்டுள்ளவற்றில் முனைகள் இல்லாத வடிவங்களின் எண்ணிக்கையைத் தேர்ந்தெடு.

அ) 0

ஆ) 1

இ) 2

ஈ) 3

2)  கொடுக்கப்பட்டுள்ள நேர்க்கோட்டுக் குறிகள் குறிப்பிடும் எண்ணைத் தேர்ந்தெடு.

அ) 7

ஆ) 8

இ) 9

ஈ) 10

ii. கோடிட்ட இடத்தை நிரப்புக.

3)  $260 + 430 =$  \_\_\_\_\_

4) 7979 என்ற எண்ணில் அடிக்கோடிட்ட எண்ணின் முகமதிப்பு \_\_\_\_\_

5) 796, 469, 694 இவற்றில் 6 நூறுகள் கொண்ட எண் \_\_\_\_\_

iii. சரியா? தவறா?

6) 574 என்பது ஓர் இரட்டை எண் ஆகும். \_\_\_\_\_

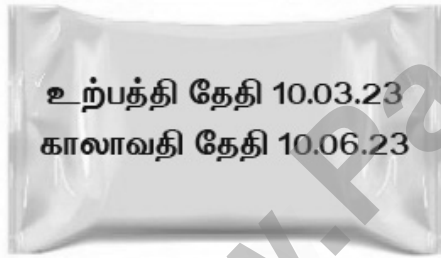
7) உன் கணக்குப் புத்தகத்தின் நீளத்தை அளவிடப் பயன்படும் பொருத்தமான அலகு கி.மீ. \_\_\_\_\_

## IV. விடை காண்க.

8) ஒரு அலுவலகத்தில் மேல்தளத்தில் 312 பேரும், கீழ்த்தளத்தில் 218 பேரும் பணிபுரிகின்றனர் எனில், அங்கு பணிபுரிபவர்களின் மொத்த எண்ணிக்கையைக் காண்க.

9) ஒரு வனவிலங்கு பூங்காவில் 480 புறாக்களும், 320 கிளிகளும் இருந்தன எனில், கிளிகளை விட எத்தனை புறாக்கள் அதிகமாக உள்ளது?

10)



i) பொருள் உற்பத்தியான மாதம் \_\_\_\_\_

ii) பொருள் காலாவதியாகும் மாதம் \_\_\_\_\_

iii) உற்பத்தி தேதிக்கும், காலாவதி தேதிக்கும் இடைப்பட்ட மாதங்களின் எண்ணிக்கை \_\_\_\_\_

## எண்ணும் எழுத்தும் - கணக்கு - 2023 - 24

முதல் பருவம் - தொகுத்தறி மதிப்பீடு

வகுப்பு - 5

பெயர் : \_\_\_\_\_

நேரம் : 2 மணி

வகுப்பு &amp; பிரிவு : \_\_\_\_\_

மதிப்பெண்கள் : 60

## வகுப்பு - 5

I. சரியான விடையைத் தேர்ந்தெடு.

1) 8008 &gt; 3003 &gt; \_\_\_\_\_ &gt; 1054 &gt; 809

அ) 1054

ஆ) 2561

இ) 3003

ஈ) 8008

2) 1, 3, 6, \_\_\_\_\_, 15

விடுபட்ட முக்கோண எண்ணைத் தேர்ந்தெடு.

அ) 9

ஆ) 10

இ) 11

ஈ) 12

II. கோடிட்ட இடத்தை நிரப்புக.

3) ஒரு மீட்டரில் \_\_\_\_\_ செ.மீ. உள்ளன.

III. சரியா? தவறா?

4) குறுங்கோணம் அமையும் எழுத்து T ஆகும்.

5) செங்கோணம் அமையும் எழுத்து E ஆகும்

IV விடை காண்க.

6) ஒரு மின்விசிறியின் விலை ₹ 1785 ஒரு மிக்ஸியின் விலை, மின்விசிறியை விட ₹ 4,525 அதிகம் எனில், மின்விசிறி மற்றும் மிக்ஸியின் மொத்த விலை காண்க.

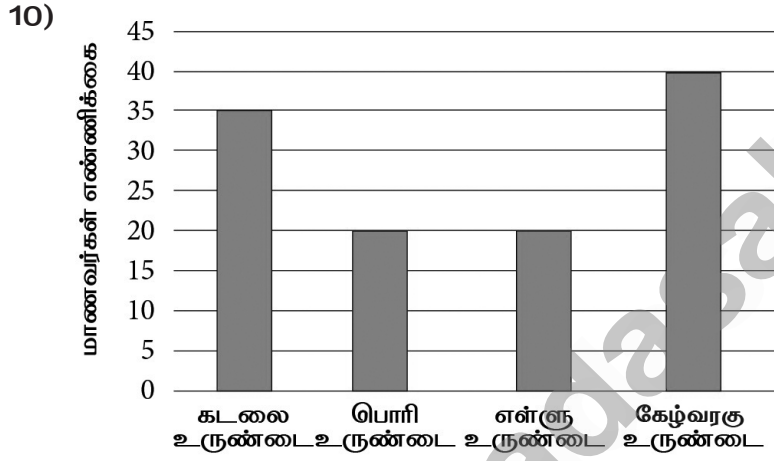
7) பெருக்கி விடை காண்க.

$$987 \times 23$$

8) வகுத்து விடை காண்க.

$$8505 \div 5$$

9) மணி ஒவ்வொரு நாளும் 2 கி.மீ. 750 மீ. நடைபயிற்சி செல்கிறார் எனில், அவர் ஒரு வாரத்தில் நடக்கும் தொலைவைக் காண்க.



- i) கேழ்வரகு உருண்டை விரும்பும் மாணவர்களின் எண்ணிக்கை \_\_\_\_\_.
- ii) சம எண்ணிக்கையில் மாணவர்கள் விரும்பி உண்ட உணவுப் பொருள்கள் எவை? \_\_\_\_\_
- iii) கடலை உருண்டை விரும்பும் மாணவர்களின் எண்ணிக்கையை விட கேழ்வரகு உருண்டை விரும்பும் மாணவர்களின் எண்ணிக்கை எவ்வளவு அதிகம்? \_\_\_\_\_