

எண்ணும் எழுத்தும் - கணக்கு - 2023 - 24

முதல் பருவம் - தொகுத்தறி மதிப்பீடு

வகுப்பு - 3

பெயர் : _____

நேரம் : 2 மணி

வகுப்பு & பிரிவு : _____

மதிப்பெண்கள் : 60

மலர் - அரும்பு


பின்வரும் வினாக்களுக்கு விடையளி.

1. விளிம்புகள் மற்றும் மூலைகள் கொண்ட தட்டையான பொருளை (✓) செய்க.









2. கட்டத்திற்கு மேலே இருக்கும் பழங்களை எண்ணி எழுதுக.



3. பழங்களின் எண்ணிக்கையை விட சிறிய எண்ணைத் தேர்ந்தெடு.



அ) 8

ஆ) 7

இ) 6

ஈ) 9

4. விடுபட்ட எண்களை எழுதுக.

		6			9
--	--	---	--	--	---

5. சுஜாதாவிடம் 5 ரோஜா பூக்களும் கதீஜாவிடம் 4 ரோஜா பூக்களும் உள்ளன எனில் இருவரிடம் உள்ள ரோஜா பூக்கள் மொத்தம் எத்தனை?

அ) 8

ஆ) 7

இ) 6

ஈ) 9

6. சவிதாவிடம் 9 வளையல்கள் உள்ளன. அவற்றில் 5 வளையல்களை தன் தங்கைக்கு கொடுத்துவிட்டாள் எனில் சவிதாவிடம் மீதமுள்ள வளையல்கள் எத்தனை?

அ) 3

ஆ) 4

இ) 5

ஈ) 2

7. பூக்களில் வெவ்வேறு வண்ணமிட்டு உனக்கு பிடித்த வண்ண அமைப்பை உருவாக்குக.



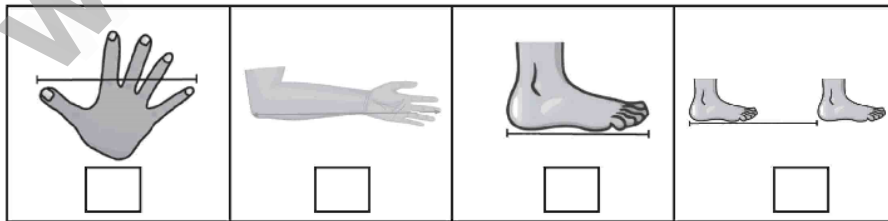
8. எண்ணி எழுதுக.



விளிம்புகள் மற்றும் முனைகள் கொண்ட பொருள்களின் எண்ணிக்கை

விளிம்புகள் மற்றும் முனைகள் இல்லாத பொருள்களின் எண்ணிக்கை

9. கொடுக்கப்பட்டுள்ள பொருளை அளக்க உதவும் பொருத்தமான அளவையை (✓) செய்க.



10. வியாழக்கிழமைக்கும் சனிக்கிழமைக்கும் இடையில் உள்ள நாள் எது?

அ) ஞாயிறு

ஆ) வெள்ளி

இ) திங்கள்

ஈ) வியாழன்

எண்ணும் எழுத்தும் - கணக்கு - 2023 - 24

முதல் பருவம் - தொகுத்தறி மதிப்பீடு

வகுப்பு - 3

பெயர் : _____

நேரம் : 2 மணி

வகுப்பு & பிரிவு : _____

மதிப்பெண்கள் : 60

மலர் - மொட்டு

பின்வரும் வினாக்களுக்கு விடையளி.

1. கொடுக்கப்பட்டுள்ள பொருளை ஒத்த முப்பரிமாண உருவத்தின் பெயரை தேர்ந்தெடு.



அ) கோளம்

ஆ) கனசெவ்வகம்

இ) உருளை

ஈ) கூம்பு

2. 89 ஜ இவ்வாறும் எழுதலாம்...

அ) 9+8

ஆ) 90+8

இ) 80+9

ஈ) 8+9

3. நட்சத்திரங்களை எண்ணி அதற்குரிய எண் பெயரை எழுதுக.



4. கொடுக்கப்பட்டுள்ள எண்ணட்டைகளை ஒரே ஒருமுறை மட்டும் பயன்படுத்தி உருவாக்க இயலும் மிகப்பெரிய மற்றும் மிகச்சிறிய ஈரிலக்க எண்ணை எழுதுக.

7

2

மிகப்பெரிய எண்

மிகச் சிறிய எண்

5. அகிலன் 34 செடிகளும் முகிலன் 31 செடிகளும் நட்டனர். இருவரும் நட்ட செடிகள் மொத்தம் எத்தனை?

அ) 63

ஆ) 65

இ) 56

ஈ) 64

6. ஒரு பழவியாபாரி 95 மாம்பழங்களை விற்பனைக்காக வைத்திருந்தார். அவற்றில் 64 பழங்கள் விற்பனையாகி விட்டன எனில் மீதமுள்ள மாம்பழங்கள் எத்தனை?


அ) 13

ஆ) 41



இ) 31

ஈ) 51

7. அமைப்பினை உற்றுநோக்கி விடுபட்ட இடத்தில் வரவேண்டிய சரியான அமைப்பினை (✓) செய்க.



8. ஆறு பழங்களை இரண்டு தட்டுகளில் வைப்பதற்கான வழிகளை எழுதுக.

	தட்டு 1	தட்டு 2
		
		
		

9. கொடுக்கப்பட்டுள்ள பொருளின் நீளத்தை எழுதுக.



_____ செ.மீ

10. 30 நாட்கள் கொண்ட மாதங்களின் பெயர்களை எழுதுக.

.....

எண்ணும் எழுத்தும் - கணக்கு - 2023 - 24

முதல் பருவம் - தொகுத்தறி மதிப்பீடு

வகுப்பு - 3

பெயர் : _____

நேரம் : 2 மணி

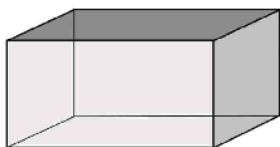
வகுப்பு & பிரிவு : _____

மதிப்பெண்கள் : 60

மலர்

பின்வரும் வினாக்களுக்கு விடையளி.

1. கொடுக்கப்பட்டுள்ள முப்பரிமாண உருவத்தின் முகங்கள், விளிம்புகள் மற்றும் முனைகளின் எண்ணிக்கையை எழுதுக.

முகங்களின் எண்ணிக்கை விளிம்புகளின் எண்ணிக்கை முனைகளின் எண்ணிக்கை

2. 978-ஐ விரிவாக்க வடிவில் எழுதுக.

3. கொடுக்கப்பட்டுள்ள எண்ணட்டைகளை ஒரே ஒருமுறை மட்டும் பயன்படுத்தி உருவாக்க இயலும் மிகப்பெரிய மற்றும் மிகச்சிறிய மூன்றிலக்க எண்ணை எழுதுக.

9

மிகப்பெரிய எண் மிகச் சிறிய எண்

8 4

4. ஒரு கிராமத்தில் 528 ஆண்களும் 464 பெண்களும் உள்ளனர் எனில் அக்கிராமத்தில் உள்ளோர் மொத்தம் எத்தனை பேர்?

.....

+

நூ	ப	ஒ

5. கலையரசி 395 பூக்களைப் பறித்து வந்தாள். அவளது தோழி தமிழரசி, கலையரசியைவிட 108 பூக்கள் குறைவாகப் பறித்துவந்தாள், எனில் தமிழரசி பறித்து வந்த பூக்கள் எத்தனை?

.....

-

நூ	ப	ஒ

6. கொடுக்கப்பட்டுள்ள வடிவங்களில் சமச்சீர் கோடுகளை வரைக.



7. கொடுக்கப்பட்டுள்ள எண்ணட்டைகளை ஒரேபொருமுறை மட்டும் பயன்படுத்தி உருவாக்க இயலும் மூன்றிலக்க எண்களை எழுதுக.



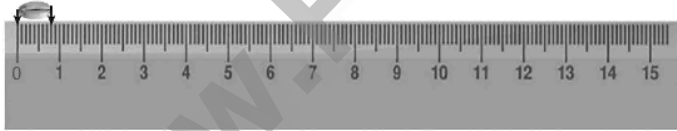
8. படத்தை உற்றுநோக்கி பின்வரும் வினாக்களுக்கு விடையளி.

வண்ணம்	விரும்புவர்களின் எண்ணிக்கை
சிவப்பு	
நீலம்	
பச்சை	

குறைவான நபர்கள் விரும்பும் வண்ணம் எது?

அதிகமான நபர்கள் விரும்பும் வண்ணம் எது?

9. கொடுக்கப்பட்டுள்ள பொருளின் நீளத்தை எழுதுக.


 மி.மீ

10. மாத நாள் காட்டியை உற்றுநோக்கி பின்வரும் வினாக்களுக்கு விடையளி.

அக்டோபர்-2023						
ஞா	தி	செ	பு	வி	வெ	ச
1	2	3	4	5	6	7
8	9	10	11	12	13	14
15	16	17	18	19	20	21
22	23	24	25	26	27	28
29	30	31				

i) நான்காவது சனிக்கிழமை வரும் தேதி என்ன?

ii) ஐந்தாவது செவ்வாய்க்கிழமை வரும் தேதி என்ன?