

## எட்டாம் வகுப்பு - சமூக அறிவியல்

I. சரியான விடையை தேர்ந்தெடுத்து எழுதுக:-

10x1=10

Q.No.	Answer
1	(ஆ) துருக்கி
2	(ஆ) ஹைதராபாத்
3	(இ) வங்காளம்
4	(இ) 1529
5	(ஆ) கரிசல் மண்
6	(இ) ஈரநிலைமணி
7	(இ) நன்னீர்
8	(ஈ) ஆளுநர்
9	அ) கூற்று சரி, காரணம் கூற்றை விளக்குகிறது.
10	(ஈ) மேற்கண்ட அனைத்தும்

II. கோடிட்ட இடங்களை நிரப்புக:-

5x1=5

Q.No.	Answer
11	1918
12	நன்னீர்
13	புதுடெல்லி
14	பகைமை
15	1935

III. பொருத்துக:-

5x1=5

16. ஆங்கிலேயர்கள் - 1600
17. நீல்தர்பன் - இண்டிகோ விவசாயிகளின் துயரம்
18. ரேடார் - புயலின் அமைவிடத்தையும், அது நகரும் திசையையும் அறிந்துகொள்வது
19. பனித்துளி மற்றும் மழைத்துளி - கல்மழை
20. இழுக்காரணி - வேலைவாய்ப்புகள்

## IV. சரியா, தவறா, - எனக் குறிப்பிடுக:-

5x1=5

Q.No.	Answer
21	சரி
22	சரி
23	சரி
24	தவறு
25	தவறு

## V. வேறுபடுத்துக:-

2x2=4

26. உருமாறியப் பாறைகள் - படிவுப்பாறைகள்.

உருமாறிய பாறைகள்	படிவு பாறைகள்
<ul style="list-style-type: none"> <li>➤ கிரேக்க சொல்லான பெட்டா மற்றும் மார்பா என்ற வார்த்தையில் இருந்து பெற்றப்பட்டதாகும்.</li> <li>➤ படிக தன்மைகள் கொண்டது.</li> </ul>	<ul style="list-style-type: none"> <li>➤ செடிமென்டம் என்ற இலத்தீன் சொல்லில் இருந்து பெறப்பட்டதாகும்.</li> <li>➤ இப்பாறைகள் படிகங்கள் அற்ற பாறைகளாகும்.</li> </ul>

27. வானிலை - காலநிலை.

வானிலை	காலநிலை
<ul style="list-style-type: none"> <li>➤ வானிலை என்பது ஒரு குறிப்பிட்ட இடத்தின் வளிமண்டலத்தில் நிலவும் தூரிய வெளிச்சம், வெப்பம், மேகமூட்டம், காற்றின் திசை, காற்றழுத்தம், ஈரப்பதம், மழைப்பொழிவு போன்றவைகளை குறிப்பதாகும்.</li> <li>➤ குறுகிய கால நிகழ்வை குறிப்பதாகும்.</li> </ul>	<ul style="list-style-type: none"> <li>➤ காலநிலை என்பது ஒரு பகுதியின் நீண்ட நாளைய வானிலை சராசரியைக் குறிப்பதாகும்.</li> <li>➤ வளிமண்டலத்தின் வானிலை கூறுகளின் சராசரி தன்மையினை நீண்ட காலத்திற்கு அதாவது 35 வருடங்களுக்கு கணக்கிட்டு கூறுவதாகும்.</li> </ul>

**VI. காரணம் கூறுக:-**

3x2=6

28. உயரம் அதிகரிக்கும் பொழுது வெப்பம் குறைகிறது.

- வெப்பநிலையானது 1000மீ உயரத்திற்கு 6.5°C என்ற அளவில் வெப்பநிலை குறைந்து கொண்டே செல்கிறது.
- இதனால் உயரம் அதிகரிக்கும் போது வெப்பம் குறைகிறது.

29. நீர்புகாத இடங்களில் நீரின் ஊடுருவல் குறைவாக உள்ளது.

- புவியின் மேற்பரப்பிலுள்ள மண்ணின் அருடுக்கிற்குள் நீர் புகுவது நீர் ஊடுருவல் எனப்படும்.
- மண்ணின் அடுக்கில் நீர் புகாப் பாறைகல் உள்ள இடங்களில் நீரின் ஊடுருவல் குறைவாக இருக்கும்.

30. கிராமங்களில் இருந்து நகரங்களுக்கு இடம் பெயர்தல் அதிகமாக உள்ளது.

- வேலை வாய்ப்பு
- மருத்துவ வசதி
- கல்வி வசதி
- போக்குவரத்து வசதி

**VII. சுருக்கமன விடையளி (எவையேனும் 10 வினாக்களுக்கு மட்டும்):- 10x2=20**

31. இந்தியாவில் டச்சுக்காரர்களால் நிறுவப்பட்ட வர்த்தக மையங்களின் பெயர்களை எழுதுக?

- பழவேற்காடு, சூரத், சின்சுரா, காசிம் பஜார், பாட்னா, நாகப்பட்டினம், பாலசோர் மற்றும் கொச்சின்.

32. இருட்டறை துயரச் சம்பவம் - பற்றி குறிப்பு வரைக.

- சிராஜ் - உத் - தொலாவின் படை வீரர்கள் 146 ஆங்கிலேயர்களை சிறைபிடித்து கல்கத்தாவின் வில்லியம் கோட்டையில் காற்று புகாத ஒரு சிறிய இருட்டறையில் ஓர் இரவு முழுவதும் அடைத்து வைத்திருந்தனர்.
- மறுநாள் காலை அறையை திறந்தபொழுது அவர்களுள் 123 பேர் மூச்சு திணறி இறந்திருந்தனர்.

33. நிரந்தர நிலவரி திட்டத்தின் சிறப்புக்கூறுகள் ஏதேனும் இரண்டினைக் குறிப்பிடுக?

- கம்பெனிக்கு முறையாக வரி செலுத்தும் வரை ஜமீன்தார்கள் நில உடைமையாளர்களாக அங்கீகரிக்கப்பட்டனர்.
- வரியை வசூலிக்கும் அரசின் முகவர்கள் ஜமீன்தார்கள்.

- ஜமீன்தாரர்கள் செலுத்தி வந்த வரி எந்த நிலையிலும் உயர்த்தப்படமாட்டாது.
- விவசாயிகளிடமிருந்து 10/11 பங்கு வரியினை ஜமீன்தாரர்கள் ஆங்கில அரசுக்கு செலுத்தினர்.

34. பாளையக்காரர்கள் என்பவர் யார்? சிலரின் பெயரைக் கூறுக.

- பாளையக்காரர் என்பவர் நாயக்கர்களுக்கு தேவை ஏற்படும் போது இராணும் மற்றும் இதர உதவிகளை முழு மனதுடன் செய்பவராவார்.
- பெயர்கள்: புலித்தேவர், வீரபாண்டிய கட்டபொம்மன், வேலு நாச்சியார், மரு சகோதரர்கள்.

35. திருச்சிராப்பள்ளி பிரகடனத்தின் - முக்கியத்துவம் யாது?

- 1081 - ல் மருது சகோதரர்கள் திருச்சிராப்பள்ளி பிரகடனம் என்றழைக்கப்பட்ட சுதந்திரப் பிரகடனம் ஒன்றை வெளியிடப்பட்டனர்.
- ஆங்கிலேயருக்கு எதிராக இந்தியர்களை ஒன்று சேர்க்கும் முதல் அழைப்பு.

36. பாறைகள் - வரையறு.

- பாறைகள் என்பது திட கனிம பொருட்களால் புவியின் மேற்பரப்பில் மற்ற கோள்களில் உள்ளது போல் உருவானவையாகும்.

37. வளிமண்டலக் காற்றழுத்தம் - என்றால் என்ன?

- பூமியின் மேற்பரப்பில் குறிப்பிட்ட பகுதியில் உள்ள காற்றினுடைய எடையே வளிமண்டலத்தின் அழுத்தம் (அ) வளிமண்டலத்தின் காற்றழுத்தம் ஆகும்.

38. இடப் பெயர்வுக்கான இழுகாரணிகள் ஏதேனும் இரண்டினைக் கூறுக?

- ஆரோக்கிய பராமரிப்பு, அமைதி, கல்வி, பணம், உணவு, வேலைவாய்ப்பு மற்றும் நகர வாழ்க்கை.

39. உலகில் அதிக மக்கள் தொகைக் கொண்ட நான்கு பெருநகரங்களைப் பட்டியலிடுக?

- டோக்கியோ (ஜப்பான்), புது தில்லி (இந்தியா), சாங்காய் (சீனா), மெக்சிகோ நகரம் (மெக்சிகோ) மற்றும் சா பாலோ (பிரேசில்).

40. மாநில சட்டமன்றத்தின் இரு அவைகளின் பெயர்களை எழுதுக?

- மேலவை (சட்டமன்ற மேலவை)
- கீழவை (சட்டமன்ற பேரவை)

41. சமயச்சார்பின்மையைப் பரப்பிட பங்களித்த சில இந்தியர்களது பெயர்களைக் குறிப்பிடுக?

- இராஜாராம் மோகன்ராய், சர் சையது அகமது கான், இரவீந்திரகாத் தாகூர், மகாத்மா காந்தி மற்றும் B.R. அம்பேத்கர்.

42. பண்டமாற்று முறை - என்றால் என்ன?

- பண்டைய காலத்தில் பணம் பயன்படுத்தப்படாமல், பண்டத்திற்கு பண்டம் பரிமாற்றம் நடைபெற்றதை பண்டமாற்று முறை எனப்படும்.

**VIII. விரிவான விடையளி (ஏதேனும் ஆறு வினாக்களுக்கு விடையளி):- 6x5=30**

43. நவீன இந்தியாவின் வரலாற்று ஆதாரங்கள் பற்றி குறிப்பிடுக?

Page Number: 1

44. வெல்லெஸ்லி பிரபு எவ்வாறு ஆங்கிலேய ஆதிக்கத்தை இந்தியாவில் விரிவுப்படுத்தினார்?

Page Number: 24

45. 1857 ஆம் ஆண்டு புரட்சிக்கான காரணங்களை எழுதுக?

Page Number: 47

46. நீர்ச்சுழற்சியின் பல்வேறு படிநிலைகளைப் படத்துடன் விவரி.

Page Number: 124

47. நகரமயமாக்கலினால் ஏற்படும் சவால்களை ஆராய்க?

Page Number: 139

48. முதலமைச்சரின் அதிகாரங்கள் மற்றும் பணிகளை விவரி?

Page Number: 202

49. நற்குடிமகனின் மூன்று பண்புகள் மற்றும் இந்தியக் குடிமகனாவதற்குரிய ஐந்து

வழிமுறைகளைக் குறிப்பிடுக?

Page Number: 212, 210

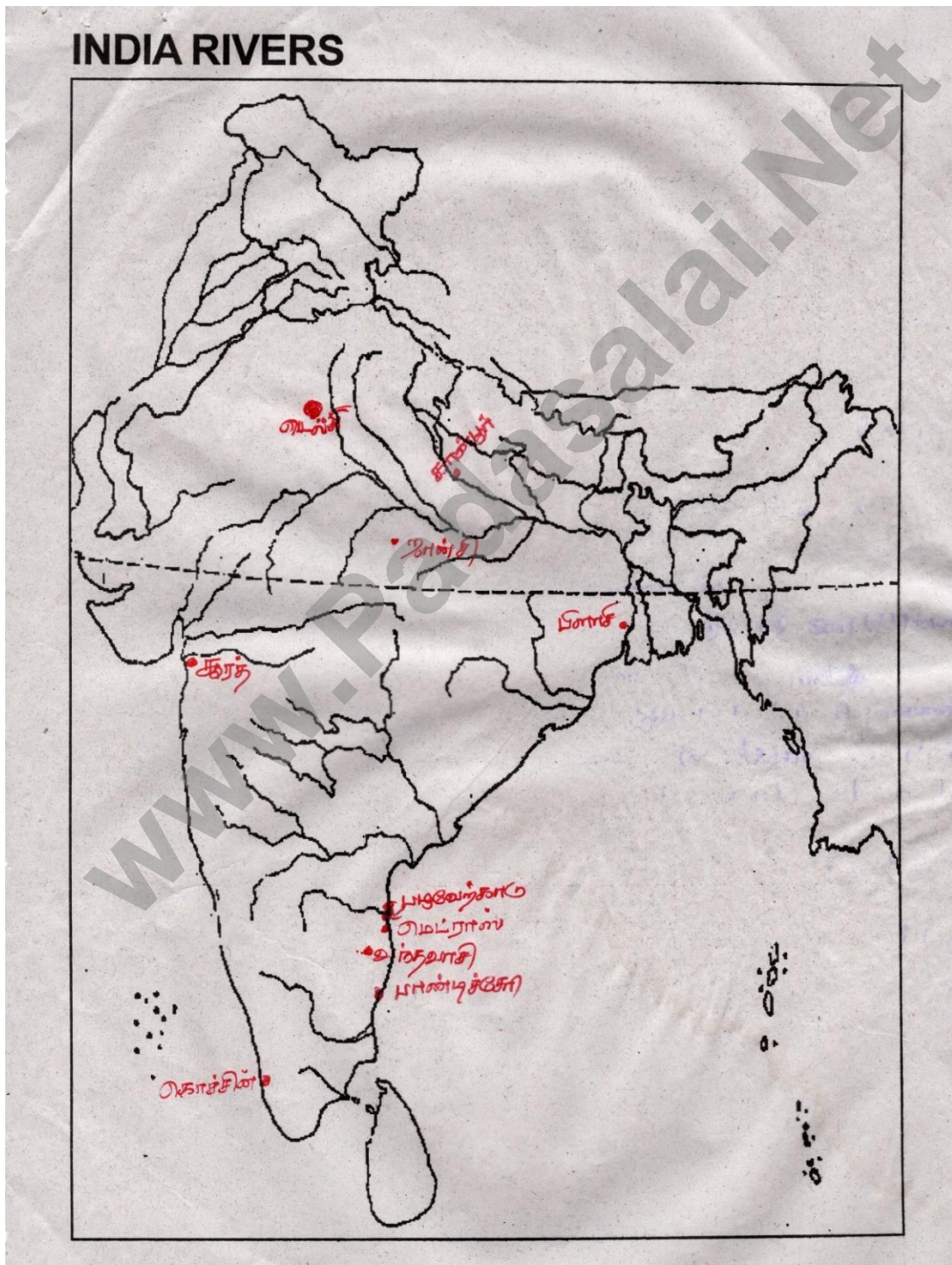
50. பொருளாதாரத்தில் கருப்பு பணத்தின் விளைவுகள் யாவை?

Page Number: 279



IX. இந்திய ஆறுகள் வரைபடத்தில் கீழ்க்கண்ட இடங்களைக் குறிக்கவும்:- 10x1=10

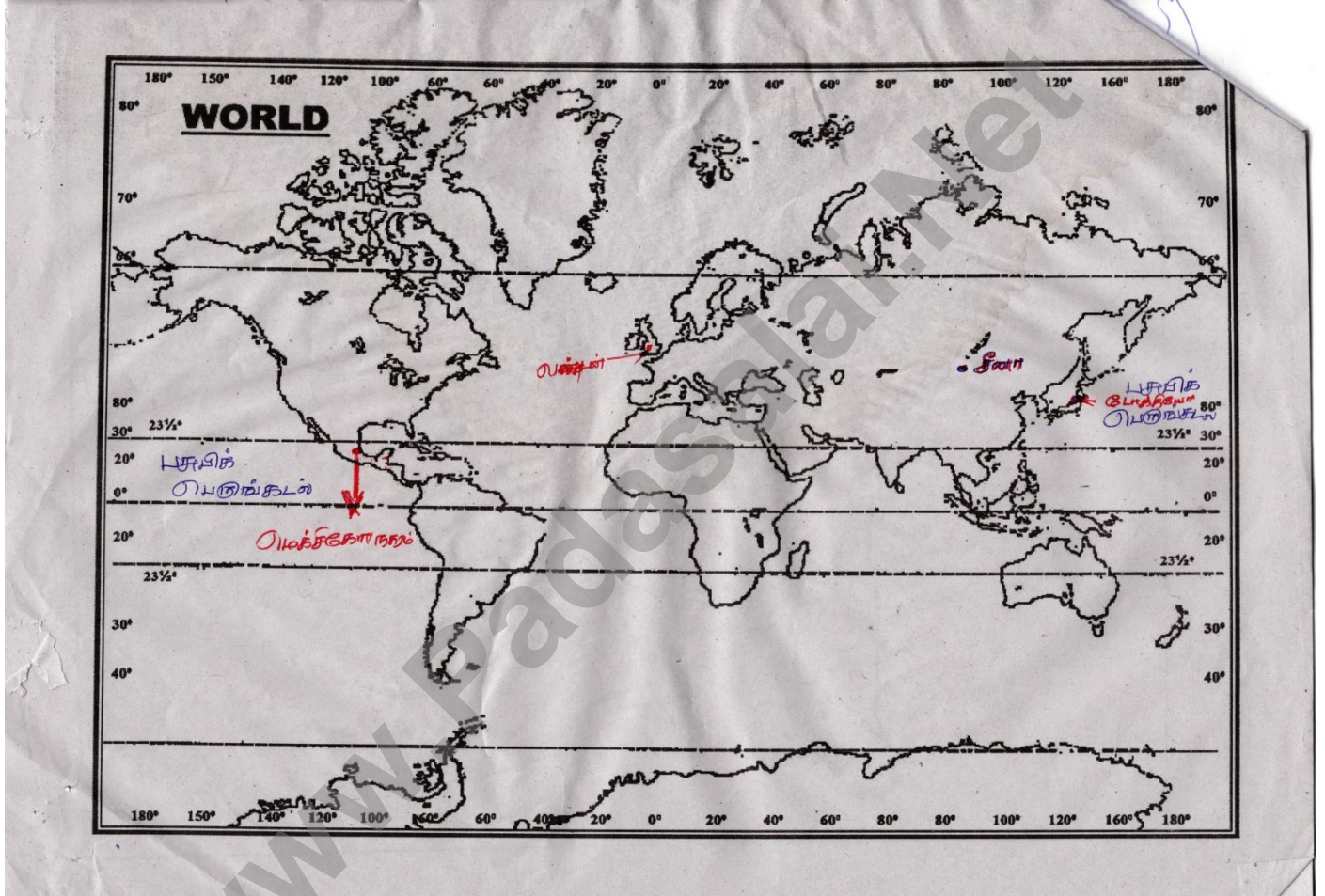
- |             |             |           |                |                  |
|-------------|-------------|-----------|----------------|------------------|
| 1. மெட்ராஸ் | 2. கொச்சின் | 3. தூரத்  | 4. பழுவேற்காடு | 5. பிளாசி        |
| 6. வந்தவாசி | 7. டெல்லி   | 8. ஜான்சி | 9. கான்பூர்    | 10. பாண்டிச்சேரி |



X. உலக வரைபடத்தில் கீழ்க்கண்ட இடங்களைக் குறிக்கவும்:-

5x1=5

1. லண்டன்      2. டோக்கியோ      3. மெக்சிகோ நகரம்      4. பசுபிக் பெருங்கடல்      5. சீனா



8<sup>th</sup> - Social Science**I. Choose the correct answer:-****10x1=10**

Q.No.	Answer
1	(b) The Turks
2	(b) Hyderabad
3	(c) Bengal
4	(c) 1529
5	(b) Black soil
6	(c) hygrometer
7	(c) Potable water
8	(d) The Governor
9	(a) A is correct and R is the correct explanation of A.
10	(d) All of the above

**II. Fill in the blanks: -****5x1=5**

Q.No.	Answer
11	1918
12	Precipitation
13	New Delhi
14	Animosity
15	1935

**III. Match the following:-****5x1=5**

16. The British - 1600
17. Nil Darban - Misery of the Indigo cultivators
18. Radar - Locating and Tracking Storms
19. Snow and rain drops - Sleet
20. Pull factor - Employment Opportunity

**IV. State whether the following statements are true or false:-****5x1=5**

Q.No.	Answer
-------	--------



21	True
22	True
23	True
24	False
25	False

**V. Distinguish between:-****2x2=4**

26. Metamorphic rock and sedimentary rock.

<b>Metamorphic Rocks</b>	<b>Sedimentary Rocks</b>
<ul style="list-style-type: none"> <li>➤ The word metamorphic is derived from two Greek words Meta and Morpha.</li> <li>➤ Metamorphic rocks are mostly crystalline in nature.</li> </ul>	<ul style="list-style-type: none"> <li>➤ The word sedimentary has been derived from Latin word sedimentum.</li> <li>➤ They are non – crystalline rocks.</li> </ul>

27. Weather and Climate.

<b>Weather</b>	<b>Climate</b>
<ul style="list-style-type: none"> <li>➤ Sunshine, temperature, cloud cover, wind, fog condition, air pressure, humidity, precipitation are some weather elements.</li> <li>➤ Refers to short period like a day, a week, a month etc.</li> </ul>	<ul style="list-style-type: none"> <li>➤ Average condition of the weather of a place or a region.</li> <li>➤ Determined by measuring weather element for a long period of time usually for 35 years.</li> </ul>

**VI. Give reasons:-**

28. Temperature decreases with increase in altitude.

- Temperature always decrease with increasing height is known as lapse rate which is  $6.5^{\circ}\text{C}$  per 1000mtr. In troposphere.

29. Infiltration of water is low in the region of non – porous soil.

- Water entering the soil at the surface of the ground is termed as infiltration. Infiltration allows the soil temporarily to store water, the rate of infiltration is influenced by the physical characteristics of the soil.

30. Migration are increasing from rural to urban.

- Employment
- Medical
- Education
- Transportation

**VII. Answer the following questions (any 10):-**

**10x2=20**

31. Name the important factories established by the Dutch in India?

- Pulicat, Surat, Chinsura, Kasim bazar, Patna, Nagapatnam, Balasora and Cochin.

32. Write a short note on Black Hole Tragedy.

- There was a small dungeon room in the fort William in Calcutta, where troops of the Nawab of Bengal Siraj-ud-daula held 146 British prisoners of war for one night. Next day morning when the door was opened 123 of the prisoners found dead because of suffocation.

33. List out any two salient features of the Permanent settlement?

- Salient Features of the permanent settlement:
  - i. The zamindars were recognised as the owners of land as long as they paid the revenue to the east India company regularly.
  - ii. The zamindars acted as the agent of the government for the collection of revenue from the cultivators.
  - iii. The amount of revenue was firmles fixed and would not be raised under any circumstances.
  - iv. They gave 10/11 of the revenue collected by them from the cultivator to the government.

34. What do you know about the Palayakarars?

- i. Palayams were held in military tenure and explained their full co – operation to be need of the nayaks.
  - ii. Puli Thevar, Virapandya Kattabomman, Velu Nachiyar, Marudu Brothers.
35. What was the importance of Thiruchirappalli Proclamation?
- The Marudhu pandyas issued a proclamation of Independence called Thiruchirappali proclamation in 1801.
  - The proclamation of 1801 was the first call to the Indians to unite against the British.
36. Define – ‘Rock’.
- The rocks are the solid minerals materials forming a part of the surface of the earth and other similar plants.
37. What is meant by atmospheric pressure?
- The weight of air above a given area on the earth’s surface is called atmospheric pressure or air pressure.
38. Name any two pull factors of migration?
- Health care, money, peace, Education, food, city life, Employment.
39. List out any four most populous cities in the world?
- Tokyo (Japan)
  - Delhi (India)
  - Suangai (China)
  - Mexico city (Mexico)
  - Sao Paulo (Brazil)
40. Name the two houses of the state Legislature?
- Upper House – Legislative council
  - Lower House – Legislative assembly
41. Name some of the Indians who contributed to spread of secularism?
- Sri Syed Ahamad Khan
  - Rabindranath Tagore
  - Mahatma Gandhi

➤ B.R. Ambedkar

42. What is the Barter system?

➤ Barter system is exchanging goods for goods without the use of money in the primitive stage.

**VIII. Answer the following in details (any 6):-**

**6x5=30**

43. Give an account of the sources of Modern India?

Page Number : 1

44. How did lord Wellesley expand the British power in India?

Page Number: 21

45. What were the causes for the great revolt of 1857?

Page Number: 41

46. Explain the different stages involved in the hydrological cycle.

Page Number: 105

47. Discuss the problems of urbanisation?

Page Number: 118

48. Discuss the powers and functions of the Chief Minister?

Page Number: 170

49. Mention any three qualities of a good citizen and Name the five ways of acquiring citizenship?

Page Number: 177 & 179

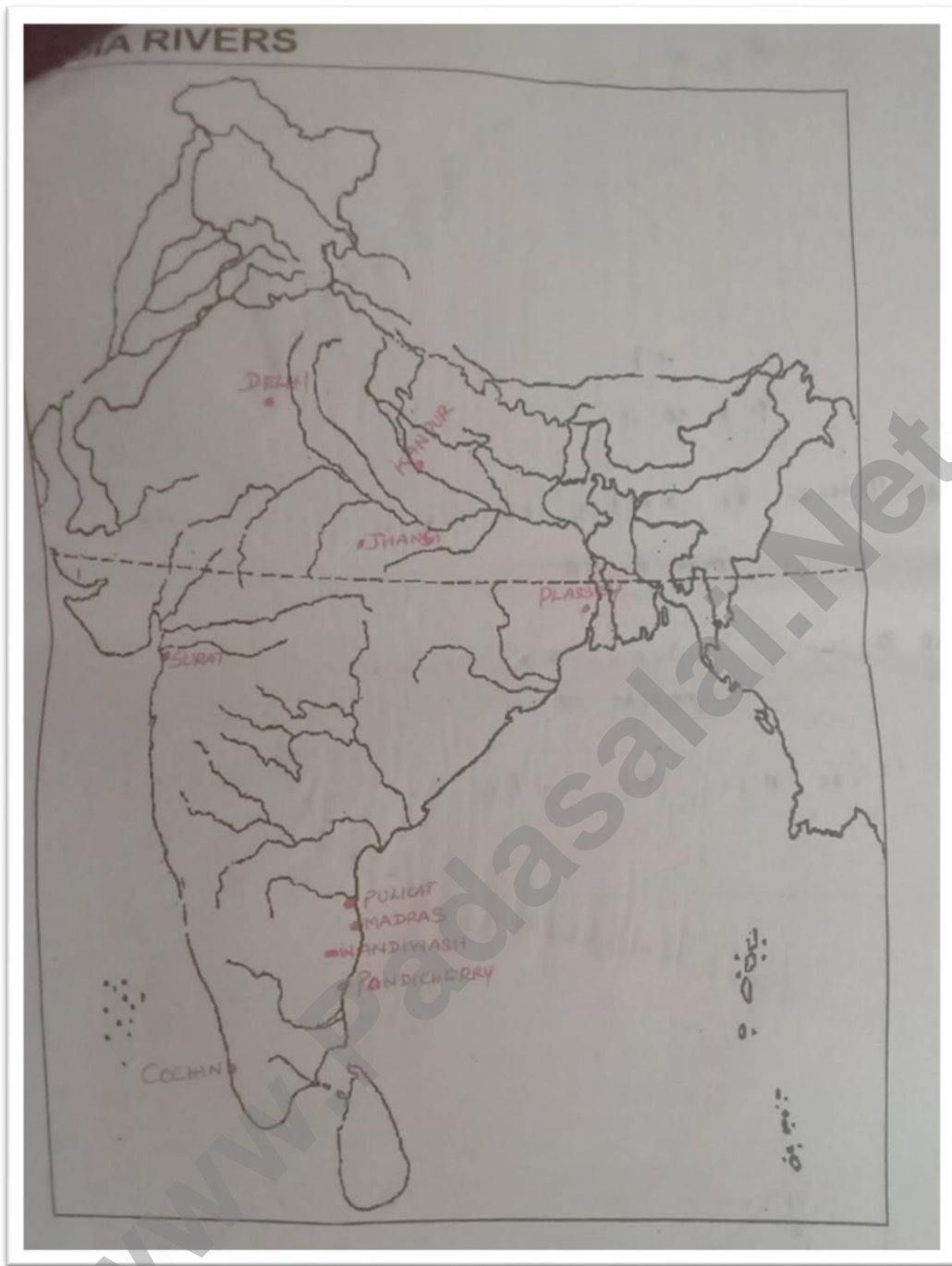
50. What are the effects of black money on economy?

Page Number: 234

**IX. On the River Map of India, mark the following places:-**

**10x1=10**

- |              |           |           |            |                 |
|--------------|-----------|-----------|------------|-----------------|
| 1. Madras    | 2. Cochin | 3. Surat  | 4. Pulicat | 5. Plassey      |
| 6. Wandiwash | 7. Delhi  | 8. Jhansi | 9. Kanpur  | 10. Pondicherry |





**X. Mark the following places on the world map:-**

**5x1=5**

1. London      2. Tokyo      3. Mexico City      4. Pacific Ocean      5. China

