

அனைவருக்கும் கல்வி இயக்கம் – தமிழ்நாடு

மாநில அளவிலான அடைவு ஆய்வு 2016-17

வினாத்தாள்

331

பாடம்: கணக்கு

வகுப்பு: 3

மொத்த மதிப்பெண்கள்: 30

மாணவர் பெயர் : **நேரம்: 1 மணி**

வகுப்பு மற்றும் பிரிவு:

பள்ளியின் பெயர் :

ஒன்றியம் மாவட்டம் பள்ளி எண்

கீழே கொடுக்கப்பட்ட கேள்விகளைக் கவனமாகப் படித்து சரியான விடையை வட்டமிடவும்.

1. 203 ல் 5 குறைவு என்பது எவ்வளவு?

a) 208

b) 198

c) 202

d) 205

2. கீழ்க்காணும் எண் வரிசையில் விடுபட்ட எண்களை நிரப்புக.

31, 32, _____, 34, 35, _____

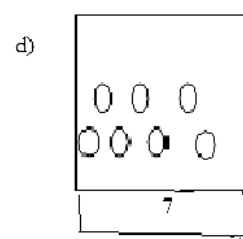
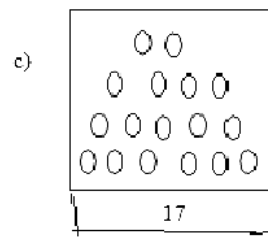
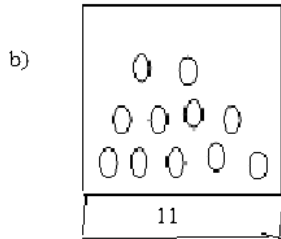
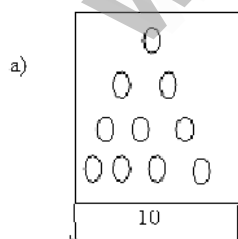
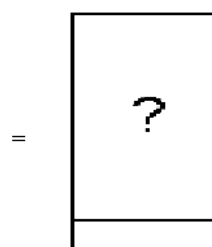
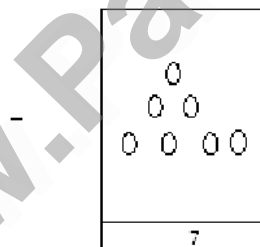
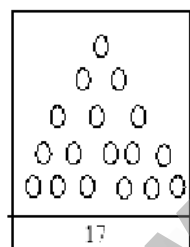
a) 32,35

b) 34,35

c) 31,32

d) 33,36

3. சரியான விடையைத் தேர்ந்தெடுக்க:



4. காலிக் கட்டத்தை நிரப்புக :

$$56 - 9 = \square$$

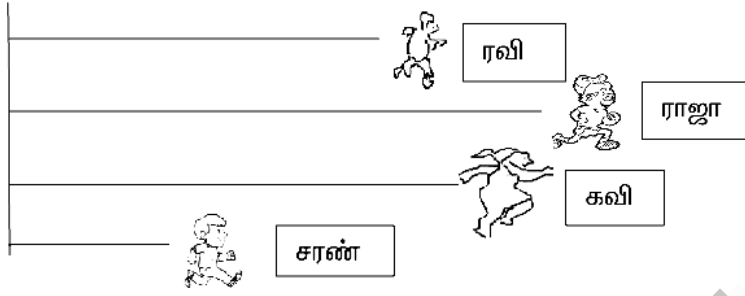
a) 50

b) 57

c) 47

d) 53

5. கீழே உள்ள படத்தைக் காண்க:



ஓட்டப்பந்தயத்தில் அதிக தொலைவு ஓடியவர் _____

a) ரவி

b) ராஜா

c) கவி

d) சரண்

6. படத்தில் உள்ள மரங்களில் மிகவும் குட்டையான மரம் எது ?



a)



b)



c)



d)

7. கீழே உள்ள எண்களில் மிகச்சிறிய எண் எது ?

a) 32

b) 41

c) 63

d) 24

8. கீழே சில பொம்மைகள் காண்பிக்கப்பட்டுள்ளன.



கிளிக்கு அடுத்து வருவது எது ?



a)



b)



c)

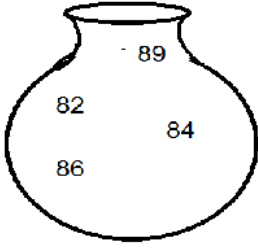


d)

9. ஏறு வரிசையில் அமைந்த எண்கள் யாவை ?


- a) 46, 47, 48, 49, 50
- b) 47, 48, 50, 49, 46
- c) 48, 47, 46, 49, 50
- d) 48, 46, 47, 49, 50

10. கீழே உள்ள பாணையில் 85 – ஐ விட பெரிய எண்கள் எவை ?.



- a) 86,84
- b) 86,89
- c) 89,82
- d) 82,84

11. கீழே உள்ள படத்தில் அருணின் வலது கையை பிடித்திருப்பவர் யார் ?



- a) ராணி
- b) மாலா
- c) ஜான்
- d) பானு

12. எந்தப் பெட்டியில் 7 நட்சத்திரங்கள் உள்ளன ?



13. ஒரு பேருந்து பயணச்சீட்டு கீழே காண்பிக்கப்பட்டுள்ளது.

1	வினாயகம்	17
2	செவ்வாய்	18
3	புதன்	19
4	வியாழன்	20
5	சனி	21
6	சூரியன்	22
7	MZ	23
8	80	24
9	ரூபாய்	25
10		26
11		27
12		28
13		29
14	பு	30
15	செ	31
16	வெ	32


பயணச்சீட்டில் உள்ள ரூபாயில் 8 - இன் இடமதிப்பு என்ன ?

- a) 8 பத்துகள் b) 8 நூறுகள் c) 8 ஆயிரங்கள் d) 8 ஒன்றுகள்

14. கனமான பொருள் எது ?



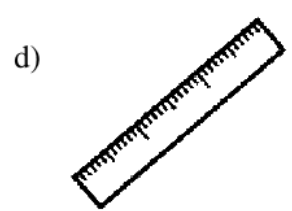
பலூன்



பென்சில்



ஆப்பிள்



அளவுகோல்

15. காலிக் கட்டத்தை நிரப்புக

$$17 \ 25 \ \square$$

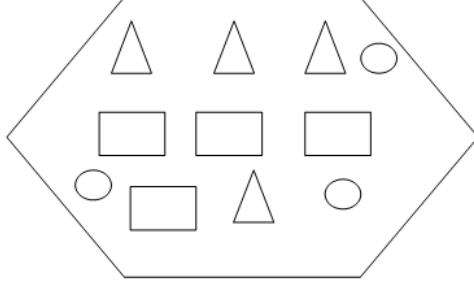
a) 32

b) 12

c) 312

d) 42

16. கீழ்க்காணும் வடிவங்களில் உள்ள செவ்வகங்கள் எத்தனை ?



a) 3

b) 4

c) 5

d) 12

17. ஓர் எண்ணை 35 - உடன் கூட்டினால் 56 கிடைக்கும்.

$$\begin{array}{r} 35 \\ + \square \square \\ \hline 56 \end{array}$$

அந்த எண் எது ?

a) 12

b) 20

c) 21

d) 91

18. கீழ்க்காணும் படத்தில் ஒரே மாதிரியாக உள்ள வடிவங்கள் எவை ?



a) 1, 2

b) 2, 3

c) 3, 4

d) 1, 4

19. 2649 -இல், 6 -இன் இடமதிப்பு என்ன ?
 a) 6 b) 60 c) 600 d) 649
20. ஜூன் மற்றும் ஆகஸ்டு மாதங்களுக்கு இடையே வரும் மாதம் எது ?
 a) மே b) ஜூலை c) செப்டம்பர் d) நவம்பர்
21. நாட்காட்டியில் 18 ஆம் தேதி எந்த கிழமையில் வருகிறது ?

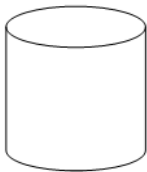
NOVEMBER		நவம்பர் 2016				
சூன்யம்	திங்கள்	வெள்ளை	புதன்	வியாழன்	வெள்ளி	சனி
		1	2	3	4	5
6	7	8	9	10	11	12
13	14	15	16	17	18	19
20	21	22	23	24	25	26
27	28	29	30			

- a) வியாழக்கிழமை b) புதன்கிழமை
 c) வெள்ளிக்கிழமை d) சூரியிறுக்கிழமை
22. 4×5 -இன் பொருத்தமான கூட்டல் விவரம் எது ?
 a) $3 + 3 + 3$ b) $5 + 5 + 5$ c) $4 + 4 + 4 + 4$ d) $4 + 4 + 4 + 4 + 4$
23. 52 ஆரஞ்சுப் பழங்களில் 21 பழங்கள் அழுகி விட்டன, எனில் நல்ல நிலையில் உள்ள பழங்கள் எத்தனை ?
 a) 73 ஆரஞ்சுகள் b) 71 ஆரஞ்சுகள் c) 31 ஆரஞ்சுகள் d) 21 ஆரஞ்சுகள்

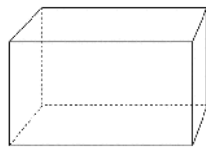


24. முறுக்கு பிழியும் குழாயின் உருவத்துடன் ஒத்திருப்பது எது ?

a)



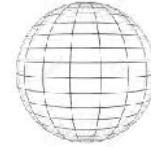
b)



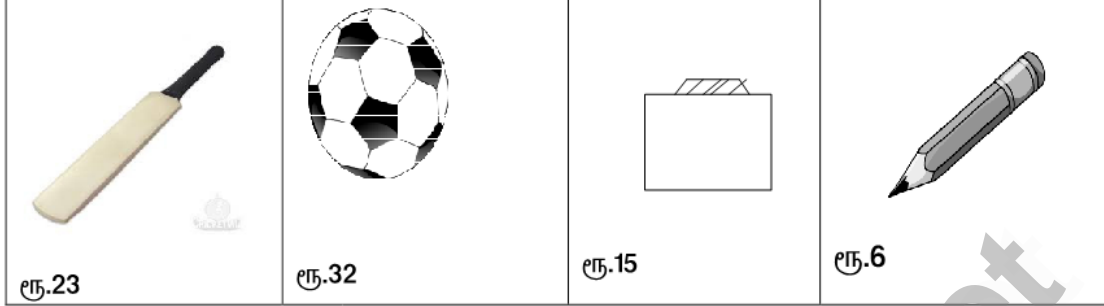
c)



d)



25. படத்தில் உள்ள கிரிக்கெட் மட்டை மற்றும் பென்சிலின் மொத்த விலை எவ்வளவு ?



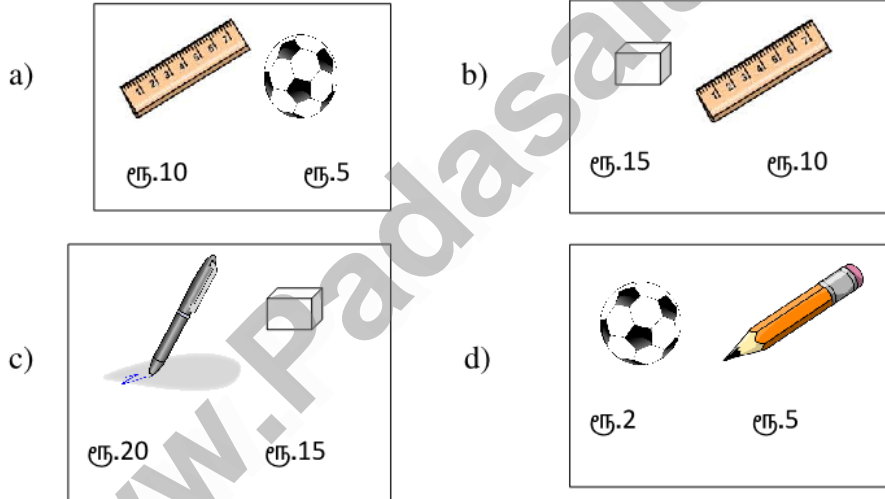
a) 21

b) 29

c) 47

d) 55

26. ரூபாய் 25 –ஐ முழுமையாக பயன்படுத்தி கீழ்க்கண்ட எந்த இரு பொருள்களை வாங்கலாம் ?



27. கொடுக்கப்பட்டுள்ள எண்களில் 12 பத்துகளை விட பெரிய எண் எது ?

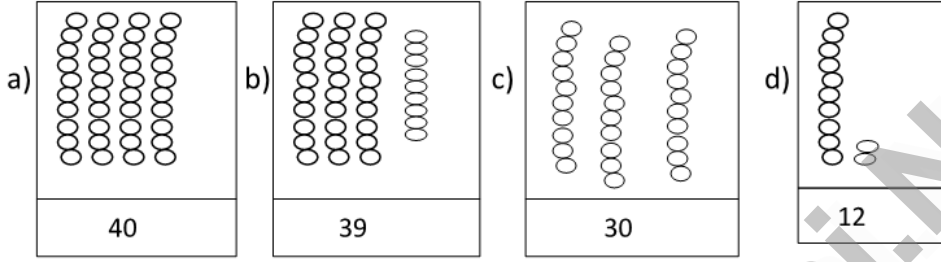
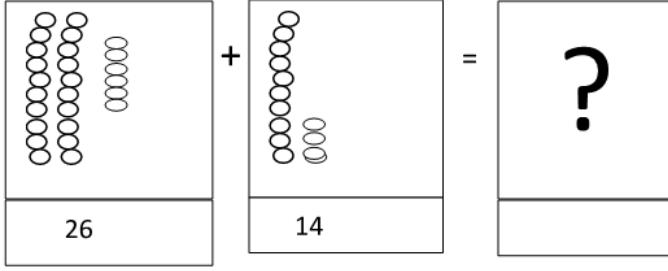
a) 1

b) 12


c) 120

d) 125

28. சரியான விடையை தேர்ந்தெடு.

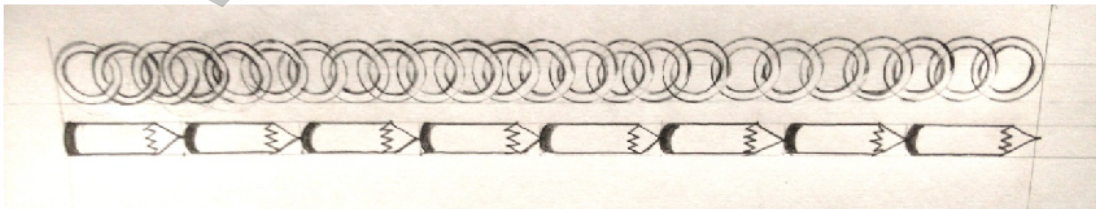


29. கீழ்க்காணும் வரிசையில் அனு முதலாவதாக நிற்கிறாள் எனில், வரிசையில் மூன்றாவது இடத்தில் நிற்பவர் யார் ?



- a) ராம் b) சந்தோஷ் c) அஸ்லாம் d) கிருஷ்ணா

30. படத்தில் சங்கிலியின் நீளத்திற்கு சமமான நீளம் கொண்டவை _____



- a) 8 வளையங்கள் b) 8 பென்சில்கள்
c) 8 வளையங்களைவிட குறைவு d) 8 பென்சில்களை விட அதிகம்