

4. A ball of mass M falls from a height h on a floor and its coefficient of restitution is e . The height attained by the ball after two rebounds is

- A) e^2h B) e^4h
C) h/e^4 D) eh^2

e மீட்சியளிப்பு குணகம் கொண்ட M நிறையுள்ள பந்து ஒன்று h உயரத்திலிருந்து தரையில் விழுகிறது. இரண்டு முறை துள்ளல் அடைந்த பிறகு அந்த பந்து அடைந்த உயரம்

- A) e^2h B) e^4h
C) h/e^4 D) eh^2

5. A ball of mass m collides with a wall with speed v and rebounds on the same line with the same speed. If the mass of the wall is taken as infinite, then the work done by the ball on the wall is

- A) 0 B) $1/2 mv^2$
C) mv^2 D) $2mv$

m நிறை கொண்ட பந்து ஒன்று v வேகத்தில் சுவர் ஒன்றில் மோதி அதே வேகத்தில் அதே கோட்டின் வழியாக திரும்புகிறது. சுவரின் நிறை முடிவில்லி என கொண்டால், சுவற்றின் மீது பந்து செய்த வேலை

- A) 0 B) $1/2 mv^2$
C) mv^2 D) $2mv$

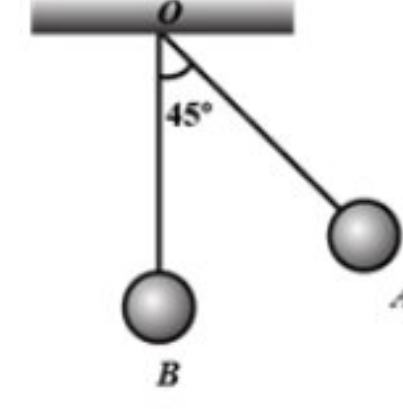
6. A mass of 10 g moving with a velocity of 100 cm s^{-1} strikes a pendulum bob of mass 10 g. The two masses stick together. The maximum height reached by the system now is

- A) 5 cm B) 2.5 cm
C) 0 D) 1.25 cm

100 cm s^{-1} திசைவேகத்தில் செல்லும் 10 g நிறை ஒன்று 10g நிறை கொண்ட ஊசல் குண்டின் மீது மோதுகிறது. இரண்டு நிறைகளும் ஒன்றாக ஒட்டிக்கொள்கின்றன. தற்போது இந்த அமைப்பு அடைந்துள்ள பெரும் உயரம்

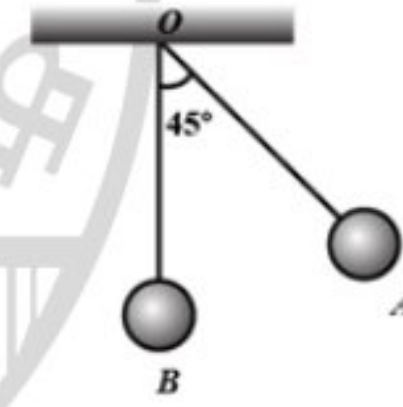
- A) 5 cm B) 2.5 cm
C) 0 D) 1.25 cm

7. The bob A of a simple pendulum is released when the string makes an angle of 45° with the vertical. It hits another bob B of the same material and same mass kept at rest on the table. If the collision is elastic:




- A) Both A and B rise to the same height
B) A comes to rest and B moves with the same velocity of A
C) Both A and B come to rest at B
D) Both A and B moves with the same velocity of A

தனி ஊசல் ஒன்றின் ஊசல் குண்டு A ஆனது செங்குத்து திசையில் 45° கோணத்தில் விடுவிக்கப்படுகிறது. இது மேசையின் மீது வைக்கப்பட்ட அதே நிறை மற்றும் அதே பொருளாலான மற்றொரு ஊசல் குண்டு B-இன் மீது மோதுகிறது. இந்த மோதல் மீட்சி மோதலாக இருந்தால்




- A) A மற்றும் B சம உயரத்தை அடைகிறது.
B) A ஓய்வு நிலையை அடைகிறது மற்றும் B ஆனது A யின் திசைவேகத்தில் நகருகிறது.
C) A மற்றும் B இரண்டும் B-ல் ஓய்வு நிலையை அடைகிறது.
D) A மற்றும் B இரண்டும் A ன் திசைவேகத்தில் செல்கிறது.

8. A bullet of mass m moving with velocity u passes through a wooden block of mass $M = nm$ as shown in figure. The block is resting on a smooth horizontal floor. After passing through the block, velocity of the bullet becomes v . Its velocity relative to the block is



- A) $\frac{(1+n)}{n}$ B) $\frac{v-u}{n}$
 C) $\frac{(1+n)v-u}{n}$ D) $\frac{(1+n)u+v}{n}$

u திசைவேகத்தில் நகரும் m நிறை கொண்ட தோட்டா ஒன்று படத்தில் உள்ள படி $M = nm$ நிறை கொண்ட மரக் கட்டை வழியாக செல்கிறது. மரக் கட்டையானது ஒரு வழுவுமுப்பான கிடைமட்ட தளத்தில் ஓய்வில் உள்ளது. மரக் கட்டையை கடந்த பிறகு தோட்டாவின் திசைவேகம் v ஆக மாறுகிறது எனில் அந்த மரக் கட்டையைப் பொறுத்து தோட்டாவின் திசைவேகம்



- A) $\frac{(1+n)}{n}$ B) $\frac{v-u}{n}$
 C) $\frac{(1+n)v-u}{n}$ D) $\frac{(1+n)u+v}{n}$

9. A particle of mass m moving with velocity u collides elastically with a particle of mass 3m at rest. After collision the heavier particle moves with velocity

- A) $u/3$
 B) $2u$
 C) $3u$
 D) $u/2$

u திசைவேகத்தில் நகரும் m நிறையுடைய ஒரு பொருள் ஓய்வு நிலையில் உள்ள 3m நிறையுடைய பொருளுடன் மீட்சி மோதல் அடைகிறது எனில் மோதலுக்குப் பின் கனமான பொருள் நகரும் திசைவேகம்.

- A) $u/3$
 B) $2u$
 C) $3u$
 D) $u/2$

10. A billiard ball moving with a speed of 5 ms^{-1} collides with an identical ball, originally at rest. If the first ball stops dead after collision, then the second ball will move forward with a speed of

- A) 10 ms^{-1} B) 1 ms^{-1}
 C) 5 ms^{-1} D) 2.5 ms^{-1}

5 ms^{-1} வேகத்தில் செல்லும் பில்லியர்ட் பந்து ஒன்று, தொடக்கத்தில் ஓய்வு நிலையில் உள்ள அதே மாதிரியான பந்து ஒன்றுடன் மோதுகிறது. மோதலுக்குப் பின் முதல் பந்து நிலையாக நிற்கிறது எனில் இரண்டாவது பந்து முன்னோக்கி நகரும் வேகம்.

- A) 10 ms^{-1} B) 1 ms^{-1}
 C) 5 ms^{-1} D) 2.5 ms^{-1}

11. A ball strikes a horizontal floor at 45° . 25 % of its kinetic energy is lost in collision. Find the coefficient of restitution.

- A) $1/\sqrt{2}$
 B) $1/4$
 C) $1/2$
 D) $1/2\sqrt{2}$

பந்து ஒன்று தரையின் மீது கிடைத்தள திசையில் 45° கோணத்தில் மோதுகிறது. மோதலின் போது 25% இயக்க ஆற்றலை அது இழக்கிறது எனில் மீட்சியளிப்பு குணகத்தை காண்க:

- A) $1/\sqrt{2}$
 B) $1/4$
 C) $1/2$
 D) $1/2\sqrt{2}$

12. A bullet of mass 20g and moving with 600 ms^{-1} collides with a block of mass 4 kg hanging with the string. What is velocity of bullet when it comes out of block, if block rises to height 0.2m after collision?

- A) 150 ms^{-1} B) 300 ms^{-1}
 C) 200 ms^{-1} D) 400 ms^{-1}

20 g நிறை மற்றும் 600 ms^{-1} திசைவேகத்துடன் நகரும் தோட்டா ஒன்று கயிறு ஒன்றில் தொங்கிக் கொண்டிருக்கும் 4 kg நிறையுள்ள கட்டையின் மீது மோதுகிறது. மோதலுக்குப் பின் கட்டையானது 0.2 மீ உயரம் உயர்ந்தால் கட்டையை விட்டு வெளியே வரும் போது தோட்டாவின் திசைவேகம் என்ன?

- A) 150 ms^{-1} B) 300 ms^{-1}
C) 200 ms^{-1} D) 400 ms^{-1}

13. A block of mass 0.50 kg is moving with a speed of 2 ms^{-1} on a smooth surface, it strikes another mass of 1 kg and then they move together as a single body. The energy loss during the Collision is

- A) 0.67 J B) 0.16 J
C) 0.34 J D) 1 J

0.50 kg நிறை கொண்ட ஒரு கட்டையானது வழுவழுப்பான பரப்பில் 2 ms^{-1} என்ற வேகத்தில் நகருகிறது, அது மற்றொரு 1 kg நிறையின் மீது மோதி ஒரே பொருளாக நகருகிறது எனில் மோதலின் போது ஏற்பட்ட ஆற்றல் இழப்பு

- A) 0.67 J B) 0.16 J
C) 0.34 J D) 1 J

14. A particle of mass m moving with speed u collides perfectly inelastically with another particle of mass $2m$ at rest. Find the loss of kinetic energy of system in the collision.

- A) 0 B) $1/3 \text{ mu}^2$
C) $1/2 \text{ mu}^2$ D) $1/5 \text{ mu}^2$

u வேகத்தில் நகரும் துகள் ஒன்று ஓய்வு நிலையில் உள்ள $2m$ நிறையுள்ள மற்றொரு பொருளின் மீது முழு மீட்சியற்ற மோதலில் ஈடுபடுகிறது எனில் மோதலின் போது ஏற்படும் ஆற்றல் இழப்பை காண்க

- A) 0 B) $1/3 \text{ mu}^2$
C) $1/2 \text{ mu}^2$ D) $1/5 \text{ mu}^2$


15. A ball falls from a height such that it strikes the floor of lift at 10 ms^{-1} . If lift is moving in the upward direction with a velocity 1 ms^{-1} , then velocity with which the ball rebounds after elastic collision will be

- A) 13 ms^{-1} B) 11 ms^{-1}
C) 9 ms^{-1} D) 12 ms^{-1}


ஒரு குறிப்பிட்ட உயரத்திலிருந்து 10 ms^{-1} வேகத்தில் வரும் பந்து ஒன்று 1 ms^{-1} வேகத்தில் மேல் நோக்கி நகரும் மின்தூக்கியின் தளத்தில் மோதுகிறது எனில் பந்து மீட்சி மோதலடைந்து மேலெழும்பும் திசைவேகம்.

- A) 13 ms^{-1} B) 11 ms^{-1}
C) 9 ms^{-1} D) 12 ms^{-1}

CHEMISTRY Q.No. 16 to 30

16. The radical - CH_2^- is aromatic because it has,

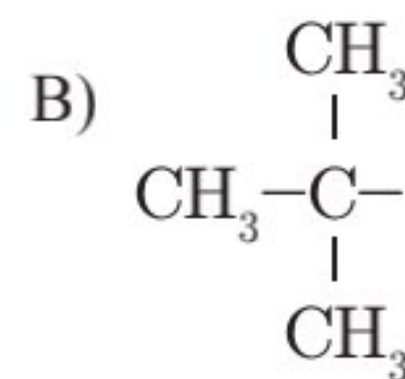
- A) $7p$ orbitals and 7 unpaired electrons
B) $6p$ orbitals & 7 unpaired electrons
C) $6p$ orbitals & 6 unpaired electrons
D) $7p$ - orbitals & 6 unpaired electrons

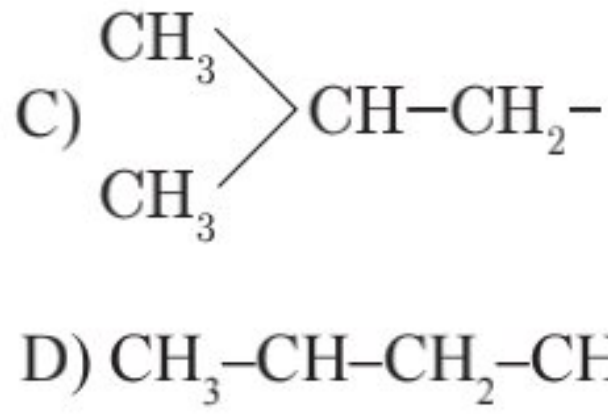
- CH_2^- என்ற உறுப்பு அரோமேட்டிக் தன்மையுடையது ஏனெனில்,

- A) $7p$ ஆர்பிட்டால்கள் மற்றும் 7 தனித்த எலெக்ட்ரான்கள்
B) $6p$ ஆர்பிட்டால்கள் மற்றும் 7 தனித்த எலெக்ட்ரான்கள்
C) $6p$ ஆர்பிட்டால்கள் மற்றும் 6 தனித்த எலெக்ட்ரான்கள்
D) $7p$ ஆர்பிட்டால்கள் மற்றும் 6 தனித்த எலெக்ட்ரான்கள்

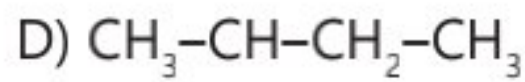
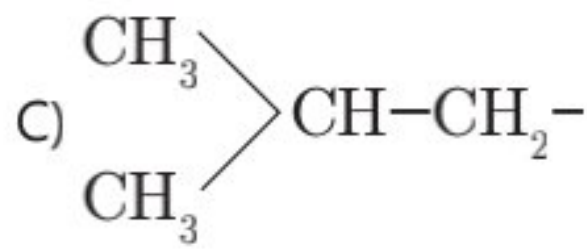
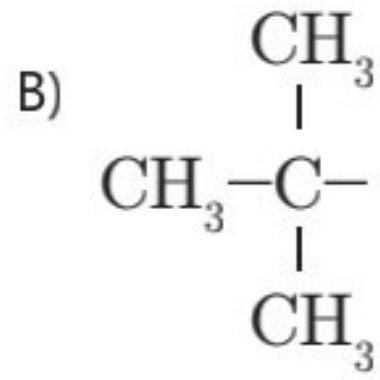
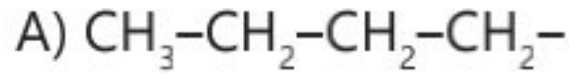
17. The structure of Isobutyl group in a organic Compounds is

- A) $\text{CH}_3-\text{CH}_2-\text{CH}_2-\text{CH}_2-$

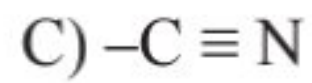




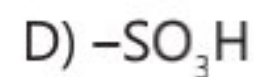
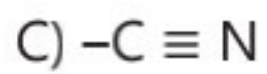
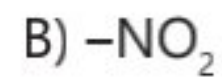
ஒரு கரிம சேர்மத்தில் ஐசோ பியூட்டைல் உறுப்பின் அமைப்பு என்பது



18. Some meta directing substituents in aromatic substituents are given. Which one is most deactivating?



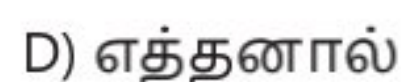
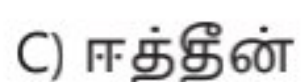
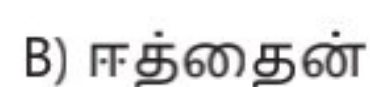
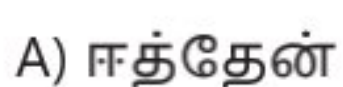
அரோமேட்டிக் பதிலிடும் வினைகளில் சில மெட்டா வழி நடத்தும் தொகுதிகள் தரப்பட்டுள்ளன. அவற்றில் எது மிக அதிகமாக செயல்திறனை குறைக்கிறது.



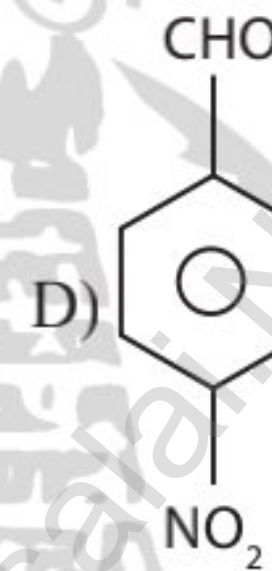
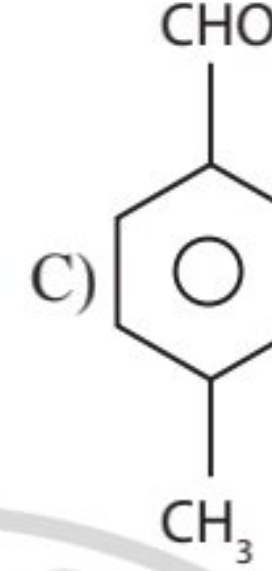
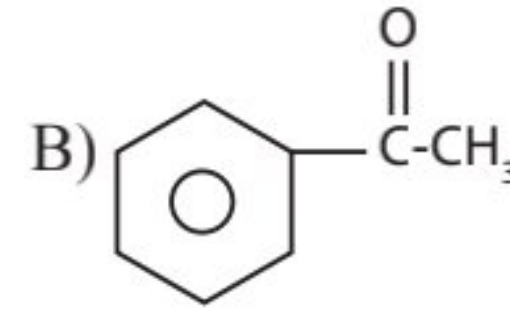
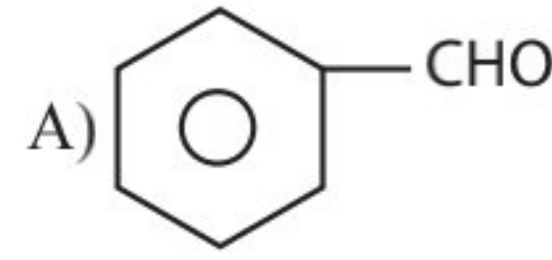
19. Which of the following organic compounds has same hybridisation as its combustion (CO_2) product?



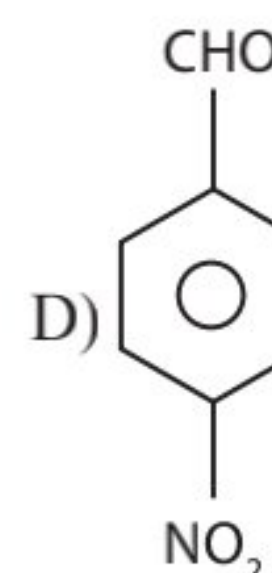
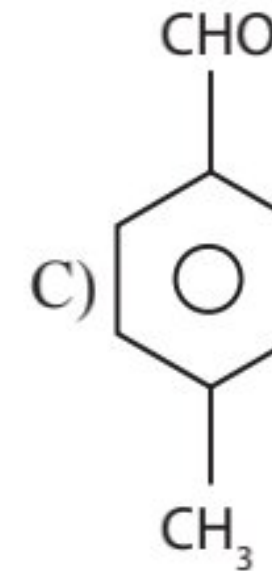
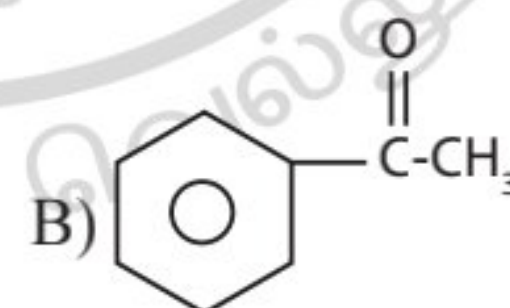
பின்வரும் கரிம சேர்மமும், அதனுடைய எரிதல் வினைப்பொருளாகிய CO_2 ம் ஒரே விதமான கலப்பினமாக்கலை பெற்றுள்ளன?



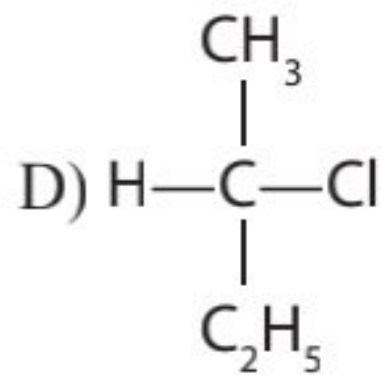
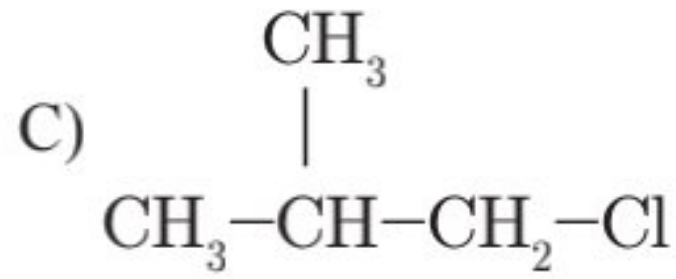
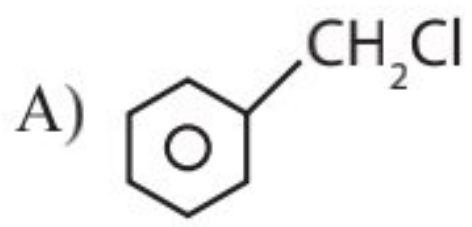
20. Which one is most reactive towards nucleophilic addition reaction?



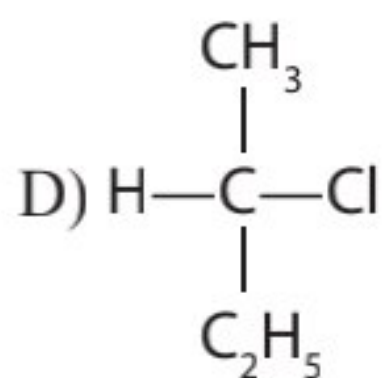
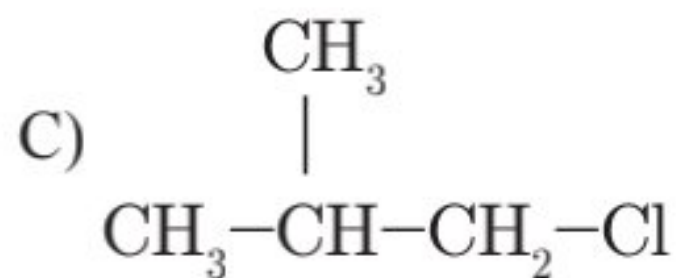
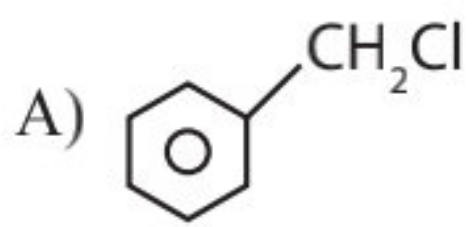
கருக்கவர் சேர்க்கை வினையில் மிக அதிகமாக வினைபுரியும் தன்மையுடையது எது?



21. Which of the following compounds will undergoes racemisation when solution of KOH hydrolysis?



KOH கொண்டு நீராற்பகுக்கும் போது பின்வரும் சேர்மங்களில் எது சுழமாய் கலவையாகும் வினைக்கு உட்படுகிறது?



22. In an SN_1 reaction as chiral Centres there is

A) 100% racemisation

B) Inversion more than retention leading to partial racemisation

C) 100% retention

D) 100% inversion

கைரல் அமைப்பின் மீது SN_1 வினையின் தாக்கம்

A) 100% சுழிமாய் கலவையாதல்

B) அமைப்பு நிலை பெறுதலை (retention) எதிர் சுழற்சியாதல் (Inversion) அதிகமாதலால் பகுதி சுழிமாய் கலவையாக்குதலை உருவாக்குகிறது.

C) 100% அமைப்பு நிலை பெறுதல்

D) 100% அமைப்பு எதிர்மறுதல்

23. Two possible stereostructures of $\text{CH}_3\text{CHOHCOOH}$, which are optically active are called.

A) Diastereomers

B) Atrop Isomers

C) Enantiomers

D) Mesomers

ஒளிச் சுழற்றும் பண்புடைய $\text{CH}_3\text{CHOHCOOH}$ ன் இரு முப்பரிமாண அமைப்புகள் எவ்வாறு அழைக்கப்படுகின்றன?

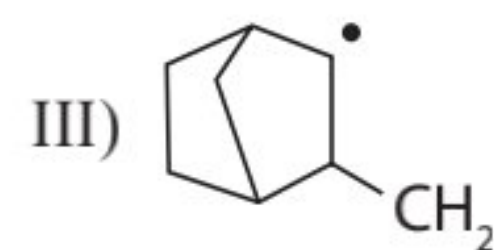
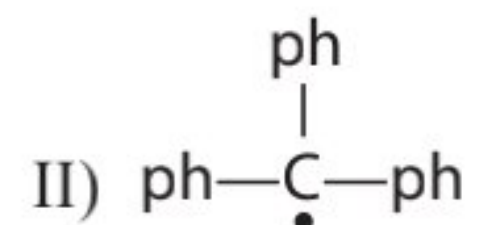
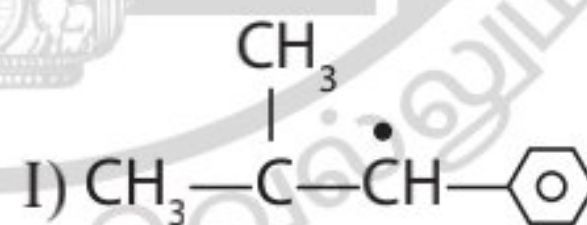
A) டயாஸ்டிரியோமர்

B) அட்ரோப் ஐசோமர்கள்

C) இனன்சியோமர்கள்

D) மீசோமர்கள்

24. Consider the following compounds hyper conjugation occurs in



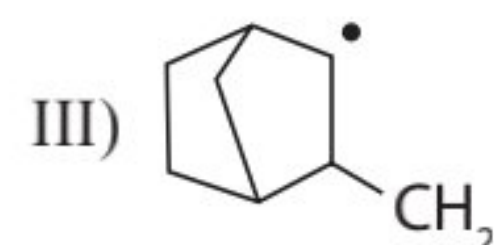
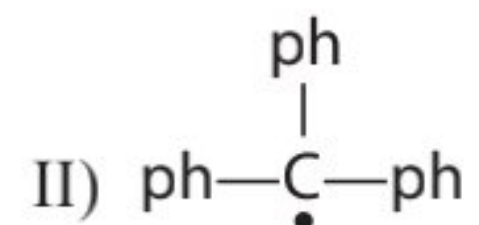
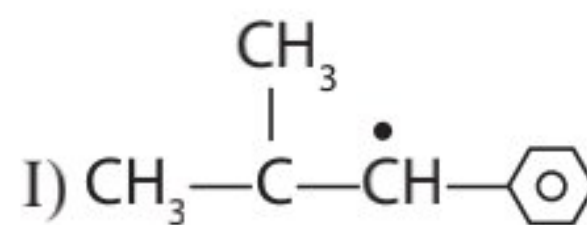
A) I only

B) II only

C) III only

D) I & II

பின்வருவனவற்றில் உள்ள சேர்மம் எது?



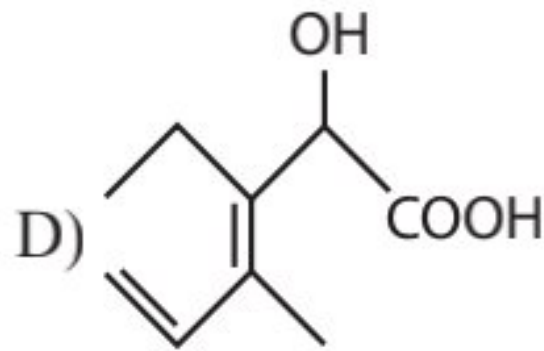
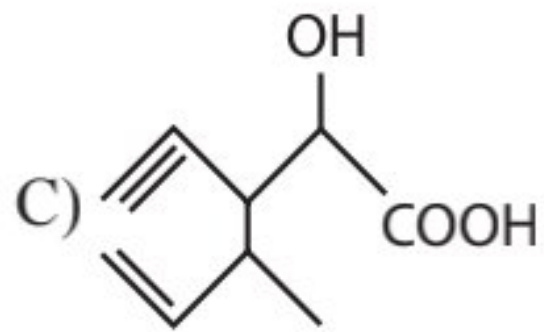
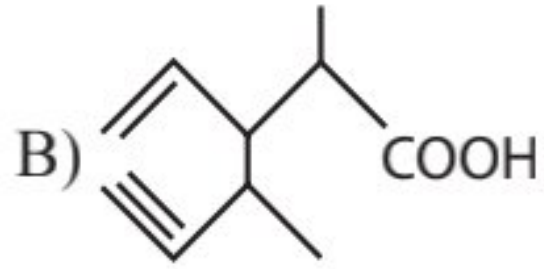
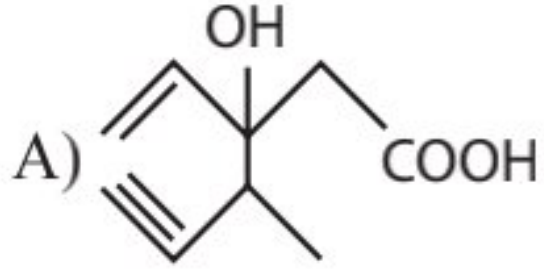
A) I மட்டும்

B) II மட்டும்

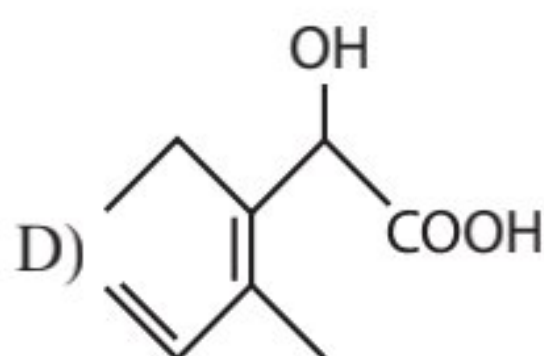
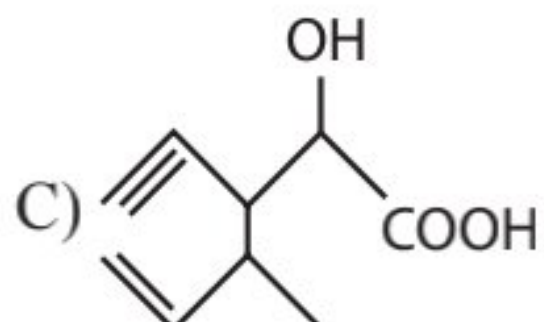
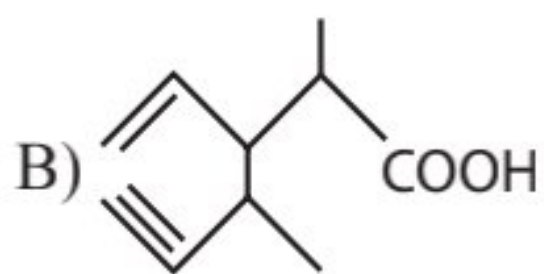
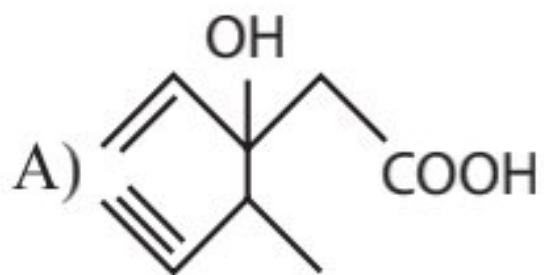
C) III மட்டும்

D) I மற்றும் II

25. Structure of the compound Which IUPAC is 3 – Ethyl, 2 – hydroxy 4-methyl hex -3-en-5-ynoic acid?



IUPAC பெயர் B – எத்தில் -2 ஹைட்ராக்ஸி -4-மெத்தில் ஹெக்ஸ் -3-என் -5-ஐயோனிக் அமிலம் என்பதை குறிக்கும் அமைப்பு எது?



26. Which of the following statements not correct for a nucleophile.

A) Nucleophile is a Lewis acid

B) Ammonia is a nucleophile

C) Nucleophiles attack low electrons density sites

D) Nucleophiles are not electron seeking

கருக்கவர் வினைப் பொருளினைப் பற்றி தவறான கருத்து?

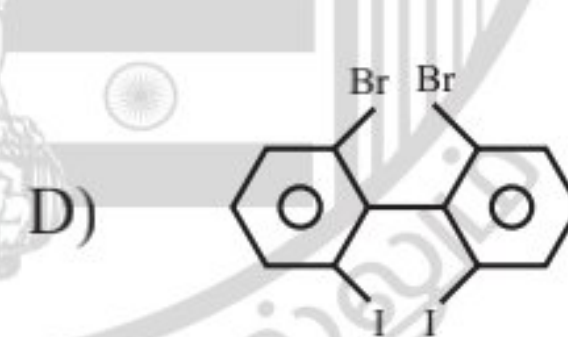
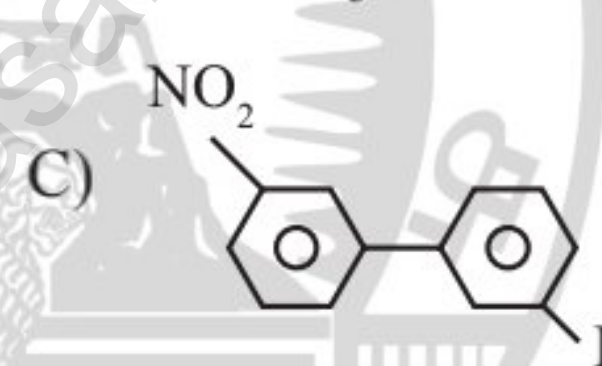
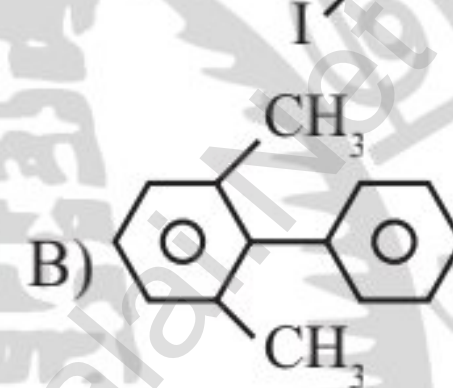
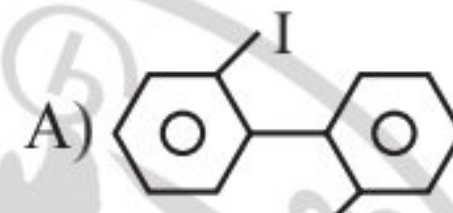
A) ஒரு லூயிஸ் அமிலம்

B) அம்மோனியா ஒரு கருக்கவர் வினைப் பொருள்

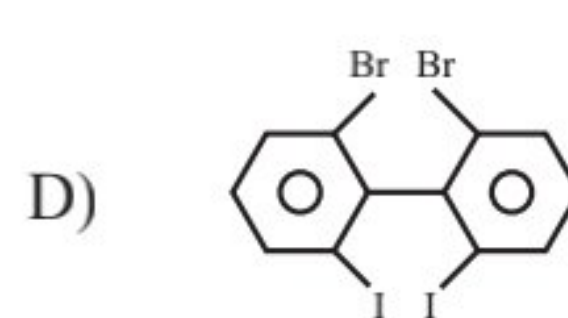
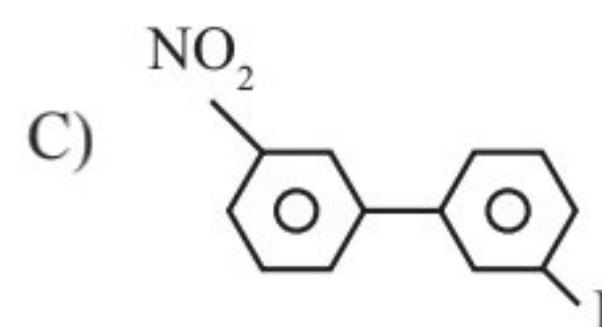
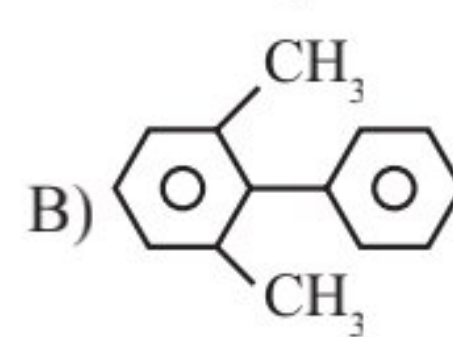
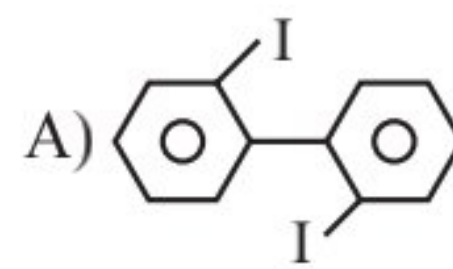
C) எலக்ட்ரான் செறிவு குறைவான இடத்தை தாக்கும் தன்மையுள்ள வினைப் பொருள்

D) இவை எலக்ட்ரானை தேடி செல்வதில்லை

27. Which of the following biphenyls is optically active?

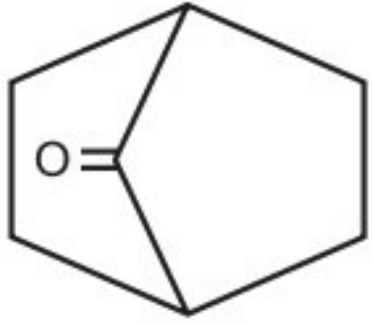


பின்வரும் இரு பீனைல்களில் ஒளிச் சுழற்றும் பண்புடையது?

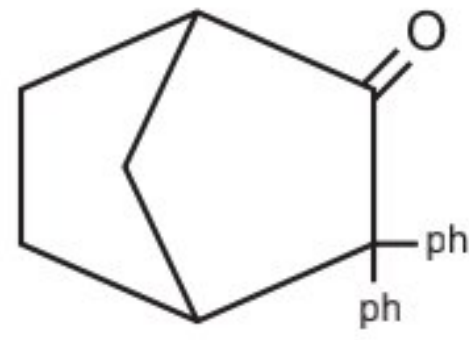


28. Which among the given molecules can exhibit tautomerism?

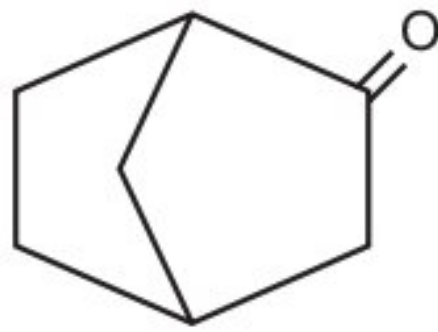
I)



II)



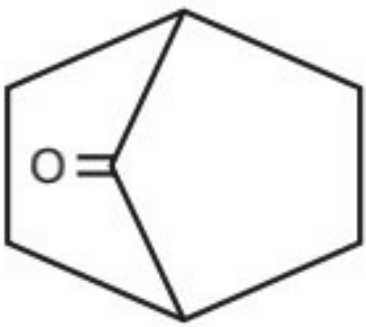
III)



- A) III only
B) I & III
C) I & II
D) II & III

பின்வருவனவற்றில் இயங்கு சமநிலை மாற்றியம் கொண்டுள்ள சேர்மம் எது?

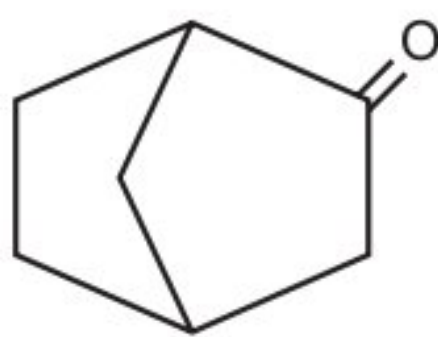
I)



II)

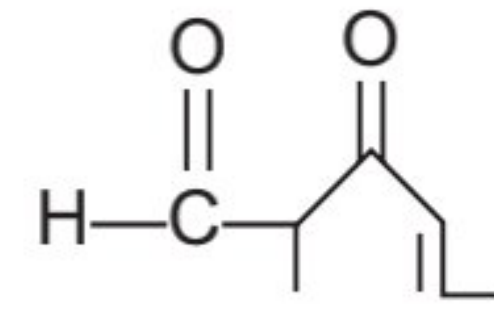


III)



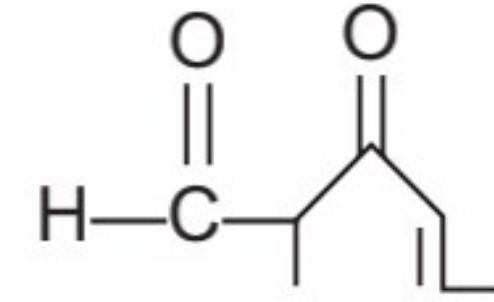
- A) III மட்டும்
B) I மற்றும் III
C) I மற்றும் II
D) II மற்றும் III

29. The IUPAC name of the compound



- A) 5 – methyl – 4- Oxo-hexo-2-en 5-al
B) 3-keto-2-methylhex -5 enal
C) 3-keto-2 methyl hex – 4 enal
D) 5-formyl hex -2-en-3-one

குறிப்பிட்ட சேர்மத்தின் IUPAC பெயர் என்ன?



- A) 5 மெத்தில் 4 ஆக்சோ ஹெக்ஸ் 2 ஈன் 5 ஆல்
B) 3 கீட்டோ 2 மெதில் ஹெக்ஸ் 5 ஈன் ஆல்
C) 3 கீட்டோ 2 மெதில் ஷெக்ஸ் 4 ஈன் ஆல்
D) 5-பார்மைல் ஷெக்ஸ் 2 ஈன் 3 ஓன்

30. The most suitable method of separation of 1 : 1 mixture of ortho and para - nitrophenols

- A) Crystallisation
B) Steam distillation
C) sublimation
D) Chromatography

ஆர்த்தோ மற்றும் பாரா நைட்ரோ பினால்கள் ஆகியவற்றின் 1 : 1 கலவையை பிரித்தெடுக்கும் சரியான முறை?

- A) படிகமாக்கல்
B) நீராவினால் காய்ச்சி வடித்தல்
C) பதங்கமாதல்
D) வண்ண பிரிகை

MATHS Q.No. 31 to 45

31. If in the expansion of $(1+x)^m(1-x)^n$, the co-efficient of x and x^2 are 3 and -6 respectively then the values of m and n are

- A) 9, 12
B) 8, 16
C) 12, 9
D) 13, 9

$(1+x)^m(1-x)^n$ என்ற விரிவாக்கத்தில் முறையே x , x^2 ஆகியவற்றின் கெழுக்கள் 3, -6 எனில் m , n எண்களின் மதிப்புகள்

- A) 9, 12
B) 8, 16
C) 12, 9
D) 13, 9

32. The last two digits of $(27)^{27}$ are

- A) 01 B) 02
C) 03 D) 04

$(27)^{27}$ -ன் கடைசி இரு இலக்கங்கள்

- A) 01 B) 02
C) 03 D) 04

33. $(x + \sqrt{x^3 - 1})^5 + (x - \sqrt{x^3 - 1})^5$ is a polynomial of degree

- A) 5 B) 6
C) 7 D) 8

$(x + \sqrt{x^3 - 1})^5 + (x - \sqrt{x^3 - 1})^5$ என்ற பல்லுறுப்புக் கோவையின் படி

- A) 5 B) 6
C) 7 D) 8

34. The sum of the roots of the equation $x^{2017} + \left(\frac{1}{2} - x\right)^{2017} = 0$ is

- A) 504
B) 400
C) 304
D) 404

$x^{2017} + \left(\frac{1}{2} - x\right)^{2017} = 0$ என்ற சமன்பாட்டின் மூலங்களின் கூடுதல்

- A) 504
B) 400
C) 304
D) 404

35. Given T_3 in the expansion of $(1-3x)^6$ has maximum numerical value, the range of x is

- A) $\left[\frac{1}{3}, \frac{1}{4}\right]$
B) $\left[-\infty, \frac{-1}{3}\right] \cup \left[\frac{2}{15}, \infty\right]$
C) $\left[\frac{2}{15}, \frac{1}{4}\right]$
D) $\left[\frac{-1}{4}, \frac{-2}{15}\right] \cup \left[\frac{2}{15}, \frac{1}{4}\right]$

$(1-3x)^6$ என்ற விரிவாக்கத்தின் மீப்பெரு எண் மதிப்பு உள்ள உறுப்பு T_3 எனில் x -ன் வீச்சகம்

- A) $\left[\frac{1}{3}, \frac{1}{4}\right]$
B) $\left[-\infty, \frac{-1}{3}\right] \cup \left[\frac{2}{15}, \infty\right]$
C) $\left[\frac{2}{15}, \frac{1}{4}\right]$
D) $\left[\frac{-1}{4}, \frac{-2}{15}\right] \cup \left[\frac{2}{15}, \frac{1}{4}\right]$

36. Fractional part of the number $\frac{4^{2022}}{15}$ is equal to

- A) 8/15 B) 1/15
C) 14/15 D) 4/15

$\frac{4^{2022}}{15}$ என்ற எண்ணின் பின்னப் பகுதி

- A) 8/15
B) 1/15
C) 14/15
D) 4/15

37. If the number of terms in the expansion of $(x+1+\frac{1}{x})^n$ is 17 then n is

- A) 8
B) 9
C) 17
D) 16

$(x+1+\frac{1}{x})^n$ என்ற விரிவாக்கத்தில் உள்ள உறுப்புகளின் எண்ணிக்கை 17 எனில் n=

- A) 8
B) 9
C) 17
D) 16

38. The co-efficient of x^4 in $(\frac{x}{2}-\frac{3}{x^2})^{10}$ is

- A) 405/256
B) 504/259
C) 450/263
D) none

$(\frac{x}{2}-\frac{3}{x^2})^{10}$ என்ற விரிவாக்கத்தில் x^4 -ன் கெழு

- A) 405/256
B) 504/259
C) 450/263
D) எதுவுமில்லை

39. The largest term in the expansion of $(3+2x)^{50}$ where $x=1/5$ is

- A) 4, 5th term
B) 5, 6th term
C) 6, 7th term
D) 7, 8th term

$(3+2x)^{50}$ என்ற விரிவாக்கத்தில் $x=1/5$ -ல் மிகப்பெரிய உறுப்பு

- A) 4,5 ஆம் உறுப்புகள்
B) 5,6 ஆம் உறுப்புகள்
C) 6,7 ஆம் உறுப்புகள்
D) 7,8 ஆம் உறுப்புகள்

40. In the binomial expansion of $(a-b)^n$, $n \geq 5$ the sum of 5th and 6th terms is zero, then a/b is

- A) $\frac{n-5}{6}$
B) $\frac{n-4}{5}$
C) $\frac{5}{n-4}$
D) $\frac{6}{n-5}$

$(a-b)^n$, $n \geq 5$ என்ற ஈருறுப்பு விரிவில் 5 மற்றும் 6 ஆம் உறுப்புகளின் கூடுதல் பூஜ்ஜியம் எனில் a/b-ன் மதிப்பு

- A) $\frac{n-5}{6}$
B) $\frac{n-4}{5}$
C) $\frac{5}{n-4}$
D) $\frac{6}{n-5}$

41. The co-efficient of x^{11} in the expansion of $(1+x^2)^4 (1+x^3)^7 (1+x^4)^{12}$ is

- A) 1051
B) 1106
C) 1113
D) 1120

$(1+x^2)^4 (1+x^3)^7 (1+x^4)^{12}$ என்ற விரிவாக்கத்தில் x^{11} -ன் கெழு

- A) 1051
B) 1106
C) 1113
D) 1120

42. The co-efficient of t^4 in the expansion of $\left(\frac{1-t^6}{1-t}\right)^3$ is

- A) 12 B) 15
C) 10 D) 14

$\left(\frac{1-t^6}{1-t}\right)^3$ என்ற விரிவில் t^4 -ன் கெழு

- A) 12 B) 15
C) 10 D) 14

43. If n is positive integer and if $(1+4x+4x^2)^n =$

$\sum_{r=0}^{2n} a_r x^r$ where a_i 's /are ($i = 0, 2, 3, \dots, 2n$) real numbers then the value of $2 \sum_{r=0}^n a_{2r}$ is

- A) $9^n - 1$
B) $9^n + 1$
C) $9^n - 2$
D) $9^n + 2$

n ஒரு மிகை முழு எண், $(1+4x+4x^2)^n = \sum_{r=0}^{2n} a_r x^r$ இங்கு a_i , ($i = 0, 2, 3, \dots, 2n$) மெய் எண்கள் எனில் $2 \sum_{r=0}^n a_{2r}$ -ன் மதிப்பு

- A) $9^n - 1$
B) $9^n + 1$
C) $9^n - 2$
D) $9^n + 2$

44. If the second term in the expansion $\left(\sqrt[13]{a} + \frac{1}{\sqrt{a^{-1}}}\right)^n$ is $14a^{5/2}$ then the value of $\frac{{}^n C_3}{{}^n C_2}$ is

- A) 4
B) 3
C) 12
D) 6

$\left(\sqrt[13]{a} + \frac{1}{\sqrt{a^{-1}}}\right)^n$ என்ற விரிவாக்கத்தில் இரண்டாம் உறுப்பு $14a^{5/2}$ எனில் $\frac{{}^n C_3}{{}^n C_2}$ -ன் மதிப்பு

- A) 4
B) 3
C) 12
D) 6

45. The first integral term in the expansion of $(\sqrt{3} + \sqrt[3]{2})^9$ is its

- A) 2nd term
B) 3rd term
C) 4th term
D) 5th term

$(\sqrt{3} + \sqrt[3]{2})^9$ என்ற விரிவாக்கத்தில் முதல் முழு எண் உறுப்பு

- A) 2 ஆம் உறுப்பு
B) 3 ஆம் உறுப்பு
C) 4 ஆம் உறுப்பு
D) 5 ஆம் உறுப்பு

YouTube/ Akwa Academy