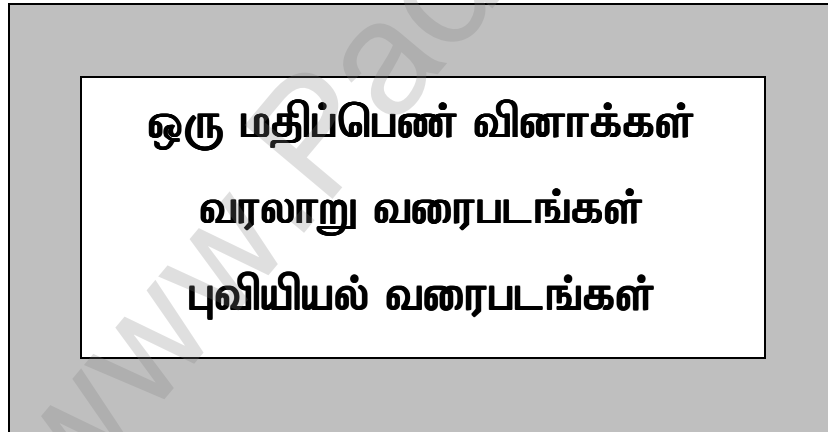


சமூக அறிவியல்

பயிற்சி ஏடு



வெளியீடு மற்றும் விற்பனை :



பொருளடக்கம்

10 ஆம் வகுப்பு - சமூக அறிவியல்		
ஒரு மதிப்பெண் வினாக்கள்		
1.	வரலாறு - ஒரு மதிப்பெண் வினாக்கள்	3
2.	புவியியல் - ஒரு மதிப்பெண் வினாக்கள்	17
3.	குடிமையியல் - ஒரு மதிப்பெண் வினாக்கள்	25
4.	பொருளியல் - ஒரு மதிப்பெண் வினாக்கள்	33
5	மாதிரி வினாத்தாள் - மே, 2022	38
வரைபடங்கள்		
1.	வரலாறு - உலக வரைபடம்	41
2.	வரலாறு - இந்தியா வரைபடம்	44
3.	புவியியல் - இந்தியா வரைபடம்	47
4.	புவியியல் - தமிழ்நாடு வரைபடம்	67

வரலாறு

1. முதல் உலகப்போரின் வெடிப்பும் அதன் பின் விளைவுகளும்

I. சரியான விடையைத் தேர்வு செய்யவும் :

1. முதல் உலகப் போரின் இறுதியில் நிலைகுலைந்து போன மூன்று பெரும் பேரரசுகள் யாவை?
 - அ) ஜெர்மனி, ஆஸ்திரிய - ஹங்கேரி, உதுமானியர்
 - ஆ) ஜெர்மனி, ஆஸ்திரிய - ஹங்கேரி, ரஷ்யா
 - இ) ஸ்பெயின், போர்ச்சுகல், இத்தாலி
 - ஈ) ஜெர்மனி, ஆஸ்திரிய - ஹங்கேரி, இத்தாலி
2. பத்தொன்பதாம் நூற்றாண்டு முடிவடையும் தருவாயில் கிழக்கு ஆசியாவில் உதயமான வலிமை வாய்ந்த நாடு எது?
 - அ) சீனா ஆ) ஜப்பான் இ) கொரியா ஈ) மங்கோலியா
3. "ஏகாதிபத்தியம் முதலாளித்துவத்தின் உச்சகட்டம்" எனக் கூறியவர் யார்?
 - அ) லெனின் ஆ) மார்க்ஸ் இ) சன் யாட் சென் ஈ) மா சே துங்
4. மார்ன் போர் எதற்காக நினைவு கூறப்படுகிறது?
 - அ) ஆகாயப் போர்முறை ஆ) பதுங்குக்குழிப் போர்முறை
 - இ) நீர்மூழ்கிக் கப்பல் போர்முறை ஈ) கடற்படைப் போர்முறை
5. பன்னாட்டுச் சங்கத்தின் முதல் பொதுச்செயலர் எந்த நாட்டைச் சேர்ந்தவர்?
 - அ) பிரிட்டன் ஆ) பிரான்ஸ் இ) டச்சு ஈ) அமெரிக்க ஐக்கிய நாடுகள்
6. பின்லாந்தை தாக்கியதற்காக பன்னாட்டு சங்கத்தில் இருந்து வெளியேற்றப்பட்ட நாடு எது?
 - அ) ஜெர்மனி ஆ) ரஷ்யா இ) இத்தாலி ஈ) பிரான்ஸ்

II. கோடிட்ட இடங்களை நிரப்புக :

1. _____ ஆம் ஆண்டில் ஜப்பான் சீனாவுடன் வலுக்கட்டாயமாகப் போரிட்டது.
2. 1913 ஆம் ஆண்டு மே மாதம் கையெழுத்திடப்பட்ட _____ உடன்படிக்கையின்படி அல்பேனியா எனும் புதியநாடு உருவாக்கப்பட்டது.
3. _____ ஆண்டில் ஜப்பான் இங்கிலாந்துடன் நட்பினை ஒப்பந்தம் செய்து கொண்டது.
4. பால்கனில் _____ நாடு பல்வகை இனமக்களைக் கொண்டிருந்தது.
5. டானென்பர்க் போரில் _____ பேரிழப்புகளுக்கு உள்ளானது.
6. பாரிஸ் அமைதி மாநாட்டில் பிரதிநிதியாகப் பங்கேற்ற பிரான்சின் பிரதமர் _____
7. _____ ஆண்டில் லொக்கர்னோ உடன்படிக்கை கையெழுத்திடப்பட்டது.

III. சரியான கூற்றைத் தேர்வு செய்யவும் :

1. (i) துருக்கியப் பேரரசு, பால்கனில் துருக்கியரல்லாத பல இனமக்களை கொண்டிருந்தது.
 (ii) துருக்கி மையநாடுகள் பக்கம் நின்று போரிட்டது.
 (iii) பிரிட்டன் துருக்கியைத் தாக்கி கான்ஸ்டாண்டி நோபினைக் கைப்பற்றியது.
 (iv) சூயஸ் கால்வாயைத் தாக்க துருக்கி மேற்கொண்ட முயற்சி முறியடிக்கப்பட்டது.
 அ) i), ii) ஆகியன சரி ஆ) i), iii) ஆகியன சரி இ) iv) சரி ஈ) i), ii), iv) ஆகியன சரி
2. கூற்று : ஜெர்மனியும் அமெரிக்காவும் மலிவான தொழிற்சாலை பொருட்களை உற்பத்தி செய்து இங்கிலாந்தின் சந்தையைக் கைப்பற்றின.
 காரணம் : இருநாடுகளும் தங்கள் தொழிற்சாலைகளுக்கு தேவையான மூலப்பொருட்களை உற்பத்தி செய்தன.

- அ) கூற்று, காரணம் ஆகிய இரண்டும் சரி.
ஆ) கூற்று சரி, ஆனால் காரணம் கூற்றுக்கான விளக்கம் அல்ல.
இ) கூற்று, காரணம் ஆகிய இரண்டும் தவறு.
ஈ) காரணம் சரி, ஆனால் கூற்று தவறு.

3. கூற்று : ஆப்பிரிக்காவில் குடியேற்றங்களை ஏற்படுத்துவதற்காக ஐரோப்பிய நாடுகள் மேற்கொண்ட முதற்கட்ட முயற்சிகள் ரத்தக் களரியான போர்களில் முடிந்தன.
காரணம் : சொந்த நாட்டு மக்களிடமிருந்து கடுமையான எதிர்ப்பு இருந்தது.
அ) காரணம், கூற்று ஆகிய இரண்டும் சரி
ஆ) கூற்று சரி, ஆனால் காரணம் கூற்றுக்கான விளக்கம் அல்ல.
இ) கூற்று, காரணம் இரண்டுமே தவறு.
ஈ) காரணம் சரி, ஆனால் கூற்று தவறு.

IV. பொருத்துக :

- | | |
|-------------------------------------|-------------------------|
| 1. பிரெஸ்ட் - லிடோவஸ்க் உடன்படிக்கை | - வெர்செய்ல்ஸ் |
| 2. ஜிங்கோயிசம் | - துருக்கி |
| 3. கமால் பாட்சா | - ரஷ்யாவும் ஜெர்மனியும் |
| 4. எம்டன் | - இங்கிலாந்து |
| 5. கண்ணாடி மாலிகை | - சென்னை |

2. இரு உலகப் போர்களுக்கு இடையில் உலகம்

I. சரியான விடையைத் தேர்வு செய்யவும் :

1. இத்தாலி யாருடன் லேட்டரன் உடன்படிக்கையைச் செய்து கொண்டது?
அ) ஜெர்மனி ஆ) ரஷ்யா இ) போப் ஈ) ஸ்பெயின்
2. யாருடைய ஆக்கிரமிப்போடு மெக்சிகோ நாகரிகம் நிலைகுலைந்து போயிற்று?
அ) ஹெர்மன் கோர்ட்டஸ் ஆ) பிரான்சிஸ்கோ பிசாரோ
இ) தெளசெயின்ட் லாவெர்ட்யூர் ஈ) முதலாம் பெட்ரோ
3. பெரு நாட்டை யார் தங்களுடைய பகுதிகளில் ஒன்றாக ஆக்கிக் கொண்டனர்?
அ) ஆங்கிலேயர் ஆ) ஸ்பானியர் இ) ரஷ்யர் ஈ) பிரெஞ்சுக்காரர்
4. லத்தீன் அமெரிக்காவுடன் "அண்டை நாட்டுடன் நட்புறவு" எனும் கொள்கையைக் கடைப்பிடித்த அமெரிக்க குடியரசுத் தலைவர் யார்?
அ) ரூஸ்வெல்ட் ஆ) ட்ரூமன் இ) உட்ரோவில்சன் ஈ) ஐசனோவர்
5. உலகத்தின் எந்த பகுதி டாலர் அரசியல் ஏகாதிபத்தியத்தை விரும்பவில்லை?
அ) ஐரோப்பா ஆ) லத்தீன் அமெரிக்கா இ) இந்தியா ஈ) சீனா

II. கோடிட்ட இடங்களை நிரப்புக :

- சமூக ஜனநாயகக் கட்சியை நிறுவியவர் _____
- நாசிசக் கட்சியின் பிரச்சாரங்களுக்குத் தலைமையேற்றவர் _____
- வியட்நாம் தேசியவாதிகள் கட்சி _____ இல் நிறுவப்பட்டது.
- நாசிச ஜெர்மனியின் ரகசியக் காவல்படை _____ என அழைக்கப்பட்டது.
- தென்னாப்பிரிக்க ஒன்றியம் _____ ஆம் ஆண்டு மேமாதம் உருவானது.
- ஆப்ரிக்க தேசிய காங்கிரஸ் தலைவரான நெல்சன் மண்டேலா _____ ஆண்டுகள் சிறையில் அடைக்கப்பட்டு இருந்தார்.
- போயர்கள் _____ என்றும் அழைக்கப்பட்டனர்.

III. சரியான கூற்றைத் தேர்வு செய்யவும் :

- முதல் உலகப்போரின் போது ஆஸ்திரியாவை தெற்கு முனைப் போரில் தொடர்ந்து முனைப்புடன் ஈடுபட வைப்பதே இத்தாலியின் முக்கியக் கடமையாக இருந்தது.
 - இத்தாலியைக் காட்டிலும் நீண்ட காலங் கழித்தே ஜெர்மனி பாசிசத்தை கைக்கொண்டது.
 - அமெரிக்காவில் மிகப்பெரும் பங்குச் சந்தை வீழ்ச்சி 1929 ஆம் ஆண்டு அக்டோபர் மாதம் 24 ஆம் நாளில் ஏற்பட்டது.
 - ஆப்பிரிக்க தேசிய காங்கிரசின் மீதான தடை 1966 இல் விலக்கிக் கொள்ளப்பட்டது.

அ) i), ii) ஆகியவை சரி ஆ) iii) சரி இ) iii), iv) ஆகியவை சரி ஈ) i), ii), iii) ஆகியவை சரி
- கூற்று : தற்காப்புப் பொருளாதாரக் கொள்கையை முன்னிறுத்தியப் பொருளாதார தேசியம் எனும் புதிய அலையால் உலக வணிகம் பாதிக்கப்பட்டது.

காரணம் : அமெரிக்கா, கடன்பட்ட நாடுகளுக்குப் பொருளாதார உதவி செய்ய விருப்பமில்லாமல் இருந்ததனால் இந்நிலை உண்டானது.

அ) கூற்று, காரணம் இரண்டுமே சரி.

ஆ) கூற்று சரி, ஆனால் காரணம் கூற்றுக்கான சரியான விளக்கமல்ல.

இ) கூற்று, காரணம் ஆகிய இரண்டுமே தவறு.

ஈ) காரணம் சரி ஆனால் கூற்றுக்குப் பொருந்தவில்லை.
- கூற்று : 1884 - 85 இல் நடைபெற்ற பெர்லின் காலனிய மாநாடு காலனியாதிக்க சக்திகள் ஆப்பிரிக்காவை தங்களின் செல்வாக்கு மண்டலங்களாகப் பிரித்துக் கொள்ளலாம் எனத் தீர்மானித்தது.

காரணம் : ஆங்கிலேயருக்கும், போயர்களுக்கும் தென்னாப்பிரிக்காவில் நடைபெற்ற போர் இத்தீர்மானத்திற்கு எதிர்ப்பானதாகும்.

அ) கூற்று, காரணம் இரண்டுமே சரி.

ஆ) கூற்று சரி, ஆனால் காரணம் சரியான விளக்கமல்ல.

இ) கூற்று காரணம் ஆகிய இரண்டுமே தவறு.

ஈ) கூற்று தவறு ஆனால் காரணம் கூற்றுடன் பொருந்தவில்லை.

IV. பொருத்துக :

- டிரான்ஸ்வால் - ஜெர்மனி
- டோக்கிங் - ஹிட்லர்
- ஹின்டன்பர்க் - இத்தாலி
- மூன்றாம் ரெய்க் - தங்கம்
- மாட்டியோட்டி - கொரில்லா நடவடிக்கைகள்

3. இரண்டாம் உலகப் போர்

I. சரியான விடையைத் தேர்வு செய்யவும் :

- ஐப்பான் சரணடைவதாக எப்போது முறைப்படி கையெழுத்திட்டது?

அ) செப்டம்பர் 2, 1945 ஆ) அக்டோபர் 2, 1945 இ) ஆகஸ்டு 15, 1945 ஈ) அக்டோபர் 12, 1945
- பன்னாட்டுச் சங்கம் உருவாக்கப்படுவதில் முன்முயற்சி எடுத்தவர் யார்?

அ) ரூஸ்வெல்ட் ஆ) சேம்பெர்லின் இ) உட்ரோ வில்சன் ஈ) பால்டுவின்
- ஐப்பானியக் கப்பற்படை அமெரிக்க கப்பற்படையால் எங்கே தோற்கடிக்கப்பட்டது?

அ) க்வால்கெனால போர் ஆ) மிட்வே போர்

இ) லெனின்கிரேடு போர் ஈ) எல் அலாமெய்ன் போர்

4. அமெரிக்கா தனது முதல் அணுகுண்டை எங்கே வீசியது?
அ) கவாசாகி ஆ) இன்னோசிமா இ) ஹிரோஷிமா ஈ) நாகசாகி
5. ஹிட்லர் எவரை மிகவும் கொடுமைப்படுத்தினார்?
அ) ரஷ்யர்கள் ஆ) அரேபியர்கள் இ) துருக்கியர்கள் ஈ) யூதர்கள்
6. ஜெர்மனியோடு மியூனிச் உடன்படிக்கையில் கையெழுத்திட்ட பிரிட்டன் பிரதமர் யார்?
அ) சேம்பர்லின் ஆ) வின்ஸ்டன் சர்ச்சில் இ) லாயிட் ஜார்ஜ் ஈ) ஸ்டேன்லி பால்டுவின்
7. எப்போது ஐக்கிய நாடுகள் சபையின் பட்டய சாசனம் கையெழுத்தானது?
அ) ஜூன் 26, 1942 ஆ) ஜூன் 26, 1945 இ) ஜனவரி 1, 1942 ஈ) ஜனவரி 1, 1945

II. கோடிட்ட இடங்களை நிரப்புக :

1. இராணுவ நீக்கம் செய்யப்பட்ட _____ பகுதியை ஹிட்லர் தாக்கினார்.
2. இத்தாலி, ஜெர்மனி, ஐப்பான் ஆகியவற்றிற்கு இடையேயான ஒப்பந்தம் _____ என அழைக்கப்பட்டது.
3. _____ கடன் குத்தகைத் திட்டத்தைத் தொடக்கி வைத்தார்.
4. 1940 இல் ராஜினாமா செய்த பிரிட்டன் பிரதமர் _____ ஆவார்.
5. _____ என்பது தொலைவில் இருந்தே எதிரிகளின் போர் விமானங்களைக் கண்டுபிடிப்பதற்கான ஒரு கருவி.

III. பொருத்துக :

- | | | |
|--------------------|---|------------------------|
| 1. பிளிட்ஸ்கிரிக் | - | ரூஸ்வெல்ட் |
| 2. ராயல் கப்பற்படை | - | ஸ்டாலின் கிரேடு |
| 3. கடன் குத்தகை | - | சாலமோன் தீவு |
| 4. வோல்கா | - | பிரிட்டன் |
| 5. க்வாடல்கெனால | - | மின்னல்வேகத் தாக்குதல் |

IV. சரியான கூற்றைத் தேர்வு செய்யவும் :

1. கூற்று : குடியரசுத் தலைவர் ரூஸ்வெல்ட் அமெரிக்கா தனது தனித்திருக்கும் கொள்கையை மாற்றியமைக்க வேண்டும் என்பதை உணர்ந்தார்.
காரணம் : அவர் 1941 இல் கடன் குத்தகைத் திட்டத்தை தொடங்கினார்.
அ) கூற்றும் காரணமும் சரி.
ஆ) கூற்று சரி ஆனால் காரணம் தவறு.
இ) காரணம் கூற்று ஆகிய இரண்டுமே தவறானவை.
ஈ) காரணம் சரி ஆனால் அது கூற்றுடன் பொருந்தவில்லை.

4. இரண்டாம் உலகப் போருக்குப் பிந்தைய உலகம்

I. சரியான விடையைத் தேர்வு செய்யவும் :

1. எந்த அமெரிக்கக் குடியரசுத் தலைவர் பொதுவுடைமை கொள்கையை கட்டுக்குள் அடக்க ஒரு கொள்கை வரைவை முன்வைத்தார்?
அ) உட்ரோவில்சன் ஆ) ட்ரூமென்
இ) தியோடர் ரூஸ்வெல்ட் ஈ) பிராங்க்லின் ரூஸ்வெல்ட்
2. சீனாவில் மக்கள் அரசியல் கலந்தாய்வு மாநாடு எப்போது நடைபெற்றது?
அ) செப்டம்பர் 1959 ஆ) செப்டம்பர் 1949 இ) செப்டம்பர் 1954 ஈ) செப்டம்பர் 1944
3. அமெரிக்க ஐக்கிய நாடும் அதன் ஐரோப்பிய நேச நாடுகளும் சேர்ந்து சோவியத் நாட்டின் ஆக்கிரமிப்பைத் தவிர்க்க ஏற்படுத்திய அமைப்பின் பெயர் ஆகும்.
அ) சீட்டோ ஆ) நேட்டோ இ) சென்டோ ஈ) வார்சா ஒப்பந்தம்

4. பாலஸ்தீன விடுதலை இயக்கத்தின் செயற்குழுவிற்கு 1969 இல் தலைவராக பதவியேற்றவர் யார்?
அ) ஹபீஸ் அல் - ஆஸாத் ஆ) யாசர் அராபத் இ) நாசர் ஈ) சதாம் உசேன்
5. வடக்கு மற்றும் தெற்கு வியட்நாம் எந்த ஆண்டு ஒன்று சேர்க்கப்பட்டது?
அ) 1975 ஆ) 1976 இ) 1973 ஈ) 1974
6. எந்த ஆண்டு வார்சா ஒப்பந்தம் கலைக்கப்பட்டது?
அ) 1979 ஆ) 1989 இ) 1990 ஈ) 1991

II. கோடிட்ட இடங்களை நிரப்புக :

1. நவீன சீனாவின் தந்தை என்று அழைக்கப்படுபவர் _____
2. 1918 இல் _____ பல்கலைக் கழகத்தில் மார்க்ஸியக் கோட்பாட்டை அறியும் அமைப்பு நிறுவப்பட்டது.
3. டாக்டர் சன் யாட் சென்னின் மறைவுக்கு பின்னர் கோமிங்டாங் கட்சியின் தலைவராக இருந்தவர் _____
4. அமைதியையும் பாதுகாப்பையும் விரும்பிய அரபு நாடுகளுக்கு திறந்தே இருந்த ஒப்பந்தம் _____
5. துருக்கிய அரபுப் பேரரசை ஏற்படுத்தும் நோக்கைக் கொண்டிருந்த ஒப்பந்தம் _____ ஆகும்.
6. ஜெர்மனி நேட்டோவில் _____ ஆம் ஆண்டு இணைந்தது.
7. ஐரோப்பியக் குழுமத்தின் தலைமையகம் _____ நகரில் அமைந்துள்ளது.
8. ஐரோப்பிய இணைவை உறுதி செய்ய 7 பிப்ரவரி 1992 இல் கையெழுத்திடப்பட்ட ஒப்பந்தம் _____

III. சரியான வாக்கியம் / வாக்கியங்களைத் தெரிவு செய்க :

1. (i) கற்றறிந்த சிறுபான்மையினரின் தாக்கத்தில் சீனாவின் (1898) இளம் பேரரசர் துவக்கிய சீர்திருத்தங்கள் நூறு நாள் சீர்திருத்தம் என்று அறிப்படுகிறது.
(ii) கோமிங்டாங் கட்சி தொழிலாளர்களையும் விவசாயிகளையும் பிரதிநிதித்துவப்படுத்தியது.
(iii) மஞ்சூரியா மீதும் ஜாண்டுங் மீதும் ஜப்பான் பொருளாதாரக் கட்டுப்பாட்டை விதிக்க யுவான் ஷி - கே உடன்பட்டதால் தேசியவாதிகள் பார்வையில் அவர் செல்வாக்கு இழந்தார்.
(iv) சோவியத் நாடு இருபது ஆண்டு காலத்திற்கும் மேலாக சீன மக்கள் குடியரசை அங்கீகரிக்க மறுத்தது.
அ) i) மற்றும் ii) சரி ஆ) ii) மற்றும் iii) சரி இ) i) மற்றும் iii) சரி ஈ) i) மற்றும் iv) சரி
2. (i) கிழக்கு ஐரோப்பாவில் 1948 இல் சோவியத் நாடு நிறுவிய இடதுசாரி அரசுகளை சோவியத் இராணுவம் விடுதலை செய்தது.
(ii) வடக்கு அட்லாண்டிக் பகுதியில் அமைதியையும் பாதுகாப்பையும் உறுதி செய்யவே நேட்டோ உருவாக்கப்பட்டது.
(iii) சீட்டோவின் உறுப்பு நாடுகள் அப்பகுதியில் மக்களாட்சி பரவுவதைத் தடுக்கும் நோக்கோடு செயல்பட்டார்கள்.
(iv) ஜப்பானுக்கு எதிராக பிரிட்டன் அணுகுண்டைப் பயன்படுத்தியதின் மூலம் அது ரஷ்யாவுக்கு தன்னுடைய அழிக்கும் திறனை எடுத்துக்காட்ட விரும்பியது.
அ) i), iii) மற்றும் iv) சரி ஆ) i) மற்றும் ii) சரி
இ) iii) மற்றும் iv) சரி ஈ) i), ii) மற்றும் iii) சரி
3. கூற்று : அமெரிக்காவின் மார்க்ஸ் திட்டம் போரில் பாதிக்கப்பட்ட ஐரோப்பிய நாடுகளின் மறுநிர்மாணத்திற்காக முன்வைக்கப்பட்டது.
காரணம் : அமெரிக்க நாடு அத்திட்டத்தின் மூலம் மேற்கு ஐரோப்பிய நாடுகளைத் தன் செல்வாக்கின் கீழ் கொண்டுவர நினைத்தது.
அ) கூற்று காரணம் இரண்டுமே சரி. ஆனால் காரணம் கூற்றிற்கான சரியான விளக்கமல்ல.
ஆ) கூற்றும் காரணமும் தவறானவை.
இ) கூற்றும் காரணமும் சரி. காரணம் கூற்றைச் சரியாக விளக்குகிறது.
ஈ) கூற்று தவறு ஆனால் காரணம் சரி.

IV. பொருத்துக :

1. டாக்டர் சன் யாட் சென் - தெற்கு வியட்நாம்
2. சிங்மென் ஈ - கோமிங்டாங்
3. அன்வர் சாதத் - கொரியா
4. ஹோ சி மின் - எகிப்து
5. நிகோ டின் டியம் - வடக்கு வியட்நாம்

5. 19 ஆம் நூற்றாண்டில் சமூக, சமய சீர்திருத்த இயக்கங்கள்

I. சரியான விடையைத் தேர்வு செய்யவும் :

1. எந்த ஆண்டில் உடன்கட்டை ஏறுதல் (சதி) ஒழிக்கப்பட்டது?
அ) 1827 ஆ) 1829 இ) 1826 ஈ) 1927
2. தயானந்த சரஸ்வதியால் நிறுவப்பெற்ற சமாஜத்தின் பெயர் யாது?
அ) ஆரிய சமாஜம் ஆ) பிரம்ம சமாஜம் இ) பிரார்த்தனை சமாஜம் ஈ) ஆதிபிரம்ம சமாஜம்
3. யாருடைய பணியும் இயக்கமும், 1856 ஆம் ஆண்டு விதவை மறுமண சீர்திருத்தச் சட்டம் இயற்றப் படுவதற்கு வழிகோலியது?
அ) ஈஸ்வர் சந்திர வித்யாசாகர் ஆ) இராஜா ராம்மோகன் ராய்
இ) அன்னிபெசன்ட் ஈ) ஜோதிபா பூலே
4. "ராஸ்ட் கோப்தார்" யாருடைய முழுக்கம்?
அ) பார்சி இயக்கம் ஆ) அலிகார் இயக்கம்
இ) இராமகிருஷ்ணர் ஈ) திராவிட மகாஜன சபை
5. நாம்தாரி இயக்கத்தை உருவாக்கியவர் யார்?
அ) பாபா தயாள் தாஸ் ஆ) பாபா ராம்சிங் இ) குருநானக் ஈ) ஜோதிபா பூலே
6. விதவை மறுமணச் சங்கத்தை ஏற்படுத்தியவர் யார்?
அ) M.G. ரானடே ஆ) தேவேந்திரநாத் தாகூர் இ) ஜோதிபா பூலே ஈ) அய்யன்காளி
7. சத்யார்த்த பிரகாஷ் எனும் நூலின் ஆசிரியர் யார்?
அ) தயானந்த சரஸ்வதி ஆ) அயோத்தி தாசர்
இ) அன்னிபெசன்ட் ஈ) சுவாமி சாரதாநந்தா

II. கோடிட்ட இடங்களை நிரப்புக :

1. _____ சமரச வேத சன்மார்க்க சங்கத்தை நிறுவினார்.
2. புனே சர்வஜனிக் சபாவை நிறுவியவர் _____
3. குலாங்கிரி நூலை எழுதியவர் _____
4. ராமகிருஷ்ணா மிஷன் _____ ஆல் நிறுவப்பட்டது.
5. _____ அகாலி இயக்கத்தின் முன்னோடியாகும்.
6. ஒரு பைசா தமிழன் பத்திரிகையை துவக்கியவர் _____ ஆவார்.

III. சரியான வாக்கியம் / வாக்கியங்களைத் தெரிவு செய்க :

1. (i) இராஜா ராம்மோகன் ராய் ஒரு கடவுள் கோட்பாட்டை போதித்தார்.
(ii) அவர் உருவ வழிபாட்டை ஆதரித்தார்.
(iii) சமூகத் தீமைகளை கண்டனம் செய்வதை எதிர்த்து அவர் சிற்றேடுகளை வெளியிட்டார்.
(iv) இராஜா ராம்மோகன் ராய் கவர்னர் வில்லியம் பெண்டிங்கால் ஆதரிக்கப்பட்டார்.
அ) i) சரி ஆ) i), ii) ஆகியன சரி இ) i), ii), iii) ஆகியன சரி ஈ) i), iii) ஆகியன சரி

2. (i) பிரார்த்தனை சமூகம் டாக்டர் ஆத்மாராம் பாண்டிரங்கால் நிறுவப்பெற்றது.
(ii) இந்த சமூகம் அனைத்து சாதியினரும் பங்கேற்கும் சமபந்திகளையும் சாதிக்கலப்புத் திருமணங்களையும் ஊக்குவித்தது.
(iii) ஜோதிபா பூலே ஆண்களின் மேம்பாட்டிற்காகப் பணியாற்றினார்.
(iv) பிரார்த்தனை சமூகம் பஞ்சாபைப் பிறப்பிடமாகக் கொண்டது.
அ) i) சரி ஆ) ii) சரி இ) i), ii) ஆகியன சரி ஈ) iii), iv) ஆகியன சரி
3. (i) இராமகிருஷ்ணா மிஷன் கல்வி, உடல் நலம், பேரிடர்களின் போது நிவாரணப் பணி செய்தல் போன்ற சமூகப் பணிகளில் செயலாக்கத்துடன் ஈடுபட்டது.
(ii) பேரின்ப நிலை எய்தும் பழக்கங்களின் மூலம் ஆன்ம ரீதியாக இறைவனோடு இணைவதை இராமகிருஷ்ணர் வலியுறுத்தினார்.
(iii) இராமகிருஷ்ணர் இராமகிருஷ்ணா மிஷனை ஏற்படுத்தினார்.
(iv) இராமகிருஷ்ணர் வங்கப் பிரிவினையை எதிர்த்தார்.
அ) i) சரி ஆ) i) மற்றும் ii) சரி இ) iii) சரி ஈ) i), iii) மற்றும் iv) சரி
4. கூற்று : ஜோதிபா பூலே ஆதரவற்றோருக்கான விடுதிகளையும், விதவைகளுக்கான விடுதிகளையும் திறந்தார்.
காரணம் : ஜோதிபா பூலே குழந்தைத் திருமணத்தை எதிர்த்தார். விதவை மறுமணத்தை ஆதரித்தார்.
அ) கூற்று சரி. ஆனால் காரணம் கூற்றுக்குப் பொருத்தமானதாக இல்லை.
ஆ) கூற்று சரி. காரணம் கூற்றுக்குப் பொருத்தமானதாக உள்ளது..
இ) இரண்டுமே தவறு.
ஈ) காரணம் சரி. ஆனால் கூற்று பொருத்தமற்றதாக உள்ளது.

IV. பொருத்துக :

- | | |
|------------------------------|------------------------------------|
| 1. ஒரு பைசா தமிழன் | - விதவை மறுமண சீர்திருத்தச் சட்டம் |
| 2. திருவருட்பா | - நிரங்கரி இயக்கம் |
| 3. பாபா தயாள்தாஸ் | - ஆதி பிரம்ம சமூகம் |
| 4. ஈஸ்வர் சந்திர வித்யாசாகர் | - பத்திரிக்கை |
| 5. தேவேந்திரநாத் | - ஜீவகாருண்யப் பாடல்கள் |

6. ஆங்கிலேய ஆட்சிக்கு எதிராக தமிழகத்தில் நிகழ்ந்த தொடக்க கால கிளர்ச்சிகள்

I. சரியான விடையைத் தேர்வு செய்யவும் :

1. கிழக்கிந்திய கம்பெனியின் நாடு பிடிக்கும் ஆசையை எதிர்த்து நின்ற முதல் பாளையக்காரர்.
அ) மருது சகோதரர்கள் ஆ) பூலித்தேவர்
இ) வேலுநாச்சியார் ஈ) வீரபாண்டிய கட்டபொம்மன்
2. சந்தா சாகிப்பின் மூன்று முகவர்களோடும் நெருங்கிய நட்பினை ஏற்படுத்திக் கொண்டவர்.
அ) வேலுநாச்சியார் ஆ) கட்டபொம்மன் இ) பூலித்தேவர் ஈ) ஊமைத்துரை
3. சிவசுப்ரமணியனார் எங்கு தூக்கிலிடப்பட்டார்?
அ) கயத்தாறு ஆ) நாகலாபுரம் இ) விருப்பாட்சி ஈ) பாஞ்சாலங்குறிச்சி
4. திருச்சிராப்பள்ளி சுதந்திரப் பிரகடனத்தை வெளியிட்டவர் யார்?
அ) மருது சகோதரர்கள் ஆ) பூலித்தேவர்
இ) வீரபாண்டிய கட்டபொம்மன் ஈ) கோபால நாயக்கர்

5. வேலூர் புரட்சி எப்போது வெடித்தது?

அ) 1805 மே 24 ஆ) 1805 ஜூலை 10 இ) 1806 ஜூலை 10 ஈ) 1806 செப்டம்பர் 10

6. வேலூர் கோட்டையில் புதிய இராணுவ விதிமுறைகளை அறிமுகப்படுத்த காரணமாய் இருந்த தலைமை தளபதி யார்?

அ) கர்னல் பேன்கோர்ட் ஆ) மேஜர் ஆர்ம்ஸ்ட்ராங்

இ) சர் ஜான் கிரடாக் ஈ) கர்னல் அக்னியூ

7. வேலூர் புரட்சிக்குப் பின் திப்பு சுல்தானின் மகன்கள் எங்கு அனுப்பப்பட்டார்கள்?

அ) கல்கத்தா ஆ) மும்பை இ) டெல்லி ஈ) மைசூர்

II. கோடிட்ட இடங்களை நிரப்புக :

1. பாளையக்காரர் முறை தமிழகத்தில் _____ என்பவரால் அறிமுகப்படுத்தப்பட்டது.
2. வேலுநாச்சியாரும் அவரது மகளும் எட்டு ஆண்டுகள் _____ பாதுகாப்பில் இருந்தனர்.
3. கட்டபொம்மனை சரணடையக் கோரும் தகவலை தெரிவிக்க பானெர்மென் _____ என்பவரை அனுப்பி வைத்தார்.
4. கட்டபொம்மன் _____ என்ற இடத்தில் தூக்கிலிடப்பட்டார்.
5. மருது சகோதரர்களின் புரட்சி பிரிட்டிஷ் குறிப்புகளில் _____ என்று வகைப்படுத்தப்பட்டு உள்ளது.
6. _____ என்பவர் புரட்சிக்காரர்களால் வேலூர் கோட்டையின் புதிய சுல்தானாக அறிவிக்கப்பட்டார்.

III. சரியான வாக்கியம் / வாக்கியங்களைத் தெரிவு செய்க :

1. (i) பாளையக்காரர் முறை காகதீயப் பேரரசின் நடைமுறையில் இருந்தது.
(ii) கான் சாகிப்பின் இறப்பிற்கு பின் பூலித்தேவர் நெற்கட்டும்செவலை 1764 இல் மீண்டும் கைப்பற்றினார்.
(iii) கம்பெனி நிர்வாகத்திற்கு தகவல் அளிக்காமல் பாளையக்காரர்களோடு பேச்சு வார்த்தையில் ஈடுபட்டதால் யூசுப் கான் துரோகி என்று குற்றம் சுமத்தப்பட்டு 1764 இல் தூக்கிலிடப்பட்டார்.
(iv) ஒண்டிவீரன் கட்டபொம்மனின் படைப் பிரிவுகளில் ஒன்றைத் தலைமையேற்று வழிநடத்தினார்.
அ) (i), (ii) மற்றும் (iv) ஆகியவை சரி ஆ) (i), (ii) மற்றும் (iii) ஆகியவை சரி
இ) (iii) மற்றும் (iv) மட்டும் சரி ஈ) (i) மற்றும் (iv) மட்டும் சரி
2. (i) கர்னல் கேம்பெல் தலைமையின் கீழ் ஆங்கிலேயப் படைகள் மாயூஸ்கானின் படைகளோடு இணைந்து சென்றன.
(ii) காளையார் கோவில் போரில் முத்துவடுகநாதர் கொல்லப்பட்ட பின் வேலுநாச்சியார் மீண்டும் அரியணையைப் பெறுவதற்கு மருது சகோதரர்கள் துணை புரிந்தனர்.
(iii) திண்டுக்கல் கூட்டமைப்புக்கு கோபால நாயக்கர் தலைமையேற்று வழிநடத்தினார்.
(iv) காரன்வாலிஸ் மே 1799 இல் கம்பெனிப் படைகளை திருநெல்வேலி நோக்கிச் செல்ல உத்தரவிட்டார்.
அ) (i) மற்றும் (ii) ஆகியவை சரி ஆ) (ii) மற்றும் (iii) ஆகியவை சரி
இ) (ii), (iii) மற்றும் (iv) ஆகியவை சரி ஈ) (i) மற்றும் (iv) ஆகியவை சரி
3. கூற்று : பூலித்தேவர், ஹைதர் அலி மற்றும் பிரெஞ்சுக்காரர்களின் உதவியைப் பெற முயன்றார்.
காரணம் : மராத்தியர்களோடு ஏற்கனவே தொடர் போர்களில் ஈடுபட்டுக் கொண்டு இருந்ததால் ஹைதர் அலியால் பூலித்தேவருக்கு உதவ முடியாமல் போனது.
அ) கூற்று மற்றும் காரணம் சரி எனினும் காரணம், கூற்றைச் சரியாக விளக்கவில்லை.
ஆ) கூற்று மற்றும் காரணம் ஆகிய இரண்டுமே தவறானவை.
இ) கூற்று மற்றும் காரணம் ஆகியவை சரி காரணம், கூற்றைச் சரியாகவே விளக்குகிறது.
ஈ) கூற்று தவறானது காரணம் சரியானது.

IV. பொருத்துக :

- | | |
|-----------------------|------------------|
| 1. தீர்த்தகிரி | - வேலூர் புரட்சி |
| 2. கோபால நாயக்கர் | - இராமலிங்கனார் |
| 3. பானொர்மென் | - திண்டுக்கல் |
| 4. சுபேதார் ஷேக் ஆதம் | - வேலூர் கோட்டை |
| 5. கர்னல் பேன்கோர்ட் | - ஓடாநிலை |

7. காலனியத்துக்கு எதிரான இயக்கங்களும் தேசியத்தின் தோற்றமும்

I. சரியான விடையைத் தேர்வு செய்யவும் :

- 1818 ஆம் ஆண்டு கிழக்கு வங்காளத்தில் ஹாஜி ஷரியத்துல்லா கீழ்க்கண்டவற்றில் எதனைத் தொடங்கினார்?

அ) வஹாபி கிளர்ச்சி	ஆ) ஃபராசி இயக்கம்
இ) பழங்குடியினர் எழுச்சி	ஈ) கோல் கிளர்ச்சி
- "நிலம் கடவுளுக்குச் சொந்தம்" என்று அறிவித்ததுடன் நிலத்தின் மீது வரிவிதிப்பதோ வாடகை வசூலிப்பதோ இறைச் சட்டத்திற்கு எதிரானது என்று கூறியவர் யார்?

அ) டிடு மீர்	ஆ) சித்து	இ) டிடு மியான்	ஈ) ஷரியத்துல்லா
--------------	-----------	----------------	-----------------
- நிரந்தரக் குடியிருப்பின் கீழ் ஜமீன்களை உருவாக்கும் திட்டத்தின்படி தங்கள் சொந்த நிலத்தைவிட்டு விரட்டப்பட்டவர்கள் யார்?

அ) சாந்தலர்கள்	ஆ) டிடு மீர்	இ) முண்டா	ஈ) கோல்
----------------	--------------	-----------	---------
- கீழ்க்காண்போரில் தீவிர தேசியவாதி யார்?

அ) தாதாபாய் நௌரோஜி	ஆ) நீதிபதி கோவிந்த் ரானடே
இ) பிபின் சந்திர பால்	ஈ) ரொமேஷ் சந்திரா
- வங்கப் பிரிவினை எந்த நாளில் நடைமுறைக்கு வந்தது?

அ) 1905 ஜூன் 19	ஆ) 1906 ஜூலை 18
இ) 1907 ஆகஸ்ட் 19	ஈ) 1905 அக்டோபர் 16
- சோட்டா நாக்பூர் குத்தகைச் சட்டம் எந்தப் பின்னணியில் நிறைவேற்றப்பட்டது?

அ) கோல் கிளர்ச்சி	ஆ) இண்டிகோ கிளர்ச்சி
இ) முண்டா கிளர்ச்சி	ஈ) தக்காண கலவரங்கள்
- 1916 ஆம் ஆண்டு ஏப்ரலில் தன்னாட்சி இயக்கத்தை முதலில் தொடங்கியவர் யார்?

அ) அன்னி பெசன்ட் அம்மையார்	ஆ) பிபின் சந்திர பால்
இ) லாலா லஜபதி ராய்	ஈ) திலகர்
- நீல் தர்பன் நாடகம் மூலமாக இண்டிகோ பயிரிடும் விவசாயிகளின் இன்னல்கள் குறித்து ஆங்கிலேயரின் கவனத்துக்கு கொண்டு சென்றவர் யார்?

அ) தீன் பந்து மித்ரா	ஆ) ரொமேஷ் சந்திர தத்
இ) தாதாபாய் நௌரோஜி	ஈ) பிரீசா முண்டா

II. கோடிட்ட இடங்களை நிரப்புக :

- மன்னராட்சிக்கும் நிலசுவான்தாரர்களுக்கும் எதிரான _____ இயக்கம் 1827 ஆம் ஆண்டு வாக்கில் தொடங்கப்பட்டது.
- சோட்டா நாக்பூர் பகுதியில் நடந்த மிகப்பெரிய பழங்குடியினர் கிளர்ச்சி _____
- _____ சட்டம் பழங்குடியினரல்லாத மக்களை பழங்குடி நிலத்தில் நுழைய தடை விதித்தது.
- சோட்டா நாக்பூர் சட்டம் நிறைவேற்றப்பட்ட ஆண்டு _____
- W.C. பானர்ஜி இந்திய தேசிய காங்கிரஸின் தலைவராகத் தேர்ந்தெடுக்கப்பட்ட ஆண்டு _____

III. சரியான வாக்கியம் / வாக்கியங்களைத் தெரிவு செய்க :

1. (v) மீர் ஜாபரிடம் இருந்து 2 கோடியே 25 லட்ச ரூபாயை வாங்கிய கிழக்கு இந்திய கம்பெனி அதனை பிரிட்டனில் தொழிற்புரட்சி மேம்பட முதலீடு செய்தது.
 (vi) 1831 - 1832 ஆம் ஆண்டு அரசு அதிகாரிகள் மற்றும் கடன் கொடுப்போருக்கு எதிரான கிளர்ச்சியைக் கோல் மக்கள் ஒருங்கிணைத்தனர்.
 (vii) 1855 ஆம் ஆண்டில் சாந்தலர் கிளர்ச்சிக்கு சித்து, கணு ஆகிய இரண்டு சாந்தலர் சகோதரர்கள் தலைமை ஏற்றனர்.
 (viii) 1879 ஆம் ஆண்டில் சாந்தலர்கள் வசம் இருந்த பகுதிகளை ஒழுங்குமுறைப்படுத்த ஒரு சட்டம் இயற்றப்பட்டது.
 அ) (i), (ii) மற்றும் (iii) சரியானவை ஆ) (ii) மற்றும் (iii) சரியானவை
 இ) (iii) மற்றும் (iv) சரியானவை ஈ) (i) மற்றும் (iv) சரியானவை
2. (i) காலனி ஆட்சி பற்றிய பொருளாதார விமர்சனத்தைச் செய்தது ஆரம்பகால இந்திய தேசியவாதிகளின் மிகமுக்கியமான பங்களிப்புகளில் ஒன்றாகும்.
 (ii) இந்தியாவில் வறுமை அதிகரிக்க சமய ரீதியிலான சுரண்டலே மிக முதன்மையான காரணம் என்று ஆரம்பகால காங்கிரஸ் தலைவர்கள் தெரிவித்தனர்.
 (iii) சுயராஜ்ஜியம் அல்லது தன்னாட்சியை எட்டுவதே மித தேசியவாத காங்கிரஸ் தலைவர்களின் குறிக்கோள்களில் ஒன்றாக இருந்தது.
 (iv) வாங்காளத்தின் ஆதிக்கத்தை குறைப்பதையும் தேசியவாத இயக்கத்தை வலுவிழக்கச் செய்வதையும் குறிக்கோளாகக் கொண்டு வங்கப் பிரிவினை நடந்தது.
 அ) (i) மற்றும் (iii) சரியானவை ஆ) (i), (iii) மற்றும் (iv) சரியானவை
 இ) (ii) மற்றும் (iii) சரியானவை ஈ) (iii) மற்றும் (iv) சரியானவை
3. கூற்று : இந்திய வரலாற்றில் முதன் முறையாக காலனி ஆட்சியின் கீழ் அரசு வனங்களின் மீது நேரடி தனியுரிமையைக் கோரியது.
 காரணம் : இண்டிகோ விவசாயம் செய்யுமாறு விவசாயிகளை நிர்ப்பந்திக்க தொழில் செய்வோர் மிரட்டல் மற்றும் வன்முறையைக் கையாண்டனர்.
 அ) கூற்று மற்றும் காரணம் இரண்டுமே சரி. ஆனால் காரணம் கூற்றுக்கான சரியான விளக்கம் இல்லை.
 ஆ) கூற்று மற்றும் காரணம் இரண்டுமே தவறு.
 இ) கூற்று மற்றும் காரணம் இரண்டுமே சரி, அத்துடன் காரணம் கூற்றுக்கான சரியான விளக்கமாகும்.
 ஈ) கூற்று தவறு காரணம் சரி.
4. கூற்று : பிரிட்டிஷ் அரசு 1857 ஆம் ஆண்டின் கிளர்ச்சியை இரும்புக்கரம் கொண்டு அடக்கியது.
 காரணம் : மையப்படுத்தப்பட்ட நிர்வாகம் இல்லாததால் கிளர்ச்சி தோல்வி கண்டது.
 அ) கூற்று மற்றும் காரணம் இரண்டுமே தவறு. ஆ) கூற்று தவறு காரணம் சரி.
 இ) கூற்று மற்றும் காரணம் இரண்டுமே சரி, அத்துடன் காரணம் கூற்றுக்கான சரியான விளக்கமாகும்.
 ஈ) கூற்று மற்றும் காரணம் இரண்டுமே சரி. ஆனால் காரணம் கூற்றுக்கான சரியான விளக்கம் இல்லை.

IV. பொருத்துக.

1. வஹாபி கிளர்ச்சி - லக்னோ
2. முண்டா கிளர்ச்சி - பேஷ்வா இரண்டாம் பாஜிராவ்
3. பேகம் ஹஸ்ரத் மகால் - டிடு மீர்
4. கன்வர் சிங் - ராஞ்சி
5. நானாசாகிப் - பீகார்

8. தேசியம் : காந்திய காலகட்டம்

I. சரியான விடையைத் தேர்வு செய்யவும் :

1. அமிர்தசரஸில் ரௌலட் சட்ட எதிர்ப்பு போராட்டங்களின் போது கைது செய்யப்பட்டவர் யார்?
அ) மோதிலால் நேரு ஆ) சைஃபுதீன் கிச்சு இ) முகம்மது அலி ஈ) ராஜ்குமார் சக்லா
2. இந்திய தேசிய காங்கிரஸின் எந்த அமர்வில் ஒத்துழையாமை இயக்கத்துக்கு அனுமதி வழங்கப்பட்டது?
அ) பம்பாய் ஆ) மதராஸ் இ) கல்கத்தா ஈ) நாக்பூர்
3. விடுதலை நாளாக கீழ்க்கண்டவற்றில் எந்த நாள் அறிவிக்கப்பட்டது?
அ) 1930 ஜனவரி 26 ஆ) 1929 டிசம்பர் 26 இ) 1946 ஜூன் 16 ஈ) 1947 ஜனவரி 15
4. முதலாவது வனங்கள் சட்டம் எந்த ஆண்டில் இயற்றப்பட்டது?
அ) 1858 ஆ) 1911 இ) 1865 ஈ) 1936
5. 1933 ஜனவரி 8 எந்த நாளாக அனுசரிக்கப்பட்டது?
அ) கோவில் நுழைவு நாள் ஆ) மீட்பு நாள் (டெலிவரன்ஸ் டே)
இ) நேரடி நடவடிக்கை நாள் ஈ) சுதந்திரப் பெருநாள்
6. மாகாண தன்னாட்சியை அறிமுகம் செய்த சட்டம் எது?
அ) 1858 ஆம் ஆண்டு சட்டம் ஆ) இந்திய கவுன்சில் சட்டம், 1909
இ) இந்திய அரசுச் சட்டம், 1919 ஈ) இந்திய அரசுச் சட்டம், 1935.

II. கோடிட்ட இடங்களை நிரப்புக :

1. காந்தியடிகளின் அரசியல் குரு _____ ஆவார்.
2. கிலாபத் இயக்கத்துக்கு _____ தலைமை ஏற்றார்.
3. 1919 ஆம் ஆண்டின் இந்திய அரசு சட்டம் மாகாணங்களில் _____ அறிமுகம் செய்தது.
4. வடமேற்கு எல்லை மாகாணத்தில் சட்டமறுப்பு இயக்கத்தை தலைமையேற்று நடத்தியவர் _____
5. சிறுபான்மையினர் மற்றும் ஒடுக்கப்பட்ட வகுப்பினருக்கு தனித் தொகுதிகளை வழங்கும் _____ ஐராம்சே மெக்டொனால்டு அறிவித்தார்.
6. _____ என்பவர் வெள்ளையனே வெளியேறு இயக்கத்தின் போது காங்கிரஸ் வானொலியை திரைமறைவாக செயல்படுத்தினார்.

III. சரியான வாக்கியம் / வாக்கியங்களைத் தெரிவு செய்க :

1. (i) இந்திய பொதுவுடைமை கட்சி 1920 ஆம் ஆண்டு தாஷ்கண்டில் தொடங்கப்பட்டது.
(ii) M. சிங்காரவேலர் கான்பூர் சதித்திட்ட வழக்கில் விசாரணைக்கு உட்படுத்தப்பட்டார்.
(iii) ஜெயப்பிரகாஷ் நாராயண், ஆச்சார்ய நரேந்திர தேவ், மினு மசானி ஆகியோர் தலைமையில் காங்கிரஸ் சமதர்ம கட்சி உருவானது.
(iv) வெள்ளையனே வெளியேறு போராட்டத்தில் சமதர்மவாதிகள் பங்கேற்கவில்லை.
அ) (i) மற்றும் (ii) சரியானது ஆ) (ii) மற்றும் (iii) சரியானது
இ) (iv) சரியானது ஈ) (i) (ii) மற்றும் (iii) சரியானது
2. கூற்று : காங்கிரஸ் முதலாவது வட்டமேசை மாநாட்டில் கலந்து கொண்டது.
காரணம் : காங்கிரஸ் இரண்டாவது வட்டமேசை மாநாட்டில் கலந்து கொள்ள காந்தி - இர்வின் ஒப்பந்தம் வழிசெய்தது.
அ) கூற்று மற்றும் காரணம் இரண்டும் சரியானது. ஆனால் காரணம் கூற்றுக்கான சரியான விளக்கம் இல்லை.
ஆ) கூற்று சரியானது ஆனால் காரணம் தவறானது.
இ) கூற்று தவறானது ஆனால் காரணம் சரியானது.
ஈ) கூற்று மற்றும் காரணம் இரண்டும் சரியானது மற்றும் காரணம் கூற்றுக்கான சரியான விளக்கம் ஆகும்.

3. கூற்று : காங்கிரஸ் அமைச்சரவைகள் 1939 ஆம் ஆண்டு பதவி விலகின.
காரணம் : காங்கிரஸ் அமைச்சரவைகளை ஆலோசிக்காமல் இந்தியாவின் காலனி ஆதிக்க அரசு போரில் பங்கேற்றது.
- அ) கூற்று மற்றும் காரணம் இரண்டும் சரியானது. ஆனால் காரணம் கூற்றுக்கான சரியான விளக்கம் இல்லை.
ஆ) கூற்று சரியானது ஆனால் காரணம் தவறானது.
இ) கூற்று மற்றும் காரணம் இரண்டுமே தவறானது.
ஈ) கூற்று மற்றும் காரணம் இரண்டும் சரியானது மற்றும் காரணம் கூற்றுக்கான சரியான விளக்கம் ஆகும்.

IV. பொருத்துக :

- | | |
|--|-----------------------------------|
| 1. ரௌலட் சட்டம் | - பட்டங்களைத் திரும்ப ஒப்படைத்தல் |
| 2. ஒத்துழையாமை இயக்கம் | - இரட்டை ஆட்சி |
| 3. 1919 ஆம் ஆண்டின் இந்திய அரசு சட்டம் | - M.N. ராய் |
| 4. இந்திய பொதுவுடைமை கட்சி | - நேரடி நடவடிக்கை நாள் |
| 5. 16 ஆகஸ்ட் 1946 | - கருப்புச் சட்டம் |

9. தமிழ்நாட்டில் விடுதலைப் போராட்டம்

I. சரியான விடையைத் தேர்வு செய்யவும் :

- சென்னை மகாஜன சபையின் முதல் தலைவர் யார்?
அ) T.M. நாயர் ஆ) P. ரங்கையா
இ) G. சுப்பிரமணியம் ஈ) G.A. நடேசன்
- இந்திய தேசிய காங்கிரசின் மூன்றாவது மாநாடு / அமர்வு எங்கே நடைபெற்றது?
அ) மெரினா ஆ) மைலாப்பூர்
இ) புனித ஜார்ஜ் கோட்டை ஈ) ஆயிரம் விளக்கு
- "அதிநவீன வசதிகளுடன் கூடிய ரயிலில் அடிமைகளாக இருப்பதைவிட சுதந்திரத்துடன் கூடிய மாட்டு வண்டியே சிறந்தது" எனக் கூறியவர் யார்?
அ) அன்னிபெசன்ட் ஆ) M. வீரராகவாச்சாரி
இ) B.P. வாடியா ஈ) G.S. அருண்டேல்
- கீழ்க்காண்பவர்களுள் சுயராஜ்ஜியவாதி யார்?
அ) S. சத்தியமூர்த்தி ஆ) கஸ்தூரி ரங்கர்
இ) P. சுப்பராயன் ஈ) பெரியார் ஈ. வெ.ரா
- சென்னைக்கு அருகேயுள்ள உதயவனத்தில் சத்யாகிரக முகாமை அமைத்தவர் யார்?
அ) K. காமராஜ் ஆ) C. ராஜாஜி இ) K. சந்தானம் ஈ) T. பிரகாசம்
- இந்தி எதிர்ப்பு மாநாடு எங்கே நடத்தப்பெற்றது?
அ) ஈரோடு ஆ) சென்னை இ) சேலம் ஈ) மதுரை

II. கோடிட்ட இடங்களை நிரப்புக :

- சென்னை உயர்நீதிமன்றத்தில் பணியமர்த்தப்பட்ட முதல் இந்திய நீதிபதி _____ ஆவார்.
- _____ எனும் ரகசிய அமைப்பை நீலகண்ட பிரம்மச்சாரி தொடங்கினார்.
- சென்னையில் தொழிற்சங்கங்களைத் தொடங்குவதில் முன்னோடியாகத் திகழ்ந்தவர் _____ ஆவார்.
- சென்னையில் முதலாவது காங்கிரஸ் அமைச்சரவையை அமைத்தவர் _____

5. _____ முஸ்லிம் லீக்கின் சென்னைக் கிளையை உருவாக்கியவர் ஆவார்.
6. 1932 ஜனவரி 26 இல் _____ புனித ஜார்ஜ் கோட்டையின் உச்சியில் தேசிய கொடியை ஏற்றினார்.

III. சரியான வாக்கியம் / வாக்கியங்களைத் தெரிவு செய்க :

1. (i) சென்னைவாசிகள் சங்கம் 1852 இல் நிறுவப்பட்டது.
(ii) தமிழில் வெளிவந்த தேசிய பருவ இதழான சுதேசமித்திரன் 1891 இல் தொடங்கப்பட்டது.
(iii) குடிமைப் பணித் தேர்வுகள் இந்தியாவில் மட்டுமே நடத்தப்பட வேண்டுமென சென்னை மகாஜன சபை கோரியது.
(iv) V.S. சீனிவாசனார் ஒரு தீவிர தேசியவாதியாவார்.
அ) (i) மற்றும் (ii) ஆகியவை சரி ஆ) (iii) மட்டும் சரி
இ) (iv) மட்டும் சரி ஈ) அனைத்தும் சரி
2. (i) ஒத்துழையாமை இயக்கத்தில் பெரியார் பங்கேற்கவில்லை.
(ii) முஸ்லிம் லீக்கைச் சேர்ந்த யாகூப் ஹசனூடன் ராஜாஜி நெருக்கமாகப் பணியாற்றினார்.
(iii) ஒத்துழையாமை இயக்கத்தில் தொழிலாளர்கள் கலந்து கொள்ளவில்லை.
(iv) தமிழ்நாட்டில் கள்ளுக் கடைகளுக்கு முன்பாக மறியல் செய்யப்படவில்லை.
அ) (i) மற்றும் (ii) ஆகியவை சரி ஆ) (i) மற்றும் (iii) ஆகியவை சரி
இ) (ii) மட்டும் சரி ஈ) (i), (iii) மற்றும் (iv) ஆகியவை சரி

IV. பொருத்துக :

1. சென்னைவாசிகள் சங்கம் - இந்தி எதிர்ப்புப் போராட்டம்
2. ஈ.வெ.ரா. - நீல் சிலையை அகற்றுதல்
3. S.N. சோமையாஜாலு - உப்பு சத்தியாகிரகம்
4. வேதாரண்யம் - சித்திரவதை ஆணையம்
5. தாளமுத்து - வைக்கம் வீரர்

10. தமிழ்நாட்டில் சமூக மாற்றங்கள்

I. சரியான விடையைத் தேர்வு செய்யவும் :

1. 1709 இல் தரங்கம்பாடியில் _____ ஒரு முழுமையான அச்சகத்தை நிறுவினார்.
அ) கால்டுவெல் ஆ) F.W. எல்லிஸ் இ) சீகன்பால்கு ஈ) மீனாட்சி சுந்தரனார்
2. 1893 இல் ஆதி திராவிட மகாஜன சபையை _____ நிறுவினார்.
அ) இரட்டைமலை சீனிவாசன் ஆ) B.R. அம்பேத்கார்
இ) ராஜாஜி ஈ) எம்.சி. ராஜா
3. இந்தியாவின் நன்கு ஒழுங்கமைக்கப்பட்ட தொழிற்சங்கம் _____ இல் உருவாக்கப்பட்டது.
அ) 1918 ஆ) 1917 இ) 1916 ஈ) 1914
4. அரசு அதிகாரிகளைத் தேர்வு செய்ய _____ நீதிக் கட்சியால் நிறுவப் பெற்றது.
அ) பணியாளர் தேர்வு வாரியம் ஆ) பொதுப் பணி ஆணையம்
இ) மாநிலப் பணியாளர் ஆளுகை வாரியம் ஈ) பணியாளர் தேர்வாணையம்
5. சென்னை மாகாணத்தில், ஒடுக்கப்பட்ட வகுப்பிலிருந்து முதன் முறையாக சட்ட மேலவைக்கு தேர்ந்தெடுக்கப்பட்டவர்.
அ) எம்.சி. ராஜா ஆ) இரட்டைமலை சீனிவாசன்
இ) டி.எம். நாயர் ஈ) பி. வரதராஜாலு

II. கோடிட்ட இடங்களை நிரப்புக :

1. முதன் முதலாக அச்சேறிய ஐரோப்பிய மொழி அல்லாத மொழி _____
2. புனித ஜார்ஜ் கோட்டை கல்லூரியை உருவாக்கியவர் _____
3. _____ தமிழ் மொழியியல் தூய்மை வாதத்தின் தந்தை எனக் கருதப்படுகிறார்.
4. தேர்தல் அரசியலில் பெண்கள் பங்கேற்பதை முதலில் அங்கீகரித்தது _____ ஆகும்.
5. சூரிய நாராயண சாஸ்திரி எனும் பெயர் _____ என மாற்றம் பெற்றது.
6. _____ தமிழ் இசைக்கு முக்கியத்துவம் கொடுத்தார்.
7. இந்தியாவின் முதல் பெண் சட்டமன்ற உறுப்பினர் _____ ஆவார்.

III. சரியான வாக்கியம் / வாக்கியங்களைத் தெரிவு செய்க :

1. (i) மிக முன்னதாகவே வெளியிடப்பட்ட தமிழ் இலக்கிய நூல்களில் ஒன்றான திருக்குறள் 1812 இல் வெளியிடப்பட்டது.
(ii) பனையோலைகளில் எழுதப்பெற்ற பல்வேறு தமிழ் இலக்கண இலக்கிய கையெழுத்துப் பிரதிகளை மறைமலையடிகள் சேகரித்துத் தொகுத்தார்.
(iii) இராபர்ட் கால்டுவெல் திராவிட மொழிகளுக்கும் சமஸ்கிருதத்திற்கும் இடையில் இல்லாத ஒப்புமை திராவிட மொழிகளுக்கிடையே நெருக்கமாக நிலவுவதை நிரூபித்தார். தமிழின் தொன்மையையும் நிரூபித்தார்.
(iv) திரு. வி. கல்யாணசுந்தரம் தொழில் சங்க இயக்கத்தின் தொடக்ககால முன்னோடியாக இருந்தார்.
அ) (i), (ii) ஆகியன சரி ஆ) (i), (iii) ஆகியன சரி
இ) (iv) சரி ஈ) (ii), (iii) ஆகியன சரி
2. கூற்று : சென்னை மாகாணத்தில் 1920 முதல் 1937 வரை நீதிக்கட்சி தொடர்ந்து ஆட்சியில் இருந்தது.
காரணம் : இக்கால கட்டத்தில் இரட்டையாட்சிக்கு எதிராக காங்கிரஸ் கட்சி சட்டமன்றத்தைப் புறக்கணித்தது.
அ) காரணம், கூற்று ஆகியவை சரி.
ஆ) கூற்று சரி ஆனால் காரணம் கூற்றின் சரியான விளக்கமல்ல.
இ) காரணம், கூற்று இரண்டுமே தவறு.
ஈ) காரணம் சரி. ஆனால் கூற்றுடன் அது பொருந்தவில்லை.

IV. பொருத்துக :

1. திராவிடர் இல்லம் - மறைமலையடிகள்
2. தொழிலாளன் - இரட்டையாலை சீனிவாசன்
3. தனித் தமிழ் இயக்கம் - சிங்காரவேலர்
4. ஜீவிய சரித சுருக்கம் - நடேசனார்

புவியியல்

1. இந்தியா - அமைவிடம், நிலத்தோற்றம் மற்றும் வடிகாலமைப்பு

I. சரியான விடையைத் தேர்வு செய்யவும் :

1. இந்தியாவின் வடக்கு தெற்கு பரவல்.
அ) 2500 கி.மீ ஆ) 2933 கி.மீ இ) 3214 கி.மீ ஈ) 2814 கி.மீ
2. பீகாரின் துயரம் என்று அழைக்கப்படும் ஆறு.
அ) நர்மதா ஆ) கோதாவரி இ) கோசி ஈ) தாமோதர்
3. மூன்று பக்கம் நீரால் சூழப்பட்ட பகுதி _____ என அழைக்கப்படுகிறது.
அ) கடற்கரை ஆ) தீபகற்பம் இ) தீவு ஈ) நீர்ச்சந்தி
4. பாக் நீர்ச்சந்தி மற்றும் மன்னார் வளைகுடா _____ ஐ இந்தியாவிடம் இருந்து பிரிக்கிறது.
அ) கோவா ஆ) மேற்கு வங்காளம் இ) இலங்கை ஈ) மாலத்தீவு
5. தென்னிந்தியாவின் மிக உயரமான சிகரம் _____
அ) ஊட்டி ஆ) ஆனைமுடி இ) கொடைக்கானல் ஈ) ஜின்டாகடா
6. பழைய வண்டல் படிவுகளால் உருவான சமவெளி _____
அ) பாபர் ஆ) தராய் இ) பாங்கர் ஈ) காதர்
7. பழவேற்காடு ஏரி _____ மாநிலங்களுக்கு இடையே அமைந்துள்ளது.
அ) மேற்கு வங்காளம் மற்றும் ஒடிசா ஆ) கர்நாடகா மற்றும் கேரளா
இ) ஒடிசா மற்றும் ஆந்திரப் பிரதேசம் ஈ) தமிழ்நாடு மற்றும் ஆந்திரப் பிரதேசம்

II. பொருத்துக :

- | | |
|--------------------------|--------------------------------|
| 1. சான்போ | - கங்கை ஆற்றின் துணை ஆறு |
| 2. யமுனை | - இந்தியாவின் உயர்ந்த சிகரம் |
| 3. புதிய வண்டல் படிவுகள் | - பிரம்மபுத்திரா |
| 4. காட்வின் ஆஸ்டின் (K2) | - தென்கிழக்கு கடற்கரைச் சமவெளி |
| 5. சோழ மண்டலக் கடற்கரை | - காதர் |

III. காரணம் கூறுக :

1. இமயமலைகள் மடிப்பு மலைகள் என அழைக்கப்படுகின்றன.
2. வடஇந்திய ஆறுகள் வற்றாத ஆறுகள்.
3. தென்னிந்திய நதிகள் கிழக்கு நேக்கிப் பாயும் நதிகள்.
4. மேற்கு நோக்கிப் பாயும் நதிகள் டெல்டாவை உருவாக்குவதில்லை.

IV. வேறுபடுத்துக :

1. இமயமலை ஆறுகள் மற்றும் தீபகற்ப ஆறுகள்.
2. மேற்கு தொடர்ச்சி மலைகள் மற்றும் கிழக்கு தொடர்ச்சி மலைகள்.
3. மேற்கு கடற்கரைச் சமவெளி மற்றும் கிழக்கு கடற்கரைச் சமவெளி.

2. இந்தியா - காலநிலை மற்றும் இயற்கைத் தாவரங்கள்

I. சரியான விடையைத் தேர்வு செய்யவும் :

1. மேற்கத்திய இடையூறுகளால் மழைப்பொழிவைப் பெறும் பகுதி _____
அ) தமிழ்நாடு ஆ) கேரளா இ) பஞ்சாப் ஈ) மத்தியப் பிரதேசம்

2. கேரளா மற்றும் கர்நாடக கடற்கரைப் பகுதிகளில் விளையும் மாங்காய்கள் விரைவில் முதிர்வதற்கு _____ காற்றுக்கள் உதவுகின்றன.
 அ) லூ ஆ) நார்வெஸ்டர்ஸ் இ) மாஞ்சாரல் ஈ) ஜெட் காற்றோட்டம்
3. ஒரே அளவு மழைபெறும் இடங்களை இணைக்கும் கோடு _____ ஆகும்.
 அ) சமவெப்பக் கோடுகள் ஆ) சமமழைக் கோடுகள்
 இ) சமஅழுத்தக் கோடுகள் ஈ) அட்சக் கோடுகள்
4. இந்தியாவின் காலநிலை _____ ஆக பெயரிடப்பட்டு உள்ளது.
 அ) அயனமண்டல ஈரக் காலநிலை ஆ) நிலநடுக்கோட்டுக் காலநிலை
 இ) அயனமண்டல பருவக்காற்றுக் காலநிலை ஈ) மித அயனமண்டலக் காலநிலை
5. பருவக்காற்று காடுகள் இவ்வாறு அழைக்கப்படுகின்றன.
 அ) அயன மண்டல பசுமைமாறாக் காடுகள் ஆ) இலையுதிர்க் காடுகள்
 இ) மாங்குரோவ் காடுகள் ஈ) மலைக் காடுகள்
6. சேஷாசலம் உயிர்க்கோள பெட்டகம் அமைந்துள்ள மாநிலம் _____
 அ) தமிழ்நாடு ஆ) ஆந்திரப் பிரதேசம் இ) மத்தியப் பிரதேசம் ஈ) கர்நாடகா
7. யுனெஸ்கோவின் (UNESCO) உயிர்க்கோளப் பாதுகாப்பு பெட்டகத்தின் ஒரு அங்கமாக இல்லாதது _____
 அ) நீலகிரி ஆ) அகத்திய மலை இ) பெரிய நிக்கோபார் ஈ) கட்ச்

II. பொருத்துக :

- | | |
|----------------------------------|---|
| 1. சுந்தரவனம் | - பாலை மற்றும் அரைப் பாலைவனத் தாவரங்கள் |
| 2. உயிர்பன்மைச் சிறப்பு பகுதிகள் | - அக்டோபர், டிசம்பர் |
| 3. வடகிழக்குப் பருவக்காற்று | - கடற்கரைக் காடுகள் |
| 4. அயன மண்டல முட்டித் காடுகள் | - மேற்கு வங்காளம் |
| 5. கடலோரக் காடுகள் | - இமய மலைகள் |

III. கீழ்க்காணும் வாக்கியங்களைக் கருத்தில் கொண்டு சரியான விடையைத் தேர்வு செய்யவும் :

1. கூற்று : இமய மலையானது ஒரு காலநிலை அரணாகச் செயல்படுகிறது.
 காரணம் : இமயமலை மத்திய ஆசியாவில் இருந்து வீசும் குளிர் காற்றைத் தடுத்து இந்தியத் துணைக் கண்டத்தை மிதவெப்பமாக வைத்திருக்கிறது.
 அ) கூற்று மற்றும் காரணம் இரண்டும் சரி, கூற்றுக்கான காரணம் சரி.
 ஆ) கூற்று மற்றும் காரணம் இரண்டும் சரி, கூற்றுக்கான காரணம் தவறு.
 இ) கூற்று சரி, காரணம் தவறு.
 ஈ) கூற்று தவறு, காரணம் சரி.

IV. பொருந்தாத விடையைத் தேர்வு செய்யவும் :

1. ஒதக் காடுகள் இதனைச் சுற்றி காணப்படுகிறது.
 அ) பாலைவனம் ஆ) கங்கை பிரம்மபுத்ரா டெல்டா
 இ) கோதாவரி டெல்டா ஈ) மகாநதி டெல்டா
2. இந்தியாவின் காலநிலையைப் பாதிக்கும் காரணிகள்.
 அ) அட்ச பரவல் ஆ) உயரம் இ) கடலில் இருந்து அமைந்துள்ள தூரம் ஈ) மண்

V. வேறுபடுத்துக.

- வானிலை மற்றும் காலநிலை.
- அயன மண்டல பசுமைமாறாக் காடுகள் மற்றும் இலையுதிர்க் காடுகள்.
- வடகிழக்கு பருவக் காற்று மற்றும் தென்மேற்கு பருவக் காற்று.

VI. காரணம் கண்டறிக.

1. மேற்கு கடற்கரைச் சமவெளி குறுகலானது.
2. இந்தியா அயன மண்டலப் பருவக் காற்று காலநிலையைப் பெற்றுள்ளது.
3. மலைப் பகுதிகள் சமவெளிகளைவிட குளிரானவை.

3. இந்தியா - வேளாண்மை

I. சரியான விடையைத் தேர்வு செய்யவும் :

1. _____ மண்ணில் இரும்பு ஆக்ஸைடு அதிகமாக காணப்படுகிறது.
அ) வண்டல் ஆ) கரிசல் இ) செம்மண் ஈ) உவர் மண்
2. எந்த நிறுவனம் இந்தியாவில் உள்ள மண் வகைகளை 8 பெரும் பிரிவுகளாகப் பிரித்துள்ளது?
அ) இந்திய வேளாண் ஆராய்ச்சி நிறுவனம் ஆ) இந்திய வானியல் துறை
இ) இந்திய மண் அறிவியல் நிறுவனம் ஈ) இந்திய மண் ஆய்வு நிறுவனம்
3. ஆறுகளின் மூலம் உருவாகும் மண் _____ .
அ) செம்மண் ஆ) கரிசல் மண் இ) பாலை மண் ஈ) வண்டல் மண்
4. இந்தியாவின் உயரமான புவியர்ப்பு அணை _____ .
அ) ஹிராகுட் அணை ஆ) பக்ராநங்கல் அணை
இ) மேட்ரூர் அணை ஈ) நாகர்ஜினா சாகர் அணை
5. _____ என்பது ஒரு வாணிபப் பயிர்.
அ) பருத்தி ஆ) கோதுமை இ) அரிசி ஈ) மக்காச் சோளம்
6. கரிசல் மண் _____ எனவும் அழைக்கப்படுகிறது.
அ) வறண்ட மண் ஆ) உவர் மண் இ) மலை மண் ஈ) பருத்தி மண்
7. உலகிலேயே மிக நீளமான அணை _____
அ) மேட்ரூர் அணை ஆ) கோசி அணை
இ) ஹிராகுட் அணை ஈ) பக்ராநங்கல் அணை
8. இந்தியாவில் தங்க இழைப்பயிர் என அழைக்கப்படுவது _____
அ) பருத்தி ஆ) கோதுமை இ) சணல் ஈ) புகையிலை

II. சரியான கூற்றைக் கண்டுபிடிக்கவும் :

1. கூற்று : பழங்கள், காய் வகைகள் மற்றும் பூக்கள் பயிரிடலில் ஈடுபடுவது தோட்டக்கலை துறையாகும்.
காரணம் : உலகளவில் இந்தியா மா, வாழை மற்றும் சிட்ரஸ் பழவகை உற்பத்தியில் முதலிடத்தில் உள்ளது.
அ) கூற்று மற்றும் காரணம் இரண்டும் சரி, காரணம் கூற்றுக்கான சரியான விளக்கமாகும்.
ஆ) கூற்று மற்றும் காரணம் இரண்டும் சரி, காரணம் கூற்றுக்கான சரியான விளக்கம் அல்ல.
இ) கூற்று சரி, காரணம் தவறு.
ஈ) கூற்று தவறு, காரணம் சரி.
2. கூற்று : வண்டல் மண் ஆறுகளின் மூலம் அரிக்கப்பட்டு படிய வைக்கப்பட்ட, மக்கிய பொருட்களால் ஆன ஒன்று.
காரணம் : நெல் மற்றும் கோதுமை வண்டல் மண்ணில் நன்கு வளரும்.
அ) கூற்று மற்றும் காரணம் இரண்டு சரி, கூற்று காரணத்திற்கான சரியான விளக்கம்.
ஆ) கூற்று மற்றும் காரணம் இரண்டும் சரி, கூற்றுக்கான காரணம் சரியான விளக்கமல்ல.
இ) கூற்று சரி, காரணம் தவறு.
ஈ) கூற்று தவறு, காரணம் சரி.

III. பொருந்தாததைத் தேர்ந்தெடுக்கவும் :

1. அ) கோதுமை	ஆ) நெல்	இ) திணை வகைகள்	ஈ) காபி
2. அ) காதர்	ஆ) பாங்கர்	இ) வண்டல் மண்	ஈ) கரிசல் மண்
3. அ) வெள்ளப் பெருக்கு கால்வாய்	ஆ) வற்றாத கால்வாய்	இ) ஏரிப் பாசனம்	ஈ) கால்வாய்

IV. பொருத்துக :

1. இந்தியாவின் சர்க்கரை கிண்ணம்	- மகாநதி
2. காபி	- தங்கப் புரட்சி
3. டெகிரி அணை	- கர்நாடகா
4. ஹிராகுட்	- உத்திரப்பிரதேசம் மற்றும் பீகார்
5. தோட்டக் கலை	- இந்தியாவின் உயரமான அணை

V. காரணம் கூறுக.

1. வேளாண்மை இந்தியாவின் முதுகெலும்பு.
2. மழைநீர் சேமிப்பு அவசியம்.

VI. வேறுபடுத்துக.

1. ராபி பருவம் மற்றும் காரிஃப் பருவம்.
2. வெள்ளப் பெருக்கு கால்வாய் மற்றும் வற்றாத கால்வாய்.
3. கடல் மீன்பிடிப்பு மற்றும் உள்நாட்டு மீன் பிடிப்பு.
4. வண்டல் மண் மற்றும் கரிசல் மண்.

4. இந்தியா - வளங்கள் மற்றும் தொழிலகங்கள்

I. சரியான விடையைத் தேர்வு செய்க :

1. மாங்கனீசு இவற்றில் பயன்படுத்தப்படுகிறது.

அ) சேமிப்பு மின்கலன்கள்	ஆ) எஃகு தயாரிப்பு
இ) செம்பு உருக்குதல்	ஈ) பெட்ரோலிய சுத்திகரிப்பு
2. ஆந்திரசைட் நிலக்கரி _____ கார்பன் அளவை கொண்டுள்ளது.

அ) 80% - 95%	ஆ) 70% க்கு மேல்
இ) 60% - 70%	ஈ) 50% க்கும் குறைவு
3. பெட்ரோலியத்தில் உள்ள முக்கிய கனிமங்கள் ஹைட்ரஜன் மற்றும் _____

அ) ஆக்ஸிஜன்	ஆ) நீர்	இ) கார்பன்	ஈ) நைட்ரஜன்
-------------	---------	------------	-------------
4. தென்னிந்தியாவின் மான்செஸ்டர் என்று அழைக்கப்படும் நகரம்.

அ) சேலம்	ஆ) சென்னை	இ) மதுரை	ஈ) கோயம்புத்தூர்
----------	-----------	----------	------------------
5. இந்தியாவில் முதல் அணுமின் நிலையம் நிறுவப்பட்ட மாநிலம்.

அ) குஜராத்	ஆ) இராஜஸ்தான்	இ) மகாராஷ்டிரம்	ஈ) தமிழ்நாடு
------------	---------------	-----------------	--------------
6. மிக அதிகமாக கிடைக்க கூடிய ஆற்றல் வளம்.

அ) உயிரி சக்தி	ஆ) சூரியன்	இ) நிலக்கரி	ஈ) எண்ணெய்
----------------	------------	-------------	------------
7. புகழ்பெற்ற சிந்திரி உரத் தொழிலகம் அமைந்துள்ள மாநிலம்.

அ) ஜார்க்கண்ட்	ஆ) பீகார்	இ) இராஜஸ்தான்	ஈ) அசாம்
----------------	-----------	---------------	----------

6. சோட்டா நாகபுரி பீடபூமி பகுதியின் பொருளாதார வளர்ச்சிக்கு கருவாக இருப்பது.

- அ) போக்குவரத்து ஆ) கனிமப் படிவுகள்
இ) பெரும் தேவை ஈ) மின்சக்தி சக்தி கிடைப்பது

II. பொருத்துக :

1. பாக்கைட் - அ) சிமெண்ட்
2. ஜிப்சம் - ஆ) வானூர்தி
3. கருப்பு தங்கம் - இ) மின்சாதனப் பொருட்கள்
4. இரும்பு தாது - ஈ) நிலக்கரி
5. மைக்கா - உ) மேக்னடைட்

III. வேறுபடுத்துக.

1. புதுப்பிக்க இயலும் மற்றும் புதுப்பிக்க இயலா வளங்கள்.
2. உலோகம் மற்றும் அலோக கனிமங்கள்.
3. வேளாண் சார்ந்த மற்றும் கனிமம் சார்ந்த தொழிலகங்கள்.
4. சணல் ஆலைகள் மற்றும் சர்க்கரை ஆலைகள்.
3. மரபு சார் மற்றும் மரபு சாரா எரிசக்தி.

5. இந்தியா - மக்கள் தொகை, போக்குவரத்து தகவல் தொடர்பு மற்றும் வணிகம்

I. சரியான விடையைத் தேர்வு செய்யவும் :

1. மக்கள் தொகையின் பல்வேறு அம்சங்கள் பற்றிய அறிவியல் பூர்வமான படிப்பு.
அ) வரைபடவியல் ஆ) மக்களியல் இ) மானுடவியல் ஈ) கல்வெட்டியல்
2. _____ போக்குவரத்து நேரடியாக உற்பத்தியாளரையும் நுகர்வோரையும் இணைக்கிறது.
அ) ரயில்வே ஆ) சாலை இ) வான்வழி ஈ) நீர்வழி
3. இந்தியாவில் தங்க நாற்கரச் சாலையின் நீளம்.
அ) 5846 கி.மீ ஆ) 5942 கி.மீ இ) 5630 கி.மீ ஈ) 5800 கி.மீ
4. தேசிய தொலையுணர்வு மையம் அமைந்துள்ள இடம் _____
அ) பெங்களூரு ஆ) சென்னை இ) புது டெல்லி ஈ) ஹைராபாத்
5. எளிதில் செல்ல முடியாத பகுதிகளுக்கு பயன்படும் போக்குவரத்து.
அ) சாலைப் போக்குவரத்து ஆ) இரயில் போக்குவரத்து
இ) வான்வழிப் போக்குவரத்து ஈ) நீர்வழிப் போக்குவரத்து
6. கீழ்க்கண்டவற்றில் எவை வானூலங்கு ஊர்தியுடன் (ஹெலிகாப்டர்) தொடர்புடையது?
அ) ஏர் இந்தியா ஆ) இந்தியன் ஏர்லைன்ஸ் இ) வாயுதூத் ஈ) பவன்ஹான்ஸ்
7. இந்தியாவின் முக்கிய இறக்குமதி பொருள்.
அ) சிமெண்ட் ஆ) ஆபரணங்கள் இ) தேயிலை ஈ) பெட்ரோலியம்

II. பொருத்துக :

1. எல்லைபுறச் சாலை - செயற்கைக்கோள் தகவல் தொடர்பு
2. INSAT (இன்சாட்) - நகரமயமாக்கலின் தாக்கம்
3. மேசகான் கப்பல் கட்டும் தளம் - 1990
4. புறநகரப் பரவல் - மும்பை
5. கொங்கண் இரயில்வே - 1960 ஹைதராபாத்

III. வேறுபடுத்துக.

1. மக்கள் அடர்த்தி மற்றும் மக்கள் தொகை வளர்ச்சி.
2. தனிநபர் தகவல் தொடர்பு மற்றும் பொதுத் தகவல் தொடர்பு.
3. அச்ச ஊடகம் மற்றும் மின்னணு ஊடகம்.
4. சாலைவழிப் போக்குவரத்து மற்றும் இரயில்வழிப் போக்குவரத்து.
5. நீர்வழிப் போக்குவரத்து மற்றும் வான்வழிப் போக்குவரத்து.
6. உள்நாட்டு வணிகம் மற்றும் பன்னாட்டு வணிகம்.

6. தமிழ்நாடு - இயற்கைப் பிரிவுகள்

I. சரியான விடையைத் தேர்வு செய்யவும் :

1. தமிழ்நாட்டின் அட்சப் பரவல் _____ முதல் _____ வரை உள்ளது.
அ) 8°4' வ முதல் 13° 35' வ வரை ஆ) 8° 5' தெ முதல் 13° 35' தெ வரை
இ) 8° 0' வ முதல் 13° 05' வ வரை ஈ) 8° 0' தெ முதல் 13° 05' தெ வரை
2. தமிழ்நாட்டின் தீர்க்கப் பரவல் _____ முதல் _____ வரை உள்ளது.
அ) 76°18' கி முதல் 80°20' கி வரை ஆ) 76°18' மே முதல் 80°20' மே வரை
இ) 10°20' கி முதல் 86°18' கி வரை ஈ) 10°20' மே முதல் 86°18' மே வரை
3. தமிழ்நாட்டில் உள்ள மிக உயரமான சிகரம் _____ ஆகும்.
அ) ஆணைமுடி ஆ) தொட்டபெட்டா இ) மகேந்திரகிரி ஈ) சேர்வராயன்
4. கீழ்க்கண்டவற்றில் தமிழ்நாட்டின் மேற்கு தொடர்ச்சி மலையில் அமையாத கணவாய்.
அ) பாலக்காடு ஆ) செங்கோட்டை இ) போர்காட் ஈ) அச்சன்கோவில்
5. கீழ்க்கண்டவற்றில் அரபிக் கடலில் கலக்கும் ஆறு எது?
அ) பெரியார் ஆ) காவிரி இ) சிற்றார் ஈ) பவானி
6. தமிழ்நாட்டில் அதிக பரப்பளவில் மாங்குரோவ் காடுகள் காணப்படும் மாவட்டம் எது?
அ) இராமநாதபுரம் ஆ) நாகப்பட்டினம் இ) கடலூர் ஈ) தேனி
7. பின்னடையும் பருவக்காற்று _____ லிருந்து ஈரப்பதத்தை எடுத்துக் கொள்கிறது.
அ) அரபிக் கடல் ஆ) வங்கக் கடல் இ) இந்தியப் பெருங்கடல் ஈ) தைமுர்க் கடல்
8. கீழ்க்கண்டவற்றுள் மண் அரிப்பினால் அதிக அளவு பாதிக்கப்பட்ட மாவட்டம்.
அ) தேனி ஆ) மதுரை இ) தஞ்சாவூர் ஈ) இராமநாதபுரம்
9. தமிழ்நாட்டில் அதிக பரப்பளவில் காடுகளைக் கொண்ட மாவட்டம் _____
அ) தர்மபுரி ஆ) வேலூர் இ) திண்டுக்கல் ஈ) ஈரோடு

II. கோடிட்ட இடங்களை நிரப்புக.

1. நீலகிரி மற்றும் தர்மபுரி மாவட்டங்களுக்கு இடையே காணப்படும் பீடபூமி _____ ஆகும்.
2. கிழக்கு தொடர்ச்சி மலையின் தென்பகுதியில் உள்ள உயரமான சிகரம் _____ ஆகும்.
3. ஆற்றுத் தீவான ஸ்ரீரங்கம் _____ மற்றும் _____ ஆறுகளுக்கு இடையே அமைந்துள்ளது.
4. _____ தமிழ்நாட்டின் மாநில விலங்கு ஆகும்.

III. பொருத்துக.

- | | |
|-----------------------------|-----------------------|
| 1. குளிர்காலம் | - முன்பருவ மழை |
| 2. கோடைக்காலம் | - ஜூன் - செப்டம்பர் |
| 3. தென் மேற்கு பருவக்காற்று | - மார்ச் - மே |
| 4. வடகிழக்கு பருவக்காற்று | - டிசம்பர் - பிப்ரவரி |
| 5. மாஞ்சாரல் | - அக்டோபர் - நவம்பர் |

IV. கூற்று வகை வினா.

1. கூற்று : தமிழ்நாடு தென்மேற்கு பருவகாற்று காலங்களில் அதிக மழையைப் பெறுவதில்லை. காரணம் : இது மேற்கு தொடர்ச்சி மலையின் மழை மறைவுப் பிரதேசத்தில் அமைந்துள்ளது.
அ) கூற்று, காரணம் இரண்டும் சரி. காரணம் கூற்றை விளக்குகிறது.
ஆ) கூற்று, காரணம் இரண்டும் சரி. ஆனால் காரணம் கூற்றை விளக்கவில்லை.
இ) கூற்று சரி, ஆனால் காரணம் தவறு.
ஈ) காரணம் சரி, ஆனால் கூற்று தவறு.

V. வேறுபடுத்துக.

1. தாமிரபரணி மற்றும் காவிரி.

VI. காரணம் கூறுக.

1. கிழக்குத் தொடர்ச்சி மலைகள் தொடர்ச்சியற்று காணப்படுகிறது.
2. தென்மேற்கு பருவக் காற்று காலத்தில் தமிழ்நாடு மிகக்குறைந்த மழையைப் பெறுகிறது.
3. கடலூர் ஒரு பல்வழி பேரழிவு மண்டலம்.

7. தமிழ்நாடு - மானுடப் புவியியல்

I. சரியான விடையைத் தேர்வு செய்யவும் :

1. தென்னிந்தியாவின் நெற்களஞ்சியம் என்று அழைக்கப்படும் டெல்டா _____
அ) காவிரி டெல்டா ஆ) மகாநதி டெல்டா
இ) கோதாவரி டெல்டா ஈ) கிருஷ்ணா டெல்டா
2. தமிழ்நாட்டு மக்களின் இரண்டாவது முக்கிய உணவுப் பயிர் _____
அ) பருப்பு வகைகள் ஆ) சிறுதானியங்கள்
இ) எண்ணெய் வித்துக்கள் ஈ) நெல்
3. தமிழ்நாட்டின் மிகப்பெரிய நீர்மின்சக்தி திட்டம் _____
அ) மேட்டூர் ஆ) பாபநாசம் இ) சாத்தனூர் ஈ) துங்கபத்ரா
4. தமிழ்நாட்டிலுள்ள பெரிய மற்றும் சிறிய துறைமுகங்களின் எண்ணிக்கை _____
அ) 3 மற்றும் 15 ஆ) 4 மற்றும் 16 இ) 3 மற்றும் 16 ஈ) 4 மற்றும் 15

II. கோடிட்ட இடங்களை நிரப்புக.

1. தமிழ்நாட்டின் பொருளாதாரத்தில் வேளாண்மை துறையின் பங்கு _____ சதவிகிதத்தை வகிக்கிறது.
2. சாத்தனூர் அணை _____ ஆற்றின் குறுக்கே கட்டப்பட்டுள்ளது.
3. மும்பை மற்றும் டில்லியை அடுத்த இந்தியாவின் மூன்றாவது பெரிய விமான நிலையம் _____
4. இறக்குமதி மற்றும் ஏற்றுமதி மதிப்புகளுக்கு இடையிலுள்ள வேறுபாடு _____ என அழைக்கப்படுகிறது.

III. பொருத்துக.

1. பாக்சைட் - சேலம்
2. ஜிப்சம் - சேர்வராயன் மலை
3. இரும்பு - கோயம்புத்தூர்
4. சுண்ணாம்புக்கல் - திருச்சிராப்பள்ளி

IV. சரியான கூற்றினை கண்டுபிடி.

1. கூற்று : கோயம்புத்தூர், திருப்பூர் மற்றும் ஈரோடு மண்டலம் தமிழ்நாட்டின் ஐவுளி பள்ளத்தாக்கு என அழைக்கப்படுகிறது.
காரணம் : இவைகள் நெசவாலைகள் மூலம் நாட்டின் பொருளாதாரத்திற்கு முக்கிய பங்களிப்பை அளிக்கின்றன.
அ) கூற்று மற்றும் காரணம் இரண்டும் சரி. காரணம், கூற்றுக்கான சரியான விளக்கம் ஆகும்.
ஆ) கூற்று மற்றும் காரணம் இரண்டும் சரி. ஆனால் காரணம் கூற்றின் சரியான விளக்கம் அல்ல.
இ) கூற்று சரி ஆனால் காரணம் தவறு.
ஈ) கூற்று தவறு ஆனால் காரணம் சரி.
2. கூற்று : நீலகிரி தமிழ்நாட்டின் குறைந்த மக்கள்தொகை கொண்ட மாவட்டம்.
காரணம் : இது தமிழ்நாட்டின் மேற்கு பகுதியில் அமைந்துள்ளது.
அ) கூற்று மற்றும் காரணம் இரண்டும் சரி, காரணம் கூற்றை விளக்குகிறது.
ஆ) கூற்று மற்றும் காரணம் சரி, ஆனால் காரணம் கூற்றுக்கான சரியான விளக்கம் அல்ல.
இ) கூற்று சரி ஆனால் காரணம் தவறு.
ஈ) கூற்று தவறு ஆனால் காரணம் சரி.

V. வேறுபடுத்துக.

1. கடல் மீன்பிடித்தல் மற்றும் உள்நாட்டு மீன்பிடித்தல்.
2. உணவுப் பயிர்கள் மற்றும் வாணிபப் பயிர்கள்.
3. மேற்பரப்பு நீர் மற்றும் நிலத்தடி நீர்.

VI. காரணம் கூறுக.

1. விவசாயிகள் இரசாயன வேளாண்மையில் இருந்து கரிம (இயற்கை) வேளாண்மைக்கு மாறுகிறார்கள்.
2. கிராமங்களைவிட பெருநகரங்களில் மக்கள்தொகை நெருக்கம் அதிகம்.
3. தமிழ்நாட்டின் நெசவாலை தலைநகர் என கரூர் அழைக்கப்படுகிறது.

குடிமையியல்

1. இந்திய அரசியலமைப்பு

I. சரியான விடையைத் தேர்வு செய்யவும் :

1. கீழ்க்காணும் வரிசையில் "முகவுரை" பற்றிய சரியான தொடர் எது?
 - அ) குடியரசு, ஜனநாயக, சமயச் சார்பற்ற, சமதர்ம, இறையாண்மை.
 - ஆ) இறையாண்மை, சமதர்ம, சமயச் சார்பற்ற, குடியரசு, ஜனநாயக.
 - இ) இறையாண்மை, குடியரசு, சமயச் சார்பற்ற, சமதர்ம, ஜனநாயக.
 - ஈ) இறையாண்மை, சமதர்ம, சமயச் சார்பற்ற, ஜனநாயக, குடியரசு.
2. இந்திய அரசியலமைப்பின் முகவுரை எத்தனை முறை திருத்தப்பட்டது?
 - அ) ஒரு முறை ஆ) இரு முறை இ) மூன்று முறை ஈ) எப்பொழுதும் இல்லை
3. ஒரு வெளிநாட்டவர், கீழ்க்காணும் எதன் மூலம் இந்தியக் குடியரிமை பெற முடியும்?
 - அ) வம்சாவளி ஆ) பதிவு இ) இயல்புரிமை ஈ) மேற்கண்ட அனைத்தும்
4. மாறுபட்ட ஒன்றைக் கண்டுபிடி.

அ) சமத்துவ உரிமை	ஆ) சுரண்டலுக்கெதிரான உரிமை
இ) சொத்துரிமை	ஈ) கல்வி மற்றும் கலாச்சார உரிமை
5. கீழ்க்காண்பனவற்றில் ஒன்று, அடிப்படை உரிமையைப் பயன்படுத்துவதற்கு உதாரணம் இல்லை.
 - அ) கர்நாடகாவிலிருந்து, கேரளா பண்ணைகளில் வேலையாட்கள் பணி செய்தல்
 - ஆ) கிறித்துவ சமயக்குழு, தொடர்ச்சியாக, பள்ளிகளை அமைத்தல்
 - இ) ஆண், பெண் இருபாலரும் அரசுப் பணிகளுக்கு சமஊதியம் பெறுதல்
 - ஈ) பெற்றோர்களின் பூர்வீக சொத்துகள் அவர்களது பிள்ளைகளுக்குச் செல்லுதல்
6. பின்வருவனவற்றுள் எந்த உரிமை Dr. B.R. அம்பேத்கர் அவர்களால் "இந்திய அரசியலமைப்பின் இதயம் மற்றும் ஆன்மா" என விவரிக்கப்பட்டது?

அ) சமய உரிமை	ஆ) சமத்துவ உரிமை
இ) அரசியலமைப்புக்குட்பட்டு தீர்வு காணும் உரிமை	ஈ) சொத்துரிமை
7. அடிப்படை உரிமைகள் எவ்வாறு நிறுத்தி வைக்கப்பட முடியும்?
 - அ) உச்சநீதி மன்றம் விரும்பினால்
 - ஆ) பிரதம மந்திரியின் ஆணையினால்
 - இ) தேசிய அவசர நிலையின் போது குடியரசு தலைவரின் ஆணையினால்
 - ஈ) மேற்கண்ட அனைத்தும்
8. நமது அடிப்படை கடமைகளை _____ இடமிருந்து பெற்றோம்.

அ) அமெரிக்க அரசியலமைப்பு	ஆ) கனடா அரசியலமைப்பு
இ) ரஷ்யா அரசியலமைப்பு	ஈ) ஐரிஷ் அரசியலமைப்பு
9. எந்த பிரிவின் கீழ் நிதிநிலை அவசர நிலையை அறிவிக்க முடியும்?

அ) சட்டப் பிரிவு 352	ஆ) சட்டப் பிரிவு 356	இ) சட்டப் பிரிவு 360	ஈ) சட்டப் பிரிவு 368
----------------------	----------------------	----------------------	----------------------
10. எந்த குழுக்கள் / கமிஷன்கள் மத்திய - மாநில உறவுகள் பற்றி பரிந்துரை செய்தன?

1. சர்க்காரியா குழு	2. ராஜமன்னார் குழு	3. M.N. வெங்கடாசலையா குழு
---------------------	--------------------	---------------------------

 கீழே கொடுக்கப்பட்டுள்ள குறியீடுகளில் இருந்து சரியான விடையைத் தேர்ந்தெடு.

அ) 1, 2 & 3	ஆ) 1 & 2	இ) 1 & 3	ஈ) 2 & 3
-------------	----------	----------	----------

II. கோடிட்ட இடங்களை நிரப்புக :

1. முதன் முதலில் அரசியலமைப்பு எனும் கொள்கை _____ ல் தோன்றியது.
2. அரசியல் நிர்ணய சபையின் தற்காலிக தலைவராக _____ தேர்ந்தெடுக்கப்பட்டார்.

3. இந்திய அரசியலமைப்பு ஏற்றுக் கொள்ளப்பட்ட நாள் மற்றும் ஆண்டு _____
4. _____ பேராணைகள் சட்டப்பிரிவு 32-இல் குறிப்பிடப்படுகின்றன.
5. இந்திய குடிமக்களுக்கு அடிப்படை கடமைகள் _____ பிரிவின் கீழ் வழங்கப்பட்டு உள்ளன.

III. பொருத்துக :

1. குடியரிமைச் சட்டம் - ஜவஹர்லால் நேரு
2. முகவுரை - 42-வது அரசியலமைப்பு சட்டத்திருத்தம்
3. குறு அரசியலமைப்பு - 1955
4. செம்மொழி - 1962
5. தேசிய அவசரநிலை - தமிழ்

2. நடுவண் அரசு

I. சரியான விடையைத் தேர்வு செய்யவும் :

1. நடுவண் அரசின் அரசியலமைப்புத் தலைவர் _____ ஆவார்.
 - அ) குடியரசுத் தலைவர் ஆ) தலைமை நீதிபதி
 - இ) பிரதம அமைச்சர் ஈ) அமைச்சர்கள் குழு
2. ஒரு மசோதாவை நிதி மசோதாவா அல்லது இதர மசோதாவா என தீர்மானிக்கும் அதிகாரம் பெற்றவர்.
 - அ) குடியரசுத் தலைவர் ஆ) இந்திய அரசின் தலைமை வழக்குரைஞர்
 - இ) நாடாளுமன்ற விவகார அமைச்சர் ஈ) லோக் சபாவின் சபாநாயகர்
3. அமைச்சர்கள் குழு ஒட்டு மொத்தமாக இதற்குப் பொறுப்புடையவர்களாவர்.
 - அ) குடியரசுத் தலைவர் ஆ) மக்களவை
 - இ) பிரதம அமைச்சர் ஈ) மாநிலங்களவை
4. லோக்சபா தேர்தலில் போட்டியிட தேவையான குறைந்தபட்ச வயது.
 - அ) 18 வயது ஆ) 21 வயது இ) 25 வயது ஈ) 30 வயது
5. இந்திய மாநிலங்களின் எல்லைகளை மாற்றியமைக்கும் அதிகாரம் பெற்றவர் / பெற்ற அமைப்பு.
 - அ) குடியரசுத் தலைவர் ஆ) பிரதம அமைச்சர் இ) மாநில அரசாங்கம் ஈ) நாடாளுமன்றம்
6. கீழ்க்காணும் எந்த விதியின் அடிப்படையில் குடியரசுத் தலைவர் நிதி நெருக்கடி நிலையினை அறிவிக்கிறார்?
 - அ) சட்டப்பிரிவு 352 ஆ) சட்டப்பிரிவு 360 இ) சட்டப்பிரிவு 356 ஈ) சட்டப்பிரிவு 365
7. உச்சநீதிமன்ற தலைமை நீதிபதி மற்றும் மற்ற நீதிபதிகளை நியமிப்பவர்.
 - அ) குடியரசுத் தலைவர் ஆ) இந்திய அரசின் தலைமை வழக்குரைஞர்
 - இ) ஆளுநர் ஈ) பிரதம அமைச்சர்

II. கோடிட்ட இடங்களை நிரப்புக :

1. _____ மசோதா குடியரசுத் தலைவரின் ஒப்புதல் இன்றி நாடாளுமன்றத்தில் அறிமுகப்படுத்த முடியாது.
2. _____ நாட்டின் உண்மையான தலைவராகவும், நாட்டின் முக்கிய செய்தி தொடர்பாளராகவும் செயல்படுகிறார்.
3. _____ அலுவல் வழியில் மாநிலங்களவையின் தலைவர்.
4. நாடாளுமன்ற இரு அவைகளிலும் உரையாற்றவும், கூட்டத்தொடரில் பங்கு கொள்ளவும் உரிமை பெற்றவர் _____
5. உச்சநீதிமன்ற தலைமை நீதிபதி மற்றும் மற்ற நீதிபதிகளின் ஓய்வு பெறும் வயது _____
6. இந்திய அரசியலமைப்பு சட்டத்தின் பாதுகாவலன் _____ ஆகும்.
7. தற்சமயம், உச்சநீதிமன்றத்தில் தலைமை நீதிபதி உட்பட நீதிபதிகளின் எண்ணிக்கை _____

III. சரியான கூற்றைத் தேர்வு செய்யவும் :

1. i) மாநிலங்களவையின் மொத்த உறுப்பினர்களின் எண்ணிக்கை 250.
ii) இலக்கியம், அறிவியல், கலை, சமூகசேவை ஆகிய துறைகளில் சிறந்த அறிவு மற்றும் அனுபவம் பெற்ற 12 நபர்களை மாநிலங்களவைக்கு குடியரசுத் தலைவர் நியமிக்கிறார்.
iii) மாநிலங்களவை உறுப்பினராவதற்கு 30 வயதுக்குக் குறைவாக இருத்தல் கூடாது.
iv) மாநிலங்களவை உறுப்பினர்கள் நேரடியாக மக்களால் தேர்ந்தெடுக்கப்படுகின்றனர்.
அ) ii & iv சரியானவை ஆ) iii & iv சரியானவை
இ) i & iv சரியானவை ஈ) i, ii & iii சரியானவை
2. i) உச்ச நீதிமன்ற நீதிபதிகள் மற்றும் மற்ற நீதிபதிகளின் ஓய்வு பெறும் வயது 62.
ii) நடுவண் அரசின் மூன்றாவது அங்கம் நீதிதுறை ஆகும்.
iii) அடிப்படை உரிமைகள் தொடர்பான வழக்குகள் உச்சநீதிமன்றத்தின் மேல்முறையீட்டு அதிகாரங்களுக்கு உட்பட்டது.
iv) உச்சநீதிமன்றம் பிறப்பிக்கும் ஆணை இந்தியாவின் அனைத்துப் பகுதியில் உள்ள நீதிமன்றங்களையும் கட்டுப்படுத்தும்.
அ) ii & iv சரியானவை ஆ) iii & iv சரியானவை
இ) i & iv சரியானவை ஈ) i & ii சரியானவை

IV. பொருத்துக :

1. சட்டப்பிரிவு 53 - மாநில நெருக்கடி நிலை
2. சட்டப்பிரிவு 63 - உள்நாட்டு நெருக்கடி நிலை
3. சட்டப்பிரிவு 356 - குடியரசுத் தலைவரின் நிர்வாக அதிகாரங்கள்
4. சட்டப்பிரிவு 76 - துணைக் குடியரசுத் தலைவரின் அலுவலகம்
5. சட்டப்பிரிவு 352 - இந்திய அரசின் தலைமை வழக்குரைஞர் அலுவலகம்

3. மாநில அரசு

I. சரியான விடையைத் தேர்வு செய்யவும் :

1. மாநில ஆளுநரை நியமிப்பவர்.
அ) பிரதமர் ஆ) முதலமைச்சர் இ) குடியரசுத் தலைவர் ஈ) தலைமை நீதிபதி
2. மாநில சபாநாயகர் ஒரு _____
அ) மாநிலத் தலைவர் ஆ) அரசின் தலைவர்
இ) குடியரசுத் தலைவரின் முகவர் ஈ) மேற்கண்ட எதுவுமில்லை
3. கீழ்க்காணும் எந்த ஒன்று ஆளுநரின் அதிகாரமல்ல.
அ) சட்டமன்றம் ஆ) நிர்வாகம் இ) நீதித்துறை ஈ) தூதரகம்
4. ஆங்கிலோ - இந்தியன் வகுப்பினரில் இருந்து ஒரு பிரதிநிதியை சட்டமன்றத்திற்கு யார் நியமிக்கிறார்?
அ) குடியரசுத் தலைவர் ஆ) ஆளுநர் இ) முதலமைச்சர் ஈ) சட்டமன்ற சபாநாயகர்
5. ஆளுநர் யாரை நியமனம் செய்வதில்லை?
அ) முதலமைச்சர் ஆ) அரசுப் பணியாளர் தேர்வாணையத்தின் தலைவர்
இ) மாநில தலைமை வழக்குரைஞர் ஈ) உயர் நீதிமன்ற நீதிபதிகள்
6. அமைச்சரவையின் தலைவர்.
அ) முதலமைச்சர் ஆ) ஆளுநர் இ) சபாநாயகர் ஈ) பிரதம அமைச்சர்

7. மேலவை உறுப்பினராவதற்கு குறைந்த பட்ச வயது.

அ) 25 வயது ஆ) 21 வயது இ) 30 வயது ஈ) 35 வயது

8. கீழ்க்காணும் மாநிலங்களில் எந்த ஒன்று ஈரவை சட்டமன்றத்தை பெற்றிருக்கவில்லை?

அ) ஆந்திரப் பிரதேசம் ஆ) தெலுங்கானா இ) தமிழ்நாடு ஈ) உத்தரப் பிரதேசம்

9. இந்தியாவில் முதன்முதலில் உயர் நீதிமன்றங்கள் தொடங்கப்பட்ட இடங்கள்.

அ) கொல்கத்தா, பம்பாய், சென்னை ஆ) டெல்லி மற்றும் கொல்கத்தா

இ) டெல்லி, கொல்கத்தா, சென்னை ஈ) கொல்கத்தா, சென்னை, டெல்லி

10. கீழ்க்காணும் எந்த மாநிலங்கள் பொதுவான உயர் நீதிமன்றத்தைப் பெற்றுள்ளன?

அ) தமிழ்நாடு மற்றும் ஆந்திரப் பிரதேசம் ஆ) கேரளா மற்றும் தெலுங்கானா

இ) பஞ்சாப் மற்றும் ஹரியானா ஈ) மகாராஷ்டிரா மற்றும் குஜராத்

II. கோடிட்ட இடங்களை நிரப்புக :

1. ஆளுநர் தனது இராஜினாமா கடிதத்தை _____ இடம் கொடுக்கிறார்.

2. சட்டமன்ற உறுப்பினர்கள் (MLAs) _____ ஆல் தேர்ந்தெடுக்கப்படுகின்றனர்.

3. _____ மாநிலங்களில் உள்ள பல்கலைக் கழகங்களின் வேந்தராக செயல்படுகிறார்.

4. அரசுப் பணியாளர் தேர்வாணையக் குழுத் தலைவர் மற்றும் உறுப்பினர்கள் _____ ஆல் மட்டுமே பணிநீக்கம் செய்ய முடியும்.

III. பொருத்துக :

1. ஆளுநர் - அரசாங்கத்தின் தலைவர்
2. முதலமைச்சர் - மாநில அரசின் தலைவர்
3. அமைச்சரவை - தீர்ப்பாயங்கள்
4. மேலவை உறுப்பினர் - சட்டமன்றத்திற்குப் பொறுப்பானவர்கள்
5. ஆயுதப் படையினர் - மானியங்களுக்கு வாக்களிக்க முடியாது.

IV. சரியான கூற்றைத் தேர்வு செய்யவும் :

1. கூற்று : மாநில சட்டமன்றத்திற்கு சட்ட அதிகார வரம்பு உண்டு.

காரணம் : குடியரசுத் தலைவரின் ஒப்புதலுடன் மட்டுமே மாநிலப் பட்டியலிலுள்ள சில மசோதாக்களைச் சட்டமன்றத்தில் அறிமுகம் செய்யலாம்.

அ) கூற்று தவறு ஆனால் காரணம் சரி.

ஆ) கூற்று சரி ஆனால் காரணம் தவறு.

இ) கூற்று மற்றும் காரணம் சரி மேலும் காரணம் கூற்றுக்கான சரியான விளக்கமாகும்.

ஈ) கூற்று மற்றும் காரணம் சரி மேலும் காரணம் கூற்றுக்கான சரியான விளக்கமல்ல.

4. இந்தியாவின் வெளியுறவுக் கொள்கைகள்

I. சரியான விடையைத் தேர்வு செய்யவும் :

1. இந்தியாவின் அயலுறவுக் கொள்கையை வடிவமைப்பதில் எந்த அமைச்சர் முக்கிய பங்கு வகிக்கிறார்?

அ) பாதுகாப்பு அமைச்சர் ஆ) பிரதம அமைச்சர்

இ) வெளிவிவகாரங்கள் அமைச்சர் ஈ) உள்துறை அமைச்சர்

2. எந்த இரு நாடுகளுக்கு இடையே பஞ்ச்சீல ஒப்பந்தம் கையெழுத்திடப்பட்டு உள்ளது?

அ) இந்தியா மற்றும் நேபாளம் ஆ) இந்தியா மற்றும் பாகிஸ்தான்

இ) இந்தியா மற்றும் சீனா ஈ) இந்தியா மற்றும் ஸ்ரீலங்கா

3. இந்திய வெளியுறவு கொள்கையை ஏற்றுக்கொண்டு வழிநடத்தும் இந்திய அரசியலமைப்பு சட்டப்பிரிவு எது?
அ) சட்டப் பிரிவு 50 ஆ) சட்டப் பிரிவு 51 இ) சட்டப் பிரிவு 52 ஈ) சட்டப் பிரிவு 53
4. இன ஒதுக்கல் கொள்கை என்பது.
அ) ஒரு சர்வதேச சங்கம் ஆ) இராஜதந்திரம்
இ) ஒரு இனப் பாகுபாட்டுக் கொள்கை ஈ) மேற்கூறியவைகளில் எதுவுமில்லை
5. 1954 இல் இந்தியா மற்றும் சீனாவால் கையெழுத்திடப்பட்ட ஒப்பந்தம் இது தொடர்பானது.
அ) வியாபாரம் மற்றும் வணிகம் ஆ) சாதாரண உறவுகளை மீட்டெடுப்பது
இ) கலாச்சார பரிமாற்றங்கள் ஈ) ஐந்து கொள்கைகளுடன் இணைந்திருத்தல்
6. நமது வெளியுறவுக் கொள்கையுடன் தொடர்பு இல்லாதது எது?
அ) உலக ஒத்துழைப்பு ஆ) உலக அமைதி இ) இனச் சமத்துவம் ஈ) காலனித்துவம்
7. கீழ்க்கண்டவைகளில் அணிசேரா இயக்கத்தில் நிறுவன உறுப்பினர் அல்லாத நாடு எது?
அ) யுகோஸ்லாவியா ஆ) இந்தோனேசியா இ) எகிப்து ஈ) பாகிஸ்தான்
8. பொருந்தாத ஒன்றிணைக் கண்டுபிடி.
அ) சமூக நலம் ஆ) சுகாதாரம் இ) ராஜதந்திரம் ஈ) உள்நாட்டு விவகாரங்கள்
9. அணிசேராமை என்பதன் பொருள்.
அ) நடுநிலைமை வகிப்பது ஆ) தன்னிச்சையாகப் பிரச்சனைகளுக்கு முடிவு எடுக்கும் சுதந்திரம்
இ) இராணுவமயமின்மை ஈ) மேற்கூறியவற்றில் எதுவும் இல்லை
10. இராணுவம் சாராத பிரச்சனைகள் என்பது
அ) ஆற்றல் பாதுகாப்பு ஆ) நீர் பாதுகாப்பு
இ) தொற்று நோய்கள் ஈ) இவை அனைத்தும்

II. கோடிட்ட இடங்களை நிரப்புக :

- இந்தியா தனது முதல் அணு சோதனையை நடத்திய இடம் _____
- தற்போது நமது வெளியுறவுக் கொள்கையானது உள்நாட்டு வளர்ச்சி மற்றும் மேம்பாட்டிற்கான _____ உருவாக்குவதற்கான வழிமுறையாகச் செயல்படுகிறது.
- _____ என்பது ஓர் அரசின் வெளியுறவுக் கொள்கையை செயல்படுத்துவதற்கான கருவி ஆகும்.
- இரு வல்லரசுகளின் பனிப்போரினை எதிர்கொள்ள இந்தியா பின்பற்றிய கொள்கை _____
- நமது மரபு மற்றும் தேசிய நெறிமுறைகள் _____ நடைமுறைப்படுத்துவதாகும்.

III. பின்வரும் கூற்றினைப் படித்து பொருத்தமான விடையைத் தேர்ந்தெடுக்க.

- பின்வருவனவற்றை காலவரிசைப்படுத்தி கீழே கொடுக்கப்பட்டுள்ள குறியீடுகளில் இருந்து சரியான விடையைத் தேர்ந்தெடுக்கவும்.
(i) பஞ்சசீலம் (ii) சீனாவின் அணுவெடிப்புச் சோதனை
(iii) 20 ஆண்டுகள் ஒப்பந்தம் (iv) இந்தியா முதல் அணுவெடிப்புச் சோதனை
அ) (i), (iii), (iv), (ii) ஆ) (i), (ii), (iii), (iv)
இ) (i), (ii), (iv), (iii) ஈ) (i), (iii), (ii), (iv)

2. பின்வருவனவற்றில் அணிசேரா இயக்கத்துடன் தொடர்பு இல்லாதது எது?

- அணிசேரா இயக்கம் என்ற சொல் வி. கிருஷ்ணமேனன் என்பவரால் உருவாக்கப்பட்டது.
 - இதன் நோக்கம் இராணுவக் கூட்டமைப்பில் சேர்ந்து வெளி விவகாரங்களில் தேசிய சுதந்திரத்தைப் பராமரித்தல் ஆகும்.
 - தற்போது இது 120 உறுப்பு நாடுகளைக் கொண்டுள்ளது.
 - இது பொருளாதார இயக்கமாக மாற்றமடைந்து உள்ளது.
- அ) (i) மற்றும் (ii) ஆ) (iii) மற்றும் (iv) இ) (ii) மட்டும் ஈ) (iv) மட்டும்

3. கீழ்க்கண்ட ஒவ்வொரு கூற்றுக்கும் எதிராக சரியா / தவறா என எழுதுக
- அ) பனிப்போரின் போது சர்வதேச விவகாரங்களில் இந்தியா மூன்றாவது அணியை உருவாக்க முயற்சித்தது.
- ஆ) இந்தியாவின் வெளியுறவுக் கொள்கையை நிறைவேற்றும் பொறுப்பு இந்திய உள்துறை அமைச்சகத்தைச் சார்ந்தது.
- இ) இந்தியாவின் அணுசக்தி சோதனை பூமிக்கடியிலான அணு சோதனை திட்டத்தின் கீழ் செயல்படுத்தப்பட்டது.
-
4. கூற்று : 1971 இல் இந்தோ - சோவியத் ஒப்பந்தத்தின் மூலம் இந்தியா சோவியத் யூனியனுடன் இணைந்தது.
- காரணம் : இது 1962 இன் பேரழிவுகரமான சீனப் போருக்குப் பின் தொடங்கியது.
- அ) கூற்று சரி மற்றும் காரணம் கூற்றுக்கான சரியான விளக்கமாகும்.
- ஆ) கூற்று சரி ஆனால் காரணம் கூற்றுக்கான சரியான விளக்கமல்ல.
- இ) கூற்று சரி காரணம் தவறு.
- ஈ) கூற்று மற்றும் காரணம் இரண்டும் தவறு.
-
5. கூற்று : இந்தியா உலகின் பெரும்பான்மையான நாடுகளுடன் தூதரக உறவுகளைக் கொண்டுள்ளது.
- காரணம் : உலகின் இரண்டாவது அதிக அளவிலான மக்கள் தொகையைக் கொண்ட நாடு இந்தியா ஆகும்.
- அ) கூற்று சரி மற்றும் காரணம் கூற்றுக்கான சரியான விளக்கமாகும்.
- ஆ) கூற்று சரி ஆனால் காரணம் கூற்றுக்கான சரியான விளக்கமல்ல.
- இ) கூற்று தவறு காரணம் சரி.
- ஈ) கூற்று மற்றும் காரணம் இரண்டும் தவறு.
-
6. இந்தியா சுதந்திரத்திற்கு பின்னர் இராணுவ முகாம்களில் இணைவதை தவிர்ப்பது அவசியமாக இருந்தது. ஏனெனில் இந்தியா இதனை / இவைகளை மீட்க வேண்டி இருந்தது.
- அ) கடுமையான வறுமை
- ஆ) எழுத்தறிவின்மை
- இ) குழப்பமான சமூக பொருளாதார நிலைமைகள்
- ஈ) மேற்கூறிய அனைத்தும்

IV. பொருத்துக :

- | | |
|--|----------------------|
| 1. இந்தியப் பெருங்கடலில் அமைந்துள்ளது | - 1955 |
| 2. தென் கிழக்காசிய நாடுகள் கூட்டமைப்பின் பாலம் | - 1954 |
| 3. பஞ்சசீலம் | - மாலத்தீவு |
| 4. ஆப்பிரிக்க - ஆசிய மாநாடு | - வெளியுறவுக் கொள்கை |
| 5. உலக அமைதி | - மியான்மர் |

5. இந்தியாவின் சர்வதேச உறவுகள்

I. சரியான விடையைத் தேர்வு செய்யவும்.

1. மக்களால் எல்லைக்கோடு எந்த இரு நாடுகளுக்கும் இடையே உள்ள எல்லை ஆகும்?
- அ) பர்மா - இந்தியா ஆ) இந்தியா - நேபாளம்
- இ) இந்தியா - சீனா ஈ) இந்தியா - யூடான்
2. இந்தியா பின்வருவனவற்றுள் எந்த அமைப்பில் உறுப்பினராக இல்லை?
1. ஜி 20 2. ஏசியான் (ASEAN) 3. சார்க் (SAARC) 4. பிரிக்ஸ் (BRICS)
- அ) 2 மட்டும் ஆ) 2 மற்றும் 4 இ) 2, 4 மற்றும் 1 ஈ) 1, 2 மற்றும் 3

3. ஒபெக் (OPEC) என்பது
 அ) சர்வதேச காப்பீட்டு நிறுவனம்
 ஆ) ஒரு சர்வதேச விளையாட்டுக் கழகம்
 இ) எண்ணெய் ஏற்றுமதி நிறுவனங்களின் அமைப்பு
 ஈ) ஒரு சர்வதேச நிறுவனம்
4. இந்தியா தனது மிக நீண்ட நில எல்லையை எந்த நாட்டோடு பகிர்ந்து கொள்கிறது?
 அ) வங்காளதேசம் ஆ) மியான்மர் இ) ஆப்கானிஸ்தான் ஈ) சீனா
5. பின்வருவனவற்றைப் பொருத்தி கீழே கொடுக்கப்பட்ட குறியீடுகளில் இருந்து சரியான விடையை தேர்ந்தெடுக்கவும்.
 i) சல்மா அணை - 1. வங்காளதேசம்
 ii) பராக்கா ஒப்பந்தம் - 2. நேபாளம்
 iii) சுக்கா நீர்மின்சக்தி திட்டம் - 3. ஆப்கானிஸ்தான்
 iv) சாரதா கூட்டு மின்சக்தித் திட்டம் - 4. பூடான்
 அ) 3, 1, 4, 2 ஆ) 3, 1, 2, 4 இ) 3, 4, 1, 2 ஈ) 4, 3, 2, 1
6. எத்தனை நாடுகள் இந்தியாவுடன் தன் எல்லையைப் பகிர்ந்து கொள்கின்றன?
 அ) 5 ஆ) 6 இ) 7 ஈ) 8
7. எந்த இரண்டு தீவு நாடுகள் இந்தியாவின் அண்டை நாடுகள் ஆகும்?
 அ) இலங்கை மற்றும் அந்தமான் தீவுகள்
 ஆ) மாலத்தீவு மற்றும் லட்சத் தீவுகள்
 இ) மாலத்தீவு மற்றும் நிக்கோபார் தீவு
 ஈ) இலங்கை மற்றும் மாலத்தீவு
8. எந்த இந்திய மாநிலம் மூன்று நாடுகளால் சூழப்பட்டுள்ளது?
 அ) அருணாச்சலப் பிரதேசம் ஆ) மேகாலயா இ) மிசோரம் ஈ) சிக்கிம்
9. எத்தனை மாநிலங்கள் நேபாளத்துடன் தங்கள் எல்லையைப் பகிர்ந்து கொள்கின்றன?
 அ) ஐந்து ஆ) நான்கு இ) மூன்று ஈ) இரண்டு
10. சுதந்திரமடைந்த பாகிஸ்தானுக்கான எல்லைகளை வகுத்தவர்.
 அ) மவுண்ட் பேட்டன் பிரபு ஆ) சர் சிரில் ராட்க்ளிஃப்
 இ) கிளமன்ட் அட்லி ஈ) மேற்கூறிய ஒருவருமில்லை

II. கோடிட்ட இடங்களை நிரப்புக.

1. இமயமலையில் உள்ள ஒரு சிறிய முடியாட்சி நாடு _____ ஆகும்.
2. இந்தியா, தென்கிழக்கு ஆசியாவிற்குள் செல்வதற்கான ஒரு நுழைவு வாயிலாக _____ இருக்கிறது.
3. இந்தியாவிற்கும் சீனாவிற்கும் இடையிலான இடைப்படு நாடு _____ ஆகும்.
4. இந்தியாவிற்கு சொந்தமான _____ என்ற பகுதி மேற்கு வங்காளம் - வங்காளதேச எல்லையில் அமைந்துள்ளது.
5. 'இடி மின்னல் நிலம்' என்று அறியப்படும் நாடு _____ ஆகும்.
6. இந்தியாவும் இலங்கையும் _____ ஆல் பிரிக்கப்படுகின்றன.

III. பின்வரும் கூற்றினைப் படித்து பொருத்தமான விடையைத் தேர்ந்தெடுக்க.

1. இந்தியா மற்றும் மியான்மரின் கலடன் போக்குவரத்துத் திட்டம் பின்வரும் போக்குவரத்து முறைகளில் எந்த முறையில் அமைக்கப்பட்டுள்ளது?
 1. சாலை 2. ரயில்வழி 3. கப்பல் 4. உள்நாட்டு நீர்வழிப் போக்குவரத்து
 கீழே கொடுக்கப்பட்டுள்ள குறியீடுகளைப் பயன்படுத்தி சரியான விடையைத் தேர்ந்தெடுக்க.
 அ) 1, 2 மற்றும் 3 ஆ) 1, 3 மற்றும் 4 இ) 2, 3 மற்றும் 4 ஈ) 1, 2, 3 மற்றும் 4

2. கூற்று : இந்தியாவும் பிரான்சும் சர்வதேச சூரிய சக்திக் கூட்டணியைத் (International Solar Alliance) தொடங்கியுள்ளன.

காரணம் : இது கடகரேகை மற்றும் மகரரேகை ஆகியவற்றுக்கு இடையேயான நாடுகளை சூரிய ஆற்றலுக்கான ஒத்துழைப்பில் ஒன்றிணைப்பதற்காகும்.

அ) கூற்று சரி, காரணம் கூற்றிற்கான சரியான விளக்கமாகும்.

ஆ) கூற்று சரி, காரணம் கூற்றிற்கான சரியான விளக்கமல்ல.

இ) கூற்று தவறு, காரணம் சரி.

ஈ) கூற்று, காரணம் இரண்டும் தவறு.

3. 1) இந்திய பண்பாட்டு உறவுகளுக்கான குழு, டாக்கா பல்கலைக் கழகத்தில் "தாகூர் இருக்கை" ஏற்படுத்த வழிவகை செய்துள்ளது.

2) மேற்கத்திய நாடுகளுக்கான இந்தியாவின் நுழைவு வாயில் மியான்மர் ஆகும்.

3) நேபாளம், யூடான் ஆகியவை நிலப்பகுதிகளால் சூழப்பட்ட நாடுகளாகும்.

4) இந்தியாவின் நாளந்தா பல்கலைக்கழக திட்டத்தின் ஒரு பங்குதாரர் நாடு இலங்கையாகும்.

அ) 1, 2 மற்றும் 3 ஆ) 2, 3 மற்றும் 4 இ) 1, 3 மற்றும் 4 ஈ) 1, 2 மற்றும் 4

4. கூற்று : இந்தியாவின் பொருளாதார வளர்ச்சியில் ஒபெக் (OPEC) ஆர்வம் காட்டியுள்ளது.

காரணம் : தேவையான எண்ணெய் வளங்கள் இல்லாததால் இந்தியா விவசாயம் மற்றும் தொழில்துறை உற்பத்தியில் கவனம் செலுத்துகிறது.

அ) கூற்று சரி, காரணம் கூற்றை விளக்குகிறது.

ஆ) கூற்று தவறு, காரணம் சரி.

இ) கூற்று காரணம் இரண்டும் சரி.

ஈ) கூற்று காரணம் இரண்டும் தவறு.

IV. பொருத்துக.

- | | |
|---|---------------------------------|
| 1. பிராண்டிக்ஸ் (Brandix) | - வியன்னா |
| 2. தகவல்தொடர்பு இணக்கத்தன்மை மற்றும் பாதுகாப்பு ஒப்பந்தம் (COMCASA) | - ஜப்பான் |
| 3. ஷிங்கன்சென் | - ஷாங்காய் |
| 4. பிரிக்ஸ் (BRICS) | - அமெரிக்க நாடுகள் |
| 5. ஒபெக் (OPEC) | - விசாகப்பட்டினத்தின் ஆடை நகரம் |

பொருளியல்

1. மொத்த உள்நாட்டு உற்பத்தி மற்றும் அதன் வளர்ச்சி : ஓர் அறிமுகம்

I. சரியான விடையைத் தேர்வு செய்யவும்.

1. GNP யின் சமம்.

- அ) பணவீக்கத்திற்காக சரிசெய்யப்பட்ட NNP
ஆ) பணவீக்கத்திற்காக சரிசெய்யப்பட்ட GDP
இ) GDP மற்றும் வெளிநாட்டில் ஈட்டப்பட்ட நிகரசொத்து வருமானம்
ஈ) NNP மற்றும் வெளிநாட்டில் ஈட்டப்பட்ட நிகரசொத்து வருமானம்

2. நாட்டு வருமானம் அளவிடுவது.

- அ) பணத்தின் மொத்த மதிப்பு
ஆ) உற்பத்தியாளர் பண்டத்தின் மொத்த மதிப்பு
இ) நுகர்வு பண்டத்தின் மொத்த மதிப்பு
ஈ) பண்டங்கள் மற்றும் பணிகளின் மொத்த மதிப்பு

3. முதன்மை துறை இதனை உள்ளடக்கியது.

- அ) வேளாண்மை ஆ) தானியங்கிகள் இ) வர்த்தகம் ஈ) வங்கி

4. _____ முறையில் ஒவ்வொரு இடைநிலை பண்டத்தின் மதிப்பை கூட்டும்போது, இறுதி பண்டத்தின் மதிப்பை கணக்கிடலாம்.

- அ) செலவு முறை ஆ) மதிப்பு கூட்டு முறை
இ) வருமானமுறை ஈ) நாட்டு வருமானம்

5. GDP யில் எந்த துறை மூலம் அதிகமான வேலைவாய்ப்பு ஏற்படுகிறது?

- அ) வேளாண் துறை ஆ) தொழில் துறை
இ) பணிகள் துறை ஈ) மேற்கண்ட எதுவுமில்லை

6. பணிகள் துறையில் நடப்பு விலையில் மொத்த மதிப்பு கூடுதல் 2018-19 இல் _____ லட்சம் கோடி என மதிப்பிடப்பட்டுள்ளது.

- அ) 91.06 ஆ) 92.26 இ) 80.07 ஈ) 98.29

7. வேளாண் பண்டங்களின் உற்பத்தியில் இந்தியா _____ அதிகமாக உற்பத்தியாளர் ஆகும்.

- அ) 1 வது ஆ) 3 வது இ) 4 வது ஈ) 2 வது

8. இந்தியாவில் பிறப்பின் போது எதிர்பார்க்கப்பட்ட ஆயுட்காலம் _____ ஆண்டுகள்.

- அ) 65 ஆ) 60 இ) 70 ஈ) 55

9. கீழ்க்கண்டவற்றுள் எது வர்த்தக கொள்கை?

- அ) நீர்பாசன கொள்கை ஆ) இறக்குமதி மற்றும் ஏற்றுமதி கொள்கை
இ) நில சீர்திருத்தக் கொள்கை ஈ) கூலிக் கொள்கை

10. இந்திய பொருளாதாரம் என்பது.

- அ) வளர்ந்து வரும் பொருளாதாரம் ஆ) தோன்றும் பொருளாதாரம்
இ) இணை பொருளாதாரம் ஈ) அனைத்தும் சரி

II. கோடிட்ட இடங்களை நிரப்புக :

- இந்தியாவில் _____ துறை முதன்மை துறையாகும்.
- _____ மக்களின் வாழ்க்கைத் தரத்தை உணர்த்தும் ஒரு கருவியாகும்.
- இரண்டாம் துறையை வேறுவிதமான _____ துறை என அழைக்கலாம்.

III. பொருத்துக :

- | | |
|-------------------------------------|-----------------------------------|
| 1. மின்சாரம் / எரிவாயு மற்றும் நீர் | - நாட்டு வருமானம் / மக்கள் தொகை |
| 2. விலைக் கொள்கை | - மொத்த நாட்டு உற்பத்தி |
| 3. GST | - தொழில் துறை |
| 4. தலா வருமானம் | - வேளாண்மை |
| 5. C+I+G+(X-M) | - பண்டம் மற்றும் பணிகள் மீதான வரி |

2. உலகமயமாதல் மற்றும் வர்த்தகம்

I. சரியான விடையைத் தேர்வு செய்யவும்.

1. உலக வர்த்தக அமைப்பின் (WTO) தலைவர் யார்?

- | | |
|-------------------------|-------------------------|
| அ) அமைச்சரவை | ஆ) தலைமை இயக்குநர் |
| இ) துணை தலைமை இயக்குநர் | ஈ) இவற்றில் எதுவுமில்லை |

2. இந்தியாவில் காலனியாதிக்க வருகை.

- | |
|--|
| அ) போர்ச்சுகீசியர், டச்சு, ஆங்கிலேயர், டேனிஷ், பிரெஞ்சு |
| ஆ) டச்சு, ஆங்கிலேயர், டேனிஷ், பிரெஞ்சு |
| இ) போர்ச்சுகீசியர், டேனிஷ், டச்சு, பிரெஞ்சு, ஆங்கிலேயர்கள் |
| ஈ) டேனிஷ், போர்ச்சுகீசியர், பிரெஞ்சு, ஆங்கிலேயர், டச்சு |

3. காட் (GATT) - இன் முதல் சுற்று நடைபெற்ற இடம்.

- | | | | |
|-------------|------------|-------------|-----------|
| அ) டோக்கியோ | ஆ) உருகுவே | இ) டார்குவே | ஈ) ஜெனீவா |
|-------------|------------|-------------|-----------|

4. இந்தியா எப்போது டங்கல் திட்டத்தில் கையெழுத்திட்டது?

- | | | | |
|---------|---------|---------|---------|
| அ) 1984 | ஆ) 1976 | இ) 1950 | ஈ) 1994 |
|---------|---------|---------|---------|

5. 1632 இல் ஆங்கிலேயர்களுக்கு "கோல்டன் ஃபயர்மான்" வழங்கியவர் யார்?

- | | | | |
|--------------|------------------------|-----------|--------------|
| அ) ஜஹாங்கீர் | ஆ) கோல்கொண்டா சுல்தான் | இ) அக்பர் | ஈ) ஓளரங்கீப் |
|--------------|------------------------|-----------|--------------|

6. வெளிநாட்டு முதலீட்டுக் கொள்கை (FIP) அறிவித்த ஆண்டு.

- | | | | |
|--------------|--------------|-----------------------|----------------|
| அ) ஜூன் 1991 | ஆ) ஜூலை 1991 | இ) ஜூலை - ஆகஸ்ட் 1991 | ஈ) ஆகஸ்ட் 1991 |
|--------------|--------------|-----------------------|----------------|

7. இந்திய அரசாங்கத்தால் 1991 இல் _____ ஐ அறிமுகப்படுத்தப்பட்டது.

- | | |
|---------------------------|-------------------------|
| அ) உலகமயமாக்கல் | ஆ) உலக வர்த்த அமைப்பு |
| இ) புதிய பொருளாதார கொள்கை | ஈ) இவற்றில் எதுவுமில்லை |

II. கோடிட்ட இடங்களை நிரப்புக :

- ஒரு நல்ல பொருளாதாரம் _____ ன் விரைவான வளர்ச்சிக்காக அறிமுகப்படுத்தப்படுகிறது.
- உலக வர்த்தக அமைப்பு ஒப்பந்தம் _____ ஆண்டு அமுலுக்கு வந்தது.
- _____ ஆல் உலகமயமாக்கல் என்ற பதம் கண்டுபிடிக்கப்பட்டது.

III. பொருத்துக :

- | | |
|---|--|
| 1. இந்தியாவில் பன்னாட்டு நிறுவனம் | - 1947 |
| 2. பன்னாட்டு நிதி நிறுவனம் (MNC) | - அயல்நாட்டு வாணிபத்தை செயல்படுத்துதல் |
| 3. சுங்கவரி, வாணிபம் குறித்த பொது உடன்பாடு (GATT) | - உற்பத்தி செலவு குறைத்தல் |
| 4. 8 வது உருகுவே சுற்று | - இன்ஃபோசிஸ் |
| 5. உலக வர்த்தக அமைப்பு (WTO) | - 1986 |

3. உணவு பாதுகாப்பு மற்றும் ஊட்டச்சத்து

I. சரியான விடையைத் தேர்வு செய்யவும்.

- _____ என்பது விரும்பிய அளவுகளில் உணவு இருப்பு இருப்பது, உள்நாட்டு உற்பத்தியில் இருப்பில் மாற்றங்கள் மற்றும் இறக்குமதி பற்றிய ஒரு செயல்பாடாகும்.
அ) உணவு கிடைப்பது ஆ) உணவுக்கான அணுகல்
இ) உணவின் முழு ஈடுபாடு ஈ) இவை ஏதுமில்லை
- தாங்கியிருப்பு என்பது உணவுப் பங்கு தானியங்கள் அதாவது கோதுமை மற்றும் அரிசியை _____ மூலம் அரசாங்கம் கொள்முதல் செய்கிறது.
அ) FCI ஆ) நுகர்வோர் கூட்டுறவு இ) ICICI ஈ) IFCI
- எது சரியானது?
(i) HYV - அதிக விளைச்சல் தரும் வகைகள்
(ii) MSP - குறைந்தபட்ச ஆதரவு விலை
(iii) PDS - பொது விநியோக முறை
(iv) FCI - இந்திய உணவுக் கழகம்
அ) i மற்றும் ii சரியானவை ஆ) iii மற்றும் iv சரியானவை
இ) ii மற்றும் iii சரியானவை ஈ) மேற்கூறிய அனைத்தும் சரி
- நீட்டிக்கப்பட்ட உதவி பொதுச்சட்டம் 480-ஐ கொண்டு வந்த நாடு _____
அ) அமெரிக்கா ஆ) இந்தியா இ) சிங்கப்பூர் ஈ) இங்கிலாந்து
- _____ இந்தியாவில் தோன்றியதால் உணவு தானிய உற்பத்தியில் தன்னிறைவு பெற வழி வகுத்தது.
அ) நீலப் புரட்சி ஆ) வெள்ளைப் புரட்சி
இ) பசுமைப் புரட்சி ஈ) சாம்பல் புரட்சி
- உலகளாவிய பொது வழங்கல் முறையை ஏற்றுக்கொண்ட ஒரே மாநிலம் _____
அ) கேரளா ஆ) ஆந்திரபிரதேசம் இ) தமிழ்நாடு ஈ) கர்நாடகா
- _____ என்பது உடல்நலம் மற்றும் வளர்ச்சிக்கு தேவையான உணவை வழங்கும் அல்லது பெறும் செயல்முறையாகும்.
அ) ஆரோக்கியம் ஆ) ஊட்டச்சத்து இ) சுகாதாரம் ஈ) பாதுகாப்பு

II. கோடிட்ட இடங்களை நிரப்புக.

- _____ ஊட்டச்சத்து குறைபாட்டின் முக்கியமான குறியீடாகும்.
- _____ ஆம் ஆண்டில் தேசிய உணவு பாதுகாப்புச் சட்டம் இந்திய நாடாளுமன்றத்தால் நிறைவேற்றப்பட்டது.
- பொதுவான மக்களுக்கு பொறுப்பான விலையில் தரமான பொருட்களை வழங்குவதில் _____ முக்கியப் பங்கு வகிக்கிறது.

III. பொருத்துக.

- நுகர்வோர் கூட்டுறவு - மானிய விகிதங்கள்
- பொது விநியோக முறை - 2013
- UNDP - குறைந்த ஏழ்மை உள்ள பகுதி
- தேசிய உணவுப் பாதுகாப்புச் சட்டம் - தரமான பொருட்களை வழங்குதல்
- கேரளா - ஐக்கிய நாடுகள் சபை வளர்ச்சித் திட்டம்

4. அரசாங்கமும் வரிகளும்

I. சரியான விடையைத் தேர்வு செய்யவும்.

1. இந்தியாவில் உள்ள மூன்று நிலைகளான அரசுகள்.

- அ) மைய, மாநில மற்றும் உள்ளாட்சி ஆ) மைய, மாநில மற்றும் கிராம
இ) மைய, நகராட்சி மற்றும் பஞ்சாயத்து ஈ) ஏதுமில்லை

2. இந்தியாவில் உள்ள வரிகள்

- அ) நேர்முக வரிகள் ஆ) மறைமுக வரிகள்
இ) இரண்டும் (அ) மற்றும் (ஆ) ஈ) ஏதுமில்லை

3. வளர்ச்சிக் கொள்கையில் அரசாங்கத்தின் பங்கு எது?

- அ) பாதுகாப்பு ஆ) வெளிநாட்டுக் கொள்கை
இ) பொருளாதாரத்தை கட்டுப்படுத்தல் ஈ) மேற்கூறிய அனைத்தும்

4. இந்தியாவில் தனிநபர்களின் மேல் விதிக்கப்படுகின்ற பொதுவான மற்றும் மிக முக்கியமான வரி _____

- அ) சேவை வரி ஆ) கலால் வரி இ) விற்பனை வரி ஈ) மத்திய விற்பனை வரி

5. ஒரு நாடு, ஒரே மாதிரியான வரி என்பதை எந்த வரி உறுதிப்படுத்துகிறது?

- அ) மதிப்புக் கூட்டு வரி (VAT) ஆ) வருமான வரி
இ) பண்டங்கள் மற்றும் பணிகள் வரி ஈ) விற்பனை வரி

6. இந்தியாவில் வருமான வரிச்சட்டம் முதன் முதலில் _____ ஆம் ஆண்டு அறிமுகப்படுத்தப்பட்டது.

- அ) 1860 ஆ) 1870 இ) 1880 ஈ) 1850

7. சொத்து உரிமையிலிருந்து பெறப்பட்ட நன்மைகளுக்கு _____ வரி விதிக்கப்படுகிறது.

- அ) வருமான வரி ஆ) சொத்து வரி இ) நிறுவன வரி ஈ) கலால் வரி

8. கருப்பு பணத்திற்கான காரணங்கள் என கண்டறியப்பட்ட அடையாளம் எவை?

- அ) பண்டங்களின் பற்றாக்குறை ஆ) அதிக வரி விகிதம்
இ) கடத்தல் ஈ) மேற்கூறிய அனைத்தும்

II. கோடிட்ட இடங்களை நிரப்புக.

- _____ மாநிலங்களின் பொருளாதார வளர்ச்சிக்காக அரசாங்கத்தால் விதிக்கப்படுகிறது.
- "வரி" என்ற வார்த்தை _____ சொல்லில் இருந்து பெறப்பட்டது.
- _____ வரியில் வரியின் சுமையை மற்றவர்களுக்கு மாற்ற முடியாது.
- பண்டங்கள் மற்றும் பணிகள் வரி _____ ஆண்டு முதல் நடைமுறைக்கு வந்தது.
- வரி நிர்வாகியிடம் இருந்து மறைக்கப்பட்ட, கணக்கிடப்படாத பணம் _____ என்று அழைக்கப்படுகிறது.

III. சரியான கூற்றைத் தேர்ந்தெடுக்கவும்.

1. GST பற்றி கீழ்க்கண்ட கூற்றுகளில் எது சரியானது?

- GST 'ஒரு முனை வரி'.
- இது மத்திய மற்றும் மாநில அரசாங்கங்களால் பொருட்கள் மற்றும் சேவைகளுக்கு விதிக்கப்படும் அனைத்து நேரடி வரிகளையும் மாற்றுவதை நோக்கமாக கொண்டுள்ளது.
- இது ஜூலை 1, 2017 முதல் நாடு முழுவதும் அமுல்படுத்தப்பட்டது.
- இது இந்தியாவில் வரி கட்டமைப்பை ஒன்றிணைக்கும்.

- அ) (i) மற்றும் (ii) சரி ஆ) (ii), (iii) மற்றும் (iv) சரி
இ) (i), (iii) மற்றும் (iv) சரி ஈ) மேற்கூறிய அனைத்தும் சரியானவை

IV. பொருத்துக.

1. வருமான வரி - மதிப்புக் கூட்டு வரி
2. ஆயத்தீர்வை - ஜூலை 1, 2017
3. VAT - கடத்துதல்
4. GST - நேர்முக வரி
5. கருப்பு பணம் - மறைமுக வரி

5. தமிழ்நாட்டில் தொழில்துறை தொகுப்புகள்

I. சரியான விடையைத் தேர்வு செய்யவும்.

1. ஆசியாவின் டெட்ராய்ட் என அழைக்கப்படுவது _____
அ) தூத்துக்குடி ஆ) கோயம்புத்தூர் இ) சென்னை ஈ) மதுரை
2. குழாய்கள் மற்றும் நீரிறைக்கும் இயந்திரம் பெருமளவில் உற்பத்தி செய்யப்படுவது.
அ) சேலம் ஆ) கோயம்புத்தூர் இ) சென்னை ஈ) தருமபுரி
3. _____ என்பது ஒரு நாட்டின் வளர்ச்சியில் முக்கிய அம்சமாகும்.
அ) வேளாண்மை ஆ) தொழில் இ) இரயில்வே ஈ) மேற்கண்ட எதுவுமில்லை
4. திருப்பூர் _____ தொழிலுக்குப் பெயர் பெற்றது.
அ) தோல் பதனிடும் ஆ) பூட்டு தயாரித்தல்
இ) பின்னலாடை தயாரித்தல் ஈ) வேளாண் பதப்படுத்துதல்
5. _____ ல் ஒரு வெற்றிகரமான தொழில்துறை தொகுப்பு முற்றிலும் தமிழ்நாட்டால் உருவாக்கப்பட்டது.
அ) ஓசூர் ஆ) திண்டுக்கல் இ) கோவில்பட்டி ஈ) திருநெல்வேலி

II. கோடிட்ட இடங்களை நிரப்புக.

1. நூற்றுக்கணக்கான தோல் மற்றும் தோல் பதனிடும் வசதிகள் தமிழ்நாட்டில் _____ மாவட்டத்தை சுற்றி அமைந்துள்ளன.
2. சிறப்புப் பொருளாதார மண்டலக் கொள்கைகள் _____ ஆம் ஆண்டு அறிமுகப்படுத்தப்பட்டது.
3. _____ என்பவர் புத்தாக்க சிந்தனைகள் மற்றும் வணிக செயல்முறைகளின் புத்தாக்கம் புனைபவர்.

III. தவறான ஒன்றினை தேர்வு செய்க.

1. பின்வருவனவற்றில் தோல் தொழிற்சாலைகள் இல்லாதது எது?
அ) ராணிப்பேட்டை ஆ) தர்மபுரி இ) ஆம்பூர் ஈ) வாணியம்பாடி
2. பின்வருவனவற்றில் எது தொழில்துறை வளர்ச்சி நிறுவனம் அல்ல?
அ) TIDCO ஆ) SIDCO இ) MEPG ஈ) SIPCOT

IV. பொருத்துக.

1. தொழில் முனைவோர் - ஏற்றுமதி செயலாக்க மண்டலம்
2. MEPZ - கோயம்புத்தூர்
3. இந்திய ஒழுங்குமுறை தொழிற்சாலை - அமைப்பாளர்
4. TNPL - அரவங்காடு
5. தென்னிந்தியாவின் மான்செஸ்டர் - கரூர்

அரசுப் பொதுத் தேர்வு (மே - 2022)

காலம் : 3 மணி நேரம்

சமூக அறிவியல்

மொத்த மதிப்பெண்கள் - 100

பகுதி - I

14 X 1 = 14

I. சரியான விடையைத் தேர்வு செய்யவும் :

- சென்னை மகாஜன சபையின் முதல் தலைவர் யார்?
 - T.M. நாயர்
 - P. ரங்கையா
 - G. சுப்பிரமணியம்
 - G.A. நடேசன்
- தமிழ்நாட்டில் திருச்சிராப்பள்ளியில் இருந்து வேதாரண்யம் வரை உப்பு சத்தியாகிரக யாத்திரை மேற்கொண்டவர் யார்?
 - சி. ஆர். தாஸ்
 - மோதிலால் நேரு
 - சி. ராஜாஜி
 - M.N. ராய்
- "ஏகாதிபத்தியம் முதலாளித்துவத்தின் உச்சகட்டம்" எனக் கூறியவர் யார்?
 - லெனின்
 - மார்க்ஸ்
 - சன் யாட் சென்
 - மா சே தூங்
- வேலூர் புரட்சி எப்போது வெடித்தது?
 - 1805 மே 24
 - 1805 ஜூலை 10
 - 1806 ஜூலை 10
 - 1806 செப்டம்பர் 10
- சரியான கூற்றுகளைத் தேர்ந்தெடுக்கவும் :
 - பாளையக்காரர் முறை காகதீயப் பேரரசின் நடைமுறையில் இருந்தது.
 - கான் சாகிப்பின் இறப்பிற்கு பின் பூலித்தேவர் நெற்கட்டும்செவலை 1764 இல் மீண்டும் கைப்பற்றினார்.
 - கம்பெனி நிர்வாகத்திற்கு தகவல் அளிக்காமல் பாளையக்காரர்களோடு பேச்சு வார்த்தையில் ஈடுபட்டதால் யூசுப் கான் துரோகி என்று குற்றம் சுமத்தப்பட்டு 1764 இல் தூக்கிலிடப்பட்டார்.
 - ஒண்டிவீரன் கட்டபொம்மனின் படைப் பிரிவுகளில் ஒன்றைத் தலைமையேற்று வழிநடத்தினார்.
 - (i), (ii) மற்றும் (iv)
 - (i), (ii) மற்றும் (iii)
 - (iii) மற்றும் (iv) மட்டும்
 - (i) மற்றும் (iv) மட்டும்
- பொருந்தாததைத் தேர்ந்தெடுக்கவும்.
 - காதர்
 - பாங்கர்
 - வண்டல் மண்
 - கரிசல் மண்
- மாங்கனீசு இவற்றில் பயன்படுத்தப்படுகிறது.
 - சேமிப்பு மின்கலன்கள்
 - எஃகு தயாரிப்பு
 - செம்பு உருக்குதல்
 - பெட்ரோலிய சுத்திகரிப்பு
- கீழ்க்கண்டவற்றில் தமிழ்நாட்டின் மேற்கு தொடர்ச்சி மலையில் அமையாத கணவாய் எது?
 - பாலக்காடு
 - செங்கோட்டை
 - போர்காட்
 - அச்சன்கோவில்
- _____ "தமிழ்நாட்டின் நெசவுத் தலைநகரம்" என்றழைக்கப்படுகிறது?
 - சென்னை
 - திருச்சி
 - சேலம்
 - கரூர்
- பாக் நீர்சந்தி மற்றும் மன்னார் வளைகுடா _____ இந்தியாவிடம் இருந்து பிரிக்கிறது.
 - கோவாவை
 - மேற்கு வங்காளத்தை
 - இலங்கையை
 - மாலத்தீவை
- எந்த பிரிவின் கீழ் நிதிநிலை அவசர நிலையை அறிவிக்க முடியும்?
 - சட்டப் பிரிவு 352
 - சட்டப் பிரிவு 356
 - சட்டப் பிரிவு 360
 - சட்டப் பிரிவு 368
- மேலவை உறுப்பினராவதற்கு குறைந்த பட்ச வயது.
 - 25 வயது
 - 21 வயது
 - 30 வயது
 - 35 வயது
- இந்திய அரசாங்கத்தால் 1991 இல் _____ ஐ அறிமுகப்படுத்தப்பட்டது.
 - உலகமயமாக்கல்
 - உலக வர்த்த அமைப்பு
 - புதிய பொருளாதார கொள்கை
 - இவற்றில் எதுவுமில்லை

14. சரியான கூற்றைத் தேர்ந்தெடுக்கவும் - GST

- GST 'ஒரு முனை வரி'.
- இது மத்திய மற்றும் மாநில அரசாங்கங்களால் பொருட்கள் மற்றும் சேவைகளுக்கு விதிக்கப்படும் அனைத்து நேரடி வரிகளையும் மாற்றுவதை நோக்கமாக கொண்டுள்ளது.
- இது ஜூலை 1, 2017 முதல் நாடு முழுவதும் அமுல்படுத்தப்பட்டது.
- இது இந்தியாவில் வரி கட்டமைப்பை ஒன்றிணைக்கும்.
 - (i) மற்றும் (ii) சரி
 - (ii), (iii) மற்றும் (iv) சரி
 - (i), (iii) மற்றும் (iv) சரி
 - மேற்கூறிய அனைத்தும் சரியானவை

பகுதி - II

10 X 2 = 20

குறிப்பு : எவ்வளவு 10 வினாக்களுக்கு விடையளிக்கவும். வினா எண் 28 - க்கு கட்டாயமாக விடையளிக்கவும்.

- பொருளாதாரப் பெருமந்தம் இந்திய வேளாண்மையின் மீது எத்தகைய தாக்கத்தை ஏற்படுத்தியது?
- பிரம்ம சமாஜத்தால் ஒழிக்கப்பட்ட சமூகத் தீமைகள் யாவை?
- வாரிசு இழப்புக் கொள்கையின் அடிப்படையில் பிரிட்டிஷ் அரசில் இணைத்துக் கொள்ளப்பட்ட பகுதிகளைப் பட்டியலிடவும்.
- பெரியாரை ஒரு பெண்ணியவாதியாக மதிப்பிடுக.
- முத்துத் துறைமுக நிகழ்வை விவரிக்கவும்.
- இலட்சத் தீவுக் கூட்டங்கள் பற்றி விவரிக்கவும்.
- தமிழ்நாட்டின் வேளாண் பருவங்களை எழுதுக.
- இந்தியாவில் அதிக மழைப்பெறும் பகுதிகளைக் குறிப்பிடுக.
- தமிழ்நாட்டின் எல்லைகளைக் குறிப்பிடுக.
- உச்சநீதிமன்ற நீதிபதி ஆவதற்கான தகுதிகள் யாவை?
- சார்க் உறுப்பு நாடுகளைப் பட்டியலிடுக.
- GDP-யின் முக்கியத்துவத்தை எழுதுக.
- தமிழ்நாட்டிலுள்ள சில ஊட்டச்சத்து திட்டங்களின் பெயர்களை எழுதுக.
- நிறுவன வரி என்றால் என்ன?

பகுதி - III

10 X 5 = 50

குறிப்பு : எவ்வளவு 10 வினாக்களுக்கு விடையளிக்கவும். வினா எண் 42 - க்கு கட்டாயமாக விடையளிக்கவும்.

- கோடிட்ட இடங்களை நிரப்புக.
 - 1913 ஆம் ஆண்டு மே மாதம் கையெழுத்திடப்பட்ட _____ உடன்படிக்கையின்படி அல்பேனியா எனும் புதிய நாடு உருவாக்கப்பட்டது.
 - _____ மண்ணில் இரும்பு ஆக்ஸைடு அதிகமாக காணப்படுகிறது.
 - மிக அதிகமாக கிடைக்கக்கூடிய ஆற்றல் வளம் _____
 - இந்திாவிற்கும் சீனாவிற்கும் இடையிலான இடைப்பட்ட நாடு _____ ஆகும்.
 - _____ ஊட்டச்சத்து குறைபாட்டின் முக்கியமான குறியீடாகும்.
- முதல் உலகப் போருக்கான முக்கியக் காரணங்களை விவாதிக்கவும்.
- பெண்களின் மேம்பாட்டிற்கு 19 ஆம் நூற்றாண்டு சீர்திருத்தவாதிகள் ஆற்றிய பணிகள் குறித்து ஒரு கட்டுரை வரைக.
- (அ) வேறுபடுத்துக - (i) வானிலை மற்றும் காலநிலை (ii) வண்டல் மண் மற்றும் கரிசல் மண் (ஆ) காரணம் கூறுக - இமயமலைகள் "மடிப்பு மலைகள்" என அழைக்கப்படுகின்றன.

33. அடிப்படை உரிமைகளுக்கும் அரசு நெறிமுறையுறுத்தும் கோட்பாடுகளுக்கும் இடையேயான வேறுபாடுகளைக் குறிப்பிடுக.
34. இந்தியாவின் பிரிவினைக்குப் பின்னால் இருந்த காரணங்களை விவாதிக்கவும்.
35. தென்மேற்கு பருவக்காற்று குறித்து எழுதுக.
36. இந்திய விவசாயிகள் எதிர்கொள்ளும் முக்கிய சவால்கள் யாவை?
37. இந்தியப் பிரதம அமைச்சரின் பணிகள் மற்றும் கடமைகள் யாவை?
38. முதலமைச்சரின் அதிகாரங்கள் மற்றும் பணிகளை விவரிக்கவும்.
39. உலகமயமாக்கலின் நேர்மறைத் தாக்கம் மற்றும் எதிர்மறைத் தாக்கம் பற்றி எழுதுக.
40. கருப்பு பணம் என்றால் என்ன? அதற்கான காரணங்களை எழுதுக.
41. கீழ்காண்பனவற்றிற்கு காலக்கோடு வரைக.
1920 முதல் 1940 வரையிலான ஆண்டுக்கு உட்பட்ட முக்கிய ஐந்து நிகழ்வுகளைக் காலக்கோட்டில் எழுதுக.
42. இந்திய வரைபடத்தில் கீழ்காணும் இடங்களைக் குறிக்கவும்.
(i) தில்லி (ii) குவாலியர் (iii) ஜான்சி (iv) பனாரஸ் (v) பாரக்பூர்

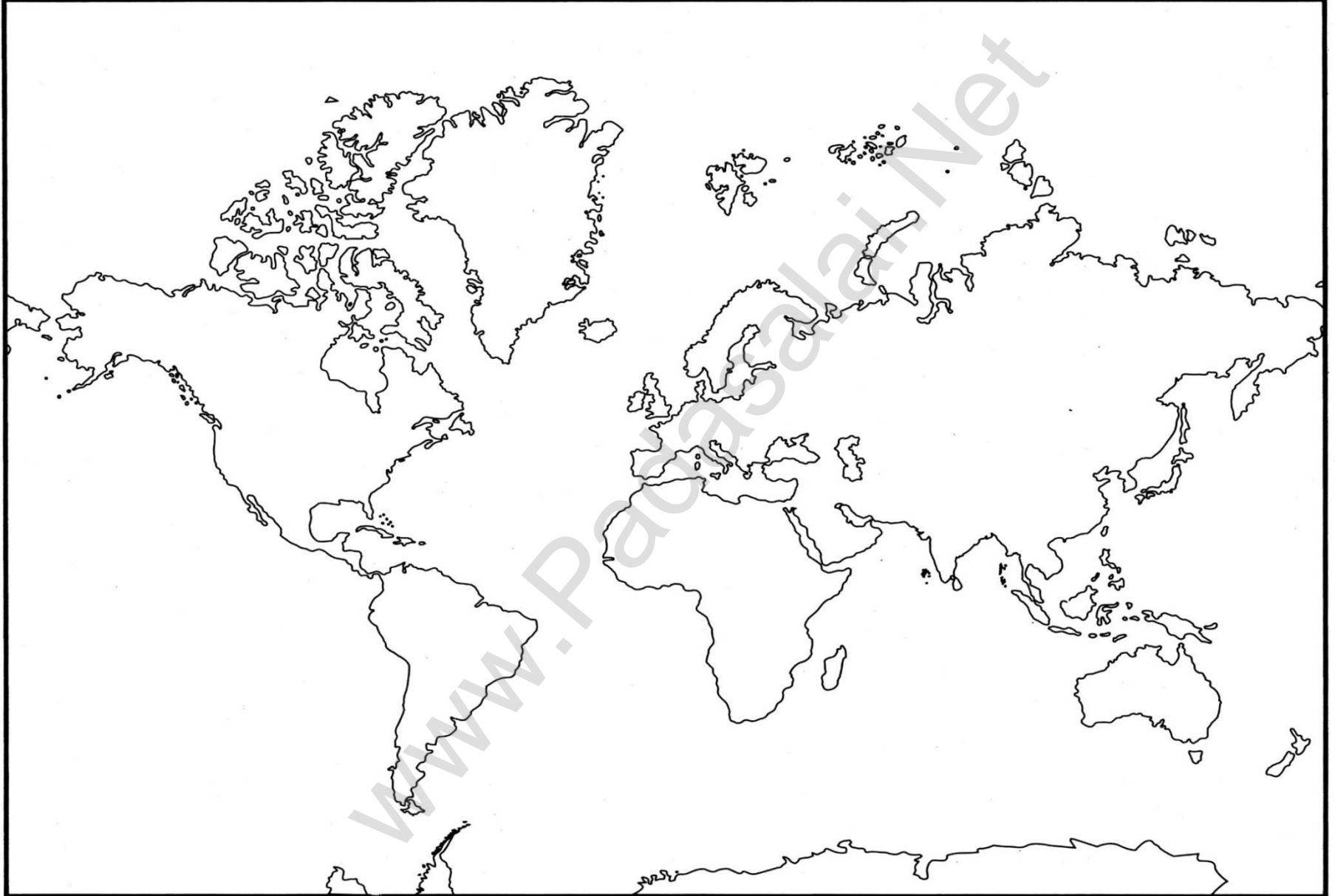
பகுதி - IV

2 X 8 = 16

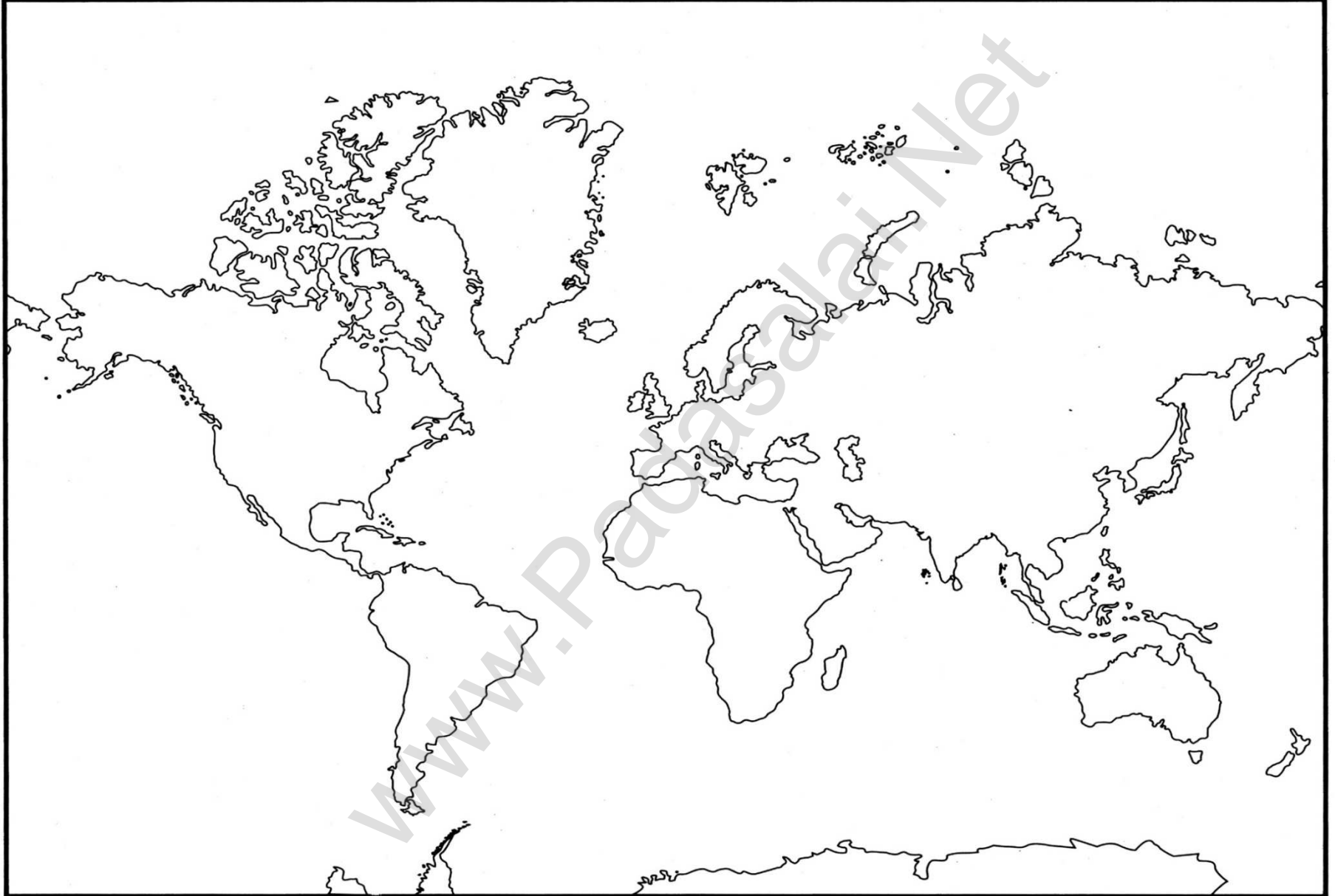
குறிப்பு : பின்வரும் வினாக்களுக்கு விடையளிக்கவும்.

43. அ) (i) பன்னாட்டுச் சங்கத்தின் அமைப்பு மற்றும் உறுப்புகள் பற்றி விவாதிக்கவும்.
(ii) ஒத்துழையாமை இயக்க திட்டத்தின் கூறுகளை எழுதுக.
(அல்லது)
ஆ) பெண்கள் இயக்கங்கள் குறித்து விவாதிக்கவும்.
44. அ) கொடுக்கப்பட்டுள்ள இந்திய வரைபடத்தில் கீழ்காணும் இடங்களைக் குறிக்கவும்.
(i) பாக் நீர்சந்தி
(ii) கங்கை
(iii) மேற்கு தொடர்ச்சி மலை
(iv) வண்டல் மண் பகுதி ஒன்று
(v) காரகோரம்
(vi) தென்மேற்கு பருவக் காற்று வீசும் திசை
(vii) நெல் விளையும் பகுதி ஒன்று
(viii) மலைக் காடுகள்
(அல்லது)
ஆ) கொடுக்கப்பட்டுள்ள தமிழ்நாடு வரைபடத்தில் கீழ்காணும் இடங்களைக் குறிக்கவும்.
(i) மன்னார் வளைகுடா
(ii) சேலம்
(iii) நீலகிரி
(iv) காவிரி ஆறு
(v) வங்காள விரிகுடா
(vi) சென்னை
(vii) பறவைகள் சரணாலயம் ஒன்று
(viii) நெல் விளையும் பகுதி ஒன்று

First World War / முதல் உலகப் போர்



First World War / முதல் உலகப் போர்

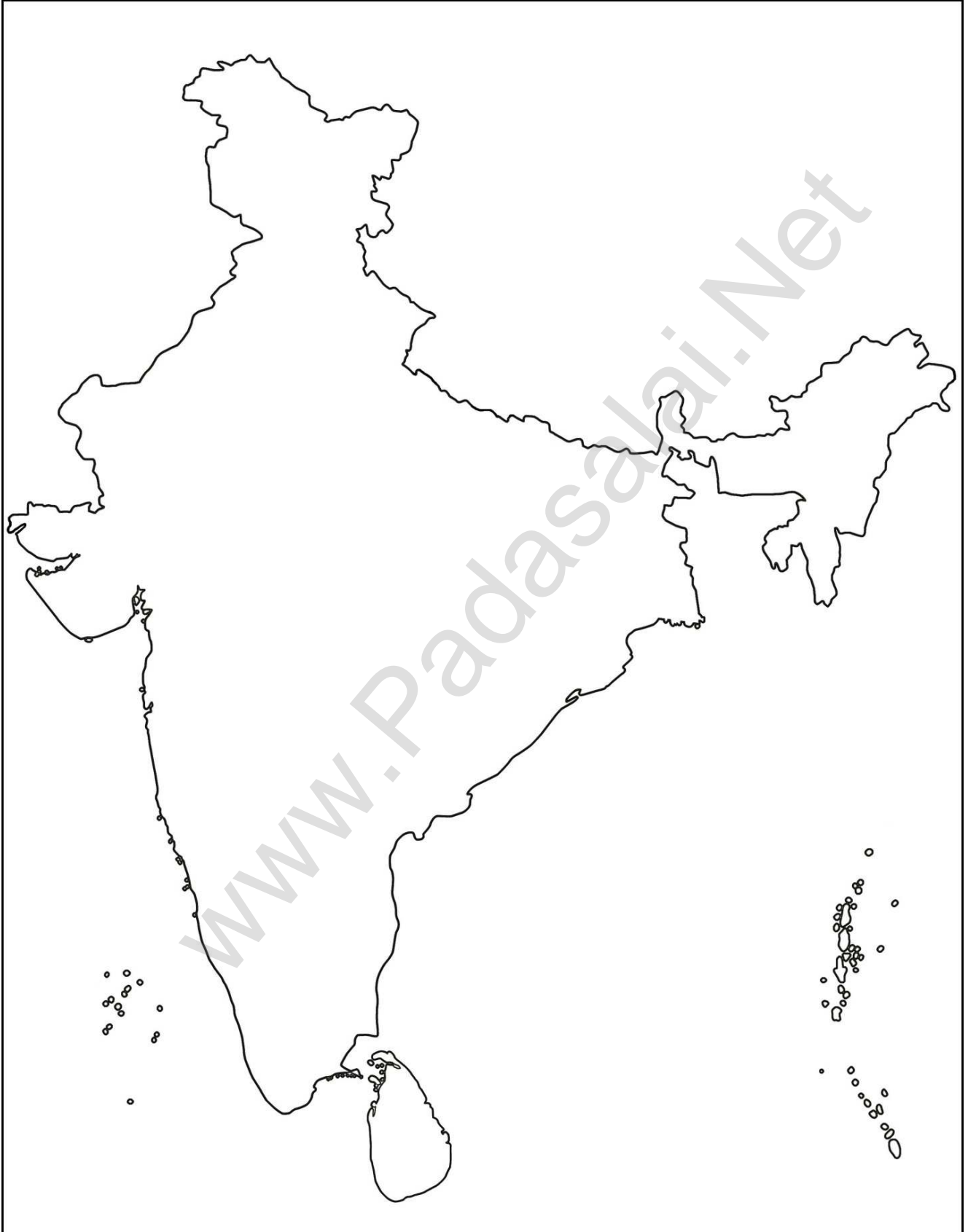


Second World War / இரண்டாம் உலகப் போர்



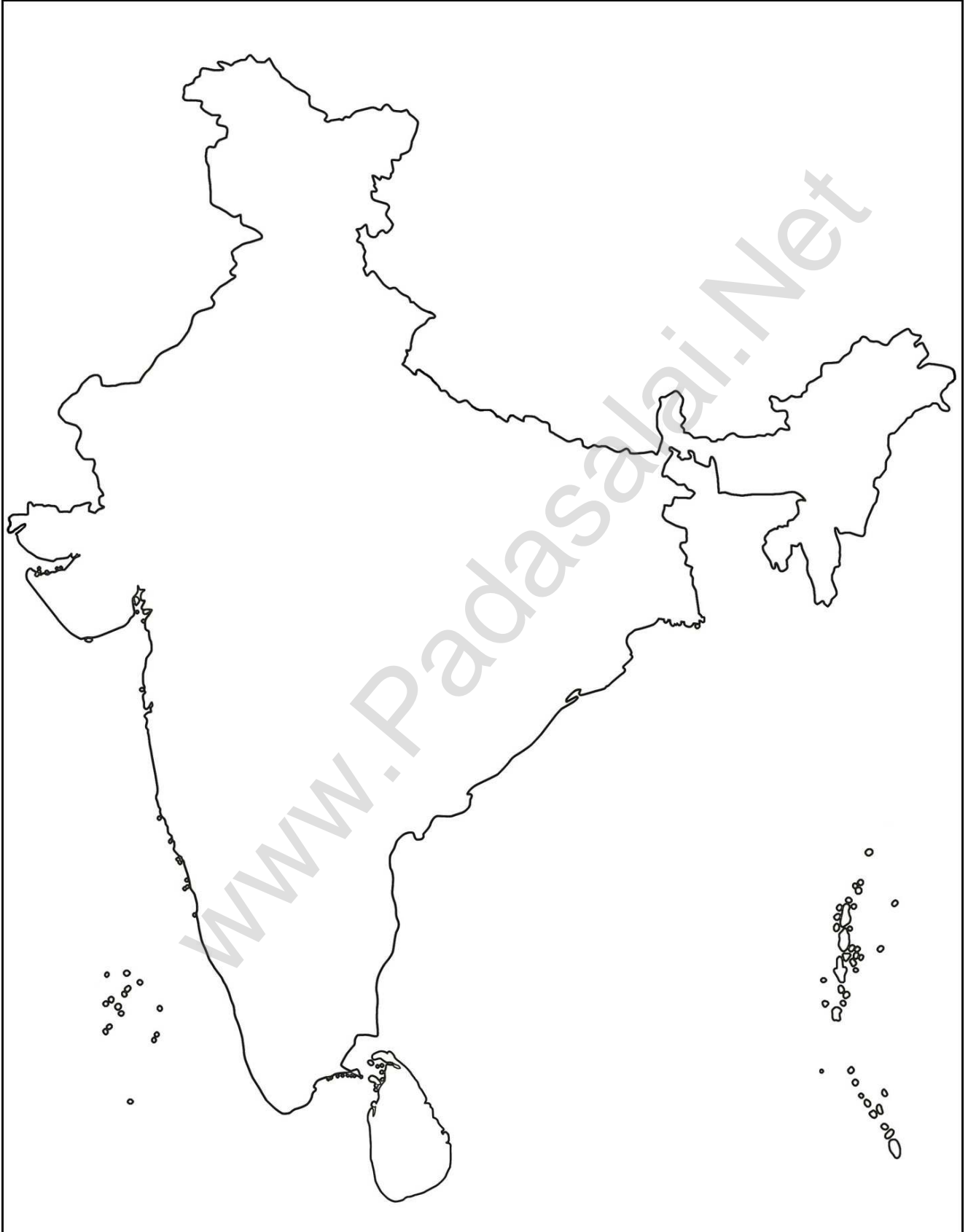
1857 – Great Rebellion

1857 - பெருங்கலகம்



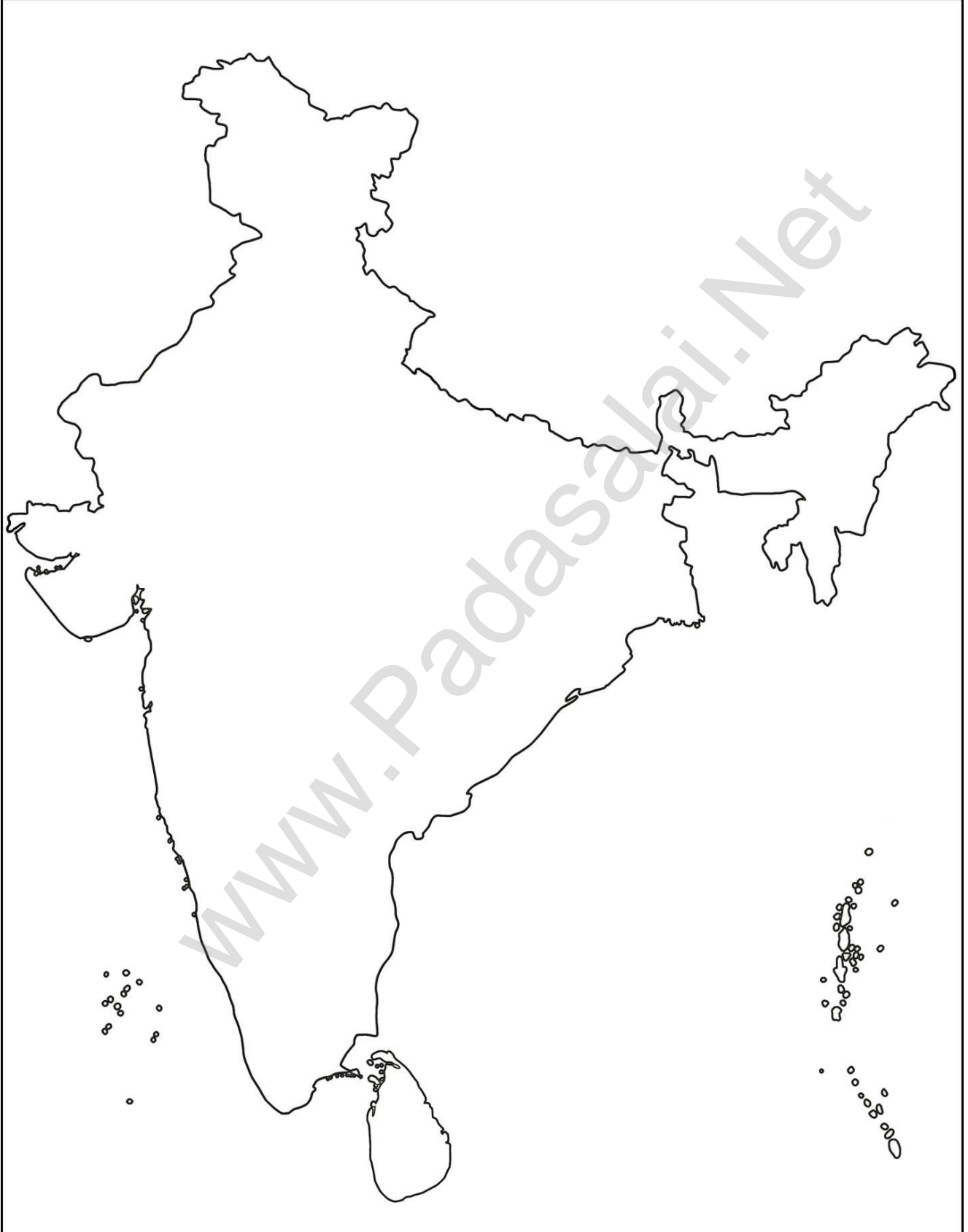
Indian National Movement

இந்திய தேசிய இயக்கம்



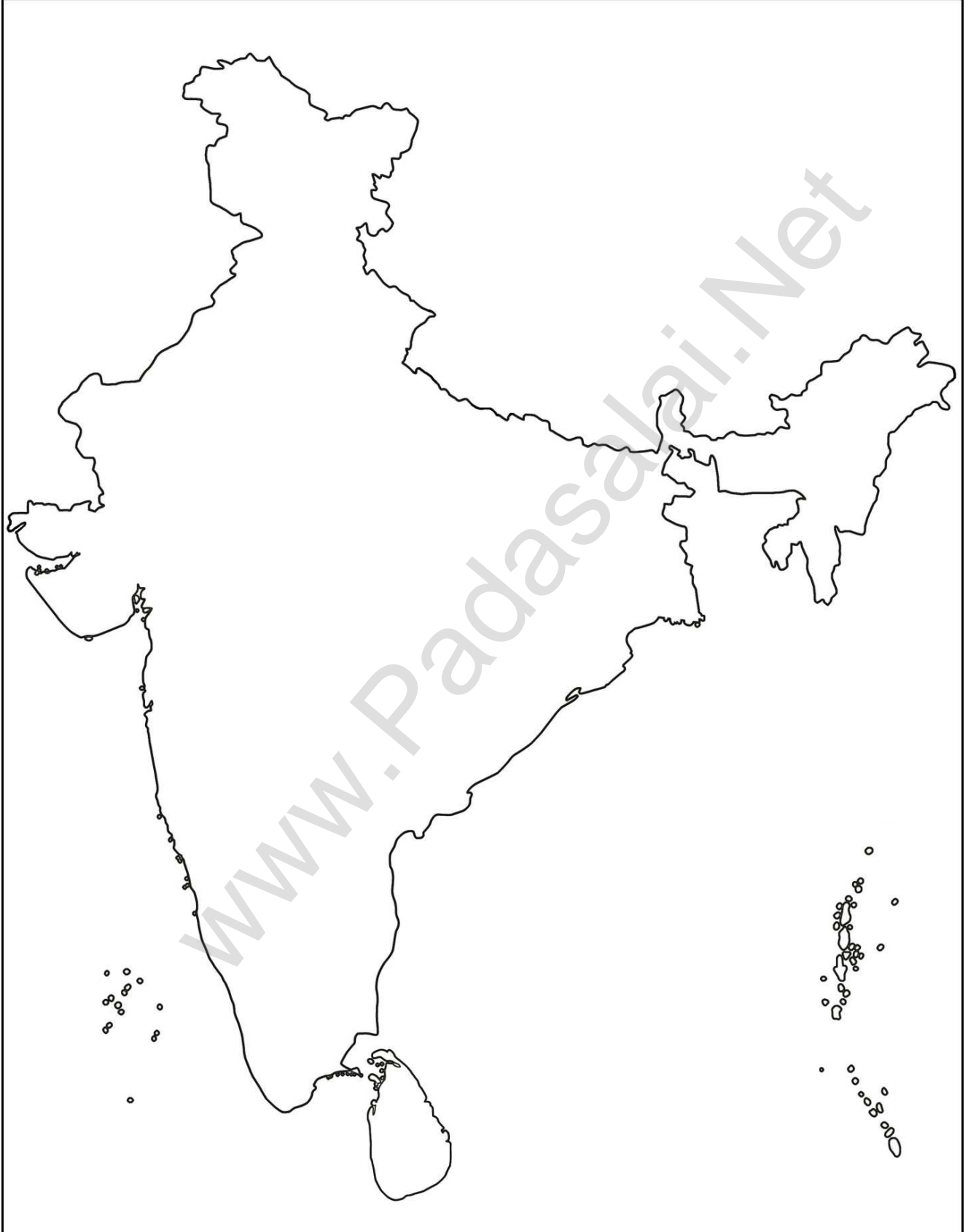
Indian National Movement

இந்திய தேசிய இயக்கம்



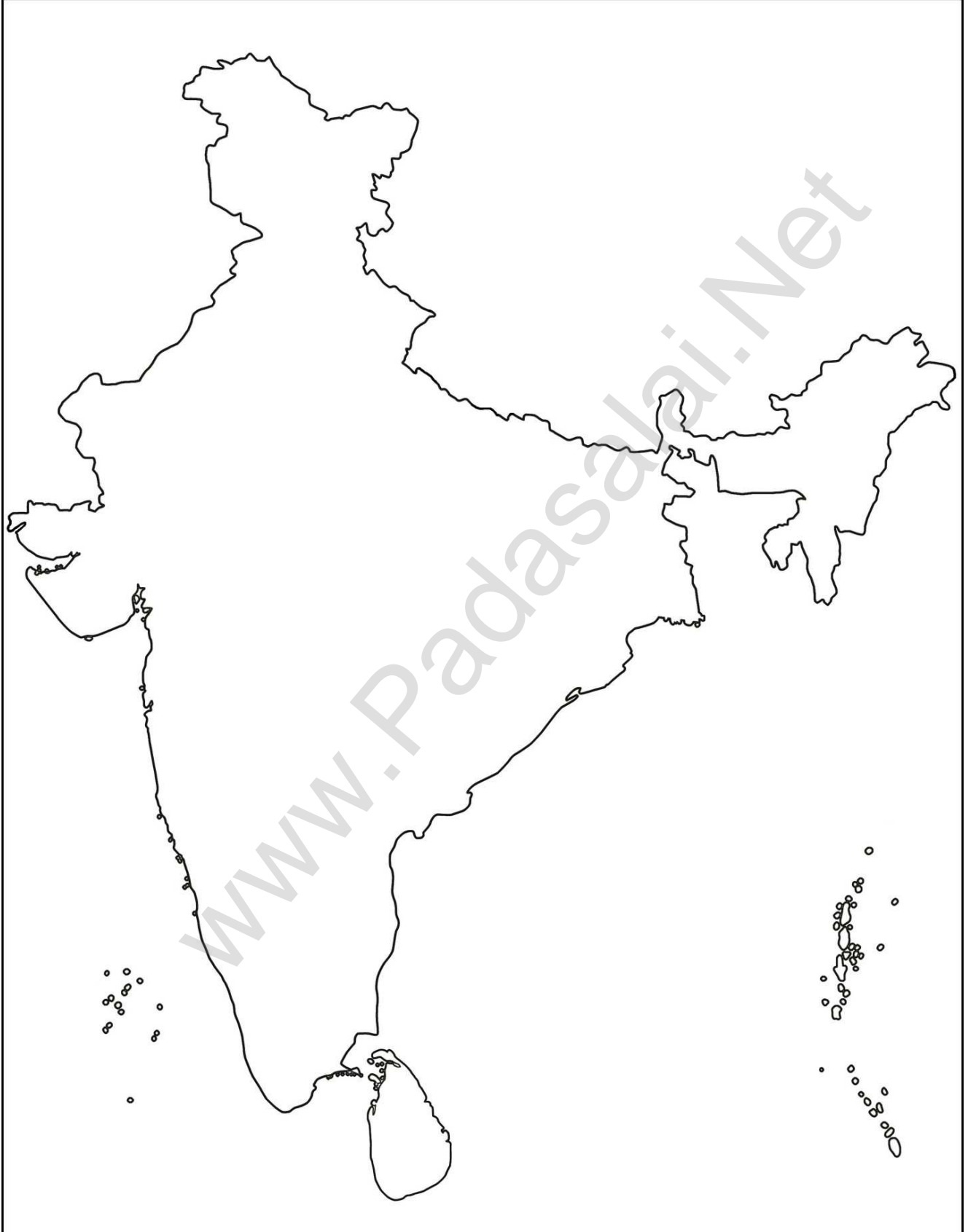
India - Mountains

இந்தியா - மலைத் தொடர்கள்



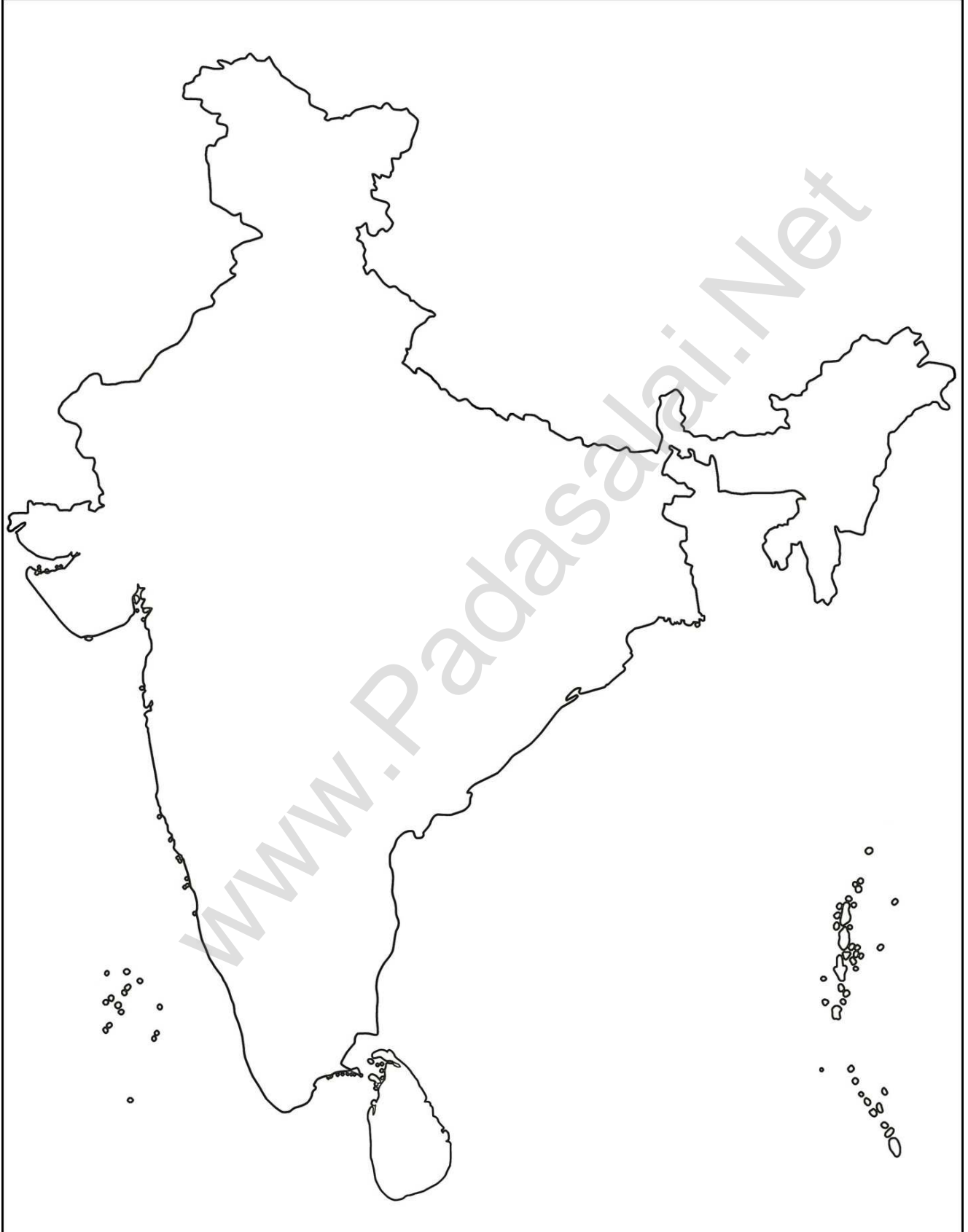
India - Hills

இந்தியா - மலைச் சிகரங்கள்



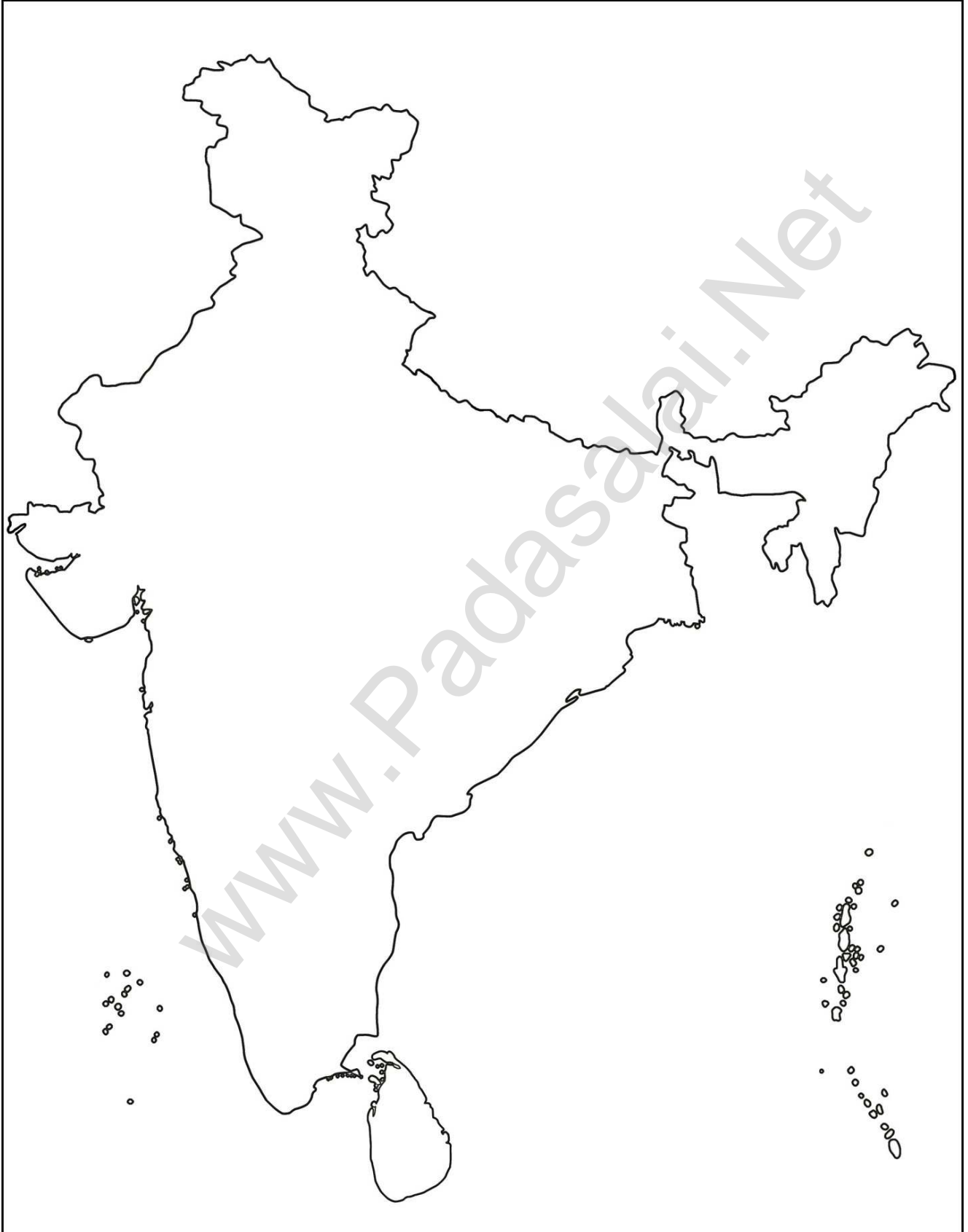
India - Coast and Plateau

இந்தியா - கடற்கரை மற்றும் பீடபூமிகள்



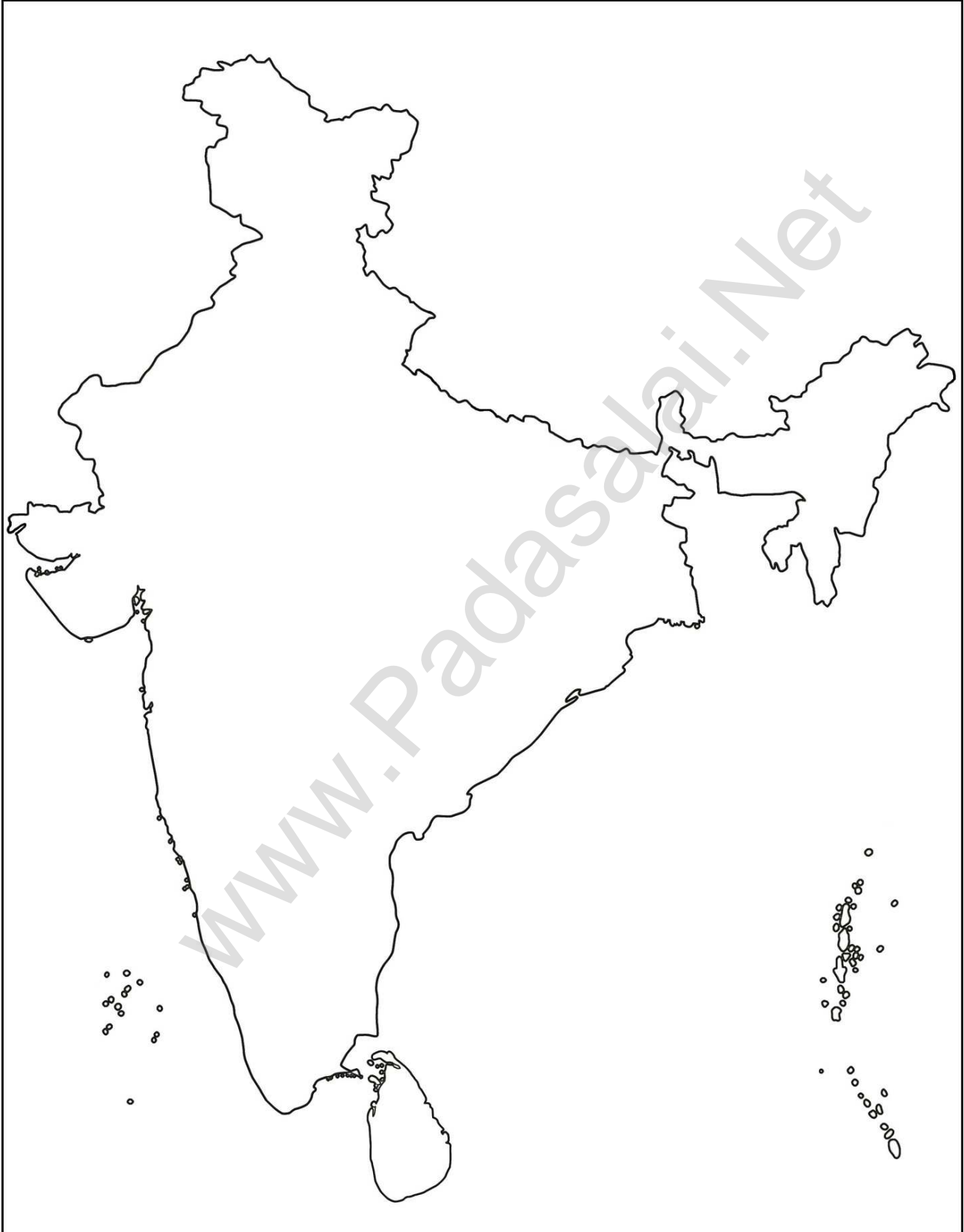
India - Rivers

இந்தியா - ஆறுகள்



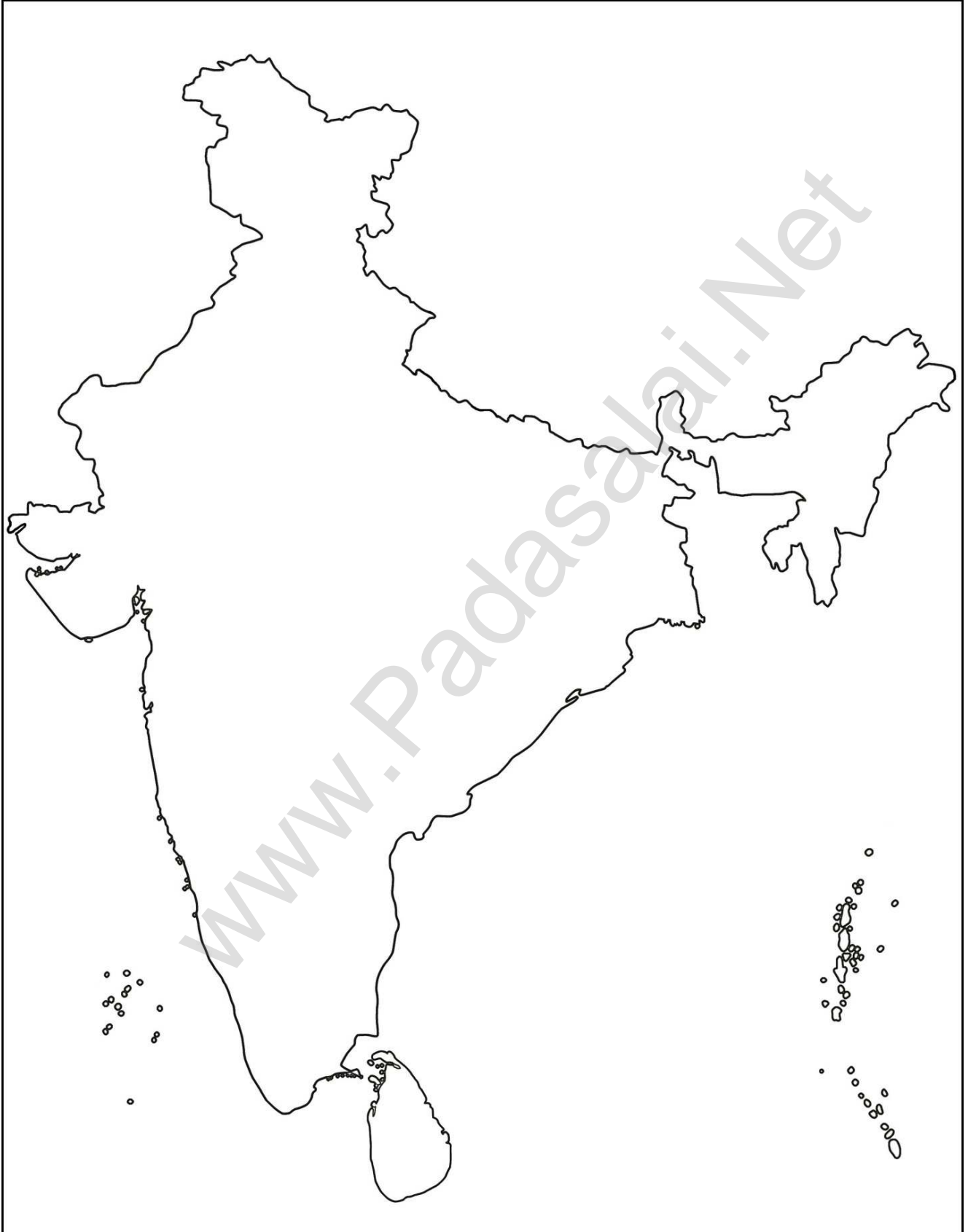
India - Lakes

இந்தியா - ஏரிகள்



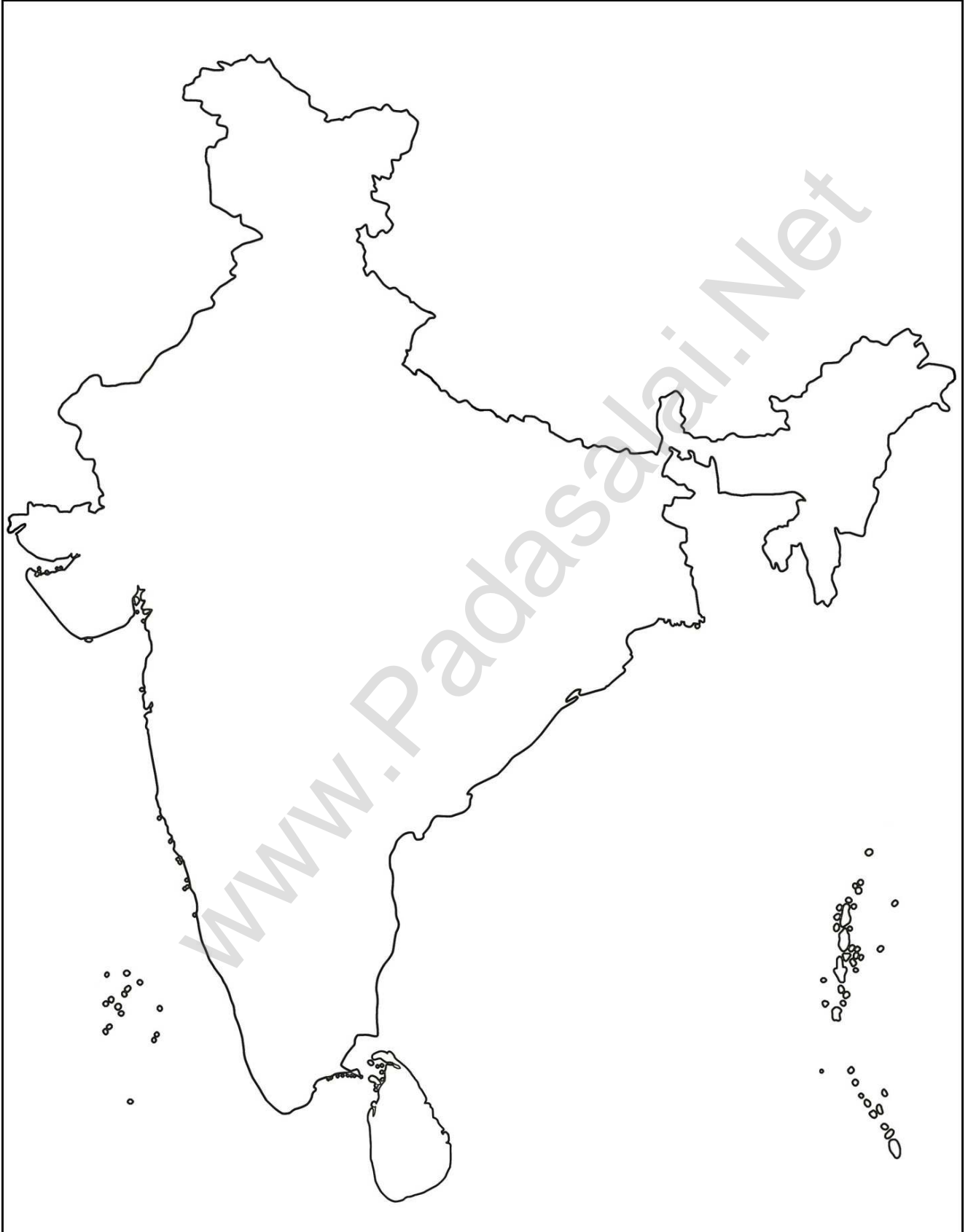
India - Plains

இந்தியா - சமவெளிகள்



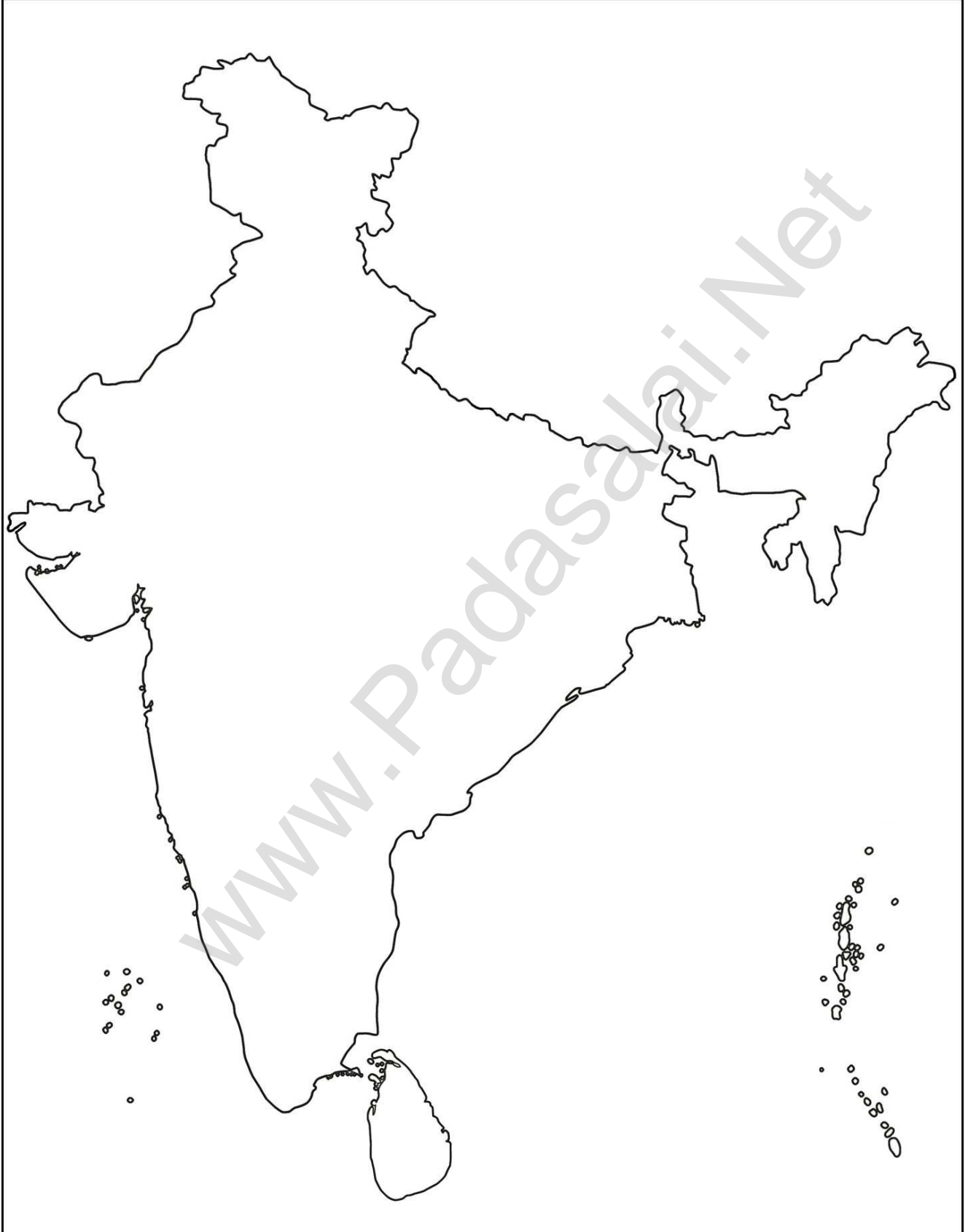
India - Forests

இந்தியா - காடுகள்



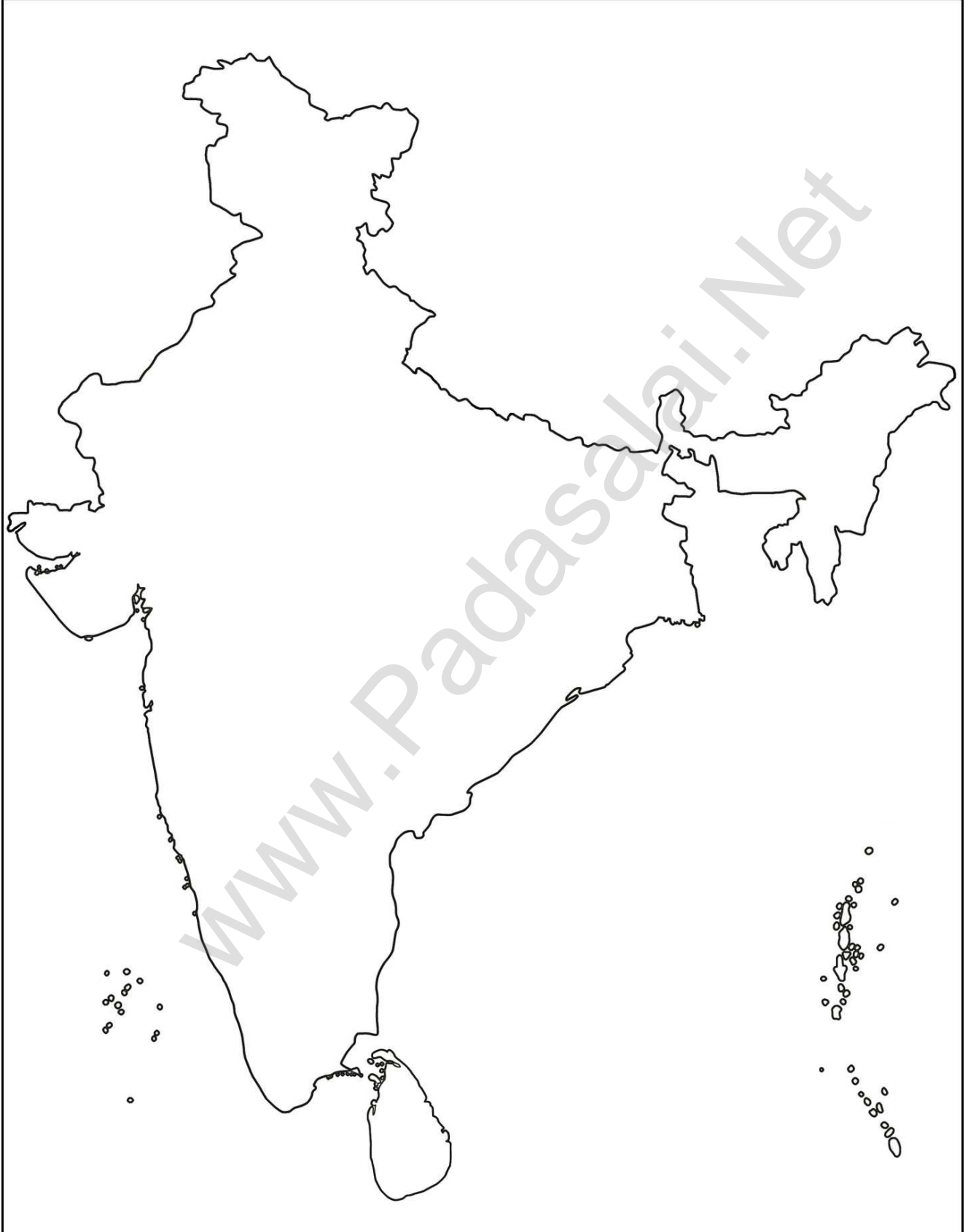
India - Biosphere Reserves

இந்தியா - உயிர்கோள காப்பகங்கள்



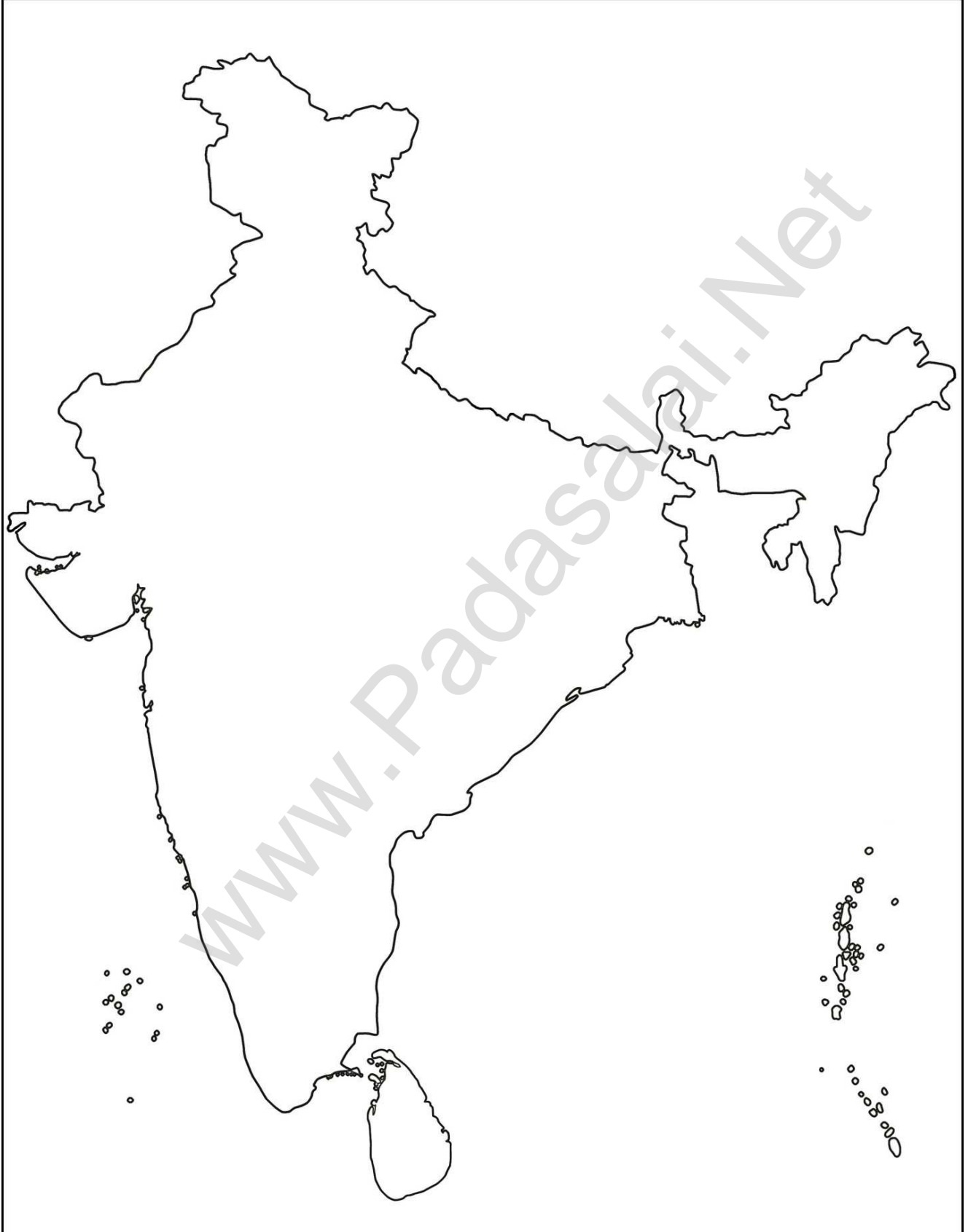
India - Parks

இந்தியா - பூங்காக்கள்



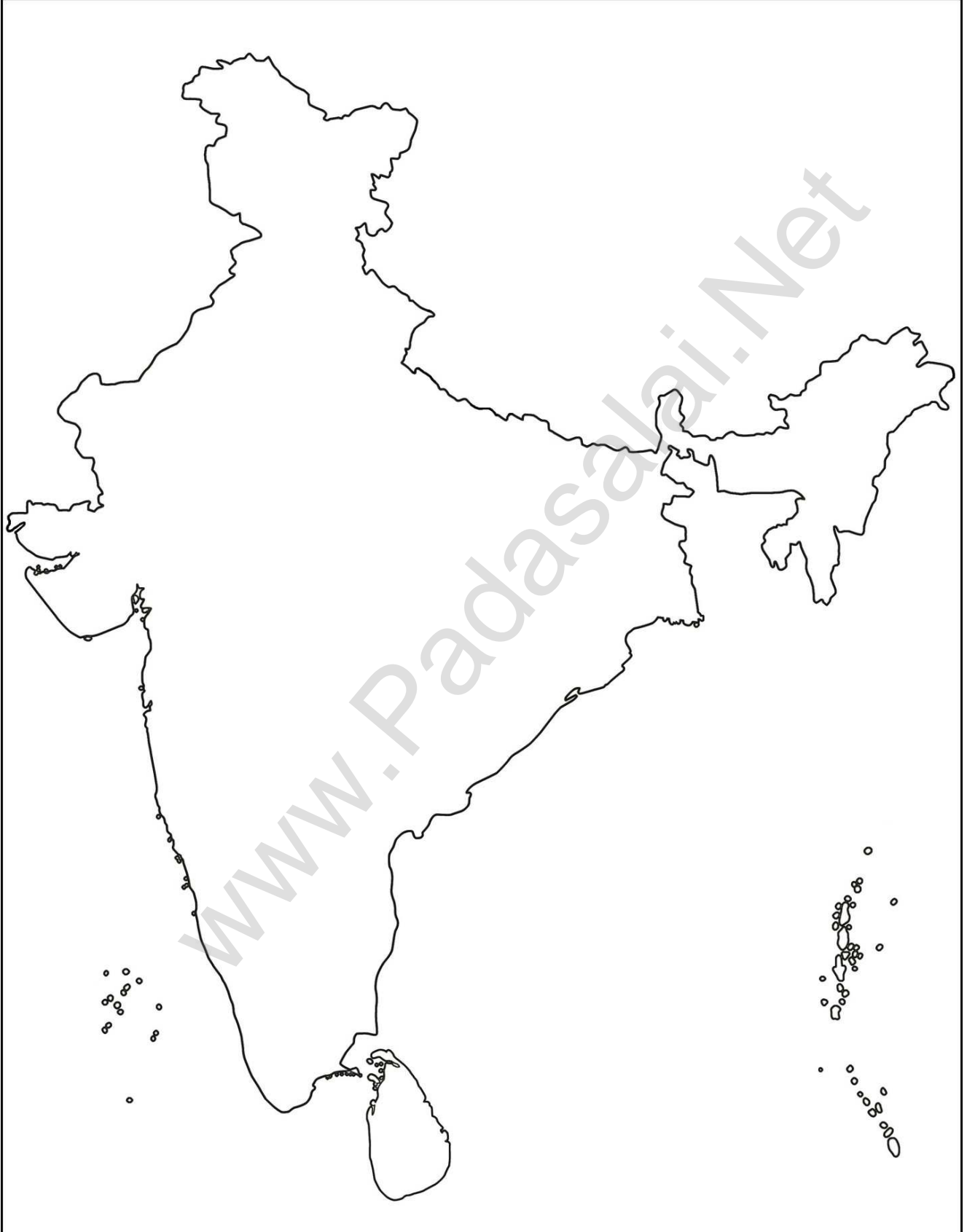
India - Sancturries

இந்தியா - சரணாலயங்கள்



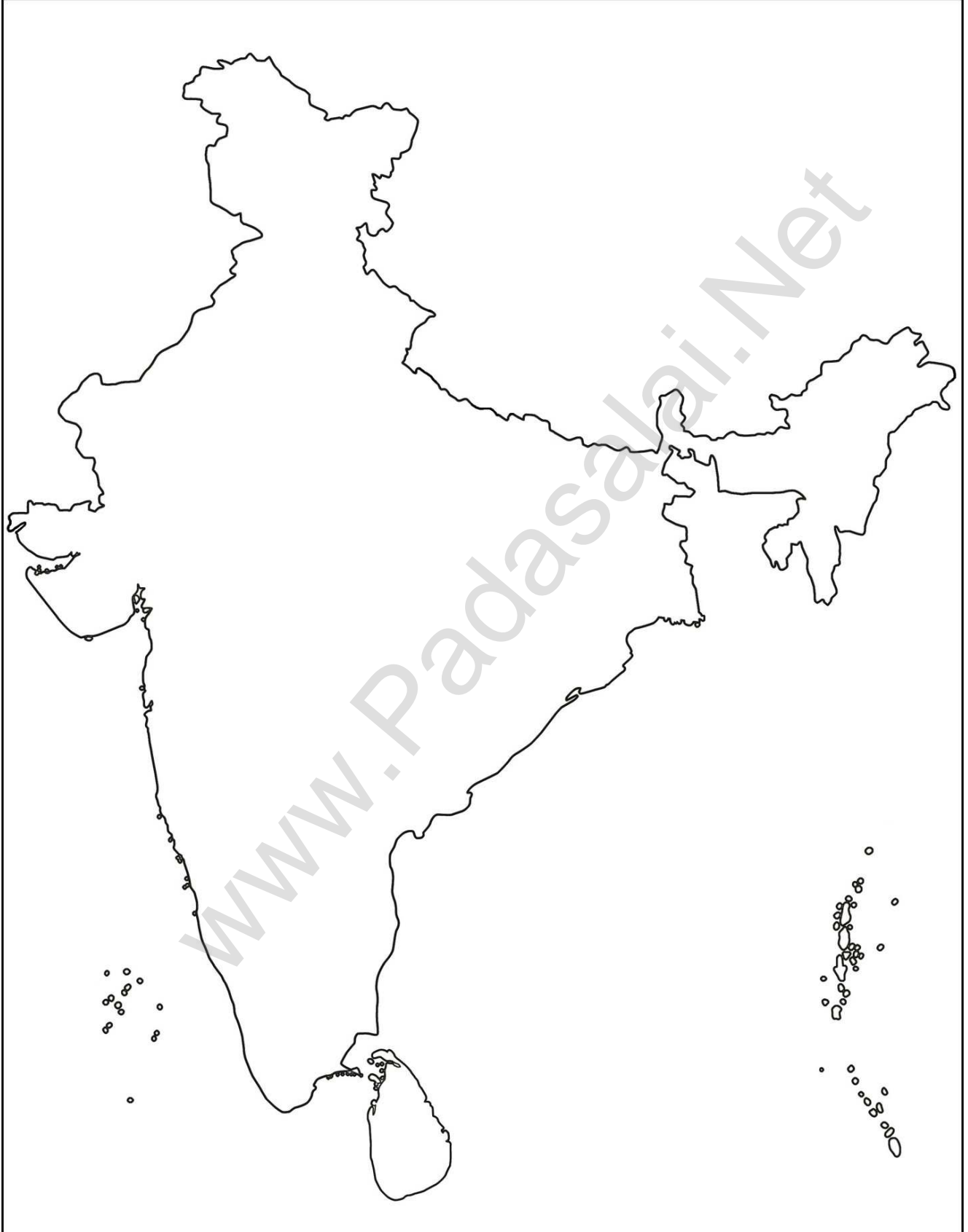
India - South West Monsoon and Crops

இந்தியா - தென்மேற்கு பருவக்காற்று மற்றும் பயிர்கள்



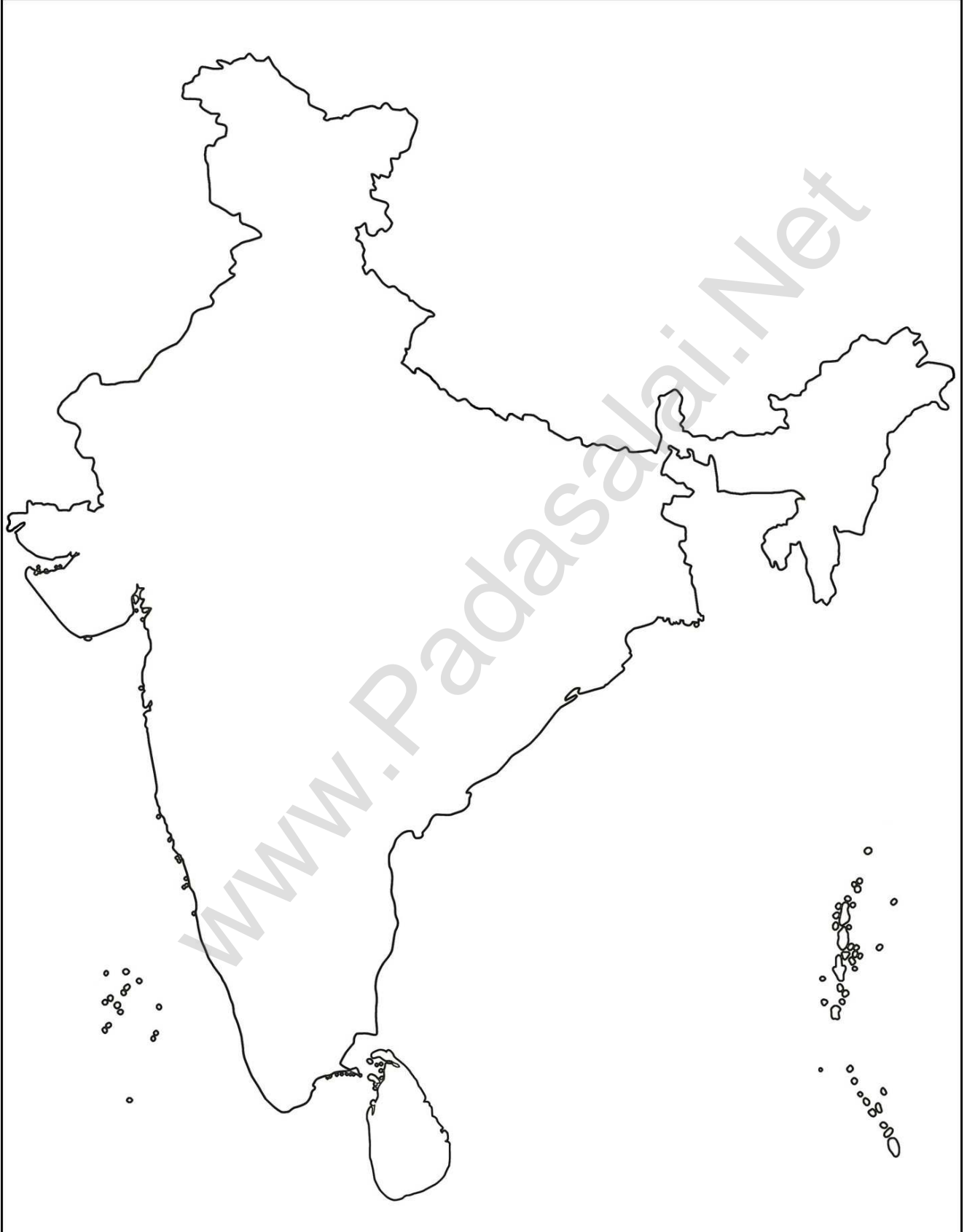
India - North East Monsoon and Crops

இந்தியா - வடகிழக்கு பருவக்காற்று மற்றும் பயிர்கள்



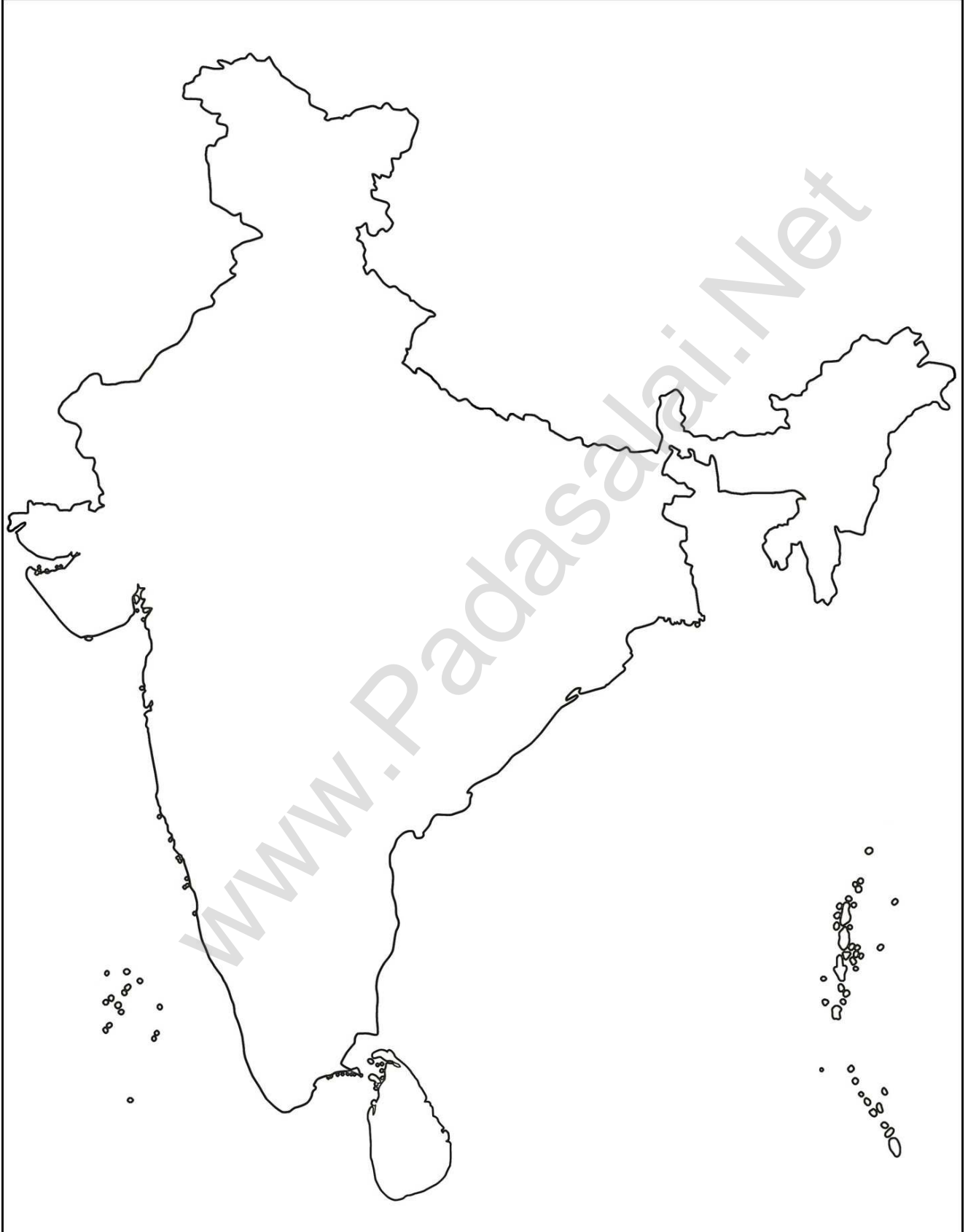
India - Dams and Multi Purpose Projects

இந்தியா - அணைகள் மற்றும் பல்நோக்கு திட்டங்கள்



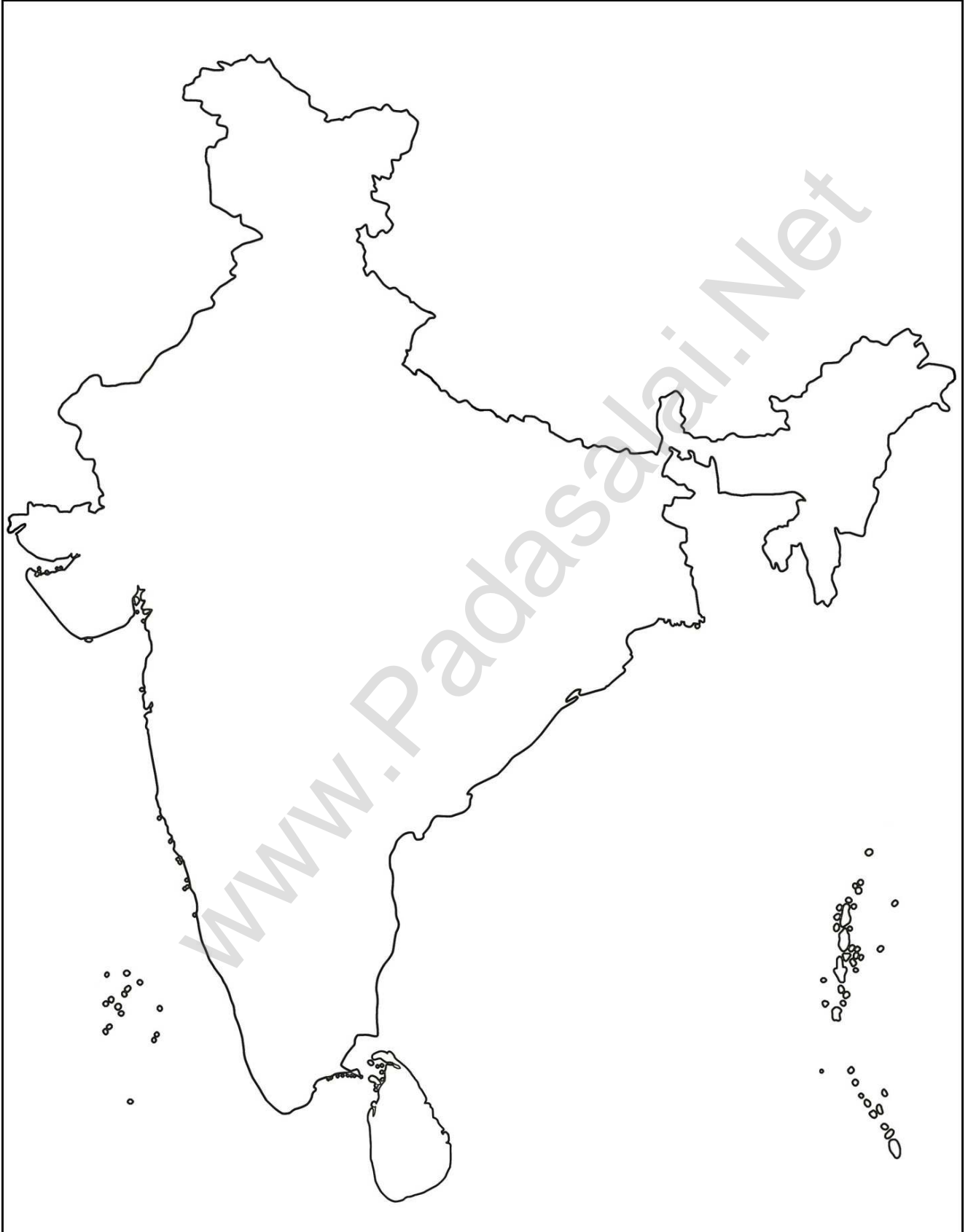
Indi - Soils

இந்தியா - மண் வகைகள்



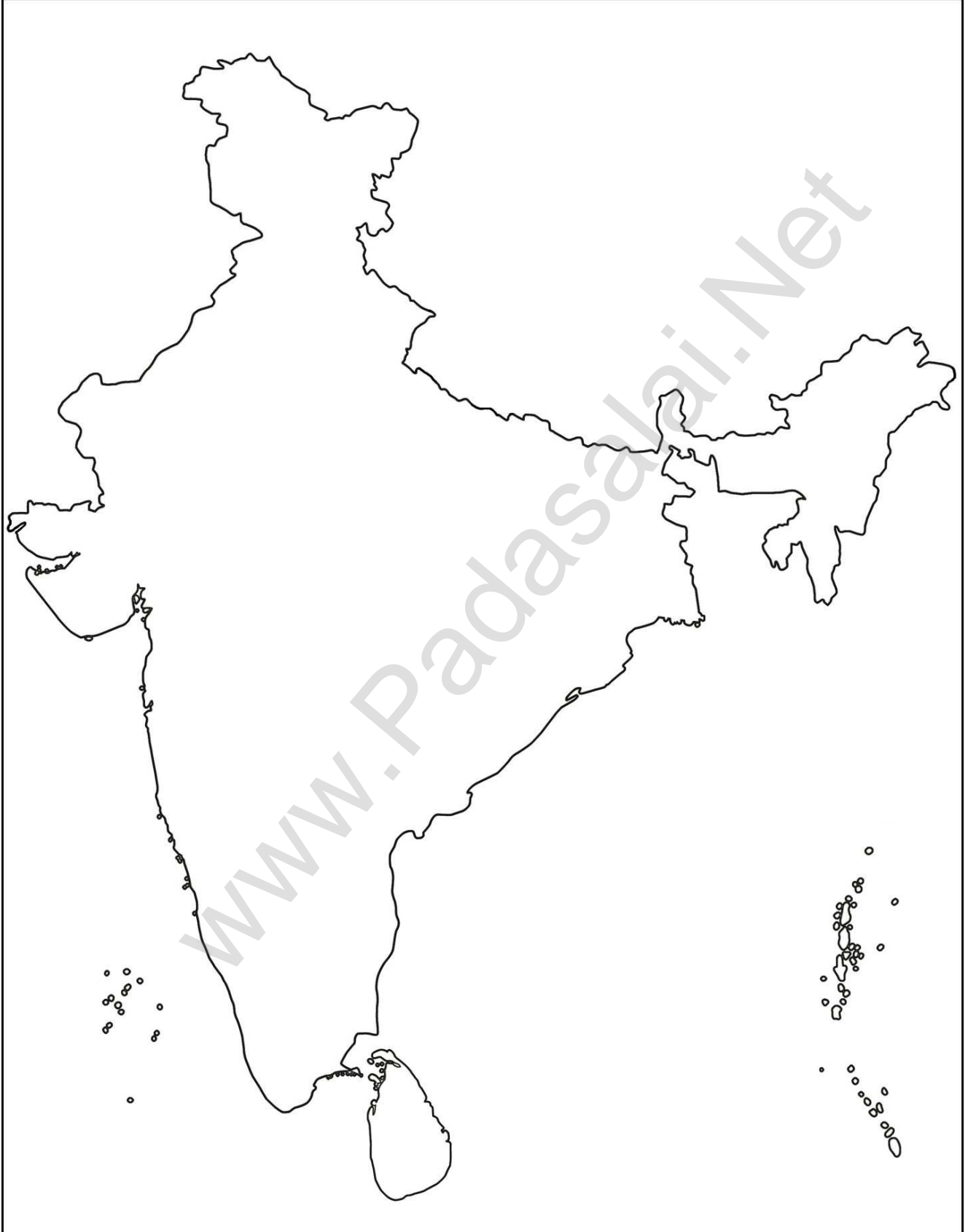
India - Industries

இந்தியா - தொழிற்சாலைகள்



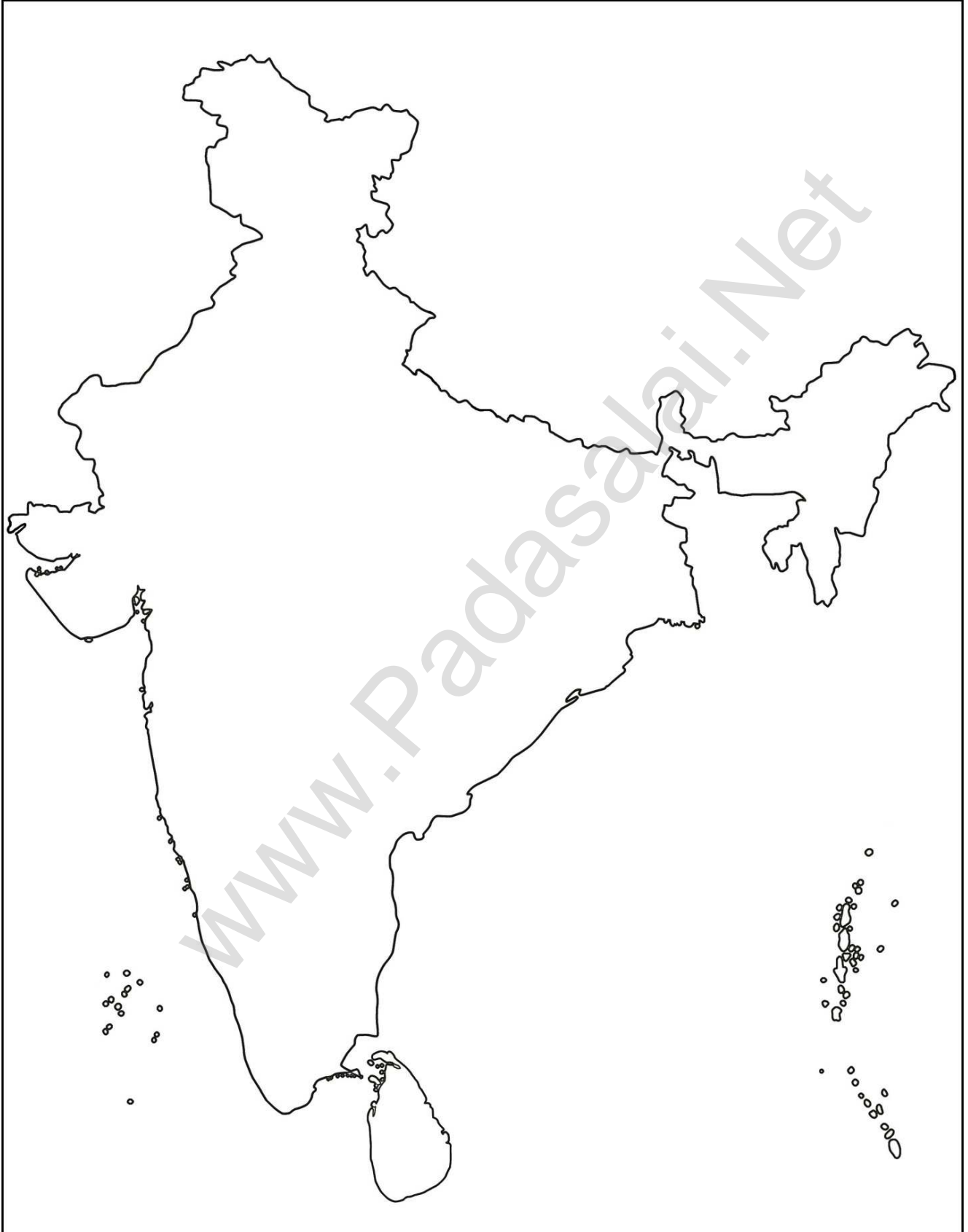
India - Minerals

இந்தியா - கனிம வளங்கள்



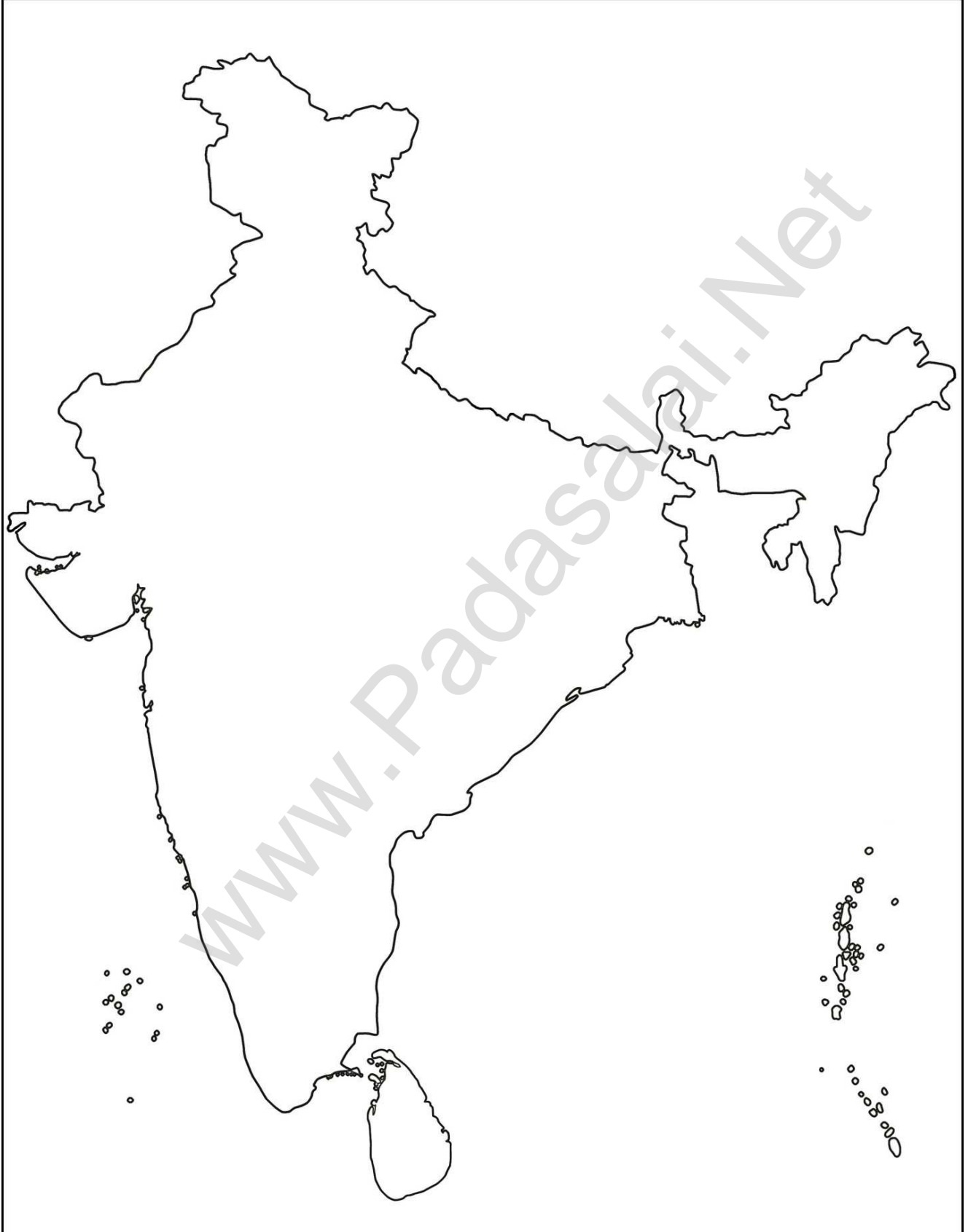
India - Resources

இந்தியா - ஆற்றல் வளங்கள்



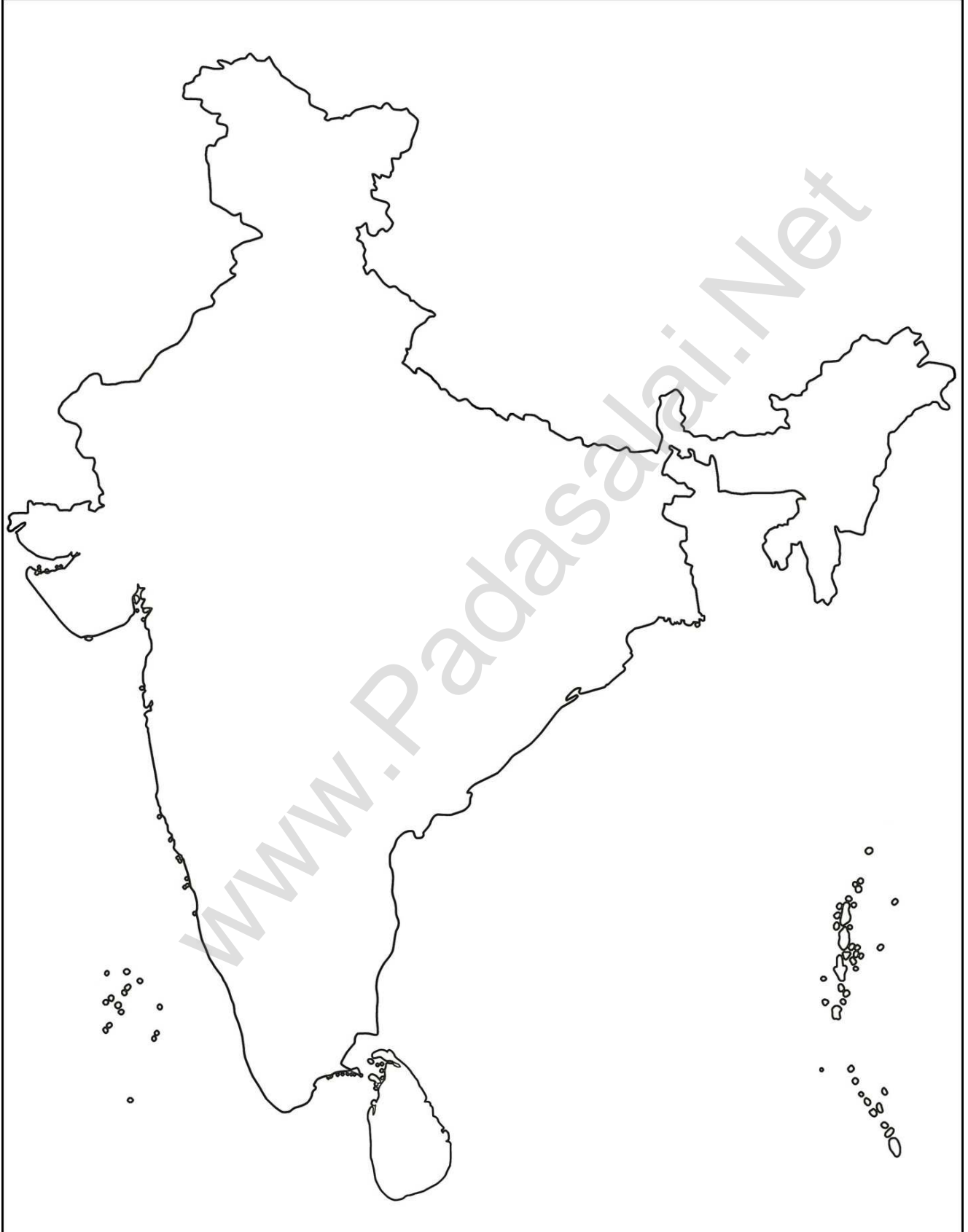
India - Roadways

இந்தியா - சாலை போக்குவரத்து



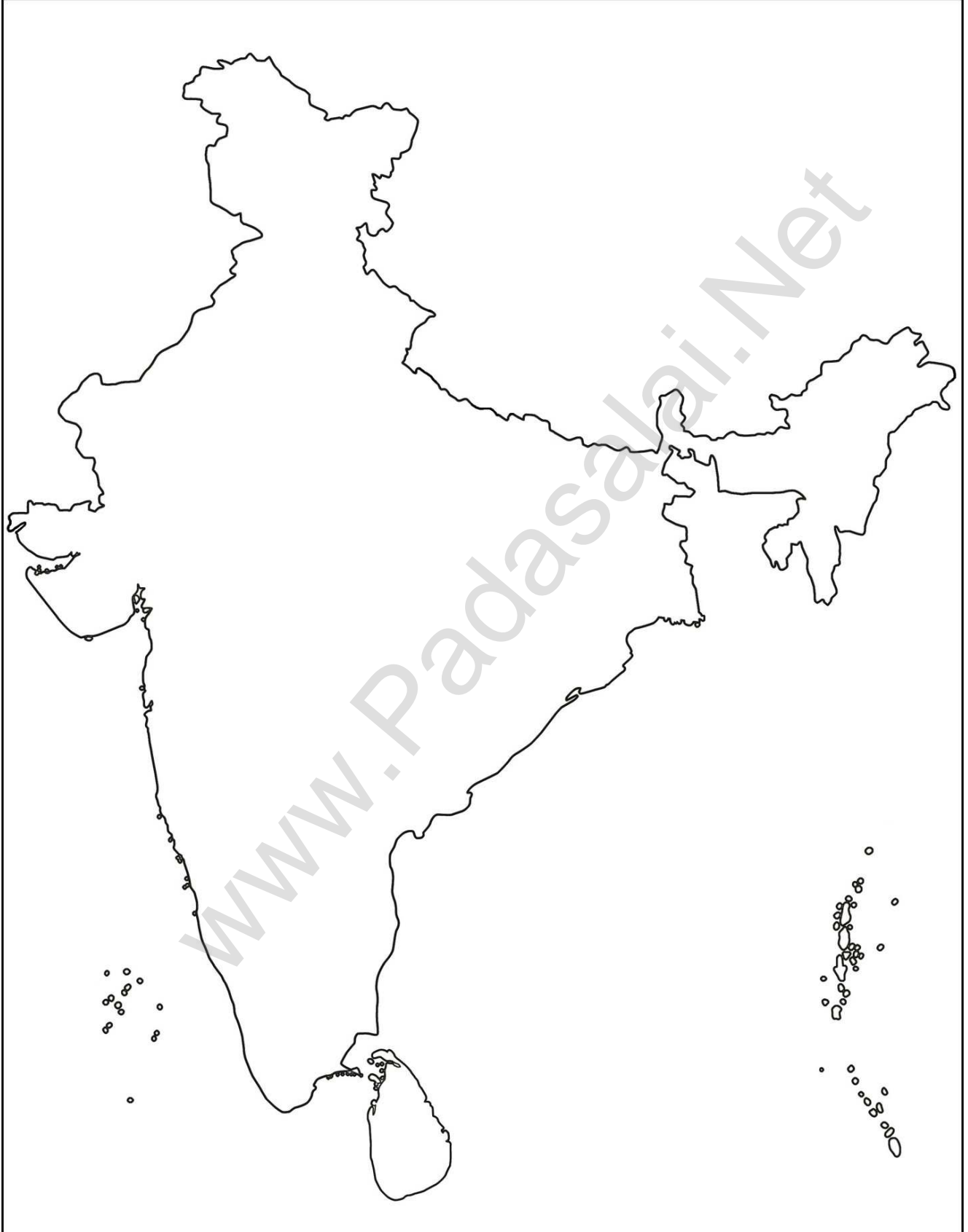
India - Railways

இந்தியா - இரயில் போக்குவரத்து



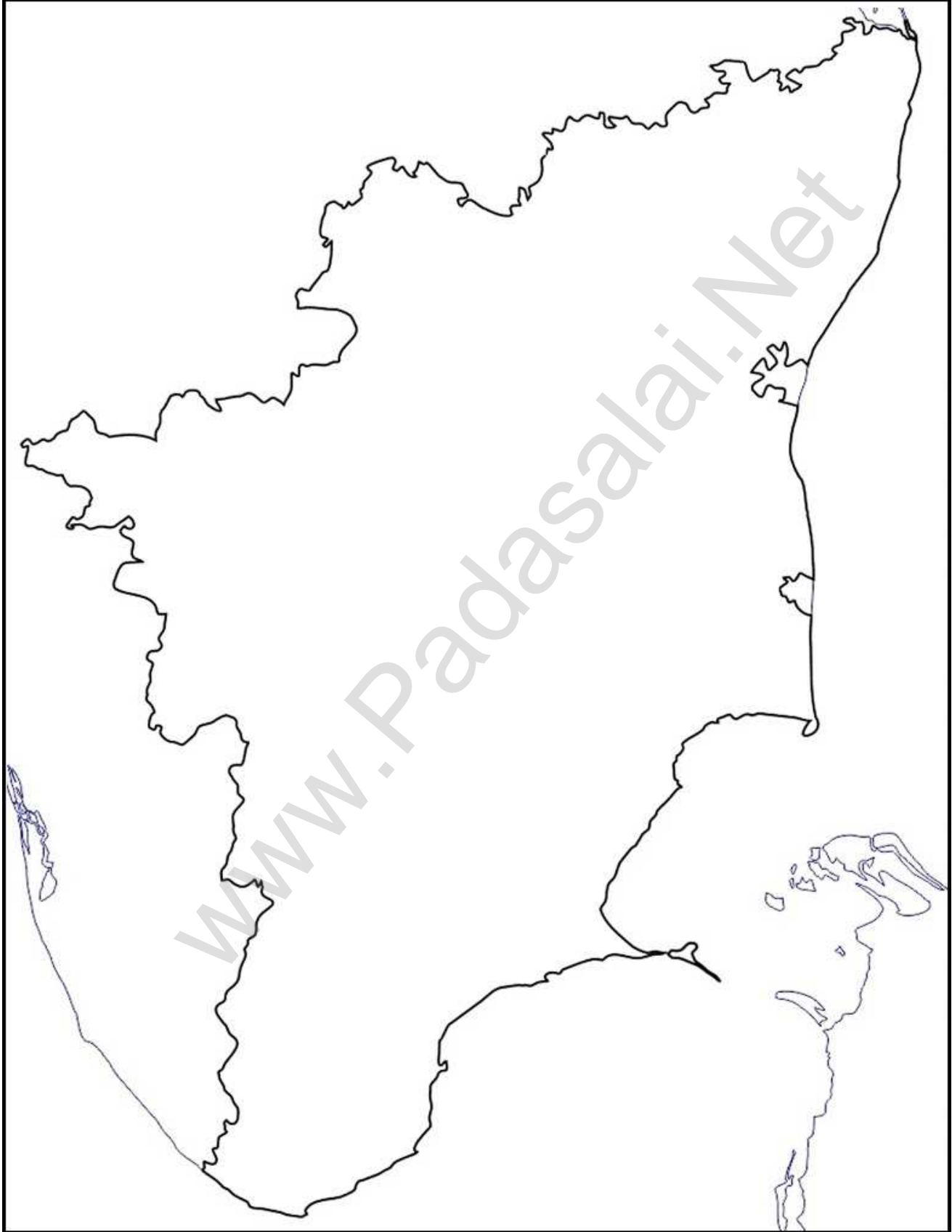
India - Airways and Sea Routes

இந்தியா - விமான மற்றும் கப்பல் போக்குவரத்து



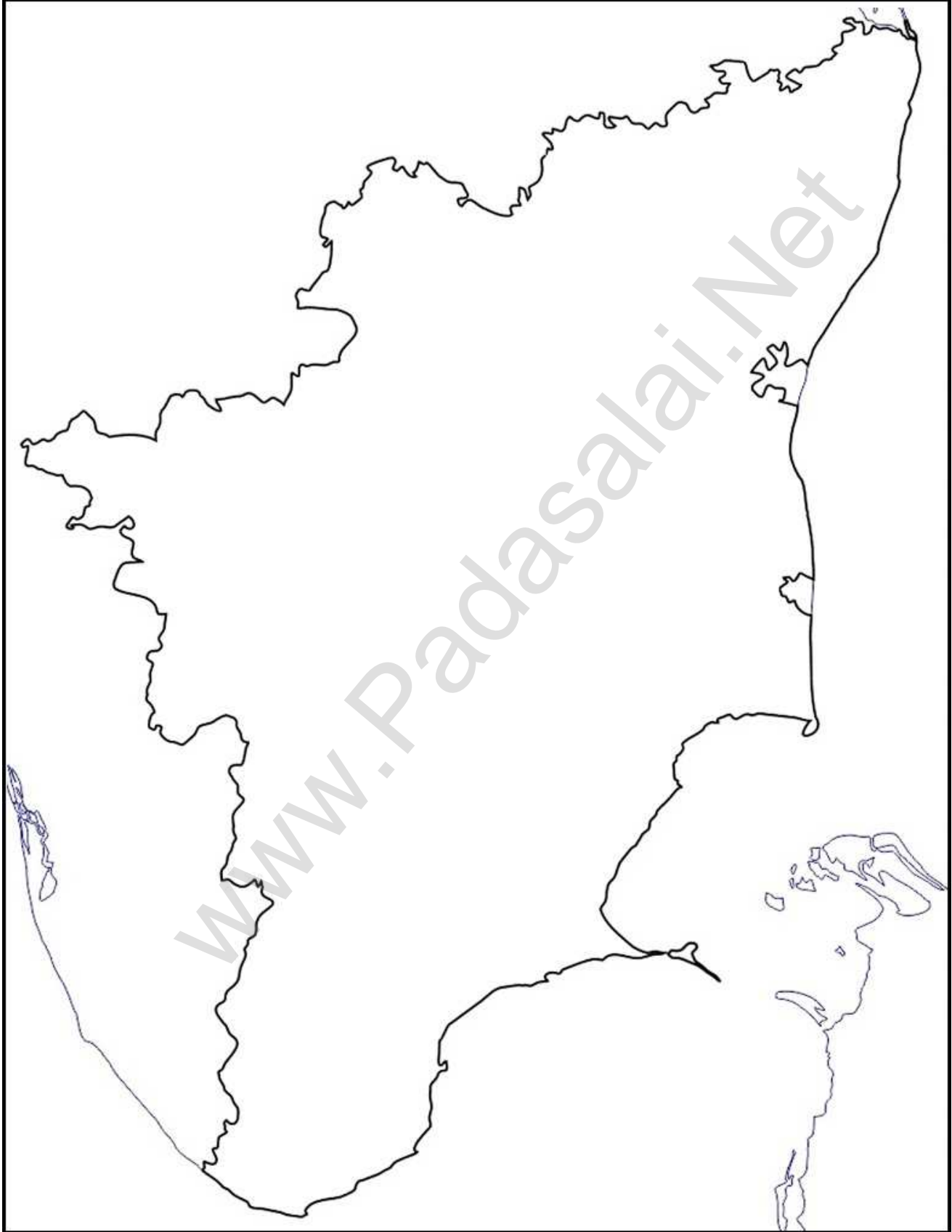
Tamilnadu - Mountains

தமிழ்நாடு - மலைத் தொடர்கள்



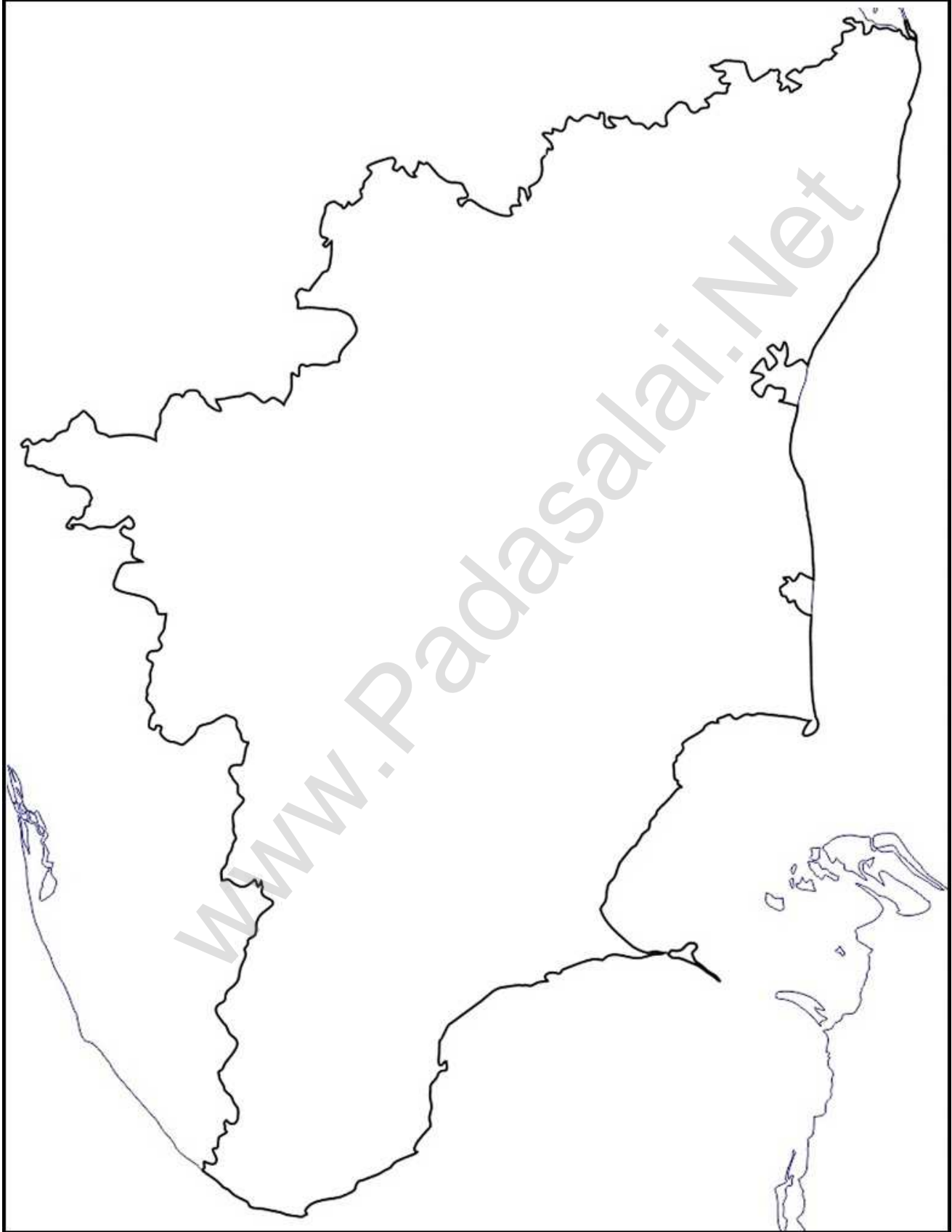
Tamilnadu - Hills

தமிழ்நாடு - மலைச் சிகரங்கள்



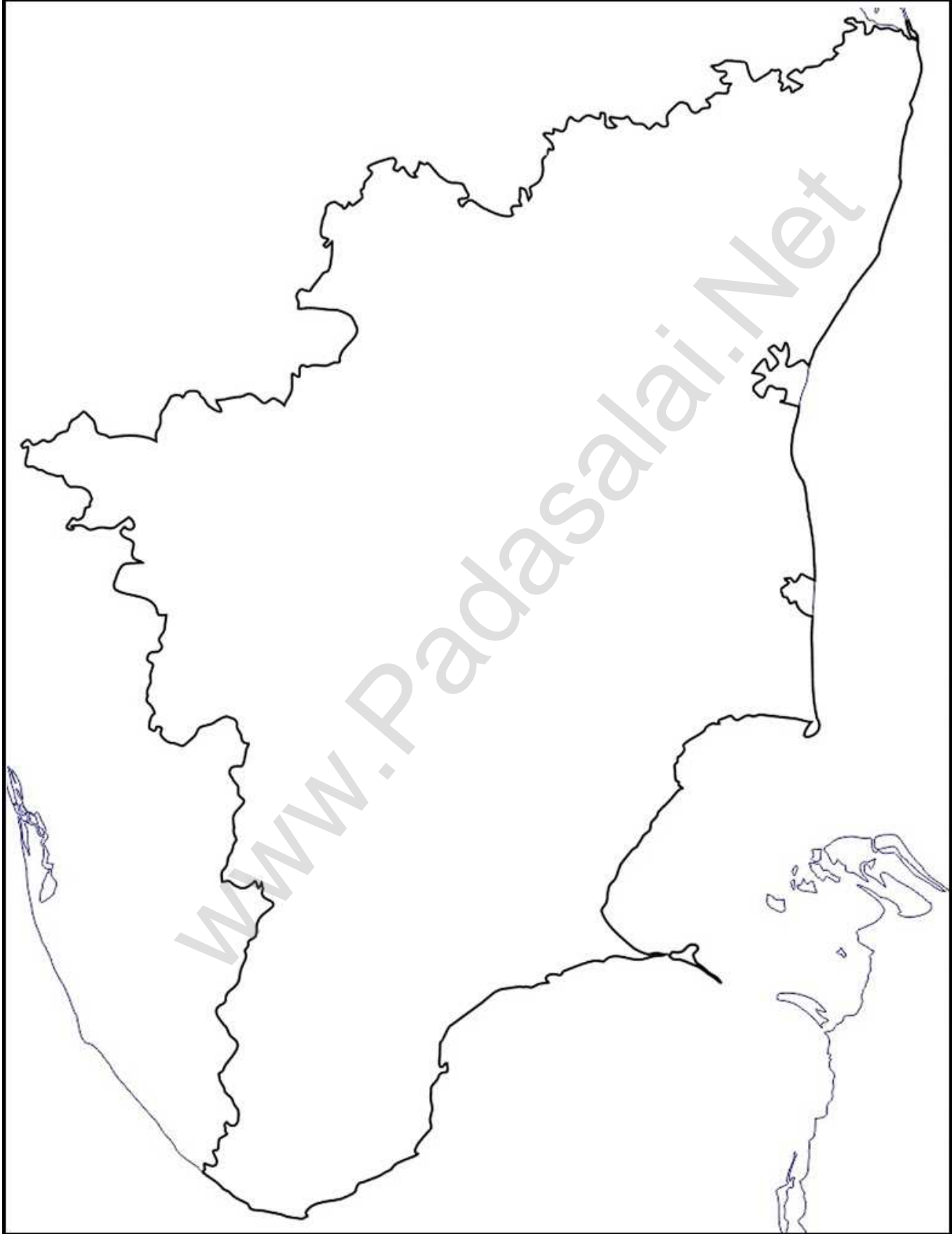
Tamilnadu - Plains

தமிழ்நாடு - சமவெளிகள்



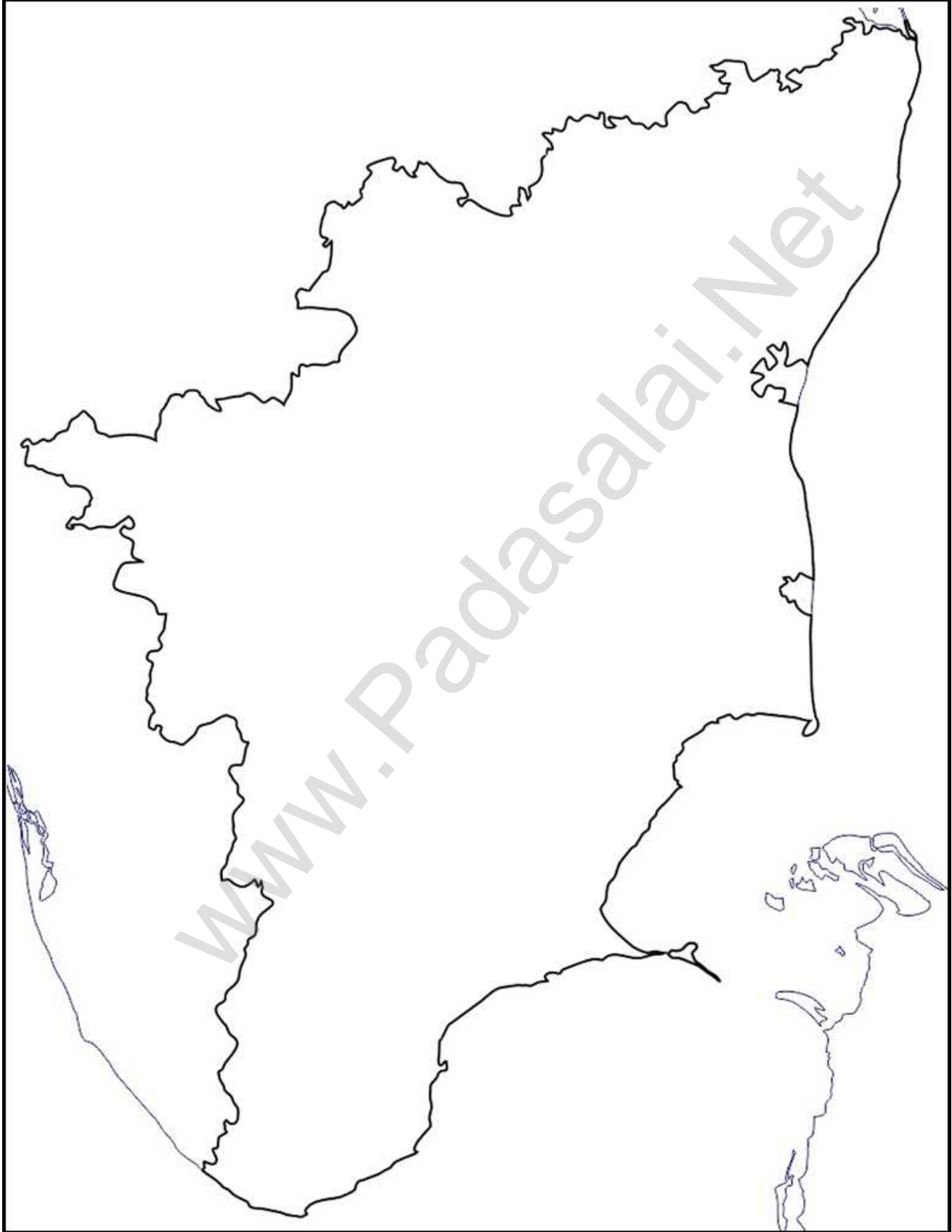
Tamilnadu - Forests

தமிழ்நாடு - காடுகள்



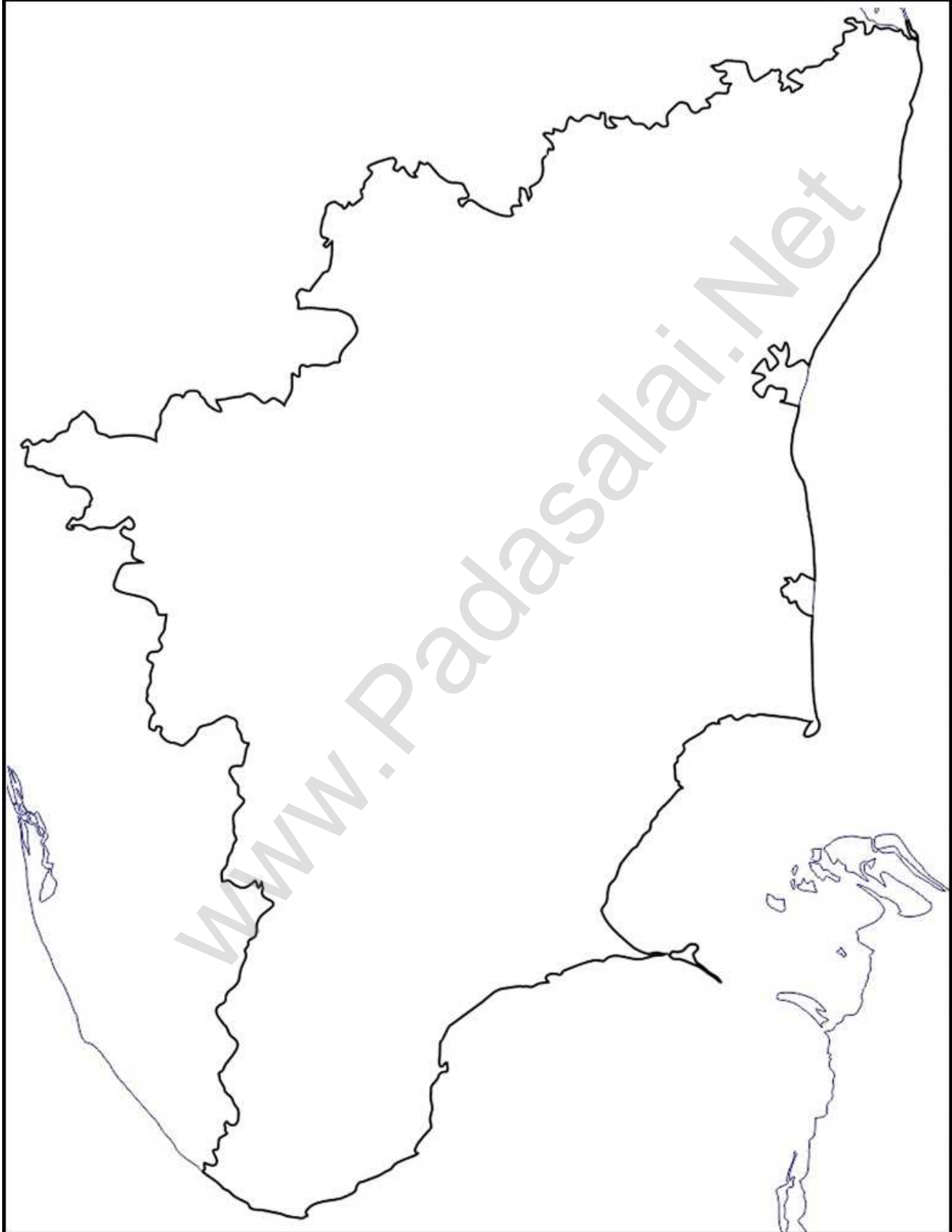
Tamilnadu - Rivers

தமிழ்நாடு - ஆறுகள்



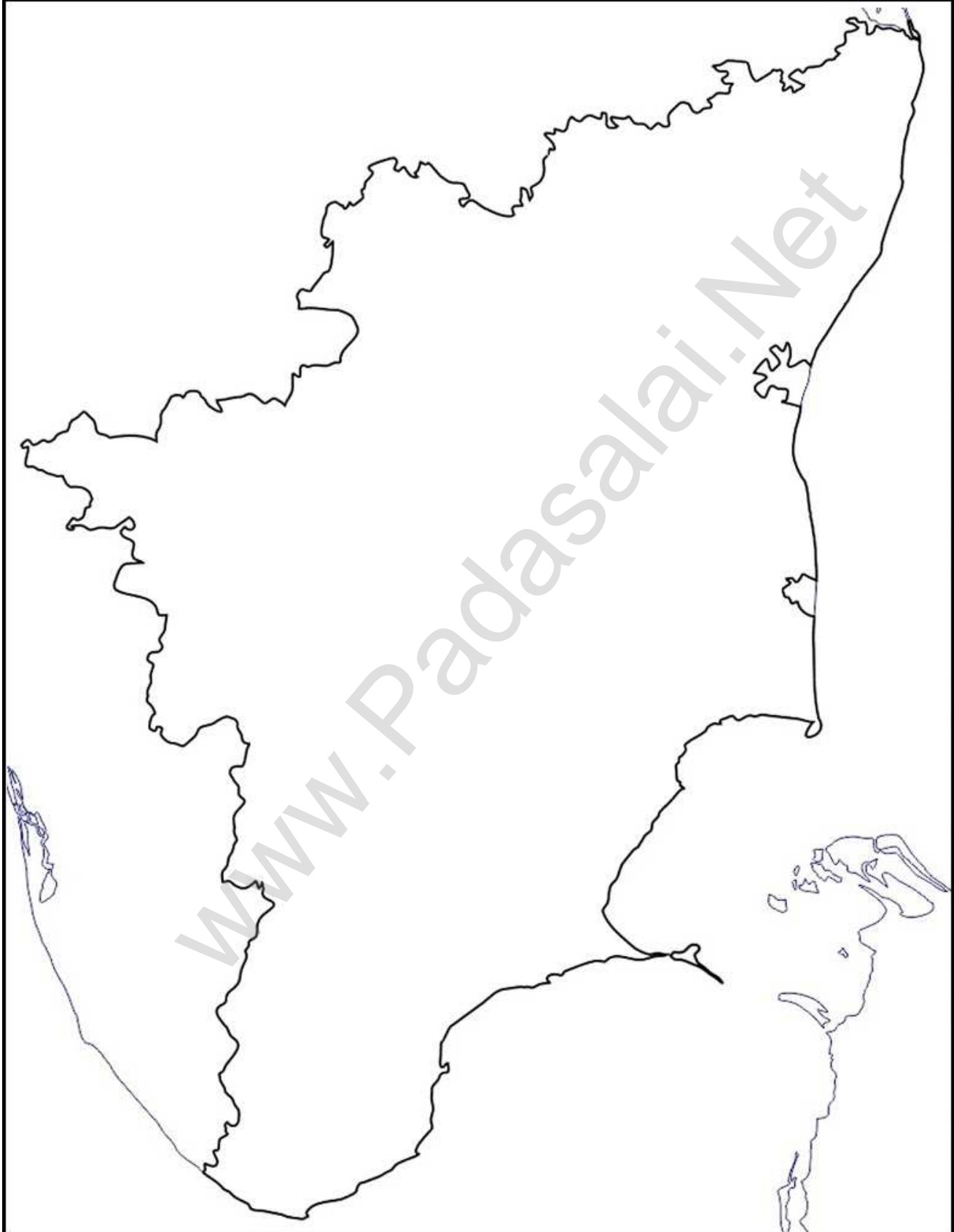
Tamilnadu - Sanctuaries

தமிழ்நாடு - உயிர்கோள காப்பகங்கள்



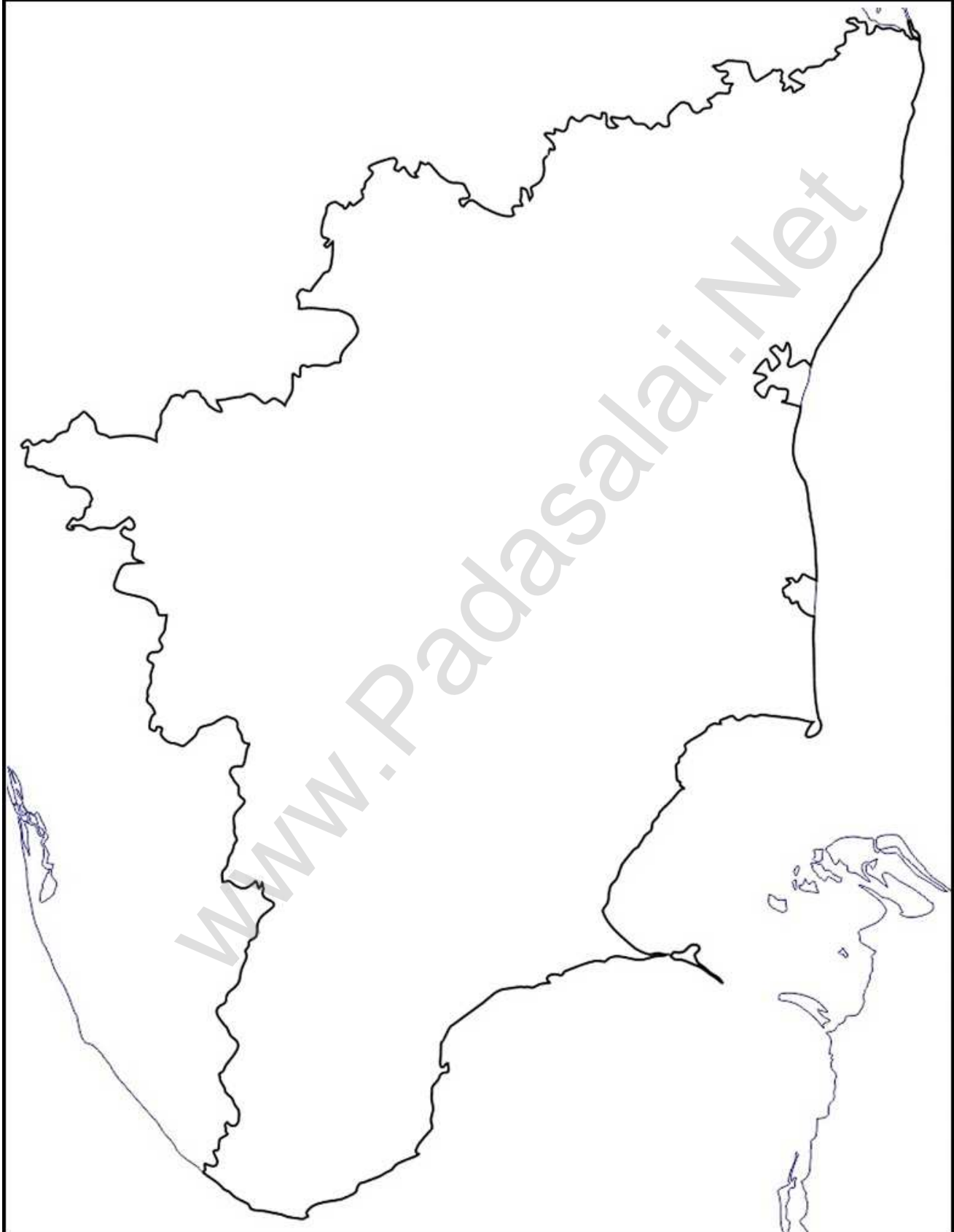
Tamilnadu - Soils

தமிழ்நாடு - மண் வகைகள்



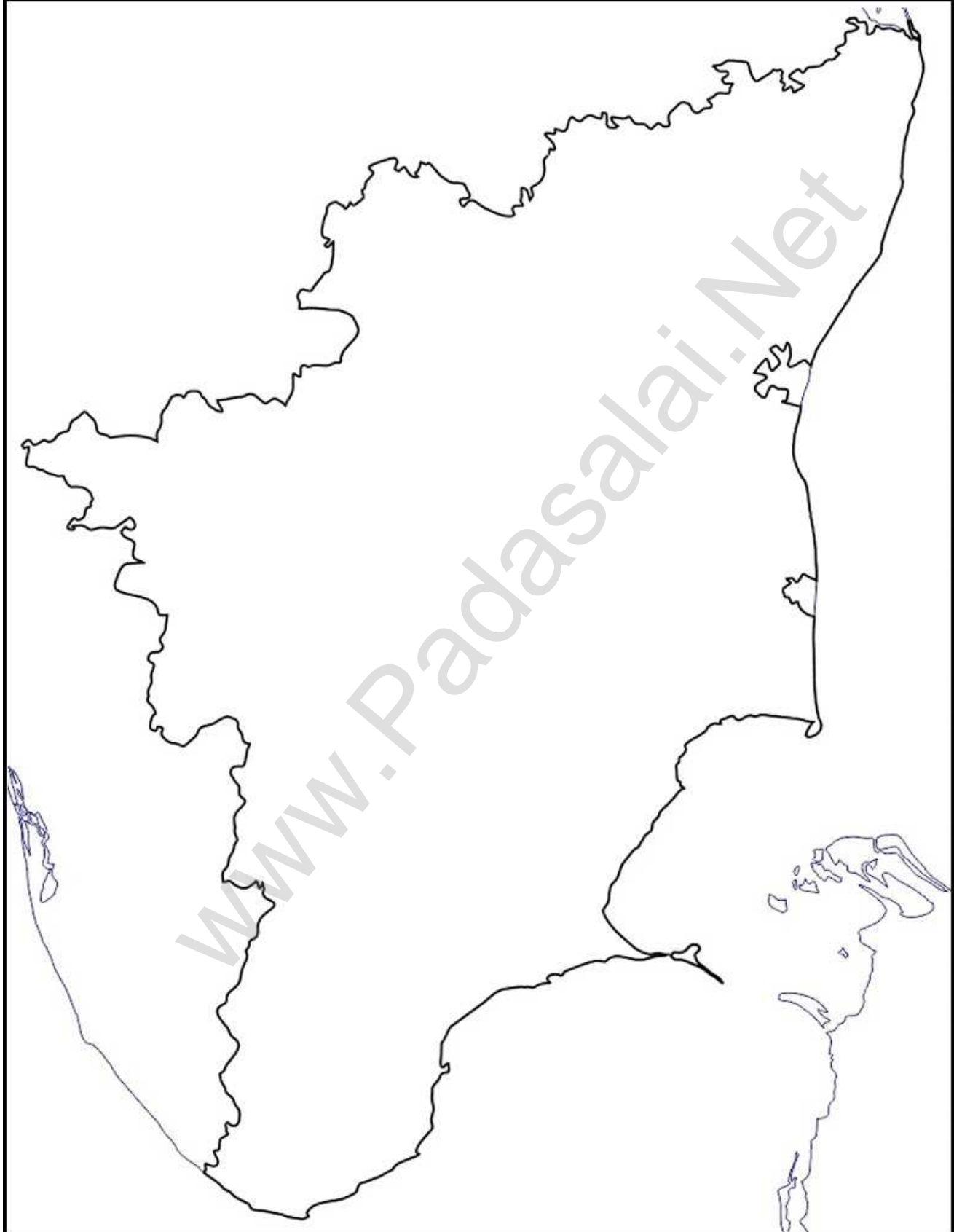
Tamilnadu - Dams

தமிழ்நாடு - அணைகள்



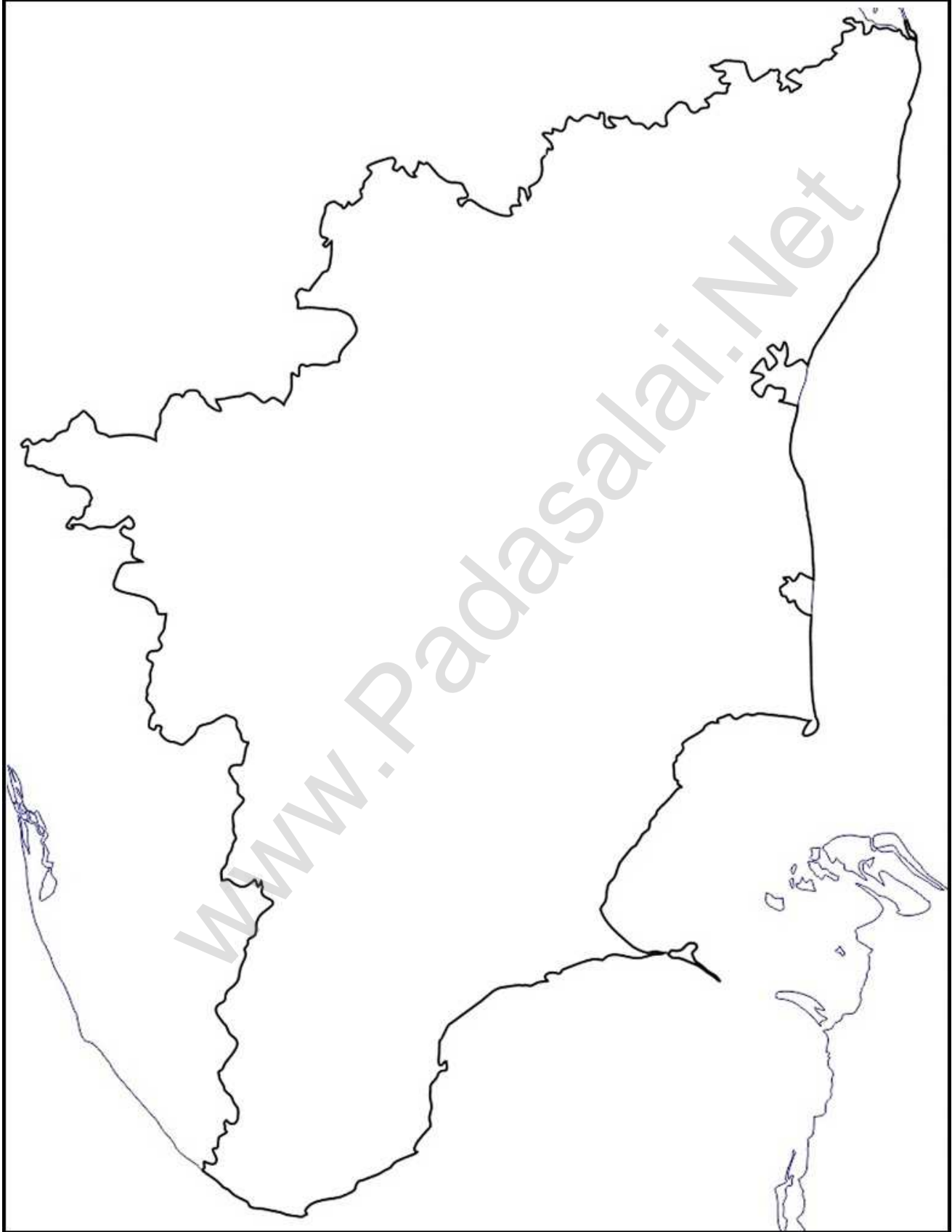
Tamilnadu - Crops

தமிழ்நாடு - பயிர்கள்



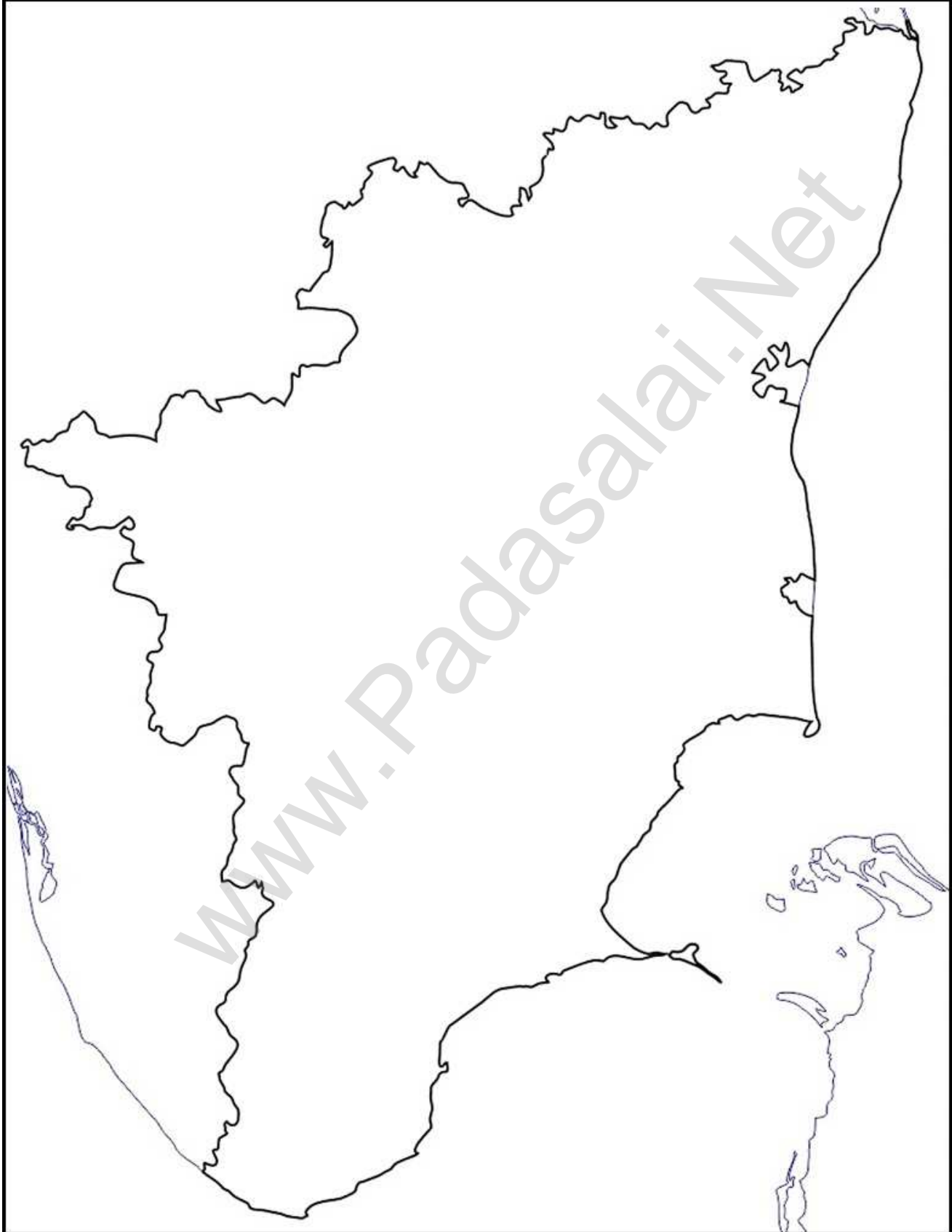
Tamilnadu - Industries

தமிழ்நாடு - தொழிற்சாலைகள்



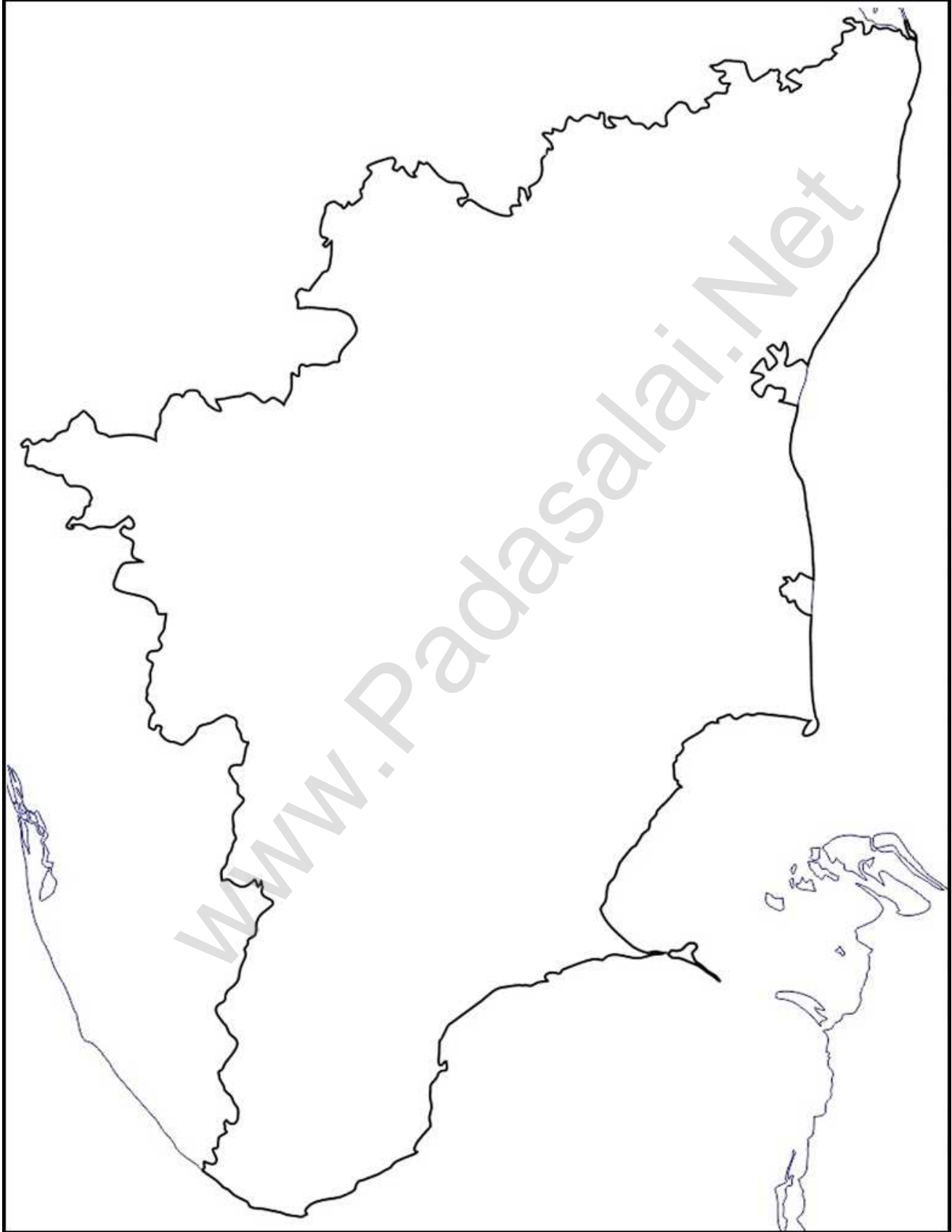
Tamilnadu - Roadways

தமிழ்நாடு - சாலைப் போக்குவரத்து



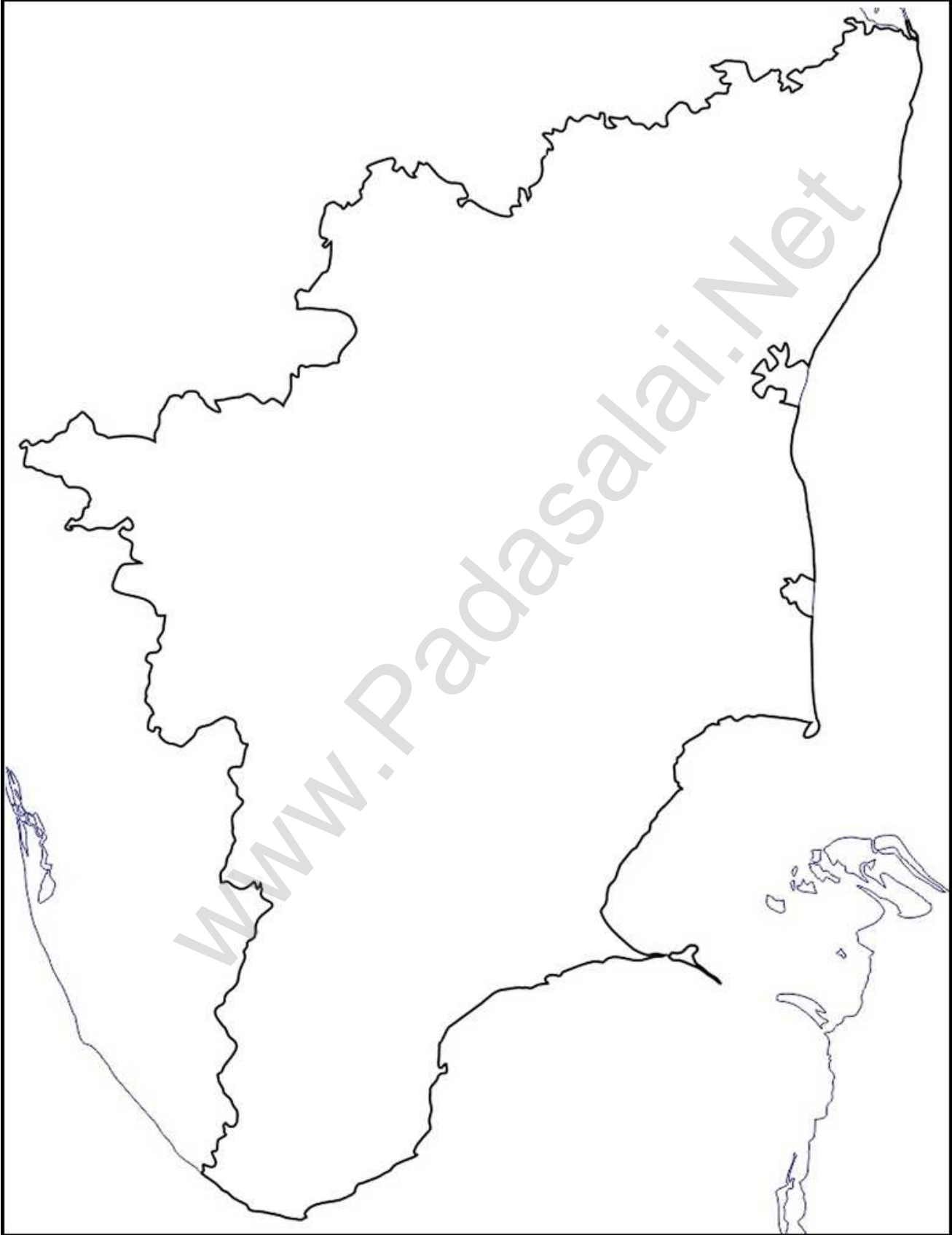
Tamilnadu - Railways

தமிழ்நாடு - இரயில் போக்குவரத்து



Tamilnadu - Ariways and Sea Routes

தமிழ்நாடு - விமான மற்றும் கப்பல் போக்குவரத்து



Tamilnadu - Population

தமிழ்நாடு - மக்கள் தொகை

