

தொகுத்தறிமதிப்பீடு - மூன்றாம் பருவம்

கணக்கு - 2023 - 2024

வகுப்பு - 2

பெயர் : _____

மதிப்பெண் : 60

பிரிவு : _____

நேரம் : 2 மணி

ஒவ்வொரு வினாவிற்கும் (i) & (ii) 3 மதிப்பெண்கள் வழங்கப்பட வேண்டும்.

பின்வரும் வினாக்களுக்கு விடையளி.

10×6=60

1. (i) வளைவாக உள்ள வடிவம் எது?



(ii) 'A' என்ற ஆங்கில எழுத்தில் உள்ள நேர்க்கோடுகள் எத்தனை?

அ) 1 ஆ) 2 இ) 3 ஈ) 4

2. (i) 85 என்ற எண்ணில் எத்தனை பத்துகள் உள்ளன?

அ) 6 ஆ) 7 இ) 8 ஈ) 9

(ii) 92 ஐ இவ்வாறும் எழுதலாம்...

அ) 9+2 ஆ) 2+9 இ) 90+2 ஈ) 20+9

3. (i) கூட்டல் கணக்கை நிறைவு செய்க.

$$\boxed{7} + \boxed{} = \boxed{18}$$

(ii) பாபுவிடம் 8 லட்டுகள் உள்ளன. கோபுவிடம் 7 லட்டுகள் உள்ளன. இருவரிடமும் உள்ள லட்டுகள் மொத்தம் எத்தனை?

அ) 15 ஆ) 16 இ) 17 ஈ) 18

4. (i) கழித்தல் கூற்றை நிறைவு செய்க.

$$\boxed{16} - \boxed{} = \boxed{9}$$

(ii) கவிதாவிடம் 18 வளையல்கள் உள்ளன. அவற்றில் 6 வளையல்களைத் தன் தங்கைக்குக் கொடுத்துவிட்டாள் எனில், கவிதாவிடம் மீதமுள்ள வளையல்கள் எத்தனை?

அ) 12 ஆ) 13 இ) 14 ஈ) 24

5. (i) ஒற்றை எண்களை வட்டமிடுக.

27, 42, 57, 78, 81, 98

(ii) இரட்டை எண்ணைத் தேர்ந்தெடு.

அ) எண்பத்து மூன்று ஆ) முப்பத்து எட்டு

இ) ஐம்பத்து ஏழு ஈ) அறுபத்து ஒன்பது

6. (i) படம் குறிப்பிடும் தொடர் கூட்டல் கூற்றை எழுதுக.



$$\underline{\hspace{2cm}} + \underline{\hspace{2cm}} + \underline{\hspace{2cm}} + \underline{\hspace{2cm}} =$$

(ii) தொடர் கூட்டல் கூற்றை நிறைவு செய்க.

$$\boxed{8} + \boxed{} + \boxed{} + \boxed{} + \boxed{} + \boxed{} = \boxed{}$$

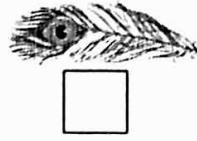

7. தொடர் கழித்தல் கூற்றுகளை நிறைவு செய்க.

(i) $\begin{array}{ccccccc} & -2 & & -2 & & -2 & & -2 \\ & \curvearrowright & & \curvearrowright & & \curvearrowright & & \curvearrowright \\ \boxed{20} & \boxed{} & \boxed{} & \boxed{} & \boxed{} & \boxed{} & \boxed{} & \boxed{} \end{array}$


(ii)

45	-	9	=	
	-	9	=	
	-	9	=	

8. (i) பொருள்களை ஒப்பிட்டு இலேசானது முதல் கனமானது வரை 1, 2, 3 என வரிசைப்படுத்துக.



(ii) பழங்களை தராசு தட்டில் வைக்கும் பொழுது தட்டு கீழே செல்லும் எனில் அப்பழத்திற்கு \downarrow குறியிடுக. மேலே செல்லும் எனில் அப்பழத்திற்கு \uparrow குறியிடுக.



9. (i) பானு பின்வரும் இரண்டு பொருள்களை வாங்கினாள். அவள் கடைக்காரருக்குச் செலுத்தவேண்டிய தொகையை (✓) செய்க.



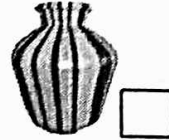
அ) ₹61 ஆ) ₹71 இ) ₹81 ஈ) ₹91

(ii) விமல் பின்வரும் இரண்டு பொருள்களை வாங்கிய பின் கடைக்காரரிடம் 80 ஐக் கொடுத்தான் எனில், கடைக்காரர் தரவேண்டிய மீதித்தொகையை (✓) செய்க.



அ) ₹53 ஆ) ₹17 இ) ₹7 ஈ) ₹73

10 (i) நீர் நிரம்ப அதிக நேரம் எடுத்துக் கொள்ளும் பாத்திரத்தை (✓) செய்க.



(ii) உனது வீட்டிலிருந்து பள்ளிக்கு விரைவாக செல்ல உதவும் வாகனத்தை (✓) செய்க.

