

அனைவருக்கும் கல்வி இயக்கம் – தமிழ்நாடு

மாநில அளவிலான அடைவு ஆய்வு 2016-17

வினாத்தாள்

332

பாடம் : கணக்கு

வகுப்பு : 3

மொத்த மதிப்பெண்கள் : 30

மாணவர் பெயர் :

நேரம் : 1 மணி


வகுப்பு மற்றும் பிரிவு :

பள்ளியின் பெயர் :

ஒன்றியம் மாவட்டம் பள்ளி எண்

கீழே கொடுக்கப்பட்ட கேள்விகளைக் கவனமாகப் படித்து சரியான விடையை வட்டமிடவும்.

1. கீழே உள்ள படத்தில் அருணின் வலது கையை பிடித்திருப்பவர் யார் ?



a) ராணி

b) மாலா

c) ஜான்

d) பாணு

2. எந்தப் பெட்டியில் 7 நட்சத்திரங்கள் உள்ளன ?



3. ஒரு பேருந்து பயணச்சீட்டு கீழே காண்பிக்கப்பட்டுள்ளது.

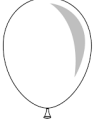
1	விசைவாயு	17
2	செய்துள்ளதில்	18
3	செய்து	19
4	செய்து (வது)	20
5		21
6	பயணச்சீட்டு	22
7	MZ	23
8	80	24
9	ரூபாய்	25
10		26
11		27
12		28
13		29
14	பரிசீலனை	30
15	செய்து	31
16	செய்து	32

பயணச்சீட்டில் உள்ள ரூபாயில் 8 - இன் இடமதிப்பு என்ன ?

- a) 8 பத்துகள் b) 8 நூறுகள் c) 8 ஆயிரங்கள் d) 8 ஒன்றுகள்

4. கனமான பொருள் எது ?

a)



பலூன்

b)



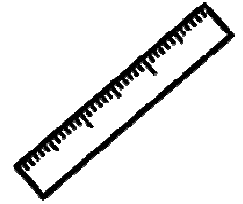
பென்சில்

c)



ஆப்பிள்

d)



அளவுகோல்

5. காலிக் கட்டத்தை நிரப்புக

$$17 + 25 = \square$$

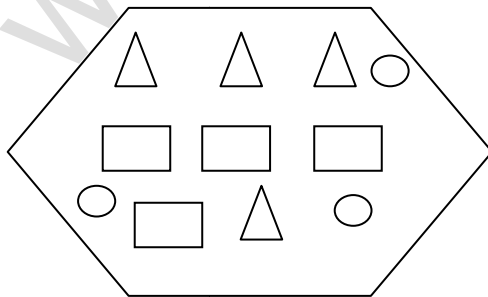
a) 32

b) 12

c) 312

d) 42

6. கீழ்க்காணும் வடிவங்களில் உள்ள செவ்வகங்கள் எத்தனை ?



a) 3

b) 4

c) 5

d) 12

7. ஓர் எண்ணை 35 - உடன் கூட்டினால் 56 கிடைக்கும்.

$$\begin{array}{r} 35 \\ + \square\square \\ \hline 56 \end{array}$$

அந்த எண் எது?


a) 12

b) 20

c) 21

d) 91

8. கீழ்க்காணும் படத்தில் ஒரே மாதிரியாக உள்ள வடிவங்கள் எவை?



a) 1, 2

b) 2, 3

c) 3, 4

d) 1, 4

9. 2649 -இல், 6 -இன் இடமதிப்பு என்ன?

a) 6

b) 60

c) 600

d) 649

10. ஜூன் மற்றும் ஆகஸ்டு மாதங்களுக்கு இடையே வரும் மாதம் எது?

a) மே

b) ஜூலை

c) செப்டம்பர்

d) நவம்பர்

11. நாட்காட்டியில் 18 ஆம் தேதி எந்த கிழமையில் வருகிறது ?

NOVEMBER							நவம்பர் 2016	
ஞாயிறு	திங்கள்	செவ்வாய்	புதன்	வியாழன்	வெள்ளி	சனி		
		1	2	3	4	5		
6	7	8	9	10	11	12		
13	14	15	16	17	18	19		
20	21	22	23	24	25	26		
27	28	29	30					

- a) வியாழக்கிழமை
b) புதன்கிழமை
c) வெள்ளிக்கிழமை
d) ஞாயிற்றுக்கிழமை

12. 4×5 -இன் பொருத்தமான கூட்டல் விவரம் எது ?

- a) $3 + 3 + 3$
b) $5 + 5 + 5$
c) $4 + 4 + 4 + 4$
d) $4 + 4 + 4 + 4 + 4$


13. 52 ஆரஞ்சுப் பழங்களில் 21 பழங்கள் அழுகி விட்டன, எனில் நல்ல நிலையில் உள்ள பழங்கள் எத்தனை ?

- a) 73 ஆரஞ்சுகள்
b) 71 ஆரஞ்சுகள்
c) 31 ஆரஞ்சுகள்
d) 21 ஆரஞ்சுகள்

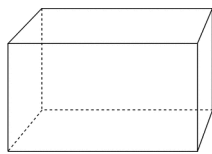


14. முறுக்கு பிழியும் குழாயின் உருவத்துடன் ஒத்திருப்பது எது ?

a)



b)



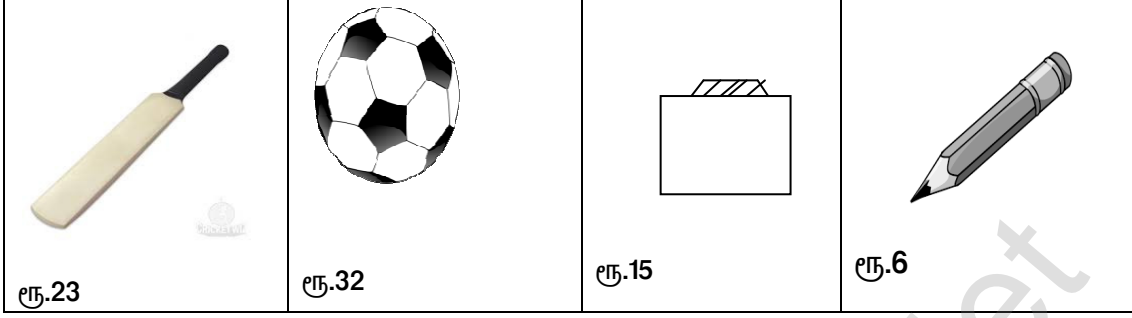
c)



d)



15. படத்தில் உள்ள கிரிக்கெட் மட்டை மற்றும் பென்சிலின் மொத்த விலை எவ்வளவு ?



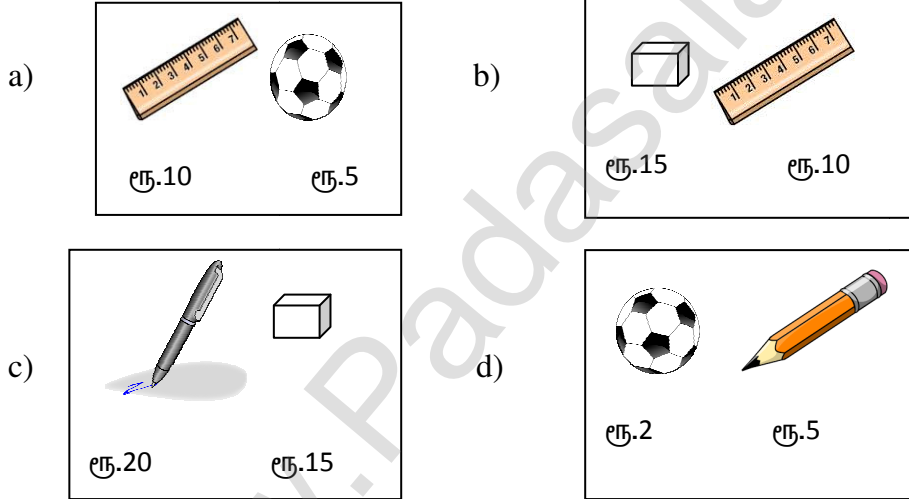
a) 21

b) 29

c) 47

d) 55

16. ரூபாய் 25 -ஐ முழுமையாக பயன்படுத்தி கீழ்க்கண்ட எந்த இரு பொருள்களை வாங்கலாம் ?



17. கொடுக்கப்பட்டுள்ள எண்களில் 12 பத்துகளை விட பெரிய எண் எது ?

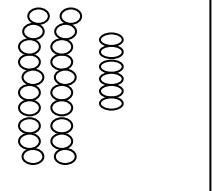
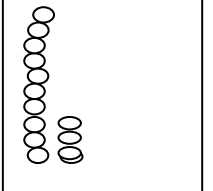


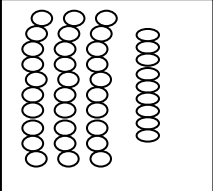
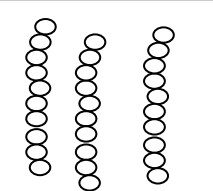
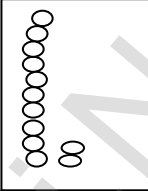
a) 1

b) 12


c) 120

d) 125

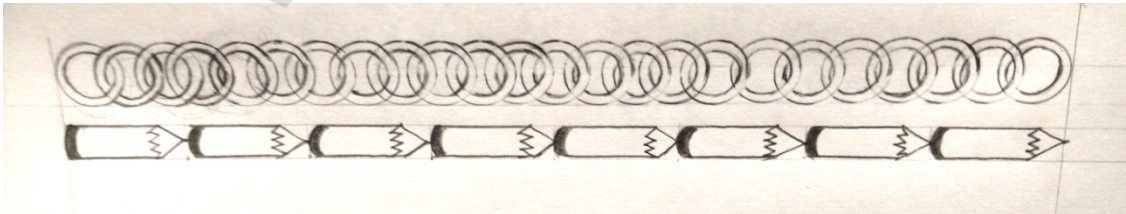
18. சரியான விடையை தேர்ந்தெடு.

 26	+	 14	=	 ?
a)  40	b)  39	c)  30	d)  12	

19. கீழ்க்காணும் வரிசையில் அனு முதலாவதாக நிற்கிறாள் எனில், வரிசையில் மூன்றாவது இடத்தில் நிற்பவர் யார் ?



20. படத்தில் சங்கிலியின் நீளத்திற்கு சமமான நீளம் கொண்டவை _____



- a) 8 வளையங்கள் b) 8 பென்சில்கள்
c) 8 வளையங்களைவிட குறைவு d) 8 பென்சில்களை விட அதிகம்

21. 203 ல் 5 குறைவு என்பது எவ்வளவு?

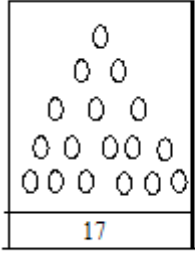
- a) 208 b)198 c)202 d)205

22. கீழ்க்காணும் எண் வரிசையில் விடுபட்ட எண்களை நிரப்புக.

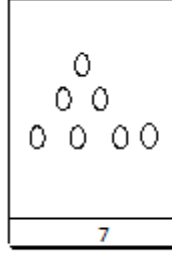
31, 32, _____, 34, 35, _____

- a) 32,35 b) 34,35 c) 31,32 d) 33,36

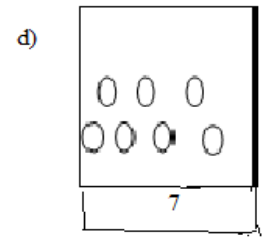
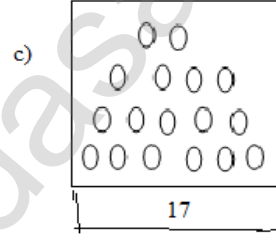
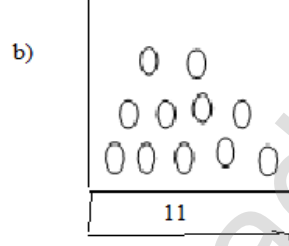
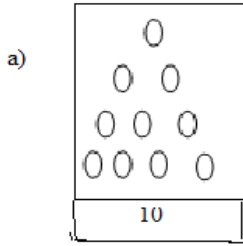

23. சரியான விடையைத் தேர்ந்தெடுக்க:



-



=

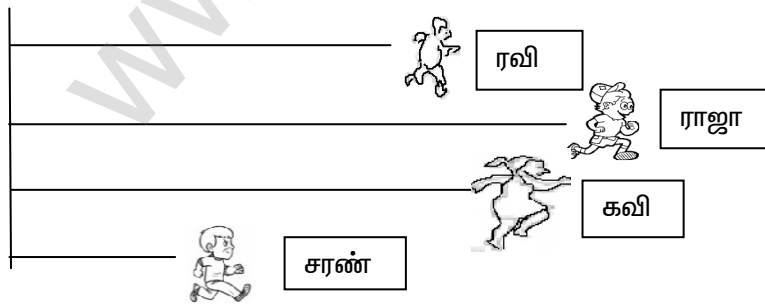


24. காலிக் கட்டத்தை நிரப்புக :

$$56 - 9 = \square$$

- a) 50 b) 57 c) 47 d) 53


25. கீழே உள்ள படத்தைக் காண்க:



ஓட்டப்பந்தயத்தில் அதிக தொலைவு ஓடியவர் _____

- a) ரவி b) ராஜா c) கவி d) சரண்

26. படத்தில் உள்ள மரங்களில் மிகவும் குட்டையான மரம் எது ?




27. கீழே உள்ள எண்களில் மிகச்சிறிய எண் எது ?

- a) 32 b) 41 c) 63 d) 24

28. கீழே சில பொம்மைகள் காண்பிக்கப்பட்டுள்ளன.




கிளிக்கு அடுத்து வருவது எது ?



29. ஏறு வரிசையில் அமைந்த எண்கள் யாவை ?

- a) 46,47,48,49,50 b) 47,48,50,49,46
c) 48,47,46,49,50 d) 48,46,47,49,50

30. கீழே உள்ள பாணையில் 85 – ஐ விட பெரிய எண்கள் எவை ?



- a) 86,84 b) 86,89 c) 89,82 d) 82,84