

தொகுத்தறி மதிப்பீடு - மூன்றாம் பருவம்
கணக்கு - 2023 - 2024
வகுப்பு - 3

பெயர் : _____

மதிப்பெண் : 60

பிரிவு : _____


நேரம் : 2 மணி

ஒவ்வொரு வினாவிற்கும் (i) & (ii) 3 மதிப்பெண்கள் வழங்கப்பட வேண்டும்.
பின்வரும் வினாக்களுக்கு விடையளி.

10×6=60

1. (i) எதிரெதிர்ப் பக்கங்கள் சமமாக உள்ள வடிவத்தின் பெயரை எழுதுக.

(ii) ஒரு நேர்க்கோடும் ஒரு வளைகோடும் கொண்ட ஆங்கில எழுத்து.



2. (i) கூட்டல் கூற்றை நிறைவு செய்க.

$$\boxed{4} + \boxed{} = \boxed{20}$$

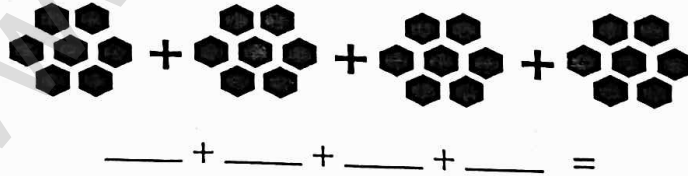
(ii) இராமுவிடம் 9 கோலிகள் உள்ளன. சோமுவிடம் 8 கோலிகள் உள்ளன.
இருவரிடமும் உள்ள கோலிகளின் எண்ணிக்கை _____

3. (i) கழித்தல் கூற்றை நிறைவு செய்க.

$$\boxed{} - \boxed{8} = \boxed{7}$$

(ii) ஒரு கடையில் 17 தர்பூசணி பழங்கள் விற்பனைக்கு வைக்கப்பட்டிருந்தன.
அவற்றில் 9 தர்பூசணி பழங்கள் விற்பனையாகிவிட்டன எனில், மீதமுள்ள
தர்பூசணி பழங்களின் எண்ணிக்கை _____

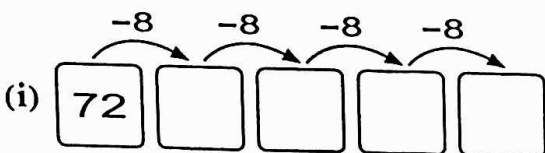
4. (i) படம் குறிப்பிடும் தொடர் கூட்டல் கூற்றை எழுதுக.



(ii) தொடர் கூட்டல் கூற்றை நிறைவு செய்க.

$$\boxed{9} + \boxed{} + \boxed{} + \boxed{} + \boxed{} + \boxed{} = \boxed{}$$

5. தொடர் கழித்தல் கூற்றுகளை நிறைவு செய்க.



(ii)

81	-	9	=	
	-	9	=	
	-	9	=	

6. (i) கவிதா பின்வரும் இரண்டு பொருள்களை வாங்கினாள். அவள் கடைக்காரருக்குச் செலுத்தவேண்டிய தொகையை (✓) செய்க.



அ) ₹61 ஆ) ₹71 இ) ₹81 ஈ) ₹91

- (ii) அமலா பின்வரும் இரண்டு பொருள்களை வாங்கிய பின் கடைக்காரரிடம் 90 ஐக் கொடுத்தாள் எனில், கடைக்காரர் தரவேண்டிய மீதித்தொகையை (✓) செய்க.



அ) ₹81 ஆ) ₹9 இ) ₹19 ஈ) ₹18

7. (i) சுமதி 63 மணிகளை தனது 7 தோழிகளுக்கு சமமாக பகிர்ந்து கொடுத்தாள் எனில் ஒவ்வொரு தோழிக்கும் கிடைத்த மணிகள் எத்தனை?

ஒவ்வொரு தோழிக்கும் கிடைத்த மணிகளின் எண்ணிக்கை =

- (ii) இராஜன் என்பவரிடம் 48 கொய்யா பழங்கள் உள்ளன. அவற்றை ஒரு கூறில் 8 கொய்யா பழங்கள் என இருக்குமாறு அடுக்கினார் எனில் அவர் எத்தனை கூறுகள் அடுக்கி இருப்பார்?

இராஜன் அடுக்கிய கூறுகளின் எண்ணிக்கை =

8. அகிலன் என்பவர் வாங்கிய காய்கறிகளுக்கான பற்றுச்சீட்டு கீழே கொடுக்கப்பட்டுள்ளது. பற்றுச்சீட்டை உற்றுநோக்கி பின்வரும் வினாக்களுக்கு விடையளி.

பசுமை காய்கறி அங்காடி			
பற்றுச்சீட்டு எண்: 125		நாள்: 07.04.2024	
வ.எண்	காய்கறிகள்	அளவு (கி.கி)	விலை (₹)
1.	கேரட்	2	50
2.	உருளை	1	65
3.	தக்காளி	3	78
4.	பீன்ஸ்	1	27
மொத்த விலை =			220

(i) பற்றுச்சீட்டு நாள் _____

(ii) காய்கறிகளின் மொத்த எடை _____

(iii) செலுத்த வேண்டிய மொத்தத் தொகை _____

9. (i) தொட்டியில் உள்ள தண்ணீரை அளக்க பயன்படும் சரியான அளவை எது?

அ) மில்லி லிட்டர் ஆ) லிட்டர் இ) கிலோ மீட்டர் ஈ) கிலோகிராம்

- (ii) மிகக் குறைவான அளவினை (✓) செய்க.

அ) 2500 மிலி ஆ) 100 மிலி இ) 810 மிலி ஈ) 17 லி

10. கொடுக்கப்பட்டுள்ள படத்திற்குரிய தொடர் கூட்டல் கூற்றுகள் மற்றும் பெருக்கல் கூற்றுகளை எழுதுக.

படம்			
தொடர் கூட்டல் கூற்று			
பெருக்கல் கூற்று			