

மூன்றாம் பருவத் தேர்வு

பாடம் : கணக்கு வகுப்பு : 4. நேரம் : 2.00. மணி

பெயர்:.....எண்:.....

தொகுத்தறி மதிப்பீடு (S.A)

மதிப்பெண்கள்
60
குறநிலை

I. சரியான விடையைத் தேர்ந்தெடுத்து எழுதுக.

5 × 1 = 5

1. வளையல் _____ வடிவ அமைப்பைக் குறிக்கிறது.

அ) வட்டம் ஆ) முக்கோணம் இ) சதுரம் ஈ) செவ்வகம்

2. 1000 மி.லி = _____ லிட்டர்

அ) 1 ஆ) 100 இ) 1000 ஈ) 2

3. 1 மாதம் = _____ வாரங்கள்.

அ) 4 ஆ) 6 இ) 3 ஈ) 8

4. _____ நாட்கள் ஒரு போர்ட் நைட் ஆகும்.

அ) 7 ஆ) 14 இ) 21 ஈ) 28

5. 100 பைசாக்கள் = _____ ரூபாய்

அ) 1 ஆ) 2 இ) 3 ஈ) 4

II. கோடிட்ட இடத்தை நிரப்புக.

5 × 1 = 5

1. 5 லி. = _____ மி.லி

2. 2000 மி.லி = _____ லி.

3. 18 நாட்கள் + 24 நாட்கள் = _____ நாட்கள்.

4. ஒரு அட்டையின் விலை = 65.50 அதனுடன் ஒரு பேனா விலை 48.75

எனில் மொத்த தொகை = _____

5. ஒரு லீப் ஆண்டு = _____ நாட்கள்

III. சரியா? தவறா? எனக் கூறுக.

5 × 1 = 5

1. $896 \div 5 = 190$ (_____)

2. $\frac{3}{4}$ லி = 500 மி.லி (_____)

3. ஒரு வாரத்தில் 7 நாட்கள் உள்ளன. (_____)

4. $\text{₹}85.45 - \text{₹}65.75 = \text{₹}19.70$ (_____)

5. செப்டம்பர் மாதத்தில் 31 நாட்கள் உள்ளன. (_____)

வ.4 கணக்கு .ப.1

IV. பொருத்துக.

$5 \times 1 = 5$

1. 895 — 500 - 30 நாட்கள் (_____)
2. 6000 மி.லி - 31 நாட்கள் (_____)
3. மார்ச் - முக்கால் பாகம் (_____)
4. ஏப்ரல் - 395 (_____)
5. $\frac{3}{4}$ - 6 லி (_____)

V. விடையளி.

$10 \times 3 = 30$

1. அமைப்பை பூர்த்தி செய்க.



2. $45 + 93 =$

3. $35 \times 12 =$

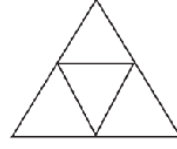
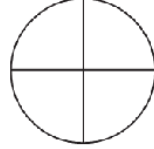
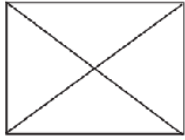
4. ஒரு லிட்டர் தேங்காய் எண்ணெயை 5 நபர்களுக்கு சமமாக பங்கிட்டால், ஒவ்வொருவருக்கும் எவ்வளவு தேங்காய் எண்ணெய் கிடைக்கும்.

5. நீ காலை எழுந்திருப்பது 6.00 மணி மு.ப என்றால் பள்ளிக்கு செல்வது வரையுள்ள கால இடைவெளியை கணக்கிடுக.

6. ₹. 1000 இல் எத்தனை ₹ .50 நோட்டுக்கள் உள்ளன?

7. ₹. 83.50 - ₹. 24.00

8. ஒவ்வொரு படத்திலும் கால் பாகத்திற்கு நிழலிடுக.



9. மில்லி லிட்டரை லிட்டராக மாற்றுக.

- i) 9000 மி.லி ii) 6000 மி.லி

10. ₹.129.45 ஐ பைசாவாக மாற்றுக.

I. விரிவான விடையளி.

2 × 5 = 10

1. ஆனந்த் மளிகை கடைக்குச் சென்று 1 கி.கி சுரைக்காய் ரூ.10.50-க்கும் 1 கி.கி பூசணிக்காய் ரூ.20.50-க்கும் வாங்கினான். அவன் கடைக்காரரிடம் ரூ.50.00 கொடுத்தான் எனில் மீதி எவ்வளவு பணம் கடைக்காரர் திருப்பிக்கொடுத்தார்?

2. ஒரு கடைக்காரரிடம் 43 லி 350 மி.லி கடலை எண்ணெய் இருந்தது. அதில் 24 லி 350 மி.லி எண்ணெயை விற்றுவிட்டார் எனில் அவரிடம் மீதமிருந்த எண்ணெய் எவ்வளவு?

வ.4 கணக்கு .ப.4