




SURA'S

Q-BANKS

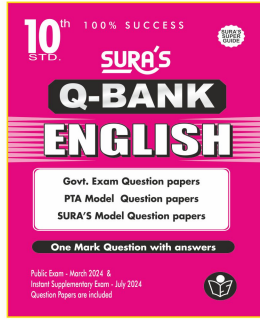
10th STANDARD



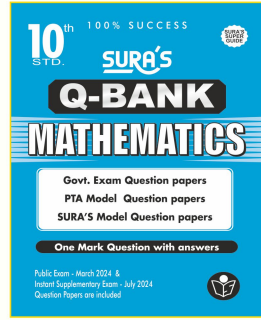
Rate Card




SG 357 - ₹ 60/-




SG 358 - ₹ 60/-



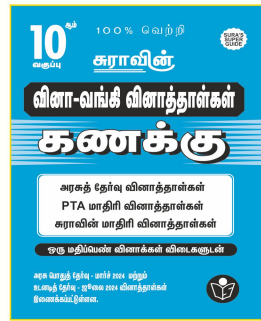
SG 359 - ₹ 54/-




SG 360 - ₹ 54/-



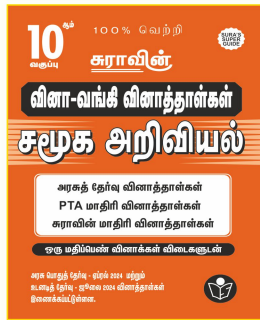
SG 361 - ₹ 54/-



SG 362 - ₹ 54/-



SG 363 - ₹ 54/-




SG 364 - ₹ 54/-



ஆசிரியர்களின்
நம்பிக்கை !

மாணவர்களின்
எதிர்காலம் !!



For Orders Contact: 81242 01000 / 81243 01000 / 96001 75757



Order through WhatsApp 8124201000 / 98409 26027

Buy online @

surabooks.com

Flipkart



amazon

Write Your Remarks to :

SURA PUBLICATIONS

1620, J Block, 16th Main Road, Anna Nagar West, Chennai - 600040.

Email : enquiry@surabooks.com orders@surabooks.com Website : www.surabooks.com

Kindly Send Me Your Key Answer to Our email id - Padasalai.net@gmail.com

சுராவின் சமூக அறிவியல் வினா-வங்கி

வினாத்தாள்கள்
வகுப்பு

10

ஒரு மதிப்பெண்
வினாக்கள்
விடைகளுடன்

சிறப்பம்சங்கள்

- அரசுத் தேர்வு வினாத்தாள்கள்
- PTA மாதிரி வினாத்தாள்கள்
- சுராவின் மாதிரி வினாத்தாள்கள்

சுரா பப்ளிகேஷன்ஸ்

சென்னை



For Orders Contact

80562 94222 / 81242 01000 / 81243 01000/96001 75757 / 78718 02000/ 98409 26027

enquiry@surabooks.com

[1]

Ph:8124201000 / 8124301000

Kindly Send Me Your Key Answer to Our email id - Padasalai.net@gmail.com

Head Office:**Sura Publications**

1620, 'J' Block, 16th Main Road,
Anna Nagar, Chennai - 600 040.

Phone : 044-4862 9977, 486 27755

Mobile : 81242 01000 / 81243 01000

Whatsapp: 81242 01000

E-mail : orders@surabooks.com

Website : www.surabooks.com

For Orders Contact

80562 94222

81242 01000

81243 01000

96001 75757

78718 02000

98409 26027

For More Information - Contact

Doubts in Our Guides : enquiry@surabooks.com

For Order : orders@surabooks.com

Contact : 81242 01000 / 81243 01000

Whatsapp : 81242 01000 / 98409 26027

Online Site : www.surabooks.com

For Free Study Materials Visit <http://tnkalvi.in>

Our Guides for XI, XII Standard

- ❖ சுராவின் தமிழ் உரைநூல்
- ❖ Sura's Smart English Guide
- ❖ Sura's Compact English Guide
- ❖ Sura's Mathematics (EM/TM)
- ❖ Sura's Physics (EM/TM)
- ❖ Sura's Chemistry (EM/TM)
- ❖ Sura's Bio-Botany & Botany (EM/ TM)
(Short version & Long Version)
- ❖ Sura's Bio-Zoology & Zoology (EM/ TM)
(Short version & Long Version)
- ❖ Sura's Computer Science (EM/TM)
- ❖ Sura's Computer Application (EM / TM)
- ❖ Sura's Commerce (EM/TM)
- ❖ Sura's Economics (EM/TM)
- ❖ Sura's Accountancy (EM/TM)
- ❖ Sura's Business Mathematics (EM)
- ❖ Sura's 6-in-1 Question Bank (EM)

16/07/2024

பொருளடக்கம்

1.	அரசு வினாத்தாள்கள் - 1 to 7	3 - 24
2.	PTA மாதிரி வினாத்தாள்கள் - 1 to 6	25 - 46
3.	சுராவின் மாதிரி வினாத்தாள்கள் - 1 to 8	47 - 76
4.	ஒரு மதிப்பெண் விடைகள்	77 - 80

10 ஆம்

வகுப்பு

கால அளவு : 3.00 மணி நேரம்]

உடனடித் தேர்வு - ஜூலை 2024

பதிவு எண்.

PART - III

சமூக அறிவியல்

[மொத்த மதிப்பெண்கள் : 100

- அறிவுரைகள் : (1) அனைத்து வினாக்களும் சரியாக அச்சப் பதிவாகி உள்ளதா என்பதனை சரிபார்த்துக் கொள்ளவும். அச்சப்பதிவில் குறைபாடு இருப்பின், அறைக் கண்காணிப்பாளரிடம் உடனடியாகத் தெரிவிக்கவும்.
- (2) நீலம் அல்லது கருப்பு மையினை மட்டுமே எழுதுவதற்கும் அடிக்கோடிடுவதற்கும் பயன்படுத்த வேண்டும். படங்கள் வரைவதற்கு பென்சில் பயன்படுத்த வேண்டும்.

குறிப்பு : இவ்வினாத்தாள் நான்கு பகுதிகளைக் கொண்டது.

பகுதி - I

குறிப்பு: (i) அனைத்து வினாக்களுக்கும் விடையளிக்கவும்.

(ii) கொடுக்கப்பட்ட நான்கு மாற்று விடைகளில் மிகவும் ஏற்புடைய விடையினை தேர்ந்தெடுத்துக் குறியீட்டுடன் விடையினையும் சேர்த்து எழுதவும். (14 × 1 = 14)

- “ஏகாதிபத்தியம் முதலாளித்துவத்தின் உச்ச கட்டம்” எனக் கூறியவர் யார்?

(அ) லெனின் (ஆ) மார்க்ஸ்
(இ) சன் யாட் சென் (ஈ) மா சே துங்
- அமெரிக்கா தனது முதல் அணுகுண்டை எங்கே வீசியது?

(அ) கவாசாகி (ஆ) டோக்கியோ (இ) ஹிரோஷிமா (ஈ) நாகசாகி
- எந்த ஆண்டில் உடன்கட்டை ஏறுதல் (சதி) ஒழிக்கப்பட்டது?

(அ) 1827 (ஆ) 1829 (இ) 1826 (ஈ) 1927
- ‘நிலம் கடவுளுக்குச் சொந்தம்’ என்று அறிவித்ததுடன் ‘நிலத்தின் மீது வரிவிதிப்பதோ வாடகை வசூலிப்பதோ இறைச் சட்டத்திற்கு எதிரானது’ என்று கூறியவர் யார்?

(அ) டிடு மீர் (ஆ) சித்து
(இ) டுடு மியான் (ஈ) ஷரியத்துல்லா
- அமிர்தசரஸில் ரௌலட் சட்ட எதிர்ப்புப் போராட்டங்களின் போது கைது செய்யப்பட்டவர் யார்?

(அ) மோதிலால் நேரு (ஆ) டாக்டர் சைஃபுதின் கிஸ்லு
(இ) முகம்மது அலி (ஈ) ராஜ் குமார் சக்லா
- மூன்று பக்கம் நீரால் சூழப்பட்ட பகுதி என அழைக்கப்படுகிறது.

(அ) கடற்கரை (ஆ) தீவு (இ) தீபகற்பம் (ஈ) நீர்ச்சந்தி
- ஆறுகளின் மூலம் உருவாகும் மண் :

(அ) செம்மண் (ஆ) கரிசல் மண்
(இ) பாலை மண் (ஈ) வண்டல் மண்
- “தென்னிந்தியாவின் மான்செஸ்டர்” என்று அழைக்கப்படும் நகரம் :

(அ) சென்னை (ஆ) சேலம்
(இ) மதுரை (ஈ) கோயம்புத்தூர்
- போக்குவரத்து நேரடியாக உற்பத்தி யாளரையும், நுகர்வோரையும் இணைக்கிறது.

(அ) இரயில்வே (ஆ) சாலை (இ) வான்வழி (ஈ) நீர்வழி

10. தமிழ்நாட்டில் உள்ள மிக உயரமான சிகரம் ஆகும்.
 (அ) ஆனைமுடி (ஆ) தொட்டபெட்டா
 (இ) மகேந்திரகிரி (ஈ) சேர்வராயன்
11. நடுவண் அரசின் அரசியலமைப்புத் தலைவர்..... ஆவார்.
 (அ) குடியரசுத் தலைவர் (ஆ) தலைமை நீதிபதி
 (இ) பிரதம அமைச்சர் (ஈ) அமைச்சர்கள் குழு
12. ஒபெக் (OPEC) என்பது :
 (அ) சர்வதேச காப்பீட்டு நிறுவனம் (ஆ) ஒரு சர்வதேச விளையாட்டுக் கழகம்
 (இ) எண்ணெய் ஏற்றுமதி நிறுவனங்களின் அமைப்பு (ஈ) ஒரு சர்வதேச நிறுவனம்
13. முதன்மை துறை ஐ உள்ளடக்கியது.
 (அ) வேளாண்மை (ஆ) தானியங்கிகள் (இ) வர்த்தகம் (ஈ) வங்கி
14. கருப்பு பணத்திற்கான காரணங்கள் என அடையாளம் கண்டறியப்பட்டவை எவை?
 (அ) பண்டங்களின் பற்றாக்குறை (ஆ) அதிக வரி விகிதம்
 (இ) கடத்தல் (ஈ) மேற்கூறிய அனைத்தும்

பகுதி - II

குறிப்பு : எவையேனும் 10 வினாக்களுக்கு விடையளிக்கவும். வினா எண் 28-க்கு கட்டாயமாக விடையளிக்கவும். (10 × 2 = 20)

15. மூவர் கூட்டு நாடுகளின் பெயர்களை குறிப்பிடுக.
 16. மார்ஷல் தீட்டம் என்றால் என்ன?
 17. இராமலிங்க அடிகளின் சீர்திருத்தங்கள் குறித்து சிறு குறிப்பு எழுதுக.
 18. பாளையக்காரர்களின் கடமைகள் யாவை?
 19. வாரிசு இழப்புக் கொள்கையின் அடிப்படையில் பிரிட்டிஷ் அரசில் இணைத்துக் கொள்ளப்பட்ட பகுதிகளைப் பட்டியலிடவும்.
 20. இந்தியாவின் மேற்கு நோக்கி பாயும் ஆறுகளைக் குறிப்பிடுக.
 21. வளத்தை வரையறுத்து, அதன் வகைகளைக் குறிப்பிடுக.
 22. இடப்பெயர்வு என்றால் என்ன? அதன் வகைகளைக் குறிப்பிடுக.
 23. தேரி - என்றால் என்ன?
 24. குடியரிமை என்பதன் பொருள் என்ன?
 25. ஆளுநராக நியமிக்கப்படுவதற்கான தகுதிகள் யாவை?
 26. பஞ்சசீல கொள்கைகளில் ஏதேனும் நான்கினைப் பட்டியலிடுக.
 27. வரி - வரையறுக்கவும்.
 28. தமிழ்நாட்டிலுள்ள சில ஊட்டச்சத்து திட்டங்களின் பெயர்களை எழுதுக.

பகுதி - III

குறிப்பு : எவையேனும் 10 வினாக்களுக்கு விடையளிக்கவும். வினா எண் 42-க்கு கட்டாயமாக விடையளிக்கவும். (10 × 5 = 50)

29. கோடிட்ட இடங்களை நிரப்புக.
 (i) கட்டபொம்மன்..... என்ற இடத்தில் தூக்கிலிடப்பட்டார்.
 (ii) “நவீன சீனாவின் தந்தை” என்று அழைக்கப்படுபவர் ஆவார்.
 (iii) ‘ஒரு பைசாத் தமிழன்’ புத்திரிகையைத் துவக்கியவர் ஆவார்.
 (iv) காந்தியடிகளின் அரசியல் குரு ஆவார்.
 (v) தமிழ் இசைக்கு முக்கியத்துவம் கொடுத்தார்.

30. 19ஆம் நூற்றாண்டில் சீர்திருத்த இயக்கங்கள் நடைபெறுவதற்கு இட்டுச் சென்ற கீழ்நிலைகளை விவாதிக்கவும்.
31. தமிழ்நாட்டினுடைய சமூக மாற்றங்களுக்கு ஈ.வெ.ரா. பெரியாரின் தீர்மானகரமான பங்களிப்பை மதிப்பீடு செய்யவும்.
32. (அ) வேறுபடுத்துக.
 (i) வானிலை மற்றும் காலநிலை.
 (ii) புதுப்பிக்க இயலும் மற்றும் புதுப்பிக்க இயலா வளங்கள்.
 (ஆ) காரணம் கூறுக.
 கிழக்குத் தொடர்ச்சி மலைகள் தொடர்ச்சியற்று காணப்படுகிறது.
33. இந்திய மண் வகைகள் ஏதேனும் ஐந்தினைக் குறிப்பிட்டு மண்ணின் பண்புகள் மற்றும் பரவல் பற்றி விவரிக்கவும்.
34. இந்தியத் தொழிலகங்கள் எதிர்கொள்ளும் முக்கிய சவால்கள் பற்றி எழுதுக.
35. தமிழ்நாட்டின் நீர் ஆதாரங்களைப் பற்றி எழுதவும்.
36. இந்திய அரசியலமைப்பின் சிறப்புக் கூறுகளை விளக்குக.
37. முதலமைச்சரின் அதிகாரங்கள் மற்றும் பணிகளை விவரிக்கவும்.
38. நாட்டு வருமானத்தை கணக்கிடுவதற்கு தொடர்புடைய பல்வேறு கருத்துக்களை விவரிக்கவும்.
39. உலகமயமாக்கலின் சவால்களை எழுதுக.
40. வெற்றிகரமான தொழில்துறை தொகுப்புகளின் முக்கிய பண்புகள் யாவை?
41. கீழ்காண்பவற்றிற்கு காலக்கோடு வரைக.
 1930 முதல் 1950 வரையிலான ஆண்டுக்கட்கு உட்பட்ட முக்கிய நிகழ்வுகள் ஏதேனும் ஐந்தினை காலக்கோட்டில் எழுதுக.
42. உலக வரைபடத்தில் பின்வரும் இடங்களைக் குறிக்கவும்.
 (i) ஜப்பான் (ii) பிரான்ஸ் (iii) ரஷ்யா
 (iv) மொராக்கோ (v) இங்கிலாந்து

பகுதி - IV

குறிப்பு : பின்வரும் வினாக்களுக்கு விடையளிக்கவும்.

(2 × 8 = 16)

43. (அ) சட்ட மறுப்பு இயக்கத்தில் தமிழ்நாடு வகித்த பங்கினை விவரிக்கவும். (அல்லது)
 (ஆ) இந்தியாவின் சாலைகளை வகைப்படுத்தி விளக்குக.
44. (அ) கொடுக்கப்பட்டுள்ள இந்திய வரைபடத்தில் கீழ்க்காணும் இடங்களைக் குறிக்கவும்.
 (i) தார் பாலைவனம் (ii) தக்காண பீடபூமி
 (iii) மலை காடுகள் (iv) தென்மேற்கு பருவக்காற்று வீசும் திசை
 (v) பருத்தி விளையும் பகுதிகள்
 (vi) அந்தமான் மற்றும் நிகோபார் தீவுகள்
 (vii) பன்னாட்டு விமான நிலையம்
 (viii) இந்தியாவின் அதிக கல்வியறிவு பெற்ற மாநிலம்

(அல்லது)

(ஆ) கொடுக்கப்பட்டுள்ள தமிழ்நாடு வரைபடத்தில் கீழ்க்காணும் இடங்களைக் குறிக்கவும்.

- (i) மன்னார் வளைகுடா (ii) நீலகிரி
 (iii) காவிரி ஆறு (iv) காபி விளையும் பகுதி
 (v) முக்கிய கடல் துறைமுகம் (vi) கோடியக்கரை வனவிலங்கு சரணாலயம்
 (vii) வாங்காள விரிகுடா (viii) சென்னை

★★★

10ஆம்

வகுப்பு

கால அளவு : 3.00 மணி நேரம்]

அரசு பொதுத்தேர்வு - ஏப்ரல் 2024

பதிவு எண்.

PART - III

சமூக அறிவியல்

[மொத்த மதிப்பெண்கள் : 100

- அறிவுரைகள் : (1) அனைத்து வினாக்களும் சரியாக அச்சுப் பதிவாக உள்ளதா என்பதனை சரிபார்த்துக் கொள்ளவும். அச்சுப்பதிவில் குறைபாடு இருப்பின், அறைக் கண்காணிப்பாளரிடம் உடனடியாகத் தெரிவிக்கவும்.
- (2) நீலம் அல்லது கருப்பு மையினை மட்டுமே எழுதுவதற்கும் அடிக்கோடிடுவதற்கும் பயன்படுத்த வேண்டும். படங்கள் வரைவதற்கு பென்சில் பயன்படுத்த வேண்டும்.

குறிப்பு : இவ்வினாத்தாள் நான்கு பகுதிகளைக் கொண்டது.

பகுதி - I

குறிப்பு: (i) அனைத்து வினாக்களுக்கும் விடையளிக்கவும்.

(ii) கொடுக்கப்பட்ட நான்கு மாற்று விடைகளில் மிகவும் ஏற்புடைய விடையினை தேர்ந்தெடுத்துக் குறியீட்டுடன் விடையினையும் சேர்த்து எழுதவும். (14 × 1 = 14)

- ஜெர்மனியோடு மியூனிச் உடன்படிக்கையில் கையெழுத்திட்ட பிரிட்டன் பிரதமர் யார்?

(அ) சேம்பர்லின்	(ஆ) வின்ஸ்டன் சர்ச்சில்
(இ) லாயிட் ஜார்ஜ்	(ஈ) ஸ்டேன்லி பாஸ்டுவின்
- மார்ன் போர் ஏதற்காக நினைவு கூறப்படுகிறது?

(அ) ஆகாயப் போர்முறை	(ஆ) பதுங்குக் குழிப் போர்முறை
(இ) நீர்மூழ்கிக் கப்பல் போர்முறை	(ஈ) கடற்படைப் போர்முறை
- விதவை மறுமணச் சங்கத்தை ஏற்படுத்தியவர்

(அ) மகாதேவ் கோவிந்த் ரானடே	(ஆ) தேவேந்திரநாத் தாசூர்
(இ) ஜோதிபா புலே	(ஈ) அய்யன்காளி
- எந்த ஆண்டு வார்சா ஒப்பந்தம் கலைக்கப்பட்டது?

(அ) 1979	(ஆ) 1989	(இ) 1990	(ஈ) 1991
----------	----------	----------	----------
- ஜப்பானியக் கப்பற்படை அமெரிக்க கப்பற்படையால் எங்கே தோற்கடிக்கப்பட்டது?

(அ) க்வால்கெனால் போர்	(ஆ) மிட்வே போர்
(இ) லெனின்கிரேடு போர்	(ஈ) எல் அலாமெய்ன் போர்
- ஆறுகளின் மூலம் உருவாகும் மண் :

(அ) செம்மண்	(ஆ) கரிசல் மண்
(இ) பாலை மண்	(ஈ) வண்டல் மண்
- பழுவேற்காடு ஏரி மாநிலங்களுக்கிடையே அமைந்துள்ளது.

(அ) மேற்கு வங்காளம் மற்றும் ஒடிசா	(ஆ) கர்நாடகா மற்றும் கேரளா
(இ) ஒடிசா மற்றும் ஆந்திரப்பிரதேசம்	(ஈ) தமிழ்நாடு மற்றும் ஆந்திரப்பிரதேசம்
- பின்னடையும் பருவக்காற்று லிருந்து ஈரப்பதத்தை எடுத்துக் கொள்கிறது.

(அ) அரபிக்கடல்	(ஆ) வங்கக்கடல்
(இ) இந்தியப்பெருங்கடல்	(ஈ) தைலூர்க் கடல்
- இந்தியாவின் முதல் மக்கள்தொகை கணக்கெடுப்பு ஆம் ஆண்டு மேற்கொள்ளப்பட்டது.

(அ) 1991	(ஆ) 1881	(இ) 1872	(ஈ) 2011
----------	----------	----------	----------

enquiry@surabooks.com

Ph:8124201000 / 8124301000

Kindly Send Me Your Key Answer to Our email id - Padasalai.net@gmail.com

10. பருவக்காற்று காடுகள் எனவும் அழைக்கப்படுகின்றன.
 (அ) அயன மண்டல பசுமை மாறாக் காடுகள் (ஆ) இலையுதிர்க் காடுகள்
 (இ) மாங்குரோவ் காடுகள் (ஈ) மலைக் காடுகள்
11. எந்த இரு நாடுகளுக்கிடையே பஞ்சசீல ஒப்பந்தம் கையெழுத்திடப்பட்டுள்ளது?
 (அ) இந்தியா மற்றும் நேபாளம் (ஆ) இந்தியா மற்றும் பாகிஸ்தான்
 (இ) இந்தியா மற்றும் சீனா (ஈ) இந்திய மற்றும் ஸ்ரீலங்கா
12. மாநில அமைச்சரவையின் தலைவர் :
 (அ) முதலமைச்சர் (ஆ) ஆளுநர்
 (இ) சபாநாயகர் (ஈ) பிரதம அமைச்சர்
13. காட் (GATT)-இன் முதல் சுற்று நடைபெற்ற இடம்:
 (அ) டோக்கியோ (ஆ) உருகுவே (இ) டார்குவே (ஈ) ஜெனீவா
14. இந்தியாவில், உலகளாவிய பொது வழங்கல் முறையை ஏற்றுக் கொண்ட ஒரே மாநிலம்
 (அ) கேரளா (ஆ) ஆந்திரப்பிரதேசம்
 (இ) தமிழ்நாடு (ஈ) கர்நாடகா

பகுதி - II

குறிப்பு : எவையேனும் 10 வினாக்களுக்கு விடையளிக்கவும். வினா எண் 28-க்கு கட்டாயமாக விடையளிக்கவும். (10 × 2 = 20)

15. முத்துத் துறைமுக நிகழ்வைப் பற்றி எழுதுக.
 16. திருநெல்வேலி எழுச்சி பற்றி ஒரு குறிப்பு வரைக.
 17. "டாலர் ஏகாதிபத்தியம்" - வரையறுக்கவும்.
 18. பெரியாரை ஒரு பெண்ணியவாதியாக மதிப்பிடுக.
 19. பிரம்ம சமாஜத்தால் ஒழிக்கப்பட்ட சமூகத் தீமைகளைப் பட்டியலிடுக.
 20. கரிசல் மண்ணின் ஏதேனும் இரண்டு பண்புகளைக் கூறுக.
 21. கடற்கரைச் சமவெளி எவ்வாறு உருவாகிறது?
 22. தமிழ்நாட்டின் வேளாண் பருவக் காலங்களை எழுதுக.
 23. 'பருவமழை வெடிப்பு' என்றால் என்ன?
 24. மாங்கனீசின் பயன்களைக் குறிப்பிடுக.
 25. இந்தியக் குடியரசுத் தலைவர் எவ்வாறு தேர்ந்தெடுக்கப்படுகிறார்?
 26. இந்தியாவின் அண்டை நாடுகளின் பெயர்களை எழுதுக.
 27. உலகமயமாக்கலின் நேர்மறையான தாக்கங்கள் எவையேனும் இரண்டினை எழுதுக.
 28. சென்னை "ஆசியாவின் டெட்ராய்ட்" என்று அழைக்கப்படுவது ஏன்?

பகுதி - III

குறிப்பு : எவையேனும் 10 வினாக்களுக்கு விடையளிக்கவும். வினா எண் 42-க்கு கட்டாயமாக விடையளிக்கவும். (10 × 5 = 50)

29. கோடிட்ட இடங்களை நிரப்புக.
 (i) 'இந்தியாவின் முதல் பெண் சட்டமன்ற உறுப்பினர் ஆவார்.
 (ii) கிழக்குத் தொடர்ச்சி மலையின் தென் பகுதியில் உள்ள உயரமான சிகரம் ஆகும்.
 (iii) மாநிலங்களவை உறுப்பினர்களின் பதவிக்காலம் ஆண்டுகளாகும்.
 (iv) நாசிச ஜெர்மனியின் ரகசியக் காவல்படை என அழைக்கப்பட்டது.
 (v) இந்தியாவில் துறை முதன்மைத் துறையாகும்.

30. பன்னாட்டுச் சங்கத்தின் பணிகளை மதிப்பிடுக.
31. இந்தியாவின் பிரிவினைக்குப் பின்னால் இருந்த காரணங்களை விவாதிக்கவும்.
32. (அ) வேறுபடுத்துக.
 (i) வேளாண் சார்ந்த மற்றும் கனிமம் சார்ந்த தொழிலகங்கள்
 (ii) உள்நாட்டு வணிகம் மற்றும் பன்னாட்டு வணிகம்.
- (ஆ) காரணம் கூறுக.
 வடஇந்திய ஆறுகள் வற்றாத ஆறுகள்.
33. அடிப்படை உரிமைகளைக் குறிப்பிடுக.
34. இமயமலையின் உட்பிரிவுகளையும், இந்தியாவிற்கு அதன் முக்கியத்துவம் பற்றியும் விவரிக்கவும்.
35. நகரமயமாக்கம் என்றால் என்ன? அதன் சிக்கல்களை விவரிக்கவும்.
36. இந்தியாவில் உள்ள பருத்தி நெசவாலைகளின் பரவல் பற்றி எழுதுக.
37. 1857-ஆம் ஆண்டின் பெரும் புரட்சிக்கான காரணங்கள் குறித்து ஆராயவும்.
38. வெளியுறவுக் கொள்கையை நிர்ணயிக்கும் அடிப்படைக் காரணிகள் எவை?
39. மொத்த உள்நாட்டு உற்பத்தி (GDP) கணக்கிடும் முறைகள் யாவை? அவைகளை விவரிக்கவும்.
40. கருப்பு பணம் என்றால் என்ன? அதற்கான காரணங்களை எழுதுக.
41. கீழ்க்காண்பனவற்றிற்கு காலக்கோடு வரைக:
 1920 முதல் 1940 வரையிலான ஆண்டுக்கு உட்பட்ட முக்கிய நிகழ்வுகள் ஏதேனும் ஐந்தினை காலக்கோட்டில் எழுதுக.
42. உலக வரைபடத்தில் பின்வரும் இடங்களைக் குறிக்கவும்.
 (i) கிரீஸ் (ii) துருக்கி (iii) ஹிரோஷிமா
 (iv) மாஸ்கோ (v) சான்பிரான்சிஸ்கோ

பகுதி - IV

குறிப்பு : பின்வரும் வினாக்களுக்கு விடையளிக்கவும். (2 × 8 = 16)

43. (அ) முதல் உலகப்போருக்கான முக்கியக் காரணங்களை விவரிக்கவும். (அல்லது)
 (ஆ) கிழக்கிந்திய கம்பெனியாரை எதிர்த்து வீரபாண்டிய கட்டபொம்மன் நடத்திய வீரதீரப் போர்கள் பற்றி ஒரு கட்டுரை வரைக.
44. (அ) கொடுக்கப்பட்டுள்ள இந்திய வரைபடத்தில் கீழ்க்காணும் இடங்களைக் குறிக்கவும்.
 (i) சோட்டா நாகபுரி பீடபூமி (ii) காரகோரம்
 (iii) மலைக் காடுகள் (iv) அதிக மழை பெறும் பகுதி
 (v) பாலை மண் (vi) ஹிராகுட் அணை
 (vii) அகத்தியல் மலை உயிர்கோளப் பெட்டகம்.
 (viii) பருத்தி விளையும் பகுதி.

(அல்லது)

- (ஆ) கொடுக்கப்பட்டுள்ள தமிழ்நாடு வரைபடத்தில் கீழ்க்காணும் இடங்களைக் குறிக்கவும்.
 (i) வைகை ஆறு (ii) கேரளா
 (iii) தேயிலை விளையும் பகுதி (iv) சோழமண்டல கடற்கரை
 (v) காசித் தொழிலகம் (vi) துறைமுகம் (ஏதேனும் ஒன்று)
 (vii) சென்னை (viii) மன்னார் வளைகுடா

★★★

10 ஆம்
வகுப்பு

உடனடித் தேர்வு - ஜூலை 2023

பதிவு எண்.

PART - III

சமூக அறிவியல்

கால அளவு : 3.00 மணி நேரம்]

[மொத்த மதிப்பெண்கள் : 100

- அறிவுரைகள் :** (1) அனைத்து வினாக்களும் சரியாக அச்சுப் பதிவாக உள்ளதா என்பதனை சரிபார்த்துக் கொள்ளவும். அச்சுப்பதிவில் குறைபாடு இருப்பின், அறைக் கண்காணிப்பாளரிடம் உடனடியாகத் தெரிவிக்கவும்.
- (2) நீலம் அல்லது கருப்பு மையினை மட்டுமே எழுதுவதற்கும் அடிக் கோடிடுவதற்கும் பயன்படுத்த வேண்டும். படங்கள் வரைவதற்கு பென்சில் பயன்படுத்த வேண்டும்.

குறிப்பு : இவ்வினாத்தாள் நான்கு பகுதிகளைக் கொண்டது.

பகுதி - I

குறிப்பு: (i) அனைத்து வினாக்களுக்கும் விடையளிக்கவும்.

(ii) கொடுக்கப்பட்ட நான்கு மாற்று விடைகளில் மிகவும் ஏற்புடைய விடையினை தேர்ந்தெடுத்துக் குறியீட்டுடன் விடையினையும் சேர்த்து எழுதவும். **(14 × 1 = 14)**

- பத்தொன்பதாம் நூற்றாண்டு முடிவடையுந் தருவாயில் கிழக்கு ஆசியாவில் உதயமான வலிமை வாய்ந்த நாடு எது?
(அ) சீனா (ஆ) ஜப்பான்
(இ) கொரியா (ஈ) மங்கோலியா
- பன்னாட்டுச் சங்கம் உருவாக்கப்படுவதில் முன்முயற்சி எடுத்தவர் யார்?
(அ) லூஸ்வெல்ட் (ஆ) சேம்பெர்லின்
(இ) உட்ரோ வில்சன்
(ஈ) பால்டுவின்
- எந்த ஆண்டில் உடன்கட்டை ஏறுதல் (சதி) ஒழிக்கப்பட்டது?
(அ) 1827 (ஆ) 1829 (இ) 1826 (ஈ) 1927
- இந்திய தேசிய காங்கிரசின் மூன்றாவது மாநாடு /அமர்வு எங்கே நடைபெற்றது?
(அ) மெரினா (ஆ) மைலாப்பூர்
(இ) புனித ஜார்ஜ் கோட்டை (ஈ) ஆயிரம் விளக்கு
- பாக் நீர்சந்தி மற்றும் மன்னார் வளைகுடா இந்தியாவைவிருந்து பிரிக்கிறது.
(அ) கோவா (ஆ) மேற்கு வங்காளம்
(இ) இலங்கை (ஈ) மாலத்தீவு
- ஆறுகளின் மூலம் உருவாகும் மண் :
(அ) செம்மண் (ஆ) கரிசல் மண்
(இ) பாலை மண் (ஈ) வண்டல் மண்
- “தென்னிந்தியாவின் நெற்களஞ்சியம்” என்று அழைக்கப்படும் டெல்டா
(அ) காவிரி டெல்டா (ஆ) மகாநதி டெல்டா
(இ) கோதாவரி டெல்டா (ஈ) கிருஷ்ணா டெல்டா
- கூற்று :** தமிழ்நாடு தென்மேற்கு பருவகாற்று காலங்களில் அதிக மழை பெறுவதில்லை.
காரணம் : இது மேற்கு தொடர்ச்சி மலையின் மழை மறைவுப் பிரதேசத்தில் அமைந்துள்ளது.
(அ) கூற்று, காரணம் இரண்டும் சரி, காரணம் கூற்றை விளக்குகிறது.
(ஆ) கூற்று, காரணம் இரண்டும் சரி, ஆனால் காரணம் கூற்றை விளக்கவில்லை
(இ) கூற்று சரி, ஆனால் காரணம் தவறு (ஈ) காரணம் சரி, ஆனால் கூற்று தவறு.

enquiry@surabooks.com

Ph:8124201000 / 8124301000

Kindly Send Me Your Key Answer to Our email id - Padasalai.net@gmail.com

9. இந்திய அரசியலமைப்பின் முகவுரை எத்தனை முறை திருத்தப்பட்டது?
 (அ) ஒன்று (ஆ) இரண்டு (இ) மூன்று (ஈ) நான்கு
10. உச்ச நீதிமன்ற தலைமை நீதிபதி மற்றும் மற்ற நீதிபதிகளை நியமிப்பவர் :
 (அ) குடியரசுத் தலைவர்
 (ஆ) இந்திய அரசின் தலைமை வழக்குரைஞர்
 (இ) ஆளுநர் (ஈ) பிரதம அமைச்சர்
11. இந்தியா தனது மிக நீண்ட நில எல்லையை எந்த நாட்டோடு பகிர்ந்து கொள்கிறது?
 (அ) வங்காளதேசம் (ஆ) மியான்மர் (இ) ஆப்கானிஸ்தான் (ஈ) சீனா
12. முதன்மை துறை இதனை உள்ளடக்கியது :
 (அ) வேளாண்மை (ஆ) தானியங்கிகள் (இ) வர்த்தகம் (ஈ) வங்கி
13. 1632 - இல் ஆங்கிலேயர்களுக்கு "கோல்டன் ஃபயர்மேன்" என்ற பட்டத்தை வழங்கியவர் :
 (அ) ஜஹாங்கீர் (ஆ) கோல்கொண்டா சுல்தான்
 (இ) அக்பர் (ஈ) ஒளராங்கசீப்
14. இந்தியாவில் உள்ள வரிகள் :
 (அ) நேர்முக வரிகள் (ஆ) மறைமுக வரிகள்
 (இ) (அ) மற்றும் (ஆ) (ஈ) இவற்றுள் ஏதுமில்லை

பகுதி - II

குறிப்பு : எவையேனும் 10 வினாக்களுக்கு விடையளிக்கவும். அவற்றில் வினா எண் 28-க்கு கட்டாயமாக விடையளிக்கவும். (10 × 2 = 20)

15. பன்னாட்டு நிதியமைப்பின் (IMF) நோக்கங்கள் யாவை?
16. வாரிசு இழப்புக் கொள்கையின் அடிப்படையில் பிரிட்டிஷ் அரசில் இணைத்துக் கொள்ளப்பட்ட பகுதிகளைப் பட்டியலிடவும்.
17. ஜாலியன்வாலா பாக் படுகொலை பற்றி விவரிக்கவும்.
18. இந்தியாவின் விடுதலை போராட்டத்தில் அன்னிபெசன்டின் பங்களிப்பு யாது?
19. தங்களுடைய எழுத்துக்களின் மூலம் தமிழ் இலக்கியத்தின் புத்துயிர்ப்புக்குப் பங்களிப்பு செய்த ஆளுமைகளை பட்டியலிடவும்.
20. இந்தியாவின் மேற்கு நோக்கி பாயும் ஆறுகளைப் பற்றி கூறுக.
21. இந்தியாவின் நான்கு பருவக் காலங்களைக் குறிப்பிடுக.
22. வேளாண்மை - வரையறுக்கவும்.
23. இந்தியாவின் முக்கிய எண்ணெய் உற்பத்தி பகுதிகளைக் குறிப்பிடுக.
24. தமிழ்நாட்டின் எல்லைகளைக் குறிப்பிடுக.
25. இந்திய அரசியலமைப்பால் வழங்கப்படும் அடிப்படை உரிமைகளை பட்டியலிடுக.
26. சாரக் உறுப்பு நாடுகளை பட்டியலிடுக.
27. தமிழ்நாட்டிலுள்ள சில ஊட்டச்சத்து திட்டங்களின் பெயர்களை எழுதுக.
28. அரசுக்கு நாம் ஏன் வரி செலுத்த வேண்டும்?

பகுதி - III

குறிப்பு : எவையேனும் 10 வினாக்களுக்கு விடையளிக்கவும். வினா எண் 42-க்கு கட்டாயமாக விடையளிக்கவும். (10 × 5 = 50)

29. கோடிட்ட இடங்களை நிரப்புக.
- (i) "நவீன சீனாவின் தந்தை" என்று அழைக்கப்படுபவர்
- (ii) பாளையக்காரர் முறை தமிழகத்தில் என்பவரால் அறிமுகப்படுத்தப்பட்டது.
- (iii) இந்தியாவில் "தங்க இழைப்பயிர்" என அழைக்கப்படுவது
- (iv) முதன் முதலில் அரசியலமைப்பு எனும் கொள்கை ல் தோன்றியது.
- (v) இந்தியா தனது முதல் அணு சோதனையை நடத்திய இடம்.....
30. ஜெர்மனியுடன் தொடர்புடைய வெர்செய்ஸ் உடன்படிக்கையின் சரத்துக்களை கோட்டிட்டுக் காட்டுக.
31. 19ம் நூற்றாண்டில் சீர்திருத்த இயக்கங்கள் நடைபெறுவதற்கு இட்டுச் சென்ற சூழ்நிலைகளை விவாதிக்கவும்.

32. (அ) வேறுபடுத்துக.

- புதுப்பிக்க இயலும் மற்றும் புதுப்பிக்க இயலா வளங்கள்.
- தனிநபர் தகவல் தொடர்பு மற்றும் பொதுத் தகவல் தொடர்பு.

(ஆ) காரணம் கூறுக.

கிழக்குத் தொடர்ச்சி மலைகள் தொடர்ச்சியற்று காணப்படுகிறது.

33. 1857ஆம் ஆண்டின் கிளர்ச்சிக்கான காரணங்கள் குறித்து விரிவாக ஆராயவும்.

34. தமிழ்நாட்டின் சமூக மாற்றங்களுக்கு ஈ.வெ.ரா பெரியாரின் தீர்மானகரமான பங்களிப்பை மதிப்பீடு செய்யவும்.

35. முதலமைச்சரின் அதிகாரங்கள் மற்றும் பணிகளை விவரிக்கவும்.

36. அணிசேரா இயக்கம் பற்றி விரிவான குறிப்பு எழுதுக.

37. இந்திய காடுகள் பற்றி விவரிக்கவும்.

38. இந்தியத் தொழிலகங்கள் எதிர்கொள்ளும் முக்கிய சவால்கள் பற்றி எழுதுக.

39. பசுமைப் புரட்சி ஏன் தோன்றியது என்பதைப் பற்றி விவரிக்கவும்.

40. வெற்றிகரமான தொழில்துறை தொகுப்புகளின் முக்கிய பண்புகள் யாவை?

41. கீழ்காண்பனவற்றிற்கு காலக்கோடு வரைக:

1930 முதல் 1950 வரையிலான ஆண்டுக்கு உட்பட்ட முக்கிய ஐந்து நிகழ்வுகளை காலக்கோட்டில் எழுதுக.

42. இந்திய வரைபடத்தில் பின்வரும் இடங்களை குறிக்கவும்.

- தண்டி
- மதராஸ்
- பாரக்பூர்
- மீரட்
- ஜாலியன்வாலா பாக்

பகுதி - IV

குறிப்பு : பின்வரும் வினாக்களுக்கு விடையளிக்கவும்.

(2 × 8 = 16)

43. (அ) கீழ்க்கண்ட தலைப்பின் கீழ் கொடுக்கப்பட்டுள்ள வினாக்களுக்கு விடையளிக்கவும்.

(I) முதல் உலகப் போர் :

- முதல் உலகப் போர் எப்பொழுது துவங்கியது?
- மைய நாடுகள் என அழைக்கப்பட்ட நாடுகள் எவை?
- முதல் உலகப் போரில் அமெரிக்கா எந்த ஆண்டு இறங்கியது?
- ஜெர்மனியுடன் செய்து கொள்ளப்பட்ட உடன்படிக்கையின் பெயர் என்ன?

(II) சமூக சீர்திருத்த இயக்கங்கள் :

- பிரம்ம சமாஜத்தை தோற்றுவித்தவர் யார்?
- சத்யார்த்தபிரகாஷ் என்னும் நூலின் ஆசிரியர் யார்?
- இராமகிருஷ்ண பரமஹம்சர் என்பவர் யார்?
- சுவாமி விவேகானந்தரின் இளமை பெயர் என்ன?

(அல்லது)

(ஆ) (i) தமிழ்நாட்டில் சுதேசி இயக்கம் எவ்வாறு எதிர்கொள்ளப்பட்டது என்பதை விவரிக்கவும்.

(ii) கிலாபத் இயக்கம் பற்றி குறிப்பு வரைக.

44. (அ) கொடுக்கப்பட்டுள்ள இந்திய வரைபடத்தில் கீழ்க்காணும் இடங்களை குறிக்கவும்.

- ராண் ஆப் கச்
- கங்கை நதி
- Mt. K2
- கிழக்கு தொடர்ச்சி மலை
- வடகிழக்கு பருவக்காற்று வீசும் திசை
- மன்னார் வளைகுடா
- மாங்குரோவ் காடுகள்
- மேட்டூர் அணை

(அல்லது)

(ஆ) கொடுக்கப்பட்டுள்ள தமிழ்நாடு வரைபடத்தில் கீழ்க்காணும் இடங்களைக் குறிக்கவும்.

- சோழமண்டல கடற்கரை
- பாக் ஜலசந்தி
- சென்னை
- நீலகிரி
- நெல் விளையும் பகுதி
- வேதாரண்யம்
- வேடந்தாங்கல் பறவைகள் சரணாலயம்
- அகத்தியமலை

★ ★ ★

10ஆம்

வகுப்பு

கால அளவு : 3.00 மணி நேரம்]

அரசு பொதுத்தேர்வு - ஏப்ரல் 2023

பதிவு எண்.

PART - III

சமூக அறிவியல்

[மொத்த மதிப்பெண்கள் : 100

- அறிவுரைகள் : (1) அனைத்து வினாக்களும் சரியாக அச்சுப் பதிவாக உள்ளதா என்பதனை சரிபார்த்துக் கொள்ளவும். அச்சுப்பதிவில் குறைபாடு இருப்பின், அறைக் கண்காணிப்பாளரிடம் உடனடியாகத் தெரிவிக்கவும்.
- (2) நீலம் அல்லது கருப்பு மையினை மட்டுமே எழுதுவதற்கும் அடிக் கோடிடுவதற்கும் பயன்படுத்த வேண்டும். படங்கள் வரைவதற்கு பென்சில் பயன்படுத்த வேண்டும்.

குறிப்பு : இவ்வினாத்தாள் நான்கு பகுதிகளைக் கொண்டது.

பகுதி - I

குறிப்பு: (i) அனைத்து வினாக்களுக்கும் விடையளிக்கவும்.

(ii) கொடுக்கப்பட்ட நான்கு மாற்று விடைகளில் மிகவும் ஏற்புடைய விடையினை தேர்ந்தெடுத்துக் குறியீட்டுடன் விடையினையும் சேர்த்து எழுதவும். (14 × 1 = 14)

- உலகத்தின் எந்தப் பகுதி டாலர் அரசியல் ஏகாதிபத்தியத்தை விரும்பவில்லை?

(அ) ஐரோப்பா (ஆ) இலத்தீன் அமெரிக்கா
(இ) இந்தியா (ஈ) சீனா
- சீனாவில் மக்கள் அரசியல் கலந்தாய்வு மாநாடு எப்போது நடைபெற்றது?

(அ) செப்டம்பர் 1959 (ஆ) செப்டம்பர் 1949
(இ) செப்டம்பர் 1954 (ஈ) செப்டம்பர் 1944
- கிழக்கிந்திய கம்பெனியின் நாடுபிடிக்கும் ஆசையை எதிர்த்து நின்ற முதல் பாளையக்காரர் யார்?

(அ) மருது சகோதரர்கள் (ஆ) பூலித்தேவர்
(இ) வேலுநாச்சியார் (ஈ) வீரபாண்டிய கட்டபொம்மன்
- இந்திய தேசிய காங்கிரசின் எந்த அமர்வில் ஒத்துழையாமை இயக்கத்துக்கு அனுமதி வழங்கப்பட்டது?

(அ) பம்பாய் (ஆ) மதராஸ் (இ) கல்கத்தா (ஈ) நாக்பூர்
- பன்னாட்டுச் சங்கம் உருவாக்கப்படுவதில் முன்முயற்சி எடுத்தவர் யார்?

(அ) ரூஸ்வெல்ட் (ஆ) சேம்பர்லின்
(இ) உட்ரோ வில்சன் (ஈ) பால்டூவின்
- ஆந்திரசைட் நிலக்கரி காற்பன் அளவை கொண்டுள்ளது.

(அ) 80% - 95% (ஆ) 70%- க்கு மேல்
(இ) 60% - 70% (ஈ) 50%- க்கும் குறைவு
- தமிழ்நாட்டில் உள்ள மிக உயரமான சிகரம்

(அ) ஆனைமுடி (ஆ) தொட்டபெட்டா
(இ) மகேந்திரகிரி (ஈ) சேர்வராயன்
- தமிழ்நாட்டின் பெரிய மற்றும் சிறிய துறைமுகங்களின் எண்ணிக்கை.

(அ) 3 மற்றும் 15 (ஆ) 4 மற்றும் 16
(இ) 3 மற்றும் 16 (ஈ) 4 மற்றும் 15
- பழைய வண்டல் படிவுகளால் உருவான சமவெளி

(அ) பாபர் (ஆ) தராய் (இ) பாங்கர் (ஈ) காதர்
- கம்பு-ஐ பூர்விகமாகக் கொண்ட பயிராகும்.

(அ) ஆசியா (ஆ) இந்தியா (இ) ஆப்பிரிக்கா (ஈ) ரஷ்யா

enquiry@surabooks.com

Ph:8124201000 / 8124301000

Kindly Send Me Your Key Answer to Our email id - Padasalai.net@gmail.com

11. கீழ்க்காணும் எந்த விதியின் அடிப்படையில் குடியரசு தலைவர் நிதி நெருக்கடி நிலையினை அறிவிக்கிறார்?
 (அ) சட்டப்பிரிவு 352 (ஆ) சட்டப்பிரிவு 360
 (இ) சட்டப்பிரிவு 356 (ஈ) சட்டப்பிரிவு 365
12. பின்வருவனவற்றைக் காலவரிசைப்படுத்தி கீழே கொடுக்கப்பட்டுள்ள குறியீடுகளிலிருந்து சரியான விடையைத் தேர்ந்தெடுக்கவும்.
 (i) பஞ்சசீலம் (ii) சீனாவின் அணு வெடிப்புச் சோதனை
 (iii) 20 ஆண்டுகள் ஒப்பந்தம்
 (iv) இந்தியாவின் முதல் அணு வெடிப்புச் சோதனை
 (அ) (i), (iii), (iv), (ii) (ஆ) (i), (ii), (iii), (iv)
 (இ) (i), (ii), (iv), (iii) (ஈ) (i), (iii), (ii), (iv)
13. இந்தியாவில் தோன்றியதால் உணவு தானிய உற்பத்தியில் தன்னிறைவு பெற வழி வகுத்தது.
 (அ) நீலப் புரட்சி (ஆ) வெள்ளைப்புரட்சி
 (இ) பசுமை புரட்சி (ஈ) சாம்பல் புரட்சி
14. பின்வருவனவற்றுள் தோல் தொழிற்சாலைகள் இல்லாதது எது?
 (அ) ராணிப்பேட்டை (ஆ) தர்மபுரி
 (இ) ஆம்பூர் (ஈ) வாணியம்பாடி

பகுதி - II

குறிப்பு : எவையேனும் 10 வினாக்களுக்கு விடையளிக்கவும். அவற்றில் வினா எண் 28-க்கு கட்டாயமாக விடையளிக்கவும். (10 × 2 = 20)

15. ஹிட்லர் ஜெர்மனி மக்களின் ஆதரவை எவ்வாறு பெற்றார்?
 16. முசோலினியின் ரோமாபுரி நோக்கிய அணி வகுப்பின் விளைவுகள் யாவை?
 17. இராமலிங்க சுவாமிகளின் சீர்திருத்தங்கள் குறித்து குறிப்பு வரைக.
 18. லக்னோ ஒப்பந்தத்தின் முக்கிய அம்சங்களை தொகுத்து வழங்கவும்.
 19. பதுங்கு குழி போர் முறை குறித்து நீங்கள் அறிந்ததென்ன?
 20. பேரிடர் அபாய நேர்வு - வரையறுக்கவும்.
 21. பன்னாட்டு வணிகம் - வரையறுக்கவும்.
 22. கோயம்புத்தூர் ஏன் தமிழ்நாட்டின் 'மான்செஸ்டர்' என அழைக்கப்படுகிறது?
 23. இயற்கை எளிவாயு என்றால் என்ன?
 24. வெப்ப குறைவு விகிதம் என்றால் என்ன?
 25. இந்தியாவின் செம்மொழிகள் யாவை?
 26. பிரிக்ஸ் (BRICS) உறுப்பு நாடுகளின் பெயர்களைக் குறிப்பிடுக.
 27. மொத்த உள்நாட்டு உற்பத்தி என்றால் என்ன?
 28. விகித வரி விதிப்பு முறை என்றால் என்ன?

பகுதி - III

குறிப்பு : எவையேனும் 10 வினாக்களுக்கு விடையளிக்கவும். வினா எண் 42-க்கு கட்டாயமாக விடையளிக்கவும். (10 × 5 = 50)

29. கோடிட்ட இடங்களை நிரப்புக.
 (i) டானென்பர்க் போரில்..... பேரிழப்புகளுக்கு உள்ளானது.
 (ii) சாத்தனூர் அணை..... ஆற்றின் குறுக்கே கட்டப்பட்டுள்ளது.
 (iii) தமிழ்நாட்டின் மாநில விலங்கு ஆகும்.
 (iv) இந்திய அரசியலமைப்பு அரசாங்கத்தை வழங்குகிறது.
 (v)ஆம் ஆண்டில் தேசிய உணவு பாதுகாப்புச் சட்டம் இந்திய நாடாளுமன்றத்தால் நிறைவேற்றப்பட்டது.

30. இரண்டாம் உலகப் போரின் விளைவுகளை ஆய்வு செய்க.
31. வேலூரில் 1806-இல் வெடித்த புரட்சியின் கூறுகளை விளக்குக.
32. (அ) வேறுபடுத்துக.
 (i) மேற்கு தொடர்ச்சி மலைகள் மற்றும் கீழ்க்கு தொடர்ச்சி மலைகள்
 (ii) உலோகம் மற்றும் அலோக கனிமங்கள்
- (ஆ) காரணம் கூறுக.
 கீழ்க்கு தொடர்ச்சி மலைகள் தொடர்ச்சியற்று காணப்படுகிறது.
33. சட்ட மறுப்பு இயக்கத்தில் தமிழ்நாடு வகித்த பங்கினை விவரிக்கவும்.
34. தென்மேற்கு பருவக் காற்று குறித்து எழுதுக.
35. இந்திய மண் வகைகள் ஏதேனும் ஐந்தினைக் குறிப்பிட்டு, மண்ணின் பண்புகள் மற்றும் பரவல் பற்றி விவரிக்கவும்.
36. இந்தியாவின் சாலைகளை வகைப்படுத்தி விளக்குக.
37. இந்திய அரசியலமைப்பின் சிறப்புக் கூறுகளை விளக்குக.
38. இந்திய பிரதம அமைச்சரின் பணிகள் மற்றும் கடமைகள் யாவை?
39. பொது விநியோக முறையை விவரிக்கவும்.
40. MNC வளர்ச்சிக்கான காரணங்களை விவரிக்கவும்.
41. கீழ்க்காண்பனவற்றிற்கு காலக்கோடு வரைக:
 1910 முதல் 1930 வரையிலான ஆண்டுக்கு உட்பட்ட முக்கிய ஐந்து நிகழ்வுகளைக் காலக்கோட்டில் எழுதுக.
42. உலக வரைபடத்தில் பின்வரும் இடங்களை குறிக்கவும்.
 (i) கிரேட் பிரிட்டன் (ii) பிரான்ஸ் (iii) இத்தாலி
 (iv) ஜெர்மனி (v) மொராக்கோ

பகுதி - IV

குறிப்பு : பின்வரும் வினாக்களுக்கு விடையளிக்கவும்.

(2 × 8 = 16)

43. (அ) தீபகற்ப பீடபூமிகள் பற்றி விவரிக்கவும்.

(அல்லது)

(ஆ) 1857 பெருங்கலகம் தோல்வியடைய காரணங்களை ஆராய்க.

44. (அ) கொடுக்கப்பட்டுள்ள இந்திய வரைபடத்தில் கீழ்க்காணும் இடங்களை குறிக்கவும்.

- | | |
|----------------------|------------------------------|
| (i) ஆரவல்லி | (ii) நர்மதை |
| (iii) தக்காண பீடபூமி | (iv) பன்னா உயிர்கோள பெட்டகம் |
| (v) தார் பாலைவனம் | (vi) மேற்கு தொடர்ச்சி மலைகள் |
| (vii) பாரதீப் | (viii) கரிசல்மண் பகுதி ஒன்று |

(அல்லது)

(ஆ) கொடுக்கப்பட்டுள்ள தமிழ்நாடு வரைபடத்தில் கீழ்க்காணும் இடங்களைக் குறிக்கவும்.

- | | |
|-------------------------------------|----------------------------|
| (i) பாலாறு | (ii) வேடந்தாங்கல் |
| (iii) காபி விளையும் பகுதி | (iv) முல்லை பெரியார் அணை |
| (v) பட்டு தொழில் நடைபெறும் இடம் | (vi) எண்ணூர் |
| (vii) விமான நிலையம் (ஏதேனும் ஒன்று) | (viii) இந்தியப் பெருங்கடல் |

★ ★ ★

10ஆம்

வகுப்பு

கால அளவு : 3.00 மணி நேரம்]

உடனடித் தேர்வு - ஆகஸ்ட் 2022

PART - III

சமூக அறிவியல்

பதிவு எண்.

--	--	--	--	--	--

[மொத்த மதிப்பெண்கள் : 100

அறிவுரைகள் : (1) அனைத்து வினாக்களும் சரியாக அச்சுப் பதிவாகி உள்ளதா என்பதனை சரிபார்த்துக் கொள்ளவும். அச்சுப்பதிவில் குறைபாடு இருப்பின், அறைக் கண்காணிப்பாளரிடம் உடனடியாகத் தெரிவிக்கவும்.

(2) நீலம் அல்லது கருப்பு மையினை மட்டுமே எழுதுவதற்கும் அடிக்கோடிடுவதற்கும் பயன்படுத்த வேண்டும். படங்கள் வரைவதற்கு பென்சில் பயன்படுத்த வேண்டும்.

குறிப்பு : இவ்வினாத்தாள் நான்கு பகுதிகளைக் கொண்டது.

பகுதி - I

குறிப்பு: (i) அனைத்து வினாக்களுக்கும் விடையளிக்கவும்.

(ii) கொடுக்கப்பட்ட நான்கு மாற்று விடைகளில் மிகவும் ஏற்புடைய விடையினை தேர்ந்தெடுத்துக் குறியீட்டுடன் விடையினையும் சேர்த்து எழுதவும். (14 × 1 = 14)

- பன்னாட்டுச் சங்கம் உருவாக்கப்படுவதில் முன்முயற்சி எடுத்தவர் யார்?

(அ) ஸ்வெல்ட்	(ஆ) சேம்பரலின்
(இ) உட்ரோ வில்சன்	(ஈ) பால்டுவின்
- திருச்சிராப்பள்ளி சுதந்திரப் பிரகடனத்தை வெளியிட்டவர் யார்?

(அ) மருது சகோதரர்கள்	(ஆ) பூலித்தேவர்
(இ) வீரபாண்டிய கட்டபொம்மன்	(ஈ) கோபால நாயக்கர்
- சோட்டா நாக்பூர் குத்தகைச் சட்டம் எதன் பின்னணியில் நிறைவேற்றப்பட்டது?

(அ) கோல் கிளர்ச்சி	(ஆ) இண்டிகோ கிளர்ச்சி
(இ) முண்டா கிளர்ச்சி	(ஈ) தக்காண கலவரங்கள்
- 1709-இல் தரங்கம்பாடியில் ஒரு முழுமையான அச்சகத்தை நிறுவியவர்

(அ) கால்டுவெல்	(ஆ) F.W. எல்லிஸ்
(இ) சீகன் பால்கு	(ஈ) மீனாட்சி சுந்தரனார்
- ஆம் ஆண்டில் லொக்கர்னோ உடன்படிக்கை கையெழுத்திடப்பட்டது.

(அ) 1927	(ஆ) 1925	(இ) 1825	(ஈ) 1952
----------	----------	----------	----------
- பழுவேற்காடு ஏரி மாநிலங்களுக்கிடையே அமைந்துள்ளது.

(அ) மேற்கு வங்காளம் மற்றும் ஒடிசா	(ஆ) கர்நாடகா மற்றும் கேரளா
(இ) ஒடிசா மற்றும் ஆந்திரப்பிரதேசம்	(ஈ) தமிழ்நாடு மற்றும் ஆந்திரப்பிரதேசம்
- ஒரே அளவு மழை பெறும் இடங்களை இணைக்கும் கோடு ஆகும்.

(அ) சம மழைக் கோடுகள்	(ஆ) சம அழுத்தக் கோடுகள்
(இ) சம வெப்ப கோடுகள்	(ஈ) அட்சக் கோடுகள்
- தமிழ்நாட்டின் நெற்களஞ்சியம் என்றழைக்கப்படுவது?

(அ) திருவாரூர்	(ஆ) தஞ்சாவூர்	(இ) சேலம்	(ஈ) திருச்சி
----------------	---------------	-----------	--------------
- கீழ்க்கண்டவற்றில் தமிழ்நாட்டின் மேற்குத் தொடர்ச்சி மலையில் அமையாத கணவாய் எது?

(அ) பாலக்காடு	(ஆ) செங்கோட்டை
(இ) போர் காட்	(ஈ) அச்சன் கோவில்
- மக்கள் தொகையின் பல்வேறு அம்சங்கள் பற்றிய அறிவியல் பூர்வமான படிப்பு

(அ) வரைபடவியல்	(ஆ) மக்களியல்
(இ) மாணுடவியல்	(ஈ) கல்வெட்டியல்

enquiry@surabooks.com

Ph:8124201000 / 8124301000

Kindly Send Me Your Key Answer to Our email id - Padasalai.net@gmail.com

11. கீழ்க்காணும் வரிசையில் 'முகவுரை' பற்றிய சரியான தொடர் எது?
 (அ) குடியரசு, ஜனநாயக, சமயச்சார்பற்ற, சமதர்ம, இறையாண்மை
 (ஆ) இறையாண்மை, சமதர்ம, சமயச்சார்பற்ற, குடியரசு, ஜனநாயக
 (இ) இறையாண்மை, குடியரசு, சமயச்சார்பற்ற, சமதர்ம, ஜனநாயக
 (ஈ) இறையாண்மை, சமதர்ம, சமயச்சார்பற்ற, ஜனநாயக, குடியரசு
12. மாநில அமைச்சரவையின் தலைவர் :
 (அ) முதலமைச்சர் (ஆ) ஆளுநர்
 (இ) சபாநாயகர் (ஈ) பிரதம அமைச்சர்
13. என்பது உடல்நலம் மற்றும் வளர்ச்சிக்கு தேவையான உணவை வழங்கும் அல்லது பெறும் செயல்முறையாகும்.
 (அ) ஆரோக்கியம் (ஆ) ஊட்டச்சத்து
 (இ) சுகாதாரம் (ஈ) பாதுகாப்பு
14. முதன்மை துறைஐ உள்ளடக்கியது.
 (அ) வேளாண்மை (ஆ) தானியங்கிகள்
 (இ) வர்த்தகம் (ஈ) வங்கி

பகுதி - II

குறிப்பு : எவையேனும் 10 வினாக்களுக்கு விடையளிக்கவும். அவற்றில் வினா எண் 28-க்கு கட்டாயமாக விடையளிக்கவும். (10 × 2 = 20)

15. ஆங்கிலேய இந்தியாவில் விவசாயிகளின் கிளர்ச்சி எவ்வாறு வகைப்படுத்தப்பட்டுள்ளன?
16. மூவர் கூட்டு நாடுகளின் பெயர்களைக் குறிப்பிடுக.
17. முழுமையான சுயராஜ்ஜியம் என்றால் என்ன?
18. பாளையக்காரர்களின் கடமைகள் யாவை?
19. இந்தோ-சீனாவில் நடைபெற்ற "வெள்ளை பயங்கரம்" குறித்து நீங்கள் அறிந்ததென்ன?
20. இந்திய திட்டநேரத்தின் முக்கியத்துவம் பற்றி கூறுக.
21. 'வேளாண்மை' - வரையறுக்கவும்.
22. தாமிரபரணி ஆற்றின் துணை ஆறுகளின் பெயர்களை எழுதுக.
23. தமிழ்நாட்டின் முக்கிய பல்நோக்கத் திட்டங்களின் பெயர்களை எழுதுக.
24. இந்தியாவின் செம்மொழிகள் எவை?
25. உணவு மற்றும் ஊட்டச்சத்து பாதுகாப்பின் மூன்று அடிப்படைக் கூறுகள் யாவை?
26. பண்டங்கள் மற்றும் பணிகள் வரி பற்றி சிறு குறிப்பு வரைக.
27. தொழில் துறைத் தொகுப்பு என்றால் என்ன?
28. பஞ்சசீல் கொள்கைகளில் ஏதேனும் நான்கினைப் பட்டியலிடுக.

பகுதி - III

குறிப்பு : எவையேனும் 10 வினாக்களுக்கு விடையளிக்கவும். வினா எண் 42-க்கு கட்டாயமாக விடையளிக்கவும். (10 × 5 = 50)

29. கோடிட்ட இடங்களை நிரப்புக.
 (i) கட்டபொம்மன் என்ற இடத்தில் தூக்கிலிடப்பட்டார்.
 (ii) என்பவர் 'வெள்ளையனே வெளியேறு' இயக்கத்தின் போது காங்கிரஸ் வானொலியை திரைமறைவாக செயல்படுத்தினார்.
 (iii) நீலகிரி மற்றும் தர்மபுரி மாவட்டங்களுக்கிடையே காணப்படும் பீடபூமி ஆகும்.
 (iv) சாத்தனூர் அணை ஆற்றின் குறுக்கே கட்டப்பட்டுள்ளது.
 (v) இரண்டாம் துறையை துறை எனவும் அழைக்கலாம்.
30. வேலூரில் 1806-இல் வெடித்த புரட்சியின் கூறுகளை விளக்குக.

33. ஐக்கிய நாடுகள் சபையின் அமைப்பு மற்றும் செயல்பாடுகளை ஆய்வு செய்க.
34. 1857-ஆம் ஆண்டின் பெருங்கலகத்தின் தோல்விக்கான காரணங்களை எழுதுக.
35. இந்தியாவின் கிழக்கு மற்றும் மேற்கு கடற்கரைச் சமவெளிகளைப் பற்றி விளக்குக.
36. நகரமயமாக்கம் என்றால் என்ன? அதன் தாக்கங்களை விளக்குக.
37. ஆளுநரின் பல்வேறு அதிகாரங்கள் பற்றி விவரிக்கவும்.
38. அண்டை நாடுகளுடன் நட்புறவினைப் பேண இந்தியா பின்பற்றும் வெளியுறவுக் கொள்கையின் அடிப்படைக் கருத்துக்களைப் பட்டியலிடுக.
39. உலகமயமாக்கலின் சவால்களை எழுதுக.
40. புதிய வேளாண் கொள்கைக்கான முக்கிய குறிக்கோள்கள் யாவை?
41. கீழ்க்காண்பனவற்றிற்கு காலக்கோடு வரைக:
1930 முதல் 1940 வரையிலான ஆண்டுக்கு உட்பட்ட முக்கிய ஐந்து நிகழ்வுகளைக் காலக்கோட்டில் எழுதுக.
42. இந்திய வரைபடத்தில் கீழ்க்காணும் இடங்களை குறிக்கவும்.
(i) மீரட் (ii) பாரக்பூர் (iii) தண்டி
(iv) செளரி செளரா (v) வேதாரண்யம்

பகுதி - IV

குறிப்பு : பின்வரும் வினாக்களுக்கு விடையளிக்கவும். (2 × 8 = 16)

43. (அ) (i) வியட் மின் கட்சியின் உதயம் பற்றி குறிப்பு வரைக.
(ii) இராமலிங்க சுவாமிகளின் வாழ்க்கை மற்றும் போதனைகள் பற்றி விளக்குக.
(அல்லது)
(ஆ) இந்தியாவில் காந்தியடிகள் நடத்திய தொடக்கக்கால சத்தியாகிரகங்களை விளக்குக. அவற்றின் விளைவு யாது?
44. (அ) கொடுக்கப்பட்டுள்ள இந்திய வரைபடத்தில் கீழ்க்காணும் இடங்களைக் குறிக்கவும்.
(i) K2 சிகரம் (ii) கரிசல் மண் பகுதி ஒன்று
(iii) மும்பை ஹை (iv) பாக் நீர் சந்தி
(v) கட்ச் வளைகுடா (vi) நெய்வேலி
(vii) சோழமண்டல கடற்கரை
(viii) சென்னையிலிருந்து கொல்கத்தா வரை செல்லும் இரயில் பாதை
(அல்லது)
(ஆ) கொடுக்கப்பட்டுள்ள தமிழ்நாடு வரைபடத்தில் கீழ்க்காணும் இடங்களைக் குறிக்கவும்.
(i) சென்னை (ii) தொட்ட பெட்டா
(iii) கன்னியாகுமரி (iv) சேலம்
(v) காவிரி ஆறு (vi) மன்னார் வளைகுடா
(vii) அகத்தியர் மலை (viii) வங்காள விரிகுடா



10 ஆம்
வகுப்பு

சுராவின் மாதிரி வினாத்தாள் - 8

PART - III

பதிவு எண்.

--	--	--	--	--	--

சமூக அறிவியல்

கால அளவு : 3.00 மணி நேரம்]

[மொத்த மதிப்பெண்கள் : 100

- அறிவுரைகள் :** (1) அனைத்து வினாக்களும் சரியாக அச்சுப் பதிவாகி உள்ளதா என்பதனை சரிபார்த்துக் கொள்ளவும். அச்சுப்பதிவில் குறைபாடு இருப்பின், அறைக் கண்காணிப்பாளரிடம் உடனடியாகத் தெரிவிக்கவும்.
- (2) நீலம் அல்லது கருப்பு மையினை மட்டுமே எழுதுவதற்கும் அடிக்கோடிடுவதற்கும் பயன்படுத்த வேண்டும். படங்கள் வரைவதற்கு பென்சில் பயன்படுத்த வேண்டும்.

குறிப்பு : இவ்வினாத்தாள் நான்கு பகுதிகளைக் கொண்டது.

பகுதி - I

குறிப்பு: (i) அனைத்து வினாக்களுக்கும் விடையளிக்கவும்.

- (ii) கொடுக்கப்பட்ட நான்கு மாற்று விடைகளில் மிகவும் ஏற்புடைய விடையினை தேர்ந்தெடுத்துக் குறியீட்டுடன் விடையினையும் சேர்த்து எழுதவும். (14 × 1 = 14)

1. மார்தன் போர் எதற்காக நினைவு கூறப்படுகிறது?

(அ) ஆகாயப் போர்முறை

(ஆ) பதுங்கு குழிப் போர்முறை

(இ) நீர்மூழ்கிக் கப்பல் போர்முறை

(ஈ) கடற்படைப் போர்முறை

2. லத்தீன் அமெரிக்காவுடன் அண்டை நாட்டுடன் நட்புறவு எனும் கொள்கையைக் கடைப்பிடித்த அமெரிக்க குடியரசுத் தலைவர் யார்?

(அ) ரூஸ்வெல்ட்

(ஆ) ட்ரூமன்

(இ) உட்ரோவில்சன்

(ஈ) ஐசனோவர்

3. விதவை மறுமணச் சங்கத்தை ஏற்படுத்தியவர் யார்?

(அ) M.G. ரானடே

(ஆ) தேவேந்திரநாத் தாகூர்

(இ) ஜோதிபா பூலே

(ஈ) அய்யன்காளி

4. அமிர்தசரஸில் ரௌலட்சட்ட எதிர்ப்புப் போராட்டங்களின் போது கைது செய்யப்பட்டவர் யார்?

(அ) மோதிலால் நேரு

(ஆ) சைஃபுதீன் கிஸ்லு

(இ) முகம்மது அலி

(ஈ) ராஜ் குமார் சக்லா

5. சரியான கூற்றைத் தேர்வு செய்க.

(i) ஒத்துழையாமை இயக்கத்தில் பெரியார் பங்கேற்கவில்லை.

(ii) முஸ்லிம் லீக்கைச் சேர்ந்த யாகூப் ஹசனூடன் இராஜாஜி நெருக்கமாகப் பணியாற்றினார்.

(iii) ஒத்துழையாமை இயக்கத்தில் தொழிலாளர்கள் கலந்து கொள்ளவில்லை.

(iv) தமிழ்நாட்டில் கள்ளுக்கு கடைகளுக்கு முன்பாக மறியல் செய்யப்படவில்லை.

(அ) (i) மற்றும் (ii) ஆகியவை சரி

(ஆ) (i) மற்றும் (iii) ஆகியவை சரி

(இ) (ii) மட்டும் சரி

(ஈ) (i), (ii) மற்றும் (iv) ஆகியவை சரி

6. பழைய வண்டல் படிவுகளால் உருவான சமவெளி

(அ) பாபர்

(ஆ) தராய்

(இ) பாங்கர்

(ஈ) காதர்

enquiry@surabooks.com

Ph:8124201000 / 8124301000

Kindly Send Me Your Key Answer to Our email id - Padasalai.net@gmail.com

7. உலகிலேயே மிக நீளமான அணை
- (அ) மேட்டூர் அணை (ஆ) கோசி அணை
(இ) ஹிராகுட் அணை (ஈ) பக்ராநங்கல் அணை
8. புகழ்பெற்ற சிந்திரி உரத்தொழிலகம் அமைந்துள்ள மாநிலம்
- (அ) ஜார்கண்ட் (ஆ) பீகார் (இ) ராஜஸ்தான் (ஈ) அசாம்
9. கீழ்க்கண்டவற்றில் அரபிக்கடலில் கலக்கும் ஆறு எது?
- (அ) பெரியார் (ஆ) காவிரி (இ) சிற்றார் (ஈ) பவானி
10. தென்னிந்தியாவின் நெற்களஞ்சியம் என்று அழைக்கப்படும் டெல்டா.....
- (அ) காவிரி டெல்டா (ஆ) மகாநதி டெல்டா
(இ) கோதாவரி டெல்டா (ஈ) கிருஷ்ணா டெல்டா
11. நடுவண் அரசின் அரசியலமைப்புத் தலைவர் ஆவார்.
- (அ) குடியரசுத் தலைவர் (ஆ) தலைமை நீதிபதி
(இ) பிரதம அமைச்சர் (ஈ) அமைச்சர்கள் குழு
12. எத்தனை மாநிலங்கள் நேபாளத்துடன் தங்கள் எல்லையை பகிர்ந்து கொள்கின்றன?
- (அ) ஐந்து (ஆ) நான்கு (இ) மூன்று (ஈ) இரண்டு
13. 1632 இல் ஆங்கிலேயர்களுக்கு “கோல்டன் ஃபயர் மான்” வழங்கியவர் யார்?
- (அ) ஜஹாங்கீர் (ஆ) கோல்கொண்டா சுல்தான்
(இ) அக்பர் (ஈ) ஒளராங்கசீப்
14. “ஆசியாவின் டெட்ராய்ட்” என அழைக்கப்படுவது
- (அ) துத்துக்குடி (ஆ) கோயம்புத்தூர்
(இ) சென்னை (ஈ) மதுரை

பகுதி - II

குறிப்பு : எவையேனும் பத்து வினாக்களுக்கு விடையளிக்கவும். வினா எண் 28-க்கு கட்டாயமாக விடையளிக்கவும். (10 × 2 = 20)

15. இந்தோ-சீனாவில் நடைபெற்ற “வெள்ளை பயங்கரவாதம்” குறித்து நீங்கள் அறிந்ததென்ன?
16. முத்து துறைமுக நிகழ்வை விவரி.
17. இராமலிங்க சுவாமிகளின் சீர்திருத்தங்கள் குறித்து சிறுகுறிப்பு வரைக.
18. வாரிசு இழப்புக் கொள்கையின் அடிப்படையில் பிரிட்டிஷ் அரசில் இணைத்துக் கொள்ளப்பட்ட பகுதிகளைப் பட்டியலிடுக.
19. தென்னிந்திய நல உரிமைச் சங்கத்தால் வெளியிடப்பட்ட செய்தித்தாள்களின் பெயர்களைக் குறிப்பிடுக.
20. இந்திய காலநிலையைப் பாதிக்கும் காரணிகளைப் பட்டியலிடுக.
21. நிலக்கரியின் வகைகளை அதன் கரிம அளவுகளுடன் ஒப்பிடுக.

22. தமிழ்நாட்டின் முக்கிய தீவுகளைக் குறிப்பிடுக.
23. தமிழ்நாட்டின் விமான நிலையங்கள் மற்றும் துறைமுகங்களைப் பட்டியலிடுக.
24. இந்திய அரசியலமைப்பால் வழங்கப்படும் அடிப்படை உரிமைகள் யாவை?
25. அணிசேரா இயக்கத்தின் நிறுவனத் தலைவர்கள் யாவர்?
26. உலகமயமாக்கல் என்றால் என்ன?
27. உணவு மற்றும் ஊட்டச்சத்துப் பாதுகாப்பின் மூன்று அடிப்படைக் கூறுகள் யாவை?
28. தொழில் முனைவோர் என்பவர் யாவர்?

பகுதி - III

குறிப்பு : எவையேனும் பத்து வினாக்களுக்கு விடையளிக்கவும். வினா எண் 42-க்கு கட்டாயமாக விடையளிக்கவும். (10 × 5 = 50)

29. கோடிட்ட இடங்களை நிரப்புக.

- (i) பண்டங்கள் மற்றும் பணிகள் வரி ஆண்டு முதல் நடைமுறைக்கு வந்தது.
- (ii) இரு வல்லரசுகளின் பனிப்போரினை எதிர்கொள்ள இந்தியா பின்பற்றிய கொள்கை
- (iii) கிழக்கு தொடர்ச்சி மலையின் தென்பகுதியில் உள்ள உயரமான சிகரம் ஆகும்.
- (iv) எளிதில் செல்ல முடியாத பகுதிகளுக்கு பயன்படும் போக்குவரத்து
- (v) ஐரோப்பியக் குழுமத்தின் தலைமையகம் நகரில் அமைந்துள்ளது.

30. இரண்டாம் உலகப்போரின் விளைவுகளை ஆய்வு செய்க.

31. கிழக்கிந்தியக் கம்பெனியாரை எதிர்த்து கட்டபொம்மன் நடத்திய வீரதீரப் போர்கள் பற்றி கட்டுரை வரைக.

32. இந்தியாவின் பிரிவினைக்குப் பின்னால் இருந்த காரணிகளை விவாதிக்கவும்.

33. வேறுபடுத்துக.

- (i) மேற்கு கடற்கரைச் சமவெளி மற்றும் கிழக்கு கடற்கரைச் சமவெளி.
- (ii) உணவுப் பயிர்கள் மற்றும் வாணிபப் பயிர்கள்

காரணம் கூறுக :

- (iii) வட இந்திய ஆறுகள் வற்றாத ஆறுகள்

34. தென்மேற்கு பருவக்காற்று குறித்து எழுதுக.

35. தமிழ்நாட்டின் பீடபூமி நிலத்தோற்றத்தின் தன்மையை விவரி.

36. அடிப்படை உரிமைகளுக்கும் அரசு நெறிமுறையுறுத்தும் கோட்பாடுகளுக்கும் இடையேயான வேறுபாடுகளைக் குறிப்பிடுக.

37. இந்தியப் பிரதமரின் பணிகள் மற்றும் கடமைகள் யாவை?

38. பிரிக்ஸ் (BRICS) கூட்டமைப்பு உருவாவதற்கான காரணம் மற்றும் அதன் நோக்கங்களை எழுதுக.

39. இந்தியாவில் (GDP) யில் உள்ள பல்வேறு துறைகளின் பங்கினை விவரி.

40. சில நேர்முக மற்றும் மறைமுக வரிகளை விளக்குக.

41. கீழ்க்காண்பவற்றிற்கு காலக்கோடு வரைக.

1910 முதல் 1930 வரையிலான ஆண்டுகட்கு உட்பட்ட முக்கிய ஐந்து இந்திய நிகழ்வுகளைக் காலக்கோட்டில் எழுதுக.

42. இந்திய வரைபடத்தில் கீழ்க்காணும் இடங்களைக் குறிக்கவும்.

- (i) ஜாலியன் வாலாபாக் (ii) பாரக்பூர் (iii) டில்லி
(iv) ஜான்சி (v) வேதாரண்யம்

பகுதி - IV

குறிப்பு : பின்வரும் வினாக்களுக்கு விடையளிக்கவும்.

(2 × 8 = 16)

43. காந்தியடிகளின் சட்டமறுப்பு இயக்கத்தை பற்றி விவரிக்கவும்.

(அல்லது)

முதல் உலகப்போருக்கான முக்கியக் காரணங்களை விவாதிக்கவும்.

44. (அ) கொடுக்கப்பட்டுள்ள இந்திய வரைபடத்தில் கீழ்க்காணும் இடங்களை குறிக்கவும்.

- (i) கோதாவரி
(ii) ஆரவல்லி மலைத்தொடர்
(iii) பாக்நீர்ச்சந்தி
(iv) சுந்தரவனக் காடுகள்
(v) பருத்தி விளையுமிடம்
(vi) ஒரு பெட்ரோலிய மையம்
(vii) வடகிழக்கு பருவக்காற்று வீசும் திசை
(viii) சென்னை முதல் கொல்கத்தா வரையிலான ரயில்பாதை

(அல்லது)

(ஆ) கொடுக்கப்பட்டுள்ள தமிழ்நாடு வரைபடத்தில் கீழ்க்காணும் இடங்களைக் குறிக்கவும்.

- (i) மன்னார் வளைகுடா
(ii) மேட்டூர் அணை
(iii) தூத்துக்குடி
(iv) அகத்தியமலை
(v) நாகப்பட்டினம்
(vi) பறவைகள் சரணாலயம் ஒன்று
(vii) இரும்பு கிடைக்குமிடம் ஒன்று
(viii) தாமிரபரணி

★★★

ஒரு மதிப்பெண் விடைகள்

உடனடித் தேர்வு ஜூலை - 2024

- | | | | | | | |
|--------|--------|---------|---------|---------|---------|---------|
| 1. (அ) | 2. (இ) | 3. (ஆ) | 4. (இ) | 5. (ஆ) | 6. (இ) | 7. (ஈ) |
| 8. (ஈ) | 9. (ஆ) | 10. (ஆ) | 11. (அ) | 12. (இ) | 13. (அ) | 14. (ஈ) |

அரசு பொதுத்தேர்வு ஏப்ரல் - 2024

- | | | | | | | |
|--------|--------|---------|---------|---------|---------|---------|
| 1. (அ) | 2. (ஆ) | 3. (அ) | 4. (ஈ) | 5. (ஆ) | 6. (ஈ) | 7. (ஈ) |
| 8. (ஆ) | 9. (இ) | 10. (ஆ) | 11. (இ) | 12. (அ) | 13. (ஈ) | 14. (இ) |

உடனடித் தேர்வு ஜூலை - 2023

- | | | | | | | |
|--------|--------|---------|---------|---------|---------|---------|
| 1. (ஆ) | 2. (இ) | 3. (ஆ) | 4. (ஈ) | 5. (இ) | 6. (ஈ) | 7. (ஆ) |
| 8. (அ) | 9. (அ) | 10. (அ) | 11. (அ) | 12. (அ) | 13. (ஆ) | 14. (இ) |

அரசு பொதுத்தேர்வு ஏப்ரல் - 2023

- | | | | | | | |
|--------|--------|---------|---------|---------|---------|---------|
| 1. (ஆ) | 2. (ஆ) | 3. (ஆ) | 4. (இ) | 5. (இ) | 6. (அ) | 7. (ஆ) |
| 8. (அ) | 9. (இ) | 10. (இ) | 11. (ஆ) | 12. (ஆ) | 13. (இ) | 14. (ஆ) |

உடனடித் தேர்வு ஆகஸ்ட் - 2022

- | | | | | | | |
|--------|--------|---------|---------|---------|---------|---------|
| 1. (இ) | 2. (அ) | 3. (இ) | 4. (இ) | 5. (ஆ) | 6. (ஈ) | 7. (அ) |
| 8. (ஆ) | 9. (இ) | 10. (ஆ) | 11. (ஈ) | 12. (அ) | 13. (ஆ) | 14. (அ) |

அரசு பொதுத்தேர்வு மே - 2022

- | | | | | | | |
|--------|--------|---------|---------|---------|---------|---------|
| 1. (ஆ) | 2. (இ) | 3. (அ) | 4. (இ) | 5. (ஆ) | 6. (ஈ) | 7. (ஆ) |
| 8. (இ) | 9. (ஈ) | 10. (இ) | 11. (இ) | 12. (இ) | 13. (இ) | 14. (இ) |

அரசு துணைத்தேர்வு செப்டம்பர் - 2021

- | | | | | | | |
|--------|--------|---------|---------|---------|---------|---------|
| 1. (ஆ) | 2. (அ) | 3. (இ) | 4. (ஆ) | 5. (இ) | 6. (இ) | 7. (இ) |
| 8. (அ) | 9. (இ) | 10. (ஆ) | 11. (ஆ) | 12. (ஆ) | 13. (இ) | 14. (அ) |

★ ★ ★

PTA - ஒரு மதிப்பெண் விடைகள்

PTA மாதிரி வினாத்தாள் - 1

- | | | | | | | |
|--------|--------|---------|---------|---------|---------|---------|
| 1. (ஈ) | 2. (ஆ) | 3. (இ) | 4. (இ) | 5. (அ) | 6. (ஈ) | 7. (அ) |
| 8. (இ) | 9. (அ) | 10. (இ) | 11. (ஆ) | 12. (அ) | 13. (ஆ) | 14. (ஈ) |

PTA மாதிரி வினாத்தாள் - 2

- | | | | | | | |
|--------|--------|---------|---------|---------|---------|---------|
| 1. (ஆ) | 2. (இ) | 3. (அ) | 4. (ஆ) | 5. (அ) | 6. (ஆ) | 7. (இ) |
| 8. (இ) | 9. (ஈ) | 10. (அ) | 11. (இ) | 12. (ஆ) | 13. (அ) | 14. (ஆ) |

PTA மாதிரி வினாத்தாள் - 3

- | | | | | | | |
|--------|--------|---------|---------|---------|---------|---------|
| 1. (ஆ) | 2. (ஆ) | 3. (அ) | 4. (அ) | 5. (அ) | 6. (இ) | 7. (ஈ) |
| 8. (இ) | 9. (அ) | 10. (அ) | 11. (இ) | 12. (ஆ) | 13. (அ) | 14. (அ) |

PTA மாதிரி வினாத்தாள் - 4

- | | | | | | | |
|--------|--------|---------|---------|---------|---------|---------|
| 1. (அ) | 2. (அ) | 3. (அ) | 4. (ஈ) | 5. (ஈ) | 6. (இ) | 7. (ஆ) |
| 8. (ஈ) | 9. (அ) | 10. (ஆ) | 11. (ஈ) | 12. (அ) | 13. (ஆ) | 14. (ஆ) |

PTA மாதிரி வினாத்தாள் - 5

- | | | | | | | |
|--------|--------|---------|---------|---------|---------|---------|
| 1. (ஆ) | 2. (ஈ) | 3. (ஆ) | 4. (ஈ) | 5. (அ) | 6. (இ) | 7. (ஈ) |
| 8. (இ) | 9. (அ) | 10. (அ) | 11. (அ) | 12. (இ) | 13. (இ) | 14. (ஈ) |

PTA மாதிரி வினாத்தாள் - 6

- | | | | | | | |
|--------|--------|---------|---------|---------|---------|---------|
| 1. (அ) | 2. (ஈ) | 3. (இ) | 4. (அ) | 5. (இ) | 6. (ஆ) | 7. (அ) |
| 8. (இ) | 9. (ஈ) | 10. (இ) | 11. (ஈ) | 12. (ஆ) | 13. (ஈ) | 14. (அ) |

★ ★ ★

சுராவின் மாதிரி வினாத்தாள் 1 - 8 (ஒரு மதிப்பெண் விடைகள்)

சுராவின் மாதிரி வினாத்தாள் - 1

1. (ஆ) 2. (அ) 3. (இ) 4. (ஆ) 5. (இ) 6. (இ) 7. (இ)
8. (அ) 9. (இ) 10. (ஆ) 11. (ஆ) 12. (ஆ) 13. (இ) 14. (அ)

சுராவின் மாதிரி வினாத்தாள் - 2

1. (ஆ) 2. (இ) 3. (அ) 4. (இ) 5. (ஆ) 6. (ஈ) 7. (ஆ)
8. (இ) 9. (ஈ) 10. (இ) 11. (இ) 12. (இ) 13. (இ) 14. (இ)

சுராவின் மாதிரி வினாத்தாள் - 3

1. (இ) 2. (ஆ) 3. (அ) 4. (இ) 5. (ஈ) 6. (ஆ) 7. (இ)
8. (ஆ) 9. (ஆ) 10. (அ) 11. (இ) 12. (ஆ) 13. (ஆ) 14. (ஆ)

சுராவின் மாதிரி வினாத்தாள் - 4

1. (இ) 2. (ஈ) 3. (அ) 4. (அ) 5. (இ) 6. (ஈ) 7. (அ)
8. (ஈ) 9. (ஆ) 10. (அ) 11. (அ) 12. (ஈ) 13. (ஆ) 14. (ஈ)

சுராவின் மாதிரி வினாத்தாள் - 5

1. (அ) 2. (அ) 3. (இ) 4. (ஈ) 5. (அ) 6. (ஆ) 7. (இ)
8. (இ) 9. (ஆ) 10. (இ) 11. (ஆ) 12. (இ) 13. (ஈ) 14. (ஈ)

சுராவின் மாதிரி வினாத்தாள் - 6

- | | | | | | | |
|--------|--------|---------|---------|---------|---------|---------|
| 1. (ஆ) | 2. (அ) | 3. (அ) | 4. (அ) | 5. (இ) | 6. (இ) | 7. (அ) |
| 8. (அ) | 9. (அ) | 10. (அ) | 11. (அ) | 12. (அ) | 13. (ஈ) | 14. (அ) |

சுராவின் மாதிரி வினாத்தாள் - 7

- | | | | | | | |
|--------|--------|---------|---------|---------|---------|---------|
| 1. (அ) | 2. (ஆ) | 3. (இ) | 4. (அ) | 5. (அ) | 6. (இ) | 7. (இ) |
| 8. (இ) | 9. (இ) | 10. (ஆ) | 11. (இ) | 12. (ஈ) | 13. (ஆ) | 14. (ஆ) |

சுராவின் மாதிரி வினாத்தாள் - 8

- | | | | | | | |
|--------|--------|---------|---------|---------|---------|---------|
| 1. (ஆ) | 2. (அ) | 3. (அ) | 4. (ஆ) | 5. (இ) | 6. (இ) | 7. (இ) |
| 8. (அ) | 9. (அ) | 10. (அ) | 11. (அ) | 12. (அ) | 13. (ஆ) | 14. (இ) |

★★★