



TEST - 1
2024

GROUP II/IIA

**பொதுத்தமிழ் &
பொது அறிவு**

பதிவு எண்

கால அளவு : 3.00 மணி நேரம்]

[மொத்த மதிப்பெண்கள் : 300

வினாக்களுக்கு பதிலளிக்கும் முன் கீழ்க்கண்ட அறிவுரைகளை கவனமாகப் படிக்கவும்

முக்கிய அறிவுரைகள்

- இந்த வினாத்தொகுப்பு, தேர்வு தொடங்குவதற்கு 15 நிமிடங்களுக்கு முன்னதாக உங்களுக்கு வழங்கப்படும்.
- இந்த வினாத்தொகுப்பு, **100** வினாக்களைக் கொண்டுள்ளது. விடையளிக்கத் தொடங்கும் இவ்வினாத் தொகுப்பில் எல்லா வினாக்களும் வரிசையாக இடம் பெற்றுள்ளனவா என்பதையும், இடையில் வெற்றுத்தாள்கள் எவையும் இல்லை என்பதையும் உறுதி செய்து கொள்ளவும். வினாத் தொகுப்பில் ஏதேனும் குறைபாடு இருப்பின், அதனை முதல் பத்து நிமிடங்களுக்குள் அறைக்கண்காணிப்பாளரிடம் தெரிவித்து, சரியாக உள்ள வேறொரு வினாத் தொகுப்பினை பெற்றுக்கொள்ள வேண்டும். தேர்வு தொடங்கிய பின்பு, இது குறித்து முறையிட்டால் வினாத் தொகுப்பு மாற்றித் தரப்படமாட்டாது.
- எல்லா வினாக்களுக்கும் விடையளிக்கவும், எல்லா வினாக்களும் சமமான மதிப்பெண்கள் கொண்டவை.
- உங்களுடைய பதிவு எண்ணை இந்தப் பக்கத்தின் வலது மேல் மூலையில் அதற்கென அமைந்துள்ள இடத்தில் நீங்கள் எழுத வேண்டும். வேறு எதையும் வினாத் தொகுப்பில் எழுதக் கூடாது.
- விடைத்தாள் ஒன்று விடைகளை குறிப்பதற்கு அறைக்கண்காணிப்பாளரால் உங்களுக்கு வழங்கப்படும். விடைகளைக் குறிப்பது உள்ளிட்ட அவசியம் பின்பற்றப்பட வேண்டிய அறிவுரைகள் விடைத்தாளிலும், தேர்வுக்கூட அனுமதிச் சீட்டிலும் வழங்கப்பட்டுள்ளன.
- உங்களுடைய வினாத்தொகுப்பு, எண்ணை (Question Booklet Number) விடைத்தாளின் முதல் பக்கத்தில் அதற்கென அமைந்துள்ள இடத்தில் **கருமை நிற மையுடைய பந்துமுனைப் பேனாவினால்** குறித்துக் காட்ட வேண்டும். வினாத்தொகுப்பு எண்ணை விடைத்தாளில் சரியாகக் குறித்துக் காட்டத் தவறினாலோ அல்லது குறிக்கத் தவறினாலோ உங்களுடைய விடைத்தாள் செல்லாததாகக்கப்படும்.
- ஒவ்வொரு வினாவும் A), (B), C), (D), (E) என ஐந்து பதில்களைக் (விடைகள்) கொண்டுள்ளது. நீங்கள் A) அல்லது B) அல்லது C) அல்லது D) இவைகளில் ஒரே ஒரு சரியான விடையைத் தெரிவு செய்து விடைத்தாளில் குறித்துக்காட்ட வேண்டும். ஒரு கேள்விக்கு ஒன்றுக்கு மேற்பட்ட சரியான விடை இருப்பதாக நீங்கள் கருதினால், மிகச்சரியானது என நீங்கள் எதைக் கருதுகிறீர்களோ அந்த விடையை விடைத்தாளில் குறித்துக்காட்ட வேண்டும். உங்களுக்கு விடை தெரியவில்லை எனில், நீங்கள் (E) என்பதை அவசியம் நிரப்ப வேண்டும். எப்படியாயினும், ஒரு கேள்விக்கு ஒரே ஒரு விடையைத் தான் தேர்ந்தெடுக்க வேண்டும். நீங்கள் ஒரு வேள்விக்கு ஒன்றுக்கு மேற்பட்ட விடையளித்தால், அவற்றுள் ஒரு விடை சரியானதாக இருந்தாலும் அந்த விடை தவறானதாகவே கருதப்படும்.
- நீங்கள் வினாத் தொகுப்பின் எந்தப் பக்கத்தையும் நீக்கவோ அல்லது கிழிக்கவோ கூடாது. தேர்வு நேரத்தில் இந்த வினாத் தொகுப்பினையோ அல்லது விடைத்தாளையோ தேர்வு அறையை விட்டு வெளியில் எடுத்துச் செல்லக் கூடாது. தேர்வு முடிந்தபின் நீங்கள் உங்களுடைய விடைத்தாளை கண்காணிப்பாளரிடம் கொடுத்து விட வேண்டும். இவ்வினாத் தொகுப்பினை தேர்வு முடிந்த பின்னர் மட்டுமே நீங்கள் எடுத்துச் செல்ல அனுமதிக்கப்படுவீர்கள்.
- குறிப்புகள் எழுதிப்பார்ப்பதற்கு வினாத்தொகுப்பின் கடைசி பக்கத்திற்கு முன் உள்ள பக்கங்களை பயன்படுத்திக் கொள்ளலாம். இதைத்தவிர வினாத்தொகுப்பின் எந்த இடத்திலும் எந்தவித குறிப்புகளையும் எழுதக்கூடாது. இந்த அறிவுரை கண்டிப்பாக பின்பற்றப்படவேண்டும்.
- அனைத்து இனங்களிலும் ஆங்கில வடிவே இறுதியானது.
- நீங்கள் மேற்கண்ட அறிவுரைகளில் எவற்றையாவது பின்பற்றத் தவறினால் தேர்வாணையம் எடுக்கும் நடவடிக்கைகளுக்கு உள்ளாக நேரிடும் என அறிவுறுத்தப்படுகிறது.

↪

[Turn over

Test – 1**General Tamil + General Studies**

1. பாரதிதாசன் பற்றிய பின்வரும் கூற்றுகளைக் கருத்தில் கொள்க.
 - I. இவரது இயற்பெயர் கனக சுப்பிரமணியன்.
 - II. தம் கவிதைகளில் பெண்கல்வி, கைம்பெண் மறுமணம், பொதுவுடைமை, பகுத்தறிவு முதலான புரட்சிகரமான கருத்துகளைப் பாடுபொருளாகப் பாடியுள்ளார்.
 மேற்கண்ட கூற்றுகளில் சரியானது எது/எவை?
 - A) I மட்டும்
 - B) II மட்டும்
 - C) இரண்டும்
 - D) இரண்டுமில்லை
 - E) விடை தெரியவில்லை
2. தனித்தமிழையும் தமிழுணர்வையும் பரப்பிய பாவலர் யார்?
 - A) பாரதியார்
 - B) மறைமலை அடிகள்
 - C) பாரதிதாசன்
 - D) பாவலரேறு பெருஞ்சித்திரனார்
 - E) விடை தெரியவில்லை
3. 'மாணிக்கம்' பற்றிய பின்வரும் கூற்றுகளைக் கருத்தில் கொள்க.
 - I. கனிச்சாறு, மாங்கனி, பாவியக்கொத்து, நூறாசிரியம் முதலான நூல்களை இயற்றியுள்ளார்.
 - II. தென்மொழி, தமிழ்ச்சிட்டு, தமிழ்நிலம் ஆகிய இதழ்களை நடத்தியுள்ளார்.
 மேற்கண்ட கூற்றுகளில் சரியானது எது/எவை?
 - A) I மட்டும்
 - B) II மட்டும்
 - C) இரண்டும்
 - D) இரண்டுமில்லை
 - E) விடை தெரியவில்லை
4. தவறான இணையைத் தேர்ந்தெடுக்க.
 - A) செந்தமிழ் = செம்மை + தமிழ்
 - B) பொய்யகற்றும் = பொய் + அகற்றும்
 - C) எட்டுத்திசை = எட்டு + திசை
 - D) ஓய்வற = ஓய் + அற
 - E) விடை தெரியவில்லை
5. "என்று பிறந்தவள் என்று உணராத இயல்பினளாம் எங்கள் தாய்" என்று பாடியவர் யார்?
 - A) பாரதியார்
 - B) பாரதிதாசன்
 - C) வாணிதாசன்
 - D) பாவலரேறு
 - E) விடை தெரியவில்லை

6. பின்வரும் இணைகளைக் கருத்தில் கொள்க.
- | (தாவரம்) | (இலைப்பெயர்) |
|---------------------|--------------|
| I. சப்பாத்திக்கள்ளி | – தாழை |
| II. கரும்பு | – தோகை |
| III. கமுகு | – கூந்தல் |
| IV. நெல் | – புல் |
| V. தென்னை | – ஒலை |
- மேற்கண்ட இணைகளில் எத்தனை இணைகள் சரியானவை?
- A) 2 இணைகள்
 B) 3 இணைகள்
 C) 4 இணைகள்
 D) 5 இணைகளும்
 E) விடை தெரியவில்லை
7. தவறான கூற்றினைத் தேர்ந்தெடுக்க.
- A) தமிழுக்கு முத்தமிழ் என்னும் சிறப்புப் பெயரும் உண்டு. இயல்தமிழ் எண்ணத்தை வெளிப்படுத்தும்; இசைத்தமிழ் உள்ளத்தை மகிழ்விக்கும்; நாடகத்தமிழ் உணர்வில் கலந்து வாழ்வின் நிறைகுறைகளைச் சுட்டிக்காட்டும்.
- B) செய்யுள், கவிதை, புதுக்கவிதை, புதினம், துளிப்பா போன்ற தமிழ்க் கவிதை வடிவங்கள்.
- C) கட்டுரை, சிறுகதை போன்ற தமிழின் உரைநடை வடிவங்கள்.
- D) தமிழ் எழுத்துகள் பெரும்பாலும் வலஞ்சுழி எழுத்துகளாகவே அமைந்துள்ளன.
- E) விடை தெரியவில்லை
8. வலஞ்சுழி எழுத்துகள் அடிப்படையில் பொருந்தா ஒன்றினைத் தேர்ந்தெடுக்க.
- A) ண
 B) ஞ
 C) ய
 D) ஔ
 E) விடை தெரியவில்லை
9. 'தமிழன்' என்ற சொல் முதலில் ஆளப்படும் இலக்கியம் எது?
- A) தொல்காப்பியம்
 B) சிலப்பதிகாரம்
 C) திருத்தாண்டகம்
 D) புறநானூறு
 E) விடை தெரியவில்லை
10. 'உயர்திணை' என்பதன் எதிர்ப்பதம் தருக.
- A) தாழ்திணை
 B) கீழ்த்திணை
 C) அஃறிணை
 D) அல்திணை
 E) விடை தெரியவில்லை
11. பின்வரும் கூற்றுகளைக் கருத்தில் கொள்க.
- I. "யாமறிந்த மொழிகளிலே தமிழ்மொழி போல் இனிதாவது எங்கும் காணோம்" என்று தமிழ்மொழியின் இனிமையை வியந்து பாரதியார் பாடுகிறார்.
- II. தொல்காப்பியம் தமிழில் நமக்குக் கிடைத்துள்ள மிகப் பழையமையான இலக்கண நூல் ஆகும்.

மேற்கண்ட கூற்றுகளில் சரியானது எது/எவை?

- A) I மட்டும்
 B) II மட்டும்
 C) இரண்டும்
 D) இரண்டுமில்லை
 E) விடை தெரியவில்லை

12. மா - என்னும் ஒரேழுத்து ஒரு மொழியின் பொருள் அல்லாத ஒன்றினைத் தேர்ந்தெடுக்க.

- A) துகள்
 B) மலை
 C) வயல்
 D) வண்டு
 E) விடை தெரியவில்லை

13. பின்வரும் இணைகளைக் கருத்தில் கொள்க.

- I. தொல்காப்பியம், நன்னூல் – இலக்கண நூல்
 II. எட்டுத்தொகை, பத்துப்பாட்டு – சங்க இலக்கியம்
 III. திருக்குறள், நாலடியார் – அறநூல்கள்
 IV. சிலப்பதிகாரம், மணிமேகலை – காப்பியம்

மேற்கண்ட இணைகளில் எத்தனை இணைகள் சரியானவை?

- A) 1 இணைகள்
 B) 2 இணைகள்
 C) 3 இணைகள்
 D) 4 இணைகள்
 E) விடை தெரியவில்லை

14. பொருத்துக.

(சொல்)

(இடம்பெற்ற நூல்)

- a) உழவர்
 b) வேளாண்மை
 c) அன்பு
 d) பார்
1. தொல்காப்பியம்
 2. பெரும்பாணாற்றுப்படை
 3. கலித்தொகை
 4. நற்றிணை

குறியீடுகள்:

- | | a | b | c | d |
|----|---|---|---|---|
| A) | 1 | 2 | 3 | 4 |
| B) | 4 | 3 | 1 | 2 |
| C) | 4 | 1 | 2 | 3 |
| D) | 2 | 1 | 3 | 4 |

E) விடை தெரியவில்லை

15. தவறான இணையைத் தேர்ந்தெடுக்க.

(அறிவியல் கூற்று)

(நூல்)

- A) நிலம் தீ நீர் வளி விசும்போடு ஐந்தும்
 கலந்த மயக்கம் உலகம் ஆதலின் – தொல்காப்பியம்
- B) கடல்நீர் முகந்த கமழ்தழ் எழிலி – களவழி நாற்பது
- C) நெடு வெள்ளாசி நெடு வசி பரந்த வடு – பதிற்றுப்பத்து
- D) கோட்சுறா எறிந்தெனச் சுருங்கிய நரம்பின் முடிமுதிர் பரதவர் – நற்றிணை
- E) விடை தெரியவில்லை



16. திரவப் பொருள்களை எவ்வளவு அழுத்தினாலும் அவற்றின் அளவைச் சுருக்க முடியாது என்ற அறிவியல் கருத்தினை
 “ஆழ அழுக்கி முகக்கினும் ஆழ்கடல்நீர்
 நாழி முகவாது நால் நாழி” என்று பாடியுள்ளவர் யார்?
 A) தொல்காப்பியர் B) கம்பர்
 C) ஒளவையார் D) பாரதியார்
 E) விடை தெரியவில்லை
17. கபிலர் என்னும் பெயருக்கான மாத்திரை அளவு என்ன?
 A) 2 B) $2\frac{1}{2}$
 C) 3 D) $3\frac{1}{2}$
 E) விடை தெரியவில்லை
18. அகரவரிசைப்படுத்துக.
 A) நூல், கோல், மொழி, தமிழ், விண்
 B) தமிழ், மொழி, நூல், கோல், விண்
 C) கோல், தமிழ், நூல், மொழி, விண்
 D) கோல், நூல், தமிழ், மொழி, விண்
 E) விடை தெரியவில்லை
19. பின்வரும் இணைகளைக் கருத்தில் கொள்க.

(தமிழ்ச்சொல்)	(ஆங்கிலச்சொல்)
I. தொடுதிரை	– Touch Screen
II. முகநூல்	– Facebook
III. புலனம்	– Whatsapp
IV. தேடுபொறி	– Voice Search
V. மின்னஞ்சல்	– E – mail

 மேற்கண்ட இணைகளில் எத்தனை இணைகள் சரியானவை?
 A) 2 B) 3
 C) 4 D) 5
 E) விடை தெரியவில்லை
20. ஒலி வேறுபாடறிந்து பொருள் தருக.

அலி	அளி
A) கருணை	– காகம்
B) காகம்	– கருணை
C) நீக்கு	– கொடு
D) கொடு	– நீக்கு
E) விடை தெரியவில்லை	



21. 'முத்தமிழ்க் காப்பியம்' என்று சிறப்பிக்கப்படும் நூல் எது?
A) மனோன்மணியம் B) சிலப்பதிகாரம்
C) மணிமேகலை D) தொல்காப்பியம்
E) விடை தெரியவில்லை
22. கழுத்தில் சூடுவது
A) தார் B) கணையாழி
C) தண்டை D) மேகலை
E) விடை தெரியவில்லை
23. பாரதியார் இயற்றிய நூல்களுள் பொருந்தா ஒன்றினைத் தேர்ந்தெடுக்க.
A) பாஞ்சாலி சபதம் B) கண்ணன்பாட்டு
C) குடும்ப விளக்கு D) குயில்பாட்டு
E) விடை தெரியவில்லை
24. பின்வரும் கூற்றுகளைக் கருத்தில் கொள்க.
I. பறவைகள் இடம்பெயர்தலை 'வலசை போதல்' என்பர்.
II. நீர்வாழ் பறவைகளே பெரும்பாலும் வலசை போகின்றன.
III. உணவு, இருப்பிடம், தட்பவெப்பநிலை மாற்றம், இனப்பெருக்கம் இவற்றிற்காகவே பறவைகள் இடம் பெயர்கின்றன.
IV. நிலவு, விண்மீன், புவிஈர்ப்புப் புலம் ஆகியவற்றை அடிப்படையாகக் கொண்டு பறவைகள் இடம்பெயர்கின்றன.
மேற்கண்ட கூற்றுகளில் சரியானவை எவை?
A) I, II மற்றும் III மட்டும் B) II, III மற்றும் IV மட்டும்
C) I, III மற்றும் IV மட்டும் D) மேற்கண்ட அனைத்தும்
E) விடை தெரியவில்லை
25. சிறகடிக்காமல் கடலையும் தாண்டிப் பறக்கும் பறவை எது?
A) கப்பல் பறவை B) கப்பல் கூழைக்கடா
C) கடற்கொள்ளைப் பறவை D) மேற்கூறிய அனைத்தும்
E) விடை தெரியவில்லை
26. தவறான கூற்றினைத் தேர்ந்தெடுக்க.
A) ஆண்குருவியின் தொண்டைப்பகுதி கறுப்பு நிறத்தில் இருக்கும். உடல்பகுதி அடர்பழுப்பாக இருக்கும்.
B) பெண் குருவியின் உடல் முழுவதும் மங்கிய பழுப்பு நிறத்தில் இருக்கும்.
C) சிட்டுக்குருவி கூடுகட்டாது. துருவப் பகுதிகள் தவிர மனிதன் வாழும் இடங்களில் எல்லாம் சிட்டுக்குருவிகளும் வாழ்கின்றன.
D) சிட்டுக்குருவி மூன்று முதல் ஆறு முட்டைகள் வரை இடும். பதினான்கு நாட்கள் அடைகாக்கும்.
E) விடை தெரியவில்லை

27. 'டாக்டர் சலீம் அலி' பற்றிய பின்வரும் கூற்றுகளைக் கருத்தில் கொள்க.
- I. 'இந்தியாவின் பறவை மனிதர்' என்று அழைக்கப்படுகிறார்.
- II. தன் வாழ்க்கை வரலாற்று நூலுக்குச் 'சிட்டுக்குருவியின் வீழ்ச்சி' (The Fall of Sparrow) என்று பெயரிட்டுள்ளார்.
- மேற்கண்ட கூற்றுகளில் சரியானது எது/எவை?
- A) I மட்டும்
B) II மட்டும்
C) இரண்டும்
D) இரண்டுமில்லை
E) விடை தெரியவில்லை
28. பின்வரும் கூற்றுகளைக் கருத்தில் கொள்க.
- I. பறவை பற்றிய படிப்பு ஆர்னித்தாலஜி எனப்படும்.
- II. உலகச் சிட்டுக்குருவியின் நாள் மார்ச் - 21.
- III. உலகிலேயே நெடுந்தொலைவு 22,000 கி.மீ பயணம் செய்யும் பறவையினம் ஆர்டிக் ஆலா ஆகும்.
- மேற்கண்ட கூற்றுகளில் சரியானவை எவை?
- A) I மற்றும் II மட்டும்
B) II மற்றும் III மட்டும்
C) I மற்றும் III மட்டும்
D) மேற்கண்ட அனைத்தும்
E) விடை தெரியவில்லை
29. 1954 ஆம் ஆண்டு நோபல் பரிசு பெற்ற 'கிழவனும் கடலும்' என்னும் புதினத்தை இயற்றியவர் யார்?
- A) எர்னெஸ்ட் ஹெமிங்வே
B) வில்லியம் ஜோன்ஸ்
C) மனோலின்
D) சாண்டியாகோ
E) விடை தெரியவில்லை
30. 'ஆய்தம்' பற்றிய தவறான கூற்றினைத் தேர்ந்தெடுக்க.
- A) முப்புள்ளி, முப்பாற்புள்ளி, தனிநிலை, அஃகேனம் என்ற வேறு பெயர்களும் இதற்கு உண்டு.
- B) தனித்து இயங்காது.
- C) தனக்குமுன் ஒரு குறில் எழுத்தையும் தனக்குப்பின் ஒரு வல்லின உயிர்மெய் எழுத்தையும் பெற்றுச் சொல்லின் இடையில் மட்டுமே வரும்.
- D) வரிவடிவம் மெய்யெழுத்தை ஒத்திருக்கும். ஒலிக்கும் காலஅளவு உயிர் எழுத்தை ஒத்திருக்கும்.
- E) விடை தெரியவில்லை
31. சொற்களை ஒழுங்குப்படுத்தி சொற்றொடராக்குக.
- A) மனிதன் உலகில் இல்லாத பறவை வாழ முடியாது.
- B) பறவை உலகில் இல்லாத மனிதன் வாழ முடியாது.
- C) மனிதன் இல்லாத உலகில் பறவை வாழ முடியாது.
- D) பறவைகள் இல்லாத உலகில் மனிதன் வாழ முடியாது.
- E) விடை தெரியவில்லை



32. பறவைகள் வலசை போவதைப் பற்றிப் பாடிய தமிழ்ப்புலவர் யார்?
A) பாரதியார் B) சத்திமுத்தப்புலவர்
C) என்னயினாப் புலவர் D) காளமேகப்புலவர்
E) விடை தெரியவில்லை
33. அறநூல்களில் 'வாயுறை வாழ்த்து' என்று போற்றப்படும் நூல் எது?
A) புறநானூறு B) திருக்குறள்
C) திருவாசகம் D) நாலடியார்
E) விடை தெரியவில்லை
34. முடியாத செயலை முடியாது எனக் கூறுவோராக வள்ளுவர் எவரைக் குறிப்பிடுகின்றார்?
A) பெரியோர் B) சிறியோர்
C) சான்றோர் D) புலவர்
E) விடை தெரியவில்லை
35. பெற்றெடுத்தபோது அடைந்த மகிழ்ச்சியைவிட ஒருதாய் எப்போது அதிக மகிழ்ச்சி அடைவாள்?
A) தன்னைவிட தம் பிள்ளைகள் அறிவுடையோர் எனில்
B) தன்மகனைச் சான்றோர் எனக் கூறும் போது
C) தன் மகனிடம் செல்வாக்கு உயரும்போது
D) தன் மகன் அன்புடையவனாகத் திகழும் போது
E) விடை தெரியவில்லை
36. ஒருவருக்கு மிகச்சிறந்த அணிகலன்களாகத் திகழ்வனவாக வள்ளுவர் எதனைக் குறிப்பிடுகின்றார்?
A) அறிவு, அன்பு B) அடக்கம், ஒழுக்கம்
C) பணிவு, இன்சொல் D) அன்பு, ஒழுக்கம்
E) விடை தெரியவில்லை
37. "இனிய உளவாக இன்னாத கூறல் கனியிருப்பக் காய்கவர்ந் தற்று" – இக்குறட்பாவில் பயின்றுவரும் அணி யாது?
A) உவமை அணி
B) இல்பொருள் உவமை அணி
C) எடுத்துக்காட்டு உவமை அணி
D) பிறிதுமொழிதல் அணி
E) விடை தெரியவில்லை
38. 'செயற்கரிய செய்வார் பெரியர் சிறியர்' – இக்குறட்பாவில் பயின்று வந்துள்ள மோனை எது?
A) இணை
B) பொழிப்பு
C) ஒருஉ
D) முற்று
E) விடை தெரியவில்லை

39. “தம்மை ஒத்த அலைநீளத்தில் சிந்திப்பவர்” என்று மேதகு அப்துல்கலாம் அவர்களால் பாராட்டப் பெற்றவர் யார்?
- A) டாக்டர் மயில்சாமி அண்ணாதுரை B) நெல்லை சு.முத்து
 C) டாக்டர் கை.சிவன் D) டாக்டர் சலீம் அலி
 E) விடை தெரியவில்லை
40. பின்வரும் கூற்றுகளைக் கருத்தில் கொள்க.
- I. காரல் கபெக் “ரோபோ” என்னும் சொல்லை முதன்முதலாகப் பயன்படுத்தினார்.
 II. ரோபோ என்ற சொல்லுக்கு ‘அடிமை’ என்பது பொருள்.
 III. 1997ஆம் ஆண்டு நடைபெற்ற சதுரங்கப்போட்டியில் உலக சதுரங்க வெற்றியாளர் கேரி கேஸ்புரோவ் என்பவருடன் ஐ.பி.எம் என்னும் நிறுவனம் உருவாக்கிய டீப் புளு என்னும் மீத்திறன் கணினி போட்டியிட்டது.
 மேற்கண்ட கூற்றுகளில் சரியானவை எவை?
- A) I மற்றும் II மட்டும்
 B) II மற்றும் III மட்டும்
 C) I மற்றும் III மட்டும்
 D) மேற்கண்ட அனைத்தும்
 E) விடை தெரியவில்லை
41. பின்வரும் கூற்றுகளைக் கருத்தில் கொள்க.
- I. உலகிலேயே முதன்முதலாக சவுதி அரேபியா “சோபியா” எனும் ரோபோவுக்குக் குடியரிமை வழங்கியுள்ளது.
 II. இந்த ரோபோவிற்கு ஐக்கிய நாடுகள் சபை ‘புதுமைகளின் வெற்றியாளர்’ என்னும் பட்டத்தை வழங்கியது.
 மேற்கண்ட கூற்றுகளில் தவறானது எது/எவை?
- A) I மட்டும் B) II மட்டும்
 C) இரண்டும் D) இரண்டுமில்லை
 E) விடை தெரியவில்லை
42. தவறான கூற்றினைத் தேர்ந்தெடுக்க.
- A) உயிர்எழுத்துகள் பன்னிரண்டும் சொல்லின் முதலில் வரும்
 B) ஞ, ஞா, ஞெ, ஞொ ஆகிய நான்கு எழுத்துகளும் சொல்லின் முதலில் வரும்.
 C) க, ச, த, ந, ப, ம ஆகிய வரிசைகளில் உள்ள எல்லா உயிர்மெய் எழுத்துகளும் சொல்லின் முதலில் வரும்.
 D) மெய்யெழுத்துகள் பதினெட்டும் சொல்லின் முதலில் வரும்.
 E) விடை தெரியவில்லை
43. பின்வரும் கூற்றுகளைக் கருத்தில் கொள்க.
- கூற்று (A) :** பிப்ரவரி 28ஆம் நாள் “தேசிய அறிவியல் நாள்” எனக் கொண்டாடப்படுகிறது.
காரணம் (R) : 1928 பிப்ரவரி 28ஆம் நாள் “இராமன் விளைவு” என்னும் கண்டுபிடிப்பை சர்.சி.வி.ராமன் வெளியிட்டார்.

குறியீடுகள்:

- A) கூற்று மற்றும் காரணம் இரண்டும் சரி மற்றும் காரணம் என்பது கூற்றின் சரியான விளக்கமாகும்
- B) கூற்று மற்றும் காரணம் இரண்டும் சரி ஆனால் காரணம் என்பது கூற்றின் சரியான விளக்கமல்ல
- C) கூற்று சரி ஆனால் காரணம் தவறு
- D) கூற்று தவறு ஆனால் காரணம் சரி
- E) விடை தெரியவில்லை

44. “..... கற்றோர்க்குச்

சென்ற இடமெல்லாம் சிறப்பு” என்னும் பாடல் வரிகள் இடம்பெற்றுள்ள நூல் எது?

- A) நல்வழி
B) ஆத்திதூடி
C) கொன்றை வேந்தன்
D) மூதுரை
E) விடை தெரியவில்லை

45. திரையிசைப் பாடல்களில் உழைப்பாளிகளின் உயர்வைப் போற்றிப் பாடியவர் யார்?

- A) மக்கள் கவிஞர்
B) திரைகவித் திலகம்
C) பகுத்தறிவுக் கவிஞர்
D) காந்தியக் கவிஞர்
E) விடை தெரியவில்லை

46. காமராசரின் திட்டங்களுள் பொருந்தா ஒன்றினைத் தேர்ந்தெடுக்க.

- A) சீருடைத் திட்டம்
B) சத்துணவுத் திட்டம்
C) இலவசக் கட்டாயக் கல்வி
D) மேற்கூறிய அனைத்தும்
E) விடை தெரியவில்லை

47. கல்வி வளர்ச்சி நாளாகக் கொண்டாடப்படுவது எப்போது?

- A) ஜீன் 15
B) ஜீலை 15
C) ஆகஸ்டு 25
D) ஜீன் 25
E) விடை தெரியவில்லை

48. காமராசருக்குச் செய்யப்பட்ட சிறப்புகளுள் பொருந்தா ஒன்றினைத் தேர்ந்தெடுக்க.

- A) சென்னைப் பல்கலைக்கழகத்திற்கு காமராசர் பெயர் சூட்டப்பட்டுள்ளது.
- B) நடுவண் அரசு 1976இல் பாரதரத்னா விருது வழங்கியது.
- C) சென்னை மெரினா கடற்கரையில் சிலை நிறுவப்பட்டது.
- D) சென்னையில் உள்ள உள்நாட்டு விமான நிலையத்திற்குக் காமராசர் பெயர் சூட்டப்பட்டுள்ளது.
- E) விடை தெரியவில்லை

49. ‘இந்திய நூலகவியலின் தந்தை’ என அழைக்கப்படுபவர் யார்?

- A) சீனிவாச இராமானுஜர்
B) இரா.அரங்கநாதன்
C) அறிஞர் அண்ணா
D) அண்ணல் அம்பேத்கர்
E) விடை தெரியவில்லை

50. தவறான கூற்றினைத் தேர்ந்தெடுக்க.
- A) ஆறு வல்லின மெய் எழுத்துகளுக்கும் ஆறு மெல்லின எழுத்துகளும் இன எழுத்துகள் ஆகும்.
 B) மெல்லின மெய் எழுத்தை அடுத்துப் பெரும்பாலும் அதன் இனமாகிய வல்லின எழுத்து வரும்.
 C) தமிழ் எழுத்துகளில் ஆய்த எழுத்திற்கு இனமாக உயிர் எழுத்துகள் வரும்.
 D) ஐ என்னும் எழுத்துக்கு இ என்பது இன எழுத்தாகும். ஔ என்னும் எழுத்துக்கு உ என்பது இன எழுத்தாகும்.
 E) விடை தெரியவில்லை
51. ஆசாரக்கோவை என்பதன் பொருள் யாது?
- A) நல்ல ஒழுக்கங்களின் தொகுப்பு
 B) பெரியோரின் அறிவுரை
 C) நல்ல நம்பிக்கைகளின் தொகுப்பு
 D) நல்ல சிந்தனைகளின் தொகுப்பு
 E) விடை தெரியவில்லை
52. “ஆசாரக்கோவை” பற்றி பின்வரும் கூற்றுகளைக் கருத்தில் கொள்க.
- I. இதன் ஆசிரியர் பெருவாயின் முள்ளியார்.
 II. இந்நூல் பதினெண்கீழ்க்கணக்கு நூல்களுள் ஒன்று இந்நூல் நூறு வெண்பாக்களைக் கொண்டது.
- மேற்கூறியவற்றுள் சரியானது எது/எவை?
- A) I மட்டும்
 B) II மட்டும்
 C) இரண்டும்
 D) இரண்டுமில்லை
 E) விடை தெரியவில்லை
53. “பழையன கழிதலும் புதியன புகுதலும்” என்னும் தொடர் இடம்பெற்றுள்ள நூல் எது?
- A) புறப்பொருள் வெண்பாமாலை
 B) தொல்காப்பியம்
 C) நன்னூல்
 D) சிலப்பதிகாரம்
 E) விடை தெரியவில்லை
54. பின்வரும் தவறானக் கூற்றுகளைக் கருத்தில் கொள்க.
- A) திருவள்ளூர் கி.மு (பொ.ஆ.மு) 31இல் பிறந்தவர் திருவள்ளூர் ஆண்டைக் கணக்கிட நடைமுறை ஆண்டுடன் 31 ஐ நீக்கிக்கொள்ள வேண்டும்.
 B) மஞ்சவிரட்டு என்பது மாடுகளை அடக்கித் தழுவும் வீர விளையாட்டு ஆகும். இவ்விளையாட்டு மாடுபிடித்தல், ஜல்லிக்கட்டு, ஏறுதழுவுதல் என்று அழைக்கப்படுகிறது
 C) தை முதல் நாளில் திருவள்ளூரராண்டு தொடங்குகிறது தை இரண்டாம் நாள் திருவள்ளூர் நாள் கொண்டாடப்படுகிறது.
 D) மாடு என்ற சொல்லுக்குச் செல்வம் என்னும் பொருளும் உண்டு. அக்காலத்தில் போகிப்பண்டிகை இந்திரவிழாவாகக் கொண்டாடப்பட்டது.
 E) விடை தெரியவில்லை

55. பொருத்துக

(மாநிலம்)

(அறுவடைத்திருநாள்)

a) தமிழ்நாடு

1. உத்தராயன்

b) உத்திரப் பிரதேசம்

2. லோரி

c) பஞ்சாப்

3. மகரசங்கராந்தி

d) இராஜஸ்தான்

4. பொங்கல்

குறியீடுகள் :

	a	b	c	d
A)	4	3	2	1
B)	4	2	3	4
C)	4	3	1	2
D)	4	1	2	3

E) விடை தெரியவில்லை

56. பின்வரும் சரியானக் கூற்றுகளைக் கருத்தில் கொள்க.

I. மாமல்லபுரத்தில் கட்டப்பட்டுள்ள இரதக்கோவில் மாமல்லனால் கி.பி ஏழாம் நூற்றாண்டில் கட்டப்பட்டது.

II. ஐந்து இரதங்கள் உள்ளதால் இவ்விடத்திற்குப் பஞ்சபாண்டவர் இரதம் என்று பெயர். மேற்கூறியவற்றுள் சரியானது எது/எவை?

A) I மட்டும்

B) II மட்டும்

C) இரண்டும்

D) இரண்டுமில்லை

E) விடை தெரியவில்லை

57. “அர்ச்சுனன் தபசு” பாறைகளில் காணப்படும் சிற்பங்கள் எது?

A) குடைவரைக் கோவில்கள்

B) கட்டுமானக் கோவில்கள்

C) ஒற்றைக் கல் கோவில்கள்

D) புடைப்புச் சிற்பங்கள்

E) விடை தெரியவில்லை

58. ஒலி வேறுபாடறிந்து பொருள் தருக.

(வாணம்)

(வாணம்)

A) ஆகாயம்

— குளிர்ச்சி

B) ஆகாயம்

— வெடி

C) ஆகாயம்

— வேலை

D) ஆகாயம்

— வெண்மை

E) விடை தெரியவில்லை

59. மயங்கொலிப் பிழையற்ற தொடரினைத் தேர்ந்தெடு

A) எண் வீட்டுத் தோட்டத்தில் மலர்கள் மனம் வீசின

B) தேர்த் திருவிலாவிற்குச் சென்றனர்

C) வாழைப்பலம் உடலுக்கு மிகவும் நல்லது

D) புலியின் கண் சிவந்து காணப்படும்

E) விடை தெரியவில்லை

60. சரியான கூற்றை கண்டறிக.
- A) கதிரவன் மறைவன் காலையில் உதித்து மாலையில்
 B) மாலையில் காலையில் உதித்து மறையும் கதிரவன்
 C) கதிரவன் காலையில் உதித்து மாலையில் மறையும்
 D) மறையும் காலையில் கதிரவன் உதித்து மாலையில்
 E) விடை தெரியவில்லை
61. கள்ளாமை என்னும் அதிகாரத்தின் பொருள் யாது?
- A) கள் உண்ணாமை
 B) களவு செய்யாமை
 C) கல்வி அறிவில்லாமை
 D) ஊக்கமில்லாமை
 E) விடை தெரியவில்லை
62. ஆக்கமானது தானே வழிகேட்டுக்கொண்டு எவரிடம் செல்லும்?
- A) கல்வி அறிவுடையவன்
 B) ஊக்கம் உடையவன்
 C) விருந்தோம்பல் புரிபவன்
 D) ஒழுக்கமுடையவன்
 E) விடை தெரியவில்லை
63. நாம் எத்தகைய சொற்களைப் பேசவேண்டும் என்று வள்ளுவர் கூறுகின்றார்?
- A) இனிய சொற்கள்
 B) இனியா சொற்கள்
 C) பயன்தரு சொற்கள்
 D) பயன்தரா சொற்கள்
 E) விடை தெரியவில்லை
64. “ஆழக் கடல்கடந்தான் அஞ்சம் சமூர் கடந்தான்” எனும் பாடல் வரியின் கோடிட்ட சொல்லின் பொருள் யாது?
- A) கப்பல்
 B) வயல்
 C) போர்
 D) வீரம்
 E) விடை தெரியவில்லை
65. “முடியரசன்” பற்றிய பின்வரும் தவறானக் கூற்றுகளைக் கருத்தில் கொள்க.
- I. இவரது இயற்பெயர் துரைராசு.
 II. வீரகாவியம், காவியப்பாவை முதலிய நூல்களை எழுதியுள்ளார்.
 மேற்கூறியவற்றுள் தவறானது எது/எவை?
- A) I மட்டும்
 B) II மட்டும்
 C) இரண்டும்
 D) இரண்டுமில்லை
 E) விடை தெரியவில்லை
66. “நாட்டுப்புற இயல் ஆய்வு” என்னும் நூலினைத் தொகுத்தவர் யார்?
- A) ஜி.வா.ஜகநாதன்
 B) நா.பார்த்தசாரதி
 C) சு.சக்திவேல்
 D) நா.வானமாமலை
 E) விடை தெரியவில்லை



67. பின்வரும் இணைகளை கருத்தில் கொள்க.

(கூற்று)

(இடம்பெற்றுள்ள நூல்)

- | | |
|------------------------------------|----------------|
| I. நடுவு நின்ற நன்னெஞ்சினோர் | – பட்டினப்பாலை |
| II. உமணர் போகலும் | – நற்றிணை |
| III. பாலொடு வந்து கூழொடு பெயரும் | – குறுந்தொகை |
| IV. பொன்னொடு வந்து கறியொடு பெயரும் | – புறநானூறு |
- எத்தனை இணைகள் சரியாக பொருந்தியுள்ளன?
- | | |
|---------------------|--------------|
| A) I இணை | B) II இணைகள் |
| C) III இணைகள் | D) IV இணைகள் |
| E) விடை தெரியவில்லை | |

68. பின்வரும் சரியானக் கூற்றுகளைக் கருத்தில் கொள்க.

- I. பழங்காலத்தில் தமிழ்நாட்டில் இருந்து தேக்கு, மயில்தோகை, அரிசி, சந்தனம், இஞ்சி, மிளகு போன்றவை பிற நாடுகளுக்கு ஏற்றுமதி செய்யப்பட்டன.
- II. சீனத்திலிருந்து கண்ணாடி, கற்பூரம், பட்டு போன்றவை இறக்குமதி செய்யப்பட்டன. அரேபியாவில் இருந்து குதிரைகள் வாங்கப்பட்டன.

மேற்கூறியவற்றுள் தவறானது எது/எவை?

- | | |
|---------------------|-----------------|
| A) I மட்டும் | B) II மட்டும் |
| C) இரண்டும் | D) இரண்டுமில்லை |
| E) விடை தெரியவில்லை | |

69. “கொள்வதும் மிகை கொளாது

கொடுப்பதும் குறைபடாது” என்னும் தொடர் இடம்பெற்றுள்ள நூல் எது?

- | | |
|---------------------|-------------------|
| A) பரிபாடல் | B) பட்டினப்பாலை |
| C) புறநானூறு | D) பதிற்றுப்பத்து |
| E) விடை தெரியவில்லை | |

70. பின்வரும் இணைகளை கருத்தில் கொள்க.

(ஆங்கிலச் சொல்)

(தமிழ்ச்சொல்)

- | | |
|---------------------|------------------|
| I. ஆன்லைன் ஷாப்பிங் | – மின்னணு வணிகம் |
| II. செக் | – வரைவோலை |
| III. கரன்சி நோட் | – பணத்தாள் |
| IV. டெபிட் கார்டு | – கடன் அட்டை |

எத்தனை இணைகள் சரியாக பொருந்தியுள்ளன?

- | | |
|---------------------|--------------|
| A) I இணை | B) II இணைகள் |
| C) III இணைகள் | D) IV இணைகள் |
| E) விடை தெரியவில்லை | |

71. “பாடுபட்டுத் தேடிய பணத்தைப் புதைத்து வைக்காதீர்” என்று கூறியவர் யார்?

- | | |
|---------------------|-------------------|
| A) ஒளவையார் | B) பிசிராந்தையார் |
| C) திருவள்ளுவர் | D) கபிலர் |
| E) விடை தெரியவில்லை | |

72. தவறானக் கூற்றை கண்டறிக.
- A) இவன் அவன் இது அது - இச்சொற்களில் உள்ள சுட்டு எழுத்துகள் “அகச்சுட்டு” ஆகும்.
 B) அவ்வானம் இம்மலை - இச்சொற்களில் உள்ள சுட்டு எழுத்துகள் “பறச்சுட்டு” ஆகும்.
 C) அண்மைச்சுட்டுக்குரிய எழுத்து “அ” ஆகும்.
 D) அருகில் உள்ளவற்றிற்கும் தொலைவில் உள்ளவற்றிற்கும் இடையில் இருப்பதைச் சுட்டிக்காட்ட “உ” என்ற சுட்டெழுத்து அக்காலத்தில் பயன்படுத்தப்பட்டுள்ளது.
 E) விடை தெரியவில்லை
73. பின்வரும் இணைகளை கருத்தில் கொள்க.
- I. எ, யா, ஆ, ஓ, ஏ, ஆகிய ஐந்தும் வினா எழுத்துகள் ஆகும்
 II. மொழியின் இறுதியில் வரும் வினா எழுத்து - எ, யா
 III. மொழியின் இறுதியில் வரும் வினா எழுத்து - ஆ, ஓ
 IV. மொழி முதலிலும் இறுதியிலும் வரும் வினா எழுத்து - ஏ
 எத்தனை இணைகள் சரியாக பொருந்தியுள்ளன?
- A) I இணை
 B) II இணைகள்
 C) III இணைகள்
 D) IV இணைகள்
 E) விடை தெரியவில்லை
74. நவமணிகளை அகரவரிசைப்படுத்துக.
- A) கோமேதகம், நீலம், மரகதம், மாணிக்கம், முத்து, பவளம், புஷ்பராகம், வைரம், வைரூரியம்.
 B) கோமேதகம், நீலம், பவளம், புஷ்பராகம், மரகதம், மாணிக்கம், முத்து, வைரூரியம், வைரம்.
 C) கோமேதகம், நீலம், மரகதம், மாணிக்கம், முத்து, வைரம், வைரூரியம், பவளம், புஷ்பராகம்.
 D) நீலம், முத்து, வைரம், பவளம், மரகதம், மாணிக்கம், வைரூரியம், கோமேதகம், புஷ்பராகம்.
 E) விடை தெரியவில்லை
75. கலைச்சொல் தருக: Ferries
- A) கடற்பயணம்
 B) கலப்படம்
 C) பயணப்படகுகள்
 D) வணிகர்
 E) விடை தெரியவில்லை
76. “கவிஞாயிறு” என்னும் அழைக்கப்படுபவர் யார்?
- A) இராதாகிருஷ்ணன்
 B) முடியரசன்
 C) தேவநேயப் பாவாணர்
 D) பரிதிமாற்கலைஞர்
 E) விடை தெரியவில்லை
77. “திராவிட நாட்டின் வானம்பாடி” என்னும் அழைக்கப்படுபவர் யார்?
- A) முடியரசன்
 B) தாராபாரதி
 C) பட்டுக்கோட்டை கல்யாணசுந்தரம்
 D) மருதகாசி
 E) விடை தெரியவில்லை

78. 1937 ஆம் ஆண்டு சென்னையில் நடைபெற்ற இலக்கிய மாநாட்டிற்கு தலைமை வகித்தவர் யார்?
- A) உ.வே.சாமிநாதர்
 B) காந்தியடிகள்
 C) பாரதியார்
 D) திரு.வி.க
 E) விடை தெரியவில்லை
79. காந்தியடிகளை கவர்ந்த தமிழ் நூல்கள் எவை?
- A) திருக்குறள் கம்பராமாயணம்
 B) திருக்குறள், புறநானூறு
 C) ஜி.யு.போப் எழுதிய தமிழ்க்கையேடு, திருக்குறள்
 D) திருக்குறள், நாலடியார்
 E) விடை தெரியவில்லை
80. பின்வரும் சரியானக் கூற்றுகளைக் கருத்தில் கொள்க.
- I. வேலுநாச்சியார் தாய்மொழியாகிய தமிழ் மட்டும் அல்லாமல் ஆங்கிலம், பிரெஞ்சு, உருது ஆகிய மொழிகளையும் சிறப்பாகக் கற்றார்.
 II. வேலுநாச்சியார் சிவகங்கையை மீட்ட ஆண்டு 1780.
 III. ஜான்சிராணிக்கு முன்பே ஆங்கிலேயரை எதிர்த்து வீரப்போர் புரிந்தவர் வேலுநாச்சியார்.
 மேற்கூறியவற்றுள் சரியானது எது/எவை?
- A) I மற்றும் II மட்டும்
 B) II மற்றும் III மட்டும்
 C) I மற்றும் III மட்டும்
 D) இவை அனைத்தும்
 E) விடை தெரியவில்லை
81. “வளவனும் தங்கையும் மாநகரப் பேருந்தில் ஏறினர்”- இத்தொடரில் அமையப்பெற்றுள்ள உரிச்சொல்லைத் தேர்ந்தெடு?
- A) வளவனும்
 B) பேருந்து
 C) ஏறினர்
 D) மாநகரப்
 E) விடை தெரியவில்லை
82. கீழ்க்கண்டவற்றுள் பிழையற்ற தொடரினைத் தேர்ந்தெடு?
- A) ஒரு அழகிய சிற்றூரில் ஓர் குளம் இருந்தது
 B) ஒரு இரவும் ஓர் பகலும் சேர்ந்தது ஒருநாள்
 C) அது இல்லாத இடத்தில் எதுவும் நடக்காது
 D) அது நன்றாக உள்ளது
 E) விடை தெரியவில்லை
83. வ.உ.சி பற்றிய பின்வரும் சரியானக் கூற்றுகளைக் கருத்தில் கொள்க.
- I. வழக்கறிஞர், எழுத்தாளர், பேச்சாளர், தொழிற்சங்கத் தலைவர் என்னும் பன்முகத்தன்மை பெற்றிருந்தார்.
 II. 1905 ஆம் ஆண்டு அக்டோபர் 16 ஆம் நாள் “சுதேசி நாவாய்ச் சங்கம்” என்ற கப்பல் நிறுவனத்தைப் பதிவு செய்தார்.
 III. சென்னைக்குச் செல்லும்போது பாரதியாரைச் சந்திப்பதை வழக்கமாகக் கொண்டிருந்தார்.

மேற்கூறியவற்றுள் சரியானது எது/எவை?

- A) I மற்றும் II மட்டும்
 B) II மற்றும் III மட்டும்
 C) I மற்றும் III மட்டும்
 D) இவை அனைத்தும்
 E) விடை தெரியவில்லை

84. “தமிழ் மொழியின் உபநிடதம்” என்று அழைக்கப்படும் நூல் எது?

- A) தாயுமானவர் பாடல்கள்
 B) திருக்குறள்
 C) திருமந்திரம்
 D) திருவிளையாடற்புராணம்
 E) விடை தெரியவில்லை

85. “அறம் செழிக்கட்டும் மக்களின் பசினோய் ஒழியட்டும்” என்று மணிமேகலையிடம் கூறியவர் யார்?

- A) கோமுகி
 B) தீவதிலகை
 C) மணிமேகலா தெய்வம்
 D) ஆதிரை
 E) விடை தெரியவில்லை

86. சிறைச்சாலையில் தண்டனை பெற்றுள்ளவர்கள் திருந்தி வாழ வழிகாண வேண்டும். “சிறைக்கோட்டம் அறக்கோட்டமாக மாற வேண்டும்” என்று கூறியவர் யார்?

- A) மணிமேகலை
 B) சிறைக்கைதிகள்
 C) மன்னன்
 D) புத்தர்
 E) விடை தெரியவில்லை

87. எஸ்.ராமகிருஷ்ணன் படைப்புகளுள் பொருந்தா ஒன்றினைத் தேர்ந்தெடு?

- A) கதாவிলাசம்
 B) உபபாண்டவம்
 C) தீர்க்கதரிசி
 D) கால் முளைத்த கதைகள்
 E) விடை தெரியவில்லை

88. பொருத்துக

- a) இடுகுறிப் பொதுப்பெயர் 1. வளையல்
 b) இடுகுறிப் சிறப்புப்பெயர் 2. அணி
 c) காரணப் பொதுப்பெயர் 3. கருவேலங்காடு
 d) காரணச் சிறப்புப்பெயர் 4. மரம்

குறியீடுகள் :

- | | a | b | c | d |
|----|------------------|----------|----------|----------|
| A) | 4 | 3 | 2 | 1 |
| B) | 4 | 2 | 3 | 4 |
| C) | 4 | 3 | 1 | 2 |
| D) | 4 | 1 | 2 | 3 |
| E) | விடை தெரியவில்லை | | | |

89. எவை நான்கும் இல்லாமல் வாழ்வதே அறம் என வள்ளுவர் குறிப்பிடுகின்றார்?
 A) வெஃகாமை, கல்லாமை, கள்ளாமை, இன்னா செய்யாமை
 B) கொல்லாமை, ஈகை, பெரியாரைப் பிழையாமை, இன்னா செய்யாமை
 C) அழுக்காறு, அவா, வெகுளி, இன்னாச்சொல்
 D) வெகுளாமை, கொல்லாமை, பெரியாரைப் பிழையாமை, இன்னா செய்யாமை
 E) விடை தெரியவில்லை
90. பின்வரும் தவறான இணையைத் கருத்தில் கொள்க
 (கூற்று) (கூறியவர்)
 A) “வாழ்க்கை என்பது நீ சாகும் வரை அல்ல
 மற்றவர் மனதில் நீ வாழும் வரை” – அன்னை தெரசா
 B) “வாடிய பயிரைக் கண்ட போதெல்லாம் வாடினேன்” – வள்ளலார்
 C) “குழந்தைகளைத் தொழிலாளர்களாக மாற்றுவது மனிதத்
 தன்மைக்கு எதிரான குற்றம். உலகத்தைக் குழந்தைகளின்
 கண் கொண்டு பாருங்கள், உலகம் அழகானது” – கைலாஷ் சத்யார்த்தி
 D) “அன்பர்பணி செய்யஎனை ஆளாக்கி விட்டுவிட்டால்
 இன்பநிலை தானேவந்து எய்தும்” – கவிமணி
 E) விடை தெரியவில்லை
91. கைலாஷ் சத்யார்த்தி தொடங்கிய இயக்கம் எது?
 A) குழந்தைகளைப் பாதுகாப்போம் B) குழந்தைகளைப் நேசிப்போம்
 C) குழந்தைகளைப் வளர்ப்போம் D) குழந்தைகளைப் உதவிமையம்
 E) விடை தெரியவில்லை
92. “வாய்மொழி இலக்கியம்” என்றழைக்கப்படுவது எது?
 A) தூது B) பள்ளு
 C) குற்றாலக் குறவஞ்சி D) நாட்டுபுறப்பாடல்
 E) விடை தெரியவில்லை
93. காந்தியடிகள் எளிமையான உடை அணிய காரணமாக இருந்த ஊர் எது?
 A) சென்னை B) மதுரை
 C) திருநெல்வேலி D) திருச்சி
 E) விடை தெரியவில்லை
94. “விரல்நுனி வெளிச்சங்கள்” என்ற நூலை எழுதியவர் யார்?
 A) சுரதா B) முடியரசன்
 C) புவியரசு D) தாராபாரதி
 E) விடை தெரியவில்லை
95. தால் என்பது ?
 A) பாதம் B) கால்
 C) தலை D) நாக்கு
 E) விடை தெரியவில்லை



96. “தமிழியக்கம்” என்ற நூலின் ஆசிரியர் யார்?
 A) பாரதியார் B) பாரதிதாசன்
 C) திரு.வி.க D) சுரதா
 E) விடை தெரியவில்லை
97. வேலுநாச்சியாரை காட்டிக் கொடுக்க வேண்டி ஆங்கிலேயர்களால் துன்புறுத்தப்பட்டவர் யார்?
 A) தாண்டவராயர் B) மருது சகோதரர்கள்
 C) குயிலி D) உடையாள்
 E) விடை தெரியவில்லை
98. சித்தம் என்பதன் பொருள் யாது?
 A) உள்ளம் B) மணம்
 C) குணம் D) வனம்
 E) விடை தெரியவில்லை
99. “குளிர்நீரில் குளித்தால்
 கூதல் அடிக்குமென்று
 வெந்நீரில் குளித்தால்
 மேலே கருக்குமென்று
 ஆகாச கங்கை
 அனல் உறைக்குமென்று
 பாதாள கங்கையைப்
 பாடி அழைத்தார் உன் தாத்தா” – இப்பாடலில் பயின்று வந்துள்ள அணி யாது-
 A) தன்மை நவிற்கி அணி B) இயல்வு நவிற்கி அணி
 C) உயர்வு நவிற்கி அணி D) வேற்றுமை அணி
 E) விடை தெரியவில்லை
100. காவிரிக்கரை வரை எதிரொலிக்கும் இனிமையான பாடல்களை இயற்றியவர் யாரெனத் தாராபாரதி தமது பாடலில் குறிப்பிடுகின்றார்?
 A) பாரதியார் B) கம்பர்
 C) காளிதாசர் D) தாசூர்
 E) விடை தெரியவில்லை

101. பின்வருவனவற்றிலிருந்து தவறான கூற்றை அடையாளம் காணவும்
- A) மறைமலை அடிகள் தூய தமிழ்ச் சொற்களைப் பயன்படுத்துவதையும் தமிழ் மொழியிலிருந்து சமஸ்கிருத செல்வாக்கை அகற்றுவதையும் ஊக்குவித்தார்.
- B) இவரது பத்திரிகையான ஞானசாகரம், “அறிவுக்கடல்” எனப் பெயரிடப்பட்டது மற்றும் அவரது நிறுவனமான சமரச சன்மார்க்க சங்கம், “பொது நிலைக் கழகம்” என மறுபெயரிடப்பட்டது.
- C) மறைமலை அடிகள் தமிழ் மொழியியல் தூய்மை வாதத்தின் தந்தையாகவும், தனித்தமிழ் இயக்கத்தை (தூய தமிழ் இயக்கம்) உருவாக்கியவர் எனவும் கருதப்படுகிறார்.
- D) இவர் தமிழ் சொற்களஞ்சியத்தில் ஊடுருவிய சமஸ்கிருத சொற்களுக்கு இணையான பொருள் தரக்கூடிய தமிழ் சொற்களடங்கிய அகராதி ஒன்றை தொகுத்தார்.
- E) விடை தெரியவில்லை

Identify the incorrect statement from the following

- A) Maraimalai Adigal promoted the use of pure Tamil words and removal of the Sanskrit influence from the Tamil language.
- B) His journal Jnanasagaram was renamed Arivukkadal and his institution, Samarasa Sanmarga Sangam, was re-christened as Pothu Nilai Kalakam
- C) Maraimalai Adigal is considered the father of Tamil linguistic purism and the founder of Tani Tamil Iyakkam (Pure Tamil Movement).
- D) He compiled a dictionary that provided pure Tamil equivalents to Sanskrit words that had crept into Tamil vocabulary.
- E) Answer not known
102. 1920ஆம் ஆண்டு மாண்டேகு-செம்ஸ்டீபோர்ட் சீர்திருத்தத்தின் அடிப்படையில் நடைபெற்ற முதல் தேர்தலில், நீதிக்கட்சி தேர்தலில் வெற்றி பெற்று, சென்னையில் எந்த முதலமைச்சரின் கீழ் ஆட்சி அமைத்தது?
- A) பனகல் அரசர்
- B) ஏ.சுப்பராயலு
- C) பி.முனுசாமி
- D) பி.சுப்பராயன்
- E) விடை தெரியவில்லை
- After the first election, under the Montagu- Chelmsford Reforms, was held in 1920, the Justice Party won the election and formed the first-ever Indian cabinet in Madras under the chief minister-ship of
- A) Raja of Pungal
- B) A. Subbarayalu
- C) B.Munusamy
- D) P.Subbarayan
- E) Answer not known

103. பின்வரும் கூற்றுகளைக் கருத்தில் கொள்க.
- கூற்று (A)** : முத்துலட்சுமி அம்மையார் 1926ல் இந்தியாவின் முதல் பெண் சட்டமன்ற உறுப்பினரானார்.
- காரணம் (R)** : நீதிகட்சியின் கீழிருந்த சட்டமன்றம் தான் முதன்முதலாக தேர்தல் அரசியலில் பெண்கள் பங்கேற்பதை 1921-இல் அங்கீகரித்தது.

குறியீடுகள் :

- A) (A) மற்றும் (R) இரண்டும் சரி மற்றும் (R) என்பது (A)-யின் சரியான விளக்கமாகும்.
 B) (A) மற்றும் (R) இரண்டும் சரி ஆனால் (R) என்பது (A)-யின் சரியான விளக்கமல்ல.
 C) (A) சரி ஆனால் (R) தவறு.
 D) (A) தவறு ஆனால் (R) சரி.
 E) விடை தெரியவில்லை

Consider the following statements:

Assertion (A) : Muthulakshmi Ammaiyar became the first woman legislator in India in 1926.

Reason (R) : Justice Party Government was the first to approve participation of women in the electoral politics in 1921.

Codes:

- A) Both (A) and (R) are true and (R) is the correct explanation of (A).
 B) Both (A) and (R) are true but R is not the correct explanation of (A).
 C) (A) is true but (R) is false.
 D) (A) is false but (R) is true
 E) Answer not known

104. கீழ்க்கண்டவற்றில் எது நீதிக்கட்சியால் செய்யப்படவில்லை?

- A) 1926 இல் இந்து சமய அறநிலையச் சட்டம் (HRE)
 B) 1924 இல் பணியாளர் தேர்வு வாரியம்
 C) பல்வேறு சாதிகளையும் சமூகங்களையும் சார்ந்தவர்களுக்கு அரசு வேலையில் சேர்வதற்கு சமமான இடஒதுக்கீடு வழங்க உறுதிப்படுத்த வகுப்புவாத அரசு ஆணைகளை நிறைவேற்றுவதல்
 D) அனைவருக்கும் கட்டாய தொடக்கக் கல்வியை ஊக்குவித்தது
 E) விடை தெரியவில்லை

Which one among the following was not done by Justice Party?

- A) Hindu Religious Endowment (HRE) Act in 1926
 B) Staff Selection Board in 1924
 C) Passing of Communal Government Orders to ensure equitable distribution in appointments among various castes and communities
 D) Promoted compulsory elementary education for all
 E) Answer not known

105. சித்திரபுத்திரன் என்ற புனைப்பெயரில் கட்டுரைகளை எழுதியவர் யார்?

- A) இரட்டைமலை சீனிவாசன்
 B) ஈரோடு வெங்கடப்ப ராமசாமி
 C) ஜார்ஜ் ஜோசப்
 D) ம.சிங்காரவேலர்
 E) விடை தெரியவில்லை

Who frequently wrote columns under the pseudonym of Chitraputtiran?

- A) Rettaimalai Srinivasan
 B) Erode Venkatappa Ramasamy
 C) George Joseph
 D) M. Singaravelar
 E) Answer not known

106. பின்வரும் கூற்றுகளைக் கருத்தில் கொள்க.

கூற்று I : இராஜாஜி, சென்னை மாகாணத்தின் முதலமைச்சராக இருந்த போது (1952-54), தொழிற்கல்வி பயிற்சித் திட்டத்தை அறிமுகப்படுத்தினார்.

கூற்று II : இதற்கு எதிராக பெரியார் செய்த போராட்டத்தின் விளைவாக இராஜாஜியைப் பதவி விலகலுக்கு இட்டுச் சென்றது.

- A) கூற்று I உண்மை; கூற்று II தவறானது
 B) கூற்று I மற்றும் II இரண்டும் உண்மை
 C) கூற்று I மற்றும் II இரண்டும் தவறானவை
 D) I கூற்று தவறானது; கூற்று II உண்மை
 E) விடை தெரியவில்லை

Consider the following statements

Statement I : Rajaji, the Chief Minister of Madras State (1952-54), introduced a vocational education programme

Statement II: Periyar campaigned against it led to the resignation of Rajaji.

- A) Statement I is true; Statement II is false
 B) Both Statement I and II are true
 C) Both Statement I and II are false
 D) Statement I is false; Statement II is true
 E) Answer not known

107. பட்டியல் - I, பட்டியல் - II உடன் பொருத்துக.

பட்டியல் - I

(புத்தகம்)

- a) ஜீவிய சரித சுருக்கம்
 b) சாதி ஒழிப்பு
 c) பெண் ஏன் அடிமையானாள்?
 d) மனோன்மனியம்

பட்டியல் - II

(தொடர்புடைய ஆளுமை)

1. டாக்டர் பி.ஆர். அம்பேத்கர்
 2. பெரியார்
 3. இரட்டைமலை சீனிவாசன்
 4. பி.சுந்தரனார்

குறியீடுகள் :

- | | a | b | c | d |
|----|----------|----------|----------|----------|
| A) | 3 | 1 | 2 | 4 |
| B) | 3 | 2 | 4 | 1 |
| C) | 2 | 1 | 3 | 4 |
| D) | 1 | 2 | 3 | 4 |

E) விடை தெரியவில்லை

Match List-I with List-II.

List-I

(Book)

- a) Jeeviya Saritha Surukkam
 b) Annihilation of Caste
 c) Why the Woman is Enslaved?
 d) Manonmaniam

List-II

(Associated Personality)

1. Dr. B. R. Ambedkar
 2. Periyar
 3. Rettaimalai Srinivasan
 4. P. Sundaranar

**Codes:**

- | | a | b | c | d |
|----|------------------|----------|----------|----------|
| A) | 3 | 1 | 2 | 4 |
| B) | 3 | 2 | 4 | 1 |
| C) | 2 | 1 | 3 | 4 |
| D) | 1 | 2 | 3 | 4 |
| E) | Answer not known | | | |

108. இந்திய தேசிய இயக்கத்தின் போது, எந்தப் போராட்டத்தில் சமூகத்தின் அனைத்துப் பிரிவினரும் கலந்து கொண்டனர்?

- A) ஒத்துழையாமை இயக்கம்
B) சட்டமறுப்பு இயக்கம்
C) வெள்ளையனே வெளியேறு இயக்கம்
D) செளரி செளரா சம்பவம்
E) விடை தெரியவில்லை

During Indian National Movement, in which struggle all the sections of the society participated?

- A) Non-Cooperation Movement
B) Civil Disobedience Movement
C) Quit India Movement
D) Chauri Chaura Incident
E) Answer not known

109. பின்வரும் கூற்றுகளைக் கருத்தில் கொள்க.

கூற்று (A) : சென்னை மாகாணத்தில் இராஜாஜியால் உருவாக்கப்பட்ட முதல் காங்கிரஸ் அமைச்சரவையானது விற்பனை வரியை அறிமுகப்படுத்தியது.

காரணம் (R) : இவர் மதுவிலக்கையும் அறிமுகப்படுத்தினார்.

குறியீடுகள் :

- A) (A) மற்றும் (R) இரண்டும் சரி மற்றும் (R) என்பது (A)-யின் சரியான விளக்கமாகும்.
B) (A) மற்றும் (R) இரண்டும் சரி ஆனால் (R) என்பது (A)-யின் சரியான விளக்கமல்ல.
C) (A) சரி ஆனால் (R) தவறு.
D) (A) தவறு ஆனால் (R) சரி.
E) விடை தெரியவில்லை

Consider the following statements:

Assertion (A) : The first Congress Ministry formed by Rajaji in the Madras Province introduced a sales tax.

Reason (R) : He also introduced prohibition.

Codes:

- A) Both (A) and (R) are true and (R) is the correct explanation of (A).
B) Both (A) and (R) are true but R is not the correct explanation of (A).
C) (A) is true but (R) is false.
D) (A) is false but (R) is true
E) Answer not known

110. எந்த INC மாநாட்டில், பூர்ணா சுயராஜ்ஜியம் (முழு சுதந்திரம்) என்பதே இலக்கு எனத் தீர்மானம் நிறைவேற்றப்பட்டது?

- A) கராச்சி மாநாடு
 B) லாகூர் மாநாடு
 C) கொல்கத்தா மாநாடு
 D) பம்பாய் மாநாடு
 E) விடை தெரியவில்லை

At which INC session, Poorna Swaraj (complete independence) was adopted as the goal Indian National Congress?

- A) Karachi Session
 B) Lahore Session
 C) Kolkata Session
 D) Bombay Session
 E) Answer not known

111. பின்வரும் கூற்றுகளைக் கருத்தில் கொள்க.

கூற்று (A) : காங்கிரஸானது, கவுன்சில்களின் புறக்கணிப்பைத் தொடர் விரும்புவவர்கள் 'மாற்றத்தை விரும்பாதோர்' மற்றும் 'சபைகளுக்கான தேர்தலில் போட்டியிட விரும்புவவர்கள் 'மாற்றத்தை விரும்புவோர்' என்று பிளவுபட்டது.

காரணம் (R) : ஒத்துழையாமை இயக்கம் 1922 இல் திரும்பப் பெறப்பட்டது.

குறியீடுகள் :

- A) (A) மற்றும் (R) இரண்டும் சரி மற்றும் (R) என்பது (A)-யின் சரியான விளக்கமாகும்.
 B) (A) மற்றும் (R) இரண்டும் சரி ஆனால் (R) என்பது (A)-யின் சரியான விளக்கமல்ல.
 C) (A) சரி ஆனால் (R) தவறு.
 D) (A) தவறு ஆனால் (R) சரி.
 E) விடை தெரியவில்லை

Consider the following statements:

Assertion (A) : The Congress was divided between 'no-changers' who wanted to continue the boycott of the councils and 'pro-changers who wanted to contest the elections for the councils.

Reason (R) : The Non-Cooperation Movement was withdrawn in 1922.

Codes:

- A) Both (A) and (R) are true and (R) is the correct explanation of (A).
 B) Both (A) and (R) are true but R is not the correct explanation of (A).
 C) (A) is true but (R) is false.
 D) (A) is false but (R) is true
 E) Answer not known

112. மதராஸ் மாகாணத்தில், வெள்ளையர்களை மட்டும் முழுவதுமாக கொண்ட சைமன் குழுவைப் புறக்கணிக்க அமைக்கப்பட்ட சைமன் புறக்கணிப்பு பிரச்சாரக் குழுவின் தலைவர் யார்?

- A) C.ராஜாஜி
 B) S.சத்தியமூர்த்தி
 C) K.காமராஜ்
 D) பெரியார்
 E) விடை தெரியவில்லை

In Madras Province, who was the President of Simon Boycott Propaganda Committee set up to boycott the all-white Simon commission?

- A) C.Rajaji
 B) S.Satyamurti
 C) K.Kamaraj
 D) Periyar
 E) Answer not known

113. “விடுதலை பெற இந்தியா எப்படி துயருற்றது” என்ற புத்தகத்தின் ஆசிரியர் யார் ?

- A) பிபின் சந்திர பால்
 B) பாலகங்காதர் திலகர்
 C) தாதாபாய் நௌரோஜி
 D) அன்னிபெசன்ட்
 E) விடை தெரியவில்லை

Who is the author of the book “How India wrought for Freedom and India”?

- A) Bipin Chandra Pal
 B) Bal Gangadhar Tilak
 C) Dadabhai Naoroji
 D) Annie Besant
 E) Answer not known

114. பட்டியல் - I, பட்டியல் - II உடன் பொருத்துக.

பட்டியல் - I

(பத்திரிக்கை)

- a) இந்தியா
 b) ஆந்திர பிரகாசிகா
 c) குடியரசு
 d) காமன் வீல்

குறியீடுகள் :

	a	b	c	d
A)	3	1	4	2
B)	1	2	3	4
C)	4	3	2	1
D)	3	2	1	4

E) விடை தெரியவில்லை

Match List-I with List-II.

List-I

(Journal)

- a) India
 b) Andhra Prakasika
 c) Kudi Arasu
 d) Commonweal

List-II

(Associated with)

1. Justice Party
 2. Home Rule Movement
 3. Swadeshi Movement
 4. Self-Respect Movement

Codes:

	a	b	c	d
A)	3	1	4	2
B)	1	2	3	4
C)	4	3	2	1
D)	3	2	1	4

E) Answer not known

115. தவறாக பொருந்தியுள்ள இணையைக் கண்டறிக.

- A) அருணா ஆசஃப் அலி – திரைமறைவு வானொலி
 B) லக்ஷ்மி செகல் – ஆசாத் ஹிந்த் பெளஜ்
 C) கான் அப்துல் கபார் கான் – செஞ்சட்டைகள்
 D) வினோபா பாவே – பார்வர்டு பிளாக்
 E) விடை தெரியவில்லை

Find out the incorrectly matched pair.

- A) Aruna Asaf Ali – Underground Radio
 B) Lakshmi Sahgal – Azad Hind Fauj
 C) Khan Abdul Ghaffar Khan – The Red Shirts.
 D) Vinobha Bhave – Forward Bloc
 E) Answer not known

116. 1939ல் சுபாஷ் சந்திரபோஸ் யாரை தோற்கடித்து காங்கிரஸின் தலைவரானார்?

- A) காந்தி B) சர்தார் வல்லபாய் படேல்
 C) பட்டாபி சித்தாராமையா D) வினோபா பாவே
 E) விடை தெரியவில்லை

In 1939 Subhas Chandra Bose became the President of the Congress by defeating

- A) Gandhi B) Sardar Vallabhai Patel
 C) Pattabhi Sitaramayya D) Vinobha Bhave
 E) Answer not known

117. தமிழ்நாட்டில் எங்கு கிலாபத் எழுச்சி நடவடிக்கைகளின் முக்கிய மையமாகத் திகழ்ந்தது?

- A) வாணியம்பாடி B) ஈரோடு
 C) காஞ்சிபுரம் D) நெல்லை
 E) விடை தெரியவில்லை

Which place in Tamil Nadu was the epicenter of Khilafat Agitation?

- A) Vaniyambadi B) Erode
 C) Kanchipuram D) Nellai
 E) Answer not known

118. பாதிக்கப்பட்ட சமூகங்களுக்கு ஆற்றிய சேவையின் காரணமாக மதுரை மக்களால் “ரோசாப்பு துரை” என்று அன்புடன் அழைக்கப்பட்டவர் யார்?

- A) NMR சுப்பாராமன் B) திரு.வி. கல்யாணசுந்தரனார்
 C) ஜாராஜ் ஜோசப் D) வ. உ. சிதம்பரனார்
 E) விடை தெரியவில்லை

Who was fondly called as “Rosappu Durai” by the people of Madurai for the services he rendered to the affected communities?

- A) NMR Subbaraman B) Thiru. Vi. Kalyanasundaranar
 C) George Joseph D) V.O. Chidambaranar
 E) Answer not known

119. சென்னை மாகாணத்தில் ஒடுக்கப்பட்ட மக்கள் பிரிவிலிருந்து முதன் முறையாக சட்ட மேலவைக்குத் தேர்ந்தெடுக்கப்பட்டவர் யார்?
- A) நடேசனார் B) இரட்டைமலை சீனிவாசன்
 C) சிங்காரவேலர் D) எம்.சி. இராஜா
 E) விடை தெரியவில்லை
- Who was the first elected member of the Legislative Council from the depressed class in Madras Province?
- A) Natesanar B) Rettaimalai Srinivasan
 C) Singaravelar D) M.C. Rajah
 E) Answer not known
120. இரண்டாம் சுயமரியாதை இயக்க மாநாடு பெரியார் அவர்களால் எங்கு நடத்தப்பட்டது?
- A) ஈரோடு B) செங்கல்பட்டு
 C) விருதுநகர் D) சேலம்
 E) விடை தெரியவில்லை
- Where did the Second Self-Respect movement conference was convened by Periyar?
- A) Erode B) Chengalpattu
 C) Virudhunagar D) Salem
 E) Answer not known
121. சையத் அகமது கான் பற்றிய பின்வரும் கூற்றுகளைக் கருத்தில் கொள்க
- I. படிப்பறிவின்மையே குறிப்பாக, நவீன கல்வியறிவின்மையே இஸ்லாமியர்களுக்குப் பெருந்தீங்கு விளைவித்து, அவர்களைக் கீழ்நிலையில் வைத்துவிட்டது எனக்கருதினார்.
- II. அறிவியல் கழகமொன்றை நிறுவிய இவர் பல அறிவியல் நூல்களை உருது மொழியில் மொழியாக்கம் செய்தார்.
- III. இவர் நிறுவிய ஆங்கிலோ-ஓரியண்டல் கல்லூரி 1930-இல் தரம் உயர்த்தப்பட்டு பல்கலைக்கழகமானது.
- மேற்கண்ட கூற்றுகளில் எது/எவை சரியானது?
- A) II மற்றும் III மட்டும் B) I மற்றும் II மட்டும்
 C) I மற்றும் III மட்டும் D) மேற்கண்ட அனைத்தும்
 E) விடை தெரியவில்லை
- Consider the following statements regarding Sayyid Ahmed Khan:
- I. He thought that lack of education, especially modern education, had harmed the Muslims greatly and kept them backward.
- II. He founded a scientific Society and translated many science books into urdu.
- III. Anglo Oriental College founded by him was raised to the status of university in 1930.
- Which of the statements given above is/are correct?
- A) II and III only B) I and II only
 C) I and III only D) All the above
 E) Answer not known

122. சுவாமி தயானந்த சரஸ்வதி பற்றிய பின்வரும் கூற்றுகளைக் கருத்தில் கொள்க:

- I. இந்து மதத்தில் உள்ள மூட நம்பிக்கைகளை நிராகரித்தார்.
 - II. “வேதங்களுக்குத் திரும்புங்கள்” என்று முழங்கினார்.
 - III. சத்யார்த்தபிரகாஷ் என்ற புத்தகத்தை எழுதினார்.
- மேற்கண்ட கூற்றுகளில் எது/எவை சரியானது?

- A) I மற்றும் II மட்டும்
- B) I மற்றும் III மட்டும்
- C) II மற்றும் III மட்டும்
- D) மேற்கண்ட அனைத்தும்
- E) விடை தெரியவில்லை

Consider the following statements regarding Swami Dayanand Saraswati:

- I. He rejected superstitious beliefs in Hinduism.
- II. He gave the slogan - “Go back to the Vedas”.
- III. He wrote a book called “Satyarthaprakash”

Which of the statements given above is/are correct?

- A) I and II only
- B) I and III only
- C) II and III only
- D) All the above
- E) Answer not known

123. பட்டியல்-Iஐ பட்டியல்-II உடன் பொருத்துக.

பட்டியல்-I

பட்டியல்-II

(இயக்கம்)

(அதனுடன் தொடர்புடைய நபர்கள்)

- | | |
|-----------------------------|-------------------------|
| a) பிரம்ம சமாஜ் | 1. தேபேந்திரநாத் தாகூர் |
| b) பிரார்த்தனா சமாஜ் | 2. ஆத்மா ராம் பாண்டுரங் |
| c) இந்தியாவின் பிரம்ம சமாஜ் | 3. இராஜா ராம் மோகன்ராய் |
| d) ஆதி பிரம்ம சமாஜ் | 4. கேசப் சந்திர சென் |

குறியீடுகள்:

- | | a | b | c | d |
|----|----------|----------|----------|----------|
| A) | 4 | 2 | 3 | 1 |
| B) | 4 | 1 | 2 | 3 |
| C) | 3 | 2 | 1 | 4 |
| D) | 3 | 2 | 4 | 1 |

E) விடை தெரியவில்லை

Match List-I with List-II.

List-I

List-II

(Movement)

(Associated Personality with it)

- | | |
|--------------------------|------------------------|
| a) Brahmo Samaj | 1. Debendranath Tagore |
| b) Prarthana Samaj | 2. Atma Ram Pandurang |
| c) Brahmo Samaj of India | 3. Rajaram Mohan Roy |
| d) Adi Brahmo Samaj | 4. Keshab Chandra Sen |

**Codes:**

	a	b	c	d
A)	4	2	3	1
B)	4	1	2	3
C)	3	2	1	4
D)	3	2	4	1
E)	Answer not known			

124. ஒடுக்கப்பட்ட மக்களின் மேம்பாட்டிற்காக ஸ்ரீ நாராயண தர்ம பரிபாலன இயக்கத்தை நிறுவியவர் யார்?

- A) அய்யா வைகுண்டம்
B) அய்யன்காளி
C) நாராயண குரு
D) குமரன் ஆசான்
E) விடை தெரியவில்லை

Who was the founder of “Shri Narayana dharma Paripalana Yogam” to work for the upliftment of depressed classes?

- A) Ayya Vaikundam
B) Ayyankali
C) Narayana Guru
D) Kumaran Asan
E) Answer not known

125. ஜோதிபா பூலே பற்றிய பின்வரும் கூற்றுகளைக் கருத்தில் கொள்க

- I. இவர் 1852இல் சூரத்தில் “ஒடுக்கப்பட்டோருக்கான” முதல் பள்ளியைத் திறந்தார்.
II. இவர் 1870இல் சத்தியசோதக் சமாஜ் (உண்மையை நாடுவோர் சங்கம்) எனும் அமைப்பைத் தொடங்கினார்
III. “குலாம்கிரி” (அடிமைத்தனம்) என்பது இவருடைய பல தீவிர கருத்துக்களைத் தொகுத்த ஒரு முக்கிய நூல் ஆகும்.

மேற்கண்ட கூற்றுகளில் எது/எவை சரியானது?

- A) I மற்றும் III மட்டும்
B) II மற்றும் III மட்டும்
C) I மற்றும் II மட்டும்
D) மேற்கண்ட அனைத்தும்
E) விடை தெரியவில்லை

Consider the following statements regarding Jyotiba Phule:

- I. He opened the first school for “untouchables” in 1852 at Surat.
II. He launched the Satyashodak Samaj (Truth-Seekers Society) in 1870
III. Gulamgiri (Slavery) is an important text that summarized many of his radical ideas

Which of the statements given above is/are correct?

- A) I and III only
B) II and III only
C) I and II only
D) All the above
E) Answer not known

126. “சாது ஜன பரிபாலன சங்கம்” பற்றி கூற்றுகளைக் கருத்தில் கொள்க.

- I. ஏழை மக்களைப் பாதுகாக்க 1907இல் நிறுவப்பட்ட சங்கம்
 II. ஒடுக்கப்பட்ட மக்களுக்கு கல்வி வழங்க பிரச்சாரம் செய்து இச்சங்கம் நிதி திரட்டியது.

மேற்கண்ட கூற்றுகளில் எது/எவை சரியானது?

- A) I மட்டும்
 B) II மட்டும்
 C) இரண்டும்
 D) இரண்டுமில்லை
 E) விடை தெரியவில்லை

Consider the statements regarding Sadhu Jana Paripalana Sangam:

- I. It was established in 1907 for the protection of the poor.
 II. It campaigned and raised the funds to educate the depressed class people.

Which of the statements given above is/are correct?

- A) I only
 B) II only
 C) Both I and II
 D) Neither I nor II
 E) Answer not known

127. பின்வரும் கூற்றுகளைக் கருத்தில் கொள்க.

- I. பாபா தயாள் தாஸ், நிரங்கரி இயக்கத்தை நிறுவினார்
 II. நிரங்கரி (உருவமற்ற) இறைவனை வழிபட வேண்டுமென வலியுறுத்தினார்.
 III. புலால் உண்பதையும், மது அருந்துவதையும் கைவிடும்படி வலியுறுத்திக் கூறினார்.
 மேற்கண்ட கூற்றுகளில் எது/எவை சரியானது?

- A) I மற்றும் II மட்டும்
 B) III மட்டும்
 C) I மற்றும் III மட்டும்
 D) மேற்கண்ட அனைத்தும்
 E) விடை தெரியவில்லை

Consider the following statements.

- I. Baba Dayal Das, was founder of the Nirankari Movement
 II. He stressed the worship of God as Nirankar (formless).
 III. He reiterated the prohibition on meat-eating, and liquor consumption

Which of the statements given above is/are correct?

- A) I and II only
 B) III only
 C) I and III only
 D) All the above
 E) Answer not known

128. “பார்சி சீர்திருத்த இயக்கத்துடன் தொடர்பு இல்லாதவர் யார்?”

- A) பர்துன்ஜி நௌரோஜி
 B) எஸ்.எஸ் பெங்காலி
 C) சுரேந்திரநாத் பானர்ஜி
 D) பெர்ரம்ஜி மல்பாரி
 E) விடை தெரியவில்லை

“Who is not associated with the Parsi reform movement?”

- A) Furdunji Naoroji
 B) S.S.Bengalee
 C) Surendranath Banerjee
 D) Behrramji Malabari
 E) Answer not known



129. பின்வருவனவற்றில் எது சரியாகப் பொருந்தியுள்ளது?

(இயக்கம்)

(அதனுடன் தொடர்புடைய நபர்கள்)

- | | |
|-------------------------------|-----------------------------|
| I. தியோபந்த் இயக்கம் | – முஹம்மது குவாசிம் நானோதவி |
| II. ரஹ்னுமாய் மஜ்தயாஸ்னன் சபா | – ரஷித் அஹ்மத் கங்கோஹ்ரி |
| III. நாம்தாரி இயக்கம் | – பாபா ராம் சிங் |

குறியீடுகள்:

- | | |
|--------------------------|-------------------------|
| A) I மற்றும் II மட்டும் | B) III மட்டும் |
| C) I மற்றும் III மட்டும் | D) மேற்கண்ட எதுவுமில்லை |
| E) விடை தெரியவில்லை | |

Which of the following is/are correctly matched?

(Movements)

(Associated Personality with it)

- | | |
|--------------------------------|----------------------------|
| I. Deoband Movement | – Muhammad Qasim Nanautawi |
| II. Rahnunai Mazdayasnan Sabha | – Rashid Ahmad Gangotri |
| III. Namdhari Movement | – Baba Ram Singh |

Codes:

- | | |
|---------------------|----------------------|
| A) I and II only | B) III only |
| C) I and III only | D) None of the above |
| E) Answer not known | |

130. அயோத்தி தாசர் பற்றி பின்வரும் கூற்றுகளைக் கருத்தில் கொள்க

- I. 1882ல் ஜான் ரத்தினமும் அயோத்தி தாசரும் திராவிடர் கழகம் என்ற அமைப்பை நிறுவினர்.
- II. 1885ல் திராவிட மகாஜன சபையை நிறுவி, அவ்வமைப்பின் முதல் மாநாட்டை நீலகிரியில் நடத்தினார்.
- III. 1907ல் ஒரு பைசா தமிழன் என்ற வாரப் பத்திரிக்கையைத் இதழைத் தொடங்கினார்.
- IV. கொழும்பில் “சாக்கிய பெளத்த சங்கத்தை” நிறுவினார்.

மேற்கண்ட கூற்றுகளில் எது/எவை சரியானது?

- | | |
|------------------------------|-----------------------------|
| A) I மற்றும் III மட்டும் | B) I, II மற்றும் IV மட்டும் |
| C) I, II மற்றும் III மட்டும் | D) மேற்கண்ட அனைத்தும் |
| E) விடை தெரியவில்லை | |

Consider the following statements regarding Iyothee thassar.

- I. In 1882, John Rathinam and Iyothee Thassar established a movement called, Dravida Kazhagam
- II. He founded the Dravida Mahajana Sabha in 1885 and organized the First Conference of the association at Nilgris.
- III. He started a weekly journal, Oru Paisa Tamilan, in 1907
- IV. He founded the Sakya Buddhist Society at Colombo

Which of the statements given above is/are correct?

- | | |
|-----------------------|----------------------|
| A) I and III only | B) I, II and IV only |
| C) I, II and III only | D) All the above |
| E) Answer not known | |

131. பின்வரும் கூற்றுகளைக் கருத்தில் கொள்க
- 1860இல் திருமணத்திற்கான வயது பத்து என்று நிர்ணயிக்கப்பட்டது
 - இது 1891 மற்றும் 1925இல் முறையே பன்னிரண்டு மற்றும் பதினான்காகவும் உயர்த்தப்பட்டது
 - குழந்தை திருமண தடை சட்டம், பொதுவாக சாரதா சட்டம், 1929இல் ஆண்களுக்கான திருமண வயது 18 ஆகவும், பெண்களுக்கான திருமண வயது 14 ஆகவும் நிர்ணயம் செய்யப்பட்டது
- மேற்கண்ட கூற்றுகளில் எது/எவை சரியானது?
- I மற்றும் II மட்டும்
 - II மற்றும் III மட்டும்
 - I மற்றும் III மட்டும்
 - மேற்கண்ட அனைத்தும்
 - விடை தெரியவில்லை
- Consider the following statements.
- The age for marriage was fixed as ten years in 1860
 - It was raised to twelve and fourteen years in 1891 and 1925 respectively
 - Child Marriage Restraint Act, commonly referred to as the Sharda Act, 1929 fixed the marriage age for girls at 14 years and boys 18 years.
- Which of the statements given above is/are correct?
- I and II only
 - II and III only
 - I and III only
 - All the above
 - Answer not known
132. சுவாமி விவேகானந்தர் பற்றிய தவறான கூற்றைக் கண்டறியவும்:
- நரேந்திரநாத் தத்தா என்று அழைக்கப்படும் இவர் 1863 ஜனவரி 12-இல் பிறந்தார்.
 - இராமகிருஷ்ண பரமஹம்சருடைய முதன்மை சீடராவார்.
 - “ஜீவன் என்பதே சிவன்” என்று கூறினார்.
 - 1893இல் சிக்காகோவில் நடைபெற்ற உலக சமய மாநாட்டில் சொற்பொழிவாற்றினார்
 - விடை தெரியவில்லை
- Find the incorrect statement regarding Swami Vivekanandha:
- Swami Vivekananda was also know as Narendra Nath Datta born, on 12th January, 1863
 - He was the prime follower of Ramakrishna paramahansa.
 - He said, “Jiva is Siva”
 - He addressed at 1893 world congress of Religion in Chicago.
 - Answer not known
133. இராஜா ராம்மோகன் ராய் பற்றிய பின்வரும் கூற்றுகளைக் கருத்தில் கொள்க
- ஆகஸ்ட் 1828இல் கல்கத்தாவில் ஆத்மிய சபையை நிறுவினார்.
 - இவர் பலதார திருமண முறை ஒழிக்கப்பட வேண்டும் என்றார்.
 - 1829இல் தலைமை ஆளுநர் வில்லியம் பெண்டிங் “சதி” எனும் உடன்கட்டை ஏறும் பழக்கத்தை ஒழித்து சட்டம் இயற்றியதில் இவர் முக்கியப் பங்கு வகித்தார்.
 - டெல்லியின் முகாலயப் பேரரசர் பகதூர் ஷாவால் ராம் மோகன் ராய்க்கு 'ராஜா' என்ற பட்டம் வழங்கப்பட்டது.

மேற்கண்ட கூற்றுகளில் எது/எவை தவறானது?

- A) I மற்றும் III மட்டும்
 B) I, II மற்றும் III மட்டும்
 C) II, III மற்றும் IV மட்டும்
 D) மேற்கண்ட அனைத்தும்
 E) விடை தெரியவில்லை

Consider the following statements about Raja Ram Mohan Roy

- I. In August 1828, he founded Atmiya Sabha in Calcutta
 II. He wanted polygamy to end
 III. He played a key role in forcing the Governor-General William Bentinck's legislation abolishing sati in 1829.
 IV. Ram Mohan Roy was given the title of 'Raja' by the titular Mughal Emperor of Delhi, Bahadur Shah.

Which of the statements given above is/are incorrect?

- A) I and III only
 B) I, II and III only
 C) II, III and IV only
 D) All the above
 E) Answer not known

134. பட்டியல்-Iஐ பட்டியல்-II உடன் பொருத்துக.

பட்டியல்-I

(இதழ்கள்)

- a) இந்தியன் மிரர்
 b) ராஸ்ட் கோஃப்தார்
 c) இந்து பிரகாஷ்
 d) சோம் பிரகாஷ்

குறியீடுகள்:

	a	b	c	d
A)	4	2	3	1
B)	2	1	3	4
C)	2	1	4	3
D)	4	2	1	3

E) விடை தெரியவில்லை

Match List-I with List-II.

List-I

(Newspapers)

- a) Indian Mirror
 b) Rast Gofar
 c) Indu Prakash
 d) Som Prakash

Codes:

	a	b	c	d
A)	4	2	3	1
B)	2	1	3	4
C)	2	1	4	3
D)	4	2	1	3

E) Answer not known

பட்டியல்-II

(ஆசிரியர்/நிறுவனர்கள்)

1. தாதாபாய் நௌரோஜி
 2. தேபேந்திரநாத் தாகூர்
 3. M.G.ரானடே
 4. ஈஸ்வர் சந்திர வித்யாசாகர்

List-II

(Authors/Editors)

1. Debendranath Tagore
 2. Dadabhai Naoroji
 3. M.G Ranade
 4. Ishwar Chandra Vidyasagar

135. பின்வரும் கூற்றுகளைக் கருத்தில் கொள்க

- I. 1529இல் மதுரையின் நாயக்கராக பதவியேற்ற விஸ்வநாத நாயக்கரால் பாளையக்காரர்கள் முறை தமிழகத்தில் அறிமுகப்படுத்தப்பட்டது.
- II. வாரங்கல்லை சார்ந்த முதலாம் ருத்ரதாமன் ஆட்சிக்காலத்தில் காகதீய அரசில் பாளையக்காரர் முறை நடைமுறைப்படுத்தப்பட்டது.

மேற்கண்ட கூற்றுகளில் எது/ எவை தவறானது?

- | | |
|---------------------|----------------------|
| A) I மட்டும் | B) II மட்டும் |
| C) இரண்டும் | D) I அல்லது II இல்லை |
| E) விடை தெரியவில்லை | |

Consider the following statements.

- I. The Palayakkar system was introduced in Tamilnadu by Viswanatha Nayaka, when he became the Nayak ruler of Madurai in 1529.
- II. Palayakkarars system was in practice during the rule of Rudradaman I of Warangal in the Kakatiya kingdom.

Which of the statements given above is/are incorrect?

- | | |
|---------------------|---------------------|
| A) I only | B) II only |
| C) Both I and II | D) Neither I nor II |
| E) Answer not known | |

136. ஆங்கிலேய எதிர்ப்பாளர்களின் கூட்டமைப்பு பற்றி பின்வரும் கூற்றுகளைக் கருத்தில் கொள்க

- I. சிவகிரிப் பாளையக்காரர்களைத் தவிர, மற்ற மறவர் பாளையக்காரர்கள் ஆங்கிலேயர்களுக்கு எதிராகப் போரிட புலித்தேவருக்கு ஆதரவு அளித்தனர்.
- II. எட்டையபுரம், பாஞ்சாலங்குறிச்சி ஆகியனவும் இந்தக் கூட்டமைப்பில் சேரவில்லை.
- III. மேலும், ராமநாதபுரம் மற்றும் புதுக்கோட்டை மன்னர்களின் ஆதரவைப் புலித்தேவர் பெற்றார்.

மேற்கண்ட கூற்றுகளில் எது/எவை சரியானது?

- | | |
|---------------------------|-------------------------|
| A) I மட்டும் | B) I மற்றும் II மட்டும் |
| C) II மற்றும் III மட்டும் | D) மேற்கண்ட அனைத்தும் |
| E) விடை தெரியவில்லை | |

Consider the following statements regarding confederacy against British.

- I. With the exception of the Palayakkarars of Sivagiri, all other Maravar Palayams supported Puli Thevar to fight against British.
- II. Ettayapuram and Panchalamkurichi also did not join this confederacy.
- III. Further, Puli Thevar succeeded in getting the support of the Rajas of Ramanathapuram and Pudukottai.

Which of the statements given above is/are correct?

- | | |
|---------------------|------------------|
| A) I only | B) I and II only |
| C) II and III only | D) All the above |
| E) Answer not known | |

137. 1761இல் யூசுப்கானின் கட்டுப்பாட்டிற்குள் வந்த மூன்று கோட்டைகள் எவை?

- A) நெற்கட்டும்செவல், சிவகிரி மற்றும் பனைபூர்
- B) நெற்கட்டும்செவல், வாசுதேவநல்லூர் மற்றும் சிவகிரி
- C) வாசுதேவநல்லூர், நெற்கட்டும்செவல் மற்றும் பனைபூர்
- D) வாசுதேவநல்லூர், சிவகிரி மற்றும் பனைபூர்
- E) விடை தெரியவில்லை

Which of the three forts came under Yusuf Khan's command in 1761?

- A) Nerkattumseval, Sivagiri and Panayur
- B) Nerkattumseval, Vasudevanallur and Sivagiri
- C) Vasudevanallur, Nerkattumseval and Panayur
- D) Vasudevanallur, Sivagiri and Panayur
- E) Answer not known

138. பின்வரும் இணைகளில் தவறானது எது/எவை?

(போர்)

(யாருக்கு இடையில்)

- I. காளையார் கோவில் போர் – முத்துவடுகநாதர் மற்றும் கேப்டன் கேம்பல்
- II. களக்காடு போர் – மாஹ்ஃபஸ் கான் மற்றும் புலித்தேவர்
- III. பாஞ்சாலங்குறிச்சி போர் – கட்டபொம்மன் மற்றும் கர்னல் பாஞ்சூர்
- IV. பிளாசி போர் – ஷாஜா – உத் – தெளலா மற்றும் கிழக்கிந்திய கம்பெனி

குறியீடுகள் :

- A) II மற்றும் III மட்டும்
- B) I, III மற்றும் IV மட்டும்
- C) III மற்றும் IV மட்டும்
- D) I மற்றும் IV மட்டும்
- E) விடை தெரியவில்லை

Which of the following is/are incorrectly matched?

(Battle)

(Fought between)

- I. Kalayar Kovil battle – Muthu Vaduganathar and Captain Campbell
- II. Kalakadu battle – Mahfuz Khan and Puli Thevar
- III. Panchalamkurichi battle – Kattabomman and Col. Bonjour
- IV. Battle of Plassey – Shuja-ud-daula and East India Company

Codes:

- A) II and III only
- B) I, III and IV only
- C) III and IV only
- D) I and IV only
- E) Answer not known

139. சிவகங்கையின் மருது பாண்டியர், திண்டுக்கல்லின் கோபால நாயக்கர், மலபாரின் கேரள வர்மா, மைசூரின் கிருஷ்ணப்பா மற்றும் தூண்டாஜி ஆகியோர் அடங்கிய கூட்டமைப்பு எங்கு ஏப்ரல் 1800 இல் சந்தித்து கிழக்கிந்திய கம்பெனியாருக்கு எதிராகக் கிளர்ந்தெழு முடிவெடுத்தார்கள்?

- A) பாஞ்சாலங்குறிச்சி
- B) கயத்தார்
- C) கோயம்புத்தூர்
- D) விருப்பாட்சி
- E) விடை தெரியவில்லை



Where did the confederacy consisting of Marudhu Pandyan of Sivagangai, Gopala Nayak of Dindugal, Kerala Verma of Malabar and Krishnappa Nayak and Dhoondaji of Mysore meet to discuss and organise an uprising against the Company in April 1800?

- A) Panchalankurichi B) Kayathar
C) Coimbatore D) Virupachi
E) Answer not known

140. தவறாகப் பொருந்திய இணையைக் கண்டறிக.

(கிளர்ச்சியாளர்கள் (தூக்கிலிடப்பட்ட இடம்)

- A) கட்டபொம்மன் - கயத்தார்
B) ஊமைத்துரை - பாஞ்சாலங்குறிச்சி கோட்டை
C) மருது சகோதரர்கள் - திருப்பூர் கோட்டை
D) தீரன் சின்னமலை - சங்ககிரி கோட்டை
E) விடை தெரியவில்லை

Find out the incorrectly matched pair.

(Rebellion) **(Executed at)**

- A) Kattabomman - Kayathar
B) Oomathurai - Panchalankurichi fort
C) Marudhu Brothers - Tiruppur fort
D) Dheeran chinnamalai - Sankagiri fort
E) Answer not known

141. தீரன் சின்னமலை பற்றி பின்வரும் கூற்றுகளைக் கருத்தில் கொள்க.

- I. தீர்த்தகிரி, திப்புவின் திவானான முகமது அலியை தடுத்து அனைத்து வரிப்பணத்தையும் பறிமுதல் செய்தார்.
- II. இதனால் கோபமடைந்த திவான் சின்னமலையைத் தாக்க ஒரு படையை அனுப்பினார், இரு படையினரும் பவானி ஆற்றுப்படுகையில் சந்தித்துப் போரிட்டன.
- III. இவர் கொரில்லா தாக்குதல்களை நடத்தினார் மற்றும் பிடிபடுவதைத் தவிர்த்தார்.
- IV. இவர் 1806 ஜூலை 31 அன்று சங்ககிரி கோட்டையின் உச்சியில் தூக்கிலிடப்பட்டார் .
மேற்கண்ட கூற்றுகளில் தவறானது எது/எவை?

- A) I மற்றும் III மட்டும்
B) II மட்டும்
C) II மற்றும் IV மட்டும்
D) மேற்கண்ட அனைத்தும்
E) விடை தெரியவில்லை

Consider the following statements about Dheeran Chinnamalai.

- I. Theerthagiri blocked Tipu's Diwan Mohammed Ali and confiscated all the tax money
- II. The offended Diwan sent a contingent to attack Chinnamalai and both the forces met and fought at the Bhavani River bed.
- III. He launched guerrilla attacks and evaded capture.
- IV. He was hanged at the top of the Sankagiri Fort on 31 July 1806.

Which of the statements given above is/are incorrect?

- A) I and III only
 B) II only
 C) II and IV only
 D) All the above
 E) Answer not known

142. வடக்கிலிருந்து தெற்காக பின்வரும் இடங்களை வரிசைப்படுத்துக:

- I. சங்ககிரி
 II. சிறுவயல்
 III. கயத்தார்
 IV. ஓடாநிலை
 V. திருப்பத்தூர்

குறியீடுகள்:

- A) IV-II-II-V-III
 B) IV-IV-III-II
 C) I-IV-II-III-V
 D) I-IV-V-II-III
 E) விடை தெரியவில்லை

Arrange the following places from North to South:

- I. Sankagiri
 II. Siruvayal
 III. Kayathar
 IV. Odanilai
 V. Tirupathur

Codes:

- A) IV-I-II-V-III
 B) IV-I-V-III-II
 C) I-IV-II-III-V
 D) I-IV-V-II-III
 E) Answer not known

143. தவறாகப் பொருந்திய இணையைக் கண்டறிக.

(ஆளுமை)

(வேலூர் கிளர்ச்சியின் போது அவர்கள் வகித்த பதவி)

- A) சர் ஜான் கிராடாக் – தலைமை தளபதி
 B) எல்பின்ஸ்டோன் பிரபு – மதராஸ் கவர்னர்
 C) ஜார்ஜ் பார்லோ – கவர்னர் ஜெனரல்
 D) கர்னல் கில்லெஸ்பி – ஆற்காட்டில் குதிரைப்படைத் தளபதி
 E) விடை தெரியவில்லை

Find out the incorrectly matched pair.

(Personality)

(Designation during Vellore revolt)

- A) Sir John Craddock – Commander-in-chief
 B) Lord Elphinstone – Governor of Madras
 C) George Barlow – Governor General
 D) Colonel Gillespie – The cavalry commandant in Arcot
 E) Answer not known

144. வேலூர் கிளர்ச்சி பற்றி பின்வரும் கூற்றுகளைக் கருத்தில் கொள்க.

- I. கோட்டைக் காவற்படையின் உயர் பொறுப்புக்கித்த கர்னல் பேன்கோர்ட் என்பவர்தான் முதல் பலியானார்.
- II. கர்னல் பேன்கோர்ட் இறப்பதற்கு முன், ஆற்காட்டின் குதிரைப்படைத் தளபதியாக இருந்த கர்னல் ஜில்லஸ்பிக்கு தகவல் கொடுத்தார்.
- III. இதற்கிடையே புரட்சிக்காரர்கள் திப்புவின் மூத்த மகனான பதே ஹைதரை புதியமன்னராகப் பிரகடனம் செய்து ஆட்சியில் அமர்த்தினர்.
- IV. சர் ஜான் க்ராடாக், உதவித் தளபதி அக்னியூ மற்றும் ஆளுநர் வில்லியம் பென்டிங்க் ஆகியோருக்கு ஊக்கத் தொகை மற்றும் பதவி உயர்வு வழங்கப்பட்டது.

மேற்கண்ட கூற்றுகளில் சரியானது எது/எவை?

- | | |
|------------------------------|------------------------------|
| A) I மற்றும் III மட்டும் | E) I, III மற்றும் IV மட்டும் |
| C) I, II மற்றும் III மட்டும் | D) III மற்றும் IV மட்டும் |
| E) விடை தெரியவில்லை | |

Consider the following statements regarding Vellore revolt:

- I. Colonel Fancourt, who commanded the garrison, was the first victim.
- II. Before his death, Col.Fancourt informed Colonel Gillespie, the cavalry commandant in Arcot
- III. In the meantime, the rebels proclaimed Fateh Hyder, Tipu's eldest son, as their new ruler
- IV. Sir John Cradock, the Adjutant General Agnew and Governor William Bentinck were rewarded with prize money and promotion.

Which of the statements given above is/are correct?

- | | |
|-----------------------|-----------------------|
| A) I and III only | B) I, III and IV only |
| C) I, II and III only | D) III and IV only |
| E) Answer not known | |

145. ஃபராசி இயக்கம் பற்றி பின்வரும் கூற்றுகளைக் கருத்தில் கொள்க

- I. ஹாஜி ஷரியத்துல்லா என்பவரால் 1818ஆம் ஆண்டு இவ்வியக்கம் தொடங்கப்பட்டது.
- II. பொதுமக்கள் நிலத்தையும் அனைத்து வளத்தையும் சரிசமமாக அனுபவிக்க வேண்டும் என்ற எளிய கொள்கையில் இந்த அறிவிப்பு பிரபலமடைந்தது.
- III. டுடு மியான், 'நிலம் கடவுளுக்குச் சொந்தமானது' என்று அறிவித்தார். எனவே வாடகை வசூலிப்பது அல்லது வரி விதிப்பது ஆகியன இறைச்சட்டத்துக்கு எதிரானது என்றார்.

மேற்கண்ட கூற்றுகளில் சரியானது எது/எவை?

- | | |
|--------------------------|---------------------------|
| A) I மற்றும் II மட்டும் | B) II மற்றும் III மட்டும் |
| C) I மற்றும் III மட்டும் | D) மேற்கண்ட அனைத்தும் |
| E) விடை தெரியவில்லை | |

Consider the following statements about Farazi movement

- I. It was launched by Haji Shariatullah in 1818.
- II. It gained popularity on a simple doctrine that land and all wealth should be equally enjoyed by the common folk
- III. Dudu Mian declared that "Land belongs to God" and collecting rent or levying taxes on it was therefore against divine law

Which of the statements given above is/are correct?

- A) I and II only
 B) II and III only
 C) I and III only
 D) All the above
 E) Answer not known

146. பட்டியல்-I ஐ பட்டியல்-II உடன் பொருத்துக.

பட்டியல்-I

(இயக்கம்)

- a) ஃபராசி இயக்கம்
 b) வஹாபி இயக்கம்
 c) சாந்தலர்களின் கிளர்ச்சி
 d) கோல் கிளர்ச்சி

குறியீடுகள்:

a b c d

- A) 4 2 3 4
 B) 2 3 4 1
 C) 2 1 3 4
 D) 3 2 1 4

E) விடை தெரியவில்லை

Match List-I with List-II.

List-I

(Movement)

- a) Farazi Movement
 b) Wahabi Movement
 c) Sathal Hool
 d) Kol Rebellion

Codes:

a b c d

- A) 4 2 3 4
 B) 2 3 4 1
 C) 2 1 3 4
 D) 3 2 1 4

E) Answer not known

பட்டியல்-II

(தொடர்புடைய நபர்)

1. பிந்த்ராய் மற்றும் சிங்ராய்
 2. நோவா மியான்
 3. டிடு மீர்
 4. சித்து மற்றும் கணு

List-II

(Associated Personality with it)

1. Bindrai and Singhrai
 2. Noah Mian
 3. Titu Mir
 4. Sidhu and Kanu

147. வஹாபி கிளர்ச்சி பற்றி பின்வரும் கூற்றுகளைக் கருத்தில் கொள்க.

- I. இக்கிளர்ச்சி என்பது ஆங்கிலய ஆட்சிக்கும் நிலப்பிரபுக்களுக்கும் எதிராக துவங்கப்பட்டதாகும்.
 II. உத்தரபிரதேசத்தில் பரசத் பகுதியில் 1827 வாக்கில் இக்கிளர்ச்சி தோன்றியது.
 III. ஜமீந்தாரி முறையால் ஒடுக்கப்பட்ட குறிப்பாக இசுலாமிய விவசாயிகள் மத்தியில் டிடு மீர் செல்வாக்குமிக்க நபராகத் திகழ்ந்தார்.

மேற்கண்ட கூற்றுகளில் தவறானது எது/எவை?

- A) I மற்றும் III மட்டும்
 B) II மற்றும் III மட்டும்
 C) III மட்டும்
 D) மேற்கண்ட அனைத்தும்
 E) விடை தெரியவில்லை

Consider the following statements regarding wabhabi Movement.

- I. It was an anti-imperial and anti-landlord movement
 II. Originated in and around 1827, in the Barasat region of Uttar Pradesh
 III. Titu Mir became an influential figure among the Muslim middle-class and Zamindars.

Which of the statements given above is/are incorrect?

- A) I and III only
 B) II and III only
 C) III only
 D) All the above
 E) Answer not known

148. 1855-1856 நடைப்பெற்ற சாந்தலர்களின் கிளர்ச்சிகான முதன்மைக் காரணம் யாது?

- A) மத மோதல்கள்
 B) பொருளாதாரச் சுரண்டல்
 C) சாதி பாகுபாடு
 D) அரசியல் ஒடுக்குமுறை
 E) விடை தெரியவில்லை

What was the primary cause of the Santhal Rebellion of 1855-1856?

- A) Religious conflict
 B) Economic exploitation
 C) Caste discrimination
 D) Political oppression
 E) Answer not known

149. கோல் கிளர்ச்சி பற்றி தவறான கூற்றைக் கண்டறிக:

- A) இக்கிளர்ச்சி சோட்டா நாக்பூர் பகுதியில் நடந்தது மற்றும் பிந்தராய் மற்றும் சிங்ராய் ஆகியோர் தலைமையில் நடந்தது
 B) பழங்குடியினரைக் கட்டாயப்படுத்தி அவர்களின் பகுதிகளிலிருந்து வெளியேற்றுதல் போன்றவை கோல் இனத்தவரிடையே கோபத்தை ஏற்படுத்தியது.
 C) வெளியாட்களின் சொத்துக்கள் மீது தாக்குதல்கள் நடத்துதல், கொள்ளையடித்தல், கலவரம்
 D) செய்தல் ஆகிய வழிகளில் கோல்களின் தொடக்ககாலப் போராட்டம் மற்றும் எதிர்ப்புகள் அமைந்தன ஆனால் பின்னர், அவர்கள் வன்முறையற்ற முறைகளை ஏற்றுக்கொண்டனர்.
 E) விடை தெரியவில்லை

Find the incorrectly statement regarding Kol Revolt:

- A) It took Place in Chota Nagpur region Singbhum region.
 B) The usury and forcible eviction of tribals from their land led to the resentment of Kols.
 C) The initial protest and resistance kols was in the form of plunder, arson and attacks on the properties of outsiders
 D) But later, they adopted to non-violent methods of resistance.
 E) Answer not known

150. “சோட்டா நாக்பூர் குத்தகைச் சட்டம்” எந்த பின்னணியில் நிறைவேற்றப்பட்டது?

- A) முண்டா கிளர்ச்சி
- B) இண்டிகோ கிளர்ச்சி
- C) தக்காண கலவரங்கள்
- D) கோல் கிளர்ச்சி
- E) விடை தெரியவில்லை

What was the context in which the Chotanagpur Tenancy Act was passed?

- A) Munda Rebellion
- B) Indigo Revolt
- C) Deccan Riots
- D) Kol Revolt
- E) Answer not known

151. 1857 ஆம் ஆண்டு இந்தியப் புரட்சி வெடிப்பதற்கு தூண்டுகோலாக விளங்கிய நிகழ்வு எது?

- A) இராணுவ நீதிமன்றத்தில் ஆஜர்படுத்துதல் மற்றும் மங்கல் பாண்டே தூக்கிலிடப்படுதல்
- B) இராணுவ முகாம்களில் கலவரம் மற்றும் பொருட்களை தீயிட்டு கொளுத்துதல்
- C) என்ஃபீல்டு துப்பாக்கி தோட்டாக்கள் பற்றிய வதந்திகள் பரவுதல்
- D) அம்பாலா, லக்னோ, மீரட் ஆகிய இடங்களில் நடந்த கீழ்ப்படிய மறுத்தல் நிகழ்வுகள்.
- E) விடை தெரியவில்லை

"What event served as a catalyst for the outbreak of the Indian Rebellion of 1857?"

- A) The court-martial and hanging of Mangal Pandey
- B) The burning and arson in army cantonments
- C) The circulation of rumors about the Enfield rifle cartridges
- D) The disobedience incidents in Ambala, Lucknow, and Meerut.
- E) Answer not known

152. பட்டியல்-Iஐ பட்டியல்-II உடன் பொருத்துக.

பட்டியல்-I

(ஆட்சியாளர்)

- a) நானா சாகிப்
- b) பேகம் ஹஸ்ரத் மகால்
- c) கான் பகதூர்
- d) கன்வர் சிங்
- e) ராணி லட்சுமிபாய்

பட்டியல்-II

(ஆட்சி பகுதி)

- 1. பரெய்லி
- 2. கான்பூர்
- 3. லக்னோ
- 4. ஜான்சி
- 5. பீகார்

குறியீடுகள்:

- | | a | b | c | d | e |
|----|----------|----------|----------|----------|----------|
| A) | 3 | 1 | 5 | 2 | 4 |
| B) | 2 | 1 | 3 | 5 | 4 |
| C) | 2 | 3 | 1 | 5 | 4 |
| D) | 1 | 5 | 2 | 4 | 3 |

- E) விடை தெரியவில்லை



Match List-I with List-II.

List-I (Ruler)	List-II (Area Ruled)
a) Nana Sahib	1. Bareilly
b) Begum Hazrat Mahal	2. Kanpur
c) Khan Bahadur	3. Lucknow
d) Kunwar Singh	4. Jhansi
e) Rani Lakshmi Bai	5. Bihar

Codes:

	a	b	c	d	e
A)	3	1	5	2	4
B)	2	1	3	5	4
C)	2	3	1	5	4
D)	1	5	2	4	3

E) Answer not known

153. “19ஆம் நூற்றாண்டில் இந்தியாவில் இண்டிகோ பயிரிடுபவர்கள் அனுபவித்த கஷ்டங்களை விளக்கும் நாடகம் எது?”

- A) பங்கிம் சந்திர சட்டோபாத்யாயின் “சன்யாசி” (1875)
 B) தீனபந்து மித்ராவின “நீல் தர்பன்” (1860)
 C) கிரிஷ் சந்திர கோஷின் “அங்கூர்” (1876)
 D) விஷ்ணு சாஸ்திரி சிப்லுங்கரின் “தண்டகாரண்யா” (1879)
 E) விடை தெரியவில்லை

"Which play illustrated the hardships experienced by Indigo cultivators in India during the 19th century?"

- A) "Sanyasi" (1875) by Bankim Chandra Chattopadhyay
 B) "Neel Darpan" (1860) by Dinabandhu Mitra
 C) "Ankur" (1876) by Girish Chandra Ghosh:
 D) "Dandakaranya" (1879) by Vishnu Shastri Chiplunkar:
 E) Answer not known

154. பின்வரும் அமைப்புகளை அவை தொடங்கப்பட்ட ஆண்டை பொருத்து வரிசைப்படுத்துக:

- I. கிழக்கிந்திய அமைப்பு
 II. சென்னை மகாஜன சபை
 III. சென்னைவாசிகள் சங்கம்
 IV. புனா சர்வஜனிக் சபை
 V. பம்பாய் மாகாண சங்கம்

குறியீடுகள்:

- A) I-III-II-IV-V
 B) III-IV-I-V-II
 C) III-I-IV-II-V
 D) IV-III-I-V-II
 E) விடை தெரியவில்லை

Arrange the following Organisations in Chronological order of their formation:

- I. East India Association
- II. Madras Mahajana Sabha
- III. Madras Native Association
- IV. Poona Sarvajanik Sabha
- V. The Bombay Presidency Association

Codes:

- | | |
|---------------------|------------------|
| A) I-III-II-IV-V | B) III-IV-I-V-II |
| C) III-I-IV-II-V | D) IV-III-I-V-II |
| E) Answer not known | |

155. INC உருவாக்கத்தின் போது அதன் குறிக்கோள்கள் தொடர்பான பின்வரும் கூற்றுகளைக் கருத்தில் கொள்க:

- I. நிர்வாகத்துறையிலிருந்து நீதித்துறையைப் பிரிப்பது.
- II. உள்நாட்டு வரிகளைக் குறைப்பது.
- III. இந்தியாவில் பிரத்தியேகமாக ஆட்சிப்பணித் தேர்வுகளை நடத்துவது.
- IV. மாகாண மற்றும் மத்திய அளவில் சட்டமேலவைகளை உருவாக்குவது.

மேற்கூறியவற்றுள் சரியானது எது/எவை?

- | | |
|------------------------------|-----------------------------|
| A) I, II மற்றும் III மட்டும் | B) I, II மற்றும் IV மட்டும் |
| C) I மற்றும் II மட்டும் | D) மேற்கண்ட அனைத்தும் |
| E) விடை தெரியவில்லை | |

Consider the following statements regarding Objectives of INC during their formation:

- I. Separating judicial and executive functions
- II. Reduction of Home Charges
- III. Holding civil services exclusively in India.
- IV. Creation of legislative councils at both provincial and central level.

Which of the statements given above is/are correct?

- | | |
|-----------------------|----------------------|
| A) I, II and III only | B) I, II and IV only |
| C) I and II only | D) All the above |
| E) Answer not known | |

156. லக்னோ ஒப்பந்தம் (1916) தொடர்பான பின்வரும் கூற்றுகளைக் கருத்தில் கொள்க:

- I. இதன் கீழ், காங்கிரஸ் கட்சியும் முஸ்லிம் லீக்கும் இந்தியாவில் விரைவில் தன்னாட்சி வேண்டுகோளை ஏற்றுக்கொண்டது.
- II. முஸ்லிம்களுக்கு தனித் தொகுதி வழங்குவது என்ற கருத்தை காங்கிரஸ் தலைமை ஏற்கவில்லை. இது இவர்களுக்கிடையே கருத்து வேறுபாடுகளை ஏற்படுத்தியது

மேற்கூறியவற்றுள் தவறானது எது/எவை?

- A) I மட்டும்
- B) II மட்டும்
- C) இரண்டும்
- D) இரண்டுமில்லை
- E) விடை தெரியவில்லை

Consider the following statements related to Lucknow Pact (1916):

- I. Under it, the Congress and the Muslim League agreed that there should be self-government in India as soon as possible.
- II. The Congress leadership rejected the concept of separate electorate for Muslims which led to disagreement between them.

Which of the statements given above is/are incorrect?

- A) I only
- B) II only
- C) Both I and II
- D) Neither I nor II
- E) Answer not known

157. பட்டியல்-Iஐ பட்டியல்-II உடன் பொருத்துக.

பட்டியல்-I

பட்டியல்-II

(நிறுவனங்கள்)

(தொடங்கப்பட்டது)

- | | |
|-------------------------------------|---------|
| a) வில்லியம் கோட்டை கல்லூரி | 1. 1800 |
| b) இந்துக் கல்லூரி | 2. 1817 |
| c) வேதாந்தா கல்லூரி | 3. 1825 |
| d) முகமது ஆங்கிலோ ஓரியண்டல் கல்லூரி | 4. 1875 |

குறியீடுகள்:

- | | a | b | c | d |
|----|----------|----------|----------|----------|
| A) | 1 | 2 | 3 | 4 |
| B) | 2 | 1 | 3 | 4 |
| C) | 2 | 3 | 1 | 4 |
| D) | 1 | 3 | 4 | 2 |

E) விடை தெரியவில்லை

Match List-I with List-II.

List-I

List-II

(Institutions)

(Formed in)

- | | |
|--------------------------------------|---------|
| a) Fort William College | 1. 1800 |
| b) Hindu College | 2. 1817 |
| c) Vedanta College | 3. 1825 |
| d) Muhammadan Anglo Oriental College | 4. 1875 |

Codes:

- | | a | b | c | d |
|----|----------|----------|----------|----------|
| A) | 1 | 2 | 3 | 4 |
| B) | 2 | 1 | 3 | 4 |
| C) | 2 | 3 | 1 | 4 |
| D) | 1 | 3 | 4 | 2 |

E) Answer not known

158. கூற்று (A) : மகாத்மா காந்தி தலைமையிலான முதல் சத்தியாகிரக இயக்கமாக சம்பரான் சத்தியாகிரகம் இருந்தது.

காரணம் (R) : தீன் காதியா முறையில் விவசாயிகள் தங்களின் நிலத்தின் இருபதில் மூன்று பங்கு பகுதியில் அவுரி (இண்டிகோ) பயிரிட வேண்டும் என்று இந்தியப் பண்ணையாளர்கள் அவர்களைக் கட்டாயப்படுத்தினர்.

குறியீடுகள்:

A) (A) மற்றும் (R) இரண்டும் சரி மற்றும் (R) என்பது (A)-யின் சரியான விளக்கமாகும்.

B) (A) மற்றும் (R) இரண்டும் சரி ஆனால் (R) என்பது (A)-யின் சரியான விளக்கமல்ல.

C) (A) சரி ஆனால் (R) தவறு.

D) (A) தவறு ஆனால் (R) சரி.

E) விடை தெரியவில்லை

Assertion (A) : Champaran Satyagraha was the first satyagraha movement led by Mahatma Gandhi

Reason (R) : Under Tinkathia system the peasants were forced by the Indian planters to cultivate indigo on three-twentieths of their land holdings.

Codes:

A) Both (A) and (R) are true and (R) is the correct explanation of (A)

B) Both (A) and (R) are true but (R) is not the correct explanation of (A)

C) (A) is true but (R) is false

D) (A) is false but (R) is true

E) Answer not known

159. சம்பரான் சத்தியாகிரகத்தின் போது காந்திஜிக்கு துணையாக செயல்பட்டவர் யார்?

A) ராஜ்குமார் சக்லா

B) பிரஜ்கிஷோர் பிரசாத் மற்றும் இராஜேந்திர பிரசாத்

C) டாக்டர் சைஃபுதீன் கிச்சு மற்றும் டாக்டர் சத்யபால்

D) துணைநிலை ஆளுநர்

E) விடை தெரியவில்லை

During Champaran Satyagraha, Gandhiji was assisted by

A) Rajkumar Shukla

B) Brajkishore Prasad and Rajendra prasad

C) Dr. Saifuddin Kitchlew and Dr. Satyapal

D) Lieutenant governor

E) Answer not known

160. பின்வரும் கூற்றுகளைக் கருத்தில் கொள்க.

I. மௌலானா முகமது அலி மற்றும் மௌலானா செளகத் அலி எனும் அலி சகோதரர்கள் தலைமையில் கிலாபத் இயக்கம் நடந்தது.

II. ஒருங்கிணைந்த தேசிய இயக்கத்தின் கீழ் முஸ்லிம்களைக் கொண்டுவருவதற்கான வாய்ப்பாக காந்திஜி இதைக் கண்டார்.

மேற்கூறியவற்றுள் தவறானது எது/எவை?

- A) I மட்டும்
 B) II மட்டும்
 C) இரண்டும்
 D) இரண்டுமில்லை
 E) விடை தெரியவில்லை

Consider the following statements.

- I. Khilafat Movement led by the Ali brothers, Maulana Mohamed Ali and Maulana Shaukat Ali
 II. Gandhiji saw this as an opportunity to bring Muslims under the umbrella of a unified national movement

Which of the statements given above is/are incorrect?

- A) I only
 B) II only
 C) Both I and II
 D) Neither I nor II
 E) Answer not known

161. 1920 செப்டம்பர் மாதம் எங்கு நடைபெற்ற சிறப்பு மாநாட்டில் இந்திய தேசிய காங்கிரஸ் ஒத்துழையாமை இயக்கத்துக்கு அனுமதி வழங்கியது?

- A) நாக்பூர்
 B) கல்கத்தா
 C) அலகாபாத்
 D) மதராஸ்
 E) விடை தெரியவில்லை

The Indian National Congress session approved the non-cooperation movement on September 1920 held at

- A) Nagpur
 B) Calcutta
 C) Allahabad
 D) Madras
 E) Answer not known

162. பின்வரும் கூற்றுகளைக் கருத்தில் கொள்க.

- I. இரட்டை ஆட்சி முறை, இந்திய அரசுச் சட்டம் 1919ன் கீழ் அறிமுகப்படுத்தப்பட்டது.
 II. நில வருவாய், விவசாயம் மற்றும் நீர்ப்பாசனம் ஆகியவற்றை உள்ளடக்கிய ஒதுக்கப்பட்ட துறைகள் ஆங்கிலேயர்களின் கைகளில் இருந்தன.

மேற்கூறியவற்றுள் சரியானது எது/எவை?

- A) I மட்டும்
 B) II மட்டும்
 C) இரண்டும்
 D) இரண்டுமில்லை
 E) விடை தெரியவில்லை

Consider the following statements.

- I. Dyarchy, a system of dual government introduced under the Government of India Act 1919
 II. The Reserved Subjects comprising land revenue, agriculture and irrigation were in the hands of the British

Which of the statements given above is/are correct?

- A) I only
 B) II only
 C) Both I and II
 D) Neither I nor II
 E) Answer not known

163. பின்வரும் நிகழ்வுகளை காலவரிசைப்படுத்துக.

- I. ஒத்துழையாமை இயக்கம்
- II. ரௌலட் சட்டம்
- III. செளரி செளரா சம்பவம்
- IV. கேதா சத்தியாகிரகம்

- | | |
|---------------------|----------------|
| A) I-II-III-IV | B) IV-II-I-III |
| C) I-III-II-IV | D) IV-III-I-II |
| E) விடை தெரியவில்லை | |

Arrange the following events in Chronological order:

- I. Non-cooperation movement
- II. Rowlatt Act
- III. Chauri Chaura Incident
- IV. Kheda Satyagraha

- | | |
|----------------|----------------|
| A) I-II-III-IV | B) IV-II-I-III |
| C) I-III-II-IV | D) IV-III-I-II |

164. பின்வரும் கூற்றுக்களைக் கருத்தில் கொள்க.

- I. இந்துஸ்தான் குடியரசு இராணுவம் (HRA) பகத் சிங் மற்றும் சுக் தேவ் ஆகியோரால் நிறுவப்பட்டது.
- II. காங்கிரஸ் சமதர்ம கட்சி ஜெயபிரகாஷ் நாராயண், ஆச்சார்யா நரேந்திர தேவ் மற்றும் மினு மசானி ஆகியோரால் உருவாக்கப்பட்டது.

மேற்கூறியவற்றுள் தவறானது எது/எவை?

- | | |
|---------------------|-----------------|
| A) I மட்டும் | B) II மட்டும் |
| C) இரண்டும் | D) இரண்டுமில்லை |
| E) விடை தெரியவில்லை | |

Consider the following statements.

- I. Hindustan Republican Army (HRA) was founded by Bhagat Singh and Sukhdev.
- II. Congress Socialist Party was formed by Jayaprakash Narayan, Acharya Narendra Dev and Minoo Masani

Which of the statements given above is/are incorrect?

- | | |
|---------------------|---------------------|
| A) I only | B) II only |
| C) Both I and II | D) Neither I nor II |
| E) Answer not known | |

165. இந்திய அரசுச் சட்டம் 1935 தொடர்பாக பின்வரும் கூற்றுக்களைக் கருத்தில் கொள்க

- I. சட்டமறுப்பு இயக்கத்தின் ஆக்கப்பூர்வ வெளிப்பாடுகளில் 1935ஆம் ஆண்டு இந்திய அரசுச் சட்டமும் ஒன்றாகும்.
- II. நாட்டின் மக்கள்தொகையில் 10 சதவீதத்தினருக்கு மட்டுமே போட்டியிட தகுதிபெற்றனர்.
- III. இந்தச் சட்டத்தின் மூலம் பர்மா இந்தியாவிலிருந்து பிரிக்கப்பட்டது.

மேற்கூறியவற்றுள் சரியானது எது/எவை?

- | | |
|--------------------------|-----------------------|
| A) I மட்டும் | B) II மட்டும் |
| C) I மற்றும் III மட்டும் | D) மேற்கண்ட அனைத்தும் |
| E) விடை தெரியவில்லை | |



Consider the following statements in respect to Government of India Act 1935

I. The Government of India Act 1935 was one of the important positive outcomes of the Civil Disobedience movement

II. Only 10 percent of the country population had the right to Contest.

III. By this Act Burma was separated from India.

Which of the statements given above is/are correct?

A) I only

B) II only

C) I and III only

D) All the above

E) Answer not known

166. பட்டியல் - I, பட்டியல் - II உடன் பொருத்துக.

பட்டியல் - I

பட்டியல் - II

a) கோயில் நுழைவு நாள்

1. ஆகஸ்ட் 16

b) நேரடி நடவடிக்கை நாள்

2. டிசம்பர் 22

c) விடுதலை நாள்

3. ஜனவரி 8

d) துக்க நாள்

4. அக்டோபர் 17

e) தனிநபர் சத்தியாகிரகம்

5. அக்டோபர் 16

குறியீடுகள் :

	a	b	c	d	e
A)	5	4	2	3	1
B)	4	5	2	3	1
C)	5	2	1	3	4
D)	3	1	2	5	4

E) விடை தெரியவில்லை

Match List-I with List-II.

List-I

List-II

a) Temple Entry Day

1. 16 August

b) Direct Action Day

2. 22 December

c) Day of Deliverance

3. 8 January

d) Day of mourning

4. 17 October

e) Individual Satyagraha

5. 16 October

Codes:

	a	b	c	d	e
A)	5	4	2	3	1
B)	4	5	2	3	1
C)	5	2	1	3	4
D)	3	1	2	5	4

E) Answer not known

167. சுதந்திர இந்தியாவின் முதல் மற்றும் கடைசி கவர்னர் ஜெனரல் யார் மற்றும் சுதந்திரத்தின் போது மெட்ராஸ் மாகாணத்தின் கவர்னர் ஜெனரலாக இருந்தவர் யார்?
- A) சி.ராஜகோபாலாச்சாரி, சர் ஆர்க்கிபால்ட் எட்வர்ட் நைட்
 B) லார்ட் மவுண்ட்பேட்டர்ன், சர் ஹென்றி ஃபோலி நைட்
 C) சி.ராஜகோபாலாச்சாரி, சர் ஹென்றி ஃபோலி நைட்
 D) மவுண்ட்பேட்டர்ன் பிரபு, சர் ஆர்க்கிபால்ட் எட்வர்ட் நைட்
 E) விடை தெரியவில்லை
- Who was the first and last governor general of Independent India and Who was the governor general of Madras presidency during independence?
- A) C.Rajagopalachari, Sir Archibald Edward Nye
 B) Lord Mountbattern, Sir Henry Foley Knight
 C) C.Rajagopalachari, Sir Henry Foley Knight
 D) Lord Mountbattern, Sir Archibald Edward Nye
 E) Answer not known
168. மதுரை ஹரிஜன சேவக் சங்கத் தலைவர் மீனாட்சியம்மன் கோவிலில் ஹரிஜனங் மக்களுடன் கோவில் நுழைவு நிகழ்ச்சிக்கு ஏற்பாடு செய்தார். மேற்கூறிய ஆளுமை யார்?
- A) எல் என் கோபால்சாமி
 B) வைத்தியநாதர்
 C) என் எம் ஆர் சுப்பராமன்
 D) இரட்டைமலை சீனிவாசன்
 E) விடை தெரியவில்லை
- A temple entry programme with "Harijans" in Madurai Meenakshiamman temple was organised by President of Madurai Harijana Sevak Sangh. Who is the above personality?
- A) L.N. Gopalsamy
 B) Vaidyanathar
 C) NMR Subbaraman
 D) Rettaimalai Srinivasan
 E) Answer not known
169. கூற்று (A) : சென்னை மவுண்ட் ரோட்டில் ஜேம்ஸ் நீலுக்கு சிலை நிறுவப்பட்டது
 காரணம் (R) : தேசியவாதிகள் இதை இந்தியர்களின் உணர்வுகளை அவமதிப்பதாகக் கருதி, சென்னையில் தொடர் ஆர்ப்பாட்டங்களை நடத்தினர்.
- A) (A) மற்றும் (R) இரண்டும் சரி மற்றும் (R) என்பது (A)-யின் சரியான விளக்கமாகும்.
 B) (A) மற்றும் (R) இரண்டும் சரி ஆனால் (R) என்பது (A)-யின் சரியான விளக்கமல்ல.
 C) (A) சரி ஆனால் (R) தவறு.
 D) (A) தவறு ஆனால் (R) சரி.
 E) விடை தெரியவில்லை
- Assertion (A)** : A statue was erected for James Neill at Mount Road, Madras
Reason (R) : Nationalists saw this as an insult to Indian sentiments, and organised a series of demonstrations in Madras
- A) Both (A) and (R) are true and (R) is the correct explanation of (A)
 B) Both (A) and (R) are true but (R) is not the correct explanation of (A)
 C) (A) is true but (R) is false
 D) (A) is false but (R) is true
 E) Answer not known

170. சென்னைவாசிகள் சங்கம் பற்றிய பின்வரும் கூற்றுகளை கருத்தில் கொள்க.

- I. இது 1854 இல் தொடங்கப்பட்டு 1862ல் செயலிழந்து போனது.
 II. சென்னைவாசிகள் சங்கத்தின் முயற்சிகள் சித்திரவதை ஆணையத்தை நிறுவ வழிவகுத்தது.

மேற்கூறியவற்றுள் சரியானது எது/எவை?

- A) I மட்டும்
 B) II மட்டும்
 C) இரண்டும்
 D) இரண்டுமில்லை
 E) விடை தெரியவில்லை

Consider the following statements about Madras Native Association

- I. It was started in 1854 and ceased to exist in 1862.
 II. MNA efforts led to the establishment of the Torture Commission.

Which of the statements given above is/are correct?

- A) I only
 B) II only
 C) Both I and II
 D) Neither I nor II
 E) Answer not known

171. பின்வரும் கூற்றைக் கருத்தில் கொள்க.

- I. மூன்றாவது இந்திய தேசிய காங்கிரஸ் மாநாடு மக்கிஸ் தோட்டத்தில் நடைபெற்றது.
 II. மொத்தம் 607 அகில இந்தியப் பிரதிநிதிகளில் 362 பேர் மெட்ராஸ் மாகாணத்தைச் சேர்ந்தவர்கள்.
 III. இந்த இந்திய தேசிய காங்கிரஸ் அமர்வில் முதல் முறையாக வந்தே மாதரம் பாடல் பாடப்பட்டது.

IV. இந்த அமர்வின் தலைவராக தாதாபாய் நௌரோஜி இருந்தார்.

மேற்கூறியவற்றுள் சரியானது எது/எவை?

- A) I மற்றும் II மட்டும்
 B) II, III மற்றும் IV மட்டும்
 C) I, III மற்றும் IV மட்டும்
 D) மேற்கண்ட அனைத்தும்
 E) விடை தெரியவில்லை

Consider the following statements.

- I. The third Indian National Congress session was held at Makkis Garden.
 II. Out of the 607 all India delegates of 362 were from Madras Presidency
 III. Vande mataram song was sung for the first time at this INC session.
 IV. Dadabhai Naoroji act as a president for this session.

Which of the statements given above is/are correct?

- A) I and II only
 B) II, III and IV only
 C) I, III and IV only
 D) All the above
 E) Answer not known

172. 1912ல் தஞ்சை சங்கீத வித்யா மகாஜன சங்கத்தை நிறுவியவர் யார்?

- A) மறைமலை அடிகள்
 B) M.சிங்காரவேலர்
 C) ஆபிரகாம் பண்டிதர்
 D) திரு.வி.கல்யாணசுந்தரம்
 E) விடை தெரியவில்லை

In 1912, Tanjore Sangitha Vidya Mahajana Sangam was founded by

- A) Maraimalai Adigal
 B) M.Singaravelar
 C) Abraham Pandithar
 D) Thiru.V.Kalyanasundaram
 E) Answer not known

173. முத்துலட்சுமி ரெட்டியை பொறுத்தவரை பின்வரும் கூற்றுகளில் எது சரியானது?

- I. இந்தியாவில் மருத்துவத்தில் பட்டம் பெற்ற முதல் பெண்.
- II. பிரிட்டிஷ் இந்தியாவின் முதல் பெண் சட்டமன்ற உறுப்பினர்.
- III. மகாராஜா கல்லூரியில் அனுமதிக்கப்பட்ட முதல் மாணவி.
- IV. தமிழகத்தில் பொட்டுக்கட்டு விழாவை சட்டப்படி முடிவுக்கு கொண்டு வந்தார்.

- A) I, II மற்றும் III
- B) II, III மற்றும் IV
- C) I, III மற்றும் IV
- D) I, II, III மற்றும் IV
- E) விடை தெரியவில்லை

Which of the following statements are true in respect of Dr. Muthulakshmi Reddy?

- I. She was the first woman in India to get a degree in medicine.
- II. She was the first woman Legislator in British India.
- III. She was the first female student to be admitted in Maharaja's college.
- IV. She ended the Pottukattu ceremony in Tamilnadu by legal measures.

- A) I, II and III
- B) II, III and IV
- C) I, III and IV
- D) I, II, III and IV
- E) Answer not known

174. பின்வரும் கூற்றுகளை கருத்தில் கொள்க.

- I. இரட்டைமலை சீனிவாசன் ஆதி திராவிட மகாஜன சபையை நிறுவினார்
 - II. அவர் இரண்டு வட்ட மேசை மாநாடுகளில் மட்டுமே பங்கேற்றார்.
 - III. அவரது சுயசரிதை ஜீவிய காருண்ய சுருக்கம் 1939 இல் வெளியிடப்பட்டது.
 - IV. அவர் 1931ஆம் ஆண்டின் லார்ட்-இர்வின் ஒப்பந்தத்தில் கையெழுத்திட்டார்.
- மேற்கூறியவற்றுள் சரியானது எது/எவை?

- A) I மற்றும் II மட்டும்
- B) II, III மற்றும் IV மட்டும்
- C) I, III மற்றும் IV மட்டும்
- D) மேற்கண்ட அனைத்தும்
- E) விடை தெரியவில்லை

Consider the following statements.

- I. Rettaimalai Srinivasan founded the Adi Dravida Mahajana Sabha
- II. He participated in only two round table conferences.
- III. His Autobiography Jeeviya Karunya Surukkam published in 1939.
- IV. He was the Signatory to the Lord-Irwin Pact of 1931

Which of the statements given above is/are correct?

- A) I and II only
- B) II, III and IV only
- C) I, III and IV only
- D) All the above
- E) Answer not known

175. 1925 ஆம் ஆண்டில் ஈ.வெ.ராமசாமி காங்கிரஸை விட்டு வெளியேறியதற்குக் காரணம்.

- I. அவரால் காந்திய சித்தாந்தத்தைப் பின்பற்ற முடியவில்லை.
- II. காங்கிரசில் பிராமணத் தலைவர்கள் ஆதிக்கம் செலுத்தினர்.

மேற்கூறியவற்றுள் சரியானது எது/எவை?

- A) I மட்டும்
- B) II மட்டும்
- C) இரண்டும்
- D) இரண்டுமில்லை
- E) விடை தெரியவில்லை

In 1925, E.V.Ramaswamy left the congress because:

- I. He could not follow the Gandhian Ideology
 II. Congress overwhelmingly dominated by the Brahmin leaders

- A) I only
 B) II only
 C) Both I and II
 D) Neither I nor II
 E) Answer not known

176. பாரி விளையாட்டு பொருட்கள் கடையில் 5 டென்னிஸ் பந்துகளை வாங்க விரும்புகிறாள். ஒரு டஜன் பந்துகள் ரூ.180 என்றால், 5 பந்துகளை வாங்க பாரி எவ்வளவு கொடுக்க வேண்டும்?

- A) ரூ.100
 B) ரூ.75
 C) ரூ.25
 D) ரூ.50
 E) விடைதெரியவில்லை

Pari wants to buy 5 tennis balls from a sports shop. If a dozen balls cost Rs. 180, how much should Pari pay to buy 5 balls?

- A) Rs.100
 B) Rs. 75
 C) Rs. 25
 D) Rs. 50
 E) Answer not known

177. ஒரு மனிதன் 15 நிமிடங்களில் 2 கிமீ நடந்தால், 45 நிமிடங்களில், அவர் _____ கிமீ நடந்து செல்வார்.

- A) 10
 B) 8
 C) 6
 D) 12
 E) விடைதெரியவில்லை

If a man walks 2 k.m. in 15 minutes, then he will walk _____ k.m. in 45 minutes.

- A) 10
 B) 8
 C) 6
 D) 12
 E) Answer not known

178. பின்வருவனவற்றிலிருந்து சரியான கூற்றைக் கண்டறியவும்

- A) 88° மற்றும் 12° ஆகியவை நிரப்புக்கோணங்கள்
 B) 80° மற்றும் 180° ஆகியவை மிகை நிரப்புக்கோணங்கள்
 C) 20° மற்றும் 70° ஆகியவை நிரப்புக்கோணங்கள்
 D) 0° மற்றும் 180° ஆகியவை மிகை நிரப்புக்கோணங்கள்
 E) விடைதெரியவில்லை

Identify the correct statement from the following

- A) 88° and 12° are complementary
 B) 80° and 180° are supplementary
 C) 20° and 70° are complementary
 D) 0° and 180° are supplementary
 E) Answer not known

179. பின்வருவனவற்றிலிருந்து தவறான கூற்றை அடையாளம் காணவும்

- A) ரூ.1க்கும் 20 பைசாவிற்கும் உள்ள விகிதம் 5:1
 B) 1 லிட்டருக்கும் 50 மி.லி இடையிலான விகிதம் 20:1 ஆகும்
 C) 130 செமீக்கும் 1 மீக்கும் இடையிலான விகிதம் 13:10 ஆகும்
 D) 40 நிமிடங்கள் மற்றும் 1 மணி நேரம் இடையிலான விகிதம் 3:2 ஆகும்
 E) விடைதெரியவில்லை

Identify the incorrect statement from the following

- A) The ratio of Rs. 1 to 20 paise is 5:1
 B) The ratio of 1 l to 50 ml is 20:1
 C) The ratio of 130 cm to 1 m is 13: 10
 D) The ratio of 40 minutes to 1 hour is 3:2
 E) Answer not known

180. ஒரு மோட்டார் சைக்கிள் 5 லிட்டர் பெட்ரோலில் 220 கி.மீ தூரம் செல்கிறது. 1.5 லிட்டர் பெட்ரோலில் எவ்வளவு தூரம் செல்லும்?

- A) 55
 B) 66
 C) 77
 D) 44
 E) விடைதெரியவில்லை

A motorbike travels 220 km in 5 litres of petrol. How much distance will it cover in 1.5 litres of petrol?

- A) 55
 B) 66
 C) 77
 D) 44
 E) Answer not known

181. ஒரு மணி நேரத்தில், மணி மற்றும் நிமிட முள்களால் எத்தனை செங்கோணங்கள் உருவாக்க முடியும்?

- A) 0
 B) 1
 C) 2
 D) 3
 E) விடைதெரியவில்லை

In one hour of duration, how many right angles will be formed by the hour and minute hands?

- A) 0
 B) 1
 C) 2
 D) 3
 E) Answer not known

182. எந்த நேரத்தில், ஒரு கடிகாரம் பூஜ்ஜிய கோணத்தை உருவாக்கும்?

- A) 6 மணி
 B) 12 மணி
 C) 3 மணி
 D) 9 மணி
 E) விடைதெரியவில்லை

At what time, a clock would form a zero angle?

- A) 6 o' clock
 B) 12 o' clock
 C) 3 o' clock
 D) 9 o' clock
 E) Answer not known



183. ஒரு கடிகாரம் 24 மணி நேரத்தில் எத்தனை முறை நேர் கோணத்தை உருவாக்கும்?
A) 12 B) 13
C) 22 D) 21
E) விடைதெரியவில்லை
How many times a clock would form a straight angle in 24 hours?
A) 12 B) 13
C) 22 D) 21
E) Answer not known
184. இரண்டு நிரப்புக்கோணங்கள் 5 : 4 என்ற விகிதத்தில் உள்ளன எனில் அக்கோணங்களைக் கண்டறியவும்
A) 100° மற்றும் 80°
B) 80° மற்றும் 100°
C) 110° மற்றும் 70°
D) கோணத்தைக் கண்டறிய போதுமான தரவு இல்லை
E) விடைதெரியவில்லை
Two supplementary angles are in ratio 5:4. Find the angles
A) 100° and 80°
B) 80° and 100°
C) 110° and 70°
D) Data insufficient to find the angle
E) Answer not known
185. _____ 180° ஐ விட பெரியது.
A) பின்வளை கோணங்கள்
B) விரி கோணங்கள்
C) குறுங்கோணம்
D) ஒரே நேர்க்கோட்டிலுள்ள கோணங்கள்
E) விடைதெரியவில்லை
_____ are bigger than 180°.
A) Reflex angles B) Obtuse angles
C) Acute angles D) Collinear angles
E) Answer not known
186. பின்வரும் கூற்றுகளைக் கருத்தில் கொள்க.
I. ஒரு முக்கோணம் மூன்று குறுங்கோணங்களைக் கொண்டிருக்கலாம்
II. ஒரு முக்கோணத்தில் ஒன்றுக்கு மேற்பட்ட செங்கோணங்கள் இருக்கக்கூடாது
III. ஒரு முக்கோணத்தில் ஒன்றுக்கு மேற்பட்ட விரிகோணங்கள் இருக்கக்கூடாது
மேற்கூறியவற்றுள் சரியானது எது/எவை?
A) I மற்றும் III மட்டும் B) I, II மற்றும் III மட்டும்
C) II மற்றும் IV மட்டும் D) III மற்றும் IV மட்டும்
E) விடைதெரியவில்லை

Consider the following statements.

- I. A triangle can have three acute angles
- II. A triangle cannot have more than one right angle
- III. A triangle cannot have more than one obtuse angle.

Which of the statements given above is/are correct?

- A) I and III only
- B) I, II and III only
- C) II and IV only
- D) III and IV only
- E) Answer not known

187. பின்வருவனவற்றில், எந்த பக்க அளவுகள் மூலம் ஒரு முக்கோணத்தை உருவாக்க முடியாது?

- A) 7 செமீ 10 செமீ மற்றும் 5 செமீ
- B) 7 செமீ 7 செமீ மற்றும் 7 செமீ
- C) 8 செமீ, 3 செமீ மற்றும் 4 செமீ
- D) 3 செமீ, 4 செமீ மற்றும் 5 செமீ
- E) விடை தெரியவில்லை

In which of the following case, a triangle cannot be formed with its sides as provided?

- A) 7 cm, 10 cm and 5 cm
- B) 7 cm, 7 cm and 7 cm
- C) 8 cm, 3 cm and 4 cm
- D) 3 cm, 4 cm and 5 cm
- E) Answer not known

188. செங்கோண முக்கோணத்தின் கோணங்கள்

- A) குறுங்கோணம், குறுங்கோணம், விரிகோணம்
- B) குறுங்கோணம், செங்கோணம், செங்கோணம்
- C) செங்கோணம், விரிகோணம், குறுங்கோணம்
- D) குறுங்கோணம், குறுங்கோணம், செங்கோணம்
- E) விடை தெரியவில்லை

The angles of a right angled triangle are

- A) Acute, acute, obtuse
- B) Acute, right, right
- C) Right, obtuse, acute
- D) Acute, acute, right
- E) Answer not known

189. பின்வரும் கூற்றுகளைக் கருத்தில் கொள்க.

- I. ஒரு முக்கோணம் 3 பக்கங்களைக் கொண்டது.
- II. ஒரு முக்கோணம் 3 கோணங்களைக் கொண்டது
- III. ஒரு முக்கோணம் 3 உச்சிகளைக் கொண்டது

மேற்கூறியவற்றுள் சரியானது எது/எவை?

- A) I மற்றும் III மட்டும்
- B) I, II மற்றும் III மட்டும்
- C) II மற்றும் IV மட்டும்
- D) III மற்றும் IV மட்டும்
- E) விடை தெரியவில்லை



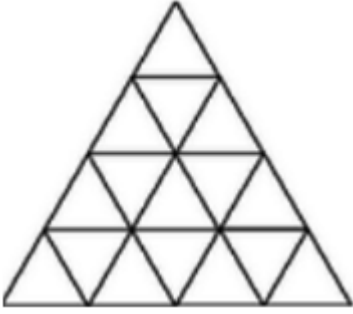
Consider the following statements.

- I. A triangle has 3 sides.
- II. A triangle has 3 angles.
- III. A triangle has 3 vertices.

Which of the statements given above is/are correct?

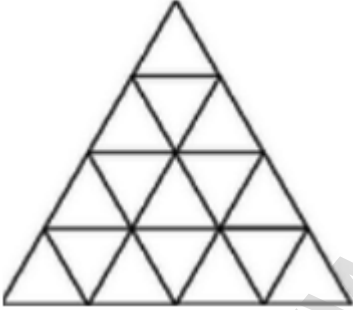
- A) I and III only
- B) I, II and III only
- C) II and IV only
- D) III and IV only
- E) Answer not known

190. கொடுக்கப்பட்ட படத்தில் எத்தனை முக்கோணங்கள் உள்ளன?




- A) 20
- B) 30
- C) 27
- D) 28
- E) விடைதெரியவில்லை

How many triangles are there in the given figure?




- A) 20
- B) 30
- C) 27
- D) 28
- E) Answer not known

191. கொடுக்கப்பட்ட படத்தில் எத்தனை வட்டங்கள் உள்ளன?



- A) 21
 B) 19
 C) 18
 D) 17
 E) விடைதெரியவில்லை

How many circles are there in the given figure



- A) 21
 B) 19
 C) 18
 D) 17
 E) Answer not known

192. ஃபைபோனச்சி வரிசையின் 11^{வது} எண் 89 மற்றும் 13^{வது} எண் 233 என்றால், 12^{வது} எண் என்ன?

- A) 144
 B) 145
 C) 146
 D) 147
 E) விடைதெரியவில்லை

If the 11th term of the Fibonacci sequence is 89 and 13th term is 233 then, what is the 12th term?

- A) 144
 B) 145
 C) 146
 D) 147
 E) Answer not known

193. கொடுக்கப்பட்ட மாதிரியில் 25^{வது} எழுத்து என்னவாக இருக்கும்?
 ABCAABBCCAAABBBCCC ,...

- A) B
 B) C
 C) D
 D) A
 E) விடைதெரியவில்லை

What will be the 25th letter in the pattern? ABCAABBCCAAABBBCCC,...

- A) B
 B) C
 C) D
 D) A
 E) Answer not known

194. 24/16 க்கு சமமான விகிதம் இல்லாதது எது?

- A) 9/6
 B) 18/12
 C) 15/10
 D) 28/20
 E) விடைதெரியவில்லை

Which is not an equivalent ratio of 24/16?

- A) 9/6
 B) 18/12
 C) 15/10
 D) 28/20
 E) Answer not known

195. கார்மேகன் 9 ஓவர்களில் 54 ரன்களும், ஆசிப் 11 ஓவர்களில் 77 ரன்களும் எடுத்தனர். யாருடைய ரன் விகிதம் சிறந்தது?

(ரன் விகிதம் = ஓவர்களுக்கு ரன் விகிதம்)

- A) கார்மேகம்
 B) ஆசிப்
 C) இரண்டு பேரின் ரன் விகிதங்களும் சமம்
 D) போதுமான தரவு இல்லை
 E) விடைதெரியவில்லை

Karmegan made 54 runs in 9 overs and Asif made 77 runs in 11 overs. Whose run rate is better?

(run rate = ratio of runs to overs)

- A) Karmegam
 B) Asif
 C) Both run rate are equal
 D) Insufficient data
 E) Answer not known

196. சில விலங்குகளின் அதிகபட்ச வேகம் கீழே கொடுக்கப்பட்டுள்ளது:

யானை = 20 கிமீ/மணி; சிங்கம் = 80 கிமீ/மணி; சிறுத்தை = 100 கிமீ/மணி. அவற்றின் வேகத்தின் பின்வரும் விகிதங்களை எளிமைப்படுத்தப்பட்ட வடிவத்தில் கண்டறிந்து, எந்த விலங்கு மற்ற விலங்குகளை விட வேகமாக உள்ளது என கண்டறி.

- A) யானை மற்றும் சிங்கம்
 B) சிங்கம் மற்றும் சிறுத்தை
 C) யானை மற்றும் சிறுத்தை
 D) சிறுத்தை மற்றும் யானை
 E) விடைதெரியவில்லை

The maximum speed of some of the animals are given below:

The Elephant=20 k.m./h; the Lion=80 k.m./h; the Cheetah =100 k.m./h. Find the following ratios of their speeds in simplified form and find which ratio is the highest?

- A) The Elephant and the Lion
 B) The Lion and the Cheetah
 C) The Elephant and the Cheetah
 D) The Cheetah and the Elephant
 E) Answer not known

197. ஒரு குறிப்பிட்ட உயர்நிலைப் பள்ளியில் 1500 மாணவர்கள், 50 ஆசிரியர்கள் மற்றும் 5 நிர்வாகிகள் உள்ளனர் என்றால் பள்ளியில் மாணவர்களின் எண்ணிக்கை 1800 ஆக அதிகரிக்கிறது எனில், ஆசிரியர்கள் மற்றும் நிர்வாகிகளின் எண்ணிக்கையைக் கண்டறியவும்
- A) 60 & 6
B) 6 & 60
C) 600 & 60
D) 60 & 600
E) விடைதெரியவில்லை
- A particular high school has 1500 students 50 teachers and 5 administrators. If the School grows to 1800 students and the ratios are maintained, then find the number of teachers and administrators
- A) 60 & 6
B) 6 & 60
C) 600 & 60
D) 60 & 600
E) Answer not known
198. திருமகள் தாயார் 35 சிவப்பு மணிகள் மற்றும் 30 நீல மணிகளால் செய்யப்பட்ட வளையலை அணிந்துள்ளார். அதே விகிதத்தில் ஒரே இரண்டு வண்ண மணிகளைப் பயன்படுத்தி சிறிய வளையல்களை உருவாக்க திருமகள் விரும்புகிறார். அவள் வளையல்களை எத்தனை விதங்களில் செய்யலாம்?
- A) 4 வழிகள்
B) 5 வழிகள்
C) 6 வழிகள்
D) 7 வழிகள்
E) விடைதெரியவில்லை
- Thirumagal's mother wears a bracelet made of 35 red beads and 30 blue beads. Thirumagal wants to make smaller bracelets using the same two coloured beads in the same ratio. In how many different ways can she make the bracelets?
- A) 4 ways
B) 5 ways
C) 6 ways
D) 7 ways
E) Answer not known
199. பள்ளி சுற்றுலா பயணத்தில், 6ம் வகுப்பைச் சேர்ந்த 6 ஆசிரியர்கள், 12 மாணவர்கள், 7 ம் வகுப்பைச் சேர்ந்த 9 ஆசிரியர்கள், 27 மாணவர்கள், 4 ஆசிரியர்கள், 8ம் வகுப்பைச் சேர்ந்த 4 ஆசிரியர்கள், 16 மாணவர்கள் பங்கேற்றனர்.
- எந்த வகுப்பில் ஆசிரியர் மற்றும் மாணவருக்கிடையே விகிதம் குறைவாக உள்ளது?
- A) 6ஆம் வகுப்பு
B) 7ஆம் வகுப்பு
C) 8ஆம் வகுப்பு
D) அனைத்து விகிதங்களும் ஒரே மாதிரியானவை
E) விடைதெரியவில்லை
- In a school excursion, 6 teachers and 12 students from 6th standard and 9 teachers and 27 students from 7th standard, 4 teachers and 16 students from 8th standard took part.
- Which class has the least teacher to student ratio?
- A) 6th standard
B) 7th standard
C) 8th standard
D) All the ratio are same
E) Answer not known



200. சரியான கூற்றைக் கண்டறியவும்:

- A) 4 : 5 விகிதம் 8 : 15 விகிதத்தை விட பெரியது
- B) 1 : 2 விகிதம் 2 : 1 விகிதத்தை விட பெரியது
- C) 3 : 4 விகிதம் 7 : 8 விகிதத்தை விட பெரியது
- D) 1 : 5 விகிதமானது 1 : 3 விகிதத்தை விட பெரியது
- E) விடைதெரியவில்லை

Find out the correct statement:

- A) The ratio 4 : 5 is larger than the ratio 8 : 15
- B) The ratio 1 : 2 is larger than the ratio 2 : 1
- C) The ratio 3 : 4 is larger than the ratio 7 : 8
- D) The ratio 1 : 5 is larger than the ratio 1 : 3
- E) Answer not known



SPACE FOR ROUGH WORK

www.Padasalai.Net



SPACE FOR ROUGH WORK

www.Padasalai.Net



வினாத்தொகுப்பு எண் :

பதிவு எண்

--	--	--	--	--	--	--	--	--	--	--	--	--	--	--	--	--	--	--	--	--

Test - 2

2024

**பொதுத் தமிழ் (பத்தாம் வகுப்பு தரம்) மற்றும் பொது அறிவு
(பட்டப்படிப்பு தரம்)**

இந்த வினாப்புத்தகம்

பகுதி - அ (பொதுத் தமிழ்) மற்றும் பகுதி - ஆ (பொது அறிவு) உள்ளடக்கியது

கால அளவு : 3.00 மணி நேரம்]

[மொத்த மதிப்பெண்கள் : 300

வினாக்களுக்கு பதிலளிக்கும் முன் கீழ்க்கண்ட அறிவுரைகளை கவனமாகப் படிக்கவும்

முக்கிய அறிவுரைகள்

- இந்த வினாத்தொகுப்பு, தேர்வு தொடங்குவதற்கு 15 நிமிடங்களுக்கு முன்னதாக உங்களுக்கு வழங்கப்படும்.
- இந்த வினாத்தொகுப்பு, **200** வினாக்களைக் கொண்டுள்ளது. விடையளிக்கத் தொடங்குமுன் இவ்வினாத் தொகுப்பில் எல்லா வினாக்களும் வரிசையாக இடம் பெற்றுள்ளனவா என்பதையும், இடையில் வெற்றுத்தாள்கள் எவையுமில்லை என்பதையும் உறுதி செய்து கொள்ளவும். வினாத் தொகுப்பில் ஏதேனும் குறைபாடு இருப்பின், அதனை முதல் பத்து நிமிடங்களுக்குள் அறைக்கண்காணிப்பாளரிடம் தெரிவித்து, சரியாக உள்ள வேறொரு வினாத் தொகுப்பினை பெற்றுக்கொள்ள வேண்டும். தேர்வு தொடங்கிய பின்பு, இது குறித்து முறையிட்டால் வினாத் தொகுப்பு மாற்றித் தரப்படமாட்டாது.
- எல்லா வினாக்களுக்கும் விடையளிக்கவும், எல்லா வினாக்களும் சமமான மதிப்பெண்கள் கொண்டவை.
- உங்களுடைய பதிவு எண்ணை இந்தப் பக்கத்தின் வலது மேல் மூலையில் அதற்கென அமைந்துள்ள இடத்தில் நீங்கள் எழுத வேண்டும். வேறு எதையும் வினாத் தொகுப்பில் எழுதக் கூடாது.
- விடைத்தாள் ஒன்று விடைகளை குறிப்பதற்கு அறைக்கண்காணிப்பாளரால் உங்களுக்கு வழங்கப்படும். விடைகளைக் குறிப்பது உள்ளிட்ட அவசியம் பின்பற்றப்பட வேண்டிய அறிவுரைகள் விடைத்தாளிலும், தேர்வுக்கூட அனுமதிச் சீட்டிலும் வழங்கப்பட்டுள்ளன.
- உங்களுடைய வினாத்தொகுப்பு, எண்ணை (Question Booklet Number) விடைத்தாளின் முதல் பக்கத்தில் அதற்கென அமைந்துள்ள இடத்தில் கருமை நிற மையுடைய பந்துமுனைப் பேனாவினால் குறித்துக் காட்ட வேண்டும். வினாத்தொகுப்பு எண்ணை விடைத்தாளில் சரியாகக் குறித்துக் காட்டத் தவறினாலோ அல்லது குறிக்கத் தவறினாலோ உங்களுடைய விடைத்தாள் செல்லாததாகக்கப்படும்.
- ஒவ்வொரு வினாவும் A), (B), (C), (D), (E) என ஐந்து பதில்களைக் (விடைகள்) கொண்டுள்ளது. நீங்கள் A) அல்லது B) அல்லது C) அல்லது D) இவைகளில் ஒரே ஒரு சரியான விடையைத் தெரிவு செய்து விடைத்தாளில் குறித்துக்காட்ட வேண்டும். ஒரு கேள்விக்கு ஒன்றுக்கு மேற்பட்ட சரியான விடை இருப்பதாக நீங்கள் கருதினால், மிகச்சரியானது என நீங்கள் எதைக் கருதுகிறீர்களோ அந்த விடையை விடைத்தாளில் குறித்துக்காட்ட வேண்டும். உங்களுக்கு விடை தெரியவில்லை எனில், நீங்கள் (E) என்பதை அவசியம் நிரப்ப வேண்டும். எப்படியாயினும், ஒரு கேள்விக்கு ஒரே ஒரு விடையைத் தான் தேர்ந்தெடுக்க வேண்டும். நீங்கள் ஒரு வேள்விக்கு ஒன்றுக்கு மேற்பட்ட விடையளித்தால், அவற்றுள் ஒரு விடை சரியானதாக இருந்தாலும் அந்த விடை தவறானதாகவே கருதப்படும்.
- நீங்கள் வினாத் தொகுப்பின் எந்தப் பக்கத்தையும் நீக்கவோ அல்லது கிழிக்கவோ கூடாது. தேர்வு நேரத்தில் இந்த வினாத் தொகுப்பினையோ அல்லது விடைத்தாளையோ தேர்வு அறையை விட்டு வெளியில் எடுத்துச் செல்லக் கூடாது. தேர்வு முடிந்தபின் நீங்கள் உங்களுடைய விடைத்தாளை கண்காணிப்பாளரிடம் கொடுத்து விட வேண்டும். இவ்வினாத் தொகுப்பினை தேர்வு முடிந்த பின்னர் மட்டுமே நீங்கள் எடுத்துச் செல்ல அனுமதிக்கப்படுவீர்கள்.
- குறிப்புகள் எழுதிப்பார்ப்பதற்கு வினாத்தொகுப்பின் கடைசி பக்கத்திற்கு முன் உள்ள பக்கங்களை பயன்படுத்திக் கொள்ளலாம். இதைத்தவிர வினாத்தொகுப்பின் எந்த இடத்திலும் எந்தவித குறிப்புகளையும் எழுதக்கூடாது. இந்த அறிவுரை கண்டிப்பாக பின்பற்றப்படவேண்டும்.
- வினா வரிசை எண்கள் 101 முதல் 200 வரை (பகுதி - ஆ) ஆங்கில வடிவே இறுதியானது.
- நீங்கள் மேற்கண்ட அறிவுரைகளில் எவற்றையாவது பின்பற்றத் தவறினால் தேர்வாணையம் எடுக்கும் நடவடிக்கைகளுக்கு உள்ளாக நேரிடும் என அறிவுறுத்தப்படுகிறது.

∩

[Turn over

For queries mail to For queries mail to : tnusrbprelims@shankariasacad.in; [Turn over

Kindly Send Me Your Key Answer to Our email id - Padasalai.net@gmail.com



பகுதி - அ — பொதுத் தமிழ் (பத்தாம் வகுப்பு தரம்)

Part A — General Tamil (SSLC Std)

வினாக்கள் : 1-100

மொத்த மதிப்பெண்கள் : 150

Questions : 1-100

Total Marks : 150

1. “அருள்நெறி அறிவைத் தரலாகும்
அதுவே தமிழன் குரலாகும்” என்று கூறியவர் யார்?
A) காந்தியக் கவிஞர்
B) தமிழ்க்கவிஞர்
C) மக்கள் கவிஞர்
D) பகுத்தறிவுக் கவிஞர்
E) விடை தெரியவில்லை
2. நாட்டுப்புற இசையின் எளிமையைக் கையாண்டு கவிதைகள் எழுதியவர் யார்?
A) நாமக்கல் கவிஞர்
B) உடுமலை நாராயணகவி
C) தாராபாரதி
D) பட்டுக்கோட்டை கல்யாணசுந்தரனார்
E) விடை தெரியவில்லை
3. தவறான கூற்றினைத் தேர்ந்தெடுக்க.
A) சங்க இலக்கியங்களுள் ஒன்றான பரிபாடல் ஓர் இசை நூலாகும்.
B) முல்லைக்குத் தேர்தந்து மழைமேகத்தை விடப் புகழ் பெற்றவன் வள்ளல் வேள்பாரி.
C) புலவரின் சொல்லுக்காகத் தன் தலையையே தரத் துணிந்தவன் திருமுடிக்காரி.
D) பகைவரை வென்றதைப் பாடுவது பரணி இலக்கியம்.
E) விடை தெரியவில்லை
4. “பேசப்படுவதும் கேட்கப்படுவதுமே உண்மையான மொழி; எழுதப்படுவதும் படிக்கப்படுவதும் அடுத்தநிலையில் வைத்துக் கருதப்படும் மொழியாகும். இவையே அன்றி வேறுவகை மொழிநிலைகளும் உண்டு. எண்ணப்படுவது, நினைக்கப்படுவது, கனவு காணப்படுவது ஆகியவையும் மொழியே ஆகும்” என்று கூறியவர் யார்?
A) பாரதியார்
B) திரு.வி.க
C) மு. வரதராசனார்
D) அறிஞர் அண்ணா
E) விடை தெரியவில்லை
5. பின்வரும் கூற்றுகளை கருத்தில் கொள்க.
I. மாறுபடும் ஒரே மொழியின் வெவ்வேறு வடிவங்களை வட்டார மொழி என்பர்.
II. கன்னடம், தெலுங்கு, மலையாளம் முதலிய திராவிட மொழிகள் தமிழிலிருந்து பிரிந்து சென்ற கிளைமொழிகள் ஆகும்.
III. பேச்சுமொழியை உலக வழக்கு என்றும், எழுத்துமொழியை இலக்கிய வழக்கு என்றும் கூறுவர்.



மேற்கண்ட கூற்றுகளில் சரியானவை எவை?

- A) I மற்றும் II மட்டும்
B) II மற்றும் III மட்டும்
C) I மற்றும் III மட்டும்
D) மேற்கண்ட அனைத்தும்
E) விடை தெரியவில்லை

6. நம் செந்தமிழ்மொழியினை செழுந்தமிழாய் விளங்கப் பாடுபடுவோம் என்று கூறியவர் யார்?

- A) பாரதியார்
B) பாரதிதாசன்
C) தேவநேயப்பாவாணர்
D) மறைமலையடிகள்
E) விடை தெரியவில்லை

7. தவறான கூற்றினைத் தேர்ந்தெடுக்க.

- A) மொழியின் உயிர்நாடியாக விளங்குவது எழுத்துமொழியே என்பர்.
B) பேச்சு மொழிக்கும் எழுத்து மொழிக்கும் இடையே பெரிய அளவில் வேறுபாடு இருந்தால் அஃது இரட்டை வழக்கு மொழி எனப்படும்.
C) கேட்டல், பேசுதல் என்னும் முதல் நிலையிலேயே குழந்தைகளுக்குத் தாய்மொழி அறிமுகமாகிறது. படித்தல், எழுதுதல் என்னும் இரண்டாம் நிலையில் பிறமொழிகள் அறிமுகம் ஆகின்றன.
D) ஒரு மொழி உயிர்ப்போடு வாழ்வதற்குப் பேச்சுமொழியும் காலம் கடந்து வாழ்வதற்கு எழுத்துமொழியும் தேவைப்படுகின்றன.
E) விடை தெரியவில்லை

8. “வெளைச்சலுக்கும் வெள்ளாட்டுக்கும் சென்மப் பகை” என்ற செலவடையின் பொருள் யாது?

- A) புடிவாதம்
B) முன்னேற்றம்
C) போராட்டம்
D) முயற்சி
E) விடை தெரியவில்லை

9. பின்வருவனவற்றுள் குற்றியலுகரம் அல்லாத ஒன்றினைத் தேர்ந்தெடு.

- A) பாட்டு
B) காசு
C) எஃகு
D) மாவு
E) விடை தெரியவில்லை

10. பின்வரும் இணைகளை கருத்தில் கொள்க.

(குற்றியலுகரம்)

(எடுத்துக்காட்டு)

- I. நெடில்தொடர்க் குற்றியலுகரம் – ஆறு
II. உயிர்த்தொடர்க் குற்றியலுகரம் – வரலாறு
III. வன்தொடர்க் குற்றியலுகரம் – ஒன்பது
IV. மென்தொடர்க் குற்றியலுகரம் – பண்பு

மேற்கண்ட இணைகளில் எத்தனை இணைகள் சரியானவை?

- A) 1
B) 2
C) 3
D) 4
E) விடை தெரியவில்லை



11. குற்றியலுகரம் பற்றிய பின்வரும் கூற்றுகளை கருத்தில் கொள்க.
I. “ஐ” என்னும் எழுத்தைத் தொடர்ந்து வரும் குற்றியலுகரச் சொற்கள் இல்லை.
II. சு, டு, று ஆகியவை இறுதியாக அமையும் இடைத்தொடர் குற்றியலுகரச் சொற்கள் இல்லை.
மேற்கண்ட கூற்றுகளில் தவறானது எது/எவை?
- A) I மட்டும்
B) II மட்டும்
C) இரண்டும்
D) இரண்டுமில்லை
E) விடை தெரியவில்லை
12. பின்வருவனவற்றுள் தவறாகப் பொருந்தியுள்ள ஒன்றினைத் தேர்ந்தெடு.
A) குற்றியலுகரம் = குறுமை + இயல் + இகரம்
B) கேள் + மியா = கேண்மியா
C) நாடு + யாது = நாடியாது
D) முள் + தீது = முட்டீது
E) விடை தெரியவில்லை
13. பொருத்துக.
- | | |
|--------------------------------|------------|
| a) நெடில்தொடர்க் குற்றியலுகரம் | 1. கரும்பு |
| b) உயிர்தொடர்க் குற்றியலுகரம் | 2. கொய்து |
| c) வன்தொடர்க் குற்றியலுகரம் | 3. வழக்கு |
| d) மென்தொடர்க் குற்றியலுகரம் | 4. விறகு |
| e) இடைத்தொடர்க் குற்றியலுகரம் | 5. ஏடு |
- குறியீடுகள்:
- | | a | b | c | d | e |
|----|---|---|---|---|---|
| A) | 5 | 4 | 3 | 2 | 1 |
| B) | 4 | 5 | 3 | 1 | 2 |
| C) | 5 | 4 | 3 | 1 | 2 |
| D) | 4 | 5 | 3 | 1 | 2 |
- E) விடை தெரியவில்லை
14. பின்வருவனவற்றுள் மென்தொடர்க் குற்றியலுகரம் அல்லாத சொல்லைத் தேர்ந்தெடுக்க.
A) ஒன்று
B) இரண்டு
C) ஐந்து
D) பத்து
E) விடை தெரியவில்லை
15. ஈரெழுத்துச் சொற்களாக மட்டும் அமையும் குற்றியலுகரம் எது?
A) மென்தொடர்க் குற்றியலுகரம்
B) நெடில்தொடர்க் குற்றியலுகரம்
C) இடைத்தொடர்க் குற்றியலுகரம்
D) உயிர்தொடர்க் குற்றியலுகரம்
E) விடை தெரியவில்லை



16. தவறான இணையைத் தேர்ந்தெடுக்க.

(ஆங்கிலக் சொல்)

(தமிழ்ச் சொல்)

- | | |
|---------------------|----------------|
| A) Orthography | - மொழியியல் |
| B) Phonology | - ஒலியியல் |
| C) Puppetry | - பொம்மலாட்டம் |
| D) Elocution | - பேச்சாற்றல் |
| E) விடை தெரியவில்லை | |

17. சுரதா பற்றிய தவறான கூற்றினைத் தேர்ந்தெடுக்க.

- A) இவரது இயற்பெயர் இராசகோபாலன்.
B) இவர் பாரதியார் மீது கொண்ட பற்றின் காரணமாக தம் பெயரைச் சுப்புரத்தினதாசன் என்று மாற்றிக் கொண்டார். இதன் சுரக்கமே 'சுரதா'.
C) உவமைகளைப் பயன்படுத்திக் கவிதை எழுதுவதில் வல்லவர் என்பதால் இவரை உவமைக் கவிஞர் என்பர்.
D) அமுதும் தேனும், தேன்மழை, துறைமுகம் உள்ளிட்ட பல நூல்களை இவர் இயற்றியுள்ளார்.
E) விடை தெரியவில்லை

18. காட்டைக் குறிக்கும் சொல் அல்லாத ஒன்றினைத் தேர்ந்தெடுக்க.

- | | |
|---------------------|-----------|
| A) பதுக்கை | B) பொச்சை |
| C) கணையம் | D) அரவம் |
| E) விடை தெரியவில்லை | |

19. "அதிமது ரத்தழையை

யானைகள் தின்றபடி

புதுநடை போடுமடி - கிளியே

பூங்குயில் கூவுமடி!" - இப்பாடலில் பயின்று வந்துள்ள தொடைநயம் யாது?

- | | |
|---------------------|----------|
| A) மோனை | B) எதுகை |
| C) இயைபு | D) முரண் |
| E) விடை தெரியவில்லை | |

20. தவறான இணையைத் தேர்ந்தெடுக்க.

(விலங்கு/பறவை)

(ஓலிமரபு)

- | | |
|---------------------|-------------|
| A) நரி | - ஊளையிடும் |
| B) குயில் | - கூவும் |
| C) மயில் | - அலறும் |
| D) குரங்கு | - அலப்பும் |
| E) விடை தெரியவில்லை | |

21. "கூட்டத்தில் கூடிநின்று

கூவிப் பிதற்றலன்றி

நாட்டத்தில் கொள்ளாரடி! - கிளியே

நாளில் மறப்பாரடி" என்னும் கிளிக்கண்ணி வகைப் பாடலைப் பாடியவர் யார்?



- A) சுரதா
B) பாரதிதாசன்
C) பாரதியார்
D) முடியரசு
E) விடை தெரியவில்லை
22. சிறந்த தமிழ்க் கவிதைகளைத் தொகுத்து “கொங்குதேர் வாழ்க்கை” என்னும் தலைப்பில் நூலாக்கியவர் யார்?
A) சுரதா
B) நாமக்கல் கவிஞர்
C) இராஜமார்த்தாண்டன்
D) கி.வா. ஜகந்நாதன்
E) விடை தெரியவில்லை
23. “குழந்தை வரைந்தது பறவைகளை மட்டுமே வானம் தானாக உருவானது” – புதுக்கவிதையைப் படைத்தவர் யார்?
A) புதுமைப்பித்தன்
B) வல்லிக் கண்ணன்
C) கலாப்பிரியா
D) அசோகமித்திரன்
E) விடை தெரியவில்லை
24. முண்டந்துறை புலிகள் காப்பகம் பற்றிய தவறான கூற்றினைத் தேர்ந்தெடுக்க.
A) தமிழ்நாட்டில் இரண்டாவது மிகப்பெரிய காப்பகம்
B) 895 சதுர கிலோ மீட்டர் பரப்பளவு கொண்டது.
C) இங்கு யானை, சிங்கம், புலி, சிறுத்தை, மான், கரடி, காட்டுமாடு போன்ற அரிய விலங்குகள் வாழ்கின்றன.
D) களக்காடு என்னும் ஊரில் அமையப்பெற்றுள்ள இக்காப்பகத்தின் எல்லா பகுதிகளுக்கும் மனிதர்கள் செல்ல இயலாது.
E) விடை தெரியவில்லை
25. யானை பற்றிய பின்வரும் கூற்றுகளைக் கருத்தில் கொள்க.
I. உலகில் இரண்டு வகையான யானைகள் உள்ளன. ஒன்று ஆசிய யானை, இன்னொன்று ஆப்பிரிக்க யானை.
II. ஆசிய யானைகளில் பெண் யானைக்குத் தந்தம் உண்டு. ஆண் யானைக்குத் தந்தம் இல்லை. ஆப்பிரிக்க யானைகளில் இரண்டுக்குமே தந்தம் உண்டு.
III. யானைகள் எப்பொழுதும் கூட்டமாகத்தான் வாழும். இந்தக் கூட்டத்திற்கு ஒரு பெண்யானைதான் தலைமை தாங்கும்.
மேற்கண்ட கூற்றுகளில் சரியானவை எவை?
A) I மற்றும் II மட்டும்
B) II மற்றும் III மட்டும்
C) I மற்றும் III மட்டும்
D) மேற்கண்ட அனைத்தும்
E) விடை தெரியவில்லை



26. தமிழ்நாட்டில் வனக்கல்லூரி அமைந்துள்ள இடம் எது?
A) நீலகிரி B) கோவை
C) திருநெல்வேலி D) மதுரை
E) விடை தெரியவில்லை
27. புலி பற்றிய தவறான கூற்றினைத் தேர்ந்தெடுக்க.
A) இரவில் மட்டுமே வேட்டையாடும் தன்மை கொண்டது.
B) புலிகள் தனித்து வாழும் இயல்புடையவை. ஒரு குறிப்பிட்ட எல்லைக்குள் ஒரு புலி மட்டுமே வாழும்.
C) கருவுற்ற புலியானது தொண்ணூறு நாட்களில் இரண்டு அல்லது மூன்று குட்டிகள் ஈனும்.
D) புலி ஓர் அனைத்துண்ணி.
E) விடை தெரியவில்லை
28. இயற்கை விஞ்ஞானிகள் காட்டுக்கு அரசன் என எந்த விலங்கினை அழைக்கின்றனர்?
A) புலி B) சிங்கம்
C) யானை D) கரடி
E) விடை தெரியவில்லை
29. பின்வரும் கூற்றுகளைக் கருத்தில் கொள்க.
கூற்று (A) : ஜாதவ் பபேங், இந்தியாவின் வனமகன் என்று அழைக்கப்படுகிறார்.
காரணம் (R) : கங்கை ஆற்றின் நடுவில் உள்ள மிகப்பெரிய தீவில் முப்பது ஆண்டுகள் தனது கடின உழைப்பால் ஒரு காட்டை உருவாக்கினார் ஜாதவ் பபேங்.
குறியீடுகள்:
A) கூற்று மற்றும் காரணம் இரண்டும் சரி மற்றும் காரணம் என்பது கூற்று சரியான விளக்கமாகும்
B) கூற்று மற்றும் காரணம் இரண்டும் சரி ஆனால் காரணம் என்பது கூற்று சரியான விளக்கமல்ல
C) கூற்று சரி ஆனால் காரணம் தவறு
D) கூற்று தவறு ஆனால் காரணம் சரி
E) விடை தெரியவில்லை
30. ஜாதவ் பபேங்கின் காட்டினைப் பற்றிய குறிப்புகள் எந்த இதழில் வெளிவந்தது?
A) தி ஹிந்து
B) டைம்ஸ் ஆப் இந்தியா
C) தினமணி
D) நியூ இந்தியா
E) விடை தெரியவில்லை



31. தவறான கூற்றினைத் தேர்ந்தெடுக்க.
- A) ஐகார்க்குறுக்கம் சொல்லின் முதலில் வரும்போது ஒன்றரை மாத்திரை அளவில் ஒலிக்கும்.
B) ஐகார்க்குறுக்கம் சொல்லின் இடையிலும் இறுதியிலும் வரும்போது ஒரு மாத்திரை அளவில் ஒலிக்கும்.
C) ஒளகார்க்குறுக்கம் சொல்லின் முதலில் வரும்போது ஒன்றரை மாத்திரை அளவில் ஒலிக்கும்.
D) ஒளகார்க்குறுக்கம் சொல்லின் இடையிலும் வரும் போது ஒருமாத்திரை அளவில் ஒலிக்கும்.
E) விடை தெரியவில்லை
32. ஒரு காட்டின் வளத்தினைக் குறிக்கும் விலங்கு எது?
- A) புலி
B) சிங்கம்
C) யானை
D) கரடி
E) விடை தெரியவில்லை
33. ஜாதவ் பயேங்கிற்கு வழங்கிய சிறப்புகளுள் பொருந்தா ஒன்றினைத் தேர்ந்தெடுக்க.
- A) 2012ஆம் ஆண்டு ஜவஹர்லால் நேரு பல்கலைக்கழகம் ஜாதவுக்கு 'இந்திய வனமகன் (Forest Man of India)' என்னும் பட்டத்தை வழங்கியுள்ளது.
B) 2015ஆம் ஆண்டு இந்திய அரசு பத்ம ஸ்ரீ விருதை வழங்கியுள்ளது.
C) 2020ஆம் ஆண்டு இந்திய அரசானது 'இந்திய வனக்காவலர்' பட்டத்தை அளித்து சிறப்பித்தது.
D) கௌகாத்தி பல்கலைக்கழகம் 'மதிப்பறு முனைவர்' பட்டம் வழங்கியுள்ளது.
E) விடை தெரியவில்லை
34. மகரக்குறுக்கம் பயின்று வாராச் சொல்லைத் தேர்ந்தெடுக்க.
- A) மருண்ம்
B) பழம் விழுந்தது
C) பாடம் படித்தான்
D) வலம் வந்தான்
E) விடை தெரியவில்லை
35. 'எஃகு' என்னும் சொல்லில் ஆய்த எழுத்து பெரும் மாத்திரை அளவு என்ன?
- A) அரை
B) கால்
C) ஒன்று
D) ஒன்றரை
E) விடை தெரியவில்லை
36. சொற்களை ஒழுங்குபடுத்தி சொற்றொடராக்கு.
- A) பேய்க்காற்றில் மரம் சாய்ந்தது பெருவாழ்வு வாழ்ந்த
B) பெருவாழ்வு வாழ்ந்த மரம் சாய்ந்தது பேய்க்காற்றில்
C) மரம் சாய்ந்தது பேய்க்காற்றில் பெருவாழ்வு வாழ்ந்த
D) பெருவாழ்வு வாழ்ந்த மரம் பேய்க்காற்றில் சாய்ந்தது
E) விடை தெரியவில்லை



37. பிழையற்ற தொடரினைத் தேர்ந்தெடுக்க.
A) அரசர்கள் நல்லாட்சி செய்தார்
B) பசு கன்றை ஈன்றது
C) மேகங்கள் சூழ்ந்து கொண்டது
D) குழலி நடனம் ஆடியது
E) விடை தெரியவில்லை
38. “அணுவைத் துளைத்து ஏழ்கடலைப் புகட்டிக் குறுகத் தரித்த குறள்” என்று திருக்குறளின் பெருமையை போற்றியவர் யார்?
A) கபிலர்
B) இடைக்காடனார்
C) ஓளவையார்
D) மா.பொ.சிவஞானம்
E) விடை தெரியவில்லை
39. “ஓழுக்காறாக் கொள்க ஒருவன்தன் நெஞ்சத்து அழுக்காறு இலாத இயல்பு” – அடிக்கோடிட்ட சொல்லின் பொருள் யாது?
A) புறங்கூறல்
B) பொறாமை
C) பொய்
D) சினம்
E) விடை தெரியவில்லை
40. ஒருவர் தம்மைவிட மெலிந்தவரை துன்புறுத்தும்போது எதனை எண்ணிப் பார்க்க வேண்டுமென வள்ளுவர் குறிப்பிடுகின்றார்?
A) வலியார்முன் அஞ்சி நிற்கும் நிலை
B) தனக்கு நேர்ந்த துன்பத்தினை
C) உலகின் நிலையற்ற தன்மையினை
D) மேற்கூறிய அனைத்தும்
E) விடை தெரியவில்லை
41. வாய்மை எனப்படுவது
A) உண்மை பேசுதல்
B) அடக்கமாகப் பேசுதல்
C) தீங்கு தராத சொற்களைப் பேசுதல்
D) மென்மையாகப் பேசுதல்
E) விடை தெரியவில்லை
42. சிறந்த அரசின் செயல்களை வரிசைப்படுத்துக.
A) இயற்றல், ஈட்டல், பெருக்கல், வகுத்தல்
B) ஈட்டல், இயற்றல், பெருக்கல், வகுத்தல்
C) இயற்றல், ஈட்டல், காத்தல், வகுத்தல்
D) ஈட்டல், இயற்றல், வகுத்தல், காத்தல்
E) விடை தெரியவில்லை
43. தெய்வநூல் என அழைக்கப்படும் நூல் எது?
A) நாலடியார்
B) திருக்குறள்
C) திருவாசகம்
D) திருமந்திரம்
E) விடை தெரியவில்லை



44. திருக்குறள் பற்றிய பின்வரும் கூற்றுகளைக் கருத்தில் கொள்க.
I. தமிழ்நூல்களில் 'திரு' என்னும் அடைமொழியோடு வருகின்ற முதல் நூல் திருக்குறள் ஆகும்.
II. இதில் அறத்துப்பால் - 38, பொருட்பால் - 70, இன்பத்துப்பால் - 25 என மொத்தம் 133 அதிகாரங்கள் உள்ளன.
மேற்கண்ட கூற்றுகளில் தவறானது எது/எவை?
A) I மட்டும்
B) II மட்டும்
C) இரண்டும்
D) இரண்டுமில்லை
E) விடை தெரியவில்லை
45. எப்போது தன்நெஞ்சே தன்னை வருத்தும்?
A) பிறர்நாணத்தக்க செயல்களைச் செய்யும்போது
B) ஒருவரைப் பற்றி புறங்கூறும் போது
C) உள்ளமறிய பொய் கூறும் போது
D) நெஞ்சத்தால் பொறாமை கொள்ளும் போது
E) விடை தெரியவில்லை
46. பண்டைக்காலத் தமிழ் மக்களின் வாழ்க்கைமுறை, நாகரிகம், பண்பாடு, வீரம் முதலியவற்றை வெளிப்படுத்தும் எட்டுத்தொகை நூல் எது?
A) பரிபாடல்
B) பதிற்றுப்பத்து
C) புறநானூறு
D) பட்டினப்பாலை
E) விடை தெரியவில்லை
47. காவற்பெண்டு பற்றிய பின்வரும் கூற்றுகளைக் கருத்தில் கொள்க.
I. சங்ககாலப் பெண்பாற்புலவர்களுள் ஒருவர்.
II. சோழ மன்னன் போரவைக் கோப்பெரு நற்கிள்ளியின் செவிலித்தாயாக விளங்கியவர் என்பர்.
III. சங்ககால மக்களின் வீரத்தைக் கருப்பொருளாகக் கொண்டு புறநானூற்றில் பதினோரு பாடல்களைப் பாடியுள்ளார்.
மேற்கண்ட கூற்றுகளில் சரியானவை எவை?
A) I மற்றும் II மட்டும்
B) II மற்றும் III மட்டும்
C) I மற்றும் III மட்டும்
D) மேற்கண்ட அனைத்தும்
E) விடை தெரியவில்லை
48. 'வீரபாண்டிய கட்டபொம்மு கதைப்பாடல்' என்னும் நூலினை இயற்றியவர் யார்?
A) சக்கமாதேவி
B) கி.வா. ஜகந்நாதன்
C) சு.சக்திவேல்
D) நா.வானமாமலை
E) விடை தெரியவில்லை



49. முத்துராமலிங்கத் தேவர் பற்றிய பின்வரும் கூற்றுகளுள் பொருந்தா ஒன்றினைத் தேர்ந்தெடுக்க.
- A) 'தென்னாட்டுச் சிங்கம் என்று தேவரைச் சொல்லுகிறார்களே அது சாலப்பொருந்தும் என அவரது தோற்றத்தைப் பார்த்த உடனேயே நினைத்தேன். அவர் பேசத் தொடங்கியதும் சிங்கத்தின் முழக்கம் போலவே இருந்தது' என்று அறிஞர் அண்ணா இவரைப் புகழ்ந்துள்ளார்.
- B) முத்துராமலிங்கத்தேவர் பேச்சு உள்ளத்தில் இருந்து வெளிவருகிறது. உதடுகளிலிருந்து அல்ல. உள்ளத்தால் எதிலும் பற்றற்று உண்மையெனப் பட்டதை மறைக்காமல் அப்படியே பேசிவிடுவது அவர் வழக்கம்' என்று மூதறிஞர் இராஜாஜி பாராட்டியுள்ளார்.
- C) பாராளுமன்றத்தில் இவர் ஆங்கிலத்தில் பேசிய பேச்சு வெள்ளையர் காலத்தில் விட்டல்பாய், வல்லபாய் பட்டேல் போன்ற மேதைகள் பேசிய பேச்சைப் போல இருந்ததாக தென்னிந்திய இதழ்கள் பாராட்டின.
- D) இவரது விடுதலை வேட்கையை அறிந்த திரு.வி.கலியாண சுந்தரனார் 'தேசியம் காத்த செம்மல்' என்று பாராட்டியுள்ளார்.
- E) விடை தெரியவில்லை
50. 'தேசியம் உடல், தெய்வீகம் உயிர்' எனக் கருதி மக்கள் தொண்டு செய்தவர் யார்?
- A) வ.உ.சி
- B) பசும்பொன். முத்துராமலிங்கத் தேவர்
- C) பாரதியார்
- D) திரு.வி.கலியாண சுந்தரனார்
- E) விடை தெரியவில்லை
51. பசும்பொன் முத்துராமலிங்கத் தேவர் முதன்முதலில் சாயல்குடி என்னும் ஊரில் கீழ்காணும் எந்தத் தலைப்பின் கீழ் மூன்று மணிநேரம் உரையாற்றினார்?
- A) இந்திய தேசிய இராணுவம்
- B) நேதாஜியின் சிந்தனைகள்
- C) விடுதலைப்போரும் தமிழகமும்
- D) விவேகானந்தரின் பெருமை
- E) விடை தெரியவில்லை
52. முத்துராமலிங்கத்தேவரின் சிறப்புப் பெயர்களில் பொருந்தா ஒன்றினைத் தேர்ந்தெடுக்க.
- A) தேசியம் காத்த செம்மல்
- B) இந்து புத்தசமய மேதை
- C) வாழும் சித்தர்
- D) சன்மார்க்க சண்டமாருதம்
- E) விடை தெரியவில்லை
53. பின்வரும் இணைகளை கருத்தில் கொள்க.
- | (முத்துராமலிங்கத்தேவரின் போராட்டம்/ஈடுபாடு) | (நடைபெற்ற ஆண்டு) |
|--|------------------|
| I. மதுரை மீனாட்சியம்மன் ஆலய நுழைவுப் போராட்டம் | - 1939 |
| II. குற்றப்பரம்பரைச் சட்ட எதிர்ப்பு மாநாடு, கமுதி | - 1937 |
| III. மதுரையிலிருந்த நூற்பு ஆலை ஒன்றில் வேலைசெய்த தொழிலாளர்களின் உரிமைக்காகத் தோழர் ப.ஜீவானந்தத்துடன் இணைந்து போராட்டம் | - 1938 |
| IV. குற்றப்பரம்பரைச் சட்டம் நீக்கம் | - 1748 |



மேற்கண்ட இணைகளில் சரியான இணை எவை?

- A) 1 இணை மட்டும்
B) 2 இணைகள் மட்டும்
C) 3 இணைகள் மட்டும்
D) 4 இணைகளும்
E) விடை தெரியவில்லை

54. இரண்டாம் உலகப்போர் சமயத்தில் எந்த நகரில் உள்ள சிறையில் முத்துராமலிங்கத்தேவர் அடைக்கப்பட்டிருந்தார்?

- A) அமராவதி
B) அலிப்பூர்
C) தாமோ
D) கல்கத்தா
E) விடை தெரியவில்லை

55. முத்துராமலிங்கத்தேவர் பற்றிய பின்வரும் கூற்றுகளைக் கருத்தில் கொள்க.

- I. முத்துராமலிங்கத்தேவர் தன் தொடக்கக்கல்வியைக் கமுதியிலும் உயர்நிலைக் கல்வியை மதுரை பசுமலைப் பள்ளியிலும் இராமநாதபுரத்திலும் பயின்றார்.
II. இந்திய விடுதலைக்குமுன் 'நேதாஜி' என்னும் பெயரில் வாரிதழ் ஒன்றை நடத்தினார்.
III. நேதாஜியைத் தமது அரசியல் குருவாக ஏற்றுக் கொண்டார்.
IV. தமிழகச் சட்டமன்றத்தில் அவரது திருவுருவப் படம் திறந்து வைக்கப்பட்டுள்ளது. சென்னையில் அரசு சார்பாகச் சிலை அமைக்கப்பட்டுள்ளது. இந்திய நாடாளுமன்ற வளாகத்திலும் சிலை வைக்கப்பட்டுள்ளது.

மேற்கண்ட கூற்றுகளில் சரியானவை எவை?

- A) I, II மற்றும் III மட்டும்
B) I, III மற்றும் IV மட்டும்
C) I, III மற்றும் IV மட்டும்
D) மேற்கண்ட அனைத்தும்
E) விடை தெரியவில்லை

56. ஆங்கில மொழியில் ஆலன் என்பவர் இயற்றிய அறிவு நூல்களில் ஒன்றை 'மனம்போல் வாழ்வு' என்று தமிழில் மொழிபெயர்த்தவர் யார்?

- A) வ.உ.சிதம்பரனார்
B) முத்துராமலிங்கத்தேவர்
C) திரு.வி.க
D) இரா.பி.சேதுப்பிள்ளை
E) விடை தெரியவில்லை

57. செய்யுளுக்கே உரிய எதுகை, மோனை என்பவற்றை உரைநடைக்குள் கொண்டு வந்தவர் யார்?

- A) அறிஞர் அண்ணா
B) இரா.பி.சேதுப்பிள்ளை
C) மு. வரதராசனார்
D) திரு.வி.க.
E) விடை தெரியவில்லை

58. 'சொல்லின் செல்வர்' எனப் போற்றப்படுபவரின் சாகித்திய அகாதெமி விருது பெற்ற நூல் எது?

- A) தமிழ் விருந்து
B) தமிழின்பம்
C) ஊரும் பேரும்
D) ஆற்றங்கரையினிலே
E) விடை தெரியவில்லை



59. தவறான இணையைத் தேர்ந்தெடுக்க.

(கூற்று)

(கூறியவர்)

- A) சுதந்திரம் எனது பிறப்புரிமை; அதை அடைந்தே தீருவேன் – பால கங்காதர திலகர்
B) வந்தே மாதரம் என்போம், எங்கள் மாநிலத் தாயை வணங்குதும் என்போம் – பாரதியார்
C) பாயக் காண்பது சுதந்திர வெள்ளம் பணியக் காண்பது வெள்ளையர் உள்ளம் – வ.உ.சி
D) ஏழை என்றும் அடிமை என்றும் எவனும் இல்லை சாதியில் – பாரதிதாசன்
E) விடை தெரியவில்லை

60. “சிதம்பரனாரின் பிரசங்கத்தையும், பாரதியாரின் பாட்டையும் கேட்டால் செத்த பிணம் உயிர் பெற்று எழும். புரட்சி ஓங்கும். அடிமைப்பட்ட நாடு ஐந்தே நிமிடங்களில் விடுதலை பெறும்” என்று கூறியவர் யார்?

- A) பாண்டித்துரையார் B) பாரதியார்
C) பின்ஹே D) திரு.வி.க
E) விடை தெரியவில்லை

61. “தொல்காப்பியத்தைப் படித்துப் படித்து என் தொல்லை யெல்லாம் மறந்தேன். இன்னிலையைக் கற்று என் இன்னல்களையெல்லாம் வென்றேன்” என்று கூறியவர் யார்?

- A) வ.உ.சி B) திரு.வி.க
C) பாரதியார் D) சுரதா
E) விடை தெரியவில்லை

62. கிளையின் நுனியைக் கிளைநுனி எனக் கூராமல் நுனிக்கிளை எனக் குறிப்பிடுவது?

- A) இலக்கணமுடையது B) இலக்கணப்போலி
C) இடக்கரடக்கல் D) மரூஉ
E) விடை தெரியவில்லை

63. தவறான ஊர்ப்பெயரின் மரூஉ எது?

- A) திருநெல்வேலி – நெல்லை B) புதுக்கோட்டை – புதுவை
C) உதகமண்டலம் – உதகை D) கும்பகோணம் – குடந்தை
E) விடை தெரியவில்லை

64. பின்வரும் கூற்றுகளைக் கருத்தில் கொள்க.

- I. ஏதேனும் ஒரு காரணத்தினால் பிறரிடம் சொல்லத் தகுதியற்ற சொற்களைத் தகுதியான வேறு சொற்களால் குறிப்பிடுவது இயல்பு வழக்கு எனப்படும்.
II. இடக்கரடக்கல், மங்கலம், குழுஉக்குறி மூன்றும் ஒரு சொல்லுக்கு மாற்றாக வேறு சொல்லைப் பயன்படுத்தும் முறையாகும்.

மேற்கண்ட கூற்றுகளில் சரியானது எது/எவை?

- A) I மட்டும் B) II மட்டும்
C) இரண்டும் D) இரண்டுமில்லை
E) விடை தெரியவில்லை



65. ஓலை என்பதை திருமுகம் என அழைப்பது?
A) இடக்கரடக்கல் B) மங்கலம்
C) இலக்கணப் போலி D) குழுஉக்குறி
E) விடை தெரியவில்லை

66. பொருத்துக.
a) இடக்கரடக்கல் 1. போது
b) மங்கலம் 2. தசை
c) இலக்கணப்போலி 3. துஞ்சினார்
d) மருஉ 4. காரை
e) குழுஉக்குறி 5. குழந்தை வெளியே போய்விட்டது
குறியீடுகள்:

	a	b	c	d	e
A)	5	1	3	4	2
B)	2	4	3	5	1
C)	5	3	2	1	4
D)	4	1	2	3	5
E)	விடை தெரியவில்லை				

67. தவறான இணையைத் தேர்ந்தெடுக்க.
A) வாயில் என்னும் சொல்லை வாசல் என அழைப்பது – இலக்கணப்போலி
B) கருப்பு ஆட்டை வெள்ளாடு என அழைப்பது – மங்கலம்
C) பொன்னைப் பறி எனல் – குழுஉக்குறி
D) ஒன்றுக்குப் போய் வந்தேன் – இடக்கரடக்கல்
E) விடை தெரியவில்லை

68. பொருத்துக.
a) முதற்போலி 1. அஞ்சு
b) இடைப்போலி 2. சாம்பர்
c) கடைப்போலி 3. பைசல்
d) முற்றுப்போலி 4. அரையர்
குறியீடுகள்:

	a	b	c	d
A)	3	4	2	1
B)	1	2	4	3
C)	3	2	1	4
D)	4	1	2	3
E)	விடை தெரியவில்லை			



69. 'கொற்கைத் துறைமுகத்திலே பாண்டியனுடைய மீன்கொடி பறந்தது' இத்தொடரில் அமைந்துள்ள எழுவாய் யாது?
- A) கொற்கைத் துறைமுகம்
B) பாண்டியன்
C) மீன்கொடி
D) பறந்தது
E) விடை தெரியவில்லை
70. கலைச்சொல் தருக - Ballad.
- A) துணிவு
B) தியாகம்
C) கதைப்பாடல்
D) முழக்கம்
E) விடை தெரியவில்லை
71. தவறான இணையைத் தேர்ந்தெடுக்க.
- A) உரவுநீர் அழுவத்து ஓடுகலம் கரையும் துறை - பெரும்பாணாற்றுப்படை
B) உலகுகிளர்ந் தன்ன உருகெழு வங்கம் - அகநானூறு
C) அருங்கலம் தரீஇயர் நீர்மிசை நிவக்கும் பெருங்கலி வங்கம் - பதிற்றுப்பத்து
D) முந்நீர் வழக்கம் - புறநானூறு
E) விடை தெரியவில்லை
72. 'கோடுஉயர் திணிமணல் அகன்துறை நீகான்' - அடிக்கோடிட்டச் சொல்லின் பொருள் யாது?
- A) காற்று
B) நாவாய் ஓட்டுபவன்
C) கலங்கரை விளக்கம்
D) கப்பல்
E) விடை தெரியவில்லை
73. "பூம்புகார் துறைமுகத்திலிருந்து கப்பல்கள் மூலம் பொருள்கள் ஏற்றுமதியும் இறக்குமதியும் செய்யப்பட்டன" என்ற செய்தியானது இடம்பெற்றுள்ள நூல் எது?
- A) பதிற்றுப்பத்து
B) பட்டினப்பாலை
C) பரிபாடல்
D) புறநானூறு
E) விடை தெரியவில்லை
74. 'நெடுந்தொகை' என்று அழைக்கப்படும் எட்டுத்தொகை நூல் எது?
- A) புறநானூறு
B) அகநானூறு
C) பதிற்றுப்பத்து
D) பரிபாடல்
E) விடை தெரியவில்லை
75. பெரும்பாணாற்றுப்படை நூலின் பாட்டுடைத் தலைவன் யார்?
- A) கடியலூர் உருத்திரங் கண்ணனார்
B) தொண்டைமான் இளந்திரையன்
C) கரிகால சோழன்
D) தலையாலங்கானத்துச் செருவென்ற பாண்டிய நெடுஞ்செழியன்
E) விடை தெரியவில்லை



76. கப்பலைச் செலுத்துவதற்கும் உரிய திசையில் திருப்புவதற்கும் பயன்படும் முதன்மையான கருவி எது?
A) சமுக்கு B) சுக்கான்
C) எரா D) பருமல்
E) விடை தெரியவில்லை
77. “நளியிரு முந்நீர் நாவாய் ஓட்டி
வளி தொழில் அண்ட உரவோன் மருக” என்ற புறநானூற்றுப் பாடலை பாடியவர் யார்?
A) குடப்புலவியனார்
B) வெண்ணிக்குயத்தியார்
C) மருத இளநாகனார்
D) கடியலூர் உருத்திரங் கண்ணனார்
E) விடை தெரியவில்லை
78. தவறான கூற்றினைத் தேர்ந்தெடுக்க.
A) நியூசிலாந்து நாட்டு வெலிங்டன் அருங்காட்சியகத்தில் பழங்காலத் தமிழ்நாட்டுக் கப்பல்களில் பயன்படுத்தப்பட்ட மணி ஒன்று இடம்பெற்றுள்ளது.
B) பிற்காலச் சோழர்களில் இராசராச சோழனும், இராசேந்திர சோழனும் பெரிய கப்பற்படையைக் கொண்டு பல நாடுகளை வென்றனர் என்பதை வரலாறு பகிர்கிறது.
C) தமிழர்கள் முற்காலத்திலேயே கப்பல் கட்டும் கலையை நன்கு அறிந்திருந்தனர். கப்பல் கட்டும் கலைஞர்கள் ‘மீகாமன்’ என்று அழைக்கப்பட்டனர். இதனைப் பற்றிய குறிப்புகள் மணிமேகலையில் இடம் பெற்றுள்ளது.
D) ‘கண்ணடை’ என்பது இழைத்த மரத்தில் காணப்படும் உருவங்கள் ஆகும்.
E) விடை தெரியவில்லை
79. “ஆங்கிலேயர் கட்டிய கப்பல்களைப் பன்னிரண்டு ஆண்டுகளுக்கு ஒருமுறை பழுது பார்க்க வேண்டும். ஆனால் தமிழர் கட்டிய கப்பல்களை ஐம்பது ஆண்டுகள் ஆனாலும் பழுது பார்க்க வேண்டிய அவசியமில்லை” என்று கூறியவர் யார்?
A) வாக்கர் B) எல்லீஸ்
C) ஈராஸ் பாதிரியார் D) மார்க்கோபோலோ
E) விடை தெரியவில்லை
80. ‘அறிவியல் புனைகதைகளின் தலைமகன்’ என்று புகழப்படுபவர் யார்?
A) வாக்கர் B) ஜீல்ஸ் வெர்ன்
C) சுஜாதா D) சுரதா
E) விடை தெரியவில்லை
81. பின்வருவனவற்றின் திசைச்சொல் அல்லாத ஒன்றினை தேர்ந்தெடுக்க.
A) சாவி B) சக்கரம்
C) சன்னல் D) இரயில்
E) விடை தெரியவில்லை



82. பொருத்துக.

- | | |
|---------------|-----------|
| a) இயற்சொல் | 1. இரயில் |
| b) திரிசொல் | 2. விடம் |
| c) திசைச்சொல் | 3. அழுவம் |
| d) வடசொல் | 4. கடல் |

குறியீடுகள்:

	a	b	c	d
A)	4	3	1	2
B)	3	4	1	2
C)	1	2	4	3
D)	2	3	4	1

E) விடை தெரியவில்லை

83. பல பொருள் தரும் ஒருசொல் என்பது

- | | |
|---------------------|-------------|
| A) இயற்சொல் | B) திரிசொல் |
| C) திசைச்சொல் | D) வடசொல் |
| E) விடை தெரியவில்லை | |

84. பாரதிதாசனின் படைப்புகளுள் பொருந்தா ஒன்றினைத் தேர்ந்தெடு.

- | | |
|------------------------------|----------------|
| A) பாண்டியன் பரிசு | B) இசையமுது |
| C) மாதவி புரட்சிக் காப்பியம் | D) இருண்ட வீடு |
| E) விடை தெரியவில்லை | |

85. சொல்லோடு பொருளைப் பொருத்துக.

- | (சொல்) | (பொருள்) |
|-------------|----------------------------------|
| a) விச்சை | 1. மலை |
| b) வைப்புழி | 2. அழகு |
| c) வெற்பு | 3. கல்வி |
| d) உரு | 4. தூண் |
| e) மதலை | 5. பொருள் சேமித்து வைக்கும் இடம் |

குறியீடுகள்:

	a	b	c	d	e
A)	5	4	2	3	1
B)	3	5	1	2	4
C)	1	3	4	2	5
D)	4	2	3	5	1

E) விடை தெரியவில்லை



86. பாரதிதாசன் பற்றிய பின்வரும் கூற்றுகளைக் கருத்தில் கொள்க.
- I. இவர் எழுதிய 'பிசிராந்தையார்' என்னும் நாடக நூலுக்குச் சாகித்திய அகாடமி விருது அளிக்கப்பட்டது.
- II. "இன்பத் தமிழ்க் கல்வி யாவரும் கற்றவர் என்றுரைக்கும் நிலை எய்தி விட்டால் துன்பங்கள் நீங்கும் சுகம் வரும் நெஞ்சினில் தூய்மை உண்டாகிடும் வீரம் வரும்!" என்ற பாடலடிகள் அழகின் சிரிப்பு என்னும் நூலில் இடம்பெற்றுள்ளது.
- மேற்கண்ட கூற்றுகளில் சரியானது எது/எவை?
- A) I மட்டும்
B) II மட்டும்
C) இரண்டும்
D) இரண்டுமில்லை
E) விடை தெரியவில்லை
87. நாலடியார் பற்றிய தவறான கூற்றினைத் தேர்ந்தெடுக்க.
- A) சமண முனிவர்கள் பலரால் எழுதப்பட்ட நூலாகும்.
B) பதினெண்மேற்கணக்கு நூல்களுள் ஒன்று.
C) இந்நூலை நாலடி நானூறு என்றும், வேளாண் வேதம் என்றும் அழைப்பர்.
D) திருக்குறள் போன்றே அறம், பொருள், இன்பம் என்னும் முப்பால் பகுப்புக் கொண்டது.
E) விடை தெரியவில்லை
88. வாய்த்தீயின் என்னும் சொல்லைப் பிரித்து எழுதக் கிடைப்பது
- A) வாய்த்து + ஈயின்
B) வாய் + தீயின்
C) வாய்த்து + தீயன்
D) வாய் + ஈயின்
E) விடை தெரியவில்லை
89. திருக்குறளார் பற்றிய தவறான கூற்றினைத் தேர்ந்தெடுக்க.
- A) திருக்குறள் வகுப்புகள் நடத்தியும், தொடர் சொற்பொழிவுகள் நிகழ்த்தியும் திருக்குறளைப் பரப்பும் பணி செய்தவர்.
B) வள்ளுவர் உள்ளம், வள்ளுவர் காட்டிய வழி, திருக்குறளில் நகைச்சுவை, உலகப்பொதுமறை திருக்குறள் உரை விளக்கம் உள்ளிட்ட நூல்களை இயற்றியுள்ளார்.
C) இவரது இயற்பெயர் வீ.முனிசாமி. இவர் நகைச்சுவை ததும்பும் தமது பேச்சால் மக்களைக் கவர்ந்தவர்.
D) "பள்ளித் தலமனைத்தும் கோயில் செய்குவோம்; எங்கள் பாரத தேசமென்று தோள்கொட்டுவோம்" என்று பாடியுள்ளார்.
E) விடை தெரியவில்லை
90. "கொல்லிப்பாவை" என்னும் சிற்றிதழை நடத்தியவர் யார்?
- A) இராஜமார்த்தாண்டம்
B) சுப்பாரதிமணியன்
C) வீ. முனிசாமி
D) பாரதிதாசன்
E) விடை தெரியவில்லை



91. சுப்ரபாரதிமணியன் பற்றிய பின்வரும் கூற்றுகளை கருத்தில் கொள்க.
- I. இவர் குழந்தைத் தொழிலாளர் முறை ஒழிப்பு, இயற்கை வளங்களைப் பாதுகாத்தல் போன்ற கருத்துகளை வலியுறுத்திச் சிறுகதை, புதினம், கட்டுரை முதலியவற்றை எழுதியுள்ளார்.
- II. பின்னல், வேட்டை, தண்ணீர் யுத்தம், புத்துமண், கதை சொல்லும் கலை உள்ளிட்ட பல நூல்களை எழுதியுள்ளார்.
- மேற்கண்ட கூற்றுகளில் சரியானது எது/எவை?
- A) I மட்டும்
B) II மட்டும்
C) இரண்டும்
D) இரண்டுமில்லை
E) விடை தெரியவில்லை
92. பின்வரும் கூற்றுகளை கருத்தில் கொள்க.
- I. ஓர் எழுத்தே பொருள் தரும் சொல்லாக அமைவதை ஒரெழுத்து ஒருமொழி என்பர்.
- II. நன்னூல் என்னும் இலக்கண நூலை எழுதிய பவணந்தி முனிவர் தமிழில் நாற்பத்திரண்டு ஒரெழுத்து ஒருமொழிகள் உள்ளன எனக் குறிப்பிட்டுள்ளார்.
- III. நாற்பத்திரண்டு ஒரெழுத்து ஒருமொழிகளுள் நொ, து ஆகிய இரண்டு எழுத்துக்கள் மட்டுமே குறில்.
- மேற்கண்ட கூற்றுகளில் சரியானவை எவை?
- A) I மற்றும் II மட்டும்
B) II மற்றும் III மட்டும்
C) I மற்றும் III மட்டும்
D) மேற்கண்ட அனைத்தும்
E) விடை தெரியவில்லை
93. “மேகம்” என்ற சொல்லைக் குறிக்கும் ஒரெழுத்து ஒருமொழி யாது?
- A) மே
B) பே
C) சே
D) தே
E) விடை தெரியவில்லை
94. பொருத்துக.
- | | |
|---------------------|---------------------------|
| (ஒரெழுத்து ஒருமொழி) | (பொருள்) |
| a) கை | 1. இறைச்சி |
| b) ஐ | 2. ஒழுக்கம் |
| c) ஓ | 3. அம்பு |
| d) ஏ | 4. தலைவன் |
| e) ஊ | 5. மதகுநீர் தாங்கும் பலகை |
- குறியீடுகள்:
- | | | | | | |
|----|----------|----------|----------|----------|----------|
| | a | b | c | d | e |
| A) | 1 | 2 | 4 | 3 | 5 |
| B) | 2 | 4 | 5 | 3 | 1 |
| C) | 3 | 1 | 4 | 5 | 2 |
| D) | 5 | 3 | 2 | 1 | 4 |
- E) விடை தெரியவில்லை



95. பின்வரும் இணைகளை கருத்தில் கொள்க.
(ஒரேழுத்து ஒருமொழி) (பொருள்)
- | | | |
|---------|---|---------|
| I. நோ | - | வறுமை |
| II. நை | - | இழிவு |
| III. பை | - | இளமை |
| IV. மை | - | அஞ்சனம் |
| V. வை | - | மலர் |
- மேற்கண்ட இணைகளில் எத்தனை இணைகள் சரியானவை?
- | | |
|------|------|
| A) 2 | B) 3 |
| C) 4 | D) 5 |
- E) விடை தெரியவில்லை
96. 'உழவன்' என்பது
- | | |
|---------------------------|--------------------------|
| A) இடம்பெயர்ப் பகுபதம் | B) சினை பெயர்ப்பகுபதம் |
| C) பொருள் பெயர்ப் பகுபதம் | D) தொழில் பெயர்ப்பகுபதம் |
- E) விடை தெரியவில்லை
97. தவறான கூற்றினைத் தேர்ந்தெடுக்க.
- A) பகுபதத்தின் முதலில் அமைந்து முதன்மையானப் பொருளைத் தருவது பகுதி ஆகும். இது கட்டளையாகவே அமையும்.
- B) பகுபதத்தின் இறுதியில் அமைந்து திணை, பால், எண், இடம் ஆகியவற்றையோ, முற்று, எச்சம் ஆகியவற்றையோ காட்டுவது விசுதி ஆகும்.
- C) பகுதிக்கும் விசுதிக்கும் இடையில் அமைந்து காலம் அல்லது எதிர்மறையைக் காட்டுவது இடைநிலை ஆகும்.
- D) பெரும்பாலும் இடைநிலைக்கும் விசுதிக்கும் இடையே இடம்பெறும் மெய்யெழுத்து சந்தி எனப்படும்.
- E) விடை தெரியவில்லை
98. 'வந்தனன்' - என்னும் சொல்லின் வேர்ச்சொல் தருக.
- | | |
|----------|---------|
| A) வா | B) வ |
| C) வந்து | D) வந்த |
- E) விடை தெரியவில்லை
99. பகாப்பதம் அல்லாத சொல்லினைத் தேர்ந்தெடுக்க.
- | | |
|-------------|---------|
| A) நாடன் | B) கழனி |
| C) நெருப்பு | D) கொல் |
- E) விடை தெரியவில்லை
100. இடம் எத்தனை வகைப்படும்?
- | | |
|------|------|
| A) 2 | B) 3 |
| C) 4 | D) 5 |
- E) விடை தெரியவில்லை



பகுதி - ஆ — பொது அறிவு (பட்டப்படிப்பு தரம்)

Part B — General Studies (Degree Standard)

வினாக்கள் : 101-200

மொத்த மதிப்பெண்கள் : 150

Questions : 101-200

Total Marks : 150

101. பின்வருவனவற்றில் எத்தனை இணைகள் சரியாகப் பொருந்தியுள்ளன ?

(எஃகு ஆலை)

(இடம்)

- | | |
|--|--------------------|
| I. TISCO | - ஜாம்ஷெட்பூர் |
| II. விஜயநகர் எஃகு ஆலை | - ஆந்திரப்பிரதேசம் |
| III. இந்துஸ்தான் எஃகு ஆலை (1957) | - பிலாய் |
| IV. விஸ்வேஸ்வரய்யா இரும்பு எஃகு நிறுவனம் | - பத்ராவதி |

குறியீடுகள்:

- | | |
|---------------------|---------------------|
| A) 1 இணை மட்டும் | B) 2 இணைகள் மட்டும் |
| C) 3 இணைகள் மட்டும் | D) அனைத்து இணைகளும் |
| E) விடை தெரியவில்லை | |

How many of the following pairs are correctly matched?

(Steel Plant)

(Place)

- | | |
|----------------------------------|-----------------|
| I. TISCO | - Jamshedpur |
| II. Vijayanagar Steel Plant | - Andhrapradesh |
| III. Hindustan Steel Plant(1957) | - Bhilai |
| IV. Visweshwaraya Iron Steel Ltd | - Bhadravati |

Codes:

- | | |
|---------------------|-----------------|
| A) 1 pair only | B) 2 pairs only |
| C) 3 pairs only | D) All pairs |
| E) Answer not known | |

102. பின்வரும் கூற்றுகளை கருத்தில் கொள்க.

- I. மும்பை மெட்ரோ ஆனது இந்தியாவின் முதல் மெட்ரோ சேவை ஆகும்
 - II. இந்தியாவின் மிகப்பெரிய மெட்ரோ அமைப்பு டெல்லி மெட்ரோ ஆகும்
 - III. சென்னை மெட்ரோ ரயில் 29 ஜூன் 2016 அன்று தொடங்கப்பட்டது
- மேற்கண்ட கூற்றுகளில் சரியானது எது/எவை?

- | | |
|---------------------------|--------------------------|
| A) II மட்டும் | B) I மற்றும் III மட்டும் |
| C) II மற்றும் III மட்டும் | D) I, II மற்றும் III |
| E) விடைதெரியவில்லை | |

Consider the following statements.

- I. The Mumbai metro is the first metro in India
- II. Largest Metro system is Delhi Metro in India
- III. Chennai metro was launched on 29 June 2016



Which of the statements given above is/are correct?

- A) II only
B) I and III only
C) II and III Only
D) I, II and III
E) Answer not known

103. பட்டியல் - I, பட்டியல் - II உடன் பொருத்துக.

பட்டியல் - I

பட்டியல் - II

- | | |
|---------------------------------|---------|
| a) இந்தியாவில் வானொலி ஒளிபரப்பு | 1. 1852 |
| b) அகில இந்திய வானொலி | 2. 1957 |
| c) ஆகாசவாணி | 3. 1936 |
| d) முதல் இந்திய அஞ்சல் வில்லை | 4. 1923 |

குறியீடுகள் :

- | | a | b | c | d |
|----|----------|----------|----------|----------|
| A) | 4 | 3 | 2 | 1 |
| B) | 2 | 1 | 3 | 4 |
| C) | 3 | 2 | 1 | 4 |
| D) | 4 | 1 | 2 | 3 |

E) விடை தெரியவில்லை

Match List-I with List-II.

List-I

List-II

- | | |
|--------------------------------|---------|
| a) Radio broadcasting in India | 1. 1852 |
| b) All India Radio | 2. 1957 |
| c) Akashwani | 3. 1936 |
| d) First Indian Postal Stamp | 4. 1923 |

Codes:

- | | a | b | c | d |
|----|----------|----------|----------|----------|
| A) | 4 | 3 | 2 | 1 |
| B) | 2 | 1 | 3 | 4 |
| C) | 3 | 2 | 1 | 4 |
| D) | 4 | 1 | 2 | 3 |

E) Answer not known

104. இன்சாட் வரிசை செயற்கைக்கோளில், தகவல் தொடர்பிற்காக ஏவப்பட்ட முதல் செயற்கைக்கோள் எது?

- | | |
|---------------|---------------|
| A) இன்சாட் 1A | B) இன்சாட் 1B |
| C) இன்சாட் 1C | D) இன்சாட் 1D |
- E) விடைதெரியவில்லை

Which satellite is the first communication satellite in INSAT series ?

- | | |
|-------------|-------------|
| A) INSAT 1A | B) INSAT 1B |
| C) INSAT 1C | D) INSAT 1D |
- E) Answer not known



105. பின்வருவனவற்றில் எத்தனை இணைகள் சரியாகப் பொருந்தியுள்ளன?
- I. AAI – Airways Authority of India
II. STD – Subscriber Transfer Dialing
III. GSAT – Geosynchronous Satellite
IV. ISD – International Subscriber Dialing

குறியீடுகள்:

- A) 1 இணை மட்டும்
B) 2 இணைகள் மட்டும்
C) 3 இணைகள் மட்டும்
D) அனைத்து இணைகளும்
E) விடைதெரியவில்லை

How many of the following pairs are correctly matched?

- I. AAI – Airways Authority of India
II. STD – Subscriber Transfer Dialling
III. GSAT – Geosynchronous Satellite
IV. ISD – International Subscriber Dialing

Codes:

- A) 1 pair only
B) 2 pairs only
C) 3 pairs only
D) All pairs
E) Answer not known

106. கீழ்க்கண்டவற்றில் காவிரி ஆற்றின் வலது கரையில் துணையாறாக இணையும் ஆறு எது?

- A) ஹாரங்கி B) அர்காவதி
C) ஹேமாவதி D) அமராவதி
E) விடைதெரியவில்லை

Which of the following River joins on the right bank tributary of Cauvery river?

- A) Harang B) Arkavati
C) Hemavati D) Amaravati
E) Answer not known

107. பின்வருவனவற்றில் எத்தனை இணைகள் தவறாகப் பொருந்தியுள்ளன?

(மாவட்டங்கள்)

(மலைகள்)

- I. வேலூர் – சென்னி மலை
II. தர்மபுரி – தீர்த்தமலை
III. கோயம்புத்தூர் – வெள்ளியங்கிரி
IV. திருநெல்வேலி – மகேந்திரகிரி

குறியீடுகள்:

- A) 1 இணை மட்டும் B) 2 இணைகள் மட்டும்
C) 3 இணைகள் மட்டும் D) அனைத்து இணைகளும்
E) விடைதெரியவில்லை



How many of the following pairs are incorrectly matched?

(Districts)

(Hills)

- | | | |
|-----------------|---|---------------|
| I. Vellore | – | Chenni hills |
| II. Dharmapuri | – | Theerthamalai |
| III. Coimbatore | – | Vellaingiri |
| IV. Tirunelveli | – | Mahendragiri |

Codes:

- | | |
|---------------------|-----------------|
| A) 1 pair only | B) 2 pairs only |
| C) 3 pairs only | D) All pairs |
| E) Answer not known | |

108. பின்வருவனவற்றில் எது தாமிரபரணியின் துணை நதி அல்ல?

- | | |
|--------------------|----------------|
| A) கடனாநதி | B) மணிமுத்தாறு |
| C) செய்யாறு | D) பச்சையாறு |
| E) விடைதெரியவில்லை | |

Which one of the following is not a tributary of Thamirabarani?

- | | |
|---------------------|---------------|
| A) Gadanathi | B) Manimuthar |
| C) Cheyyar | D) Pachaiyar |
| E) Answer not known | |

109. பின்வரும் கூற்றுகளை கருத்தில் கொள்க .

I. கோயம்புத்தூர், திருப்பூர், ஈரோடு மாவட்டங்கள் “தமிழ்நாட்டின் ஜவுளி பள்ளத்தாக்கு” எனக் குறிப்பிடப்படுகிறது.

II. கோயம்புத்தூர் “தமிழ்நாட்டின் மான்செஸ்டர்” என்றும் அழைக்கப்படுகிறது

III. கரூர் “தமிழ்நாட்டின் நெசவுத் தலைநகரம்” என்று அழைக்கப்படுகிறது.

மேற்கண்ட கூற்றுகளில் சரியானது எது/எவை?

- | | |
|---------------------------|-----------------------|
| A) I மற்றும் II மட்டும் | B) II மட்டும் |
| C) II மற்றும் III மட்டும் | D) மேற்கண்ட அனைத்தும் |
| E) விடைதெரியவில்லை | |

Consider the following statements.

I. Coimbatore, Tirupur and Erode are referred as “Textile Valley of Tamil Nadu”

II. Coimbatore is also known as “Manchester of Tamil Nadu”

III. Karur is known as “The Textile Capital of Tamil Nadu”

Which of the statements given above is/are correct?

- | | |
|---------------------|------------------|
| A) I and II only | B) II only |
| C) II and III Only | D) All the above |
| E) Answer not known | |

110. புவியியல் குறியீடு (GI Tag) பற்றி பின்வருவனவற்றில் சரியாகப் பொருந்தியுள்ளது எது/எவை?

- | | | |
|----------------------|---|------------------|
| I. சுவாமிமலை | – | வெண்கலச் சிலைகள் |
| II. நாச்சியார்கோவில் | – | கோயில் நகைகள் |
| III. சேலம் | – | வெண்பட்டு |
| IV. நீலகிரி | – | தேயிலை |



குறியீடுகள்:

- A) I, II மற்றும் III மட்டும்
B) II, III மற்றும் IV மட்டும்
C) III மற்றும் IV மட்டும்
D) I மற்றும் III மட்டும்
E) விடைதெரியவில்லை

Which of the following is/are correctly matched regarding GI Tag?

- I. Swamimalai – Bronze Icons
II. Nachiarkovil – Temple Jewellery
III. Salem – Venpattu
IV. Nilgiri – Tea

Codes:

- A) I, II and III only
B) II, III and IV only
C) III and IV only
D) I and III only
E) Answer not known

111. பின்வருவனவற்றில் எத்தனை இணைகள் சரியாகப் பொருந்தியுள்ளன?

(தொழிலகம்)

(இடம்)

- I. சிமெண்ட் தொழிலகம் – ஆலங்குளம்
II. தோல் பதனிடும் தொழிலகம் – வாணியம்பாடி
III. காகிதத் தொழிலகம் – நிலக்கோட்டை
IV. பட்டு நெசவுஆலைகள் – ஆரணி

குறியீடுகள்:

- A) 1 இணை மட்டும்
B) 2 இணைகள் மட்டும்
C) 3 இணைகள் மட்டும்
D) அனைத்து இணைகளும்
E) விடைதெரியவில்லை

How many of the following pairs are correctly matched?

(Industries)

(Place)

- I. Cement Industry – Alangulam
II. Leather Industry – Vaniyambadi
III. Paper Industry – Nilakottai
IV. Silk Textiles – Arani

Codes:

- A) 1 pair only
B) 2 pairs only
C) 3 pairs only
D) All pairs
E) Answer not known

112. பட்டியல் - I, பட்டியல் - II உடன் பொருத்துக.

பட்டியல் - I

பட்டியல் - II

(கணவாய்கள்)

(மாநிலம்/யூனியன் பிரதேசம்)

- a) சிப்கிலா
b) நாதுலா
c) காரகோரம்
d) பொமிடிலா
1. அருணாச்சல பிரதேசம்
2. சிக்கிம்
3. ஜம்மு மற்றும் காஷ்மீர்
4. ஹிமாச்சல பிரதேசம்



குறியீடுகள் :

	a	b	c	d
A)	2	1	3	4
B)	1	2	3	4
C)	4	2	3	1
D)	3	4	1	2

E) விடை தெரியவில்லை

Match List-I with List-II.

List-I

(Passes)

- Shipkila
- Nathula
- Karakoram
- Bomdila

Codes:

	a	b	c	d
A)	2	1	3	4
B)	1	2	3	4
C)	4	2	3	1
D)	3	4	1	2

E) Answer not known

List-II

(State/UT)

- Arunachal Pradesh
- Sikkim
- Jammu and Kashmir
- Himachal Pradesh

113. பின்வரும் கூற்றுகளை கருத்தில் கொள்க.

கூற்று (A) : நர்மதை மற்றும் தபதி ஆறுகள் மேற்கு நோக்கி பாய்ந்து அரபிக்கடலில் கலக்கின்றன.

காரணம் (R) : இப்பகுதியில் பிளவு பள்ளத்தாக்கு இருப்பதால் இவை மேற்கு நோக்கி நகர்கின்றன.

குறியீடுகள்:

- (A) மற்றும் (R) இரண்டும் சரி மற்றும் (R) என்பது (A) இன் சரியான விளக்கமாகும்
- (A) மற்றும் (R) இரண்டும் சரி ஆனால் (R) என்பது (A) இன் சரியான விளக்கமல்ல
- (A) சரி ஆனால் (R) தவறு
- (A) தவறு ஆனால் (R) சரி
- விடை தெரியவில்லை

Consider the following statements.

Assertion (A) : The Narmada and Tapti rivers flow westward and empty into the Arabian Sea.

Reason (R) : Their movement towards west is due to the presence of a rift valley in the region.

**Codes:**

- A) Both (A) and (R) are true and (R) is the correct explanation of (A)
B) Both (A) and (R) are true but (R) is not the correct explanation of (A)
C) (A) is true but (R) is false
D) (A) is false but (R) is true
E) Answer not known

114. கிழக்குத் தொடர்ச்சி மலைகள் பற்றி பின்வரும் கூற்றுக்களை கருத்தில் கொள்க.
I. கிழக்குத் தொடர்ச்சி மலைகள் ஆனது மேற்குத் தொடர்ச்சி மலைகளைப் போன்று தொடர்ச்சியாக உள்ளன.
II. மகாநதி, கோதாவரி, கிருஷ்ணா, பென்னாறு மற்றும் காவிரி போன்ற ஆறுகளால் அரிக்கப்பட்டு பிளவுபட்ட குன்றுகளாக காட்சியளிக்கின்றன
மேற்கூறியவற்றுள் சரியானது எது/எவை?
A) I மட்டும்
B) II மட்டும்
C) இரண்டும்
D) இரண்டுமில்லை
E) விடை தெரியவில்லை
Consider the following statements regarding Eastern Ghats.
I. The Eastern Ghats are continuous like Western Ghats.
II. The rivers of Mahanadi, Godavari, Krishna, Pennar and Kaveri have dissected this range at many places.
Which of the statements given above is/are correct?
A) I only
B) II only
C) Both I and II
D) Neither I nor II
E) Answer not known

115. பின்வரும் எந்த மலைகள் சந்திக்கும் பகுதியில் ஆணை முடிச்சிகரம் அமைந்துள்ளது?
A) நீலகிரி, ஆனைமலை மற்றும் பழனி மலை
B) ஆனைமலை, ஏலகிரி மலை மற்றும் பழனி மலை
C) ஆனைமலை, ஏலக்காய் மலை மற்றும் பழனி மலை
D) நீலகிரி, ஏலக்காய் மற்றும் பொதிகை மலை
E) விடை தெரியவில்லை
Anaimudi is a sort of tri-junction of which of the following hills?
A) Nilgiris, Anaimalai range and Palani hills
B) Anaimalai, Yelagiri hills and Palani hills
C) Anaimalai, Cardamom hills and Palani hills
D) Nilgiris, Cardamom and Pothigai hills.
E) Answer not known



116. பட்டியல் - I, பட்டியல் - II உடன் பொருத்துக.

பட்டியல் - I
(ஏரிகள்)

பட்டியல் - II
(இடம்)

- | | |
|--------------------|--|
| a) கொல்லேறு ஏரி | 1. ஒடிசா |
| b) சிலிக்கா ஏரி | 2. ஆந்திரப் பிரதேசம் |
| c) சாம்பார் ஏரி | 3. ராஜஸ்தான் |
| d) பழுவேற்காடு ஏரி | 4. தமிழ்நாடு - ஆந்திரப் பிரதேசத்தின் எல்லை |

குறியீடுகள் :

	a	b	c	d
A)	4	2	3	1
B)	2	1	3	4
C)	3	2	1	4
D)	4	1	2	3

E) விடை தெரியவில்லை

Match List-I with List-II.

List-I
(Lakes)

List-II
(Location)

- | | |
|-----------------|---------------------------------------|
| a) Kolleru lake | 1. Odisha |
| b) Chilika lake | 2. Andhra Pradesh |
| c) Sambhar lake | 3. Rajasthan |
| d) Pulicat lake | 4. Border of Andhra Pradesh-Tamilnadu |

Codes:

	a	b	c	d
A)	4	2	3	1
B)	2	1	3	4
C)	3	2	1	4
D)	4	1	2	3

E) Answer not known

117. பின்வரும் கூற்றுகளை கருத்தில் கொள்க.

- I. கங்கை நதி அமைப்பு ஆனது பிரம்மபுத்திரா நதி அமைப்புக்குப் பிறகு இந்தியாவின் இரண்டாவது பெரிய வடிகால் அமைப்பாகும்.
- II. கங்கை நதியின் நீளம் சுமார் 2,525 கி.மீ ஆகும்.
- III. உத்தரபிரதேசத்தின் உத்தர் காசி மாவட்டத்தில் உள்ள கங்கோத்ரி பனிப்பாறையில் இருந்து கங்கை நதி ஆனது பாகிரதி என்னும் பெயருடன் உற்பத்தியாகிறது.
- IV. கங்கை நதி ஆனது வங்கதேசத்தில் "ஜமுனா நதி" என்று அழைக்கப்படுகிறது. மேற்கண்ட கூற்றுகளில் தவறானது எது/எவை ?

- | | |
|------------------------------|-------------------------------|
| A) I, II மற்றும் III மட்டும் | B) II, III மற்றும் IV மட்டும் |
| C) I, III மற்றும் IV மட்டும் | D) மேற்கண்ட அனைத்தும் |
| E) விடைதெரியவில்லை | |



Consider the following statements.

- I. The Ganga River system is the second largest drainage system of India after Brahmaputra River system.
- II. The length of the river Ganga is about 2,525 km.
- III. The river Ganga originates as Bhagirathi from the Gangotri Glacier in Uttarakhand District of Uttar Pradesh.
- IV. The river Ganga is known as the River Jamuna in Bangladesh.

Which of the statements given above is/are incorrect?

- A) I, II and III only
- B) II, III and IV only
- C) I, III and IV only
- D) All the above
- E) Answer not known

118. பின்வருவனவற்றில் இமயமலையில் தோன்றும் ஆறுகளின் சிறப்பியல்புகள் எவை?

- I. நீளமானவை மற்றும் அகலமானவை
 - II. வற்றாத நதிகள்
 - III. நீர்மின் உற்பத்திக்கு ஏற்றது
 - IV. ஆற்றின் மத்திய மற்றும் கீழ்நிலைப்பகுதிகள் போக்குவரத்திற்கு ஏற்றது
- மேற்கண்டவற்றில் எத்தனை கூற்றுகள் சரியானவை?
- A) ஒரு கூற்று மட்டும்
 - B) இரண்டு கூற்றுகள் மட்டும்
 - C) மூன்று கூற்றுகள் மட்டும்
 - D) அனைத்து கூற்றுகளும்
 - E) விடைதெரியவில்லை

Which of the following characteristics are associated with Himalayan rivers?

- I. Long and wide
- II. Perennial in nature
- III. Suitable for hydro power generation
- IV. Middle and upper course are navigable

How many of the above statement(s) is/are correct?

- A) One statement only
- B) Two statements only
- C) Three statements only
- D) All the statements
- E) Answer not known

119. பட்டியல் - I, பட்டியல் - II உடன் பொருத்துக.

பட்டியல் - I (துணையாறுகள்)	பட்டியல் - II (ஆறுகள்)
a) பைகா	1. நர்மதா
b) இந்திராவதி	2. தபதி
c) அருணாவதி	3. கிருஷ்ணா
d) முசி	4. மகாநதி
e) ஹெரன்	5. கோதாவரி



குறியீடுகள் :

	a	b	c	d	e
A)	5	4	2	3	1
B)	4	5	2	3	1
C)	5	2	4	3	1
D)	4	2	3	5	1

E) விடை தெரியவில்லை

Match List-I with List-II.

List-I
(Tributary)

- Paika
- Indravati
- Arunavati
- Musi
- Heran

List-II
(River)

- Narmada
- Tapti
- Krishna
- Mahanadi
- Godavari

Codes:

	a	b	c	d	e
A)	5	4	2	3	1
B)	4	5	2	3	1
C)	5	2	4	3	1
D)	4	2	3	5	1

E) Answer not known

120. கோதாவரி ஆறு பற்றிய பின்வரும் கூற்றுகளை கருத்தில் கொள்க.

I. தீபகற்ப இந்தியாவில் பாயும் ஆறுகளில் இது மிக நீளமான ஆறு (1465 கிமீ) ஆகும்

II. இது விருத்தகங்கா என்றும் அழைக்கப்படுகிறது

III. இது மகாராஷ்டிராவின் நாசிக் மாவட்டத்தில் உருவாகி தெலுங்கானா மற்றும் ஆந்திரா மாநிலங்கள் வழியாக பாய்ந்து வங்காள விரிகுடாவில் கலக்கிறது

IV. கோதாவரியின் டெல்டா பகுதியில் அமைந்துள்ள கொல்லேறு ஒரு நன்னீர் ஏரி ஆகும் மேற்கண்ட கூற்றுகளில் சரியானது எது/எவை?

A) I, II மற்றும் III மட்டும்

B) II, III மற்றும் IV மட்டும்

C) I, III மற்றும் IV மட்டும்

D) மேற்கண்ட அனைத்தும்

E) விடைதெரியவில்லை

Consider the following statements regarding Godavari river :

I. It is the longest river (1465 km) among the Peninsular rivers.

II. It is also called Vridha Ganga.

III. It originates in Nashik district of Maharashtra and flows through the states of Telangana and Andhra Pradesh before joining Bay of Bengal.

IV. Kolleru, a fresh water lake is located in the deltaic region of the Godavari



Which of the statements given above is/are correct?

- A) I, II and III only
B) II, III and IV only
C) I, III and IV only
D) All the above
E) Answer not known

121. பட்டியல்-Iஐ பட்டியல்-II உடன் பொருத்துக

பட்டியல்-I
(உயிர்க்கோள காப்பகங்கள்)

- a) குளிர் பாலைவனம்
b) நந்தா தேவி
c) திப்ரு-சைக்ஹோவா
d) திகண்ட்-திபங்க்
e) நோக்ரெக்

குறியீடுகள்:

	a	b	c	d	e
A)	5	4	2	3	1
B)	4	5	2	3	1
C)	5	2	4	3	1
D)	4	2	3	5	1

E) விடைதெரியவில்லை

Match List-I with List-II.

List-I
(Biosphere Reserves)

- a) Cold desert
b) Nanda Devi
c) Dibru-Saikhowa
d) Dihand-Dibang
e) Nokrek

Codes:

	a	b	c	d	e
A)	5	4	2	3	1
B)	4	5	2	3	1
C)	5	2	4	3	1
D)	4	2	3	5	1

E) Answer not known

பட்டியல்-II
(மாநிலங்கள்)

1. மேகாலயா
2. உத்தரகாண்ட்
3. அசாம்
4. ஹிமாச்சல பிரதேசம்
5. அருணாச்சல பிரதேசம்

List-II
(States)

1. Meghalaya
2. Uttarkhand
3. Assam
4. Himachal Pradesh
5. Arunachal Pradesh

122. இராஜஸ்தான் மற்றும் இந்தியாவின் மேற்குப் பகுதிகள் தென்மேற்கு பருவமழையின் மூலம் எதன் காரணமாக குறைவான மழையைப் பெறுகின்றன?

- A) இது ஒரு பாலைவனப் பகுதி.
B) ஆரவல்லி மலைத்தொடர் காற்றின் திசைக்கு இணையாக உள்ளது
C) காற்று அங்கு செல்வதற்கு முன் ஈரப்பதத்தை இழக்கிறது
D) இப்பகுதி இமயமலையின் மலை மறைவுப் பகுதியில் அமைந்துள்ளது
E) விடை தெரியவில்லை



Rajasthan and the western part of India receive less rainfall from the southwest monsoon because:

- A) It is a desert region.
- B) The Aravalli Mountain is parallel to the wind direction.
- C) The winds lose moisture before reaching there
- D) The region is on the leeward side of the Himalayas
- E) Answer not known

பத்தி:

இவ்வகை காடுகள் ஆண்டுக்கு 100 முதல் 200 செ.மீ மழை பொழியும் பகுதிகளில் காணப்படுகின்றன. இப்பகுதியின் சராசரி ஆண்டு வெப்பநிலை சுமார் 27 டிகிரி செல்சியஸ் மற்றும் சராசரி ஆண்டு ஈரப்பதம் 60 முதல் 70 சதவீதம் வரை இருக்கும். இந்த காடுகள் நறுமண எண்ணெய், வார்னிஷ், சந்தன எண்ணெய் மற்றும் வாசனை திரவியங்களையும் வழங்குகின்றன. இந்த காடுகளின் மரங்கள் வசந்த காலத்திலும் கோடையின் தொடக்கத்திலும் இலைகளை உதிர்கின்றன. இவை 'பருவகாலக்காடுகள்' என்று அழைக்கப்படுகின்றன.

123. பத்தியில் பின்வருவனவற்றில் எது சிறப்பாகக் குறிப்பிடப்பட்டுள்ளது?

- A) அயனமண்டல பசுமைமாறா காடுகள்
- B) அயனமண்டலக் காடுகள்
- C) அயனமண்டல இலையுதிர் காடுகள்
- D) இமயமலைக் காடுகள்
- E) விடை தெரியவில்லை

Passage:

These are found in the areas with 100 to 200cm annual rainfall. The mean annual temperature of this region is about 27°C and the average annual relative humidity is 60 to 70 percent. These forests also provide fragrant oil, varnish, sandal oil and perfumes. The trees of these forests drop their leaves during the spring and early summer. These are called 'Monsoon Forests'.

Which one of the following is best implied in the passage?

- A) Tropical Evergreen Forest
- B) Tropical Dry Forest
- C) Tropical Deciduous Forest
- D) Montane Forest
- E) Answer not known

124. தென்மேற்கு பருவமழை பொதுவாக எந்த தேதியில் அனைத்து இந்தியா பகுதிகளுக்கும் முன்னேறுகிறது?

- A) ஜூலை 1
- B) ஜூலை 15
- C) ஆகஸ்ட் 1
- D) ஆகஸ்ட் 15
- E) விடை தெரியவில்லை

By what date does the southwest monsoon generally cover the whole of India?

- A) 1st July
- B) 15th July
- C) 1st August
- D) 15th August
- E) Answer not known



125. தேசியப் பூங்காக்களை வடக்கிலிருந்து தெற்கே வரிசைப்படுத்துக:

- I. ரந்தம்பூர் தேசியப் பூங்கா
- II. கார்பெட் தேசியப் பூங்கா
- III. சிம்லிபால் தேசியப் பூங்கா
- IV. பந்திபூர் தேசியப் பூங்கா
- V. டாச்சிகம் தேசியப் பூங்கா

குறியீடுகள்:

- | | |
|---------------------|------------------|
| A) II-VI-III-IV | B) V-II-I-III-IV |
| C) II-IV-IV-III | D) V-II-III-I-IV |
| E) விடை தெரியவில்லை | |

Arrange the National Parks from North to South :

- I. Ranthambore NP
- II. Corbett NP
- III. Simlipal NP
- IV. Bandipur NP
- V. Dachigam NP

Codes:

- | | |
|---------------------|------------------|
| A) II-V-I-III-IV | B) V-II-I-III-IV |
| C) II-I-V-IV-III | D) V-II-III-I-IV |
| E) Answer not known | |

126. உயிர்க்கோள காப்பகங்கள் (BR) தொடர்பான பின்வரும் கூற்றுகளைக் கருத்தில் கொள்க:

- I. இந்தியாவில் மொத்தம் 16 உயிர்க்கோளக் காப்பகங்கள் உள்ளன
- II. இந்தியாவில் உள்ள பன்னிரண்டு உயிர்க்கோள காப்பகங்கள் யுனெஸ்கோவின் மனிதன் மற்றும் உயிர்க்கோளம் (MAB) திட்டத்தின் கீழ் செயல்படுகின்றன
- III. நீலகிரி உயிர்க்கோளக் காப்பகம் MAB திட்டத்தில் முதலில் சேர்க்கப்பட்டது, அதே சமயம் பன்னா உயிர்க்கோளக் காப்பகம் மிக சமீபத்தில் இத்திட்டத்தில் சேர்க்கப்பட்டது
- IV. தமிழ்நாட்டில் மூன்று உயிர்க்கோள காப்பகங்கள் உள்ளன, இவை அனைத்தும் MAB திட்டத்தின் ஒரு பகுதியாகும்

மேற்கண்ட கூற்றுகளில் தவறானது எது/எவை ?

- A) I மற்றும் II மட்டும்
- B) II மற்றும் IV மட்டும்
- C) I மட்டும்
- D) I, II மற்றும் III மட்டும்
- E) விடை தெரியவில்லை

Consider the following statements regarding Biosphere Reserves(BR):

- I. There are totally 16 Biosphere reserves in India.
- II. Twelve of the biosphere reserves in India are included in UNESCO's Man and Biosphere (MAB) programme.
- III. The Nilgiris Biosphere Reserve was the first to be included in the MAB programme, while the Panna Biosphere Reserve is the most recent addition.
- IV. Tamil Nadu has three biosphere reserves, all of which are part of the MAB programme.



Which of the statements given above is/are incorrect?

- A) I and II only
B) II and IV only
C) I only
D) I, II and III only
E) Answer not known

127. பின்வரும் கூற்றுகளைக் கருத்தில் கொள்க.

I. இந்திய வேளாண் ஆராய்ச்சி கழகம் (ICAR) 1953 இல் தொடங்கப்பட்டது.

II. ICAR இந்தியாவில் காணப்படும் மண்வகைகளை 8 பிரிவுகளாக வகைப்படுத்தியுள்ளது. மேற்கண்ட கூற்றுகளில் சரியானது எது/எவை?

- A) I மட்டும்
B) II மட்டும்
C) இரண்டும்
D) இரண்டுமில்லை
E) விடை தெரியவில்லை

Consider the following statements.

I. The Indian Council of Agriculture Research (ICAR) set up in 1953.

II. ICAR divides the soil of India into 8 major groups.

Which of the statements given above is/are correct?

- A) I only
B) II only
C) Both I and II
D) Neither I nor II
E) Answer not known

128. தவறாகப் பொருந்தியுள்ள இணையைக் கண்டறியவும்.

(மண் வகைகள்)

(பரவல்)

- A) சரளை மண் – அசாம் குன்றுகள்
B) வறண்ட பாலை மண் – இராஜஸ்தான்
C) உப்பு மற்றும் கார மண் – ஒடிசா மற்றும் தமிழகத்தின் கடற்கரை பகுதி
D) களிமண் மற்றும் சதுப்பு நில மண் – கோட்டயம் மற்றும் ஆலப்புழா
E) விடை தெரியவில்லை

Find out the incorrectly matched pair.

(Soil Types)

(Distribution)

- A) Laterite soil – Assam Hills
B) Arid and desert soil – Rajasthan
C) Saline and Alkaline soil – Coastal area of Odisha and Tamilnadu
D) Peaty and Marshy soil – Kottayam and Alappuzha
E) Answer not known

129. பின்வரும் காரணிகளில் எது மண் அரிப்புக்கு பங்களிக்கிறது?

- I. காடுகள் அழிப்பு
II. கரைகள் கட்டுதல்
III. பட்டை பயிரிடல்
IV. அதிக மேய்ப்பு

மேற்கண்ட கூற்றுகளில் சரியானது எது/எவை?

- A) I மற்றும் III மட்டும்
B) I மற்றும் IV மட்டும்
C) I, II மற்றும் IV மட்டும்
D) மேற்கண்ட அனைத்தும்
E) விடை தெரியவில்லை



Which of the following factors contribute to soil erosion?

- I. Deforestation
- II. Contour bunding
- III. Planting of shelter belts
- IV. Overgrazing

Which of the statements given above is/are correct?

- A) I and III only
- B) I and IV only
- C) I, II and IV only
- D) All the above
- E) Answer not known

130. இந்தியாவில் கணிசமான அளவு விவசாயிகள் இந்த வேளாண்மை முறையை பின்பற்றுகிறார்கள். பெரும்பாலும் குடும்ப உறுப்பினர்களின் உதவியுடன் சாகுபடி செய்யப்பட்டு நிலத்தின் மொத்த விளைச்சலின் பெரும் பகுதி குடும்ப உறுப்பினர்களால் நுகரப்பட்டு மீதம் உள்ளவை அருகில் உள்ள சந்தையில் விற்பனை செய்யப்படுகிறது. பாரம்பரிய விவசாய முறை குறைந்த உற்பத்தித்திறனை விளைவிக்கிறது.

பத்தியில் பின்வருவனவற்றில் எது சிறப்பாகக் குறிப்பிடப்பட்டுள்ளது?

- A) இடப்பெயர்வு வேளாண்மை
- B) வறண்ட நில வேளாண்மை
- C) கலப்பு வேளாண்மை
- D) தன்னிறைவு வேளாண்மை
- E) விடை தெரியவில்லை

A considerable proportion of farmers in the country practice this type of farming. Preference is given to food crops. Farmers grow crops with the help of family members and consumes almost the entire farm produce with little surplus to sell in the market. Traditional farming method results in low productivity.

Which one of the following is best implied in the passage?

- A) Shifting Agriculture
- B) Dry farming
- C) Mixed farming
- D) Subsistence farming
- E) Answer not known

131. சோளம் தொடர்பான பின்வரும் கூற்றுகளைக் கருத்தில் கொள்க :

- I. இது நம் நாட்டின் மூன்றாவது முக்கிய உணவுப் பயிர் ஆகும்
- II. இது இந்தியாவை பூர்வீகமாகக் கொண்ட பயிராகும்
- III. மஹாராஷ்டிரா, கர்நாடகா மற்றும் மத்தியப் பிரதேசம் ஆகியவை சோள உற்பத்தியில் முன்னணியில் உள்ளன.

மேற்கண்ட கூற்றுகளில் சரியானது எது/எவை?

- A) I மற்றும் III மட்டும்
- B) II மற்றும் III மட்டும்
- C) I மட்டும்
- D) மேற்கண்ட அனைத்தும்
- E) விடை தெரியவில்லை

Consider the following statements regarding Jowar:

- I. It is the third important food crop of our country
- II. It is indigenous to India
- III. Maharashtra, Karnataka, and Madhya Pradesh are the leading producers of Jowar.



Which of the statements given above is/are correct?

- A) I and III only
B) II and III only
C) I only
D) All the above
E) Answer not known

132. பின்வருவனவற்றில் சரியாகப் பொருந்தியுள்ளது எது/எவை?

(அணை)

(ஆறு)

- I. மேட்டூர் அணை – காவேரி
II. நாகார்ஜுன சாகர் அணை – கோதாவரி
III. ஸ்ரீசைலம் அணை – கிருஷ்ணா
IV. இடுக்கி அணை – பெரியார்

குறியீடுகள்:

- A) I, II மற்றும் IV மட்டும்
B) I மற்றும் IV மட்டும்
C) I, III மற்றும் IV மட்டும்
D) மேற்கண்ட அனைத்தும்
E) விடை தெரியவில்லை

Which of the following is/are correctly matched?

(Dam)

(River)

- I. Mettur Dam – Cauvery
II. Nagarjuna Sagar Dam – Godavari
III. Srisaillam Dam – Krishna
IV. Idukki Dam – Periyar

Codes:

- A) I, II and IV only
B) I and IV only
C) I, III and IV only
D) All the above
E) Answer not known

133. பின்வரும் கூற்றுகளைக் கருத்தில் கொள்க.

- I. நெற்பயிருக்கு அடுத்தபடியாக நாட்டின் இரண்டாவது மிக முக்கியமான உணவுப் பயிர் கோதுமை ஆகும்
II. இப்பயிர் விதைக்கும் பருவத்தில் 10-15°C வெப்பமும், முதிரும் பருவத்தில் 20-25°C வெப்பநிலையும் தேவைப்படுகிறது

மேற்கூறியவற்றுள் சரியானது எது/எவை?

- A) I மட்டும்
B) II மட்டும்
C) இரண்டும்
D) இரண்டுமில்லை
E) விடை தெரியவில்லை

Consider the following statements.

- I. Wheat is the second most important food crop of the country, after rice.
II. It requires 10-15°C at the time of sowing and 20-25°C at the time of ripening of grains.

Which of the statements given above is/are correct?

- A) I only
B) II only
C) Both I and II
D) Neither I nor II
E) Answer not known



134. தேயிலைப் பற்றி பின்வரும் கூற்றுகளைக் கருத்தில் கொள்க.

- I. தேயிலை அயன மண்டல மற்றும் உபஅயன மண்டல காலநிலைகளில் வளரும் ஒரு பசுமையான தாவரமாகும்
 - II. தேயிலை பயிரிட அதிக தொழிலாளர்கள் தேவைப்படுகிறது. இது மிதமான நிழலில் வேகமாக வளர்கிறது
 - III. இந்தியாவில் பயிரிடப்படும் இரண்டு முக்கிய தேயிலை வகைகள் BOHEA மற்றும் ASSAMICA ஆகும், இவை இரண்டின் பிறப்பிடம் இந்தியா ஆகும்
 - IV. இந்தியாவில் தேயிலையை அதிகம் உற்பத்தி செய்யும் மாநிலம் அசாம் ஆகும்
- மேற்கண்ட கூற்றுகளில் சரியானது எது/எவை ?
- A) I, II மற்றும் IV மட்டும்
 - B) I, II மற்றும் III மட்டும்
 - C) I, III மற்றும் IV மட்டும்
 - D) மேற்கண்ட அனைத்தும்
 - E) விடை தெரியவில்லை

Consider the following statements regarding Tea.

- I. Tea is an evergreen plant that mainly grows in tropical and subtropical climates.
- II. Tea is a labour intensive and grows faster under light shade.
- III. Two major varieties of tea cultivated in India are BOHEA and ASSAMICA, both of which originated from India.
- IV. Assam is the larger producer of tea in India.

Which of the statements given above is/are correct?

- A) I, II and IV only
- B) I, II and III only
- C) I, III and IV only
- D) All the above
- E) Answer not known

135. பட்டியல்-Iஐ பட்டியல்-II உடன் பொருத்துக.

பட்டியல்-I

பட்டியல்-II

(புரட்சி)

(தொடர்புடைய பொருள்)

- | | |
|-------------------------|-------------------------|
| a) வெள்ளிப் புரட்சி | 1. உரங்கள் |
| b) மஞ்சள் புரட்சி | 2. பருத்தி |
| c) வெள்ளி இழைப் புரட்சி | 3. முட்டை/கோழி வளர்ப்பு |
| d) பொன் புரட்சி | 4. எண்ணெய் வித்துக்கள் |
| e) சாம்பல் புரட்சி | 5. தேன் |

குறியீடுகள்:

- | | a | b | c | d | e |
|----|----------|----------|----------|----------|----------|
| A) | 4 | 2 | 5 | 3 | 1 |
| B) | 4 | 5 | 3 | 2 | 1 |
| C) | 3 | 2 | 4 | 1 | 5 |
| D) | 3 | 4 | 2 | 5 | 1 |

E) விடை தெரியவில்லை



Match List-I with List-II.

List-I

(Revolution)

- Silver Revolution
- Yellow Revolution
- Silver fibre Revolution
- Golden Revolution
- Grey Revolution

List-II

(Related product)

- Fertilizers
- Cotton
- Egg/Poultry
- Oilseeds
- Honey

Codes:

- | | a | b | c | d | e |
|----|------------------|----------|----------|----------|----------|
| A) | 4 | 2 | 5 | 3 | 1 |
| B) | 4 | 5 | 3 | 2 | 1 |
| C) | 3 | 2 | 4 | 1 | 5 |
| D) | 3 | 4 | 2 | 5 | 1 |
| E) | Answer not known | | | | |

136. பின்வருவனவற்றில் எத்தனை இணைகள் சரியாகப் பொருந்தியுள்ளன?

(அமைப்புகள்)

(தலைமையகம்)

- இந்திய நிலவியல் களஆய்வு நிறுவனம் – ஹைதராபாத்
- இந்திய சுரங்க பணியகம் – நாக்பூர்
- இரும்பு சாரா தொழில் மேம்பாட்டு மையம் – கல்கத்தா
- மாங்கனீஸ் தாது இந்தியா லிமிடெட் – நாக்பூர்

குறியீடுகள்:

- | | |
|---------------------|---------------------|
| A) 1 இணை மட்டும் | B) 2 இணைகள் மட்டும் |
| C) 3 இணைகள் மட்டும் | D) அனைத்து இணைகளும் |
| E) விடை தெரியவில்லை | |

How many of the following pairs are correctly matched?

(Organisations)

(Head Quarters)

- The Geological Survey of India – Hyderabad
- Indian Bureau of Mines Headquarter – Nagpur
- Non-Ferrous Material Technology Development Centre – Calcutta
- Manganese Ore India Limited – Nagpur

Codes:

- | | |
|---------------------|-----------------|
| A) 1 pair only | B) 2 pairs only |
| C) 3 pairs only | D) All pairs |
| E) Answer not known | |

137. எந்த பொருள் முதன்மையாக அதன் மின்காப்பான் பண்புகளுக்காக பயன்படுத்தப்படுகிறது?

- | | |
|---------------------|---------------|
| A) தாமிரம் | B) அலுமினியம் |
| C) மைக்கா | D) துத்தநாகம் |
| E) விடை தெரியவில்லை | |



Which material is primarily used for its insulating properties?

- A) Copper
B) Aluminum
C) Mica
D) Zinc
E) Answer not known

138. இரவதப்பட்டா, கோட்டா, கல்பாக்கம் மற்றும் காக்கரபாரா ஆகிய இடங்கள் எந்தத் தொழிலகம் அல்லது துறையுடன் தொடர்புடையவை?

- A) எஃகு உற்பத்தி
B) அணுசக்தி
C) விண்வெளி பொறியியல்
D) ஆட்டோமொபைல் உற்பத்தி
E) விடை தெரியவில்லை

Which industry or sector are the places Rawatbhata, Kota, Kalpakkam, and Kakrapara associated with?

- A) Steel manufacturing
B) Nuclear power
C) Aerospace engineering
D) Automobile manufacturing
E) Answer not known

139. பட்டியல்-Iஐ பட்டியல்-II உடன் பொருத்துக

- | பட்டியல்-I
(நிறுவனம்) | பட்டியல்-II
(தலைமையகம்) |
|------------------------------|----------------------------|
| a) இந்தியா நிலக்கரி நிறுவனம் | 1. தமிழ்நாடு |
| b) NALCO | 2. புது தில்லி |
| c) GAIL | 3. ஃபரிதாபாத் |
| d) NHPC | 4. ஒடிசா |
| e) NIWE | 5. கொல்கத்தா |

குறியீடுகள்:

- | | a | b | c | d | e |
|----|---|---|---|---|---|
| A) | 5 | 4 | 2 | 3 | 1 |
| B) | 4 | 5 | 2 | 3 | 1 |
| C) | 5 | 2 | 4 | 3 | 1 |
| D) | 4 | 2 | 3 | 5 | 1 |

E) விடை தெரியவில்லை

Match List-I with List-II.

- | List-I
(Companies) | List-II
(Headquarters) |
|-----------------------|---------------------------|
| a) Coal India Limited | 1. Tamilnadu |
| b) NALCO | 2. New Delhi |
| c) GAIL | 3. Faridabad |
| d) NHPC | 4. Odisha |
| e) NIWE | 5. Kolkatta |

**Codes:**

- | | a | b | c | d | e |
|----|------------------|----------|----------|----------|----------|
| A) | 5 | 4 | 2 | 3 | 1 |
| B) | 4 | 5 | 2 | 3 | 1 |
| C) | 5 | 2 | 4 | 3 | 1 |
| D) | 4 | 2 | 3 | 5 | 1 |
| E) | Answer not known | | | | |

140. இந்தியாவின் எந்தப் பகுதியில் இயற்கை எரிவாயு அதிக அளவில் உள்ளது?

- A) மும்பை ஹை மற்றும் பேஸ்சைம் எண்ணெய் வயல்கள்
B) திக்பாய் எண்ணெய் வயல்கள்
C) குஜராத் கடற்கரை
D) மணிப்பூரில் உள்ள சுர்மா பள்ளத்தாக்கு
E) விடை தெரியவில்லை

In which region of India is the highest concentration of natural gas found?

- A) Mumbai high and Basseim oil fields
B) Digboi oil fields
C) Gujrat coast
D) Surma valley in Manipur
E) Answer not known

141. கன்னியாகுமரி மாவட்டத்தில் அருகில் உள்ள எந்தப் பகுதியில் உலகிலேயே அதிக காற்றாலைகளைக் கொண்ட பெரிய காற்றாலை பண்ணை அமைந்துள்ளது?

- A) உடுமலைப்பேட்டை
B) கயத்தார்
C) அரக்கோணம்
D) ஆரல்வாய்மொழி
E) விடை தெரியவில்லை

Which region near Kanniyakumari boasts the world's largest concentration of wind farm capacity at a single location?

- A) Udumalpet
B) Kayathar
C) Arakkonam
D) Aralvoimozhi
E) Answer not known

142. பின்வரும் கூற்றுகளைக் கருத்தில் கொள்க.

கூற்று (A) : அரபிக்கடலில் கலக்கும் தீபகற்ப ஆறுகள் டெல்டாக்களை உருவாக்குவதில்லை, ஆனால் முகத்துவாரங்கள் மட்டுமே உருவாக்குகின்றன
காரணம் (R) : மேற்கே பாயும் ஆறுகள், குறிப்பாக நர்மதை மற்றும் தபதி ஆகியவை கடினமான பாறைகள் வழியாகப் பாய்வதே இதற்குக் காரணம். எனவே போதுமான படிவுகளை எடுத்துச் செல்லவில்லை.

குறியீடுகள்:

- A) (A) மற்றும் (R) இரண்டும் சரி மற்றும் (R) என்பது (A) இன் சரியான விளக்கமாகும்
B) (A) மற்றும் (R) இரண்டும் சரி ஆனால் (R) என்பது (A) இன் சரியான விளக்கமல்ல
C) (A) சரி ஆனால் (R) தவறு
D) (A) தவறு ஆனால் (R) சரி
E) விடை தெரியவில்லை



Consider the following statements.

Assertion (A) : Peninsular rivers which fall into the Arabian Sea do not form deltas, but only estuaries

Reason (R) : This is due to the fact that the west flowing rivers, especially the Narmada and the Tapi flow through hard rocks and hence do not carry any good amount of silt.

Codes:

- A) Both (A) and (R) are true and (R) is the correct explanation of (A)
B) Both (A) and (R) are true but (R) is not the correct explanation of (A)
C) (A) is true but (R) is false
D) (A) is false but (R) is true
E) Answer not known

143. தவறாகப் பொருந்தியுள்ள இணையைக் கண்டறியவும்.

(சொற்கள்) **(கோடு இணைக்கும் புள்ளிகள்)**

- A) ஐசோபார் - சம வளிமண்டல அழுத்தம்
B) ஐசோதெர்ம் - சம வெப்பநிலை
C) ஐசோஹெட்ஸ் - சம கடலின் ஆழம்
D) ஐசோஹெல் - சம சூரிய கதிர்வீச்சு
E) விடை தெரியவில்லை

Find out the incorrectly matched pair.

(Terminology) **(Line connecting points of)**

- A) Isobar - Equal atmospheric pressure
B) Isotherm - Equal temperature
C) Isohyets - Equal Ocean depth
D) Isohel - Equal Solar radiation
E) Answer not known

144. பின்வரும் பூர்வாஞ்சல் குன்றுகளை வடக்கிலிருந்து தெற்காக வரிசைப்படுத்துக:

- I. பட்காய்பம்
II. நாகா மலைகள்
III. மணிப்பூர் மலைகள்
IV. லுஷாய் மலைகள்

குறியீடுகள்:

- A) I-II-III-IV B) II-I-IV-III
C) I-IV-III-II D) II-IV-I-III

E) விடை தெரியவில்லை

Arrange the following Purvanchal hills from North to South:

- I. Patkai Bhum
II. Naga Hills
III. Manipur Hills
IV. Lushai Hills

**Codes:**

- A) I-II-III-IV
B) II-I-IV-III
C) I-IV-III-II
D) II-IV-I-III
E) Answer not known

145. ஹிமாட்ரி தொடர்பான கூற்றில் தவறானதை தேர்ந்தெடு.

- A) இமயமலையின் மிக உயர்ந்த சிகரங்களில் இந்த பெரும்பாலானவை மலைத்தொடரில் அமைந்துள்ளன
B) இமயமலை தொடர்களிலே இது மிகவும் தொடர்ச்சியானது
C) இது நிரந்தரமாக பனி தூழ்ந்து காணப்படுகிறது
D) இது மிகவும் தொடர்ச்சியற்ற மலைத்தொடராகும் மற்றும் இந்த மலைத்தொடர் பகுதியானது குடியேற்றங்களுக்கு ஏற்ற தளமாகும்
E) விடை தெரியவில்லை

Identify the incorrect statement related to Himadri

- A) Almost all the lofty peaks of Himalayas are located in this range.
B) This range is the most continuous of all ranges of Himalaya.
C) It is region of permanent snow cover
D) It is the most discontinuous range and are the ideal sites for the development of settlements in this region
E) Answer not known

146. இந்தியாவின் சமவெளிகள் பற்றிய தவறான கூற்றையை அடையாளம் காணவும்

- A) ராஜஸ்தான் சமவெளியானது லூனி நதி படிவுகளால் மற்றும் நீண்ட காலத்திற்கு முன் மறைந்த சரஸ்வதி நதியின் படிவுகளால் உருவாகிறது.
B) பஞ்சாப் - ஹரியானா சமவெளிகள் சட்லஜ், பியாஸ் மற்றும் ராவி நதிகளின் படிவுகளால் உருவாகின்றன.
C) கங்கை சமவெளி மேற்கில் இந்திரா காந்தி கால்வாயிலிருந்து கிழக்கில் வங்கதேசம் வரை நீண்டுள்ளது.
D) கிழக்கு கடற்கரை சமவெளிகள் இந்தியாவின் கிழக்கு பாயும் நதிகளால் கரையோர மண்டலத்தின் வண்டல் நிரப்புதலால் உருவாகின்றன.
E) விடை தெரியவில்லை

Identify the incorrect statement about the plains of India

- A) Rajasthan plain is formed by the deposition of the river Luni and the long-vanished river Saraswathi.
B) The Punjab - Haryana plains are formed by the deposition of the rivers Sutlej, Beas and Ravi.
C) Ganga Plains extends from the Indira Gandhi Canal in the west to Bangladesh in the east.
D) East Coast plains are formed by the alluvial fillings of the littoral zone by the east flowing rivers of India.
E) Answer not known



147. பின்வருவனவற்றிலிருந்து தவறான கூற்றையைத் தேர்ந்தெடுக்கவும்
- A) இந்தியாவின் பிரதான நிலப்பரப்பில் செயல்படும் எரிமலை இல்லை
- B) 10 டிகிரி கால்வாய் அந்தமான் தீவுக் கூட்டங்கள் நிக்கோபார் தீவுக்கூட்டங்களிலிருந்து பிரிக்கிறது
- C) இலட்சத்தீவு கூடங்களை 8 டிகிரி கால்வாய் மாலத்தீவிலிருந்து பிரிக்கிறது
- D) அந்தமான் மற்றும் நிக்கோபார் மக்கள் வசிக்காத "பிட் தீவில்" பறவைகள் சரணாலயம் உள்ளது
- E) விடை தெரியவில்லை

Choose the incorrect statement from the following

- A) The mainland of India has no active volcano
- B) The Ten Degree Channel separates Andaman from Nicobar group.
- C) Lakshadweep islands are separated from the Maldive Islands by the Eight Degree Channel.
- D) The uninhabited "Pitt Island" of Andaman and Nicobar has a bird sanctuary
- E) Answer not known

148. இந்தியாவின் பின்வரும் தீவுகளை வடக்கிலிருந்து தெற்காக வரிசைப்படுத்துங்கள்

- I. மினிகாய் தீவு
- II. கச்சத்தீவு
- III. அப்துல் கலாம் தீவு
- IV. கிரேட் நிக்கோபார் தீவு
- V. ஸ்ரீஹரிகோட்டா தீவு

குறியீடுகள்:

- A) II – III – I – V – IV
- B) III – V – II – I – IV
- C) V – I – II – III – IV
- D) III – II – IV – V – I
- E) விடை தெரியவில்லை

Arrange following islands of India from North to South

- I. Minicoy Island
- II. Katchadeevu Island
- III. Abdul Kalam Island
- IV. Great Nicobar Island
- V. Sriharikota Island

Codes:

- A) II – III – I – V – IV
- B) III – V – II – I – IV
- C) V – I – II – III – IV
- D) III – II – IV – V – I
- E) Answer not known

149. பின்வரும் நதிகளில் எது கம்பாட் வளைகுடாவில் கலக்காது?

- A) சரஸ்வதி
- B) சபர்மதி
- C) மாஹி
- D) நர்மதா
- E) விடை தெரியவில்லை

Which of the following river does not drain into Gulf of Khambhat?

- A) Saraswati
- B) Sabarmathi
- C) Mahi
- D) Nadmada
- E) Answer not known



150. ஜெட் காற்றோட்டங்கள் தொடர்பான பின்வரும் கூற்றுகளைக் கருத்தில் கொள்க.
- I. ஜெட் காற்று கோட்பாட்டின் படி, தென்மேற்கு பருவமழையின் தொடக்கமானது துணை வெப்பமண்டல மேற்கு ஜெட் காற்று இந்தியாவின் சமவெளியிலிருந்து திபெத்திய பீடபூமியை நோக்கி நகர்வதன் மூலம் ஏற்படுகிறது.
- II. கிழக்கு நோக்கிய ஜெட் காற்றுகள் தென்மேற்கு பருவகாலங்கள் மற்றும் பின்னடைவு பருவகாலங்களில் வெப்பமண்டல தாழ்வு மண்டலத்தை ஏற்படுத்துகின்றன.
- மேற்கூறியவற்றுள் சரியானது எது/எவை?
- A) I மட்டும்
B) II மட்டும்
C) இரண்டும்
D) இரண்டுமில்லை
E) விடை தெரியவில்லை
- Consider the following statements regarding Jet Streams.
- I. According to the Jet stream theory, the onset of southwest monsoon is driven by the shift of the sub-tropical westerly jet from the plains of India towards the Tibetan plateau.
- II. The easterly jet streams cause tropical depressions both during southwest monsoon and retreating monsoon.
- Which of the statements given above is/are correct?
- A) I only
B) II only
C) Both I and II
D) Neither I nor II
E) Answer not known
151. கேரளா மற்றும் கர்நாடகா கடற்கரையில் மாம்பழங்கள் விரைவாக பழுக்க உதவும் இடியுடன் கூடிய மழை, இது பருவமழைக்கு முந்தைய மழை எனவும் அழைக்கப்படுகிறது?
- A) செர்ரி பூக்கள் திருவிழா
B) கல்பைசாகி
C) மாஞ்சாரல்
D) போர்டோசிலா
E) விடை தெரியவில்லை
- The thunder showers, a pre-monsoon shower, which help in quick ripening of mangoes along the coast of Kerala and Karnataka is called as
- A) Cherry Blossoms
B) Kalbaisakhis
C) Mango Showers
D) Bordoisila
E) Answer not known
152. 1972இல் வனவிலங்குகள் (பாதுகாப்பு) சட்டத்தின் நோக்கங்கள் எவை?
- I. வன விலங்குகளைப் பாதுகாக்க வேண்டும்
II. வனவிலங்குகளை வேட்டையாடுவதை கட்டுப்படுத்த வேண்டும்
III. வனவிலங்குகள் கடத்தலை கட்டுப்படுத்த வேண்டும்
IV. வனவிலங்குகளின் சட்டவிரோத வணிகத்தை கட்டுப்படுத்த வேண்டும்
- குறியீடுகள்:
- A) I, II மற்றும் III மட்டும்
B) II, III மற்றும் IV மட்டும்
C) III மற்றும் IV மட்டும்
D) மேற்கண்ட அனைத்தும்
E) விடை தெரியவில்லை



Which of the following are the objectives of Wildlife (Protection) Act in 1972?

- I. To protect the wild life
- II. To control poaching in wildlife
- III. To control smuggling in wildlife
- IV. To control illegal trade in wildlife

Codes:

- A) I, II and III only
- B) II, III and IV only
- C) III and IV only
- D) All the above
- E) Answer not known

153. நீர் சேமிப்பு மற்றும் பாதுகாப்பு தொழில்நுட்பங்களைப் பயன்படுத்தி அதிக உற்பத்தியைப் பெற செயல்படுத்தப்படும் திட்டத்தின் பெயர் என்ன?

- A) பிரதான் மந்திரி க்ரிஷி சிஞ்சாயீ யோஜனா (PMKSY)
- B) பிரதான் மந்திரி ஃபசல் பீமா யோஜனா
- C) பிரதான் மந்திரி கிசான் மான்தன் யோஜனா (PM-KMY)
- D) பரம்பரகத் கிரிஷி விகாஸ் யோஜனா (PKVY)
- E) விடை தெரியவில்லை

The name of the scheme being implemented to get more production by using water saving and conservation technologies is

- A) Pradhan Mantri Krishi Sinchayee Yojana (PMKSY)
- B) Pradhan Mantri Fasal Bima Yojana
- C) Pradhan Mantri Kisan MaanDhan Yojana (PM-KMY)
- D) Paramparagat Krishi Vikas Yojana (PKVY)
- E) Answer not known

154. இந்திரா காந்தி கால்வாய் திட்டத்தால் பயன்பெறும் மாநிலங்களின் சரியான குழுக்களைத் தேர்வு செய்யவும்

- A) மத்திய பிரதேசம், மகாராஷ்டிரா மற்றும் ராஜஸ்தான்
- B) ராஜஸ்தான், பஞ்சாப் மற்றும் ஹரியானா
- C) பஞ்சாப், ஹரியானா மற்றும் உத்தரபிரதேசம்
- D) இமாச்சல பிரதேசம், உத்தரகண்ட் மற்றும் பஞ்சாப்
- E) விடை தெரியவில்லை

Choose the correct groups of states that are benefited from the Indira Gandhi Canal Project

- A) Madhya Pradesh, Maharashtra and Rajasthan
- B) Rajasthan, Punjab and Haryana
- C) Punjab, Haryana and Uttar Pradesh
- D) Himachal Pradesh, Uttarakhand and Punjab
- E) Answer not known



155. பின்வரும் கூற்றுகளைக் கருத்தில் கொள்க.

கூற்று (A) : இந்தியாவில் பல உள்நாட்டு நெல் வகைகள் மறைந்துவிட்டன.

காரணம் (R) : இந்திய விவசாயிகள் அதிக மகசூல் தரும் வகையிலான (HYV) விதைகளை சாகுபடிக்கு பயன்படுத்துகின்றனர்.

குறியீடுகள் :

A) (A) மற்றும் (R) இரண்டும் சரி மற்றும் (R) என்பது (A)-யின் சரியான விளக்கமாகும்.

B) (A) மற்றும் (R) இரண்டும் சரி ஆனால் (R) என்பது (A)-யின் சரியான விளக்கமல்ல.

C) (A) சரி ஆனால் (R) தவறு.

D) (A) தவறு ஆனால் (R) சரி.

E) விடை தெரியவில்லை

Consider the following statements:

Assertion (A) : Many of indigenous paddy varieties were disappeared in India.

Reason (R) : India farmers increased the use of High Yielding Variety (HYV) seeds for cultivation.

Codes:

A) Both (A) and (R) are true and (R) is the correct explanation of (A).

B) Both (A) and (R) are true but R is not the correct explanation of (A).

C) (A) is true but (R) is false.

D) (A) is false but (R) is true

E) Answer not known

156. பின்வரும் கூற்றுகளைக் கருத்தில் கொள்க.

I. இது ஒரு வெப்பமண்டல நார் பயிராகும், வண்டல் மண்ணில் நன்றாக வளரும்.

II. இது "தங்க இழைநார்" என்றும் அழைக்கப்படுகிறது.

III. இது முக்கியமாக கிழக்கு இந்தியாவில் குவிந்துள்ளது

IV. அதன் செயலாக்கத்திற்கு அதிக அளவு தண்ணீர் தேவைப்படுகிறது

மேற்கண்ட கூற்றுகளில் பின்வரும் எந்த விவசாயப் பயிர் பற்றி விவரிக்கின்றன?

A) பருத்தி B) சணல்

C) பட்டு D) மூங்கில்

E) விடை தெரியவில்லை

Consider the following statements

I. It is a tropical fibre crops, grows well in the alluvial soil.

II. It is also known as "Golden Fibre"

III. It is mainly concentrated in eastern India

IV. It requires more amount of water for its processing

The above statements describe about which of the following agricultural crop?

A) Cotton B) Jute

C) Silk D) Bamboo

E) Answer not known



157. பின்வரும் கூற்றுகளைக் கருத்தில் கொள்க.

கூற்று (A) : மற்ற எரிபொருட்களுடன் ஒப்பிடுகையில், இயற்கை எரிவாயு கசிவு ஏற்பட்டாலும் குறைவான பாதிப்பை ஏற்படுத்துகிறது.

காரணம் (R) : இது காற்றை விட இலகுவானது மற்றும் வெளியிடப்படும் போது விரைவாக காற்றில் பரவுகிறது.

குறியீடுகள் :

A) (A) மற்றும் (R) இரண்டும் சரி மற்றும் (R) என்பது (A)-யின் சரியான விளக்கமாகும்.

B) (A) மற்றும் (R) இரண்டும் சரி ஆனால் (R) என்பது (A)-யின் சரியான விளக்கமல்ல.

C) (A) சரி ஆனால் (R) தவறு.

D) (A) தவறு ஆனால் (R) சரி.

E) விடை தெரியவில்லை

Consider the following statements:

Assertion (A) : In comparison to other fuels, natural gas poses less of a threat in the event of a spill.

Reason (R) : It is lighter than air and disperses quickly when released.

Codes:

A) Both (A) and (R) are true and (R) is the correct explanation of (A).

B) Both (A) and (R) are true but R is not the correct explanation of (A).

C) (A) is true but (R) is false.

D) (A) is false but (R) is true

E) Answer not known

158. 2011 மக்கள் தொகை கணக்கெடுப்பின் அடிப்படையில் தவறாகப் பொருந்திய இணையைத் தேர்ந்தெடுக்கவும்

A) இந்தியாவின் குறைந்த மக்கள் தொகை கொண்ட மாநிலம் – சிக்கிம்

B) இந்தியாவின் அதிக மக்கள் தொகை அடர்த்தி கொண்ட மாநிலம் – மேற்கு வங்கம்

C) இந்தியாவின் அதிக மக்கள் தொகை கொண்ட மாநிலம் – உத்தரபிரதேசம்

D) அடர்த்தியான மக்கள்தொகை கொண்ட ஒன்றிய பிரதேசம் – டெல்லி

E) விடை தெரியவில்லை

Select the incorrectly matched pair based on 2011 census data

A) The least populous state of India – Sikkim

B) The most densely populated state of India – West Bengal

C) The most populous state of India – Uttar Pradesh

D) The densely populated UT – Delhi

E) Answer not known

159. வெப்பம் மற்றும் குளிர்நிலை மாறிமாறி நிகழும் பகுதிகளில் எந்த வகை மண் உருவாகிறது?

A) வண்டல் மண்

B) களிமண்

C) செம்மண்

D) சரளை மண்

E) விடை தெரியவில்லை



Which soil is formed in the regions where alternate wet and hot dry conditions prevail?

- A) Alluvial soil
- B) Peaty soil
- C) Red soil
- D) Laterite soil
- E) Answer not known

160. நம் நாட்டில் பாலின விகிதம் எப்போதும் பெண்களுக்கு சாதகமாக இல்லை. இந்நிலைமைக்கு எது காரணமல்ல?

- A) பிரசவத்திற்கு முந்தைய பாலினத்தை தீர்மானித்தல்
- B) வரதட்சணை முறை
- C) பெண்களுக்கான கல்விக்கான அணுகல்
- D) பெண்ணின் பணியை சமூக ரீதியாக மதிப்பிழக்கச் செய்தல்
- E) விடை தெரியவில்லை

The sex ratio in our country is always unfavourable to females. Which of the following is not a reason?

- A) Pre-natal sex determination
- B) Dowry system
- C) Access to education to female
- D) Socially devaluing the work of female
- E) Answer not known

161. பின்வரும் முக்கிய துறைமுகங்களைக் கவனியுங்கள்

- I. சியாமா பிரசாத் முகர்ஜி துறைமுகம்
- II. தீன்தயாள் துறைமுகம்
- III. நவா ஷேவா துறைமுகம்
- IV. காமராஜர் துறைமுகம்

மேற்கூறிய எத்தனை துறைமுகங்கள் இந்தியாவின் மேற்கு கடற்கரையில் அமைந்துள்ளன?

- A) ஒன்று மட்டும்
- B) இரண்டு மட்டும்
- C) மூன்று மட்டும்
- D) நான்கும்
- E) விடை தெரியவில்லை

Consider the following major ports

- I. Syama Prasad Mookerjee Port
- II. Deendayal Port
- III. Nhava Sheva Port
- IV. Kamarajar Port

How many of the above ports are located on the western coast of India?

- A) One only
- B) Two only
- C) Three only
- D) All four
- E) Answer not known



162. பாக் ஜலசந்தி எந்த இரு பகுதியை பிரிக்கிறது
 A) பாயிண்ட் கலிமேர் மற்றும் ஜாஃப்னா
 B) ராமேஸ்வரம் மற்றும் மன்னார் வளைகுடா
 C) பாம்பன் மற்றும் தனுஷ்கோடி
 D) ராமேஸ்வரம் மற்றும் கச்சத்தீவு
 E) விடை தெரியவில்லை
 Palk strait separates
 A) Point Calimere and Jaffna
 B) Rameshwaram and Gulf of Mannar
 C) Pamban and Dhanushkodi
 D) Rameshwaram and Katchadeevu
 E) Answer not known
163. பின்வரும் கூற்றுகளைக் கருத்தில் கொள்க.
 I. புயல் பாதித்த பகுதிகளின் அடிப்படையில், தமிழ்நாடு மாநிலத்தை, மிக அதிக, உயர், நடுத்தர, குறைந்த மற்றும் மிகக் குறைந்த புயல் பாதிப்பு மண்டலங்கள் என ஐந்து மண்டலங்களாகப் பிரிக்கலாம்
 II. தமிழ்நாடு தண்ணீர் பற்றாக்குறை மாநிலம் ஆகும் மேற்கூறியவற்றுள் சரியானது எது/எவை?
 A) I மட்டும்
 B) II மட்டும்
 C) இரண்டும்
 D) இரண்டுமில்லை
 E) விடை தெரியவில்லை
 Consider the following statements
 I. Based on the cyclone hit areas, the state of Tamil Nadu can be divided into five zones namely very high, high, medium, low and very low cyclone prone zones.
 II. Tamil Nadu is water deficit state.
 Which of the statements given above is/are correct?
 A) I only
 B) II only
 C) Both I and II
 D) Neither I nor II
 E) Answer not known
164. பயிர் சுழற்சி, பயிர் எச்சங்கள், கால்நடை உரம், பண்ணைக்கு வெளியே உள்ள கரிம கழிவுகள் மற்றும் உயிரியல் பூச்சி கட்டுப்பாடு ஆகியவை எவை தொடர்பான குறிப்பிடத்தக்க அம்சங்களாகும்?
 A) பசுமைப் புரட்சி
 B) இயற்கை விவசாயம்
 C) வணிக விவசாயம்
 D) ஒப்பந்த விவசாயம்
 E) விடை தெரியவில்லை
 The crop rotation, crop residues, animal manure, off-farm organic wastes and biological pest control are the significant features of
 A) Green Revolution
 B) Organic Farming
 C) Commercial Farming
 D) Contract Farming
 E) Answer not known



165. பின்வரும் திட்டங்களில் எது தமிழ்நாடு மற்றும் கேரள மாநிலங்களின் கூட்டு முயற்சியாகும்?

- A) முல்லைப்பெரியாறு அணை திட்டம்
- B) பரம்பிக்குளம் ஆழியார் திட்டம்
- C) அமராவதி அணை
- D) மணிமுத்தாறு அணை
- E) விடை தெரியவில்லை

Which of the following project is a joint venture of Tamil Nadu and Kerala states?

- A) Mullaiperiyar Dam Project
- B) Parampikulam Aliyar Project
- C) Amaravathi Dam
- D) Manimuthar Dam
- E) Answer not known

166. பின்வரும் கூற்றுக்களைக் கருத்தில் கொள்க.

- I. இந்தியாவின் தோல் பதனிடுதல் செயல்முறைகளில் 60% மற்றும் அனைத்து தோல் காலணிகள், ஆடைகள் 38% தமிழ்நாடு பங்களிப்பு ஆகும்.
- II. நாட்டிலேயே தயாரிக்கப்பட்ட தோல் பொருட்களை ஏற்றுமதி செய்வதில் வேலூர் மாவட்டம் முதலிடத்தில் உள்ளது.

மேற்கூறியவற்றுள் சரியானது எது/எவை?

- A) I மட்டும்
- B) II மட்டும்
- C) இரண்டும்
- D) இரண்டுமில்லை
- E) விடை தெரியவில்லை

Consider the following statements

- I. Tamil Nadu accounts for 60% of leather tanning processes of India and 38% of all leather footwear, garments and components
- II. The Vellore district is the top exporter of finished leather goods in the country.

Which of the statements given above is/are correct?

- A) I only
- B) II only
- C) Both I and II
- D) Neither I nor II
- E) Answer not known

167. பின்வரும் கூற்றுக்களைக் கருத்தில் கொள்க.

- I. ஜாஸ்கர், லடாக், கைலாஷ் மற்றும் காரகோரம் ஆகியவை டிரான்ஸ் இமயமலையின் முக்கிய மலைத்தொடர்களாகும்.
- II. குஜராத் முதல் கேரளா வரை உள்ள மேற்கு தொடர்ச்சிமலைதொடர் தமிழ்நாட்டில் நீலகிரி என்றும், கேரளாவில் ஆனமலை, மகாராஷ்டிராவில் ஷயாத்ரி என்றும் அழைக்கப்படுகிறது.

மேற்கூறியவற்றுள் தவறானது எது/எவை?

- A) I மட்டும்
- B) II மட்டும்
- C) இரண்டும்
- D) இரண்டுமில்லை
- E) விடை தெரியவில்லை



Consider the following statements

- I. The prominent ranges of Trans Himalayas are Zaskar, Ladakh, Kailash, and Karakoram.
- II. Western Ghats runs from Gujarat to Kerala and it is called as Sahyadri in Maharashtra, Nilgiri in Tamil Nadu and Anaimalai in Kerala

Which of the statements given above is/are incorrect?

- A) I only
- B) II only
- C) Both I and II
- D) Neither I nor II
- E) Answer not known

168. பின்வரும் கூற்றுகளைக் கருத்தில் கொள்க.

கூற்று I : பெரிய துறைமுகங்கள் மூலம் நாட்டின் வர்த்தகத்தில் தமிழ்நாடு 10.94% பங்களிக்கிறது

கூற்று II : நாட்டின் ஏற்றுமதியில் தமிழகத்தின் பங்களிப்பு 12.2% ஆகும்

கூற்று III : தமிழ்நாட்டில் 3 பெரிய துறைமுகங்கள் உள்ளன

குறியீடுகள்:

- A) கூற்று I மற்றும் II சரியானது; கூற்று III தவறானது
- B) கூற்று I மற்றும் III சரியானது; கூற்று II தவறானது
- C) கூற்று II மற்றும் III சரியானது; கூற்று I தவறானது
- D) கூற்று I, II மற்றும் III சரியானது
- E) விடை தெரியவில்லை

Consider the following statements

Statement I : Tamil Nadu contributes 10.94% to the country's trade through major ports.

Statement II : Tamil Nadu contributes 12.2% to the country's exports.

Statement III: Tamil Nadu has 3 major ports

Codes:

- A) Statement I and II are correct; Statement III is incorrect
- B) Statement I and III are correct; Statement II is incorrect
- C) Statement II and III are correct; Statement I is incorrect
- D) Statement I, II and III are correct
- E) Answer not know

169. பின்வரும் கூற்றுகளைக் கருத்தில் கொள்க.

கூற்று (A) : இந்தியாவின் மத்திய தீர்க்கரேகை 82°30' கிழக்கு

காரணம் (R) : இது மிர்சாபூர் வழியாகச் சென்று தீர்க்கரேகையின் அடிப்படையில் நாட்டை தோராயமாக இரண்டாகப் பிரிக்கிறது

குறியீடுகள்:

- A) (A) மற்றும் (R) இரண்டும் சரி மற்றும் (R) என்பது (A)-யின் சரியான விளக்கமாகும்.
- B) (A) மற்றும் (R) இரண்டும் சரி ஆனால் (R) என்பது (A)-யின் சரியான விளக்கமல்ல.
- C) (A) சரி ஆனால் (R) தவறு.
- D) (A) தவறு ஆனால் (R) சரி.
- E) விடை தெரியவில்லை



Consider the following statements:

Assertion (A) : India's central meridian is 82°30' E longitude.

Reason (R) : It passes through Mirzapur and roughly bisects the country in terms of longitude.

Codes:

- A) Both (A) and (R) are true and (R) is the correct explanation of (A).
B) Both (A) and (R) are true but R is not the correct explanation of (A).
C) (A) is true but (R) is false.
D) (A) is false but (R) is true
E) Answer not known

170. எந்த டெல்டா பகுதியில் மிகப் பெரிய அலையாத்திக் காடுகள் உள்ளன?

- A) மகாநதி
B) கோதாவரி
C) கிருஷ்ணா
D) கங்கை-பிரம்மபுத்திரா
E) விடை தெரியவில்லை

Which delta region has the largest tidal forest?

- A) Mahanadi
B) Godavari
C) Krishna
D) Ganga-Brahmaputra
E) Answer not known

171. பின்வருவனவற்றில் அலோகக் கனிமங்கள் எது/எவை?

- I. மைக்கா
II. டோலமைட்
III. பாக்சைட்
IV. நிலக்கரி
V. தங்கம்

குறியீடுகள்:

- A) I மற்றும் II மட்டும்
B) I, II மற்றும் III மட்டும்
C) I, II மற்றும் IV மட்டும்
D) I, II, IV மற்றும் V மட்டும்
E) விடை தெரியவில்லை

Which of the following is/are non-metallic minerals.

- I. Mica
II. Dolomite
III. Bauxite
IV. Coal
V. Gold

Codes:

- A) I and II only
B) I, II and III only
C) I, II and IV only
D) I, II, IV and V only
E) Answer not known



172. பின்வரும் கூற்றுகளைக் கருத்தில் கொங்க

I. 5,846 கிமீ நீளமுள்ள தங்க நாகரசர் சாலை புதுடெல்லி - கொல்கத்தா - சென்னை - மும்பை - புதுடெல்லி ஆகியவற்றை இணைக்கிறது.

II. இத்திட்டம் 1998ஆம் ஆண்டு தொடங்கப்பட்டது.

மேற்கண்ட சரியானது எது/எவை?

A) I மட்டும்

B) II மட்டும்

C) இரண்டும்

D) இரண்டுமில்லை

E) விடை தெரியவில்லை

Consider the following statements.

I. Golden Quadrilateral 5,846 km long road connects Delhi-Kolkata- Chennai- Mumbai-Delhi.

II. This project was launched in 1998.

Which of the statements given above is/are correct?

A) I only

B) II only

C) Both I and II

D) Neither I nor II

E) Answer not known

173. சோலை காடுகளில் காணப்படும் பொதுவான மரங்களை அடையாளம் காண்க

I. நீலகிரி சாம்பா,

II. வெள்ளைலிட்சா

III. ரோஸ்ஆப்பிள்

குறியீடுகள்:

A) I மற்றும் III மட்டும்

B) I, II மற்றும் III

C) II மற்றும் III மட்டும்

D) I மற்றும் II மட்டும்

E) விடை தெரியவில்லை

Identify the common trees found in the Shola forest

I. Nilgiri champa

II. wights litsea

III. Rose apple

Codes:

A) I and III only

B) I, II and III

C) II and III only

D) I and II only

E) Answer not known

174. எந்த மாவட்டங்களின் கடற்கரையோரங்களில் உருவாக்கப்பட்ட மணல் குன்றுகள் 'தேரி' என்று அழைக்கப்படுகிறது.

A) இராமநாதபுரம் மற்றும் தூத்துக்குடி

B) கடலூர் மற்றும் நாகப்பட்டினம்

C) சென்னை மற்றும் செங்கல்பட்டு

D) அனைத்து கடலோர மாவட்டங்கள்

E) விடை தெரியவில்லை



The sand dunes formed along the coast of which districts are called Teri.

- A) Ramanathapuram and Thoothukudi.
- B) Cuddalore and nagapattinam.
- C) Chennai and chegalpattu
- D) All the coastal districts.
- E) Answer not known

175. உள்நாட்டு மீன் உற்பத்தியில் முன்னிலையில் உள்ள மாவட்டம் எது?

- A) கடலூர்
- B) நாகப்பட்டினம்
- C) சிவகங்கை
- D) வேலூர்
- E) விடை தெரியவில்லை

Which district leads in the production of inland fish production?

- A) Cuddalore
- B) Nagapattinam
- C) Sivagangai
- D) Vellore
- E) Answer not known

176. ஒரு பழ வணிகர் ஒரு டசன் ஆப்பிள்களை ₹ 84இக்கு வாங்கினார். 2 ஆப்பிள்கள் அழுகிவிட்டன. அவருக்கு ₹ 16 இலாபம் கிடைக்க வேண்டும் எனில், ஒவ்வொரு ஆப்பிளையும் என்ன விலைக்கு விற்க வேண்டும்?

- A) ₹ 12
- B) ₹ 100
- C) ₹ 15
- D) ₹ 10
- E) விடை தெரியவில்லை

A fruit seller bought a dozen apples for ₹ 84. Two apples got rotten. If he has to get a profit of ₹ 16, find the S.P. of each apple

- A) ₹ 12
- B) ₹ 100
- C) ₹ 15
- D) ₹ 10
- E) Answer not known

177. மணிமேகலை ₹ 25,52,500இக்கு ஒரு வீட்டை வாங்கி அதைச் சீரமைக்க ₹ 2,28,350 செலவு செய்தார். அவர் அவ்வீட்டை ₹ 30,52,000இக்கு விற்றார் எனில் அவரது இலாபம் அல்லது நட்டம் காண்க

- A) ₹ 2,71,150
- B) ₹ 2,78,150
- C) ₹ 2,61,150
- D) ₹ 2,68,150
- E) விடை தெரியவில்லை

Manimegalai purchased a house for ₹ 25,52,500 and spent ₹ 2,28,350 for its repair. She sold it for ₹ 30,52,000. Find her gain or loss.

- A) ₹ 2,71,150
- B) ₹ 2,78,150
- C) ₹ 2,61,150
- D) ₹ 2,68,150
- E) Answer not known



178. ஒரு பல்பொருள் அங்காடி விற்பனையாளர் ₹ 750இக்கு ஒரு கணிப்பாணை வாங்கினார். அதனுள் ₹ 100 மதிப்புள்ள மின்கலன் பொருத்தினார். அதன் வெளி உறைக்காக ₹ 50 செலவிட்டார். அதை ₹ 850இக்கு அவரால் விற்பனை செய்ய முடிந்தது எனில் அவருடைய இலாபம் அல்லது நட்டம் காண்க.

A) இலாபம் = ₹ 50

B) இலாபம் = ₹ 150

C) நட்டம் = ₹ 150

D) நட்டம் = ₹ 50

A stationery shop owner bought a scientific calculator for ₹ 750. He had put a battery worth ₹ 100 in it. He had spent ₹ 50 for its outer pouch. He was able to sell it for ₹ 850. Find his profit or loss.

A) Gain = ₹ 50

B) Gain = ₹ 150

C) Loss = ₹ 150

D) Loss = ₹ 50

E) Answer not known

179. பின்வரும் கூற்றுகளில் சரியானது எது/எவை?

I. தள்ளுபடி = குறித்த விலை - விற்பனை விலை.

II. கூடுதல் செலவுகள் எப்பொழுதும் அடக்க விலையில் சேர்க்கப்படும்

III. தள்ளுபடி இல்லை என்றால், குறித்த விலை = விற்பனை விலை

A) I மற்றும் III மட்டும்

B) I மற்றும் II மட்டும்

C) I, II மற்றும் III

D) II மற்றும் III மட்டும்

E) விடை தெரியவில்லை

Which of the following statements is/are correct?

I. Discount = M.P. - S.P

II. Overhead expenses is always included in C.P

III. If there is no discount, then M.P. = S.P.

A) I and III only

B) I and II only

C) I, II and III

D) II and III only

E) Answer not known

180. நாதன் ஒரு கிராமத்து விற்பனையாளரிடமிருந்து ₹ 800இக்கு 10 குடுவைகள் தேன் வாங்கினார். அவற்றை ஒரு நகரத்தில் ஒரு குடுவை ₹ 100 விலை விற்பனை செய்தார். அவருடைய இலாபம் அல்லது நட்டம் காண்க

A) இலாபம் = ₹ 1000

B) இலாபம் = ₹ 200

C) நட்டம் = ₹ 200

D) நட்டம் = ₹ 1000

E) விடை தெரியவில்லை

Nathan paid ₹ 800 and bought 10 bottles of honey from a village vendor. He sold them in a city for ₹ 100 per bottle. Find his profit or loss.

A) Profit = ₹ 1000

B) Profit = ₹ 200

C) Loss = ₹ 200

D) Loss = ₹ 1000

E) Answer not known



181. இரகு ஒரு நாற்காலியை ₹ 3000இக்கு வாங்குகிறார். அந்நாற்காலியின் விலையில் ₹ 300 தள்ளுபடி செய்த பின் ₹ 500 இலாபம் பெறுகிறார் எனில் அந்நாற்காலியின் குறித்த விலை என்ன?
- A) ₹ 3200
B) ₹ 3800
C) ₹ 3300
D) ₹ 3500
E) விடை தெரியவில்லை
- Raghu buys a chair for ₹ 3000. He wants to sell it at a profit of ₹ 500 after making a discount of ₹ 300. What is the M.P. of the chair?
- A) ₹ 3200
B) ₹ 3800
C) ₹ 3300
D) ₹ 3500
E) Answer not known
182. ஒருவர் ₹ 300 இக்கு 75 மாம்பழங்கள் வாங்கி அவற்றில் 50 மாம்பழங்களை ₹ 300 இக்கு விற்பனை செய்தார். அனைத்து மாம்பழங்களும் விற்பனையான பின் அவரது இலாபம் அல்லது நட்டம் காண்க.
- A) இலாபம் ₹ 150
B) நட்டம் ₹ 150
C) இலாபம் ₹ 450
D) நட்டம் ₹ 450
E) விடை தெரியவில்லை
- A man bought 75 Mangoes for ₹ 300 and sold 50 Mangoes for ₹ 300. If he sold all the mangoes at the same price, find his profit or loss.
- A) Gain ₹ 150
B) Loss ₹ 150
C) Gain ₹ 450
D) Loss ₹ 450
E) Answer not known
183. வளவன் 24 முட்டைகளை ₹ 96இக்கு வாங்கினார். அவற்றில் 4 முட்டைகள் உடைந்து விட்டன. மீதி உள்ள முட்டைகளை விற்பனை செய்ததில் ₹ 36 நட்டம் எனில் ஒரு முட்டைக்கான விற்பனை விலை எவ்வளவு?
- A) ₹ 3
B) ₹ 4
C) ₹ 5
D) ₹ 6
E) விடை தெரியவில்லை
- Valavan bought 24 eggs for ₹ 96. Four of them were broken and also he had a loss of ₹ 36 on selling them. What is the selling price of one egg?
- A) ₹ 3
B) ₹ 4
C) ₹ 5
D) ₹ 6
E) Answer not known
184. மங்கை ஒரு அலைபேசியை ₹ 12585இக்கு வாங்கினார். அது கீழே விழுந்து பழுதாகி விட்டது. அதைச் சரி செய்ய ₹ 500 செலவு செய்து அதை அவர் ₹ 7500இக்கு விற்பனை செய்தார், எனில் அவருடைய இலாபம் அல்லது நட்டம் காண்க.
- A) நட்டம் = ₹ 5855
B) நட்டம் = ₹ 5585
C) இலாபம் = ₹ 5855
D) நட்டம் = ₹ 6585
E) விடை தெரியவில்லை



Mangai bought a cell phone for ₹ 12585. It fell down. She spent ₹ 500 on its repair. She sold it for ₹ 7500. Find her profit or loss.

- A) Loss = ₹ 5855
B) Loss = ₹ 5585
C) Profit = ₹ 5855
D) Loss = ₹ 6585
E) Answer not known

185. ஒரு வியாபாரி ஒரு டசன் ₹ 20 வீதம் 2 டசன் வாழைப்பழங்கள் வாங்கினார். ஒரு வாழைப்பழம் ₹ 3 வீதம் அவற்றை விற்பனை செய்தார் எனில் அவருடைய இலாபம் அல்லது நட்டம் காண்க.

- A) இலாபம் = ₹ 12
B) இலாபம் = ₹ 16
C) இலாபம் = ₹ 32
D) நட்டம் = ₹ 16
E) விடை தெரியவில்லை

A fruit seller bought 2 dozen bananas at ₹ 20 a dozen and sold them at ₹ 3 per banana. Find his gain or loss

- A) Gain = ₹ 12
B) Gain = ₹ 16
C) Gain = ₹ 32
D) Loss = ₹ 16
E) Answer not known

186. குணா தனது பொருளை ₹ 325 எனக் குறித்து ₹ 30 தள்ளுபடியில் விற்பனை செய்தார் எனில், விற்பனை விலையைக் காண்க.

- A) ₹ 355
B) ₹ 295
C) ₹ 305
D) ₹ 285
E) விடை தெரியவில்லை

If Guna marks his product to be sold for ₹ 325 and gives a discount of ₹ 30, then find the S.P.

- A) ₹ 355
B) ₹ 295
C) ₹ 305
D) ₹ 285
E) Answer not known

187. கீழே கொடுக்கப்பட்டுள்ள செவ்விய எண்ணைக் கண்டறியவும்

- A) 11
B) 6
C) 9
D) 8
E) விடை தெரியவில்லை

Find the perfect number given below.

- A) 11
B) 6
C) 9
D) 8
E) Answer not known

188. நான் ஓர் ஈரிலக்கப் பகா எண். எனது இலக்கங்களின் கூடுதல் 10. மேலும் நான் 57 என்ற எண்ணின் ஒரு காரணி ஆவேன் எனில், நான் யார்?

- A) 37
B) 28
C) 17
D) 19
E) விடை தெரியவில்லை



I am a two-digit prime number and the sum of my digits is 10. I am also one of the factors of 57. Who am I ?

- A) 37
B) 28
C) 17
D) 19
E) Answer not known

189. 11 மற்றும் 60 ஆகிய எண்களுக்கு இடையே உள்ள பகா எண்களின் எண்ணிக்கை

- A) 12
B) 10
C) 13
D) 11
E) விடை தெரியவில்லை

The number of prime numbers between 11 and 60 is_____.

- A) 12
B) 10
C) 13
D) 11
E) Answer not known

190. 143 கணித நூல்களை எல்லா அடுக்குகளிலும் சம எண்ணிக்கையில் அடுக்கி வைத்தால், ஒவ்வொரு அடுக்கிலும் உள்ள நூல்களின் எண்ணிக்கை மற்றும் அடுக்குகளின் எண்ணிக்கையைக் காண்க

- A) 9, 12
B) 11, 13
C) 13, 15
D) 11, 15
E) விடை தெரியவில்லை

If there are 143 math books to be arranged in equal numbers in all the stacks, then find the number of books in each stack and also the number of stacks.

- A) 9, 12
B) 11, 13
C) 13, 15
D) 11, 15
E) Answer not known

191. 18 மற்றும் 30 ஆகிய எண்களின் மீ.பெ.வ. மற்றும் மீ.சி.ம-வின் விகிதத்தைக் காண்க.

- A) 6:10
B) 9:15
C) 1:15
D) 3:5
E) விடை தெரியவில்லை

Find the ratio of the HCF and the LCM of the numbers 18 and 30.

- A) 6:10
B) 9:15
C) 1:15
D) 3:5
E) Answer not known

192. மூன்று போக்குவரத்து சந்திப்புகளில் உள்ள நெரிசல் விளக்குகள் ஒவ்வொன்றும் முறையே 40 விநாடிகளில், 60 விநாடிகளில் மற்றும் 72 விநாடிகளில் ஒளிர்கின்றன. அவ்விளக்குகள் அனைத்தும் காலை 8 மணிக்குச் சந்திப்புகளில் ஒன்றாக ஒளிர்ந்தன எனில், மீண்டும் அவை எப்போது ஒன்றாக ஒளிரும்?

- A) 8.06 a.m.
B) 8.12 a.m.
C) 8.15 a.m.
D) 8.09 a.m.
E) விடை தெரியவில்லை



The traffic lights at three different road junctions change after every 40 seconds, 60 seconds and 72 seconds respectively. If they changed simultaneously together at 8 a.m at the junctions, at what time will they simultaneously change together again?

- A) 8.06 a.m. B) 8.12 a.m.
C) 8.15 a.m. D) 8.09 a.m.
E) Answer not known

193. 27 என்ற எண்ணின் காரணிகளின் கூடுதல்

- A) 28 B) 37
C) 40 D) 31
E) விடை தெரியவில்லை
The sum of the factors of 27 is
A) 28 B) 37
C) 40 D) 31
E) Answer not known

194. இரு எண்களின் மீ.சி.ம 210 மற்றும் மீ.பெ.வ. 14 என்றுள்ளவாறு எத்தனை எண் இணைகள் சாத்தியமாகும்?

- A) 1 இணை B) 2 இணைகள்
C) 3 இணைகள் D) 4 இணைகள்
E) விடை தெரியவில்லை
The LCM of two numbers is 210 and their HCF is 14. How many such pairs are possible?
A) 1 pair B) 2 pairs
C) 3 pairs D) 4 pairs
E) Answer not known

195. மூன்று பகா எண்களின் கூடுதல் 80. அவற்றுள் இரு எண்களின் வேறுபாடு 4 எனில், அந்த எண்களைக் காண்க.

- A) 2,39,43 B) 2,35,43
C) 3,30,37 D) 2,37,41
E) விடை தெரியவில்லை.
The sum of three prime numbers is 80. The difference of two of them is 4. Find the numbers.
A) 2,39,43 B) 2,35,43
C) 3,30,37 D) 2,37,41
E) Answer not known.

196. 1 இலிருந்து 9 வரையிலான அனைத்து எண்களாலும் வகுபடும் மிகச்சிறிய எண்ணைக் காண்க.

- A) 2420 B) 2620
C) 2620 D) 2520
E) விடை தெரியவில்லை



Find the smallest number which is exactly divisible by all the numbers from 1 to 9.

- A) 2420
B) 2620
C) 2620
D) 2520
E) Answer not known

197. இரு எண்களின் மீ.சி.ம 432 மற்றும் அவற்றின் மீ.பெ.வ. 36. ஓர் எண் 108 எனில், மற்றொரு எண் என்ன?

- A) 144
B) 72
C) 36
D) 180

The LCM of two numbers is 432 and their HCF is 36. If one of the numbers is 108, then find the other number.

- A) 144
B) 72
C) 36
D) 180
E) Answer not known

198. 254 மற்றும் 508 ஆகிய எண்களால் வகுக்கும் போது மீதியாக 4-ஐத் தரும் மிகச்சிறிய எண்ணைக் காண்க.

- A) 508
B) 512
C) 258
D) 516

E) விடை தெரியவில்லை

Find the smallest number that can be divided by 254 and 508 which leaves the remainder 4.

- A) 508
B) 512
C) 258
D) 516

E) Answer not known

199. 72 மற்றும் 108 ஆல் சரியாக வகுபடக்கூடிய மிகச்சிறிய 5 இலக்க எண் எது?

- A) 10,512
B) 10,150
C) 10,152
D) 10,520

E) விடை தெரியவில்லை

What is the smallest 5 digit number that is exactly divisible by 72 and 108?

- A) 10,512
B) 10,150
C) 10,152
D) 10,520

E) Answer not known

200. 1 மீ 20 செ.மீ, 3 மீ 60 செ.மீ மற்றும் 4 மீ அளவுகளைக் கொண்ட கயிறுகளின் நீளங்களைச் சரியாக அளக்கப் பயன்படும் கயிற்றின் அதிகபட்ச நீளம் என்ன?

- A) 30 செ.மீ
B) 40 செ.மீ
C) 60 செ.மீ
D) 120 செ.மீ

E) விடை தெரியவில்லை

Find the length of the longest rope that can be used to measure exactly the ropes of length 1m 20cm, 3m 60cm and 4m.

- A) 30 cm
B) 40 cm
C) 60 cm
D) 120 cm

E) Answer not known



SPACE FOR ROUGH WORK

SHANKAR IAS ACADEMY
WWW.PADASALAI.NET



SPACE FOR ROUGH WORK

SHANKAR IAS ACADEMY
WWW.PADASALAI.NET



வினாத்தொகுப்பு எண் :

பதிவு எண்

--	--	--	--	--	--	--	--	--	--

Test - 3
2024

பொதுத் தமிழ் (பத்தாம் வகுப்பு தரம்) மற்றும் பொது அறிவு
(பட்டப்படிப்பு தரம்)

இந்த வினாப்புத்தகம்

பகுதி - அ (பொதுத் தமிழ்) மற்றும் பகுதி - ஆ (பொது அறிவு) உள்ளடக்கியது

கால அளவு : 3.00 மணி நேரம்]

[மொத்த மதிப்பெண்கள் : 300

வினாக்களுக்கு பதிலளிக்கும் முன் கீழ்க்கண்ட அறிவுரைகளை கவனமாகப் படிக்கவும்

முக்கிய அறிவுரைகள்

- இந்த வினாத்தொகுப்பு, தேர்வு தொடங்குவதற்கு 15 நிமிடங்களுக்கு முன்னதாக உங்களுக்கு வழங்கப்படும்.
- இந்த வினாத்தொகுப்பு, **200** வினாக்களைக் கொண்டுள்ளது. விடையளிக்கத் தொடங்குமுன் இவ்வினாத் தொகுப்பில் எல்லா வினாக்களும் வரிசையாக இடம் பெற்றுள்ளனவா என்பதையும், இடையில் வெற்றுத்தாள்கள் எவையுமில்லை என்பதையும் உறுதி செய்து கொள்ளவும். வினாத் தொகுப்பில் ஏதேனும் குறைபாடு இருப்பின், அதனை முதல் பத்து நிமிடங்களுக்குள் அறைக்கண்காணிப்பாளரிடம் தெரிவித்து, சரியாக உள்ள வேறொரு வினாத் தொகுப்பினை பெற்றுக்கொள்ள வேண்டும். தேர்வு தொடங்கிய பின்பு, இது குறித்து முறையிட்டால் வினாத் தொகுப்பு மாற்றித் தரப்படமாட்டாது.
- எல்லா வினாக்களுக்கும் விடையளிக்கவும், எல்லா வினாக்களும் சமமான மதிப்பெண்கள் கொண்டவை.
- உங்களுடைய பதிவு எண்ணை இந்தப் பக்கத்தின் வலது மேல் மூலையில் அதற்கென அமைந்துள்ள இடத்தில் நீங்கள் எழுத வேண்டும். வேறு எதையும் வினாத் தொகுப்பில் எழுதக் கூடாது.
- விடைத்தாள் ஒன்று விடைகளை குறிப்பதற்கு அறைக்கண்காணிப்பாளரால் உங்களுக்கு வழங்கப்படும். விடைகளைக் குறிப்பது உள்ளிட்ட அவசியம் பின்பற்றப்பட வேண்டிய அறிவுரைகள் விடைத்தாளிலும், தேர்வுக்கூட அனுமதிச் சீட்டிலும் வழங்கப்பட்டுள்ளன.
- உங்களுடைய வினாத்தொகுப்பு, எண்ணை (Question Booklet Number) விடைத்தாளின் முதல் பக்கத்தில் அதற்கென அமைந்துள்ள இடத்தில் கருமை நிற மையுடைய பந்துமுனைப் பேனாவினால் குறித்துக் காட்ட வேண்டும். வினாத்தொகுப்பு எண்ணை விடைத்தாளில் சரியாகக் குறித்துக் காட்டத் தவறினாலோ அல்லது குறிக்கத் தவறினாலோ உங்களுடைய விடைத்தாள் செல்லாததாகக்கப்படும்.
- ஒவ்வொரு வினாவும் A), (B), (C), (D), (E) என ஐந்து பதில்களைக் (விடைகள்) கொண்டுள்ளது. நீங்கள் A) அல்லது B) அல்லது C) அல்லது D) இவைகளில் ஒரே ஒரு சரியான விடையைத் தெரிவு செய்து விடைத்தாளில் குறித்துக்காட்ட வேண்டும். ஒரு கேள்விக்கு ஒன்றுக்கு மேற்பட்ட சரியான விடை இருப்பதாக நீங்கள் கருதினால், மிகச்சரியானது என நீங்கள் எதைக் கருதுகிறீர்களோ அந்த விடையை விடைத்தாளில் குறித்துக்காட்ட வேண்டும். உங்களுக்கு விடை தெரியவில்லை எனில், நீங்கள் (E) என்பதை அவசியம் நிரப்ப வேண்டும். எப்படியாயினும், ஒரு கேள்விக்கு ஒரே ஒரு விடையைத் தான் தேர்ந்தெடுக்க வேண்டும். நீங்கள் ஒரு வேள்விக்கு ஒன்றுக்கு மேற்பட்ட விடையளித்தால், அவற்றுள் ஒரு விடை சரியானதாக இருந்தாலும் அந்த விடை தவறானதாகவே கருதப்படும்.
- நீங்கள் வினாத் தொகுப்பின் எந்தப் பக்கத்தையும் நீக்கவோ அல்லது கிழிக்கவோ கூடாது. தேர்வு நேரத்தில் இந்த வினாத் தொகுப்பினையோ அல்லது விடைத்தாளையோ தேர்வு அறையை விட்டு வெளியில் எடுத்துச் செல்லக் கூடாது. தேர்வு முடிந்தபின் நீங்கள் உங்களுடைய விடைத்தாளை கண்காணிப்பாளரிடம் கொடுத்து விட வேண்டும். இவ்வினாத் தொகுப்பினை தேர்வு முடிந்த பின்னர் மட்டுமே நீங்கள் எடுத்துச் செல்ல அனுமதிக்கப்படுவீர்கள்.
- குறிப்புகள் எழுதிப்பார்ப்பதற்கு வினாத்தொகுப்பின் கடைசி பக்கத்திற்கு முன் உள்ள பக்கங்களை பயன்படுத்திக் கொள்ளலாம். இதைத்தவிர வினாத்தொகுப்பின் எந்த இடத்திலும் எந்தவித குறிப்புகளையும் எழுதக்கூடாது. இந்த அறிவுரை கண்டிப்பாக பின்பற்றப்படவேண்டும்.
- வினா வரிசை எண்கள் 101 முதல் 200 வரை (பகுதி - ஆ) ஆங்கில வடிவே இறுதியானது.
- நீங்கள் மேற்கண்ட அறிவுரைகளில் எவற்றையாவது பின்பற்றத் தவறினால் தேர்வாணையம் எடுக்கும் நடவடிக்கைகளுக்கு உள்ளாக நேரிடும் என அறிவுறுத்தப்படுகிறது.

9

[Turn over

 For queries mail to For queries mail to : zerofeedback@shankariasacad.in; [Turn over

Kindly Send Me Your Key Answer to Our email id - Padasalai.net@gmail.com



பகுதி - அ — பொதுத் தமிழ் (பத்தாம் வகுப்பு தரம்)

Part A — General Tamil (SSLC Std)

வினாக்கள் : 1-100

மொத்த மதிப்பெண்கள் : 150

Questions : 1-100

Total Marks : 150

1. “தொட்டனைத்து ஊரும் மணற்கேணி மாந்தர்க்குக்” என்னும் குறட்பாவில் அமையப் பெற்றுள்ள அணி யாது?

A) உவமை அணி	B) பிறிது மொழிதல் அணி
C) எடுத்துக்காட்டு உவமை அணி	D) இல்பொருள் உவமை அணி
E) விடை தெரியவில்லை	
2. செய்யத்தகாத செயல்களைச் செய்வதாலும் செய்யத்தக்க செயல்களைச் செய்யாமல் விடுவதாலும் உண்டாவது எது?

A) நன்மை	B) அறிவு
C) தீமை	D) பண்பு
E) விடை தெரியவில்லை	
3. கேடில் விழுச்செல்வம் கல்வி ஒருவற்கு மாடல்ல மற்றையவை - என்னும் குறட்பாவில் அடிக் கோடிட்டச் சொல்லின் பொருள் யாது?

A) அறிவு	B) உயிர்
C) ஊக்கம்	D) செல்வம்
E) விடை தெரியவில்லை	
4. மடியின்மை அதிகாரத்தின் பொருள் யாது?

A) சோம்பலின்மை	B) ஊக்கமின்மை
C) துன்பமின்மை	D) செல்வமின்மை
E) விடை தெரியவில்லை	
5. தம் குடியைச் சிறப்புடைய குடியாகச் செய்ய விரும்புவர் எதனை துன்பமாகக் கருத வேண்டும் என வள்ளுவர் குறிப்பிடுகிறார்?

A) தூக்கம்	B) சோம்பல்
C) ஏழ்மை	D) ஆசை
E) விடை தெரியவில்லை	
6. இலக்கணக் குறிப்பு தருக. ‘வீடு’

A) பண்புப்பெயர்	B) காலப்பெயர்
C) முதனிலைத் திரிந்த தொழிற்பெயர்	D) முதனிலைத் தொழிற்பெயர்
E) விடை தெரியவில்லை	



7. முதனிலைத் தொழிற்பெயர் பயின்று வாராத் தொடரினைத் தேர்ந்தெடு.
- A) வானில் இடி இடித்தது
B) சோறு கொதி வந்தது
C) அறிஞர் அண்ணா தம் பேச்சால் புகழ் பெற்றார்
D) எனக்கு உடன்பாடு இல்லை
E) விடை தெரியவில்லை
8. பின்வருவனவற்றுள் எத்தனை இணைகள் சரியானவை?
(தொழிற்பெயர்) (விகுதி)
- I. விலை - ஐ
II. வருகை - கை
III. பார்வை - ஐ
IV. செய்யாமை - ஐ
- A) 2 B) 3
C) 4 D) 5
E) விடை தெரியவில்லை
9. தவறான இணையைத் தேர்ந்தெடு.
(ஆங்கிலச் சொல்) (தமிழ்ச்சொல்)
- A) Cartoon - ஓவியப்படம்
B) Aesthetics - அழகியல்
C) Inscriptions - கல்வெட்டு
D) Brush - தூரிகை
E) விடை தெரியவில்லை
10. தஞ்சை சரசுவதி மகால் நூலகம் பற்றிய பின்வரும் கூற்றுகளுள் தவறான கூற்றினைத் தேர்ந்தெடு.
- A) இந்தியாவில் உள்ள தொன்மையான நூலகங்களுள் தஞ்சை சரசுவதி மகால் நூலகமும் ஒன்று.
B) இந்நூலகம் கி.பி. (பொ.ஆ.) 1212 முதல் இயங்கி வருவதாகக் கல்வெட்டுச் செய்திகள் கூறுகின்றன.
C) இங்கு தமிழ், தெலுங்கு உள்ளிட்ட பல்வேறு மொழிகளின் ஓலைச் சுவடிகளும் கையெழுத்துப் படிகளும் உள்ளன.
D) தலைசிறந்த ஓவியங்களும் தொன்மையான இசைக்கருவிகளும் சிற்பங்களும் இங்கு இடம் பெற்றுள்ளன.
E) விடை தெரியவில்லை



11. தஞ்சை தமிழ்ப் பல்கலைக்கழகம் பற்றிய பின்வரும் கூற்றுகளைக் கருத்தில் கொள்க.
- I. கி.பி.1981இல் தோற்றுவிக்கப்பட்டது. வானத்தில் இருந்து பார்க்கும் பொழுது “தமிழ்நாடு” எனத் தெரியும் வகையில் இதன் கட்டட அமைப்பு உள்ளது.
- II. இந்திய நாகரிகத்தின் பண்பாட்டுக் கூறுகள் அனைத்தையும் விரிவாகவும் ஆழமாகவும் ஆராய வேண்டுமென்பதே இப்பல்கலைக்கழகத்தின் நோக்கமாகும்.
- III. இங்குக் கலைப்புலம், சுவடிப்புலம், வளர்தமிழ்புலம், மொழிப்புலம், அறிவியல்புலம் ஆகிய ஐந்து புலங்களும் இருபத்தைந்து துறைகளும் உள்ளன.
- IV. இப்பல்கலைக்கழகமானது சித்த மருத்துவத்துறை மூலம் பொதுமக்களுக்குப் பயனுள்ள வகையில் மருத்துவத் தொண்டு செய்து வருகிறது.
- மேற்கண்ட கூற்றுகளில் சரியானவை எவை?
- A) I, II மற்றும் III மட்டும்
B) II, III மற்றும் IV மட்டும்
C) I, III மற்றும் IV மட்டும்
D) அனைத்தும்
E) விடை தெரியவில்லை
12. தமிழ்நாட்டின் மையநூலகம் எது?
- A) கன்னிமாரா நூலகம்
B) உ.வே.சா. நூலகம்
C) கலைஞர் நூற்றாண்டு நூலகம்
D) அறிஞர் அண்ணா நூற்றாண்டு நூலகம்
E) விடை தெரியவில்லை
13. வள்ளுவர் கோட்டத்தில் அமையப் பெற்றுள்ள தேரின் மொத்த உயரம் எவ்வளவு?
- A) 120 அடி
B) 128 அடி
C) 133 அடி
D) 142 அடி
E) விடை தெரியவில்லை
14. உலகத் தமிழ்ச் சங்கம் எங்கு நிறுவப்பட்டுள்ளது?
- A) மதுரை
B) தஞ்சாவூர்
C) சென்னை
D) மலேசியா
E) விடை தெரியவில்லை
15. இரண்டாயிரம் ஆண்டுகளுக்கு முன் சோழர்களின் தலைநகரமாகவும் துறைமுக நகரமாகவும் விளங்கிய நகரம் எது?
- A) பூம்புகார்
B) கொற்கை
C) முசிறி
D) தஞ்சாவூர்
E) விடை தெரியவில்லை
16. ஐரோப்பியக் கலை நுணுக்கத்துடன் இந்தியக் கதை மரபுகளை இணைத்து ஓவியங்களில் புதுமைகளைப் புகுத்தியவர் யார்?
- A) கொண்டையராஜா
B) ரவீந்திரநாத் தாகூர்
C) இராஜா இரவிவர்மா
D) அரவிந்தர்
E) விடை தெரியவில்லை



17. பின்வரும் கூற்றுகளைக் கருத்தில் கொள்க.
- I. இந்தியா இதழில் பாரதியார் தான் கருத்துப்படங்களை முதன்முதலில் தமிழில் அறிமுகப்படுத்தினார்.
- II. கருத்துப்படங்களின் மற்றொரு வடிவமே பசார் பெயிண்டிங் ஆகும்.
- III. யானைத் தந்தங்களின் மீது வரையப்பட்ட ஓவியங்களை கேரள மாநிலத்தில் காணமுடியும். மேற்கண்ட கூற்றுகளில் சரியானவை எவை?
- A) I மற்றும் II மட்டும்
B) II மற்றும் III மட்டும்
C) I மற்றும் III மட்டும்
D) அனைத்தும்
E) விடை தெரியவில்லை
18. 'ஓவியம்' என்னும் பொருள் வாரா சொல்லைத் தேர்ந்தெடு.
- A) வட்டிகைச் செய்தி
B) படாம்
C) ஓவம்
D) சித்திர அம்பலம்
E) விடை தெரியவில்லை
19. தவறான கூற்றினைத் தேர்ந்தெடு.
- A) சீவகசிந்தாமணிக் காப்பியத்தில் குணமாலை என்னும் தலைவி யானையைக் கண்டு அஞ்சிய காட்சியைச் சீவகன் துணியில் வரைந்ததாகக் கூறப்பட்டுள்ளது.
- B) குகை ஓவியங்கள் பெரும்பாலும் கோட்டோவியங்களாக இருக்கும். மண் மற்றும் கல் துகள்களைக் கொண்டு குகை ஓவியங்களுக்கு வண்ணம் தீட்டினர்.
- C) ஓலைச்சுவடிகள் மீது எழுத்தாணிகளைக் கொண்டு கோட்டோவியமாகவும் வண்ணப்பூச்சு ஓவியமாகவும் வரைவார்கள்.
- D) துணி ஓவியங்களைக் கலம்காரி ஓவியங்கள் என்னும் பெயரில் ஆந்திராவிலும், கர்நாடகாவிலும் ஓவியர்கள் வரைந்து வருகின்றனர்.
- E) விடை தெரியவில்லை
20. ஓவிய மண்டபத்தில் பல வகை ஓவியங்கள் வரையப்பட்டிருந்தன. ஓவியங்கள் குறித்து அறிந்தோர் அறியாதவர்களுக்கு விளக்கிக் கூறினர் என்ற இச்செய்தியானது இடம் பெற்றுள்ள நூல் எது?
- A) பரிபாடல்
B) நெடுநல்வாடை
C) மணிமேகலை
D) சிலப்பதிகாரம்
E) விடை தெரியவில்லை
21. தேனரசன் பற்றிய பின்வரும் கூற்றுகளைக் கருத்தில் கொள்க.
- I. இவரது கவிதைகளில் சமுதாயச் சிக்கல்கள் எள்ளல் சுவையோடு வெளிப்படும்.
- II. இவர் வானம்பாடி, குயில், தென்றல் போன்ற இதழ்களில் கவிதைகள் எழுதியுள்ளார்.
- III. மண்வாசனை, சிவப்புரோஜா, பெய்து பழகிய மேகம் ஆகிய கவிதை நூல்களை எழுதியுள்ளார்.
- IV. தமிழாசிரியராகப் பணியாற்றியவர்.
- மேற்கண்ட கூற்றுகளில் சரியானவை எவை?
- A) I, II மற்றும் III மட்டும்
B) I, II மற்றும் IV மட்டும்
C) II, III மற்றும் IV மட்டும்
D) I, III மற்றும் IV மட்டும்
E) விடை தெரியவில்லை



22. பின்வரும் கூற்றுகளைக் கருத்தில் கொள்க.
I. ஒரே பாடலில் இரண்டு பொருள் தோன்றும்படி பாடப்படுவது இரட்டுறமொழிதல் ஆகும்.
II. இரட்டுற மொழிதலைச் 'சிலேடை' என்றும் அழைப்பர்.
மேற்கண்ட கூற்றுகளில் சரியானது எது/எவை?
A) I மட்டும்
B) II மட்டும்
C) இரண்டும்
D) இரண்டுமில்லை
E) விடை தெரியவில்லை
23. காளமேகப்புலவர் இயற்றிய நூல்களுள் பொருந்தா ஒன்றினைத் தேர்ந்தெடு.
A) சித்திர மடல்
B) திருவானைக்கா உலா
C) சரசுவதி அந்தாதி
D) பரபிரம்ம விளக்கம்
E) விடை தெரியவில்லை
24. 'பழமொழி நானூறு' பற்றிய பின்வரும் கூற்றுகளைக் கருத்தில் கொள்க.
I. இந்நூலின் ஆசிரியர் முன்றுறை அரையனார்.
II. இவர் கி.பி. (பொ-ஆ) நான்காம் நூற்றாண்டைச் சேர்ந்தவர் என்பர். இவர் சமண சமயத்தைச் சேர்ந்தவர்.
III. இந்நூல் நானூறு பாடல்களைக் கொண்டது. ஒவ்வொரு பாடலின் இறுதியிலும் ஒரு பழமொழி இடம் பெற்றிருப்பதால் இது பழமொழி நானூறு என்னும் பெயர் பெற்றது.
மேற்கண்ட கூற்றுகளில் சரியானவை எவை?
A) I மற்றும் II மட்டும்
B) II மற்றும் III மட்டும்
C) I மற்றும் III மட்டும்
D) அனைத்தும்
E) விடை தெரியவில்லை
25. 'ஒன்றாக முன்றிலோ இல்' - என்ற பழமொழியின் பொருள் யாது?
A) கற்றவனுக்குக் கட்டுச்சோறு வேண்டாம்
B) ஒற்றுமையே பலம்
C) ஒன்றுபட்டால் உண்டு வாழ்வு
D) ஒன்றுமில்லாத வீடு எதுவுமில்லை
E) விடை தெரியவில்லை
26. சரியாகப் பிரிந்துள்ள சொல்லைத் தேர்ந்தெடு.
A) நீருலையில் = நீரு + உலையில்
B) கோட்டோவியம் = கோட்டு + ஓவியம்
C) செப்பேடு = செம்பு + ஏடு
D) இன்புருகு = இன்பு + உருகு
E) விடை தெரியவில்லை



27. 'நாட்டுப்புறப்பாடல்' பற்றிய பின்வரும் கூற்றுகளைக் கருத்தில் கொள்க.
- நாட்டுப்புறங்களில் உழைக்கும் மக்கள் தங்கள் களைப்புத் தெரியாமல் இருப்பதற்காகப் பாடும் பாடலே நாட்டுப்புறப்பாடல் எனப்படுகிறது.
 - இதனை 'வாய்மொழி இலக்கியம்' என்றும் வழங்குவர்.
 - பல்வேறு தொழில்கள் குறித்த நாட்டுப்புறப்பாடல்களை 'மலை அருவி' என்னும் நூலில் கி.வா.ஜகந்நாதன் தொகுத்துள்ளார்.
- மேற்கூறியவற்றுள் சரியானது எது/எவை?
- A) I, II
B) II, III
C) I, III
D) அனைத்தும்
E) விடை தெரியவில்லை
28. 'சாண்' என்பது
- A) நில அளவைப் பெயர்
B) நீட்டல் அளவைப்பெயர்
C) எண்ணலளவைப் பெயர்
D) எடுத்தலளவைப் பெயர்
E) விடை தெரியவில்லை
29. தவறான கூற்றினைத் தேர்ந்தெடு.
- தாமிரபரணி கடலோடு கலக்கும் இடத்தில் கொற்கை என்னும் துறைமுகம் இருந்தது.
 - பாண்டியர்களின் தலைநகரமாக மதுரை விளங்கியது. அவர்களது இரண்டாவது தலைநகரமாகத் திருநெல்வேலி விளங்கியது.
 - இறந்தவர்களின் உடல்களைப் புதைக்கப் பழந்தமிழர்கள் பயன்படுத்திய முதுமக்கள் தாழிகள் ஆதிச்சநல்லூரில் கண்டெடுக்கப்பட்டுள்ளன. இவ்வூர் தற்போது திருநெல்வேலி மாவட்டத்தில் உள்ளது.
 - இலக்கியங்களில் திரிகூடமலை என வழங்கப்படும் குற்றாலமலை புகழ் பெற்ற சுற்றுலா இடமாகத் திகழ்கின்றது.
 - விடை தெரியவில்லை
30. "திங்கள் நாள்விழா மல்கு திருநெல்வேலியுறை செல்வர் தாமே" என்று பாடியவர் யார்?
- திருஞானசம்பந்தர்
B) திருநாவுக்கரசர்
C) இளங்கோவடிகள்
D) சேக்கிழார்
E) விடை தெரியவில்லை
31. பின்வரும் கூற்றுகளைக் கருத்தில் கொள்க.
- முற்காலத்தில் திருநெல்வேலிக்கு வேணுவனம் என்னும் பெயர் இருந்துள்ளது. அதற்கு மூங்கில்காடு என்பது பொருளாகும்.
 - நெல்லிக்காய் உற்பத்தியில் தமிழகத்தில் நெல்லை மாவட்டமே முதலிடம் வகிக்கின்றது.
 - கொற்கையில் விளைந்த பாண்டி நாட்டு முத்து உலகப் புகழ் பெற்றதாக விளங்கியது என்பதனை "முத்துப்படு பரப்பிற் கொற்கை முன்றுறை" என்ற அகநானூற்றுப் பாடலின் மூலம் அறியலாம்.
- மேற்கூறியவற்றுள் சரியானது எது/எவை?
- A) I, II
B) II, III
C) I, III
D) அனைத்தும்
E) விடை தெரியவில்லை



32. நாயக்க மன்னரின் தளவாயாக விளங்கிய அரியநாதரின் வழித் தோன்றலாக அறியப்படுபவர் யார்?
- A) நின்றசீர் நெடுமாறன்
B) வீரராகவர்
C) குமரகுருபரர்
D) திரிகூடராசப்பக் கவிராயர்
E) விடை தெரியவில்லை
33. திருநெல்வேலி பற்றிய பின்வரும் கூற்றுகளைக் கருத்தில் கொள்க.
- I. தாமிரபரணி ஆற்றின் கிழக்குக் கரையில் திருநெல்வேலியும் மேற்குக் கரையில் பாளையங்கோட்டையும் அமைந்துள்ளன. இவ்விரு நகரங்களும் இரட்டை நகரங்கள் என அழைக்கப்படுகின்றன.
- II. பாளையங்கோட்டையில் அதிக அளவில் கல்வி நிலையங்கள் இருப்பதால் அந்நகரைத் தென்னிந்தியாவின் ஆக்ஸ்போர்டு என்பர்.
- மேற்கூறியவற்றுள் சரியானது எது/எவை?
- A) I மட்டும்
B) II மட்டும்
C) இரண்டும்
D) இரண்டுமில்லை
E) விடை தெரியவில்லை
34. 'ஆயிரம் தமிழ்ப்பாட்டு' எனச் சிறப்பிக்கப்படும் நூல் எது?
- A) நாலாயிரத் திவ்வியப் பிரபந்தம்
B) பெருமாள் திருமொழி
C) திருவாய்மொழி
D) திருத்தொண்டர் திருவந்தாதி
E) விடை தெரியவில்லை
35. தவறான கூற்றினைத் தேர்ந்தெடு.
- | (பாடலடிகள்) | (பாடியவர்) |
|--|----------------------------|
| A) 'வாடா' என அழைத்து வாழ்வித்தால் அம்ம உனைக் கூடாதென் றார் தடுப்பார் கோமதித்தாய் ஈஸ்வரியே! | - அழகிய சொக்கநாதர் |
| B) உற்றாரை யான்வேண்டேன் ஊர்வேண்டேன் பேர்வேண்டேன்- கற்றாரை யான்வேண்டேன் கற்பனவும் இனி அமையும் | - மாணிக்கவாசகர் |
| C) நுண் துளி தூங்கும் குற்றாலம் | - திரிகூடராசப்பக் கவிராயர் |
| D) பொதியி லாயினும் இமய மாயினும் பதியெழு அறியாப் பழங்குடி | - இளங்கோவடிகள் |
| E) விடை தெரியவில்லை | |
36. 'தமிழிசைக் காவலர்' என்று சிறப்பிக்கப்படுபவர் யார்?
- A) ஆபிரகாம் பண்டிதர்
B) டி.கே.சிதம்பரநாதர்
C) மாரிமுத்துப் பிள்ளை
D) தியாகராயர்
E) விடை தெரியவில்லை
37. 'இரசிக மணி' பற்றிய பின்வரும் கூற்றுகளைக் கருத்தில் கொள்க.
- I. வழக்கறிஞர், தமிழ் எழுத்தாளர், திறனாய்வாளர்.
- II. 'வட்டத்தொட்டி' என்னும் பெயரில் இலக்கியக் கூட்டங்களை நடத்தியர்
- மேற்கூறியவற்றுள் சரியானது எது/எவை?
- A) I மட்டும்
B) II மட்டும்
C) இரண்டும்
D) இரண்டுமில்லை
E) விடை தெரியவில்லை



38. 'மலரன்ன பாதம்' - இத்தொடரில் அமையப் பெற்றுள்ள உவமை எது?
A) மலர் B) அன்ன
C) பாதம் D) மலரன்ன
E) விடை தெரியவில்லை
39. "மாலை வெயிலில் மழைத்தூறல் பொன்மழை பொழிந்தது போல் தோன்றியது" - இத்தொடரில் அமைந்துள்ள அணி யாது?
A) உவமை அணி B) எடுத்துக்காட்டு உவமை அணி
C) இல்பொருள் உவமையணி D) பிறிதுமொழிதல் அணி
E) விடை தெரியவில்லை
40. பின்வரும் கூற்றுகளைக் கருத்தில் கொள்க.
I. திருமாலைப் போற்றிப் பாடியவர்கள் பன்னிரு ஆழ்வார்கள். அவர்கள் பாடிய பாடல்களின் தொகுப்பு நாலாயிரத் திவ்விய பிரபந்தம் ஆகும்.
II. நாலாயிரத் திவ்விய பிரபந்தத்தை தொகுத்தவர் நம்மாழ்வார் ஆவார்.
III. பன்னிரு ஆழ்வார்களுள் பொய்கையாழ்வார், பூதத்தாழ்வார், பேயாழ்வார் ஆகிய மூவரையும் முதலாழ்வார்கள் என்பர்.
மேற்கூறியவற்றுள் சரியானது எது/எவை?
A) I, II B) II, III
C) I, III D) அனைத்தும்
E) விடை தெரியவில்லை
41. "ஞானச்சுடர் விளக்கு ஏற்றினேன் நாரணற்கு ஞானத்தமிழ் புரிந்த நான்" - என்று பாடியவர் யார்?
A) பொய்கையாழ்வார் B) பூதத்தாழ்வார்
C) பேயாழ்வார் D) நம்மாழ்வார்
E) விடை தெரியவில்லை
42. நாலாயிரத் திவ்வியப் பிரபந்தத்தில் இரண்டாம் திருவந்தாதியை இயற்றியவர் யார்?
A) பொய்கையாழ்வார் B) பூதத்தாழ்வார்
C) நம்மாழ்வார் D) பேயாழ்வார்
E) விடை தெரியவில்லை
43. பின்வரும் கூற்றுகளைக் கருத்தில் கொள்க.
I. முனைப்பாடியார் திருமுனைப்பாடி என்னும் ஊரைச் சேர்ந்த சமணப்புலவர். இவரது காலம் பதின்மூன்றாம் நூற்றாண்டு
II. இவர் இயற்றிய அறநெறிச்சாரம் 215 பாடல்களைக் கொண்டது. அறநெறிகளைத் தொகுத்துக் கூறுவதால் இந்நூல் அறநெறிச்சாரம் எனப் பெயர்பெற்றது.
மேற்கூறியவற்றுள் சரியானது எது/எவை?
A) I மட்டும் B) II மட்டும்
C) இரண்டும் D) இரண்டுமில்லை
E) விடை தெரியவில்லை



44. 'இன்சொல்' என்னும் சொல்லின் எதிர்ச்சொல் யாது?
A) வன்சொல் B) நன்சொல்
C) தமிழ்ச்சொல் D) மென்சொல்
E) விடை தெரியவில்லை
45. பிழையற்ற தொடரினைத் தேர்ந்தெடுக்க.
A) மனிதர்கள் தனித்து வாழப் பிறந்தவர்கள் அல்லீர்
B) மனிதர்கள் தனித்து வாழப் பிறந்தவர்கள் அன்று
C) மனிதர்கள் தனித்து வாழப் பிறந்தவர்கள் அல்ல
D) மனிதர்கள் தனித்து வாழப் பிறந்தவர்கள் அல்லர்
E) விடை தெரியவில்லை
46. உலகினர் விரும்புமாறு உதவி செய்து வாழ்பவரது செல்வமானது எதனைப் போன்றது என வள்ளுவர் குறிப்பிடுகிறார்?
A) ஊருணியில் நிரம்பிய நீர் போன்றது
B) பயன்தரும் வகையில் பழங்கள் பழுத்திருப்பது போன்று
C) நச்சுமரம் போன்றது
D) மேற்கூறிய அனைத்தும்
E) விடை தெரியவில்லை
47. "செல்வத்துப் பயனே ஈதல் துய்ப்பேம் எனினே தப்பந் பலவே" என்ற பாடலடிகள் இடம்பெற்றுள்ள நூல் யாது?
A) திருக்குறள் B) புறநானூறு
C) அறநெறிச்சாரம் D) நாலடியார்
E) விடை தெரியவில்லை
48. "உலகம் உண்ண உண்; உடுத்த உடுப்பாய்" என்று கூறியவர் யார்?
A) பாரதியார் B) பாரதிதாசன்
C) காந்தியடிகள் D) வள்ளலார்
E) விடை தெரியவில்லை
49. சொற்களை ஒழுங்குப்படுத்தி சொற்றொடராக்குக.
A) இல்லென்று இரப்பார்க்கு இயைவது கரத்தல்
B) இல்லென்று கரத்தல் இயைவது இரப்பார்க்கு
C) இரப்பார்க்கு இயைவது கரத்தல் இல்லென்று
D) இரப்பார்க்கு இல்லென்று இயைவது கரத்தல்
E) விடை தெரியவில்லை
50. "அயலவர் உண்ணாது இருக்கும்போது நாம் மட்டும் உண்பது நெறியும் அன்று; முறையும் அன்று. அதுமட்டுமல்ல, பாதுகாப்பும் அன்று. அயலவன் விழித்து எழுந்தால் நமது நிலை பாதிக்கும். ஆதலால் வாழ்வு அறநிலையைப் பாதுகாவல் வாழ்வாக அமைய வேண்டும்" என்று கூறியவர் யார்?
A) அப்பரடிகள் B) காந்தியடிகள்
C) தாயுமானவர் D) இராமலிங்க அடிகளார்
E) விடை தெரியவில்லை



51. மக்கள் பணியையே இறைப் பணியாக எண்ணித் தம் வாழ்நாள் முழுவதும் தொண்டு செய்தவர் யார்?
- A) அப்பரடிகள்
B) குன்றக்குடி அடிகளார்
C) காந்தியடிகள்
D) திருஞானச் சம்பந்தர்
E) விடை தெரியவில்லை
52. குன்றக்குடி அடிகளார் இயற்றிய நூல்களுள் பொருந்தா ஒன்றினைத் தேர்ந்தெடு.
- A) நாயன்மார் அடிச்சுவட்டில்
B) குறட்செல்வம்
C) அறிக அறிவியல்
D) ஆலயங்கள் சமுதாய மையங்கள்
E) விடை தெரியவில்லை
53. ஒருவர் எல்லாருக்காகவும் எல்லாரும் ஒருவருக்காகவும் என்பது எவ்வகை நெறி
- A) தனியுடைமை
B) பொதுவுடைமை
C) பொருளுடைமை
D) ஒழுக்கமுடைமை
E) விடை தெரியவில்லை
54. ஜென் என்னும் ஐப்பானிய மொழிச் சொல்லின் பொருள் யாது?
- A) தியாகம் செய்
B) தூய தூறவி
C) உண்மை விளம்பி
D) தியானம் செய்
E) விடை தெரியவில்லை
55. பின்வரும் இணைகளை கருத்தில் கொள்க.
- I. தேன்தமிழ் – உருவகம்
II. துன்பக்கடல் – உருவகம்
III. முகமலர் – உருவகம்
IV. கயற்கண் – உவமை
V. மொழியமது – உவமை
- மேற்கண்டவற்றுள் எத்தனை இணை(கள்) சரியாக பொருந்தியுள்ளன?
- A) 3
B) 4
C) 5
D) 6
E) விடை தெரியவில்லை
56. பெருமைக்கும் ஏனைச் சிறுமைக்கும் தத்தம் கருமமே கட்டளைக் கல்” என்னும் இக்குறட்பாவில் அமையப் பெற்றுள்ள அணி யாது?
- A) உவமை அணி
B) பிறிதுமொழிதல் அணி
C) வேற்றுமை அணி
D) ஏகதேச உருவக அணி
E) விடை தெரியவில்லை
57. COURTESY எனும் ஆங்கிலச் சொல்லுக்கு நிகரான தமிழ்ச்சொல் காண்க.
- A) பொதுவுடைமை
B) குறிக்கோள்
C) நற்பண்பு
D) ஒழுக்கமுடைமை
E) விடை தெரியவில்லை



58. செய்வதற்கு அரிய செயல்களை உரிய நெறிமுறையில் செய்து முடிப்பவராக வள்ளுவர் எவரைக் குறிப்பிடுகின்றார்?
- A) உயர்ந்த ஒழுக்கமுடையர்
B) உயர்ந்த பண்புடையவர்
C) உயர்ந்த அறிவுடையோர்
D) உயர்ந்த வலிமையுடையோர்
E) விடை தெரியவில்லை
59. அரண் எவ்வளவு பெருமையுடையதாக இருந்தாலும் பயினில்லாதது ஆகும் எப்போது என வள்ளுவர் குறிப்பிடுகிறார்?
- A) செயல் சிறப்பு இல்லாதவரிடம்
B) பணிபில்லாதவரிடம்
C) ஒழுக்கமில்லாதவரிடம்
D) மேற்கூறிய அனைத்தும்
E) விடை தெரியவில்லை
60. நாட்டின் அரணாக வள்ளுவர் குறிப்பிடுவன எவை?
- A) நிலம், நீர், காற்று, நெருப்பு
B) நிலம், நீர், மலை, நெருப்பு
C) நீர், நெருப்பு, மலை, காடு
D) நிலம், நீர், மலை, காடு
E) விடை தெரியவில்லை
61. பிறப்பால் எல்லா உயிர்களும் சமம். அவர்களின் வேற்றுமை எதன் அடிப்படையில் உள்ளதென வள்ளுவர் குறிப்பிடுகின்றார்?
- A) பரம்பரை
B) தொழில்
C) கல்வி
D) செல்வம்
E) விடை தெரியவில்லை
62. ஒரு செயலைச் செய்வதற்கு முன்னர் ஐயம் தீர ஆராய்தல் வேண்டுமென வள்ளுவர் கூறியனவற்றை வரிசைப்படுத்துக.
- A) கருவி, காலம், வினை, பொருள், இடம்
B) இடம், பொருள், கருவி, காலம், வினை
C) வினை, கருவி, காலம், இடம், பொருள்
D) பொருள், கருவி, காலம், வினை, இடம்
E) விடை தெரியவில்லை
63. மிக்க பசியும், ஓயாத நோயும், அழிவு செய்யும் பகையும் சேராமல் நல்ல வகையில் நடைபெறுவது எது என வள்ளுவர் குறிப்பிடுகின்றார்?
- A) அரண்
B) நட்பு
C) அரசன்
D) நாடு
E) விடை தெரியவில்லை
64. கற்றவருள் மிகவும் கற்றவராக மதிக்கப்படுபவர் யார்?
- A) கற்றவர்முன் கற்றவற்றை தெளிவாகச் சொல்ல வல்லவர்
B) கற்றவர்முன் அடக்கமாக நடந்து கொள்பவர்
C) கற்றவர்முன் தன்னை அறிவாளியாகக் கூறிக் கொள்பவர்
D) கற்றவர்முன் அழகாகக் காட்டிக் கொள்பவர்
E) விடை தெரியவில்லை



65. வாழ் - என்ற சொல்லின் தொழிற்பெயரைத் தேர்ந்தெடு.
A) வாழ்ந்தான் B) வாழ்பவன்
C) வாழ்க்கை D) வாழ்ந்த
E) விடை தெரியவில்லை
66. அகரவரிசைப்படுத்துக.
A) ஆசிரியர், மனிதர், தேனி, ஓணான், மான், வெளவால், கிளி, மாணவன், மனிதன், ஆசிரியர், பழம்
B) ஆசிரியர், ஓணான், கிளி, மேனி, தையல், பழம், பூனை, மனிதன், மாணவன், மான், வெளவால்
C) ஆசிரியர், ஓணான், கிளி, தேனி, தையல், பழம் பூனை, மனிதன், மான், மாணவன், வெளவால்
D) ஆசிரியர், ஓணான், கிளி, தையல், தேனி, பழம், பூனை, மான், மாணவன், மனிதன், வெளவால்
E) விடை தெரியவில்லை
67. கொடுக்கப்பட்டுள்ள வினைகளின் பொருள் வேறுபாடறிந்து சரியான சொற்றொடரைத் தேர்வு செய்க.
விரிந்தது - விரித்தது.
A) மழைக் காற்று வீசியதால், பூவின் இதழ்கள் விரிந்தன; மயில் தோகையை விரித்தது
B) மழைக் காற்று மயில் தோகையை விரித்தது; பூவின் இதழ்கள் வீசியதால் விரிந்தன
C) மழைக் காற்று வீசியதால், பூவின் இதழ்கள் விரிந்தது; மயில் தோகையை விரித்தன
D) மயில் தோகையை விரித்தது; பூவின் இதழ்கள் காற்று மழைக் காற்று வீசியதால் விரிந்தன
E) விடை தெரியவில்லை
68. "தணி" என்னும் வேர்ச்சொல்லின் வினைமுற்று கண்டறிக.
A) தணிதல் B) தணிந்தது
C) தணிந்து D) தணிக
E) விடை தெரியவில்லை
69. ஒலி வேறுபாடறிந்து பொருள் தருக.
மரம், மறம்
A) தாவரம் வீரம்
B) வீரம் தாவரம்
C) வீடு தோள்
D) பனைவர் நட்பு
E) விடை தெரியவில்லை
70. பிழையற்ற தொடரைத் தேர்ந்தெடு.
A) எண் வீட்டுத் தோட்டத்தில் மலர்கள் மணம் வீசின.
B) எண் வீட்டுத் தோட்டத்தில் மலர்கள் மணம் வீசின.
C) எண் வீட்டுத் தோட்டத்தில் மலர்கள் மனம் வீசின.
D) எண் வீட்டுத் தோட்டத்தில் மலர்கள் மனம் வீசியது.



- E) விடை தெரியவில்லை
71. சேர்த்தெழுதுக: கண் + இல்லது
A) கணிஇல்லது
B) கணில்லது
C) கண்ணில்லது
D) கண்ணில்லாது
E) விடை தெரியவில்லை
72. சரியான கூட்டப் பெயர்களைத் தேர்ந்தெடு.
A) ஆட்டு மந்தை
B) மாட்டு மந்தை
C) குதிரை மந்தை
D) கழுதை மந்தை
E) விடை தெரியவில்லை
73. கண்ணதாசன் பற்றிய பின்வரும் கூற்றுகளைக் கருத்தில் கொள்க.
I. இவரது இயற்பெயர் முத்தையா. இவர் கவியரசு என்னும் சிறப்புப் பெயராலும் அழைக்கப்படுகிறார்.
II. இவர் தமிழக அரசின் முதல் அரசவைக் கவிஞராக இருந்துள்ளார்.
III. இவர் இயற்றிய இயேசு காவியம் என்பது இயேசுவின் வாழ்க்கை வரலாற்றையும் அவரது அறிவுரைகளையும் கூறும் நூல் ஆகும்.
மேற்கூறியவற்றுள் சரியானது எது/எவை?
A) I, II
B) II, III
C) I, III
D) அனைத்தும்
E) விடை தெரியவில்லை
74. “வாயும் வயிறும் ஆசையில் விழுந்தால் வாழ்க்கை பாலைவனம்” – அவர் தூய மனத்தில் வாழ நினைத்தால் எல்லாம் சோலைவனம்! – இப்பாடல் இடம்பெற்றுள்ள நூல் எது?
A) ஆட்டனத்தி ஆதிமந்தி
B) வனவாசம்
C) சேரமான் காதலி
D) இயேசு காவியம்
E) விடை தெரியவில்லை
75. சே.பிருந்தா இயற்றிய நூல்களுள் பொருந்தா ஒன்றினைத் தேர்ந்தெடு.
A) மலைப் பொழிவு
B) மகளுக்குச் சொன்ன கதை
C) மழை பற்றிய பகிர்தல்கள்
D) வீடு முழுக்க வானம்
E) விடை தெரியவில்லை
76. ‘காயிதே மில்லத்’ பற்றிய தவறான கூற்றினைத் தேர்ந்தெடு.
A) காந்தியடிகள் ஒத்துழையாமை இயக்கத்தை அறிவித்தபோது இவர் திருச்சி தூய வளனார் கல்லூரியில் பயின்று கொண்டிருந்தார்.
B) மணக்கொடை வாங்கும் திருமணங்களில் கலந்து கொள்ள மாட்டேன்" என்று வெளிப்படையாக அறிவித்தார்.
C) இவரது இயற்பெயர் முகம்மது இசுமாயில். காயிதே மில்லத் என்பதற்கு தன்னலமற்ற தலைவர் என்று பொருள்.
D) இந்தியா விடுதலை பெற்றபின் மாநிலங்களவை உறுப்பினர், மக்களவை உறுப்பினர் எனப் பல பொறுப்புகளில் இருந்து மக்களுக்காகத் தொண்டு செய்தார்.



- E) விடை தெரியவில்லை
77. காயிதே மில்லத்தின் கூற்றுகளுள் பொருந்தா ஒன்றினைத் தேர்ந்தெடு.
A) கல்வி ஒன்றுதான் ஒட்டு மொத்தச் சமூக வளர்ச்சிக்கு உறுதுணையாக இருக்கும்.
B) மிகவும் இலக்கியச் செறிவு கொண்ட தமிழ்மொழி தான் மிகப் பழமையான மொழி. எனவே, தமிழ்மொழியை நாட்டின் ஆட்சிமொழியாக அறிவிக்க வேண்டும்.
C) தமது கல்வியைவிட நாட்டின் விடுதலையே மேலானது.
D) இது நான் தனிப்பட்ட முறையில் அனுப்பும் கடிதம் அதற்கு இயக்கப் பணத்தில் இருந்து வாங்கப்பட்ட அஞ்சல்களைப் பயன்படுத்துவது முறையாகும்.
E) விடை தெரியவில்லை
78. “தமிழக அரசியல் வானில் கவ்வியிருந்த காரிருளை அகற்ற வந்த ஒளிக்கதிராகக் காயிதே மில்லத் முகமது இஸ்மாயில் அவர்கள் திகழ்கிறார்” என்று காயிதே மில்லத் பற்றிக் கூறியவர் யார்?
A) அறிஞர் அண்ணா
B) தந்தை பெரியார்
C) காந்தியடிகள்
D) நேரு
E) விடை தெரியவில்லை
79. காயிதே மில்லத் அவர்கள் எங்கு :பருக் கல்லூரினைத் தொடங்கினார்?
A) தஞ்சை
B) திருச்சி
C) மதுரை
D) கேரளா
E) விடை தெரியவில்லை
80. பின்வரும் கூற்றுகளைக் கருத்தில் கொள்க.
I. இந்தியாவுக்கும் சீனாவுக்கும் இடையே 1962ஆம் ஆண்டு போர் மூண்டது. காயிதே மில்லத் தனது மகனைப் போர்முனைக்கு அனுப்ப ஆயத்தமாக இருப்பதாக தெரிவித்து அப்போதைய முதன்மை அமைச்சர் ஜவகர்லால் நேருவுக்குக் கடிதம் எழுதினார்.
II. காயிதே மில்லத் இந்திய நாட்டின் கனிம வளங்களைப் பற்றி நாடாளுமன்றத்தில் எடுத்துரைத்தார்.
III. காயிதே மில்லத் 1946 முதல் 1952 வரை அப்போதை சென்னை மாகாணச் சட்டமன்ற உறுப்பினராக இருந்து சிறப்பாகப் பணியாற்றினார்.
மேற்கூறியவற்றுள் சரியானது எது/எவை?
A) I, II
B) II, III
C) I, III
D) அனைத்தும்
E) விடை தெரியவில்லை
81. சொல்லோடு பொருளைப் பொருத்துக.
a) இடும்பை 1. செல்வம்
b) இழுக்கு 2. குதிரை
c) மாடு 3. துன்பம்
d) பரி 4. குற்றம்
குறியீடுகள் :

	a	b	c	d
A)	1	2	4	3
B)	3	1	4	2
C)	3	4	1	2
D)	3	2	4	1



- E) விடை தெரியவில்லை
82. திரிகூடமலை எனச் சிறப்பிக்கப்படும் மலை எது?
A) பொதிகை மலை B) குற்றாலமலை
C) பறம்பு மலை D) பழனிமலை
E) விடை தெரியவில்லை
83. பாவண்ணன் இயற்றிய பயணம் என்னும் சிறுகதையானது எந்த நூலில் இடம் பெற்றுள்ளது?
A) தொலைந்த போனவர்கள் B) நேற்று வாழ்ந்தவர்கள்
C) சிலநேரங்களில் சில மனிதர்கள் D) பிரயாணம்
E) விடை தெரியவில்லை
84. பாவண்ணன் இயற்றிய நூல்களுள் பொருந்தா ஒன்றினைத் தேர்ந்தெடு.
A) வேர்கள் தொலைவில் இருக்கின்றன B) கடலோர அலை
C) பாய்மரக்கப்பல் D) மீசைக்கார பூனை
E) விடை தெரியவில்லை
85. 'சடுகுடு போட்டியில் தமிழ்நாடு வெற்றி பெற்றது' – என்பது எவ்வகை ஆகுபெயர்?
A) பொருளாகு பெயர் B) இடவாகு பெயர்
C) காலவாகுபெயர் D) சினையாகு பெயர்
E) விடை தெரியவில்லை
86. மல்லிகை துடினாள் என்பது எவ்வகை ஆகுபெயர்?
A) முதலாகு பெயர் B) பண்பாகு பெயர்
C) தொழிலாகு பெயர் D) இடவாகு பெயர்
E) விடை தெரியவில்லை
87. தவறான இணையைத் தேர்ந்தெடு
(தொடர்) (ஆகுபெயர்)
A) தலைக்கு ஒரு பழம் கொடு – சினையாகு பெயர்
B) கார்த்திகை பூத்தது – காலவாகு பெயர்
C) மஞ்சள் பூசினாள் – தொழிலாகு பெயர்
D) இனிப்பு தின்றான் – பண்பாகு பெயர்
E) விடை தெரியவில்லை
88. தவறான கூற்றினைத் தேர்ந்தெடு.
A) அடுக்குத் தொடரில் உள்ள சொற்களைத் தனித்தனியாக பிரித்துப் பார்த்தாலும் அவற்றுக்கும் பொருள் உண்டு. இரட்டைக் கிளவியைப் பிரித்தால் அது பொருள் தருவதில்லை
B) அடுக்குத் தொடரில் உள்ள ஒரு சொல் இரண்டு முறை மட்டுமே வரும். இரட்டைக் கிளவியில் ஒரே சொல் இரண்டு முதல் நான்கு முறை வரை வரும்
C) அடுக்குத் தொடரில் சொற்கள் தனித்தனியே நிற்கும். இரட்டைக்கிளவியின் சொற்கள் இணைந்தே நிற்கும்.
D) அடுக்குத் தொடர் விரைவு, வெகுளி, உவகை, அச்சம், அவலம் ஆகிய பொருள்கள் காரணமாக வரும். இரட்டைக்கிளவி வினைக்கு அடைமொழியாகக் குறிப்புப் பொருளில் வரும்.



- E) விடை தெரியவில்லை
89. 'அவனைப் பிடிபிடி எனக் கத்திக்கொண்டே மற்றவர்கள் துரத்தினார்கள்' - இவ்வாக்கியம் எவ்வகைத் தொடரில் அமைந்துள்ளது?
- A) அடுக்குத் தொடர்
B) இரட்டைக்கிளவி
C) சிலேடை
D) ஆகுபெயர்
E) விடை தெரியவில்லை
90. பொங்கல் உண்டான் என்பது எவ்வகை ஆகுபெயர்?
- A) பொருளாகு பெயர்
B) முதலாகு பெயர்
C) பண்பாகு பெயர்
D) தொழிலாகுபெயர்
E) விடை தெரியவில்லை
91. பின்வரும் இணைகளை கருத்தில் கொள்க.
- I. விறுவிறு - அடுக்குத் தொடர்
II. சடசட - இரட்டைக்கிளவி
III. கலகல - அடுக்குத் தொடர்
IV. மளமள - இரட்டைக்கிளவி
- மேற்கண்டவற்றுள் எத்தனை இணை(கள்) சரியாக பொருந்தியுள்ளன?
- A) 1
B) 2
C) 3
D) அனைத்தும்
E) விடை தெரியவில்லை
92. தவறான இணையைத் தேர்ந்தெடு (ஆங்கிலச் சொல்) (தமிழ்ச் சொல்)
- A) Sincerity - கண்ணியம்
B) Integrity - நேர்மை
C) Charity - ஈகை
D) Preaching - உபதேசம்
E) விடை தெரியவில்லை
93. 'தன்னாடு' என்னும் சொல்லைப் பிரித்து எழுதக் கிடைப்பது.
- A) தன் + நாடு
B) தன்மை + நாடு
C) தன் + நாடு
D) தன்மை + நாடு
E) விடை தெரியவில்லை
94. "ஓதும் பொருளாதாரம் தனிலும் உன்னத அறம் வேண்டும் - புவி உயர்வும் தாழ்வும் இல்லா தான வாழ்வினைப் பெறவேண்டும்" என்று பாடியவர் யார்?
- A) பாரதிதாசன்
B) கண்ணதாசன்
C) பாவண்ணன்
D) சே.பிருந்தா
E) விடை தெரியவில்லை
95. ஒருமைப் பன்மைப் பிழையற்ற தொடர் எது?
- A) விளைநிலங்கள் கட்டடங்களாகிறது
B) விளைநிலங்கள் கட்டடங்களாகின்றன
C) விளைநிலம் கட்டடங்களாகின்றன
D) விளைநிலங்கள் கட்டடமாகிறது



- E) விடை தெரியவில்லை
96. எதிர்ச்சொற்களைப் பொருத்துக.
- a) எளிது 1. புரவலர்
b) ஈதல் 2. அரிது
c) அந்நியர் 3. ஏற்றல்
d) இரவலர் 4. உறவினர்

குறியீடுகள் :

	a	b	c	d
A)	1	2	3	4
B)	2	3	4	1
C)	3	4	1	2
D)	4	1	2	3

E) விடை தெரியவில்லை

97. 'இப்படிப்பட்ட தலைவர் கிடைப்பது அறிது அவர் நல்ல உத்தமமான மனிதர்' என காயிதே மில்லத் அவர்களை புகழ்ந்தவர் யார்?
- A) அம்பேத்கர் B) அறிஞர் அண்ணா
C) தந்தை பெரியார் D) அயோத்திதாசர்
E) விடை தெரியவில்லை

98. 'காயிதே மில்லத்' என்னும் எவ்வகைச் சொல்லுக்கு சமுதாய வழிகாட்டி என்று பொருள்?
- A) பாரசீகச் சொல் B) அரபுச் சொல்
C) இரஷ்யச் சொல் D) இலத்தீன் சொல்
E) விடை தெரியவில்லை

99. பொருத்துக.
- a) சாந்தம் 1. சிறப்பு
b) மகத்துவம் 2. உலகம்
c) தாரணி 3. கருணை
d) இரக்கம் 4. அமைதி

குறியீடுகள் :

	a	b	c	d
A)	1	2	3	4
B)	2	3	4	1
C)	3	4	1	2
D)	4	1	2	3

E) விடை தெரியவில்லை

100. காளமேகப்புலவரின் இயற்பெயர் என்ன?
- A) பரதன் B) வரதன்
C) மறவன் D) சொக்கநாதன்
E) விடை தெரியவில்லை



பகுதி - ஆ — பொது அறிவு (பட்டப்படிப்பு தரம்)

Part B — General Studies (Degree Standard)

வினாக்கள் : 101-200

மொத்த மதிப்பெண்கள் : 150

Questions : 101-200

Total Marks : 150

101. இந்திய அரசியலமைப்பு சட்டத்தை எழுதியவர் யார்?

- A) நந்தலால் போஸ்
B) சர் எட்வின் லூட்யென்ஸ்
C) பிரேம் பெஹாரி நரேன் ரைஜடா
D) பீமல் படேல்
E) விடை தெரியவில்லை

Who was the Calligrapher of the Indian Constitution?

- A) Nandalal Bose
B) Sir Edwin Lutyens
C) Prem Behari Narain Raizada
D) Bimal Patel
E) Answer not known

102. பின்வரும் கூற்றுகளை கருத்தில் கொள்க

- I. அரசியலமைப்பு என்ற கருத்து முதன் முதலில் இங்கிலாந்தில் உருவானது.
II. இந்திய அரசியலமைப்பானது, 1946 அமைச்சரவை தூதுக்குழு திட்டத்தின் கீழ் உருவாக்கப்பட்ட அரசியலமைப்பு சபையால் உருவாக்கப்பட்டது.
III. அரசியல் நிர்ணய சபை 389 உறுப்பினர்களைக் கொண்டது.
IV. அரசியல் நிர்ணய சபையின் முதல் கூட்டம் டிசம்பர் 9, 1946 அன்று நடைபெற்றது.
மேற்கண்ட கூற்றுகளில் சரியானவை எவை?
A) I, II மற்றும் III மட்டும்
B) II, III மற்றும் IV மட்டும்
C) I, III மற்றும் IV மட்டும்
D) மேற்கண்ட அனைத்தும்
E) விடை தெரியவில்லை

Consider the following statements.

- I. The concept of constitution was first originated in U.K.
II. The Constitution of India was framed by a Constituent Assembly setup under the Cabinet Mission Plan, 1946.
III. Constituent Assembly consisted of 389 members.
IV. First meeting on December 9, 1946.

Which of the statements given above are correct?

- A) I, II and III only
B) II, III and IV only
C) I, III and IV only
D) All the above
E) Answer not known

103. இந்தியக் அரசியலமைப்பின் முக்கிய அம்சங்கள் பற்றிய பின்வரும் கூற்றுகளை கருத்தில் கொள்க:

- I. உலகின் அனைத்து எழுதப்பட்ட அரசியலமைப்புகளிலும் மிக நீளமானது.
II. நெகிழ்வு தன்மையற்றது
III. இந்தியாவை மதச்சார்பற்ற நாடாக உருவாக்குகிறது
IV. இது வயது வந்தோர் வாக்குரிமையை அறிமுகப்படுத்துகிறது. மற்றும் 21 வயதுக்கு மேற்பட்ட அனைத்து குடிமக்களுக்கும் எந்தவித பாகுபாடும் இல்லாமல் வாக்களிக்கும் உரிமையை வழங்குகிறது.



மேற்கண்ட கூற்றுகளில் தவறானது எது/எவை?

- A) II மற்றும் IV மட்டும்
B) II மட்டும்
C) II, III மற்றும் IV மட்டும்
D) I மற்றும் III மட்டும்
E) விடை தெரியவில்லை

Consider the following statements about Salient features of Indian Constitution:

- I. Lengthiest of all the written constitutions of the world.
II. Rigid not flexible.
III. Makes India a secular state
IV. It introduces Universal Adult Franchise and accords the right to vote to all citizens above 21 years of age without any discrimination.

Which of the statements given above is/are incorrect?

- A) II and IV only
B) II only
C) II, III and IV only
D) I and III only
E) Answer not known

104. பின்வரும் கூற்றுகளை கருத்தில் கொள்க.

- I. இந்திய அரசியலமைப்பின் முகவுரை ஜவஹர்லால் நேருவின் 'குறிக்கோள் தீர்மானத்தின்' அடிப்படையிலானது.
II. ஜனவரி 22, 1950 அன்று அரசியலமைப்பு நிர்ணய சபையால் ஏற்றுக்கொள்ளப்பட்டது.
III. முகவுரையானது 42வது அரசியலமைப்புத் திருத்தச் சட்டம் 1976 மூலம் ஒரு முறை மட்டும் திருத்தப்பட்டு சமதர்ம, மதச்சார்பற்ற மற்றும் ஒருமைப்பாடு ஆகிய மூன்று புதிய வார்த்தைகள் சேர்க்கப்பட்டது.
IV. முகவுரையானது 'இறையாண்மை சமதர்ம மதச்சார்பற்ற மக்களாட்சி குடியரசு' என்ற சொற்றொடருடன் தொடங்குகிறது.

மேற்கண்ட கூற்றுகளில் தவறானது எது/எவை?

- A) II மற்றும் III மட்டும்
B) II மட்டும்
C) II மற்றும் IV மட்டும்
D) II, III மற்றும் IV மட்டும்
E) விடை தெரியவில்லை

Consider the following statements.

- I. The Preamble to the Indian Constitution is based on the 'Objective Resolution', drafted by Jawaharlal Nehru
II. Adopted by the Constituent Assembly on January 22, 1950
III. Amended once by the 42nd Constitutional Amendment Act of 1976, which added three new words - socialist, secular and integrity
IV. The Preamble begins with the phrase 'Sovereign Socialist Secular Democratic Republic'.

Which of the statements given above is/are incorrect?

- A) II and III only
B) II only
C) II and IV only
D) II, III and IV only
E) Answer not known



105. 1789இல் பிரெஞ்சுப் புரட்சியின் எண்ணங்களை அடையாளப்படுத்திய முக்கிய முழக்கங்கள் யாவை?

- A) சுதந்திரம், ஒற்றுமை மற்றும் சமத்துவம்
- B) சுதந்திரம், சமத்துவம் மற்றும் நீதி
- C) சுதந்திரம், நீதி மற்றும் சகோதரத்துவம்
- D) சுதந்திரம், சமத்துவம் மற்றும் சகோதரத்துவம்
- E) விடை தெரியவில்லை

What were the key slogans that symbolized the aspirations of the French Revolution in 1789?

- A) Liberty, Unity and Equality
- B) Liberty, Equality and Justice
- C) Liberty, Justice and Fraternity
- D) Liberty, Equality and Fraternity
- E) Answer not known

106. எந்த சூழ்நிலையில் மத்திய அரசு இயல்புரிமை மூலம் குடியுரிமை பெற்ற குடிமகனின் குடியுரிமையை பறிக்க முடியும்?

- A) மோசடி, தவறான பிரதிநிதித்துவம் அல்லது உண்மைகளை மறைத்தல் ஆகியவற்றால் குடியுரிமை பறிக்கப்படும்.
- B) அந்நபர் எதிரி நாடுகளுடன் வர்த்தகத்தில் ஈடுபட்டால்.
- C) இரண்டாண்டு காலத்திற்கு சிறைதண்டனை பெற்றவர் என்பதை மத்திய அரசு கண்டறிந்தால்
- D) மேற்கண்ட அனைத்தும்
- E) விடை தெரியவில்லை

Under what circumstances can the central government deprive a naturalized citizen of their citizenship?

- A) Citizenship was acquired by fraud, false representation or concealment of material facts.
- B) If the person indulges in trade with enemy countries.
- C) If the person has been sentenced to imprisonment for period of 2 years.
- D) All the above
- E) Answer not known

107. அடிப்படை உரிமைகள் தொடர்பான பின்வரும் கூற்றுகளை கருத்தில் கொள்க:

- I. அரசியலமைப்பின் பகுதி III இல் விதிகள் 12 முதல் 35 வரை குறிக்கப்பட்டுள்ளன.
 - II. தொடக்கத்தில், அரசியலமைப்பு ஆறு அடிப்படை உரிமைகளை வழங்கியது
 - III. இந்தியாவின் மகா சாசனம் என்று அடிப்படை உரிமையை அழைக்கிறார்கள்.
 - IV. அரசியலமைப்பின்படி இந்திய குடிமக்களுக்கு மட்டுமே அடிப்படை உரிமைகள் பொருந்தும்.
- மேற்கண்ட கூற்றுகளில் தவறானவை எவை?

- A) I, II மற்றும் III மட்டும்
- B) II மற்றும் III மட்டும்
- C) II மற்றும் IV மட்டும்
- D) மேற்கண்ட அனைத்தும்
- E) விடை தெரியவில்லை



Consider the following statements regarding Fundamental Rights :

- I. They are enshrined in Part III of the Constitution from Articles 12 to 35.
- II. Originally, the Constitution provided for six Fundamental Rights
- III. They are rightly described as the Magna Carta of India
- IV. Fundamental Rights are available only to Indian citizens as per the Constitution.

Which of the statements given above is/are incorrect?

- A) I, II and III only
- B) II and III only
- C) II and IV only
- D) All the above
- E) Answer not known

108. பின்வரும் கூற்றுகளை கருத்தில் கொள்க.

கூற்று (A) : உச்ச நீதிமன்றம் ஐந்து வகையான நீதிப்பேராணைகளை வெளியிட அதிகாரம் பெற்றுள்ளது.

காரணம் (R) : இது “அரசியலமைப்பின் பாதுகாவலன்” என்று அழைக்கப்படுகிறது.

குறியீடுகள்:

- A) (A) மற்றும் (R) இரண்டும் சரி மற்றும் (R) என்பது (A)-யின் சரியான விளக்கமாகும்
- B) (A) மற்றும் (R) இரண்டும் சரி ஆனால் (R) என்பது (A)-யின் சரியான விளக்கமல்ல
- C) (A) சரி ஆனால் (R) தவறு
- D) (A) தவறு ஆனால் (R) சரி
- E) விடை தெரியவில்லை

Consider the following statements related to Supreme court:

Assertion (A) : The Supreme court is empowered to issue five kinds of writs.

Reason (R) : It is called as the “Guardian of the constitution”.

Codes:

- A) Both (A) and (R) are true and (R) is the correct explanation of (A)
- B) Both (A) and (R) are true but (R) is not the correct explanation of (A)
- C) (A) is true but (R) is false
- D) (A) is false but (R) is true
- E) Answer not known

109. அரசு அலுவலகத்தை சட்டவிரோதமாக அபகரிப்பதைத் தடுக்க உச்ச நீதிமன்றத்தால் எந்த நீதிப்பேராணை பிறப்பிக்கப்படுகிறது?

- A) ஆவணக்கேட்பு நீதிப்பேராணை
- B) கட்டளையுறுத்தும் நீதிப்பேராணை
- C) தடையுறுத்தும் நீதிப்பேராணை
- D) தகுதிமுறை வினவும் நீதிப்பேராணை
- E) விடை தெரியவில்லை

Which writ is issued by the Supreme Court to prevent the illegal usurpation of public office?

- A) Certiorari
- B) Mandamus
- C) Prohibition
- D) Quo Warranto
- E) Answer not known



110. அரசு நெறிமுறையுறுத்தும் கோட்பாடுகள், தொடர்பான பின்வரும் கூற்றுகளை கருத்தில் கொள்க:

- I. அரசியலமைப்பின் IV பாகத்தில் 36 முதல் 50 வரையிலான விதிகளில் பட்டியலிடப்பட்டுள்ளன.
- II. அரசு நெறிமுறையுறுத்தும் கோட்பாடுகள் மூன்று பரந்த பிரிவுகளாக அதாவது, சமதர்ம, காந்திய மற்றும் தாராளவாத-அறிவுசார் என வகைப்படுத்துகிறது.
- III. டாக்டர் பி.ஆர்.அம்பேத்கர் இதனை இந்திய அரசியலமைப்பின் 'புதுமையான சிறப்பம்சம்' என்று விவரித்தார்.
- IV. 2002 ஆம் ஆண்டின் 86 வது திருத்தச் சட்டம் பிரிவு 45 விதியை மாற்றியது மற்றும் பிரிவு 21 இன் கீழ் தொடக்கக் கல்வியை அடிப்படை உரிமையாக்கியது.

மேற்கண்ட கூற்றுகளில் தவறானவை எவை?

- A) I, II மற்றும் IV மட்டும்
- B) I மற்றும் II மட்டும்
- C) I மற்றும் IV மட்டும்
- D) மேற்கண்ட அனைத்தும்
- E) விடை தெரியவில்லை

Consider the following statements related to The Directive Principles of State Policy:

- I. They are enumerated in Part IV of the Constitution from Articles 36 to 50.
- II. The Constitution classifies the Directive Principles into three broad categories, viz, socialistic, Gandhian and liberal-intellectual.
- III. Dr. B.R. Ambedkar described these principles as 'novel features' of the Indian Constitution.
- IV. The 86th Amendment Act of 2002 changed the subject -matter of Article 45 and made elementary education a fundamental right under Article 21.

Which of the statements given above is/are incorrect?

- A) I, II and IV only
- B) I and II only
- C) I and IV only
- D) All the above
- E) Answer not known

111. பட்டியல்-Iஐ பட்டியல்-II உடன் பொருத்தவும்.

பட்டியல்-I
(பகுதிகள்)

- a) நிதி உறவுகள்
- b) அதிகாரப்பூர்வ மொழி
- c) நிதி அவசரநிலை
- d) குடியரிமை
- e) நிதி ஆணையம்

பட்டியல்-II
(சரத்துகள்)

1. சரத்து 280
2. சரத்து 268 முதல் 293 வரை
3. சரத்து 343 முதல் 351 வரை
4. சரத்து 5 முதல் 11 வரை
5. சரத்து 360

குறியீடுகள்:

- | | a | b | c | d | e |
|----|---|---|---|---|---|
| A) | 2 | 3 | 5 | 4 | 1 |
| B) | 3 | 2 | 4 | 5 | 1 |
| C) | 3 | 5 | 2 | 4 | 1 |
| D) | 2 | 3 | 4 | 5 | 1 |
- E) விடை தெரியவில்லை



Match List-I with List-II.

List-I
(Parts)

- Financial relations
- Official Language
- Financial Emergency
- Citizenship
- Finance Commission

List-II
(Articles)

- Article 280
- Article 268 to 293
- Article 343 to 351
- Article 5 to 11
- Article 360

Codes:

- | | <i>a</i> | <i>b</i> | <i>c</i> | <i>d</i> | <i>e</i> |
|----|------------------|----------|----------|----------|----------|
| A) | 2 | 3 | 5 | 4 | 1 |
| B) | 3 | 2 | 4 | 5 | 1 |
| C) | 3 | 5 | 2 | 4 | 1 |
| D) | 2 | 3 | 4 | 5 | 1 |
| E) | Answer not known | | | | |

112. விதி 352இன் கீழ் குடியரசுத் தலைவர் அவசரநிலைப் பிரகடனம் செய்யும் போது எந்தப் பிரிவு தானாகவே இடைநிறுத்தப்படும்?

- | | |
|---------------------|------------|
| A) விதி 14 | B) விதி 19 |
| C) விதி 21 | D) விதி 32 |
| E) விடை தெரியவில்லை | |

Which Article is automatically suspended when the President makes a Proclamation of Emergency under Article 352?

- | | |
|---------------------|---------------|
| A) Article 14 | B) Article 19 |
| C) Article 21 | D) Article 32 |
| E) Answer not known | |

113. பின்வரும் கூற்றுகளை கருத்தில் கொள்க.

- பகுதி IV A, ஒரே ஒரு விதியை மட்டுமே கொண்டுள்ளது (அதாவது) 51A.
- விதி 51A குடிமக்களுக்கான பத்து அடிப்படைக் கடமைகளின் தொகுப்பைக் குறிப்பிடுகிறது.
- சோவியத் ஒன்றியத்தின் அடிப்படைக் கடமைகள் என்ற கருத்துருவிலிருந்து இந்தியா உத்வேகம் பெற்றது.
- 42வது மற்றும் 86வது அரசியலமைப்புத் திருத்தச் சட்டங்களின் மூலம் அடிப்படைக் கடமைகளைச் சேர்ப்பது என்பது சாத்தியமாக்கப்பட்டது.

மேற்கண்ட கூற்றுகளில் சரியானவை எவை?

- I, II மற்றும் III மட்டும்
- II, III மற்றும் IV மட்டும்
- I, III மற்றும் IV மட்டும்
- மேற்கண்ட அனைத்தும்
- விடை தெரியவில்லை



Consider the following statements.

- I. Part IV A consists of only one article (i.e.) 51A.
- II. Article 51A specifies a set of ten fundamental duties for citizens.
- III. India took inspiration for the concept of Fundamental Duties from the USSR.
- IV. The inclusion of fundamental duties was made possible through the enactment of the 42nd and 86th Constitutional Amendment acts.

Which of the statements given above is/are correct?

- A) I, II and III only
- B) II, III and IV only
- C) I, III and IV only
- D) All the above
- E) Answer not known

114. பட்டியல்-Iஐ பட்டியல்-II உடன் பொருத்தவும்.

பட்டியல்-I

- a) ஒன்றிய பட்டியல்
- b) பொது பட்டியல்
- c) மாநில பட்டியல்
- d) எட்டாவது அட்டவணை மொழிகள்

பட்டியல்-II

1. 61
2. 100
3. 52
4. 22

குறியீடுகள்:

- | | a | b | c | d |
|----|----------|----------|----------|----------|
| A) | 1 | 2 | 3 | 4 |
| B) | 2 | 3 | 1 | 4 |
| C) | 2 | 3 | 4 | 1 |
| D) | 4 | 3 | 2 | 1 |

E) விடை தெரியவில்லை

Match List-I with List-II.

List-I

- a) Union list
- b) Concurrent list
- c) State list
- d) Eighth Schedule Languages

List-II

1. 61
2. 100
3. 52
4. 22

Codes:

- | | a | b | c | d |
|----|----------|----------|----------|----------|
| A) | 1 | 2 | 3 | 4 |
| B) | 2 | 3 | 1 | 4 |
| C) | 2 | 3 | 4 | 1 |
| D) | 4 | 3 | 2 | 1 |

E) Answer not known



115. கீழே பட்டியலிடப்பட்டுள்ளவற்றில் பொது பட்டியலில் உள்ளவை எது?

- A) கல்வி
- B) எடைகள் மற்றும் அளவுகள்
- C) வன விலங்குகள் மற்றும் பறவைகளின் பாதுகாப்பு
- D) மேலே உள்ள அனைத்தும்
- E) விடை தெரியவில்லை

Which options listed below belong to the concurrent list?

- A) Education
- B) Weights and measures
- C) Protection of wild animals and birds
- D) All the above
- E) Answer not known

116. அரசியலமைப்புத் திருத்தம் பற்றிய பின்வரும் கூற்றுகளை கருத்தில் கொள்க

- I. அரசியலமைப்பு திருத்தச் சட்டத்தை பாராளுமன்றத்தால் மட்டுமே கொண்டு வர முடியும்.
- II. அரசியலமைப்புச் சட்டத்தில் எந்தத் திருத்தத்தையும் மாநில சட்டமன்றங்களும் தொடங்கலாம்.

III. பிரிவு 368 மூன்று வழிகளில் திருத்தங்களை வழங்குகிறது.

மேற்கண்ட கூற்றுகளில் தவறானது எது/எவை?

- A) I மட்டும்
- B) II மட்டும்
- C) III மட்டும்
- D) அனைத்தும் சரியானவை
- E) விடை தெரியவில்லை

Consider the following statements about Constitutional Amendment:

- I. The constitution amendment can be brought about only by the Parliament.
- II. State legislatures can also initiate for any amendment to the Constitution.
- III. Article 368 provides for three ways of amendments.

Which of the statements given above is/are incorrect?

- A) I only
- B) II only
- C) III only
- D) All are correct
- E) Answer not known

117. நெருக்கடிகால விதிகள் (பகுதி-18) தொடர்பான பின்வரும் கூற்றுகளை கருத்தில் கொள்க:

- I. இந்தியாவில் இதுவரை மூன்று முறை தேசிய அவசரநிலை அறிவிக்கப்பட்டுள்ளது.
- II. மாநிலங்களில் குடியரசுத் தலைவர் ஆட்சியின் அதிகபட்ச காலம் மூன்று ஆண்டுகள் இருக்கலாம்.
- III. முதன்முறையாக 1951ஆம் ஆண்டு பஞ்சாபில் குடியரசுத் தலைவர் ஆட்சி அமல்படுத்தப்பட்டது.

IV. இந்தியாவில் நிதி அவசரநிலை இதுவரை அறிவிக்கப்படவில்லை.

மேற்கண்ட கூற்றுகளில் சரியானவை எவை?

- A) I, II மற்றும் III மட்டும்
- B) II, III மற்றும் IV மட்டும்
- C) I, III மற்றும் IV மட்டும்
- D) மேற்கண்ட அனைத்தும்
- E) விடை தெரியவில்லை



- Consider the following statements regarding Emergency provisions (Part XVIII) :
- I. National emergency has been declared three times so far in India.
 - II. Maximum duration of the State emergency can be three years.
 - III. For the first time, the President's Rule was imposed in Punjab in 1951.
 - IV. Financial emergency has not been declared in India so far.

Which of the statements given above are correct?

- A) I, II and III only B) II, III and IV only
C) I, III and IV only D) All the above
E) Answer not known

118. பட்டியல்-Iஐ பட்டியல்-II உடன் பொருத்தவும்.

பட்டியல்-I (குழு)	பட்டியல்-II (அமைக்கப்பட்ட வருடம்)
a) சர்க்காரியா கமிஷன்	1. 2000
b) ராஜமன்னார் கமிஷன்	2. 1983
c) புஞ்சி கமிஷன்	3. 2007
d) எம்.என்.வெங்கடாசலையா கமிஷன்	4. 1969

குறியீடுகள்:

	a	b	c	d
A)	2	4	3	1
B)	2	1	3	4
C)	4	2	3	1
D)	4	2	1	3

E) விடை தெரியவில்லை

Match List-I with List-II.

List-I (Commission)	List-II (Constituted in)
a) Sarkaria Commission	1. 2000
b) Rajamannar Commission	2. 1983
c) Punchhi Commission	3. 2007
d) M. N. Venkatachaliah Commission	4. 1969

Codes:

	a	b	c	d
A)	2	4	3	1
B)	2	1	3	4
C)	4	2	3	1
D)	4	2	1	3

E) Answer not known



119. பின்வரும் கூற்றுகளை கருத்தில் கொள்க.

- I. இந்தியாவின் அவசரகால நிதியானது பிரதமரின் வசம் உள்ளது.
II. அவர் இந்தியாவின் அவசரகால நிதியிலிருந்து முன்நிதி பெறலாம்.
மேற்கண்ட கூற்றுகளில் தவறானது எது/எவை?

- A) I மட்டும்
B) II மட்டும்
C) இரண்டும்
D) இரண்டுமில்லை
E) விடை தெரியவில்லை

Consider the following statements.

- I. The Contingency Fund of India is at the disposal of the Prime Minister.
II. He can make advances out of the contingency fund of India.

Which of the statements given above is/are incorrect?

- A) I only
B) II only
C) Both I and II
D) Neither I nor II
E) Answer not known

120. பின்வரும் கூற்றுகளை கருத்தில் கொள்க.

- I. பிரிவு 53(1)ன் படி, “ஒன்றிய அரசின் பாதுகாப்புப் படையின் உச்சக்கட்ட அதிகாரமானது ஜனாதிபதியிடம் ஒப்படைக்கப்படும் மற்றும் அதன் செயல்பாடு சட்டத்தால் கட்டுப்படுத்தப்படும்” என்று கூறுகிறது.

- II. 61வது விதி ஜனாதிபதியை பதவி நீக்கம் செய்வதற்கான நடைமுறையை கூறுகிறது.

மேற்கண்ட கூற்றுகளில் சரியானது எது/எவை?

- A) I மட்டும்
B) II மட்டும்
C) இரண்டும்
D) இரண்டுமில்லை
E) விடை தெரியவில்லை

Consider the following statements.

- I. Article 53(1) lays down that “the supreme command of the Defence Force of the Union shall be vested in the President and the exercise there of shall be regulated by law”

- II. Article 61 states the procedure for an impeachment of President.

Which of the statements given above is/are correct?

- A) I only
B) II only
C) Both I and II
D) Neither I nor II
E) Answer not known

121. தவறாகப் பொருந்தியுள்ள இணையைக் கண்டறியவும்.

- A) பிரிவு 54 – ஜனாதிபதி தேர்தல்
B) பிரிவு 56 – ஜனாதிபதியை தேர்ந்தெடுக்கும் முறை
C) பிரிவு 58 – ஜனாதிபதியாக தேர்ந்தெடுக்கப்படுவதற்கான தகுதிகள்
D) பிரிவு 60 – ஜனாதிபதியின் உறுதிமொழி
E) விடை தெரியவில்லை

Find out the incorrectly matched pair.

- A) Article 54 – Election of President
B) Article 56 – Manner of election of President
C) Article 58 – Qualifications for election as president
D) Article 60 – Oath or affirmation by the president
E) Answer not known



122. பின்வரும் கூற்றுகளை கருத்தில் கொள்க.

I. குடியரசுத் தலைவர் பதவிகள் காலியாக இருந்தால், இந்தியத் தலைமை நீதிபதி குடியரசுத் தலைவராகப் பணியாற்றுகிறார்.

II. எம்.ஹிதாயுதல்லா 1969 இல் இந்தியாவின் ஜனாதிபதியாக நியமிக்கப்பட்டார்.

மேற்கண்ட கூற்றுகளில் சரியானது எது/எவை?

- A) I மட்டும்
B) II மட்டும்
C) இரண்டும்
D) இரண்டுமில்லை
E) விடை தெரியவில்லை

Consider the following statements.

I. If the posts of President lie vacant, Chief Justice of India works as President.

II. M. Hidayutalla was appointed as President of India in 1969.

Which of the statements given above is/are correct?

- A) I only
B) II only
C) Both I and II
D) Neither I nor II
E) Answer not known

123. பட்டியல்-Iஐ பட்டியல்-II உடன் பொருத்தவும்.

பட்டியல்-I

பட்டியல்-II

a) விதி 124

1. உச்ச நீதிமன்றத்தை நிறுவுதல் மற்றும் அமைப்பு

b) விதி 131

2. உச்ச நீதிமன்றத்தின் தீர்ப்புகள் அல்லது உத்தரவுகளின் மறுஆய்வு

c) விதி 137

3. உச்ச நீதிமன்றத்தின் அசல் அதிகார வரம்பு

d) விதி 143

4. உச்ச நீதிமன்றத்தைக் கலந்தாலோசிக்க ஜனாதிபதியின் அதிகாரம்

குறியீடுகள்:

	a	b	c	d
A)	4	2	3	1
B)	2	1	3	4
C)	1	3	2	4
D)	4	1	2	3

E) விடை தெரியவில்லை

Match List-I with List-II.

List-I

List-II

a) Article 124

1. Establishment and Constitution of Supreme Court

b) Article 131

2. Review of judgements or orders by Supreme Court

c) Article 137

3. Original Jurisdiction of the Supreme Court

d) Article 143

4. Power of President to consult Supreme Court

Codes:

	a	b	c	d
A)	4	2	3	1
B)	2	1	3	4
C)	1	3	2	4
D)	4	1	2	3

E) Answer not known



124. தமிழகத்தின் முதல் பெண் ஆளுநர் யார்?

- A) வி.எஸ்.ரமாதேவி
B) பாத்திமா பீவி
C) சரோஜினி நாயுடு
D) ஜோதி வெங்கடாசலம்
E) விடை தெரியவில்லை

First Female governor of Tamil Nadu is

- A) V.S. Ramadevi
B) Fathima Beevi
C) Sarojini Naidu
D) Jothi Venkatachalam
E) Answer not known

125. பின்வரும் கூற்றுகளை கருத்தில் கொள்க.

- I. மாநில ஆளுநரால் உயர் நீதிமன்ற நீதிபதிகள் நியமிக்கப்படுகின்றனர்.
II. தமிழ்நாடு மேலவை 1986இல் கலைக்கப்பட்டது.
மேற்கண்ட கூற்றுகளில் தவறானது எது/எவை?

- A) I மட்டும்
B) II மட்டும்
C) இரண்டும்
D) இரண்டுமில்லை
E) விடை தெரியவில்லை

Consider the following statements.

- I. Judges of the High court appointed by the Governor of the State
II. Tamil Nadu legislative council abolished in 1986

Which of the statements given above is/are incorrect?

- A) I only
B) II only
C) Both I and II
D) Neither I nor II
E) Answer not known

126. பின்வரும் கூற்றுகளை கருத்தில் கொள்க

- I. விதி 163, ஆளுநருக்கு உதவவும் ஆலோசனை வழங்கவும் அமைச்சரவை உள்ளது.
II. விதி 213ன் கீழ் மாநில சட்டமன்றம் கூட்டத்தொடர் இல்லாதபோது ஆளுநர் அவசரச் சட்டங்களை வெளியிடலாம்.
III. எதிர்பாராத செலவினங்களைச் சந்திக்க ஆளுநர் அவசரகால நிதியிலிருந்து முன்பணத்தைச் பெறலாம்.

IV. மசோதாக்கள் மீது ஆளுநர் பாக்கெட் வீட்டோவை பயன்படுத்தலாம்.

மேற்கண்ட கூற்றுகளில்(கள்) எத்தனை சரியானவை?

- A) ஒரு கூற்று மட்டும்
B) இரண்டு கூற்றுகள் மட்டும்
C) மூன்று கூற்றுகள் மட்டும்
D) அனைத்து கூற்றுகளும்
E) விடை தெரியவில்லை

Consider the following statements.

- I. Article 163 states the council of ministers to aid and advise the governor
II. Governor can promulgate ordinances when the state legislature is not in session under Article 213.
III. Governor can make advances out of the Contingency Fund to meet any unforeseen expenditure.

IV. Governor enjoys pocket veto over bills

How many of the above statement(s) is/are correct?

- A) One statement only
B) Two statements only
C) Three statements only
D) All the statements
E) Answer not known



127. பின்வரும் கூற்றுகளை கருத்தில் கொள்க.

- I. முதலமைச்சரின் பதவிக்காலம் நிர்ணயிக்கப்படவில்லை சட்டசபையில் பெரும்பான்மை பலத்தை இழக்கும் போது அவர் பதவி விலக வேண்டும்
- II. திருமதி வைக்கம் நாராயணி ஜானகி தமிழ்நாட்டின் முதல் பெண் முதலமைச்சர் மற்றும் மிகக் குறுகிய பதவிக் காலம் கொண்டவர்

மேற்கண்ட கூற்றுகளில் சரியானது எது/எவை?

- | | |
|---------------------|-----------------|
| A) I மட்டும் | B) II மட்டும் |
| C) இரண்டும் | D) இரண்டுமில்லை |
| E) விடை தெரியவில்லை | |

Consider the following statements.

- I. The term of Chief Minister is not fixed. He has to resign when he losses confidence of the majority in the Assembly
- II. Mrs. Vaikom Narayani Janaki was the first woman chief minister of Tamil Nadu and has the shortest tenure

Which of the statements given above is/are correct?

- | | |
|---------------------|---------------------|
| A) I only | B) II only |
| C) Both I and II | D) Neither I nor II |
| E) Answer not known | |

128. அமைதியுடன் இணங்கியிருத்தலுக்கான (பஞ்சசீலம்) ஐந்து கோட்பாடுகள் தொடர்பான பின்வரும் கூற்றுகளை கருத்தில் கொள்க.

- I. ஏப்ரல் 28, 1954 இல் இந்தியா (பிரதமர் ஜவஹர்லால் நேரு) மற்றும் சீனா (பிரதமர் சூ-யென்-லாய்) இடையே கையொப்பமிடப்பட்டது.
- II. 1954 இல் இந்தோனேசியாவில் நடைபெற்ற ஆப்பிரிக்க-ஆசிய மாநாட்டில் கையெழுத்திட்ட பாண்டுங் பிரகடனத்தில் இவை இணைக்கப்பட்டன.

மேற்கண்ட கூற்றுகளில் சரியானது எது/எவை?

- | | |
|---------------------|-----------------|
| A) I மட்டும் | B) II மட்டும் |
| C) இரண்டும் | D) இரண்டுமில்லை |
| E) விடை தெரியவில்லை | |

Consider the following statement related to the Five Principles of Peaceful Coexistence:

- I. Panchsheel Agreement signed between India (Prime Minister Jawaharlal Nehru) and China (Premier Chou-En-Lai) on April 28, 1954
- II. They were incorporated in the Bandung Declaration signed in the Afro-Asian Conference held in 1954 in Indonesia.

Which of the statements given above is/are correct?

- | | |
|---------------------|---------------------|
| A) I only | B) II only |
| C) Both I and II | D) Neither I nor II |
| E) Answer not known | |



129. பின்வரும் நிகழ்வுகளை காலவரிசைப்படி ஒழுங்கமைக்கவும் :

- I. பாண்டுங் பிரகடனம்
- II. பஞ்சசீல ஒப்பந்தம்
- III. இந்தோ-சோவியத் ஒப்பந்தம்
- IV. லோப் நோரில் சீனாவின் அணு ஆயுத சோதனை

குறியீடுகள்:

- | | |
|---------------------|----------------|
| A) I-II-III-IV | B) II-I-IV-III |
| C) II-I-III-IV | D) I-III-IV-II |
| E) விடை தெரியவில்லை | |

Arrange the following events in chronological order :

- I. Bandung Declaration
- II. Panchsheel Agreement
- III. Indo-Soviet Treaty
- IV. China's nuclear test at Lop Nor

Codes:

- | | |
|---------------------|----------------|
| A) I-II-III-IV | B) II-I-IV-III |
| C) II-I-III-IV | D) I-III-IV-II |
| E) Answer not known | |

130. அமைதியான சகவாழ்வின் ஐந்து கோட்பாடுகள் (பஞ்சீலம்) பற்றிய தவறான கூற்றைக் கண்டறியவும்:

- I. பரஸ்பர ஆக்கிரமிப்புயின்மை
- II. பரஸ்பர உள்நாட்டு விவகாரங்களில் தலையிடுதல்.
- III. பரஸ்பர நலனுக்கான சமத்துவம் மற்றும் ஒத்துழைப்பு.
- IV. ஒவ்வொரு நாட்டின் எல்லையையும் இறையாண்மையும் பரஸ்பரம் மதித்தல். மேற்கண்ட கூற்றுகளில் சரியானவை எவை?

- | | |
|------------------------------|-------------------------------|
| A) மேற்கண்ட அனைத்தும் | B) II, III மற்றும் IV மட்டும் |
| C) I, III மற்றும் IV மட்டும் | D) I, II மற்றும் III மட்டும் |
| E) விடை தெரியவில்லை | |

Find the incorrect statement regarding the Five Principles of Peaceful Coexistence (Panchsheel):

- I. Mutual non-aggression.
- II. Mutual interference in each other's affairs.
- III. Equality and cooperation for mutual benefit.
- IV. Mutual respect for each other's territorial integrity and sovereignty.

Which of the statements given above are correct?

- | | |
|-----------------------|------------------------|
| A) All the above | B) II, III and IV only |
| C) I, III and IV only | D) I, II and III only |
| E) Answer not known | |

131. அணிசேரா இயக்கதுடன் (NAM) தொடர்பு இல்லாத தலைவர் யார்?

- | | |
|----------------------------|--------------------------------------|
| A) யூகோஸ்லாவியாவின் டிட்டோ | B) கானாவின் குவாமே நிக்ரூமா |
| C) இந்தோனேசியாவின் சுகர்னோ | D) இங்கிலாந்தின் வின்ஸ்டன் சர்ச்சில் |
| E) விடை தெரியவில்லை | |



Which of the following individuals is not commonly associated with the founding of the Non-Aligned Movement (NAM)?

- A) Tito of Yugoslavia
- B) Kwame Nkrumah of Ghana
- C) Sukarno of Indonesia
- D) Winston Churchill of England
- E) Answer not known

132. பின்வரும் கூற்றுகளை கருத்தில் கொள்க.

கூற்று (A) : ஐநா ஆயுதக் குறைப்புத் திட்டத்தை இந்தியா ஆதரித்தது

காரணம் (R) : உலகளாவிய அணு ஆயுத பரவல் தடை என்பது இந்தியாவின் அணுசக்தி கொள்கையின் மேலோங்கிய கருப்பொருளாக இருந்து வருகிறது.

குறியீடுகள்:

- A) (A) மற்றும் (R) இரண்டும் சரி மற்றும் (R) என்பது (A)-யின் சரியான விளக்கமாகும்
- B) (A) மற்றும் (R) இரண்டும் சரி ஆனால் (R) என்பது (A)-யின் சரியான விளக்கமல்ல
- C) (A) சரி ஆனால் (R) தவறு
- D) (A) தவறு ஆனால் (R) சரி
- E) விடை தெரியவில்லை

Consider the following statements.

Assertion (A) : India supported UN disarmament programme,

Reason (R) : Global non-proliferation has been a dominant theme of India's nuclear policy.

Codes:

- A) Both (A) and (R) are true and (R) is the correct explanation of (A)
- B) Both (A) and (R) are true but (R) is not the correct explanation of (A)
- C) (A) is true but (R) is false
- D) (A) is false but (R) is true
- E) Answer not known

133. IBSA எதைக் குறிக்கிறது?

- A) இந்தியா, பிரேசில், சவுதி அரேபியா
- B) இந்தியா, பிரேசில், தென்னாப்பிரிக்கா, அர்ஜென்டினா
- C) இந்தியா, பிரேசில், தென்னாப்பிரிக்கா
- D) இந்தியா, பிரேசில், சவுதி அரேபியா, அர்ஜென்டினா
- E) விடை தெரியவில்லை

What does IBSA stands for?

- A) India, Brazil, Saudi Arabia
- B) India, Brazil, South Africa, Argentina
- C) India, Brazil, South Africa
- D) India, Brazil, Saudi Arabia, Argentina
- E) Answer not known



134. பின்வரும் கூற்றுகளை கருத்தில் கொள்க.

- I. ஐதராபாத்தில் சார்க் அமைப்பின் பேரிடர் மேலாண்மை மையம் அமைக்கப்பட்டது.
- II. சார்க் செயற்கைக்கோள் என்பது இந்திய விண்வெளி ஆராய்ச்சி நிறுவனத்தால் (ISRO) சார்க் பிராந்தியத்திற்காக முன்மொழியப்பட்ட தகவல் தொடர்பு மற்றும் வானிலை ஆய்வு செயற்கைக்கோள் ஆகும்.
- III. சார்க் பிராந்தியத்தில் சமூக-கலாச்சார வளர்ச்சியை விரைவுபடுத்துவதை சார்க் அமைப்பு நோக்கமாகக் கொண்டுள்ளது.

மேற்கண்ட கூற்றுகளில் சரியானவை எவை?

- | | |
|--------------------------|---------------------------|
| A) I மற்றும் III மட்டும் | B) II மற்றும் III மட்டும் |
| C) I மற்றும் II மட்டும் | D) மேற்கண்ட அனைத்தும் |
| E) விடை தெரியவில்லை | |

Consider the following statements.

- I. SAARC Disaster Management Centre was set up at Hyderabad.
- II. SAARC satellite is a proposed communication-cum-meteorology satellite by Indian Space Research Organisation (ISRO) for the SAARC region.
- III. SAARC aims to accelerate socio-cultural development in the region.

Which of the statements given above are correct?

- | | |
|---------------------|--------------------|
| A) I and III only | B) II and III only |
| C) I and II only | D) All the above |
| E) Answer not known | |

135. பின்வருவனவற்றில் எந்த நாடுகள் சார்க் அமைப்பில் உறுப்பினராக உள்ளன?

- I. ஆப்கானிஸ்தான்
- II. மியான்மர்
- III. மாலத்தீவுகள்
- IV. நேபாளம்

குறியீடுகள்:

- | |
|--------------------------------------|
| A) I, II மற்றும் III மட்டும் |
| B) I மற்றும் IV மட்டும் |
| C) I, III மற்றும் IV மட்டும் |
| D) அனைத்து நாடுகளும் உறுப்பு நாடுகள் |
| E) விடை தெரியவில்லை |

Which of the following is/are a member of SAARC?

- I. Afghanistan
- II. Myanmar
- III. Maldives
- IV. Nepal

Codes:

- | | |
|-----------------------|--------------------|
| A) I, II and III only | B) I and IV only |
| C) I, III and IV only | D) All are members |
| E) Answer not known | |



136. பின்வரும் கூற்றுகளை கருத்தில் கொள்க

- I. அரசியலமைப்பு ஒன்றிய அரசு மற்றும் மாநிலங்கள் இரண்டின் நிர்வாகத்திற்கான விதிகளைக் கொண்டுள்ளது.
 - II. மாநிலத்தின் உண்மையான அதிகார மையம் முதலமைச்சர் ஆவார்.
 - III. அரசியலமைப்பு ஒவ்வொரு மாநிலத்திற்கும் ஒரு சட்டமன்றத்தை வழங்குகிறது.
- மேற்கண்ட கூற்றுகளில் சரியானவை எவை?
- A) I மற்றும் III மட்டும்
 - B) II மற்றும் III மட்டும்
 - C) I மற்றும் II மட்டும்
 - D) மேற்கண்ட அனைத்தும்
 - E) விடை தெரியவில்லை

Consider the following statements

- I. The constitution contains provisions for the governance of both the union and the states.
- II. Chief Minister is the real centre of power in the State.
- III. The Constitution provides a legislature for every state.

Which of the statements given above are correct?

- A) I and III only
- B) II and III only
- C) I and II only
- D) All the above
- E) Answer not known

137. மாநில சட்டமன்றத்தின் நிதி அதிகாரங்கள் தொடர்பான பின்வரும் கூற்றுகளை கருத்தில் கொள்க.

- I. பண மசோதாக்களை மேலவை அல்லது சட்டசபையில் மட்டுமே அறிமுகப்படுத்த முடியும்
 - II. பண விவகாரங்களில் கீழவையை விட மேலவையைக்கு அதிக அதிகாரம் உண்டு
 - III. சட்ட பேரவையின் அனுமதி இல்லாமல் புதிய வரி விதிக்க முடியாது
- மேற்கண்ட கூற்றுகளில் தவறானது எது/எவை?
- A) I மற்றும் II மட்டும்
 - B) II மற்றும் III மட்டும்
 - C) III மட்டும்
 - D) மேற்கண்ட அனைத்தும்
 - E) விடை தெரியவில்லை

Consider the following statements regarding Financial Powers of State legislature.

- I. Money bills can be introduced only in the Upper House or the Assembly
- II. The Upper House enjoys greater power than the Lower House in money matters
- III. No new tax can be levied without the sanction and permission of the Assembly

Which of the statements given above are incorrect?

- A) I and II only
- B) II and III only
- C) III only
- D) All the above
- E) Answer not known

138. தேசத்தின் தலைவர் மற்றும் நாட்டின் தலைமை செய்தி தொடர்பாளர் யார்?

- A) இந்திய ஜனாதிபதி
- B) பிரதமர்
- C) வெளிவிவகார அமைச்சர்
- D) சபாநாயகர்
- E) விடை தெரியவில்லை



Who is the leader of the nation and chief spokesperson of the country?
A) The President of India B) The Prime Minister
C) Minister of External Affairs D) The Speaker
E) Answer not known

139. இந்தியாவில் மாநில எல்லைகளை மாற்றும் அதிகாரம் யாரிடம் உள்ளது?

A) ஜனாதிபதி B) பிரதமர்
C) மாநில அரசு D) பாராளுமன்றம்
E) விடை தெரியவில்லை

The authority to alter the boundaries of state in India rest with?

A) The President B) The Prime Minister
C) State Government D) Parliament
E) Answer not known

140. விதி 51 இந்தியாவின் வெளியுறவுக் கொள்கையின் வழிகாட்டுதல் கோட்பாடுகளை வகுக்கிறது. எனில் அரசு கீழ்க்கண்ட எவற்றில் முயற்சி செய்யும்?

I. சர்வதேச அமைதி மற்றும் பாதுகாப்பை மேம்படுத்துதல்.
II. நாடுகளுக்கிடையே நியாயமான மற்றும் கௌரவமான உறவுகளைப் பேணுதல்.
III. சர்வதேச சட்டம் மற்றும் சர்வதேச அமைப்புக்கான மரியாதையை வளர்ப்பது.
IV. சர்வதேச தகராறுகளை நடுவர் மன்றம் மூலம் தீர்த்து வைப்பதை ஊக்குவித்தல்.

குறியீடுகள்:

A) I, II மற்றும் III மட்டும் B) II, III மற்றும் IV மட்டும்
C) I, III மற்றும் IV மட்டும் D) மேற்கண்ட அனைத்தும்
E) விடை தெரியவில்லை

Article 51 lays down Directive Principles of India's foreign policy. The state shall endeavour to

I. Promote International peace and security.
II. Maintain just and honourable relations between nations.
III. Foster respect for international law and international organisation.
IV. Encourage settlement of international disputes by arbitration

Codes:

A) I, II and III only B) II, III and IV only
C) I, III and IV only D) All the above
E) Answer not known

141. கீழ்காணும் எது GNH (மொத்த தேசிய மகிழ்ச்சி) இன் நான்கு தூண்களில் ஒன்றாகக் கருதப்படவில்லை?

A) நிலையான மற்றும் சமமான சமூக-பொருளாதார வளர்ச்சி
B) நல்லாட்சித் திறன்
C) கலாச்சாரத்தைப் பாதுகாத்தல் மற்றும் மேம்படுத்துதல்
D) தொழில்நுட்ப முன்னேற்றத்திற்கு முக்கியத்துவம் அளித்தல்
E) விடை தெரியவில்லை



Which of the options below is NOT considered one of the four pillars of GNH (Gross National Happiness)?

- A) Sustainable and equitable socio-economic development
- B) Good governance
- C) Preservation and promotion of culture
- D) Emphasis on technological advancement
- E) Answer not known

142. “உலகமயமாக்கல்” என்ற சொல்லை அறிமுகப்படுத்தியவர் யார்?

- A) ஆடம் ஸ்மித்
- B) எஸ்தர் டஃப்லோ
- C) தியோடோர் லெவிட்
- D) ஜான் மேனார்ட் கீன்ஸ்
- E) விடை தெரியவில்லை

Who is credited with introducing the term “Globalization”?

- A) Adam Smith
- B) Esther Duflo
- C) Theodore Levitt
- D) John Maynard Keynes
- E) Answer not known

143. பின்வரும் கூற்றுகளை கருத்தில் கொள்க.

கூற்று (A) : இந்தியாவில் 1980-81க்குப் பிறகு கடுமையான வாணிபச் செலுத்து சமநிலையில் சிக்கல்கள் இருந்தன.

காரணம் (R) : 1990-91களில் நடைபெற்ற வளைகுடா போரின் காரணமாக எண்ணெய் விலை அதிகரிப்பு மற்றும் மேற்கு ஆசியாவின் போர்க்குணம் ஆகியவற்றின் காரணம்.

குறியீடுகள்:

- A) (A) மற்றும் (R) இரண்டும் சரி மற்றும் (R) என்பது (A)-யின் சரியான விளக்கமாகும்
- B) (A) மற்றும் (R) இரண்டும் சரி ஆனால் (R) என்பது (A)-யின் சரியான விளக்கமல்ல
- C) (A) சரி ஆனால் (R) தவறு
- D) (A) தவறு ஆனால் (R) சரி
- E) விடை தெரியவில்லை

Consider the following statements.

Assertion (A) : In India the period after 1980-81 was marked by severe balance of payment difficulties.

Reason (R) : There was a hike in oil prices and the Gulf War in 1990-91, along with hostilities in West Asia.

Codes:

- A) Both (A) and (R) are true and (R) is not the correct explanation of (A)
- B) Both (A) and (R) are true but (R) is the correct explanation of (A)
- C) (A) is true but (R) is false
- D) (A) is false but (R) is true
- E) Answer not known



144. உலக வர்த்தக அமைப்பு (WTO) உடன்படிக்கை எப்போது அதிகாரப்பூர்வமாக நடைமுறைக்கு வந்தது?
- A) ஜனவரி 1, 1995
B) ஏப்ரல் 1, 1995
C) ஜூலை 1, 1995
D) டிசம்பர் 1, 1995
E) விடை தெரியவில்லை
- When did the WTO Agreement officially began?
- A) January 1, 1995
B) April 1, 1995
C) July 1, 1995
D) December 1, 1995
E) Answer not known
145. பின்வருவனவற்றில் எது உலகமயமாக்கலின் நேர்மறை தாக்கம் அல்ல?
- A) சுற்றுச்சூழல் பற்றிய தரங்களும், கட்டுப்பாடுகளும் தளர்த்தப்பட்டுள்ளன.
B) வாழ்க்கைத் தரம் அதிகரித்துள்ளது.
C) புதிய தொழில்நுட்பங்கள் அறிமுகப்படுத்தப்பட்டது
D) இது பண்டங்களை தடையற்றதாகவும் தாராளமாக அதிகரிக்கவும் உதவுகிறது
E) விடை தெரியவில்லை
- Which of the following is not a positive impact of Globalisation?
- A) Environmental standards and regulations have been relaxed
B) Standard of living has increased
C) Introduction of new technologies
D) It helps to increase in free flow of goods
E) Answer not known
146. சரியாக பொருந்திய இணையைக் கண்டறிக.
- A) TRIPS – Trade Regulation and Intellectual Property Standards
B) GATT – General Arrangement on trade and tariffs
C) LPG – Liberation, Publicization, and Globalisation
D) MEPZ – Madras Export Processing Zone
E) விடை தெரியவில்லை
- Find out the correctly matched pair.
- A) TRIPS – Trade Regulation and Intellectual Property Standards
B) GATT – General Arrangement on trade and tariffs
C) LPG – Liberation, Publicization, and Globalisation
D) MEPZ – Madras Export Processing Zone
E) Answer not known
147. MEPZ பற்றி பின்வரும் கூற்றுகளைக் கருத்தில் கொள்க:
- I. MEPZ என்பது சென்னையில் உள்ள ஒரு சிறப்புப் பொருளாதார மையமாகும்.
II. மத்திய அரசால் அமைக்கப்பட்டுள்ள ஏழு ஏற்றுமதி செயலாக்க மண்டலங்களில் இதுவும் ஒன்றாகும்
III. 1984 ஆம் ஆண்டு நிறுவப்பட்டது.
IV. MEPZ தலைமையகம் தாம்பரத்தில் அமைந்துள்ளது.
- மேற்கண்ட கூற்றுகளில் சரியானது எது/எவை?
- A) I, II மற்றும் III மட்டும்
B) II, III மற்றும் IV மட்டும்
C) I, III மற்றும் IV மட்டும்
D) மேற்கண்ட அனைத்தும்
E) விடை தெரியவில்லை



Consider the following statements related to MEPZ :

- I. MEPZ is a special economic zone in Chennai.
- II. One of the seven export processing zones set up by the central government in the country.
- III. Established in 1984.
- IV. Headquarters located in Tambaram.

Which of the statements given above is/are correct?

- A) I, II and III only
- B) II, III and IV only
- C) I, III and IV only
- D) All the above
- E) Answer not known

148. பின்வரும் கூற்றுகளை கருத்தில் கொள்க.

கூற்று (A) : நாட்டின் பருத்தி பின்னலாடை ஏற்றுமதியில் கோயம்புத்தூர் கிட்டத்தட்ட 80% பங்கினைக் கொண்டுள்ளது.

காரணம் (R) : கோயம்புத்தூர் “தென்னிந்தியாவின் மான்செஸ்டர்” என்று அழைக்கப்படுகிறது.

குறியீடுகள்:

- A) (A) மற்றும் (R) இரண்டும் சரி மற்றும் (R) என்பது (A)-யின் சரியான விளக்கமாகும்
- B) (A) மற்றும் (R) இரண்டும் சரி ஆனால் (R) என்பது (A)-யின் சரியான விளக்கமல்ல
- C) (A) சரி ஆனால் (R) தவறு
- D) (A) தவறு ஆனால் (R) சரி
- E) விடை தெரியவில்லை

Consider the following statements.

Assertion (A) : Coimbatore account for nearly 80% of the Country's cotton knitwear exports.

Reason (R) : Coimbatore is referred as the “Manchester of South India”.

Codes:

- A) Both (A) and (R) are true and (R) is the correct explanation of (A)
- B) Both (A) and (R) are true but (R) is not the correct explanation of (A)
- C) (A) is true but (R) is false
- D) (A) is false but (R) is true
- E) Answer not known

149. பட்டியல்-Iஐ பட்டியல்-II உடன் பொருத்துக.

பட்டியல்-I

(தொழிற்சாலை)

- a) கொதிகலன்கள் மற்றும் விசையாழிகள்
- b) வாகன கட்டுமானம்
- c) இரும்பு மற்றும் விசைத்தறி
- d) ஆயத்த ஆடைகள்

குறியீடுகள்:

- | | a | b | c | d |
|----|----------|----------|----------|----------|
| A) | 4 | 2 | 3 | 1 |
| B) | 2 | 1 | 3 | 4 |
| C) | 1 | 2 | 3 | 4 |
| D) | 4 | 1 | 2 | 3 |

E) விடை தெரியவில்லை

பட்டியல்-II

(மாவட்டம்)

1. கரூர்
2. திருச்சிராப்பள்ளி
3. சேலம்
4. திருப்பூர்



Match List-I with List-II.

List-I
(Industries)

- Boilers & Turbines
- Coach-building
- Steel & Powerloom
- readymade Garments

List-II
(Districts)

- Karur
- Tiruchirappalli
- Salem
- Tiruppur

Codes:

- | | a | b | c | d |
|----|------------------|----------|----------|----------|
| A) | 4 | 2 | 3 | 1 |
| B) | 2 | 1 | 3 | 4 |
| C) | 1 | 2 | 3 | 4 |
| D) | 4 | 1 | 2 | 3 |
| E) | Answer not known | | | |

150. பட்டியல்-Iஐ பட்டியல்-II உடன் பொருத்துக.

பட்டியல்-I

(அமைப்பு)

- TIIC
- TANSI
- TANSIDCO
- SIPCOT

பட்டியல்-II

(நிறுவப்பட்ட ஆண்டு)

- 1949
- 1965
- 1970
- 1971

குறியீடுகள்:

- | | a | b | c | d |
|----|----------|----------|----------|----------|
| A) | 2 | 1 | 3 | 4 |
| B) | 2 | 1 | 4 | 3 |
| C) | 1 | 2 | 3 | 4 |
| D) | 1 | 4 | 2 | 3 |

E) விடை தெரியவில்லை

Match List-I with List-II.

List-I

(Organisation)

- TIIC
- TANSI
- TANSIDCO
- SIPCOT

List-II

(Year)

- 1949
- 1965
- 1970
- 1971

Codes:

- | | a | b | c | d |
|----|------------------|----------|----------|----------|
| A) | 2 | 1 | 3 | 4 |
| B) | 2 | 1 | 4 | 3 |
| C) | 1 | 2 | 3 | 4 |
| D) | 1 | 4 | 2 | 3 |
| E) | Answer not known | | | |



151. பின்வரும் யாருடைய கருத்துப்படி, “சரிவிகித உணவு, பாதுகாப்பாப்பான குடிநீர், சுற்றுச் சூழல், சுகாதாரம், ஆரம்ப சுகாதார பராமரிப்பு மற்றும் ஆரம்பக் கல்வி ஆகியவற்றிற்கான உடல், பொருளாதார மற்றும் சமூக அணுகல்” என்பது ஊட்டச்சத்து பாதுகாப்பாப்பாகும்?

- A) FCI
B) UNDP
C) டாக்டர் எம்.எஸ். சுவாமிநாதன்
D) டாக்டர் வர்கீஸ் குரியன்
E) விடை தெரியவில்லை

Who defined Nutrition security as “physical, economic and social access to a balanced diet, safe drinking water, environmental hygiene, primary health care and primary education”

- A) FCI
B) UNDP
C) Dr.M.S. Swaminathan
D) Dr. Verghese Khurian
E) Answer not known

152. பின்வருவனவற்றில் வெற்றிகரமான தொழில் தொகுப்புகளின் முக்கிய பண்புகள் யாவை?

- I. துறைசார்ந்த சிறப்பு கவனம்
II. பல்வேறு திறமையான தொழிலாளர்கள்
III. வட்டார மற்றும் நகராட்சிகளுக்கு அரசின் ஆதரவு

குறியீடுகள்:

- A) I மற்றும் II மட்டும்
B) II மற்றும் III மட்டும்
C) I மற்றும் III மட்டும்
D) மேற்கண்ட அனைத்தும்
E) விடை தெரியவில்லை

Which of the following are the chief characteristics of a successful cluster?

- I. Sectoral specialisation
II. Multi-skilled workforce
III. Supportive regional and municipal governments

Codes:

- A) I and II only
B) II and III only
C) I and III only
D) All the above
E) Answer not known

153. பின்வரும் கூற்றுகளைக் கருத்தில் கொள்க.

- I. திருமணமான இல்லத்தரசிகளுக்கு அதிகாரம் அளிப்பதற்காகவும், மாற்றத்தை ஏற்படுத்துவதில் அவர்களை ஊக்குவிப்பதற்காகவும் ‘பதுமையார் குழுவை’ வலுப்படுத்த முயற்சிகள் மேற்கொள்ளப்படும்.
II. பதுமையார் அட்டையின் விநியோகம் மற்றும் கண்காணிப்பு ஆகியவை மேலும் வலுப்படுத்தப்படும்.

மேற்கண்ட கூற்றுகளில் தவறானது எது/எவை?

- A) I மட்டும்
B) II மட்டும்
C) இரண்டும்
D) இரண்டுமில்லை
E) விடை தெரியவில்லை



Consider the following statements.

- I. Efforts will be made to strengthen the 'Padhumaiyar Kuzhu' for empowering married housewives and making them persuasive catalysts of change.
- II. Distribution and monitoring of the 'Padhumaiyar card' will be further strengthened.

Which of the statements given above is/are incorrect?

- A) I only
B) II only
C) Both I and II
D) Neither I nor II

154. கீழ்காணும் எது கறுப்புப் பணத்திற்கான காரணம் அல்ல?

- A) பண்டங்கள் பற்றாக்குறை
B) அதிக வரி விகிதம்
C) பணமதிப்பிழப்பு
D) கடத்தல்
E) விடை தெரியவில்லை

Which is not identified as causes of black money?

- A) Shortage of goods
B) High tax rate
C) Demonetization
D) Smuggling
E) Answer not known

155. பண்டங்கள் மற்றும் பணிகள் வரி பற்றி பின்வரும் கூற்றுகளில் எது/எவை தவறானது?

- I. பண்டங்கள் மற்றும் பணிகள் வரியை அமல்படுத்திய முதல் நாடு பின்லாந்து ஆகும்
- II. பண்டங்கள் மற்றும் பணிகள் வரி நேர்முக வரிகளில் ஒன்றாகும்
- III. கலால் வரி மறைமுக வரிகளில் ஒன்றாகும்
- IV. பெட்ரோல் பண்டங்கள் மற்றும் பணிகள் வரிகளில் ஒன்றாகும்

குறியீடுகள்:

- A) I, II மற்றும் IV மட்டும்
B) II, III மற்றும் IV மட்டும்
C) III மற்றும் IV மட்டும்
D) மேற்கண்ட அனைத்தும்
E) விடை தெரியவில்லை

Which of the statements given above is/are incorrect?

- I. Finland was the first country to implement GST
- II. GST comes under direct tax
- III. Excise duty comes under Indirect tax
- IV. Petrol is subsumed under GST

Codes:

- A) I, II and IV only
B) II, III and IV only
C) III and IV only
D) All of the above
E) Answer not known

156. பின்வரும் கூற்றுகளைக் கருத்தில் கொள்க.

- I. மக்களவையில் பெரும்பான்மைக் கட்சியின் தலைவரை பிரதமராக குடியரசுத் தலைவர் நியமிக்கிறார்.
- II. மற்ற அமைச்சர்கள் கிச்சன் கேபினட்டின் ஆலோசனையின்படி குடியரசுத் தலைவரால் நியமிக்கப்படுகிறார்கள்
- III. சரத்து 76ல் பிரதமரின் கடமைகள் பற்றி குறிப்பிடப்பட்டுள்ளன.
- IV. ஒட்டு மொத்த மக்களவை உறுப்பினர்களில் 15% மட்டுமே அமைச்சரவை உறுப்பினர்களாக (பிரதம அமைச்சர் உட்பட) இருத்தல் வேண்டும் என இந்திய அரசியலமைப்புச் சட்டம் வரையறுத்துள்ளது.



மேற்கண்ட கூற்றுகளில் சரியானது எது/எவை?

- A) I, II மற்றும் III மட்டும்
B) II, III மற்றும் IV மட்டும்
C) I மற்றும் IV மட்டும்
D) மேற்கண்ட அனைத்தும்
E) விடை தெரியவில்லை

Consider the following statements.

- I. The leader of the majority party in Lok Sabha is appointed by the President as the Prime Minister.
II. The Other Ministers are appointed by the President on the advice of the Kitchen Cabinet.
III. Article 76 mentioned the duties of the Prime Minister.
IV. The constitution of India restricts the number of Council of Ministers including the Prime minister to 15% of the total members of the Lok Sabha.

Which of the statements given above is/are correct?

- A) I, II and III only
B) II, III and IV only
C) I and IV only
D) All the above
E) Answer not known

157. பின்வரும் கூற்றுகளைக் கருத்தில் கொள்க.

- I. புதுதில்லியில் அமைந்துள்ள இந்திய உச்சநீதிமன்றம் 1950 ஜனவரி 26ஆம் நாள் துவங்கப்பட்டது.
II. இது 1935ஆம் ஆண்டு இந்திய அரசுச் சட்டத்தின் கீழ் நிறுவப்பட்ட கூட்டாட்சி நீதிமன்றத்தைத் தொடர்ந்து உருவாக்கப்பட்டது.

மேற்கண்ட கூற்றுகளில் தவறானது எது/எவை?

- A) I மட்டும்
B) II மட்டும்
C) இரண்டும்
D) இரண்டுமில்லை
E) விடை தெரியவில்லை

Consider the following statements.

- I. The Supreme court of India, New Delhi was inaugurated on January 26,1950.
II. It succeeded the Federal Court of India, established under the Government of India Act of 1935.

Which of the statements given above is/are incorrect?

- A) I only
B) II only
C) Both I and II
D) Neither I nor II
E) Answer not known

158. பின்வரும் கூற்றுகளைக் கருத்தில் கொள்க.

- I. இந்திய உச்ச நீதிமன்ற தலைமை நீதிபதி குடியரசுத்தலைவரால் நியமிக்கப்படுகிறார்
II. மற்ற நீதிபதிகளைத் பிரதமரைத் தலைவராகக் கொண்ட மூத்த நீதிபதிகள் குழுவின் (Collegium) ஆலோசனையுடன் குடியரசுத் தலைவர் நியமிக்கிறார்.

மேற்கண்ட கூற்றுகளில் தவறானது எது/எவை?

- A) I மட்டும்
B) II மட்டும்
C) இரண்டும்
D) இரண்டுமில்லை
E) விடை தெரியவில்லை



Consider the following statements.

- I. The Chief Justice of Supreme court is appointed by President
II. The other judges are appointed by the President in consultation with collegiums with Prime Minister Head.

Which of the statements given above is/are incorrect?

- A) I only
B) II only
C) Both I and II
D) Neither I nor II
E) Answer not known

159. பின்வரும் எந்த அரசியலமைப்பு திருத்தம் 'குறு அரசியலமைப்பு' என்று அழைக்கப்படுகிறது?

- A) 24 வது திருத்தச் சட்டம் 1971
B) 42 வது திருத்தச் சட்டம் 1976
C) 76 வது திருத்தச் சட்டம் 1994
D) 91 வது திருத்தச் சட்டம் 2003
E) விடை தெரியவில்லை

Which Constitutional Amendment is known as 'Mini Constitution'?

- A) 24th Amendment Act of 1971
B) 42nd Amendment Act of 1976
C) 76th Amendment Act of 1994
D) 91st Amendment Act of 2003
E) Answer not known

160. பின்வரும் கூற்றுகளை கருத்தில் கொள்க.

கூற்று (A) : மற்ற மாநிலங்களைப் போலல்லாமல், தமிழகத்தின் அனைத்துப் பகுதிகளிலும் தொழில்துறைகள் பரவியிருக்கின்றன

காரணம் (R) : மாநிலத்தின் சாலைகள், ரயில் போக்குவரத்து, வான்வழிப் போக்குவரத்து மற்றும் முக்கிய துறைமுகங்கள் அனைத்தும் போக்குவரத்து இணைப்பினால் நன்கு வளர்ச்சி அடைந்து காணப்படுகிறது.

குறியீடுகள்:

- A) (A) மற்றும் (R) இரண்டும் சரி மற்றும் (R) என்பது (A)-யின் சரியான விளக்கமாகும்
B) (A) மற்றும் (R) இரண்டும் சரி ஆனால் (R) என்பது (A)-யின் சரியான விளக்கமல்ல
C) (A) சரி ஆனால் (R) தவறு
D) (A) தவறு ஆனால் (R) சரி
E) விடை தெரியவில்லை

Consider the following statements

Assertion [A] : Unlike other states, the industries are spread across all regions of Tamil Nadu

Reason [R] : The state has a well-developed network of roads, rail, air and major ports

Codes:

- A) Both (A) and (R) are true and (R) is the correct explanation of (A)
B) Both (A) and (R) are true but (R) is not the correct explanation of (A)
C) (A) is true but (R) is false
D) (A) is false but (R) is true
E) Answer not known



161. பின்வரும் கூற்றுகளைக் கருத்தில் கொள்க.

- I. ஸ்டார்ட் அப் இந்தியா திட்டம் என்பது இந்திய அரசின் ஒரு முன்முயற்சித் திட்டமாகும். இதன் முதன்மையான நோக்கம் தொழில் தொடங்குவதற்கான தொடக்க முயற்சிகளை ஏற்படுத்துதல், வேலைவாய்ப்புகளை உருவாக்குதல் மற்றும் வளங்களை உருவாக்குதல் ஆகும்.
- II. ஸ்டாண்ட் அப் இந்தியா திட்டம் என்பது புதிய (Greenfield Enterprise) நிறுவனம் அமைப்பதற்காக குறைந்தபட்சம் 10 லட்சத்துக்கும், 1 கோடிக்கும் இடையில், ஒரு பட்டியல் சாதியினர் (SC) அல்லது பட்டியல் பழங்குடியினர் (ST) மற்றும் ஒரு வங்கிக் கிளைக்கு ஒரு பெண் கடன் பெறுபவர் என கடன் வழங்கி வங்கிக்கடன்கள் எளிதாக்குவதே இத்திட்டமாகும்.

மேற்கண்ட கூற்றுகளில் தவறானது எது/எவை?

- | | |
|---------------------|-----------------|
| A) I மட்டும் | B) II மட்டும் |
| C) இரண்டும் | D) இரண்டுமில்லை |
| E) விடை தெரியவில்லை | |

Consider the following statements

- I. Start-up India Scheme is an initiative of the Indian government, the primary objective of which is the promotion of start-ups, generation of employment and wealth creation.
- II. Stand-up India Scheme is to facilitate bank loans between Rs.10 lakh and Rs.1 crore to at least one Scheduled Caste (SC) or Scheduled Tribe (ST) borrower and one woman borrower per bank branch for setting up a greenfield enterprise

Which of the statements give above is/are incorrect?

- | | |
|---------------------|---------------------|
| A) I only | B) II only |
| C) Both I and II | D) Neither I nor II |
| E) Answer not known | |

162. பின்வரும் கூற்றுகளைக் கருத்தில் கொள்க.

- I. பொருள்கள் மற்றும் சேவைகளுக்கான வரி ஒன்றிய மற்றும் மாநில அரசாங்கங்களால் வசூலிக்கப்படுகிறது.
- II. நான்கு முக்கிய GST விகிதங்கள் உள்ளன: (5%, 12%, 18% மற்றும் 28%)

மேற்கண்ட கூற்றுகளில் தவறானது எது/எவை?

- | | |
|---------------------|-----------------|
| A) I மட்டும் | B) II மட்டும் |
| C) இரண்டும் | D) இரண்டுமில்லை |
| E) விடை தெரியவில்லை | |

Consider the following statements

- I. Taxes on goods and services are collected by both Union and State governments
- II. There are four major GST rates: (5%, 12%, 18% and 28%)

Which of the statements give above is/are incorrect?

- | | |
|---------------------|---------------------|
| A) I only | B) II only |
| C) Both I and II | D) Neither I nor II |
| E) Answer not known | |



163. PTMGRNMP நாட்டின் மிகப்பெரிய மதிய உணவு திட்டமாக கருதப்படுகிறது.

பின்வருவனவற்றில் எது இத்திட்டத்தின் குறிக்கோள் அல்ல?

- A) குழந்தைகளிடையே ஊட்டச்சத்து குறைபாட்டை எதிர்த்துப் போராடுதல்
B) தொடக்கப்பள்ளி சேர்க்கையை அதிகரித்தல்
C) இடைநிற்றல் விகிதங்களைக் குறைத்தல்
D) பெண் குழந்தைகளின் உயர் கல்வியை மேம்படுத்துதல்
E) விடை தெரியவில்லை

The PTMGRNMP is considered to be the largest noon meal programme in the country. Which one among the following is not an objective this scheme?

- A) Combating malnutrition among children
B) Increasing primary school enrolment
C) Reducing dropout rates
D) Promotion of higher education among the female children
E) Answer not known

164. சமுதாய நலனை மக்களுக்குத் தருவதை நோக்கமாகக் கொண்டது எது?

- A) அடிப்படை உரிமைகள்
B) அரசு நெறிமுறையுறுத்தும் கோட்பாடுகள்
C) அடிப்படை கடமைகள்
D) குடியரிமை
E) விடை தெரியவில்லை

Which is aimed at promoting the Social Welfare of the people?

- A) Fundamental Rights
B) Directive Principles of State Policy
C) Fundamental Duties
D) Citizenship
E) Answer not known

165. ஆளுநர் பற்றிய பின்வரும் கூற்றுகளில் எது/எவை தவறானவை?

- I. அவர் மாநிலத்தில் உள்ள பல்கலைக்கழகங்களின் வேந்தரை நியமிக்கிறார்.
II. மாநில சட்ட மேலவை உறுப்பினர்களில் 1/6 பேரை அவர் நியமிக்கிறார்.
III. அவர் உயர் நீதிமன்றத்தின் தலைமை நீதிபதியை நியமிக்கிறார்.
IV. அவர் குடியரசுத் தலைவரின் பரிசீலனைக்காக ஒரு மசோதாவை நிறுத்தி வைக்க முடியும்.

குறியீடுகள்:

- A) I மற்றும் II மட்டும்
B) II மற்றும் III மட்டும்
C) III மற்றும் IV மட்டும்
D) I மற்றும் III மட்டும்
E) விடை தெரியவில்லை

Which of the following statements about Governor is incorrect?

- I. He appoints chancellor of universities in the state.
II. He nominates 1/6 of the members of the State Legislative Council.
III. He appoints Chief Justice of the High Court.
IV. He can reserve a bill for the consideration of the President.

Codes:

- A) I and II only
B) II and III only
C) III and IV only
D) I and III only
E) Answer not known



166. 1976ஆம் ஆண்டு, அடிப்படைக் கடமைகள் அமைக்கப்பட வேண்டும் என்று எந்த கமிட்டி பரிந்துரைத்தது?
- A) வர்மா கமிட்டி
B) சர்தார் ஸ்வரன் சிங் கமிட்டி
C) மோண்டல் குழு
D) காக்கா காலேகர் கமிட்டி
E) விடை தெரியவில்லை
- In 1976, which committee was set up to make recommendations on fundamental duties?
- A) Verma Committee
B) Sardar Swaran Singh Committee
C) Mondal Committee
D) Kaka Kalekar Committee
E) Answer not known
167. கீழ்க்காணும் எந்த சரத்து கல்வியைப் பற்றி பேசவில்லை?
- A) சரத்து 21A
B) சரத்து 45
C) சரத்து 51A(k)
D) சரத்து 20
E) விடை தெரியவில்லை
- Which of the article does not deal with education?
- A) Article 21A
B) Article 45
C) Article 51A(k)
D) Article 20
E) Answer not known
168. M.N வெங்கடாசலையா கமிஷன் மற்றும் M.N பூஞ்சி கமிஷன் ஆகியவை கீழ்க்காணும் எதனுடன் தொடர்புடையது?
- A) ஊழல் தடுப்பு (ம) கண்காணிப்பு ஆணையம் (CVC) அமைத்தல்
B) அரசியலமைப்பு சீர்திருத்தம்
C) அரசியலமைப்பின் முகப்புரையில் சமதர்மம், சமயச்சார்பின்மை, ஒருமைப்பாடு ஆகியவற்றைச் சேர்த்தல்
D) மத்திய-மாநில உறவுகள்
E) விடை தெரியவில்லை
- M.N. Venkatachaliah Commission and M.M. Punchchi Commission is related to
- A) Establishment of Central Vigilance Commission
B) Constitutional Reform
C) Inclusion of Socialist, Secular and Integrity in the Preamble of the Constitution
D) Centre-State Relations
E) Answer not known
169. பின்வரும் எந்த நிபந்தனையின் கீழ், இந்திய குடியரசுத்தலைவரரால் மக்களவையை கலைக்க முடியும்?
- I. பிரதமரின் ஆலோசனையின் பேரில்
II. எந்தவொரு கட்சிக்கோ (அ) கூட்டணிக்கோ பெரும்பான்மை இல்லாத பட்சத்தில் குடியரசுத் தலைவர் மக்களவையைக் கலைக்கலாம்
- குறியீடுகள்:**
- A) I மட்டும்
B) II மட்டும்
C) இரண்டும்
D) இரண்டுமில்லை
E) விடை தெரியவில்லை



Under which of the following condition(s), the President of India can dissolve the Lok Sabha?

- I. On the advice of the Prime Minister.
- II. On being convinced that no party or no alliance of parties enjoys necessary majority support in the House.

Codes:

- | | |
|---------------------|---------------------|
| A) I only | B) II only |
| C) Both I and II | D) Neither I nor II |
| E) Answer not known | |

170. பின்வரும் இணைகளை கருத்தில் கொள்க.

- I. வளர்வீத வரி - சரக்கு மற்றும் சேவை வரி (ஜிஎஸ்டி)
- II. விகித வரி - நிறுவன வரி
- III. தேய்வீத வரி - விற்பனை வரி

எத்தனை இணை தவறாக பொருந்தியுள்ளது ?

- | | |
|---------------------|---------------------|
| A) 1 இணை மட்டும் | B) 2 இணைகள் மட்டும் |
| C) அனைத்து இணைகளும் | D) இணை இல்லை |
| E) விடை தெரியவில்லை | |

Consider the following pairs.

- I. Progressive Tax - Goods and service tax (GST)
- II. Proportional Tax - Corporate Tax
- III. Regressive Tax - Sales Tax

How many pair is/are incorrectly matched?

- | | |
|---------------------|-----------------|
| A) 1 pair only | B) 2 pairs only |
| C) All the pairs | D) No pair |
| E) Answer not known | |

171. பின்வருவனவற்றில் எதை மக்களவையில் மட்டுமே அறிமுகப்படுத்த முடியும்?

- I. நிதி மசோதா
- II. சாதாரண மசோதா
- III. நம்பிக்கை இல்லா தீர்மானம்
- IV. அரசியலமைப்பு திருத்த மசோதா

குறியீடுகள்:

- | | |
|--------------------------|------------------------------|
| A) I மற்றும் II மட்டும் | B) III மற்றும் IV மட்டும் |
| C) I மற்றும் III மட்டும் | D) I, III மற்றும் IV மட்டும் |
| E) விடை தெரியவில்லை | |

Which of the following can be introduced only in Lok Sabha?

- I. Money bill
- II. Ordinary bill
- III. No confidence motion
- IV. Constitutional Amendment bill

Codes:

- | | |
|---------------------|-----------------------|
| A) I and II only | B) III and IV only |
| C) I and III only | D) I, III and IV only |
| E) Answer not known | |



172. பட்டியல்-Iஐ பட்டியல்-II உடன் பொருத்துக.

(சிறப்பு பொருளாதார (தொடர்புடைய நகரங்கள்)
மண்டலங்கள்)

பட்டியல்-I

பட்டியல்-II

- | | |
|---------------------|-----------------|
| a) விளங்குறிச்சி | 1. சேலம் |
| b) இலந்தைக்குளம் | 2. மதுரை |
| c) நாவல்பட்டு | 3. திருச்சி |
| d) கங்கைகொண்டான் | 4. திருநெல்வேலி |
| e) ஜாகிராமம்பாளையம் | 5. கோவை |

குறியீடுகள்:

	a	b	c	d	e
A)	5	4	2	3	1
B)	1	5	2	3	4
C)	1	2	5	3	4
D)	5	2	3	4	1

E) விடை தெரியவில்லை

Match List-I with List-II.

(Special Economic Zones) (Related Cities)
List-I List-II

- | | |
|-------------------|----------------|
| a) Vilankurichi | 1. Salem |
| b) Ilandhaikulam | 2. Madurai |
| c) Navalpattu | 3. Trichy |
| d) Gangaikondan | 4. Tirunelveli |
| e) Jagirampalayam | 5. Coimbatore |

Codes:

	a	b	c	d	e
A)	5	4	2	3	1
B)	1	5	2	3	4
C)	1	2	5	3	4
D)	5	2	3	4	1

E) Answer not known

173. பின்வரும் கூற்றுகளைக் கருத்தில் கொள்க.

- | | | |
|-------------------|---|---|
| I. GNP | = | GDP + வெளிநாட்டில் இருந்து ஈட்டப்பட்ட நிகர வருமானம் |
| II. NNP | = | GNP + தேய்மானம். |
| III. தலா வருமானம் | = | NI / மக்கள் தொகை. |
| IV. GVA | = | GDP + மானியம் - (நேர்முக வரி, விற்பனை வரி) |

மேற்கண்ட கூற்றுகளில் சரியானது எது/எவை?

- | | |
|------------------------------|------------------------------|
| A) I, III மற்றும் IV மட்டும் | B) I, II மற்றும் III மட்டும் |
| C) I, II மற்றும் IV மட்டும் | D) மேற்கண்ட அனைத்தும் |
| E) விடை தெரியவில்லை | |



Consider the following statements.

- I. GNP = GDP + Net Factor Income from Abroad
 II. NNP = GNP + Depreciation
 III. Per capita Income = NI / Population
 IV. GVA = GDP + subsidies – (direct, sales) taxes

Which of the statements given above is/are correct?

- A) I, III and IV only
 B) I, II and III only
 C) I, II and IV only
 D) All the above
 E) Answer not known

174. பின்வரும் எது உணவு மற்றும் ஊட்டச்சத்து பாதுகாப்பின் அடிப்படை கூறுகள் அல்ல?

- A) உணவு கிடைத்தல்
 B) ஆரோக்கியத்திற்கான அணுகல்
 C) உணவுக்கான அணுகல்
 D) உணவினை உறிஞ்சுதல்
 E) விடை தெரியவில்லை

Which is not a basic component of food and nutrition security?

- A) Availability of food
 B) Access to Health
 C) Access to food
 D) Absorption
 E) Answer not known

175. உச்சநீதிமன்றத்தின் அதிகாரங்கள் பற்றிய சரியான கூற்று எது?

- I. இது உரிமையியல், குற்றவியல் மற்றும் அரசியலமைப்பு வழக்குகளில் உயர் நீதிமன்றத்தின் தீர்ப்புகளுக்கு எதிரான மேல்முறையீடுகளை விசாரிக்கிறது.
 II. அடிப்படை உரிமைகளை நடைமுறைப்படுத்துவதற்காக உச்ச நீதிமன்றத்தால் வெளியிடப்படுகின்ற பேராணை அசல் அதிகார வரம்பிற்கு உட்பட்டவை.

குறியீடுகள்:

- A) I மட்டும்
 B) II மட்டும்
 C) இரண்டும்
 D) இரண்டுமில்லை
 E) விடை தெரியவில்லை

Which of the following is correct statement about powers of Supreme Court?

- I. It hears appeals against the decisions of High Court in “Civil, Criminal and Constitutional” cases.
 II. The writs issued by the Supreme Court for the enforcement of the fundamental right comes under original jurisdiction.

Codes:

- A) I only
 B) II only
 C) Both I and II
 D) Neither I nor II
 E) Answer not known

176. 12 மீ பக்க அளவுடைய ஒரு சதுர வடிவிலான வீட்டு மனைக்கு வேலி அமைக்க மீட்டருக்கு ரூ.15/- வீதம் ஆகும் செலவைக் காண்க

- A) ₹ 480
 B) ₹ 2160
 C) ₹ 720
 D) ₹ 360
 E) விடை தெரியவில்லை



Find the cost of fencing a square plot of side 12 m at the rate of ₹ 15 per metre.

- A) ₹ 480
B) ₹ 2160
C) ₹ 720
D) ₹ 360
E) Answer not known

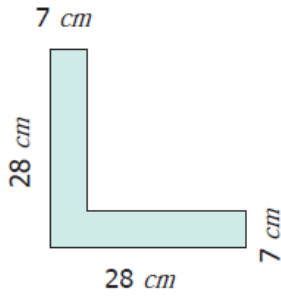
177. 2 செ.மீ பக்க அளவுள்ள ஒரு சதுரத்தை 15 செ.மீ நீளமும் 10 செ.மீ அகலமும் கொண்ட செவ்வகத்துடன் இணைக்கப்படுகிறது எனில் அக்கூட்டு வடிவத்தின் சுற்றளவு காண்க.

- A) 58 செ.மீ
B) 54 செ.மீ
C) 56 செ.மீ
D) 60 செ.மீ
E) விடை தெரியவில்லை

A square of side 2 cm is joined with a rectangle of length 15 cm and breadth 10 cm. What is the perimeter of the combined shape?

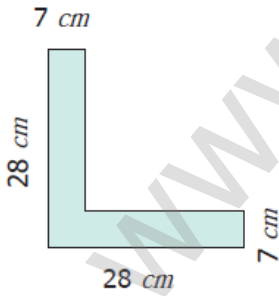
- A) 58 cm
B) 54 cm
C) 56 cm
D) 60 cm
E) Answer not known

178. பின்வரும் 'L' வடிவ உருவத்தின் சுற்றளவு மற்றும் பரப்பளவை கண்டறியவும்.



- A) 91 செ.மீ, 392 ச.செ.மீ
B) 112 cm, 343 ச செ.மீ
C) 70 செ.மீ, 343 ச.செ.மீ
D) 98 செ.மீ, 343 ச. செ.மீ
E) விடை தெரியவில்லை

Find the perimeter and the area of the following 'L' shaped figure.



- A) 91 cm, 392 sq.cm
B) 112 cm, 343 sq. cm
C) 70 cm, 343 sq.cm
D) 98 cm, 343 sq. cm
E) Answer not known

179. அடிப்பக்கம் 18 செ.மீ மற்றும் உயரம் 12 செ.மீ கொண்ட செங்கோண முக்கோணத்தின் பரப்பளவைக் கண்டறியவும்,.

- A) 216 ச செ.மீ
B) 54 ச செ.மீ.
C) 72 ச செ.மீ
D) 108 ச செ.மீ.
E) விடை தெரியவில்லை



Find the area of a right angled triangle whose base is 18 cm and height is 12 cm.

- A) 216 sq.cm
B) 54 sq. cm.
C) 72 sq. cm
D) 108 sq. cm.
E) Answer not known

180. ஒரே அளவிலொன 30 செ.மீ சுற்றளவுள்ள இரண்டு செவ்வகங்கள் ஒன்றொடொன்று இணைக்கப்படுகின்றன எனில் புதிய வடிவத்தின் சுற்றளவை காண்க.

- A) 60 செ.மீக்குச் சமம்
B) 60 செ.மீக்கும் குறைவு
C) 60 செ.மீ ஐ விட அதிகம்
D) 45 செமீக்கு சமம்
E) விடை தெரியவில்லை

If two identical rectangles of perimeter 30 cm are joined together, then the perimeter of the new shape will be

- A) Equal to 60 cm
B) Less than 60 cm
C) Greater than 60 cm
D) Equal to 45 cm
E) Answer not known

181. ஒரு சதுரத்தின் பக்கமானது 10 செ.மீ. அதன் பக்கம் மூன்று மடங்காக அதிகரிக்கப்பட்டால், அதன் சுற்றளவு எத்தனை மடங்கு அதிகரிக்கும்?

- A) 9 மடங்கு
B) 4 மடங்கு
C) 6 மடங்கு
D) 3 மடங்கு
E) விடை தெரியவில்லை

The side of a square is 10 cm. If its side is tripled, then by how many times will its perimeter increase?

- A) 9 times
B) 4 times
C) 6 times
D) 3 times
E) Answer not known

182. 15 செ.மீ பக்க அளவுடைய நான்கு சதுர தரை விரிப்புகள் இணைக்கப்பட்டு ஒரு செவ்வக விரிப்போ அல்லது ஒரு சதுர விரிப்போ உருவாக்கலாம் எனில் எந்தத் தரை விரிப்பு அதிகமான பரப்பளவு மற்றும் நீண்ட சுற்றளவு பெற்றிருக்கும்?

- A) செவ்வக விரிப்பு
B) சதுர விரிப்பு
C) இரண்டும் ஒரே சுற்றளவு கொண்டது
D) சுற்றளவு தீர்மானிக்க முடியாது
E) விடை தெரியவில்லை

Four identical square floor mats of side 15 cm are joined together to form either a rectangular mat or a square mat. Which mat will have the longer perimeter?

- A) Rectangular mat
B) Square mat
C) Both have the same perimeter
D) Perimeter cannot be determined
E) Answer not known

183. 48 செமீ நீளமுள்ள கம்பியை கொண்டு எத்தனை வெவ்வேறு செவ்வகங்களை உருவாக்க முடியும் ?

- A) 18
B) 24
C) 9
D) 12
E) விடை தெரியவில்லை



How many different rectangles can be made with a 48cm long string?

- A) 18
B) 24
C) 9
D) 12
E) Answer not known

184. இரண்டு வீட்டு மனைகள் ஒரே சுற்றளவைப் பெற்றுள்ளன. அதில் ஒன்று 10 மீ பக்கம் கொண்ட சதுர வடிவமாகும். மற்றொன்று 8 மீ அகலம் கொண்ட செவ்வக வடிவமாகும் எனில் எந்த வீட்டு மனை அதிகப் பரப்பளவு பெற்றுள்ளது? எவ்வளவு அதிகம்?

- A) செவ்வக மனை, 4 ச மீ அதிகம்
B) சதுர மனை, 4 ச மீ அதிகம்
C) செவ்வக மனை, 60 ச மீ அதிகம்
D) சதுர மனை, 60 ச மீ அதிகம்
E) விடை தெரியவில்லை

Two plots have the same perimeter. One is a square of side 10 m and another is a rectangle of breadth 8 m. Which plot has the greater area and by how much?

- A) Rectangular plot by 4 sq. m
B) Square plot by 4 sq. m
C) Rectangular plot by 60 sq. m
D) Square plot by 60 sq. m
E) Answer not known

185. உன்னுடைய தோட்டம் 5 மீ பக்க அளவுடைய சதுர வடிவில் உள்ளது. ஒவ்வொரு பக்கமும் 2 சுற்றுகள் கம்பியால் வேலி அமைக்க வேண்டும். மீட்டருக்கு ரூ.10 வீதம் தோட்டத்திற்கு வேலி அமைக்கத் தேவைப்படும் தொகையினை காண்க.

- A) ₹ 400
B) ₹ 200
C) ₹ 500
D) ₹ 800
E) விடை தெரியவில்லை

Your garden is in the shape of a square of side 5 m. Each side is to be fenced with 2 rows of wire. Find how much amount is needed to fence the garden at ₹10 per metre.

- A) ₹ 400
B) ₹ 200
C) ₹ 500
D) ₹ 800
E) Answer not known

186. பின்வரும் கூற்றுகளைக் கருத்தில் கொள்க.

- I. 1 சதுர மீ. = 1,00,000 சதுர செ.மீ.
II. 1 ஏக்கர் = 4046.86 சதுர மீ.
III. 1 ஹெக்டேர் = 10,000 சதுர மீ.

மேற்கண்ட கூற்றுகளில் சரியானவை எவை?

- A) I மற்றும் II மட்டும்
B) II மற்றும் III மட்டும்
C) I மற்றும் III மட்டும்
D) I, II மற்றும் III
E) விடை தெரியவில்லை



Consider the following statements.

- I. 1 sq. m. = 1,00,000 sq. cm.
II. 1 acre = 4046.86 sq. m.
III. 1 hectare = 10,000 sq. m.

Which of the statements given above are correct?

- A) I and II only
B) II and III only
C) I and III only
D) I, II and III
E) Answer not known

187. ஒரு சதுரத்தின் பக்கத்தை நான்கில் ஒரு பங்காக குறைத்தால், உருவாகும் புதிய சதுரத்தின் பரப்பளவில் என்ன மாற்றம் ஏற்படும்?

- A) அசல் பரப்பை விட 1/8 மடங்கு
B) அசல் பரப்பை விட 1/4 மடங்கு
C) அசல் பரப்பை விட 1/64 மடங்கு
D) அசல் பரப்பை விட 1/16 மடங்கு
E) விடை தெரியவில்லை

What will be the area of a new square formed if the side of a square is made one-fourth?

- A) 1/8 times to that of original area
B) 1/4 times to that of original area
C) 1/64 times to that of original area
D) 1/16 times to that of original area
E) Answer not known

188. செங்கோண முக்கோண வடிவிலான ஒரு வயலின் அடிப்பக்கம் 25 மீ மற்றும் உயரம் 20 மீ. அந்தவயலைச் செப்பனிடுவதற்கு ஒரு சதுர மீட்டருக்கு ரூ.45/- வீதம் ஆகும் எனில் மொத்தச் செலவைக் காண்க?

- A) ₹ 12250
B) ₹ 11225
C) ₹ 11250
D) ₹ 22500

விடை தெரியவில்லை

A field is in the shape of a right-angled triangle whose base is 25 m and height 20 m. Find the cost of levelling the field at the rate of ₹45 per sq. m.?

- A) ₹ 12250
B) ₹ 11225
C) ₹ 11250
D) ₹ 22500

E) Answer not known

189. 10 செ.மீ அளவுள்ள சமபக்கங்கள் மற்றும் மூன்றாவது பக்கம் 7 செ.மீ ஓர் இரு சமபக்க முக்கோணத்தின் சுற்றளவைக் காண்க.

- A) 17 செமீ
B) 27 செமீ
C) 37 செமீ
D) 70 செ.மீ

விடை தெரியவில்லை

Find the perimeter of an isosceles triangle with equal sides 10 cm each and third side is 7 cm.

- A) 17 cm
B) 27 cm
C) 37 cm
D) 70 cm

E) Answer not known



190. வெல்லம் வியாபாரி ஒருவரிடம் $\frac{1}{4}$ கிலோ, $\frac{1}{2}$ கிலோ மற்றும் $\frac{3}{4}$ கிலோ என வெவ்வேறு

எடையுள்ள 8 வெல்லம் உருண்டைகள் இருந்தன. அவர் தனது 3 குழந்தைகளை அழைத்து, அந்த வெல்ல உருண்டைகளை சமமாக (எடையில்) பகிர்ந்து கொள்ளுமாறு கூறினார். இதன் விளைவாக, ஒவ்வொரு குழந்தைக்கும் எவ்வளவு வெல்லம் கிடைக்கும்?

(குறிப்பு: கொடுக்கப்பட்ட எடையுடன் கூடிய வெல்லம் உருண்டைகளின் எண்ணிக்கை முறையே) 5, 2 மற்றும் 1 ஆகும்)

A) 1 கிலோ

B) 2 கிலோ

C) $\frac{1}{3}$ கிலோ

D) $\frac{1}{2}$ கிலோ

E) விடை தெரியவில்லை

A jaggery merchant had 8 jaggery balls with different weights such as $\frac{1}{4}$ kg,

$\frac{1}{2}$ kg and $\frac{3}{4}$ kg. He called his 3 children and asked them to share those jaggery

balls equally (in weight). As a result, each children get what amount of jaggery? (Hint: The number of jaggery balls with the given weights are 5, 2 and 1 respectively)

A) 1 Kg

B) 2 Kg

C) $\frac{1}{3}$ Kg

D) $\frac{1}{2}$ Kg

E) Answer not known

191. புகழ் தனது கைச் செலவிற்காகத் தன் தந்தையிடமிருந்து பெரும் தொகைக்கு நான்கு வாய்ப்புகள் அளிக்கப்பட்டன. அவர் அதிக பணத்தைப் பெற அவர் அவ்வாய்ப்புகளில் எதை தேர்ந்தெடுக்க வேண்டும்?

A) ரூ.150 இல் $\frac{2}{3}$

B) ரூ.150 இல் $\frac{3}{5}$

C) ரூ.150 இல் $\frac{4}{5}$

D) ரூ.150 இல் $\frac{1}{5}$

E) விடை தெரியவில்லை

Pugazh has been given four choices for his pocket money by his father. Which of the choices should he take in order to get the maximum money?

A) $\frac{2}{3}$ of Rs.150

B) $\frac{3}{5}$ of Rs.150

C) $\frac{4}{5}$ of Rs.150

D) $\frac{1}{5}$ of Rs.150

E) Answer not known

192. பின்வரும் துப்புகளைப் பயன்படுத்தி, நான் யார் என்பதைக் கண்டறியவும்.

I. எனது ஒவ்வொரு தொகுதி மற்றும் பகுதி ஒற்றை இலக்க எண்ணாகும்

II. எனது தொகுதி மற்றும் பகுதியின் கூட்டுத்தொகை 3 இன் மடங்காகும்

III. எனது தொகுதி மற்றும் பகுதியின் பெருக்கற்பலன் 4 இன் மடங்காகும்

குறியீடுகள்:

A) $\frac{1}{8}$, $\frac{1}{4}$, $\frac{2}{3}$, $\frac{3}{6}$

B) $\frac{1}{8}$, $\frac{3}{6}$, $\frac{2}{3}$, $\frac{4}{6}$

C) $\frac{1}{8}$, $\frac{2}{4}$, $\frac{4}{5}$, $\frac{4}{8}$

D) $\frac{1}{8}$, $\frac{1}{4}$, $\frac{2}{3}$, $\frac{4}{8}$

E) விடை தெரியவில்லை



By using the following clues, find who am I?

- I. Each of my numerator and denominator is a single digit number.
- II. The sum of my numerator and denominator is a multiple of 3.
- III. The product of my numerator and denominator is a multiple of 4.

Codes:

- | | |
|-----------------------|-----------------------|
| A) 1/8, 1/4, 2/3, 3/6 | B) 1/8, 3/6, 2/3, 4/6 |
| C) 1/8, 2/4, 4/5, 4/8 | D) 1/8, 1/4, 2/3, 4/8 |
| E) Answer not known | |

193. முயல் தனது உணவை எடுக்க $26\frac{1}{4}$ மீ தூரத்தைக் கடக்கவேண்டும். ஒரு தாவலுக்கு $1\frac{3}{4}$ மீ

தூரத்தைக் கடக்குமானால் தனது உணவை எடுக்க எத்தனை முறை தாவவேண்டும்?

- | | |
|---------------------|-------|
| A) 14 | B) 15 |
| C) 16 | D) 17 |
| E) விடை தெரியவில்லை | |

A rabbit has to cover $26\frac{1}{4}$ m to fetch its food. If it covers $1\frac{3}{4}$ m in one jump, then

how many jumps will it take to fetch its food?

- | | |
|---------------------|-------|
| A) 14 | B) 15 |
| C) 16 | D) 17 |
| E) Answer not known | |

194. வண்ணம் பூசுவவர் சுவற்றின் $\frac{3}{8}$ பகுதியை வண்ணம் பூசினார். அதில் மூன்றில் ஒரு பங்கு மஞ்சள் நிற வண்ணம் பூசினார் எனில், மொத்தச் சுவற்றில் மஞ்சள் நிறம் பூசப்பட்ட பகுதியின் பின்னம் என்ன?

- | | |
|---------------------|--------|
| A) 1/4 | B) 1/5 |
| C) 1/6 | D) 1/8 |
| E) விடை தெரியவில்லை | |

A painter painted $\frac{3}{8}$ of the wall of which one third is painted in yellow colour. What fraction is the yellow colour of the entire wall?

- | | |
|---------------------|--------|
| A) 1/4 | B) 1/5 |
| C) 1/6 | D) 1/8 |
| E) Answer not known | |

195. $1\frac{1}{3}$ மற்றும் $3\frac{1}{6}$ க்கு இடையிலான வேறுபாட்டையும், $4\frac{1}{6}$ மற்றும் $2\frac{1}{3}$ க்கு இடையிலான வேறுபாட்டையும் கூட்டுக.

- | | |
|---------------------|-------------------|
| A) $3\frac{4}{6}$ | B) $3\frac{5}{6}$ |
| C) $3\frac{2}{6}$ | D) $3\frac{1}{6}$ |
| E) விடை தெரியவில்லை | |



Add the difference between $1\frac{1}{3}$ and $3\frac{1}{6}$ and the difference between $4\frac{1}{6}$ and $2\frac{1}{3}$

- A) $3\frac{4}{6}$ B) $3\frac{5}{6}$
C) $3\frac{2}{6}$ D) $3\frac{1}{6}$
E) Answer not known

196. மாடிப்படிக்கட்டுகளின் மொத்த நீளம் $5\frac{1}{2}$ மீ. ஒவ்வொரு படியும் $\frac{1}{4}$ மீ உயரத்தில்

அமைக்கப்பட்டால், மாடி படிக்கட்டில் எத்தனை படிகள் இருக்கும்?

- A) 11 B) 21
C) 23 D) 22
E) விடை தெரியவில்லை

The length of the staircase is $5\frac{1}{2}$ m. If one step is set at $\frac{1}{4}$ m, then how many steps will be there in the staircase?

- A) 11 B) 21
C) 23 D) 22
E) Answer not known

197. சங்கரி $2\frac{1}{2}$ மீ துணியை பாவாடை தைக்கவும், $1\frac{3}{4}$ மீ துணியை மேல் சட்டை தைக்கவும்

வாங்கினார். ஒரு மீட்டருக்கு ரூ.120 செலவு எனில் அவர் வாங்கிய துணியின் விலையைக் காண்க.

- A) ரூ. 520.20 B) ரூ. 525.30
C) ரூ. 510.00 D) ரூ. 510.50
E) விடை தெரியவில்லை

Sankari purchased $2\frac{1}{2}$ m cloth to stitch a long skirt and $1\frac{3}{4}$ m cloth to stitch

blouse. If the cost is Rs.120 per metre then find the cost of cloth purchased by her.

- A) Rs. 520.20 B) Rs. 525.30
C) Rs. 510.00 D) Rs. 510.50
E) Answer not known

198. மங்கை $6\frac{3}{4}$ கிலோ ஆப்பிள் வாங்கினார். மங்கை வாங்கியது போல் $1\frac{1}{2}$, மடங்கு கலை

வாங்கினால் கலை எத்தனை கிலோ ஆப்பிள் வாங்கினார்?

- A) $10\frac{1}{8}$ B) $11\frac{5}{6}$
C) $10\frac{3}{8}$ D) $11\frac{1}{6}$

E) விடை தெரியவில்லை



Mangai bought $6\frac{3}{4}$ kg of apples. If Kalai bought $1\frac{1}{2}$ times as Mangai bought, then how many kilograms of apples did Kalai buy?

- A) $10\frac{1}{8}$ B) $11\frac{5}{6}$
 C) $10\frac{3}{8}$ D) $11\frac{1}{6}$
 E) Answer not known

199. ரவி $15\frac{3}{4}$ மீ நீளமுள்ள திரைச்சீலை வாங்கினார். அவர் திரைச்சீலையை $2\frac{1}{4}$ மீ நீளம் கொண்ட

சிறிய துண்டுகளாக வெட்டினால், அவருக்கு எத்தனை சிறிய திரைச்சீலைகள் கிடைக்கும்?

- A) 6 B) 7
 C) 8 D) 9
 E) விடை தெரியவில்லை

Ravi bought a curtain of length $15\frac{3}{4}$ m. If he cut the curtain into small pieces

each of length $2\frac{1}{4}$ m, then how many small curtains will he get?

- A) 6 B) 7
 C) 8 D) 9
 E) Answer not known

200. ஒரு பழச்சாறு கடையில், ஒரு மனிதன் 1 கிலோ ஆரஞ்சு பழத்தில் இருந்து $1\frac{1}{2}$ லிட்டர் பழச்சாறு

தயார் செய்தால், $12\frac{3}{4}$ கிலோ ஆரஞ்சு பழத்தில் இருந்து எத்தனை லிட்டர் பழச்சாறு தயாரிக்க

முடியும்?

- A) $19\frac{1}{8}$ B) $19\frac{5}{6}$
 C) $19\frac{3}{8}$ D) $19\frac{1}{6}$
 E) விடை தெரியவில்லை

In a juice shop, if a man prepared $1\frac{1}{2}$ litres of juice from 1 kg of oranges, then

how many litres of juice can be prepared from $12\frac{3}{4}$ kg of oranges?

- A) $19\frac{1}{8}$ B) $19\frac{5}{6}$
 C) $19\frac{3}{8}$ D) $19\frac{1}{6}$
 E) Answer not known



**SHANKAR
IAS ACADEMY™**
Best Academy for Civil Services Exam Coaching

SPACE FOR ROUGH WORK

SHANKAR IAS ACADEMY
www.Padasalai.Net



SHANKAR
IAS ACADEMYTM
Best Academy for Civil Services Exam Coaching

SPACE FOR ROUGH WORK

SHANKAR IAS ACADEMY
www.Padasalai.Net



வினாத்தொகுப்பு எண் :

பதிவு எண்

--	--	--	--	--	--	--	--	--	--

Test - 4

2024

**பொதுத் தமிழ் (பத்தாம் வகுப்பு தரம்) மற்றும் பொது அறிவு
(பட்டப்படிப்பு தரம்)**

இந்த வினாப்புத்தகம்

பகுதி - அ (பொதுத் தமிழ்) மற்றும் பகுதி - ஆ (பொது அறிவு) உள்ளடக்கியது

கால அளவு : 3.00 மணி நேரம்]

[மொத்த மதிப்பெண்கள் : 300

வினாக்களுக்கு பதிலளிக்கும் முன் கீழ்க்கண்ட அறிவுரைகளை கவனமாகப் படிக்கவும்

முக்கிய அறிவுரைகள்

- இந்த வினாத்தொகுப்பு, தேர்வு தொடங்குவதற்கு 15 நிமிடங்களுக்கு முன்னதாக உங்களுக்கு வழங்கப்படும்.
- இந்த வினாத்தொகுப்பு, **200** வினாக்களைக் கொண்டுள்ளது. விடையளிக்கத் தொடங்கும்பொழுது இவ்வினாத் தொகுப்பில் எல்லா வினாக்களும் வரிசையாக இடம் பெற்றுள்ளனவா என்பதையும், இடையில் வெற்றுத்தாள்கள் எவையுமில்லை என்பதையும் உறுதி செய்து கொள்ளவும். வினாத் தொகுப்பில் ஏதேனும் குறைபாடு இருப்பின், அதனை முதல் பத்து நிமிடங்களுக்குள் அறைக்கண்காணிப்பாளரிடம் தெரிவித்து, சரியாக உள்ள வேறொரு வினாத் தொகுப்பினை பெற்றுக்கொள்ள வேண்டும். தேர்வு தொடங்கிய பின்பு, இது குறித்து முறையிட்டால் வினாத் தொகுப்பு மாற்றித் தரப்படமாட்டாது.
- எல்லா வினாக்களுக்கும் விடையளிக்கவும், எல்லா வினாக்களும் சமமான மதிப்பெண்கள் கொண்டவை.
- உங்களுடைய பதிவு எண்ணை இந்தப் பக்கத்தின் வலது மேல் மூலையில் அதற்கென அமைந்துள்ள இடத்தில் நீங்கள் எழுத வேண்டும். வேறு எதையும் வினாத் தொகுப்பில் எழுதக் கூடாது.
- விடைத்தாள் ஒன்று விடைகளை குறிப்பதற்கு அறைக்கண்காணிப்பாளரால் உங்களுக்கு வழங்கப்படும். விடைகளைக் குறிப்பது உள்ளிட்ட அவசியம் பின்பற்றப்பட வேண்டிய அறிவுரைகள் விடைத்தாளிலும், தேர்வுக்கூட அனுமதிச் சீட்டிலும் வழங்கப்பட்டுள்ளன.
- உங்களுடைய வினாத்தொகுப்பு, எண்ணை (Question Booklet Number) விடைத்தாளின் முதல் பக்கத்தில் அதற்கென அமைந்துள்ள இடத்தில் கருமை நிற மையுடைய பந்துமுனைப் பேனாவினால் குறித்துக் காட்ட வேண்டும். வினாத்தொகுப்பு எண்ணை விடைத்தாளில் சரியாகக் குறித்துக் காட்டத் தவறினாலோ அல்லது குறிக்கத் தவறினாலோ உங்களுடைய விடைத்தாள் செல்லாததாகக்கப்படும்.
- ஒவ்வொரு வினாவும் A), (B), (C), (D), (E) என ஐந்து பதில்களைக் (விடைகள்) கொண்டுள்ளது. நீங்கள் A) அல்லது B) அல்லது C) அல்லது D) இவைகளில் ஒரே ஒரு சரியான விடையைத் தெரிவு செய்து விடைத்தாளில் குறித்துக்காட்ட வேண்டும். ஒரு கேள்விக்கு ஒன்றுக்கு மேற்பட்ட சரியான விடை இருப்பதாக நீங்கள் கருதினால், மிகச்சரியானது என நீங்கள் எதைக் கருதுகிறீர்களோ அந்த விடையை விடைத்தாளில் குறித்துக்காட்ட வேண்டும். உங்களுக்கு விடை தெரியவில்லை எனில், நீங்கள் (E) என்பதை அவசியம் நிரப்ப வேண்டும். எப்படியாயினும், ஒரு கேள்விக்கு ஒரே ஒரு விடையைத் தான் தேர்ந்தெடுக்க வேண்டும். நீங்கள் ஒரு வேள்விக்கு ஒன்றுக்கு மேற்பட்ட விடையளித்தால், அவற்றுள் ஒரு விடை சரியானதாக இருந்தாலும் அந்த விடை தவறானதாகவே கருதப்படும்.
- நீங்கள் வினாத் தொகுப்பின் எந்தப் பக்கத்தையும் நீக்கவோ அல்லது கிழிக்கவோ கூடாது. தேர்வு நேரத்தில் இந்த வினாத் தொகுப்பினையோ அல்லது விடைத்தாளையோ தேர்வு அறையை விட்டு வெளியில் எடுத்துச் செல்லக் கூடாது. தேர்வு முடிந்தபின் நீங்கள் உங்களுடைய விடைத்தாளை கண்காணிப்பாளரிடம் கொடுத்து விட வேண்டும். இவ்வினாத் தொகுப்பினை தேர்வு முடிந்த பின்னர் மட்டுமே நீங்கள் எடுத்துச் செல்ல அனுமதிக்கப்படுவீர்கள்.
- குறிப்புகள் எழுதிப்பார்ப்பதற்கு வினாத்தொகுப்பின் கடைசி பக்கத்திற்கு முன் உள்ள பக்கங்களை பயன்படுத்திக் கொள்ளலாம். இதைத்தவிர வினாத்தொகுப்பின் எந்த இடத்திலும் எந்தவித குறிப்புகளையும் எழுதக்கூடாது. இந்த அறிவுரை கண்டிப்பாக பின்பற்றப்படவேண்டும்.
- வினா வரிசை எண்கள் 101 முதல் 200 வரை (பகுதி - ஆ) ஆங்கில வடிவே இறுதியானது.
- நீங்கள் மேற்கண்ட அறிவுரைகளில் எவற்றையாவது பின்பற்றத் தவறினால் தேர்வாணையம் எடுக்கும் நடவடிக்கைகளுக்கு உள்ளாக நேரிடும் என அறிவுறுத்தப்படுகிறது.

ஈ

[Turn over

For queries mail to For queries mail to : zerofeedback@shankariasacad.in; [Turn over

Kindly Send Me Your Key Answer to Our email id - Padasalai.net@gmail.com



பகுதி - அ — பொதுத் தமிழ் (பத்தாம் வகுப்பு தரம்)

Part A — General Tamil (SSLC Std)

வினாக்கள் : 1-100

மொத்த மதிப்பெண்கள் : 150

Questions : 1-100

Total Marks : 150

1. சி.சுப்பிரமணிய பாரதியார் பற்றிய பின்வரும் கூற்றுகளைக் கருத்தில் கொள்க.
 - I. இந்தியா, விஜயா, குயில் முதலான இதழ்களை நடத்தி விடுதலைப் போருக்கு வித்திட்டவர்.
 - II. சந்திரிகையின் கதை, தராசு உள்ளிட்ட உரைநடை நூல்களையும் வசனகவிதைகளையும் சீட்டுக்கவிகளையும் எழுதியவர்.
 - III. சிந்துக்குத் தந்தை, செந்தமிழ்த் தேனீ, புதிய அறம் பாட வந்த அறிஞன், மறம் பாட வந்த மறவன் என்றெல்லாம் இவரை பாரதிதாசன் புகழ்ந்துள்ளார்.
 மேற்கண்டவற்றுள் எத்தனை கூற்று(கள்) சரியானவை?
 - A) I மற்றும் II மட்டும்
 - B) II மற்றும் III மட்டும்
 - C) I மற்றும் III மட்டும்
 - D) அனைத்தும்
 - E) விடை தெரியவில்லை
2. “உயிரும் நீ; மெய்யும் நீ; ஓங்கும் அறமாம் பயிரும் நீ; இன்பம் நீ; அன்புத் தருவும் நீ;” என்று தமிழ்மொழியைப் பாடியவர் யார்?
 - A) பாரதியார்
 - B) பாரதிதாசன்
 - C) சுத்தானந்த பாரதி
 - D) து. அரங்கன்
 - E) விடை தெரியவில்லை
3. “வாழ்க நிரந்தரம் வாழ்க தமிழ்மொழி வாழிய வாழியவே” – இப்பாடலில் இடம்பெற்றுள்ள மோனை யாது? சரியாக பொருந்தியுள்ள இணையைக் கண்டறிக.
 - A) அடிமோனை, இணைமோனை
 - B) இணைமோனை, பொழிப்புமோனை
 - C) அடிமோனை, பொழிப்புமோனை
 - D) அடிமோனை, பொழிப்புமோனை
 - E) விடை தெரியவில்லை
4. செய்யுளுக்கும் மரபுக்கும் உள்ள தொடர்பைப்பற்றிக் கூறும் நூல் எது?
 - A) தொல்காப்பியம்
 - B) நன்னூல்
 - C) இலக்கண விளக்கம்
 - D) புறப்பொருள் வெண்பாமாலை
 - E) விடை தெரியவில்லை



5. தவறாக பொருந்தியுள்ள இணையைக் கண்டறிக.

(சொல்) (பொருள்)

- A) மயக்கம் – கலவை
B) மரபு – வழக்கம்
C) தழாஅல் – தவறாமை
D) இசை – புகழ்
E) விடை தெரியவில்லை

6. தொல்காப்பியம் பற்றிய பின்வரும் கூற்றுகளைக் கருத்தில் கொள்க.

- I. தமிழில் நமக்கு கிடைத்துள்ள மிகப் பழமையான இலக்கண நூல் தொல்காப்பியம் ஆகும்.
II. இந்நூல் எழுத்து, சொல், பொருள், யாப்பு, அணி, என ஐந்து அதிகாரங்களைக் கொண்டுள்ளது.

III. இதன் ஒவ்வொரு அதிகாரமும் ஒன்பது இயல்களைக் கொண்டது.

மேற்கண்டவற்றுள் எத்தனை கூற்று(கள்) சரியானவை?

- A) I மற்றும் II மட்டும்
B) II மற்றும் III மட்டும்
C) I மற்றும் III மட்டும்
D) அனைத்தும்
E) விடை தெரியவில்லை

7. பின்வரும் சரியான இணைகளை கருத்தில் கொள்க.

(விலங்கு) (இளமைப் பெயர்கள்)

- I. புலி – பறழ்
II. சிங்கம் – குருளை
III. யானை – கன்று
IV. பசு – கன்று
V. ஆடு – குட்டி

எத்தனை இணைகள் சரியாக பொருந்தியுள்ளன?

- A) 2 இணை
B) 3 இணைகள்
C) 4 இணைகள்
D) 5 இணைகள்
E) விடை தெரியவில்லை

8. பின்வரும் தவறான இணைகளை கருத்தில் கொள்க.

(விலங்கு) (ஒலி மரபு)

- I. சிங்கம் – உறுமும்
II. யானை – பிளிறும்
III. பசு – கதறும்
IV. ஆடு – கத்தும்
E) விடை தெரியவில்லை



9. தவறாகப் பிரிந்துள்ள சொல்லைத் தேர்ந்தெடு?
- A) என்றென்றும் = என்றும் + என்றும்
B) இரு திணை = இரண்டு + திணை
C) நெடுந்தேர் = நெடுமை + தேர்
D) முழுவதிர = முழவு + அதிர
E) விடை தெரியவில்லை
10. தவறாக சேர்ந்துள்ள சொல்லைத் தேர்ந்தெடு?
- A) நீள் + உழைப்பு = நீளுழைப்பு
B) ஓடை + ஆட = ஓடையாட
C) இன் + ஓசை = இன்னோசை
D) வன்மை + உருவம் = வல்லுருவம்
E) விடை தெரியவில்லை
11. பின்வரும் கூற்றுகளைக் கருத்தில் கொள்க.
- I. 'ஸ' என்னும் வடமொழி எழுத்து காணப்படுகிறது.
II. மெய்யைக் குறிக்கப் புள்ளி பயன்படுத்தவில்லை.
III. எகர, ஓகரக் குறில் நெடில் வேறுபாடில்லை.
மேற்கண்டவற்றுள் எத்தனை கூற்று(கள்) சரியானவை?
- A) I மற்றும் II மட்டும்
B) II மற்றும் III மட்டும்
C) I மற்றும் III மட்டும்
D) அனைத்தும்
E) விடை தெரியவில்லை
12. பின்வரும் கூற்றுகளைக் கருத்தில் கொள்க.
- I. தமிழ் எழுத்துகளின் பழைய வரி வடிவங்களைக் கோவில்களிலுள்ள கருங்கல் சுவர்களிலும் செப்பேடுகளிலும் காணமுடிகிறது.
II. கல்வெட்டுகள் கி.மு. மூன்றாம் நூற்றாண்டு முதல் கிடைக்கின்றன செப்பேடுகள் கி.பி. ஏழாம் நூற்றாண்டு முதல் கிடைக்கின்றன.
மேற்கண்டவற்றுள் எத்தனை கூற்று(கள்) தவறானவை?
- A) I மட்டும்
B) II மட்டும்
C) இரண்டும்
D) இரண்டுமில்லை
E) விடை தெரியவில்லை
13. தவறாக பொருந்தியுள்ள கூற்றினைக் கண்டறிக.
- A) வட்டெழுத்து என்பது வளைந்த கோடுகளால் அமைந்த மிகப் பழைய தமிழ் எழுத்து ஆகும்.
B) தமிழெழுத்து என்பது இக்காலத்தில் எழுதப்படும் தமிழ் எழுத்துகளின் பழைய வரிவடிவம் ஆகும்.
C) சேரமண்டலம், பாண்டிய மண்டலம் ஆகிய பகுதிகளில் எட்டாம் நூற்றாண்டு முதல் பதினொன்றாம் நூற்றாண்டு வரை கிடைக்கும் சாசனங்களில் வட்டெழுத்துகளே இடம்பெற்றுள்ளன.
D) கடைச்சங்க காலத்தில் தமிழகத்தில் எழுதப்பட்ட எழுத்துகள் பழைய தமிழெழுத்துகள் என்று அழைக்கப்பட்டன.
E) விடை தெரியவில்லை



14. எந்தக் கல்வெட்டில் தமிழ் எழுத்தும் வட்டெழுத்தும் கலந்து எழுதப்பட்டுள்ளன?
A) மாங்குளம் கல்வெட்டு B) புகளூர் கல்வெட்டு
C) அரசச்சலூர் கல்வெட்டு D) மானூர் கல்வெட்டு
E) விடை தெரியவில்லை
15. தமிழ் எழுத்துகளில் மிகப்பெரும் சீர்திருத்தத்தைச் செய்தவர்களில் முன்னோடி யார்?
A) பெரியார் B) வீரமாமுனிவர்
C) காட்டுவெல் D) ஜி.யு.போப்
E) விடை தெரியவில்லை
16. பின்வரும் கூற்றுகளைக் கருத்தில் கொள்க.
I. தமிழில் சொல் என்பதற்கு நெல் என்பது ஒருபொருள்.
II. “எல்லாச் சொல்லும் பொருள் குறித்தனவே” என்பது நன்னூலார் கூற்று.
III. “நெட்டெழுத்து ஏழே ஒரெழுத்து ஒருமொழி;
குற்றெழுத்து ஐந்தும் மொழிநிறைவு இலவே” என்பார் தொல்காப்பியர்.
மேற்கண்டவற்றுள் எத்தனை கூற்று(கள்) சரியானவை?
A) I மற்றும் II மட்டும் B) II மற்றும் III மட்டும்
C) I மற்றும் III மட்டும் D) அனைத்தும்
E) விடை தெரியவில்லை
17. ‘செந்தமிழ் அந்தணர்’ எனச் சிறப்பிக்கப்படுபவர் யார்?
A) தொல்காப்பியர் B) பரிதிமாற்கலைஞர்
C) இளங்குமரனார் D) தேவநேயப்பாவாணர்
E) விடை தெரியவில்லை
18. தவறாக பொருந்தியுள்ள கூற்றினைக் கண்டறிக.
A) உயிர் எழுத்துகள் பன்னிரண்டும் கழுத்தை இடமாகக் கொண்டு பிறக்கின்றன.
B) வல்லின மெய் எழுத்துகள் ஆறும் தலையை இடமாகக் கொண்டு பிறக்கின்றன.
C) மெல்லின மெய் எழுத்துகள் ஆறும் மூக்கை இடமாகக் கொண்டு பிறக்கின்றன.
D) இடையின மெய் எழுத்துகள் ஆறும் கழுத்தை இடமாகக் கொண்டு பிறக்கின்றன.
E) விடை தெரியவில்லை
19. தவறாக பொருந்தியுள்ள கூற்றினைக் கண்டறிக.
A) அ, ஆ ஆகிய இரண்டும் வாய் திறத்தலாகிய முயற்சியால் பிறக்கின்றன.
B) இ, ஈ, எ, ஏ, ஐ ஆகிய ஐந்தும் வாய்திறக்கும் முயற்சியுடன் நாக்கின் அடி ஓரமானது மேல்வாய்ப் பல்லைப் பொருந்தும் முயற்சியால் பிறக்கின்றன.
C) உ, ஊ, ஒ, ஓ, ஔ ஆகிய அனைத்தும் வாய்திறக்கும் முயற்சியுடன் இதழ்களைக் குவிப்பதால் பிறக்கின்றன.
D) ஆய்த எழுத்து கழுத்தை இடமாகக் கொண்டு பிறக்கின்றன.
E) விடை தெரியவில்லை



20. கீழ் இதழும் மேல்வாய்ப்பல்லும் இணைவதால் பிறக்கும் எழுத்து எது?
 A) க் B) ப்
 C) ம் D) வ்
 E) விடை தெரியவில்லை
21. மரபுப் பிழையற்ற தொடரினைத் தேர்ந்தெடு?
 A) சேவல் கொக்கரிக்கும் சத்தம் கேட்டவுடன் கயல் கண் விழித்தாள்,
 B) பூப்பறிக்க நேரமாகி விட்டதை அறிந்து தோட்டத்திற்கு சென்றாள்
 C) அங்கு மரத்தில் குயில் கூவிக் கொண்டிருந்தது
 D) பூவைப் பறித்தவுடன் தோரணம் கட்ட மாவிளையும் கொய்து கொண்டு வீடு திரும்பினாள்
 E) விடை தெரியவில்லை
22. பின்வரும் சரியான இணைகளை கருத்தில் கொள்க.
 (வினை) (மரபு)
 I. சோறு - உண்
 II. பால் - குடி
 III. முறுக்கு - தின்
 IV. தண்ணீர் - பருகு
 எத்தனை இணைகள் சரியாக பொருந்தியுள்ளன?
 A) 1 இணை B) 2 இணைகள்
 C) 3 இணைகள் D) 4 இணைகள்
 E) விடை தெரியவில்லை
23. சொற்களை அகரவரிசைப்படுத்துக.
 A) கடல், பக்கம், புல், சொல், மாதம், கிழமை
 B) கடல், கிழமை, பக்கம், புல், மாதம், சொல்
 C) கடல், கிழமை, சொல், பக்கம், புல், மாதம்
 D) கடல், பக்கம், மாதம், சொல், புல், கிழமை
24. பொருத்துக.
 (தமிழ்ச்சொல்) (ஆங்கிலச்சொல்)
 a) ஒலி பிறப்பியல் 1. Vowel
 b) உயிரொலி 2. Epigraph
 c) மெய்யொலி 3. Articulatory Phonetics
 d) கல்வெட்டு 4. Consonant
- குறியீடுகள் :

	a	b	c	d
A)	1	2	3	4
B)	4	2	1	3
C)	2	3	4	1
D)	3	1	4	2

 E) விடை தெரியவில்லை



25. 'தமிழகத்தின் வேர்ட்ஸ்வொர்த்' என்று புகழப்படுபவர் யார்?
A) அரங்கசாமி B) இரங்கநாதன்
C) கனக சுப்புரத்தினம் D) சுப்பிரமணியன்
E) விடை தெரியவில்லை
26. கவிஞர் வாணிதாசன் இயற்றிய நூல்களுள் பொருந்தா ஒன்றினைத் தேர்ந்தெடு?
A) தமிழ்ச்சியின் கத்தி
B) கொடிமுல்லை
C) குழந்தை இலக்கியம்
D) எழிலோவியம்
E) விடை தெரியவில்லை
27. 'தமிழிசை இயக்கம்' என்று நூலின் ஆசிரியர் யார்?
A) செந்தமிழ் அந்தணர் B) கவிஞரேறு
C) மொழிஞாயிறு D) பாவலரேறு
E) விடை தெரியவில்லை
28. வள்ளைப்பாட்டு என்பது எவ்வகை பாடலைக் குறிக்கும்?
A) ஏர் உழவின் போது பாடும் பாட்டு
B) நாற்று நடும் போது பாடும் பாடல்
C) நெல் குத்தும்போது பாடப்படும் பாடல்
D) நெல் அறுவடையின் போது பாடப்படும் பாடல்
E) விடை தெரியவில்லை
29. பின்வரும் கூற்றுகளைக் கருத்தில் கொள்க.
I. நாட்டில் பெரும் பஞ்சம் ஏற்பட்ட காலங்களில் மக்கள் பட்ட துயரங்களை அக்காலத்தில் வாழ்ந்த புலவர்கள் கும்மிப் பாடல்களாகப் பாடினர்.
II. பேச்சுத் தமிழில் அமைந்த இவை பஞ்சக்கும்மிகள் என்று அழைக்கப்பட்டன.
III. புலவர் வெங்கம்பூர் சாமிநாதன் தொகுத்த பஞ்சக்கும்மிகள் என்னும் நூலில் சே இராக இயற்றிய கோணக்காத்துப் பாட்டு என்னும் காத்து நொண்டிச் சிந்து வகை இடம்பெற்றுள்ளது.
மேற்கண்டவற்றுள் எத்தனை கூற்று(கள்) சரியானவை?
A) I மற்றும் II மட்டும்
B) II மற்றும் III மட்டும்
C) I மற்றும் III மட்டும்
D) அனைத்தும்
E) விடை தெரியவில்லை
30. கோணக்காத்துப் பாடலில் புயல் காற்றின் அழிவுகளிலிருந்து மக்களைக் காப்பாற்றுமாறு எந்தக் கடவுளை மக்கள் வேண்டுகின்றனர்?
A) இந்திரன் B) முருகன்
C) திருமால் D) சிவன்
E) விடை தெரியவில்லை



31. பொருத்துக.

(நூல்)

- a) தமிழகப் பழங்குடிகள்
b) கதர் பிறந்த கதை
c) தமிழ்ச்சோலை
d) ஜெயகாந்தனோடு பல்லாண்டு

(நூலாசிரியர்)

1. திரு.வி.க
2. பி.ச.குப்புசாமி
3. பக்தவச்சல பாரதி
4. கவிமணி

குறியீடுகள் :

	a	b	c	d
A)	1	2	3	4
B)	3	4	1	2
C)	2	3	1	4
D)	4	3	1	2

E) விடை தெரியவில்லை

32. பின்வரும் தவறான கூற்றினைத் கருத்தில் கொள்க.

- A) தமிழ்நாடு, கேரள மாநிலங்களின் எல்லைக்கு அருகேயுள்ள பரம்பிக்குளம், ஆனைமலை போன்ற பகுதிகளில் காடர்கள் என்னும் பழங்குடியினர் வாழ்ந்து வருகின்றனர்.
B) காடர்கள் பேசும் மொழியை 'ஆல்அலப்பு' என்று அழைப்பர்.
C) காடர்களின் வாழ்க்கைமுறையை பற்றி அவர்களின் எழுத்துக் குறிப்புகள் மூலம் அறியலாம்.
D) மனிஷ் சாண்டி மாதூரி ரமேஷ் ஆகியோர் காடர்களின் கதைகள் சிலவற்றைத் தொகுத்துள்ளனர். அவற்றை யானையோடு பேசுதல் என்னும் தலைப்பில் வ.கீதா தமிழாக்கம் செய்துள்ளார்.
E) விடை தெரியவில்லை

33. மாதவி பள்ளிக்குச் சென்று வந்தாள் - இத்தொடரில் அமையப்பெற்றுள்ள வினைமுற்று யாது?

- A) மாதவி
B) பள்ளி
C) சென்று
D) வந்தாள்
E) விடை தெரியவில்லை

34. வியங்கோள் வினைமுற்று பற்றிய தவறான கூற்றினைத் தேர்ந்தெடு.

- A) இருதிணை, ஐம்பால், மூவிடங்களுக்குப் பொதுவாய் வரும்.
B) ஒருமை, பன்மை வேறுபாடு இல்லை.
C) கட்டளைப் பொருளை மட்டும் உணர்த்தும்.
D) விசுதி பெற்றே வரும்.
E) விடை தெரியவில்லை

35. பின்வருவனவற்றுள் வியங்கோள் வினைமுற்று சொல்லைத் தேர்ந்தெடு?

- A) செல்
B) எழுது
C) எழுதுமின்
D) வாரல்
E) விடை தெரியவில்லை



36. பொருள், இடம், காலம், சினை குணம், தொழில் ஆகியவற்றுள் ஏதேனும் ஒன்றை அடிப்படையாகக் கொண்டு வரும் வினைமுற்று எது?
- A) தெரிநிலை வினைமுற்று
B) குறிப்பு வினைமுற்று
C) ஏவல் வினைமுற்று
D) வியங்கோள் வினைமுற்று
E) விடை தெரியவில்லை
37. பின்வருவனவற்றுள் இறந்தகால வினைமுற்று எது?
- A) படித்தான்
B) நடக்கிறான்
C) உண்பான்
D) ஓடாது
E) விடை தெரியவில்லை
38. 'கரிகாலன் கல்லணையைக் கட்டினான்' - என்பது
- A) செய்தித் தொடர்
B) வினாத் தொடர்
C) விழைவுத் தொடர்
D) உணர்ச்சித் தொடர்
E) விடை தெரியவில்லை
39. 'அதிகாலையில் துயில் எழுவது நல்லது' - இத்தொடரை விழைவுத் தொடராக்குக.
- A) அதிகாலையில் துயில் எழுவது நல்லது?
B) அதிகாலையில் துயில் எழுவது நல்லது
C) ஆ! அதிகாலையில் துயில் எழுவதால் எவ்வளவு நன்மைகள்!
D) அதிகாலையில் துயில் எழு.
E) விடை தெரியவில்லை
40. உலக இயற்கைச் சீரழிவுத் தடுப்பு நாள் எது?
- A) அக்டோபர் 0௬
B) அக்டோபர் 0௪
C) செப்டம்பர் ௧௪
D) செப்டம்பர் ௧௨
E) விடை தெரியவில்லை
41. 'கேட்டார்' என்னும் வினைமுற்றின் வேர்ச்சொல்லைத் தருக
- A) கேள்
B) கேட்
C) கேட்டு
D) கேட்பவன்
E) விடை தெரியவில்லை
42. பின்வருவனவற்றுள் உவமை அணி பயின்று வாராக் குறளினைத் தெரிவு செய்க.
- A) சமன்செய்து சீர்தூக்கும் கோல்போல் அமைந்து ஒருபால்
B) வலியில் நிலைமையான் வல்லுருவம் பெற்றம்
C) கணைகொடிது யாழ்கோடு செவ்விதுஆங்கு அன்ன
D) வருமுன்னர்க் காவாதான் வாழ்க்கை எரிமுன்னர்
E) விடை தெரியவில்லை



43. பயனில்லாத களர்நிலத்திற்கு ஒப்பானவர்களாக வள்ளுவர் யாரைக் குறிப்பிடுகின்றார்?
A) வலிமையற்றவர் B) கல்லாதவர்
C) அன்பில்லாதவர் D) ஒழுக்கமற்றவர்
E) விடை தெரியவில்லை
44. சான்றோர்க்கு அழகாவது எது?
A) நாணுடைமை B) அடக்கமுடைமை
C) நடுவுநிலைமை D) பொருளுடைமை
E) விடை தெரியவில்லை
45. அறத்துப்பாலில் இடம்பெற்றுள்ள இயல்கள் யாவை?
A) பாயிரவியல், இல்லறவியல், அரசியல், அமைச்சியல்
B) அரசியல், அமைச்சியல், ஒழிபியல், ஊழியல்
C) பாயிரவியல், அரசியல், அமைச்சியல், ஒழிபியல்
D) பாயிரவியல், இல்லறவியல், துறவறவியல், ஊழியல்
E) விடை தெரியவில்லை
46. 'கடல்ஓடா கால்வல்' எனத் தொடங்கும் குறளில் பயின்று வந்துள்ள அணி யாது?
A) இல்பொருள் உவமை அணி
B) உவமை அணி
C) ஏகதேச உருவக அணி
D) பிறிது மொழிதல் அணி
E) விடை தெரியவில்லை
47. கலைச்சொல் தருக :- Thicket
A) சமவெளி B) மலைமுகடு
C) புதர் D) மொட்டு
E) விடை தெரியவில்லை
48. ஒலி மற்றும் பொருள் வேறுபாடறிந்து சரியான பொருளைக் கண்டறிக.
(கரை) (கறை)
A) கரைதல் – அறை
B) ஓரம் – அழுக்கு
C) புரை – பறை
D) முதலை – முதல்
E) விடை தெரியவில்லை
49. தாமரை தன் தோழியுடன் ஞாயிற்றுக் கிழமை மாலையில் கடை வீதிக்குச் சென்றாள் – இவ்வாக்கியத்துக்கு பொருத்தமற்ற வினாச்சொல் இடம்பெற்றுள்ள தொடரைச் சுட்டுக.
A) தாமரை எங்குச் சென்றாள் B) தாமரை எப்படிச் சென்றாள்
C) தாமரையுடன் சென்றது யார்? D) தாமரை எப்பொழுது சென்றாள்
E) விடை தெரியவில்லை



50. நீலகேசி பற்றிய தவறான கூற்றினைக் கருத்தில் கொள்க
- A) ஐஞ்சிறுகாப்பியங்களுள் ஒன்று
B) இந்நூல் சமணசமயக் கருத்துகளை வாதங்களின் அடிப்படையில் விளக்குகிறது
C) கடவுள் வாழ்த்து உட்பட பத்துச் சருக்கங்களைக் கொண்டது
D) சமயத் தத்துவங்களை விவாதிக்கும் தருக்க நூலான இதன் ஆசிரியர் பெயர் அறியப்படவில்லை
E) விடை தெரியவில்லை
51. நீலகேசி கூறும் நோயின் தன்மைகள் எத்தனை வகைப்படும்?
- A) இரண்டு
B) மூன்று
C) நான்கு
D) ஐந்து
E) விடை தெரியவில்லை
52. கவிமணி தேசிக விநாயகனார் பற்றிய பின்வரும் கூற்றுகளைக் கருத்தில் கொள்க.
- I. குமரி மாவட்டம் தேரூரில் பிறந்தவர்; முப்பத்தாறு ஆண்டுகள் ஆசிரியராகப் பணியாற்றியவர்.
II. இவர் ஆசியஜோதி, மருமக்கள் வழி மான்மியம், மலரும் மாலையும், இளமை விருந்து உள்ளிட்ட பல கவிதை நூல்களை இயற்றியுள்ளார்.
III. உமர்கய்யாம் பாடல்கள் என்பது இவரது மொழிபெயர்ப்பு நூலாகும்.
மேற்கண்டவற்றுள் எத்தனை கூற்று(கள்) சரியானவை?
- A) I மற்றும் II மட்டும்
B) II மற்றும் III மட்டும்
C) I மற்றும் III மட்டும்
D) அனைத்தும்
E) விடை தெரியவில்லை
53. பின்வரும் கூற்றுகளைக் கருத்தில் கொள்க.
- I. 'மருந்தென வேண்டாவாம் யாக்கைக்கு' என்பது வள்ளுவரின் வாக்கு.
II. "வேர்பாரு தழைபாரு மிஞ்சினக்கால் பற்பசெந்தூரம் பாரே" என்றனர் சித்தர்கள்.
III. தமிழர் தத்துவங்களான சாங்கியம், ஆசிவகம் போன்றவை உடலுக்கும் பிரபஞ்சத்துக்கும் உள்ள ஒற்றுமையைக் கண்டறிந்து, உடலில் ஐம்பூதங்களினால் ஏற்படும் மாற்றங்களை விளக்கின.
மேற்கண்டவற்றுள் எத்தனை கூற்று(கள்) சரியானவை?
- A) I மற்றும் II மட்டும்
B) II மற்றும் III மட்டும்
C) I மற்றும் III மட்டும்
D) அனைத்தும்
E) விடை தெரியவில்லை



54. தவறான கூற்றினைக் கருத்தில் கொள்க
 A) மனித உடம்பிலுள்ள பெருமூளைதான் நம் உடலின் அசைவுகளையும் உணர்ச்சிகளின் வளர்ச்சியையும் கட்டுப்படுத்துகிறது.
 B) மூளைக்கு ஒரு நிமிடத்திற்கு 800 மி.லி. குருதி தேவைப்படுகிறது.
 C) முன்மூளையில் மூக்கு கண் இவற்றின் முடிவுகள் உள்ளன.
 D) ஏப்பம் விடுவது, இருமல், தும்மல், கொட்டாவி, வாந்தி ஆகியவற்றுக்கெல்லாம் மூளைக்குப் பதிலாக முதுகெலும்பு இருந்தாலே போதும். தன்னிச்சையான செயல்களுக்கு முதுகுத்தண்டின் குறுக்கு இணைப்புகள் உதவுகின்றன.
 E) விடை தெரியவில்லை
55. சுஜாதாவின் படைப்புகளுள் பொருந்தா ஒன்றினைத் கருத்தில் கொள்க.
 A) என் இனிய எந்திரா
 B) மீண்டும் ஜீனோ
 C) தூண்டில் மீன்கள்
 D) தலைமைச் செயலகம்
 E) விடை தெரியவில்லை
56. பொருத்துக.
 a) எழுதி வந்தாள்
 b) வள்ளி படித்தாள் மகிழ்ந்தாள்
 c) மெல்ல சிரித்தாள்
 d) சிறிய கடிதம்
 e) பாடிய பாடல்
1. தெரிநிலை பெயரெச்சம்
 2. தெரிநிலை வினையெச்சம்
 3. குறிப்புப் பெயரெச்சம்
 4. குறிப்பு வினையெச்சம்
 5. முற்றெச்சம்
- குறியீடுகள் :
- | | a | b | c | d | e |
|----|---|---|---|---|---|
| A) | 1 | 2 | 3 | 4 | 5 |
| B) | 4 | 5 | 1 | 2 | 3 |
| C) | 2 | 3 | 5 | 4 | 1 |
| D) | 2 | 5 | 4 | 3 | 1 |
- E) விடை தெரியவில்லை
57. உள்ளங்கை நெல்லிக்கனி போல என்னும் உவமைத்தொடரின் பொருள் யாது?
 A) பயனற்ற செயல்
 B) எதிர்பாரா நிகழ்வு
 C) எளிதில் மனதில் பதிதல்
 D) வெளிப்படைத்தன்மை
 E) விடை தெரியவில்லை
58. நீதிநெறி விளக்கம் பற்றிய பின்வரும் கூற்றுகளைக் கருத்தில் கொள்க.
 I. மக்களின் வாழ்வுக்குத் தேவையான நீதிகளைச் சுட்டிக் காட்டுவதால் இந்நூல் நீதிநெறி விளக்கம் எனப் பெயர்பெற்றது. இதன் ஆசிரியர் குமரகுருபரர் ஆவார்.
 II. கடவுள் வாழ்த்து உட்பட 102 வெண்பாக்கள் இந்நூலில் உள்ளன.
 III. இந்நூல் இயற்றப்பட்ட காலம் கி.பி.பதினெட்டாம் நூற்றாண்டு ஆகும்.



மேற்கண்டவற்றுள் எத்தனை கூற்று(கள்) சரியானவை?

- A) I மற்றும் II மட்டும்
B) II மற்றும் III மட்டும்
C) I மற்றும் III மட்டும்
D) I மட்டும்
E) விடை தெரியவில்லை

59. தவறாக பொருந்தியுள்ள இணையைக் கண்டறிக.

(பாடலடிகள்)

(இடம்பெற்றுள்ள நூல்)

- A) கல்வி கரையில கற்பவர் நாள்சில
மெல்ல நினைக்கின் பிணிபல - நாலடியார்
- B) கற்றோர்க்குக் கல்வி நலனே கலனல்லால்
மற்றோர் அணிகலம் வேண்டாம் - நீதிநெறி விளக்கம்
- C) பண்ணின் தமிழ் இசைபாடலின் பழுவெய்முழவு அதிரக் - திருக்கோவை
- D) ஓர்தல் தெளிவோடு ஒழுக்கம் இவையுண்டார்
பேர்த்த பிணியுள் பிறவார் பெரிதன்பமுற்றே - நீலகேசி
- E) விடை தெரியவில்லை

60. குமரகுருபரர் இயற்றிய நூல்களுள் பொருந்தா ஒன்றினைத் தேர்ந்தெடு?

- A) கந்தர் கலிவெண்பா
B) கயிலைக் கலம்பகம்
C) சகலகலாவல்லி மாலை
D) காவடிச்சிந்து
E) விடை தெரியவில்லை

61. பொருத்துக.

- a) இயற்கை அன்பு 1. சிந்தாமணி
b) இயற்கை இறையுறையுள் 2. பத்துப்பாட்டு
c) இயற்கை ஓவியம் 3. தேவார திருவாசக திருவாய் மொழிகள்
d) இயற்கை தவம் 4. கம்பராமாயணம்
e) இயற்கை பரிணாமம் 5. பெரியபுராணம்

குறியீடுகள் :

- | | a | b | c | d | e |
|----|---|---|---|---|---|
| A) | 1 | 2 | 3 | 4 | 5 |
| B) | 4 | 5 | 1 | 2 | 3 |
| C) | 2 | 3 | 5 | 4 | 1 |
| D) | 5 | 3 | 2 | 1 | 4 |
- E) விடை தெரியவில்லை

62. திரு.வி.க. பற்றிய பின்வரும் கூற்றுகளைக் கருத்தில் கொள்க.

- I. திருவாரூர் விருத்தாசலம் கல்யாணசுந்தரனார், அரசியல், சமுதாயம், சமயம், தொழிலாளர் நலன் எனப் பல துறைகளிலும் ஈடுபாடு கொண்டவர்.
- II. 'தமிழ்த்தென்றல்' என்று அழைக்கப்படுகிறார்.
- III. இவர் மனித வாழ்க்கையும் காந்தியடிகளும், பெண்ணின் பெருமை, தமிழ்ச்சோலை, பொதுமை வேட்டல், முருகன் அல்லது அழகு உள்ளிட்ட பல நூல்களை எழுதியுள்ளார்.



மேற்கண்டவற்றுள் எத்தனை கூற்று(கள்) சரியானவை?

- A) I மற்றும் II மட்டும்
B) II மற்றும் III மட்டும்
C) I மற்றும் III மட்டும்
D) அனைத்தும்
E) விடை தெரியவில்லை

63. பின்வரும் தவறான கூற்றினைக் கருத்தில் கொள்க,

- A) இரண்டாம் வேற்றுமை ஆக்கல், அழித்தல், அடைதல், நீத்தல், ஒத்தல், உடைமை ஆகிய ஆறு வகையான பொருள்களில் வரும்.
B) இல் என்னும் உருபு ஐந்தாம் வேற்றுமையிலும் ஏழாம் வேற்றுமையிலும் உண்டு. நீங்கல் பொருளில் வந்தால் ஐந்தாம் வேற்றுமை என்றும் இடப் பொருளில் வந்தால் ஏழாம் வேற்றுமை என்றும் கொள்ள வேண்டும்.
C) ஒடு, ஓடு ஆகியவை மூன்றாம் வேற்றுமை உருபுகள் இவை உடனிகழ்ச்சிப் பொருளில் வரும்.
D) ஆறாம் வேற்றுமை உருபுடன் கூடுதலாக ஆக என்னும் அசை சேர்ந்து வருவதும் உண்டு.
E) விடை தெரியவில்லை

64. அண்ணன் என்பதை அண்ணா என்று மாற்றி வழங்குவது.

- A) முதல் வேற்றுமை
B) ஏழாம் வேற்றுமை
C) மூன்றாம் வேற்றுமை
D) எட்டாம் வேற்றுமை
E) விடை தெரியவில்லை

65. தவறாக பொருந்தியுள்ள இணையைக் கண்டறிக.

(தொடர்)

- A) புறந்தாய்மை நீரான் அமையும்
B) சிலேடை பாடுவதில் வல்லவர் காளமேகம்
C) எங்கள் ஊரின்கண் மழை பெய்தது
D) புகை மனிதனுக்குப் புகை
E) விடை தெரியவில்லை

(வேற்றுமை)

- மூன்றாம் வேற்றுமை
- இரண்டாம் வேற்றுமை
- ஏழாம் வேற்றுமை
- நான்காம் வேற்றுமை

66. பின்வரும் கூற்றுகளைக் கருத்தில் கொள்க.

- I. சுந்தரர், திருஞானசம்பந்தர், திருநாவுக்கரசர் ஆகிய மூவர் பாடிய பாடல்களின் தொகுப்பு தேவாரம் ஆகும்.
II. தேவாரம் = தே + ஆரம் - இனிய இசை பொருந்திய பாடல்கள் எனவும், தே + வாரம் - இறைவனுக்குச் சூட்டப்படும் மாலை என்றும் பொருள் கொள்ளப்படும்.
III. சுந்தரர் அருளிய தேவாரப்பாடல்கள் பன்னிரு திருமுறைகளுள் ஏழாம் திருமுறையாக வைக்கப்பட்டுள்ளன.

மேற்கண்டவற்றுள் எத்தனை கூற்று(கள்) சரியானவை?

- A) I மற்றும் II மட்டும்
B) II மற்றும் III மட்டும்
C) I மற்றும் III மட்டும்
D) அனைத்தும்
E) விடை தெரியவில்லை



67. சொல்லோடு பொருளைப் பொருத்துக.

(சொல்)

(பொருள்)

- | | | |
|------------|---|-----------------------|
| A) வேழம் | – | 1. பொறுமை |
| B) பழுவெய் | – | 2. முதிர்ந்த மூங்கில் |
| C) பொறை | – | 3. உறவினர் |
| D) கிளை | – | 4. யானை |

குறியீடுகள் :

	a	b	c	d
A)	1	2	3	4
B)	4	2	1	3
C)	2	3	1	4
D)	4	3	2	1

E) விடை தெரியவில்லை

68. பொருத்துக.

- | | |
|--------------|---------------------------|
| a) ஆற்றுதல் | 1. தன்கிளை செறாஅமை |
| b) போற்றுதல் | 2. பாடறிந்து ஒழுகுதல் |
| c) அறிவு | 3. அலந்தவர்க்கு உதவுதல் |
| d) அன்பு | 4. பேதையார் சொல் நோன்றல் |
| e) பண்பு | 5. புணர்ந்தாரைப் பிரியாமை |

குறியீடுகள் :

	a	b	c	d	e
A)	1	2	3	4	5
B)	3	5	4	1	2
C)	2	3	5	4	1
D)	5	3	2	1	4

E) விடை தெரியவில்லை

69. 'கலித்தொகை' பற்றிய தவறான கூற்றினைக் கருத்தில் கொள்க.

- A) பதினெண்கீழ்க்கணக்கு நூல்களுள் ஒன்று.
- B) இது கலிப்பா என்னும் பாவகையால் ஆன நூல்.
- C) நூற்று ஐம்பது பாடல்களைக் கொண்டது குறிஞ்சிக்கலி, முல்லைக்கலி, மருதக்கலி, நெய்தற்கலி, பாலைக்கலி என்னும் ஐந்து பிரிவுகளை உடையது.
- D) கலித்தொகையைத் தொகுத்த நல்லந்துவனார் சங்ககாலப் புலவர்களுள் ஒருவர் நெய்தற்கலிப் பாடல்களை இயற்றியவரும் இவரே.
- E) விடை தெரியவில்லை



70. பின்வரும் தவறான கூற்றைக் கருத்தில் கொள்க.
A) தஞ்சாவூர் மாவட்டம் செம்பியன் கண்டியூரில் கலையழகு மிகுந்த மண்கலங்கள் கண்டுபிடிக்கப்பட்டன.
B) பாளை செய்யும் சக்கரத்தினைத் 'திருவை' என்று அழைப்பர். மண்பாண்டக் கலையின் இன்னொரு வளர்ச்சி நிலைதான் சுடுமண் சிற்பக்கலை.
C) பாளை செய்தலைப் பாளை வனைதல் என்று சொல்வது மரபு.
D) மதுரைக்கு அருகில் உள்ள கீழடியில் ஏராளமான சுடுமண் பொருட்கள் கிடைத்துள்ளன.
E) விடை தெரியவில்லை
71. கைவினைப் பொருள்கள் செய்வதற்கு ஏற்ற மூங்கில் எது/எவை?
A) கல் மூங்கில்
B) மலைமூங்கில்
C) கூட்டுமூங்கில்
D) மேற்கூறிய அனைத்தும்
E) விடை தெரியவில்லை
72. கயிறு + கட்டில் என்பதனைச் சேர்த்தெழுதக்கிடைக்கும் சொல் யாது?
A) கயிறுக்கட்டில்
B) கயிர்க்கட்டில்
C) கயிறுக்கட்டில்
D) கயிற்றுக்கட்டில்
E) விடை தெரியவில்லை
73. பின்வருவனவற்றுள் கஞ்சக்கருவி எது?
A) குழல்
B) வீணை
C) முரசு
D) சேகண்டி
E) விடை தெரியவில்லை
74. பின்வரும் தவறான கூற்றினைக் கருத்தில் கொள்க.
A) வலமாகச் சுழிந்து இருக்கும் சங்கை வலம்புரிச் சங்கு என்பர். சங்கின் ஒலியைச் சங்கநாதம் என்பர் இலக்கியங்களில் இதனைப் பணிலம் என்றும் குறிப்பிட்டுள்ளனர்.
B) வட்டவடிவமான மணி வகையைச் சேர்ந்தது சேகண்டி, இதனைச் சேமங்கலம் என்றும் அழைப்பர்.
C) பலா மரத்தினால் செய்யப்பட்டு விலங்குத் தோலினால் கட்டப்படும் கருவி திமிலை ஆகும். இதனைப் பாணி என்னும் பெயரால் அழைப்பர்.
D) சாலரா இசைக்கருவியினைத் தவண்டை என்று அழைப்பர்.
E) விடை தெரியவில்லை
75. "சங்கொடு சக்கரம் ஏந்தும் தடக்கையன் பங்கயக் கண்ணாளைப் பாடேலோர் எம்பாவாய்" என்று பாடியவர் யார்?
A) சம்பந்தர்
B) சுந்தரர்
C) ஆண்டாள்
D) நம்மாழ்வார்
E) விடை தெரியவில்லை



76. பின்வரும் கூற்றுகளைக் கருத்தில் கொள்க.
- I. தமிழ் மக்களிடம் முப்பத்தாறு வகையான முரசுகள் வழக்கத்தில் இருந்ததாகச் சிலப்பதிகாரம் குறிப்பிடுகிறது. மாக்கண் முரசம் என்று மதுரைக்காஞ்சி குறிப்பிடுகிறது.
- II. பரிவாதினி என்னும் வீணை பல்லவ மன்னன் மகேந்திரவர்மன் காலத்தில் வழக்கத்தில் இருந்ததாகக் கூறப்படுகிறது.
- மேற்கண்டவற்றுள் எத்தனை கூற்று(கள்) தவறானவை?
- A) I மட்டும்
B) II மட்டும்
C) இரண்டும்
D) இரண்டுமில்லை
E) விடை தெரியவில்லை
77. காலம் கடந்த பெயரெச்சம் என்பது.
- A) அன்மொழித்தொகை
B) வினைத்தொகை
C) பண்புத்தொகை
D) வேற்றுமைத்தொகை
E) விடை தெரியவில்லை
78. தவறாக பொருந்தியுள்ள இணையைக் கண்டறிக.
- (சொல்) (இலக்கணக்குறிப்பு)
- A) வளர் தமிழ் - வினைத்தொகை
B) கருங்குவளை - பண்புத்தொகை
C) பொற்சிலை - நான்காம் வேற்றுமை உருபும் பயனும் உடன்தொக்க தொகை
D) கம்பர் பாடல் - ஆறாம் வேற்றுமைத்தொகை
E) விடை தெரியவில்லை
79. 'பொற்றொடி வந்தாள்' என்பது.
- A) உவமைத் தொகை
B) வேற்றுமைத் தொகை
C) வினைத் தொகை
D) அன்மொழித் தொகை
E) விடை தெரியவில்லை
80. பனைமரம் என்பது.
- A) இருபெயரொட்டுப் பண்புத்தொகை
B) உருபும் பயனும் உடன்தொக்க தொகை
C) பண்புத் தொகை
D) உம்மைத் தொகை
E) விடை தெரியவில்லை
81. தவறாக பொருந்தியுள்ள இணையைக் கண்டறிக.
- (தொடர்) (தொடர்வகை)
- A) தேடிப் பார்த்தான் - வினையெச்சத் தொடர்
B) கவிதையை எழுதினார் - வினைமுற்றுத் தொடர்
C) வரைந்த ஓவியம் - பெயரெச்சத் தொடர்
D) மற்றுப் பிற - இடைச்சொல் தொடர்
E) விடை தெரியவில்லை



82. பின்வரும் கூற்றுகளைக் கருத்தில் கொள்க.
I. ஒரு தொடரில் இரு சொற்கள் வந்து அவற்றின் இடையில் எச்சொல்லும் எவ்வருடும் மறையாமல் நின்று பொருள் உணர்த்தினால் அதனைத் தொகாநிலைத் தொடர் என்பர்.
II. தொகாநிலைத்தொடர் ஏழு வகைப்படும்.
மேற்கண்டவற்றுள் எத்தனை கூற்று(கள்) தவறானவை?
A) I மட்டும்
B) II மட்டும்
C) இரண்டும்
D) இரண்டுமல்ல
E) விடை தெரியவில்லை
83. பின்வருவனவற்றுள் செறியிணைச் சொல்லைத் தேர்ந்தெடு.
A) பேரும்புகழும்
B) உயர்வுதாழ்வு
C) சீரும்சிறப்பும்
D) வெள்ளைவெளேர்
E) விடை தெரியவில்லை
84. கலைச்சொல் தருக: Knitting
A) பின்னுதல்
B) கூடை முடைதல்
C) கொம்பு
D) கைவினைப் பொருட்கள்
E) விடை தெரியவில்லை
85. 'பஞ்சமகா சப்தம்' என்று அழைக்கப்படும் இசைக்கருவி எது?
A) உடுக்கை
B) குடமுழா
C) சங்கு
D) குழல்
E) விடை தெரியவில்லை
86. 'மத்தளம்' பின்வரும் கூற்றுகளைக் கருத்தில் கொள்க.
I. மத்து என்பது ஓசையின் பெயர், இசைக்கருவிகளுக்கு எல்லாம் தளம் அடிப்படை ஆகும். மத்து + தளம் = மத்தளம் என்று ஆகியது என்கிறார் அடியார்க்கு நல்லார்.
II. இதனை 'முதற்கருவி' என்பர்.
மேற்கண்டவற்றுள் எத்தனை கூற்று(கள்) சரியானவை?
A) I மட்டும்
B) II மட்டும்
C) இரண்டும்
D) இரண்டுமல்ல
E) விடை தெரியவில்லை
87. சொல்லோடு பொருளைப் பொருத்துக.
(இசைக்கருவி) (நரம்புகளின் எண்ணிக்கை)
A) சகோட யாழ் - 1. 7
B) மகர யாழ் - 2. 14
C) பேரியாழ் - 3. 19
D) வீணை - 4. 21



குறியீடுகள் :

a b c d

- A) 1 2 3 4
B) 4 2 1 3
C) 2 3 4 1
D) 4 3 2 1
E) விடை தெரியவில்லை

88. சிறந்த ஆட்சியின் பண்பாக வள்ளுவர் எதனைக் குறிப்பிடுகின்றார்?

- A) கடற்படை வலிமை
B) நடுவு நிலைமை
C) செல்வவளம்
D) கடுமையான தண்டனை
E) விடை தெரியவில்லை

89. அரசன் தண்டிக்கும் முறை எது?

- A) மீண்டும் குற்றம் செய்யாதவாறு தண்டிப்பது.
B) குற்றம் நிகழுவதற்கு முன்பே தண்டிப்பது.
C) கடுமையான தண்டனை.
D) பெரியோர்களை ஆலோசித்த பின்பு தண்டனை வழங்குவது.
E) விடை தெரியவில்லை

90. அரசரைக் காப்பாற்றுவது எது என வள்ளுவர் குறிப்பிடுகின்றார்?

- A) வெண்கொற்றக்குடை
B) செங்கோல்
C) குற்றமற்ற ஆட்சி
D) படை வலிமை
E) விடை தெரியவில்லை

91. நாம் சொல்லும் சொல்லை வேறு சொல்லால் வெல்ல இயலாதவாறு எவ்வாறு பேச வேண்டுமென வள்ளுவர் எதனைக் குறிப்பிடுகின்றார்?

- A) இன்சொல்
B) வன்சொல்
C) சிறந்த சொல்
D) கடுமையான சொல்
E) விடை தெரியவில்லை

92. 'ஆமா' என்ற சொல்லின் பொருள் யாது?

- A) பசு
B) காட்டு விலங்கு
C) காட்டுப்பசு
D) எய்ப்பன்றி
E) விடை தெரியவில்லை

93. 'ஏடன்று கல்வி; சிலர் எழுதும் பேசும்

- இயலன்று கல்வி; பலர்க்க் கெட்டா தென்னும்' -என்று கூறியவர் யார்?
A) விஜயலட்சுமி பண்டித்
B) சமண முனிவர்கள்
C) குலோத்துங்கன்
D) பாரதிதாசன்
E) விடை தெரியவில்லை



94. பொருத்துக.

- A) மல்லிகை மலர்ந்தது – 1. வினைமுற்றுத் தொடர்
B) சென்றனர் வீரர் – 2. பெயரெச்சத் தொடர்
C) வரைந்த ஓவியம் – 3. விளித் தொடர்
D) நண்பா படி – 4. எழுவாய்த் தொடர்

குறியீடுகள் :

- | | <i>a</i> | <i>b</i> | <i>c</i> | <i>d</i> |
|----|----------|----------|----------|----------|
| A) | 4 | 3 | 2 | 1 |
| B) | 1 | 2 | 4 | 3 |
| C) | 4 | 1 | 2 | 3 |
| D) | 3 | 4 | 1 | 2 |
- E) விடை தெரியவில்லை

95. I. 'மண்ணமை முழவு' என முழவுக் கருவியை குறிப்பிடும் நூல் பெரும்பாணாற்றுப்படை.
II. கொன்றைக்குழல், முல்லைக்குழல், ஆம்பல்குழல் எனப் பலவகையான குழல்கள் இருந்ததாகச் சிலப்பதிகாரம் கூறுகிறது.

மேற்கண்டவற்றுள் எத்தனை கூற்று(கள்) சரியானவை?

- A) I மட்டும்
B) II மட்டும்
C) இரண்டும்
D) இரண்டுமில்லை
E) விடை தெரியவில்லை

96. I. பிரம்பு என்பது செடிவகையைச் சேர்ந்த தாவரம் இதன் தாவரவியல் பெயர் கலாமஸ் ரொடாங்.
II. நமது தேவைக்காக அசாம், அந்தமான், மலேசியா ஆகிய இடங்களிலிருந்து தருவிக்கப்படுகிறது.

மேற்கண்டவற்றுள் எத்தனை கூற்று(கள்) சரியானவை எது/எவை?

- A) I மட்டும்
B) II மட்டும்
C) இரண்டுமில்லை
D) இரண்டும்
E) விடை தெரியவில்லை

97. இங்கே இருப்பது சில காலம்

இதற்குள் ஏனோ அகம்பாவம் – என்று பாடியவர் யார்?

- A) கண்ணதாசன்
B) வாணிதாசன்
C) ஆலங்குடி சோமு
D) பாரதிதாசன்
E) விடை தெரியவில்லை

98. பயின்றாள் – என்ற வினைமுற்றுக்கு உரிய வேர்ச்சொல்லை எழுதுக

- A) படி
B) பயில்
C) பயின்றாள்
D) பயின்றவள்
E) விடை தெரியவில்லை



99. 'கண்ணெழுத்துப் படுத்த எண்ணுப் பல்பொதி' என்று கூறியவர் யார்?
- A) தொல்காப்பியர்
B) நன்னூலார்
C) இளங்கோவடிகள்
D) சீயகங்கன்
E) விடை தெரியவில்லை
100. மரபியல் தொல்காப்பியத்தின் எந்த அதிகாரத்தின் கீழ் வரும்?
- A) எழுத்ததிகாரம்
B) சொல்லதிகாரம்
C) பொருளதிகாரம்
D) யாப்பதிகாரம்
E) விடை தெரியவில்லை



பகுதி - ஆ — பொது அறிவு (பட்டப்படிப்பு தரம்)

Part B — General Studies (Degree Standard)

வினாக்கள் : 101-200

மொத்த மதிப்பெண்கள் : 150

Questions : 101-200

Total Marks : 150

101. பின்வரும் கூற்றுகளைக் கருத்தில் கொள்க

- I. சென்னை அதிரம்பாக்கத்தில் கற்கருவிகள் கிடைத்துள்ளன.
- II. கொசஸ்தலையாறு உலகில் மனித மூதாதையர்கள் வசித்த மிக முக்கியமான இடங்களில் ஒன்றாகும்.

மேற்கண்ட கூற்றுகளில் தவறானது எது/எவை?

- | | |
|---------------------|-----------------|
| A) I மட்டும் | B) II மட்டும் |
| C) இரண்டும் | D) இரண்டுமில்லை |
| E) விடை தெரியவில்லை | |

Consider the following statements.

- I. The stone tools are found at Athirampakkam, Chennai.
- II. One of the major cradles of human ancestors is Kosasthalaiyar river

Which of the statements given above is/are incorrect?

- | | |
|---------------------|---------------------|
| A) I only | B) II only |
| C) Both I and II | D) Neither I nor II |
| E) Answer not known | |

102. பின்வரும் கூற்றுகளைக் கருத்தில் கொள்க

- I. 1863இல் சார்லஸ் மேசன், இந்தியாவில் முதல் பழங்கற்காலக் கருவியை பல்லாவரத்தில் கண்டுபிடித்தார்.
- II. கைக்கோடரிகள் சென்னை கற்கருவித் தொழிலகம் என்று அழைக்கப்படுகின்றன.
- III. ஹோமினின்கள் என்பது புதிய கற்காலப் பண்பாட்டில் காணப்படும் ஒரு வகை மனித இனமாகும்.
- IV. பழைய கற்கால மக்கள் இரும்பு மற்றும் மட்பாண்டங்கள் தயாரிப்பில் அதிக அறிவு கொண்டவர்கள்.

மேற்கண்ட கூற்றுகளில் எது/எவை தவறானவை?

- | | |
|------------------------------|-------------------------------|
| A) I, II மற்றும் III மட்டும் | B) II, III மற்றும் IV மட்டும் |
| C) I, III மற்றும் IV மட்டும் | D) மேற்கண்ட அனைத்தும் |
| E) விடை தெரியவில்லை | |

Consider the following statements.

- I. In 1863, Charles mason first discovered paleolithic tools at Pallavaram.
- II. This hand axe assemblages were considered the Madras Stone Tool Industry.
- III. Hominins is a kind of species in Neolithic culture.
- IV. Paleolithic People have more knowledge in iron and pottery making.

Which of the statements given above is/are incorrect?

- | | |
|-----------------------|------------------------|
| A) I, II and III only | B) II, III and IV only |
| C) I, III and IV only | D) All the above |
| E) Answer not known | |



103. இடைப் பழங்கற்காலப் பண்பாட்டிற்கான சான்றுகள் எந்தப் பகுதியில் காணப்படுகின்றன?
- A) வெம்பக்கோட்டை B) பொற்பனைக் கோட்டை
C) சிவகளை D) சீவரக்கோட்டை
E) விடை தெரியவில்லை
- Evidence for the Middle Paleolithic culture could be observed in which region?
- A) Vembakottai B) Porpanai Kottai
C) Sivagalai D) Sivarakkottai
E) Answer not known
104. செர்ட் மற்றும் குவார்ட்ஸ் ஆகியவற்றால் செய்யப்பட்ட கலைப்பொருட்கள் பயன்படுத்தப்பட்ட காலம்?
- A) கீழ்ப் பழங்கற்காலப் பண்பாடு B) மேல் பழங்கற்காலப் பண்பாடு
C) இடைக்கற்காலப் பண்பாடு D) புதிய கற்காலப் பண்பாடு
E) விடை தெரியவில்லை
- Artefacts made of Chert and quartz used by?
- A) Lower Paleolithic B) Upper Paleolithic
C) Mesolithic culture D) Neolithic Culture
E) Answer not known
105. பின்வரும் கூற்றுகளைக் கருத்தில் கொள்க
- I. மெருகேற்றப்பட்ட கற்கோடரிகள் நுண்கற்கருவிகள் என்றழைக்கப்பட்டன
II. புதிய கற்கால மக்கள் உருவாக்கிய முதல் மட்பாண்டங்களும், புதிய கற்கால கிராமமும் பையம்பள்ளியில் காணப்படுகின்றன.
- மேற்கண்ட கூற்றுகளில் தவறானது எது/எவை?
- A) I மட்டும் B) II மட்டும்
C) இரண்டும் D) இரண்டுமில்லை
E) விடை தெரியவில்லை
- Consider the following statements.
- I. Polished stone axes called Microliths.
II. Neolithic people devised the first pottery and neolithic village is found at Payyampalli.
- Which of the statements given above is/are incorrect?
- A) I only B) II only
C) Both I and II D) Neither I nor II
E) Answer not known
106. பின்வரும் கூற்றுகளைக் கருத்தில் கொள்க
- I. இரும்புக் காலத்திற்கான சான்றுகள் சித்தன்னவாசலில் கிடைத்துள்ளன.
II. இரும்புக் காலத்தில் சங்காலான அணிகலன்களையும். செம்மணிக்கல் (கார்னீலியன்) மற்றும் பளிங்காலான (குவார்ட்ஸ்) மணிகளையும் பயன்படுத்தினார்கள்.



மேற்கண்ட கூற்றுகளில் தவறானது எது / எவை?

- A) I மட்டும்
B) II மட்டும்
C) இரண்டும்
D) இரண்டுமில்லை
E) விடை தெரியவில்லை

Consider the following statements.

I. The evidence of Iron Age is found at Sithannavasal

II. In Iron Age they used shell ornaments and beads made of carnelian and quartz

Which of the statements given above is/are incorrect?

- A) I only
B) II only
C) Both I and II
D) Neither I nor II
E) Answer not known

107. பட்டியல்-Iஐ பட்டியல்-II உடன் பொருத்துக.

பட்டியல்-I
(ஈமச்சின்னங்கள்)

- a) சிஸ்ட்கள்
b) டோல்மென்ஸ்
c) சார்க்கோபேகஸ்
d) மென்ஹிரர்

குறியீடுகள் :

	a	b	c	d
A)	4	2	3	1
B)	2	1	3	4
C)	3	4	2	1
D)	4	1	2	3

E) விடை தெரியவில்லை

Match List-I with List-II.

List-I
(Burial urns)

- a) Cists
b) Dolmens
c) Sarcophagus
d) Menhir

List-II
(Structures)

1. Pillar like stones
2. Multiple legs
3. Four stone slabs on sides
4. Table like structure

Codes:

	a	b	c	d
A)	4	2	3	1
B)	2	1	3	4
C)	3	4	2	1
D)	4	1	2	3

E) Answer not known



108. மனித பரிணாம வளர்ச்சி பரம்பரையின்படி வரிசைப்படுத்துக
- A) ஆஸ்ட்ரோலோபித்திசின்கள் – ஹோமோஹெபிலிஸ் – ஹோமோஎரக்டஸ் – ஹோமோநியாண்டர்தாலென்சிஸ் – ஹோமோசேப்பியன்ஸ்
- B) ஆஸ்ட்ரோலோபித்திசின்கள் – ஹோமோநியாண்டர்தாலென்சிஸ் – ஹோமோஹெபிலிஸ் – ஹோமோஎரக்டஸ் – ஹோமோசேப்பியன்ஸ்
- C) ஹோமோஹெபிலிஸ் – ஹோமோஎரக்டஸ் – ஹோமோநியாண்டர்தாலென்சிஸ் – ஆஸ்ட்ரோலோபித்திசின்கள் – ஹோமோசேப்பியன்ஸ்
- D) ஹோமோஹெபிலிஸ் – ஹோமோநியாண்டர்தாலென்சிஸ் – ஹோமோஎரக்டஸ் – ஆஸ்ட்ரோலோபித்திசின்கள் – ஹோமோசேப்பியன்ஸ்
- E) விடை தெரியவில்லை

Arrange in lineage of human evolution

- A) Australopithecines – Homohabilis – Homoerectus – Homoneanderthalensis – Homosapiens
- B) Australopithecines – Homoneanderthalensis – Homohabilis – Homoerectus – Homosapiens
- C) Homohabilis – Homoerectus – Homoneanderthalensis – Australopithecines – Homosapiens
- D) Homohabilis – Homoneanderthalensis – Homoerectus – Australopithecines – Homosapiens
- E) Answer not known

109. கீழ்க்கண்ட இணைகளில் எத்தனை இணைகள் தவறாகப் பொருந்தியுள்ளன?

(காலம்)

(கருவிகள்)

- I. கீழ்ப் பழங்கற்காலப் பண்பாடு – அச்சுலியன்
- II. இடைப் பழங்கற்காலப் பண்பாடு – பியூரின்
- III. மேல் பழங்கற்காலப் பண்பாடு – லெவலாய்சியன்
- IV. புதியகற்காலப் பண்பாடு – செதில் கற்கருவிகள்

குறியீடுகள்:

- A) 1 இணை மட்டும்
- B) 2 இணைகள் மட்டும்
- C) 3 இணைகள் மட்டும்
- D) அனைத்து இணைகளும்
- E) விடை தெரியவில்லை

How many of the following pairs are incorrectly matched?

(Age)

(Tools)

- I. Lower Paleolithic – Acheulian
- II. Middle Paleolithic – Burin
- III. Upper Paleolithic – Levelloisian
- IV. Neolithic Age – Flaked stone tools

Codes:

- A) 1 pair only
- B) 2 pairs only
- C) 3 pairs only
- D) All pairs
- E) Answer not known



110. பின்வரும் கூற்றுகளைக் கருத்தில் கொள்க.

I. ஹெர்பர்ட் ஸ்பென்சர் வெளியிட்ட புத்தகம் " மனிதனின் தோற்றம்".

II. சிம்பன்சி இனத்தின் மரபணுவை (டி.என்.ஏ) எடுத்து ஆய்வு செய்ததில் அதன் பண்புகள் மனித இனத்துடன் 96% ஒத்திருக்கிறது

மேற்கண்ட கூற்றுகளில் தவறானது எது/எவை?

A) I மட்டும்

B) II மட்டும்

C) இரண்டும்

D) இரண்டுமில்லை

E) விடை தெரியவில்லை

Consider the following statements.

I. "The Descent of Man" book published by Herbert Spencers

II. The DNA of a chimpanzee is 96% identical to that of human being

Which of the statements given above is/are incorrect?

A) I only

B) II only

C) Both I and II

D) Neither I nor II

E) Answer not known

111. இயற்கை மற்றும் பண்பாட்டு நடவடிக்கைகளால் உருவான பாறை மற்றும் மண் அடுக்குகளின் தோற்றம், தன்மை, உறவுமுறைகள் குறித்து ஆராயும் அறிவியல் எது?

A) கல்வெட்டுகள்

B) சியாலோகிராபி

C) புவியியல்

D) மண்ணடுக்கியல்

E) விடை தெரியவில்லை

The study of origin, nature and relationships of rock and soil layers that were formed due to natural and cultural activities is known as

A) Epigraphy

B) Sialography

C) Geography

D) Stratigraphy

E) Answer not known

112. லாஸ்கா குகை எங்கு கண்டுபிடிக்கப்பட்டது?

A) ரஷ்யா

B) பிரான்ஸ்

C) இந்தியா

D) கனடா

E) விடை தெரியவில்லை

Lascaux cave found in

A) Russia

B) France

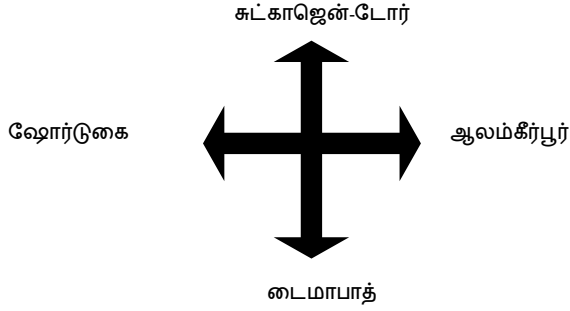
C) India

D) Canada

E) Answer not known

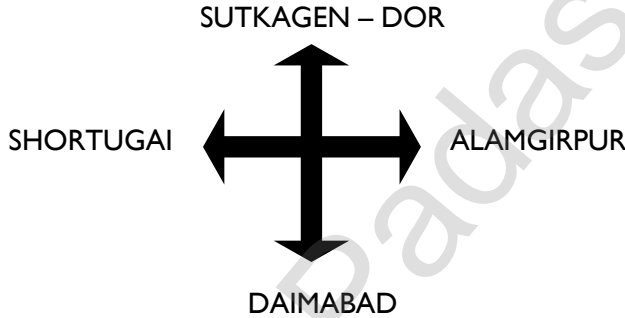


113. ஹரப்பா நாகரீகத்தைப் பொறுத்தவரை, தவறான திசையில் அமைந்துள்ள பகுதியைக் கண்டறியவும்?



- A) ஷோர்டுகை, சுட்காஜென்-டோர்,
B) ஆலம்கீர்பூர், டைமாபாத்
C) சுட்காஜென்-டோர் , ஆலம்கீர்பூர்
D) ஷோர்டுகை, டைமாபாத்
E) விடை தெரியவில்லை

In respect of Harappan civilization, Identify the region located in wrong direction?



- A) Shortugai, Surkagendor
B) Alamgirpur, Daimabad
C) Sutkagendor, Alamgirpur
D) Shortugai, Daimabad
E) Answer not known

114. பின்வரும் கூற்றுகளைக் கருத்தில் கொள்க.

I. யூரி நோரோசோவ் சிந்துவெளி எழுத்துகள் திராவிட மொழிக் குடும்பம் போன்ற சொற்றொடர் வரிசையைப் பெற்றுள்ளன என்கிறார்.

II. மயிலாடுதுறையில் கண்டுபிடிக்கப்பட்டுள்ள கற்கோடரியில் உள்ள குறியீடுகள் சிந்துவெளியில் கண்டெடுக்கப்பட்டவையில் உள்ள குறியீடுகளை ஒத்திருக்கின்றன என்று ஐராவதம் மகாதேவன் கூறுகிறார்

மேற்கண்ட கூற்றுகளில் தவறானது எது/எவை?

- A) I மட்டும்
B) II மட்டும்
C) இரண்டும்
D) இரண்டுமில்லை
E) விடை தெரியவில்லை



Consider the following statements.

- I. Yuri Knorozov suggested that the Indus inscriptions have a Dravidian – like word order.
- II. Iravatham Mahadevan said a stone celt discovered in Mayiladuthurai has same marking as that of symbol of Indus script.

Which of the statements given above is/are incorrect?

- A) I only
- B) II only
- C) Both I and II
- D) Neither I nor II
- E) Answer not known

115. பின்வரும் கூற்றுகளைக் கருத்தில் கொள்க.

- I. ஹரப்பா மக்கள் இடம்பெயரும் விவசாய முறையை கடைப்பிடித்தார்கள்.
- II. அவர்கள் யானைகளையும் குதிரைகளையும் பயன்படுத்தினர்
- III. ஹரப்பாவின் மாடுகள் ஜெபு என்றழைக்கப்படும்.
- IV. ஹரப்பா மக்கள் ரோஹ்ரி செர்டால் ஆன உளிகளைப் பயன்படுத்தினர்

மேற்கண்ட கூற்றுகளில் சரியானது எது/எவை?

- A) I, II மற்றும் III மட்டும்
- B) II, III மற்றும் IV மட்டும்
- C) III மற்றும் IV மட்டும்
- D) மேற்கண்ட அனைத்தும்
- E) விடை தெரியவில்லை

Consider the following statements.

- I. Harappans adopted a shifting agriculture system
- II. They used elephants and horses
- III. Harappan cattle are called Zebu
- IV. Harappans used chisels made out of Rohri chert

Which of the statements given above is/are correct?

- A) I, II and III only
- B) II, III and IV only
- C) III and IV only
- D) All the above
- E) Answer not known

116. பின்வரும் கூற்றுகளைக் கருத்தில் கொள்க.

- I. உருளை வடிவ எடை கற்களை ஹரப்பா பகுதிகளில் காணப்படுகின்றன
- II. எடைத் தராசுகளில் இரும்புத் தட்டுகளை பயன்படுத்தினார்கள்
- III. எடையின் விகிதம் 1:2:4:8:16:32 என இரட்டிப்பாகும்
- IV. கியூனிபார்ம் கல்வெட்டுகளில் உள்ள மெலுஹா இந்தியாவைக் குறிக்கிறது

மேற்கண்ட கூற்றுகளில் தவறானது எது/எவை?

- A) I, II மற்றும் IV மட்டும்
- B) II, III மற்றும் IV மட்டும்
- C) I, III மற்றும் IV மட்டும்
- D) மேற்கண்ட அனைத்தும்
- E) விடை தெரியவில்லை

Consider the following statements.

- I. The cylindrical weights are found at harappan sites.
- II. They used iron plates for weighing balances
- III. The ratio of weighing is doubled as 1:2:4:8:16:32.
- IV. Meluhha in the cuneiform inscriptions refers to India.



Which of the statements given above is/are incorrect?

- A) I, II and IV only
B) II, III and IV only
C) I, III and IV only
D) All the above
E) Answer not known

117. பின்வரும் கூற்றுகளைக் கருத்தில் கொள்க.

I. வெண்கலத்தால் செய்யப்பட்ட 'மதகுரு அல்லது அரசன்', மாக்கல்லில் செய்யப்பட்ட நடனமாடும் பெண் சிலை

II. இரண்டும் ஹரப்பாவில் கிடைத்தவை

மேற்கண்ட கூற்றுகளில் சரியானது எது/ எவை?

- A) I மட்டும்
B) II மட்டும்
C) இரண்டும்
D) இரண்டுமில்லை
E) விடை தெரியவில்லை

Consider the following statements.

I. Priest king made of bronze and dancing girl made of steatite

II. Both were found in Harappa.

Which of the statements given above is/are correct?

- A) I only
B) II only
C) Both I and II
D) Neither I nor II
E) Answer not known

118. பின்வரும் கூற்றுகளைக் கருத்தில் கொள்க.

I. சிந்து மக்கள் இயற்கையோடு நெருங்கிய தொடர்பு கொண்டிருந்தனர்.

II. அத்தி மரத்தை வழிபட்டனர்

மேற்கண்ட கூற்றுகளில் சரியானது எது/எவை?

- A) I மட்டும்
B) II மட்டும்
C) இரண்டும்
D) இரண்டுமில்லை
E) விடை தெரியவில்லை

Consider the following statements.

I. Indus people had a close relationship with nature.

II. They worshipped Fig Tree

Which of the statements given above is/are correct?

- A) I only
B) II only
C) Both I and II
D) Neither I nor II
E) Answer not known

119. பின்வரும் கூற்றுகளைக் கருத்தில் கொள்க.

I. சங்க காலத்தில் சமய சடங்குகளின் போது நிகழ்த்தப்படும் ஆட்டங்களில் ஒரு வகைக்கு வெறியாட்டம் என்று பெயர்.

II. மெல்லிய குச்சிகள் (செம்பினால் செய்யப்பட்டவை) கால்நடைகளை பராமரிக்க பெண்களால் பயன்படுத்தப்பட்டன.



மேற்கண்ட கூற்றுகளில் தவறானது எது/எவை?

- A) I மட்டும்
B) II மட்டும்
C) இரண்டும்
D) இரண்டுமில்லை
E) விடை தெரியவில்லை

Consider the following statements.

- I. In sangam literature, Performances of ritual dances called Veriyatal
II. Kohl sticks (made of copper) were used by women for maintaining cattle.

Which of the statements given above is/are incorrect?

- A) I only
B) II only
C) Both I and II
D) Neither I nor II
E) Answer not known

120. நன்கு வடிவமைக்கப்பட்ட யவனர்களின் கப்பல் தங்கம், பிற உலோகக் காசுகளுடன் முசிறித் துறைமுகத்திற்கு வந்து மிளகை ஏற்றிச் சென்றனர்” - இந்த வரிகள் காணப்படும் நூல்

- A) புறநானூறு
B) அகநானூறு
C) பட்டினப்பாலை
D) பதிற்றுப்பத்து
E) விடை தெரியவில்லை

“The well crafted ships of the Yavana came with gold returned with pepper at the wealthy port of Musiri” – These lines were found in the poem

- A) Puranaanuru
B) Akanaanuru
C) Pattinapaalai
D) Pathitru pathu
E) Answer not known

121. பின்வரும் கூற்றுகளைக் கருத்தில் கொள்க..

- I. ‘பெரும் பத்தன் கல்’ என்ற பெயரில் சீன நாட்டில் உள்ள குவான் லுக் பாட் என்ற இடத்தில் அரிய கல் ஒன்று கிடைத்துள்ளது.
II. இக்கல், பெரும்பத்தன் என்பவரால் பயன்படுத்தப்பட்டிருக்கலாம். மேலும் அவர் ஒரு பொற்கொல்லராக இருக்க வேண்டும்.
III. அந்தக் கல், தங்கத்தின் தரத்தை அறிய உதவும் உரைகல் ஆகும்.
IV. தென்கிழக்காசியா “சுவர்ண பூமி” என்று அழைக்கப்பட்டது

மேற்கண்ட கூற்றுகளில் சரியானது எது/எவை?

- A) I, II மற்றும் III மட்டும்
B) II, III மற்றும் IV மட்டும்
C) I, III மற்றும் IV மட்டும்
D) மேற்கண்ட அனைத்தும்
E) விடை தெரியவில்லை

Consider the following statements.

- I. A stone with the name “Perumpatankal” found at Khuan Luk Pat, China
II. This stone was used by Perumpattan (Gold Smith)
III. It was touch stone used to test the purity of gold.

IV. Southeast Asia was known as Suvarana Bhumi

Which of the statements given above is/are correct?

- A) I, II and III only
B) II, III and IV only
C) I, III and IV only
D) All the above
E) Answer not known



122. நெல்மணிகளைப் பதித்து அடையாள மிட்ட சுடுமண்ணில் செய்யப்பட்ட அச்சு எங்கு கண்டறியப்பட்டது?

- A) கொடுமணல் B) பட்டணம்
C) கீழடி D) அரிக்கமேடு

E) விடை தெரியவில்லை

A Terracotta seal with rice husk impression is found in

- A) Kodumanal B) Pattanam
C) Keezhadi D) Arikkamedu

E) Answer not known

123. பட்டியல்-Iஐ பட்டியல்-II உடன் பொருத்துக.

பட்டியல்-I (சங்ககால சொற்கள்)	பட்டியல்-II (பொருள்)
A) கலிங்கம்	1. உப்பு வியாபாரி
B) ஐவனநேல்	2. குயவர்கள்
C) கலம் செய்கோ	3. பயிர்
D) உமணர்	4. ஆடை

குறியீடுகள்:

	a	b	c	d
A)	4	3	2	1
B)	2	1	3	4
C)	3	2	1	4
D)	4	1	2	3

E) விடை தெரியவில்லை

Match List-I with List-II.

List-I (Sangam Words)	List-II (Meaning)
a) Kalingam	1. Salt merchant
b) Aivananel	2. Potters
c) Kalamceyko	3. Crop
d) Umanar	4. Cloth

Codes:

	a	b	c	d
A)	4	3	2	1
B)	2	1	3	4
C)	3	2	1	4
D)	4	1	2	3

E) Answer not known



124. கூற்று I : மதுரை மாவட்டத்தின் வைகை ஆற்றுப் பள்ளத்தாக்கில் உள்ள ஊர் புலிமாங்கோம்பை (புள்ளிமாங்கோம்பை) ஆகும்.

கூற்று II : புலிமாங்கோம்பை கல்வெட்டுகள் தீயன் அந்தவனைப் பற்றி கூறுகின்றன. மேற்கண்ட கூற்றுகளில் தவறானது எது/எவை?

- A) I மட்டும்
B) II மட்டும்
C) இரண்டும்
D) இரண்டுமில்லை
E) விடை தெரியவில்லை

Statement I : Pulimankombai is a village in the vaigai river valley in Madurai district.

Statement II : The inscriptions from Pulimankombai says about Tiyan Antavan.

Which of the statements given above is/are incorrect?

- A) I only
B) II only
C) Both I and II
D) Neither I nor II
E) Answer not known

125. பின்வரும் கூற்றுகளைக் கருத்தில் கொள்க.

- I. அணி புடைப்புமணிகளில் (Cameo) என்பவை விலையுயர்ந்த நவமணிகளின் மேல்புறத்தில் வேலைப்பாடு மிக்க உருவங்கள் செதுக்கப்பட்டிருக்கும்.
II. செதுக்கு வேலைப்பாடுடைய பொருள்கள் (Intaglio) என்பவை, உருவங்கள் உட்குழிவாக செதுக்கப்பட்டவையாகும்.
III. கட்டி வடிவிலான (ingots) தங்கம், வெள்ளி போன்ற மதிப்புமிக்க உலோகங்கள் புல்லியன் (bullion) என்று அழைக்கப்படுகிறது.

மேற்கண்டவற்றுள் எத்தனை கூற்று(கள்) சரியானவை?

- A) ஒரு கூற்று மட்டும்
B) இரண்டு கூற்றுகள் மட்டும்
C) அனைத்து கூற்றுகள்
D) மேற்கண்ட எதுவுமில்லை
E) விடை தெரியவில்லை

Consider the following Statements

- I. Cameo – an ornament made in precious stone where images are carved on the surface.
II. Intaglio – an ornament in which images are carved below the surface.
III. Bullions – precious metal available in the form of ingots.

How many of the above statement(s) is/are correct?

- A) One statement only
B) Two statements only
C) All the statements
D) None of the above
E) Answer not known

126. கூற்று I : மௌரியர் காலத்தில் வாழ்ந்த கௌடில்யர் என்ற சாணக்கியர் இயற்றிய அர்த்த சாஸ்திரம் என்ற நூல் தத்துவங்கள் குறித்தும் ஆட்சிமுறைமை குறித்தும் எடுத்துரைக்கிறது.

கூற்று II : 'பாண்டிய காவாடகா' என்ற அந்நூலின் குறிப்பு பாண்டிய நாட்டில் கிடைத்த முத்துக்கள், கடற்ப பொருள்களைக் குறிப்பதாக இருக்கலாம்.



குறியீடுகள்:

- A) இரண்டு கூற்றுகளும் சரி
B) கூற்று I சரி மற்றும் கூற்று II தவறு
C) கூற்று I தவறு மற்றும் கூற்று II சரி
D) இரண்டு கூற்றுகளும் தவறு
E) விடை தெரியவில்லை

Statement I : Arthasastra, the classical work on philosophy authored by Kautilya during Mauryan period.

Statement II : It refers to the Pandya Kavataka and pearl, shells from the Pandyan country.

Codes:

- A) Both Statements are true
B) Statement I is true and Statement II is false
C) Statement I is false and Statement II is true
D) Both Statements are false
E) Answer not known

127. பின்வரும் கூற்றுகளைக் கருத்தில் கொள்க.

- I. சேரர்கள், அசோகரின் கல்வெட்டுகளில் “சூரியபுத்திரர்கள்” என்று குறிப்பிடப்படுகிறார்கள்
II. சேரர்களின் தலைநகரமாக வஞ்சி இருந்தது.
III. தமிழ்நாட்டில் தற்போதுள்ள கரூர் தான் வஞ்சி என்று சிலரும், கேரளத்தில் உள்ள திருவஞ்சைக்களம்தான் வஞ்சி என்று வேறு சிலரும் கூறுகின்றனர்.
IV. சங்க இலக்கியமான பட்டினப்பாலை சேர மன்னர்கள் மற்றும் அவர்களுடைய நாட்டின் எல்லைகளைக் குறித்து பேசுகிறது.

மேற்கண்டவற்றுள் எத்தனை கூற்று(கள்) சரியானவை?

- A) ஒரு கூற்று மட்டும்
B) இரண்டு கூற்றுகள் மட்டும்
C) மூன்று கூற்றுகள் மட்டும்
D) அனைத்து கூற்றுகள்
E) விடை தெரியவில்லை

Consider the following statements.

- I. Cheras, referred to as Suryaputras in the Ashokan inscriptions
II. Vanchi was the capital of cheras.
III. Vanchi Place is identified with Thiruvanchaikkalam and Karur.
IV. Pattinapaalai speaks about Chera kings and their territory.

Which of the statements given above is/are correct?

- A) One Statement only
B) Two Statement only
C) Three Statement only
D) All the above
E) Answer not known

128. பட்டியல்-Iஐ பட்டியல்-II உடன் பொருத்துக.

பட்டியல்-I

பட்டியல்-II

(அரசுகள்)

(சங்க கால குறிப்புகள்)

- | | |
|-----------------|-----------------------------------|
| A) சேரர்கள் | 1. சதுர வடிவிலான செப்பு நாணயங்கள் |
| B) சோழர்கள் | 2. மாங்குளம் கல்வெட்டு |
| C) பாண்டியர்கள் | 3. கடற்கரைக் கோயில் |
| D) பல்லவர்கள் | 4. புகளூர் கல்வெட்டு |



குறியீடுகள்:

- | | a | b | c | d |
|----|----------|----------|----------|----------|
| A) | 4 | 2 | 3 | 1 |
| B) | 2 | 1 | 3 | 4 |
| C) | 3 | 2 | 1 | 4 |
| D) | 4 | 1 | 2 | 3 |

E) விடை தெரியவில்லை

Match List-I with List-II.

- | List-I
(Cheifdoms) | List-II
(Sangam References) |
|-------------------------------------|--|
| a) Cheras | 1. Square copper coins |
| b) Cholas | 2. Mangulam Inscription |
| c) Pandyas | 3. Shore Temple |
| d) Pallavas | 4. Pugalur Inscription |

Codes:

- | | a | b | c | d |
|----|----------|----------|----------|----------|
| A) | 4 | 2 | 3 | 1 |
| B) | 2 | 1 | 3 | 4 |
| C) | 3 | 2 | 1 | 4 |
| D) | 4 | 1 | 2 | 3 |

E) Answer not known

129. பிளினியின் கூற்றுப்படி, வடகிழக்கு ஆப்பிரிக்காவில் இருந்து இந்தியாவை அடைய எத்தனை நாட்கள் ஆகும் என்று கூறினார்?

- | | |
|---------------------|----------------|
| A) 40 நாட்கள் | B) 400 நாட்கள் |
| C) 60 நாட்கள் | D) 600 நாட்கள் |
| E) விடை தெரியவில்லை | |

According to Pliny, it took how many days to reach India from North East Africa?

- | | |
|---------------------|-------------|
| A) 40 Days | B) 400 Days |
| C) 60 Days | D) 600 Days |
| E) Answer not known | |

130. “ஹெர்மாபோலோன்” என்ற பெயருடைய கப்பல் பின்வருவனவற்றில் எதில் குறிப்பிடப்பட்டுள்ளது?

- | | |
|----------------------------------|----------------------|
| A) பியூட்டிங்கேரியன் அட்டவணை | B) வியன்னா பாப்பிரஸ் |
| C) எரித்திரியன் கடலின் பெரிப்ளஸ் | D) டாப்ரோபேன் |
| E) விடை தெரியவில்லை | |

Hermapollan ship was mentioned in which of the following?

- | | |
|------------------------------|-------------------|
| A) Peutingerian Table | B) Vienna Papyrus |
| C) Periplus of Erythrean sea | D) Taprobane |
| E) Answer not known | |



131. பின்வரும் கூற்றுகளைக் கருத்தில் கொள்க.

கூற்று (A) : 19ஆம் நூற்றாண்டின் முதல் கால் பகுதியில், சுமார் 5000 கைத்தறி நெசவாளர்களைக் கொண்ட குடும்பங்கள் ஒரு நாளைக்கு ஒரு வேளை உணவு கூடக் கிடைக்காமல் அவதியுற்றனர்.

காரணம் (R) : ஆங்கிலேய தொழிற்சாலையில் நெய்யப்பட்ட மலிவான பருத்தி ஆடைகள் இந்தியக் கைத்தறியில் நெய்யப்பட்ட பருத்தி ஆடைகளை விட நல்ல தரம் வாய்ந்தவை ஆகும்.

குறியீடுகள்:

A) (A) மற்றும் (R) இரண்டும் சரி மற்றும் (R) என்பது (A)-யின் சரியான விளக்கமாகும்

B) (A) மற்றும் (R) இரண்டும் சரி ஆனால் (R) என்பது (A)-யின் சரியான விளக்கமல்ல

C) (A) சரி ஆனால் (R) தவறு

D) (A) தவறு ஆனால் (R) சரி

E) விடை தெரியவில்லை

Consider the following statements.

Assertion (A) : By the first quarter of 19th century, families of about 5000 weavers did not have the means to take more than one meal of rice a day.

Reason (R) : British factory-made cheap cotton fabrics had more good quality than Indian hand-woven cotton goods.

Codes:

A) Both (A) and (R) are true and (R) is the correct explanation of (A)

B) Both (A) and (R) are true but (R) is not the correct explanation of (A)

C) (A) is true but (R) is false

D) (A) is false but (R) is true

E) Answer not known

132. இந்தியப் பொருளாதாரத்தின் காலனிமயமாக்கத்தின் எந்தக் கட்டத்தில், இருப்புப் பாதை அமைத்தல், அஞ்சல் துறை அமைத்தல், நீர்ப்பாசனம், நவீன வங்கித்துறை மற்றும் கல்வித்துறை ஆகியவற்றில் முதலீடு செய்யப்பட்டது?

A) வணிக முதலாளித்துவம்

B) தொழில்துறை முதலாளித்துவம்

C) நிதிமூலதன முதலாளித்துவம்

D) (B) மற்றும் (C) இரண்டும்

E) விடை தெரியவில்லை

In which phase of colonialisation of Indian Economy, Investment in railroads, postal system, irrigation, modern banking and education were made?

A) Merchantilist Capitalism

B) Industrial Capitalism

C) Financial Capitalism

D) Both (b) and (c)

E) Answer not known

133. பின்வரும் கூற்றுகளைக் கருத்தில் கொள்க.

I. நிலத்தில் தனியரிமை எனும் கோட்பாட்டை மன்ரோ முறை அறிமுகம் செய்தது.

II. இந்த முறையின் கீழ், வரி வசூலிக்கும் உரிமை கிராமத் தலைவருக்கு வழங்கப்பட்டது.



மேற்கண்ட கூற்றுகளில் தவறானது எது/எவை?

- A) I மட்டும்
B) II மட்டும்
C) இரண்டும்
D) இரண்டுமில்லை
E) விடை தெரியவில்லை

Consider the following statements.

- I. Munro system introduced the concept of private property in land.
II. Under this system, Village headman is used to collect the taxes.

Which of the statements given above is/are incorrect?

- A) I only
B) II only
C) Both I and II
D) Neither I nor II
E) Answer not known

134. தமிழில் “தாது வருடப் பஞ்சம்” என்று அழைக்கப்படும் பஞ்சம் எது?

- A) 1866-67 ஒடிசா பஞ்சம்
B) 1876-78 பெரும் பஞ்சம்
C) 1783-1784 சாலிசா பஞ்சம்
D) 1791 - 1792 மண்டை ஓடு பஞ்சம்
E) விடை தெரியவில்லை

Which Famine is known as the Thaathu Varusha Panjam in Tamil?

- A) Odisha famine of 1866-67
B) Great famine of 1876-78
C) Chalisa famine of 1783-1784
D) Skull famine of 1791 - 1792
E) Answer not known

135. மிஹிரகுலர் மற்றும் தோரமானர் கீழ்க்காணும் எந்த வம்சத்துடன் தொடர்புடையவர்கள்?

- A) சாளுக்கியர்கள்
B) சங்கர்கள்
C) ஹன் இனத்தவர்கள்
D) குப்தர்கள்
E) விடை தெரியவில்லை

Mihirakula and Toramana were related to the

- A) Chalukyas
B) Sung
C) Huns
D) Guptas
E) Answer not known

136. பின்வரும் கூற்றுகளைக் கருத்தில் கொள்க.

I. மாளவத்தின் யசோதர்மன், ஹன் இனத்தவர்களை தனது வாழ்நாள் வரை இந்தியாவுக்குள் நுழையவிடாமல் தடுத்தார்.

II. ஸ்கந்தகுப்தர் இந்தியாவில் ஹன் இனத்தவர்களின் ஆட்சியை முடிவுக்குக் கொண்டுவந்தார்.

மேற்கண்ட கூற்றுகளில் சரியானது எது/எவை?

- A) I மட்டும்
B) II மட்டும்
C) இரண்டும்
D) இரண்டுமில்லை
E) விடை தெரியவில்லை

Consider the following statements.

- I. Yasodharman of Malwa repulsed Huns from entering into India till his life
II. Skandagupta ended the rule of Huns in India.



Which of the statements given above is/are correct?

- A) I only
B) II only
C) Both I and II
D) Neither I nor II
E) Answer not known

137. பட்டியல்-Iஐ பட்டியல்-II உடன் பொருத்துக.

பட்டியல்-I

பட்டியல்-II

(நகரத்தின் பெயர்)

(வரலாற்றுத் தொடர்புகள்)

- | | |
|----------------|---------------------------|
| A) யமட்டோ | 1. அரேபிய இரவுகளின் நகரம் |
| B) பாக்காத் | 2. மதீனா |
| C) பட்டுப்பாதை | 3. ஜப்பான் |
| D) யாத்ரிப் | 4. சீனா |

குறியீடுகள்:

- | | a | b | c | d |
|----|----------|----------|----------|----------|
| A) | 1 | 2 | 4 | 3 |
| B) | 3 | 1 | 2 | 4 |
| C) | 3 | 1 | 4 | 2 |
| D) | 1 | 2 | 3 | 4 |

E) விடை தெரியவில்லை

Match List-I with List-II.

List-I

List-II

(Name of the City)

(Historic Relevances)

- | | |
|--------------|---------------------------|
| a) Yamato | 1. City of Arabian Nights |
| b) Baghdad | 2. Medina |
| c) Silk Road | 3. Japan |
| d) Yathrib | 4. China |

Codes:

- | | a | b | c | d |
|----|----------|----------|----------|----------|
| A) | 1 | 2 | 4 | 3 |
| B) | 3 | 1 | 2 | 4 |
| C) | 3 | 1 | 4 | 2 |
| D) | 1 | 2 | 3 | 4 |

E) Answer not known

138. தவறான கூற்றைக் கண்டறிக:

- A) செங்கிஸ்கான் ஒரு சிறப்பு மிக்க இராணுவ ஆற்றல் கொண்டவர்.
B) செங்கிஸ்கான் ஒரு நாடோடி இனத்தின் தலைவர் ஆவார்.
C) இல்துமிஷ் ஆட்சியின் போது செங்கிஸ்கான் இந்தியாவிற்கு வருகை தந்தார்.
D) செங்கிஸ்கான் ஒரு மத சகிப்புத்தன்மை இல்லாதவர்.
E) விடை தெரியவில்லை



Identify the incorrect Statement:

- A) Chengiz Khan was a great military genius.
- B) Chengiz Khan was a leader of Nomads.
- C) Chengiz Khan visited India during the reign of Iltumish
- D) Chengiz Khan was an intolerant person in religion
- E) Answer not known

139. வட இந்தியாவில் ஆட்சி செய்த முதல் சத்திரியரல்லாத வம்சம் எது?

- A) மௌரியர்கள்
- B) குப்தர்கள்
- C) நந்தர்கள்
- D) சாதவாகனர்கள்
- E) விடை தெரியவில்லை

Which of the following dynasties was the first non-Kshatriya dynasty to rule in northern India?

- A) Mauryas
- B) Guptas
- C) Nandas
- D) Satavahanas
- E) Answer not known

140. சமண மதத்தைப் பற்றிய பின்வரும் கூற்றுகளைக் கருத்தில் கொள்க:

- I. பிராமணர்களால் நடைமுறைப்படுத்தப்பட்ட வர்ணாசிரம முறையை எதிர்த்தது.
- II. உயிருள்ள, உயிரற்ற என அனைத்துப் பொருள்களுக்கும் ஆன்மாவும் உணர்வும் உண்டு; அவற்றால் வலியை உணர முடியும் என்றும் மகாவீரர் போதித்தார்.
- III. சமண மதத்தின் மும்மணிகள் (திரி-ரத்னா) நன்னம்பிக்கை, நல்லறிவு மற்றும் நன்னடத்தை. மேற்கூறியவற்றுள் சரியானது எது/எவை?

- A) I மற்றும் III மட்டும்
- B) II மற்றும் III மட்டும்
- C) I மற்றும் II மட்டும்
- D) மேற்கண்ட அனைத்தும்
- E) விடை தெரியவில்லை

Consider the following statements regarding Jainism:

- I. Varna system practiced by Brahmans was challenged.
- II. Mahavira believed that all objects, both animate and inanimate, have souls.
- III. The three principles of Jainism (Tri-ratnas) are Right faith, Right knowledge and Right action.

Which of the statements given above is/are correct?

- A) I and III only
- B) II and III only
- C) I and II only
- D) All the above
- E) Answer not known

141. ஹீனயான பௌத்தம் பற்றிய தவறான கூற்றைக் கண்டறிக:

- A) ஹீனயானம் புத்தர் போதித்த அசல் வடிவம்.
- B) புத்தர் கடவுளாகவும் போதிசத்துவர்கள் அவரது முந்தைய அவதாரமாகவும் வணங்கப்பட்டனர்.
- C) மக்கள் மொழியான பாலி மொழியையே தொடர்ந்து பயன்படுத்தினார்கள்.
- D) இது "சிறிய பாதை" என்றும் அழைக்கப்பட்டன.
- E) விடை தெரியவில்லை



Find the incorrect statement regarding Hinayana Buddhism:

- A) Hinayana was the original creed preached by Buddha.
- B) Buddha was worshipped as God and Bodhisattvas as his previous avatar.
- C) They continued their teaching with People's Language, Pali.
- D) They were also known as "Lesser Vehicle".
- E) Answer not known

142. பின்வரும் கூற்றுகளைக் கருத்தில் கொள்க.

- I. புத்தர் 'சாக்கிய முனி' என்றும் அழைக்கப்பட்டார்.
- II. புத்தர் வாரணாசி சென்று தனது முதல் போதனையை ராஜகிரகத்தில் செய்தார்.
- III. பெளத்தத்தில் ஆண்களைப் போல் பெண்களும் துறவிகளாகலாம்.
- IV. எண் வழிப்பாதையை பின்பற்றுபவர்கள் தூய மனநிலையை அடையலாம் என புத்தர் போதித்தார்.

மேற்கூறியவற்றுள் சரியானது எது/எவை?

- A) I மற்றும் IV மட்டும்
- B) I, II மற்றும் IV மட்டும்
- C) I, III மற்றும் IV மட்டும்
- D) மேற்கண்ட அனைத்தும்
- E) விடை தெரியவில்லை

Consider the following statements.

- I. Buddha also known as 'Sakya Muni'.
- II. Buddha went to Varanasi and gave his first sermon at Rajagriha.
- III. In Buddhism, women can also become monks like men.
- IV. Buddha preached that he who practices the eight-fold path can attain the highest and purest state of mind.

Which of the statements given above is/are correct?

- A) I and IV only
- B) I, II and IV only
- C) I, III and IV only
- D) All the above
- E) Answer not known

143. தமிழ்நாட்டைச் சேர்ந்த எந்த துறவியின் தாக்கத்தால் மகேந்திரவர்மன் சைவத்திற்கு மாறினார்?

- A) அப்பர்
- B) திருஞான சம்பந்தர்
- C) சுந்தரர்
- D) மாணிக்கவாசகர்
- E) விடை தெரியவில்லை

Under whose influence did Mahendravarman, a saint from Tamil Nadu, convert to Saivism?

- A) Appar
- B) Thirugnana Sambandar
- C) Sundarar
- D) Manikkavachakar
- E) Answer not known

144. பின்வருவனவற்றில் தவறாகப் பொருந்தியுள்ளது எது/எவை?

- I. பார்சுவநாதர் – 2வது தீர்த்தங்கரர்
- II. ரிஷபதேவர் – 1வது தீர்த்தங்கரர்
- III. நாகார்ஜுனா – சமணத் துறவி
- IV. மகாவீரர் – 23வது தீர்த்தங்கரர்



குறியீடுகள்:

- A) I மற்றும் III மட்டும்
B) I மற்றும் IV மட்டும்
C) I, III மற்றும் IV மட்டும்
D) அனைத்தும் சரியானவை
E) விடை தெரியவில்லை

Which of the following is/are incorrectly matched?

- I. Parshvanath – 2nd Tirthankara
II. Rishabadeva – 1st Tirthankara
III. Nagarjuna – Jain monk
IV. Mahavira – 23rd Tirthankara

Codes:

- A) I and III only
B) I and IV only
C) I, III and IV only
D) All are correct
E) Answer not known

145. அசோகரை தீவிர புத்தப் பற்றாளராக மாற்றி, புத்த தம்மத்தைப் பரப்புவதற்கு தூண்டிய புத்த துறவியார்?

- A) நாகார்ஜூனர்
B) உபகுப்தர்
C) ஆனந்தர்
D) வசுபந்து
E) விடை தெரியவில்லை

Who was the Buddhist monk that influenced Ashoka to become an ardent Buddhist and propagate his Dharma?

- A) Nagarjuna
B) Upagupta
C) Ananda
D) Vasubandhu
E) Answer not known

146. பட்டியல்-Iஐ பட்டியல்-II உடன் பொருத்துக.

பட்டியல்-I

பட்டியல்-II

(அதிகாரிகள்)

(நிர்வாகத்தில் பங்கு)

- | | |
|------------------|---------------------------------|
| a) பகதுகர் | 1. சூதாட்ட கண்காணிப்பாளர் |
| b) அகூர்பா | 2. அரசவையினர் |
| c) பலகோலா | 3. அரசவை அதிகாரிகள் |
| d) அத்யக்காக்கள் | 4. நிலம் குறித்த ஆவண பராமரிப்பு |

குறியீடுகள்:

- | | a | b | c | d |
|----|------------------|----------|----------|----------|
| A) | 2 | 1 | 3 | 4 |
| B) | 1 | 3 | 2 | 4 |
| C) | 4 | 1 | 2 | 3 |
| D) | 3 | 2 | 4 | 1 |
| E) | விடை தெரியவில்லை | | | |



Match List-I with List-II.

List-I (Officials)	List-II (Roles in administration)
a) Bhugadugha	1. Superintendent of gambling
b) Aksharapa	2. Courtier
c) Palogola	3. Royal Officials
d) Adhyakshas	4. Keeping the records of land

Codes:

	a	b	c	d
A) 2 1 3 4	2	1	3	4
B) 1 3 2 4	1	3	2	4
C) 4 1 2 3	4	1	2	3
D) 3 2 4 1	3	2	4	1
E) Answer not known				

147. எந்த பழங்கால நூல் அரசர் தவறிழைக்காதவர், அனைத்து விதமான தண்டனைகளிலிருந்தும் விலக்குப் பெற்றவர் என்று விவரிக்கிறது?

- A) பகவத் கீதை
B) அர்த்தசாஸ்திரம்
C) மனுஸ்மிருதி
D) சதபதப் பிராமணம்
E) விடை தெரியவில்லை

Which ancient text describes the king as infallible and immune from all punishments?

- A) Bhagavad Gita
B) Arthasastra
C) Manusmriti
D) The Satapatha Brahmana
E) Answer not known

148. பின்வரும் வம்சங்களை காலவரிசைப்படி வரிசைப்படுத்துக:

- I. மௌரியர்கள்
II. மகதம்
III. சிசுநாகர்
IV. நந்தர்கள்

குறியீடுகள்:

- A) II-I-III-IV
B) II-III-IV-I
C) I-IV-III-II
D) I-III-IV-II
E) விடை தெரியவில்லை

Arrange the following dynasties in chronological order:

- I. Mauryas
II. Magadha
III. Shishunaga
IV. Nandas

Codes:

- A) II-I-III-IV
B) II-III-IV-I
C) I-IV-III-II
D) I-III-IV-II
E) Answer not known



149. பின்வரும் கூற்றுகளைக் கருத்தில் கொள்க.

கூற்று (A) : அலாவுதீன் கில்ஜி தென்னிந்தியாவின் மீது பல படையெடுப்புகளை மேற்கொண்டார்

காரணம் (R) : ஆட்சியை விரிவுபடுத்துதல் என்பதைக்காட்டிலும் செல்வங்களைக் கவர்ந்து செல்வதே முதன்மை நோக்கமாக இருந்தது.

குறியீடுகள்:

A) (A) மற்றும் (R) இரண்டும் சரி மற்றும் (R) என்பது (A)-யின் சரியான விளக்கமாகும்.

B) (A) மற்றும் (R) இரண்டும் சரி ஆனால் (R) என்பது (A)-யின் சரியான விளக்கமல்ல.

C) (A) சரி ஆனால் (R) தவறு.

D) (A) தவறு ஆனால் (R) சரி.

E) விடை தெரியவில்லை

Consider the following statements.

Assertion (A) : Alauddin Khilji sent military campaigns to the south

Reason (R) : The primary objective was to plunder the wealth, rather than to expand his territory.

Codes:

A) Both (A) and (R) are true and (R) is the correct explanation of (A)

B) Both (A) and (R) are true but (R) is not the correct explanation of (A)

C) (A) is true but (R) is false

D) (A) is false but (R) is true

E) Answer not known

150. மிகப்பெரிய மாடலயமான நாளந்தாவை கட்டிய பேரரசு எது?

A) குப்த பேரரசு

B) மௌரிய பேரரசு

C) மகதப் பேரரசு

D) குஷாண பேரரசு

E) விடை தெரியவில்லை

Which empire constructed the magnificent monastery of Nalanda?

A) Gupta Empire

B) Maurya Empire

C) Magadha Empire

D) Kushan Empire

E) Answer not known

151. அர்த்தசாஸ்திரம் காசி (பெனாரஸ்), வங்கம் (வங்காளம்), காமரூபம் (அசாம்) மற்றும் மதுரையை எவ்வாறு குறிப்பிடுகிறது?

A) கல்வி மையங்கள்

B) வர்த்தக மையங்கள்

C) கோவில் நகரங்கள்

D) ஜவுளி மையங்கள்

E) விடை தெரியவில்லை

Arthasastra refers to Kasi (Benares), Vanga (Bengal), Kamarupa (Assam) and Madurai as :

A) Educational Centres

B) Trade centres

C) Temple cities

D) Textile centres

E) Answer not known



152. தக்காண சுல்தான்கள் பற்றிய பின்வரும் கூற்றுக்களைக் கருத்தில் கொள்க:
- அலாவுதீன் பாமன் ஷா கி.பி. 1336ல் பாமினி சுல்தானியத்தை உருவாக்கினார்.
 - பாமினி சுல்தானகத்தின் தலைநகரம் பிதார் ஆகும்.
 - கவானின் இறப்பிற்குப் பின்னர் பல ஆளுநர்கள் தங்களைச் சுதந்திர அரசர்களாக அறிவித்துக் கொண்டனர்.
 - பதினாண்டாம் நூற்றாண்டின் இறுதியில், தக்காணத்தில் ஐந்து சுல்தான்கள் உதயமாயின. மேற்கூறியவற்றுள் சரியானது எது/எவை?
- A) I, II மற்றும் III மட்டும்
B) II, III மற்றும் IV மட்டும்
C) I, III மற்றும் IV மட்டும்
D) மேற்கண்ட அனைத்தும்
E) விடை தெரியவில்லை
- Consider the following statements regarding Deccan sultanates:
- Bahman shah set up the Bahmani sultanate in 1336 A.D.
 - The capital of Bahmani sultanate is Bidar.
 - After Gawan's death many viceroys declared their independence.
 - By the end of the fifteenth century, five sultanates came up in the Deccan.
- Which of the statements given above is/are correct?
- A) I, II and III only
B) II, III and IV only
C) I, III and IV only
D) All the above
E) Answer not known

153. பட்டியல்-Iஐ பட்டியல்-II உடன் பொருத்துக.

பட்டியல்-I (அரசு)	பட்டியல்-II (தலைநகரம்)
a) ஹொய்சாளர்கள்	1. தேவகிரி
b) காகத்தியர்கள்	2. வாரங்கல்
c) யாதவர்கள்	3. பேலூர்
d) பாமினி	4. பிடார்

குறியீடுகள்:

	a	b	c	d
A)	3	2	1	4
B)	2	1	3	4
C)	4	2	3	1
D)	4	1	2	3

E) விடை தெரியவில்லை

Match List-I with List-II.

List-I (Kingdom)	List-II (Capital)
a) Hoysalas	1. Devagiri
b) Kakatiyas	2. Warangal
c) Yadavas	3. Belur
d) Bahmani	4. Bidar

**Codes:**

- | | a | b | c | d |
|----|------------------|----------|----------|----------|
| A) | 3 | 2 | 1 | 4 |
| B) | 2 | 1 | 3 | 4 |
| C) | 4 | 2 | 3 | 1 |
| D) | 4 | 1 | 2 | 3 |
| E) | Answer not known | | | |

154. ஐந்து தக்காண சுல்தான்களின் கூட்டுப்படைகளால் விஜயநகரைத் தோற்கடிக்க வழிவகுத்த நிகழ்வு எது?

- A) கி.பி 1527, காண்வா போர்
B) கி.பி 1528, சாந்தேரி போர்
C) கி.பி 1576, ஹல்திகாட் போர்
D) கி.பி 1565, தலைக்கோட்டைப் போர்
E) விடை தெரியவில்லை

Which event led to the defeat of Vijayanagar by the combined forces of the five Deccani Sultanates?

- A) Battle of Khanwa, 1527 A.D
B) Battle of Chanderi, 1528 A.D
C) Battle of Haldighati, 1576 A.D
D) Battle of Talikota, 1565 A.D
E) Answer not known

155. இந்திய மயக்கம் என்று அடிக்கடி குறிப்பிடப்படுவது எது?

- A) ஐரோப்பிய சந்தைகளில் இந்திய மசாலாப் பொருட்களின் எழுச்சி.
B) ஐரோப்பிய சந்தைகளில் இந்திய நகைகளின் புகழ்.
C) ஐரோப்பிய சந்தைகளில் இந்திய துணிகளுக்கு எதிர்பாராத மிகப்பெரிய தேவை ஏற்பட்டது.
D) ஐரோப்பாவில் இந்திய உணவு வகைகளின் பரவல்.
E) விடை தெரியவில்லை

What is often referred to as the 'Indian craze'?

- A) The rise of Indian spices in European markets.
B) The popularity of Indian jewellery in European markets.
C) The explosion in the demand for Indian textiles in European markets.
D) The spread of Indian cuisine in Europe.
E) Answer not known

156. பட்டியல்-Iஐ பட்டியல்-II உடன் பொருத்துக.

- | பட்டியல்-I | பட்டியல்-II |
|----------------|---|
| (நிர்வாக அலகு) | (அதனுடன் தொடர்புடைய பகுதிகள்) |
| a) கோட்டம் | 1. மாவட்டம் |
| b) நாடு | 2. சந்தைப்படுத்தல் மையங்கள் |
| c) பிரம்மதேயம் | 3. பிராமணர்களுக்கு வழங்கப்படும் நிலக்கொடை |
| d) நகரம் | 4. துணை மண்டலம் |



குறியீடுகள்:

	a	b	c	d
A)	1	2	3	4
B)	1	4	3	2
C)	3	2	1	4
D)	4	1	2	3

E) விடை தெரியவில்லை

Match List-I with List-II.

List-I

(Unit of administration)

- Kottam
- Nadu
- Brahmadeya
- Nagaram

Codes:

	a	b	c	d
A)	1	2	3	4
B)	1	4	3	2
C)	3	2	1	4
D)	4	1	2	3

E) Answer not known

List-II

(Areas associated with it)

- District
- Marketing centres
- Land grants to brahmins
- Sub-region

157. பின்வரும் கூற்றுகளைக் கருத்தில் கொள்க.

கூற்று (A) : வட இந்தியாவின் பளபளப்பான கறுப்பு நிற மட்பாண்டங்கள் தென்னிந்தியா வரை பரவியிருந்தது. இது மௌரியர் காலத்து வணிகம் தெற்குவரை பரவியிருந்ததைக் காட்டுகிறது.

காரணம் (R) : மௌரியப் பேரரசு நன்கு வளர்ந்த வர்த்தக வலையமைப்பைக் கொண்டிருந்தது, இது பரந்த தூரங்களில் பொருட்களைப் பரிமாறிக் கொள்ள உதவியது.

குறியீடுகள்:

- (A) மற்றும் (R) இரண்டும் சரி மற்றும் (R) என்பது (A)-யின் சரியான விளக்கமாகும்.
- (A) மற்றும் (R) இரண்டும் சரி ஆனால் (R) என்பது (A)-யின் சரியான விளக்கமல்ல.
- (A) சரி ஆனால் (R) தவறு.
- (A) தவறு ஆனால் (R) சரி.
- விடை தெரியவில்லை

Consider the following statements.

Assertion (A) : The distribution of black polished ware from northern India to South India indicates the extent of trade during the Mauryan rule.

Reason (R) : The Mauryan Empire had a well-developed trade network that facilitated the exchange of goods across vast distances.

**Codes:**

- A) Both (A) and (R) are true and (R) is the correct explanation of (A).
B) Both (A) and (R) are true but R is not the correct explanation of (A).
C) (A) is true but (R) is false.
D) (A) is false but (R) is true
E) Answer not known

158. இந்தியாவுடன் நேரடி அணுகலை நிறுவியதன் மூலம் ஐரோப்பியர்கள் என்ன பயன் அடைந்தனர்?
A) அவர்கள் இந்திய கலாச்சார நடைமுறைகள் மீது அதிக முக்கியத்துவம் வாய்ந்த கட்டுப்பாட்டை செலுத்த முடியும்.
B) அவர்கள் இந்திய ஆட்சியாளர்களுடன் ஆழமான இராஜதந்திர உறவுகளை உருவாக்க முடியும்.
C) அவர்கள் வாசனை பொருள்களின் வர்த்தகத்தின் மீது அதிக நேரடி கட்டுப்பாட்டை செலுத்த முடியும்.
D) அவர்கள் இந்திய மதங்கள் மற்றும் தத்துவங்களை பற்றிய புரிதலை மேம்படுத்த முடியும்.
E) விடைதெரியவில்லை

What benefit did the Europeans derive from establishing direct access to India?

- A) They could exert more significant control over Indian cultural practices.
B) They could forge deeper diplomatic ties with Indian rulers.
C) They could exercise more direct control over the spice trade.
D) They could enhance their understanding of Indian religions and philosophies.
E) Answer not known

159. பின்வரும் கூற்றுகளைக் கருத்தில் கொள்க:

கூற்று I : 17ம் நூற்றாண்டில் முகலாய அரசு வலுவாக இருந்த வரையிலும் ஐரோப்பிய நிறுவனங்கள் முகலாய பேரரசில் வணிகம் செய்தன. ஆனால் முகலாய பேரரசின் எல்லைக்குள் தங்களுக்கென சொந்த பகுதியை பெற இயலவில்லை.

கூற்று II : தென்னிந்தியா அரசியல் அதிகாரமானது துண்டு துண்டாகக் இருந்ததால், ஐரோப்பிய நிறுவனங்கள் சொந்த வணிக தலங்களை ஏற்படுத்திக் கொண்டன.

குறியீடுகள்:

- A) கூற்று I சரி மற்றும் கூற்று II தவறு
B) கூற்று I தவறு மற்றும் கூற்று II சரி
C) கூற்று I மற்றும் கூற்று II இரண்டும் சரி
D) கூற்று I மற்றும் கூற்று II இரண்டும் தவறு
E) விடைதெரியவில்லை

Consider the following statements:

Statement I : During the seventeenth century, European companies could trade within the Mughal empire but were not permitted to establish their own territories there, despite the continued strength of Mughal authority.

Statement II : South India had fragmented political authority, allowing European companies to establish their own enclaves where they wielded full control

**Codes:**

- A) Statement I is true and Statement II is false
B) Statement I is false and Statement II is true
C) Both Statement I and Statement II are true
D) Both Statement I and Statement II are false
E) Answer not known

160. பட்டியல்-Iஐ பட்டியல்-II உடன் பொருத்துக.

பட்டியல்-I	பட்டியல்-II
(ஐரோப்பிய நாடுகள்)	(அவர்களின் கோட்டை)
a) போர்த்துகீசியம்	1. பாண்டிச்சேரி
b) டச்சு	2. மெட்ராஸ்
c) ஆங்கிலம்	3. தரங்கம்பாடி
d) டேனியர்கள்	4. நாகப்பட்டினம்
e) பிரெஞ்சு	5. கொச்சி

குறியீடுகள்:

	<i>a</i>	<i>b</i>	<i>c</i>	<i>d</i>	<i>e</i>
A)	5	4	2	3	1
B)	4	5	2	3	1
C)	5	2	4	3	1
D)	4	2	3	5	1

E) விடைதெரியவில்லை

Match List-I with List-II.

List - I	List - II
(European Nations)	(Their Stronghold)
a) Portuguese	1. Pondicherry
b) Dutch	2. Madras
c) English	3. Tarangampadi
d) Danes	4. Nagapatnam
e) French	5. Cochin

Codes:

	<i>a</i>	<i>b</i>	<i>c</i>	<i>d</i>	<i>e</i>
A)	5	4	2	3	1
B)	4	5	2	3	1
C)	5	2	4	3	1
D)	4	2	3	5	1

E) Answer not known



161. சோழர்களைப் பற்றிய பின்வரும் கூற்றுகளைக் கருத்தில் கொள்க.

கூற்று I : இந்த காலகட்டத்தில் பெரிய கோவில்கள் கட்டப்பட்டது. அரசின் வளர்ந்துவரும் பொருளாதார செழிப்பை பிரதிபலிப்பதாய் அமைந்தது.

கூற்று II : கோயில் ஒரு வழிபாட்டுத் தலமாக மட்டுமே இருந்தது.

கூற்று III : நீர் வளங்கள் மற்றும் நிலங்களின் பராமரிப்பு மற்றும் மேலாண்மைக்கு மன்றமானது (அவை) பொறுப்புடையது.

A) கூற்று (I) மற்றும் (III) சரி ஆனால் கூற்று (II) தவறு

B) கூற்று (I) மற்றும் (II) சரி ஆனால் கூற்று (III) தவறு

C) அனைத்து கூற்றுகளும் சரி

D) கூற்று II மற்றும் III சரி ஆனால் கூற்று I தவறு

E) விடைதெரியவில்லை

Consider the following statements regarding Cholas

Statement I : The construction of great temples during this period reflected the growing prosperity in the kingdom due to significant expenditure.

Statement II : The temple remained solely a place of worship.

Statement III : The Assembly were responsible for the maintenance and management of the water resources and land.

A) Statement (I) and (III) are correct but Statement (II) is false

B) Statement (I) and (II) are correct but Statement (III) is false

C) All the Statements are correct

D) Statement II and III are correct but Statement I is false

E) Answer not known

162. விஜயநகரப் பேரரசின் நிர்வாகம் தொடர்பான பின்வரும் கூற்றுகளைக் கருத்தில் கொண்டு தவறான கூற்றைத் தேர்ந்தெடுக்கவும்:

A) இராணுவத்திற்கு ஆள் பலத்தை வழங்கிய பாளையக்காரர் என்று அழைக்கப்படும் குறைந்த இராணுவத் தலைவர்கள் இருந்தனர்.

B) நிலத்திலிருந்து பெறப்பட்ட வளங்கள் நாயக்கர்களால் பேரரசுக்கு வரி வருவாயாக செலுத்தப்பட்டது.

C) பேரரசின் நிர்வாகம் பரவலாக்கப்பட்ட, உள்ளூர் நிறுவனங்களை திறம்பட அழித்தது.

D) பல கோட்டைகள் கட்டப்பட்டன. அவைகள் பிராமண தளபதிகளின் கீழ் இருந்தன.

E) விடைதெரியவில்லை

Consider the following statements related to administration of Vijayanagar Empire and choose the incorrect statement:

A) There were lesser military leaders known as palayakkarar who supplied the manpower for the army.

B) Resources realized from the land were transferred to the empire by the nayakas as tax revenue.

C) The empire's administration effectively destroyed the decentralized, local institutions.

D) Many forts were also built which were under Brahman commanders.

E) Answer not known



163. பின்வரும் கூற்றுகளைக் கருத்தில் கொள்க.

கூற்று (I) : அக்பர் இந்து ஆட்சியாளர்களை முகலாய நிர்வாகத்தில் ஒருங்கிணைத்து, முகலாய ஆட்சியை வலுப்படுத்தும் கொள்கையை செயல்படுத்தினார்.

கூற்று (II) : ஒளரங்கசீப் பழமைவாத நெறிமுறைகளைப் பின்பற்றியதால் இரஜபுத்திரர்களும் இந்துக்களும் அந்நியப்படுத்தப்பட்டனர்.

குறியீடுகள்:

- A) கூற்று (I) சரி மற்றும் கூற்று (II) தவறு
- B) கூற்று (I) தவறு மற்றும் கூற்று (II) சரி
- C) கூற்று (II) மற்றும் கூற்று (II) இரண்டும் சரி
- D) கூற்று (II) மற்றும் கூற்று (II) இரண்டும் தவறு
- E) விடைதெரியவில்லை

Consider the following statements:

Statement (I) : Akbar implemented a policy of integrating Hindu rulers into Mughal administration, thereby strengthening the Mughal rule.

Statement (II) : Aurangzeb's reversal to orthodox Islamic governance principles led to the alienation of Rajput rulers and Hindu subjects.

Codes:

- A) Statement (I) is true and Statement (II) is false
- B) Statement (I) is false and Statement (II) is true
- C) Both Statement (I) and Statement (II) are true
- D) Both Statement (I) and Statement (II) are false
- E) Answer not known

164. பட்டியல்-Iஐ பட்டியல்-II உடன் பொருத்துக.

பட்டியல்-I

பட்டியல்-II

(சைவ இயக்கங்கள்)

(தொடர்புடைய பகுதிகள்)

- | | |
|------------------------|-------------------|
| a) சைவ சித்தாந்தம் | 1. மஹாராஷ்டிரா |
| b) வீர சைவம் | 2. தமிழ்நாடு |
| c) வர்க்கரிசம்பிரதாயம் | 3. கர்நாடகா |
| d) நாத பாரம்பரியம் | 4. உத்தர பிரதேசம் |

குறியீடுகள்:

- | | a | b | c | d |
|----|----------|----------|----------|----------|
| A) | 2 | 3 | 1 | 4 |
| B) | 3 | 2 | 1 | 4 |
| C) | 1 | 2 | 3 | 4 |
| D) | 4 | 1 | 2 | 3 |
- E) விடைதெரியவில்லை



Match List-I with List-II.

List-I

(Saivite Movements)

- Saiva Siddhanta
- Virasaivas
- Varkarisampradaya
- Natha Tradition

List-II

(Associated Regions)

- Maharashtra
- Tamilnadu
- Karnataka
- Uttar Pradesh

Codes:

- | | a | b | c | d |
|----|------------------|----------|----------|----------|
| A) | 2 | 3 | 1 | 4 |
| B) | 3 | 2 | 1 | 4 |
| C) | 1 | 2 | 3 | 4 |
| D) | 4 | 1 | 2 | 3 |
| E) | Answer not known | | | |

165. தூத்துக்குடி பகுதியில் மீனவ சமூகத்தை கத்தோலிக்க மதத்திற்கு மாற்றுவதில் எந்த கிறிஸ்தவ மிஷனரியில் முக்கிய பங்கு வகித்தவர் யார்?

- புனித ஜான் டி பிரிட்டோ
- புனித பிரான்சிஸ் சேவியர்
- ராபர்டோ டி நோபிலி
- புனித இக்னேஷியஸ் லயோலா
- விடைதெரியவில்லை

Which Jesuit missionary played a pivotal role in the conversion of the fishing community to Catholicism in the Tuticorin region?

- St. John de Britto
- St. Francis Xavier
- Roberto de Nobili
- St. Ignatius Loyola
- Answer not known

166. விஜயநகர காலத்தின் கலை மற்றும் கட்டிடக்கலை பற்றிய பின்வரும் கூற்றுக்களைக் கருத்தில் கொள்க.

- ஏற்கனவே இருக்கின்ற கோவில்களில் விரிவான அளவில், பல தூண்களைக் கொண்ட மண்டபங்களும், ஓய்வு கூடங்களும் கட்டப்பட்டன.
- தூண்கள் விரிவாக செதுக்கப்பட்டன
- கோவில்களின் நுழைவாயிலில் உள்ள நுணுக்கமாக செதுக்கப்பட்ட உயர்ந்த கோபுரங்கள் அனைத்தும் இந்த காலகட்டத்தில் சேர்க்கப்பட்டது.
- கோவில்களின் சுவர்கள் ஓவியங்கள் இல்லாமல் இருந்தன.

மேற்கூறியவற்றுள் சரியானது எது/எவை?

- I, II மற்றும் III மட்டும்
- II, III மற்றும் IV மட்டும்
- I, III மற்றும் IV மட்டும்
- மேற்கண்ட அனைத்தும்
- விடைதெரியவில்லை



Consider the following statements regarding Art and Architecture of Vijayanagar period :

- I. New structures like pavilions and halls with many pillars were added extensively to existing temples.
- II. Pillars were elaborately carved
- III. The intricately carved lofty towers or gopurams at the entrance to temples were all added during this period.
- IV. The walls of the temples were devoid of paintings.

Which of the statements given above is/are correct?

- A) I, II and III only
- B) II, III and IV only
- C) I, III and IV only
- D) All the above
- E) Answer not known

167. பிரபந்தம் என்ற புதிய தமிழ் இலக்கியப் பாணியின் தோற்றம் எந்த ஆட்சிக் காலத்தில் உருவானது?

- A) மராட்டியப் பேரரசு
- B) சோழப் பேரரசு
- C) பல்லவ அரசு
- D) விஜயநகரப் பேரரசு
- E) விடைதெரியவில்லை

During which historical period did the emergence of a new style of Tamil literature called Prabandham take place?

- A) Maratha Empire
- B) Chola Empire
- C) Pallava Dynasty
- D) Vijayanagar Empire
- E) Answer not known

168. ஐரோப்பியர்களின் வருகையைத் தொடர்ந்து அறிமுகப்படுத்தப்பட்ட பயிர்கள் யாவை?

- A) மிளகாய் மற்றும் கோதுமை
- B) மக்காச்சோளம் மற்றும் புகையிலை
- C) பார்லி மற்றும் முந்திரி
- D) மக்காச்சோளம் மற்றும் தினை
- E) விடைதெரியவில்லை

Which crops were introduced following the arrival of Europeans?

- A) Chilli and Wheat
- B) Maize and Tobacco
- C) Barley and Cashew
- D) Maize and Millets.
- E) Answer not known

169. பின்வரும் எந்த சாதகமான காரணங்கள் இந்தியாவில் பருத்தி நெசவுத் தொழிலின் வளர்ச்சிக்கு உதவுகின்றன?

- I. பருத்தி இந்தியாவின் அனைத்துப் பகுதிகளிலும் விளைந்தது.
- II. தாவர சாயங்களைப் பயன்படுத்தி பருத்தியில் நிரந்தர வர்ணம் ஏற்றும் தொழில்நுட்பம் இந்தியாவில் மிக ஆரம்ப காலத்திலிருந்தே அறியப்பட்டது.
- III. துணிகளை பதனம் செய்யாவிடில் சாயங்கள் அவற்றின் மேல் ஒட்டாது. இந்த நுட்பத்தை வேறு உலக நாடுகள் அறிந்திருக்கவில்லை.

குறியீடுகள்:

- A) I மற்றும் II மட்டும்
- B) II மற்றும் III மட்டும்
- C) I மற்றும் III மட்டும்
- D) I, II மற்றும் III
- E) விடைதெரியவில்லை



What were the advantages contributing to the growth of the cotton weaving industry in India?

- I. Cotton grew in almost all parts of India.
- II. The technology of producing a permanent colour on cotton using vegetable dyes was known from very early times in India.
- III. Cotton does not absorb dyes without a preparatory process using mordants, which was not known in the rest of the world.

Codes:

- | | |
|---------------------|--------------------|
| A) I and II only | B) II and III only |
| C) I and III only | D) I, II and III |
| E) Answer not known | |

170. பின்வரும் கூற்றுகளைக் கருத்தில் கொள்க:

கூற்று (I) : இந்தியா ஜவுளி, மிளகு, விலைமதிப்பு மிக்க மற்றும் சற்றே விலைமதிப்பற்ற நவ ரத்தினங்களின் முக்கிய ஏற்றுமதியாளராக இருந்தது, குறிப்பாக வைரங்கள் இந்தியாவில் மட்டுமே காணப்பட்டன.

கூற்று (II) : பட்டு, சீன செராமிக் ஓடுகள், தங்கம், நறுமண பொருட்கள், நறுமண மரங்கள் மற்றும் கற்பூரம் ஆகியவை சீனா மற்றும் கீழ்திசை நாடுகளில் இருந்து இறக்குமதி செய்யப்பட்டன.

கூற்று (III) : தங்கம், தந்தம் மற்றும் அடிமைகள் பாரசீகத்தில் இருந்து பெறப்பட்டன.

குறியீடுகள்:

- A) கூற்று (I) மற்றும் (III) சரி ஆனால் (II) தவறு
- B) கூற்று (II) மற்றும் (III) சரி ஆனால் (I) தவறு
- C) கூற்று (I) மற்றும் (II) சரி ஆனால் (III) தவறு
- D) அனைத்தும் சரி
- E) விடைதெரியவில்லை

Consider the following statements :

Statement (I) : India was also a major exporter of textiles, pepper, precious and semi-precious gems especially diamonds which were then found only in India

Statement (II) : The major imports from China and the east were silk, Chinese ceramics, gold, spices, aromatic woods and camphor

Statement (III) : Gold, ivory and slaves were brought in from Persia.

Codes:

- A) Statement (I) and (III) are correct but (II) is incorrect
- B) Statement (II) and (III) are correct but (I) is incorrect
- C) Statement (I) and (II) are correct but (III) is incorrect
- D) All are correct
- E) Answer not known



171. பட்டியல்-Iஐ பட்டியல்-II உடன் பொருத்துக.

பட்டியல்-I

(ஆளுமை)

- தான்சென்
- சார்லெமக்னே
- மன்னர் இரண்டாம் ஜான்
- கிருஷ்ண தேவராயர்

பட்டியல்-II

(சமகால ஆட்சியாளர்கள்)

- சுல்தான் இல்துமிஷ்
- இரண்டாம் நந்திவர்மன்
- அக்பர்
- பாபர்

குறியீடுகள்:

	a	b	c	d
A)	4	2	3	1
B)	2	1	3	4
C)	3	2	1	4
D)	4	1	2	3

E) விடைதெரியவில்லை

Match List-I with List-II.

List-I

(Personality)

- Tansen
- Charlemagne
- King John II
- Krishnadeva Raya

List-II

(Contemporary rulers)

- Sulthan Iltutmish
- Nandivarman-II
- Akbar
- Babur

Codes:

	a	b	c	d
A)	4	2	3	1
B)	2	1	3	4
C)	3	2	1	4
D)	4	1	2	3

E) Answer not known

172. பட்டியல்-Iஐ பட்டியல்-II உடன் பொருத்துக.

பட்டியல்-I

(காலனித்துவ ஆட்சி)

- ஆங்கிலேய கிழக்கிந்தி கம்பெனி ஆட்சி
- ஆங்கிலேய கிழக்கிந்திய கம்பெனி
- ஆங்கிலேய ஏகாதிபத்திய ஆட்சி
- பிரெஞ்சு கிழக்கிந்திய கம்பெனி
- டச்சு கிழக்கிந்திய கம்பெனி

பட்டியல்-II

(காலம்)

- 1858-1947
- 1668-1954
- 1612-1757
- 1757-1857
- 1605-1825

குறியீடுகள்:

	a	b	c	d	e
A)	3	4	5	1	2
B)	3	1	4	5	2
C)	4	1	3	2	5
D)	4	3	1	2	5

E) விடைதெரியவில்லை



Match List-I with List-II.

- List-I**
(Colonial Rule)
- British Company Rule
 - British East India Company
 - British Imperial Rule
 - French East India Company
 - Dutch East India Company

- List-II**
(Period)
- 1858-1947
 - 1668-1954
 - 1612-1757
 - 1757-1857
 - 1605-1825

Codes:

- | | a | b | c | d | e |
|----|------------------|----------|----------|----------|----------|
| A) | 3 | 4 | 5 | 1 | 2 |
| B) | 3 | 1 | 4 | 5 | 2 |
| C) | 4 | 1 | 3 | 2 | 5 |
| D) | 4 | 3 | 1 | 2 | 5 |
| E) | Answer not known | | | | |

173. "நெசவு மக்களின் தேசியத் தொழிலாகவும், நூல் நூற்றல் இலட்சக்கணக்கான பெண்கள் செய்து வந்த வேலையாகும்" என்று கூறியவர்?

- | | |
|--------------------|--------------------|
| A) மகாத்மா காந்தி | B) RC தத் |
| C) ஜவஹர்லால் நேரு | D) தாதாபாய் நௌரோஜி |
| E) விடைதெரியவில்லை | |

Who stated the following: "Weaving was the national industry of the people and spinning was the pursuit of millions of women"?

- | | |
|---------------------|---------------------|
| A) Mahatma Gandhi | B) R.C. Dutt |
| C) Jawaharlal Nehru | D) Dadabhai Naoroji |
| E) Answer not known | |

174. பின்வரும் கூற்றுகளைக் கருத்தில் கொள்க.

கூற்று (A) : தென்னிந்தியாவை சேர்ந்த விவசாயத் தொழிலாளர்கள், கைவினைஞர்கள், பிரிட்டிஷ் காலனிகளுக்கு கணிசமான அளவில் இடமாற்றம் அடைந்து ஒப்பந்தத் தொழிலில் ஈடுபட்டனர்.

காரணம் (R) : சென்னை மாகாண பஞ்சம் 10.3 மில்லியன் மக்களின் உயிர்களை பலிவாங்கியது.

குறியீடுகள்:

- (A) மற்றும் (R) இரண்டும் சரி மற்றும் (R) என்பது (A) இன் சரியான விளக்கம்
- (A) மற்றும் (R) இரண்டும் சரி ஆனால் (R) என்பது (A) இன் சரியான விளக்கம் அல்ல
- (A) சரி ஆனால் (R) தவறு
- (A) தவறு ஆனால் (R) சரி
- விடைதெரியவில்லை



Consider the following statements.

Assertion (A) : Substantial movement of agricultural labourers and artisans from southern India to British colonies, engaging in indentured labour on plantations.

Reason (R) : The Great Madras famine resulted in a death toll of 10.3 million people.

Codes:

- A) Both (A) and (R) are true and (R) is the correct explanation of (A)
B) Both (A) and (R) are true but (R) is not the correct explanation of (A)
C) (A) is true but (R) is false
D) (A) is false but (R) is true
E) Answer not known

175. யுவான் சுவாங்கின் கூற்றுப்படி, எந்த பண்டை அரச வம்சத்தை "நன்றி உணர்வுமிக்கவர்களாகவும் போரில் ஈடுபடுவதை பெருமையாகவும் குற்றங்களுக்கு கடும் தண்டனை புரிபவர்களாகவும் திகழ்ந்தார்கள்" என்று விவரிக்கிறார்?

- A) சாளுக்கியர்கள்
B) சோழர்கள்
C) களப்பிரர்கள்
D) பாண்டியர்கள்
E) விடை தெரியவில்லை

According to Hiuen Tsang, which ancient Indian dynasty did he describe as "warlike and proud-spirited, grateful for favours and revengeful for wrongs"?

- A) Chalukyas
B) Cholas
C) Kalapiras
D) Pandyas
E) Answer not known

176. 15 வரைபடத் தாள்கள் ஒன்றாக 50 கிராம் எடையுள்ளதாக இருந்தால், $2\frac{1}{2}$ கிலோகிராம்

கொண்ட ஒரு பொட்டலத்தில் எத்தனை வரைபடத் தாள்கள் இருக்கும்?

- A) 550 வரைபடத்தாள்கள்
B) 650 வரைபடத்தாள்கள்
C) 750 வரைபடத்தாள்கள்
D) 850 வரைபடத்தாள்கள்
E) விடை தெரியவில்லை

If 15 chart papers together weigh 50 grams, how many of the same type will be there in a pack of $2\frac{1}{2}$ kilogram?

- A) 550 charts
B) 650 charts
C) 750 charts
D) 850 charts
E) Answer not known



177. ஒரு கார் 90 கி. மீ. தூரத்தை 2 மணி 30 நிமிடத்தில் பயணிக்கிறது. 210 கிலோமீட்டர் தூரத்தை பயணிக்க எவ்வளவு நேரம் தேவைப்படுகிறது?
- A) 5 மணி 15 நிமிடம்
B) 5 மணி 50 நிமிடம்
C) 6 மணி 15 நிமிடம்
D) 6 மணி 50 நிமிடம்
E) விடை தெரியவில்லை
- A car travels 90km in 2hours 30minutes. How much time is required to cover 210km?
- A) 5 hr 15 min
B) 5 hr 50 min
C) 6 hr 15 min
D) 6 hr 50 min
E) Answer not known
178. ஒரு நபர் ₹1, ₹5 மற்றும் ₹10 நோட்டு மதிப்புகளில் ₹ 960 வைத்திருக்கிறார். ஒவ்வொரு மதிப்பிலும் உள்ள நோட்டுகளின் எண்ணிக்கை சமமாக இருக்கும். மொத்த நோட்டுகளின் எண்ணிக்கை என்ன?
- A) 60
B) 120
C) 180
D) 240
E) விடை தெரியவில்லை
- A person has ₹ 960 in denominations of ₹1, ₹5 and ₹10 notes. The number of notes in each denomination is equal. What is the total number of notes?
- A) 60
B) 120
C) 180
D) 240
E) Answer not known
179. ஒரு தேர்வில், ஒரு மாணவர் ஒவ்வொரு சரியான விடைக்கும் 4 மதிப்பெண்களைப் பெறுகிறார், ஒவ்வொரு தவறான விடைக்கும் ஒரு மதிப்பெண்ணை இழக்கிறார். அவர் 60 வினாக்களுக்கு விடைளித்து 130 மதிப்பெண்கள் பெற்றால், அவர் சரியாக விடையளித்த கேள்விகளின் எண்ணிக்கையைக் காண்க.
- A) 38
B) 14
C) 37
D) 36
E) விடை தெரியவில்லை
- In an examination, a student scores 4 marks for every correct answer and loses one mark for every wrong answer. If he answers 60 questions in all and gets 130 marks, find the number of questions he answered correctly.
- A) 38
B) 14
C) 37
D) 36
E) Answer not known
180. $3^{x+2} = 3^x + 216$ யில் x யின் மதிப்பைக் காண்க.
- A) 27
B) 6
C) 9
D) 3
E) விடை தெரியவில்லை



Find x such that $3^{x+2} = 3^x + 216$

- A) 27
B) 6
C) 9
D) 3
E) Answer not known

181. 60 தொழிலாளர்கள் 7 நாட்களில் ஒரு பருத்தி பொதியை சுழற்றுகிறார்கள். 42 தொழிலாளர்கள் எத்தனை நாட்களில் அதை சுழற்றுவார்கள்?

- A) 10 நாட்கள்
B) 7 நாட்கள்
C) 11 நாட்கள்
D) 9 நாட்கள்
E) விடை தெரியவில்லை

60 workers can spin a bale of cotton in 7 days. In how many days will 42 workers spin it?

- A) 10 days
B) 7 days
C) 11 days
D) 9 days
E) Answer not known

182. ஒரு கிரிக்கெட் அணி தோல்வியடைந்ததை விட இரண்டு போட்டிகளில் அதிகமாக வென்றது. அவர்கள் வெற்றி பெற்றால், அவர்களுக்கு 5 புள்ளிகள் கிடைக்கின்றன, தோல்வியடைந்தால் -3 புள்ளிகள், அவர்களின் மொத்த புள்ளிகள் 50 எனில் அவர்கள் எத்தனை போட்டிகளில் விளையாடியுள்ளனர்?

- A) 50
B) 20
C) 42
D) 40
E) விடை தெரியவில்லை

A cricket team won two matches more than they lost. If they win, they get 5 points and for loss -3 points, how many matches have they played if their total score is 50?

- A) 50
B) 20
C) 42
D) 40
E) Answer not known

183. $(10+y)^4 = 50625$ என்ற சமன்பாட்டை கருத்தில் கொண்டு y யின் மதிப்பை காண்க

- A) 1
B) 5
C) 4
D) 0
E) விடை தெரியவில்லை

Observe the equation $(10+y)^4 = 50625$ and find the value of y ?

- A) 1
B) 5
C) 4
D) 0
E) Answer not known

184. 1 மணி நேரம் 30 நிமிடங்களில் ஒரு தண்ணீர் தொட்டியை நிரப்ப 6 பம்புகள் தேவை. ஒரு பம்பு மூடப்பட்டால் தொட்டியை நிரப்ப எவ்வளவு நேரம் ஆகும்?

- A) 1 மணி நேரம் 45 நிமிடங்கள்
B) 1 மணி நேரம் 48 நிமிடங்கள்
C) 1 மணி நேரம் 60 நிமிடங்கள்
D) 1 மணி நேரம் 42 நிமிடங்கள்
E) விடை தெரியவில்லை



6 pumps are required to fill a water sump in 1 hr 30 minutes. What will be the time taken to fill the sump if one pump is switched off?

- A) 1 hour 45 minutes B) 1 hour 48 minutes
C) 1 hour 60 minutes D) 1 hour 42 minutes
E) Answer not known

185. ஒரு நகரத்தில் டாக்ஸி கட்டணங்கள் 5 கிலோமீட்டருக்கு 100 ரூபாய் என நிலையான கட்டணமும் மற்றும் ஒவ்வொரு கூடுதல் கிலோமீட்டருக்கும், கிலோமீட்டருக்கு 16 ரூபாய் எனவும் வசூலிக்கப்படுகிறது பயணத்தின் முடிவில் செலுத்தப்பட்ட தொகை 740 ரூபாயாக இருந்தால், பயணிக்கப்பட்ட தூரத்தைக் கண்டறியவும்.

- A) 45 கி.மீ. B) 40 கி.மீ.
C) 50 கி.மீ D) 55 கி.மீ
E) விடை தெரியவில்லை

The taxi charges in a city comprise of a fixed charge of ₹100 for 5 kms and ₹16 per km for every additional km. If the amount paid at the end of the trip was ₹ 740 find the distance travelled.

- A) 45 km B) 40 km
C) 50 km D) 55 km
E) Answer not known

186. நீலவேனி தினமும் சைக்கிளில் பள்ளிக்குச் செல்கிறாள். சராசரியாக மணிக்கு 12 கி.மீ. வேகத்தில் சென்று 20 நிமிடங்களில் பள்ளியை அடைகிறாள். 15 நிமிடங்களில் பள்ளியை அடைந்தால், வேகத்தின் அதிகரிப்பு என்ன?

- A) 16 கிமீ/மணி B) 4 கிமீ/மணி
C) 20 கிமீ/மணி D) 8 கிமீ/மணி
E) விடை தெரியவில்லை

Neelaveni goes by bi-cycle to her school every day. Her average speed is 12km/hr and she reaches school in 20 minutes. What is the increase in speed, if she reaches the school in 15 minutes?

- A) 16 km/hr B) 4 km/hr
C) 20 km/hr D) 8 km/hr
E) Answer not known

187. ஆறு பேர் 12 நாட்களில் ஒரு வேலையை முடிக்க முடியும். இரண்டு நாட்களுக்குப் பிறகு, மேலும் 6 பேர் இவர்களுடன் இணைந்தனர். மீதமுள்ள வேலையை முடிக்க எத்தனை நாட்கள் ஆகும்?

- A) 10 நாட்கள் B) 4 நாட்கள்
C) 6 நாட்கள் D) 5 நாட்கள்
E) விடை தெரியவில்லை

Six men can complete a work in 12 days. Two days later, 6 more men joined them. How many days will they take to complete the remaining work?

- A) 10 days B) 4 days
C) 6 days D) 5 days
E) Answer not known



188. $16^{23} + 71^{48} + 59^{61}$ என்ற சமன்பாட்டில் ஒன்றாம் இலக்க எண்ணைக் காண்க
A) 7 B) 6
C) 8 D) 9
E) விடை தெரியவில்லை
Find the unit digit of the expression: $16^{23} + 71^{48} + 59^{61}$
A) 7 B) 6
C) 8 D) 9
E) Answer not known
189. ஒரு முழு எண்ணின் மூன்று மடங்குடன் 9 கூட்டும்போது 45 கிடைக்கிறது எனில் அந்த எண் யாது?
A) 12 B) 13
C) 18 D) 15
E) விடை தெரியவில்லை
Nine added to thrice a whole number gives 45. Find the number.
A) 12 B) 13
C) 18 D) 15
E) Answer not known
190. 8 மீட்டர் உயரமுள்ள ஒரு தூணின் நிழல் 6 மீட்டர் ஆகும். அதே நேரத்தில் அளவிடப்பட்ட மற்றொரு தூணின் நிழல் 30 மீ என்றால், தூணின் உயரத்தைக் கண்டறியவும்?
A) 45 மீ B) 60 மீ
C) 40 மீ D) 48 மீ
E) விடை தெரியவில்லை
The shadow of a pole with the height of 8 m is 6m. If the shadow of another pole measured at the same time is 30m, find the height of the pole?
A) 45 m B) 60 m
C) 40 m D) 48 m
E) Answer not known
191. ஒவ்வொரு தவறான விடைக்கும் 1 மதிப்பெண் எதிர்மறை மதிப்பெண் வழங்கும் போட்டித் தேர்வில் ஷங்கர் பங்கேற்றார். தாள் I இல் 25 கேள்விகளுக்கும், தாள் II இல் 13 கேள்விகளுக்கும் தவறாக விடையளித்தார். மதிப்பெண்களின் மொத்த குறைப்பைக் கண்டறியவும்.
A) 32 B) 34
C) 36 D) 38
E) விடை தெரியவில்லை
Shankar appeared for competitive exam which has negative scoring of 1 mark for each incorrect answer. In paper I she answered 25 questions incorrectly and in paper II, 13 questions incorrectly. Find the total reduction of marks.
A) 32 B) 34
C) 36 D) 38
E) Answer not known



192. ஒரு கடைக்காரர் ஒரு குறிப்பேட்டை விற்று ₹ 5 இலாபம் சம்பாதிக்கிறார், மேலும் அவரது பழைய இருப்புகளை விற்பனை செய்யும் போது பேனாவுக்கு ₹ 2 இழப்பு ஏற்படுகிறது. ஒரு குறிப்பிட்ட நாளில் அவர் லாபமோ நட்டமோ அடைய மாட்டார். அவர் 20 குறிப்பேடுகளை விற்கிறிருந்தால், அவர் எத்தனை பேனாக்களை விற்று இருப்பார் ?

- A) 40
B) 45
C) 50
D) 55
E) விடை தெரியவில்லை

A shopkeeper earns a profit of ₹ 5 by selling one notebook and incurs a loss of ₹ 2 per pen while selling of his old stock. In a particular day he earns neither profit nor loss. If he sold 20 notebooks, how many pens did he sell?

- A) 40
B) 45
C) 50
D) 55
E) Answer not known

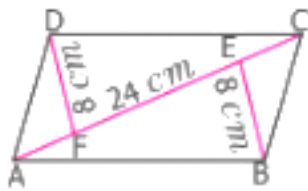
193. ஒரு ஜன்னல் சாய்சதுர வடிவத்தில் உள்ளது, இதன் இணை பக்கங்கள் முறையே 105 செ. மீ. மற்றும் 50 செ. மீ. மற்றும் இணையான பக்கங்களுக்கு இடையிலான தூரம் 60 செ. மீ, 100 சதுர சென்டிமீட்டருக்கு ரூ. 15 என்ற விகிதத்தில் ஜன்னலை மூடுவதற்கு பயன்படுத்தப்படும் கண்ணாடியின் விலையைக் கண்டறியவும்.

- A) ரூ. 697.25
B) ரூ. 697.60
C) ரூ. 697.50
D) ரூ. 697.55
E) விடை தெரியவில்லை

A window is in the form of trapezium whose parallel sides are 105 cm and 50 cm respectively and the distance between the parallel sides is 60 cm. Find the cost of the glass used to cover the window at the rate of Rs.15 per 100 sq. cm.

- A) Rs. 697.25
B) Rs. 697.60
C) Rs. 697.50
D) Rs. 697.55
E) Answer not known

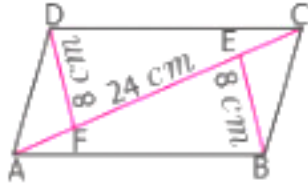
194. ABCD என்ற இணைகரத்தின் பரப்பளவை கண்டறியவும், AC என்பது 24 செ.மீ மற்றும் BE = DF = 8 செ.மீ



- A) 182 செ.மீ²
B) 96 செ.மீ²
C) 124 செ.மீ²
D) 192 செ.மீ²
E) விடை தெரியவில்லை



Find the area of the parallelogram ABCD, if AC is 24 cm and BE = DF = 8 cm.



- A) 182 cm² B) 96 cm²
C) 124 cm² D) 192 cm²
E) Answer not known

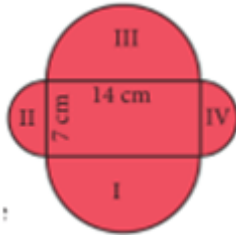
195. வினாடி முள்ளின் நீளம் 56 மிமீ என்றால் ஒரு கடிகாரத்தின் வினாடி முள்ளின் முனையானது 1 நிமிடத்தில் கடந்த தூரம் என்ன? ($\pi = \frac{22}{7}$ என பயன்படுத்துக)

- A) 352 மீ B) 0.352 மீ
C) 3.52 மீ D) 35.2 மீ
E) விடை தெரியவில்லை

What is the distance travelled by the tip of the seconds hand of a clock in 1 minute, if the length of the hand is 56 mm (use $\pi = \frac{22}{7}$).

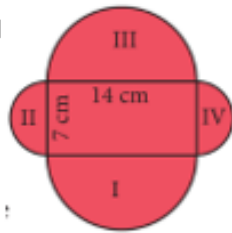
- A) 352 m B) 0.352 m
C) 3.52 m D) 35.2 m
E) Answer not known

196. கொடுக்கப்பட்ட படத்தின் சுற்றளவை காண்க. ($\pi = \frac{22}{7}$)



- A) 22 cm B) 66 cm
C) 44 cm D) 33 cm
E) விடை தெரியவில்லை

Find the perimeter of the given shape (Take $\pi = \frac{22}{7}$).



- A) 22 cm B) 66 cm
C) 44 cm D) 33 cm
E) Answer not known



197. ஒரு விவசாயி தனது 420 மீட்டர் ஆரம் கொண்ட வட்டமான கோழி பண்ணையை கம்பி மூலம் வேலி போட விரும்புகிறார். ஒரு மீட்டருக்கு வேலியிட 12 ரூபாய் செலவாகும். அவரிடம் 30 ஆயிரம் ரூபாய் இருக்கிறது. அவரது பண்ணையை வேலிடுவதற்கு இன்னும் எவ்வளவு தேவைப்படும்?
- A) ரூ. 31680
B) ரூ. 1680
C) ரூ. 1780
D) ரூ. 2640
E) விடை தெரியவில்லை
- A farmer wants to fence his circular poultry farm with barbed wire whose radius is 420 m. The cost of fencing is ₹12 per metre. He has ₹30,000 with him. How much more amount will be needed to fence his farm?
- A) Rs. 31680
B) Rs. 1680
C) Rs. 1780
D) Rs. 2640
E) Answer not known
198. ஒரு தோட்டக்காரர் 154 மீட்டர் தொலைவு கொண்ட ஒரு வட்ட பூங்காவைச் சுற்றி நடக்கிறார். ஒரு சதுர மீட்டருக்கு 25 ரூபாய் என்ற விகிதத்தில் பூங்காவை செப்பனிட விரும்பினால், அவருக்கு எவ்வளவு தேவைப்படும்?
- A) ரூ 1885.20
B) ரூ.1886.50
C) ரூ. 47,162.50
D) ரூ. 46,152.30
E) விடை தெரியவில்லை
- A gardener walks around a circular park of distance 154 m. If he wants to level the park at the rate of ₹25 per sq.m, how much amount will he need?
- A) Rs.1885.20
B) Rs.1886.50
C) Rs. 47,162.50
D) Rs. 46,152.30
E) Answer not known
199. 9856 சதுர மீட்டர் பரப்பளவில் மேய்க்க ஒரு பசுவைக் கட்டுப்படுத்த வேண்டிய கயிற்றின் நீளத்தைக் கண்டறியவும்
- A) 56 செ. மீ.
B) 560 செ.மீ.
C) 0.56 செ.மீ.
D) 5600 செ.மீ.
E) விடை தெரியவில்லை
- Find the length of the rope by which a cow must be tethered in order that it may be able to graze an area of 9856 sq.m
- A) 56 cm
B) 560 cm
C) 0.56 cm
D) 5600 cm
E) Answer not known



200. ஒரு வட்ட கிரிக்கெட் மைதானத்தின் ஆரம் 76 மீட்டர் ஆகும். மழை நீரை வடிகட்ட, கிரிக்கெட் மைதானத்தைச் சுற்றி 2 மீட்டர் அகலத்தில் ஒரு வடிகால் அமைக்கப்பட வேண்டும். ஒரு சதுர மீட்டருக்கு ₹180/- என்ற விகிதத்தில் வடிகால் அமைப்பதற்கான செலவைக் கண்டறியவும்.

A) ரூ.1,72,240

B) ரூ 1,75,240

C) ரூ 1,73,240

D) ரூ 1,74,240

E) விடை தெரியவில்லை

The radius of a circular cricket ground is 76 m. A drainage 2 m wide has to be constructed around the cricket ground for the purpose of draining the rain water. Find the cost of constructing the drainage at the rate of ₹180/- per sq.m.

A) ₹1,72,240.

B) ₹1,75,240.

C) ₹1,73,240.

D) ₹1,74,240.

E) Answer not known



**SHANKAR
IAS ACADEMY™**
Best Academy for Civil Services Exam Coaching

SPACE FOR ROUGH WORK

SHANKAR IAS ACADEMY
www.Padasalai.Net



SHANKAR
IAS ACADEMYTM
Best Academy for Civil Services Exam Coaching

SPACE FOR ROUGH WORK

SHANKAR IAS ACADEMY
www.Padasalai.Net



வினாத்தொகுப்பு எண் :

பதிவு எண்

--	--	--	--	--	--	--	--	--	--

Test - 5

2024

**பொதுத் தமிழ் (பத்தாம் வகுப்பு தரம்) மற்றும் பொது அறிவு
(பட்டப்படிப்பு தரம்)**

இந்த வினாப்புத்தகம்

பகுதி - அ (பொதுத் தமிழ்) மற்றும் பகுதி - ஆ (பொது அறிவு) உள்ளடக்கியது

கால அளவு : 3.00 மணி நேரம்]

[மொத்த மதிப்பெண்கள் : 300

வினாக்களுக்கு பதிலளிக்கும் முன் கீழ்க்கண்ட அறிவுரைகளை கவனமாகப் படிக்கவும்

முக்கிய அறிவுரைகள்

- இந்த வினாத்தொகுப்பு, தேர்வு தொடங்குவதற்கு 15 நிமிடங்களுக்கு முன்னதாக உங்களுக்கு வழங்கப்படும்.
- இந்த வினாத்தொகுப்பு, **200** வினாக்களைக் கொண்டுள்ளது. விடையளிக்கத் தொடங்குமுன் இவ்வினாத் தொகுப்பில் எல்லா வினாக்களும் வரிசையாக இடம் பெற்றுள்ளனவா என்பதையும், இடையில் வெற்றுத்தாள்கள் எவையுமில்லை என்பதையும் உறுதி செய்து கொள்ளவும். வினாத் தொகுப்பில் ஏதேனும் குறைபாடு இருப்பின், அதனை முதல் பத்து நிமிடங்களுக்குள் அறைக்கண்காணிப்பாளரிடம் தெரிவித்து, சரியாக உள்ள வேறொரு வினாத் தொகுப்பினை பெற்றுக்கொள்ள வேண்டும். தேர்வு தொடங்கிய பின்பு, இது குறித்து முறையிட்டால் வினாத் தொகுப்பு மாற்றித் தரப்படமாட்டாது.
- எல்லா வினாக்களுக்கும் விடையளிக்கவும், எல்லா வினாக்களும் சமமான மதிப்பெண்கள் கொண்டவை.
- உங்களுடைய பதிவு எண்ணை இந்தப் பக்கத்தின் வலது மேல் மூலையில் அதற்கென அமைந்துள்ள இடத்தில் நீங்கள் எழுத வேண்டும். வேறு எதையும் வினாத் தொகுப்பில் எழுதக் கூடாது.
- விடைத்தாள் ஒன்று விடைகளை குறிப்பதற்கு அறைக்கண்காணிப்பாளரால் உங்களுக்கு வழங்கப்படும். விடைகளைக் குறிப்பது உள்ளிட்ட அவசியம் பின்பற்றப்பட வேண்டிய அறிவுரைகள் விடைத்தாளிலும், தேர்வுக்கூட அனுமதிச் சீட்டிலும் வழங்கப்பட்டுள்ளன.
- உங்களுடைய வினாத்தொகுப்பு, எண்ணை (Question Booklet Number) விடைத்தாளின் முதல் பக்கத்தில் அதற்கென அமைந்துள்ள இடத்தில் கருமை நிற மையுடைய பந்துமுனைப் பேனாவினால் குறித்துக் காட்ட வேண்டும். வினாத்தொகுப்பு எண்ணை விடைத்தாளில் சரியாகக் குறித்துக் காட்டத் தவறினாலோ அல்லது குறிக்கத் தவறினாலோ உங்களுடைய விடைத்தாள் செல்லாததாகக்கப்படும்.
- ஒவ்வொரு வினாவும் A), (B), (C), (D), (E) என ஐந்து பதில்களைக் (விடைகள்) கொண்டுள்ளது. நீங்கள் A) அல்லது B) அல்லது C) அல்லது D) இவைகளில் ஒரே ஒரு சரியான விடையைத் தெரிவு செய்து விடைத்தாளில் குறித்துக்காட்ட வேண்டும். ஒரு கேள்விக்கு ஒன்றுக்கு மேற்பட்ட சரியான விடை இருப்பதாக நீங்கள் கருதினால், மிகச்சரியானது என நீங்கள் எதைக் கருதுகிறீர்களோ அந்த விடையை விடைத்தாளில் குறித்துக்காட்ட வேண்டும். உங்களுக்கு விடை தெரியவில்லை எனில், நீங்கள் (E) என்பதை அவசியம் நிரப்ப வேண்டும். எப்படியாயினும், ஒரு கேள்விக்கு ஒரே ஒரு விடையைத் தான் தேர்ந்தெடுக்க வேண்டும். நீங்கள் ஒரு வேள்விக்கு ஒன்றுக்கு மேற்பட்ட விடையளித்தால், அவற்றுள் ஒரு விடை சரியானதாக இருந்தாலும் அந்த விடை தவறானதாகவே கருதப்படும்.
- நீங்கள் வினாத் தொகுப்பின் எந்தப் பக்கத்தையும் நீக்கவோ அல்லது கிழிக்கவோ கூடாது. தேர்வு நேரத்தில் இந்த வினாத் தொகுப்பினையோ அல்லது விடைத்தாளையோ தேர்வு அறையை விட்டு வெளியில் எடுத்துச் செல்லக் கூடாது. தேர்வு முடிந்தபின் நீங்கள் உங்களுடைய விடைத்தாளை கண்காணிப்பாளரிடம் கொடுத்து விட வேண்டும். இவ்வினாத் தொகுப்பினை தேர்வு முடிந்த பின்னர் மட்டுமே நீங்கள் எடுத்துச் செல்ல அனுமதிக்கப்படுவீர்கள்.
- குறிப்புகள் எழுதிப்பார்ப்பதற்கு வினாத்தொகுப்பின் கடைசி பக்கத்திற்கு முன் உள்ள பக்கங்களை பயன்படுத்திக் கொள்ளலாம். இதைத்தவிர வினாத்தொகுப்பின் எந்த இடத்திலும் எந்தவித குறிப்புகளையும் எழுதக்கூடாது. இந்த அறிவுரை கண்டிப்பாக பின்பற்றப்படவேண்டும்.
- வினா வரிசை எண்கள் 101 முதல் 200 வரை (பகுதி - ஆ) ஆங்கில வடிவே இறுதியானது.
- நீங்கள் மேற்கண்ட அறிவுரைகளில் எவற்றையாவது பின்பற்றத் தவறினால் தேர்வாணையம் எடுக்கும் நடவடிக்கைகளுக்கு உள்ளாக நேரிடும் என அறிவுறுத்தப்படுகிறது.

∩

[Turn over

For queries mail to For queries mail to : zerofeedback@shankariasacad.in; [Turn over

Kindly Send Me Your Key Answer to Our email id - Padasalai.net@gmail.com



பகுதி - அ — பொதுத் தமிழ் (பத்தாம் வகுப்பு தரம்)

Part A — General Tamil (SSLC Std)

வினாக்கள் : 1-100

மொத்த மதிப்பெண்கள் : 150

Questions : 1-100

Total Marks : 150

1. “அ.கௌரன் பதிப்பித்த கொங்குநாட்டு மழைச்சோற்று வழிபாடு” என்னும் கட்டுரையானது கீழ்க்காணும் எந்த நூலில் இடம்பெற்றுள்ளது?
 - A) பஞ்சக் கும்மிகள்
 - B) பழந்தமிழர் வழிபாட்டு மரபுகள்
 - C) தொடுவானம்
 - D) தமிழகப் பழங்குடிகள்
 - E) விடை தெரியவில்லை
2. பின்வரும் கூற்றுகளைக் கருத்தில் கொள்க.
 - I. “வண்புகழ் மூவர் தண்பொழில் வரைப்பு” என்று தொல்காப்பியம் குறிப்பிடுகின்றது.
 - II. வால்மீகி இராமாயணம், மகாபாரதம், அர்த்தசாத்திரம், அசோகர் கல்வெட்டு ஆகியவற்றில் மூவேந்தர்கள் பற்றிய குறிப்புகள் இடம்பெற்றுள்ளன.
 - III. முடியுடைய மூவேந்தர்களில் சேரர்களே பழமையானவர்கள் என்று கூறுபவரும் உண்டு. மேற்கண்டவற்றுள் எத்தனை கூற்று(கள்) சரியானவை?
 - A) I மற்றும் II மட்டும்
 - B) II மற்றும் III மட்டும்
 - C) I மற்றும் III மட்டும்
 - D) அனைத்தும்
 - E) விடை தெரியவில்லை
3. பின்வரும் தவறான கூற்றுகளைக் தேர்வு செய்க.
 - A) சேரர்களின் நாடு குடநாடு எனப்பட்டது. இவர்களின் தலைநகராக வஞ்சி விளங்கியது.
 - B) இந்நகர் மேற்கு மலைத்தொடரில் தோன்றி அரபிக்கடலில் கலக்கும் பேரியாற்றங்கரையில் இருந்தது. இதனைக் காந்தளூர் என்றும் அழைப்பர்.
 - C) தொண்டி முசிறி என்பன சேரநாட்டின் துறைமுகப் பட்டினங்களாக விளங்கின.
 - D) சேரர்களின் கொடி விற்கொடி ஆகும். பனம்பூ இவர்களுக்குரிய பூ ஆகும்.
 - E) விடை தெரியவில்லை
4. “போந்தை வேம்பே ஆரென வருஉம் மாபெருந் தானையர் மலைந்த பூவும்” எனக் குறிப்பிடும் நூல் எது?
 - A) தொல்காப்பியம்
 - B) புறநானூறு
 - C) பரிபாடல்
 - D) பதிற்றுப்பத்து
 - E) விடை தெரியவில்லை



5. பின்வரும் கூற்றுகளைக் கருத்தில் கொள்க.
- I. கார்மேகக் கவிஞர் இயற்றிய கொங்கு மண்டலச் சதகம் என்னும் நூலில் வடக்கே பெரும்பாலை, தெற்கே பழனிமலை, மேற்கே வெள்ளிமலை, கிழக்கே மதிற்கரை என இந்நான்கு எல்லைகளுக்குட்பட்ட பகுதியாகக் கொங்குமண்டலம் விளங்கியதாகக் கூறப்படுகிறது.
- II. கொங்குநாட்டுப் பகுதியை காவிரி, பவானி, நொய்யல், தென்பொருநை ஆகிய ஆறுகள் வளம் செழிக்கச் செய்கின்றன.
- மேற்கண்டவற்றுள் எத்தனை கூற்று(கள்) சரியானவை?
- A) I மட்டும்
B) II மட்டும்
C) இரண்டும்
D) இரண்டுமல்ல
E) விடை தெரியவில்லை
6. முசிறி துறைமுகத்திலிருந்து ஏற்றுமதி செய்யப்பட்டுவுள்ள பொருந்தா ஒன்றினைத் தேர்ந்தெடுக்க?
- A) மிளகு
B) முத்து
C) பட்டு
D) பவளம்
E) விடை தெரியவில்லை
7. பழங்காலத்தில் விலையைக் கணக்கிட அடிப்படையாக அமைந்தது எது?
- A) நெல்
B) உப்பு
C) செம்பு
D) பொன்
E) விடை தெரியவில்லை
8. பின்வரும் தவறான கூற்றினைக் தேர்வுசெய்க.
- A) கிழக்குத் தொடர்ச்சி மலையும் மேற்குத் தொடர்ச்சி மலையும் சந்திக்கும் இடமே நீலகிரி ஆகும்.
- B) கோவன்புத்தூர் என்னும் பெயரே கோயம்புத்தூர் என்று மருவி வழங்கப்பட்டு வருகிறது.
- C) நாமக்கல் மாவட்டம் மலர் உற்பத்தியில் முதலிடம் வகிக்கின்றது.
- D) மாங்கனி நகரம் என்னும் சிறப்புப் பெயர் கொண்டது ஏழைகளின் ஊட்டி என்று அழைக்கப்படும் ஏற்காடு இம்மாவட்டத்தில் அமைந்துள்ளது.
- E) விடை தெரியவில்லை
9. பின்வரும் இணைகளை கருத்தில் கொள்க.
- | (ஊர்) | (சிறப்புப்பெயர்) |
|------------------|-------------------------|
| I. தூத்துக்குடி | — முத்து நகரம் |
| II. சிவகாசி | — குட்டி ஜப்பான் |
| III. மதுரை | — தூங்கா நகரம் |
| IV. திருவண்ணாமலை | — தீப நகரம் |
| V. திண்டுக்கல் | — தமிழ்நாட்டின் ஹாலந்து |
- எத்தனை இணைகள் சரியாக பொருந்தியுள்ளன?
- A) 2 இணைகள்
B) 3 இணைகள்
C) 4 இணைகள்
D) 5 இணைகள்
E) விடை தெரியவில்லை



10. பின்வரும் கூற்றுகளைக் கருத்தில் கொள்க.
I. தமிழகத்திலேயே மஞ்சள் சந்தை ஈரோட்டில்தான் நடைபெறுகின்றது.
II. இந்தியாவின் முதல் ஆயத்த ஆடைப் பூங்காவான நேதாஜி ஆயத்த ஆடை பூங்கா திருப்பூர் மாவட்டத்தில் அமைந்துள்ளது.
III. தேசிய அளவில் புகழ்பெற்ற காங்கேயம் காளைகள் ஈரோடு மாவட்டத்திற்குப் பெருமை சேர்க்கின்றன.
மேற்கண்டவற்றுள் எத்தனை கூற்று(கள்) சரியானவை?
A) I மற்றும் II மட்டும்
B) II மற்றும் III மட்டும்
C) I மற்றும் III மட்டும்
D) அனைத்தும்
E) விடை தெரியவில்லை
11. தமிழகத்தின் முதன்மையான உள்நாட்டு வணிக மையமாகக் கிரேக்க அறிஞர் எந்தகரைக் குறிப்பிடுகின்றார்?
A) சேலம்
B) ஈரோடு
C) நாமக்கல்
D) கரூர்
E) விடை தெரியவில்லை
12. “உப்புக்கடலைக் குடிக்கும் பூனை” என்னும் நூலின் ஆசிரியர் யார்?
A) வளர்மதி
B) கன்னிவாடி சீரங்கராயன்
C) புதுமைப்பித்தன்
D) கோமகள்
E) விடை தெரியவில்லை
13. தவறாக பொருந்தியுள்ள இணையைக் கண்டறிக.
A) உடலோம்பல் – இயல்பு புணர்ச்சி
B) விற்கொடு – திரிதல் விகாரம்
C) தாய்மொழி – தோன்றல் விகாரம்
D) மனமகிழ்ச்சி – கெடுதல் விகாரம்
E) விடை தெரியவில்லை
14. கலைச்சொல் தருக: Dyeing
A) தோல் பதனிடுதல்
B) ஆயத்த ஆடை
C) சாயம் ஏற்றுதல்
D) தையல்
E) விடை தெரியவில்லை
15. பின்வருவனவற்றுள் வேறுபட்ட ஒன்றினைத் தேர்ந்தெடு.
A) பிலம்
B) மறலி
C) முழை
D) மலைக்குகை
E) விடை தெரியவில்லை
16. “அருவர் வருவர் எனா இறைஞ்சினர்” அடிக்கோடிட்டச் சொல்லின் பொருள் யாது?
A) தமிழர்கள்
B) சமணர்கள்
C) தேவர்கள்
D) கலிங்கவீரர்கள்
E) விடை தெரியவில்லை



17. “கலிங்கத்துப்பரணி” பற்றிய தவறான கூற்றினைக் கருத்தில் கொள்க.
- A) செயங்கொண்டார் தீபங்குடி என்னும் ஊரினைச் சேர்ந்தவர். இவரைப் பரணிக்கோர் செயங்கொண்டார் என்று பலபட்டடைச் சொக்கநாதப் புலவர் புகழ்ந்துள்ளார்.
- B) கலிங்கத்துப்பரணி தொண்ணூற்றாறு வகைச் சிற்றிலக்கியங்களுள் ஒன்றான பரணி வகையைச் சார்ந்த நூல். தமிழில் எழுத்தே முதல் பரணி நூல் இதுவாகும்.
- C) இது முதலாம் குலோத்துங்க சோழன், அவருடைய படைத்தலைவர் கருணாகரத் தொண்டைமான் ஆகியோரின் கலிங்கப்போர் வெற்றியைப் பற்றி கூறுகின்றது.
- D) இந்நூலைத் “தெய்வமிழ்த் தெய்வப்பரணி” என்று சேக்கிழார் புகழ்ந்துரைத்துள்ளார்.
- E) விடை தெரியவில்லை
18. கீழ்க்கண்டவற்றுள் தவறாக பிரிந்துள்ள சொல்லைத் தேர்ந்தெடு.
- A) வெங்கரி – வெண் + கரி
- B) என்றிருள் – என்று + இருள்
- C) ஊராண்மை – ஊர் + ஆண்மை
- D) பெருஞ்செல்வம் – பெருமை + செல்வம்
- E) விடை தெரியவில்லை
19. மீரா இயற்றிய நூல்களுள் பொருந்தா ஒன்றினைத் தேர்ந்தெடு.
- A) ஊசிகள்
- B) வா இந்தப் பக்கம்
- C) அன்னம் விடு தூது
- D) மூன்றும் ஆறும்
- E) விடை தெரியவில்லை
20. “தமிழ் மூவாயிரம்” எனச் சிறப்பிக்கப்படும் நூல் எது?
- A) திருக்குறள் B) திருமந்திரம்
- C) தாயுமானவர் பாடல்கள் D) திருவாசகம்
- E) விடை தெரியவில்லை
21. இதம் + தரும் என்பதனைச் சேர்த்தெழுதக் கிடைக்கும் சொல் யாது?
- A) இதந்தரும் B) இதம்தரும்
- C) இதத்தரும் D) இதைத்தரும்
- E) விடை தெரியவில்லை
22. பின்வருவனவற்றுள் எந்தப் பல்கலைக்கழகம் எம்.ஜி.ஆர். அவர்களுக்கு டாக்டர் பட்டம் வழங்கியது?
- A) எம்.ஜி.ஆர். மருத்துவப் பல்கலைக்கழகம்
- B) சென்னைப் பல்கலைக்கழகம்
- C) மதுரை காமராசர் பல்கலைக்கழகம்
- D) பாரதியார் பல்கலைக்கழகம்
- E) விடை தெரியவில்லை



23. பின்வரும் தவறான கூற்றினைக் கருத்தில் கொள்க.
- A) பள்ளிக் குழந்தைகளுக்குக் காலணிகள் வழங்கும் திட்டத்தை நடைமுறைப்படுத்தினார்.
B) பள்ளிக் குழந்தைகளுக்கு மதிய உணவுத் திட்டத்தினை தொடங்கினார்.
C) மதுரை மாநகரில் ஐந்தாம் உலகத் தமிழ் மாநாட்டைச் சிறப்பாக நடத்தினார்.
D) தஞ்சையில் ஆயிரம் ஏக்கர் பரப்பளவில் தமிழ்ப் பல்கலைக்கழகத்தைத் தோற்றுவித்தார்.
E) விடை தெரியவில்லை
24. 'எம்.ஜி.ஆர்-க்குச் செய்த சிறப்புகள்' பற்றிய பின்வரும் கூற்றுகளைக் கருத்தில் கொள்க.
- I. எம்.ஜி.ஆர். நூற்றாண்டு விழாவை ஒட்டி தமிழக அரசால் சென்னையிலும் மதுரையிலும் உள்ள பேருந்து நிலையங்களுக்கு எம்.ஜி.ஆர். பெயர் சூட்டப்பட்டுள்ளது.
II. இந்திய அரசு, சென்னை சென்ட்ரல் ரயில் நிலையத்திற்குப் புரட்சித் தலைவர் டாக்டர்.எம்.ஜி.இராமச்சந்திரன் மத்திய ரயில் நிலையம் எனப்பெயர் மாற்றம் செய்து, அவரைப் பெருமைப்படுத்தியுள்ளது.
III. தமிழக அரசு, சென்னைக் கடற்கரையில் இவருக்கு எழிலார்ந்த நினைவிடம் ஒன்றையும் அமைத்துள்ளது.
IV. அவரது இறப்புக்குப்பின் இந்திய அரசு, மிக உயரிய பாரத ரத்னா விருதினை 1988 ஆம் ஆண்டு வழங்கிப் பெருமைப்படுத்தியது.
- மேற்கண்டவற்றுள் எத்தனை கூற்று(கள்) சரியானவை?
- A) I, II மற்றும் III மட்டும்
B) II, III மற்றும் IV மட்டும்
C) I, III மற்றும் IV மட்டும்
D) அனைத்தும்
E) விடை தெரியவில்லை
25. எம்.ஜி.ஆரின் சமூக நலத்திட்டங்களில் பொருந்தா ஒன்றினைத் தேர்ந்தெடு.
- A) உழவர்களின் கடன் தள்ளுபடி
B) ஏழைகளுக்கான வீட்டு வசதித் திட்டம்
C) ஏழை மகளிருக்குத் திருமண உதவித்திட்டம்
D) வேலைவாய்ப்பு அற்றவர்களுக்கு உதவித்தொகை வழங்கும் திட்டம்
E) விடை தெரியவில்லை
26. அதியமானுக்காக ஒளவையார் யாரிடம் தூது சென்றார்?
- A) தொண்டைமான்
B) திருமுடிக்காரி
C) பேகன்
D) ஓரி
E) விடை தெரியவில்லை
27. வல்லினம் மிகும் இடங்கள் பற்றிய தவறான கூற்றினைத் தேர்ந்தெடு?
- A) அந்த, இந்த என்னும் சுட்டுத்திரிபுகளை அடுத்து வல்லினம் மிகும்.
B) எந்த என்னும் வினாத்திரிபை அடுத்து வல்லினம் மிகும்.
C) உம்மைத்தொகையில் வல்லினம் மிகும்.
D) உவமைத்தொகையில் வல்லினம் மிகும்.
E) விடை தெரியவில்லை



28. 'வல்லினம் மிகா இடங்கள்' பற்றிய தவறான கூற்றினைத் தேர்ந்தெடு.
- A) வினைத்தொகையில் வல்லினம் மிகாது.
B) அது இது எது ஆகிய சொற்களை அடுத்து வல்லினம் மிகாது.
C) இரண்டாம் வேற்றுமை உருபு மறைந்து வரும் இடங்களில் வல்லினம் மிகாது.
D) திசைப்பெயர்களை அடுத்து வல்லினம் மிகாது.
E) விடை தெரியவில்லை
29. சந்திப்பிழையான சொல்லைத் தேர்ந்தெடு.
- A) வாய்ப்பவளம்
B) வட்டப்பாறை
C) எழுதுப்பொருள்
D) பத்துக்காசு
E) விடை தெரியவில்லை
30. மூவிடத்திற்கும், ஐம்பாலுக்கும் பொதுவான சொற்கள் எவை?
- A) வேறு, அல்ல
B) அல்லை, இல்லை
C) வேறு, இல்லை
D) வேறு அல்லை
E) விடை தெரியவில்லை
31. பிழையற்ற எதிர்மறைத் தொடரினை தேர்ந்தெடு?
- A) வந்தது நீ அல்ல
B) பார்த்தது நான் அல்ல
C) தாங்கள் படிக்க வேண்டிய புத்தகங்கள் இவை அல்ல
D) நான் படித்த புத்தகம் இது அல்ல
E) விடை தெரியவில்லை
32. சரியான எதிர்மறைச் சொல்லைத் தேர்ந்தெடு, மணிமேகலை செல்வ வாழ்வை விரும்பியவள்
- _____
- A) அல்லன்
B) அல்லள்
C) அல்லீர்
D) அல்லேள்
E) விடை தெரியவில்லை
33. பிழையான தொடரினைத் தேர்ந்தெடு.
- A) அதைச் செய்தது நான் அல்லை.
B) மல்லிகை குளத்தில் பூக்கும் மலர் அன்று.
C) சித்தர்கள் செயற்கையை விரும்பியவர்கள் அல்லர்.
D) பகைவர் நீவிர் அல்லீர்.
E) விடை தெரியவில்லை
34. பின்வரும் இணைகளை கருத்தில் கொள்க.
- | | |
|------------------------------------|-----------------------|
| (ஆங்கிலச் சொல்) | (தமிழ்ச் சொல்) |
| I. Equestrian | – சமநிலைக்கோடு |
| II. Member of Legislative Assembly | – சட்டமன்ற உறுப்பினர் |
| III. Loom | – தறி |
| IV. Objective | – குறிக்கோள் |



எத்தனை இணைகள் சரியாக பொருந்தியுள்ளன?

- A) 1 இணை
B) 2 இணைகள்
C) 3 இணைகள்
D) 4 இணைகள்
E) விடை தெரியவில்லை

35. “இல்லோர் ஒக்கல் தலைவன் அண்ணல்லம் கோமான் வைந்நுதி வேலே” என்று பாடியவர் யார்?

- A) செயங்கொண்டார்
B) ஓளவையார்
C) காவற்பெண்டு
D) குணங்குடி மஸ்தான் சாகிபு
E) விடை தெரியவில்லை

36. அறுபத்துமூன்று நாயன்மார்களுள் ஒருவராகவும் பதினெண் சித்தர்களுள் ஒருவராகவும் கருதப்படுபவர் யார்?

- A) திருமூலர்
B) அகத்தியர்
C) மாணிக்கவாசகர்
D) கடுவெளிச்சித்தர்
E) விடை தெரியவில்லை

37. “ஒன்றே குலமும் ஒருவனே தேவனும்” என்னும் பாடலடியில் இடம்பெற்றுள்ள மோனை?

- A) இணை மோனை
B) பொழிப்பு மோனை
C) மேற்க்கதுவாய்
D) ஒருஉ மோனை
E) விடை தெரியவில்லை

38. பின்வரும் தவறான இணைகளை கருத்தில் கொள்க.

(பாடலடிகள்)

(இடம்பெற்றுள்ள நூல்)

- A) ஒன்றே குலமும் ஒருவனே தேவனும்
நன்றே நினைமின் நமனில்லை நாணாமே – திருமந்திரம்
B) படமாடக் கோயில் பகவற்கு ஒன்று ஈயில்
நடமாடக் கோயில் நம்பர்க்கு அங்கு ஆகா – திருவாசகம்
C) ஒருவர் ஒருவரின் ஓட முந்தினர்
உடலின் நிழலினை வெருவி அஞ்சினர் – கலிங்கத்து பரணி
D) மத்தளம் கொட்ட வரிசங்கம் நின்றுத
முத்துத்தாமம் நிரைதாழ்ந்த பந்தர்க்கீழ் – நாச்சியார் திருமொழி
E) விடை தெரியவில்லை

39. நம்பர்க்கு + அங்கு என்பதனைச் சேர்த்தெழுதக் கிடைக்கும் சொல் யாது?

- A) நம்பரங்கு
B) நம்மார்க்கு
C) நம்பர்க்கங்கு
D) நம்பர்க்கிங்கு
E) விடை தெரியவில்லை

40. திருமூலரின் பாடல்கள் பன்னிரு திருமுறைகளுள் எத்தனையாவது திருமுறையில் இடம்பெற்றுள்ளது?

- A) எட்டு
B) பத்து
C) ஒன்பது
D) பன்னிரெண்டு
E) விடை தெரியவில்லை



41. குணங்குடி மஸ்தான் சாகுபு பற்றிய பின்வரும் கூற்றுகளைக் கருத்தில் கொள்க.
- I. இவரது இயற்பெயர் சுல்தான் அப்துல்காதர்.
 - II. இவர் இளம் வயதிலேயே முற்றும் துறந்தவராக வாழ்ந்தார் சதுரகிரி, புறாமலை, நாகமலை முதலிய மலைப்பகுதிகளில் தவம் இயற்றி ஞானம் பெற்றார்.
 - III. இவர் எக்காளக்கண்ணி, நந்தீசுவரக் கண்ணி, மனோன்மணியம், குணங்குடியார் பாடற்கோவை முதலான நூல்களை இயற்றியுள்ளார்.
- மேற்கண்டவற்றுள் எத்தனை கூற்று(கள்) சரியானவை?
- A) I மற்றும் II மட்டும்
 - B) II மற்றும் III மட்டும்
 - C) I மற்றும் III மட்டும்
 - D) அனைத்தும்
 - E) விடை தெரியவில்லை
42. அடக்கத் தாம்மாய ஐம்பொறியைக் கட்டிப் படிக்கப் படிப்பு எனக்குப் பகராய் பராபரமே! என்ற பாடலின் அடிக்கோட்டிச் சொல்லின் பொருள் யாது?
- A) தெளிவான சிந்தனை
 - B) மேலான பொருள்
 - C) தேவர்கள்
 - D) கடவுள்
 - E) விடை தெரியவில்லை
43. அயோத்திதாசர் பற்றிய பின்வரும் கூற்றுகளைக் கருத்தில் கொள்க.
- I. சமத்துவம், பகுத்தறிவு ஆகிய கொள்கைகளை மக்களிடம் பரவலாக்கியவர்கள் தந்தை பெரியாருக்கும் அண்ணல் அம்பேத்கருக்கும் முன்னோடியாகக் திகழ்ந்தவர் அயோத்திதாசர்.
 - II. இவரைத் தென்னிந்தியச் சமூகச் சீர்திருத்தத்தின் தந்தை என்று போற்றுவர்.
 - III. இவர் 1845ஆம் ஆண்டு மே திங்கள் இருபதாம் நாள் சென்னையில் பிறந்தார் இவரது இயற்பெயர் காத்தவராயன் என்பதாகும்.
- மேற்கண்டவற்றுள் எத்தனை கூற்று(கள்) சரியானவை?
- A) I மற்றும் II மட்டும்
 - B) II மற்றும் III மட்டும்
 - C) I மற்றும் III மட்டும்
 - D) அனைத்தும்
 - E) விடை தெரியவில்லை
44. “அயாத்திதாசர் கற்றுத் தேர்ந்த மொழிகளுள் பொருந்தா ஒன்றைத் தேர்ந்தெடு.
- A) இந்தி
 - B) பாலி
 - C) வடமொழி
 - D) ஆங்கிலம்
 - E) விடை தெரியவில்லை
45. “என் பகுத்தறிவுப் பிரச்சாரத்திற்கும் சீர்திருத்தக் கருத்துகளுக்கும் முன்னோடிகளாகத் திகழ்ந்தவர்கள் பண்டிதமணி அயோத்திதாசரும் தங்கவயல் அப்பாதுரையாரும் ஆவார்கள்” என்று கூறியவர் யார்?
- A) அறிஞர் அண்ணா
 - B) அண்ணல் அம்பேத்கர்
 - C) இரட்டைமலை சீனிவாசன்
 - D) தந்தை பெரியார்
 - E) விடை தெரியவில்லை



46. பின்வரும் கூற்றுகளை கருத்தில் கொள்க.
- I. விடுதலை என்பது வெறும் ஆட்சிமாற்றம் மட்டுமன்று. அது மக்களின் வாழ்க்கையில் நல்ல மாற்றங்களை ஏற்படுத்துவதாக அமையவேண்டும் - அயோத்திதாசர்
- II. மக்கள் வாழ்க்கையில் மாற்றம் உண்டானால் ஒழிய, நாடு முன்னேற முடியாது - அம்பேத்கர்
- மேற்கண்ட கூற்றுகளில் சரியானவை எவை?
- A) I மட்டும்
B) II மட்டும்
C) இரண்டும்
D) இரண்டுமில்லை
E) விடை தெரியவில்லை
47. அயோத்திதாசர் எழுதிய நூல்களுள் பொருந்தா ஒன்றினைத் தேர்ந்தெடு.
- A) விவாக விளக்கம்
B) புத்தரது ஆதிவேதம்
C) பாலவாகடம்
D) இந்திரர் தேச சரித்திரம்
E) விடை தெரியவில்லை
48. அயோத்திதாசர் பற்றிய பின்வரும் கூற்றுகளை கருத்தில் கொள்க.
- I. சென்னை தாம்பரத்தில் உள்ள சித்த ஆராய்ச்சி மையத்துடன் இணைந்த மருத்துவமனைக்கு அயோத்திதாச பண்டிதர் மருத்துவமனை என்று பெயர் சூட்டப்பட்டுள்ளது.
- II. திருவள்ளூர், ஓளவையார் ஆகியோரின் படைப்புகளுக்கு பெளத்தக் கோட்பாடுகளின் அடிப்படையில் புதிய விளக்கங்களை எழுதியுள்ளார்.
- III. சங்ககாலப் பெண்களைப் போலவே, இக்காலப் பெண்களும் கல்விகற்றுத் தம் வாழ்க்கையைத் தாமே அமைத்துக்கொள்ளும் உரிமையைப் பெற வேண்டும் என வலியுறுத்தினார்.
- மேற்கண்ட கூற்றுகளில் சரியானவை எவை?
- A) I மற்றும் II மட்டும்
B) II மற்றும் III மட்டும்
C) I மற்றும் III மட்டும்
D) மேற்கண்ட அனைத்தும்
E) விடை தெரியவில்லை
49. “அயாத்திதாசரின் இதழ்ப்பணி” பற்றிய பின்வரும் கூற்றுகளை கருத்தில் கொள்க.
- I. 1907 ஆம் ஆண்டு சென்னையில் ஒரு பைசாத் தமிழன் என்னும் வாரஇதழை அரையணா விலையில் தொடங்கினார்.
- II. ஓர் ஆண்டிற்குப்பின் இவ்விதழின் பெயரைத் தமிழன் என மாற்றினார்.
- III. உயர்நிலையையும், இடைநிலையையும், கடைநிலையையும் பாகுபடுத்தி அறியமுடியாத மக்களுக்கு நீதி, நேர்மை, சரியான பாதை ஆகியவற்றைத் தெளிவுபடுத்துவதே இவ்விதழின் நோக்கம் ஆகும்.
- மேற்கண்ட கூற்றுகளில் சரியானவை எவை?
- A) I மற்றும் II மட்டும்
B) II மற்றும் III மட்டும்
C) I மற்றும் III மட்டும்
D) மேற்கண்ட அனைத்தும்
E) விடை தெரியவில்லை



50. “திராவிட மகாஜன சங்கம்” பற்றிய பின்வரும் கூற்றுகளை கருத்தில் கொள்க.
- I. அயோத்திதாசர் தமது கொள்கைகளை வலியுறுத்தும் ஒடுக்கப்பட்டோர் உரிமைகளைப் பாதுகாக்கவும் 1892 ஆம் ஆண்டு திராவிட மகாஜன சங்கம் என்னும் அமைப்பைப் தோற்றுவித்தார்.
- II. இவ்வமைப்பு சாலைகள் அமைத்தல், கால்வாய்கள் பராமரித்தல், குடிகளின் பாதுகாப்புக்குக் காவல்துறையினரை நியமித்தல், பொதுமருத்துவமனைகள் அமைத்தல், சிற்றுார்கள் தோறும் கல்விக்கூடங்கள் ஏற்படுத்துதல் போன்றவற்றுக்காகவும் போராடியது.
- மேற்கண்ட கூற்றுகளில் சரியானது எது/எவை?
- A) I மட்டும்
B) II மட்டும்
C) இரண்டும்
D) இரண்டுமில்லை
E) விடை தெரியவில்லை
51. அயோத்திதாசர் பதிப்பித்த நூல்களில் பொருந்தா ஒன்றினைத் தேர்ந்தெடு.
- A) புத்தர் சரித்திரப்பா
B) போகர் எழுநூறு
C) அகத்தியர் இருநூறு
D) சிமிட்டு இரத்தினச் சுருக்கம்
E) விடை தெரியவில்லை
52. சிறுகதை மன்னன் என்று போற்றப்படும் புதுமைப்பித்தனின் இயற்பெயர் என்ன?
- A) இராசுக்கண்ணு
B) இராசேந்திரன்
C) சொ. விருத்தாசலம்
D) இராசமாணிக்கம்
E) விடை தெரியவில்லை
53. பின்வரும் கூற்றுகளை கருத்தில் கொள்க.
- I. மாகாணி, வீசம் போன்றவை அக்காலத்தில் வழக்கில் இருந்த நாணயப்பெயர்கள் ஆகும்.
- II. அணா, சல்லி போன்றவை அக்காலத்தில் வழக்கில் இருந்த அளவைப் பெயர்களாகும்.
- மேற்கண்ட கூற்றுகளில் சரியானவை எவை?
- A) I மட்டும்
B) II மட்டும்
C) இரண்டும்
D) இரண்டுமில்லை
E) விடை தெரியவில்லை
54. புதுமைப்பித்தன் பற்றிய பின்வரும் கூற்றுகளை கருத்தில் கொள்க.
- I. கடவுளும் கந்தசாமிப்பிள்ளையும், சாபவிமோசனம், பொன்னகரம், ஒருநாள் கழிந்தது போன்றவை இவரது படைப்புகளாகும்.
- II. இவரது மனித யந்திரம் என்னும் சிறுகதையானது எழுத்து இதழில் வெளியானது.
- மேற்கண்ட கூற்றுகளில் சரியானது எது/எவை?
- A) I மட்டும்
B) II மட்டும்
C) இரண்டும்
D) இரண்டுமில்லை
E) விடை தெரியவில்லை



55. தவறாக பொருந்தியுள்ள இணையைக் கண்டறிக.

(மரபுத்தொடர்)

(பொருள்)

- | | | |
|--------------------------|---|------------------------|
| A) கொடிகட்டிப்பரத்தல் | - | விரைந்து வெளியேறுதல் |
| B) அவசரக் குடுக்கை | - | புகழ்பெற்று விளங்குதல் |
| C) ஆயிரங்காலத்துப் பயிர் | - | எண்ணிச் செயல்படாமை |
| D) கல்லில் சார் உரித்தல் | - | நீண்ட காலமாக இருப்பது |
| E) கம்பி நீட்டுதல் | - | இயலாத செயல் |

குறியீடுகள் :

- | | a | b | c | d | e |
|----|------------------|----------|----------|----------|----------|
| A) | 1 | 2 | 3 | 4 | 5 |
| B) | 3 | 2 | 1 | 5 | 4 |
| C) | 2 | 3 | 4 | 5 | 1 |
| D) | 5 | 4 | 3 | 2 | 1 |
| E) | விடை தெரியவில்லை | | | | |

56. அகரவரிசைப்படி சொற்களை சீர் செய்க.

- A) பைந்தமிழ், பெருவெடிப்பு, பீடு, பேரண்டம்
B) பீடு, பெருவெடிப்பு, பேரண்டம், பைந்தமிழ்
C) பேரண்டம், பைந்தமிழ், பெருவெடிப்பு, பீடு
D) பெருவெடிப்பு, பீடு, பேரண்டம், பைந்தமிழ்
E) விடை தெரியவில்லை

57. சரியான தொடரைத் தேர்ந்தெடு.

- A) கண்ணனைப் பார்த்தேன் - நிகழ்காலம்
B) கண்ணனைப் பார்க்கப் போகிறேன் - எதிர்காலம்
C) கண்ணனைப் பார்க்கிறேன் - இறந்தகாலம்
D) கண்ணனைப் பார்ப்பேன் - எதிர்காலம்
E) விடை தெரியவில்லை

58. ஒருபொருள் தரும் பல சொற்கள் 'சூரியன்'

- | | |
|---------------------|-------------------|
| A) ஞாயிறு, பரிதி | B) பரிதி, திங்கள் |
| C) திங்கள், நிலவு | D) நிலவு, கதிரவன் |
| E) விடை தெரியவில்லை | |

59. பிழையற்ற சரியான தொடரைக் கண்டறிக.

- A) எண் வீட்டுத் தோட்டத்தில் மலர்கள் மணம் வீசின
B) தேர்த்திருவிலாவிற்கும் சென்றனர்
C) வாழைப்பழம் உடலுக்கு மிகவும் நல்லது
D) இளைக்கு வேறு பெயர் தளை
E) விடை தெரியவில்லை



60. வேர்ச்சொல்லின் எதிர்மறைத் தொழிற்பெயரைக் காண்க. 'நட'
- A) நடத்தல்
B) நடவாமை
C) நடந்த
D) நடந்தவன்
E) விடை தெரியவில்லை

61. மரபுச் சொற்களைப் பொருத்துக.
- a) கிளி
b) மயில்
c) ஆந்தை
d) சேவல்
1. கூவும்
2. பேசும்
3. அகவும்
4. அலறும்

குறியீடுகள்:

	a	b	c	d
A)	2	3	4	1
B)	1	4	3	2
C)	3	2	4	1
D)	4	1	2	3

E) விடை தெரியவில்லை

62. எத்தனை அணாக்களைக் கொண்டது ஒரு ரூபாய்?
- A) நான்கு
B) எட்டு
C) பன்னிரண்டு
D) பதினாறு
E) விடை தெரியவில்லை

63. பின்வரும் இணைகளைக் கருத்தில் கொள்க.
- | | |
|----------------|---------------|
| (பா) | (ஓசை) |
| I. வெண்பா | — செப்பல் ஓசை |
| II. ஆசிரியப்பா | — அகவல் ஓசை |
| III. கலிப்பா | — துள்ளல் ஓசை |
| IV. வஞ்சிப்பா | — தூங்கல் ஓசை |
- மேற்கண்ட இணைகளில் எத்தனை இணைகள் சரியானவை?
- A) 1
B) 2
C) 3
D) 4
E) விடை தெரியவில்லை

64. பின்வரும் கூற்றுகளைக் கருத்தில் கொள்க.
- I. குறிப்பிட்ட வடிவத்தில் இலக்கணத்திற்கு உட்பட்டு எழுதப்படும் கவிதைகளை மரபுக்கவிதைகள் என்பர்.
- II. இலக்கணக் கட்டுப்பாடுகளின்றிக் கருத்துக்கு மட்டும் முதன்மை கொடுத்து எழுதப்படும் கவிதைகளைப் புதுக்கவிதைகள் என்பர்.
- III. புதுக்கவிதைகள், மரபுக்கவிதைகள் எழுதுவதற்கான இலக்கணம் யாப்பு இலக்கணம் எனப்படும்.



மேற்கண்ட கூற்றுகளில் சரியானவை எவை?

- A) I மற்றும் II மட்டும்
- B) II மற்றும் III மட்டும்
- C) I மற்றும் III மட்டும்
- D) மேற்கண்ட அனைத்தும்
- E) விடை தெரியவில்லை

65. பின்வருவனவற்றில் நிரையசை அல்லாத சொல்லைத் தேர்ந்தெடுக்க.

- A) கால்
- B) கடல்
- C) கடா
- D) கட
- E) விடை தெரியவில்லை

66. யாப்பு இலக்கணத்தின்படி செய்யுளுக்குரிய உறுப்புகள் எத்தனை?

- A) ஏழு
- B) ஆறு
- C) ஐந்து
- D) எட்டு
- E) விடை தெரியவில்லை

67. பின்வரும் கூற்றுகளைக் கருத்தில் கொள்க.

- I. ஓர் அசையோ ஒன்றுக்கு மேற்பட்ட அசைகளோ சேர்ந்து அமைவது சீர் ஆகும். சீர்களை ஓரசைச்சீர், ஈரசைச்சீர், மூவசைச்சீர், நாலசைச்சீர் என நான்கு வகைப்படுத்துவர்.
- II. சீர்கள் ஒன்றோடு ஒன்று பொருந்துவதைத் அடி என்பர்.
- III. செய்யுளில் ஓசை இன்பமும் பொருள் இன்பமும் தோன்றும் வகையில் சீர்களுக்கு இடையிலோ, அடிகளுக்கு இடையிலோ அமையும் ஒற்றுமையே தொடை ஆகும்.

மேற்கண்ட கூற்றுகளில் சரியானவை எவை?

- A) I மற்றும் II மட்டும்
- B) II மற்றும் III மட்டும்
- C) I மற்றும் III மட்டும்
- D) மேற்கண்ட அனைத்தும்
- E) விடை தெரியவில்லை

68. சங்க இலக்கியங்களில் ஒன்றான கலித்தொகையானது எவ்வகைப் பாவினால் இயற்றப்பட்டுள்ளன?

- A) வெண்பா
- B) ஆசிரியப்பா
- C) கலிப்பா
- D) வஞ்சிப்பா
- E) விடை தெரியவில்லை

69. “ஒரு நாட்டின் தலைவன் வீரம், விடாமுயற்சி, ஈகை, ஆராய்ந்து அறியும் ஆற்றில் ஆகியவற்றைப் பெற்றவனாக விளங்குதல் வேண்டும்.” என்று கூறியவர் யார்?

- A) அண்ணல் அம்பேத்கர்
- B) அயோத்திதாசர்
- C) எம்.ஜி. இராமச்சந்திரன்
- D) வள்ளுவர்
- E) விடை தெரியவில்லை



70. பின்வரும் இணைகளைக் கருத்தில் கொள்க.
(ஆங்கிலச் சொல்) (தமிழ்ச்சொல்)
- | | |
|----------------|-----------------|
| I. Charity | - தொண்டு |
| II. Saint | - ஞானி |
| III. Integrity | - நேர்மை |
| IV. Rational | - பாகுபாடு |
| V. Reform | - சீர்திருத்தம் |
- மேற்கண்ட இணைகளில் எத்தனை இணைகள் சரியானவை?
- A) 2 B) 3
C) 4 D) 5
E) விடை தெரியவில்லை
71. பின்வருவனவற்றுள் உவமை அணி பயின்று வாராக் குறளைத் தேர்ந்தெடுக்க.
A) கான முயல்எய்த அம்பினில் யானை
B) நவில்தோறும் நூல்நயம் போலும் பயில்தொறும்
C) பண்பிலான் பெற்ற பெருஞ்செல்வம் நன்பால்
D) வருமுன்னர்க் காவாதான் வாழ்க்கை எரிமுன்னர்.
E) விடை தெரியவில்லை
72. மீண்டும் மீண்டும் ஆராய்ந்து பாராமல் ஒருவனுடன் கொண்ட நட்பானது எத்தகைய விளைவினைத் தரும் என வள்ளுவர் குறிப்பிடுகின்றார்?
A) இன்பம் B) துன்பம்
C) ஊக்கம் D) நன்மை
E) விடை தெரியவில்லை
73. ஆண்மையின் கூர்மை எனப்படுவது யாது?
A) பகைவரை எதிர்த்தல் B) பகைவருக்கு உதவுதல்
C) வறியவருக்கு உதவுதல் D) பொறுமை காத்தல்
E) விடை தெரியவில்லை
74. நண்பர்களின் இயல்பை அளந்துகாட்டும் அளவுகோள் எது?
A) இன்பம் B) துன்பம்
C) வளர்ச்சி D) மேற்கூறிய அனைத்தும்
E) விடை தெரியவில்லை
75. இவ்வுலகம் யாரால் இயங்குவதாக வள்ளுவர் குறிப்பிடுகின்றார்?
A) சான்றோர்
B) கல்வி அறிவுடையோர்
C) நட்பு
D) பொறையுடையோர்
E) விடை தெரியவில்லை



76. பெருமையை அழிப்பது எது?
A) ஆராயா நட்பு
B) பொறை
C) வெகுளி
D) குன்றிமணியளவு தவறு
E) விடை தெரியவில்லை
77. பின்வரும் கூற்றுகளைக் கருத்தில் கொள்க.
I. மார்கழித் திங்களில் பொழுது விடியும் முன்பே பெண்கள் துயிலெழுந்து, பிற பெண்களையும் எழுப்பிக் கொண்டு, ஆற்றுக்குச் சென்று நீராடி, இறைவனை வழிபடும் வழக்கம் உண்டு. இதனைப் பாவை நோன்பு என்பர்.
II. திருமாலை வழிபடச் செல்லும் பெண்கள், பிற பெண்களை எழுப்புவதாக ஆண்டாள் பாடிய நூலே திருப்பாவை ஆகும்.
III. சிவபெருமானை வழிபடச் செல்லும் பெண்கள், பிற பெண்களை எழுப்புவதாகப் பாடப்பட்ட நூல் திருவெம்பாவை, இதனை இயற்றியவர் திருமூலர் ஆவார்.
மேற்கண்ட கூற்றுகளில் சரியானவை எவை?
A) I மற்றும் II மட்டும்
B) II மற்றும் III மட்டும்
C) I மற்றும் III மட்டும்
D) மேற்கண்ட அனைத்தும்
E) விடை தெரியவில்லை
78. இறையரசன் என்றழைக்கப்படும் சே.சேசுராசா இயற்றிய கன்னிப்பாவை என்னும் நூல் கீழ்காணும் எந்த நூலைத் தழுவி இயற்றப்பட்டது?
A) பாவைக்கூத்து
B) திருப்பாவை
C) திருவெம்பாவை
D) தமிழ்ப்பாவை
E) விடை தெரியவில்லை
79. இகல் என்பதன் எதிர்ப்பதம் தருக.
A) பகல்
B) நட்பு
C) அமைதி
D) பகை
E) விடை தெரியவில்லை
80. பொருத்துக.
(சொல்) (பொருள்)
a) நிறை 1. ஆராய்ந்து தெளிதல்
b) பொறை 2. மேன்மை
c) பொச்சாப்பு 3. பொறாமை
d) மையல் 4. பொறுமை
e) ஓர்ப்பு 5. சோர்வு
f) அழுக்காறு 6. விருப்பம்



குறியீடுகள்:

	a	b	c	d	e	f
A)	2	4	5	6	1	3
B)	2	4	3	1	5	6
C)	3	2	1	5	4	6
D)	4	1	2	5	3	6
E)	விடை தெரியவில்லை					

81. “உங்கள் புழைக்கடைத் தோட்டத்து வாவியுள் செழுங்கழுநீர் வாய்நெகிழ்ந்து ஆம்பல்வாய் கூம்பின் காண்;” – என்ற பாடல்வரிகள் இடம்பெற்றுள்ள நூல் எது?
A) திருப்பாவை
B) தமிழ்ப்பாவை
C) கன்னிப்பாவை
D) திருவெம்பாவை
E) விடை தெரியவில்லை
82. மு.மேத்தா பற்றிய பின்வரும் கூற்றுகளைக் கருத்தில் கொள்க.
I. வானம்பாடி இயக்கக் கவிஞர்களுள் குறிப்பிடத்தக்கவர், புதுக்கவிதையைப் பரவலாக்கிய முன்னோடிகள் ஒருவராக இவரைப் போற்றுவர்.
II. கண்ணீர்ப் பூக்கள், ஊர்வலம், சோழநிலா, மகுடநிலா உள்ளிட்ட பல நூல்களையும் திரையிசைப்பாடல்களையும் எழுதியுள்ளார்.
III. இவர் எழுதிய ஆகாயத்துக்கு அடுத்த வீடு என்னும் புதுக்கவிதை நூலுக்குச் சாகித்திய அகாடெமி விருது வழங்கப்பட்டது.
மேற்கண்ட கூற்றுகளில் சரியானவை எவை?
A) I மற்றும் II மட்டும்
B) II மற்றும் III மட்டும்
C) I மற்றும் III மட்டும்
D) மேற்கண்ட அனைத்தும்
E) விடை தெரியவில்லை
83. இந்தியர்களுக்கு அரசியல் உரிமை வழங்குவதைப் பற்றி முடிவு செய்ய 1930ஆம் ஆண்டு நவம்பர்த் திங்கள் இங்கிலாந்தில் முதலாவது வட்டமேசை மாநாடு நடைபெற்றது. இம்மாநாட்டில் ஒடுக்கப்பட்ட மக்களின் சார்பாளராக தமிழகத்திலிருந்து கலந்து கொண்டவர் யார்?
A) அண்ணல் அம்பேத்கர்
B) இராவுபகதூர் இரட்டைமலை சீனிவாசன்
C) அயோத்திதாசப் பண்டிதர்
D) தந்தை பெரியார்
E) விடை தெரியவில்லை
84. சமத்துவச் சமுதாயம் அமைக்கும் நோக்கில் அம்பேத்கர் ஏற்படுத்திய இயக்கம் எது?
A) சமாஜ் சமாத சங்கம்
B) சமாத சமாஜ் பேரவை
C) தீண்டாமை ஒழிப்புப் பேரவை
D) மக்கள் நல மையம்
E) விடை தெரியவில்லை



85. அம்பேத்கர் பற்றிய தவறான கூற்றினைத் தேர்ந்தெடுக்க.
- A) 1891 ஆம் ஆண்டு ஏப்ரல் திங்கள் 14ஆம் நாள் ராம்ஜி சக்பால் - பீமாபாய் இணையருக்குப் பதினான்காவது குழந்தையாகப் பிறந்தார்.
- B) மகாதேவ் அம்பேத்கர் என்ற ஆசிரியர், இவர்மீது அன்பும் அக்கறையும் கொண்டவராக விளங்கினார். இதனால், பீமாராவ் சக்பால் அம்பவாதேகர் என்னும் தம் பெயரைப் பீமாராவ் ராம்ஜி அம்பேத்கர் என்று மாற்றிக் கொண்டார்.
- C) “இந்தியாவில் சாதிகளின் தோற்றமும் வளர்ச்சியும்” என்னும் தலைப்பில் ஆய்வுக் கட்டுரை ஒன்றைப் படைத்தளித்தார். இந்த ஆய்விற்காக 1915ஆம் ஆண்டு முதுகலைப்பட்டம் பெற்றார்.
- D) “இந்தியாவின் தேசியப்பங்கு வீதம்” என்ற ஆய்வுக்காக, கொலம்பியா பல்கலைக்கழகம் முனைவர் பட்டம் வழங்கியது.
- E) விடை தெரியவில்லை
86. பின்வரும் கூற்றுகளைக் கருத்தில் கொள்க.
- I. “என் மக்களுக்கு நியாயமாக என்ன கிடைக்க வேண்டுமோ, அதற்காகப் போராடுவேன்; அதே சமயத்தில் சுயராஜிய கோரிக்கைகளை முழு மனத்துடன் ஆதரிப்பேன்” என்று அம்பேத்கர் கூறினார்.
- II. “நான் வணங்கும் தெய்வங்கள் மூன்று. முதல் தெய்வம் அறிவு; இரண்டாவது தெய்வம் செல்வம் ; மூன்றாவது தெய்வம் வீரம்” என்று அம்பேத்கர் கூறினார்.
- மேற்கண்ட கூற்றுகளில் சரியானது எது/எவை?
- A) I மட்டும்
- B) II மட்டும்
- C) இரண்டும்
- D) இரண்டுமில்லை
- E) விடை தெரியவில்லை
87. பின்வரும் கூற்றுகளைக் கருத்தில் கொள்க.
- கூற்று (A) :** இந்திய அரசியல் அமைப்புச் சட்டமானது மிகச்சிறந்த ஆவணம் என வரலாற்று அறிஞர்களால் போற்றப்படுகிறது.
- காரணம் (R) :** அம்பேத்கரால் உருவாக்கப்பட்ட இந்திய அரசியல் அமைப்புச் சட்டம், குடிமக்களின் உரிமைகளுக்குப் பலவகைகளில் பாதுகாப்பை அளிக்கின்றது.
- குறியீடுகள்:**
- A) கூற்று மற்றும் காரணம் இரண்டும் சரி மற்றும் காரணம் என்பது கூற்று சரியான விளக்கமாகும்
- B) கூற்று மற்றும் காரணம் இரண்டும் சரி ஆனால் காரணம் என்பது கூற்று சரியான விளக்கமல்ல
- C) கூற்று சரி ஆனால் காரணம் தவறு
- D) கூற்று தவறு ஆனால் காரணம் சரி
- E) விடை தெரியவில்லை



88. அம்பேத்கர் பற்றிய தவறான கூற்றினைத் தேர்ந்தெடுக்க.
- A) புத்த சமயக் கொள்கைகளின் மீது ஈடுபாடு கொண்டார். இலங்கையில் நடைபெற்ற புத்தத் துறவிகள் கருத்தரங்கில் கலந்துகொண்ட இவர், உலகப் பௌத்த சமய மாநாடுகளிலும் கலந்து கொண்டார்.
- B) 1956ஆம் ஆண்டு அக்டோபர் 14ஆம் நாள் பாட்னாவில் இலட்சக்கணக்கான மக்களோடு புத்த சமயத்தில் தன்னை இணைத்துக் கொண்டார்.
- C) இவர் எழுதிய புத்தரும் அவரின் தம்மமும் என்னும் புத்தகம் அவரது மறைவுக்குப் பின் 1957ஆம் ஆண்டு வெளியானது.
- D) இவருடைய மறைவுக்குப் பின் இந்தியாவின் உயரிய விருதான பாரத ரத்னா விருது 1990ஆம் ஆண்டு வழங்கப்பட்டது.
- E) விடை தெரியவில்லை
89. கோமகள் பற்றிய பின்வரும் கூற்றுகளைக் கருத்தில் கொள்க.
- I. இயற்பெயர் இராஜலட்சுமி.
- II. இவரது பால்மனம் என்னும் புதினம் தமிழ்நாடு அரசின் விருதினைப் பெற்றது.
- III. தஞ்சைத் தமிழ்ப் பல்கலைக்கழகத்தின் தமிழ் அன்னை விருதினையும் பெற்றுள்ளார்.
- IV. உயிர் அமுதாய், நிலாக்கால நட்சத்திரங்கள், அன்பின் சிதறல் உள்ளிட்ட பல நூல்களை எழுதியுள்ளார்.
- மேற்கண்ட கூற்றுகளில் சரியானவை எவை?
- A) I, II மற்றும் III மட்டும்
- B) II, III மற்றும் IV மட்டும்
- C) I, III மற்றும் IV மட்டும்
- D) I, II மற்றும் IV மட்டும்
- E) விடை தெரியவில்லை
90. பிழையான தொடரினைத் தேர்ந்தெடுக்க.
- A) மாடுகள் தனது தலையை ஆட்டின
- B) சிறுமி தனது கையில் மலர்களை வைத்திருந்தாள்
- C) தலைவர் தமது கையால் பரிசு வழங்கினார்
- D) உயர்ந்தோர் தம்மைத்தாமே புகழ்ந்து கொள்ள மாட்டார்கள்
- E) விடை தெரியவில்லை
91. கடம்பர் என்னும் கடற்கொள்ளையர்களை அடக்கியவர்களாக அறியப்படுபவர்கள் யார்?
- A) சேரர்கள்
- B) சோழர்கள்
- C) பாண்டியர்கள்
- D) சாளுக்கியர்கள்
- E) விடை தெரியவில்லை
92. பொருத்துக.
- a) இன்பம் தருவது 1. நற்பண்பில்லாதவன் பெற்ற பெருஞ்செல்வம்
- b) நட்பு என்பது 2. குன்றிமணியளவு செய்யும் தவறு
- c) பெறுமையை அழிப்பது 3. செல்வம் மிகுந்த காலம்
- d) பணிவு கொள்ளும் காலம் 4. சிரித்து மகிழ மட்டுமன்று
- e) பயனின்றி அழிவது 5. பண்புடையவர் நட்பு



குறியீடுகள்:

- | | a | b | c | d | e |
|----|------------------|----------|----------|----------|----------|
| A) | 5 | 4 | 1 | 2 | 3 |
| B) | 5 | 4 | 2 | 3 | 1 |
| C) | 5 | 4 | 3 | 2 | 1 |
| D) | 5 | 4 | 3 | 1 | 2 |
| E) | விடை தெரியவில்லை | | | | |

93. பின்வரும் கூற்றுகளைக் கருத்தில் கொள்க.

- I. கிழக்குத் தொடர்ச்சி மலையும் மேற்குத் தொடர்ச்சி மலையும் சந்திக்கும் இடம் கொடைக்கானல் ஆகும்.
- II. பரப்பளவில் கோயம்புத்தூர் தமிழ்நாட்டின் இரண்டாவது பெரிய நகரம் ஆகும்.
- III. பச்சைமலை, கொல்லிமலை, சேர்வராயன் மலையின் ஒரு பகுதி நாமக்கல் மாவட்டத்தில் உள்ளது.

மேற்கண்ட கூற்றுகளில் சரியானவை எவை?

- A) I மற்றும் II மட்டும்
- B) I மட்டும்
- C) II மட்டும்
- D) III மட்டும்
- E) விடை தெரியவில்லை

94. “படமாடக் கோயில் பகவற்கு ஒன்று ஈயில்

நடமாடக் கோயில் நம்பர்க்கு அங்கு ஆகா”- இப்பாடலடியை இயற்றியவர் யார்?

- A) திருவெண்காடர்
- B) திருமூலர்
- C) கடுவெளிச்சித்தர்
- D) குதம்பை சித்தர்
- E) விடை தெரியவில்லை

95. “மீதமிருக்கும் சொற்கள்” - எனும் நூலை தொகுத்தவர் யார்?

- A) கோமகன்
- B) இராஜலட்சுமி
- C) அ.வெண்ணிலா
- D) நந்தினி
- E) விடை தெரியவில்லை

96. பொருத்துக.

- | | |
|--|---------|
| a) இந்திய வணிகம் பற்றிய ஆய்வு | 1. 1956 |
| b) ரூபாய் பற்றிய பிரச்சனை | 2. 1924 |
| c) ஒடுக்கப்பட்டோர் நலவாழ்வுப் பேரவை | 3. 1930 |
| d) நாசிக் கோயில் நுழைவுப் போராட்டம் | 4. 1915 |
| e) புத்த சமயத்தில் தன்னை இணைத்துக் கொண்டது | 5. 1923 |



குறியீடுகள்:

- | | a | b | c | d | e |
|----|----------|----------|----------|----------|----------|
| A) | 5 | 4 | 3 | 2 | 1 |
| B) | 4 | 5 | 3 | 2 | 1 |
| C) | 4 | 5 | 2 | 3 | 1 |
| D) | 4 | 2 | 3 | 5 | 1 |
- E) விடை தெரியவில்லை

97. பின்வரும் கூற்றுக்களைக் கருத்தில் கொள்க.

- I. சிறியிலை நெல்லித் தீங்கனி குறியாது ஆதல் நின்னகத்து அடக்கிச் சாதல் நீங்க எமக்கீந் தனையே - அதியமான்
- II. இவ்வே பீலியணிந்து மாலை சூட்டிக் கண்திரள் நோன்காழ் திருத்தி நெய்யணிந்து - ஓளவையார்

மேற்கண்டவற்றுள் எத்தனை கூற்று(கள்) சரியானவை?

- A) I மட்டும்
B) II மட்டும்
C) இரண்டும்
D) இரண்டுமல்ல
E) விடை தெரியவில்லை

98. “நாம் நீக்கவேண்டியவற்றுள் ஒன்று” - எது என இறையரசன் குறிப்பிடுகிறார்?

- A) பொச்சாப்பு
B) துணிவு
C) மானம்
D) எளிமை
E) விடை தெரியவில்லை

99. தீயினால் சுட்டபுண் உள்ளாறும் ஆறாதே

நாவினால் சுட்ட வடு - இக்குறட்பாவில் பயன்றுவந்துள்ள அணியாது?

- A) பிறிது மொழிதல் அணி
B) வேற்றுமை அணி
C) இரட்டுற மொழிதல் அணி
D) எடுத்துக்காட்டு உவமை அணி
E) விடை தெரியவில்லை

100. “கவலைகளைத் தூக்கிக்கொண்டு திரியாதே அவை கைக்குழந்தைகளல்ல” - என்ற பாடல் வரியை எழுதியவர் யார்?

- A) மு.மேத்தா
B) கலாப்ரியா
C) அசோகமித்ரன்
D) பட்டுக்கோட்டை
E) விடை தெரியவில்லை



பகுதி - ஆ — பொது அறிவு (பட்டப்படிப்பு தரம்)

Part B — General Studies (Degree Standard)

வினாக்கள் : 101-200

மொத்த மதிப்பெண்கள் : 150

Questions : 101-200

Total Marks : 150

101. பின்வரும் கூற்றுகளைக் கருத்தில் கொள்க.

- I. 26 டிசம்பர் 2004 அன்று ரிக்டர் அளவுகோலில் 9க்கு மேல் ஏற்பட்ட நிலநடுக்கத்தால் சுனாமி ஏற்பட்டது.
- II. இந்த நிலநடுக்கம் இந்தோ-ஆஸ்திரேலிய தட்டு மற்றும் யூரேசிய தட்டு விலகியதன் விளைவாக ஏற்பட்டது.

மேற்கண்ட கூற்றுகளில் தவறானது எது/எவை?

- | | |
|---------------------|-----------------|
| A) I மட்டும் | B) II மட்டும் |
| C) இரண்டும் | D) இரண்டுமில்லை |
| E) விடை தெரியவில்லை | |

Consider the following statements.

- I. On 26 Dec 2004 Tsunami caused by an Earthquake with magnitude above 9 in Richter Scale.
- II. This earthquake was a result of divergence of Indo-Australian plate and Eurasian Plate.

Which of the statements given above is/are incorrect?

- | | |
|---------------------|---------------------|
| A) I only | B) II only |
| C) Both I and II | D) Neither I nor II |
| E) Answer not known | |

102. பின்வரும் கூற்றுகளைக் கருத்தில் கொள்க.

- I. கருவத்தில் நைட்ரஜன் (Ni), இரும்பும் (Fe) அதிகமாகக் காணப்படுவதால், இவ்வடுக்கு நைட்ரஜன் (NIFE) என அழைக்கப்படுகிறது.
- II. புவி தன் அச்சில் சுழலும் போது திட நிலையில் உள்ள உட்கருவத்தின் மேல், திரவ நிலையிலுள்ள வெளிக்கருவம் சுழலுவதால், காந்தப்புலம் உருவாகிறது.

மேற்கண்ட கூற்றுகளில் தவறானது எது/எவை?

- | | |
|---------------------|-----------------|
| A) I மட்டும் | B) II மட்டும் |
| C) இரண்டும் | D) இரண்டுமில்லை |
| E) விடை தெரியவில்லை | |

Consider the following statements.

- I. Core of the Earth is called as NIFE because it is mainly composed of Nitrogen and Iron
- II. The liquid outer core spins over the solid inner core generates the Earth's magnetic field

Which of the statements given above is/are incorrect?

- | | |
|---------------------|---------------------|
| A) I only | B) II only |
| C) Both I and II | D) Neither I nor II |
| E) Answer not known | |



103. புருஜ் காலிஃபாவை விட 15 மடங்கு உயரம் கொண்ட உலகின் மிக ஆழமான எண்ணெய் கிணறு எது?
- A) கோலா சூப்பர் ஹோல்
B) Z-44 சாவ்யோ கிணறு
C) பெர்தா ரோஜர்ஸ் வெல்
D) மோஷன் வெல் சீனா
E) விடை தெரியவில்லை
- Which is the deepest oil well in the world that is supposed to be 15 times the height of Burj Khalifa?
- A) Kola Super Hole
B) Z-44 Chavyo Well
C) Bertha Rogers Well
D) Moshen Well China
E) Answer not known
104. புவி அதிர்வு அலைகளின் வகையைப் பொறுத்து பின்வரும் கூற்றுகளைக் கருத்தில் கொள்க.
- I. இந்த அலைகள் புவியின் மேற்பரப்பில் நீண்டதூரம் பயணம் செய்கின்றன. மேலும் இவை அதிக அளவில் அழிவை ஏற்படுத்தக் கூடியதாகும்.
- II. இந்த அலைகளின் சராசரி வேகம் வினாடிக்கு 1 கிமீ முதல் வினாடிக்கு 5 கிமீ வரை இருக்கும் பின்வரும் கூற்றுகள் எந்த வகையான புவி அதிர்வு அலைகளைக் குறிப்பிடுகின்றன?
- A) S - அலைகள்
B) P - அலைகள்
C) (A) மற்றும் (B)
D) L - அலைகள்
E) விடை தெரியவில்லை
- Consider the following statements with respect to type of Seismic waves.
- I. These waves travel along ground surface and the most destructive waves.
- II. The average velocity of these waves are 1 km per second to 5 km per second
- Following Statements mentions which type of Seismic wave?
- A) S - waves
B) P - waves
C) Both (A) and (B)
D) L - waves
E) Answer not known
105. ஜப்பானில் அமைந்துள்ள ஃபியூஜி மலை இதற்கு ஒரு உதாரணம்
- A) கேடய எரிமலை
B) உறங்கும் எரிமலை
C) கூட்டு எரிமலை
D) B மற்றும் C ஆகிய இரண்டும்
E) விடை தெரியவில்லை
- Mt.Fuji which is located in Japan is an example for
- A) Shield Volcano
B) Dormant Volcano
C) Composite Volcano
D) Both (B) and (C)
E) Answer not known
106. கண்ட மேலோடு மற்றும் கடலடி மேலோட்டிற்கான பொதுவான தனிமம் எது?
- A) சிலிக்கா
B) அலுமினியம்
C) மெக்னீசியம்
D) சோடியம்
E) விடை தெரியவில்லை
- Which is the common element for Continental crust and oceanic crust?
- A) Silica
B) Aluminium
C) Magnesium
D) Sodium
E) Answer not known



107. பாறைகளைக் குடைந்து உருவாக்கப்பட்ட நகரத்திற்கு எடுத்துக்காட்டாக விளங்கும் நகரம் எது?

- A) ஜோகிகோபா
B) பெட்ரா
C) மர்மன்ஸ்க்
D) அபு-சிம்பெல்
E) விடை தெரியவில்லை

Which city is an example for an entire city carved out of rocks?

- A) Jogighopa
B) Petra
C) Murmansk
D) Abu-Simbel
E) Answer not known

108. பின்வரும் கூற்றுகளைக் கருத்தில் கொள்க

- I. புவி அதிர்ச்சி என்பது புவி ஓட்டில் திடீரென ஏற்படும் அதிர்வைக் குறிக்கின்றது.
II. புவி அதிர்ச்சியின் தோற்றப் புள்ளி 'மேல்மையம்' என்று அழைக்கப்படுகிறது.
III. புவியின் மேற்பரப்பில் நேரடியாக மையத்திற்கு மேலே இருக்கும் புள்ளி 'கீழ்மையம்' ஆகும்.
IV. நிலநடுக்க அலைகளை பதிவு செய்யும் கருவிக்கு 'நிலஅதிர்வுமானி' என்று பெயர்.

மேற்கண்ட கூற்றுகளில் சரியானவை எவை?

- A) I, II மற்றும் III மட்டும்
B) II, III மற்றும் IV மட்டும்
C) I மற்றும் IV மட்டும்
D) மேற்கண்ட அனைத்தும்
E) விடை தெரியவில்லை

Consider the following statements.

- I. Earthquakes are caused by the sudden vibrations in the earth's crust.
II. The point of origin of an Earthquake is called 'Epicentre'
III. The point on the Earth's surface that lies directly above the focus is 'Hypocentre'
IV. The instrument which records the Earthquake waves is called 'seismometer'

Which of the statements given above is/are correct?

- A) I, II and III only
B) II, III and IV only
C) I and IV only
D) All the above
E) Answer not known

109. பட்டியல்-Iஐ பட்டியல்-II உடன் பொருத்துக.

பட்டியல்-I

(தட்டு எல்லைகள்)

- a) இணையும் எல்லை
b) விலகும் எல்லை
c) பக்க நகர்வு எல்லை
d) மலையாக்க மண்டலம்

பட்டியல்-II

(எடுத்துக்காட்டு)

1. திபெத்திய பீடபூமி
2. சான் ஆண்ட்ரஸ் பிளவ
3. மடிப்பு மலை-இமயமலை
4. நடு அட்லாண்டிக் ரிட்ஜ்

குறியீடுகள்:

- | | a | b | c | d |
|----|------------------|----------|----------|----------|
| A) | 4 | 2 | 3 | 1 |
| B) | 2 | 1 | 3 | 4 |
| C) | 3 | 4 | 2 | 1 |
| D) | 4 | 1 | 2 | 3 |
| E) | விடை தெரியவில்லை | | | |



Match List-I with List-II.

List-I

(Plate Boundaries)

- Convergent Boundary
- Divergent Boundary
- Conservative Boundary
- Orogenic Belt

Codes:

- | | a | b | c | d |
|----|------------------|----------|----------|----------|
| A) | 4 | 2 | 3 | 1 |
| B) | 2 | 1 | 3 | 4 |
| C) | 3 | 4 | 2 | 1 |
| D) | 4 | 1 | 2 | 3 |
| E) | Answer not known | | | |

List-II

(Example)

- Tibetan Plateau
- San Andres Fault
- Fold Mountain-Himalayas
- Mid Atlantic Ridge

110. பின்வரும் கூற்றுகளைக் கருத்தில் கொள்க.

- இந்தியா கோண்டுவானா நிலப்பகுதியின் ஒரு பகுதியாக இருந்தது
 - கோண்டுவானா நிலம் மேற்கு திசை நோக்கி நகர்ந்தது
- மேற்கண்ட கூற்றுகளில் சரியானது எது/எவை?

- I மட்டும்
- II மட்டும்
- இரண்டும்
- இரண்டுமில்லை
- விடை தெரியவில்லை

Consider the following statements.

- India was a part of the super continent Gondwana
 - Gondwana land moved towards west direction
- Which of the statements given above is/are correct?

- I only
- II only
- Both I and II
- Neither I nor II
- Answer not known

111. பட்டியல்-Iஐ பட்டியல்-II உடன் பொருத்துக

பட்டியல்-I

(சுண்ணாம்பு பிரதேச

நிலத்தோற்றங்கள்)

- குப்ததாம் குகை
- தப்கேஷ்வர் கோவில்
- குடும்சர் குகைகள்
- போரா குகைகள்

பட்டியல்-II

(மாநிலம்)

- சத்தீஸ்கர்
- ஆந்திரப் பிரதேசம்
- உத்தரகாண்ட்
- மேற்கு பீகார்



குறியீடுகள்:

	a	b	c	d
A)	4	3	1	2
B)	2	1	3	4
C)	3	2	1	4
D)	4	1	2	3

E) விடை தெரியவில்லை

Match List-I with List-II.

List-I

(Karst Areas)

- Guptadham Cave
- Tapkeshwar temple
- Kutumsar caves
- Borra caves

List-II

(State)

- Chattisgarh
- Andhra Pradesh
- Uttarakhand
- Western Bihar

Codes:

	a	b	c	d
A)	4	3	1	2
B)	2	1	3	4
C)	3	2	1	4
D)	4	1	2	3

E) Answer not known

112. பின்வரும் கூற்றுகளைக் கருத்தில் கொள்க.

- பசால்ட் பாறைகள் கரைதலினால் ஏற்படும் புனல் வடிவப் பள்ளங்கள் உறிஞ்சு துளைகள் எனப்படுகின்றன.
- உலகின் மிக ஆழமான இரண்டாவது உறிஞ்சு துளை, சீனாவில் காணப்படும் சைனோசை ஜியான்காங் ஆகும்.

மேற்கண்ட கூற்றுகளில் தவறானது எது / எவை?

- I மட்டும்
- II மட்டும்
- இரண்டும்
- இரண்டுமில்லை
- விடை தெரியவில்லை

Consider the following statements.

- A Funnel shaped depressions formed due to dissolution of Basalt rock is called sinkholes.
- Xianozhai Tienkang, China is the world's second deepest sinkhole.

Which of the statements given above is/are incorrect?

- I only
- II only
- Both I and II
- Neither I nor II
- Answer not known



113. பட்டியல்-Iஐ பட்டியல்-II உடன் பொருத்துக.

பட்டியல்-I

(அரிப்பு வடிவங்கள்)

- கடல் ஓங்கல்
- கடல் குகை
- கடல் வளைவு
- கடல் தூண்

குறியீடுகள்:

	a	b	c	d
A)	4	1	3	2
B)	2	1	3	4
C)	3	2	1	4
D)	4	1	2	3

E) விடை தெரியவில்லை

Match List-I with List-II.

List-I

(Erosional forms)

- Sea Cliffs
- Sea Cave
- Sea Arch
- Sea Stack

Codes:

	a	b	c	d
A)	4	1	3	2
B)	2	1	3	4
C)	3	2	1	4
D)	4	1	2	3

E) Answer not known

பட்டியல்-II

(எடுத்துக்காட்டு)

- போரா, ஆந்திரப் பிரதேசம்
- ஸ்காட்லாந்தில் உள்ள ஹோய் ஒல்ட்மேன்
- நீல் தீவு
- டையூ, குஜராத்

List-II

(Example)

- Borra, Andhra Pradesh
- Oldman of Hoy in Scotland
- Neil Island
- Diu, Gujarat

114. எந்த மணல் மேடுகள் காற்று வீசும் பக்கத்தில் மென் சரிவையும், காற்று வீசும் திசைக்கு எதிர் பக்கத்தில் வன்சரிவையும் கொண்டிருக்கும்?

- | | |
|-------------------------|-----------------------|
| A) காற்றடி வண்டல்கள் | B) பர்கான் |
| C) குறுக்கு மணல்மேடுகள் | D) நீண்ட மணல் மேடுகள் |
| E) விடை தெரியவில்லை | |

Which sand dunes have gentle slopes on the windward side and steep slopes on the leeward side?

- | | |
|---------------------|---------------|
| A) Loess | B) Barchan |
| C) Transverse Dune | D) Seif dunes |
| E) Answer not known | |



115. ஆல்ப்ஸ் மலைகளில் உறைபனிக் கோடு 2700 மீட்டர் ஆகும். ஆனால் கிரீன்லாந்தில் உறைபனிக்கோடு 600 மீட்டர் ஆகும். ஏன்?

- A) பசுமையான நிலம் எப்போதும் குறைந்த வெப்பநிலை மற்றும் குளிர் அலைகளை அனுபவிக்கிறது.
B) கிரீன்லாந்து இயற்கையாகவே உயரத்தில் குறைவாக உள்ளது
C) பூமத்திய ரேகையிலிருந்து தூரம் அதிகரிக்கும் போது வெப்பநிலை குறைகிறது
D) வெப்பமண்டலப் பகுதிகள் குறைந்த உயரத்தில் பனிக்கட்டியைக் கரைக்கின்றன
E) விடை தெரியவில்லை

Snowline of Alps is 2700 metre where as the snowline of Greenland is just 600 metre. Why?

- A) Green land always experiences low temperature and cold waves.
B) Greenland is naturally lower in altitude
C) The temperature decreases as the distance from the equator increases
D) Tropical regions dissolves the snowline in lower altitude
E) Answer not known

116. கவிழ்த்து வைக்கப்பட்ட மிகப்பெரிய கரண்டியைப் போன்றோ அல்லது பாதியாக வெட்டப்பட்ட முட்டையைப் போன்றோ காட்சியளிக்கும் மொரைன்கள்

- A) சர்க்கு
B) எஸ்கர்
C) பனியாற்றுக்குடா
D) டிரம்ளின்
E) விடை தெரியவில்லை

The deposits of glacial moraines that resemble giant inverted teaspoons or half cut eggs. It is known as

- A) Cirque
B) Esker
C) Fjord
D) Drumlin
E) Answer not known

117. பின்வரும் கூற்றுகளைக் கருத்தில் கொள்க.

கூற்று (A) : சுண்ணாம்பு நிலப்பிரதேசங்களில் உள்ள சுண்ணாம்பு மண் கரைந்து சிதைவுற்ற பின்னர் அதிலுள்ள எஞ்சிய செம்மண் படிவு டெர்ரா ரோஸா ஆகும்.

காரணம் (R) : சுண்ணாம்புக் கற்கள் கரைவதால் ஏற்படும் படிவு மற்றும் சிவப்புத் தன்மை இரும்பு ஆக்சைடால் ஏற்படுகிறது.

குறியீடுகள்:

- A) (A) மற்றும் (R) இரண்டும் சரி மற்றும் (R) என்பது (A) இன் சரியான விளக்கம்
B) (A) மற்றும் (R) இரண்டும் சரி ஆனால் (R) என்பது (A) இன் சரியான விளக்கம் அல்ல
C) (A) சரி ஆனால் (R) தவறு
D) (A) தவறு ஆனால் (R) சரி
E) விடை தெரியவில்லை

Consider the following statements.

Assertion (A) : Deposition of red clay soil on the surface of the Earth is called Terra Rossa.

Reason (R) : Deposition caused by the dissolution of limestone and redness is due to presence of Iron oxide.

**Codes:**

- A) Both (A) and (R) are true and (R) is the correct explanation of (A)
B) Both (A) and (R) are true but (R) is not the correct explanation of (A)
C) (A) is true but (R) is false
D) (A) is false but (R) is true
E) Answer not known

118. பின்வரும் கூற்றுகளைக் கருத்தில் கொள்க

- I. பாறைகளின் மேற்பரப்பு வெங்காயத் தோல் உரிவது போன்று அடுக்கடுக்காக உரிக்கப்படுவது அரிப்பினால் சிதைவுறுதல் எனப்படும்
II. அழுத்தத்தின் செயல்பாட்டின் காரணமாக சிறுதுகள்களாக சிதைவுறுதல் ஏற்படுகிறது
III. பாறைகள் தொடர்ந்து விரிவடைந்து சுருங்குவதால் பாறை பிரிந்துடைதல் ஏற்படுகிறது
IV. தாவர வேர்கள் ஊடுருவி விரிவடைதல், விலங்குகள், மண்புழுக்கள் பாறைகளில் ஊடுருவுவது வேதியியல் சிதைவு எனப்படும்.

மேற்கண்ட கூற்றுகளில் தவறானவை எவை?

- A) I, II மற்றும் IV மட்டும்
B) II, III மற்றும் IV மட்டும்
C) I மற்றும் IV மட்டும்
D) மேற்கண்ட அனைத்தும்
E) விடை தெரியவில்லை

Consider the following statements.

- I. Peeling of rocks, layer by layer like an onion is called Degradation
II. Granular disintegration takes place due to the action of pressure.
III. Block disintegration happens due to repeated expansion and contraction of rocks
IV. Penetration and expansion of plant roots, burrowing animals, earthworms into rocks is called chemical weathering.

Which of the statements given above is/are incorrect?

- A) I, II and IV only
B) II, III and IV only
C) I and IV only
D) All the above
E) Answer not known

119. காற்றில் உள்ள கார்பன் டை ஆக்சைடு நீருடன் வினைபுரிந்து கார்பானிக் அமிலமாக மாறுகிறது..

இது சுண்ணாம்புக் கல்லைக் கரைக்க வழிவகுக்கிறது, இந்த செயல்முறை எங்கு நடைபெறுகிறது?

- A) லேப்பீஸ்
B) கல்விழுது
C) குகைகள்
D) உறிஞ்சு துளைகள்
E) விடை தெரியவில்லை

Carbon di oxide in air turns into carbonic acid after its reaction with water which leads to the dissolution of limestone, This process takes place in?

- A) Lappies
B) Stalactite
C) Caves
D) Sinkhole
E) Answer not known



120. பட்டியல்-Iஐ பட்டியல்-II உடன் பொருத்துக.

பட்டியல்-I
(அரிப்பு நில வடிவங்கள்)

- சர்க்கு
- அரெட்டு
- பர்கான்
- கல்விழுது மற்றும் கல்முளை

குறியீடுகள்:

	a	b	c	d
A)	4	2	3	1
B)	2	1	4	3
C)	3	2	1	4
D)	4	1	2	3

E) விடை தெரியவில்லை

Match List-I with List-II.

List-I

(Erosional landforms)

- Cirque
- Arete
- Barchan
- Stalactites and Stalagmites

Codes:

	a	b	c	d
A)	4	2	3	1
B)	2	1	4	3
C)	3	2	1	4
D)	4	1	2	3

E) Answer not known

பட்டியல்-II
(வடிவங்கள்)

- கூறிய கத்தி
- கிண்ண வடிவ
- தூண்
- பிறை வடிவம்

List-II

(Shapes)

- Narrow knife
- Bowl-shaped
- Pillar
- Crescent

121. பின்வரும் கூற்றுகளைக் கருத்தில் கொள்க

கூற்று I : பனிக்கட்டிகள் பனித்துகள்களாக உருமாறுவதை இறுகிய பனிமணிகள் என்று அழைக்கின்றோம்.

கூற்று II : மெட்டர்ஹார்ன் என்பது மூன்று அல்லது அதற்கு மேற்பட்ட அரெட்டுகள் இணையும் போது கூரிய பக்கங்களை உடைய சிகரம் போன்ற பிரமிடு வடிவம் ஆகும்.

மேற்கண்ட கூற்றுகளில் சரியானது எது/எவை?

- I மட்டும் சரி
- II மட்டும் சரி
- Iரண்டு கூற்றுகளும் சரி
- Iரண்டு கூற்றுகளும் தவறு
- விடை தெரியவில்லை



Consider the following statements.

Statement I : The gradual transformation of snow into granular ice is called Neve.

Statement II : Matterhorns is an example of Pyramidal Peak where three or more arete meet together.

Which of the statements given above is/are correct?

- A) Statement I alone is true
B) Statement II alone is true
C) Both Statements are true
D) Both Statements are false
E) Answer not known

122. பட்டியல்-Iஐ பட்டியல்-II உடன் பொருத்துக

பட்டியல்-I (நதி இயக்கம்)	பட்டியல்-II (முக்கிய நடவடிக்கை)
a) இளநிலை	1. கடத்துதல்
b) முதிர் நிலை	2. உறிஞ்சுதல்
c) மூப்பு நிலை	3. அரிப்பு
d) கழிமுகம்	4. படிய வைத்தல்
	5. நதி கடலில் கலக்கிறது

குறியீடுகள்:

	a	b	c	d
A)	3	1	4	5
B)	2	1	4	5
C)	5	3	1	4
D)	5	1	2	3

E) விடை தெரியவில்லை

Match List-I with List-II.

List-I (River movement)	List-II (Predominant Action)
a) The Upper course	1. Transportation
b) The Middle course	2. Adsorption
c) The lower course	3. Erosion
d) Estuary	4. Deposition
	5. River meets the sea

Codes:

	a	b	c	d
A)	3	1	4	5
B)	2	1	4	5
C)	5	3	1	4
D)	5	1	2	3

E) Answer not known



123. தவறாகப் பொருந்தியுள்ள இணையைக் கண்டறியவும்.

- A) கன்வர் ஏரி, பீகார் – ஆசியாவின் மிகப்பெரிய நன்னீர் குருட்டு ஆறு
B) ஏஞ்சல் நீர்வீழ்ச்சி, வெனிசுலா – உலகின் மிக உயரமான நீர்வீழ்ச்சி
C) கொள்ளிடம் ஆறு – காவிரி ஆற்றின் துணையாறு
D) நல்லர்பார், கிரேட் ஆஸ்திரேலிய கடற்கரை – சுண்ணாம்புப் பிரதேச நிலத்தோற்றப் பகுதி
E) விடை தெரியவில்லை

Find out the incorrectly matched pair.

- A) Lake Kanwar, Bihar – Asia's largest fresh water ox bow lake
B) Angel Falls, Venezuela – Highest waterfalls in the world
C) Kollidam River – Tributary of Cauvery River
D) Nullebar, Great Australian Coast – World Largest Karst Area
E) Answer not known

124. பின்வரும் கூற்றுகளைக் கருத்தில் கொள்க.

கூற்று I : வெப்பம் மற்றும் குளிர்ச்சியின் மாறுபாடு காரணமாக பாறைகளின் மேற்பரப்பு உரித்தெடுக்கப்படுகின்றன.

கூற்று II : பாறை மேல் தகடு உரிதல் மற்றும் நொறுங்குதல் போன்றவை பாறை உரிதலின் வேறு வகைகளாகும்.

கீழே உள்ள செயல்முறைகளில் எது இந்த கூற்றுடன் சரியாகப் பொருந்தியுள்ளது?

- A) அரிப்பினால் சிதைவுறுதல் B) வானிலைச் சிதைவு
C) பாறை உரிதல் D) கார்பனாக்கம்
E) விடை தெரியவில்லை

Consider the following statements.

Statement I : The alternate heating and cooling on rounded rock surfaces leads to peeling of rocks

Statement II : Sheeting and shattering are the other forms of this.

Which of the below process exactly match this statement?

- A) Degradation B) Weathering
C) Exfoliation D) Carbonation
E) Answer not known

125. படிய வைத்தலால் உருவாகும் நிலத்தோற்றங்களான ட்ரேவர்டைன், டூபா மற்றும் சொட்டுப்படியுகள் எவற்றில் காணப்படுகின்றன?

- A) யுவாலாகள் B) ஸ்பீலியோதெம்ஸில்
C) மலையிடுக்கு D) மொரைன்ஸ்
E) விடை தெரியவில்லை

Deposits Travertines, tufa, dripstones are collectively called as?

- A) Uvalas B) Spleothemes
C) Gorge D) Moraines
E) Answer not known



126. சரியான கூற்றுகளைத் தேர்ந்தெடுக்கவும்
- A) வெப்பநிலை அதிகரிக்கும் போது ஒப்பு ஈரப்பதம் குறைகிறது.
B) ஒப்பு ஈரப்பதம் வெப்பநிலையைச் சார்ந்ததல்ல.
C) ஒப்பு ஈரப்பதம் 100% ஐ விட அதிகமாக இருக்கும்.
D) ஒப்பு ஈரப்பதம் ஒரு கன மீட்டருக்கு கிராம்களில் அளவிடப்படுகிறது.
E) விடை தெரியவில்லை
- Pick out the correct Statements
- A) Relative humidity decreases as the temperature increases.
B) Relative humidity is independent of temperature.
C) Relative humidity can exceed 100%.
D) Relative humidity is measured in grams per cubic meter.
E) Answer not known
127. ஈரப்பதம் மிகுந்து வீசும் காற்று மலைச்சரிவால் தடுக்கப்பட்டு மேல்நோக்கி எழும் போது ஏற்படும் மழைப்பொழிவு?
- A) வெப்பச்சலன மழை
B) வளிமுக மழை
C) மலைத்தடுப்பு மழை
D) அமில மழை
E) விடை தெரியவில்லை
- A Rainfall, which is caused when air is forced to rise against a high mountain?
- A) Convective rainfall
B) Frontal rainfall
C) Relief Rainfall
D) Acid rainfall
E) Answer not known
128. பின்வரும் கூற்றுகளைக் கருத்தில் கொள்க.
- I. வளிமண்டலத்தில் அதிக உயரத்தில் மெல்லிய, வெண்ணிற இழைப் போன்ற தோற்றத்தில் காணப்படும் மேகங்கள்.
II. இந்த மேகங்கள் வறண்டு, மழையை தருவதில்லை.
மேற்கண்ட சொற்றொடருடன் தொடர்புடைய மேகம் எது?
- A) கீற்று மேகங்கள்
B) கீற்றுத் திரள் மேகங்கள்
C) படைத்திரள் மேகங்கள்
D) கீற்றுப்படை மேகங்கள்
E) விடை தெரியவில்லை
- Consider the following statements.
- I. Detached clouds in the form of white delicate fibrous silky filaments formed at the high sky.
II. These clouds are dry and do not give rainfall.
Which cloud is mentioned in the above statement?
- A) Cirrus
B) Cirro-cumulus
C) Strato-cumulus
D) Cirro-stratus
E) Answer not known
129. வேளாண் பயிர்களையும் மனித உயிர்களையும் பாதிக்கும் தன்மை கொண்ட மழை எது?
- A) அமில மழை
B) பனிச்சீவல்கள்
C) ஆலங்கட்டி மழை
D) கல்மாரி மழை
E) விடை தெரியவில்லை



Which of the below are most destructive for agricultural crops and human lives?
A) Acid Rain
B) Snowflakes
C) Sleet
D) Hails
E) Answer not known

130. காற்று வட அரைக்கோளத்தில் வலதுபுறமாகவும், தென் அரைக்கோளத்தில் இடதுபுறமாகவும் திசைதிருப்பப்படுகிறது, இது எவ்வாறு அழைக்கப்படுகிறது?

- A) கொரியாலிஸ் விளைவு
B) வியாபாரக்காற்று
C) பெரல்ஸ் விதி
D) மேற்கண்ட எதுவும் இல்லை
E) விடை தெரியவில்லை

Winds are deflected to the right in the northern hemisphere and to the left in the southern hemisphere, this is known as

- A) Coriolis effect
B) Trade winds
C) Ferrel's Law
D) None of the above
E) Answer not known

131. பின்வரும் கூற்றுகளைக் கருத்தில் கொள்க.

கூற்று I : ஒரு யூனிட் காற்றில் உள்ள நீராவியின் நிறை ஒப்பு ஈரப்பதம் என்று குறிப்பிடப்படுகிறது

கூற்று II : வளிமண்டல ஈரப்பதத்தை அளவிடுவதற்கான கருவி ஈரப்பதமானி ஆகும்.

குறியீடுகள்:

- அ) கூற்று I மட்டும் சரி
B) கூற்று II மட்டும் சரி
C) இரண்டு கூற்றுகளும் சரி
D) இரண்டு கூற்றுகளும் தவறானவை
E) விடை தெரியவில்லை

Consider the following statements.

Statement I : The mass of water vapour in a unit mass of air is referred to as relative humidity

Statement II : The equipment to measure atmospheric humidity is hygrometer.

Codes:

- A) Statement I alone is true
B) Statement II alone is true
C) Both Statements are true
D) Both Statements are false
E) Answer not known



132. பட்டியல்-Iஐ பட்டியல்-II உடன் பொருத்துக.

பட்டியல்-I

(காற்று)

- வியாபாரக்காற்று
- மேலைக் காற்றுகள்
- துருவகீழைக்காற்றுகள்
- காலமுறைக்காற்றுகள்

பட்டியல்-II

(அம்சம்)

- பேக்யுஸ்
- 60° அட்சங்களில் “கதறும் அறுபதுகள்”
- மாலுமிகளின் நண்பர்
- நிலம் மற்றும் கடலின் வெவ்வேறு விகிதங்களில் வெப்பம்
- பலவீனமான மற்றும் ஒழுங்கற்ற காற்றுகள்

குறியீடுகள்:

	a	b	c	d
A)	5	2	3	1
B)	3	1	5	4
C)	3	2	5	4
D)	3	1	2	5

E) விடை தெரியவில்லை

Match List-I with List-II.

List-I

(Winds)

- Trade winds
- Westerlies
- Polar Easterlies
- Periodic winds

List-II

(Feature)

- Baguious
- Screaming sixties at 60 degree
- Friend of Sailors
- Differential heating of land and ocean
- Weak and irregular

Codes:

	a	b	c	d
A)	5	2	3	1
B)	3	1	5	4
C)	3	2	5	4
D)	3	1	2	5

E) Answer not known

133. பட்டியல் - I, பட்டியல் - II உடன் பொருத்துக.

பட்டியல் - I (சூறாவளி)

பட்டியல் - II (அம்சம்)

- வெப்பச்சூறாவளிகள்
 - மிதவெப்பச்சூறாவளிகள்
 - கூடுதல் வெப்பச்சூறாவளிகள்
 - சூப்பர் சைக்ளோன்
- மத்திய அட்சரேகை சூறாவளிகள்
 - ஹரிக் கேன்கள்
 - 7மீ கடலலை
 - மேற்கத்திய இடையூறு காற்று



குறியீடுகள்:

- | | a | b | c | d |
|----|----------|----------|----------|----------|
| A) | 2 | 4 | 1 | 3 |
| B) | 2 | 1 | 4 | 3 |
| C) | 1 | 2 | 4 | 3 |
| D) | 1 | 4 | 2 | 3 |

E) விடை தெரியவில்லை

Match List-I with List-II.

List-I (Cyclones)

- a) Tropical Cyclone
b) Temperate cyclones
c) Extra tropical cyclones
d) Super Cyclone

List-II (Feature)

1. Mid latitude cyclones
2. Hurricanes
3. 7m Tidal wave
4. Western disturbances

Codes:

- | | a | b | c | d |
|----|----------|----------|----------|----------|
| A) | 2 | 4 | 1 | 3 |
| B) | 2 | 1 | 4 | 3 |
| C) | 1 | 2 | 4 | 3 |
| D) | 1 | 4 | 2 | 3 |

E) Answer not known

134. தவறாகப் பொருந்தியுள்ள இணையைக் கண்டறிக.

- A) காற்று திசைகாட்டி – காற்றின் வேகம் அளப்பது
B) காற்றோட்டம் – காற்றின் செங்குத்து அசைவினை
C) இடைப்பட்ட திரள் மேகங்கள் – செம்மறி ஆட்டு மேகங்கள்
D) குறை அழுத்தம் – புயலின் கண்
E) விடை தெரியவில்லை

Find out the incorrectly matched pair.

- A) Wind wane – Speed of the wind
B) Air current – Vertical movement of air
C) Alto-cumulus – Sheep Clouds
D) Low Pressure – Eye of the storm
E) Answer not known

135. சரியாகப் பொருந்தியுள்ள இணையைக் கண்டறிக.

- A) டைஃபூன்கள் – கிழக்கு பசிபிக் பெருங்கடல்
B) ஹரிகேன்கள் – அட்லாண்டிக் பகுதி
C) வில்லி வில்லி – ஆஸ்திரியா
D) டைஃபூன் – கொரியா
E) விடை தெரியவில்லை



Find out the correctly matched pair.

- A) Typhoons – Eastern pacific ocean
B) Hurricanes – Atlantic Region
C) Willy Willy – Austria
D) Taifu – Korea
E) Answer not known

136. பட்டியல்-Iஐ பட்டியல்-II உடன் பொருத்துக.

பட்டியல்-I	பட்டியல்-II
(ஜி.என்.எஸ்.எஸ்)	(நாடு)
a) கலிலியோ	1. சீனா
b) நவஸ்டார்	2. இந்தியா
c) குளோனாஸ்	3. ரஷ்யா
d) பீடோ	4. ஐரோப்பா
e) நாவிக்	5. அமெரிக்கா

குறியீடுகள் :

	a	b	c	d	e
A)	5	4	2	3	1
B)	4	5	1	3	2
C)	5	1	4	3	2
D)	4	5	3	1	2

E) விடை தெரியவில்லை

Match List-I with List-II.

List-I	List-II
(GNSS)	(Country)
a) Galileo	1. China
b) NAVSTAR	2. India
c) GLONASS	3. Russia
d) BeiDou	4. Europe
e) NAVIC	5. USA

Codes:

	a	b	c	d	e
A)	5	4	2	3	1
B)	4	5	1	3	2
C)	5	1	4	3	2
D)	4	5	3	1	2

E) Answer not known

137. பின்வரும் கூற்றுகளைக் கருத்தில் கொள்க.

- I. வான்வழி புகைப்படம் எடுத்த முதல் நபர்
II. இவர் ஒரு பெரிய (6000 மீ³) “லீ ஜென்ட்” (தி ஜெயண்ட்) என்று பெயரிடப்பட்ட பலூனை உருவாக்கினார்.



மேற்கண்ட கூற்றில் குறிப்பிடும் ஆளுமையை அடையாளம் காண்க.

- A) பெலிக்ஸ் நடார்
B) விக்டர் டூர்னாச்சென்
C) பெலிக்ஸ் விக்டர்
D) யட்சு கன்ஷிரோ
E) விடை தெரியவில்லை

Consider the following statements.

- I. First person to take aerial photographs
II. He Built a huge balloon named "The Giant" (6000 m³)

Identify the personality from the above statement?

- A) Felix Nadar
B) Victor Tournachen
C) Felix Victor
D) Yatshu Kanshiro
E) Answer not known

138. பின்வரும் கூற்றுகளைக் கருத்தில் கொள்க.

- I. புவியின் உண்மையான வடிவம் நீள்வட்டக் கோளம் ஆகும்.
II. ஐக்கிய நாடுகள் சபையின் கொடியில் "சமதள துருவ கோட்டுச்சட்டம் சித்தரிக்கப்பட்டுள்ளது.
III. ஐக்கிய நாடுகள் சபையின் கொடியில் அண்டார்டிகா தென்படவில்லை.

மேற்கண்ட கூற்றுகளில் சரியானது எது/எவை?

- A) I மற்றும் III மட்டும்
B) II மட்டும்
C) I மற்றும் II மட்டும்
D) மேற்கண்ட அனைத்தும்
E) விடை தெரியவில்லை

Consider the following statements.

- I. The actual shape of the Earth is Oblate spheroid.
II. The 'azimuthal' polar projection is depicted on the UN Flag.
III. Antarctica does not appear on UN Flag

Which of the statements given above is/are correct?

- A) I and III only
B) II only
C) I and II only
D) All the above
E) Answer not known

139. தவறான கூற்றைக் கண்க:

- A) புவியின் மேற்பரப்பில் காணப்படும் நீரில் 97% கடல் நீராகும்.
B) 3 சதவிகித நீரானது பனிப்பாறைகளாகவும், பனி முகடுகளாகவும் ஆறுகள், ஏரிகள் மற்றும் குளங்களாகவும், நிலத்தடி நீராகவும், ஒரு சிறு பகுதி காற்றில் நீராவிடாகவும் காணப்படுகிறது.
C) பூமியில் உள்ள நீரில் சுமார் 1% அளவு நீரானது ஆறுகள், நீரோடைகள், ஏரிகள் மற்றும் குளங்களில் நீர்ம நிலையில் காணப்படுகிறது.
D) வட அரைக்கோளம் 61% நிலப்பரப்பையும் தென் அரைக்கோளம் 81% நீர்ப்பரப்பையும் கொண்டுள்ளது.
E) விடை தெரியவில்லை

Find the incorrect statement :

- A) Over 97% of the water on the Earth's surface is confined to oceans.
B) Less than 3% of water is held on land as glaciers, ice caps, groundwater, rivers, lakes, and also as the water vapour in air.



- C) Around 1% of the water on Earth is found in liquid form as rivers, streams, lakes, ponds, etc.
D) The northern hemisphere holds 61% of land whereas the southern hemisphere holds 81% of water.
E) Answer not known

140. கண்டத்திட்டு தொடர்பான பின்வரும் கூற்றுக்களைக் கருத்தில் கொள்க:

கூற்று (A) : இப்பகுதிகள் உலகின் செழிப்பான மீன்பிடித்தளங்களுள் ஒன்றாக உள்ளது.

காரணம் (R) : கண்டத்திட்டு ஆழமற்ற பகுதியாக இருப்பதினால் சூரிய ஒளி நன்கு ஊடுருவிச் செல்கின்றது. இது கடற்புற்கள், கடற்பாசி மற்றும் பிளாங்டன் போன்றவை நன்கு வளர்வதற்குச் சாதகமாக உள்ளது.

குறியீடுகள்:

- A) (A) மற்றும் (R) இரண்டும் சரி மற்றும் (R) என்பது (A)-யின் சரியான விளக்கமாகும்.
B) (A) மற்றும் (R) இரண்டும் சரி ஆனால் (R) என்பது (A)-யின் சரியான விளக்கமல்ல.
C) (A) சரி ஆனால் (R) தவறு.
D) (A) தவறு ஆனால் (R) சரி.
E) விடை தெரியவில்லை

Consider the following statements regarding Continental Shelf :

Assertion (A) : These zones become the richest fishing grounds in the world.

Reason (R) : They are shallower, enabling sunlight to penetrate through water, which encourages abundant growth of grass, seaweed and plankton.

Codes:

- A) Both (A) and (R) are true but (R) is the correct explanation of (A)
B) Both (A) and (R) are true and (R) is not the correct explanation of (A)
C) (A) is true but (R) is false
D) (A) is false but (R) is true
E) Answer not known

141. பட்டியல்-Iஐ பட்டியல்-II உடன் பொருத்துக.

பட்டியல்-I
(தளங்கள்)

- a) மும்பை ஹை
b) காம்பே வளைகுடா
c) நியூபவுண்ட்லாந்தில் உள்ள 'கிராண்ட் பாங்க்'
d) விழிஞ்சியம்

குறியீடுகள்:

	a	b	c	d
A)	4	2	3	1
B)	2	1	3	4
C)	2	4	1	3
D)	4	1	2	3

E) விடை தெரியவில்லை

பட்டியல்-II

(முக்கியத்துவம்)

1. மீன்பிடித்தளம்
2. எண்ணெய் எடுப்பதற்கும் சுரங்க நடவடிக்கைகள் மேற்கொள்வதற்கும்
3. அலையாற்றல் மின் உற்பத்தி நிலையம்
4. ஓதசக்தி மண்டலங்கள்



Match List-I with List-II.

List-I
(Sites)

- Mumbai High
- Gulf of Khambhat
- Grand Banks of Newfoundland
- Vizhinjam

List-II
(Significance)

- Fishing grounds
- Oil drilling and mining
- Wave energy power plant
- Tidal energy zones

Codes:

- | | a | b | c | d |
|----|------------------|----------|----------|----------|
| A) | 4 | 2 | 3 | 1 |
| B) | 2 | 1 | 3 | 4 |
| C) | 2 | 4 | 1 | 3 |
| D) | 4 | 1 | 2 | 3 |
| E) | Answer not known | | | |

142. நீர், நீர்க்கொள்பாறைகளின் வழியாக ஊடுருவிச் சென்று, நீர் உட்புகாப் பாறையின் மேல்பகுதியில் தேங்கி நிற்கும் பகுதி எவ்வாறு அழைக்கப்படுகிறது?

- ஆர்டிசியன் கிணறுகள்
- நீர்க்கொள்படுகை
- அடிநிலக் குகைகள்
- நிலத்தடி நீர்மட்டம்
- விடை தெரியவில்லை

What are the porous rock strata filled with water and found below the earth's surface called?

- Artesian wells
- Aquifers
- Caverns
- Water table
- Answer not known

143. பட்டியல்-Iஐ பட்டியல்-II உடன் பொருத்துக.

பட்டியல்-I
(கடலடி நிலத்தோற்றங்கள்)

- கண்டச்சரிவு
- கண்ட உயர்ச்சி
- அபிசெல் சமவெளிகள்
- கடல் பள்ளம்

பட்டியல்-II
(அம்சங்கள்)

- நிலநடுக்க மேல்மையப்புள்ளி
- கடல் குன்றுகள் மற்றும் கடல்மட்ட குன்றுகள்
- கடலடியிலும் விசிறிகள்
- கடலடிப் பள்ளத்தாக்குகள் மற்றும் அகழிகள்

குறியீடுகள்:

- | | a | b | c | d |
|----|------------------|----------|----------|----------|
| A) | 4 | 2 | 3 | 1 |
| B) | 2 | 1 | 3 | 4 |
| C) | 3 | 2 | 1 | 4 |
| D) | 4 | 3 | 2 | 1 |
| E) | விடை தெரியவில்லை | | | |



Match List-I with List-II.

List-I

(Ocean relief)

- Continental slope
- Continental Rise
- Abyssal plains
- Oceanic deeps

List-II

(Features)

- Epicentre of great earthquakes
- Sea mounts and Guyots
- Submarine fans
- Deep canyons and trenches

Codes:

- | | a | b | c | d |
|----|------------------|----------|----------|----------|
| A) | 4 | 2 | 3 | 1 |
| B) | 2 | 1 | 3 | 4 |
| C) | 3 | 2 | 1 | 4 |
| D) | 4 | 3 | 2 | 1 |
| E) | Answer not known | | | |

144. பின்வருவனவற்றில் எது சரியாகப் பொருந்துகிறது?

(பதம்)

(வரையறை)

- | | | |
|------------------------|---|---|
| I. பாத்தோம்கள் | - | கடலின் ஆழத்தை அளவிடக் கூடிய ஓர் அலகு. |
| II. சம ஆழக்கோடு | - | ஒரே அளவிலான உப்புத்தன்மை கொண்ட பகுதிகளை வரைபடத்தில் இணைக்கும் கற்பனைக் கோடு. |
| III. சம உவர்ப்புக்கோடு | - | ஒரே அளவிலான ஆழம் கொண்ட இடங்களை வரைபடத்தில் இணைக்கும் கற்பனைக் கோடு. |
| IV. உயரவிளக்கப்படம் | - | நிலப்பகுதியிலோ அல்லது நீர்ப்பகுதியிலோ காணப்படும் நிலத்தோற்றங்களின் உயரத்தை வரைந்து காட்டும் கோட்டுப்படமாகும். |

குறியீடுகள்:

- | | |
|------------------------------|-------------------------------|
| A) I, II மற்றும் III மட்டும் | B) II, III மற்றும் IV மட்டும் |
| C) I மற்றும் IV மட்டும் | D) மேற்கண்ட அனைத்தும் |
| E) விடை தெரியவில்லை | |

Which of the following is/are correctly matched?

(Term)

(Definition)

- | | | |
|-----------------------|---|---|
| I. Fathoms | - | nautical measurement of the depth of water in the ocean. |
| II. Isobath | - | imaginary line on a map joining the points of equal salinity in oceans. |
| III. Isohaline | - | imaginary line on a map joining the points of equal depths |
| IV. Hypsometric Curve | - | graph showing the height of a certain place on land and ocean features at sea |

Codes:

- | | |
|-----------------------|------------------------|
| A) I, II and III only | B) II, III and IV only |
| C) I and IV only | D) All the above |
| E) Answer not known | |



145. பின்வரும் கூற்றுக்களைக் கருத்தில் கொள்க.

கூற்று (A) : அட்லாண்டிக் மற்றும் இந்தியப் பெருங்கடலில் காணப்படும் கடலடிச் சமவெளிகள் பசிபிக் பெருங்கடலில் காணப்படும் சமவெளிகளைவிட மிகவும் பரந்து காணப்படுகின்றன.

காரணம் (R) : மிப்பெரிய ஆறுகளுள் பல இக்கடல்களில் கலப்பதனால் கடலடிச் சமவெளிகள் பரந்து காணப்படுகின்றன.

குறியீடுகள்:

A) (A) மற்றும் (R) இரண்டும் சரி மற்றும் (R) என்பது (A)-யின் சரியான விளக்கமாகும்.

B) (A) மற்றும் (R) இரண்டும் சரி ஆனால் (R) என்பது (A)-யின் சரியான விளக்கமல்ல.

C) (A) சரி ஆனால் (R) தவறு.

D) (A) தவறு ஆனால் (R) சரி.

E) விடை தெரியவில்லை

Consider the following statements.

Assertion (A) : Abyssal plains in the Atlantic and Indian Oceans tend to be more extensive than in the Pacific Ocean

Reason (R) : Majority of the world's largest rivers empty their sediments into either Atlantic or Indian Ocean.

Codes:

A) Both (A) and (R) are true and (R) is the correct explanation of (A)

B) Both (A) and (R) are true but (R) is not the correct explanation of (A)

C) (A) is true but (R) is false

D) (A) is false but (R) is true

E) Answer not known

146. பட்டியல்-Iஐ பட்டியல்-II உடன் பொருத்துக.

பட்டியல்-I

(கடல் நிகழ்வுகள்)

- உயர் ஓதங்கள்
- தாழ் ஓதங்கள்
- வட அரைக்கோளத்தில் கடல் நீரோட்டங்கள்
- தென் அரைக்கோளத்தில் கடல் நீரோட்டங்கள்

பட்டியல்-II

(பண்புகள்)

- கடிகார திசையில் இயக்கம்
- உயர் அலை
- குறைவான அலை
- கடிகார திசைக்கு எதிர் திசையில் இயக்கம்

குறியீடுகள்:

	a	b	c	d
A)	3	2	4	1
B)	2	3	1	4
C)	2	3	4	1
D)	3	2	1	4

E) விடை தெரியவில்லை



Match List-I with List-II.

List-I

(Oceanic events)

- Spring tide
- Neap tide
- Ocean current in Northern Hemisphere
- Ocean current in Southern hemisphere

Codes:

- | | a | b | c | d |
|----|------------------|----------|----------|----------|
| A) | 3 | 2 | 4 | 1 |
| B) | 2 | 3 | 1 | 4 |
| C) | 2 | 3 | 4 | 1 |
| D) | 3 | 2 | 1 | 4 |
| E) | Answer not known | | | |

List-II

(Characteristics)

- Clockwise motion
- High tide
- Low tide
- Anticlockwise motion

147. பின்வரும் கூற்றுகளைக் கருத்தில் கொள்க:

- அகழிகள் மொத்தக்கடலடிப் பரப்பில் 7 சதவீதத்திற்கு மேல் காணப்படுகிறது.
- வலிமையான நில அதிர்வுகளின், நிலநடுக்க மேல்மையம் (Epicentre) அகழிகளில் காணப்படுகின்றது.
- மத்திய-அட்லாண்டிக் மலைமத்தொடர் மிகப்பெரிய உடைக்கப்படாத கடலடி மலைத்தொடர்கள் ஆகும்
- உலகின் மிக ஆழமான கடலடி “உறிஞ்சித்துளைக்கு டிராகன் துளை” என்று பெயர். மேற்கண்ட கூற்றுகளில் எத்தனை கூற்றுகள் சரியானவை?
 - ஒரு கூற்று மட்டும்
 - இரண்டு கூற்றுகள் மட்டும்
 - மூன்று கூற்றுகள் மட்டும்
 - அனைத்து கூற்றுகளும்
 - விடை தெரியவில்லை

Consider the following statements:

- Trenches occupy about 7% of the total relief of the ocean floor
 - Epicentre of the great earthquakes are all found in the trenches.
 - Mid-Atlantic ridge is the largest unbroken oceanic ridge
 - Dragon Hole is the deepest known underwater sink hole in the world
- How many of the above statement(s) is/are correct?

- One statement only
- Two statements only
- Three statements only
- All the statements
- Answer not known

148. பின்வருவனவற்றில் எது சரியாகப் பொருந்தியுள்ளது?

- | (கடல் எல்லை) | (பரப்பு) |
|-------------------------------------|--------------------|
| I. பெரும்பாலான நாடுகளின் கடல் எல்லை | – 20 கடல் மைல்கள் |
| II. ஜோர்டானின் கடல் எல்லை | – 3 கடல் மைல்கள் |
| III. பெருவின் கடல் எல்லை | – 200 கடல் மைல்கள் |



குறியீடுகள்:

- A) II மற்றும் III மட்டும்
B) I மற்றும் III மட்டும்
C) I மற்றும் II மட்டும்
D) I, II மற்றும் III
E) விடை தெரியவில்லை

Which of the following is/are correctly matched?

(Maritime boundary)

(Extent)

- I. Maritime boundary of most countries – 20 nautical miles
II. Maritime boundary of Jordan – 3 nautical miles
III. Maritime boundary of Peru – 200 nautical miles

Codes:

- A) II and III only
B) I and III only
C) I and II only
D) I, II and III
E) Answer not known

149. பின்வருவனவற்றில் கடல் நீரோட்டங்களை உருவாக்கும் காரணிகள் எவை?

- I. பூமியின் சுழற்சி
II. கடல்வாழ் உயிரினங்களின் இடம்பெயர்வு முறை
III. வீசும் காற்று
IV. கடல் நீரின் வெப்பம் மற்றும் உவர்ப்பியத்தில் உள்ள வேறுபாடு

குறியீடுகள்:

- A) I, II மற்றும் III மட்டும்
B) II, III மற்றும் IV மட்டும்
C) மேற்கண்ட அனைத்தும்
D) I, III மற்றும் IV மட்டும்
E) விடை தெரியவில்லை

Which of the following are the factors responsible for generating ocean currents?

- I. Earth's rotation
II. Migration pattern of marine life
III. Prevailing winds
IV. Difference in temperature and salinity of ocean water

Codes:

- A) I, II and III only
B) II, III and IV only
C) All the above
D) I, III and IV only
E) Answer not known

150. பின்வருவனவற்றில் எது குளிர் நீரோட்டம் அல்ல?

- A) ஹம்போல்டு நீரோட்டம்
B) மேற்கு ஆஸ்திரேலிய நீரோட்டம்
C) ஓயாஷியோ நீரோட்டம்
D) குரோஷியோ நீரோட்டம்
E) விடை தெரியவில்லை

Which of the following is not a cold current?

- A) Humboldt Current
B) West Australian Current
C) Oyashio Current
D) Kuroshio Current
E) Answer not known



151. பின்வரும் கூற்றுகளைக் கருத்தில் கொள்க.

- I. தேசிய கடல் சார் நிறுவனம் (National Institute of Oceanography – NIO) 01.01.1996-ல் நிறுவப்பட்டது.
II. இதன் தலைமையகம் கோவாவில் உள்ள 'டோனா பெளலா' ஆகும்.
III. கடல்சார் அம்சங்கள், பெருங்கடல் பொறியியல், கடல் அகழாய்வு போன்றவற்றைப் பற்றி அறிந்து கொள்ள ஆராய்ச்சி மற்றும் ஆய்வுகளை இந்நிறுவனம் மேற்கொள்கிறது
மேற்கண்ட கூற்றுகளில் சரியானவை எவை?
A) I மற்றும் II மட்டும்
B) I மற்றும் III மட்டும்
C) II மற்றும் III மட்டும்
D) மேற்கண்ட அனைத்தும்
E) விடை தெரியவில்லை

Consider the following statements.

- I. NIO (National Institute of Oceanography) was established in 1st January 1966.
II. The headquarters of NIO is located at Dona Paula, Goa.
III. It Conducts research and observations to understand oceanic features, Ocean engineering, marine Archaeology etc.
Which of the statements given above is/are correct?
A) I and II only
B) I and III only
C) II and III only
D) All the above
E) Answer not known

152. பட்டியல்-Iஐ பட்டியல்-II உடன் பொருத்துக.

பட்டியல்-I
(கடல் நீரோட்டங்கள்)

- a) வளைகுடா நீரோட்டம்
b) கலிபோர்னியா நீரோட்டம்
c) பென்குலா நீரோட்டம்
d) பெருவியன் நீரோட்டம்

பட்டியல்-II
(நிகழ்விடம்)

1. தெற்கு அட்லாண்டிக் பெருங்கடல்
2. வடக்கு பசிபிக் பெருங்கடல்
3. வடக்கு அட்லாண்டிக் பெருங்கடல்
4. தென் பசிபிக் பெருங்கடல்

குறியீடுகள்:

	a	b	c	d
A)	4	2	3	1
B)	2	1	3	4
C)	3	2	1	4
D)	1	2	3	4

E) விடை தெரியவில்லை

Match List-I with List-II.

List-I

(Ocean current)

- a) Gulf stream
b) California current
c) Benguela current
d) Peruvian current

List-II

(Occurrence)

1. South Atlantic Ocean
2. North Pacific Ocean
3. North Atlantic Ocean
4. South Pacific Ocean

**Codes:**

	a	b	c	d
A)	4	2	3	1
B)	2	1	3	4
C)	3	2	1	4
D)	1	2	3	4

E) Answer not known

153. உணவுச்சங்கிலிகள் (Food Chain) ஒன்றினையொன்று சார்ந்து, பிணைக்கப்பட்ட அமைப்பு எவ்வாறு அழைக்கப்படுகிறது?

- A) உணவு சங்கிலி
B) சூழலியல் அடுக்கு
C) உணவு வலை
D) சுற்றுச்சூழல் பிரமிடு
E) விடைதெரியவில்லை

Which term describes a network of interlocking and interdependent food chains within an ecosystem?

- A) Food Cycle
B) Ecological Corridor
C) Food Web
D) Ecological Pyramid
E) Answer not known

154. பின்வரும் கூற்றுகளை கருத்தில் கொள்க.

- I. ஒரு சூழலியல் பிரதேசத்தில் பாதிக்கும் மேலாக ஓரினம் சுயமான வாழ்விடத்தை இழந்து விடுமேயானால் அவ்விடம் பாதுகாக்க கொள்ளப்பட வேண்டிய வளமையங்களாகக் (Hotspot) கருதப்படுகிறது.
II. இந்தியாவின் இமயமலைகள், மேற்கு தொடர்ச்சி மலைகள், இந்தோபர்மாபிரதேசம், சுந்தாநிலப்பகுதி போன்றவை வளமையங்களாகும்.
III. உலகில் 36 இடங்கள் உயிரினப்பன்மை தகுதி வளமையங்களாகக் (Hotspot) கருதப்படுகிறது.

மேற்கண்ட கூற்றுகளில் தவறானது எது/எவை?

- A) I மற்றும் III மட்டும்
B) II மற்றும் III மட்டும்
C) I மட்டும்
D) I மற்றும் II மட்டும்
E) விடைதெரியவில்லை

Consider the following statements.

- I. An ecological region that has lost more than half of its original habitat is considered a hotspot.
II. Hotspots in India are the Himalayas, Western Ghats, Indo Burma Region and Sundaland.
III. There are 36 areas around the world which are qualified as biodiversity hotspots.

Which of the statements given above is/are incorrect?

- A) I and III only
B) II and III only
C) I only
D) I and II only
E) Answer not known



155. பட்டியல்-Iஐ பட்டியல்-II உடன் பொருத்துக.

பட்டியல்-I

(மிதவெப்பமண்டலப் புல்வெளி)

- ப்ரெய்ரி
- ஸ்டெப்பி
- பாம்பாஸ்
- வெல்ட்

குறியீடுகள்:

	a	b	c	d
A)	1	2	3	4
B)	2	1	3	4
C)	2	3	4	1
D)	4	1	2	3

E) விடை தெரியவில்லை

Match List-I with List-II.

List-I

(Temperate Grasslands)

- Prairies
- Steppes
- Pampas
- Veld

Codes:

	a	b	c	d
A)	1	2	3	4
B)	2	1	3	4
C)	2	3	4	1
D)	4	1	2	3

E) Answer not known

பட்டியல்-II

(இடம்)

- யுரேஷியா
- வட அமெரிக்கா
- அர்ஜென்டினாமற்றும் உருகுவே
- தென்ஆப்பிரிக்கா

List-II

(Associated regions)

- Eurasia
- North America
- Argentina and Uruguay
- South Africa

156. எது பிற நிலவாழ் பல்லுயிர்த் தொகுதிகளைவிட பல்வேறு விதமான உயிரினங்களின் வாழ்விடமாகவும், முதன்மை தொழில்நடைபெறும் இடமாகவும் உள்ளது?

- மிதவெப்பமண்டலப் புல்வெளி
- பாலைவனம்
- தூந்திரப்பல்லுயிர்த் தொகுதி
- வெப்பமண்டல காடுகள்
- விடைதெரியவில்லை

Which terrestrial biome is characterized by the highest biodiversity and primary productivity?

- Temperate grasslands
- Deserts
- Tundra
- Tropical forests
- Answer not known



157. பின்வரும் கூற்றுகளை கருத்தில் கொள்க.

கூற்று (A) : பாலைவனமானது விவசாயத்திற்கு உகந்ததாக இல்லை.

காரணம் (R) : இங்குக் காணப்படும் மண் மணலாகவும், உவர்ப்பாகவும், உள்ளது.

குறியீடுகள்:

A) (A) மற்றும் (R) இரண்டும் சரி மற்றும் (R) என்பது (A)-யின் சரியான விளக்கமாகும்

B) (A) மற்றும் (R) இரண்டும் சரி ஆனால் (R) என்பது (A)-யின் சரியான விளக்கமல்ல

C) (A) சரி ஆனால் (R) தவறு

D) (A) தவறு ஆனால் (R) சரி

E) விடை தெரியவில்லை

Consider the following statements.

Assertion (A) : Deserts remain agriculturally unproductive.

Reason (R) : Sandy and saline soil lacks essential nutrients and water retention capacity required for agricultural productivity.

Codes:

A) Both (A) and (R) are true and (R) is the correct explanation of (A)

B) Both (A) and (R) are true but (R) is not the correct explanation of (A)

C) (A) is true but (R) is false

D) (A) is false but (R) is true

E) Answer not known

158. பட்டியல்-Iஐ பட்டியல்-II உடன் பொருத்தவும்.

பட்டியல்-I

(பல்லுயிர்த்தொகுதிகள்)

a) வெப்பமண்டல காடுகள்

b) பாலைவனம்

c) மிதவெப்பமண்டலப்புல்வெளி

d) தூந்திரப்பல்லுயிர்த்தொகுதி

பட்டியல்-II

(தொழில்)

1. மீன்பிடித்தல்

2. இடமாற்று விவசாயம்

3. கால்நடைவளர்ப்பு

4. வேட்டையாடுதல் மற்றும் உணவு சேகரிப்பு

குறியீடுகள்:

a b c d

A) 2 4 3 1

B) 3 4 2 1

C) 3 2 1 4

D) 4 1 2 3

E) விடை தெரியவில்லை

Match List-I with List-II.

List-I

(Biomes)

a) Tropical forest

b) Desert

c) Temperate Grassland

d) Tundra

List-II

(Occupation)

1. Fishing

2. Shifting cultivation

3. Pastoral industry

4. Hunting and Food gathering

**Codes:**

- | | | | | |
|----|----------|----------|----------|----------|
| | a | b | c | d |
| A) | 2 | 4 | 3 | 1 |
| B) | 3 | 4 | 2 | 1 |
| C) | 3 | 2 | 1 | 4 |
| D) | 4 | 1 | 2 | 3 |
- E) Answer not known

159. இந்த பல்லுயிர்த்தொகுதி குளிர்காலம் நீண்டகடுங்குளிரையும், கோடைகாலம் மிதமான குளிரையும் கொண்டிருக்கும். இங்குக் காணப்படும் மிகக்குறைந்த வெப்பநிலையின் காரணமாக குறுகிய காலபருவத் தாவரங்கள் மட்டுமே இங்குக் காணப்படும். இதனால் சுற்றுச்சூழலில் முதன்மை உற்பத்தித்திறன் மிகக்குறைந்து காணப்படும். இப்பகுதியில் வாழும் மக்கள் நாடோடிகளாக வாழ்கின்றனர். வேட்டையாடுதல் மற்றும் மீன்பிடித்தல் இவர்களது முக்கியத் தொழிலாகும். இங்கு மக்கள்தொகை மிகக்குறைவாகக் காணப்படுகிறது. கடுமையான காலநிலை இவர்களின் வாழ்விடத்தை அடிக்கடி மாற்றிக்கொள்ளச் செய்கிறது. இவர்கள் குளிர்காலங்களில் “இக்லூ” (Igloo) என்ற பனி வீடுகளிலும், கோடைகாலங்களில் கூடாரங்கள் அமைத்தும் வாழ்கிறார்கள்

பின்வரும் பல்லுயிர்த் தொகுதிகளில் எது விவரிக்கப்பட்டுள்ளது?

- A) தூந்திரப் பல்லுயிர்த் தொகுதி
B) மிதமான புல்வெளி
C) வெப்பமண்டல காடுகள்
D) வெப்பமண்டலசவானா
E) விடைதெரியவில்லை

This biome experiences long severe winter and short cool summer. Due to the prevailing of low temperature and short growing seasons, the net primary productivity of this biome is very low. These regions are also called Barren lands. People live in igloos in winter and in tents during summer.

Which one of the following biomes is described in the passage?

- A) Tundra
B) Temperate Grassland
C) Tropical Forest
D) Tropical Savanna
E) Answer not known

160. பட்டியல்-Iஐ பட்டியல்-II உடன் பொருத்துக.

பட்டியல்-I (உயிரியல் கூறுகள்)	பட்டியல்-II (உதாரணம்)
a) தற்சார்பு ஊட்டஉயிரி	1. பூஞ்சை
b) முதன்மை நுகர்வோர்	2. வரிக்குதிரை
c) இரண்டாம் நிலை நுகர்வோர்	3. ஆந்தை
d) மூன்றாம் நிலை நுகர்வோர்	4. பாம்பு
e) சாறுண்ணிகள்	5. பாசி



குறியீடுகள்:

	a	b	c	d	e
A)	5	2	3	4	1
B)	4	5	2	1	3
C)	5	2	4	3	1
D)	4	2	5	1	3

E) விடை தெரியவில்லை

Match List-I with List-II.

List-I

(Biotic components)

- Autotrophs
- Primary consumer
- Secondary consumer
- Tertiary consumer
- Saprotrophs

List-II

(Example)

- Fungus
- Zebra
- Owl
- Snake
- Algae

Codes:

	a	b	c	d	e
A)	5	2	3	4	1
B)	4	5	2	1	3
C)	5	2	4	3	1
D)	4	2	5	1	3

E) Answer not known

161. 'தி கிரேட் பேரியர் ரீப்' பற்றிய தவறான கூற்றைக் கண்டறியவும்:

- உலகின் மிக நீளமான பவளப்பாறைத் திட்டு 'தி கிரேட் பேரியர் ரீப்' (The Great Barrier Reef) ஆகும்.
- இப்பவளப்பாறை ஆஸ்திரேலியாவின் குயின்ஸ்லாந்து மாகாணத்தில் டாஸ்மான் கடற்கரையில் அமைந்துள்ளது
- விண்வெளியிலிருந்தும் இப்பவளத்திட்டைக் காணலாம்.
- உலகின் 7 இயற்கை அதிசயங்களில் ஒன்றாக CNN இதனை அடையாளங்கண்டுள்ளது.
- விடை தெரியவில்லை

Find the incorrect statement regarding Great Barrier Reef :

- The Great Barrier reef is the world's largest coral reef system
- The reef is located in the Tasman Sea off the coast of Queensland, Australia
- The Great Barrier Reef can be seen from the outer space.
- CNN labelled it as one of the seven natural wonders of the world
- Answer not known



162. பின்வரும் கூற்றுகளை கருத்தில் கொள்க.

I. கங்கை வாழ் ஓங்கில் (டால்பின்), இந்தியாவின் தேசிய நீர்வாழ் உயிரினமாக 2010-ல் அறிவிக்கப்பட்டது.

II. இஃது ஓர் அழிந்து வரும் உயிரினமாகும்.

மேற்கண்ட கூற்றுகளில் தவறானது எது/எவை?

A) I மட்டும்

B) II மட்டும்

C) இரண்டும்

D) இரண்டுமில்லை

E) விடை தெரியவில்லை

Consider the following statements.

I. The Gangetic Dolphin was declared the National Aquatic Animal in 2010.

II. The Gangetic Dolphin is classified as endangered according to the IUCN.

Which of the statements given above is/are incorrect?

A) I only

B) II only

C) Both I and II

D) Neither I nor II

E) Answer not known

163. பட்டியல்-Iஐ பட்டியல்-II உடன் பொருத்துக.

பட்டியல்-I

(முக்கியமான நாட்கள்)

a) உலக வனவிலங்கு தினம்

b) சர்வதேச வன நாள்

c) உலக தண்ணீர் தினம்

d) உலக பூமி தினம்

e) உலக பெருங்கடல் தினம்

பட்டியல்-II

(தேதிகள்)

1. மார்ச் 3

2. மார்ச் 21

3. மார்ச் 22

4. ஏப்ரல் 22

5. ஜூன் 8

குறியீடுகள்:

a b c d e

A) 5 1 3 2 4

B) 2 1 4 3 5

C) 5 2 1 3 4

D) 1 2 3 4 5

E) விடை தெரியவில்லை

Match List-I with List-II.

List-I

(Important days)

a) World Wildlife Day

b) International Day of Forest

c) World Water Day

d) World Earth Day

e) World Oceans Day

List-II

(Dates)

1. March 3

2. March 21

3. March 22

4. April 22

5. June 8

**Codes:**

- | | a | b | c | d | e |
|----|----------|----------|----------|----------|----------|
| A) | 5 | 1 | 3 | 2 | 4 |
| B) | 2 | 1 | 4 | 3 | 5 |
| C) | 5 | 2 | 1 | 3 | 4 |
| D) | 1 | 2 | 3 | 4 | 5 |
- E) Answer not known

164. நவீன உலகில் முதலில் மக்கள் தொகை கணக்கெடுப்பை நடத்திய நாடு எது?

- A) ஸ்வீடன்
B) கிரீஸ்
C) டென்மார்க்
D) ஐக்கிய இராச்சியம்
E) விடைதெரியவில்லை

Which country was the first in the modern world to conduct a census?

- A) Sweden
B) Greece
C) Denmark
D) United Kingdom
E) Answer not known

165. “கருப்பு மரணம்” என்ற சொல் எதனுடன் தொடர்புடையது?

- A) எரிமலை வெடிப்பு
B) ‘பிளேக்’ கொள்ளைநோய்
C) இரண்டாம் உலகப் போரின் போது ஏற்பட்ட பெரும் உயிரிழப்புகள்
D) உயிரி போர்
E) விடைதெரியவில்லை

The term “Black Death” is related to:

- A) A volcanic eruption
B) A pandemic of bubonic plague
C) Mass casualties during WW2
D) A biological warfare incident
E) Answer not known

166. பின்வரும் இணைகளில் எத்தனை இணைகள் தவறாகப் பொருந்துகின்றன?

(நகரங்கள்)

(தனித்துவம்)

- I. டமாஸ்கஸ் – உலகின் பழமையான, தொடர்ந்து மக்கள் வசிக்கும் நகரம்
II. நியூயார்க் – உலகின் மிகப்பெரிய நகரம் (3.8 கோடி மக்கள் தொகை)
III. வியன்னா – மக்கள் சிறந்த வாழ்க்கைத் தரத்தைப் பெற்று வாழ்ந்து வருவதில் முதலிடத்தில் உள்ளது.

குறியீடுகள்:

- A) 1 இணை மட்டும்
B) 2 இணைகள் மட்டும்
C) 3 இணைகள் மட்டும்
D) பூஜ்ஜிய இணை
E) விடைதெரியவில்லை



How many of the following pairs are incorrectly matched?

(Cities)**(Uniqueness)**

- I. Damascus – Oldest, continuously inhabited city in the world
II. New York – World's largest city (3.8 crore population)
III. Vienna – Tops the Quality of Living city ranking

Codes:

- A) 1 pair only
B) 2 pairs only
C) 3 pairs only
D) Zero pair
E) Answer not known

167. பின்வருவனவற்றில் மக்கள்தொகைப் பரவலைப் பாதிக்கும் இயற்கை காரணிகள் யாவை?

- I. வெப்பநிலை
II. இயற்கை தாவரங்கள்
III. ஆற்றல் வளங்களின் கிடைக்கும் தன்மை
IV. கல்வி நிறுவனங்கள்

குறியீடுகள்:

- A) I மற்றும் II மட்டும்
B) II, III மற்றும் IV மட்டும்
C) I, II மற்றும் III மட்டும்
D) மேற்கண்ட அனைத்தும்
E) விடை தெரியவில்லை

Which of the following are the physical factors that affect the distribution of population?

- I. Temperature
II. Natural vegetation
III. Availability of energy resources
IV. Educational institutions

Codes:

- A) I and II only
B) II, III and IV only
C) I, II and III only
D) All of the above
E) Answer not known

168. பின்வரும் கூற்றுகளை கருத்தில் கொள்க.

- I. இந்தியாவில், முதல் மக்கள் தொகை கணக்கெடுப்பு 1872 ஆம் ஆண்டு நடத்தப்பட்டது.
II. 1872 முதல் ஒவ்வொரு பத்தாவது வருடமும் மக்கள் தொகை கணக்கெடுப்பு தொடர்ந்து நடத்தப்படுகிறது.

மேற்கண்ட கூற்றுகளில் தவறானது எது/எவை?

- A) I மட்டும்
B) II மட்டும்
C) இரண்டும்
D) இரண்டுமில்லை
E) விடை தெரியவில்லை

Consider the following statements.

- I. In India, the first census was carried out in the year 1872.
II. Censuses have been conducted regularly every tenth year since 1872.



Which of the statements given above is/are incorrect?

- A) I only
B) II only
C) Both I and II
D) Neither I nor II
E) Answer not known

169. இந்தியாவின் அதிகாரபூர்வ மக்கள்தொகைக் கொள்கை தொடர்பான பின்வரும் கூற்றுகளை கருத்தில் கொள்க :

- I. கி.பி. (பொ.ஆ) 1952 இல் இந்திய அரசின் அதிகாரபூர்வமான மக்கள்தொகை கொள்கை நடைமுறைப் படுத்தப்பட்டது.
II. இது போன்றதொரு கொள்கையை முதன் முதலில் அறிவித்த நாடு இந்தியா ஆகும்.
III. இந்தக் கொள்கையின் முக்கிய நோக்கமானது, பல்வேறு குடும்பக்கட்டுப்பாட்டுத் திட்டங்களை நடைமுறைப்படுத்துவதன் மூலம் மக்கள்தொகை வளர்ச்சி விகிதத்தைக் குறைப்பதாகும்.

மேற்கண்ட கூற்றுகளில் சரியானவை எவை?

- A) I மற்றும் III மட்டும்
B) II மற்றும் III மட்டும்
C) I மற்றும் II மட்டும்
D) மேற்கண்ட அனைத்தும்
E) விடை தெரியவில்லை

Consider the following statements regarding Official Population policy of India:

- I. India has an official population policy implemented in 1952.
II. India was the first country to announce such a policy.
III. The main objective of this policy was to slow down the rate of population growth, through promotion of various birth control measures.

Which of the statements given above are correct?

- A) I and III only
B) II and III only
C) I and II only
D) All the above
E) Answer not known

170. பட்டியல்-Iஐ பட்டியல்-II உடன் பொருத்துக.

பட்டியல்-I

(குடியிருப்புகளின் வகைகள்)

- a) செவ்வக வடிவக் குடியிருப்புகள்
b) நேர்க்கோட்டுக் குடியிருப்புகள்
c) வட்டவடிவக் குடியிருப்பு அல்லது அரைவட்ட வடிவ குடியிருப்புகள்
d) முக்கோண வடிவக் குடியிருப்புகள்
e) மூலக்கரு வடிவக் குடியிருப்புகள்

குறியீடுகள்:

	a	b	c	d	e
A)	5	3	2	4	1
B)	4	3	5	1	2
C)	5	2	4	1	3
D)	4	2	5	3	1

E) விடை தெரியவில்லை

பட்டியல்-II

(காணப்படும் இடம்)

1. ஆறுகள் ஒன்றாக சேரும் இடம்
2. வழிபாட்டுத் தலத்தைச் சுற்றி
3. ரயில் பாதையில் அமைந்துள்ளது
4. சமவெளி பகுதிகள் அல்லது பள்ளத்தாக்குகள்
5. ஏரிகள் மற்றும் குளங்கள்



Match List-I with List-II.

List-I

(Settlement pattern)

- Rectangular
- Linear
- Circular
- Triangular
- Nebular

List-II

(Found in)

- Confluence of rivers
- Around a place of worship
- Located along a railway line
- Plain areas or Valleys
- Lakes and ponds

Codes:

- | | a | b | c | d | e |
|----|------------------|----------|----------|----------|----------|
| A) | 5 | 3 | 2 | 4 | 1 |
| B) | 4 | 3 | 5 | 1 | 2 |
| C) | 5 | 2 | 4 | 1 | 3 |
| D) | 4 | 2 | 5 | 3 | 1 |
| E) | Answer not known | | | | |

171. “நகரங்களின் தொகுதி” என்ற சொல் எதனுடன் தொடர்புடையது?

- நகரமயமாக்கல்
- தொழில்மயமாக்கல்
- சுற்றுச்சூழல் பாதுகாப்பு
- மக்கள் தொகை அடர்த்தி
- விடைதெரியவில்லை

The term “Conurbation” is related to:

- Urbanization
- Industrialization
- Environmental conservation
- Population Density
- Answer not known

172. எந்த குழு வளம் குன்றா வளர்ச்சி என்ற சொல்லுக்கான விளக்கத்தை அளித்தது?

- அபாயகரமான கழிவுகள் மீதான பேசல் மாநாடு, 1989
- OECD சுற்றுச்சூழல் குழு, 1974
- பிரண்டலேண்டு கமிஷன், 1987
- சர்வதேச திமிங்கல ஆணையம், 1947
- விடைதெரியவில்லை

Which commission cited the definition of sustainability?

- Basel Convention on Hazardous Waste, 1989
- OECD Environmental Committee, 1974
- The Brundtland Commission, 1987
- International Whaling Commission, 1947
- Answer not known

173. வளம் குன்றா வளர்ச்சியை அடைய எந்த மூன்று முக்கிய கூறுகளை ஒன்றிணைக்க வேண்டும்?

- பொருளாதார வளர்ச்சி, இராணுவ வலிமை மற்றும் சமூக அம்சங்கள்
- பொருளாதார வளர்ச்சி, சமுதாயக் கூறுகள் மற்றும் சுற்றுச்சூழல் பாதுகாப்பு
- தொழில்நுட்ப முன்னேற்றம், பொருளாதார வளர்ச்சி மற்றும் கலாச்சார பாரம்பரியம்
- சுற்றுச்சூழல் பாதுகாப்பு, அரசியல் ஸ்திரத்தன்மை மற்றும் சமூக அம்சங்கள்
- விடைதெரியவில்லை



Which three core elements must be harmonized to achieve sustainable development?

- A) Economic growth, military strength, and social aspects
- B) Economic growth, social aspects, and environmental protection
- C) Technological advancement, economic growth, and cultural heritage
- D) Environmental protection, political stability, and social aspects
- E) Answer not known

174. பின்வருவனவற்றில் எது சரியாகப் பொருந்துகிறது?

(மக்கள் தொகை அடர்த்தி)

(பிராந்தியங்கள்)

- | | |
|--------------------------------------|----------------------|
| I. அதிக மக்களடர்த்திப் பகுதிகள் | – வட மேற்கு ஐரோப்பா |
| II. மிதமான மக்களடர்த்திப் பகுதிகள் | – நைஜீரியா |
| III. குறைந்த அடர்த்தி கொண்ட பகுதிகள் | – மத்திய ஆப்பிரிக்கா |

குறியீடுகள்:

- | | |
|--------------------------|---------------------------|
| A) I மற்றும் III மட்டும் | B) II மற்றும் III மட்டும் |
| C) I, II மற்றும் III | D) I மற்றும் II மட்டும் |
| E) விடைதெரியவில்லை | |

Which of the following is/are correctly matched?

(Population Density)

(Regions)

- | | |
|-------------------------------|---------------------|
| I. Areas of high density | – North West Europe |
| II. Areas of moderate density | – Nigeria |
| III. Areas of low density | – Central Africa |

Codes:

- | | |
|---------------------|--------------------|
| A) I and III only | B) II and III only |
| C) I, II and III | D) I and II only |
| E) Answer not known | |

175. நிலநடுக்கம் தொடர்பான பின்வரும் கூற்றுகளை கருத்தில் கொள்க.

- I. புவியின் உட்பகுதியில் நிலநடுக்கம் தோன்றுமிடத்தை நிலநடுக்கமையம் என்கிறோம்.
- II. நிலநடுக்க மையத்திற்குச் செங்குத்தாக புவியின் மேற்பரப்பில் காணப்படும் இடத்திற்கு உயர விளக்கப்பள்ளி எனப் பெயராகும்.
- III. நிலநடுக்க அலைகளை பதிவு செய்யும் கருவிக்கு 'சீஸ்மோகிராஃப்' என்று பெயர்.
- IV. இந்நோனேசியா முழுவதும் நிலநடுக்கப்பகுதியில் அமைந்துள்ளது. இது உலகிலேயே மிக அதிக அடர்த்தியான நிலநடுக்க பகுதிகளைக் கொண்டுள்ளது.

மேற்கண்ட கூற்றுகளில் தவறானவை எவை?

- A) I மற்றும் III மட்டும்
- B) I, II மற்றும் III மட்டும்
- C) II மற்றும் IV மட்டும்
- D) மேற்கண்ட அனைத்தும்
- E) விடைதெரியவில்லை



Consider the following statements related to earthquake.

- I. The place inside the earth where an earthquake originates is focus.
- II. The point on the earth's surface above the called a focus is called a hypocentre.
- III. The instrument which records the Earthquake waves is called 'Seismograph'
- IV. Indonesia is in a very active seismic area and it has the densest seismic network in the world.

Which of the statements given above are incorrect?

- | | |
|---------------------|-----------------------|
| A) I and III only | B) I, II and III only |
| C) II and IV only | D) All the above |
| E) Answer not known | |

176. ஒரு இயந்திரத்தின் மதிப்பு வருடத்திற்கு 10% குறைகிறது. தற்போதைய மதிப்பு ₹ 1,62,000 எனில், இரண்டு ஆண்டுகளுக்குப் பிறகு இயந்திரத்தின் மதிப்பு என்ன?

- | | |
|---------------------|----------------|
| A) ரூ.1,31,200 | B) ரூ.1,31,210 |
| C) ரூ.1,31,220 | D) ரூ.1,31,230 |
| E) விடை தெரியவில்லை | |

The value of a machine depreciates at 10% per year. If the present value is ₹ 1,62,000, what is the worth of the machine after two years.

- | | |
|---------------------|----------------|
| A) Rs.1,31,200 | B) Rs.1,31,210 |
| C) Rs.1,31,220 | D) Rs.1,31,230 |
| E) Answer not known | |

177. அருண் பாலாஜிக்கு 2 ஆண்டுகளுக்கு ₹ 5,000 மற்றும் சார்லஸுக்கு 4 ஆண்டுகளுக்கு ₹ 3,000 அதே வட்டி விகிதத்தில் எளிய வட்டிக்கு கடன் கொடுத்தார், மேலும் அவர்கள் இருவரிடமும் வட்டியாக ₹ 2,200 பெற்றார். ஆண்டுக்கான வட்டி விகிதத்தைக் காண்க.

- | | |
|---------------------|--------|
| A) 9% | B) 11% |
| C) 10% | D) 12% |
| E) விடை தெரியவில்லை | |

Arun lent ₹ 5,000 to Balaji for 2 years and ₹ 3,000 to Charles for 4 years on simple interest at the same rate of interest and received ₹ 2,200 in all from both of them as interest. Find the rate of interest per year.

- | | |
|---------------------|--------|
| A) 9% | B) 11% |
| C) 10% | D) 12% |
| E) Answer not known | |

178. ஒரு அசல் 5 ஆண்டுகளில் 10% வீதத்தில் ₹ 10,050 ஆகிறது. அசலைக் காண்க.

- | | |
|---------------------|-------------|
| A) ரூ.6,600 | B) ரூ.6,700 |
| C) ரூ.6,800 | D) ரூ.6,900 |
| E) விடை தெரியவில்லை | |

A principal becomes ₹ 10,050 at the rate of 10% in 5 years. Find the principal.

- | | |
|---------------------|-------------|
| A) Rs.6,600 | B) Rs.6,700 |
| C) Rs.6,800 | D) Rs.6,900 |
| E) Answer not known | |



179. இனிப்புக்கள் தயாரிப்பதற்காக 10 கிலோ 35 கிராம் நெய்யை சித்ரா வாங்கியுள்ளார். அவர் 8 கிலோ 59 கிராம் நெய்யைப் பயன்படுத்தினார். எவ்வளவு நெய் மீதம் இருக்கும்?
- A) 1.56 கிராம்
B) 1760 கிராம்
C) 1.76 கிராம்
D) 1560 கிராம்
E) விடை தெரியவில்லை
- Chitra has bought 10 kg 35 g of ghee for preparing sweets. She used 8 kg 59 g of ghee. How much ghee will be left?
- A) 1.56 g
B) 1760 g
C) 1.76 g
D) 1560 g
E) Answer not known
180. அசல் ₹ 46,000 கடனாக வழங்கப்பட்டது, 1 வருடம் மற்றும் 9 மாதங்கள் முடிவில், மொத்தத் தொகையாக ₹ 52,440 திருப்பி அளிக்கப்பட்டது. ஆண்டுக்கான வட்டி விகிதத்தைக் காண்க.
- A) 8%
B) 9%
C) 10%
D) 11%
E) விடை தெரியவில்லை
- A sum of ₹ 46,000 was lent out at simple interest and at the end of 1 year and 9 months, the total amount was ₹ 52,440. Find the rate of interest per year.
- A) 8%
B) 9%
C) 10%
D) 11%
E) Answer not known
181. ஒரு கலவையில் 26% செம்பு உள்ளது. 260 கிராம் தாமிரத்தைப் பெறுவதற்கு எந்த அளவு உலோகக் கலவைத் தேவைப்படுகிறது?
- A) 900 கிராம்
B) 990 கிராம்
C) 1000 கிராம்
D) 1100 கிராம்
E) விடை தெரியவில்லை
- An alloy contains 26 % of copper. What quantity of alloy is required to get 260 g of copper?
- A) 900 g
B) 990 g
C) 1000 g
D) 1100 g
E) Answer not known
182. 1:2:3 என்ற விகிதத்தில் வேலையைப் பிரித்து பொங்கல் பண்டிகைக்காக ஒரு குடும்பம் வீட்டைச் சுத்தம் செய்கிறது. வேலையின் ஒவ்வொரு பகுதியையும் சதவீதமாக மாற்றுக.
- A) $16\frac{2}{3}\%$, $33\frac{1}{3}\%$, 50%
B) $16\frac{1}{3}\%$, $33\frac{1}{3}\%$, 50%
C) $16\frac{2}{3}\%$, $33\frac{2}{3}\%$, 50%
D) $16\frac{2}{3}\%$, $33\frac{1}{3}\%$, 33%
E) விடை தெரியவில்லை



A family cleans a house for pongal celebration by dividing the work in the ratio 1:2:3. Express each portion of work as percentage.

- A) $16\frac{2}{3}\%$, $33\frac{1}{3}\%$, 50%
 B) $16\frac{1}{3}\%$, $33\frac{1}{3}\%$, 50%
 C) $16\frac{2}{3}\%$, $33\frac{2}{3}\%$, 50%
 D) $16\frac{2}{3}\%$, $33\frac{1}{3}\%$, 33%
 E) Answer not known

183. பின்வரும் படத்தில் நிழலிடப்பட்ட பகுதியின் சதவீதத்தைக் காண்க.



- A) 35%
 B) 50%
 C) 75%
 D) 25%
 E) விடை தெரியவில்லை

Find the percentage of shaded region in the following figure.



- A) 35%
 B) 50%
 C) 75%
 D) 25%
 E) Answer not known

184. அரசு மேல்நிலைப் பள்ளியில் 75 மாணவர்கள் S.S.L.C தேர்வுமுதினர். அவர்களில் 72 பேர் தேர்வில் தேர்ச்சி பெற்றதாக அறிவிக்கப்பட்டது. தேர்ச்சி பெறாத மாணவர்களின் சதவீதத்தைக் காண்க.

- A) 96%
 B) 95%
 C) 4%
 D) 6%
 E) விடை தெரியவில்லை

75 students from a Government High school appeared for S.S.L.C. examination. 72 of them are declared passed in the examination. Find the percentage of students not passed.

- A) 96%
 B) 95%
 C) 4%
 D) 6%
 E) Answer not known



185. குமாரின் கார் லிட்டருக்கு 12.6 கிமீ தூரம் வரை செல்கிறது . அவரது காரின் எரிபொருள் தொட்டியில் 25.8 லிட்டர் இருந்தால் , அவர் எவ்வளவு தூரம் பயணிக்க முடியும்?
A) 324.03 கிமீ B) 326.07 கிமீ
C) 325.08 கிமீ D) 327.9 கிமீ
E) விடை தெரியவில்லை
Kumar's car gives 12.6 km mileage per litre. If his fuel tank holds 25.8 litres then how far can he travel?
A) 324.03 km B) 326.07 km
C) 325.08 km D) 327.9 km
E) Answer not known
186. அன்பு மற்றும் மாலா இருவரும் A இலிருந்து C இக்கு இருவேறு பாதைகளில் பயணிக்கிறார்கள். அன்பு A என்ற இடத்திலிருந்து B என்ற இடத்திற்கும் அங்கிருந்து C என்ற இடத்திற்கும் பயணம் செய்கிறார். B இலிருந்து A ஆனது 8.3 கி.மீ மற்றும் C இலிருந்து B ஆனது 15.6 கி.மீ உள்ளது. மாலா A என்ற இடத்திலிருந்து D என்ற இடத்திற்கும் அங்கிருந்து C என்ற இடத்திற்கு பயணம் செய்கிறார். A இலிருந்து D இன் தொலைவு 7.5 கி.மீ மற்றும் D இலிருந்து C இன் தொலைவு 16.9 கி.மீ எனில், யார் பயணம் செய்த தொலைவு அதிகம் மற்றும் எவ்வளவு அதிக தூரம் அவர் பயணம் செய்தார்?
A) அன்பு, 0.5 கிமீ அதிகம் B) மாலா, 24.4 கிமீ அதிகம்
C) அன்பு, 1 கிமீ அதிகம் D) மாலா, 0.5 கிமீ அதிகம்
E) விடை தெரியவில்லை
Anbu and Mala travelled from A to C in two different routes. Anbu travelled from place A to place B and from there to place C. A is 8.3 km from B and B is 15.6 km from C. Mala travelled from place A to place D and from there to place C. D is 7.5 km from A and C is 16.9 km from D. Who travelled more and by how much distance?
A) Anbu, 0.5 km more B) Mala, 24.4 km more
C) Anbu, 1 km more D) Mala, 0.5 km more
E) Answer not known
187. $9x^2 + 30xy + 25y^2$ என்ற சமன்பாட்டின் காரணிகளை காண்க:
A) $(3x+5y)(3x+5y)$ B) $(3x-5y)(3x-5y)$
C) $(5x+3y)(5x+3y)$ D) $(5x-3y)(5x-3y)$
E) விடை தெரியவில்லை
Find the factors of following expression: $9x^2 + 30xy + 25y^2$
A) $(3x+5y)(3x+5y)$ B) $(3x-5y)(3x-5y)$
C) $(5x+3y)(5x+3y)$ D) $(5x-3y)(5x-3y)$
E) Answer not known
188. பின்வரும் இயற்கணித சமன்பாட்டின் பொதுவான காரணிகளைக் காண்க
 $ax^2y, bxy^2, cxyz$
A) x^2y B) xy^2
C) xyz D) xy
E) விடை தெரியவில்லை



Find the common factors of the following algebraic expressions:

$ax^2y, bxy^2, cxyz$

- A) x^2y B) xy^2
C) xyz D) xy
E) Answer not known

189. ஒரு தொழிலாளி ஒரு நாளைக்கு ₹ 200 சம்பாதித்தால், ₹ 3 லட்சத்துக்கான மாத பட்ஜெட்டில் எத்தனை தொழிலாளர்களை வேலைக்கு அமர்த்த முடியும்?

- A) 50 B) 75
C) 100 D) 150

E) விடை தெரியவில்லை

If one worker earns ₹200 per day, how many workers can be employed within a monthly budget of ₹3 Lakh?

- A) 50 B) 75
C) 100 D) 150
E) Answer not known

190. பின்வரும் இயற்கணித சமன்பாட்டின் மதிப்பைக் காண்க.

$(x-y)(x+y)(x^2+y^2)$

- A) x^4+y^4 B) $x^2 + y^2$
C) $x^4 - y^4$ D) $x^2 - y^2$

E) விடை தெரியவில்லை

Find the value of $(x-y)(x+y)(x^2+y^2)$

- A) x^4+y^4 B) $x^2 + y^2$
C) $x^4 - y^4$ D) $x^2 - y^2$
E) Answer not known

191. ஒரு சதுர நெல் வயலின் பாதை 5 மீ அகலமும் அதன் பக்கத்தின் நீளம் 40 மீ. அதன் பாதையின் மொத்தப் பரப்பைக் காண்க.

- A) 2500 மீ² B) 1600 மீ²
C) 900 மீ² D) 500 மீ²

E) விடை தெரியவில்லை

The pathway of a square paddy field has 5 m width and length of its side is 40 m. Find the total area of its pathway.

- A) 2500 m² B) 1600 m²
C) 900 m² D) 500 m²
E) Answer not known

192. சுருக்குக: $(5x-3y)^2 - (5x+3y)^2$

- A) 60xy B) - 60xy
C) 30xy D) - 30xy

E) விடை தெரியவில்லை

Simplify $(5x-3y)^2 - (5x+3y)^2$

- A) 60xy B) - 60xy
C) 30xy D) - 30xy
E) Answer not known



193. ஒரு பேனாவின் விலை ₹ 8 மற்றும் இந்த வகை பேனாக்கள் 10 பேனாக்கள் கொண்ட சீல் செய்யப்பட்ட பேக்கில் கிடைக்கும். ஸ்வேதாவிடம் ₹ 500 இருந்தால் அதிகபட்சம் எத்தனை பேனாக்கள் வாங்க முடியும்?

- A) 10
B) 5
C) 6
D) 8
E) விடை தெரியவில்லை

The cost of one pen is ₹ 8 and it is available in a sealed pack of 10 pens. If Swetha has only ₹ 500, how many packs of pens can she buy at the maximum?

- A) 10
B) 5
C) 6
D) 8
E) Answer not known.

194. 9 விவரங்களின் சராசரி 24 எனில், அவ்விவரங்களின் கூட்டுத்தொகையைக் காண்க.

- A) 226
B) 162
C) 126
D) 216
E) விடை தெரியவில்லை

The mean of 9 observations is 24. Find the sum of the 9 observations.

- A) 226
B) 162
C) 126
D) 216
E) Answer not known

195. பின்வரும் எண்களின் சராசரி 38 எனில், x இன் மதிப்பைக் காண்க. 48, x , 37, 38, 36, 27, 35, 34, 38, 49, 33.

- A) 38
B) 41
C) 43
D) 42
E) விடை தெரியவில்லை

If the mean of the following numbers is 38, find the value of x . 48, x , 37, 38, 36, 27, 35, 34, 38, 49, 33.

- A) 38
B) 41
C) 43
D) 42
E) Answer not known

196. 10 விவரங்களின் சராசரி 22 என கண்டறியப்பட்டது. மேலும் ஒரு விவரம் 44ஐ தரவுகளுடன் சேர்த்தால், புதிய சராசரி என்னவாக இருக்கும்?

- A) 23
B) 24
C) 25
D) 22
E) விடை தெரியவில்லை

Arithmetic mean of 10 observations was found to be 22. If one more observation 44 was to be added to the data, what would be the new mean?

- A) 23
B) 24
C) 25
D) 22
E) Answer not known



197. முதல் பதினைந்து இரட்டை எண்களின் சராசரியைக் காண்க:

- A) 4 B) 16
C) 5 D) 10
E) விடை தெரியவில்லை

Find the mean of first fifteen even numbers is:

- A) 4 B) 16
C) 5 D) 10
E) Answer not known

198. பின்வரும் தரவின் முகடைக் காண்க.

2, 4, 5, 2, 6, 7, 2, 7, 5, 4, 8, 6, 10, 3, 2, 4, 2.

- A) 2 B) 4
C) 2 மற்றும் 4 D) முகடு இல்லை
E) விடை தெரியவில்லை

Find the mode of the following data.

2, 4, 5, 2, 6, 7, 2, 7, 5, 4, 8, 6, 10, 3, 2, 4, 2.

- A) 2 B) 4
C) Both 2 and 4 D) No mode
E) Answer not known

199. முதல் 6 இயல் ஒற்றைப்படை எண்களின் இடைநிலையைக் காண்க.

- A) 6 B) 7
C) 8 D) 14
E) விடை தெரியவில்லை

Find the median first 6 odd natural numbers:

- A) 6 B) 7
C) 8 D) 14
E) Answer not known

200. ஆறு மாணவர்களின் சராசரி மதிப்பெண் 8. மேலும் ஒரு மாணவர் மதிப்பெண் சேர்க்கப்பட்டப் பின்பும் சராசரி 8. புதிதாக சேர்க்கப்பட்ட மாணவர் மதிப்பெண்ணைக் காண்க.

- A) 16 B) 12
C) 8 D) 10
E) விடை தெரியவில்லை

He average mark of six students is 8. One more student mark is added and the mean is still 8. Find the student mark that has been added.

- A) 16 B) 12
C) 8 D) 10
E) Answer not known



**SHANKAR
IAS ACADEMY™**
Best Academy for Civil Services Exam Coaching

SPACE FOR ROUGH WORK

SHANKAR IAS ACADEMY
www.Padasalai.Net



**SHANKAR
IAS ACADEMY™**
Best Academy for Civil Services Exam Coaching

SPACE FOR ROUGH WORK

SHANKAR IAS ACADEMY
www.Padasalai.Net



வினாத்தொகுப்பு எண் :

பதிவு எண்

--	--	--	--	--	--	--	--	--	--

Test - 6

2024

**பொதுத் தமிழ் (பத்தாம் வகுப்பு தரம்) மற்றும் பொது அறிவு
(பட்டப்படிப்பு தரம்)**

இந்த வினாப்புத்தகம்

பகுதி - அ (பொதுத் தமிழ்) மற்றும் பகுதி - ஆ (பொது அறிவு) உள்ளடக்கியது

கால அளவு : 3.00 மணி நேரம்]

[மொத்த மதிப்பெண்கள் : 300

வினாக்களுக்கு பதிலளிக்கும் முன் கீழ்க்கண்ட அறிவுரைகளை கவனமாகப் படிக்கவும்

முக்கிய அறிவுரைகள்

- இந்த வினாத்தொகுப்பு, தேர்வு தொடங்குவதற்கு 15 நிமிடங்களுக்கு முன்னதாக உங்களுக்கு வழங்கப்படும்.
- இந்த வினாத்தொகுப்பு, **200** வினாக்களைக் கொண்டுள்ளது. விடையளிக்கத் தொடங்குமுன் இவ்வினாத் தொகுப்பில் எல்லா வினாக்களும் வரிசையாக இடம் பெற்றுள்ளனவா என்பதையும், இடையில் வெற்றுத்தாள்கள் எவையுமில்லை என்பதையும் உறுதி செய்து கொள்ளவும். வினாத் தொகுப்பில் ஏதேனும் குறைபாடு இருப்பின், அதனை முதல் பத்து நிமிடங்களுக்குள் அறைக்கண்காணிப்பாளரிடம் தெரிவித்து, சரியாக உள்ள வேறொரு வினாத் தொகுப்பினை பெற்றுக்கொள்ள வேண்டும். தேர்வு தொடங்கிய பின்பு, இது குறித்து முறையிட்டால் வினாத் தொகுப்பு மாற்றித் தரப்படமாட்டாது.
- எல்லா வினாக்களுக்கும் விடையளிக்கவும், எல்லா வினாக்களும் சமமான மதிப்பெண்கள் கொண்டவை.
- உங்களுடைய பதிவு எண்ணை இந்தப் பக்கத்தின் வலது மேல் மூலையில் அதற்கென அமைந்துள்ள இடத்தில் நீங்கள் எழுத வேண்டும். வேறு எதையும் வினாத் தொகுப்பில் எழுதக் கூடாது.
- விடைத்தாள் ஒன்று விடைகளை குறிப்பதற்கு அறைக்கண்காணிப்பாளரால் உங்களுக்கு வழங்கப்படும். விடைகளைக் குறிப்பது உள்ளிட்ட அவசியம் பின்பற்றப்பட வேண்டிய அறிவுரைகள் விடைத்தாளிலும், தேர்வுக்கூட அனுமதிச் சீட்டிலும் வழங்கப்பட்டுள்ளன.
- உங்களுடைய வினாத்தொகுப்பு, எண்ணை (Question Booklet Number) விடைத்தாளின் முதல் பக்கத்தில் அதற்கென அமைந்துள்ள இடத்தில் கருமை நிற மையுடைய பந்துமுனைப் பேனாவினால் குறித்துக் காட்ட வேண்டும். வினாத்தொகுப்பு எண்ணை விடைத்தாளில் சரியாகக் குறித்துக் காட்டத் தவறினாலோ அல்லது குறிக்கத் தவறினாலோ உங்களுடைய விடைத்தாள் செல்லாததாகக்கப்படும்.
- ஒவ்வொரு வினாவும் A), (B), (C), (D), (E) என ஐந்து பதில்களைக் (விடைகள்) கொண்டுள்ளது. நீங்கள் A) அல்லது B) அல்லது C) அல்லது D) இவைகளில் ஒரே ஒரு சரியான விடையைத் தெரிவு செய்து விடைத்தாளில் குறித்துக்காட்ட வேண்டும். ஒரு கேள்விக்கு ஒன்றுக்கு மேற்பட்ட சரியான விடை இருப்பதாக நீங்கள் கருதினால், மிகச்சரியானது என நீங்கள் எதைக் கருதுகிறீர்களோ அந்த விடையை விடைத்தாளில் குறித்துக்காட்ட வேண்டும். உங்களுக்கு விடை தெரியவில்லை எனில், நீங்கள் (E) என்பதை அவசியம் நிரப்ப வேண்டும். எப்படியாயினும், ஒரு கேள்விக்கு ஒரே ஒரு விடையைத் தான் தேர்ந்தெடுக்க வேண்டும். நீங்கள் ஒரு வேள்விக்கு ஒன்றுக்கு மேற்பட்ட விடையளித்தால், அவற்றுள் ஒரு விடை சரியானதாக இருந்தாலும் அந்த விடை தவறானதாகவே கருதப்படும்.
- நீங்கள் வினாத் தொகுப்பின் எந்தப் பக்கத்தையும் நீக்கவோ அல்லது கிழிக்கவோ கூடாது. தேர்வு நேரத்தில் இந்த வினாத் தொகுப்பினையோ அல்லது விடைத்தாளையோ தேர்வு அறையை விட்டு வெளியில் எடுத்துச் செல்லக் கூடாது. தேர்வு முடிந்தபின் நீங்கள் உங்களுடைய விடைத்தாளை கண்காணிப்பாளரிடம் கொடுத்து விட வேண்டும். இவ்வினாத் தொகுப்பினை தேர்வு முடிந்த பின்னர் மட்டுமே நீங்கள் எடுத்துச் செல்ல அனுமதிக்கப்படுவீர்கள்.
- குறிப்புகள் எழுதிப்பார்ப்பதற்கு வினாத்தொகுப்பின் கடைசி பக்கத்திற்கு முன் உள்ள பக்கங்களை பயன்படுத்திக் கொள்ளலாம். இதைத்தவிர வினாத்தொகுப்பின் எந்த இடத்திலும் எந்தவித குறிப்புகளையும் எழுதக்கூடாது. இந்த அறிவுரை கண்டிப்பாக பின்பற்றப்படவேண்டும்.
- வினா வரிசை எண்கள் 101 முதல் 200 வரை (பகுதி - ஆ) ஆங்கில வடிவே இறுதியானது.
- நீங்கள் மேற்கண்ட அறிவுரைகளில் எவற்றையாவது பின்பற்றத் தவறினால் தேர்வாணையம் எடுக்கும் நடவடிக்கைகளுக்கு உள்ளாக நேரிடும் என அறிவுறுத்தப்படுகிறது.

∩

[Turn over

For queries mail to For queries mail to : zerofeedback@shankariasacad.in; [Turn over

Kindly Send Me Your Key Answer to Our email id - Padasalai.net@gmail.com



பகுதி - அ — பொதுத் தமிழ் (பத்தாம் வகுப்பு தரம்)

Part A — General Tamil (SSLC Std)

வினாக்கள் : 1-100

மொத்த மதிப்பெண்கள் : 150

Questions : 1-100

Total Marks : 150

1. பின்வருவனவற்றுள் தவறான இணையைத் தேர்வு செய்க.
 - A) நாங்கள் வருவோம் – எதிர்காலம்
 - B) அவன் வருகிறான் – இறந்தகாலம்
 - C) அவர் வந்தார் – இறந்தகாலம்
 - D) அது வரும் – எதிர்காலம்
 - E) விடை தெரியவில்லை
2. 'கொடு' என்ற வேர்ச்சொல்லை அடிப்படையாகக் கொண்டுள்ள தொழிற்பெயரைத் தேர்வு செய்க.
 - A) கொடுத்தவன்
 - B) கொடுத்து
 - C) கொடுத்தல்
 - D) கொடுத்த
 - E) விடை தெரியவில்லை
3. பின்வரும் கூற்றுகளைக் கருத்தில் கொள்க.
 - I. ஹோக்கன் என்பார் திராவிட மொழிகள் அனைத்தையும் இணைத்துத் தமிழியன் என்று பெயரிட்டதோடு ஆரிய மொழிகளிலிருந்து இவை மாறுபட்டவை என்றும் கருதினார். மாக்ஸ் முல்லரும் இதே கருத்தைக் கொண்டிருந்தார்.
 - II. 1856இல் திராவிட மொழிகளின் ஒப்பிலக்கணம் என்னும் நூலில் கால்டுவெல், திராவிட மொழிகள் ஆரிய மொழிக்குடும்பத்திலிருந்து வேறுபட்டவை எனவும் இம்மொழிகள் சமஸ்கிருத மொழிக்குள்ளும் செல்வாக்குச் செலுத்தியுள்ளன எனவும் குறிப்பிட்டார்.
 மேற்கண்ட கூற்றுகளில் சரியானது எது/எவை?
 - A) I மட்டும்
 - B) II மட்டும்
 - C) இரண்டும்
 - D) இரண்டுமில்லை
 - E) விடை தெரியவில்லை
4. தென்திராவிட மொழிகளுள் பொருந்தா ஒன்றினைத் தேர்ந்தெடு.
 - A) குடகு
 - B) கன்னடம்
 - C) தெலுங்கு
 - D) கோத்தா
 - E) விடை தெரியவில்லை
5. நடுத்திராவிட மொழிகளுள் பொருந்தா ஒன்றினைத் தேர்ந்தெடு.
 - A) கதபா
 - B) கோண்டா
 - C) கோயா
 - D) இருளா
 - E) விடை தெரியவில்லை



6. வடமொழியை ஆராய்ந்து மற்ற ஐரோப்பிய மொழிகளோடு தொடர்புடையது வடமொழி என முதன்முதலில் குறிப்பிட்டவர் யார்?
- A) ஹோக்கன்
B) மாக்ஸ்முல்லர்
C) பிரான்சிஸ் எல்லிஸ்
D) அறிஞர் வில்லியம் ஜோன்ஸ்
E) விடை தெரியவில்லை
7. தமிழ், தெலுங்கு, கன்னடம், மலையாளம் போன்ற மொழிகளை ஒப்புமைப்படுத்தி ஆய்ந்து இவை தனியொரு மொழிக்குடும்பத்தைச் சேர்ந்தவை என்றும், இதற்கு தென்னிந்திய மொழிகள் என்றும் பெயரிட்டவர் யார்?
- A) ஹோக்கன்
B) மாக்ஸ்முல்லர்
C) பிரான்சிஸ் எல்லிஸ்
D) அறிஞர் வில்லியம் ஜோன்ஸ்
E) விடை தெரியவில்லை
8. பின்வரும் கூற்றுகளைக் கருத்தில் கொள்க.
- I. தமிழ் என்னும் சொல்லிலிருந்துதான் திராவிடா என்னும் சொல் பிறந்தது என்று மொழி ஆராய்ச்சியாளர்கள் கருதுகின்றனர். ஹீராஸ் பாதிரியார் என்பார் இம்மாற்றத்தைத் தமிழ் → தமிழா → தமிழா → ட்ரமிலா → டிரமிலா → த்ராவிடா → திராவிடா என்று வந்ததாக விளக்குகின்றார்.
- II. திராவிடம் என்னும் சொல்லை முதன்முதலில் குறிப்பிட்டவர் கால்டுவெல் ஆவார். மேற்கண்ட கூற்றுகளில் சரியானது எது/எவை?
- A) I மட்டும்
B) II மட்டும்
C) இரண்டும்
D) இரண்டுமில்லை
E) விடை தெரியவில்லை
9. இந்திய நாடு மொழிகளின் காட்சிச்சாலையாகத் திகழ்கிறது என்று குறிப்பிட்டவர் யார்?
- A) கால்டுவெல்
B) குமரிலபட்டர்
C) ச. அகத்தியலிங்கம்
D) பேராசிரியர் ரஸ்க்
E) விடை தெரியவில்லை
10. கி.மு. முதல் நூற்றாண்டைச் சேர்ந்த சேரர் கால நாணயங்கள் எங்கு கண்டுபிடிக்கப்பட்டுள்ளது?
- A) அமராவதி
B) தாமிரபரணி
C) வைகை
D) பவானி
E) விடை தெரியவில்லை
11. “தமிழ் வடமொழியின் மகளன்று; அது தனிக் குடும்பத்திற்கு உரிய மொழி; சமஸ்கிருதக் கலப்பின்றி அது தனித்தியங்கும் ஆற்றல் பெற்ற மொழி; தமிழுக்கும் இந்தியாவின் பிற மொழிகளுக்கும் தொடர்பு இருக்கலாம்” என்று கூறியவர் யார்?
- A) வீரமாமுனிவர்
B) கால்டுவெல்
C) குமரிலபட்டர்
D) மாக்ஸ்முல்லர்
E) விடை தெரியவில்லை



12. பின்வரும் இணையைக் கருத்தில் கொள்க.
(அடிச்சொல்) (திராவிட மொழி)
I. கண்ணு – மலையாளம்
II. கண் – தமிழ்
III. கன்னு – குடகு
IV. கொண் – கதபா
V. மூரு – கன்னடம்
VI. மூடு – குடகு
மேற்கூறியவற்றுள் சரியானது இணைகள் எது/எவை?
A) 3 இணைகள் B) 4 இணைகள்
C) 5 இணைகள் D) 6 இணைகள்
E) விடை தெரியவில்லை
13. எருகலா, தங்கா, குறும்பா, சோழிகா ஆகிய நான்கு மொழிகளும் பின்வரும் எந்த மொழிக்குடும்பத்தைச் சேர்ந்தது?
A) திராவிட மொழி
B) ஆரியமொழி
C) சீன திபெத்திய மொழி
D) ஆஸ்திரா ஆசிய மொழி
E) விடை தெரியவில்லை
14. “இந்திய இலக்கணக் கொள்கைகளின் பின்னணியில் தமிழ் இலக்கணம்” என்ற நூலினை இயற்றியவர் யார்?
A) மு.வரதராசனார் B) செ.வை.சண்முகம்
C) அகத்தியர் D) தொல்காப்பியர்
E) விடை தெரியவில்லை
15. பின்வரும் கூற்றுகளில் தவறானதை தேர்வு செய்க.
A) உலகத் தாய்மொழி நாள் பிப்ரவரி 21 ஆகும்.
B) தமிழை ஆட்சி மொழியாகக் கொண்ட நாடுகள் இலங்கை, சிங்கப்பூர்.
C) மொரிசியஸ், இலங்கை உள்ளிட்ட நாடுகளின் பணத்தாள்களில் தமிழ்மொழி இடம்பெற்றுள்ளது.
D) “இனிமையும் நீர்மையும் தமிழெனல் ஆகும்” என்னும் தொடர் தொல்காப்பிய நூலில் இடம்பெற்றுள்ளது.
E) விடை தெரியவில்லை
16. “ஒரு பூவின் மலர்ச்சியையும் ஒரு குழந்தையின் புன்னகையையும் புரிந்துகொள்ள அகராதிகள் தேவைப்படுவதில்லை, பாடலும் அப்படித்தான்!” என்று குறிப்பிட்டவர் யார்.
A) ஈரோடு தமிழன்பன் B) கவிஞர் வாலி
C) கவிஞர் தமிழ்ஒளி D) கந்தர்வன்
E) விடை தெரியவில்லை



17. பின்வரும் கூற்றுகளைக் கருத்தில் கொள்க.
- தமிழில் இரண்டிரண்டு அடிகள் கொண்ட எதுகையால் தொடுக்கப்படும் செய்யுள் வகை கண்ணி ஆகும்.
 - “தமிழ்விடு தூது” நூலானது கண்ணி என்னும் செய்யுள் வகையினால் இயற்றப்பட்டுள்ளது.
 - தமிழின் இனிமை, இலக்கிய வளம், பாச்சிறப்பு, சுவை, அழகு, திறம், தகுதி ஆகியன தமிழ்விடு தூது சிற்றிலக்கியத்தில் விரவியுள்ளன.
- மேற்கண்ட கூற்றுகளில் எவை சரியானவை?
- I மற்றும் II மட்டும்
 - II மற்றும் III மட்டும்
 - I மற்றும் III மட்டும்
 - மேற்கண்ட அனைத்தும்
 - விடை தெரியவில்லை
18. பின்வரும் தவறான இணையை கண்டறிக.
- | (சொல்) | (இலக்கணக்குறிப்பு) |
|---------------------|----------------------------------|
| A) சிந்தா மணி | – ஈறுகெட்ட எதிர்மறைப் பெயரெச்சம் |
| B) குற்றமிலா | – பெயரெச்சம் |
| C) தெள்ளமுது | – பண்புத்தொகை |
| D) முத்திக்கனி | – உருவகம் |
| E) விடை தெரியவில்லை | |
19. ‘தூது’ பற்றிய பின்வரும் கூற்றுகளைக் கருத்தில் கொள்க.
- 96 வகைச் சிற்றிலக்கியங்களுள் ஒன்று.
 - இது “வாயில் இலக்கியம்”, “சந்து இலக்கியம்” என்ற வேறு பெயர்களாலும் அழைக்கப்படுகிறது.
 - “அன்னம் முதல் வண்டு” ஈறாகப் பன்னிரண்டையும் தூது விடுவதாகக் கலிவெண்பாவால் இயற்றப்படுவது.
- மேற்கண்ட கூற்றுகளில் எவை சரியானவை?
- I மற்றும் II மட்டும்
 - II மற்றும் III மட்டும்
 - I மற்றும் III மட்டும்
 - மேற்கண்ட அனைத்தும்
 - விடை தெரியவில்லை
20. “தமிழ்விடு தூது” நூலின் பாட்டுடைத் தலைவன் யார்?
- திருச்செந்தூரில் கோவில் கொண்டுள்ள முருகப் பெருமான்.
 - மதுரை அழகர் கோவிலில் வீற்றிருக்கும் கள்ளழகர்.
 - மதுரையில் கோவில் கொண்டிருக்கும் சொக்கநாதர்.
 - திருத்தணியில் கோவில் கொண்டிருக்கும் முருகப்பெருமான்.
 - விடை தெரியவில்லை



21. 'தமிழ்விடு தூது' பற்றிய பின்வரும் கூற்றுகளைக் கருத்தில் கொள்க.

- I. இந்நூல் 268 கண்ணிகளைக் கொண்டுள்ளது.
 - II. இந்நூலை 1930இல் உ.வே.சா முதன் முதலில் பதிப்பித்தார்.
 - III. இதன் ஆசிரியர் யார் என அறிந்துகொள்ள இயலவில்லை.
- மேற்கண்ட கூற்றுகளில் எவை சரியானவை?
- A) I மற்றும் II மட்டும்
 - B) II மற்றும் III மட்டும்
 - C) I மற்றும் III மட்டும்
 - D) மேற்கண்ட அனைத்தும்
 - E) விடை தெரியவில்லை

22. பின்வரும் இணையைக் கருத்தில் கொள்க.

(பெயர்)	(எண் அளவு)
I. முக்காணி	– 3/80
II. காணி	– 1/80
III. முந்திரி	– 1/180
IV. அரைமா	– 1/40
V. இருமா	– 1/10

மேற்கூறியவற்றுள் சரியானது இணைகள் எது/எவை?

- A) 2 இணைகள்
- B) 3 இணைகள்
- C) 4 இணைகள்
- D) 5 இணைகள்
- E) விடை தெரியவில்லை

23. கிரேக்கத்தில் வெண்பா வடிவப் பாடல்கள் எவ்வாறு அழைக்கப்படுகின்றது?

- A) சாப்போ
- B) அப்போலோ
- C) பாய்யியோனா
- D) இளிகியா
- E) விடை தெரியவில்லை

24. மாணவர்களுக்கான தமிழ் என்னும் நூலை இயற்றியவர் யார்?

- A) இராபர்ட் கால்டுவெல்
- B) மணவை முஸ்தபா
- C) மா. கிருஷ்ணன்
- D) என். சொக்கன்
- E) விடை தெரியவில்லை

25. பின்வருவனவற்றுள் வினையடை பயின்று வரும் தொடரினைத் தேர்ந்தெடு.

- A) நல்ல நூல் ஒன்று படித்தேன்.
- B) மகிழ்நன் மெல்ல வந்தான்.
- C) அவன் இனிய நண்பனாக இருக்கிறான்.
- D) பெரிய ஓவியமாக வரைந்து வா.
- E) விடை தெரியவில்லை

26. பின்வருவனவற்றுள் பிறவினைத் தொடரினைத் தேர்ந்தெடு.

- A) பந்து உருண்டது.
- B) அவனைத் திருந்தச் செய்தான்.
- C) அவன் திருந்தினான்.
- D) அவர்கள் நன்றாகப் படித்தனர்.
- E) விடை தெரியவில்லை



27. பின்வரும் இணைகளை கருத்தில் கொள்க.

(தொடர்)

- I. கவிதா உரை படித்தாள்
II. உரை கவிதாவால் படிக்கப்பட்டது
III. தோசை வைக்கப்பட்டது
IV. அப்துல் நேற்று வருவித்தான்
V. பணம் காணாமல் போனது

(தொடர்வகை)

- செய்வினைத் தொடர்
– செய்ப்பாட்டு வினைத்தொடர்
– செய்ப்பாட்டு வினைத்தொடர்
– தன்வினைத் தொடர்
– செய்வினைத் தொடர்

மேற்கூறியவற்றுள் சரியானது இணைகள் எது/எவை?

- A) 2 இணை
B) 3 இணைகள்
C) 4 இணைகள்
D) 5 இணைகள்
E) விடை தெரியவில்லை

28. 'சட்டி உடைந்து போயிற்று' என்பது எவ்வகை தொடர்?

- A) தன்வினை
B) பிறவினை
C) செய்வினை
D) செய்ப்பாட்டு வினை
E) விடை தெரியவில்லை

29. 'பாடும் குயில்' என்பது எவ்வகை தொடர்?

- A) தெரிநிலை வினையெச்சத் தொடர்
B) தெரிநிலைப் பெயரெச்சத் தொடர்
C) வினைத்தொகை
D) குறிப்பு வினையெச்சத் தொடர்
E) விடை தெரியவில்லை

30. 'குமரன் மழையில் நனைந்தான்' என்பது எவ்வகை தொடர்?

- A) செய்ப்பாட்டு வினைத்தொடர்
B) உடன்பாட்டு வினைத்தொடர்
C) எதிர்மறை வினைத்தொடர்
D) பெயர்ப் பயனிலைத்தொடர்
E) விடை தெரியவில்லை

31. 'மகிழ்ந்தாள்' என்ற சொல்லின் வேர்ச்சொல் யாது?

- A) மகி
B) மகிழ்
C) மகிழ்ச்சி
D) மகிழ்தல்
E) விடை தெரியவில்லை

32. பின்வருவனவற்றுள் தவறான கூற்றினைத் தேர்வு செய்க.

- A) சந்தி – பகுதியையும் பிற உறுப்புகளையும் இணைக்கும்; பெரும்பாலும் பகுதிக்கும் இடைநிலைக்கும் இடையில் வரும்.
B) சாரியை – பகுதி, விகுதி, இடைநிலைகளைச் சார்ந்துவரும்; பெரும்பாலும் இடைநிலைக்கும் விகுதிக்கும் இடையில் வரும்.
C) விகாரம் – பகுதிக்கும் விகுதிக்கும் இடையில் நின்று காலம் காட்டும்.
D) விகுதி – சொல்லின் இறுதியில் நின்று திணை, பால், எண், இடம் காட்டுவதாகவும் அமையும்.
E) விடை தெரியவில்லை



33. பொருத்துக.

(தமிழ் எழுத்து)

(தமிழ் எண்கள்)

- | | |
|---------------------|--------|
| a) பன்னிரண்டு | 1. சங |
| b) பதின்மூன்று | 2. கூ0 |
| c) நாற்பத்து மூன்று | 3. க ந |
| d) எழுபத்தெட்டு | 4. கஉ |
| e) தொண்ணூறு | 5. எஅ |

குறியீடுகள் :

	a	b	c	d	e
A)	1	2	3	5	4
B)	5	2	1	3	4
C)	2	5	4	1	3
D)	4	3	1	5	2

E) விடை தெரியவில்லை

34. பின்வருவனவற்றில் தவறான இணையைக் கண்டறிக.

(பிறமொழிச்சொல்)

(தமிழ்ச்சொல்)

- | | | |
|---------------------------|---|--------------------|
| A) ப்ளாக்போர்டு | – | கரும்பலகை |
| B) பென்சில் | – | அழிப்பான் |
| C) மல்ட்டி நேஷனல் கம்பெனி | – | பன்னாட்டு நிறுவனம் |
| D) பிராஜக்ட் மேனேஜர் | – | திட்ட மேலாளர் |
| E) விடை தெரியவில்லை | | |

35. பின்வருவனவற்றில் சரியான தொடரினைக் கண்டறிக.

- | | |
|---------------------------|-----------------------------|
| A) அவை யாவும் இருக்கின்றன | B) அவை யாவையும் இருக்கின்றன |
| C) அவை யாவும் எடுங்கள் | D) அவை யாவையும் எடுங்கள் |
| E) விடை தெரியவில்லை | |

36. 'இசையின்றி அமையாது பாடல்' என்பதை உடன்பாட்டுத் தொடராக மாற்றுக?

- A) இசையின்றி அமையாது பாடல்.
B) இசையோடு அமைவது பாடல்.
C) இசையின்றி பாடல் அமைவது உண்டோ?
D) இசையோடு பாடல் அமைதல் வேண்டும்.
E) விடை தெரியவில்லை

37. 'காலம் பிறக்கும்முன் பிறந்தது தமிழே! – எந்தக்

காலமும் நிலையாய் இருப்பதும் தமிழே!' – இவ்வடிகளில் பயின்று வரும் எதுகை யாது?

- | | |
|---------------------|-------------------|
| A) இணை எதுகை | B) பொழிப்பு எதுகை |
| C) அடி எதுகை | D) கூழை எதுகை |
| E) விடை தெரியவில்லை | |



38. பின்வரும் இணைகளை கருத்தில் கொள்க.

(ஆங்கிலச் சொல்)

(தமிழ்ச் சொல்)

- | | | |
|------------------|---|----------------|
| I. Polyglot | – | பன்மொழியாளர் |
| II. Linguistics | – | மொழி ஆராய்ச்சி |
| III. Phonologist | – | ஒலியியல் ஆய்வ |
| IV. Phonetics | – | ஒலிப்பியல் |

மேற்கூறியவற்றுள் சரியானது இணைகள் எது/எவை?

- | | |
|---------------------|-------------|
| A) 1 இணை | B) 2 இணைகள் |
| C) 3 இணைகள் | D) 4 இணைகள் |
| E) விடை தெரியவில்லை | |

39. பின்வருவனவற்றில் தவறான இணையை தேர்வு செய்க.

(பாடலடிகள்)

(இடம்பெற்றுள்ள நூல்)

- | | | |
|--|---|---------------|
| A) நீரின்று அமையாது உலகு | – | திருக்குறள் |
| B) நீர்இன்று அமையா யாக்கைக்கு எல்லாம் | – | புறநானூறு |
| C) உண்டியும் உடையும் உறையுளும் அல்லது கண்டது இல் | – | சிலப்பதிகாரம் |
| D) உண்டி கொடுத்தோர் உயிர் கொடுத்தோரே! | – | புறநானூறு |
| E) விடை தெரியவில்லை | | |

40. பின்வருவனவற்றில் தவறான கூற்றினைத் தேர்வு செய்க.

- A) 'சனி நீராடு' என்பது ஒளவையின் வாக்கு.
- B) திருமணத்திற்கு முன் 'கடலாடுதல்' என்பதை மேற்கொள்ளும் வழக்கம் தமிழகத்தில் நிலவுகிறது. இறப்புச் சடங்கிலும் உடலை நீராட்டுவதற்காக நீர்மாலை எடுத்து வருதல் என்பதும் நடைமுறையில் உள்ளது.
- C) சிற்றிலக்கியமாகிய பிள்ளைத்தமிழில் நீராடல் பருவம் என்று ஒரு பருவம் உண்டு.
- D) குள்ளக் குளிரக் குடைந்து நீராடி என்கிறார் ஆண்டாள். தெய்வச்சிலைகளைக் குளிர்க்க வைப்பதை திருமஞ்சனம் ஆடல் என்று கூறுவர்.
- E) விடை தெரியவில்லை

41. பின்வரும் கூற்றுகளைக் கருத்தில் கொள்க.

- I. இந்திய நீர்ப்பாசனத்தின் தந்தை என அறியப்படும் சர் ஆர்தர் காட்டன் என்பவர் ஆங்கிலப் பொறியாளர் ஆவார்.
- II. கல்லணையின் கட்டுமான உத்தியைக் கொண்டுதான் 1873ஆம் ஆண்டு கோதாவரி ஆற்றின் குறுக்கே தெளவீஸ்வரம் அணையைக் கட்டினார்.

மேற்கண்ட கூற்றுகளில் சரியானது எது/எவை?

- A) I மட்டும்
- B) II மட்டும்
- C) இரண்டும்
- D) இரண்டுமில்லை
- E) விடை தெரியவில்லை



42. 'ஜான் பென்னி குவிக்' பற்றிய பின்வரும் கூற்றுகளைக் கருத்தில் கொள்க.
- I. தமிழ்நாட்டின் தென் மாவட்டங்களான தேனி, திண்டுக்கல், மதுரை, சிவகங்கை, இராமநாதபுரம் ஆகியவற்றின் விவசாயத்திற்கும் குடிநீருக்கும் உதவும் வகையில் முல்லைப் பெரியாறு அணையைக் கட்டினார்.
- II. 1873 ஆம் ஆண்டு கோதாவரி ஆற்றின் குறுக்கே தெளலீஸ்வரம் அணையைக் கட்டினார். மேற்கண்ட கூற்றுகளில் சரியானது எது/எவை?
- A) I மட்டும்
B) II மட்டும்
C) இரண்டும்
D) இரண்டுமில்லை
E) விடை தெரியவில்லை
43. பின்வருவனவற்றில் தவறான இணையைக் கண்டறிக.
- A) கண்மாய் என்பது சோழமண்டலத்தில் ஏரிக்கு வழங்கப்படும் பெயர்.
B) குண்டம் என்பது சிறியதாய் அமைந்த குளிக்கும் நீர்நிலை.
C) கூவல் என்பது உவர்மண் நிலத்தில் தோண்டப்படும் நீர்நிலை.
D) கட்டுக்கிணறு என்பது சரளை நிலத்தில் தோண்டி கல் செங்கற்களால் அகச்சுவர் கட்டிய கிணறு.
E) விடை தெரியவில்லை
44. பொருத்துக.
- | | |
|--------------------------------|-----------------------|
| (நூல்) | (நூலாசிரியர்) |
| a) தமிழர் சமுதாயம் | 1. அ. தட்சிணாமூர்த்தி |
| b) தமிழர் சால்பு | 2. கவிஞர் தமிழ்ஒளி |
| c) தமிழோவியம் | 3. கந்தர்வன் |
| d) கொம்பன் | 4. ஈரோடு தமிழன்பன் |
| e) தமிழர் நாகரிகமும் பண்பாடும் | 5. சு. வித்யானந்தன் |
- குறியீடுகள் :**
- | | a | b | c | d | e |
|----|----------|----------|----------|----------|----------|
| A) | 1 | 2 | 3 | 5 | 4 |
| B) | 5 | 2 | 1 | 3 | 4 |
| C) | 2 | 5 | 4 | 3 | 1 |
| D) | 4 | 3 | 1 | 5 | 2 |
- E) விடை தெரியவில்லை



45. ஈரோடு தமிழன்பன் பற்றிய பின்வரும் கூற்றுகளைக் கருத்தில் கொள்க.
- I. ஹைக்கூ, சென்ரியு, லிமரைக்கூ எனப் புதுப்புது வடிவங்களில் கவிதை நூல்களைத் தந்துள்ளார்.
 - II. இவரது “தமிழன்பன் கவிதைகள்”, என்னும் கவிதை நூலுக்கு 2004 ஆம் ஆண்டு சாகித்திய அகாதெமி விருது வழங்கப்பட்டது. “வணக்கம் வள்ளுவ” எனும் நூல் தமிழக அரசின் பரிசுபெற்ற நூல் ஆகும்.
 - III. இவரது கவிதைகள் இந்தி, உருது, மலையாளம், ஆங்கிலம் உள்ளிட்ட மொழிகளில் மொழிபெயர்க்கப்பட்டுள்ளன.
- மேற்கண்ட கூற்றுகளில் சரியானவை எவை?
- A) I மற்றும் II மட்டும்
 - B) II மற்றும் III மட்டும்
 - C) I மற்றும் III மட்டும்
 - D) மேற்கண்ட அனைத்தும்
 - E) விடை தெரியவில்லை
46. பாரதியாரின் வழித்தோன்றலாகவும், பாரதிதாசனின் மாணவராகவும் விளங்கியவர் யார்?
- A) வாணிதாசன்
 - B) ஈரோடு தமிழன்பன்
 - C) சுரதா
 - D) கவிஞர் தமிழ்ஒளி
 - E) விடை தெரியவில்லை
47. கீழ்க்கண்டவற்றுள் வேறுபட்ட சொல்லைத் தேர்ந்தெடு?
- A) வேரி
 - B) மேதி
 - C) மது
 - D) தேன்
 - E) விடை தெரியவில்லை
48. சொல்லோடு பொருளைப் பொருத்துக.
- | (சொல்) | (பொருள்) |
|----------------|-------------------|
| a) நாளிகேரம் | 1. ஆச்சாமரம் |
| b) கோளி | 2. ஆற்றுப்பூவரசு |
| c) இரும்போந்து | 3. சந்தனமரம் |
| d) சாலம் | 4. அரசமரம் |
| e) காஞ்சி | 5. பருத்த பனைமரம் |
| f) சந்து | 6. தென்னை |
- குறியீடுகள்:
- | | a | b | c | d | e | f |
|----|---|---|---|---|---|---|
| A) | 6 | 4 | 5 | 1 | 2 | 3 |
| B) | 6 | 4 | 5 | 2 | 1 | 3 |
| C) | 2 | 4 | 5 | 3 | 1 | 6 |
| D) | 4 | 3 | 1 | 5 | 2 | 6 |
- E) விடை தெரியவில்லை
49. “மா” என்னும் ஒரெழுத்து ஒருமொழியின் பொருள் யாது?
- A) சங்கு
 - B) சோலை
 - C) வண்டு
 - D) முத்து
 - E) விடை தெரியவில்லை



50. 'திருத்தொண்டர் புராணம்' பற்றிய பின்வரும் கூற்றுகளைக் கருத்தில் கொள்க.
- I. சுந்தரரின் திருத்தொண்டத்தொகை அடியவர் பெருமையைக் கூறுகிறது. இதைச் சிறிது விரித்து சேக்கிழாரால் திருத்தொண்டர் புராணம் இயற்றப்பட்டது. இவ்விரண்டு நூல்களையும் அடிப்படையாகக் கொண்டு நம்பியாண்டார், நம்பியால் திருத்தொண்டர் திருவந்தாதி இயற்றப்பட்டது.
- II. இந்நூலின் ஒவ்வொரு புராணத்திலும் ஒவ்வொரு அடியாராக அறுபத்து நான்கு நாயன்மார்களின் சிறப்புகளை விளக்கிப் பாடப்பட்டுள்ளது.
- மேற்கண்ட கூற்றுகளில் சரியானது எது/எவை?
- A) I மட்டும்
B) II மட்டும்
C) இரண்டும்
D) இரண்டுமில்லை
E) விடை தெரியவில்லை
51. சேக்கிழார் பற்றிய பின்வரும் கூற்றுகளைக் கருத்தில் கொள்க.
- I. கி.பி. 12 ஆம் நூற்றாண்டைச் சேர்ந்தவர்.
II. கலிங்கத்துப் பரணியை இயற்றியவரும் இவரே.
III. இவரை 'பக்திச்சுவை நனி சொட்டச் சொட்டப் பாடிய கவிவலவ' என்று மகாவித்துவான் மீனாட்சி சுந்தரனார் பாராட்டுகிறார்.
- மேற்கண்ட கூற்றுகளில் சரியானவை எவை?
- A) I மற்றும் II மட்டும்
B) II மற்றும் III மட்டும்
C) I மற்றும் III மட்டும்
D) மேற்கண்ட அனைத்தும்
E) விடை தெரியவில்லை
52. அடுபோர் இலக்கணக் குறிப்பு தருக.
- A) பண்புத்தொகை
B) வினைத்தொகை
C) இரண்டாம் வேற்றுமைத்தொகை
D) ஆறாம் வேற்றுமைத்தொகை
E) விடை தெரியவில்லை
53. அறம், பொருள், இன்பம் என்னும் முப்பொருளினது உறுதி தரும் தன்மையைக் கூறும் துறை எது?
- A) பொருண்மொழிக் காஞ்சித்துறை
B) வஞ்சினக் காஞ்சித்துறை
C) முதுமொழிக் காஞ்சித்துறை
D) வாழ்க்கை நிலையாமை
E) விடை தெரியவில்லை
54. "நீர்இன்று அமையா யாக்கைக்கு எல்லாம் உண்டி கொடுத்தோர் உயிர் கொடுத்தோரே!" என்னும் பாடலடிகள் யார் யாருக்காகப்பாடியது?
- A) காவற்பெண்டு, போரவைக் கோப்பெரு நற்கிள்ளி
B) வெள்ளி வீதியார், கரிகாற் பெருவளத்தான்
C) வெண்ணிக்குயத்தியார், கரிகாலச் சோழன்
D) குடபுலவியனார், பாண்டியன் நெடுஞ்செழியன்
E) விடை தெரியவில்லை



55. 'புறநானூறு' பற்றிய பின்வரும் கூற்றுகளைக் கருத்தில் கொள்க.
- I. இந்நூல் பண்டைத் தமிழர்களின் அரிய வரலாற்றுச் செய்திகள் அடங்கிய பண்பாட்டு கருவூலமாகத் திகழ்கிறது.
- II. இது பண்டைய வேந்தர்களின் வீரம், வெற்றி, கொடை குறித்தும் குறுநில மன்னர்கள், புலவர்கள், சான்றோர்கள் உள்ளிட்டவர்களின் பெருமைகளைப் பற்றியும் அன்றைய மக்களின் புறவாழ்க்கையைப் பற்றியும் கூறுகிறது.
- மேற்கண்ட கூற்றுகளில் சரியானது எது/எவை?
- A) I மட்டும்
B) II மட்டும்
C) இரண்டும்
D) இரண்டுமில்லை
E) விடை தெரியவில்லை
56. "கந்தர்வன்" பற்றிய பின்வரும் கூற்றுகளைக் கருத்தில் கொள்க.
- I. இவரது இயற்பெயர் நாகலிங்கம்.
- II. விழுப்புரம் மாவட்டத்தைச் சேர்ந்தவர். தமிழ்நாடு அரசின் கருவூலக் கணக்குத்துறையில் பணியாற்றியவர்.
- III. சாசனம், ஒவ்வொரு கல்லாய், தண்ணீர், கொம்பன் முதலியன இவரது சிறுகதைத் தொகுப்புகள் ஆகும்.
- மேற்கண்ட கூற்றுகளில் சரியானது எது/எவை?
- A) I மற்றும் II மட்டும்
B) II மற்றும் III மட்டும்
C) I மற்றும் III மட்டும்
D) மேற்கண்ட அனைத்தும்
E) விடை தெரியவில்லை
57. தமிழில் மொத்தம் எத்தனை துணைவினைகள் உள்ளது?
- A) 38
B) 40
C) 42
D) 54
E) விடை தெரியவில்லை
58. நீதியொளிர் செங்கோலாய்த் திருக்குறளைத் தாங்குதமிழ் நீடுவாழ்க - எனப் பாடியவர் யார்?
- A) தமழ்ஒளி
B) கவியோகி சுத்தானந்த பாரதியார்
C) ஈரோடு தமிழன்பன்
D) கவிமணி தேசிய விநாயகனார்
E) விடை தெரியவில்லை
59. பொருத்துக.
- a) சாப்ட்வேர் 1. செதுக்கி
b) க்ராப் 2. ஏவி அல்லது சுட்டி
c) ப்ரௌசர் 3. உலவி
d) கர்சர் 4. மென்பொருள்
- குறியீடுகள்:
- | | a | b | c | d |
|----|---|---|---|---|
| A) | 4 | 1 | 2 | 3 |
| B) | 3 | 4 | 2 | 1 |
| C) | 4 | 1 | 3 | 2 |
| D) | 1 | 2 | 3 | 4 |
- E) விடை தெரியவில்லை



60. பின்வருவனவற்றில் தவறான இணையைக் கண்டறிக.
(நூல்) (நூலாசிரியர்)
- A) அழகின் சிரிப்பு – பாவேந்தர் பாரதிதாசன்
B) தண்ணீர் தண்ணீர் – கோமல் சுவாமிநாதன்
C) தண்ணீர் தேசம் – மா.கிருஷ்ணன்
D) வாய்க்கால் மீன்கள் – வெ.இறையன்பு
E) விடை தெரியவில்லை
61. திருக்குறளுக்கு வழங்கப்படும் வேறுபெயர்களுள் பொருந்தா ஒன்றினைத் தேர்ந்தெடு.
A) தெய்வநூல் B) தமிழ்மறை
C) உலக வசனம் D) முதுமொழி
E) விடை தெரியவில்லை
62. பின்வருவனவற்றுள் தவறான கூற்றினைத் தேர்ந்தெடு.
A) சிலப்பதிகாரம் மற்றும் புறப்பொருள் வெண்பாமாலை போன்ற நூல்களில் ஏறுகோள் குறித்துக் கூறப்பட்டுள்ளது.
B) எகிப்தில் உள்ள பெனிஹாசன் சித்திரங்களிலும், கிரீட் தீவிலுள்ள கினோஸஸ் என்னுமிடத்தில் உள்ள அரண்மனைச் சித்திரங்களிலும் காளைப்போர் குறித்த செய்திகள் இடம்பெற்றுள்ளன.
C) ஏறு தழுவதல் பற்றிப் பிற்காலச் சிற்றிலக்கியங்களுள் ஒன்றான பள்ளு இலக்கியத்திலும் குறிப்புகள் உள்ளன. எருதுகட்டி என்னும் மாடு தழுவதல் நிகழ்வைக் கண்ணுடையம்மன் பள்ளு பதிவு செய்துள்ளது.
D) மதுரை மாவட்டத்தில் எருது விளையாடி மரணமுற்றவன் பெயரால் எடுக்கப்பட்ட எருது பொருதார் கல் ஒன்று உள்ளது.
E) விடை தெரியவில்லை
63. கூரிய கொம்புகளும் சிலிர்த்த திமில்களும் கொண்ட மூன்று எருதுகளைப் பலர் கூடி விரட்டுவது போன்ற பண்டைய ஓவியம் எங்கு காணப்படுகிறது?
A) கரிக்கையூர் B) கல்லாத்து மேட்டுப்பட்டி
C) சித்திரக்கல் புடவு D) கருவந்துறை
E) விடை தெரியவில்லை
64. சிந்துசமவெளி நாகரிகத்திற்கும் தமிழகத்திற்கும் உள்ள தொடர்பை தனது அகழாய்வில் கண்டறிந்தவர் யார்?
A) ராபர்ட் புரூஸ்பட் B) அலெக்ஸாண்டர் கன்னிங்காம்
C) ஐராவதம் மகாதேவன் D) இராசமாணிக்கனார்
E) விடை தெரியவில்லை
65. ஏறுதழுவதல் ஆனது எந்த நிலத்து மக்களின் தேவைக்கான போக்குவரத்துத் தொழிலோடு பிணைந்துள்ளது?
A) குறிஞ்சி B) முல்லை
C) மருதம் D) பாலை
E) விடை தெரியவில்லை



66. பாடை மாக்கள் எனப்படுவோர்

- A) சமயத் தத்துவவாதிகள்
C) அமைச்சர்
E) விடை தெரியவில்லை

- B) பலமொழிபேசும் மக்கள்
D) படைத்தலைவர்

67. பொருத்துக.

(சொல்)

- a) வேதிகை
b) விலோதம்
c) வசி
d) தோம்
e) குழீஇ
f) தாமம்

(பொருள்)

1. குற்றம்
2. மழை
3. ஒன்றுகூடி
4. துணியிலான கொடி
5. மாலை
6. திண்ணை

குறியீடுகள் :

	a	b	c	d	e	f
A)	6	4	2	1	3	5
B)	6	4	5	2	1	3
C)	2	4	5	3	1	6
D)	4	3	1	5	2	6

E) விடை தெரியவில்லை

68. எண்பேராயக்குழுவில் இடம்பெறாத ஒருவரைத் தேர்ந்தெடுக.

- A) தூதர்
C) நகரமாந்தர்
E) விடை தெரியவில்லை

- B) படைத்தலைவர்
D) கரும விதிகள்

69. “மணிமேகலை” பற்றிய பின்வரும் கூற்றுகளைக் கருத்தில் கொள்க.

I. தொடர்நிலைச் செய்யுள் வரிசையில் இரட்டைக் காப்பியங்களான சிலப்பதிகாரம், மணிமேகலை இரண்டும் தமிழ் மக்களின் வாழ்வியலைச் சொல்லும் கருவூலங்களாகத் திகழ்கின்றன.

II. முப்பது காதைகளாக அமைந்துள்ள மணிமேகலையின் முதல் காதையே மங்கலவாழ்த்து காதை.

III. மணிமேகலையின் துறவு வாழ்க்கையைக் கூறுவதால், இந்நூலுக்கு மணிமேகலைத் துறவு என்னும் வேறு பெயரும் உண்டு.

மேற்கண்ட கூற்றுகளில் சரியானவை எவை?

- A) I மற்றும் II மட்டும்
C) I மற்றும் III மட்டும்
E) விடை தெரியவில்லை

- B) II மற்றும் III மட்டும்
D) மேற்கண்ட அனைத்தும்



70. கூலவாணிகன் சீத்தலைச் சாத்தனார் பற்றிய தவறான கூற்றினைத் தேர்ந்தெடு.
- A) இவரது இயற்பெயர் சாத்தன்.
B) மதுரையைச் சேர்ந்த சீத்தலை என்னும் ஊரில் பிறந்தவர் கூலவாணிகம் செய்தவர்.
C) மணிமேகலைக் காப்பியத்தை இயற்றியவரும், இளங்கோவடிகளும் சமகாலத்தவர்.
D) தண்டமிழ் ஆசான், சாத்தன், நன்னூற் புலவன் என்று இளங்கோவடிகள் இவரைப் பாராட்டியுள்ளார்.
E) விடை தெரியவில்லை
71. புகார் நகரத்தில் எத்தனை நாட்கள் இந்திர விழா நடைபெறுவதாக மணிமேகலை காப்பியத்தின் விழாவறை காதையில் குறிப்பிடுகிறது?
- A) இருபத்தொன்று
B) இருபத்தெட்டு
C) இருபத்தாறு
D) முப்பது / ஒரு மாதம்
E) விடை தெரியவில்லை
72. ஒருமை பன்மை பிழையற்ற தொடரை அறிக.
- A) உப்பும நெல்லும் ஒரே மதிப்புடையனவாக இருந்தன.
B) உப்பும நெல்லும் ஒரே மதிப்புடையனவாக இருந்தது.
C) உப்பும நெல்லும் ஒரே மதிப்புடையதாக இருந்தது.
D) உப்பும நெல்லும் ஒரே மதிப்புடையதாக இருந்தன.
E) விடை தெரியவில்லை
73. பின்வருவனவற்றில் தவறான இணையைக் கண்டறிக.
- A) திருக்குறளில் இருமுறை வரும் ஒரே அதிகாரம் – காலமறிதல்
B) திருக்குறள் மூலத்தை முதன்முதலில் அச்சிட்டவர் – தஞ்சை ஞானப்பிரகாசம்
C) திருக்குறளில் கோடி என்ற சொல் – எட்டு முறை
D) திருக்குறளை ஆங்கிலத்தில் மொழிபெயர்த்தவர் – ஜி.யு. போப்
E) விடை தெரியவில்லை
74. “கீழடி அகழாய்வு” பற்றிய பின்வரும் கூற்றுகளைக் கருத்தில் கொள்க.
- I. இங்கு சதுரங்க காய்கள், தானியங்களைச் சேகரிக்கும் கலன்கள், சங்கு வளையல்கள், உறைக்கிணறுகள், தமிழ் எழுத்துகள் பொறிக்கப்பட்ட பாளை ஓடுகள் போன்ற பல்வேறு தொல்லியல் பொருட்கள் கிடைத்துள்ளன.
II. இவை சுமார் 2300 ஆண்டுகளுக்கு முற்பட்டவை எனக் கருதப்படுகின்றன.
III. இங்கு கண்டறியப்பட்டுள்ள முழுமையான இடுகாட்டுப்பகுதியும் செங்கல் கட்டுமானங்களும் இதரப் பொருள்களும் தமிழரின் உயரிய நாகரிகத்தைக் கண்முன் காட்டும்.
- மேற்கண்ட கூற்றுகளில் சரியானவை எவை?
- A) I மற்றும் II மட்டும்
B) II மற்றும் III மட்டும்
C) I மற்றும் III மட்டும்
D) மேற்கண்ட அனைத்தும்
E) விடை தெரியவில்லை



75. பின்வரும் கூற்றுகளைக் கருத்தில் கொள்க.
- I. 1895ஆம் ஆண்டு இராபர்ட் புரூஸ்புட் என்னும் தொல்லியல் அறிஞர் சென்னைப் பல்லாவரம் செம்மண் மேட்டுப் பகுதியில் எலும்பையும் கற்கருவியையும் கண்டுபிடித்தார் இந்தக் கற்கருவிதான் இந்தியாவில் கண்டெடுக்கப்பட்ட முதல் கல் ஆயுதம்.
- II. பல்லாவரம் அகழாய்விற்கு முன்பே ரோமானியர்களின் பழங்காசுகள் கோவையில் கண்டெடுக்கப்பட்டுள்ளன.
- III. 1914ஆம் ஆண்டு ஆதிச்சநல்லூரில் நடத்தப்பட்ட அகழாய்வில் ஏராளமான முதுமக்கள் தாழிகள் கண்டுபிடிக்கப்பட்டுள்ளன.
- மேற்கண்ட கூற்றுகளில் சரியானவை எவை?
- A) I மற்றும் II மட்டும்
B) II மற்றும் III மட்டும்
C) I மற்றும் III மட்டும்
D) மேற்கண்ட அனைத்தும்
E) விடை தெரியவில்லை

76. பொருத்துக.

(தொடர்)

(இடம்பெற்றுள்ள நூல்)

- | | |
|--|------------------|
| a) பட்டிமண்டபத்துப் பாங்கு அறிந்து ஏறுமின் | 1. திருவாசகம் |
| b) மகத நன்நாட்டு வாள்வாய் வேந்தன் பகைப்புறத்துக்
கொடுத்த பட்டிமண்டபம் | 2. கம்பராமாயணம் |
| c) பட்டிமண்டபம் ஏற்றினை ஏற்றினை | 3. சிலப்பதிகாரம் |
| d) பன்ன அரும் கலைதெரி பட்டிமண்டபம் | 4. மணிமேகலை |

குறியீடுகள் :

- | | a | b | c | d |
|----|------------------|---|---|---|
| A) | 3 | 4 | 1 | 2 |
| B) | 3 | 4 | 2 | 1 |
| C) | 2 | 4 | 1 | 3 |
| D) | 4 | 3 | 1 | 2 |
| E) | விடை தெரியவில்லை | | | |

77. வல்லினம் மிகும் இடங்களின் அடிப்படையில் பொருந்தா ஒன்றினைத் தேர்ந்தெடு.
- A) ஈறுகெட்ட எதிர்மறைப் பெயரெச்சத்தின்பின் வல்லினம் மிகும்.
- B) ஆறாம் வேற்றுமைத் தொகையில் வல்லினம் மிகும்.
- C) இரு பெயரொட்டுப் பண்புத்தொகையில் வல்லினம் மிகும்.
- D) இரண்டாம் வேற்றுமைத் தொகையில் வல்லினம் மிகும்.
- E) விடை தெரியவில்லை

78. ஐம்பெருங்குழு, எண் பேராயம் – இச்சொற்றொடர்கள் உணர்த்தும் இலக்கணம்.
- A) திசைச் சொற்கள்
B) வடசொற்கள்
C) உரிச்சொற்கள்
D) தொகைச் சொற்கள்
E) விடை தெரியவில்லை



79. முறையான தொடர் அமைப்பினைத் தெரிவு செய்க.
A) தமிழர்களின் வீரவிளையாட்டு தொன்மையான ஏறுதழுவுதல்.
B) தமிழர்களின் வீரவிளையாட்டு ஏறுதழுவுதல் தொன்மையான.
C) தொன்மையான வீரவிளையாட்டு தமிழர்களின் ஏறுதழுவுதல்.
D) தமிழர்களின் தொன்மையான வீரவிளையாட்டு ஏறுதழுவுதல்.
E) விடை தெரியவில்லை
80. பின்வருவனவற்றுள் தவறாகப் பிரிந்துள்ள சொல்லைத் தேர்ந்தெடு.
A) சீருக்கேற்ப – சீர் + ஏற்ப
B) கண்டெடுக்கப்பட்டுள்ளன – கண்டு + எடுக்கப்பட்டு + உள்ளன
C) அகழாய்வு – அகழ் + ஆய்வு
D) காப்பியம் – காப்பு + இயம்
E) விடை தெரியவில்லை
81. விடைக்கேற்ற வினாவைத் தேர்ந்தெடு
விடை: தமிழக மாட்டினங்களின் தாய் இனம் என்று “காங்கேயம்” கருதப்படுகிறது.
A) தமிழக மாட்டினங்களின் தாயாகக் காங்கேயம் கருதப்படுவது ஏன்?
B) தமிழக மாட்டினங்களின் தாய் இனம் என்று கருதப்படுவது யாது?
C) பிற மாநிலத்தவர் விரும்பி வாங்கிச் செல்கின்ற காளை இனம் எது?
D) தென்னிந்தியாவின் அடையாளச் சின்னமாக கருதப்படுவது எது?
E) விடை தெரியவில்லை
82. தென்னிந்தியாவின் அடையாளச் சின்னமாகக் காங்கேயம் மாடுகள் போற்றப்படுகின்றன - இஃது எவ்வகைத் தொடர்?
A) வினைத் தொடர் B) கட்டளைத் தொடர்
C) செய்தித் தொடர் D) உணர்ச்சித் தொடர்
E) விடை தெரியவில்லை
83. தகவிலர் என்பதன் எதிர்ப்பதம் யாது?
A) உறவினர் B) பகைவர்
C) அறிவுடையோர் D) நடுவு நிலைமையுடையோர்
E) விடை தெரியவில்லை
84. அகரவரிசைப்படுத்துக.
A) குறிஞ்சி, முல்லை, மருதம், நெய்தல், பாலை.
B) குறிஞ்சி, பாலை, மருதம், முல்லை, நெய்தல்.
C) குறிஞ்சி, நெய்தல், பாலை, மருதம், முல்லை.
D) குறிஞ்சி, மருதம், முல்லை, பாலை, நெய்தல்.
E) விடை தெரியவில்லை



85. பிழையான தொடரைத் தேர்ந்தெடு.
A) மரத்தின் கிளையில் ஒரு பறவை இருந்தது.
B) காட்டின் நடுவே ஓர் ஆலமரம் இருந்தது.
C) வீட்டின் எதிரே ஒரு உரல் இருந்தது.
D) ஓர் ஊரின் நடுவே தாமரைக்குளம் இருந்தது.
E) விடை தெரியவில்லை
86. பின்வருவனவற்றில் தவறான இணையைக் கண்டறிக.
(ஒருமை) (பன்மை)
A) சொல் – சொற்கள்
B) கை – கைகள்
C) படம் – படங்கள்
D) புல் – புட்கள்
E) விடை தெரியவில்லை
87. பின்வருவனவற்றில் தவறான இணையைக் கண்டறிக.
(குறள்) (அணி)
A) சலத்தால் பொருள்செய்தே மார்த்தல் பசுமண் – பிறிதுமொழிதல் அணி
B) பெருமைக்கும் ஏனைச் சிறுமைக்கும் தத்தம் – ஏகதேச உருவக அணி
C) குணம்நாடிக் குற்றமும் நாடி அவற்றுள் – சொற்பொருள் பின்வருநிலையணி
D) அகழ்வாரைத் தாங்கும் நிலம்போலத் தம்மை – உவமை அணி
E) விடை தெரியவில்லை
88. பிறர் தனக்குத் தரக்கூடாத துன்பத்தைத் தந்தாலும் எதனைச் செய்யாமலிருப்பதே நன்று என வள்ளுவர் குறிப்பிடுகின்றார்?
A) துன்பப்படுதல்
B) அறம் அல்லாத செயல்
C) சினம்
D) பொறுமை
E) விடை தெரியவில்லை
89. செருக்கினால் துன்பம் தந்தவரை எதனைக் கொண்டு வெல்ல வேண்டுமென வள்ளுவர் குறிப்பிடுகிறார்?
A) முன்னேற்றம்
B) பொறுமை
C) கோபம்
D) செல்வம்
E) விடை தெரியவில்லை
90. பிற வழிகளில் வரும் செல்வங்களைவிடத் தலைசிறந்த செல்வமாக வள்ளுவர் எதனைக் குறிப்பிடுகிறார்?
A) கல்வி
B) கேள்வி
C) புகழ்
D) மரியாதை
E) விடை தெரியவில்லை



91. தாயின் பசியினைக் கண்டபோதும் எச்செயல்கைகளைச் செய்யக்கூடாது?
A) அடுத்தவர் புகழைக் கெடுக்கும் செயல்
B) கள்ளுண்ணுதல்
C) சான்றோர் பழிக்கும் செயல்
D) பேதைமை
E) விடை தெரியவில்லை
92. பேதையின் செயல்களை வரிசைப்படுத்துக.
A) நாணாமை, நாடாமை, பேணாமை, நாரின்மை.
B) நாணாமை, நாரின்மை, நாடாமை, பேணாமை.
C) பேணாமை, நாணாமை, நாடாமை, நாரின்மை.
D) நாணாமை, நாடாமை, நாரின்மை, பேணாமை.
E) விடை தெரியவில்லை
93. “திருக்குறள்” பற்றிய பின்வரும் கூற்றுகளைக் கருத்தில் கொள்க.
I. உலகப் பண்பாட்டிற்குத் தமிழினத்தின் பங்களிப்பாக அமைந்த நூல். இனம், சாதி, நாடு குறித்த எவ்வித அடையாளத்தையும் முன்னிலைப்படுத்தாத உலகம் பொதுமறை.
II. திருக்குறளுக்கு உரை எழுதிய பதினமூன்று பரிமேலழகர் உரையே சிறந்தது என்பர்.
III. இந்நூலைப் போற்றும் பாடல்களின் தொகுப்பே திருவள்ளுவமாலை.
மேற்கண்ட கூற்றுகளில் சரியானவை எவை?
A) I மற்றும் II மட்டும்
B) II மற்றும் III மட்டும்
C) I மற்றும் III மட்டும்
D) மேற்கண்ட அனைத்தும்
E) விடை தெரியவில்லை
94. தீரா இடும்பை தருவது எது?
A) ஆராயாமை, ஐயப்படுதல்
B) குணம், குற்றம்
C) பெருமை, சிறுமை
D) கல்வி, கேள்வி
E) விடை தெரியவில்லை
95. குளம் தொட்டுக் கோடு பதித்து வழிசீத்து உளம்தொட்டு உழுவயல் ஆக்கி - எனும் பாடலடி இடம்பெற்ற நூல் எது?
A) பெரிய புராணம்
B) புறநானூறு
C) சிறுபஞ்சமூலம்
D) ஏலாதி
E) விடை தெரியவில்லை
96. நெல்லுக்கு பாய்கிற தண்ணீர் _____ பாய்வது போல - எனும் பழமொழியின் விடுபட்ட சொல்லை கண்டறிக?
A) வயலுக்கு
B) வரப்புக்கு
C) புல்லுக்கு
D) நிலத்திற்கு
E) விடை தெரியவில்லை



97. கல்லும் மலையும் குதித்து வந்தேன் – பெருங்
காடும் செடியும் கடந்து வந்தேன் – எனும் பாடல்வரியை எழுதியவர் யார்?

- A) பாரதியார்
B) பாரதிதாசன்
C) கவிமணி
D) நாமக்கல் கவிஞர்
E) விடை தெரியவில்லை

98. மல்லல் மூதூர் வயவேந்தே அடிக்கோடிட்ட சொல்லின் பொருள் யாது?

- A) மறுமை
B) புவரசுமரம்
C) வளம்
D) பெரிய
E) விடை தெரியவில்லை

99. பொருத்துக.

(புறநானூறு)

(ஆசிரியர்)

- | | |
|---|------------------|
| a) உண்டி கொடுத்தோர் உயிர் கொடுத்தோரே | 1. நக்கீரனார் |
| b) உண்பது நாழி உடுப்பது இரண்டே | 2. குடபுலவியனார் |
| c) சான்றோன் ஆக்குதல் தந்தைக்குக் கடனே | 3. நெடுஞ்செழியன் |
| d) உற்றுழி உதவியும் உறுபொருள் கொடுத்தும்
பிற்றை நிலை முனியாது கற்றல் நன்றே | 4. பொன்முடியார் |

குறியீடுகள் :

- | | <i>a</i> | <i>b</i> | <i>c</i> | <i>d</i> |
|----|------------------|----------|----------|----------|
| A) | 1 | 2 | 3 | 4 |
| B) | 2 | 1 | 3 | 4 |
| C) | 2 | 4 | 1 | 3 |
| D) | 2 | 1 | 4 | 3 |
| E) | விடை தெரியவில்லை | | | |

100. பொருள் வேறுபாடறிந்து சரியான இணைகளை தேர்வு செய்க.

(மரை)

(மறை)

- A) மறைத்தல் – மான்
B) மரைத்தல் – தாமரை
C) மான் – வேதம்
D) மறதி – மலை
E) விடை தெரியவில்லை



பகுதி - ஆ — பொது அறிவு (பட்டப்படிப்பு தரம்)

Part B — General Studies (Degree Standard)

வினாக்கள் : 101-200

மொத்த மதிப்பெண்கள் : 150

Questions : 101-200

Total Marks : 150

101. இந்தியக் குடியரசுத் தலைவர் தேர்தலில் பங்கேற்கும் வாக்காளர் குழுவானது
- பாராளுமன்றத்தின் இரு அவையின் தேர்ந்தெடுக்கப்பட்ட உறுப்பினர்கள்
 - இந்தியாவில் உள்ள அனைத்து மாநிலங்கள் மற்றும் யூனியன் பிரதேசங்களில் உள்ள தேர்ந்தெடுக்கப்பட்ட சட்டமன்ற உறுப்பினர்கள்
 - பாராளுமன்ற இரு அவைகள் மற்றும் மாநில சட்டமன்றங்களில் நியமிக்கப்படும் நியமன உறுப்பினர்கள் இக்குழுவில் அங்கம் இடம் பெறமாட்டார்கள்.

குறியீடுகள்:

- | | |
|-------------------------|-----------------------|
| A) I மட்டும் | B) II மட்டும் |
| C) I மற்றும் II மட்டும் | D) மேற்கண்ட அனைத்தும் |
| E) விடை தெரியவில்லை | |

The President of India is elected by the members of an electoral college consisting of

- The elected members of both Houses of Parliament
- The elected members of the Legislative Assemblies of all the states and Union territories in India
- The members nominated to either House of Parliament or the Legislative Assemblies of states are eligible to be included in the electoral college

Codes:

- | | |
|---------------------|------------------|
| A) I only | B) II only |
| C) I and II only | D) All the above |
| E) Answer not known | |

102. பின்வரும் கூற்றுகளைக் கருத்தில் கொள்க
- 'அழுத்தக் குழுக்கள்' என்ற சொல் ஐக்கிய இராச்சியத்தில் உருவாக்கப்பட்டது.
 - அழுத்தக் குழுவினரும் தேர்தலில் போட்டியிடுகின்றனர்.
 - பிரதிநிதித்துவப்படுத்துதல், அரசியல் பங்கேற்பு, கல்வி, கொள்கை உருவாக்கம் மற்றும் கொள்கை அமலாக்கம் போன்ற பல வகைகளான செயல்பாடுகளை அழுத்தக் குழுக்கள் மேற்கொள்கின்றன.
 - தமிழ்நாடு விவசாயிகள் சங்கம், நர்மதா பச்சாவோ அந்தோலன் ஆகியவை அழுத்தக் குழுக்களுக்கான எடுத்துக்காட்டுகள் ஆகும்.

மேற்கண்ட கூற்றுகளில் எத்தனை கூற்றுகள் சரியானவை?

- ஒரு கூற்று மட்டும்
- இரண்டு கூற்று மட்டும்
- மூன்று கூற்று மட்டும்
- மேற்கண்ட அனைத்தும்
- விடை தெரியவில்லை



Consider the following statements:

- I. The term 'Pressure Group' originated in the United Kingdom.
- II. Pressure group also contest in elections.
- III. Pressure groups carry out a range of functions including representation, political participation, education, policy formulation and policy implementation
- IV. Tamil Nadu Vivasayigal Sangam, Narmada Bachao Andolan is an example for Pressure Groups.

How many of the above statements is/are correct?

- A) One Statement only
- B) Two statement only
- C) Three Statement only
- D) All of the above
- E) Answer not known

103. பின்வரும் கூற்றுகளைக் கருத்தில் கொள்க

- I. சராசரி வருவாயை தலா வருமானம் என்றும் அழைக்கப்படுகிறது.
- II. அனைத்து நாடுகளின் தனிநபர் வருமானத்தின் கணக்கீடுகள் சொந்த நாட்டின் நாணய மதிப்பில் மட்டுமே கணக்கிடப்படுகிறது.

மேற்கண்ட கூற்றுகளில் சரியானது எது/எவை?

- A) I மட்டும்
- B) II மட்டும்
- C) இரண்டும்
- D) இரண்டுமில்லை
- E) விடை தெரியவில்லை

Consider the following statements.

- I. The average income is also called per capita income
- II. Calculations on the per capita income are calculated on the respective currencies of their countries.

Which of the statements given above is/are correct?

- A) I only
- B) II only
- C) Both I and II
- D) Neither I nor II
- E) Answer not known

104. பின்வருவனவற்றுள் பொருளாதார வளர்ச்சியின் குறியீடுகள் எவை?

- I. மனிதவள மேம்பாட்டுக் குறியீடு (HDI)
- II. தனிநபர் வருமானம் (PCI)
- III. நிகர நாட்டு உற்பத்தி (NNP)
- IV. வாங்கும் திறன் சமநிலை (PPP)

குறியீடுகள்:

- A) I, II மற்றும் III மட்டும்
- B) II, III மற்றும் IV மட்டும்
- C) I, III மற்றும் IV மட்டும்
- D) மேற்கண்ட அனைத்தும்
- E) விடை தெரியவில்லை



Which of these are the Indicators of Economic Development?

- I. Human Development Index (HDI)
- II. Per Capita Income (PCI)
- III. Net National Product (NNP)
- IV. Purchasing Power Parity (PPP)

Codes:

- | | |
|-----------------------|------------------------|
| A) I, II and III only | B) II, III and IV only |
| C) I, III and IV only | D) All the above |
| E) Answer not known | |

105. அரசியலமைப்பின் பகுதி XV நமது நாட்டின் தேர்தல் முறை தொடர்பான ஏற்பாடுகள் செய்யப்பட்டுள்ளன. அரசியலமைப்பின் பகுதி XV-ஐ எந்த விதிகள் கையாள்கின்றன?

- A) சரத்து 324 முதல் 329 வரை
- B) சரத்து 323 முதல் 329 வரை
- C) சரத்து 324 முதல் 330 வரை
- D) மேற்கண்ட எதுவுமில்லை
- E) விடை தெரியவில்லை

Part XV of the Constitution make the provisions with regard to the electoral system in our country. Which Articles deals Part XV of the constitution?

- A) Article 324 to 329
- B) Article 323 to 329
- C) Article 324 to 330
- D) None of the above
- E) Answer not known

106. ஒரு கட்சி தேசியக் கட்சியாக அங்கீகரிக்கப்படுவதற்கான நிபந்தனை பற்றிய பின்வரும் கூற்றுகளைக் கருத்தில் கொள்க:

I. மக்களவை தேர்தலிலோ (அ) மாநில சட்டசபைத் தேர்தலிலோ குறைந்தபட்சம் நான்கு மாநிலங்களில் பதிவான மொத்தச் செல்லத்தகுந்த வாக்குகளில் குறைந்தபட்சம் 6% பெற்றிருக்க வேண்டும் அல்லது நான்கு மக்களவை தொகுதிகளில் வெற்றிப் பெற வேண்டும்.

II. மக்களவையில் குறைந்தபட்சம் 2 சதவீத இடங்களில் வெற்றி பெற வேண்டும். மேலும் குறைந்தபட்சம் மூன்றுக்கும் மேற்பட்ட மாநிலங்களிலிருந்து தேர்ந்தெடுக்கப்பட வேண்டும்.

III. நான்கு மாநிலங்களுக்கு மேல் 'மாநிலக் கட்சியாக' அங்கீகாரம் பெற்றிருக்க வேண்டும்.

மேற்கண்ட கூற்றுகளில் சரியானது எது/எவை?

- A) I மட்டும்
- B) II மட்டும்
- C) I மற்றும் II மட்டும்
- D) மேற்கண்ட அனைத்தும்
- E) விடை தெரியவில்லை



Consider the following statements that conditions for recognition as a National Party:

- I. If it secures six per cent of valid votes polled in any four or more states at a general election to the Lok Sabha or to the legislative assembly and in addition it wins four seats in the Lok Sabha from any state or states.
- II. If it wins two per cent of seats in the Lok Sabha at a General Election and these candidates are elected from three states
- III. If it is recognised as a state party in more than 4 states.

Which of the statements given above is/are correct?

- A) I only
- B) II only
- C) I and II only
- D) All the above
- E) Answer not known

107. பின்வரும் கூற்றுகளைக் கருத்தில் கொள்க

- I. தூரிய ஒளியின் மின்னழுத்த செல்கள் பயன்படுத்தி தூரிய மின்சாரத்தை உற்பத்தி செய்ய முடியும்.
- II. தூரிய சக்தி உற்பத்தி தொழில், இந்தியாவில் வேகமாக வளர்ந்து வருகிறது
- III. இராஜஸ்தான் அதிக அளவில் தூரிய மின்தகடு அமைப்பு கொண்ட மாநிலமாக உள்ளது.
- IV. இந்தியாவில் தூரிய சக்தி மூலம் அதிக மின்சாரம் உற்பத்தி செய்யும் மாநிலங்களில் தமிழ்நாடு முன்னணியில் உள்ளது.

மேற்கண்ட கூற்றுகளில் சரியானது எது/எவை?

- A) I, II மற்றும் III மட்டும்
- B) II, III மற்றும் IV மட்டும்
- C) II மற்றும் IV மட்டும்
- D) மேற்கண்ட அனைத்தும்
- E) விடை தெரியவில்லை

Consider the following statements.

- I. Solar power can be generated using photovoltaic cells.
- II. Solar power in India is a fast-developing industry.
- III. Rajasthan is the state with highest installed solar capacity in India
- IV. Tamil Nadu is one of the leading solar power producing states in India

Which of the statements given above are correct?

- A) I, II and III only
- B) II, III and IV only
- C) II and IV only
- D) All the above
- E) Answer not known

108. பட்டியல்-I ஐ பட்டியல்-II உடன் பொருத்துக.

பட்டியல்-I (சட்டம்)	பட்டியல்-II (ஆண்டு)
a) சுற்றுச்சூழல் பாதுகாப்புச் சட்டம்	1. 1986
b) வன (பாதுகாப்பு) சட்டம்	2. 1974
c) நீர் சட்டம்	3. 2010
d) தேசிய பசுமை தீர்ப்பாயம்	4. 2002
e) உயிரியல் பன்முகத்தன்மை சட்டம்	5. 1980



குறியீடுகள்:

	a	b	c	d	e
A)	5	1	4	3	1
B)	1	3	5	2	4
C)	5	2	4	3	1
D)	1	5	2	3	4

E) விடை தெரியவில்லை

Match List-I with List-II.

List-I (Acts)	List-II (Year)
a) The Environment Protection Act	1. 1986
b) Forest (Conservation) Act	2. 1974
c) Water Act	3. 2010
d) National Green Tribunal	4. 2002
e) Biological Diversity Act	5. 1980

Codes:

	a	b	c	d	e
A)	5	1	4	3	1
B)	1	3	5	2	4
C)	5	2	4	3	1
D)	1	5	2	3	4

E) Answer not known

109. "An Uncertain Glory" என்ற புத்தகத்தின் ஆசிரியர் யார்?

- A) ஜான் மேனார்ட் கெயின்ஸ்
B) அமர்த்தியா சென்
C) ஆடம் ஸ்மித்
D) மஹ்பூப் உல் ஹக்
E) விடை தெரியவில்லை

Who authored the book "An Uncertain Glory"?

- A) John Maynard Keynes
B) Amartya Sen
C) Adam Smith
D) Mahbub ul Haq
E) Answer not known

110. பின்வரும் கூற்றுகளை கருத்தில் கொள்க.

கூற்று (A) : இந்தியாவில் 2015 ஆம் ஆண்டில் நடைபெற்ற மாநிலங்களவைத் தேர்தலுக்காக நோட்டா முதன்முதலில் அறிமுகப்படுத்தப்பட்டது

காரணம் (R) : இந்திய தேர்தல் நடத்தை விதிகள், (1961)-இல் எனும் சட்டத்தின் விதி எண் 49-O இம்முறை பற்றி விவரிக்கிறது.

குறியீடுகள்:

- A) (A) மற்றும் (R) இரண்டும் சரி மற்றும் (R) என்பது (A)-யின் சரியான விளக்கமாகும்
B) (A) மற்றும் (R) இரண்டும் சரி ஆனால் (R) என்பது (A)-யின் சரியான விளக்கமல்ல
C) (A) சரி ஆனால் (R) தவறு
D) (A) தவறு ஆனால் (R) சரி
E) விடை தெரியவில்லை



Consider the following statements.

Assertion (A) : NOTA was first introduced in India for Rajya sabha Elections held in 2015

Reason (R) : Rule 49-O in the Conduct of Elections Rules, 1961, of India describes this procedure

Codes:

- A) Both (A) and (R) are true and (R) is the correct explanation of (A)
- B) Both (A) and (R) are true but (R) is not the correct explanation of (A)
- C) (A) is true but (R) is false
- D) (A) is false but (R) is true
- E) Answer not known

111. தவறாகப் பொருந்தியுள்ள இணையைக் கண்டறியவும்.

- | (அரசாங்க அமைப்புகள்) | (நாடு) |
|----------------------|-----------------|
| A) உயர்குடியாட்சி | - பூட்டான் |
| B) முடியாட்சி | - ஓமன் |
| C) தனிநபர் ஆட்சி | - சவுதி அரேபியா |
| D) சிறு குழு ஆட்சி | - வட கொரியா |
| E) விடை தெரியவில்லை | |

Find out the incorrectly matched pair.

- | (Forms of Govt) | (Country) |
|---------------------|----------------|
| A) Aristocracy | - Bhutan |
| B) Monarchy | - Oman |
| C) Autocracy | - Saudi Arabia |
| D) Oligarchy | - North Korea |
| E) Answer not known | |

112. “மக்களால் மக்களுக்காக மக்களே நடத்தும் ஆட்சி” ‘மக்களாட்சி’ என்ற கூற்றைக் கூறியவர்

- A) இந்தியக் குடியரசுத் தலைவர்களில் ஒருவர்
- B) இங்கிலாந்தின் பிரதமர்களில் ஒருவர்
- C) அமெரிக்காவின் ஜனாதிபதிகளில் ஒருவர்
- D) மேற்கண்ட எதுவுமில்லை
- E) விடை தெரியவில்லை

Democracy is a government of the people, by the people and for the people – This statement was made by

- A) One of the Presidents of India
- B) One of the Prime Minister of UK
- C) One of the Presidents of USA
- D) None of the above
- E) Answer not known



113. பின்வரும் கூற்றுகளைக் கருத்தில் கொள்க
- I. இந்திய அரசு பகுதி கூட்டாட்சி அமைப்பு மற்றும் பாராளுமன்ற மக்களாட்சி முறையை கொண்டுள்ளது.
- II. சுவிட்சர்லாந்தும் இந்தியாவும் ஒரே மாதிரியான மக்களாட்சியை பின்பற்றுகின்றன மேற்கண்ட கூற்றுகளில் சரியானது எது/எவை?
- A) I மட்டும்
B) II மட்டும்
C) இரண்டும்
D) இரண்டுமில்லை
E) விடை தெரியவில்லை
- Consider the following statements.
- I. India has a quasi-federal government and parliamentary form of democracy.
- II. Switzerland and India follows same kind of democracy
- Which of the statements given above is/are correct?
- A) I only
B) II only
C) Both I and II
D) Neither I nor II
E) Answer not known
114. பொருளாதார வளர்ச்சியின் குறியீடுகள் தொடர்பாக தவறாக பொருந்தியுள்ள இணையைக் கண்டறியவும் :
- (சுருக்கம்) (விரிவாக்கம்)
- A) PCI – Per Capita Income
B) NNP – Net National Product
C) PPP – Purchasing Power Parity
D) HDI – Human Development Initiative
E) விடை தெரியவில்லை
- Find out the incorrectly matched pair regarding Indicators of Economic development :
- (Abbreviation) (Expansion)
- A) PCI – Per Capita Income
B) NNP – Net National Product
C) PPP – Purchasing Power Parity
D) HDI – Human Development Initiative
E) Answer not known
115. தனிநபர் மொத்த தேசிய வருமானத்தின் (GNI) அடிப்படையில் உலக வங்கியின் வருமான வகைப்பாட்டின் கீழ், இந்தியா எந்த பிரிவில் உள்ளது?
- A) குறைந்த வருமானம்
B) குறைந்த நடுத்தர வருமானம்
C) உயர் நடுத்தர வருமானம்
D) அதிக வருமானம்
E) விடை தெரியவில்லை
- Under the World Bank's income classification based on gross national income (GNI) per capita, in which category does India belong?
- A) Low Income
B) Lower Middle Income
C) Upper Middle Income
D) High income
E) Answer not known



116. வாங்கும் திறன் சமநிலை (PPP) அடிப்படையில் மொத்த உள்நாட்டு உற்பத்தியின் இறங்கு வரிசையில் பின்வரும் பொருளாதாரங்களை வரிசைப்படுத்துக:

- I. இந்தியா
- II. அமெரிக்கா
- III. சீனா
- IV. ஜெர்மனி

குறியீடுகள்:

- | | |
|---------------------|----------------|
| A) III-II-I-IV | B) III-II-IV-I |
| C) I-IV-II-III | D) II-III-I-IV |
| E) விடை தெரியவில்லை | |

Arrange the following economies in decreasing order of GDP in terms of Purchasing Power Parity (PPP):

- I. India
- II. USA
- III. China
- IV. Germany

Codes:

- | | |
|---------------------|----------------|
| A) III-II-I-IV | B) III-II-IV-I |
| C) I-IV-II-III | D) II-III-I-IV |
| E) Answer not known | |

117. தனிநபர்களில் மனித வள மேம்பாட்டின் முதன்மையான கவனம் என்ன?

- A) நிதி திறன்கள் மற்றும் திறன்களை வளர்த்தல்
- B) சமூக ஒருங்கிணைப்பு மற்றும் கலாச்சார தழுவல்
- C) உடல் தகுதி மற்றும் நல்வாழ்வு
- D) கல்வி, சுகாதாரம் மற்றும் பயிற்சி மூலம் உடல் மற்றும் மன திறன்களை மேம்படுத்துதல்
- E) விடை தெரியவில்லை

What is the primary focus of human resource development in individuals?

- A) Developing Financial skills and capabilities
- B) Social integration and cultural adaptation
- C) Physical fitness and well-being
- D) Development of physical and mental abilities through education, health care, and training
- E) Answer not known

118. பரம்பரைகளுக்கிடையேயான சமத்துவம் எந்த நடைமுறையில் உறுதி செய்யப்படுகிறது?

- | | |
|---------------------|-----------------------|
| A) தொழிற்சாலை | B) பொருளாதார மேம்பாடு |
| C) நிலையான மேம்பாடு | D) பொருளாதார வளர்ச்சி |
| E) விடை தெரியவில்லை | |

Inter-generational equality is ensured under the process of

- | | |
|----------------------------|-------------------------|
| A) Industrial Progress | B) Economic Development |
| C) Sustainable Development | D) Economic Growth |
| E) Answer not known | |



119. இந்தியாவின் பழைய நாடாளுமன்ற கட்டிடத்தை வடிவமைத்தவர்

- A) சர் சார்லஸ் பாரி, பிமல் படேல்
- B) எட்வின் லுட்யென்ஸ், ஹெர்பர்ட் பேக்கர்
- C) பிமல் படேல், ஹெர்பர்ட் பேக்கர்
- D) சர் சார்லஸ் பாரி, எட்வர்ட் லுட்யென்ஸ்
- E) விடை தெரியவில்லை

The Old Parliament House in India was designed by the

- A) Sir Charles Barry, Bimal Patel
- B) Edwin Lutyens, Herbert Baker
- C) Bimal Patel, Herbert Baker
- D) Sir Charles Barry, Edward Lutyens
- E) Answer not known

120. நாடு சுதந்திரம் அடைந்த பிறகு முதல் மக்களவைக்கான பொதுத் தேர்தல்

- A) 25 அக்டோபர் 1951 – 21 பிப்ரவரி 1952
- B) 25 நவம்பர் 1951 – 21 பிப்ரவரி 1952
- C) 25 செப்டம்பர் 1951 – 21 மார்ச் 1952
- D) 25 டிசம்பர் 1951 – 21 ஏப்ரல் 1952
- E) விடை தெரியவில்லை

General elections to the first Lok Sabha since Independence were held in India between

- A) 25 October 1951 – 21 February 1952
- B) 25 November 1951 – 21 February 1952
- C) 25 September 1951 – 21 March 1952
- D) 25 December 1951 – 21 April 1952
- E) Answer not known

121. பின்வருவனவற்றில் எது டாக்டர் பி.ஆர். அம்பேத்கரின் பங்களிப்பு அல்ல?

- A) தொழிற்சாலை வேலை நேரம் குறைப்பு (ஒரு நாளைக்கு 8 மணி நேரம்)
- B) நிலக்கரி மற்றும் மைக்கா சுரங்கத் தொழிலாளர்களுக்கான வருங்கால வைப்பு நிதி
- C) குழந்தை தொழிலாளர்களுக்கு எதிரான அணிவகுப்பு
- D) தொழிற்சங்கங்களை கட்டாயமாக அங்கீகரித்தல்
- E) விடை தெரியவில்லை

Which one of the following is not contribution of Dr.B.R. Ambedkar?

- A) Reduction in Factory working Hours (8 hours a day)
- B) Coal and Mica Mines Labour Provident Fund
- C) March against Child labour
- D) Compulsory recognition of trade unions
- E) Answer not known



122. எந்த சட்டத்தின் மூலம், மூதாதையரின் பிரிக்கப்படாத பரம்பரை சொத்தில் பெண்களுக்கு இப்போது சம பங்கு வழங்கப்படுகிறது?
- A) இந்து வாரிசுச் சட்டம், 1989
B) பதிவு (தமிழ்நாடு திருத்தங்கள்) சட்டம், 2008
C) பதிவு (திருத்தம்) சட்டம், 2001
D) இந்து வாரிசுச் சட்டம் (திருத்தம்), 2005
E) விடை தெரியவில்லை
- By which Act, women are now given equal shares in inheritance of the undivided property?
- A) Hindu Succession Act, 1989
B) The Registration (Tamil Nadu Amendments), 2008
C) The Registration (Amendment) Act, 2001
D) Hindu Succession Act (Amendment), 2005
E) Answer not known

123. பின்வரும் கூற்றுகளைக் கருத்தில் கொள்க
- I. தமிழ்நாட்டின் எழுத்தறிவு விகிதமானது தென் மாநிலங்களில் அதிகபட்சமாக உள்ளது.
II. தமிழ்நாட்டின் எழுத்தறிவு விகிதம் தேசிய சராசரியை விட அதிகமாக உள்ளது.
III. இந்தியாவிலேயே தமிழ்நாட்டில்தான் உயர்கல்விக்கான மாணவர் சேர்க்கை அதிகமாக உள்ளது.
- மேற்கண்ட கூற்றுகளில் சரியானவை எவை?
- A) I மற்றும் II மட்டும்
B) II மற்றும் III மட்டும்
C) I மற்றும் III மட்டும்
D) மேற்கண்ட அனைத்தும்
E) விடை தெரியவில்லை
- Consider the following statements.
- I. Literacy rate of Tamil Nadu is the highest among the southern states
II. Tamil Nadu's literacy rate is higher than the national average.
III. The enrolment for higher education in Tamil Nadu is the highest in India.
- Which of the statements given above are correct?
- A) I and II only
B) II and III only
C) I and III only
D) All the above
E) Answer not known

124. பட்டியல்-I ஐ பட்டியல்-II உடன் பொருத்துக.

பட்டியல்-I (அளவுரு)	பட்டியல்-II (2011 கணக்கெடுப்பின் மதிப்புகள்)
a) தமிழ்நாட்டின் எழுத்தறிவு விகிதம்	1. 943
b) இந்தியாவின் எழுத்தறிவு விகிதம்	2. 74.04 %
c) தமிழ்நாட்டின் பாலின விகிதம்	3. 996
d) இந்தியாவின் பாலின விகிதம்	4. 80.09 %



குறியீடுகள்:

	a	b	c	d
A)	2	4	3	1
B)	2	4	1	3
C)	4	2	1	3
D)	4	2	3	1

E) விடை தெரியவில்லை

Match List-I with List-II.

List-I

(Parameter)

- Literacy Rate Tamilnadu
- Literacy Rate India
- Sex Ratio Tamilnadu
- Sex Ratio India

List-II

(Values-2011 census)

- 943
- 74.04 %
- 996
- 80.09 %

Codes:

	a	b	c	d
A)	2	4	3	1
B)	2	4	1	3
C)	4	2	1	3
D)	4	2	3	1

E) Answer not known

125. பின்வரும் கூற்றுகளை கருத்தில் கொள்க.

கூற்று (A) : நாட்டின் முன்னேற்றம் மிகவும் மெதுவாக இருக்கும்.

காரணம் (R) : மக்கள் தொகையில் பெரும்பகுதி குழந்தைகள் மற்றும் வயது மூப்புடையவர்களாக உள்ளனர்.

குறியீடுகள்:

- (A) மற்றும் (R) இரண்டும் சரி மற்றும் (R) என்பது (A)-யின் சரியான விளக்கமாகும்
- (A) மற்றும் (R) இரண்டும் சரி ஆனால் (R) என்பது (A)-யின் சரியான விளக்கமல்ல
- (A) சரி ஆனால் (R) தவறு
- (A) தவறு ஆனால் (R) சரி
- விடை தெரியவில்லை

Consider the following statements.

Assertion (A) : The progress of the country would be very slow.

Reason (R) : Larger percentage of population is accounted by children and old-age persons

Codes:

- Both (A) and (R) are true and (R) is the correct explanation of (A)
- Both (A) and (R) are true but (R) is not the correct explanation of (A)
- (A) is true but (R) is false
- (A) is false but (R) is true
- Answer not known



126. நன்கு வளர்ந்த நாடுகளில், பணியாளர்களின் விநியோகம் தொடர்பாக பொதுவாக என்ன கவனிக்கப்படுகிறது?

- A) பெரும் பகுதியினர் விவசாயத்திலும் சிறியவர்கள் தொழில்துறை மற்றும் மூன்றாம் நிலைத் துறைகளிலும் ஈடுபட்டுள்ளனர்
- B) மிகக் குறைந்த பகுதியினர் விவசாயத்தில் ஈடுபட்டுள்ளனர் மற்றும் பெரும்பான்மையானவர்கள் தொழில்துறை மற்றும் மூன்றாம் நிலைத் துறைகளில் ஈடுபட்டுள்ளனர்.
- C) விவசாயம் மற்றும் மூன்றாம் நிலைத் துறைகளில் சிறிய எண்ணிக்கையுடன் தொழில்துறை துறையில் பெரும்பான்மையானவர்கள் ஈடுபட்டுள்ளனர்.
- D) விவசாயம், தொழில்துறை மற்றும் மூன்றாம் நிலைத் துறையில் சமமான விநியோகம்
- E) விடை தெரியவில்லை

In well-developed countries, what is typically observed regarding the distribution of the workforce?

- A) A large proportion engaged in agriculture and small in industrial and tertiary sectors
- B) A very small proportion engaged in agriculture and a majority in industrial and tertiary sectors.
- C) A majority in industrial sector with smaller numbers in agriculture and tertiary sectors.
- D) Equal distribution across agriculture, industrial, and tertiary sector
- E) Answer not known

127. டெல்லி சுல்தானான ஃபெரோஸ் ஷா துக்கக் இடைக்காலத்தில் வேலையில்லாத் திண்டாட்டத்தை போக்க என்ன முயற்சியை மேற்கொண்டார்?

- A) அவர் அனைத்து குடிமக்களுக்கும் உலகளாவிய அடிப்படை வருமானத்தை அறிமுகப்படுத்தினார்.
- B) அவர் இராச்சியம் முழுவதும் தொழில் பயிற்சி நிறுவனங்களை நிறுவினார்.
- C) வேலை வாய்ப்புகளை உருவாக்க பெரிய அளவிலான பொதுப்பணித் திட்டங்களைத் தொடங்கினார்.
- D) வேலையில்லாத் திண்டாட்டத்தைத் தீர்க்க ஒரு வேலைவாய்ப்புப் பணியகத்தை நிறுவினார்
- E) விடை தெரியவில்லை

What initiative did Feroz Shah Tughlaq, the Sultan of Delhi, undertake in the medieval period to address unemployment?

- A) He introduced universal basic income for all citizens.
- B) He established vocational training institutes across the kingdom.
- C) He initiated large-scale public works projects to create jobs.
- D) He set up an Employment Bureau to solve the unemployment problem
- E) Answer not known



128. பின்வரும் கூற்றுகளை கருத்தில் கொள்க.

கூற்று I : தமிழ்நாடு அரசு பொது வேலை வாய்ப்பு மற்றும் கல்வி நிறுவனங்களில் பட்டியல் சாதியினர், பழங்குடியினர், மிகவும் பிற்படுத்தப்பட்ட வகுப்பினர் / மறுக்கப்பட்ட சமூகங்கள் மற்றும் பிற்படுத்தப்பட்ட வகுப்பினருக்கு 69% இடஒதுக்கீட்டை வழங்குகிறது.

கூற்று II : தமிழ்நாட்டில், திருநங்கைகள் பொதுப் பிரிவின் கீழ் வகைப்படுத்தப்பட்டுள்ளனர். அவர்களுக்கு இன்னும் எந்த இட ஒதுக்கீடும் செயல்படுத்தப்படவில்லை.

மேற்கண்ட கூற்றுகளில் எது/எவை சரியானது?

- A) I மட்டும்
B) II மட்டும்
C) இரண்டும்
D) இரண்டுமில்லை
E) விடை தெரியவில்லை

Consider the following statements.

Statement I : The state of Tamil Nadu provides 69% of reservation to the Scheduled Castes, Scheduled Tribes, Most Backward Classes /Denotified Communities and Backward Classes in public employment and in educational institutions.

Statement II : In TamilNadu, Transgenders are classified under General Category and still not any reservation implemented.

Which of the statements given above is/are correct?

- A) I only
B) II only
C) Both I and II
D) Neither I nor II
E) Answer not known

129. பின்வரும் கூற்றுகளைக் கருத்தில் கொள்க

I. கைலாஷ் சத்யார்த்தி பேட்டி பச்சாவோ அந்தோலனின் நிறுவனர் ஆவார்

II. 2014இல் அமைதிக்கான நோபல் பரிசு பெற்றார்.

III. 1998இல் குழந்தைத் தொழிலாளர்களுக்கு எதிராக 85,000 கிமீ உலகளாவிய அணிவகுப்பு நடத்தினார்.

IV. “ஒவ்வொரு பெண் குழந்தையும் முக்கியம்” என்பது கைலாஷ் சத்யார்த்தி எழுதிய புத்தகம்.

மேற்கண்ட கூற்றுகளில் எது/எவை சரியானது?

- A) ஒரு கூற்று மட்டும்
B) இரண்டு கூற்றுகள் மட்டும்
C) மூன்று கூற்றுகள் மட்டும்
D) நான்கு கூற்றுகள் மட்டும்
E) விடை தெரியவில்லை

Consider the following statements.

I. Kailash Satyarthi is a founder of Beti BachaoAndolan

II. He received Nobel prize for peace in 2014.

III. An 85,000 km Global March against Child Labour was led by him in 1998.

IV. “Every Girl Child Matters” is a Book written by Kailash Satyarthi.

Which of the statements given above is/are correct?

- A) One statement only
B) Two Statements only
C) Three Statements only
D) Four Statements only
E) Answer not known



130. ஒரு நிறுவனத்தில், ஆண் தொழிலாளர்களுடன் ஒப்பிடும்போது ஒரு பெண் உழைப்பாளி குறைவான ஊதியம் பெறுகிறார். இந்த நடைமுறைக்கு எதிரான சட்டத்தை நடைமுறைப்படுத்த நீதிமன்றத்திற்கு வழிகாட்டுதலாக எந்தப் பிரிவு பயன்படுத்தப்படுகிறது?
- A) சரத்து 39 (a) B) சரத்து 39 (b)
C) சரத்து 39 (c) D) சரத்து 39 (d)
E) விடை தெரியவில்லை
- In a company, a women labour is getting less wages compared to male labour. Which Article is used as a guidelines for the court to implement act against this practice?
- A) Article 39 (a) B) Article 39 (b)
C) Article 39 (c) D) Article 39 (d)
E) Answer not known
131. குழந்தை உரிமைகளைப் பாதுகாப்பதற்காக, ஒரு சட்டத்தை நடைமுறைப்படுத்த நீதிமன்றத்தில் எந்தக் சரத்துகள் செயல்படுத்தப்படுகின்றன?
- A) சரத்து 24 B) சரத்து 45
C) சரத்து 16 D) (A) மற்றும் (B) ஆகிய இரண்டும்
E) விடை தெரியவில்லை
- For protecting Child Rights, Which articles are enforced in court to implement a law?
- A) Article 24 B) Article 45
C) Article 16 D) Both (A) and (B)
E) Answer not known
132. பின்வரும் கூற்றுகளைக் கருத்தில் கொள்க
- I. காவலன் SOS செயலி தமிழ்நாடு மாநில காவல்துறை மாஸ்டர் கன்ட்ரோல் ரூம் முயற்சியின் ஒரு பகுதியாக தொடங்கப்பட்டது .
- II. இந்த செயலியைப் பயன்படுத்தி மக்கள் எளிதாகவும் நேரடியாகவும் மாநில காவல் கட்டுப்பாட்டு அறையை அணுகலாம்.
- மேற்கண்ட கூற்றுகளில் எது/எவை சரியானது?
- A) I மட்டும் B) II மட்டும்
C) இரண்டும் D) இரண்டுமில்லை
E) விடை தெரியவில்லை
- Consider the following statements.
- I. The Kavalan SOS App is launched as part of Tamil Nadu State Police Master Control Room Initiative.
- II. People can easily and directly access the State Police Control Room using this App.
- Which of the statements given above is/are correct?
- A) I only B) II only
C) Both I and II D) Neither I nor II
E) Answer not known



133. பின்வருவனவற்றில் அமைப்புசாரா துறையின் பொதுவான பண்புகள் எவை?

- I. முறையான சக ஊதியத்துடன் ஒப்பிடும்போது குறைந்த ஊதியம்
- II. பணிப் பாதுகாப்பு இல்லாமை
- III. அமைப்புசாரா துறையில் உள்ள நிறுவனங்கள் அரசிடம் பதிவு செய்யப்படுகின்றன.
- IV. மோசமான வேலை நிலைமைகள்

குறியீடுகள்:

- | | |
|-------------------------------|------------------------------|
| A) I, II மற்றும் IV மட்டும் | B) I, II மற்றும் III மட்டும் |
| C) II, III மற்றும் IV மட்டும் | D) மேற்கண்ட அனைத்தும் |
| E) விடை தெரியவில்லை | |

Which of the following are typical characteristics of the unorganised sector?

- I. Lower wages compared to formal counterpart
- II. Lack of job security
- III. The enterprises in the Unorganised sector are registered with the government.
- IV. Poor working conditions

Codes:

- | | |
|------------------------|-----------------------|
| A) I, II and IV only | B) I, II and III only |
| C) II, III and IV only | D) All of the above |
| E) Answer not known | |

134. பின்வருவனவற்றில் எது பொதுத்துறை நிறுவனமல்ல?

- | | |
|---------------------|-------------------------|
| A) BSNL | B) NLC |
| C) SAIL | D) மேற்கண்ட எதுவுமில்லை |
| E) விடை தெரியவில்லை | |

Which of the following is not a Public Sector Enterprise?

- | | |
|---------------------|----------------------|
| A) BSNL | B) NLC |
| C) SAIL | D) None of the above |
| E) Answer not known | |

135. சமீபத்திய ஆண்டுகளில், வேலைவாய்ப்பு முறைகளில் பின்வரும் போக்குகளில் எது முதலாளிகள் அதிக நெகிழ்வான பணி ஏற்பாடுகளை உருவாக்க பங்களித்தது?

- A) சுயவேலைவாய்ப்பை அதிகரித்தல்
- B) குறைவான முழுநேர ஊழியர்களைப் பயன்படுத்தும் நிறுவனங்கள் மற்றும் அதிக குறுகிய கால ஒப்பந்தங்களை வழங்குகின்றன
- C) பகுதி நேர வேலைவாய்ப்பில் வளர்ச்சி
- D) மேற்கண்ட அனைத்தும்
- E) விடை தெரியவில்லை

In recent years, which of the following trends in employment patterns has contributed to employers developing more flexible working arrangements?

- A) Increasing self-employment
- B) Firms using fewer full-time employees and offering more short-term contracts
- C) Growth in part-time employment
- D) All of the above
- E) Answer not known



136. பின்வரும் கூற்றுகளை கருத்தில் கொள்க.

கூற்று (A) : மொத்த உள்நாட்டு உற்பத்தியில் (GDP) கடுமையான சரிவைச் சந்தித்தாலும், தமிழ்நாட்டில் விவசாயம்தான் அதிக வேலை வாய்ப்பு தருபவராகத் தொடர்கிறது.

காரணம் (R) : விவசாயம் அல்லாத துறைகள் இன்னும் போதுமான வேலைவாய்ப்பை உருவாக்கவில்லை. இதனால் தொழிலாளர்கள் விவசாயத்திலிருந்து விலக்கி விடுகின்றனர்.

குறியீடுகள்:

A) (A) மற்றும் (R) இரண்டும் சரி மற்றும் (R) என்பது (A)-யின் சரியான விளக்கமாகும்

B) (A) மற்றும் (R) இரண்டும் சரி ஆனால் (R) என்பது (A)-யின் சரியான விளக்கமல்ல

C) (A) சரி ஆனால் (R) தவறு

D) (A) தவறு ஆனால் (R) சரி

E) விடை தெரியவில்லை

Consider the following statements.

Assertion (A) : Agriculture continues to be the largest employer in Tamil Nadu despite a sharp decline in gross domestic product (GDP).

Reason (R) : Non-agriculture sectors have not yet generated enough employment to shift the labour force away from agriculture.

Codes:

A) Both (A) and (R) are true and (R) is the correct explanation of (A)

B) Both (A) and (R) are true but (R) is not the correct explanation of (A)

C) (A) is true but (R) is false

D) (A) is false but (R) is true

E) Answer not known

137. கீழ்க்கண்டவற்றில் எது தகவல் அறியும் உரிமைச் சட்டத்திலிருந்து விலக்கு அளிக்கப்படவில்லை?

A) அறிவுசார் சொத்து உரிமைகள்

B) கேபினெட் தாள்கள்

C) சரக்கு மற்றும் சேவை வரி

D) மத்திய ஆயுத போலீஸ் படைகள்

E) விடை தெரியவில்லை

Which of the below are not exempted from Right to Information Act?

A) Intellectual Property Rights

B) Cabinet Papers

C) Goods and Services Tax

D) Central Armed Police Forces

E) Answer not known



138. பின்வரும் கூற்றுகளைக் கருத்தில் கொள்க

- I. மனித உரிமைகள் பாதுகாப்புச் சட்டம், 1993 பிரிவு 21ன் கீழ் மாநில மனித உரிமைகள் ஆணையம் நிறுவப்பட்ட.
- II. இது தானாக முன்வந்து செயல்பட முடியும் .
- III. மாநில மனித உரிமைகள் ஆணையம் மத்திய, மாநில மற்றும் ஒன்றிய பட்டியல்களில் குறிப்பிடப்பட்டுள்ள இனங்களை விசாரிக்கும்.
- IV. மாநில மனித உரிமைகள் ஆணையம் தமிழ்நாடு 1999இல் உருவாக்கப்பட்டது.

மேற்கண்ட கூற்றுகளில் எது/எவை சரியானது?

- A) I மற்றும் II மட்டும்
- B) II, III மற்றும் IV மட்டும்
- C) III மற்றும் IV மட்டும்
- D) I மற்றும் IV மட்டும்
- E) விடை தெரியவில்லை

Consider the following statements.

- I. State Human Rights Commission established under section 21 of the Protection of Human Rights Act, 1993.
- II. It can perform suo motu action.
- III. SHRC shall enquire into matters specified in Union, State and concurrent lists.
- IV. SHRC Tamil Nadu constituted on 1999.

Which of the statements given above is/are correct?

- A) I and II only
- B) II, III and IV only
- C) III and IV only
- D) I and IV only
- E) Answer not known

139. கலாச்சார மற்றும் கல்வி உரிமைகளைப் பாதுகாக்கும் அரசியலமைப்பு சரத்து எது?

- A) சரத்து 25
- B) சரத்து 27
- C) சரத்து 28
- D) சரத்து 30
- E) விடை தெரியவில்லை

Which Article protect the Cultural and Educational Rights?

- A) Article 25
- B) Article 27
- C) Article 28
- D) Article 30
- E) Answer not known

140. பின்வரும் கூற்றுகளை கருத்தில் கொள்க.

கூற்று I : 1972-73 முதல் கடந்த நான்கு தசாப்தங்களில் இந்தியாவில் வேலைவாய்ப்பு வளர்ச்சி சராசரியாக 2% அதிகரித்துள்ளது.

கூற்று II : தமிழ்நாட்டின் பெரும்பாலான வேலைவாய்ப்பு வளர்ச்சிக்கு அமைப்புசாரா மற்றும் முறைசாரா துறைகளின் பங்களிப்பு உள்ளது.

- A) கூற்று I உண்மை மற்றும் கூற்று II தவறானது
- B) கூற்று II உண்மை மற்றும் கூற்று I தவறானது
- C) இரண்டு கூற்றுகளும் உண்மை
- D) இரண்டு கூற்றுகளும் தவறானது
- E) விடை தெரியவில்லை



Consider the following statements:

Statement I : Employment growth in India has increased at an average rate of 2% during the past four decades since 1972–73.

Statement II : Most of the employment growth in Tamil Nadu has been contributed by the unorganised and informal sectors.

- A) Statement I is true and Statement II is false
B) Statement II is true and Statement I is false
C) Both the statements are true
D) Both the statements are false
E) Answer not known

141. பின்வரும் கூற்றுகளை கருத்தில் கொள்க.

I. ஷெர்ஷா சூரி 178 கிராம் எடையுள்ள வெள்ளி நாணயத்தை வெளியிட்டார், இது ரூபியா என்று அழைக்கப்படுகிறது.

II. முகலாய ஆட்சிக்குப் பிறகு வெள்ளி நாணயம் அதன் முக்கியத்துவத்தை இழந்தது.

மேற்கண்ட கூற்றுகளில் சரியானது எது/எவை?

- A) I மட்டும்
B) II மட்டும்
C) இரண்டும்
D) இரண்டுமில்லை
E) விடை தெரியவில்லை

Consider the following statements.

I. Sher Shah Suri issued a coin of silver weighing 178 grams, which was termed the Rupiya.

II. The Silver coin lost its significance after the Mughal rule

Which of the statements given above is/are correct?

- A) I only
B) II only
C) Both I and II
D) Neither I nor II
E) Answer not known

142. 'மறை நீர்' என்ற வார்த்தையின் அர்த்தம் என்ன?

- A) மெய்நிகர் உண்மை உருவகப்படுத்துதல்களில் பயன்படுத்தப்படும் நீர்
B) டிஜிட்டல் விளம்பரங்களில் பயன்படுத்தப்படும் நீர்
C) விவசாய அல்லது தொழில்துறை பொருட்களின் உற்பத்தி செயல்பாட்டில் நுகரப்படும் நீர்
D) மின்னணு வணிகத்தில் பெட்டியிடுதலில் பயன்படுத்தப்படும் நீர்
E) விடை தெரியவில்லை

What does the term 'Virtual Water' mean?

- A) Water used in virtual reality simulations
B) Water used in digital advertisements
C) The water consumed in the production process of an agricultural or industrial product
D) Water used in e-commerce packaging
E) Answer not known



143. டாக்டர் பீமாராவ் ராஜ்ஜி அம்பேத்கரின் எந்த ஆய்வு நூல், 1934ஆம் ஆண்டின் இந்திய ரிசர்வ் வங்கிச் சட்டத்திற்கான குறிப்புக் கருவியாகவும், வழிகாட்டுதல்களையும் வழங்கியது?
- A) கிழக்கிந்திய கம்பெனியின் நிர்வாகம் மற்றும் நிதி, 1915
B) பிரிட்டிஷ் இந்தியாவில் மாகாண நிதியின் பரிணாமம், 1925
C) ரூபாயின் பிரச்சனை – அதன் தோற்றம் மற்றும் தீர்வு, 1923
D) பண்டைய இந்திய வர்த்தகம், 1918
E) விடை தெரியவில்லை
- Which Thesis by Dr. Bhimrao Ramji Ambedkar served as the reference tool and provided guidelines for the Reserve Bank of India Act of 1934?
- A) Administration and Finance of the East India Company, 1915
B) The Evolution of Provincial Finance in British India, 1925
C) The Problem of the Rupee – Its Origin and Solution, 1923
D) Ancient Indian Commerce, 1918.
E) Answer not known
144. இந்திய ரிசர்வ் வங்கி பின்வரும் எந்த தேதியில் தனது செயல்பாடுகளைத் தொடங்கியது?
- A) ஜனவரி 1, 1935
B) ஏப்ரல் 1, 1935
C) ஜூலை 1, 1935
D) அக்டோபர் 1, 1935
E) விடை தெரியவில்லை
- The Reserve Bank of India commenced its operations on which of the following dates?
- A) 1st January 1935
B) 1st April 1935
C) 1st July 1935
D) 1st October 1935
E) Answer not known
145. அரசியலமைப்பு சரத்து 32ன் படி, முதல் மூன்றாம் பாலின காவல் அதிகாரியாக தனது உரிமையை வென்றவர் யார்?
- A) ஐஸ்வர்யா ருதுபர்ண பிரதான்
B) பிராச்சி ரத்தோர்
C) ப்ரீத்திகா யாசினி
D) ஆடம் ஹாரி
E) விடை தெரியவில்லை
- Who was the person won her right by Article 32 and become the First Third Gender Police Officer?
- A) Aishwarya Rutuparna Pradhan
B) Prachi Rathore
C) Preethika Yakshini
D) Adam Harry
E) Answer not known
146. பின்வருவனவற்றில் எது அடிப்படைக் கடமை அல்ல?
- I. அறிவியல் மனப்பான்மையை வளர்ப்பது
II. ஒரு தனிநபரின் தனியுரிமையைப் பாதுகாப்பது
III. உன்னத இலட்சியங்களைப் மதித்தல்
IV. தேர்தலுக்கு மதிப்பளித்து வாக்களிக்க வேண்டும்
- குறியீடுகள்:
- A) ஒரு கூற்று மட்டும்
B) இரண்டு கூற்றுகள் மட்டும்
C) மூன்று கூற்றுகள் மட்டும்
D) நான்கு கூற்றுகள் மட்டும்
E) விடை தெரியவில்லை



Which of the following is not a Fundamental Duty?

- I. To develop the scientific temper
- II. To safeguard the privacy of an individual
- III. Cherish the noble ideals
- IV. To value and vote for election

Codes:

- | | |
|--------------------------|-------------------------|
| A) One statement only | B) Two statements only |
| C) Three Statements only | D) Four Statements only |
| E) Answer not known | |

147. பின்வரும் கூற்றுகளை கருத்தில் கொள்க.

I. அடிப்படை உரிமைகளில் சாதாரண வாழ்க்கைக்கு அடிப்படையான உரிமைகள் மட்டுமே அடங்கும்.

II. சர்வதேச அளவில் அடிப்படை உரிமைகள் அங்கீகரிக்கப்பட்டுள்ளன.

மேற்கண்ட கூற்றுகளில் சரியானது எது/எவை?

- | | |
|---------------------|-----------------|
| A) I மட்டும் | B) II மட்டும் |
| C) இரண்டும் | D) இரண்டுமில்லை |
| E) விடை தெரியவில்லை | |

Consider the following statements.

I. Fundamental Rights includes only those rights which are basic to normal life

II. Fundamental Rights are recognized at international level.

Which of the statements given above is/are correct?

- | | |
|---------------------|---------------------|
| A) I only | B) II only |
| C) Both I and II | D) Neither I nor II |
| E) Answer not known | |

148. உலகப் போருக்குப் பிறகு சர்வதேச அமைதி மற்றும் பாதுகாப்பைப் பேணுவதற்காக உருவாக்கப்பட்ட அமைப்பின் தினம் என்ன?

- | | |
|---------------------|----------------|
| A) அக்டோபர் 24 | B) டிசம்பர் 10 |
| C) ஜனவரி 12 | D) ஜூன் 15 |
| E) விடை தெரியவில்லை | |

What is the day of an organization which created after the world war for maintaining international peace and security?

- | | |
|---------------------|----------------|
| A) October 24 | B) December 10 |
| C) January 12 | D) June 15 |
| E) Answer not known | |

149. பின்வருவனவற்றில் பணத்தின் செயல்பாடுகள் யாவை?

- I. பரிமாற்ற ஊடகம்
- II. மதிப்பின் நிலை கலன்
- III. எதிர்கால செலுத்துகைக்கான நிலைமதிப்பு
- IV. மதிப்பின் அளவுகோல்

குறியீடுகள்:

- | | |
|------------------------------|-------------------------------|
| A) I, II மற்றும் III மட்டும் | B) II, III மற்றும் IV மட்டும் |
| C) I, III மற்றும் IV மட்டும் | D) மேற்கண்ட அனைத்தும் |
| E) விடை தெரியவில்லை | |



Which of the following are functions of money?

- I. Medium of exchange
- II. A store of value
- III. Standard of deferred payments
- IV. A unit of measurement

Codes:

- A) I, II and III only
- B) II, III and IV only
- C) I, III and IV only
- D) All the above
- E) Answer not known

150. தவறாகப் பொருந்தியுள்ள இணையைக் கண்டறியவும்.

- | (நாடு) | (செலவாணி) |
|---------------------|------------|
| A) இங்கிலாந்து | - யூரோ |
| B) சீனா | - யுவான் |
| C) மலேசியா | - ரிங்கிட் |
| D) பாகிஸ்தான் | - ரூபாய் |
| E) விடை தெரியவில்லை | |

Find out the incorrectly matched pair.

- | (Country) | (Currency) |
|---------------------|------------|
| A) England | - Euro |
| B) China | - Yuan |
| C) Malaysia | - Ringgit |
| D) Pakistan | - Rupee |
| E) Answer not known | |

151. விலைக் கட்டுப்பாட்டை நடைமுறைப்படுத்துவதன் மூலம் ஒரு நாட்டில் பொருளாதார ஸ்திரத்தன்மையைப் பேணுவதற்கு யார் பொறுப்பு?

- A) நிதி அமைச்சகம்
- B) வணிகவியல் துறை
- C) அட்டவணைப்படுத்தப்பட்ட வணிக வங்கிகள்
- D) இந்திய ரிசர்வ் வங்கி
- E) விடை தெரியவில்லை

Who is responsible for maintaining economic stability in a country by implementing price controls?

- A) Ministry of Finance
- B) Department of Commerce
- C) Scheduled Commercial Banks
- D) Reserve Bank of India
- E) Answer not known



152. பட்டியல்-Iஐ பட்டியல்-II உடன் பொருத்துக.

பட்டியல்-I

- a) நாசிக் பண அச்சகம்
b) தேவாஸ் பண அச்சகம்
c) RBI தேசியமயமாக்கல்
d) வங்கி தேசியமயமாக்கல்

பட்டியல்-II

1. 1925
2. 1949
3. 1969
4. 1974

குறியீடுகள்:

	a	b	c	d
A)	1	2	3	4
B)	2	1	3	4
C)	1	4	2	3
D)	4	1	2	3

E) விடை தெரியவில்லை

Match List-I with List-II.

List-I

- a) Nasik Government Press
b) Dewas Government Press
c) RBI Nationalisation
d) Bank Nationalisation

List-II

1. 1925
2. 1949
3. 1969
4. 1974

Codes:

	a	b	c	d
A)	1	2	3	4
B)	2	1	3	4
C)	1	4	2	3
D)	4	1	2	3

E) Answer not known

153. பின்வரும் கூற்றுகளை கருத்தில் கொள்க.

I. 2001 மக்கள்தொகைக் கணக்கெடுப்புடன் ஒப்பிடுகையில், அடுத்த மக்கள்தொகை கணக்கெடுப்பில் மொத்த விவசாயத் தொழிலாளர்களின் எண்ணிக்கை குறைந்துள்ளது.

II. 2011ஆம் ஆண்டில் ஏறத்தாழ 55 சதவீதம் பெண்கள் வேளாண்மையில் ஈடுபட்டிருந்தனர். அதே சமயம் ஏறத்தாழ மூன்றில் ஒரு பங்கு (35.3%) ஆண்கள் வேளாண்மையில் ஈடுபட்டிருந்தனர்.

மேற்கண்ட கூற்றுகளில் தவறானது எது/எவை?

- A) I மட்டும்
B) II மட்டும்
C) இரண்டும்
D) இரண்டுமில்லை
E) விடை தெரியவில்லை



Consider the following statements.

- I. In comparison to the 2001 census, there was a decrease in the total population of agricultural workers in the subsequent census.
- II. In 2011, nearly 55% of the women were involved in agriculture whereas nearly one third (35.3%) of the male population was involved in agriculture.

Which of the statements given above is/are incorrect?

- A) I only
- B) II only
- C) Both I and II
- D) Neither I nor II
- E) Answer not known

154. பின்வரும் கூற்றுகளை கருத்தில் கொள்க.

- I. 1945ஆம் ஆண்டு ஐ.நா. பொது சபையில் UDHR என்று அழைக்கப்படும் பொது சபை தீர்மானம் 217A நிறைவேற்றப்பட்டது.
- II. மனித உரிமைகள் பற்றிய உலகளாவிய பேரறிக்கையில் 32 சரத்துகள் (Articles) உள்ளன. மேற்கண்ட கூற்றுகளில் தவறானது எது/எவை?

- A) I மட்டும்
- B) II மட்டும்
- C) இரண்டும்
- D) இரண்டுமில்லை
- E) விடை தெரியவில்லை

Consider the following statements.

- I. General Assembly Resolution 217A known as UDHR adopted on 1945.
- II. UDHR contains 32 Articles recognizing human rights

Which of the statements given above is/are incorrect?

- A) I only
- B) II only
- C) Both I and II
- D) Neither I nor II
- E) Answer not known

155. பின்வரும் கூற்றுகளை கருத்தில் கொள்க.

- I. பாலின சுரண்டலுக்கு எதிரான உரிமைகள் பகுதி III-இல் இந்திய அரசியலமைப்பில் குறிப்பிடப்பட்டுள்ளது.
- II. 1091 என்பது உதவி தேவைப்படும் குழந்தைகளுக்கான இந்தியாவின் முதல் அவசர சேவை அலைபேசி ஆகும்.

மேற்கண்ட கூற்றுகளில் தவறானது எது/எவை?

- A) I மட்டும்
- B) II மட்டும்
- C) இரண்டும்
- D) இரண்டுமில்லை
- E) விடை தெரியவில்லை

Consider the following statements.

- I. Rights against sexual exploitation enshrined in the constitution in Part III
- II. 1091 is Indias first emergency phone service for children in need of assistance.

Which of the statements given above is/are incorrect?

- A) I only
- B) II only
- C) Both I and II
- D) Neither I nor II
- E) Answer not known



156. தமிழ்நாடு பஞ்சாயத்து ராஜ் சட்டம், 1994இன் முக்கிய அம்சங்களில் இல்லாதது எது?

- A) மூன்று அடுக்கு அமைப்பு
- B) கிராம சபை
- C) பெண்களுக்கு மூன்றில் ஒரு பங்கு இட ஒதுக்கீடு
- D) SC/ST க்கு மூன்றில் ஒரு பங்கு இட ஒதுக்கீடு
- E) விடை தெரியவில்லை

Which is not the salient features of the Tamil Nadu Panchayat Raj Act, 1994?

- A) A Three Tier System
- B) Gram Sabha
- C) One third reservation seats for women
- D) One third reservation of seats for SC/ST
- E) Answer not known

157. பின்வரும் கூற்றுகளை கருத்தில் கொள்க.

- I. சிறு நாடுகளுக்குப் பொருத்தமானது
- II. ஒற்றை ஆட்சி முறை உடனடியாக முடிவெடுத்துத் துரிதமாகச் செயல்படுகிறது.
- III. உள்ளூர்சுய ஆட்சி
- IV. பண்பாட்டு முன்னேற்றங்களுக்கு நன்மை அளிக்கிறது.

மேற்கண்ட கூற்றுகளில் ஒற்றை ஆட்சி முறையின் நிறைகளில் எத்தனை சரியாக உள்ளது?

- A) ஒரு கூற்று மட்டும்
- B) இரண்டு கூற்றுகள் மட்டும்
- C) மூன்று கூற்றுகள் மட்டும்
- D) அனைத்து கூற்றுகளும்
- E) விடை தெரியவில்லை

Consider the following statements:

- I. Suitable for small countries
- II. Will make speedy decisions
- III. Local autonomy
- IV. Cultural progress

How many of the above features are most suitable merits for unitary form of government?

- A) One statement only
- B) Two statements only
- C) Three statements only
- D) All the statements
- E) Answer not known

158. ஆண்டுக்கு ஆறு முறை கிராம சபைக் கூட்டங்கள் நடத்தப்படுகின்றன. இதன்படி எது தவறு?

- I. நவம்பர் 14 – உள்ளூர் ஆளுகை தினம்
- II. மார்ச் 22 – உலக தண்ணீர் தினம்
- III. மே 1 – தொழிலாளர் தினம்
- IV. அக்டோபர் 2 – காந்தி ஜெயந்தி

குறியீடுகள்:

- A) I மட்டும்
- B) II மட்டும்
- C) II மற்றும் III மட்டும்
- D) III மற்றும் IV மட்டும்
- E) விடை தெரியவில்லை



Meetings of the Grama Sabha are conducted six times a year. According to this which one is incorrect?

- I. November 14 – Local Governance Day
- II. March 22 – World Water Day
- III. May 1 – Labourer Day
- IV. October 2 – Gandhi Jayanthi

Codes:

- A) I only
- B) II only
- C) II and III only
- D) III and IV only
- E) Answer not known

159. தவறான கூற்றைக் கண்டறியவும்:

- A) மொத்த புவியியல் பரப்பில் மூன்றில் ஒரு பங்கு நிலம் விவசாயத்திற்கு பயன்படுத்தப்படுகிறது.
- B) மொத்த சாகுபடி நிலப்பரப்பில் 57 சதவீதம் நீர்ப்பாசனம் செய்யப்படுகிறது.
- C) தமிழ்நாட்டில் விவசாயம் பெரும்பாலும் நிலத்தடி நீரை நம்பியே உள்ளது.
- D) உலகிலேயே அதிக அளவில் மறை நீரை தண்ணீரை ஏற்றுமதி செய்யும் நாடாக இந்தியா இருந்து வருகிறது
- E) விடை தெரியவில்லை

Find the incorrect statement:

- A) Out of the total geographical area one-third of the land is used for agriculture.
- B) The area under irrigation is about 57 percent of the total area under cultivation.
- C) Agriculture in Tamil Nadu is dependent mostly on groundwater.
- D) India has been the largest exporter of virtual water in the world
- E) Answer not known

160. நுண்ணீர் பாசனத் தொழில்நுட்பம் தொடர்பான பின்வரும் கூற்றுகளைக் கருத்தில் கொள்க:

- I. சீரான கால இடைவெளியில் அளவாக நீர் பாய்ச்சப்படுவதால் உற்பத்தித் திறன் மற்றும் நீர் பயன்பாட்டுத்திறன் அதிகரிப்பு.
- II. களை வளர்ச்சியினைக் கட்டுப்படுத்துகிறது.
- III. இத்தொழில்நுட்பம் பாரம்பரிய நீர்பாசன முறைகளை விட பயிர்களில் குறைந்த மகசூல் கிடைக்கவழி செய்கிறது.
- IV. விவசாய பணி ஆட்களின் செலவு அதிகரிப்பு.

மேற்கண்ட கூற்றுகளில் சரியானவை எவை?

- A) I, II மற்றும் III மட்டும்
- B) I, III மற்றும் IV மட்டும்
- C) I மற்றும் II மட்டும்
- D) மேற்கண்ட அனைத்தும்
- E) விடை தெரியவில்லை



Consider the following statements regarding Micro irrigation:

- I. It increases the ability of water usage and productivity of the crop
- II. Reduces weed growth in the field.
- III. Irrigation technology have a Lower yield when compared to the traditional irrigation methods
- IV. Increase in labour expenses.

Which of the statements given above are correct?

- A) I, II and III only
- B) I, III and IV only
- C) I and II only
- D) All the above
- E) Answer not known

161. பின்வரும் கூற்றுகளைக் கருத்தில் கொள்க.

- I. தென்னிந்தியாவில் கோதாவரிக்கு அடுத்தபடியாக இரண்டாவது பெரிய நதி காவிரி
- II. இதன் நீளம் 765 கி.மீ.
- III. காவிரி ஆற்றின் குறுக்கே தமிழ்நாட்டில் மேட்டூர் அணை மற்றும் கல்லணை கட்டப்பட்டுள்ளன.

மேற்கண்ட கூற்றுகளில் சரியானவை எவை?

- A) I மற்றும் II மட்டும்
- B) II மற்றும் III மட்டும்
- C) I மற்றும் III மட்டும்
- D) மேற்கண்ட அனைத்தும்
- E) விடை தெரியவில்லை

Consider the following statements.

- I. River Cauvery is the second largest river in South India next to Godavari
- II. Its length is 765 km.
- III. The dams constructed across Cauvery in Tamil Nadu are Mettur Dam, Kallanai.

Which of the statements given above are correct?

- A) I and II only
- B) II and III only
- C) I and III only
- D) All the above
- E) Answer not known

162. பின்வரும் கூற்றுகளைக் கருத்தில் கொள்க.

கூற்று (A) : 1965-1966 மற்றும் 2014-2015க்கு இடையில், சாகுபடி நிலம் குறைக்கப்பட்டாலும், உணவு தானிய உற்பத்தி 3.5 மடங்கு அதிகரித்துள்ளது.

காரணம் (R) : உற்பத்தித்திறன் இந்த காலகட்டத்தில் தொடர்ந்து உயர்ந்தது.

குறியீடுகள்:

- A) (A) மற்றும் (R) இரண்டும் சரி மற்றும் (R) என்பது (A)-யின் சரியான விளக்கமாகும்
- B) (A) மற்றும் (R) இரண்டும் சரி ஆனால் (R) என்பது (A)-யின் சரியான விளக்கமல்ல
- C) (A) சரி ஆனால் (R) தவறு
- D) (A) தவறு ஆனால் (R) சரி
- E) விடை தெரியவில்லை



Consider the following statements.

Assertion (A) : The food grain production has increased 3.5 times between 1965-1966 and 2014-2015, even though the land under cultivation has been reduced.

Reason (R) : Productivity continued to rise during the period.

Codes:

- A) Both (A) and (R) are true and (R) is the correct explanation of (A)
- B) Both (A) and (R) are true but (R) is not the correct explanation of (A)
- C) (A) is true but (R) is false
- D) (A) is false but (R) is true
- E) Answer not known

163. தமிழ்நாட்டில் வடகிழக்கு பருவமழை பெய்யும் காலம்

- A) ஆகஸ்ட் - அக்டோபர்
- B) அக்டோபர் - டிசம்பர்
- C) நவம்பர் - ஜனவரி
- D) செப்டம்பர் - டிசம்பர்
- E) விடை தெரியவில்லை

The period of the North-East monsoon in Tamil Nadu

- A) August - October
- B) October - December
- C) November - January
- D) September - December
- E) Answer not known

164. தவறான கூற்றைக் கண்டறியவும்:

- A) 2011 மக்கள் தொகை கணக்கெடுப்பின்படி இந்தியாவில் குடியேறியவர்களின் சதவீதத்துடன் ஒப்பிடும்போது தமிழ்நாட்டில் புலம்பெயர்ந்தோரின் சதவீதம் மிக அதிகமாக இருந்தது.
- B) தமிழ்நாடு மற்றும் இந்திய அளவில் கிராமப்புறங்களை விட நகர்ப்புறங்களில் இடம்பெயர்வு விகிதம் கணிசமாக அதிகமாக உள்ளது .
- C) 2011 ஆம் ஆண்டில், தமிழ்நாட்டில் ஒவ்வொரு ஐந்து பேரில் இருவர் புலம்பெயர்ந்தவர்கள் என்று தெரிவிக்கப்பட்டது.
- D) வேலை தொடர்பான இயக்கம் ஆண்களிடையே இடம்பெயர்வதற்கான உந்து சக்தியாகத் தோன்றுகிறது.
- E) விடை தெரியவில்லை

Find the incorrect statement :

- A) The percentage of migrants in Tamil Nadu was much higher compared to the percentage of migrants in India according to the 2011 census.
- B) Migration rates are substantially higher in urban areas compared to rural areas in both Tamil Nadu and India level.
- C) In Tamil Nadu in 2011, two out of every five persons were reported to be migrants.
- D) Movement related to work and employment appears to be the driving force for migration, among men.
- E) Answer not known



165. உலகிலேயே நீண்டதூரம் இடம்பெயரும் பறவை எது?

- A) ரெட் நாக்
B) ஆர்க்டிக் டெர்ன்
C) பெரேக்ரின் பால்கன்
D) அல்பாட்ராஸ்
E) விடை தெரியவில்லை

Which bird is known for having the longest migration distance in the world?

- A) Red Knot
B) Arctic Tern
C) Peregrine Falcon
D) Albatross
E) Answer not known

166. பட்டியல்-I, பட்டியல்-II உடன் பொருத்துக.

- | பட்டியல்-I
(நாடுகள்) | பட்டியல்-II
(நாடாளுமன்றத்தின் பெயர்) |
|-------------------------|---|
| a) ஜெர்மனி | 1. பாராளுமன்றம் |
| b) அமெரிக்கா | 2. காங்கிரஸ் |
| c) ஜப்பான் | 3. டயட் |
| d) பிரிட்டன் | 4. பந்தேஸ்டாக் |

குறியீடுகள்:

- | | a | b | c | d |
|----|---|---|---|---|
| A) | 4 | 2 | 3 | 1 |
| B) | 1 | 2 | 4 | 3 |
| C) | 3 | 2 | 1 | 4 |
| D) | 2 | 3 | 4 | 1 |

E) விடை தெரியவில்லை

Match List-I with List-II.

- | List-I
(Country) | List-II
(Name of Parliament) |
|---------------------|---------------------------------|
| a) Germany | 1. Parliament |
| b) U.S.A | 2. Congress |
| c) Japan | 3. Diet |
| d) Britain | 4. Bundestag |

Codes:

- | | a | b | c | d |
|----|---|---|---|---|
| A) | 4 | 2 | 3 | 1 |
| B) | 1 | 2 | 4 | 3 |
| C) | 3 | 2 | 1 | 4 |
| D) | 2 | 3 | 4 | 1 |

E) Answer not known



167. இந்தியாவில் பஞ்சாயத்து ராஜ் அமைப்பைப் பற்றிய பின்வரும் கூற்றுகளை கருத்தில் கொள்க.
- I. 1952இல் வந்த தேசிய நீட்டிப்பு சேவையானது, 1957இல் 'பஞ்சாயத்து ராஜ் பற்றிய மாபெரும் சாசனத்திற்கு' அடிப்படையாக அமைந்தது.
- II. பஞ்சாயத்துராஜ் அமைப்பு அக்டோபர் 2, 1959 அன்று நாக்பூர் மாவட்டத்தில் ஜவஹர்லால் நேருவால் தொடங்கப்பட்டது.

மேற்கண்ட கூற்றுகளில் தவறானது எது/எவை?

- A) I மட்டும்
B) II மட்டும்
C) இரண்டும்
D) இரண்டுமில்லை
E) விடை தெரியவில்லை

With reference to Panchayat Raj system in india consider the following statements

- I. National Extension Service which came in 1952 laid basis for 'The Great Charter on Panchayat Raj' in 1957.
- II. Panchayatraj system was inaugurated on October 2, 1959 in Nagpur district by Jawaharlal Nehru.

Which of the following statements is/are incorrect?

- A) I only
B) II only
C) Both I and II
D) Neither I nor II
E) Answer not known

168. தவறாகப் பொருந்தியுள்ள இணையைக் கண்டறியவும்.

(குழுக்கள்)

(பரிந்துரைகள்)

- I. பல்வந்த ராய் மேத்தா குழு – அனைத்து மட்டங்களிலும் நேரடி தேர்தல்
II. அசோக் மேத்தா குழு – மூன்றடுக்கு அமைப்பு
III. ஜி.வி.கே ராவ் குழு – வேர்கள் கொண்ட புல்
IV. எல்.எம் சிங்வி குழு – 73வது மற்றும் 74வது அரசியலமைப்பு திருத்தங்கள்

குறியீடுகள்:

- A) ஒரு கூற்று மட்டும்
B) இரண்டு கூற்று மட்டும்
C) மூன்று கூற்றுகள் மட்டும்
D) அனைத்து கூற்றுகளும்
E) விடை தெரியவில்லை

Find out the incorrectly matched pair.

(Committees)

(Recommendations)

- I. Balwant Rai Mehta Committee – Direct Election at all level
II. Ashok Mehta Committee – Three-tier system
III. GVK Rao Committee – Grass with roots
IV. L M Singhvi Committee – 73rd and 74th Constitutional Amendments

Codes:

- A) One Pair only
B) Two Pair only
C) Three Pairs only
D) All Pairs
E) Answer not known



169. தமிழகத்தில் 21 மாநகராட்சிகள் உள்ளன. அவற்றில் எது சமீபத்தில் சேர்க்கப்படவில்லை?
கடலூர் B) நாகர்கோவில்
C) கும்பகோணம் D) சிவகாசி
E) விடை தெரியவில்லை
- In Tamil Nadu there are 21 corporations. Which of the one is not added recently?
A) Cuddalore B) Nagercoil
C) Kumpakonam D) Sivakasi
E) Answer not known
170. பின்வரும் கூற்றுகளை கருத்தில் கொள்க.
I. குழாய் மூலம் குடிநீர் வழங்கும் திட்டம் பெரியார் அவர்களால் 1917 இல் செயல்படுத்தப்பட்டது.
II. இந்திய நகராட்சி நிர்வாக வரலாற்றில் இத்திட்டம் முதன்முறையாக ஏற்படுத்தப்பட்டது. மேற்கண்ட கூற்றுகளில் சரியானது எது/எவை?
A) I மட்டும் B) II மட்டும்
C) இரண்டும் D) இரண்டுமில்லை
E) விடை தெரியவில்லை
- Consider the following statements.
I. Piped Water Supply Scheme was implemented by Periyar in 1917
II. This scheme was said to be first of kind in the history of Indian Municipal administration.
Which of the statements given above is/are correct?
A) I only B) II only
C) Both I and II D) Neither I nor II
E) Answer not known
171. பெண் புலம்பெயர்ந்தோர் தொடர்பான பின்வரும் கூற்றுகளை கருத்தில் கொள்க.
I. 2011 ஆம் ஆண்டு மக்கள்தொகை கணக்கெடுப்பில், ஆண்களுடன் ஒப்பிடும்போது பெண்கள் புலம்பெயர்ந்தோர் எண்ணிக்கை அதிகம் என்று வெளியிடப்பட்டுள்ளது.
II. பெரும்பாலான பெண்கள் இடம்பெயர்வதற்கான காரணம் திருமணத்தை சார்ந்து உள்ளது. மேற்கண்ட கூற்றுகளில் தவறானது எது/எவை?
A) I மட்டும் B) II மட்டும்
C) இரண்டும் D) இரண்டுமில்லை
E) விடை தெரியவில்லை
- Consider the following statements regarding female migrants:
I. In the 2011 census, a larger proportion of females were reported to be migrants compared to males.
II. Majority of the women cited marriage as their reason for migration
Which of the statements given above is/are incorrect?
A) I only B) II only
C) Both I and II D) Neither I nor II
E) Answer not known



172. இந்தியா போன்ற வளரும் நாடுகளில் இடம்பெயர்வு பிரச்சினைகளை கையாள்வதை நோக்கமாகக் கொண்ட கொள்கைகளின் முக்கிய நோக்கங்கள் என்ன??
- A) இடம்பெயர்வு அளவை அதிகரிக்க.
B) வறுமை மற்றும் பாதுகாப்பின்மையைக் குறைக்க கிராமப்புற வளர்ச்சியில் கவனம் செலுத்துதல்.
C) பெரிய பெருநகரங்களுக்கு இடம்பெயர்வதை ஊக்குவிக்க.
D) இடஞ்சார்ந்த ஏற்றத்தாழ்வுகளை பராமரிக்க.
E) விடை தெரியவில்லை
- What are the main objectives of policies aimed at tackling migration issues in developing countries such as India?
- A) To increase the volume of migration.
B) To focus on rural development to reduce poverty and insecurity.
C) To encourage migration to big metropolitan cities.
D) To maintain spatial inequalities.
E) Answer not known
173. இந்தியாவின் ஆன்மா கிராமத்தில் வாழ்கிறது – என்று கூறியவர் யார்?
- A) இந்திய ஜனநாயகத்தின் தந்தை
B) இந்திய அரசியலமைப்பின் தந்தை
C) உள்ளூர் சுய அரசாங்கத்தின் தந்தை
D) தேசத்தின் தந்தை
E) விடை தெரியவில்லை
- India's soul lives in the village – Said by
- A) Father of Indian Democracy
B) Father of Indian Constitution
C) Father of Local self government
D) Father of Nation
E) Answer not known
174. தகவல் அறியும் உரிமை சட்டம் 2005இலிருந்து தகவல்களைப் பெறுவதற்கான கால வரம்பு என்ன?
- A) 20 நாட்கள்
B) 25 நாட்கள்
C) 30 நாட்கள்
D) 35 நாட்கள்
E) விடை தெரியவில்லை
- What is the time limit to get the information from RTI Act 2005?
- A) 20 days
B) 25 days
C) **30 days**
D) 35 days
E) Answer not known
175. பின்வரும் கூற்றுகளை கருத்தில் கொள்க.
- கூற்று (A)** : உரிமைகளும் கடமைகளும் ஒரே நாணயத்தின் இரு பக்கங்கள்.
காரணம் (R) : மத சுதந்திரம் அனைத்து குடிமக்களின் உரிமை ஆகும். நாம் மத நல்லிணக்கத்தையும், பிற மதத்தினரின் உணர்வையும் வளர்க்க வேண்டும்.



குறியீடுகள்:

- A) (A) மற்றும் (R) இரண்டும் சரி மற்றும் (R) என்பது (A)-யின் சரியான விளக்கமாகும்
 B) (A) மற்றும் (R) இரண்டும் சரி ஆனால் (R) என்பது (A)-யின் சரியான விளக்கமல்ல
 C) (A) சரி ஆனால் (R) தவறு
 D) (A) தவறு ஆனால் (R) சரி
 E) விடை தெரியவில்லை

Consider the following statements.

Assertions (A) : Rights and duties are the two sides of the same coin.

Reason (R) : We have a right to freedom of religions. We have to promote harmony and the spirit of the people of other religions.

Codes:

- A) Both (A) and (R) are true and (R) is the correct explanation of (A)
 B) Both (A) and (R) are true but (R) is not the correct explanation of (A)
 C) (A) is true but (R) is false
 D) (A) is false but (R) is true
 E) Answer not known

176. பாலா, தனது அறையில் 3 அடி அகலமுள்ள ஒற்றைக் கதவையும், விக்னேஷ், தனது அறையில் ஒவ்வொன்றும் $1\frac{1}{2}$ அடி அகலமுள்ள இரட்டைக் கதவுகளையும் பொருத்தியுள்ளார்கள். கதவுகள் அனைத்தும் மூடிய நிலையிலிருந்து 120° அளவு வரை திறக்க இயலும் எனில், யாருடைய கதவினைத் திறந்து மூடுவதற்குத் தரைப்பகுதியில் குறைவான பரப்பளவு தேவைப்படுகிறது?

- A) ஒற்றை கதவு
 B) இரட்டை கதவு
 C) இரண்டு கதவுகளுக்கும் ஒரே பரப்பளவு தேவை
 D) போதுமான தரவு இல்லை
 E) விடை தெரியவில்லை

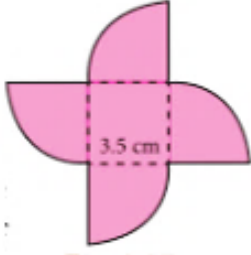
Bala has fixed a single door of 3 feet wide in his room where as Vignesh has fixed a double door, each $1\frac{1}{2}$ feet wide in his room. From the closed state, if each of the single and double doors can open up to 120 degree, which door requires a minimum area?

- A) Single Door
 B) Double Door
 C) Both door requires same area
 D) Not Adequate Data
 E) Answer not known

177. 15 மீ × 8 மீ என்ற அளவுள்ள செவ்வக வடிவ நிலத்தின் 4 மூலைகளிலும் அதன் நடுவிலும் 3 மீ நீளமுள்ள கயிற்றால் பசுக்கள் கட்டப்பட்டுள்ளன எனில் எந்தப் பசுவாலும் புற்கள் மேயப்படாத பகுதியின் பரப்பளவைக் காண்க. ($\pi = 3.14$)

- A) 63.42 மீ²
 B) 63.48 மீ²
 C) 62.44 மீ²
 D) 28.26 மீ²
 E) விடை தெரியவில்லை

Find the area of the given shape.



- A) 50.75 cm² B) 51.75 cm²
C) 52.75 cm² D) 52.65 cm²
E) Answer not known

181. நிஷாந்தின் சாவிக்கொத்தானது 5செ.மீ. பக்க அளவுள்ள சதுரத்துடன் ஒரு சமபக்க முக்கோணத்தையும், ஓர் அரை வட்டத்தையும் படத்தில் உள்ளவாறு இணைத்து உருவாக்கப்பட்டுள்ளது எனில் அதன் பரப்பளவைக் காண்க.



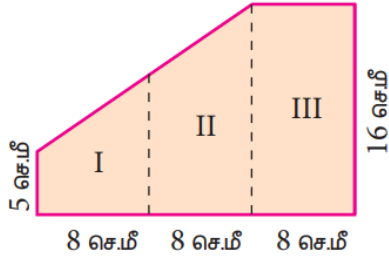
- A) 44.54 செ.மீ² B) 45.64 செ.மீ²
C) 56.45 செ.மீ² D) 36.44 செ.மீ²
E) விடை தெரியவில்லை

Nishanth has a key-chain which is in the form of an equilateral triangle and a semicircle attached to a square of side 5 cm as shown in the Fig. Find its area.



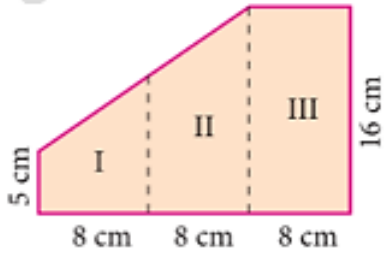
- A) 44.54 cm² B) 45.64 cm²
C) 56.45 cm² D) 36.44 cm²
E) Answer not known

182. ஒரு 3 மடிப்பு அழைப்பிதழ் அட்டையானது படத்தில் உள்ளவாறு அளவுகளைக் கொண்டுள்ளது. அதன் பரப்பளவைக் காண்க.



- A) 346 செ.மீ² B) 286 செ.மீ²
C) 276 செ.மீ² D) 296 செ.மீ²
E) விடை தெரியவில்லை

A 3-fold invitation card is given with measures. Find its area.



- A) 346 cm² B) 286 cm²
C) 276 cm² D) 296 cm²
E) Answer not known

183. ஒரு நூலகத்தின் நுழைவாயிலில் இரண்டு கதவுகள் பொருத்தப்பட்டுள்ளன. கதவினை எளிதில் திறப்பதற்காக, அது பொருத்தப்பட்டுள்ள சுவற்றிலிருந்து 6 அடி தூரத்தில் கதவின் அடிப்பகுதியில் ஒரு சக்கரம் பொருத்தப்பட்டுள்ளது. ஒரு கதவினை 90° அளவிற்குத் திறக்கும்பொழுது சக்கரம் எவ்வளவு தூரத்தைக் கடக்கும். ($\pi = 3.14$)

- A) 8.52 அடி B) 9.42 அடி
C) 8.42 அடி D) 9.72 அடி
E) விடை தெரியவில்லை

Two gates are fitted at the entrance of a library. To open the gates easily, a wheel is fixed at 6 feet distance from the wall to which the gate is fixed. If one of the gates is opened to 90°. Find the distance moved by the wheel. ($\pi = 3.14$)

- A) 8.52 feet B) 9.42 feet
C) 8.42 feet D) 9.72 feet
E) Answer not known

184. கமலேஷ் என்பவர் 70 செ.மீ. ஆரமுள்ள வட்ட வடிவ உணவு மேசையும், தருண் என்பவர் 140 செ.மீ. ஆரமுள்ள கால்வட்ட வடிவ உணவு மேசையும் வைத்துள்ளனர் எனில், யாருடைய உணவு மேசை அதிகப் பரப்பளவைக் கொண்டுள்ளது? ($\pi = 22/7$).

- A) கமலேஷ் B) தருண்
C) இரண்டு மேசைகளும் சமம் D) தரவு போதுமானதாக இல்லை
E) விடை தெரியவில்லை



Kamalesh has a dining table, circular in shape of radius 70 cm whereas Tharun has a circular quadrant dining table of radius 140 cm. Whose dining table has a greater area? ($\pi = 22/7$).

- A) Kamalesh
B) Tharun
C) Both Tables are Equal
D) Data inadequate
E) Answer not known

185. ஒரு முக்கோணத்தின் அரை சுற்றளவைக் கண்டறிக. அதன் பக்கங்கள் 15 செ.மீ., 20 செ.மீ மற்றும் 25 செ.மீ.

- A) 15 செ.மீ
B) 45 செ.மீ
C) 30 செ.மீ
D) 60 செ.மீ
E) விடை தெரியவில்லை

Find the semi perimeter of a triangle. Sides are 15 cm, 20 cm and 25 cm.

- A) 15 cm
B) 45 cm
C) 30 cm
D) 60 cm
E) Answer not known

186. செவ்வக நிலத்தின் பரப்பளவு 240 மீ² ஆகும். அதன் நீளத்திலிருந்து 8 மீ குறைத்தால் அது சதுரமாக மாறும். நிலத்தின் நீளம் மற்றும் அகலத்தைக் காண்க.

- A) 20 செ.மீ., 12 செ.மீ
B) 12 செ.மீ., 20 செ.மீ
C) 12 செ.மீ., 8 செ.மீ
D) 20 செ.மீ., 8 செ.மீ
E) விடை தெரியவில்லை

The area of rectangular land is 240 m². If 8m is decreased from its length it will become a square. Find the length and breadth.

- A) 20 cm, 12 cm
B) 12 cm, 20 cm
C) 12 cm, 8 cm
D) 20 cm, 8 cm
E) Answer not known

187. ஒரு சமபக்க முக்கோணத்தின் பரப்பளவு $900\sqrt{3}$ செமீ² ஆக இருந்தால், சமபக்க முக்கோணத்தின் பக்கத்தைக் கண்டறிக.

- A) 30 செ.மீ
B) 60 செ.மீ
C) 90 செ.மீ
D) 120 செ.மீ
E) விடை தெரியவில்லை

Find the side of the equilateral triangle if the area of an equilateral triangle is $900\sqrt{3}$ cm².

- A) 30 cm
B) 60 cm
C) 90 cm
D) 120 cm
E) Answer not known

188. ஒரு வண்டி சக்கரத்தின் ஆரம் 35 செ.மீ. 154 மீட்டர் தூரம் பயணிக்க எத்தனை முறை சுழற்சி செய்ய வேண்டும்?

- A) 70
B) 60
C) 90
D) 120
E) விடை தெரியவில்லை



The radius of a cart wheel is 35 cm. How many revolution does it make in travelling a distance of 154 m?

- A) 70
B) 60
C) 90
D) 120
E) Answer not known

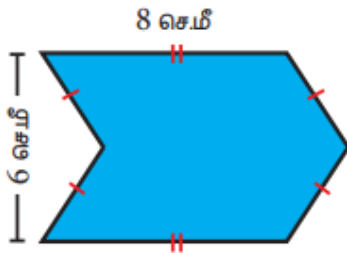
189. ஒரு கனசதுரத்தில் _____ உள்ளன.

- A) 6 முகங்கள், 8 விளிம்புகள், 8 உச்சிகள்
B) 6 முகங்கள், 12 விளிம்புகள் மற்றும் 8 உச்சிகள்
C) 6 முகங்கள் 10 விளிம்புகள் மற்றும் 12 உச்சிகள்
D) 6 முகங்கள், 10 விளிம்புகள் மற்றும் 8 உச்சிகள்
E) விடை தெரியவில்லை

A cube has _____.

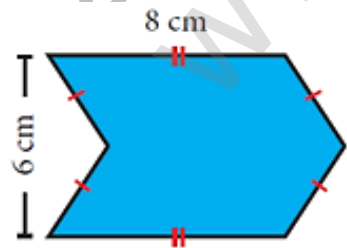
- A) 6 faces, 8 edges, 8 Vertices
B) 6 faces, 12 edges and 8 vertices
C) 6 faces 10 edges and 12 vertices
D) 6 faces, 10 edges and 8 vertices
E) Answer not known

190. படத்தில் கொடுக்கப்பட்டுள்ளவாறு, இரண்டு இணைகரங்களை ஒன்றாக இணைத்து உருவாக்கப்பட்டக் கூட்டு வடிவத்தின் பரப்பளவைக் காண்க.



- A) 48 செமீ²
B) 68 செமீ²
C) 38 செமீ²
D) 28 செமீ²
E) விடை தெரியவில்லை

Find the area of the combined figure given which is got by the joining of two parallelograms.



- A) 48 cm²
B) 68 cm²
C) 38 cm²
D) 28 cm²
E) Answer not known



191. ஒரு வட்டக்கோணப் பகுதியின் ஆரம் 21 செ.மீ மற்றும் அதன் மையக்கோணம் 120° எனில், வில்லின் நீளம் மற்றும் அதன் பரப்பளவை காண்க.

- A) 42 செ.மீ., 442 ச.செ.மீ
 B) 44 செ.மீ., 462 ச.செ.மீ
 C) 44 செ.மீ., 442 ச.செ.மீ
 D) 42 செ.மீ., 462 ச.செ.மீ
 E) விடை தெரியவில்லை

The radius of a sector is 21cm and its central angle is 120° . The arc length and area of the sector are:

- A) 42 cm, 442 sq.cm
 B) 44cm, 462 sq.cm
 C) 44 cm, 442 sq.cm
 D) 42 cm, 462 sq.cm
 E) Answer nor known

192. 70 செ.மீ. ஆரமுள்ள வட்டமானது 5 சம அளவுள்ள வட்டக்கோணப் பகுதிகளாகப் பிரிக்கப்படுகிறது. அவை ஒவ்வொன்றின் பரப்பளவைக் காண்க.

- A) 392π செமீ²
 B) 588π செமீ²
 C) 784 செமீ²
 D) 980π செமீ²
 E) விடை தெரியவில்லை

A circle of radius 70 cm is divided into 5 equal sectors. Find the area of each of the sectors.

- A) 392π cm²
 B) 588π cm²
 C) 784 cm²
 D) 980π cm²
 E) Answer not known

193. வட்டத்தின் சுற்றளவிற்கும் அதன் விட்டத்திற்கும் இடையேயான விகிதம்

- A) $1 : \pi$
 B) $2\pi : 1$
 C) $\pi : 1$
 D) $\pi r : 2$
 E) விடை தெரியவில்லை

The ratio between the circumference and diameter of any circle is

- A) $1 : \pi$
 B) $2\pi : 1$
 C) $\pi : 1$
 D) $\pi r : 2$
 E) Answer not known

194. மையக்கோணம் மற்றும் ஆரம் முறையே 45° மற்றும் 16 செமீ ஆகும். வில்லின் நீளத்தைக் கண்டறிக

- A) 25.14 செ.மீ
 B) 12.56 செ.மீ
 C) 50.28 செ.மீ
 D) 18.85 செ.மீ
 E) விடை தெரியவில்லை

The central angle and radius of the sector are 45° and 16 cm respectively. Find the length of the arc:

- A) 25.14 cm
 B) 12.56 cm
 C) 50.28 cm
 D) 18.85 cm
 E) Answer not known



195. 7 செ.மீ விட்டமுள்ள நான்கு பதக்கங்களைப் படத்தில் உள்ளவாறு வைக்கும் பொழுது, இடையில் அடைபடும் நிழலிடப்பட்ட பகுதியின் பரப்பளவைக் காண்க.



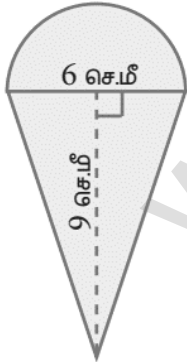
- A) 13.5 சதுர செ.மீ
B) 12.5 சதுர செ.மீ
C) 11.5 சதுர செ.மீ
D) 10.5 சதுர செ.மீ
E) விடை தெரியவில்லை

Four identical medals, each of diameter 7cm are placed as shown in the figure below. Find the area of the shaded region between the medals.



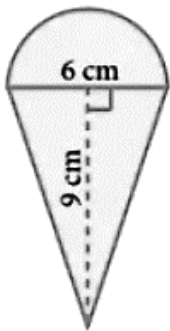
- A) 13.5 sq.cm
B) 12.5 sq.cm
C) 11.5 sq.cm
D) 10.5 sq.cm
E) Answer not known

196. 6 செ.மீ விட்டமுள்ள அரைவட்டத்தையும், அடிப்பக்கம் 6 செ.மீ மற்றும் உயரம் 9 செ.மீ அளவுள்ள முக்கோணத்தையும் படத்தில் உள்ளவாறு இணைத்து உருவாக்கப்பட்டக் கூட்டு வடிவத்தின் பரப்பளவைக் காண்க. ($\pi = 3.14$)



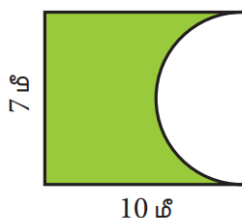
- A) 15 செமீ²
B) 60 செமீ²
C) 30 செமீ²
D) 41.13 செமீ²
E) விடை தெரியவில்லை

Find the area of the combined figure given, formed by joining a semicircle of diameter 6 cm with a triangle of base 6 cm and height 9 cm. ($\pi = 3.14$)



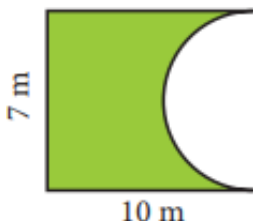
- A) 15 cm^2
C) 30 cm^2
E) Answer not known
- B) 60 cm^2
D) 41.13 cm^2

197. கொடுக்கப்பட்ட படத்தின் சுற்றளவு காண்க:



- A) 48 மீ
C) 38 மீ
E) விடை தெரியவில்லை
- B) 68 மீ
D) 28 மீ

Find the perimeter given figure:



- A) 48 m
C) 38 m
E) Answer not known
- B) 68 m
D) 28 m

198. 'a' அலகு பக்க அளவுள்ள ஒரு சதுரத்திலிருந்து மிகப்பெரிய வட்டத்தை வெட்டியெடுத்தால், மீதமுள்ள பகுதியின் பரப்பளவு காண்க. ($\pi = 22/7$)

- A) $11/14 a^2$ சதுர அலகுகள்
C) $5/14 a^2$ சதுர அலகுகள்
E) விடை தெரியவில்லை
- B) $3/14 a^2$ சதுர அலகுகள்
D) $1/14 a^2$ சதுர அலகுகள்

If the biggest circle is cut from a square of side 'a' units, then find the remaining area in the square. ($\pi = 22/7$).

- A) $11/14 a^2$ sq.units
C) $5/14 a^2$ sq.units
E) Answer not known
- B) $3/14 a^2$ sq.units
D) $1/14 a^2$ sq.units



199. சன்னலின் நீள அகலங்கள் முறையே 1 மீ மற்றும் 70 செ.மீ ஆகும். நீள, அகலங்களின் விகிதம் காண்க.

- A) 1:7
B) 7: 1
C) 7:10
D) 10:7

E) விடை தெரியவில்லை

The length and breadth of a window are in 1 m and 70 cm respectively. The ratio of the length to the breadth is

- A) 1:7
B) 7: 1
C) 7:10
D) 10:7

E) Answer not known

200. ஒரு செவ்வகத்தின் ஒவ்வொரு பக்கமும் இரு மடங்காகும் போது அதனுடைய பரப்பளவு _____ மடங்காகும்.

- A) 2
B) 4
C) 6
D) 3

E) விடை தெரியவில்லை

If every side of a rectangle is doubled, then its area becomes _____ times.

- A) 2
B) 4
C) 6
D) 3

E) Answer not known

* * * * *



**SHANKAR
IAS ACADEMY™**
Best Academy for Civil Services Exam Coaching

SPACE FOR ROUGH WORK

SHANKAR IAS ACADEMY
www.Padasalai.Net



**SHANKAR
IAS ACADEMY™**
Best Academy for Civil Services Exam Coaching

SPACE FOR ROUGH WORK

SHANKAR IAS ACADEMY
www.Padasalai.Net



வினாத்தொகுப்பு எண் :

பதிவு எண்

--	--	--	--	--	--	--	--	--	--

Test - 7

2024

**பொதுத் தமிழ் (பத்தாம் வகுப்பு தரம்) மற்றும் பொது அறிவு
(பட்டப்படிப்பு தரம்)**

இந்த வினாப்புத்தகம்

பகுதி - அ (பொதுத் தமிழ்) மற்றும் பகுதி - ஆ (பொது அறிவு) உள்ளடக்கியது

கால அளவு : 3.00 மணி நேரம்]

[மொத்த மதிப்பெண்கள் : 300

வினாக்களுக்கு பதிலளிக்கும் முன் கீழ்க்கண்ட அறிவுரைகளை கவனமாகப் படிக்கவும்

முக்கிய அறிவுரைகள்

- இந்த வினாத்தொகுப்பு, தேர்வு தொடங்குவதற்கு 15 நிமிடங்களுக்கு முன்னதாக உங்களுக்கு வழங்கப்படும்.
- இந்த வினாத்தொகுப்பு, **200** வினாக்களைக் கொண்டுள்ளது. விடையளிக்கத் தொடங்குமுன் இவ்வினாத் தொகுப்பில் எல்லா வினாக்களும் வரிசையாக இடம் பெற்றுள்ளனவா என்பதையும், இடையில் வெற்றுத்தாள்கள் எவையுமில்லை என்பதையும் உறுதி செய்து கொள்ளவும். வினாத் தொகுப்பில் ஏதேனும் குறைபாடு இருப்பின், அதனை முதல் பத்து நிமிடங்களுக்குள் அறைக்கண்காணிப்பாளரிடம் தெரிவித்து, சரியாக உள்ள வேறொரு வினாத் தொகுப்பினை பெற்றுக்கொள்ள வேண்டும். தேர்வு தொடங்கிய பின்பு, இது குறித்து முறையிட்டால் வினாத் தொகுப்பு மாற்றித் தரப்படமாட்டாது.
- எல்லா வினாக்களுக்கும் விடையளிக்கவும், எல்லா வினாக்களும் சமமான மதிப்பெண்கள் கொண்டவை.
- உங்களுடைய பதிவு எண்ணை இந்தப் பக்கத்தின் வலது மேல் மூலையில் அதற்கென அமைந்துள்ள இடத்தில் நீங்கள் எழுத வேண்டும். வேறு எதையும் வினாத் தொகுப்பில் எழுதக் கூடாது.
- விடைத்தாள் ஒன்று விடைகளை குறிப்பதற்கு அறைக்கண்காணிப்பாளரால் உங்களுக்கு வழங்கப்படும். விடைகளைக் குறிப்பது உள்ளிட்ட அவசியம் பின்பற்றப்பட வேண்டிய அறிவுரைகள் விடைத்தாளிலும், தேர்வுக்கூட அனுமதிச் சீட்டிலும் வழங்கப்பட்டுள்ளன.
- உங்களுடைய வினாத்தொகுப்பு, எண்ணை (Question Booklet Number) விடைத்தாளின் முதல் பக்கத்தில் அதற்கென அமைந்துள்ள இடத்தில் கருமை நிற மையுடைய பந்துமுனைப் பேனாவினால் குறித்துக் காட்ட வேண்டும். வினாத்தொகுப்பு எண்ணை விடைத்தாளில் சரியாகக் குறித்துக் காட்டத் தவறினாலோ அல்லது குறிக்கத் தவறினாலோ உங்களுடைய விடைத்தாள் செல்லாததாகக்கப்படும்.
- ஒவ்வொரு வினாவும் A), (B), (C), (D), (E) என ஐந்து பதில்களைக் (விடைகள்) கொண்டுள்ளது. நீங்கள் A) அல்லது B) அல்லது C) அல்லது D) இவைகளில் ஒரே ஒரு சரியான விடையைத் தெரிவு செய்து விடைத்தாளில் குறித்துக்காட்ட வேண்டும். ஒரு கேள்விக்கு ஒன்றுக்கு மேற்பட்ட சரியான விடை இருப்பதாக நீங்கள் கருதினால், மிகச்சரியானது என நீங்கள் எதைக் கருதுகிறீர்களோ அந்த விடையை விடைத்தாளில் குறித்துக்காட்ட வேண்டும். உங்களுக்கு விடை தெரியவில்லை எனில், நீங்கள் (E) என்பதை அவசியம் நிரப்ப வேண்டும். எப்படியாயினும், ஒரு கேள்விக்கு ஒரே ஒரு விடையைத் தான் தேர்ந்தெடுக்க வேண்டும். நீங்கள் ஒரு வேள்விக்கு ஒன்றுக்கு மேற்பட்ட விடையளித்தால், அவற்றுள் ஒரு விடை சரியானதாக இருந்தாலும் அந்த விடை தவறானதாகவே கருதப்படும்.
- நீங்கள் வினாத் தொகுப்பின் எந்தப் பக்கத்தையும் நீக்கவோ அல்லது கிழிக்கவோ கூடாது. தேர்வு நேரத்தில் இந்த வினாத் தொகுப்பினையோ அல்லது விடைத்தாளையோ தேர்வு அறையை விட்டு வெளியில் எடுத்துச் செல்லக் கூடாது. தேர்வு முடிந்தபின் நீங்கள் உங்களுடைய விடைத்தாளை கண்காணிப்பாளரிடம் கொடுத்து விட வேண்டும். இவ்வினாத் தொகுப்பினை தேர்வு முடிந்த பின்னர் மட்டுமே நீங்கள் எடுத்துச் செல்ல அனுமதிக்கப்படுவீர்கள்.
- குறிப்புகள் எழுதிப்பார்ப்பதற்கு வினாத்தொகுப்பின் கடைசி பக்கத்திற்கு முன் உள்ள பக்கங்களை பயன்படுத்திக் கொள்ளலாம். இதைத்தவிர வினாத்தொகுப்பின் எந்த இடத்திலும் எந்தவித குறிப்புகளையும் எழுதக்கூடாது. இந்த அறிவுரை கண்டிப்பாக பின்பற்றப்படவேண்டும்.
- வினா வரிசை எண்கள் 101 முதல் 200 வரை (பகுதி - ஆ) ஆங்கில வடிவே இறுதியானது.
- நீங்கள் மேற்கண்ட அறிவுரைகளில் எவற்றையாவது பின்பற்றத் தவறினால் தேர்வாணையம் எடுக்கும் நடவடிக்கைகளுக்கு உள்ளாக நேரிடும் என அறிவுறுத்தப்படுகிறது.

⌋

[Turn over

For queries mail to For queries mail to : zerofeedback@shankariasacad.in; [Turn over

Kindly Send Me Your Key Answer to Our email id - Padasalai.net@gmail.com



பகுதி - அ — பொதுத் தமிழ் (பத்தாம் வகுப்பு தரம்)

Part A — General Tamil (SSLC Std)

வினாக்கள் : 1-100

மொத்த மதிப்பெண்கள் : 150

Questions : 1-100

Total Marks : 150

1. “புலவர் பாடும் புகழுடையோர் விசும்பின் வலவன் ஏவா வான ஊர்தி” என்ற பாடலடிகள் இடம்பெற்றுள்ள நூல் எது?
 - A) அகநானூறு
 - B) சீவகசிந்தாமணி
 - C) புறநானூறு
 - D) பரிபாடல்
 - E) விடை தெரியவில்லை
2. “கவிஞர் வைரமுத்து” பற்றிய பின்வரும் கூற்றுகளைக் கருத்தில் கொள்க.
 - I. தேனி மாவட்டத்திலுள்ள மெட்டூர் என்னும் ஊரில் பிறந்தவர்.
 - II. இந்திய அரசின் உயர்ந்த விருதுகளுள் ஒன்றான பத்மபூஷண் விருதினைப் பெற்றவர் மற்றும் கள்ளிக்காட்டு இதிகாசம் புதினத்துக்காக 2003 ஆம் ஆண்டு சாகித்திய அகாதெமி விருது பெற்றவர்.
 - III. இந்தியாவின் சிறந்த பாடலாசிரியருக்கான தேசிய விருதினை ஏழு முறையும் மாநில அரசின் விருதினை ஆறு முறையும் பெற்றவர்.
 மேற்கூறியவற்றுள் சரியானது எது/எவை?
 - A) I மற்றும் II மட்டும்
 - B) II மற்றும் III மட்டும்
 - C) I மற்றும் III மட்டும்
 - D) மேற்கண்ட அனைத்தும்
 - E) விடை தெரியவில்லை
3. பின்வருவனவற்றுள் தொல்காப்பியர் கூறும் நான்கறிவு உயிரினங்கள் எவை?
 - A) கரையான், எறும்பு
 - B) கரையான், நண்டு
 - C) தும்பி, எறும்பு
 - D) நண்டு, தும்பி
 - E) விடை தெரியவில்லை
4. தொல்காப்பியர் கூறும் மூவறிவு உயிரினத்தின் அறியும் ஆற்றல் என்ன?
 - A) உற்றறிதல் + சுவைத்தல் + நுகர்தல்
 - B) உற்றறிதல் + நுகர்தல் + காணல்
 - C) உற்றறிதல் + சுவைத்தல் + காணல்
 - D) உற்றறிதல் + காணல் + கேட்டல்
 - E) விடை தெரியவில்லை
5. “தொல்காப்பியம்” பற்றிய பின்வரும் கூற்றுகளைக் கருத்தில் கொள்க.
 - I. தமிழ்மொழியில் கிடைக்கப்பெற்ற முதல் இலக்கண நூல்.
 - II. இது எழுத்து, சொல், பொருள் என மூன்று அதிகாரங்களையும் 27 இயல்களையும் கொண்டுள்ளது.
 - III. பொருளதிகாரத்தில் தமிழரின் அகம் புறம் சார்ந்த வாழ்வியல் நெறிகளையும் தமிழ் இலக்கியக் கோட்பாடுகளையும் இந்நூல் விளக்குகிறது.



மேற்கூறியவற்றுள் சரியானது எது/எவை?

- A) I மற்றும் II மட்டும்
B) II மற்றும் III மட்டும்
C) I மற்றும் III மட்டும்
D) மேற்கண்ட அனைத்தும்
E) விடை தெரியவில்லை

6. “சொன்னோர்” என்னும் வினையாலணையும் பெயரின் வேர்ச்சொல் யாது?

- A) சொ
B) சொன்
C) சொல்
D) சொல்லி
E) விடை தெரியவில்லை

7. எத்தனை பெரிய வானம்! எண்ணிப்பார் உனையும் நீயே என்று பாடியவர் யார்?

- A) வைரமுத்து
B) பாரதியார்
C) பாரதிதாசன்
D) கவிமணி
E) விடை தெரியவில்லை

8. “இந்திய விண்வெளித் திட்டத்தின் தந்தை” என்று அழைக்கப்படுபவர் யார்?

- A) விக்ரம் சாராபாய்
B) அப்துல்கலாம்
C) மயில்சாமி அண்ணாதுரை
D) சிவன்
E) விடை தெரியவில்லை

9. “அப்துல்கலாம்” பற்றிய பின்வரும் கூற்றுகளைக் கருத்தில் கொள்க.

- I. இந்தியாவின் 11 ஆவது குடியரசுத் தலைவராகப் பணியாற்றியவர்.
II. “இந்திய ஏவுகணை நாயகன்” என்று போற்றப்படுகின்றார்.
III. இந்தியாவின் உயரிய விருதான பாரதரத்னா விருது பெற்றவர்.

மேற்கூறியவற்றுள் சரியானது எது/எவை?

- A) I மற்றும் II மட்டும்
B) II மற்றும் III மட்டும்
C) I மற்றும் III மட்டும்
D) மேற்கண்ட அனைத்தும்
E) விடை தெரியவில்லை

10. பின்வருவனவற்றுள் “விக்ரம் சாராபாய்” பற்றிய தவறான கூற்றினைத் தேர்ந்தெடு.

- A) ஆரியபட்டா என்ற முதல் செயற்கைக்கோள் ஏவுதலுக்குக் காரணமானவர்.
B) செயற்கைக்கோள் உதவியுடன் தொலைக்காட்சி வழியாக 24,000 இந்திய கிராமங்களில் உள்ள ஐம்பது இலட்சம் மக்களுக்குக் கல்வியை எடுத்துச் செல்ல உதவினார்.
C) நம்முடைய நாட்டிலிருந்து ஏவப்படும் அனைத்துச் செயற்கைக்கோள் ஏவு ஊர்திகளும் இவர் உருவாக்கிய ‘சித்தாரா’ செயலியைப் பயன்படுத்தித்தான் விண்ணில் ஏவப்படுகின்றன.
D) இருவடைய முயற்சியால்தான் இஸ்ரோ தொடங்கப்பட்டது.
E) விடை தெரியவில்லை

11. இந்தியாவின் செவ்வாய் சுற்றுக்கலன் திட்டத்தின் திட்ட இயக்குநராகப் பணியாற்றியவர் யார்?

- A) மயில்சாமி அண்ணாதுரை
B) கே.சிவன்
C) அருண் சுப்பையா
D) வளர்மதி
E) விடை தெரியவில்லை



12. பின்வருவனவற்றுள் “வளர்மதி” பற்றிய தவறான கூற்றைத் தேர்ந்தெடுக்க.
- A) திருநெல்வேலி மாவட்டத்தின் ஏர்வாடி அருகில் உள்ள கோதைசேரி என்னும் ஊரைச் சேர்ந்தவர்.
- B) 2015 இல் தமிழ்நாடு அரசின் அப்துல்கலாம் விருதைப் பெற்ற முதல் அறிவியல் அறிஞர்.
- C) 2012 இல் உள் நாட்டிலேயே உருவான முதல் ரேடார் இமேஜிங் செயற்கைக்கோள் (RISAT - I) திட்டத்தின் இயக்குநராகப் பணியாற்றினார்.
- D) இஸ்ரோவின் செயற்கைக்கோள் திட்ட இயக்குநராகப் பணியாற்றிய இரண்டாவது பெண் அறிவியல் அறிஞர் ஆவார்
- E) விடை தெரியவில்லை
13. “இளைய கலாம்” என்று அழைக்கப்படுபவர் யார்?
- A) மயில்சாமி அண்ணாதுரை
B) கே.சிவன்
C) அருணன் சுப்பையா
D) வளர்மதி
E) விடை தெரியவில்லை
14. தமது அறிவியல் அனுபவங்களை, கையருகே நிலா என்னும் நூலாக எழுதியுள்ளவர் யார்?
- A) மயில்சாமி அண்ணாதுரை
B) கே. சிவன்
C) அருணன் சுப்பையா
D) வளர்மதி
E) விடை தெரியவில்லை
15. பின்வருவனவற்றுள் தவறான கூற்றைத் தேர்ந்தெடு.
- A) நியூயார்க்கைச் சேர்ந்த செஸ்டர் கார்ல்சன் என்பவரால் 1959 இல் ஜெராக்ஸ் இயந்திரம் உலகிற்கு அறிமுகப்படுத்தப்பட்டது.
- B) 1846 இல் ஸ்காட்லாந்துக் கண்டுபிடிப்பாளர் அலெக்சாண்டர் பெயின் என்பார் குறியீடுகளை மின்னாற்றல் உதவியுடன் அச்சிடுவதில் வெற்றிகண்டு அதற்குரிய காப்புரிமையைப் பெற்றார்.
- C) இத்தாலி நாட்டு இயற்பியல் அறிஞர் ஜியோவான்னி காசில்லி என்பவர் பான்டெலிகிராஃப் என்ற தொலைநகல் கருவியை உருவாக்கினார்.
- D) 1865 இல் நியூயார்க் நகரிலிருந்து பாரிஸ் நகரத்துக்குத் தொலைநகல் சேவை தொடங்கப்பட்டது.
- E) விடை தெரியவில்லை
16. பின்வரும் கூற்றுகளைக் கருத்தில் கொள்க.
- I. 1985 இல் அமெரிக்காவின் ஹாங்க் மாக்னஸ்கி என்பவர் கணினி மூலம் தொலைநகல் எடுக்கும் தொழில்நுட்பத்தைக் கண்டுபிடித்தார்.
- II. கணினி மூலம் தொலைநகல் எடுக்கும் முதல் கருவிக்கு காமா ஃபேக்ஸ் என்று பெயரிட்டு விற்பனைக்குக் கொண்டு வரப்பட்டது.
- மேற்கூறியவற்றுள் சரியானது எது/எவை?
- A) I மட்டும்
B) II மட்டும்
C) இரண்டும்
D) இரண்டுமில்லை
E) விடை தெரியவில்லை



17. பொருத்துக.

(கண்டுபிடிப்பு)

- a) தானியங்கிப் பண இயந்திரம்
b) இணைய வணிகம்
c) கடவுச் சொல்லுடன் கூடிய அட்டை
d) வையக விரிவு வலை

(கண்டுபிடிப்பாளர்)

1. மைக்கேல் ஆல்ட்ரிச்
2. டிம் பெர்னெர்ஸ் லீ
3. ஜான் ஷெப்பர்டு பாரன்
4. ஆட்ரியன் ஆஷ்டீல்

குறியீடுகள் :

- | | <i>a</i> | <i>b</i> | <i>c</i> | <i>d</i> |
|----|----------|----------|----------|----------|
| A) | 1 | 2 | 3 | 4 |
| B) | 2 | 1 | 3 | 4 |
| C) | 2 | 4 | 1 | 3 |
| D) | 3 | 1 | 4 | 2 |
- E) விடை தெரியவில்லை

18. பின்வருவனவற்றுள் தவறான கூற்றினைத் தேர்ந்தெடு.

- A) 1981 இல் இணையம், பொதுமக்களின் பயன்பாட்டுக்கு வந்தது.
B) ஆளறிசோதனைக் கருவி மனிதனின் கைகே, முகம், விழித்திரை ஆகியவற்றில் ஒன்றையோ அனைத்தையுமோ அடையாளமாகப் பதிவு செய்யவும் பதிவு செய்த அடையாளம் மூலம் மறுபடி ஆளை அறியவும் பயன்படுகிறது.
C) பார்க்லேஸ் வங்கி இலண்டனில் 1967 ஜூன் 27 இல் தானியங்கிப் பண இயந்திரத்தை நிறுவியது.
D) 1989 இல் அமெரிக்காவில் இணையவழி மளிகைக்கடை தொடங்கப்பட்டது.
E) விடை தெரியவில்லை

19. பின்வருவனவற்றுள் தவறான இணையைக் கண்டறிக.

(ஆங்கிலச் சொல்)

(தமிழ்ச் சொல்)

- A) Smart Card – திறன் அட்டை
B) Swiping Machine – அட்டை தேய்ப்பி இயந்திரம்
C) Automated Teller Machine – தானியங்கிப் பண இயந்திரம்
D) Fax – ஒளிப்படி இயந்திரம்
E) விடை தெரியவில்லை

20. “வல்லினம் மிகா இடங்கள்” பற்றிய தவறான கூற்றினைத் தேர்ந்தெடு.

- A) வினாப் பெயர்களின் பின் வல்லினம் மிகாது.
B) மூன்றாம், ஆறாம் வேற்றுமை விரிகளில் வல்லினம் மிகாது.
C) எழுவாய்த் தொடரில் வல்லினம் மிகாது.
D) ஆறாம் வேற்றுமைத்தொகையில் வல்லினம் மிகாது.
E) விடை தெரியவில்லை



21. சந்திப்பிழையுள்ள சொல்லைத் தேர்ந்தெடுக்க.
A) குடிதண்ணீர் B) வந்த சிரிப்பு
C) புலி தோல் D) வளர்பிறை
E) விடை தெரியவில்லை
22. சந்திப்பிழையுள்ள சொல்லைத் தேர்ந்தெடுக்க.
A) உலகப்பந்து B) கூவாக்குயில்
C) தாமரைப்பாதம் D) திருவளர்ச் செல்வன்
E) விடை தெரியவில்லை
23. தவறாக பொருந்தியுள்ள இணையைக் கண்டறிக.
(நூல்) (நூலாசிரியர்)
A) அக்னிச் சிறகுகள் – அப்துல் கலாம்
B) ஏன், எதற்கு, எப்படி? – சுஜாதா
C) கரும்பலகை யுத்தம் – சிங்கிஸ் ஜத்மத்தவ்
D) கல்வியில் நாடகம் – பிரளயன்
E) விடை தெரியவில்லை
24. பின்வரும் இணைகளைக் கருத்தில் கொள்க.
(ஆங்கிலச் சொல்) (தமிழ்ச் சொல்)
I. Launch Vehicle – ஏவு ஊர்தி
II. Video Conference – காணொலிக் கூட்டம்
III. Nautical Mile – கடல் மைல்
IV. Missile – வான் ஊர்தி
V. Passenger Name Record – பயணியர் பெயர்ப் பதிவு
மேற்கண்டவற்றுள் எத்தனை இணைகள் சரியாக பொருந்தியுள்ளன?
A) 1 B) 2
C) 3 D) 4
E) விடை தெரியவில்லை
25. சங்ககாலப் பெண்பாற் புலவர்களுள் தவறான ஒன்றினைத் தேர்ந்தெடு.
A) ஓளவையார் B) நப்பசலையார்
C) மணிமேகலை D) காவற்பெண்டு
E) விடை தெரியவில்லை
26. “முத்துலெட்சுமி ரெட்டி” பற்றிய தவறான கூற்றினைத் தேர்ந்தெடுக்க.
A) இந்தியப்பெண்கள் சங்கத்தின் முதல் தலைவர்.
B) சென்னை மாநகராட்சியின் முதல் மேயர்.
C) சட்ட மேலவைக்குத் தேர்ந்தெடுக்கப்பட்ட முதல் பெண்மணி.
D) தமிழகத்தின் முதல் பெண் மருத்துவர்.
E) விடை தெரியவில்லை



27. “முத்துலெட்சுமி ரெட்டி” பற்றிய பின்வரும் கூற்றுகளைக் கருத்தில் கொள்க.
- I. தேவதாசிமுறை ஒழிப்புச் சட்டம், இருதார தடைச்சட்டம், பெண்களுக்குச் சொத்துரிமை வழங்கும் சட்டம், குழந்தைத் திருமணத் தடைச்சட்டம் ஆகியவை நிறைவேறக் காரணமாக இருந்தவர்.
- II. அடையாற்றில் 1930 இல் அவ்வை இல்லம், 1952 இல் புற்றுநோய் மருத்துவமனை ஆகியவற்றை நிறுவினார்.
- மேற்கூறியவற்றுள் சரியானது எது/எவை?
- A) I மட்டும்
B) II மட்டும்
C) இரண்டும்
D) இரண்டுமில்லை
E) விடை தெரியவில்லை
28. பெண்கள் மருத்துவராவதை மருத்துவ உலகமே விரும்பாத காலத்தில் மருத்துவராகி, தமிழகத்திற்கு வந்து, வேலூரில் இலவச மருத்துவம் அளித்தவர் யார்?
- A) முத்துலெட்சுமி ரெட்டி
B) மூவலூர் இராமாமிர்தம்
C) ஐடாஸ் சோபியா ஸ்கட்டர்
D) சரோஜினி நாயுடு
E) விடை தெரியவில்லை
29. பின்வரும் எந்தக் குழுவானது பெண்கல்விக்கு முதன்முதலில் பரிந்துரை செய்தது?
- A) மெக்காலே கல்விக்குழு
B) கோத்தாரி கல்விக்குழு
C) ஹண்டர் கல்விக்குழு
D) இராதாகிருஷ்ணன் கல்விக்குழு
E) விடை தெரியவில்லை
30. பின்வருவனவற்றுள் தவறான கூற்றினைத் தேர்ந்தெடு.
- A) நாட்டின் முதல் பெண் ஆசிரியர் சாவித்திரியாய் பூலே ஆவார்.
B) பாகிஸ்தானில், பெண்கல்வி வேண்டுமெனப் போராட்டக் களத்தில் இறங்கியபோது மலாலாவின் வயது பன்னிரண்டு.
C) 1857 இல் பெண்களுக்கான பள்ளியானது முதன்முதலில் தொடங்கப்பட்டது.
D) இந்தியாவில் குழந்தையைப் பாதுகாப்போம் என்ற அமைப்பை நிறுவி, இதுவரைக்கும் 80 ஆயிரம் குழந்தைகள் கல்விபெற உதவியதற்காக 2014 இல் நோபல் பரிசினைப் பெற்றவர் கைலாஷ் சத்யார்த்தி ஆவார்.
E) விடை தெரியவில்லை
31. குழந்தைத் திருமணத்திற்கு எதிரான சாரதா சட்டம் எந்த ஆண்டு கொண்டுவரப்பட்டது?
- A) 1929
B) 1930
C) 1935
D) 1926
E) விடை தெரியவில்லை
32. “ஈ.த.இராஜேஸ்வரி அம்மையார்” பற்றிய தவறான கூற்றினைத் தேர்ந்தெடு.
- A) திருமந்திரம், தொல்காப்பியம், கைவல்யம் போன்ற நூல்களிலுள்ள அறிவியல் உண்மைகள் குறித்துச் சொற்பொழிவு ஆற்றியுள்ளார்.
B) சென்னை மாநிலக்கல்லூரியில் அறிவியல் பேராசிரியராகப் பணியாற்றினார்.
C) சூரியன், பரமாணுப் புராணம் போன்ற அறிவியல் நூல்களை எழுதியுள்ளார்.
D) தமிழ், இலக்கியம், அறிவியல் ஆகிய துறைகளிலும் சிறந்து விளங்கினார்.
E) விடை தெரியவில்லை



33. தனித் தமிழில் சிறந்த நீலாம்பிகை அம்மையாரின் படைப்புகளுள் பொருந்தா ஒன்றினைத் தேர்ந்தெடு?
- A) ஆங்கிலம் தமிழ் அகரவரிசை
B) தனித்தமிழ்க் கட்டுரை
C) முப்பெண்மணிகள் வரலாறு
D) பட்டினத்தார் பாராட்டிய மூவர்
E) விடை தெரியவில்லை
34. கல்வி பற்றிய பின்வரும் தொடர்களில் பொருந்தா ஒன்றினைத் தேர்ந்தெடு.
- (தொடர்) (இடம்பெற்றுள்ள நூல்)
- A) கற்றோருக்குச் சென்ற இடமெல்லாம் சிறப்பு – மூதுரை
B) கைப்பொருள் தன்னின் மெய்ப்பொருள் கல்வி – கொன்றை வேந்தன்
C) கல்வி கரையில் கற்பவர் நாள்சில – நாலடியார்
D) கல்வியழகே அழகு – நான்மணிக்கடிகை
E) விடை தெரியவில்லை
35. “தவிர்க்க ஒணா” - இலக்கணக்குறிப்பு தருக.
- A) ஈறுகெட்ட எதிர்மறைப் பெயரெச்சம்
B) பெயரெச்சம்
C) வினையெச்சம்
D) எதிர்மறைப் பெயரெச்சம்
E) விடை தெரியவில்லை
36. பின்வருவனவற்றுள் தவறான இணையைத் தேர்ந்தெடுக்க.
- (பாடலடிகள்) (கூறியவர்)
- A) பட்டங்கள் ஆள்வதும் சட்டங்கள் செய்வதும் பாரினில் பெண்கள் நடத்த வந்தோம் – பாரதி
B) மங்கையராய்ப் பிறப்பதற்கே நல்ல மாதவம் செய்திடல் வேண்டுமம்மா – கவிமணி
C) கல்வி இல்லாத பெண்கள் களர்நிலம் – நாமக்கல் கவிஞர்
D) பெண்எனில் பேதை என்ற எண்ணம் இந்த நாட்டில் இருக்கும் வரைக்கும் உருப்படல் என்பது சரிப்படாது – பாவேந்தர்
E) விடை தெரியவில்லை
37. பின்வருவனவற்றுள் தவறான இணையைத் தேர்ந்தெடுக்க.
- (சொல்) (இலக்கணக் குறிப்பு)
- A) வில்வாள் – உருவகம்
B) மலர்க்கை – உவமைத்தொகை
C) உரையாமை – எதிர்மறைத் தொழிற்பெயர்
D) அறிவார் – வினையாலணையும் பெயர்
E) விடை தெரியவில்லை
38. “புவாது காய்க்கும் மரம் உள; நன்று அறிவார்,
.
.
..... மேதைக்கு
உரையாமை செல்லும் உணர்வு”



– இப்பாடலடிகள் பயின்று வந்துள்ள அணி யாது?

- A) உவமை அணி
B) எடுத்துக்காட்டு உவமையணி
C) உருவக அணி
D) பிறிதுமொழிதல் அணி
E) விடை தெரியவில்லை

39. 'குடும்ப விளக்கு' பற்றிய பின்வரும் கூற்றுகளைக் கருத்தில் கொள்க.

I. குடும்ப உறவுகள் அன்பு என்னும் நூலால் பிணைந்துள்ளது என்பதை உணர்த்துகிறது; குடும்பம் தொடங்கி உலகினைப் பேணுதல்வரை தன் பணிகளைச் சிறப்பாகச் செய்யும் பெண்ணுக்குக் கல்வி முதன்மையானதும் இன்றியமையாததும் ஆகும்.

II. இந்நூல் ஐந்து பகுதிகளாகப் பகுக்கப்பட்டுள்ளது. முதற்பகுதியில் விருந்தோம்பல் தலைப்பானது இடம்பெற்றுள்ளது.

மேற்கண்ட கூற்றுகளில் சரியானது எது/எவை?

- A) I மட்டும்
B) II மட்டும்
C) இரண்டும்
D) இரண்டுமில்லை
E) விடை தெரியவில்லை

40. 'பாரதிதாசன்' பற்றிய பின்வரும் கூற்றுகளைக் கருத்தில் கொள்க.

I. இவரது இயற்பெயர் கனக சுப்பிரமணியன்.

II. பாண்டியன் பரிசு, அழகின் சிரிப்பு, இருண்டவிடு, குடும்ப விளக்கு, தமிழியக்கம் உள்ளிட்டவை இவரது படைப்புகள் ஆகும்.

III. இவரது பிசிராந்தையார் நாடக நூலுக்குச் சாகித்திய அகாதெமி விருது வழங்கப்பட்டுள்ளது. மேற்கண்ட கூற்றுகளில் சரியானவை எவை?

- A) I மற்றும் II மட்டும்
B) II மற்றும் III மட்டும்
C) I மற்றும் III மட்டும்
D) மேற்கண்ட அனைத்தும்
E) விடை தெரியவில்லை

41. பின்வருவனவற்றுள் தவறான கூற்றினைத் தேர்ந்தெடுக்க.

A) தமிழில் சங்க இலக்கியங்களைத் தொடர்ந்து நீதிநூல்கள் தோன்றின. அவை பதினெண் மேற்கணக்கு எனத் தொகுக்கப்பட்டுள்ளன.

B) சிறுபஞ்சமூலம் என்பதற்கு ஐந்து சிறிய வேர்கள் என்று பெயர்.

C) சிறுபஞ்ச மூலத்தின் ஆசிரியர் காரியாசான், மதுரைத் தமிழாசிரியர் மாக்காயனாரின் மாணாக்கர்.

D) கண்டங்கத்திரி, சிறுவழுதுணை, சிறுமல்லி, பெருமல்லி, நெருஞ்சி ஆகியவற்றின் வேர்களால் ஆன மருந்து உடலின் நோயைப் போக்குகின்றது. அதுபோலச் சிறுபஞ்சமூலம் பாடல்களில் உள்ள ஐந்தைந்து கருத்துகள் மக்களின் அறியாமையைப் போக்குகின்றது.

E) விடை தெரியவில்லை

42. 'மின்னாள்' – என்பதன் எதிர்ப்பதம் தருக.

- A) ஒளிர்வாள்
B) ஒளிரமாட்டாள்
C) அடக்கமுடையவள்
D) அடங்காதவள்
E) விடை தெரியவில்லை



43. பின்வருவனவற்றுள் தவறான கூற்றினைத் தேர்ந்தெடுக்க.
 A) 10 வயதிற்குள்ளாகவே சொற்பொழிவு நிகழ்த்தவும், பாடவும் ஆற்றல் பெற்றவர் வள்ளலார்.
 B) 13-வது வயதிலேயே அரசவையில் கவிதை எழுதி பாரதி என்னும் பட்டம் பெற்றவர் பாரதியார்.
 C) 15-வது வயதிலேயே பிரெஞ்சு இலக்கியக் கழகத்திற்குத் தமது கவிதைகளை எழுதியனுப்பியவர் விக்டர் ஹியூகோ.
 D) 16-வது வயதிலேயே தமது தந்தையின் போர்ப் படையில் தளபதியானவர் மாவீரன் அலெக்ஸாண்டர்.
 E) விடை தெரியவில்லை
44. 'தாவா' என்பதன் பொருள் யாது?
 A) முளையாதிருத்தல்
 B) கெடாதிருத்தல்
 C) சாவாதிருத்தல்
 D) இளமையாக இருத்தல்
 E) விடை தெரியவில்லை
45. பின்வரும் அறிஞர் அண்ணாவின் கூற்றுகளுள் பொருந்தா ஒன்றினைத் தேர்ந்தெடுக்க.
 A) நான் இன்னும் வாசிக்காத நல்ல புத்தகம் ஒன்றை வாங்கி வந்து என்னை சந்திப்பவனே என் தலைசிறந்த நண்பன்.
 B) எதையும் தாங்கும் இதயம் வேண்டும்.
 C) உணவு, உடை, அடிப்படைத் தேவை அந்தத் தேவையைப் பூர்த்தி செய்தானதும் முதல் இடம் புத்தக சாலைக்குத் தரப்பட வேண்டும்.
 D) இளைஞர்களுக்குப் பகுத்தறிவும் சுயமரியாதையும் தேவை.
 E) விடை தெரியவில்லை
46. 'அறிஞர் அண்ணா'விற்கு அரசாங்கம் செய்த சிறப்புகளை கருத்தில் கொள்க.
 I. 2009ஆம் ஆண்டு நடுவண் அரசு அண்ணா நினைவாக அவர் உருவம் பொறிக்கப்பட்ட ஐந்து ரூபாய் நாணயத்தை வெளியிட்டது.
 II. 2010ஆம் ஆண்டு அண்ணா நூற்றாண்டு நிறைவடைந்ததை நினைவுபடுத்தும் வண்ணம் தமிழ்நாடு அரசு அண்ணா நூற்றாண்டு நூலகத்தை உருவாக்கியது.
 மேற்கண்ட கூற்றுகளில் தவறானது எது/எவை?
 A) I மட்டும்
 B) II மட்டும்
 C) இரண்டும்
 D) இரண்டுமில்லை
 E) விடை தெரியவில்லை
47. பின்வரும் கூற்றுகளைக் கருத்தில் கொள்க.
கூற்று (A) : சீர்காழி இரா.அரங்கநாதன் அவர்களின் பிறந்த நாளான ஆகஸ்ட் ஒன்பதாம் நாள், தேசிய நூலக நாளாகக் கொண்டாடப்படுகிறது.
காரணம் (R) : நூலக விதிகளை உருவாக்கியவர் இரா.அரங்கநாதன் ஆவார்.
குறியீடுகள்:
 A) கூற்று மற்றும் காரணம் இரண்டும் சரி மற்றும் காரணம் என்பது கூற்றுக்கான சரியான விளக்கமாகும்
 B) கூற்று மற்றும் காரணம் இரண்டும் சரி ஆனால் காரணம் என்பது கூற்றுக்கான சரியான விளக்கமல்ல
 C) கூற்று சரி ஆனால் காரணம் தவறு
 D) கூற்று தவறு ஆனால் காரணம் சரி
 E) விடை தெரியவில்லை



48. அறிஞர் அண்ணா பற்றிய பின்வரும் கூற்றுகளைக் கருத்தில் கொள்க.
- 'தென்னகத்துப் பெர்னாட்ஷா' என அழைக்கப்படுகிறார்.
 - தம்முடைய திராவிடச் சீர்திருத்தக் கருத்துகளை நாடகங்கள், திரைப்படங்கள் மூலமாக முதன்முதலில் பரப்பினார்.
 - முதலமைச்சராகப் பொறுப்பை ஏற்றதும் மும்மொழிச் சட்டத்தை உருவாக்கினார்.
 - 1935இல் சென்னை, பெத்தநாயக்கன் பேட்டை, கேவிந்தப்ப நாயக்கன் பள்ளியில் ஆங்கில ஆசிரியராக ஓராண்டு பணியாற்றினார்.
- மேற்கண்ட கூற்றுகளில் சரியானவை எவை?
- A) I, II மற்றும் III மட்டும்
 - B) II, III மற்றும் IV மட்டும்
 - C) I, II மற்றும் IV மட்டும்
 - D) மேற்கண்ட அனைத்தும்
 - E) விடை தெரியவில்லை
49. பின்வருவனவற்றுள் தவறான கூற்றினைத் தேர்ந்தெடுக்க.
- A) ஆசியாவிலேயே மிகப் பழமையான நூலகம் என்ற புகழுக்குரியது தஞ்சை சரசுவதி மகால் நூலகம். இந்திய மொழிகள் அனைத்திலும் உள்ள ஓலைச்சுவடிகள் அங்குப் பாதுகாக்கப்படுகின்றன.
 - B) உலகளவில் தமிழ் நூல்கள் அதிகமுள்ள நூலகம் கன்னிமாரா நூலகமே. இது சென்னை எழும்பூரில் அமைந்துள்ளது.
 - C) இந்தியாவில் தொடங்கப்பட்ட முதல் பொது நூலகம் என்ற பெருமைக்கு உரியது, டெல்லி நடுவண் நூலகம்.
 - D) கொல்கத்தாவில் 1836ஆம் ஆண்டில் தொடங்கப்பட்டு, 1953இல் பொதுமக்கள் பயன்பாட்டுக்குக் கொண்டுவரப்பட்ட தேசிய நூலகமே இந்தியாவின் மிகப்பெரிய நூலகமாகும். இது ஆவணக் காப்பக நூலகமாகவும் திகழ்கிறது.
 - E) விடை தெரியவில்லை
50. "உலகில் சாகாவரம் பெற்ற பொருள்கள் புத்தகங்களே!" – என்று கூறியவர் யார்?
- A) அறிஞர் அண்ணா
 - B) கதே
 - C) ஆபிரகாம் லிங்கன்
 - D) சீர்காழி இரா. அரங்கநாதன்
 - E) விடை தெரியவில்லை
51. பின்வருவனவற்றுள் தவறான கூற்றினைத் தேர்ந்தெடுக்க.
- A) இது பழம் அன்று.
 - B) இவை பழங்கள் அல்ல.
 - C) எத்துணை நூல்கள் வேண்டும்?
 - D) எத்துணை பெரிய மரம், எத்துணை ஆண்டு பழையானது.
 - E) விடை தெரியவில்லை
52. பின்வருவனவற்றுள் பிழையற்ற தொடரினைத் தேர்ந்தெடுக்க.
- A) மதினா சிறந்த இசை வல்லுநர் வேண்டும்.
 - B) நல்ல தமிழில் எழுதுவோம்.
 - C) துன்பத்தால் பொறுத்துக்கொள்வனே வெற்றி பெருவான்
 - D) குழலியும் பாடத் தெரியும்
 - E) விடை தெரியவில்லை



53. “ஓவிய விதானத்து, உரைபெறு நித்திலத்து மாலைத்தாமம் வளையுடன் நாற்றி, விருந்துபடக் கிடந்த அருந்தொழில் அரங்கம்” என்ற பாடலடிகள் இடம்பெற்றுள்ள நூல் எது?
A) மணிமேகலை
B) சிலப்பதிகாரம்
C) சீவகசிந்தாமணி
D) தொல்காப்பியம்
E) விடை தெரியவில்லை
54. பல்லவர் காலச் சிற்பங்கள் பற்றிய தவறான கூற்றினைத் தேர்ந்தெடுக்க.
A) தூண்களில் யாளி, சிங்கம், தாமரை, மலர், நுட்பமான வேலைப்பாடுகள் நிறைந்த வட்டங்கள் போன்றவை பொறிக்கப்பட்டன..
B) மாமல்லபுரம், காஞ்சிபுரம், திருச்சி மலைக்கோட்டை போன்ற இடங்களில் காணப்படும் பல்லவர் காலச் சிற்பங்கள் சிறந்த கலைநுட்பத்துடன் அமைந்துள்ளன.
C) கிருஷ்ணாபுரம் வேங்கடாசலபதி கோவிலில் உள்ள குறவன் குறத்தி, இரதிதேவி சிலைகள் காண்போரை ஈர்க்கும் வகையில் அமைந்துள்ளன.
D) காஞ்சி வைகுண்ட பெருமாள் கோவில் பல்லவர்கால சிற்பக்கலைக்கு எடுத்துக்காட்டு ஆகும்.
E) விடை தெரியவில்லை
55. கோவில்பட்டிக்கு மேற்கே கழுகுமலை வெட்டுவான் கோவில் யாரால் கட்டப்பட்டது?
A) சேரர்கள்
B) சோழர்கள்
C) பாண்டியர்கள்
D) நாயக்கர்கள்
E) விடை தெரியவில்லை
56. பொருத்துக.
a) தஞ்சைப் பெரிய கோவில்
b) தாராசுரம் ஐராவதீசுவரர் கோவில்
c) திரிபுவன வீரேசுவரம் கோவில்
d) கங்கை கொண்ட சோழபுரம்
1. மூன்றாம் குலோத்துங்கச் சோழன்
2. முதலாம் இராசேந்திர சோழன்
3. முதலாம் இராசராசன்
4. இரண்டாம் இராசராசன்
- குறியீடுகள்:**
- | | a | b | c | d |
|----|---|---|---|---|
| A) | 4 | 3 | 2 | 1 |
| B) | 3 | 4 | 1 | 2 |
| C) | 3 | 2 | 1 | 4 |
| D) | 4 | 1 | 2 | 3 |
- E) விடை தெரியவில்லை
57. பின்வரும் கூற்றுகளைக் கருத்தில் கொள்க.
கூற்று (A) : சோழர்காலம் செப்புத்திருமேனிகளின் பொற்காலம் என்று அழைக்கப்படுகிறது.
காரணம் (R) : சோழர்காலத்தில் மிகுதியான செப்புத் திருமேனிகள் அழகுற அமைக்கப்பட்டுள்ளன..
- குறியீடுகள்:**
- A) கூற்று மற்றும் காரணம் இரண்டும் சரி மற்றும் காரணம் என்பது கூற்றுக்கான சரியான விளக்கமாகும்
B) கூற்று மற்றும் காரணம் இரண்டும் சரி ஆனால் காரணம் என்பது கூற்றுக்கான சரியான விளக்கமல்ல
C) கூற்று சரி ஆனால் காரணம் தவறு
D) கூற்று தவறு ஆனால் காரணம் சரி
E) விடை தெரியவில்லை



58. பின்வரும் கூற்றுகளைக் கருத்தில் கொள்க.
- புதுக்கோட்டை மாவட்டம், நார்த்தாமலையில் நடனமுத்திரைகளுடன் சிற்பங்கள் அமைக்கப்பட்டுள்ளன.
 - கொடும்பாளூரில் இரண்டாம் பராந்தகச் சோழனால் கட்டப்பட்ட மூவர் கோவில் சிற்பங்கள் அழகானவை.
 - திருச்சிராப்பள்ளி மாவட்டம், சீனிவாசநல்லூரில் உள்ள குரங்கநாதர் கோவில் சிற்பங்கள் குறிப்பிடத்தக்கவை.
- மேற்கண்ட கூற்றுகளில் சரியானவை எவை?
- I மற்றும் II மட்டும்
 - II மற்றும் III மட்டும்
 - I மற்றும் III மட்டும்
 - D) மேற்கண்ட அனைத்தும்
 - E) விடை தெரியவில்லை
59. பின்வருவனவற்றுள் தவறான கூற்றினைத் தேர்ந்தெடுக்க.
- மாமல்லபுரத்தில் தமிழ்நாடு அரசு சிற்பக்கல்லூரியை நடத்தி வருகிறது.
 - சுவாமிமலை, கும்பகோணம், மாமல்லபுரம் ஆகிய இடங்களில் உலோகப் படிமங்கள் செய்யும் பயிற்சி நிலையங்கள் அமைந்துள்ளன.
 - சென்னையிலும் கும்பகோணத்திலும் உள்ள அரசு கவின்கலைக் கல்லூரிகளில் சிற்பக்கலைப் பயிற்றுவிக்கப்படுகிறது.
 - சிற்பக்கலை குறித்த செய்திகளை அனைவரும் அறிந்து கொள்ளும் வகையில் தமிழ்நாடு தொழில்நுட்பக்கல்வி இயக்ககம் “சிற்பச்செந்நூல்” என்ற நூலை வெளியிட்டுள்ளது.
 - E) விடை தெரியவில்லை
60. விஜயநகர மன்னர் காலச் சிற்பங்கள் பற்றிய பின்வரும் கூற்றுகளைக் கருத்தில் கொள்க.
- இவர்களது காலத்தில் கோவில்களில் மிக உயர்ந்த கோபுரங்கள் எழுப்பப்பட்டன..
 - தெலுங்கு கன்னடப் பகுதிகளுடன் தொடர்பு கொண்டிருந்த காரணத்தால் அந்நாட்டு சிற்பக்கலையின் தாக்கம் தமிழகச் சிற்பங்களில் ஏற்பட்டது.
 - குதிரையின் உருவங்களைச் சிற்பங்களில் இடம் பெறச் செய்தனர். வீரர்கள் அமர்ந்த நிலையில் குதிரைகள் முன்கால்களைத் தூக்கி நிற்பது போன்ற சிற்பங்களை மண்டபத் தூண்களில் அமைத்தனர்..
- மேற்கண்ட கூற்றுகளில் சரியானது எது/எவை?
- A) I மற்றும் II மட்டும்
 - B) II மற்றும் III மட்டும்
 - C) I மற்றும் III மட்டும்
 - D) மேற்கண்ட அனைத்தும்
 - E) விடை தெரியவில்லை
61. யாருடைய ஆட்சிக்காலத்தின் போது ஆயிரங்கால் மண்டபங்கள் அமைக்கப்பட்டுள்ளன?
- A) விஜயநகர மன்னர் கால ஆட்சி
 - B) நாயக்கர் கால ஆட்சி
 - C) பல்லவர் கால ஆட்சி
 - D) சோழர் கால ஆட்சி
 - E) விடை தெரியவில்லை



62. பின்வரும் கூற்றுகளைக் கருத்தில் கொள்க.
- I. சமண மதத்தில் சில சிற்பங்கள் அளவுக்கு மீறிய உயரமும், பருமனும் உடையனவாக உள்ளன.
- II. பௌத்த மதத்தைத் தழுவிய தமிழர்கள், புத்தரின் உருவத்தை அமர்ந்த, நின்ற, படுத்த (கிடை) நிலைகளில் சிற்பங்களாகப் படைத்து வழிபட்டனர்.
- III. விழுப்புரம் மாவட்டம் செஞ்சிக்கு அண்மையில் உள்ள திருநாதர் குன்று என்னும் இடத்தில், ஒரு பாறையில் இருபத்துநான்கு தீர்த்தங்கரர் உருவங்கள் புடைப்புச் சிற்பங்களாகச் செதுக்கப்பட்டுள்ளன.
- மேற்கண்ட கூற்றுகளில் சரியானவை எவை?
- A) I மற்றும் II மட்டும்
B) II மற்றும் III மட்டும்
C) I மற்றும் III மட்டும்
D) மேற்கண்ட அனைத்தும்
E) விடை தெரியவில்லை
63. ஒலி வேறுபாடறிந்து பொருள் தருக.
- | | |
|---------------------|------------|
| உளை | உழை |
| A) சேறு | மான் |
| B) பயம் | பிடரிமயிர் |
| C) பிடரிமயிர் | பயம் |
| D) மான் | சேறு |
| E) விடை தெரியவில்லை | |
64. வேறுபட்ட சொல்லைத் தேர்ந்தெடுக்க.
- A) பொலம்
B) முருகு
C) அழகு
D) செறு
E) விடை தெரியவில்லை
65. பொருத்துக.
- | | |
|------------|------------|
| (சொல்) | (பொருள்) |
| a) துவரை | 1. இறகு |
| b) கடறு | 2. சந்தனம் |
| c) மல்லல் | 3. பவளம் |
| d) சிறை | 4. காடு |
| e) சாந்தம் | 5. வளம் |
- குறியீடுகள்:
- | | | | | | |
|----|----------|----------|----------|----------|----------|
| | a | b | c | d | e |
| A) | 5 | 1 | 3 | 4 | 2 |
| B) | 2 | 4 | 3 | 1 | 5 |
| C) | 3 | 4 | 5 | 1 | 2 |
| D) | 4 | 1 | 2 | 5 | 3 |
- E) விடை தெரியவில்லை



66. முக்குழல் என்பது
A) காயா, கொன்றை, மூங்கில்
B) மூங்கில், காயா, கொன்றை
C) காயா, கொன்றை, ஆம்பல்
D) கொன்றை, ஆம்பல், மூங்கில்
E) விடை தெரியவில்லை
67. தவறான இணையைத் தேர்ந்தெடுக்க.
(திணை) (பறவை)
A) குறிஞ்சி – பைங்கிளி, மயில்
B) பாலை – பருந்து
C) மருதம் – தும்பி
D) முல்லை – நாகணவாய்ப்பறவை
E) விடை தெரியவில்லை
68. “இராவண காவியம் காலத்தின் விளைவு, ஆராய்ச்சியின் அறிகுறி, புரட்சிப்பொறி, உண்மையை உணர வைக்கும் உன்னத நூல்” என்று கூறியவர் யார்?
A) தந்தை பெரியார்
B) பேரறிஞர் அண்ணா
C) புதுமைப்பித்தன்
D) புலவர் குழந்தை
E) விடை தெரியவில்லை
69. ‘கோ’ என்னும் வேர்ச்சொல்லை அடிப்படையாகக் கொண்டுள்ள தொழிற்பெயரைத் தேர்ந்தெடுக்க.
A) கோப்பு B) கோர்த்த
C) கோத்தல் D) கோர்ப்பவள்
E) விடை தெரியவில்லை
70. பின்வரும் இணைகளைக் கருத்தில் கொள்க.
(சொல்) (இலக்கணக்குறிப்பு)
I. அதிர்குரல் – வினைத்தொகை
II. வெரீஇ – செய்யுளிடை அளபெடை
III. மலர்க்கண்ணி – மூன்றாம் வேற்றுமை உருபும் பயனும் உடன்தொக்க தொகை
IV. கரைபொரு – இரண்டாம் வேற்றுமைத்தொகை
V. எருத்துக்கோடு – ஆறாம் வேற்றுமைத்தொகை
மேற்கண்ட இணைகளில் எத்தனை இணைகள் தவறானவை?
A) 1 B) 4
C) 5 D) 2
E) விடை தெரியவில்லை



71. 'இராவண காவியம்' பற்றிய பின்வரும் கூற்றுகளைக் கருத்தில் கொள்க.
- I. இருபதாம் நூற்றாண்டில் தோன்றிய தனித்தமிழ்ப் பெருங்காப்பியம் இராவண காவியம். இந்நூல் தமிழகக் காண்டம், இலங்கைக் காண்டம், விந்தக் காண்டம், பழிபுரி காண்டம், போர்க் காண்டம் என ஐந்து காண்டங்களையும் 3100 பாடல்களையும் கொண்டது.
- II. இராமாயணத்தில் எதிர்நிலை மாந்தராகப் படைக்கப்பட்ட இராவணனை முதன்மை நாயகனாகக் கொண்டு புலவர் குழந்தை அவர்களால் இயற்றப்பட்டது.
- மேற்கண்ட கூற்றுகளில் தவறானது எது/எவை?
- A) I மட்டும்
B) II மட்டும்
C) இரண்டும்
D) இரண்டுமில்லை
E) விடை தெரியவில்லை
72. பருகிய - வேர்ச்சொல் காண்க.
- A) பருகி
B) பரு
C) பருகு
D) பருகியவன்
E) விடை தெரியவில்லை
73. பின்வருவனவற்றுள் தவறான கூற்றினைத் தேர்ந்தெடுக்க.
- A) திருமாலை வழிபட்டுச் சிறப்புநிலை எய்திய ஆழ்வார்கள் பன்னிருவர் ஆவர். அவருள் திருமங்கையாழ்வார், ஆண்டாள் ஆகிய இருவர் மட்டுமே பெண்கள்.
- B) ஆண்டாள் இறைவனுக்குப் பாமாலை தூடியதோடு தான் அணிந்து மகிழ்ந்த பூமாலையையும் தூட்டியதால், "தூடிக் கொடுத்த சுடர்க்கொடி" என அழைக்கப்பெற்றார்.
- C) ஆண்டாள் பாடிய திருப்பாவை, நாச்சியார் திருமொழி ஆகிய இரு தொகுதிகள் நாலாயிர திவ்வியப் பிரபந்தத்தில் இடம்பெற்றுள்ளன.
- D) நாச்சியார் திருமொழி மொத்தம் 143 பாடல்களைக் கொண்டது.
- E) விடை தெரியவில்லை
74. "மத்தளம் கொட்ட வரிசங்கம் நின்றாத முத்துடைத் தாமம் நிரைதாழ்ந்த பந்தற்கீழ்" என்னும் ஆண்டாளின் பாடல்கள் நாச்சியார் திருமொழியில் எத்தனையாவது திருமொழியில் இடம்பெற்றுள்ளது?
- A) மூன்றாவது
B) நான்காவது
C) ஐந்தாவது
D) ஆறாவது
E) விடை தெரியவில்லை
75. பின்வரும் இணைகளைக் கருத்தில் கொள்க.
- | (சாகித்திய அகாதெமி விருது பெற்ற ஆண்டு) | (சாகித்திய அகாதெமி விருது பெற்ற நூல்) | (சாகித்திய அகாதெமி விருது பெற்றவர்) |
|--|--|-------------------------------------|
| I. 2008 | - மின்சாரப்பூ | - மேலாண்மை பொன்னுசாமி |
| II. 2004 | - சூடிய பூ தூடற்க | - நாஞ்சில் நாடன் |
| III. 2021 | - சிவப்புக் கழுத்துடன் ஒரு பச்சைப்பறவை | - அம்பை |
| IV. 2016 | - ஒரு சிறு இசை | - வாணிதாசன் |
| V. 1979 | - அன்பளிப்பு | - தி.ஜானகிராமன் |



மேற்கண்ட இணைகளில் எத்தனை இணைகள் சரியானவை?

- A) 3
B) 4
C) 5
D) 2
E) விடை தெரியவில்லை

76. தி. ஜானகிராமன் பற்றிய பின்வரும் கூற்றுகளைக் கருத்தில் கொள்க.

- I. தி.ஜானகிராமன் அவர்கள், தனது ஜப்பான் பயண அனுபவங்களை உதயசூரியன் என்னும் தலைப்பில் சுதேசமித்திரன் வார இதழில் எழுதினார். இது 1967இல் நூலாக வெளியிடப்பட்டது.
II. ரோம், செக்கோஸ்லோவோக்கியா சென்ற அனுபவங்களைக் கருங்கடலும் அலைக்கடலும் என்னும் தலைப்பில் 1974இல் நூலாக வெளியிட்டார்.
III. காவிரிக்கரை வழியான பயணத்தை நடந்தாய் வாழி காவேரி என்னும் தலைப்பில் நூலாக வெளியிட்டுள்ளார்.

மேற்கண்ட கூற்றுகளில் சரியானவை எவை?

- A) I மற்றும் II மட்டும்
B) II மற்றும் III மட்டும்
C) I மற்றும் III மட்டும்
D) மேற்கண்ட அனைத்தும்
E) விடை தெரியவில்லை

77. “கதையை வாசிப்பது நமது சிந்தனையின் சலனத்தை ஊக்குவதற்கு ஒரு தூண்டுகோல்” என்று கூறியவர் யார்?

- A) புதுமைப்பித்தன்
B) தி.ஜானகிராமன்
C) வல்லிக்கண்ணன்
D) அசோகமித்திரன்
E) விடை தெரியவில்லை

78. தி.ஜானகிராமன் பற்றிய தவறான கூற்றினைத் தேர்ந்தெடுக்க.

- A) கரிசல் மண்வாசனையுடன் கதைகளைப் படைத்தவர்.
B) உயர்நிலைப்பள்ளி ஆசிரியராகவும் வானொலியில் கல்வி ஒலிபரப்பு அமைப்பாளராகவும் பணியாற்றியவர்.
C) வடமொழி அறிவும் சிறந்த இசையறிவும் கொண்ட இவர்தம் கதைகள் மணிக்கொடி, கிராம ஊழியன், கணையாழி, கலைமகள், சுதேசமித்திரன், ஆனந்தவிகடன், கல்கி போன்ற இதழ்களில் வெளிவந்தன.
D) இவரது செய்தி என்னும் சிறுகதை சிவப்பு ரிக்கூடா என்ற தொகுப்பில் இடம் பெற்றுள்ளது.
E) விடை தெரியவில்லை

79. நாகசுரத்தின் மேல்பகுதியான சீவாளி என்னும் கருவியானது எதனைக் கொண்டு செய்யப்படுகிறது?

- A) மூங்கில்
B) நாணல்
C) ஆச்சா
D) வேம்பு
E) விடை தெரியவில்லை



80. நாகசுரம் பற்றிய பின்வரும் கூற்றுகளைக் கருத்தில் கொள்க.
- I. மங்கலமான பல நிகழ்வுகளில் இக்கருவி இசைக்கப்படுகிறது. இக்கருவியானது 600 ஆண்டுகளுக்கு முன்புதான் தமிழகத்தில் வாசிக்கப்பட்டது.
- II. 13ஆம் நூற்றாண்டில் எழுதப்பட்ட சங்கீத இரத்னாகரம் என்னும் நூலில் இந்தக் கருவி பற்றிய குறிப்புகள் காணப்படுகிறது.
- மேற்கண்ட கூற்றுகளில் சரியானது எது/எவை?
- A) I மட்டும்
B) II மட்டும்
C) இரண்டும்
D) இரண்டுமில்லை
E) விடை தெரியவில்லை
81. புலவர் குழந்தை பற்றிய கூற்றுகளைக் கருத்தில் கொள்க.
- I. அண்ணாவின் வேண்டுகோளுக்கிணங்க 25 நாள்களில் இவர் திருக்குறளுக்கு உரை எழுதியுள்ளார்.
- II. யாப்பதிகாரம், தொடையதிகாரம் உள்ளிட்ட முப்பதுக்கும் மேற்பட்ட நூல்களைப் படைத்துள்ளார்.
- மேற்கண்ட கூற்றுகளில் சரியானது எது/எவை?
- A) I மட்டும்
B) II மட்டும்
C) இரண்டும்
D) இரண்டுமில்லை
E) விடை தெரியவில்லை
82. பொருத்துக.
- | | |
|--------------------|----------------|
| a) உயிர்முன் உயிர் | 1. மரக்கிளை |
| b) உயிர்முன் மெய் | 2. ஆலிலை |
| c) மெய்முன் உயிர் | 3. மணியடி |
| d) மெய்முன் மெய் | 4. பனிக்காற்று |
- குறியீடுகள்:
- | | a | b | c | d |
|----|---|---|---|---|
| A) | 4 | 3 | 2 | 1 |
| B) | 3 | 4 | 2 | 1 |
| C) | 3 | 2 | 1 | 4 |
| D) | 4 | 1 | 2 | 3 |
- E) விடை தெரியவில்லை
83. தவறாக சேர்ந்துள்ள சொல்லைத் தேர்ந்தெடுக்க.
- A) பல் + பசை = பற்பசை
B) தே + ஆரம் = தேவாரம்
C) புளி + சோறு = புளிச்சோறு
D) புறம் + நானூறு = புறநானூறு
E) விடை தெரியவில்லை



84. பின்வரும் இணைகளைக் கருத்தில் கொள்க.
- I. நாக்கு, வகுப்பு – வன்தொடர்க் குற்றியலுகரம்
II. காது, வரலாறு – நெடில்தொடர்க் குற்றியலுகரம்
III. நெஞ்சு, இரும்பு – மென்தொடர்க் குற்றியலுகரம்
IV. மார்பு – இடைத்தொடர்க் குற்றியலுகரம்
- மேற்கண்ட இணைகளில் எத்தனை இணைகள் சரியானவை?
- A) 3 B) 4
C) 1 D) 2
E) விடை தெரியவில்லை
85. மரபுப் பிழையற்ற தொடரினைத் தேர்ந்தெடுக்க.
- A) இல்லத்தின் அருகே புதிதாகக் கூரை வேய்ந்தனர்.
B) கயல் பாளை செய்யக் கற்றுக் கொண்டாள்.
C) கொடியிலுள்ள மலரை எடுத்து வா
D) நேற்று தென்றல் காற்று அடித்தது
E) விடை தெரியவில்லை
86. உருவகத் தொடர் பயின்று வந்துள்ள தொடரினைத் தெரிவு செய்க.
- A) மலர்விழி வீணை வாசித்தாள்; கேட்டவர் வெள்ளம் போன்ற இன்பத்தில் நீந்தினர்
B) குழலியின் இசையைச் சுவைத்தவர், கடல் போன்ற கவலையிலிருந்து நீங்கினர்.
C) குழலியின் இசையைச் சுவைத்தவர் கவலைக் கடலில் இருந்து நீங்கினர்.
D) முத்துநகை தன் வில் போன்ற புருவத்தில் மை தீட்டினாள்.
E) விடை தெரியவில்லை
87. பின்வருவனவற்றை அகரவரிசைப்படுத்துக.
- A) தவில், படகம், பிடில், பேரியாழ்
B) படகம், பிடில், பேரியாழ், தவில்
C) பேரியாழ், பிடில், படகம், தவில்
D) தவில், பிடில், படகம், பேரியாழ்
E) விடை தெரியவில்லை
88. “டிஜிட்டல்” இணையான தமிழ்ச்சொல் எது?
- A) கணினிமயம் B) மின்னணுமயம்
C) இணையத்தளம் D) வணிகமயம்
E) விடை தெரியவில்லை
89. ‘கொடிகட்டிப் பறத்தல்’ எனும் உவமை கூறும் பொருளைக் கண்டறிக.
- A) ஆராய்ந்து பாராமல் செயல்படுதல்
B) எல்லோராலும் இகழ்ப்படுதல்
C) புகழ்பெற்று விளங்குதல்
D) உயரமாக இருத்தல்
E) விடை தெரியவில்லை



90. சந்திப்பிழையற்ற தொடரினைத் தெரிவு செய்க.
A) பண்பாட்டுக் கூறுகளைப் பேணிப் பாதுகாப்பது நம் கடமை
B) பண்பாட்டுக் கூறுகளைப் பேணி பாதுகாப்பது நம் கடமை
C) பண்பாட்டு கூறுகளைப் பேணி பாதுகாப்பது நம் கடமை
D) பண்பாட்டு கூறுகளை பேணி பாதுகாப்பது நம் கடமை
E) விடை தெரியவில்லை
91. காணாதான் காட்டுவான் தான்காணான் காணாதான்
கண்டானாம் தான்கண்ட வாறு – இக்குறட்பாவில் பயின்று வந்துள்ள மோனை எது?
A) முற்றுமோனை
B) கூழை மோனை
C) மேற்கதுவாய் மோனை
D) கீழ்க்கதுவாய் மோனை
E) விடை தெரியவில்லை
92. பின்வரும் குறட்பாக்களில் ஏகதேச உருவக அணி பயின்று வாராக் குறளினைத் தெரிவு செய்க.
A) பெருமைக்கும் ஏனைச் சிறுமைக்கும் தத்தம்
B) செல்வத்துள் செல்வம் செவிச்செல்வம் அச்செல்வம்
C) ஊழி பெயரினும் தாம்பெயரார் சான்றாண்மைக்கு
D) உழுவார் உலகத்தார்க்கு ஆணி அஃதாற்றாது
E) விடை தெரியவில்லை
93. கோடிப் பொருள் அடுக்கிக் கொடுத்தாலும் எவர் தவறு செய்வதில்லை என வள்ளுவர் குறிப்பிடுகின்றார்?
A) தவமுனிவர்கள்
B) அடக்கமுடையோர்
C) கல்வியறிவுடையோர்
D) ஒழுக்கமான குடியில் பிறந்தவர்
E) விடை தெரியவில்லை
94. சான்றாண்மையைத் தாங்கும் தூண்களாக வள்ளுவர் கூறுவதை வரிசைப்படுத்துக.
A) அன்பு, நாண், கண்ணோட்டம், ஒப்புரவு, வாய்மை
B) அன்பு, ஒப்புரவு, கண்ணோட்டம், நாண், வாய்மை
C) அன்பு, நாண், வாய்மை, கண்ணோட்டம், ஒப்புரவு
D) அன்பு, நாண், ஒப்புரவு, கண்ணோட்டம், வாய்மை
E) விடை தெரியவில்லை
95. அணித்து என்பதன் எதிர்சொல் தருக.
A) அருகில்
B) தொலைவில்
C) சேர்த்தல்
D) நீக்குதல்
E) விடை தெரியவில்லை
96. பொருத்துக.
a) நட்புக்காலம் 1. கிருபானந்த வாரியார்
b) திருக்குறள் கதைகள் 2. பெருமார்
c) அடுத்தவீடு ஐம்பது மைல் 3. கவிஞர் அறிவுமதி
d) அண்ணாவின் சிறுகதைத்திறன் 4. தி.ஜானகிராமன்



குறியீடுகள் :

- | | a | b | c | d |
|----|------------------|----------|----------|----------|
| A) | 1 | 2 | 3 | 4 |
| B) | 3 | 1 | 4 | 2 |
| C) | 3 | 4 | 2 | 1 |
| D) | 1 | 4 | 3 | 2 |
| E) | விடை தெரியவில்லை | | | |

97. மூவலூர் இராமாமிர்தம் பற்றிய தவறான கூற்றினைத் தேர்வு செய்க.
I. தேவதாசி ஒழிப்புச்சட்டம் நிறைவேற்றத் துணைநின்றவர்.
II. 8ம் வகுப்புவரை படித்த இளம் பெண்களுக்கான திருமண உதவித் தொகை இவரின் பெயரில் தமிழக அரசு வழங்கி வருகிறது.

குறியீடுகள் :

- | | |
|---------------------|-----------------|
| A) I மட்டும் | B) II மட்டும் |
| C) இரண்டும் | D) இரண்டுமில்லை |
| E) விடை தெரியவில்லை | |

98. கீழ்க்கண்ட பொன்மொழியை நிறைவு செய்க.
எடுத்தால் குறைவது _____, கொடுத்தால் வளர்வது _____
A) செல்வம், அன்பு
B) தேய்பிறை, வளர்பிறை
C) செல்வம், கல்வி
D) செல்வம், வீரம்
E) விடை தெரியவில்லை

99. தவறான இணையைத் தேர்வு செய்க.
A) ஒரு கிராமத்து நதி – சிற்பி
B) கருப்பு மலர்கள் – நா.காமராசர்
C) சாக்ரட்டிஸின் சிவப்பு நூலகம் – எஸ்.இராமகிருஷ்ணன்
D) தண்ணீர் தண்ணீர் – வைரமுத்து
E) விடை தெரியவில்லை

100. கல்லும் உலோகமும் செங்கல்லும் மரமும் மண்ணும் சுதையும் தந்தமும் வண்ணமும் – இவ்வடிகள் இடம் பெற்றுள்ள நூல் எது?
A) திவாகர நிகண்டு
B) பிங்கல நிகண்டு
C) தொல்காப்பியம்
D) நன்னூல்
E) விடை தெரியவில்லை

* * * * *



பகுதி - ஆ — பொது அறிவு (பட்டப்படிப்பு தரம்)

Part B — General Studies (Degree Standard)

வினாக்கள் : 101-200

மொத்த மதிப்பெண்கள் : 150

Questions : 101-200

Total Marks : 150

101. ஜனவரி 1938இல் ரிசர்வ் வங்கியால் வெளியிடப்பட்ட முதல் காகித நாணயம் (5 ரூபாய் நோட்டுகள்) யாருடைய உருவப்படத்தைத் தாங்கியது?
- A) ஜார்ஜ் V
B) ஜார்ஜ் VI
C) ஜார்ஜ் IV
D) ஜார்ஜ் II
E) விடை தெரியவில்லை
- The first paper currency (5 rupee notes) issued by RBI in January 1938 bearing the portrait of?
- A) George V
B) George VI
C) George IV
D) George II
E) Answer not known
102. பின்வரும் கூற்றுகளை கருத்தில் கொள்க
- I. ஆசியாவின் மிகப்பெரிய ஆவணக் காப்பகங்களில் ஒன்று கல்கத்தாவில் அமைந்துள்ளது.
II. ஜார்ஜ் வில்லியம் ஃபாரஸ்ட் “இந்திய தேசிய ஆவணக்காப்பகத்தின் தந்தை” என்று அழைக்கப்படுகிறார்
- மேற்கண்ட கூற்றுகளில் சரியானது எது/எவை?
- A) I மட்டும்
B) II மட்டும்
C) இரண்டும்
D) இரண்டுமில்லை
E) விடை தெரியவில்லை
- Consider the following statements.
- I. One of the largest Archives in Asia is located in Calcutta.
II. George William Forrest can rightly be called as the “Father of National Archives of India”
- Which of the statements given above is/are correct?
- A) I only
B) II only
C) Both I and II
D) Neither I nor II
E) Answer not known
103. பின்வரும் கூற்றுகளை கருத்தில் கொள்க.
- கூற்று (A) : பம்பாயில் உள்ள தேசிய அருங்காட்சியகம் 1949ஆம் ஆண்டு நிறுவப்பட்ட இந்தியாவின் மிகப்பெரிய அருங்காட்சியகமாகும்.
- காரணம் (R) : இந்த அருங்காட்சியகம் நமது கலாச்சார பாரம்பரியத்தை பாதுகாக்கவும் மேம்படுத்தவும் உதவுகிறது.



குறியீடுகள்:

- A) (A) மற்றும் (R) இரண்டும் சரி மற்றும் (R) என்பது (A)-யின் சரியான விளக்கமாகும்
 B) (A) மற்றும் (R) இரண்டும் சரி ஆனால் (R) என்பது (A)-யின் சரியான விளக்கமல்ல
 C) (A) சரி ஆனால் (R) தவறு
 D) (A) தவறு ஆனால் (R) சரி
 E) விடை தெரியவில்லை

Consider the following statements.

Assertion (A) : The national museum in Bombay is the largest museum in India which was established in 1949.

Reason (R) : This Museum helps to preserve and promote our cultural heritage.

Codes:

- A) Both (A) and (R) are true and (R) is the correct explanation of (A)
 B) Both (A) and (R) are true but (R) is not the correct explanation of (A)
 C) (A) is true but (R) is false
 D) (A) is false but (R) is true
 E) Answer not known

104. குஜராத்தின் பகதூர் ஷாவிடமிருந்து பசீன் நகரைக் கைப்பற்றிய போர்ச்சுகீசிய ஆட்சியாளர் யார்?

- A) வாஸ்கோடகாமா
 B) பிரான்சிஸ்கோ டி அல்மெய்டா
 C) அல்போன்சோ டி அல்புகர்க்
 D) நினோ டி குன்ஹா
 E) விடை தெரியவில்லை

Who was the Portuguese ruler who acquired Bassein from Bahadur Shah of Gujarat?

- A) Vasco da Gama
 B) Francisco de Almeida
 C) Alfonso de Albuquerque
 D) Nino de Cunha
 E) Answer not known

105. பின்வரும் கூற்றுகளை கருத்தில் கொள்க

- I. பீஜப்பூர் சுல்தானிடமிருந்து கோவாவைக் கைப்பற்றினார்.
 II. விஜயநகரப் பேரரசுடன் அவர் நட்புறவு கொண்டிருந்தார்.

மேற்கண்ட கூற்றுகளில் குறிப்பிடப்படும் நபர் யார்?

- A) போர்த்துகீசிய பகுதிகளின் முதல் ஆளுநர்.
 B) இந்தியாவில் போர்ச்சுகீசிய அதிகாரத்தை உண்மையில் நிறுவியவர்
 C) கொச்சியிலிருந்து கோவாவுக்கு தலைநகரை மாற்றிய போர்த்துகீசிய ஆளுநர்
 D) மேற்கண்ட எதுவுமில்லை
 E) விடை தெரியவில்லை



Consider the following statements.

- I. He captured Goa from Sultan of Bijapur
- II. He maintained friendly relations with Vijayanagar Empire.

Who was the person mentioned in the above statements?

- A) First Governor of Portuguese Possessions.
- B) The Real founder of the Portuguese Power in India
- C) Portuguese Governor who moved capital from Cochin to Goa
- D) None of the Above
- E) Answer not known

106. பட்டியல்-I ஐ பட்டியல்-II உடன் பொருத்துக.

பட்டியல்-I

(போர்த்துக்கீசியர்கள்)

- a) வாஸ்கோடகாமா
- b) பிரான்சிஸ்கோ டி அல்மெய்டா
- c) அல்போன்சோ டி அல்புகர்க்
- d) நினோ டி குன்ஹா

குறியீடுகள்:

	a	b	c	d
A)	4	2	3	1
B)	3	1	4	2
C)	3	4	1	2
D)	4	1	2	3

E) விடை தெரியவில்லை

Match List-I with List-II.

List-I

(Portuguese)

- a) Vasco da gama
- b) Francisco de Almeida
- c) Alfonso de Albuquerque
- d) Nino de Cunha

Codes:

	a	b	c	d
A)	4	2	3	1
B)	3	1	4	2
C)	3	4	1	2
D)	4	1	2	3

E) Answer not known

பட்டியல்-II

(பங்களிப்பு)

1. பாரசீக வளைகுடாவில் உள்ள ஒர்முஸ் மீதான அதிகாரம்
2. தலைநகரம் கொச்சியிலிருந்து கோவாவுக்கு மாற்றம்
3. கண்ணனூரில் வணிக மையம்
4. நீல நீர்க் கொள்கை

List-II

(Contribution)

1. Authority over Ormuz in Persian Gulf
2. Capital moved from Cochin to Goa
3. Trading Centre at Cannanore
4. Blue water Policy



107. பின்வரும் கூற்றுகளை கருத்தில் கொள்க.

I. டச்சுக்காரர்கள் கட்டிய கெல்டிரியா கோட்டை (1613) ஒரு காலத்தில் டச்சு அதிகாரத்தின் மையமாக இருந்தது.

II. மேற்கத்திய நாடுகளிலிருந்து வைரம் பழுவேற்காட்டுக்கு இறக்குமதி செய்யப்பட்டது.

மேற்கண்ட கூற்றுகளில் தவறானது எது/எவை?

A) I மட்டும்

B) II மட்டும்

C) இரண்டும்

D) இரண்டுமில்லை

E) விடை தெரியவில்லை

Consider the following statements.

I. The Dutch built the fort Geldria (1613) which was once the seat of Dutch power.

II. Diamonds were imported to pulicat from the western countries.

Which of the statements given above is/are incorrect?

A) I only

B) II only

C) Both I and II

D) Neither I nor II

E) Answer not known

108. பிரான்சிஸ் டே என்பவர் சென்னையை சென்னப்ப நாயக்கரிடமிருந்து குத்தகைக்கு பெற்ற ஆண்டு

A) 1635

B) 1645

C) 1642

D) 1639

E) விடை தெரியவில்லை

Francis Day obtained Madras as a lease from Chennappa Nayaka in the year

A) 1635

B) 1645

C) 1642

D) 1639

E) Answer not known

109. எந்த பிரிட்டிஷ் கேப்டன்கள் போர்த்துகீசியரை தோற்கடித்து மற்ற ஐரோப்பியர்களை விட பிரிட்டிஷ் அதிகாரத்தை நிலைநிறுத்தினர்?

A) கேப்டன் தாமஸ் பெஸ்ட்

B) கேப்டன் நிக்கோலஸ் டவுண்டன்

C) கேப்டன் ஹாக்கின்ஸ்

D) A மற்றும் B ஆகிய இரண்டும்

E) விடை தெரியவில்லை

Which British Captains defeated Portuguese and enhanced the British power over other Europeans ?

A) Captain Thomas Best

B) Captain Nicholas Downton

C) Captain Hawkins

D) Both (a) and (b)

E) Answer not known

110. பின்வரும் கூற்றுகளை கருத்தில் கொள்க.

I. சீகன்பால்கு டானஸ்பெர்க்கில் ஒரு அச்சகத்தை நிறுவினார்.

II. 1845ல் டேனியர்கள் தங்கள் குடியேற்றத்தை பிரெஞ்சுக்காரர்களுக்கு விற்றனர்.

மேற்கண்ட கூற்றுகளில் தவறானது எது/எவை?

A) I மட்டும்

B) II மட்டும்

C) இரண்டும்

D) இரண்டுமில்லை

E) விடை தெரியவில்லை



Consider the following statements.

- I. Ziegenbalg set up a printing press at Danesborg.
 - II. Danish sold their settlement to the French in 1845.
- Which of the statements given above is/are incorrect?

- A) I only
B) II only
C) Both I and II
D) Neither I nor II
E) Answer not known

111. தவறாகப் பொருந்தியுள்ள இணையைக் கண்டறிக.

(இடங்கள்)

(கோட்டைகள்)

- A) பாண்டிச்சேரி – புனித லூயிஸ் கோட்டை
B) கடலூர் – புனித டேவிட் கோட்டை
C) மதராஸ் – புனித ஜார்ஜ் கோட்டை
D) மதுலிப்பட்டினம் – கெல்டிரியா கோட்டை
E) விடை தெரியவில்லை

Find out the incorrectly matched pair.

(Places)

(Forts)

- A) Pondicherry – St.Louis Fort
B) Cuddalore – St.David Fort
C) Madras – St.George Fort
D) Masulipatnam – Geldria Fort
E) Answer not known

112. இரயத்துவாரி முறை பற்றிய பின்வரும் கூற்றுகளைக் கருத்தில் கொள்க.

- I. வருவாய் நிலவரித்திட்டம் விவசாயிகளுடன் நேரடியாக மேற்கொள்ளப்பட்டது.
 - II. மண்ணின் தன்மை, பயிரின் தன்மை ஆகியவற்றின் அடிப்படையில் வருவாய் நிர்ணயிக்கப்பட்டது.
 - III. கங்கை பள்ளத்தாக்கு, மத்திய இந்தியாவின் சில பகுதிகள், வடமேற்கு மாகாணங்கள் மற்றும் பஞ்சாப்பில் அறிமுகப்படுத்தப்பட்டது.
 - IV. நில அளவீடு மற்றும் விளைச்சலின் மதிப்பீடு கணக்கிடப்பட்டது.
- மேற்கண்ட கூற்றுகளில் தவறானது எது/எவை?

- A) II மட்டும்
B) III மட்டும்
C) III மற்றும் IV மட்டும்
D) மேற்கண்ட அனைத்தும்
E) விடை தெரியவில்லை

Consider the following statements about Ryotwari system.

- I. Revenue Settlement was done directly with Ryots.
- II. The revenue was based on the basis of the soil and the nature of the crop.
- III. Introduced in the Ganga valley, the North–West Province, parts of the Central India.
- IV. Measurement of field and an estimate of produce was calculated.

Which of the statements given above is/are incorrect?

- A) II only
B) III only
C) III and IV only
D) All the above.
E) Answer not known



113. பின்வரும் கூற்றுகளை கருத்தில் கொள்க.

I. இம்முறையால் விவசாயிகளுக்கு எவ்வித நன்மையும் ஏற்படவில்லை. கிராமங்களில் உயர் வகுப்பினர் மட்டுமே பயனடைந்தனர்.

II. இம்முறையில் நிலத்தின் உரிமை கிராம சமுதாயத்திற்குச் சொந்தமாக இருந்தது.

மேற்கண்ட கூற்றுகள் பின்வரும் எந்த வரிமுறையைக் குறிப்பிடுகிறது?

- A) ஜமீந்தாரி முறை
B) இரயத்துவாரி முறை
C) மகல்வாரி முறை
D) மேற்கண்ட எதுவுமில்லை
E) விடை தெரியவில்லை

Consider the following statements.

I. This system brought no benefit to the cultivators and benefited only upper class in villages.

II. In this system, The ownership of land owned by the Village community.

The above Statements mentions which of the following System?

- A) Zamindari System
B) Ryotwari System
C) Mahalwari System
D) None of the above
E) Answer not known

114. தவறாகப் பொருந்தியுள்ள இணையைக் கண்டறிக.

(விவசாயிகள் கிளர்ச்சி)

(ஆண்டு)

- A) சந்தால் கிளர்ச்சி - 1855 - 1856
B) இண்டிகோ கலகம் - 1859 - 1860
C) பாப்னா கலகம் - 1877 - 1879
D) பஞ்சாப் விவசாயிகள் இயக்கம் - 1890 - 1900
E) விடை தெரியவில்லை

Find out the incorrectly matched pair.

(Peasant Revolt)

(Year)

- A) Santhal Rebellion - 1855 - 1856
B) Indigo Revolt - 1859 - 1860
C) Pabna Revolt - 1877 - 1879
D) Punjab Peasant Movement - 1890 - 1900
E) Answer not known

115. பத்தாண்டு நிலவருவாய்த் திட்டத்தை அறிமுகப்படுத்தியவர் யார்?

- A) ராபர்ட் கிளைவ்
B) வாரன் ஹேஸ்டிங்
C) காரன்வாலிஸ் பிரபு
D) வில்லியம் பென்டிக் பிரபு
E) விடை தெரியவில்லை

Who introduced the Decennial Settlement of land revenue?

- A) Robert Clive
B) Warren Hasting
C) Lord Cornwallis
D) Lord William Bentick
E) Answer not known



116. இரயத்துவாரி முறையை அறிமுகப்படுத்தியவர் யார்?
- A) அலெக்சாண்டர் ரீட்
B) ஹோல்ட் மெக்கன்சி
C) மெட் காஃப் பிரபு
D) ஆக்லாந்து பிரபு
E) விடை தெரியவில்லை

Who introduced the Ryotwari System?

- A) Alexander Read
B) Holt Mackenzie
C) Lord Metcalfe
D) Lord Auckland
E) Answer not known

117. பட்டியல்-Iஐ, பட்டியல்-II உடன் பொருத்துக.

பட்டியல்-I

பட்டியல்-II

(கிளர்ச்சி நடந்த இடங்கள்)

(கிளர்ச்சியை ஒடுக்கிய ஆங்கிலேய அதிகாரிகள்)

- a) லக்னோ
b) பரெய்லி
c) குவாலியர்
d) பீகார்
e) டெல்லி

1. ஜான் நிக்கல்சன்
2. ஜெனரல் ஹக் ரோஸ்
3. வில்லியம் டெய்லர்
4. காலின் கேம்பெல்
5. ஹென்றி லாரன்ஸ்

குறியீடுகள்:

	a	b	c	d	e
A)	5	4	2	3	1
B)	4	5	2	3	1
C)	5	2	4	3	1
D)	4	2	3	5	1

E) விடை தெரியவில்லை

Match List-I with List-II.

List-I

List-II

(Places of Revolt)

(British Officials who suppressed the revolt)

- a) Lucknow
b) Barielly
c) Gwalior
d) Bihar
e) Delhi

1. John Nicholson
2. General Hugh Rose
3. William Taylor
4. Colin Campbell
5. Henry Lawrence

Codes:

	a	b	c	d	e
A)	5	4	2	3	1
B)	4	5	2	3	1
C)	5	2	4	3	1
D)	4	2	3	5	1

E) Answer not known



118. பின்வரும் கூற்றுகளை கருத்தில் கொள்க.

கூற்று (A) : மங்கள் பாண்டே என்ற இளம் சிப்பாய் கொழுப்பு தடவப்பட்ட துப்பாக்கிக் குண்டுகளை பயன்படுத்த மறுத்ததைத் தொடர்ந்து 1857 ஆம் ஆண்டு கலகம் வெடித்தது.

காரணம் (R) : அவர் தனது உயரதிகாரியைச் சுட்டுக் கொன்ற பிறகு, அவர் பாரக்பூரில் சிப்பாய்களின் தலைவராக மாறி அவர்களை கிளர்ச்சியில் ஈடுபடுத்தினார்.

குறியீடுகள்:

A) (A) மற்றும் (R) இரண்டும் சரி மற்றும் (R) என்பது (A)-யின் சரியான விளக்கமாகும்

B) (A) மற்றும் (R) இரண்டும் சரி ஆனால் (R) என்பது (A)-யின் சரியான விளக்கமல்ல

C) (A) சரி ஆனால் (R) தவறு

D) (A) தவறு ஆனால் (R) சரி

E) விடை தெரியவில்லை

Consider the following statements.

Assertion (A) : The Outbreak of the revolt 1857 started with a Young Sepoy, Mangal Pandey who refused to use the greased cartridge.

Reason (R) : After he shot down his sergeant, he became the leader for sepoys in Barrackpore and involved them in revolt.

Codes:

A) Both (A) and (R) are true and (R) is the correct explanation of (A)

B) Both (A) and (R) are true but (R) is not the correct explanation of (A)

C) (A) is true but (R) is false

D) (A) is false but (R) is true

E) Answer not known

119. வேலூர் புரட்சிக்கான காரணங்கள் தொடர்பான பின்வரும் கூற்றுகளை கருத்தில் கொள்க.

I. சிப்பாய்கள் தாடி, மற்றும் மீசையை மழித்து நேர்த்தியாக வைத்துக்கொள்ள கேட்டுக் கொள்ளப்பட்டனர்

II. சமய அடையாளத்தை நெற்றியில் அணிதல், காதுகளில் வளையம் (கடுக்கன்) அணிதல் ஆகியன தடைசெய்யப்பட்டன.

III. இனப்பாகுபாடு இருந்தது.

IV. “அக்னியூ தலைப்பாகை” அணிவது முஸ்லிம்களால் ஏற்றுக்கொள்ளப்பட்டது மற்றும் இந்துக்களால் மறுக்கப்பட்டது.

மேற்கண்ட கூற்றுகளில் சரியானது எது/எவை ?

A) I, II மற்றும் III மட்டும்

B) II, III மற்றும் IV மட்டும்

C) I, III மற்றும் IV மட்டும்

D) மேற்கண்ட அனைத்தும்

E) விடை தெரியவில்லை

Consider the following statements with respect to causes for the Vellore revolt.

I. The sepoys asked to shave the beard and to trim the moustache.

II. The wearing of religious mark and the use of ear-rings were banned.

III. There was a racial prejudice.

IV. Wearing of “Agnew Turban” was accepted by Muslims and refused by Hindus.



Which of the statements given above is/are correct?

- A) I, II and III only
B) II, III and IV only
C) I, III and IV only
D) All the above
E) Answer not known

120. 1806ஆம் ஆண்டு வேலூர் கலகத்தை, 1857ல் நடைபெற்ற “முதல் இந்திய சுதந்திரப் போரின் முன்னோடி” என்று யார் கூறினார்?

- A) மங்கள் பாண்டே
B) வில்லியம் கேவண்டிஷ் பெண்டிக்
C) V.D. சாவர்க்கர்
D) கர்னல் ஜாக்சன்
E) விடை தெரியவில்லை

Who says Vellore revolt of 1806 as the prelude to the first War of Indian Independence in 1857?

- A) Mangal Pandey
B) William Cavendish Bentick
C) V.D. Savarkar
D) Colonel Jackson
E) Answer not known

121. பின்வரும் கூற்றுகளை கருத்தில் கொள்க.

- I. தீர்த்தகிரி மைசூர் சுல்தான்களால் பயிற்றுவிக்கப்பட்டவர்.
II. தீர்த்தகிரி கொரில்லாப் போரில் ஈடுபட்டு காவேரி, ஓடாநிலை, அரசச்சலூர் ஆகிய இடங்களில் பிரெஞ்சுக்காரர்களைத் தோற்கடித்தார்.

மேற்கண்ட கூற்றுகளில் சரியானது எது/எவை?

- A) I மட்டும்
B) II மட்டும்
C) இரண்டும்
D) இரண்டுமில்லை
E) விடை தெரியவில்லை

Consider the following statements.

- I. Theerthagiri was trained by Mysore Sultans.
II. Theerthagiri engaged in guerilla warfare and defeated the French at Cauvery, Odanilai and Arachalur.

Which of the statements given above is/are correct?

- A) I only
B) II only
C) Both I and II
D) Neither I nor II
E) Answer not known

122. 1857 புரட்சியின் தோல்விக்கான காரணங்கள் தொடர்பான பின்வரும் கூற்றுகளை கருத்தில் கொள்க.

- I. இந்தியாவின் கிளர்ச்சித் தலைவர்கள் பிரிட்டிஷ் தளபதிகளுக்கு இணையாக இல்லை.
II. துணிச்சலான இந்தியத் தலைவர்கள் நவீன கல்வி கற்ற இந்தியர்களின் அறிவுரைகளை ஏற்கவில்லை.
III. கூர்க்காக்கள் புரட்சியை ஒடுக்கவதில் ஆங்கிலேயருக்கு கூர்க்கா படைபிரிவினர் உண்மையில் உதவினார்கள்.

மேற்கண்ட கூற்றுகளில் தவறானது எது/எவை?

- A) ஒரு கூற்று மட்டும்
B) இரண்டு கூற்றுகள் மட்டும்
C) மூன்று கூற்றுகள்
D) மேற்கண்ட எதுவுமில்லை
E) விடை தெரியவில்லை



Consider the following statements with respect to causes for the failure of 1857 Revolt.

- I. The rebel leaders of India were no match to the British Generals.
- II. Courageous Indian leaders not took the advice of Modern Educated Indians.
- III The Gurkhas actually helped the British in suppressing the revolt.

Which of the statements given above is/are incorrect?

- A) One Statement only
- B) Two Statements only
- C) All Three Statements
- D) None of the above
- E) Answer not known

123. பின்வரும் கூற்றுகளை கருத்தில் கொள்க.

- I. இந்தியாவில் ஆங்கிலேயரை எதிர்த்துப் போரிட்டு அவர்களைத் தோற்கடித்த முதல் இந்திய மன்னர் பூலித்தேவர் ஆவார்.
- II. பூலித்தேவர் இறுதியில் யூசுப்கான் தலைமையிலான ஆற்காடு நவாப்பால் தோற்கடிக்கப்பட்டார்.

மேற்கண்ட கூற்றுகளில் சரியானது எது/எவை?

- A) I மட்டும்
- B) II மட்டும்
- C) இரண்டும்
- D) இரண்டுமில்லை
- E) விடை தெரியவில்லை

Consider the following statements.

- I. Puli Thevar was the first Indian king to have fought and defeated the British in India.
- II. Puli Thevar was finally defeated by Nawab of Arcot under Yusuf Khan.

Which of the statements given above is/are correct?

- A) I only
- B) II only
- C) Both I and II
- D) Neither I nor II
- E) Answer not known

124. பின்வரும் கூற்றுகளை கருத்தில் கொள்க.

- I. கட்டபொம்மன் 1800 பகோடாக்களை மட்டுமே பாக்கியாக வைத்துவிட்டு பெரும்பாலான நிலுவைத் தொகையை செலுத்திவிட்டார் என்று காலின் ஜாக்சன் உறுதியாக நம்பினார்.
- II. கட்டபொம்மன் தனது சகோதரர் ஊமைத்துரையின் உதவியுடன் கோட்டையிலிருந்து தப்பினார்.

மேற்கண்ட கூற்றுகளில் தவறானது எது/எவை?

- A) I மட்டும்
- B) II மட்டும்
- C) இரண்டும்
- D) இரண்டுமில்லை
- E) விடை தெரியவில்லை

Consider the following statements.

- I. Colin Jackson was convinced that Kattabomman had cleared most of the arrears leaving only 1800 pagodas as balance.
- II. Kattabomman escaped from the fort with the help of his brother Oomathurai.



Which of the statements given above is/are incorrect?

- A) I only
B) II only
C) Both I and II
D) Neither I nor II
E) Answer not known

125. பின்வரும் கூற்றுகளை கருத்தில் கொள்க.

I. விசுவநாதர் 1529ல் பாளையக்காரர் முறையை ஏற்படுத்தினார்.

II. நாடு முழுவதும் 78 பாளையங்களாகப் பிரிக்கப்பட்டு ஒவ்வொரு பாளையமும் ஒரு பாளையக்காரரின் கீழ் கொண்டு வரப்பட்டது.

III. மேற்கு பாளையத்தை கட்டபொம்மனின் கீழ் நாயக்கர்களும் கிழக்கு பாளையத்தை பூலித்தேவரின் கீழ் மறவர்களும் ஆட்சி செய்தனர்.

மேற்கண்டவற்றில் எத்தனைக் கூற்றுகள் சரியானவை?

- A) ஒரு கூற்று மட்டும்
B) இரண்டு கூற்றுகள் மட்டும்
C) மூன்று கூற்றுகளும்
D) மேற்கண்ட எதுவுமில்லை
E) விடை தெரியவில்லை

Consider the following statements.

I. Viswanatha instituted Palayakkarar system in 1529.

II. The whole country was divided into 78 Palayams and each one was put under a Palayakkarar.

III. The Western Palayam were Nayaks ruled under Kattabomman and Eastern Palayam were Maravas ruled under control of Pulithevar.

How many statements given above is/are correct?

- A) One Statement only
B) Two Statements only
C) All Three Statements
D) None of the above
E) Answer not known

126. திட்டமிடப்பட்ட தேசிய சுதந்திரப் போரை அடக்கியவர் யார்?

- A) பென்டிங் பிரபு
B) டல்ஹவுசி பிரபு
C) கானிங் பிரபு
D) வெல்லஸ்லி பிரபு
E) விடை தெரியவில்லை

Who suppressed the Planned war of National Independence?

- A) Lord Bentinck
B) Lord Dalhousie
C) Lord Canning
D) Lord Wellesley
E) Answer not known

127. பின்வரும் கூற்றுகளைக் கருத்தில் கொள்க.

I. அரசு ஒரு விசாரணைக் குழுவை அமைத்து, மகாத்மா காந்தியை அக்குழுவின் ஓர் உறுப்பினராக சேர்த்துக் கொண்டது.

II. 1918இல் "சம்பரான் விவசாயச் சட்டம்" நிறைவேற்றப்பட்டது.

மேற்கண்ட கூற்றுகளில் சரியானது எது/எவை?

- A) I மட்டும்
B) II மட்டும்
C) I மற்றும் II
D) இரண்டுமில்லை
E) விடை தெரியவில்லை



Consider the following statements.

I. The Government appointed an enquiry commission for Champaran Peasants in which Gandhi was a member.

II. Champaran Agrarian Act was passed in 1918.

Which of the statements given above is/are correct?

- A) I only
B) II only
C) Both I and II
D) Neither I nor II
E) Answer not known

128. வங்காள அவுரி சாகுபடியாளர்களின் துயரங்களை மக்கள் மற்றும் அரசின் கவனத்திற்குக் கொண்டுவர நீல் தர்பன் (Nil Darpan) என்ற ஒரு நாடகத்தை எழுதியவர் யார்?

- A) தேபேந்திரநாத் தாகூர்
B) ரவீந்திரநாத் தாகூர்
C) எம்.கே காந்தி
D) தீனபந்து மித்ரா
E) விடை தெரியவில்லை

Who wrote a drama to draw the attention of the people and the government towards the misery of the indigo-cultivators ?

- A) Debendranath Tagore
B) Rabindranath Tagore
C) M.K. Gandhi
D) Dinabandhu Mitra
E) Answer not known

129. பின்வருவனவற்றை காலவரிசைப்படி வரிசைப்படுத்துக:

- I. பாப்னா கலகம்
II. பர்தோலி சத்தியாகிரகம்
III. பஞ்சாப் விவசாயிகள் இயக்கம்
IV. தக்காண கலகம்
V. மாப்ளா கிளர்ச்சி

Codes:

- A) I-III-V-IV-II
B) IV-II-III-V-I
C) IV-II-V-III-I
D) I-IV-III-V-II
E) விடை தெரியவில்லை

Arrange the following in Chronological order:

- I. Pabna Revolt
II. Bardoli Satyagraha
III. Punjab Peasant Movement
IV. Deccan Riots
V. Moplah Rebellion

Codes:

- A) I-III-V-IV-II
B) IV-II-III-V-I
C) IV-II-V-III-I
D) I-IV-III-V-II
E) Answer not known



130. பஞ்சாப் நில உரிமை மாற்று சட்டம் நிறைவேற்றப்பட்ட ஆண்டு

- A) 1890 B) 1895
C) 1900 D) 1905

E) விடை தெரியவில்லை

Punjab Land Alienation Act was passed in

- A) 1890 B) 1895
C) 1900 D) 1905

E) Answer not known

131. வாரிசு இழப்புக் கொள்கையின் மூலம் டல்ஹௌசி பிரபு இணைத்துக் கொண்ட பகுதிகளை காலவரிசைப்படி வரிசைப்படுத்தவும்.

- I. சதாரா
II. உதய்பூர்
III. நாக்பூர்
IV. ஜெய்த்பூர்
V. ஜான்சி
VI. பகத்

குறியீடுகள்:

- A) I-II-IV-VI-V-III B) I-IV-II-V-VI-III
C) I-II-V-VI-IV-III D) I-IV-VI-II-V-III

E) விடை தெரியவில்லை

Arrange the following states in chronological order which was annexed by Dalhousie through Doctrine of Lapse Policy.

- I. Satara
II. Udaipur
III. Nagpur
IV. Jaipur
V. Jhansi
VI. Baghat

Codes:

- A) I-II-IV-VI-V-III B) I-IV-II-V-VI-III
C) I-II-V-VI-IV-III D) I-IV-VI-II-V-III

E) Answer not known

132. துணைப்படைத் திட்டத்தை ஏற்றுக்கொண்ட முதல் மற்றும் கடைசி இந்திய சுதேச அரசுகள் எவை?

- A) தஞ்சை மற்றும் ஜோத்பூர்
B) ஹைதராபாத் மற்றும் ஜோத்பூர்
C) ஹைதராபாத் மற்றும் இந்தூர்
D) அவத் மற்றும் இந்தூர்
E) விடை தெரியவில்லை



Which was the first and the last Indian state to accept subsidiary alliance?

- A) Tanjore and Jodhpur
B) Hyderabad and Jodhpur
C) Hyderabad and Indore
D) Awadh and Indore
E) Answer not known

133. மதராஸ் உயர்நீதிமன்றத்தின் முதல் இந்திய தலைமை நீதிபதி யார்?

- A) சர் திருப்பூர் முத்துசாமி
B) சர் திருவாரூர் முத்துப்பிள்ளை
C) சர் திருப்பூர் முத்துப்பிள்ளை
D) சர் திருவாரூர் முத்துசாமி
E) விடை தெரியவில்லை

Who was the first Indian Chief Justice of Madras High Court?

- A) Sir Thiruppur Muthusamy
B) Sir Thiruvarur Muthupillai
C) Sir Thiruppur Muthupillai
D) Sir Thiruvarur Muthusamy
E) Answer not known

134. தவறாகப் பொருந்தியுள்ள இணையைக் கண்டறியவும்.

(முக்கியத்துவம்)

(ஆளுமை)

- A) குடிமை பணியின் தந்தை – சார்லஸ் கார்ன்வாலிஸ்
B) ICS தேர்வில் தேர்ச்சி பெற்ற முதல் இந்தியர் – சத்யேந்திரநாத் தாகூர்
C) இஸ்லிங்க்டன் கமிஷன் – ஜி.கே.கோகலே மற்றும் சர் அப்துர் ரஹீம்
D) இரட்டை அரசாங்கத்தை ஒழித்தல் – ராபர்ட் கிளைவ்
E) விடை தெரியவில்லை

Find out the incorrectly matched pair.

(Importance)

(Personality)

- A) Father of Civil Service – Charles Cornwallis
B) First Indian to pass ICS Exam – Satyendranath Tagore
C) Islington Commission – G.K. Gokhale and Sir Abdur Rahim
D) Abolition of Dual Government – Robert Clive
E) Answer not known

135. பின்வருபவனவற்றை கால வரிசைப்படுத்துக:

- I. பாண்டிச்சேரி உடன்படிக்கை
II. அய்-லா-சபேல் உடன்படிக்கை
III. பாரிஸ் உடன்படிக்கை
IV. ஸ்ரீரங்கப்பட்டிண உடன்படிக்கை
V. மங்கலூர் உடன்படிக்கை

குறியீடுகள்:

- A) I-III-V-IV-II
B) II-I-III-V-IV
C) IV-V-III-I-II
D) I-IV-III-V-II
E) விடை தெரியவில்லை



Arrange the followings in chronicle order:

- I. Treaty of Pondicherry
- II. Treaty of Aix-la-chapelle
- III. Treaty of Paris
- IV. Treaty of Srirangapatnam
- V. Treaty of Mangalore

Codes:

- | | |
|---------------------|------------------|
| A) I-III-V-IV-II | B) II-I-III-V-IV |
| C) IV-V-III-I-II | D) I-IV-III-V-II |
| E) Answer not known | |

136. அலிவர்திகானின் பேரனுடைய படையானது எந்த ஆண்டு 146 பிரிட்டிஷ் போர்க் கைதிகளை ஓர் இரவு முழுவதும் இருட்டறையில் சிறை வைத்திருந்தது?

- | | |
|---------------------|---------|
| A) 1751 | B) 1762 |
| C) 1756 | D) 1767 |
| E) விடை தெரியவில்லை | |

Grandson of Alivardi Khan troops held 146 British prisoners of war for one night in small dungeon room in the year?

- | | |
|---------------------|---------|
| A) 1751 | B) 1762 |
| C) 1756 | D) 1767 |
| E) Answer not known | |

137. கர்நாடகப் போர் I, II மற்றும் III தொடர்பான போர்களை வரிசைப்படுத்துக

- A) ஆற்காடு போர் – ஆம்பூர் போர் – வந்தவாசி போர்
- B) ஆம்பூர் போர் – வந்தவாசி போர் – அடையாறு போர்
- C) அடையாறு போர் – ஆம்பூர் போர் – வந்தவாசி போர்
- D) வந்தவாசி போர் – ஆம்பூர் போர் – ஆற்காடு போர்
- E) விடை தெரியவில்லை

Arrange the Battles with respect to Carnatic war I, II and III.

- A) Battle of Arcot – Battle of Ambur – Battle of Wandiwash
- B) Battle of Ambur – Battle of Wandiwash – Battle of Adayar
- C) Battle of Adayar – Battle of Ambur – Battle of Wandiwash
- D) Battle of Wandiwash – Battle of Ambur – Battle of Arcot
- E) Answer not known

138. எந்த உடன்படிக்கையின் கீழ், ஹைதர் அலி மற்றும் பிரிட்டிஷ் கிழக்கிந்திய கம்பெனி, கைப்பற்றப்பட்ட பகுதிகளை திருப்பி அளித்தனர் மற்றும் அவர்கள் மீது மற்ற நாடு தாக்கும் பட்சத்தில் ஒருவருக்கொருவர் உதவுவதாக உறுதியளித்தனர்?

- A) பாரிஸ் உடன்படிக்கை
- B) மங்களூர் உடன்படிக்கை
- C) ஸ்ரீரங்கப்பட்டினம் உடன்படிக்கை
- D) மெட்ராஸ் உடன்படிக்கை
- E) விடை தெரியவில்லை



Under which Treaty, Haider Ali and British East India Company, returned the conquered territories and promised to help each other in case of any foreign attack on them?

- A) Treaty of Paris
B) Treaty of Mangalore
C) Treaty of Srirangapatnam
D) Treaty of Madras
E) Answer not known

139. பின்வருவனவற்றில் பெண் சிசுக்கொலை நடைமுறைக்கு தொடர்பில்லாதது எது?

- A) 1795ஆம் ஆண்டின் வங்காள ஒழுங்காற்றுச் சட்டம் XXI
B) 1802ஆம் ஆண்டின் ஒழுங்குமுறைச் சட்டம்
C) 1829ஆம் ஆண்டின் வங்காள ஒழுங்காற்றுச் சட்டம் XVII
D) 1870ஆம் ஆண்டின் பெண் சிசுக்கொலை தடைச் சட்டம்
E) விடை தெரியவில்லை

Which of the following is not related to the practice of female infanticide?

- A) The Bengal Regulatory Act XXI of 1795
B) The Regulating Act of 1802
C) Regulation Act of XVII, 1829
D) The Female Infanticide Act of 1870
E) Answer not known

140. விஜயநகர காலத்தில் சதி நடைமுறையில் இருந்ததை தனது பதிவுகளில் எந்த பயணி ஆவணப்படுத்தினார்?

- A) நிக்கோலோ கோண்டி
B) பிராங்கோயிஸ் பெர்னியர்
C) மார்க்கோ போலோ
D) அப்துர் ரஸாக்
E) விடை தெரியவில்லை

Which traveller documented witnessing the practice of Sati during the Vijayanagar period in his records?

- A) Niccolo Conti
B) Francois Bernier
C) Marco Polo
D) Abdur Razzaq
E) Answer not known

141. பட்டியல்-Iஐ பட்டியல்-II உடன் பொருத்துக.

பட்டியல்-I	பட்டியல்-II
(திருமணம் தொடர்பான சட்டம்)	(ஆண்டு)
a) உள்நாட்டு திருமணச்சட்டம்	1. 1856
b) சாரதா சட்டம்	2. 1872
c) இந்து திருமணச் சட்டம்	3. 1930
d) இந்து விதவை மறுமணச்சட்டம்	4. 1955



குறியீடுகள்:

- | | a | b | c | d |
|----|----------|----------|----------|----------|
| A) | 4 | 2 | 1 | 3 |
| B) | 2 | 3 | 4 | 1 |
| C) | 3 | 2 | 4 | 1 |
| D) | 4 | 1 | 2 | 3 |

E) விடை தெரியவில்லை

Match List-I with List-II.

List-I	List-II
(Act related to Marriage)	(Year)
a) The Native Marriage Act	1. 1856
b) The Sharda Act	2. 1872
c) Hindu Marriage Act	3. 1930
d) Hindu Widow remarriage Act	4. 1955

Codes:

- | | a | b | c | d |
|----|----------|----------|----------|----------|
| A) | 4 | 2 | 1 | 3 |
| B) | 2 | 3 | 4 | 1 |
| C) | 3 | 2 | 4 | 1 |
| D) | 4 | 1 | 2 | 3 |

E) Answer not known

142. “ஜவ்கார்” என்ற சொல் எதைக் குறிக்கிறது?

- A) இடைக்கால இந்தியாவில் அரசு விழாக்களின் ஊர்வலம்
- B) தோற்கடிக்கப்பட்ட ராஜபுத்திர போர்வீரர்களின் மனைவிகளும் மகள்களும் கூட்டாக தீயில் குதித்து உயிரை மாய்த்துக் கொள்ளும் நடைமுறை
- C) ராஜஸ்தானின் பாரம்பரிய நடன வடிவம்
- D) இந்து கோவில்களின் சடங்கு வழிபாடு
- E) விடை தெரியவில்லை

What does the term “Jauhar” refer to?

- A) Procession of royal ceremonies in medieval India
- B) Collective voluntary immolation by wives and daughters of defeated Rajput warriors
- C) Traditional dance form in Rajasthan
- D) Ritual worship in Hindu temples
- E) Answer not known



143. பின்வரும் கூற்றுகளைக் கருத்தில் கொள்க.

- I. ரிக்வேத காலத்தில், மனைவியின் நிலை போற்றப்பட்டது மற்றும் பெண்களின் அந்தஸ்து ஒப்புக் கொள்ளப்பட்டது.
- II. பின் வேத காலத்தில், சமய வேள்வி செயல்பாடுகளைத் தவிர, பெண்களின் சமூகப் சுதந்திரங்கள் கட்டுப்படுத்தப்பட்டது.
- III. சதி, பெண் சிசுக்கொலை மற்றும் அடிமைத்தனம் போன்ற சமூக தீமைகளால் குறிக்கப்பட்ட பிற்கால வேத காலத்தில் பெண்களின் நிலை வீழ்ச்சியடைந்தது.

மேற்கண்ட கூற்றுகளில் சரியானது எது/எவை?

- | | |
|---------------------------|--------------------------|
| A) I மற்றும் II மட்டும் | B) I மற்றும் III மட்டும் |
| C) II மற்றும் III மட்டும் | D) மேற்கண்ட அனைத்தும் |
| E) விடை தெரியவில்லை | |

Consider the following statements.

- I. During the Rig Vedic period, the position of the wife was honoured and women's status was acknowledged.
- II. During the later Vedic age, women's social life became restricted, except in the performance of religious sacrifices.
- III. The status of women declined during the later Vedic period, marked by social evils like sati, female infanticide, and slavery.

Which of the statements given above is/are correct?

- | | |
|---------------------|-------------------|
| A) I and II only | B) I and III only |
| C) II and III only | D) All the above |
| E) Answer not known | |

144. பெண் சிசுக்கொலைக்கு முக்கிய காரணிகள் எவை?

- I. குடும்பப் பெருமை
- II. வரதட்சணை முறை
- III. மத நம்பிக்கை
- IV. பொருளாதார சுமையை தவிர்க்க

குறியீடுகள்:

- | | |
|------------------------------|-------------------------------|
| A) I, II மற்றும் III மட்டும் | B) II, III மற்றும் IV மட்டும் |
| C) I, II மற்றும் IV மட்டும் | D) மேற்கண்ட அனைத்தும் |
| E) விடை தெரியவில்லை | |

What are the major factors contributing to female infanticide?

- I. Family pride
- II. Dowry system
- III. Religious belief
- IV. To avoid economic burden

Codes:

- | | |
|-----------------------|------------------------|
| A) I, II and III only | B) II, III and IV only |
| C) I, II and IV only | D) All the above |
| E) Answer not known | |



145. அக்பரின் ஆட்சியைப் பற்றிய பின்வரும் கூற்றுகளைக் கருத்தில் கொள்க:

- I. அக்பர் குழந்தை திருமணத்தை தடை செய்தார்
- II. திருமணத்திற்கு முன் மணமகன் மற்றும் மணமகளின் ஒப்புதலைப் பெற்றோர்கள் கட்டாயமாக பெற்றுக்கொள்ள வேண்டும் என்று உத்தரவிட்டார்.
- III. அவர் பெண்ணிற்கான திருமண வயது 14 எனவும் ஆண்களுக்கான திருமண வயது 16 எனவும் நிர்ணயித்தார்.

மேற்கண்ட கூற்றுகளில் சரியானது எது/எவை?

- A) I மற்றும் II மட்டும்
- B) I மற்றும் III மட்டும்
- C) II மற்றும் III மட்டும்
- D) மேற்கண்ட அனைத்தும்
- E) விடை தெரியவில்லை

Consider the following statements regarding Akbar's rule:

- I. Akbar prohibited child marriage
- II. He made it obligatory for the parents to obtain the approval of both the bride and the bridegroom before the marriage.
- III. He prescribed 14 years as the age of constant for girls and 16 years for boys.

Which of the statements given above is/are correct?

- A) I and II only
- B) I and III only
- C) II and III only
- D) All the above
- E) Answer not known

146. பட்டியல்-Iஐ பட்டியல்-II உடன் பொருத்துக.

பட்டியல்-I

(ஆளுமை)

- a) M.G. ரானடே
- b) G.K. கோகலே
- c) அன்னி பெசன்ட்
- d) ராஜாராம் மோகன் ராய்

பட்டியல்-II

(நிறுவனங்கள்)

1. இந்திய ஊழியர் சங்கம்
2. பிரம்ம சமாஜம்
3. தேசிய சமூக மாநாடு
4. பிரம்ம ஞான சபை

குறியீடுகள்:

- | | a | b | c | d |
|----|----------|----------|----------|----------|
| A) | 4 | 2 | 3 | 1 |
| B) | 2 | 1 | 3 | 4 |
| C) | 3 | 1 | 4 | 2 |
| D) | 4 | 1 | 2 | 3 |

E) விடை தெரியவில்லை

Match List-I with List-II.

List-I

(Personality)

- a) M.G. Ranade
- b) G.K. Gokhale
- c) Annie Besant
- d) Raja Ram Mohan Roy

List-II

(Institutions)

1. Servants of Indian Society
2. Brahma Samaj
3. National Social Conference
4. Theosophical Society

**Codes:**

- | | a | b | c | d |
|----|------------------|----------|----------|----------|
| A) | 4 | 2 | 3 | 1 |
| B) | 2 | 1 | 3 | 4 |
| C) | 3 | 1 | 4 | 2 |
| D) | 4 | 1 | 2 | 3 |
| E) | Answer not known | | | |

147. தேவதாசி முறை பற்றிய பின்வரும் கூற்றுகளைக் கருத்தில் கொள்க:

- I. இம்முறையில், ஒரு பெண் குழந்தையைக் கோயிலுக்கு நேர்த்தி கடனாக அர்ப்பணிக்கும் வழக்கம் இருந்தது
- II. அவர்கள் கோயிலைக் கவனித்துக்கொள்வதோடு மட்டுமல்லாமல், பரத நாட்டியம் மற்றும் பிற பாரம்பரிய நடன கலைகளையும் கற்றுக் கொண்டனர்.
- III. பிற்காலத்தில், அவர்கள் மதிக்கப்பட்டு கௌரவிக்கப்பட்டனர்.

மேற்கண்ட கூற்றுகளில் சரியானது எது/எவை?

- A) I மற்றும் II மட்டும்
- B) I மற்றும் III மட்டும்
- C) II மற்றும் III மட்டும்
- D) மேற்கண்ட அனைத்தும்
- E) விடை தெரியவில்லை

Consider the following statements regarding Devadasi system :

- I. In this system, there was a tradition of dedicating one daughter to temple
- II. They were engaged in Bharatanatyam and other classical dance forms and also maintained temples.
- III. In the later period, they were respected and honoured.

Which of the statements given above is/are correct?

- A) I and II only
- B) I and III only
- C) II and III only
- D) All the above
- E) Answer not known

148. பத்தொன்பதாம் நூற்றாண்டின் சமூக சீர்திருத்த இயக்கங்கள் பற்றிய பின்வரும் கூற்றுகளில் எது சரியானது?

- A) இந்த இயக்கங்கள் பாரம்பரிய சாதிய படிநிலைகளைப் பாதுகாப்பதை நோக்கமாகக் கொண்டிருந்தன
- B) இந்த இயக்கங்கள் விதவை மறுமணம் தொடர்பான பிரச்சினையை புறக்கணித்தன.
- C) அவர்களது முதன்மை நோக்கம் மத மரபுவழக்கத்தை ஊக்குவிப்பதாகும்.
- D) கல்வி அளிப்பது மற்றும் திருமண வயதை உயர்த்துவதன் மூலம் பெண்களை மேம்படுத்துவதை அவர்கள் நோக்கமாகக் கொண்டிருந்தனர்.
- E) விடை தெரியவில்லை



Which of the following statements about social reform movements in the nineteenth century is correct?

- A) These movements aimed to preserve traditional caste hierarchies
- B) These movements ignored the issue of widow remarriage.
- C) Their primary goal was to promote religious orthodoxy.
- D) They aimed to empower women through giving education and raising marriageable age.
- E) Answer not known

149. பின்வரும் கூற்றுகளைக் கருத்தில் கொள்க.

- I. 1854 ஆம் ஆண்டில் கல்விக்கான சார்லஸ் உட் அறிக்கை பெண் கல்வியின் அவசியத்தை முதன்மைப்படுத்தவில்லை.
- II. 1882ஆம் ஆண்டில் இந்திய கல்விக் (ஹண்டர்) குழு சிறுமிகளுக்கான தொடக்கப் பள்ளியையும் ஆசிரியர் பயிற்சி நிறுவனங்களையும் தொடங்க பரிந்துரைத்தது.

மேற்கண்ட கூற்றுகளில் தவறானது எது/எவை?

- A) I மட்டும்
- B) II மட்டும்
- C) இரண்டும்
- D) இரண்டுமில்லை
- E) விடை தெரியவில்லை

Consider the following statements.

- I. Charles Wood's despatch on education in 1854 did not prioritize the need for female education.
- II. Indian Education Commission (Hunter) of 1882 recommended to start primary schools for girls and teacher-training institution

Which of the statements given above is/are incorrect?

- A) I only
- B) II only
- C) Both I and II
- D) Neither I nor II
- E) Answer not known

150. பின்வரும் கூற்றுகளைக் கருத்தில் கொள்க.

- I. 1889இல் இந்து விதவைகளுக்காக சாரதா சதன் (கற்றல் இல்லம்) எனும் அமைப்பினை பண்டித ரமாபாய் பம்பாயில் தொடங்கினார்.
- II. அவரது முயற்சிகளிலேயே மகத்தானது இந்தியாவில் முதன் முதலாக விதவைகளுக்கு கல்வி புகட்ட மேற்கொண்ட முயற்சியாகும்.

மேற்கண்ட கூற்றுகளில் தவறானது எது/எவை?

- A) I மட்டும்
- B) II மட்டும்
- C) இரண்டும்
- D) இரண்டுமில்லை
- E) விடை தெரியவில்லை

Consider the following statements.

- I. In 1889, Pandita Ramabai opened Sarada Sadan (Home of Learning) for Hindu widows in Bombay.
- II. Her greatest legacy was her effort, the first in India to educate widows.



Which of the statements given above is/are incorrect?

- A) I only
B) II only
C) Both I and II
D) Neither I nor II
E) Answer not known

151. தேவதாசி முறை ஒழிப்பு சீர்திருத்தங்கள் தொடர்பாக எந்த கூற்று தவறானது ?

- A) டாக்டர் முத்துலட்சுமி அம்மையார் 1929 ஆம் ஆண்டில் தேவதாசி முறைக்கு எதிரான போராட்டத்தில் ஆற்றிய பங்கிற்காக தமிழ்நாடு சட்டமன்றத்திற்கு பரிந்துரைக்கப்பட்டார்.
B) பெரியார் ஈ.வெ.ராமசாமி தேவதாசி ஒழிப்பு மசோதாவை நிறைவேற்றுவதில் முக்கிய பங்கு வகித்தார்.
C) டாக்டர். முத்துலட்சுமி அம்மையார் தேவதாசி ஒழிப்பு மசோதாவை 1930 ஆம் ஆண்டில் சென்னை சட்டமன்றத்தில் முன்மொழிந்தார்.
D) மதராஸ் தேவதாசி சட்டம் என்பது அக்டோபர் 9, 1949 இல் நிறைவேற்றப்பட்ட ஒரு சட்டமாகும்.
E) விடை தெரியவில்லை

Which statement is incorrect regarding the reforms of Devadasi system abolition?

- A) Dr.Muthulakshmi Ammaiyar was nominated to the Tamil Nadu legislative council in 1929 for her role in the agitation against the Devadasi system.
B) Periyar E.V. Ramasamy played a crucial role in passing the Devadasi abolition bill.
C) Dr.Muthulakshmi Ammaiyar proposed the Devadasi abolition bill to the Madras legislative council in 1930.
D) The Madras Devadasi Act was a law that was enacted on 9th October 1949.
E) Answer not known

152. பின்வருவனவற்றில் எது/எவை சரியாகப் பொருந்தியுள்ளன?

(பெண் கல்வி நிறுவனம்)

(நிறுவப்பட்ட ஆண்டு)

- | | |
|--|--------|
| I. பெதுன் பள்ளி | - 1849 |
| II. பெண் சிறார் சங்கம் | - 1819 |
| III. வீரசலிங்கத்தின் முதல் பெண்கள் பள்ளி | - 1874 |
| IV. இந்தியப் பெண்கள் பல்கலைக்கழகம் | - 1916 |

குறியீடுகள்:

- | | |
|----------------------------|---------------------------|
| A) I மற்றும் II மட்டும் | B) III மற்றும் IV மட்டும் |
| C) I,II மற்றும் IV மட்டும் | D) மேற்கண்ட அனைத்தும் |
| E) விடை தெரியவில்லை | |

Which of the following is/are correctly matched?

(Female Education Institutions)

(Established in)

- | | |
|---|--------|
| I. Bethune School | - 1849 |
| II. Female Juvenile Society | - 1819 |
| III. Veerasalingam's first girls school | - 1874 |
| IV. Indian women's university | - 1916 |

**Codes:**

- A) I and II only
B) III and IV only
C) I, II and IV only
D) All the above
E) Answer not known

153. பின்வரும் கூற்றுகளைக் கருத்தில் கொள்க.

- I. மேயோ பிரபுவின் 1870ஆம் ஆண்டின் புகழ்பெற்ற தீர்மானம் உள்ளாட்சி அரசாங்கத்தின் வளர்ச்சிக்கான வாய்ப்புகளை வழங்குவதை நோக்கமாகக் கொண்டிருந்தது.
II. ரிப்பன் பிரபுவின் தீர்மானம் உள்ளாட்சி அரசாங்கத்தின் மகாசாசனம் என்று அழைக்கப்படுகிறது.

மேற்கண்ட கூற்றுகளில் சரியானது எது/எவை?

- A) I மட்டும்
B) II மட்டும்
C) இரண்டும்
D) இரண்டுமில்லை
E) விடை தெரியவில்லை

Consider the following statements.

- I. Lord Mayo's famous Resolution of 1870 intended to afford opportunities for the development of self-government.
II. Lord Rippon's resolution known as the Magna carta of Local self-government.

Which of the statements given above is/are correct?

- A) I only
B) II only
C) Both I and II
D) Neither I nor II
E) Answer not known

154. பட்டியல்-Iஐ பட்டியல்-II உடன் பொருத்துக.

பட்டியல்-I

பட்டியல்-II

(துறை)

(இந்திய தொழில்துறையின் முன்னோடி)

- | | |
|-----------------------|--------------|
| a) பருத்தி நூற்பு ஆலை | 1. ரிஷ்ரா |
| b) சணல் தொழிற்சாலை | 2. பாலிகன்ஜ் |
| c) காகித ஆலை | 3. பம்பாய் |
| d) எஃகு | 4. குல்டி |

குறியீடுகள்:

- | | a | b | c | d |
|----|----------|----------|----------|----------|
| A) | 3 | 2 | 4 | 1 |
| B) | 2 | 1 | 3 | 4 |
| C) | 3 | 1 | 2 | 4 |
| D) | 4 | 1 | 2 | 3 |

E) விடை தெரியவில்லை

Match List-I with List-II.

List-I

List-II

(Sector)

(Pioneers of Indian industry)

- | | |
|-------------------|--------------|
| a) Cotton Textile | 1. Rishra |
| b) Jute industry | 2. Ballygunj |
| c) Paper mill | 3. Bombay |
| d) Steel | 4. Kulti |

**Codes:**

- | | a | b | c | d |
|----|----------|----------|----------|----------|
| A) | 3 | 2 | 4 | 1 |
| B) | 2 | 1 | 3 | 4 |
| C) | 3 | 1 | 2 | 4 |
| D) | 4 | 1 | 2 | 3 |
- E) Answer not known

155. மேற்கிலிருந்து கிழக்காக பின்வரும் தொழில்துறை இடங்களை வரிசைப்படுத்துக:

- I. கான்பூர்
- II. ரிஷ்ரா
- III. ஜாம்ஷெட்பூர்
- IV. அகமதாபாத்

குறியீடுகள்:

- | | |
|----------------|----------------|
| A) IV-I-II-III | B) I-IV-III-II |
| C) IV-I-III-II | D) I-III-IV-II |
- E) விடை தெரியவில்லை

Arrange the following industrial locations in order from west to east:

- I. Kanpur
- II. Rishra
- III. Jamshedpur
- IV. Ahmedabad

Codes:

- | | |
|----------------|----------------|
| A) IV-I-II-III | B) I-IV-III-II |
| C) IV-I-III-II | D) I-III-IV-II |
- E) Answer not known

156. பின்வருவனவற்றில் எது/எவை சரியாகப் பொருந்தியுள்ளது?

(காலனித்துவ நகர்ப்புற நகரங்கள்) (எடுத்துக்காட்டுகள்)

- | | |
|----------------------------------|------------|
| I. துறைமுக நகரம் | - பம்பாய் |
| II. மலைவாழிடங்கள் | - டேராடூன் |
| III. இராணுவக் குடியிருப்பு நகரம் | - கான்பூர் |
| IV. இரயில்வே நகரம் | - டெல்லி |

குறியீடுகள்:

- | | |
|------------------------------|--------------------------|
| A) I, II மற்றும் III மட்டும் | B) II மற்றும் IV மட்டும் |
| C) I மற்றும் III மட்டும் | D) மேற்கண்ட அனைத்தும் |
- E) விடை தெரியவில்லை

Which of the following is/are correctly matched?

(Colonial Urban towns) (Examples)

- | | |
|----------------------|------------|
| I. Port city | - Bombay |
| II. Hill station | - Dehradun |
| III. cantonment town | - Kanpur |
| IV. Railway town | - Delhi |

**Codes:**

- A) I, II and III only
- B) II and IV only
- C) I and III only
- D) All the above
- E) Answer not known

157. பின்வருவனவற்றில் இந்தியாவின் தொழில்மயம் அழிதலுக்கான காரணங்கள் யாவை?
- I. பிரிட்டிஷ் ஆட்சியாளர்கள் இந்தியாவை மூலப்பொருட்கள் உற்பத்தி செய்யும் நாடாக மாற்றினார்கள்.
 - II. இந்தியாவில் பிரிட்டிஷ் பொருட்களை மலிவானதாக மாற்றியது
 - III. தொழில்நுட்ப மாற்றங்களால் பாரம்பரிய தொழில்களுக்கு இடையூறு ஏற்பட்டது
 - IV. தடையற்ற வர்த்தக கொள்கைகளை ஏற்றுக்கொண்டது.

குறியீடுகள்:

- A) I, II மற்றும் III மட்டும்
- B) I, III மற்றும் IV மட்டும்
- C) II, III மற்றும் IV மட்டும்
- D) மேற்கண்ட அனைத்தும்
- E) விடை தெரியவில்லை

Which of the following are reasons for the de-industrialisation of India?

- I. The British rulers transformed India into a producer of raw materials.
- II. Competition from cheaper British manufactured goods.
- III. Disruption of traditional industries due to technological changes.
- IV. Adoption of free trade policies.

Codes:

- A) I, II and III only
- B) I, III and IV only
- C) II, III and IV only
- D) All of the above
- E) Answer not known

158. பின்வரும் கூற்றுகளை கருத்தில் கொள்க.
- கூற்று (A)** : பிரிட்டிஷ் பொருட்கள் இந்திய பொருட்களை விட மிகவும் விலை குறைந்ததாக மாறியது
- காரணம் (R)** : துயஸ் கால்வாயின் கட்டப்பட்டபிறகு போக்குவரத்துச் செலவுகள் கணிசமாகக் குறைந்தது.

குறியீடுகள்:

- A) (A) மற்றும் (R) இரண்டும் சரி மற்றும் (R) என்பது (A)-யின் சரியான விளக்கமாகும்
- B) (A) மற்றும் (R) இரண்டும் சரி ஆனால் (R) என்பது (A)-யின் சரியான விளக்கமல்ல
- C) (A) சரி ஆனால் (R) தவறு
- D) (A) தவறு ஆனால் (R) சரி
- E) விடை தெரியவில்லை

Consider the following statements.

Assertion (A) : British goods became more cost-effective than Indian goods.

Reason (R) : The construction of the Suez Canal significantly decreased transport costs.

**Codes:**

- A) Both (A) and (R) are true and (R) is the correct explanation of (A)
B) Both (A) and (R) are true but (R) is not the correct explanation of (A)
C) (A) is true but (R) is false
D) (A) is false but (R) is true
E) Answer not known

159. பின்வருவனவற்றில் 1991 சீர்திருத்தங்களுக்குப் பிறகு இந்தியத் தொழில்துறை வளர்ச்சியடைவதற்காக மேற்கொள்ளப்பட்ட மாற்றங்கள் எவை?

- I. தொழில்துறை உரிமத்தை ஒழித்தல்
II. விலைக் கட்டுப்பாடுகளை விதித்தல்
III. சிறுதொழில்களுக்கான இடஒதுக்கீட்டை நீர்த்துப்போகச் செய்தல்
IV. வெளிநாட்டு முதலீடுகளை வரவேற்றல்

குறியீடுகள்:

- A) I, II மற்றும் III மட்டும்
B) II, III மற்றும் IV மட்டும்
C) I, III மற்றும் IV மட்டும்
D) மேற்கண்ட அனைத்தும்
E) விடை தெரியவில்லை

Which of the following changes occurred after the 1991 reforms that enabled Indian industry to flourish?

- I. Abolition of industrial licensing
II. Imposition of price controls
III. Dilution of reservation for small-scale industries
IV. Welcomes foreign investments

Codes:

- A) I, II and III only
B) II, III and IV only
C) I, III and IV only
D) All the above
E) Answer not known

160. பட்டியல்-Iஐ பட்டியல்-II உடன் பொருத்துக.

பட்டியல்-I பட்டியல்-II

- | | |
|----------------|-------------|
| a) செளராஷ்டிரா | 1. வெண்கலம் |
| b) வங்காளம் | 2. மஸ்லின் |
| c) டாக்கா | 3. தோல் |
| d) கான்பூர் | 4. தகரம் |

குறியீடுகள்:

- | | a | b | c | d |
|----|----------|----------|----------|----------|
| A) | 1 | 4 | 2 | 3 |
| B) | 2 | 1 | 3 | 4 |
| C) | 3 | 2 | 1 | 4 |
| D) | 4 | 1 | 2 | 3 |

- E) விடை தெரியவில்லை



Match List-I with List-II.

List-I	List-II
a) Saurashtra	1. Bell metal
b) Bengal	2. Muslin
c) Dacca	3. Leather
d) Kanpur	4. Tin Industry

Codes:

	a	b	c	d
A)	1	4	2	3
B)	2	1	3	4
C)	3	2	1	4
D)	4	1	2	3
E)	Answer not known			

161. பட்டியல்-Iஐ பட்டியல்-II உடன் பொருத்துக.

பட்டியல்-I (காலம்)	பட்டியல்-II (முக்கியத்துவம்)
a) 1950-1965	1. தொழில்துறை மீட்பு காலம்
b) 1965-1980	2. உற்பத்தியில் விரைவான வளர்ச்சி
c) 1980-1991	3. பின்னடைவு காலம்
d) 1991க்குப் பின்	4. பொருளாதார தாராளமயமாக்கல்

குறியீடுகள்:

	a	b	c	d
A)	2	3	1	4
B)	2	1	3	4
C)	3	2	1	4
D)	4	1	2	3

E) விடை தெரியவில்லை

Match List-I with List-II.

List-I (Time Period)	List-II (Significance)
a) 1950-1965	1. Period of Industrial recovery
b) 1965-1980	2. Rapid growth in Production
c) 1980-1991	3. Structural retrogression
d) Post 1991	4. Economic liberalisation

Codes:

	a	b	c	d
A)	2	3	1	4
B)	2	1	3	4
C)	3	2	1	4
D)	4	1	2	3
E)	Answer not known			



162. புறநானூற்றில் நெடுஞ்செழியன் கல்விக்கு முக்கியத்துவம் கொடுத்தது பற்றிய தவறான கூற்றைக் கண்டறியவும் :
- A) நெடுஞ்செழியன் வறுமையைப் பொருட்படுத்தாமல் அனைவரும் ஆசிரியரிடம் கற்க வேண்டும் என்று ஆசிரியருக்கு பரிசுகள் வழங்க வேண்டும் எனவும் கூறினார்.
- B) ஒரு ஆட்சியாளர் படித்தவர்களின் சொற்களுக்கு முக்கியத்துவம் கொடுத்து மதித்தனர்.
- C) தாழ்த்தப்பட்ட ஜாதிக்காரன் படித்தால், மேல்தட்டுக்காரன் கூட அவன் முன் தலைவணங்குவான்
- D) ஒரு தாய் தன் குழந்தைகளில் படித்தவர்களுக்கு முன்னுரிமை காட்டுவதில்லை.
- E) விடை தெரியவில்லை

Find the incorrect statement regarding Nedunchezhiyan's emphasis on education in Purananuru:

- A) Nedunchezhiyan exhorted everyone to learn from the teacher, regardless of their poverty, by giving gifts to him.
- B) A ruler respects and follows those who are educated
- C) If a lower caste is learned, even upper class person would bow before him
- D) A mother does not show preference for the educated among her children.
- E) Answer not known
163. சீனாவைச் சேர்ந்த புத்த துறவியான யுவான் சுவாங் காஞ்சிபுரத்திற்கு வருகை தந்த போது எந்த ஆட்சியாளர் ஆட்சி செய்தார்?
- A) முதலாம் நரசிம்ம பல்லவன் B) இரண்டாம் நரசிம்ம பல்லவன்
- C) மகேந்திரவர்ம பல்லவன் D) நந்திவர்மன்
- E) விடை தெரியவில்லை
- Which ruler was reigning during the visit of Hiuen Tsang, a Buddhist monk from China, to Kanchipuram?
- A) Narasimha Pallava I B) Narasimha Pallava II
- C) Mahendravarma Pallava D) Nandivarman
- E) Answer not known

164. ஷாஜகானின் சமகாலத்தவர். வாரணாசியில் (பனாரஸ்/காசி) பின்பற்றப்பட்ட குருகுல அமைப்பு பற்றி அவருடைய குறிப்புகளில் இருந்து அறிந்து கொள்கிறோம். இப்பத்தியில் குறிப்பிடப்பட்டுள்ள நபரை அடையாளம் காணவும்?

- A) பெர்னியர் B) நிக்கோலோ டி கான்டி
- C) ஜீன்-பாப்டிஸ்ட் டேவ்ரீனியர் D) அப்துர் ரஸாக்
- E) விடை தெரியவில்லை

He was a contemporary of Shah Jahan. We learn about the continuing Gurukula system in Varanasi (Banaras/Kasi) from his accounts.

Identify the person mentioned in the passage?

- A) Bernier B) Nicolo di Conti
- C) Jean-Baptiste Tavernier D) Abdur Razzaq
- E) Answer not known



165. விக்ரம சீலா பல்கலைக்கழகத்தை நிறுவியவர் யார்?

- A) பாலா வம்சத்தின் மன்னர் கோபாலார்
- B) பால வம்சத்தின் மன்னர் தர்மபாலர்
- C) குப்த வம்சத்தின் முதலாம் குமாரகுப்தர்
- D) பல்லவ வம்சத்தின் முதலாம் மகேந்திரவர்மன்
- E) விடை தெரியவில்லை

Who established Vikramshila University?

- A) King Gopala of the Pala dynasty
- B) King Dharmapala of the Pala dynasty
- C) Kumaragupta I of the Gupta dynasty
- D) Mahendravarman I of Pallava dynasty
- E) Answer not known

166. யாருடைய வருகை தமிழகத்தில் மிஷனரி கல்வியின் தொடக்கத்தைக் குறித்தது?

- A) பிரான்சிஸ் சேவியர் மற்றும் ராபர்ட் கால்டுவெல்
- B) சி.எஃப்.ஆண்ட்ரூஸ் மற்றும் ஐடா ஸ்கட்டர்
- C) பார்தோலோமஸ் சீகன்பால்க் மற்றும் ஹென்றி ப்ளூட்சோ
- D) ஜான் எலியட் டிரிங்க்வாட்டர் பெத்துன் மற்றும் மிஸ் மேரி ஆன் குக்
- E) விடை தெரியவில்லை

Whose arrival marked the beginning of missionary education in Tamil Nadu?

- A) Francis Xavier and Robert Caldwell
- B) C.F. Andrews and Ida Scudder
- C) Bartholomaus Ziegenbalg and Henri Plustscham
- D) John Elliot Drinkwater Bethune and Miss Mary Ann Cook
- E) Answer not known

167. பட்டியல்-Iஐ பட்டியல்-II உடன் பொருத்துக.

பட்டியல்-I

பட்டியல்-II

- | | |
|---------------------------------|---------|
| a) கோத்தாரி ஆணையம் | 1. 1952 |
| b) இடைநிலைக் கல்வி ஆணையம் | 2. 1948 |
| c) டாக்டர் ராதாகிருஷ்ணன் ஆணையம் | 3. 1964 |
| d) தேசிய கல்விக் கொள்கை ஆணையம் | 4. 1986 |

குறியீடுகள்:

- | | a | b | c | d |
|----|------------------|----------|----------|----------|
| A) | 4 | 2 | 3 | 1 |
| B) | 3 | 2 | 4 | 1 |
| C) | 3 | 1 | 2 | 4 |
| D) | 4 | 1 | 2 | 3 |
| E) | விடை தெரியவில்லை | | | |



Match List-I with List-II.

List-I	List-II
a) Kothari Commission	1. 1952
b) Secondary Education Commission	2. 1948
c) Dr.Radhakrishnan Commission	3. 1964
d) National Educational Policy Commission	4. 1986

Codes:

	a	b	c	d
A)	4	2	3	1
B)	3	2	4	1
C)	3	1	2	4
D)	4	1	2	3
E)	Answer not known			

168. தவறாக பொருந்தியுள்ள இணையைக் கண்டறியவும் .

(தமிழ்நாட்டில் உள்ள கல்லூரிகள்) (நிறுவப்பட்ட ஆண்டு)

A) மெட்ராஸ் கிறிஸ்தவக் கல்லூரி	–	1835
B) பச்சையப்பன் கல்லூரி	–	1880
C) மெட்ராஸ் மாகாணக் கல்லூரி	–	1857
D) அண்ணாமலைப் பல்கலைக்கழகம்	–	1929
E) விடை தெரியவில்லை		

Find out the incorrectly matched pair.

(Colleges in Tamilnadu) (Year of establishment)

A) Madras Christian College	–	1835
B) Pachaiappa's College	–	1880
C) Madras Presidency College	–	1857
D) Annamalai University	–	1929
E) Answer not known		

169. கோத்தாரி கமிஷனின் பரிந்துரைகள் தொடர்பான தவறான கூற்றைக் கண்டறியவும்.

- A) இடைநிலைக் கல்வியை தொழில் கல்வியாக்கல்.
- B) பொது பள்ளி முறை, மாணவர்கள் தங்கள் தாய்மொழியில் அருகிலுள்ள பள்ளிகளில் 5 ஆம் வகுப்பு வரை படிக்கலாம்.
- C) 6–12 வயதுள்ள குழந்தைகளுக்கு இலவச மற்றும் கட்டாயக் கல்வி
- D) மத்திய அரசு தனது மொத்த உள்நாட்டு உற்பத்தியில் குறைந்தபட்சம் ஆறு சதவீதத்தை கல்வித் துறையில் முதலீடு செய்ய வேண்டும்.
- E) விடை தெரியவில்லை



Find the incorrect statement regarding the recommendations of the Kothari Commission.

- A) Vocationalisation of secondary education
- B) Common school system of public education where students would learn up to 5th standard at schools in neighbourhood in their mother tongue
- C) Free and compulsory education for children aged 6–12 years
- D) Union government to invest at least six per cent of its GDP in the education sector.
- E) Answer not known

170. பின்வருவனவற்றில் எது/எவை தவறாகப் பொருந்தியுள்ளது?

(ஆளுமை/ அமைப்பு)

(தொடர்புடைய கல்வி நிறுவனங்கள்)

I. ஜோதிபா பூலே

– 1889இல் விதவைகளுக்காக ஒரு பள்ளியைத் தொடங்கினார்.

II. பேராசிரியர் கார்வே

– ஒதுக்கப்பட்ட பிரிவின் பெண்களை மையமாகக் கொண்ட பள்ளி (1848)

III. அகில இந்திய பெண்கள் மாநாடு (1926) – லேடி இர்வின் கல்லூரி, டெல்லி

குறியீடுகள்:

A) I மற்றும் II மட்டும்

B) II மட்டும்

C) III மட்டும்

D) மேற்கண்ட அனைத்தும்

E) விடை தெரியவில்லை

Which of the following is/are incorrectly matched?

(Personality/Organisation)

(Associated Educational Institutions)

I. Jyotiba Phule

– Started a school for widows in 1889.

II. Professor Karve

– School focussed on girls of marginalised section (1848)

III. All India Women's Conference (1926)

– Lady Irwin College, Delhi

Codes:

A) I and II only

B) II only

C) III only

D) All the above

E) Answer not known

171. இந்தியாவில் உள்ள பிரிட்டிஷ் பிரதேசங்களில் இலக்கியம் மற்றும் அறிவியலை மேம்படுத்துவதற்காக கிழக்கிந்திய கம்பெனியின் எந்த சட்டம் 'ஒரு லட்சம் ரூபாய்' வழங்கியது?

A) 1793இன் சாசனச் சட்டம்

B) 1813இன் சாசனச் சட்டம்

C) 1833இன் சாசனச் சட்டம்

D) 1853இன் சாசனச் சட்டம்

E) விடை தெரியவில்லை

Which legislative act by the East India Company provided 'One Lakh of Rupees' for the promotion of literature and sciences in British territories in India?

A) Charter Act of 1793

B) Charter Act of 1813

C) Charter Act of 1833

D) Charter Act of 1853

E) Answer not known



172. பின்வரும் கூற்றுகளை கருத்தில் கொள்க.

- I. 1835இன் மெக்காலேயின் குறிப்பில் கூறப்பட்டதை உடல் அறிக்கை மீண்டும் வலியுறுத்தியது.
II. இந்தியர்களின் பழமைவாத பிரிவினரிடமிருந்து எதிர்ப்புகள் இருந்தாலும், அரசாங்கம் தனது கொள்கையுடன் முன்னேறியது.

மேற்கண்ட கூற்றுகளில் சரியானது எது/எவை?

- A) I மட்டும்
B) II மட்டும்
C) இரண்டும்
D) இரண்டுமில்லை
E) விடை தெரியவில்லை

Consider the following statements.

- I. The Wood's Despatch reiterated what had been stated in Macaulay's minute of 1835.
II. Though there were protests from orthodox sections of Indians, the government went ahead with its policy.

Which of the statements given above is/are correct?

- A) I only
B) II only
C) Both I and II
D) Neither I nor II
E) Answer not known

173. பின்வருவனவற்றில் எது/எவை சரியாகப் பொருந்தியுள்ளன?

(ஆளுமை)

(தொடர்புடையது)

- I. வில்லியம் பெண்டிங் - சதி ஒழிப்பு
II. மூவலூர் ராமாமிர்தம் - தேவதாசி ஒழிப்பு
III. ஈஸ்வர் சந்திர வித்யாசாகர் - வங்காளத்தில் பலதார மணம் ஒழிப்பு

குறியீடுகள்:

- A) I மற்றும் III மட்டும்
B) II மற்றும் III மட்டும்
C) II மட்டும்
D) மேற்கண்ட அனைத்தும்
E) விடை தெரியவில்லை

Which of the following is/are correctly matched?

(Personality)

(Associated with)

- I. William Benticnk - Abolition of Sati
II. Moovalur Ramamirtham - Devadasi abolition
III. Ishwar Chandra Vidhyasagar - Abolition of polygamy in Bengal

Codes:

- A) I and III only
B) II and III only
C) II only
D) All the above
E) Answer not known

174. பின்வருவனவற்றில் எது/எவை சரியாகப் பொருந்தியுள்ளன?

(நிறுவனம்)

(நிறுவப்பட்ட வருடம்)

- I. டாட்டா இரும்பு மற்றும் எஃகு நிறுவனம் (TISCO) - 1907
II. அசாம் தேயிலை நிறுவனம் - 1939
III. இந்திய தொழில் கூட்டமைப்பு - 1985



குறியீடுகள்:

- A) I மட்டும்
B) I மற்றும் III மட்டும்
C) II மற்றும் III மட்டும்
D) மேற்கண்ட அனைத்தும்
E) விடை தெரியவில்லை

Which of the following is/are correctly matched?

(Company/Organisation)	(Established in)
I. TISCO	- 1907
II. Assam Tea Company	- 1939
III. Confederation of Indian Industry	- 1985

Codes:

- A) I only
B) I and III only
C) II and III only
D) All the above
E) Answer not known

175. பின்வரும் இணைகளில் எத்தனை இணைகள் சரியாகப் பொருந்தியுள்ளன?

(கல்வி நிறுவனங்கள்) (மதத்துடன் தொடர்புடையது)

- I. மடங்கள் - சைவ மற்றும் வைணவ கற்றல் மையம்
II. மதரஸாக்கள் - இஸ்லாமிய பள்ளிகள்
III. மக்தாப்கள் - உயர் கல்விக்கான அரேபியர் நிறுவனம்

குறியீடுகள்:

- A) 1 இணை மட்டும்
B) 2 இணைகள் மட்டும்
C) அனைத்து இணைகளும்
D) பூஜ்ஜிய இணை
E) விடை தெரியவில்லை

How many of the following pairs are correctly matched?

(Educational Institutions) (Religion associated)

- I. Mutts - Saivite and vaishnavite learning centre
II. Madrasas - Islamic schools
III. Maktabs - Arabic institution of higher learning

Codes:

- A) 1 pair only
B) 2 pairs only
C) All pairs
D) Zero pair
E) Answer not known

176. ஒரு பெட்டியிலுள்ள $\frac{3}{4}$ பங்கு ஆப்பிள்களின் எடையானது 3 கி.கி 225 கிராம் எனில், ஒரு

முழுப்பெட்டி ஆப்பிள்களின் எடை என்னவாக இருக்கும்?

- A) 3 கிலோ 675 கிராம்
B) 4 கிலோ 400 கிராம்
C) 4 கிலோ 300 கிராம்
D) 3 கிலோ 400 கிராம்
E) விடை தெரியவில்லை

If $\frac{3}{4}$ of a box of apples weighs 3 kg and 225 gm, how much does a full box

of apples weigh?

- A) 3 kg 675 gm
B) 4 kg 400 gm
C) 4 kg 300 gm
D) 3 kg 400 gm
E) Answer not known



177. எந்த எண்ணை $\frac{-6}{11}$ இலிருந்து கழிக்கப்படும் போது எண் $\frac{8}{9}$ ஐப் பெற முடியும்?

- A) $\frac{34}{99}$ B) $\frac{142}{99}$
C) $\frac{-142}{99}$ D) $\frac{-34}{99}$

E) விடை தெரியவில்லை

The number which is subtracted from $\frac{-6}{11}$ to get $\frac{8}{9}$ is

- A) $\frac{34}{99}$ B) $\frac{142}{99}$
C) $\frac{-142}{99}$ D) $\frac{-34}{99}$

E) Answer not known

178. பின்வருவனவற்றில் $8/12$ க்கு சமமான பின்னம் அல்லாதது?

- A) $\frac{2}{3}$ B) $\frac{16}{24}$
C) $\frac{32}{60}$ D) $\frac{24}{36}$

E) விடை தெரியவில்லை

Which of the following is not an equivalent fraction of $\frac{8}{12}$?

- A) $\frac{2}{3}$ B) $\frac{16}{24}$
C) $\frac{32}{60}$ D) $\frac{24}{36}$

E) Answer not known

179. 4489 செ.மீ² பரப்பளவு கொண்ட ஒரு தலைவரின் உருவப்படமானது சதுர வடிவில் உள்ளது. மேலும் படத்தைச் சுற்றிலும் 2 செ.மீ அளவு கொண்ட மரச்சட்டம் உள்ளது எனில், மரச்சட்டத்தின் பரப்பளவு என்ன?

- A) 525 சதுர செ.மீ. B) 625 சதுர செ.மீ.
C) 552 சதுர செ.மீ. D) 652 சதுர செ.மீ.

E) விடை தெரியவில்லை

There is a large square portrait of a leader that covers an area of 4489 cm². If each side has a 2 cm liner, what would be its area?

- A) 525 sq.cm. B) 625 sq. cm.
C) 552 sq. cm. D) 652 sq. cm.

E) Answer not known



180. $\frac{-15}{24}, \frac{20}{-32}, \frac{-25}{40}$ வரிசையில் அடுத்த விகிதமுறு எண் _____

A) $\frac{-40}{56}$

B) $\frac{40}{-56}$

C) $\frac{-30}{48}$

D) $\frac{30}{-48}$

E) விடை தெரியவில்லை

The next rational number in the sequence $\frac{-15}{24}, \frac{20}{-32}, \frac{-25}{40}$ is

A) $\frac{-40}{56}$

B) $\frac{40}{-56}$

C) $\frac{-30}{48}$

D) $\frac{30}{-48}$

E) Answer not known

181. $\frac{1}{\left(\frac{10}{11}\right)}$ ஆனது $\frac{\left(\frac{1}{10}\right)}{11}$ ஐக் காட்டிலும் எவ்வளவு அதிகம்?

A) $\frac{10}{11}$

B) $\frac{12}{11}$

C) $\frac{11}{12}$

D) $\frac{-12}{11}$

E) விடை தெரியவில்லை

By how much does $\frac{1}{\left(\frac{10}{11}\right)}$ exceed $\frac{\left(\frac{1}{10}\right)}{11}$?

A) $\frac{10}{11}$

B) $\frac{12}{11}$

C) $\frac{11}{12}$

D) $\frac{-12}{11}$

E) Answer not known



182. ஒரு நாடாச் சுருளின் நீளம் $18\frac{3}{4}$ மீ ஆகும். சங்கரியிடம் 4 முழுச் சுருள்களும், ஒரு சுருளின் மூன்றில் ஒரு பகுதியும் உள்ளன எனில், சங்கரியிடம் மொத்தமாக எத்தனை மீட்டர் நாடா உள்ளது?

A) $81\frac{1}{2}$ மீ

B) $81\frac{1}{4}$ மீ

C) $81\frac{3}{4}$ மீ

D) 81 மீ

E) விடை தெரியவில்லை

One roll of ribbon is $18\frac{3}{4}$ m long. Sankari has four full rolls and one-third of another roll. How many metres of ribbon does Sankari have in total?

A) $81\frac{1}{2}$ m

B) $81\frac{1}{4}$ m

C) $81\frac{3}{4}$ m

D) 81 m

E) Answer not known

183. சுருக்குக : $\left(\frac{4}{3} - \left(\frac{-3}{2}\right)\right) + \left(\frac{-5}{3} \div \frac{30}{12}\right) + \left(\frac{-12}{9} \times \frac{-27}{16}\right)$

A) $\frac{53}{12}$

B) $\frac{43}{12}$

C) $\frac{63}{12}$

D) $\frac{73}{12}$

E) விடை தெரியவில்லை

Simplify : $\left(\frac{4}{3} - \left(\frac{-3}{2}\right)\right) + \left(\frac{-5}{3} \div \frac{30}{12}\right) + \left(\frac{-12}{9} \times \frac{-27}{16}\right)$

A) $\frac{53}{12}$

B) $\frac{43}{12}$

C) $\frac{63}{12}$

D) $\frac{73}{12}$

E) Answer not known

184. ஒரு மாணவர் ஓர் எண்ணை $\frac{8}{9}$ ஆல் பெருக்குவதற்குப் பதிலாக, தவறுதலாக $\frac{8}{9}$ ஆல் வகுத்து விட்டார். அவருக்குக் கிடைத்த விடைக்கும், சரியான விடைக்குமான வித்தியாசம் 34 எனில், அந்த எண்ணைக் காண்க

A) 72

B) 96

C) 120

D) 144

E) விடை தெரியவில்லை



A student instead of multiplying a number by $\frac{8}{9}$, by mistake divided it by $\frac{8}{9}$. If the difference between the correct answer and the answer got by him is 34, then find the number.

- A) 72
B) 96
C) 120
D) 144
E) Answer not known

185. $a = \frac{-3}{5}$ மற்றும் $b = \frac{2}{15}$ என்றால் $(a + b) \div (a - b)$ காண்க.

- A) $\frac{-8}{11}$
B) $\frac{8}{11}$
C) $\frac{7}{11}$
D) $\frac{-7}{11}$

E) விடை தெரியவில்லை

Find $(a + b) \div (a - b)$ if $a = \frac{-3}{5}$ and $b = \frac{2}{15}$

- A) $\frac{-8}{11}$
B) $\frac{8}{11}$
C) $\frac{7}{11}$
D) $\frac{-7}{11}$

E) Answer not known

186. ஒரு நபரின் வருமானம் 10% அதிகரிக்கப்பட்டு பிறகு 10% குறைக்கப்படுகிறது எனில், அவருடைய வருமானத்தில் ஏற்படும் மாற்றத்தைக் காண்

- A) 1%
B) 2%
C) 0.5%
D) 11%

E) விடை தெரியவில்லை

The income of a person is increased by 10% and then decreased by 10%. Find the change in his income.

- A) 1%
B) 2%
C) 0.5%
D) 11%

E) Answer not known

187. 20% விலை உயர்விற்குப் பின் ஒரு கிலோ உளுந்தம் பருப்பின் விலை ரூ. 96 எனில், ஒரு கிலோ உளுந்தம் பருப்பின் அசல் விலையைக் காண்க..

- A) ரூ.60
B) ரூ.80
C) ரூ.50
D) ரூ.100

E) விடை தெரியவில்லை

If the price of Orid dhall after 20% increase is Rs. 96 per kg, then find the original price of Orid dhall per kg.

- A) Rs. 60
B) Rs. 80
C) Rs. 50
D) Rs. 100

E) Answer not known



188. ஓவியா ஒரு தேர்வில் 80% மதிப்பெண்களைப் பெற்றாள். அவள் பெற்றது 576 மதிப்பெண்கள் எனில், அந்த தேர்வின் மொத்த மதிப்பெண்களைக் காண்க.
- A) 740 B) 760
C) 720 D) 780
E) விடை தெரியவில்லை
- Oviya scored 80% of marks in an examination. If her score was 576 marks, then find the maximum marks of the examination.
- A) 740 B) 760
C) 720 D) 780
E) Answer not known
189. ஒரு அசல் 2 ஆண்டுகளில் 1.69 மடங்கு ஆகும் எனில் கூட்டு வட்டி விகிதத்தைக் கண்டறியவும்.
- A) 130% B) 30%
C) 45% D) 150%
E) விடை தெரியவில்லை
- Find the rate of compound interest at which a principal becomes 1.69 times itself in 2 years.
- A) 130% B) 30%
C) 45% D) 150%
E) Answer not known
190. ஒரு பழ வியாபாரி வாங்கிய மாம்பழங்களில் 10% அழுகியிருந்தன. மீதமிருந்த மாம்பழங்களில் $33\frac{1}{3}\%$ ஐ விற்றுவிட்டார். தற்போது அவரிடம் 240 மாம்பழங்கள் இருக்கின்றன எனில், தொடக்கத்தில் அவர் வாங்கிய மொத்த மாம்பழங்களின் எண்ணிக்கையைக் காண்க
- A) 300 மாம்பழங்கள் B) 350 மாம்பழங்கள்
C) 400 மாம்பழங்கள் D) 450 மாம்பழங்கள்
E) விடை தெரியவில்லை
- A fruit vendor bought some mangoes of which 10% were rotten. He sold $33\frac{1}{3}\%$ of the rest. Find the total number of mangoes bought by him initially, if he still has 240 mangoes with him.
- A) 300 Mangoes B) 350 Mangoes
C) 400 Mangoes D) 450 Mangoes
E) Answer not known
191. தச்சர் A ஆனவர் ஒரு நாற்காலியின் பாகங்களைப் பொருத்த 15 நிமிடங்கள் எடுத்துக் கொள்கிறார். அதே வேலையைச் செய்ய தச்சர் B ஆனவர் தச்சர் A-ஐ விட 3 நிமிடங்கள் கூடுதலாக எடுத்துக் கொள்கிறார். இருவரும் இணைந்து வேலைச் செய்து 22 நாற்காலிகளின் பாகங்களைப் பொருத்த எவ்வளவு நேரமாகும்?
- A) 120 நிமிடங்கள் B) 180 நிமிடங்கள்
C) 170 நிமிடங்கள் D) 240 நிமிடங்கள்
E) விடை தெரியவில்லை



Carpenter A takes 15 minutes to fit the parts of a chair while Carpenter B takes 3 minutes more than A to do the same work. Working together, how long will it take for them to fit the parts for 22 chairs?

- A) 120 minutes
B) 180 minutes
C) 170 minutes
D) 240 minutes
E) Answer not known

192. ரூ. 8000க்கு, 2 ஆண்டுகளுக்கு கிடைக்கும் கூட்டுவட்டிக்கும் தனிவட்டிக்கும் இடையேயுள்ள வித்தியாசம் ரூ.20 எனில், வட்டி வீதத்தைக் காண்க.

- A) 5%
B) 10%
C) 3%
D) 4.5%
E) விடை தெரியவில்லை

Find the rate of interest if the difference between C.I and S.I on Rs. 8000 compounded annually for 2 years is Rs. 20.

- A) 5%
B) 10%
C) 3%
D) 4.5%
E) Answer not known

193. இரு சக்கர வாகனம் ஒன்றின் விலை 2 ஆண்டுகளுக்கு முன் ரூ.70000 ஆக இருந்தது. அதன் மதிப்பு ஆண்டுதோறும் 4% வீதம் குறைகிறது. அதன் தற்போதைய மதிப்பைக் காண்க.

- A) ரூ. 64312
B) ரூ. 64512
C) ரூ. 65312
D) ரூ. 65512

விடை தெரியவில்லை

The value of a motor cycle 2 years ago was Rs.70000. It depreciates at the rate of 4% p.a. Find its present value.

- A) Rs. 64312
B) Rs. 64512
C) Rs. 65312
D) Rs. 65512
E) Answer not known

194. ஒரு பொருளின் மீது வழங்கப்படும் இரு தொடர் தள்ளுபடிகள் முறையே 25% மற்றும் 20% எனில், இதற்கு நிகரான ஒரே சமமானத் தள்ளுபடிச் சதவீதத்தினைக் காண்க

- A) 40%
B) 45%
C) 5%
D) 22.5%

E) விடை தெரியவில்லை

The single discount in % which is equivalent to two successive discounts of 20% and 25%

- A) 40%
B) 45%
C) 5%
D) 22.5%
E) Answer not known



195. ஒரு நபர் ஒரு புத்தகத்தை ரூ. 150க்கு வாங்கி, அதன் அடக்க விலையின் 12%ஐ இதரச் செலவுகளாக செலவிடுகிறார். 5% இலாபம் பெற அவர் அதை என்ன விலைக்கு விற்க வேண்டும்?
- A) ரூ. 180
B) ரூ. 168
C) ரூ. 176.40
D) ரூ. 88.20
E) விடை தெரியவில்லை
- A man buys an article for ₹150 and makes overhead expenses which are 12% of the cost price. At what price must he sell it to gain 5%?
- A) Rs.180
B) Rs.168
C) Rs.176.40
D) Rs.88.20
E) Answer not known
196. ஒரு செவ்வக வடிவ நிலத்தின் நீளமானது அந்நிலத்தின் அகலத்தை விட 9மீ அதிகம். அச்செவ்வக வடிவ நிலத்தின் சுற்றளவு 154 மீ எனில் அந்நிலத்தின் நீளம் மற்றும் அகலத்தைக் காண்க
- A) 34 மீ
B) 43 மீ
C) 53 மீ
D) 63 மீ
E) விடை தெரியவில்லை
- The length of a rectangular field exceeds its breadth by 9 metres. If the perimeter of the field is 154m, find the length of the field.
- A) 34 m
B) 43 m
C) 53 m
D) 63 m
E) Answer not known
197. ஒரு மரத்துண்டின் நீளம் 2 மீ ஆகும். அம்மரத்துண்டினை ஒரு தச்சர் இரண்டு துண்டுகளாக அதாவது முதல் துண்டின் அளவானது இரண்டாவது துண்டின் அளவின் இரண்டு மடங்கிலிருந்து 40 செ.மீ குறைவாக வருமாறு வெட்டி நினைத்தார் எனில், சிறிய துண்டின் நீளம் எவ்வளவு?
- A) 80 செ.மீ
B) 70 செ.மீ
C) 90 செ.மீ
D) 120 செ.மீ
E) விடை தெரியவில்லை
- There is a wooden piece of length 2m. A carpenter wants to cut it into two pieces such that the first piece is 40 cm smaller than twice the other piece. What is the length of the smaller piece?
- A) 80 cm
B) 70 cm
C) 90 cm
D) 120 cm
E) Answer not known
198. ஓர் ஈரிலக்க எண்ணின் இலக்கங்களின் கூடுதல் 8 ஆகும். அந்த எண்ணின் மதிப்புடன் 18ஐக் கூட்டி அவ்விலக்கங்கள் இடம் மாறிவிடும் எனில், அந்த எண்ணைக் காண்க.
- A) 25
B) 35
C) 45
D) 65
E) விடை தெரியவில்லை



The sum of the digits of a two-digit number is 8. If 18 is added to the value of the number, its digits get reversed. Find the number.

- A) 25
B) 35
C) 45
D) 65
E) Answer not known

199. மூன்று தொடர்ச்சியான எண்களில் பெரிய எண் $x + 1$, எனில் சிறிய எண்ணைக் காண்க.

- A) x
B) $x + 1$
C) $x + 2$
D) $x - 1$
E) விடை தெரியவில்லை

The largest number of the three consecutive numbers is $x + 1$, then the smallest number is

- A) x
B) $x + 1$
C) $x + 2$
D) $x - 1$
E) Answer not known

200. ஒரு பேருந்தில் உள்ள 56 பயணிகளில் சில பேர் ரூ.8க்கான பயணச் சீட்டையும், மீதி உள்ளவர்கள் ரூ.10க்கான பயணச்சீட்டையும் பெற்று உள்ளனர். பயணிகளிடம் இருந்து பயணச் சீட்டு கட்டணமாக ரூ.500 பெறப்பட்டுள்ளது எனில், ரூ.10 பயணச்சீட்டை வைத்துள்ள பயணிகளின் எண்ணிக்கையைக் காண்க.

- A) 24
B) 26
C) 36
D) 46
E) விடை தெரியவில்லை

A bus is carrying 56 passengers with some people having Rs. 8 tickets and the remaining having Rs.10 tickets. If the total money received from these passengers is Rs. 500, find the number of passengers having Rs.10 tickets.

- A) 24
B) 26
C) 36
D) 46
E) Answer not known

* * * * *



SHANKAR IAS ACADEMY
www.Padasalai.Net



SHANKAR
IAS ACADEMYTM
Best Academy for Civil Services Exam Coaching

SPACE FOR ROUGH WORK

SHANKAR IAS ACADEMY
www.Padasalai.Net



**SHANKAR
IAS ACADEMY™**
Best Academy for Civil Services Exam Coaching

SPACE FOR ROUGH WORK

SHANKAR IAS ACADEMY
www.Padasalai.Net



SHANKAR
IAS ACADEMYTM
Best Academy for Civil Services Exam Coaching

CCS2T/2024

வினாத்தொகுப்பு எண் :

பதிவு எண்

--	--	--	--	--	--	--	--	--	--	--	--

Test - 8

2024

**பொதுத் தமிழ் (பத்தாம் வகுப்பு தரம்) மற்றும் பொது அறிவு
(பட்டப்படிப்பு தரம்)**

இந்த வினாப்புத்தகம்

பகுதி - அ (பொதுத் தமிழ்) மற்றும் பகுதி - ஆ (பொது அறிவு) உள்ளடக்கியது

கால அளவு : 3.00 மணி நேரம்]

[மொத்த மதிப்பெண்கள் : 300

வினாக்களுக்கு பதிலளிக்கும் முன் கீழ்க்கண்ட அறிவுரைகளை கவனமாகப் படிக்கவும்

முக்கிய அறிவுரைகள்

1. இந்த வினாத்தொகுப்பு, தேர்வு தொடங்குவதற்கு 15 நிமிடங்களுக்கு முன்னதாக உங்களுக்கு வழங்கப்படும்.
2. இந்த வினாத்தொகுப்பு, **200** வினாக்களைக் கொண்டுள்ளது. விடையளிக்கத் தொடங்கும்பின் இவ்வினாத் தொகுப்பில் எல்லா வினாக்களும் வரிசையாக இடம் பெற்றுள்ளனவா என்பதையும், இடையில் வெற்றுத்தாள்கள் எவையுமில்லை என்பதையும் உறுதி செய்து கொள்ளவும். வினாத் தொகுப்பில் ஏதேனும் குறைபாடு இருப்பின், அதனை முதல் பத்து நிமிடங்களுக்குள் அறைக்கண்காணிப்பாளரிடம் தெரிவித்து, சரியாக உள்ள வேறொரு வினாத் தொகுப்பினை பெற்றுக்கொள்ள வேண்டும். தேர்வு தொடங்கிய பின்பு, இது குறித்து முறையிட்டால் வினாத் தொகுப்பு மாற்றித் தரப்படமாட்டாது.
3. எல்லா வினாக்களுக்கும் விடையளிக்கவும், எல்லா வினாக்களும் சமமான மதிப்பெண்கள் கொண்டவை.
4. உங்களுடைய பதிவு எண்ணை இந்தப் பக்கத்தின் வலது மேல் மூலையில் அதற்கென அமைந்துள்ள இடத்தில் நீங்கள் எழுத வேண்டும். வேறு எதையும் வினாத் தொகுப்பில் எழுதக் கூடாது.
5. விடைத்தாள் ஒன்று விடைகளை குறிப்பதற்கு அறைக்கண்காணிப்பாளரால் உங்களுக்கு வழங்கப்படும். விடைகளைக் குறிப்பது உள்ளிட்ட அவசியம் பின்பற்றப்பட வேண்டிய அறிவுரைகள் விடைத்தாளிலும், தேர்வுக்கூட அனுமதிச் சீட்டிலும் வழங்கப்பட்டுள்ளன.
6. உங்களுடைய வினாத்தொகுப்பு, எண்ணை (Question Booklet Number) விடைத்தாளின் முதல் பக்கத்தில் அதற்கென அமைந்துள்ள இடத்தில் கருமை நிற மையுடைய பந்துமுனைப் பேனாவினால் குறித்துக் காட்ட வேண்டும். வினாத்தொகுப்பு எண்ணை விடைத்தாளில் சரியாகக் குறித்துக் காட்டத் தவறினாலோ அல்லது குறிக்கத் தவறினாலோ உங்களுடைய விடைத்தாள் செல்லாததாகக்கப்படும்.
7. ஒவ்வொரு வினாவும் A), (B), (C), (D), (E) என ஐந்து பதில்களைக் (விடைகள்) கொண்டுள்ளது. நீங்கள் A) அல்லது B) அல்லது C) அல்லது D) இவைகளில் ஒரே ஒரு சரியான விடையைத் தெரிவு செய்து விடைத்தாளில் குறித்துக்காட்ட வேண்டும். ஒரு கேள்விக்கு ஒன்றுக்கு மேற்பட்ட சரியான விடை இருப்பதாக நீங்கள் கருதினால், மிகச்சரியானது என நீங்கள் எதைக் கருதுகிறீர்களோ அந்த விடையை விடைத்தாளில் குறித்துக்காட்ட வேண்டும். உங்களுக்கு விடை தெரியவில்லை எனில், நீங்கள் (E) என்பதை அவசியம் நிரப்ப வேண்டும். எப்படியாயினும், ஒரு கேள்விக்கு ஒரே ஒரு விடையைத் தான் தேர்ந்தெடுக்க வேண்டும். நீங்கள் ஒரு வேள்விக்கு ஒன்றுக்கு மேற்பட்ட விடையளித்தால், அவற்றுள் ஒரு விடை சரியானதாக இருந்தாலும் அந்த விடை தவறானதாகவே கருதப்படும்.
8. நீங்கள் வினாத் தொகுப்பின் எந்தப் பக்கத்தையும் நீக்கவோ அல்லது கிழிக்கவோ கூடாது. தேர்வு நேரத்தில் இந்த வினாத் தொகுப்பினையோ அல்லது விடைத்தாளையோ தேர்வு அறையை விட்டு வெளியில் எடுத்துச் செல்லக் கூடாது. தேர்வு முடிந்தபின் நீங்கள் உங்களுடைய விடைத்தாளை கண்காணிப்பாளரிடம் கொடுத்து விட வேண்டும். இவ்வினாத் தொகுப்பினை தேர்வு முடிந்த பின்னர் மட்டுமே நீங்கள் எடுத்துச் செல்ல அனுமதிக்கப்படுவீர்கள்.
9. குறிப்புகள் எழுதிப்பார்ப்பதற்கு வினாத்தொகுப்பின் கடைசி பக்கத்திற்கு முன் உள்ள பக்கங்களை பயன்படுத்திக் கொள்ளலாம். இதைத்தவிர வினாத்தொகுப்பின் எந்த இடத்திலும் எந்தவித குறிப்புகளையும் எழுதக்கூடாது. இந்த அறிவுரை கண்டிப்பாக பின்பற்றப்படவேண்டும்.
10. வினா வரிசை எண்கள் 101 முதல் 200 வரை (பகுதி - ஆ) ஆங்கில வடிவே இறுதியானது.
11. நீங்கள் மேற்கண்ட அறிவுரைகளில் எவற்றையாவது பின்பற்றத் தவறினால் தேர்வாணையம் எடுக்கும் நடவடிக்கைகளுக்கு உள்ளாக நேரிடும் என அறிவுறுத்தப்படுகிறது.

∩

[Turn over

For queries mail to For queries mail to : zerofeedback@shankariasacad.in; [Turn over

Kindly Send Me Your Key Answer to Our email id - Padasalai.net@gmail.com



பகுதி - அ — பொதுத் தமிழ் (பத்தாம் வகுப்பு தரம்)

Part A — General Tamil (SSLC Std)

வினாக்கள் : 1-100

மொத்த மதிப்பெண்கள் : 150

Questions : 1-100

Total Marks : 150

1. “நேதாஜி தமிழ் வீரர்களைப் பாராட்டி நான் மறுபடியும் பிறந்தால் ஒரு தென்னிந்தியத் தமிழனாகப் பிறக்க வேண்டுமென்று கூறியிருக்கிறார்” என்று கூறியவர் யார்?
 - A) மோகன் சிங்
 - B) பசும்பொன் முத்துராமலிங்கனார்
 - C) தில்லான்
 - D) இராஜாமணி
 - E) விடை தெரியவில்லை
2. நேதாஜியின் பொன்மொழிகளுள் பொருந்தா ஒன்றினைத் தேர்ந்தெடு
 - A) மனதை மலரவைக்கும் இளங்கதிரவனின் வைகறைப் பொழுது வேண்டுமா? அப்படியானால் இரவில் இருண்ட நேரங்களில் வாழக் கற்றுக்கொள்.
 - B) எந்த விலை கொடுத்தாவது சமத்துவத்திற்குப் போராடுவதே மிகச்சிறந்த நற்குணமாகும்.
 - C) வாழ்வின் பொருள் தெரிந்தால்தான் மனிதன் மேல்நிலை அடைவான். நாட்டிற்காக உயிர்நீத்த முழுநிலவினைப் போன்ற தியாகிகள் முன்பு நாங்கள் மெழுகுவர்த்திதான்.
 - D) விடுதலையினால் உண்டாகும் மகிழ்ச்சியும், சுதந்திரத்தினால் உண்டாகும் மனநிறைவும் வேண்டுமா? அப்படியானால் அதற்கு விலையுண்டு. அவற்றுக்கான விலை துன்பமும் தியாகமும் தான்.
 - E) விடை தெரியவில்லை
3. “இந்திய தேசிய இராணுவம் - தமிழர் பங்கு” என்ற நூலை இயற்றியவர் யார்?
 - A) சிதம்பரம் லோகநாதன்
 - B) கேப்டன் லட்சுமி
 - C) பேராசிரியர் மா.சு.அண்ணாமலை
 - D) பசும்பொன் முத்துராமலிங்கனார்
 - E) விடை தெரியவில்லை
4. “இந்திய தேசிய இராணுவத்தின் இதயமும் ஆத்மாவும் தமிழர்கள்தான்” என்று கூறியவர் யார்?
 - A) நேதாஜி
 - B) பசும்பொன் முத்துராமலிங்கனார்
 - C) கேப்டன் லட்சுமி
 - D) தில்லான்
 - E) விடை தெரியவில்லை



5. பின்வருவனவற்றுள் தவறான கூற்றினைத் தேர்ந்தெடுக்க.
- A) இராண்டாம் உலகப்போர் நடந்துகொண்டிருந்த 1942 ஆம் ஆண்டு பிப்ரவரி 15 ஆம் நாள், ஆங்கிலேயப் படைகள் மலேயாவில் ஜப்பானியரிடம் சரணடைந்தன.
- B) ஜப்பானியர்கள், இந்திய வீரர்களைக் கொண்டு நேதாஜி என்பவரின் தலைமையில் இந்திய தேசிய இராணுவம் என்ற படையை உருவாக்கினர்.
- C) தமிழகத்தில் இருந்து மலேயா, பர்மா போன்ற நாடுகளுக்குப் பிழைப்பிற்காகச் சென்ற தமிழர் பலர் இந்திய தேசிய இராணுவத்தில் சேர்ந்தனர்.
- D) ஜப்பானியர்கள் ஒற்றர்படையில் இருந்த வீரர்களை, இந்தியாவில் உள்ள ஆங்கிலேய இராணுவத்தைப் பற்றி ஒற்றறிய நீர்மூழ்கிக்கப்பல் மூலம் கேரளாவிற்கும் குஜராத்திற்கும் அனுப்பினர்.
- E) விடை தெரியவில்லை
6. பின்வரும் கூற்றுகளைக் கருத்தில் கொள்க.
- I. இந்திய தேசிய இராணுவத்தில் இருந்து 45 வீரர்கள் நேதாஜியால் தேர்வு செய்யப்பட்டு, வான்படைத் தாக்குதலுக்கான சிறப்புப் பயிற்சி பெறுவதற்காக, ஜப்பானில் உள்ள இம்பீரியல் மிலிட்டரி அகாடமிக்கு அனுப்பி வைக்கப்பட்டனர். அந்த 45 பேர் கொண்ட பயிற்சிப் பிரிவின் பெயர்தான் ஜான்சி கேடட்ஸ்.
- II. நேதாஜி சிங்கப்பூரில் நடந்த மாபெருங் கூட்டத்தில் “டெல்லி நோக்கிச் செல்லுங்கள் எனப் போர்முழக்கம் செய்தார்.
- மேற்கூறியவற்றுள் சரியான எது/எவை?
- A) I மட்டும்
B) II மட்டும்
C) இரண்டும்
D) இரண்டுமில்லை
E) விடை தெரியவில்லை
7. இந்திய தேசிய இராணுவத்தில் வீரராக இருந்து பின்னர் சுதந்திர இந்தியாவில் செசல்ஸ் நாட்டுத் தூதுவராகப் பணியாற்றியவர் யார்?
- A) கேப்டன் லட்சுமி
B) சிதம்பரம் லோகநாதன்
C) கேப்டன் தாசன்
D) இராஜாமணி
E) விடை தெரியவில்லை
8. பின்வரும் கூற்றுகளைக் கருத்தில் கொள்க.
- I. ‘மலேயாவில் உள்ள தமிழர்களின் இரத்தம் நேதாஜியின் மூளையில் கட்டியாக உள்ளது’ என்று சர்ச்சில் நேதாஜியிடம் கூறினார்.
- II. இந்திய தேசிய இராணுவம் 1944 ஆம் ஆண்டு மார்ச் 18 அன்று ஆங்கிலேயரை வென்று இந்தியாவிற்குள் மணிப்பூர்ப் பகுதியில் ‘மொய்ராங்’ என்ற இடத்தில் மூவண்ணக் கொடியை ஏற்றியது.
- மேற்கூறியவற்றுள் தவறானது எது/எவை?
- A) I மட்டும்
B) II மட்டும்
C) இரண்டும்
D) இரண்டுமில்லை
E) விடை தெரியவில்லை



9. “நான் என் உயிரைக் கொடுப்பதற்குக் கொஞ்சமும் கவலைப்படவில்லை; ஏனெனில் நான் கடவுளுக்கு எதிராக ஒன்றும் செய்யவில்லை” என்று கூறியவர் யார்?
- A) நேதாஜி
B) பகத்சிங்
C) இராமு
D) கேப்டன் லட்சுமி
E) விடை தெரியவில்லை
10. “சீவகசிந்தாமணி” பற்றிய பின்வரும் தவறான கூற்றைத் தேர்ந்தெடுக்க.
- A) ஒப்பில்லாத தலைவன் ஒருவனது வாழ்க்கையைப் பாடுவனவாய்க் காப்பியங்கள் உருவாயின. இவ்வகையில், சீவகனைத் தலைவனாகக் கொண்டு தோன்றிய காப்பியம் சீவகசிந்தாமணி.
B) இல்லற வாழ்வின் மேன்மையைப் பற்றிக் குறிப்பிடுவதே இக்காப்பியத்தின் மையக்கருத்தாகும்.
C) ஏமாங்கத நாட்டின் வளத்தைத் திருத்தக்கத்தேவர் வருணிக்கும் பகுதி அந்நாட்டின் செழிப்பை உணர்த்துகிறது.
D) இந்நூல் விருத்தப்பாக்களால் இயற்றப்பட்ட முதல் காப்பியமாகும். இது ஐம்பெருங் காப்பியங்களுள் ஒன்று.
E) விடை தெரியவில்லை
11. “சீவகசிந்தாமணி” பற்றிய பின்வரும் கூற்றுகளைக் கருத்தில் கொள்க.
- I. “இலம்பகம்” என்ற உட்பிரிவுகளைக் கொண்டது. 15 இலம்பகங்களைக் கொண்டுள்ள இந்நூல், “மணநூல்” எனவும் அழைக்கப்படுகிறது.
II. பூமகள் இலம்பகத்தில் நாட்டுவளம் என்னும் பகுதியானது இடம்பெற்றுள்ளது. மேற்கூறியவற்றுள் சரியானது எது/எவை?
- A) I மட்டும்
B) II மட்டும்
C) இரண்டும்
D) இரண்டுமில்லை
E) விடை தெரியவில்லை
12. ‘திருத்தக்க தேவர்’ பற்றிய பின்வரும் கூற்றுகளைக் கருத்தில் கொள்க.
- I. சமண சமயத்தைச் சேர்ந்தவர்.
II. இன்பச்சுவை மிக்க இலக்கியமும் இயற்றமுடியும் என்று நிறுவும் வகையில் சீவகசிந்தாமணி காப்பியத்தை இயற்றினார்.
III. இவரது காலம் எட்டாம் நூற்றாண்டு. சீவகசிந்தாமணி பாடுவதற்கு முன்னோட்டமாக ‘நரிவிருத்தம்’ என்னும் நூலை இயற்றினார். மேற்கூறியவற்றுள் சரியானது எது/எவை?
- A) I மற்றும் II மட்டும்
B) II மற்றும் III மட்டும்
C) I மற்றும் III மட்டும்
D) மேற்கண்ட அனைத்தும்
E) விடை தெரியவில்லை
13. வேறுபட்ட சொல்லைத் தேர்ந்தெடுக்க.
- A) பழனம்
B) கழனி
C) வயல்
D) மடிவு
E) விடை தெரியவில்லை



14. பொருத்துக.

(சொல்)	(பொருள்)
a) மருப்பு	1. சோறு
b) இசை	2. மணம்
c) வருக்கை	3. கொம்பு
d) வெறி	4. பலாப்பழம்
e) அடிசில்	5. புகழ்

குறியீடுகள் :

	a	b	c	d	e
A)	1	2	3	5	4
B)	5	2	1	3	4
C)	2	5	4	1	3
D)	3	5	4	2	1
E)	விடை தெரியவில்லை				

15. பின்வரும் இணைகளை கருத்தில் கொள்க.

(சொல்)	(இலக்கணக்குறிப்பு)
I. நற்றவம்	– பண்புத்தொகை
II. தேமாங்கனி	– உவமைத்தொகை
III. இறைஞ்சி	– வினையெச்சம்
IV. செய்கோலம்	– வினைத்தொகை
V. கொடியனார்	– இடைக்குறை

மேற்கண்டவற்றுள் எத்தனை இணைகள் சரியாக பொருந்தியுள்ளன?

A) 2 இணைகள்	B) 3 இணைகள்
C) 4 இணைகள்	D) 5 இணைகள்
E) விடை தெரியவில்லை	

16. 'கொண்ட' - இச்சொல்லின் வேர்ச்சொல்லைத் தேர்ந்தெடுக்க.

A) கொண்	B) கொள்
C) கொண்டு	D) கொடு
E) விடை தெரியவில்லை	

17. 'வெரீஇ' - இலக்கணக் குறிப்பு தருக.

A) சொல்லிசை அளபெடை	B) இசைநிறை அளபெடை
C) செய்யுளிசை அளபெடை	D) ஒற்றளபெடை
E) விடை தெரியவில்லை	

18. 'போர்க்களச் சிறப்புடைய நாடாக' முத்தொள்ளாயிரம் கீழ்க்கண்ட எந்நாட்டினைக் குறிப்பிடுகிறது?

A) சேரநாடு	B) சோழநாடு
C) பாண்டிய நாடு	D) தொண்டை நாடு
E) விடை தெரியவில்லை	



19. இலக்கணக் குறிப்பின் அடிப்படையில் வேறுபட்ட ஒன்றினைத் தேர்ந்தெடுக்க.

- A) கொல்யானை
B) இளங்கமுகு
C) வெண்குடை
D) முந்நீர்
E) விடை தெரியவில்லை

20. பொருத்துக.

(சொல்)

(இலக்கணக்குறிப்பு)

- | | |
|-------------------|-------------------------|
| a) குவிமொட்டு | 1. இலக்கணப்போலி |
| b) வாயில் | 2. உருவகம் |
| c) ஓங்கிய | 3. வினைத்தொகை |
| d) வாழ்க்கைப்போர் | 4. வியங்கோள் வினைமுற்று |
| e) ஆக்குக | 5. பெயரெச்சம் |

குறியீடுகள் :

- | | a | b | c | d | e |
|----|----------|----------|----------|----------|----------|
| A) | 1 | 2 | 3 | 5 | 4 |
| B) | 3 | 1 | 5 | 2 | 4 |
| C) | 2 | 5 | 4 | 1 | 3 |
| D) | 3 | 4 | 1 | 5 | 2 |
- E) விடை தெரியவில்லை

21. 'வெகுளி' – என்பதன் எதிர்ப்பதம் தருக.

- | | |
|-----------|----------|
| A) அச்சம் | B) அமைதி |
| C) அறிவு | D) சினம் |
- E) விடை தெரியவில்லை

22. தவறாகன இணையைத் தேர்ந்தெடுக்க.

(பாடலடிகள்)

(நூல்)

- | | |
|--|-------------------|
| A) அடிசில் வைகல் ஆயிரம் அறப்புறமும் ஆயிரம்
கொடியனார் செய் கோலமும் | – சீவக சிந்தாமணி |
| B) அள்ளல் பழனத்து அரக்காம்பல் வாயவிழ
வள்ளம்தீப் பட்டது எனவெரீஇப்பு ள்ளினம்தம் | – முத்தொள்ளாயிரம் |
| C) கொல்யானை மேலிருந்து கூற்றிசைத்தால் போலுமே
நல்யானைக் கோக்கிள்ளி நாடு | – யசோதர காவியம் |
| D) மண்உற ஆழ்ந்த மணிநீர்க் கிடங்கின் விண்உற
ஓங்கிய பல்படைப் புரிசை | – மதுரைக்காஞ்சி |
- E) விடை தெரியவில்லை



23. 'முத்தொள்ளாயிரம்' பற்றிய பின்வரும் கூற்றுகளைக் கருத்தில் கொள்க.
- வெண்பாவால் எழுதப்பட்ட நூல்.
 - மன்னர்களின் பெயர்களைக் குறிப்பிடாமல் சேர, சோழ, பாண்டியர் என்று பொதுவாகப் பாடுகிறது.
 - மூன்று மன்னர்களைப் பற்றிப் பாடப்பட்ட 900 பாடல்களைக் கொண்ட நூல் என்பதால் முத்தொள்ளாயிரம் என்று பெயர்பெற்றது. நூல் முழுமையாகக் கிடைக்கவில்லை. புறத்திரட்டு என்னும் நூலிலிருந்து 108 செய்யுள்கள் கிடைத்துள்ளன அவை முத்தொள்ளாயிரம் என்னும் பெயரில் பதிபிக்கப்பட்டுள்ளன.
- மேற்கூறியவற்றுள் சரியானது எது/எவை?
- I மற்றும் II மட்டும்
 - II மற்றும் III மட்டும்
 - I மற்றும் III மட்டும்
 - மேற்கண்ட அனைத்தும்
 - விடை தெரியவில்லை
24. மதுரைக்காஞ்சி பற்றிய தவறான கூற்றினைத் தேர்ந்தெடுக்க.
- மதுரையைச் சிறப்பித்துப் பாடியுள்ள இந்நூலானது பதினெண்மேற்கணக்கு நூல்களுள் ஒன்று.
 - மதுரையின் சிறப்புகளைப் பாடுவதாலும் நிலையாமையைப் பற்றி கூறுவதாலும் மதுரைக்காஞ்சி எனப்பட்டது.
 - இதன் பாட்டுடைத் தலைவன் ஆரியப்படை கடந்த பாண்டியன் நெடுஞ்செழியன் ஆவார்.
 - மாங்குடி மருதனாரால் இயற்றப்பட்ட இந்நூலானது 782 அடிகளைக் கொண்டது அவற்றுள் 354 அடிகள் மதுரையைப்பற்றி மட்டும் சிறப்பித்துக் கூறுகின்றன. இதைப் 'பெருகுவள மதுரைக்காஞ்சி' என்பர்.
 - விடை தெரியவில்லை
25. 'மாங்குடி மருதனார்' பற்றிய பின்வரும் கூற்றுகளைக் கருத்தில் கொள்க.
- திருநெல்வேலி மாவட்டத்தில் உள்ள மாங்குடி என்னும் ஊரில் பிறந்தவர்.
 - எட்டுத்தொகையில் பதினமூன்று பாடல்களைப் பாடியுள்ளார்.
- மேற்கூறியவற்றுள் சரியானது எது/எவை?
- I மட்டும்
 - II மட்டும்
 - I மற்றும் II மட்டும்
 - I மற்றும் III மட்டும்
 - விடை தெரியவில்லை
26. "பொறிமயிர் வாரணம்
- கூட்டுறை வயமாப் புலியொடு குழும்" - என்னும் மதுரைக்காஞ்சித் தொடர் மூலம் அறியப்படுவது யாது?
- மதுரையில் நீண்ட தெருக்கள் இருந்தது.
 - பல்வேறு மொழிப்பேசும் மக்கள் மதுரையில் இருந்தனர்.
 - மதுரையில் வனவிலங்குச் சரணாலயம் இருந்தது.
 - மதுரை மாநகரில் ஆழமான தெளிந்த நீரையுடைய அகழி இருந்தது.
 - விடை தெரியவில்லை



27. பின்வரும் கூற்றுகளைக் கருத்தில் கொள்க.
- I. கிருஷ்ணகிரி மாவட்டம், போச்சம்பள்ளிச் சந்தை 18 ஏக்கர் பரப்பில் எட்டாயிரம் கடைகளுடன் இன்றும் திங்கட்கிழமைகளில் கூடுகிறது.
- II. 125 ஆண்டுகள் வயதான போச்சம்பள்ளிச் சந்தையில் நான்கு தலைமுறை நட்பு நிலவுகிறது. கலப்படமில்லாத பொருட்களை வருவாய் நோக்கின்றி இச்சந்தை இன்றும் விற்பனை செய்கிறது.
- மேற்கூறியவற்றுள் சரியானது எது/எவை?
- A) I மட்டும்
B) II மட்டும்
C) இரண்டும்
D) இரண்டுமில்லை
E) விடை தெரியவில்லை
28. “பொதியை ஏத்தி வண்டியிலே
பொள்ளாச்சி சந்தையிலே
– என்ற பாடலைப் பாடியவர் யார்?
- A) பட்டுக்கோட்டை கல்யாண சுந்தரம்
B) மருதகாசி
C) கண்ணதாசன்
D) வண்ணதாசன்
E) விடை தெரியவில்லை
29. பின்வரும் கூற்றுகளைக் கருத்தில் கொள்க.
- I. ஒன்றின் இயற்பெயர், அதனோடு தொடர்புடைய மற்றொன்றிற்குத் தொன்றுதொட்டு ஆகி வருவது ஆகுபெயர் எனப்படும்.
- II. ஆகுபெயர்கள் பதினாறு வகைப்படும்.
- மேற்கூறியவற்றுள் சரியானது எது/எவை?
- A) I மட்டும்
B) II மட்டும்
C) இரண்டும்
D) இரண்டுமில்லை
E) விடை தெரியவில்லை
30. ‘பெண்களைக் கேலி செய்த இளைஞரை ஊரே இகழ்ந்தது’ – என்பது.
- A) பொருளாகு பெயர்
B) இடவாகு பெயர்
C) காலவாகு பெயர்
D) சினையாகு பெயர்
E) விடை தெரியவில்லை
31. தவறாக பொருந்தியுள்ள இணையைக் கண்டறிக.
- | (தொடர்) | (ஆகுபெயர்) |
|--------------------------|------------------|
| A) வற்றல் தின்றான் | – தொழிலாகு பெயர் |
| B) முல்லையைத் தொடுத்தாள் | – பொருளாகு பெயர் |
| C) மரிக்கொழுந்து நட்டான் | – சினையாகு பெயர் |
| D) கார் அறுத்தான் | – இடவாகு பெயர் |
| E) விடை தெரியவில்லை | |



32. பின்வரும் இணைகளை கருத்தில் கொள்க.

(தொடர்)

(ஆகுபெயர்)

- | | |
|--|--------------------|
| I. வானொலி கேட்டு மகிழ்ந்தனர் | – காரியவாகுபெயர் |
| II. அறிஞர் அண்ணாவைப் படித்திருக்கிறேன் | – கருத்தாவாகுபெயர் |
| III. மஞ்சள் பூசினாள் | – பண்பாகு பெயர் |
| IV. பைங்கூழ் வளர்ந்தது | – சினையாகு பெயர் |
- மேற்கண்டவற்றுள் எத்தனை இணைகள் சரியாக பொருந்தியுள்ளன?
- | | |
|---------------------|-------------|
| A) 1 இணை | B) 2 இணைகள் |
| C) 3 இணைகள் | D) 4 இணைகள் |
| E) விடை தெரியவில்லை | |

33. பொருத்துக.

(தொடர்)

(ஆகுபெயர்)

- | | |
|-----------------------------|------------------------|
| a) ஒன்று பெற்றால் ஒளிமயம் | 1. முகத்தலளவை ஆகுபெயர் |
| b) இரண்டு கிலோ கொடு | 2. எண்ணலளவை ஆகுபெயர் |
| c) அரை லிட்டர் வாங்கு | 3. நீட்டலளவை ஆகுபெயர் |
| d) ஐந்து மீட்டர் வெட்டினான் | 4. எடுத்தலளவை ஆகுபெயர் |

குறியீடுகள் :

- | | <i>a</i> | <i>b</i> | <i>c</i> | <i>d</i> |
|----|------------------|----------|----------|----------|
| A) | 1 | 2 | 3 | 4 |
| B) | 2 | 1 | 3 | 4 |
| C) | 2 | 4 | 1 | 3 |
| D) | 3 | 4 | 1 | 2 |
| E) | விடை தெரியவில்லை | | | |

34. ஆகுபெயர் பயின்று வாராத் தொடரினைத் தேர்ந்தெடுக்க.

- A) மதுரையில் இரவு வணிகம் உண்டு.
B) இந்தியா எளிதாக வென்றது.
C) நகைச்சுவை நிகழ்வைப் பார்த்து அரங்கத்தில் உள்ளவர்கள் சிரித்தனர்.
D) நீரின்றி உலகு இயங்காது.
E) விடை தெரியவில்லை

35. அகரவரிசைப்படுத்துக.

- A) தமிழ்நாடு, மூவேந்தர்கள், சேரர், சோழர், பாண்டிய.
B) சேரர், சோழர், பாண்டியர், மூவேந்தர்கள், தமிழ்நாடு.
C) சேரர், சோழர், தமிழ்நாடு, பாண்டியர், மூவேந்தர்கள்.
D) சேரர், சோழர், தமிழ்நாடு, பாண்டியர், மூவேந்தர்கள்.
E) விடை தெரியவில்லை

36. 'முதலாகு பெயர்' – என்று அழைக்கப்படும் ஆகுபெயர் எது?

- | | |
|---------------------|------------------|
| A) பொருளாகு பெயர் | B) இடவாகு பெயர் |
| C) காலவாகு பெயர் | D) பண்பாகு பெயர் |
| E) விடை தெரியவில்லை | |



37. நச்சிலைவேல் கோக்கோதை நாடு, நல்யானைக் கோக்கிள்ளி நாடு - இத்தொடர்களில் குறிப்பிடப்படுகின்ற நாடுகள் முறையே.
- A) பாண்டிய நாடு, சேர நாடு
B) சோழ நாடு, சேர நாடு
C) சேர நாடு, சோழ நாடு
D) சோழ நாடு, பாண்டிய நாடு
E) விடை தெரியவில்லை
38. 'வெறிகமழ் கழனியுள் உழுநர் வெள்ளமே' - இவ்வடி உணர்த்தும் பொருள் யாது?
- A) மணம் கமழும் வயலில் உழவர் வெள்ளமாய் உழுதிருந்தனர்.
B) வறண்ட வயலில் உழவர் வெள்ளமாய் அமர்ந்திருந்தனர்.
C) செறிவான வயலில் உழவர் வெள்ளமாய்க் கூடியிருந்தனர்.
D) பசுமையான வயலில் உழவர் வெள்ளமாய் நிறைந்திருந்தனர்.
E) விடை தெரியவில்லை
39. 'மாகால் எடுத்த முந்நீர் போல' - இத்தொடர் இடம்பெற்றுள்ள நூல் எது?
- A) சீவகசிந்தாமணி
B) முத்தொள்ளாயிரம்
C) மதுரைக்காஞ்சி
D) புறநானூறு
E) விடை தெரியவில்லை
40. 'மகிழ்' - என்னும் வேர்ச்சொல்லை அடிப்படையாகக் கொண்டுள்ள வினையாலணையும் பெயரினைத் தேர்ந்தெடுக்க.
- A) மகிழ்ச்சி
B) மகிழ்ந்தோர்
C) மகிழ்ந்து
D) மகிழ்ந்த
E) விடை தெரியவில்லை
41. 'அள்ளல் பழனத்து அரக்காம்பல் வாய விழ வெள்ளம்தீப் பட்டது எனவெரீஇ' - என்ற பாடலில் இடம்பெற்றுள்ள அணி யாது?
- A) தற்குறிப்பேற்ற அணி
B) உவமை அணி
C) பிறதுமொழிதல் அணி
D) எடுத்துக்காட்டு உவமை அணி
E) விடை தெரியவில்லை
42. பிழையற்ற தொடரினைத் தேர்ந்தெடு.
- A) ஓர் ஊரில் ஓர் அரசர் இருந்தார்
B) ஓர் ஊரில் ஒரு அரசர் இருந்தார்
C) ஒரு ஊரில் ஓர் அரசர் இருந்தார்
D) ஒரு ஊரில் ஒரு அரசர் இருந்தார்
E) விடை தெரியவில்லை



43. தவறாக பொருந்தியுள்ள இணையைக் கண்டறிக.

(நூல்)

(நூலாசிரியர்)

- | | | |
|--------------------------------|---|------------------|
| A) நரி விருத்தம் | – | திருத்தக்க தேவர் |
| B) தமிழ்ப் பழமொழிகள் | – | வானமாமலை |
| C) ஆகாயத்துக்கு அடுத்த வீடு | – | மு.மேத்தா |
| D) இருட்டு எனக்குப் பிடிக்கும் | – | ச.தமிழ்ச்செல்வன் |
| E) விடை தெரியவில்லை | | |

44. சந்திப்பிழையற்ற தொடரினைத் தேர்ந்தெடுக்க.

- A) அந்தப் பையன் சொன்னச் செய்தி நல்லது
B) அந்த பையன் சொன்னச் செய்தி நல்லது
C) அந்தப் பையன் சொன்ன செய்தி நல்லது
D) அந்த பையன் சொன்ன செய்தி நல்லது
E) விடை தெரியவில்லை

45. ஒலி வேறுபாடறிந்து பொருள் தருக.

(செறு)

(செரு)

- | | | |
|---------------------|---|-------|
| A) குளம் | – | பயணம் |
| B) சோறு | – | சேறு |
| C) குளம் | – | வயல் |
| D) வயல் | – | போர் |
| E) விடை தெரியவில்லை | | |

46. மரபுப் பிழையற்ற தொடரினைத் தேர்ந்தெடுக்க.

- A) கோவிந்தன் குடியிருக்க சுவர் எழுப்பி கூரை வேய்ந்தார்.
B) கோவிந்தன் குடியிருக்க சுவர் எழுப்பி கூரை அமைத்தார்.
C) கோவிந்தன் குடியிருக்க சுவர் கட்டி கூரை அமைத்தார்.
D) கோவிந்தன் குடியிருக்க சுவர் கட்டி கூரை வேய்ந்தார்.
E) விடை தெரியவில்லை

47. தவறாக பொருந்தியுள்ள இணையைக் கண்டறிக.

(ஆங்கிலச்சொல்)

(தமிழ்ச்சொல்)

- | | | |
|-------------------------|---|----------------------|
| A) National Highways | – | தேசிய நெடுஞ்சாலை |
| B) State Main Roads | – | மாநில முதன்மைச் சாலை |
| C) Village Roads | – | சிற்றூர்ச் சாலை |
| D) Classical literature | – | செவ்வியல் இலக்கியம் |
| E) விடை தெரியவில்லை | | |



48. பெரியாரின் கூற்றுகளுள் பொருந்தா ஒன்றினைத் தேர்ந்தெடுக்க.
- A) எச்செயலையும் அறிவியல் கண்ணோட்டத்துடன் அணுகி ஏன்? எதற்கு? எப்படி? என்ற வினாக்களை எழுப்பி அறிவின்வழியே சிந்தித்து முடிவெடுப்பதே பகுத்தறிவாகும்.
- B) சாதி உணர்வு ஆதிக்க உணர்வை வளர்க்கிறது. மற்றவர்களின் உரிமைகளைப் பறிக்கிறது. மனிதர்களை இழிவுப்படுத்துகிறது. அந்தச் சாதி என்ற கட்டமைப்பை உடைத்தெறிய வேண்டும்.
- C) சாதியினால் மனித வாழ்விற்கு எவ்விதச் சிறு பயனும் விளையப் போவதில்லை, அதனால் வீண் சண்டைகளும் குழப்பங்களுந்தான் மேலோங்குகின்றன, அத்தகு சாதி, மனிதனுக்குத் தேவையான ஒன்று.
- D) சமூகத்தின் அனைத்து நிலையினருக்கும் கல்வி அளிக்கப்பட வேண்டும்
- E) விடை தெரியவில்லை
49. தந்தை பெரியாரின் சிறப்புப் பெயர்களுள் பொருந்தா ஒன்றினைத் தேர்ந்தெடுக்க.
- A) பகுத்தறிவுப் பகலவன்
- B) புத்துலகத் தொலை நோக்காளர்
- C) பெண்ணினப் போர்முரசு
- D) தெற்காசியாவின் பெர்னாட்ஷா
- E) விடை தெரியவில்லை
50. பெரியார் விதைத்த விதைகளுள் பொருந்தா ஒன்றினைத் தேர்ந்தெடுக்க.
- A) சீர்திருத்தத் திருமணம் ஏற்பு
- B) குடும்ப நலத்திட்டம்
- C) தேவதாசி முறை
- D) கல்வியிலும் வேலை வாய்ப்பிலும் இடஒதுக்கீடு
- E) விடை தெரியவில்லை
51. 'பெரியார்' பற்றி பின்வரும் கூற்றுகளைக் கருத்தில் கொள்க.
- I. 1938 நவம்பர் 13 இல் சென்னையில் நடந்த பெண்கள் மாநாட்டில் ஈ.வெ.ரா.வுக்குப் 'பெரியார்' என்னும் பட்டம் வழங்கப்பட்டது.
- II. 27.06.1970 இல் யுனெஸ்கோ மன்றம் என்ற அமைப்பு தந்தை பெரியாரைத் 'தெற்கு ஆசியாவின் சாக்ரடீஸ்' எனப் பாராட்டிப் பட்டம் வழங்கிச் சிறப்பித்தது.
- மேற்கூறியவற்றுள் சரியானது எது/எவை?
- A) I மட்டும்
- B) II மட்டும்
- C) இரண்டும்
- D) இரண்டுமில்லை
- E) விடை தெரியவில்லை
52. அசையின் அடிப்படையில் வேறுபட்ட ஒன்றினைத் தேர்ந்தெடு.
- A) அணி
- B) அணில்
- C) பால்
- D) விழா
- E) விடை தெரியவில்லை



53. பெரியாரின் கூற்றுகளுள் பொருந்தா ஒன்றினைத் தேர்ந்தெடு.
- A) திருக்குறளை ஊன்றிப் படிப்பவர்கள் சுயமரியாதை உணர்ச்சி பெறுவார்கள்
B) இன்றைய அறிவியல் வளர்ச்சிக்கேற்ற நூல்கள் தமிழில் படைக்கப்பட வேண்டும்
C) நாட்டு விடுதலையைவிட, பெண்விடுதலை தான் முதன்மையானது
D) மனப்பாடத்திற்கு முதன்மை அளிக்கும் தேர்வு முறையையும் மதிப்பெண்களுக்கு முதன்மை அளிக்கும் முறையையும் பள்ளிகளில் கொண்டு வரவேண்டும்
E) விடை தெரியவில்லை
54. 'பெரியாரின் எழுத்துச் சீர்திருத்தம்' பற்றிய பின்வரும் கூற்றுகளை கருத்தில் கொள்க.
- I. உயிர் எழுத்துகளில் 'ஐ' என்பதனை 'அய்' எனவும், 'ஔ' என்பதனை 'அவ்' எனவும் சீரமைத்தார்.
II. பெரியாரின் எழுத்துச்சீர்திருத்தம் கருத்துகளில் சிலவற்றை 1978ஆம் ஆண்டு தமிழக அரசு நடைமுறைப்படுத்தியது.
மேற்கண்ட கூற்றுகளில் சரியானவை எவை?
- A) I மட்டும்
B) II மட்டும்
C) இரண்டும்
D) இரண்டுமில்லை
E) விடை தெரியவில்லை
55. பெரியாரின் சுயமரியாதை இயக்கம் எப்போது தோற்றுவிக்கப்பட்டது?
- A) 1923
B) 1925
C) 1926
D) 1924
E) விடை தெரியவில்லை
56. "தொண்டு செய்து பழுத்த பழம் தூயதாடி மார்பில் விழும் - என்று பெரியாரைப் புகழ்ந்துரைத்தவர் யார்?
- A) திரு.வி.க.
B) பாரதியார்
C) பாரதிதாசன்
D) அறிஞர் அண்ணா
E) விடை தெரியவில்லை
57. பிறவி இருள் - இலக்கணக்குறிப்பு தருக.
- A) பண்புத்தொகை
B) உருவகம்
C) உவமைத்தொகை
D) அன்மொழித்தொகை
E) விடை தெரியவில்லை
58. பின்வரும் கூற்றுகளை கருத்தில் கொள்க.
- I. புதிய படைப்புச் சூழலில் மரபுக்கவிதையின் யாப்புப் பிடியிலிருந்து விடுபட்ட கவிதைகள் புதுக்கவிதைகள் எனப்பட்டன.
II. புதுக்கவிதையை "இலகு கவிதை, கட்டற்ற கவிதை, விலங்குகள் இலாக் கவிதை, கட்டுக்குள் அடங்காக் கவிதை" என்று பல்வேறு பெயர்களில் குறிப்பிடுகின்றனர்.



மேற்கண்ட கூற்றுகளில் சரியானவை எவை?

- A) I மட்டும்
B) II மட்டும்
C) இரண்டும்
D) இரண்டுமில்லை
E) விடை தெரியவில்லை

59. பின்வரும் கூற்றுகளைக் கருத்தில் கொள்க.

கூற்று (A) : ந.பிச்சமூர்த்தி புதுக்கவிதையின் தந்தை என்று அழைக்கப்படுகின்றார்.

காரணம் (R) : புதுக்கவிதையை தமிழில் அறிமுகப்படுத்தியவர் ந.பிச்சமூர்த்தி ஆவார்.

குறியீடுகள் :

- A) (A) மற்றும் (R) இரண்டும் சரி மற்றும் (R) என்பது (A)-யின் சரியான விளக்கமாகும்.
B) (A) மற்றும் (R) இரண்டும் சரி ஆனால் (R) என்பது (A)-யின் சரியான விளக்கமல்ல.
C) (A) சரி ஆனால் (R) தவறு.
D) (A) தவறு ஆனால் (R) சரி.
E) விடை தெரியவில்லை

60. ந.பிச்சமூர்த்தி பற்றிய பின்வரும் கூற்றுகளை கருத்தில் கொள்க.

- I. தொடக்க காலத்தில் வழக்குரைஞராகவும் பின்னர் இந்து சமய அறநிலையப் பாதுகாப்புத் துறை அலுவலராகவும் பணியாற்றினார்.
II. இவர் புதுக்கவிதை, சிறுகதை, ஓரங்க நாடகங்கள், கட்டுரைகள் ஆகிய இலக்கிய வகைமைகளைப் படைத்தவர்.
III. பிஷீ, ரேவதி ஆகிய புனைப்பெயர்களில் படைப்புகளை எழுதினார்.
IV. இவரின் முதல் சிறுகதை – “ஸயன்ஸீக்கு பவி”. 1932இல் கலைமகள் இதழ் பரிசைப் பெற்றார்.

மேற்கண்ட கூற்றுகளில் சரியானவை எவை?

- A) II, III மட்டும்
B) II, III, IV மட்டும்
C) I, II, IV மட்டும்
D) மேற்கண்ட அனைத்தும்
E) விடை தெரியவில்லை

61. “இயற்கையையும் வாழ்க்கை அனுபவங்களையும் இணைத்து அறிவுத் தெளிவுடன் நல்வாழ்க்கைக்கான மெய்யியல் உண்மைகளைக் காணும் முயற்சிகளே பிச்சமூர்த்தியின் கவிதைகள்” என்று பிச்சமூர்த்தியை பாராட்டியவர் யார்?

- A) மு.மேத்தா
B) அப்துல் ரகுமான்
C) நா.காமராசன்
D) வல்லிக்கண்ணன்
E) விடை தெரியவில்லை

62. பாண்டம் பாண்டமாக – இலக்கணக்குறிப்பு தருக.

- A) இரட்டைக்கிளவி
B) அடுத்துத்தொடர்
C) எண்ணும்மை
D) உம்மைத்தொகை
E) விடை தெரியவில்லை



63. லாவோட்சு பற்றிய பின்வரும் கூற்றுகளை கருத்தில் கொள்க.
- I. சீனாவில் கி.மு.2ஆம் நூற்றாண்டிற்கு முன் வாழ்ந்தவர். இக்காலம் சீனச் சிந்தனையின் பொற்காலமாகத் திகழ்ந்தது.
- II. லாவோட்சுவோ இன்றைய வாழ்வை மகிழ்ச்சியாக வாழ வேண்டும் என்னும் சிந்தனையை முன் வைத்தார்.
- மேற்கண்ட கூற்றுகளில் சரியானவை எவை?
- A) I மட்டும்
B) II மட்டும்
C) இரண்டும்
D) இரண்டுமில்லை
E) விடை தெரியவில்லை
64. 'யசோதர காவியம்' பற்றிய பின்வரும் கூற்றுகளை கருத்தில் கொள்க.
- I. ஐஞ்சிறு காப்பியங்களுள் ஒன்று.
- II. இந்நூல் வடமொழியிலிருந்து தமிழில் தழுவி எழுதப் பெற்றதாகும்.
- III. 'யசோதரன்' என்னும் அவந்தி நாட்டு மன்னின் வரலாற்றைக் கூறுகிறது. இது புத்த துறவி. ஒருவரால் இயற்றப்பட்டது.
- IV. இந்நூல் ஐந்து சருக்கங்களைக் கொண்டது; பாடல்கள் எண்ணிக்கை 320 எனவும் 330 எனவும் கருதுவர்.
- மேற்கண்ட கூற்றுகளில் சரியானவை எவை?
- A) I, II, III மட்டும்
B) I, II, IV மட்டும்
C) I, III, IV மட்டும்
D) மேற்கண்ட அனைத்தும்
E) விடை தெரியவில்லை
65. "நோக்குவது ஏதெனில் _____ நோக்குக" என யசோதர காவியம் குறிப்பிடுகிறது.
- A) அறம்
B) வெகுளி
C) ஞானம்
D) விரதம்
E) விடை தெரியவில்லை
66. பின்வரும் கூற்றுகளை கருத்தில் கொள்க.
- I. ஈரசைச் சீர்களுக்கு, 'இயற்சீர்', 'ஆசிரிய உரிச்சீர்' என்னும் வேறு பெயர்களும் உண்டு.
- II. காய்ச்சீர்களை "வெண்சீர்கள்" என்று அழைக்கிறோம்.
- மேற்கண்ட கூற்றுகளில் சரியானவை எவை?
- A) I மட்டும்
B) II மட்டும்
C) இரண்டும்
D) இரண்டுமில்லை
E) விடை தெரியவில்லை
67. காய்ச்சீர் அல்லாத சொல்லைத் தேர்ந்தெடு.
- A) திறனல்ல
B) பிறநாணத்
C) அறம்நாணத்
D) நாராயணன்
E) விடை தெரியவில்லை



68. தளை பற்றிய பின்வரும் கூற்றுகளை கருத்தில் கொள்க.
- I. பாடலில், நின்ற சீரின் முதல் அசையும் அதனையடுத்து வரும் சீரின் ஈற்றசையும் பொருந்துதல் 'தளை' எனப்படும்.
- II. இது ஒன்றியும் ஒன்றாமலும் வரும்.
- III. இது ஏழு வகைப்படும்.
- மேற்கண்ட கூற்றுகளில் சரியானவை எவை?
- A) I, II மட்டும்
B) II, III மட்டும்
C) I, III மட்டும்
D) மேற்கண்ட அனைத்தும்
E) விடை தெரியவில்லை
69. பின்வரும் இணைகளை கருத்தில் கொள்க.
- I. நேரொன்றாசிரியத்தளை – மா முன் நேர்
II. நிரையொன்றாசிரியத்தளை – விளம் முன் நிரை
III. வெண்சீர் வெண்டளை – காய் முன் நிரை
IV. இயற்சீர் வெண்டளை – மா முன் நிரை
V. கலித்தளை – காய் முன் நேர்
- மேற்கண்டவற்றுள் எத்தனை இணை(கள்) சரியாக பொருந்தியுள்ளன?
- A) 2 இணைகள் மட்டும்
B) 3 இணைகள் மட்டும்
C) 4 இணைகள் மட்டும்
D) அனைத்து இணைகளும்
E) விடை தெரியவில்லை
70. 'ஒன்றிய வஞ்சித்தளை' என்பது
- A) கனிமுன் நேர்
B) கனி முன் நிரை
C) காய்முன் நேர்
D) மாமுன் நேர்
E) விடை தெரியவில்லை
71. பொருத்துக.
- (அடி வகை) (சீர்களின் எண்ணிக்கை)
- | | |
|---------------|-----------|
| a) குறளடி | 1. ஆறு |
| b) சிந்தடி | 2. நான்கு |
| c) நெடிலடி | 3. மூன்று |
| d) அளவடி | 4. இரண்டு |
| e) கழிநெடிலடி | 5. ஐந்து |
- குறியீடுகள் :
- | | a | b | c | d | e |
|----|---|---|---|---|---|
| A) | 1 | 5 | 2 | 3 | 4 |
| B) | 2 | 4 | 1 | 5 | 3 |
| C) | 4 | 3 | 5 | 2 | 1 |
| D) | 2 | 1 | 5 | 3 | 4 |
- E) விடை தெரியவில்லை



72. 'தொடை' பற்றிய பின்வரும் கூற்றுகளை கருத்தில் கொள்க.
I. பாடலின் அடிகளிலோ, சீர்களிலோ எழுத்துகள் ஒன்றிவரத் தொடுப்பது 'தொடை' ஆகும்.
II. மோனை, எதுகை, இயைபு, அளபெடை, முரண், இரட்டை, அந்தாதி என்று ஏழு வகைகளாகத் தொடை அமைகிறது.
மேற்கண்ட கூற்றுகளில் சரியானவை எவை?
A) I மட்டும்
B) II மட்டும்
C) இரண்டும்
D) இரண்டுமில்லை
E) விடை தெரியவில்லை
73. "ஒற்றொற்றித் தந்த பொருளையும் மற்றுமோர்" - இக்குறட்பாவில் பயின்று வந்துள்ள எதுகை எது?
A) இணை எதுகை
B) பொழிப்பு எதுகை
C) ஒரூஉ எதுகை
D) கூழை எதுகை
E) விடை தெரியவில்லை
74. "வானரங்கள் கனிகொடுத்து மந்தியொடு கொஞ்சம் மந்திசிந்து கனிகளுக்கு வான்கவிகள் கெஞ்சம்" - இப்பாடலில் அமைந்துள்ள தொடை நயம் தருக.
A) மோனை
B) எதுகை
C) முரண்
D) இயைபு
E) விடை தெரியவில்லை
75. "காலத்தினால் செய்த நன்றி சிறிதெனினும் ஞாலத்தின் மாணப் பெரிது" - இக்குறட்பாவில் ஈற்றுச் சீரின் வாய்ப்பாடு யாது?
A) நாள்
B) மலர்
C) காசு
D) பிறப்பு
E) விடை தெரியவில்லை
76. விடைக்கேற்ற வினாவைத் தேர்க.
விடை - பாணையின் வெற்றிடமே நமக்குப் பயன்படுகிறது.
A) பாணையின் எப்பகுதி நமக்குப் பயன்படுகிறது?
B) பாணை எப்படி நமக்குப் பயன்படுகிறது?
C) பாணை எதனால் நமக்குப் பயன்படுகிறது?
D) பாணை எங்கு நமக்குப் பயன்படுகிறது?
E) விடை தெரியவில்லை
77. 'ஞானம்' என்பதன் பொருள் யாது?
A) தானம்
B) தெளிவு
C) சினம்
D) அறிவு
E) விடை தெரியவில்லை



78. “திங்கள்முடி சூடுமலை
தென்றல் விளை யாடுமலை
தங்குபயல் சூடுமலை
தமிழ்முனிவன் வாழு மலை” – அடிக்கோடிட்ட சொல் யாரைக் குறிப்பிடுகின்றது?
- A) குமரகுருபரர் B) அகத்தியர்
C) திருமூலர் D) திருவள்ளுவர்
E) விடை தெரியவில்லை
79. மரபுப்பிழையற்ற தொடரினைத் தேர்ந்தெடு.
- A) கோழிக்குட்டிகளைப் பிடிக்கப் பூனைக்குஞ்சுகள் ஓடின
B) கோழிக்குட்டிகளைப் பிடிக்கப் பூனைக்குட்டிகள் ஓடின
C) கோழிக்குஞ்சுகளைப் பிடிக்கப் பூனைக்குஞ்சுகள் ஓடின
D) கோழிக்குஞ்சுகளைப் பிடிக்கப் பூனைக்குட்டிகள் ஓடின
E) விடை தெரியவில்லை
80. “தென்னாட்டுப் பெர்னாட்ஷா என்று அறிஞர் அண்ணாவைப் புகழ்கிறோம்” என்று ஆசிரியர் கூறினார்” – என்பதனை அயற்கூற்றாக மாற்றுக.
- A) ஆசிரியர் “தென்னாட்டுப் பெர்னாட்ஷா என்று அறிஞர் அண்ணாவைப் புகழ்கிறோம்” என்று கூறினார்.
B) தென்னாட்டுப் பெர்னாட்ஷா என்று அண்ணா புகழப்படுவதாக ஆசிரியர் கூறினார்.
C) தென்னாட்டுப் பெர்னாட்ஷா என்று அறிஞர் அண்ணாவைப் புகழப்படுகிறார்.
D) “தென்னாட்டுப் பெர்னாட்ஷா என்று அறிஞர் அண்ணாவைப் புகழ்கிறோம்” என்று ஆசிரியர் கூறினார்.
E) விடை தெரியவில்லை
81. பிறமொழிச் சொல்லகற்றி தமிழ்ச்சொல்லைத் தேர்ந்தெடு.
- A) மார்னிங் நாஷ்டாவுக்கு இரண்டு தேசைகள் ஹோட்டலில் சாப்பிட்டான்.
B) காலை உணவுக்கு இரண்டு தோசைகளை உணவகத்தில் உண்டான்.
C) காலை உணவுக்கு இரண்டு தோசைகளை ஹோட்டலில் சாப்பிட்டான்.
D) காலை சிற்றுண்டிக்கு இரண்டு தோசைகளை உணவு விடுதியில் உண்டான்.
E) விடை தெரியவில்லை
82. தவறான இணையைத் தேர்ந்தெடு.
- | (நூல்) | (நூலாசிரியர்) |
|--------------------------|----------------|
| A) தங்கைக்கு | – திரு.வி.க. |
| B) தம்பிக்கு | – அறிஞர் அண்ணா |
| C) பெரியாரின் சிந்தனைகள் | – வே.ஆனைமுத்து |
| D) சிற்பியின் மகள் | – புவண்ணன் |
| E) விடை தெரியவில்லை | |



83. Metaphor – என்பதன் தமிழாக்கம் தருக.
A) கட்டிலாக் கவிதை
B) உவமையணி
C) உருவக அணி
D) காதல் கவிதை
E) விடை தெரியவில்லை
84. “விருத்தம் என்னும் ஒண்பாவிற்ரு உயர்கம்பன்” என்று கம்பரை புகழ்ந்துரைத்தவர் யார்?
A) செயங்கொண்டார்
B) மீனாட்சி சுந்தரனார்
C) ஒட்டக்கூத்தர்
D) பலபட்டைச் சொக்கநாதப் புலவர்
E) விடை தெரியவில்லை
85. பின்வரும் இணைகளை கருத்தில் கொள்க.
(குறள்) (அணி)
- I. துப்பார்க்குத் துப்பாய துப்பாக்கித் துப்பார்க்குத்
துப்பாய தூஉம் மழை – சொல் பொருள் பின்வருநிலையணி
- II. கேடில் விழுச்செல்வம் கல்வி ஒருவற்கு
மாடல்ல மற்றை யவை – சொல் பின்வருநிலையணி
- III. தேவ ரனையர் கயவர் அவருந்தாம்
மேவன செய்தொழுக லான் – வஞ்சப்புகழ்ச்சி அணி
- IV. எல்லா விளக்கும் விளக்கல்ல
சான்றோர்க்குப் பொய்யா விளக்கே விளக்கு – பொருள் பின்வருநிலையணி
- மேற்கண்டவற்றுள் எத்தனை இணை(கள்) சரியாக பொருந்தியுள்ளன?
A) 1 இணை மட்டும்
B) 2 இணைகள் மட்டும்
C) 2 இணைகள் மட்டும்
D) 4 இணைகள் மட்டும்
E) விடை தெரியவில்லை
86. உவமை, உவமேயம் என்னும் இரண்டும் ஒன்றே என்று தோன்றக் கூறுவது?
A) உவமை அணி
B) உருவக அணி
C) எடுத்துக்காட்டு உவமை அணி
D) பிறிதுமொழிதல் அணி
E) விடை தெரியவில்லை
87. சு.சமுத்திரம் பற்றிய பின்வரும் தவறான கூற்றினைக் கண்டறிக.
A) இவர் திருநெல்வேலி மாவட்டம், திப்பணம்பட்டியைச் சேர்ந்தவர்.
B) இவரது ‘குற்றம் பார்க்கில் சுற்றம் இல்லை’ என்னும் சிறுகதைத் தொகுதியானது தமிழக அரசின் பரிசைப் பெற்றுள்ளது.
C) இவரது ‘வேரில் பழுத்த பலா’ என்னும் புதினம் சாகித்திய அகாதெமி பரிசினைப் பெற்றுள்ளது
D) வாடாமல்லி, பாலைப்புறா, மண்சுமை, தலைப்பாகை, காகித உறவு போன்றவை இவரின் புகழ்பெற்ற சிறுகதைத் தொகுப்புகளாகும்.
E) விடை தெரியவில்லை



88. 'குறுந்தொகை' பற்றிய பின்வரும் கூற்றுகளை கருத்தில் கொள்க.
- எட்டுத்தொகை நூல்களுள் ஒன்று. இது தமிழர் வாழ்வின் அகப்பொருள் நிகழ்வுகளைக் கவிதையாக்கிக் கூறுகிறது.
 - கடவுள் வாழ்த்து நீங்கலாக 401 பாடல்களைக் கொண்டது. இதன்பாடல்கள் நான்கடிச் சிற்றெல்லையும் எட்டடிப் பேரெல்லையும் கொண்டவை.
 - 1915 ஆம் ஆண்டு செளரிப்பெருமாள் அரங்கனார் முதன் முதலில் இந்நூலைப் பதிப்பித்தார்.
- மேற்கண்ட கூற்றுகளில் சரியானவை எவை?
- I, II மட்டும்
 - II, III மட்டும்
 - I, III மட்டும்
 - மேற்கண்ட அனைத்தும்
 - விடை தெரியவில்லை
89. 'பாலை பாடிய பெருங்கடுங்கோ' பற்றிய பின்வரும் கூற்றுகளை கருத்தில் கொள்க.
- இவர் சேர மரபைச் சேர்ந்த மன்னர்.
 - குறுந்தொகையில் பாலைத் திணையைப் பாடியதால் பாலை பாடிய பெருங்கடுங்கோ என அழைக்கப்பெற்றார்.
- மேற்கண்ட கூற்றுகளில் தவறானது எது/எவை?
- I மட்டும்
 - II மட்டும்
 - இரண்டும்
 - இரண்டுமில்லை
 - விடை தெரியவில்லை
90. பிடிபசி களைஇய பெருங்கை வேழம் இலக்கணக்குறிப்பு தருக.
- வினைத்தொகை, இரண்டாம் வேற்றுமைத்தொகை
 - பண்புத்தொகை, வினைத்தொகை
 - வினைத்தொகை, பண்புத்தொகை
 - ஆறாம் வேற்றுமைத்தொகை, பண்புத்தொகை
 - விடை தெரியவில்லை
91. "இந்தக் காட்டில்
எந்த மூங்கில்
புல்லாங்குழல்?" என்று பாடியவர் யார்?
- கல்யாணஜி
 - அமுதோன்
 - நா.முத்துக்குமார்
 - ஜப்பனியக் கவிஞர் பாஷோ
 - விடை தெரியவில்லை



92. கல்யாண்ஜி பற்றிய தவறான கூற்றினைத் தேர்ந்தெடுக்க.
- A) இவரது இயற்பெயர் கல்யாணசுந்தரம். வாணிதாசன் என்ற பெயரில் கதை இலக்கியத்திலும் பங்களிப்புச் செய்துவருகிறார்.
- B) புலரி, முன்பின், ஆதி, அந்நியமற்ற நதி, மணல் உள்ள ஆறு ஆகியவை அவரின் கவிதை நூல்களுள் சில. கலைக்க முடியாத ஒப்பனைகள், தோட்டத்துக்கு வெளியிலும் சில பூக்கள், உயரப் பறத்தல், ஒளியிலே தெரிவது உள்ளிட்டவை இவரது குறிப்பிடத்தக்க சிறுகதைத் தொகுப்புகள்.
- C) 'ஒரு சிறு இசை' என்ற சிறுகதைத் தொகுப்பிற்காக இவருக்கு 2016 ஆம் ஆண்டிற்கான சாகித்திய அகாதெமி விருது வழங்கப்பட்டது.
- D) இவரது பல கடிதங்கள் தொகுக்கப்பட்டு, 'சில இறகுகள் சில பறவைகள்' என்ற பெயரில் வெளியானது.
- E) விடை தெரியவில்லை
93. 'தனிநாயகம் அடிகள்' பற்றிய பின்வரும் கூற்றுகளை கருத்தில் கொள்க.
- I. தமிழுக்குத் தொண்டாற்றிய கிறித்துவப் பெரியார்களுள் குறிப்பிடத்தக்கவர்.
- II. தம் சொற்பொழிவு வாயிலாக உலகம் முழுவதும் தமிழின் புகழைப் பரப்பினார். .
- III. அகில உலகத் தமிழாய்வு மன்றம் உருவாகவும், உலகத் தமிழராய்ச்சி நிறுவனம் உருவாகவும் இவர் காரணமாக இருந்தார். இவர் தொடங்கிய தமிழ்ப் பண்பாடு என்ற இதழ் இன்றுவரை வெளிவந்து கொண்டிருக்கிறது.
- மேற்கண்ட கூற்றுகளில் சரியானவை எவை?
- A) I, II மட்டும்
- B) II, III மட்டும்
- C) I, III மட்டும்
- D) மேற்கண்ட அனைத்தும்
- E) விடை தெரியவில்லை
94. பின்வருவனவற்றுள் தவறான கூற்றினைத் தேர்ந்தெடுக்க.
- A) ஜி.யு.போப் திருவள்ளுவரை "உலகப் புலவர்" என்று போற்றுகின்றார்.
- B) கோப்பெருஞ்சோழன், பிசிராந்தையாருக்குக் கூறியது போலத் தமிழ்ச் சான்றோர் பலர் வாழும் ஊரே வாழ்க்கைக்கு இன்பத்தைத் தருவதாகும்.
- C) பிறர்க்காக வாழ்வதே உயர்ந்த பணியும் பண்பாடும் ஆகும். "உண்டாலம்ம இவ்வுலகம்" என்ற புறப்பாட்டு இந்தப் பண்பை அழகாக எடுத்துக்காட்டுகிறது.
- D) குறிக்கோள் இல்லாதவன் வெறும் சதைப்பிண்டம் என்பதைப் "பூட்கையில்லோன் யாக்கை போல" என்னும் புறப்பாடலடியில் புலவர் ஆலத்தூர் கிழார் நிலைநாட்டுகிறார்.
- E) விடை தெரியவில்லை
95. யாமரம் எந்நிலத்திற்குரியது?
- A) குறிஞ்சி
- B) பாலை
- C) மருதம்
- D) முல்லை
- E) விடை தெரியவில்லை



96. பின்வரும் இணைகளை கருத்தில் கொள்க.

உலகத்தமிழ் மாநாடு வரிசை	நடைபெற்ற ஆண்டு	நடைபெற்ற இடம்
I. ஒன்றாவது	– 1966	– கோலாலம்பூர்
II. ஆறாவது	– 1986	– கோலாலம்பூர்
III. நான்காவது	– 1974	– யாழ்ப்பாணம்
IV. எட்டாவது	– 1995	– தஞ்சாவூர்
V. மூன்றாவது	– 1971	– மதுரை

மேற்கண்டவற்றுள் எத்தனை இணை(கள்) சரியாக பொருந்தியுள்ளன?

- A) 5 இணைகள்
B) 2 இணைகள்
C) 3 இணைகள்
D) 4 இணைகள்
E) விடை தெரியவில்லை

97. “நான் பகுத்தறிவும் கூட்டுறவும் உடையவன்; நான் அன்டோநீனஸ் ஆதலால் உரோமுக்கு உரியவன்; நான் மனிதன் என்பதால் உலகிற்கு உரியவன்” என்று உலக மாந்தரின் ஒற்றுமைத்தன்மையினை மிகவும் அழகாகக் கூறியவர் யார்?

- A) செனக்கா
B) அலெக்ஸாண்டர்
C) கோர்டன் ஆல்போர்ட்
D) மார்க்ஸ் அரேலியஸ்
E) விடை தெரியவில்லை

98. மழைமுகம் காணாப் பயிர் போல என்னும் உவமையால் விளக்கப்பெறும் பொருள் யாது?

- A) நட்பு
B) வருத்தம்
C) பற்றின்மை
D) அறியாமை
E) விடை தெரியவில்லை

99. வெண்பாவிற்கு _____ அந்தாதிக்கு _____ ?

- A) புகழேந்தி, இரட்டையர்கள்
B) கம்பர், படிக்காசுப்புலவர்
C) புகழேந்தி, ஒட்டக்கூத்தர்
D) ஒட்டக்கூத்தர், இளஞ்சூரியர்
E) விடை தெரியவில்லை

100. எத்துணையும் பேதமுறாது எவ்வுயிரும்

தம்முயிர்ப்போல் எண்ணி உள்ளே - எனப் பாடியவர் யார்?

- A) கல்யாணஜி
B) பிச்சமூர்த்தி
C) வள்ளலார்
D) குமரகுருபரர்
E) விடை தெரியவில்லை

* * * * *



பகுதி - ஆ — பொது அறிவு (பட்டப்படிப்பு தரம்)

Part B — General Studies (Degree Standard)

வினாக்கள் : 101-200

மொத்த மதிப்பெண்கள் : 150

Questions : 101-200

Total Marks : 150

101. மாநிலத்தில் பல்வேறு மக்கள் நலத் திட்டங்களை பற்றிய அமைச்சரவை முடிவு கீழ்க்கண்டவற்றுள் எந்த செயல்பாட்டிற்கு எடுத்துக்காட்டு ஆகும்?

- A) நான்காம் நிலை பொருளாதார நடவடிக்கை.
- B) மூன்றாம் நிலை பொருளாதார நடவடிக்கை.
- C) ஐந்தாம் நிலை பொருளாதார நடவடிக்கை.
- D) இரண்டாம் நிலை பொருளாதார நடவடிக்கை.
- E) விடை தெரியவில்லை

Which of the following Activity is an example of Council of ministers taking decisions to introduce various people welfare schemes in the state.

- A) Quaternary Economic Activity
- B) Tertiary Economic Activity
- C) Quinary Economic Activity
- D) Secondary Economic Activity.
- E) Answer not known

102. பின்வரும் கூற்றுகளைக் கருத்தில் கொள்க.

கூற்று (A) : பணித்துறை இந்தியப் பொருளாதாரத்தின் முதுகெலும்பாகும்

காரணம் (R) : இது இந்திய மொத்த உள்நாட்டு உற்பத்தியில் 53% பங்களிக்கிறது

குறியீடுகள்:

- A) (A) மற்றும் (R) இரண்டும் சரி மற்றும் (R) என்பது (A)-யின் சரியான விளக்கமாகும்
- B) (A) மற்றும் (R) இரண்டும் சரி ஆனால் (R) என்பது (A)-யின் சரியான விளக்கமல்ல
- C) (A) சரி ஆனால் (R) தவறு
- D) (A) தவறு ஆனால் (R) சரி
- E) விடை தெரியவில்லை

Consider the following statements.

Assertion (A) : Service sector is the backbone of Indian economy.

Reason (R) : It contributes 53% of the Indian Gross Domestic Product.

Codes:

- A) Both (A) and (R) are true and (R) is the correct explanation of (A)
- B) Both (A) and (R) are true but (R) is not the correct explanation of (A)
- C) (A) is true but (R) is false
- D) (A) is false but (R) is true
- E) Answer not known



103. ஞாயிற்றுக்கிழமை காலையில், நீங்கள் ஒரு சலூனில் முடி வெட்டப் போகிறீர்கள். இந்த சலூனில் தொலைக்காட்சியில் மட்டைப்பந்து போட்டி ஒளிப்பரப்பப்பட்டது. முடி வெட்டிய பிறகு, காலை உணவுக்காக அருகிலுள்ள பேக்கரியில் இருந்து ஒரு ரொட்டியை வாங்கினீர்கள். மேற்கண்ட சூழ்நிலையில் நடைபெற்ற பொருளாதாரத் துறைகள் யாவை?
- A) இரண்டாம் நிலை, ஐந்தாம் நிலை, நான்காம் நிலை
B) மூன்றாம் நிலை, நான்காம் நிலை, இரண்டாம் நிலை
C) இரண்டாம் நிலை, மூன்றாம் நிலை, ஐந்தாம்நிலை
D) மூன்றாம் நிலை, ஐந்தாம், இரண்டாம் நிலை
E) விடை தெரியவில்லை
- On a Sunday morning, You going to get haircut in a saloon. In the saloon, Cricket match has been Telecast in the Television. After an haircut, You bought a Bread from a nearby Bakery for Breakfast.
- What are the Economic sectors took place in the above Scenario?
- A) Secondary, Quinary, Quarternary
B) Teritary, Quaternary, Secondary
C) Secondary, Teritary, Quinary
D) Teritary, Quinary, Secondary
E) Answer not known
104. இந்தியன் ஆயில் ஸ்கை டேங்கிங் லிமிடெட் மற்றும் ஆனந்த் மில்க் யூனியன் லிமிடெட் (AMUL) ஆகியவை எந்த வகையின் கீழ் வருகின்றன?
- A) பொதுத்துறை மற்றும் கூட்டுறவுத் துறை
B) கூட்டுத் துறை மற்றும் பொதுத்துறை
C) கூட்டுத் துறை மற்றும் கூட்டுறவுத் துறை
D) கூட்டுறவுத் துறை மற்றும் தனியார் துறை
E) விடை தெரியவில்லை
- Indian Oil Sky Tanking Ltd, and Anand Milk Union Limited (AMUL) is come under which category?
- A) Public Sector and Cooperative Sector
B) Joint Sector and Public Sector
C) Joint Sector and Cooperative Sector
D) Cooperative Sector and Private Sector
E) Answer not known
105. தொழிற்சாலைகளின் அமைவிடத்திற்கு காரணமான புவியியல் அல்லாத காரணி
- A) மூலதனம்
B) போக்குவரத்து
C) கடன்கள் கிடைக்கும் தன்மை
D) அரசாங்க கொள்கைகள்
E) விடை தெரியவில்லை
- Pick the Odd one out with respect to the Non Geographical Factors responsible for location of Industries?
- A) Capital
B) Transport
C) Availability of Loans
D) Government Policies
E) Answer not known



106. இந்தியாவின் டெட்ராய்ட் என்றும் அழைக்கப்படும் நகரம் எது?

- A) இந்தியாவின் டாலர் நகரம்
B) தென்னிந்தியாவின் மான்செஸ்டர்
C) இந்தியாவின் சுகாதார தலைநகரம்
D) திருவிழாக்களின் நகரம்
E) விடை தெரியவில்லை

Which City is also known as the Detroit of India?

- A) Dollar City of India
B) Manchester of South India
C) Health capital of India
D) City of Festivals
E) Answer not known

107. பின்வரும் கூற்றுகளைக் கருத்தில் கொள்க.

- I. சஹாரா பாலைவனத்திலிருந்து கினியா கடற்கரையை நோக்கி வீசும் வெப்பமான, வறண்ட தூசி நிறைந்த தலக்காற்று ஹர்மட்டன் என்று அழைக்கப்படுகிறது.
II. சஹாராவிலிருந்து மத்தியதரைக் கடலை நோக்கி வீசும் வெப்பமான தலக்காற்று "சினூக்" என்று அழைக்கப்படுகிறது.

III. மிதவெப்ப மண்டல மழைக்காடுகள் பூமியின் ஆபரணம் என்று அழைக்கப்படுகின்றன.

மேற்கண்ட கூற்றுகளில் சரியானது எது/எவை?

- A) I மற்றும் III மட்டும்
B) I மட்டும்
C) II மட்டும்
D) மேற்கண்ட அனைத்தும்
E) விடை தெரியவில்லை

Consider the following statements.

- I. A hot and dry dusty local wind blowing from the Sahara desert to Guinea coast is called Harmattan
II. A hot local wind blowing from Sahara to Mediterranean Sea is called "Chinook"
III. Temperate rain forest is called the Jewel of the earth.

Which of the statements given above is/are correct?

- A) I and III only
B) I only
C) II only
D) All the above
E) Answer not known

108. தென்னாப்பிரிக்காவின் அரை வறண்ட பிரதேசங்களில் செம்மறி ஆடு வளர்ப்பு எவ்வாறு அழைக்கப்படுகிறது.?

- A) திறந்தவெளி உயிரியல் பூங்கா
B) சுவாஹிலி
C) கரூஸ்
D) வெல்ட்
E) விடை தெரியவில்லை

Sheep rearing in semi-arid region of South Africa is called

- A) Open Air Zoo
B) Swahili
C) Karoos
D) Veld
E) Answer not known



109. கீழ்க்காணும் கூற்றுகளைக் கருத்தில் கொள்க.

- I. தட்சின் கங்கோத்ரி அண்டார்டிகாவில் உள்ள உலகின் மிகப்பெரிய அறிவியல் ஆராய்ச்சி தளமாகும்.
- II. மைத்ரேயி ஆராய்ச்சி நிலையம் அண்டார்டிக்கா கண்டத்தில் நிறுவப்பட்ட முதல் இந்திய ஆராய்ச்சி நிலையம் ஆகும்
- III. மெக்மர்டோ ஆராய்ச்சி நிலையம் அமெரிக்காவால் நிறுவப்பட்டது.

மேற்கண்ட கூற்றுகளில் சரியானது எது/எவை?

- A) I மற்றும் III மட்டும்
- B) III மட்டும்
- C) I மற்றும் II மட்டும்
- D) மேற்கண்ட அனைத்தும்
- E) விடை தெரியவில்லை

Consider the following statements.

- I. Dakshin Gangotri is the World's largest scientific research base station in Antartica.
- II. Maitri Research Station was the first Indian base station in Antartica.
- III. Mcmurdo research station was set up by United States of America.

Which of the statements given above is/are correct?

- A) I and III only
- B) III only
- C) I and II only
- D) All the above
- E) Answer not known

110. பட்டியல்-I ஐ பட்டியல்-II உடன் பொருத்துக.

பட்டியல்-I

- a) ஆஸ்திரேலியாவின் மிதவெப்ப மண்டல புல்வெளிகள்
- b) அண்டார்டிகாவின் மிக உயர்ந்த சிகரம்
- c) ஆஸ்திரேலியாவின் பண்ப்பயிர்
- d) ஆஸ்திரேலியாவில் செம்மறி ஆட்டு பண்ணைத் தொழிலாளர்கள் குறியீடுகள்:

a b c d

- A) 4 2 3 1
- B) 3 1 4 2
- C) 3 4 1 2
- D) 4 1 2 3

E) விடை தெரியவில்லை

Match List-I with List-II.

List-I

- a) Temperate Grass Lands of Australia
- b) Highest peak in Antarctica
- c) Cash crop of Australia
- d) Sheep Station Workers in Australia

List-II

1. Vinson Massif
2. Jackaroos
3. Downs
4. Wool

**Codes:**

- | | a | b | c | d |
|----|------------------|----------|----------|----------|
| A) | 4 | 2 | 3 | 1 |
| B) | 3 | 1 | 4 | 2 |
| C) | 3 | 4 | 1 | 2 |
| D) | 4 | 1 | 2 | 3 |
| E) | Answer not known | | | |

111. தமிழ்நாடு பின்வரும் எந்த நில அதிர்வு மண்டலத்தின் கீழ் உள்ளது?

- | | |
|---------------------|----------------|
| A) மண்டலம் II | B) மண்டலம் III |
| C) மண்டலம் I | D) மண்டலம் IV |
| E) விடை தெரியவில்லை | |

Tamil Nadu is under which of the following Seismic Zone?

- | | |
|---------------------|-------------|
| A) Zone II | B) Zone III |
| C) Zone I | D) Zone IV |
| E) Answer not known | |

112. தவறாகப் பொருந்தியுள்ள இணையைக் கண்டறியவும்.

- | (இடர்கள்) | (உதாரணம்) |
|-----------------------|--------------------------|
| A) புவியியல் இடர் | - சூறாவளி அலைகள் |
| B) சுற்றுச்சூழல் இடர் | - காடழிப்பு |
| C) உயிரியல் இடர் | - விஷ தேனீக்கள் |
| D) தொழில்நுட்ப இடர் | - கதிரியக்க விபத்துக்கள் |
| E) விடை தெரியவில்லை | |

Find out the incorrectly matched pair.

- | (Hazards) | (Example) |
|-------------------------|--------------------------|
| A) Geologic Hazard | - Storm surges. |
| B) Environmental Hazard | - Deforestation |
| C) Biological Hazard | - Killer Bees |
| D) Technological Hazard | - Radiological accidents |
| E) Answer not known | |

113. சரியாகப் பொருந்தியுள்ள இணையைக் கண்டறியவும்.

- | (தொழிலகங்கள்) | (உதாரணம்) |
|-----------------------------|--------------------|
| A) வேளாண் சார்ந்த தொழில்கள் | - மருந்துகள் |
| B) கனிமம் சார்ந்த தொழில்கள் | - இயந்திர கருவிகள் |
| C) வனம் சார்ந்த தொழில்கள் | - பருத்தி ஜவுளி |
| D) கடல் சார்ந்த தொழில்கள் | - பட்டுத் தொழில் |
| E) விடை தெரியவில்லை | |



Find out the correctly matched pair.

(Industries)**(Example)**

- | | |
|-----------------------------|-------------------|
| A) Agro Based Industries | - Pharmaceuticals |
| B) Mineral Based Industries | - Machine Tools |
| C) Forest Based Industries | - Cotton Textile |
| D) Marine Based Industries | - Silk Industry |
| E) Answer not known | |

114. பின்வரும் கூற்றுகளைக் கருத்தில் கொள்க

I. நைஜர் நதி "ஆப்பிரிக்க ஆறுகளின் தந்தை" என்று அழைக்கப்படுகிறது

II. எகிப்து "நைல் நதியின் பரிசு" என்று அழைக்கப்படுகிறது

மேற்கண்ட கூற்றுகளில் சரியானது எது/எவை?

- | | |
|---------------------|-----------------|
| A) I மட்டும் | B) II மட்டும் |
| C) இரண்டும் | D) இரண்டுமில்லை |
| E) விடை தெரியவில்லை | |

Consider the following statements.

I. River Niger is known as "Father of African Rivers"

II. Egypt is called the "The Gift of the Nile"

Which of the statements given above is/are correct?

- | | |
|---------------------|---------------------|
| A) I only | B) II only |
| C) Both I and II | D) Neither I nor II |
| E) Answer not known | |

115. பின்வருவனவற்றில் எது நகரமயமாக்கலின் விளைவுகள் அல்ல?

- | | |
|--|----------------------------------|
| A) வீட்டுவசதி மற்றும் குடிசைப்பகுதிகள் | B) அறிவார்ந்த மக்கள் வெளியேறுதல் |
| C) அதிக நெரிசல் | D) போக்குவரத்து நெருக்கடி |
| E) விடை தெரியவில்லை | |

Which of the following is not the consequences of Urbanisation?

- | | |
|----------------------|----------------|
| A) Housing and Slums | B) Brain drain |
| C) Over Crowding | D) Traffic |
| E) Answer not known | |

116. உலக நகரமயமாக்கல் விளக்கக் குறிப்புகள் 2018 ஐப் பொறுத்தவரை, மக்கள்தொகையில் இரண்டாவது இடத்தில் உள்ள நகரம் எது?

- | | |
|---------------------|--------------|
| A) ஷாங்காய் | B) டோக்கியோ |
| C) டெல்லி | D) சாவ் பாலோ |
| E) விடை தெரியவில்லை | |

With respect to World Urbanisation Prospects 2018, Which city ranks the Second place in Population?

- | | |
|---------------------|--------------|
| A) Shanghai | B) Tokyo |
| C) Delhi | D) Sao Paulo |
| E) Answer not known | |



117. 2007ஆம் ஆண்டில், வரலாற்றில் முதல் முறையாக, உலகளாவிய நகர்ப்புற மக்கள்தொகை கிராமப்புற மக்கள்தொகையை விட அதிகமாக இருந்தது, அதன் பின்னர் நகர்ப்புற மக்களின் சதவீதம் தொடர்ந்து அதிகரித்த வண்ணம் உள்ளது. பின்வருவனவற்றில் எது பத்தியில் சிறப்பாக உணர்த்தப்படுகிறது?

- A) நகர்ப்புற மக்களின் வாழ்க்கை முறை கிராமப்புற மக்களை ஈர்க்கிறது.
B) வேலைவாய்ப்பு, கல்வி கொள்கைகள் போன்ற காரணிகள் நகர்ப்புறத்தை நோக்கி மக்களைக் கொண்டுவருகிறது.
C) மாநகரங்கள் மற்றும் நகரங்கள் உலக மக்கள்தொகையில் பெரும்பான்மையினரின் முக்கிய வாழ்க்கைச் சூழலுக்கு ஏற்றது.
D) மக்கள் தங்கள் கலாச்சாரத்தை பாரம்பரியத்திலிருந்து நவீன வடிவத்திற்கு மாற்ற விரும்புகிறார்கள்.
E) விடை தெரியவில்லை

In 2007, for the first time in history, the global urban population exceeded the global rural population and the world population has remained predominantly urban thereafter.

Which one of the following is best implied in the passage?

- A) Lifestyle of Urban People attracts the rural people.
B) Employment, Education, Policies causes a shift in urban population.
C) Cities and towns Suits the predominant living environment for the majority of the world's population.
D) People want to change their Culture from tradition to modern form.
E) Answer not known

118. அறிவார்ந்த மக்கள் வெளியேறுதல் காரணமாக பூர்வீக பகுதிகளில் பின்தங்கிய நிலை எவ்வாறு அழைக்கப்படுகிறது?

- A) பேக்டிரெய்ன் விளைவு
B) அறிவுசார் வெளியேற்ற விளைவு
C) பேக்டிரிப்ட் விளைவு
D) பின்னோக்கி செல்லும் விளைவு
E) விடை தெரியவில்லை

Backwardness in source regions due to the brain drain is called as

- A) Backdrain effect
B) Backwash effect
C) Backdrift effect
D) Backweak effect
E) Answer not known

119. தவறாகப் பொருந்தியுள்ள இணையைக் கண்டறியவும்.

(காரணங்கள்)

(இழு காரணிகள்)

- A) இயற்கை காரணம் – சாதகமான காலநிலை
B) பொருளாதாரக் காரணம் – வேலைவாய்ப்புக்கான சாத்தியம்
C) சமூக-கலாச்சார காரணம் – சமூக ஒருங்கிணைப்பு
D) அரசியல் காரணம் – போர், சிவில், அமைதியின்மை
E) விடை தெரியவில்லை



Find out the incorrectly matched pair.

(Causes)**(Pull Factors)**

- | | |
|-------------------------|----------------------------|
| A) Natural Cause | - Favourable Climate |
| B) Economic Cause | - Potential for Employment |
| C) Socio-cultural Cause | - Social Unification |
| D) Political Cause | - War, civil, unrest |
| E) Answer not known | |

120. பின்வரும் எங்கு ஒரு பகுதியிலிருந்து மற்றொரு பகுதிக்கு அதிக வருவாய் பெறும் பொருட்டு இடம் பெயர்கிறார்கள்?

- | | |
|--------------------------------------|--|
| A) நகரத்திலிருந்து நகர்ப்புறத்திற்கு | B) கிராமத்திலிருந்து நகர்ப்புறத்திற்கு |
| C) கிராமத்திலிருந்து கிராமத்திற்கு | D) நகரத்திலிருந்து கிராமத்திற்கு |
| E) விடை தெரியவில்லை | |

Which of the following is the migration between one company to other company in search of higher income?

- | | |
|---------------------|-------------------|
| A) Urban to Urban | B) Rural to Urban |
| C) Rural to Rural | D) Urban to Rural |
| E) Answer not known | |

121. 25 ஆண்டுகள் வணிக வரி அதிகாரியாக பணியாற்றி ஓய்வு பெற்ற ஒருவர், விவசாயம் செய்வதற்காக தனது சொந்த ஊரில் குடியேறினார். அது எந்த வகையான இடம்பெயர்வு?

- | | |
|--------------------------------------|--|
| A) நகரத்திலிருந்து நகர்ப்புறத்திற்கு | B) கிராமத்திலிருந்து நகர்ப்புறத்திற்கு |
| C) கிராமத்திலிருந்து கிராமத்திற்கு | D) மேற்கண்ட எதுவுமில்லை |
| E) விடை தெரியவில்லை | |

A Retired person after serving as an Commercial Tax Officer for 25 Years, settled in his native to do farming. What kind of migration is this?

- | | |
|---------------------|----------------------|
| A) Urban to Urban | B) Rural to Urban |
| C) Rural to Rural | D) None of the above |
| E) Answer not known | |

122. பட்டியல்-Iஐ பட்டியல்-II உடன் பொருத்துக.

பட்டியல்-I**பட்டியல்-II****(பண்டையக்கால நகர்ப்புற நகரங்கள்)****(நாடு)**

- a) உர்
b) தீபீஸ்
c) ஏதென்ஸ்
d) மொகஞ்சதாரோ

1. மெசபடோமியா
2. எகிப்து
3. கிரேக்கம்
4. இந்தியா

குறியீடுகள்:

- | | a | b | c | d |
|----|----------|----------|----------|----------|
| A) | 1 | 2 | 3 | 4 |
| B) | 2 | 1 | 3 | 4 |
| C) | 3 | 2 | 1 | 4 |
| D) | 1 | 3 | 2 | 4 |

- E) விடை தெரியவில்லை



Match List-I with List-II.

List-I
(Ancient Urban Cities)

- a) Ur
b) Thebes
c) Athens
d) Mohenjodaro

Codes:

- | | a | b | c | d |
|----|------------------|----------|----------|----------|
| A) | 1 | 2 | 3 | 4 |
| B) | 2 | 1 | 3 | 4 |
| C) | 3 | 2 | 1 | 4 |
| D) | 1 | 3 | 2 | 4 |
| E) | Answer not known | | | |

List-II
(Country)

1. Mesopotamia
2. Egypt
3. Greece
4. India

123. இக்கால நிலை புவி நடுக்கோட்டின் இருபுறமும் 10° முதல் 20° அட்சத்திற்கு இடைப்பட்ட பகுதிகளில் நிலவுகிறது. இது ஒரு வெப்பமண்டல ஈர மற்றும் வறண்ட கால நிலை கொண்டது. எந்த காலநிலை மண்டலம் இந்த கூற்றுடன் பொருந்துகிறது?

- A) மித வெப்ப மண்டல காலநிலை
B) புவி நடுக்கோட்டு காலநிலை
C) மத்திய தரைக்கடல் காலநிலை
D) வெப்பமண்டல சவானா காலநிலை
E) விடை தெரியவில்லை

This climate is found from 10° – 20° latitudes on either side of the equator and it is has a wet and dry climate. Which climatic zone matches this statement?

- A) Temperate Climate
B) Equatorial Climate
C) Mediterranean Climate
D) Tropical Savanna Climate
E) Answer not known

124. ஆப்பிரிக்காவின் முக்கிய பழங்குடியினங்களில் பொருந்தாத ஒன்றைக் கண்டறிக.

- A) டிங்கா
B) பூட்டியா
C) மசாய்
D) பிக்மீஸ்
E) விடை தெரியவில்லை

Find the odd one out with respect to the major tribes of Africa.

- A) Dinka
B) Bhutia
C) Masai
D) Pygmies
E) Answer not known

125. பின்வருவனவற்றில் ஆஸ்திரேலியாவின் முக்கிய பறவை இனம் எது?

- A) வானவில் வண்ணக்கிளிகள்
B) டிங்கோ
C) கோலா
D) வாலாபி
E) விடை தெரியவில்லை

Which of the following is one of the major Bird in Australia?

- A) Rainbow lorikeet
B) Dingo
C) Koala
D) Wallaby
E) Answer not known



126. மக்கள் அவர்களின் கால்நடைகளுடன் காலநிலைக்கு ஏற்ப அல்லது குறிப்பிட்ட இடைவெளியில் சமவெளி மற்றும் மலைகளுக்கு இடையே இடம் பெயர்வது எவ்வகை இடம்பெயர்வைக் குறிப்பிடப்படுகிறது?

- A) பருவகால இடம்பெயர்வு
B) கால்நடையுடன் இடம்பெயர்வு
C) உள் இடம்பெயர்வு
D) (A) மற்றும் (B)
E) விடை தெரியவில்லை

Pastoral farmers move with their herds seasonally or periodically between plains and mountains. This migration is referred as

- A) Seasonal Migration
B) Transhumance
C) Internal Migration
D) Both (A) and (B)
E) Answer not known

127. பின்வரும் கூற்றுகளைக் கருத்தில் கொள்க.

I. நீர், ஆவியாதல் மூலம் வளிமண்டலத்தின் தாழ்வான பகுதிகளுக்குச் செல்லும் பொழுது, திரவமாகச் சுருங்குதலின் மூலம் மேகங்களாக மாறுகிறது.

II. வெப்பமாற்று குளிர்காற்றை விட குறைந்த நீராவியைத் தக்கவைத்துக் கொள்ளும். மேற்கண்ட கூற்றுகளில் தவறானது எது/எவை?

- A) I மட்டும்
B) II மட்டும்
C) இரண்டும்
D) இரண்டுமில்லை
E) விடை தெரியவில்லை

Consider the following statements.

I. Water vapour gets condensed at Lower altitudes by condensation nuclei and form clouds.

II. Warm air can hold less water vapour than the cold air.

Which of the statements given above is/are incorrect?

- A) I only
B) II only
C) Both I and II
D) Neither I nor II
E) Answer not known

128. தவறான ஒன்றைத் தேர்ந்தெடுக்க.

ஆவியாதல் விகிதம் அதிகரித்தலானது

- A) காற்றின் வேகம் அதிகரிக்கும் பொழுது
B) வெப்பநிலை அதிகரிக்கும் பொழுது
C) ஈரப்பதம் குறையும் பொழுது
D) பூமியில் நீர் நிலைகள் பரப்பு குறையும் பொழுது
E) விடை தெரியவில்லை

Choose the incorrect one.

The rate of evaporation increases with

- A) Increase in wind speed
B) Increase in temperature
C) Decrease in humidity
D) Decrease in areal extent of surface water bodies.
E) Answer not known



129. மேகங்கள் என்பது மிக நுண்ணிய நீர்த்துளிகளைக் கொண்டிருக்கும். குறிப்பிட்ட மைக்ரான் அளவுக்கு மேல் செல்லும் பொழுது இவை நீர்த்துளிகளாக மாறுகின்றன. இந்த நீர்த்துளிகளின் அதிகபட்ச அளவானது?

- A) 150 மைக்ரான்
B) 500 மைக்ரான்
C) 100 மைக்ரான்
D) 250 மைக்ரான்
E) விடை தெரியவில்லை

Clouds are formed by microscopic drops of water. The size of droplets exceeds an limit, it becomes rain drops. The limit in this statement refers to

- A) 150 microns
B) 500 microns
C) 100 microns
D) 250 microns
E) Answer not known

130. பின்வரும் கூற்றுகளைக் கருத்தில் கொள்க.

- I. வளிமண்டலத்தில் வெப்பக் காற்று மேலே எழுந்து, குளிர்வடைந்து நீராவியைத் தக்க வைத்து கொள்ளும் திறனை இழக்கும் பொழுது, நீர் சுருங்குதல் நிகழ்வு நடைபெறுகிறது.
II. பனி, உறைபனி, அடர்மூடுபனி, மூடுபனி மற்றும் மேகங்கள் ஆகியவை நீர் சுருங்குதலின் உருவங்களாகும்.

மேற்கண்ட கூற்றுகளில் சரியானது எது/எவை?

- A) I மட்டும்
B) II மட்டும்
C) இரண்டும்
D) இரண்டுமில்லை
E) விடை தெரியவில்லை

Consider the following statements.

- I. Condensation occurs in the atmosphere when warm air rises, cools and loses its capacity to hold water vapour.
II. Dew, frost, fog, mist, clouds are some of the forms of condensation.

Which of the statements given above is/are correct?

- A) I only
B) II only
C) Both I and II
D) Neither I nor II
E) Answer not known

131. பின்வரும் கூற்றுகளைக் கருத்தில் கொள்க.

கூற்று (A) : தூரியனிலிருந்து வரும் மின்னூட்ட துகள்கள் வளிமண்டல மேலடுக்கிலுள்ள அணுக்களுடன் வினைப்புரிவதால் அரோரா பொரியாலிஸ் உண்டாகிறது.

காரணம் (R) : இவ்வாறான வண்ண ஒளிக்கீற்றுகள் குறிப்பாக தாழ் அட்சங்களில் அமைந்துள்ள நாடுகளான அலாஸ்கா மற்றும் நியூசிலாந்தில் காணலாம்.

குறியீடுகள்:

- A) (A) மற்றும் (R) இரண்டும் சரி மற்றும் (R) என்பது (A)-யின் சரியான விளக்கமாகும்
B) (A) மற்றும் (R) இரண்டும் சரி ஆனால் (R) என்பது (A)-யின் சரியான விளக்கமல்ல
C) (A) சரி ஆனால் (R) தவறு
D) (A) தவறு ஆனால் (R) சரி
E) விடை தெரியவில்லை



Consider the following statements.

Assertion (A) : Due to the interaction of charged particles from the sun with atoms in the upper atmosphere Aurora Borealis is formed.

Reason (R) : These amazing colours in the sky appear in low latitudinal countries like Alaska and New Zealand.

Codes:

- A) Both (A) and (R) are true and (R) is the correct explanation of (A)
B) Both (A) and (R) are true but (R) is not the correct explanation of (A)
C) (A) is true but (R) is false
D) (A) is false but (R) is true
E) Answer not known

132. உலகின் மிகப்பெரிய பனியாறு எது?

- A) ஹப்பார்ட்
B) ஃபெட்சென்கோ
C) சியாச்சின்
D) லாம்பர்ட்
E) விடை தெரியவில்லை

Which is the largest glacier in the world?

- A) Hubbard
B) Fedchenko
C) Siachen
D) Lambert
E) Answer not known

133. பின்வரும் கூற்றுகளைக் கருத்தில் கொள்க.

- I. அண்டார்டிகாவில் வாழும் அனைத்து விலங்குகள் மற்றும் பறவைகளும் குளிர்கால நிலையை எதிர்கொள்ள தங்கள் உடலில் புளுபர் (Blubber) எனப்படும் அடர்த்தியான கொழுப்பு அடுக்கினை கொண்டுள்ளன.
II. அண்டார்டிகாவில் வாழும் பென்குயின் பறவைகளால் குறைந்த அளவு தூரம் மட்டுமே பறக்க முடியும்.

மேற்கண்ட கூற்றுகளில் சரியானது எது/எவை?

- A) I மட்டும்
B) II மட்டும்
C) இரண்டும்
D) இரண்டுமில்லை
E) விடை தெரியவில்லை

Consider the following statements.

- I. All animals in Antarctica withstand cold by a thick layer of fat called blubber.
II. Penguin Birds in the Antarctica can only fly over a short distance.

Which of the statements given above is/are correct?

- A) I only
B) II only
C) Both I and II
D) Neither I nor II
E) Answer not known

134. பின்வரும் கூற்றுகளைக் கருத்தில் கொள்க.

- I. ஒரு பெரிய மற்றும் ஆழமான பள்ளத்தாக்கு, அங்கு நீருற்று போல் தண்ணீர் வெளியேறுகிறது.
II. இது சிறிய பவள பாலிப்களால் உருவாக்கப்பட்ட இயற்கை அதிசயங்களில் ஒன்றாகும்.



இந்த இரண்டு இயற்கை அம்சங்கள் எந்த கண்டத்தில் அமைந்துள்ளன?

- A) ஆப்பிரிக்கா
B) ஆஸ்திரேலியா
C) அண்டார்டிகா
D) ஆசியா
E) விடை தெரியவில்லை

Consider the following statements.

- I. A largest and deepest basin where water gushes out like a fountain
II. It has one of the natural wonder formed by tiny coral polyps
These two natural features are located in which Continent?

- A) Africa
B) Australia
C) Antarctica
D) Asia
E) Answer not known

135. காட்டெருமை, ஓகாபி, லெமூர் ஆகியவை எந்த கண்டத்தில் காணப்படுகின்றன?

- A) ஆப்பிரிக்கா
B) ஆஸ்திரேலியா
C) ஐரோப்பா
D) ஆசியா
E) விடை தெரியவில்லை

Wilde Beast, Okapi, Lemur are found in which continent?

- A) Africa
B) Australia
C) Europe
D) Asia
E) Answer not known

136. பின்வரும் கூற்றுகளைக் கருத்தில் கொள்க.

- I. சுனாமி நீரியல் தொடர்பான இடர்கள் வகையின் கீழ் வருகிறது.
II. டிசம்பர் 24, 2006 இல் இந்தியப் பெருங்கடலில் சுனாமி ஏற்பட்டது.
மேற்கண்ட கூற்றுகளில் சரியானது எது/எவை?

- A) I மட்டும்
B) II மட்டும்
C) இரண்டும்
D) இரண்டுமில்லை
E) விடை தெரியவில்லை

Consider the following statements.

- I. Tsunami comes under the category of Hydrological Hazard.
II. Tsunami in Indian Ocean took place in December 24, 2006.
Which of the statements given above is/are correct?

- A) I only
B) II only
C) Both I and II
D) Neither I nor II
E) Answer not known

137. பட்டியல்-Iஐ பட்டியல்-II உடன் பொருத்துக.

பட்டியல்-I

(இடங்கள்)

- a) நிலச்சந்தி
b) பின்னாக்கள்
c) சிறு அருவி
d) எர்க்ஸ்

பட்டியல்-II

(சிறப்பம்சம்)

1. குன்றுகளிலிருந்து வேகமாக விழும் நீர் வீழ்ச்சி
2. நிலப்பரப்புகளை இணைக்கும் ஒரு குறுகிய பகுதி
3. வறண்ட நிலப்பகுதிகளில் மணல் மற்றும் கூழாங்கற்கள் நிறைந்த சமவெளி
4. ஆஸ்திரேலிய பாலைவனங்களில் காணப்படும் சுண்ணாம்பு பாறை தூண்கள்



குறியீடுகள்:

	a	b	c	d
A)	4	2	3	1
B)	2	1	3	4
C)	2	4	1	3
D)	4	1	2	3

E) விடை தெரியவில்லை

Match List-I with List-II.

List-I

(Places)

- Isthmus
- Pinnacles
- Cataracts
- Ergs

List-II

(Feature)

- Fast flowing water falls over a cliff.
- Narrow strip of land connects land masses
- Plains of sand and gravel in the arid region
- Limestone pillars in Australian desert

Codes:

	a	b	c	d
A)	4	2	3	1
B)	2	1	3	4
C)	2	4	1	3
D)	4	1	2	3

E) Answer not known

138. பின்வரும் கூற்றுகளைக் கருத்தில் கொள்க.

- மாருதி உத்யோக், இந்தியன் சிந்தட்டிக் இரப்பர் நிறுவனம் போன்றவை தனியார் துறை தொழிலகங்களுக்கு சில எடுத்துக்காட்டுகள் ஆகும்.
- BHEL, SAIL, HAL போன்றவை பொதுத்துறை தொழிலகங்களுக்கு சில எடுத்துக்காட்டுகள் ஆகும்.

மேற்கண்ட கூற்றுகளில் சரியானது எது/எவை?

- | | |
|---------------------|-----------------|
| A) I மட்டும் | B) II மட்டும் |
| C) இரண்டும் | D) இரண்டுமில்லை |
| E) விடை தெரியவில்லை | |

Consider the following statements.

- Maruti Udyog, Indian Synthetic Rubber Ltd. are some examples of Private Sector Industries.
- BHEL, SAIL, HAL are some examples of public sector industries.

Which of the statements given above is/are correct?

- | | |
|---------------------|---------------------|
| A) I only | B) II only |
| C) Both I and II | D) Neither I nor II |
| E) Answer not known | |



139. செம்மண் தொடர்பான பின்வரும் கூற்றுகளைக் கருத்தில் கொள்க:

- I. இந்த மண் உருமாறியப் பாறைகள் மற்றும் படிசூழ் பாறைகள் ஆகியவை சிதைவடைவதால் உருவாகிறது.
- II. இம்மண்ணில் உள்ள இரும்பு ஆக்சைடு அளவைப் பொருத்து மண்ணின் நிறமானது பழுப்பு முதல் சிகப்பு நிறம் வரை வேறுபடுகிறது
- III. இது வளமான மண்.
- IV. இது நெல் சாகுபடிக்கு ஏற்றது.

மேற்கண்ட கூற்றுகளில் சரியானவை எவை?

- A) I மற்றும் II மட்டும்
- B) II மற்றும் IV மட்டும்
- C) I, III மற்றும் IV மட்டும்
- D) மேற்கண்ட அனைத்தும்
- E) விடை தெரியவில்லை

Consider the following statements regarding red soil:

- I. These soils are formed by weathering of metamorphic rocks and crystalline rocks.
- II. The presence of iron oxide makes this soil brown to red in colour
- III. It is a fertile soil.
- IV. It is suitable for paddy cultivation.

Which of the statements given above are correct?

- A) I and II only
- B) II and IV only
- C) I, III and IV only
- D) All the above
- E) Answer not known

140. தாஜ்மஹால் கட்டுமானத்தில் எந்த வகையான பாறை பயன்படுத்தப்பட்டது?

- A) உருமாற்றப் பாறைகள்
- B) படிவுப் பாறைகள்
- C) வெளிப்புறத் தீப்பாறைகள்
- D) ஊடுருவிய தீப்பாறைகள்
- E) விடை தெரியவில்லை

Which type of rock was used in the construction of the Taj Mahal ?

- A) Metamorphic rock
- B) Sedimentary rock
- C) Extrusive Igneous rock
- D) Intrusive Igneous rock
- E) Answer not known

141. ஒவ்வொரு ஆண்டும் எந்த தேதியில் உலக மண் நாளாக கொண்டாடப்படுகிறது?

- A) ஏப்ரல் 22
- B) ஜூன் 5
- C) டிசம்பர் 5
- D) பிப்ரவரி 2
- E) விடை தெரியவில்லை

On which date is World Soil Day observed every year?

- A) 22nd April
- B) 5th June
- C) 5th December
- D) 2nd February
- E) Answer not known

142. பின்வருவனவற்றில் எது அடியாழப் பாறையின் உதாரணம் அல்ல?

- A) கிரானைட்
- B) டொலிரைட்
- C) எறும்புக்கல்
- D) டயரைட்
- E) விடை தெரியவில்லை



Which of the following is not an example of a plutonic rock?

- A) Granite
B) Dolerite
C) Gabbro
D) Diorite
E) Answer not known

143. பின்வருவனவற்றில் எது சரியாகப் பொருந்தியுள்ளது?

(மண்ணின் வகை)

(அதனுடன் தொடர்புடைய பயிர்கள்)

- I. கரிசல் மண் - பருத்தி
II. சரளை மண் - காப்பி
III. வண்டல் மண் - சணல்

குறியீடுகள்:

- A) I மற்றும் II மட்டும்
B) II மற்றும் III மட்டும்
C) I மற்றும் III மட்டும்
D) மேற்கண்ட அனைத்தும்
E) விடை தெரியவில்லை

Which of the following is/are correctly matched?

(Type of Soil)

(Crops associated with it)

- I. Black soil - Cotton
II. Laterite soil - Coffee
III. Alluvial soil - Jute

Codes:

- A) I and II only
B) II and III only
C) I and III only
D) All the above
E) Answer not known

144. பத்தி:

இவை அயனமண்டல பிரதேச காலநிலையில் உருவாகிறது. இம்மண் அதிக வெப்பநிலை மற்றும் அதிக மழைப்பொழிவு கொண்ட பகுதிகளில் சுவருதலின் (Leaching) செயலாக்கத்தினால் உருவாவதால் இம்மண் வளம் குறைந்து காணப்படுகிறது. இது தோட்டப் பயிர்கள் பயிரிட ஏற்றது. பத்தியில் பின்வருவனவற்றில் எது சிறப்பாகக் குறிப்பிடப்பட்டுள்ளது?

- A) வண்டல் மண்
B) மலை மண்
C) சரளை மண்
D) செம்மண்
E) விடை தெரியவில்லை

Passage:

These are the typical soils of tropical regions. These soils are found in the regions which experienced alternate wet and dry condition. As these soils are formed by the process of leaching, it is infertile. It is suitable for cultivation of Plantation crops.

Which one of the following is best implied in the passage?

- A) Alluvial soil
B) Mountain soil
C) Laterite soil
D) Red soil
E) Answer not known



145. தவறாகப் பொருந்தியுள்ள இணையைக் கண்டறிக.

(மண் அடுக்குகள்)

(பண்புகள்)

- | | |
|-----------------------------|------------------------------------|
| A) O- இலை மக்கு அடுக்கு | - கரிமப் பொருட்களால் உருவானவை |
| B) A- மேல்மட்ட அடுக்கு | - சிதைவடைந்த அடிமட்ட பாறையாகும். |
| C) E- உயர்மட்ட அடுக்கு | - செறிவூட்டப்பட்ட தாதுவின் இருப்பு |
| D) R- சிதைவடையாத தாய்ப்பாறை | - சிதைவடையாத அடிமட்ட பாறையாகும். |
| E) விடை தெரியவில்லை | |

Find out the incorrectly matched pair.

(Layers of soil)

(Characteristics)

- | | |
|---------------------|--|
| A) O-Horizon | - Dominated by organic materials |
| B) A-Horizon | - Consists of weathered part of bed rock |
| C) E-Horizon | - Presence of concentrated ore |
| D) R-Horizon | - Consists of unweathered part of bed rock |
| E) Answer not known | |

146. தீப்பாறைகள் தொடர்பான பின்வரும் கூற்றுகளைக் கருத்தில் கொள்க:

- I. இந்தப் பாறைகள் கடினத் தன்மை உடையவை.
- II. இப்பாறைகளில் உயிரின படிமங்கள் உள்ளன.
- III. இவை நீர்புகாத் தன்மைக் கொண்டவை.
- IV. இவை எரிமலை செயல்பாடுகளோடு தொடர்புடையவை.

மேற்கண்ட கூற்றுகளில் சரியானவை எவை?

- | | |
|------------------------------|-------------------------|
| A) I, II மற்றும் III மட்டும் | B) I மற்றும் IV மட்டும் |
| C) I, III மற்றும் IV மட்டும் | D) மேற்கண்ட அனைத்தும் |
| E) விடை தெரியவில்லை | |

Consider the following statements regarding Igneous rocks:

- I. These rocks are hard in nature.
- II. They contain fossils.
- III. These are impermeable.
- IV. They are associated with the volcanic activities.

Which of the statements given above are correct?

- | | |
|-----------------------|------------------|
| A) I, II and III only | B) I and IV only |
| C) I, III and IV only | D) All the above |
| E) Answer not known | |

147. பௌதீக படிவுப் பாறைக்கு பின்வரும் பாறைகளில் எது உதாரணம்?

- | | |
|---------------------|----------------|
| A) சாக் | B) மணற்பாறைகள் |
| C) ஜிப்சம் | D) பட்டுக்கல் |
| E) விடை தெரியவில்லை | |

Which of the following rock is an example for a Mechanical Sedimentary Rock?

- | | |
|---------------------|--------------|
| A) Chalk | B) Sandstone |
| C) Gypsum | D) Talc |
| E) Answer not known | |



148. பின்வருவனவற்றில் எது சரியாகப் பொருந்தியுள்ளது?

(பாறைகள்)

(உருமாற்ற வடிவம்)

- | | |
|--------------------------|------------------|
| I. மாக்கல் | - பலகைப் பாறைகள் |
| II. சுண்ணாம்புப் பாறைகள் | - குவார்ட்சைட் |
| III. கருங்கல் | - இக்லோகைட் |

குறியீடுகள்:

- | | |
|--------------------------|---------------------------|
| A) I மற்றும் II மட்டும் | B) II மற்றும் III மட்டும் |
| C) I மற்றும் III மட்டும் | D) மேற்கண்ட அனைத்தும் |
| E) விடை தெரியவில்லை | |

Which of the following is/are correctly matched?

(Rocks)

(Metamorphic form)

- | | |
|---------------|-------------|
| I. Shale | - Slate |
| II. Limestone | - Quartzite |
| III. Basalt | - Eclogite |

Codes:

- | | |
|---------------------|--------------------|
| A) I and II only | B) II and III only |
| C) I and III only | D) All the above |
| E) Answer not known | |

149. உருமாறிய பாறைகள் தொடர்பான பின்வரும் கூற்றுகளைக் கருத்தில் கொள்க.

- அவை படிமற்ற பாறைகள்.
- உருமாறிய பாறைகள் வெளிர் நிற கனிமங்கள் மற்றும் கருமை நிற கனிமங்களை கொண்ட பட்டைகளாக காணப்படுகின்றன.

மேற்கண்ட கூற்றுகளில் தவறானது எது/எவை?

- | | |
|---------------------|-----------------|
| A) I மட்டும் | B) II மட்டும் |
| C) இரண்டும் | D) இரண்டுமில்லை |
| E) விடை தெரியவில்லை | |

Consider the following statements regarding Metamorphic rocks.

- They are non-crystalline rocks.
- They consist of alternate bands of light and dark minerals.

Which of the statements given above is/are incorrect?

- | | |
|---------------------|---------------------|
| A) I only | B) II only |
| C) Both I and II | D) Neither I nor II |
| E) Answer not known | |

150. பின்வருவனவற்றில் எது சரியாகப் பொருந்தியுள்ளது?

(பதம்)

(தொடர்புடையது)

- | | |
|----------------------|----------------------|
| I. பெடோஸ்பியர் | - பாறையின் கோளம் |
| II. முதன்மை பாறைகள் | - தீப்பாறைகள் |
| III. பூமியின் தோல் | - மண் |
| IV. அடுக்குப்பாறைகள் | - உருமாறியப் பாறைகள் |



குறியீடுகள்:

- A) I மற்றும் IV மட்டும்
B) II, III மற்றும் IV மட்டும்
C) I, II மற்றும் III மட்டும்
D) II மற்றும் III மட்டும்
E) விடை தெரியவில்லை

Which of the following is/are correctly matched?

(Term)	(Associated with)
I. Pedosphere	- The sphere of rock
II. Primary rocks	- Igneous rocks
III. Skin of the earth	- Soil
IV. Stratified rocks	- Metamorphic rocks

Codes:

- A) I and IV only
B) II, III and IV only
C) I, II and III only
D) II and III only
E) Answer not known

151. பட்டியல்-Iஐ பட்டியல்-II உடன் பொருத்துக.

பட்டியல்-I (கனிமம்)	பட்டியல்-II (பாறை வகை)
a) சுண்ணாம்புக்கல்	1. பெளதீக படிவுப் பாறைகள்
b) ஜிப்சம்	2. உயிரினப் படிவுப் பாறைகள்
c) மாக்கல்	3. உருமாறியப் பாறை
d) பலகைப் பாறை	4. இரசாயன படிவுப் பாறைகள்

குறியீடுகள்:

	a	b	c	d
A)	4	2	3	1
B)	2	4	1	3
C)	2	1	4	3
D)	4	1	3	2

E) விடை தெரியவில்லை

Match List-I with List-II.

List-I (Mineral)	List-II (Type of rock)
a) Limestone	1. Mechanical sedimentary rock
b) Gypsum	2. Organic Sedimentary rock
c) Shale	3. Metamorphic rock
d) Slate	4. Chemical sedimentary rock

Codes:

	a	b	c	d
A)	4	2	3	1
B)	2	4	1	3
C)	2	1	4	3
D)	4	1	3	2

E) Answer not known



152. மண் தொடர்பான பின்வரும் கூற்றுகளைக் கருத்தில் கொள்க:

I. மண்ணில் உள்ள கனிமங்கள், பயிர்கள் மற்றும் தாவரங்களை ஊட்டமாக வளரச் செய்கின்றன.

II. இது இயற்கை முறையில் நீரைவடிகட்டவும் சுத்திகரிக்கவும் பயன்படுகிறது.

III. மண் ஒரு முக்கியமான புதுப்பிக்க முடியாத இயற்கை வளமாகும்.

மேற்கண்ட கூற்றுகளில் சரியானவை எவை?

A) I மற்றும் II மட்டும்

B) II மற்றும் III மட்டும்

CI மற்றும் III மட்டும்

D) மேற்கண்ட அனைத்தும்

E) விடை தெரியவில்லை

Consider the following statements regarding Soil:

I. The minerals present in the soil enhance and nourishes the crops and plants

II. It acts as natural filter of water and purifies it.

III. Soil is an important non-renewable natural resource.

Which of the statements given above are correct?

A) I and II only

B) II and III only

C I and III only

D) All the above

E) Answer not known

153. மண் வளப்பாதுகாப்பு தொடர்பான பின்வரும் கூற்றுகளைக் கருத்தில் கொள்க:

I. அணைகளை கட்டுதல்

II. பட்டை முறை வேளாண்மை

III. இடம்பெயர்வு வேளாண்மை ஊக்குவித்தல்

IV. காற்றின் வேகத்தை குறைத்தல்

மேற்கண்ட கூற்றுகளில் சரியானவை எவை?

A) I, II மற்றும் III மட்டும்

B) III மற்றும் IV மட்டும்

C) I, II மற்றும் IV மட்டும்

D) மேற்கண்ட அனைத்தும்

E) விடை தெரியவில்லை

Consider the following statements related to soil conservation:

I. Construction of dams

II. Strip farming

III. Promoting Shifting cultivation

IV. Wind break

Which of the statements given above are correct?

A) I, II and III only

B) III and IV only

C) I, II and IV only

D) All the above

E) Answer not known

154. பின்வரும் கூற்றுகளைக் கருத்தில் கொள்க.

I. காலநிலையை சார்ந்து மண் உருவாகிறது.

II. மிதமான காலநிலை ஈரமான வெப்பமண்டலப் பகுதிகளுடன் ஒப்பிடும்போது வேகமாக மண் உருவாவதை அனுபவிக்கிறது.



மேற்கண்ட கூற்றுகளில் சரியானது எது/எவை?

- A) I மட்டும்
B) II மட்டும்
C) இரண்டும்
D) இரண்டுமில்லை
E) விடை தெரியவில்லை

Consider the following statements.

- I. The time needed to form a soil depends on the Climate
II. Mild climate experiences faster soil formation compared to wet tropical areas.

Which of the statements given above is/are correct?

- A) I only
B) II only
C) Both I and II
D) Neither I nor II
E) Answer not known

155. பின்வருவனவற்றில் செயல்படும் எரிமலைகள் எவை?

- I. மவுண்ட் எட்னா
II. மவுண்ட் ஸ்ட்ராம்போலி
III. மவுனாலோவா
IV. மௌனாக்கியா

குறியீடுகள்:

- A) I, II மற்றும் III மட்டும்
B) II, III மற்றும் IV மட்டும்
C) I, III மற்றும் IV மட்டும்
D) மேற்கண்ட அனைத்தும்
E) விடை தெரியவில்லை

Which of the following are active volcanoes?

- I. Mt. Etna
II. Mt. Stromboli
III. Mauna loa
IV. Mauna Kea

Codes:

- A) I, II and III only
B) II, III and IV only
C) I, III and IV only
D) All the above
E) Answer not known

156. பின்வரும் கூற்றுகளைக் கருத்தில் கொள்க.

- I. பாறைக் குழம்பு என்பது எரிமலையிலிருந்து வெடித்து வெளியேறும் தூடான உருகியப்பாறை
II. லாவா என்பது புவியின் உட்பகுதியில் உருகிய பாறைக் குழம்பு

மேற்கண்ட கூற்றுகளில் தவறானது எது/எவை?

- A) I மட்டும்
B) II மட்டும்
C) இரண்டும்
D) இரண்டுமில்லை
E) விடை தெரியவில்லை

Which of the following statements given below is/are incorrect?

- I. Magma is the Hot molten rock erupted from a volcano
II. Lava is the Hot fluid or semi-fluid material found beneath the earth crust



Which of the statements given above is/are incorrect?

- A) I only
B) II only
C) Both I and II
D) Neither I nor II
E) Answer not known

157. பின்வரும் கூற்றுகளைக் கருத்தில் கொள்க.

- I. காலநிலை என்பது பொதுவாக ஒரு இடம் அல்லது ஒரு பகுதியின் வானிலையின் சராசரி நிலை (நிலை) என வரையறுக்கப்படுகிறது.
II. வானிலை மற்றும் காலநிலையின் கூறுகள் பொதுவாக வேறுபட்டவை.
III. காலநிலை என்பது வானிலை போல அடிக்கடி மாறாது.
மேற்கண்ட கூற்றுகளில் சரியானது எது/எவை?

- A) I மட்டும்
B) II மற்றும் III மட்டும்
C) I மற்றும் III மட்டும்
D) மேற்கண்ட அனைத்தும்
E) விடை தெரியவில்லை

Consider the following statements.

- I. Climate is generally defined as the average conditions (state) of the weather of a place or a region.
II. The elements of weather and climate are usually different.
III. The climate does not change often like weather.

Which of the statements given above is/are correct?

- A) I only
B) II and III only
C) I and III only
D) All the above
E) Answer not known

158. பாறை சுழற்சியின் பின்வரும் கூறுகளை தீப்பாறையிலிருந்து உருமாறிய பாறை வரை வரிசைப்படுத்தவும்:

- I. வண்டல் மற்றும் படிவு
II. வானிலைச்சிதைவு மற்றும் அரிப்பு
III. திடப்படுத்தல் மற்றும் இணைதல்
IV. வெப்பம் மற்றும் அழுத்தம்

குறியீடுகள்:

- A) I-II-III-IV
B) II-I-IV-III
C) I-II-IV-III
D) II-I-III-IV
E) விடை தெரியவில்லை

Arrange the following elements of the rock cycle from igneous to metamorphic rock:

- I. Sedimentation and Deposition
II. Weathering and Erosion
III. Compaction and Cementing
IV. Heat and Pressure

Codes:

- A) I-II-III-IV
B) II-I-IV-III
C) I-II-IV-III
D) II-I-III-IV
E) Answer not known



159. நீரோட்டங்களில் காற்று மற்றும் நீர் நகர்வுகளை வெப்பநிலை வேறுபாடு எவ்வாறு பாதிக்கிறது?
- A) சூடான காற்று அதன் அடியில் குளிர்ந்த காற்றை மூழ்கடித்து அழுத்துகிறது.
B) குளிர்ந்த காற்று உயர்ந்து சூடான காற்றை கீழ்நோக்கி தள்ளுகிறது.
C) வெப்பநிலை வேறுபாடு காற்று மற்றும் நீர் நீரோட்டங்களில் எந்த விளைவையும் ஏற்படுத்தாது.
D) சூடான காற்று உயர்ந்து கீழே காற்றுக்கு அதிக இடத்தை உருவாக்குகிறது, அதே நேரத்தில் குளிர்ந்த காற்று கீழே குடியேறுகிறது
E) விடை தெரியவில்லை
- How does temperature difference affect air and water and makes it to move in currents?
- A) Warm air sinks and compresses cool air beneath it.
B) Cool air rises and pushes warm air downwards.
C) Temperature difference has no effect on air and water currents.
D) Warm air rises and creates more space for air beneath, while cool air settles down
E) Answer not known
160. பின்வருவனவற்றில் வானிலை மற்றும் காலநிலையை பாதிக்கும் முக்கிய காரணிகள் எவை?
- I. பகல் பொழுதின் நீளம்
II. நிலம் மற்றும் நீர்நிலைகளின் பரவல்
III. மண்ணின் வகை
IV. மலைத்தொடர்களின் அமைவிடம் மற்றும் திசை
- குறியீடுகள்:**
- A) I, II மற்றும் IV மட்டும்
B) II, III மற்றும் IV மட்டும்
C) II மற்றும் IV மட்டும்
D) மேற்கண்ட அனைத்தும்
E) விடை தெரியவில்லை
- Which of the following are the major factors that affects the weather and climate of a region?
- I. The length of day time
II. Distribution of land and water bodies
III. The type of soil
IV. Location and direction of mountain ranges
- Codes:**
- A) I, II and IV only
B) II, III and IV only
C) II and IV only
D) All the above
E) Answer not known
161. தவறான கூற்றைக் காண்க:
- A) பூமியின் வளிமண்டலம் வெப்பமடைவதை விட நிலப்பரப்பு கதிர்வீச்சினால் அதிகம் வெப்பமடைகிறது
B) வெப்பநிலை கிடைமட்டமாகவும் செங்குத்தாகவும் மாறுபடும்.
C) உயரம் அதிகரிக்கும் போது வெப்பநிலை அதிகரிப்பது வெப்பகுறைவு வீதம் எனப்படும்
D) கீழ்க்கு 1000 மீட்டருக்கு 6.5 டிகிரி செல்சியஸ் குறைகிறது .
E) விடை தெரியவில்லை



Find the incorrect statement:

- A) The Earth's atmosphere is heated more by terrestrial radiation than insolation
 B) Temperature varies both horizontally and vertically.
 C) Temperature increases with increasing height is known as Lapse rate
 D) Lapse rate is 6.5 degree celsius per 1000 meters in troposphere.
 E) Answer not known

162. பட்டியல்-Iஐ பட்டியல்-II உடன் பொருத்தவும்.

பட்டியல்-I (சம அளவுக் கோடு)	பட்டியல்-II (அதன் வேறுபெயர்கள்)
a) ஐசோக்ரைம்	1. சம மழையளவுக் கோடு
b) ஐசோஹெட்ஸ்	2. சம காற்றழுத்தக் கோடு
c) ஐசோலோபார்	3. சராசரி சமவெப்பநிலைக்கோடு
d) ஐசோபார்	4. சம காற்றழுத்தமாறுபாட்டுக் கோடு

குறியீடுகள்:

	a	b	c	d
A)	4	2	3	1
B)	2	1	3	4
C)	3	1	4	2
D)	4	1	3	2

E) விடை தெரியவில்லை

Match List-I with List-II.

List-I (Isolines)	List-II (Their Different Name)
a) Isocryme	1. Equal amount of rainfall
b) Isohyet	2. Equal atmospheric pressure
c) Isolobar	3. Equal lowest mean temperature for a specified period
d) Isobar	4. Equal pressure tendency showing similar changes over a given time

Codes:

	a	b	c	d
A)	4	2	3	1
B)	2	1	3	4
C)	3	1	4	2
D)	4	1	3	2

E) Answer not known



163. பின்வருவனவற்றில் வெப்பநிலை பரவலை பாதிக்கும் முக்கிய காரணிகள் யாவை?

- I. வீசும் காற்று
- II. நிலத்தின் தன்மை
- III. இயற்கை தாவரங்கள்
- IV. பூமியின் காந்தப்புலம்

குறியீடுகள்:

- | | |
|------------------------------|--------------------------|
| A) I, II மற்றும் III மட்டும் | B) II மற்றும் IV மட்டும் |
| C) I மற்றும் II மட்டும் | D) மேற்கண்ட அனைத்தும் |
| E) விடை தெரியவில்லை | |

Which of the following are major factors that affect the distribution of temperature?

- I. Prevailing winds
- II. Land forms
- III. Natural vegetation
- IV. Earth's Magnetic field

Codes:

- | | |
|-----------------------|-------------------|
| A) I, II and III only | B) II and IV only |
| C) I and II only | D) All the above |
| E) Answer not known | |

164. ஆண்டு வெப்பநிலை வீச்சு அல்லது ஆண்டு வெப்ப வியாப்தி எவ்வாறு வரையறுக்கப்படுகிறது?

- A) ஒரு வருடத்தில் பதிவு செய்யப்பட்ட மிக உயர்ந்த மற்றும் குறைந்த வெப்பநிலைக்கு இடையிலான வேறுபாடு.
- B) ஒரு வருடத்தின் அதிகபட்ச மற்றும் குறைந்த சராசரி மாதாந்திர வெப்பநிலைகளுக்கு இடையிலான வேறுபாடு.
- C) ஒரு வருடத்தில் சராசரி வெப்பநிலை மாறுபாடு.
- D) ஆண்டு முழுவதும் பகல் மற்றும் இரவு இடையே வெப்பநிலை வேறுபாடு.
- E) விடை தெரியவில்லை

How is the annual range of temperature defined?

- A) The difference between the highest and lowest temperatures recorded in a year.
- B) The difference between the highest and lowest mean monthly temperatures of a year.
- C) The average temperature variation over a year.
- D) The temperature difference between day and night throughout the year.
- E) Answer not known

165. பின்வருவனவற்றில் எது/எவை தவறாக பொருந்தியுள்ளது?

(வெப்ப மண்டலங்கள்)

(இடைப்பட்ட பகுதி)

- I. மிதவெப்ப மண்டலம் – மகர ரேகை மற்றும் கடக்க ரேகை
- II. வெப்ப மண்டலம் – கடக ரேகை மற்றும் வடக்கு அரைக்கோளத்தில் ஆர்க்டிக் வட்டம்
- III. குளிர் மண்டலம் – ஆர்க்டிக் வட்டம் மற்றும் வட துருவம்



குறியீடுகள்:

- A) I மற்றும் II மட்டும்
B) II மற்றும் III மட்டும்
C) I மற்றும் III மட்டும்
D) மேற்கண்ட அனைத்தும்
E) விடை தெரியவில்லை

Which of the following is/are incorrectly matched?

(Heat zones)

(Region between)

- I. Temperate zone – Tropic of cancer and the tropic of Capricorn.
II. Torrid zone – The Tropic of cancer and the Arctic circle in the Northern Hemisphere
III. Frigid Zone – The Arctic circle and the North Pole

Codes:

- A) I and II only
B) II and III only
C) I and III only
D) All the above
E) Answer not known

166. பட்டியல்-Iஐ பட்டியல்-II உடன் பொருத்தவும்.

பட்டியல்-I

பட்டியல்-II

(இதுவரை பதிவுசெய்யப்பட்ட

(இடம்)

தீவிர நிகழ்வுகள்)

- a) அதிகபட்ச வெப்பநிலை
b) குறைந்தபட்ச வெப்பநிலை
c) அதிகபட்ச அழுத்தம்
d) குறைந்தபட்ச அழுத்தம்
1. குவாம், மரியானா தீவு
2. மரண பள்ளத்தாக்கு, கிரீன்லாந்து
3. சோவியத் வோஸ்டாக் நிலையம், அண்டார்டிகா
4. அகடா, ரஷ்யா

குறியீடுகள்:

- | | a | b | c | d |
|----|----------|----------|----------|----------|
| A) | 2 | 3 | 4 | 1 |
| B) | 2 | 1 | 3 | 4 |
| C) | 3 | 2 | 1 | 4 |
| D) | 2 | 4 | 3 | 1 |

E) விடை தெரியவில்லை

Match List-I with List-II.

List-I

List-II

(Extreme events ever recorded)

(Location)

- a) Highest Temperature
b) Lowest temperature
c) Highest Pressure
d) Lowest Pressure
1. Guam, Mariana Island
2. Greenland Ranch of Death Valley
3. Soviet Vostok Station, Antarctica
4. Agata, Russia

**Codes:**

- | | a | b | c | d |
|----|----------|----------|----------|----------|
| A) | 2 | 3 | 4 | 1 |
| B) | 2 | 1 | 3 | 4 |
| C) | 3 | 2 | 1 | 4 |
| D) | 2 | 4 | 3 | 1 |
- E) Answer not known

167. பொதுவாக பூமத்திய ரேகைப் பகுதியிலிருந்து துருவங்கள் வரை மழைப்பொழிவு எவ்வாறு மாறுபடுகிறது?

- A) துருவங்களை நோக்கி மழைப்பொழிவு அதிகரிக்கிறது.
B) பூமத்திய ரேகைப் பகுதியை நோக்கி மழை படிப்படியாகக் குறைகிறது.
C) அட்சரேகைகள் முழுவதும் மழைப்பொழிவு நிலையாகவுள்ளது.
D) பூமத்திய ரேகைப் பகுதியில் மழைப்பொழிவு அதிகமாக உள்ளது மற்றும் துருவங்களை நோக்கி படிப்படியாக குறைகிறது.
E) விடை தெரியவில்லை

How does rainfall generally vary from the equatorial region to the poles?

- A) Rainfall increases sharply towards the poles.
B) Rainfall decreases gradually towards the equatorial region.
C) Rainfall remains constant across latitudes.
D) Rainfall is high in the equatorial region and decreases gradually towards the poles.
E) Answer not known

168. பின்வரும் கூற்றுகளைக் கருத்தில் கொள்க.

- I. அதிக அழுத்தமண்டலம் எதிர்கூறாவளி காற்றுகள் என்று அழைக்கப்படுகிறது..
II. குறைந்த அழுத்தமண்டலம் காற்றழுத்ததாழ்வு மண்டலம் என்றும், சூறாவளி என்றும் அழைக்கப்படுகிறது.
III. குறைந்த அழுத்தமண்டலம் மேக மூட்டத்தையும், காற்றையும், மழைப்பொழிவையும் உருவாக்குகிறது. அதிக அழுத்தமண்டலம் அமைதியான வானிலையைத் தருகிறது.

மேற்கண்ட கூற்றுகளில் சரியானவை எவை?

- A) I மற்றும் II மட்டும்
B) II மற்றும் III மட்டும்
C) I மற்றும் III மட்டும்
D) மேற்கண்ட அனைத்தும்
E) விடை தெரியவில்லை

Consider the following statements:

- I. High pressure systems are also called as Anti-cyclones.
II. Low pressure systems are also called as depressions and cyclones.
III. High pressure leads to fair and calm weather, while low pressure leads to cloudiness, wind, and precipitation.

Which of the statements given above are correct?

- A) I and II only
B) II and III only
C) I and III only
D) All the above
E) Answer not known



169. பட்டியல்-Iஐ பட்டியல்-II உடன் பொருத்தவும்.

பட்டியல்-I

(கருவி)

- காற்றழுத்தமானி
- ஹைக்ரோமீட்டர்
- காற்றுத்திசை மானி
- அனிமீட்டர்

குறியீடுகள்:

	a	b	c	d
A)	1	3	2	4
B)	2	1	4	3
C)	3	2	1	4
D)	1	3	4	2

E) விடை தெரியவில்லை

Match List-I with List-II.

List-I

(Instrument)

- Barometer
- Hygrometer
- Wind vane
- Anemometer

List-II

(It Uses)

- Pressure
- Wind speed
- Humidity
- Wind direction

Codes:

	a	b	c	d
A)	1	3	2	4
B)	2	1	4	3
C)	3	2	1	4
D)	1	3	4	2

E) Answer not known

170. பின்வருவனவற்றில் எது நீர் உட்கசிந்து வெளியேறும் செயலை பாதிக்காது?

- | | |
|----------------------|-----------------------|
| A) ஈரப்பதம் | B) மண்ணின் pH |
| C) தாவரங்களின் தன்மை | D) பயிர் சாகுபடி முறை |
| E) விடை தெரியவில்லை | |

Which of the following is not a factor that affects transpiration?

- | | |
|-------------------------|---------------------------------------|
| A) Humidity | B) Soil pH |
| C) Nature of Vegetation | D) The method of cultivation of crops |
| E) Answer not known | |

171. கடல் மட்டத்தில் நிலையான காற்றழுத்தத்தின் அளவு என்ன?

- | | |
|------------------------|------------------------|
| A) 1013.25 மில்லி பார் | B) 1023.25 மில்லி பார் |
| C) 1033.25 மில்லி பார் | D) 1035.25 மில்லி பார் |
| E) விடை தெரியவில்லை | |



What is the standard air pressure at sea level?

- A) 1013.25 mb
B) 1023.25 mb
C) 1033.25 mb
D) 1035.25 mb
E) Answer not known

172. வளிமண்டல அழுத்தத்தில் தொடர்ச்சியான மாறுபாட்டை பதிவு செய்ய எந்த கருவி பயன்படுத்தப்படுகிறது?

- A) காற்றழுத்தமானி
B) பரோகிராம்
C) அனிமோமீட்டர்
D) ஹைக்ரோமீட்டர்
E) விடை தெரியவில்லை

Which instrument is used for recording continuous variation in atmospheric pressure?

- A) Barometer
B) Barogram
C) Anemometer
D) Hygrometer
E) Answer not known

173. பட்டியல்-Iஐ பட்டியல்-II உடன் பொருத்தவும்.

பட்டியல்-I
(பதம்)

- a) சுய ஈரப்பதம்
b) உண்மையான ஈரப்பதம்
c) ஒப்பு ஈரப்பதம்
d) அழுத்தம்

பட்டியல்-II
(அளவீடு)

1. சதவீதம்
2. ஒரு கன மீட்டர் காற்றில் உள்ள ஈரப்பதம் (கிராம்களில்)
3. கிலோகிராம் காற்றில் ஒரு கிராம் நீராவி
4. மில்லிபார்க்கள்

குறியீடுகள்:

- | | a | b | c | d |
|----|----------|----------|----------|----------|
| A) | 3 | 2 | 1 | 4 |
| B) | 2 | 3 | 1 | 4 |
| C) | 3 | 1 | 2 | 4 |
| D) | 2 | 1 | 4 | 3 |

E) விடை தெரியவில்லை

Match List-I with List-II.

List-I
(Term)

- a) Specific humidity
b) Absolute humidity
c) Relative humidity
d) Pressure

List-II
(Measurement)

1. Percentage
2. Grams per cubic metre of air
3. Grams of vapour per Kilogram of air
4. millibars

Codes:

- | | a | b | c | d |
|----|----------|----------|----------|----------|
| A) | 3 | 2 | 1 | 4 |
| B) | 2 | 3 | 1 | 4 |
| C) | 3 | 1 | 2 | 4 |
| D) | 2 | 1 | 4 | 3 |

E) Answer not known



174. பின்வருவனவற்றில் தவறான கூற்றையைக் கண்டறியவும்:

- A) நீர், திரவ நிலையிலிருந்து வாயு நிலைக்கு மாறுவதற்கு ஆவியாதல் என்று பெயர். 100°C (212° F) வெப்ப நிலையில் நீர் கொதிக்கிறது. உண்மையாக நீர் 0° C (32° F) வெப்பநிலையிலேயே ஆவியாகத் தொடங்குகிறது.
- B) பேராழிகள், கடல்கள், ஏரிகள் மற்றும் ஆறுகள் போன்றவற்றிலிருந்து சுமார் 90% ஈரப்பதம் ஆவியாதல் மூலமாக வளிமண்டலத்திற்குச் செல்கிறது என்பதைப் பல்வேறு ஆய்வுகள் வெளிப்படுத்துகின்றன.
- C) உலகளாவிய அளவில் நீர் எவ்வளவு ஆவியாகிறதோ, அதே அளவு மழைப்பொழிவாக புவிக்கு மீண்டும் கிடைக்கிறது.
- D) காற்று அதிகமாக உள்ள காலங்களைவிட காற்று குறைவாக உள்ள காலங்களில் ஆவியாதலின் விகிதம் அதிகமாக உள்ளது.
- E) விடை தெரியவில்லை

Find the incorrect statement among the following:

- A) Water boils at 100°C (212°F) temperature but, it actually begins to evaporate at 0°C (32°F)
- B) The atmosphere gets nearly 90% of moisture from the oceans, seas, lakes and rivers through evaporation
- C) On a global scale, the amount of water gets evaporated is about the same as the amount of water delivered to earth as precipitation
- D) The rate of evaporation is high during the periods of calm winds than during windy times
- E) Answer not known

175. பட்டியல்-Iஐ பட்டியல்-II உடன் பொருத்துக.

பட்டியல்-I

(மழைப்பொழிவின் வடிவங்கள்)

- a) மழை
b) தூறல்
c) கல்மழை
d) ஆலங்கட்டி மழை

குறியீடுகள்:

	a	b	c	d
A)	4	2	3	1
B)	2	1	3	4
C)	2	1	4	3
D)	4	2	1	3

E) விடை தெரியவில்லை

Match List-I with List-II.

List-I

(Forms of Precipitation)

- a) Rain
b) Drizzle
c) Sleet
d) Hail

பட்டியல்-II

(விட்டத்தில் அளவு)

1. 0.5 மி.மீ க்கும் குறைவாக
2. 0.5 மிமீ விட அதிகமாக
3. 5 மிமீ
4. 5 மிமீக்கு மேல்

List-II

(Size in diameter)

1. Less than 0.5 mm
2. Greater than 0.5 mm
3. 5 mm
4. Greater than 5 mm

**Codes:**

- | | a | b | c | d |
|----|----------|----------|----------|----------|
| A) | 4 | 2 | 3 | 1 |
| B) | 2 | 1 | 3 | 4 |
| C) | 2 | 1 | 4 | 3 |
| D) | 4 | 2 | 1 | 3 |

E) Answer not known

176. முக்கோண வடிவ நிலத்தின் பக்கங்களின் நீளம் முறையே 28 மீ, 15 மீ மற்றும் 41 மீ. நிலத்தின் பரப்பளவைக் கணக்கிடுக. ஒரு சதுர மீட்டருக்கு செலவு ₹ 20 வீதம் வயலை சமன் செய்வதற்கான செலவைக் காண்க.

- A) ₹ 2520
B) ₹ 2620
C) ₹ 2500
D) ₹ 2720

E) விடை தெரியவில்லை

The lengths of sides of a triangular field are 28 m, 15 m and 41 m. Calculate the area of the field. Find the cost of levelling the field at the rate of ₹ 20 per m^2 .

- A) ₹ 2520
B) ₹ 2620
C) ₹ 2500
D) ₹ 2720

E) Answer not known

177. ஒரு விவசாயிக்கு சாய்சதுர வடிவத்தில் ஒரு வயல் உள்ளது. வயலின் சுற்றளவு 400 மீ மற்றும் அதன் மூலைவிட்டம் 120 மீ ஆகும். வயலை இரண்டு சம பாகங்களாகப் பிரித்து இரண்டு விதமான காய்கறி செடிகளை வளர்க்க விரும்புகிறார். வயலின் பரப்பளவைக் காண்க.

- A) 4800 மீ²
B) 6800 மீ²
C) 8600 மீ²
D) 9600 மீ²

E) விடை தெரியவில்லை

A farmer has a field in the shape of a rhombus. The perimeter of the field is 400m and one of its diagonal is 120m. He wants to divide the field into two equal parts to grow two different types of vegetables. Find the area of the field.

- A) 4800 m^2
B) 6800 m^2
C) 8600 m^2
D) 9600 m^2

E) Answer not known

178. 180 மீ சுற்றளவு கொண்ட ஒரு சமபக்க முக்கோணத்தின் பரப்பளவைக் காண்க.

- A) 1156.6 மீ²
B) 1536.6 மீ²
C) 1344.4 மீ²
D) 1558.8 மீ²

E) விடை தெரியவில்லை

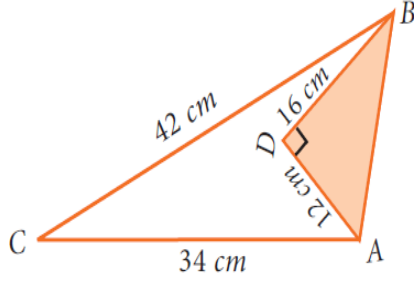
Find the area of an equilateral triangle whose perimeter is 180m

- A) 1156.6 m^2
B) 1536.6 m^2
C) 1344.4 m^2
D) 1558.8 m^2

E) Answer not known



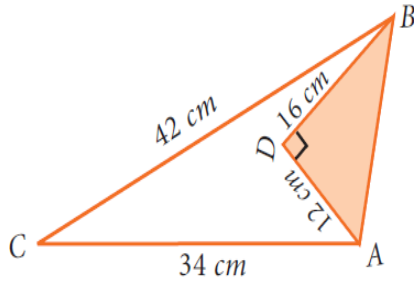
179. நிழலாடாத பகுதியின் பரப்பளவைக் காண்க.



- A) 336 செமீ² B) 396 செமீ²
C) 240 செமீ² D) 432 செமீ²

E) விடை தெரியவில்லை

Find the area of the unshaded region.



- A) 336 cm² B) 396 cm²
C) 240 cm² D) 432 cm²
E) Answer not known

180. மீன் தொட்டியின் பரிமாணங்கள் முறையே 3.8 மீ × 2.5 மீ × 1.6 மீ. இது எத்தனை லிட்டர் தண்ணீரை வைத்திருக்க முடியும்?

- A) 15200 லிட்டர்கள் B) 16200 லிட்டர்கள்
C) 1520 லிட்டர்கள் D) 1620 லிட்டர்கள்

E) விடை தெரியவில்லை

The dimensions of a fish tank are 3.8 m × 2.5 m × 1.6 m. How many litres of water it can hold?

- A) 15200 litres B) 16200 litres
C) 1520 litres D) 1620 litres
E) Answer not known

181. ஒரு கனசதுர பால் தொட்டியில் 125000 லிட்டர் பாலை வைத்திருக்க முடியும். அதன் பக்கத்தின் நீளத்தை மீட்டரில் காண்க.

- A) 5 மீ B) 7 மீ
C) 14 மீ D) 15 மீ

E) விடை தெரியவில்லை

A cubical milk tank can hold 125000 litres of milk. Find the length of its side in metres

- A) 5 m B) 7 m
C) 14 m D) 15 m

E) Answer not known



182. 10 செமீ × 6 செமீ × 5 செமீ பரிமாணம் அளவு கொண்ட கனச்செவ்வகத்தின் மொத்த புறப்பரப்பைக் காண்க.
- A) 300 செமீ² B) 360 செமீ²
C) 600 செமீ² D) 280 செமீ²
E) விடை தெரியவில்லை
- The Total Surface Area of the cuboid with dimension 10 cm × 6 cm × 5 cm is
- A) 300 cm² B) 360 cm²
C) 600 cm² D) 280 cm²
E) Answer not known
183. ஒரு இனிப்புப் பெட்டியின் பரிமாணங்கள் முறையே 22 செ.மீ × 18 செ.மீ × 10 செ.மீ. ஆகும். 1 மீ × 88 செமீ × 63 செமீ அளவுள்ள அட்டைப்பெட்டியில் எத்தனை இனிப்பு பெட்டிகளை அடைக்க முடியும் ?
- A) 280 பெட்டிகள் B) 140 பெட்டிகள்
C) 70 பெட்டிகள் D) 210 பெட்டிகள்
E) விடை தெரியவில்லை
- The dimensions of a sweet box are 22 cm × 18 cm × 10 cm. How many such boxes can be packed in a carton of dimensions 1 m × 88 cm × 63 cm?
- A) 280 boxes B) 140 boxes
C) 70 boxes D) 210 boxes
E) Answer not known
184. ஒரு அறையின் நீளம், அகலம் மற்றும் உயரம் முறையே 25 மீ, 15 மீ மற்றும் 5 மீ. அதன் தரையையும் நான்கு சுவர்களையும் புதுப்பிக்கும் செலவை ஒரு சதுர மீட்டருக்கு ₹ 80 வீதம் காண்க.
- A) ₹ 66000 B) ₹ 62000
C) ₹ 72000 D) ₹ 76000
E) விடை தெரியவில்லை
- The length, breadth and height of a hall are 25 m, 15 m and 5 m respectively. Find the cost of renovating its floor and four walls at the rate of ₹80 per m².
- A) ₹ 66000 B) ₹ 62000
C) ₹ 72000 D) ₹ 76000
E) Answer not known
185. 7 செமீ பக்க அளவு கொண்ட ஒரே மாதிரியான இரண்டு கனசதுரங்கள் பக்கவாட்டில் இணைக்கப்படும் போது கிடைக்கும் புதிய கனச்செவ்வகத்தின் மொத்தபரப்பைக் காண்க.
- A) 294 செமீ² B) 484 செமீ²
C) 490 செமீ² D) 784 செமீ²
E) விடை தெரியவில்லை
- Two identical cubes of side 7 cm are joined end to end. Find the Total surface area of the new resulting cuboid.
- A) 294 cm² B) 484 cm²
C) 490 cm² D) 784 cm²
E) Answer not known



186. ஒரு கனசதுரத்தின் மொத்தப்பரப்பு 486 செமீ². அதன் பக்கப்பரப்பைக் காண்க.
 A) 361 செமீ² B) 348 செமீ²
 C) 324 செமீ² D) 405 செமீ²
 E) விடை தெரியவில்லை
 A cube has total surface area of 486 cm². Find its Lateral Surface Area.
 A) 361 cm² B) 348 cm²
 C) 324 cm² D) 405 cm²
 E) Answer not known
187. ஒரு செங்கல்லின் பரிமாணங்கள் முறையே 24 செமீ × 12 செமீ × 8 செமீ ஆகும். 20 மீ நீளம், 48 செ.மீ அகலம் மற்றும் 6 மீ உயரம் கொண்ட சுவரைக் கட்ட இதுபோன்ற எத்தனை செங்கற்கள் தேவைப்படும் ?
 A) 20,000 B) 50,000
 C) 15,000 D) 25,000
 E) விடை தெரியவில்லை
 The dimensions of a brick are 24 cm × 12 cm × 8 cm. How many such bricks will be required to build a wall of 20 m length, 48 cm breadth and 6 m height?
 A) 20,000 B) 50,000
 C) 15,000 D) 25,000
 E) Answer not known
188. உலோகக் கனசதுரத்தின் பக்கமானது 12 செ.மீ. இது உருக்கி ஒரு கனச்செவ்வகமாக வார்த்தப்படுகிறது, அதன் நீளம் மற்றும் அகலம் முறையே 18 செ.மீ மற்றும் 16 செ.மீ எனில் கனச்செவ்வகத்தின் உயரத்தைக் காண்க.
 A) 6 செ.மீ B) 12 செ.மீ
 C) 8 செ.மீ D) 9 செ.மீ
 E) விடை தெரியவில்லை
 The side of a metallic cube is 12 cm. It is melted and formed into a cuboid whose length and breadth are 18 cm and 16 cm respectively. Find the height of the cuboid.
 A) 6 cm B) 12 cm
 C) 8 cm D) 9 cm
 E) Answer not known
189. கனச்செவ்வகத்தின் நீளம், அகலம் மற்றும் உயரம் 7:5:2 என்ற விகிதத்தில் இருக்கும். இதன் கனஅளவு 35840 செமீ³. அதன் பரிமாணங்களைக் காண்க.
 A) 66 செ.மீ., 30 செ.மீ, 26 செ.மீ B) 66 செ.மீ., 30 செ.மீ, 16 செ.மீ
 C) 56 செ.மீ., 40 செ.மீ, 16 செ.மீ D) 56 செ.மீ., 40 செ.மீ, 26 செ.மீ
 E) விடை தெரியவில்லை
 The length, breadth and height of a cuboid are in the ratio 7:5:2. Its volume is 35840 cm³. Find its dimensions.
 A) 66 cm, 30 cm, 26 cm B) 66 cm, 30 cm, 16 cm
 C) 56 cm, 40 cm, 16 cm D) 56 cm, 40 cm, 26 cm
 E) Answer not known



190. 6.5 மீ பக்கஅளவுள்ள ஒரு கனச்சதுரக்கொள்கலனின் மேற்புறம் முழுவதும் வண்ணம் பூசப்படுகிறது. இதற்கு வண்ணம் பூசவேண்டிய பரப்பிற்கு 1 சதுர மீட்டருக்கு ₹24 வீதம் வண்ணம் பூசஆகும் மொத்தச்செலவைக் காண்க.

- A) ₹ 5760
B) ₹ 1014
C) ₹ 5796
D) ₹ 6084

E) விடை தெரியவில்லை

A cubical container of side 6.5 m is to be painted on the entire outer surface. Find the total cost of painting it at the rate of ₹24 per m^2 .

- A) ₹ 5760
B) ₹ 1014
C) ₹ 5796
D) ₹ 6084

E) Answer not known

191. $\sqrt{8}$ என்பதை 2^n வடிவத்தில் எழுதவும்

- A) $2^{3/2}$
B) $2^{1/2}$
C) $2^{5/2}$
D) $2^{2/3}$

E) விடை தெரியவில்லை

Express $\sqrt{8}$ in the form 2^n .

- A) $2^{3/2}$
B) $2^{1/2}$
C) $2^{5/2}$
D) $2^{2/3}$

E) Answer not known

192. $\frac{1024}{3125}$ இன் 5 வது மூலத்தைக் காண்க.

- A) $\frac{2}{3}$
B) $\frac{4}{5}$
C) $\frac{3}{4}$
D) $\frac{7}{6}$

E) விடை தெரியவில்லை

Find the 5th root of $\frac{1024}{3125}$

- A) $\frac{2}{3}$
B) $\frac{4}{5}$
C) $\frac{3}{4}$
D) $\frac{7}{6}$

E) Answer not known

193. $2\sqrt{72} \times 5\sqrt{32} \times 3\sqrt{50}$ இன் மதிப்பைக் கணக்கிட்டு விடையை எளிய வடிவில் தருக

- A) $6700\sqrt{2}$
B) $7600\sqrt{2}$
C) $7200\sqrt{2}$
D) $7500\sqrt{2}$

E) விடை தெரியவில்லை



Compute and give the answer in the simplest form: $2\sqrt{72} \times 5\sqrt{32} \times 3\sqrt{50}$

- A) $6700\sqrt{2}$ B) $7600\sqrt{2}$
C) $7200\sqrt{2}$ D) $7500\sqrt{2}$
E) Answer not known

194. பின்வருவனவற்றை அறிவியல் குறியீட்டில் எழுதவும் $(300000)^3 \times (2000)^4$

- A) 4.32×10^{26} B) 4.30×10^{24}
C) 4.30×10^{26} D) 4.32×10^{29}
E) விடை தெரியவில்லை

Write the following in scientific notation $(300000)^3 \times (2000)^4$

- A) 4.32×10^{26} B) 4.30×10^{24}
C) 4.30×10^{26} D) 4.32×10^{29}
E) Answer not known

195. $(0.000729)^{-3/4} \times (0.09)^{-3/4} =$

- A) $10^3/3^3$ B) $10^5/3^5$
C) $10^2/3^2$ D) $10^6/3^6$
E) விடை தெரியவில்லை

$(0.000729)^{-3/4} \times (0.09)^{-3/4} =$

- A) $10^3/3^3$ B) $10^5/3^5$
C) $10^2/3^2$ D) $10^6/3^6$
E) Answer not known

196. $\sqrt{9^x} = \sqrt[3]{9^2}$, எனில் $x =$ யின் மதிப்பு

- A) $\frac{4}{3}$ B) $\frac{2}{3}$
C) $\frac{1}{3}$ D) $\frac{5}{3}$
E) விடை தெரியவில்லை

$\sqrt{9^x} = \sqrt[3]{9^2}$, then $x =$

- A) $\frac{4}{3}$ B) $\frac{2}{3}$
C) $\frac{1}{3}$ D) $\frac{5}{3}$
E) Answer not known

197. $\sqrt{\frac{0.49 \times 0.0256}{0.0064 \times 6.25}}$ மதிப்பைக் காண்க.

- A) 0.32 B) 2.8
C) 0.56 D) 1.56
E) விடை தெரியவில்லை



The Value of $\sqrt{\frac{0.49 \times 0.0256}{0.0064 \times 6.25}}$

- A) 0.32
B) 2.8
C) 0.56
D) 1.56
E) Answer not known

198. $\sqrt{2} = 1.414$ எனில், $\frac{8 - 5\sqrt{2}}{3 - 2\sqrt{2}}$ மதிப்பைக் காண்க.

- A) 4.414
B) 5.414
C) 6.414
D) 5.214
E) விடை தெரியவில்லை

Given $\sqrt{2} = 1.414$, find the value of $\frac{8 - 5\sqrt{2}}{3 - 2\sqrt{2}}$

- A) 4.414
B) 5.414
C) 6.414
D) 5.214
E) Answer not known

199. $\frac{\sqrt{7} - 2}{\sqrt{7} + 2} = a\sqrt{7} + b$ எனில் a, b யின் மதிப்பு காண்க.

- A) $-\frac{2}{3}, \frac{11}{2}$
B) $\frac{4}{3}, \frac{11}{3}$
C) $\frac{2}{3}, \frac{11}{2}$
D) $-\frac{4}{3}, \frac{11}{3}$

E) விடை தெரியவில்லை

Find the value of a and b if $\frac{\sqrt{7} - 2}{\sqrt{7} + 2} = a\sqrt{7} + b$

- A) $-\frac{2}{3}, \frac{11}{2}$
B) $\frac{4}{3}, \frac{11}{3}$
C) $\frac{2}{3}, \frac{11}{2}$
D) $-\frac{4}{3}, \frac{11}{3}$

E) Answer not known

200. $x = \sqrt{5} + 2$ எனில், $x - \left(\frac{1}{x}\right)$ இன் மதிப்பைக் கண்டறியவும்

- A) 3
B) 2
C) 4
D) 1
E) விடை தெரியவில்லை

If $x = \sqrt{5} + 2$, then find the value of $x - \left(\frac{1}{x}\right)$

- A) 3
B) 2
C) 4
D) 1
E) Answer not known



**SHANKAR
IAS ACADEMY™**
Best Academy for Civil Services Exam Coaching

SPACE FOR ROUGH WORK

SHANKAR IAS ACADEMY
www.Padasalai.Net



**SHANKAR
IAS ACADEMY™**
Best Academy for Civil Services Exam Coaching

SPACE FOR ROUGH WORK

SHANKAR IAS ACADEMY
www.Padasalai.Net



வினாத்தொகுப்பு எண் :

பதிவு எண்

--	--	--	--	--	--	--	--	--	--

Test - 9
2024

பொதுத் தமிழ் (பத்தாம் வகுப்பு தரம்) மற்றும் பொது அறிவு
(பட்டப்படிப்பு தரம்)

இந்த வினாப்புத்தகம்

பகுதி - அ (பொதுத் தமிழ்) மற்றும் பகுதி - ஆ (பொது அறிவு) உள்ளடக்கியது

கால அளவு : 3.00 மணி நேரம்]

[மொத்த மதிப்பெண்கள் : 300

வினாக்களுக்கு பதிலளிக்கும் முன் கீழ்க்கண்ட அறிவுரைகளை கவனமாகப் படிக்கவும்

முக்கிய அறிவுரைகள்

- இந்த வினாத்தொகுப்பு, தேர்வு தொடங்குவதற்கு 15 நிமிடங்களுக்கு முன்னதாக உங்களுக்கு வழங்கப்படும்.
- இந்த வினாத்தொகுப்பு, **200** வினாக்களைக் கொண்டுள்ளது. விடையளிக்கத் தொடங்குமுன் இவ்வினாத் தொகுப்பில் எல்லா வினாக்களும் வரிசையாக இடம் பெற்றுள்ளனவா என்பதையும், இடையில் வெற்றுத்தாள்கள் எவையுமில்லை என்பதையும் உறுதி செய்து கொள்ளவும். வினாத் தொகுப்பில் ஏதேனும் குறைபாடு இருப்பின், அதனை முதல் பத்து நிமிடங்களுக்குள் அறைக்கண்காணிப்பாளரிடம் தெரிவித்து, சரியாக உள்ள வேறொரு வினாத் தொகுப்பினை பெற்றுக்கொள்ள வேண்டும். தேர்வு தொடங்கிய பின்பு, இது குறித்து முறையிட்டால் வினாத் தொகுப்பு மாற்றித் தரப்படமாட்டாது.
- எல்லா வினாக்களுக்கும் விடையளிக்கவும், எல்லா வினாக்களும் சமமான மதிப்பெண்கள் கொண்டவை.
- உங்களுடைய பதிவு எண்ணை இந்தப் பக்கத்தின் வலது மேல் மூலையில் அதற்கென அமைந்துள்ள இடத்தில் நீங்கள் எழுத வேண்டும். வேறு எதையும் வினாத் தொகுப்பில் எழுதக் கூடாது.
- விடைத்தாள் ஒன்று விடைகளை குறிப்பதற்கு அறைக்கண்காணிப்பாளரால் உங்களுக்கு வழங்கப்படும். விடைகளைக் குறிப்பது உள்ளிட்ட அவசியம் பின்பற்றப்பட வேண்டிய அறிவுரைகள் விடைத்தாளிலும், தேர்வுக்கூட அனுமதிச் சீட்டிலும் வழங்கப்பட்டுள்ளன.
- உங்களுடைய வினாத்தொகுப்பு, எண்ணை (Question Booklet Number) விடைத்தாளின் முதல் பக்கத்தில் அதற்கென அமைந்துள்ள இடத்தில் கருமை நிற மையுடைய பந்துமுனைப் பேனாவினால் குறித்துக் காட்ட வேண்டும். வினாத்தொகுப்பு எண்ணை விடைத்தாளில் சரியாகக் குறித்துக் காட்டத் தவறினாலோ அல்லது குறிக்கத் தவறினாலோ உங்களுடைய விடைத்தாள் செல்லாததாகக்கப்படும்.
- ஒவ்வொரு வினாவும் A), (B), (C), (D), (E) என ஐந்து பதில்களைக் (விடைகள்) கொண்டுள்ளது. நீங்கள் A) அல்லது B) அல்லது C) அல்லது D) இவைகளில் ஒரே ஒரு சரியான விடையைத் தெரிவு செய்து விடைத்தாளில் குறித்துக்காட்ட வேண்டும். ஒரு கேள்விக்கு ஒன்றுக்கு மேற்பட்ட சரியான விடை இருப்பதாக நீங்கள் கருதினால், மிகச்சரியானது என நீங்கள் எதைக் கருதுகிறீர்களோ அந்த விடையை விடைத்தாளில் குறித்துக்காட்ட வேண்டும். உங்களுக்கு விடை தெரியவில்லை எனில், நீங்கள் (E) என்பதை அவசியம் நிரப்ப வேண்டும். எப்படியாயினும், ஒரு கேள்விக்கு ஒரே ஒரு விடையைத் தான் தேர்ந்தெடுக்க வேண்டும். நீங்கள் ஒரு வேள்விக்கு ஒன்றுக்கு மேற்பட்ட விடையளித்தால், அவற்றுள் ஒரு விடை சரியானதாக இருந்தாலும் அந்த விடை தவறானதாகவே கருதப்படும்.
- நீங்கள் வினாத் தொகுப்பின் எந்தப் பக்கத்தையும் நீக்கவோ அல்லது கிழிக்கவோ கூடாது. தேர்வு நேரத்தில் இந்த வினாத் தொகுப்பினையோ அல்லது விடைத்தாளையோ தேர்வு அறையை விட்டு வெளியில் எடுத்துச் செல்லக் கூடாது. தேர்வு முடிந்தபின் நீங்கள் உங்களுடைய விடைத்தாளை கண்காணிப்பாளரிடம் கொடுத்து விட வேண்டும். இவ்வினாத் தொகுப்பினை தேர்வு முடிந்த பின்னர் மட்டுமே நீங்கள் எடுத்துச் செல்ல அனுமதிக்கப்படுவீர்கள்.
- குறிப்புகள் எழுதிப்பார்ப்பதற்கு வினாத்தொகுப்பின் கடைசி பக்கத்திற்கு முன் உள்ள பக்கங்களை பயன்படுத்திக் கொள்ளலாம். இதைத்தவிர வினாத்தொகுப்பின் எந்த இடத்திலும் எந்தவித குறிப்புகளையும் எழுதக்கூடாது. இந்த அறிவுரை கண்டிப்பாக பின்பற்றப்படவேண்டும்.
- வினா வரிசை எண்கள் 101 முதல் 200 வரை (பகுதி - ஆ) ஆங்கில வடிவே இறுதியானது.
- நீங்கள் மேற்கண்ட அறிவுரைகளில் எவற்றையாவது பின்பற்றத் தவறினால் தேர்வாணையம் எடுக்கும் நடவடிக்கைகளுக்கு உள்ளாக நேரிடும் என அறிவுறுத்தப்படுகிறது.

0

[Turn over

 For queries mail to For queries mail to : zerofeedback@shankariasacad.in; [Turn over

Kindly Send Me Your Key Answer to Our email id - Padasalai.net@gmail.com



பகுதி - அ — பொதுத் தமிழ் (பத்தாம் வகுப்பு தரம்)

Part A — General Tamil (SSLC Std)

வினாக்கள் : 1-100

மொத்த மதிப்பெண்கள் : 150

Questions : 1-100

Total Marks : 150

1. “முன்னைக்கும் முன்னை முகிழ்த்த நறுங்கனியே” – இப்பாடலில் அமையப்பெற்றுள்ள எதுகை மற்றும் மோனை எவை?
A) பொழிப்பு, ஒரூஉ
B) கூழை, இணை
C) இணை, கூழை
D) மேற்கதுவாய், பொழிப்பு
E) விடை தெரியவில்லை
2. “தென்னன் மகளே! திருக்குறளின் மாண்புகழே!
இன்னறும் பாப்பத்தே! எண்தொகையே! நற்கணக்கே
மன்னுஞ் சிலம்பே! மணிமே கலைவடிவே!
முன்னும் நினைவால் முடிதாழ வாழ்த்துவமே” – என்னும் பாவலரேறுவின் பாடல்வரிகள் இடம்பெற்றுள்ள நூல் எது?
A) எண்சுவை என்பது
B) பாவியக்கொத்து
C) கனிச்சாறு
D) நூறாசிரியம்
E) விடை தெரியவில்லை
3. பாவலரேறு பெருஞ்சித்திரனாரின் இயற்பெயர் என்ன?
A) துரை. மாணிக்கம்
B) இராஜமாணிக்கம்
C) துரைராசு
D) இராஜகோபால்
E) விடை தெரியவில்லை
4. பாவலரேறு பற்றிய பின்வரும் கூற்றுகளைக் கருத்தில் கொள்க.
I. தென்மொழி, தமிழ்ச்சிட்டு இதழ்களின் வாயிலாகத் தமிழுணர்வை உலகெங்கும் பரப்பியவர்.
II. இவர் உலகியல் நூறு, பாவியக்கொத்து, நூறாசிரியம், கனிச்சாறு, எண்சுவை என்பது, ஏரெழுபது, மகபுகுவஞ்சி, பள்ளிப்பறவைகள் முதலிய நூல்களைப் படைத்துள்ளார்.
III. இவரின் திருக்குறள் மெய்ப்பொருளுரை, தமிழுக்குக் கருவூலமாய் அமைந்துள்ளது.
மேற்கண்ட கூற்றுகளில் சரியானவை எவை?
A) I மற்றும் II மட்டும்
B) II மற்றும் III மட்டும்
C) I மற்றும் III மட்டும்
D) மேற்கண்ட அனைத்தும்
E) விடை தெரியவில்லை
5. “சாகும்போதும் தமிழ்ப்படித்துச் சாகவேண்டும் – என்றன் சாம்பலும் தமிழ்மணந்து வேகவேண்டும்” என்று கூறியவர் யார்?
A) சுப்பிரமணிய பாரதியார்
B) சுத்தானந்த பாரதி
C) பாரதிதாசன்
D) க.சச்சிதானந்தன்
E) விடை தெரியவில்லை



6. எட்டுத்தொகை நூல்களுள் பொருந்தா ஒன்றினைத் தேர்ந்தெடுக்க.
A) பதிற்றுப்பத்து B) பட்டினப்பாலை
C) பரிபாடல் D) குறுந்தொகை
E) விடை தெரியவில்லை
7. 'போது' என்பது புவின் எந்நிலையைக் குறிக்கும்?
A) புவின் தோற்றநிலை B) பூ விரியத் தொடங்கும் நிலை
C) புவின் மலர்ந்த நிலை D) பூ வாடின நிலை
E) விடை தெரியவில்லை
8. பின்வரும் இணைகளைக் கருத்தில் கொள்க.
(தாவரம்) (இலைவகை)
I. நெல் – தாள்
II. சோளம் – புல்
III. பனை – ஓலை
IV. புளி – இலை
மேற்கண்ட இணைகளில் எத்தனை இணைகள் சரியானவை?
A) 1 B) 2
C) 3 D) 4
E) விடை தெரியவில்லை
9. பின்வருவனவற்றுள் தவறான இணையைத் தேர்ந்தெடுக்க.
(தாவரம்) (பிஞ்சுவகை)
A) எள் – கவ்வை
B) இளம் பாக்கு – நுழாய்
C) இளநெல் – மூசு
D) வாழை – கச்சல்
E) விடை தெரியவில்லை
10. அல்லிக்காய் என்பது
A) கோட்டான் உட்கார்ந்ததினால் கெட்ட காய்
B) தேரை அமர்ந்ததினால் கெட்டகாய்
C) தேரை அமர்ந்ததினால் கெட்ட தேங்காய்
D) தென்னியில் கெட்ட காய்
E) விடை தெரியவில்லை
11. பின்வரும் கூற்றுகளைக் கருத்தில் கொள்க.
I. "உலகத்திலேயே ஒரு மொழிக்காக உலக மாநாடு நடத்திய முதல் நாடு இந்தியா. மாநாட்டுக்குரிய அம்முதல் மொழியும் தமிழே" என்று பன்மொழிப் புலவர் க.அப்பாத்துரையார் கூறியுள்ளார்.
II. "நாடும் மொழியும் நமதிரு கண்கள்" என்கிறார் மகாகவி பாரதியார்.
மேற்கண்ட கூற்றுகளில் சரியானது எது/எவை?
A) I மட்டும் B) II மட்டும்
C) இரண்டும் D) இரண்டுமில்லை
E) விடை தெரியவில்லை



12. “தேவநேயப் பாவாணர்” பற்றிய பின்வரும் கூற்றுகளைக் கருத்தில் கொள்க.
- ‘மொழிஞாயிறு’ என்று சிறப்பிக்கப்படுகிறார்.
 - தமிழ்ச் சொல்லாராய்ச்சியில் உச்சம் தொட்டவர். செந்தமிழ்ச் சொற்பிறப்பியல் அகரமுதலித் திட்ட இயக்குநராகப் பணியாற்றியவர்.
 - விழிகளை இழக்க நேரிட்டாலும் கூட தாய்த்தமிழினை இழந்துவிடக்கூடாது என்று எண்ணியவர்; அதற்காக, தமிழ்த்தென்றல் திரு.வி.க போல இமைகளை மூடியபடி எழுதும் ஆற்றலைக் கற்றுக்கொண்டவர்.
- மேற்கண்ட கூற்றுகளில் சரியானவை எவை?
- I மற்றும் II மட்டும்
 - II மற்றும் III மட்டும்
 - I மற்றும் III மட்டும்
 - மேற்கண்ட அனைத்தும்
 - விடை தெரியவில்லை
13. தமிழ்த்திரு இரா.இளங்குமரனார் பற்றிய தவறான கூற்றினைத் தேர்ந்தெடுக்க.
- திருச்சிராப்பள்ளிக்கு அருகில் அமைந்துள்ள அல்லூரில் “திருவள்ளுவர் தவச்சாலை” ஒன்றை அமைத்தவர்.
 - இலக்கண வரலாறு, தமிழிசை இயக்கம், தனித்தமிழ் இயக்கம், பாவாணர் வரலாறு, குண்டலகேசி உரை, யாப்பருங்கலம் உரை, புறத்திரட்டு உரை, திருக்குறள் தமிழ் மரபுரை, காக்கைப் பாடினிய உரை முதலிய நூல்களை இயற்றியுள்ளார்.
 - தமிழகம் முழுவதும் திருக்குறள் சொற்பொழிவுகளை வழங்கியவர்; தமிழ்வழித் திருமணங்களை நடத்தியவர்.
 - உலகத்தமிழ்க் கழகத்தை நிறுவித் தலைவராக இருந்தவர்.
 - விடை தெரியவில்லை
14. பின்வரும் கூற்றுகளைக் கருத்தில் கொள்க.
- ஒரு சொல்லோ, சொற்றொடரோ இருபொருள் படவருவது இரட்டுற மொழிதல் அணி எனப்படும்.
 - இதனைச் ‘சிலேடை அணி’ என்றும் அழைப்பர்.
- மேற்கண்ட கூற்றுகளில் சரியானது எது/எவை?
- I மட்டும்
 - II மட்டும்
 - I மற்றும் II
 - I மற்றும் II இல்லை
 - விடை தெரியவில்லை
15. பின்வருவனவற்றுள் தவறான கூற்றினைத் தேர்ந்தெடுக்க.
- புலவர் பலரின் பாடல்களின் தொகுப்பான தனிப்பாடல் திரட்டு என்னும் நூலில் தமிழழகனாரின் பாடலானது ஆறாம் பகுதியில் இடம்பெற்றுள்ளது.
 - சந்தக்கவிமணி எனக் குறிப்பிடப்படும் தமிழழகனாரின் இயற்பெயர் சண்முகசுந்தரம்.
 - தமிழழகனார் இலக்கணப் புலமையும் இளம் வயதில் செய்யுள் இயற்றும் ஆற்றலும் பெற்றவர் பன்னிரண்டு சிற்றிலக்கிய நூல்களைப் படைத்துள்ளார்.
 - செய்யுளிலும் உரைநடையிலும் மேடைப்பேச்சிலும் சிலேடைகள் பயன்படுத்தப்படுகின்றன.
 - விடை தெரியவில்லை



16. பின்வருவனவற்றுள் தவறான இணையைத் தேர்ந்தெடுக்க.

(தொடர்)

(அளபெடை)

- | | |
|---------------------------------|---------------------|
| A) ஓஓதல் வேண்டும் | – இசைநிறை அளபெடை |
| B) நல்ல படாஅ பறை | – செய்யுளிசை அளபெடை |
| C) எடுப்பதூஉம் எல்லாம் மழை | – இன்னிசை அளபெடை |
| D) எஃகிலங்கிய கையராய் இன்னுயிர் | – உயிரளபெடை |
| E) விடை தெரியவில்லை | |

17. “களம்புகத் துடித்து நின்ற உனக்கு, வெற்றிச்சாறு கிடைத்துவிட்டது, உண்டு மகிழ்ந்தாய்; உன் புன்னகைதான் அதற்குச் சான்று” – என்று கூறிவயர் யார்?

- A) சிலம்புச் செல்வர்
B) அறிஞர் அண்ணா
C) இரா.பி. சேதுபிள்ளை
D) திரு.வி.க
E) விடை தெரியவில்லை

18. பின்வருவனவற்றுள் தவறான இணையைத் தேர்ந்தெடுக்க.

(கூற்று)

(கூறியவர்)

- | | |
|---|-------------------|
| A) உவமையும் பொருளும் வேற்றுமை ஒழிவித்து ஒன்றென மாட்டின் அஃது உருவகமாகும் | – பவணந்தி முனிவர் |
| B) வாழ்க்கை நடத்துவதற்குப் பொருள்கள் பல வேண்டும். அரிசி, காய், கனி முதலியவை வேண்டும். உடை, வீடு முதலியவை வேண்டும். காசும் காகித நோட்டும் வேண்டும். இன்னும் பல வேண்டும். இவற்றை ஆளும் அறிவும் வேண்டும் | – மு.வரதராசனார் |
| C) இந்தியாதான் என்னுடைய மோட்சம்; இந்தியாவின் நன்மைதான் என் நன்மை. இந்தியாதான் என் இளமையின் மெத்தை; என் யௌவனத்தின் நந்தவனம்; என் கிழக்காலத்தின் காசி | – பாரதியார் |
| D) குடிசைகள் ஒருபக்கம்; கோபுரங்கள் மறுபக்கம்; பசித்த வயிறுகள் ஒருபக்கம். புளிச்சேப்பக்காரர்கள் மறுபக்கம்; | – ப.ஜீவானந்தம் |
| E) விடை தெரியவில்லை | |

19. பொருத்துக.

(நூல்)

(நூலாசிரியர்)

- | | |
|------------------------|-----------------------|
| a) இனிக்கும் நினைவுகள் | 1. மு.வரதராசனார் |
| b) தமிழின்பம் | 2. வ.இராமசாமி |
| c) நாட்டுப்பற்று | 3. மா.இராமலிங்கம் |
| d) மழையும் புயலும் | 4. இரா.பி. சேதுபிள்ளை |



குறியீடுகள்:

- | | <i>a</i> | <i>b</i> | <i>c</i> | <i>d</i> |
|----|------------------|----------|----------|----------|
| A) | 4 | 3 | 2 | 1 |
| B) | 3 | 4 | 1 | 2 |
| C) | 3 | 2 | 1 | 4 |
| D) | 4 | 1 | 2 | 3 |
| E) | விடை தெரியவில்லை | | | |

20. எடுத்துக்காட்டு உவமை அணியை உரைநடையில் பயன்படுத்துகையில் எவ்வாறு அழைக்கப்படுகிறது?
- A) எதிரிணை இசைவு
B) உச்சநிலை
C) இலக்கணை
D) இணை ஒப்பு
E) விடை தெரியவில்லை

21. 'முதல் தமிழ்க் கணினி' பற்றிய பின்வரும் கூற்றுகளைக் கருத்தில் கொள்க.
- I. தமிழ் மறையான திருக்குறளைத் தந்த "திருவள்ளூர்" பெயரில் முதல் தமிழ்க் கணினி 1983 செப்டம்பரில் டி.சி.எம். டேட்டா புரொடக்ட்ஸ் என்னும் தனியார் நிறுவனம் உருவாக்கியது.
- II. இக்கணினியில் முதல் முறையாகத் தமிழ் மொழியிலேயே விவரங்களை உள்ளீடாகச் செலுத்தி நமக்குத் தேவையான தகவல்களை வெளியீடாகக் கணினியிலிருந்து பெற முடிந்தது.
- III. சென்னை தேனாம்பேட்டையில் இருந்த புள்ளிவிவரத்துறை அலுவலகத்திற்கும் தலைமைச் செயலகத்துக்கும் கோப்புகளையும் செய்திகளையும் பரிமாறிக்கொண்ட முதல் நேர்வழிக் கணினியும் "திருக்குறளே!"
- மேற்கண்ட கூற்றுகளில் சரியானவை எவை?
- A) I மற்றும் II மட்டும்
B) II மற்றும் III மட்டும்
C) I மற்றும் III மட்டும்
D) மேற்கண்ட அனைத்தும்
E) விடை தெரியவில்லை

22. 'எழில் முதல்வன்' பற்றிய பின்வரும் கூற்றுகளைக் கருத்தில் கொள்க.
- I. 'புதிய உரைநடை' என்னும் நூலுக்காக சாகித்திய அகாதெமி விருது பெற்றவர்.
- II. மாநிலக் கல்லூரியில் பயின்று அங்கேயே பேராசிரியர் பணியைத் தொடர்ந்தவர். குடந்தை அரசு ஆடவர் கல்லூரி, பாரதிதாசன் பல்கலைக்கழகம் ஆகியவற்றில் தமிழ்த்துறைத் தலைவராகப் பணிசெய்தவர்.
- மேற்கண்ட கூற்றுகளில் சரியானது எது/எவை?
- A) I மட்டும்
B) II மட்டும்
C) இரண்டும்
D) இரண்டுமில்லை
E) விடை தெரியவில்லை



23. “வாழையும் கழுகும் தாழ்குலைத் தெங்கும்
மாவும் பலாவும் சூழ்அடுத்து ஓங்கிய
தென்னவன் சிறுமலை திகழ்ந்து தோன்றும்” – இப்பாடலடி இடம்பெற்றுள்ள நூல் எது?
A) மணிமேகலை
B) சிலப்பதிகாரம்
C) சீவகசிந்தாமணி
D) தண்டியலங்காரம்
E) விடை தெரியவில்லை
24. பின்வரும் கூற்றுகளைக் கருத்தில் கொள்க.
I. இரண்டு அல்லது அதற்கு மேற்பட்ட தனிமொழிகள் தொடர்ந்து வந்து பொருள் தருவது பொதுமொழி ஆகும்.
II. ஒருசொல் தனித்து நின்று ஒரு பொருளையும் அச்சொல்லே பிரிந்து நின்று வேறு பொருளையும் தருவது தொடர்மொழி எனப்படும்.
மேற்கண்ட கூற்றுகளில் சரியானது எது/எவை?
A) I மட்டும்
B) II மட்டும்
C) இரண்டும்
D) இரண்டுமில்லை
E) விடை தெரியவில்லை
25. பின்வருவனவற்றுள் தனிமொழி அல்லாத சொல்லைத் தேர்ந்தெடுக்க.
A) கண்
B) நூல்
C) வேங்கை
D) மலர்
E) விடை தெரியவில்லை
26. பின்வருவனவற்றுள் தவறான இணையைத் தேர்ந்தெடுக்க.
(சொல்) (தொழிற்பெயர்)
A) வாழ்க்கை – விசுதிபெற்ற தொழிற்பெயர்
B) நடவாமை – எதிர்மறைத் தொழிற்பெயர்
C) அடி – முதனிலைத் தொழிற்பெயர்
D) சுடு – முதனிலை திரிந்த தொழிற்பெயர்
E) விடை தெரியவில்லை
27. ‘வினையாலணையும் பெயர்’ பற்றிய தவறான கூற்றினைத் தேர்ந்தெடுக்க.
A) ஒரு வினைமுற்று பெயரின் தன்மையை அடைந்து வேற்றுமை உருபு ஏற்றும் ஏற்காமலும் வேறொரு பயனிலையைக் கொண்டு முடியும்.
B) தொழிலைச் செய்யும் கருத்தாவைக் குறிக்கும்.
C) காலம் காட்டாது.
D) மூவிடத்திற்கும் உரியது.
E) விடை தெரியவில்லை



28. பின்வருவனவற்றுள் வினையாலணையும் பெயர் பயின்று வந்துள்ள தொடரினைத் தேர்ந்தெடுக்க.
- A) கலையரங்கத்தில் எனக்காகக் காத்திருக்கிறவரை அழைத்து வாருங்கள்
B) ஊட்டமிகு உணவு உண்டார்.
C) நேற்று என்னைச் சந்தித்தார்.
D) பொது அறிவு நூல்களைத் தேடிப் படித்தார். போட்டித் தேர்வில் வென்றார்.
E) விடை தெரியவில்லை
29. “மூச்சுப்பயிற்சியே உடலைப் பாதுகாத்து வாழ்நாளை நீட்டிக்கும்” – என்று கூறியவர் யார்?
- A) ஒளவையார்
B) அகத்தியர்
C) திருமூலர்
D) வள்ளுவர்
E) விடை தெரியவில்லை
30. “நளிஇரு முந்நீர் நாவாய் ஓட்டி
வளிதொழில் ஆண்ட உரவோன் மருக!
களிஇயல் யானைக் கரிகால் வளவ!”
இப்புறநானூற்றுப் பாடலடிகள் யார் யாருக்காகப் பாடியது?
- A) குடப்புலவியனார், கரிகாலச்சோழன்
B) பிசிராந்தையார், கோப்பெருஞ்சோழன்
C) வெண்ணிக்குயத்தியார், கரிகாலச்சோழன்
D) நம்பியாண்டார் நம்பி, இராசராசச்சோழன்
E) விடை தெரியவில்லை
31. பின்வரும் இணைகளைக் கருத்தில் கொள்க.
- | | |
|-------------|------------------|
| (திசை) | (காற்றின் பெயர்) |
| I. கிழக்கு | – கொண்டல் |
| II. மேற்கு | – குணக்கு |
| III. வடக்கு | – வாடை |
| IV. தெற்கு | – தென்றல் |
- மேற்கண்ட இணைகளில் எத்தனை இணைகள் சரியானவை?
- A) 3
B) 4
C) 1
D) 2
E) விடை தெரியவில்லை
32. ‘பத்மகிரிநாதர் தென்றல் விடுதூது’ என்னும் சிற்றிலக்கியத்தைப் படைத்தவர் யார்?
- A) குமரகுருபரர்
B) அருணாச்சலக் கவிராயர்
C) பலபட்டடைச் சொக்கநாதப் புலவர்
D) மீனாட்சி சுந்தரம் பிள்ளை
E) விடை தெரியவில்லை



33. பின்வரும் கூற்றுகளைக் கருத்தில் கொள்க.
- I. உலகக் காற்றாலை மின் உற்பத்தியில் இந்தியா ஐந்தாம் இடம்பெற்றுள்ளது. இந்தியாவில் தமிழகம் முதலிடம் வகிக்கிறது.
- II. உலகிலேயே அதிகளவு மாசுபடுத்தும் நாடுகளில் இந்தியா இரண்டாம் இடம் வகிக்கின்றது. மேற்கண்ட கூற்றுகளில் சரியானது எது/எவை?
- A) I மட்டும்
B) II மட்டும்
C) இரண்டும்
D) இரண்டுமில்லை
E) விடை தெரியவில்லை
34. பின்வரும் கூற்றுகளைக் கருத்தில் கொள்க.
- I. காற்றின் ஆற்றலை, “வளி மிகின் வலி இல்லை” என ஐயூர் முடவனார் புறநானூற்றில் குறிப்பிட்டுள்ளார்.
- II. மதுரை இளநாகனார் கடுங்காற்று, மணலைக் கொண்டு வந்து சேர்க்கிறது என்று காற்றின் வேகத்தைப் பற்றிப் புறநானூற்றில் குறிப்பிட்டுள்ளார்.
- III. காற்று மாசுபடுவதால் குழந்தைகளின் மூளை வளர்ச்சி குறைவதாக ஐக்கிய நாடுகளின் சிறுவர் நிதியம் (UNICEF) தெரிவித்துள்ளது. மேற்கண்ட கூற்றுகளில் சரியானவை எவை?
- A) I மற்றும் II மட்டும்
B) II மற்றும் III மட்டும்
C) I மற்றும் III மட்டும்
D) மேற்கண்ட அனைத்தும்
E) விடை தெரியவில்லை
35. தாய்லாந்து மன்னரின் முடிசூட்டு விழாவில் எவ்விரு பாடல்களைத் தாய்மொழியில் எழுதி வைத்துப் பாடுவதாக தனிநாயகம் அடிகள் குறிப்பிடுகின்றார்?
- A) திருவாசகம், திருமந்திரம்
B) திருவாசகம், திருப்பாவை
C) திருக்குறள், திருவாசகம்
D) திருவெம்பாவை, திருப்பாவை
E) விடை தெரியவில்லை
36. மகாகவி சுப்பிரமணிய பாரதியார் பற்றிய தவறான கூற்றினைத் தேர்ந்தெடுக்க.
- A) ‘நீடுதுயில் நீக்கப் பாடிவந்த நிலா’, ‘சிந்துக்குத் தந்தை’ என்றெல்லாம் பாராட்டப் பெற்றவர்.
- B) சமுதாய ஏற்றத்தாழ்வுகளையும், பெண்ணடிமைத்தனத்தையும் தன் பாடல்களில் பாராட்டி எழுதியவர்.
- C) குயில்பாட்டு, பாஞ்சாலி சபதம் முதலிய காவியங்களையும் கண்ணன் பாட்டு, பாப்பா பாட்டு, புதிய ஆத்திசூடி, குழந்தைகளுக்கான நீதிகளையும் பாடல்களில் தந்தவர்.
- D) இந்தியா, சுதேசமித்திரன் முதலிய இதழ்களில் ஆசிரியராகப் பணியாற்றியவர். பாட்டுக்கொரு புலவன் எனப் பாராட்டப்பட்டவர்.
- E) விடை தெரியவில்லை
37. வசன கவிதை பற்றிய பின்வரும் கூற்றுகளைக் கருத்தில் கொள்க.
- I. உரைநடையும் கவிதையும் இணைந்து யாப்புக் கட்டுகளுக்கு அப்பாற்பட்டு உருவாக்கப்படும் கவிதை வடிவம் வசனகவிதை எனப்படுகிறது.
- II. வசனகவிதை வடிவமானது தமிழில் பாரதியால் அறிமுகப்படுத்தப்பட்டது.
- III. இவ்வசன கவிதையே ‘மரபுக்கவிதை’ என்ற வடிவம் உருவாகக் காரணமாயிற்று.



மேற்கண்ட கூற்றுகளில் சரியானவை எவை?

- A) I மற்றும் II மட்டும்
B) II மற்றும் III மட்டும்
C) I மற்றும் III மட்டும்
D) மேற்கண்ட அனைத்தும்
E) விடை தெரியவில்லை

38. 'முல்லைப்பாட்டு' பற்றிய தவறான கூற்றினைத் தேர்ந்தெடுக்க.

- A) பத்துப்பாட்டில் குறைந்த அடிகளை உடைய நூல். இது 103 அடிகளைக் கொண்டது.
B) ஆசிரியப்பாவால் இயற்றப்பட்டது.
C) இதைப் படைத்தவர் மதுரைப் பொன்வணிகனார் மகனார் நப்பூதனார்.
D) முல்லை நிலத்திற்குரிய உரிப்பொருள் இருத்தலும் இருத்தல் நிமித்தமும்.
E) விடை தெரியவில்லை

39. முல்லை நில பெரும்பொழுதிற்குரிய மாதங்கள் எவை?

- A) ஜப்பசி, கார்த்திகை
B) மார்கழி, தை
C) ஆவணி, புரட்டாசி
D) மாசி, பங்குனி
E) விடை தெரியவில்லை

40. முல்லை நிலத்திற்குரிய பூக்களுள் பொருந்தா ஒன்றினைத் தேர்ந்தெடுக்க.

- A) முல்லை
B) பிடவம்
C) தோன்றிப்பூ
D) செங்காந்தள்
E) விடை தெரியவில்லை

41. இலக்கணக்குறிப்பு தருக - கைதொழுது.

- A) ஆறாம் வேற்றுமைத்தொகை
B) மூன்றாம் வேற்றுமைத்தொகை
C) இரண்டாம் வேற்றுமைத்தொகை
D) நான்காம் வேற்றுமைத்தொகை
E) விடை தெரியவில்லை

42. சொல்லோடு பொருளைப் பொருத்துக.

- | (சொல்) | (பொருள்) |
|-------------|--------------|
| a) பொம்மல் | 1. கூத்தர் |
| b) வயிரியம் | 2. மலை |
| c) நேமி | 3. ஒலிக்கும் |
| d) கோடு | 4. சோறு |
| e) நரலும் | 5. சக்கரம் |

குறியீடுகள்:

- | | a | b | c | d | e |
|----|------------------|---|---|---|---|
| A) | 4 | 3 | 2 | 5 | 1 |
| B) | 1 | 2 | 4 | 3 | 5 |
| C) | 3 | 2 | 5 | 1 | 4 |
| D) | 4 | 1 | 5 | 2 | 3 |
| E) | விடை தெரியவில்லை | | | | |



43. கப்பித்தான் என்பதன் பொருள் யாது?
- A) கப்பற்கலையில் தேர்ந்தவன்
B) தலைமை மாலுமி
C) கலங்கரை விளக்கம்
D) கப்பல் கட்டுபவன்
E) விடை தெரியவில்லை
44. புயலுக்குப் பெயர் சூட்டல் பற்றிய பின்வரும் கூற்றுகளுள் தவறான கூற்றினைத் தேர்ந்தெடுக்க.
- A) வட இந்தியப் பெருங்கடலில் உருவாகும் புயல்களுக்குப் பெயர் வைக்கும் நடைமுறை 2004ஆம் ஆண்டில் தொடங்கியது.
B) புதுதில்லியில் உள்ள உலக வானிலை அமைப்பின் மண்டலச் சிறப்பு வானிலை ஆய்வு மையம் 2004 செப்டம்பரில் இருந்து புயலுக்குப் பெயர் வைக்க 64 பெயர்களைப் பட்டியலிட்டுள்ளது.
C) வங்கதேசம், இந்தியா, மாலத்தீவுகள், மியான்மர், ஓமன், பாகிஸ்தான், இலங்கை, தாய்லாந்து ஆகிய நாடுகள் இந்தப் பெயர்களை வழங்கியுள்ளன.
D) இந்தியா கொடுத்து ஏற்கெனவே பயன்படுத்தப்பட்ட பெயர்கள் அக்னி, ஆகாஷ், பிஜ்லி, ஜல் கடைசியாக லெஹர்.
E) விடை தெரியவில்லை
45. புலம் பெயர்ந்த தமிழர்கள் பற்றிய முதல் புதினம் எது?
- A) கடற்கூத்து
B) புயலிலே ஒரு தோணி
C) கோடையும் வசந்தமும்
D) கன்னிப்பாவை
E) விடை தெரியவில்லை
46. “பல் பழப் பலவின் பயங்கெழு கொல்லி” என்னும் அகநானூற்றுப் பாடலில் இடம்பெற்றுள்ள கொல்லிமலையானது தற்போது எம்மாவட்டத்தில் உள்ளது?
- A) சேலம்
B) மதுரை
C) நாமக்கல்
D) திண்டுக்கல்
E) விடை தெரியவில்லை
47. தங்க மீன்கள், தண்ணீர்த்தொட்டியில் விளையாடுகின்றன - இலக்கணக் குறிப்பு தருக.
- A) உவமைத்தொகை, இரண்டாம் வேற்றுமை உருபும் பயனும் உடன்தொக்க தொகை
B) இருபெயரொட்டுப் பண்புத்தொகை, மூன்றாம் வேற்றுமை உருபும் பயனும் உடன்தொக்க தொகை
C) இரண்டாம் வேற்றுமைத்தொகை, இரண்டாம் வேற்றுமை உருபும் பயனும் உடன்தொக்க தொகை
D) வினைத்தொகை, பண்புத்தொகை
E) விடை தெரியவில்லை
48. “பாடுஇமிழ் பனிக்கடல் பருகி” என்னும் முல்லைப்பாட்டு அடி உணர்த்தும் அறிவியல் செய்தி யாது?
- A) கடல்நீர் ஆவியாகி மேகமாதல்
B) கடல்நீர் குளிர்ச்சி அடைதல்
C) கடல்நீர் ஒலித்தல்
D) கடல்நீர் கொந்தளித்தல்
E) விடை தெரியவில்லை



49. பின்வருவனவற்றுள் பண்புத்தொகை பயின்று வாராச் சொல்லைத் தேர்ந்தெடுக்க.
A) செங்காந்தள் B) கொல்களிறு
C) வட்டத்தொட்டி D) இன்மொழி
E) விடை தெரியவில்லை
50. பின்வருவனவற்றுள் தவறான இணையைத் தேர்ந்தெடுக்க.
(சொல்/தொடர்) **(தொகை)**
A) மதுரை சென்றார் – மூன்றாம் வேற்றுமைத்தொகை
B) தேர்ப்பாகன் – இரண்டாம் வேற்றுமை உருபும் பயனும் உடன்தொக்க தொகை
C) தமிழ்த்தொண்டு – நான்காம் வேற்றுமை உருபும் பயனும் உடன்தொக்க தொகை
D) வீசு தென்றல் – வினைத்தொகை
E) விடை தெரியவில்லை
51. பின்வரும் இணைகளைக் கருத்தில் கொள்க.
(சொல்) **(தொகை)**
I. சாரைப்பாம்பு – பண்புத்தொகை
II. மலர்க்கை – உவமைத்தொகை
III. தாய்சேய் – உம்மைத்தொகை
IV. மார்கழித்திங்கள் – இருபெயராட்டுப் பண்புத்தொகை
V. மூதூர் – பண்புத்தொகை
VI. உறுதுயர் – வினைத்தொகை
மேற்கண்ட இணைகளில் எத்தனை இணைகள் சரியானவை?
A) 3 B) 4
C) 5 D) 2
E) விடை தெரியவில்லை
52. 'சிவப்புச் சட்டை பேசினார்' என்பது எவ்வகைத் தொகை
A) பண்புத்தொகை
B) அன்மொழித்தொகை
C) உம்மைத்தொகை
D) உவமைத்தொகை
E) விடை தெரியவில்லை
53. "மலர்ந்தும் மலராத பாதிமலர் போல
வளரும் விழி வண்ணமே - வந்து
விடிந்தும் விடியாத காலைப் பொழுதாக
விளைந்த கலை அன்னமே" – இப்பாடலடியை இயற்றியவர் யார்?
A) கவிஞர் வாலி B) கவிஞர். அப்துல் ரகுமான்
C) கவிஞர். கண்ணதாசன் D) கவிஞர். மு.மேத்தா
E) விடை தெரியவில்லை



54. “தோட்டத்தில் மல்லிகைப்பூ பறித்த பூங்கொடி,
வரும் வழியில் ஆடுமாடுகளுக்குத் தண்ணீர்த்
தொட்டியில் குடிநீர் நிரப்பினாள்” – இதில் பயின்று வாராத தொகைநிலைத் தொடர் எது?
A) இருபெயரொட்டுப் பண்புத் தொகை
B) உவமைத்தொகை
C) இரண்டாம் வேற்றுமைத்தொகை
D) அன்மொழித்தொகை
E) விடை தெரியவில்லை

55. பொருத்துக.
a) Storm 1. சுழல் காற்று
b) Tornado 2. பெருங்காற்று
c) Tempest 3. சூறாவளி
d) Whirlwind 4. புயல்

குறியீடுகள்:

	a	b	c	d
A)	4	3	2	1
B)	2	4	3	1
C)	3	2	1	4
D)	4	1	2	3

E) விடை தெரியவில்லை

56. பின்வருவனவற்றுள் தவறான இணையைத் தேர்ந்தெடுக்க.

(நூல்)

(நூலாசிரியர்)

- | | |
|----------------------------------|---------------------|
| A) அதோ அந்தப் பறவை போல | - ச.முகமது அலி |
| B) உலகின் மிகச் சிறிய தவளை | - எஸ். ராமகிருஷ்ணன் |
| C) பச்சை நிழல் | - உதய சங்கர் |
| D) நாம் ஏன் தமிழ் காக்க வேண்டும் | - மா. நன்னன் |
| E) விடை தெரியவில்லை | |

57. பின்வருவனவற்றுள் தவறான இணையைத் தேர்ந்தெடுக்க.

(பாடலடிகள்)

(இடம்பெற்றுள்ள நூல்)

- | | |
|--|--------------------|
| A) “_____ தொல்லோர் சிறப்பின்
விருந்தெதிர் கோடலும் இழந்த என்னை” | - தொல்காப்பியம் |
| B) “விருந்தினரும் வறியவரும் நெருங்கி யுண்ண
மேன்மேலும் முகமலரும் மேலோர் போல” | - கலிங்கத்துப்பரணி |
| C) “அல்லில் ஆயினும் விருந்து வரின் உவக்கும் | - நற்றிணை |
| D) “காலின் ஏழடிப் பின் சென்று” | - பொருநராற்றுப்படை |
| E) விடை தெரியவில்லை | |



58. பின்வருவனவற்றுள் தவறான கூற்றினைத் தேர்ந்தெடுக்க.
- A) கல்வியும் செல்வமும் பெற்ற பெண்கள் விருந்தும் ஈகையும் செய்வதாகக் கம்பர் குறிப்பிட்டுள்ளார்.
- B) உறவினர் வேறு, விருந்தினர் வேறு முன்பின் அறியாத புதியவர்களுக்கே விருந்தினர் என்று பெயர். 'விருந்தே புதுமை' என்று வள்ளுவர் கூறியுள்ளார்.
- C) இளையான்குடி மாறநாயனாரின் வீட்டுக்கு வந்த சிவனடியார்க்கு விருந்தளிக்க அவரிடம் தானியமில்லை எனவே அன்று விதைத்துவிட்டு வந்த நெல்லை அரித்து வந்து, பின் சமைத்து விருந்து படைத்த திறம் பெரியபுராணத்தில் காட்டப்படுகிறது.
- D) நெய்தல் நிலத்தவர் பாணர்களை வரவேற்றுக் குழல் மீன் கறியும் பிறவும் கொடுத்தனர் என்கிறது சிறுபாணாற்றுப்படை.
- E) விடை தெரியவில்லை
59. பின்வருவனவற்றுள் புறநானூற்றில் இடம்பெறாத பாடலடிகளைத் தேர்ந்தெடுக்க.
- A) “உண்டால் அம்ம, இவ்வுலகம் இந்திரர் அமிழ்தம் இயைவ தாயினும், இனிதுஎனத் தமிழர் உண்டலும் இலரே”
- B) குரல்உணங்கு விதைத் தினை உரல்வாய்ப் பெய்து சிறிது புறப்பட்டன்றோ இலள்
- C) நெருநை வந்த விருந்திற்கு மற்றுத்தன் இரும்புடைப் பழுவாள் வைத்தனன் இன்றுஇக் கருங்கோட்டுச் சீறியாழ் பணையம்
- D) பலர்புகு வாயில் அடைப்பக் கடவுநர் வருவீர் உளீரோ
- E) விடை தெரியவில்லை
60. “மருந்தே ஆயினும் விருந்தொடு உண்” என்னும் தொடர் இடம்பெற்றுள்ள நூல் எது?
- A) வெற்றிவேற்கை B) மூதுரை
- C) நல்வழி D) கொன்றை வேந்தன்
- E) விடை தெரியவில்லை
61. பின்வரும் கூற்றுகளைக் கருத்தில் கொள்க.
- I. “இட்டதோர் தாமரைப்பூ இதழ்விரித் திருத்தல் போல வட்டமாய்ப் புறாக்கள் கூடி இரையுண்ணும்” என்னும் பாரதியார் பாடலில் பகிர்ந்துண்ணல் பற்றிய பதிவு இடம்பெற்றுள்ளது.
- II. அமெரிக்காவின் மினசோட்டா தமிழ்ச் சங்கம் ‘வாழையிலை விருந்து விழா’ வை ஆண்டுதோறும் கொண்டாடி வருகின்றது.
- மேற்கண்ட கூற்றுகளில் சரியானது எது/எவை?
- A) I மட்டும் B) II மட்டும்
- C) இரண்டும் D) இரண்டுமில்லை
- E) விடை தெரியவில்லை



62. காசிக்காண்டம் நூலில் “இல்லொழுக்கங் கூறிய” பகுதியில் விருந்தோம்பல் செய்யும் இல்லற ஒழுக்கமாகக் குறிப்பிடப்பட்டுள்ளவை எத்தனை?
- A) ஐந்து
B) ஏழு
C) ஒன்பது
D) பன்னிரண்டு
E) விடை தெரியவில்லை
63. காசிக்காண்டம் பற்றிய தவறான கூற்றினைத் தேர்ந்தெடுக்க.
- A) காசி நகரத்தின் பெருமைகளைக் கூறுகிற நூல்
B) துறவு, இல்லறம், பெண்களுக்குரிய பண்புகள், வாழ்வியல் நெறிகள், மறுவாழ்வில் அடையும் நன்மைகள் ஆகியவற்றைப் பாடுவதாக அமைந்துள்ளது.
C) முத்துக் குளிக்கும் கொற்கையின் அரசர் சீவலமாறன். தமிழ்ப்புலவராகவும் திகழ்ந்தவர்.
D) இந்நூல் ‘வெற்றி வேற்கை’ என்றும் அழைக்கப்படுகிறது.
E) விடை தெரியவில்லை
64. அதிவீரராம பாண்டியன் இயற்றிய நூல்களுள் பொருந்தா ஒன்றினைத் தேர்ந்தெடுக்க.
- A) விங்கபுராணம்
B) கூர்ம புராணம்
C) திருக்கை வழக்கம்
D) நைடதம்
E) விடை தெரியவில்லை
65. ‘கூத்தராற்றுப்படை’ பற்றிய பின்வரும் கூற்றுகளைக் கருத்தில் கொள்க.
- I. பத்துப்பாட்டு நூல்களுள் ஒன்று. இந்நூல் மலைபடுகடாம் என்றும் அழைக்கப்படுகிறது. 586 அடிகளைக் கொண்டுள்ளது.
- II. மலையை யானையாக உருவகம் செய்து மலையில் எழும் பலவகை ஓசைகளை அதன் மதம் என்று விளக்குவதால் இதற்கு மலைபடுகடாம் எனக் கற்பனை நயம் வாய்ந்த பெயர் சூட்டப்பட்டுள்ளது.
- III. நன்னன் என்னும் குறுநில மன்னனைப் பாட்டுடைத் தலைவனாகக் கொண்டு இரணிய முட்டத்துப் பெருங்குன்றார் பெருங்கௌசிகனார் பாடியது.
- மேற்கண்ட கூற்றுகளில் சரியானவை எவை?
- A) I மற்றும் II மட்டும்
B) II மற்றும் III மட்டும்
C) I மற்றும் III மட்டும்
D) மேற்கண்ட அனைத்தும்
E) விடை தெரியவில்லை
66. சொல்லோடு பொருளைப் பொருத்துக.
- a) அசைஇ 1. அருமை
b) அல்கி 2. தினை
c) ஆரி 3. வெந்தது
d) இறடி 4. தங்கி
e) வேவை 5. இளைப்பாறி



குறியீடுகள்:

	a	b	c	d	e
A)	5	4	1	2	3
B)	2	4	3	5	1
C)	3	2	1	4	5
D)	4	5	1	2	3

E) விடை தெரியவில்லை

67. 'படுகர்' என்பதன் எதிர்ப்பதம் தருக.

- A) கூத்தர்
B) வள்ளல்
C) மிசை
D) பள்ளம்
E) விடை தெரியவில்லை

68. பின்வருவனவற்றுள் தவறான இணையைத் தேர்ந்தெடுக்க.

(வட்டார வழக்குச் சொல்)	(தமிழ்ச்சொல்)
A) மகுளி	- மேல்கஞ்சி
B) அலுக்கம்	- அழுத்தம்
C) பாச்சல்	- பாத்தி
D) பதனம்	- கவனமாக

E) விடை தெரியவில்லை

69. கிராஜநாராயணனுக்கு முன் கரிசல் இலக்கியத்தை படைக்கத் தொடங்கியவர் யார்?

- A) பூமணி
B) சோ.தர்மன்
C) பா.செயப்பிரகாசம்
D) கு.அழகிரிசாமி
E) விடை தெரியவில்லை

70. 'கிரா' பற்றிய தவறான கூற்றினைத் தேர்ந்தெடுக்க.

- A) கோவில்பட்டியைச் சுற்றிய வட்டாரப் பகுதிகளில் தோன்றிய இலக்கிய வடிவம் கரிசல் இலக்கியம்.
B) கோபல்ல கிராமம் என்னும் புதினத்தைத் தொடர்ந்து எழுதப்பட்ட கதையே கோபல்லபுரத்து மக்கள்.
C) 'கோபல்லபுரத்து மக்கள்' என்னும் இவரது நூலானது 1991ஆம் ஆண்டிற்கான சாகித்திய அகாதெமி விருதினைப் பெற்றுள்ளது.
D) இவரது 'கோபல்லபுரத்து மக்கள்' நூலானது இந்திய விடுதலை போராட்டத்தினை பின்னணியாகக் கொண்டது.
E) விடை தெரியவில்லை

71. திருச்சி மாவட்டத்திலுள்ள உறையூர் பற்றிய "கறங்கு இசை விழாவின் உறந்தை" என்னும் பாடலடி இடம்பெற்றுள்ள நூல் எது?

- A) குறுந்தொகை
B) அகநானூறு
C) பரிபாடல்
D) புறநானூறு
E) விடை தெரியவில்லை



72. பின்வரும் இணைகளைக் கருத்தில் கொள்க.
- | (தொடர்) | (தொடர்வகை) |
|----------------------|---------------------|
| I. பேருந்து வருமா? | - எழுவாய்த்தொடர் |
| II. பாடினாள் கண்ணகி | - விளித்தொடர் |
| III. கேட்ட பாடல் | - பெயரெச்சத் தொடர் |
| IV. பாடி மகிழ்ந்தனர் | - வினையெச்சத் தொடர் |
- மேற்கண்ட இணைகளில் எத்தனை இணைகள் சரியானவை?
- A) 3
B) 4
C) 1
D) 2
E) விடை தெரியவில்லை
73. பின்வருவனவற்றுள் சரியான தொடரைத் தேர்ந்தெடுக்க
- A) தமிழர் பண்பாட்டில் தனித்த வாழை இலைக்கு இடமுண்டு.
B) தமிழர் வாழை இலைக்குப் பண்பாட்டில் தனித்த இடமுண்டு.
C) தமிழர் பண்பாட்டில் வாழை இலைக்குத் தனித்த இடமுண்டு.
D) தமிழர் வாழை பண்பாட்டில் தனித்த இலைக்கு இடமுண்டு.
E) விடை தெரியவில்லை
74. “சிலம்பு அடைந்திருந்த பாக்கம் எய்தி” என்னும் அடியில் பாக்கம் என்பது எதனைக் குறிக்கும்
- A) புத்தூர்
B) மூதூர்
C) பேரூர்
D) சிற்றூர்
E) விடை தெரியவில்லை
75. கேட்க வேண்டிய பாடல் - இலக்கணக் குறிப்பு தருக.
- A) இடைச்சொல் தொடர்
B) உரிச்சொல் தொடர்
C) அடுக்குத் தொடர்
D) கூட்டுநிலைப் பெயரெச்சம்
E) விடை தெரியவில்லை
76. ‘விருந்தினரைப் பேணுவதற்குப் பொருள் தேவைப்பட்டதால், தன் கருங்கோட்டுச் சீரியாழைப் பணையம் வைத்து விருந்தளித்தான்’ என்கிறது புறநானூறு இச்செய்தி உணர்த்தும் விருந்து போற்றிய நிலை.
- A) நிலத்திற்கேற்ற விருந்து
B) இன்மையிலும் விருந்து
C) அல்லிலும் விருந்து
D) உற்றாரின் விருந்து
E) விடை தெரியவில்லை
77. “மாடியிலிருந்து இறங்கினார் முகமது. அவர் பாடகர். பாடல்களைப் பாடுவதும் கேட்பதும் அவருக்குப் பொழுது போக்கு” இக்கூற்றில் இடம்பெறாத தொடர்வகை எது?
- A) வினைமுற்றுத் தொடர்
B) எழுவாய்த்தொடர்
C) பெயரெச்சத்தொடர்
D) கூட்டுநிலை வினையெச்சத் தொடர்
E) விடை தெரியவில்லை



78. பின்வருவனவற்றுள் தவறான இணையைத் தேர்ந்தெடுக்க.
- A) குறுந்தொகை = குறு + தொகை
B) விருந்தோம்பல் = விருந்து + ஓம்பல்
C) ஜம்பெருங்காப்பியம் = ஜந்து + பெருமை + காப்பியம்
D) சிலப்பதிகாரம் = சிலம்பு + அதிகாரம்
E) விடை தெரியவில்லை
79. இலக்கணக்குறிப்பு தருக.
சாலச்சிறந்தது – தொடரின் வகையை அறிக.
- A) இடைச்சொல் தொடர்
B) விளித்தொடர்
C) எழுவாய்த்தொடர்
D) உரிச்சொல் தொடர்
E) விடை தெரியவில்லை
80. 'பொழி' என்னும் வேர்ச்சொல்லின் வினையெச்சத்தை தேர்ந்தெடுக்க.
- A) பொழிக
B) பொழிந்த
C) பொழிந்து
D) பொழிந்தது
E) விடை தெரியவில்லை
81. மரபுப்பிழைகள் அற்ற தொடரினைத் தேர்ந்தெடுக்க.
- A) கூகை கூவும்
B) கூகை குணுகும்
C) கூகை குழறும்
D) கூகை அலறும்
E) விடை தெரியவில்லை
82. பின்வருவனவற்றுள் சந்திப்பிழையற்ற தொடரினைத் தேர்ந்தெடுக்க.
- A) வேலை வாய்ப்புகளில் கணிசமாக மாற்றங்களை செயற்கை நுண்ணறிவு கொண்டுவரபோகிறது.
B) வேலை வாய்ப்புகளில் கணிசமான மாற்றங்களைச் செயற்கை நுண்ணறிவு கொண்டுவரபோகிறது.
C) வேலை வாய்ப்புகளில் கணிசமான மாற்றங்களை செயற்கை நுண்ணறிவு கொண்டுவரப் போகிறது.
D) வேலை வாய்ப்புகளில் கணிசமான மாற்றங்களைச் செயற்கை நுண்ணறிவு கொண்டுவரப் போகிறது.
E) விடை தெரியவில்லை
83. சரியான அகரவரிசையைத் தேர்க.
- A) தண்ணீர், தாவரம், திங்கள், தேர், தென்னை
B) தண்ணீர், தாவரம், தேர், திங்கள், தென்னை
C) தண்ணீர், தாவரம், திங்கள், தென்னை, தேர்
D) தாவரம், தண்ணீர், திங்கள், தேர், தென்னை
E) விடை தெரியவில்லை



84. பின்வருவனவற்றுள் உவமை அணி பயின்று வாராக் குறளைத் தேர்ந்தெடுக்க.
A) வேலொடு நின்றான் இடுவென் றதுபோலும்
B) பண்என்னாம் பாடற் கியைபின்றேல்; கண்என்னாம்
C) நச்சப் படாதவன் செல்வம் நடுஊருள்
D) அகழ்வாரைத் தாங்கும் நிலம்போலத் தம்மை
E) விடை தெரியவில்லை
85. தாளாண்மை என்னும் தகைமைக்கண் தங்கிற்றே
வேளாண்மை என்னும் செறுக்கு - இக்குறட்பாவில் அடக்கோடிட்ட சொல்லின் பொருள் யாது?
A) சோர்வு, உதவுதல்
B) விடாமுயற்சி, உதவுதல்
C) பிறருக்கு உதவுதல், உழவுத்தொழில்
D) வறுமையின்மை, உழவுத்தொழில்
E) விடை தெரியவில்லை
86. கிடைத்தற்கரிய பேறுகளுள் எல்லாம் பெரும்பேறு என வள்ளுவர் எதனைக் குறிப்பிடுகிறார்?
A) ஒழுக்கமுடைமை
B) கண்ணோட்டம்
C) ஆள்வினை உடைமை
D) பெரியாரைத் துணைக்கோடல்
E) விடை தெரியவில்லை
87. எவற்றை அழித்தால் அவற்றால் வரும் துன்பமும் அழியும் என வள்ளுவர் குறிப்பிடுகின்றார்?
A) காமம், வெகுளி, மயக்கம்
B) காமம், நட்பு, பகை
C) காமம், இரக்கம், பகை
D) இரக்கம், அறிவின்மை, பகை
E) விடை தெரியவில்லை
88. தானொருவனாக நின்று பலரோடு பகைமேற்கொள்வதைக் காட்டிலும் பல மடங்கு தீமையைத் தருவது எது?
A) ஆயுதங்களைக் காட்டி வழிப்பறி செய்வது
B) இல்லற வாழ்வு
C) நல்லோர் நட்பைக் கைவிடுதல்
D) ஒழுக்கமின்றி வாழ்தல்
E) விடை தெரியவில்லை
89. கண்ணோட்டம் என்னும் அதிகாரத்தின் பொருள் யாது?
A) ஆழ்ந்த அறிவு
B) இரக்கம்
C) நடுவுநிலைமை
D) ஒற்றுமை
E) விடை தெரியவில்லை
90. பல நூல்களைக் கற்றாராயினும் கல்லாதவராகக் கருதப்படுபவர் யார்?
A) முயற்சி செய்யாதவர்
B) உலகத்தோடு ஒத்து வாழாதவன்
C) ஒழுக்கமின்மை
D) புல்லறிவாண்மை
E) விடை தெரியவில்லை



91. நனந்தலை உலகம் வளைஇ நேமியொடு.....
இப்பாடலடியில் அடிக்கோடிட்ட சொல்லின் எதிர்ப்பதம் தருக?
A) அகன்ற உலகம் B) சுருங்கிய உலகம்
C) பரந்த உலகம் D) விரிந்த உலகம்
E) விடை தெரியவில்லை
92. பின்வரும் கூற்றுகளைக் கருத்தில் கொள்க.
I. அடடே காலையிலேயே மாலையும் வந்துவிட்டது - கி.ஆ.பெ.விசுவநாதன்
II. அன்று கச்சேரியில் அவருடையக் காதிலும்
கம்மல் குரலிலும் கம்மல் - சுப்புடு
III. இவர் பத்துறை வித்தகர் - கி.வா, ஜகந்நாதன்
மேற்கண்ட கூற்றுகளின் சரியானவை எது/எவை?
A) I மட்டும் B) II மட்டும்
C) III மட்டும் D) மேற்கண்ட அனைத்தும்
E) விடை தெரியவில்லை
93. நச்சப்படாதவன் செல்வம் - இத்தொடரில் அடிக்கோடிட்ட சொல்லின் பொருள் யாது?
A) ஒருவராலும் உதவி செய்யாதவர்
B) ஒருவராலும் விரும்பப்படாதவர்
C) எல்லோராலும் விரும்பப்படாதவர்
D) எல்லோருக்கும் உதவுபவர்
E) விடை தெரியவில்லை
94. உப்பிலாக் கூழ் இட்டாலும்
உண்பதே அமிர்தம் ஆகும் - இப்பாடலடி இடம்பெற்றுள்ள நூல் எது?
A) விவேக சிந்தாமணி B) கம்பராமாயணம்
C) பெரியபுராணம் D) சீவக சிந்தாமணி
E) விடை தெரியவில்லை
95. பொருத்துக.
a) Classical literature 1. காப்பிய இலக்கியம்
b) Ancient literature 2. செவ்விலக்கியம்
c) Folk literature 3. பக்தி இலக்கியம்
d) Devotional literature 4. நாட்டுப்புற இலக்கியம்
e) Epic literature 5. பண்டைய இலக்கியம்
- குறியீடுகள்:**
- | | a | b | c | d | e |
|----|----------|----------|----------|----------|----------|
| A) | 2 | 5 | 4 | 3 | 1 |
| B) | 2 | 4 | 3 | 5 | 1 |
| C) | 3 | 2 | 1 | 4 | 5 |
| D) | 4 | 5 | 1 | 2 | 3 |
- E) விடை தெரியவில்லை



96. பொருத்துக.

- a) Analogy
b) Paradox
c) Oxymoron
d) Antithesis

1. சொல் முரண்
2. இணை ஒப்பு
3. எதிரிணை இசைவு
4. முரண்படு மெய்ம்மை

குறியீடுகள்:

- | | <i>a</i> | <i>b</i> | <i>c</i> | <i>d</i> |
|----|----------|----------|----------|----------|
| A) | 3 | 2 | 1 | 4 |
| B) | 2 | 4 | 3 | 1 |
| C) | 2 | 4 | 1 | 3 |
| D) | 4 | 1 | 2 | 3 |
- E) விடை தெரியவில்லை

97. மைக்கடல் முத்துக்கு ஈடாய் மிக்க நெல்முத்து - இப்பாடல் இடம்பெற்றுள்ள நூல் எது?

- A) முத்தொள்ளாயிரம்
B) முக்கூடற்பள்ளு
C) அகநானூறு
D) புறநானூறு
E) விடை தெரியவில்லை

98. வீணையிலிருந்து கவர்ந்த இசையை எங்கே கொண்டு போய் ஒளித்து வைக்கிறாய் - எனும் இப்பாடலை எழுதியவர் யார்?

- A) அப்துல் ரகுமான்
B) சிற்பி பாலசுப்பிரமணியன்
C) கவிமணி
D) தமிழழகனார்
E) விடை தெரியவில்லை

99. பின்வரும் கூற்றுகளைக் கருத்தில் கொள்க.

- I. கஜா புயலின் பெயரை தாய்லாந்து நாடு தந்தது
II. பெய்ட்டி புயலின் பெயரை இலங்கை நாடு தந்தது
மேற்கண்ட கூற்றுகளின் சரியானவை எது/எவை?

- A) I மட்டும்
B) II மட்டும்
C) இரண்டும்
D) இரண்டுமில்லை
E) விடை தெரியவில்லை

100. குளோரோ புளோரோ கார்பனின் ஒரு மூலக்கூறு எத்தனை ஓசோன் மூலக்கூறுகளைக் சிதைத்து விடும்?

- A) 1000
B) 10000
C) 100000
D) 1000000
E) விடை தெரியவில்லை

* * * * *



பகுதி - ஆ — பொது அறிவு (பட்டப்படிப்பு தரம்)

Part B — General Studies (Degree Standard)

வினாக்கள் : 101-200

மொத்த மதிப்பெண்கள் : 150

Questions : 101-200

Total Marks : 150

101. மாநில ஆளுநரைப் பொறுத்தவரை பின்வரும் கூற்றுகளைக் கருத்தில் கொள்க :

- I. ஆளுநர் மாநில சட்டமன்றத்தின் ஒருங்கிணைந்த பகுதியாவார்.
- II. அவர் மாநில நிர்வாகத்தின் தலைவராக இருக்கிறார்.
- III. ஆளுநர் ஐந்தாண்டு காலத்திற்கு நியமிக்கப்படுகிறார், ஆனால் பதவிக்காலம் முடிவதற்குள் அவர்களை பதவியில் இருந்து நீக்க குடியரசுத் தலைவருக்கு அதிகாரம் உள்ளது.
- IV. மாநில சட்டப் பேரவையில் நிறைவேற்றப்பட்ட தீர்மானத்தின் மூலம் ஆளுநரை பதவியில் இருந்து மாநில அரசு நீக்க முடியும்.

மேற்கண்ட கூற்றுகளில் சரியானவை எவை?

- A) I, II மற்றும் III மட்டும்
- B) II, III மற்றும் IV மட்டும்
- C) I, III மற்றும் IV மட்டும்
- D) மேற்கண்ட அனைத்தும்
- E) விடை தெரியவில்லை

Consider the following statements with respect to the Governor of the state :

- I. The Governor is an integral part of the State legislature.
- II. He is the constitutional Head of a State.
- III. The Governor is appointed for a five-year term, but the President has the authority to remove them from office before the term expires.
- IV. The State Government can remove the Governor from their post through a resolution passed in the State legislature.

Which of the statements given above are correct?

- A) I, II and III only
- B) II, III and IV only
- C) I, III and IV only
- D) All the above
- E) Answer not known

102. "இந்தியா பல்வேறு நம்பிக்கைகளைக் கொண்ட, சமமாக போற்றி மதிக்கப்படும் இடமாக இருப்பதோடு ஒரே தேசிய கண்ணோட்டத்தைக் கொண்டிருக்கும்" என்று யார் சொன்னது?

- A) மகாத்மா காந்தி
- B) ஜவஹர்லால் நேரு
- C) சர்தார் வல்லபாய் படேல்
- D) டாக்டர் பி.ஆர்.அம்பேத்கர்
- E) விடை தெரியவில்லை

Who said, "India will be a land of many faiths, equally honoured and respected, but of one national outlook"?

- A) Mahatma Gandhi
- B) Jawaharlal Nehru
- C) Sardar Vallabhbhai Patel
- D) Dr. B.R. Ambedkar
- E) Answer not known



103. உச்ச நீதிமன்றம் எந்த வழக்கின் கீழ் இந்திய அரசியலமைப்பில் உறுதியளிக்கப்பட்டுள்ள சமய சுதந்திரம் நாட்டு குடிமக்கள் மட்டுமின்றி இந்தியாவில் வாழும் வெளிநாட்டவருக்கும் வழங்கப்படுகிறது என்று சுட்டிக்காட்டியது?

- A) ரத்திலால் பன்சந்த் vs பம்பாய் மாநிலம் (1954)
- B) கேசவானந்த பாரதி vs கேரளா மாநிலம் (1973)
- C) S.R. பொம்மை vs இந்திய ஒன்றியம் (1994)
- D) ஷா பானோ வழக்கு (1985)
- E) விடை தெரியவில்லை

In which case did the Supreme Court point out that the freedom of religion guaranteed under the Indian Constitution extends to aliens as well?

- A) Ratilal Panchand vs State of Bombay (1954).
- B) Kesavananda Bharati v. State of Kerala (1973).
- C) S.R Bommai vs Union of India (1994)
- D) Shah Bano Case (1985)
- E) Answer not known

104. ஒரு மாநிலத்தின் ஆளுநர் பற்றிய தவறான கூற்றைக் கண்டறிக.

- A) ஆளுநராக நியமிக்கப்படுவதற்கு ஒருவர் 35 வயது பூர்த்தியடைந்திருக்க வேண்டும்.
- B) அவர் பாராளுமன்றம் அல்லது மாநில சட்டமன்ற உறுப்பினராக இருக்க முடியாது
- C) ஆளுநர் நியமனம் செய்யப்படும்போது, மாநில அரசிடம் ஆலோசிக்கப்படுவதில்லை.
- D) பொதுவாக, ஒரு நபர் தனது சொந்த மாநிலத்தில் ஆளுநராக நியமிக்கப்படுவதில்லை.
- E) விடை தெரியவில்லை

Find the incorrect statement regarding the Governor of a state:

- A) To be appointed as a Governor a person should have completed 35 years of age.
- B) He/she cannot be member of Parliament or state legislature
- C) The State Government is not consulted when the appointment of a Governor is to be made.
- D) Generally, a person is not appointed Governor in their own state.
- E) Answer not known

105. கருப்புப் பணத்தின் தாக்கம் இல்லாதது எது?

- A) இரட்டை பொருளாதாரம்
- B) அரசுக்கு வருவாய் இழப்பு
- C) பணக்காரர்களுக்கும் ஏழைகளுக்கும் இடையிலான இடைவெளியை அதிகரிப்பது
- D) பணத்தின் மதிப்பில் உயர்வு
- E) விடை தெரியவில்லை

Which is not the effect of Black Money?

- A) Dual economy
- B) Loss of revenue to government
- C) Widening gap between the rich and poor
- D) Rise in the Value of Money
- E) Answer not known



106. தவறாகப் பொருந்தியுள்ள இணையைக் கண்டறியவும்.

(சட்டங்கள்)

(ஆண்டு)

- A) பணமோசடி நடவடிக்கை தடுப்புச் சட்டம் – 2000
B) ஊழல் தடுப்புச் சட்டம் – 1988
C) பினாமி பரிவர்த்தனை தடுப்புச் சட்டம் (திருத்தப்பட்டது) – 2016
D) வெளிக்கொணரப்படாத வெளிநாட்டு வருமானம் மற்றும் சொத்து மசோதா – 2015
E) விடை தெரியவில்லை

Find out the incorrectly matched pair.

(Acts)

(Year)

- A) Prevention of money laundering act – 2000
B) Prevention of corruption act – 1988
C) Benami transactions prohibition act (amendment) – 2016
D) Undisclosed foreign Income and Asset Bill – 2015
E) Answer not known

107. எது பணத்தின் செயல்பாடுகள் அல்ல?

- A) பரிமாற்ற ஊடகம்
B) உற்பத்தி மற்றும் நுகர்வு
C) மதிப்பின் அளவீடு
D) மாற்று வாங்கும் சக்தி
E) விடை தெரியவில்லை

Which is not the functions of money?

- A) Medium of exchange
B) Production and consumption
C) Measure of value
D) Transfer of purchasing power
E) Answer not known

108. பட்டியல்-Iஐ பட்டியல்-II உடன் பொருத்துக.

பட்டியல்-I

பட்டியல்-II

(பதவிகள்)

(குறைந்தபட்ச வயது)

- a) மேயர் 1. குறைந்தபட்ச வயது இல்லை
b) சட்டமன்ற உறுப்பினர் 2. 25 ஆண்டுகள்
c) சட்டமன்ற மேலவை உறுப்பினர் 3. 21 ஆண்டுகள்
d) உச்ச நீதிமன்ற நீதிபதி 4. 30 ஆண்டுகள்

குறியீடுகள்:

- | | a | b | c | d |
|----|---|---|---|---|
| A) | 1 | 2 | 4 | 3 |
| B) | 4 | 1 | 3 | 2 |
| C) | 3 | 2 | 1 | 4 |
| D) | 3 | 2 | 4 | 1 |

- E) விடை தெரியவில்லை



Match List-I with List-II.

List-I (Posts)	List-II (Minimum age criteria)
a) Mayor	1. No minimum age
b) Member of Legislative Assembly	2. 25 years
c) Member of Legislative Council	3. 21 years
d) Judge of Supreme Court	4. 30 years

Codes:

	a	b	c	d
A)	1	2	4	3
B)	4	1	3	2
C)	3	2	1	4
D)	3	2	4	1
E)	Answer not known			

109. பின்வரும் கூற்றுகளைக் கருத்தில் கொள்க.

- I. ஆரம்பத்தில் மதச்சார்பற்ற என்ற வார்த்தை நமது அரசியலமைப்பு சட்டத்தை இயற்றும் போது குறிப்பிடப்படவில்லை.
- II. மதச்சார்பற்ற என்ற சொல் 1976 ஆம் ஆண்டின் 42வது அரசியலமைப்பு திருத்தச் சட்டத்தின் மூலம் முகவுரையில் இணைக்கப்பட்டது.

மேற்கண்ட கூற்றுகளில் தவறானது எது/எவை?

- | | |
|---------------------|-----------------|
| A) I மட்டும் | B) II மட்டும் |
| C) இரண்டும் | D) இரண்டுமில்லை |
| E) விடை தெரியவில்லை | |

Consider the following statements.

- I. Initially the word secular was not mentioned during the enactment of our Constitution.
- II. The word secular was incorporated in the Preamble through the 42nd Constitutional Amendment act of 1976.

Which of the statements given above is/are incorrect?

- | | |
|---------------------|---------------------|
| A) I only | B) II only |
| C) Both I and II | D) Neither I nor II |
| E) Answer not known | |

110. உயர் நீதிமன்றத்தின் அதிகாரங்கள் மற்றும் செயல்பாடுகள் தொடர்பான பின்வரும் கூற்றுகளைக் கருத்தில் கொள்க:

- I. அடிப்படை உரிமைகளை மற்றும் இதர நோக்கங்களை வலியுறுத்த நீதிப் பேராணைகளை வெளியிட உயர் நீதிமன்றம் அதிகாரம் பெற்றுள்ளது.
- II. ஒவ்வொரு உயர் நீதிமன்றமும் இராணுவ நீதிமன்றங்கள் மற்றும் தீர்ப்பாயம் உட்பட அதன் அதிகார வரம்பிற்குள் உள்ள அனைத்து கீழ் நீதிமன்றங்கள் மற்றும் தீர்ப்பாயங்களின் மீது மேற்பார்வையிடுவதற்கான பொதுவான அதிகாரத்தைக் கொண்டுள்ளது.

மேற்கண்ட கூற்றுகளில் தவறானது எது/எவை?

- | | |
|---------------------|-----------------|
| A) I மட்டும் | B) II மட்டும் |
| C) இரண்டும் | D) இரண்டுமில்லை |
| E) விடை தெரியவில்லை | |



Consider the following statements with respect to powers and functions of High Court:

- I. The High Court has been empowered to issue writs for the enforcement of the fundamental rights and for other purposes.
- II. Every High Court has a general power of superintendence over all the lower courts and tribunals within its jurisdiction including military courts and tribunal.

Which of the statements given above is/are incorrect?

- A) I only
- B) II only
- C) Both I and II
- D) Neither I nor II
- E) Answer not known

111. "மதச்சார்பின்மை" என்ற பதத்தை முதலில் உருவாக்கியவர்

- A) கார்ல் மார்க்ஸ்
- B) ஜான் ஸ்டூவர்ட் மில்
- C) ஜார்ஜ் ஜேக்கப் ஹோல்யோக்
- D) ஜான் ராவல்ஸ்
- E) விடை தெரியவில்லை

The term "secularism" was first coined by

- A) Karl Marx
- B) John Stuart Mill
- C) George Jacob Holyoake
- D) John Rawls
- E) Answer not known

112. "சமயம் நமக்குப் பகைமையைப் போதிக்கவில்லை; நாம் அனைவரும் இந்தியர்கள் மற்றும் இந்தியா நமது வீடு" என்ற மதச்சார்பற்ற பார்வையை விளக்குவது யார்?

- A) ரவீந்திரநாத் தாகூர்
- B) நரேந்திரநாத் தத்தா
- C) செளத்ரி ரஹ்மத் அலி
- D) கவிஞர் இக்பால்
- E) விடை தெரியவில்லை

Who illustrates the secular view that "Religion does not teach us animosity; we are Indians and India is our home"?

- A) Rabindranath Tagore
- B) Narendranath Dutta
- C) Choudhary Rahmat Ali
- D) Poet Iqbal
- E) Answer not known

113. பின்வருவனவற்றில் மதச்சார்பற்ற கல்வியின் நோக்கங்கள் எவை ?

- I. குறுகிய மனப்பான்மையை அகற்றி, ஆற்றல்மிக்க மற்றும் அறிவார்ந்த பார்வையை உருவாக்குதல்
- II. தார்மீக மற்றும் மனிதநேய கண்ணோட்டத்தை வளர்ப்பது
- III. சுதந்திரம், சமத்துவம், சகோதரத்துவம் மற்றும் கூட்டுறவு வாழ்க்கை போன்ற ஜனநாயக விழுமியங்களை வலுப்படுத்துதல்
- IV. மதக் கோட்பாடு மற்றும் மதவெறியை வளர்ப்பது.

மேற்கண்ட கூற்றுகளில் சரியானவை எவை?

- A) I, II மற்றும் III மட்டும்
- B) II, III மற்றும் IV மட்டும்
- C) I, III மற்றும் IV மட்டும்
- D) மேற்கண்ட அனைத்தும்
- E) விடை தெரியவில்லை



Which of the following are the objectives of secular education?

- I. To remove narrow mindedness and makes dynamic and enlightened view
- II. To develop moral and humanistic outlook
- III. To strengthen democratic values like liberty, equality, and fraternity and co-operative living
- IV. To foster religious dogma and sectarianism.

Which of the statements given above are correct?

- A) I, II and III only
- B) II, III and IV only
- C) I, III and IV only
- D) All the above
- E) Answer not known

114. பின்வரும் கூற்றுகளைக் கருத்தில் கொள்க

I. இந்திய ரூபாய் சின்னம் (₹) தமிழ்நாடு விழுப்புரம் மாவட்டத்தைச் சேர்ந்த திரு.உதயகுமார் என்பவரால் வடிவமைக்கப்பட்டது.

II. இது 15 ஜூலை 2010 அன்று இந்திய ரிசர்வ் வங்கியால் அங்கீகரிக்கப்பட்டது.

மேற்கண்ட கூற்றுகளில் சரியானது எது/ எவை?

- A) I மட்டும்
- B) II மட்டும்
- C) இரண்டும்
- D) இரண்டுமில்லை
- E) விடை தெரியவில்லை

Consider the following statements.

I. The Indian Rupee symbol (₹) was designed by Mr.Udayakumar of Villupuram District, Tamil Nadu.

II. It was approved by Reserve Bank of India on 15 July 2010.

Which of the statements given above is/are correct?

- A) I only
- B) II only
- C) Both I and II
- D) Neither I nor II
- E) Answer not known

115. பின்வருவனவற்றில் எது முதலீட்டின் கீழ் வராது?

- A) சேமிப்பு வைப்பு
- B) பங்குகள்
- C) தங்க நாணயம்
- D) பரஸ்பர நிதிகள்
- E) விடை தெரியவில்லை

Which of the following does not come under investment?

- A) Savings Deposit
- B) Stocks
- C) Gold Coin
- D) Mutual Funds
- E) Answer not known

116. யாருடைய ஆட்சிக் காலத்தில் புராணங்களும் கர்ஷபணங்களும் அச்சிடப்பட்டன?

- A) குப்தர்கள்
- B) டெல்லி சுல்தான்கள்
- C) மௌரியர்கள்
- D) மகாஜனபதங்கள்
- E) விடை தெரியவில்லை

Puranas and Karshapanas were minted during the reign of

- A) Guptas
- B) Delhi Sultanate
- C) Mauryas
- D) Mahajanapadhas
- E) Answer not known



117. தவறாகப் பொருந்தியுள்ள இணையைக் கண்டறியவும்.

(நாணயப் பெயர்கள்)

(நாணயங்களின் உலோகம்)

- | | |
|---------------------|----------------------|
| A) கரோலினா | - வெண்கல நாணயங்கள் |
| B) ஏஞ்சலினா | - வெள்ளி நாணயங்கள் |
| C) கப்ரூன் | - செம்பு நாணயங்கள் |
| D) டின்னி | - வெண்கலம் நாணயங்கள் |
| E) விடை தெரியவில்லை | |

Find out the incorrectly matched pair.

(Coin Names)

(Metal of Coins)

- | | |
|---------------------|----------------|
| A) Carolina | - Bronze Coins |
| B) Angelina | - Silver Coins |
| C) Cupperoon | - Copper Coins |
| D) Tinny | - Tin Coins |
| E) Answer not known | |

118. தவறாகப் பொருந்தியுள்ள இணையைக் கண்டறியவும்.

(நாடு)

(நாணயம்)

- | | |
|---------------------|------------|
| A) பாகிஸ்தான் | - ரூபாய் |
| B) ஜப்பான் | - யென் |
| C) ரஷ்யா | - ரியால் |
| D) மலேசியா | - ரிங்கிட் |
| E) விடை தெரியவில்லை | |

Find out the incorrectly matched pair.

(Country)

(Currency)

- | | |
|---------------------|-----------|
| A) Pakistan | - Rupee |
| B) Japan | - Yen |
| C) Russia | - Riyal |
| D) Malaysia | - Ringgit |
| E) Answer not known | |

119. பின்வருவனவற்றில் சரியாகப் பொருந்தியுள்ளது எது/எவை?

(சரத்துகள்)

(விதிமுறைகள்)

- | | |
|------------------|---|
| I. சரத்து 26 | - சமய விவகாரங்களை நிர்வகிக்கும் சுதந்திரம். |
| II. சரத்து 27 | - சில கல்வி நிறுவனங்களில் மதம் சார்ந்து நடைபெறும் சமய போதனைகள் மற்றும் சமய வழிபாடு நிகழ்ச்சிகளில் கலந்துகொள்ளாமல் இருக்கும் உரிமை |
| III. சரத்து 28 | - எந்தவொரு குறிப்பிட்ட சமயத்தையும் ஆதரிக்க அரசானது எந்த ஒரு குடிமகனையும் வரியையும் செலுத்துமாறு அரசு வற்புறுத்தக்கூடாது |
| IV. சரத்து 29(2) | - அரசு உதவி பெறும் கல்வி நிறுவனங்களில் பாகுபாடு காட்ட தடை. |

குறியீடுகள்:

- | | |
|------------------------------|---------------------------|
| A) I, II மற்றும் III மட்டும் | B) III மற்றும் IV மட்டும் |
| C) I மற்றும் IV மட்டும் | D) மேற்கண்ட அனைத்தும் |
| E) விடை தெரியவில்லை | |



Which of the following is/are correctly matched?

- | (Articles) | (Provisions) |
|-------------------|--|
| I. Article 26 | – Freedom to manage religious affairs |
| II. Article 27 | – Tells about religious instruction or religious worship in certain educational institution |
| III. Article 28 | – The state shall not compel any citizen to pay any taxes for the promotion of any particular religion |
| IV. Article 29(2) | – A ban on discrimination in state-aided educational institution |

Codes:

- A) I, II and III only
B) III and IV only
C) I and IV only
D) All the above
E) Answer not known

120. ஆளுநரின் அதிகாரங்கள் மற்றும் செயல்பாடுகள் தொடர்பான பின்வரும் கூற்றுகளைக் கருத்தில் கொள்க:

- I. மாநில அரசின் அனைத்து முக்கிய முடிவுகளும் அவரது தலைமையின் கீழ் எடுக்கப்படுகின்றன.
II. மாநிலப் பல்கலைக்கழகத்தின் துணைவேந்தராகவும் ஆளுநர் செயல்படுகிறார்.
III. மாநிலத்தில் ஆங்கிலோ-இந்தியர்கள் இருந்தால், ஆளுநர் ஆங்கிலோ-இந்தியன் சமூகத்திலிருந்து ஒரு உறுப்பினரை சட்டப் பேரவைக்கு நியமிக்கலாம்.
IV. அவர் மாநில சட்டப் பேரவையை கலைக்க முடியும்.

மேற்கண்ட கூற்றுகளில் தவறானவை எவை?

- A) I, II மற்றும் III மட்டும்
B) II, III மற்றும் IV மட்டும்
C) I மற்றும் III மட்டும்
D) மேற்கண்ட அனைத்தும்
E) விடை தெரியவில்லை

Consider the following statements regarding powers and functions of the Governor:

- I. All major decisions of the State Government are taken under his leadership.
II. The Governor also acts as the Vice-Chancellor of State University.
III. The Governor may nominate one member from the Anglo-Indian Community to the Legislative Assembly if there are Anglo-Indian people in a State.
IV. He can dissolve the State Legislative Assembly.

Which of the statements given above are incorrect?

- A) I, II and III only
B) II, III and IV only
C) I and III only
D) All the above
E) Answer not known



121. ஆளுநரின் நிதி அதிகாரங்கள் தொடர்பான பின்வரும் கூற்றுகளைக் கருத்தில் கொள்க:
- I. மாநில அரசின் வருடாந்திர பட்ஜெட் ஆளுநரின் ஒப்புதலுடன் சட்டமன்றத்தில் தாக்கல் செய்யப்படுகிறது.
- II. மாநில சட்டப் பேரவையில் ஆளுநரின் பரிந்துரையுடன் மட்டுமே பண மசோதாக்கள் தாக்கல் செய்ய முடியும்.

மேற்கண்ட கூற்றுகளில் தவறானது எது/எவை?

- A) I மட்டும்
B) II மட்டும்
C) இரண்டும்
D) இரண்டுமில்லை
E) விடை தெரியவில்லை

Consider the following statements regarding the financial powers of the Governor:

- I. The annual budget of the State Government is laid before the legislature with the approval of the Governor.
- II. Money bills can be introduced in the State Legislative Assembly only with the recommendation of the Governor.

Which of the statements given above is/are incorrect?

- A) I only
B) II only
C) Both I and II
D) Neither I nor II
E) Answer not known

122. பின்வரும் கூற்றுகளைக் கருத்தில் கொள்க.

கூற்று (A) : மத்திய அரசுக்கும் மாநில அரசுக்கும் இடையே உறவுகளைப் பேணுவது ஆளுநரின் பொறுப்பாகும்

காரணம் (R) : ஆளுநர், சட்டமன்றத்தில் மத்திய அரசின் முகவராக செயல்படுகிறார் குறியீடுகள்:

- A) (A) மற்றும் (R) இரண்டும் சரி மற்றும் (R) என்பது (A) இன் சரியான விளக்கமாகும்
B) (A) மற்றும் (R) இரண்டும் சரி ஆனால் (R) என்பது (A) இன் சரியான விளக்கமல்ல
C) (A) சரி ஆனால் (R) தவறு
D) (A) தவறு ஆனால் (R) சரி
E) விடை தெரியவில்லை

Consider the following statements.

Assertion (A) : The Governor is responsible for maintaining relations between the Central Government and the State Government

Reason (R) : The Governor acts as an agent of Central Government in the legislature

Codes:

- A) Both (A) and (R) are true and (R) is the correct explanation of (A)
B) Both (A) and (R) are true but (R) is not the correct explanation of (A)
C) (A) is true but (R) is false
D) (A) is false but (R) is true
E) Answer not known



123. ஒரு மாநிலத்தின் முதலமைச்சரின் (CM) அதிகாரங்கள் மற்றும் செயல்பாடுகள் தொடர்பான பின்வரும் கூற்றுகளைக் கருத்தில் கொள்க:

- I. முதலமைச்சர் மாநிலத்தின் உண்மையான தலைவர் ஆவார்.
- II. முதலமைச்சரின் ஆலோசனையின் பேரில், மற்ற அமைச்சர்களை ஆளுநர் நியமிக்கிறார்.
- III. மாநில அரசின் எதிர்பாரா செலவின நிதி முதலமைச்சரின் கட்டுப்பாட்டில் மட்டுமே இருக்கும்.
- IV. முதலமைச்சர் பல்வேறு துறைகளை கண்காணித்து ஆலோசனை வழங்குகிறார். மேலும் பல்வேறு துறைகளின் நடவடிக்கைகளை ஒருங்கிணைக்கிறார்.

மேற்கண்ட கூற்றுகளில் சரியானவை எவை?

- | | |
|------------------------------|-------------------------------|
| A) I, II மற்றும் IV மட்டும் | B) II, III மற்றும் IV மட்டும் |
| C) I, III மற்றும் IV மட்டும் | D) மேற்கண்ட அனைத்தும் |
| E) விடை தெரியவில்லை | |

Consider the following statements regarding powers and functions of Chief Minister of a state (CM):

- I. The Chief Minister is the real executive of the State.
- II. On the advice of the Chief Minister, the Governor appoints the other ministers.
- III. The Contingency Fund of the State is placed at the disposal of the CM.
- IV. The Chief Minister supervises the activities of different ministries and coordinates them.

Which of the statements given above are correct?

- | | |
|-----------------------|------------------------|
| A) I, II and IV only | B) II, III and IV only |
| C) I, III and IV only | D) All the above |
| E) Answer not known | |

124. "இந்தியாவின் பொதுத்துறை நிறுவனங்களின் தந்தை" என்று அழைக்கப்படுபவர் யார்?

- | | |
|-------------------------------|-----------------------|
| A) V. V. கிருஷ்ணமேனன் | B) B.K.தத் |
| C) டாக்டர் வி.கிருஷ்ணமூர்த்தி | D) ஜெயபிரகாஷ் நாராயண் |
| E) விடை தெரியவில்லை | |

Who is called as "Father of Public sector undertakings in India"?

- | | |
|-----------------------|------------------------|
| A) V.V.Krishnamenon | B) B.K.Dutt |
| C) Dr.V.Krishnamurthy | D) Jayaprakash Narayan |
| E) Answer not known | |

125. எந்த தொழிற் கொள்கையானது தொழிலகங்களை அட்டவணை A, அட்டவணை B மற்றும் அட்டவணை C என மூன்று பிரிவுகளாக வகைப்படுத்தியது?

- | | |
|----------------------|----------------------|
| A) தொழிற்கொள்கை 1948 | B) தொழிற்கொள்கை 1951 |
| C) தொழிற்கொள்கை 1956 | D) தொழிற்கொள்கை 1991 |
| E) விடை தெரியவில்லை | |

Which Industrial policy classified industries into three categories such as Schedule A, Schedule B and Schedule C?

- | | |
|---------------------------|---------------------------|
| A) Industrial Policy 1948 | B) Industrial Policy 1951 |
| C) Industrial Policy 1956 | D) Industrial Policy 1991 |
| E) Answer not known | |



126. பின்வரும் கூற்றுகளைக் கருத்தில் கொள்க.

- I. நிதி ஆயோக் என்பது ஜனவரி 1, 2015 அன்று உருவாக்கப்பட்டது.
II. 65 ஆண்டுகள் பழமையான திட்டக் குழுவிற்கு மாற்றாக நிதி ஆயோக் நிறுவப்பட்டது.
மேற்கண்ட கூற்றுகளில் சரியானது எது/எவை?

- A) I மட்டும்
B) II மட்டும்
C) இரண்டும்
D) இரண்டுமில்லை
E) விடை தெரியவில்லை

Consider the following statements.

I. National Institution for Transforming India Aayog was formed on 1st January, 2015.

II. NITI Aayog replaced 65 years old planning commission.

Which of the statements given above is/are correct?

- A) I only
B) II only
C) Both I and II
D) Neither I nor II
E) Answer not known

127. இந்தியாவில் அதிக அளவு பணியாளர்களை கொண்ட பொதுத்துறை நிறுவனம் எது?

- A) வர்த்தகக் கழகம்
B) இந்திய இரயில்வே
C) நிலக்கரி சுரங்கங்கள்
D) இந்திய வங்கிகள்
E) விடை தெரியவில்லை

The largest public sector employer in India is

- A) Trade Corporation
B) India Railways
C) Coal mines
D) Indian Banks
E) Answer not known

128. பின்வருவனவற்றில் எது வேலைவாய்ப்பில் பிராந்திய சமத்துவமின்மையை நீக்குகிறது ?

- A) நகரத்தில் அதிக கட்டண விகிதம்
B) வேலையில்லாத நபர்களுக்கு உதவி
C) MNCக்கான கடன்கள்
D) பின்தங்கிய பகுதிகளில் குறைந்த கட்டண விகிதம்
E) விடை தெரியவில்லை

Which of the following removes Regional inequality in employment?

- A) Higher Tariff rate in City
B) Assistance to Unemployed Persons
C) Loans for MNC
D) Lower Tariff rate in Backward Areas
E) Answer not known

129. சமூக பொருளாதார வளர்ச்சியின் குறியீடுகளில் இல்லாதது எது ?

- A) வாங்கும் திறன்
B) கல்வியறிவு
C) வேலைவாய்ப்பு
D) மொத்த உள்நாட்டு உற்பத்தி
E) விடை தெரியவில்லை

Which is not a indicator of Socio – Economic Development?

- A) Purchasing Power
B) Literacy
C) Employment
D) Gross Domestic Product
E) Answer not known



130. எந்த தொழிற் கொள்கையில் அரசு பொதுத்துறையின் முதலீட்டை விலக்குவது மற்றும் தனியார் துறைக்கு அதிக சுதந்திரத்தை அனுமதிப்பது குறித்து விளக்குகிறது?

- A) தொழிற்கொள்கை 1948 B) தொழிற்கொள்கை 1951
C) தொழிற்கொள்கை 1956 D) தொழிற்கொள்கை 1991
E) விடை தெரியவில்லை

In Which Industrial policy the government was deliberating disinvestment of public sector and allowing greater freedom to private sector?

- A) Industrial Policy 1948 B) Industrial Policy 1951
C) Industrial Policy 1956 D) Industrial Policy 1991
E) Answer not known

131. பின்வரும் கூற்றுகளைக் கருத்தில் கொள்க.

- I. ஆளுநரின் விருப்புரிமை அதிகாரம் குடியரசுத்தலைவரின் அதிகாரத்தை விட பரந்ததாகும்.
II. ஆளுநர் தனது விருப்புரிமை அதிகாரத்தை செயல்படுத்தும் போது, முதல்வர் தலைமையிலான அமைச்சர்கள் குழுவின் ஆலோசனையின்றி தன்னிச்சையான முடிவுகளை எடுக்கிறார்.

மேற்கண்ட கூற்றுகளில் தவறானது எது/எவை ?

- A) I மட்டும் B) II மட்டும்
C) இரண்டும் D) இரண்டுமில்லை
E) விடை தெரியவில்லை

Consider the following statements.

- I. The discretionary power of the Governor is wider than that of the President.
II. The Governor takes independent decisions without the advice of the Council of Ministers headed by the Chief Minister while exercising discretionary powers.

Which of the statements given above is/are incorrect?

- A) I only B) II only
C) Both I and II D) Neither I nor II
E) Answer not known

132. பின்வரும் கூற்றுகளில் தவறானது எது?

- A) மாநில சட்டப் பேரவையில் பெரும்பான்மை உள்ள கட்சியின் தலைவரை முதலமைச்சராக ஆளுநர் நியமிக்கிறார்.
B) முதலமைச்சருக்கு நிலையான பதவிக் காலம் இல்லை.
C) முதலமைச்சர் பதவி விலகிய பிறகும் அமைச்சரவை தொடரலாம்.
D) மாநில சட்டமன்ற உறுப்பினராக இல்லாத ஒருவர் முதலமைச்சராக முடியும்.
E) விடை தெரியவில்லை

Which of the following statements is incorrect ?

- A) The Governor appoints the leader of the majority party in the State Legislative Assembly as the Chief Minister.
B) The Chief Minister has no fixed term of office.
C) The Council of Ministers can continue even after the resignation of the Chief Minister.
D) A person who is not a member of the state legislature can become the Chief Minister.
E) Answer not known



133. அரசியலமைப்புச் சட்டத்தால் வழங்கப்பட்ட சட்டமேலவையின் மொத்த பலம்

- A) மாநில சட்டப் பேரவையின் மொத்த பலத்தில் 40 உறுப்பினர்களுக்குக் குறையாமலும் $\frac{2}{3}$ க்கு மிகாமலும் இருக்க வேண்டும்
- B) மாநில சட்டப் பேரவையின் மொத்த பலத்தில் 40 உறுப்பினர்களுக்குக் குறையாமலும் $\frac{1}{3}$ க்கு மிகாமலும் இருக்க வேண்டும்
- C) மாநில சட்டப் பேரவையின் மொத்த பலத்தில் 60 உறுப்பினர்களுக்குக் குறையாமலும் $\frac{1}{3}$ க்கு மிகாமலும் இருக்க வேண்டும்
- D) மாநில சட்டப் பேரவையின் மொத்த பலத்தில் 60 உறுப்பினர்களுக்குக் குறையாமலும் $\frac{2}{3}$ க்கு மிகாமலும் இருக்க வேண்டும்
- E) விடை தெரியவில்லை

The total strength of the Legislative Council provided by the Constitution is

- A) Not less than 40 and not more than $\frac{2}{3}$ rd of the total strength of the State Legislative assembly
- B) Not less than 40 and not more than $\frac{1}{3}$ rd of the total strength of the State Legislative assembly
- C) Not less than 60 and not more than $\frac{1}{3}$ rd of the total strength of the State Legislative assembly
- D) Not less than 60 and not more than $\frac{2}{3}$ rd of the total strength of the State Legislative assembly
- E) Answer not known

134. மாநில சட்டப் பேரவை எந்த தேர்தல்களில் பங்கேற்கிறது?

- I. குடியரசுத் தலைவர்
- II. துணைத் குடியரசுத் தலைவர்
- III. மாநிலங்களவை உறுப்பினர்கள்
- IV. மாநில சட்ட மேலவை உறுப்பினர்கள்

குறியீடுகள்:

- A) I, II மற்றும் III மட்டும்
- B) II, III மற்றும் IV மட்டும்
- C) I, III மற்றும் IV மட்டும்
- D) மேற்கண்ட அனைத்தும்
- E) விடை தெரியவில்லை



The State Legislative Assembly takes part in the election of

- I. President
- II. Vice – President
- III. Rajya Sabha members
- IV. Members of the Legislative Council of the State

Codes:

- | | |
|-----------------------|------------------------|
| A) I, II and III only | B) II, III and IV only |
| C) I, III and IV only | D) All the above |
| E) Answer not known | |

135. தவறாகப் பொருந்தியுள்ள இணையைக் கண்டறியவும்.

(நீதிமன்றம்)

(அம்சம்)

- | | |
|---|--------------------------------------|
| A) கல்கத்தா உயர் நீதிமன்றம் | – இந்தியாவின் பழமையான உயர்நீதிமன்றம் |
| B) அலகாபாத் உயர் நீதிமன்றம் | – இந்தியாவின் மிகப்பெரிய நீதிமன்றம் |
| C) டெல்லி உச்ச நீதிமன்றத்தின் திறப்பு | – 26 ஜனவரி 1950 |
| D) பிரிட்டிஷ் இந்தியாவின் முதல் தலைமை நீதிபதி | – சர் எலிஜா இம்ஃபே |
| E) விடை தெரியவில்லை | |

Find out the incorrectly matched pair.

(Court)

(Feature)

- | | |
|---|------------------------------|
| A) Calcutta High Court | – Oldest High court in India |
| B) Allahabad High court | – Largest Court in India |
| C) Inauguration of Delhi Supreme Court | – 26 January 1950 |
| D) First Chief Justice of British India | – Sir Elijah Imphey |
| E) Answer not known | |

136. ஃபைகா-இ-பெரோஸ் ஷாகி (உரிமையியல் நடைமுறைச் சட்டம்) பின்வரும் எந்த மொழியில் எழுதப்பட்டது?

- | | |
|---------------------|-------------|
| A) பாரசீகம் | B) துருக்கி |
| C) அரபு | D) உருது |
| E) விடை தெரியவில்லை | |

Fiqha-e-Feroze Shahi (Code of Civil Procedure) was written in which of the following language

- | | |
|---------------------|------------|
| A) Persian | B) Turkish |
| C) Arabic | D) Urdu |
| E) Answer not known | |

137. சுதந்திரமான நீதித்துறையின் கருத்தை முதன்முறையாக முன்வைத்த தத்துவஞானி யார் ?

- | | |
|---------------------|---------------------|
| A) அரிஸ்டாட்டில் | B) சர் எலியா இம்ஃபே |
| C) மாண்டெஸ்கியூ | D) ஹரிலால் கனியா |
| E) விடை தெரியவில்லை | |

Which philosopher propounded the idea of independent judiciary for the first time?

- | | |
|---------------------|----------------------|
| A) Aristotle | B) Sir Elijah Imphey |
| C) Montesquieu | D) Harilal Kania |
| E) Answer not known | |



138. பின்வரும் கூற்றுகளைக் கருத்தில் கொள்க.

I. லோக் அதாலத் முதன்முதலில் 1982 இல் ஜோத்பூரில் நடைபெற்றது.

II. லோக் அதாலத் செயல் நீதிபதி தலைமையில் நடைபெறும்.

மேற்கண்ட கூற்றுகளில் சரியானது எது/எவை ?

A) I மட்டும்

B) II மட்டும்

C) இரண்டும்

D) இரண்டுமில்லை

E) விடை தெரியவில்லை

Consider the following statements.

I. Lok Adalat was first held on 1982 at Jodhpur.

II. Lok Adalat was presided over by an acting Judge

Which of the statements given above is/are correct?

A) I only

B) II only

C) Both I and II

D) Neither I nor II

E) Answer not known

139. பின்வரும் கூற்றுகளைக் கருத்தில் கொள்க.

I. இ-நீதிமன்றங்கள் திட்டம் 2001 ஆம் ஆண்டு தொடங்கப்பட்டது.

II. பொதுமக்களும் வழக்குரைஞர்களும் வழக்கின் நிலை மற்றும் அடுத்த விசாரணை தேதிகளை குறைந்தபட்ச கட்டணத்துடன் கேட்டறியலாம்.

மேற்கண்ட கூற்றுகளில் சரியானது எது/எவை?

A) I மட்டும்

B) II மட்டும்

C) இரண்டும்

D) இரண்டுமில்லை

E) விடை தெரியவில்லை

Consider the following statements.

I. The E-Courts project was established in 2001.

II. The public and advocates can ask case status and next hearing dates with minimum cost.

Which of the statements given above is/are correct?

A) I only

B) II only

C) Both I and II

D) Neither I nor II

E) Answer not known

140. தேசிய சட்ட சேவைகள் ஆணையம் எந்த சட்டத்தின் கீழ் அமைக்கப்பட்டுள்ளது?

A) சட்ட சேவைகள் அதிகாரச் சட்டம், 1978

B) சட்ட சேவைகள் அதிகாரச் சட்டம், 1987

C) சட்ட சேவைகள் அதிகாரச் சட்டம், 1994

D) சட்ட சேவைகள் அதிகாரச் சட்டம், 2009

E) விடை தெரியவில்லை

National Legal Services Authority has been constituted under which act?

A) Legal Services Authority Act, 1978

B) Legal Services Authority Act, 1987

C) Legal Services Authority Act, 1994

D) Legal Services Authority Act, 2009

E) Answer not known



141. சிவில் வழக்குகளை தீர்ப்பதற்காக ஊரக குடிமையியல் நீதிமன்றத்தை நிறுவியவர் யார்?

- A) கேனிங் பிரபு
B) வில்லியம் பென்டிங்க் பிரபு
C) கார்ன்வாலிஸ் பிரபு
D) வாரன் ஹேஸ்டிங்ஸ் பிரபு
E) விடை தெரியவில்லை

Who established Mofussil Diwani Adalat to desolve the Civil Disputes?

- A) Lord Canning
B) Lord William Bentinck
C) Lord Cornwallis
D) Lord Warren Hastings
E) Answer not known

142. சட்டங்களின் அரசியலமைப்புத் தன்மையை மறுபரிசீலனை செய்ய உயர் நீதிமன்றத்திற்கு எந்தச் சரத்து அதிகாரம் அளிக்கிறது?

- A) சரத்து 137
B) சரத்து 226
C) சரத்து 32
D) (B) மற்றும் (C) இரண்டும்
E) விடை தெரியவில்லை

Which Article empower the High court to review the constitutionality of laws?

- A) Article 137
B) Article 226
C) Article 32
D) Both (B) and (C)
E) Answer not known

143. பின்வருபவர்களில் யார் தென்னாப்பிரிக்காவில் இனப்பாகுபாட்டிற்கு எதிராகப் போராடினார்?

- A) மார்ட்டின் லூதர் கிங்
B) ஜெனரல் ஸ்மர்ட்ஸ்
C) தில்லையாடி வள்ளியம்மை
D) நெல்சன் மண்டேலா
E) விடை தெரியவில்லை

Which of the following personality fought against the racialism in South Africa?

- A) Martin Luther King
B) General Smurtz
C) Thillaiyadi Valliammai
D) Nelson Mandela
E) Answer not known

144. பின்வரும் கூற்றுகளைக் கருத்தில் கொள்க.

I. இந்திய ஆயுதப்படகளைக் கௌரவிப்பதற்காக இந்திய அரசால் தேசியப் போர் நினைவுச் சின்னம் (National War Memorial) கட்டப்பட்டுள்ளது.

II. இது புது டெல்லியில் உள்ள இந்தியா கேட் அருகே தற்போதுள்ள சத்திரியை (விதானம்) சுற்றி கட்டப்பட்டுள்ளது.

மேற்கண்ட கூற்றுகளில் சரியானது எது/எவை?

- A) I மட்டும்
B) II மட்டும்
C) இரண்டும்
D) இரண்டுமில்லை
E) விடை தெரியவில்லை

Consider the following statements.

I. The National War Memorial is a monument built by Government of India to honour the Indian Armed Forces.

II. It is built around the existing chhatra (canopy) near India Gate, New Delhi.

Which of the statements given above is/are correct?

- A) I only
B) II only
C) Both I and II
D) Neither I nor II
E) Answer not known



145. பின்வரும் கூற்றுகளைக் கருத்தில் கொள்க.

I. இந்தியக் கடலோரக் காவல்படை 1978இல் நிறுவப்பட்டது.

II. இது ஜல் சக்தி அமைச்சகத்தின் கீழ் செயல்படுகிறது.

மேற்கண்ட கூற்றுகளில் தவறானது எது/எவை?

- A) I மட்டும்
B) II மட்டும்
C) இரண்டும்
D) இரண்டுமில்லை
E) விடை தெரியவில்லை

Consider the following statements.

I. The Indian Coast Guard was established in 1978.

II. It operates under Ministry of Jal Shakthi.

Which of the statements given above is/are incorrect?

- A) I only
B) II only
C) Both I and II
D) Neither I nor II
E) Answer not known

146. பட்டியல்-Iஐ பட்டியல்-II உடன் பொருத்துக.

பட்டியல்-I

(சிறப்பு நாட்கள்)

- a) இராணுவ தினம்
b) கடலோரக் காவல்படை தினம்
c) விமானப்படை தினம்
d) கடற்படை தினம்
e) ஆயுதப்படைகள் கொடி தினம்

குறியீடுகள்:

	a	b	c	d	e
A)	5	4	2	3	1
B)	3	5	2	1	4
C)	5	2	1	3	4
D)	4	2	3	5	1

E) விடை தெரியவில்லை

Match List-I with List-II.

List-I

(Special Days)

- a) Army Day
b) Coast Guard Day
c) Air Force Day
d) Navy Day
e) Armed Forces Flag Day

Codes:

	a	b	c	d	e
A)	5	4	2	3	1
B)	3	5	2	1	4
C)	5	2	1	3	4
D)	4	2	3	5	1

E) Answer not known

பட்டியல்-II

(தேதி)

1. டிசம்பர் 4
2. அக்டோபர் 8
3. ஜனவரி 15
4. டிசம்பர் 7
5. பிப்ரவரி 1

List-II

(Date)

1. 4th December
2. 8th October
3. 15th January
4. 7th December
5. 1st February



147. பின்வரும் கூற்றுகளைக் கருத்தில் கொள்க.

I. விரைவு நீதிமன்றங்கள் 2000ஆம் ஆண்டில் நிறுவப்பட்டன.

II. நீண்ட காலமாக நிலுவையில் உள்ள வழக்குகள் மற்றும் கீழ் நீதிமன்ற வழக்குகளை முடிவுக்குக் கொண்டு வரும் நோக்கத்திற்காக தோற்றுவிக்கப்பட்டன.

மேற்கண்ட கூற்றுகளில் சரியானது எது/எவை?

A) I மட்டும்

B) II மட்டும்

C) இரண்டும்

D) இரண்டுமில்லை

E) விடை தெரியவில்லை

Consider the following statements.

I. Fast track courts were established in the year 2000.

II. Its main aim was to clear the long pending sessions and other lower judicial cases.

Which of the statements given above is/are correct?

A) I only

B) II only

C) Both I and II

D) Neither I nor II

E) Answer not known

148. பின்வருவனவற்றில் சரியாகப் பொருந்தியுள்ளது எது/எவை?

I. அசோகரின் 12வது பாறை அரசாணை – அனைத்து மதப்பிரிவினருடன் சகிப்புத்தன்மை

II. அக்பரின் கல்லறை

– இஸ்லாம் மற்றும் இந்து சமயம் போன்ற சமயங்களின் கூறுகளை இணைத்தல்

III. கஜுராஹோ

– இந்து கோவிலில் சமண விதானம், புத்த ஸ்தூபி மற்றும் இஸ்லாமிய பாணியிலான குவிமாடம் ஆகியவற்றைக் கொண்டு அமைக்கப்பட்டுள்ளது.

குறியீடுகள்:

A) I மற்றும் II மட்டும்

B) II மற்றும் III மட்டும்

C) I மற்றும் III மட்டும்

D) மேற்கண்ட அனைத்தும்

E) விடை தெரியவில்லை

Which of the following is/are correctly matched?

I. Ashoka's Rock Edit XII – Tolerance to all religious sects

II. Akbar's Tomb

– Incorporation of elements of religions like Islam and Hinduism

III. Khajuraho

– Hindu temple with a Jain cupola, a Buddhist stupa and a Muslim-style dome

Codes:

A) I and II only

B) II and III only

C) I and III only

D) All the above

E) Answer not known



149. சட்டமன்ற மேலவை உறுப்பினர்கள் தேர்தல் தொடர்பான பின்வரும் கூற்றுகளைக் கருத்தில் கொள்க:

- I. உறுப்பினர்களின் பதவிக்காலம் ஆறு ஆண்டுகள் ஆகும்.
- II. இதன் உறுப்பினர்களில் மூன்றில் ஒரு பங்கு உறுப்பினர்கள் மூன்று ஆண்டுகளுக்கு ஒரு முறை ஓய்வு பெறுவர். அக்கால இடங்களுக்கு தேர்தல் நடைபெறும்.
- III. தலைவர் மற்றும் துணைத் தலைவர் இருவரும் அந்த அவையின் உறுப்பினர்களில் இருந்து தேர்ந்தெடுக்கப்படுகிறார்கள்.
- IV. தற்போது, இந்தியாவில் ஏழு மாநிலங்கள் மட்டுமே சட்டமன்ற மேலவை நடைமுறையில் உள்ளது.

மேற்கண்ட கூற்றுகளில் தவறானவை எவை?

- | | |
|---------------------------|-------------------------------|
| A) II மற்றும் IV மட்டும் | B) II, III மற்றும் IV மட்டும் |
| C) III மற்றும் IV மட்டும் | D) I, II மற்றும் IV மட்டும் |
| E) விடை தெரியவில்லை | |

Consider the following statements regarding the election of Members of the Legislative Council:

- I. The members are elected for a term of six years.
- II. One-third of its members retire every three years and elections are held to fill the vacant seats.
- III. Both the Chairman and the Deputy Chairman are elected from among the members of that house.
- IV. At present, only seven states in India have Legislative Council in their legislature.

Which of the statements given above are incorrect?

- | | |
|---------------------|------------------------|
| A) II and IV only | B) II, III and IV only |
| C) III and IV only | D) I, II and IV only |
| E) Answer not known | |

150. பின்வரும் கூற்றுகளைக் கருத்தில் கொள்க.

- I. அக்பர் தீன் - இலாஹி (தெய்வீக நம்பிக்கை) மற்றும் சுல் - இ - குல் (அனைத்து சமயத்தினரிடையே அமைதி மற்றும் நல்லிணக்கம்) ஆகியவை முதன்மையாக அரசியல் அதிகாரத்தை பலப்படுத்த பயன்படுத்தினார்.
- II. அக்பரின் கல்லறை ஆக்ராவிருகு அருகில் உள்ள சிக்கந்த்ராவில் உள்ளது.

மேற்கண்ட கூற்றுகளில் தவறானது எது/எவை?

- | | |
|---------------------|-----------------|
| A) I மட்டும் | B) II மட்டும் |
| C) இரண்டும் | D) இரண்டுமில்லை |
| E) விடை தெரியவில்லை | |

Consider the following statements.

- I. Akbar promoted Din-i-Illahi (Divine Faith) and Sulh-e-Kul (Peace and harmony among religions) primarily to consolidate political power.
- II. Akbar's tomb is located at Sikandra near Agra.

Which of the statements given above is/are incorrect?

- | | |
|---------------------|---------------------|
| A) I only | B) II only |
| C) Both I and II | D) Neither I nor II |
| E) Answer not known | |



151. இந்திய குடியரிமை இழக்கப்படுவது தொடர்பான பின்வரும் கூற்றுகளைக் கருத்தில் கொள்க.

- I. வேறொரு நாட்டின் குடியரிமையைப் பெறுதல்
 - II. மோசடி மூலம் இந்திய குடியரிமை பெறுதல்
 - III. அரசியலமைப்பு சட்டத்திற்கு புறம்பாக செயல்படுத்தல்
 - IV. ஒரு வெளிநாட்டு குடிமகனை திருமணம் செய்தல்
- மேற்கண்ட கூற்றுகளில் சரியானவை எவை?

- A) I, II மற்றும் III மட்டும்
B) II, III மற்றும் IV மட்டும்
C) I, III மற்றும் IV மட்டும்
D) மேற்கண்ட அனைத்தும்
E) விடை தெரியவில்லை

Consider the following statements regarding lost of Indian citizenship.

- I. Acquiring citizenship of another country
- II. Acquisition of Indian Citizenship by fraud
- III. Being disloyal to the Constitution
- IV. Marrying a Foreign Citizen

Which of the statements given above are correct?

- A) I, II and III only
B) II, III and IV only
C) I, III and IV only
D) All the above
E) Answer not known

152. பின்வரும் கூற்றுகளைக் கருத்தில் கொள்க.

கூற்று (A) : இந்தியாவின் வளர்ச்சிக்கு வெளிநாட்டில் வசிக்கும் இந்தியர்களின் பங்களிப்பினை பெறும் வகையில் ஒவ்வொரு ஆண்டும் ஜனவரி 9 ஆம் தேதி வெளிநாடுவாழ் இந்தியர் தினம் கொண்டாடப்படுகிறது.

காரணம் (R) : தென்னாப்பிரிக்காவில் இருந்து இந்தியாவிற்கு மகாத்மா காந்தி வந்ததை நினைவுகூரும் நாள்.

குறியீடுகள்:

- A) (A) மற்றும் (R) இரண்டும் சரி மற்றும் (R) என்பது (A)-யின் சரியான விளக்கமாகும்.
B) (A) மற்றும் (R) இரண்டும் சரி ஆனால் (R) என்பது (A)-யின் சரியான விளக்கமல்ல.
C) (A) சரி ஆனால் (R) தவறு.
D) (A) தவறு ஆனால் (R) சரி.
E) விடை தெரியவில்லை

Consider the following statements.

Assertion (A) : Pravasi Bhartiya Divas is celebrated every year on January 9 to mark the contribution of the Overseas Indian Community to the development of India.

Reason (R) : The day commemorates the arrival of Mahatma Gandhi in India from South Africa

Codes:

- A) Both (A) and (R) are true and (R) is the correct explanation of (A)
B) Both (A) and (R) are true but (R) is not the correct explanation of (A)
C) (A) is true but (R) is false
D) (A) is false but (R) is true
E) Answer not known



153. பின்வரும் கூற்றுகளில் சரியானது எது?

- A) நாட்டுரிமையை மாற்ற முடியாது ஆனால் குடியரிமையை மாற்ற முடியும்
- B) அமெரிக்காவில் ஒற்றைக் குடியரிமை உள்ளது
- C) இந்திய அரசியலமைப்பின் பகுதி II சரத்து 5-10 குடியரிமை பற்றி கூறுகிறது
- D) OCI அட்டை வைத்திருப்பவருக்கு இந்தியாவில் வாக்களிக்கும் உரிமை உள்ளது
- E) விடை தெரியவில்லை

Which of the following statement is correct?

- A) Nationality cannot be changed but citizenship can be changed
- B) USA has single citizenship
- C) Part II Article 5-10 of the Constitution of India deals with the Citizenship
- D) OCI card holder has voting rights in India.
- E) Answer not known

154. பின்வரும் கூற்றுகளைக் கருத்தில் கொள்க.

- I. இந்தியா 7 நாடுகளுடன் பொதுவான நில எல்லைகளைப் பகிர்ந்து கொள்கிறது.
- II. அண்டை நாடுகளுக்கான முன்னுரிமைக்கொள்கை என்பது இந்தியாவின் வெளியுறவுக் கொள்கையின் ஒரு பகுதியாகும்.

மேற்கண்ட கூற்றுகளில் சரியானது எது/எவை?

- A) I மட்டும்
- B) II மட்டும்
- C) இரண்டும்
- D) இரண்டுமில்லை
- E) விடை தெரியவில்லை

Consider the following statements.

- I. India shares common land boundaries with 7 countries.
- II. Neighbourhood First policy is the part of India's foreign policy.

Which of the statements given above is/are correct?

- A) I only
- B) II only
- C) Both I and II
- D) Neither I nor II
- E) Answer not known

155. இந்தியாவின் ஜவஹர்லால் நேரு, யூகோஸ்லாவியாவின் டிட்டோ, எகிப்தின் நாசர், இந்தோனேசியாவின் சுகர்னோ மற்றும் கானாவின் குவாமே நிக்ரூமா. இவர்கள் பின்வரும் எந்த இயக்கத்துடன் தொடர்புடையவர்கள்?

- A) சார்க்
- B) பி.பி.ஐ.என்
- C) கிழக்குச் செயல்பாடு என்ற கொள்கை
- D) அணிசேரா இயக்கம்
- E) விடை தெரியவில்லை

Jawaharlal Nehru of India, Tito of Yugoslavia, Nasser of Egypt, Sukarno of Indonesia and Kwame Nkumarah of Ghana. These people are related to which of the following co-operation?

- A) SAARC
- B) BBIN
- C) Act East Policy
- D) Non Alignment Movement
- E) Answer not known



156. இந்திய வெளியுறவுக் கொள்கையினை வடிவமைத்த முதன்மைச் சிற்பி யார்?

- A) KM கரியப்பா
B) ஜவஹர்லால் நேரு
C) V.K.கிருஷ்ணமேனன்
D) S. ஜெய்சங்கர்
E) விடை தெரியவில்லை

Who was the Chief Architect of India's foreign policy?

- A) K.M.Cariappa
B) Jawaharlal Nehru
C) V.K.Krishnamenon
D) S. Jaishankar
E) Answer not known

157. பின்வருவனவற்றுள் எது வெளியுறவுக் கொள்கையின் அடிப்படைக் கொள்கை அல்ல?

- A) உலக அமைதியினை அடைதல்
B) கூட்டு பாதுகாப்பு
C) பொருளாதார வளர்ச்சி
D) தேசிய நலனைப் பாதுகாத்தல்
E) விடை தெரியவில்லை

Which of the following is not a basic principle of Foreign Policy?

- A) Achievement of world peace
B) Collective Defence
C) Economic Development
D) Preservation of National Interest
E) Answer not known

158. பின்வரும் கூற்றுகளைக் கருத்தில் கொள்க.

I. பஞ்சசீல கொள்கை என்பது அமைதிக்கான ஐந்து கோட்பாடுகள்.

II. பஞ்சசீல ஒப்பந்தம் 1954 இல் கையெழுத்தானது.

மேற்கண்ட கூற்றுகளில் சரியானது எது/எவை?

- A) I மட்டும்
B) II மட்டும்
C) இரண்டும்
D) இரண்டுமில்லை
E) விடை தெரியவில்லை

Consider the following statements.

I. Panchsheel is a five principles of peace.

II. Panchsheel agreement signed in 1954.

Which of the statements given above is/are correct?

- A) I only
B) II only
C) Both I and II
D) Neither I nor II
E) Answer not known

159. எந்த சோழ மன்னர் கி.பி. (பொ.ஆ) 1025இல் தமிழ்நாட்டில் இருந்து தென்கிழக்கு ஆசியாவின் கடல் சார் பகுதியான ஸ்ரீ விஜயா மீது தன் கடற்படையெடுப்பைத் தொடங்கினார்?

- A) ஆதித்த கரிகாலன்
B) முதலாம் ராஜேந்திர சோழன்
C) இரண்டாம் ராஜேந்திர சோழன்
D) முதலாம் ராஜ ராஜ சோழன்
E) விடை தெரியவில்லை

In 1025 AD, Which Chola Ruler from Tamil Nadu launched naval on the city-state of Expedition Srivijaya in maritime Southeast Asia ?

- A) Aditha Karikalan
B) Rajendra Chola I
C) Rajendra Chola II
D) Raja Raja Chola I
E) Answer not known



160. மத்திய ஆயுதக் காவல் படையின் கீழ் வராதது எது?

- A) எல்லைப் பாதுகாப்புப் படை
- B) சிறப்பு எல்லைப்புற படை
- C) சிறப்பு சேவை பணியகம்
- D) இந்தோ திபெத்திய எல்லைக் காவல்
- E) விடை தெரியவில்லை

Which is not come under Central Armed Police Forces?

- A) Border Security Force
- B) Special Frontier Force
- C) Special Service Bureau
- D) Indo Tibetan Border Police Force
- E) Answer not known

161. இந்தியாவின் முதல் மற்றும் இரண்டாவது பீல்டு மார்ஷல் யார்?

- A) கே.எம்.கரியப்பா, சாம் மானக்-ஷா
- B) சாம் பகதூர், அர்ஜன் சிங்
- C) சாம் மானக்-ஷா, கே.எம். கரியப்பா
- D) அர்ஜன் சிங், சாம் மானக்-ஷா
- E) விடை தெரியவில்லை

Who was the first and second Field Marshal of India?

- A) K.M.Cariappa, Sam Manekshaw
- B) Sam Bahadur, Arjan Singh
- C) Sam Manekshaw, K.M.Cariappa
- D) Arjan Singh, Sam Manekshaw
- E) Answer not known

162. பின்வரும் கூற்றுகளைக் கருத்தில் கொள்க.

கூற்று (A) : இந்தியா ஒரு மதச்சார்பற்ற நாடு.

காரணம் (R) : அரசு எந்த மதத்திற்கும் ஆதரவாக இல்லை என்பதை இந்தியா அரசியலமைப்பு உறுதி செய்கிறது மற்றும் பல்வேறு மத சித்தாந்தங்களை கொண்ட மக்களிடையே அமைதி மற்றும் நல்லிணக்கத்தை பேணுகிறது.

குறியீடுகள்:

- A) (A) மற்றும் (R) இரண்டும் சரி மற்றும் (R) என்பது (A) இன் சரியான விளக்கமாகும்
- B) (A) மற்றும் (R) இரண்டும் சரி ஆனால் (R) என்பது (A) இன் சரியான விளக்கமல்ல
- C) (A) சரி ஆனால் (R) தவறு
- D) (A) தவறு ஆனால் (R) சரி
- E) விடை தெரியவில்லை

Consider the following statements.

Assertion (A) : India is a secular state.

Reason (R) : India ensures that the state does not favour any religion and maintains peace and harmony among people of various religious ideologies.

Codes:

- A) Both (A) and (R) are true and (R) is the correct explanation of (A)
- B) Both (A) and (R) are true but (R) is not the correct explanation of (A)
- C) (A) is true but (R) is false
- D) (A) is false but (R) is true
- E) Answer not known



163. பின்வருவனவற்றில் எது இந்தியாவை மதச்சார்பற்ற நாடாக விவரிக்கிறது?

- A) அரசியலமைப்பின் முகப்புரை
B) அடிப்படைக் கடமைகள்
C) அரசின் வழிகாட்டு நெறிமுறைக் கோட்பாடுகள்
D) அடிப்படை உரிமைகள்
E) விடை தெரியவில்லை

Which one of the following describes India as a secular state?

- A) Preamble of the Constitution
B) Fundamental Duties
C) Directive Principles of State Policy
D) Fundamental Rights
E) Answer not known

164. பட்டியல்-Iஐ பட்டியல்-II உடன் பொருத்துக.

பட்டியல்-I

(மனித உரிமைகளின் முன்னோடிகள் ஆவணம்)

- a) ஆங்கில உரிமைகள் மசோதா
b) அமெரிக்க அரசியலமைப்புச் சட்டம் மற்றும் உரிமைகள் மசோதா
c) பிரெஞ்சு பிரகடனம்
d) மகாசாசனம் (இங்கிலாந்து)

குறியீடுகள்:

- | | a | b | c | d |
|----|----------|----------|----------|----------|
| A) | 2 | 4 | 3 | 1 |
| B) | 2 | 1 | 3 | 4 |
| C) | 1 | 3 | 4 | 2 |
| D) | 4 | 1 | 2 | 3 |

E) விடை தெரியவில்லை

Match List-I with List-II.

List-I

(Precursors of Human rights Document)

- a) The English Bill of Rights
b) The US Constitution and Bill of Rights
c) The French Declaration
d) The Magna carta (England)

Codes:

- | | a | b | c | d |
|----|----------|----------|----------|----------|
| A) | 2 | 4 | 3 | 1 |
| B) | 2 | 1 | 3 | 4 |
| C) | 1 | 3 | 4 | 2 |
| D) | 4 | 1 | 2 | 3 |

E) Answer not known

பட்டியல்-II

(இயற்றப்பட்டது)

1. 1215
2. 1689
3. 1789
4. 1791

List-II

(Enacted in)

1. 1215
2. 1689
3. 1789
4. 1791



165. பின்வருவனவற்றில் சரியாகப் பொருந்தியுள்ளது எது?

(சுருக்கம்)

(விரிவாக்கம்)

- | | |
|-------------|--|
| I. CEDAW | - பெண்களுக்கு எதிரான அனைத்து வகையான பாகுபாடுகளையும் நீக்குவதற்கான மாநாடு |
| II. ECOSOC | - பொருளாதார மற்றும் சமூக கவுன்சில் |
| III. UNIFEM | - பொருளாதாரம் மற்றும் பண விவகாரங்களுக்கான ஐக்கிய நாடுகளின் சர்வதேச நிதியம் |

குறியீடுகள்:

- | | |
|--------------------------|---------------------------|
| A) I மற்றும் II மட்டும் | B) II மற்றும் III மட்டும் |
| C) I மற்றும் III மட்டும் | D) மேற்கண்ட அனைத்தும் |
| E) விடை தெரியவில்லை | |

Which of the following is/are correctly matched?

(Abbreviation)

(Expansion)

- | | |
|-------------|--|
| I. CEDAW | - The Convention of Elimination of All forms of Discrimination against women |
| II. ECOSOC | - Economic and Social Council |
| III. UNIFEM | - United Nations International Fund for Economic and Monetary Affairs |

Codes:

- | | |
|---------------------|--------------------|
| A) I and II only | B) II and III only |
| C) I and III only | D) All the above |
| E) Answer not known | |

166. உதவி தேவைப்படும் குழந்தைகளுக்கு இந்தியாவின் முதல் 24 மணி நேர இலவச அவசர தொலைபேசி சேவையுடன் எந்த எண் இணைக்கப்பட்டுள்ளது?

- | | |
|---------------------|---------|
| A) 1098 | B) 181 |
| C) 1091 | D) 1077 |
| E) விடை தெரியவில்லை | |

Which number is associated with India's first 24-hour free emergency phone service dedicated to children in need of assistance

- | | |
|---------------------|---------|
| A) 1098 | B) 181 |
| C) 1091 | D) 1077 |
| E) Answer not known | |

167. பட்டியல்-Iஐ பட்டியல்-II உடன் பொருத்துக.

பட்டியல்-I

பட்டியல்-II

(சட்டம்)

(உருவாக்கப்பட்ட ஆண்டுகள்)

- | | |
|-----------------------------|---------|
| a) POCSO சட்டம் | 1. 2000 |
| b) சிறார் நீதி சட்டம் | 2. 1986 |
| c) குழந்தை தொழிலாளர் சட்டம் | 3. 2012 |
| d) கல்வி உரிமைச் சட்டம் | 4. 2009 |



குறியீடுகள்:

	a	b	c	d
A)	4	2	3	1
B)	2	1	3	4
C)	2	3	1	4
D)	3	1	2	4

E) விடை தெரியவில்லை

Match List-I with List-II.

List-I

(Act)

- a) POCSO Act
b) Juvenile Justice Act
c) The Child labour Act
d) Right to Education Act

List-II

(Years of enactment)

1. 2000
2. 1986
3. 2012
4. 2009

Codes:

	a	b	c	d
A)	4	2	3	1
B)	2	1	3	4
C)	2	3	1	4
D)	3	1	2	4

E) Answer not known

168. பின்வரும் கூற்றுகளைக் கருத்தில் கொள்க.

கூற்று (A) : ஒவ்வொரு வருடமும் ஐக்கிய நாடுகள் தினம் அக்டோபர் 24 அன்று அனுசரிக்கப்படுகிறது.

காரணம் (R) : ஐ.நா சாசனம் அக்டோபர் 24, 1945 இல் நடைமுறைக்கு வந்ததை நினைவுகூருகிறது.

குறியீடுகள்:

- A) (A) மற்றும் (R) இரண்டும் சரி மற்றும் (R) என்பது (A) இன் சரியான விளக்கமாகும்
B) (A) மற்றும் (R) இரண்டும் சரி ஆனால் (R) என்பது (A) இன் சரியான விளக்கமல்ல
C) (A) சரி ஆனால் (R) தவறு
D) (A) தவறு ஆனால் (R) சரி
E) விடை தெரியவில்லை

Consider the following statements.

Assertion (A) : The United Nations Day is observed on October 24th each year.

Reason (R) : October 24 commemorates the anniversary of the UN Charter's entry which came into force on 1945

Codes:

- A) Both (A) and (R) are true and (R) is the correct explanation of (A)
B) Both (A) and (R) are true but (R) is not the correct explanation of (A)
C) (A) is true but (R) is false
D) (A) is false but (R) is true
E) Answer not known



169. மெட்ராஸ் ரெஜிமென்ட் தலைமையிடம் எங்கு அமைந்துள்ளது?

- A) அடையார்
B) வெலிங்டன்
C) பாபட்லா
D) கிண்டி
E) விடை தெரியவில்லை

The Madras Regiment Centre is located in

- A) Adayar
B) Wellington
C) Bapatla
D) Guindy
E) Answer not known

170. பின்வரும் கூற்றுகளைக் கருத்தில் கொள்க.

- I. தேசிய மாணவர் படை என்பது ராணுவத்திற்காக மட்டுமே சேவை செய்யும் அமைப்பாகும்.
II. இது நாட்டின் இளைஞர்களை ஒழுக்கமான மற்றும் தேசபக்தி மிக்க குடிமக்களாக உருவாக்குவதில் ஈடுபட்டுள்ளது.

மேற்கண்ட கூற்றுகளில் சரியானது எது/எவை?

- A) I மட்டும்
B) II மட்டும்
C) இரண்டும்
D) இரண்டுமில்லை
E) விடை தெரியவில்லை

Consider the following statements.

- I. National Cadet Corps is a servicing body solely for Army.
II. It grooms the youth of the country into disciplined and patriotic citizens.

Which of the statements given above is/are correct?

- A) I only
B) II only
C) Both I and II
D) Neither I nor II
E) Answer not known

171. BIMSTEC அமைப்பில் எத்தனை நாடுகள் உறுப்பு நாடுகள் உள்ளன?

- A) 7
B) 5
C) 8
D) 6
E) விடை தெரியவில்லை

How many countries participated in BIMSTEC Organization?

- A) 7
B) 5
C) 8
D) 6
E) Answer not known

172. பின்வருவனவற்றில் எது ஐக்கிய நாடுகளின் பொதுச் சபை தீர்மானம் 217A உடன் தொடர்புடையது?

- A) பெண்களுக்கெதிரான அனைத்து வகையான பாகுபாடுகளையும் நீக்குவதற்கான மசோதா
B) மனித உரிமைகளுக்கான உலகளாவிய பிரகடனம்
C) ஆயுத போரினால் பாதிக்கப்பட்ட குழந்தைகளின் பாதுகாப்பு
D) நிலையான வளர்ச்சி இலக்குகள்
E) விடை தெரியவில்லை



- Which of the following is associated with UN General Assembly Resolution 217A?
- Convention on the elimination of the forms of Discrimination against women
 - The Universal Declaration of Human Rights
 - Protection of children affected by armed conflict
 - The Sustainable Development Goals
 - Answer not known

173. மாநில மனித உரிமைகள் ஆணையம் (SHRC) தொடர்பான பின்வரும் கூற்றுகளைக் கருத்தில் கொள்க.

- இது ஒரு தலைவர் உட்பட மூன்று உறுப்பினர்களைக் கொண்டுள்ளது.
- மாநில மனித உரிமைகள் ஆணையம் ஆனது இந்திய அரசியல் அமைப்பின் ஏழாவது அட்டவணையில் உள்ள மாநிலப் பட்டியல் மற்றும் பொது பட்டியல் ஆகியவற்றின் கீழ் உள்ள பொருட்கள் தொடர்பான மனித உரிமை மீறல்கள் குறித்து விசாரிக்க முடியும்.
- தேசிய மனித உரிமைகள் ஆணையம் ஏற்கனவே மனித உரிமை மீறல் குறித்து விசாரித்து இருந்தால், மாநில மனித உரிமைகள் ஆணையம் அதே வழக்கில் தனி விசாரணை நடத்த முடியாது.

மேற்கண்ட கூற்றுகளில் சரியானவை எவை?

- I மற்றும் II மட்டும்
- II மற்றும் III மட்டும்
- I மற்றும் III மட்டும்
- மேற்கண்ட அனைத்தும்
- விடை தெரியவில்லை

Consider the following statements regarding State Human Rights Commission (SHRC):

- It consists of three members including a chairperson.
- SHRC can inquire into violations of human rights related to subjects covered under the State List and Concurrent List in the Seventh Schedule of the Indian Constitution.
- If NHRC is already inquiring into a human rights violation, SHRC cannot conduct a separate inquiry into the same matter.

Which of the statements given above is/are correct?

- I and II only
- II and III only
- I and III only
- All the above
- Answer not known

174. அம்னிஸ்டி இன்டர்நேஷனல், குழந்தைகள் பாதுகாப்பு நிதியம் மற்றும் மனித உரிமைகள் கண்காணிப்பு ஆகியவை எந்த வகையான அமைப்புகளுக்கு எடுத்துக்காட்டுகள்?

- அரசுகளுக்கிடையேயான நிறுவனங்கள்
- பன்னாட்டு நிறுவனங்கள்
- அரசு சாரா நிறுவனங்கள்
- சமய நிறுவனங்கள்
- விடை தெரியவில்லை



Amnesty International, Children's Defense Fund, and Human Rights Watch are examples of which type of organizations?

- A) Intergovernmental organizations
- B) Multinational corporations
- C) Non-governmental organizations
- D) Religious Institutions
- E) Answer not known

175. தேசிய மனித உரிமைகள் ஆணையம் தொடர்பான பின்வரும் கூற்றுகளைக் கருத்தில் கொள்க.
- I. இது ஒரு அரசியலமைப்பு சார்ந்த அமைப்பு.
 - II. இவ்வமைப்பின் தலைவர் ஓய்வு பெற்ற இந்திய தலைமை நீதிபதியாக இருக்க வேண்டும்.
 - III. இதன் தலைமையகம் புது தில்லியில் உள்ளது.
 - IV. தலைவர் மற்றும் உறுப்பினர்கள் மூன்று ஆண்டுகள் அல்லது அவர்கள் 70 வயது எது முந்தையதோ அது வரை பதவி வகிக்கின்றனர்.

மேற்கண்ட கூற்றுகளில் சரியானவை எவை?

- A) I, III மற்றும் IV மட்டும்
- B) II, III மற்றும் IV மட்டும்
- C) II மற்றும் III மட்டும்
- D) மேற்கண்ட அனைத்தும்
- E) விடை தெரியவில்லை

Consider the following statements Regarding National Human rights Commission:

- I. It is a constitutional body.
- II. Chairman should be a retired Chief justice of India.
- III. It is headquartered in New Delhi.
- IV. The chairman and members hold office for a term of three years or until they attain the age of 70 years, whichever is earlier.

Which of the statements given above are correct?

- A) I, III and IV only
- B) II, III and IV only
- C) II and III only
- D) All the above
- E) Answer not known

176. ஒரு பகடை உருட்டப்படும் போது, 4ஐ விடப்பெரிய எண் கிடைப்பதற்கான நிகழ்தகவு என்ன?

- A) $\frac{2}{3}$
- B) $\frac{1}{3}$
- C) $\frac{1}{4}$
- D) $\frac{1}{6}$

E) விடை தெரியவில்லை

When a dice is rolled, find the probability to get the number which is greater than 4?

- A) $\frac{2}{3}$
- B) $\frac{1}{3}$
- C) $\frac{1}{4}$
- D) $\frac{1}{6}$

E) Answer not known



177. நீங்கள் ஒரு தெருவில் நடந்து செல்கிறீர்கள். நீவிர் சந்தித்தவர்களில் ஒரு புதிய மனிதரைத் தேர்ந்தெடுக்கவும். அந்த மனிதரின் பிறந்த நாள் ஞாயிற்றுக் கிழமையாக இருக்க நிகழ்தகவு என்ன?

A) $\frac{4}{7}$

B) $\frac{3}{7}$

C) $\frac{1}{7}$

D) $\frac{2}{7}$

E) விடை தெரியவில்லை

You are walking along a street. If you just choose a stranger crossing you, what is the probability that his next birthday will fall on a Sunday?

A) $\frac{4}{7}$

B) $\frac{3}{7}$

C) $\frac{1}{7}$

D) $\frac{2}{7}$

E) Answer not known

178. இரு பகடைகள் உருட்டப்படும் போது கிடைக்கும் எண்களின் கூடுதல் 13-ஐ விடச் சிறியதாக கிடைக்க நிகழ்தகவு என்ன?

A) $\frac{5}{6}$

B) $\frac{2}{3}$

C) $\frac{1}{2}$

D) 1

E) விடை தெரியவில்லை

Two dice are rolled, find the probability that the sum is less than 13

A) $\frac{5}{6}$

B) $\frac{2}{3}$

C) $\frac{1}{2}$

D) 1

E) Answer not known

179. 52 சீட்டுகள் கொண்ட ஒரு சீட்டுக்கட்டிலிருந்து ஒரு படச்சீட்டு (அதாவது இராசா, இராணி அல்லது மந்திரி (Jack) தேர்ந்தெடுப்பதற்கான நிகழ்தகவு என்ன?

A) $\frac{3}{13}$

B) $\frac{6}{13}$

C) $\frac{3}{26}$

D) $\frac{3}{52}$

E) விடை தெரியவில்லை

What is the probability of drawing a King or a Queen or a Jack from a deck of cards?

A) $\frac{3}{13}$

B) $\frac{6}{13}$

C) $\frac{3}{26}$

D) $\frac{3}{52}$

E) Answer not known



180. ஒரு வினாவிற்கான சரியான விடையை ஊகிப்பதற்கான நிகழ்தகவு $\frac{x}{3}$ என்க. சரியான

விடையை ஊகிக்காமல் இருப்பதற்கான நிகழ்தகவு $\frac{x}{5}$ எனில், x இன்மதிப்பு காண்க.

- A) $\frac{15}{8}$ B) $\frac{8}{15}$
C) $\frac{15}{2}$ D) $\frac{2}{15}$

E) விடை தெரியவில்லை

The probability of guessing the correct answer to a certain question is $\frac{x}{3}$. If the

probability of not guessing the correct answer is $\frac{x}{5}$, then find the value of x.

- A) $\frac{15}{8}$ B) $\frac{8}{15}$
C) $\frac{15}{2}$ D) $\frac{2}{15}$

E) Answer not known

181. ஓர் உற்பத்தியாளர் 7000 ஒளி உமிழ் இருமுனைய விளக்குகளை (LED lights) சோதனை செய்ததில் அவற்றில் 25 விளக்குகள் குறைபாடுடையதாகக் கண்டறியப்பட்டன. சம வாய்ப்பு முறையில் ஒரு விளக்கைத் தேர்ந்தெடுக்கும் போது அது குறைபாடுடையதாக இருக்க நிகழ்தகவு என்ன?

- A) $\frac{1}{210}$
B) $\frac{1}{140}$
C) $\frac{1}{350}$
D) $\frac{1}{280}$

E) விடை தெரியவில்லை

A manufacturer tested 7000 LED lights at random and found that 25 of them were defective. If a LED light is selected at random, what is the probability that the selected LED light is a defective one.

- A) $\frac{1}{210}$
B) $\frac{1}{140}$
C) $\frac{1}{350}$
D) $\frac{1}{280}$

E) Answer not known



182. ஒரு கால்பந்தாட்டத்தில், ஓர் இலக்குக் காப்பாளரால் (Goal - keeper) 40இல் 32 முயற்சிகளைத் தடுக்க இயலும் எனில், எதிரணியானது ஒரு முயற்சியை இலக்காக மாற்றுவதற்கான நிகழ்தகவு காண்க.

- A) $\frac{4}{5}$ B) $\frac{1}{5}$
C) $\frac{3}{5}$ D) $\frac{2}{5}$

E) விடை தெரியவில்லை

In a football match, a goalkeeper of a team can stop the goal, 32 times out of 40 attempts tried by a team. Find the probability that the opponent team can convert the attempt into a goal.

- A) $\frac{4}{5}$ B) $\frac{1}{5}$
C) $\frac{3}{5}$ D) $\frac{2}{5}$

E) Answer not known

183. மழைப்பொழிவிற்கான நிகழ்தகவு $\frac{91}{100}$ எனில், மழைப்பொழியாமல் இருப்பதற்கு நிகழ்தகவு என்ன?

- A) 0.009 B) 0.9
C) 0.09 D) 0.91

E) விடை தெரியவில்லை

The probability that it will rain tomorrow is $\frac{91}{100}$. What is the probability that it

will not rain tomorrow?

- A) 0.009 B) 0.9
C) 0.09 D) 0.91

E) Answer not known

184. ஒரு நிறுவனம் ஆறு மாதத்தில் 10000 மடிக்கணினிகளை உற்பத்தி செய்தது. அவற்றில் 25 மடிக்கணினிகள் குறைபாடு உடையனவாகக் கண்டறியப்பட்டன. சமவாய்ப்பு முறையில் ஒரு மடிக்கணினியைத் தேர்ந்தெடுக்கும் போது அது குறைபாடில்லாததாக இருக்க நிகழ்தகவு யாது?

- A) 0.8975 B) 0.9775
C) 0.95 D) 0.9975

E) விடை தெரியவில்லை

A company manufactures 10000 Laptops in 6 months. Out of which 25 of them are found to be defective. When you choose one Laptop from the manufactured, what is the probability that selected Laptop is a good one.

- A) 0.8975 B) 0.9775
C) 0.95 D) 0.9975

E) Answer not known



185. ஒரு பாளையில் 24 பந்துகள் உள்ளன, அவற்றில் 3 சிவப்பு, 5 நீலம் மற்றும் மீதி இருப்பவை பச்சை நிற முடையதாகும். அவற்றில் ஒன்றைத் தேர்ந்தெடுக்கும் போது அது
(i) ஒரு நீலநிறப்பந்து (ii) ஒரு சிவப்பு நிறப்பந்து (iii) ஒரு பச்சை நிறப்பந்தாக இருக்க நிகழ்தகவு என்ன?

A) $\frac{5}{24}, \frac{1}{8}, \frac{2}{3}$

B) $\frac{1}{8}, \frac{5}{24}, \frac{2}{3}$

C) $\frac{5}{24}, \frac{2}{3}, \frac{1}{8}$

D) $\frac{2}{3}, \frac{1}{8}, \frac{5}{24}$

E) விடை தெரியவில்லை

There are 24 balls in a pot. If 3 of them are Red, 5 of them are Blue and the remaining are Green then, what is the probability of picking out

(i) a Blue ball, (ii) a Red ball and (iii) a Green ball?

A) $\frac{5}{24}, \frac{1}{8}, \frac{2}{3}$

B) $\frac{1}{8}, \frac{5}{24}, \frac{2}{3}$

C) $\frac{5}{24}, \frac{2}{3}, \frac{1}{8}$

D) $\frac{2}{3}, \frac{1}{8}, \frac{5}{24}$

E) Answer not known

186. ஓர் இனிப்பின் விலை ரூ. (x + y). அமீர் (x + y) இனிப்புகளை வாங்கினார். எனில் அவர் கொடுத்த மொத்தத் தொகையை x மற்றும் y களில் காண்க. மேலும் x = 10, y = 5 எனில் அமீர் கொடுத்த தொகை எவ்வளவு?

A) 220

B) 225

C) 235

D) 250

E) விடை தெரியவில்லை

The cost of a chocolate is Rs. (x + y) and Amir bought (x + y) chocolates. Find the total amount paid by him in terms of x and y. If x = 10, y = 5 find the amount paid by him

A) 220

B) 225

C) 235

D) 250

E) Answer not known

187. ஓர் ஈரிலக்க எண்ணையும் அதன் இலக்கங்களை மாற்றுவதால் கிடைக்கும் எண்ணையும் கூட்டினால் 110 கிடைக்கும். கொடுக்கப்பட்ட அந்த ஈரிலக்க எண்ணிலிருந்து 10ஐக் கழித்தால் அது கொடுக்கப்பட்ட ஈரிலக்க எண்ணின் இலக்கங்களின் கூடுதலின் 5 மடங்கைவிட 4 அதிகம் எனில், அந்த எண்ணைக் காண்க.

A) 40

B) 48

C) 64

D) 56

E) விடை தெரியவில்லை

The sum of a two digit number and the number formed by interchanging the digits is 110. If 10 is subtracted from the first number, the new number is 4 more than 5 times the sums of the digits of the first number. Find the first number.

A) 40

B) 48

C) 64

D) 56

E) Answer not known



188. 4 இந்தியர்கள் மற்றும் 4 சீனர்கள் சேர்ந்து 3 நாட்களில் ஒரு வேலையை முடிக்கிறார்கள். 2 இந்தியர்கள் மற்றும் 5 சீனர்கள் சேர்ந்து அதே வேலையை 4 நாட்களில் முடிக்கிறார்கள் எனில், இப்பணியைத் தனியாக ஒரு இந்தியர் எத்தனை நாட்களில் செய்வார்? ஒரு சீனர் தனியாக எத்தனை நாட்களில் செய்வார்?
- A) {18,36} B) {18, 38}
C) {36, 36} D) {36, 18}
E) விடை தெரியவில்லை
- 4 Indians and 4 Chinese can do a piece of work in 3 days. While 2 Indians and 5 Chinese can finish it in 4 days. How long would it take for 1 Indian to do it? How long would it take for 1 Chinese to do it? Express in a set value of {Chinese, Indian}?
- A) {18,36} B) {18, 38}
C) {36, 36} D) {36, 18}
E) Answer not known
189. ஒரு தொலைக்காட்சிப் பெட்டியை 5% இலாபத்திற்கும், ஒரு குளிர்சாதனப் பெட்டியை 10% இலாபத்திற்கும் விற்பதால் கடைக்காரருக்கு நிகர இலாபம் ₹ 2,000 கிடைக்கிறது. ஆனால் அவர் ஒரு தொலைக்காட்சிப் பெட்டியை 10% இலாபத்திற்கும், ஒரு குளிர்சாதனப் பெட்டியை 5% நட்டத்திற்கும் விற்பதால் அவரின் நிகர இலாபம் ₹ 1,500 கிடைக்கிறது எனில் குளிர்சாதனப் பெட்டியின் சரியான விலைகளைக் காண்க.
- A) 10,000 B) 5,000
C) 15,000 D) 20,000
E) விடை தெரியவில்லை
- On selling a T.V. at 5% gain and a fridge at 10% gain, a shopkeeper gains ₹ 2000. But if he sells the T.V. at 10% gain and the fridge at 5% loss, he gains Rs.1500 on the transaction. Find the actual price of the Fridge?
- A) 10,000 B) 5,000
C) 15,000 D) 20,000
E) Answer not known
190. அட்ஷயா தனது பண்பையில் (purse) இரண்டு ரூபாய் நாணயங்களையும், ஐந்து ரூபாய் நாணயங்களையும் வைத்திருந்தாள். அவள் மொத்தமாக ₹ 220 மதிப்புடைய 80 நாணயங்களை வைத்திருந்தாள் எனில், ஒவ்வொன்றிலும் எத்தனை நாணயங்கள் வைத்திருந்தாள்.
- A) 2 ரூபாய் நாணயங்கள் = 50, 5 ரூபாய் நாணயங்கள் = 20
B) 2 ரூபாய் நாணயங்கள் = 40, 5 ரூபாய் நாணயங்கள் = 10
C) 2 ரூபாய் நாணயங்கள் = 60, 5 ரூபாய் நாணயங்கள் = 10
D) 2 ரூபாய் நாணயங்கள் = 60, 5 ரூபாய் நாணயங்கள் = 20
E) விடை தெரியவில்லை
- Akshaya has 2 rupee coins and 5 rupee coins in her purse. If in all she has 80 coins totalling ₹ 220, how many coins of each kind does she have?
- A) 2 Rupee Coins = 50, 5 Rupee Coins = 20
B) 2 Rupee Coins = 40, 5 Rupee Coins = 10
C) 2 Rupee Coins = 60, 5 Rupee Coins = 10
D) 2 Rupee Coins = 60, 5 Rupee Coins = 20
E) Answer not known



191. 100 மற்றும் 1000 இக்கு இடையே அமையும் ஒரு மூன்றிலக்க எண்ணின் நடு இலக்கம் பூச்சியமாகவும் மற்ற இரு இலக்கங்களின் கூடுதல் 13 ஆகவும் இருக்கின்றன. இலக்கங்களை இடம் மாற்றி அமைக்கும் போது கிடைக்கும் எண்ணானது, அந்த எண்ணைவிட 495 அதிகம் எனில், அந்த எண்ணைக் காண்க

- A) 904
B) 805
C) 409
D) 508
E) விடை தெரியவில்லை

The middle digit of a number between 100 and 1000 is zero and the sum of the other digit is 13. If the digits are reversed, the number so formed exceeds the original number by 495. Find the number?

- A) 904
B) 805
C) 409
D) 508
E) Answer not known

192. இராமனின் வயது அவருடைய இரு மகன்களுடைய வயதுகளின் கூடுதலைப் போல் மூன்று மடங்காகும். ஐந்தாண்டுகள் கழித்து அவரின் வயது தனது மகன்களுடைய வயதுகளின் கூடுதலைப் போல் இரு மடங்காகும் எனில், இராமனின் தற்போதைய வயதைக் காண்க

- A) 45 ஆண்டுகள்
B) 55 ஆண்டுகள்
C) 35 ஆண்டுகள்
D) 50 ஆண்டுகள்
E) விடை தெரியவில்லை

Raman's age is three times the sum of the ages of his two sons. After 5 years his age will be twice the sum of the ages of his two sons. Find the age of Raman.

- A) 45 Years
B) 55 Years
C) 35 Years
D) 50 Years
E) Answer not known

193. $a^3 - 9ax^2$, $(a - 3x)^2$ யின் மீ.பெ.வ.காண்க.

- A) $a - 6x$
B) $a + 3x$
C) $a - 3x$
D) $a - 6x$
E) விடை தெரியவில்லை

Find the GCD of $a^3 - 9ax^2$, $(a - 3x)^2$

- A) $a - 6x$
B) $a + 3x$
C) $a - 3x$
D) $a - 6x$
E) Answer not known

194. $(x + y)^2 + 9(x + y) + 20$ காரணிபடுத்துக.

- A) $(x + y + 9)(x + y + 5)$
B) $(x - y + 4)(x + y + 5)$
C) $(x + y + 4)(x + y - 9)$
D) $(x - y + 4)(x - y + 5)$
E) விடை தெரியவில்லை

Factorise $(x + y)^2 + 9(x + y) + 20$

- A) $(x + y + 9)(x + y + 5)$
B) $(x - y + 4)(x + y + 5)$
C) $(x + y + 4)(x + y - 9)$
D) $(x - y + 4)(x - y + 5)$
E) Answer not known



195. 11, 15, 17, $x + 1$, 19, $x - 2$, 3 என்ற தரவுகளின் சராசரி 14 எனில், x இன் மதிப்பைக் காண்க. மேலும் x இன் மதிப்பைக் கொண்டு தரவுகளின் முகடு காண்க.
A) 11 B) 15
C) 17 D) 14
E) விடை தெரியவில்லை
For the data 11, 15, 17, $x + 1$, 19, $x - 2$, 3 if the mean is 14. Find the mode of the data.
A) 11 B) 15
C) 17 D) 14
E) Answer not known
196. 10 தொழிலாளர்களின் மாத வருமானங்கள் முறையே: 5000, 7000, 5000, 7000, 8000, 7000, 7000, 8000, 7000, 5000 எனில் சராசரி, இடைநிலை அளவு, முகடு காண்க.
A) 6600, 7000, 8000 B) 6800, 6000, 7000
C) 6800, 7000, 8000 D) 6600, 7000, 7000
E) விடை தெரியவில்லை
The monthly salary of 10 employees in a factory are given below : Rs.5000, 7000, 5000, 7000, 8000, 7000, 7000, 8000, 7000, 5000 . Find the mean, median and mode.
A) 6600, 7000, 8000 B) 6800, 6000, 7000
C) 6800, 7000, 8000 D) 6600, 7000, 7000
E) Answer not known
197. ஒரு பரவலின் சராசரி மற்றும் முகடு முறையே 66 மற்றும் 60 ஆகும். இடைநிலை அளவு காண்க.
A) 62 B) 60
C) 64 D) 63
E) விடை தெரியவில்லை
In a distribution, the mean and mode are 66 and 60 respectively. Calculate the median
A) 62 B) 60
C) 64 D) 63
E) Answer not known
198. ஏழு மதிப்புகளின் சராசரி 81. அவற்றில் ஒரு மதிப்பு நீக்கப்படும் போது மற்ற மதிப்புகளின் சராசரி 78 ஆக அமைகிறது, எனில் நீக்கப்பட்ட மதிப்பு எவ்வளவு?
A) 101 B) 100
C) 99 D) 88
E) விடை தெரியவில்லை
The mean of a set of seven numbers is 81. If one of the numbers is discarded, the mean of the remaining numbers is 78. The value of discarded number is
A) 101 B) 100
C) 99 D) 88
E) Answer not known



199. $x, x + 2, x + 4, x + 6, x + 8$, என்ற தரவின் சராசரி 11 எனில் முதல் மூன்று தரவுகளின் கூட்டுச் சராசரியைக் காண்க.

- A) 9
B) 11
C) 13
D) 15
E) விடை தெரியவில்லை

If the mean of five observations $x, x + 2, x + 4, x + 6, x + 8$, is 11, then the mean of first three observations

- A) 9
B) 11
C) 13
D) 15
E) Answer not known

200. 25 மாணவர்களின் சராசரி மதிப்பெண் 78.4. இங்கு 96 என்ற மதிப்பானது 69 எனத் தவறுதலாக சேர்த்தது கண்டறியப்பட்டது எனில், மதிப்பெண்களுக்கான சரியான சராசரியைக் காண்க.

- A) 77.48
B) 76.48
C) 78.68
D) 79.48
E) விடை தெரியவில்லை

The average mark of 25 students was found to be 78.4. Later on, it was found that score of 96 was misread as 69. Find the correct mean of the marks.

- A) 77.48
B) 76.48
C) 78.68
D) 79.48
E) Answer not known
A) 77.48
B) 76.48
C) 78.68
D) 79.48
E) Answer not known



**SHANKAR
IAS ACADEMY™**
Best Academy for Civil Services Exam Coaching

SPACE FOR ROUGH WORK

SHANKAR IAS ACADEMY
www.Padasalai.Net



**SHANKAR
IAS ACADEMY™**
Best Academy for Civil Services Exam Coaching

SPACE FOR ROUGH WORK

SHANKAR IAS ACADEMY
www.Padasalai.Net



வினாத்தொகுப்பு எண் :

பதிவு எண்

2024

Test - 10

பொதுத் தமிழ் (பத்தாம் வகுப்பு தரம்) மற்றும் பொது அறிவு
(பட்டப்படிப்பு தரம்)

இந்த வினாப்புத்தகம்

பகுதி - அ (பொதுத் தமிழ்) மற்றும் பகுதி - ஆ (பொது அறிவு) உள்ளடக்கியது

கால அளவு : 3.00 மணி நேரம்]

[மொத்த மதிப்பெண்கள் : 300

வினாக்களுக்கு பதிலளிக்கும் முன் கீழ்க்கண்ட அறிவுரைகளை கவனமாகப் படிக்கவும்

முக்கிய அறிவுரைகள்

- இந்த வினாத்தொகுப்பு, தேர்வு தொடங்குவதற்கு 15 நிமிடங்களுக்கு முன்னதாக உங்களுக்கு வழங்கப்படும்.
- இந்த வினாத்தொகுப்பு, **200** வினாக்களைக் கொண்டுள்ளது. விடையளிக்கத் தொடங்குமுன் இவ்வினாத் தொகுப்பில் எல்லா வினாக்களும் வரிசையாக இடம் பெற்றுள்ளனவா என்பதையும், இடையில் வெற்றுத்தாள்கள் எவையுமில்லை என்பதையும் உறுதி செய்து கொள்ளவும். வினாத் தொகுப்பில் ஏதேனும் குறைபாடு இருப்பின், அதனை முதல் பத்து நிமிடங்களுக்குள் அறைக்கண்காணிப்பாளரிடம் தெரிவித்து, சரியாக உள்ள வேறொரு வினாத் தொகுப்பினை பெற்றுக்கொள்ள வேண்டும். தேர்வு தொடங்கிய பின்பு, இது குறித்து முறையிட்டால் வினாத் தொகுப்பு மாற்றித் தரப்படமாட்டாது.
- எல்லா வினாக்களுக்கும் விடையளிக்கவும், எல்லா வினாக்களும் சமமான மதிப்பெண்கள் கொண்டவை.
- உங்களுடைய பதிவு எண்ணை இந்தப் பக்கத்தின் வலது மேல் மூலையில் அதற்கென அமைந்துள்ள இடத்தில் நீங்கள் எழுத வேண்டும். வேறு எதையும் வினாத் தொகுப்பில் எழுதக் கூடாது.
- விடைத்தாள் ஒன்று விடைகளை குறிப்பதற்கு அறைக்கண்காணிப்பாளரால் உங்களுக்கு வழங்கப்படும். விடைகளைக் குறிப்பது உள்ளிட்ட அவசியம் பின்பற்றப்பட வேண்டிய அறிவுரைகள் விடைத்தாளிலும், தேர்வுக்கூட அனுமதிச் சீட்டிலும் வழங்கப்பட்டுள்ளன.
- உங்களுடைய வினாத்தொகுப்பு, எண்ணை (Question Booklet Number) விடைத்தாளின் முதல் பக்கத்தில் அதற்கென அமைந்துள்ள இடத்தில் கருமை நிற மையுடைய பந்துமுனைப் பேனாவினால் குறித்துக் காட்ட வேண்டும். வினாத்தொகுப்பு எண்ணை விடைத்தாளில் சரியாகக் குறித்துக் காட்டத் தவறினாலோ அல்லது குறிக்கத் தவறினாலோ உங்களுடைய விடைத்தாள் செல்லாததாகக்கப்படும்.
- ஒவ்வொரு வினாவும் A), (B), (C), (D), (E) என ஐந்து பதில்களைக் (விடைகள்) கொண்டுள்ளது. நீங்கள் A) அல்லது B) அல்லது C) அல்லது D) இவைகளில் ஒரே ஒரு சரியான விடையைத் தெரிவு செய்து விடைத்தாளில் குறித்துக்காட்ட வேண்டும். ஒரு கேள்விக்கு ஒன்றுக்கு மேற்பட்ட சரியான விடை இருப்பதாக நீங்கள் கருதினால், மிகச்சரியானது என நீங்கள் எதைக் கருதுகிறீர்களோ அந்த விடையை விடைத்தாளில் குறித்துக்காட்ட வேண்டும். உங்களுக்கு விடை தெரியவில்லை எனில், நீங்கள் (E) என்பதை அவசியம் நிரப்ப வேண்டும். எப்படியாயினும், ஒரு கேள்விக்கு ஒரே ஒரு விடையைத் தான் தேர்ந்தெடுக்க வேண்டும். நீங்கள் ஒரு வேள்விக்கு ஒன்றுக்கு மேற்பட்ட விடையளித்தால், அவற்றுள் ஒரு விடை சரியானதாக இருந்தாலும் அந்த விடை தவறானதாகவே கருதப்படும்.
- நீங்கள் வினாத் தொகுப்பின் எந்தப் பக்கத்தையும் நீக்கவோ அல்லது கிழிக்கவோ கூடாது. தேர்வு நேரத்தில் இந்த வினாத் தொகுப்பினையோ அல்லது விடைத்தாளையோ தேர்வு அறையை விட்டு வெளியில் எடுத்துச் செல்லக் கூடாது. தேர்வு முடிந்தபின் நீங்கள் உங்களுடைய விடைத்தாளை கண்காணிப்பாளரிடம் கொடுத்து விட வேண்டும். இவ்வினாத் தொகுப்பினை தேர்வு முடிந்த பின்னர் மட்டுமே நீங்கள் எடுத்துச் செல்ல அனுமதிக்கப்படுவீர்கள்.
- குறிப்புகள் எழுதிப்பார்ப்பதற்கு வினாத்தொகுப்பின் கடைசி பக்கத்திற்கு முன் உள்ள பக்கங்களை பயன்படுத்திக் கொள்ளலாம். இதைத்தவிர வினாத்தொகுப்பின் எந்த இடத்திலும் எந்தவித குறிப்புகளையும் எழுதக்கூடாது. இந்த அறிவுரை கண்டிப்பாக பின்பற்றப்படவேண்டும்.
- வினா வரிசை எண்கள் 101 முதல் 200 வரை (பகுதி - ஆ) ஆங்கில வடிவே இறுதியானது.
- நீங்கள் மேற்கண்ட அறிவுரைகளில் எவற்றையாவது பின்பற்றத் தவறினால் தேர்வாணையம் எடுக்கும் நடவடிக்கைகளுக்கு உள்ளாக நேரிடும் என அறிவுறுத்தப்படுகிறது.

ஈ

[Turn over

For queries mail to For queries mail to : zerofeedback@shankariasacad.in; [Turn over

Kindly Send Me Your Key Answer to Our email id - Padasalai.net@gmail.com



பகுதி - அ — பொதுத் தமிழ் (பத்தாம் வகுப்பு தரம்)

Part A — General Tamil (SSLC Std)

வினாக்கள் : 1-100

மொத்த மதிப்பெண்கள் : 150

Questions : 1-100

Total Marks : 150

1. பின்வரும் கூற்றுகளை கருத்தில் கொள்க.
 - I. இதழியலில், செயற்கை நுண்ணறிவினைப் பயன்படுத்தி இயல்பான மொழிநடையை உருவாக்கும் மென்பொருளின் பெயர் வேர்டுஸ்மித் என்பதாகும்.
 - II. தகவல்களைக் கொடுத்தால் போதும், வேர்டுஸ்மித் அழகான கட்டுரையைச் சில நொடிகளில் உருவாக்கிவிடும்.
 மேற்கண்ட கூற்றுக்களில் சரியானது எது/எவை?
 - A) I மட்டும்
 - B) II மட்டும்
 - C) இரண்டும்
 - D) இரண்டுமில்லை
 - E) விடை தெரியவில்லை

2. “சீன நாட்டின் தமிழ்க் கோவில், பற்றிய தவறான கூற்றினைத் தேர்ந்தெடு.
 - A) சீன நாட்டில் ‘காண்டன்’ நகருக்கு 500 கல் வடக்கே சுவன்செள என்னும் துறைமுக நகர் உள்ளது. இங்கு தமிழ் கல்வெட்டு காணப்படுகிறது.
 - B) ‘காண்டன்’ பண்டையக்காலத்தில் சிறந்த துறைமுகமாக விளங்கிற்று. அந்தக் காலத்தில் தமிழ் வணிகர்கள் இந்நகருக்கு அடிக்கடி வந்து சென்றுள்ளனர். அதன் காரணமாக சீனாவில் சிவன் கோவில் ஒன்று கட்டப்பட்டது.
 - C) அது சீனப் பேரரசரான குப்தாய்கானின் ஆணையின்கீழ் கட்டப்பட்டது என்பதைக் குறிக்கும் தமிழ்க் கல்வெட்டு இன்றும் இக்கோயிலில் உள்ளது.
 - D) இக்கோயிலில் பாண்டியர்காலச் சிற்பங்கள் அமைக்கப்பட்டுள்ளன.
 - E) விடை தெரியவில்லை

3. பின்வருவனவற்றுள் தவறான இணையைக் தேர்ந்தெடுக்க.

(சொல்)	(இலக்கணக் குறிப்பு)
A) ஊழ்ஊழ்	– அடுக்குத்தொடர்
B) வளர்வானம்	– வினைத்தொகை
C) செந்தீ	– பண்புத்தொகை
D) வாரா	– எதிர்மறைப் பெயரெச்சம்
E) விடை தெரியவில்லை	

4. “கிளர்” என்னும் வேர்ச்சொல்லை அடிப்படையாகக் கொண்ட வினையெச்ச சொல்லைத் தேர்ந்தெடு.
 - A) கிளர்ந்து
 - B) கிளர்ந்த
 - C) கிளர்க
 - D) கிளர்ந்தது
 - E) விடை தெரியவில்லை



5. சொல்லோடு பொருளைப் பொருத்துக.

(சொல்) (பொருள்)

- | | |
|-----------|------------|
| a) பீடு | 1. சாமரை |
| b) ஊழி | 2. சினம் |
| c) கவரி | 3. யுகம் |
| d) முனிவு | 4. சிறப்பு |

குறியீடுகள்:

- | | a | b | c | d |
|----|---|---|---|---|
| A) | 1 | 3 | 4 | 2 |
| B) | 4 | 3 | 1 | 2 |
| C) | 3 | 2 | 1 | 4 |
| D) | 4 | 1 | 2 | 3 |

E) விடை தெரியவில்லை

6. “பெருமாள் திருமொழி” பற்றிய தவறான கூற்றினைத் தேர்ந்தெடுக்க.

- A) பெருமாள் திருமொழி நாலாயிரத் திவ்வியப் பிரபந்தத்தில் ஐந்தாம் திருமொழியாக உள்ளது.
B) இதில் 105 பாடல்கள் உள்ளன.
C) இதனைப் பாடியவர் குலசேகராழ்வார்.
D) இந்நூல் இயற்றப்பட்ட காலம் பத்தாம் நூற்றாண்டு.
E) விடை தெரியவில்லை

7. “வாளால் அறுத்துச் சுடினும் மருத்துவன் பால்
மாளாத காதல் நோயாளன் போல் மாயத்தால்”

– இப்பாடலில் பயின்றுவந்துள்ள தொடை நயம் காண்க.

- | | |
|----------------------|-------------------|
| A) அடிமோனை, அடிஎதுகை | B) அடிமோனை, இயைபு |
| C) அடிஎதுகை, இயைபு | D) அடிமோனை, முரண் |
| E) விடை தெரியவில்லை | |

8. பரிபாடல் பற்றிய பின்வரும் கூற்றுகளை கருத்தில் கொள்க.

I. எட்டுத்தொகை நூல்களுள் ஒன்று.

II. இந்நூல் ஓங்கு ‘பரிபாடல்’ எனும் புகழுடையது.

III. இது சங்க இலக்கியங்களுள் பண்ணோடு பாடப்பட்ட நூல்.

IV. உரையாசிரியர்கள் இதில் நூறு பாடல்கள் இருப்பதாகக் கூறியுள்ளனர். இன்று 24 பாடல்களே நமக்கு கிடைத்துள்ளன.

மேற்கண்ட கூற்றுகளில் சரியானவை எவை?

- | | |
|------------------------------|-------------------------------|
| A) I, II மற்றும் III மட்டும் | B) II, III மற்றும் IV மட்டும் |
| C) I, III மற்றும் IV மட்டும் | D) மேற்கண்ட அனைத்தும் |
| E) விடை தெரியவில்லை | |



9. “அண்டப் பகுதியின் உண்டைப் பிறக்கம்” என்னும் பாடலடிகள் இடம்பெற்றுள்ள நூல் எது?
- A) பரிபாடல், கீர்த்தையார்
B) திருமந்திரம், திருமூலர்
C) திருவாசகம், மாணிக்கவாசகர்
D) தேவாரம், திருநாவுக்கரசர்
E) விடை தெரியவில்லை
10. பின்வரும் கூற்றுகளை கருத்தில் கொள்க.
- I. அமெரிக்க வானியல் வல்லுநர் எட்வின் ஹப்பிள் 1924இல் நம் பால்வீதி போன்று பல பால்வீதிகள் உள்ளன என்று நிரூபித்தார்.
- II. புவியின் உருவாக்கம் குறித்த செய்தியானது பெருமாள் திருமொழியில் இடம்பெற்றுள்ளது. மேற்கண்ட கூற்றுகளில் சரியானது எது/எவை?
- A) I மட்டும்
B) II மட்டும்
C) இரண்டும்
D) இரண்டுமில்லை
E) விடை தெரியவில்லை
11. பின்வரும் கூற்றுகளை கருத்தில் கொள்க.
- I. வித்துவக்கோடு என்னும் ஊர், கேரள மாநிலத்தில் திருச்சூர் மாவட்டத்தில் உள்ளது.
- II. குலசேகர ஆழ்வார் வித்துவக்கோடு ஊரில் வீற்றிருக்கும் இறைவனான உய்யவந்த பெருமானை குழந்தையாக உருவகித்துப் பாடுகிறார். மேற்கண்ட கூற்றுகளில் சரியானது எது/எவை?
- A) I மட்டும்
B) II மட்டும்
C) இரண்டும்
D) இரண்டுமில்லை
E) விடை தெரியவில்லை
12. பின்வரும் கூற்றுகளைக் கருத்தில் கொள்க.
- I. சீனாவில் சாப்ட்வங்கி உருவாக்கிய இயந்திர மனிதனே பெப்பர்.
- II. பெப்பரை வரவேற்பாளராகவும் பணியாளராகவும் வீடுகளிலும் வணிக நிறுவனங்களிலும் உணவு விடுதிகளிலும் பயன்படுத்துகிறார்கள். மேற்கண்ட கூற்றுகளில் சரியானது எது/எவை?
- A) I மட்டும்
B) II மட்டும்
C) இரண்டும்
D) இரண்டுமில்லை
E) விடை தெரியவில்லை
13. தவறாக பொருந்தியுள்ள இணையைக் கண்டறிக.
- | (தமிழ்ச்சொல்) | (ஆங்கிலச்சொல்) |
|-----------------------|----------------------|
| A) மின்னணுப் புரட்சி | – Digital Revolution |
| B) தரவு அறிவியலாளர் | – Data Scientist |
| C) தனிநபர் மடிக்கணினி | – Personal Computers |
| D) உலாவி | – Browser |
| E) விடை தெரியவில்லை | |



14. செயற்கை நுண்ணறிவு பற்றிய தவறான கூற்றினைத் தேர்ந்தெடுக்க.
- A) செயற்கை நுண்ணறிவு என்பது ஒரு மென்பொருள் அல்லது கணினிச் செயல்திட்ட வரைவு எனலாம். அது தானாகக் கற்றுக்கொள்ளக் கூடியது.
- B) செயற்கை நுண்ணறிவு பொதிந்த இயந்திரங்களுக்கு ஓய்வு தேவை; செயற்கை நுண்ணறிவால் பார்க்கவும் கேட்கவும் புரிந்துகொள்ளவும் முடியும் என்பதே அதன் சிறப்பு.
- C) மனிதனால் முடியும் செயல்களையும் அவன் கடினம் என்று கருதும் செயல்களையும் செய்யக்கூடியது.
- D) காணொலிகளைத் தொகுக்கும் மென்பொருள்களில் செயற்கை நுண்ணறிவுத் தொழில்நுட்பம் பயன்படுகிறது.
- E) விடை தெரியவில்லை
15. 'இலா' பற்றிய பின்வரும் கூற்றுகளை கருத்தில் கொள்க.
- I. பாரத ஸ்டேட் வங்கி, 'இலா' (Electronic Live Assistant) என்னும் உரையாடு மென்பொருளை உருவாக்கியுள்ளது.
- II. ஒரு விநாடிக்குப் பத்தாயிரம் வாடிக்கையாளர்களுடன் அது உரையாடும்.
- III. வங்கிக்கு வரும் வாடிக்கையாளருக்குக் கிடைக்கும் சேவைகளை அது இணையம் மூலம் அளிக்கிறது.
- மேற்கண்ட கூற்றுகளில் சரியானவை எவை?
- A) I மற்றும் II மட்டும்
B) II மற்றும் III மட்டும்
C) I மற்றும் III மட்டும்
D) மேற்கண்ட அனைத்தும்
E) விடை தெரியவில்லை
16. 2016 ஆம் ஆண்டு ஐ.பி.எம் நிறுவனத்தினால் நோயாளியின் தரவுகளை ஆய்ந்தறிவதற்காக உருவாக்கப்பட்ட செயற்கை நுண்ணறிவுக் கணினியின் பெயர் என்ன?
- A) கிரிக்
B) இராபர்ட்ஹூக்
C) அலெக்சாண்டர்
D) வாட்சன்
E) விடை தெரியவில்லை
17. பின்வருவனவற்றுள் சரியாக அமைந்த தொடரைத் தேர்ந்தெடுக்க.
- A) மனிதர்களுடன் சதுரங்கம் முதலான விளையாட்டுகளை விளையாடுகிறது செயற்கை நுண்ணறிவைக் கொண்ட இயந்திரம்.
- B) செயற்கை மனிதர்களுடன் சதுரங்கம் முதலான விளையாட்டுகளை விளையாடுகிறது நுண்ணறிவைக் கொண்ட இயந்திரம்.
- C) செயற்கை நுண்ணறிவைக் கொண்ட இயந்திரம் மனிதர்களுடன் சதுரங்கம் முதலான விளையாட்டுகளை விளையாடுகிறது.
- D) சதுரங்கம் முதலான விளையாட்டுகளை விளையாடுகிறது செயற்கை நுண்ணறிவைக் கொண்ட இயந்திரம் மனிதர்களுடன்.
- E) விடை தெரியவில்லை
18. "இங்கிவனை யான் பெறவே என்ன தவம் செய்துவிட்டேன்" என்று பாடியவர் யார்?
- A) பாரதியார்
B) பாரதிதாசன்
C) கவிமணி
D) தமிழ்த்தென்றல்
E) விடை தெரியவில்லை



19. “ஸ்டீபன் ஹாக்கிங் நூல்கள்” பற்றிய பின்வரும் கூற்றுகளை கருத்தில் கொள்க.
- I. இவர் எழுதிய நூல்களுள் ‘காலத்தின் சுருக்கமான வரலாறு’ என்ற நூல் நாற்பது மொழிகளில் மொழிபெயர்க்கப்பட்டது.
- II. 1988 ஆம் ஆண்டு வெளிவந்த இந்நூல் பெருவெடிப்பு, கருந்துளை ஆகியவை பற்றி அரிய உண்மைகளைப் பொதுமக்களிடையே பரப்பி, ஒரு கோடிப் படிக்கு மேல் விற்பனையானது.
- மேற்கண்ட கூற்றுகளில் தவறானது எது/எவை?
- A) I மட்டும்
B) II மட்டும்
C) இரண்டும்
D) இரண்டுமில்லை
E) விடை தெரியவில்லை
20. “அறிவைவிட மிகவும் முக்கியமானது கற்பனைத்திறன். ஏனெனில் அறிவு என்பது நாம் தற்போது அறிந்தும் புரிந்தும் வைத்திருப்பவற்றோடு முடிந்து விடுகிறது. கற்பனைத் திறனோ இந்த ஒட்டு மொத்தப் பேரண்டத்தையும் அளப்பது, இன்று நாம் அறிந்திருப்பதை மட்டுமன்று; இனி நாம் அறிந்து கொள்ளப்போவதையும் உள்ளடக்கியது” என்று கூறியவர் யார்?
- A) கலிலியோ
B) ஜன்ஸ்டைன்
C) நியூட்டன்
D) ஸ்டீபன் ஹாக்கிங்
E) விடை தெரியவில்லை
21. 2012 இல் நடைபெற்ற பாரா ஒலிம்பிக் விளையாட்டுப் போட்டிகளில் “தொடக்க விழா நாயகர்” என்ற சிறப்பைப் பெற்றவர் யார்?
- A) மாரியப்பன்
B) அன்னியே ரோசன்
C) கென்னி வான் வீகெல்
D) ஸ்டீபன் ஹாக்கிங்
E) விடை தெரியவில்லை
22. கருந்துளை என்ற சொல்லையும் கோட்பாட்டையும் முதலில் குறிப்பிட்டவர் யார்?
- A) ஜான் வில்லர்
B) ஸ்டீபன் ஹாக்கிங்
C) கலிலியோ
D) ஜன்ஸ்டைன்
E) விடை தெரியவில்லை
23. “ஹாக்கிங் கதிர்வீச்சு” பற்றிய பின்வரும் கூற்றுகளை கருத்தில் கொள்க.
- I. கருந்துளையினுள் செல்லும் எந்த ஒன்றும் தப்பித்து வெளியே வரமுடியாது.
- II. கருந்துளையின் ஈர்ப்பு எல்லையிலிருந்து கதிர்வீச்சுகள் வெளிப்பட்டுக் கொண்டிருக்கின்றன.
- III. கருந்துளை பார்ப்பதற்கு கருப்பாக உள்ளது. கருந்துளையிலிருந்து ஒரு கட்டத்தில் கதிர்வீச்சும் அணுத்துகள்களும் கசியத் தொடங்கி இறுதியில் கருந்துளை வெடித்து மறைந்துவிடும்.
- மேற்கண்ட கூற்றுகளில் சரியானவை எவை?
- A) I மற்றும் II மட்டும்
B) II மற்றும் III மட்டும்
C) I மற்றும் III மட்டும்
D) மேற்கண்ட அனைத்தும்
E) விடை தெரியவில்லை



24. ஸ்டீபன் ஹாக்கிங் எந்த விமானத்தில் பூஜ்ஜிய ஈர்ப்பு விசைப் பயணத்தை மேற்கொண்டு எடையற்ற தன்மையை உணர்ந்தார்?
- A) அலிட்டாலியா 771
B) போயிங் 727
C) IC 814
D) நியூயார்க் 929
E) விடை தெரியவில்லை
25. ஸ்டீபன் ஹாக்கிங் பெற்ற விருதுகளுள் பொருந்தா ஒன்றினைத் தேர்ந்தெடு.
- A) அமெரிக்காவின் அதிபர் விருது
B) காப்ளி பதக்கம்
C) ஆல்பர்ட் ஜன்ஸ்டைன் விருது
D) நோபல் பரிசு
E) விடை தெரியவில்லை
26. “உனதருளே பார்ப்பன் அடியேனே” யாரிடம் யார் கூறியது?
- A) குலசேகராழ்வாரிடம் இறைவன்
B) இறைவனிடம் குலசேகராழ்வார்
C) மருத்துவரிடம் நோயாளி
D) நோயாளிடம் மருத்துவர்
E) விடை தெரியவில்லை
27. பரிபாடல் அடியில் “விசும்பும் இசையும்” என்னும் தொடர் எதனைக் குறிக்கிறது?
- A) வானத்தையும் பாட்டையும்
B) வானத்தையும் புகழையும்
C) வானத்தையும் பூமியையும்
D) வானத்தையும் பேரொலியையும்
E) விடை தெரியவில்லை
28. ஒரு விரலைக் காட்டிச் “எது சிறியது? எது பெரியது?” என்று கேட்டல் எவ்வகை வழி
- A) விடை வழி
B) எண் வழி
C) வினா வழி
D) இடவழி
E) விடை தெரியவில்லை
29. வழி அடிப்படையில் பொருந்தா ஒன்றினைத் தேர்ந்தெடு.
- A) செழியன் வந்தது
B) நீ வந்தேன்
C) கண்ணகி உண்டாள்
D) நேற்று வருவான்
E) விடை தெரியவில்லை
30. “வாடா இராசா, வாடா கண்ணா” என்று தன் மகளைப் பார்த்துத் தாய் அழைப்பது எவ்வகைத் தொடர்.
- A) திணை வழுவமைதி
B) பால் வழுவமைதி
C) இட வழுவமைதி
D) கால வழுவமைதி
E) விடை தெரியவில்லை
31. மாறன் என்பான் தன்னைப்பற்றிப் பிறரிடம் கூறும்போது “இந்த மாறன் ஒருநாளும் பொய் கூறமாட்டான்” என்று கூறுகிறார், “பூனையார் பால்சோற்றைக் கண்டதும் வருகிறார்” ஆகிய தொடர்களில் இடம்பெற்றுள்ள வழுவமைதி முறையே
- A) மரபு வழுவமைதி, திணை வழுவமைதி
B) இடவழுவமைதி, மரபு வழுவமைதி
C) பால் வழுவமைதி, கால வழுவமைதி
D) இடவழுவமைதி, திணை வழுவமைதி
E) விடை தெரியவில்லை



32. கலைச்சொல் தருக. Cosmic Rays
A) விண்வெளிக் கதிர்கள்
B) புறஊதாக்க கதிர்கள்
C) அகச்சிவப்புக் கதிர்கள்
D) வான் கதிர்கள்
E) விடை தெரியவில்லை
33. பாரதியின் மொழிபெயர்ப்புகளுள் தவறான ஒன்றினைத் தேர்தெடு
(ஆங்கிலச் சொல்) (தமிழ்ச்சொல்)
A) Exhibition – பொருட்காட்சி
B) East Indian Railways – கிழக்கிந்திய இருப்புப் பாதை
C) Revolution – புரட்சி
D) Strike – வேலை நிறுத்தம்
E) விடை தெரியவில்லை
34. “மாபாரதம் தமிழ்ப்படுத்தும் மதுராபுரிச் சங்கம் வைத்தும்” என்னும் குறிப்பு இடம்பெற்றுள்ள செப்பேடு எது?
A) மதுரை செப்பேடு
B) சின்னமனூர்ச் செப்பேடு
C) மாங்காடு செப்பேடு
D) புகளூர் செப்பேடு
E) விடை தெரியவில்லை
35. தவறான இணையைக் தேர்ந்தெடுக்க.
(கூற்று) (கூறியவர்)
A) ஒரு மொழியில் உணர்த்தப்பட்டதை வேறொரு மொழியில் வெளியிடுவது மொழிபெயர்ப்பு – மணவை முஸ்தபா
B) ஒரு மொழி வளம்பெறவும் உலகத்துடன் உறவுகொள்ளவும் மொழிபெயர்ப்பு இன்றியமையாததாகும் – மு. கு. ஜகந்நாதர்
C) “காசினியில் இன்றுவரை அறிவின் மன்னர் கண்டுள்ள கலைகளெல்லாம் தமிழில் எண்ணி பேசி மகிழ் நிலை வேண்டும்” – பாரதிதாசன்
D) “சென்றிடுவீர் எட்டுத்திக்கும் – கலைச் செல்வங்கள் யாவும் கொணர்ந்திங்கு சேர்ப்பீர்” – பாரதியார்
E) விடை தெரியவில்லை
36. இரவீந்திரநாத் தாகூர் வங்கமொழியில் எழுதிய கவிதைத் தொகுப்பான கீதாஞ்சலியை ஆங்கிலத்தில் மொழிபெயர்த்தவர் யார்?
A) வில்லியம் ஜோன்ஸ்
B) கவிஞர் கவிமணி
C) இரவீந்திரநாத் தாகூர்
D) ஜி.யு. போப்
E) விடை தெரியவில்லை



37. பின்வரும் கூற்றுகளை கருத்தில் கொள்க.
- I. ராகுல் சாங்கிருத்யாயன் 1942 ஆம் ஆண்டு ஹஜிராபாக் மத்திய சிறையிலிருந்தபோது 'வால்காவிலிருந்து கங்கை வரை' என்ற நூலை இந்தி மொழியில் எழுதினார்.
- II. இந்நூலை 1949 ஆம் ஆண்டு கணமுத்தையா என்பவர் தமிழில் மொழிபெயர்த்து வெளியிட்டார்.
- மேற்கண்ட கூற்றுகளில் சரியானது எது/எவை?
- A) I மட்டும்
B) II மட்டும்
C) இரண்டும்
D) இரண்டுமில்லை
E) விடை தெரியவில்லை
38. பொருத்துக.
- | | |
|------------------------|----------------------|
| (ஆங்கிலச் சொல்) | (தமிழ்ச்சொல்) |
| a) Transcribe | 1. உருமாற்றுதல் |
| b) Transfer | 2. செயல்படுத்துதல் |
| c) Transform | 3. மாறுதல் |
| d) Transact | 4. படியெடுத்தல் |
- குறியீடுகள்:**
- | | | | | |
|----|----------|----------|----------|----------|
| | a | b | c | d |
| A) | 3 | 1 | 2 | 4 |
| B) | 2 | 3 | 4 | 1 |
| C) | 1 | 4 | 2 | 3 |
| D) | 4 | 3 | 1 | 2 |
- E) விடை தெரியவில்லை
39. “அருளைப் பெருக்கி அறிவைத் திருத்தி மருளை அகற்றி மதிக்கும் தெருளை” – இப்பாடலில் அடையப் பெற்றுள்ள மோனை எது?
- A) இணை மோனை
B) பொழிப்பு மோனை
C) ஒருஉ மோனை
D) கூழை மோனை
E) விடை தெரியவில்லை
40. “சதாவதானம்” பற்றிய பின்வரும் கூற்றுகளை கருத்தில் கொள்க.
- I. ஒருவரது புலமையையும் நினைவாற்றலையும் நுண் அறிவையும் சோதிப்பதற்காக ஒரே நேரத்தில் நிகழ்த்தப்படும் நூறு செயல்களையும் நினைவில் கொண்டு விடையளித்தலே சதாவதானம்.
- II. செய்குதம்பிப் பாவலர் 1907 மார்ச் 10 ஆம் நாளில் சென்னை விக்டோரியா அரங்கத்தில் அறிஞர் பலர் முன்னிலையில் நூறு செயல்களை ஒரே நேரத்தில் செய்து காட்டி ‘சதாவதானி’ என்று பாராட்டப் பெற்றவர்.
- மேற்கண்ட கூற்றுகளில் தவறானது எது/எவை?
- A) I மட்டும்
B) II மட்டும்
C) இரண்டும்
D) இரண்டுமில்லை
E) விடை தெரியவில்லை



41. இடைக்காடனார் என்னும் புலவர், தாம் இயற்றிய கவிதையினை எவர் முன்பு பாடினார்?
A) குலேசபாண்டியன் B) செண்பக பாண்டியன்
C) இறைவன் D) கபிலர்
E) விடை தெரியவில்லை
42. இடைக்காடன் பிணக்குத் தீர்த்த படலமானது எக்காண்டத்தில் இடம்பெற்றுள்ளது?
A) மதுரைக் காண்டம் B) கூடற் காண்டம்
C) திருஆலவாய்க் காண்டம் D) புகார் காண்டம்
E) விடை தெரியவில்லை
43. “சொல்லேருழுவனுக்குக் கவரி வீசிய வில்லேருழவன்” – அடிக்கோடிட்ட சொல் யார் யாரைக் குறிப்பிடுகிறது?
A) மோசிகீரனார், சோழன் செங்கணான்
B) தகடூர் எறிந்த பெருஞ்சேரல் இரும்பொறை, மோசிகீரனார்
C) மோசிகீரனார், தகடூர் எறிந்த பெருஞ்சேரல் இரும்பொறை
D) சோழன் செங்கணான், மோசிகீரனார்
E) விடை தெரியவில்லை
44. திருவிளையாடற் புராணம் பற்றிய பின்வரும் கூற்றுகளை கருத்தில் கொள்க.
I. இந்நூல் மூன்று காண்டங்களும் 63 படலங்களும் உடையது.
II. இந்நூல் பதினேழாம் நூற்றாண்டில் இயற்றப்பட்டது. இயற்றியவர் பரஞ்சோதி முனிவர்.
மேற்கண்ட கூற்றுகளில் சரியானது எது/எவை?
A) I மட்டும் B) II மட்டும்
C) இரண்டும் D) இரண்டுமில்லை
E) விடை தெரியவில்லை
45. பரஞ்சோதி முனிவர் இயற்றிய நூல்களுள் பொருந்தா ஒன்றினைத் தேர்ந்தெடு.
A) வேதாரண்யப் புராணம்
B) திருவிளையாடல் போற்றிக் கலிவெண்பா
C) மதுரை பதிற்றுப்பத்தந்தாதி
D) கந்தர் கலிவெண்பா
E) விடை தெரியவில்லை
46. “ஆங்கு அவன் இடத்தில் யாம் வைத்த அருளினால் வந்தேம் என்னா” – இக்கூற்றானது யார் யாரிடம் கூறியது?
A) மன்னர், இடைக்காடன் B) இடைக்காடன், மன்னர்
C) இறைவன், மன்னன் D) மன்னன், இறைவன்
E) விடை தெரியவில்லை
47. சீறாப்புராணத்திற்கு உரை எழுதியவர் யார்?
A) கமலாலயன் B) செய்குதம்பிப் பாவலர்
C) அப்துல் காதிர் D) அப்துல் ரகுமான்
E) விடை தெரியவில்லை



48. “கொற்கைக் கோமான் கொற்கையம் பெருந்துறை” என்னும் இத்தொடர் இடம்பெற்றுள்ள நூல் எது?
A) குறுந்தொகை B) ஐங்குறுநூறு
C) பதிற்றுப்பத்து D) அகநானூறு
E) விடை தெரியவில்லை
49. “கற்கை நன்றே கற்கை நன்றே பிச்சை புகினும் கற்கை நன்றே” என்ற பாடலடிகள் இடம்பெற்றுள்ள நூல் எது?
A) கொன்றை வேந்தன் B) வெற்றிவேற்கை
C) நல்வழி D) மூதுரை
E) விடை தெரியவில்லை
50. “அருளைப் பெருக்கி அறிவைத் திருத்தி மருளை அகற்றி மதிக்கும் தெருளை” என்று இவ்வடிகளில் குறிப்பிடப்படுவது எது?
A) தமிழ் B) அறிவியல்
C) கல்வி D) இலக்கியம்
E) விடை தெரியவில்லை
51. மாபெரும் கல்வியாளரான மேரி மெக்லியோட் பெத்யூன் என்பவரின் வாழ்க்கை வரலாற்றை “உனக்குப் படிக்கத் தெரியாது” என்ற தலைப்பில் நூலாகப் படைத்துள்ளவர் யார்?
A) இறையரசன் B) வே. குணசேகரன்
C) செய்குதம்பிப் பாவலர் D) யூமா வாசுகி
E) விடை தெரியவில்லை
52. “என்னிடம் பாரதிதாசன் கவிதைகள் இரண்டு படிகள் உள்ளன. உன்னிடம் பாரதிதாசனின் கவிதைகள் இருக்கிறதா?” என்று வினவுதல்
A) கொடை வினா
B) கொளல் வினா
C) ஏவல் வினா
D) ஐய வினா
E) விடை தெரியவில்லை
53. தவறாக பொருந்தியுள்ள இணையைக் கண்டறிக.
(தொடர் வகை) (வினாவகை)
- | | |
|--|--------------|
| A) “வீட்டில் தக்காளி இல்லை. நீ கடைக்குச் செல்கிறாயா?”
என்று அக்கா தம்பியிடம் வினவுதல் | – ஏவல் வினா |
| B) இச்செயலைச் செய்தது மங்கையா? மணிமேகலையா?”
என வினவுதல் | – அறியா வினா |
| C) மாணவரிடம் “இந்தக் கவிதையின் பொருள் யாது?”
என்று ஆசிரியர் கேட்டல் | – அறிவினா |
| D) “ஜெயகாந்தன் சிறுகதைகள் இருக்கிறதா?”
என்று நூலகரிடம் வினவுதல் | – கொளல் வினா |
| E) விடை தெரியவில்லை | |



54. வெளிப்படை விடைகளுள் பொருந்தா ஒன்றினைத் தேர்ந்தெடுக்க.
- A) சுட்டு விடை
B) ஏவல் விடை
C) மறை விடை
D) நேர் விடை
E) விடை தெரியவில்லை
55. 'என்னுடன் ஊருக்கு வருவாயா?' என்ற வினாவிற்கு 'வராமல் இருப்பேனா' என்று கூறுவது எவ்வகை விடை?
- A) மறைவிடை
B) வினா எதிர் வினாதல் விடை
C) உற்றது உரைத்தல் விடை
D) ஏவல் விடை
E) விடை தெரியவில்லை
56. பின்வரும் இணைகளை கருத்தில் கொள்க.
- | (தொடர்) | (விடை வகை) |
|---|---------------------------|
| I. 'உனக்குக் கதை எழுதத் தெரியுமா?' என்ற வினாவிற்கு
'கட்டுரை எழுதத் தெரியும்' என்று கூறுவது | - இனமொழி விடை |
| II. 'நீ விளையாடவில்லையா?' என்ற வினாவிற்கு
'கால் வலிக்கிறது' என்று கூறுவது | - உறுவது கூறல் விடை |
| III. 'இது செய்வாயா?' என்ற வினவியபோது,
'நீயே செய்' என்று ஏவிக் கூறுவது | - வினா எதிர் வினாதல் விடை |
| IV. 'கடைக்குப் போவாயா?' என்ற வினாவிற்கு
'போவேன்' என்று கூறுவது | - மறை விடை |
- மேற்கண்ட இணைகளில் எத்தனை இணைகள் சரியானவை?
- A) 1
B) 2
C) 3
D) 4
E) விடை தெரியவில்லை
57. பின்வரும் இணைகளை கருத்தில் கொள்க.
- | (செய்யுள்) | (பொருள்கோள் வகை) |
|---|--------------------------------|
| I. அன்பும் அறனும் உடைத்தாயின் இல்வாழ்க்கை
பண்பும் பயனும் அது | - முறை நிரல்நிறைப் பொருள்கோள் |
| II. விலங்கொடு மக்கள் அனையர் இலங்குநூல்
கற்றாரோடு ஏனை யவர் | - எதிர் நிரல்நிறைப் பொருள்கோள் |
| III. ஆலத்து மேல குவளை குளத்துள்
வாலின் நெடிய குரங்கு | - கொண்டு கூட்டுப் பொருள்கோள் |
| IV. முயற்சி திருவினையாக்கும் முயற்றின்மை
இன்மை புகுத்தி விடும் | - ஆற்றுநீர்ப் பொருள்கோள் |
- மேற்கண்ட இணைகளில் எத்தனை இணைகள் சரியானவை?
- A) 1
B) 2
C) 3
D) 4
E) விடை தெரியவில்லை



58. செய்யுளில் எழுவாயாக அமையும் பெயர்ச்சொற்களை அல்லது வினைச்சொற்களை வரிசையாக நிறுத்தி, அவை ஏற்கும் பயனிலைகளையும் அவ்வரிசைப்படியே நிறுத்திப் பொருள் கொள்ளுதல்
- A) ஆற்றுநீர்ப் பொருள்கோள் B) கொண்டு கூட்டுப் பொருள்கோள்
C) முறை நிரல்நிறைப் பொருள்கோள் D) எதிர் நிரல்நிறைப் பொருள்கோள்
E) விடை தெரியவில்லை
59. இடைக்காடனாரின் பாடலை இகழ்ந்தவர் யார்?
இடைக்காடனாரிடம் அன்பு வைத்தவர் யார்?
- A) அமைச்சர், மன்னன் B) அமைச்சர், இறைவன்
C) இறைவன், மன்னன் D) மன்னன், இறைவன்
E) விடை தெரியவில்லை
60. “இங்கு நகரப் பேருந்து நிற்குமா?” என்று வழிப்போக்கர் கேட்பது எவ்வகை வினா? “அதோ, அங்கே நிற்கும்” என்று மற்றொருவர் கூறியது எவ்வகை விடை?
- A) ஐயவினா, வினா எதிர் வினாதல் B) அறிவினா, மறை விடை
C) அறியா வினா, சுட்டு விடை D) கொளல் வினா, இனமொழி விடை
E) விடை தெரியவில்லை
61. “ஓடு” என்னும் வேர்ச்சொல்லை அடிப்படையாகக் கொண்ட வினையெச்சத் தொடரினைத் தேர்ந்தெடுக்க.
- A) ஓடிய அருணா B) அருணா ஓடினான்
C) அருணா ஓடாதே D) ஓடி வந்தாள்
E) விடை தெரியவில்லை
62. கா என்பதன் பொருள் யாது?
- A) கம்பீரத்துடன் கூடிய கோல் B) பாரந்தாங்கும் கோல்
C) காற்றில் ஆடுதல் D) குடக்கூத்து
E) விடை தெரியவில்லை
63. கரகாட்டம் பற்றிய பின்வரும் கூற்றுகளை கருத்தில் கொள்க.
- I. ‘கரகம்’ என்னும் பித்தளைச் செம்பையோ, சிறிய குடத்தையோ தலையில் வைத்துத் தாளத்திற்கு ஏற்ப ஆடுவது கரகாட்டம்.
- II. நீரற வறியாக் கரகத்து ,, என்று சிலப்பதிகார பாடலடியில் கரகம் என்ற சொல் இடம்பெற்றுள்ளது.
- III. சிலப்பதிகாரத்தில் மாதவி ஆடிய பதினொரு வகை ஆடல்களில் ‘குடக்கூத்து’ என்ற ஆடலும் குறிப்பிடப்படுகிறது.
- மேற்கண்ட கூற்றுகளில் சரியானவை எவை?
- A) I மற்றும் II மட்டும் B) II மற்றும் III மட்டும்
C) I மற்றும் III மட்டும் D) மேற்கண்ட அனைத்தும்
E) விடை தெரியவில்லை



64. பின்வருவனவற்றுள் தேவராட்டம் பற்றிய தவறான கூற்றினைத் தேர்ந்தெடுக்க.
- A) வானத்துத் தேவர்கள் ஆடிய ஆட்டம் எனப் பொருள் கொள்ளப்படுகிறது. இது ஆண்கள் மட்டுமே ஆடும் ஆட்டம்.
- B) உறுமி எனப் பொதுவாக அழைக்கப்படும், 'தேவதுந்துபி' தேவராட்டத்திற்குரிய இசைக்கருவி.
- C) இவ்வாட்டத்தில் பெரும்பான்மையாக எட்டு முதல் பதின்மூன்று கலைஞர்கள் கலந்து கொள்ள வேண்டுமென்பது பொது மரபாக உள்ளது.
- D) ஊர்ந்து ஆடுதல், மிதந்து ஆடுதல், சுற்றி ஆடுதல், இறகை விரித்தாடுதல், தலையைச் சாய்த்தாடுதல், தாவிடாடுதல், இருபுறமும், சுற்றியாடுதல், அகவுதல், தண்ணீர் குடித்துக் கொண்டே ஆடுதல் ஆகிய அடவுகளைக் கலைஞர்கள் இவ்வாட்டத்தில் ஆடிக்காட்டுவர்.
- E) விடை தெரியவில்லை
65. கீழ்க்கண்டவற்றுள் கரகாட்டத்தின் துணையாட்டமாக ஆடப்படுவது எது?
- A) காவடியாட்டம் B) மயிலாட்டம்
C) ஒயிலாட்டம் D) சேர்வையாட்டம்
E) விடை தெரியவில்லை
66. கீழ்க்கண்டவற்றுள் புரவி ஆட்டம், புரவி நாட்டியம் என்ற பெயர்களில் அழைக்கப்படும் ஆட்டம் எது?
- A) பொய்க்கால் குதிரையாட்டம் B) புலி ஆட்டம்
C) ஒயிலாட்டம் D) மயிலாட்டம்
E) விடை தெரியவில்லை
67. "தோற்பாவைக் கூத்து" பின்வரும் கூற்றுகளை கருத்தில் கொள்க.
- I. தோலில் செய்த வெட்டு வரைபடங்களை, விளக்கின் ஒளி ஊடுருவும் திரைச்சீலையில் பொருத்தி, கதைக்கேற்ப மேலும் கீழும் பக்கவாட்டிலும் அசைத்துக்காட்டி, உரையாடியும் பாடியும் காட்டுவது தோற்பாவைக் கூத்து.
- II. பாவையின் அசைவு, உரையாடல், இசை ஆகியனவற்றோடு ஒளியும் முதன்மை பெறுகின்றது. இது கையுறைப் பாவைக் கூத்து, பொம்மலாட்டம் என்பனவாகவும் மாற்றம் பெற்றுள்ளது.
- III. பாவை குறித்த செய்திகள் சங்ககாலம் முதல் பதினெட்டாம் நூற்றாண்டு வரையான தமிழ் இலக்கியங்களில் காணப்படுகின்றன. திருக்குறளில் மரப்பாவையைப் பற்றிக் குறிப்பிடப்பட்டுள்ளது.
- IV. ஊர் ஊராகச் சென்று நிகழ்த்துகிற கூட்டுக்குடும்பக் கலையாகத் தோற்பாவைக்கூத்து விளங்குகிறது.
- மேற்கண்ட கூற்றுகளில் சரியானவை எவை?
- A) I, II மற்றும் III மட்டும் B) II, III மற்றும் IV மட்டும்
C) I மற்றும் III மட்டும் D) மேற்கண்ட அனைத்தும்
E) விடை தெரியவில்லை
68. கவிஞர் உமா மகேஸ்வரியின் படைப்புகளுள் பொருந்தா ஒன்றினைத் தேர்ந்தெடுக்க.
- A) நட்சத்திரங்களின் நடுவே B) வெறும் பொழுது
C) சிறந்த சிறுகதைகள் பதின்மூன்று D) கற்பாவை
E) விடை தெரியவில்லை



69. “நாடகக்கலையை மீட்டெடுப்பதே தமது குறிக்கோள்” என்று கூறியவர் யார்?
 A) மொழி ஞாயிறு
 B) ந. முத்துசாமி
 C) பரிதிமாற் கலைஞர்
 D) சங்கரதாசு சுவாமிகள்
 E) விடை தெரியவில்லை
70. 17ஆம் நூற்றாண்டைச் சேர்ந்த இசைக்கலைஞர்கள் குறித்த சுவரோவியம் எங்கு காணப்படுகிறது?
 A) திருநெல்வேலி
 B) சிதம்பரம்
 C) திருப்புடை மருதூர்
 D) உறையூர்
 E) விடை தெரியவில்லை
71. செங்கீரைப் பருவம் என்பது பிள்ளைத்தமிழில் எத்தனையாவது பருவமாக உள்ளது?
 A) நான்காவது
 B) இரண்டாவது
 C) மூன்றாவது
 D) ஐந்தாவது
 E) விடை தெரியவில்லை
72. அகரவரிசைப்படுத்துக.
 A) தால், சப்பாணி, முத்தம், வருகை, அம்புலி
 B) அம்புலி, தால், முத்தம், சப்பாணி, வருகை
 C) அம்புலி, சப்பாணி, தால், முத்தம், வருகை
 D) அம்புலி, தால், சப்பாணி, முத்தம், வருகை
 E) விடை தெரியவில்லை
73. 'பிள்ளைத்தமிழ்' பற்றிய பின்வரும் கூற்றுகளை கருத்தில் கொள்க.
 I. இறைவனையோ, தலைவரையோ, அரசனையோ பாட்டுடைத் தலைவராகக் கொண்டு, அவரைக் குழந்தையாகக் கருதிப் பாடுவர்.
 II. பத்துப் பருவங்கள் அமைத்து, பருவத்திற்குப் பத்துப்பாடல் என நூறு பாடல்களால் இது பாடப்பெறும்.
 III. இருபாலருக்கும் பொதுவான பருவங்கள் மொத்தம் ஏழு.
 மேற்கண்ட கூற்றுகளில் சரியானவை எவை?
 A) I மற்றும் II மட்டும்
 B) II மற்றும் III மட்டும்
 C) I மற்றும் III மட்டும்
 D) மேற்கண்ட அனைத்தும்
 E) விடை தெரியவில்லை
74. ஆண்பால் பிள்ளைத்தமிழில் பயின்று வாராப் பருவத்தினை தேர்ந்தெடு.
 A) கழங்கு
 B) அம்புலி
 C) சிறுபறை
 D) காப்பு
 E) விடை தெரியவில்லை



75. பின்வரும் இணைகளை கருத்தில் கொள்க.

(அணிகலன்) (அணிவது)

- I. கிண்கிணி - இடை
II. குழை - காது
III. சூழி - தலை
IV. சிலம்பு - கால்

மேற்கண்ட இணைகளில் எத்தனை இணைகள் சரியானவை?

- A) 1 B) 2
C) 3 D) 4
E) விடை தெரியவில்லை

76. குமரகுருபரர் பற்றிய தவறான கூற்றினைத் தேர்ந்தெடுக்க.

- A) இவரது காலம் கிபி 18 ஆம் நூற்றாண்டு.
B) இவர் தமிழ், வடமொழி, இந்துஸ்தானி ஆகிய மொழிகளில் புலமை மிக்கவர்.
C) இவர் கந்தர் கலிவெண்பா, மீனாட்சி அம்மை பிள்ளைத்தமிழ், மதுரைக்கலம்பகம், சகலகலாவல்லிமாலை, நீதிநெறி விளக்கம், திருவாரூர் மும்மணிக்கோவை முதலான நூல்களை இயற்றியுள்ளார்.
D) இவர் இயற்றிய முத்துக்குமாரசுவாமி பிள்ளைத்தமிழ் பாட்டுடைத் தலைவன் வைத்தியநாதபுரியில் எழுந்தருளிய முருகப்பெருமான் ஆவார்.
E) விடை தெரியவில்லை

77. பின்வரும் பாரதியின் கூற்றுகளுள் பொருந்தா ஒன்றினைத் தேர்ந்தெடுக்க.

- A) ஓசைதரும் இன்பம் உவமையிலா இன்பமடா
B) நான் இசைத்த கவியெல்லாம் கம்பன்
C) தேமதுரத் தமிழோசை உலகமெலாம்
பரவும் வகை செய்தல் வேண்டும்
D) வள்ளுவன் தன்னை உலகினுக்கே தந்து
வான்புகழ் கொண்ட தமிழ்நாடு
E) விடை தெரியவில்லை

78. கரகாட்டத்தைக் கும்பாட்டம் என்றும் குடக்கூத்து என்றும் கூறுவர்.

இத்தொடருக்கான வினா எது?

- A) கரகாட்டம் என்றால் என்ன?
B) கரகாட்டம் எக்காலங்களில் நடைபெறும்?
C) கரகாட்டத்தின் வேறுவேறு வடிவங்கள் யாவை?
D) கரகாட்டத்தின் வேறு பெயர்கள் யாவை?
E) விடை தெரியவில்லை

79. கார்காலத்தைப் பொழுதாகக் கொண்ட நிலங்கள் எவை?

- A) குறிஞ்சி, முல்லை, மருதம் B) முல்லை, மருதம், நெய்தல்
C) மருதம், நெய்தல், பாலை D) குறிஞ்சி, மருதம், நெய்தல்
E) விடை தெரியவில்லை



80. பின்வரும் இணைகளை கருத்தில் கொள்க.

(திணை) (சிறுபொழுது)

- I. குறிஞ்சி – யாமம்
II. பாலை – மாலை
III. முல்லை – வைகறை
IV. நெய்தல் – ஏற்பாடு
V. மருதம் – நண்பகல்

மேற்கண்ட இணைகளில் எத்தனை இணைகள் சரியானவை?

- A) 5
B) 2
C) 3
D) 4
E) விடை தெரியவில்லை

81. முதுவேனிற் காலத்திற்குரிய மாதங்கள்

- A) சித்திரை, வைகாசி
B) மாசி, பங்குனி
C) ஆனி, ஆடி
D) ஆவணி, புரட்டாசி
E) விடை தெரியவில்லை

82. தவறாக பொருந்தியுள்ள இணையைக் கண்டறிக.

(நிலம்) (தெய்வம்)

- A) குறிஞ்சி – சேயோன்
B) முல்லை – மாயோன்
C) மருதம் – வருணன்
D) பாலை – கொற்றவை
E) விடை தெரியவில்லை

83. கம்பர் பற்றிய பின்வரும் கூற்றுகளை கருத்தில் கொள்க.

- I. “கல்வியில் பெரியவர் கம்பர்”, “கம்பன் வீட்டுக் கட்டுத்தறியும் கவிபாடும்” போன்ற முதுமொழிகளுக்கு உரியவர்.
II. சேர நாட்டுத் திருவழுந்தூரைச் சார்ந்தவர்; வள்ளல் சீதக்காதி என்பவரால் ஆதரிக்கப் பெற்றவர்.
III. “விருத்தம் என்னும் ஒண்பாவிற்கு உயர் கம்பன்” என்று புகழ்பெற்றவர்.
IV. சரசுவதி அந்தாதி, சடகோபர் அந்தாதி, திருக்கை வழக்கம், ஏரெழுபது, சிலை எழுபது முதலிய நூல்களை இயற்றியவர்.

மேற்கண்ட கூற்றுகளில் சரியானவை எவை?

- A) I, II மற்றும் III மட்டும்
B) I, III மற்றும் IV மட்டும்
C) II, III மற்றும் IV மட்டும்
D) மேற்கண்ட அனைத்தும்
E) விடை தெரியவில்லை

84. கம்பராமாயணம் பற்றிய பின்வரும் கூற்றுகளை கருத்தில் கொள்க.

- I. கம்பர், இராமனது வரலாற்றைத் தமிழில் வழங்கி “இராமாவதாரம்” எனப் பெயரிட்டார். இது கம்பராமாயணம் என வழங்கப்பெற்றது.

II. இது ஆறு காண்டங்களை உடையது.

மேற்கண்ட கூற்றுகளில் சரியானது எது/எவை?

- A) I மட்டும்
B) II மட்டும்
C) இரண்டும்
D) இரண்டுமில்லை
E) விடை தெரியவில்லை



85. பின்வரும் இணைகளை கருத்தில் கொள்க.

(காண்டம்)

(படலம்)

- | | |
|-----------------------|--------------------------|
| I. பால காண்டம் | - ஆற்றுப்படலம் |
| II. அயோத்தியா காண்டம் | - கங்கைப்படலம் |
| III. பால காண்டம் | - நாட்டுப்படலம் |
| IV. யுத்த காண்டம் | - கும்பகருணன் வதைப்படலம் |

மேற்கண்ட இணைகளில் எத்தனை இணைகள் சரியானவை?

- | | |
|------|------|
| A) 1 | B) 2 |
| C) 3 | D) 4 |
- E) விடை தெரியவில்லை

86. கம்பராமாயணத்தில் இடம்பெறாத பாடல் வரியினைத் தேர்ந்தெடு.

- A) வண்மை யில்லையோர் வறுமை யின்மையாற்
B) வெய்யோனொளி தன்மேனியின் விரிசோதியின் மறையப்
C) ஆழ நெடுந்திரை யாறு கடந்திவர் போவாரோ
D) பெண்ணினைப் பாகம் கொண்ட பெருந்தகைப் பரமயோகி
E) விடை தெரியவில்லை

87. நா. கந்தசாமி பற்றிய பின்வரும் கூற்றுகளை கருத்தில் கொள்க.

- I. இவர் எழுதிய சாயாவனம் புதினத்தால் எழுத்துலகில் புகழ்பெற்றார்.
II. 'தக்கையின் மீது நான்கு கண்கள்' என்னும் புதினத்திற்கு சாகித்திய அகாதெமி விருதைப் பெற்றுள்ளார்.
III. சுடுமண் சிலைகள் என்ற குறும்படத்திற்கு அனைத்துலக விருதை பெற்றுள்ளார்.
IV. இவர் தொலைந்து போனவர்கள், தூர்யவம்சம், சாந்தகுமாரி, விசாரணைக் கமிஷன் போன்ற நூல்களைப் படைத்துள்ளார்.

மேற்கண்ட கூற்றுகளில் சரியானவை எவை?

- | | |
|------------------------------|-------------------------------|
| A) I, II மற்றும் III மட்டும் | B) II, III மற்றும் IV மட்டும் |
| C) I, III மற்றும் IV மட்டும் | D) மேற்கண்ட அனைத்தும் |
- E) விடை தெரியவில்லை

88. விளரியாழ் என்பது எத்திணைக்குரிய யாழ்?

- | | |
|-------------|------------|
| A) குறிஞ்சி | B) முல்லை |
| C) மருதம் | D) நெய்தல் |
- E) விடை தெரியவில்லை

89. பொருத்துக.

(நூல்)

(நூலாசிரியர்)

- | | |
|-------------------------------|-------------------------|
| a) தேன்மழை | 1. ஸ்டீபன் ஹாக்கிங் |
| b) நாட்டார் கலைகள் | 2. அ.கா. பெருமாள் |
| c) காலம் | 3. தமிழில் வெ.ஸ்ரீராம் |
| d) திருக்குறள் நீதி இலக்கியம் | 4. சுரதா |
| e) குட்டி இளவரசன் | 5. க.த. திருநாவுக்கரசர் |



குறியீடுகள்:

- | | <i>a</i> | <i>b</i> | <i>c</i> | <i>d</i> | <i>e</i> |
|----|----------|----------|----------|----------|----------|
| A) | 4 | 2 | 1 | 5 | 3 |
| B) | 1 | 3 | 5 | 4 | 2 |
| C) | 5 | 1 | 3 | 2 | 4 |
| D) | 3 | 2 | 4 | 5 | 1 |
- E) விடை தெரியவில்லை

90. கலைச்சொல் தருக. Aesthetics

- | | |
|---------------------|------------|
| A) முருகியல் | B) தொன்மம் |
| C) கலைப் படைப்புகள் | D) ஆய்வேடு |
| E) விடை தெரியவில்லை | |

91. தவறான இணையைக் தேர்ந்தெடுக்க.

(குறள்)

(பொருள்)

- | | |
|--|----------------------------|
| A) பொருளல் லவரைப் பொருளாகச் செய்யும்
பொருள்ளல்ல தில்லை பொருள் | – சொற்பொருள்பின்வருநிலையணி |
| B) தேவர் அனையர் கயவர் அவரும்தாம்
மேவன செய்தொழுக லான் | – வஞ்சப் புகழ்ச்சி அணி |
| C) சொல்லப் பயன்படுவர் சான்றோர்; கரும்புபோல்
கொல்லப் பயன்படும் கீழ் | – உவமை அணி |
| D) குன்றேறி யானைப்போர் கண்டற்றால் தன்கைத்தொன்
றுண்டாகச் செய்வான் வினை | – உவமை அணி |
| E) விடை தெரியவில்லை | |

92. எவ்விரண்டையும் இடைவிடாமல் பின்பற்றுபவரின் குடி உயர்ந்து விளங்குமென வள்ளுவர் குறிப்பிடுகிறார்?

- A) கல்வி, கேள்வி
B) விடாமுயற்சி, சிறந்த அறிவாற்றல்
C) அடக்கம், ஒழுக்கம்
D) பெரியோரைத் துணைக் கொண்டவர், அறிவுடையோர்
E) விடை தெரியவில்லை

93. அமைச்சனின் தகுதிகளை திருவள்ளுவர் வழிநின்று வரிசைப்படுத்துக.

- A) வன்கண், குடிகாத்தல், அறிதல், கருவி, ஆள்வினை
B) ஆள்வினை, குடிகாத்தல், கற்றல், கருவி, வன்கண்
C) வன்கண், குடிகாத்தல், கற்றல், அறிதல், ஆள்வினை
D) கருவி, காலம், வன்கண், குடிகாத்தல், ஆள்வினை
E) விடை தெரியவில்லை



94. இருதிணை, ஐம்பால், மூவிடம், காலம், வினா, விடை, பலவகை மரபு என வரும் ஏழு தொடர்களில் இலக்கணப் பிழைகள் இல்லாதிருப்பின் அவை எவ்வாறு அழைக்கப்படும்?
- A) வழு நிலை
B) வழாநிலை
C) வழுவமைதி
D) வழுஉச் சொல்
E) விடை தெரியவில்லை
95. வழுவமைதி எத்தனை வகைப்படும்?
- A) 6
B) 7
C) 5
D) 4
E) விடை தெரியவில்லை
96. நிலாவையும் வானத்து மீனையும் காற்றையும் நேர்ப்பட வைத்தாங்கே இப்பாடலடியை எழுதியவர் யார்?
- A) கீரந்தையார்
B) பாரதியார்
C) கவிமணி
D) பாரதிதாசன்
E) விடை தெரியவில்லை
97. வாழ்க்கை எவ்வளவு கடினமானதாக இருந்தாலும் வெற்றிக்கான வழி அதில் இருக்கவே செய்கிறது. நிச்சயம் என் ஆராய்ச்சியில் நான் வெல்வேன். அதன் மூலம் மனித இனம் தொடர வழிவகுப்பேன் - என்று கூறியவர்?
- A) ஸ்டீபன் ஹாக்கிங்
B) ஜன்ஸ்டைன்
C) அப்துல் கலாம்
D) கலீலியோ
E) விடை தெரியவில்லை
98. புதைசாக்கடை என்பது எம்மொழிச் சொல்?
- A) தமிழ்மொழி
B) மலையாளமொழி
C) கன்னடமொழி
D) உருதுமொழி
E) விடை தெரியவில்லை
99. கருத்துப் பகிர்வைத் தருவதால் மொழிபெயர்ப்பை _____ என்று குறிப்பிடுகிறார்கள்?
- A) நுண்கலை
B) பயன்கலை
C) கவின்கலை
D) மிகுகலை
E) விடை தெரியவில்லை
100. மாணிக்கவாசகர் பிள்ளைத்தமிழ், சரளிப்புத்தகம், புதுச்சேரி அம்மன் பிள்ளைத்தமிழ் முதலிய நூல்கள் எந்த நூலகத்தில் உள்ளன?
- A) தஞ்சை சரஸ்வதி மகால் நூலகம்
B) பிரான்சு தேசிய நூலகம்
C) லைப்ரரி ஆப் காங்கிரஸ்
D) சீனா தேசிய நூலகம்
E) விடை தெரியவில்லை

* * * * *



பகுதி - ஆ — பொது அறிவு (பட்டப்படிப்பு தரம்)

Part B — General Studies (Degree Standard)

வினாக்கள் : 101-200

மொத்த மதிப்பெண்கள் : 150

Questions : 101-200

Total Marks : 150

101. Match List-I with List-II.

List-I
(Temples)

- Seven Pagodas
- Kanchi Vaikuntha Perumal Temple
- Mandagapattu
- Arjuna's penance

Codes:

- | | a | b | c | d |
|----|----------|----------|----------|----------|
| A) | 4 | 2 | 3 | 1 |
| B) | 2 | 1 | 3 | 4 |
| C) | 3 | 2 | 1 | 4 |
| D) | 4 | 1 | 2 | 3 |

E) Answer not known

பட்டியல்-Iஐ பட்டியல்-II உடன் பொருத்துக.

பட்டியல்-I

(கோயில்கள்)

- ஏழு கோயில்கள்
- காஞ்சி வைகுண்ட பெருமாள் கோவில்
- மண்டகப்பட்டு
- அர்ஜுனனின் தவம்

குறியீடுகள்:

- | | a | b | c | d |
|----|----------|----------|----------|----------|
| A) | 4 | 2 | 3 | 1 |
| B) | 2 | 1 | 3 | 4 |
| C) | 3 | 2 | 1 | 4 |
| D) | 4 | 1 | 2 | 3 |

E) Answer not known

List-II
(Built by)

- Nandivarman II
- Mahendravarman
- Narasimhavarman I
- Narasimhavarman II

பட்டியல்-II

(கட்டியவர்கள்)

- இரண்டாம் நந்திவர்மன்
- மகேந்திரவர்மன்
- முதலாம் நரசிம்மவர்மன்
- இரண்டாம் நரசிம்மவர்மன்

102. Which of the following paintings have similarities with Sittanavasal paintings?

- Ellora Paintings
- Ajanta Paintings
- Madhubani paintings
- Lepakshi Paintings
- Answer not known

பின்வரும் எந்த ஓவியம் சித்தன்னவாசல் ஓவியங்களுடன் ஒத்திருக்கிறது?

- | | |
|----------------------|----------------------|
| A) எல்லோரா ஓவியங்கள் | B) அஜந்தா ஓவியங்கள் |
| C) மதுபானி ஓவியங்கள் | D) லெபகூதி ஓவியங்கள் |
| E) விடை தெரியவில்லை | |



103. Which temple has the longest set of corridors in the world?

- A) Madurai Meenakshiamman Temple
B) Adinatha Temple
C) Ramanathaswamy Temple
D) Jalagandeshwara Temple
E) Answer not known

உலகிலேயே மிக நீளமான நடைபாதைகளைக் கொண்ட கோயில் எது?

- A) மதுரை மீனாட்சியம்மன் கோயில்
B) ஆதிநாதர் கோயில்
C) இராமநாதசுவாமி கோயில்
D) ஜலகண்டேஸ்வர் கோயில்
E) விடை தெரியவில்லை

104. Consider the following statements.

- I. Kazhugumalai Vettuvankoil, a monolithic temple is an example for rock-cut style architecture hewn out of huge boulder on four sides.
II. Nellaiyappar Temple in Tirunelveli is an example for Cholas architectural style.

Which of the statements given above is/are incorrect?

- A) I only
B) II only
C) Both I and II
D) Neither I nor II
E) Answer not known

பின்வரும் கூற்றுகளைக் கருத்தில் கொள்க.

- I. கழுகுமலையில் அமைந்துள்ள ஒற்றைக்கல் கோவிலான வெட்டுவான் கோவில் ஒரு பெரும் பாறையின் நான்கு புறங்களிலிருந்தும் செதுக்கி அமைக்கப்பட்டதாகும். இது பாறை-குடைவரை பாணி கட்டடக்கலைக்கு ஒரு எடுத்துக்காட்டாகும்.
II. திருநெல்வேலியில் உள்ள நெல்லையப்பர் கோயில் சோழர்களின் கட்டடக்கலைக்கு எடுத்துக்காட்டாக விளங்குகிறது.

மேற்கண்ட கூற்றுகளில் தவறானது எது/எவை?

- A) I மட்டும்
B) II மட்டும்
C) இரண்டும்
D) இரண்டுமில்லை
E) விடை தெரியவில்லை

105. Consider the following statements.

- I. This temple constructed by Rajaraja II
II. It has four wheels at the Mahamandapam

Which temple is mentioned in the above statements?

- A) Tirupurambiyam Temple
B) Peruvudaiyar Kovil
C) Kanchi Kailasanatha Temple
D) Dharasuram Temple
E) Answer not known

பின்வரும் கூற்றுகளைக் கருத்தில் கொள்க.

- I. இக்கோயில் இரண்டாம் இராஜராஜனால் கட்டப்பட்டது
II. மகாமண்டபத்தில் நான்கு சக்கரங்கள் உள்ளன

மேற்கண்ட கூற்றுகளில் குறிப்பிடப்பட்டுள்ள கோவில் எது?

- A) திருப்புறம்பியம் கோவில்
B) பெருவுடையார் கோவில்
C) காஞ்சி கைலாசநாதர் கோவில்
D) தாராசுரம் கோவில்
E) விடை தெரியவில்லை



106. Which text contains biographies of the Jain Tirthankaras notably from Parshvanantha to Mahavira?

- A) Jivaka Chinthamani
B) Purushartha Siddhyupaya
C) Kalpasutra
D) Mahabhasya
E) Answer not known

பின்வரும் எந்த புத்தகத்தில் சமண தீர்த்தங்கரர்கள் குறிப்பாக பார்சவநாதர் முதல் மகாவீரர் வரையிலான வாழ்க்கை வரலாறுகள் உள்ளன ?

- A) ஜீவக சிந்தாமணி
B) புருஷார்த்த சித்யுபாய
C) கல்பசூத்திரம்
D) மஹாபாஷ்யா
E) விடை தெரியவில்லை

107. Consider the following statements.

- I. This cave temple was built by King Parantaka Nedunjadaiyan.
II. Panchavar Padukkai which host the figures of Tirtankaras, yakshas and yakshis found in this temple.

Which temple is mentioned in the above statements?

- A) Sittannavasal Temple
B) Kazhugumalai Temple
C) Tiruparuttikunram Jain Temple
D) Kizha Kuyil Kudi Temple
E) Answer not known

பின்வரும் கூற்றுகளைக் கருத்தில் கொள்க

- I. இந்த குகைக்கோயில் பராந்தக நெடுஞ்சடைய மன்னனால் கட்டப்பட்டது.
II. பஞ்சவர் படுக்கை என்றழைக்கப்பட்ட இக்கோயிலில் காணப்படும் தீர்த்தங்கரர்களின் உருவங்களைத் தவிர, யக்ஷர்கள் மற்றும் யக்ஷிகளின் உருவ சிலைகள் படுக்கையில் இடம்பெற்றுள்ளன.

மேற்கண்ட கூற்றுகளில் குறிப்பிடப்பட்டுள்ள கோவில் எது?

- A) சித்தன்னவாசல் கோவில்
B) கழுகுமலை கோவில்
C) திருப்பருத்திக்குன்றம் சமணக் கோவில்
D) கீழக்குயில் குடி கோவில்
E) விடை தெரியவில்லை

108. Consider the following statements.

- I. Rock beds found in this area has no head-rests.
II. It is situated near a small village Kukkara Palli which acted as a educational centre of Jains.

Which Place is mentioned in the above statements?

- A) Sittannavasal
B) Kazhugumalai
C) Tirumalai
D) Bhairavamalai
E) Answer not known



பின்வரும் கூற்றுகளைக் கருத்தில் கொள்க.

- I. இந்த பகுதியில் தலையணைப்பகுதி செதுக்கப்படாமல் உள்ள கற்படுக்கைகளைக் காணலாம்
- II. இது குக்கரப் பள்ளி என்னும் சிறு கிராமத்தின் அருகே அமைந்துள்ளது. 'பள்ளி' என்பது சமணர்களின் கல்வி மையங்களாகும்.

மேற்கண்ட கூற்றுகளில் எந்த இடம் குறிப்பிடப்பட்டுள்ளது?

- A) சித்தன்னவாசல்
- B) கழுகுமலை
- C) திருமலை
- D) பைரவமலை
- E) விடை தெரியவில்லை

109. Find out the incorrectly matched pair.

(Books)

(Language)

- | | |
|---------------------------------|------------|
| A) Milindapanha (Original Text) | - Pali |
| B) Buddhacharita | - Sanskrit |
| C) Buddhavamsa | - Pali |
| D) Mahavamsa | - Pali |
| E) Answer not known | |

தவறாகப் பொருந்தியுள்ள இணையைக் கண்டறியவும்.

(புத்தகங்கள்)

(மொழி)

- | | |
|----------------------------|---------------|
| A) மிலிந்தபன்கா (அசல் உரை) | - பாலி |
| B) புத்தசரிதா | - சமஸ்கிருதம் |
| C) புத்தவம்சம் | - பாலி |
| D) மகாவம்சம் | - பாலி |
| E) விடை தெரியவில்லை | |

110. Consider the following statements with respect to Buddhism in Tamizhagam.

- I. Buddhism in Tamil country spread by Chinese missionaries
- II. Tirunattiyattankudi acts as a educational centre for Buddhism
- III. Sculptures of Buddha in Thiyaganur village in Salem strengthens the evidence of the presence of Buddhism in later centuries.
- IV. Chudamani Vihara was constructed by Srivijaya King with the patronage of RajaRaja Chola.

Which of the statements given above is/are correct?

- A) I, II and III only
- B) II, III and IV only
- C) III and IV only
- D) All of the above
- E) Answer not known

தமிழகத்தில் பௌத்தம் தொடர்பான பின்வரும் கூற்றுகளைக் கருத்தில் கொள்க.

- I. தமிழ் நாட்டில் பௌத்தம் சீனாவைச் சேர்ந்த சமயப் பரப்பாளர்களால் பரப்பப்பட்டது
 - II. திருநாட்டியத்தான்குடி புத்த மதத்தின் கல்வி மையமாக செயல்படுகிறது
 - III. சேலத்தில் உள்ள தியாகனூர் கிராமத்தில் உள்ள புத்தரின் சிற்பங்கள், பிற்காலத்தில் புத்த மதம் இருந்ததற்கான ஆதாரத்தை வலுப்படுத்துகின்றன.
 - IV. ஸ்ரீ விஜயா அரசரால் கட்டப்பட்ட சூடாமணி விகாரைக்கு ராஜராஜ சோழன் ஆதரவளித்தார்
- மேற்கண்ட கூற்றுகளில் எது / எவை சரியானது?

- A) I, II மற்றும் III மட்டும்
- B) II, III மற்றும் IV மட்டும்
- C) III மற்றும் IV மட்டும்
- D) மேற்கண்ட அனைத்தும்
- E) விடை தெரியவில்லை



111. Which canonical literature contains the narration of the life and activities of the 24 Buddhas who are believed to have preceded Gautama?

- A) Buddha Charithra
B) Mahavamsa
C) Vishudhimagga
D) Buddhavamsa
E) Answer not known

கௌதமருக்கு முன்பாக வாழ்ந்த 24 புத்தர்களின் வாழ்க்கை மற்றும் செயல்பாடுகள் பற்றிய விவரங்களை எடுத்துரைக்கும் இலக்கியம்?

- A) புத்த சரித்திரம்
B) மகாவம்சம்
C) விசுத்திமக்கா
D) புத்தவம்சா
E) விடை தெரியவில்லை

112. Where was the first and second Jain council held to codify the Jaina canon?

- A) Vallabhi and Pataliputra
B) Vaishali and Rajgriha
C) Vaishali and Pataliputra
D) Pataliputra and Vallabhi
E) Answer not known

சமண சமயம் சார்ந்த போதனைகளை தொகுக்க முதல் மற்றும் இரண்டாவது சமண பேரவைக் கூட்டம் எங்கு நடைபெற்றது ?

- A) வல்லபி மற்றும் பாடலிபுத்திரம்
B) வைஷாலி மற்றும் ராஜகிரகம்
C) வைஷாலி மற்றும் பாடலிபுத்திரம்
D) பாடலிபுத்திரம் மற்றும் வல்லபி
E) விடை தெரியவில்லை

113. Consider the following statements.

- I. Thiruppavai and Nachiyar Thirumozhi are the works of Andal
II. Andal was adopted by Vishnuchittar in Srivilliputhur Temple.

Which of the statements given above is/are incorrect?

- A) I only
B) II only
C) Both I and II
D) Neither I nor II
E) Answer not known

பின்வரும் கூற்றுகளைக் கருத்தில் கொள்க

- I. திருப்பாவை மற்றும் நாச்சியார் திருமொழி ஆகியவை ஆண்டாளின் படைப்புகள்.
II. ஸ்ரீவில்லிபுத்தூர் கோயிலில் விஷ்ணுசித்தரால் ஆண்டாள் தத்தெடுக்கப்பட்டார்.

மேற்கண்ட கூற்றுகளில் தவறானது எது/எவை?

- A) I மட்டும்
B) II மட்டும்
C) இரண்டும்
D) இரண்டுமில்லை
E) விடை தெரியவில்லை

114. Consider the following statements.

- I. Ramanuja was a Vaishnava saint from 14th century.
II. Ramanuja philosophy was known as Vishistadvaita.
III. Ramanuja articulated ideas of social equality and condemned caste based restrictions on entering the temples.
IV. Vadakalai Vaishnavism flourished around Kanchipuram and Thenkalai Vaishnavism centred on Srirangam.

Which of the statements given above is/are correct?

- A) II and III only
B) II, III and IV only
C) I, III and IV only
D) All the above
E) Answer not known



பின்வரும் கூற்றுகளைக் கருத்தில் கொள்க

- I. இராமானுஜர் 14 ஆம் நூற்றாண்டிலிருந்த வைஷ்ணவ துறவி ஆவார்.
- II. இராமானுஜரின் தத்துவம் விசிஷ்டாத்வைதம் என்று அறியப்பட்டது.
- III. இராமானுஜர் சமூக சமத்துவம் பற்றிய கருத்துக்களை வெளிப்படுத்தினார் மற்றும் கோவில்களுக்குள் நுழைவதற்கான சாதி அடிப்படையிலான கட்டுப்பாடுகளை கண்டித்தார்.
- IV. காஞ்சிபுரத்தைச் சுற்றி வடகலை வைணவமும், ஸ்ரீரங்கத்தை மையமாகக் கொண்டு தென்கலை வைணவமும் செழித்து வளர்ந்தன.

மேற்கண்ட கூற்றுகளில் எது / எவை சரியானது?

- A) II மற்றும் III மட்டும்
- B) II, III மற்றும் IV மட்டும்
- C) I, III மற்றும் IV மட்டும்
- D) மேற்கண்ட அனைத்தும்
- E) விடை தெரியவில்லை

115. Match List-I with List-II.

List-I
(Personalities)

- a) Nammazhwar
- b) Nathamuni
- c) Adishankara
- d) Tulsidas

List-II
(Works)

1. Bramasutra
2. Ramacharitmanas
3. Divya Prabandham
4. Thiruvaimozhi

Codes:

- | | a | b | c | d |
|----|----------|----------|----------|----------|
| A) | 4 | 3 | 1 | 2 |
| B) | 4 | 1 | 3 | 2 |
| C) | 3 | 2 | 1 | 4 |
| D) | 4 | 1 | 2 | 3 |

E) Answer not known

பட்டியல்-Iஐ பட்டியல்-II உடன் பொருத்துக.

பட்டியல்-I

(ஆளுமைகள்)

- a) நம்மாழ்வார்
- b) நாதமுனி
- c) ஆதிசங்கரர்
- d) துளசிதாஸ்

பட்டியல்-II

(படைப்புகள்)

1. பிரம்மசூத்திரம்
2. இராமசரிதமனஸ்
3. திவ்ய பிரபந்தம்
4. திருவாய்மொழி

குறியீடுகள்:

- | | a | b | c | d |
|----|----------|----------|----------|----------|
| A) | 4 | 3 | 1 | 2 |
| B) | 4 | 1 | 3 | 2 |
| C) | 3 | 2 | 1 | 4 |
| D) | 4 | 1 | 2 | 3 |

E) விடை தெரியவில்லை



116. Find out the incorrectly matched pair.

(First Women Achiever In India)

(Name)

- | | | |
|---------------------------|---|--------------------------------|
| A) Union Cabinet Post | - | Vijaya Lakshmi Pandit |
| B) Judge in Supreme Court | - | Kanchan Chaudhary Bhattacharya |
| C) To Climb Everest | - | Bachendri Pal |
| D) Governor of India | - | Sarojini Naidu |
| E) Answer not known | | |

தவறாகப் பொருந்தியுள்ள இணையைக் கண்டறியவும்.

(இந்தியாவின் முதல் பெண் சாதனையாளர்)

(பெயர்)

- | | | |
|--------------------------------|---|-------------------------------|
| A) மத்திய அமைச்சர் | - | விஜய லக்ஷ்மி பண்டிட் |
| B) உச்ச நீதிமன்ற நீதிபதி | - | காஞ்சன் சவுத்ரி பட்டாச்சார்யா |
| C) எவரெஸ்ட் சிகரத்தில் ஏறியவர் | - | பச்சேந்திரி பால் |
| D) இந்திய ஆளுநர் | - | சரோஜினி நாயுடு |
| E) விடை தெரியவில்லை | | |

117. Which factor is not responsible for Poor Female Literacy rate?

- A) Early Marriages
B) Gender Based equality
C) High dropout rate
D) Occupation of girl child in domestic chores
E) Answer not known

ஏழைப் பெண்களின் குறைந்த கல்வியறிவு விகிதத்திற்கு எந்தக் காரணி பொறுப்பாகாது ?

- A) இளம் வயது திருமணங்கள்
B) பாலின அடிப்படையிலான சமத்துவம்
C) அதிக இடைநிற்றல் விகிதம்
D) வீட்டு வேலைகளில் பெண் குழந்தைகளை ஈடுபடுத்துதல்
E) விடை தெரியவில்லை

118. Consider the following statements.

- I. Savitribai Phule was the first female teacher at first girls school
II. Savitribai Phule and Jyotirao Phule opened the first school for girls in 1828.

Which of the statements given above is/are incorrect?

- A) I only
B) II only
C) Both I and II
D) Neither I nor II
E) Answer not known

பின்வரும் கூற்றுகளைக் கருத்தில் கொள்க.

- I. சாவித்திரிபாய் பூலே, முதல் பெண்கள் பள்ளியின் முதல் பெண் ஆசிரியர் ஆவார்
II. சாவித்திரிபாய் பூலே மற்றும் ஜோதிராவ் பூலே 1828இல் பெண்களுக்கான முதல் பள்ளியைத் தொடங்கினார்.

மேற்கண்ட கூற்றுகளில் தவறானது எது/ எவை?

- A) I மட்டும்
B) II மட்டும்
C) இரண்டும்
D) இரண்டுமில்லை
E) விடை தெரியவில்லை



119. "The future must not belong to those who bully women. It must be shaped by girls who go to school and who stand for a world where our daughters can live their dreams just like our sons" – This statement was said by whom?

- A) Mahatma Gandhi
B) Savitribai Phule
C) Barrack Obama
D) Jawaharlal Nehru
E) Answer not known

"நமது எதிர்காலம் பெண்களை உதாசீனப்படுத்துவோர் கையிலில்லை. அது நமது மகன்களைப்போல் பள்ளிக்குக் கல்வி கற்கச்செல்லும் நமது மகள்களின் கனவுகளில் உள்ளது. அவர்களே, இவ்வலகத்தில் தாங்கிநிற்கும் வல்லமைக் கொண்டவர்." – இந்த கூற்று யாருடையது?

- A) மகாத்மா காந்தி
B) சாவித்ரிபாய் பூலே
C) பராக் ஒபாமா
D) ஜவஹர்லால் நேரு
E) விடை தெரியவில்லை

120. According to which act Central Board of Revenue bifurcated and a separated a Board for Direct Taxes known as Central Board of Direct Taxes (CBDT) constituted?

- A) Board of Direct Taxes Act, 1963
B) Central Board of Revenue Act, 1953
C) Income Tax Act, 1961
D) Central Board of Revenue Act, 1963
E) Answer not known

எந்த சட்டத்தின்படி 'நேர்முக வரிகளுக்கான மத்திய வருவாய் வாரியம்' என்னும் பெயரில் தனி வாரியம் (CBDT) ஒன்று நிறுவப்பட்டுள்ளது.?

- A) நேரடி வரிச் சட்டம், 1963
B) மத்திய வருவாய் வாரிய சட்டம், 1953
C) வருமான வரிச் சட்டம், 1961
D) மத்திய வருவாய் வாரிய சட்டம், 1963
E) விடை தெரியவில்லை

121. Consider the following statements on Indirect tax.

- I. Indirect tax is more elastic
II. Indirect tax has nil inflation pressure
III. Taxes imposed on various goods and services
IV. Easily shifted to another person

Which of the statements given above is/are correct?

- A) I, II and III only
B) II, III and IV only
C) I, III and IV only
D) All the above
E) Answer not known



மறைமுக வரி பற்றிய பின்வரும் கூற்றுகளைக் கருத்தில் கொள்க

- I. மறைமுக வரிவிதிப்பு நெகிழ்ச்சித் தன்மை கொண்டது
 - II. மறைமுக வரியில் பணவீக்க அழுத்தம் இல்லை
 - III. பல்வேறு பொருட்கள் மற்றும் சேவைகளின் மீது விதிக்கப்படும் வரிகள்
 - IV. மற்றொரு நபருக்கு எளிதாக மாற்றப்படுதல்
- மேற்கண்ட கூற்றுகளில் எது/எவை சரியானது?
- A) I, II மற்றும் III மட்டும்
B) II, III மற்றும் IV மட்டும்
C) I, III மற்றும் IV மட்டும்
D) மேற்கண்ட அனைத்தும்
E) விடை தெரியவில்லை

122. If you are earning 5 Lakh Rupees as Annual Income, you have to pay 50,000 Rupees as tax. If you earn 10 Lakh Rupees as Annual Income, you have to pay 2,50,000 Rupees as tax. What type of Taxation is mentioned ?

- A) Proportional Taxation
B) Regressive Tax
C) Progressive Tax
D) None of the above
E) Answer not known

நீங்கள் ஆண்டு வருமானமாக 5 லட்சம் ரூபாய் பெறுகிறீர்கள் என்றால், நீங்கள் 50,000 ரூபாய் வரி செலுத்த வேண்டும். நீங்கள் ஆண்டு வருமானமாக 10 லட்சம் ரூபாய் சம்பாதித்தால், நீங்கள் 2,50,000 ரூபாய் வரி செலுத்த வேண்டும். எந்த வகையான வரிவிதிப்பு இங்கு குறிப்பிடப்பட்டுள்ளது ?

- A) விகிதாசார வரிவிதிப்பு
B) தேய்வு வீத வரி
C) வளர் வீத வரி
D) மேற்கண்ட எதுவுமில்லை
E) விடை தெரியவில்லை

123. Consider the following statements.

- I. GST tax regime has been implemented from 1st July, 2016.
- II. It has been implemented with the objective of "ONE TAX ONE MARKET AND ONE NATION"
- III. It has been introduced by 101st Amendment Act, 2016.
- IV. It is a transparent tax.

Which of the statements given above is/are correct?

- A) I, II and III only
B) II, III and IV only
C) II and III only
D) All the above
E) Answer not known

பின்வரும் கூற்றுகளைக் கருத்தில் கொள்க

- I. ஜிஎஸ்டி வரி விதிப்பு ஜூலை 1, 2016 முதல் அமல்படுத்தப்பட்டது .
- II. இது "ஒரே வரி ஒரே சந்தை மற்றும் ஒரே நாடு" என்ற நோக்கத்துடன் செயல்படுத்தப்பட்டுள்ளது.
- III. இது 101 வது திருத்தச் சட்டம், 2016 மூலம் அறிமுகப்படுத்தப்பட்டது .
- IV. இது ஒரு வெளிப்படையான வரி.

மேற்கண்ட கூற்றுகளில் எது /எவை சரியானது?

- A) I, II மற்றும் III மட்டும்
B) II, III மற்றும் IV மட்டும்
C) II மற்றும் III மட்டும்
D) மேற்கண்ட அனைத்தும்
E) விடை தெரியவில்லை



124. If a seller in Tamil Nadu sells a commodity to a buyer in Kerala for Rs.100, How the GST is collected and assigned?
- A) Rs.18 will go to Central Government, Central takes Rs.9 and send Rs.9 to Tamil Nadu.
- B) Rs.9 will go to Central Government, Rs.4.5 will go to Kerala and Rs.4.5 will go to Tamil Nadu
- C) Rs.18 will go to Central Government, Central takes Rs.9 and send Rs.9 to Kerala
- D) Rs.18 will go to Central Government, Central divide Rs.18 into two parts and share Rs.9 to Tamil Nadu and Rs.9 to Kerala.
- E) Answer not known

தமிழ்நாட்டில் உள்ள ஒரு விற்பனையாளர், கேரளாவில் உள்ள ஒரு வாடிக்கையாளருக்கு ஒரு பொருளை ரூ.100க்கு விற்றால், ஜிஎஸ்டி எவ்வாறு வசூலிக்கப்படுகிறது மற்றும் ஒதுக்கப்படுகிறது?

- A) ரூ.18 மத்திய அரசுக்குச் செல்லும், மத்திய அரசு ரூ.9 எடுத்து, ரூ.9 தமிழகத்துக்கு அனுப்பும்.
- B) ரூ.9 மத்திய அரசுக்குச் செல்லும், ரூ.4.5 கேரளாவுக்கும், ரூ.4.5 தமிழ்நாட்டுக்கும் செல்லும்.
- C) ரூ.18 மத்திய அரசுக்குச் செல்லும், மத்திய அரசு ரூ.9 எடுத்துக் கொண்டு, கேரளாவுக்கு ரூ.9 அனுப்பும்
- D) ரூ.18 மத்திய அரசுக்குச் செல்லும், மத்திய அரசு ரூ.18ஐ இரண்டாகப் பிரித்து ரூ.9 தமிழ்நாட்டுக்கும், ரூ.9 கேரளாவுக்கும் பகிர்ந்துகொடுக்கும்.
- E) விடை தெரியவில்லை

125. Consider the following statements.

I. This tax is paid by the producer of goods, who recovers it from whole salers and retailers

II. This tax in India levied by the Central Government.

Which tax is mentioned in above statements?

- A) Sales Tax B) Excise Duty
- C) Goods and Services Tax D) Service Tax
- E) Answer not known

பின்வரும் கூற்றுகளைக் கருத்தில் கொள்க.

I. மொத்த விற்பனையாளர்களிடமிருந்தும் சில்லறை விற்பனையாளர்களிடமிருந்தும் பொருள்களை வாங்குபவர்கள் செலுத்த வேண்டிய வரியாகும்.

II. இந்தியாவில் இந்த வரியை மத்திய அரசு விதிக்கிறது.

மேற்கண்ட கூற்றுகளில் எந்த வரி குறிப்பிடப்பட்டுள்ளது?

- A) விற்பனை வரி B) கலால் வரி
- C) சரக்கு மற்றும் சேவை வரி D) சேவை வரி
- E) விடை தெரியவில்லை



126. Which of the following creates confidence in taxpayers cost of collection of taxes and increases economic welfare?

- A) Canon of Economy
B) Canon of Equality
C) Canon of Convenience
D) Canon of Certainty
E) Answer not known

பின்வருவனவற்றில் எது வரி செலுத்துவோர் மீது உறுதிப்பாட்டு தன்மையை ஏற்படுத்துகிறது மற்றும் வரி வசூல் செலவு மற்றும் பொருளாதார நலனை அதிகரிக்கிறது?

- A) சிக்கன விதி
B) சமத்துவ விதி
C) வசதி விதி
D) உறுதிப்பாட்டு விதி
E) விடை தெரியவில்லை

127. Which cyclonic storm crossed the coasts of Tamilnadu and Puducherry around Vedaranyam and Nagapattinam with wind speed 120 kmph?

- A) Cyclone Michaung
B) Cyclone Amphaan
C) Cyclone Gaja
D) Cyclone Thane
E) Answer not known

தமிழகம் மற்றும் புதுச்சேரியில் உள்ள கடலோர பகுதிகளான வேதாரண்யம் மற்றும் நாகப்பட்டினத்தைச் சுற்றிலும் எந்த புயல்காற்று 120 கி.மீ. வேகத்தில் வீசியது?

- A) மிக்ஜாம் புயல்
B) ஆம்பன் புயல்
C) கஜா புயல்
D) தானே புயல்
E) விடை தெரியவில்லை

128. Consider the following statements.

- I. State Disaster Management plan of 2018 – 2030 is prepared by the Revenue and Disaster Management Department.
II. Hot line between Indian Meteorological Department and the State Emergency Operation Centre is established under this plan.

Which of the statements given above is/are incorrect?

- A) I only
B) II only
C) Both I and II
D) Neither I nor II
E) Answer not known

பின்வரும் கூற்றுகளை கருத்தில் கொள்க.

I. மாநில பேரிடர் மேலாண்மைத் திட்டம் 2018 – 2030 வருவாய் மற்றும் பேரிடர் மேலாண்மை துறையால் தயாரிக்கப்பட்டுள்ளது.

II. இந்த திட்டத்தின் கீழ் இந்திய வானிலை ஆய்வு மையத்திற்கும், மாநில அவசரகால செயல்பாட்டு மையத்திற்கும் இடையே ஒரு சிறு அமைப்பு தொடங்கப்பட்டுள்ளது.

மேற்கண்ட கூற்றுகளில் தவறானது எது/எவை?

- A) I மட்டும்
B) II மட்டும்
C) இரண்டும்
D) இரண்டுமில்லை
E) விடை தெரியவில்லை



129. Find out the incorrectly matched pair.

- | (Tourism) | (Example) |
|-------------------------|--------------------------------|
| A) Historical Tourism | - Tajmahal of India |
| B) Eco Tourism | - Slopes of Himalayas |
| C) Recreational Tourism | - Rafting in Brahmaputra River |
| D) Adventure Tourism | - Sky dive in Australia |
| E) Answer not known | |

தவறாகப் பொருந்தியுள்ள இணையைக் கண்டறிக.

- | (சுற்றுலா) | (உதாரணம்) |
|----------------------------|---|
| A) வரலாற்றுச் சுற்றுலா | - இந்தியாவின் தாஜ்மஹால் |
| B) சூழல் சுற்றுலா | - இமயமலையின் சிகரங்கள் |
| C) பொழுதுபோக்குச் சுற்றுலா | - பிரம்மபுத்ரா நதியின் கட்டுமர மிதவை நதிபயணம் |
| D) சாகசச் சுற்றுலா | - ஆஸ்திரேலியாவின் விண்வீழ் விளையாட்டு |
| E) விடை தெரியவில்லை | |

130. Find out the incorrectly matched pair.

- | | |
|---------------------|--|
| A) ITC | - Inclusive Tour Charter |
| B) IATA | - Indian Air Transport Association |
| C) TAAI | - Travel Agents Association of India |
| D) TTTHA | - Tamil Nadu Tour Travel and Hospitality Association |
| E) Answer not known | |

தவறாகப் பொருந்தியுள்ள இணையைக் கண்டறிக.

- | | |
|---------------------|--|
| A) ITC | - Inclusive Tour Charter |
| B) IATA | - Indian Air Transport Association |
| C) TAAI | - Travel Agents Association of India |
| D) TTTHA | - Tamil Nadu Tour Travel and Hospitality Association |
| E) விடை தெரியவில்லை | |

131. Match List-I with List-II.

- | List-I | List-II |
|-----------------------------|-------------------------|
| (Waterfalls) | (Type) |
| a) Thalaiyar water falls | 1. Segmented water fall |
| b) Jog water falls | 2. Tallest Plunge Type |
| c) Nohkalikai falls | 3. Horse tail type |
| d) Aathirappally waterfalls | 4. Niagara of India |

Codes:

- | | a | b | c | d |
|---------------------|----------|----------|----------|----------|
| A) | 4 | 2 | 3 | 1 |
| B) | 2 | 1 | 3 | 4 |
| C) | 3 | 1 | 2 | 4 |
| D) | 4 | 1 | 2 | 3 |
| E) Answer not known | | | | |



பட்டியல்-Iஐ பட்டியல்-II உடன் பொருத்துக.

பட்டியல்-I

(நீர்வீழ்ச்சிகள்)

- a) தாழையார் நீர்வீழ்ச்சி
b) ஜோக் நீர்வீழ்ச்சி
c) நோகானி காய் நீர்வீழ்ச்சி
d) அதிரப்பள்ளி நீர்வீழ்ச்சி

பட்டியல்-II

(வகை)

1. பிரிவு நீர் வீழ்ச்சி
2. நேரடியாகத் தடையின்றி நீர் விழும் உயரமான நீர்வீழ்ச்சி
3. குதிரை வால் போன்ற நீர்வீழ்ச்சி
4. இந்தியாவின் நயாகரா

குறியீடுகள்:

- | | a | b | c | d |
|----|----------|----------|----------|----------|
| A) | 4 | 2 | 3 | 1 |
| B) | 2 | 1 | 3 | 4 |
| C) | 3 | 1 | 2 | 4 |
| D) | 4 | 1 | 2 | 3 |
- E) விடை தெரியவில்லை

132. Find out the incorrectly matched pair.

(Bird Sanctuary)

(State)

- A) Nal Sarovar Bird Sanctuary – Gujarat
B) Mayani Bird Sanctuary – Maharashtra
C) Nawabganj Bird Sanctuary – Uttar Pradesh
D) Bharatpur Bird sanctuary – Bihar
E) Answer not known

தவறாகப் பொருந்தியுள்ள இணையைக் கண்டறிக.

(பறவைகள் சரணாலயம்)

(மாநிலம்)

- A) நல்சரோவர் பறவைகள் சரணாலயம் – குஜராத்
B) மயானி பறவைகள் சரணாலயம் – மகாராஷ்டிரா
C) நவாங்கஞ்சு பறவைகள் சரணாலயம் – உத்திரபிரதேசம்
D) பரத்பூர் பறவைகள் சரணாலயம் – பீகார்
E) விடை தெரியவில்லை

133. Match List-I with List-II.

List-I

List-II

(Hill Stations)

(Nickname/feature)

- | | |
|----------------|-------------------------|
| a) Kotagiri | 1. 70 hair pin bends |
| b) Velliangiri | 2. Kailash of the South |
| c) Javadi | 3. Green Hills |
| d) Kolli Hills | 4. Natures Heaven |

Codes:

- | | a | b | c | d |
|----|----------|----------|----------|----------|
| A) | 3 | 2 | 4 | 1 |
| B) | 2 | 1 | 3 | 4 |
| C) | 3 | 1 | 2 | 4 |
| D) | 4 | 1 | 2 | 3 |
- E) Answer not known



பட்டியல்-Iஐ பட்டியல்-II உடன் பொருத்துக.

பட்டியல்-I

பட்டியல்-II

(மலை வாழிடங்கள்)

(புனைப்பெயர் / சிறப்பம்சம்)

a) கோத்தகிரி

1. 70 கொண்டை ஊசி வளைவுகள்

b) வெள்ளியங்கிரி

2. தெற்கின் கைலாசம்

c) ஜவ்வாது

3. பச்சைமலை

d) கொல்லிமலை

4. இயற்கையின் சொர்க்கம்

குறியீடுகள்:

	a	b	c	d
A)	3	2	4	1
B)	2	1	3	4
C)	3	1	2	4
D)	4	1	2	3
E)	விடை தெரியவில்லை			

134. If you plan to start your vacation by seeing waveless beach and small fishing Beach, Where will you go?

A) Rameshwaram, Kanyakumari

B) Kanyakumari, Cuddalore

C) Mahabalipuram, Muttukadu

D) Rameshwaram, Kovalam

E) Answer not known

அலையற்ற கடற்கரை மற்றும் சிறிய மீன்பிடி கடற்கரையைக் கண்டு ரசிக்க உங்கள் விடுமுறையைத் தொடங்க திட்டமிட்டால், நீங்கள் எங்கு செல்வீர்கள்?

A) இராமேஸ்வரம், கன்னியாகுமரி

B) கன்னியாகுமரி, கடலூர்

C) மகாபலிபுரம், முட்டுக்காடு

D) இராமேஸ்வரம், கோவளம்

E) விடை தெரியவில்லை

135. Which one of the following hydro electricity project is located in Uttarakhand?

A) Sardar Sarovar Dam

B) Bhakra Nangal Dam

C) Mettur Dam

D) Tehri Dam

E) Answer not known

உதரகாண்டில் அமைந்துள்ள பின்வரும் நீர் மின் சக்தி திட்டம் எது?

A) சர்தார் சரோவர் அணை

B) பக்ராநங்கல் அணை

C) மேட்டூர் அணை

D) தெகிரி அணை

E) விடை தெரியவில்லை

136. Printing press was invented by

A) Albert Einstein

B) Johannes Gutenberg

C) Jesuits

D) Ziegenbalg

E) Answer not known

அச்ச இயந்திரத்தைக் கண்டுபிடித்தவர் யார்?

A) ஆல்பர்ட் ஐன்ஸ்டீன்

B) ஜோஹன்னஸ் குட்டன்பெர்க்

C) ஜேசுயிட்ஸ்

D) ஜீகன்பால்க்

E) விடை தெரியவில்லை



137. Tamil Nadu became Unicameral legislature after which act?

- A) Tamil Nadu Legislative Council Abolition Act, 1976
- B) State Reorganization Act, 1956
- C) Tamil Nadu legislative council Abolition act, 1986
- D) State Reorganization Act, 1986
- E) Answer not known

எந்தச் சட்டத்திற்குப் பிறகு தமிழ்நாடு ஓர் அவைக் கொண்ட சட்டமன்றமாக மாறியது?

- A) தமிழ்நாடு சட்ட மேலவை கலைப்புச் சட்டம், 1976
- B) மாநில மறுசீரமைப்பு சட்டம், 1956
- C) தமிழ்நாடு சட்ட மேலவை கலைப்புச் சட்டம், 1986
- D) மாநில மறுசீரமைப்பு சட்டம், 1986
- E) விடை தெரியவில்லை

138. When small quantities of other metals added to the Pure metal, It creates superior alloy than its pure metal. What is the name of the pure metal?

- A) Duralumin
- B) Gold
- C) Silver
- D) Aluminium
- E) Answer not known

தூய உலோகத்தில் சிறிய அளவு மற்ற உலோகங்கள் சேர்க்கப்படும் போது, அது அதன் தூய உலோகத்தை விட உயர்ந்த கலவையை உருவாக்குகிறது. தூய உலோகத்தின் பெயர் என்ன?

- A) துராலுமின்
- B) தங்கம்
- C) வெள்ளி
- D) அலுமினியம்
- E) விடை தெரியவில்லை

139. Consider the following statements.

- I. Kamuthi solar power project is the largest solar power projects in the world.
- II. The installed capacity of this project is 648 MW.

Which of the statements given above is/are correct?

- A) I only
- B) II only
- C) Both I and II
- D) Neither I nor II
- E) Answer not known

பின்வரும் கூற்றுகளை கருத்தில் கொள்க.

- I. தமிழகத்தில் இராமநாதபுரம் மாவட்டத்தில் கமுதி சூரிய ஒளி மின்சக்தி திட்டமானது, உலகின் மிகப்பெரிய சூரியஒளி மின்சக்தி திட்டமாகும்.

- II. இந்த திட்டத்தின் நிறுவப்பட்ட திறன் 648 மெகாவாட் ஆகும்.

மேற்கண்ட கூற்றுகளில் சரியானது எது/எவை?

- A) I மட்டும்
- B) II மட்டும்
- C) இரண்டும்
- D) இரண்டுமில்லை
- E) விடை தெரியவில்லை



140. Match List-I with List-II.

List-I
(Monuments)

- a) Khajuraho
b) Konark
c) Dilwara
d) Virupaksha

List-II
(Location)

1. Rajasthan
2. Madhya Pradesh
3. Karnataka
4. Odisha

Codes:

- | | a | b | c | d |
|----|----------|----------|----------|----------|
| A) | 3 | 1 | 4 | 2 |
| B) | 2 | 3 | 4 | 1 |
| C) | 2 | 4 | 1 | 3 |
| D) | 4 | 1 | 2 | 3 |

E) Answer not known

பட்டியல்-Iஐ பட்டியல்-II உடன் பொருத்துக.

பட்டியல்-I
(நினைவுச் சின்னங்கள்)

- a) கஜுராஹோ
b) கோனார்க்
c) தில்வாரா
d) விருபாக்ஷா

பட்டியல்-II
(இடம்)

1. ராஜஸ்தான்
2. மத்திய பிரதேசம்
3. கர்நாடகா
4. ஒடிசா

குறியீடுகள்:

- | | a | b | c | d |
|----|----------|----------|----------|----------|
| A) | 3 | 1 | 4 | 2 |
| B) | 2 | 3 | 4 | 1 |
| C) | 2 | 4 | 1 | 3 |
| D) | 4 | 1 | 2 | 3 |

E) விடை தெரியவில்லை

141. Consider the following statements.

Assertion (A) : Muhammad Ghori, a Turkish invader, was in all likelihood liberal in his religious outlook.

Reason (R) : Muhammad Ghori had the figure of Goddess Lakshmi stamped on his gold coins, with his name inscribed on them.

Codes:

- A) Both (A) and (R) are true and (R) is the correct explanation of (A)
B) Both (A) and (R) are true but (R) is not the correct explanation of (A)
C) (A) is true but (R) is false
D) (A) is false but (R) is true
E) Answer not known



பின்வரும் கூற்றுக்களை கருத்தில் கொள்க.

கூற்று (A) : முகமது கோரி என்ற துருக்கியப் படையெடுப்பாளர் மதவிசயங்களில் தாராளத்தன்மையுடன் நடந்து கொண்டார்.

காரணம் (R) : முகமது கோரி தான் வெளியிட்ட தங்க நாணயத்தில் பெண் தெய்வமான இலட்சுமியின் வடிவத்தைப் பதிப்பித்துத் தனது பெயரையும் பொறிக்கச் செய்திருந்தார்.

குறியீடுகள்:

- A) (A) மற்றும் (R) இரண்டும் சரி மற்றும் (R) என்பது (A)-யின் சரியான விளக்கமாகும்
B) (A) மற்றும் (R) இரண்டும் சரி ஆனால் (R) என்பது (A)-யின் சரியான விளக்கமல்ல
C) (A) சரி ஆனால் (R) தவறு
D) (A) தவறு ஆனால் (R) சரி
E) விடை தெரியவில்லை

142. Match List-I with List-II.

List-I

(Ashtapradhan)

- a) Amatya
b) Sumant
c) Waqia-Navis
d) Sar-i-Naubat

List-II

(Responsibilities)

1. Interior Minister
2. Foreign Minister
3. Finance Minister
4. Commander-in-chief

Codes:

- | | a | b | c | d |
|----|----------|----------|----------|----------|
| A) | 2 | 3 | 1 | 4 |
| B) | 2 | 1 | 4 | 3 |
| C) | 3 | 2 | 1 | 4 |
| D) | 1 | 3 | 4 | 2 |

E) Answer not known

பட்டியல்-Iஐ பட்டியல்-II உடன் பொருத்துக.

பட்டியல்-I

(அஷ்டபிரதான்)

- a) அமத்தியா
b) சுமந்த்
c) வாக்கிய-நாவிஸ்
d) சர்-இ-நௌபத்

பட்டியல்-II

(பொறுப்புகள்)

1. உள்ளுறை அமைச்சர்
2. வெளியுறவுத்துறை அமைச்சர்
3. நிதி அமைச்சர்
4. தலைமைத் தளபதி

குறியீடுகள்:

- | | a | b | c | d |
|----|----------|----------|----------|----------|
| A) | 2 | 3 | 1 | 4 |
| B) | 2 | 1 | 4 | 3 |
| C) | 3 | 2 | 1 | 4 |
| D) | 1 | 3 | 4 | 2 |

E) விடை தெரியவில்லை



143. Consider the following statements.

- I. The Nalayira Divyaprabhandham was composed by 12 Azhwars and compiled by Nathamuni.
- II. Devaram was composed by Appar, Sambandar, and Sundarar, and compiled by Nambiyandar Nambi.

Which of the statements given above is/are correct?

- A) I only
- B) II only
- C) Both I and II
- D) Neither I nor II
- E) Answer not known

பின்வரும் கூற்றுகளைக் கருத்தில் கொள்க.

- I. பன்னிரு ஆழ்வார்களால் இயற்றப்பட்டு நாதமுனியால் தொகுக்கப்பட்டது “நாலாயிர திவ்விய பிரபந்தம்” ஆகும்.
- II. அப்பர், சம்பந்தர், சுந்தரர் ஆகியோரால் இயற்றப்பட்டு நம்பியாண்டார் நம்பியால் தொகுக்கப்பட்டது “தேவாரம்” ஆகும்.

மேற்கண்ட கூற்றுகளில் சரியானது எது/எவை?

- A) I மட்டும்
- B) II மட்டும்
- C) இரண்டும்
- D) இரண்டுமில்லை
- E) விடை தெரியவில்லை

144. Match List-I with List-II.

List-I
(Literature)

- a) Madura Vijayam
- b) Prithviraj Raso
- c) Rajatarangini
- d) Amuktamalayada

List-II
(Authored by)

1. Krishnadevaraya
2. Kalhana
3. Chand Bardai
4. Gangadevi

Codes:

- | | a | b | c | d |
|----|----------|----------|----------|----------|
| A) | 4 | 3 | 2 | 1 |
| B) | 1 | 2 | 3 | 4 |
| C) | 3 | 1 | 2 | 4 |
| D) | 4 | 2 | 3 | 1 |

E) Answer not known

பட்டியல்-Iஐ பட்டியல்-II உடன் பொருத்துக.

பட்டியல்-I

(இலக்கியம்)

- a) மதுரா விஜயம்
- b) பிருத்விராஜ் ராசோ
- c) ராஜத்தரங்கிணி
- d) அமுக்தமாலயதா

பட்டியல்-II

(ஆசிரியர்)

1. கிருஷ்ணதேவராயர்
2. கல்ஹானா
3. சந்த் பர்தாய்
4. கங்காதேவி



குறியீடுகள்:

	a	b	c	d
A)	4	3	2	1
B)	1	2	3	4
C)	3	1	2	4
D)	4	2	3	1
E)	விடை தெரியவில்லை			

145. Which of the following is/are correctly matched?

(Foreign Accounts)	(Authored by)
I. Tabakat-i-Akbari	– Nizam-ud-din Ahmad
II. Ain-i-Akbari	– Al-Beruni
III. Tahquiq-i-Hind	– Abul Fazl

Codes:

- | | |
|---------------------|------------------|
| A) I only | B) II only |
| C) III only | D) I, II and III |
| E) Answer not known | |

பின்வருவனவற்றுள் எது/எவை சரியாக பொருந்தியுள்ளன?

(வெளிநாட்டு குறிப்புகள்)	(ஆசிரியர்)
I. தபகத் - இ - அக்பரி	– நிஜாமுதீன் அகமத்
II. அயினி அக்பரி	– அல்- பெருனி
III. தாகுயிக் -இ-ஹிந்த்	– அபுல் பசல்

குறியீடுகள்:

- | | |
|---------------------|----------------------|
| A) I மட்டும் | B) II மட்டும் |
| C) III மட்டும் | D) I, II மற்றும் III |
| E) விடை தெரியவில்லை | |

146. Which is considered the first official history of the Delhi Sultanate?

- | | |
|---------------------|-------------------------|
| A) Taj-ul-Maasir | B) Tarikh-i-Firoz Shahi |
| C) Tabaqat-i-Nasiri | D) Tarikh-i-Frishta |
| E) Answer not known | |

டெல்லி சுல்தானியத்தின் வரலாற்றைக் கூறும், அரசின் இசைவு பெற்ற முதல் நூல் எது?

- | | |
|----------------------|-----------------------|
| A) தாஜ்-உல்-மா-அசிர் | B) தாரிக் -இ-பிரோஷாகி |
| C) தபகத் -இ-நஸிரி | D) தாரிக் -இ-பெரிஷ்டா |
| E) விடை தெரியவில்லை | |

147. Consider the following statements:

- I. Rajaraja I established a Vedic college at Ennayiram.
- II. During the Chola rule, two more colleges were established at Tirubhuvanai and Tirumukkoodal.

Which of the statements given above is/are correct?

- | | |
|---------------------|---------------------|
| A) I only | B) II only |
| C) Both I and II | D) Neither I nor II |
| E) Answer not known | |



பின்வரும் கூற்றுகளைக் கருத்தில் கொள்க.

- I. முதலாம் இராஜராஜன் எண்ணாயிரம் என்ற இடத்தில் வேதக் கல்லூரி ஒன்றை நிறுவினார்.
- II. சோழர் ஆட்சியில் திருப்புவனத்திலும் திருமுக்கூடலிலும் மேலும் இரண்டு கல்லூரிகள் நிறுவப்பட்டன.

மேற்கண்ட கூற்றுகளில் சரியானது எது/எவை?

- A) I மட்டும்
- B) II மட்டும்
- C) இரண்டும்
- D) இரண்டுமில்லை
- E) விடை தெரியவில்லை

148. Find out the incorrectly matched pair.

- | (Dynasty) | (Founder) |
|------------------------|------------------|
| A) Gurjara Dynasty | – Harichandra |
| B) Pratiharas Dynasty | – Nagabhatta I |
| C) Pala Dynasty | – Dharmapala |
| D) Second Pala Dynasty | – Mahipala I |
| E) Answer not known | |

தவறாகப் பொருந்தியுள்ள இணையைக் கண்டறிக.

- | (அரச வம்சம்) | (நிறுவியவர்) |
|----------------------------|-----------------------|
| A) கூர்ஜர அரச வம்சம் | – ஹரிச்சந்திரா |
| B) பிரதிகார அரச வம்சம் | – முதலாம் நாகப்பட்டர் |
| C) பால அரச வம்சம் | – தர்மபாலர் |
| D) இரண்டாம் பால அரச வம்சம் | – முதலாம் மஹிபாலர் |
| E) விடை தெரியவில்லை | |

149. Consider the following statements:

- I. He established a department of spies to gather intelligence
- II. He patronised the famous Persian poet Amir Khusru.
- III. He abolished The Forty as it was hostile to him.
- IV. Maintained cordial relationship with the Mongols.

Which of the following rulers is mentioned in the above statements?

- A) Ala-ud-din Khalji
- B) Iltutmish
- C) Jalal-ud-din Khalji
- D) Ghiyas-ud-din Balban
- E) Answer not known

பின்வரும் கூற்றுகளைக் கருத்தில் கொள்க.

- I. இவர் தனது ஆட்சிக்கு எதிராகச் சதி செய்வோரையும், இடையூறாய் இருப்போரையரையும் கண்டறிய ஒற்றர் துறையொன்றை நிறுவினார்.
- II. பாரசீகத்தைச் சேர்ந்த புகழ்பெற்ற கவிஞரான அமிர் குஸ்ரு என்பவரை இவர் ஆதரித்தார்
- III. “நாற்பதின்மர்” என்றறியப்பட்ட துருக்கியப் பிரபுக்கள் குழு இவரோடு பகைமை பாராட்டியதால் அவ்வமைப்பை ஒழித்தார்
- IV. இவர் மங்கோலியர்களுடன் இணக்கமான உறவைப் பராமரிப்பதில் கவனத்துடன் செயல்பட்டார்.

மேற்கண்ட கூற்றுகளில் பின்வரும் எந்த ஆட்சியாளர் குறிப்பிடப்பட்டுள்ளார்?

- A) அலாவுதீன் கில்ஜி
- B) இல்துமிஷ்
- C) ஜலாலுதீன் கில்ஜி
- D) கியாசுதீன் பால்பன்
- E) விடை தெரியவில்லை



150. Consider the following statements.

- I. Anju-vannattar were maritime traders and settled on the port towns all along the West Coast.
- II. The Manigramattar were traders engaged in inland trade.
- I. Over time, both groups united under the ai-nutruvar and disai-ayirattu-ai-nutruvar banners, operating through the central guild in Ayyavole,
- II. Karnataka.

Which of the statements given above is/are correct?

- A) I and II only
- B) II and III only
- C) I and III only
- D) I, II and III
- E) Answer not known

பின்வரும் கூற்றுக்களை கருத்தில் கொள்க.

- I. அஞ்சு-வண்ணத்தார் என்பவர்கள் கடல் வணிகர்களாவர். மேலும் இவர்கள் மேற்கு கடற்கரையோரத் துறைமுக நகரங்களில் குடியேறினர்.
- II. மணி - கிராமத்தார் என்பவர்கள் வணிகக் குழு அமைப்பைச் சேர்ந்த வணிகர்களாவர். மேலும் இவர்கள் உள்நாட்டு வணிகத்தில் தீவிரமாக ஈடுபட்டிருந்தனர்.
- III. இவ்விரு அமைப்புகளும் 'ஐநூற்றுவர்', 'திசை - ஆயிரத்து ஐநூற்றுவர்' எனும் பெயர்களில் ஒருங்கிணைந்தன. இவை கர்நாடக மாநிலம் ஐகோலில் இருந்த தலைமை அமைப்பின் வழிகாட்டுதலில் செயல்பட்டன.

மேற்கண்ட கூற்றுக்களில் சரியானது எது/எவை?

- A) I மற்றும் II மட்டும்
- B) II மற்றும் III மட்டும்
- C) I மற்றும் III மட்டும்
- D) I, II மற்றும் III
- E) விடை தெரியவில்லை

151. Match List-I with List-II.

List-I

(Land Names)

- a) Shalabhoga
- b) Brahmadeya
- c) Vellanvagai
- d) Devadana
- e) Pallichandam

List-II

(Types of Land grants)

1. land gifted to temples
2. land of non-brahmin proprietors
3. land for the maintenance of a school
4. land gifted to Brahmins
5. land donated to Jaina institutions

Codes:

- | | a | b | c | d | e |
|----|----------|----------|----------|----------|----------|
| A) | 5 | 4 | 2 | 3 | 1 |
| B) | 3 | 4 | 2 | 1 | 5 |
| C) | 5 | 2 | 4 | 3 | 1 |
| D) | 3 | 2 | 1 | 4 | 5 |

- E) Answer not known



பட்டியல்-Iஐ பட்டியல்-II உடன் பொருத்துக.

பட்டியல்-I

(நிலக்கொடை)

- சாலபோகம்
- பிரம்மதேயம்
- வேளாண்வகை
- தேவதானம்
- பள்ளிச்சந்தம்

பட்டியல்-II

(கொடுக்கப்பட்டது)

- கோவில்களுக்கு நிலக்கொடை வழங்கப்பட்ட நிலம்
- பிராமணர் அல்லாத உடைமையாளர்களுக்கு வழங்கப்பட்ட நிலம்
- கல்வி நிலையங்களுக்கான பராமரிப்பு நிலம்
- பிராமணர்களுக்கு கொடை வழங்கப்பட்ட நிலம்
- சமணர்களுக்கு தானமாக வழங்கப்பட்ட நிலம்

குறியீடுகள்:

	a	b	c	d	e
A)	5	4	2	3	1
B)	3	4	2	1	5
C)	5	2	4	3	1
D)	3	2	1	4	5

E) விடை தெரியவில்லை

152. Consider the following statements regarding Arikesari Maravarman.

- Saivite saint Thirunavukkarasar converted Arikesari from Jainism to Saivism.
 - Even after converting to Shaivism, he maintained tolerance towards Jainism.
- Which of the statements given above is/are correct?
- I only
 - II only
 - Both I and II
 - Neither I nor II
 - Answer not known

அரிகேசரி மாறவர்மன் பற்றிய பின்வரும் கூற்றுகளை கருத்தில் கொள்க.

- சைவத் துறவியான திருநாவுக்கரசர் அரிகேசரியை சமணத்திலிருந்து சைவத்திற்கு மாற்றினார்.
 - சைவ மதத்திற்கு மாறிய பிறகும், சமண மதத்தின் மீது சகிப்புத்தன்மையைத் கடைபிடித்தார். மேற்கண்ட கூற்றுகளில் சரியானது எது/எவை?
- I மட்டும்
 - II மட்டும்
 - இரண்டும்
 - இரண்டுமில்லை
 - விடை தெரியவில்லை

153. Match List-I with List-II.

List-I

(Kingdom)

- Chandelas
- Tomaras
- Chauhans
- Palas
- Kamarupa

List-II

(Region)

- Assam
- Bundelkhand
- Rajasthan
- Haryana
- Bengal

**Codes:**

- | | a | b | c | d | e |
|----|----------|----------|----------|----------|----------|
| A) | 2 | 4 | 3 | 5 | 1 |
| B) | 4 | 2 | 5 | 1 | 3 |
| C) | 2 | 5 | 4 | 3 | 1 |
| D) | 4 | 2 | 1 | 5 | 3 |
- E) Answer not known

பட்டியல்-Iஐ பட்டியல்-II உடன் பொருத்துக.

- | பட்டியல்-I
(அரசுகள்) | பட்டியல்-II
(பிராந்தியம்) |
|-------------------------|------------------------------|
| a) சந்தேலர்கள் | 1. அசாம் |
| b) தோமரர்கள் | 2. பந்தேல்கண்ட் |
| c) செளஹான்கள் | 3. ராஜஸ்தான் |
| d) பாலர்கள் | 4. ஹரியானா |
| e) காமரூபம் | 5. வங்காளம் |

குறியீடுகள்:

- | | a | b | c | d | e |
|----|----------|----------|----------|----------|----------|
| A) | 2 | 4 | 3 | 5 | 1 |
| B) | 4 | 2 | 5 | 1 | 3 |
| C) | 2 | 5 | 4 | 3 | 1 |
| D) | 4 | 2 | 1 | 5 | 3 |
- E) விடை தெரியவில்லை

154. Arrange the following kings in chronological order of their rule:

- I. Jatila ParantakaNedunjadayan
- II. Kadunkon
- III. SrimaraSrivallabha
- IV. Arikesari Maravarman

Codes:

- | | |
|----------------|----------------|
| A) IV-III-I-II | B) II-I-IV-III |
| C) IV-I-III-II | D) II-IV-I-III |
- E) Answer not known

பின்வரும் அரசர்களை அவர்களின் ஆட்சிக்காலத்தின்படி வரிசைப்படுத்தவும்:

- I. ஜடிலபராந்தக நெடுஞ்சடையன்
- II. கடுங்கோன்
- III. ஸ்ரீமாற ஸ்ரீவல்லபன்
- IV. அரிகேசரி மாறவர்மன்

குறியீடுகள்:

- | | |
|----------------|----------------|
| A) IV-III-I-II | B) II-I-IV-III |
| C) IV-I-III-II | D) II-IV-I-III |
- E) விடை தெரியவில்லை



155. Which of the following is the reason for the trade extended to the eastern coast from the western coast of India during the 7th century?
- The Governments of the east coast pursued a more liberal and enlightened policy toward overseas traders
 - Their charters exempted traders from various types of port dues and tolls.
 - In Korkai, an agency established by Arab chieftain Malik-ul-Islam Jamal-ud-din facilitated horse availability for Pandya kings.

Codes:

- A) I and II only
B) II and III only
C) I and III only
D) I, II and III only
E) Answer not known

7ஆம் நூற்றாண்டில் இந்தியாவின் மேற்குக் கடற்கரையிலிருந்து கிழக்குக் கடற்கரை வரை வணிகம் விரிவடையக் காரணம் என்ன?

- கிழக்குக் கடற்கரையின் அரசுகள் வெளிநாட்டு வர்த்தகர்களுக்கு மிகவும் தாராளமான மற்றும் அறிவுபூர்வமான கொள்கையைப் பின்பற்றின.
- அவர்களின் பட்டய சட்டங்கள் வணிகர்களுக்கு பல்வேறு வகையான துறைமுக வரிகளிலிருந்தும், சுங்க வரிகளிலிருந்தும் இருந்து விலக்கு அளித்தன.
- கொற்கையில், அரேபியரான மாலிக்-உல்-இஸ்லாம் ஜமால்-உத்-தின் என்பவரால் நிறுவப்பட்ட நிறுவனமானது பாண்டிய மன்னர்களுக்குக் குதிரை கிடைப்பதற்கு வழிவகுத்தது.

குறியீடுகள்:

- A) I மற்றும் II மட்டும்
B) II மற்றும் III மட்டும்
C) I மற்றும் III மட்டும்
D) I, II மற்றும் III மட்டும்
E) விடை தெரியவில்லை

156. Which of the following amounts to 3.6 grains of silver?

- A) 1 Silver Tanka
B) 1 Jital
C) 48 Jitals
D) 48 Silver Tanka
E) Answer not known

பின்வருவனவற்றில் 3.6 வெள்ளி குன்றிமணிகளைக் கொண்டது எது?

- A) 1 வெள்ளி டாங்கா
B) ஒரு ஜிட்டால்
C) 48 ஜிட்டால்கள்
D) 48 வெள்ளி டாங்கா
E) விடை தெரியவில்லை

157. Find the incorrect statement regarding Marco Polo visit to Pandya Kingdom.

- He praised the Pandyan Kingdom as the richest and the most splendid province in the world.
- He recorded incidents of Sati.
- He recorded that polygamy was prevalent, but not among the kings.
- Marco Polo visited Kayal twice in 1288 and 1293.
- Answer not known



பாண்டிய ஆட்சியின் போது மார்க்கோ போலோவின் வருகை பற்றிய தவறான கூற்றைக் கண்டறியவும்.

- A) அவர் பாண்டிய அரசு செல்வச் செழிப்பு மிக்க, உலகிலேயே மிக அற்புதமான பகுதி என புகழ்ந்துள்ளார்.
B) சதியின் நிகழ்வுகளை பதிவு செய்துள்ளார்.
C) பலதார மணம் பரவலாக இருந்தது, ஆனால் அது மன்னர்களிடையே இல்லை என்று அவர் பதிவு செய்துள்ளார்.
D) மார்கோ போலோ 1288 மற்றும் 1293 இல் காயலுக்கு இரண்டு முறை வருகை தந்தார்.
E) விடை தெரியவில்லை

158. Match List-I with List-II.

List-I

(Ancient Names)

- a) Kulaciraiyar
b) Eluttu-Mandapam
c) Maran-Eyinan
d) Tennavan-Tamilvel
e) Uttara-Mantri

List-II

(Portfolio)

1. Ministers
2. Prime Minister
3. Military Commanders
4. Respected Officials
5. Royal Secretariat

Codes:

	a	b	c	d	e
A)	1	2	3	4	5
B)	2	5	3	4	1
C)	1	5	4	3	2
D)	4	5	3	1	2

E) Answer not known

பட்டியல்-Iஐ பட்டியல்-II உடன் பொருத்துக.

பட்டியல்-I

(பண்டைய பெயர்கள்)

- a) குலச்சிறையார்
b) எழுத்து மண்டபம்
c) மாறன்-எயினன்
d) தென்னவன்-தமிழ்வேள்
e) உத்தர மந்திரி

பட்டியல்-II

(பதவி)

1. அமைச்சர்கள்
2. பிரதம மந்திரி
3. படைத் தளபதிகள்
4. மதிப்பிற்குரிய அதிகாரிகள்
5. அரசு செயலகம்

குறியீடுகள்:

	a	b	c	d	e
A)	1	2	3	4	5
B)	2	5	3	4	1
C)	1	5	4	3	2
D)	4	5	3	1	2

E) விடை தெரியவில்லை



159. Consider the following statements regarding Village administration of Pandyan Kingdom:

- I. The Mangulam inscription dated A.D. (CE) 800 provides details about village administration.
 - II. The local governance of the Pandyas resembled that of the Cholas, featuring village assemblies and committees.
 - III. Both civil and military powers seem to have been vested in the same person.
- Which of the statements given above is/are correct?

- A) I and II only
- B) II and III only
- C) III only
- D) I, II and III
- E) Answer not known

பாண்டிய ஆட்சி கிராம நிர்வாகத்தைப் பற்றிய பின்வரும் கூற்றுகளைக் கருத்தில் கொள்க:

- I. கி.பி (CE) 800 ஆம் ஆண்டை சேர்ந்த மாங்குளம் கல்வெட்டு கிராம நிர்வாகம் பற்றிய விவரங்களை வழங்குகிறது.
- II. பாண்டியர்களின் உள்ளாட்சி சோழர்களின் உள்ளாட்சி ஒத்திருந்தது. இதில் கிராம சபைகள் மற்றும் குழுக்கள் இடம்பெற்றன.
- III. சிவில் மற்றும் இராணுவ அதிகாரங்கள் இரண்டும் ஒரே நபருக்கு வழங்கப்பட்டிருந்தது.

மேற்கண்ட கூற்றுகளில் சரியானது எது/எவை?

- A) I மற்றும் II மட்டும்
- B) II மற்றும் III மட்டும்
- C) III மட்டும்
- D) I, II மற்றும் III
- E) விடை தெரியவில்லை

160. Who introduced the organization named as Chahalgani or The Forty?

- A) Qutb-ud-din-Aibak
- B) Iltutmish
- C) Razia Sulthana
- D) Ghiyaz-ud-din-Balban
- E) Answer not known

சகல்கானி அல்லது நாற்பதின்மர் என்ற அமைப்பை அறிமுகப்படுத்தியவர் யார்?

- A) குத்பதீன் ஐபக்
- B) இல்துமிஷ்
- C) ரஸ்ஸியா சுல்தானா
- D) கியாசுதீன் பால்பன்
- E) விடை தெரியவில்லை

161. Consider the following statements Regarding the rule in Muhammad-bin-Tughluq's period:

- I. He shifted his capital from Delhi to Devagiri.
- II. Issues token currency in Copper.
- III. Ibn Battuta, the Moroccan traveler said that Delhi was empty and abandoned.

Which of the statements given above is/are correct?

- A) I and II only
- B) II and III only
- C) I and III only
- D) All the above
- E) Answer not known



முகமது-பின்-துக்ளக்கின் ஆட்சிக்காலம் பற்றிய பின்வரும் கூற்றுகளைக் கருத்தில் கொள்க:

- I. அவர் தனது தலைநகரை டெல்லியிலிருந்து தேவகிரிக்கு மாற்றினார்.
- II. செப்பு நாணயங்களை அடையாளப் பணமாக வெளியிட்டார்.
- III. மொராக்கோ நாட்டுப் பயணியான இபன் பதூதா, டெல்லி காலியாகவும் கைவிடப்பட்டதாகவும் இருந்தது என்று கூறினார்.

மேற்கண்ட கூற்றுகளில் சரியானது எது/எவை?

- A) I மற்றும் II மட்டும்
- B) II மற்றும் III மட்டும்
- C) I மற்றும் III மட்டும்
- D) மேற்கண்ட அனைத்தும்
- E) விடை தெரியவில்லை

162. Consider the following statements regarding Muhamad-bin-Tughlaq's rule:

Assertion (A) : Frequent famines occurred during the reign of Muhammad bin Tughlaq

Reason (R) : Due to the increase in land tax in the Doab region, revolts were triggered, lead to peasants to abandon cultivation.

Codes:

- A) Both (A) and (R) are true and (R) is the correct explanation of (A)
- B) Both (A) and (R) are true but (R) is not the correct explanation of (A)
- C) (A) is true but (R) is false
- D) (A) is false but (R) is true
- E) Answer not known

முகமது பின் துக்ளக்கின் ஆட்சியைப் பற்றிய பின்வரும் கூற்றுகளைக் கருத்தில் கொள்க:

கூற்று (A) : முகமது பின் துக்ளக்கின் ஆட்சிக் காலத்தில் அடிக்கடி பஞ்சங்கள் ஏற்பட்டன

காரணம் (R) : தோஆப் பகுதியில் நிலவரியை உயர்த்தியதன் விளைவாக கிளர்ச்சிகள் தூண்டப்பட்டன. இதனால் விவசாயிகள் சாகுபடியைக் கைவிட்டனர்.

குறியீடுகள்:

- A) (A) மற்றும் (R) இரண்டும் சரி மற்றும் (R) என்பது (A) இன் சரியான விளக்கம்
- B) (A) மற்றும் (R) இரண்டும் சரி ஆனால் (R) என்பது (A) இன் சரியான விளக்கம் அல்ல
- C) (A) சரி ஆனால் (R) தவறு
- D) (A) தவறு ஆனால் (R) சரி
- E) விடை தெரியவில்லை

163. Consider the following statements regarding Firoz shah Tughlaq's rule:

- I. He banned inhuman punishments and abolished taxes not recognized by Muslim law.
- II. He waived agricultural debts and constructed many canals for irrigation.
- III. He reconquered the southern provinces that had revolted and declared independence during Muhammad-bin-Tughlaq's rule.

Which of the statements given above is/are correct?

- A) I and II only
- B) II and III only
- C) I and III only
- D) All the above
- E) Answer not known



பிரோஷ ஷா துக்களக்கின் ஆட்சியினைப் பற்றிய பின்வரும் கூற்றுகளைக் கருத்தில் கொள்க.

- I. அவர் மனிதாபிமானமற்ற, கொடுமான தண்டனைகளை ஒழித்தார் மற்றும் இஸ்லாமியச் சட்டங்களால் அங்கீகரிக்கப்படாத வரிகளை ரத்து செய்தார் .
- II. விவசாயிகளின் கடன்களை ரத்து செய்தும் பல நீர்ப்பாசனக் கால்வாய்களை வெட்டியும் வேளாண்மையை மேம்படுத்தினார்.
- III. முகமது-பின்-துக்களக்கின் ஆட்சியின் போது கிளர்ச்சி செய்து சுதந்திரம் அறிவித்த தென் மாகாணங்களை அவர் மீண்டும் கைப்பற்றினார்.

மேற்கண்ட கூற்றுகளில் சரியானது எது/எவை?

- A) I மற்றும் II மட்டும்
- B) II மற்றும் III மட்டும்
- C) I மற்றும் III மட்டும்
- D) மேலே உள்ள அனைத்தும்
- E) விடை தெரியவில்லை

164. Consider the following statements.

- I. The innermost layer of the earth is called as the core.
- II. It is also known as Barysphere
- III. It is separated from the mantle by a boundary called Mohorovicic discontinuity
- IV. The outer core is in liquid state, whereas the inner core is in solid state.

Which of the statements given above is/are correct?

- A) I and II only
- B) I, II and IV only
- C) III and IV only
- D) All the above
- E) Answer not known

பின்வரும் கூற்றுகளைக் கருத்தில் கொள்க.

- I. புவியின் மையப்பகுதி புவிக் கருவம் எனக் குறிப்பிடப்படுகிறது.
- II. இது பேரிஸ்பியர் என்றும் அழைக்கப்படுகிறது
- III. இது மோஹோரோவிசிக் இடைவெளி புவிக்கருவத்திற்கும் கவசத்திற்கும் இடையே எல்லையாக அமைகின்றது.
- IV வெளிக்கருவம் திரவ நிலையில் உள்ளது, உட்கருவம் திட நிலையில் உள்ளது.

மேற்கண்ட கூற்றுகளில் சரியானது எது/எவை?

- A) I மற்றும் II மட்டும்
- B) I, II மற்றும் IV மட்டும்
- C) III மற்றும் IV மட்டும்
- D) மேற்கண்ட அனைத்தும்
- E) விடை தெரியவில்லை

165. Consider the following statements.

- I. The continental crust is less dense than Oceanic crust
- II. The upper part of the crust consists of Silica and Magnesium
- III. The lower part of the crust consists of Silica and Alumina

Which of the statements given above is/are incorrect?

- A) I only
- B) II and III only
- C) I, II and III
- D) None of the above
- E) Answer not known



பின்வரும் கூற்றுகளைக் கருத்தில் கொள்க.

- I. கண்டங்களின் மேலோடு கடலின் மேலோட்டை விட அடர்த்தி குறைவு.
 - II. மேலோட்டின் மேற்பகுதியில் சிலிக்கா மற்றும் மெக்னீசியம் உள்ளது
 - III. மேலோட்டின் கீழ்ப்பகுதியில் சிலிக்கா மற்றும் அலுமினியம் உள்ளது
- மேற்கண்ட கூற்றுகளில் தவறானது எது/எவை?
- A) I மட்டும்
 - B) II மற்றும் III மட்டும்
 - C) I, II மற்றும் III
 - D) மேற்கண்ட எதுவுமில்லை
 - E) விடை தெரியவில்லை

166. Consider the following statements.

- I. The viscosity of lava is determined by the amount of silica and water in magma.
 - II. Low viscous lava typically has low silica and has a lot of water.
 - III. Highly viscous lava has high silica and has a little water
- Which of the statements given above is/are correct?
- A) I only
 - B) II and III only
 - C) II only
 - D) All of the above
 - E) Answer not known

பின்வரும் கூற்றுகளைக் கருத்தில் கொள்க.

- I. லாவாவின் பரவல் மற்றும் வேகம் அதிலுள்ள சிலிகா மற்றும் நீரின் அளவை பொறுத்ததாகும்.
 - II. சிலிகா குறைவாக உள்ள கார லாவா வேகமாகவும் பரவுகின்றது.
 - III. சிலிகா அதிகமுள்ள அமில லாவா மெதுவாகவும் பரவுகின்றது
- மேற்கண்ட கூற்றுகளில் சரியானது எது/எவை?
- A) I மட்டும்
 - B) II மற்றும் III மட்டும்
 - C) II மட்டும்
 - D) மேற்கண்ட அனைத்தும்
 - E) விடை தெரியவில்லை

167. Which of the following is/are incorrectly matched?

- | (Type of Volcano) | (Characteristics) |
|--------------------------|--|
| I. Active Volcano | - Erupt frequently |
| II. Dormant Volcano | - No sign of activity for many years but they may become active at any time. |
| III. Extinct volcano | - Not erupted in past 1000 years. |

Codes:

- A) I only
- B) II only
- C) III only
- D) None of the above
- E) Answer not known



பின்வருவனவற்றுள் எது/ எவை தவறாக பொருந்தியுள்ளன?

(எரிமலை வகை)

(பண்புகள்)

- I. செயல்படும் எரிமலை – அடிக்கடி வெடிப்பவை
 II. உறங்கும் எரிமலை – பலவருடங்களாக எரிமலைக் குழம்பை வெளியேற்றுவதற்கான
 எந்த ஒரு அறிகுறியும் வெளிப்படுத்தாமல், எப்போது
 வேண்டுமானாலும் வெளிப்படுத்தலாம்
 III. செயலிழந்த எரிமலை – சுமார் 1000 ஆண்டுகளாக வெடிப்பதை நிறுத்திவிட்ட எரிமலை

குறியீடுகள்:

- A) I மட்டும்
 B) II மட்டும்
 C) III மட்டும்
 D) மேற்கண்ட எதுவுமில்லை
 E) விடை தெரியவில்லை

168. Match List-I with List-II.

List-I

(Articles)

- a) Article 15
 b) Article 16
 c) Article 17
 d) Article 18

List-II

(Provisions)

1. Prohibition of discrimination
 2. Abolishes the titles conferred to citizen.
 3. Equality of opportunity in Public Employment
 4. Abolishes the practice of untouchability

Codes:

- | | a | b | c | d |
|----|------------------|----------|----------|----------|
| A) | 3 | 1 | 4 | 2 |
| B) | 1 | 3 | 2 | 4 |
| C) | 3 | 1 | 2 | 4 |
| D) | 1 | 3 | 4 | 2 |
| E) | Answer not known | | | |

பட்டியல்-Iஐ பட்டியல்-II உடன் பொருத்துக.

பட்டியல்-I

பட்டியல்-II

(சரத்துகள்)

(சிறப்பம்சங்கள்)

- a) சரத்து 15 1. பாகுபாட்டை தடை செய்கிறது.
 b) சரத்து 16 2. பட்டங்கள் அளித்து வேறுபடுத்துதலை தடை செய்கிறது
 c) சரத்து 17 3. பொது வேலைவாய்ப்பில் அனைவருக்கும் சம வாய்ப்பு
 d) சரத்து 18 4. தீண்டாமையை ஒழிக்கிறது

குறியீடுகள்:

- | | a | b | c | d |
|----|------------------|----------|----------|----------|
| A) | 3 | 1 | 4 | 2 |
| B) | 1 | 3 | 2 | 4 |
| C) | 3 | 1 | 2 | 4 |
| D) | 1 | 3 | 4 | 2 |
| E) | விடை தெரியவில்லை | | | |



169. Consider the following statements:

- I. They are the backbone of democracy.
 - II. They formulate public opinion.
 - III. They serve as intermediaries between the citizen and the policy makers.
- Which of the following is best implied in the passage?

- A) Political parties
- B) Pressure Groups
- C) Self Help Groups
- D) Civil Society Organisation
- E) Answer not known

பின்வரும் கூற்றுகளைக் கருத்தில் கொள்க.

- I. இவை மக்களாட்சியின் முதுகெலும்பு எனலாம்.
- II. இவை பொது கருத்தை உருவாக்குகின்றன.
- III. இவை குடிமக்களுக்கும் கொள்கை வகுப்பாளர்களுக்கும் இடையே பாலமாக சேவை செய்கின்றன .

பின்வருவனவற்றில் எது பத்தியில் சிறப்பாகக் குறிப்பிடப்பட்டுள்ளது?

- A) அரசியல் கட்சிகள்
- B) அழுத்தக் குழுக்கள்
- C) சுய உதவி குழுக்கள்
- D) சிவில் சொசைட்டி அமைப்பு
- E) விடை தெரியவில்லை

170. Match List-I with List-II.

List-I
(Battle)

- a) Battle of Khanwa
- b) Battle of Chausa
- c) Battle of Chanderi
- d) Battle of Kannauj

List-II
(year)

1. 1528
2. 1539
3. 1540
4. 1527

Codes:

- | | a | b | c | d |
|----|----------|----------|----------|----------|
| A) | 1 | 4 | 2 | 3 |
| B) | 2 | 1 | 3 | 4 |
| C) | 3 | 2 | 1 | 4 |
| D) | 4 | 2 | 1 | 3 |

E) Answer not known

பட்டியல்-Iஐ பட்டியல்-II உடன் பொருத்துக.

பட்டியல்-I

(போர்கள்)

- a) காண்வா போர்
- b) செளசா போர்
- c) சந்தேரி போர்
- d) கன்னோஜ் போர்

பட்டியல்-II

(ஆண்டு)

1. 1528
2. 1539
3. 1540
4. 1527

குறியீடுகள்:

- | | a | b | c | d |
|----|----------|----------|----------|----------|
| A) | 1 | 4 | 2 | 3 |
| B) | 2 | 1 | 3 | 4 |
| C) | 3 | 2 | 1 | 4 |
| D) | 4 | 2 | 1 | 3 |

E) விடை தெரியவில்லை



171. Arrange the following rulers in chronological order of their rule:

- I. Devaraya I
- II. Harihara II
- III. Krishnadevaraya
- IV. Bukka I

Codes:

- | | |
|---------------------|----------------|
| A) II-IV-III-I | B) IV-II-I-III |
| C) II-IV-I-III | D) IV-III-II-I |
| E) Answer not known | |

பின்வரும் ஆட்சியாளர்களை அவர்களின் ஆட்சிக்காலத்தின்படி வரிசைப்படுத்தவும்:

- I. முதலாம் தேவராயர்
- II. இரண்டாம் ஹரிஹரர்
- III. கிருஷ்ணதேவராயர்
- IV. முதலாம் புக்கர்

குறியீடுகள்:

- | | |
|---------------------|----------------|
| A) II-IV-III-I | B) IV-II-I-III |
| C) II-IV-I-III | D) IV-III-II-I |
| E) விடை தெரியவில்லை | |

172. Consider the following statements:

- I. He was also a poet and a prose writer.
- II. He served with great distinction as the Prime Minister under Muhammad III
- III. He used Persian chemists to teach the Bahmani army about the preparation and the use of gunpowder
- IV. The administrative reforms introduced by him improved the efficiency of the government

Which of the following personality is described in the above statements?

- | | |
|---------------------|-----------------|
| A) Hasan Gangu | B) Humayun Shah |
| C) Mahmud Gawan | D) Muhamad Shah |
| D) Answer not known | |

பின்வரும் கூற்றுகளைக் கருத்தில் கொள்க.

- I. இவர் ஒரு கவிஞர் மற்றும் உரைநடை எழுத்தாளரும் ஆவார்.
- II. இவர் மூன்றாம் முகமதுவின் அவையில் பிரதம அமைச்சராக சிறந்து விளங்கினார்.
- III. பாரசீக வேதியியல் வல்லுநர்களை அழைத்து வந்து வெடிமருந்துத் தயாரிப்பதிலும் அவற்றைப் பயன்படுத்துவதிலும் படையினருக்குப் பயிற்சியளித்தார்.
- IV. இவரால் அறிமுகம் செய்யப்பட்ட நிர்வாகச் சீர்திருத்தங்கள் அரசின் திறனை மேம்படுத்தியது. மேற்கண்ட கூற்றுகளில் பின்வரும் எந்த ஆளுமை விவரிக்கப்படுகிறார்?

- | | |
|---------------------|----------------|
| A) ஹசன் கங்கு | B) ஹுமாயுன் ஷா |
| C) மகமது கவான் | D) முகமது ஷா |
| D) விடை தெரியவில்லை | |



173. Match List-I with List-II. (Ministers of Bahmani state)

List-I (Title)	List-II (Role)
a) Vakil-us-saltana	1. Chief of Police
b) Amir-i-jumla	2. Lieutenant of the Kingdom
c) Wasir-i-ashraf	3. Chief Justice
d) Kotwal	4. Minister of Finance
e) Sadr-i-jahan	5. Minister of Foreign Affairs

Codes:

	a	b	c	d	e
A)	4	3	2	5	1
B)	2	4	5	1	3
C)	3	5	4	2	1
D)	2	4	1	5	3

E) Answer not known

பட்டியல்-I உடன் பட்டியல்-II உடன் பொருத்துக. (பாமனி அரசின் அமைச்சர்கள்)

பட்டியல்-I (தலைப்பு)	பட்டியல்-II (பதவி)
a) வக்கீல்-உஸ்-சல்தானா	1. காவல்துறைத் தலைவர்
b) அமிர்-இ-ஜும்லா	2. அரசின் துணையதிகாரி
c) வசீர்-இ-அசாரப்	3. தலைமை நீதிபதி
d) கொத்தவால்	4. நிதி அமைச்சர்
e) சதார்-இ-ஜஹான்	5. வெளியுறவுத்துறை அமைச்சர்

குறியீடுகள்:

Codes:

	a	b	c	d	e
A)	4	3	2	5	1
B)	2	4	5	1	3
C)	3	5	4	2	1
D)	2	4	1	5	3

E) விடை தெரியவில்லை

174. Which of the following statement is incorrect regarding Mughal administration?

- A) Raja Man Singh (Revenue Minister of Akbar) adopted and refined the zabt system introduced by Akbar.
- B) According to Zabt system, lands were classified according to the nature and fertility of the soil.
- C) The share of the state was fixed at one-third of the average produce for 10 years.
- D) Every Mansabdar was a Jagirdar if he was not paid in cash.
- E) Answer not known



முகலாய நிர்வாகம் தொடர்பான பின்வரும் கூற்றுகளில் எது தவறானது?

- A) ராஜா மான் சிங் (அக்பரின் வருவாய்த்துறை அமைச்சர்) அக்பரால் அறிமுகப்படுத்தப்பட்ட ஜப்த்தி முறையை நடைமுறைப்படுத்தினார்.
- B) ஜப்த்தி முறையின் படி, நிலங்கள் அளவை செய்யப்பட்டு அவற்றின் இயல்புக்கும் வளத்திற்கும் ஏற்றவாறு வகைப்படுத்தப்பட்டன.
- C) பத்தாண்டு காலத்திற்குச் சராசரி விளைச்சலில் மூன்றில் ஒரு பங்கு (1/3) அரசுக்கு வரியாகச் செலுத்தப்பட வேண்டுமென நிர்ணயம் செய்யப்பட்டது.
- D) தங்களது ஊதியத்தைப் பணமாகப் பெறாத ஒவ்வொரு மன்சப்தாரும் ஜாகீர்தார் ஆவார்.
- E) விடை தெரியவில்லை

175. "The use of body or mind, partly or wholly, with a view to secure an income apart from the pleasure derived from the work". This is related to which of the following economist?

- A) Adam Smith
B) John Maynard Keynes
C) Alfred Marshall
D) Milton Friedman
E) Answer not known

“ஒரு பணியை ஒருவர் செய்வதால், அவருக்குக் கிடைக்கும் மனநிறை மட்டுமின்றி அதனை செய்வதற்காக கைமாறு எதிர்பார்த்து மனிதன் தன் உடல் அல்லது அறிவை முழுமையாகவோ பகுதியாகவோ பயன்படுத்தி, மேற்கொள்ளும் கடும் முயற்சியே உழைப்பாகும்” இத்தொடர் பின்வரும் எந்தப் பொருளாதார நிபுணருடன் தொடர்புடையது?

- A) ஆடம் ஸ்மித்
B) ஜான் மேனார்ட் கீன்ஸ்
C) ஆல்ஃபிரட் மார்ஷல்
D) மில்டன் ப்ரீட்மேன்
E) விடை தெரியவில்லை

176. If $1^3 + 2^3 + 3^3 + \dots + k^3 = 44100$, then find $1+2 + 3 + \dots + k$

- A) 217
B) 213
C) 220
D) 210
E) Answer not known

$1^3 + 2^3 + 3^3 + \dots + k^3 = 44100$ எனில், $1+2 + 3 + \dots + k$ ஐக் கண்டறியவும்

- A) 217
B) 213
C) 220
D) 210
E) விடை தெரியவில்லை

177. If the Highest Common Factor of 210 and 55 is expressible in the form of $55x - 325$, find x .

- A) 4
B) 5
C) 6
D) 8
E) Answer not known

210 மற்றும் 55 இன் மீ.பெ.வ ஆனது $55x - 325$ வடிவத்தில் குறிப்பிட்டால் x ஐக் கண்டறிக.

- A) 4
B) 5
C) 6
D) 8
E) விடை தெரியவில்லை



178. Find the HCF of 396, 504, 636

- A) 36
B) 18
C) 12
D) 24
E) Answer not known

396, 504, 636 இன் மீ.பெ.வ ஐக் கண்டறியவும்

- A) 36
B) 18
C) 12
D) 24
E) விடை தெரியவில்லை

179. A man has 532 flower pots. He wants to arrange them in rows such that each row contains 21 flower pots. Find the number of completed rows and how many flower pots are left over.

- A) 24, 8
B) 24, 7
C) 25, 8
D) 25, 7
E) Answer not known

ஒரு நபரிடம் 532 பூந்தொட்டிகள் உள்ளன. அவர் வரிசைக்கு 21 பூந்தொட்டிகள் வீதம் அடுக்க விரும்பினார். எத்தனை வரிசைகள் முழுமை பெறும் எனவும் மற்றும் எத்தனை பூந்தொட்டிகள் மீதமிருக்கும் எனவும் காண்க.

- A) 24, 8
B) 24, 7
C) 25, 8
D) 25, 7
E) விடை தெரியவில்லை

180. Find the least number that is divisible by the first ten natural numbers.

- A) 2250
B) 2520
C) 2420
D) 2500
E) Answer not known

முதல் பத்து இயல் எண்களால் மீதியின்றி வகுபடும் மிகச் சிறிய எண்ணைக் கண்டறியவும்.

- A) 2250
B) 2520
C) 2420
D) 2500
E) விடை தெரியவில்லை

181. Kala and Vani are friends. Kala says, "Today is my birthday" and she asks Vani, "When will you celebrate your birthday?" Vani replies, "Today is Monday and I celebrated my birthday 75 days ago". Find the day when Vani celebrated her birthday.

- A) Tuesday
B) Wednesday
C) Thursday
D) Monday
E) Answer not known



கலாவும் வாணியும் நண்பர்கள். “இன்று என் பிறந்தநாள்” என்று கலா கூற, அவள் வாணியிடம் “உன் பிறந்தநாளை எப்போது கொண்டாடுவாய்?” என்று கேட்கிறாள். அதற்கு வாணி, “இன்று திங்கட்கிழமை, 75 நாட்களுக்கு முன்பு எனது பிறந்தநாளைக் கொண்டாடினேன்” என்று பதிலளித்தார். வாணி தனது பிறந்த நாளைக் கொண்டாடிய நாளைக் கண்டுபிடி.

- A) செவ்வாய்க்கிழமை
- B) புதன்கிழமை
- C) வியாழக்கிழமை
- D) திங்கட்கிழமை
- E) விடை தெரியவில்லை

182. Find the largest number which divides 1230 and 1926 leaving remainder 12 in each case.

- A) 174
- B) 162
- C) 534
- D) 150
- E) Answer not known

1230 மற்றும் 1926 ஆகிய எண்களை வகுக்கும் போது மீதியாக 12யைக் கொடுக்கும் மிகப்பெரிய எண்ணைக் கண்டறியவும்.

- A) 174
- B) 162
- C) 534
- D) 150
- E) விடை தெரியவில்லை

183. The duration of flight travel from Chennai to London through British Airlines is approximately 11 hours. The airplane begins its journey on Sunday at 23:30 hours. If the time at Chennai is four and half hours ahead to that of London's time, then find the time at London, when will the flight lands at London Airport.

- A) 6 a.m.
- B) 10.30 a.m.
- C) 2.30 p.m.
- D) 6.30 a.m.
- E) Answer not known

பிரிட்டிஷ் ஏர்லைன்ஸ் விமானத்தில் சென்னையிலிருந்து லண்டன் செல்லப் பயணநேரம் தோராயமாக 11 மணிநேரம். விமானம் தனது பயணத்தை ஞாயிற்றுக்கிழமை 23:30 மணிக்குத் தொடங்கியது. சென்னையின் திட்ட நேரமானது லண்டனின் திட்ட நேரத்தை விட 4.30 மணி நேரம் முன்னதாக இருக்குமெனில், விமானம் லண்டனில் தரையிறங்கும் நேரத்தைக் காண்க.

- A) முற்பகல் 6 மணி
- B) முற்பகல் 10.30 மணி
- C) பிற்பகல் 2.30 மணி
- D) முற்பகல் 6.30 மணி
- E) விடை தெரியவில்லை

184. The ratio of 6th and 8th term of an A.P. is 7:9. Find the ratio of 9th term to 13th term.

- A) 5:7
- B) 7:9
- C) 5:9
- D) 7:5
- E) Answer not known



ஒரு கூட்டுத்தொடர் வரிசையின் 6வது மற்றும் 8வது உறுப்பின் விகிதம் 7:9 ஆகும். 9வது மற்றும் 13வது உறுப்பு விகிதத்தைக் கண்டறியவும்.

- A) 5:7
B) 7:9
C) 5:9
D) 7:5
E) விடை தெரியவில்லை

185. What is the time 100 hours after 7 a.m.?

- A) 9 a.m.
B) 10 a.m.
C) 11 a.m.
D) 12 a.m.
E) Answer not known

முற்பகல் 7 மணிக்கு பின் 100வது மணிநேரம் என்ன?

- A) முற்பகல் 9 மணி
B) முற்பகல் 10 மணி
C) முற்பகல் 11 மணி
D) முற்பகல் 12 மணி
E) விடை தெரியவில்லை

186. Find the sum of $0.40 + 0.43 + 0.46 + \dots + 1$.

- A) 16.4
B) 14
C) 14.7
D) 16.1
E) Answer not known

$0.40 + 0.43 + 0.46 + \dots + 1$ இன் கூட்டுத்தொகையைக் கண்டறியவும்.

- A) 16.4
B) 14
C) 14.7
D) 16.1
E) விடை தெரியவில்லை

187. Find the sum of all odd positive integers less than 450.

- A) 52625
B) 50625
C) 50400
D) 50850
E) Answer not known

450க்கும் குறைவான அனைத்து ஒற்றைப்படை நேர் முழு எண்களின் கூட்டுத்தொகையைக் கண்டறியவும்.

- A) 52625
B) 50625
C) 50400
D) 50850
E) விடை தெரியவில்லை

188. A man repays a loan of ₹65,000 by paying ₹400 in the first month and then increasing the payment by ₹300 every month. How long will it take for him to clear the loan?

- A) 22 months
B) 20 months
C) 18 months
D) 16 months
E) Answer not known



ஒருவர் தான் பெற்ற ₹65,000 கடனை திருப்பிச் செலுத்த முதல் மாதம் ₹400 திருப்பிச் செலுத்துகிறார், அதன் பின்னர் ஒவ்வொரு மாதமும் முந்தைய மாதம் செலுத்தியதை விட ₹300 கூடுதலாக செலுத்துகிறார் எனில் அவர் கடனை அடைக்க எவ்வளவு காலம் ஆகும்??

- A) 22 மாதங்கள்
 B) 20 மாதங்கள்
 C) 18 மாதங்கள்
 D) 16 மாதங்கள்
 E) விடை தெரியவில்லை

189. Find the sum $3 + 1 + \frac{1}{3} + \dots \infty$

- A) 9
 B) $\frac{9}{2}$
 C) 5
 D) $\frac{5}{2}$
 E) Answer not known

$3 + 1 + \frac{1}{3} + \dots \infty$ கூட்டுத்தொகையைக் கண்டறியவும்

- A) 9
 B) $\frac{9}{2}$
 C) 5
 D) $\frac{5}{2}$
 E) விடை தெரியவில்லை

190. Find the 8th term of the G.P. 9, 3, 1, ...

- A) $\frac{1}{81}$
 B) $\frac{1}{27}$
 C) $\frac{1}{243}$
 D) $\frac{1}{2187}$
 E) Answer not known

9, 3, 1 என்ற பெருக்குத் தொடர் வரிசையில் 8 வது உறுப்பைக் கண்டறியவும்...

- A) $\frac{1}{81}$
 B) $\frac{1}{27}$
 C) $\frac{1}{243}$
 D) $\frac{1}{2187}$
 E) விடை தெரியவில்லை

191. The present value of a machine is ₹40,000 and its value depreciates each year by 10%. Find the estimated value of the machine in the 6th year.

- A) ₹ 23619.60
 B) ₹ 24619.60
 C) ₹ 21258
 D) ₹ 23258.60
 E) Answer not known

ஒர் இயந்திரத்தின் தற்போதைய மதிப்பு 40,000 மற்றும் ஒவ்வொரு வருடமும் அதன் மதிப்பு 10% குறைகிறது. 6-வது வருடத்தில் இயந்திரத்தின் தோராய மதிப்பைக் காண்க.

- A) ₹ 23619.60
 B) ₹ 24619.60
 C) ₹ 21258
 D) ₹ 23258.60
 E) விடை தெரியவில்லை



192. If the difference between a number and its reciprocal is $\frac{24}{5}$, find the number

- A) 5
B) $\frac{1}{5}$
C) 24
D) - 5
E) Answer not known

ஒரு எண்ணுக்கும் அதன் தலைகீழிக்கும் உள்ள வேறுபாடு $\frac{24}{5}$ எனில், அந்த எண்ணைக் கண்டறியவும்

- A) 5
B) $\frac{1}{5}$
C) 24
D) - 5
E) விடை தெரியவில்லை

193. A bus covers a distance of 90 km at a uniform speed. Had the speed been 15 km/hour more it would have taken 30 minutes less for the journey. Find the original speed of the bus

- A) 55 km/hr
B) 60 km/hr
C) 45 km/hr
D) 50 km/hr
E) Answer not known

ஒரு பேருந்து 90கி.மீ தொலைவைச் சீரான வேகத்தில் கடக்கிறது. அதன்வேகம் 15 கி.மீ/ மணி அதிகரிக்கப்பட்டால், பயணநேரம் 30 நிமிடங்கள் குறைகிறது எனில், பேருந்தின் வேகத்தைக் கணக்கிடுக

- A) மணிக்கு 55 கி.மீ
B) மணிக்கு 60 கி.மீ
C) மணிக்கு 45 கி.மீ
D) மணிக்கு 50 கி.மீ
E) விடை தெரியவில்லை

194. From a group of $2x^2$ black bees, square root of half of the group went to a tree. Again eight-ninth of the bees went to the same tree. The remaining two got caught up in a fragrant lotus. How many bees were there in total?

- A) 70 Bees
B) 78 Bees
C) 72 Bees
D) 76 Bees
E) Answer not known

$2x^2$ எண்ணிக்கையுடைய கருப்பு தேனீக்களின் கூட்டத்திலிருந்து கூட்டத்தின் பாதியின் வர்க்கமூல எண்ணிக்கை கொண்ட தேனீக்கள் ஒரு மரத்துக்குச் செல்கின்றன. மீண்டும் கூட்டத்திலிருந்து ஒன்பதில் எட்டுப் பங்கு கொண்ட தேனீக்கள் அதே மரத்துக்குச் செல்கின்றன. மீதமுள்ள இரண்டு தேனீக்கள் மணம் கமழும் மலரில் சிக்கிக்கொண்டன எனில், மொத்தத் தேனீக்களின் எண்ணிக்கை எத்தனை?

- A) 70 தேனீக்கள்
B) 78 தேனீக்கள்
C) 72 தேனீக்கள்
D) 76 தேனீக்கள்
E) விடை தெரியவில்லை



195. A girl is twice as old as her sister. Five years hence, the product of their ages (in years) will be 375. Find their present ages

- A) 10 Years, 20 Years
B) 5 Years, 10 Years
C) 15 Years, 30 Years
D) 20 Years, 40 Years
E) Answer not known

ஒரு பெண்ணின் வயது அவரது சகோதரியின் வயதைப் போல இருமடங்கு ஆகும். ஐந்து ஆண்டுகளுக்குப் பின் இரு வயதுகளின் பெருக்கற்பலன் 375 எனில், சகோதரிகள் இருவரின் தற்போதைய வயதைக் காண்க

- A) 10 ஆண்டுகள், 20 ஆண்டுகள்
B) 5 ஆண்டுகள், 10 ஆண்டுகள்
C) 15 ஆண்டுகள், 30 ஆண்டுகள்
D) 20 ஆண்டுகள், 40 ஆண்டுகள்
E) விடை தெரியவில்லை

196. Simplify: $\frac{x^3}{x-y} + \frac{y^3}{y-x}$

- A) $x + y$
B) $x^2 + xy + y^2$
C) $x - y$
D) $x^2 - xy + y^2$
E) Answer not known

சுருக்குக. $\frac{x^3}{x-y} + \frac{y^3}{y-x}$

- A) $x + y$
B) $x^2 + xy + y^2$
C) $x - y$
D) $x^2 - xy + y^2$
E) விடை தெரியவில்லை

197. Find the LCM of $x^3 - 27$, $(x - 3)^2$, $x^2 - 9$

- A) $(x - 3)^2 (x^2 + 3x + 9)$
B) $(x - 3) (x + 3) (x^2 + 3x + 9)$
C) $(x - 3)^2 (x + 3) (x^2 + 3x + 9)$
D) $(x - 3)^2 (x - 3) (x^2 + 3x + 9)$
E) Answer not known

$x^3 - 27$, $(x - 3)^2$, $x^2 - 9$ இன் மீ.சி.ம ஐக் கண்டறியவும்

- A) $(x - 3)^2 (x^2 + 3x + 9)$
B) $(x - 3) (x + 3) (x^2 + 3x + 9)$
C) $(x - 3)^2 (x + 3) (x^2 + 3x + 9)$
D) $(x - 3)^2 (x - 3) (x^2 + 3x + 9)$
E) விடை தெரியவில்லை

198. Viniksha bought 50 kg of fruits consisting of apples and bananas. She paid twice as much per kg for the apple as she did for the banana. If Iniya bought ₹ 1800 worth of apples and ₹ 600 worth bananas, then how many kgs of each fruit did she buy?

- A) Apples = 30 kg, Bananas = 30 kg
B) Apples = 30 kg, Bananas = 20 kg
C) Apples = 40 kg, Bananas = 20 kg
D) Apples = 20 kg, Bananas = 20 kg
E) Answer not known



வினிக்சா 50கி.கி எடையுள்ள ஆப்பிள்கள் மற்றும் வாழைப் பழங்கள் வாங்கினார். ஒரு கிலோகிராமுக்கு ஆப்பிள்களின் விலை வாழைப் பழங்களின் விலையைப் போல இருமடங்கு ஆகும். வாங்கப்பட்ட ஆப்பிள்களின் விலை ₹1800 மற்றும் வாழைப் பழங்களின் விலை ₹600 எனில், வினிக்சா வாங்கிய இருவகை பழங்களின் எடையைக் கிலோகிராமில் காண்க

- A) ஆப்பிள் = 30 கிலோ, வாழைப்பழம் = 30 கிலோ
B) ஆப்பிள் = 30 கிலோ, வாழைப்பழம் = 20 கிலோ
C) ஆப்பிள் = 40 கிலோ, வாழைப்பழம் = 20 கிலோ
D) ஆப்பிள் = 20 கிலோ, வாழைப்பழம் = 20 கிலோ
E) விடை தெரியவில்லை

199. A ladder 17 feet long is leaning against a wall. If the ladder, vertical wall and the floor from the bottom of the wall to the ladder form a right triangle, find the height of the wall where the top of the ladder meets if the distance between bottom of the wall to bottom of the ladder is 7 feet less than the height of the wall?

- A) 14 ft
B) 8 ft
C) 15 ft
D) 23 ft
E) Answer not known

17 அடி நீளமுள்ள ஓர் ஏணி ஒரு சுவரின் மீது சாய்ந்துள்ளது. தரை, ஏணி மற்றும் செங்குத்துச் சுவர் மூன்றும் ஒரு செங்கோண முக்கோணத்தை உருவாக்குகின்றன. சுவரின் அடியிலிருந்து ஏணியின் அடி முனை வரை உள்ள தூரமானது ஏணியின் மேல்முனை சுவரைத் தொடும் உயரத்தை விட 7 அடி குறைவு எனில், சுவரின் உயரம் காண்க

- A) 14 அடி
B) 8 அடி
C) 15 அடி
D) 23 அடி
E) விடை தெரியவில்லை

200. Solve: $\frac{14x^4}{y} \div \frac{7x}{3y^4}$

- A) $6x^2y^2$
B) $12x^3y^3$
C) $12x^2y^2$
D) $6x^3y^3$
E) Answer not known

தீர்வு காண்க. $\frac{14x^4}{y} \div \frac{7x}{3y^4}$

- A) $6x^2y^2$
B) $12x^3y^3$
C) $12x^2y^2$
D) $6x^3y^3$
E) விடை தெரியவில்லை

* * * * *



SPACE FOR ROUGH WORK

SHANKAR IAS ACADEMY
www.Padasalai.Net



SPACE FOR ROUGH WORK

SHANKAR IAS ACADEMY
WWW.PADASALAI.NET



வினாத்தொகுப்பு எண் :

பதிவு எண்

2024

Test - 11

பொதுத் தமிழ் (பத்தாம் வகுப்பு தரம்) மற்றும் பொது அறிவு
(பட்டப்படிப்பு தரம்)

இந்த வினாப்புத்தகம்

பகுதி - அ (பொதுத் தமிழ்) மற்றும் பகுதி - ஆ (பொது அறிவு) உள்ளடக்கியது

கால அளவு : 3.00 மணி நேரம்]

[மொத்த மதிப்பெண்கள் : 300

வினாக்களுக்கு பதிலளிக்கும் முன் கீழ்க்கண்ட அறிவுரைகளை கவனமாகப் படிக்கவும்

முக்கிய அறிவுரைகள்

- இந்த வினாத்தொகுப்பு, தேர்வு தொடங்குவதற்கு 15 நிமிடங்களுக்கு முன்னதாக உங்களுக்கு வழங்கப்படும்.
- இந்த வினாத்தொகுப்பு, **200** வினாக்களைக் கொண்டுள்ளது. விடையளிக்கத் தொடங்குமுன் இவ்வினாத் தொகுப்பில் எல்லா வினாக்களும் வரிசையாக இடம் பெற்றுள்ளனவா என்பதையும், இடையில் வெற்றுத்தாள்கள் எவையுமில்லை என்பதையும் உறுதி செய்து கொள்ளவும். வினாத் தொகுப்பில் ஏதேனும் குறைபாடு இருப்பின், அதனை முதல் பத்து நிமிடங்களுக்குள் அறைக்கண்காணிப்பாளரிடம் தெரிவித்து, சரியாக உள்ள வேறொரு வினாத் தொகுப்பினை பெற்றுக்கொள்ள வேண்டும். தேர்வு தொடங்கிய பின்பு, இது குறித்து முறையிட்டால் வினாத் தொகுப்பு மாற்றித் தரப்படமாட்டாது.
- எல்லா வினாக்களுக்கும் விடையளிக்கவும், எல்லா வினாக்களும் சமமான மதிப்பெண்கள் கொண்டவை.
- உங்களுடைய பதிவு எண்ணை இந்தப் பக்கத்தின் வலது மேல் மூலையில் அதற்கென அமைந்துள்ள இடத்தில் நீங்கள் எழுத வேண்டும். வேறு எதையும் வினாத் தொகுப்பில் எழுதக் கூடாது.
- விடைத்தாள் ஒன்று விடைகளை குறிப்பதற்கு அறைக்கண்காணிப்பாளரால் உங்களுக்கு வழங்கப்படும். விடைகளைக் குறிப்பது உள்ளிட்ட அவசியம் பின்பற்றப்பட வேண்டிய அறிவுரைகள் விடைத்தாளிலும், தேர்வுக்கூட அனுமதிச் சீட்டிலும் வழங்கப்பட்டுள்ளன.
- உங்களுடைய வினாத்தொகுப்பு, எண்ணை (Question Booklet Number) விடைத்தாளின் முதல் பக்கத்தில் அதற்கென அமைந்துள்ள இடத்தில் கருமை நிற மையுடைய பந்துமுனைப் பேனாவினால் குறித்துக் காட்ட வேண்டும். வினாத்தொகுப்பு எண்ணை விடைத்தாளில் சரியாகக் குறித்துக் காட்டத் தவறினாலோ அல்லது குறிக்கத் தவறினாலோ உங்களுடைய விடைத்தாள் செல்லாததாகக்கப்படும்.
- ஒவ்வொரு வினாவும் A), (B), (C), (D), (E) என ஐந்து பதில்களைக் (விடைகள்) கொண்டுள்ளது. நீங்கள் A) அல்லது B) அல்லது C) அல்லது D) இவைகளில் ஒரே ஒரு சரியான விடையைத் தெரிவு செய்து விடைத்தாளில் குறித்துக்காட்ட வேண்டும். ஒரு கேள்விக்கு ஒன்றுக்கு மேற்பட்ட சரியான விடை இருப்பதாக நீங்கள் கருதினால், மிகச்சரியானது என நீங்கள் எதைக் கருதுகிறீர்களோ அந்த விடையை விடைத்தாளில் குறித்துக்காட்ட வேண்டும். உங்களுக்கு விடை தெரியவில்லை எனில், நீங்கள் (E) என்பதை அவசியம் நிரப்ப வேண்டும். எப்படியாயினும், ஒரு கேள்விக்கு ஒரே ஒரு விடையைத் தான் தேர்ந்தெடுக்க வேண்டும். நீங்கள் ஒரு வேள்விக்கு ஒன்றுக்கு மேற்பட்ட விடையளித்தால், அவற்றுள் ஒரு விடை சரியானதாக இருந்தாலும் அந்த விடை தவறானதாகவே கருதப்படும்.
- நீங்கள் வினாத் தொகுப்பின் எந்தப் பக்கத்தையும் நீக்கவோ அல்லது கிழிக்கவோ கூடாது. தேர்வு நேரத்தில் இந்த வினாத் தொகுப்பினையோ அல்லது விடைத்தாளையோ தேர்வு அறையை விட்டு வெளியில் எடுத்துச் செல்லக் கூடாது. தேர்வு முடிந்தபின் நீங்கள் உங்களுடைய விடைத்தாளை கண்காணிப்பாளரிடம் கொடுத்து விட வேண்டும். இவ்வினாத் தொகுப்பினை தேர்வு முடிந்த பின்னர் மட்டுமே நீங்கள் எடுத்துச் செல்ல அனுமதிக்கப்படுவீர்கள்.
- குறிப்புகள் எழுதிப்பார்ப்பதற்கு வினாத்தொகுப்பின் கடைசி பக்கத்திற்கு முன் உள்ள பக்கங்களை பயன்படுத்திக் கொள்ளலாம். இதைத்தவிர வினாத்தொகுப்பின் எந்த இடத்திலும் எந்தவித குறிப்புகளையும் எழுதக்கூடாது. இந்த அறிவுரை கண்டிப்பாக பின்பற்றப்படவேண்டும்.
- வினா வரிசை எண்கள் 101 முதல் 200 வரை (பகுதி - ஆ) ஆங்கில வடிவே இறுதியானது.
- நீங்கள் மேற்கண்ட அறிவுரைகளில் எவற்றையாவது பின்பற்றத் தவறினால் தேர்வாணையம் எடுக்கும் நடவடிக்கைகளுக்கு உள்ளாக நேரிடும் என அறிவுறுத்தப்படுகிறது.

ஈ

[Turn over

For queries mail to For queries mail to : zerofeedback@shankariasacad.in; [Turn over

Kindly Send Me Your Key Answer to Our email id - Padasalai.net@gmail.com



பகுதி - அ — பொதுத் தமிழ் (பத்தாம் வகுப்பு தரம்)

Part A — General Tamil (SSLC Std)

வினாக்கள் : 1-100

மொத்த மதிப்பெண்கள் : 150

Questions : 1-100

Total Marks : 150

1. “ஒருவன் அறிவு விளக்கம் பெறுவதற்கு இரண்டு வழிகள் உள்ளன. ஒன்று கல்வி; மற்றொன்று கேள்வி” – இக்கூற்றை கூறியவர் யார்?
 - A) வள்ளுவர்
 - B) திருப்பாதிரிப்புலியூர் ஞானியாரடிகள்
 - C) சரபையர்
 - D) ம.பொ. சிவஞானம்
 - E) விடை தெரியவில்லை
2. ம.பொ.சி-யின் இயற்பெயர் என்ன?
 - A) சிவகுரு
 - B) சிவஞானம்
 - C) சரபையர்
 - D) ஞானப்பிரகாசம்
 - E) விடை தெரியவில்லை
3. பின்வருவனவற்றுள் தவறான கூற்றினைத் தேர்ந்தெடுக்க.
 - A) அந்நியத் துணிக்கடை மறியல், காந்தி - இர்வின் ஒப்பந்தப்படி அனுமதிக்கப்படவில்லை.
 - B) 1931இல் காந்தி - இர்வின் ஒப்பந்தக் காலத்திலே நாடு முழுவதிலுமிருந்த பேராயக் கட்சிக்காரர்கள் ஆக்க வழிப்பட்ட வேலைகளில் ஈடுபடுத்தப்பட்டனர்.
 - C) 1905ஆம் ஆண்டு காந்தியடிகள் சத்தியாகிரகம் என்ற அறப்போர் முறையைத் தென்னாப்பிரிக்காவில் தொடங்கி வைத்தார்.
 - D) 1906, ஜூன் 26 ஆம் நாள் ம.பொ.சி சென்னை ஆயிரம் விளக்கு வட்டம் சால்வன் குப்பம் பகுதியில் பிறந்தார்.
 - E) விடை தெரியவில்லை
4. பின்வரும் கூற்றுகளைக் கருத்தில் கொள்க.

கூற்று : 1942 ஆகஸ்டு 8 ஆம் நாள், இந்திய வரலாற்றில் பொன் எழுத்துகளால் பொறிக்கப்பட்ட புனித நாளாகும்.

காரணம் : 1942 ஆம் ஆண்டு ‘இந்தியாவை விட்டு வெள்ளையனே வெளியேறு’ என்ற தீர்மானத்தைக் கல்கத்தாவில் கூடிய அகில இந்திய பேராயக் கட்சி ஒரு மனதாக நிறைவேற்றியது.

குறியீடுகள்:

 - A) கூற்று மற்றும் காரணம் இரண்டும் சரி மற்றும் காரணம் என்பது கூற்றுக்கான சரியான விளக்கமாகும்
 - B) கூற்று மற்றும் காரணம் இரண்டும் சரி ஆனால் காரணம் என்பது கூற்றுக்கான சரியான விளக்கமல்ல
 - C) கூற்று சரி ஆனால் காரணம் தவறு
 - D) கூற்று தவறு ஆனால் காரணம் சரி
 - E) விடை தெரியவில்லை



5. ம.பொ.சி, வெள்ளையனே வெளியேறு இயக்கத்தில் பங்கு கொண்டதற்காக கீழ்க்காணும் எந்தச் சிறையில் அடைக்கப்பட்டார்?
- A) பம்பாய்
B) வேலூர்
C) அமராவதி
D) பாளையங்கோட்டை
E) விடை தெரியவில்லை
6. வடக்கெல்லைத் தமிழ்மக்களை ஒருங்கிணைத்துத் தமிழுணர்வு கொள்ளச் செய்தவர் யார்?
- A) ம.பொ.சிவஞானம்
B) தமிழாசான் மங்கலங்கிழார்
C) ஈ.எஸ். தியாகராஜன்
D) விநாயகம்
E) விடை தெரியவில்லை
7. வடக்கெல்லைப் போராட்டத்தில் ஈடுபட்டு சிறையில் உயிர்துறந்தவர்கள் யாவர்?
- A) கோவிந்தராசன், மாணிக்கம்
B) மங்கலங்கிழார், ஈ.எஸ். தியாகராஜன்
C) விநாயகம், ரஷீத்
D) மாணிக்கம், ரஷீத்
E) விடை தெரியவில்லை
8. எந்த ஆணையமானது திருத்தணிவரையுள்ள நிலங்களை தமிழகத்துடன் இணைத்தது?
- A) படாஸ்கர் ஆணையம்
B) சர்தார் கே.எம். பணிக்கர்
C) செங்கல்வராயன் ஆணையம்
D) மொழிவாரி ஆணையம்
E) விடை தெரியவில்லை
9. பின்வரும் கூற்றுகளைக் கருத்தில் கொள்க.
- I. பசல் அலி ஆணையம் நடுவண் அரசுக்குத் தந்த பரிந்துரை 1955 அக்டோபர் 10ஆம் நாள் வெளியானது.
- II. பசல் அலி பரிந்துரையில் சென்னை மாநிலத்தில் உள்ள மலபார் மாவட்டத்தைக் கேரளத்தோடும் திருவிதாங்கூர் - கொச்சி இராஜ்யத்திலிருந்த கல்குளம், விளவங்கோடு, தோவாளை, அகத்தீசுவரம், செங்கோட்டை ஆகிய பகுதிகள் தமிழ்நாட்டோடும் இணைய வேண்டும் என்றும் குறிப்பிட்டிருந்தது.
- மேற்கண்ட கூற்றுகளில் சரியானது எது/எவை?
- A) I மட்டும்
B) II மட்டும்
C) இரண்டும்
D) இரண்டுமில்லை
E) விடை தெரியவில்லை
10. பொருத்துக.
- | | |
|--|------------------|
| (தொடர்) | (நூல்) |
| a) தமிழ்கூறும் நல்லுலகம் | 1. பரிபாடல் |
| b) தண் தமிழ் வரைப்பு | 2. சிலப்பதிகாரம் |
| c) தண் தமிழ்வேலி தமிழ்நாட்டு | 3. தொல்காப்பியம் |
| d) இமிழ் கடல்வேலியைத் தமிழ்நாடு ஆக்கிய | 4. புறநானூறு |
- குறியீடுகள்:**
- | | | | | |
|----|------------------|----------|----------|----------|
| | a | b | c | d |
| A) | 3 | 4 | 1 | 2 |
| B) | 2 | 4 | 3 | 1 |
| C) | 3 | 2 | 1 | 4 |
| D) | 4 | 1 | 2 | 3 |
| E) | விடை தெரியவில்லை | | | |



11. “தமிழ்நாடு என்றால் வாய் மணக்கும்; காது இனிக்கும்; உள்ளம் துள்ளும்” என்று பாடியவர் யார்?
- A) ம.பொ.சிவஞானம்
B) பாரதியார்
C) பாரதிதாசன்
D) திரு.வி.க
E) விடை தெரியவில்லை
12. ம.பொ.சி பற்றிய பின்வரும் கூற்றுகளைக் கருத்தில் கொள்க.
- I. இவரது காலம் 1906 முதல் 1995 வரை; 1952 முதல் 1954 வரை சட்டமன்ற மேலவை உறுப்பினராகவும் 1972 முதல் 1978 வரை சட்டமன்ற மேலவைத் தலைவராகவும் பதவி வகித்துள்ளார்.
- II. ‘வள்ளலார் கண்ட ஒருமைப்பாடு’ என்னும் இவருடைய நூலுக்காக 1966 ஆம் ஆண்டு சாகித்திய அகாதெமி விருது பெற்றார்.
- III. தமிழக அரசு திருத்தணியிலும், சென்னை தியாகராய நகரிலும் இவருக்குச் சிலை அமைத்துள்ளது.
- மேற்கண்ட கூற்றுகளில் சரியானவை எவை?
- A) I மற்றும் II மட்டும்
B) II மற்றும் III மட்டும்
C) I மற்றும் III மட்டும்
D) மேற்கண்ட அனைத்தும்
E) விடை தெரியவில்லை
13. கீழ்க்கண்டவற்றுள் கு.ப.ரா அவர்கள் பணிபுரியாத இதழ் எது?
- A) பாரதமணி
B) பாரததேவி
C) கிராம ஊழியன்
D) அன்னம் விடு தூது
E) விடை தெரியவில்லை
14. பின்வரும் கூற்றுகளைக் கருத்தில் கொள்க.
- I. வேளாண்மை செழிக்கவும் மானுடம் தழைக்கவும் சித்திரைத் திங்களில் நடத்தப்படுவது.
- II. தமிழர் பண்பாட்டின் மகுடம் என்றழைக்கப்படும்.
- மேற்கண்ட கூற்றுகளால் அறியப்படுவது யாது?
- A) ஏறு தழுவுதல்
B) இந்திர விழா
C) பொன்னேர் பூட்டுதல்
D) அறுவடைத் திருநாள்
E) விடை தெரியவில்லை
15. கோப்பரகேசரி, திருபுவனச் சக்கரவர்த்தி என்று பட்டங்கள் பெற்றவர் யார்?
- A) இராசேந்திரச் சோழன்
B) முதலாம் குலோத்துங்கச் சோழன்
C) முதலாம் பராந்தகச் சோழன்
D) இரண்டாம் இராசராச சோழன்
E) விடை தெரியவில்லை
16. சரியான சொற்றொடரைத் தேர்ந்தெடுக்க.
- A) கல்தச்சர்களால் எழுதப்பட்டுப் புலவர்களால் கல்லில் பொறிக்கப்பட்டவை.
B) புலவர்களால் கல்லில் எழுதப்பட்டுத் கல்தச்சர்களால் பொறிக்கப்பட்டவை.
C) புலவர்களால் எழுதப்பட்டுக் கல்தச்சர்களால் கல்லில் பொறிக்கப்பட்டவை.
D) கல்லில் பொறிக்கப்பட்டவை எழுதப்பட்டுக் கல்தச்சர்களால் புலவர்களால்.
E) விடை தெரியவில்லை



17. எவருடைய காலந்தொட்டு மெய்க்கீர்த்திகள் கல்லில் வடிக்கப்பட்டுள்ளன?
- A) இரண்டாம் இராசராச சோழன் B) முதலாம் இராசராச சோழன்
C) முதலாம் பராந்தகச் சோழன் D) முதலாம் இராசேந்திரச் சோழன்
E) விடை தெரியவில்லை
18. “வண்ணமும் சுண்ணமும் தண்நறுஞ் சாந்தமும்” – இப்பாடலில் இடம்பெற்றுள்ள எதுகை எது?
- A) ஒரூஉ எதுகை B) கீழ்க்கதுவாய் எதுகை
C) மேற்க்கதுவாய் எதுகை D) கூழை எதுகை
E) விடை தெரியவில்லை
19. “அருங்கல வெறுக்கையோடு அளந்துகடை அறியா” – அடிக் கோட்டச் சொல்லின் பொருள் யாது?
- A) செல்வம் B) இரக்கம்
C) ஒன்றுமிலாத D) பரிவு
E) விடை தெரியவில்லை
20. பின்வரும் இணைகளைக் கருத்தில் கொள்க.
- | (சொல்) | (பொருள்) |
|-------------|---------------------|
| I. காருகர் | – நெய்ப்பவர் |
| II. பாசவர் | – வெற்றிலை விற்போர் |
| III. ஓசுநர் | – எண்ணெய் விற்போர் |
| IV. வாசவர் | – இறைச்சி விற்பவர் |
| V. காழியர் | – அப்பம் சுடுபவர் |
- மேற்கண்ட இணைகளில் எத்தனை இணைகள் சரியானவை?
- A) 2 B) 3
C) 4 D) 5
E) விடை தெரியவில்லை
21. “சிந்தா மணியாம் சிலப்பதிகா ரம்படைத்தான்
கந்தா மணிமே கலைபுனைந்தான் - நந்தா
வளையா பதிதருவான் வாசவனுக் கீந்தான்
திளையாத குண்டலகே சிக்கும்” என்ற ஐம்பெருங்காப்பிய முறைவைப்பு எந்த நூலில் இடம் பெற்றுள்ளது?
- A) திருப்புகழ் B) முக்கூடற்பள்ளு
C) திருத்தணிகையுலா D) திருவேங்கடத்தந்தாதி
E) விடை தெரியவில்லை
22. சொல்லோடு பொருளைப் பொருத்துக.
- | (சொல்) | (பொருள்) |
|-----------|------------|
| a) துணர் | 1. விலை |
| b) தூசு | 2. பவளம் |
| c) துகிர் | 3. பட்டு |
| d) நொடை | 4. மலர்கள் |



குறியீடுகள்:

a b c d

- A) 1 3 4 2
B) 2 4 3 1
C) 3 2 1 4
D) 4 3 2 1

E) விடை தெரியவில்லை

23. இலக்கணக்குறிப்பு தருக - பயில்தொழில்

- A) பண்புத்தொகை
B) வினைத்தொகை
C) வேற்றுமைத்தொகை
D) இருபெயரொட்டுப் பண்புத்தொகை
E) விடை தெரியவில்லை

24. மயங்கிய - இச்சொல்லின் வேர்ச்சொல்லைத் தேர்ந்தெடுக்க.

- A) மய
B) மயங்கு
C) மயங்
D) மயம்
E) விடை தெரியவில்லை

25. பின்வரும் கூற்றுகளைக் கருத்தில் கொள்க.

- I. சிலப்பதிகாரத்தின் ஆசிரியர் இளங்கோவடிகள், சேர மரபைச் சேர்ந்தவர்.
II. மணிமேகலையின் ஆசிரியர் சீத்தலைச்சாத்தனார் கோவலன் கண்ணகி கதையைக் கூறி, 'அடிகள் நீரே அருளுக' என்றதால் இளங்கோவடிகளும் 'நாட்டுதும் யாம் ஓர் பாட்டுடைச்செய்யுள்' என சிலப்பதிகாரத்தைப் படைத்தார்.
III. இந்திரவிழா ஊரெடுத்த காதையானது புகார்க்காண்டத்தில் இடம்பெற்றுள்ளது மேற்கண்ட கூற்றுகளில் சரியானவை எவை?
A) I மற்றும் II மட்டும்
B) II மற்றும் III மட்டும்
C) I மற்றும் III மட்டும்
D) மேற்கண்ட அனைத்தும்
E) விடை தெரியவில்லை

26. பின்வரும் கூற்றுகளைக் கருத்தில் கொள்க.

கூற்று : சிலப்பதிகாரமும் மணிமேகலையும் இரட்டைக் காப்பியங்கள் என்று அழைக்கப்படுகின்றன.

காரணம் : கோவலன், கண்ணகி, மாதவி வாழ்க்கையைப் பாடுவது. மணிமேகலைக் காப்பியத்துடன் கதைத்தொடர்பு கொண்டுள்ளது.

குறியீடுகள்:

- A) கூற்று மற்றும் காரணம் இரண்டும் சரி மற்றும் காரணம் என்பது கூற்றுக்கான சரியான விளக்கமாகும்
B) கூற்று மற்றும் காரணம் இரண்டும் சரி ஆனால் காரணம் என்பது கூற்று சரியான விளக்கமல்ல
C) கூற்று சரி ஆனால் காரணம் தவறு
D) கூற்று தவறு ஆனால் காரணம் சரி
E) விடை தெரியவில்லை



27. மதுரையில் கணவனை இழந்த கண்ணகி, மதுரையிலிருந்து வைகையின் தென்கரை வழியாக நெடுவேள் குன்றம் சென்று வேங்கைக் கானல் என்னுமிடத்தை அடைந்தாள் – அடிக்கோடிட்டச் சொல்லானது எம்மலையைக் குறிக்கும்?
- A) அழகர் மலை
B) சுருளி மலை
C) திருப்பரங்குன்றம்
D) பழநி மலை
E) விடை தெரியவில்லை
28. சிலப்பதிகாரம் பற்றிய பின்வரும் கூற்றுகளைக் கருத்தில் கொள்க.
- I. 'உரையிடைபட்ட பாட்டுடைச் செய்யுள்' என்று சிறப்பிக்கப்படுகிறது.
II. புகார்க்காண்டத்தின் இந்திரவிழா ஊரெடுத்த காதையில் மருவூர்ப்பாக்கத்தின் சிறப்பு பற்றிய குறிப்புகள் இடம்பெற்றுள்ளது.
III. இது முத்தமிழ்க் காப்பியம், குடிமக்கள் காப்பியம் என்றும் சிறப்பிக்கப்படுகிறது.
மேற்கண்ட கூற்றுகளில் சரியானவை எவை?
- A) I மற்றும் II மட்டும்
B) II மற்றும் III மட்டும்
C) I மற்றும் III மட்டும்
D) மேற்கண்ட அனைத்தும்
E) விடை தெரியவில்லை
29. எம்.எஸ். சுப்புலட்சுமியை 'இசைப்பேரரசி' என்று அழைத்தவர் யார்?
- A) காந்தியடிகள்
B) நேரு
C) பெரியோர்
D) ஹெலன் கெல்லர்
E) விடை தெரியவில்லை
30. எம்.எஸ். சுப்புலட்சுமி எம்மாவட்டத்தில் பிறந்தார்?
- A) சென்னை
B) மதுரை
C) திருவாரூர்
D) திருச்சி
E) விடை தெரியவில்லை
31. 'எம்.எஸ்.சுப்புலட்சுமி' பற்றிய பின்வரும் கூற்றுகளைக் கருத்தில் கொள்க.
- I. 1947 இல் காந்தியடிகளின் பிறந்த நாளன்று 'ஹரி தும் ஹரோ' என்னும் பாடலை சென்னை வானொலியானது ஒலிபரப்பியது.
II. 1974 இல் நோபல் பரிசுக்கு இணையான மகசேசே விருது பெற்றார்.
III. 1954 இல் தாமரையணி விருது பெற்றார். 1963இல் இங்கிலாந்திலும் 1966இல் ஐ.நா. அவையிலும் பாடினார்.
மேற்கண்ட கூற்றுகளில் சரியானவை எவை?
- A) I மற்றும் II மட்டும்
B) II மற்றும் III மட்டும்
C) I மற்றும் III மட்டும்
D) மேற்கண்ட அனைத்தும்
E) விடை தெரியவில்லை
32. எந்த நூலுக்காக ராஜம் கிருஷ்ணன் சாகித்திய அகாதெமி விருதினைப் பெற்றார்?
- A) பாஞ்சாலி சபதம் பாடிய பாரதி
B) வேருக்கு நீர்
C) கரிப்பு மணிகள்
D) அலைவாய்க் கரையில்..
E) விடை தெரியவில்லை



33. 'கரிப்பு மணிகள்' என்னும் புதினமானது
 A) உப்பளத் தொழிலாளர்களின் உவர்ப்பு வாழ்க்கையைப் பற்றியது.
 B) கடலோர மீனவர் வாழ்வில் சிக்கல்களைப் பேசுகிறது.
 C) அமைப்புசாரா வேளாண் தொழிலாளர்களின் உழைப்பு சுரண்டப்படுவதைச் சுட்டிக்காட்டுவது
 D) தீப்பெட்டித் தொழிலில் ஈடுபட்ட குழந்தைத் தொழிலாளர்கள் பற்றியது
 E) விடை தெரியவில்லை
34. பெண் குழந்தைக் கொலைக்கான காரணங்களை ஆராய்ந்து இராஜம் கிருஷ்ணன் அவர்களால் இயற்றப்பட்ட நூல் எது?
 A) வேருக்கு நீர்
 B) கூட்டுக் குஞ்சுகள்
 C) மண்ணகத்துப் பூந்துளிகள்
 D) குறிஞ்சித் தேன்
 E) விடை தெரியவில்லை
35. "உழுவருக்கே நில உரிமை இயக்கம்" என்னும் இயக்கத்தினைத் தொடங்கி வேளாண்மை இல்லாத காலத்திலும் உழுவருக்கு வேறு பணிகள் மூலம் வருமானம் வர ஏற்பாடு செய்தவர் யார்?
 A) சின்னப்பிள்ளை
 B) கிருஷ்ணம்மாள் ஜெகந்நாதன்
 C) பாலசரஸ்வதி
 D) காந்தியடிகள்
 E) விடை தெரியவில்லை
36. தவறான இணையைத் தேர்ந்தெடுக்க.
 A) வெட்சித்திணை - ஆநிரை கவர்தல்
 B) கரந்தைத்திணை - ஆநிரை மீட்டல்
 C) காஞ்சித்திணை - தன்நாட்டைக் கைப்பற்ற வந்த மாற்றரசனோடு எதிர்த்துப் போரிடல்
 D) நொச்சித்திணை - மண்ணாசை காரணமாகப் பகைவர் நாட்டைக் கைப்பற்றக் கருதி பேரிடல்
 E) விடை தெரியவில்லை
37. 'நொச்சிப்பு' ஆனது எந்நிலத்திற்குரியது?
 A) குறிஞ்சி
 B) முல்லை
 C) மருதம்
 D) பாலை
 E) விடை தெரியவில்லை
38. பகைவேந்தர் இருவரும் வலிமையே பெரிது என்பதை நிலைநாட்ட, தம் வீரர்களுடன் போர்க்களத்தில் ஒருவரோடு ஒருவர் போரிடுவது எவ்வகைத் திணை
 A) நொச்சித்திணை
 B) உழிஞைத் திணை
 C) தும்பைத் திணை
 D) வாகைத்திணை
 E) விடை தெரியவில்லை
39. பாடாண் திணை என்பது எதனைக் கூறுகிறது?
 A) பெண்மகளின் ஒழுக்கலாறுகள்
 B) ஆண்மகளின் ஒழுக்கலாறுகள்
 C) போரின் தன்மைகள்
 D) வெற்றி
 E) விடை தெரியவில்லை



40. முடக்கத்தான் அல்லது முடக்கொற்றான் என்று அழைக்கப்படுவது எது?
A) நொச்சி B) காஞ்சி
C) உழிஞை D) தும்பை
E) விடை தெரியவில்லை
41. தமிழினத்தை ஒன்றுபடுத்தும் இலக்கியமாக ம.பொ.சி கருதியது எது?
A) திருக்குறள் B) புறநானூறு
C) கம்பராமாயணம் D) சிலப்பதிகாரம்
E) விடை தெரியவில்லை
42. 'தன் நாட்டு மக்களுக்குத் தந்தையும் தாயும் மகனுமாக இருந்த அரசன்' என்னும் மெய்க்கீர்த்தித் தொடர் உணர்த்தும் பொருள் யாது?
A) மேம்பட்ட நிருவாகத்திறன் பெற்றவர்
B) மிகுந்த செல்வம் உடையவர்
C) பண்பட்ட மனிதநேயம் கொண்டவர்
D) நெறியோடு நின்று காவல் செய்பவர்
E) விடை தெரியவில்லை
43. கீழ்க்கண்டவற்றுள் சரியான இணையைத் தேர்ந்தெடு.

அலை	அளை	அழை
A) கூப்பிடு	கடல்அலை	புற்று
B) புற்று	கூப்பிடு	கடல்அலை
C) கடல்அலை	புற்று	கூப்பிடு
D) தேடு	நீக்கு	பிழை
E) விடை தெரியவில்லை		
44. கீழ்க்கண்டவற்றுள் சரியான இணையைத் தேர்ந்தெடு.

கிலி	கிளி	கிழி
A) பயம்	ஒருபறவை	ஆடை
B) ஆடை	ஒருபறவை	பயம்
C) ஒருபறவை	ஆடை	பயம்
D) ஆடை	பயம்	ஒருபறவை
E) விடை தெரியவில்லை		
45. பின்வரும் கூற்றுகளைக் கருத்தில் கொள்க.
I. களஞ்சியம் எனும் பெயரில் குழுவை நடத்தியவர் சின்னப்பிள்ளை
II. உழுவருக்கே நில உரிமை இயக்கத்தை நடத்தியவர் இராஜம் கிருஷ்ணன்
மேற்கண்ட கூற்றுகளில் சரியானது எது/எவை?
A) I மட்டும் B) II மட்டும்
C) இரண்டும் D) இரண்டுமில்லை
46. பேசும் மொழியின் ஓட்டம் என்பது
A) மொழி B) உரை
C) காதை D) காட்சி
E) விடை தெரியவில்லை



47. தவறான இணையைத் தேர்ந்தெடுக்க.

(ஊர்ப்பெயர்) (மருஉ)

- A) மன்னார்குடி - மன்னை
B) புதுக்கோட்டை - புதுவை
C) நாகப்பட்டினம் - நாகை
D) கும்பகோணம் - குடந்தை
E) விடை தெரியவில்லை

48. “கற்ற பெண்களை இந்த நாடு - தன்

கண்ணில் ஒற்றிக் கொள்ளுமன் போடு” என்று பாடியவர் யார்?

- A) திரு.வி.க B) பாரதியார்
C) பாரதிதாசன் D) சிலம்புச்செல்வர்
E) விடை தெரியவில்லை

49. பின்வரும் இணைகளைக் கருத்தில் கொள்க.

(ஆங்கிலச்சொல்) (தமிழ்ச்சொல்)

- I. Guild - ஆவணம்
II. Consulate - துணைத் தூதரகம்
III. Territory - நிலப்பகுதி
IV. Revivalism - மீட்டுருவாக்கம்
V. Renaissance - நம்பிக்கை

மேற்கண்ட இணைகளில் எத்தனை இணைகள் சரியானவை?

- A) 3 B) 4
C) 5 D) 2
E) விடை தெரியவில்லை

50. பொருத்துக.

(நூல்) (நூலாசிரியர்)

- a) நாற்காலிக்காரர் 1. எம்.எஸ்.உதயமூர்த்தி
b) என்கதை 2. மு.வரதராசனார்
c) எண்ணங்கள் 3. ந.முத்துசாமி
d) அறமும் அரசியலும் 4. திலகவதி
e) கல்மரம் 5. நாமக்கல் கவிஞர்

குறியீடுகள்:

- | | a | b | c | d | e |
|----|---|---|---|---|---|
| A) | 3 | 5 | 1 | 2 | 4 |
| B) | 2 | 4 | 3 | 1 | 5 |
| C) | 3 | 2 | 1 | 5 | 4 |
| D) | 4 | 1 | 5 | 2 | 3 |

E) விடை தெரியவில்லை



51. 'செம்மை சான்ற காவிதி மாக்கள்' என்று மதுரைக்காஞ்சியில் மாங்குடி மருதனார் யாரைப் புகழ்ந்துரைக்கின்றார்?
A) குடிமக்கள் B) சான்றோர்கள்
C) அரசர் D) அமைச்சர்கள்
E) விடை தெரியவில்லை
52. புறநானூற்றில் இடம்பெறாத பாடல்வரியினைத் தேர்ந்தெடுக்க?
A) "செல்வத்துப் பயனே ஈதல்
துய்ப்பேம் எனினே தப்புந பலவே"
B) எறியார் எறிதல் யாவணது எறிந்தோர்
எதிர்சென்று எறிதலும் செல்லான்
C) சான்றோர் செல்வம் என்பது சேர்ந்தோர்
புன்கண் அஞ்சும் பண்பின்
மென்கண் செல்வம் செல்வம் என்பதுவே
D) இம்மைச் செய்தது மறுமைக்கு ஆம்எனும்
அறவிலை வணிகன் ஆஅய் அல்லன்
E) விடை தெரியவில்லை
53. "வழங்குவதற்குப் பொருள் உள்ளதா? என்று கூடப் பார்க்காமல் கொடுப்பவன்" என்று நக்கீரர் யாரைப் பாராட்டுகிறார்?
A) ஆய் B) பேகன்
C) ஆலூர் மூலங்கிழார் D) பிடவூர்க்கிழான் மகன் பெருஞ்சாத்தன்
E) விடை தெரியவில்லை
54. உதவியாண்மை என்பது
A) உதவி செய்யாமை B) உதவி செய்தல்
C) உதவி வேண்டாதல் D) உதவி வேண்டாமை
E) விடை தெரியவில்லை
55. தவறான கூற்றினைத் தேர்ந்தெடுக்க.
A) வள்ளலின் பொருள் இரவலனின் பொருள்; வள்ளலின் வறுமை இரவலனின் வறுமை என்று பெரும்புதுமனார் குறிப்பிடுகிறார்.
B) உலகமே வறுமையுற்றாலும் கொடுப்பவன் அதியன் என்கிறார் ஓளவையார்.
C) இரவலர் வராவிட்டாலும் அவர்களைத் தேடி வரவழைத்தல் ஆடுகோட்பாட்டுச் சேரலாதனின் இயல்பு என்கிறார் நல்லந்தவனார்.
D) பேகன் மறுமை நோக்கிக் கொடுக்காதவன் என்கிறார் பரணர்.
E) விடை தெரியவில்லை
56. "பிறர் நோயும் தம் நோய்போல் போற்றி அறன்அறிதல்
சான்றவர்க்கு எல்லாம் கடன்" என்ற தொடர் இடம்பெற்ற நூல் எது?
A) திருக்குறள் B) நற்றிணை
C) கலித்தொகை D) பட்டினப்பாலை
E) விடை தெரியவில்லை



57. மார்ஷல் ஏ.நேசமணி பற்றிய தவறான கூற்றினைத் தேர்ந்தெடுக்க.
- A) “தலையைக் கொடுத்தேனும் தலைநகரைக் காப்போம்” என்று முழங்கியவர்.
B) இளம்வயதிலேயே சமூக விடுதலைக்காகப் போராடியவர்; குமரி மாவட்டப் போராட்டத்தை முன்னெடுத்துச் சென்றவர்.
C) நாகர்கோவில் நகர்மன்றத் தலைவராகவும் சட்டமன்ற உறுப்பினராகவும் நாடாளுமன்ற உறுப்பினராகவும் பணியாற்றினார்.
D) இவருடைய நினைவைப் போற்றும் வகையில் தமிழக அரசு இவருக்கு நாகர்கோவில் சிலையோடு மணிமண்டபமும் அமைத்துள்ளது.
E) விடை தெரியவில்லை
58. ‘தமிழினத்தின் பொதுச்சொத்து’ என ம.பொ.சியினால் குறிப்பிடப்படும் நூல் எது?
- A) புறநானூறு
B) சிலப்பதிகாரம்
C) திருக்குறள்
D) கம்பராமாயணம்
E) விடை தெரியவில்லை
59. பேபிரஸ் ஒப்பந்தம் பற்றிய பின்வரும் கூற்றுகளைக் கருத்தில் கொள்க.
- I. ஆஸ்டிரியா நாட்டுத் தலைநகரமான வியன்னாவில் அமைந்துள்ள அருங்காட்சியகத்தில் பேபிரஸ் தாளில் எழுதப்பட்ட அரிய கையெழுத்துச் சுவடி இடம்பெற்றுள்ளது.
II. இச்சுவடி சோழ நாட்டுத் துறைமுகமான பூம்புகாரில் வாழ்ந்த தமிழ் வணிகருக்கும் எகிப்து நாட்டின் அலெக்ஸாண்டிரியா துறைமுகத்தில் வாழ்ந்த கிரேக்க வணிகருக்கும் இடையிலான வணிக ஒப்பந்தம் ஆகும்.
III. இது கி.பி. 2ஆம் நூற்றாண்டின் இடைப்பகுதியில் ஏற்படுத்திக் கொள்ளப்பட்டது. மேற்கண்ட கூற்றுகளில் சரியானவை எவை?
- A) I மற்றும் II மட்டும்
B) II மற்றும் III மட்டும்
C) I மற்றும் III மட்டும்
D) மேற்கண்ட அனைத்தும்
E) விடை தெரியவில்லை
60. கோவலனையும் கண்ணகியையும் மதுரைக்கு அழைத்துச் சென்றவர் யார்?
- A) மாதரி
B) கவுந்தியடிகள்
C) வசந்தமாலை
D) மாடலன்
E) விடை தெரியவில்லை
61. “தர்க்கத்திற்கு அப்பால்” சிறுகதை அமைந்த தொகுப்பு யாது?
- A) ரிஷிமூலம்
B) யுகசந்தி
C) குருபீடம்
D) ஒரு பிடிசோறு
E) விடை தெரியவில்லை
62. “இரப்போர்க்கு ஈயாது வாழ்வதை விட உயிர் துறப்பது மேலானது” என்று கூறும் அகநூல் எது?
- A) கலித்தொகை
B) குறுந்தொகை
C) புறநானூறு
D) பரிபாடல்
E) விடை தெரியவில்லை



63. 'பிழையா நன்மொழி' என்று வாய்மையை குறிப்பிடும் நூல் எது?
A) கலித்தொகை B) புறநானூறு
C) நற்றிணை D) சிறுபாணாற்றுப்படை
E) விடை தெரியவில்லை
64. 'தி.சொ. வேணுகோபாலன்' பற்றிய தவறான கூற்றினைத் தேர்ந்தெடுக்க.
A) இவர் திருவையாற்றில் பிறந்தவர்
B) இவர் மணிப்பால் பொறியியல் கல்லூரியில் எந்திரவியல் பேராசிரியராகப் பணியாற்றியவர்
C) 'மணிக்கொடி' காலப் புதுக்கவிஞர்களுள் ஒருவர்.
D) 'மீட்சி விண்ணப்பம்', 'கோடை வயல்' ஆகியன இவரது கவிதைத் தொகுப்புகளாகும்.
E) விடை தெரியவில்லை
65. "நானே தொடக்கம்; நானே முடிவு;
நானுரைப் பதுதான் நாட்டின் சட்டம்!" என்று பாடியவர் யார்?
A) வாலி B) தி.சொ. வேணுகோபாலன்
C) கண்ணதாசன் D) பாரதிதாசன்
E) விடை தெரியவில்லை
66. தவறான இணையைத் தேர்ந்தெடுக்க.
A) நாளுக்கு ஒருமுறை மலர்வது - சண்பகம்
B) ஆண்டுக்கு ஒருமுறை மலர்வது - பிரம்ம கமலம்
C) பன்னிரண்டு ஆண்டுக்கு ஒருமுறை மலர்வது - குறிஞ்சி
D) தலைமுறைக்கு ஒருமுறை மட்டுமே மலர்வது - மருதம்
E) விடை தெரியவில்லை
67. இராமானுஜருக்கு 'எம் பெருமான்' என்னும் திருமந்திரத்தை வழங்கியவர் யார்?
A) பூரணர் B) ஆளவந்தார்
C) கூரேசர் D) முதலியாண்டார்
E) விடை தெரியவில்லை
68. "கூர்வேல் குவைஇய மொய்ம்பின்
தேர்வண் பாரிதண் பறம்புநாடே" - என்ற புறநானூற்றுப் பாடலில் இடம்பெற்றுள்ள பறம்புமலையானது தற்போது எந்த மாவட்டத்தில் இடம்பெற்றுள்ளது?
A) திருநெல்வேலி B) மதுரை
C) சிவகங்கை D) விருதுநகர்
E) விடை தெரியவில்லை
69. பொருத்துக.
(பாவகை) (ஓசை)
a) ஆசிரியப்பா 1. துள்ளல் ஓசை
b) வெண்பா 2. தூங்கல்
c) கலிப்பா 3. செப்பல்
d) வஞ்சிப்பா 4. அகவல்



குறியீடுகள்:

a b c d

- A) 4 3 1 2
B) 2 4 3 1
C) 3 2 1 4
D) 4 1 2 3
E) விடை தெரியவில்லை

70. 'வெண்பா' பற்றிய தவறான கூற்றினைத் தேர்ந்தெடுக்க.
A) ஈரசைச்சீர் மிகுதியாகவும், காய்ச்சீர் குறைவாகவும் பயின்று வரும்.
B) இயற்சீர் வெண்டளை, வெண்சீர் வெண்டளை மட்டும் பயின்று வரும்.
C) இரண்டடி முதல் பன்னிரண்டு அடி வரை அமையும். (கலிவெண்பா பதின்மூன்று அடிக்கு மேற்பட்டு வரும்).
D) ஈற்றுச்சீர் நாள், மலர், காசு, பிறப்பு என்னும் வாய்ப்பாட்டில் முடியும்.
E) விடை தெரியவில்லை
71. முதலடி நான்கு சீராகவும் (அளவடி) இரண்டாம் அடி மூன்று சீராகவும் (சிந்தடி) வரும் வெண்பா எது?
A) சிந்தியல் வெண்பா
B) குறள் வெண்பா
C) இன்னிசை வெண்பா
D) நேரிசை வெண்பா
E) விடை தெரியவில்லை
72. பொருத்துக.
a) தேமா 1. நிரை நிரை
b) புளிமா 2. நேர் நிரை
c) கருவிளம் 3. நேர் நேர்
d) கூவிளம் 4. நிரை நேர்
- குறியீடுகள்:
- a b c d**
- A) 4 3 2 1
B) 1 2 4 3
C) 3 4 1 2
D) 4 1 2 3
E) விடை தெரியவில்லை
73. நாலடியாரில் அமைந்துள்ள பாவினம் எது?
A) அகவற்பா
B) வெண்பா
C) வஞ்சிப்பா
D) கலிப்பா
E) விடை தெரியவில்லை



74. “எல்லாவற்றையும் கொடுப்பவன்” என்று கபிலர் யாரைப் பாராட்டுகிறார்?
A) ஆய் B) பேகன்
C) காரி D) பாரி
E) விடை தெரியவில்லை
75. கடையெழு வள்ளல்களின் சிறப்பினைப் பற்றிக் கூறும் நூல் எது?
A) சிறுபாணாற்றுப்படை B) பெரும்பாணாற்றுப்படை
C) புறநானூறு D) பதிற்றுப்பத்து
E) விடை தெரியவில்லை
76. பொருத்துக.
a) ஆசுகவி 1. சொல்லணி அமைத்துப் பாடுபவர்
b) மதுரகவி 2. தொடர் நிலைச் செய்யுள் பாடுபவர்
c) சித்திரகவி 3. ‘பாடு’ எனக் கூறியவுடன் பாடுபவர்
d) வித்தாரகவி 4. ஓசைநயம் சிறக்கப் பாடுபவர்
குறியீடுகள்:

	a	b	c	d
A)	4	3	2	1
B)	3	4	1	2
C)	3	2	1	4
D)	4	1	2	3

E) விடை தெரியவில்லை
77. ஜெயகாந்தனின் குடியரசுத் தலைவர் விருது பெற்ற நூல் எது?
A) உன்னைப்போல் ஒருவன் B) சில நேரங்களில் சில மனிதர்கள்
C) இமயத்துக்கு அப்பால் D) குருபீடம்
E) விடை தெரியவில்லை
78. ஜெயகாந்தனின் மொழிபெயர்ப்பு நூலான ‘ஒரு கதாசிரியனின் கதை’ என்னும் நூலானது யாருடைய வாழ்க்கை வரலாற்று நூல்?
A) காந்தி B) நேரு
C) முன்சி பிரேம்சந்த D) வல்லபாய் படேல்
E) விடை தெரியவில்லை
79. ஜெயகாந்தனின் சிறுகதைத் தொகுப்பில் பொருந்தா ஒன்றினைத் தேர்ந்தெடுக்க.
A) ஒரு பிடி சோறு B) உண்மை கூடும்
C) ஒரு மனிதன் ஒரு வீடு ஒரு உலகம் D) இனிப்பும் கரிப்பும்
E) விடை தெரியவில்லை
80. “ஜெயகாந்தன், எத்தகைய பாத்திரங்களைப் படைத்தாலும் அந்தப் பாத்திரங்களின் சிறந்த அம்சங்களைக் குறிப்பிடத் தவறுவதில்லை” என்று ஜெயகாந்தனை பாராட்டியவர் யார்?
A) கா.செல்லப்பன் B) அசோகமித்திரன்
C) வல்லிக்கண்ணன் D) புதுமைப்பித்தன்
E) விடை தெரியவில்லை



81. 'நாசூர் ரூமி' பற்றிய பின்வரும் கூற்றுகளைக் கருத்தில் கொள்க.
- I. இவரது இயற்பெயர் முகம்மது ரஃபி. தஞ்சை மாவட்டத்தில் பிறந்தவர்.
 - II. இவர் கணையாழி இதழில் எழுதத் தொடங்கியவர். மீட்சி, சுபமங்களா, புதிய பார்வை, குங்குமம், கொல்லிப்பாவை, இலக்கிய வெளிவட்டம், குமுதம் ஆகிய இதழ்களில் இவரது படைப்புகள் வெளியாகியுள்ளன.
 - III. நதியின் கால்கள், ஏழாவது சுவை, சொல்லாத சொல் ஆகிய மூன்று கவிதைத் தொகுதிகள் வெளியாகியுள்ளன. 'கப்பலுக்குப் போன மச்சான்' என்னும் நாவலையும் படைத்துள்ளார்.
- மேற்கண்ட கூற்றுகளில் சரியானவை எவை?
- A) I மற்றும் II மட்டும்
 - B) II மற்றும் III மட்டும்
 - C) I மற்றும் III மட்டும்
 - D) மேற்கண்ட அனைத்தும்
 - E) விடை தெரியவில்லை
82. 'தேம்பாவணி' நூலின் பாட்டுடைத் தலைவன் யார்?
- A) சூசையப்பர்
 - B) திருமுழுக்கு யோவான்
 - C) இயேசு கிறிஸ்து
 - D) அருளப்பன்
 - E) விடை தெரியவில்லை
83. பின்வரும் கூற்றுகளைக் கருத்தில் கொள்க.
- I. வீரமாமுனிவருடைய எளிமையையும், துறவையும் கண்டு வியந்த சந்தாசாகிப் இஸ்மத் சன்னியாசி என்னும் பட்டத்தை வீரமாமுனிவருக்கு அளித்தார். இந்தப் பாரசீகச் சொல்லுக்குச் 'சுத்தத் தியாகி' என்று பொருள்.
 - II. தேம்பாவணி 17ஆம் நூற்றாண்டில் படைக்கப்பட்டது. இப்பெருங்காப்பியம் 3 காண்டங்களையும் 36 படலங்களையும் உள்ளடக்கி, 3615 பாடல்களைக் கொண்டுள்ளது.
 - III. தேம்பா + அணி எனப் பிரித்து வாடாதமாலை என்றும், தேன் + பா + அணி எனப் பிரித்து தேன் போன்ற இனிய பாடல்களின் தொகுப்பு என்றும் பொருள் கொள்ளப்படும்.
- மேற்கண்ட கூற்றுகளில் சரியானவை எவை?
- A) I மற்றும் II மட்டும்
 - B) II மற்றும் III மட்டும்
 - C) I மற்றும் III மட்டும்
 - D) மேற்கண்ட அனைத்தும்
 - E) விடை தெரியவில்லை
84. இலக்கணக்குறிப்பின் அடிப்படையில் பொருந்தா ஒன்றினைத் தேர்ந்தெடுக்க.
- A) காய்மணி
 - B) உய்முறை
 - C) செய்முறை
 - D) மெய்முறை
 - E) விடை தெரியவில்லை
85. தவறான இணையைத் தேர்ந்தெடுக்க.
- | (சொல்) | (பொருள்) |
|---------------------|----------|
| A) படலை | - மாலை |
| B) சேக்கை | - உடல் |
| C) புழை | - துளை |
| D) அசும்பு | - நிலம் |
| E) விடை தெரியவில்லை | |



86. இயேசு கிறித்துவின் வருகையை அறிவித்த முன்னோடி யார்?
A) புனித யோவான்
B) திருமுழுக்கு யோவான்
C) வளன்
D) யோசேப்பு
E) விடை தெரியவில்லை
87. வீரமாமுனிவரின் படைப்புகளுள் பொருந்தா ஒன்றினைத் தேர்ந்தெடுக்க.
A) தொன்னூல் விளக்கம்
B) சதுரகராதி
C) பரமார்த்தக் குருகதைகள்
D) திராவிட மொழிகளின் ஒப்பிலக்கணம்
E) விடை தெரியவில்லை
88. இலக்கணக் குறிப்பு தருக - கைமுறை
A) இரண்டாம் வேற்றுமை உருபும் பயனும் உடன்தொக்க தொகை
B) மூன்றாம் வேற்றுமை உருபும் பயனும் உடன்தொக்க தொகை
C) நான்காம் வேற்றுமை உருபும் பயனும் உடன்தொக்க தொகை
D) ஐந்தாம் வேற்றுமை உருபும் பயனும் உடன்தொக்க தொகை
E) விடை தெரியவில்லை
89. 'ஒலி' என்னும் வேர்ச்சொல்லை அடிப்படையாகக் கொண்ட வினையெச்ச சொல்லைத் தேர்ந்தெடுக்க.
A) ஒலித்து
B) ஒலித்த
C) ஒலித்தது
D) ஒலித்தவன்
E) விடை தெரியவில்லை
90. கு. அழகிரிசாமி பற்றிய பின்வரும் கூற்றுகளைக் கருத்தில் கொள்க.
I. கரிசல் எழுத்தாளர்கள் வரிசையில் மூத்தவர். அரசுப் பணியைத் துறந்து முழுதாக எழுத்துப்பணியை மேற்கொண்டவர்.
II. சிங்கப்பூரில் இருந்தபோது அங்குள்ள படைப்பாளர்களுக்குப் படைப்பு தொடர்பான பயிற்சி அளித்தவர்.
மேற்கண்ட கூற்றுகளில் சரியானது எது/எவை?
A) I மட்டும்
B) II மட்டும்
C) இரண்டும்
D) இரண்டுமில்லை
E) விடை தெரியவில்லை
91. கண்ணதாசன் எழுதிய முதல் திரைப்படப்படல் எது?
A) வாழ நினைத்தால் வாழலாம்
B) கலங்காதிரு மனமே
C) மலர்களைப் போல் தங்கை
D) உன்னை அறிந்தால் நீ உன்னை அறிந்தால்
E) விடை தெரியவில்லை
92. சாகித்திய அகாதெமி விருது பெற்ற கண்ணதாசனின் நூல் எது?
A) மாங்கனி
B) இயேசு காவியம்
C) சேரமான் காதலி
D) சிவகங்கைச் சீதை
E) விடை தெரியவில்லை



93. கள் விற்பவர் எவ்வாறு அழைக்கப்படுவர்?
- A) உமணர்
B) ஓசநர்
C) வலைச்சியர்
D) காருகர்
E) விடை தெரியவில்லை
94. 'கண்ணினைக் காக்கும் இமைபோல' உவமை உணர்த்தும் பொருள் யாது?
- A) பயனின்மை
B) தெளிவாக செயல்படுதல்
C) பாதுகாப்பு
D) குடிப்பிறப்பின் சிறப்பு
E) விடை தெரியவில்லை
95. பின்வரும் கூற்றுகளைக் கருத்தில் கொள்க.
- I. நதிவெள்ளம் காய்ந்து விட்டால்
நதி செய்த குற்றம் இல்லை - கம்பர்
- II. நதியின் பிழையன்று
நறும்புனலின்மை அன்றே - கண்ணதாசன்
- மேற்கூறியவற்றுள் சரியானவை எது/எவை?
- A) I மட்டும்
B) II மட்டும்
C) இரண்டும்
D) இரண்டுமில்லை
E) விடை தெரியவில்லை
96. எண்ணமும் எழுத்தும் உயர்ந்திருக்கும் - ஏழை
கண்ணீரும் பாடலிலே கலந்திருக்கும் - இவ்வடிகளில் யார் யாரை புகழ்கிறார்?
- A) ஜெயகாந்தன் பட்டுக்கோட்டையை
B) பட்டுக்கோட்டை ஜெயகாந்தனை
C) ஜெயகாந்தன் உடுமலை நாராயணகவியை
D) உடுமலை நாராயணகவி ஜெயகாந்தனை
E) விடை தெரியவில்லை
97. எவ்வகைப் பொருளு மெய்வகை விளக்குஞ்
சொன்முறை தொடுப்பது தன்மையாகும் - எனக் குறிப்பிடும் நூல் எது?
- A) மாறளவங்காரம்
B) தண்டியலங்காரம்
C) நன்னூல்
D) தொல்காப்பியம்
E) விடை தெரியவில்லை
98. பொருத்துக.
- | | |
|-----------|------------|
| a) சேந்தன | 1. பறவை |
| b) தெவ் | 2. வில் |
| c) சிலை | 3. மேலே |
| d) மிசை | 4. பகைமை |
| e) புள் | 5. சிவந்தன |



குறியீடுகள் :

- | | a | b | c | d | e |
|----|------------------|----------|----------|----------|----------|
| A) | 4 | 5 | 1 | 2 | 3 |
| B) | 5 | 4 | 2 | 3 | 1 |
| C) | 4 | 5 | 2 | 3 | 1 |
| D) | 3 | 4 | 5 | 1 | 2 |
| E) | விடை தெரியவில்லை | | | | |

99. பின்வரும் கூற்றுகளைக் கருத்தில் கொள்க.
- I. கருத்தாழமும் வாசகச் சுவைப்பும் கலந்து இலக்கியங்கள் படைத்தவர்
- II. மனிதம் தோய்ந்த எழுந்தாளுமை மிக்கவர்
- மேற்கண்ட கூற்றுகளால் அறியப்படுபவர் யார்?
- A) ஜெயகாந்தன்
B) புதுமைப்பித்தன்
C) கு.அழகிரிசாமி
D) கண்ணதாசன்
E) விடை தெரியவில்லை
100. உறவினர் கெட, வாழ்பவனின் பொலிவு அழியும் என்று கூறியவர் யார்?
- A) நல்வேட்டனார்
B) பெருங்கடுங்கோ
C) நச்செள்ளை யார்
D) பிடவூர்க்கிழான்
E) விடை தெரியவில்லை

* * * * *



பகுதி - ஆ — பொது அறிவு (பட்டப்படிப்பு தரம்)

Part B — General Studies (Degree Standard)

வினாக்கள் : 101-200

மொத்த மதிப்பெண்கள் : 150

Questions : 101-200

Total Marks : 150

101. Consider the following statements.

- I. The Archeological Survey of India (ASI) was started in 1861 with Alexander Cunningham as Surveyor
- II. The ruins of Harappa were first described by Sir John Marshall in his book.
- III. In 1924, Charles Mason found many common features between Harappa and Mohenjodaro
- IV. The Indus Civilization existed during 3300 to 1900 BCE.

Which of the statements given above is/are correct?

- | | |
|-----------------------|------------------------|
| A) I, II and III only | B) II, III and IV only |
| C) I and IV only | D) All the above |
| E) Answer not known | |

பின்வரும் கூற்றுகளைக் கருத்தில் கொள்க

- I. இந்திய தொல்லியல் துறை (ASI) 1861 இல் அலெக்சாண்டர் கன்னிங்ஹாம் என்ற நிலஅளவையாளர் உதவியுடன் தொடங்கப்பட்டது.
- II. ஹரப்பாவின் இடிபாடுகளை சர் ஜான் மார்ஷல் தனது நூலில் முதலில் விவரித்தார்.
- III. 1924 இல், சார்லஸ் மேசன் ஹரப்பா மற்றும் மொகஞ்சதாரோ இடையே பல பொதுவான அம்சங்களைக் கண்டறிந்தார்
- IV. சிந்து நாகரிகம் கிமு 3300 முதல் 1900 வரை நிலைத்திருந்தது.

மேற்கண்ட கூற்றுகளில் எது/எவை சரியானது?

- | | |
|------------------------------|-------------------------------|
| A) I, II மற்றும் III மட்டும் | B) II, III மற்றும் IV மட்டும் |
| C) I மற்றும் IV மட்டும் | D) மேற்கண்ட அனைத்தும் |
| E) விடை தெரியவில்லை | |

102. Consider the following Statements with respect to IVC.

- I. The Streets have grid pattern and they intersected each other at right angles.
- II. The roads were wide with rounded corners and houses built using baked bricks, mortar and sun-dried bricks.
- III. Each house had toilets and bathrooms.
- IV. People used a common Place for worship.

How many of the above statement(s) is/are correct?

- | | |
|--------------------------|------------------------|
| A) One statement only | B) Two statements only |
| C) Three statements only | D) All the statements |
| E) Answer not known | |



சிந்துவெளி நாகரீகம் தொடர்பான பின்வரும் கூற்றுகளைக் கருத்தில் கொள்க.

- I. தெருக்கள் சட்டக வடிவமைப்பைக் கொண்டிருந்தன மற்றும் அவை ஒன்றுக்கொன்று செங்கோணத்தில் வெட்டிக் கொள்ளும் படி இருந்தன.
 - II. சாலைகள் அகலமாகவும் வளைவான முனைகளைக் கொண்டிருந்தன மற்றும் வீடுகள் சுட்ட செங்கற்களாலும் சுண்ணாம்புக் கலவையாலும் மற்றும் சூரிய வெப்பத்தில் உலர வைக்கப்பட்ட செங்கற்களும் பயன்படுத்தப்பட்டன.
 - III. ஒவ்வொரு வீட்டிலும் கழிவறைகள் மற்றும் குளியலறைகள் இருந்தன.
 - IV. மக்கள் வழிபாட்டிற்கு ஒரு பொதுவான இடத்தை உருவாக்கியுள்ளனர்.
- மேற்கண்ட கூற்றுகளில் சரியானது எது/எவை?
- A) ஒரு கூற்று மட்டும்
 - B) இரண்டு கூற்றுகள் மட்டும்
 - C) மூன்று கூற்றுகள் மட்டும்
 - D) அனைத்து கூற்றுகளும்
 - E) விடை தெரியவில்லை

103. Find out the incorrectly matched pair.

(Place)	(Found in)
A) The Great Bath	– Harappa
B) The Great Granary	– Rakhigarhi
C) The Assembly Hall	– Mohenjodaro
D) Dockyard	– Lothal
E) Answer not known	

தவறாகப் பொருந்தியுள்ள இணையைக் கண்டறியவும்.

(இடம்)	(கண்டறியப்பட்ட நகரம்)
A) பெருங்குளம்	– ஹரப்பா
B) பெருந் தானியக் களஞ்சியம்	– ராகிகர்கி
C) கூட்ட அரங்கு	– மொகஞ்சதாரோ
D) கப்பல் கட்டும் தளம்	– லோத்தல்
E) விடை தெரியவில்லை	

104. Consider the following statements.

- I. Indus people used the red quartz stone called carnelian to design jewellery.
- II. Indus people used cotton fabrics and black colored potteries with beautiful designs in red.

Which of the statements given above is/are incorrect?

- A) I only
- B) II only
- C) Both I and II
- D) Neither I nor II
- E) Answer not known

பின்வரும் கூற்றுகளைக் கருத்தில் கொள்க

- I. சிந்துவெளி மக்கள் ஆபரணங்களை வடிவமைக்க கார்னிலியன் எனப்படும் சிவப்பு மணிக்கற்களைப் பயன்படுத்தினர்.
- II. சிந்துவெளி மக்கள் பருத்தி துணிகள் மற்றும் சிவப்பு நிற மட்பாண்டங்களில் கருப்பு நிற அழகிய வேலைப்பாடுகளைச் செய்தனர்.

மேற்கண்ட கூற்றுகளில் தவறானது எது/எவை?

- A) I மட்டும்
- B) II மட்டும்
- C) இரண்டும்
- D) இரண்டுமில்லை
- E) விடை தெரியவில்லை



105. Consider the following statements with respect to Indus people.

- I. Ornaments were used only by the women.
II. They were unaware of garments and precious jewellery.

Which of the statements given above is/are correct?

- A) I only
B) II only
C) Both I and II
D) Neither I nor II
E) Answer not known

சிந்துவெளி மக்களுக்கு தொடர்பான பின்வரும் கூற்றுகளைக் கருத்தில் கொள்க

- I. ஆபரணங்கள் பெண்களால் மட்டுமே பயன்படுத்தப்பட்டன.
II. ஆடைகள் மற்றும் விலைமதிப்பற்ற நகைகள் பற்றி அறிந்திருக்கவில்லை.
மேற்கண்ட கூற்றுகளில் சரியானது எது/எவை?

- A) I மட்டும்
B) II மட்டும்
C) இரண்டும்
D) இரண்டுமில்லை
E) விடை தெரியவில்லை

106. "The Search for the India's Lost Emperor" is a book which provides a comprehensive account of which Person?

- A) Ashoka
B) Buddha
C) Rajaraja Chola
D) Mahavira
E) Answer not known

"The Search for the India's Lost Emperor" என்பது எந்த நபரைப் பற்றிய விரிவான வரலாற்று ஆவணங்களை வழங்கும் நூல்?

- A) அசோகர்
B) புத்தர்
C) ராஜராஜ சோழன்
D) மகாவீரர்
E) விடை தெரியவில்லை

107. Match List-I with List-II.

List-I

(People)

- a) Homohabilis
b) Neanderthal
c) Cromagnons
d) Homo sapiens
e) Heidelbergers

List-II

(Habitat)

1. Africa
2. London
3. South Africa
4. Eurasia
5. France

Codes:

- | | a | b | c | d | e |
|----|------------------|----------|----------|----------|----------|
| A) | 3 | 4 | 1 | 5 | 2 |
| B) | 4 | 5 | 2 | 3 | 1 |
| C) | 5 | 2 | 4 | 3 | 1 |
| D) | 3 | 4 | 5 | 1 | 2 |
| E) | Answer not known | | | | |



பட்டியல்-Iஐ பட்டியல்-II உடன் பொருத்துக.

பட்டியல்-I

(மக்கள்)

- ஹோமோ ஹேபிலிஸ்
- நியாண்டர்தால்
- குரோமேக்னான்ஸ்
- ஹோமோ சேப்பியன்ஸ்
- ஹைடெல்பர்க் மனிதன்

பட்டியல்-II

(வாழ்விடம்)

- ஆப்பிரிக்கா
- லண்டன்
- தென்னாப்பிரிக்கா
- யூரேசியா
- பிரான்ஸ்

குறியீடுகள்:

	a	b	c	d	e
A)	3	4	1	5	2
B)	4	5	2	3	1
C)	5	2	4	3	1
D)	3	4	5	1	2

E) விடை தெரியவில்லை

108. Find out the incorrectly matched pair.

(Pre-Historic Rock Art)

(District)

- Keelvalai – Villupuram
- Kumuthipathi – Coimbatore
- Mavadaippu – Erode
- Porivarai cave – Nilgris
- Answer not known

தவறாகப் பொருந்தியுள்ள இணையைக் கண்டறியவும்.

(வரலாற்றுக்கு முந்தைய

பாறை ஓவியங்கள்)

(மாவட்டம்)

- கீழ்வலை – விழுப்புரம்
- குமுதிபதி – கோவை
- மாவடைப்பு – ஈரோடு
- பொறிவரை குகை – நீலகிரி
- விடை தெரியவில்லை

109. Consider the following statements.

I. He was the first ruler who gave up war after victory.

II. He was the first to build hospitals for animals.

The above statements mentions which of the following Person?

- Chandragupta Maurya
- Kaviraja
- Amitragatha
- Devanam Piya
- Answer not known



பின்வரும் கூற்றுகளைக் கருத்தில் கொள்க

- I. வெற்றிக்குப் பிறகு போரைக் கைவிட்ட முதல் ஆட்சியாளர்.
II. விலங்குகளுக்கான மருத்துவமனைகளை முதன்முதலில் கட்டியவர்.

மேற்கண்ட கூற்றுகள் பின்வரும் எந்த நபரைக் குறிப்பிடுகின்றன?

- A) சந்திரகுப்த மௌரியா
B) கவிராஜா
C) அமித்ரகதா
D) தேவனாம்பிரியர்
E) விடை தெரியவில்லை

110. Which literature states that Selling any commodity at a higher price was considered bad?

- A) Mullaipaatu
B) Pattinapaalai
C) Kurunjipaatu
D) Madurai Kanchi
E) Answer not known

கூடுதலான விலைக்கு பொருட்களை விற்பது தீமை என்று எந்த இலக்கியம் கூறுகிறது?

- A) முல்லைப்பாட்டு
B) பட்டினப்பாலை
C) குறிஞ்சிப்பாட்டு
D) மதுரை காஞ்சி
E) விடை தெரியவில்லை

111. Match List-I with List-II.

List-I

(Lines about Kanchi)

- a) Kanchi is the best of towns
b) Kalviyil Karaillatha Kanchi
c) One among 7 sacred places
d) Buddhist Monk spent last part her life

Codes:

- | | a | b | c | d |
|----|----------|----------|----------|----------|
| A) | 4 | 1 | 2 | 3 |
| B) | 2 | 1 | 3 | 4 |
| C) | 3 | 2 | 1 | 4 |
| D) | 4 | 2 | 1 | 3 |

E) Answer not known

பட்டியல்-Iஐ பட்டியல்-II உடன் பொருத்துக.

பட்டியல்-I

(காஞ்சி பற்றிய வரிகள்)

- a) நகரங்களில் சிறந்தது காஞ்சி
b) கல்வியில் கரையில்லாத காஞ்சி
c) 7 புனித இடங்களில் ஒன்று
d) புத்த துறவி தனது கடைசிப் பகுதியைக் கழித்தார்

List-II

(Personalities)

1. Thirunavukkarasar
2. Hieun Tsang
3. Manimegalai
4. Kalidasa

பட்டியல்-II

(ஆளுமைகள்)

1. திருநாவுக்கரசர்
2. யுவான்சுவாங்
3. மணிமேகலை
4. காளிதாசன்



குறியீடுகள்:

- | | a | b | c | d |
|----|----------|----------|----------|----------|
| A) | 4 | 1 | 2 | 3 |
| B) | 2 | 1 | 3 | 4 |
| C) | 3 | 2 | 1 | 4 |
| D) | 4 | 2 | 1 | 3 |
- E) விடை தெரியவில்லை

112. Find out the correctly matched pair.

- | (Nadu) | (Uniqueness) |
|-----------------|--------------------------|
| A) Chola Nadu | – Rice in Abundance |
| B) Pandya Nadu | – Scholars in Abundance |
| C) Chera Nadu | – Pearls in Abundance |
| D) Thondai Nadu | – Elephants in Abundance |
- E) Answer not known

சரியாகப் பொருந்தியுள்ள இணையைக் கண்டறியவும்.

- | (நாடு) | (தனித்துவம்) |
|-----------------|---------------------|
| A) சோழநாடு | – சோறுடைத்து |
| B) பாண்டிய நாடு | – சான்றோருடைத்து |
| C) சேர நாடு | – முத்துடைத்து |
| D) தொண்டை நாடு | – வேழமுடைத்து |
- E) விடை தெரியவில்லை

113. Consider the following statements.

- I. The fame of this Place has been praised by Megasthenes.
II. Chanakya mentions about this place in his book called Arthashastra.
Which of the following place is mentioned in the above statement?

- | | |
|-------------------|---------------|
| A) Port City | B) Kadigai |
| C) Thoonganagaram | D) Vanji Nadu |
- E) Answer not known

பின்வரும் கூற்றுகளைக் கருத்தில் கொள்க

- I. இந்த இடத்தின் புகழ் மெகஸ்தனிஸால் பாராட்டப்பட்டது.
II. சாணக்கியர் இந்த இடத்தைப் பற்றி தனது அர்த்தசாஸ்திரம் என்ற நூலில் குறிப்பிட்டுள்ளார்.
மேற்கண்ட கூற்றுகளில் பின்வரும் எந்த இடம் குறிப்பிடப்பட்டுள்ளது?

- | | |
|------------------|---------------|
| A) துறைமுக நகரம் | B) கடிகை |
| C) தூங்காநகரம் | D) வஞ்சி நாடு |
- E) விடை தெரியவில்லை

114. The land of highest rainfall and lowest rainfall in India is located in which of the following states?

- A) Meghalaya and Rajasthan
B) Odisha and Gujarat
C) Meghalaya and Madhya Pradesh
D) Assam and Rajasthan
E) Answer not known



இந்தியாவில் அதிக மழை மற்றும் குறைந்த மழைப்பொழிவு பெறும் பகுதி பின்வரும் எந்த மாநிலத்தில் அமைந்துள்ளது?

- A) மேகாலயா மற்றும் ராஜஸ்தான்
- B) ஒடிசா மற்றும் குஜராத்
- C) மேகாலயா மற்றும் மத்தியப்பிரதேசம்
- D) அசாம் மற்றும் ராஜஸ்தான்
- E) விடை தெரியவில்லை

115. Find out the incorrectly matched pair.

(Classical Language Status)	(Year)
A) Tamil	– 2004
B) Telugu	– 2008
C) Kannada	– 2009
D) Sanskrit	– 2005
E) Answer not known	

தவறாகப் பொருந்தியுள்ள இணையைக் கண்டறியவும்.

(செம்மொழி தகுதி)	(ஆண்டு)
A) தமிழ்	– 2004
B) தெலுங்கு	– 2008
C) கன்னடம்	– 2009
D) சமஸ்கிருதம்	– 2005
E) விடை தெரியவில்லை	

116. Match List-I with List-II.

List-I	List-II
(State)	(Popular Dance)
a) Uttarakhand	1. Bhangra
b) Gujarat	2. Chholiya
c) Punjab	3. Dandia
d) Rajasthan	4. Kalbelia

Codes:

	a	b	c	d
A)	4	2	3	1
B)	2	1	3	4
C)	2	3	1	4
D)	4	1	2	3
E)	Answer not known			



பட்டியல்-Iஐ பட்டியல்-II உடன் பொருத்துக.

பட்டியல்-I
(மாநிலம்)

பட்டியல்-II
(பிரபலமான நடனம்)

- | | |
|----------------|--------------|
| a) உத்தரகாண்ட் | 1. பாங்க்ரா |
| b) குஜராத் | 2. சோலியா |
| c) பஞ்சாப் | 3. டாண்டியா |
| d) ராஜஸ்தான் | 4. கல்பெலியா |

குறியீடுகள்:

- | | a | b | c | d |
|----|---|---|---|---|
| A) | 4 | 2 | 3 | 1 |
| B) | 2 | 1 | 3 | 4 |
| C) | 2 | 3 | 1 | 4 |
| D) | 4 | 1 | 2 | 3 |
- E) விடை தெரியவில்லை

117. India is known for 'Unity in Diversity' is a phrase which was coined by Jawaharlal Nehru in which of the following book?

- | | |
|------------------------------|---------------------------|
| A) Glimpses of World History | B) The Discovery of India |
| C) Words of Freedom | D) Letters for a Nation |
| E) Answer not known | |

ஜவஹர்லால் நேருவால் உருவாக்கப்பட்ட இந்தியா "வேற்றுமைமயில் ஒற்றுமைக்கு" பெயர் பெற்றது என்ற சொற்றொடர் பின்வரும் எந்த நூலில் இடம்பெற்றுள்ளது?

- | | |
|------------------------------------|----------------------------|
| A) கிளிம்செஸ் ஆப் வேர்ல்ட் ஹிஸ்டரி | B) தி டிஸ்கவரி ஆப் இந்தியா |
| C) வேர்ட்ஸ் ஆப் பிரீடம் | D) லெட்டர்ஸ் ஃபார் எ நேசன் |
| E) விடை தெரியவில்லை | |

118. According to 2011 census, Percentage of Tamil speaking population is?

- | | |
|---------------------|----------|
| A) 7.09% | B) 6.93% |
| C) 5.89% | D) 8.30% |
| E) Answer not known | |

2011 மக்கள் தொகை கணக்கெடுப்பின்படி, தமிழ் பேசும் மக்கள்தொகையின் சதவீதம் என்ன?

- | | |
|---------------------|----------|
| A) 7.09% | B) 6.93% |
| C) 5.89% | D) 8.30% |
| E) விடை தெரியவில்லை | |

119. "India is an 'Ethnological Museum', as a great variety of racial types exist" has been stated by which of the following person

- | | |
|-------------------------|----------------------|
| A) Caldwell | B) Sir John Marshall |
| C) Vincent Arthur Smith | D) Robert Bruce Foot |
| E) Answer not known | |

"இந்தியா ஒரு 'இனங்களின் அருங்காட்சியகம்', ஏனெனில் பல்வேறு வகையான இன வகைகள் உள்ளன" என்று பின்வரும் நபர்களில் யாரால் குறிப்பிடப்பட்டுள்ளது?

- | | |
|-----------------------------|-------------------------|
| A) கால்டுவெல் | B) சர் ஜான் மார்ஷல் |
| C) வின்சென்ட் ஆர்தர் ஸ்மித் | D) ராபர்ட் புரூஸ் ஃபூட் |
| E) விடை தெரியவில்லை | |



120. Find out the incorrectly matched pair.

(Famous Places)	(State)
A) Sanchi Stupa	- Gujarat
B) Kandariya Mahadeo Temple	- Madhya Pradesh
C) Konark Sun Temple	- Odisha
D) The Dilwara Jain Temple	- Rajasthan
E) Answer not known	

தவறாகப் பொருந்தியுள்ள இணையைக் கண்டறியவும்.

(பிரபலமான இடங்கள்)	(மாநிலம்)
A) சாஞ்சி ஸ்தூபி	- குஜராத்
B) கந்தர்ய மகாதேவா கோவில்	- மத்தியப் பிரதேசம்
C) கோனார்க் சூரியனார் கோவில்	- ஒடிசா
D) தில்வாரா சமணக் கோவில்	- இராஜஸ்தான்
E) விடை தெரியவில்லை	

121. Which Article states that the State shall not discriminate against any citizen on grounds of religion, race, caste, sex and place of birth?

A) Article 15 (4)	B) Article 15 (1)
C) Article 15 (2)(b)	D) Article 15 (3)
E) Answer not known	

எந்தவொரு குடிமகனுக்கும் எதிராக மதம், இனம், சாதி, பாலினம் மற்றும் பிறப்பிடம் என்ற அடிப்படையில் அரசு பாகுபாடு காட்டக் கூடாது என்று எந்த சரத்து கூறுகிறது?

A) சரத்து 15 (4)	B) சரத்து 15 (1)
C) சரத்து 15 (2)(b)	D) சரத்து 15 (3)
E) விடை தெரியவில்லை	

122. Which of the following article provides equality before the law or equal protection within the territory of India ?

A) Article 14	B) Article 18
C) Article 16	D) Article 17
E) Answer not known	

பின்வரும் சரத்துகளில் எது சட்டத்தின் முன் அனைவரும் சமம் அல்லது இந்திய எல்லைக்குள் சமமான பாதுகாப்பை வழங்குகிறது?

A) சரத்து 14	B) சரத்து 18
C) சரத்து 16	D) சரத்து 17
E) விடை தெரியவில்லை	

123. Consider the following statements about Dr.B.R. Ambedkar.

- I. He is popularly known as Dada Saheb
- II. He was independent India's first law Minister
- III. He regarded as a father of Indian constitution
- IV. He served as an member of Drafting committee.

Which of the statements given above is/are correct?

A) I, II and III only	B) I, III and IV only
C) II and III only	D) All the above
E) Answer not known	



டாக்டர் B.R. அம்பேத்கர் பற்றிய பின்வரும் கூற்றுகளைக் கருத்தில் கொள்க.

- I. இவர் தாதா சாஹேப் என்று பிரபலமாக அறியப்படுகிறார்
- II. சுதந்திர இந்தியாவின் முதல் சட்ட அமைச்சராக இருந்தார்
- III. இவர் இந்திய அரசியலமைப்பின் தந்தையாகக் கருதப்பட்டார்
- IV. இவர் வரைவுக் குழுவின் உறுப்பினராகப் பணியாற்றினார்.

மேற்கண்ட கூற்றுகளில் சரியானது எது/எவை?

- A) I, II மற்றும் III மட்டும்
- B) I, III மற்றும் IV மட்டும்
- C) II மற்றும் III மட்டும்
- D) மேற்கண்ட அனைத்தும்
- E) விடைதெரியவில்லை

124. Consider the following statements.

- I. Palk Strait connects the Indian ocean and Pacific Ocean.
- II. Java Trench is the deepest point in the Indian ocean

Which of the statements given above is/are correct?

- A) I only
- B) II only
- C) Both I and II
- D) Neither I nor II
- E) Answer not known

பின்வரும் கூற்றுகளைக் கருத்தில் கொள்க.

- I. பாக் நீர்ச்சந்தி இந்தியப் பெருங்கடலையும் பசிபிக் பெருங்கடலையும் இணைக்கிறது.
- II. ஜாவா அகழி இந்தியப் பெருங்கடலின் ஆழமான பகுதியாகும்

மேற்கண்ட கூற்றுகளில் சரியானது எது/எவை?

- A) I மட்டும்
- B) II மட்டும்
- C) இரண்டும்
- D) இரண்டுமில்லை
- E) விடைதெரியவில்லை

125. Match List-I with List-II.

List-I

(Channel)

- a) 6° Channel
- b) 8° Channel
- c) 9° Channel
- d) 10° Channel

List-II

(Separating Region)

1. Indira point and Indonesia
2. Andaman and Nicobar Islands
3. Maldives and Minicoy islands
4. Lakshadweep Islands and Minicoy Islands

Codes:

- | | a | b | c | d |
|----|----------|----------|----------|----------|
| A) | 1 | 2 | 3 | 4 |
| B) | 4 | 1 | 3 | 2 |
| C) | 1 | 3 | 4 | 2 |
| D) | 4 | 1 | 2 | 3 |

E) Answer not known



பட்டியல்-Iஐ பட்டியல்-II உடன் பொருத்துக.

பட்டியல்-I

(கால்வாய்)

- a) 6° கால்வாய்
b) 8° கால்வாய்
c) 9° கால்வாய்
d) 10° கால்வாய்

பட்டியல்-II

(பிரிக்கும் பகுதி)

1. இந்திரா புள்ளி மற்றும் இந்தோனேசியா
2. அந்தமான் மற்றும் நிக்கோபார் தீவுகள்
3. மாலத்தீவுகள் மற்றும் மினிகாய் தீவுகள்
4. லட்சத்தீவுகள் மற்றும் மினிகாய் தீவுகள்

குறியீடுகள்:

	a	b	c	d
A)	1	2	3	4
B)	4	1	3	2
C)	1	3	4	2
D)	4	1	2	3
E)	விடை தெரியவில்லை			

126. Consider the following statements.

- I. This plateau is called as 'Roof of the world'
II. Mining is the major activities of the people living in this plateau.

Which of the plateau is referred in the above statements?

- A) Tibetan Plateau
B) Coimbatore Plateau
C) Dharmapuri Plateau
D) None of the above.
E) Answer not known

பின்வரும் கூற்றுகளைக் கருத்தில் கொள்க.

- I. இந்த பீடபூமி 'உலகின் கூரை' என்று அழைக்கப்படுகிறது.
II. இந்த பீடபூமியில் வாழும் மக்களின் முக்கிய தொழில் சுரங்கத்தொழில் ஆகும்.

மேற்கண்ட கூற்றுகளில் குறிப்பிடும் பீடபூமி எது?

- A) திபெத்திய பீடபூமி
B) கோயம்புத்தூர் பீடபூமி
C) தர்மபுரி பீடபூமி
D) மேற்கண்ட எதுவும் இல்லை.
E) விடைதெரியவில்லை

127. **Statement I** : A narrow strip of land which connects large landmass and large waterbody is known as Isthmus

Statement II : Adam's Bridge in India is the best example for Isthmus.

Codes:

- A) Statement I is true but Statement II is false
B) Statement I is false but Statement II is true
C) Both Statements are true.
D) Both Statements are false.
E) Answer not known



கூற்று I : பெரிய நிலப்பரப்பையும் பெரிய நீர்நிலையையும் இணைக்கும் ஒரு குறுகிய நிலப்பகுதி நிலச்சந்தி எனப்படும்

கூற்று II : இந்தியாவில் உள்ள ஆதாமின் பாலம் நிலச்சந்திக்கு சிறந்த உதாரணம் ஆகும் .

குறியீடுகள்:

- A) கூற்று I சரி ஆனால் கூற்று II தவறு
- B) கூற்று I தவறு ஆனால் கூற்று II சரி
- C) இரண்டு கூற்றுகளும் சரி
- D) இரண்டு கூற்றுகளும் தவறு.
- E) விடைதெரியவில்லை

128. The equator faces the sun directly on which of the following days?

- A) 21 March and 22 June
- B) 23 September and 21 March
- C) 22 December and 22 June
- D) 22 June and September 23
- E) Answer not known

பின்வரும் எந்த நாட்களில் நில நடுக்கோட்டில் சூரியனின் கதிர் செங்குத்தாக விழும்?

- A) மார்ச் 21 மற்றும் ஜூன் 22
- B) 23 செப்டம்பர் மற்றும் 21 மார்ச்
- C) 22 டிசம்பர் மற்றும் 22 ஜூன்
- D) ஜூன் 22 மற்றும் செப்டம்பர் 23
- E) விடைதெரியவில்லை

129. Consider the following statements with respect to Tamil Sangam Age.

- I. There was low restriction for women
 - II. Marriage was a matter of self-choice.
 - III. Chastity was considered the highest virtue of women.
 - IV. Sons and daughters had unequal shares in parents property.
- How many of the above statement(s) is/are correct?

- A) One statement only
- B) Two statements only
- C) Three statements only
- D) All the statements
- E) Answer not known

தமிழ் சங்க காலத்தைப் பற்றிய பின்வரும் கூற்றுகளைக் கருத்தில் கொள்க.

- I. பெண்களுக்கு குறைந்த கட்டுப்பாடு இருந்தது
 - II. திருமணம் என்பது சுய விருப்பத்தை சார்ந்து அமைந்தது
 - III. கற்பு பெண்களின் சிறந்த ஒழுக்கமாக கருதப்பட்டது.
 - IV. பெற்றோரின் சொத்தில் மகனும் மகளும் சமமற்ற பங்கினை பெற்றிருந்தனர்
- மேற்கண்டவற்றில் எத்தனை கூற்றுகள் சரியானவை?

- A) ஒரு கூற்று மட்டும்
- B) இரண்டு கூற்றுகள் மட்டும்
- C) மூன்று கூற்றுகள் மட்டும்
- D) அனைத்து கூற்றுகளும்
- E) விடைதெரியவில்லை



130. In Local Administration in Sangam Age, Kurram is a subdivision of which of the following?

- A) Village
B) Nadu
C) Mandalam
D) Ur
E) Answer not known

சங்க காலத்தில் உள்ளாட்சி நிர்வாகத்தில், கூற்றம் என்பது பின்வருவனவற்றின் எதனின் துணைப்பிரிவாகும்?

- A) கிராமம்
B) நாடு
C) மண்டலம்
D) ஊர்
E) விடைதெரியவில்லை

131. Consider the following statements about Army of Sangam Age.

- I. The Chief of the army was known as Thanaihalavan
II. The war drum was worshipped as a deity.

Which of the statements given above is/are correct?

- A) I only
B) II only
C) Both I and II
D) Neither I nor II
E) Answer not known

சங்க காலப் படை பற்றிய பின்வரும் கூற்றுகளைக் கருத்தில் கொள்க.

- I. படைத்தலைவர் தானைத் தலைவன் என்று அழைக்கப்பட்டான்
II. போர் முரசும் கடவுளாகவே கருதி வணங்கப்பட்டது.

மேற்கண்ட கூற்றுகளில் சரியானது எது/எவை?

- A) I மட்டும்
B) II மட்டும்
C) இரண்டும்
D) இரண்டுமில்லை
E) விடைதெரியவில்லை

132. Consider the following statements.

I. He defeated the combined army of Chera, Chola and five velir chieftains at Talayalanganam.

II. He is praised as the lord of Korkai

Find the warrior mentioned in the above statements.

- A) Nediyan
B) Nanmaran
C) Nedunchezhiyan
D) Mudukudumi Peruvazhuthi
E) Answer not known

பின்வரும் கூற்றுகளைக் கருத்தில் கொள்க.

I. சேர, சோழர் மற்றும் ஐந்து வேளிர் தலைவர்களின் கூட்டுப் படையை தலையாலங்கானத்தில் தோற்கடித்தார்.

II. கொற்கையின் அதிபதி என்று போற்றப்படுகிறார்.

மேற்கண்ட கூற்றுகளில் குறிப்பிடப்பட்டுள்ள போர்வீரனைக் கண்டறிக?

- A) நெடியோன்
B) நன்மாறன்
C) நெடுஞ்செழியன்
D) முதுகுடுமி பெருவழுதி
E) விடைதெரியவில்லை



133. Consider the following statements about Arts of Sangam Age?

- I. Singing bards were called Panar.
II. Dancing was performed by Viraliyar

Which of the statements given above is/are incorrect?

- A) I only
B) II only
C) Both I and II
D) Neither I nor II
E) Answer not known

சங்க காலக் கலைகள் பற்றிய பின்வரும் கூற்றுகளைக் கருத்தில் கொள்க.

- I. பாடும் புலவர்கள் பாணர் என்று அழைக்கப்பட்டனர்.
II. விறலியர் நடனங்களை நிகழ்த்தினர்

மேற்கண்ட கூற்றுகளில் தவறானது எது/எவை?

- A) I மட்டும்
B) II மட்டும்
C) இரண்டும்
D) இரண்டுமில்லை
E) விடைதெரியவில்லை

134. Karikalán has been praised as which of the following name?

- A) Kadaram Kondan
B) Ilanchetsenni
C) Ezhisai Vallavan
D) Nedunchezhiyan
E) Answer not known

கரிகாலன் கீழ்க்கண்ட எந்தப் பெயரால் போற்றப்படுகிறார்?

- A) கடாரம் கொண்டான்
B) இளஞ்செட்சென்னி
C) ஏழிசை வல்லவன்
D) நெடுஞ்செழியன்
E) விடைதெரியவில்லை

135. Find out the incorrectly matched pair of Navaratna in the court of Vikramaditya

- A) Kahapanaka – Astrologer
B) Varauchi – Grammarian
C) Sanku – Astronomer
D) Vittalbhata – Magician
E) Answer not known

தவறாகப் பொருந்தியுள்ள விக்ரமாதித்யனின் அவையிலிருந்த நவரத்தினங்களின் இணையைக் கண்டறியவும்

- A) காகபானகர் – ஜோதிடர்
B) வராச்சி – இலக்கண ஆசிரியர்
C) சங்கு – வானியலாளர்
D) விட்டல்பட்டர் – மாயவித்தைக்காரர்
E) விடைதெரியவில்லை

136. Who introduced the Gupta monetary system?

- A) Vikramaditya
B) Kaviraja
C) Chandragupta I
D) Vishnugupta
E) Answer not known

குப்தா நாணய முறையை அறிமுகப்படுத்தியவர் யார்?

- A) விக்ரமாதித்யா
B) கவிராஜா
C) முதலாம் சந்திரகுப்தர்
D) விஷ்ணுகுப்தர்
E) விடைதெரியவில்லை



137. Prayog Prahasthi engraved on Allahabad Pillar was composed by which of the following personality?

- A) Kalidasa
B) Kaviraja
C) Meghavarman
D) Harisena
E) Answer not known

அலகாபாத் தூணில் பொறிக்கப்பட்ட பிரயோக் பிரஹஸ்தி பின்வரும் எந்த ஆளுமையால் இயற்றப்பட்டது?

- A) காளிதாசர்
B) கவிராஜா
C) மேகவர்மன்
D) ஹரிசேனர்
E) விடை தெரியவில்லை

138. Mattavilasa Prahasana (The delight of the Drunkards), a Sanskrit play which denigrates Buddhism was written by

- A) Avanisimha
B) Mamallan
C) Chitrakarapuli
D) Rajasimha
E) Answer not known

பௌத்தத்தை இழிவுபடுத்தும் வகையில் சமஸ்கிருத நாடகமான மத்தவிலாசப் பிரகசனம் (குடிகாரர்களின் மகிழ்ச்சி) என்னும் நூலை எழுதியவர்

- A) அவனிசிம்மர்
B) மாமல்லன்
C) சித்திரகாரப் புலி
D) ராஜசிம்மர்
E) விடை தெரியவில்லை

139. Match List-I with List-II.

List-I

(Architecture Style)

- a) Mahendrarvarman style
b) Mamallan style
c) Rajasimhan style
d) Nandivarman style

List-II

(Temples)

1. Mandagapattu Cave Temple
2. Kanchi Kailasanatha Temple
3. Kanchi Vaikunda Perumal Temple
4. Arjuna Penance

Codes:

- | | a | b | c | d |
|----|----------|----------|----------|----------|
| A) | 4 | 2 | 3 | 1 |
| B) | 1 | 4 | 2 | 3 |
| C) | 3 | 2 | 1 | 4 |
| D) | 1 | 2 | 4 | 3 |

E) Answer not known

பட்டியல்-Iஐ பட்டியல்-II உடன் பொருத்துக.

பட்டியல்-I

(கட்டிடக்கலை பாணி)

- a) மகேந்திரவர்மன் பாணி
b) மாமல்லன் பாணி
c) ராஜசிம்மன் பாணி
d) நந்திவர்மன் பாணி

பட்டியல்-II

(கோயில்கள்)

1. மண்டகப்பட்டு குகைக் கோயில்
2. காஞ்சி கைலாசநாதர் கோவில்
3. காஞ்சி வைகுண்ட பெருமாள் கோவில்
4. அர்ஜுன தபசு



குறியீடுகள்:

- | | <i>a</i> | <i>b</i> | <i>c</i> | <i>d</i> |
|----|----------|----------|----------|----------|
| A) | 4 | 2 | 3 | 1 |
| B) | 1 | 4 | 2 | 3 |
| C) | 3 | 2 | 1 | 4 |
| D) | 1 | 2 | 4 | 3 |
- E) விடை தெரியவில்லை

140. Consider the following statements regarding status of women in Rig Vedic Society:

- I. Child marriage and Sati were unknown.
- II. There was no bar on the remarriage of widows.
- III. The women were granted the right to inherit property from their parents.
- IV. They played no role in public affairs.

Which of the statements given above is/are correct?

- | | |
|-----------------------|--------------------|
| A) I, II and III only | B) III and IV only |
| C) I, II and IV only | D) All the above |
- E) Answer not known

ரிக்வேத சமுதாயத்தில் பெண்களின் நிலை குறித்த பின்வரும் கூற்றுகளை கருத்தில் கொள்க :

- I. குழந்தைத் திருமணத்தையும், உடன்கட்டை ஏறுதலையும் அறிந்திருக்கவில்லை.
- II. கைம்பெண்கள் மறுமணம் செய்து கொள்ளத் தடைகள் இல்லை.
- III. பெண்களுக்கு பெற்றோரிடமிருந்து வாரிசு சொத்துரிமை வழங்கப்பட்டது.
- IV. பொது நிகழ்வுகளில் பெண்கள் எந்தப் பங்கும் வகிக்கவில்லை.

மேற்கண்ட கூற்றுகளில் சரியானது எது/எவை?

- | | |
|------------------------------|---------------------------|
| A) I, II மற்றும் III மட்டும் | B) III மற்றும் IV மட்டும் |
| C) I, II மற்றும் IV மட்டும் | D) மேற்கண்ட அனைத்தும் |
- E) விடை தெரியவில்லை

141. The terms Nishka, Satmana, and Krishnala during ancient India are related to which of the following one?

- | | |
|---------------------------|-----------------------------|
| A) Agricultural practices | B) Land grants to officials |
| C) Ritual sacrifices | D) Types of coins |
- E) Answer not known

பண்டைய இந்தியாவில் நிஷ்கா, சத்மனா மற்றும் கிருஷ்ணாலா ஆகிய சொற்கள் பின்வருவனவற்றில் எதுவுடன் தொடர்புடையவை:

- A) விவசாய நடைமுறைகள்
 - B) அதிகாரிகளுக்கு நிலம் வழங்குதல்
 - C) சடங்குகள்
 - D) நாணயங்களின் வகைகள்
- E) விடை தெரியவில்லை



142. Consider the following statements regarding Rig Vedic period:

- I. There is no mention of wheat or cotton in Rig Veda.
- II. The staple crop was Yava.
- III. Monocropping was practiced during this period.

Which of the statements given above is/are incorrect?

- A) I only
- B) II only
- C) III only
- D) I and III only
- E) Answer not known

ரிக் வேத காலத்தைப் பற்றிய பின்வரும் கூற்றுகளை கருத்தில் கொள்க:

- I. ரிக்வேதத்தில் கோதுமை அல்லது பருத்தி பற்றி எதுவும் குறிப்பிடப்படவில்லை.
- II. பார்லி (யவா) அவர்களின் முதன்மை பயிராகும்.
- III. இக்காலத்தில் ஒற்றைப்பயிர் சாகுபடி நடைமுறையில் இருந்தது.

மேற்கண்ட கூற்றுகளில் தவறானது எது/எவை?

- A) I மட்டும்
- B) II மட்டும்
- C) III மட்டும்
- D) I மற்றும் III
- E) விடை தெரியவில்லை

143. Match List-I with List-II.

List-I

(Archeological sites)

- a) Keeladi
- b) Porunthal
- c) Kodumanal
- d) Paiyampalli

Codes:

	a	b	c	d
A)	4	3	2	1
B)	2	1	3	4
C)	4	2	3	1
D)	1	4	2	3

E) Answer not known

பட்டியல்-Iஐ பட்டியல்-II உடன் பொருத்துக.

பட்டியல்-I

(தொல்பொருள் இடங்கள்)

- a) கீழடி
- b) பொருந்தல்
- c) கொடுமணல்
- d) பையம்பள்ளி

குறியீடுகள்:

Codes:

	a	b	c	d
A)	4	3	2	1
B)	2	1	3	4
C)	4	2	3	1
D)	1	4	2	3

E) விடை தெரியவில்லை

List-II

(Discovered items)

1. Ivory dice
2. Spindles
3. Evidence of Iron Smelting
4. Pot filled with rice

பட்டியல்-II

(கண்டுபிடிக்கப்பட்ட பொருட்கள்)

1. தந்தத்தால் செய்யப்பட்ட பகடை
2. சுழல் அச்சுக்கள்
3. இரும்பு உருக்கப்பட்டதற்கான சான்றுகள்
4. அரிசி நிரப்பப்பட்ட பாளை



144. Consider the following statements:

- I. Smritis are written texts while Shrutis are transmitted orally.
 - II. Shrutis are considered eternal and unchangeable, while Smritis are revised over time.
 - III. Smritis include Ithihasas and Puranas, while Shrutis include the Vedas.
- Which of the statements given above is/are incorrect?

- A) I and II only
- B) II and III only
- C) I and III only
- D) None of the above
- E) Answer not known

பின்வரும் அறிக்கைகளைக் கவனியுங்கள் :

- I. ஸ்மிருதிகள் எழுப்பப்பட்ட நூல்கள், சுருதிகள் வாய்வழியாக அடுத்த தலைமுறைக்கு கடத்தப்படுகின்றன.
- II. சுருதிகள் நிலையானவை மற்றும் மாறாதவை என்று கருதப்படுகின்றன, அதே சமயம் ஸ்மிருதிகள் காலப்போக்கில் திருத்தப்படுகின்றன.
- III. ஸ்மிருதிகளில் இதிகாசங்கள் மற்றும் புராணங்கள் அடங்கும், அதே சமயம் சுருதிகளில் வேதங்கள் அடங்கும்.

மேற்கூறியவற்றுள் தவறானது எது/எவை?

- A) I மற்றும் II மட்டும்
- B) II மற்றும் III மட்டும்
- C) I மற்றும் III மட்டும்
- D) மேற்கண்ட எதுவுமில்லை
- E) விடை தெரியவில்லை

145. Which is the correct ascending order of the Rig Vedic society?

- A) Jana < Grama < Kula < Rashtra < Vis
- B) Kula < Jana < Grama < Vis < Rashtra
- C) Jana < Grama < Kula < Vis < Rashtra
- D) Kula < Grama < Vis < Jana < Rashtra
- E) Answer not known

ரிக்வேத சமுதாயத்தின் சரியான ஏறுவரிசை எது?

- A) ஜனா < கிராமம் < குலம் < ராஷ்டிரம் < விஷ்
- B) குலம் < ஜனா < கிராமம் < விஷ் < ராஷ்டிரம்
- C) ஜனா < கிராமம் < குலம் < விஷ் < ராஷ்டிரம்
- D) குலம் < கிராமம் < விஷ் < ஜனா < ராஷ்டிரம்
- E) விடை தெரியவில்லை

146. Match List-I with List-II.

List-I

(Periods of Ancient India)

- a) Rig Vedic period
- b) Later Vedic period
- c) Megalithic period

Codes:

- | | a | b | c |
|----|----------|----------|----------|
| A) | 2 | 3 | 1 |
| B) | 1 | 2 | 3 |
| C) | 3 | 1 | 2 |
| D) | 1 | 3 | 2 |

E) Answer not known

List-II

(Pottery associated with that period)

1. Black and Red Ware
2. Ochre Coloured
3. Painted Grey ware



பட்டியல்-Iஐ பட்டியல்-II உடன் பொருத்துக.

பட்டியல்-I
(பண்டைய இந்தியாவின்
காலங்கள்)

- ரிக் வேத காலம்
- பின்வேதகாலம்
- பெருங்கற்காலம்

குறியீடுகள்:

- | | a | b | c |
|----|----------|----------|----------|
| A) | 2 | 3 | 1 |
| B) | 1 | 2 | 3 |
| C) | 3 | 1 | 2 |
| D) | 1 | 3 | 2 |

E) விடை தெரியவில்லை

பட்டியல்-II
(அந்த காலத்துடன் தொடர்புடைய
மட்பாண்டங்கள்)

- கருப்பு மற்றும் சிவப்புநிற மட்பாண்டம்
- பழுப்பு மஞ்சள் நிற மட்பாண்டம்
- சாம்பல் நிற மட்பாண்டம்

147. Consider the following statements regarding Buddhism and Jainism:

- Both Buddhism and Jainism believes in the doctrine of Karma
- Both Opposed blood sacrifices.
- Both denied the authority of Vedas
- Jainism remained in India only whereas Buddhism spread across many parts of the world.

Which of the statements given above is/are correct?

- I, II and III only
- II and IV only
- I, III and IV only
- All of the above
- Answer not known

பௌத்தம் மற்றும் சமண மதம் பற்றிய பின்வரும் கூற்றுகளை கருத்தில் கொள்க :

- பௌத்தம் மற்றும் சமண மதம் இரண்டும் கர்மாவின் கோட்பாட்டில் நம்பிக்கை கொண்டவை
- இருவரும் இரத்த பலிகளை எதிர்த்தனர்.
- இருவரும் வேதங்களின் அதிகாரத்தை மறுத்தனர்
- பௌத்தம் உலகின் பல பகுதிகளிலும் பரவிய நிலையில் சமண மதம் இந்தியாவில் மட்டுமே இருந்தது.

மேற்கண்ட கூற்றுகளில் சரியானது எது/எவை?

- I, II மற்றும் III மட்டும்
- II மற்றும் IV மட்டும்
- I, III மற்றும் IV மட்டும்
- மேற்கண்ட அனைத்தும்
- விடை தெரியவில்லை

148. Which of the following is/are correctly matched?

- | (Culture in Ancient period) | (Contemporary culture) |
|--|--|
| I. The early Vedic culture in northern India | - Chalcolithic cultures in other part of Indian Sub-continent. |
| II. The later Vedic culture in north India | - Iron Age in south India. |
| III. Chalcolithic culture of India | - Mature phase of Harappan culture. |
| IV. Megalithic Period in ancient Tamilakam | - Post-Sangam period |

**Codes:**

- A) I, II and III only
B) II and III only
C) III and IV only
D) I and IV only
E) Answer not known

பின்வருவனவற்றில் எது சரியாகப் பொருந்துகிறது?

(பண்டைய காலத்தில் கலாச்சாரம்)

(தற்கால கலாச்சாரம்)

- I. வட இந்தியாவில் தொடக்ககால வேதப் பண்பாடு – இந்தியத் துணைக் கண்டத்தின் ஏனைய பகுதிகளில் நிலவிய செம்புக்கால பண்பாடு.
II. வடஇந்தியாவின் பின்வேதகாலப் பண்பாடு – தென்னிந்தியாவின் இரும்புக் காலம்.
III. இந்தியாவின் செம்புக்காலப் பண்பாடு – முதிர்ந்த நிலை ஹரப்பா பண்பாடு.
IV. பண்டைய தமிழகத்தின் பெருங்கற்காலம் – சங்ககாலத்திற்குப் பிந்தைய காலம்

குறியீடுகள்:

- A) I, II மற்றும் III மட்டும்
B) II மற்றும் III மட்டும்
C) III மற்றும் IV மட்டும்
D) I மற்றும் IV மட்டும்
E) விடை தெரியவில்லை

149. Match List-I with List-II.

List-I

(Places)

- a) Aravor Palli
b) Arittapatti
c) Samanar Hill
d) Thiruparthikundram

List-II

(Associated with)

1. Keelakuyilkudi Village
2. Pandavar Padukkai
3. Jain Monastery
4. Jina Kanchi

Codes:

- | | a | b | c | d |
|----|----------|----------|----------|----------|
| A) | 1 | 2 | 4 | 3 |
| B) | 2 | 1 | 3 | 4 |
| C) | 3 | 2 | 1 | 4 |
| D) | 2 | 3 | 4 | 1 |

E) Answer not known

பட்டியல்-Iஐ பட்டியல்-II உடன் பொருத்துக.

பட்டியல்-I

பட்டியல்-II

(இடங்கள்)

(தொடர்புடையது)

- a) அறவோர் பள்ளி
b) அரிட்டாபட்டி
c) சமணர் மலை
d) திருப்பருத்திக்குன்றம்
1. கீழக்குயில்குடி கிராமம்
2. பாண்டவர் படுக்கை
3. சமண மடம்
4. ஜைனக் காஞ்சி



குறியீடுகள்:

- | | a | b | c | d |
|----|------------------|----------|----------|----------|
| A) | 1 | 2 | 4 | 3 |
| B) | 2 | 1 | 3 | 4 |
| C) | 3 | 2 | 1 | 4 |
| D) | 2 | 3 | 4 | 1 |
| E) | விடை தெரியவில்லை | | | |

150. From which ancient text is the national motto "Satyameva Jayate" derived?

- | | |
|---------------------|----------------------|
| A) Rig Veda | B) Bhagavad Gita |
| C) Aaranyakas | D) Mundaka Upanishad |
| E) Answer not known | |

"சத்யமேவ ஜெயதே" என்ற தேசிய பொன்மொழி எந்த பண்டைய நூலில் இருந்து பெறப்பட்டது?

- | | |
|---------------------|--------------------|
| A) ரிக் வேதம் | B) பகவத் கீதை |
| C) ஆரண்யகங்கள் | D) முண்டக உபநிடதம் |
| E) விடை தெரியவில்லை | |

151. Match List-I with List-II.

List-I
(Megalithic Monuments)

- Menhirs
- Dolmens
- Hero Stones

List-II
(Sites)

- Veeraraghavapuram
- Kodumanal
- Maanur

Codes:

- | | a | b | c |
|----|----------|----------|----------|
| A) | 1 | 2 | 3 |
| B) | 2 | 1 | 3 |
| C) | 3 | 2 | 1 |
| D) | 3 | 1 | 2 |

E) Answer not known

பட்டியல்-Iஐ பட்டியல்-II உடன் பொருத்துக.

பட்டியல்-I

(பெருங்கற்கால நினைவுச்சின்னங்கள்)

- நினைவு கற்கள்
- கற்திட்டைகள்
- நடுகற்கள்

பட்டியல்-II

(தளங்கள்)

- வீரராகவபுரம்
- கொடுமணல்
- மானூர்



குறியீடுகள்:

- | | a | b | c |
|----|----------|----------|----------|
| A) | 1 | 2 | 3 |
| B) | 2 | 1 | 3 |
| C) | 3 | 2 | 1 |
| D) | 3 | 1 | 2 |

E) விடை தெரியவில்லை

152. Consider the following statements regarding Tropical rain forest:

Assertion (A) : Tropical rain forests are called the World's largest Pharmacy

Reason (R) : More than half of its natural vegetation are medicinal plants

Codes:

- A) Both (A) and (R) are true and (R) is the correct explanation of (A)
 B) Both (A) and (R) are true but (R) is not the correct explanation of (A)
 C) (A) is true but (R) is false
 D) (A) is false but (R) is true
 E) Answer not known

வெப்பமண்டல மழைக்காடுகள் தொடர்பான பின்வரும் அறிக்கைகளைக் கவனியுங்கள் :

கூற்று (A) : வெப்பமண்டல மழைக்காடுகள் உலகின் பெரும் மருந்தகம் என்று அழைக்கப்படுகின்றன

காரணம் (R) : அதன் இயற்கையான தாவரங்களில் பாதிக்கும் மேற்பட்டவை மருத்துவ தாவரங்களாகும்

குறியீடுகள்:

- A) (A) மற்றும் (R) இரண்டும் சரி மற்றும் (R) என்பது (A)-யின் சரியான விளக்கமாகும்.
 B) (A) மற்றும் (R) இரண்டும் சரி ஆனால் (R) என்பது (A)-யின் சரியான விளக்கமல்ல.
 C) (A) சரி ஆனால் (R) தவறு.
 D) (A) தவறு ஆனால் (R) சரி.
 E) விடை தெரியவில்லை

153. Find out the incorrectly matched pair.

(Natural Symbols (Associated species) Of Tamil Nadu)

- A) State Animal – Nilgiri Tahr
 B) State Tree – Banyan Tree
 C) State Bird – Emerald Dove
 D) State Flower – Gloriosa Superba
 E) Answer not known

தவறாகப் பொருந்தியுள்ள இணையைக் கண்டறிக.

(தமிழ்நாட்டின் இயற்கை சின்னங்கள்) (தொடர்புடைய இனங்கள்)

- A) மாநில விலங்கு – நீலகிரி வரையாடு
 B) மாநில மரம் – ஆலமரம்
 C) மாநிலப் பறவை – மரகதப் புறா
 D) மாநில மலர் – செங்காந்தள் மலர்
 E) விடை தெரியவில்லை



154. Indian government has set up a Tsunami Early Warning System in which of the following place?

- A) Hyderabad
B) Chennai
C) Panaji
D) Thiruvananthapuram
E) Answer not known

பின்வரும் எந்த இடத்தில் இந்திய அரசு சுனாமி முன்னெச்சரிக்கை அமைப்பை நிறுவியுள்ளது ?

- A) ஹைதராபாத்
B) சென்னை
C) பனாஜி
D) திருவனந்தபுரம்
E) விடை தெரியவில்லை

155. Match List-I with List-II.

List-I
(National Symbols)

- a) Banyan Tree
b) Peacock
c) River Ganges
d) Tiger
e) Elephant

List-II
(Declared in)

1. 1950
2. 1973
3. 1963
4. 2010
5. 2008

Codes:

- | | a | b | c | d | e |
|----|------------------|----------|----------|----------|----------|
| A) | 3 | 1 | 4 | 2 | 5 |
| B) | 1 | 3 | 5 | 2 | 4 |
| C) | 2 | 1 | 3 | 5 | 4 |
| D) | 4 | 2 | 3 | 5 | 1 |
| E) | Answer not known | | | | |

பட்டியல்-Iஐ பட்டியல்-II உடன் பொருத்துக.

பட்டியல்-I	பட்டியல்-II
(தேசிய சின்னங்கள்)	(அறிவிக்கப்பட்டது)

- | | |
|--------------|---------|
| a) ஆலமரம் | 1. 1950 |
| b) மயில் | 2. 1973 |
| c) கங்கை ஆறு | 3. 1963 |
| d) புலி | 4. 2010 |
| e) யானை | 5. 2008 |

குறியீடுகள்:

- | | a | b | c | d | e |
|----|------------------|----------|----------|----------|----------|
| A) | 3 | 1 | 4 | 2 | 5 |
| B) | 1 | 3 | 5 | 2 | 4 |
| C) | 2 | 1 | 3 | 5 | 4 |
| D) | 4 | 2 | 3 | 5 | 1 |
| E) | விடை தெரியவில்லை | | | | |



156. Consider the following statements regarding The International Date Line (IDL):

- I. The International Date Line (IDL) is not straight.
- II. If a person crosses this line from the West to East, he loses a day.
- III. The 180° line of longitude has been fixed as the International Date Line.
- IV. IDL passes through Bering strait

Which of the statements given above is/are correct?

- A) I and III only
- B) III and IV only
- C) I, III and IV only
- D) All the above
- E) Answer not known

பன்னாட்டு தேதிக் கோடு (IDL) தொடர்பான பின்வரும் கூற்றுக்களைக் கருத்தில் கொள்க:

- I. பன்னாட்டு தேதிக் கோடு (IDL) நேராக இல்லை.
- II. ஒருவர் மேற்கிலிருந்து கிழக்கு நோக்கி இந்தக் கோட்டைக் கடந்தால், அவர் ஒரு நாளை இழக்கிறார்.
- III. தீர்க்கக்கோடுகளில் 180° தீர்க்கக்கோடானது பன்னாட்டு தேதிக் கோடாக நிர்ணயிக்கப்பட்டுள்ளது.
- IV. பன்னாட்டு தேதிக் கோடு பேரிங் நீர்ச்சந்தி வழியாக செல்கிறது மேற்கண்ட கூற்றுக்களில் சரியானது எது/எவை?

- A) I மற்றும் III மட்டும்
- B) III மற்றும் IV மட்டும்
- C) I, III மற்றும் IV மட்டும்
- D) மேற்கண்ட அனைத்தும்
- E) விடை தெரியவில்லை

157. Match List-I with List-II.

List-I

List-II

- | | |
|-------------------|--------------------------|
| a) Temperate zone | 1. Very high temperature |
| b) Frigid zone | 2. Moderate temperature |
| c) Torrid zone | 3. Very low temperature |
| d) Equator | 4. 0° |

Codes:

- | | a | b | c | d |
|----|----------|----------|----------|----------|
| A) | 1 | 2 | 3 | 4 |
| B) | 2 | 3 | 1 | 4 |
| C) | 3 | 2 | 1 | 4 |
| D) | 2 | 1 | 3 | 4 |

E) Answer not known

பட்டியல்-Iஐ பட்டியல்-II உடன் பொருத்துக.

பட்டியல்-I

பட்டியல்-II

- | | |
|---------------------|----------------------------|
| a) மிதவெப்ப மண்டலம் | 1. மிக அதிக வெப்பநிலை |
| b) குளிர் மண்டலம் | 2. மிதமான வெப்பநிலை |
| c) வெப்ப மண்டலம் | 3. மிகக் குறைந்த வெப்பநிலை |
| d) பூமத்திய ரேகை | 4. 0° |



குறியீடுகள்:

- | | <i>a</i> | <i>b</i> | <i>c</i> | <i>d</i> |
|----|----------|----------|----------|----------|
| A) | 1 | 2 | 3 | 4 |
| B) | 2 | 3 | 1 | 4 |
| C) | 3 | 2 | 1 | 4 |
| D) | 2 | 1 | 3 | 4 |
- E) விடை தெரியவில்லை

158. Which of the following person stated that "Earth rotates on its axis"?

- A) Varahamihira
B) Bhaskara
C) Vagbhata
D) Aryabhatta
E) Answer not known

பின்வரும் நபர்களில் "பூமி அதன் அச்சில் சுழல்கிறது" என்று கூறியவர் யார்?

- A) வராகமிஹிரர்
B) பாஸ்கரர்
C) வாஃபட்டர்
D) ஆர்யபட்டர்
E) விடை தெரியவில்லை

159. Consider the following statements.

- I. The first Indian Flag was woven at Gudiyatham in Vellore district of Tamilnadu.
II. The ratio of our National Flag's length and breadth is 3:2
III. This flag is now an exhibit at the National Museum, New Delhi.
Which of the statements given above is/are correct?

- A) I and II only
B) II and III only
C) I and III only
D) All the above
E) Answer not known

பின்வரும் கூற்றுகளைக் கருத்தில் கொள்க.

- I. விடுதலை இந்தியாவின் முதல் தேசியக் கொடி தமிழ்நாட்டின் வேலூர் மாவட்டத்தில் உள்ள குடியாத்தத்தில் நெய்யப்பட்டது.
II. நமது தேசியக் கொடியின் நீளம் மற்றும் அகலத்தின் விகிதம் 3:2 ஆகும்
III. இந்தக் கொடி தற்போது புது தில்லியில் உள்ள தேசிய அருங்காட்சியகத்தில் பொதுமக்கள் பார்வைக்காக வைக்கப்பட்டுள்ளது.

மேற்கண்ட கூற்றுகளில் சரியானது எது/எவை?

- A) I மற்றும் II மட்டும்
B) II மற்றும் III மட்டும்
C) I மற்றும் III மட்டும்
D) மேற்கண்ட அனைத்தும்
E) விடை தெரியவில்லை

160. Consider the following statements:

- I. The four lions on top of the Ashoka Pillar at Sarnath was chosen to be our National Emblem.
II. The upper part of our Emblem has four lions facing the North, South, East and West.
III. The lower part has an elephant, a horse, a bull and a lion.



Which of the statements given above is/are incorrect?

- A) I only
B) II only
C) III only
D) None of the above
E) Answer not known

பின்வரும் கூற்றுகளைக் கருத்தில் கொள்க:

- I. சாரநாத் அசோகத் தூணின் உச்சியில் அமைந்திருக்கும் நான்முகச் சிங்கம் இந்தியாவின் தேசிய இலச்சினையாக ஏற்றுக்கொள்ளப்பட்டது.
II. இலச்சினையின் மேல் பகுதியில் வடக்கு, தெற்கு, கிழக்கு மற்றும் மேற்கு நோக்கி நான்கு சிங்கங்கள் உள்ளன.
III. கீழ் பகுதியில் யானை, குதிரை, காளை, சிங்கம் ஆகியவை உள்ளன.

மேற்கண்ட கூற்றுகளில் தவறானது எது/எவை?

- A) I மட்டும்
B) II மட்டும்
C) III மட்டும்
D) மேற்கண்ட எதுவுமில்லை
E) விடை தெரியவில்லை

161. Consider the following statements.

- I. 'Jana Gana Mana' is our National Anthem.
II. This anthem was composed by Bankim Chandra Chatterjee in Bengali.
III. This was transcribed in Hindi and was accepted by the Constituent Assembly on 24th January 1950.
IV. This anthem has to be sung at a duration of 58 seconds.

Which of the statements given above is/are correct?

- A) I, III and IV only
B) I and III only
C) II and IV only
D) All the above
E) Answer not known

பின்வரும் கூற்றுகளைக் கருத்தில் கொள்க.

- I. 'ஜன கண மன' என்பது நமது தேசிய கீதம்.
II. இந்த கீதம் வங்காள மொழியில் பங்கிம் சந்திர சட்டர்ஜியால் இயற்றப்பட்டது.
III. இதன் இந்தி மொழியாக்கம் 1950 ஜனவரி 24 அன்று அரசியலமைப்பு நிர்ணய சபையால் தேசிய கீதமாக ஏற்றுக்கொள்ளப்பட்டது.
IV. இந்த கீதம் 58 வினாடிகளில் பாடப்பட வேண்டும்.

மேற்கண்ட கூற்றுகளில் சரியானது எது/எவை?

- A) I, III மற்றும் IV மட்டும்
B) I மற்றும் III மட்டும்
C) II மற்றும் IV மட்டும்
D) மேற்கண்ட அனைத்தும்
E) விடை தெரியவில்லை

162. In which of the following Congress committee the national anthem was sung for the first time?

- A) 27th December 1896, Delhi
B) 28th December 1905, Benaras
C) 28th December 1917, Bombay
D) 27th December 1911, Kolkata
E) Answer not known



- பின்வரும் எந்த காங்கிரஸ் மாநாட்டில் முதன்முறையாக தேசிய கீதம் பாடப்பட்டது?
- A) 27 டிசம்பர் 1896, டெல்லி
B) 28 டிசம்பர் 1905, பனாரஸ்
C) 28 டிசம்பர் 1917, பம்பாய்
D) 27 டிசம்பர் 1911, கொல்கத்தா
E) விடை தெரியவில்லை

163. The National Song 'Vande Mataram' was part of which novel?

- A) Dinabandhu Mitra by Nil Darpan (1960)
B) Anandmath by Bankim Chandra Chatterjee (1882)
C) A Nation by Surendranath Banerjee (1925)
D) Geetanjali by Rabindranath Tagore (1912)
E) Answer not known

தேசியப் பாடலான 'வந்தே மாதரம்' எந்த நாவலின் பகுதியாக இருந்தது?

- A) தீனபந்து மித்ரா எழுதிய நீல் தர்பன் (1960)
B) பங்கிம் சந்திர சட்டர்ஜி எழுதிய ஆனந்தமடம் (1882)
C) சுரேந்திரநாத் பானர்ஜி எழுதிய ஒரு தேசம் (1925)
D) ரவீந்திரநாத் தாகூர் எழுதிய கீதாஞ்சலி (1912)
E) விடை தெரியவில்லை

164. Match List-I with List-II.

List-I

(Eminent Personalities)

- a) Pydimarri Venkata Subba Rao
b) Meghnad Saha
c) Udhayakumar
d) Pingali Venkayya

List-II

(Associated with)

1. National Pledge
2. Calendar Reformation Committee
3. Indian Rupee design
4. National Flag

Codes:

- | | a | b | c | d |
|----|----------|----------|----------|----------|
| A) | 2 | 1 | 3 | 4 |
| B) | 3 | 1 | 4 | 2 |
| C) | 4 | 2 | 1 | 3 |
| D) | 1 | 2 | 3 | 4 |

E) Answer not known

பட்டியல்-Iஐ பட்டியல்-II உடன் பொருத்துக.

பட்டியல்-I

(புகழ்பெற்ற நபர்கள்)

- a) பிதிமாரி வெங்கடசுப்பா ராவ்
b) மேக்நாத் சாகா
c) உதயகுமார்
d) பிங்காலி வெங்கையா

பட்டியல்-II

(தொடர்புடையவை)

1. தேசிய உறுதிமொழி
2. நாட்காட்டி சீர்திருத்தக் குழு
3. இந்திய ரூபாய் வடிவமைப்பு
4. தேசியக் கொடி



குறியீடுகள்:

- | | a | b | c | d |
|----|----------|----------|----------|----------|
| A) | 2 | 1 | 3 | 4 |
| B) | 3 | 1 | 4 | 2 |
| C) | 4 | 2 | 1 | 3 |
| D) | 1 | 2 | 3 | 4 |
- E) விடை தெரியவில்லை

165. International Day of Democracy is observed on
 A) September 15
 B) October 15
 C) November 15
 D) January 15
 E) Answer not known
- சர்வதேச மக்களாட்சி தினம் எப்போது அனுசரிக்கப்படுகிறது?
 A) செப்டம்பர் 15
 B) அக்டோபர் 15
 C) நவம்பர் 15
 D) ஜனவரி 15
 E) விடை தெரியவில்லை

166. Which of the following is/are incorrectly matched?

(Type of Democracy)

(Countries associated with it)

- | | | |
|-----------------------------|---|-------------|
| I. Direct Democracy | - | Switzerland |
| II. Parliamentary Democracy | - | India |
| III. Presidential Democracy | - | Canada |

Codes:

- | | |
|-------------|----------------------|
| A) I only | B) II only |
| C) III only | D) None of the above |
- E) Answer not known

பின்வருவனவற்றில் தவறாகப் பொருந்தியுள்ளது எது/எவை?

(மக்களாட்சியின் வகை)

(தொடர்புடைய நாடுகள்)

- | | | |
|---------------------------|---|-----------------|
| I. நேரடி மக்களாட்சி | - | சுவிட்சர்லாந்து |
| II. பாராளுமன்ற மக்களாட்சி | - | இந்தியா |
| III. அதிபர் மக்களாட்சி | - | கனடா |

குறியீடுகள்:

- | | |
|----------------|---------------------------|
| A) I மட்டும் | B) II மட்டும் |
| C) III மட்டும் | D) மேற்கண்ட எதுவும் இல்லை |
- E) விடை தெரியவில்லை

167. Consider the following statements.

- I. The Drafting committee met for the first time on 9th December 1946
- II. The Drafting committee was formed with eight members including its chairman.
- III. It took a period of 2 years, 11 months, and 18 days
- IV. The constitution was accepted by the Constituent Assembly on November 26, 1949.



Which of the statements given above is/are correct?

- A) I, II and IV only
B) II and III only
C) I and IV only
D) All the above
E) Answer not known

பின்வரும் கூற்றுகளைக் கருத்தில் கொள்க.

- I. வரைவுக் குழு 9 டிசம்பர் 1946 அன்று முதல் முறையாக கூடியது
II. தலைவர் உட்பட எட்டு உறுப்பினர்களைக் கொண்ட வரைவுக் குழு அமைக்கப்பட்டது.
III. இது அரசியலமைப்பு சட்டத்தை உருவாக்க 2 ஆண்டுகள், 11 மாதங்கள் மற்றும் 18 நாட்கள் எடுத்து கொண்டது
IV. அரசியலமைப்பு நவம்பர் 26, 1949 அன்று அரசியலமைப்பு நிர்ணய சபையால் ஏற்றுக்கொள்ளப்பட்டது.

மேற்கண்ட கூற்றுகளில் சரியானது எது/எவை?

- A) I, II மற்றும் IV மட்டும்
B) II மற்றும் III மட்டும்
C) I மற்றும் IV மட்டும்
D) மேற்கண்ட அனைத்தும்
E) விடை தெரியவில்லை

168. Who famously stated, "Democracy is the government of the people, by the people, for the people"?

- A) Abraham Lincoln
B) Franklin D. Roosevelt
C) Mahatma Gandhi
D) Dr. B.R. Ambedkar
E) Answer not known

“மக்களால் மக்களுக்காக மக்களே, நடத்தும் ஆட்சி மக்களாட்சி” என்று கூறியவர் யார்?

- A) ஆபிரகாம் லிங்கன்
B) பிராங்க்ளின் டி. ரூஸ்வெல்ட்
C) மகாத்மா காந்தி
D) டாக்டர் பி.ஆர். அம்பேத்கர்
E) விடை தெரியவில்லை

169. Consider the following statements regarding Dr.B.R. Ambedkar:

Assertion (A) : Dr.Ambedkar is called as the Chief Architect of our Constitution.

Reason (R) : He was the chairman of the Constituent Assembly.

Codes:

- A) Both (A) and (R) are true and (R) is the correct explanation of (A)
B) Both (A) and (R) are true but (R) is not the correct explanation of (A)
C) (A) is true but (R) is false
D) (A) is false but (R) is true
E) Answer not known

டாக்டர் பி.ஆர்.அம்பேத்கர் பற்றிய பின்வரும் கூற்றுகளைக் கருத்தில் கொள்க:

கூற்று (A) : டாக்டர் அம்பேத்கர் நமது அரசியலமைப்பின் தலைமை சிற்பி என்று அழைக்கப்படுகிறார்.

காரணம் (R) : அவர் அரசியலமைப்பு சபையின் தலைவராக இருந்தார்.

குறியீடுகள்:

- A) (A) மற்றும் (R) இரண்டும் சரி மற்றும் (R) என்பது (A) இன் சரியான விளக்கமாகும்
B) (A) மற்றும் (R) இரண்டும் சரி ஆனால் (R) என்பது (A) இன் சரியான விளக்கமல்ல
C) (A) சரி ஆனால் (R) தவறு
D) (A) தவறு ஆனால் (R) சரி
E) விடை தெரியவில்லை



170. Consider the following statements.

- I. New Zealand is the first country to allow women to vote.
- II. Women in the UK received voting rights before women in the USA.
- III. India ranks first among the democratic countries of the world.

Which of the statements given above is/are correct?

- A) I and II only
- B) II and III only
- C) I and III only
- D) All the above
- E) Answer not known

பின்வரும் கூற்றுகளைக் கருத்தில் கொள்க.

- I. பெண்களுக்கு வாக்களிக்க அனுமதி வழங்கிய முதல் நாடு நியூசிலாந்து.
- II. அமெரிக்காவில் இருக்கும் பெண்களுக்கு முன்பே இங்கிலாந்தில் உள்ள பெண்கள் வாக்களிக்கும் உரிமையைப் பெற்றனர்.
- III. உலக மக்களாட்சி நாடுகளின் பட்டியலில் இந்தியா முதலிடத்தில் உள்ளது.

மேற்கண்ட கூற்றுகளில் சரியானது எது/எவை?

- A) I மற்றும் II மட்டும்
- B) II மற்றும் III மட்டும்
- C) I மற்றும் III மட்டும்
- D) மேற்கண்ட அனைத்தும்
- E) விடை தெரியவில்லை

171. Consider the following statements.

- I. The Chennai Corporation is the oldest local body in India.
- II. Tamil Nadu was the first state to introduce a town Panchayat in the whole of India.
- III. Walajahpet Municipality is the first Municipality in Tamil Nadu.

Which of the statements given above is/are correct?

- A) I and II only
- B) II and III only
- C) I and III only
- D) All the above
- E) Answer not known

பின்வரும் கூற்றுகளைக் கருத்தில் கொள்க.

- I. சென்னை மாநகராட்சி இந்தியாவிலேயே மிகப் பழமையான உள்ளாட்சி அமைப்பு ஆகும்.
- II. இந்தியாவிலேயே முதன்முதலில் நகர பஞ்சாயத்தை அறிமுகப்படுத்திய மாநிலம் தமிழ்நாடு.
- III. தமிழகத்தின் முதல் நகராட்சி வாலாஜாபேட்டை நகராட்சி ஆகும்.

மேற்கண்ட கூற்றுகளில் சரியானது எது/எவை?

- A) I மற்றும் II மட்டும்
- B) II மற்றும் III மட்டும்
- C) I மற்றும் III மட்டும்
- D) மேற்கண்ட அனைத்தும்
- E) விடை தெரியவில்லை

172. Which of the following are the discretionary powers of the Village Panchayat?

- I. Setting up Drainage & sewage pipes system
- II. Setting up Libraries
- III. Setting up Parks
- IV. Setting up Street lighting

**Codes:**

- A) I, II and III only
B) II, III and IV only
C) II and III only
D) I, II and IV only
E) Answer not known

பின்வருவனவற்றில் கிராம பஞ்சாயத்தின் விருப்ப அதிகாரங்கள் எவை?

- I. வடிகால் மற்றும் கழிவுநீர் குழாய் அமைத்தல்
II. நூலகங்கள் அமைத்தல்
III. பூங்காக்கள் அமைத்தல்
IV. தெரு விளக்கு அமைத்தல்

குறியீடுகள்:

- A) I, II மற்றும் III மட்டும்
B) II, III மற்றும் IV மட்டும்
C) II மற்றும் III மட்டும்
D) I, II மற்றும் IV மட்டும்
E) விடை தெரியவில்லை

173. Consider the following statements.

- I. A Grama Sabha is formed in every Village Panchayat.
II. It is the only permanent unit in the Panchayat Raj System.
III. Those who have attained the age of 21 years and whose names are found in the electoral roll of the same Panchayat can take part in a Grama Sabha meeting.

Which of the statements given above is/are correct?

- A) I only
B) I and II only
C) I and III only
D) All the above
E) Answer not known

பின்வரும் கூற்றுகளைக் கருத்தில் கொள்க.

- I. ஒவ்வொரு கிராம பஞ்சாயத்திலும் ஒரு கிராம சபை அமைக்கப்படுகிறது.
II. பஞ்சாயத்து ராஜ் அமைப்பில் உள்ள ஒரே நிரந்தர அமைப்பு இதுவாகும்.
III. 21 வயது நிரம்பியவர்கள் மற்றும் அதே ஊராட்சியின் வாக்காளர் பட்டியலில் பெயர் உள்ளவர்கள் கிராம சபைக் கூட்டத்தில் பங்கேற்கலாம்.

மேற்கண்ட கூற்றுகளில் சரியானது எது/எவை?

- A) I மட்டும்
B) I மற்றும் II மட்டும்
C) I மற்றும் III மட்டும்
D) மேற்கண்ட அனைத்தும்
E) விடை தெரியவில்லை

174. Consider the following statements.

- I. The birth place of democracy is Rome.
II. Democracy is a term derived from two the Latin words "Demos" and cratia".
III. 'Demos' means the people and 'Cratia' means the power or rule.

Which of the statements given above is/are incorrect?

- A) I and II only
B) II and III only
C) I and III only
D) None of the above
E) Answer not known



பின்வரும் கூற்றுகளைக் கருத்தில் கொள்க.

I. மக்களாட்சியின் பிறப்பிடம் ரோம்.

II. மக்களாட்சி என்பது "டெமோஸ்" மற்றும் கிரேஷியா என்னும் இரண்டு லத்தீன் வார்த்தைகளில் இருந்து பெறப்பட்டது.

III. 'டெமோஸ்' என்றால் மக்கள் மற்றும் 'கிரேஷியா' என்றால் அதிகாரம் அல்லது ஆட்சி.

மேற்கண்ட கூற்றுகளில் தவறானது எது/எவை?

A) I மற்றும் II மட்டும்

B) II மற்றும் III மட்டும்

C) I மற்றும் III மட்டும்

D) மேற்கண்ட எதவுமில்லை

E) விடை தெரியவில்லை

175. Indian Standard Time (IST) does not pass through which of the following state?

A) Chattisgarh

B) Tamilnadu

C) Madhya Pradesh

D) Andhra Pradesh

E) Answer not known

பின்வரும் எந்த மாநிலத்தின் வழியாக இந்திய திட்ட நேரம் (IST) கடந்து செல்லவில்லை?

A) சத்தீஸ்கர்

B) தமிழ்நாடு

C) மத்திய பிரதேசம்

D) ஆந்திரப் பிரதேசம்

E) விடை தெரியவில்லை

176. A solid sphere of radius 6 cm is melted into a hollow cylinder of uniform thickness. If the external radius of the base of the cylinder is 5 cm and its height is 32 cm, then find the thickness of the cylinder.

A) 1 mm

B) 5 mm

C) 15 mm

D) 10 mm

E) Answer not known

6 செ.மீ ஆரமுள்ள ஒரு திண்மக் கோளம் உருக்கப்பட்டுச் சீரான தடிமனுள்ள ஓர் உள்ளீடற்ற உருளையாக மாற்றப்படுகிறது. உருளையின் வெளி ஆரம் 5 செ.மீ மற்றும் உயரம் 32 செ.மீ எனில், உருளையின் தடிமனைக் காண்க.

A) 1 மிமீ

B) 5 மிமீ

C) 15 மிமீ

D) 10 மிமீ

E) விடை தெரியவில்லை

177. A conical flask is full of water. The flask has base radius r units and height h units, the water is poured into a cylindrical flask of base radius mr units. Find the height of water in the cylindrical flask

A) $h/3m^2$

B) $h/6m^2$

C) h/m^2

D) $2h/3m^2$

E) Answer not known

ஒரு முழுமையாக நீரால் நிரம்பியுள்ள ஒரு கூம்பு வடிவக் குடுவையின் ஆரம் r அலகுகள் மற்றும் உயரம் h அலகுகள் ஆகும். நீரானது mr அலகுகள் ஆரமுள்ள மற்றொரு உருளை வடிவக் குடுவைக்கு மாற்றப்பட்டால் நீரின் உயரம் காண்க

A) $h/3m^2$

B) $h/6m^2$

C) h/m^2

D) $2h/3m^2$

E) விடை தெரியவில்லை



178. A cone of height 24 cm is made up of modeling clay. A child reshapes it in the form of a cylinder of same radius as cone. Find the height of the cylinder

- A) 5 cm
B) 6 cm
C) 8 cm
D) 10 cm
E) Answer not known

கனிமண் கொண்டு செய்யப்பட்ட 24 செ.மீ உயரமுள்ள ஒரு கூம்பை ஒரு குழந்தை அதே ஆரமுள்ள ஓர் உருளையாக மாற்றுகிறது எனில் உருளையின் உயரம் காண்க.

- A) 5 cm
B) 6 cm
C) 8 cm
D) 10 cm
E) விடை தெரியவில்லை

179. A metallic sphere of radius 16 cm is melted and recast into small spheres each of radius 2 cm. How many small spheres can be obtained?

- A) 512
B) 729
C) 169
D) 343
E) Answer not known

16 செ.மீ ஆரமுள்ள ஓர் உலோகப் பந்து, உருக்கப்பட்டு 2 செ.மீ ஆரமுள்ள சிறு பந்துகளைக்கப்பட்டால், எத்தனை பந்துகள் கிடைக்கும்?

- A) 512
B) 729
C) 169
D) 343
E) விடை தெரியவில்லை

180. A vessel is in the form of a hemispherical bowl mounted by a hollow cylinder. The diameter is 14 cm and the height of the vessel is 13 cm. Find the capacity of the vessel.

- A) 1639.67 cm³
B) 1642.67 cm³
C) 1642.27 cm³
D) 1652.47 cm³
E) Answer not known

ஓர் அரைக்கோளத்தின் மேல் ஓர் உள்ளீற்ற உருளையைப் பொருத்திய வடிவத்தில் அமைந்த ஒரு கிண்ணத்தின் விட்டம் 14 செ.மீ மற்றும் உயரம் 13 செ.மீ எனில், அதன் கொள்ளளவைக் காண்க

- A) 1639.67 cm³
B) 1642.67 cm³
C) 1642.27 cm³
D) 1652.47 cm³
E) விடை தெரியவில்லை

181. A cylindrical glass with diameter 20 cm has water to a height of 9 cm. A small cylindrical metal of radius 5 cm and height 4 cm is immersed completely. Calculate the raise of the water in the glass?

- A) 3 cm
B) 2 cm
C) 8 cm
D) 1 cm
E) Answer not known



விட்டம் 20 செ.மீ உள்ள ஓர் உருளை வடிவக் கண்ணாடிக் குவளையில் 9 செ.மீ உயரத்திற்கு நீர் உள்ளது. ஆரம் 5 செ.மீ மற்றும் உயரம் 4 செ.மீ உடைய ஓர் சிறிய உலோக உருளை, நீரில் முழுமையாக மூழ்கும்போது ஏற்படும் நீரின் உயர்வைக் கணக்கிடுக

- A) 3 cm
B) 2 cm
C) 8 cm
D) 1 cm
E) விடை தெரியவில்லை

182. A solid sphere and a solid hemisphere have equal total surface area. Find the ratio of their volume.

- A) $3\sqrt{3} : 4$
B) $3\sqrt{3} : 8$
C) $\sqrt{3} : 4$
D) $3\sqrt{3} : 8$
E) Answer not known

ஒரு திண்மக் கோளம் மற்றும் திண்ம அரைக்கோளத்தின் மொத்தப் பரப்பு சமமானதாக இருக்குமானால் அவற்றின் கன அளவின் விகிதத்தைக் கண்டறியவும்.

- A) $3\sqrt{3} : 4$
B) $3\sqrt{3} : 8$
C) $\sqrt{3} : 4$
D) $3\sqrt{3} : 8$
E) விடை தெரியவில்லை

183. A container open at the top is in the form of a frustum of a cone of height 16 cm with radii of its lower and upper ends are 8 cm and 20 cm respectively. Find the cost of milk which can completely fill a container at the rate of Rs. 40 per litre.

- A) ₹414.36
B) ₹416.36
C) ₹415.36
D) ₹418.36
E) Answer not known

உயரம் 16 செ.மீ உடைய ஒரு கூம்பின் இடைக்கண்ட வடிவில் அமைந்த கொள்கலன் ஒன்றின் மேற்புறம் திறந்த நிலையில் உள்ளது. கீழ்ப்புற ஆரம் 8 செ.மீ மற்றும் மேற்புற ஆரம் 20 செ.மீ கொண்ட கொள்கலனில் முழுமையாகப் பால் நிரப்பப்படுகிறது. ஒரு லிட்டர் பாலின் விலை ரூ 40 எனில், நிரப்பப்படும் பாலின் மொத்த விலையைக் காண்க

- A) ₹414.36
B) ₹416.36
C) ₹415.36
D) ₹418.36
E) விடை தெரியவில்லை

184. The radius of a sphere increases by 25%. Find the percentage increase in its surface area?

- A) 57%
B) 56%
C) 56.25%
D) 58%
E) Answer not known

ஒரு கோளத்தின் ஆரம் 25% அதிகரிக்கும்போது, அதிகமாகும் புறப்பரப்பின் சதவீதம் காண்க.

- A) 57%
B) 56%
C) 56.25%
D) 58%
E) விடை தெரியவில்லை



185. Narmadha wishes to prepare birthday caps in the form of right circular cones for her birthday party, using a sheet of paper whose area is 5720 cm^2 , how many caps can be made with radius 5 cm and height 12 cm

- A) 20 caps
B) 26 caps
C) 22 caps
D) 28 caps
E) Answer not known

நர்மதா தனது பிறந்த நாளைக் கொண்டாடக் கூம்பு வடிவத் தொப்பிகளை 5720 ச.செ.மீ பரப்புள்ள காகிதத்தாளை பயன்படுத்தித் தயாரிக்கிறாள். 5 செ.மீ ஆரமும், 12 செ.மீ உயரமும் கொண்ட எத்தனை தொப்பிகள் தயாரிக்க முடியும்?

- A) 20 தொப்பிகள்
B) 26 தொப்பிகள்
C) 22 தொப்பிகள்
D) 28 தொப்பிகள்
E) விடை தெரியவில்லை

186. The radius of a spherical balloon increases from 12 cm to 16 cm as air being pumped into it. Find the ratio of the surface area of the balloons in the two cases.

- A) 9:16
B) 8:16
C) 9:15
D) 4:16
E) Answer not known

ஒரு கோள வடிவ வளிக்கூண்டினுள் (balloon) காற்று உந்தப்படும்போது அதன் ஆரம் 12 செ.மீ-லிருந்து 16 செ.மீ ஆக உயருகிறது. இரு புறப்பரப்புகளின் விகிதம் காண்க.

- A) 9:16
B) 8:16
C) 9:15
D) 4:16
E) விடை தெரியவில்லை

187. If the base area of a hemispherical solid is 1386 sq. metres , then find its total surface area?

- A) 1386 m^2
B) 4124 m^2
C) 4158 m^2
D) 4128 m^2
E) Answer not known

ஒரு திண்ம அரைக்கோளத்தின் அடிப்பரப்பு 1386 ச. மீ எனில், அதன் மொத்தப் புறப்பரப்பைக் காண்க

- A) 1386 மீ^2
B) 4124 மீ^2
C) 4158 மீ^2
D) 4128 மீ^2
E) விடை தெரியவில்லை

188. The slant height of a frustum of a cone is 5 cm and the radii of its ends are 4 cm and 1 cm. Find its curved surface area.

- A) 76.27 cm^2
B) 78.57 cm^2
C) 78.17 cm^2
D) 77.97 cm^2
E) Answer not known



ஒரு கூம்பின் இடைக்கண்டச் சாயுயரம் 5 செ.மீ ஆகும். அதன் இரு ஆரங்கள் 4 செ.மீ மற்றும் 1 செ.மீ எனில், இடைக்கண்டத்தின் வளைபரப்பைக் காண்க

- A) 76.27 செ.மீ² B) 78.57 செ.மீ²
C) 78.17 செ.மீ² D) 77.97 செ.மீ²
E) விடை தெரியவில்லை

189. Find the mean of the first n natural numbers.

- A) $\frac{n+1}{2}$ B) $\frac{n(n+1)}{2}$
C) $n(n+1)$ D) $\frac{n+1}{2n}$
E) Answer not known

n இயல் எண்களின் கூட்டு சராசரியைக் கண்டறியவும் .

- A) $\frac{n+1}{2}$ B) $\frac{n(n+1)}{2}$
C) $n(n+1)$ D) $\frac{n+1}{2n}$
E) விடை தெரியவில்லை

190. If the range and the smallest value of a set of data are 36.8 and 13.4 respectively, then find the largest value.

- A) 7.8 B) 55.5
C) 50.2 D) 50.9
E) Answer not known

ஒரு தரவின் வீச்சு மற்றும் மிகச் சிறிய மதிப்பு ஆகியன முறையே 36.8 மற்றும் 13.4 எனில், மிகப்பெரிய மதிப்பைக் காண்க

- A) 77.8 B) 55.5
C) 50.2 D) 50.9
E) விடை தெரியவில்லை

191. The mean of a data is 25.6 and its coefficient of variation is 18.75. Find the standard deviation.

- A) 12.8 B) 6.85
C) 4.8 D) 22
E) Answer not known

ஒரு தரவின் கூட்டுச்சராசரியானது 25.6 மற்றும் அதன் மாறுபாட்டுக் கெழுவானது 18.75 எனில், அதன் திட்ட விலக்கத்தைக் காண்க.

- A) 12.8 B) 6.85
C) 4.8 D) 22
E) விடை தெரியவில்லை



192. Two dice are rolled. Find the probability that the sum of outcomes is greater than 10.

- A) $\frac{1}{2}$ B) $\frac{1}{12}$
C) $\frac{1}{6}$ D) $\frac{1}{9}$

E) Answer not known

இரண்டு பகடைகள் உருட்டப்படுகின்றன. விளைவுகளின் கூட்டுத்தொகை 10ஐ விட அதிகமாக இருப்பதற்கான நிகழ்தகவைக் கண்டறியவும்.

- A) $\frac{1}{2}$ B) $\frac{1}{12}$
C) $\frac{1}{6}$ D) $\frac{1}{9}$

E) விடை தெரியவில்லை

193. Two coins are tossed together. What is the probability of getting different faces on the coins?

- A) 1 B) $\frac{1}{3}$
C) $\frac{1}{4}$ D) $\frac{1}{2}$

E) Answer not known

இரண்டு நாணயங்கள் ஒன்றாக வீசப்படுகின்றன. நாணயங்களில் வெவ்வேறு முகங்களைப் பெறுவதற்கான நிகழ்தகவு என்ன?

- A) 1 B) $\frac{1}{3}$
C) $\frac{1}{4}$ D) $\frac{1}{2}$

E) விடை தெரியவில்லை

194. From a well shuffled pack of 52 cards, one card is drawn at random. Find the probability of getting a face card.

- A) $\frac{1}{26}$ B) $\frac{3}{13}$
C) $\frac{9}{13}$ D) $\frac{1}{4}$

E) Answer not known

நன்கு கலைத்து அடுக்கப்பட்ட 52 சீட்டுளைக் கொண்ட சீட்டுக்கட்டிலிருந்து, சமவாய்ப்பு முறையில் ஒரு சீட்டு எடுக்கப்படுகிறது. முக சீட்டாக இருப்பதற்கான நிகழ்தகவைக் கண்டறியவும்.

- A) $\frac{1}{26}$ B) $\frac{3}{13}$
C) $\frac{9}{13}$ D) $\frac{1}{4}$

E) விடை தெரியவில்லை



195. A die is rolled and a coin is tossed simultaneously. Find the probability that the die shows an odd number and the coin shows a head.

- A) $\frac{1}{4}$ B) $\frac{1}{2}$
C) $\frac{5}{12}$ D) $\frac{1}{3}$

E) Answer not known

ஒரு பகடை உருட்டப்படும் அதே நேரத்தில் ஒரு நாணயமும் சுண்டப்படுகிறது. பகடையில் ஒற்றைப்படை எண் கிடைப்பதற்கும், நாணயத்தில் தலைக் கிடைப்பதற்குமான நிகழ்தகவைக் காண்க.

- A) $\frac{1}{4}$ B) $\frac{1}{2}$
C) $\frac{5}{12}$ D) $\frac{1}{3}$

E) விடை தெரியவில்லை

196. A bag contains 6 green balls, some black and red balls. Number of black balls is as twice as the number of red balls. Probability of getting a green ball is thrice the probability of getting a red ball. Find the total number of balls?

- A) 12 B) 10
C) 15 D) 20

E) Answer not known

ஒரு பையில் 6 பச்சை பந்துகள், சில கருப்பு மற்றும் சிவப்பு பந்துகள் உள்ளன. கருப்பு பந்துகளின் எண்ணிக்கையானது சிவப்பு பந்துகளின் எண்ணிக்கையை விட இரண்டு மடங்கு அதிகம். ஒரு பச்சை பந்து பெறுவதற்கான நிகழ்தகவு சிவப்பு பந்தைப் பெறுவதற்கான நிகழ்தகவை விட மூன்று மடங்கு ஆகும். பந்துகளின் மொத்த எண்ணிக்கையைக் கண்டறியவும்?

- A) 12 B) 10
C) 15 D) 20

E) விடை தெரியவில்லை

197. A game of chance consists of spinning an arrow which is equally likely to come to rest pointing to one of the numbers 1, 2, 3, ...12. What is the probability that it will point to a composite number ?

- A) $\frac{1}{2}$ B) $\frac{7}{12}$
C) $\frac{1}{3}$ D) $\frac{5}{12}$

E) Answer not known

அம்புக்குறி சுழற்றும் விளையாட்டில் 1, 2, 3, ...12 என்ற எண்கள் சமவாய்ப்பு முறையில் கிடைக்க வாய்ப்புள்ளது. அம்புக்குறி பகு எண்ணில் நிற்பதற்கான நிகழ்தகவைக் கண்டறிக

- A) $\frac{1}{2}$ B) $\frac{7}{12}$
C) $\frac{1}{3}$ D) $\frac{5}{12}$

E) விடை தெரியவில்லை



198. Three fair coins are tossed together. Find the probability of getting at least one tail.

- A) $\frac{7}{8}$ B) $\frac{3}{4}$
C) $\frac{5}{8}$ D) $\frac{1}{2}$

E) Answer not known

மூன்று சீரான நாணயங்கள் முறையாக ஒரே நேரத்தில் சுண்டப்படுகின்றன. குறைந்தபட்சம் ஒரு பூ கிடைப்பதற்கான நிகழ்தகவைக் கண்டறியவும்.

- A) $\frac{7}{8}$ B) $\frac{3}{4}$
C) $\frac{5}{8}$ D) $\frac{1}{2}$

E) விடை தெரியவில்லை

199. Two unbiased dice are rolled once. Find the probability of getting the product as a prime number

- A) $\frac{1}{12}$ B) $\frac{1}{9}$
C) $\frac{1}{3}$ D) $\frac{1}{6}$

E) Answer not known

இரண்டு பகடைகள் ஒரு முறை உருட்டப்படுகின்றன. முக மதிப்புகளின் பெருக்கற்பலன் பகா எண்ணாகக் கிடைக்கும் நிகழ்தகவைக் காண்க

- A) $\frac{1}{12}$ B) $\frac{1}{9}$
C) $\frac{1}{3}$ D) $\frac{1}{6}$

E) விடை தெரியவில்லை

200. In a box there are 20 non-defective and some defective bulbs. If the probability that a bulb selected at random from the box found to be defective is $\frac{3}{8}$ then, find the number of defective bulbs.

- A) 24 B) 36
C) 12 D) 18

E) Answer not known

ஒரு பெட்டியில் 20 குறைபாடில்லாத விளக்குகளும் ஒரு சில குறைபாடுடைய விளக்குகளும் உள்ளன. பெட்டியிலிருந்து சமவாய்ப்பு முறையில் தேர்ந்தெடுக்கப்படும் ஒரு விளக்கானது குறைபாடுடையதாக இருப்பதற்கான வாய்ப்பு $\frac{3}{8}$ எனில், குறைபாடுடைய விளக்குகளின் எண்ணிக்கையைக் காண்க.

- A) 24 B) 36
C) 12 D) 18

E) விடை தெரியவில்லை

* * * * *



SPACE FOR ROUGH WORK

SHANKAR IAS ACADEMY
WWW.PADASALAI.NET



SPACE FOR ROUGH WORK

SHANKAR IAS ACADEMY
WWW.PADASALAI.NET



வினாத்தொகுப்பு எண் :

பதிவு எண்

2024

பொதுத் தமிழ்
(பத்தாம் வகுப்பு தரம்)

Test - 12

கால அளவு : 3.00 மணி நேரம்]

[மொத்த மதிப்பெண்கள் : 300

வினாக்களுக்கு பதிலளிக்கும் முன் கீழ்க்கண்ட அறிவுரைகளை கவனமாகப் படிக்கவும்

முக்கிய அறிவுரைகள்

- இந்த வினாத்தொகுப்பு, தேர்வு தொடங்குவதற்கு 15 நிமிடங்களுக்கு முன்னதாக உங்களுக்கு வழங்கப்படும்.
- இந்த வினாத்தொகுப்பு, **200** வினாக்களைக் கொண்டுள்ளது. விடையளிக்கத் தொடங்குமுன் இவ்வினாத் தொகுப்பில் எல்லா வினாக்களும் வரிசையாக இடம் பெற்றுள்ளனவா என்பதையும், இடையில் வெற்றுத்தாள்கள் எவையும் இல்லை என்பதையும் உறுதி செய்து கொள்ளவும். வினாத் தொகுப்பில் ஏதேனும் குறைபாடு இருப்பின், அதனை முதல் பத்து நிமிடங்களுக்குள் அறைக்கண்காணிப்பாளரிடம் தெரிவித்து, சரியாக உள்ள வேறொரு வினாத் தொகுப்பினை பெற்றுக்கொள்ள வேண்டும். தேர்வு தொடங்கிய பின்பு, இது குறித்து முறையிட்டால் வினாத் தொகுப்பு மாற்றித் தரப்படமாட்டாது.
- எல்லா வினாக்களுக்கும் விடையளிக்கவும், எல்லா வினாக்களும் சமமான மதிப்பெண்கள் கொண்டவை.
- உங்களுடைய பதிவு எண்ணை இந்தப் பக்கத்தின் வலது மேல் மூலையில் அதற்கென அமைந்துள்ள இடத்தில் நீங்கள் எழுத வேண்டும். வேறு எதையும் வினாத் தொகுப்பில் எழுதக் கூடாது.
- விடைத்தாள் ஒன்று விடைகளை குறிப்பதற்கு அறைக்கண்காணிப்பாளரால் உங்களுக்கு வழங்கப்படும். விடைகளைக் குறிப்பது உள்ளிட்ட அவசியம் பின்பற்றப்பட வேண்டிய அறிவுரைகள் விடைத்தாளிலும், தேர்வுக்கூட அனுமதிச் சீட்டிலும் வழங்கப்பட்டுள்ளன.
- உங்களுடைய வினாத்தொகுப்பு, எண்ணை (Question Booklet Number) விடைத்தாளின் முதல் பக்கத்தில் அதற்கென அமைந்துள்ள இடத்தில் கருமை நிற மையடைய பந்துமுனைப் பேனாவினால் குறித்துக் காட்ட வேண்டும். வினாத்தொகுப்பு எண்ணை விடைத்தாளில் சரியாகக் குறித்துக் காட்டத் தவறினாலோ அல்லது குறிக்கத் தவறினாலோ உங்களுடைய விடைத்தாள் செல்லாததாகக்கப்படும்.
- ஒவ்வொரு வினாவும் A), (B), (C), (D), (E) என ஐந்து பதில்களைக் (விடைகள்) கொண்டுள்ளது. நீங்கள் A) அல்லது B) அல்லது C) அல்லது D) இவைகளில் ஒரே ஒரு சரியான விடையைத் தெரிவு செய்து விடைத்தாளில் குறித்துக்காட்ட வேண்டும். ஒரு கேள்விக்கு ஒன்றுக்கு மேற்பட்ட சரியான விடை இருப்பதாக நீங்கள் கருதினால், மிகச்சரியானது என நீங்கள் எதைக் கருதுகிறீர்களோ அந்த விடையை விடைத்தாளில் குறித்துக்காட்ட வேண்டும். உங்களுக்கு விடை தெரியவில்லை எனில், நீங்கள் (E) என்பதை அவசியம் நிரப்ப வேண்டும். எப்படியாயினும், ஒரு கேள்விக்கு ஒரே ஒரு விடையைத் தான் தேர்ந்தெடுக்க வேண்டும். நீங்கள் ஒரு கேள்விக்கு ஒன்றுக்கு மேற்பட்ட விடையளித்தால், அவற்றுள் ஒரு விடை சரியானதாக இருந்தாலும் அந்த விடை தவறானதாகவே கருதப்படும்.
- நீங்கள் வினாத் தொகுப்பின் எந்தப் பக்கத்தையும் நீக்கவோ அல்லது கிழிக்கவோ கூடாது. தேர்வு நேரத்தில் இந்த வினாத் தொகுப்பினையோ அல்லது விடைத்தாளையோ தேர்வு அறையை விட்டு வெளியில் எடுத்துச் செல்லக் கூடாது. தேர்வு முடிந்தபின் நீங்கள் உங்களுடைய விடைத்தாளை கண்காணிப்பாளரிடம் கொடுத்து விட வேண்டும். இவ்வினாத் தொகுப்பினை தேர்வு முடிந்த பின்னர் மட்டுமே நீங்கள் எடுத்துச் செல்ல அனுமதிக்கப்படுவீர்கள்.
- குறிப்புகள் எழுதிப்பார்ப்பதற்கு வினாத்தொகுப்பின் கடைசி பக்கத்திற்கு முன் உள்ள பக்கங்களை பயன்படுத்திக் கொள்ளலாம். இதைத்தவிர வினாத்தொகுப்பின் எந்த இடத்திலும் எந்தவித குறிப்புகளையும் எழுதக்கூடாது. இந்த அறிவுரை கண்டிப்பாக பின்பற்றப்படவேண்டும்.
- வினா வரிசை எண்கள் 101 முதல் 200 வரை (பகுதி - ஆ) ஆங்கில வடிவே இறுதியானது.
- நீங்கள் மேற்கண்ட அறிவுரைகளில் எவற்றையாவது பின்பற்றத் தவறினால் தேர்வாணையம் எடுக்கும் நடவடிக்கைகளுக்கு உள்ளாக நேரிடும் என அறிவுறுத்தப்படுகிறது.

↪

[Turn over

For queries mail to For queries mail to : zerofeedback@shankariasacad.in; [Turn over

Kindly Send Me Your Key Answer to Our email id - Padasalai.net@gmail.com



பகுதி - அ — பொதுத் தமிழ் (பத்தாம் வகுப்பு தரம்)

Part A — General Tamil (SSLC Std)

வினாக்கள் : 1-200

மொத்த மதிப்பெண்கள் : 300

Test 12

Questions : 1-200

Total Marks : 300

1. பொருத்துக.

(நூல்)

(நூலாசிரியர்)

- a) திகடசக்கரம்
b) அறம்
c) லங்காபுரி ராஜா
d) கொடி விளக்கு
e) உனக்கும் எனக்குமான சொல்

1. அழகிய பெரியவன்
2. பிரமிள்
3. ஜெயமோகன்
4. அ. முத்துலிங்கம்
5. இரா. மீனாட்சி

குறியீடுகள்:

	a	b	c	d	e
A)	4	3	2	5	1
B)	2	4	3	1	5
C)	3	2	1	5	4
D)	4	1	5	2	3

E) விடை தெரியவில்லை

2. 'வெஞ்சின வேந்தன் பகை அலைக்கலங்கி, வாழ்வோர் போகிய பேர் ஊர்ப் பாழ்' என்னும் தொடர் இடம் பெற்றுள்ள நூல் எது?

- A) நற்றிணை
B) ஐங்குறுநூறு
C) புறநானூறு
D) குறுந்தொகை
E) விடை தெரியவில்லை

3. பின்வரும் கூற்றுகளைக் கருத்தில் கொள்க.

- I. திருக்குறளையும் திருவாசகத்தையும் ஆங்கிலத்தில் மொழிபெயர்த்த ஜி.யு.போப் பாதிரியார் கனடாவில் பிறந்தவர்.
II. 2012ஆம் ஆண்டு தொடங்கி வரும் எல்லா வருடங்களிலும் ஜனவரி 14ஆம் நாள், தமிழர் பாரம்பரிய நாள் எனப் பிரகடனப்படுத்தப்பட்டிருக்கிறது.
III. எழுத்தாளர் அ.முத்துலிங்கம் 1999 ஆம் ஆண்டு வம்சவிருத்தி என்னும் சிறுகதைத் தொகுப்புக்காக தமிழ்நாடு அரசின் முதல் பரிசினைப் பெற்றார்.

மேற்கண்ட கூற்றுகளில் சரியானவை எவை?

- A) I மற்றும் II மட்டும்
B) II மற்றும் III மட்டும்
C) I மற்றும் III மட்டும்
D) மேற்கண்ட அனைத்தும்
E) விடை தெரியவில்லை



4. 'மொழி முதல் எழுத்துகள்' பற்றிய தவறான கூற்றினைத் தேர்ந்தெடுக்க.
- A) மொழி முதல் எழுத்துகள் மொத்தம் இருபத்து நான்கு.
B) உயிரெழுத்துகள் பன்னிரண்டும் சொல்லின் முதலில் வரும்.
C) மெய்யெழுத்துகள் தனிமெய் வடிவில் சொல்லுக்கு முதலில் வருவதில்லை. அவை உயிரெழுத்துகளோடு சேர்ந்து உயிர்மெய் வடிவிலேயே மொழிக்கு முதலில் வருகின்றன.
D) ஆய்த எழுத்து சொல்லின் முதலில் வராது.
E) விடை தெரியவில்லை
5. பின்வரும் இணைகளைக் கருத்தில் கொள்க.
- | (புணர்ச்சி) | (குற்றியலுகரம்) |
|-----------------------------------|--------------------------------|
| I. வீடு + இல்லை = வீடில்லை | – நெடில் தொடர்க் குற்றியலுகரம் |
| II. பஞ்சு + பொதி = பஞ்சுப்பொதி | – மென்தொடர்க் குற்றியலுகரம் |
| III. முரடு + காளை = முரட்டுக்காளை | – உயிர்த்தொடர்க் குற்றியலுகரம் |
| IV. அச்சு + பலகை = அச்சுப்பலகை | – வன்தொடர்க் குற்றியலுகரம் |
- மேற்கண்ட இணைகளில் எத்தனை இணைகள் சரியானவை?
- A) 3
B) 4
C) 1
D) 2
E) விடை தெரியவில்லை
6. மகாவித்துவான் மீனாட்சி சுந்தரனார் பற்றிய பின்வரும் கூற்றுகளைக் கருத்தில் கொள்க.
- I. தமிழ் இலக்கிய வரலாற்றில், இவரை "புலமைக் கதிரவன்" எனத் தமிழறிஞர்கள் போற்றினர்.
II. இவர் திருச்சிராப்பள்ளிக்கு அருகில் உள்ள அதவத்தூர் என்னும் ஊரில் பிறந்த இவர், திருவாரூர் மடத்தின் தலைமைப் புலவராக விளங்கினார்.
III. இவர் சேக்கிழார் பிள்ளைத்தமிழ், யமக அந்தாதி, திரிபந்தாதி, வெண்பா அந்தாதிகள் ஆகியவற்றை உருவாக்கிப் புகழ்பெற்றார்.
- மேற்கண்ட கூற்றுகளில் சரியானவை எவை?
- A) I மற்றும் II மட்டும்
B) II மற்றும் III மட்டும்
C) I மற்றும் III மட்டும்
D) மேற்கண்ட அனைத்தும்
E) விடை தெரியவில்லை
7. விடைக்கேற்ற வினாவைத் தேர்ந்தெடு.
- விடை: மீனாட்சி சுந்தரனார் தலபுராணங்கள் பாடுவதில் சிறந்தவர்.
- A) மீனாட்சி சுந்தரனார் எதற்காக தலபுராணங்களைப் பாடினார்?
B) தலபுராணங்கள் பாடுவதன் அவசியம் யாது?
C) மீனாட்சி சுந்தரனார் எவற்றைப் பாடுவதில் வல்லவர்?
D) தலபுராணங்கள் என்றால் என்ன?
E) விடை தெரியவில்லை
8. பிறமொழிக் கலப்பற்ற தமிழ்ச்சொல்லைத் தேர்ந்தெடுக்க.
- A) கோரிக்கை
B) உத்திரவாதம்
C) சொந்தம்
D) மகிழ்ச்சி
E) விடை தெரியவில்லை



9. 'புலமைக் கதிரவன்' இலக்கணக்குறிப்பு தருக.
A) தொழிற்பெயர்
B) இரண்டாம் வேற்றுமை உருபும் பயனும் உடன்தொக்க தொகை
C) இருபெயரொட்டுப் பண்புத்தொகை
D) வினைத்தொகை
E) விடை தெரியவில்லை
10. 'வா' என்னும் வேர்ச்சொல்லை அடிப்படையாகக் கொண்டு அமையப் பெற்றுள்ள பெயரெச்சத் தொடரினைத் தேர்ந்தெடுக்க.
A) அருணா வீட்டுக்கு வந்தாள்
B) அங்கு வந்த பேருந்தில் அனைவரும் ஏறினர்.
C) கருணாகரன் மேடையில் வந்து நின்றார்.
D) என்னைப் பார்க்க வந்தவர் என் தந்தையின் நண்பர்.
E) விடை தெரியவில்லை
11. தவறான இணையைத் தேர்ந்தெடுக்க.
(தொடர்) (நூல்/கூறியவர்)
A) அதூஉம் சாலும் நற்றமிழ் முழுதறிதல் – புறநானூறு
B) இனிமையும் நீர்மையும் தமிழெனல் – பிங்கல நிகண்டு
C) 'தமிழ் இவை பத்துமே' – திருமுலர்
D) தமிழ் மாலை – ஆண்டாள்
E) விடை தெரியவில்லை
12. "தன் இனத்தையும் மொழியையும் பாடாத கவிதை, வேரில்லாத மரம்; கூடில்லாத பறவை" என்று கூறியவர் யார்?
A) பாபலோ நெருடா
B) இரதூல் கம்சதோவ்
C) பாரதியார்
D) சு.வில்வரத்தினம்
E) விடை தெரியவில்லை
13. "பறவைகள் ஒருவேளை தூங்கப் போயிருக்கலாம்" என்னும் நூலினை இயற்றிய மனோரமா பிஸ்வாஸ் எம்மொழிக் கவிஞர்?
A) தமிழ்
B) மலையாளம்
C) தெலுங்கு
D) ஒரியா
E) விடை தெரியவில்லை
14. 'இந்திரன்' பற்றிய பின்வரும் கூற்றுகளைக் கருத்தில் கொள்க.
I. இவரது இயற்பெயர் இராசேந்திரன்.
II. "பறவைகள் ஒருவேளை தூங்கப் போயிருக்கலாம்" என்னும் மொழிபெயர்ப்பு நூலுக்காக, 2011 ஆம் ஆண்டுக்கான சாகித்திய அகாதெமியின் விருது பெற்றுள்ளார்.
III. முப்பட்டை நகரம், சாம்பல் வார்த்தைகள் உள்ளிட்ட கவிதை தொகுப்புகளையும் தமிழ் அழகியல், நவீன ஓவியம் உள்ளிட்ட கட்டுரை நூல்களையும் படைத்துள்ளார். வெளிச்சம், நுண்கலை ஆகிய இதழ்களையும் நடத்தியுள்ளார்.



மேற்கண்ட கூற்றுகளில் சரியானவை எவை?

- A) I மற்றும் II மட்டும்
B) II மற்றும் III மட்டும்
C) I மற்றும் III மட்டும்
D) மேற்கண்ட அனைத்தும்
E) விடை தெரியவில்லை

15. புல்லின் இதழ்கள் என்ற நூலுக்காக உலகப் புகழ்பெற்றவர் யார்?

- A) வால்ட் விட்மன்
B) பாப்லோ நெருடா
C) ஸ்டெஃபான் மல்லார்மே
D) பாரதியார்
E) விடை தெரியவில்லை

16. 'நன்னூல்' பற்றிய தவறான கூற்றினைத் தேர்ந்தெடுக்க.

- A) தொல்காப்பியத்தை முதல்நூலாகக் கொண்ட வழிநூல் ஆகும்.
B) கி.பி. 13ஆம் நூற்றாண்டில் பவணந்தி முனிவரால் எழுதப்பட்ட தமிழ் இலக்கண நூலாகும்.
C) சந்திரப்பிரபா என்ற சிற்றரசர் கேட்டுக்கொண்டதால் பவணந்தி முனிவர் நன்னூலை இயற்றினார் எனப் பாயிரம் குறிப்பிடுகிறது.
D) இந்நூல் எழுத்ததிகாரம், சொல்லதிகாரம் என இரண்டு அதிகாரங்களாகப் பகுக்கப்பட்டுள்ளது. எழுத்ததிகாரம் 5 பகுதிகளாகவும் சொல்லதிகாரம் 5 பகுதிகளாகவும் அமைந்துள்ளன.
E) விடை தெரியவில்லை

17. தவறான இணையைத் தேர்ந்தெடுக்க.

- | (சொல்) | (இலக்கணக்குறிப்பு) |
|---------------------|---------------------------|
| A) கோடல் | - தொழிற்பெயர் |
| B) கொன்றைகுடு | - இரண்டாம் வேற்றுமைத்தொகை |
| C) மாநகர் | - உரிச்சொற்றொடர் |
| D) அகிற்புகை | - நான்காம் வேற்றுமைத்தொகை |
| E) விடை தெரியவில்லை | |

18. உழத்திப்பாட்டு என்று அழைக்கப்படும் நூல் எது?

- A) தூது
B) உலா
C) பள்ளு
D) குறவஞ்சி
E) விடை தெரியவில்லை

19. தவறாக பிரிந்துள்ள சொல்லைத் தேர்ந்தெடுக்க.

- A) அணிந்துரை = அணிந்து + உரை
B) பொதுச்சிறப்பு = பொது + சிறப்பு
C) நாட்டுப்பண் = நாட்டு + பண்
D) பைந்தளிர் = பசுமை + தளிர்
E) விடை தெரியவில்லை

20. பேச்சுவழக்கற்ற தொடரினைத் தேர்ந்தெடுக்க.

- A) காலத்துக்கேத்த மாரிப் புதுசுபுதுசா மொழி வடிவத்த மாத்தனும்.
B) முயற்சி செஞ்சா அதுக்கேத்த பலன் வராமப் போனது.
C) காலங்காத்தால எந்திரிச்சுப் படிச்சா ஒரு தளிவு கெடைக்கும்.
D) ஒவ்வொருவரும் பேசிக் கொண்டிருக்கும் போது, எல்லாவற்றையும் கவனமாகப் பதிய வைக்க வேண்டும்.
E) விடை தெரியவில்லை



21. ஏழைகளின் கற்பக விருட்சம் என்று அழைக்கப்படும் மரம் எது?
A) தென்னைமரம் B) பனைமரம்
C) ஆலமரம் D) அரசமரம்
E) விடை தெரியவில்லை
22. மசானபு ஃபுகோகா பற்றிய பின்வரும் கூற்றுகளைக் கருத்தில் கொள்க.
I. 1978 ஆம் ஆண்டு, “ஒற்றை வைக்கோல் புரட்சி” எனும் நூலை எழுதினார்.
II. உழப்படாத நிலம், வேதியியல் உரம் இல்லாத உற்பத்தி, பூச்சிக்கொல்லி தெளிக்கப்படாத பயிர்ப் பாதுகாப்பு, தண்ணீர் நிறுத்தாத நெல் சாகுபடி, ஒட்டுவிதை இல்லாமல் உயர் விளைச்சல் ஆகிய ஐந்து வேளாண்மை மந்திரங்களை உலகுக்குச் சொன்னவர்.
மேற்கண்ட கூற்றுகளில் தவறானது எது/வை?
A) I மட்டும் B) II மட்டும்
C) இரண்டும் D) இரண்டுமில்லை
E) விடை தெரியவில்லை
23. உலகச் சிட்டுக்குருவிகள் நாள் எது?
A) மார்ச் 8 B) மார்ச் 20
C) ஏப்ரல் 21 D) ஜனவரி 7
E) விடை தெரியவில்லை
24. தொழிலாளர்களின் தந்தை என்று அழைக்கப்படுபவர் யார்?
A) வ.உ.சிதம்பரனார் B) திரு.வி.கல்யாண சுந்தரனார்
C) ஜீவானந்தம் D) பாரதிதாசன்
E) விடை தெரியவில்லை
25. ‘ஒரு’ வேர்ச்சொல்லை அடிப்படையாகக் கொண்டுள்ள வினையாலணையும் பெயர் அமைந்துள்ள தொடரைத் தேர்ந்தெடுக்க.
A) நான் வேகமாக ஓடினேன் B) வேகமாக ஓடிய பையன்
C) அவன் ஓடிக் களைத்தான் D) அங்கே ஓடியவனைப் பார்த்தாயா?
E) விடை தெரியவில்லை
26. அழகிய பெரியவன் இயற்றிய நூல்களுள் பொருந்தா ஒன்றினைத் தேர்ந்தெடுக்க.
A) தகப்பன் கொடி B) வெயிலும் நிழலும்
C) அருப நஞ்சு D) பெருகும் வேட்கை
E) விடை தெரியவில்லை
27. பின்வருவனவற்றுள் தவறான இணையைத் தேர்ந்தெடுக்க.
(பாடலடிகள்) (பாடியவர்)
A) சிறகிலிருந்து பிரிந்த
இறகு ஒன்று
காற்றின் தீராத பக்கங்களில்
ஒரு பறவையின் வாழ்வை
எழுதிச் செல்கிறது
— சிவராமலிங்கம்



- B) 'நான்' என்பாய் அது நீயில்லை - வெறும்
நாடக வசனம் பேசுகிறாய்
ஏன்? என்பாய் இது கேள்வியில்லை - அந்த
ஏன் என்னும் ஒளியில் உனைத் தேடு - அப்துல் ரகுமான்
- C) தமக்கென முயலா நோன்தாள்
பிறர்க்கென முயலுநர் உண்மை யானே - கடலுள் மாய்ந்த இளம்பெருவழுதி
- D) காலம் களனே காரணம் என்றுஇம்
முவகை ஏற்றி மொழிநரும் உளரே - தொல்காப்பியர்
- E) விடை தெரியவில்லை

28. பொருத்துக.

(சொல்) (பொருள்)

- | | |
|------------|-------------|
| a) அமை | 1. சங்கிலி |
| b) நூபுரம் | 2. முத்து |
| c) இடங்கணி | 3. மூங்கில் |
| d) தரளம் | 4. சிலம்பு |

குறியீடுகள்:

- | | a | b | c | d |
|----|---|---|---|---|
| A) | 1 | 3 | 4 | 2 |
| B) | 2 | 4 | 3 | 1 |
| C) | 3 | 4 | 1 | 2 |
| D) | 4 | 1 | 2 | 3 |

E) விடை தெரியவில்லை

29. ஐங்குறுநூறு பற்றிய பின்வரும் கூற்றுகளைக் கருத்தில் கொள்க.

I. ஐந்து + குறுமை + நூறு = ஐங்குறுநூறு. அகவற்பாக்களால் ஆன நூல்.

II. கடவுள் வாழ்த்துப் பாடலைப் பாடியவர் பாரதம் பாடிய பெருந்தேவனார். இந்நூலைத் தொகுத்தவர் புலத்துறை முற்றிய கூடலூர்க்கிழார். தொகுப்பித்தவர் யானைக்கட்சேய் மாந்தரஞ் சேரலிரும்பொறை.

மேற்கண்ட கூற்றுகளில் சரியானது எது/எவை?

- | | |
|--------------|-----------------|
| A) I மட்டும் | B) II மட்டும் |
| C) இரண்டும் | D) இரண்டுமில்லை |
- E) விடை தெரியவில்லை

30. பொருத்துக.

(திணை) (பாடியவர்)

- | | |
|-------------|-----------------|
| a) குறிஞ்சி | 1. அம்முவனார் |
| b) முல்லை | 2. ஓரம்போகியார் |
| c) மருதம் | 3. ஓதலாந்தையார் |
| d) நெய்தல் | 4. பேயனார் |
| e) பாலை | 5. கபிலர் |



குறியீடுகள்:

- | | a | b | c | d | e |
|----|------------------|----------|----------|----------|----------|
| A) | 5 | 4 | 2 | 1 | 3 |
| B) | 2 | 4 | 3 | 5 | 1 |
| C) | 3 | 2 | 1 | 4 | 5 |
| D) | 4 | 1 | 5 | 2 | 3 |
| E) | விடை தெரியவில்லை | | | | |

31. பின்வருவனவற்றுள் தவறான இணையைத் தேர்ந்தெடுக்க.

(நூல்) (அடிவரையறை)

- A) ஐங்குறுநூறு - 3 முதல் 6 வரை
B) நற்றிணை - 8 முதல் 12 வரை
C) குறுந்தொகை - 4 முதல் 8 வரை
D) அகநானூறு - 13 முதல் 31 வரை
E) விடை தெரியவில்லை

32. பின்வருவனவற்றுள் தவறாக சேர்ந்துள்ள சொல்லைத் தேர்ந்தெடுக்க.

- A) வான் + ஒலி = வானொலி
B) வெறுமை + இலை = வெற்றிலை
C) பகடு + வாழ்க்கை = பகடவாழ்க்கை
D) கருமை + கடல் = கருங்கடல்
E) விடை தெரியவில்லை

33. 'தன்னொற்றிரட்டல்' எனும் விதிப்படி புணர்ந்துள்ள சொல்லைத் தேர்ந்தெடுக்க.

- A) நெட்டிலை
B) மூதூர்
C) பெரியன்
D) செந்தமிழ்
E) விடை தெரியவில்லை

34. பொருத்துக.

- | | |
|----------------------------|---------------|
| a) அடி அகரம் ஐ முதல் | 1. செங்கதிர் |
| b) முன் நின்ற மெய் திரிதல் | 2. பெருங்கொடை |
| c) ஆதிநீடல் | 3. பைங்கூழ் |
| d) இனமிகல் | 4. காரிருள் |

குறியீடுகள்:

- | | a | b | c | d |
|----|------------------|----------|----------|----------|
| A) | 1 | 3 | 4 | 2 |
| B) | 3 | 1 | 4 | 2 |
| C) | 3 | 2 | 1 | 4 |
| D) | 4 | 1 | 2 | 3 |
| E) | விடை தெரியவில்லை | | | |



35. மெய்ம்மயக்கம் பற்றிய பின்வரும் கூற்றுகளைக் கருத்தில் கொள்க.
- I. சொல்லின் இடையில் மெய்யெழுத்துகள் அடுத்தடுத்து வருவது மெய்ம்மயக்கம் எனப்படும்.
- II. சொற்களின் இடையில் ஒரே மெய்யெழுத்து அடுத்தடுத்து வருவது உடனிலை மெய்ம்மயக்கம் எனப்படும். தமிழில் க், ச், த், ப் ஆகிய மெய்யெழுத்துகள் தம் எழுத்துகளுடன் மட்டுமே சேரும் உடனிலை மெய்ம்மயக்க எழுத்துகள் ஆகும்.
- III. தனிச்சொற்களிலோ கூட்டுச்சொற்களிலோ சொற்களின் இடையில் ய், ர், ழ் ஆகிய மெய்கள் ஈரொற்றாய் வரும். இதனை ஈரொற்று மெய்ம்மயக்கம் என்பர்.
- மேற்கண்ட கூற்றுகளில் சரியானவை எவை?
- A) I மற்றும் II மட்டும்
B) II மற்றும் III மட்டும்
C) I மற்றும் III மட்டும்
D) மேற்கண்ட அனைத்தும்
E) விடை தெரியவில்லை
36. வேற்றுநிலை மெய்ம்மயக்கம் அடிப்படையில் பொருந்தா ஒன்றினை தேர்ந்தெடுக்க.
- A) தேர்தல்
B) உயர்வு
C) சூழ்க
D) அச்சம்
E) விடை தெரியவில்லை
37. ஒலி வேறுபாடறிந்து பொருள் தருக.
- | உலை | உளை | உழை |
|---------------------|------------|------------|
| A) கொல்லனுலை | மான் | பிடரிமயிர் |
| B) நீருலை | பிடரிமயிர் | மான் |
| C) பிடரிமயிர் | மான் | நீருலை |
| D) நீருலை | மான் | பிடரிமயிர் |
| E) விடை தெரியவில்லை | | |
38. ஒலி வேறுபாடறிந்து பொருள் தருக.
- | கலை | களை | கழை |
|---------------------|---------|---------|
| A) ஆண்மான் | கரும்பு | அயர்வு |
| B) அயர்வு | கரும்பு | ஆண்மான் |
| C) ஆண்மான் | அயர்வு | கரும்பு |
| D) கரும்பு | அயர்வு | ஆண்மான் |
| E) விடை தெரியவில்லை | | |
39. ஜெயமோகன் படைப்புகளுள் பொருந்தா ஒன்றினைத் தேர்ந்தெடுக்க.
- A) விஷ்ணுபுரம்
B) கொற்றவை
C) மத்தகம்
D) கருணாமிர்த சாகரம்
E) விடை தெரியவில்லை
40. திராவிடர்களை மலைநில மனிதர்கள் என்று அழைத்தவர் யார்?
- A) கால்டுவெல்
B) பாலகிருஷ்ணன்
C) கமில்சுவலபில்
D) எல்லீஸ் பாரதியார்
E) விடை தெரியவில்லை



41. பின்வரும் கூற்றுகளைக் கருத்தில் கொள்க.
கூற்று : சென்னிசுளம் அண்ணாமலையார் காவடிச்சிந்திந்தந்தை என்று அழைக்கப்படுகிறார்.
காரணம் : தமிழில் முதன்முதலில் காவடிச்சிந்து பாடியதால் இவர் காவடிச்சிந்திந்தந்தை என்று அழைக்கப்படுகிறார்.
- குறியீடுகள்:**
- A) கூற்று மற்றும் காரணம் இரண்டும் சரி மற்றும் காரணம் என்பது கூற்றுக்கான சரியான விளக்கமாகும்
B) கூற்று மற்றும் காரணம் இரண்டும் சரி ஆனால் காரணம் என்பது கூற்றுக்கான சரியான விளக்கமல்ல
C) கூற்று சரி ஆனால் காரணம் தவறு
D) கூற்று தவறு ஆனால் காரணம் சரி
E) விடை தெரியவில்லை
42. காவடிச்சிந்து என்னும் நூலானது எந்த நூலின் தாக்கத்தால் விளைந்ததாகும்?
A) திருமந்திரம் B) திருவாசகம்
C) திருப்புகழ் D) திருக்குறள்
E) விடை தெரியவில்லை
43. பொருள் தருக: “சிதவல்”
A) இடுப்பில் அணியும் ஆடை B) தோளில் இடும் துண்டு
C) தலைப்பாகை D) கைக்குட்டை
E) விடை தெரியவில்லை
44. “சேயான் மேய மைவரை உலகம்” என்று உரைக்கும் நூல் எது?
A) திருமுருகாற்றுப்படை B) தொல்காப்பியம்
C) ஐங்குறுநூறு D) குறுந்தொகை
E) விடை தெரியவில்லை
45. ‘கொற்கை, வஞ்சி, தொண்டி வளாகத்தை’ ஆய்வுலகின் கவனத்திற்குக் கொண்டு வந்தவர் யார்?
A) ஜராவதம் மகாதேவன் B) ஆர். பாலகிருஷ்ணன்
C) கால்டுவெல் D) அலெக்சாண்டர்
E) விடை தெரியவில்லை
46. அண்ணாமலையார் இயற்றிய நூல்களுள் பொருந்தா ஒன்றினைத் தேர்ந்தெடுக்க.
A) வீரை நவந்திர கிருஷ்ணசாமி பதிகம் B) சங்கரன்கோவில் திரிபந்தாதி
C) திருக்கை வழக்கம் D) கோமதி அந்தாதி
E) விடை தெரியவில்லை
47. காவடிச்சிந்தின் பாட்டுடைத்தலைவன் யார்?
A) திருச்செந்தூர் முருகப்பெருமான் B) பழனிமலை முருகப்பெருமான்
C) கழுகுமலை முருகப்பெருமான் D) திருச்செந்தூர் முருகப்பெருமான்
E) விடை தெரியவில்லை



48. எட்டுத்தொகை நூல்களுள் முதலில் தொகுக்கப்பட்ட நூல் எது?
A) ஐங்குறுநூறு B) குறுந்தொகை
C) புறநானூறு D) நற்றிணை
E) விடை தெரியவில்லை
49. புறநானூறு நூலினை “Extracts from Purananooru & Purapporul Venbamalai” என்னும் தலைப்பில் ஆங்கிலத்தில் மொழிபெயர்த்தவர் யார்?
A) ஜி.யு.போப் B) உ.வே.சா
C) ஜார்ஜ் எல். ஹார்ட் D) வீரமாமுனிவர்
E) விடை தெரியவில்லை
50. அழிந்து போகும் நிலையில் இருந்த புறநானூற்றின் பல சுவடிகளை ஒப்பிட்டு ஆய்ந்து தற்கால தமிழரும் பயன்பெறும் வகையில் 1894ஆம் ஆண்டு முதன்முதலில் அச்சில் பதிப்பித்தவர் யார்?
A) கால்டுவெல் B) ஜி.யு.போப்
C) உ.வே.சா D) ஜார்ஜ் எல்.ஹார்ட்
E) விடை தெரியவில்லை
51. புறநானூறு பற்றிய தவறான கூற்றினைத் தேர்ந்தெடுக்க.
A) எட்டுத்தொகை நூல்களுள் ஒன்று. புறத்திணை சார்ந்த நானூறு பாடல்களைக் கொண்டது.
B) புறநானூற்றுப் பாடல்கள் சங்ககாலத்தில் ஆண்ட அரசர்களைப் பற்றியும் மக்களின் சமூக வாழ்க்கை பற்றியும் எடுத்துரைக்கின்றன.
C) புறம், புறப்பாட்டு என்றும் வழங்கப்படும்; அகவற்பாக்களால் ஆனது.
D) இந்நூலை ‘நெடுந்தொகை நானூறு’ என்றும் அழைப்பர்.
E) விடை தெரியவில்லை
52. சிறுகதைக்கும் புதினத்துக்கும் இடைப்பட்ட வடிவமானது எவ்வாறு அழைக்கப்படுகிறது?
A) குறுங்கதை B) குறுநாவல்
C) கட்டுரை D) பெருங்கதை
E) விடை தெரியவில்லை
53. சி.சு.செல்லப்பா பற்றிய தவறான கூற்றினைத் தேர்ந்தெடுக்க.
A) சந்திரோதயம், தினமணி ஆகிய இதழ்களில் உதவி ஆசிரியராகப் பணியாற்றியுள்ளார்.
B) “எழுத்து” எனும் இதழினைத் தொடங்கி நவீன தமிழ் இலக்கிய மறுமலர்ச்சிக்கு வித்திட்டவர்.
C) தமிழ்ச்சிறுகதை பிறக்கிறது, வாடிவாசல், சுதந்திரதாகம், ஜீவனாம்சம், பி.ஸ். ராமையாவின் சிறுகதைப்பாணி ஆகியன இவரது படைப்புகளாகும்.
D) இவருடைய ‘சுதந்திர தாகம்’ புதினத்திற்கு 1996 ஆம் ஆண்டுக்கான சாகித்திய அகாதெமி விருது கிடைத்தது.
E) விடை தெரியவில்லை



54. 'எழுத்துப்பேறு' பற்றிய தவறான கூற்றினைத் தேர்ந்தெடுக்க.
A) பகுபத உறுப்புகளில் அடங்காமல் ஏழாவது உறுப்பாக வரும் புறத்துறுப்பு எழுத்துப்பேறு ஆகும்.
B) சந்தி வர வேண்டிய இடத்தில் புள்ளி பெற்ற எழுத்து உயிர் ஏற இடமளித்து வந்தால் அதனை 'எழுத்துப்பேறு' என்பர்.
C) விசுதி தனியே வராமல் துணையாகப் பெற்று வரும் எழுத்தே எழுத்துப்பேறு ஆகும்.
D) காலம் காட்டாது
E) விடை தெரியவில்லை
55. பின்வருவனவற்றுள் எதிர்மறை இடைநிலைகள் எவை?
A) த், ட், ற், ன்
B) கிறு, கின்று, ஆநின்று
C) ப், வ்
D) ஆ, அல், இல்
E) விடை தெரியவில்லை
56. 'மொழியாதான்' – இச்சொல்லில் இடம்பெற்றுள்ள எழுத்துப்பேறு எது?
A) ய்
B) ஆ
C) த்
D) ஆன்
E) விடை தெரியவில்லை
57. தவறான இணையைத் தேர்ந்தெடுக்க.
(வினையாலணையும் பெயர்) (வேர்ச்சொல்)
A) வணங்கியவன் – வணங்கி
B) கண்டவன் – காண்
C) நின்றவன் – நில்
D) ஓடியவன் – ஓடு
E) விடை தெரியவில்லை
58. ஒரு மொழியின் அடிப்படையான வேர்ச்சொல் எது?
A) பகுதி
B) விசுதி
C) இடைநிலை
D) சந்தி
E) விடை தெரியவில்லை
59. பகுபத உறுப்புகளுள் இடம்பெறும் அடிப்படை உறுப்புகள் எவை ?
A) பகுதி, இடைநிலை, சந்தி, சாரியை, விகாரம், விசுதி
B) பகுதி, இடைநிலை, சாரியை
C) பகுதி, சந்தி, விகாரம், விசுதி
D) பகுதி, விசுதி
E) விடை தெரியவில்லை
60. "இனிதென" – இச்சொல்லில் அமைந்த புணர்ச்சி விதிகளை வரிசைப்படுத்துக.
A) உயிர்வரின் உக்குறள் மெய்விட்டோடும், உடல்மேல் உயிர்வந்து ஒன்றுவது இயல்பே
B) தனிக்குறில் முன் ஒற்று உயிர்வரின் இரட்டும், உயிர்வரின் உக்குறள் மெய்விட்டோடும்
C) உடல்மேல் உயிர்வந்து ஒன்றுவது இயல்பே, தனிக்குறில் முன் ஒற்று உயிர்வரின் இரட்டும்
D) தனிக்குறில் முன் ஒற்று உயிர்வரின் இரட்டும்.
E) விடை தெரியவில்லை



61. 'பெருங்கலம்' என்னும் சொல்லிற்குரிய புணர்ச்சி விதிகளைத் தேர்வு செய்க.
 A) ஈறுபோதல், தன்னொற்றிரட்டல் B) ஈறுபோதல், இனமிகல்
 C) ஈறுபோதல், ஆதிநீடல் D) ஈறுபோதல், இனையவும்
 E) விடை தெரியவில்லை
62. "கவிதையினை இயன்றவரை பேசுவதுபோல் எழுதுவதுதான் உத்தமம்" என்றும், அதுவே "மானுடத்துக்கு எழுத்தாளர்கள் செய்யும் கடமை" என்றும் கூறியவர் யார்?
 A) இராசேந்திரன் B) மகாகவி பாரதியார்
 C) வால்ட்விட்மன் D) ஆற்றூர் ரவிவர்மன்
 E) விடை தெரியவில்லை
63. 'மலை இடப்பெயர்கள்: ஓர் ஆய்வு' இக்கட்டுரையனது இடம்பெற்றுள்ள நூல் எது?
 A) கொற்கை, வஞ்சி, தொண்டி வளாக ஆய்வு
 B) சிந்துவெளிப் பண்பாட்டின் திராவிட அடித்தளம்
 C) மனிதனும் நாகரிகமும்
 D) சிந்துவெளிப் பண்பாடும் தமிழர் நாகரிகமும்
 E) விடை தெரியவில்லை
64. 'தமிழ்ப் பதிப்புலகின் தலைமகன்' என்று போற்றப்படுபவர் யார்?
 A) உ.வே.சா B) வீரமாமுனிவர்
 C) ஆறுமுக நாவலர் D) சி.வை.தாமோதரனார்
 E) விடை தெரியவில்லை
65. வாழ்வார், வாழாதவர் என வள்ளுவர் யாரைக் குறிப்பிடுகிறார்?
 A) செல்வம் இல்லாதவர், துன்பம் இல்லாதவர்
 B) துன்பம் இல்லாதவர், செல்வம் இல்லாதவர்
 C) பழி இல்லாதவர், புகழ் இல்லாதவர்
 D) புகழ் இல்லாதவர், பழி இல்லாதவர்
 E) விடை தெரியவில்லை
66. இவ்வுலகு எத்தகைய பெருமையை உடையது?
 A) நடுவுநிலைமை B) ஒழுக்கம்
 C) நிலையாமை D) சான்றாண்மை
 E) விடை தெரியவில்லை
67. மலையினும் மாணப்பெரிது எது?
 A) கல்வி B) அடக்கம்
 C) ஒழுக்கம் D) விடாமுயற்சி
 E) விடை தெரியவில்லை
68. எவரிடம் உள்ள செல்வம் தன் எல்லா உறுப்புகளையும் மருந்தாகத் தரும் மரத்தைப் போன்றது?
 A) இறைவன் B) பெருந்தகையாளன்
 C) அன்புடையோன் D) உறவினர்
 E) விடை தெரியவில்லை



69. எதனை விட்டொழித்தால் நிலையான இன்ப வாழ்வு இயல்பாய் வரும்?
- A) ஆசை
B) கோபம்
C) துறவு
D) களவு
E) விடை தெரியவில்லை
70. எதனை அறிந்து ஒரு செயலைச் செய்தால் உலகத்தையே பெறக் கருதினாலும் கிடைத்துவிடும்?
- A) கருவி, இடம்
B) காலம், இடம்
C) வினை, செயல்
D) பயன், வினை
E) விடை தெரியவில்லை
71. எவன் விரைவாகக் கெடுவான் என வள்ளுவர் குறிப்பிடுகிறார்?
- A) பிறருடன் ஒத்துப் போகாதவன்
B) தன் வலிமை அறியாதவன்
C) தன்னைப் பெரிதாக நினைப்பவன்
D) மேற்கூறிய அனைத்தும்
E) விடை தெரியவில்லை
72. அகரவரிசைப்படுத்துக.
- A) பாயிரவியல், இல்லறவியல், துறவறவியல், ஊழியல்
B) இல்லறவியல், ஊழியல், பாயிரவியல், துறவறவியல்
C) இல்லறவியல், ஊழியல், துறவறவியல், பாயிரவியல்
D) பாயிரவியல், துறவறவியல், ஊழியல், இல்லறவியல்
E) விடை தெரியவில்லை
73. 'திருக்குறள்' பற்றிய பின்வரும் கூற்றுகளைக் கருத்தில் கொள்க.
- I. இது பதினெண் கீழ்க்கணக்கு நூல்களில் ஒன்றாகக் குறிப்பிடப்படும் வாழ்வியல் நூல்; 1330 குறள்பாக்களால் ஆனது
- II. உலகப்பொதுமறை, பொய்யாமொழி, வாயுறைவாழ்த்து, முப்பால், உத்தரவேதம், தெய்வநூல் எனப் பல பெயர்களாலும் அழைக்கப்படுகிறது.
- III. திருக்குறளின் சிறப்பினை விளக்கப் புலவர் பலர் பாடிய பாடல்களின் தொகுப்பு நூலே திருவள்ளுவ மாலை.
- IV. திருக்குறளுக்குப் பத்துப் பேருடைய உரை இருப்பதாகப் பழம்பாடல் ஒன்று கூறுகிறது. மேற்கண்ட கூற்றுகளில் சரியானவை எவை?
- A) I, II மற்றும் III மட்டும்
B) II, III மற்றும் IV மட்டும்
C) I, II மற்றும் IV மட்டும்
D) மேற்கண்ட அனைத்தும்
E) விடை தெரியவில்லை
74. திருவள்ளுவருக்கு வழங்கும் சிறப்புப் பெயர்களில் பொருந்தா ஒன்றினைத் தேர்ந்தெடுக்க.
- A) நாயனார்
B) தருமர்
C) முதற்பாவலர்
D) பெருநாவலர்
E) விடை தெரியவில்லை



75. ஒப்புரவு என்பதன் பொருள் யாது?

- A) அடக்கம்
B) பண்பு
C) உதவுதல்
D) செல்வம்
E) விடை தெரியவில்லை

76. தவறான இணையைத் தேர்ந்தெடுக்க.

(குறள்)

(அணி)

- A) தீயினால் சுட்டபுண் உள்ளாறு ஆறாதே – வேற்றுமை அணி
B) மருந்தாகித் தப்பா மரத்தற்றால் செல்வம் – எடுத்துக்காட்டு உவமை அணி
C) பீலிபெய் சாகாடும் அச்சிறும் அப்பண்டம் – பிறிதுமொழிதல் அணி
D) நோய்நாடி நோய்முதல் நாடி அதுதணிக்கும் – சொற்பொருள் பின்வரும் நிலையணி
E) விடை தெரியவில்லை

77. ஒரு செயலைச் செயல்படுத்துவதற்கு முன்பாக சீர்தூக்கிப் பார்க்கப்பட வேண்டியவற்றை வரிசைப்படுத்துக.

- A) வினைவலி, தன்வலி, துணைவலி, மாற்றான் வலி
B) தன்வலி, துணைவலி, வினைவலி, மாற்றான் வலி
C) தன்வலி, வினைவலி, மாற்றான் வலி, துணைவலி
D) வினைவலி, தன்வலி, மாற்றான் வலி, துணை வலி
E) விடை தெரியவில்லை

78. தவறான இணையைத் தேர்ந்தெடுக்க.

(தொடர்)

(இடம்பெற்றுள்ள நூல்)

- A) துணையாய் வருவது தூயநற் கல்வி – கொன்றைவேந்தன்
B) கல்வி அழகே அழகு – நாலடியார்
C) இளமையில் கல் – ஆத்திச்சூடி
D) கணக்காயர் இல்லாத ஊரும் பிணக்கறுக்கும் – திரிகடுகம்
E) விடை தெரியவில்லை

79. தமிழகத்தில் முதன்முதலாகக் கல்விப் பணியில் ஈடுபட்ட ஐரோப்பியர் யார்?

- A) போர்ச்சுகீசியர்
B) பிரெஞ்சுக்காரர்
C) டச்சுக்காரர்
D) ஆங்கிலேயர்
E) விடை தெரியவில்லை

80. பின்வரும் கூற்றுகளைக் கருத்தில் கொள்க.

I. கல்வி கற்பிக்கப்படும் இடங்களைப் 'பள்ளி' என்று பெரிய திருமொழியும், ஓதும் பள்ளி என்று திவாகர நிகண்டும் கல்லூரி என்று சீவக சிந்தாமணியும் குறித்துள்ளன.

II. 'பள்ளி' என்ற சொல்லுக்குப் 'படுக்கை' என்று பொருள்.

III. பள்ளி என்னும் சொல் சமண, பௌத்த சமயங்களின் கொடையாகும்.

மேற்கண்ட கூற்றுகளில் சரியானவை எவை?

- A) I மற்றும் II மட்டும்
B) II மற்றும் III மட்டும்
C) I மற்றும் III மட்டும்
D) மேற்கண்ட அனைத்தும்
E) விடை தெரியவில்லை



81. பின்வருவனவற்றுள் தவறான கூற்றினைத் தேர்ந்தெடுக்க.
- A) கல்வி, மருந்து, உணவு, அடைக்கலம் ஆகிய நான்கு கொடைகளும் சமண சமயத்தின் தலையாய அறங்களாகும்.
- B) சமணப் பள்ளிகளில் பயின்ற மாணவர்கள் தங்கள் ஆசிரியர்களுக்கு எடுத்த படுக்கைகள் பற்றித் திருச்சி மலைக்கோட்டையிலும் தமிழகத்தின் புகழ்பெற்ற சமணக் குன்றான கழுகுமலையிலும் உள்ள கல்வெட்டுகள் குறிப்பிடுகின்றன.
- C) சமணத்தைச் சேர்ந்த சுவேதம்பரத் துறவிகள் மலைக்குகையில் தங்கினர். அவர்கள் தங்கள் தங்குமிடங்களிலேயே கல்வியையும் சமயக் கருத்துகளையும் மாணவர்களுக்குக் கற்பித்தனர்.
- D) 'பட்டினிக்ரத்தி' என்னும் சமணப் பெண் ஆசிரியர் விளாப்பாக்கத்தில் சமணப் பள்ளியொன்றை நிறுவியிருந்தார்.
- E) விடை தெரியவில்லை
82. 'இந்தியக் கல்வி வளர்ச்சியின் மகாசாசனம்' என்று போற்றப்படுவது எது?
- A) மெக்காலே கல்விக்குழு B) சார்லஸ் உட் அறிக்கை
C) ஹண்டர் கல்விக்குழு D) 1813ஆம் ஆண்டு சாசனச் சட்டம்
E) விடை தெரியவில்லை
83. பொருத்துக.
- | | |
|----------------|--|
| (சொல்) | (இலக்கணக்குறிப்பு) |
| a) தீம்பால் | 1. வினைத்தொகை |
| b) ஒழுஞ்நீர் | 2. இரண்டாம் வேற்றுமை உருபும் பயனும் உடன்தொக்க தொகை |
| c) பொற்சிலம்பு | 3. பண்புத்தொகை |
| d) கொண்ட | 4. மூன்றாம் வேற்றுமை உருபும் பயனும் உடன்தொக்க தொகை |
| e) பொன்னகர் | 5. பெயரெச்சம் |
- குறியீடுகள்:
- | | | | | | |
|----|----------|----------|----------|----------|----------|
| | a | b | c | d | e |
| A) | 5 | 1 | 3 | 4 | 2 |
| B) | 3 | 1 | 4 | 5 | 2 |
| C) | 3 | 5 | 2 | 1 | 4 |
| D) | 4 | 1 | 2 | 3 | 5 |
- E) விடை தெரியவில்லை
84. 'நற்றிணை' பற்றிய பின்வரும் கூற்றுகளைக் கருத்தில் கொள்க.
- I. எட்டுத்தொகை நூல்களுள் முதலாவதாக வைத்துப் போற்றப்படுவதாகும்; 'நல்ல திணை' என்ற அடைமொழியால் போற்றப்படும் சிறப்பினை உடையது.
- II. நற்றிணையைத் தொகுப்பித்தவன் பன்னாடு தந்த பாண்டியன் மாறன் வழிதி. மேற்கண்ட கூற்றுகளில் சரியானது எது/எவை?
- A) I மட்டும் B) II மட்டும்
C) இரண்டும் D) இரண்டுமில்லை
E) விடை தெரியவில்லை



85. தொல்காப்பியம் பற்றிய தவறான கூற்றினைத் தேர்ந்தெடுக்க.
A) நமக்குக் கிடைக்கும் தமிழ் நூல்களில் காலத்தால் பழமையான இலக்கணநூல்.
B) சொல், பொருள், அணி என மூன்று அதிகாரங்களைக் கொண்டுள்ளது.
C) ஒவ்வொரு அதிகாரத்திலும் ஒன்பது இயல்களாக மொத்தம் இருபத்தேழு இயல்கள் உள்ளன
D) இளம்பூரணர் தொல்காப்பியத்திற்கு உரை எழுதியுள்ளார்.
E) விடை தெரியவில்லை
86. பாரதியார் கீழ்க்கண்ட எந்த இதழில் கருத்துப்படங்களை மட்டுமே கொண்ட இதழ் ஒன்றை நடத்த விரும்பினார்?
A) இந்தியா
B) விஜயா
C) சித்திராவளி
D) சுதேசமித்திரன்
E) விடை தெரியவில்லை
87. பெண் விடுதலைக்குப் பாடுபட்ட பாரதி பெண்களுக்காகத் தமது குறள் வெண்பாவினை கீழ்க்கண்ட எந்த இதழில் எழுதினார்?
A) இந்தியா
B) விஜயா
C) சக்ரவர்த்தினி
D) சுதேசமித்திரன்
E) விடை தெரியவில்லை
88. பின்வருவனவற்றுள் தவறான கூற்றினைத் தேர்ந்தெடுக்க.
A) இதழ்களுக்கு தலைப்பிடலை 'மகுடமிடல்' என்றே பாரதியார் கூறுகின்றார்.
B) தமிழ் இதழ்களில் தமிழில் மாதம், ஆண்டு, நாள் குறிப்பிடும் முறையைக் கையாண்டதில் முன்னோடி பாரதி.
C) சித்ராவளி எனும் கருத்துப்படங்களை மட்டுமே கொண்ட இதழ்நடத்த விரும்பினார்.
D) இந்தியா எனும் இதழ் வெள்ளிக்கிழமை தோறும் வெளியானது.
E) விடை தெரியவில்லை
89. பின்வரும் கூற்றுகளை கருத்தில் கொள்க.
கூற்று (A) : பாரதி "இந்தியா" இதழைச் சிவப்பு வண்ணத்தாளில் வெளியிட்டார்.
காரணம் (R) : சிவப்பு வண்ணம் என்பது புரட்சியையும் விடுதலையையும் குறிக்கும்.
குறியீடுகள்:
A) (A) மற்றும் (R) இரண்டும் சரி மற்றும் (R) என்பது (A)-யின் சரியான விளக்கமாகும்
B) (A) மற்றும் (R) இரண்டும் சரி ஆனால் (R) என்பது (A)-யின் சரியான விளக்கமல்ல
C) (A) சரி ஆனால் (R) தவறு
D) (A) தவறு ஆனால் (R) சரி
E) விடை தெரியவில்லை
90. பொருத்துக.
(பாடலடிகள்) **(நூல்)**
a) நசைபெரிது உடையர் நல்கலும் நல்குவர் 1. அகநானூறு
b) ஈயல் புற்றத்து ஈரம்புறத்து இறுத்த 2. நற்றிணை
c) இறைச்சியில் பிறக்கும் பொருளுமா ருளவே 3. குறுந்தொகை
d) நும்மினும் சிறந்தது நுவ்வை ஆகுமென்று 4. தொல்காப்பியம்



குறியீடுகள்:

	a	b	c	d
A)	3	1	4	2
B)	4	2	1	3
C)	1	3	2	4
D)	2	3	4	1

E) விடை தெரியவில்லை

91. கவிஞர் தான் கூறக்கருதிய பொருளை வெளிப்படையாகக் கூறாமல், அகமாந்தரின் மன உணர்வுகளைக் கருப்பொருள்கள் மூலம் உவமைப்படுத்துவது

- A) உவமை
B) உள்ளுறை உவமை
C) உருவகம்
D) இறைச்சி
E) விடை தெரியவில்லை

92. ஜி.யு. போப் பற்றிய பின்வரும் கூற்றுகளை கருத்தில் கொள்க.

- I. செந்தமிழ்ச் செம்மல், “டாக்டர் ஜி.யு. போப்”, 1829 ஆம் ஆண்டில், தென்னிந்தியாவிற்கு வந்தார்.
II. சென்னையிலுள்ள சாந்தோம் என்னுமிடத்தில் முதன்முதலாகத் தமிழ் உரையைப் படித்துச் சொற்பொழிவாற்றினார்.

III. திருக்குறள், திருவாசகத்தை ஆங்கிலத்தில் மொழிபெயர்த்தார்.

மேற்கண்ட கூற்றுகளில் சரியானவை எவை?

- A) I மற்றும் II மட்டும்
B) II மற்றும் III மட்டும்
C) I மற்றும் III மட்டும்
D) மேற்கண்ட அனைத்தும்
E) விடை தெரியவில்லை

93. பொருத்துக.

- a) தொல்காப்பியம் 1. சங்க நூல்
b) திருக்குறள் 2. பக்தி நூல்
c) புறநானூறு 3. அற நூல்
d) திருவாசகம் 4. இலக்கண நூல்

குறியீடுகள்:

	a	b	c	d
A)	1	3	2	4
B)	3	1	4	2
C)	4	3	1	2
D)	2	4	3	1

E) விடை தெரியவில்லை

94. கல்வியின் நோக்கமே மனத்தை ஒருமுகப்படுத்துவதுதான், மனவொருமைப்பாடே கல்வியின் அடிப்படை” என்று கூறியவர் யார்?

- A) மகாகவி பாரதியார்
B) பாரதிதாசன்
C) விவேகானந்தர்
D) சுத்தானந்த பாரதி
E) விடை தெரியவில்லை



95. “உலக நாட்குறிப்பு இலக்கியத்தின் தந்தை” என அழைக்கப்படுபவர் யார்?
A) சாமுவேல் பெப்பிச B) இராமசாமி
C) ஆனந்தரங்கர் D) அலெக்சாண்டர்
E) விடை தெரியவில்லை
96. பின்வருவனவற்றுள் தவறான கூற்றினைத் தேர்ந்தெடுக்க.
A) ஆனந்தரங்கர், பிரெஞ்சு ஆளுநர் துய்ப்பளே காலத்தில் தலைமை மொழிப்பெயர்ப்பாளராகப் பணியாற்றினார்.
B) வாஸ்கோடகாமா என்பவருடைய நாட்குறிப்புகள் லெபூர்தொனே என்பவரால் பதிவு செய்யப்பட்டுள்ளன.
C) நாட்குறிப்புகளின் முன்னோடி EPHEMERIDES ஆகும். இச்சொல்லுக்கு ‘ஒரு நாளுக்கான முடிவு’ என்பது பொருள்.
D) 1758 ஆம் ஆண்டு இறுதியில் சென்னைக் கோட்டை முற்றுகையை லல்லி என்பார் தொடங்கினார்.
E) விடை தெரியவில்லை
97. செய்திகளை ஒன்று தவறாமல் சித்திரகுப்தனைப்போல் ஆனந்தரங்கர் நாட்குறிப்பில் எழுதி வைத்துள்ளார் எனக் குறிப்பிட்டவர் யார்?
A) வ.உ. சிதம்பரனார் B) உ.வே.சா
C) வ.வே.சு D) பாரதிதாசன்
E) விடை தெரியவில்லை
98. பின்வரும் இணைகளை கருத்தில் கொள்க.
I. 480 காசு – ஒரு ரூபாய்
II. 60 காசு – 1 பணம்
III. 8 பணம் – 1 ரூபாய்
IV. 4 பணம் – ஒரு வராகன்
மேற்கண்ட இணைகளில் எத்தனை இணைகள் சரியானவை?
A) 1 B) 2
C) 3 D) 4
E) விடை தெரியவில்லை
99. ஆனந்தரங்கர் நாட்குறிப்பு எத்தனை தொகுதிகளாக வெளிவந்துள்ளது.
A) 25 B) 12
C) 15 D) 10
E) விடை தெரியவில்லை
100. நாணய அச்சடிப்பு உரிமை பெற்ற பிரெஞ்சு ஆளுநர் யார்?
A) துய்ப்பளே B) அலனுவார்
C) லெபூர்தொனே D) டூமாஸ்
E) விடை தெரியவில்லை



101. பொருத்துக.

(நூல்)

- a) ஆனந்தரங்கன் கோவை
b) ஆனந்தரங்கன் பிள்ளைத்தமிழ்
c) வானம் வசப்படும்

(நூலாசிரியர்)

1. புலவரேறு அரிமதி தென்னகன்
2. பிரபஞ்சன்
3. தியாகராய தேசிகர்

குறியீடுகள்:

a b c

- A) 3 1 2
B) 1 2 3
C) 2 3 1
D) 2 1 3

E) விடை தெரியவில்லை

102. முகலாய மன்னர்களிடையே நாட்குறிப்பு எழுதும் வழக்கம் யாருடைய காலம் முதல் வழக்கத்தில் இருந்தது?

- A) அக்பர்
B) ஒளரங்கசீப்
C) பாபர்
D) சலீம்
E) விடை தெரியவில்லை

103. மதீனா நகர மக்கள், தீன் நெறியை வளர்த்த பாங்கினைக் கூறுவது

- A) விலாதத்துக் காண்டம்
B) செலவியற் காண்டம்
C) பிறப்பியல் காண்டம்
D) நுபுவத்துக் காண்டம்
E) விடை தெரியவில்லை

104. உமறுப்புலவர் அவர்கள் முதுமொழிமாலை என்னும் நூலை யாருக்காக இயற்றினார்?

- A) நபிகள் நாயகம்
B) வள்ளல் சீதக்காதி
C) அகமது மரைக்காயர்
D) அபுல் காசிம்
E) விடை தெரியவில்லை

105. உமறுப்புலவர் ஆதரித்த வள்ளல்கள் யாவர்?

- A) சீதக்காதி, அபுல்காசிம் மரைக்காயர்
B) அபுல்காசிம், அகமது மரைக்காயர்
C) சீதக்காதி, அகமது மரைக்காயர்
D) முகமது நபிகள், சீதக்காதி
E) விடை தெரியவில்லை

106. “ஹிஜிறத்” என்ற அரபுச் சொல்லின் பொருள் யாது?

- A) வாழ்க்கை
B) வரலாறு
C) இறை நம்பிக்கை
D) இடம் பெயர்தல்
E) விடை தெரியவில்லை



107. பின்வருவனவற்றுள் தவறான இணையைக் தேர்ந்தெடுக்க.

(திணை) (மக்கள்)

- A) குறிஞ்சி - குறவர், குறத்தியர்
B) முல்லை - எயினர், எயிற்றியர்
C) மருதம் - உழவர், உழத்தியர்
D) நெய்தல் - நுளையர், நுளைச்சியர்
E) விடை தெரியவில்லை

108. சீறாப்புராணம் பற்றிய பின்வரும் கூற்றுகளை கருத்தில் கொள்க.

- I. நபிகள் பெருமானின் வாழ்க்கை வரலாற்றினைக் கூறும் இந்நூலை வள்ளல் சீதக்காதியின் வேண்டுகோளுக்கிணங்க உமறுப்புலவர் இயற்றினார்.
II. இந்நூல் விலாதத்துக் காண்டம், நுபுவத்துக்காண்டம், ஹிஜிறத்துக் காண்டம் என்னும் மூன்று காண்டங்களையும் 92 படலங்களையும் 5028 விருத்தப் பாடல்களையும் கொண்டது.
III. நூலை முடிப்பதற்கு முன்பே உமறுப்புலவர் இயற்கை எய்திய காரணத்தால் 'பனிஅகமது மரைக்காயர்' இதன் தொடர்ச்சியாக சின்னச்சீறா என்ற நூலைப் படைத்துள்ளார்.

மேற்கண்ட கூற்றுகளில் சரியானவை எவை?

- A) I மற்றும் II மட்டும்
B) II மற்றும் III மட்டும்
C) I மற்றும் III மட்டும்
D) மேற்கண்ட அனைத்தும்
E) விடை தெரியவில்லை

109. சொல்லோடு பொருளைப் பொருத்துக.

(சொல்) (பொருள்)

- a) கம்பலை 1. திருமணம்
b) புடவி 2. திறந்து
c) வதுவை 3. தெள்ளிய நீரலை
d) தெண்டிரை 4. பேரொலி
e) விண்டு 5. உலகம்

குறியீடுகள்:

- | | a | b | c | d | e |
|----|---|---|---|---|---|
| A) | 5 | 4 | 2 | 3 | 1 |
| B) | 4 | 5 | 1 | 3 | 2 |
| C) | 1 | 3 | 4 | 2 | 5 |
| D) | 3 | 1 | 5 | 4 | 2 |

E) விடை தெரியவில்லை

110. பொருத்துக.

(திணை) (பாடல் வரிசை)

- a) குறிஞ்சி 1. 10, 20, 30,
- b) முல்லை 2. 4, 14, 24, 34,
- c) மருதம் 3. 1, 3, 5, 7,
- d) நெய்தல் 4. 6, 16, 26, 36,
- e) பாலை 5. 2, 8, 12, 18,



குறியீடுகள்:

- | | a | b | c | d | e |
|----|------------------|----------|----------|----------|----------|
| A) | 1 | 3 | 4 | 2 | 5 |
| B) | 5 | 1 | 3 | 4 | 2 |
| C) | 5 | 2 | 4 | 1 | 3 |
| D) | 4 | 2 | 3 | 5 | 1 |
| E) | விடை தெரியவில்லை | | | | |

111. “அகநானூறு” பற்றிய தவறான கூற்றினைத் தேர்ந்தெடுக்க.

- A) 145 புலவர்கள் பாடிய பாடல்களின் தொகுப்பு ஆகும்.
B) வீரை வெளியன் தித்தனார் அகநானூற்றில் ஒரெயொரு பாடலினைப் பாடியுள்ளார்.
C) அகநானூறு எண்பெருந்தொகை என அழைக்கப்படுகிறது.
D) இது களிற்றியானை நிரை, மணமிடை பவளம், நித்திலக்கோவை என்று மூன்று வகையாகப் பிரிக்கப்பட்டுள்ளது.
E) விடை தெரியவில்லை

112. தவறான இணையைக் தேர்ந்தெடுக்க.

- | (சொல்) | (பொருள்) |
|---------------------|-----------|
| A) கொண்மூ | - வானம் |
| B) சமம் | - போர் |
| C) அரவம் | - ஆரவாரம் |
| D) ஆயம் | - சுற்றம் |
| E) விடை தெரியவில்லை | |

113. பொருத்துக.

- | (சொல்) | (இலக்கணக்குறிப்பு) |
|------------------|-----------------------------------|
| a) அசைஇ | 1. வினைத்தொகை |
| b) பிழையா | 2. பண்புத்தொகை |
| c) அருஞ்சமம் | 3. இருபெயரொட்டுப் பண்புத்தொகை |
| d) எறிவாள் | 4. செய்யுளிசை அளபெடை |
| e) தமிழ்க்கவிஞர் | 5. சொல்லிசை அளபெடை |
| | 6. ஈறுகெட்ட எதிர்மறைப் பெயரெச்சம் |

குறியீடுகள்:

- | | a | b | c | d | e |
|----|------------------|----------|----------|----------|----------|
| A) | 5 | 6 | 2 | 1 | 3 |
| B) | 4 | 1 | 2 | 3 | 6 |
| C) | 4 | 6 | 2 | 1 | 3 |
| D) | 4 | 3 | 2 | 1 | 6 |
| E) | விடை தெரியவில்லை | | | | |



114. பொருத்துக.

(திணை)

(பறை)

- | | |
|-------------|----------------|
| a) குறிஞ்சி | 1. நாவாய்பம்பை |
| b) முல்லை | 2. தொண்டகப்பறை |
| c) மருதம் | 3. துடி |
| d) நெய்தல் | 4. ஏறுகோட்பறை |
| e) பாலை | 5. மணமுழவு |

குறியீடுகள்:

- | | a | b | c | d | e |
|----|------------------|---|---|---|---|
| A) | 1 | 3 | 5 | 2 | 4 |
| B) | 2 | 4 | 5 | 1 | 3 |
| C) | 4 | 1 | 3 | 5 | 2 |
| D) | 3 | 2 | 1 | 4 | 5 |
| E) | விடை தெரியவில்லை | | | | |

115. நெய்தல் திணைக்குரிய உரிப்பொருள் யாது?

- A) புணர்தலும் புணர்தல் நிமித்தமும்
B) இருத்தலும் இருத்தல் நிமித்தமும்
C) ஊடலும் ஊடல் நிமித்தமும்
D) இரங்கலும் இரங்கல் நிமித்தமும்
E) விடை தெரியவில்லை

116. ஆறு பெரும் பொழுதுகளிலும் இடம்பெறும் திணைகள் யாவை?

- A) குறிஞ்சி, முல்லை
B) முல்லை, மருதம்
C) மருதம், நெய்தல்
D) நெய்தல், பாலை
E) விடை தெரியவில்லை

117. பின்வருவனவற்றுள் பொருந்தாத ஒன்றினைத் தேர்ந்தெடுக்க

- A) காயா
B) கொன்றை
C) ஞாழல்
D) குருந்தம்
E) விடை தெரியவில்லை

118. பிரபஞ்சனின் இயற்பெயர் யாது?

- A) இராஜகோபாலன்
B) மாணிக்கம்
C) பாலகுரு
D) வைத்தியலிங்கம்
E) விடை தெரியவில்லை

119. “பச்சைமா மலைபோல் மேனி

பவளவாய் கமலச் செங்கண்

அச்சுதா. அமரர் ஏறே!” என்று பாடியவர் யார்?

- A) திருமங்கையாழ்வார்
B) தொண்டரடிப்பொடி ஆழ்வார்
C) பெரியாழ்வார்
D) ஆண்டாள்
E) விடை தெரியவில்லை



120. பொருத்துக.

- a) நேரிசை ஆசிரியப்பா
b) இணைக்குறள் ஆசிரியப்பா
c) நிலைமண்டில ஆசிரியப்பா
d) அடிமறிமண்டில ஆசிரியப்பா

1. முதலடியும் இறுதியடியும் அளவடிகளாய் வரும்
2. அடிகளை மாற்றினாலும் ஓசையும் பொருளும் மாறாது வரும்
3. இறுதி அடியின் முந்தைய அடி சிந்தடியாய் வரும்
4. எல்லா அடிகளும் அளவடி பெற்று வரும்

குறியீடுகள்:

	a	b	c	d
A)	3	1	4	2
B)	4	3	2	1
C)	1	3	4	3
D)	4	1	2	3

E) விடை தெரியவில்லை

121. “நிரையொன்றாசிரியத் தளை” என்பதன் வாய்ப்பாடு என்ன?

- A) மாமுன் நிரை
B) மாமுன் நேர்
C) விளம்முன் நேர்
D) விளம்முன் நிரை
E) விடை தெரியவில்லை

122. முகமது நபி, மதீனாவிற்கு யாருடன் சென்றார்?

- A) அகமது
B) அப்துல்காதிர்
C) அபுபக்கர்
D) பனு அகமது
E) விடை தெரியவில்லை

123. பாக்கள் இயற்றும் விதிமுறைகளைக் கூறும் நூல் எது?

- A) நன்னூல்
B) தொல்காப்பியம்
C) யாப்பருங்கலக்காரிகை
D) புறப்பொருள் வெண்பா மாலை
E) விடை தெரியவில்லை

124. டி.கே.சி பற்றிய பின்வரும் கூற்றுகளை கருத்தில் கொள்க.

- I. டி.கே.சி-யின் வீட்டுக் கூடத்தில் வட்ட வடிவான தொட்டிக் கட்டில், ஞாயிறுதோறும் மாலை ஐந்து மணிக்குக் கூடிய கூட்டம், இலக்கியத்தைப் பற்றிப் பேசியது.
II. தமிழ்க்கலைகள், தமிழ்இசை, தமிழ் இலக்கியம் ஆகியவற்றின் சுவையையும் மேன்மையையும் தனித்தன்மையையும் எடுத்துக் கூறினார்.
III. இதய ஒளி, கம்பன் யார்? ஆகிய இவர்தம் படைப்புகளாகும். முத்தொள்ளாயிரம், கம்பராமாயணம் ஆகியவற்றுக்கு உரை எழுதியுள்ளார்.

மேற்கண்ட கூற்றுகளில் சரியானவை எவை?

- A) I மற்றும் II மட்டும்
B) II மற்றும் III மட்டும்
C) I மற்றும் III மட்டும்
D) மேற்கண்ட அனைத்தும்
E) விடை தெரியவில்லை



125. உலகப் புத்தகநாள் என்று கொண்டாடப்படுகிறது?
A) ஆகஸ்டு 09
B) ஜனவரி 12
C) ஏப்ரல் 23
D) ஜூன் 21
E) விடை தெரியவில்லை
126. கலைச்சொல் தருக: Materialism
A) பொருட்கள் பற்றிய படிப்பு
B) உலகவர்த்தகம்
C) பொருள் உற்பத்தி
D) பொருள் முதல் வாதம்
E) விடை தெரியவில்லை
127. நகையேயும் வேண்டற் பாற்று அன்று - எது?
A) துன்பம்
B) பகை
C) இன்பம்
D) ஆசை
E) விடை தெரியவில்லை
128. படைக்கும் பாதுகாப்பாக இருப்பவை எவை?
A) நிலம், நீர், காடு, மலை
B) வீரம், அரசன், மானம், நம்பிக்கைக்கு உரியவர் ஆதல்
C) வீரம், அரசன், அமைச்சன், ஒற்றன்
D) வீரம், மானம், முன்னோர் வழியில் நடத்தல், நம்பிக்கைக்கு உரியவர் ஆதல்
E) விடை தெரியவில்லை
129. வில்வீரரின் பகையைப் பெற்றாலும் யாருடைய பகையைப் பெறுதல் கூடாது என வள்ளுவர் குறிப்பிடுகின்றார்?
A) அன்புடையோர்
B) ஒழுக்கமுடையோர்
C) புலவர்
D) நண்பர்
E) விடை தெரியவில்லை
130. கண் உரைப்பவை எவை என வள்ளுவர் குறிப்பிடுகின்றார்?
A) இன்பம், துன்பம்
B) நட்பு, பகை
C) கோபம், இரக்கம்
D) நல்லவை, தீயவை
E) விடை தெரியவில்லை
131. இகழ்ச்சியில் கெட்டாரை எப்போது நினைக்க வேண்டும் என வள்ளுவர் குறிப்பிடுகிறார்?
A) தான் துன்பத்தில் வாடும்போது
B) மகிழ்ச்சியில் கடமையை மறக்கும்போது
C) காலத்தை வீணடிக்கும்போது
D) தோல்வியை தழுவுகும்போது
E) விடை தெரியவில்லை



132. “இரவென்னும் ஏமாப்பில் தோணி கரவென்னும் பார்தாக்கப் பக்கு விடும்” – இக்குறட்பாவில் பயின்று வந்துள்ள அணி யாது?
A) பிறிதுமொழிதல் அணி B) தற்குறிப்பேற்ற அணி
C) உவமை அணி D) உருவக அணி
E) விடை தெரியவில்லை
133. “பொச்சாவாமை” என்னும் அதிகாரத்தின் பொருள் யாது?
A) இரவாமை B) இகழாமை
C) மறவாமை D) முயற்சியின்மை
E) விடை தெரியவில்லை
134. கட்டடக் கலை என்பது ‘உறைந்து போன இசை’ என்று கூறியவர் யார்?
A) எஸ்.கே. கோவிந்தசாமி B) ஃப்ரெஸ்கோ
C) பிரடிகா D) ஷூல்ஸ்
E) விடை தெரியவில்லை
135. செங்கற்களாலான எழுபத்தெட்டுக் கோவில்களைக் கட்டியவன் யார்?
A) முதலாம் மகேந்திரவர்மன் B) இராசசிம்மன்
C) முதலாம் குலோத்துங்கச் சோழன் D) சோழன் செங்கணான்
E) விடை தெரியவில்லை
136. “இராசசிம்மேச்சுரம்” என அழைக்கப்படும் கோவில் எது?
A) திருப்பூர் திருத்தளிநாதர் கோவில்
B) தஞ்சைப் பெரிய கோவில்
C) காஞ்சி கைலாசநாதர் கோவில்
D) தாராசுரம் ஐராவதேசுவரர் கோவில்
E) விடை தெரியவில்லை
137. இரண்டு வகையான கோபுரங்களைக் கட்டும் புதிய மரபைத் தோற்றுவித்தவர் யார்?
A) இரண்டாம் நரசிம்மவர்மன் B) நாயக்கர்கள்
C) முதலாம் இராசராசன் D) முதலாம் மகேந்திரவர்மன்
E) விடை தெரியவில்லை
138. பின்வருவனவற்றுள் தவறான கூற்றினைத் தேர்ந்தெடுக்க.
A) கோபுரமென்பது வாயில்களின் மேலே அமைக்கப்படுவது. விமானம் அகநாழிகையின் மேல் அமைக்கப்படுவது.
B) தஞ்சைப் பெரிய கோவில் நம் நாட்டிலுள்ள கற்றளிக் கோவில்களிலேயே பெரியதும் உயரமானதும் ஆகும்.
C) கற்றளிக் கோவில் உருவாக்கும் முறையானது கி.பி. ஏழாம் நூற்றாண்டில் முதலாம் நரசிம்மவர்மன் என்னும் பல்லவ மன்னனால் அறிமுகப்படுத்தப்பட்டது.
D) தட்சிண மேரு கோவில் விமானம் 216 அடி உயரம் உடையது. கருவறை விமானம் 13 தளங்களையுடையது.
E) விடை தெரியவில்லை



139. பிரம் ஈசுவர விஷ்ணுக்களுக்கு 'விசித்திர சித்தன்' என்று அழைக்கப்பட்ட முதலாம் மகேந்திரவர்ம பல்லவன் குடைவரைக் கோவில்களை அமைத்தார்" என்று செய்தியானது இடம்பெற்றுள்ள கல்வெட்டு எது?
- A) மாங்காடு கல்வெட்டு
B) மாங்குளம் கல்வெட்டு
C) மண்டகப்பட்டுக் கல்வெட்டு
D) மகாபலிபுரம் கல்வெட்டு
E) விடை தெரியவில்லை
140. பின்வரும் கூற்றுகளை கருத்தில் கொள்க.
- I. இந்தியக் கட்டடக் கலைப்பாணியை நாகரம், வேசரம், திராவிடம் என்று மூன்றாகக் கூறுவர்.
II. தஞ்சைக்கோவில் எண்பட்டை வடிவில் கட்டப்பட்ட திராவிடக் கலைப்பாணியாகும்.
மேற்கண்ட கூற்றுகளில் சரியானது எது/எவை?
- A) I மட்டும்
B) II மட்டும்
C) இரண்டும்
D) இரண்டுமில்லை
E) விடை தெரியவில்லை
141. பின்வரும் கூற்றுகளை கருத்தில் கொள்க.
- I. 'ஃப்ரெஸ்கோ' என்ற இத்தாலிச் சொல்லுக்கு அழகு என்று பொருள்.
II. சுண்ணாம்புக் காரைப்பூச்சு மீது அதன் ஈரம் காயும் முன் வரையப்படும் பழமையான ஓவியக் கலைநுட்பம் ஃப்ரெஸ்கோ ஓவியம் எனப்படும்.
III. ஃப்ரெஸ்கோ வகை ஓவியங்களை அஜந்தா, எல்லோரா, சித்தன்னவாசல், தஞ்சைப் பெரியகோவில் போன்ற இடங்களிலும் காணலாம்.
மேற்கண்ட கூற்றுகளில் சரியானவை எவை?
- A) I மற்றும் II மட்டும்
B) II மற்றும் III மட்டும்
C) I மற்றும் III மட்டும்
D) மேற்கண்ட அனைத்தும்
E) விடை தெரியவில்லை
142. 'குறவஞ்சி' பற்றிய தவறான கூற்றினைத் தேர்ந்தெடுக்க.
- A) குறவஞ்சி என்பது ஒரு வகை நாடக இலக்கிய வடிவமாகும்.
B) 96 வகை சிற்றிலக்கியங்களுள் ஒன்று.
C) பாட்டுடைத் தலைவன் உலா வரக்கண்ட தலைவி, அத்தலைவன் மீது காதல்கொள்ள, குறவர் குலத்தைச் சேர்ந்த பெண்ணொருத்தி தலைவிக்குக் குறிகூறிப் பரிசில் பெறும் செய்திகளைக் கூறுவதால் குறவஞ்சி என்னும் பெயர் பெற்றது.
D) இது 'குறவன்பாட்டு' என்றும் வழங்கப்படுகிறது.
E) விடை தெரியவில்லை
143. "ஓலோகமாதேவீசுரம்" கோவிலைத் திருவையாற்றில் கட்டியவர் யார்?
- A) முதலாம் ராசராசன்
B) சுந்தரச்சோழன்
C) இராசேந்திரன்
D) ஓலோகமாதேவி
E) விடை தெரியவில்லை



144. “ஓலோகமாதேவீச்சுரம்” கோவில் கல்வெட்டால் அறியப்படும் பெண் அதிகாரிகள் யாவர்?
A) குந்தவை, எருதந் குஞ்சரமல்லி
B) சோமயன் அமிர்தவல்லி, குந்தவை
C) எருதந் குஞ்சரமல்லி, சோமயன் அமிர்தவல்லி
D) ஓலோகமாதேவீ, எருதந் குஞ்சரமல்லி
E) விடை தெரியவில்லை
145. “குற்றாலக் குறவஞ்சி” பற்றிய தவறான கூற்றினைத் தேர்ந்தெடுக்க.
A) சிற்றிலக்கியங்களுள் முத்தமிழ்க் காவியமாகத் திகழ்கிறது.
B) தமிழ்நாட்டின் தென்காசிக்கு அருகில் அமைந்திருக்கும் குற்றாலம் என்னும் ஊரின் சிறப்பைப் புகழ்ந்து, அங்குள்ள குற்றாலநாதரைப் போற்றிப் பாடப்பட்டது.
C) மதுரை விஜயரகுநாத சேதுபதியின் வேண்டுகோளுக்கு இணங்க பாடப்பட்டது.
D) இந்நூல், திரிகூட ராசப்பக் கவிராயரின் ‘கவிதைக் கிரீடம்’ என்று போற்றப்பட்டது.
E) விடை தெரியவில்லை
146. திருவாசகம் முழுமையையும் ஆங்கிலத்தில் மொழிபெயர்த்தவர் யார்?
A) பெஸ்கி
B) கால்டுவெல்
C) வீரமாமுனிவர்
D) ஜி.யு. போப்
E) விடை தெரியவில்லை
147. சைவத் திருமுறைகளில் திருவாசகம் எத்தனையாவது திருமுறையாக உள்ளது?
A) பன்னிரண்டாம்
B) ஆறாம்
C) எட்டாம்
D) ஏழாம்
E) விடை தெரியவில்லை
148. திருவாசகத்தில் இடம்பெற்றுள்ள திருப்பதிகங்கள் எத்தனை?
A) 63
B) 72
C) 51
D) 58
E) விடை தெரியவில்லை
149. ஒருவர் வினா கேட்டு, அதற்கு மற்றொருவர் விடை கூறும் வகையில் இறைவனைப் போற்றிப் பாடப்பட்டவை எவை?
A) திருச்சாழல், திருப்புகழ்
B) திருப்புகழ், திருவருட்பா
C) திருச்சாழல், பெரியதிருமொழி
D) திருச்சாழல், திருவருட்பா
E) விடை தெரியவில்லை
150. ‘திரிகூடராசப்பக் கவிராயர்’ பற்றிய பின்வரும் கூற்றுகளை கருத்தில் கொள்க.
I. ‘திருக்குற்றாலநாதர் கோவில் வித்துவான்’ என்று சிறப்புப் பட்டப்பெயர் பெற்றவர்.
II. குற்றாலத்தின் மீது தலபுராணம், மாலை, சிலேடை, பிள்ளைத்தமிழ், யமக அந்தாதி முதலிய நூல்களை இயற்றியுள்ளார்.
மேற்கண்ட கூற்றுகளில் சரியானது எது/எவை?
A) I மட்டும்
B) II மட்டும்
C) இரண்டும்
D) இரண்டுமில்லை
E) விடை தெரியவில்லை



151. 'ஆத்மநாம்' பற்றிய பின்வரும் கூற்றுகளை கருத்தில் கொள்க.
I. 'பசுவய்யா' என்ற புனைப்பெயரில் கவிதை படைத்துள்ளார்.
II. 'ழ' என்னும் சிற்றிதழை நடத்தியுள்ளார்.
III. 'காகிதத்தில் ஒரு கோடு' அவருடைய முக்கியமான கவிதைத் தொகுப்பாகும்.
மேற்கண்ட கூற்றுகளில் சரியானவை எவை?
A) I மற்றும் II மட்டும்
B) II மற்றும் III மட்டும்
C) I மற்றும் III மட்டும்
D) மேற்கண்ட அனைத்தும்
E) விடை தெரியவில்லை
152. "மாணிக்கவாசகர்" பற்றிய தவறான கூற்றினைத் தேர்ந்தெடுக்க.
A) தேவாரம் பாடிய மூவருள் ஒருவர்
B) திருவாதவூரைச் சேர்ந்தவர்
C) இவர் அரிமர்த்தன பாண்டியனிடம் தலைமையமைச்சராகப் பணியாற்றினார்
D) திருவாசகம், திருக்கோவையார் இவர் இயற்றிய நூல்களாகும்.
E) விடை தெரியவில்லை
153. பொருத்துக.
a) காயில் 1. மண்புழு
b) அந்தம் 2. குற்றம்
c) நாங்கூழ் 3. உழைப்பு
d) நவை 4. வெகுண்டால்
5. முடிவு
- குறியீடுகள்:**
- | | a | b | c | d |
|----|---|---|---|---|
| A) | 5 | 2 | 3 | 1 |
| B) | 4 | 5 | 1 | 2 |
| C) | 1 | 3 | 4 | 5 |
| D) | 2 | 3 | 4 | 1 |
- E) விடை தெரியவில்லை
154. "சாளரபாணி" என்ற பண் எந்த நூலில் இடம்பெற்றுள்ளது?
A) பரிபாடல்
B) பட்டினப்பாலை
C) தேவாரம்
D) திருவிசைப்பா
E) விடை தெரியவில்லை
155. பின்வரும் கூற்றுகளை கருத்தில் கொள்க.
I. பரிபாடலில் நோதிறம், பாலையாழ், காந்தாரம் முதலிய பண்கள் காணப்படுகின்றன.
II. சைவத்திருமுறைகளில் காரைக்கால் அம்மையார் நட்பாடையிலும் இந்தளத்திலும் பாடியுள்ளார்.
III. தேவாரத்தில் 23 பண்களில் பாடல்கள் உள்ளன.
மேற்கண்ட கூற்றுகளில் சரியானவை எவை?
A) I மற்றும் II மட்டும்
B) II மற்றும் III மட்டும்
C) I மற்றும் III மட்டும்
D) மேற்கண்ட அனைத்தும்
E) விடை தெரியவில்லை



156. 'சங்கரதாஸ் சுவாமிகள்' பற்றிய பின்வரும் கூற்றுகளை கருத்தில் கொள்க.
I. 'சமரச சன்மார்க்க சபை' என்னும் நாடகக் குழுவை உருவாக்கினார்.
II. 1918இல், 'தத்துவ மீனலோசனி வித்துவ பால சபை' என்னும் நாடக அமைப்பை உருவாக்கி ஆசிரியர் பொறுப்பேற்றார்.
மேற்கண்ட கூற்றுகளில் சரியானது எது/எவை?
A) I மட்டும்
B) II மட்டும்
C) இரண்டும்
D) இரண்டுமில்லை
E) விடை தெரியவில்லை
157. "ஒரு மனிதன் தேவைக்கே இந்தக் தேசம் உண்டென்றால், அத்தேசம் ஒழிதல் நன்றாம்!" என்ற பொதுவுடைமைக் கருத்தினை முன்மொழிந்தவர் யார்?
A) திரு.வி.க
B) ப.ஜீவானந்தம்
C) பசுவய்யா
D) பாரதிதாசன்
E) விடை தெரியவில்லை
158. சங்க இலக்கியங்களை "Hues and Harmonies from an Ancient Land" என்னும் பெயரில் ஆங்கிலத்தில் மொழிபெயர்த்தவர் யார்?
A) ஜி.யு.போப்
B) ஏ.கே.இராமானுஜம்
C) ம.லெ.தங்கப்பா
D) ஜார்ஜ் எல்.ஹார்ட்
E) விடை தெரியவில்லை
159. பதிற்றுப்பத்தின் பாட்டுடைத் தலைவன் யார்? பாடியவன் யார்?
A) உதியன் சேரலாதன்; பெருங்குன்றார் கிழார்
B) இமயவரம்பன் நெடுஞ்சேரலாதன்; குமட்டுர் கண்ணனார்
C) செங்கணான்; அரிசில் கிழார்
D) செங்குட்டுவன்; பரணர்
E) விடை தெரியவில்லை
160. "நான், வாரத்தின் இறுதி நாள்களில் நூலகத்திற்குச் செல்வேன்" இத்தொடரினைப் பொருள்மாறா எதிர்மறைத் தொடராக மாற்றுக.
A) நான் வாரத்தின் இறுதி நாள்களில் நூலகத்திற்குச் செல்லவில்லை
B) நான் வாரத்தின் இறுதி நாள்களிலன்றிப் பிற நாள்களில் நூலகத்திற்குச் செல்வேன்
C) நான் வாரத்தின் இறுதி நாள்களில் நூலகத்திற்குச் செல்வேன்
D) நான் வாரத்தின் தொடக்க நாள்களில் நூலகத்திற்குச் செல்வேன்
E) விடை தெரியவில்லை
161. "மதுரை மீனாட்சி அம்மன் கோவில் சிற்பக் கலை மிக அழகானது" – இஃது எவ்வகைத் தொடர்?
A) வினாத் தொடர்
B) செய்தித் தொடர்
C) விழைவுத் தொடர்
D) உணர்ச்சித் தொடர்
E) விடை தெரியவில்லை



162. “மனோன்மணியம்” பற்றிய தவறான கூற்றினைத் தேர்ந்தெடுக்க.
- A) தமிழின் முதல் பா வடிவ நாடக நூல். இஃது எளிய நடையில் ஆசிரியப்பாவால் அமைந்தது.
B) இந்நூல் ஐந்து அங்கங்களையும் இருபது களங்களையும் கொண்டது. நூலின் தொடக்கத்தில் கடவுள் வாழ்த்துடன் தமிழ்த்தாய் வாழ்த்தும் இடம் பெற்றுள்ளது.
C) லிட்டன் பிரபு எழுதிய ‘இரகசிய வழி’ என்ற நூலைத் தழுவி 1891இல் பேராசிரியர் சுந்தரனார் இதைத் தமிழில் எழுதியுள்ளார்.
D) மனோன்மணியத்தில் உள்ள கிளைக்கதை ‘சிவகாமியின் சரிதம்’ ஆகும்.
E) விடை தெரியவில்லை
163. “உறுபசியும் ஓவாப்பிணியும் செறுபகையும் சேராதி யல்வது நாடு” என்று கூறியவர் யார்?
- A) குமட்டுரக் கண்ணனார்
B) திருஞானசம்பந்தர்
C) திருவள்ளுவர்
D) கடற்பிறகோட்டிய பாண்டியன் நெடுஞ்செழியன்
E) விடை தெரியவில்லை
164. சீர்கெழு விழவின் நெடியோன் அன்ன நல்லிசை ஓடியா மைந்தநின் பண்புபல நயந்தே – இப்பாடலில், நெடியோன் என்பவன் யார்?
- A) சிவபெருமான்
B) திருமால்
C) சேரன்
D) உதாரன்
E) விடை தெரியவில்லை
165. பாரதிதாசன் பற்றிய பின்வரும் கூற்றுகளுள் பொருந்தா ஒன்றினைத் தேர்ந்தெடுக்க.
- A) மொழி, இனம், குடியாட்சி, உரிமைகள் ஆகியவை பற்றித் தம் பாடல்களில் உரக்க வெளிப்படுத்தியதால் புரட்சிக் கவிஞர் என்றும் பாவேந்தர் என்றும் அழைக்கப்பட்டார்.
B) பிரெஞ்சு மொழியில் அமைந்த தொழிலாளர் நலச்சட்டத்தைத் தமிழ் வடிவில் தந்தவர்.
C) வடமொழியில் எழுதப்பட்ட பில்கணியம் என்னும் காவியத்தைத் தழுவி, தமிழில் பாரதிதாசனால் 1937இல் எழுதப்பட்டது ‘பிசிராந்தையார்’. பிசிராந்தையார் நாடகத்துக்குச் சாகித்திய அகாதெமி விருது வழக்கப்பட்டது
D) குடும்ப விளக்கு, பாண்டியன் பரிசு, இருண்ட வீடு, சேர தாண்டவம் ஆகிய காப்பியங்களை இயற்றியவர், ‘வாழ்வினில் செய்பவன் நீயே’ என்ற இவரின் தமிழ் வாழ்த்துப் பாடலைப் புதுச்சேரி அரசு தனது தமிழ்த்தாய் வாழ்த்தாக ஏற்றுக் கொண்டுள்ளது.
E) விடை தெரியவில்லை
166. “மண்ணுடை ஞாலத்து மன்னுயிர்க்கு எஞ்சாது” – இத்தொடரில் அமையப்பெற்றுள்ள மோனை எது?
- A) இணை மோனை
B) பொழிப்பு மோனை
C) ஒருஉ மோனை
D) கூழை மோனை
E) விடை தெரியவில்லை



167. பிழையற்ற தொடரினைத் தேர்ந்தெடுக்க
- A) அடையாற்றுப் பாலத்தில் சுவற்றில்
B) அடையாற்றுப் பாலத்தில் சுவரில்
C) அடையாற்றுப் பாலத்தில் சுவற்றில்
D) அடையாற்றுப் பாலத்தில் சுவரில்
E) விடை தெரியவில்லை
168. “பதிற்றுப்பத்து” பற்றிய பின்வரும் கூற்றுகளை கருத்தில் கொள்க.
- I. எட்டுத்தொகையில் அமைந்த புறத்திணை நூல்களுள் ஒன்று. சேர மன்னர்கள் பத்துப்பேரின் சிறப்புகளை எடுத்தியம்பும்.
- II. முதல் பத்துப் பாடல்களும் இறுதிப் பத்துப் பாடல்களும் கிடைக்கவில்லை.
- III. ஒவ்வொரு பாடலின் பின்னும் துறை, வண்ணம், தூக்கு, பாடலின் பெயர் என்பவை இடம் பெற்றிருக்கின்றன.
- IV. பாடலில் வரும் சிறந்த சொற்றொடர் அப்பாடலுக்குத் தலைப்பாகத் தரப்படும்.
- மேற்கண்ட கூற்றுகளில் சரியானவை எவை?
- A) I, II மற்றும் III மட்டும்
B) II, III மற்றும் IV மட்டும்
C) I, II மற்றும் IV மட்டும்
D) மேற்கண்ட அனைத்தும்
E) விடை தெரியவில்லை
169. அகரவரிசைப்படுத்துக.
- A) வஞ்சி, காஞ்சி, தும்பை, உழிஞை, நொச்சி
B) உழிஞை, காஞ்சி, தும்பை, நொச்சி, வஞ்சி
C) உழிழை, காஞ்சி, நொச்சி, வஞ்சி, தும்பை
D) உழிஞை, காஞ்சி, நொச்சி, தும்பை, வஞ்சி
E) விடை தெரியவில்லை
170. மயிலை சீனி. வேங்கடசாமி பற்றிய பின்வரும் கூற்றுகளைக் கருத்தில் கொள்க.
- I. இவருடைய ‘களப்பிரர் காலத் தமிழகம்’ என்னும் ஆய்வு நூல், இருண்ட காலம் என்று ஆய்வாளர்களால் வருணிக்கப்பட்ட களப்பிரர் காலத்திற்கு ஒளியூட்டு, வரலாற்றத் தடத்தை செப்பனிட்டது.
- II. மதுரைப் பல்கலைக்கழகம் 1980ஆம் ஆண்டு, ‘தமிழ்ப் பேரவைச் செம்மல்’ என்னும் பட்டமளித்துப் பாராட்டியது.
- மேற்கண்ட கூற்றுகளில் தவறானது எது/எவை?
- A) I மட்டும்
B) II மட்டும்
C) இரண்டும்
D) இரண்டுமில்லை
E) விடை தெரியவில்லை
171. ‘ஒவ்வொரு புல்லையும் பெயர் சொல்லி அழைப்பேன்’ என்பது யாருடைய கவிதைத் தொகுப்பு
- A) மதுசூதனன்
B) சுந்தர ராமசாமி
C) ஆத்மாநாம்
D) இன்குலாப்
E) விடை தெரியவில்லை



172. அப்துல் ரகுமானின் சாகித்திய அகாதெமி விருது பெற்ற நூல் எது?
A) பால்வீதி B) நேயர் விருப்பம்
C) பித்தன் D) ஆலாபனை
E) விடை தெரியவில்லை
173. 'உயிர்த்தெழும் காலத்துக்காக' என்ற தலைப்பில் யாருடைய கவிதைகள் தொகுக்கப்பட்டது?
A) சு.வில்வரத்தினம் B) சு. இராசேந்திரன்
C) இரதல் கம்சதேவ் D) அழகிய பெரியவன்
E) விடை தெரியவில்லை
174. பின்வரும் கூற்றுகளைக் கருத்தில் கொள்க.
I. அ.முத்துலிங்கம் - யுகத்தின் பாடல்
II. பவணந்தி முனிவர் - நன்னூல்
III. க.வில்வரத்தினம் - ஆறாம் திணை
IV. இந்திரன் - பேச்சு மொழியும் எழுத்து மொழியும்
மேற்கூறிய இணைகளில் சரியானவை எவை?
A) I மற்றும் II B) I மற்றும் IV
C) II மற்றும் IV D) I மற்றும் III
E) விடை தெரியவில்லை
175. பின்வருவனவற்றுள் தவறான கூற்றை கண்டறிக.
A) திருமலை முருகன் பள்ளு எனும் நூலை இயற்றியவர் பெரியவன் கவிராயர்
B) பண்புளிப்பட்டணம் என்ற ஊர் 'பண்பை' என்றும் 'பண்பொழில்' என்றும் அழைக்கப்படுகிறது.
C) இவரின் காலம் 18ஆம் நூற்றாண்டு
D) திருச்சூர் குன்றின் மேலுள்ள முருகக்கடவுளைப் பாட்டுடைத் தலைவராகக் கொண்டு பாடப்பட்டுள்ளது
E) விடை தெரியவில்லை
176. யானை பற்றிய பின்வரும் கூற்றுகளில் தவறானதை தேர்ந்தெடு.
A) யானைகளைக் 'காட்டின் மூலவர்' என்பர்.
B) தற்போது யானைகளில் மூன்று சிற்றினங்கள் எஞ்சியுள்ளன.
C) இவற்றிற்கு ஞாபக சக்தி (ம) கேட்கும் திறன் குறைவு.
D) பொதுவாக எல்லா யானைகளும் ஏறத்தாழ 70 ஆண்டுகள் வரை உயிர் வாழும்.
E) விடை தெரியவில்லை
177. ஆபிரகாம் பண்டிதர் பற்றிய பின்வரும் கூற்றுகளைக் கருத்தில் கொள்க.
I. தென்காசிக்கு அருகேயுள்ள சாம்பவர் வடகரை எனும் சிற்றூரில் பிறந்தவர்.
II. சங்கீத வித்தியா மகாஜன சங்கம் என்னும் அமைப்பை உருவாக்கியவர்.
III. சித்த மருத்துவத்தில் சீரிய அறிவு பெற்ற அவர் மக்களால் அன்புடன் பண்டிதர் என்று அழைக்கப்பட்டார்.
IV. இவர் எழுபதாண்டுகள் வாழ்ந்து தமிழுக்குத் தொண்டு செய்தவர்.
மேற்கண்ட கூற்றுகளில் சரியானவை எவை?
A) I மற்றும் II B) II மற்றும் III
C) I மற்றும் III D) III மற்றும் IV
E) விடை தெரியவில்லை



178. தமக்கென முயலா நோன்தாள்
பிறர்க்கென முயலுநர் உண்மை யானே - எனும் புறநானூற்று பாடலடியை எழுதியவர் யார்?
A) கடலுள் மாய்ந்த இளம்பெருவழுதி
B) ஆலத்தூர் கிழார்
C) ஐயூர் முடவனார்
D) பொன் முடியார்
E) விடை தெரியவில்லை
179. உரையாசிரியர்கள் பலராலும் அதிகமாக மேற்கோள் காட்டப்பட்ட நூல் எது?
A) நற்றிணை
B) குறுந்தொகை
C) அகநானூறு
D) புறநானூறு
E) விடை தெரியவில்லை
180. பொருத்துக.
a) ஜகம் 1. மதில்
b) மாசுணம் 2. அழகு
c) வள்ளம் 3. பாம்பு
d) இஞ்சி 4. உலகம்
குறியீடுகள் :

	a	b	c	d
A)	1	2	3	4
B)	2	4	1	3
C)	1	3	2	4
D)	4	3	2	1

E) விடை தெரியவில்லை
181. முதலாம் இராசராசனுக்குப் பெரியதொரு கோவிலைக் கட்ட வேண்டுமென்ற எண்ணத்தைத் தூண்டிய கோவில் எது?
A) தில்லைக் கோவில்
B) குற்றாலநாதர் கோவில்
C) திருவில்லிபுத்தூர் ஆண்டாள் கோவில்
D) காஞ்சி கைலாசநாதர் கோவில்
E) விடை தெரியவில்லை
182. தஞ்சைப் பெரிய கோவில் கோபுரங்களில் உயரமானது எது?
A) இராசராசன் திருவாயில் கோபுரம்
B) கேரளாந்தகன் திருவாயில் கோபுரம்
C) மதுராந்தகன் கோபுரம்
D) இராசராசன் கோபுரம்
E) விடை தெரியவில்லை



183. பொருத்துக.

- | | |
|------------------------|------------------------|
| a) நர்த்தகி நடராஜ் | 1. காவல் உதவி ஆய்வாளர் |
| b) பிரித்திகா யாஷினி | 2. லோக் அதாலத் நீதிபதி |
| c) ஜோயிதா மோண்டல் மாகி | 3. நடனம் |
| d) சிந்து | 4. டிக்கெட் பரிசோகர் |

குறியீடுகள் :

	a	b	c	d
A)	2	4	1	3
B)	1	3	2	4
C)	3	1	2	4
D)	4	3	2	1

E) விடை தெரியவில்லை

184. தமிழ் நாடகத் தலைமை ஆசிரியர் என அழைக்கப்படுபவர் யார்?

- | | |
|-----------------------|------------------------|
| A) பம்மல் சம்பந்தனார் | B) மறைமலை அடிகள் |
| C) இராமலிங்க அடிகள் | D) சங்கரதாசு சுவாமிகள் |
| E) விடை தெரியவில்லை | |

185. ஹைக்கூ என்பதற்குத் தமிழில் வழங்கப்படும் பெயர்கள் யாவை?

- | | |
|---------------------|--------------|
| A) துளிப்பா | B) கலிப்பா |
| C) சென்றியூ | D) வஞ்சிப்பா |
| E) விடை தெரியவில்லை | |

186. பின்வரும் கூற்றுகளைக் கருத்தில் கொள்க.

- I. சித்தர்களைக் கிளர்ச்சியாளர்கள் என்று கூறியவர் சிவவாக்கியர்.
II. சித்தர்களில் கலகக்காரர் என்று கருதியவர் க.கைலாசபதி.
மேற்கூறியவற்றுள் சரியானது எது/எவை?

- | | |
|---------------------|-----------------|
| A) I மட்டும் | B) II மட்டும் |
| C) இரண்டும் | D) இரண்டுமில்லை |
| E) விடை தெரியவில்லை | |

187. பின்வரும் கூற்றுகளைக் கருத்தில் கொள்க.

- I. நந்தவ னத்திலோர் ஆண்டி-அவன்
நாலாறு மாதமாய்க் குயவரை வேண்டி - கடுவெளிச்சித்தர்
II. நாதர் முடி மேலிருக்கும் வெண்ணிலாவே-அங்கே
நானும் வர வேண்டுகின்றேன் வெண்ணிலாவே - இராமலிங்க அடிகள்
மேற்கூறியவற்றுள் சரியானது எது/எவை?

- | | |
|---------------------|-----------------|
| A) I மட்டும் | B) II மட்டும் |
| C) இரண்டும் | D) இரண்டுமில்லை |
| E) விடை தெரியவில்லை | |



188. வில்லிபாரதத்தில் “சூரியனின் தோன்றல்” என்று குறிப்பிடப்படுபவர் யார்?

- A) கண்ணன்
B) கன்னன்
C) அருச்சுனன்
D) பிரமன்
E) விடை தெரியவில்லை

189. நற்றிணையின் பேரெல்லை 12 அடி. விதிவிலக்கை 13 அடிகளைப் பாடிவயர் யார்?

- A) பேயனார்
B) போதனார்
C) இளம்பெருவழுதி
D) வெள்ளிவீதியார்
E) விடை தெரியவில்லை

190. பொருத்துக.

- a) 1826 1. சென்னை மருத்துவக் கல்லூரி
b) 1835 2. பொதுக்கல்வி வாரியம்
c) 1857 3. சென்னைப் பல்கலைக்கழகம்
d) 1910 4. தமிழ்நாடு இடைநிலைக் கல்வி வாரியம்

குறியீடுகள் :

	<i>a</i>	<i>b</i>	<i>c</i>	<i>d</i>
A)	2	1	3	4
B)	2	4	1	3
C)	1	3	2	4
D)	4	3	2	1

E) விடை தெரியவில்லை

191. பின்வரும் கூற்றுகளைக் கருத்தில் கொள்க.

I. இரா.மீனாட்சி நெருஞ்சி, சுடுபூக்கள், வாசனைப்புல் உள்ளிட்ட கவிதைத் தொகுப்புகளைப் படைத்துள்ளார்.

II. பிள்ளைக்கூடம் எனும் கவிதை ‘கொடி விளக்கு’ என்னும் நூலிலிருந்து எடுக்கப்பட்டுள்ளது. மேற்கூறியவற்றுள் சரியானது எது/எவை?

- A) I மட்டும்
B) II மட்டும்
C) இரண்டும்
D) இரண்டுமில்லை
E) விடை தெரியவில்லை

192. ஆடையிலே எனை மணந்தமணவாளா பொதுவில்

ஆடுகின்ற அரசேஎன் அலங்கலணிந்தருளே – என்ற பாடலைப் பாடிவயர் யார்?

- A) வள்ளலார்
B) பாரதியார்
C) கவிமணி
D) தாயுமானவர்
E) விடை தெரியவில்லை

193. வள்ளுவர் கூறும் மருத்துவத்தின் வகைகள் யாவை?

- A) 2
B) 3
C) 4
D) 5
E) விடை தெரியவில்லை



194. பின்வரும் கூற்றுகளைக் கருத்தில் கொள்க.

- I. சிம்பொனித் தமிழர் என அழைக்கப்படுபவர் இளையராஜா
II. ஆஸ்கர் தமிழர் என அழைக்கப்படுபவர் ஏ.ஆர்.ரகுமான்
III. நம்ரதா கே சாகர் எனும் பாடலை மகாத்மா காந்தி எழுதியுள்ளார்
மேற்கூறியவற்றுள் சரியானது எது/எவை?

- A) I மற்றும் II மட்டும்
B) I மற்றும் III மட்டும்
C) II மற்றும் III மட்டும்
D) மேற்கண்ட அனைத்தும்
E) விடை தெரியவில்லை

195. பொருத்துக.

- a) Bug 1. விளக்கச்சுவடி
b) Gazette 2. நல்கை
c) Prospectus 3. அரசிதழ்
d) Subsidy 4. பிழை

குறியீடுகள் :

	a	b	c	d
A)	2	4	1	3
B)	3	1	4	2
C)	1	3	2	4
D)	4	3	1	2

E) விடை தெரியவில்லை

196. பொருத்துக.

- a) விரியன் 1. தண்டை
b) திருகுமுருகு 2. காலாழி
c) நாங்கூழ்ப்புழு 3. சிலம்பு
d) குண்டலப்பூச்சி 4. பாடகம்

குறியீடுகள் :

	a	b	c	d
A)	1	2	3	4
B)	3	1	2	4
C)	2	4	1	3
D)	3	1	4	2

E) விடை தெரியவில்லை

197. பின்வரும் கூற்றுகளில் தவறானதை தேர்ந்தெடு.

- A) எத்தனை கோடி இன்பம் வைத்தாய் எங்கள் இறைவா
B) தேடுகல்வி இலாததோர் ஊரைத் தீயினுக்கு இரையாக மடுத்தல்
C) பெண்மை வெல்க என்று கூத்திடுவோம்
D) நல்லதொரு குடும்பம் பல்கலைக் கழகம்
E) விடை தெரியவில்லை



198. கிழக்கையும் மேற்கையும் இணைத்த தீர்க்கதரிசி என அழைக்கப்பட்டவர் யார்?
A) அம்பேத்கர்
B) பெரியார்
C) தாகூர்
D) குமாரசுவாமி
E) விடை தெரியவில்லை

199. பொருத்துக.
a) சந்தோஷம் 1. நுழைவு இசைவு
b) உற்சாகம் 2. பூரிப்பு
c) விசா 3. கடவுச்சீட்டு
d) பாஸ்போர்ட் 4. மகிழ்ச்சி

குறியீடுகள் :

	a	b	c	d
A)	4	2	3	1
B)	4	2	1	3
C)	2	4	1	3
D)	2	4	3	1

E) விடை தெரியவில்லை

200. பொருத்துக.
(நூல்கள்) (பதிபித்த ஆண்டு)
a) நன்னூல் 1. 1915
b) தொல்காப்பியம் 2. 1894
c) புறநானூறு 3. 1834
d) குறுந்தொகை 4. 1847

குறியீடுகள் :

	a	b	c	d
A)	3	4	2	1
B)	4	3	1	2
C)	2	1	3	4
D)	1	2	3	4

E) விடை தெரியவில்லை



வினாத்தொகுப்பு எண் :

பதிவு எண்

2024
பொதுத் தமிழ்
(பத்தாம் வகுப்பு தரம்)
Test - 13

கால அளவு : 3.00 மணி நேரம்]

[மொத்த மதிப்பெண்கள் : 300

வினாக்களுக்கு பதிலளிக்கும் முன் கீழ்க்கண்ட அறிவுரைகளை கவனமாகப் படிக்கவும்

முக்கிய அறிவுரைகள்

- இந்த வினாத்தொகுப்பு, தேர்வு தொடங்குவதற்கு 15 நிமிடங்களுக்கு முன்னதாக உங்களுக்கு வழங்கப்படும்.
- இந்த வினாத்தொகுப்பு, **200** வினாக்களைக் கொண்டுள்ளது. விடையளிக்கத் தொடங்குமுன் இவ்வினாத் தொகுப்பில் எல்லா வினாக்களும் வரிசையாக இடம் பெற்றுள்ளனவா என்பதையும், இடையில் வெற்றுத்தாள்கள் எவையும் இல்லை என்பதையும் உறுதி செய்து கொள்ளவும். வினாத் தொகுப்பில் ஏதேனும் குறைபாடு இருப்பின், அதனை முதல் பத்து நிமிடங்களுக்குள் அறைக்கண்காணிப்பாளரிடம் தெரிவித்து, சரியாக உள்ள வேறொரு வினாத் தொகுப்பினை பெற்றுக்கொள்ள வேண்டும். தேர்வு தொடங்கிய பின்பு, இது குறித்து முறையிட்டால் வினாத் தொகுப்பு மாற்றித் தரப்படமாட்டாது.
- எல்லா வினாக்களுக்கும் விடையளிக்கவும், எல்லா வினாக்களும் சமமான மதிப்பெண்கள் கொண்டவை.
- உங்களுடைய பதிவு எண்ணை இந்தப் பக்கத்தின் வலது மேல் மூலையில் அதற்கென அமைந்துள்ள இடத்தில் நீங்கள் எழுத வேண்டும். வேறு எதையும் வினாத் தொகுப்பில் எழுதக் கூடாது.
- விடைத்தாள் ஒன்று விடைகளை குறிப்பதற்கு அறைக்கண்காணிப்பாளரால் உங்களுக்கு வழங்கப்படும். விடைகளைக் குறிப்பது உள்ளிட்ட அவசியம் பின்பற்றப்பட வேண்டிய அறிவுரைகள் விடைத்தாளிலும், தேர்வுக்கூட அனுமதிச் சீட்டிலும் வழங்கப்பட்டுள்ளன.
- உங்களுடைய வினாத்தொகுப்பு, எண்ணை (Question Booklet Number) விடைத்தாளின் முதல் பக்கத்தில் அதற்கென அமைந்துள்ள இடத்தில் **கருமை நிற மையடைய பந்துமுனைப் பேனாவினால்** குறித்துக் காட்ட வேண்டும். வினாத்தொகுப்பு எண்ணை விடைத்தாளில் சரியாகக் குறித்துக் காட்டத் தவறினாலோ அல்லது குறிக்கத் தவறினாலோ உங்களுடைய விடைத்தாள் செல்லாததாகக்கப்படும்.
- ஒவ்வொரு வினாவும் A), (B), (C), (D), (E) என ஐந்து பதில்களைக் (விடைகள்) கொண்டுள்ளது. நீங்கள் A) அல்லது B) அல்லது C) அல்லது D) இவைகளில் ஒரே ஒரு சரியான விடையைத் தெரிவு செய்து விடைத்தாளில் குறித்துக்காட்ட வேண்டும். ஒரு கேள்விக்கு ஒன்றுக்கு மேற்பட்ட சரியான விடை இருப்பதாக நீங்கள் கருதினால், மிகச்சரியானது என நீங்கள் எதைக் கருதுகிறீர்களோ அந்த விடையை விடைத்தாளில் குறித்துக்காட்ட வேண்டும். உங்களுக்கு விடை தெரியவில்லை எனில், நீங்கள் (E) என்பதை அவசியம் நிரப்ப வேண்டும். எப்படியாயினும், ஒரு கேள்விக்கு ஒரே ஒரு விடையைத் தான் தேர்ந்தெடுக்க வேண்டும். நீங்கள் ஒரு கேள்விக்கு ஒன்றுக்கு மேற்பட்ட விடையளித்தால், அவற்றுள் ஒரு விடை சரியானதாக இருந்தாலும் அந்த விடை தவறானதாகவே கருதப்படும்.
- நீங்கள் வினாத் தொகுப்பின் எந்தப் பக்கத்தையும் நீக்கவோ அல்லது கிழிக்கவோ கூடாது. தேர்வு நேரத்தில் இந்த வினாத் தொகுப்பினையோ அல்லது விடைத்தாளையோ தேர்வு அறையை விட்டு வெளியில் எடுத்துச் செல்லக் கூடாது. தேர்வு முடிந்தபின் நீங்கள் உங்களுடைய விடைத்தாளை கண்காணிப்பாளரிடம் கொடுத்து விட வேண்டும். இவ்வினாத் தொகுப்பினை தேர்வு முடிந்த பின்னர் மட்டுமே நீங்கள் எடுத்துச் செல்ல அனுமதிக்கப்படுவீர்கள்.
- குறிப்புகள் எழுதிப்பார்ப்பதற்கு வினாத்தொகுப்பின் கடைசி பக்கத்திற்கு முன் உள்ள பக்கங்களை பயன்படுத்திக் கொள்ளலாம். இதைத்தவிர வினாத்தொகுப்பின் எந்த இடத்திலும் எந்தவித குறிப்புகளையும் எழுதக்கூடாது. இந்த அறிவுரை கண்டிப்பாக பின்பற்றப்படவேண்டும்.
- வினா வரிசை எண்கள் 101 முதல் 200 வரை (பகுதி - ஆ) ஆங்கில வடிவே இறுதியானது.
- நீங்கள் மேற்கண்ட அறிவுரைகளில் எவற்றையாவது பின்பற்றத் தவறினால் தேர்வாணையம் எடுக்கும் நடவடிக்கைகளுக்கு உள்ளாக நேரிடும் என அறிவுறுத்தப்படுகிறது.

↪

[Turn over

 For queries mail to For queries mail to : zerofeedback@shankariasacad.in; [Turn over

 Kindly Send Me Your Key Answer to Our email id - Padasalai.net@gmail.com



பகுதி - அ — பொதுத் தமிழ் (பத்தாம் வகுப்பு தரம்)

Part A — General Tamil (SSLC Std)

வினாக்கள் : 1-200

மொத்த மதிப்பெண்கள் : 300

Test 13

Questions : 1-200

Total Marks : 300

1. பேச்சுத்தமிழில் அமைந்த தொடரைத் தேர்ந்தெடுக்க.
 - A) அவருக்கு நல்லது கெட்டது நல்லாத் தெரியும்
 - B) புத்தகக் கண்காட்சி நடைபெறுகிறது
 - C) வறட்சி எல்லா இடங்களையும் பாதித்துள்ளது
 - D) மயில்கள் விறலியரைப் போல் ஆடுகின்றன
 - E) விடை தெரியவில்லை
2. பிழையான தொடரைத் தேர்ந்தெடுக்க.
 - A) காளைகளைப் பூட்டி வயலை உழுதனர்
 - B) மலைமீது ஏறிக் கல்வெட்டுகளைக் கண்டறிந்தனர்
 - C) காலையில் பூத்த மல்லிகை மணம் வீசியது
 - D) நெற்பயிர்கள் மழைநீரில் மூள்கின
 - E) விடை தெரியவில்லை
3. இலக்கியத்தையும் மொழியையும் ஒருசேரப் பேசுகின்ற இலக்கண நூல் எது?
 - A) யாப்பருங்கலக்காரிகை
 - B) தண்டியலங்காரம்
 - C) தொல்காப்பியம்
 - D) நன்னூல்
 - E) விடை தெரியவில்லை
4. “பழையன கழிதலும் புதியன புகுதலும்
வழுவல கால வகையி னானே” என்னும் தொடர் இடம்பெற்றுள்ள நூல் எது?
 - A) தொல்காப்பியம்
 - B) தண்டியலங்காரம்
 - C) நன்னூல்
 - D) யாப்பருங்கலக்காரிகை
 - E) விடை தெரியவில்லை
5. “மின்னேர் தனியாழி வெங்கதிரொன்று ஏனையது
தன்னேர் இலாத தமிழ்!” – இப்பாடலடிகளில் பயின்று வந்துள்ள தொடை நயம் யாவை?
 - A) அடிமோனை, அடி எதுகை
 - B) சீர்மோனை, சீர் எதுகை
 - C) அடி எதுகை, சீர்மோனை
 - D) சீர் எதுகை, அடிமோனை
 - E) விடை தெரியவில்லை
6. சாகித்திய அகாதெமி பரிசு பெற்ற சிற்பியின் கவிதை நூல் எது?
 - A) ஒளிப்பறவை
 - B) சர்ப்பயாகம்
 - C) ஒரு கிராமத்து நதி
 - D) சூரிய நிழல்
 - E) விடை தெரியவில்லை



7. சிற்பியின் உரைநடை நூல்களுள் பொருந்தா ஒன்றினைத் தேர்ந்தெடுக்க.
A) இலக்கியச் சிந்தனைகள் B) பூஜ்யங்களின் சங்கிலி
C) மலையாளக் கவிதை D) அலையும் சுவடும்
E) விடை தெரியவில்லை
8. தவறான இணையைத் தேர்ந்தெடுக்க.
(சொல்) (இலக்கணக்குறிப்பு)
A) வெங்கதிர் – பண்புத்தொகை
B) இலாத – இடைக்குறை
C) வியர்வை வெள்ளம் – உம்மைத்தொடர்
D) முத்துமுத்தாய் – அடுக்குத்தொடர்
E) விடை தெரியவில்லை
9. பின்வருவனவற்றுள் புறநானூற்றில் பயின்று வாராப் பாடலடிகளைத் தேர்ந்தெடுக்க.
A) இடுக வொன்றோ, சுடுகவொன்றோ;
படுவழிப் படுக, இப்புகழ் வெய்யோன் தலையே
B) படாஅம் ஈத்த கெடாஅ நல்லிசைக்
கடாஅ யானைக் கலிமான் பேக
C) புணரின் புணராது பொருளே; பொருள்வயின்
பிரியின் புணராது புணர்வே
D) நுந்தை தந்தைக்கு இவந்தந்தை தந்தை
E) விடை தெரியவில்லை
10. பின்வரும் கூற்றுகளைக் கருத்தில் கொள்க.
I. முல்லைக்கலியில், காளைகளில் பல இனங்களைக் காட்டுகிற சொற்கள் நிரம்பிக்
கிடக்கின்றன.
II. கிராஜநாராயணன், 'கிடை' எனும் குறுநாவலில் காளைகளின் அடையாளங்களைப் பல
பெயர்கள் சொல்லி அழைக்கிறார்.
மேற்கண்ட கூற்றுகளில் சரியானது எது/எவை?
A) I மட்டும் B) II மட்டும்
C) இரண்டும் D) இரண்டுமில்லை
E) விடை தெரியவில்லை
11. தி.சு. நடராசன் இயற்றிய பொருந்தாத ஒன்றைத் தேர்ந்தெடுக்க.
A) தமிழியக்கம் B) திறனாய்வுக்கலை
C) கவிதையெனும் மொழி D) தமிழின் பண்பாட்டு வெளிகள்
E) விடை தெரியவில்லை
12. 'காவியதர்சம்' என்னும் வடமொழி இலக்கண நூலைத் தழுவி எழுதப்பட்ட நூல் எது?
A) வீரசோழியம் B) நன்னூல்
C) தண்டியலங்காரம் D) இலக்கண விளக்கம்
E) விடை தெரியவில்லை



13. தண்டி வாழ்ந்த காலம்
A) கி.பி. 10ஆம் நூற்றாண்டு
B) கி.பி. 12ஆம் நூற்றாண்டு
C) கி.பி. 7ஆம் நூற்றாண்டு
D) கி.பி. 16ஆம் நூற்றாண்டு
E) விடை தெரியவில்லை
14. 'வம்சமணி தீபிகை' என்னும் நூலை 1879 இல் வெளியிட்டவர் யார்?
A) இளசைமணி
B) கவிகேசரி சாமி தீட்சிதர்
C) பரலி.சு.நெல்லையப்பர்
D) பாரதியார்
E) விடை தெரியவில்லை
15. 'பாரதி கடிதங்கள்' என்னும் நூலைப் பதிப்பித்தவர் யார்?
A) ரா.அ.பத்மநாபன்
B) இளசைமணி
C) சு.நெல்லையப்பர்
D) வ.உ.சி
E) விடை தெரியவில்லை
16. வ.உ. சிதரம்பரனாரின் வாழ்க்கை வரலாற்றை எழுதியவர் யார்?
A) பரலி.சு.நெல்லையப்பர்
B) பாரதியார்
C) ரா.அ. பத்மநாபன்
D) இளசைமணி
E) விடை தெரியவில்லை
17. பின்வருவனவற்றுள் சரியான இணையைத் தேர்ந்தெடுக்க.
(நூல்) (நூலாசிரியர்)
A) சுவரொட்டிகள் - ந.முத்துசாமி
B) பத்துப்பாட்டு ஆராய்ச்சி - திரு.வி.க
C) இலக்கண உலகில் புதிய பார்வை - தி.சு.நடராசன்
D) தமிழ் அழகியல் - டாக்டர் பொற்கோ
E) விடை தெரியவில்லை
18. விவிலியத்தைத் தமிழில் மொழிபெயர்த்தவர் யார்?
A) கால்டுவெல்
B) ஜி.யு.போப்
C) பெர்சிவல் பாதிரியார்
D) வீரமாமுனிவர்
E) விடை தெரியவில்லை
19. ஆறுமுக நாவலர் பற்றிய பின்வரும் கூற்றுகளுள் பொருந்தா ஒன்றினைத் தேர்ந்தெடுக்க.
A) புலமைக் கதிரவன் எனப் புகழப்படுகிறார்
B) தமிழ், வடமொழி, ஆங்கிலம் என்னும் மும்மொழிப் புலமைப் பெற்றார்.
C) திருக்குறள் பரிமேலழகர் உரை, சூடாமணி நிகண்டு, நன்னூல் - சங்கர நமச்சிவாயர் விருத்தியுரை என்று பல நூல்களைப் பதிப்பித்தார்.
D) திருவாவடுதுறை ஆதீனம் இவருக்கு 'நாவலர்' பட்டம் வழங்கியது.
E) விடை தெரியவில்லை



20. பின்வரும் கூற்றுகளைக் கருத்தில் கொள்க.
கூற்று (A) : 'வசனநடை கைவந்த வல்லாளர்' என்று புகழப்படுபவர் ஆறுமுக நாவலர்.
காரணம் (R) : ஆறுமுக நாவலர், புராண நூல்களை வசனமாக எழுதி அதனை அனைவரும் படிக்கும் எளிய வடிவமாக மாற்றினார்.
- குறியீடுகள்:**
- A) கூற்று மற்றும் காரணம் இரண்டும் சரி மற்றும் காரணம் என்பது கூற்றுக்கான சரியான விளக்கமாகும்
B) கூற்று மற்றும் காரணம் இரண்டும் சரி ஆனால் காரணம் என்பது கூற்றுக்கான சரியான விளக்கமல்ல
C) கூற்று சரி ஆனால் காரணம் தவறு
D) கூற்று தவறு ஆனால் காரணம் சரி
E) விடை தெரியவில்லை
21. அணியிலக்கணத்தை மட்டுமல்லாது பிற இலக்கணங்களையும் கூறும் இலக்கண நூல்களுள் பொருந்தா ஒன்றினைத் தேர்ந்தெடுக்க.
A) தொல்காப்பியம்
B) இலக்கண விளக்கம்
C) தொன்னூல் விளக்கம்
D) தண்டியலங்காரம்
E) விடை தெரியவில்லை
22. பாரதியாரின் கூற்றுகளுள் பொருந்தா ஒன்றினைத் தேர்ந்தெடுக்க.
A) பெண்ணைத் தாழ்மை செய்தோன் கண்ணைக் குத்திக் கொண்டான் பெண்ணை அடைத்தவன் கண்ணை அடைத்தான்
B) ஆணும் பெண்ணும் ஒருயிரின் இரண்டு தலைகள். அவை ஒன்றிலொன்று தாழ்வில்லை.
C) கல்வி இல்லாத பெண்கள் களர்நிலம்
D) தமிழ்நாட்டில் வீதிதோறும் தமிழ்ப்பள்ளிக்கூடங்கள் மலிக அந்தத் தமிழ்ப்பள்ளிக்கூடங்களிலே நவீன கலைகளெல்லாம் பயிற்சி பெற்று வளர்க
E) விடை தெரியவில்லை
23. தவறாகப் பிரிந்துள்ள சொல்லைத் தேர்ந்தெடுக்க.
A) பன்முகம் = பன்மை + முகம்
B) கடற்கரை = கடல் + கரை
C) மக்கட்பேறு = மக்கள் + பேறு
D) சொற்றுணை = சொல் + துணை
E) விடை தெரியவில்லை
24. பிழையான சொல்லைத் தேர்ந்தெடுக்க.
A) ஓட்டுநர்
B) அனுப்புநர்
C) உறுப்பினர்
D) பெறுநர்
E) விடை தெரியவில்லை
25. பின்வருவனவற்றுள் பிழையான கூற்றினைத் தேர்ந்தெடுக்க.
A) தமிழில் சொல்லின் தொடக்கமாக மெய்யெழுத்துகள் வருவதில்லை
B) மெல்லின மெய்யோடு சொல் முடியாது
C) வல்லின மெய்கள் ஈரொற்றாய் வாரா
D) ட், ற் என்னும் மெய்களை அடுத்து மெய்கள் வருவதில்லை
E) விடை தெரியவில்லை



26. “ஏங்கொலிநீர் ஞாலத்து இருளகற்றும்” என்னும் தொடர் இடம்பெற்றுள்ள நூல் எது?
A) நிலவுப்பூ B) தமிழ் பண்பாட்டு வெளிகள்
C) தண்டியலங்காரம் D) நன்னூல்
E) விடை தெரியவில்லை
27. தவறான இணையைத் தேர்ந்தெடுக்க.
(உவமைத்தொடர்) (பொருள்)
A) தாமரை இலை நீர்போல – பட்டும் படாமலும் இருத்தல்
B) கிணற்றுத்தவளை போல – எதிர்பாராத நிகழ்வு
C) எலியும் பூனையும் போல – பகை
D) அச்சாணி இல்லாத தேர்போல – சரியான வழிகாட்டியின்மை
E) விடை தெரியவில்லை
28. கலைச்சொல் தருக - Bibliography
A) புனைவு B) நூல் நிரல்
C) வாழ்க்கை வரலாறு D) கையெழுத்துப் பிரதி
E) விடை தெரியவில்லை
29. ஒலிவேறுபாடறிந்து பொருள் தருக
அலை அழை
A) வரவழைத்தல் கடலலை
B) கடலலை வரவழைத்தல்
C) கரைதல் வரவழைத்தல்
D) அலைத்தல் வரவழைத்தல்
E) விடை தெரியவில்லை
30. “நானென்பது வேறொருவன்” என்னும் கவிதை நூலினை இயற்றியவர் யார்?
A) அகிலன் B) அய்யப்ப மாதவன்
C) ந.பிச்சமுர்த்தி D) ரா.அ.பத்மநாபன்
E) விடை தெரியவில்லை
31. “உயர்திணை என்மனார் மக்கட் சுட்டே
அஃறிணை என்மனார் அவரல பிறவே” – இந்நூற்பா இடம்பெற்ற இலக்கண நூல் எது?
A) நன்னூல் B) புறப்பொருள் வெண்பாமாலை
C) தொல்காப்பியம் D) தண்டியலங்காரம்
E) விடை தெரியவில்லை
32. பொருத்துக.
a) அவன், அவள், அவர் 1. உள்படுத்தாத் தன்மைப் பன்மை
b) நாங்கள் முயற்சி செய்வோம் 2. உள்பாட்டுத் தன்மை பன்மை
c) நாம் முயற்சி செய்வோம் 3. தன்மைப் பன்மைப் பெயர்கள்
d) நாங்கள், நாம் 4. பதிலிடு பெயர்கள்



குறியீடுகள்:

a b c d

A) 4 3 1 2

B) 1 2 4 3

C) 3 2 1 4

D) 4 1 2 3

E) விடை தெரியவில்லை

33. பொய்யா வானம் புதுப்பெயல் பொழிந்தன - அடிக்கோடிட்ட சொல்லின் இலக்கணக்குறிப்பு தருக.

A) பெயரெச்சம்

B) பொருள்மாறா ஈடுபெட்ட எதிர்மறைப் பெயரெச்சம்

C) எதிர்மறைப் பெயரெச்சம்

D) ஈறுகெட்ட எதிர்மறைப் பெயரெச்சம்

E) விடை தெரியவில்லை

34. நடுவன் அரசு பேரிடர் மேலாண்மை ஆணையத்தை அமைத்த ஆண்டு?

A) டிசம்பர் 2005

B) டிசம்பர் 2004

C) டிசம்பர் 2009

D) டிசம்பர் 2010

E) விடை தெரியவில்லை

35. நெடுநல்வாடையின் பாட்டுடைத்தலைவன் யார்?

A) பாண்டியன் நெடுஞ்செழியன்

B) கரிகாற் சோழன்

C) இளந்திரையன்

D) நக்கீரன்

E) விடை தெரியவில்லை

36. நெடுநல்வாடை இடம்பெறும் நூல் தொகுப்பு எது?

A) பத்துப்பாட்டு

B) எட்டுத்தொகை

C) பதினெண் கீழ்க்கணக்கு

D) அறநூல்கள்

E) விடை தெரியவில்லை

37. பிழையான தொடரினைத் தேர்ந்தெடுக்க.

A) அவர் வந்தார்

B) அவர்கள் வந்தார்கள்

C) ஒவ்வொரு பள்ளியும் சுற்றுச்சூழல் பாதுகாப்பு விழிப்புணர்வை ஏற்படுத்தி வருகிறது

D) நாம் முயற்சி செய்தேன்

E) விடை தெரியவில்லை

38. தமிழின் முதல் நாவலான பிரதாப முதலியார் சத்திரத்தை எழுதியவர் யார்?

A) மாயூரம் வேதநாயகம்

B) ம.பொ.சி

C) ஆறுமுக நாவலர்

D) பரிதிமாற்கலைஞர்

E) விடை தெரியவில்லை



39. 'கிழக்கு வாசல் உதயம்' என்ற திங்களிதழின் ஆசிரியர் யார்?
A) உத்தமசோழன் B) சிற்பி. பாலசுப்ரமணியன்
C) அய்யப்ப மாதவன் D) வண்ணதாசன்
E) விடை தெரியவில்லை
40. 'நெடுநல்வாடை' பற்றிய பின்வரும் கூற்றுகளைக் கருத்தில் கொள்க.
I. 188 அடிகளைக் கொண்டது.
II. ஆசிரியப்பாவால் இயற்றப்பட்டது.
III. தலைவனைப் பிரிந்த தலைவிக்குத் துன்பமிகுதியால் நல்வாடையாகவும் போர்ப் பாசறையிலிருக்கும் தலைவனுக்கு வெற்றி பெற ஏதுவான நெடுவாடையாகவும் இருப்பதால் நெடுநல்வாடை எனும் பெயர் பெற்றது.
மேற்கண்ட கூற்றுகளில் சரியானவை எவை?
A) I மற்றும் II மட்டும் B) II மற்றும் III மட்டும்
C) I மற்றும் III மட்டும் D) மேற்கண்ட அனைத்தும்
E) விடை தெரியவில்லை
41. 'கூதிர்ப்பருவம்' என்பவை
A) ஆவணி, புரட்டாசி B) ஐப்பசி, கார்த்திகை
C) ஆடி, ஆவணி D) மார்கழி, தை
E) விடை தெரியவில்லை
42. 'கண்ணி' என்பது
A) கழுத்தில் அணியும் மாலை
B) தலையில் சூடும் மாலை
C) கையில் அணியும் அணிகலன்
D) காலில் அணியும் கழல்
E) விடை தெரியவில்லை
43. கூதிர்ப்பாசறை என்பது
A) போர்மேற் சென்ற அரசன் குளிர் காலத்தில் தங்கும் படைவீடு
B) போர்மேற் சென்ற அரசன் தோற்றுப் பதுங்கும் படைவீடு
C) தலைவனும் தலைவியும் குளிர்காலத்தில் தங்கும் வீடு
D) போரில் காயம் அடைந்த மன்னன் சிகிச்சை பெறுமிடம்
E) விடை தெரியவில்லை
44. சரியானதைத் தேர்ந்தெடுக்க.
A) ஒவ்வொரு வீடுகளிலும் நூலகம் உள்ளது.
B) ஒவ்வொரு வீடுகளிலும் நூலகம் உள்ளன.
C) ஒவ்வொரு வீட்டிலும் நூலகம் உள்ளது.
D) ஒவ்வொரு வீட்டிலும் நூலகம் உள்ளன.
E) விடை தெரியவில்லை



45. “குன்று குளிர்ப்பன்ன கூதிர்ப் பாணாள்” – இவ்வடிகளில் இடம்பெற்றுள்ள மோனை எது?
A) இணை B) பொழிப்பு
C) ஒரூஉ D) கூழை
E) விடை தெரியவில்லை
46. சொல்லோடு பொருளைப் பொருத்துக.
(சொல்) (பொருள்)
a) ஆர்கலி 1. விலங்கு
b) மா 2. கன்னம்
c) புலம்பு 3. கடல்
d) கவுள் 4. தனிமை
5. வெள்ளம்
- குறியீடுகள்:**
- | | a | b | c | d |
|----|---|---|---|---|
| A) | 5 | 1 | 4 | 2 |
| B) | 2 | 4 | 3 | 5 |
| C) | 3 | 5 | 1 | 4 |
| D) | 4 | 1 | 2 | 3 |
- E) விடை தெரியவில்லை
47. கவுள் பூட்டியுட நடுங்க – அடிக்கோட்ட சொல்லின் இலக்கணக் குறிப்பு தருக.
A) செய்யுளிசை அளபெடை B) இன்னிசை அளபெடை
C) இசைநிறை அளபெடை D) சொல்லிசை அளபெடை
E) விடை தெரியவில்லை
48. பின்வருவனவற்றுள் சங்க இலக்கியத்தில் இடம்பெறாத சொற்கள் எவை?
A) அறவோர், துறவோர் B) திருமணமும் குடும்பமும்
C) மன்றங்களும் அவைகளும் D) நிதியமும் சுங்கமும்
E) விடை தெரியவில்லை
49. பின்வரும் கூற்றுகளைக் கருத்தில் கொள்க.
I. சங்க காலத்தில், கண சமூகத்திற்குத் தாயே தலைமை வகித்தார்.
II. திருமணம், குடும்பம் எனும் சொற்கள், தொல்காப்பியத்தில் எங்கும் இடம் பெறவில்லை.
மேற்கண்ட கூற்றுகளில் சரியானது எது/எவை?
A) I மட்டும் B) II மட்டும்
C) இரண்டும் D) இரண்டுமில்லை
E) விடை தெரியவில்லை
50. “மனையுறை மகளிர்க்கு ஆடவர் உயிரே” என்னும் பாடல்வரியானது இடம்பெற்றுள்ள நூல் எது?
A) நற்றிணை B) குறுந்தொகை
C) அகநானூறு D) பதிற்றுப்பத்து
E) விடை தெரியவில்லை



51. 'மணந்தகம்' என்பது
A) திருமணக்கூடம் B) வீடு
C) கோவில் D) இல்லறத் தொடக்கம்
E) விடை தெரியவில்லை
52. வல்லினம் மிகும், மிகாத் தொடர்களின் பொருளறிந்து பொருத்துக.
a) பாலை பாடினான் 1. தேரை என்னும் உயிரினத்தைப் பார்த்தான்
b) பாலைப் பாடினான் 2. தேரினைப் பார்த்தான்
c) தேரை பார்த்தான் 3. பாலினைப் பாடினான்
d) தேரைப் பார்த்தான் 4. பாலைத் திணை பாடினான்
குறியீடுகள்:

	<i>a</i>	<i>b</i>	<i>c</i>	<i>d</i>
A)	4	3	2	1
B)	1	2	4	3
C)	4	3	1	2
D)	4	1	2	3

E) விடை தெரியவில்லை
53. 'இலக்கிய மானிடவியல்' என்னும் நூலை இயற்றியவர் யார்?
A) சுப்பிரமணிய பாரதியார் B) பக்தவத்சல பாரதியார்
C) ஜராவதம் மகாதேவன் D) பாலகிருஷ்ணன்
E) விடை தெரியவில்லை
54. 'மஸ்னவி' என்பது
A) ஆப்கானிய இலக்கியம்
B) சத்தியமூர்த்தியின் மொழிபெயர்ப்பு
C) ஜலாலுத்தீன் ரூமியின் சூஃபி தத்துவப்படைப்பு
D) பண்பாட்டை வலியுறுத்தும் இலக்கியம்
E) விடை தெரியவில்லை
55. 'தம்மனை', 'நும்மனை' என மனைவியின் இல்லத்தையும் கணவனின் இல்லத்தையும் பிரித்துப் பேசும் நூல் எது?
A) குறுந்தொகை B) அகநானூறு
C) ஐங்குறுநூறு D) கலித்தொகை
E) விடை தெரியவில்லை
56. தற்காலிகத் தங்குமிடத்தைப் 'புக்கில்' என்று கூறும் நூல் எது?
A) அகநானூறு B) புறநானூறு
C) கலித்தொகை D) குறுந்தொகை
E) விடை தெரியவில்லை



57. தாய்வழிக் குடும்பம் பற்றிய பின்வரும் கூற்றுகளைக் கருத்தில் கொள்க.
- I. அகநானூற்றில், திருமணத்திற்குப் பின் மனைவியின் இல்லத்திற்குச் சென்று கணவன் வாழ்வதே நடைமுறையாக இருந்துள்ளது.
- II. தாய்வழி முறையில் குடும்பத்தின் சொத்தும் வளங்களும் செல்வங்களும் பெண்களுக்குச் சென்று சேர்ந்தன.
- III. பரிபாடல் கூறும் சேரநாட்டு மருமக்கள் தாய் முறை தாய்வழிக் குடும்பத்திற்கு சிறந்த எடுத்துக்காட்டுகளாகும்.
- மேற்கண்ட கூற்றுகளில் சரியானவை எவை?
- A) I மற்றும் II மட்டும்
B) II மற்றும் III மட்டும்
C) I மற்றும் III மட்டும்
D) மேற்கண்ட அனைத்தும்
E) விடை தெரியவில்லை
58. தவறான இணையைத் தேர்ந்தெடுக்க.
(பாடலடிகள்) (நூல்)
- A) சிறுவர்தாயே பேரிற் பெண்டே - புறநானூறு
B) ஆர்கலி முனைஇய கொடுங்கோல் கோவலர் - நெடுநல்வாடை
C) தன்னேர் இலாத தமிழ் - தொல்காப்பியம்
D) உள்ளொன்று வைத்துப் புறம்பொன்று பேசுவார் - தெய்வ மணி மாலை
உறவுகல வாமை வேண்டும்
- E) விடை தெரியவில்லை
59. “மாண்டது என்மாயப் பாசம்” என்று யார் யாரிடம் கூறியது?
- A) கையேயி, இராமனிடம்
B) குகன், இராமனிடம்
C) சவரி, இராமனிடம்
D) இராமன் அனுமனிடம்
E) விடை தெரியவில்லை
60. கவிச் சக்கரவர்த்தி கம்பரின் காலம்
- A) கி.பி. 9 ஆம் நூற்றாண்டு
B) கி.பி. 10 ஆம் நூற்றாண்டு
C) கி.பி. 11 ஆம் நூற்றாண்டு
D) கி.பி. 12 ஆம் நூற்றாண்டு
E) விடை தெரியவில்லை
61. சடாயு உயிர் நீத்த படலம் இடம்பெற்றுள்ள காண்டம் எது?
- A) அயோத்தியா காண்டம்
B) ஆரணிய காண்டம்
C) கிட்கிந்தா காண்டம்
D) சுந்தர காண்டம்
E) விடை தெரியவில்லை
62. குன்றுகுழுவான் மகன் யார்?
- A) இராமன்
B) சுகீர்வன்
C) அனுமன்
D) விபீடணன்
E) விடை தெரியவில்லை



63. பிழையற்ற தொடர் எது?
A) எனது மனைவி
B) அரசரது மகன்
C) மிதவண்டியில் சென்றவர் பேருந்து மோதி காயம்
D) நடு சென்டரில் நின்றான்
E) விடை தெரியவில்லை
64. பிழையான தொடரைக் காண்க.
A) கோவலன் மதுரைக்குச் சென்றான்
B) அவன் வெண்மதியிடம் பேசினான்
C) சென்னையிலிருந்து நேற்று வருகிறான்
D) குதிரையும் யானையும் வேகமாக ஓடின
E) விடை தெரியவில்லை
65. முறையாக அமையப் பெற்றுள்ள தொடரைத் தேர்ந்தெடுக்க.
A) இராமனுடன் இலக்குவனும் காட்டிற்குப் பணிவிடை செய்யப் புறப்பட்டான்
B) பணிவிடை செய்ய இராமனுடன் இலக்குவனும் காட்டிற்குப் புறப்பட்டான்.
C) காட்டில் இராமனுக்குப் பணிவிடை செய்ய இலக்குவனும் புறப்பட்டான்.
D) இராமனுக்குப் பணிவிடை செய்ய இலக்குவனும் காட்டிற்குப் புறப்பட்டான்.
E) விடை தெரியவில்லை
66. 'நாடகவியல்' என்னும் நாடக இலக்கண நூலை இயற்றியவர் யார்?
A) மறைமலையடிகள்
B) பரிதிமாற்கலைஞர்
C) மு.வரதராசனார்
D) ஆறுமுக நாவலர்
E) விடை தெரியவில்லை
67. கிரா என்னும் முன்னத்தி ஏரைப் பின் தொடர்கின்ற பின்னத்தி ஏர் யார்?
A) பூ. மாணிக்கவாசகர்
B) கு.அழகிரிசாமி
C) உத்தமசோழன்
D) ஜானகிராமன்
E) விடை தெரியவில்லை
68. பூமணியின் சாகித்திய அகாதெமி விருது பெற்றுள்ள புதினம் எது?
A) வெக்கை
B) கொம்மை
C) அஞ்சாடி
D) வயிறுகள்
E) விடை தெரியவில்லை
69. பொருட்பாலில் உள்ள இயல்கள்
A) பாயிரவியல், இல்லறவியல், துறவறவியல், ஊழியல்
B) அரசியல், அங்கவியல், ஒழிபியல்
C) களவியல், கற்பியல்
D) பாயிரவியல், அங்கவியல், ஒழிபியல்
E) விடை தெரியவில்லை



70. பரிதிமாற்கலைஞரின் கீழ்க்கண்ட எந்த நூலினை ஜி.யு.போப் அவர்கள் ஆங்கிலத்தில் மொழிபெயர்த்துள்ளார்?
- A) மானவிஜயம்
B) ரூபாவதி
C) கலாவதி
D) தனிப்பாசுரத் தொகை
E) விடை தெரியவில்லை
71. பரிதிமாற்கலைஞர் 'களவழி நாற்பது' என்னும் நூலைத் தழுவி எழுதப்பட்ட நூல் எது?
- A) ரூபாவதி
B) தனிப்பாசுரத்தொகை
C) கலாவதி
D) மானவிஜயம்
E) விடை தெரியவில்லை
72. "திருந்திய பண்பும், சீர்த்த நாகரிகமும் பொருந்திய தூய்மொழி செம்மொழி, ஆயின் தமிழ் உயிர்தனிச் செம்மொழியாம்" என்று கூறியவர் யார்?
- A) கவிஞாயிறு
B) மொழிஞாயிறு
C) பாவலரேறு
D) திராவிட சாஸ்திரி
E) விடை தெரியவில்லை
73. பொருத்துக.
- | | |
|----------------------------|------------------|
| (நூல்) | (நூலாசிரியர்) |
| a) துறைமுகம் | 1. பசுவய்யா |
| b) சக்கரவர்த்தித் திருமகன் | 2. அனுராதா ரமணன் |
| c) சிறை | 3. இராஜாஜி |
| d) ஒரு புளிய மரத்தின் கதை | 4. சுரதா |
- குறியீடுகள்:
- | | | | | |
|----|----------|----------|----------|----------|
| | a | b | c | d |
| A) | 4 | 3 | 2 | 1 |
| B) | 2 | 4 | 3 | 1 |
| C) | 3 | 2 | 1 | 4 |
| D) | 4 | 1 | 2 | 3 |
- E) விடை தெரியவில்லை
74. 'குடும்பம்' எனும் சொல் முதன்முதலில் இடம்பெற்றுள்ள நூல் எது?
- A) தொல்காப்பியம்
B) நன்னூல்
C) சிலப்பதிகாரம்
D) திருக்குறள்
E) விடை தெரியவில்லை
75. "தெய்வக்கவி பாரதி ஓர் ஆசான் திண்ணம்" என்று பாரதியாரை பாராட்டியவர் யார்?
- A) நாமக்கல் கவிஞர்
B) மக்கள் கவிஞர்
C) புரட்சிக்கவி
D) உவமைக் கவிஞர்
E) விடை தெரியவில்லை



76. சரியான தொடரினைத் தேர்ந்தெடுக்க.
A) கூட்டம் ஆண்டுதோறும் மறைந்த தி.ஜானகிராமன் நினைவாகக் நடைபெறும்.
B) மறைந்த தி.ஜானகிராமன் நினைவாக ஆண்டுதோறும் கூட்டம் நடைபெறும்.
C) தி.ஜானகிராமன் நினைவாக ஆண்டுதோறும் மறைந்த கூட்டம் நடைபெறும்.
D) மறைந்த நினைவாக தி.ஜானகிராமன் ஆண்டுதோறும் கூட்டம் நடைபெறும்.
E) விடை தெரியவில்லை
77. பிரித்தெழுதுக: ஆங்கவற்றுள்
A) ஆ + வற்றுள்
B) ஆங்கு + வற்றுள்
C) ஆம் + அவற்றுள்
D) ஆங்கு + அவற்றுள்
E) விடை தெரியவில்லை
78. கம்பராமாயணத்தில் “அனகன்” எனக் குறிப்பிடப்பட்டவன் யார்?
A) குகன்
B) இலக்குவன்
C) இராமன்
D) சவரி
E) விடை தெரியவில்லை
79. ஞாலத்தின் மாணப் பெரிது எது?
A) செய்யாமல் செய்த உதவி
B) பயன்தூக்கார் செய்த உதவி
C) காலத்தினால் செய்த நன்றி
D) விலைப்பொருட்டால் ஊன் தருதல்
E) விடை தெரியவில்லை
80. முயல்வாருள் எல்லாம் தலையாயவர்?
A) வையத்துள் வாழ்வாங்கு வாழ்பவர்
B) செய்யாமல் உதவி செய்பவர்
C) இலமென்று வெஃகுதல் செய்யாதவர்
D) இயல்பினான் வாழ்க்கை வாழ்பவன்
E) விடை தெரியவில்லை
81. ‘வெஃகாமை’ என்னும் அதிகாரத்தின் பொருள் யாது?
A) விரும்பாமை
B) சினம் கொள்ளாதிருத்தல்
C) மறவாமை
D) வருத்தப்படாமல் இருத்தல்
E) விடை தெரியவில்லை
82. வான்உறையும் தெய்வத்துள் வைக்கப்படுபவர் யார்?
A) இலமென்று வெஃகுதல் செய்யாதவர்
B) பயன்தூக்காது உதவி செய்பவர்
C) வையத்துள் வாழ்வாங்கு வாழ்பவர்
D) இயல்பினான் இல்வாழ்க்கை வாழ்பவன்
E) விடை தெரியவில்லை
83. “வள்ளுவனைப் பெற்றதால் பெற்றதே புகழ் வையகமே” – எனப் புகழ்ந்து பாராட்டியவர் யார்?
A) நாமக்கல் கவிஞர்
B) பாரதியார்
C) பாரதிதாசன்
D) திரு.வி.க
E) விடை தெரியவில்லை



84. 'சினம் என்னும் சேர்ந்தாரைக் கொல்லி' இக்குறட்பாவில் பயின்று வந்துள்ள அணி யாது?
A) பிறிதுமொழிதல் அணி B) ஏகதேச உருவக அணி
C) உவமை அணி D) உருவக அணி
E) விடை தெரியவில்லை
85. மில்லனின் சுவர்க்க நீக்கத்தைத் தமிழில் மொழி பெயர்த்தவர் யார்?
A) வெள்ளக்கால் ப.சுப்பிரமணியார் B) நாவலர் சோமசுந்தர பாரதியார்
C) டாக்டர். மா. இராசமாணிக்கனார் D) வ.சுப. மாணிக்கம்
E) விடை தெரியவில்லை
86. "மஞ்சள் குளிப்பாட்டி மையிட்டு முப்பாலும்
மஞ்சப் புகட்ட மிகவளர்ந்தாய்" எனத் தமிழ்மொழியைச் சிறப்பித்துக் கூறும் நூல் எது?
A) குடும்ப விளக்கு B) தமிழ்விடு தூது
C) நன்னூல் D) தொல்காப்பியம்
E) விடை தெரியவில்லை
87. 'புலமைப் பெருங்கடல்' என்று அழைக்கப்படுபவர் யார்?
A) உ.வே.சாமிநாதர் B) திருவள்ளுவர்
C) மீனாட்சி சுந்தரனார் D) பரிதிமாற் கலைஞர்
E) விடை தெரியவில்லை
88. சுரதா நடத்திய இதழ் எது?
A) கர்மயோகி B) நடை
C) காவியம் D) எழுத்து
E) விடை தெரியவில்லை
89. தாவோ தே ஜிங் எனும் நூலை மொழிப்பெயர்த்தவர் யார்?
A) சி.மணி B) வல்லிக்கண்ணன்
C) ந.பிச்சமுர்த்தி D) பாரதியார்
E) விடை தெரியவில்லை
90. 'சுரதா' பற்றிய பின்வரும் கூற்றுகளைக் கருத்தில் கொள்க.
I. 'உவமைக் கவிஞர்' எனச் சிறப்பிக்கப்படுகிறார்.
II. இவரது இயற்பெயர் இராசகோபாலன். பாரதிதாசன்மீது கொண்ட பற்றுதலால் சுப்புரத்தினதாசன் என்று மாற்றி, அதன் சுருக்கமாக சுரதா என்னும் பெயரில் மரபுக் கவிதைகள் எழுதினார்.
III. "தேன்மழை, துறைமுகம், மங்கையர்க்கரசி, அமுதும் தேனும்" உள்ளிட்ட பல நூல்களைப் படைத்துள்ளார்.
மேற்கண்ட கூற்றுகளில் சரியானவை எவை?
A) I மற்றும் II மட்டும் B) II மற்றும் III மட்டும்
C) I மற்றும் III மட்டும் D) மேற்கண்ட அனைத்தும்
E) விடை தெரியவில்லை



91. வே.மாலி, செல்வம் என்ற புனைப்பெயர்களில் தனது படைப்புகளை வெளியிட்டவர் யார்?
A) சுரதா B) ந.பிச்சமூர்த்தி
C) கல்யாணஜி D) சி.மணி
E) விடை தெரியவில்லை

92. பரிசில் துறை என்பது
A) பரிசு வேண்டி வாயிலில் நிற்பது
B) மன்னன் பரிசளித்துப் புலவரைப் பாராட்டுவது
C) பரிசு பெற்ற புலவன் மகிழ்ச்சியாக இல்லறம் திரும்புவது
D) புலவருக்கு பரிசளிப்பது
E) விடை தெரியவில்லை

93. சொல்லோடு பொருளைப் பொருத்துக.

(சொல்) (பொருள்)

- | | |
|----------|----------|
| a) உரன் | 1. எருமை |
| b) கலன் | 2. நாய் |
| c) மழு | 3. வலிமை |
| d) பகடு | 4. கோடரி |
| e) சூமலி | 5. யாழ் |

குறியீடுகள்:

- | | a | b | c | d | e |
|----|------------------|---|---|---|---|
| A) | 1 | 3 | 4 | 2 | 5 |
| B) | 3 | 5 | 4 | 1 | 2 |
| C) | 3 | 2 | 1 | 4 | 5 |
| D) | 4 | 1 | 2 | 5 | 3 |
| E) | விடை தெரியவில்லை | | | | |

94. “அறிவும் புகழும் உடையோர் ...
.
.
எத்திசைச் செலினும், அத்திசைச் சோறே” என்று பாடியவர் யார்?

- | | |
|------------------------|-------------------|
| A) ஒளவையார் | B) பிசிராந்தையார் |
| C) முடத்தாமக்கண்ணியார் | D) கோலூர்கிழார் |
| E) விடை தெரியவில்லை | |

95. சி.மணியன் படைப்புகளுள் பொருந்தா ஒன்றினைத் தேர்ந்தெடுக்க.

- | | |
|---------------------|-------------------------|
| A) வரும்போகும் | B) யாப்பும் கவிதையும் |
| C) ஒளிச்சேர்க்கை | D) நீங்களும் கவிபாடலாம் |
| E) விடை தெரியவில்லை | |



96. தவறான இணையைத் தேர்ந்தெடுக்க.

(சொல்)

(இலக்கணக்குறிப்பு)

- A) வயங்குமொழி - பண்புத்தொகை
B) அடையா - ஈறுகெட்ட எதிர்மறைப் பெயரெச்சம்
C) அறிவும் புகழும் - எண்ணும்மை
D) சிறாஅர் - இசைநிறை அளபெடை
E) விடை தெரியவில்லை

97. பின்வரும் இணைகளைக் கருத்தில் கொள்க.

(அடிவரையறை)

(வெண்பா)

- I. இரண்டடி வெண்பா - குறள் வெண்பா
II. மூன்றடி வெண்பா - இன்னிசைச் சிந்தியல் வெண்பா
III. நான்கடி வெண்பா - இன்னிசை வெண்பா
IV. நான்கடி முதல் பன்னிரண்டடிவரை - பஃறொடை வெண்பா
V. பதின்மூன்றடி முதல் அதற்கும் மேற்பட்ட அடிகள் வரை - கலிவெண்பா
மேற்கண்ட இணைகளில் எத்தனை இணைகள் சரியானவை?
A) 3 B) 4
C) 5 D) 2
E) விடை தெரியவில்லை

98. உவேசா பெற்ற பட்டங்களில் அடங்காதது எது?

- A) மகாமகோபாத்தியாய B) திராவிட வித்தியா பூஷணம்
C) தாஷிணாத்திய கலாநிதி D) நாவலர்
E) விடை தெரியவில்லை

99. வெண்சீர் வெண்டளை என்பதன் வாய்ப்பாடு என்ன?

- A) மாமுன் நேர் B) விளம் முன் நேர்
C) காய் முன் நேர் D) கனி முன் நேர்
E) விடை தெரியவில்லை

100. 'வெண்பா' பற்றிய பின்வரும் கூற்றுகளுள் பொருந்தா ஒன்றினைத் தேர்ந்தெடுக்க.

- A) 'வெண்பா' என்று அழைக்கப்படுகிறது
B) சொல்லுதலை அடிப்படையாகக் கொண்டு தோன்றியது
C) சங்க காலத்திலிருந்து வெண்பா இலக்கியங்கள் பெருகத் தொடங்கின
D) ஏனைய பாக்களை விட வரையறுத்த இலக்கணக் கட்டுக்கோப்பு உடையது
E) விடை தெரியவில்லை

101. பிழையான தொடரினைத் தேர்ந்தெடுக்க.

- A) நம் மாநிலம் இந்த ஆண்டு வறட்சியால் பாதிக்கப்பட்டது.
B) எங்கள் ஊரில் நூலகக் கட்டடம் கட்ட அரசு நிதி ஒதுக்கியது.
C) ரங்கன் வெங்கலப் பாத்திரக்கடை வைத்திருக்கிறார்.
D) வானம் பார்த்த பூமியில் பயிறு வகைகள் பயிரிடப்படுகின்றன.
E) விடை தெரியவில்லை



102. பின்வரும் இணைகளைக் கருத்தில் கொள்க.
(ஆங்கிலச் சொல்) (தமிழ்ச்சொல்)
- | | |
|---------------------|----------------------|
| I. Conveyor Belt | - ஊர்திப்பட்டை |
| II. Passport | - கடவுச்சீட்டு |
| III. Visa | - நுழைவு இசைவு |
| IV. Domestic Flight | - உள்ளாட்டு வானூர்தி |
- மேற்கண்ட இணைகளில் எத்தனை இணைகள் சரியானவை?
- | | |
|------|------|
| A) 3 | B) 1 |
| C) 2 | D) 4 |
- E) விடை தெரியவில்லை
103. வள்ளலாரின் சிந்தனைகளின் ஊற்றுக்களமாக இருந்த இடம் எது?
- | | |
|----------------|----------------|
| A) மருதூர் | B) வடலூர் |
| C) மயிலாப்பூர் | D) கந்தகோட்டம் |
- E) விடை தெரியவில்லை
104. தவறாக பிரிந்துள்ள சொல்லைத் தேர்ந்தெடுக்க.
- | |
|-------------------------------|
| A) உள்ளொன்று = உள் + ஒன்று |
| B) ஒருமையுடன் = ஒருமை + உடன் |
| C) பும்பாவாய் = பூ + வாய் |
| D) பெருங்கடல் = பெருமை + கடல் |
- E) விடை தெரியவில்லை
105. 'தசரதன் குறையும் கைகேயி நிறையும்' என்ற நூலை இயற்றியவர் யார்?
- | | |
|------------------------|-------------------------|
| A) மறைமலையடிகள் | B) அறிஞர் அண்ணா |
| C) சோமசுந்தர பாரதியார் | D) சுத்தானந்த பாரதியார் |
- E) விடை தெரியவில்லை
106. "பிறப்பினால் எவர்க்கும் - உலகில்
பெருமை வாராதப்பா!
சிறப்பு வேண்டுமெனில் - நல்ல
செய்கை வேண்டுமப்பா! - என்று பாடியவர் யார்?
- | | |
|---------------------------------|---------------|
| A) கவிமணி தேசிக விநாயகம் பிள்ளை | B) திரு.வி.க |
| C) பாரதியார் | D) பாரதிதாசன் |
- E) விடை தெரியவில்லை
107. 'ஒரு தமிழ்க்கப்பல்' என வ.உ.சி ஆல் பெருமிதத்துடன் குறிப்பிடப்பட்டவர் யார்?
- | | |
|------------------------|---------------------|
| A) பாரதியார் | B) பாரதிதாசன் |
| C) சோமசுந்தர பாரதியார் | D) சுத்தானந்த பாரதி |
- E) விடை தெரியவில்லை



108. இராமலிங்க அடிகள் இயற்றிய திருவருட்பாவில் எத்தனையாவது திருமுறையில் 'தெய்வமணிமாலை' என்னும் பாமாலை இடம்பெற்றுள்ளது?
- A) இரண்டாம் B) மூன்றாவது
C) நான்காவது D) ஐந்தாவது
E) விடை தெரியவில்லை
109. 'இராமலிங்க அடிகள்' பற்றிய கூற்றுகளுள் பொருந்தா ஒன்றினைத் தேர்ந்தெடுக்க.
- A) சமரச சன்மார்க்க நெறிகளை வகுத்தவரும் பசிப்பிணி போக்கியவருமான அடிகள் சிதம்பரத்தை அடுத்த மருதூரில் பிறந்தார்.
B) தெய்வமணிமாலை திருத்தணி முருகப்பெருமான் மீது பாடப்பட்டதாகும்.
C) வள்ளலாரின் பாடல்கள், ஊனை உருக்கி உள்ளொளி பெருக்கும் தன்மையன.
D) திருவருட்பா, மனுமுறை கண்ட வாசகம், ஜீவகாருண்ய ஒழுக்கம் ஆகியன இவரது படைப்புகள்.
E) விடை தெரியவில்லை
110. திருஞானசம்பந்தர் பாடிய - திருமயிலாப்பூர் பதிகம் இடம்பெற்றுள்ள திருமுறை என்ன?
- A) முதலாம் திருமுறை B) இரண்டாம் திருமுறை
C) மூன்றாம் திருமுறை D) ஒன்பதாம் திருமுறை
E) விடை தெரியவில்லை
111. 17ஆம் நூற்றாண்டைச் சேர்ந்த சுவரோவியமான 'முத்துப்பல்லக்கில் தேவாரம் தந்த திருஞானசம்பந்தர்' ஓவியம் எங்கு காணப்படுகிறது?
- A) மயிலாப்பூர் B) காஞ்சிபுரம்
C) சிதம்பரம் D) திருநெல்வேலி
E) விடை தெரியவில்லை
112. யாருடைய பாடல்களில் சமுதாயத்தின் பொருளாதார கலை பண்பாட்டு நிலைகள், தமிழுக்கு இருந்த உயர்நிலை, இசை தத்துவம், சமயக் கோட்பாடுகள் ஆகிய அனைத்தும் விரவிக் காணப்படுகின்றன?
- A) ஒளவையார் B) திருமூலர்
C) பாரதியார் D) திருஞான சம்பந்தர்
E) விடை தெரியவில்லை
113. தம்முடைய வட்டார எழுத்திற்கு 'கரிசல் இலக்கியம்' என்று பெயரிட்டவர் யார்?
- A) புதுமைப்பித்தன் B) சண்முகசுந்தரம்
C) தி.ஜானகிராமன் D) கி.ராஜநாராயணன்
E) விடை தெரியவில்லை
114. பாடல் வைப்பு முறையில் பாடல் எண்ணிற்கு ஏற்பத் திணைகள் வரிசையாக வைத்துத் தொகுக்கப்பட்ட நூல் எது?
- A) ஐங்குறுநூறு B) குறுந்தொகை
C) அகநானூறு D) புறநானூறு
E) விடை தெரியவில்லை



115. தோப்பில் முகமது மீரான் பற்றிய பின்வரும் கூற்றுகளைக் கருத்தில் கொள்க.
- I. இவர் எழுதிய சாய்வு 'நாற்காலி' எனும் புதினம் 1997இல் சாகித்திய அகாதெமி விருது பெற்றுள்ளது.
- II. துறைமுகம், கூனன் தோப்பு ஆகிய படைப்புகள் தமிழக அரசின் விருது பெற்றுள்ளன. மேற்கண்ட கூற்றுகளில் தவறானது எது/எவை?
- A) I மட்டும்
B) II மட்டும்
C) இரண்டும்
D) இரண்டுமில்லை
E) விடை தெரியவில்லை

116. பொருத்துக.

(கவிஞர்)

(வட்டார மொழிப் புலமை)

- | | |
|---------------------------|-----------|
| a) புதுமைப்பித்தன் | 1. சென்னை |
| b) சண்முக சுந்தரம் | 2. கோவை |
| c) ஜெயகாந்தன் | 3. தஞ்சை |
| d) தி.ஜானகிராமன் | 4. குமரி |
| e) தோப்பில் முகமது மீரான் | 5. நெல்லை |

குறியீடுகள்:

- | | a | b | c | d | e |
|----|---|---|---|---|---|
| A) | 5 | 1 | 3 | 4 | 2 |
| B) | 2 | 5 | 4 | 3 | 1 |
| C) | 3 | 2 | 1 | 5 | 4 |
| D) | 5 | 2 | 1 | 3 | 4 |

E) விடை தெரியவில்லை

117. தவறான இணையைத் தேர்ந்தெடுக்க.

(புதுக்கவிதை)

(ஆசிரியர்)

- | | |
|---|-------------------|
| A) வெயில் மழைக்குச் சொரணையற்ற எருமை குத்திட்ட பாறையாக நதிநீரில் கிடக்கும் | — தேவதேவன் |
| B) மாந்தோப்பு வசந்தத்தின் பட்டாடை உடுத்தியிருக்கிறது | — ந.பிச்சமூர்த்தி |
| C) காலை இளம் வெயில் நன்றாக மேய தும்பறுத்துத் துள்ளி வரும் புதுவெயில் | — கல்யாணஜி |
| D) “கோவைப்பழ மூக்கும் பாசிமணிக் கண்ணும் சிவப்புக் கோட்டுக் கழுத்தும் வேப்பிலை வாலும்” | — வல்லிக்கண்ணன் |
| E) விடை தெரியவில்லை | |



118. பொருத்துக.

(பாடலடிகள்)

(நூல்)

a) அலைநீர்த் தாழை அன்னம் பூப்பவும்

1. குறுந்தொகை

b) ஊர்கொள வந்த பொருநனொடு

2. ஐங்குறுநூறு

ஆர்புனை தெரியல் நெடுந்தொகை போரே!

3. புறநானூறு

c) வெந்தாறு பொன்னின் அந்தி பூப்ப

4. அகநானூறு

d) நோம்என் நெஞ்சே! நோம்என் நெஞ்சே!

5. சிறுபாணாற்றுப்படை

குறியீடுகள்:

a b c d

A) 5 3 4 1

B) 5 4 3 2

C) 4 5 2 3

D) 4 5 1 2

E) விடை தெரியவில்லை

119. வ.உ.சி, சுப்பிரமணிய சிவா ஆகியோர் மீதான வழக்குகளில் அவர்களுக்காக வாதாடியவர் யார்?

A) மாயூரம் வேதநாயகம்

B) மயிலை சீனி வேங்கடசாமி

C) சோமசுந்தர பாரதியார்

D) மா. இராசமாணிக்கனார்

E) விடை தெரியவில்லை

120. பத்துப்பாட்டு நூல்களுள் பொருந்தா ஒன்றினைத் தேர்ந்தெடுக்க.

A) மதுரைக்காஞ்சி

B) நெடுநல்வாடை

C) பட்டினப்பாலை

D) பதிற்றுப்பத்து

E) விடை தெரியவில்லை

121. எட்டுத்தொகை நூல்களுள் அகமும் புறமும் சார்ந்த நூல் எது?

A) கலித்தொகை

B) நற்றிணை

C) பரிபாடல்

D) குறுந்தொகை

E) விடை தெரியவில்லை

122. பொருத்துக.

அகநானூறு பிரிவுகள்

பாடல்களின் எண்ணிக்கை

a) களிற்றியானைநிரை

1. 100

b) மணிமிடை பவளம்

2. 120

c) நித்திலக்கோவை

3. 180

குறியீடுகள்:

a b c

A) 1 2 3

B) 2 3 1

C) 3 2 1

D) 2 1 3

E) விடை தெரியவில்லை



123. கலைச்சொல் தருக. Affidavit
A) சாட்டுரை B) தண்டனை
C) ஆணையறுதி ஆவணம் D) வாதி
E) விடை தெரியவில்லை
124. நந்திவர்மன் கல்வெட்டு கிடைத்த இடம் எது?
A) பல்லாவரம் B) திருவல்லிக்கேணி
C) மயிலாப்பூர் D) திருமுல்லைவாயில்
E) விடை தெரியவில்லை
125. இந்தோ - சாரசனிக் கட்டடக்கலை என்பது
A) கிரேக்கக் கட்டடக்கலை, இந்தியப் பாரம்பரிய பாணி, பிரித்தானியக் கட்டடக்கலை
B) ஆரிய, திராவிட, முகலாயக் கட்டடக்கலை
C) முகலாயக் கட்டடக்கலை, கிரேக்கக் கட்டடக்கலை, இந்தியப் பாரம்பரிய பாணி
D) முகலாயக் கட்டடக்கலை, பிரித்தானியக் கட்டடக்கலை, இந்தியப் பாரம்பரிய கலைப்பாணி
E) விடை தெரியவில்லை
126. “ஏழ் ஆண்டு இயற்றி ஓர் ஈர்ஆறு ஆண்டில் சூழ்கழல் மன்னற்குக் காட்டல்” – தொடர்களில் வெளிப்படும் செய்திகளாவன:
I. மாதவி ஏழாண்டுகள் வரை நாட்டியம் பயின்றாள்.
II. ஈராறு வயதில் அரங்கேற்றம் செய்ய விரும்பினாள்.
மேற்கண்ட கூற்றுகளில் சரியானது எது/எவை?
A) I மட்டும் B) II மட்டும்
C) இரண்டும் D) இரண்டுமில்லை
E) விடை தெரியவில்லை
127. பொருத்துக.
a) ஆமந்திரிகை 1. பட்டத்து யானை
b) அரசு உவா 2. மூங்கில்
c) கழஞ்சு 3. இடக்கை வாத்தியம்
d) கழை 4. எடை அளவு
குறியீடுகள்:

	a	b	c	d
A)	3	4	1	2
B)	3	1	4	2
C)	3	2	1	4
D)	4	1	2	3

E) விடை தெரியவில்லை
128. சேர, சோழ, பாண்டிய மன்னர்களைப் பற்றிய செய்திகளைக் கூறுவதால் ‘சிலப்பதிகாரம்’ எவ்வாறு போற்றப்படுகிறது?
A) ஒற்றுமைக் காப்பியம் B) வரலாற்றுக் காப்பியம்
C) மூவேந்தர் காப்பியம் D) முத்தமிழ்க் காப்பியம்
E) விடை தெரியவில்லை



129. பின்வரும் கூற்றுகளைக் கருத்தில் கொள்க.

கூற்று : நாட்டிய அரசுகின் மேடையில் அமைக்கப்பட்ட திரைகளுள், கரந்துவரல் எழினி என்பதும் ஒன்று.

காரணம் : மேடையின் இருபுறத்திலிருந்தும் நடுவில் ஒன்றோடு ஒன்று பொருந்துமாறு அமைத்ததால் கரந்துவரல் எழினி என்று அழைத்தனர்.

குறியீடுகள்:

A) கூற்று மற்றும் காரணம் இரண்டும் சரி மற்றும் காரணம் என்பது கூற்றுக்கான சரியான விளக்கமாகும்

B) கூற்று மற்றும் காரணம் இரண்டும் சரி ஆனால் காரணம் என்பது கூற்றுக்கான சரியான விளக்கமல்ல

C) கூற்று சரி ஆனால் காரணம் தவறு

D) கூற்று தவறு ஆனால் காரணம் சரி

E) விடை தெரியவில்லை

130. 'தண்ணுமை' என்னும் பெயரால் குறிப்பிடப்பட்ட இசைக்கருவி எது?

A) குழல்

B) யாழ்

C) முழவு

D) மத்தளம்

E) விடை தெரியவில்லை

131. இசைக்கருவிகளை வாசிப்போரைக் குறிக்கும் தொடர் எது?

A) தடக்கையில் பரசினர்

B) ஐம்பெருங்குழு

C) அரசு உலா

D) குயிலுவ மாக்கள்

E) விடை தெரியவில்லை

132. "சாம்பூநதம்" என்னும் உயர்வகைப் பொன்னைக் குறிக்கும் சொல் எது?

A) மாண்விளக்கு

B) நித்திலம்

C) நவமணி

D) நாவலம்பொலம்

E) விடை தெரியவில்லை

133. பின்வரும் கூற்றுகளைக் கருத்தில் கொள்க.

I. அரங்கேற்றத்தை வெற்றிகரமாக முடிக்கும் ஆடல்மகளுக்கு வழங்கப்பெற்ற தலைக்கோல், புறமுதுகிட்டுத் தோற்ற மன்னனின் வெண்கொற்றக்குடைக் காம்பினில் உருவாக்கப்பெற்றது.

II. தலைக்கோலைச் சயந்தன் மகன் இந்திரனாகக் கருதி, அரண்மனையில் வைத்து, மந்திரவிதியால் வழிபாடு செய்வர்.

மேற்கண்ட கூற்றுகளில் சரியானது எது/எவை?

A) I மட்டும்

B) II மட்டும்

C) இரண்டும்

D) இரண்டுமில்லை

E) விடை தெரியவில்லை

134. ஐம்பெருங்காப்பியம் என்னும் சொற்றொடரைத் தம் நன்னூல் உரையில் குறிப்பிட்டவர் யார்?

A) சிவஞான முனிவர்

B) மயிலை நாதர்

C) ஆறுமுக நாவலர்

D) இளம்பூரணர்

E) விடை தெரியவில்லை



135. பின்வரும் கூற்றுகளைக் கருத்தில் கொள்க.
- I. காப்பியம் என்னும் சொல் காப்பு + இயம் எனப் பிரிந்து மரபைக் காப்பது, இயம்புவது, வெளிப்படுத்துவது என்றும் மொழியைச் சிதையாது காப்பது என்றும் காரணம் கூறுவர்.
- II. ஐம்பெருங்காப்பியங்களுள் ஒன்று குண்டலகேசி.
- III. ஐம்பெருங்காப்பியங்கள் என்ற வகைமை எப்போது தோன்றியது என்று அறுதியிட்டுக் கூறமுடியவில்லை.
- மேற்கண்ட கூற்றுகளில் சரியானவை எவை?
- A) I மற்றும் II மட்டும்
B) II மற்றும் III மட்டும்
C) I மற்றும் III மட்டும்
D) மேற்கண்ட அனைத்தும்
E) விடை தெரியவில்லை
136. பின்வரும் இணைகளைக் கருத்தில் கொள்க.
- | | |
|---------------|------------------|
| (உட்பிரிவு) | (நூல்) |
| I. காதை | – மணிமேகலை |
| II. சருக்கம் | – சூளாமணி |
| III. இலம்பகம் | – சீவக சிந்தாமணி |
| IV. காண்டம் | – கம்பராமாயணம் |
| V. படலம் | – சிலப்பதிகாரம் |
- மேற்கண்ட இணைகளில் எத்தனை இணைகள் சரியானவை?
- A) 3
B) 4
C) 5
D) 2
E) விடை தெரியவில்லை
137. சிலப்பதிகாரத்தில் இளங்கோவடிகள் தன்னைப் பற்றிய குறிப்பைத் தரும் காதை
- A) வரந்தரு காதை
B) அரங்கேற்றுக் காதை
C) வழக்குரை காதை
D) அடைக்கலக்காதை
E) விடை தெரியவில்லை
138. “பாவிகம் என்பது காப்பியப் பண்பே” என்று கூறும் நூல் எது?
- A) பொருள்தொகை நிகண்டு
B) திருத்தணிகை உலா
C) தமிழ்விடுதூது
D) தண்டியலங்காரம்
E) விடை தெரியவில்லை
139. “பிறனில் விழைவோர் கிளையொடுங் கெடுப” என்ற பாவிகம் பொருந்தும் நூல் எது?
- A) கம்பராமாயணம்
B) சிலப்பதிகாரம்
C) இரட்சணிய யாத்திரிகம்
D) மணிமேகலை
E) விடை தெரியவில்லை
140. சிறுகாப்பியங்கள் ஐந்தையும் ‘ஐஞ்சிறுகாப்பியங்கள்’ என்னும் பெயரில் முதன்முதலில் தொகுத்துக் கூறியவர் யார்?
- A) சி.வை. தாமோதரனார்
B) மீனாட்சி சுந்தரனார்
C) மயிலை நாதர்
D) இளம்பூரணர்
E) விடை தெரியவில்லை



141. அகர வரிசைப்படுத்துக.

- A) காதை, காண்டம், சருக்கம், இலம்பகம், படலம்
B) இலம்பகம், காதை, காண்டம், சருக்கம், படலம்
C) இலம்பகம், காண்டம், காதை, சருக்கம், படலம்
D) இலம்பகம், காதை, காண்டம், படலம், சருக்கம்
E) விடை தெரியவில்லை

142. பின்வரும் இணைகளைக் கருத்தில் கொள்க.

- | | |
|---------------|-----------------|
| (சொல்) | (பொருள்) |
| I. இளிவரல் | – வியப்பு |
| II. மருட்கை | – சிறுமை |
| III. வெகுளி | – சினம் |
| IV. உவகை | – மகிழ்ச்சி |
| V. நகை | – சிரிப்பு |

மேற்கண்ட இணைகளில் எத்தனை இணைகள் சரியானவை?

- A) 3
B) 4
C) 5
D) 2
E) விடை தெரியவில்லை

143. பின்வரும் கூற்றுகளைக் கருத்தில் கொள்க.

- I. பெருங்காப்பியத்திற்குரிய நான்குவகை உறுதிப் பொருள்களும் பிற உறுப்புகளும் முழுமையாக அமையப்பெற்று விளங்கும் காப்பியம் சீவகசிந்தாமணியே என்பர்.
II. விருத்தம் என்னும் ஒரேவகைச் செய்யுளில் அமைந்தவை சீவகசிந்தாமணி, கம்பராமாயணம்
III. பாட்டும் உரைநடையும் கலந்து பல்வகைச் செய்யுள்களில் அமைந்துள்ளது சிலப்பதிகாரம்
மேற்கண்ட கூற்றுகளில் சரியானவை எவை?
A) I மற்றும் II மட்டும்
B) II மற்றும் III மட்டும்
C) I மற்றும் III மட்டும்
D) மேற்கண்ட அனைத்தும்
E) விடை தெரியவில்லை

144. பொருத்துக.

- | | |
|----------------------------|---------------------------------|
| (காப்பியம்) | (ஆசிரியர்) |
| a) மாங்கனி | 1. பாரதிதாசன் |
| b) வீரத்தாய் | 2. கவியோகி சுத்தானந்த பாரதியார் |
| c) பாரதசக்தி மகா காவியம் | 3. கவிமணி தேசிக விநாயகம் பிள்ளை |
| d) மருமக்கள் வழி மான்மியம் | 4. கண்ணதாசன் |

குறியீடுகள்:

- | | | | | |
|----|----------|----------|----------|----------|
| | a | b | c | d |
| A) | 1 | 3 | 4 | 2 |
| B) | 2 | 4 | 3 | 1 |
| C) | 3 | 2 | 1 | 4 |
| D) | 4 | 1 | 2 | 3 |

E) விடை தெரியவில்லை



145. பாரதிதாசனின் படைப்புகளுள் பொருந்தா ஒன்றினைத் தேர்ந்தெடுக்க.
A) எதிர்பாராத முத்தம் B) தமிழ்ச்சியின் கத்தி
C) ஆட்டனத்தி ஆதிமந்தி D) சஞ்சீவி பர்வதத்தின் சாரல்
E) விடை தெரியவில்லை
146. தவறான இணையைத் தேர்ந்தெடுக்க.
(பாவகை) (இலக்கியம்)
A) விருத்தப்பா – நாலடியார்
B) ஆசிரியப்பா – அகநானூறு
C) கலிவெண்பா – தூது
D) குறள் வெண்பா – திருக்குறள்
E) விடை தெரியவில்லை
147. 'இந்திர மோகனா' என்ற நாடக நூலினை வெளியிட்டவர் யார்?
A) பம்மல் சம்பந்தனார் B) வை.மு. கோதைநாயகி
C) அவ்வை சண்முகம் D) சங்கரதாசு சுவாமிகள்
E) விடை தெரியவில்லை
148. பிழையான தொடரினைத் தேர்ந்தெடுக்க.
A) போர்க்களத்தில் புண்பட்ட வீரர்களுக்கு கலத்தில் நீர் தரப்பட்டது
B) ஆற்றின் வலப்புறம் உள்ள வயல்கள் நீர்வளத்தால் செழித்திருந்தன
C) உளையில் புதைந்தாலும் உழைத்துக்கொண்டு இருப்பது உழவனின் சிறப்பாகும்
D) அடர்ந்த காண் பகுதியில் தாவித்திரியும் களைமான் கூட்டங்களைக் காண்பதே சுகம்
E) விடை தெரியவில்லை
149. 'நகை' இச்சொல்லின் வேர்ச்சொல் யாது?
A) நகு B) நகைக்க
C) நகை D) நகைத்தல்
E) விடை தெரியவில்லை
150. ஒலி வேறுபாடறிந்து பொருள் தருக.
(தின்மை) (திண்மை)
A) உறுதி – தீயசெயல்
B) வீரம் – கோழை
C) தீமை – வலிமை
D) மறம் – வீரம்
E) விடை தெரியவில்லை
151. பெருங்காப்பியம் ஐந்து எனவும், அவற்றின் பெயர்களையும் குறிப்பிடும் நூல் எது?
A) நன்னூல், தமிழ்விடுதூது
B) தமிழ்விடுதூது, பொருள்தொகை நிகண்டு
C) திருத்தணிகை உலா, தண்டியலங்காரம்
D) பொருள்தொகை நிகண்டு, திருத்தணிகை உலா
E) விடை தெரியவில்லை



152. ஆராய்ந்து சொல்கிறவர் யார்?
A) அரசர்
B) சொல்லிபடி செய்பவர்
C) தூதுவர்
D) அமைச்சர்
E) விடை தெரியவில்லை
153. யாருடன் வாழக்கூடிய வாழ்க்கை ஒரு குடிசையில் பாம்புடன் வாழ்வது போன்றது?
A) பகைவர்
B) உடன்பாடு இல்லாதவர்
C) உறவினர்
D) நண்பர்
E) விடை தெரியவில்லை
154. நடுங்குபடியான துன்பம் இல்லாதவர் யார்?
A) வரப்போவதை முன்னரே அறிந்து காத்துக் கொள்ளக் கூடியவர்
B) மனத்திட்பம் உடையவர்
C) அரசரைச் சார்ந்து வாழ்கின்றவர்
D) சூதாடுமிடத்தில் காலம் கழிப்பவர்
E) விடை தெரியவில்லை
155. அஞ்சத்தகுந்தன, அஞ்சத் தகாதன என வள்ளுவம் குறிப்பிடுவது யாது?
A) பகைவர், துரோகிகள்
B) தீ நட்ட, நல்லவர் நட்ட
C) உட்பகை கொண்டவர் நட்ட, வெளிப்படையாகத் துன்பம் செய்யும் பகைவர்
D) நல்வர் நட்ட, தீயவர் நட்ட
E) விடை தெரியவில்லை
156. பகைவராலும் அழிக்க முடியாத அரண் எது?
A) நட்ட
B) கல்வி
C) அறிவு
D) அடக்கம்
E) விடை தெரியவில்லை
157. 'சாப விமோசனம்' 'அகலிகை' கதைகளில் தொன்மங்களைப் பயன்படுத்தியவர் யார்?
A) கு.அழகிரிசாமி
B) புதுமைப்பித்தன்
C) ஜெயமோகன்
D) வல்லிக்கண்ணன்
E) விடை தெரியவில்லை
158. 'பலர் துஞ்சவும் தான் துஞ்சான்' - விழித்திருந்தவரும் அவரைப் பாடியவரும் யாவர்?
A) சோழன் நலங்கிள்ளி, கோலூர்கிழார்
B) சோழன் நெடுங்கிள்ளி, பாணர்
C) கணைத்தால் இரும்பொறை, கபிலர்
D) கரிகாலன், உருத்திரங்கண்ணனார்
E) விடை தெரியவில்லை



159. 'யானை புக்க புலம் போல' – இவ்வவமைக்குப் பொருத்தமான தொடர் யாது?
- A) தனக்குப் பயன்படும், பிறருக்குப் பயன்படாது
B) தனக்கும் பயன்படாது, பிறருக்கும் பயன்படாது
C) பிறருக்குப் பயன்படும், தனக்குப் பயன்படாது
D) தனக்கும் பயன்படும், பிறருக்கும் பயன்படும்
E) விடை தெரியவில்லை
160. அரசன், எவ்வாறு பணியாற்ற வேண்டும் என்பதற்கு வள்ளுவர் கூறும் அதிகாரம் எது?
- A) தெரிந்து தெளிதல்
B) செங்கோன்மை
C) வினைசெயல் வகை
D) மடியின்மை
E) விடை தெரியவில்லை
161. ஆணையிடும் அரசனும், அடக்கத்துடன் கேட்கும் பணியாளரும் பற்றிய சுவரோவியம் இடம்பெற்ற கோவில் எது?
- A) திருநெல்வேலி - நானும்பூநாதர் கோவில்
B) திருவொற்றியூர் - படம்பக்கநாதர் கோவில்
C) தஞ்சை - பெருவுடையார் கோவில்
D) சிதம்பரம் - நடராசர் கோவில்
E) விடை தெரியவில்லை
162. வெளிநாட்டுக் குதிரைகள் இறக்குமதி செய்யப்பட்டதைப் பாடும் நூல் எது?
- A) பதிற்றுப்பத்து
B) பரிபாடல்
C) முல்லைப்பாட்டு
D) பட்டினப்பாலை
E) விடை தெரியவில்லை
163. நீரினின்றி நிலத்து ஏற்றவும், நிலத்தினின்றி நீர் பரப்பவும் அளந்து அறியாப் பல பண்டம் குறித்து வைக்கப்பட்ட துறைமுகம் எது?
- A) கொற்கை
B) காயல்பட்டினம்
C) காவிரிப்பூம்பட்டினம்
D) முசிறி
E) விடை தெரியவில்லை
164. யவனரை அரண்மனைத் தொழிலாளராக்கிக் கட்டுப்படுத்தியவன்
- A) ஆரியப்படை கடந்த பாண்டியன் நெடுஞ்செழியன்
B) சோழன் திருமாவளவன்
C) இமயவரம்பன் நெடுஞ்சேரலாதன்
D) தலையாலங்கானத்துச் செருவென்ற பாண்டியன் நெடுஞ்செழியன்
E) விடை தெரியவில்லை
165. கவிஞர் தமிழ்நதியின் இயற்பெயர் யாது?
- A) தமிழ்ச்செல்வி
B) கலைச்செல்வி
C) கலைவாணி
D) மணிமேகலை
E) விடை தெரியவில்லை



166. “பாரத மக்களின் பரிதாபச் சிந்து” என்ற நூலின் ஆசிரியர் யார்?
- A) தமிழ் ஒளி
B) முகம்மது இராவுத்தர்
C) சிற்.பி. பாலசுப்பிரமணியன்
D) பாரதியார்
E) விடை தெரியவில்லை
167. ‘புகளூர் கல்வெட்டு’ பற்றிய பின்வரும் கூற்றுகளுள் பொருந்தா ஒன்றினைத் தேர்ந்தெடுக்க.
- A) புகளூர்க் கல்வெட்டில் காணப்படும் மூன்று தலைமுறை மன்னர்கள் முறையே பதிற்றுப்பத்தின் 7 ஆவது, 8ஆவது, 9ஆவது பத்தின் பாட்டுடைத் தலைவர்கள் ஆவர்.
B) களூர் அடுத்த புகளூரில் ஆறுநாட்டான் குன்றின் மீது பொறிக்கப்பட்டுள்ள சேரல் இரும்பொறை மன்னர்கள் பற்றிய கல்வெட்டு புகளூர் கல்வெட்டு ஆகும்.
C) இக்கல்வெட்டானது ஏறத்தாழ கி.மு. இரண்டாம் நூற்றாண்டைச் சேர்ந்தது.
D) யாற்றூர் என்னும் இடத்தைச் சேர்ந்த சமணத் துறவியான செங்காயபன் வசிக்கும் உறையுள் இது என்ற குறிப்பு இடம்பெற்றுள்ளது.
E) விடை தெரியவில்லை
168. ‘மா.இராசமாணிக்கனார்’ பற்றிய பின்வரும் கூற்றுகளுள் பொருந்தா ஒன்றினைத் தேர்ந்தெடுக்க.
- A) ஆய்வு நெறிமுறைகளிலும் அணுகுமுறைகளிலும் புதிய சிந்தனைகளைக் கையாண்டவர்.
B) சங்ககாலம் தொடங்கிப் பிற்காலம் வரையில் ஆண்ட சோழர் வரலாற்றை முழுமையாக ஆராய்ந்தவர்.
C) சிந்துவெளி நாகரிகம் பற்றித் தமிழில் முதன்முதலில் ‘மொஹெஞ்சொதரோ அல்லது சிந்துவெளி நாகரிகம்’ என்ற நூலை இயற்றியுள்ளார்.
D) இலக்கியத்தையும் கல்வெட்டாய்வையும் ஒருங்கிணைத்தார். பாறைகளிலிருந்த பழங்கல்வெட்டுகளைப் படியெடுத்து ஆய்வு நூலாக்கினார்.
E) விடை தெரியவில்லை
169. புறநானூற்றினை “The Four Hundred Songs of war and Wisdom: An Anthology of Poems from Classical Tamil, the Purananuru” என்னும் தலைப்பில் மொழிபெயர்த்தவர் யார்?
- A) ஜி.யு.போப்
B) ஜார்ஜ். எல்.ஹார்ட்
C) உ.வே.சா
D) கால்டுவெல்
E) விடை தெரியவில்லை
170. சங்ககாலப் பசும்பூண் பாண்டியன் தன் கொடியில் யானைச் சின்னத்தைக் கொண்டிருந்தான் என்ற செய்தி அகநானூற்றில் இருப்பதை முதன் முதலில் அறிந்து வெளிப்படுத்தியவர் யார்?
- A) மயிலை சீனி. வேங்கடசாமி
B) மா.இராசமாணிக்கனார்
C) ஐராவதம் மகாதேவன்
D) திரு.நீலகண்ட சாஸ்திரி
E) விடை தெரியவில்லை



171. 'இரட்சணிய யாத்திரிகம்' பற்றிய பின்வரும் கூற்றுகளில் பொருந்தா ஒன்றினைத் தேர்ந்துடுக்க.
- A) திருநெல்வேலியில் இருந்து வெளிவந்த 'நற்போதகம்' எனும் ஆன்மீக மாத இதழில் இரட்சணிய யாத்திரிகம் பதின்மூன்று ஆண்டுகள் தொடராக வெளிவந்தது.
- B) இரட்சணிய யாத்திரிகம், 1894ஆம் ஆண்டு மே திங்களில் முதல் பதிப்பாக வெளியிடப்பட்டது.
- C) ஜான் பன்யன் என்பவர் ஆங்கிலத்தில் எழுதிய பில்கிரிம்ஸ் புரோகிரஸ் எனும் ஆங்கில நூலின் தழுவலாக இரட்சணிய யாத்திரிகம் படைக்கப்பட்டது.
- D) இது 3676 பாடல்களைக் கொண்ட ஒரு பெரும் உருவகக் காப்பியம். இதன் ஆசிரியர் எச்.ஏ.கிருட்டிணனார்.
- E) விடை தெரியவில்லை

172. பொருத்துக.

(கடையெழு வள்ளல்)

(ஆட்சிப்பகுதி)

- | | |
|-------------|-------------------|
| a) பேகன் | 1. தகடூர் |
| b) பாரி | 2. பொதியமலை |
| c) காரி | 3. ஆவினன்குடி |
| d) ஆய் | 4. திருக்கோயிலூர் |
| e) அதியமான் | 5. பறம்புமலை |

குறியீடுகள்:

	a	b	c	d	e
A)	1	3	4	2	5
B)	2	4	3	5	1
C)	3	5	4	2	1
D)	4	1	2	3	5

- E) விடை தெரியவில்லை

173. 'முட்டாது கொடுத்த முனைவிளங்கு தடக்கை' என்று பாராட்டப்பெற்றவர் யார்?

- | | |
|----------|--------|
| A) காரி | B) ஓரி |
| C) நள்ளி | D) ஆய் |
- E) விடை தெரியவில்லை

174. பெருந்தலைச் சாத்தனாரால் 'தமிழுக்குத் தலைகொடுத்த குமண வள்ளல்' என்று போற்றப்படும் குமணன் ஆட்சி செய்த பகுதி எது?

- | | |
|---------------|---------------|
| A) முதிர மலை | B) பறம்பு மலை |
| C) கொல்லி மலை | D) நளிமலை |
- E) விடை தெரியவில்லை

175. 'முகம்மது இராவுத்தர்' பாடல்களில் பொருந்தா ஒன்றினைத் தேர்ந்தெடுக்க.

- | | |
|---------------------|----------------------------|
| A) வெகுசன இலக்கியம் | B) முச்சந்தி இலக்கியம் |
| C) வெள்ளை இருட்டு | D) தேயிலைத் தோட்டப் பாட்டு |
- E) விடை தெரியவில்லை



176. மரபுப் பிழையான தொடரினைத் தேர்ந்தெடுக்க.
- A) முருகன் சோறு உண்டு, பால் பருகினான்
B) கோவிந்தன் குடியிருக்க சுவர் எழுப்பிக் கூரை வேய்ந்தார்
C) வனவிலங்குக் காப்பகத்தில், சிங்கக் குருளையும் யானைக் கன்றும் கண்டேன்
D) வாழைக்காட்டில் குயில்கள் அலறிக் கொண்டும் காகங்கள் கூவிக் கொண்டும் இருந்தன
E) விடை தெரியவில்லை
177. மயிலை சீனி.வேங்கடசாமியின் தமிழக அரசின் முதல் பரிசினைப் பெற்ற நூல் எது?
- A) களப்பிரர் ஆட்சியில் தமிழகம்
B) தமிழர் வளர்த்த அழகுக் கலைகள்
C) மாமல்லபுரத்தில் சைன சிற்பங்கள்
D) மறைந்து போன தமிழ்நூல்கள்
E) விடை தெரியவில்லை
178. பின்வருவனவற்றுள் பொருந்தா ஒன்றினைத் தேர்ந்தெடுக்க.
- A) மயிலை சீனி.வேங்கடசாமியின் ஆய்வுக்கட்டுரைகள் செந்தமிழ்ச் செல்வி இதழில் வெளிவந்தது
B) மயிலை சீனி.வேங்கடசாமியின் சமயக் காழ்ப்புணர்வின்றி வெளிவந்த நூல் 'தமிழ்நாட்டு வரலாறு' என்பதாகும்
C) மயிலை சீனி. வேங்கடசாமியின் சொல்லாய்வுக் கட்டுரைகள் அஞ்சிறைத்தும்பி என்னும் தொகுப்பாக வெளியிடப்பட்டது.
D) மயிலை சீனி.வேங்கடசாமியை தமிழ்த்தேனீ என அழைத்தனர்
E) விடை தெரியவில்லை
179. சிறுபாணாற்றுப்படையின் பாட்டுடைத்தலைவன் யார்?
- A) ஓய்மா நாட்டு நல்லியக் கோடன்
B) அதியமான் நாட்டு அதியமான் நெடுமான் அஞ்சி
C) மலையமான் திருமுடிக்காரி
D) ஆய் அண்டிரன்
E) விடை தெரியவில்லை
180. 'கிறித்துவக் கம்பர்' என்று புகழப்படுபவர் யார்?
- A) வீரமாமுனிவர்
B) ஜி.யு.போப்
C) கால்டுவெல்
D) எச்.ஏ. கிருட்டிணனார்
E) விடை தெரியவில்லை
181. பின்வருவனவற்றுள் வேறுபட்ட ஒன்றினைத் தேர்ந்தெடுக்க.
- A) மேதினி
B) உவரி
C) ஆழி
D) கடல்
E) விடை தெரியவில்லை
182. கண்டகர் என்பதன் பொருள் தருக.
- A) பாதகர்
B) கொடியவர்
C) சான்றோர்
D) பகைவர்
E) விடை தெரியவில்லை



183. பாரதியார் மறைவிக்கு முன்பு கடைசியாக யாருக்கு கடிதம் எழுதியிருந்தார்.
A) சு.நெல்லையப்பா B) ரா.அ. பத்மநாபன்
C) குத்திகேசவர் D) கவிகேசரி சாமி நீட்சிதர்
E) விடை தெரியவில்லை

184. மொழிவரலாறு எனும் நூலை இயற்றியவர் யார்?
A) ஆறுமுக நாவலர் B) மறைமலை அடிகள்
C) பரிதிமாற் கலைஞர் D) மு.வரதராசனார்
E) விடை தெரியவில்லை

185. உலகச் சுற்றுச்சூழல் நாள் எப்பொழுது கொண்டாடப்படுகிறது?
A) ஏப்ரல் 22 B) மார்ச் 22
C) ஜூன் 05 D) ஜூன் 15
E) விடை தெரியவில்லை

186. பொருத்துக.
a) சுற்றுச்சூழல் கல்வி 1. மா.இராசமாணிக்கனார்
b) கருப்பு மலர்கள் 2. பிரபஞ்சன்
c) வானம் வசப்படும் 3. நா.காமராசன்
d) பத்துப்பாட்டு ஆராய்ச்சி 4. ப.ரவி

குறியீடுகள்:

	a	b	c	d
A)	1	3	4	2
B)	2	4	3	1
C)	3	2	1	4
D)	4	3	2	1

E) விடை தெரியவில்லை

187. நும்மனைச் சிலம்பு கழீஇ அயரினும்
எம்மனை வதுகை நல்மணம் கழிக - இப்பாடலடி இடம்பெற்றுள்ள நூல் எது?
A) குறுந்தொகை B) நற்றிணை
C) ஐங்குறுநூறு D) புறநானூறு
E) விடை தெரியவில்லை

188. துன்பு உளது எனின் அன்றோ சுகம் உளது? - யாருடையக்கூற்று
A) கோவலன் B) இராமன்
C) சுகன் D) மணிமேகலை
E) விடை தெரியவில்லை

189. அகன் அமர் காதல் ஐய!
நின்னொடும் எழுவர் ஆனேம்; இத்தொடரில் எழுவர் என்பது யாரைக் குறிக்கிறது?
A) சுகன் B) சுக்ரீவன்
C) வீடணன் D) அனுமன்
E) விடை தெரியவில்லை



190. இராமாயணத்திற்கு கம்பர் இட்டப் பெயர்?
- A) ஆதிகாவியம்
B) இராம நாடகம்
C) கம்பச்சித்திரம்
D) இராமவதாரம்
E) விடை தெரியவில்லை
191. “பூமணி” பற்றிய பின்வரும் கூற்றுகளைக் கருத்தில் கொள்க.
- I. பூ.மாணிக்கவாசகர் என்ற தனதுப் பெயரைச் சுருக்கி பூமணி என்ற பெயரில் எழுதி வருகிறார்.
- II. அஞ்ஞாடி எனும் புதினத்திற்காக 2014இல் சாகித்திய அகாதெமி விருது பெற்றுள்ளார். மேற்கண்ட கூற்றுகளில் தவறானது எது/எவை?
- A) I மட்டும்
B) II மட்டும்
C) இரண்டும்
D) இரண்டுமில்லை
E) விடை தெரியவில்லை
192. உவா உற வந்து கூடும் உடுபதி, இரவி ஒத்தார் இத்தொடரில், உவா, உருபதிக்கு, உவமையாகக் குறிப்பிடப்படுபவர்கள் யாவர்?
- A) இராமன், குகன்
B) இராமன், சீதை
C) இராமன், அனுமன்
D) இராமன், சுக்ரீவன்
E) விடை தெரியவில்லை
193. “திருக்குறள்” பற்றிய பின்வரும் கூற்றுகளைக் கருத்தில் கொள்க.
- I. திருக்குறள் 130 அதிகாரங்களையும், 9 இயல்களையும் கொண்டுள்ளது.
- II. அறத்துப்பால், பொருட்பால், இன்பத்துபால் முறையே 4, 3, 2 இயல்களைக் கொண்டுள்ளது. மேற்கண்ட கூற்றுகளில் சரியானது எது/எவை?
- A) I மட்டும்
B) II மட்டும்
C) இரண்டும்
D) இரண்டுமில்லை
E) விடை தெரியவில்லை
194. ஐயாண் டெய்தி மையாடி அறிந்தார் கலைகள் - இத்தொடர் இடம்பெற்ற நூல் எது?
- A) புறநானூறு
B) சிந்தாமணி
C) இராமாயணம்
D) சிலப்பதிகாரம்
E) விடை தெரியவில்லை
195. பின்வரும் கூற்றுகளைக் கருத்தில் கொள்க.
- I. தொல்காப்பியம் கல்விகற்பதற்காக வேறு நாட்டிற்கு சென்று கற்றலை ஒதற்பிரிவு எனக் குறிப்பிடுகிறது.
- II. திருவாவடுதுறை மடம், தருமபுரி மடம், முதலியன பல ஆண்டுகளாக தமிழ்க் கல்லூரியாகவும் வடமொழிக் கல்லூரியாகவும் விளங்கிவந்தன.
- III. தஞ்சை சர்வசிவ பண்டிதரிடம் பல அன்னிய தேசத்து மாணாக்கர்கள் வந்து கற்று சென்றனர் என்பதை இரண்டாம் இராஜராஜ சோழன் காலத்தில் பொறிக்கப்பட்ட சாசனம் மூலம் அறியலாம்.



மேற்கண்ட கூற்றுகளில் சரியானது எது/எவை?

- A) I மற்றும் II மட்டும்
B) II மற்றும் III மட்டும்
C) I மற்றும் III மட்டும்
D) மேற்கண்ட அனைத்தும்
E) விடை தெரியவில்லை

196. பின்வரும் கூற்றுகளைக் கருத்தில் கொள்க.

- I. ஓளவையார் அதியமான் நெடுமான் அஞ்சியிடம் அரசவைப் புலவராக இருந்தார்.
II. இவர் பாடியதாக அகநானூற்றில் 4, குறுந்தொகையில் 15, நற்றிணையில் 7, புறநானூற்றில் 33 என 59 பாடல்கள் கிடைத்துள்ளது.

மேற்கண்ட கூற்றுகளில் சரியானது எது/எவை?

- A) I மட்டும்
B) II மட்டும்
C) இரண்டும்
D) இரண்டுமில்லை
E) விடை தெரியவில்லை

197. சுரதா நடத்திய கவிதை இதழ் எது?

- A) இலக்கியம்
B) காவியம்
C) உளர்வலம்
D) விண்மீன்
E) விடை தெரியவில்லை

198. பின்வரும் கூற்றுகளைக் கருத்தில் கொள்க.

- I. மயிலாப்பூர் கி.பி.இரண்டாம் நூற்றாண்டில் பிளினி என்பவரால் மல்லியர்பா எனும் துறைமுதமாகச் சுட்டப்பட்டது.
II. பாரதிதாசன் மாவலிபுரச் செலவு எனும் கவிதையை இயற்றியுள்ளார்.

மேற்கண்ட கூற்றுகளில் தவறானது எது/எவை?

- A) I மட்டும்
B) II மட்டும்
C) I மற்றும் II
D) இரண்டுமில்லை
E) விடை தெரியவில்லை

199. பின்வருவனவற்றுள் எத்தனை இணைகள் சரியாக பொருந்தியுள்ளன.

- I. சேத்துப்பட்டு – சேற்றுப்பட்டு
II. வண்ணாரப்பேட்டை – வண்ணத்துக்காரன் பேட்டை
III. சிந்தாதரிப்பேட்டை – சின்னதறிப்பேட்டை

மேற்கண்ட இணைகளில் எத்தனை இணைகள் சரியானவை?

- A) 1
B) 2
C) 3
D) எந்த இணையும் இல்லை
E) விடை தெரியவில்லை

200. கீழ்க்கண்ட கூற்றுக்கு உரியவர் யார்?

- I. தமிழ் இமயம் என்று தமிழ் அறிஞர்களால் போற்றப்பட்டவர்.
II. தமிழ்வழிக் கல்வி இயக்கம் என்ற அமைப்பை நிறுவியவர்.
A) வ.சுப.மாணிக்கம்
B) மறைமலை அடிகள்
C) ராசமாணிக்கம்
D) பரிதிமாற்கலைஞர்
E) விடை தெரியவில்லை

* * * * *



வினாத்தொகுப்பு எண் :

பதிவு எண்

2024

பொதுத் தமிழ்
(பத்தாம் வகுப்பு தரம்)

Test - 14

கால அளவு : 3.00 மணி நேரம்]

[மொத்த மதிப்பெண்கள் : 300

வினாக்களுக்கு பதிலளிக்கும் முன் கீழ்க்கண்ட அறிவுரைகளை கவனமாகப் படிக்கவும்

முக்கிய அறிவுரைகள்

- இந்த வினாத்தொகுப்பு, தேர்வு தொடங்குவதற்கு 15 நிமிடங்களுக்கு முன்னதாக உங்களுக்கு வழங்கப்படும்.
- இந்த வினாத்தொகுப்பு, **200** வினாக்களைக் கொண்டுள்ளது. விடையளிக்கத் தொடங்குமுன் இவ்வினாத் தொகுப்பில் எல்லா வினாக்களும் வரிசையாக இடம் பெற்றுள்ளனவா என்பதையும், இடையில் வெற்றுத்தாள்கள் எவையும் இல்லை என்பதையும் உறுதி செய்து கொள்ளவும். வினாத் தொகுப்பில் ஏதேனும் குறைபாடு இருப்பின், அதனை முதல் பத்து நிமிடங்களுக்குள் அறைக்கண்காணிப்பாளரிடம் தெரிவித்து, சரியாக உள்ள வேறொரு வினாத் தொகுப்பினை பெற்றுக்கொள்ள வேண்டும். தேர்வு தொடங்கிய பின்பு, இது குறித்து முறையிட்டால் வினாத் தொகுப்பு மாற்றித் தரப்படமாட்டாது.
- எல்லா வினாக்களுக்கும் விடையளிக்கவும், எல்லா வினாக்களும் சமமான மதிப்பெண்கள் கொண்டவை.
- உங்களுடைய பதிவு எண்ணை இந்தப் பக்கத்தின் வலது மேல் மூலையில் அதற்கென அமைந்துள்ள இடத்தில் நீங்கள் எழுத வேண்டும். வேறு எதையும் வினாத் தொகுப்பில் எழுதக் கூடாது.
- விடைத்தாள் ஒன்று விடைகளை குறிப்பதற்கு அறைக்கண்காணிப்பாளரால் உங்களுக்கு வழங்கப்படும். விடைகளைக் குறிப்பது உள்ளிட்ட அவசியம் பின்பற்றப்பட வேண்டிய அறிவுரைகள் விடைத்தாளிலும், தேர்வுக்கூட அனுமதிச் சீட்டிலும் வழங்கப்பட்டுள்ளன.
- உங்களுடைய வினாத்தொகுப்பு, எண்ணை (Question Booklet Number) விடைத்தாளின் முதல் பக்கத்தில் அதற்கென அமைந்துள்ள இடத்தில் கருமை நிற மையடைய பந்துமுனைப் பேனாவினால் குறித்துக் காட்ட வேண்டும். வினாத்தொகுப்பு எண்ணை விடைத்தாளில் சரியாகக் குறித்துக் காட்டத் தவறினாலோ அல்லது குறிக்கத் தவறினாலோ உங்களுடைய விடைத்தாள் செல்லாததாகக்கப்படும்.
- ஒவ்வொரு வினாவும் A), (B), (C), (D), (E) என ஐந்து பதில்களைக் (விடைகள்) கொண்டுள்ளது. நீங்கள் A) அல்லது B) அல்லது C) அல்லது D) இவைகளில் ஒரே ஒரு சரியான விடையைத் தெரிவு செய்து விடைத்தாளில் குறித்துக்காட்ட வேண்டும். ஒரு கேள்விக்கு ஒன்றுக்கு மேற்பட்ட சரியான விடை இருப்பதாக நீங்கள் கருதினால், மிகச்சரியானது என நீங்கள் எதைக் கருதுகிறீர்களோ அந்த விடையை விடைத்தாளில் குறித்துக்காட்ட வேண்டும். உங்களுக்கு விடை தெரியவில்லை எனில், நீங்கள் (E) என்பதை அவசியம் நிரப்ப வேண்டும். எப்படியாயினும், ஒரு கேள்விக்கு ஒரே ஒரு விடையைத் தான் தேர்ந்தெடுக்க வேண்டும். நீங்கள் ஒரு கேள்விக்கு ஒன்றுக்கு மேற்பட்ட விடையளித்தால், அவற்றுள் ஒரு விடை சரியானதாக இருந்தாலும் அந்த விடை தவறானதாகவே கருதப்படும்.
- நீங்கள் வினாத் தொகுப்பின் எந்தப் பக்கத்தையும் நீக்கவோ அல்லது கிழிக்கவோ கூடாது. தேர்வு நேரத்தில் இந்த வினாத் தொகுப்பினையோ அல்லது விடைத்தாளையோ தேர்வு அறையை விட்டு வெளியில் எடுத்துச் செல்லக் கூடாது. தேர்வு முடிந்தபின் நீங்கள் உங்களுடைய விடைத்தாளை கண்காணிப்பாளரிடம் கொடுத்து விட வேண்டும். இவ்வினாத் தொகுப்பினை தேர்வு முடிந்த பின்னர் மட்டுமே நீங்கள் எடுத்துச் செல்ல அனுமதிக்கப்படுவீர்கள்.
- குறிப்புகள் எழுதிப்பார்ப்பதற்கு வினாத்தொகுப்பின் கடைசி பக்கத்திற்கு முன் உள்ள பக்கங்களை பயன்படுத்திக் கொள்ளலாம். இதைத்தவிர வினாத்தொகுப்பின் எந்த இடத்திலும் எந்தவித குறிப்புகளையும் எழுதக்கூடாது. இந்த அறிவுரை கண்டிப்பாக பின்பற்றப்படவேண்டும்.
- வினா வரிசை எண்கள் 101 முதல் 200 வரை (பகுதி - ஆ) ஆங்கில வடிவே இறுதியானது.
- நீங்கள் மேற்கண்ட அறிவுரைகளில் எவற்றையாவது பின்பற்றத் தவறினால் தேர்வாணையம் எடுக்கும் நடவடிக்கைகளுக்கு உள்ளாக நேரிடும் என அறிவுறுத்தப்படுகிறது.

↪

[Turn over

For queries mail to For queries mail to : zerofeedback@shankariasacad.in; [Turn over

Kindly Send Me Your Key Answer to Our email id - Padasalai.net@gmail.com



பகுதி - அ — பொதுத் தமிழ் (பத்தாம் வகுப்பு தரம்)

Part A — General Tamil (SSLC Std)

வினாக்கள் : 1-200

மொத்த மதிப்பெண்கள் : 300

Test 14

Questions : 1-200

Total Marks : 300

1. “கொண்டு” – இச்சொல்லின் வேர்ச்சொல்லைத் தேர்ந்தெடுக்க.
 - A) கொண்
 - B) கொண்ட
 - C) கொள்
 - D) கொ
 - E) விடை தெரியவில்லை
2. “இளமையும் நில்லா யாக்கையும் நில்லா வளவிய வான்பெரும் செல்வமும் நில்லா” – இத்தொடர் இடம்பெற்றுள்ள நூல் எது?
 - A) சிலப்பதிகாரம்
 - B) மணிமேகலை
 - C) கம்பராமாயணம்
 - D) சீவகசிந்தாமணி
 - E) விடை தெரியவில்லை
3. “பாரதியின் கவிதாமண்டலத்தைச் சேர்ந்தவர்” என்று பாரதியாரால் முன்மொழியப்பட்டவர் யார்?
 - A) சோமசுந்தர பாரதியார்
 - B) சுத்தானந்த பாரதியார்
 - C) பரலி சு. நெல்லையப்பர்
 - D) பாரதிதாசன்
 - E) விடை தெரியவில்லை
4. “பாரதியார்” பற்றிய பின்வரும் கூற்றுகளில் பொருந்தாத ஒன்றைத் தேர்ந்தெடுக்க.
 - A) எட்டயபுர மன்னரால் பாரதி என்னும் பட்டம் வழங்கிச் சிறப்பிக்கப்பட்டார்.
 - B) மண் உரிமைக்காகவும் பெண் உரிமைக்காகவும் பாடியவர்
 - C) கவிதைகள் மட்டுமின்றி, சந்திரிகையின் கதை, தராசு உள்ளிட்ட உரைநடை நூல்களையும் வசனகவிதைகளையும் சீட்டுக்கவிகளையும் எழுதியவர்
 - D) பாட்டுக்கொரு புலவன் பாரதி என்று நாமக்கல் கவிஞர் இவரைப் புகழ்ந்துள்ளார்.
 - E) விடை தெரியவில்லை
5. கழுமலத்தில் நடைபெற்ற போரில் சோழன் கோச்செங்கணான், சேரன் கணைக்கால் இரும்பொறையை வென்று சிறையிலிட்டதால் அவரை மீட்க பொய்கையார் பாடிய நூல் எது?
 - A) கார் நாற்பது
 - B) களவழி நாற்பது
 - C) இன்னா நாற்பது
 - D) இனியவை நாற்பது
 - E) விடை தெரியவில்லை



6. பொருத்துக.

(நூல்)

- திரிகடுகம்
- ஏலாதி
- சிறுபஞ்சமூலம்
- முதுமொழிக்காஞ்சி
- பழமொழி நானூறு
- ஆசாரக்கோவை

(நூலாசிரியர்)

- பெருவாயின் முள்ளியார்
- முன்றுறை அரையனார்
- நல்லாதனார்
- காரியாசன்
- கூடலூர் கிழார்
- கணிமேதாவியார்

குறியீடுகள்:

	a	b	c	d	e	f
A)	3	6	4	5	2	1
B)	1	5	3	4	6	2
C)	5	2	4	3	6	1
D)	4	2	6	5	1	3

E) விடை தெரியவில்லை

7. மணிமொழிக்கோவை என்பது எதனைக் குறிப்பிடுகிறது?

- ஆசாரக்கோவை, நாலடியார், நான்மணிக்கடிகை
- ஆசாரக்கோவை, பழமொழி நானூறு, நாலடியார்
- நான்மணிக்கடிகை, முதுமொழிக்காஞ்சி, ஆசாரக்கோவை,
- நாலடியார், நான்மணிக்கடிகை, பழமொழி நானூறு
- விடை தெரியவில்லை

8. ஓளவையார் பாடிய பாடல்களில் பொருந்தா ஒன்றினைத் தேர்ந்தெடு.

- ஆத்திதடி
- கொன்றை வேந்தன்
- முதுரை
- நன்னெறி
- விடை தெரியவில்லை

9. வேளாண் வேதம் என்று அழைக்கப்படும் நூல் எது?

- திருக்குறள்
- நாலடியார்
- முதுமொழிக் காஞ்சி
- பழமொழி நானூறு
- விடை தெரியவில்லை

10. “வாய்த்தீயின்” என்னும் சொல்லைப் பிரித்து எழுதக் கிடைப்பது.

- வாய்த்து + ஈயின்
- வாய் + தீயன்
- வாய்த்து + தீயின்
- வாய் + ஈயின்
- விடை தெரியவில்லை



11. பழமொழி நானூறு பற்றிய தவறான கூற்றினைத் தேர்ந்தெடுக்க.
A) இந்நூல் கி.பி. நான்காம் நூற்றாண்டில் இயற்றப்பட்டது.
B) இந்நூலின் கடவுள் வாழ்த்துப் பாடல் மூலம் இதன் ஆசிரியர் சைவ சமயத்தைச் சேர்ந்தவர் என அறியலாம்.
C) பதினெண்கீழ்க்கணக்கு நூல்களுள் ஒன்று. இது நானூறு பாடல்களைக் கொண்டது.
D) ஒவ்வொரு பாடலின் இறுதியிலும் ஒரு பழமொழி இடம்பெற்றிருப்பதால் இது பழமொழி நானூறு என்னும் பெயர் பெற்றது.
E) விடை தெரியவில்லை
12. தம் கவிதைகளில் பெண்கல்வி, கைம்பெண் மறுமணம், பொதுவுடைமை, பகுத்தறிவு முதலான புரட்சிகரமான கருத்துகளைப் புகுத்தி பாடியவர் யார்?
A) பாரதியார்
B) பாரதிதாசன்
C) பட்டுக்கோட்டை கல்யாண சுந்தரம்
D) தாராபாரதி
E) விடை தெரியவில்லை
13. “இன்பத் தமிழ்க் கல்வி யாவரும் கற்றவர் என்றுரைக்கும் நிலை எய்தி விட்டால் துன்பங்கள் நீங்கும் சுகம் வரும் நெஞ்சினில் தூய்மை உண்டாகிடும் வீரம் வரும்” என்று கூறியவர் யார்?
A) பாரதியார்
B) பாரதிதாசன்
C) திரு.வி.க
D) தேவநேயப் பாவாணர்
E) விடை தெரியவில்லை
14. பின்வருவனவற்றுள் மலையைக் குறிக்கும் சொல் எது?
A) வெற்பு
B) காடு
C) கழனி
D) புவி
E) விடை தெரியவில்லை
15. பகை மன்னர் இருவரும் போரிடும் போது சூடும் பூ எது?
A) நொச்சி
B) உழிஞை
C) தும்பை
D) வாகை
E) விடை தெரியவில்லை
16. “சின்னூல்” என்று அழைக்கப்படும் நூல் எது?
A) தண்டியலங்காரம்
B) தொல்காப்பியம்
C) புறப்பொருள் வெண்பாமாலை
D) நேமிநாதம்
E) விடை தெரியவில்லை
17. இத்தாலி நாட்டைச் சேர்ந்த வீரமாமுனிவரால் தமிழில் எழுதப்பட்ட இலக்கண நூல் எது?
A) சதுரகராதி
B) தொன்னூல் விளக்கம்
C) இலக்கண விளக்கம்
D) வீரசோழியம்
E) விடை தெரியவில்லை



18. பின்வருவனவற்றுள் தவறான இணையைக் தேர்ந்தெடுக்க.

(விலங்கு) (இளமைப்பெயர்)

- A) யானை - கன்று
B) பசு - கன்று
C) ஆடு - குட்டி
D) சிங்கம் - பறழ்
E) விடை தெரியவில்லை

19. பின்வரும் இணைகளை கருத்தில் கொள்க.

(விலங்கு) (ஓலிமரபு)

- I. சிங்கம் - முழங்கும்
II. புலி - உறுமும்
III. யானை - பிளிறும்
IV. பசு - கதறும்
V. ஆடு - கத்தும்

மேற்கண்ட இணைகளில் எத்தனை இணைகள் சரியானவை?

- A) 2 B) 3
C) 4 D) 5
E) விடை தெரியவில்லை

20. தொல்காப்பியம் கூறும் நான்கறிவு என்பது எது?

- A) உற்றறிதல் + நுகர்தல் + சுவைத்தல் + கேட்டல்
B) உற்றறிதல் + சுவைத்தல் + வேட்டல் + காணல்
C) உற்றறிதல் + நுகர்தல் + காணல் + கேட்டல்
D) உற்றறிதல் + சுவைத்தல் + நுகர்தல் + காணல்
E) விடை தெரியவில்லை

21. தொல்காப்பியம் கூறும் மூவறிவு உயிரினங்கள் எவை?

- A) சிப்பி, எறும்பு B) நண்டு, சிப்பி
C) நத்தை, தும்பி D) கரையான், எறும்பு
E) விடை தெரியவில்லை

22. தமிழ்மொழியில் கிடைக்கப்பெற்ற முதல் இலக்கணநூல் எது?

- A) நன்னூல் B) அகத்தியம்
C) தொல்காப்பியம் D) புறப்பொருள் வெண்பாமாலை
E) விடை தெரியவில்லை

23. "விடு" என்னும் வேர்ச்சொல்லை அடிப்படையாகக் கொண்ட தொழிற்பெயரைத் தேர்ந்தெடுக்க.

- A) விடுக B) விடுத்தது
C) விடுத்த D) விடுத்தல்
E) விடை தெரியவில்லை



24. “மருட்கை” என்ற தொழிற்பெயரின் வேர்ச்சொல்லைத் தேர்ந்தெடுக்க.
A) மரு B) மருக
C) மருத்தல் D) மருள்
E) விடை தெரியவில்லை

25. பொருத்துக.

(சொல்)

- a) தாவா
b) விதையாமை
c) தாழ்கடல்
d) எருதுக்கோடு
e) கரைபொரு

(இலக்கணக்குறிப்பு)

1. வினைத்தொகை
2. ஆறாம் வேற்றமைத்தொகை
3. இரண்டாம் வேற்றமைத்தொகை
4. ஈறுகெட்ட எதிர்மறைப் பெயரச்சம்
5. எதிர்மறைத் தொழிற்பெயர்

குறியீடுகள்:

	a	b	c	d	e
A)	1	3	4	2	5
B)	3	1	2	5	4
C)	4	5	1	2	3
D)	4	2	3	5	1

- E) விடை தெரியவில்லை

26. “ஆசாரக்கோவை” என்பதன் பொருள் யாது?

- A) நல்ல சித்தனைகளின் தொகுப்பு
B) நல்ல ஒழுக்கங்களின் தொகுப்பு
C) நல்ல செயல்களின் தொகுப்பு
D) மேற்கூறிய அனைத்தும்
E) விடை தெரியவில்லை

27. “ஆண்டாண்டு தோறும் அழுது புரண்டாலும்

மாண்டார் வருவரோ மாநிலத்தீர் - வேண்டா!” என்ற பாடலடிகள் இடம்பெற்றுள்ள நூல் எது?

- A) கொன்றை வேந்தன் B) ஆத்திச்சூடி
C) மூதுரை D) நல்வழி
E) விடை தெரியவில்லை

28. “கல்வி இல்லாத பெண்கள்

களர்நிலம் அந்நிலத்தில்

புல்விளைந் திடலாம் நல்ல

புதல்வர்கள் விளைதல் இல்லை”

என்ற பாரதிதாசனின் பாடல்வரிகள் இடம்பெற்றுள்ள நூல் எது?

- A) பாண்டியன் பரிசு B) குடும்பவிளக்கு
C) இருண்ட வீடு D) தமிழியக்கம்
E) விடை தெரியவில்லை



29. பின்வருவனவற்றுள் தவறான இணையைக் தேர்ந்தெடுக்க.

(பாடலடிகள்)

(பாடியவர்)

- A) பட்டங்கள் ஆள்வதும், சட்டங்கள் செய்வதும்
பாரினில் பெண்கள் நடத்த வந்தோம் – செந்தமிழ்த் தேனீ
- B) மங்கையராய் பிறப்பதற்கே நல்ல மாதவம்
செய்திட வேண்டுமம்மா – கவிமணி
- C) பெண் எனில் பேதை என்ற எண்ணம்
இந்த நாட்டில் இருக்கும் வரைக்கும்
உருப்படல் என்பது சரிப்படாது – பாவேந்தர்
- D) ஒரு மனிதன் தேவைக்கே இந்த தேசம்
உண்டென்றால், அத்தேசம் ஒழிதல் நன்றாம் – பாரதியார்
- E) விடை தெரியவில்லை

30. இலக்கணக்குறிப்பு தருக - தமிழ் கவிஞர்

- A) பண்புத்தொகை
B) இரண்டாம் வேற்றுமைத்தொகை
C) இருபெயரொட்டுப் பண்புத்தொகை
D) ஆறாம் வேற்றுமைத்தொகை
E) விடை தெரியவில்லை

31. சங்க இலக்கியங்களை ஆங்கிலத்தில் "Love poems from a classical Tamil Anthology" என்று மொழிபெயர்த்தவர் யார்?

- A) ஜார்ஜ். எல். ஹார்ட்
B) ஜி.யு. போப்
C) ஏ.கே. ராமானுஜம்
D) ம.லெ. தங்கப்பா
E) விடை தெரியவில்லை

32. சீறாப்புராணத்திற்கு உரை எழுதியவர் யார்?

- A) உமறுப்புலவர்
B) தோப்பில் முகமது மீரான்
C) செய்குத்தம்பி பாவலர்
D) பனு அகமது மரைக்காயர்
E) விடை தெரியவில்லை

33. வட இந்தியப் பகுதிகளைக் களமாகக் கொண்டு தமிழ்ச் சாயலோடு படைக்கப்பெற்ற முதல் தமிழ்க்காப்பியம் எது?

- A) கம்பராமாயணம்
B) நீலகேசி
C) பெருங்கதை
D) கம்பராமாயணம்
E) விடை தெரியவில்லை



34. “கம்பராமாயணம்” பற்றிய பின்வரும் கூற்றுகளை கருத்தில் கொள்க.
- I. கம்பர் தாம் இயற்றிய நூலுக்கு இட்டபெயர் இராமாவதாரம். இந்நூல் இயற்றப்பட்ட காலம் கி.பி. 12 ஆம் நூற்றாண்டு.
- II. பாலகாண்டம், அயோத்தியா காண்டம், ஆரண்ய காண்டம், கிட்கிந்தா காண்டம், சுந்தர காண்டம், யுத்த காண்டம் என்னும் ஆறு காண்டங்களையும், 118 படலங்களையும் உள்ளடக்கியது.
- III. இக்காப்பியத்தின் ஏழாவது காண்டமாக விளங்கும் உத்தர காண்டத்தை எழுதியவர் கம்பரின் சமகாலத்தவராகிய ஒட்டக்கூத்தர்.
- மேற்கண்ட கூற்றுகளில் சரியானவை எவை?
- A) I மற்றும் II மட்டும்
B) II மற்றும் III மட்டும்
C) I மற்றும் III மட்டும்
D) மேற்கண்ட அனைத்தும்
E) விடை தெரியவில்லை
35. “கம்பன் இசைத்த கவியெல்லாம் நான்” என்று கூறியவர் யார்?
- A) ஒட்டக்கூத்தர்
B) பாரதி
C) பாரதிதாசன்
D) புலவர் குழந்தை
E) விடை தெரியவில்லை
36. பின்வருவனவற்றுள் தவறான இணையைக் தேர்ந்தெடுக்க.
- | | |
|----------------------------|---------------------|
| (படலம்) | (பொருள்) |
| A) கங்கைப்படலம் | — அயோத்தியா காண்டம் |
| B) கங்கைகாண் படலம் | — ஆரண்ய காண்டம் |
| C) நாட்டுப் படலம் | — பால காண்டம் |
| D) கும்பகருணன் வதைப் படலம் | — யுத்த காண்டம் |
| E) விடை தெரியவில்லை | |
37. வடமொழியில் எழுதப்பட்ட பில்கணியம் என்னும் காவியத்தைத் தழுவி தமிழில் எழுதப்பட்ட நூல் எது?
- A) இரட்சணிய யாத்திரிகம்
B) தேம்பாவணி
C) மனோன்மணியம்
D) புரட்சிக்கவி
E) விடை தெரியவில்லை
38. நன்னூல் பற்றிய தவறான கூற்றினைத் தேர்ந்தெடுக்க.
- A) “காவ்யதர்சம்” என்னும் வடமொழி இலக்கண நூலைத் தழுவி தமிழில் எழுதப் பெற்றது.
B) சீயகங்கள் என்ற சிற்றரசர் கேட்டுக்கொண்டதால் பவணந்தி முனிவர் நன்னூலை இயற்றினார்.
C) இயற்றப்பட்ட காலம் கி.பி. 13 ஆம் நூற்றாண்டு.
D) இந்நூல் எழுத்ததிகாரம், சொல்லதிகாரம் என இரண்டு அதிகாரங்களாகப் பகுக்கப்பட்டுள்ளது.
E) விடை தெரியவில்லை



39. பின்வருவனவற்றுள் தவறான கூற்றினைத் தேர்ந்தெடுக்க.
 A) உயிர் எழுத்துகள் பன்னிரண்டும் கழுத்தை இடமாகக் கொண்டு பிறக்கின்றன.
 B) வல்லின மெய் எழுத்துகள் ஆறும் தலையை இடமாகக் கொண்டு பிறக்கின்றன.
 C) மெல்லின மெய் எழுத்துகள் ஆறும் மூக்கை இடமாகக் கொண்டு பிறக்கின்றன.
 D) இடையின மெய் எழுத்துகள் ஆறும் கழுத்தை இடமாகக் கொண்டு பிறக்கின்றன.
 E) விடை தெரியவில்லை
40. வாய்த்திறக்கும் முயற்சியுடன் இதழ்களைக் குவிப்பதால் பிறக்கும் எழுத்து எது?
 A) அ B) இ
 C) ஐ D) ஓ
 E) விடை தெரியவில்லை
41. பின்வருவனவற்றுள் தவறான இணையைத் தேர்ந்தெடுக்க.
 (எழுத்து) (முயற்சிப் பிறப்பு)
 A) ர், ழ - இருமெய்களும் மேல்வாயை நாக்கின் நுனி வருடுவதால் பிறக்கின்றன
 B) த், ந் - மேல்வாய்ப்பல்லின் அடியை நாக்கின் நுனி பொருந்துவதால் பிறக்கின்றன
 C) ட், ண் - மேல் இதழும் கீழ் இதழும் பொந்துவதால் பிறக்கின்றன
 D) ச், ஞ் - நாவின் இடைப்பகுதி, நடு அண்ணத்தின் இடைப்பகுதியைப் பொருந்துவதால் பிறக்கின்றன
 E) விடை தெரியவில்லை
42. ஆய்த எழுத்து பிறக்கும் இடம் எது?
 A) மார்பு B) கழுத்து
 C) தலை D) மூக்கு
 E) விடை தெரியவில்லை
43. 'மொழிமுதல் எழுத்துகள்' பற்றிய பின்வரும் கூற்றுகளைக் கருத்தில் கொள்க.
 I. மொழிமுதல் எழுத்துகள் மொத்தம் 22.
 II. உயிரெழுத்துகள் பன்னிரண்டும் சொல்லின் முதலில் வரும்.
 III. மெய்யெழுத்துகள் தனிமெய் வடிவில் சொல்லுக்கு முதலில் வருவதில்லை.
 IV. ஆய்த எழுத்து சொல்லின் முதலில் வராது.
 மேற்கண்ட கூற்றுகளில் சரியானவை எவை?
 A) I, II மற்றும் III மட்டும் B) II, III மற்றும் IV மட்டும்
 C) I, II மற்றும் IV மட்டும் D) மேற்கண்ட அனைத்தும்
 E) விடை தெரியவில்லை
44. ஒலி வேறுபாடறிந்து பொருள் தருக.
 (வாணம்) (வானம்)
 A) வெடி - ஆகாயம்
 B) ஆகாயம் - வெடி
 C) வேலை - ஆகாயம்
 D) ஆகாயம் - வேலை
 E) விடை தெரியவில்லை



45. ஒலி வேறுபாடறிந்து பொருள் தருக.
- | (விலை) | (விளை) | (விழை) |
|---------------------|------------------|------------------|
| A) விரும்பு | உண்டாக்குதல் | பொருளின் மதிப்பு |
| B) பொருளின் மதிப்பு | விரும்பு | உண்டாக்குதல் |
| C) பொருளின் மதிப்பு | உண்டாக்குதல் | விரும்பு |
| D) விரும்பு | பொருளின் மதிப்பு | உண்டாக்குதல் |
| E) விடை தெரியவில்லை | | |
46. 'ஆசிய ஜோதி' பற்றிய பின்வரும் கூற்றுகளைக் கருத்தில் கொள்க.
- I. இதன் ஆசிரியர் கவிமணி ஆவார்.
- II. ஆங்கில மொழியில் எட்வின் அர்னால்டு என்பவர் எழுதிய 'லைட் ஆஃப் ஆசியா' என்னும் நூலைத் தழுவி எழுதப்பட்டது.
- III. இந்நூல் நேருவின் வாழ்க்கை வரலாற்றைக் கூறும் நூல் ஆகும்.
- மேற்கண்ட கூற்றுகளில் சரியானவை எவை?
- A) I மற்றும் II மட்டும்
- B) II மற்றும் III மட்டும்
- C) I மற்றும் III மட்டும்
- D) மேற்கண்ட அனைத்தும்
- E) விடை தெரியவில்லை
47. 'கிளை' என்ற சொல்லின் எதிர்ப்பதம் தருக.
- A) உற்றார்
- B) உறவினர்
- C) அயலவர்
- D) நண்பர்
- E) விடை தெரியவில்லை
48. ஒருமை பன்மை பிழை நீக்கி எழுதுக.
- A) காடுகளில் எல்லாம் கழையாகிய கரும்புகள் உள்ளது.
- B) காடுகளில் எல்லாம் கழையாகிய கரும்புகள் உள்ளன.
- C) காடுகளில் எல்லாம் கழையாகிய கரும்புகள் உளது.
- D) காடுகளில் எல்லாம் கழையாகிய கரும்புகள் உள்ளனர்.
- E) விடை தெரியவில்லை
49. "கங்கையில் மூழ்கினாலும் காக்கை அன்னம் ஆகுமா?" – இப்பழமொழி உணர்த்தும் பொருளைத் தேர்வு செய்க.
- A) தவறிழைத்தவன் மன்னிக்கப்படுவான்
- B) பாவச் செயலுக்கு பரிகாரம் இல்லை
- C) குற்றத்துக்குத் தண்டனை தேவையற்றது
- D) நீரில் மூழ்கினால் பாவம் கரையும்
- E) விடை தெரியவில்லை
50. பொருத்துக.
- | | |
|------------|------------|
| a) கொண்டல் | 1. மேற்கு |
| b) கோடை | 2. தெற்கு |
| c) வாடை | 3. கிழக்கு |
| d) தென்றல் | 4. வடக்கு |



குறியீடுகள்:

- | | a | b | c | d |
|----|------------------|----------|----------|----------|
| A) | 4 | 3 | 2 | 1 |
| B) | 3 | 1 | 4 | 2 |
| C) | 3 | 2 | 1 | 4 |
| D) | 4 | 1 | 2 | 3 |
| E) | விடை தெரியவில்லை | | | |

51. கண்ணதாசன் இயற்றிய 'காலக்கணிதம்' கவிதையில் இடம்பெற்ற சரியான தொடரைத் தேர்ந்தெடுக்க.
- A) இகழ்ந்தால் என்மனம் இறந்துவிடாது
B) என்மனம் இகழ்ந்தால் இறந்துவிடாது
C) இகழ்ந்தால் இறந்துவிடாது என்மனம்
D) என்மனம் இறந்துவிடாது இகழ்ந்தால்
E) விடை தெரியவில்லை
52. சரியான தொடரைத் தேர்ந்தெடுக்க.
- A) அழைத்து வாருங்கள் எனக்காகக் காத்திருக்கிறவரை கலையரங்கத்தில்.
B) எனக்காகக் காத்திருக்கிறவரை அழைத்து வாருங்கள் கலையரங்கத்தில்.
C) கலையரங்கத்தில் எனக்காகக் காத்திருக்கிறவரை அழைத்து வாருங்கள்.
D) எனக்காகக் காத்திருக்கிறவரை கலையரங்கத்தில் அழைத்து வாருங்கள்.
E) விடை தெரியவில்லை
53. வாய்மை எனப்படுவது எது என வள்ளுவர் குறிப்பிடுகிறார்?
- A) அன்பாகப் பேசுதல்
B) தமிழில் பேசுதல்
C) கோபமாகப் பேசுதல்
D) தீங்குதராத சொற்களைப் பேசுதல்
E) விடை தெரியவில்லை
54. பின்வரும் கூற்றுகளைக் கருத்தில் கொள்க.
- I. ஆதிச்சநல்லூரில் அகழாய்வு நிகழ்த்தப்பட்டது.
II. இறந்தவர்களின் உடல்களைப் புதைக்கப் பழந்தமிழர்கள் பயன்படுத்திய முதுமக்கள் தாழிகள் கண்டெடுக்கப்பட்டுள்ளன.
III. இவ்வூர் திருநெல்வேலி மாவட்டத்தில் உள்ளது.
- மேற்கண்ட கூற்றுகளில் சரியானவை எவை?
- A) I மற்றும் II மட்டும்
B) II மற்றும் III மட்டும்
C) I மற்றும் III மட்டும்
D) மேற்கண்ட அனைத்தும்
E) விடை தெரியவில்லை
55. பின்வரும் கூற்றுகளைக் கருத்தில் கொள்க.
- கூற்று : இடைச்சொற்கள் பெயரையும் வினையையும் சார்ந்து இயங்கா.
காரணம் : தனித்து இயங்கும் இயல்பை உடையன அல்ல.



குறியீடுகள்:

- A) கூற்று மற்றும் காரணம் இரண்டும் சரி மற்றும் காரணம் என்பது கூற்றுக்கான சரியான விளக்கமாகும்
B) கூற்று மற்றும் காரணம் இரண்டும் சரி ஆனால் காரணம் என்பது கூற்றுக்கான சரியான விளக்கமல்ல
C) கூற்று சரி ஆனால் காரணம் தவறு
D) கூற்று தவறு ஆனால் காரணம் சரி
E) விடை தெரியவில்லை

56. பின்வருவனவற்றுள் தவறான ஊர்ப்பெயரின் மருஉப்பெயரைத் தேர்ந்தெடுக்க.

- A) திருச்சி – திருச்சிராப்பள்ளி
B) கோவை – கொடைக்கானல்
C) நெல்லை – திருநெல்வேலி
D) உதகை – உதகமண்டலம்
E) விடை தெரியவில்லை

57. 'வெயிட் குறைந்த கோல்டு பிஸ்கட்' – இணையான தமிழ்ச்சொல் தருக.

- A) தங்கக்கட்டி B) எடைகுறைந்த தங்கக்கட்டி
C) வெள்ளிக்கட்டி D) நிறை குறைந்த தங்கக்கட்டி
E) விடை தெரியவில்லை

58. ஆங்கிலச் சொல்லுக்கு நேரான தமிழ்ச் சொல்லை தருக.

- A) Guild – மீட்டுருவாக்கம்
B) Patent – வணிகக்குழு
C) Nanotechnology – மீநுண் தொழில் நுட்பம்
D) Myth – கலைப்படைப்பு
E) விடை தெரியவில்லை

59. முக்குழல் என்பது

- A) காயா, கொன்றை, ஆம்பல் ஆகியவற்றால் ஆன குழல்கள்
B) கொன்றை, ஆம்பல், மூங்கில் ஆகியவற்றால் ஆன குழல்கள்
C) ஆம்பல், மூங்கில், காயா ஆகியவற்றால் ஆன குழல்கள்
D) காயா, ஆம்பல், மூங்கில் ஆகியவற்றால் ஆன குழல்கள்
E) விடை தெரியவில்லை

60. சொல்லோடு பொருளைப் பொருத்துக.

- | (சொல்) | (பொருள்) |
|-----------|----------------|
| a) பொலம் | 1. வயல் |
| b) கோடு | 2. ஒருவகை மான் |
| c) உழை | 3. வளம் |
| d) மல்லல் | 4. கொம்பு |
| e) செறு | 5. அழகு |



குறியீடுகள்:

- | | a | b | c | d | e |
|----|------------------|----------|----------|----------|----------|
| A) | 5 | 4 | 2 | 3 | 1 |
| B) | 2 | 5 | 4 | 3 | 1 |
| C) | 3 | 2 | 5 | 1 | 4 |
| D) | 4 | 1 | 2 | 5 | 3 |
| E) | விடை தெரியவில்லை | | | | |

61. “இராவண காவியம் காலத்தின் விளைவு. ஆராய்ச்சியின் அறிகுறி. புரட்சிப்பொறி. உண்மையை உணர வைக்கும் உன்னத நூல்” என்று இராவண காப்பியத்தை புகழ்ந்து கூறியவர் யார்?
- A) தந்தை பெரியார்
B) புலவர் குழந்தை
C) அறிஞர் அண்ணா
D) புதுமைப்பித்தன்
E) விடை தெரியவில்லை
62. அகரவரிசைப்படுத்துக.
- A) சிலப்பதிகாரம், மணிமேகலை, சீவகசிந்தாமணி, வளையாபதி, குண்டலகேசி
B) சிலப்பதிகாரம், சீவகசிந்தாமணி, மணிமேகலை, வளையாபதி, குண்டலகேசி
C) குண்டலகேசி, சிலப்பதிகாரம், சீவகசிந்தாமணி, மணிமேகலை, வளையாபதி
D) குண்டலகேசி, சிலப்பதிகாரம், சீவகசிந்தாமணி, வளையாபதி, மணிமேகலை
E) விடை தெரியவில்லை
63. சங்ககாலப் பெண்பாற் புலவர்களுள் ஒருவரான ‘காவற்பெண்டு’ எம்மன்னனின் செவிலித்தாயாக விளங்கினார்?
- A) அதியமான் நெடுமான் அஞ்சி
B) நல்லியக்கோடன்
C) போரவைக் கோப்பெரு நற்கிள்ளி
D) கரிகாற் பெருவளத்தான்
E) விடை தெரியவில்லை
64. “நீர்இன்று அமையா யாக்கைக்கு எல்லாம் உண்டி கொடுத்தோர் உயிர் கொடுத்தோரே!” – என்ற புறநானூற்றுப் பாடலானது யார் யாரிடம் கூறியது?
- A) முடத்தாமக் கண்ணியார், கரிகாற்பெருவளத்தான்
B) கோவூர்கிழார், நலங்கிள்ளி
C) குடபுலவியனார், பாண்டியன் நெடுஞ்செழியன்
D) காவற்பெண்டு, அதியமான் நெடுமான் அஞ்சி
E) விடை தெரியவில்லை
65. ‘கொடு’ என்னும் வேர்ச்சொல்லை அடிப்படையாகக் கொண்ட வினையாலணையும் பெயரினைத் தேர்ந்தெடுக்க.
- A) கொடுத்தோர்
B) கொடு
C) கொடுக்க
D) கொடுத்து
E) விடை தெரியவில்லை



66. பின்வருவனவற்றுள் பண்புத்தொகை பயின்று வாராச் சொல்லினைத் தேர்ந்தெடுக்க.
A) புன்புலம் B) அடுபோர்
C) நல்லிசை D) மூதூர்
E) விடை தெரியவில்லை
67. பொருத்துக.
(கவிஞர்) (இயற்பெயர்)
a) பெருஞ்சித்திரனார் 1. இராஜகோபாலன்
b) பாரதிதாசன் 2. துரைராசு
c) சுரதா 3. துரை. மாணிக்கம்
d) கல்யாணஜி 4. கனக சுப்புரத்தினம்
e) முடியரசன் 5. கல்யாண சுந்தரம்
குறியீடுகள்:
a b c d e
A) 1 3 4 2 5
B) 2 4 3 5 1
C) 3 4 1 5 2
D) 4 1 2 3 5
E) விடை தெரியவில்லை
68. 'திராவிட நாட்டின் வானம்பாடி' என்று பாராட்டப்பெற்றவர் யார்?
A) வாணிதாசன் B) முடியரசன்
C) சுரதா D) கல்யாணஜி
E) விடை தெரியவில்லை
69. 'கிணற்றுத் தவளை போல' உவமை கூறும் பொருள் தருக.
A) தெளிவு B) அறிவுடைமை
C) உலக அறிவின்மை D) தெளிவின்மை
E) விடை தெரியவில்லை
70. 'அவனைத் திருத்தச் செய்தான்' - இஃது எவ்வகைத் தொடர்?
A) செய்வினைத் தொடர் B) செயப்பாட்டு வினைத் தொடர்
C) தன்வினைத் தொடர் D) பிறவினைத் தொடர்
E) விடை தெரியவில்லை
71. பின்வருவனவற்றுள் செயப்பாட்டு வாக்கியத்தைத் தேர்ந்தெடுக்க.
A) கவிதா கவிதை எழுதவில்லை
B) கவிதா கவிதை எழுதினாளா?
C) கவிதா கவிதை எழுதினாள்
D) கவிதை கவிதாவால் எழுதப்பட்டது
E) விடை தெரியவில்லை



72. விடைக்கேற்ற வினாவைத் தேர்ந்தெடு.
'குடியரசுத் தலைவர் நாளை தமிழகம் வருகிறார்'
A) குடியரசுத் தலைவர் என்று தமிழகம் வருகிறார்?
B) குடியரசுத் தலைவர் ஏன் தமிழகம் வருகிறார்?
C) குடியரசு தலைவர் நாளை எவ்வாறு வருகிறார்?
D) குடியரசுத் தலைவர் எதற்காக நாளை தமிழகம் வருகிறார்?
E) விடை தெரியவில்லை
73. பின்வரும் கூற்றுகளைக் கருத்தில் கொள்க.
I. பேராசிரியர் ஜார்ஜ் எல்.ஹார்ட் என்பவரால் புறநானூறு The Four Hundred Songs of War and Wisdom: An Anthology of Poems from Classical Tamil, the Purananuru என்னும் தலைப்பில் ஆங்கிலத்தில் மொழிபெயர்க்கப்பட்டுள்ளது.
II. ஜி.யு.போப், புறநானூற்றுப் பாடல்கள் சிலவற்றை "Extracts from Purananuru & Purapporul Venbamalai" என்னும் தலைப்பில் ஆங்கிலத்தில் மொழிபெயர்த்துள்ளார்.
மேற்கண்ட கூற்றுகளில் சரியானது எது/எவை?
A) I மட்டும்
B) II மட்டும்
C) இரண்டும்
D) இரண்டுமில்லை
E) விடை தெரியவில்லை
74. 'நெடுந்தொகை' என்று அழைக்கப்படும் நூல் எது?
A) கலித்தொகை
B) அகநானூறு
C) ஐங்குறுநூறு
D) நற்றிணை
E) விடை தெரியவில்லை
75. பொருத்துக.
(திணை) (பாடல் வரிசை)
a) குறிஞ்சி 1. 1, 3, 5, 7,
b) முல்லை 2. 2, 8, 12, 18,
c) மருதம் 3. 4, 14, 24, 34,
d) நெய்தல் 4. 6, 16, 26, 36,
e) பாலை 5. 10, 20, 30, 40,
குறியீடுகள்:

	a	b	c	d	e
A)	1	3	4	2	5
B)	2	3	4	5	1
C)	3	2	1	5	4
D)	4	1	2	3	5

E) விடை தெரியவில்லை



76. 'வேந்தன்' எந்நிலத்திற்குரிய தெய்வம்?
A) குறிஞ்சி B) முல்லை
C) மருதம் D) நெய்தல்
E) விடை தெரியவில்லை
77. இந்தியாவின் பெப்பிசு என்று அழைக்கப்படுபவர் யார்?
A) சாமுவேல் B) ஆனந்தரங்கர்
C) அரங்கநாதன் D) அறிஞர் அண்ணா
E) விடை தெரியவில்லை
78. ஆனந்தரங்கர் நாட்குறிப்புக் குறித்து "தமிழ்த்தாய் நெருப்பினாலும் வெள்ளத்தினாலும் பாதிக்கப்பட்டாலும் அவளது ஆபரணங்கள் தொலைவில் உள்ள நகரமான பாரீசில் மிகவும் பாதிக்கப்பட்டுப் பராமரிக்கப்படுகின்றன" என்று கூறியவர் யார்?
A) தியாகராய தேசிகர் B) உ.வே.சா
C) வ.சுப.மாணிக்கம் D) சுத்தானந்த பாரதி
E) விடை தெரியவில்லை
79. பின்வருவனவற்றுள் தவறான கூற்றினைத் தேர்ந்தெடுக்க.
A) "நீரற வறியாக் கரகத்து" என்ற சிலப்பதிகாரப் பாடலடியில் கரகம் என்ற சொல் இடம் பெற்றுள்ளது.
B) திருவாசகத்திலும், பட்டினத்தார். பாடலிலும் தோற்பாவைக் கூத்து பற்றிய செய்திகளைக் காணமுடிகிறது
C) பொய்க்கால் குதிரையாட்டம் மராட்டியர் காலத்தில் தஞ்சைக்கு வந்ததாகக் கூறப்படுகிறது.
D) பாவை குறித்த செய்திகள் சங்ககாலம் முதல் பதினெட்டாம் நூற்றாண்டு வரையான தமிழ் இலக்கியங்களில் காணப்படுகின்றன.
E) விடை தெரியவில்லை
80. பொருத்துக.
(நூல்) (பாட்டுடைத் தலைவன்)
a) மதுரைக்காஞ்சி 1. தொண்டைமான் இளந்திரையன்
b) பெரும்பாணாற்றுப்படை 2. நல்லூர் நத்தத்தனார்
c) மலைபடுகடாம் 3. தலையாலங்கானத்துச் செருவென்ற பாண்டியன் நெடுஞ்செழியன்
d) சிறுபாணாற்றுப்படை 4. நன்னன்
- குறியீடுகள்:
a b c d
A) 1 3 4 2
B) 2 4 3 1
C) 3 2 1 4
D) 3 1 4 2
E) விடை தெரியவில்லை



81. தவறான இணையைத் தேர்ந்தெடுக்க.
(நூல்) (அடியெல்லை)
A) நற்றிணை - (9 முதல் 12 வரை)
B) குறுந்தொகை - (4 முதல் 8 வரை)
C) ஐங்குறுநூறு - (3 முதல் 5 வரை)
D) அகநானூறு - (13 முதல் 31 வரை)
E) விடை தெரியவில்லை
82. 'நெடுநல்வாடை' பிரித்தெழுதுக.
A) நெடு + நன்மை + வாடை
B) நெடுமை + நன்மை + வாடை
C) நெடு + நல் + வாடை
D) நெடுமை + நல் + வாடை
E) விடை தெரியவில்லை
83. "சீவகசிந்தாமணி செந்தமிழ்க் காப்பியங்களுள் சிறந்தது மட்டுமன்று, உலக மகாகாவியங்களில் ஒன்றாகும்" என்று பாராட்டியவர் யார்?
A) திருத்தக்கதேவர்
B) ஜி.யு.போப்
C) வீரமாமுனிவர்
D) கால்டுவெல்
E) விடை தெரியவில்லை
84. வேறுபட்ட ஒன்றினைத் தேர்ந்தெடுக்க.
A) அமை
B) கழை
C) மூங்கில்
D) பணை
E) விடை தெரியவில்லை
85. "ஈர நன்மொழி இரவலர்க்கு ஈந்த" - சிறுபாணாற்றுப் பாடலடிகள் யாரைக் குறிப்பிடுகின்றார்?
A) பேகன்
B) பாரி
C) காரி
D) ஓரி
E) விடை தெரியவில்லை
86. 'சிலப்பதிகாரம்' பற்றிய தவறான கூற்றினைத் தேர்ந்தெடுக்க.
A) தமிழரின் கலை, நாகரிகம், பண்பாடு முதலானவற்றை உள்ளடக்கிய கருவூலமாகச் சிலப்பதிகாரம் திகழ்கிறது.
B) செய்யுளாகவும் பாடலாகவும் உரைநடையாகவும் பாடப்பட்டுள்ளதால் அது 'உரையிடையிட்ட பாட்டுடைச் செய்யுள்' எனப்படுகிறது.
C) அரசகுடி அல்லாதவர்களைக் காப்பியத்தின் தலைமக்களாக வைத்துப் பாடியதால் இது 'குடிமக்கள் காப்பியம்' எனப்படுகிறது.
D) புகார், மதுரை, வஞ்சிக் காண்டங்கள் முறையே சேர, சோழ, பாண்டிய மன்னர்களைப் பற்றியவை என்பதால் 'மூவேந்தர் காப்பியம்' எனவும் அழைக்கப்படுகிறது.
E) விடை தெரியவில்லை



87. ஐம்பெருங்குழுவில் இடம்பெறாத ஒருவரைத் தேர்ந்தெடுக்க.
A) அமைச்சர்
B) தூதர்
C) நகர மாந்தர்
D) படைத்தலைவர்
E) விடை தெரியவில்லை
88. 'நீலகேசி' பற்றிய தவறான கூற்றினைத் தேர்ந்தெடுக்க.
A) தமிழில் எழுதப்பட்ட முதலாவது தருக்க நூல்.
B) இதை எழுதியவர் யார் என அறியப்படவில்லை. இதன் உரையாசிரியர் சமய திவாகர வாமன முனிவர்.
C) 'வளையாபதி' என்னும் நூலுக்கு மறுப்பாக எழுதப்பட்டது.
D) இந்நூலில் கடவுள் வாழ்த்து உட்பட பதினொரு பகுதிகளிலும் மொத்தமாக 894 பாடல்கள் உள்ளன.
E) விடை தெரியவில்லை
89. அண்மைச் சுட்டுக்குரிய எழுத்து எது?
A) அ
B) உ
C) இ
D) எ
E) விடை தெரியவில்லை
90. செய்யுளில் ஒரு பெயர்ச்சொல் எச்சச் சொல்லாகத் திரிந்து அளபெடுப்பது
A) செய்யுளிசை அளபெடை
B) இசைநிறை அளபெடை
C) இன்னிசை அளபெடை
D) சொல்லிசை அளபெடை
E) விடை தெரியவில்லை
91. பின்வரும் இணைகளைக் கருத்தில் கொள்க.
(சொல்) (குற்றியலுகரம்)
I. வரலாறு – உயிர்த்தொடர்க் குற்றியலுகரம்
II. ஆறு – நெடில்தொடர்க் குற்றியலுகரம்
III. அம்பு – மென்தொடர்க் குற்றியலுகரம்
IV. சால்பு – இடைத்தொடர்க் குற்றியலுகரம்
மேற்கண்ட இணைகளில் எத்தனை இணைகள் சரியானவை?
A) 3
B) 4
C) 1
D) 2
E) விடை தெரியவில்லை



92. பின்வருவனவற்றுள் தவறான கூற்றினைத் தேர்ந்தெடுக்க.
- A) ஐகார எழுத்து, தனித்து வரும் இடங்களில் தனக்குரிய இரண்டு மாத்திரை அளவில் முழுமையாக ஒலிக்கிறது.
- B) ஐகாரம் சொல்லின் முதலில் வரும்போது ஒன்றரை மாத்திரை அளவில் ஒலிக்கும்.
- C) ஐகாரம் சொல்லின் இடையிலும் இறுதியிலும் வரும்போது ஒரு மாத்திரை அளவில் ஒலிக்கும்.
- D) ஒளகாரம் சொல்லின் இடையிலும் இறுதியிலும் வரும்போது ஒரு மாத்திரை அளவில் ஒலிக்கும்.
- E) விடை தெரியவில்லை
93. பின்வருவனவற்றுள் தவறாக பிரிந்துள்ள சொல்லைத் தேர்ந்தெடுக்க.
- A) சொற்றுணை = சொல் + துணை B) மக்கட்பேறு = மக்கட்பேறு
- C) நாண்மீன் = நான் + மீன் D) பஃறுளி = பல் + துளி
- E) விடை தெரியவில்லை
94. பிழையான சொல்லைத் தேர்ந்தெடுக்க.
- A) உறுப்பினர் B) குழுவினர்
- C) ஊரினர் D) அனுப்புனர்
- E) விடை தெரியவில்லை
95. பிழையான தொடரைத் தேர்ந்தெடுக்க.
- A) காளைகளைப் பூட்டி வயலை உழுதனர்.
- B) மலைமீது ஏறிக் கல்வெட்டுக்களைக் கண்டறிந்தனர்.
- C) காளையில் பூத்த மல்லிகை மனம் வீசியது
- D) நெற்பயிர்கள் மழைநீரில் மூழ்கின
- E) விடை தெரியவில்லை
96. பொருத்துக.
- | | |
|-----------------------------|-----------------|
| a) இடுகுறிப் பொதுப்பெயர் | 1. கருவேலங்காடு |
| b) இடுகுறிச் சிறப்புப்பெயர் | 2. மரம் |
| c) காரணப் பொதுப்பெயர் | 3. வளையல் |
| d) காரணச் சிறப்புப்பெயர் | 4. பறவை |
- குறியீடுகள்:
- | | a | b | c | d |
|----|----------|----------|----------|----------|
| A) | 4 | 3 | 2 | 1 |
| B) | 2 | 1 | 4 | 3 |
| C) | 3 | 2 | 1 | 4 |
| D) | 4 | 1 | 2 | 3 |
- E) விடை தெரியவில்லை



97. 'பெரியபுராணம்' பற்றிய பின்வரும் கூற்றுகளைக் கருத்தில் கொள்க.
- சுந்தரர் எழுதிய 'திருத்தொண்டத்தொகை'. நம்பியாண்டார் நம்பி எழுதிய 'திருத்தொண்டர் திருவந்தாதி' ஆகிய நூல்களை முதல் நூலாகக் கொண்டு இந்நூல் இயற்றப்பட்டது.
 - சுந்தரரைக் காப்பியத் தலைவராகக் கொண்டு இந்நூல் அமைகின்றது. இது சைவத்திருமுறைகளுள் பன்னிரண்டாம் திருமுறையாக வைக்கப்பட்டுள்ளது. இந்நூலின் ஆசிரியர் சேக்கிழார்.
 - ஆண், பெண் வேறுபாடின்றிப் பல இனங்களையும், தொழில் பிரிவுகளையும் சார்ந்த சிவனடியார்களைப் பற்றிய நூலாக அமைந்துள்ளதால் இந்நூலைத் தேசிய இலக்கியம் என்று சான்றோர்கள் பாராட்டுவர்.
 - சேக்கிழார் இந்நூலிற்குத் திருத்தொண்டர் புராணம் எனப் பெயரிட்டார். மேற்கண்ட கூற்றுகளில் சரியானவை எவை?
- A) I, II மற்றும் III மட்டும்
B) II, III மற்றும் IV மட்டும்
C) I, II மற்றும் IV மட்டும்
D) மேற்கண்ட அனைத்தும்
E) விடை தெரியவில்லை
98. சேக்கிழார் பற்றிய தவறான கூற்றினைத் தேர்ந்தெடுக்க.
- இயற்பெயர் அருண்மொழித்தேவர்
 - கி.பி 12 ஆம் நூற்றாண்டைச் சேர்ந்தவர்
 - சோழ அரசன் முதலாம் குலோத்துங்கன் அவையில் முதலமைச்சராக இருந்தார்.
 - 'பக்திச்சுவை நனி சொட்டச் சொட்டப் பாடிய கவிவலவ' என்று இவரை மகாவித்துவான் மீனாட்சி சுந்தரனார் பாராட்டுகிறார்.
 - விடை தெரியவில்லை
99. "ஞானச்சுடர் விளக்கு ஏற்றினேன் நாரணற்கு
ஞானத்தமிழ் புரிந்த நான்" – என்று பாடியவர் யார்?
- பூதத்தாழ்வார்
 - பேயாழ்வார்
 - பொய்கையாழ்வார்
 - நம்மாழ்வார்
 - விடை தெரியவில்லை
100. பின்வரும் கூற்றுகளுள் பொருந்தாத ஒன்றினைத் தேர்ந்தெடுக்க.
- திருமாலைப் போற்றிப் பாடியவர்கள் பன்னிரு ஆழ்வார்கள்.
 - ஆழ்வார்கள் பாடிய பாடல்களின் தொகுப்பு நாலாயிரத் திவ்விய பிரபந்தம் ஆகும்.
 - நாலாயிரத் திவ்வியப் பிரபந்தத்தை தொகுத்தவர் நம்மாழ்வார் ஆவார்.
 - பன்னிரு ஆழ்வார்களுள் பொய்கையாழ்வார், பூதத்தாழ்வார், பேயாழ்வார் ஆகிய மூவரையும் முதலாழ்வார்கள் என்பர்.
 - விடை தெரியவில்லை
101. 'வித்துவக்கோடு' ஊரில் வீற்றிருக்கும் இறைவனான உய்யவந்த பெருமாளை அன்னையாக உருவகித்துப் பாடியவர் யார்?
- ஆண்டாள்
 - பேயாழ்வார்
 - குலசேகர ஆழ்வார்
 - நம்மாழ்வார்
 - விடை தெரியவில்லை



102. சந்தாசாகிப் 'இஸ்மத் சன்னியாசி' என்னும் பட்டத்தை யாருக்கு வழங்கினார்?
- A) எச்.ஏ.கிருஷ்ணப்பிள்ளை
B) வீரமாமுனிவர்
C) கால்டுவெல்
D) உமறுப்புலவர்
E) விடை தெரியவில்லை
103. பின்வரும் கூற்றுகளைக் கருத்தில் கொள்க.
- I. இசுலாமியத் தமிழ் இலக்கியத்தில் முன்மையானதாக விளங்குவது சீறாப்புராணம். 'சீறா' என்பது சீறத் என்னும் அரபுச் சொல்லின் திரிபு ஆகும். இதற்கு வாழ்க்கை என்பது பொருள்.
- II. நபிகள் பெருமானின் வாழ்க்கை வரலாற்றினைக் கூறும் இந்நூலை வள்ளல் சீதக்காதியின் வேண்டுகோளுக்கிணங்க உமறுப்புலவர் இயற்றினார்.
- மேற்கண்ட கூற்றுகளில் சரியானது எது/எவை?
- A) I மட்டும்
B) II மட்டும்
C) இரண்டும்
D) இரண்டுமில்லை
E) விடை தெரியவில்லை
104. பின்வரும் இணைகளைக் கருத்தில் கொள்க.
- | (தொழிற்பெயர்) | (விகுதி) |
|---------------|----------|
| I. விலை | - ஐ |
| II. வருகை | - கை |
| III. போக்கு | - கு |
| IV. தருதல் | - தல் |
- மேற்கண்ட இணைகளில் எத்தனை இணைகள் சரியானவை?
- A) 1
B) 4
C) 3
D) 2
E) விடை தெரியவில்லை
105. 'சோறு கொதி வந்தது' - இத்தொடரில் அடிக்கோடிட்ட சொல்லின் இலக்கணக்குறிப்பு தருக.
- A) எதிர்மறைத் தொழிற்பெயர்
B) தொழிற்பெயர்
C) முதனிலைத் தொழிற்பெயர்
D) முதனிலை திரிந்த தொழிற்பெயர்
E) விடை தெரியவில்லை
106. 'வள்ளி படித்தனள் மகிழ்ந்தாள்' - இலக்கணக்குறிப்பு தருக.
- A) வினைமுற்று
B) குறிப்பு வினையெச்சம்
C) தெரிநிலை வினையெச்சம்
D) முற்றெச்சம்
E) விடை தெரியவில்லை
107. பின்வருவனவற்றுள் தவறான இணையைத் தேர்ந்தெடுக்க.
- | (தொடர்) | (தொடர்) |
|---------------------------------------|-----------------------------|
| A) பெரியார் மூடநம்பிக்கைகளை ஒழித்தார் | - இரண்டாம் வேற்றுமைத் தொடர் |
| B) கரிகாலனால் கல்லணை கட்டப்பட்டது | - மூன்றாம் வேற்றுமைத் தொடர் |
| C) புறந்தூய்மை நீரான் அமையும் | - நான்காம் வேற்றுமைத் தொடர் |
| D) சிலேடை பாடுவதில் வல்லவர் காளமேகம் | - ஐந்தாம் வேற்றுமைத் தொடர் |
| E) விடை தெரியவில்லை | |



108. பொருத்துக.

- | | |
|--|------------------|
| a) இரண்டாம் வேற்றுமை உருபும் பயனும் உடன்தொக்க தொகை | 1. தமிழ்த்தொண்டு |
| b) மூன்றாம் வேற்றுமை உருபும் பயனும் உடன்தொக்க தொகை | 2. பால்குடம் |
| c) நான்காம் வேற்றுமை உருபும் பயனும் உடன்தொக்க தொகை | 3. பொற்சிலை |
| d) ஆறாம் வேற்றுமை உருபும் பயனும் உடன்தொக்க தொகை | 4. கம்பர் பாடல் |

குறியீடுகள்:

- | | <i>a</i> | <i>b</i> | <i>c</i> | <i>d</i> |
|----|----------|----------|----------|----------|
| A) | 1 | 2 | 3 | 4 |
| B) | 2 | 3 | 1 | 4 |
| C) | 3 | 4 | 2 | 1 |
| D) | 2 | 1 | 4 | 3 |

E) விடை தெரியவில்லை

109. பின்வரும் இணைகளைக் கருத்தில் கொள்க.

- | | |
|---------------------------------|---------------|
| I. வளர்தமிழ் | – வினைத்தொகை |
| II. கருங்குவளை | – பண்புத்தொகை |
| III. இருபெயராட்டுப் பண்புத்தொகை | – பனைமரம் |
| IV. உவமைத்தொகை | – மலர்விழி |

மேற்கண்ட இணைகளில் எத்தனை இணைகள் சரியானவை?

- | | |
|------|------|
| A) 3 | B) 4 |
| C) 1 | D) 2 |
- E) விடை தெரியவில்லை

110. இயற்றமிழின் செழுமையையும் இசைத்தமிழின் இனிமையையும் நாடகத்தமிழின் எழிலினையும் ஒருங்கேகொண்டு முத்தமிழ்க் காவியமாகத் திகழும் சிற்றிலக்கியம் எது?

- | | |
|--------------------------------------|-------------------|
| A) முத்துக்குமாரசுவாமி பிள்ளைத்தமிழ் | B) முக்கூடற்பள்ளு |
| C) குற்றாலக் குறவஞ்சி | D) தமிழ்விடுதாது |
- E) விடை தெரியவில்லை

111. 'கலிங்கத்துப்பரணி' பற்றிய பின்வரும் கூற்றுகளைக் கருத்தில் கொள்க.

- I. இதன் ஆசிரியர் செயங்கொண்டார். இவர் முதலாம் குலோத்துங்கச் சோழனுடைய அவைக்களப் புலவராகத் திகழ்ந்தவர்.
- II. கலிங்கத்துப்பரணி கலித்தாழிசையால் பாடப்பெற்றது; 599 தாழிசைகள் கொண்டது.
- III. போரில் ஆயிரம் யானைகளைக் கொண்டு வெற்றி கொண்ட வீரரைப் புகழ்ந்து பாடும் இலக்கியம் பரணி ஆகும்.

IV. தமிழில் முதன்முதலில் எழுந்த பரணி நூல் இதுவே.

மேற்கண்ட கூற்றுகளில் சரியானவை எவை?

- | | |
|------------------------------|-------------------------------|
| A) I, II மற்றும் III மட்டும் | B) II, III மற்றும் IV மட்டும் |
| C) I, II மற்றும் IV மட்டும் | D) மேற்கண்ட அனைத்தும் |
- E) விடை தெரியவில்லை



112. 'பெருங்குணத்துக் காதலாள் நடந்த பெருவழி' – இத்தொடரில் பெருங்குணத்துக் காதலாள் என்று குறிப்பிடப்பட்டவர் யார்?
A) சீதை
B) கண்ணகி
C) மாதவி
D) அருந்ததி
E) விடை தெரியவில்லை
113. ஏர்க்களச் சிறப்பும் போர்க்களச் சிறப்பும் உடைய நாடாக திகழும் நாடு எது?
A) சோழநாடு
B) சேரநாடு
C) பாண்டிய நாடு
D) தொண்டை நாடு
E) விடை தெரியவில்லை
114. 'சந்து இலக்கியம்' என்று அழைக்கப்படும் நூல் எது?
A) அந்தாது
B) பள்ளு
C) உலா
D) தூது
E) விடை தெரியவில்லை
115. தமிழில் ஹைக்கூ, சென்ரியு, லிமெரைக்கூ என புதுப்புது வடிவங்களில் கவிதைகளை எழுதியவர் யார்?
A) ஈரோடு தமிழன்பன்
B) கவிஞர்.மீரா
C) ந.பிச்சமூர்த்தி
D) அப்துல் ரகுமான்
E) விடை தெரியவில்லை
116. தமிழில் முதன்முதலில் 'சீட்டுக்கவி' எழுதியவர் யார்?
A) பாரதியார்
B) சி.மணி
C) உமறுப்புலவர்
D) பலபட்டடை சொக்கநாதப்புலவர்
E) விடை தெரியவில்லை
117. பின்வருவனவற்றுள் தவறான கூற்றினைத் தேர்ந்தெடுக்க.
A) கொன்றைக்குழல் முல்லைக்குழல் ஆம்பல்குழல் எனப் பலவகையான குழல்கள் இருந்ததாக சிலப்பதிகாரம் கூறுகிறது.
B) சிறிய உடுக்கையைக் குடுகுடுப்பை என்பர். பெரிய உடுக்கையைத் தவண்டை என்பர்.
C) இலக்கியங்களில் சங்கினைப் பணிலம் என்றும் குறிப்பிட்டுள்ளனர்.
D) தமிழ் மக்களிடம் முப்பத்தாறு வகையான முரசுகள் வழக்கத்தில் இருந்ததாகச் சிலப்பதிகாரம் குறிப்பிடுகிறது. மாக்கண் முரசும் என்று பட்டினப்பாலை குறிப்பிடுகிறது.
E) விடை தெரியவில்லை
118. 'சகோட யாழ்' – நரம்புகளின் எண்ணிக்கை எத்தனை?
A) 21 நரம்புகள்
B) 19 நரம்புகள்
C) 14 நரம்புகள்
D) 11 நரம்புகள்
E) விடை தெரியவில்லை



119. பின்வருவனவற்றுள் தவறான இணையைத் தேர்ந்தெடுக்க.
(தொடர்) (தொடர்வகை)
- A) அன்பால் கட்டினார் – மூன்றாம் வேற்றுமைத் தொகாநிலைத் தொடர்
B) பாடி மகிழ்ந்தனர் – வினைமுற்றுத் தொடர்
C) கேட்ட பாடல் – பெயரெச்சத் தொடர்
D) கூலிக்காக வேலை – நான்காம் வேற்றுமைத் தொகாநிலைத் தொடர்
E) விடை தெரியவில்லை
120. வல்லினம் மிகும்/மிகா இடங்களின் அடிப்படையில் தவறான கூற்றினைத் தேர்ந்தெடுக்க.
A) திசைப்பெயர்களை அடுத்து வல்லினம் மிகும்.
B) விளித்தொடரில் வல்லினம் மிகாது.
C) உவமைத்தொகையில் வல்லினம் மிகும்.
D) உம்மைத்தொகையில் வல்லினம் மிகும்.
E) விடை தெரியவில்லை
121. சந்திப்பிழையான தொடரினைத் தேர்ந்தெடுக்க.
A) இரவுப்பகல் B) தெற்குப் பக்கம்
C) வட்டப்பாறை D) வாய்ப்பவளம்
E) விடை தெரியவில்லை
122. பிழையான தொடரினைத் தேர்ந்தெடுக்க.
A) அந்த, இந்த என்னும் சுட்டுத்திரிபுகளை அடுத்து வல்லினம் மிகும்.
B) வினைத்தொகையில் வல்லினம் மிகும்.
C) உகரத்தில் முடியும் வினையெச்சங்கள் வன்தொடர்க் குற்றியலுகரமாக இருந்தால் மட்டும் வல்லினம் மிகும்.
D) அந்த, இந்த என்னும் சுட்டுத்திரிபுகளை அடுத்து வல்லினம் மிகும்.
E) விடை தெரியவில்லை
123. கீழ்க்கண்ட எந்த வேற்றுமைத்தொகையில் வல்லினம் மிகும்?
A) மூன்றாம் வேற்றுமைத்தொகை B) நான்காம் வேற்றுமைத்தொகை
C) ஐந்தாம் வேற்றுமைத்தொகை D) ஆறாம் வேற்றுமைத்தொகை
E) விடை தெரியவில்லை
124. பின்வருவனவற்றுள் தவறான இணையைத் தேர்ந்தெடுக்க.
(தொடர்) (ஆகுபெயர்)
- A) மல்லிகை சூடினாள் – சினையாகு பெயர்
B) சடுகுடு போட்டியில் தமிழ்நாடு வெற்றி பெற்றது – இடவாகு பெயர்
C) திசம்பர் சூடினாள் – காலவாகு பெயர்
D) பொங்கல் உண்டான் – தொழிலாகுபெயர்
E) விடை தெரியவில்லை



125. 'இரட்டைக்கிளவி' பற்றிய கூற்றுகளுள் பொருந்தா ஒன்றினைத் தேர்ந்தெடுக்க.
- A) இரட்டைக்கிளவியைப் பிரித்தால் அது பொருள் தருவதில்லை.
B) இரட்டைக் கிளவியில் ஒரே சொல் இரண்டு முதல் நான்கு முறை வரை வரும்.
C) இரட்டைக்கிளவியின் சொற்கள் இணைந்தே நிற்கும்.
D) இரட்டைக்கிளவி வினைக்கு அடைமொழியாகக் குறிப்புப் பொருளில் வரும்.
E) விடை தெரியவில்லை

126. பொருத்துக.

(தொடர்)

(ஆகுபெயர்)

- | | |
|---------------------------------------|----------------------|
| a) மருக்கொழுந்து நட்தான் | 1. காரியவாகு பெயர் |
| b) கார் அறுத்தான் | 2. கருத்தாவாகு பெயர் |
| c) மஞ்சள் பூசினாள் | 3. காலவாகு பெயர் |
| d) பைங்கூழ் வளர்ந்தது | 4. பண்பாகு பெயர் |
| e) அறிஞர் அண்ணாவைப் படித்திருக்கிறேன் | 5. சினையாகு பெயர் |

குறியீடுகள்:

- | | a | b | c | d | e |
|----|---|---|---|---|---|
| A) | 1 | 3 | 4 | 2 | 4 |
| B) | 2 | 4 | 3 | 5 | 1 |
| C) | 3 | 2 | 1 | 4 | 5 |
| D) | 5 | 3 | 4 | 1 | 2 |
- E) விடை தெரியவில்லை

127. 'ஒன்று பெற்றால் ஒளிமயம்' என்பது எவ்வகை ஆகுபெயர்?

- | | |
|------------------------|------------------------|
| A) முகத்தலளவை ஆகுபெயர் | B) எண்ணலளவை ஆகுபெயர் |
| C) நீட்டலளவை ஆகுபெயர் | D) எடுத்தலளவை ஆகுபெயர் |
- E) விடை தெரியவில்லை

128. பின்வரும் இணைகளைக் கருத்தில் கொள்க.

(ஒரெழுத்து ஒருமொழி)

(பொருள்)

- | | |
|--------|--------------------------|
| I. மே | - அன்பு |
| II. கூ | - பூமி |
| III. ஐ | - தலைவன் |
| IV. ஓ | - மதகுநீர் தாங்கும் பலகை |
| V. நோ | - வறுமை |

மேற்கண்ட இணைகளில் எத்தனை இணைகள் சரியானவை?

- | | |
|------|------|
| A) 3 | B) 4 |
| C) 5 | D) 2 |
- E) விடை தெரியவில்லை



129. பொருத்துக.

(ஓரெழுத்து ஒருமொழி) (பொருள்)

- | | |
|--------|---------|
| a) வெள | 1. புல் |
| b) வீ | 2. இளமை |
| c) வை | 3. மலர் |
| d) பை | 4. கவர் |

குறியீடுகள்:

	a	b	c	d
A)	4	3	1	2
B)	2	4	3	1
C)	3	2	1	4
D)	4	1	2	3

E) விடை தெரியவில்லை

130. பொருத்துக.

(தமிழ் எண்) (தமிழ் எண்ணுரு)

- | | |
|---------------------|--------|
| a) பன்னிரண்டு | 1. கந |
| b) பதின்மூன்று | 2. எஅ |
| c) எழுபத்தெட்டு | 3. சந |
| d) தொண்ணூறு | 4. கஉ |
| e) நாற்பத்து மூன்று | 5. கூ0 |

குறியீடுகள்:

	a	b	c	d	e
A)	5	1	3	4	2
B)	4	1	2	5	3
C)	3	2	5	1	4
D)	4	5	1	2	3

E) விடை தெரியவில்லை

131. பின்வருவனவற்றுள் தவறாக சேர்ந்துள்ள சொல்லைத் தேர்ந்தெடுக்க.

- | | |
|-------------------------------|-------------------------------|
| A) பாழ் + கிணறு = பாழ்க்கிணறு | B) மெய் + ஞானம் = மெய்ஞ்ஞானம் |
| C) பூ + சோலை = பூஞ்சோலை | D) செய் + நன்றி = செய்ந்நன்றி |
| E) விடை தெரியவில்லை | |

132. 'கண்ணன் எங்கே இருக்கிறார்?' என்ற வினாவிற்குக் 'கண்ணாடி பைக்குள் இருக்கிறது' என்று விடையளித்தல்?

- | | |
|---------------------|-------------|
| A) மரபு வழி | B) வினா வழி |
| C) விடை வழி | D) கால வழி |
| E) விடை தெரியவில்லை | |



133. 'குடியரசுத் தலைவர் நாளை தமிழகம் வருகிறார்' என்பது
 A) திணை வழுவமைதி B) பால் வழுவமைதி
 C) கால வழுவமைதி D) மரபு வழுவமைதி
 E) விடை தெரியவில்லை
134. பின்வருவனவற்றுள் தவறான இணையைத் தேர்ந்தெடுக்க.
 A) அமைச்சர் நாளை விழாவிற்கு வருகிறார் - மரபு வழுவமைதி
 B) "எண் அம்மை வந்தாள்" என்று மாட்டைப் பார்த்துக் கூறுவது - திணை வழுவமைதி
 C) "வாடா இராசா, வாடா கண்ணா" என்று தன் மகளைப் பார்த்துத் தாய் அழைப்பது - பால் வழுவமைதி
 D) மாறன் என்பான் தன்னைப் பற்றிப் பிறரிடம் கூறும்போது, "இந்த மாறன் ஒரு நாளும் பொய் கூறமாட்டான்" என்பது - இடவழுவமைதி
 E) விடை தெரியவில்லை
135. "உயர்திணை என்மனார் மக்கட் சுட்டே அஃறிணை என்மனார் அவரல பிறவே" - இந்நூற்பா இடம்பெற்றுள்ள நூல் எது?
 A) நன்னூல் B) தண்டியலங்காரம்
 C) தொல்காப்பியம் D) புறப்பொருள் வெண்பாமாலை
 E) விடை தெரியவில்லை
136. 'சாலச்சிறந்தது' - தொடரின் வகையை அறிக.
 A) இடைச்சொல் B) விளித்தொடர்
 C) எழுவாய்த்தொடர் D) உரிச்சொல் தொடர்
 E) விடை தெரியவில்லை
137. குற்றியலுகரம் அடிப்படையில் பொருந்தாத சொல்லைத் தேர்ந்தெடுக்க.
 A) மார்பு B) எஃகு
 C) மருந்து D) பசு
 E) விடை தெரியவில்லை
138. பின்வருவனவற்றுள் பொருந்தாச் சொல்லைத் கண்டறிக.
 A) மோனை B) எதுகை
 C) இசைவு D) இயைபு
 E) விடை தெரியவில்லை
139. புலவர்களால் எழுதப்பட்டுக் கல் தச்சர்களால் கல்லில் பொறிக்கப்பட்டவை
 A) ஓவியக்கலை B) சிற்பக்கலை
 C) மெய்க்கீர்த்தி D) பைஞ்சுதை
 E) விடை தெரியவில்லை



140. பின்வரும் இணைகளைக் கருத்தில் கொள்க.
- I. பகுத்தறிவுக் கவிராயர் – உடுமலை நாராயணக்கவி
II. உவமைக்கவிஞர் – பெருஞ்சித்திரனார்
III. காந்தியக் கவிஞர் – வெ.இராமலிங்கனார்
IV. புரட்சிக் கவிஞர் – தாரா பாரதி
- மேற்கண்ட இணைகளில் எத்தனை இணைகள் சரியானவை?
- A) 2 B) 4
C) 1 D) 3
E) விடை தெரியவில்லை
141. “பெண் எனில் பேதை என்ற எண்ணம் இந்த நாட்டில் இருக்கும் வரைக்கும் உருப்படல் என்பது சரிப்படாது” என்று பாடியவர் யார்?
- A) பட்டுக்கோட்டை கல்யாண சுந்தரனார் B) தாரா பாரதி
C) பாரதிதாசன் D) கவிமணி
E) விடை தெரியவில்லை
142. முடியரசன் இயற்றிய நூல்களுள் பொருந்தா ஒன்றினைத் தேர்ந்தெடுக்க.
- A) பூங்கொடி B) நீலமேகம்
C) வீரகாவியம் D) காவியப்பாவை
E) விடை தெரியவில்லை
143. ‘தேடு’ வினைமுற்று சொல்
- A) தேடிய B) தேடினார்
C) தேடுக D) தேடுதல்
E) விடை தெரியவில்லை
144. பின்வருவனவற்றுள் தவறான கூற்றினைத் தேர்ந்தெடுக்க.
- A) சோழர்காலம் செப்புத்திருமேனிகளின் பொற்காலம் என்று அழைக்கப்படுகிறது.
B) விஜய நகர மன்னர்கள் காலத்தில் கோவில்களில் மிக உயர்ந்த கோபுரங்கள் எழுப்பப்பட்டன.
C) நாயக்க மன்னர்கள் பல இடங்களில் ஆயிரங்கால் மண்டபங்களை அமைத்தனர்.
D) பாண்டிய மன்னர்கள் சிற்பங்களில் குதிரையின் உருவங்களை இடம்பெறச் செய்தனர்.
E) விடை தெரியவில்லை
145. தஞ்சைப் பெரிய கோவில் கல்வெட்டுகளைப் படியெடுத்து வாசித்து இக்கோவிலை இராசராச சோழன்தான் கட்டினான் என்று உறுதி செய்தவர் யார்?
- A) ஐராவதம் மகாதேவன்
B) ஷூல்ஸ்
C) எஸ்.கே. கோவிந்தசாமி
D) பாலகிருஷ்ணன்
E) விடை தெரியவில்லை



146. “ஓவிய மண்டபத்தில் பல வகை ஓவியங்கள் வரையப்பட்டிருந்தன. ஓவியம் குறித்து அறிந்தோர் அறியாதவர்களுக்கு விளக்கி கூறினர்” என்ற செய்தி இடம்பெற்றுள்ள நூல் எது?
- A) புறநானூறு
B) பரிபாடல்
C) பட்டினப்பாலை
D) பதிற்றுப்பத்து
E) விடை தெரியவில்லை
147. பொருத்துக.
- | | |
|------------------------------------|-------------------|
| (அறிவியல் கருத்து) | (நூல்) |
| a) உலகு கிளர்ந்தன்ன உருகெழு வங்கம் | 1. புறநானூறு |
| b) நளியிரு முந்நீர் நாவாய் ஓட்டி | 2. கார்நாற்பது |
| c) நெடுவெள்ளூசி நெடு வசி பரந்த வடு | 3. அகநானூறு |
| d) கடல்நீர் முகந்த கமஞ்சூழ் எழிலி | 4. பதிற்றுப்பத்து |
- குறியீடுகள்:**
- | | | | | |
|----|----------|----------|----------|----------|
| | a | b | c | d |
| A) | 4 | 3 | 2 | 1 |
| B) | 1 | 2 | 4 | 3 |
| C) | 3 | 1 | 4 | 2 |
| D) | 4 | 1 | 2 | 3 |
- E) விடை தெரியவில்லை
148. தமிழில் மட்டும் பயன்படுத்தப்பட்டுத் தமிழுக்கே சிறப்பாக உரியனவாகக் கருதப்படும் சொற்கள் மட்டுமன்றித் தெலுங்கு, கன்னடம் முதலிய பிற திராவிட மொழிகளுக்குரியனவாகக் கருதப்படும் சொற்களும் தமிழில் உள்” என்று கூறியவர் யார்?
- A) எல்லீஸ் பாதிரியார்
B) வீரமாமுனிவர்
C) கால்டுவெல்
D) ஜி.யு.போப்
E) விடை தெரியவில்லை
149. ‘போது’ – என்பது
- A) பூவின் தோற்ற நிலை
B) பூ விரியத் தொடங்கும் நிலை
C) பூவின் மலர்ந்த நிலை
D) பூ வாடின நிலை
E) விடை தெரியவில்லை
150. தமிழ் ஆட்சி மொழியாகத் திகழும் பிற நாடுகள்
- A) இலங்கை, சிங்கப்பூர், மலேசியா
B) மொரிசியசு, இலங்கை, கனடா
C) பிரிட்டன், பிஜித்தீவு, பினாங்குத்தீவு
D) கனடா, இலங்கை, மியான்மர்
E) விடை தெரியவில்லை



151. டாக்டர் ரா.பி. சேதுப்பிள்ளை எழுதிய ஆய்வு நூல்
A) உரைநடைக்கோவை
B) தமிழிலக்கிய வரலாறு
C) கதையும் கற்பனையும்
D) ஊரும் பேரும்
E) விடை தெரியவில்லை
152. கோமகளின் படைப்புகளுள் பொருந்தா ஒன்றினைத் தேர்ந்தெடுக்க
A) பால் மனம்
B) நிலாக்கால நட்சத்திரங்கள்
C) சாப விமோசனம்
D) அன்பின் சிதறல்
E) விடை தெரியவில்லை
153. புதுமைப்பித்தன் பற்றிய பின்வரும் கூற்றுகளை கருத்தில் கொள்க.
I. சிறுகதை மன்னன் என்று போற்றப்படுபவர்.
II. இயற்பெயர் - சோ. விருத்தாசலம்.
III. புதுமைப்பித்தனின் சிறுகதைகள் 'மணிக்கொடி' இதழில் வெளியானது.
மேற்கண்ட கூற்றுகளில் சரியானவை எவை?
A) I மற்றும் II மட்டும்
B) II மற்றும் III மட்டும்
C) I மற்றும் III மட்டும்
D) மேற்கண்ட அனைத்தும்
E) விடை தெரியவில்லை
154. சுசமுத்திரத்தின் சாகித்திய அகாதெமி விருது பெற்ற நூல் எது?
A) வேரில் பழுத்த பலா
B) குற்றம் பார்க்கில்
C) காகித உறவு
D) தலைப்பாகை
E) விடை தெரியவில்லை
155. பெரியாருடைய பெரும் பணியை நான் ஒரு தனி மனிதனின் வரலாறு என்றல்ல ஒரு சகாப்தம் - ஒரு காலகட்டம் - ஒரு திருப்பம் - என்று கூறுகிறேன்” என்று பெரியாரைப் புகழ்ந்து பாராட்டியவர் யார்?
A) இராஜாஜி
B) அறிஞர் அண்ணா
C) திரு.வி.க
D) புலவர் குழந்தை
E) விடை தெரியவில்லை
156. “உரோமாபுரிச் சிப்பாய்கள் பாண்டிய போர்ப்படையில் இடம் பெற்றிருந்தார்கள்” என்ற செய்தியானது இடம்பெற்றுள்ள நூல் எது?
A) மதுரைக்காஞ்சி
B) சிலப்பதிகாரம்
C) பரிபாடல்
D) பட்டினப்பாலை
E) விடை தெரியவில்லை
157. பின்வரும் கூற்றுகளைக் கருத்தில் கொள்க.
I. திருச்சிராப்பள்ளிக்கு அருகில் அமைந்துள்ள அல்லூரில் “திருவள்ளுவர் தவச்சாலை” ஒன்றை அமைத்துள்ளார்.
II. “பாவாணர் நூலகம்” என்றை அமைத்துள்ளார்.
III. தமிழகம் முழுவதும் திருக்குறள் சொற்பொழிவுகளை நடத்தி வருபவர்.



மேற்கூறிய கூற்றுக்களால் அறியப்படுபவர் யார்?

- A) இளந்திரையன்
- B) குன்றக்குடி அடிகளார்
- C) தேவநேயப் பாவாணர்
- D) இரா.இளங்குமரனார்
- E) விடை தெரியவில்லை

158. பின்வரும் கூற்றுக்களுள் பிழையான கூற்றினைத் தேர்ந்தெடுக்க.

- A) இந்திய நாடு 'மொழிகளின் காட்சிச்சாலையாகத் திகழ்கிறது' என்று ச.அகத்தியலிங்கம் குறிப்பிட்டுள்ளார்.
- B) திராவிடம் என்ற சொல்லை முதலில் குறிப்பிட்டவர் குமரிலபட்டர்.
- C) அறிஞர் வில்லியம் ஜோன்ஸ் என்பர் வடமொழியை ஆராய்ந்து மற்ற ஐரோப்பிய மொழிகளோடு தொடர்புடையது வடமொழி என முதன்முதலில் குறிப்பிட்டார்.
- D) முதன்முதலில் பிரான்சிஸ் எல்லிஸ் என்பார் தமிழ், தெலுங்கு, கன்னடம், மலையாளம் போன்ற மொழிகளை ஒரே இனமாகக் கருதித் தமிழியன் எனப் பெயரிட்டார்.
- E) விடை தெரியவில்லை

159. "தமிழ் வடமொழியின் மகளன்று; அது தனிக் குடும்பத்திற்கு உரிய மொழி: சமஸ்கிருதக் கலப்பின்றி அது தனித்தியங்கும் ஆற்றல் பெற்ற மொழி: தமிழுக்கும் இந்தியாவின் பிற மொழிகளுக்கும் தொடர்பு இருக்கலாம்" என்று கூறியவர் யார்?

- A) ஈராஸ் பாதிரியார்
- B) எல்லீஸ் பாதிரியார்
- C) கால்டுவெல்
- D) கமில்சுவலபில்
- E) விடை தெரியவில்லை

160. 'ஒரு மொழியின் தேவை என்பது, அதன் பயன்பாட்டு முறையைக் கொண்டே அமைகிறது. இந்தியாவிலேயே பழமையான மொழி தமிழ் மொழியாகும். இன்றைய அறிவியல் வளர்ச்சிக்கேற்ற நூல்கள் தமிழில் படைக்கப்பட வேண்டும்' என்று கூறியவர் யார்?

- A) திரு.வி.க
- B) தேவநேயப்பாவாணர்
- C) காயிதே மில்லத்
- D) தந்தை பெரியார்
- E) விடை தெரியவில்லை

161. தேசிய நூலக நாள் எப்போது கொண்டாடப்படுகிறது?

- A) ஜீன் 0சூ
- B) ஜீன் ௧௧
- C) ஆகஸ்ட் 0சூ
- D) ஆகஸ்ட் ௨௧
- E) விடை தெரியவில்லை

162. பொருத்துக.

- | | |
|-------------------------------------|---------------------------------|
| a) ஆசியாவிலேயே மிகப் பழமையான நூலகம் | 1. கொல்கத்தா தேசிய நூலகம் |
| b) தமிழ் நூல்கள் அதிகமுள்ள நூலகம் | 2. திருவனந்தபுரம் நடுவண் நூலகம் |
| c) இந்தியாவின் முதல் பொது நூலகம் | 3. கன்னிமாரா நூலகம் |
| d) இந்தியாவின் மிகப்பெரிய நூலகம் | 4. தஞ்சை சரசுவதி மகால் நூலகம் |



குறியீடுகள்:

- | | a | b | c | d |
|----|----------|----------|----------|----------|
| A) | 4 | 3 | 2 | 1 |
| B) | 1 | 2 | 4 | 3 |
| C) | 3 | 2 | 1 | 4 |
| D) | 4 | 1 | 2 | 3 |
- E) விடை தெரியவில்லை

163. 'சன்மார்க்க சண்டமாருதம்' என்று அழைக்கப்படுபவர் யார்?

- | | |
|---------------------------|------------------------|
| A) தாயுமானவர் | B) மீனாட்சி சுந்தரனார் |
| C) முத்துராமலிங்கத் தேவர் | D) இராமலிங்க அடிகளார் |
- E) விடை தெரியவில்லை

164. புத்த சமயம் தொடர்பாக அம்பேத்கர் எழுதிய நூல் எது?

- | | |
|----------------------|-------------------------------------|
| A) புத்தரது ஆதிவேதம் | B) புத்தரும் அவரின் தம்மமும் |
| C) பிரணவகேசரி | D) புத்தசமயம் - ஓர் ஆய்வுக் கட்டுரை |
- E) விடை தெரியவில்லை

165. உ.வே.சா பற்றிய பின்வரும் கூற்றுகளைக் கருத்தில் கொள்க.

- I. 'மகாமகோபாத்தியாய', 'திராவிட வித்தியா பூஷணம்', தாகூறிணாத்திய கலாநிதி' உள்ளிட்ட பட்டங்களைப் பெற்றுள்ளார்.
 - II. கும்பகோணம் அரசுக் கலைக்கல்லூரியிலும் சென்னை மாநிலக் கல்லூரியிலும் தமிழ் ஆசிரியராகப் பணியாற்றியவர்.
 - III. 1932இல் சென்னைப் பல்கலைக்கழகத்தினால் டாக்டர் பட்டம் பெற்ற பெருமைக்குரியவர்.
- மேற்கண்ட கூற்றுகளில் சரியானவை எவை?
- | | |
|--------------------------|---------------------------|
| A) I மற்றும் II மட்டும் | B) II மற்றும் III மட்டும் |
| C) I மற்றும் III மட்டும் | D) மேற்கண்ட அனைத்தும் |
- E) விடை தெரியவில்லை

166. பொருத்துக.

- | | |
|-----------------|------------|
| a) முதற்போலி | 1. சாம்பர் |
| b) இடைப்போலி | 2. அஞ்சு |
| c) கடைப்போலி | 3. பைசல் |
| d) முற்றுப்போலி | 4. இலைஞ்சி |

குறியீடுகள்:

- | | a | b | c | d |
|----|----------|----------|----------|----------|
| A) | 4 | 3 | 2 | 1 |
| B) | 3 | 4 | 1 | 2 |
| C) | 3 | 2 | 1 | 4 |
| D) | 4 | 1 | 2 | 3 |
- E) விடை தெரியவில்லை



167. பின்வருவனவற்றுள் தவறான இணையைத் தேர்ந்தெடுக்க.
 A) வாயில் – இலக்கணப்போலி
 B) வாசல் – மரூஉ
 C) ஓலை – மங்கலம்
 D) ஆடையைக் காரை எனல் – குழுஉக்குறி
 E) விடை தெரியவில்லை
168. “வீட்டில் தக்காளி இல்லை. நீ கடைக்குச் செல்கிறாயா? என்று அக்கா தம்பியிடம் வினவுவது எவ்வகை வினா?
 A) ஐய வினா
 B) கொளல் வினா
 C) கொடை வினா
 D) ஏவல் வினா
 E) விடை தெரியவில்லை
169. ‘என்னுடன் ஊருக்கு வருவாயா?’ என்ற வினாவிற்குக் ‘வராமல் இருப்பேனா?’ என்று கூறுவது எவ்வகை வினா?
 A) வினா எதிர் வினாதல் விடை
 B) உற்றது உரைத்தல் விடை
 C) உறுவது கூறல் விடை
 D) இனமொழி விடை
 E) விடை தெரியவில்லை
170. பின்வருவனவற்றுள் செய்ப்பாட்டு வினைத் தொடர் பயின்று வாராத் தொடரினைத் தேர்ந்தெடுக்க.
 A) பணம் காணாமல் போயிற்று
 B) குமரன் மழையில் நனைந்தான்
 C) வீடு கட்டியாயிற்று
 D) ஓவியம் குமரனால் வரையப்பட்டது
 E) விடை தெரியவில்லை
171. ‘பூக்களைப் பறிக்காதீர்’ என்பது எவ்வகைத் தொடர்?
 A) செய்தித் தொடர்
 B) கட்டளைத் தொடர்
 C) வினாத்தொடர்
 D) உணர்ச்சித் தொடர்
 E) விடை தெரியவில்லை
172. பொருத்துக.

(திணை)	(சிறுபொழுது)
a) குறிஞ்சி	1. வைகறை
b) முல்லை	2. ஏற்பாடு
c) மருதம்	3. நண்பகல்
d) நெய்தல்	4. மாலை
e) பாலை	5. யாமம்



குறியீடுகள்:

- | | a | b | c | d | e |
|----|----------|----------|----------|----------|----------|
| A) | 5 | 1 | 3 | 4 | 2 |
| B) | 5 | 2 | 4 | 3 | 1 |
| C) | 5 | 3 | 2 | 1 | 4 |
| D) | 5 | 4 | 1 | 2 | 3 |
- E) விடை தெரியவில்லை

173. பொருத்துக.

(வெண்பா)

- a) இன்னிசைச் சிந்தியல் வெண்பா
b) பஃறொடை வெண்பா
c) கலிவெண்பா
d) இன்னிசை வெண்பா

(அடிவரையறை)

1. பதின்மூன்றடி முதல் அதற்கும் மேல்
2. மூன்றடி வெண்பா
3. நான்கடி வெண்பா
4. நான்கடி முதல் பன்னிரண்டடி

குறியீடுகள்:

- | | a | b | c | d |
|----|----------|----------|----------|----------|
| A) | 2 | 4 | 1 | 3 |
| B) | 2 | 4 | 3 | 1 |
| C) | 3 | 2 | 1 | 4 |
| D) | 4 | 1 | 2 | 3 |
- E) விடை தெரியவில்லை

174. “வையம் தகனியா வார்கடலே நெய்யாக

வெய்ய கதிரோன் விளக்காகச் - செய்ய

சுடர் ஆழியான் அடிக்கே சூட்டினேன் சொல்மாலை

இடர்ஆழி நீங்குகவே என்று” – இப்பாடலில் பயின்று வந்துள்ள அணி யாது?

- A) உவமை அணி
B) எடுத்துக்காட்டு உவமை அணி
C) இல்பொருள் உவமை அணி
D) உருவக அணி
E) விடை தெரியவில்லை

175. தவறான இணையைத் தேர்ந்தெடுக்க.

(நூல்)

- A) பாண்டியன் பரிசு
B) வீரத்தாய்
C) ஆட்டனத்தி ஆதிமந்தி
D) மருமக்கள் வழி மான்மியம்
E) விடை தெரியவில்லை

(நூலாசிரியர்)

- பாரதியார்
– பாரதிதாசன்
– கண்ணதாசன்
– கவிமணி



176. பண்டைய காலத்தில் கல்வி கற்பிக்கப்படும் இடங்களை 'பள்ளி' என்று குறிப்பிடும் நூல் எது?
A) சிலப்பதிகாரம் B) சீவக சிந்தாமணி
C) பெரிய திருமொழி D) திவாகர நிகண்டு
E) விடை தெரியவில்லை
177. தவறான இணையைத் தேர்ந்தெடுக்க.
(கூற்று) (நூல்)
A) துணையாய் வருவது தூயநற் கல்வி - திருமந்திரம்
B) கல்வி அழகே அழகு - நாலடியார்
C) கற்க கசடு அற - கொன்றை வேந்தன்
D) இளமையில் கல் - ஒளவையார்
E) விடை தெரியவில்லை
178. 'தமிழ் மூவாயிரம்' என்று சிறப்பிக்கப்படும் நூல் எது?
A) திருக்குறள் B) திருவாசகம்
C) திருமந்திரம் D) திருக்கோவை
E) விடை தெரியவில்லை
179. தமிழில் வெளிவந்த முதல் நாவல் எது?
A) பிசிராந்தையார் B) நாடகவியல்
C) பிரதாப முதலியார் சரித்திரம் D) ஞானபோதினி
E) விடை தெரியவில்லை
180. "மனமது செம்மையானால் மந்திரம் செபிக்க வேண்டாம்" என்று கூறியவர் யார்?
A) திருமூலர் B) அகத்தியர்
C) கடுவெளிச் சித்தர் D) போகர்
E) விடை தெரியவில்லை
181. சித்தர்களில் ஆதி சித்தராகக் கருதப்படுபவர் யார்?
A) அகத்தியர் B) திருமூலர்
C) போகர் D) சிவவாக்கியர்
E) விடை தெரியவில்லை
182. இரட்சணிய யாத்திரிகம் பற்றிய பின்வரும் கூற்றுகளுள் பொருந்தா ஒன்றினைத் தேர்ந்தெடுக்க.
A) ஜான் பன்யன் என்பவர் ஆங்கிலத்தில் எழுதிய பில்கிரிம்ஸ் புரோகிரஸ் எனும் ஆங்கில நூலின் தழுவலாக படைக்கப்பட்டது.
B) இது 3766 பாடல்களைக் கொண்ட ஒரு பெரும் உருவகக் காப்பியம்.
C) இது ஆதிபருவம், குமார பருவம், நிதான பருவம், ஆரணிய பருவம், இரட்சணிய பருவம் ஆகிய ஐந்து பருவங்களைக் கொண்டது.
D) சூசையப்பரின் வாழ்க்கை வரலாற்றைக் குறிப்பிடும் நூலாகும்.
E) விடை தெரியவில்லை



183. 'தமிழ் மொழியின் உபநிடதம்' என்று அழைக்கப்படும் நூல் எது?
A) திருக்குறள் B) திருவாசகம்
C) திருமந்திரம் D) தாயுமானவர் பாடல்கள்
E) விடை தெரியவில்லை
184. இராமலிங்க அடிகளார் பற்றிய பின்வரும் கூற்றுகளைக் கருத்தில் கொள்க.
I. சென்னை கந்தகோட்டத்து முருகப்பெருமானின் அருளை வேண்டி 'தெய்வமணிமாலை' என்னும் பாமாலைபாடிய பாடினார். இது திருவருட்பாவில் ஆறாம் திருமுறையில் இடம்பெற்றுள்ளது.
II. மனுமறை கண்ட வாசகம், ஜீவகாருண்ய ஒழுக்கம் ஆகியவை இவருடைய உரைநடை நூல்கள்.
III. திருவருட்பா, ஆறு திருமுறைகளாகப் பகுக்கப்பட்டுள்ளது.
மேற்கண்ட கூற்றுகளில் சரியானவை எவை?
A) I மற்றும் II மட்டும் B) II மற்றும் III மட்டும்
C) I மற்றும் III மட்டும் D) மேற்கண்ட அனைத்தும்
E) விடை தெரியவில்லை
185. 'வெற்றி வேற்கை' என்று அழைக்கப்படும் நூல் எது?
A) கொன்றை வேந்தன் B) நறுந்தொகை
C) மதுரை D) நல்வழி
E) விடை தெரியவில்லை
186. துன்பத்தை எவ்வாறு வெல்ல வேண்டும் என்று வள்ளுவர் குறிப்பிடுகிறார்?
A) அப்படியே ஏற்றுக் கொள்ளுதல் B) எதிர்த்துப் போராடுதல்
C) துன்பத்திற்கு துன்பம் கொடுத்தல் D) வருந்துதல்
E) விடை தெரியவில்லை
187. 'சேராது இயல்வது நாடு' – என முடியும் குறளில் நாட்டில் வாழும் உயிர்களை வருத்தும் மூன்று தீமைகளாக வள்ளுவர் சுட்டுவன யாவை?
A) வறுமை, அறிவின்மை, வேலையின்மை
B) பசி, பட்டினி, பஞ்சம்
C) பசி, பிணி, பகை
D) மழை, வெயில், பனி
E) விடை தெரியவில்லை
188. மன்னுயிர்க்கு எல்லாம் இனிது எது?
A) தந்தை மகற்காற்றும் நன்றி
B) மகன் தந்தைக்கு ஆற்றும் உதவி
C) தம்மின் தம்மக்கள் அறிவுடைமை
D) தம் மகனை மாவீரன் எனக் கேட்ட தாய்
E) விடை தெரியவில்லை



189. 'என்பும் உரியர் பிறர்க்கு' – என்று வள்ளுவர் யாரைக் குறிப்பிடுகிறார்?
 A) அறிவுடையார் B) பண்புடையார்
 C) ஒழுக்கமுடையார் D) அன்புடையார்
 E) விடை தெரியவில்லை
190. களவினால் உண்டாகும் பெருஞ்செல்வம் எவ்வாறு கெடும் என்று வள்ளுவர் குறிப்பிடுகிறார்?
 A) சிறுகச் சிறுக கெடும்
 B) என்றாவது ஒரு நாள் கெடும்
 C) வளராமல் கெடும்
 D) ஆவது போல அழிந்து கெடும்
 E) விடை தெரியவில்லை
191. வள்ளுவரின் கருத்துப்படி, உலகத்தார் மனங்களில் வாழ்பவர் யார்?
 A) அன்பாக பேசுபவர் B) பிறர்சொல் கேட்டு நடப்பவர்
 C) இனிய சொற்களைக் கூறுபவர் D) உண்மையைப் பேசுபவர்
 E) விடை தெரியவில்லை
192. “ஊழையும் உப்பக்கம் காண்பவர்” – யார்?
 A) சான்றோர் B) அறிவுடையோர்
 C) விடாமுயற்சி உடையோர் D) வயதில் மூத்தோர்
 E) விடை தெரியவில்லை
193. நமக்குத் துன்பம் செய்தவர்களை தண்டிக்கும் வழியாக வள்ளுவர் குறிப்பிடுவது யாது?
 A) அவர்களை மன்னித்தல்
 B) அவர்களுக்கு துன்பம் கொடுத்தல்
 C) அவர்கள் செய்த துன்பத்தை மறத்தல்
 D) அவர்களுக்கு நன்மை செய்தல்
 E) விடை தெரியவில்லை
194. “அணுவைத் துளைத்து ஏழ்கடலைப் புகட்டிக் குறுகத் தரித்த குறள்” என்று திருக்குறளைப் பாராட்டியவர் யார்?
 A) ஒளவையார் B) கபிலர்
 C) இடைக்காடனார் D) திரு.வி.க
 E) விடை தெரியவில்லை
195. சான்றாண்மையைத் தாங்கும் தூண்களாவன:
 A) அன்பு, நாண், வெகுளி, கண்ணோட்டம், வாய்மை
 B) அன்பு, ஒழுக்கம், வெகுளி, கண்ணோட்டம், வாய்மை
 C) அன்பு, நாண், ஒப்புரவு, கண்ணோட்டம், வாய்மை
 D) ஒழுக்கம், நாண், வெகுளி, கண்ணோட்டம், வாய்மை
 E) விடை தெரியவில்லை



196. எவ்விரண்டையும் இடைவிடாமல் பின்பற்றுபவரின் குடி உயர்ந்து விளங்கும் என வள்ளுவர் குறிப்பிடுகின்றார்?
A) கல்வி, கேள்வி
B) அன்பு, இரக்கம்
C) விடாமுயற்சி, சிறந்த அறிவாற்றல்
D) எண்ணும் எழுத்தும்
E) விடை தெரியவில்லை
197. தன் எல்லா உறுப்புகளையும் மருந்தாகத் தரும் மருந்தைப் போன்றது எது?
A) பெருந்தகையாளன் திரு
B) வறியோர் துன்பம்
C) அரசனின் ஆட்சி
D) சான்றோர் புலமை
E) விடை தெரியவில்லை
198. திருக்குறளில் அதிக அதிகாரங்களைக் கொண்டுள்ள இயல் எது?
A) அரசியல்
B) அமைச்சியல்
C) இல்லறவியல்
D) துறவறவியல்
E) விடை தெரியவில்லை
199. மகிழ்ச்சியில் மைந்துறும் போழ்து _____ நினை
A) முகக் குறிப்பை அறிந்த வரை
B) எண்ணியதை எண்ணியவரை
C) மறதியால் கெட்டவர்களை
D) சொல்லேர் உழுவரை
E) விடை தெரியவில்லை
200. திருவாசகம் பற்றிய தவறான கூற்றினைத் தேர்ந்தெடுக்க.
A) சிவபெருமான் மீது பாடப்பட்ட பாடல்களின் தொகுப்பு
B) பன்னிரு திருமுறைகளில் எட்டாம் திருமுறையாக உள்ளது.
C) ஜி.யு.போப் திருவாசகம் முழுமையையும் ஆங்கிலத்தில் மொழிபெயர்த்துள்ளார்.
D) திருவாசகத்தில் 38 திருப்பதிகங்கள் உள்ளன. இவற்றுள் மொத்தம் 658 பாடல்கள் அடங்கியுள்ளன.
E) விடை தெரியவில்லை

* * * * *

Question Booklet No.:



SHANKAR
IAS ACADEMYTM
Best Academy for Civil Services Exam Coaching

CCS2E/2024

Register Number

--	--	--	--	--	--	--	--	--	--	--	--	--	--	--	--	--	--	--	--

2024

Test - 15

GENERAL STUDIES / பொது அறிவு
(Degree Standard/பட்டப்படிப்பு தரம்)

Duration : Three Hours]

[Total Marks: 300

Read the following instructions carefully before you begin to answer the questions.

IMPORTANT INSTRUCTIONS

1. You will be supplied with this question booklet 15 minutes prior to the commencement of the examination.
2. This question booklet contains **200** questions. Before answering the questions, you shall check whether all the questions are printed serially and ensure that there are no blank pages in the questions booklet. **If any defect is noticed in the question booklet, it shall be reported to the invigilator within the first 10 minutes and get it replaced with a complete question booklet. If the defect is reported after the commencement of the examination, it will not be replaced.**
3. Answer all the questions. All the questions carry equal marks.
4. You must write your register number in the space provided on the top right side of this page. Do not write anything else on the question booklet.
5. An answer sheet will be supplied to you separately by the room invigilator to shade the answers. Instructions regarding filling of answers etc. which are to be followed mandatorily, are provided in the answer sheet and in the memorandum of admission Hall Ticket)
6. You shall write and shade your question booklet number in the space provided on page one of the answer sheet with **BLACK INK BALL POINT PEN**. If you do not shade correctly or fail to shade the question booklet number, your answer sheet will be invalidated.
7. Each question comprises of five responses (answers) : i.e. A), (B), C), D) and (E). You have to select **ONLY ONE** correct answer from A) or B) or C) or D) and shade the same in your answer sheet. If you feel that there are more than one correct answer, shade the one which you consider the best. **If you do not know the answer, you have to mandatorily shade (E)**. In any case, choose **ONLY ONE** answer for each question. If you shade more than one answer for a question, it will be treated as a wrong answer even if one of the given answers happens to be correct.
8. You should not remove or tear off any sheet from this question booklet. You are not allowed to take this question booklet and the answer sheet out of the examination room during the time of the examination. After the examination, you must hand over your answer sheet to the invigilator. You are allowed to take the question booklet with you only after the examination is over.
9. **You should not make any marking in the question booklet except in the sheets before the last page of the question booklet, which can be used for rough work. This should be strictly adhered to.**
10. In all matters, the English version is final.
11. Failure to comply with any of the above instructions will render you liable for such action as the Commission may decide at their discretion.

↪

[Turn over

For queries mail to For queries mail to : zerofeedback@shankariasacad.in; [Turn overKindly Send Me Your Key Answer to Our email id - Padasalai.net@gmail.com



Part B — General Studies (Degree Standard)

பகுதி - ஆ — பொது அறிவு (பட்டப்படிப்பு தரம்)

வினாக்கள் : 1-200

மொத்த மதிப்பெண்கள் : 300

Test 15

Questions : 1-200

Total Marks : 300

1. Indus valley site of Amri first visited by whom?
 - A) Charles Mason
 - B) N.G. Majumdar
 - C) Alexander Burnes
 - D) R.D. Banerjee
 - E) Answer not known

சிந்து சமவெளியின் அம்ரி என்னும் இடத்தை முதலில் பார்வையிட்டவர் யார்?

 - A) சார்லஸ் மேசன்
 - B) N.G. மஜும்தார்
 - C) அலெக்சாண்டர் பர்ன்ஸ்
 - D) R.D.பானர்ஜி
 - E) விடை தெரியவில்லை

2. Consider the following statements
 - I. Harappans used stones for construction.
 - II. Houses were built of burnt bricks where drainages were built with mud bricks.
 - III. The Great Bath have stairs in only two sides.
 - IV. The bricks in Great Bath were laid watertight with gypsum mortar.

Which of the above statements are true with IVC?

 - A) I, II and III only
 - B) I, III and IV only
 - C) III and IV only
 - D) All of the above
 - E) Answer not known

பின்வரும் கூற்றுகளைக் கருத்தில் கொள்க

 - I. ஹரப்பா மக்கள் கட்டுமானத்திற்கு கற்களைப் பயன்படுத்தினர்.
 - II. வீடுகள் சுட்ட செங்கற்களாலும், கழிவுநீர் வடிகால்கள் சுட்ட மண்ணாலான செங்கற்களாலும் கட்டப்பட்டன.
 - III. பெருங்குளம் இரண்டு பக்கங்களிலும் படிக்கட்டுகளைக் கொண்டுள்ளது.
 - IV. பெருங்குளத்தின் சுவர்கள் ஜிப்சம் செறிந்த சுண்ணாம்புச்சாந்தால் பூசப்பட்டு, நீர் புகாதபடி இருக்கின்றன.

சிந்து சமவெளி நாகரீகத்துடன் தொடர்புடைய மேற்கூறிய கூற்றுகளில் சரியானது எது/எவை?

 - A) I, II மற்றும் III மட்டும்
 - B) I, III மற்றும் IV மட்டும்
 - C) III மற்றும் IV மட்டும்
 - D) மேற்கண்ட அனைத்தும்
 - E) விடை தெரியவில்லை

3. Find out the incorrectly matched pair.

(Material)	(Site)
A) Shell	- Oman
B) Lapis Lazuli	- Shortughai
C) Carnelian	- Lothal
D) Steatite	- South Rajasthan
E) Answer not known	



தவறாக பொருந்தியுள்ள இணையைக் கண்டறியவும்.

(பொருள்)

(தலம்)

- | | | |
|---------------------|---|------------------|
| A) சங்கு | - | ஓமன் |
| B) வைரூரியம் | - | ஷார்டுகை |
| C) கார்னிலியன் | - | லோத்தல் |
| D) ஸ்டெடைட் | - | தெற்கு ராஜஸ்தான் |
| E) விடை தெரியவில்லை | | |

4. Consider the following statements.

- I. Harappans maintained cattle Zebu but they are vegetarians.
II. Evidence of boar, deer and gharial has been found at Harappan seals.
Which of the statements given above is/are correct?

- A) I only
B) II only
C) Both I and II
D) Neither I nor II
E) Answer not known

பின்வரும் கூற்றுகளைக் கருத்தில் கொள்க

- I. ஹரப்பா மக்கள் செபு என்கிற மாடுகளைப் பராமரித்தனர் ஆனால் அவர்கள் சைவ உணவு உண்பவர்கள்.
II. ஹரப்பா முத்திரைகளில் காட்டுப் பன்றி, மான் மற்றும் முதலை ஆகியவற்றுக்கான சான்றுகளும் கிடைத்துள்ளன.

மேற்கண்ட கூற்றுகளில் எது/எவை சரியானது?

- A) I மட்டும்
B) II மட்டும்
C) இரண்டும்
D) இரண்டுமில்லை
E) விடை தெரியவில்லை

5. Consider the following statements.

- I. The Harappan seals have been found in Bahrain and Iraq.
II. Meluhha in cuneiform inscriptions refers to the Indus region.
III. Harappan jar has been found in Oman.
IV. Carnelian, copper, silver, gold exported to Mesopotamia.
Which of the statements given above is/are correct?

- A) I, II and III only
B) II, III and IV only
C) I, III and IV only
D) All the above
E) Answer not known

பின்வரும் கூற்றுகளைக் கருத்தில் கொள்க.

- I. பஹ்ரைன் மற்றும் ஈராக்கில் ஹரப்பா முத்திரைகள் கண்டுபிடிக்கப்பட்டுள்ளன.
II. கியூனிஃபார்ம் கல்வெட்டுகளில் உள்ள மெலுஹா என்பது சிந்து பகுதியைக் குறிக்கிறது.
III. ஹரப்பா ஜாடி ஓமனில் கண்டுபிடிக்கப்பட்டுள்ளது.
IV. கார்னிலியன், தாமிரம், வெள்ளி, தங்கம் போன்றவை மெசபடோமியாவிற்கு ஏற்றுமதி செய்யப்பட்டது.

மேற்கண்ட கூற்றுகளில் எது/எவை சரியானது?

- A) I, II மற்றும் III மட்டும்
B) II, III மற்றும் IV மட்டும்
C) I, III மற்றும் IV மட்டும்
D) மேற்கண்ட அனைத்தும்
E) விடை தெரியவில்லை



6. Consider the following statements.

- I. Harappan writing is pictographic and not yet Deciphered.
II. It was written from right to left or boustrophedon style.

Which of the statements given above is/are correct?

- A) I only
B) II only
C) Both I and II
D) Neither I nor II
E) Answer not known

பின்வரும் கூற்றுகளைக் கருத்தில் கொள்க

I. ஹரப்பா மக்களின் சித்திர எழுத்துக்கள் இன்னும் புரிந்து கொள்ளப்படவில்லை.

II. இது வலமிருந்து இடமாகவோ அல்லது பூஸ்ட்ரோபெடன் பாணியில் எழுதப்பட்டது.

மேற்கண்ட கூற்றுகளில் எது / எவை சரியானது?

- A) I மட்டும்
B) II மட்டும்
C) இரண்டும்
D) இரண்டுமில்லை
E) விடை தெரியவில்லை

7. The longest text in Harappan script has how many signs?

- A) 23
B) 25
C) 26
D) 24
E) Answer not known

ஹரப்பா எழுத்துக்களில் உள்ள மிக நீளமான உரையில் எத்தனை அடையாளங்கள் உள்ளன?

- A) 23
B) 25
C) 26
D) 24
E) விடை தெரியவில்லை

8. Under Gupta administration, the Corporate body was popularly called as

- A) Bhuktis
B) Ma-Bap
C) Kulkarna
D) Panch-mandali
E) Answer not known

குப்த நிர்வாகத்தின் கீழ், குழும நிறுவன அமைப்பு பிரபலமாக எவ்வாறு அழைக்கப்பட்டது?

- A) புக்திஸ்
B) மா-பாப்
C) குல்கர்னா
D) பஞ்சமண்டலி
E) விடை தெரியவில்லை

9. Which Book authored by Varahamihira is an encyclopaedia of astronomy, physical geography, botany and natural history?

- A) Brihat Jataka
B) Brahmasphuta Siddhanta
C) Brihat Samhita
D) Panch Siddhantika
E) Answer not known

வராகமிகிரரின் எந்த நூல் வானவியல், புவியியல், தாவரவியல், இயற்கை வரலாறு ஆகியவற்றிற்கான கலைக்களஞ்சியமாகும்?

- A) பிருஹத் ஜாதகம்
B) பிரம்மஸ்பூத சித்தாந்தம்
C) பிருஹத் சம்ஹிதா
D) பஞ்ச சித்தாந்திகா
E) விடை தெரியவில்லை



10. Which one is not a literary evidences for Guptas ?
A) Mudrakshasham B) Arthasastra
C) Nitisara D) Accounts of Fahien
E) Answer not known

குப்தர்களின் இலக்கியச் சான்று அல்லாதது எது?

- A) முத்ராராட்சசம் B) அர்த்தசாஸ்திரம்
C) நிதிசாரம் D) பாஹியனின் குறிப்புகள்
E) விடை தெரியவில்லை

11. Income from land could be enjoyed, but the recipient is not permitted to gift it to anyone. The recipient has no administrative rights either. Which one of the following is best implied in the above theme?
A) Nivi dharma aksayana B) Aprada dharma
C) Bhumichchi-drayaya D) Nivi dharma
E) Answer not known

வருவாயைப் பயன்படுத்தலாம். ஆனால் அதை பிறருக்குத் தானம் செய்யமுடியாது. நிர்வாக உரிமையும் இல்லை.

மேற்கண்ட கருப்பொருளில் பின்வருவனவற்றில் எது சிறப்பாகக் குறிப்பிடப்பட்டுள்ளது?

- A) நிவி தர்ம அக்சயனா B) அப்ரதா தர்மம்
C) பூமிசித்ராயனா D) நிவி தர்மம்
E) விடை தெரியவில்லை

12. Which of the following is/are correctly matched?

(Tax)	(Nature)
I. Halivakara	- Plough tax
II. Udianga	- Extra tax
III. Kara	- Annual land tax
IV. Sulka	- Customs tax

Codes:

- A) I, II and IV only B) II, III and IV only
C) III and IV only D) I and IV only
E) Answer not known

பின்வருவனவற்றில் எது சரியாகப் பொருந்தியுள்ளது?

(வரி)	(தன்மை)
I. ஹலிவகரா	- கலப்பை வரி
II. உதியங்கா	- கூடுதல் வரி
III. கரா	- ஆண்டு நில வரி
IV. சுல்கா	- சுங்க வரி

குறியீடுகள்:

- A) I, II மற்றும் IV மட்டும் B) II, III மற்றும் IV மட்டும்
C) III மற்றும் IV மட்டும் D) I மற்றும் IV மட்டும்
E) விடை தெரியவில்லை



13. Match List-I with List-II.

List-I (Mentions)	List-II (Purpose)
a) Gapata Saraha	1. Pastoral Land
b) Baradhya	2. Waste land
c) Jalanirgamah	3. To prevent inundation
d) Khila	4. Protected the filed from floods

Codes:

	a	b	c	d
A)	1	4	2	3
B)	1	3	2	4
C)	1	4	3	2
D)	1	2	3	4

E) Answer not known

பட்டியல்-Iஐ பட்டியல்-II உடன் பொருத்துக.

பட்டியல்-I (குறிப்புகள்)	பட்டியல்-II (நோக்கம்)
a) கபடசஹாரா	1. மேய்ச்சல் நிலம்
b) பாரத்யா	2. தரிசு நிலம்
c) ஜலநிர்கமா	3. வெள்ளத்தைத் தடுக்க
d) கிலா	4. வெள்ளத்தில் இருந்து நிலத்தை பாதுகாக்க

குறியீடுகள்:

	a	b	c	d
A)	1	4	2	3
B)	1	3	2	4
C)	1	4	3	2
D)	1	2	3	4

E) விடை தெரியவில்லை

14. Consider the following statements.

I. The position of peasantry were respected during gupta period.

II. Cultivators share 1/5th of the produce to king which is known as Bhaga.

Which of the statements given above is/are incorrect?

- A) I only
B) II only
C) Both I and II
D) Neither I nor II
E) Answer not known

பின்வரும் கூற்றுகளைக் கருத்தில் கொள்க

I. குப்தர் காலத்தில் விவசாயிகளின் நிலை மதிக்கப்பட்டது.

II. விவசாயிகள் விளைந்த விளைச்சலில் 1/5 பங்கை அரசருக்குப் பங்கிட்டுக் கொடுக்கிறார்கள். இது பாகா என்று அழைக்கப்படுகிறது.



மேற்கண்ட கூற்றுகளில் தவறானது எது/எவை?

- A) I மட்டும்
B) II மட்டும்
C) இரண்டும்
D) இரண்டுமில்லை
E) விடை தெரியவில்லை

15. Consider the following statements with respect to Guild in Guptas Trade.

- I. They remained virtually autonomous in their internal organization.
II. The laws in guild were drafted by a king with the advice of guild members.

Which of the statements given above is/are incorrect?

- A) I only
B) II only
C) Both I and II
D) Neither I nor II
E) Answer not known

குப்தர்களின் வணிகக் குழுக்கள் தொடர்பான பின்வரும் கூற்றுகளைக் கருத்தில் கொள்க

- I. அவர்கள் தங்கள் அமைப்புகளின் உள் நிர்வாகங்களைப் பொருத்தவரை ஏறத்தாழ தன்னாட்சி பெற்றவைகளாக இருந்தன.
II. வணிகக் குழுக்களில் உள்ள சட்டங்கள் அதன் உறுப்பினர்களின் ஆலோசனையுடன் ஒரு அரசனால் உருவாக்கப்பட்டன.

மேற்கண்ட கூற்றுகளில் தவறானது எது/எவை?

- A) I மட்டும்
B) II மட்டும்
C) இரண்டும்
D) இரண்டுமில்லை
E) விடை தெரியவில்லை

16. Which is the Prakrit literature found in Gupta period?

- A) Amarasimha thesaurus
B) Suraseni
C) Chandravyakaranam
D) Astadhyayi
E) Answer not known

குப்தர் காலத்தில் கிடைத்த பிராகிருத இலக்கியம் எது?

- A) அமரசிம்ம சொற்களஞ்சியம்
B) சூரசேனி
C) சந்திரவியாகரணம்
D) அஸ்தாத்யாயி
E) விடை தெரியவில்லை

17. Who among the following was a notable Buddhist writer during Gupta period?

- A) Vimala
B) Siddasena Divakara
C) Arya Deva
D) Both (B) and (C)
E) Answer not known

குப்தர் காலத்தில் குறிப்பிடத்தக்க பெளத்த எழுத்தாளர் யார்?

- A) விமலா
B) சித்தசேன திவாகரா
C) ஆர்ய தேவா
D) இரண்டும் (B) மற்றும் (C)
E) விடை தெரியவில்லை



18. Passage

In order to facilitate smooth administration, as followed in the Delhi Sultanate, he divided the kingdom into four territorial divisions called tarafs, each under a Governor. Each governor commanded the army of his province (Gulbarga, Daulatabad, Bidar, and Berar) and was solely responsible for both its administration and the collection of revenue.

Whose administration of the following is best implied in the passage?

- A) Sri Krishna deva raya
- B) Mohammed I
- C) Alaudin Hasan Bahman Shah
- D) Mohammed Gawan
- E) Answer not known

பத்தி

சுமுகமான நிர்வாகத்திற்காக தில்லி சுல்தானியர் முறையைப் பின்பற்றிய இவர் தன் ஆட்சிப் பகுதியை நான்கு பிரிவுகளாகப் பிரித்தார். அப்பகுதிகள் தராபஸ் எனப்பட்டன. பிரிக்கப்பட்ட நான்கு பகுதிகளுக்கும் ஒவ்வொரு ஆளுநர் நியமிக்கப்பட்டார். அவர்களே அப்பகுதியின் படைகளையும் வழிநடத்தினர். குல்பர்கா, தெளலதாபாத், பீடார், பெரார் ஆகியவை அந்த நான்கு மாகாணங்களாகும். மாகாண ஆளுநர்கள் மாகாண நிர்வாகம், வரி வசூல் போன்றவற்றிற்கு முழுப்பொறுப்பாவர்.

பின்வருவனவற்றில் யாருடைய நிர்வாகம் பத்தியில் சிறப்பாகக் குறிப்பிடப்பட்டுள்ளது?

- A) ஸ்ரீ கிருஷ்ண தேவ ராயர்
- B) முதலாம் முகமது
- C) அலாவுதீன் ஹசன் பாமன்ஷா
- D) முகமது கவான்
- E) விடை தெரியவில்லை

19. "It shows the extreme limit in florid magnificence to which the style advanced". This statement made by Fergusson praising which Temple ?

- A) Virupaksha Temple
- B) Jambukesvara Temple
- C) Vittalaswamy Temple
- D) Hazara Temple
- E) Answer not known

இது "கட்டடக்கலைப்பாணி மிகுந்த பேரழகுடன் முன்னேறியிருந்ததன் முழு எல்லையைக் காட்டுகிறது" என்று பெர்குஸன் புகழ்ந்து கூறும் கோயில் எது?

- A) விருபாக்ஷா கோவில்
- B) ஜம்புகேஸ்வரர் கோவில்
- C) விட்டலசுவாமி கோயில்
- D) ஹசாரா கோயில்
- E) விடை தெரியவில்லை

20. Find out the incorrectly matched pair.

- | (Literature) | (Author) |
|-----------------------|---------------|
| A) Hastyayurveda | - Palakapya |
| B) Aryabhattyam | - Aryabhatta |
| C) Pancha Siddhantika | - Visakadatta |
| D) Khandakhadyaka | - Brahmagupta |
| E) Answer not known | |



தவறாகப் பொருந்தியுள்ள இணையைக் கண்டறியவும்.

(இலக்கியம்)

(ஆசிரியர்)

- | | |
|----------------------|-----------------|
| A) ஹஸ்த்யாயுர்வேதா | - பலகாப்பா |
| B) ஆர்யபட்டியம் | - ஆர்யப்பட்டர் |
| C) பஞ்ச சித்தாந்திகா | - விசாகத்தர் |
| D) கந்தகத்யகா | - பிரம்மகுப்தர் |
| E) விடை தெரியவில்லை | |

21. Consider the following statements.

I. Usha Parinayam and Jambavati Kalyanam was written by Abhinava Bhoja

II. These works are written in Sanskrit Language.

Which of the statements given above is/are incorrect?

- | | |
|---------------------|---------------------|
| A) I only | B) II only |
| C) Both I and II | D) Neither I nor II |
| E) Answer not known | |

பின்வரும் கூற்றுகளைக் கருத்தில் கொள்க.

I. உஷா பரிணயம் மற்றும் ஜாம்பாவதி கல்யாணம் போன்றவை அபினவ போஜரால் எழுதப்பட்டது

II. இந்த படைப்புகள் சமஸ்கிருத மொழியில் எழுதப்பட்டுள்ளன.

மேற்கண்ட கூற்றுகளில் தவறானது எது/எவை?

- | | |
|---------------------|-----------------|
| A) I மட்டும் | B) II மட்டும் |
| C) இரண்டும் | D) இரண்டுமில்லை |
| E) விடை தெரியவில்லை | |

22. Which book gives details about Nayak system under Krishnadevaraya ?

- | | |
|---------------------|--------------------|
| A) Manucharitram | B) Rayavachakamu |
| C) Saluvabhyudayam | D) Madhura Vijayam |
| E) Answer not known | |

கிருஷ்ணதேவராயரின் கீழ் நாயக்கர் முறையைப் பற்றி எந்த புத்தகம் விவரிக்கிறது?

- | | |
|---------------------|-----------------|
| A) மனுசரித்திரம் | B) ராயவாசகமு |
| C) சாலுவாப்யுதயம் | D) மதுரா விஜயம் |
| E) விடை தெரியவில்லை | |

23. Which image is not found in Vijayanagar gold coins ?

- | | |
|---------------------|-------------------------------|
| A) Gandaberunda | B) Horse |
| C) Elephant | D) Name or Title of the ruler |
| E) Answer not known | |

விஜயநகர பொற்காசுகளில் காணப்படாத உருவம் எது?

- | | |
|---------------------|-------------------------------------|
| A) கண்ட பெருண்டா | B) குதிரை |
| C) யானை | D) ஆட்சியாளரின் பெயர் அல்லது பட்டம் |
| E) விடை தெரியவில்லை | |



24. Consider the following statements.

Assertion (A) : Bahmani Sultanate start falling down after the execution of Gawan

Reason (R) : Gawan try to throne the Sultanate was considered as a threat and sultan ordered his execution.

Codes:

- A) Both (A) and (R) are true and (R) is the correct explanation of (A)
B) Both (A) and (R) are true but (R) is not the correct explanation of (A)
C) (A) is true but (R) is false
D) (A) is false but (R) is true
E) Answer not known

பின்வரும் கூற்றுகளைக் கருத்தில் கொள்க.

கூற்று (A) : கவானின் மரணதண்டனைக்குப் பிறகு பாமினி சுல்தானகம் வீழ்ச்சியடையத் தொடங்கியது

காரணம் (R) : கவான், சுல்தானுக்கு அச்சுறுத்தலாக கருதப்பட்டு சுல்தான் அவரை தூக்கிலிட உத்தரவிட்டார்.

குறியீடுகள்:

- A) (A) மற்றும் (R) இரண்டும் சரி மற்றும் (R) என்பது (A) இன் சரியான விளக்கம்
B) (A) மற்றும் (R) இரண்டும் சரி ஆனால் (R) என்பது (A) இன் சரியான விளக்கம் அல்ல
C) (A) சரி ஆனால் (R) தவறு
D) (A) தவறு ஆனால் (R) சரி
E) விடை தெரியவில்லை

25. Abdul Razaak visited the Zamorin of Kochi and Vijayanagar court during whose reign?

- A) Devayara I
B) Devaraya II
C) Krishna Deva Raya
D) Ramaraya
E) Answer not known

அப்துல் ரசாக் யாருடைய ஆட்சியின் போது கொச்சி மற்றும் விஜயநகர் அரசவைக்குச் சென்றார்?

- A) முதலாம் தேவராயர்
B) இரண்டாம் தேவராயர்
C) கிருஷ்ண தேவ ராயர்
D) ராமராயர்
E) விடை தெரியவில்லை

26. Match List-I with List-II.

- List-I**
(Works)
- a) Shakuntalam (Telugu)
b) Haravilasam
c) Irusamaya Filakkin
d) Chidambarapuranam

- List-II**
(Author)
1. Srinatha
2. Vadamalavi Annagalayyam
3. Pillalamarri pina virabhadra Kavi
4. Tirumalainatha

**Codes:**

- | | a | b | c | d |
|----|----------|----------|----------|----------|
| A) | 4 | 2 | 3 | 1 |
| B) | 3 | 1 | 2 | 4 |
| C) | 3 | 2 | 1 | 4 |
| D) | 4 | 1 | 2 | 3 |

E) Answer not known

பட்டியல்-Iஐ பட்டியல்-II உடன் பொருத்துக.

பட்டியல்-I**(படைப்புகள்)**

- சாகுந்தலம் (தெலுங்கு)
- ஹரவிலாசம்
- இருசமய விளக்கம்
- சிதம்பரபுராணம்

குறியீடுகள்:

- | | a | b | c | d |
|----|----------|----------|----------|----------|
| A) | 4 | 2 | 3 | 1 |
| B) | 3 | 1 | 2 | 4 |
| C) | 3 | 2 | 1 | 4 |
| D) | 4 | 1 | 2 | 3 |

E) விடை தெரியவில்லை

பட்டியல்-II**(ஆசிரியர்)**

- ஸ்ரீநாதா
- வதமலவி அன்னகாலையம்
- பிள்ளமரி பிணா வீராபத்ரா கவி
- திருமலைநாதர்

27. Consider the following statements.

I. Gawan was a Mathematician, Poet and Prose writer.

II. Gawan used Chemist from Dutch to teach the preparation and the use of gun powder.

Which of the statements given above is/are correct?

- | | |
|---------------------|---------------------|
| A) I only | B) II only |
| C) Both I and II | D) Neither I nor II |
| E) Answer not known | |

பின்வரும் கூற்றுகளைக் கருத்தில் கொள்க

I. கவான் ஒரு கணிதவியலாளர், கவிஞர் மற்றும் எழுத்தாளர் ஆவார்.

II. கவான் டச்சு நாட்டு வேதியியலாளரைப் பயன்படுத்தி வெடிமருந்து தயாரிப்பதையும் பயன்படுத்துவதையும் கற்பித்தார்.

மேற்கண்ட கூற்றுகளில் சரியானது எது/எவை?

- | | |
|---------------------|-----------------|
| A) I மட்டும் | B) II மட்டும் |
| C) இரண்டும் | D) இரண்டுமில்லை |
| E) விடை தெரியவில்லை | |



28. Consider the following statements.

- I. Krishna Deva Raya constructed Golkonda Fort on a granite hill.
II. The highest point of the fort is Bala Hissar.

Which of the statements given above is/are correct?

- A) I only
B) II only
C) Both I and II
D) Neither I nor II
E) Answer not known

பின்வரும் கூற்றுகளைக் கருத்தில் கொள்க.

- I. கிருஷ்ண தேவராயர் கோல்கொண்டா கோட்டையை கிரானைட் மலையில் கட்டினார்.
II. கோட்டையின் மிக உயரமான இடம் பால ஹிசார் ஆகும்.

மேற்கண்ட கூற்றுகளில் சரியானது எது/எவை?

- A) I மட்டும்
B) II மட்டும்
C) இரண்டும்
D) இரண்டுமில்லை
E) விடை தெரியவில்லை

29. Consider the following statements about Vijayanagar empire.

- I. Devaraya II is considered the greatest of the Vijayanagar Kings
II. Saluva dynasty is a short lived dynasty
III. Tuluva Dynasty started by Krishnadevaraya
IV. The Story of Andal authored by Allasani Peddana.

Which of the above statements are incorrect.

Codes:

- A) I, II and III only
B) I, III and IV only
C) III and IV only
D) All of the above
E) Answer not known

விஜயநகரப் பேரரசு பற்றிய பின்வரும் கூற்றுகளைக் கருத்தில் கொள்க.

- I. இரண்டாம் தேவராயர் விஜயநகர மன்னர்களில் மிகச் சிறந்தவராக கருதப்படுகிறார்
II. சாலுவ வம்சம் ஒரு குறுகிய கால வம்சமாகும்.
III. கிருஷ்ணதேவராயரால் தொடங்கப்பட்ட வம்சம் துளுவ வம்சமாகும்.
IV. அல்லசானி பெத்தனாவால் ஆண்டாள் கதை எழுதப்பட்டது.

மேற்கண்ட கூற்றுகளில் தவறானது எது/எவை?

- A) I, II மற்றும் III மட்டும்
B) I, III மற்றும் IV மட்டும்
C) III மற்றும் IV மட்டும்
D) மேற்கண்ட அனைத்தும்
E) விடை தெரியவில்லை

30. Consider the following statements.

- I. The Fateh Darwaza is the entrance to the Golconda Fort.
II. Aurangzeb captured Golconda fort with the help of Afghan gate keeper in 1677.

Which of the statements given above is/are correct?

- A) I only
B) II only
C) Both I and II
D) Neither I nor II
E) Answer not known



பின்வரும் கூற்றுகளைக் கருத்தில் கொள்க.

I. பதே தர்வாசா கோல்கொண்டா கோட்டையின் நுழைவாயிலாகும்.

II. அவரங்கசீப் 1677 இல் ஆப்கானிய வாயில் காப்பாளரின் உதவியுடன் கோல்கொண்டா கோட்டையைக் கைப்பற்றினார்.

மேற்கண்ட கூற்றுகளில் சரியானது எது/எவை?

- A) I மட்டும்
B) II மட்டும்
C) இரண்டும்
D) இரண்டுமில்லை
E) விடை தெரியவில்லை

31. Before 1336, Harihara and Bukka were served under which Kingdom in Karnataka?

- A) Bijapur
B) Hoysalas
C) Vijayanagar
D) Kakatiyas
E) Answer not known

1336க்கு முன்பு கர்நாடகாவில் இருந்த எந்த ராஜ்யத்தின் கீழ் ஹரிஹரர் மற்றும் புக்கர் ஆகிய இருவரும் பணியாற்றினார்கள்?

- A) பீஜப்பூர்
B) ஹொய்சாளர்கள்
C) விஜயநகர்
D) காகத்தியர்கள்
E) விடை தெரியவில்லை

32. Find out the incorrectly matched pair.

(Title of Post)

(Definition)

- A) Amir-i-jumla – Minister of Finance
B) Wasir-i-ashraf – Minister of Internal Affairs
C) Nazir – Assistant minister for finance
D) Sadr-i-jahan – Minister of religious affairs
E) Answer not known

தவறாகப் பொருந்தியுள்ள இணையைக் கண்டறியவும்.

(பதவியின் பெயர்)

(வரையறை)

- A) அமீர்-இ-ஜும்லா – நிதி அமைச்சர்
B) வாசீர்-இ-அஷ்ரஃப் – உள்துறை அமைச்சர்
C) நசீர் – நிதித்துறை இணையமைச்சர்
D) சதர்-இ-ஜஹான் – சமய அறநிலையத்துறை அமைச்சர்
E) விடை தெரியவில்லை

33. How Judicial courts were called in Pallava Administration?

- A) Nyayamandapa
B) Needhi Mandala
C) Dharmadhikarins
D) Adhikarna Mandapa
E) Answer not known

பல்லவ நிர்வாகத்தில் நீதிமன்றங்கள் எவ்வாறு அழைக்கப்பட்டன?

- A) நியாயமண்டபம்
B) நீதி மண்டலம்
C) தர்மாதிகாரிகள்
D) அதிகர்ண மண்டபம்
E) விடை தெரியவில்லை



34. The following sculptures have been found in which Cave?
I. River Goddess Ganga mounted on a crocodile
II. River goddess Yamuna mounted on a tortoise

Codes:

- A) Bagh
B) Ellora
C) Ajanta
D) Gudiyatham
E) Answer not known

பின்வரும் சிற்பங்கள் எந்தக் குகையில் கண்டுபிடிக்கப்பட்டுள்ளன?

- I. பெண் நீர்த்தெய்வமான கங்கை ஒரு முதலையின் மீது அமர்ந்திருப்பது
II. பெண் நீர்த்தெய்வமான யமுனை ஆமையொன்றின் மீது அமர்ந்திருப்பது

குறியீடுகள் :

- A) பாக்
B) எல்லோரா
C) அஜந்தா
D) குடியாத்தம்
E) விடை தெரியவில்லை

35. A Buddhist Temple was built in Nagapattinam at the request of a Chinese ruler during the reign of which Pallava king ?

- A) Nandivarman II
B) Mahendravarman I
C) Narasimhavarman II
D) Narasimhavarman I
E) Answer not known

எந்த பல்லவ மன்னரின் ஆட்சியின் போது சீன ஆட்சியாளரின் வேண்டுகோளின் பேரில் நாகப்பட்டினத்தில் ஒரு புத்த கோவில் கட்டப்பட்டது?

- A) இரண்டாம் நந்திவர்மன்
B) முதலாம் மகேந்திரவர்மன்
C) இரண்டாம் நரசிம்மவர்மன்
D) முதலாம் நரசிம்மவர்மன்
E) விடை தெரியவில்லை

36. 'Kathavatthu' was added to Abidhamma Pitaka in which Buddhist Council?

- A) Third Buddhist Council
B) Second Buddhist Council
C) First Buddhist Council
D) Fourth Buddhist Council
E) Answer not known

எந்த பௌத்த சபையில் அபிதம்ம பிடகத்தில் 'கதவத்து' என்ற பகுதி சேர்க்கப்பட்டது?

- A) மூன்றாவது பௌத்த சங்கம்
B) இரண்டாவது பௌத்த சங்கம்
C) முதல் பௌத்த சங்கம்
D) நான்காவது பௌத்த சங்கம்
E) விடை தெரியவில்லை

37. What was the keynote of Sutta Pitaka of Buddhism ?

- A) Discipline
B) Dhamma
C) Sacrifice
D) Ahimsa
E) Answer not known

பௌத்தத்தின் சுத்த பிடகத்தின் முக்கிய குறிப்பு என்ன?

- A) ஒழுக்கம்
B) தம்மம்
C) தியாகம்
D) அஹிம்சை
E) விடை தெரியவில்லை



38. Delhi hailed as 'Second heaven and a great centre of Justice' by which Poet?
A) Ziauddin Barani B) Alberuni
C) Amir Khusrau D) Ferishta
E) Answer not known

டெல்லி 'இரண்டாம் சொர்க்கம் என்றும் மற்றும் நீதியின் மகத்தான மையம் என்றும்' எந்த கவிஞரால் போற்றப்பட்டது?

- A) ஜியாவுதீன் பாரனி B) அல்பெருனி
C) அமீர் குஸ்ரு D) ஃபெரிஷ்டா
E) விடை தெரியவில்லை

39. Match List-I with List-II.

List-I
(Foregin Travellers)

- a) Fahein
b) Hiuen Tsang
c) Ibn Battuta
d) Alberuni

List-II
(Works)

1. Si-yu-Ki
2. Rihla
3. Record of Buddhist Kingdom
4. Kitab-ul-Hind

Codes:

- | | a | b | c | d |
|----|----------|----------|----------|----------|
| A) | 4 | 2 | 3 | 1 |
| B) | 2 | 1 | 3 | 4 |
| C) | 3 | 1 | 2 | 4 |
| D) | 4 | 1 | 2 | 3 |

- E) Answer not known

பட்டியல்-Iஐ பட்டியல்-II உடன் பொருத்துக.

பட்டியல்-I
(வெளிநாட்டு பயணிகள்)

- a) பாஹியான்
b) யுவான் சுவாங்
c) இபின் பதூதா
d) அல்பெருனி

பட்டியல்-II
(பணிகள்)

1. சியூகி
2. ரிக்லா
3. பௌத்த ராஜ்யத்தின் பதிவு
4. கிதாப்- உல் -ஹிந்த்

குறியீடுகள்:

- | | a | b | c | d |
|----|----------|----------|----------|----------|
| A) | 4 | 2 | 3 | 1 |
| B) | 2 | 1 | 3 | 4 |
| C) | 3 | 1 | 2 | 4 |
| D) | 4 | 1 | 2 | 3 |

- E) விடை தெரியவில்லை



40. Who praised as the Lord of Korkai and southern paratavar?

- A) Karikalán B) Mudukumidi Peruvazhuthi
C) Nedunchezhiyan D) Ilanjetchenni
E) Answer not known

கொற்கையின் தலைவனென்றும், தென்பகுதி பரதவர்களின் தலைவனென்றும் போற்றப்பட்டவர் யார்?

- A) கரிகாலன் B) முதுகுடுமிப் பெருவழுதி
C) நெடுஞ்செழியன் D) இளஞ்சேட்சென்னி
E) விடை தெரியவில்லை

41. Which inscription had two Kalabhra Rulers name Chendan and Kurran from 5th century ?

- A) Uraiyyur Inscription B) Pulangurichi Inscription
C) Ashokan Inscription D) Mangulam Inscription
E) Answer not known

5 ஆம் நூற்றாண்டைச் சேர்ந்த சேந்தன் மற்றும் கூற்றன் என்ற இரு களப்பிரர் ஆட்சியாளர்களின் பெயர்களைக் கொண்டிருந்த கல்வெட்டு எது ?

- A) உறையூர் கல்வெட்டு B) புலாங்குறிச்சி கல்வெட்டு
C) அசோகன் கல்வெட்டு D) மாங்குளம் கல்வெட்டு
E) விடை தெரியவில்லை

42. Match List-I with List-II.

List-I

(Medieval Historians)

- a) Ziauddin Barani
b) Al-Beruni
c) Minhaj-us-Siraj
d) Amir Khusrau

List-II

(Accounts)

1. Tabaqat-i-Nasiri
2. Khazain Ul Futuh
3. Tarikh-i-Firoz Shahi
4. Tarikh-Al-Hind

Codes:

- | | a | b | c | d |
|----|----------|----------|----------|----------|
| A) | 4 | 2 | 3 | 1 |
| B) | 2 | 1 | 3 | 4 |
| C) | 1 | 3 | 2 | 4 |
| D) | 3 | 4 | 1 | 2 |

E) Answer not known

பட்டியல்-Iஐ பட்டியல்-II உடன் பொருத்துக.

பட்டியல்-I

(இடைக்கால வரலாற்றாசிரியர்கள்)

- a) ஜியாவுத்தின் பாரனி
b) அல் பெருனி
c) மின்ஹஜ்-உஸ்-சிராஜ்
d) அமிர் குஸ்ரு

பட்டியல்-II

(குறிப்புகள்)

1. தபகத்-இ-நசிரி
2. கஜைன் உல் புதூ
3. தாரிக்-இ-பெரோஸ் ஷாஹி
4. தாரிக்-அல்-ஹரிந்த்



குறியீடுகள்:

	a	b	c	d
A)	4	2	3	1
B)	2	1	3	4
C)	1	3	2	4
D)	3	4	1	2

E) விடை தெரியவில்லை

43. Arrange the military campaigns of Alauddin Khilji in chronological order.

- I. Chittor
- II. Ranthambore
- III. Malwa
- IV. Gujarat

Codes:

- | | |
|---------------------|----------------|
| A) I-II-III-IV | B) II-I-III-IV |
| C) IV-II-I-III | D) III-II-IV-I |
| E) Answer not known | |

அலாவுதீன் கில்ஜியின் இராணுவப் பிரச்சாரங்களை காலவரிசைப்படி வரிசைப்படுத்துக.

- I. சித்தூர்
- II. ராந்தம்பூர்
- III. மால்வா
- IV. குஜராத்

குறியீடுகள்:

- | | |
|---------------------|----------------|
| A) I-II-III-IV | B) II-I-III-IV |
| C) IV-II-I-III | D) III-II-IV-I |
| E) விடை தெரியவில்லை | |

44. Consider the following statements regarding Jahangir's reign :

- I. During Jahangir's reign Guru Teg Bahadur was executed.
- II. Jahangir gave permission to East India company to setup trading post at Surat.
- III. In his reign the famous Peacock Throne was made for the King.

Which of the statements given above is/are incorrect?

- | | |
|---------------------|--------------------|
| A) I only | B) I and III only |
| C) II only | D) II and III only |
| E) Answer not known | |

ஜஹாங்கீரின் ஆட்சியைப் பற்றிய பின்வரும் கூற்றுகளைக் கருத்தில் கொள்க:

- I. ஜஹாங்கீரின் ஆட்சியின் போது குரு தேஜ்பகதூர் தூக்கிலிடப்பட்டார்.
- II. ஜஹாங்கீர் கிழக்கிந்திய நிறுவனத்திற்கு சூரத்தில் வணிக நிலையத்தை அமைக்க அனுமதி அளித்தார்.
- III. இவரது ஆட்சியில் புகழ்பெற்ற மயில் சிம்மாசனம் மன்னருக்காக உருவாக்கப்பட்டது.



மேற்கண்ட கூற்றுகளில் தவறானது எது/எவை?

- A) I மட்டும்
B) I மற்றும் III மட்டும்
C) II மட்டும்
D) II மற்றும் III மட்டும்
E) விடை தெரியவில்லை

45. Which of the following were introduced during the reign of Alaudin Khilji?

- I. He introduced a permanent standing army.
II. He strictly prohibited black marketing.
III. He established a separate department (Diwan-i-Amir Kohi) to take care of agriculture.

IV. He started the system of branding of horses.

He started the system of branding of horses.

Which of the statements given above is/are correct?

- A) I, II and III only
B) III and IV only
C) I, II and IV only
D) All the above
E) Answer not known

பின்வருவனவற்றில் அலாவுதீன் கில்ஜியின் ஆட்சியின் போது அறிமுகப்படுத்தப்பட்டது எது?

- I. இவர் ஒரு நிரந்தர நிலையான இராணுவத்தை அறிமுகப்படுத்தினார்.
II. கறுப்புச் சந்தையை கடுமையாகத் தடை செய்தார்.
III. விவசாயத்தைக் கவனிப்பதற்காக ஒரு தனித்துறையை (திவான்- இ -அமிர் கோஹி) நிறுவினார்.
IV. குதிரைகளுக்கு முத்திரை குத்தும் முறையைத் தொடங்கினார்.

மேற்கண்ட கூற்றுகளில் சரியானவை எவை?

- A) I, II மற்றும் III மட்டும்
B) III மற்றும் IV மட்டும்
C) I, II மற்றும் IV மட்டும்
D) மேற்கண்ட அனைத்தும்
E) விடை தெரியவில்லை

46. Match List-I with List-II.

List-I

(Rajput Kingdoms)

- a) Chauhans
b) Tomaras
c) Solankis
d) Chandelas

List-II

(Region)

1. Gujarat
2. Rajasthan
3. Delhi
4. Bundelkhand

Codes:

- | | a | b | c | d |
|----|----------|----------|----------|----------|
| A) | 1 | 2 | 3 | 4 |
| B) | 2 | 3 | 1 | 4 |
| C) | 1 | 3 | 4 | 2 |
| D) | 4 | 1 | 2 | 3 |

E) Answer not known



பட்டியல்-Iஐ பட்டியல்-II உடன் பொருத்துக.

பட்டியல்-I (ராஜபுத்திர அரசுகள்)	பட்டியல்-II (பகுதிகள்)
a) செளகான்	1. குஜராத்
b) டோமர்	2. ராஜஸ்தான்
c) சோலங்கி	3. டெல்லி
d) சந்தேலர்	4. பந்தேல்கண்ட்

குறியீடுகள்:

	<i>a</i>	<i>b</i>	<i>c</i>	<i>d</i>
A)	1	2	3	4
B)	2	3	1	4
C)	1	3	4	2
D)	4	1	2	3
E)	விடை தெரியவில்லை			

47. The term 'abwab' in medieval India is related to
- A) Successor states emerged during Aurangzeb's reign.
B) Religious tax imposed on non-Muslim subjects.
C) Tax levied on land above original rent.
D) Rent-free lands given to higher officials.
E) Answer not known

இடைக்கால இந்தியாவில் 'அப்வாப்' என்ற சொல் எதனுடன் தொடர்புடையது?

- A) ஒளரங்கசீப்பின் ஆட்சியின் போது வாரிசு அரசுகள் தோன்றின.
B) முஸ்லிம் அல்லாத குடிமக்கள் மீது விதிக்கப்பட்ட சமய வரி.
C) அசல் வாடகைக்கு மேல் நிலத்திற்கு விதிக்கப்படும் வரி.
D) உயர் அதிகாரிகளுக்கு வாடகை இல்லாத நிலங்கள் வழங்கப்படுகின்றன.
E) விடை தெரியவில்லை

48. The paper-making technology that evolved in China was introduced to India during the rule of which of the following?

- A) Guptas
B) Delhi Sultanate
C) Mughals
D) Marathas
E) Answer not known

சீனாவில் உருவான காகிதம் தயாரிக்கும் தொழில்நுட்பம் பின்வருவனவற்றில் எந்த ஆட்சியின் போது இந்தியாவில் அறிமுகப்படுத்தப்பட்டது?

- A) குப்தர்கள்
B) டெல்லி சுல்தானகம்
C) முகலாயர்கள்
D) மராத்தியர்கள்
E) விடை தெரியவில்லை



49. Match List-I with List-II.

List-I

(Monuments)

- Alai Darwaza
- Buland Darwaza
- Quwwat-ul-Islam Mosque
- Red Fort

List-II

(Constructed by)

- Shahjahan
- Akbar
- Alaudin Khilji
- Qutb-ud-din Aibak

Codes:

- | | a | b | c | d |
|----|----------|----------|----------|----------|
| A) | 4 | 2 | 1 | 3 |
| B) | 3 | 2 | 4 | 1 |
| C) | 2 | 3 | 4 | 1 |
| D) | 4 | 1 | 2 | 3 |

E) Answer not known

பட்டியல்-Iஐ பட்டியல்-II உடன் பொருத்துக.

பட்டியல்-I

(நினைவுச்சின்னங்கள்)

- அலாய் தர்வாஸா
- புலந்தர்வாஸா
- குவ்வாத் உல் இஸ்லாம் மசூதி
- செங்கோட்டை

பட்டியல்-II

(கட்டியவர்)

- ஷாஜகான்
- அக்பர்
- அலாவுதீன் கில்ஜி
- குத்புதீன் அய்பக்

குறியீடுகள்:

- | | a | b | c | d |
|----|----------|----------|----------|----------|
| A) | 4 | 2 | 1 | 3 |
| B) | 3 | 2 | 4 | 1 |
| C) | 2 | 3 | 4 | 1 |
| D) | 4 | 1 | 2 | 3 |

E) விடை தெரியவில்லை

50. Arrange the following events of Akbar's reign in chronological order:

- Conquest of Malwa
- Abolition of Pilgrim tax
- Conquest of Gujarat
- Conquest of Sindh

Codes:

- | | |
|---------------------|----------------|
| A) I-II-III-IV | B) I-III-IV-II |
| C) I-III-II-IV | D) III-I-IV-II |
| E) Answer not known | |

அக்பரின் ஆட்சியின் பின்வரும் நிகழ்வுகளை காலவரிசைப்படி வரிசைப்படுத்துக:

- மால்வாவின் வெற்றி
- யாத்திரை வரி ரத்து
- குஜராத்தின் வெற்றி
- சிந்து வெற்றி



குறியீடுகள்:

- A) I-II-III-IV
B) I-III-IV-II
C) I-III-II-IV
D) III-I-IV-II
E) விடை தெரியவில்லை

51. Consider the following statements regarding Aurangzeb's reign:

- I. Aurangzeb reimposed Jizya tax.
II. Prohibited the construction of new temples but the repair of long old-standing temples were permitted.
III. During Aurangzeb's reign, there was a notable increase in the number of Hindu officials compared to the earlier reign of Shah Jahan.

Which of the statements given above is/are incorrect?

- A) I only
B) II only
C) III only
D) None of the above
E) Answer not known

ஒளரங்கசீப்பின் ஆட்சியைப் பற்றிய பின்வரும் கூற்றுகளைக் கருத்தில் கொள்க:

- I. ஒளரங்கசீப் ஜிஸியா வரியை மீண்டும் விதித்தார்.
II. புதிய கோவில்கள் கட்ட தடை விதிக்கப்பட்டது; ஆனால் நீண்ட பழமையான கோவில்களை பழுதுபார்க்க அனுமதிக்கப்பட்டது.
III. ஒளரங்கசீப்பின் ஆட்சியின் போது, ஷாஜகானின் முந்தைய ஆட்சியுடன் ஒப்பிடுகையில், இந்து அதிகாரிகளின் எண்ணிக்கையில் குறிப்பிடத்தக்க அதிகரிப்பு ஏற்பட்டது.

மேற்கூறியவற்றுள் தவறானது எது/எவை?

- A) I மட்டும்
B) II மட்டும்
C) III மட்டும்
D) மேற்கண்ட எதுவுமில்லை
E) விடை தெரியவில்லை

52. Match List-I with List-II.

List-I
(Deccan Sultanates)

- a) Golconda
b) Bijapur
c) Bidar
d) Berar
e) Ahmad Nagar

List-II
(Rulers)

1. Adil Shahs
2. Imad Shahs
3. Qutb Shahs
4. Nizam Shahs
5. Barid Shahs

Codes:

- | | a | b | c | d | e |
|----|---|---|---|---|---|
| A) | 2 | 4 | 1 | 3 | 5 |
| B) | 4 | 5 | 2 | 3 | 1 |
| C) | 3 | 1 | 5 | 2 | 4 |
| D) | 1 | 3 | 4 | 5 | 1 |

E) Answer not known



பட்டியல்-Iஐ பட்டியல்-II உடன் பொருத்துக.

பட்டியல்-I

(தக்காண சுல்தானியம்)

- கோல்கொண்டா
- பீஜப்பூர்
- பீடார்
- பெரார்
- அகமதுநகர்

பட்டியல்-II

(ஆட்சியாளர்கள்)

- அடில்ஷாஹி
- இமத்ஷாஹி
- குதுப்ஷாஹி
- நிஜாம் ஷாஹி
- பரித் ஷாஹி

குறியீடுகள்:

	a	b	c	d	e
A)	2	4	1	3	5
B)	4	5	2	3	1
C)	3	1	5	2	4
D)	1	3	4	5	1

E) விடை தெரியவில்லை

53. Consider the following statements regarding Shah Jahan's reign :

I. Shahjahan was a contemporary of Louis XIV.

II. Bernier, Tavernier and Manucci visited India during the reign of Shah Jahan.

Which of the statements given above is/are correct?

- I only
- II only
- Both I and II
- Neither I nor II
- Answer not known

ஷாஜகானின் ஆட்சியைப் பற்றிய பின்வரும் கூற்றுகளைக் கருத்தில் கொள்க:

I. ஷாஜகான், பதினான்காம் லூயியின் சமகாலத்தவராவார்.

II. ஷாஜகானின் ஆட்சியின் போது பெர்னியர், தாவர்னியர் மற்றும் மனுச்சி ஆகியோர் இந்தியாவிற்கு வருகை தந்தனர்.

மேற்கண்ட கூற்றுகளில் சரியானது எது/எவை?

- I மட்டும்
- II மட்டும்
- இரண்டும்
- இரண்டுமில்லை
- விடை தெரியவில்லை

54. Find the incorrect statement regarding Malik Ambar:

- In 1608 Ahmad Nagar in the Deccan had declared independence under Malik Ambar.
- During Jahangir's rule, Ahmad Nagar, which had offered resistance to the Mughals, was annexed despite the efforts of Malik Ambar.
- Malik Ambar learnt about statecraft, military and administrative affairs from Chengiz Khan.
- Shahji Bhonsle served under Malik Ambar
- Answer not known



மாலிக் அம்பரைப் பற்றிய தவறான கூற்றைக் கண்டறிக:

- A) 1608 ஆம் ஆண்டில் தக்காணத்தில் உள்ள அகமது நகர், மாலிக் அம்பரின் கீழ் தனது சுதந்திரத்தை அறிவித்தது.
B) ஜஹாங்கிரின் ஆட்சியின் போது, முகலாயர்களுக்கு எதிர்ப்பு தெரிவித்த அகமது நகர், மாலிக் அம்பரின் முயற்சிகள் இருந்தபோதிலும் இணைக்கப்பட்டது.
C) மாலிக் அம்பர் செங்கிஸ் கானிடமிருந்து அரசு, இராணுவம் மற்றும் நிர்வாக விவகாரங்கள் பற்றி அறிந்து கொண்டார்.
D) ஷாஜி போன்ஸ்லே மாலிக் அம்பரின் கீழ் பணியாற்றினார்
E) விடை தெரியவில்லை

55. Consider the following statements regarding Dara Shikoh:

- I. He was known as the Philosopher Prince.
II. He translated the Upanishads from Sanskrit to Persian.
Which of the statements given above is/are incorrect?

- A) I only
B) II only
C) Both I and II
D) Neither I nor II
E) Answer not known

தாராஷுகோவைப் பற்றிய பின்வரும் கூற்றுகளைக் கருத்தில் கொள்க :

- I. இவர் தத்துவஞான இளவரசர் என்று அறியப்பட்டார்.
II. இவர் சமஸ்கிருத மொழியிலமைந்த உபநிடதங்களைப் பாரசீக மொழியில் மொழி பெயர்த்தார்.

மேற்கண்ட கூற்றுகளில் தவறானது எது/எவை?

- A) I மட்டும்
B) II மட்டும்
C) இரண்டும்
D) இரண்டுமில்லை
E) விடை தெரியவில்லை

56. Match List-I with List-II.

List-I
(Biography)

- a) Akbar Namah
b) Humayun Namah
c) Padshah Namah
d) Alamgir Namah

List-II
(Authored by)

1. Gulbadan Begum
2. Abdul Hamid Lahori
3. Muhammed Kazim
4. Abul Fazal

Codes:

- | | a | b | c | d |
|----|----------|----------|----------|----------|
| A) | 4 | 1 | 2 | 3 |
| B) | 1 | 3 | 2 | 4 |
| C) | 3 | 1 | 2 | 4 |
| D) | 4 | 2 | 1 | 3 |

- E) Answer not known



பட்டியல்-Iஐ பட்டியல்-II உடன் பொருத்துக.

பட்டியல்-I

(வாழ்க்கை வரலாறு)

- a) அக்பர் நாமா
b) ஹுமாயூன் நாமா
c) பாதுஷா நாமா
d) ஆலம்கீர் நாமா

பட்டியல்-II

(ஆசிரியர்)

1. குல்பதன் பேகம்
2. அப்துல் ஹமீது லகோரி
3. முஹம்மது காசிம்
4. அபுல் பாசல்

குறியீடுகள்:

	a	b	c	d
A)	4	1	2	3
B)	1	3	2	4
C)	3	1	2	4
D)	4	2	1	3

E) விடை தெரியவில்லை

57. Which of the following are the reasons for the rise of Maratha Empire?
I. The spread of the Bhakti movement inculcated the spirit of oneness among the Marathas.
II. The degeneration of Bijapur and Golkonda prompted the Marathas to unite and fight together.

Codes:

- A) I only
B) II only
C) Both I and II
D) Neither I nor II
E) Answer not known

மராட்டிய சாம்ராஜ்ஜியத்தின் எழுச்சிக்கு பின்வருவனவற்றில் காரணமாக அமைந்தது எது?

- I. பக்தி இயக்கத்தின் பரவலானது மராட்டியர்களிடையே ஒற்றுமை உணர்வை ஏற்படுத்தியது.
II. பீஜப்பூர், கோல்கொண்டா அரசுகள் கலைந்த தூழலில் மராத்தியர் ஒன்றிணைந்து தங்களுடைய வாழ்க்கைக்காகப் போராட வேண்டிய உந்துதலைப் பெற்றனர்.

குறியீடுகள்:

- A) I மட்டும்
B) II மட்டும்
C) இரண்டும்
D) இரண்டுமில்லை
E) விடை தெரியவில்லை

58. In medieval India, which of the following sequences correctly arranges items in ascending order based on size?
A) Paragana – Suba – Sarkar
B) Suba – Sarkar – Paragana
C) Sarkar – Paragana – Suba
D) Paragana – Sarkar – Suba
E) Answer not known



இடைக்கால இந்தியாவில், பின்வரும் எந்த வரிசையானது, அளவை அடிப்படையாகக் கொண்டு பொருட்களை ஏறுவரிசையில் சரியாக வரிசைப்படுத்துகிறது?

- A) பர்கானா - சுபா - சர்க்கார்
B) சுபா - சர்க்கார் - பர்கானா
C) சர்க்கார் - பர்கானா - சுபா
D) பர்கானா - சர்க்கார் - சுபா
E) விடை தெரியவில்லை

59. Which dynasty was responsible for building the world-famous Khajuraho temple complex and Kandariya Mahadeva temple?

- A) Chauhans
B) Chandelas
C) Solankis
D) Paramaras
E) Answer not known

உலகப் புகழ் பெற்ற கஜூராஹோ கோயில் வளாகம் மற்றும் கந்தரியா மகாதேவா கோயிலைக் கட்டிய வம்சம் எது?

- A) செளகான்
B) சந்தேலர்
C) சோலங்கி
D) பரமர்
E) விடை தெரியவில்லை

60. Consider the following statements.

- I. Muhammad Bin Tughlaq shifted his capital from Delhi to Devagiri.
II. He renamed Devagiri to Daulatabad
III. Devagiri had the advantage of possessing a strong fort atop a rocky hill.
Which of the statements given above is/are correct?

- A) I and II only
B) II and III only
C) I and III only
D) All the above
E) Answer not known

பின்வரும் கூற்றுகளைக் கருத்தில் கொள்க.

- I. முகமது-பின்-துக்ளக் தனது தலைநகரை டெல்லியிலிருந்து தேவகிரிக்கு மாற்றினார்.
II. தேவகிரியை தெளலதாபாத் என்று பெயர் மாற்றினார்
III. தேவகிரிக்கு பாறைப்பாங்கான மலையின் உச்சியில் ஒரு வலுவான கோட்டையைக் கொண்டிருக்கிற சாதகமான அம்சம் இருந்தது.

மேற்கண்ட கூற்றுகளில் சரியானவை எவை?

- A) I மற்றும் II மட்டும்
B) II மற்றும் III மட்டும்
C) I மற்றும் III மட்டும்
D) மேற்கண்ட அனைத்தும்
E) விடை தெரியவில்லை

61. Match List-I with List-II.

List-I
(Officials)

- a) Ariz-I mumalik
b) Sadr-us-sudur
c) Barid-i mumalik
d) Qazi-ul-mumalik

List-II
(Duties)

1. Highest religious officer
2. Chief Justice
3. Head of news agency
4. Head of Military department

**Codes:**

- | | a | b | c | d |
|----|----------|----------|----------|----------|
| A) | 4 | 2 | 1 | 3 |
| B) | 2 | 3 | 4 | 1 |
| C) | 3 | 2 | 1 | 4 |
| D) | 4 | 1 | 3 | 2 |

E) Answer not known

பட்டியல்-Iஐ பட்டியல்-II உடன் பொருத்துக.

- பட்டியல்-I**
(அதிகாரிகள்)
- அரிஸ் -ஐ முமாலிக்
 - சதர்-உஸ்-சதுர்
 - பரிட்-ஐ முமாலிக்
 - காஜி-உல்-முமாலிக்

- பட்டியல்-II**
(பணிகள்)
- மிக உயர்ந்த சமய அதிகாரி
 - தலைமை நீதிபதி
 - செய்தி நிறுவனத்தின் தலைவர்
 - இராணுவத் துறையின் தலைவர்

குறியீடுகள்:

- | | a | b | c | d |
|----|----------|----------|----------|----------|
| A) | 4 | 2 | 1 | 3 |
| B) | 2 | 3 | 4 | 1 |
| C) | 3 | 2 | 1 | 4 |
| D) | 4 | 1 | 3 | 2 |

E) விடை தெரியவில்லை

62. Find the incorrect statement regarding Maratha Administration:

- The practice of paying officers in cash was discontinued, and instead, they were granted jagirs.
- No office was to be hereditary.
- The Amatya checked and countersigned all public accounts of the kingdom.
- The revenue administration of Shivaji was humane and beneficent to the cultivators
- Answer not known

மராட்டிய நிர்வாகம் தொடர்பான தவறான கூற்றைக் கண்டறிக:

- அதிகாரிகளுக்கு பணமாகச் செலுத்தும் நடைமுறை நிறுத்தப்பட்டு, அதற்குப் பதிலாக அவர்களுக்கு ஜாகீர் வழங்கப்பட்டது.
- எந்தப் பதவியும் பரம்பரையானதில்லை.
- அரசின் அனைத்துப் பொதுக்கணக்குகளையும் ஆராய்ந்து ஒப்புதல் கையொப்பமிடுவது அமத்யாவின் வேலையாகும்.
- சிவாஜியின் வருவாய் நிர்வாகம் நியாயமானதாக, உற்பத்தியாளர்களுக்குச் சாதகமாக அமைந்திருந்தது
- விடை தெரியவில்லை



63. Among the following, whose verses are used in Guru Granth Sahib, the holy book of Sikhs?

- A) Shaikh Farid
B) Firdausi
C) Moinuddin Chishti
D) Kabir
E) Answer not known

பின்வருவனவற்றில், சீக்கியர்களின் புனித நூலான குரு கிரந்த சாகிப்பில் யாருடைய வசனங்கள் பயன்படுத்தப்பட்டுள்ளன?

- A) ஷேக் பரித்
B) ஃபிர்தௌசி
C) மொய்னுதீன் சிஷ்டி
D) கபீர்
E) விடை தெரியவில்லை

64. Match List-I with List-II.

List-I

(Designation)

- a) Amatya
b) Summant
c) Sachiv
d) Sari Naubat
e) Nyayadhish

List-II

(Roles)

1. Chief Justice
2. Home Secretary
3. Finance Minister
4. Foreign Secretary
5. Commander in Chief

Codes:

- | | a | b | c | d | e |
|----|------------------|----------|----------|----------|----------|
| A) | 5 | 4 | 1 | 3 | 2 |
| B) | 4 | 1 | 2 | 5 | 3 |
| C) | 3 | 4 | 2 | 5 | 1 |
| D) | 4 | 3 | 5 | 2 | 1 |
| E) | Answer not known | | | | |

பட்டியல்-Iஐ பட்டியல்-II உடன் பொருத்துக.

பட்டியல்-I

(பதவி)

- a) அமத்யா
b) சுமந்த்
c) சச்சிவ்
d) சாரிநௌபத்
e) நியாயதீஷ்

பட்டியல் -II

(பணிகள்)

1. தலைமை நீதிபதி
2. உள்துறை செயலர்
3. நிதி அமைச்சர்
4. வெளியுறவுச் செயலர்
5. தலைமைத் தளபதி

குறியீடுகள்:

- | | a | b | c | d | e |
|----|------------------|----------|----------|----------|----------|
| A) | 5 | 4 | 1 | 3 | 2 |
| B) | 4 | 1 | 2 | 5 | 3 |
| C) | 3 | 4 | 2 | 5 | 1 |
| D) | 4 | 3 | 5 | 2 | 1 |
| E) | விடை தெரியவில்லை | | | | |



65. Consider the following statements.

- I. Chauth was one-fourth of the revenue of the district conquered by the Marathas
- II. Sardeshmukhi was an additional 10% of the revenue which was collected by Shivaji.

Which of the statements given above is/are correct?

- A) I only
- B) II only
- C) Both I and II
- D) Neither I nor II
- E) Answer not known

பின்வரும் கூற்றுகளைக் கருத்தில் கொள்க.

- I. மராத்தியர் கைப்பற்றிய மாவட்டத்தின் வருவாயில் நான்கில் ஒரு பங்கு 'சௌத்' என வசூலிக்கப்பட்டது.
- II. சர்தேஷ்முகி என்ற தகுதியின் காரணமாக சிவாஜி தனது கூடுதல் வருவாயில் 10%-ஐ சர்தேஷ்முகி என்னும் வரிமூலம் பெற்றார்.

மேற்கண்ட கூற்றுகளில் சரியானது எது/எவை?

- A) I மட்டும்
- B) II மட்டும்
- C) இரண்டும்
- D) இரண்டுமில்லை
- E) விடை தெரியவில்லை

66. Consider the following statements.

- I. Muhammad Ghori issued gold coins featuring images of Lakshmi.
- II. Iltutmish introduced silver tankas and a copper jital.
- III. Muhammad bin Tughlaq introduced a system of token currency.

Which of the statements given above is/are correct?

- A) I and II only
- B) II and III only
- C) I and III only
- D) All the above
- E) Answer not known

பின்வரும் கூற்றுகளைக் கருத்தில் கொள்க.

- I. முகமது கோரி லட்சுமியின் உருவங்களைக் கொண்ட தங்க நாணயங்களை வெளியிட்டார்.
- II. இல்துமிஷ் வெள்ளி தங்கா மற்றும் செப்பு ஜிட்டால் நாணயங்களை அறிமுகப்படுத்தினார்.
- III. முகமது பின் துக்ளாக் செப்பு நாணயங்கள் முறையை அறிமுகப்படுத்தினார்.

மேற்கண்ட கூற்றுகளில் சரியானவை எவை?

- A) I மற்றும் II மட்டும்
- B) II மற்றும் III மட்டும்
- C) I மற்றும் III மட்டும்
- D) மேற்கண்ட அனைத்தும்
- E) விடை தெரியவில்லை

67. Who was the first Muslim ruler to invade India?

- A) Muhammad of Ghor
- B) Muhammad of Ghazni
- C) Muhammad-bin-Qasim
- D) Sulthan Nasir-ud-din Qubacha
- E) Answer not known



இந்தியாவின் மீது படையெடுத்த முதல் இஸ்லாமிய ஆட்சியாளர் யார்?

- A) முகமது கோரி
B) கஜினி முகமது
C) முகமது-பின்-காசிம்
D) சுல்தான் நசருதீன் குபாச்சா
E) விடை தெரியவில்லை

68. Consider the following statements related to Lodi Dynasty:

- I. The first Afghan rule in Delhi was founded by Bahlul Lodi.
II. Ibrahim Lodi was the last Lodi Sultan of Delhi Sultanate.
III. Ibrahim Lodi was defeated by Babur in the First Battle of Panipat
IV. Ibrahim Lodi shifted his capital from Delhi to Agra.
Which of the statements given above is/are correct?

- A) I and II only
B) I, II and III only
C) I, II and IV only
D) All the above
E) Answer not known

லோடி வம்சம் தொடர்பான பின்வரும் கூற்றுகளைக் கருத்தில் கொள்க:

- I. டெல்லியில் முதல் ஆப்கானிய ஆட்சியை நிறுவியது பஹ்லுல் லோடியாவார்.
II. டெல்லி சுல்தானகத்தின் கடைசி லோடி சுல்தான் இப்ராஹிம் லோடியாவார்.
III. முதலாம் பானிபட் போரில் பாபரால் இப்ராஹிம் லோடி தோற்கடிக்கப்பட்டார்.
IV. இப்ராஹிம் லோடி தனது தலைநகரை டெல்லியிலிருந்து ஆக்ராவுக்கு மாற்றினார்.
மேற்கண்ட கூற்றுகளில் சரியானவை எவை?

- A) I மற்றும் II மட்டும்
B) I, II மற்றும் III மட்டும்
C) I, II மற்றும் IV மட்டும்
D) மேற்கண்ட அனைத்தும்
E) விடை தெரியவில்லை

69. Find out the incorrectly matched pair.

(Significant events) **(Timeline)**

- A) Attack of Shivaji on Surat – 1664
B) Treaty of Purandhar – 1665
C) Coronation of Shivaji – 1675
D) Death of Shivaji – 1680
E) Answer not known

தவறாகப் பொருந்தியுள்ள இணையைக் கண்டறிக.

(குறிப்பிடத்தக்க நிகழ்வுகள்) **(காலவரிசை)**

- A) தூரத்தில் சிவாஜியின் தாக்குதல் – 1664
B) புரந்தர் ஒப்பந்தம் – 1665
C) சிவாஜியின் முடிசூட்டு விழா – 1675
D) சிவாஜியின் மரணம் – 1680
E) விடை தெரியவில்லை

70. In the entire history of the Delhi Sultanate the only Sultan to voluntarily abdicated his throne was

- A) Sikandar Lodi
B) Qutb-ud-din Mubarak Shah
C) Nasir ud din Mahmud Shah
D) Alam Shah
E) Answer not known



டெல்லி சுல்தானகத்தின் முழு வரலாற்றிலும் தன் அரியணையை தானாக முன்வந்து துறந்த ஒரே சுல்தான்

- A) சிக்கந்தர் லோடி
B) குத்புத்தீன் முபாரக் ஷா
C) நசீருதின் மஹ்மூத் ஷா
D) ஆலம் ஷா
E) விடை தெரியவில்லை

71. The treaty of Purandar 1665 was signed between whom among the following?

- A) Shivaji and Raja Jai Singh
B) Shivaji and Aurangzeb
C) Shivaji and Afzal Khan
D) Shivaji and Shaista Khan
E) Answer not known

1665 ஆம் ஆண்டு புரந்தர் ஒப்பந்தம் பின்வருவனவற்றுள் யாருக்கு இடையில் கையெழுத்தானது?

- A) சிவாஜி மற்றும் ராஜா ஜெய் சிங்
B) சிவாஜி மற்றும் ஔரங்கசீப்
C) சிவாஜி மற்றும் அப்சல்கான்
D) சிவாஜி மற்றும் செயிஷ்டகான்
E) விடை தெரியவில்லை

72. Constructing 'Kalyana Mandapas' was a notable feature in temple construction in the kingdom of?

- A) Chalukyas
B) Vijayanagara
C) Rashtrakutas
D) Kakatiyas
E) Answer not known

கல்யாண மண்டபங்களைக் கட்டுவது என்பது எந்த இராஜஜியத்தின் கோயில் கட்டுமானத்தில் ஒரு குறிப்பிடத்தக்க அம்சமாக இருந்தது?

- A) சாளுக்கியர்கள்
B) விஜயநகரம்
C) இராஷ்டிரகூடர்கள்
D) காகத்தியர்கள்
E) விடை தெரியவில்லை

73. Which of the below mentioned languages have been used in Pala Kingdom?

- I. Persian
II. Pali
III. Prakrit
IV. Gujarati

Codes:

- A) I, II and III only
B) II, III and IV only
C) I, III and IV only
D) All the above
E) Answer not known

கீழே குறிப்பிடப்பட்டுள்ள மொழிகளில் பாலர் இராச்சியத்தில் பயன்படுத்தப்பட்ட மொழி எது ?

- I. பாரசீகம்
II. பாலி
III. பிராகிருதம்
IV. குஜராத்தி



குறியீடுகள்:

- A) I, II மற்றும் III மட்டும்
C) I, III மற்றும் IV மட்டும்
E) விடை தெரியவில்லை

- B) II, III மற்றும் IV மட்டும்
D) மேற்கண்ட அனைத்தும்

74. Match List-I with List-II.

List-I

(Maratha Administration)

- a) Patel
b) Kulkarni
c) Kotwal

Codes:

- | | a | b | c |
|----|----------|----------|----------|
| A) | 1 | 2 | 3 |
| B) | 2 | 3 | 1 |
| C) | 3 | 1 | 2 |
| D) | 2 | 1 | 3 |

E) Answer not known

பட்டியல்-Iஐ பட்டியல்-II உடன் பொருத்துக.

பட்டியல்-I

(மராட்டிய நிர்வாகம்)

- a) படேல்
b) குல்கர்னி
c) கொத்வால்

பட்டியல்-II

(பணிகள்)

1. தலைமை கிராம அதிகாரி
2. கணக்காளர்
3. நகர காவல்துறைத் தலைவர்

குறியீடுகள்:

- | | a | b | c |
|----|----------|----------|----------|
| A) | 1 | 2 | 3 |
| B) | 2 | 3 | 1 |
| C) | 3 | 1 | 2 |
| D) | 2 | 1 | 3 |

E) விடை தெரியவில்லை

75. During medieval Indian history, Banjaras were generally referred to

- A) Artisans
C) Musicians
E) Answer not known
- B) Weavers
D) Traders

இடைக்கால இந்திய வரலாற்றில், பஞ்சாராக்கள் பொதுவாக யாரை குறிப்பிடப்பட்டனர்?

- A) கைவினைஞர்கள்
C) இசைக்கலைஞர்கள்
E) விடை தெரியவில்லை
- B) நெசவாளர்கள்
D) வணிகர்கள்



76. Who among the following was regarded by Shivaji as his guru?

- A) Eknath
B) Tukaram
C) Ramdas
D) Surdas
E) Answer not known

கீழ்க்கண்டவர்களில் யாரை சிவாஜி தனது குருவாகக் கருதினார்?

- A) ஏக்நாத்
B) துக்காராம்
C) இராம்தாஸ்
D) சூர்தாஸ்
E) விடை தெரியவில்லை

77. Match List-I with List-II.

List-I

(Literature)

- a) Prithviraj Raso
b) Padmavat
c) Kiratarjuniya
d) Gitagovinda

List-II

(Composed by)

1. Malik Muhammad Jayasi
2. Chand Bardai
3. Bharavi
4. Jayadeva

Codes:

- | | a | b | c | d |
|----|----------|----------|----------|----------|
| A) | 2 | 3 | 1 | 4 |
| B) | 2 | 1 | 3 | 4 |
| C) | 1 | 2 | 3 | 4 |
| D) | 3 | 1 | 2 | 4 |

E) Answer not known

பட்டியல்-Iஐ பட்டியல்-II உடன் பொருத்துக.

பட்டியல்-I

(இலக்கியம்)

- a) பிருத்விராஜ் ரசோ
b) பத்மாவத்
c) கிரதார்ஜுனியா
d) கீதாக்கோவிந்தா

பட்டியல்-II

(இயற்றியவர்)

1. மாலிக் முகமது ஜெயசி
2. சந்த் பர்தாய்
3. பாராவி
4. ஜெயதேவா

குறியீடுகள்:

- | | a | b | c | d |
|----|----------|----------|----------|----------|
| A) | 2 | 3 | 1 | 4 |
| B) | 2 | 1 | 3 | 4 |
| C) | 1 | 2 | 3 | 4 |
| D) | 3 | 1 | 2 | 4 |

E) விடை தெரியவில்லை

78. Consider the following statements.

Assertion (A) : Indians continued to use the expensive bronze cannon long after these had become obsolete in Europe.

Reason (R) : India was unable to produce cast iron even during the seventeenth century.

**Codes:**

- A) Both (A) and (R) are true and (R) is the correct explanation of (A)
B) Both (A) and (R) are true but (R) is not the correct explanation of (A)
C) (A) is true but (R) is false
D) (A) is false but (R) is true
E) Answer not known

பின்வரும் கூற்றுக்களைக் கருத்தில் கொள்க.

கூற்று (A) : செலவு மிக்க வெண்கலத்திலான பீரங்கிகளை இந்தியா தொடர்ந்து பயன்படுத்தி வந்தபோது ஐரோப்பாவில் முன்னதாகவே அவை பயன்பாட்டிலிருந்து நீங்கிவிட்டன.

காரணம் (R) : பதினேழாம் நூற்றாண்டில் கூட இந்தியாவால் வார்ப்பிரும்பை உற்பத்தி செய்ய இயலாமல் போனதேயாகும்.

குறியீடுகள்:

- A) (A) மற்றும் (R) இரண்டும் சரி மற்றும் (R) என்பது (A)க்கான சரியான விளக்கமாகும்
B) (A) மற்றும் (R) இரண்டும் சரி ஆனால் (R) என்பது (A)க்கான சரியான விளக்கம் அல்ல
C) (A) சரி ஆனால் (R) தவறு
D) (A) தவறு ஆனால் (R) சரி
E) விடை தெரியவில்லை

79. Which of the following is/are correctly matched?

(UNESCO WHS)**(Declared in)**

- I. Great Living Chola Temples – 1984
II. Monuments at Mahabalipuram – 1987
III. The Ellora caves – 1983

Codes:

- A) I and III only
B) I only
C) III only
D) All the above
E) Answer not known

பின்வருவனவற்றில் எது சரியாக பொருந்தியுள்ளது?

(யுனெஸ்கோவின் உலகப் பாரம்பரிய சின்னம்) (அறிவிக்கப்பட்டது)

- I. வாழும் மாபெரும் சோழக் கோயில்கள் – 1984
II. மகாபலிபுரத்தில் உள்ள நினைவுச்சின்னங்கள் – 1987
III. எல்லோரா குகைகள் – 1983

குறியீடுகள்:

- A) I மற்றும் III மட்டும்
B) I மட்டும்
C) III மட்டும்
D) மேற்கண்ட அனைத்தும்
E) விடை தெரியவில்லை

80. Find out the incorrectly matched pair.

(Classical dance)**(Associated State)**

- A) Kathak – UP
B) Sattriya – Assam
C) Kathakali – Kerala
D) Kuchipudi – Kerala
E) Answer not known



தவறாகப் பொருந்தியுள்ள இணையைக் கண்டறியவும்.

(பாரம்பரிய நடனம்)

(தொடர்புடைய மாநிலம்)

- | | |
|---------------------|---------------------|
| A) கதக் | - உத்திரப் பிரதேசம் |
| B) சத்ரியா | - அசாம் |
| C) கதகளி | - கேரளா |
| D) குச்சிப்புடி | - கேரளா |
| E) விடை தெரியவில்லை | |

81. On which Amendment, Incorporation of Puducherry Union Territory to the Indian Union is done ?

- A) 7th Amendment Act, 1956
B) 13th Amendment Act, 1962
C) 14th Amendment Act, 1962
D) None of the above
E) Answer not known

புதுச்சேரி யூனியன் பிரதேசத்தை இந்திய ஒன்றியத்தில் இணைப்பது என்பது எந்தத் திருத்தச் சட்டத்தின் மூலம் செய்யப்பட்டது?

- A) 7வது திருத்தச் சட்டம், 1956
B) 13வது திருத்தச் சட்டம், 1962
C) 14வது திருத்தச் சட்டம், 1962
D) மேற்கண்ட எதுவுமில்லை
E) விடை தெரியவில்லை

82. Persons voluntarily acquiring citizenship of a foreign state are not to be a citizen of India under which Article ?

- A) Article 8
B) Article 9
C) Article 10
D) Article 11
E) Answer not known

தானாக முன்வந்து அயல்நாட்டுக் குடியரிமை பெறும் நபர்கள் எந்தக் சரத்தின் கீழ் இந்தியக் குடிமகனாக இருக்க முடியாது?

- A) சரத்து 8
B) சரத்து 9
C) சரத்து 10
D) சரத்து 11
E) விடை தெரியவில்லை

83. Consider the following statements.

I. The Citizenship Act (1955) prescribes Renunciation as a way of losing citizenship.

II. When a person renounces his Indian citizenship, every minor child of that person also loses Indian citizenship for his whole life.

Which of the statements given above is/are correct?

- A) I only
B) II only
C) Both I and II
D) Neither I nor II
E) Answer not known



பின்வரும் கூற்றுகளைக் கருத்தில் கொள்க.

I. குடியரிமைச் சட்டம் (1955) குடியரிமையை இழப்பதற்கான ஒரு வழியாக குடியரிமைத் துறத்தலைப் பரிந்துரைக்கிறது.

II. ஒரு நபர் தனது இந்தியக் குடியரிமையை துறந்தால், அந்த நபரின் ஒவ்வொரு சிறு குழந்தையும் தனது வாழ்நாள் முழுவதும் இந்திய குடியரிமையை இழக்க நேரிடும்.

மேற்கண்ட கூற்றுகளில் சரியானது எது/எவை?

- A) I மட்டும்
B) II மட்டும்
C) இரண்டும்
D) இரண்டுமில்லை
E) விடை தெரியவில்லை

84. Consider the following statements.

I. The citizenship Act of 1955 prescribes 5 ways of acquiring citizenship

II. A naturalized citizen are eligible for the office of President.

Which of the statements given above is/are incorrect?

- A) I only
B) II only
C) Both I and II
D) Neither I nor II
E) Answer not known

பின்வரும் கூற்றுகளைக் கருத்தில் கொள்க.

I. 1955 ஆம் ஆண்டின் குடியரிமைச் சட்டம் குடியரிமை பெறுவதற்கான 5 வழிகளை பரிந்துரைக்கிறது

II. இயல்புக் குடியரிமை பெற்ற ஒரு குடிமகன் இந்திய குடியரசுத்தலைவர் பதவிக்கு தகுதியுடையவர்.

மேற்கண்ட கூற்றுகளில் தவறானது எது/எவை?

- A) I மட்டும்
B) II மட்டும்
C) இரண்டும்
D) இரண்டுமில்லை
E) விடை தெரியவில்லை

85. **Statement I** : An OCI (Overseas Citizen of India) Holder can live and work in the Republic of India indefinitely.

Statement II : He votes for both Parliamentary and State legislature elections in which state he resides.

Which of the above statements are true?

- A) Both Statements are true
B) Statement I is true and Statement II is false
C) Statement I is false and Statement II is true
D) Both Statements are false.
E) Answer not known

பின்வரும் கூற்றுகளைக் கருத்தில் கொள்க.

கூற்று I : OCI (இந்தியாவின் வெளிநாட்டுக் குடிமகன்) அட்டை வைத்திருப்பவர் இந்தியக் குடியரசில் காலவரையின்றி வாழவும் பணியாற்றவும் முடியும்.

கூற்று II : நாடாளுமன்றம் மற்றும் அவர் வசிக்கும் மாநிலத்தில் உள்ள மாநில சட்டமன்றம் ஆகிய இரண்டு தேர்தல்களிலும் அவரால் வாக்களிக்க இயலும்.



மேற்கண்ட கூற்றுகளில் சரியானது எது/எவை?

- A) இரண்டு கூற்றுகளும் சரி
B) கூற்று I சரி மற்றும் கூற்று II தவறு
C) கூற்று I தவறு மற்றும் கூற்று II சரி
D) இரண்டு கூற்றுகளும் தவறு
E) விடை தெரியவில்லை

86. Which Article deals with the first citizen of a States in India?

- A) Article 52
B) Article 165
C) Article 153
D) Article 148
E) Answer not known

இந்தியாவில் ஒரு மாநிலத்தின் முதல் குடிமகனைப் பற்றி எந்த சரத்து கூறுகிறது?

- A) சரத்து 52
B) சரத்து 165
C) சரத்து 153
D) சரத்து 148
E) விடை தெரியவில்லை

87. Consider the following statements.

Assertion (A) : January 9 is celebrated as Pravasi Bharatiya Divas.

Reason (R) : The day commemorates the arrival of Mahatma Gandhi in India from South Africa

Codes:

- A) Both (A) and (R) are true and (R) is the correct explanation of (A)
B) Both (A) and (R) are true but (R) is not the correct explanation of (A)
C) (A) is true but (R) is false
D) (A) is false but (R) is true
E) Answer not known

பின்வரும் கூற்றுகளைக் கருத்தில் கொள்க.

கூற்று (A) : ஜனவரி 9 வெளிநாடு வாழ் இந்தியர் தினமாகக் கொண்டாடப்படுகிறது.

காரணம் (R) : மகாத்மா காந்தி தென்னாப்பிரிக்காவிலிருந்து இந்தியா வந்ததை நினைவுகூரும் வகையில் இந்த நாள் கொண்டாடப்படுகிறது.

குறியீடுகள்:

- A) (A) மற்றும் (R) இரண்டும் சரி மற்றும் (R) என்பது (A)க்கான சரியான விளக்கமாகும்
B) (A) மற்றும் (R) இரண்டும் சரி ஆனால் (R) என்பது (A)க்கான சரியான விளக்கம் அல்ல
C) (A) சரி ஆனால் (R) தவறு
D) (A) தவறு ஆனால் (R) சரி
E) விடை தெரியவில்லை

88. Consider the following statements.

Assertion (A) : Every year April 15 is observed as National Transgender Day.

Reason (R) : In April 15, 2014 the Supreme court in National Legal Services Authority vs Union of India identified transgender people as the 'third gender' and made the Fundamental Rights under the Constitution equally applicable to them

**Codes:**

- A) Both (A) and (R) are true and (R) is the correct explanation of (A)
B) Both (A) and (R) are true but (R) is not the correct explanation of (A)
C) (A) is true but (R) is false
D) (A) is false but (R) is true
E) Answer not known

பின்வரும் கூற்றுகளைக் கருத்தில் கொள்க.

கூற்று (A) : ஒவ்வொரு ஆண்டும் ஏப்ரல் 15 தேசிய திருநங்கைகள் தினமாக அனுசரிக்கப்படுகிறது.

காரணம் (R) : ஏப்ரல் 15, 2014 அன்று உச்ச நீதிமன்றம், தேசிய சட்ட சேவைகள் ஆணையம் எதிர் இந்திய ஒன்றியம் என்ற வழக்கில் திருநங்கைகளை 'மூன்றாம் பாலினத்தவர்' என்று அடையாளம் கண்டு, அரசியலமைப்பின் கீழ் உள்ள அடிப்படை உரிமைகளை அவர்களுக்கு சமமாக பொருந்தும் என்று அறிவித்தது

குறியீடுகள்:

- A) (A) மற்றும் (R) இரண்டும் சரி மற்றும் (R) என்பது (A) இன் சரியான விளக்கமாகும்
B) (A) மற்றும் (R) இரண்டும் சரி ஆனால் (R) என்பது (A) இன் சரியான விளக்கம் அல்ல
C) (A) சரிஆனால் (R) தவறு
D) (A) தவறு ஆனால் (R) சரி
E) விடை தெரியவில்லை

89. Which of the following is not related to education?

- A) Radhakrishnan Commission, 1948
B) Article 21A
C) Article 47
D) 86th Amendment Act, 2002
E) Answer not known

பின்வருவனவற்றில் எது கல்வியுடன் தொடர்புடையது அல்ல?

- A) இராதாகிருஷ்ணன் ஆணையம், 1948 B) சரத்து 21A
C) சரத்து 47 D) 86வது திருத்தச் சட்டம், 2002
E) விடை தெரியவில்லை

90. Which Article saves laws giving effect to certain directive principles?

- A) Article 31A B) Article 31B
C) Article 31C D) Article 33
E) Answer not known

சில நெறிமுறைக் கோட்பாடுகளை நடைமுறைப்படுத்தும் சட்டங்களை எந்த சரத்து பாதுகாக்கிறது?

- A) சரத்து 31A B) சரத்து 31B
C) சரத்து 31C D) சரத்து 33
E) விடை தெரியவில்லை



91. Which of the Fundamental Rights are not available to foreigners?

- A) Article 21A
B) Article 16
C) Article 14
D) Article 20
E) Answer not known

எந்த அடிப்படை உரிமைகள் வெளிநாட்டினருக்குக் கிடைக்காது?

- A) சரத்து 21A
B) சரத்து 16
C) சரத்து 14
D) சரத்து 20
E) விடை தெரியவில்லை

92. Consider the following statements with respect to concept of 'Rule of Law' propounded by A.V.Dicey.

- I. No man can be punished except for a breach of law
II. Equality before law.
III. Constitution is the source of individual rights.

Which of the statements given above is/are incorrect according to Rule of Law by A.V. Dicey?

- A) I only
B) II only
C) III only
D) None of the above
E) Answer not known

A.V.டைசி அவர்களால் முன்வைக்கப்பட்ட 'சட்டத்தின் ஆட்சி' பற்றிய கருத்துடன் பின்வரும் கூற்றுகளைக் கருத்தில் கொள்க

- I. சட்டத்தை மீறினால் தவிர எந்த மனிதனையும் தண்டிக்க முடியாது
II. சட்டத்தின் முன் அனைவரும் சமம்
III. அரசியலமைப்பு தனிமனித உரிமைகளின் ஆதாரம் ஆகும்.

A.V. டைசியின் விதியின்படி மேற்கண்ட கூற்றுகளில் தவறானது எது/எவை?

- A) I மட்டும்
B) II மட்டும்
C) III மட்டும்
D) மேற்கண்ட எதுவுமில்லை
E) விடை தெரியவில்லை

93. On Which case, Supreme court held that the laws placed under the Ninth Schedule after April 24,1973 are open to challenge in court if they violated fundamentals rights or basic structure of constitution?

- A) Kesavanandha Bharati Case
B) Menka Gandhi Case
C) IR Coelho Case
D) Shayara Bano Case
E) Answer not known

ஏப்ரல் 24,1973க்குப் பிறகு ஒன்பதாவது அட்டவணையின் கீழ் கொண்டுவரப்பட்ட சட்டங்கள் அடிப்படை உரிமைகள் அல்லது அரசியலமைப்பின் அடிப்படைக் கட்டமைப்பை மீறினால் நீதிமன்றத்தில் சவால் செய்யலாம் என்று உச்ச நீதிமன்றம் எந்த வழக்கில் கூறியது?

- A) கேசவானந்த பாரதி வழக்கு
B) மேனகா காந்தி வழக்கு
C) IR கோயல்ஹோ வழக்கு
D) ஷயாரா பானோ வழக்கு
E) விடை தெரியவில்லை



94. Find out the incorrectly matched pair.

(Rights)

(Articles)

- | | |
|-----------------------------------|------------------|
| A) Right to Equality | – Articles 14-18 |
| B) Right against exploitation | – Articles 20-24 |
| C) Cultral and educational Rights | – Articles 29-30 |
| D) Right to freedom of religion | – Article 25-28 |
| E) Answer not known | |

தவறாகப் பொருந்தியுள்ள இணையைக் கண்டறியவும்.

(உரிமைகள்)

(சரத்துகள்)

- | | |
|------------------------------------|---------------------|
| A) சமத்துவ உரிமை | – சரத்துகள் 14 - 18 |
| B) சுரண்டலுக்கு எதிரான உரிமை | – சரத்துகள் 20 - 24 |
| C) கலாச்சார மற்றும் கல்வி உரிமைகள் | – சரத்துகள் 29-30 |
| D) சமய சுதந்திர உரிமை | – சரத்துகள் 25-28 |
| E) விடை தெரியவில்லை | |

95. Consider the following statements.

- I. Fundamental Rights are borrowed from Canadian Constitution
- II. Article 32 acts as a mechanism for protection and enforcement of fundamental rights.

Which of the statements given above is/are correct?

- | | |
|---------------------|---------------------|
| A) I only | B) II only |
| C) Both I and II | D) Neither I nor II |
| E) Answer not known | |

பின்வரும் கூற்றுகளைக் கருத்தில் கொள்க

- I. அடிப்படை உரிமைகள் கனடா அரசியலமைப்பிலிருந்து கடன் வாங்கப்பட்டவை
- II. சரத்து 32 அடிப்படை உரிமைகளைப் பாதுகாப்பதற்கும் அமலாக்குவதற்கும் ஒரு வழிமுறையாக செயல்படுகிறது.

மேற்கண்ட கூற்றுகளில் சரியானது எது/எவை?

- | | |
|---------------------|-----------------|
| A) I மட்டும் | B) II மட்டும் |
| C) இரண்டும் | D) இரண்டுமில்லை |
| E) விடை தெரியவில்லை | |

96. Consider the following statements

- I. Right to Vote is a fundamental right
- II. Right to Vote on the basis of Adult Suffrage guaranteed by Article 326
- III. 61st CAA, 1988 reduced the voting age from 21 to 18 years.

Which of the statements given above is/are correct?

- | |
|---------------------|
| A) I only |
| B) I and II only |
| C) II only |
| D) II and III only |
| E) Answer not known |



பின்வரும் கூற்றுகளைக் கருத்தில் கொள்க

- I. வாக்களிக்கும் உரிமை என்பது ஓர் அடிப்படை உரிமையாகும்
- II. வாக்களிக்கும் உரிமையானது, வயது வந்தோர் வாக்குரிமையின் அடிப்படையில் சரத்து 326-இன் மூலம் அளிக்கப்பட்டுள்ளது
- III. 61வது அரசியலமைப்பு திருத்தச் சட்டம், 1988 வாக்களிக்கும் வயதை 21லிருந்து 18 ஆகக் குறைத்தது.

மேற்கண்ட கூற்றுகளில் சரியானது எது/எவை?

- | | |
|---------------------|---------------------------|
| A) I மட்டும் | B) I மற்றும் II மட்டும் |
| C) II மட்டும் | D) II மற்றும் III மட்டும் |
| E) விடை தெரியவில்லை | |

97. Consider the following statements.

- I. The Fundamental Rights are enshrined in Part III from Articles 12 to 35.
- II. Part III of constitution is rightly described as Magna Carta of India.
- III. Right to Property was added to Fundamental Rights by 44th Amendment Act
- IV. At Present, there are only 6 fundamental rights

Which of the statements given above is/are correct?

- | | |
|-----------------------|------------------------|
| A) I, II and III only | B) II, III and IV only |
| C) I, II and IV only | D) All the above |
| E) Answer not known | |

பின்வரும் கூற்றுகளைக் கருத்தில் கொள்க

- I. அடிப்படை உரிமைகள் பகுதி III இல் சரத்துகள் 12 முதல் 35 வரை உள்ளன.
- II. அரசியலமைப்பின் மூன்றாம் பகுதி இந்தியாவின் மகா சாசனம் என்று சரியாக விவரிக்கப்படுகிறது.
- III. 44வது திருத்தச் சட்டத்தின் மூலம் சொத்துரிமை அடிப்படை உரிமைகளில் சேர்க்கப்பட்டது
- IV. தற்போது 6 அடிப்படை உரிமைகள் மட்டுமே உள்ளன

மேற்கண்ட கூற்றுகளில் சரியானவை எவை?

- | | |
|------------------------------|-------------------------------|
| A) I, II மற்றும் III மட்டும் | B) II, III மற்றும் IV மட்டும் |
| C) I, II மற்றும் IV மட்டும் | D) மேற்கண்ட அனைத்தும் |
| E) விடை தெரியவில்லை | |

98. Who Describes the Directive Principles as 'Conscience of Constitution'?

- | | |
|---------------------|----------------------|
| A) BR Ambedkar | B) Granville Austin |
| C) Hidayathulla | D) Sir Ernest Barker |
| E) Answer not known | |

வழிகாட்டுதல் கோட்பாடுகளை 'அரசியலமைப்பின் மனசாட்சி' என்று விவரித்தவர் யார்?

- | | |
|---------------------|------------------------|
| A) BR அம்பேத்கர் | B) கிரான்வில் ஆஸ்டின் |
| C) ஹிதயதுல்லா | D) சர் எர்னஸ்ட் பர்கர் |
| E) விடை தெரியவில்லை | |



99. Consider the following statements

- I. DPSP is novel features of the Indian Constitution
- II. DPSP enumerated in Part IV from Article 36 – 51A
- III. DPSP resemble the 'Instrument of Instruction' enumerated in Government of India Act 1935.

Which of the statements given above is/are incorrect?

- A) I only
- B) I and II only
- C) II only
- D) None of the above
- E) Answer not known

பின்வரும் கூற்றுகளைக் கருத்தில் கொள்க

- I. அரசின் நெறிமுறைக் கோட்பாடுகள் (DPSP) என்பது இந்திய அரசியலமைப்பின் புதுமையான சிறப்பம்சங்களாகும்.
- II. DPSP ஆனது சரத்து 36 முதல் 51A வரை பகுதி IV இல் உள்ளடங்கியுள்ளது.
- III. DPSP ஆனது இந்திய அரசுச் சட்டம் 1935 இல் குறிப்பிடப்பட்டுள்ள 'அறிவுறுத்தல் ஆவணத்தை' ஒத்திருக்கிறது.

மேற்கண்ட கூற்றுகளில் தவறானது எது/எவை?

- A) I மட்டும்
- B) I மற்றும் II மட்டும்
- C) II மட்டும்
- D) மேற்கண்ட எதுவுமில்லை
- E) விடை தெரியவில்லை

100. Which of the following Articles are non justicable?

- A) Article 48
- B) Article 350A
- C) Article 351
- D) All the above
- E) Answer not known

பின்வரும் சரத்துகளில் எவை நீதிமன்றங்களின் மூலம் நியாயப்படுத்த முடியாதவை?

- A) சரத்து 48
- B) சரத்து 350A
- C) சரத்து 351
- D) மேற்கண்ட அனைத்தும்
- E) விடை தெரியவில்லை

101. Find out the incorrectly matched pair.

(Articles) **(Definitions)**

- A) Article 43B – Promotion of cooperative societies
- B) Article 51 – Promotion of international peace and security
- C) Article 48 – Protection of environment
- D) Article 49 – Protection of monuments
- E) Answer not known

தவறாகப் பொருந்தியுள்ள இணையைக் கண்டறியவும்.

(சரத்துகள்) **(வரையறைகள்)**

- A) சரத்து 43B – கூட்டுறவு சங்கங்களை மேம்படுத்துதல்
- B) சரத்து 51 – சர்வதேச அமைதி மற்றும் பாதுகாப்பை மேம்படுத்துதல்
- C) சரத்து 48 – சுற்றுச்சூழல் பாதுகாப்பு
- D) சரத்து 49 – நினைவுச் சின்னங்களின் பாதுகாப்பு
- E) விடை தெரியவில்லை



102. Which of the following acts is not an example of Directive Principles?
- A) Maternity Benefit Act, 1961
B) Wildlife Protection Act, 1972
C) Ancient and Historical Monument and Archaeological Sites and Remains Act, 1951
D) Delimitation Act, 2002
E) Answer not known
- பின்வரும் சட்டங்களில் எது நெறிமுறைக் கோட்பாடுகளுக்கான ஓர் உதாரணம் அல்ல?
- A) மகப்பேறு நலச் சட்டம், 1961
B) வனவிலங்கு பாதுகாப்பு சட்டம், 1972
C) பண்டைய மற்றும் வரலாற்று நினைவுச்சின்னம் மற்றும் தொல்லியல் தளங்கள் மற்றும் எச்சங்கள் சட்டம், 1951
D) எல்லை நிர்ணய சட்டம், 2002
E) விடை தெரியவில்லை
103. The harmony and balance between the DPSP and Fundamental Rights is an essential feature of the basic structure of Constitution. They are like two wheels of a chariot. The goals set out by the Directive Principles have to be achieved without the abrogation of the means provided by the Fundamental Rights. The above statement was stated in which Judgement?
- A) Champakam Dorairajan Case, 1951
B) Golaknath case, 1967
C) Kesavananatha Bharathi Case, 1973
D) Minerava Mills Case, 1980
E) Answer not known
- DPSP மற்றும் அடிப்படை உரிமைகளுக்கு இடையே உள்ள நல்லிணக்கம் மற்றும் சமநிலை என்பது அரசியலமைப்பின் அடிப்படைக் கட்டமைப்பின் இன்றியமையாத அம்சமாகும். அவை ஒரு தேரின் இரண்டு சக்கரங்கள் போன்றவை. அடிப்படை உரிமைகள் வழங்கிய வழிமுறைகளை ரத்து செய்யாமல், வழிகாட்டுதல் கோட்பாடுகளால் நிர்ணயிக்கப்பட்ட இலக்குகளை அடைய வேண்டும். மேற்கண்ட கூற்று எந்தத் தீர்ப்பில் கூறப்பட்டுள்ளது?
- A) செண்பகம் துரைராஜன் வழக்கு, 1951 B) கோலக்நாத் வழக்கு, 1967
C) கேசவானந்த பாரதி வழக்கு, 1973 D) மினர்வா மில் வழக்கு, 1980
E) விடை தெரியவில்லை
104. Consider the following statements.
- I. Fundamental Duties are borrowed from USA Constitution.
II. Swaran Singh Committee recommended the Fundamental duties in 1972.
Which of the statements given above is/are correct?
- A) I only
B) II only
C) Both I and II
D) Neither I nor II
E) Answer not known



பின்வரும் கூற்றுகளைக் கருத்தில் கொள்க

- I. அடிப்படைக் கடமைகள் அமெரிக்க அரசியலமைப்பிலிருந்து கடன் வாங்கப்பட்டவை
II. ஸ்வரண் சிங் குழுவானது 1972 இல் அடிப்படைக் கடமைகளை பரிந்துரைத்தது.

மேற்கண்ட கூற்றுகளில் சரியானது எது/எவை?

- A) I மட்டும்
B) II மட்டும்
C) இரண்டும்
D) இரண்டுமில்லை
E) விடை தெரியவில்லை

105. Consider the following statements

- I. Fundamental duties was added by 42nd Constitution Amendment Act in 1976
II. It added only 10 Articles where 11th Article added by 86th Amendment Act.
III. Paying taxes is a prime fundamental duty of the citizens.

Which of the statements given above is/are incorrect?

- A) I only
B) I and II only
C) III only
D) None of the above
E) Answer not known

பின்வரும் கூற்றுகளைக் கருத்தில் கொள்க

- I. அடிப்படைக் கடமைகளானது 1976 இல் 42வது அரசியலமைப்புத் திருத்தச் சட்டத்தின் மூலம் சேர்க்கப்பட்டது
II. இது 10 சரத்துகளை மட்டுமே சேர்த்தது; பின்னர் 11வது சரத்தானது 86வது திருத்தச் சட்டத்தால் சேர்க்கப்பட்டது.
III. வரி செலுத்துவது குடிமக்களின் முதன்மையான அடிப்படைக் கடமையாகும்.

மேற்கண்ட கூற்றுகளில் தவறானது எது/எவை?

- A) I மட்டும்
B) I மற்றும் II மட்டும்
C) III மட்டும்
D) மேற்கண்ட எதுவுமில்லை
E) விடை தெரியவில்லை

106. Consider the following statements:

- I. Fundamental Duties are enforced through Appellate Jurisdiction by Supreme court
II. Fundamental Duties confined to Indian Citizens only.

Which of the statements given above is/are correct?

- A) I only
B) II only
C) Both I and II
D) Neither I nor II
E) Answer not known

பின்வரும் கூற்றுகளைக் கருத்தில் கொள்க:

- I. அடிப்படைக் கடமைகள் உச்ச நீதிமன்றத்தால் மேல்முறையீட்டு அதிகார வரம்பின் மூலம் செயல்படுத்தப்படுகின்றன
II. அடிப்படைக் கடமைகள் இந்தியக் குடிமக்களுக்கு மட்டுமே பொருந்தும்.

மேற்கண்ட கூற்றுகளில் சரியானது எது/எவை?

- A) I மட்டும்
B) II மட்டும்
C) இரண்டும்
D) இரண்டுமில்லை
E) விடை தெரியவில்லை



107. Consider the following statements about 86th Amendment Act, 2002
- I. It added Article 21A which declares elementary education as Fundamental Right.
 - II. It Changed the Subject matter of Article 45 to provide childhood care and education for all children until they complete the age of six years.
 - III. Added a new fundamental duty Article 51 A(k).
- Which of the statements given above is/are incorrect?

- A) I only
- B) II only
- C) III only
- D) None of the above
- E) Answer not known

86வது திருத்தச் சட்டம், 2002 பற்றிய பின்வரும் கூற்றுகளைக் கருத்தில் கொள்க:

- I. தொடக்கக் கல்வியை அடிப்படை உரிமையாக அறிவிக்கும் சரத்து 21A ஐ அது சேர்த்தது.
- II. ஆறு வயது நிறைவடையும் வரை அனைத்துக் குழந்தைகளுக்கும் குழந்தைப் பருவப் பராமரிப்பு மற்றும் கல்வியை வழங்குவதற்காக, சரத்து 45ன் உள்ளடக்கத்தை மாற்றியது.
- III. புதிய அடிப்படைக் கடமையானது சரத்து 51 A(k) இல் சேர்க்கப்பட்டது.

மேற்கண்ட கூற்றுகளில் தவறானது எது/எவை?

- A) I மட்டும்
- B) II மட்டும்
- C) III மட்டும்
- D) மேற்கண்ட எதுவுமில்லை
- E) விடை தெரியவில்லை

108. Find out the incorrectly matched pair.

(Article) **(Duties)**

- A) Article 51A(c) – to cherish and follow the noble ideals
- B) Article 51A(h) – to develop scientific temper
- C) Article 51A(e) – to renounce the practices derogatory to the dignity of women
- D) Article 51A(d) – to defend the country and render national service
- E) Answer not known

தவறாகப் பொருந்திய இணையைக் கண்டறியவும்.

(சரத்து) **(கடமைகள்)**

- A) சரத்து 51A(c) - உன்னத இலட்சியங்களைப் போற்றவும் பின்பற்றவும்
- B) சரத்து 51A(h) - அறிவியல் மனப்பான்மையை வளர்ப்பது
- C) சரத்து 51A(e) - பெண்களின் கண்ணியத்தை இழிவுபடுத்தும் நடைமுறைகளை கைவிடுதல்
- D) சரத்து 51A(d) - நாட்டைப் பாதுகாக்கவும் தேச சேவை செய்யவும்
- E) விடை தெரியவில்லை

109. Which amendment provided that the fundamental rights guaranteed by Articles 20 and 21 cannot be suspended during a national emergency?

- A) 42nd Constitutional Amendment, 1976
- B) 44th Constitutional Amendment, 1978
- C) 86th Constitutional Amendment, 2002
- D) None of the above
- E) Answer not known



20 மற்றும் 21 வது சரத்துகளால் உத்தரவாதம் அளிக்கப்பட்ட அடிப்படை உரிமைகளை தேசிய அவசரநிலையின் போது இடைநிறுத்த முடியாது என்று எந்தத் திருத்தம் கூறுகிறது?

- A) 42வது அரசியலமைப்புத் திருத்தம், 1976
- B) 44வது அரசியலமைப்புத் திருத்தம், 1978
- C) 86வது அரசியலமைப்புத் திருத்தம், 2002
- D) மேற்கண்ட எதுவுமில்லை
- E) விடை தெரியவில்லை

110. Which is not the existing legal provisions for implementation of fundamental duties?

- A) The Prevention of Insults to National Honour Act, 1971
- B) Domestic Violence Act, 2005
- C) The Forest (Conservation) Act, 1980
- D) The Wildlife (Protection) Act, 1972
- E) Answer not known

அடிப்படைக் கடமைகளைச் செயல்படுத்துவதற்கான தற்போதுள்ள சட்ட ஏற்பாடுகள் அல்லாதது எது?

- A) தேசிய கௌரவத்தை அவமதிப்பதைத் தடுக்கும் சட்டம் 1971
- B) குடும்ப வன்முறைச் சட்டம், 2005
- C) வன (பாதுகாப்பு) சட்டம், 1980
- D) வனவிலங்கு (பாதுகாப்பு) சட்டம், 1972
- E) விடை தெரியவில்லை

111. Consider the following statements.

Assertion (A) : Verma Committee was setup in 1999

Reason (R) : To inculcate the spirit of fundamental rights among citizens, particularly through education system.

Codes:

- A) Both (A) and (R) are true and (R) is the correct explanation of (A)
- B) Both (A) and (R) are true but (R) is not the correct explanation of (A)
- C) (A) is true but (R) is false
- D) (A) is false but (R) is true
- E) Answer not known

பின்வரும் கூற்றுகளைக் கருத்தில் கொள்க.

கூற்று (A) : வர்மா குழு 1999 இல் அமைக்கப்பட்டது

காரணம் (R) : குடிமக்களிடையே, குறிப்பாக கல்வி முறையின் மூலம் அடிப்படை உரிமைகளின் உணர்வை ஊட்டுதல்.

குறியீடுகள்:

- A) (A) மற்றும் (R) இரண்டும் சரி மற்றும் (R) என்பது (A) இன் சரியான விளக்கம்
- B) (A) மற்றும் (R) இரண்டும் சரி ஆனால் (R) என்பது (A) இன் சரியான விளக்கம் அல்ல
- C) (A) சரி ஆனால் (R) தவறு
- D) (A) தவறு ஆனால் (R) சரி
- E) விடை தெரியவில்லை



112. Which part in Indian Constitution contains only one Article?

- I. Part IV-A
- II. Part XX
- III. Part XII
- IV. Part XXII

Codes:

- | | |
|---------------------|-------------------|
| A) I only | B) I and III only |
| C) II and III only | D) I and II only |
| E) Answer not known | |

இந்திய அரசியலமைப்புச் சட்டத்தின் எந்தப் பகுதி ஒரே ஒரு சட்டத்தை மட்டுமே கொண்டுள்ளது?

- I. பகுதி IV-A
- II. பகுதி XX
- III. பகுதி XII
- IV. பகுதி XXII

குறியீடுகள்:

- | | |
|---------------------------|--------------------------|
| A) I மட்டும் | B) I மற்றும் III மட்டும் |
| C) II மற்றும் III மட்டும் | D) I மற்றும் II மட்டும் |
| E) விடை தெரியவில்லை | |

113. Arrange the judgements in chronological order:

- I. Golaknath Case
- II. Minerava Mills Case
- III. Shankari Prasad Case
- IV. Waman Rao Case
- V. Kesavananda Bharati Case

Codes:

- | | |
|---------------------|------------------|
| A) I-II-III-IV-V | B) I-III-II-V-IV |
| C) III-I-V-II-IV | D) III-V-I-IV-II |
| E) Answer not known | |

காலவரிசைப்படி வழக்குகளை வரிசைப்படுத்தவும்:

- I. கோலக்நாத் வழக்கு
- II. மினர்வா மில் வழக்கு
- III. சங்கரி பிரசாத் வழக்கு
- IV. வாமன் ராவ் வழக்கு
- V. கேசவானந்த பாரதி வழக்கு

குறியீடுகள்:

- | | |
|---------------------|------------------|
| A) I-II-III-IV-V | B) I-III-II-V-IV |
| C) III-I-V-II-IV | D) III-V-I-IV-II |
| E) விடை தெரியவில்லை | |



114. Which of the following is not a basic features of the constitution?

- A) Supremacy of Constitution
B) Judicial Review
C) Parliamentary System of Government:
D) Dual Citizenship
E) Answer not known

பின்வருவனவற்றுள் எது அரசியலமைப்பின் அடிப்படை அம்சம் அல்ல?

- A) அரசியலமைப்பின் மேலாதிக்கம்
B) நீதித்துறை சீராய்வு
C) பாராளுமன்ற அரசாங்க முறை
D) இரட்டைக் குடியரிமை
E) விடை தெரியவில்லை

115. Consider the following statements with respect to 1st CAA, 1951

- I. This Amendment inserted Article 31A and 31B
II. This Amendment added 9th Schedule to the Indian Constitution.
III. This Amendment added Article 46 to the DPSP

Which of the statements given above is/are incorrect?

- A) I only
B) II only
C) III only
D) None of the above.
E) Answer not known

முதலாவது அரசியலமைப்பு திருத்தச் சட்டம் 1951 தொடர்பான பின்வரும் கூற்றுகளைக் கருத்தில் கொள்க

- I. இந்தத் திருத்தம் சரத்து 31A மற்றும் 31B ஆகியவற்றைச் சேர்த்தது
II. இந்தத் திருத்தம் இந்திய அரசியலமைப்பில் 9வது அட்டவணையை சேர்த்தது.
III. இந்தத் திருத்தம் அரசின் நெறிமுறைக் கோட்பாடுகளில் சரத்து 46ஐ சேர்த்தது

மேற்கண்ட கூற்றுகளில் தவறானது எது/எவை?

- A) I மட்டும்
B) II மட்டும்
C) III மட்டும்
D) மேற்கண்ட எதுவுமில்லை
E) விடை தெரியவில்லை

116. Match List-I with List-II.

- List-I**
(Writ)
a) Habeas Corpus
b) Mandamus
c) Prohibition
d) Certiorari
e) Quo-Warranto

- List-II**
(Meaning)
1. We command
2. To forbid
3. To be certified
4. By what authority
5. To have the body of

Codes:

- | | a | b | c | d | e |
|----|------------------|----------|----------|----------|----------|
| A) | 5 | 4 | 2 | 1 | 3 |
| B) | 5 | 1 | 2 | 4 | 3 |
| C) | 4 | 1 | 2 | 3 | 5 |
| D) | 5 | 1 | 2 | 3 | 4 |
| E) | Answer not known | | | | |



பட்டியல்-Iஐ பட்டியல்-II உடன் பொருத்துக.

பட்டியல்-I

பட்டியல்-II

(நீதிப்பேராணைகள்)

(பொருள்)

- | | |
|----------------------|---|
| a) ஆட்கொணர்வு | 1. நாங்கள் கட்டளையிடுகிறோம் |
| b) கட்டளை | 2. அதிகார வரம்பை மீறி நடப்பதைத் தடுப்பது |
| c) தடை | 3. பணி சான்றிதழ் ஆணை அடிப்படையில் வினா எழுப்பதல் |
| d) ஆவண கேட்பு | 4. எந்த அதிகார அமைப்பின் அடிப்படையில் பணி அமர்த்தப்பட்டார் என்று கேள்வி கேட்பது |
| e) தகுதிமுறை வினவும் | 5. இதன் பொருள் ஒரு நபரை உயிருடன் கொண்டு வந்து நிறுத்தும்படி கூறுவது |

குறியீடுகள்:

- | | a | b | c | d | e |
|----|------------------|----------|----------|----------|----------|
| A) | 5 | 4 | 2 | 1 | 3 |
| B) | 5 | 1 | 2 | 4 | 3 |
| C) | 4 | 1 | 2 | 3 | 5 |
| D) | 5 | 1 | 2 | 3 | 4 |
| E) | விடை தெரியவில்லை | | | | |

117. Which article banned the usage of Honorific Maharaja, Raj Bahadur, Rai Saheb, Dewan Bahadur in front of Names?

- | | |
|---------------------|---------------|
| A) Article 14 | B) Article 15 |
| C) Article 18 | D) Article 19 |
| E) Answer not known | |

மரியாதைக்குரிய மகாராஜா, ராஜ் பகதூர், ராய் சாஹேப், திவான் பகதூர் போன்ற பட்டங்களை பெயர்களுக்கு முன்னால் பயன்படுத்துவதை எந்த சரத்து தடை செய்தது?

- | | |
|---------------------|--------------|
| A) சரத்து 14 | B) சரத்து 15 |
| C) சரத்து 18 | D) சரத்து 19 |
| E) விடை தெரியவில்லை | |

118. Which Constitutional Amendment made it compulsory for the President to give his assent to a Constitutional Amendment Bill?

- | |
|---|
| A) 24 th Amendment Act, 1971 |
| B) 17 th Amendment Act, 1964 |
| C) 29 th Amendment Act, 1972 |
| D) 34 th Amendment Act, 1974 |
| E) Answer not known |

அரசியலமைப்பு திருத்த மசோதாவிற்கு குடியரசுத்தலைவர் தனது ஒப்புதல் வழங்குவதை கட்டாயமாக்கிய அரசியலமைப்புத் திருத்தச் சட்டம் எது?

- | | |
|----------------------------------|----------------------------------|
| A) 24 வது திருத்தச் சட்டம், 1971 | B) 17 வது திருத்தச் சட்டம், 1964 |
| C) 29 வது திருத்தச் சட்டம், 1972 | D) 34 வது திருத்தச் சட்டம், 1974 |
| E) விடை தெரியவில்லை | |



119. Suspension of Fundamental Rights during proclamation of emergency borrowed from which constitution?

- A) USA Constitution
B) UK Constitution
C) Germany Constitution
D) None of the above
E) Answer not known

அவசரநிலை பிரகடனத்தின் போது அடிப்படை உரிமைகள் நிறுத்தி வைக்கும் முறையானது எந்த அரசியலமைப்பிலிருந்து பெறப்பட்டது?

- A) அமெரிக்க அரசியலமைப்பு
B) இங்கிலாந்து அரசியலமைப்பு
C) ஜெர்மனி அரசியலமைப்பு
D) மேற்கண்ட எதுவுமில்லை
E) விடை தெரியவில்லை

120. Consider the following statements regarding Constituent Assembly meeting:

- I. The title of the first debate was "Election of Temporary Chairman," Acharya J.B. Kripalani requesting Dr. Rajendra Prasad to take the Chair as temporary Chairman.
II. The Final meeting was held on 24th January 1950 with the title of "Signing of the Constitution" and Dr. Rajendra Prasad was the Chairman of the debate

Which of the statements given above is/are correct?

- A) I only
B) II only
C) Both I and II
D) Neither I nor II
E) Answer not known

அரசியலமைப்பு நிர்ணய சபைக் கூட்டம் தொடர்பான பின்வரும் கூற்றுகளைக் கருத்தில் கொள்க:

- I. முதல் விவாதத்தின் தலைப்பு "தற்காலிகத் தலைவர் தேர்தல்", ஆச்சார்யா ஜே.பி. கிருபாளானி, டாக்டர் ராஜேந்திர பிரசாத்தை தற்காலிகத் தலைவராக இருக்குமாறு கேட்டுக் கொண்டார்.
II. இறுதிக் கூட்டம் 24 ஜனவரி 1950 அன்று "அரசியலமைப்புச் சட்டத்தில் கையொப்பமிடுதல்" என்ற தலைப்பில் நடைபெற்றது. மேலும் விவாதத்தின் தலைவராக டாக்டர் இராஜேந்திர பிரசாத் இருந்தார்.

மேற்கண்ட கூற்றுகளில் சரியானது எது/எவை?

- A) I மட்டும்
B) II மட்டும்
C) இரண்டும்
D) இரண்டுமில்லை
E) விடை தெரியவில்லை

121. Match List-I with List-II.

List-I (Provisions)	List-II (Borrowed from)
a) Fundamental Duties	1. Britain
b) Concurrent list	2. USA
c) Constitutional Amendment procedure	3. Canada
d) Single Citizenship	4. Soviet Russia
e) Judicial Review	5. South Africa

**Codes:**

	a	b	c	d	e
A)	4	1	2	3	5
B)	2	5	1	4	3
C)	5	2	4	3	1
D)	4	3	5	1	2

E) Answer not known

பட்டியல்-Iஐ பட்டியல்-II உடன் பொருத்துக.

பட்டியல்-I**(விதிமுறைகள்)**

- அடிப்படைக் கடமைகள்
- பொதுப் பட்டியல்
- அரசியலமைப்புத் திருத்த நடைமுறை
- ஒற்றைக் குடியரிமை
- நீதித்துறை சீராய்வு

குறியீடுகள்:

	a	b	c	d	e
A)	4	1	2	3	5
B)	2	5	1	4	3
C)	5	2	4	3	1
D)	4	3	5	1	2

E) விடை தெரியவில்லை

பட்டியல் -II**(பெறப்பட்டது)**

- பிரிட்டன்
- அமெரிக்கா
- கனடா
- சோவியத் ரஷ்யா
- தென்னாப்பிரிக்கா

122. Which of the following are the features of the "Parliamentary form of Government"?

- Majority party rule
- Membership of the Ministers in the Legislature
- Presence of nominal and real executives
- Dissolution of the lower house

Codes:

- | | |
|-----------------------|------------------------|
| A) I, II and III only | B) II, III and IV only |
| C) I, III and IV only | D) All the above |
| E) Answer not known | |

பின்வருவனவற்றில் "பாராளுமன்ற வடிவ அரசாங்கத்தின்" அம்சங்கள் யாவை?

- பெரும்பான்மை கட்சி ஆட்சி
- சட்டமன்றத்தில் அமைச்சர்களின் உறுப்புரிமை
- பெயரளவு மற்றும் உண்மையான செயலாட்சி
- மக்களவை கலைப்பு

குறியீடுகள்:

- | | |
|------------------------------|-------------------------------|
| A) I, II மற்றும் III மட்டும் | B) II, III மற்றும் IV மட்டும் |
| C) I, III மற்றும் IV மட்டும் | D) மேற்கண்ட அனைத்தும் |
| E) விடை தெரியவில்லை | |



123. Consider the following statements.

Assertion (A) : India is a Republic.

Reason (R) : The head of the state in India is elected and not the monarch.

Codes:

- A) Both (A) and (R) are true and (R) is the correct explanation of (A)
- B) Both (A) and (R) are true but (R) is not the correct explanation of (A)
- C) (A) is true but (R) is false
- D) (A) is false but (R) is true
- E) Answer not known

பின்வரும் கூற்றுகளைக் கருத்தில் கொள்க.

கூற்று (A) : இந்தியா ஒரு குடியரசு நாடாகும்.

காரணம் (R) : இந்தியாவில் நாட்டின் தலைவர், மன்னராட்சி போன்று வம்சாவழி நியமனம் அல்லாது தேர்ந்தெடுக்கப்படுகிறார்.

குறியீடுகள்:

- A) (A) மற்றும் (R) இரண்டும் சரி மற்றும் (R) என்பது (A) இன் சரியான விளக்கமாகும்
- B) (A) மற்றும் (R) இரண்டும் சரி ஆனால் (R) என்பது (A) இன் சரியான விளக்கமல்ல
- C) (A) சரி ஆனால் (R) தவறு
- D) (A) தவறு ஆனால் (R) சரி
- E) விடை தெரியவில்லை

124. The proposal for a Constituent Assembly for India was first put forward in 1934 by which of the following person?

- A) Motilal Nehru
- B) Jawaharlal Nehru
- C) Manabendra Nath Roy
- D) Dr. B.R Ambedkar
- E) Answer not known

இந்தியாவுக்கான அரசியல் நிர்ணய சபைக்கான முன்மொழிவு 1934 இல் கீழ்க்கண்டவர்களில் யாரால் முதலில் முன்வைக்கப்பட்டது?

- A) மோதிலால் நேரு
- B) ஜவஹர்லால் நேரு
- C) மனபேந்திர நாத் ராய்
- D) டாக்டர் பி.ஆர்.அம்பேத்கர்
- E) விடை தெரியவில்லை

125. Under which Article does the Supreme Court has the power to review any judgment pronounced or made by it?

- A) Article 143
- B) Article 145
- C) Article 130
- D) Article 141
- E) Answer not known

உச்ச நீதிமன்றம், எந்த சரத்தின் கீழ் உச்ச நீதிமன்றத்தால் வழங்கப்பட்ட அல்லது ஏற்படுத்தப்பட்ட தீர்ப்பை புனராய்வு செய்யும் அதிகாரம் கொண்டுள்ளது?

- A) சரத்து 143
- B) சரத்து 145
- C) சரத்து 130
- D) சரத்து 141
- E) விடைதெரியவில்லை



126. Consider the following statements.

- I. The Constitution of India is the world's lengthiest written constitution.
- II. Originally Indian Constitution contained a Preamble, 395 articles, 22 parts and 8 schedules.

Which of the statements given above is/are correct?

- A) I only
- B) II only
- C) I and II only
- D) Neither I nor II
- E) Answer not known

பின்வரும் கூற்றுகளைக் கருத்தில் கொள்க.

- I. இந்திய அரசியலமைப்பு உலகின் மிக நீளமான எழுதப்பட்ட அரசியலமைப்பாகும்.
- II. முதலில் இந்திய அரசியலமைப்பில் ஒரு முகப்புரை, 395 சரத்துகள், 22 பகுதிகள் மற்றும் 8 அட்டவணைகள் இருந்தன.

மேற்கண்ட கூற்றுகளில் சரியானது எது/எவை?

- A) I மட்டும்
- B) II மட்டும்
- C) இரண்டும்
- D) இரண்டுமில்லை
- E) விடை தெரியவில்லை

127. The Constituent Assembly was formed under which of the following?

- A) Mountbatten Plan
- B) Wavell Plan
- C) Indian Independence Act, 1947
- D) Cabinet Mission Plan
- E) Answer not known

பின்வருவனவற்றில் எந்த ஒன்றின் மூலம் அரசியல் நிர்ணய சபை உருவாக்கப்பட்டது?

- A) மவுண்ட்பேட்டன் திட்டம்
- B) வேவல் திட்டம்
- C) இந்திய சுதந்திரச் சட்டம், 1947
- D) அமைச்சரவை தூதுக்குழு திட்டம்
- E) விடை தெரியவில்லை

128. Match List-I with List-II.

List-I

(Indian Constitution described as)

- a) Quasi-federal
- b) Bargaining federalism
- c) Co-operative federalism
- d) Federalism with centralizing tendency

List-II

(Described by)

1. Granville Austin
2. Ivor Jennings
3. K.C. Wheare
4. Morris Jones

Codes:

- | | a | b | c | d |
|----|------------------|----------|----------|----------|
| A) | 1 | 2 | 3 | 4 |
| B) | 2 | 1 | 3 | 4 |
| C) | 3 | 4 | 1 | 2 |
| D) | 4 | 1 | 2 | 3 |
| E) | Answer not known | | | |



பட்டியல்-Iஐ பட்டியல்-II உடன் பொருத்துக.

பட்டியல்-I

(இந்திய அரசியலமைப்பு விவரிக்கப்பட்டது)

- பகுதியளவுக் கூட்டாட்சி
- பேரம் பேசும் கூட்டாட்சி
- கூட்டுறவு கூட்டாட்சி
- மையப்படுத்துதலுடன் கூடிய கூட்டாட்சி

குறியீடுகள்:

- | | a | b | c | d |
|----|------------------|----------|----------|----------|
| A) | 1 | 2 | 3 | 4 |
| B) | 2 | 1 | 3 | 4 |
| C) | 3 | 4 | 1 | 2 |
| D) | 4 | 1 | 2 | 3 |
| E) | விடை தெரியவில்லை | | | |

பட்டியல்-II

(கூறியவர்)

- கிரான்வில் ஆஸ்டின்
- ஐவர் ஜென்னிங்ஸ்
- KC வேர்
- மோரிஸ் ஜோன்ஸ்

129. Consider the following statements regarding Objective Resolution:

- The Objective Resolution was moved by Jawaharlal Nehru in the Constituent Assembly of India on December 13, 1946.
- The constituent assembly adopted the objective resolution on January 22, 1946.

Which of the statements given above is/are incorrect?

- I only
- II only
- Both I and II
- Neither I nor II
- Answer not known

குறிக்கோள்கள் தீர்மானம் தொடர்பான பின்வரும் கூற்றுகளைக் கருத்தில் கொள்க :

- குறிக்கோள்கள் தீர்மானமானது டிசம்பர் 13, 1946 அன்று இந்திய அரசியலமைப்பு நிர்ணய சபையில் ஜவஹர்லால் நேருவால் முன்வைக்கப்பட்டது.
- ஜனவரி 22, 1946 அன்று குறிக்கோள் தீர்மானத்தை அரசியலமைப்பு நிர்ணய சபை ஏற்றுக் கொண்டது.

மேற்கண்ட கூற்றுகளில் தவறானது எது/எவை?

- I மட்டும்
- II மட்டும்
- இரண்டும்
- இரண்டுமில்லை
- விடைதெரியவில்லை

130. Arrange the following words from the Preamble in their correct sequence.

- Socialist
- Secular
- Republic
- Sovereign
- Democratic

**Codes:**

- A) II-IV-I-III-V
B) IV-I-II-V-III
C) V-III-I-IV-II
D) IV-II-I-V-III
E) Answer not known

முகப்புரையிலிருக்கும் பின்வரும் சொற்களை முறைப்படி வரிசைப்படுத்தவும்.

- I. சமதர்மம்
II. மதச்சார்பின்மை
III. குடியரசு
IV. இறையாண்மை
V. ஜனநாயகம்

குறியீடுகள்:

- A) II-IV-I-III-V
B) IV-I-II-V-III
C) V-III-I-IV-II
D) IV-II-I-V-III
E) விடைதெரியவில்லை

131. Which of the following are the unitary features of Indian Constitution?

- I. Flexibility of the constitution
II. Written Constitution
III. Integrated Judiciary
IV. Emergency provisions

Codes:

- A) I, II and III only
B) III and IV only
C) I, III and IV only
D) All of the above
E) Answer not known

பின்வருவனவற்றில் இந்திய அரசியலமைப்பின் ஒற்றையாட்சி அம்சங்கள் யாவை?

- I. அரசியலமைப்பின் நெகிழ்வுத்தன்மை
II. எழுதப்பட்ட அரசியலமைப்பு
III. ஒருங்கிணைந்த நீதித்துறை
IV. நெருக்கடி கால ஏற்பாடுகள்

குறியீடுகள்:

- A) I, II மற்றும் III மட்டும்
B) III மற்றும் IV மட்டும்
C) I, III மற்றும் IV மட்டும்
D) மேற்கண்ட அனைத்தும்
E) விடைதெரியவில்லை

132. Which of the following services are classified as an All-India Service?

- I. Indian Administrative Service (IAS)
II. Indian Police Service (IPS)
III. Indian Forest Service (IFoS)
IV. Indian Foreign Service (IFS)

Codes:

- A) I, II and III only
B) I, III and IV only
C) I, II and IV only
D) All the above
E) Answer not known



பின்வரும் சேவைகளில், எவை அகில இந்திய சேவையாக வகைப்படுத்தப்பட்டுள்ளது?

- I. இந்திய நிர்வாகப் பணி (IAS)
- II. இந்திய காவல் பணி (IPS)
- III. இந்திய வனப் பணி (IFoS)
- IV. இந்திய வெளியுறவுப் பணி (IFS)

குறியீடுகள்:

- | | |
|------------------------------|------------------------------|
| A) I, II மற்றும் III மட்டும் | B) I, III மற்றும் IV மட்டும் |
| C) I, II மற்றும் IV மட்டும் | D) மேற்கண்ட அனைத்தும் |
| E) விடை தெரியவில்லை | |

133. Consider the following statements regarding Writ Jurisdiction:

- I. The writ jurisdiction of the Supreme Court is wider than the writ jurisdiction of the High Court.
- II. High Court may refuse to exercise its writ jurisdiction whereas the Supreme court cannot refuse.
- III. The High Court can issue writs only for enforcing fundamental rights, while the Supreme Court can issue writs for both fundamental rights and other purposes.
- IV. The supreme court and High courts have the power to issue writs under Articles 32 and 226 respectively.

Which of the statements given above is/are incorrect?

- | | |
|-----------------------|-------------------|
| A) I, II and III only | B) II and IV only |
| C) I and III only | D) All the above |
| E) Answer not known | |

நீதிப்பேராணை அதிகார வரம்பு தொடர்பான பின்வரும் கூற்றுகளைக் கருத்தில் கொள்க:

- I. உச்ச நீதிமன்றத்தின் நீதிப்பேராணை அதிகார வரம்பு உயர் நீதிமன்றத்தின் நீதிப்பேராணை அதிகார வரம்பைக் காட்டிலும் விரிவானது.
- II. உயர் நீதிமன்றம் தனது நீதிப்பேராணை அதிகார வரம்பைப் பயன்படுத்த மறுக்கலாம், அதே சமயம் உச்ச நீதிமன்றம் மறுக்க முடியாது.
- III. உயர் நீதிமன்றம் அடிப்படை உரிமைகளை அமல்படுத்துவதற்காக மட்டுமே நீதிப்பேராணைகளை வெளியிட முடியும்; அதே நேரத்தில் உச்ச நீதிமன்றம் அடிப்படை உரிமைகள் மற்றும் பிற நோக்கங்களுக்காக நீதிப்பேராணைகளை வெளியிட முடியும்.
- IV. உச்ச நீதிமன்றம் மற்றும் உயர் நீதிமன்றங்கள் முறையே 32 மற்றும் 226 சரத்தின் கீழ் நீதிப்பேராணைகளை வெளியிட அதிகாரம் பெற்றுள்ளன.

மேற்கண்ட கூற்றுகளில் தவறானவை எவை?

- | | |
|------------------------------|--------------------------|
| A) I, II மற்றும் III மட்டும் | B) II மற்றும் IV மட்டும் |
| C) I மற்றும் III மட்டும் | D) மேற்கண்ட அனைத்தும் |
| E) விடை தெரியவில்லை | |



134. Which of the following cases stated the Preamble as not a part of the Constitution?

- I. Berubari Union Case
- II. Keshvanandha Bharati Case
- III. LIC vs Union of India Case

Codes:

- A) I only
- B) I and II only
- C) II and III only
- D) All the above
- E) Answer not known

கீழ்க்கண்ட எந்த வழக்குகளில் முகப்புரை அரசியலமைப்பின் ஒரு பகுதியாக இல்லை என்று கூறப்பட்டது?

- I. பெருபாரி ஒன்றிய வழக்கு
- II. கேசவனந்தா பாரதி வழக்கு
- III. எல்ஐசி எதிர் யூனியன் ஆஃப் இந்தியா வழக்கு

குறியீடுகள்:

- A) I மட்டும்
- B) I மற்றும் II மட்டும்
- C) II மற்றும் III மட்டும்
- D) மேற்கண்ட அனைத்தும்
- E) விடை தெரியவில்லை

135. Which of the following objectives is not included in the Preamble to the Constitution of India?

- A) Liberty of thought
- B) Liberty of faith
- C) Economic liberty
- D) Liberty of expression
- E) Answer not known

பின்வரும் நோக்கங்களில் எது இந்திய அரசியலமைப்பின் முகப்புரையில் சேர்க்கப்படவில்லை?

- A) சிந்தனை சுதந்திரம்
- B) நம்பிக்கை சுதந்திரம்
- C) பொருளாதார சுதந்திரம்
- D) கருத்து சுதந்திரம்
- E) விடை தெரியவில்லை

136. Match List-I with List-II.

List-I

- a) Steering Committee
- b) States Committee
- c) Fundamental Rights Sub-Committee
- d) House Committee

List-II

- 1. Dr. Rajendra Prasad
- 2. Jawaharlal Nehru
- 3. J.B. Kripalini
- 4. B. Pattabhi Sitaramayya

Codes:

- | | a | b | c | d |
|----|------------------|----------|----------|----------|
| A) | 4 | 2 | 3 | 1 |
| B) | 1 | 2 | 4 | 3 |
| C) | 2 | 3 | 1 | 4 |
| D) | 1 | 2 | 3 | 4 |
| E) | Answer not known | | | |



பட்டியல்-Iஐ பட்டியல்-II உடன் பொருத்துக

பட்டியல்-I

- வழிகாட்டல் குழு
- மாநிலக் குழு
- அடிப்படை உரிமைகள் துணைக்குழு
- அவைக் குழு

குறியீடுகள்:

	a	b	c	d
A)	4	2	3	1
B)	1	2	4	3
C)	2	3	1	4
D)	1	2	3	4
E)	விடைதெரியவில்லை			

பட்டியல்-II

- டாக்டர்.ராஜேந்திர பிரசாத்
- ஜவஹர்லால் நேரு
- ஜே.பி. கிருபளானி
- B.பட்டாபி சீதாராமையா

137. Consider the following statements regarding the Preamble.

- The Preamble to the Constitution has been amended only once.
- The amendment was made based on the recommendations of the Sardar Swaran Singh Committee.
- It added three new words – Socialist, Secular, and Integrity – to the existing Preamble.
- The Preamble was adopted by the Constituent Assembly on 24th January 1950 on the final meeting of the Constituent Assembly.

Which of the statements given above is/are correct?

- I, II and III only
- II, III and IV only
- I and III only
- All the above
- Answer not known

முகப்புரை தொடர்பான பின்வரும் கூற்றுகளைக் கருத்தில் கொள்க.

- அரசியலமைப்பின் முகப்புரை ஒருமுறை மட்டுமே திருத்தப்பட்டுள்ளது.
- சர்தார் ஸ்வரன் சிங் கமிட்டியின் பரிந்துரைகளின் அடிப்படையில் திருத்தம் செய்யப்பட்டது.
- இது ஏற்கனவே உள்ள முகப்புரையில் சமதர்மம், மதச்சார்பின்மை மற்றும் ஒருமைப்பாடு ஆகிய மூன்று புதிய சொற்களைச் சேர்த்தது.
- அரசியலமைப்புச் சபையின் இறுதிக் கூட்டத்தில் 1950 ஜனவரி 24 அன்று முகப்புரையானது அரசியலமைப்பு நிர்ணயச் சபையால் ஏற்றுக்கொள்ளப்பட்டது.

மேற்கண்ட கூற்றுகளில் சரியானவை எவை?

- I, II மற்றும் III மட்டும்
- II, III மற்றும் IV மட்டும்
- I மற்றும் III மட்டும்
- மேற்கண்ட அனைத்தும்
- விடைதெரியவில்லை



138. Match List-I with List-II.

List-I
(Dimensions of Equality)

- a) Political Equality
b) Civic Equality
c) Economic Equality

Codes:

- | | a | b | c |
|----|----------|----------|----------|
| A) | 3 | 2 | 1 |
| B) | 2 | 3 | 1 |
| C) | 3 | 1 | 2 |
| D) | 1 | 2 | 3 |

E) Answer not known

பட்டியல்-Iஐ பட்டியல்-II உடன் பொருத்துக.

பட்டியல்-I
(சமத்துவத்தின் பரிமாணங்கள்)

- a) அரசியல் சமத்துவம்
b) குடிமை சமத்துவம்
c) பொருளாதார சமத்துவம்

குறியீடுகள்:

- | | a | b | c |
|----|----------|----------|----------|
| A) | 3 | 2 | 1 |
| B) | 2 | 3 | 1 |
| C) | 3 | 1 | 2 |
| D) | 1 | 2 | 3 |

E) விடைதெரியவில்லை

List-II
(Related Articles)

1. Article 39
2. Article 326
3. Article 15

பட்டியல்-II
(தொடர்புடைய சரத்துகள்)

1. சரத்து 39
2. சரத்து 326
3. சரத்து 15

139. Arrange the states based on chronological order of their formation:

- I. Gujarat
II. Haryana
III. Sikkim
IV. Nagaland

Codes:

- | | |
|----------------|----------------|
| A) I-IV-II-III | B) II-I-III-IV |
| C) IV-I-III-II | D) I-II-IV-III |
- E) Answer not known

மாநிலங்களை அவற்றின் உருவாக்கத்தின்படி வரிசைப்படுத்தவும்:

- I. குஜராத்
II. ஹரியானா
III. சிக்கிம்
IV. நாகாலாந்து



குறியீடுகள்:

- A) I-IV-II-III
B) II-I-III-IV
C) IV-I-III-II
D) I-II-IV-III
E) விடை தெரியவில்லை

140. Find out the incorrectly matched pair.

(Eminent Personalities)

(Described Preamble as)

- A) Sir Alladi Krishnaswami Iyer – Horoscope of our Sovereign Democratic Republic
B) Pandit Thakur Das Bhargava – Jewel set in the Constitution
C) Sir Ernest Barker – Key note to the Constitution
D) N.K. Palkhivala – Identity card of the Constitution
E) Answer not known

தவறாகப் பொருந்தியுள்ள இணையைக் கண்டறியவும்.

(பிரபல ஆளுமைகள்)

(முகப்புரை பற்றிக் கூறியது)

- A) சர் அல்லாடி கிருஷ்ணசுவாமி ஐயர் – நமது இறையாண்மையுள்ள ஜனநாயகக் குடியரசின் ஜாதகம்
B) பண்டிட் தாக்கூர் தாஸ் பார்க்வா – அரசியலமைப்பின் ஆபரணம்
C) சர் எர்னஸ்ட் பார்கர் – அரசியலமைப்பின் முக்கிய குறிப்பு
D) என்.கே பால்கிவாலா – அரசியலமைப்பின் அடையாள அட்டை
E) விடை தெரியவில்லை

141. Consider the following statements.

- I. Territory of India is a wider expression than Union of India.
II. The Union of India includes only states, while the Territory of India also includes union territories and territories that may be acquired by the Government of India at any future time

Which of the statements given above is/are incorrect?

- A) I only
B) II only
C) Both I and II
D) Neither I nor II
E) Answer not known

பின்வரும் கூற்றுகளைக் கருத்தில் கொள்க.

- I. இந்தியப் பிரதேசம் என்பது இந்திய ஒன்றியத்தை விட பரந்த வெளிப்பாடாகும்.
II. இந்திய ஒன்றியம் என்பது மாநிலங்களை மட்டுமே உள்ளடக்கியது, அதே சமயம் இந்தியப் பிரதேசம் யூனியன் பிரதேசங்கள் மற்றும் பிரதேசங்களை உள்ளடக்கியது, அவை எதிர்காலத்தில் இந்திய அரசாங்கத்தால் கையகப்படுத்தப்படலாம்

மேற்கண்ட கூற்றுகளில் தவறானது எது/எவை?

- A) I மட்டும்
B) II மட்டும்
C) இரண்டும்
D) இரண்டுமில்லை
E) விடை தெரியவில்லை



142. Under Which Article the Governor nominates one Member representing from Anglo-Indian Community in state legislative?

- A) Article 331
B) Article 333
C) Article 345
D) Article 346

மாநில சட்டமன்றத்தில் ஆங்கிலோ-இந்தியன் சமூகத்தை பிரதிநிதித்துவப்படுத்தும் ஒரு உறுப்பினரை எந்த சரத்தின் கீழ் ஆளுநர் நியமிக்கிறார்?

- A) சரத்து 331
B) சரத்து 333
C) சரத்து 345
D) சரத்து 346
E) விடை தெரியவில்லை

143. Arrange the following in the chronological order:

- I. JVP Committee
II. Fazal Ali Commission
III. S.K Dhar Commission
IV. States Reorganisation Act

Codes:

- A) I-III-II-IV
B) II-I-IV-III
C) III-II-IV-I
D) III-I-II-IV
E) Answer not known

பின்வருவனவற்றை காலவரிசைப்படி வரிசைப்படுத்துக :

- I. ஜே வி பி குழு
II. ஃபசல் அலி குழு
III. எஸ்.கே தார் குழு
IV. மாநில மறுசீரமைப்புச் சட்டம்

குறியீடுகள்:

- A) I-III-II-IV
B) II-I-IV-III
C) III-II-IV-I
D) III-I-II-IV
E) விடை தெரியவில்லை

144. Match List-I with List-II.

List-I
(National Symbols)

- a) National Flag
b) National Song
c) National Calendar
d) National Emblem

List-II
(Adopted on)

1. January 24, 1950
2. July 22, 1947
3. January 26, 1950
4. March 22, 1957

Codes:

- | | a | b | c | d |
|----|------------------|----------|----------|----------|
| A) | 1 | 2 | 3 | 4 |
| B) | 3 | 2 | 4 | 1 |
| C) | 2 | 1 | 4 | 3 |
| D) | 1 | 3 | 2 | 4 |
| E) | Answer not known | | | |



பட்டியல்-Iஐ பட்டியல்-II உடன் பொருத்துக.

பட்டியல்-I

(தேசிய சின்னங்கள்)

- a) தேசியக் கொடி
b) தேசிய பாடல்
c) தேசிய நாட்காட்டி
d) தேசிய இலச்சினை

பட்டியல்-II

(ஏற்றுக் கொள்ளப்பட்டது)

1. ஜனவரி 24, 1950
2. ஜூலை 22, 1947
3. ஜனவரி 26, 1950
4. மார்ச் 22, 1957

குறியீடுகள்:

- | | a | b | c | d |
|----|----------|----------|----------|----------|
| A) | 1 | 2 | 3 | 4 |
| B) | 3 | 2 | 4 | 1 |
| C) | 2 | 1 | 4 | 3 |
| D) | 1 | 3 | 2 | 4 |
- E) விடை தெரியவில்லை

145. Which of the following committee was not chaired by Jawaharlal Nehru?

- A) Union Powers Committee
B) Union Constitution Committee
C) States Committee
D) Rules of Procedure Committee
E) Answer not known

பின்வரும் குழுக்களில் ஜவஹர்லால் நேரு தலைமை வகிக்காத குழு எது?

- A) ஒன்றிய அதிகாரங்கள் குழு
B) ஒன்றிய அரசியலமைப்புக் குழு
C) மாநிலக் குழு
D) நடைமுறை விதிகள் குழு
E) விடை தெரியவில்லை

146. The Drafting Committee of the Constituent Assembly of India setup on

- A) September 15, 1947
B) December 9, 1946
C) October 2, 1947
D) August 29, 1947
E) Answer not known

இந்திய அரசியல் நிர்ணய சபையின் வரைவுக் குழு எப்போது அமைக்கப்பட்டது?

- A) செப்டம்பர் 15, 1947
B) டிசம்பர் 9, 1946
C) அக்டோபர் 2, 1947
D) ஆகஸ்ட் 29, 1947
E) விடை தெரியவில்லை

147. Consider the following statements.

- I. Odisha was the first Indian state formed on linguistic basis.
II. Andhra was the first linguistic state to be formed post-independence.
III. 14 states and 6 Union territories were created on November 1, 1956

Which of the statements given above is/are correct?

- A) I and II only
B) II and III only
C) I and III only
D) All the above
E) Answer not known



பின்வரும் கூற்றுகளை கருத்தில் கொள்க .

- I. மொழி அடிப்படையில் உருவாக்கப்பட்ட முதல் இந்திய மாநிலம் ஒடிசா ஆகும்.
 - II. சுதந்திரத்திற்குப் பிறகு உருவாக்கப்பட்ட முதல் மொழிவாரி மாநிலம் ஆந்திரா ஆகும்.
 - III. நவம்பர் 1, 1956 இல் 14 மாநிலங்களும் 6 யூனியன் பிரதேசங்களும் உருவாக்கப்பட்டன மேற்கண்ட கூற்றுகளில் சரியானது எது/எவை ?
- A) I மற்றும் II மட்டும்
 - B) II மற்றும் III மட்டும்
 - C) I மற்றும் III மட்டும்
 - D) மேற்கண்ட அனைத்தும்
 - E) விடைதெரியவில்லை

148. Consider the following statements regarding the provisions of Government of India Act 1935:

- I. Introduced Provincial autonomy.
- II. It abolished diarchy at the centre.
- III. Provided for the establishment of Reserve Bank of India.
- IV. Provided for the establishment of Federal Court.

Which of the statements given above is/are correct?

- A) I, II and III only
- B) II, III and IV only
- C) I, III and IV only
- D) All the above
- E) Answer not known

இந்திய அரசு சட்டம் 1935 இன் அம்சங்கள் தொடர்பான பின்வரும் கூற்றுகளைக் கருத்தில் கொள்க:

- I. மாகாண சுயாட்சியை அறிமுகப்படுத்தியது.
- II. மத்தியில் இரட்டை ஆட்சி முறையை ஒழித்தது.
- III. இந்திய ரிசர்வ் வங்கியை நிறுவுவதற்காக வழங்கப்பட்டது.
- IV. கூட்டாட்சி நீதிமன்றத்தை நிறுவுவதற்கு வழங்கப்பட்டது.

மேற்கண்ட கூற்றுகளில் சரியானவை எவை?

- A) I, II மற்றும் III மட்டும்
- B) II, III மற்றும் IV மட்டும்
- C) I, III மற்றும் IV மட்டும்
- D) மேற்கண்ட அனைத்தும்
- E) விடைதெரியவில்லை

149. Which of the following is/are correctly matched?

(Members of Constituent Assembly)

(Designation)

- | | | |
|------------------------------|---|--|
| I. B.N. Rau | - | Legal Advisor to the Constituent Assembly |
| II. H.C. Mukherjee | - | Vice President of the Constituent Assembly |
| III. Acharya J. B. Kripalani | - | Vice President of the Constituent Assembly |
| IV. Sarojini Naidu | - | Member of the Drafting Committee |

Codes:

- A) I and III only
- B) I and II only
- C) III and IV only
- D) All the above
- E) Answer not known



பின்வருவனவற்றில் எது சரியாகப் பொருந்துகிறது?

(அரசியலமைப்பு நிர்ணய சபையின் உறுப்பினர்கள்)

(பதவி)

- | | |
|---|--------------------------------------|
| I. பிஎன் ராவ்
ஆலோசகர் | - அரசியலமைப்பு நிர்ணய சபையின் சட்ட |
| II. எச்.சி. முகர்ஜி
தலைவர் | - அரசியலமைப்பு நிர்ணய சபையின் துணைத் |
| III. ஆச்சார்யா ஜேபி கிருபளானி
தலைவர் | - அரசியலமைப்பு நிர்ணய சபையின் துணைத் |
| IV. சரோஜினி நாயுடு | - வரைவுக் குழுவின் உறுப்பினர் |

குறியீடுகள்:

- A) I மற்றும் III மட்டும்
B) I மற்றும் II மட்டும்
C) III மற்றும் IV மட்டும்
D) மேலே உள்ள அனைத்தும்
E) விடைதெரியவில்லை

150. Consider the following statements regarding Fundamental duties:

- I. Swaran Singh Committee recommended 10 fundamental duties.
II. The 42nd Amendment introduced Article 51A, which listed ten Fundamental Duties for the citizens of India.
III. The 82nd Constitutional Amendment Act of 2002 added an 11th fundamental duty to the list.

Which of the statements given above is/are correct?

- A) I, II and III only
B) II only
C) I and III only
D) III only
E) Answer not known

அடிப்படைக் கடமைகள் தொடர்பான பின்வரும் கூற்றுகளைக் கருத்தில் கொள்க:

- I. ஸ்வரன் சிங் கமிட்டி 10 அடிப்படைக் கடமைகளை பரிந்துரைத்தது.
II. 42வது திருத்தம் இந்திய குடிமக்களுக்கான பத்து அடிப்படைக் கடமைகளைக் கொண்ட சரத்து 51A ஐ அறிமுகப்படுத்தியது.
III. 82 வது அரசியலமைப்பு திருத்தச் சட்டம், 2002 ஆனது பட்டியலில் 11 வது அடிப்படைக் கடமையைச் சேர்த்தது.

மேற்கண்ட கூற்றுகளில் சரியானது எது/எவை?

- A) I, II மற்றும் III மட்டும்
B) II மட்டும்
C) I மற்றும் III மட்டும்
D) III மட்டும்
E) விடைதெரியவில்லை

151. Consider the following Statements.

- I. World Tamil Diaspora Day was celebrated on 12th January at Chennai Trade Centre.
II. Tamils from about 58 countries participated in the two-day World Tamil Diaspora Day celebrations.
III. The theme of this event is "Tamil Vellum"



Which of the statements given above is/are incorrect?

- A) I and III only
B) II and III only
C) I and II only
D) All the above
E) Answer not known

பின்வரும் கூற்றுகளைக் கவனியுங்கள்.

- I. புலம் பெயர்ந்த உலகத் தமிழர் நாளானது 12ஆம் தேதி சென்னை வர்த்தக மையத்தில் கொண்டாடப்பட்டது.
II. சுமார் 58 நாடுகளைச் சேர்ந்த தமிழர்கள் இரண்டு நாள் புலம் பெயர்ந்த உலகத் தமிழர் தினக் கொண்டாட்டத்தில் கலந்து கொண்டனர்.
III. இந்த நிகழ்வின் கருப்பொருள் “தமிழ் வெல்லும்” என்பதாகும்.
மேலே கொடுக்கப்பட்டுள்ள கூற்றுகளில் எது தவறானது?
A) I மற்றும் III மட்டும்
B) II மற்றும் III மட்டும்
C) I மற்றும் I மட்டும்
D) மேலே உள்ள அனைத்தும்
E) விடை தெரியவில்லை

152. Consider the following statements.

- I. Geetika Koul has become the first woman medical officer in the Indian Army to be deployed at Siachen.
II. Siachen Glacier is highest battlefield in India and second highest battlefield among the World.
III. Captain Koul Belongs to Snow Leopard Brigade.

How many of the above statement(s) is/are correct?

- A) One statement only
B) Two statements only
C) Three statements only
D) All the statements
E) Answer not known

பின்வரும் கூற்றுகளைக் கவனியுங்கள்.

- I. இந்திய ராணுவத்தில், சியாச்சின் பகுதியில் பணியமர்த்தப்பட்ட முதல் பெண் மருத்துவ அதிகாரி என்ற பெருமையை கீதிகா கவுல் பெற்றுள்ளார்.
II. சியாச்சின் பனிப்பாறை இந்தியாவின் மிக உயரமான போர்க்களமாகவும், உலகின் இரண்டாவது உயரமான போர்க்களமாகவும் உள்ளது.
III. கேப்டன் கவுல் பனிச்சிறுத்தை படைப்பிரிவைச் சேர்ந்தவராவார்.

மேலே உள்ள கூற்றுகளில் எது/எவை சரியானவை?

- A) ஒரு கூற்று மட்டும்
B) இரண்டு கூற்று மட்டும்
C) மூன்று கூற்று மட்டும்
D) அனைத்து கூற்றுகளும்
E) விடை தெரியவில்லை



153. Match List-I with List-II.

List-I	List-II
(Global Fire power ranking 2024)	(Country)
a) India	1. Third
b) South Korea	2. Second
c) Russia	3. First
d) United States	4. Fifth
e) China	5. Fourth

Codes:

	a	b	c	d	e
A) 5 4 2 3 1					
B) 4 5 2 3 1					
C) 5 2 4 3 1					
D) 4 2 3 5 1					

பட்டியல்-Iஐ பட்டியல்-II உடன் பொருத்தவும்.

பட்டியல்-I	பட்டியல்-II
(நாடு)	(உலகளாவிய தீ சக்தி தரவரிசை 2024)
a) இந்தியா	1. மூன்றாவது
b) தென் கொரியா	2. இரண்டாவது
c) ரஷ்யா	3. முதலாவது
d) அமெரிக்கா	4. ஐந்தாவது
e) சீனா	5. நான்காவது

குறியீடுகள்:

	a	b	c	d	e
A) 5 4 2 3 1					
B) 4 5 2 3 1					
C) 5 2 4 3 1					
D) 4 2 3 5 1					
E) விடை தெரியவில்லை					

154. Which of the following is/are correctly matched?

(New Excavation Sites)	(District)
I. Thirumalapuram	- Tenkasi
II. Chennanur	- Karur
III. Marungur	- Cuddalore
IV. Kongalnagaram	- Tiruppur

Codes:

A) I, II and III only	B) II, III and IV only
C) I, III and IV only	D) All the above
E) Answer not known	



பின்வருவனவற்றில் எது சரியாகப் பொருந்துகிறது?

(புதிய அகழ்வாராய்ச்சித் தலங்கள்) (மாவட்டம்)

- | | |
|------------------|--------------|
| I. திருமலபுரம் | - தென்காசி |
| II. சென்னூர் | - கரூர் |
| III. மருங்கூர் | - கடலூர் |
| IV. கொங்கல்நகரம் | - திருப்பூர் |

குறியீடுகள்:

- | | |
|------------------------------|-------------------------------|
| A) I, II மற்றும் III மட்டும் | B) II, III மற்றும் IV மட்டும் |
| C) I, III மற்றும் IV மட்டும் | D) மேலே உள்ள அனைத்தும் |
| E) விடை தெரியவில்லை | |

155. Consider the following statements.

- I. SMART stands for Scope for Mainstreaming Ayurveda Research among Teaching professionals.
- II. 'SMART 2.0' program was launched by The Central Council for Research in Ayurvedic Sciences (CCRAS) along with National Commission for Indian System of Medicine (NCISM)

Which of the statements given above is/are incorrect?

- | | |
|---------------------|---------------------|
| A) I only | B) II only |
| C) Both I and II | D) Neither I nor II |
| E) Answer not known | |

பின்வரும் கூற்றுகளைக் கவனியுங்கள் .

- I. SMART என்பது கற்பித்தல் வல்லுநர்களிடையே ஆயுர்வேத ஆராய்ச்சியை கொண்டு செல்வதைக் குறிக்கிறது.
- II. 'SMART 2.0' திட்டத்தை இந்திய மருத்துவ முறைக்கான தேசிய ஆணையத்துடன் (NCISM) இணைந்து ஆயுர்வேத அறிவியல் ஆராய்ச்சிக்கான மத்திய கழகம் (CCRAS) தொடங்கியுள்ளது.

மேலே கொடுக்கப்பட்டுள்ள கூற்றுகளில் எது தவறானது?

- | | |
|---------------------|-----------------|
| A) I மட்டும் | B) II மட்டும் |
| C) இரண்டும் | D) இரண்டுமில்லை |
| E) விடை தெரியவில்லை | |

156. Which of the following language has been added recently as one of the nine classical languages in India under the New Education Policy?

- | | |
|---------------------|------------|
| A) Farsi | B) Pali |
| C) Persian | D) Prakrit |
| E) Answer not known | |

புதிய கல்விக் கொள்கையின் கீழ் இந்தியாவில் உள்ள ஒன்பது செம்மொழிகளில் ஒன்றாக பின்வரும் எந்த மொழியானது சமீபத்தில் சேர்க்கப்பட்டது ?

- | | |
|---------------------|----------------|
| A) பாரசி | B) பாலி |
| C) பாரசீகம் | D) பிராகிருதம் |
| E) விடை தெரியவில்லை | |



157. Match List-I with List-II.

List-I

- World Braille Day
- World Family Day
- World Youth Day
- National Army Day

List-II

- 1st January
- 12th January
- 15th January
- 4th January

Codes:

- | | a | b | c | d |
|----|----------|----------|----------|----------|
| A) | 1 | 4 | 2 | 3 |
| B) | 4 | 1 | 2 | 3 |
| C) | 1 | 2 | 4 | 3 |
| D) | 4 | 2 | 3 | 1 |

E) Answer not known

பட்டியல்-Iஐ பட்டியல்-II உடன் பொருத்தவும்.

பட்டியல்-I

- உலக பிரெய்லி தினம்
- உலக குடும்ப தினம்
- உலக இளைஞர் தினம்
- தேசிய ராணுவ தினம்

பட்டியல்-II

- ஜனவரி 1
- ஜனவரி 12
- ஜனவரி 15
- ஜனவரி 4

குறியீடுகள்:

- | | a | b | c | d |
|----|----------|----------|----------|----------|
| A) | 1 | 4 | 2 | 3 |
| B) | 4 | 1 | 2 | 3 |
| C) | 1 | 2 | 4 | 3 |
| D) | 4 | 2 | 3 | 1 |

E) விடை தெரியவில்லை

158. Consider the following statements.

I. "Desert cyclone 2024 " is the joint military exercise between India And UAE.

II. Dubai host the desert cyclone exercise.

Which of the statements given above is/are correct?

- | | |
|---------------------|---------------------|
| A) I only | B) II only |
| C) Both I and II | D) Neither I nor II |
| E) Answer not known | |

பின்வரும் கூற்றுகளைக் கவனியுங்கள்.

I. "பாலைவன சூறாவளி 2024" என்பது இந்தியா மற்றும் ஐக்கிய அரபு அமீரகம் இடையேயான கூட்டு இராணுவ பயிற்சியாகும்.

II. பாலைவன சூறாவளி பயிற்சியானது துபாய் நகரில் நடை பெற்றது.

மேலே கொடுக்கப்பட்ட கூற்றுகளில் எது/எவை சரியானது?

- | | |
|---------------------|----------------------|
| A) I மட்டும் | B) II மட்டும் |
| C) I மற்றும் II | D) I அல்லது II இல்லை |
| E) விடை தெரியவில்லை | |



159. Which of the following is/are correctly matched?

(Activities)	(Related State)
I. 100% Electric taxi service	– Assam
II. Purple Festival 2024	– Diu
III. Beach Games 2024	– Goa
IV. Maa manikeeswari University	– Odissa

Codes:

- | | |
|-----------------------|------------------------|
| A) I, II and III only | B) II, III and IV only |
| C) III and IV only | D) I and IV only |
| E) Answer not known | |

பின்வருவனவற்றில் எது சரியாகப் பொருந்தியுள்ளது?

(செயல்பாடுகள்)	(தொடர்புடைய மாநிலம்)
I. 100% மின்சார டாக்ஸி சேவை	– அசாம்
II. ஊதா விழா 2024	– டையூ
III. கடற்கரை விளையாட்டுகள் 2024	– கோவா
IV. மாமணிகேஸ்வரி பல்கலைக்கழகம்	– ஒடிசா

குறியீடுகள்:

- | | |
|------------------------------|-------------------------------|
| A) I, II மற்றும் III மட்டும் | B) II, III மற்றும் IV மட்டும் |
| C) III மற்றும் IV மட்டும் | D) I மற்றும் IV மட்டும் |
| E) விடை தெரியவில்லை | |

160. Who is the author of recently released the book titled “Why Bharat Matters”?

- | | |
|---------------------|-----------------------|
| A) Amit Shah | B) Nirmala Sitharaman |
| C) S Jaishankar | D) Rajnath Singh |
| E) Answer not known | |

"Why Bharat Matters" என்ற தலைப்பில் சமீபத்தில் வெளியிடப்பட்ட புத்தகத்தின் ஆசிரியர் யார்?

- | | |
|---------------------|----------------------|
| A) அமித் ஷா | B) நிர்மலா சீதாராமன் |
| C) ஜெய்சங்கர் | D) ராஜ்நாத் சிங் |
| E) விடை தெரியவில்லை | |

161. Consider the following statements.

- I. The brand name of the environmental label provided under the Indian Forest & Wood Certification Scheme, recently launched by the environment ministry, is PRAMAAN
- II. This label is designed to inform both domestic and international consumers about the origin and source of forest and tree based products.

Which of the statements given above is/are correct?

- | | |
|---------------------|---------------------|
| A) I only | B) II only |
| C) Both I and II | D) Neither I nor II |
| E) Answer not known | |



பின்வரும் கூற்றுகளைக் கவனியுங்கள்.

- I. சமீபத்தில் சுற்றுச்சூழல் அமைச்சகத்தால் தொடங்கப்பட்ட இந்திய வன மற்றும் மரச் சான்றிதழ் திட்டத்தின் கீழ் வழங்கப்பட்ட சுற்றுச்சூழல் முத்திரை வர்த்தக பெயர் PRAMAAN ஆகும்.
- II. காடு மற்றும் மர அடிப்படையிலான பொருட்களின் தோற்றம் மற்றும் மூலத்தைப் பற்றி உள்நாட்டு மற்றும் சர்வதேச நுகர்வோருக்கு தெரிவிக்க இந்த முத்திரை வடிவமைக்கப்பட்டுள்ளது .

மேலே கொடுக்கப்பட்ட கூற்றுகளில் எது/எவை சரியானது?

- A) I மட்டும்
B) II மட்டும்
C) இரண்டும்
D) இரண்டுமில்லை
E) விடை தெரியவில்லை

162. Which company is operating the Krishna Godavari Basin Deep Sea Project in the Bay of Bengal?

- A) Reliance Industries
B) Indian Oil
C) Bharat Petroleum
D) Oil and Natural Gas Corporation Limited (ONGC)
E) Answer not known

வங்காள விரிகுடாவில் கிருஷ்ணா கோதாவரி படுகை ஆழ்கடல் திட்டத்தை எந்த நிறுவனம் செயல்படுத்துகிறது?

- A) ரிலையன்ஸ் இண்டஸ்ட்ரீஸ்
B) இந்தியன் ஆயில்
C) பாரத் பெட்ரோலியம்
D) எண்ணெய் மற்றும் இயற்கை எரிவாயு கழகம் (ONGC)
E) விடை தெரியவில்லை

163. Match List-I with List-II.

List-I

(Awards)

- a) Thiruvalluvar Award
b) Perarignar Anna Award
c) Perunthalaivar Kamaraj Award
d) Mahakavi Bharathiyar Award
e) Bharathidasan Award

List-II

(Personalities)

1. Wallajah Vallavan
2. E.V.K.S. Elangovan
3. Venkatachalapathy
4. S.N.M. Ubdyadullah
5. N.K. Ponnusamy

Codes:

- | | a | b | c | d | e |
|----|----------|----------|----------|----------|----------|
| A) | 5 | 4 | 2 | 3 | 1 |
| B) | 4 | 5 | 2 | 3 | 1 |
| C) | 5 | 2 | 4 | 3 | 1 |
| D) | 4 | 2 | 3 | 5 | 1 |

- E) Answer not known



பட்டியல்-Iஐ பட்டியல்-II உடன் பொருத்தவும்.

பட்டியல்-I

(விருதுகள்)

- திருவள்ளூர் விருது
- பேரறிஞர் அண்ணா விருது
- பெருந்தலைவர் காமராஜ் விருது
- மகாகவி பாரதியார் விருது
- பாரதிதாசன் விருது

குறியீடுகள்:

	a	b	c	d	e
A)	5	4	2	3	1
B)	4	5	2	3	1
C)	5	2	4	3	1
D)	4	2	3	5	1

E) விடை தெரியவில்லை

பட்டியல்-II

(ஆளுமைகள்)

- வாலாஜா வல்லவன்
- E.V.K.S.இளங்கோவன்
- வெங்கடாசலபதி
- S.N.M. உப்தயதுல்லா
- N.K.பொன்னுசாமி

164. Consider the following statements.

- DRDO organization was established on 1st January 1958.
- DRDO is celebrating its 66th Foundation Day on 1st January
- The current chairman of DRDO is Dr. Sameer V Kamath

Which of the statements given above is/are incorrect?

- I and II only
- II and III only
- I and III only
- None of the above
- Answer not known

பின்வரும் கூற்றுகளைக் கவனியுங்கள் .

- DRDO அமைப்பு 1 ஜனவரி 1958 இல் நிறுவப்பட்டது.
- DRDO தனது 66வது நிறுவன தினத்தை ஜனவரி 1ம் தேதி கொண்டாடுகிறது .
- DRDOவின் தற்போதைய தலைவர் டாக்டர் சமீர் வி காமத் ஆவார்

மேலே கொடுக்கப்பட்டுள்ள கூற்றுகளில் எது தவறானது?

- I மற்றும் II மட்டும்
- II மற்றும் III மட்டும்
- I மற்றும் III மட்டும்
- மேலே எதுவும் இல்லை
- விடை தெரியவில்லை

165. Consider the following statements.

- Justice Sanjiv Khanna Appointed As NALSA Executive Chairperson
- The National Legal Services Authority (NALSA) is a statutory body established under the Legal Services Authorities Act of 1987

Which of the statements given above is/are correct?

- I only
- II only
- Both I and II
- Neither I nor II
- Answer not known



பின்வரும் கூற்றுகளைக் கவனியுங்கள்.

- I. நீதியரசர் சஞ்சீவ் கண்ணா NALSA நிர்வாகத் தலைவராக நியமிக்கப்பட்டார்
- II. தேசிய சட்ட சேவைகள் ஆணையம் (NALSA) என்பது 1987 ஆம் ஆண்டின் சட்ட சேவைகள் அதிகாரசபை சட்டத்தின் கீழ் நிறுவப்பட்ட ஒரு சட்டரீதியான அமைப்பாகும்.

மேலே கொடுக்கப்பட்ட கூற்றுகளில் எது/எவை சரியானது?

- A) I மட்டும்
- B) II மட்டும்
- C) இரண்டும்
- D) இரண்டுமில்லை
- E) விடை தெரியவில்லை

166. Consider the following statements.

- I. The Government of India has established the Sixteenth Finance Commission, headed by Dr. Arvind Panagariya
- II. Article 280(1) of the Constitutions lays down that the modalities for setting up of a Finance Commission
- III. Arvind Panagariya was the former Vice-Chairman of NITI Aayog.
- IV. The 16th Finance Commission is expected to submit its recommendations by October 31, 2025, covering an award period of five years beginning April 1, 2026.

Which of the statements given above is/are correct?

- A) I and II only
- B) II and III only
- C) I and III only
- D) All of the above
- E) Answer not known

பின்வரும் கூற்றுகளைக் கவனியுங்கள்.

- I. டாக்டர் அரவிந்த் பனகாரியா தலைமையில் பதினாறாவது நிதிக் ஆணையத்தை இந்திய அரசு நிறுவியுள்ளது
- II. அரசியலமைப்புச் சட்டத்தின் 280(1) சரத்து நிதி ஆணையத்தை அமைப்பதற்கான வழிமுறைகளைக் கூறுகிறது.
- III. நிதி ஆயோக்கின் முன்னாள் துணைத் தலைவராக அரவிந்த் பனகாரியா இருந்தார்.
- IV. ஏப்ரல் 1, 2026 முதல் ஐந்தாண்டு கால அவகாசத்தை உள்ளடக்கிய 16வது நிதி ஆணையம் தனது பரிந்துரைகளை அக்டோபர் 31, 2025க்குள் சமர்ப்பிக்கும் என எதிர்பார்க்கப்படுகிறது.

மேலே கொடுக்கப்பட்ட கூற்றுகளில் எது/எவை சரியானது?

- A) I மற்றும் II மட்டும்
- B) II மற்றும் III மட்டும்
- C) I மற்றும் III மட்டும்
- D) மேலே உள்ள அனைத்தும்
- E) விடை தெரியவில்லை

167. Consider the following statements.

- I. The Union Cabinet has approved the allocation of Rs 19,744 crore for the National Green Hydrogen Initiative.
- II. The Union Ministry of Renewable Energy will frame the regulations for the scheme and implement them.
- III. By 2030, the capacity to produce at least 5 million metric tons of green hydrogen per year will be improved



Which of the statements given above is/are incorrect?

- A) I and II only
B) II and III only
C) I and III only
D) None of the above
E) Answer not known

பின்வரும் கூற்றுகளைக் கவனியுங்கள் .

- I. தேசிய பசுமை ஹைட்ரஜன் முன்முயற்சிக்கு ரூ.19,744 கோடி ஒதுக்கீடு செய்ய மத்திய அமைச்சரவை ஒப்புதல் அளித்துள்ளது.
II. மத்திய புதுப்பிக்கத்தக்க எரிசக்தி அமைச்சகம் இத்திட்டத்திற்கான விதிமுறைகளை வகுத்து அவற்றை செயல்படுத்தும்.
III. 2030 ஆம் ஆண்டுக்குள், ஆண்டுக்கு குறைந்தது 5 மில்லியன் மெட்ரிக் டன் பச்சை ஹைட்ரஜனை உற்பத்தி செய்யும் திறன் மேம்படுத்தப்படும்.

மேலே கொடுக்கப்பட்டுள்ள கூற்றுகளில் எது/எவை தவறானது?

- A) I மற்றும் II மட்டும்
B) II மற்றும் III மட்டும்
C) I மற்றும் III மட்டும்
D) மேலே எதுவும் இல்லை
E) விடை தெரியவில்லை

168. Consider the following statements.

- I. The TN State government launched "Vallalar biodiverse shelter" scheme at an estimated cost of Rs 20 crore
II. The ultimate aim of this scheme is the protection of stray and deserted animals
III. This scheme was established on the occasion of Vallalar's 200th birth anniversary

Which of the statements given above is/are correct?

Codes:

- A) I and II only
B) II and III only
C) I and III only
D) All of the above
E) Answer not known

பின்வரும் கூற்றுகளைக் கவனியுங்கள்.

- I. TN மாநில அரசு 20 கோடி ரூபாய் மதிப்பீட்டில் "வள்ளலார் பல்லுயிர் காப்பகங்கள்" திட்டத்தைத் தொடங்கியுள்ளது
II. இந்தத் திட்டத்தின் இறுதி நோக்கம் ஆதரவற்ற மற்றும் கைவிடப்பட்ட விலங்குகளைப் பாதுகாப்பதாகும்.
III. இத்திட்டம் வள்ளலாரின் 200வது பிறந்தநாளை முன்னிட்டு ஏற்படுத்தப்பட்டது
மேலே கொடுக்கப்பட்ட கூற்றுகளில் எது /எவை சரியானது?

குறியீடுகள்:

- A) I மற்றும் II மட்டும்
B) II மற்றும் III மட்டும்
C) I மற்றும் III மட்டும்
D) மேலே உள்ள அனைத்தும்
E) விடை தெரியவில்லை



169. It is a high throughput Ka-band satellite that provides high-speed broadband internet connectivity, digital video transmission, and audio transmission. It is being launched to address the growing broadband communication needs of India. It is designed to provide comprehensive coverage across India, including remote regions. This satellite offers an impressive HTS (High Throughput Satellite) capacity of nearly 48Gbps.

Which one of the following is best implied in the passage?

- A) GSAT-20
B) XpoSat
C) RESOURCESAT-2A
D) Cartosat -2
E) Answer not known

இது அதிவேக பிராட்பேண்ட் இணைய இணைப்பு, டிஜிட்டல் வீடியோ டிரான்ஸ்மிஷன் மற்றும் ஆடியோ டிரான்ஸ்மிஷன் ஆகியவற்றை வழங்கும் உயர் செயல்திறன் கொண்ட Ka-band செயற்கைக்கோள் ஆகும். இது இந்தியாவின் வளர்ந்து வரும் பிராட்பேண்ட் தகவல் தொடர்பு தேவைகளை நிவர்த்தி செய்ய தொடங்கப்படுகிறது. இது இந்தியா முழுவதும் விரிவான தொலைதொடர்பை வழங்க வடிவமைக்கப்பட்டுள்ளது, தொலைதூர பகுதிகள் உட்பட இந்த செயற்கைக்கோள் ஈர்க்கக்கூடிய HTS (உயர் செயல்திறன் சேட்டலைட்) திறனை கிட்டத்தட்ட 48Gbps வழங்குகிறது.

பத்தியில் பின்வருவனவற்றில் எது சிறப்பாகக் குறிப்பிடப்பட்டுள்ளது?

- A) GSAT-20
B) XpoSat
C) RESOURCESAT-2A
D) Cartosat -2
E) விடை தெரியவில்லை

170. Consider the following statements:

- I. Tenth World Tamils Economic Conference was held at Chennai
- II. This was Organised by the Madras Development Society and World Tamils Economic Foundation
- III. Crown Jewel of World Tamils' award was conferred to 12 prominent Tamil personalities for their contributions to the socio-economic development and welfare of the Tamil community.

How many of the above statement(s) is/are correct?

- A) One statement only
B) Two statements only
C) Three statements only
D) None of the Above
E) Answer not known

பின்வரும் கூற்றுகளைக் கவனியுங்கள் :

- I. பத்தாவது உலகத் தமிழர் பொருளாதார மாநாடு சென்னையில் நடைபெற்றது
- II. இதை சென்னை மேம்பாட்டுக் கழகம் மற்றும் உலகத் தமிழ் பொருளாதார அறக்கட்டளை இணைந்து நடத்தியது.
- III. தமிழ் சமூகத்தின் சமூக-பொருளாதார மேம்பாடு மற்றும் நலனுக்காக ஆற்றிய பங்களிப்பிற்காக 12 முக்கிய தமிழ் ஆளுமைகளுக்கு உலகத் தமிழின் மணிமகுடம் விருது வழங்கப்பட்டது.

மேலே உள்ள கூற்றுகளில் எது/எவை சரியானவை?

- A) ஒரு கூற்று மட்டும்
B) இரண்டு கூற்றுகள் மட்டும்
C) மூன்று கூற்றுகள் மட்டும்
D) மேற்கண்ட அனைத்து கூற்றுகளும்
E) விடை தெரியவில்லை



171. Which State is set to build India's first Artificial intelligence (AI) city to promote AI ecosystem in

- A) Gujarat - Surat
B) Tamil Nadu - Chennai
C) Uttar Pradesh - Lucknow
D) Kerala - Cochin
E) Answer not known

செயற்கை நுண்ணறிவு சுற்றுச்சூழல் அமைப்பை மேம்படுத்துவதற்காக இந்தியாவின் முதல் செயற்கை நுண்ணறிவு (AI) நகரத்தை எந்த மாநிலம் உருவாக்க உள்ளது?

- A) குஜராத் - சூரத்
B) தமிழ்நாடு - சென்னை
C) உத்தரப்பிரதேசம் - லக்னோ
D) கேரளா - கொச்சி
E) விடை தெரியவில்லை

172. Which state sets Guinness World Record for most people performing Surya Namaskar simultaneously at 108 locations and 51 different categories?

- A) Madhya Pradesh
B) Uttar Pradesh
C) Odisha
D) Gujarat
E) Answer not known

108 இடங்கள் மற்றும் 51 வெவ்வேறு பிரிவுகளில் ஒரே நேரத்தில் அதிக மக்கள் சூரிய நமஸ்காரம் செய்து கின்னஸ் உலக சாதனையை எந்த மாநிலம் நிகழ்த்தியுள்ளது?

- A) மத்தியப் பிரதேசம்
B) உத்தரப்பிரதேசம்
C) ஒடிசா
D) குஜராத்
E) விடை தெரியவில்லை

173. Recently TN Chief Minister MK Stalin Released a Book Titled 'Maha Kavithai' in January 2023. The book is written by

- A) Kalaignar Karunanidhi
B) Vairamuthu
C) Pazhani Bharathi
D) Arignar Anna
E) Answer not known

சமீபத்தில் தமிழ்நாடு முதல்வர் மு.க.ஸ்டாலின் 2023 ஜனவரியில் 'மகா கவிதை' என்ற புத்தகத்தை வெளியிட்டார். இப்புத்தகத்தை எழுதியவர் யார்?

- A) கலைஞர் கருணாநிதி
B) வைரமுத்து
C) பழனி பாரதி
D) அறிஞர் அண்ணா
E) விடை தெரியவில்லை

174. Match List-I with List-II.

List-I

(Personilities)

- a) Félix Tshisekedi
b) Succes Masra
c) Sheikh Hasina
d) Sabah al-Salemal-Sabah

List-II

(Appointment)

1. Prime Minister of the Republic of Chad
2. Prime Minister of Bangladesh
3. Prime Minister of Kuwait
4. President of the Democratic Republic of Congo

**Codes:**

- | | a | b | c | d |
|----|----------|----------|----------|----------|
| A) | 4 | 2 | 3 | 1 |
| B) | 2 | 1 | 3 | 4 |
| C) | 3 | 2 | 1 | 4 |
| D) | 4 | 1 | 2 | 3 |

E) Answer not known

பட்டியல்-I ஐ பட்டியல்-II உடன் பொருத்தவும்.

பட்டியல்-I

பட்டியல்-II

(நபர்கள்)

(நியமனம்)

- | | |
|-------------------------|--------------------------------------|
| a) ஃபெலிக்ஸ் சிசெகெடி | 1. சாட் குடியரசின் பிரதமர் |
| b) வெற்றி மாஸ்ரா | 2. பங்களாதேஷின் பிரதமர் |
| c) ஷேக் ஹசீனா | 3. குவைத் பிரதமர் |
| d) சபா அல்- சலேமல் -சபா | 4. காங்கோ ஜனநாயகக் குடியரசின் தலைவர் |

குறியீடுகள்:

- | | a | b | c | d |
|----|----------|----------|----------|----------|
| A) | 4 | 2 | 3 | 1 |
| B) | 2 | 1 | 3 | 4 |
| C) | 3 | 2 | 1 | 4 |
| D) | 4 | 1 | 2 | 3 |

E) விடை தெரியவில்லை

175. Arrange the following list of Awards Given to PM Modi by Different Countries in 2023 (Chronologically)

- I. Order of the Nile (Egypt)
- II. Legion of Honour (France)
- III. Order of Honour (Greece)
- IV. Ebaki Award (Republic of Palau)

Codes:

- | | |
|----------------------|----------------------|
| A) I - II - III - IV | B) IV - I - II - III |
| C) IV - III - II - I | D) III - I - II - IV |

E) Answer not known

2023ல் (காலவரிசைப்படி) பல்வேறு நாடுகளால் பிரதமர் மோடிக்கு வழங்கப்பட்ட விருதுகளின் பின்வரும் பட்டியலை வரிசைப்படுத்தவும்

- I. நைல் நதி (எகிப்து)
- II. லெஜியன் ஆஃப் ஹானர் (பிரான்ஸ்)
- III. ஆர்டர் ஆஃப் ஹானர் (கிரீஸ்)
- IV. எபகல் விருது (பலாவ் குடியரசு)



குறியீடுகள்:

- A) I - II - III - IV
B) IV - I - II - III
C) IV - III - II - I
D) III - I - II - IV
E) விடை தெரியவில்லை

176. A tank can hold 50 litres of water. At present, it is only 30 % full. How many litres of water will fill the tank, so that it is 50 % full?

- A) 10 litres
B) 15 litres
C) 25 litres
D) 20 litres

Answer not known

ஒரு தண்ணீர் தொட்டியின் கொள்ளளவு 50 லிட்டர்கள் ஆகும் தற்போது, 30 சதவீதம் மட்டுமே நிரம்பியுள்ளது. தொட்டியில் 50% தண்ணீர் நீர் நிரம்ப, இன்னும் எத்தனை லிட்டர் தண்ணீர் தேவை?

- A) 10 லிட்டர்
B) 15 லிட்டர்
C) 25 லிட்டர்
D) 20 லிட்டர்

E) விடை தெரியவில்லை

177. Peter requires 50% to pass. If he gets 280 marks and falls short by 20 marks, what would have been the maximum marks of the exam?

- A) 300
B) 600
C) 450
D) 560

E) Answer not known

பீட்டர் என்பவர் ஒரு தேர்வில் 280 மதிப்பெண்கள் பெற்று தோல்வி அடைந்தார். அவர் இன்னும் 20 மதிப்பெண்கள் பெற்றிருந்தால் மொத்த மதிப்பெண்களில் 50% பெற்று வெற்றி பெற்றிருப்பார் எனில் மொத்த மதிப்பெண்கள் என்னவாக இருந்திருக்கும்?

- A) 300
B) 600
C) 450
D) 560

E) விடை தெரியவில்லை

178. If three candidates A, B and C in a school election got 153, 245 and 102 votes respectively, then the percentage of votes got by the winner is

- A) 49%
B) 50%
C) 51%
D) 48%

E) Answer not known

பள்ளித் தேர்தலில் A, B மற்றும் C ஆகிய மூன்று வேட்பாளர்கள் முறையே 153, 245 மற்றும் 102 வாக்குகளைப் பெற்றிருந்தனர் எனில், வெற்றியாளர் பெற்ற வாக்குகளின் சதவீதம் என்ன?

- A) 49%
B) 50%
C) 51%
D) 48%

E) விடை தெரியவில்லை

179. In the year 2015 ticket to the world cup cricket match was ₹ 1,500. This year the price has been increased by 18%. What is the price of a ticket this year?

- A) ₹ 1870
B) ₹ 1920
C) ₹ 1770
D) ₹ 1620

E) Answer not known



2015ஆம் ஆண்டு உலகக் கோப்பை கிரிக்கெட் போட்டிக்கான டிக்கெட் விலை ₹ 1,500. இந்த ஆண்டு 18 சதவீதம் விலை உயர்த்தப்பட்டுள்ளது எனில், இந்த ஆண்டு டிக்கெட்டின் விலை என்ன?

- A) ₹ 1870
B) ₹ 1920
C) ₹ 1770
D) ₹ 1620
E) விடை தெரியவில்லை

180. A number is increased by 25% and then decreased by 20%. Find the percentage change in that number.

- A) 5% increase
B) 4% decrease
C) 4% increase
D) No change
E) Answer not known

ஒரு எண் 25% அதிகரிக்கப்பட்டு பின்னர் 20% குறைக்கப்படுகிறது. அந்த எண்ணின் சதவீத மாற்றத்தைக் கண்டறியவும்.

- A) 5% அதிகரிப்பு
B) 4% குறைவு
C) 4% அதிகரிப்பு
D) எந்த மாற்றமும் இல்லை
E) விடை தெரியவில்லை

181. Karun bought a pair of shoes at 25% discount sale. If the amount he paid was ₹ 1000, then find the marked price.

- A) ₹ 1250
B) ₹ 1750
C) ₹ 1333
D) ₹ 1800
E) Answer not known

கருண் ஒரு ஜோடி காலணிகளை 25% தள்ளுபடி விற்பனையில் வாங்கினார். அவர் செலுத்திய தொகை ₹ 1000 எனில், குறிக்கப்பட்ட விலையைக் கண்டறியவும்.

- A) ₹ 1250
B) ₹ 1750
C) ₹ 1333
D) ₹ 1800
E) விடை தெரியவில்லை

182. If the given two numbers are 7% and 28% of a third number respectively, then what percentage is the first to the second number?

- A) 25%
B) 20%
C) 15%
D) 16.66%
E) Answer not known

கொடுக்கப்பட்ட இரண்டு எண்கள் மூன்றாவது எண்ணில் முறையே 7% மற்றும் 28% எனில், முதல் எண்ணானது இரண்டாவது எண்ணில் எத்தனை சதவீதம்?

- A) 25%
B) 20%
C) 15%
D) 16.66%
E) விடை தெரியவில்லை

183. If y % of x is 25 and z % of y is 50 then relation between x and z are

- A) $x = 2z$
B) $x = 4z$
C) $z = 4x$
D) $z = 2x$
E) Answer not known



x இன் y % 25 ஆகவும், y இன் z % 50 ஆகவும் இருந்தால் x மற்றும் z க்கு இடையே உள்ள தொடர்பு என்ன?

- A) $x = 2z$ B) $x = 4z$
C) $z = 4x$ D) $z = 2x$
E) விடை தெரியவில்லை

184. If 60% of $\frac{3}{5}$ th of a number is 36, then find the number

- A) 86 B) 94
C) 100 D) 108
E) Answer not known

ஒர் எண்ணின் 60 சதவீதத்தில் $\frac{3}{5}$ ன் மதிப்பு 36 ஆக இருந்தால், அந்த எண்ணின் மதிப்பைக்

கண்டறியவும்

- A) 86 B) 94
C) 100 D) 108
E) விடை தெரியவில்லை

185. A student multiplied a number by $\frac{3}{5}$ instead of $\frac{5}{3}$. What is the percentage of error in the calculation?

- A) 64% B) 54%
C) 44% D) 34%
E) Answer not known

ஒரு மாணவர் ஒரு எண்ணை $\frac{5}{3}$ க்கு பதிலாக $\frac{3}{5}$ ஆல் பெருக்கினார். கணக்கீட்டில் பிழையின்

சதவீதம் என்ன?

- A) 64% B) 54%
C) 44% D) 34%
E) விடை தெரியவில்லை

186. The value of a machine depreciates by 10% annually. It was bought 3 years ago. If its current value is ₹ 8748, what was its original purchase price?

- A) ₹12,000
B) ₹12,800
C) ₹10,585
D) ₹15,000
E) Answer not known

ஒரு இயந்திரத்தின் மதிப்பு ஆண்டுதோறும் 10% குறைகிறது. இது 3 ஆண்டுகளுக்கு முன்பு வாங்கப்பட்டது. அதன் தற்போதைய மதிப்பு ₹ 8748 எனில், அதன் அசல் கொள்முதல் விலை என்ன?

- A) ₹12,000
B) ₹12,800
C) ₹10,585
D) ₹15,000
E) விடை தெரியவில்லை



187. If A's monthly income is 40% more than that of B. How much percent is B's income less than that of A?

A) $25\frac{3}{7}\%$ B) $28\frac{4}{7}\%$

C) $27\frac{4}{7}\%$ D) $24\frac{4}{7}\%$

E) Answer not known

A-ன் மாத வருமானம் B-ஐ விட 40% அதிகமாக இருந்தால். B-ன் வருமானம் A-ஐ விட எவ்வளவு சதவீதம் குறைவாக இருக்கும்?

A) $25\frac{3}{7}\%$ B) $28\frac{4}{7}\%$

C) $27\frac{4}{7}\%$ D) $24\frac{4}{7}\%$

E) விடை தெரியவில்லை

188. What percent is 15 paise of 2 rupees 70 paise?

A) $5\frac{1}{9}\%$ B) $5\frac{3}{5}\%$

C) 5% D) $5\frac{5}{9}\%$

E) Answer not known

2 ரூபாய் 70 பைசாவில் 15 பைசா என்பது எவ்வளவு சதவீதம்?

A) $5\frac{1}{9}\%$ B) $5\frac{3}{5}\%$

C) 5% D) $5\frac{5}{9}\%$

E) விடை தெரியவில்லை

189. If $\sqrt{3} = 1.732$ and $\sqrt{2} = 1.414$, then the value of inverse of $(\sqrt{3} + \sqrt{2})$

A) 2.146 B) 0.064

C) 0.318 D) 0.235

E) Answer not known

$\sqrt{3}$, = 1.732 மற்றும் $\sqrt{2} = 1.414$ எனில் $(\sqrt{3} + \sqrt{2})$ இன் தலைகீழ் மதிப்பு என்ன?

A) 2.146 B) 0.064

C) 0.318 D) 0.235

E) விடை தெரியவில்லை

190. Which of the following is true ?

I. 2 is a prime number

II. Hemisphere have two great circle

III. The GCD of ab,bc,ca is 1

**Codes:**

- A) I and II only
B) I and III only
C) III only
D) I only
E) Answer not known

பின்வருவனவற்றில் எது/எவை சரியானது ?

I. 2 என்பது பகா எண்

II. அரைக்கோளம் இரண்டு பெரிய வட்டங்களைக் கொண்டுள்ளது

III. ab, bc, ca இன் மீ.பெ.வ 1 ஆகும்.

குறியீடுகள்

- A) I மற்றும் II மட்டும்
B) I மற்றும் III மட்டும்
C) III மட்டும்
D) I மட்டும்
E) விடை தெரியவில்லை

191. If $x + y = 2a$, then the value of $\frac{a}{x-a} + \frac{a}{y-a}$

- A) 1
B) 0
C) -1
D) 2
E) Answer not known

$x + y = 2a$ என்றால், $\frac{a}{x-a} + \frac{a}{y-a}$ ன் மதிப்புக் காண்க

- A) 1
B) 0
C) -1
D) 2
E) விடை தெரியவில்லை

192. Find the value of $\frac{1}{\sqrt{9}-\sqrt{8}} - \frac{1}{\sqrt{8}-\sqrt{7}} + \frac{1}{\sqrt{7}-\sqrt{6}} - \frac{1}{\sqrt{6}-\sqrt{5}} + \frac{1}{\sqrt{5}-\sqrt{4}}$

- A) 1
B) 0
C) 8
D) 5
E) Answer not known

பின்வரும் சமன்பாட்டின் மதிப்புக் காண்க

$$\frac{1}{\sqrt{9}-\sqrt{8}} - \frac{1}{\sqrt{8}-\sqrt{7}} + \frac{1}{\sqrt{7}-\sqrt{6}} - \frac{1}{\sqrt{6}-\sqrt{5}} + \frac{1}{\sqrt{5}-\sqrt{4}}$$

- A) 1
B) 0
C) 8
D) 5
E) விடை தெரியவில்லை

193. If $p = \frac{x}{x+y}$, $q = \frac{y}{x+y}$, then what is the value of $\frac{1}{p-q} - \frac{2q}{(p+q)(p-q)}$

- A) 1
B) x
C) x-y
D) y
E) Answer not known



$p = \frac{x}{x+y}$, $q = \frac{y}{x+y}$, என்றால், $\frac{1}{p-q} - \frac{2q}{(p+q)(p-q)}$ ன் மதிப்பு காண்க

- A) 1
 B) x
 C) x-y
 D) y
 E) விடை தெரியவில்லை

194. In an interschool athletic meet, with total of 24 individual prizes, securing a total of 56 points, a first place secures 5 points, a second place secures 3 points, and a third place secures 1 point. Having as many third place finishers as first and second place finishers, find how many athletes finished in third place.

- A) 4
 B) 8
 C) 12
 D) 9
 E) Answer not known

பள்ளிகளுக்கிடையேயான ஒரு தடகளப் போட்டியில், மொத்த பரிசுகள் 24 கொண்ட தனிநபர் போட்டிகளில் ஒட்டுமொத்தமாக 56 புள்ளிகள் ஒதுக்கப்பட்டுள்ளது. முதலிடம் பெறுபவருக்கு 5 புள்ளிகளும், இரண்டாமிடம் பெறுபவருக்கு 3 புள்ளிகளும், மூன்றாமிடம் பெறுபவருக்கு 1 புள்ளியும் அளிக்கப்படும். மூன்றாமிடம் பெற்றவர்களின் எண்ணிக்கை முதல் மற்றும் இரண்டாம் இடங்களைப் பிடித்தவர்களின் எண்ணிக்கையின் கூடுதலுக்குச் சமம் எனில், மூன்றாமிடம் பெற்றவர்களின் எண்ணிக்கையைக் காண்க.

- A) 4
 B) 8
 C) 12
 D) 9
 E) விடை தெரியவில்லை

195. Simplify $\frac{1}{1 + \frac{\frac{2}{3}}{1 + \frac{2}{3} + \frac{8}{1 - \frac{2}{3}}}}$

- A) 11/13
 B) 13/15
 C) 13/11
 D) 15/13
 E) Answer not known

கருக்குக. $\frac{1}{1 + \frac{\frac{2}{3}}{1 + \frac{2}{3} + \frac{8}{1 - \frac{2}{3}}}}$

- A) 11/13
 B) 13/15
 C) 13/11
 D) 15/13
 E) விடை தெரியவில்லை



196. If $x = 1 - q$ and $y = 2q + 1$, then for what value of q , is equal $y = 4x$?
 A) -1
 B) 0
 C) 0.5
 D) 2
 E) Answer not known

$x = 1 - q$ மற்றும் $y = 2q + 1$ எனில், q இன் எந்த மதிப்பு, $y = 4x$ க்கு சமம்?

- A) -1
 B) 0
 C) 0.5
 D) 2
 E) விடை தெரியவில்லை

197. The value of $\sqrt{2116} = 46$ then find the value of then
 $\sqrt{21.16} + \sqrt{0.2116} + \sqrt{0.002116}$ is

- A) 5.106
 B) 5.116
 C) 5.122
 D) 5.221
 E) Answer not known

$\sqrt{2116} = 46$ எனில் $\sqrt{21.16} + \sqrt{0.2116} + \sqrt{0.002116}$ மதிப்பைக் காண்க

- A) 5.106
 B) 5.116
 C) 5.122
 D) 5.221
 E) விடை தெரியவில்லை

198. If a and b are roots of the equation $3x^2 - 6x + 4 = 0$, find the value of $\frac{a}{b} + \frac{b}{a}$?

- A) -1
 B) 1
 C) 0.5
 D) 2
 E) Answer not known

$3x^2 - 6x + 4 = 0$ சமன்பாட்டின் காரணிகள் a மற்றும் b எனில் $\frac{a}{b} + \frac{b}{a}$ இன் மதிப்பைக்

கண்டறியவும்?

- A) -1
 B) 1
 C) 0.5
 D) 2
 E) விடை தெரியவில்லை

199. The value of $999 \frac{995}{999} \times 999$ is

- A) 998999
 B) 990899
 C) 998996
 D) 999997
 E) Answer not known

$999 \frac{995}{999} \times 999$ ன் மதிப்பைக் காண்க

- A) 998999
 B) 990899
 C) 998996
 D) 999997
 E) விடை தெரியவில்லை



200. If $a + b + c = 0$, the value of $\frac{aa}{bc} + \frac{bb}{ac} + \frac{cc}{ab}$ is

- A) $3abc$ B) 1
C) 3 D) 2
E) Answer not known

$a + b + c = 0$ எனில், $\frac{aa}{bc} + \frac{bb}{ac} + \frac{cc}{ab}$ மதிப்பு காண்க

- A) $3abc$ B) 1
C) 3 D) 2
E) விடை தெரியவில்லை



SHANKAR
IAS ACADEMYTM
Best Academy for Civil Services Exam Coaching

SPACE FOR ROUGH WORK

SHANKAR IAS ACADEMY
www.Padasalai.Net



**SHANKAR
IAS ACADEMY™**
Best Academy for Civil Services Exam Coaching

SPACE FOR ROUGH WORK

SHANKAR IAS ACADEMY
www.Padasalai.Net



வினாத்தொகுப்பு எண் :

பதிவு எண்

2024
பொதுத் தமிழ்
(பத்தாம் வகுப்பு தரம்)
Test - 16

கால அளவு : 3.00 மணி நேரம்]

[மொத்த மதிப்பெண்கள் : 300

வினாக்களுக்கு பதிலளிக்கும் முன் கீழ்க்கண்ட அறிவுரைகளை கவனமாகப் படிக்கவும்

முக்கிய அறிவுரைகள்

- இந்த வினாத்தொகுப்பு, தேர்வு தொடங்குவதற்கு 15 நிமிடங்களுக்கு முன்னதாக உங்களுக்கு வழங்கப்படும்.
- இந்த வினாத்தொகுப்பு, **200** வினாக்களைக் கொண்டுள்ளது. விடையளிக்கத் தொடங்கும் இவ்வினாத் தொகுப்பில் எல்லா வினாக்களும் வரிசையாக இடம் பெற்றுள்ளனவா என்பதையும், இடையில் வெற்றுத்தாள்கள் எவையும் இல்லை என்பதையும் உறுதி செய்து கொள்ளவும். வினாத் தொகுப்பில் ஏதேனும் குறைபாடு இருப்பின், அதனை முதல் பத்து நிமிடங்களுக்குள் அறைக்கண்காணிப்பாளரிடம் தெரிவித்து, சரியாக உள்ள வேறொரு வினாத் தொகுப்பினை பெற்றுக்கொள்ள வேண்டும். தேர்வு தொடங்கிய பின்பு, இது குறித்து முறையிட்டால் வினாத் தொகுப்பு மாற்றித் தரப்படமாட்டாது.
- எல்லா வினாக்களுக்கும் விடையளிக்கவும், எல்லா வினாக்களும் சமமான மதிப்பெண்கள் கொண்டவை.
- உங்களுடைய பதிவு எண்ணை இந்தப் பக்கத்தின் வலது மேல் மூலையில் அதற்கென அமைந்துள்ள இடத்தில் நீங்கள் எழுத வேண்டும். வேறு எதையும் வினாத் தொகுப்பில் எழுதக் கூடாது.
- விடைத்தாள் ஒன்று விடைகளை குறிப்பதற்கு அறைக்கண்காணிப்பாளரால் உங்களுக்கு வழங்கப்படும். விடைகளைக் குறிப்பது உள்ளிட்ட அவசியம் பின்பற்றப்பட வேண்டிய அறிவுரைகள் விடைத்தாளிலும், தேர்வுக்கூட அனுமதிச் சீட்டிலும் வழங்கப்பட்டுள்ளன.
- உங்களுடைய வினாத்தொகுப்பு, எண்ணை (Question Booklet Number) விடைத்தாளின் முதல் பக்கத்தில் அதற்கென அமைந்துள்ள இடத்தில் **கருமை நிற மையடைய பந்துமுனைப் பேனாவினால்** குறித்துக் காட்ட வேண்டும். வினாத்தொகுப்பு எண்ணை விடைத்தாளில் சரியாகக் குறித்துக் காட்டத் தவறினாலோ அல்லது குறிக்கத் தவறினாலோ உங்களுடைய விடைத்தாள் செல்லாததாகக்கப்படும்.
- ஒவ்வொரு வினாவும் A), (B), (C), (D), (E) என ஐந்து பதில்களைக் (விடைகள்) கொண்டுள்ளது. நீங்கள் A) அல்லது B) அல்லது C) அல்லது D) இவைகளில் ஒரே ஒரு சரியான விடையைத் தெரிவு செய்து விடைத்தாளில் குறித்துக்காட்ட வேண்டும். ஒரு கேள்விக்கு ஒன்றுக்கு மேற்பட்ட சரியான விடை இருப்பதாக நீங்கள் கருதினால், மிகச்சரியானது என நீங்கள் எதைக் கருதுகிறீர்களோ அந்த விடையை விடைத்தாளில் குறித்துக்காட்ட வேண்டும். உங்களுக்கு விடை தெரியவில்லை எனில், நீங்கள் (E) என்பதை அவசியம் நிரப்ப வேண்டும். எப்படியாயினும், ஒரு கேள்விக்கு ஒரே ஒரு விடையைத் தான் தேர்ந்தெடுக்க வேண்டும். நீங்கள் ஒரு கேள்விக்கு ஒன்றுக்கு மேற்பட்ட விடையளித்தால், அவற்றுள் ஒரு விடை சரியானதாக இருந்தாலும் அந்த விடை தவறானதாகவே கருதப்படும்.
- நீங்கள் வினாத் தொகுப்பின் எந்தப் பக்கத்தையும் நீக்கவோ அல்லது கிழிக்கவோ கூடாது. தேர்வு நேரத்தில் இந்த வினாத் தொகுப்பினையோ அல்லது விடைத்தாளையோ தேர்வு அறையை விட்டு வெளியில் எடுத்துச் செல்லக் கூடாது. தேர்வு முடிந்தபின் நீங்கள் உங்களுடைய விடைத்தாளை கண்காணிப்பாளரிடம் கொடுத்து விட வேண்டும். இவ்வினாத் தொகுப்பினை தேர்வு முடிந்த பின்னர் மட்டுமே நீங்கள் எடுத்துச் செல்ல அனுமதிக்கப்படுவீர்கள்.
- குறிப்புகள் எழுதிப்பார்ப்பதற்கு வினாத்தொகுப்பின் கடைசி பக்கத்திற்கு முன் உள்ள பக்கங்களை பயன்படுத்திக் கொள்ளலாம். இதைத்தவிர வினாத்தொகுப்பின் எந்த இடத்திலும் எந்தவித குறிப்புகளையும் எழுதக்கூடாது. இந்த அறிவுரை கண்டிப்பாக பின்பற்றப்படவேண்டும்.
- வினா வரிசை எண்கள் 101 முதல் 200 வரை (பகுதி - ஆ) ஆங்கில வடிவே இறுதியானது.
- நீங்கள் மேற்கண்ட அறிவுரைகளில் எவற்றையாவது பின்பற்றத் தவறினால் தேர்வாணையம் எடுக்கும் நடவடிக்கைகளுக்கு உள்ளாக நேரிடும் என அறிவுறுத்தப்படுகிறது.

↪

[Turn over

 For queries mail to For queries mail to : zerofeedback@shankariasacad.in; [Turn over

 Kindly Send Me Your Key Answer to Our email id - Padasalai.net@gmail.com



பகுதி - அ — பொதுத் தமிழ் (பத்தாம் வகுப்பு தரம்)

Part A — General Tamil (SSLC Std)

வினாக்கள் : 1-200

மொத்த மதிப்பெண்கள் : 300

Test 16

Questions : 1-200

Total Marks : 300

- ஒரு பொருள் தரும் பல சொற்களைக் கண்டறிக.

A) பகுபதம், பகாபதம்	B) பதம், மொழி
C) கிளவி, கிழவி	D) இயற்சொல், திரிசொல்
E) விடை தெரியவில்லை	
- ஒலி மற்றும் பொருள் வேறுபாடறிந்து பொருள் தருக.

(மணம்)	(மணம்)
A) வாசனை – உள்ளம்	
B) உள்ளம் – வாசனை	
C) திருமணம் – நெஞ்சம்	
D) அழகி – மணத்தல்	
E) விடை தெரியவில்லை	
- உள்ளுவது + எல்லாம் என்பதனைச் சேர்ந்து எழுதக் கிடைக்கும் சொல் எது?

A) உள்ளுவது எல்லாம்	B) உள்ளுவதெல்லாம்
C) உள்ளுவத்தெல்லாம்	D) உள்ளுவதுதெல்லாம்
E) விடை தெரியவில்லை	
- வரிசை மாறியுள்ள சொற்களைச் சரியாக வரிசைப்படுத்துக.

A) பறவைகள் இடம்பெயர்தல் எனப்படும் வலசை போதல்
B) பறவைகள் எனப்படும் வலசை போதல் இடம்பெயர்தல்
C) வலசை போதல் இடம்பெயர்தல் பறவைகள் எனப்படும்
D) பறவைகள் இடம்பெயர்தல் வலசை போதல் எனப்படும்
E) விடை தெரியவில்லை
- பின்வரும் கூற்றுகளை கருத்தில் கொள்க.

கூற்று (A) : பாரதிதாசன் 'புரட்சிக்கவி' என்று போற்றப்படுகிறார்

காரணம் (R) : பாரதிதாசன் 'புரட்சிக்கவி' என்ற காப்பியத்தை இயற்றினார்

குறியீடுகள்:

A) (A) மற்றும் (R) இரண்டும் சரி மற்றும் (R) என்பது (A)-யின் சரியான விளக்கமாகும்
B) (A) மற்றும் (R) இரண்டும் சரி ஆனால் (R) என்பது (A)-யின் சரியான விளக்கமல்ல
C) (A) சரி ஆனால் (R) தவறு
D) (A) தவறு ஆனால் (R) சரி
E) விடை தெரியவில்லை



6. தவறாக பிரிந்துள்ள சொல்லைத் தேர்ந்தெடுக்க.
- A) செம்பயிர் = செம்மை + பயிர்
B) அமுதென்று = அமுது + என்று
C) நிலவென்று = நிலவு + அன்று
D) தமிழெங்கள் = தமிழ் + எங்கள்
E) விடை தெரியவில்லை
7. தவறாக பிரிந்துள்ள சொல்லைத் தேர்ந்தெடுக்க.
- A) வானொலி = வானம் + ஒலி
B) குரலாகும் = குரல் + ஆகும்
C) காட்டாறு = காடு + ஆறு
D) வாசலலங்காரம் = வாசல் + அலங்காரம்
E) விடை தெரியவில்லை
8. தவறான இணையைத் தேர்ந்தெடுக்க.
- | (கவிஞர்) | (சிறப்புப் பெயர்) |
|----------------------|-------------------|
| A) வெ. இராமலிங்கனார் | - காந்தியக்கவிஞர் |
| B) சுரதா | - உவமைக்கவிஞர் |
| C) தாராபாரதி | - மக்கள் கவிஞர் |
| D) பாரதியார் | - தேசியக்கவி |
| E) விடை தெரியவில்லை | |
9. “கண்ணகி புரட்சிக் காப்பியம்” என்ற நூலினை இயற்றியவர் யார்?
- A) நாமக்கல் கவிஞர்
B) பாரதிதாசன்
C) தேனரசன்
D) பாரதியார்
E) விடை தெரியவில்லை
10. “தமிழே உன்னை நினைக்கும் தமிழன் என் நெஞ்சம் இனிக்கும் இனிக்கும்” என்று பாடியவர் யார்?
- A) து. அரங்கன்
B) சுத்தானந்த பாரதி
C) காசி ஆனந்தன்
D) மகாகவி
E) விடை தெரியவில்லை
11. “தனித்தமிழையும் தமிழுணர்வையும் பரப்பிய பாவலர்” யார்?
- A) வெ. இராமலிங்கனார்
B) சுரதா
C) பட்டுக்கோட்டை கல்யாண சுந்தரனார்
D) பாவலரேறு பெருஞ்சித்திரனார்
E) விடை தெரியவில்லை



12. பொருத்துக.

(சொல்)

(இடம்பெற்ற நூல்)

- | | |
|------------|------------------------|
| a) பாம்பு | 1. பதிற்றுப்பத்து |
| b) வெள்ளம் | 2. குறுந்தொகை |
| c) உலகம் | 3. அகநானூறு |
| d) மருந்து | 4. தொல்காப்பியம் |
| e) பார் | 5. பெரும்பாணாற்றுப்படை |

குறியீடுகள்:

	a	b	c	d	e
A)	1	3	5	2	1
B)	2	1	4	3	5
C)	5	2	4	3	1
D)	4	2	3	5	1

E) விடை தெரியவில்லை

13. “தொன்மை” எனும் சொல்லின் பொருள் யாது?

- | | |
|---------------------|-----------|
| A) புதுமை | B) பெருமை |
| C) பழமை | D) சீர்மை |
| E) விடை தெரியவில்லை | |

14. “பாவலரேறு பெருஞ்சித்திரனார்” பற்றிய பின்வரும் கூற்றுகளைக் கருத்தில் கொள்க.

I. இவரது இயற்பெயர் மாணிக்கம்.

II. கனிச்சாறு, கொய்யாக்கனி, பாவியக்கொத்து, நூறாசிரியம் முதலான நூல்களை இயற்றியுள்ளார்.

III. தென்மொழி, தமிழ்ச்சிட்டு, தமிழ்நிலம் ஆகிய இதழ்களை நடத்தினார்.

மேற்கண்ட கூற்றுகளில் சரியானவை எவை?

- | | |
|--------------------------|---------------------------|
| A) I மற்றும் II மட்டும் | B) II மற்றும் III மட்டும் |
| C) I மற்றும் III மட்டும் | D) மேற்கண்ட அனைத்தும் |
| E) விடை தெரியவில்லை | |

15. பின்வரும் கூற்றுகளுள் தவறான கூற்றினைத் தேர்ந்தெடுக்க.

- A) தமிழ் இலக்கியங்கள் இனிமையானவை. ஓசை இனிமை, சொல் இனிமை, பொருள் இனிமை கொண்டவை.
- B) “என்று பிறந்தவள் என்று உணராத இயல்பினளாம் எங்கள் தாய்” என்று பாரதியார் பாடியுள்ளார்.
- C) இலக்கணம் தோன்றிய பிறகே அதற்குரிய இலக்கிய விதிகள் தோன்றியிருக்க வேண்டும்.
- D) தொல்காப்பியம் தமிழில் நமக்குக் கிடைத்துள்ள மிகப் பழமையான இலக்கண நூல் ஆகும்.
- E) விடை தெரியவில்லை



16. பொருத்துக.

(மேற்கோள்)

- a) தமிழென் கிளவியும் அதனோ ரற்றே
b) இமிழ்கடல் வேலியைத் தமிழ்நாடு ஆக்கிய
c) தமிழன் கண்டாய்
d) தமிழ்கெழு கூடல்

(முதலில் ஆளப்படும் இலக்கியம்)

1. தேவாரம்
2. தொல்காப்பியம்
3. சிலப்பதிகாரம்
4. புறநானூறு

குறியீடுகள்:

	a	b	c	d
A)	2	3	1	4
B)	1	2	3	4
C)	3	2	1	4
D)	2	1	3	4

E) விடை தெரியவில்லை

17. பொருத்துக.

- a) நன்னூல்
b) பத்துப்பாட்டு
c) திருக்குறள்
d) மணிமேகலை

1. அறநூல்கள்
2. காப்பியம்
3. சங்க இலக்கியம்
4. இலக்கண நூல்

குறியீடுகள்:

	a	b	c	d
A)	1	3	4	2
B)	4	3	1	2
C)	3	2	1	4
D)	4	1	2	3

E) விடை தெரியவில்லை

18. உரைநடை வடிவங்களுள் பொருந்தாத ஒன்றைத் தேர்ந்தெடுக்க.

- A) கட்டுரை
B) புதினம்
C) துளிப்பா
D) சிறுகதை
E) விடை தெரியவில்லை

19. பின்வருவனவற்றுள் தவறான இணையைத் தேர்ந்தெடுக்க.

(தாவரம்)

(இலைப்பெயர்)

- A) அரசு – இலை
B) பசலை – கீரை
C) கரும்பு – மடல்
D) கமுகு – கூந்தல்
E) விடை தெரியவில்லை



20. “மா” என்னும் ஒரு சொல்லின் பொருள் அல்லாத ஒன்றினைத் தேர்ந்தெடுக்க.
A) வயல் B) வண்டு
C) உலகம் D) துகள்
E) விடை தெரியவில்லை
21. பாகற்காய் என்னும் சொல்லைப் பிரித்தெழுதக் கிடைப்பது
A) பாகம் + காய் B) பாகத்து + காய்
C) பா + கல் + காய் D) பாகு + அல் + காய்
E) விடை தெரியவில்லை
22. மொழியைக் கணினியில் பயன்படுத்த வேண்டுமென்றால் அது எதன் அடிப்படையில் வடிவமைக்கப்பட வேண்டும்?
A) எண்களின் B) சொற்களின்
C) ஆங்கிலத்தின் D) வடிவங்களின்
E) விடை தெரியவில்லை
23. தவறான இணையைக் தேர்ந்தெடுக்க.
(தொடர்) (இடம்பெற்ற நூல்)
A) நெடு வெள்ளூசி நெடு வசி பரந்த வடு – பரிபாடல்
B) கடல்நீர் முகந்த கமஞ்சும் எழிலி – கார்நாற்பது
C) கோட்சுறா எறிந்தெனச் சுருங்கிய நரம்பின் முடிமுதிர் பரதவர் – நற்றிணை
D) நிலம் தீ நீர் வளி விசும்போடு ஐந்தும் கலந்த மயக்கம் உலகம் ஆதலின் – தொல்காப்பியம்
E) விடை தெரியவில்லை
24. “தினையளவு போதாச் சிறுபுல்நீர் நீண்ட பனையளவு காட்டும்” என்று பாடியவர் யார்?
A) ஒளவையார் B) கபிலர்
C) திருவள்ளுவர் D) தொல்காப்பியம்
E) விடை தெரியவில்லை
25. “சிலப்பதிகாரம்” பற்றிய பின்வரும் கூற்றுகளுள் பொருந்தாத ஒன்றைத் தேர்ந்தெடுக்க.
A) ஐம்பெருங்காப்பியங்களுள் ஒன்று சிலப்பதிகாரம். இதுவே தமிழின் முதல் காப்பியமாகும்.
B) இது முத்தமிழ்க் காப்பியம், குடிமக்கள் காப்பியம் என்றெல்லாம் போற்றப்படுகிறது
C) சிலப்பதிகாரமும் மணிமேகலையும் இரட்டைக் காப்பியங்கள் என்று அழைக்கப்படுகின்றன
D) கி.பி. நான்காம் நூற்றாண்டில் இயற்றப்பட்டது. இந்நூலை இயற்றியவர் இளங்கோவடிகள். இவர் சேர மன்னர் மரபைச் சேர்ந்தவர் என்று சிலப்பதிகாரப் பதிகம் கூறுகிறது
E) விடை தெரியவில்லை



26. “வலசைபோதல்” பற்றிய பின்வரும் கூற்றுகளுள் பொருந்தாத ஒன்றைத் தேர்ந்தெடுக்க.
- A) பறவைகள் இடம்பெயர்தலை வலசை போதல் என்பர். நிலவாழ் பறவைகளே பெரும்பாலும் வலசை போகின்றன.
- B) உணவு, இருப்பிடம், தட்பவெப்பநிலை மாற்றம், இனப்பெருக்கம் இவற்றிற்காகவே பறவைகள் இடம்பெயர்கின்றன.
- C) நிலவு, விண்மீண், புவிஈர்ப்புப் புலம் ஆகியவற்றை அடிப்படையாகக் கொண்டே பறவைகள் இடம் பெயர்கின்றன.
- D) பொதுவாக வடக்கிலிருந்து தெற்கு நோக்கியும், மேற்கிலிருந்து கிழக்கு நோக்கியும் பறவைகள் வலசை போகின்றன.
- E) விடை தெரியவில்லை
27. வலசையின்போது பறவையின் உடலில் ஏற்படும் மாற்றங்களுள் பொருந்தாத ஒன்றைத் தேர்ந்தெடுக்க.
- A) தலையில் சிறகு வளர்தல்
- B) உடலின் எடை அதிகரித்தல்
- C) உடலில் கற்றையாக முடிவளர்தல்
- D) இறகுகளின் நிறம் மாறுதல்
- E) விடை தெரியவில்லை
28. உலகிலேயே நெடுந்தொலைவு பயணம் செய்யும் பறவையினம் எது?
- A) ஆர்டிக் ஆலா
- B) கப்பல் கூழைக்கடா
- C) கடற்கொள்ளைப் பறவை
- D) செந்நாரை
- E) விடை தெரியவில்லை
29. உலகச் சிட்டுக்குருவிகள் நாள் எப்போது அனுசரிக்கப்படுகிறது?
- A) மார்ச் ௨௧
- B) மார்ச் ௨௦
- C) மார்ச் ௧௨
- D) மார்ச் ௩௦
- E) விடை தெரியவில்லை
30. பின்வரும் கூற்றுகளைக் கருத்தில் கொள்க.
- I. “கிழவனும் கடலும்” என்னும் ஆங்கிலப் புதினம் தமிழில் மொழிபெயர்க்கப்பட்டுள்ளது.
- II. “கிழவனும் கடலும்” என்னும் இந்நூலின் ஆசிரியர் எர்னெஸ்ட் ஹெமிங்வே. இந்நூல் 1954 ஆம் ஆண்டு நோபல் பரிசு பெற்றது.
- மேற்கண்ட கூற்றுகளில் சரியானது எது/எவை?
- A) I மட்டும்
- B) II மட்டும்
- C) இரண்டும்
- D) இரண்டுமில்லை
- E) விடை தெரியவில்லை
31. “ஆய்தம்” பற்றிய பின்வரும் கூற்றுகளுள் பொருந்தாத ஒன்றைத் தேர்ந்தெடுக்க.
- A) முப்புள்ளி, முப்பாற்புள்ளி, தனிநிலை, அஃகேனம் என்ற வேறு பெயர்களும் இதற்கு உண்டு.
- B) நுட்பமான ஒலிப்புமுறையை உடையது.
- C) தனக்குமுன் ஒரு குறில் எழுத்தையும் தனக்குப்பின் ஒரு வல்லின உயிர்மெய் எழுத்தையும் பெற்றுச் சொல்லின் இடையில் மட்டுமே வரும்.
- D) முதல் எழுத்துகளாகிய உயிரையும், மெய்யையும் சார்ந்து இயங்குவதால் ஆய்தஎழுத்து முதலெழுத்து ஆகும்.
- E) விடை தெரியவில்லை



32. ஒலி வேறுபாடறிந்து பொருள் தருக.

(புல்) (புள்)

- A) தாவரம் பறவை
B) தாவரம் பரவை
C) பறவை தாவரம்
D) பரவை தாவரம்
E) விடை தெரியவில்லை

33. கலைச்சொல் தருக – Climate

- A) தட்பவெப்பநிலை
B) வானிலை
C) புகலிடம்
D) புவிஈர்ப்புப்பலம்
E) விடை தெரியவில்லை

34. கனி இருக்கும்போது காயை உண்பது எதனைப் போன்றது?

- A) அன்புடையவராக இருத்தல்
B) அப்பில்லாதவராக வாழ்தல்
C) இனிய சொற்களைப் பேசுதல்
D) இன்னாச்சொல் பேசுவது
E) விடை தெரியவில்லை

35. “விண்இன்று பொய்ப்பின் விரிநீர் வியனுலகத்து” – இக்குறட்பாவில் அமையப்பெற்றுள்ள மோனை எது?

- A) மேற்கதுவாய் மோனை
B) கீழ்க்கதுவாய் மோனை
C) ஒருஉ மோனை
D) கூழை மோனை
E) விடை தெரியவில்லை

36. நெல்லை சு. முத்து பற்றிய பின்வரும் கூற்றுகளைக் கருத்தில் கொள்க.

- I. “தம்மை ஒத்த அலைநீளத்தில் சிந்திப்பவர்” என்று மேதகு அப்துல்கலாம் அவர்களால் பாராட்டப் பெற்றார்.
II. “அறிவியல் ஆத்திசூடி” என்னும் நூலினை இயற்றியுள்ளார்.
மேற்கண்ட கூற்றுகளில் சரியானது எது/எவை?

- A) I மட்டும்
B) II மட்டும்
C) இரண்டும்
D) இரண்டுமில்லை
E) விடை தெரியவில்லை

37. சொல்லோடு பொருளைப் பொருத்துக.

- a) ஒளடதம் 1. கருணை
b) அளி 2. உலகம்
c) திகிரி 3. மருந்து
d) மேதினி 4. ஆணைச்சக்கரம்

குறியீடுகள்:

- | | a | b | c | d |
|----|----------|----------|----------|----------|
| A) | 3 | 1 | 4 | 2 |
| B) | 1 | 4 | 2 | 3 |
| C) | 4 | 3 | 2 | 1 |
| D) | 2 | 4 | 1 | 3 |
- E) விடை தெரியவில்லை



38. பின்வரும் கூற்றுகளைக் கருத்தில் கொள்க.
I. உயிர் எழுத்துகள் பன்னிரண்டும் சொல்லின் முதலில் வரும்.
II. ங வரிசையில் 'ங' என்னும் ஓர் எழுத்து மட்டுமே சொல்லின் முதலில் வரும்.
III. மெய்யெழுத்துகள் பதினெட்டும் சொல்லின் முதலில் வரும்.
IV. ஆய்த எழுத்து சொல்லின் முதலில் வராது.
மேற்கண்ட கூற்றுகளில் சரியானவை எவை?
A) I, II மற்றும் III மட்டும்
B) II, III மற்றும் IV மட்டும்
C) I, II மற்றும் IV மட்டும்
D) மேற்கண்ட அனைத்தும்
E) விடை தெரியவில்லை
39. "மன்னனும் மாசறக் கற்றோனும் சீர்தூக்கின் மன்னனின் கற்றோன் சிறப்புடையன்" என்ற தொடர் இடம்பெற்றுள்ள நூல் எது?
A) நாலடியார்
B) புறநானூறு
C) மூதுரை
D) நல்வழி
E) விடை தெரியவில்லை
40. துன்பத்தை வெல்லும் கல்வி கற்றிட வேணும் - நீ சோம்பலைக் கொல்லும் திறன் பெற்றிட வேணும் - என்ற பாடல் வரியை எழுதியவர் யார்?
A) கண்ணதாசன்
B) முடியரசன்
C) பட்டுக்கோட்டை கல்யாணசுந்தரம்
D) தாராபாரதி
E) விடை தெரியவில்லை
41. "கைப்பொருள்" என்னும் சொல்லைப் பிரித்து எழுதக் கிடைப்பது
A) கையில் + பொருள்
B) கைப் + பொருள்
C) கை + பொருள்
D) கைப்பு + பொருள்
E) விடை தெரியவில்லை
42. காமராசருக்கு செய்த சிறப்புகளுள் பொருந்தாத ஒன்றைத் தேர்ந்தெடுக்க.
A) மதுரைப் பல்கலைக்கழகத்திற்கு மதுரை காமராசர் பல்கலைக்கழகம் எனப் பெயர் சூட்டப்பட்டுள்ளது.
B) சென்னையில் உள்ள வெளிநாட்டு விமான நிலையத்திற்குக் காமராசர் பெயர் சூட்டப்பட்டுள்ளது.
C) ஆண்டுதோறும் காமராசர் பிறந்த நாளான ஜூலை பதினைந்தாம் நாள் கல்வி வளர்ச்சி நாளாகக் கொண்டாடப்படுகிறது.
D) நடுவண் அரசு 1976இல் பாரதரத்னா விருது வழங்கியது.
E) விடை தெரியவில்லை
43. பொருத்துக
(பள்ளி) (தூரம்)
a) ஆரம்பப்பள்ளி 1. 5 மைல்
b) நடுநிலைப்பள்ளி 2. 1 மைல்
c) உயர்நிலைப்பள்ளி 3. 3 மைல்



குறியீடுகள்:

a b c

A) 2 3 1

B) 1 2 3

C) 3 2 1

D) 2 1 3

E) விடை தெரியவில்லை

44. தவறாக சேர்ந்துள்ள சொல்லைத் தேர்ந்தெடுக்க.

A) காடு + ஆறு – காடாறு

B) படிப்பு + அறிவு – படிப்பறிவு

C) பசி + இன்றி – பசியின்றி

D) மானம் + இல்லா – மானமில்லா

E) விடை தெரியவில்லை

45. அறிஞர் அண்ணா நூற்றாண்டு நூலகத்தளத்தோடு பிரிவுகளைப் பொருத்துக்

(தளம்)

(பிரிவு)

a) முதல் தளம்

1. வணிகவியல்

b) இரண்டாம் தளம்

2. தமிழ் நூல்கள்

c) மூன்றாம் தளம்

3. கணிதம்

d) நான்காம் தளம்

4. அரசியல் நூல்கள்

e) ஐந்தாம் தளம்

5. குழந்தைகள் பிரிவு

குறியீடுகள்:

a b c d e

A) 1 4 5 3 2

B) 4 5 2 3 1

C) 5 2 4 1 3

D) 3 1 4 2 5

E) விடை தெரியவில்லை

46. பின்வரும் கூற்றுகளைக் கருத்தில் கொள்க.

I. தமிழக அரசு நடமாடும் நூலகம் என்னும் திட்டத்தைத் தொடங்கியுள்ளது.

II. சிறந்த நூலகர்களுக்கு அறிஞர் அண்ணா நூலக விருது வழங்கப்படுகிறது.

மேற்கண்ட கூற்றுகளில் சரியானது எது/எவை?

A) I மட்டும்

B) II மட்டும்

C) இரண்டும்

D) இரண்டுமில்லை

E) விடை தெரியவில்லை



47. “இனஎழுத்து” பற்றிய தவறான கூற்றினைத் தேர்ந்தெடுக்க.
 A) ஐ என்னும் எழுத்துக்கு இ என்பது இன எழுத்தாகும்.
 B) ஓள என்னும் எழுத்துக்கு உ என்பது இன எழுத்தாகும்.
 C) தமழ் எழுத்துகளில் ஆய்த எழுத்துக்கு மட்டுமே இன எழுத்து இல்லை.
 D) சொல்லில் உயிர் எழுத்துகள் சேர்ந்தே வரும்.
 E) விடை தெரியவில்லை
48. மெல்லினத்திற்கான இன எழுத்து இடம்பெறாத சொல் எது?
 A) மஞ்சள்
 B) வந்தான்
 C) கண்ணில்
 D) தம்பி
 E) விடை தெரியவில்லை
49. பொருத்துக.
 a) E-mail 1. மின் நூல்
 b) E-Library 2. மின் இதழ்கள்
 c) E-Book 3. மின் நூலகம்
 d) E-Magazine 4. மின்னஞ்சல்
- குறியீடுகள்:

	a	b	c	d
A)	1	3	4	2
B)	4	3	1	2
C)	3	2	1	4
D)	1	4	3	2

 E) விடை தெரியவில்லை
50. “ஆற்றுணா வேண்டுவது இல்” என்ற பழமொழி நானூறு தொடர் உணர்த்துவது யாது?
 A) இல்லறத் துறவு
 B) கற்றவர் பெருமை
 C) தவ வலிமை
 D) உண்ணா நோன்பு
 E) விடை தெரியவில்லை
51. தாலாட்டு பற்றிய பின்வரும் கூற்றுகளைக் கருத்தில் கொள்க.
 I. தால் என்பதற்கு நாக்கு என்று பொருள். நாவை அசைத்துப் பாடுவதால் தாலாட்டு (தால் + ஆட்டு) என்று பெயர் பெற்றது.
 II. வாயில் இலக்கியங்களுள் ஒன்று.
 III. குழந்தையின் அழுகையை நிறுத்தவும் தூங்க வைக்கவும் இனிய ஓசையுடன் பாடும் பாடல் தாலாட்டு.
 மேற்கண்ட கூற்றுகளில் சரியானவை எவை?
 A) I மற்றும் II மட்டும்
 B) II மற்றும் III மட்டும்
 C) I மற்றும் III மட்டும்
 D) மேற்கண்ட அனைத்தும்
 E) விடை தெரியவில்லை



52. “ஆசாரக்கோவை” பற்றிய பின்வரும் கூற்றுகளைக் கருத்தில் கொள்க.
I. இதன் ஆசிரியர் பெருவாயின் முள்ளியார்.
II. இந்நூல் பதினென்கீழ்க்கணக்கு நூல்களுள் ஒன்று.
III. இந்நூலில் முப்பத்தொரு வெண்பாக்களைக் கொண்டது.
மேற்கண்ட கூற்றுகளில் சரியானவை எவை?
A) I மற்றும் II மட்டும்
B) II மற்றும் III மட்டும்
C) I மற்றும் III மட்டும்
D) மேற்கண்ட அனைத்தும்
E) விடை தெரியவில்லை
53. பொறையுடைமை என்னும் சொல்லைப் பிரித்து எழுதக் கிடைப்பது
A) பொறுமை + உடைமை
B) பொறை + யுடைமை
C) பொறு + யுடைமை
D) பொறை + உடைமை
E) விடை தெரியவில்லை
54. முத்தேன் என்பது
A) செடித்தேன், கொம்புத்தேன், கொசுத்தேன்
B) செடித்தேன், கொம்புத்தேன், மலைத்தேன்
C) செடித்தேன், மலைத்தேன், கொசுத்தேன்
D) கொம்புத்தேன், மலைத்தேன், கொசுத்தேன்
E) விடை தெரியவில்லை
55. அறுவடைத்திருநாளினை “மகரசங்கராந்தி” என்ற பெயரில் கொண்டாடிவரும் மாநிலங்களுள் பொருந்தா ஒன்றினைத் தேர்ந்தெடு.
A) கர்நாடகம்
B) மராட்டியம்
C) குஜராத்
D) உத்திரப்பிரதேசம்
E) விடை தெரியவில்லை
56. “மாமல்லபுரம் சிற்பங்கள்” பற்றிய பின்வரும் கூற்றுகளைக் கருத்தில் கொள்க.
I. பஞ்சபாண்டவர் இரதம் என்றழைக்கப்படும் இரதக் கோவில் ஒரே பாறையில் செதுக்கப்பட்ட கோவில் ஆகும்.
II. கி.பி. ஏழாம் நூற்றாண்டில் மாமல்லனால் கட்டப்பட்டது.
III. குடைவரைக் கோயில்கள், கட்டுமானக் கோயில்கள், ஒற்றைக்கல் கோயில்கள், புடைப்புச் சிற்பங்கள் ஆகிய நான்கு வகைச் சிற்பங்களும் காணப்படும் ஒரே இடம் மாமல்லபுரம் ஆகும்.
மேற்கண்ட கூற்றுகளில் சரியானவை எவை?
A) I மற்றும் II மட்டும்
B) II மற்றும் III மட்டும்
C) I மற்றும் III மட்டும்
D) மேற்கண்ட அனைத்தும்
E) விடை தெரியவில்லை



57. பின்வருவனவற்றுள் தவறான இணையைத் தேர்ந்தெடுக்க.
(ஆங்கிலச் சொல்) (தமிழ்ச்சொல்)
- A) Sculptures – சிற்பங்கள்
B) Chips – திண்பண்டங்கள்
C) Make up – ஒப்பனை
D) Tiffin – சிற்றுண்டி
E) விடை தெரியவில்லை
58. களவு மூலம் சேர்க்கப்படும் செல்வம் எவ்வாறு கெடும்?
A) சிறிது சிறிதாக அழியும்
B) ஆவது போலக் கெடும்
C) முற்றிலும் கெடும்
D) கெடுவது போல ஆவது
E) விடை தெரியவில்லை
59. “சொல்லுக சொல்லில் பயனுடைய சொல்லற்க”
– இச்சொல்லில் பயின்ற வந்துள்ள எதுகை யாது?
A) மேற்கதுவாய்
B) கீழ்க்கதுவாய்
C) ஒருஉ
D) கூழை
E) விடை தெரியவில்லை
60. முடியரசன் பற்றிய பின்வரும் கூற்றுகளைக் கருத்தில் கொள்க.
I. இவரது இயற்பெயர் துரை.மாணிக்கம்.
II. இவர் பூங்கொடி, வீரகாவியம், காவியப்பாவை முதலிய நூல்களை எழுதியுள்ளார்.
III. திராவிட நாட்டின் வானம்பாடி என்று பாராட்டப்பெற்றவர்.
மேற்கண்ட கூற்றுகளில் சரியானவை எவை?
A) I மற்றும் II மட்டும்
B) II மற்றும் III மட்டும்
C) I மற்றும் III மட்டும்
D) மேற்கண்ட அனைத்தும்
E) விடை தெரியவில்லை
61. பின்வரும் கூற்றுகளை கருத்தில் கொள்க.
I. உழைக்கும் மக்கள் தம் களைப்பை மறக்க உற்சாகத்துடன் பாடும் பாடலே நாட்டுப்புறப் பாடலாகும். வாய்மொழியாகவே வழங்கப்பட்டு வருவதால் இதனை ‘வாய்மொழி இலக்கியம்’ என்பர்.
II. ஏற்றப்பாட்டு, ஓடப்பாட்டு முதலான தொழில் பாடல்களும் விளையாட்டுப் பாடல்கள், தாலாட்டுப் பாடல்கள் முதலியனவும் நாட்டுப்புறப் பாடல்களுள் அடங்கும்.
III. நாட்டுப்புறபாடல்களை தொகுத்து ‘நாட்டுப்புற இயல் ஆய்வு’ என்னும் நூலினை சு. சக்திவேல் இயற்றியுள்ளார்.
மேற்கண்ட கூற்றுகளில் சரியானவை எவை?
A) I மற்றும் II மட்டும்
B) II மற்றும் III மட்டும்
C) I மற்றும் III மட்டும்
D) மேற்கண்ட அனைத்தும்
E) விடை தெரியவில்லை



62. தவறான இணையைத் தேர்ந்தெடுக்க.

(தொடர்)

(பொருள்)

- | | |
|-----------------------------------|----------------|
| A) நடுவு நின்ற நன்னெஞ்சினோர் | - பட்டினப்பாலை |
| B) உமணர் போகலும் | - நற்றிணை |
| C) பாலொடு வந்து கூழொடு பெயரும் | - குறுந்தொகை |
| D) பொன்னொடு வந்து கறியொடு பெயரும் | - புறநானூறு |
| E) விடை தெரியவில்லை | |

63. பின்வரும் கூற்றுகளைக் கருத்தில் கொள்க.

- I. பழங்காலத்தில் தமிழ்நாட்டில் இருந்து தேக்கு, மயில்தோகை, அரிசி, சந்தனம், இஞ்சி, மிளகு போன்றவை பிற நாடுகளுக்கு ஏற்றுமதி செய்யப்பட்டன.
- II. சீனத்திலிருந்து கண்ணாடி, கற்பூரம், பட்டு போன்றவை இறக்குமதி செய்யப்பட்டன. அரேபியாவில் இருந்து குதிரைகள் வாங்கப்பட்டன.

மேற்கண்ட கூற்றுகளில் சரியானது எது/எவை?

- | | |
|---------------------|-----------------|
| A) I மட்டும் | B) II மட்டும் |
| C) இரண்டும் | D) இரண்டுமில்லை |
| E) விடை தெரியவில்லை | |

64. அருகில் உள்ளவற்றிற்கும் தொலைவில் உள்ளவற்றிற்கும் இடையில் இருப்பதைச் சுட்டிக் காட்ட பயன்படுத்தும் எழுத்து எது?

- | | |
|---------------------|------|
| A) அ | B) இ |
| C) உ | D) எ |
| E) விடை தெரியவில்லை | |

65. கீழ்க்காணும் தொடர்களில் பிழையற்ற தொடரினைத் தேர்ந்தெடுக்க.

- A) அது ஓர் இனிய பாடல்
- B) அஃது நகரத்திற்குச் செல்லும் சாலை
- C) அஃது இல்லாத இடத்தில் எதுவும் நடக்காது
- D) ஒரு அழகிய சிற்றூரில் ஓர் குளம் இருந்தது
- E) விடை தெரியவில்லை

66. தாயுமானவர் பற்றிய பின்வரும் கூற்றுகளைக் கருத்தில் கொள்க.

I. திருச்சியை ஆண்ட விசயரகுநாத சொக்கலிங்கரிடம் தலைமை அமைச்சராகப் பணிபுரிந்தவர்.

II. 'தாயுமானவர் பாடல்கள்' தமிழ்மொழியின் உபநிடதம் எனப் போற்றப்படுகிறது

மேற்கண்ட கூற்றுகளில் தவறானது எது/எவை?

- | | |
|---------------------|-----------------|
| A) I மட்டும் | B) II மட்டும் |
| C) இரண்டும் | D) இரண்டுமில்லை |
| E) விடை தெரியவில்லை | |

67. "சிறைச்சாலையில் தண்டனை பெற்றுள்ளவர்கள் திருந்தி வாழ வழிகாண வேண்டும். சிறைக்கோட்டம் அறக்கோட்டாக மாற வேண்டும்" என்று யார் யாரிடம் கூறியது?

- | | |
|-------------------------|-------------------------|
| A) மணிமேகலை, மன்னன் | B) மன்னன், மணிமேகலை |
| C) சிறைக்கைதி, மணிமேகலை | D) மணிமேகலை, சிறைக்கைதி |
| E) விடை தெரியவில்லை | |



68. “ஆசிய ஜோதி” பற்றிய பின்வரும் கூற்றுகளைக் கருத்தில் கொள்க.
I. ஆங்கில மொழியில் எட்வின் அர்னால்டு எழுதிய லைட் ஆஃப் ஆசியா என்னும் நூலைத் தழுவி கவிமணியால் இயற்றப்பட்டது.
II. இந்நூல் புத்தரின் வரலாற்றைக் கூறுகிறது.
மேற்கண்ட கூற்றுகளில் சரியானது எது/எவை?
A) I மட்டும்
B) II மட்டும்
C) இரண்டும்
D) இரண்டுமில்லை
E) விடை தெரியவில்லை
69. “வாழ்க்கை என்பது நீ சாகும் வரை அல்ல மற்றவர் மனதில் நீ வாழும் எவரை” என்று கூறியவர் யார்?
A) அன்னை தெரசா
B) வள்ளலார்
C) கவிமணி
D) கைலாஷ் சத்யார்த்தி
E) விடை தெரியவில்லை
70. “பகுத்தறிவு கவிராயர்” என்று புகழப்படுபவர் யார்?
A) தாராபாரதி
B) பட்டுக்கோட்டை கல்யாண சுந்தரம்
C) உடுமலை நாராயணகவி
D) முடியரசன்
E) விடை தெரியவில்லை
71. “குத்துக்கல்லுக்குக் குளிரா வெயிலா” என்ற சொல்வடை உணர்த்தும் பொருள் யாது?
A) விடாமுயற்சி செய்தல்
B) கவலைப்படாமல் வாழ்தல்
C) போராட்ட வெற்றி
D) விரைவான முன்னேற்றம்
E) விடை தெரியவில்லை
72. பின்வருவனவற்றுள் வேறுபட்ட சொல்லை தேர்ந்தெடுக்க.
A) பவழம்
B) முளரி
C) அழுவம்
D) பதுக்கை
E) விடை தெரியவில்லை
73. சிறந்த தமிழ்க்கவிதைகளைத் தொகுத்து கொங்குதேர் வாழ்க்கை என்னும் தலைப்பில் நூலாக்கியர் யார்?
A) இராஜமார்த்தாண்டன்
B) சுரதா
C) முடியரசன்
D) தேவநேயப்பாவாணர்
E) விடை தெரியவில்லை
74. “சொல்லின் முதலில் மட்டுமே இடம் பெறும் குறுக்கம் எது?
A) ஐகாரக் குறுக்கம்
B) ஒளகாரக்குறுக்கம்
C) மகரக்குறுக்கம்
D) ஆய்தக் குறுக்கம்
E) விடை தெரியவில்லை



75. உலகத்தார் உள்ளங்களில் எல்லாம் இருப்பவராக வள்ளுவர் யாரைக் குறிப்பிடுகிறார்?
A) அன்புடையோர் B) ஒழுக்கமுடையோர்
C) ஊக்கமுடையோர் D) வாய்மையுடையோர்
E) விடை தெரியவில்லை
76. 'காவற்பெண்டு' பற்றிய பின்வரும் கூற்றுகளுள் தவறான கூற்றினைத் தேர்ந்தெடுக்க.?
A) சங்ககாலப் பெண்பாற்புலவர்களுள் ஒருவர்
B) சோழமன்னன் போரவைக் கோப்பெரு நற்கிள்ளியின் செவிலித்தாயாக விளங்கியர்.
C) சங்ககால மக்களின் வீரத்தைக் கருப்பொருளாகக் கொண்டு பாடல்களை இயற்றியுள்ளார்.
D) இவர் பாடிய 13 பாடல்கள் புறநானூற்றில் இடம் பெற்றுள்ளது.
E) விடை தெரியவில்லை
77. வீரபாண்டிய கட்டபொம்மு கதைப்பாடல்களைத் தொகுத்தவர் யார்?
A) சு.சக்திவேல் B) நா.வானமாமலை
C) கி.வா. ஜகந்நாதன் D) இராசு
E) விடை தெரியவில்லை
78. 'இந்து புத்தசமய மேதை' என்று புகழப்படுபவர் யார்?
A) அம்பேத்கர் B) இரட்டைமலைசீனிவாசன்
C) முத்துராமலிங்கத் தேவர் D) அயோத்திதாசப் பண்டிதர்
E) விடை தெரியவில்லை
79. வ.உ.சி இயற்றிய நூல்களுள் பொருந்தா ஒன்றினைத் தேர்ந்தெடுக்க.
A) மனம்போல் வாழ்வு B) மெய்யறிவு
C) தமிழ்விருந்து D) மெய்யறம்
E) விடை தெரியவில்லை
80. 'இரா.பி. சேதுப்பிள்ளை' பற்றிய பின்வரும் கூற்றுகளைக் கருத்தில் கொள்க.
I. இவரைச் சொல்லின் செல்வர் எனப் போற்றுவர்.
II. இவரது தமிழின்பம் என்னும் நூல் இந்திய அரசின் சாகித்திய அகாதெமி விருது பெற்ற முதல் நூல் ஆகும்.
III. ஆற்றங்கரையினிலே, கடற்கரையினிலே, தமிழகம் - ஊரும் பேரும், மேடைப்பேச்சு உள்ளிட்ட பல நூல்களை எழுதியுள்ளார்.
மேற்கண்ட கூற்றுகளில் சரியானவை எவை?
A) I மற்றும் II மட்டும் B) II மற்றும் III மட்டும்
C) I மற்றும் III மட்டும் D) மேற்கண்ட அனைத்தும்
E) விடை தெரியவில்லை
81. பின்வருவனவற்றுள் தவறான இணையைத் தேர்ந்தெடுக்க.
A) கால்வாய் - இலக்கணப்போலி
B) வாயில் - மரூஉ
C) குடந்தை - மரூஉ
D) புறநகர் - இலக்கணப்போலி
E) விடை தெரியவில்லை



82. பின்வரும் இணைகளைக் கருத்தில் கொள்க.

(ஊர்ப்பெயர்)

(மருஉ)

- | | |
|------------------|----------|
| I. தஞ்சாவூர் | – தஞ்சை |
| II. திருநெல்வேலி | – நெல்லை |
| III. கோயமுத்தூர் | – கோவை |
| IV. சோழநாடு | – சோணாடு |

மேற்கண்ட இணைகளில் எத்தனை இணைகள் சரியானவை?

- | | |
|------|------|
| A) 3 | B) 4 |
| C) 1 | D) 2 |
- E) விடை தெரியவில்லை

83. பின்வருவனவற்றுள் தவறான இணையைத் தேர்ந்தெடுக்க.

(சொல்)

(போலி)

- | | |
|------------|----------------|
| A) மையல் | – முதற்போலி |
| B) இலைஞ்சி | – இடைப்போலி |
| C) முகன் | – கடைப்போலி |
| D) மஞ்ச | – முற்றுப்போலி |
- E) விடை தெரியவில்லை

84. “உரவநீர் அழுவத்து ஓடுகலம் கரையும் துறை” – இத்தொடர் அமையப்பெற்றுள்ள நூல் எது?

- | | |
|--------------|------------------------|
| A) அகநானூறு | B) பட்டினப்பாலை |
| C) புறநானூறு | D) பெரும்பாணாற்றுப்படை |
- E) விடை தெரியவில்லை

85. ‘அகநானூறு’ பற்றிய பின்வரும் கூற்றுகளைக் கருத்தில் கொள்க.

- I. இந்நூலினை நெடுந்தொகை என்றும் அழைப்பர்.
- II. மருதம் இளநாகனார் பாடிய, ‘உலகுகிளர்ந் தன்ன உருகெழு வங்கம்’ என்ற பாடலடிகள் அகநானூற்றில் இடம்பெற்றுள்ளது.

மேற்கண்ட கூற்றுகளில் சரியானது எது/எவை?

- | | |
|--------------|-----------------|
| A) I மட்டும் | B) II மட்டும் |
| C) இரண்டும் | D) இரண்டுமில்லை |
- E) விடை தெரியவில்லை

86. தவறான இணையைத் தேர்ந்தெடுக்க.

(பாடலடிகள்)

(இடம்பெற்றுள்ள நூல்)

- | | |
|---|------------------|
| A) “நளியிரு முந்நீர் நாவாய் ஓட்டி
வளி தொழில் ஆண்ட உரவோன் மருக” | – புறநானூறு |
| B) கலஞ்செய் கம்மியர் வருகெனக் கூஇய் | – சிலப்பதிகாரம் |
| C) அருங்கலம் தரீஇயர் நீர்மிசை நிவக்கும்
பெருங்கலி வங்கம் | – பதிற்றுப்பத்து |
| D) முந்நீர் வழக்கம் | – தொல்காப்பியம் |
- E) விடை தெரியவில்லை



87. பூம்புகார் துறைமுகத்திலிருந்து கப்பல்கள் மூலம் பொருள்கள் ஏற்றுமதியும் இறக்குமதியும் செய்யப்பட்டன என்பதனை விரிவாகக் கூறும் நூல் எது?

- A) சிறுபாணாற்றுப்படை
B) பட்டினப்பாலை
C) முல்லைப்பாட்டு
D) புறநானூறு
E) விடை தெரியவில்லை

88. பொருத்துக.

- a) எரா 1. திசை திருப்பும் கருவி
b) பருமல் 2. அடிமரம்
c) மீகாமன் 3. குறுக்குமரம்
d) காந்த ஊசி 4. கப்பல் செலுத்துபவர்
e) சுக்கான் 5. திசை காட்டும் கருவி

குறியீடுகள்:

	a	b	c	d	e
A)	1	5	3	4	2
B)	2	3	4	5	1
C)	3	2	5	1	4
D)	4	1	2	5	3

E) விடை தெரியவில்லை

89. பின்வருவனவற்றுள் இயற்சொல் அல்லாத சொல்லைத் தேர்ந்தெடுக்க.

- A) மணி
B) சக்கரம்
C) பொன்
D) மாநகர்
E) விடை தெரியவில்லை

90. பொருத்துக.

- a) இயற்சொல் 1. விடம்
b) திரிசொல் 2. சாவி
c) திசைசொல் 3. கப்பல்
d) வடசொல் 4. அழுவம்

குறியீடுகள்:

	a	b	c	d
A)	4	3	2	1
B)	1	2	4	3
C)	3	4	2	1
D)	4	1	2	3

E) விடை தெரியவில்லை



91. பிழையான தொடரினைத் தேர்ந்தெடுக்க.
A) அமுதன் நேற்று வீட்டுக்கு வந்தான் B) கண்மணி நாளை பாடம் படிப்பான்
C) மாடுகள் இப்பொழுது புல் மேயும் D) நாங்கள் நேற்றுக் கடற்கரைக்குச் சென்றோம்
E) விடை தெரியவில்லை
92. “இன்பத் தமிழ்க் கல்வி யாவரும் கற்றவர்
என்றுரைக்கும் நிலை எய்தி விட்டால்
துன்பங்கள் நீங்கும் சுகம் வரும் நெஞ்சினில்
தூய்மை உண்டாகிடும் வீரம் வரும்!” என்ற பாடலைப் பாடியவர் யார்?
A) பாரதியார் B) பாரதிதாசன்
C) முடியரசன் D) சுரதா
E) விடை தெரியவில்லை
93. செய்யுளுக்கே உரிய எதுகை, மோனை என்பவற்றை உரைநடைக்குள் கொண்டு வந்தவர் யார்?
A) ரா.பி. சேதுப்பிள்ளை B) பாரதிதாசன்
C) மு.வரதராசன் D) சுரதா
E) விடை தெரியவில்லை
94. பின்வரும் கூற்றுகளைக் கருத்தில் கொள்க.
I. திருக்குறள் வகுப்புகள் நடத்தியும் தொடர் சொற்பொழிவுகள் நிகழ்த்தியும் திருக்குறளைப் பரப்பும் பணி செய்தவர்.
II. வள்ளுவர் உள்ளம், வள்ளுவர் காட்டிய வழி, திருக்குறளில் நகைச்சுவை, சிந்தனைக் களஞ்சியம் உள்ளிட்ட பல நூல்களை எழுதியுள்ளார்.
மேற்கூறிய கூற்றுகளால் அறியப்படுபவர் யார்?
A) தேவநேயப்பாவாணர் B) குன்றக்குடி அடிகளார்
C) இளங்குமரனார் D) திருக்குறளார் வீமுனிசாமி
E) விடை தெரியவில்லை
95. பொருத்துக.
a) ஐ 1. ஒழுக்கம்
b) ஏ 2. மதகுநீர் தாங்கும் பலகை
c) ஓ 3. தலைவன்
d) கை 4. மேகம்
e) பே 5. அம்பு
குறியீடுகள்:
a b c d e
A) 3 5 2 1 4
B) 2 4 3 1 5
C) 3 2 1 5 4
D) 4 1 2 3 5
E) விடை தெரியவில்லை



96. மண்வாசல், வெள்ளை ரோஜா, பெய்து பழகிய மேகம் ஆகிய கவிதை நூல்களை எழுதியவர் யார்?
- A) தேனரசன்
B) சுப்பாரதிமணியன்
C) இராஜலெட்சுமி
D) கோதைநாயகி
E) விடை தெரியவில்லை
97. பின்வரும் கூற்றுகளைக் கருத்தில் கொள்க.
- I. ஒரே பாடலில் இரண்டு பொருள் தோன்றும்படி பாடப்படுவது இரட்டுறமொழிதல் ஆகும். இதனை 'சிலேடை' என்றும் கூறுவர்.
- II. சிலேடை பாடுவதில் வல்லவர் 'காளமேகப்புலவர்' ஆவார். இவரது இயற்பெயர் வரதன். மேற்கண்ட கூற்றுகளில் சரியானது எது/எவை?
- A) I மட்டும்
B) II மட்டும்
C) இரண்டும்
D) இரண்டுமில்லை
E) விடை தெரியவில்லை
98. பின்வருவனவற்றுள் தவறான கூற்றினைத் தேர்ந்தெடுக்க.
- A) சீவகசிந்தாமணிக் காப்பியத்தில் குணமாலை என்னும் தலைவி யானையைக் கண்டு அஞ்சிய காட்சியைச் சீவகன் துணியில் வரைந்ததாகக் கூறப்பட்டுள்ளது.
- B) துணி ஓவியங்களை கலம்காரி ஓவியங்கள் என்னும் பெயரில் தமிழகத்திலும் ஆந்திராவிலும் ஓவியர்கள் வரைந்து வருகின்றனர்.
- C) ஓவிய மண்டபத்தில் பலவகை ஓவியங்கள் வரையப்பட்டிருந்தன. ஓவியங்கள் குறித்து அறிந்தோர் அறியாதவர்களுக்கு விளக்கிக் கூறினார் என்ற செய்தி பட்டினப்பாலையில் இடம் பெற்றுள்ளது.
- D) ஓலைச்சுவடிகள் மீது எழுத்தாணிகளைக் கொண்டு கோட்டோவியமாகவும் வண்ணப்பூச்சு ஓவியமாகவும் வரைந்தனர்.
- E) விடை தெரியவில்லை
99. பின்வரும் கூற்றுகளைக் கருத்தில் கொள்க.
- I. "புனையா ஓவியம் கடுப்பப் புனைவில்" என்ற தொடரானது நெடுநல்வாடையில் இடம்பெற்றுள்ளது.
- II. "புனையா ஓவியம் புறம் போந்தன்ன" என்ற தொடரானது மணிமேகலையில் இடம் பெற்றுள்ளது.
- மேற்கண்ட கூற்றுகளில் சரியானது எது/எவை?
- A) I மட்டும்
B) II மட்டும்
C) இரண்டும்
D) இரண்டுமில்லை
E) விடை தெரியவில்லை
100. நகைச்சுவை உணர்வு வெளிப்படுமாறு வரையப்படும் ஓவியம் எவ்வாறு அழைக்கப்படுகிறது?
- A) குகை ஓவியம்
B) சுவர் ஓவியம்
C) கண்ணாடி ஓவியம்
D) கேலிச்சித்திரம்
E) விடை தெரியவில்லை



101. தவறாகப் பிரிந்துள்ள சொல்லைத் தேர்ந்தெடுக்க.
 A) செப்பேடு = செப்பு + ஏடு
 B) எழுத்தாணி = எழுத்து + ஆணி
 C) கோட்டோவியம் = கோட்டு + ஓவியம்
 D) வண்கீரை = வண்மை + கீரை
 E) விடை தெரியவில்லை
102. விடைக்கேற்ற வினாவைத் தேர்ந்தெடு.
 விடை: கேரள மாநிலத்தல் தந்த ஓவியங்கள் அதிகமாகக் காணப்படுகின்றன.
 A) தந்த ஓவியங்கள் கேரளாவில் காணப்படுவது ஏன்?
 B) தந்த ஓவியங்கள் என்றால் என்ன?
 C) தந்த ஓவியங்கள் எங்கு அதிகமாகக் காணப்படுகின்றன?
 D) தந்த ஓவியங்கள் எதனால் உருவாக்கப்படுகின்றன?
 E) விடை தெரியவில்லை
103. நாட்காட்டி ஓவியம் வரையும் முறையின் முன்னோடிகளுள் ஒருவராகக் கருதப்படுபவர் யார்?
 A) இராஜா இரவிவர்மா
 B) கொண்டையராஜா
 C) பாரதியார்
 D) சாமுவேல் பெப்பிசு
 E) விடை தெரியவில்லை
104. பின்வருவனவற்றள் தவறான கூற்றினைத் தேர்ந்தெடுக்க.
 A) தலைசிறந்த ஓவியங்களும் தொன்மையான இசைக்கருவிகளும் சிற்பங்களும் தஞ்சை சரசுவதி மகால் நூலகத்தில் இடம்பெற்றுள்ளன.
 B) தஞ்சை தமிழ்ப்பல்கலைக்கழகமானது கி.பி. 1981 இல் தமிழக அரசால் தோற்றுவிக்கப்பட்டது. இந்திய நாகரிகத்தின் பண்பாட்டுக்கூறுகள் அனைத்தையும் விரிவாகவும் ஆழமாகவும் ஆராய வேண்டும் என்பதே இப்பல்கலைக்கழகத்தின் நோக்கமாகும்.
 C) கி.பி 1942இல் தொடங்கப்பட்ட உ.வே.சா. நூலகத்தில் தமிழ் நூல்கள் மட்டுமே உள்ளன. இங்கு 2128 ஓலைச் சுவடிகளும் 2941 தமிழ் நூல்களும் உள்ளன.
 D) கி.பி. 1896 இல் தொடங்கப்பட்ட கன்னிமாரா நூலகம் தமிழ்நாட்டின் மைய நூலகம் ஆகும். இஃது இந்திய நாட்டின் களஞ்சிய நூலகங்களில் ஒன்றாகவும் விளங்குகிறது.
 E) விடை தெரியவில்லை
105. 'வள்ளுவர் கோட்டம்' பற்றிய பின்வரும் கூற்றுகளைக் கருத்தில் கொள்க.
 I. இது திருவாரூர்த் தேர் போன்ற வடிவில் அமைக்கப்பட்டு அதனை இரண்டு யானைகள் இழுத்துச் செல்வது போன்று கருங்கற்களால் உருவாக்கப்பட்டுள்ளது.
 II. இங்கு 1330 குறட்பாக்களும் செதுக்கப்பட்டுள்ளன. அறத்துப்பால் கருநிறப் பளிங்குக் கல்லிலும் பொருட்பால் வெண்ணிறப் பளிங்குக் கல்லிலும் இன்பத்துப்பால் செந்நிறப் பளிங்குக் கல்லிலும் அழகாகப் பொறிக்கப்பட்டுள்ளன.
 III. திருக்குறளின் கருத்துகளை விளக்கும் ஓவியங்களும் வரையப்பட்டுள்ளன. மேற்கண்ட கூற்றுகளில் சரியானவை எவை?
 A) I மற்றும் II மட்டும்
 B) II மற்றும் III மட்டும்
 C) I மற்றும் III மட்டும்
 D) மேற்கண்ட அனைத்தும்
 E) விடை தெரியவில்லை



106. 'பூம்புகார்' பற்றிய பின்வரும் கூற்றுகளைக் கருத்தில் கொள்க.
- I. இரண்டாயிரம் ஆண்டுகளுக்கு முன் சோழர்களின் தலைநகரமாகவும் துறைமுக நகரமாகவும் விளங்கியது.
 - II. இந்நகரைப் பற்றிய செய்திகள் சிலப்பதிகாரத்திலும் பட்டினப்பாலையிலும் இடம்பெற்றுள்ளன.
 - III. இங்கு மருவூர்ப்பாக்கம் என்னும் நகரப் பகுதியும் பட்டினப்பாக்கம் என்னும் கடல் பகுதியும் அமைந்திருந்ததாகச் சிலப்பதிகாரம் குறிப்பிடுகின்றது.
 - IV. கி.பி 1973 ஆம் ஆண்டு பூம்புகார் கடற்கரையில் சிற்பக்கலைக்கூடம் ஒன்று ஏற்படுத்தப்பட்டது.
- மேற்கண்ட கூற்றுகளில் சரியானவை எவை?
- A) I, II மற்றும் III மட்டும்
 - B) II, III மற்றும் IV மட்டும்
 - C) I, II மற்றும் IV மட்டும்
 - D) மேற்கண்ட அனைத்தும்
 - E) விடை தெரியவில்லை
107. பின்வருவனவற்றுள் முதனிலை திரிந்த தொழிற்பெயர் பயின்று வாராத் தொடரினைத் தேர்ந்தெடுக்க.
- A) தமிழ் படிக்கும் பேறு பெற்றேன்
 - B) உணவின் சூடு குறையவில்லை.
 - C) உம்பர் நாயகரும் அதற்கு உடன்பாடு செய்வாராம்
 - D) அறிஞர் அண்ணா தம் பேச்சால் புகழ் பெற்றார்
 - E) விடை தெரியவில்லை
108. நன்மை செய்தாலும் தீமை வந்து சேரும் எப்போது என வள்ளுவர் குறிப்பிடுகின்றார்?
- A) கருவி, இடனறிந்து செயல்படாவிடில்
 - B) சோம்பலினை தவிர்க்காவிடில்
 - C) பண்பறிந்து உதவாவிடில்
 - D) வினை வலிமை அறியாவிடில்
 - E) விடை தெரியவில்லை
109. 'குடியைக் குடியாக வேண்டு பவர்' செய்ய வேண்டுவனவாக வள்ளுவர் குறிப்பிடுவது யாது?
- A) மடியை மடியா ஒழுகல்
 - B) இடும்பைக்கு இடும்பை படுப்பா
 - C) எண்ணித் துணிக கருமம்
 - D) அன்ன நீரார்க்கே உள
 - E) விடை தெரியவில்லை
110. பழமொழி நானூறு பற்றிய பின்வரும் கூற்றுகளைக் கருத்தில் கொள்க.
- I. பழமொழி நானூறு பதினெண் கீழ்க்கணக்கு நூல்களுள் ஒன்று. இது நானூறு பாடல்களைக் கொண்டது. இது கி.பி. நான்காம் நூற்றாண்டில் இயற்றப்பட்டது.
 - II. இதன் ஆசிரியர் முன்றுரை அரையனார் ஆவார். பழமொழி நானூறு நூலின் கடவுள் வாழ்த்துப் பாடல் மூலம் இவர் சமண சமயத்தைச் சேர்ந்தவர் என அறியமுடிகிறது.
 - III. ஒவ்வொரு பாடலின் இறுதியிலும் ஒரு பழமொழி இடம் பெற்றுள்ளது.
- மேற்கண்ட கூற்றுகளில் சரியானவை எவை?
- A) I மற்றும் II மட்டும்
 - B) II மற்றும் III மட்டும்
 - C) I மற்றும் III மட்டும்
 - D) மேற்கண்ட அனைத்தும்
 - E) விடை தெரியவில்லை



111. “அன்பிலார் எல்லாம் தமக்குரியர் அன்புடையார்
என்பும் உரியர் பிறர்க்கு” – அடிக்கோடிட்ட சொல்லின் பொருள் யாது?
A) எலும்பு B) அருமையான உயிர்
C) அன்பு D) உடல், பொருள், ஆவி
E) விடை தெரியவில்லை
112. ஓலைச்சுவடிகள் பாதுகாக்கப்படும் இடங்களுள் பொருந்தாத ஒன்றைத் தேர்வு செய்க.
A) கீழ்த்திசைச் சுவடிகள் நூலகம் B) உலகத் தமிழராய்ச்சி நிறுவனம்
C) அரசு ஆவணக் காப்பகம் D) உலகத் தமிழ்ச் சங்கம்
E) விடை தெரியவில்லை
113. உ.வே.சா. பற்றிய பின்வரும் கூற்றுகளில் தவறானதைத் தேர்வு செய்க.
A) உ.வே.சா. திருவாரூர் மாவட்டத்தில் உள்ள உத்தமதானபுரத்தில் பிறந்தார்.
B) அவருடைய ஆசிரியர் மகாவித்துவான் மீனாட்சி சுந்தரனார் ஆகும்.
C) உத்தமதானபுரம் வேங்கடரத்தினம் மகனார் சாமிநாதன் என்பதன் சுருக்கமாகவே உ.வே.சா என அழைக்கப்பட்டார்.
D) அவரின் வாழ்க்கை வரலாற்றை என் சரிதம் என்னும் பெயரில் நூலக வெளியிட்டார்.
E) விடை தெரியவில்லை
114. காகிதத்தில் உருவங்கள் செய்யும் கலையை ஜப்பானியர் எவ்வாறு அழைப்பர்?
A) ஆரிகாமி B) ஓரிகாமி
C) கொக்கு D) ஒளரிகாமி
E) விடை தெரியவில்லை
115. உ.வே.சா. அவர்களின் தமிழ்ப்பணிகளை பாராட்டிய வெளிநாட்டு அறிஞர்கள் யார்?
A) ஜி.யு.போப், வீரமாமுனிவர்
B) துலியல் வின்சோன், ஜி.யு.போப்
C) துலியல் வின்சோன், வீரமாமுனிவர்
D) கார்டுவெல், மார்க்ஸ்முல்லர்
E) விடை தெரியவில்லை
116. உ.வே.சா. பதிப்பிக்காத ஐம்பெருங்காப்பியம் எது?
A) சீவகசிந்தாமணி B) வளையாபதி
C) சிலப்பதிகாரம் D) மணிமேகலை
E) விடை தெரியவில்லை
117. “சாதி இரண்டொழிய வேறில்லை யென்றே சாற்றுங்கால்” எனும் பாடலை பாடியவர் யார்?
A) பாரதிதாசன் B) ஒளவையார்
C) பாரதியார் D) கவிமணி
E) விடை தெரியவில்லை



118. “நாயக்கால் சிறுவிரல்போல் நன்கணிய ராயினும்” – இப்பாடல்வரி இடம் பெற்ற நூல் எது?
A) புறநானூறு B) ஏலாதி
C) சிறுபஞ்சமூலம் D) நாலடியார்
E) விடை தெரியவில்லை
119. நல்லபாம்பின் நஞ்சுலிருந்து கண்டுப்பிடிக்கப்பட்ட மருந்தின் பெயர் என்ன?
A) அஸ்பிரின் B) டைக்லோபினக்
C) மேலோக்கிகேம் D) கோப்ராக்கின்
E) விடை தெரியவில்லை
120. நான்மணிக்கடிகை என்பதன் பொருள் என்ன?
A) நான்கு மணிகள் கொண்ட மாலை
B) நான்கு மணிகள் கொண்ட மருந்து
C) நான்கு மணிகள் கொண்ட அணிகலன்
D) நான்கு மணிகள் கொண்ட வேர்
E) விடை தெரியவில்லை
121. பொருத்துக.
a) கோடியக்கரை 1. திருநெல்வேலி
b) கரிக்கிரி 2. ஈரோடு
c) கூந்தன்குளம் 3. நாகப்பட்டினம்
d) வெள்ளோடு 4. காஞ்சிபுரம்
குறியீடுகள்:

	a	b	c	d
A)	2	3	4	1
B)	3	4	2	1
C)	3	4	1	2
D)	4	3	2	1

E) விடை தெரியவில்லை
122. கூடுகட்டி வாழும் பாம்பு எது?
A) இராஜா நாகம் B) நல்ல பாம்பு
C) சாரைப்பாம்பு D) கட்டுவிரியன்
E) விடை தெரியவில்லை
123. பின்வருவனவற்றுள் தவறானது எது?
A) பதிமூன்று B) முப்பத்து மூன்று
C) தொண்ணூற்றெட்டு D) நூற்றெட்டு
E) விடை தெரியவில்லை



124. பொருத்துக.

- | | |
|----------|-----------|
| a) ஞாலம் | 1. வயல் |
| b) வண்மை | 2. உலகம் |
| c) வன்மை | 3. கொடை |
| d) செய் | 4. கொடுமை |
| e) வழி | 5. தணி |

குறியீடுகள்:

- | | a | b | c | d | e |
|----|----------|----------|----------|----------|----------|
| A) | 1 | 2 | 3 | 4 | 5 |
| B) | 2 | 3 | 4 | 1 | 5 |
| C) | 3 | 4 | 2 | 1 | 5 |
| D) | 2 | 3 | 1 | 4 | 5 |
- E) விடை தெரியவில்லை

125. பொருத்துக.

- | | |
|-------------------------|---------|
| a) உயிர் எழுத்துகள் | 1. கஉ |
| b) மெய் எழுத்துகள் | 2. கஅ |
| c) ஆய்த எழுத்து | 3. க |
| d) உயிர்மெய் எழுத்துகள் | 4. உககூ |

குறியீடுகள்:

- | | a | b | c | d |
|----|----------|----------|----------|----------|
| A) | 1 | 2 | 3 | 4 |
| B) | 2 | 3 | 4 | 1 |
| C) | 1 | 2 | 4 | 3 |
| D) | 3 | 4 | 2 | 1 |
- E) விடை தெரியவில்லை

126. பொருத்துக.

- | | |
|----------------------|--------------------------|
| a) ஏலாதி | 1. பொய்கையார் |
| b) ஆசார்க்கோவை | 2. கணிமேதாவியார் |
| c) நான்மணிக்கடிகை | 3. பெருவாயின் முள்ளியார் |
| d) முதுமொழிக் காஞ்சி | 4. விளம்பிநாகனார் |
| e) களவழி நாற்பது | 5. கூடலூர் கிழார் |

குறியீடுகள்:

- | | a | b | c | d | e |
|----|----------|----------|----------|----------|----------|
| A) | 1 | 2 | 3 | 4 | 5 |
| B) | 2 | 3 | 4 | 1 | 5 |
| C) | 3 | 4 | 2 | 1 | 5 |
| D) | 2 | 3 | 4 | 5 | 1 |
- E) விடை தெரியவில்லை



127. “மனைக்கு விளக்கம் மடவார் மடவார்
தனக்குத் தகைசால் புதல்வர்” – இப்பாடல்வரி இடம் பெற்ற நூல் எது?
A) மூதுரை B) ஏலாதி
C) நான்மணிக்கடிகை D) திரிகடுகம்
E) விடை தெரியவில்லை
128. தவறான இணையைத் தேர்வு செய்க.
A) தாலாட்டுப் பாடல் – பிறந்த குழந்தைக்கு பாடுவது
B) ஒப்பாரிப் பாடல் – இறந்தோருக்குப் பாடுவது
C) கொண்டாட்டப் பாடல் – சாமி கும்பிடுவோர் பாடுவது
D) விளையாட்டுப் பாடல் – வளர்ந்த பிள்ளைகள் பாடுவது
E) விடை தெரியவில்லை
129. நரேந்திரதத் என்பது யாருடைய இயற்பெயர்?
A) இராமகிருஷ்ணர் B) விவேகானந்தர்
C) வித்யானந்தர் D) அய்யங்காளி
E) விடை தெரியவில்லை
130. தவறான ஒன்றைத் தேர்வு செய்க.
A) கிணற்றில் போட்டேன் B) சுவற்றில் வரைந்தேன்
C) வயிறு பசிக்கிறது D) இவற்றில் எதுவுமில்லை
E) விடை தெரியவில்லை
131. அகர வரிசைப்படுத்துக
A) தீந்தமிழ், தூக்கம், தெரு, தொட்டில், தோட்டம்
B) தீந்தமிழ், தெரு, தூக்கம், தொட்டில், தோட்டம்
C) தீந்தமிழ், தூக்கம், தெரு, தோட்டம், தொட்டில்
D) தீந்தமிழ், தோட்டம், தெரு, தொட்டில், தூக்கம்
E) விடை தெரியவில்லை
132. கல்விக்கு விளக்குப் போன்றது எது?
A) நல்லெண்ணம் B) அறிவுடைமை
C) பகுத்தறிதல் D) செல்வம்
E) விடை தெரியவில்லை
133. தவறான ஒன்றைத் தேர்ந்தெடு.
A) நான்மணிக்கடிகை பதினென்மேல்கணக்கு நூல்களுள் ஒன்று
B) இந்நூலின் ஆசிரியர் விளம்பி நாகனார்
C) கடிகை என்பதன் பொருள் அணிகலன்
D) ஒவ்வொரு பாடலிலும் நான்கு அறக்கருத்துகளைக் கூறுகின்றது
E) விடை தெரியவில்லை



134. “வைதோரைக் கூட வையாதே - இந்த வைய முழுதும் பொய்த்தாலும் பொய்யாதே!” எனக் கூறியவர் யார்?
A) பாம்பாட்டிச் சித்தர்
B) அகத்தியர்
C) கடுவெளிச்சித்தர்
D) குதம்பைச் சித்தர்
E) விடை தெரியவில்லை
135. தாய்மார்கள், தங்கள் அண்ணன் தம்பிகளின் பெருமைகளை எப்பாடலில் பாடுவது வழக்கம்?
A) ஒப்பாரிப்பாடல்
B) தாலாட்டுப்பாடல்
C) கொண்டாட்டப்பாடல்
D) சடங்குப்பாடல்
E) விடை தெரியவில்லை
136. உருவ வழிபாடு செய்யாமல் வெட்டவெளியையே கடவுளாக வழிபட்டவர் யார்?
A) அகத்தியர்
B) பாம்பாட்டிச்சித்தர்
C) கடுவெளிச்சித்தர்
D) காலாங்கிச்சித்தர்
E) விடை தெரியவில்லை
137. “பிறப்பினால் வரும் கீழ்சாதி - மேல்சாதி என்னும் வேறுபாடுகளை அகற்றி, மக்கள் அனைவரும் மனிதச் சாதி என்னும் ஓரினமாக எண்ணவேண்டும்” - எனக் கூறியவர் யார்?
A) அம்பேத்கர்
B) பெரியார்
C) அய்யங்காளி
D) அயோத்திதாச பண்டிதர்
E) விடை தெரியவில்லை
138. தவறானது எது (அஞ்சல் தலை வெளியீடு)
A) உ.வே.சா - 2008
B) வள்ளியம்மை - 2000
C) முத்துராமலிங்கர் - 1995
D) பெரியார் - 1978
E) விடை தெரியவில்லை
139. பொருத்துக (பெரியார் தொண்டு).
a) நாள் 1. 8600
b) கிலோ மீட்டர் 2. 13,12,000
c) கூட்டங்கள் 3. 21,400
d) மணிநேரம் 4. 10,700
குறியீடுகள்:
a b c d
A) 1 2 4 3
B) 2 1 3 4
C) 3 4 2 1
D) 4 3 2 1
E) விடை தெரியவில்லை



140. பின்வருவனவற்றுள் தவறான ஒன்றைத் தேர்வு செய்க.
 A) பெரியார் 17.09.1879 இல் பிறந்து 24.12.1973இல் மறைந்தார்
 B) இவர் பகுத்தறிவாளர் சங்கத்தை அமைத்தார். சுயமரியாதை இயக்கத்தை தொடங்கினார்.
 C) கேரளாவில் வைக்கம் போராட்டத்தில் ஈடுபட்டதால் வைக்கம் வீரர் என அழைக்கப்பட்டார்.
 D) 1938ஆம் ஆண்டு 'பெரியார்' என்னும் பட்டம் தமிழக அரசால் வழங்கப்பட்டது
 E) விடை தெரியவில்லை
141. "அறிவு என்பது வளர்ந்து கொண்டே இருக்கும்; எனவே, புதியவற்றை ஏற்றல் வேண்டும்" எனக் கூறியவர் யார்?
 A) அயோத்திதாசர்
 B) பெரியார்
 C) ஜோதிராவ் பூலே
 D) அம்பேத்கர்
 E) விடை தெரியவில்லை
142. பின்வரும் கூற்றுகளை கருத்தில் கொள்க.
 I. நானூறு ஆண்டுகளுக்குமுன் தமிழகத்தின் காடு மலைகளில் சித்தர்கள் வாழ்ந்தார்கள்.
 II. எளிய சொற்களில் அறிவுரைகளைக் கூறியவர் கடுவெளிச்சித்தர்.
 III. சித்தர்களின் பெயர்களில் பெரும்பாலானவை காரணப் பெயர்களாகும்.
 மேற்கூறியவற்றுள் சரியானது எது/எவை?
 A) I மற்றும் II மட்டும்
 B) II மற்றும் III மட்டும்
 C) I மற்றும் III மட்டும்
 D) இவை அனைத்தும்
 E) விடை தெரியவில்லை
143. கங்கையில் உன்கடும் நனையாதே! இப்பாடலில் அடிக்கோடிட்ட சொல்லின் பொருள் என்ன?
 A) இறுமாப்பு
 B) உணர்வு
 C) உடம்பு
 D) வேம்பு
 E) விடை தெரியவில்லை
144. "நாடாகு ஒன்றோ; காடாகு ஒன்றோ;
 அவலாகு ஒன்றோ; மிசையாகு ஒன்றோ;" எனப் பாடியவர் யார்?
 A) நல்லாதனார்
 B) சமண முனிவர்
 C) ஒளவையார்
 D) விளம்பிநாகனார்
 E) விடை தெரியவில்லை
145. பின்வருவனவற்றுள் தவறான ஒன்றைத் தேர்வு செய்க.
 A) புறநானூறு = புறம் + நான்கு + நூறு.
 B) பத்துப்பாட்டு நூல்களுள் ஒன்றாகும். 1894ல் இந்நூல் முதன்முதலாக பதிப்பிக்கப்பட்டது.
 C) இந்நூல், புலவர் பலர் இயற்றிய பாடல்களின் தொகுப்பாகும்
 D) எட்டுத்தொகையும் பத்துப்பாட்டும் சங்க இலக்கியமாகும்
 E) விடை தெரியவில்லை



146. பொருத்துக.

- | | |
|--------------|------------------------|
| a) அவல் | 1. ஆண்கள் |
| b) மிசை | 2. பள்ளம் |
| c) ஒன்றோ | 3. மேடு |
| d) ஆடவர் | 4. தொடரும் சொல் |
| e) வெய்யவினை | 5. துன்பம் தரும் செயல் |

குறியீடுகள்:

- | | <i>a</i> | <i>b</i> | <i>c</i> | <i>d</i> | <i>e</i> |
|----|------------------|----------|----------|----------|----------|
| A) | 2 | 3 | 1 | 4 | 5 |
| B) | 2 | 3 | 4 | 1 | 5 |
| C) | 3 | 4 | 2 | 1 | 5 |
| D) | 4 | 3 | 2 | 1 | 5 |
| E) | விடை தெரியவில்லை | | | | |

147. “பூமிப் பந்து என்னவிலை? - உன்

புகழைத் தந்து வாங்கும் விலை!” – என்று பாடியவர் யார்?

- | | |
|---------------------|--------------------|
| A) சுரதா | B) இராதாகிருஷ்ணன் |
| C) பாரதிதாசன் | D) புதுமைப்பித்தன் |
| E) விடை தெரியவில்லை | |

148. “சாதியும் நிறமும் அரசியலுக்கும் இல்லை; ஆன்மிகத்திற்கும் இல்லை” – எனக் கூறியவர் யார்?

- | | |
|---------------------|---------------|
| A) பெரியார் | B) அம்பேத்கர் |
| C) முத்துராமலிங்கர் | D) காந்தி |
| E) விடை தெரியவில்லை | |

149. “தேசியம் காத்த செம்மல்” என தேவரைப் பராட்டியவர் யார்?

- | | |
|----------------------------------|--------------|
| A) பட்டுக்கோட்டை கலியாண சுந்தரம் | B) நேதாஜி |
| C) பெரியார் | D) திரு.வி.க |
| E) விடை தெரியவில்லை | |

150. சுதந்திரப் பயிரைத் தண்ணீர்விட்டோ வளர்த்தோம்;

கண்ணீரால் காத்தோம்- எனக் கூறியவர் யார்?

- | | |
|------------------------|---------------|
| A) சோமசுந்தர பாரதியார் | B) பாரதிதாசன் |
| C) பாரதியார் | D) கவிமணி |
| E) விடை தெரியவில்லை | |

151. வீரம் இல்லாத வாழ்வும் விவேகமில்லாத வீரமும் வீணாகும் - எனக் கூறியவர் யார்?

- | | |
|---------------------|---------------------|
| A) விவேகானந்தர் | B) முத்துராமலிங்கர் |
| C) பெரியார் | D) கவிமணி |
| E) விடை தெரியவில்லை | |



152. மனிதனின் மனநிலைப் பற்றி தேவர் குறிப்பிடாதது எது?
A) இருள் B) மருள்
C) தெருள் D) வருள்
E) விடை தெரியவில்லை
153. பின்வருவனவற்றுள் தவறான இணையைத் தேர்வு செய்க.
A) உதுக்காண் – சற்றுத் தொலைவில் பார்
B) உப்பக்கம் – முதுகுப்பக்கம்
C) உம்பர் – கீழே
D) “உ” சுட்டெழுத்து – தற்காலத்தில் பயன்படுத்தப்படுவதில்லை
E) விடை தெரியவில்லை
154. முத்துராமலிங்கர் போட்டியிடாத தேர்தல் எது?
A) 1957, 1937 B) 1962, 1946
C) 1952, 1946 D) 1947, 1942
E) விடை தெரியவில்லை
155. பொருத்துக (தேவர் பாராட்டுடன் தொடர்பு உடையது).
a) விவேகானந்தரின் 1. தளபதியாக
b) பக்தியில் 2. தூதராக
c) புலமையில் 3. பரமஹம்சராக
d) வலிமையில் 4. கபிலராக
e) நேதாஜியின் 5. கரிகாலனாக
- குறியீடுகள்:

	a	b	c	d	e
A)	2	3	4	5	1
B)	3	2	4	5	1
C)	4	3	2	1	5
D)	2	4	3	5	1
- E) விடை தெரியவில்லை
156. நேரு தன் மகளுக்கு எத்தனை ஆண்டுகள் கடிதம் எழுதியுள்ளார்?
A) 42 B) 32
C) 22 D) 12
E) விடை தெரியவில்லை
157. பொருத்துக.
a) மில்டன் 1. ஆங்கில நாடக ஆசிரியர்
b) பிளேட்டோ 2. இரஷ்ய நாட்டு எழுத்தாளர்
c) டால்ஸ்டாய் 3. கிரேக்கச் சிந்தனையாளர்
d) பெர்னாட்ஷா 4. ஆங்கிலக் கவிஞர்
e) பெட்ரண்ட் ரஸ்ஸல் 5. நேருவுக்கு மிகவும் பிடித்தமானவர்



குறியீடுகள்:

	a	b	c	d	e
A)	3	4	2	1	5
B)	4	3	2	1	5
C)	3	4	1	2	5
D)	1	2	3	4	5
E)	விடை தெரியவில்லை				

158. “ஆயிரம் முகங்கள் கொண்டது வாழ்க்கை. அதனைப் புரிந்துகொள்ளவும், முறையாக வாழவும் புத்தகப் படிப்பு இன்றியமையாதது” எனக் கூறியவர் யார்?
A) பெரியார்
B) காந்தி
C) நேரு
D) அண்ணா
E) விடை தெரியவில்லை
159. போரும் அமைதியும் என்ற நூலை எழுதியவர் யார்?
A) மில்டன்
B) பிளேட்டோ
C) டால்ஸ்டாய்
D) பெர்னாட்ஷா
E) விடை தெரியவில்லை
160. “ஆறு” எனும் சொல் தரும் பொருள்களுள் பொருந்தாதது எது?
A) ஓர் எண்
B) வழி
C) தனி
D) இயற்கையாக இருகரைகளுக்கு இடையில் நீர் ஓடும் பரப்பு
E) விடை தெரியவில்லை
161. மேடைத்தமிழுக்கு இலக்கணம் வகுத்தவர் யார்?
A) அறிஞர் அண்ணா
B) தமிழ்த்தென்றல்
C) பட்டுக்கோட்டை கல்யாணசுந்தரம்
D) பாரதியார்
E) விடை தெரியவில்லை
162. பின்வரும் கூற்றுகளில் தவறான ஒன்றைத் தேர்ந்தெடு.
A) திரு. வி.க. காஞ்சிபுரம் மாவட்டத்திலுள்ள தண்டலம் என்னும் ஊரில் பிறந்தார்
B) சென்னை ராயபேட்டை வெஸ்லி பள்ளியில் தலைமை ஆசிரியராக பணியாற்றினார்.
C) தொழிலாளர் நலனுக்கும் பெண்கள் முன்னேற்றத்திற்கும் அயராது பாடுபட்டவர்
D) இவரின் தமிழ்நடையைப் போற்றித் தமிழ்த்தென்றல் எனச் சிறப்பிக்கப்படுகிறார்
E) விடை தெரியவில்லை
163. பொருத்துக.
a) புரை 1. உள்ளம்
b) அன்ன 2. குற்றம்
c) எய்யாமை 3. அவை போல்வன
d) அகம் 4. வருந்தாமை
e) துவ்வாமை 5. வறுமை



குறியீடுகள்:

- | | a | b | c | d | e |
|----|------------------|----------|----------|----------|----------|
| A) | 2 | 3 | 1 | 4 | 5 |
| B) | 2 | 3 | 4 | 1 | 5 |
| C) | 3 | 4 | 1 | 2 | 5 |
| D) | 4 | 3 | 2 | 1 | 5 |
| E) | விடை தெரியவில்லை | | | | |

164. பொதுமை வேட்டல் எனும் நூலானது தெய்வநிச்சயம் முதலாகப் போற்றி ஈறாக உள்ள எத்தனை பாக்களையும் எத்தனை தலைப்புகளையும் கொண்டது.
- A) 44 மற்றும் 430
B) 430 மற்றும் 44
C) 43 மற்றும் 440
D) 440 மற்றும் 43
E) விடை தெரியவில்லை
165. தவறானக் கூற்றினைத் தேர்ந்தெடு.
- A) பெருநாவலர் சுருங்கச் சொல்லி விளங்க வைப்பதில் வல்லவர்
B) நாயனாரின் காலம் கி.பி.31 ஆகும். இந்நூல் முப்பால் பகுப்புடையது.
C) உலகம் ஏற்கும் கருத்துகளைக் கொண்டு உள்ளதனால், “உலகப் பொதுமறை” என வழங்கப் பெறுகிறது
D) தமிழ்மறை நூலானது தமிழ்மொழியில் உள்ள அறநூல்களுள் முதன்மையானதாகும்
E) விடை தெரியவில்லை
166. பின்வரும் கூற்றுகளை கருத்தில் கொள்க.
- I. மனிதன் மனிதனாக வாழ, மனிதன் மனிதனுக்குக் கூறிய அறவுரைதான் திருக்குறளாகும்.
II. உலகப்பொதுமறை நூற்றெட்டு மொழிகளில் மொழி பெயர்க்கப் பெற்றுள்ளது.
மேற்கூறியவற்றுள் தவறானது எது/எவை?
- A) I மட்டும்
B) II மட்டும்
C) இரண்டும்
D) இரண்டுமில்லை
E) விடை தெரியவில்லை
167. பின்வரும் கூற்றுகளை கருத்தில் கொள்க.
- I. வள்ளலார் – எளிதில் பேசவும், எளிதில் பாடல் இயற்றவும் இயற்கையாக அமைந்தது தமிழ் ஒன்றே எனக் கூறியுள்ளார்.
II. ச.அகத்தியலிங்கம் – கிரேக்கம், இலத்தீன், சமற்கிருதம், சீனம், அரபு, ஈப்ரு, எபிரேயம் ஆகியவற்றை செம்மொழிகள் எனப் பட்டியலிடுகிறார்.
III. டாக்டர் கிரேஎஸ் – தமிழ் அழகான சித்திர வேலைபாடமைந்த வெள்ளித்தட்டு திருக்குறள் அதில் வைக்கப்பட்டுள்ள தங்க ஆப்பிள்.
மேற்கூறியவற்றுள் தவறானது எது/எவை?
- A) I மட்டும்
B) II மட்டும்
C) III மட்டும்
D) இவற்றில் எதுவுமில்லை
E) விடை தெரியவில்லை



168. பின்வருவனவற்றுள் தவறான இணையைத் தேர்ந்தெடு.
- A) ஆர்க்காடு - அத்தி மரங்கள் சூழ்ந்த ஊர்
B) ஆலங்காடு - ஆல மரங்கள் நிறைந்த ஊர்
C) களாக்காடு - களாச் செடிகள் நிறைந்த பகுதி
D) பனங்காடு - பனை மரங்கள் நிறைந்திருந்த ஊர்
E) விடை தெரியவில்லை
169. ஆற்றார் என்பதன் மருஉ பெயர் என்ன?
- A) ஆடுர்
B) ஆத்தூர்
C) ஆம்பூர்
D) இவற்றில் எதுவுமில்லை
E) விடை தெரியவில்லை
170. கல்வெட்டுகளில் மதுரை எவ்வாறு குறிப்பிடப்பட்டது?
- A) மதிரை
B) மதரை
C) மருதை
D) மருடை
E) விடை தெரியவில்லை
171. “நெல்லும் உயிரன்றே நீரும்உயி ரன்றே
மன்னன் உயிர்த்தே மலர்தலை உலகம்” – இப்பாடலடி இடம்பெற்ற நூல் எது? ஆசிரியர் யார்?
- A) புறநானூறு, பொன்முடியார்
B) புறநானூறு, மோசிகீரனார்
C) புறநானூறு, ஓளவையார்
D) புறநானூறு, காவற்பெண்டு
E) விடை தெரியவில்லை
172. அரசனை குறிக்கும் வேறு பெயர்களில் பொருந்தாது எது?
- A) கோ
B) மன்னன்
C) வேந்தன்
D) சேந்தன்
E) விடை தெரியவில்லை
173. மோசிகீரனார் உடல் சோர்வினால் முரசுக்கட்டிலில் உறங்கியபோது கவரி வீசிய மன்னன் யார்?
- A) பாண்டிய நெடுஞ்செழியன்
B) சேரமான் பெருஞ்சேரல் இரும்பொறை
C) கோப்பெருஞ்சோழன்
D) சேரன் செங்குட்டுவன்
E) விடை தெரியவில்லை
174. “ஆர்கலி உலகத்து மக்கட் கெல்லாம்” எனத் தொடங்கும் நூல் எது?
- A) புறநானூறு
B) ஆசாரக்கோவை
C) முதுமொழிக்காஞ்சி
D) மூதுரை
E) விடை தெரியவில்லை



175. பொருத்துக.

- | | |
|-------------------------|---------------------|
| a) காதலில் சிறந்தன்று | 1. மெய்பிணி இன்மை |
| b) மேதையில் சிறந்தன்று | 2. வாய்மையுடைமை |
| c) வண்மையில் சிறந்தன்று | 3. கற்றது மறவாமை |
| d) இளமையில் சிறந்தன்று | 4. கண்ணஞ்சப் படுதல் |

குறியீடுகள்:

	a	b	c	d
A)	3	4	2	1
B)	4	3	2	1
C)	4	3	1	2
D)	2	3	4	1

E) விடை தெரியவில்லை

176. யார் காப்பார் என்று தமிழன்னை ஏங்கியபோது நான் காப்பேன் என்று எழுந்தவர் யார்?

- | | |
|-------------------|------------------|
| A) தமிழ்த்தென்றல் | B) தமிழ்த்தாத்தா |
| C) மறைமலையடிகள் | D) வீரமாமுனிவர் |
- E) விடை தெரியவில்லை

177. திரிசிரபுரம் என அழைக்கப்பட்ட ஊர் எது ?

- | | |
|----------------------|---------------|
| A) திருச்சிராப்பள்ளி | B) திங்களுர் |
| C) திருத்தணி | D) திண்டிவனம் |
- E) விடை தெரியவில்லை

178. பொருத்துக :

- | | |
|----------------------------------|------------------------|
| a) பாவலரேறு | - 1. பாரதிதாசன் |
| b) கவிஞரேறு | - 2. வரதநஞ்சைய பிள்ளை |
| c) புலவரேறு | - 3. வாணிதாசன் |
| d) தமிழ்நாட்டின் இரதூல் கம்சதேவ் | - 4. பெருஞ்சித்திரனார் |

குறியீடுகள்:

	a	b	c	d
A)	3	4	2	1
B)	4	3	2	1
C)	4	3	1	2
D)	2	3	4	1

E) விடை தெரியவில்லை

179. பின்வருவனவற்றுள் தவறான ஒன்றைத் தேர்ந்தெடு.

- A) தாயுமானவருக்கு ஞானநெறி காட்டியவர் மௌனகுரு
- B) தமிழின் முதல் சிறுகதை எழுத்தாளர் வ.வே.சுப்ரமணியம்
- C) “களிறுஎறிந்து பெயர்தல் காளைக்குக் கடனே” என்ற வரி பட்டினப்பாலையில் உள்ளது
- D) சோழர்களின் தலைநகரமான உறையூர் முற்காலத்தில் கோழிமாநகரம் என அழைக்கப்பட்டது.
- E) விடை தெரியவில்லை



180. பின்வரும் கூற்றுக்களை கருத்தில் கொள்க.
I. காளமேகப்புவர் (வரதன்) நந்திக்கிராமம் (அ) எண்ணாயிரம் எனும் ஊரில் பிறந்தார்.
II. திருவரங்கக் கோவில் மடைப்பள்ளியில் பணிபுரிந்தார். வைணவ சமயத்திலிருந்து சைவ சமயத்திற்கு மாறினார்.
மேற்கூறியவற்றுள் சரியானது எது/எவை?
A) I மட்டும்
B) II மட்டும்
C) இரண்டும்
D) இரண்டுமில்லை
E) விடை தெரியவில்லை
181. “எறும்புந்தன் கையால்என் சாண்”
– இப்பாடலடி இடம்பெற்ற நூல் எது? பாடியவர் யார்?
A) தனிப்பாடல் திரட்டு, ஔவையார்
B) புறநானூறு, மோசிகீரனார்
C) புறநானூறு, பொன்முடியார்
D) கலித்தொகை, நல்லந்துவனார்
E) விடை தெரியவில்லை
182. பின்வருவனவற்றுள் தவறான ஒன்றைத் தேர்ந்தெடு.
A) கலைமடந்தை என்பதன் பொருள் ஔவையார்
B) ஔவையாரின் சமகாலத்தவர்கள்; கம்பர், ஒட்டக்கூத்தர், ஜெயங்கொண்டார், புகழேந்திப்புவர்
C) தனிப்பாடல் திரட்டை தொகுத்தவர் சந்திரசேகர கவிராசப் பண்டிதர்
D) தனிப்பாடல் திரட்டை தொகுக்க வேண்டிக் கேட்டவர் இராமநாதபுரம் மன்னர் பொன்னுசாமி
E) விடை தெரியவில்லை
183. கற்றதனா லாய பயனென் கொல் – இத்தொடரில் கொல் என்பது
A) பெயர்ச்சொல்
B) வினைச்சொல்
C) உரிச்சொல்
D) இடைச்சொல்
E) விடை தெரியவில்லை
184. “நலனுடை மையின் நாணுச் சிறந்தன்று
குலனுடை மையின் கற்புச் சிறந்தன்று” – என கூறும் நூல் எது?
A) புறநானூறு
B) அறவுரைக்கோவை
C) முதுமொழிக்காஞ்சி
D) B மற்றும் C
E) விடை தெரியவில்லை
185. யாருடைய பாடல்களை நச்சினார்க்கினியர் முதலிய நல்லுரையாசிரியர்கள் மேற்க்கோள்களாகக் கையாண்டுள்ளார்கள்?
A) மதுரைக் கூடலூர் கிழார்
B) மோசிகீரனார்
C) ஔவையார்
D) பொன்முடியார்
E) விடை தெரியவில்லை



186. “நோய்க்கு மருந்து இலக்கியம்” எனக் கூறியவர் யார்?
A) உ.வே.சாமிநாதர் B) பாரதியார்
C) மீனாட்சி சுந்தரனார் D) ஆறுமுக நாவலர்
E) விடை தெரியவில்லை
187. “நாளை என் தாய்மொழி சாகுமானால் – இன்றே
நான் இறந்து விடுவேன்” எனக் கூறியவர் யார்?
A) ரதூல் கம்சதேவ் B) க.சச்சிதானந்தன்
C) ஆறுமுகநாவலர் D) தமிழ்த்தென்றல்
E) விடை தெரியவில்லை
188. பின்வருவனவற்றுள் தவறான இணை எது?
A) முதற்போலி – மையல், மைஞ்சு
B) கடைப்போலி – பந்தர், நலன்
C) இடைபோலி – முரைசு, அரையர்
D) முற்றுப்போலி – அறம், கலன்
E) விடை தெரியவில்லை
189. “புறந்தூய்மை நீரான் அமையும் அகந்தூய்மை
வாய்மையால் காணப் படும்” – இக்குறளில் பயின்று வரும் அணி என்ன?
A) உவமை அணி B) எடுத்துகாட்டு உவமை அணி
C) உருவக அணி D) வேற்றுமை அணி
E) விடை தெரியவில்லை
190. “திருந்திய பண்பும், சீர்த்த நாகரிகமும்,
பொருந்திய தூய்மொழி, புகழ் செம்மொழியாம்” – எனக் கூறியவர் யார்?
A) மறைமலையடிகள் B) தேவநேயப் பாவாணர்
C) பரிதிமாற் கலைஞர் D) பெருஞ்சித்திரனார்
E) விடை தெரியவில்லை
191. பின்வருவனவற்றுள் தவறான ஒன்றைத் தேர்ந்தெடு.
A) திரிகடுகத்தின் ஆசிரியர் திருநெல்வேலியிலுள்ள திருத்து என்னும் ஊரில் பிறந்தவர்.
B) செரு அடுதோள் நல்லாதன் எனப் பாயிரம் குறிப்பிடுகிறது.
C) திரிகடுகம் 97 வெண்பாக்களைக் கொண்டது.
D) ஒவ்வொரு பாடலும் மூன்று அறக்கருத்துக்கள் கொண்டது.
E) விடை தெரியவில்லை
192. “பயிற்றுமொழியைக் குறித்து சிந்திக்காமல் கல்வி கற்பது, அடித்தளம் இல்லாமல் கட்டடத்தை
எழுப்புவதனைப் போன்றது” எனக் கூறியவர் யார்?
A) நேரு B) காமராசர்
C) காந்தி D) அண்ணா
E) விடை தெரியவில்லை



193. பின்வருவனவற்றுள் தவறானதைத் தேர்ந்தெடு.
A) கோலமயில் ஓயிலாக ஆடின B) வண்டுகள் தேன் குடித்தன
C) விண்கலங்கள் விண்ணில் பறந்தன D) அவன் பாடம் படித்தான்
E) விடை தெரியவில்லை
194. திருவாரூர் நான்மணிமாலை – பிரித்தெழுதுக.
A) திருவாரூர் + நான் + மணிமாலை B) திருவாரூர் + நான்கு + மணிமாலை
C) திருவாரூர் + நான்மணி + மாலை D) திருவாரூர் + நான்குமணி + மாலை
E) விடை தெரியவில்லை
195. திருவாரூர் நான்மணிமாலை யார் மீது பாடப்பெற்றது?
A) திருவாரூர் முருகப்பெருமான் B) திருவாரூர் தியாகராசர்
C) திருவாரூர் திருமால் D) திருவாரூர் திருமலைராயன்
E) விடை தெரியவில்லை
196. நான்மணிமாலையில் குறிப்பிடப்படும் நால்வகை மணிகள் எவை?
A) முத்து, பவளம், மரகதம், மாணிக்கம் B) முத்து, பவளம், வைரம், வைரூரியம்
C) முத்து, பவளம், மரகதம், வைரம் D) வைரம், வைரூரியம், மாணிக்கம், கோமேதகம்
E) விடை தெரியவில்லை
197. பொருந்தாத ஒன்றைத் தேர்வு செய்க.
A) கவிஞரேறு B) பாவலரேறு மணி
C) வாணிதாசன் D) தமிழகத்தின் வேர்ட்ஸ் வொர்த்
E) விடை தெரியவில்லை
198. பின்வருவனவற்றுள் தவறான இணையைத் தேர்ந்தெடு.
A) இளைஞர் இலக்கியம் – பாரதிதாசன்
B) இன்ப இலக்கியம் – வாணிதாசன்
C) இலக்கிய இன்பம் – காந்தியக் கவிஞர்
D) குழந்தை இலக்கியம் – கவிமணி
E) விடை தெரியவில்லை
199. பொருத்துக.
a) சேரநாடு 1. சான்றோர் உடைத்து
b) சோழநாடு 2. முத்துடைத்து
c) பாண்டிய நாடு 3. சோறுடைத்து
d) தொண்டைநாடு 4. வேழமுடைத்து
- குறியீடுகள்:
- | | a | b | c | d |
|----|---|---|---|---|
| A) | 4 | 1 | 2 | 3 |
| B) | 3 | 4 | 2 | 1 |
| C) | 4 | 3 | 1 | 2 |
| D) | 4 | 3 | 2 | 1 |
- E) விடை தெரியவில்லை



200. பின்வருவனவற்றுள் தவறான இணையைத் தேர்ந்தெடு.
- A) அறுவை வீதி - ஆடைகள் விற்கும் வீதி
B) கூல வீதி - தானியக்கடை வீதி
C) பொன் வீதி - பொற்கடை வீதி
D) மறையவர் வீதி - மன்னர் வாழும் வீதி
E) விடை தெரியவில்லை

* * * * *



SHANKAR
IAS ACADEMYTM
Best Academy for Civil Services Exam Coaching

CCS2E/2024

Register Number

--	--	--	--	--	--	--	--	--	--	--	--	--	--	--	--	--	--	--	--

2024

Test - 17

GENERAL STUDIES / பொது அறிவு
(Degree Standard/பட்டப்படிப்பு தரம்)

Duration : Three Hours]

[Total Marks: 300

Read the following instructions carefully before you begin to answer the questions.

IMPORTANT INSTRUCTIONS

1. You will be supplied with this question booklet 15 minutes prior to the commencement of the examination.
2. This question booklet contains **200** questions. Before answering the questions, you shall check whether all the questions are printed serially and ensure that there are no blank pages in the questions booklet. **If any defect is noticed in the question booklet, it shall be reported to the invigilator within the first 10 minutes and get it replaced with a complete question booklet. If the defect is reported after the commencement of the examination, it will not be replaced.**
3. Answer all the questions. All the questions carry equal marks.
4. You must write your register number in the space provided on the top right side of this page. Do not write anything else on the question booklet.
5. An answer sheet will be supplied to you separately by the room invigilator to shade the answers. Instructions regarding filling of answers etc. which are to be followed mandatorily, are provided in the answer sheet and in the memorandum of admission Hall Ticket)
6. You shall write and shade your question booklet number in the space provided on page one of the answer sheet with **BLACK INK BALL POINT PEN**. If you do not shade correctly or fail to shade the question booklet number, your answer sheet will be invalidated.
7. Each question comprises of five responses (answers) : i.e. A), (B), C), D) and (E). You have to select **ONLY ONE** correct answer from A) or B) or C) or D) and shade the same in your answer sheet. If you feel that there are more than one correct answer, shade the one which you consider the best. **If you do not know the answer, you have to mandatorily shade (E)**. In any case, choose **ONLY ONE** answer for each question. If you shade more than one answer for a question, it will be treated as a wrong answer even if one of the given answers happens to be correct.
8. You should not remove or tear off any sheet from this question booklet. You are not allowed to take this question booklet and the answer sheet out of the examination room during the time of the examination. After the examination, you must hand over your answer sheet to the invigilator. You are allowed to take the question booklet with you only after the examination is over.
9. **You should not make any marking in the question booklet except in the sheets before the last page of the question booklet, which can be used for rough work. This should be strictly adhered to.**
10. In all matters, the English version is final.
11. Failure to comply with any of the above instructions will render you liable for such action as the Commission may decide at their discretion.

↪

[Turn over

For queries mail to For queries mail to : zerofeedback@shankariasacad.in; [Turn over

Kindly Send Me Your Key Answer to Our email id - Padasalai.net@gmail.com



Part B — General Studies (Degree Standard)

பகுதி - ஆ — பொது அறிவு (பட்டப்படிப்பு தரம்)

வினாக்கள் : 1-200

மொத்த மதிப்பெண்கள் : 300

Test 17

Questions : 1-200

Total Marks : 300

1. Which Battle is not related with Anglo Maratha War?
 A) Battle of Wandiwash B) Battle of Koregaon
 C) Battle of Mahidpur D) Battle of Kirkee
 E) Answer not known
 ஆங்கிலேய மராத்தியப் போருடன் தொடர்பில்லாத போர் எது?
 A) வந்தவாசிப் போர் B) கோரேகான் போர்
 C) மஹித்பூர் போர் D) கிர்கி போர்
 E) விடை தெரியவில்லை
2. Arrange in Chronological order:
 I. Saddler University Commission
 II. Raleigh Commission
 III. The English Education Act
 IV. Hartog committee
 V. Woods Despatch
Codes:
 A) III-II-V-I-IV B) III-V-II-I-IV
 C) III-V-II-IV-I D) III-V-I-II-IV
 E) Answer not known
 காலவரிசைப்படி வரிசைப்படுத்துக:
 I. சாட்லர் பல்கலைக்கழக ஆணையம்
 II. ராலே கமிஷன்
 III. ஆங்கிலக் கல்விச் சட்டம்
 IV. ஹார்டாக் குழு
 V. உட்ஸ் அறிக்கை
குறியீடுகள்:
 A) III-II-V-I-IV B) III-V-II-I-IV
 C) III-V-II-IV-I D) III-V-I-II-IV
 E) விடை தெரியவில்லை
3. Consider the following statements.
 I. This Act ended the doctrine of lapse and abolished the double government of the Pitts India Act.
 II. After this act, Lord Stanley become the First Secretary of State for India.
 Which act is mentioned in the above statements?
 A) Queen India Proclamation 1858
 B) Government of India Act, 1935
 C) Government of India Act, 1858
 D) Government of India Act, 1833
 E) Answer not known



பின்வரும் கூற்றுகளைக் கருத்தில் கொள்க.

- I. இச்சட்டம் வாரிசு இழப்புக் கொள்கையை முடிவுக்குக் கொண்டு வந்தது. மேலும் பிட் இந்திய சட்டத்தின் இரட்டை ஆட்சி முறையானது ஒழிக்கப்பட்டது
 - II. இச்சட்டத்திற்கு பிறகு ஸ்டான்லி பிரபு இந்தியாவுக்கான முதல் அயலுறவுச் செயலரானார். மேற்கண்ட கூற்றுகளில் எந்தச் செயல் குறிப்பிடப்பட்டுள்ளது?
- A) மகாராணியின் பேரறிக்கை 1858
 - B) இந்திய அரசுச் சட்டம், 1935
 - C) இந்திய அரசுச் சட்டம், 1858
 - D) இந்திய அரசுச் சட்டம், 1833
 - E) விடை தெரியவில்லை

4. "To Slaughter all the Mahajans and daroga and all rich Bengalis from their country"- Who got this order from their?
- A) Bindrai and Singhrai
 - B) Lord Dalhousie
 - C) Santhal Brothers
 - D) Birsa Munda
 - E) Answer not known

"அனைத்து மஹாஜன்கள் மற்றும் தரோகாக்கள் மற்றும் அனைத்து பணக்கார வங்காளத்தினரை அவர்களது நாட்டிலிருந்து படுகொலை செய்வது" – என்று யாரிடமிருந்து இந்த உத்தரவு வந்தது?

- A) பிந்திராய் மற்றும் சிங்ராய்
- B) டல்ஹௌசி பிரபு
- C) சந்தால் சகோதரர்கள்
- D) பிரசா முண்டா
- E) விடை தெரியவில்லை

5. Consider the following statements.

- I. These people are also called as Manjhi
 - II. Battle of Maheshpur at Jharkhand is related with this people.
 - III. Damin-i-koh was the land related to this people
- The above statements is related to

- A) Kols
- B) Santhals
- C) Mundas
- D) Chaur
- E) Answer not known

பின்வரும் கூற்றுகளைக் கருத்தில் கொள்க

- I. இவர்கள் மாஞ்சி என்றும் அழைக்கப்படுகிறார்கள்
 - II. ஜார்கண்டில் நடைபெற்ற மகேஷ்பூர் போர் இந்த மக்களுடன் தொடர்புடையது.
 - III. டாமின்-இ-கோ என்பது இந்த மக்களோடு தொடர்புடைய நிலமாகும்
- மேற்கண்ட கூற்றுகளுடன் தொடர்புடையது எது?

- A) கோல்கள்
- B) சந்தாலர்கள்
- C) முண்டாக்கள்
- D) செளர்
- E) விடை தெரியவில்லை

6. 'Agrarian disturbances in many forms and on scales ranging from local riots to war-like campaigns spread over many districts were endemic throughout the first three quarters of British rule until the very end of the nineteenth century' – This statement from the hand of
- A) Jawaharlal Nehru
 - B) Lord Dalhousie
 - C) Ranajit Guha
 - D) Kathlene Gough
 - E) Answer not known



‘பத்தொன்பதாம் நூற்றாண்டின் இறுதி வரை பிரிட்டிஷ் ஆட்சியின் முதல் முக்கால்வாசி காலம் முழுவதும், உள்ளூர் கலவரங்கள் முதல் போர் போன்ற இயக்கங்கள் வரை பல வடிவங்களில் மற்றும் அளவுகளில் விவசாயக் கலவரங்கள் பரவியிருந்தன’ – இந்த கூற்றைக் கூரியவர்

- A) ஜவர்ஹலால் நேரு
B) டல்ஹவுசி பிரபு
C) ரனாஜித் குஹா
D) கேத்லீன் கோஃப்
E) விடை தெரியவில்லை

7. Who stated the revolt of 1857 as “A conflict between civilisation and barbarism”?
A) Elphinstone
B) T.R. Holmes
C) R.C. Majumdar
D) V.D. Savarkar
E) Answer not known

1857 பெருங்கிளர்ச்சியை “நாகரிகத்திற்கும் காட்டுமிராண்டித்தனத்திற்கும் இடையிலான மோதல்” என்று கூறியவர் யார்?

- A) எல்பின்ஸ்டோன்
B) டி.ஆர்.ஹோல்ம்ஸ்
C) ஆர்.சி.மஜும்தார்
D) வி.டி.சவார்க்கர்
E) விடை தெரியவில்லை

8. Consider the following statements.

I. It was based on “Scientific Ricardian Theory of rent”.

II. It introduced the concept of private property in land

The above statements are related to?

- A) Zamindari system
B) Ryotwari System
C) Mahalwari System
D) Bengal Tenancy Act, 1885
E) Answer not known

பின்வரும் கூற்றுகளைக் கருத்தில் கொள்க

I. இது “சயண்டிபிக் ரிக்கார்டியன் தியரி ஆஃப் ரெண்ட்” - இன் அடிப்படையில் அமைந்தது.

II. இது நிலத்தில் தனியார் சொத்துரிமை என்ற கருத்தை அறிமுகப்படுத்தியது

மேற்கண்ட கூற்றுகளுடன் தொடர்புடையது எது?

- A) ஜமீந்தாரி அமைப்பு
B) இரயத்வாரி அமைப்பு
C) மஹல்வாரி அமைப்பு
D) வங்காள குத்தகைச் சட்டம், 1885
E) விடை தெரியவில்லை

9. Who presided the Indian National Congress session at Calcutta where Jana Gana Mana sung for first time?

- A) Rash Bihari Ghosh
B) A.C. Majumdar
C) Bishan Narayan Dhar
D) S.N. Bannerjee
E) Answer not known

கல்கத்தாவில் ஜன கண மன பாடிய முதன்முதலில் பாடப்பட்ட இந்திய தேசிய காங்கிரஸ் மாநாட்டிற்கு தலைமை தாங்கியவர் யார்?

- A) ராஷ் பிஹாரி கோஷ்
B) ஏ.சி. மஜும்தார்
C) பிஷன் நாராயண் தார்
D) எஸ்.என்.பானர்ஜி
E) விடை தெரியவில்லை



10. Find out the incorrectly matched pair.

(Organisation)

(Founder)

- | | |
|---------------------------------------|------------------------|
| A) Khudai Khidmatgar | – Abdul Gaffar Khan |
| B) All Indian Kisan Sabha | – Sahajanand Saraswati |
| C) United India Patriotic Association | – Sir Syed Ahmed Khan |
| D) Indian Trade Union Congress | – Singaravelar |
| E) Answer not known | |

தவறாகப் பொருந்தியுள்ள இணையைக் கண்டறியவும்.

(அமைப்பு)

(நிறுவனர்)

- | | |
|----------------------------------|------------------------|
| A) குதாய் கித்மத்கர் | – அப்துல் காஃபர் கான் |
| B) அனைத்து இந்திய கிசான் சபா | – சகஜானந்த சரஸ்வதி |
| C) ஐக்கிய இந்திய தேசபக்தி சங்கம் | – சர் சையத் அகமது கான் |
| D) இந்திய தொழிற்சங்க காங்கிரஸ் | – சிங்காரவேலர் |
| E) விடை தெரியவில்லை | |

11. Consider the following statements.

- I. Gokhale called Dadabhai Naoroji as Diamond of India.
- II. He was the first Indian to become a Member of British House of Commons
- III. He founded Radical Democratic Party.

Which of the above statements are correct regarding Dadabhai Naoroji?

- | | |
|---------------------|------------------|
| A) I only | B) II only |
| C) I and III only | D) All the above |
| E) Answer not known | |

பின்வரும் கூற்றுகளைக் கருத்தில் கொள்க

- I. கோகலே தாதாபாய் நௌரோஜியை இந்தியாவின் வைரம் என்று அழைத்தார்.
- II. பிரிட்டிஷ் ஹவுஸ் ஆஃப் காமன்ஸில் உறுப்பினரான முதல் இந்தியர்.
- III. தீவிர ஜனநாயகக் கட்சியை நிறுவினார்.

தாதாபாய் நௌரோஜியை பற்றிய மேற்கண்ட கூற்றுகளில் எது சரியானது?

- | | |
|--------------------------|-----------------------|
| A) I மட்டும் | B) II மட்டும் |
| C) I மற்றும் III மட்டும் | D) மேற்கண்ட அனைத்தும் |
| E) விடை தெரியவில்லை | |

12. Match List-I with List-II.

List-I

List-II

(Case)

(Year)

- | | |
|----------------------------|---------|
| a) Howrah Conspiracy Case | 1. 1909 |
| b) Banaras Conspiracy Case | 2. 1910 |
| c) Delhi Conspiracy Case | 3. 1915 |
| d) Nasik Conspiracy Case | 4. 1912 |

Codes:

- | | | | | |
|----|------------------|----------|----------|----------|
| | a | b | c | d |
| A) | 4 | 2 | 3 | 1 |
| B) | 2 | 3 | 4 | 1 |
| C) | 3 | 2 | 1 | 4 |
| D) | 4 | 1 | 2 | 3 |
| E) | Answer not known | | | |



பட்டியல்-Iஐ பட்டியல்-II உடன் பொருத்துக.

பட்டியல்-I

பட்டியல்-II

(வழக்கு)

(ஆண்டு)

- | | |
|----------------------|---------|
| a) ஹவ்ரா சதி வழக்கு | 1. 1909 |
| b) பனாரஸ் சதி வழக்கு | 2. 1910 |
| c) டெல்லி சதி வழக்கு | 3. 1915 |
| d) நாசிக் சதி வழக்கு | 4. 1912 |

குறியீடுகள்:

- | | a | b | c | d |
|----|---|---|---|---|
| A) | 4 | 2 | 3 | 1 |
| B) | 2 | 3 | 4 | 1 |
| C) | 3 | 2 | 1 | 4 |
| D) | 4 | 1 | 2 | 3 |
- E) விடை தெரியவில்லை

13. Consider the following statements.

I. He is the Real founder of Portuguese power in India.

II. The policy of Imperialism introduced by him

The above statement refers to which Personality?

- | | |
|---------------------------|-------------------------|
| A) Alfonso de Albuquerque | B) Franchise De Almedia |
| C) Nartholomeu Diaz | D) Nino da Cunha |
| E) Answer not known | |

பின்வரும் கூற்றுகளைக் கருத்தில் கொள்க.

I. இவர் இந்தியாவில் போர்த்துகீசிய ஆட்சி அதிகாரத்தின் உண்மையான நிறுவனர் ஆவார்.

II. இவரால் ஏகாதிபத்தியக் கொள்கை அறிமுகப்படுத்தப்பட்டது

மேற்கண்ட கூற்று எந்த ஆளுமையைக் குறிக்கிறது?

- | | |
|-----------------------------|-----------------------------|
| A) அல்போன்சா டி அல்புகெர்க் | B) ஃபிரான்சைஸ் டி அல்மீடியா |
| C) பார்த்தலோமியோ டயஸ் | D) நினோ டி குன்ஹா |
| E) விடை தெரியவில்லை | |

14. Who is not the founder are Bombay Presidency Association 1885?

- | | |
|---------------------|----------------------|
| A) Syed Ahmed Khan | B) Pherozeshah Mehta |
| C) K.T. Telang | D) Badruddin Tyabji |
| E) Answer not known | |

பம்பாய் மாகாண சங்கம் 1885 ன் நிறுவனர்களுள் பொருந்தாதவர் யார்?

- | | |
|---------------------|-----------------------|
| A) சையத் அகமது கான் | B) பெரோஸ்ஷா மேத்தா |
| C) கே.டி.தெலங் | D) பத்ருதீன் தியாப்ஜி |
| E) விடை தெரியவில்லை | |



15. Consider the following statements about Indigo Revolt.
- Digambar and Bishnuchandra Biswas were the Leaders of this Revolt
 - Newspaper Hindu Patriot by Harish Chandra Mukherjee brought light to this revolt.
 - Government setup an indigo commission where Gandhiji was a member.
- Which of the above statements are correct?
- I only
 - I and II only
 - I and III only
 - All the above
 - Answer not known
- இண்டிகோ கிளர்ச்சி பற்றிய பின்வரும் கூற்றுகளைக் கருத்தில் கொள்க.
- திகம்பர் மற்றும் பிஷ்ணுசந்திர பிஸ்வாஸ் ஆகியோர் இந்த கிளர்ச்சியின் தலைவர்கள் ஆவர்
 - ஹரிஷ சந்திர முகர்ஜியின் இந்து தேசபக்தர் என்ற செய்தித்தாள் இந்தக் கிளர்ச்சியை வெளிச்சம் போட்டுக் காட்டியது.
 - காந்திஜியை உறுப்பினராகக் கொண்ட இண்டிகோ ஆணையத்தை அரசாங்கம் அமைத்தது. மேற்கண்ட கூற்றுகளில் சரியானது எது/எவை?
- I மட்டும்
 - I மற்றும் II மட்டும்
 - I மற்றும் III மட்டும்
 - மேற்கண்ட அனைத்தும்
 - விடை தெரியவில்லை
16. Choose the incorrect one.
- | (Tribe) | (Important Personality) |
|---------------------|--------------------------------|
| A) Kols | – Bindrai and Singhrai |
| B) Kukis | – Rani Gaidinlue |
| C) Rampa | – Alluri Sitaram Raju |
| D) Ahom | – Sevaram |
| E) Answer not known | |
- தவறான ஒன்றைத் தேர்ந்தெடுக்கவும்.
- | (பழங்குடி) | (முக்கியமான ஆளுமை) |
|---------------------|-------------------------------|
| A) கோல்கள் | – பிந்த்ராய் மற்றும் சிங்ராய் |
| B) குக்கிகள் | – ராணி கெய்டின்லியு |
| C) ராம்பா | – அல்லூரி சீத்தாராம் ராஜு |
| D) அஹோம் | – சேவராம் |
| E) விடை தெரியவில்லை | |
17. The Book “The Indian War of Independence” was written by
- Vinayak Damodar
 - Surendranath Sen
 - S.N. Bannerjee
 - Lord Canning
 - Answer not known
- “The Indian War of Independence” என்ற புத்தகத்தை எழுதியவர்
- விநாயக் தாமோதர்
 - சுரேந்திரநாத் சென்
 - எஸ்.என். பானர்ஜி
 - கானிங் பிரபு
 - விடை தெரியவில்லை



18. Find out the incorrectly matched pair.

(Newspaper)

(Founder)

- A) Amrit Bazaar Patrika – Sisir Kumar Ghosh
B) The Bombay Chronicle – Pherozeshah Mehta
C) The Tribune – Dayal Singh Majeetia
D) The Indian Mirror – Rabindranath Tagore
E) Answer not known

தவறாகப் பொருந்தியுள்ள இணையைக் கண்டறியவும்.

(செய்தித்தாள்)

(நிறுவனர்)

- A) அமிர்த பஜார் பத்திரிகை – சிசிர் குமார் கோஷ்
B) தி பாம்பே க்ரோனிக்கிள் – பெரோஸ்ஷா மேத்தா
C) தி ட்ரிப்யூன் – தயாள் சிங் மஜீத்தியா
D) தி இந்தியன் மிரர் – இரவீந்திரநாத் தாசூர்
E) விடை தெரியவில்லை

19. Consider the following statements about Raja Ram Mohan Roy.

- I. Raja Ram Mohan Roy was the founder of Atmiya Sabha
II. He opened a temple in Midnapore, where there was no image.
III. He was called as “The Father of Modern India”.

Which of the above statements are correct?

- A) I only
B) I and II only
C) I and III only
D) All the above
E) Answer not known

ராஜா ராம் மோகன் ராய் பற்றிய பின்வரும் கூற்றுகளைக் கருத்தில் கொள்க

- I. ராஜா ராம் மோகன் ராய் ஆத்மிய சபையை நிறுவினார்
II. மிட்னாப்பூரில் கடவுள் உருவம் இல்லாத ஒரு கோயிலைத் திறந்தார்.
III. இவர் “நவீன இந்தியாவின் தந்தை” என்று அழைக்கப்பட்டார்.

மேற்கண்ட கூற்றுகளில் சரியானது எது/எவை?

- A) I மட்டும்
B) I மற்றும் II மட்டும்
C) I மற்றும் III மட்டும்
D) மேற்கண்ட அனைத்தும்
E) விடை தெரியவில்லை

20. Consider the following statements.

- I. He started a magazine called “Tathuvabodhini”.
II. He wrote a play titled Brahma Samaja Natakam to exhibit the idea of Brahma samaj.

The above statements refers to which of the following personality?

- A) Sathyamurthi
B) Rabindranath Tagore
C) Kasi Vishwanatha Mudhaliyar
D) Swami Shraddhananda
E) Answer not known



பின்வரும் கூற்றுகளைக் கருத்தில் கொள்க.

I. “தத்துவபோதினி” என்ற இதழைத் தொடங்கினார்.

II. பிரம்ம சமாஜத்தின் கருத்தை வெளிப்படுத்தும் வகையில் பிரம்ம சமாஜ நாடகம் என்ற நாடகத்தை எழுதினார்.

மேற்கண்ட கூற்றுகள் பின்வரும் எந்த ஆளுமையைக் குறிக்கிறது?

- A) சத்தியமூர்த்தி
B) ரவீந்திரநாத் தாகூர்
C) காசி விஸ்வநாத் முதலியார்
D) சுவாமி ஷ்ரத்தானந்தா
E) விடை தெரியவில்லை

21. Which of the following is not related to Narendra Nath Datta?

- A) Sister Nivedita
B) Prabudha Bharat
C) Jiva is Siva
D) Udbodhana
E) Answer not known

பின்வருவனவற்றில் நரேந்திரநாத் தத்தாவுடன் தொடர்பில்லாதது எது?

- A) சகோதரி நிவேதிதா
B) பிரபுதா பாரத்
C) ஜீவன் என்பது சிவன்
D) உத்போதனா
E) விடை தெரியவில்லை

22. Which is the weekly newspaper among the following?

- A) Kesari
B) Commonweal
C) Hindustan Times
D) New India
E) Answer not known

பின்வருவனவற்றில் வாராந்திர செய்தித்தாள் எது?

- A) கேசரி
B) காமன்வெல்
C) இந்துஸ்தான் டைம்ஸ்
D) நியூ இந்தியா
E) விடை தெரியவில்லை

23. Consider the following statements about Syed Ahmad Khan.

I. Aligarh Movement was started by Syed Ahmad Khan in 1877.

II. The aim of Aligarh Movement was religious regeneration of the Muslim community.

III. His social ideas were propagated through his magazine Tahdhib-ul Akhluq

Which of the statements given above is/are correct?

- A) III only
B) I and II only
C) II only
D) II and III only
E) Answer not known

செய்த அஹ்மத் கான் பற்றிய பின்வரும் கூற்றுகளைக் கருத்தில் கொள்க

I. அலிகார் இயக்கம் 1877இல் செய்த அகமது கானால் தொடங்கப்பட்டது.

II. அலிகார் இயக்கத்தின் நோக்கம் முஸ்லீம் சமூகத்தின் மத மறுமலர்ச்சி ஆகும்.

III. இவரது சமூகக் கருத்துக்கள் இவரது பத்திரிகையான தஹ்திப்-உல் அக்லுக் மூலம் பரப்பப்பட்டன

மேற்கண்ட கூற்றுகளில் சரியானது எது/எவை?

- A) III மட்டும்
B) I மற்றும் II மட்டும்
C) II மட்டும்
D) II மற்றும் III மட்டும்
E) விடை தெரியவில்லை



24. State the Term of Office Period of Viceroy who repealed the Vernacular Press Act?
- A) 1884 - 1888
B) 1888 - 1894
C) 1882 - 1886
D) 1880 - 1884
E) Answer not known

வட்டார மொழி பத்திரிக்கை சட்டத்தை ரத்து செய்த வைஸ்ராயின் பதவிக் காலத்தைக் குறிப்பிடவும்?

- A) 1884 - 1888
B) 1888-1894
C) 1882 - 1886
D) 1880-1884
E) விடை தெரியவில்லை

25. Arrange in Chronological order
- I. August Declaration
II. Widow Remarriage Act
III. Ancient Monument preservation act
IV. First Factory Act
V. The Arms Act

Codes:

- A) II-V-IV-I-III
B) V-IV-II-I-III
C) II-V-III-IV-I
D) II-V-IV-III-I
E) Answer not known

காலவரிசைப்படி ஒழுங்கமைக்கவும்

- I. ஆகஸ்ட் பிரகடனம்
II. விதவை மறுமணச் சட்டம்
III. பழங்கால நினைவுச்சின்னம் பாதுகாப்புச் சட்டம்
IV. முதல் தொழிற்சாலை சட்டம்
V. ஆயுதச் சட்டம்

குறியீடுகள்:

- A) II-V-IV-I-III
B) V-IV-II-I-III
C) II-V-III-IV-I
D) II-V-IV-III-I
E) விடை தெரியவில்லை

26. Consider the following statements.
- I. A Bengali Nationalist leader
II. Supported the laborers on tea plantations in Assam in their protest and strike.

III. He formed All Bengal Civil Disobedience Council.

The above statements justifies which personality?

- A) J.M. Sengupta
B) Premananda Dutta
C) Ambika Chakrabarty
D) Rabindranath Tagore
E) Answer not known

பின்வரும் கூற்றுகளைக் கருத்தில் கொள்க.

- I. வங்காள தேசியவாத தலைவர்
II. அஸ்ஸாமில் தேயிலைத் தோட்டத் தொழிலாளர்களின் போராட்டம் மற்றும் வேலைநிறுத்தப் போராட்டத்திற்கு ஆதரவளித்தார்.
III. இவர் அனைத்து வங்காள ஒத்துழையாமை குழுவை உருவாக்கினார்.



மேற்கண்ட கூற்றுக்கள் எந்த ஆளுமையை நியாயப்படுத்துகின்றன?

- A) ஜே.எம். சென்குப்தா
B) பிரேமானந்த தத்தா
C) அம்பிகா சக்ரபர்த்தி
D) ரவீந்திரநாத் தாகூர்
E) விடை தெரியவில்லை

27. Which personality from Patna suggested boycott and organised the East Indian Railway strike in 1906?

- A) Bipin Chandra Pal
B) Rabindranath Tagore
C) Shyamsunder Chakrabarty
D) Liakat Hossain
E) Answer not known

1906 ஆம் ஆண்டு கிழக்கு இந்திய ரயில்வே வேலைநிறுத்தத்தை புறக்கணிக்கவும், ஏற்பாடு செய்யவும் பாட்னாவைச் சேர்ந்த எந்த பிரமுகர் பரிந்துரைத்தார்?

- A) பிபின் சந்திர பால்
B) ரவீந்திரநாத் தாகூர்
C) ஷியாம்சுந்தர் சக்ரபர்த்தி
D) லியாகத் ஹொசைன்
E) விடை தெரியவில்லை

28. 'It was religiously unlawful for the Muslim to continue in the British Army' was voiced out by which of the following person?

- A) Syed Ahmed Khan
B) Jinnah
C) Muhammed Ali
D) Maulana Abdul kalam Azad
E) Answer not known

'பிரிட்டிஷ் இராணுவத்தில் முஸ்லிம்கள் தொடர்ந்து பணியாற்றுவது மத ரீதியாக சட்டவிரோதமானது' என்று பின்வரும் நபர்களில் யாரால் குரல் கொடுக்கப்பட்டது?

- A) சையது அகமது கான்
B) ஜின்னா
C) முகமது அலி
D) மௌலானா அப்துல் கலாம் ஆசாத்
E) விடை தெரியவில்லை

29. Which Book favours the swaraj which would nationalize factories and distribute zamindari land among farmers?

- A) The Great Indian Novel
B) Gandhi versus Lenin
C) India wins Freedom
D) Hind Swaraj
E) Answer not known

தொழிற்சாலைகளை தேசியமயமாக்கும் மற்றும் விவசாயிகளுக்கு ஜமீன்தாரி நிலத்தைப் பகிர்ந்தளிக்கும் சுயராஜ்ஜியத்தை ஆதரிக்கும் புத்தகம் எது?

- A) தி கிரேட் இந்தியன் நாவல்
B) காந்தி வேர்சஸ் லெனின்
C) இந்தியா வின்ஸ் ப்ரீடோம்
D) ஹிந்த் சுவராஜ்
E) விடை தெரியவில்லை

30. Consider the following statements.

- I. Introduction to Dyarchy
II. Subjects divided into reserved and transferred list.
III. It abolishes the Indian Council.



Which of the above statement is not enacted according to Government of India Act, 1919?

- A) I only
B) III only
C) II only
D) None of the above
E) Answer not known

பின்வரும் கூற்றுகளைக் கருத்தில் கொள்க.

I. இரட்டை ஆட்சியின் அறிமுகம்

II. ஒதுக்கப்பட்ட மற்றும் மாற்றப்பட்ட பட்டியல்களாகப் பிரிக்கப்பட்ட துறைகள்.

III. இது இந்தியக் குழுவை ரத்து செய்கிறது.

மேற்கண்ட எந்த கூற்றுக் இந்திய அரசு சட்டம், 1919-ன் படி இயற்றப்படவில்லை?

- A) I மட்டும்
B) III மட்டும்
C) II மட்டும்
D) மேற்கண்ட எதுவுமில்லை
E) விடை தெரியவில்லை

31. "After ten years of painful separation ... Indian National Party have come to realize the fact that united they stand, but divided they fall, and brothers have at last met brothers..." – A.C. Majumdar

Who was the Viceroy of India by the time of this welcoming happened in INC?

- A) Lord Curzon
B) Lord Reading
C) Lord Chelmsford
D) Lord Hardinge II
E) Answer not known

“பத்து வருட வலி மிகுந்த பிரிவினைக்குப் பிறகு... ஒற்றுமையாக நிற்கிறோம், ஆனால் பிளவுபடுகிறோம் என்ற உண்மையை இந்திய தேசியக் கட்சி உணர்ந்துள்ளது, சகோதரர்கள் கடைசியாக சகோதரர்களை சந்தித்தனர்...” – A.C. மஜும்தார்

இந்திய தேசிய காங்கிரசில் இந்த வரவேற்பு நடைபெற்றபோது இந்தியாவின் வைஸ்ராயாக இருந்தவர் யார்?

- A) கர்சன் பிரபு
B) ரீடிங் பிரபு
C) செம்ஸ்போர்ட் பிரபு
D) இரண்டாம் ஹார்டிங் பிரபு
E) விடை தெரியவில்லை

32. How many of the following pairs are correctly matched?

(List)

(Items)

- I. State List – Public Health and sanitation
II. Union List – Communication
III. State List – Marriage
IV. Concurrent List – Public Order

Codes:

- A) 1 pair only
B) 2 pairs only
C) 3 pairs only
D) All pairs
E) Answer not known



பின்வரும் இணைகளில் எத்தனை சரியாகப் பொருந்தியுள்ளது?

(பட்டியல்)

(துறைகள்)

- | | | |
|---------------------|---|-----------------------------|
| I. மாநிலப் பட்டியல் | - | பொது நலம் மற்றும் சுகாதாரம் |
| II. மத்திய பட்டியல் | - | தகவல் தொடர்பு |
| III. மாநில பட்டியல் | - | திருமணம் |
| IV. பொதுப் பட்டியல் | - | பொது ஒழுங்கு |

குறியீடுகள்:

- | | |
|---------------------|---------------------|
| A) 1 இணை மட்டும் | B) 2 இணைகள் மட்டும் |
| C) 3 இணைகள் மட்டும் | D) அனைத்து இணைகளும் |
| E) விடை தெரியவில்லை | |

33. Which subject is not transferred to concurrent list through 42nd Amendment Act of 1976?

- A) Education
B) Weights and measures
C) Civil Procedure
D) Protection of Wild animals and birds
E) Answer not known

1976 ஆம் ஆண்டின் 42வது திருத்தச் சட்டத்தின் மூலம் எந்தத் துறையானது பொது பட்டியலுக்கு மாற்றப்படவில்லை?

- A) கல்வி
B) எடைகள் மற்றும் அளவுகள்
C) உரிமையியல் வழக்கு நடைமுறைமை
D) காட்டு விலங்குகள் மற்றும் பறவைகள் பாதுகாப்பு
E) விடை தெரியவில்லை

34. Which Bill from State List can be introduced in the state legislature only with the previous sanction of the President?

- A) Money Bill of a state
B) Bills imposing restriction on Finance of state
C) Bills imposing restriction on freedom of trade and commerce
D) Bills imposing restriction on Education
E) Answer not known

மாநிலப் பட்டியலிலிருந்து எந்த மசோதாவை குடியரசுத் தலைவரின் முந்தைய அனுமதியுடன் மட்டுமே மாநில சட்டமன்றத்தில் அறிமுகப்படுத்த முடியும்?

- A) ஒரு மாநிலத்தின் பண மசோதா
B) மாநில நிதி மீது கட்டுப்பாடு விதிக்கும் மசோதாக்கள்
C) வணிகம் மற்றும் வர்த்தக சுதந்திரத்தின் மீது கட்டுப்பாடுகளை விதிக்கும் மசோதாக்கள்
D) கல்வி மீது கட்டுப்பாடுகளை விதிக்கும் மசோதாக்கள்
E) விடை தெரியவில்லை



35. "The rule of federal supremacy is a technique to avoid absurdity, resolve conflict and ensure harmony between the Union and state laws. It is indispensable for successful functioning of the federal system".

Which commission stated the above Report?

- A) Sarkaria Commission
B) Punchchi Commission
C) Rajamannar Committee
D) Anandpur sahib Resolution
E) Answer not known

“கூட்டாட்சி மேலாதிக்கத்தின் ஆட்சி என்பது அபத்தத்தைத் தவிர்ப்பதற்கும், மோதலைத் தீர்ப்பதற்கும் மற்றும் யூனியன் மற்றும் மாநில சட்டங்களுக்கு இடையே நல்லிணக்கத்தை உறுதிப்படுத்துவதற்கும் ஒரு நுட்பமாகும். கூட்டாட்சி அமைப்பின் வெற்றிகரமான செயல்பாட்டிற்கு இது இன்றியமையாதது.

மேற்கண்ட கூற்றை எந்த ஆணையம் கூறியது?

- A) சர்க்காரியா ஆணையம்
B) புஞ்சி ஆணையம்
C) ராஜமன்னார் குழு
D) ஆனந்த்பூர் சாஹிப் தீர்மானம்
E) விடை தெரியவில்லை

36. Which Article not deals with Goods and Service Tax?

- A) Article 244A
B) Article 246A
C) Article 269A
D) Article 279A
E) Answer not known

சரக்கு மற்றும் சேவை வரியைப் பற்றி எந்தக் சரத்து குறிப்பிடவில்லை?

- A) சரத்து 244A
B) சரத்து 246A
C) சரத்து 269A
D) சரத்து 279A
E) விடை தெரியவில்லை

37. Consider the following statements.

- I. The Parliament can enact a common law for the desiring states on that subject even if it falls in the State List.
II. This provision is stated in Article 253.
III. Wild Life (Protection) Act, 1972 is one of the example for above legislation procedure.

Which of the statements given above is/are incorrect?

- A) I only
B) II only
C) III only
D) None of the above
E) Answer not known

பின்வரும் கூற்றுகளைக் கருத்தில் கொள்க.

- I. மாநிலப் பட்டியலில் இருந்தாலும், விரும்பும் மாநிலங்களுக்கு ஒரு பொதுவான சட்டத்தை நாடாளுமன்றம் மாநிலப் பட்டியலில் இயற்றலாம்.
II. இந்த விதிமுறை சரத்து 253 இல் கூறப்பட்டுள்ளது.
III. வனவிலங்கு (பாதுகாப்பு) சட்டம், 1972 என்பது மேலே உள்ள சட்ட நடைமுறைகளுக்கான உதாரணங்களில் ஒன்றாகும்.

மேற்கூறியவற்றுள் தவறானது எது/எவை?

- A) I மட்டும்
B) II மட்டும்
C) III மட்டும்
D) மேற்கண்ட எதுவுமில்லை
E) விடை தெரியவில்லை



38. Consider the following statements.

- I. Finance commission is a permanent body under the Indian Constitution.
- II. Finance commission have One chairman and five other members.
- III. Article 280 deals with Finance Commission of India.

Which of the statements given above is/are incorrect?

- A) I and III only
- B) II and III only
- C) III only
- D) I and II only
- E) Answer not known

பின்வரும் கூற்றுக்களைக் கருத்தில் கொள்க.

- I. இந்திய அரசியலமைப்பின் கீழ் நிதி ஆணையம் ஒரு நிரந்தர அமைப்பாகும். .
- II. நிதி ஆணையத்தில் ஒரு தலைவர் மற்றும் ஐந்து உறுப்பினர்கள் உள்ளனர்.
- III. சரத்து 280 இந்திய நிதி ஆணையத்தைப் பற்றியது.

மேற்கூறியவற்றுள் தவறானது எது/எவை?

- A) I மற்றும் III மட்டும்
- B) II மற்றும் III மட்டும்
- C) III மட்டும்
- D) I மற்றும் II மட்டும்
- E) விடை தெரியவில்லை

39. Match List-I with List-II.

List-I
(Article)

- a) Article 268
- b) Article 269
- c) Article 270
- d) Article 271
- e) Article 275

List-II
(Deals with)

1. Duties levied by Union but collected and appropriated by States
2. Taxes levied and distributed between the Union and the states
3. Taxes levied and collected by the Union but assigned to states
4. Grants from the Union to certain states
5. Surcharge on certain duties and taxes

Codes:

- | | a | b | c | d | e |
|----|----------|----------|----------|----------|----------|
| A) | 1 | 3 | 2 | 5 | 4 |
| B) | 1 | 5 | 2 | 3 | 4 |
| C) | 5 | 2 | 1 | 4 | 3 |
| D) | 5 | 2 | 4 | 1 | 3 |

E) Answer not known

பட்டியல்-Iஐ பட்டியல்-II உடன் பொருத்துக.

பட்டியல்-I
(சரத்து)

- a) சரத்து 268
- b) சரத்து 269
- c) சரத்து 270
- d) சரத்து 271
- e) சரத்து 275

பட்டியல்-II
(கையாள்கிறது)

1. ஒன்றியத்தால் விதிக்கப்படும் ஆனால் மாநிலங்களால் வசூலிக்கப்பட்டு ஒதுக்கப்படும் வரிகள்
2. யூனியன் மற்றும் மாநிலங்களுக்கு இடையே விதிக்கப்படும் மற்றும் விநியோகிக்கப்படும் வரிகள்
3. ஒன்றியத்தால் விதிக்கப்பட்டு வசூலிக்கப்படும் ஆனால் மாநிலங்களுக்கு ஒதுக்கப்பட்ட வரிகள்
4. சில மாநிலங்களுக்கு வழங்கப்படும் ஒன்றியத்தின் மானியங்கள்
5. சில வரிகள் மீதான கூடுதல் கட்டணம்



குறியீடுகள்:

- | | a | b | c | d | e |
|----|------------------|----------|----------|----------|----------|
| A) | 1 | 3 | 2 | 5 | 4 |
| B) | 1 | 5 | 2 | 3 | 4 |
| C) | 5 | 2 | 1 | 4 | 3 |
| D) | 5 | 2 | 4 | 1 | 3 |
| E) | விடை தெரியவில்லை | | | | |

40. B. Sivaraman and Dr.R.S. Sen are the members of which of the following commission?
- A) Sarkaria Commission
B) Punchchi Commission
C) Rajamannar Committee
D) Administrative Reforms Commission
E) Answer not known
- B. சிவராமன் மற்றும் டாக்டர் R.S. சென் ஆகியோர் கீழ்க்கண்ட எந்த ஆணையத்தின் உறுப்பினர்களாக இருந்தனர்?
- A) சர்க்காரியா ஆணையம்
B) புஞ்சி ஆணையம்
C) இராஜமன்னார் குழு
D) நிர்வாக சீர்திருத்த ஆணையம்
E) விடை தெரியவில்லை
41. Duty of the Union to protect states against external aggression and internal disturbance is the provision that is stated in which part of the constitution?
- A) Part XVI
B) Part XI
C) Part XII
D) Part XVIII
E) Answer not known
- வெளிப்புற ஆக்கிரமிப்பு மற்றும் உள்நாட்டு இடையூறுகளுக்கு எதிராக மாநிலங்களைப் பாதுகாப்பது ஒன்றியத்தின் கடமை என்பது அரசியலமைப்பின் எந்தப் பகுதியில் கூறப்பட்டுள்ளது?
- A) பகுதி XVI
B) பகுதி XI
C) பகுதி XII
D) பகுதி XVIII
E) விடை தெரியவில்லை
42. Which of the following is a non federal feature of the Constitution?
- A) Bicameralism
B) Supremacy of the Constitution
C) Written Constitution
D) Flexibility of the Constitution
E) Answer not known
- பின்வருவனவற்றில் அரசியலமைப்பின் கூட்டாட்சி அல்லாத அம்சம் எது?
- A) ஈரவை அமைப்பு
B) அரசியலமைப்பின் மேலாதிக்கம்
C) எழுதப்பட்ட அரசியலமைப்பு
D) அரசியலமைப்பின் நெகிழ்வுத்தன்மை
E) விடை தெரியவில்லை



43. Which is not related to the Article 356?
 A) Somappa Rayappa Bommai Vs Union of India
 B) Dead letter to the Constitution
 C) Under the purview of Judicial review
 D) Deals with law and order problem
 E) Answer not known
 சரத்து 356 உடன் தொடர்பில்லாதது எது?
 A) சோமப்பா ராயப்பா பொம்மாய் Vs இந்திய ஒன்றியம்
 B) அரசியலமைப்பின் செயல்படா கடிதம்
 C) நீதித்துறை மறுஆய்விற்கு உட்பட்டது
 D) சட்ட ஒழுங்கு பிரச்சனையை கையாள்கிறது
 E) விடை தெரியவில்லை
44. The National Commission to review the working of the Constitution set up on
 A) 12 February 1999
 B) 22 February 2000
 C) 1 February 2000
 D) 2 February 2000
 E) Answer not known
 அரசியலமைப்பின் செயல்பாட்டை மறுஆய்வு செய்வதற்கான தேசிய ஆணையமானது எப்பொழுது அமைக்கப்பட்டது?
 A) 12 பிப்ரவரி 1999
 B) 22 பிப்ரவரி 2000
 C) 1 பிப்ரவரி 2000
 D) 2 பிப்ரவரி 2000
 E) விடை தெரியவில்லை
45. Consider the following statements.
 I. The State of Madras changed the name as State of Tamil Nadu on April 14, 1969
 II. Extremist Sankaralinganar agitated violently on demand for change in the name of Madras to Tamil Nadu.
 Which of the statements given above is/are incorrect?
 A) I only
 B) II only
 C) Both I and II
 D) Neither I nor II
 E) Answer not known
 பின்வரும் கூற்றுகளைக் கருத்தில் கொள்க.
 I. மதராஸ் மாநிலம் ஏப்ரல் 14, 1969 அன்று தமிழ்நாடு மாநிலம் எனப் பெயர் மாற்றம் செய்யப்பட்டது
 II. மதராஸ் பெயரை தமிழ்நாடு என மாற்றக் கோரி தீவிரதேசியவாதி சங்கரலிங்கனார் வன்முறையில் ஈடுபட்டார்.
 மேற்கூறியவற்றுள் தவறானது எது/எவை?
 A) I மட்டும்
 B) II மட்டும்
 C) இரண்டும்
 D) இரண்டுமில்லை
 E) விடை தெரியவில்லை



46. Which of the following case is not related to reservation policy?
 A) Indra Sawhney Case, 1992 B) IR Coelho Case, 2007
 C) AK Gopalan Case, 1950 D) Champakam Dorairajan, 1950
 E) Answer not known
- பின்வருவனவற்றில் எந்த வழக்கு இட ஒதுக்கீடு கொள்கையுடன் தொடர்புடையது அல்ல?
 A) இந்திரா சஹானி வழக்கு, 1992 B) IR கோயல்ஹோ வழக்கு, 2007
 C) ஏ.கே.கோபாலன் வழக்கு, 1950 D) செண்பகம் துரைராஜன், 1950
 E) விடை தெரியவில்லை

47. Consider the following statements.
 I. Article 108 provides for a Joint Sitting of the Parliament
 II. For Dowry Prohibition Bill, Joint sitting was held
 III. No Provision for Joint Sitting for Money Bill and Constitution Amendment Bill

Which of the statements given above is/are correct?

- A) II and III only B) I only
 C) I and II only D) All the above
 E) Answer not known

பின்வரும் கூற்றுகளைக் கருத்தில் கொள்க.

- I. சரத்து 108, பாராளுமன்றத்தின் கூட்டு அமர்வைப் பற்றி கூறுகிறது
 II. வரதட்சணை தடை மசோதாவிற்காக கூட்டுக் கூட்டம் நடைபெற்றது
 III. பண மசோதா மற்றும் அரசியலமைப்பு திருத்த மசோதாவிற்காக கூட்டுக் கூட்டம் ஏற்படுத்துவதற்கான எந்தொரு விதிமுறையும் இல்லை

மேற்கூறியவற்றுள் சரியானது எது/எவை?

- A) II மற்றும் III மட்டும் B) I மட்டும்
 C) I மற்றும் II மட்டும் D) மேற்கண்ட அனைத்தும்
 E) விடை தெரியவில்லை

48. Consider the following statements.
 I. In India, Secularism means respecting the state religion of a country.
 II. The word secular was added by the Mini constitutional amendment
 Which of the statements given above is/are incorrect?

- A) I only B) II only
 C) Both I and II D) Neither I nor II
 E) Answer not known

பின்வரும் கூற்றுகளைக் கருத்தில் கொள்க.

- I. இந்தியாவில், மதச்சார்பின்மை என்பது ஒரு நாட்டின் அரசு மதத்தை மதிப்பது என்பதாகும்.
 II. மதச்சார்பற்ற என்ற வார்த்தையானது சிறிய அரசியலமைப்பு திருத்தத்தின் மூலம் சேர்க்கப்பட்டது

மேற்கூறியவற்றுள் தவறானது எது/எவை?

- A) I மட்டும் B) II மட்டும்
 C) இரண்டும் D) இரண்டுமில்லை
 E) விடை தெரியவில்லை



49. The Meeting titled "Signing of the Constitution" presided by Dr. Rajendra Prasad held on?
 A) 26th November 1949
 B) 26th January 1950
 C) 24th January 1950
 D) 15th August 1949
 E) Answer not known
- "அரசியலமைப்பில் கையெழுத்திடுதல்" என்ற தலைப்பில் டாக்டர் இராஜேந்திரப் பிரசாத் தலைமையில் கூட்டம் எப்பொழுது நடைபெற்றது?
 A) 26 நவம்பர் 1949
 B) 26 ஜனவரி 1950
 C) 24 ஜனவரி 1950
 D) 15 ஆகஸ்ட் 1949
 E) விடை தெரியவில்லை
50. What is a maximum period for President's rule in state (Article 356)?
 A) 6 months
 B) 1 Year
 C) 3 Years
 D) Indefinite Period
 E) Answer not known
- மாநிலத்தில் குடியரசுத் தலைவர் ஆட்சிக்கான அதிகபட்ச காலம் என்ன (சரத்து 356)?
 A) 6 மாதங்கள்
 B) 1 ஆண்டு
 C) 3 ஆண்டுகள்
 D) காலவரையற்ற காலம்
 E) விடை தெரியவில்லை
51. Consider the following statements.
 I. Article 358 suspends the fundamental rights under Article 19.
 II. Article 358 operates only in internal emergency.
 Which of the statements given above is/are incorrect?
 A) I only
 B) II only
 C) Both I and II
 D) Neither I nor II
 E) Answer not known
- பின்வரும் கூற்றுகளைக் கருத்தில் கொள்க.
 I. சரத்து 358, சரத்து 19ன் கீழ் உள்ள அடிப்படை உரிமைகளை இடைநிறுத்துகிறது.
 II. உள்நாட்டு நெருக்கடி நிலைமைகளில் மட்டுமே சரத்து 358 செயல்படுகிறது.
 மேற்கூறியவற்றுள் தவறானது எது/எவை?
 A) I மட்டும்
 B) II மட்டும்
 C) இரண்டும்
 D) இரண்டுமில்லை
 E) விடை தெரியவில்லை
52. Consider the following statements.
 I. Sarkaria Commission recommended the Inter State Council.
 II. Article 263 deals with the provisions of Inter State Council
 III. The council may meet at-least twice in a year.
 Which of the statements given above are correct?
 A) II and III only
 B) I and III only
 C) I and II only
 D) All the above
 E) Answer not known



பின்வரும் கூற்றுகளைக் கருத்தில் கொள்க.

- I. மாநிலங்களுக்கிடையேயான குழுவை சர்க்காரியா ஆணையம் பரிந்துரை செய்தது.
 - II. சரத்து 263 மாநிலங்களுக்கிடையேயான குழுவின் விதிகளைக் குறிக்கிறது
 - III. இக்குழுவானது ஆண்டுக்கு இரண்டு முறை கூட்டப்படலாம்.
- மேற்கண்ட கூற்றுகளில் சரியானவை எவை?

- A) II மற்றும் III மட்டும்
B) I மற்றும் III மட்டும்
C) I மற்றும் II மட்டும்
D) மேற்கண்ட அனைத்தும்
E) விடை தெரியவில்லை

53. Consider the following statements.

- I. The concept of Judicial Activism originated and developed in Canada
- II. This term was first coined by Arthur Schlesinger in 1947
- III. Justice V.R. Krishna Iyer, P.N. Bhagwati, O. Chinnappa Reddy and Justice D.A. Desai laid the foundation of judicial activism in India.

Which of the statements given above is/are correct?

- A) II and III only
B) I only
C) I and II only
D) All the above
E) Answer not known

பின்வரும் கூற்றுகளைக் கருத்தில் கொள்க.

- I. நீதித்துறை செயல்பாடு என்ற கருத்து கனடாவில் தோன்றியது மற்றும் உருவாக்கப்பட்டது
- II. இந்த சொல் முதன்முதலில் 1947இல் ஆர்தர் ஷெல்சிங்கரால் உருவாக்கப்பட்டது
- III. நீதிபதி V.R. கிருஷ்ண ஐயர், P.N. பகவதி, O. சின்னப்ப ரெட்டி மற்றும் நீதிபதி D.A. தேசாய் ஆகியோர் இந்தியாவில் நீதித்துறை செயல்பாட்டிற்கு அடித்தளமிட்டனர்.

மேற்கண்ட கூற்றுகளில் சரியானது எது/எவை?

- A) II மற்றும் III மட்டும்
B) I மட்டும்
C) I மற்றும் II மட்டும்
D) மேற்கண்ட அனைத்தும்
E) விடை தெரியவில்லை

54. Consider the following statements with respect to Money Bill.

- I. It can be introduced only by a Cabinet Minister.
- II. Its defeat in the Lok Sabha leads to resignation of the that Minister.
- III. A Money bill cannot be returned by the President for reconsideration.

Which of the statements given above is/are correct?

- A) II and III only
B) I only
C) III only
D) All the above
E) Answer not known

பண மசோதா தொடர்பாக பின்வரும் கூற்றுகளைக் கருத்தில் கொள்க.

- I. ஒரு கேபினெட் அமைச்சரால் மட்டுமே இதை அறிமுகப்படுத்த முடியும்.
 - II. மக்களவையில் இம்மசோதா தோல்வியடைந்தால் அந்த அமைச்சர் ராஜினாமா செய்ய வழிவகுக்கிறது.
 - III. ஒரு பண மசோதாவை குடியரசுத் தலைவர் மறுபரிசீலனைக்கு திருப்பி அனுப்ப முடியாது.
- மேற்கண்ட கூற்றுகளில் சரியானது எது/எவை?

- A) II மற்றும் III மட்டும்
B) I மட்டும்
C) III மட்டும்
D) மேற்கண்ட அனைத்தும்
E) விடை தெரியவில்லை



55. Which schedule contains Acts and regulations of the state legislatures dealing with land reforms and abolition of the zamindari system?

- A) Schedule added by 52nd Amendment
- B) Schedule added by 74th Amendment
- C) Schedule added by 73rd Amendment
- D) Schedule added by 1st Amendment
- E) Answer not known

எந்த அட்டவணையில் நிலச் சீர்திருத்தங்கள் மற்றும் ஜமீன்தாரி முறை ஒழிப்பு தொடர்பான மாநில சட்டமன்றங்களின் சட்டங்கள் மற்றும் ஒழுங்குமுறைகள் உள்ளன?

- A) 52வது திருத்தத்தின் மூலம் சேர்க்கப்பட்ட அட்டவணை
- B) 74வது திருத்தத்தின் மூலம் சேர்க்கப்பட்ட அட்டவணை
- C) 73வது திருத்தத்தின் மூலம் சேர்க்கப்பட்ட அட்டவணை
- D) 1வது திருத்தத்தின் மூலம் சேர்க்கப்பட்ட அட்டவணை
- E) விடை தெரியவில்லை

56. Consider the following statements.

- I. Abolition of All India Services
- II. Abolition of Articles 356, 355 and 365
- III. Abolition of the office of Governor

The above recommendations are submitted by which committee?

- A) Ashok Mehta Committee
- B) Narasimhan Committee
- C) Rajamannar Committee
- D) Bibek Debroy Committee
- E) Answer not known

பின்வரும் கூற்றுகளைக் கருத்தில் கொள்க.

- I. அகில இந்திய பணிகளை நீக்குதல்
- II. சரத்துகள் 356, 355 மற்றும் 365 ரத்து
- III. ஆளுநர் பதவியை ரத்து செய்தல்

மேற்கூறிய பரிந்துரைகள் எந்தக் குழுவால் சமர்ப்பிக்கப்பட்டன?

- A) அசோக் மேத்தா குழு
- B) நரசிம்மன் குழு
- C) இராஜமன்னார் குழு
- D) பிபேக் டெப்ராய் குழு
- E) விடை தெரியவில்லை

57. Article 338-B has inserted through which of the following Amendment?

- A) 97th Amendment Act, 2011
- B) 101st Amendment Act, 2016
- C) 103rd Amendment Act, 2019
- D) 102nd Amendment Act, 2018
- E) Answer not known

சரத்து 338- B பின்வரும் எந்த திருத்தத்தின் மூலம் சேர்க்கப்பட்டுள்ளது?

- A) 97வது அரசியலமைப்பு திருத்தச் சட்டம், 2011
- B) 101வது அரசியலமைப்பு திருத்தச் சட்டம், 2016
- C) 103வது அரசியலமைப்பு திருத்தச் சட்டம், 2019
- D) 102வது அரசியலமைப்பு திருத்தச் சட்டம், 2018
- E) விடை தெரியவில்லை



58. Consider the following statements:

- I. Advisory Jurisdiction of Supreme Court
- II. Method of election of the President
- III. Freedom of trade and commerce
- IV. Appointment of State Governors by the centre
- V. Article 108

Which of the following country is not in the above list of borrowed provisions of country?

- | | |
|---------------------|--------------|
| A) Canada | B) Ireland |
| C) South Africa | D) Australia |
| E) Answer not known | |

பின்வரும் கூற்றுகளைக் கருத்தில் கொள்க:

- I. உச்ச நீதிமன்றத்தின் ஆலோசனை அதிகார வரம்பு
- II. குடியரசுத் தலைவர் தேர்ந்தெடுக்கும் முறை
- III. வணிகம் மற்றும் வர்த்தக சுதந்திரம்
- IV. மத்திய அரசால் மாநில ஆளுநர்கள் நியமனம்
- V. சரத்து 108

பின்வரும் எந்த நாடுகளிலிருந்து பெறப்பட்ட அம்சங்கள் மேற்கண்ட பட்டியலில் இல்லை?

- | | |
|---------------------|----------------|
| A) கனடா | B) அயர்லாந்து |
| C) தென்னாப்பிரிக்கா | D) ஆஸ்திரேலியா |
| E) விடை தெரியவில்லை | |

59. Consider the following statements.

- I. Article 76 provided for the office of the Attorney General for India
- II. The term of office of the AG is fixed for 5 years.
- III. The remuneration of the AG is provided in Article 76(3).

Which of the above statements is/are correct?

- | | |
|---------------------|------------------|
| A) I only | B) II only |
| C) II and III only | D) All the above |
| E) Answer not known | |

பின்வரும் கூற்றுகளைக் கருத்தில் கொள்க.

- I. சரத்து 76 ஆனது இந்தியாவின் தலைமை வழக்கறிஞர் அலுவலகத்தைப் பற்றிக் கூறுகிறது
- II. தலைமை வழக்கறிஞரின் பதவிக்காலம் 5 ஆண்டுகளாக நிர்ணயிக்கப்பட்டுள்ளது.
- III. சரத்து 76(3) இல் AG-யின் ஊதியம் பற்றிக் கூறப்பட்டுள்ளது.

மேற்கண்ட கூற்றுகளில் சரியானது எது/எவை?

- | | |
|---------------------------|-----------------------|
| A) I மட்டும் | B) II மட்டும் |
| C) II மற்றும் III மட்டும் | D) மேற்கண்ட அனைத்தும் |
| E) விடை தெரியவில்லை | |

60. Consider the following statements.

- I. High Court enjoys Judicial review
- II. The retiring age of High Court Judge is 65
- III. High Court Judge is appointed by the Governor



Which of the statements given above is/are correct?

- A) I only
B) II and III only
C) I and III only
D) All the above
E) Answer not known

பின்வரும் கூற்றுகளைக் கருத்தில் கொள்க.

- I. உயர்நீதிமன்றம் நீதித்துறை மறுஆய்வு அதிகாரத்தைக் கொண்டுள்ளது
II. உயர் நீதிமன்ற நீதிபதி ஓய்வு பெறும் வயது 65 ஆகும்
III. உயர் நீதிமன்ற நீதிபதி ஆளுநரால் நியமிக்கப்படுகிறார்
மேற்கண்ட கூற்றுகளில் சரியானது எது/எவை?

- A) I மட்டும்
B) II மற்றும் III மட்டும்
C) I மற்றும் III மட்டும்
D) மேற்கண்ட அனைத்தும்
E) விடை தெரியவில்லை

61. In Which Case, Supreme Court declared Presiding Officer decision regarding disqualification of member of Parliament is subject to judicial review?

- A) Kihoto Hollohan Case
B) IR Coelho Case
C) Golaknath Case
D) K.S. Puttaswamy Case
E) Answer not known

எந்த வழக்கில், நாடாளுமன்ற உறுப்பினர் தகுதி நீக்கம் தொடர்பான அவை தலைவரின் முடிவு நீதித்துறை மறுஆய்வுக்கு உட்பட்டது என்று உச்ச நீதிமன்றம் அறிவித்தது?

- A) கிஹோடோ ஹாலோஹான் வழக்கு
B) ஐஆர் கோயல்ஹோ வழக்கு
C) கோலக்நாத் வழக்கு
D) கே.எஸ். புட்டசாமி வழக்கு
E) விடை தெரியவில்லை

62. Find out the incorrectly matched pair.

(Amendment) **(Added Language)**

- A) 21st Amendment – Sindhi
B) 71st Amendment – Dongri
C) 92nd Amendment – Maithili
D) 92nd Amendment – Santhali
E) Answer not known

தவறாகப் பொருந்தியுள்ள இணையைக் கண்டறிக.

(திருத்தம்) **(சேர்க்கப்பட்ட மொழி)**

- A) 21வது திருத்தம் – சிந்தி
B) 71வது திருத்தம் – டோங்ரி
C) 92வது திருத்தம் – மைதிலி
D) 92வது திருத்தம் – சந்தாலி
E) விடை தெரியவில்லை



63. Consider the following statements.

- I. Central Institute of Classical Tamil was established in 2006
II. This Institute is responsible for the Kural Peedam Award

Which of the statements given above is/are correct?

- A) I only
B) II only
C) Both I and II
D) Neither I nor II
E) Answer not known

பின்வரும் கூற்றுகளைக் கருத்தில் கொள்க.

- I. செம்மொழி தமிழுக்கான மத்திய நிறுவனம் 2006 இல் நிறுவப்பட்டது
II. குறள் பீடம் விருதுக்கு இந்த நிறுவனம் பொறுப்பாகும்.

மேற்கண்ட கூற்றுகளில் சரியானது எது/எவை?

- A) I மட்டும்
B) II மட்டும்
C) இரண்டும்
D) இரண்டுமில்லை
E) விடை தெரியவில்லை

64. Match List-I with List-II.

List-I
(Articles)

- a) Article 350 B
b) Article 345
c) Article 350A
d) Article 346

List-II
(Definitions)

1. Special Officer for Linguistic minorities
2. Instruction in mother tongue at primary stage
3. Language for communication between union and states
4. Official Languages of a state

Codes:

- | | a | b | c | d |
|----|----------|----------|----------|----------|
| A) | 1 | 4 | 2 | 3 |
| B) | 2 | 1 | 3 | 4 |
| C) | 3 | 2 | 1 | 4 |
| D) | 4 | 1 | 2 | 3 |

E) Answer not known

பட்டியல்-Iஐ பட்டியல்-II உடன் பொருத்துக.

பட்டியல்-I

பட்டியல்-II

(சரத்துகள்)

(வரையறைகள்)

- | | |
|----------------|---|
| a) சரத்து 350B | 1. மொழி சிறுபான்மையினருக்கான சிறப்பு அதிகாரி |
| b) சரத்து 345 | 2. ஆரம்ப கல்வியை தாய்மொழியில் வழங்க அறிவுறுத்தல் |
| c) சரத்து 350A | 3. மத்திய மற்றும் மாநிலங்களுக்கு இடையே தொடர்பு கொள்வதற்கான மொழி |
| d) சரத்து 346 | 4. அரசின் அதிகாரப்பூர்வ மொழிகள் |

குறியீடுகள்:

- | | a | b | c | d |
|----|----------|----------|----------|----------|
| A) | 1 | 4 | 2 | 3 |
| B) | 2 | 1 | 3 | 4 |
| C) | 3 | 2 | 1 | 4 |
| D) | 4 | 1 | 2 | 3 |

E) விடை தெரியவில்லை



65. Arrange the Year of Declaration of Classical status of Language in Chronological order:

- I. Sanskrit
- II. Tamil
- III. Kannada
- IV. Odia
- V. Malayalam

Codes:

- | | |
|---------------------|------------------|
| A) I-II-III-V-IV | B) II-I-IV-V-III |
| C) II-I-III-V-IV | D) II-I-V-III-IV |
| E) Answer not known | |

கீழ்க்கண்ட மொழிகளுக்கு செம்மொழி அந்தஸ்து அறிவிக்கப்பட்ட ஆண்டின் காலவரிசைப்படி வரிசைப்படுத்தவும்:

- I. சமஸ்கிருதம்
- II. தமிழ்
- III. கன்னடம்
- IV. ஒடியா
- V. மலையாளம்

குறியீடுகள்:

- | | |
|---------------------|------------------|
| A) I-II-III-V-IV | B) II-I-IV-V-III |
| C) II-I-III-V-IV | D) II-I-V-III-IV |
| E) விடை தெரியவில்லை | |

66. What is not a benefit of classical language status?

- A) It will be used as communication language in parliament
- B) It gets financial assistance for setting up a centre of excellence
- C) Opens up avenue for two major awards for scholars of eminence
- D) professional chairs for classical languages for scholars created in universities
- E) Answer not known

செம்மொழி அந்தஸ்து வழங்கப்படுவதால் கிடைக்கும் பலன்களில் அடங்காதது எது?

- A) இது பாராளுமன்றத்தில் தொடர்பு மொழியாகப் பயன்படுத்தப்படும்
- B) சிறப்பு மையத்தை அமைப்பதற்கு நிதி உதவி பெறுகிறது
- C) சிறந்த அறிஞர்களுக்கு இரண்டு முக்கிய விருதுகள் பெரும் வாய்ப்பினை வழங்குகிறது.
- D) பல்கலைக்கழகங்களில் மொழி ஆய்வாளர்கள் மூலம் செம்மொழிகளுக்கான இருக்கையை ஏற்படுத்த முடியும்.
- E) விடை தெரியவில்லை

67. Consider the following statements.

- I. President is the real head of the government
- II. He is elected through a system of proportional representation
- III. There is no term fixed for President
- IV. Article 52 deals with the President of India.



Which of the above statements are correct?

- A) I only
B) II, III and IV only
C) II and IV only
D) All the above
E) Answer not known

பின்வரும் கூற்றுகளைக் கவனியுங்கள்.

- I. குடியரசுத்தலைவரே அரசாங்கத்தின் உண்மையான தலைவராவார்.
II. இவர் விகிதாசார பிரதிநிதித்துவ முறையின் மூலம் தேர்ந்தெடுக்கப்படுகிறார்
III. குடியரசுத்தலைவர் பதவிக்கான பதவிக்காலம் எதுவும் நிர்ணயிக்கப்படவில்லை
IV. சரத்து 52 இந்தியக் குடியரசுத் தலைவரைப் பற்றியது.

மேற்கண்ட கூற்றுகளில் எது சரியானது?

- A) I மட்டும்
B) II, III மற்றும் IV மட்டும்
C) II மற்றும் IV மட்டும்
D) மேற்கண்ட அனைத்தும்
E) விடை தெரியவில்லை

68. Which of the following is associated with Pandita Ramabai?

- I. Sharda Sadan
II. Mukthi mission
III. Central Hindu school at Benaras
IV. Arya Mahila Samaj

Codes:

- A) I, II and III only
B) I and IV only
C) I, II and IV only
D) All the above
E) Answer not known

பின்வருவனவற்றில் பண்டித ரமாபாயுடன் தொடர்புடையது எது?

- I. சாரதா சதன்
II. முக்தி இயக்கம்
III. பனாரஸில் உள்ள மத்திய இந்து பள்ளி
IV. ஆர்ய மகிளா சமாஜ்

குறியீடுகள்:

- A) I, II மற்றும் III மட்டும்
B) I மற்றும் IV மட்டும்
C) I, II மற்றும் IV மட்டும்
D) மேற்கண்ட அனைத்தும்
E) விடை தெரியவில்லை

69. Which of the following commissions was/were not related to civil service reforms during British rule in India?

- A) Aitchison Commission
B) The Islington Commission
C) Lee Commission
D) The Butler Committee
E) Answer not known

இந்தியாவில் ஆங்கிலேயர் ஆட்சியின் போது கொண்டு வரப்பட்ட குடிமைப்பணி சீர்திருத்தங்களுடன் பின்வரும் குழுக்களில் எது தொடர்பில்லாதது?

- A) அட்டிசன் ஆணையம்
B) இஸ்லிங்டன் ஆணையம்
C) லீ ஆணையம்
D) பட்லர் ஆணையம்
E) விடை தெரியவில்லை



70. Who is known as the “Father of Communal Electorate in India” due to his role in introducing separate electorates for Muslims?

- A) Lord Curzon
B) Lord Minto
C) Lord Chelmsford
D) Lord Morely
E) Answer not known

முஸ்லீம்களுக்கென தனி வாக்காளர் தொகுதிகளை அறிமுகப்படுத்தியதன் காரணமாக “இந்தியாவில் வகுப்புவாத வாக்காளர்களின் தந்தை” என்று அழைக்கப்படுபவர் யார்?

- A) கர்சன் பிரபு
B) மிண்டோ பிரபு
C) செம்ஸ்:போர்ட் பிரபு
D) மார்லி பிரபு
E) விடை தெரியவில்லை

71. Consider the following statements.

I. Sarojini Naidu was the first Indian woman to preside over an INC session in 1925.

II. In the pre-independence era, only two women served as presidents of the Indian National Congress.

Which of the statements given above is/are incorrect?

- A) I only
B) II only
C) Both I and II
D) Neither I nor II
E) Answer not known

பின்வரும் கூற்றுகளை கருத்தில் கொள்க

I. சரோஜினி நாயுடு 1925இல் இந்திய தேசிய காங்கிரஸ் அமர்வுக்கு தலைமை தாங்கிய முதல் இந்தியப் பெண் ஆவார்.

II. சுதந்திரத்திற்கு முந்தைய காலத்தில், இந்திய தேசிய காங்கிரஸின் தலைவர்களாக இரண்டு பெண்கள் மட்டுமே பணியாற்றினர்.

மேற்கண்ட கூற்றுகளில் தவறானது எது/எவை?

- A) I மட்டும்
B) II மட்டும்
C) இரண்டும்
D) இரண்டுமில்லை
E) விடை தெரியவில்லை

72. Consider the following statements.

Assertion (A) : The swadeshi leaders in Tamil Nadu planned to celebrate March 9, 1908 as Swarajya Day in Tamilnadu

Reason (R) : Bal Gangadhar Tilak was released from prison after serving six month sentence on March 9, 1908.

Codes:

- A) Both (A) and (R) are true and (R) is the correct explanation of (A)
B) Both (A) and (R) are true but (R) is not the correct explanation of (A)
C) (A) is true but (R) is false
D) (A) is false but (R) is true
E) Answer not known



பின்வரும் கூற்றுக்களை கருத்தில் கொள்க.

கூற்று (A) : தமிழ்நாட்டில் உள்ள சுதேசி தலைவர்கள் மார்ச் 9, 1908 அன்று தமிழ்நாட்டில் சுதேசி தினமாகக் கொண்டாட திட்டமிட்டனர்.

காரணம் (R) : பாலகங்காதர திலகர் மார்ச் 9, 1908இல் ஆறு மாத சிறைத்தண்டனைக்குப் பிறகு சிறையில் இருந்து விடுவிக்கப்பட்டார்.

குறியீடுகள்:

- A) (A) மற்றும் (R) இரண்டும் சரி மற்றும் (R) என்பது (A)-யின் சரியான விளக்கமாகும்
B) (A) மற்றும் (R) இரண்டும் சரி ஆனால் (R) என்பது (A)-யின் சரியான விளக்கமல்ல
C) (A) சரி ஆனால் (R) தவறு
D) (A) தவறு ஆனால் (R) சரி
E) விடை தெரியவில்லை

73. Consider the following statements.

- I. The Swadeshi Steam Navigation Company was officially started on October 16, 1906.
II. The major shareholders included Pandithurai Thevar and Haji fakir Mohamed.
III. The Swadeshi Steam Navigation Company (SSNC) had a capital of Rs 10 lakh, divided into 50,000 shares valued at Rs.20 each.

Which of the statements given above are correct?

- A) I and II only
B) II and III only
C) I and III only
D) All the above
E) Answer not known

பின்வரும் கூற்றுக்களை கருத்தில் கொள்க

- I. சுதேசி நாவாய் கப்பல் நிறுவனம் அதிகாரப்பூர்வமாக அக்டோபர் 16, 1906 இல் தொடங்கப்பட்டது.
II. முக்கிய பங்குதாரர்களில் பாண்டித்துரை தேவர் மற்றும் ஹாஜி ஃபக்கீர் முகமது ஆகியோர் அடங்குவர்.
III. சுதேசி நாவாய் கப்பல் நிறுவனம் (SSNC) ரூ.10 லட்சம் மூலதனத்தைக் கொண்டிருந்தது, ஒவ்வொன்றும் ரூ.20 மதிப்புள்ள 50,000 பங்குகளாகப் பிரிக்கப்பட்டது.

மேற்கண்ட கூற்றுக்களில் சரியானவை எவை?

- A) I மற்றும் II மட்டும்
B) II மற்றும் III மட்டும்
C) I மற்றும் III மட்டும்
D) மேலே உள்ள அனைத்தும்
E) விடை தெரியவில்லை

74. Consider the following statements regarding Vanchinathan:

- I. Vanchinathan shot Collector Ashe at Maniyachi Railway station on June 17,1912.
II. He was a member of Bharat Mata Association
III. V.V. Subramanianar was given eight years of rigorous imprisonment for being the first accused in the Ashe murder case.

Which of the statements given above is/are correct?

- A) I and II only
B) II only
C) I and III only
D) II and III only
E) Answer not known



வாஞ்சிநாதன் தொடர்பான பின்வரும் கூற்றுகளை கருத்தில் கொள்க :

- I. வாஞ்சிநாதன் ஜூன் 17, 1912 அன்று மணியாச்சி ரயில் நிலையத்தில் கலெக்டர் ஆஷை சுட்டுக் கொன்றார்.
- II. இவர் பாரத மாதா சங்கத்தின் உறுப்பினராக இருந்தார்.
- III. வி.வி.சுப்பிரமணியனார் ஆஷை கொலைவழக்கில் முதல் குற்றவாளியாக அறிவிக்கப்பட்டதால் அவருக்கு எட்டு ஆண்டுகள் கடுங்காவல் சிறைத்தண்டனை விதிக்கப்பட்டது.

மேற்கண்ட கூற்றுகளில் சரியானது எது/எவை?

- A) I மற்றும் II மட்டும்
- B) II மட்டும்
- C) I மற்றும் III மட்டும்
- D) II மற்றும் III மட்டும்
- E) விடை தெரியவில்லை

75. Which of the following is/are correctly matched?

(INC Sessions)	(Significant events)
I. Calcutta, 1896	- Vande Mataram sung for the first time
II. Bombay, 1905	- Formal proclamation of Swadeshi movement
III. Calcutta, 1916	- Unity between Moderates and Extremists
IV. Calcutta, 1920	- Mahatma Gandhi moved the Non-Cooperation resolution (special session)

Codes:

- A) I and II only
- B) II, III and IV only
- C) I, II and IV only
- D) I and IV only
- E) Answer not known

பின்வருவனவற்றில் எது சரியாகப் பொருந்துகிறது?

(INC அமர்வுகள்)	(குறிப்பிடத்தக்க நிகழ்வுகள்)
I. கல்கத்தா, 1896	- வந்தே மாதரம் முதல் முறையாகப் பாடப்பட்டது
II. பம்பாய், 1905	- சுதேசி இயக்கத்தின் முறையான பிரகடனம்
III. கல்கத்தா, 1916	- மிதவாதிகளும், தீவிரவாதிகளும் இணைந்தனர்
IV. கல்கத்தா, 1920	- மகாத்மா காந்தி ஒத்துழையாமை இயக்கத்திற்கான தீர்மானத்தை நிறைவேற்றினார்(சிறப்பு அமர்வு).

குறியீடுகள்:

- A) I மற்றும் II மட்டும்
- B) II, III மற்றும் IV மட்டும்
- C) I, II மற்றும் IV மட்டும்
- D) I மற்றும் IV மட்டும்
- E) விடை தெரியவில்லை

76. Find the incorrect statement with respect to Partition of Bengal (1905):

- A) The partition of Bengal was officially declared on July 19, 1905.
- B) Boycott of British goods was accepted by the moderates.
- C) On August 7, a formal proclamation of Swadeshi was made at Calcutta Town Hall.
- D) Bengal was officially partitioned on 16th September, 1905.
- E) Answer not known



வங்காளப் பிரிவினை (1905) தொடர்பான தவறான கூற்றைக் கண்டறியவும்:

- வங்காளப் பிரிவினை ஜூலை 19, 1905 அன்று அதிகாரப்பூர்வமாக அறிவிக்கப்பட்டது.
- பிரிட்டிஷ் பொருட்களின் புறக்கணிப்பு மிதவாதிகளால் ஏற்றுக்கொள்ளப்பட்டது.
- ஆகஸ்ட் 7 அன்று, கல்கத்தா டவுன் ஹாலில் முறையான சுதேசி பிரகடனம் செய்யப்பட்டது.
- 1905 ஆம் ஆண்டு செப்டம்பர் 16 ஆம் தேதி வங்காளம் அதிகாரப்பூர்வமாக பிரிக்கப்பட்டது.
- விடை தெரியவில்லை

77. Consider the following statements:

- A conspiracy was hatched there to kill Douglas Kingsford, notorious for his cruel ways of dealing with the swadeshi agitators.
- Khudiram Bose and Prafulla Chaki were involved in this conspiracy.
- Aurobindo Ghose was arrested in connection with this case.
- Chittaranjan Das took up the case.

Which of the following is indicated by the above statements?

- Delhi Conspiracy Case
- Lahore conspiracy Case
- Meerut Conspiracy Case
- Alipore Bomb Case
- Answer not known

பின்வரும் கூற்றுகளை கருத்தில் கொள்க:

- சுதேசி கிளர்ச்சியாளர்கள் மீதான இழிவான கொடூரமான தாக்குதலுக்கு காரணமான டக்ளஸ் கிங்ஸ்டீப் போர்டைக் கொல்ல ஒரு சதித் திட்டம் தீட்டப்பட்டது.
- இந்த சதியில் குதிராம் போஸ் மற்றும் பிரபுல்லா சாகி ஆகியோர் ஈடுபட்டுள்ளனர்.
- இந்த வழக்கில் அரவிந்தோ கோஸ் கைது செய்யப்பட்டார்.
- சித்தரஞ்சன் தாஸ் வழக்காடினார்.

மேற்கூறிய கூற்றுகளில் பின்வருவனவற்றில் எந்த நிகழ்வு சுட்டிக்காட்டப்படுகிறது?

- டெல்லி சதி வழக்கு
- லாகூர் சதி வழக்கு
- மீரட் சதி வழக்கு
- அலிபூர் வெடிகுண்டு வழக்கு
- விடை தெரியவில்லை

78. Consider the following statements regarding Lucknow Pact:

- Moderates and Extremists were reunited.
- Both the Congress and the Muslim League proposed a joint scheme for political reforms.
- Both Indian National Congress and Muslim League accepted the principle of separate electorate

Which of the statements given above are correct?

- I and II only
- II and III only
- I and III only
- All the above
- Answer not known



லக்னோ ஒப்பந்தம் தொடர்பான பின்வரும் கூற்றுகளைக் கவனியுங்கள்:

- I. மிதவாதிகளும் தீவிரவாதிகளும் மீண்டும் இணைந்தனர்.
 - II. காங்கிரஸ் மற்றும் முஸ்லீம் லீக் இரண்டும் அரசியல் சீர்திருத்தத்திற்கான கூட்டுத் திட்டத்தை முன்மொழிந்தன.
 - III. இந்திய தேசிய காங்கிரஸ் மற்றும் முஸ்லீம் லீக் ஆகிய இரண்டு கட்சிகளும் சிறுபான்மையினருக்கு பிரதிநிதித்துவம் வழங்கும் கொள்கையை ஏற்றுக்கொண்டன மேற்கண்ட கூற்றுகளில் சரியானவை எவை?
- A) I மற்றும் II மட்டும்
B) II மற்றும் III மட்டும்
C) I மற்றும் III மட்டும்
D) மேற்கண்ட அனைத்தும்
E) விடை தெரியவில்லை

79. Match List-I with List-II.

List-I

(Movements)

- a) Deccan Educational Society
- b) Dawn Society
- c) Seva Sadan
- d) The servants of Indian Society

Codes:

- | | a | b | c | d |
|----|----------|----------|----------|----------|
| A) | 3 | 2 | 4 | 1 |
| B) | 2 | 3 | 4 | 1 |
| C) | 3 | 2 | 1 | 4 |
| D) | 4 | 2 | 1 | 3 |

E) Answer not known

பட்டியல்-Iஐ பட்டியல்-II உடன் பொருத்தவும்.

பட்டியல்-I

(இயக்கங்கள்)

- a) தக்காண கல்விக் கழகம்
- b) விடியல் சங்கம்
- c) சேவா சதன்
- d) இந்திய பணியாளர்கள் சங்கம்

குறியீடுகள்:

- | | a | b | c | d |
|----|----------|----------|----------|----------|
| A) | 3 | 2 | 4 | 1 |
| B) | 2 | 3 | 4 | 1 |
| C) | 3 | 2 | 1 | 4 |
| D) | 4 | 2 | 1 | 3 |

E) விடை தெரியவில்லை

List-II

(People Associated with it)

1. Gopal Krishna Gokhale
2. M.G. Ranade
3. Sathish Chandra
4. B.M. Malabari

பட்டியல்-II

(அதனுடன் தொடர்புடைய மக்கள்)

1. கோபால கிருஷ்ண கோகலே
2. எம்.ஜி.ரானடே
3. சதீஷ் சந்திரா
4. பி.எம். மலபாரி



80. Consider the following statements:

- I. For Tilak, Swaraj was restricted to the Indian control over the administration or rule by the natives, but not total severance of relation with Britain.
- II. In Bipin Chandra Pal's view, Swaraj was the attainment of complete freedom from any foreign rule.

Which of the statements given above is/are incorrect?

- A) I only
- B) II only
- C) Both I and II
- D) Neither I nor II
- E) Answer not known

பின்வரும் கூற்றுகளை கருத்தில் கொள்க.

- I. திலகரைப் பொறுத்தவரை, சுயராஜ்ஜியம் என்பது இந்திய நிர்வாகம் மீதான இந்தியர்களின் கட்டுப்பாடு அல்லது ஆட்சியின் மீதான இந்தியக் கட்டுப்பாட்டிற்குள் உள்ளடக்கியது, ஆனால் பிரிட்டனுடனான உறவை முழுவதுமாக துண்டிக்க வலியுறுத்தவில்லை.
- II. பிபின் சந்திர பாலின் பார்வையில், சுயராஜ்ஜியம் என்பது எந்தவொரு அந்நிய ஆட்சியிலிருந்தும் முழுமையான விடுதலையை அடைவது.

மேற்கண்ட கூற்றுகளில் தவறானது எது/எவை?

- A) I மட்டும்
- B) II மட்டும்
- C) இரண்டும்
- D) இரண்டுமில்லை
- E) விடை தெரியவில்லை

81. Match List-I with List-II.

List-I
(Madras Sessions)

- a) 1887
- b) 1898
- c) 1908
- d) 1927

Codes:

- | | a | b | c | d |
|----|----------|----------|----------|----------|
| A) | 2 | 4 | 3 | 1 |
| B) | 2 | 3 | 1 | 4 |
| C) | 1 | 4 | 3 | 2 |
| D) | 4 | 2 | 1 | 3 |

E) Answer not known

பட்டியல்-Iஐ பட்டியல்-II உடன் பொருத்தவும்.

பட்டியல்-I
(மெட்ராஸ் அமர்வுகள்)

- a) 1887
- b) 1898
- c) 1908
- d) 1927

List-II
(INC President)

1. M.A. Ansari
2. Badruddin Tyabji
3. Rash Behari Bose
4. Anand Mohan Bose

பட்டியல்-II

(INC தலைவர்)

1. M.A. அன்சாரி
2. பத்ருதீன் தியாப்ஜி
3. ராஷ் பிஹாரி போஸ்
4. ஆனந்த் மோகன் போஸ்



குறியீடுகள்:

- | | a | b | c | d |
|----|------------------|----------|----------|----------|
| A) | 2 | 4 | 3 | 1 |
| B) | 2 | 3 | 1 | 4 |
| C) | 1 | 4 | 3 | 2 |
| D) | 4 | 2 | 1 | 3 |
| E) | விடை தெரியவில்லை | | | |

82. Consider the following statements.

- I. The Madras Mahajana Sabha was formed in May 1884 with Rangiah Naidu as president and Ananda Charlu as secretary.
- II. The leaders after attending the first session of the Indian National Congress (INC) in Bombay amalgamated the MMS with the INC.

Which of the statements given above is/are correct?

- A) I only
- B) II only
- C) Both I and II
- D) Neither I nor II
- E) Answer not known

பின்வரும் கூற்றுகளை கருத்தில் கொள்க.

- I. இரங்கையா நாயடுவை தலைவராகவும், ஆனந்த சார்லுவை செயலாளராகவும் கொண்டு 1884 மே மாதம் மெட்ராஸ் மகாஜன சபை உருவாக்கப்பட்டது .
- II. பம்பாயில் நடந்த இந்திய தேசிய காங்கிரஸின் (INC) முதல் அமர்வில் கலந்து கொண்ட தலைவர்கள் மெட்ராஸ் மகாஜன சபையை இந்திய தேசிய காங்கிரஸ் உடன் இணைத்தனர்.

மேற்கண்ட கூற்றுகளில் சரியானது எது/எவை?

- A) I மட்டும்
- B) II மட்டும்
- C) இரண்டும்
- D) இரண்டுமில்லை
- E) விடை தெரியவில்லை

83. Consider the following statements.

- I. The book Indian Unrest was published by Valentine Chirol in 1910.
- II. In this book he called Bipin Chandra Pal as "Father of Indian Unrest".

Which of the statements given above is/are correct?

- A) I only
- B) II only
- C) Both I and II
- D) Neither I nor II
- E) Answer not known

பின்வரும் கூற்றுகளை கருத்தில் கொள்க.

- I. Indian Unrest என்ற புத்தகம் 1910 இல் வலாண்டின் சிரோலால் வெளியிடப்பட்டது.
- II. இந்த புத்தகத்தில் அவர் பிபின் சந்திர பாலை "இந்திய அமைதியின்மையின் தந்தை" என்று அழைத்தார்.

மேற்கண்ட கூற்றுகளில் சரியானது எது/எவை?

- A) I மட்டும்
- B) II மட்டும்
- C) இரண்டும்
- D) இரண்டுமில்லை
- E) விடை தெரியவில்லை



84. Which of the following was NOT the objective of the Indian National Congress during its formation?
- A) Reduction in land revenue
B) To consolidate a feeling of national unity among people
C) Attainment of Self-Government
D) Simultaneous Indian Civil Service Examinations in England and India
E) Answer not known
- பின்வருவனவற்றில் எது இந்திய தேசிய காங்கிரஸின் உருவாக்கத்தின் போது அதன் நோக்கமாக இருக்கவில்லை?
- A) நில வருவாய் குறைப்பு
B) மக்களிடையே தேசிய ஒற்றுமை உணர்வை பலப்படுத்துதல்
C) சுயராஜ்யத்தை அடைதல்
D) இங்கிலாந்து மற்றும் இந்தியாவில் ஒரே நேரத்தில் இந்திய குடிமைப் பணி தேர்வுகள்
E) விடை தெரியவில்லை
85. The Tilak Swaraj Fund was established to support which of the following movements?
- A) Swadeshi Movement
B) Non-Cooperation movement
C) Civil disobedience movement
D) Quit India movement
E) Answer not known
- திலகர் ஸ்வராஜ் நிதியானது பின்வரும் எந்த இயக்கத்தை ஆதரிப்பதற்காக நிறுவப்பட்டது?
- A) சுதேசி இயக்கம்
B) ஒத்துழையாமை இயக்கம்
C) சட்டமறுப்பு இயக்கம்
D) வெள்ளையனே வெளியேறு இயக்கம்
E) விடை தெரியவில்லை
86. Consider the following statements:
- I. Rahnunai Mazdayasnan Sabha Was founded at Bombay by Furdunji Naoroji and S.S. Bengalee.
II. The association advocated the spread of women's education.
III. The Sabha's journal Rast Goftar was the main voice of the movement.
- Which of the statements given above is/are correct?
- A) I and II only
B) II and III only
C) I and III only
D) All the above
E) Answer not known
- பின்வரும் கூற்றுகளை கருத்தில் கொள்க:
- I. ரஹ்நுமாய் மஸ்தயாஸ்னன் சபாவானது பம்பாயில் ஃபர்துஞ்சி நௌரோஜி மற்றும் எஸ்.எஸ் பெங்காலி ஆகியோரால் நிறுவப்பட்டது.
II. இச்சங்கம் பெண் கல்வியைப் பரப்புவதை ஆதரித்தது.
III. சபாவின் பத்திரிகையான ராஸ்ட் கோஃப்தார் இயக்கத்தின் முக்கிய குரலாக இருந்தது.



மேற்கண்ட கூற்றுகளில் சரியானது எது/எவை?

- A) I மற்றும் II மட்டும்
B) II மற்றும் III மட்டும்
C) I மற்றும் III மட்டும்
D) மேற்கண்ட அனைத்தும்
E) விடை தெரியவில்லை

87. Find the Incorrect statement with reference to Shree Narayana Guru:

- A) He rejected the caste system
B) He also gave the universal message, "One caste, one religion, one God".
C) He started Aravipuram movement in 1888.
D) He also established Sadhu Jana Paripalana Sangham.
E) Answer not known

ஸ்ரீ நாராயண குருவைப் பற்றிய தவறான கூற்றைக் கண்டறியவும்:

- A) சாதி அமைப்பை நிராகரித்தார்
B) "ஒரே ஜாதி, ஒரே மதம், ஒரு கடவுள்" என்ற உலகளாவிய செய்தியையும் இவர் வழங்கினார்.
C) 1888 இல் அருவிபுரம் இயக்கத்தைத் தொடங்கினார்.
D) இவர் சாது ஜன பரிபாலன சங்கத்தை நிறுவினார்.
E) விடை தெரியவில்லை

88. Which of the following is/are correctly matched?

(Leaders)

(Significant events)

- I. Acharya Vinoba Bhave – First Individual Satyagrahi
II. Mahatma Gandhi – Second Individual Satyagrahi
III. T.S.S Rajan – First Individual Satyagrahi in Tamilnadu.

Codes:

- A) I only
B) II and III only
C) I and III only
D) All the above
E) Answer not known

பின்வருவனவற்றில் எது சரியாகப் பொருந்துகிறது?

(தலைவர்கள்)

(குறிப்பிடத்தக்க நிகழ்வுகள்)

- I. ஆச்சார்யா வினோபா பாவே – முதல் தனிநபர் சத்தியாகிரகி
II. மகாத்மா காந்தி – இரண்டாவது தனிநபர் சத்தியாகிரகி
III. டி.எஸ்.எஸ் ராஜன் – தமிழ்நாட்டின் முதல் தனிநபர் சத்தியாகிரகி.

குறியீடுகள்:

- A) I மட்டும்
B) II மற்றும் III மட்டும்
C) I மற்றும் III மட்டும்
D) மேற்கண்ட அனைத்தும்
E) விடை தெரியவில்லை

89. Which of the following statement is not true about Subramania Bharati?

- A) Bharati was the sub-editor of Swadesamitran
B) He translated Tilak's Tenets of the New Party into Tamil
C) Bharati's Gurumani was Swami Vivekananda
D) He introduced the satirical form of political cartoons in 'India' newspaper.
E) Answer not known



சுப்ரமணிய பாரதியைப் பற்றிய பின்வரும் கூற்றுகளில் எது உண்மையல்ல?

- A) பாரதி சுதேசமித்திரனின் துணை ஆசிரியராக இருந்தார்
B) திலகரின் Tenets of New Party எனும் நூலை பாரதி தமிழில் மொழியாக்கம் செய்தார்.
C) பாரதியின் குருமணி சுவாமி விவேகானந்தர் ஆவார்
D) இவர் 'இந்தியா' செய்தித்தாளில் அரசியல் கருத்துபடங்களுக்கான கேலி சித்திரத்தை அறிமுகப்படுத்தினார்.
E) விடை தெரியவில்லை

90. Match List-I with List-II.

List-I

(Epithets)

- a) Bismarck of India
b) Morning Star of Modern India
c) Father of Indian Renaissance
d) Continental Emperor

Codes:

- | | a | b | c | d |
|----|----------|----------|----------|----------|
| A) | 1 | 3 | 2 | 4 |
| B) | 3 | 2 | 1 | 2 |
| C) | 2 | 4 | 1 | 3 |
| D) | 4 | 1 | 2 | 3 |

E) Answer not known

பட்டியல்-Iஐ பட்டியல்-II உடன் பொருத்துக.

பட்டியல்-I

(அடைமொழிகள்)

- a) இந்தியாவின் பிஸ்மார்க்
b) நவீன இந்தியாவின் விடி வெள்ளி
c) இந்திய மறுமலர்ச்சியின் தந்தை
d) கண்டப் பேரரசர்

குறியீடுகள்:

- | | a | b | c | d |
|----|----------|----------|----------|----------|
| A) | 1 | 3 | 2 | 4 |
| B) | 3 | 2 | 1 | 2 |
| C) | 2 | 4 | 1 | 3 |
| D) | 4 | 1 | 2 | 3 |

E) விடை தெரியவில்லை

List-II

(Associated personalities)

1. Raja Ram Mohan Roy
2. Sardar Vallabhai Patel
3. Robert Clive
4. Swamy Vivekananda

பட்டியல்-II

(தொடர்புடைய ஆளுமைகள்)

1. ராஜா ராம் மோகன் ராய்
2. சர்தார் வல்லபாய் படேல்
3. இராபர்ட் கிளைவ்
4. சுவாமி விவேகானந்தர்

91. Arrange the following events in Chronological order

- I. Madras Famine
II. The Vernacular Press Act
III. Ilbert Bill Controversy
IV. Delhi Durbar during the tenure of Lord Lytton

Codes:

- A) I-II-IV-III
B) IV-I-II-III
C) IV-II-III-I
D) I-IV-II-III
E) Answer not known



பின்வரும் நிகழ்வுகளை காலவரிசைப்படி வரிசைப்படுத்துக

- I. மெட்ராஸ் பஞ்சம்
- II. வட்டார மொழி பத்திரிகை சட்டம்
- III. இல்பர்ட் மசோதா சர்ச்சை
- IV. லிட்டன் பிரபுவின் காலத்தில் நடத்தப்பட்ட டெல்லி தர்பார்

குறியீடுகள்:

- | | |
|---------------------|----------------|
| A) I-II-IV-III | B) IV-I-II-III |
| C) IV-II-III-I | D) I-IV-II-III |
| E) விடை தெரியவில்லை | |

92. Match List-I with List-II.

List-I

(Newspaper)

- a) Indian Mirror
- b) Indian Opinion
- c) Indian Sociologist
- d) National Herald

List-II

(Person Associated with it)

1. Shyamji Krishnavarma
2. Jawaharlal Nehru
3. Debendranath Tagore
4. Mahatma Gandhi

Codes:

- | | a | b | c | d |
|----|----------|----------|----------|----------|
| A) | 3 | 2 | 1 | 4 |
| B) | 1 | 4 | 3 | 2 |
| C) | 3 | 4 | 1 | 2 |
| D) | 4 | 3 | 2 | 1 |

E) Answer not known

பட்டியல்-Iஐ பட்டியல்-II உடன் பொருத்துக.

பட்டியல்-I

(செய்தித்தாள்)

- a) இந்தியன் மிரர்
- b) இந்தியன் ஒப்பீனியன்
- c) இந்தியன் சோசியாலஜிஸ்ட்
- d) நேஷனல் ஹெரால்டு

பட்டியல்-II

(அதனுடன் தொடர்புடைய நபர்)

1. ஷியாம்ஜி கிருஷ்ணவர்மா
2. ஜவஹர்லால் நேரு
3. தேபேந்திரநாத் தாகூர்
4. மகாத்மா காந்தி

குறியீடுகள்:

- | | a | b | c | d |
|----|----------|----------|----------|----------|
| A) | 3 | 2 | 1 | 4 |
| B) | 1 | 4 | 3 | 2 |
| C) | 3 | 4 | 1 | 2 |
| D) | 4 | 3 | 2 | 1 |

E) விடை தெரியவில்லை



93. Which of the following factors are the root causes of tribal uprisings in India during 19th century?

- I. Imposition of laws by foreign government.
- II. Activities of Christian missionaries among tribal groups.
- III. Land encroachment by colonial powers.
- IV. Recruitment of unpaid labour for manual work.

Codes:

- | | |
|-----------------------|------------------------|
| A) I, II and III only | B) II, III and IV only |
| C) I, III and IV only | D) All the above |
| E) Answer not known | |

19ஆம் நூற்றாண்டில் இந்தியாவில் நடந்த பழங்குடியினரின் எழுச்சிகளுக்கு பின்வரும் காரணிகளில் எது அடிப்படைக் காரணமாக இருந்தது?

- I. அந்நிய அரசாங்கத்தால் திணிக்கப்பட்ட சட்டங்கள்.
- II. பழங்குடி குழுக்களிடையே கிறிஸ்தவ மிஷனரிகளின் செயல்பாடுகள்.
- III. காலனித்துவ சக்திகளின் நில ஆக்கிரமிப்பு.
- IV. உடலுழைப்பிற்கேற்ற ஊதியம் கோராத தொழிலாளர்களை நியமித்தல்.

குறியீடுகள்:

- | | |
|------------------------------|-------------------------------|
| A) I, II மற்றும் III மட்டும் | B) II, III மற்றும் IV மட்டும் |
| C) I, III மற்றும் IV மட்டும் | D) மேற்கண்ட அனைத்தும் |
| E) விடை தெரியவில்லை | |

94. The statement 'The presence of the British in India is an invitation to Japan to invade India' was written by

- | | |
|------------------------|-------------------|
| A) Rash Behari Bose | B) Mahatma Gandhi |
| C) Subash Chandra Bose | D) Clement Atlee |
| E) Answer not known | |

'ஆங்கிலேயர்கள் இந்தியாவில் இருப்பது என்பது ஜப்பான் இந்தியாவின் மீது படையெடுப்பதற்கான அழைப்பு' என்ற வாசகத்தைக் கூறியவர்

- | | |
|-----------------------|--------------------|
| A) ராஷ் பிஹாரி போஸ் | B) மகாத்மா காந்தி |
| C) சுபாஷ் சந்திர போஸ் | D) கிளமென்ட் அட்லி |
| E) விடை தெரியவில்லை | |

95. Consider the following statements regarding Jyotiba Phule:

- I. Founded Satyasodhak Samaj in 1873.
- II. Advocated gender equality.
- III. Jyotiba Phule was honoured with the title 'Mahatma' for his contributions to social reform.

Which of the statements given above is/are correct?

- | | |
|---------------------|--------------------|
| A) I and II only | B) II and III only |
| C) I and III only | D) All the above |
| E) Answer not known | |



ஜோதிபா பூலே பற்றிய பின்வரும் கூற்றுகளைக் கருத்தில் கொள்க

- I. 1873 இல் சத்யசோதக் சமாஜை நிறுவினார்.
- II. பாலின சமத்துவத்தை வலியுறுத்தினார்.
- III. சமூக சீர்திருத்தத்தில் இவர் ஆற்றிய பங்களிப்பிற்காக ஜோதிபா பூலேவுக்கு 'மகாத்மா' என்ற பட்டம் வழங்கப்பட்டது.

மேற்கண்ட கூற்றுகளில் சரியானது எது/எவை?

- | | |
|--------------------------|---------------------------|
| A) I மற்றும் II மட்டும் | B) II மற்றும் III மட்டும் |
| C) I மற்றும் III மட்டும் | D) மேற்கண்ட அனைத்தும் |
| E) விடை தெரியவில்லை | |

96. Who was the first native Indian appointed as justice of the High Court of Madras during the British Raj in 1877?

- | | |
|----------------------------|--------------------|
| A) C. Rajagopalachari | B) Chittranjan Das |
| C) V.O. Chidambaram Pillai | D) T. Muthuswamy |
| E) Answer not known | |

1877 ஆம் ஆண்டு பிரிட்டிஷ் ராஜ்ஜியத்தின் போது சென்னை உயர் நீதிமன்ற நீதிபதியாக நியமிக்கப்பட்ட முதல் பூர்வீக இந்தியர் யார்?

- | | |
|-------------------------|----------------------|
| A) C. ராஜகோபாலாச்சாரி | B) சித்திரஞ்சன் தாஸ் |
| C) V.O சிதம்பரம் பிள்ளை | D) T. முத்துசாமி |
| E) விடை தெரியவில்லை | |

97. Consider the following statements related to the Theosophical Society:

- I. It was founded in New York in 1875 by Madam Blavatsky and Allan Octavian Hume.
- II. Their main objectives were to form a universal brotherhood of man without any distinction of race, colour or creed.
- III. Later in 1893, Mrs. Annie Besant arrived in India and took over the leadership of the Society.

Which of the statements given above are correct?

- | | |
|---------------------|--------------------|
| A) I and II only | B) II and III only |
| C) I and III only | D) All the above |
| E) Answer not known | |

பிரம்மஞான சபை தொடர்பான பின்வரும் கூற்றுகளைக் கருத்தில் கொள்க

- I. இது மேடம் பிளாவட்ஸ்கி மற்றும் ஆலன் ஆக்டேவியன் ஹியூம் ஆகியோரால் 1875 இல் நியூயார்க்கில் நிறுவப்பட்டது.
- II. அவர்களின் முக்கிய நோக்கங்கள் இனம், நிறம் அல்லது மத வேறுபாடுகள் இல்லாமல் மனிதனின் உலகளாவிய சகோதரத்துவத்தை உருவாக்குவதாகும்.
- III. பின்னர் 1893இல், திருமதி அன்னி பெசன்ட் இந்தியா வந்து சங்கத்தின் தலைமைப் பொறுப்பை ஏற்றார்.

மேற்கண்ட கூற்றுகளில் சரியானவை எவை?

- | | |
|--------------------------|---------------------------|
| A) I மற்றும் II மட்டும் | B) II மற்றும் III மட்டும் |
| C) I மற்றும் III மட்டும் | D) மேற்கண்ட அனைத்தும் |
| E) விடை தெரியவில்லை | |



98. Find out the incorrectly matched pair.

(Government Repressive Measures)

(Enacted in)

- | | |
|---|--------|
| A) The Seditious Meeting Act | – 1907 |
| B) Indian Newspapers (Incitement to Offences) Act | – 1908 |
| C) Criminal Law Amendment Act | – 1909 |
| D) Indian Press Act | – 1910 |
| E) Answer not known | |

தவறாகப் பொருந்தியுள்ள இணையைக் கண்டறியவும்.

(அரசாங்க அடக்குமுறை நடவடிக்கைகள்)

(இதில் இயற்றப்பட்டது)

- | | |
|---|--------|
| A) தேசத்துரோக சந்திப்புச் சட்டம் | – 1907 |
| B) இந்திய செய்தித்தாள்கள் (குற்றங்களைத் தூண்டுதல்) சட்டம் | – 1908 |
| C) குற்றவியல் சட்டத் திருத்தச் சட்டம் | – 1909 |
| D) இந்திய பத்திரிகைச் சட்டம் | – 1910 |
| E) விடை தெரியவில்லை | |

99. What were the causes for the rise of Militant Nationalism between 1905 and 1909?

- I. Reactionary policies of Lord Lytton
- II. Increasing Westernisation.
- III. International influences.
- IV. Dissatisfaction with the achievements of Extremists

Codes:

- | | |
|-----------------------|--------------------|
| A) I, II and III only | B) II and III only |
| C) I and IV only | D) All the above |
| E) Answer not known | |

1905 மற்றும் 1909க்கு இடையில் போர்க்குணமிக்க தேசியவாதத்தின் எழுச்சிக்கான காரணங்கள் யாவை?

- I. லிட்டன் பிரபுவின் பிற்போக்குக் கொள்கைகள்
- II. அதிகரித்து வரும் மேற்கத்தியமயமாதல்.
- III. சர்வதேச தாக்கங்கள்.
- IV. தீவிரதேசியவாதிகளின் சாதனைகளில் அதிருப்தி

குறியீடுகள்:

- | | |
|------------------------------|---------------------------|
| A) I, II மற்றும் III மட்டும் | B) II மற்றும் III மட்டும் |
| C) I மற்றும் IV மட்டும் | D) மேற்கண்ட அனைத்தும் |
| E) விடை தெரியவில்லை | |

100. Match List-I with List-II.

List-I

(Journals)

- a) Ghadar
- b) The Hindu
- c) Talwar
- d) Bande Mataram

List-II

(Founder)

1. Madam Cama
2. Virendranath Chattopadhyay
3. G.Subramaniya Iyer
4. Lala Hardayal

**Codes:**

	a	b	c	d
A)	4	2	3	1
B)	2	1	3	4
C)	3	4	1	2
D)	4	3	2	1

E) Answer not known

பட்டியல்-Iஐ பட்டியல்-II உடன் பொருத்துக.

பட்டியல்-I

பட்டியல்-II

(பத்திரிகைகள்)

(நிறுவனர்)

a) காதர்

1. மேடம் காமா

b) தி இந்து

2. வீரேந்திரநாத் சட்டோபாத்யாய்

c) தல்வார்

3. ஜி.சுப்ரமணிய ஐயர்

d) பந்தே மாதரம்

4. லாலா ஹர்தயாள்

குறியீடுகள்:

	a	b	c	d
A)	4	2	3	1
B)	2	1	3	4
C)	3	4	1	2
D)	4	3	2	1

E) விடை தெரியவில்லை

101. Who stated "A wholesale vengeance is being taken without distinction of friend or foe. As regards the looting, we have indeed surpassed Nadirshah."?

A) Sir John Lawrence

B) Lord Lytton

C) Lord Curzon

D) Lord Elphinstone

E) Answer not known

"நண்பன், பகைவன் என்ற பாகுபாடு இன்றி ஒட்டுமொத்தமாகப் பழிவாங்கப்படுகிறது.

கொள்ளையடிப்பதைப் பொறுத்தவரை நாம் நாதிர்ஷாவை மிஞ்சிவிட்டோம்." என்று கூறியவர்

A) சர் ஜான் லாரன்ஸ்

B) லிட்டன் பிரபு

C) கர்சன் பிரபு

D) எல்பின்ஸ்டன் பிரபு

E) விடை தெரியவில்லை

102. Consider the following statements regarding Bal Gangadhar Tilak:

I. He started the practice of using traditional religious festivals like the Ganapati and Shivaji festivals to propagate nationalist ideas through patriotic songs and speeches.

II. He was arrested under Section 124A of the Indian Penal Code.

III. He founded the newspaper Mahratta in Marathi and Kesari in English.



Which of the statements given above is/are correct?

- A) I and II only
B) II and III only
C) I and III only
D) All the above
E) Answer not known

பாலகங்காதர திலகர் பற்றிய பின்வரும் கூற்றுகளைக் கருத்தில் கொள்க

I. கணபதி மற்றும் சிவாஜி விழாக்கள் போன்ற பாரம்பரிய மத விழாக்களைப் பயன்படுத்தி தேசபக்தி பாடல்கள் மற்றும் உரைகள் மூலம் தேசியவாத கருத்துக்களை பரப்புவதற்கான நடைமுறையை அவர் தொடங்கினார்.

II. இந்திய தண்டனைச் சட்டம் 124 ஏ பிரிவின் கீழ் அவர் கைது செய்யப்பட்டார்.

III. மராத்தியில் மராட்டா மற்றும் ஆங்கிலத்தில் கேசரி என்ற பத்திரிகையை நிறுவினார்.

மேற்கண்ட கூற்றுகளில் சரியானது எது/எவை?

- A) I மற்றும் II மட்டும்
B) II மற்றும் III மட்டும்
C) I மற்றும் III மட்டும்
D) மேற்கண்ட அனைத்தும்
E) விடை தெரியவில்லை

103. Consider the following statements regarding Home Rule Movement:

I. Pioneered by Tilak and Annie Besant, following a model similar to a movement in Russia.

II. In April 1916, Annie Besant established the All-India Home Rule League which had jurisdiction over the entire India, including Bombay City.

III. In September 1916, Tilak established the Indian Home Rule League.

Which of the statements given above is/are incorrect?

- A) I only
B) II and III only
C) I and II only
D) All the above
E) Answer not known

தன்னாட்சி இயக்கம் தொடர்பான பின்வரும் கூற்றுகளைக் கருத்தில் கொள்க

I. திலகரும், அன்னிபெசன்ட்டும் முன்னோடியாக ரஷ்யாவில் நடந்த இயக்கத்தை ஒத்த ஒரு மாதிரியைப் பின்பற்றினர்.

II. ஏப்ரல் 1916 இல், அன்னி பெசன்ட் அகில இந்திய தன்னாட்சி இயக்கத்தை நிறுவினார். இது பம்பாய் நகரம் உட்பட முழு இந்தியாவிலும் அதிகார வரம்பைக் கொண்டிருந்தது.

III. செப்டம்பர் 1916 இல், திலகர் இந்திய தன்னாட்சி கழகத்தை நிறுவினார்.

மேற்கண்ட கூற்றுகளில் சரியானது எது/எவை?

- A) I மட்டும்
B) II மற்றும் III மட்டும்
C) I மற்றும் II மட்டும்
D) மேற்கண்ட அனைத்தும்
E) விடை தெரியவில்லை

104. Which of the following is/are correctly matched?

(Non-Brahmin movement) **(Region)**

- I. Namasudra movement – Bengal
II. Adidharma movement – Central India
III. Satyasodhak movement – Western India
IV. Dravidian movements – South India

**Codes:**

- A) II, III and IV only
B) III and IV only
C) I, III and IV only
D) I and IV only
E) Answer not known

பின்வருவனவற்றில் சரியாகப் பொருந்தியுள்ளது எது/எவை?

(பிராமணரல்லாத இயக்கம்)

(பிராந்தியம்)

- | | | |
|------------------------|---|----------------|
| I. நாமதூதரா இயக்கம் | - | வங்காளம் |
| II. ஆதிதர்ம இயக்கம் | - | மத்திய இந்தியா |
| III. சத்யசோதக் இயக்கம் | - | மேற்கு இந்தியா |
| IV. திராவிட இயக்கங்கள் | - | தென்னிந்தியா |

குறியீடுகள்:

- A) II, III மற்றும் IV மட்டும்
B) III மற்றும் IV மட்டும்
C) I, III மற்றும் IV மட்டும்
D) I மற்றும் IV மட்டும்
E) விடை தெரியவில்லை

105. Which of the following is/are incorrectly matched?

(Journals/Events)

(Launched in)

- | | | |
|---|---|------|
| I. New India | - | 1914 |
| II. Commonweal | - | 1915 |
| III. How India Wrought for Freedom | - | 1915 |
| IV. Besant's formal declaration of the Home Rule League | - | 1915 |

Codes:

- A) I and II only
B) I, II and IV only
C) II and III only
D) I and IV only
E) Answer not known

பின்வருவனவற்றில் தவறாகப் பொருந்தியுள்ளது எது/எவை?

(பத்திரிகைகள்/நிகழ்வுகள்)

(தொடங்கப்பட்டது)

- | | | |
|--|---|------|
| I. நியூ இந்தியா | - | 1914 |
| II. காமன்வீல் | - | 1915 |
| III. How India Wrought for Freedom | - | 1915 |
| IV. பெசன்ட்டின் இந்திய தன்னாட்சி இயக்கத்தின் முறையான அறிவிப்பு | - | 1915 |

குறியீடுகள்:

- A) I மற்றும் II மட்டும்
B) I, II மற்றும் IV மட்டும்
C) II மற்றும் III மட்டும்
D) I மற்றும் IV மட்டும்
E) விடை தெரியவில்லை

106. Consider the following statements regarding Champaran Satyagraha:

- I. It marked Mahatma Gandhi's first attempt at mobilizing the Indian masses on a large scale.
- II. Gandhi was invited to Champaran by the peasants to address the exploitation by European planters.
- III. The British officials supported Gandhi's initial efforts and facilitated his inquiry.
- IV. The enquiry committee formed included Gandhi, and its recommendations led to the end of the indigo planters' exploitation.



Which of the statements given above is/are correct?

- A) I, II and III only
B) I, II and IV only
C) III and IV only
D) All the above
E) Answer not known

சம்பாரன் சத்தியாகிரகம் தொடர்பான பின்வரும் கூற்றுகளைக் கருத்தில் கொள்க

- I. இந்திய மக்களை பெரிய அளவில் அணிதிரட்ட மகாத்மா காந்தியின் முதல் முயற்சியாக இது அமைந்தது.
II. ஐரோப்பிய தோட்டக்காரர்களின் சுரண்டலுக்கு தீர்வு காண விவசாயிகளால் காந்தி சம்பாரனுக்கு அழைக்கப்பட்டார்.
III. பிரிட்டிஷ் அதிகாரிகள் காந்தியின் ஆரம்ப முயற்சிகளை ஆதரித்தனர் மற்றும் அவரது விசாரணையை எளிதாக்கினர்.
IV. அமைக்கப்பட்ட விசாரணைக் குழுவில் காந்தி இருந்தார், அதன் பரிந்துரைகள் இண்டிகோ தோட்டக்காரர்களின் சுரண்டலை முடிவுக்குக் கொண்டு வந்தன.

மேற்கண்ட கூற்றுகளில் சரியானது எது/எவை?

- A) I, II மற்றும் III மட்டும்
B) I, II மற்றும் IV மட்டும்
C) III மற்றும் IV மட்டும்
D) மேற்கண்ட அனைத்தும்
E) விடை தெரியவில்லை

107. Consider the following statements:

- I. Governor can pardon, suspend, remit or commute a death sentence
II. Article 76 and Article 165 grants pardoning power to President and Governor respectively.

Which of the statements given above is/are correct?

- A) I only
B) II only
C) Both I and II
D) Neither I nor II
E) Answer not known

பின்வரும் கூற்றுகளைக் கருத்தில் கொள்க :

- I. ஆளுநர் மரண தண்டனையை மன்னிக்கலாம், இடைநீக்கம் செய்யலாம், ரத்து செய்யலாம் அல்லது மாற்றலாம்
II. சரத்து 76 மற்றும் சரத்து 165 முறையே குடியரசுத் தலைவர் மற்றும் ஆளுநருக்கு மன்னிப்பு அதிகாரத்தை வழங்குகிறது.

மேற்கண்ட கூற்றுகளில் சரியானது எது/எவை?

- A) I மட்டும்
B) II மட்டும்
C) இரண்டும்
D) இரண்டுமில்லை
E) விடை தெரியவில்லை

108. Consider the following statements regarding Money bills in State Legislature:

- I. The Governor can reserve a money bill for the consideration of the President.
II. If the President gives his/her assent to the Bill, the Governor must also give his assent.
III. The President cannot return a money bill for reconsideration by the State Legislature



Which of the statements given above is/are correct?

- A) I and II only
B) II and III only
C) I and III only
D) All the above
E) Answer not known

மாநில சட்டமன்றத்தில் பண மசோதாக்கள் தொடர்பான பின்வரும் கூற்றுகளைக் கருத்தில் கொள்க:

- I. ஆளுநர் பண மசோதாவை குடியரசுத் தலைவரின் பரிசீலனைக்காக ஒதுக்கி வைக்கலாம்.
II. மசோதாவுக்கு குடியரசுத் தலைவர் ஒப்புதல் அளித்தால், ஆளுநரும் ஒப்புதல் அளிக்க வேண்டும்.
III. மாநில சட்டமன்றத்தின் மறுபரிசீலனைக்காக குடியரசுத் தலைவர் பண மசோதாவை திரும்பப் பெற முடியாது

மேற்கண்ட கூற்றுகளில் சரியானது எது/எவை?

- A) I மற்றும் II மட்டும்
B) II மற்றும் III மட்டும்
C) I மற்றும் III மட்டும்
D) மேற்கண்ட அனைத்தும்
E) விடை தெரியவில்லை

109. The creation or abolition of a State's Legislative Council in India can be done by which of the following?

- A) Parliament on the recommendation of President
B) Parliament on the recommendation of Governor of a state
C) Parliament on its own will
D) Parliament after the state assembly passes the resolution of that effect
E) Answer not known

இந்தியாவில் ஒரு மாநிலத்தின் சட்ட மேலவையை உருவாக்குவது அல்லது ஒழிப்பது பின்வருவனவற்றில் யாரால் செய்யப்படலாம்?

- A) குடியரசுத் தலைவரின் பரிந்துரையின் பேரில் பாராளுமன்றம்
B) ஒரு மாநில ஆளுநரின் பரிந்துரையின் பேரில் நாடாளுமன்றம்
C) பாராளுமன்றம் அதன் சொந்த விருப்பத்தின் பேரில்
D) மாநில சட்டமன்றம் அந்த விளைவுக்கான தீர்மானத்தை நிறைவேற்றிய பிறகு பாராளுமன்றம்
E) விடை தெரியவில்லை

110. According to the Constitution of India, what is the prescribed limit for the number of members in a State's Legislative Assembly?

- A) 350 members
B) 400 members
C) 450 members
D) 500 members
E) Answer not known

இந்திய அரசியலமைப்புச் சட்டத்தின்படி, ஒரு மாநிலத்தின் சட்டப் பேரவையில் உறுப்பினர்களின் எண்ணிக்கைக்கு நிர்ணயிக்கப்பட்ட வரம்பு என்ன?

- A) 350 உறுப்பினர்கள்
B) 400 உறுப்பினர்கள்
C) 450 உறுப்பினர்கள்
D) 500 உறுப்பினர்கள்
E) விடை தெரியவில்லை



111. Who stated "The greater the power of the people, the better for the people"?
- A) Jawaharlal Nehru
B) B.R. Ambedkar
C) Mahatma Gandhi
D) Abraham Lincoln
E) Answer not known

"மக்களின் அதிகாரம் எவ்வளவு அதிகமாக இருக்கிறதோ, அந்த அளவிற்கு மக்களுக்கு நல்லது" என்று கூறியவர்

- A) ஜவஹர்லால் நேரு
B) BR அம்பேத்கர்
C) மகாத்மா காந்தி
D) ஆபிரகாம் லிங்கன்
E) விடை தெரியவில்லை
112. Consider the following statements regarding Local Administration during Chola period:
- I. The Ur and the Mahasabha were the two institutions that assisted the officers in executing the orders of the king
II. Nagaram is an administrative unit confined to towns.
III. The Mahasabhas and Kudavolai were confined to Brahmin settlements
IV. Both Nadu and "Nagaram were concerned about the control and regulation of land holdings, management of irrigation works etc.,
- Which of the statements given above are correct?
- A) I, II and III only
B) II and III only
C) I, III and IV only
D) All the above
E) Answer not known

சோழர் காலத்தில் உள்ளாட்சி நிர்வாகம் தொடர்பான பின்வரும் கூற்றுகளைக் கருத்தில் கொள்க:

- I. அரசரின் ஆணைகளை நிறைவேற்றுவதில் அலுவலர்களுக்கு உதவிய இரண்டு அமைப்புகள் ஊர் மற்றும் மகாசபை ஆகும்
II. நகரம் என்பது நகரங்களில் மட்டுமே உள்ள ஒரு நிர்வாக அலகு.
III. மகாசபைகளும் குடவோலை முறையும் பிராமணக் குடியிருப்புகளுக்குள் மட்டுமே இருந்தன
IV. நாடு மற்றும் "நகரம் ஆகிய இரண்டும் நிலத்தை கட்டுப்படுத்துதல் மற்றும் ஒழுங்குபடுத்துதல், நீர்ப்பாசனப் பணிகளை நிர்வகித்தல் போன்றவற்றில் அக்கறை கொண்டிருந்தன.

மேற்கண்ட கூற்றுகளில் சரியானவை எவை?

- A) I, II மற்றும் III மட்டும்
B) II மற்றும் III மட்டும்
C) I, III மற்றும் IV மட்டும்
D) மேற்கண்ட அனைத்தும்
E) விடை தெரியவில்லை
113. Which of the following is not the recommendation of Balwant Rai Mehta Committee:
- A) Establishment of a three-tier Panchayati raj system
B) The village panchayat, panchayat samiti and zila parishad should be constituted with directly elected representatives.
C) The district collector should be the chairman of the zila parishad.
D) The panchayat samiti should be the executive body while the zila parishad should be the advisory and co-ordinating body.
E) Answer not known



பின்வருவனவற்றில் எது பல்வந்த ராய் மேத்தா குழுவின் பரிந்துரை அல்ல:

- A) மூன்றாண்டுக்கு பஞ்சாயத்து ராஜ் அமைப்பை நிறுவுதல்
- B) கிராம பஞ்சாயத்து, பஞ்சாயத்து சமிதி மற்றும் ஜிலா பரிஷத் ஆகியவை நேரடியாக தேர்ந்தெடுக்கப்பட்ட பிரதிநிதிகளை கொண்டு அமைக்கப்பட வேண்டும்.
- C) ஜில்லா பரிஷத்தின் தலைவராக மாவட்ட ஆட்சியர் இருக்க வேண்டும்.
- D) பஞ்சாயத்து சமிதி நிர்வாக அமைப்பாகவும் ஜில்லா பரிஷத் ஆலோசனை மற்றும் ஒருங்கிணைப்பு அமைப்பாகவும் இருக்க வேண்டும்.
- E) விடை தெரியவில்லை

114. Arrange the committees established to strengthen local self-government institutions in India in chronological order of their establishment:

- I. G.V.K. Rao Committee
- II. Thungon Committee
- III. Ashok Mehta Committee
- IV. L.M. Singhvi Committee

Codes:

- A) I-III-II-IV
- B) II-III-I-IV
- C) III-I-IV-II
- D) III-IV-I-II
- E) Answer not known

இந்தியாவில் உள்ள உள்ளூர் உள்ளாட்சி அமைப்புகளை வலுப்படுத்த நிறுவப்பட்ட குழுக்களை அவற்றின் நிறுவப்பட்ட ஆண்டின் காலவரிசைப்படி ஒழுங்கமைக்கவும்:

- I. ஜிவி கே ராவ் குழு
- II. துங்கன் குழு
- III. அசோக் மேத்தா குழு
- IV. எல்எம் சிங்வி குழு

குறியீடுகள்:

- A) I-III-II-IV
- B) II-III-I-IV
- C) III-I-IV-II
- D) III-IV-I-II
- E) விடை தெரியவில்லை

115. Which Article of the Indian Constitution mandates that states and union territories, except those with a population not exceeding 20 lakhs, must establish a three-tier system of Panchayats?

- A) Article 243 A
- B) Article 243 B
- C) Article 243 C
- D) Article 243 D
- E) Answer not known

20 லட்சத்திற்கு மிகாமல் மக்கள் தொகை கொண்ட மாநிலங்கள் மற்றும் யூனியன் பிரதேசங்கள் மூன்றாண்டுக்கு பஞ்சாயத்து அமைப்பை நிறுவ வேண்டும் என்று இந்திய அரசியலமைப்பின் எந்தச் சரத்து ஆணையிடுகிறது?

- A) சரத்து 243 A
- B) சரத்து 243 B
- C) சரத்து 243 C
- D) சரத்து 243 D
- E) விடை தெரியவில்லை



116. Consider the following statements.

- I. The Municipal Corporations are established in metropolitan cities with populations of 1 million or more.
- II. The Municipalities are established in small and medium cities and town with population of less than 1 million
- III. Townships and Notified Area Committees are emerging urban areas where new industries are being established.
- IV. The Cantonment Boards are established in military establishments

Which of the statements given above are correct?

- A) I, II and III only
- B) II, III and IV only
- C) I, II and IV only
- D) All the above
- E) Answer not known

பின்வரும் கூற்றுகளைக் கருத்தில் கொள்க.

- I. 1 மில்லியன் அல்லது அதற்கு மேற்பட்ட மக்கள் தொகை கொண்ட பெருநகரங்களில் மாநகராட்சிகள் நிறுவப்பட்டுள்ளன.
- II. 1 மில்லியனுக்கும் குறைவான மக்கள்தொகை கொண்ட சிறிய மற்றும் நடுத்தர நகரங்கள் மற்றும் நகரங்களில் நகராட்சிகள் நிறுவப்பட்டுள்ளன
- III. புதிய தொழிற்சாலைகள் அமைக்கப்படும் நகரப் பகுதிகள் மற்றும் அறிவிக்கப்பட்ட பகுதிக் குழுக்கள் உருவாகி வருகின்றன.
- IV. இராணுவ குடியிருப்புகள், இராணுவ நிறுவனங்களில் நிறுவப்பட்டுள்ளன.

மேற்கண்ட கூற்றுகளில் சரியானவை எவை?

- A) I, II மற்றும் III மட்டும்
- B) II, III மற்றும் IV மட்டும்
- C) I, II மற்றும் IV மட்டும்
- D) மேற்கண்ட அனைத்தும்
- E) விடை தெரியவில்லை

117. Consider the following statements.

Assertion (A) : The jurisdiction of village and intermediate levels of Panchayat have not been specifically defined in the Act.

Reason (R) : A certain amount of flexibility was given to States in constituting Panchayats at the lower and middle levels

Codes:

- A) Both (A) and (R) are true and (R) is the correct explanation of (A)
- B) Both (A) and (R) are true but (R) is not the correct explanation of (A)
- C) (A) is true but (R) is false
- D) (A) is false but (R) is true
- E) Answer not known

பின்வரும் கூற்றுகளைக் கருத்தில் கொள்க.

கூற்று (A) : கிராமம் மற்றும் இடைநிலை மட்ட பஞ்சாயத்துகளின் அதிகார வரம்பு சட்டத்தில் தெளிவாக வரையறுக்கப்படவில்லை.

காரணம் (R) : கீழ் மற்றும் நடுத்தர அளவில் பஞ்சாயத்துகளை அமைப்பதில் மாநிலங்களுக்கு ஒரு குறிப்பிட்ட அளவு நெகிழ்வுத்தன்மை கொடுக்கப்பட்டது.



குறியீடுகள்:

- A) (A) மற்றும் (R) இரண்டும் சரி மற்றும் (R) என்பது (A)-யின் சரியான விளக்கமாகும்.
B) (A) மற்றும் (R) இரண்டும் சரி ஆனால் (R) என்பது (A)-யின் சரியான விளக்கமல்ல.
C) (A) சரி ஆனால் (R) தவறு.
D) (A) தவறு ஆனால் (R) சரி.
E) விடை தெரியவில்லை

118. Which of the following subjects are listed in the 11th Schedule of Indian Constitution?

- I. Markets and fairs
II. Public Distribution system
III. Education including primary and secondary schools
IV. Marriage

Which of the statements given above is/are correct?

- A) I, II and III only
B) II, III and IV only
C) I, III and IV only
D) All the above
E) Answer not known

பின்வரும் துறைகளில் எது இந்திய அரசியலமைப்பின் 11வது அட்டவணையில் பட்டியலிடப்பட்டுள்ளது?

- I. சந்தைகள் மற்றும் கண்காட்சிகள்
II. பொது விநியோக அமைப்பு
III. ஆரம்ப மற்றும் இடைநிலைப் பள்ளிகள் உட்பட கல்வி
IV. திருமணம்

மேற்கூறியவற்றுள் சரியானது எது/எவை?

- A) I, II மற்றும் III மட்டும்
B) II, III மற்றும் IV மட்டும்
C) I, III மற்றும் IV மட்டும்
D) மேற்கண்ட அனைத்தும்
E) விடை தெரியவில்லை

119. Which is the first state in India to implement the Panchayati raj system?

- A) Rajasthan
B) Gujarat
C) Tamilnadu
D) Haryana
E) Answer not known

இந்தியாவில் பஞ்சாயத்து ராஜ் முறையை அமல்படுத்திய முதல் மாநிலம் எது?

- A) ராஜஸ்தான்
B) குஜராத்
C) தமிழ்நாடு
D) ஹரியானா
E) விடை தெரியவில்லை

120. Consider the following statements.

- I. A Nagar Panchayat or Town Panchayat is constituted for a transitional area.
II. The population of such an area is 5000 or more but less than 15,000
III. A Town panchayat shall consist of such number of elected members not less than 9 or not more than 15, as the state government may determine.
IV. The first state to constitute a Town Panchayat in India was Tamil Nadu.



Which of the statements given above is/are correct?

- A) I, II and III only
B) II, III and IV only
C) I, III and IV only
D) All the above
E) Answer not known

பின்வரும் கூற்றுகளைக் கருத்தில் கொள்க.

- I. ஒரு நகர பஞ்சாயத்து அல்லது டவுன் பஞ்சாயத்து என்பது ஒரு இடைநிலைப் பகுதிக்காக அமைக்கப்பட்டது.
II. அத்தகைய பகுதியின் மக்கள் தொகை 5000 அல்லது அதற்கு மேற்பட்டது ஆனால் 15,000 க்கும் குறைவாக உள்ளது
III. ஒரு நகர பஞ்சாயத்து, மாநில அரசு தீர்மானிக்கும், 9க்குக் குறையாத அல்லது 15க்கு மிகாமல் தேர்ந்தெடுக்கப்பட்ட உறுப்பினர்களைக் கொண்டிருக்கும்.
IV. இந்தியாவில் நகர பஞ்சாயத்தை அமைத்த முதல் மாநிலம் தமிழ்நாடு ஆகும்.

மேற்கண்ட கூற்றுகளில் சரியானவை எவை?

- A) I, II மற்றும் III மட்டும்
B) II, III மற்றும் IV மட்டும்
C) I, III மற்றும் IV மட்டும்
D) மேற்கண்ட அனைத்தும்
E) விடை தெரியவில்லை

121. Consider the following statements regarding Cantonment Board:

- I. Setup under Cantonments Act, 2006.
II. Consists of partly elected and partly nominated members.
III. The military officer commanding the station is the ex-officio president of the board.
IV. The executive officer of the cantonment board is appointed by the Defence Minister.

Which of the statements given above are correct?

- A) I, II and III only
B) II, III and IV only
C) I, III and IV only
D) All the above
E) Answer not known

இராணுவ குடியிருப்பு தொடர்பான பின்வரும் கூற்றுகளைக் கருத்தில் கொள்க:

- I. இராணுவ குடியிருப்பு சட்டம், 2006 இன் கீழ் அமைக்கப்பட்டுள்ளது.
II. இது ஒரு பகுதி தேர்ந்தெடுக்கப்பட்ட மற்றும் ஒரு பகுதி நியமிக்கப்பட்ட உறுப்பினர்களைக் கொண்டுள்ளது.
III. இந்த நிலையத்தை நிர்வகிக்கும் இராணுவ அதிகாரி, வாரியத்தின் அதிகாரபூர்வமான தலைவராக உள்ளார்.
IV. இராணுவ குடியிருப்பின் நிர்வாக அதிகாரி பாதுகாப்பு துறை அமைச்சரால் நியமிக்கப்படுகிறார்.

மேற்கண்ட கூற்றுகளில் சரியானவை எவை?

- A) I, II மற்றும் III மட்டும்
B) II, III மற்றும் IV மட்டும்
C) I, III மற்றும் IV மட்டும்
D) மேற்கண்ட அனைத்தும்
E) விடை தெரியவில்லை



122. Which of the following are the Compulsory Provisions under Part-IX of the constitution:

- I. Organising Gram Sabha in a village
- II. Direct elections to all seats in panchayats at the village, intermediate, and district levels.
- III. 25 years to be the minimum age for contesting elections to panchayats.
- IV. Determining the manner of election of the chairperson of the village panchayat.

Which of the statements given above are correct?

- A) I and II only
- B) II and III only
- C) I and III only
- D) I and IV only
- E) Answer not known

அரசியலமைப்பின் பகுதி-IX இன் கீழ் உள்ள கட்டாய விதிகள் எவை:

- I. ஒரு கிராமத்தில் கிராம சபையை ஏற்பாடு செய்தல்
- II. கிராமம், இடைநிலை மற்றும் மாவட்ட அளவில் உள்ள பஞ்சாயத்துகளில் உள்ள அனைத்து இடங்களுக்கும் நேரடித் தேர்தல்.
- III. பஞ்சாயத்து தேர்தலில் போட்டியிட குறைந்தபட்ச வயது 25 ஆக இருக்க வேண்டும்.
- IV. கிராம பஞ்சாயத்து தலைவர் தேர்தல் முறையை தீர்மானித்தல்.

மேற்கண்ட கூற்றுகளில் சரியானது எது/எவை?

- A) I மற்றும் II மட்டும்
- B) II மற்றும் III மட்டும்
- C) I மற்றும் III மட்டும்
- D) I மற்றும் IV மட்டும்
- E) விடை தெரியவில்லை

123. Match List-I with List-II.

List-I
(Article)

- a) Article - 210
- b) Article - 201
- c) Article -191
- d) Article -169

List-II
(Provisions)

1. Creation or abolition of State Legislative Councils
2. Disqualifications for membership
3. Language to be used in the legislature
4. Bills reserved for consideration of President

Codes:

- | | a | b | c | d |
|----|----------|----------|----------|----------|
| A) | 4 | 3 | 1 | 2 |
| B) | 2 | 4 | 1 | 3 |
| C) | 3 | 4 | 2 | 1 |
| D) | 4 | 1 | 2 | 3 |

E) Answer not known

பட்டியல்-Iஐ பட்டியல்-II உடன் பொருத்துக.

பட்டியல்-I

(சரத்து)

- a) சரத்து -210
- b) சரத்து -201
- c) சரத்து -191
- d) சரத்து -169

பட்டியல்-II

(விதிமுறைகள்)

1. மாநில சட்டமன்ற சபைகளை உருவாக்குதல் அல்லது நீக்குதல்
2. உறுப்பினர் தகுதி நீக்கம்
3. சட்டமன்றத்தில் பயன்படுத்தப்படும் மொழி
4. குடியரசுத் தலைவரின் பரிசீலனைக்கு ஒதுக்கப்பட்ட மசோதாக்கள்



குறியீடுகள்:

- | | <i>a</i> | <i>b</i> | <i>c</i> | <i>d</i> |
|----|----------|----------|----------|----------|
| A) | 4 | 3 | 1 | 2 |
| B) | 2 | 4 | 1 | 3 |
| C) | 3 | 4 | 2 | 1 |
| D) | 4 | 1 | 2 | 3 |
- E) விடை தெரியவில்லை

124. Consider the following statements.

- I. The Speaker of Legislative Assembly presides over the Joint Sitting of both the houses of the State Legislature.
- II. A bill is certified as Money Bill by the Speaker of the Legislative Assembly
- III. The salaries and allowances of the Speaker and the Deputy Speaker of the Assembly are fixed by the Governor.

Which of the statements given above are incorrect?

- | | |
|---------------------|--------------------|
| A) I and II only | B) II and III only |
| C) I and III only | D) All the above |
| E) Answer not known | |

பின்வரும் கூற்றுகளைக் கருத்தில் கொள்க.

- I. மாநில சட்டமன்றத்தின் இரு அவைகளின் கூட்டு அமர்வுக்கும் சட்டமன்றப் பேரவை சபாநாயகர் தலைமை தாங்குகிறார்.
- II. ஒரு மசோதா சட்டப் பேரவையின் சபாநாயகரால் பண மசோதாவாக சான்றளிக்கப்படுகிறது
- III. சட்டமன்ற சபாநாயகர் மற்றும் துணை சபாநாயகர் ஆகியோரின் சம்பளம் மற்றும் படிகள் ஆளுநரால் நிர்ணயிக்கப்படுகிறது.

மேற்கண்ட கூற்றுகளில் தவறானவை எவை?

- | | |
|--------------------------|---------------------------|
| A) I மற்றும் II மட்டும் | B) II மற்றும் III மட்டும் |
| C) I மற்றும் III மட்டும் | D) மேற்கண்ட அனைத்தும் |
| E) விடை தெரியவில்லை | |

125. Consider the following statements regarding the Composition of Legislative Council:

- I. 1/3 of members are elected by the members of local bodies in the state like municipalities, district boards, etc.
- II. 1/3 are nominated by the governor.
- III. 1/3 are elected by the members of the legislative assembly of the state from among persons who are not members of the assembly

Which of the statements given above are correct?

- | | |
|---------------------|--------------------|
| A) I and II only | B) II and III only |
| C) I and III only | D) All the above |
| E) Answer not known | |



சட்டமன்ற மேலவையின் அமைப்பு தொடர்பாக பின்வரும் கூற்றுகளைக் கருத்தில் கொள்க:

- I. 1/3 உறுப்பினர்கள் நகராட்சிகள், மாவட்ட வாரியங்கள் போன்ற மாநிலத்தில் உள்ள உள்ளாட்சி அமைப்புகளின் உறுப்பினர்களால் தேர்ந்தெடுக்கப்படுகிறார்கள்.
- II. 1/3 பேர் ஆளுநரால் பரிந்துரைக்கப்படுகிறார்கள்.
- III. 1/3 பேர் சட்டமன்ற உறுப்பினர்களாக இல்லாத நபர்களிடமிருந்து மாநில சட்டமன்ற உறுப்பினர்களால் தேர்ந்தெடுக்கப்படுகிறார்கள்.

மேற்கண்ட கூற்றுகளில் சரியானவை எவை?

- A) I மற்றும் II மட்டும்
- B) II மற்றும் III மட்டும்
- C) I மற்றும் III மட்டும்
- D) மேற்கண்ட அனைத்தும்
- E) விடை தெரியவில்லை

126. The dyarchy system was established for the first time under

- A) Indian Councils Act, 1909
- B) Government of India Act, 1919
- C) Government of India Act, 1935
- D) Government of India Act, 1858
- E) Answer not known

இரட்டையாட்சி முறை முதன்முதலில் எந்தச் சட்டத்தின் கீழ் உருவாக்கப்பட்டது?

- A) இந்திய கவுன்சில் சட்டம் 1909
- B) இந்திய அரசுச் சட்டம், 1919
- C) இந்திய அரசுச் சட்டம், 1935
- D) இந்திய அரசுச் சட்டம், 1858
- E) விடை தெரியவில்லை

127. Consider the following statements regarding 104th Constitutional Amendment Act:

- I. The 104th Constitutional Amendment Act of 2019, extended the reservation for SC and ST in state legislature till 2030.
- II. It also extended the reservation for Anglo Indian community as well.
- III. Accordingly, the Governor nominates one Anglo-Indian member to the Legislative Assembly if they are not adequately represented

Which of the statements given above is/are incorrect?

- A) I only
- B) II and III only
- C) I and III only
- D) All the above
- E) Answer not known

104வது அரசியலமைப்பு திருத்தச் சட்டம் தொடர்பான பின்வரும் கூற்றுகளைக் கருத்தில் கொள்க:

- I. 2019இன் 104வது அரசியலமைப்பு திருத்தச் சட்டம், மாநில சட்டமன்றத்தில் SC மற்றும் STக்கான இடஒதுக்கீட்டை 2030 வரை நீட்டித்தது.
- II. இது ஆங்கிலோ இந்திய சமூகத்திற்கான இடஒதுக்கீட்டையும் நீட்டித்தது.
- III. அதன்படி, போதுமான பிரதிநிதித்துவம் இல்லாவிட்டால், ஒரு ஆங்கிலோ-இந்திய உறுப்பினர் சட்டப் பேரவைக்கு ஆளுநர் நியமிக்கிறார்.



மேற்கண்ட கூற்றுகளில் தவறானது எது/எவை?

- A) I மட்டும்
B) II மற்றும் III மட்டும்
C) I மற்றும் III மட்டும்
D) மேற்கண்ட அனைத்தும்
E) விடை தெரியவில்லை

128. Arrange the order of establishment of Supreme Courts in the Presidencies during Colonial Rule:

- I. Calcutta
II. Madras
III. Bombay

Codes:

- A) I-II-III
B) I-III-II
C) II-I-III
D) III-I-II
E) Answer not known

காலனித்துவ ஆட்சியின் போது மாகாணங்களில் நிறுவப்பட்ட உச்ச நீதிமன்றங்களை காலவரிசைப்படுத்துக.

- I. கல்கத்தா
II. மெட்ராஸ்
III. பம்பாய்

குறியீடுகள்:

- A) I-II-III
B) I-III-II
C) II-I-III
D) III-I-II
E) விடை தெரியவில்லை

129. Which of the following is/are correctly matched?

(Article)

(Provision)

- I. Art-153 – Appointment of Governor
II. Art-154 – Executive power of state
III. Art-156 – Term of office of Governor
IV. Art-157 – Qualifications for appointment as Governor

Codes:

- A) I, II and III only
B) II, III and IV only
C) III and IV only
D) I and IV only
E) Answer not known

பின்வருவனவற்றில் சரியாகப் பொருந்தியுள்ளது எது/எவை?

(சரத்து)

(விதிகள்)

- I. சரத்து -153 – ஆளுநர் நியமனம்
II. சரத்து -154 – ஆளுநரின் நிர்வாக அதிகாரம்
III. சரத்து -156 – ஆளுநரின் பதவிக் காலம்
IV. சரத்து -157 – ஆளுநராக நியமனம் செய்வதற்கான தகுதிகள்

குறியீடுகள்:

- A) I, II மற்றும் III மட்டும்
B) II, III மற்றும் IV மட்டும்
C) III மற்றும் IV மட்டும்
D) I மற்றும் IV மட்டும்
E) விடை தெரியவில்லை



130. Consider the following statements regarding Legislation Council:

- I. The members of legislative Council does not participate in the election of President.
- II. It can approve ordinance issued by the Governor.
- III. The Chief Minister cannot be a member of the State Legislative Council.

Which of the statements given above is/are incorrect?

- A) I only
- B) II and III only
- C) III only
- D) All the above
- E) Answer not known

சட்ட மேலவை தொடர்பான பின்வரும் கூற்றுகளைக் கருத்தில் கொள்க:

- I. சட்ட மேலவை உறுப்பினர்கள் குடியரசுத் தலைவர் தேர்தலில் பங்கேற்க மாட்டார்கள்.
- II. சட்ட மேலவை ஆளுநர் பிறப்பித்த அவசர சட்டதிற்கு ஒப்புதல் அளிக்கலாம்.
- III. மாநில சட்ட மேலவையில் முதல்வர் உறுப்பினராக இருக்க முடியாது.

மேற்கண்ட கூற்றுகளில் தவறானது எது/எவை?

- A) I மட்டும்
- B) II மற்றும் III மட்டும்
- C) III மட்டும்
- D) மேற்கண்ட அனைத்தும்
- E) விடை தெரியவில்லை

131. Consider the following statements.

Assertion (A) : The council cannot remove the council of ministers by passing a no-confidence motion.

Reason (R) : The council of ministers is collectively responsible only to the assembly.

Codes:

- A) Both (A) and (R) are true and (R) is the correct explanation of (A)
- B) Both (A) and (R) are true but (R) is not the correct explanation of (A)
- C) (A) is true but (R) is false
- D) (A) is false but (R) is true
- E) Answer not known

பின்வரும் கூற்றுகளைக் கருத்தில் கொள்க.

கூற்று (A) : நம்பிக்கையில்லா தீர்மானத்தை நிறைவேற்றி அமைச்சரவையை நீக்க முடியாது.

காரணம் (R) : அமைச்சர்கள் குழு, கூட்டாக சட்டசபைக்கு மட்டுமே பொறுப்பாகும்.

குறியீடுகள்:

- A) (A) மற்றும் (R) இரண்டும் சரி மற்றும் (R) என்பது (A)-யின் சரியான விளக்கமாகும்
- B) (A) மற்றும் (R) இரண்டும் சரி ஆனால் (R) என்பது (A)-யின் சரியான விளக்கமல்ல
- C) (A) சரி ஆனால் (R) தவறு
- D) (A) தவறு ஆனால் (R) சரி
- E) விடை தெரியவில்லை



132. Consider the following statements regarding collective privilege of state legislature:

- I. It can punish only the members and not the outsiders for breach of its privileges or its contempt.
- II. It has the right to receive immediate information of the arrest, detention, conviction, imprisonment and release of a member.
- III. The courts are prohibited to inquire into the proceedings of a House or its Committees.

Which of the statements given above is/are correct?

- A) I only
- B) II and III only
- C) I and III only
- D) All the above
- E) Answer not known

மாநில சட்டமன்றத்தின் கூட்டுச் சிறப்புரிமை தொடர்பான பின்வரும் கூற்றுகளைக் கருத்தில் கொள்க:

- I. இது சிறப்புரிமைகளை மீறியதற்காக உறுப்பினர்களை மட்டும் தண்டிக்க முடியும் வெளியாட்களை தண்டிக்க முடியாது.
- II. ஒரு உறுப்பினரின் கைது, தடுப்புக்காவல், தண்டனை, சிறைத்தண்டனை மற்றும் விடுதலை பற்றிய உடனடித் தகவல்களைப் பெறுவதற்கு உரிமை உண்டு.
- III. சபை அல்லது அதன் குழுக்களின் நடவடிக்கைகளை விசாரிக்க நீதிமன்றங்கள் தடைசெய்யப்பட்டுள்ளன.

மேற்கண்ட கூற்றுகளில் சரியானது எது/எவை?

- A) I மட்டும்
- B) II மற்றும் III மட்டும்
- C) I மற்றும் III மட்டும்
- D) மேற்கண்ட அனைத்தும்
- E) விடை தெரியவில்லை

133. Which constitutional amendment act empowers the Parliament to establish a common high court for two or more states?

- A) 1st Constitutional Amendment Act
- B) 7th Constitutional Amendment Act
- C) 42nd Constitutional Amendment Act
- D) 24th Constitutional Amendment Act
- E) Answer not known

இரண்டு அல்லது அதற்கு மேற்பட்ட மாநிலங்களுக்கு பொதுவான உயர் நீதிமன்றத்தை நிறுவுவதற்கு எந்த அரசியலமைப்பு திருத்தச் சட்டம் பாராளுமன்றத்திற்கு அதிகாரம் அளிக்கிறது?

- A) 1வது அரசியலமைப்பு திருத்தச் சட்டம்
- B) 7வது அரசியலமைப்பு திருத்தச் சட்டம்
- C) 42வது அரசியலமைப்பு திருத்தச் சட்டம்
- D) 24வது அரசியலமைப்பு திருத்தச் சட்டம்
- E) விடை தெரியவில்லை

134. Which of the following elections do not involve political parties?

- A) Municipal Corporation Mayor Election
- B) Panchayat President Election
- C) District Councilor Election
- D) Municipal Council Election
- E) Answer not known



பின்வரும் தேர்தல்களில் அரசியல் கட்சிகள் பங்கேற்காத தேர்தல் எது?

- A) மாநகராட்சி மேயர் தேர்தல்
- B) பஞ்சாயத்து தலைவர் தேர்தல்
- C) மாவட்ட கவுன்சிலர் தேர்தல்
- D) நகராட்சி கவுன்சில் தேர்தல்
- E) விடை தெரியவில்லை

135. Consider the following statements regarding Advocate General of the State:

- I. Each state has an Advocate General who is an official corresponding to the Attorney-General of India and having similar functions for the state.
- II. He is a person who is qualified to be a judge of a High Court and he is appointed by the President.
- III. He/she holds office during the pleasure of the President.

Which of the statements given above is/are incorrect?

- A) I only
- B) II and III only
- C) III only
- D) All the above
- E) Answer not known

மாநிலத்தின் தலைமை வழக்கறிஞர் தொடர்பான பின்வரும் கூற்றுகளை கருத்தில் கொள்க :

- I. ஒவ்வொரு மாநிலத்திலும் ஒரு தலைமை வழக்கறிஞர் இருக்கிறார், அவர் இந்திய தலைமை வழக்கறிஞர் தொடர்புடைய அதிகாரி மற்றும் அவர் ஒத்த செயல்பாடுகளைக் மாநிலங்களில் மேற் கொள்வார்.
- II. அவர் ஒரு உயர் நீதிமன்ற நீதிபதியாக தகுதி பெற்றவர் மற்றும் அவர் குடியரசுத்தலைவரால் நியமிக்கப்படுகிறார்.
- III. குடியரசுத்தலைவரின் விருப்பத்தின் போது அவர் பதவி வகிக்கிறார்.

மேற்கண்ட கூற்றுகளில் தவறானது எது/எவை?

- A) I மட்டும்
- B) II மற்றும் III மட்டும்
- C) III மட்டும்
- D) மேற்கண்ட அனைத்தும்
- E) விடை தெரியவில்லை

136. In which of the following matters, the powers and status of the State Legislative council are broadly equal to that of the assembly:

- I. Introduction and passage of ordinary bills
- II. Enlargement of the jurisdiction of the state public service commission.
- III. In the ratification of a constitutional amendment bill.

Codes:

- A) I and II only
- B) II and III only
- C) I and III only
- D) All the above
- E) Answer not known

பின்வரும் எந்த விஷயங்களில், மாநில சட்ட மேலவையின் அதிகாரங்கள் மற்றும் அந்தஸ்து சட்டமன்றத்திற்கு சமமாக இருக்கும்:

- I. சாதாரண மசோதாக்களை அறிமுகப்படுத்துதல் மற்றும் நிறைவேற்றுதல்
- II. மாநில பொதுப்பணியாளர் தேர்வு ஆணையத்தின் அதிகார வரம்பை விரிவுபடுத்துதல்.
- III. அரசியலமைப்பு திருத்த மசோதாவிற்கு அங்கீகரிக்காரம் வழங்குதல்.



குறியீடுகள்:

- A) I மற்றும் II மட்டும்
B) II மற்றும் III மட்டும்
C) I மற்றும் III மட்டும்
D) மேற்கண்ட அனைத்தும்
E) விடை தெரியவில்லை

137. Consider the following statements regarding Speaker.

- I. Speaker can summon, prorogue and dissolve the state legislative assembly.
II. Speaker can also adjourn or suspend the assembly when there is no quorum
III. Governor can allow a 'secret' sitting of the House at the request of the leader of the House.

Which of the statements given above are incorrect?

- A) I and II only
B) II and III only
C) I and III only
D) All the above
E) Answer not known

சபாநாயகர் தொடர்பான பின்வரும் கூற்றுகளைக் கருத்தில் கொள்க.

- I. சபாநாயகர் மாநில சட்டமன்றத்தை கூட்டலாம், ஒத்திவைக்கலாம் மற்றும் கலைக்கலாம்.
II. குறைந்தபட்ச வருகை இல்லாத போது சபாநாயகர் சபையை ஒத்திவைக்கலாம் அல்லது இடைநிறுத்தலாம்
III. அவைத் தலைவரின் வேண்டுகோளின் பேரில் அவையின் 'ரகசிய' அமர்வுக்கு ஆளுநர் அனுமதி வழங்கலாம்.

மேற்கண்ட கூற்றுகளில் தவறானவை எவை?

- A) I மற்றும் II மட்டும்
B) II மற்றும் III மட்டும்
C) I மற்றும் III மட்டும்
D) மேற்கண்ட அனைத்தும்
E) விடை தெரியவில்லை

138. Consider the following statements.

- I. After the 42nd Constitutional Amendment (1976), ministerial advice has been made binding on the President, but no such provision has been made with respect to the governor.
II. While the Constitution envisages the possibility of the President acting at times in his/her discretion, no such possibility has been envisaged for the Governor

Which of the statements given above is/are incorrect?

- A) I only
B) II only
C) Both I and II
D) Neither I nor II
E) Answer not known

பின்வரும் கூற்றுகளை கருத்தில் கொள்க.

- I. 42வது அரசியலமைப்புத் திருத்தத்திற்குப் பிறகு (1976), அமைச்சர்களின் ஆலோசனைகள் குடியரசு தலைவருக்குக் கட்டுப்பட்டதாகச் செய்யப்பட்டுள்ளது, ஆனால் ஆளுநரைப் பொறுத்தவரையில் அத்தகைய ஏற்பாடு எதுவும் செய்யப்படவில்லை.
II. அரசியலமைப்புச் சட்டம் குடியரசுத் தலைவர் தனது விருப்பத்தின் பேரில் சில சமயங்களில் செயல்படும் வாய்ப்பைக் கருதும் அதே வேளையில், ஆளுநருக்கு அத்தகைய சாத்தியக்கூறுகள் எதுவும் வழங்கப்படவில்லை.



மேற்கண்ட கூற்றுகளில் தவறானது எது/எவை?

- A) I மட்டும்
B) II மட்டும்
C) இரண்டும்
D) இரண்டுமில்லை
E) விடை தெரியவில்லை

139. Match List-I with List-II.

List-I
(Articles related to Panchayat)

- a) 243 D
b) 243 F
c) 243 I
d) 243 K

List-II
(Provisions)

1. Disqualification for membership
2. Reservation of seats
3. Elections to Panchayat
4. Constitution of Finance Commission in state

Codes:

- | | a | b | c | d |
|----|----------|----------|----------|----------|
| A) | 2 | 1 | 4 | 3 |
| B) | 1 | 2 | 3 | 4 |
| C) | 3 | 2 | 1 | 4 |
| D) | 4 | 1 | 2 | 3 |

E) Answer not known

பட்டியல்-Iஐ பட்டியல்-II உடன் பொருத்துக.

பட்டியல்-I

(பஞ்சாயத்து தொடர்பான சரத்துகள்)

- a) 243 D
b) 243 F
c) 243 I
d) 243 K

பட்டியல்-II

(விதிகள்)

1. உறுப்பினர் தகுதியின்மை
2. இட ஒதுக்கீடு
3. பஞ்சாயத்துக்கான தேர்தல்கள்
4. மாநிலத்தில் நிதி ஆணையத்தை அமைத்தல்

குறியீடுகள்:

- | | a | b | c | d |
|----|----------|----------|----------|----------|
| A) | 2 | 1 | 4 | 3 |
| B) | 1 | 2 | 3 | 4 |
| C) | 3 | 2 | 1 | 4 |
| D) | 4 | 1 | 2 | 3 |

E) விடை தெரியவில்லை

140. Consider the following statements related to the President

- I. During his term of office, he is immune from any criminal proceedings, even for his personal acts.
II. However, after giving a notice of one month, civil proceedings can be initiated against him during his term of office for his actions.



Which of the statements given above is/are correct?

- A) I only
B) II only
C) Both I and II
D) Neither I nor II
E) Answer not known

குடியரசு தலைவர் தொடர்பான பின்வரும் கூற்றுகளை கருத்தில் கொள்க

- I. அவரது பதவிக் காலத்தில், அவர் எந்தவொரு குற்றவியல் நடவடிக்கைகளிலிருந்தும், அவரது தனிப்பட்ட செயல்களுக்காகவும் விடுபடுகிறார்.
II. எவ்வாறாயினும், ஒரு மாதத்திற்கு நோட்டீஸ் அளித்த பிறகு, அவரது செயல்களுக்காக அவரது பதவிக் காலத்தில் அவர் மீது சிவில் நடவடிக்கைகள் தொடங்கப்படலாம்.

மேற்கண்ட கூற்றுகளில் சரியானது எது/எவை?

- A) I மட்டும்
B) II மட்டும்
C) இரண்டும்
D) இரண்டுமில்லை
E) விடை தெரியவில்லை

141. Consider the following statements.

- I. District judges in a state are appointed by the Governor of the state in consultation with the the State Public Service Commission and the High Court
II. When dealing with civil cases, the judge is known as the sessions judge, and when hearing criminal cases, the judge is called the district judge.

Which of the statements given above is/are incorrect?

- A) I only
B) II only
C) Both I and II
D) Neither I nor II
E) Answer not known

பின்வரும் கூற்றுகளை கருத்தில் கொள்க .

- I. ஒரு மாநிலத்தில் உள்ள மாவட்ட நீதிபதிகள், மாநில அரசுப் பணியாளர் தேர்வாணையம் மற்றும் உயர் நீதிமன்றத்துடன் கலந்தாலோசித்து மாநில ஆளுநரால் நியமிக்கப்படுகிறார்கள்.
II. சிவில் வழக்குகளை கையாளும் போது, நீதிபதி அமர்வு நீதிபதி என்றும், கிரிமினல் வழக்குகளை விசாரிக்கும் போது, நீதிபதி மாவட்ட நீதிபதி என்றும் அழைக்கப்படுகிறார்.

மேற்கண்ட கூற்றுகளில் தவறானது எது/எவை?

- A) I மட்டும்
B) II மட்டும்
C) இரண்டும்
D) இரண்டுமில்லை
E) விடை தெரியவில்லை

142. Consider the following statements about the qualification of High Court Judge:

- I. He/she should be a citizen of India.
II. He/she should have held a judicial office in the territory of India for five or more years
III. He/she should have been an advocate of a high court (or high courts in succession) for ten years.
IV. A distinguished jurist in the opinion of the President.



Which of the statements given above are incorrect?

- A) I, II and III only
B) II, III and IV only
C) I, III and IV only
D) All the above
E) Answer not known

உயர் நீதிமன்ற நீதிபதியின் தகுதி பற்றிய பின்வரும் கூற்றுகளை கருத்தில் கொள்க :

- I. இந்திய குடிமகனாக இருக்க வேண்டும்.
II. ஐந்து அல்லது அதற்கு மேற்பட்ட ஆண்டுகள் இந்தியாவின் பிரதேசத்தில் நீதித்துறை பதவியை வகித்திருக்க வேண்டும்
III. ஒரு உயர் நீதிமன்றத்தின் (அல்லது தொடர்ச்சியாக உயர் நீதிமன்றங்கள்) பத்து ஆண்டுகள் வழக்கறிஞராக இருந்திருக்க வேண்டும்
IV. குடியரசுத் தலைவர் கருத்துப்படி சிறந்த சட்ட வல்லுனராக இருக்க வேண்டும்.
மேற்கண்ட கூற்றுகளில் தவறானவை எவை?
A) I, II மற்றும் III மட்டும்
B) II, III மற்றும் IV மட்டும்
C) I, III மற்றும் IV மட்டும்
D) மேற்கண்ட அனைத்தும்
E) விடை தெரியவில்லை

143. Find out the incorrectly matched pair.

(Journals of Periyar) (Established in)

- A) Kudiarasu – 1925
B) Revolt – 1926
C) Viduthalai – 1935
D) Unmai – 1970
E) Answer not known

தவறாகப் பொருந்தியுள்ள இணையைக் கண்டறியவும்.

(பெரியாரின் இதழ்கள்) (நிறுவப்பட்டது)

- A) குடிஅரசு – 1925
B) புரட்சி – 1926
C) விடுதலை – 1935
D) உண்மை – 1970
E) விடை தெரியவில்லை

144. Which of the following was/were the reasons for decline of Justice party?

- I. Lost its support among the Depressed sections of the society and minorities.
II. Self-Respect Movement, under Periyar had become more radical
III. The elitist and pro-British outlook of Justice Party

Codes:

- A) I and II only
B) II and III only
C) I and III only
D) All the above
E) Answer not known

பின்வருவனவற்றில் எது நீதிக்கட்சியின் வீழ்ச்சிக்கு காரணமாக இருந்தது?

- I. சமூகத்தின் தாழ்த்தப்பட்ட பிரிவினர் மற்றும் சிறுபான்மையினர் மத்தியில் அதன் ஆதரவை இழந்தது.
II. பெரியாரின் கீழ் சுயமரியாதை இயக்கம் தீவிரமடைந்தது
III. நீதிக்கட்சியின் உயரடுக்கு மற்றும் பிரிட்டிஷ் சார்பு கண்ணோட்டம்



குறியீடுகள்:

- A) I மற்றும் II மட்டும்
B) II மற்றும் III மட்டும்
C) I மற்றும் III மட்டும்
D) மேற்கண்ட அனைத்தும்
E) விடை தெரியவில்லை

145. Match List-I with List-II.

List-I

- a) Modified Scheme of Elementary Education
b) Noon meal scheme
c) Nutritious meal scheme
d) Subsidized rice Scheme

List-II

1. C.N Annadurai
2. M.G.Ramachandran
3. Kamarajar
4. Rajagopalachari

Codes:

- | | a | b | c | d |
|----|----------|----------|----------|----------|
| A) | 4 | 1 | 2 | 3 |
| B) | 3 | 2 | 1 | 4 |
| C) | 1 | 3 | 2 | 4 |
| D) | 4 | 3 | 2 | 1 |

E) Answer not known

பட்டியல்-Iஐ பட்டியல்-II உடன் பொருத்துக.

பட்டியல்-I

- a) தொடக்கக் கல்வியின் மாற்றியமைக்கப்பட்ட திட்டம்
b) மதிய உணவு திட்டம்
c) சத்துணவு திட்டம்
d) மானிய விலையில் அரிசி திட்டம்

பட்டியல்-II

1. சி.என். அண்ணாதுரை
2. எம்.ஜி. ராமச்சந்திரன்
3. காமராஜர்
4. ராஜகோபாலாச்சாரி

குறியீடுகள்:

- | | a | b | c | d |
|----|----------|----------|----------|----------|
| A) | 4 | 1 | 2 | 3 |
| B) | 3 | 2 | 1 | 4 |
| C) | 1 | 3 | 2 | 4 |
| D) | 4 | 3 | 2 | 1 |

E) விடை தெரியவில்லை

146. Who famously stated "Law and rules are only for the people. People are not for the law and the rules"?

- A) Kamarajar
B) C. N. Annadurai
C) P.S. Kumaraswamy Raja
D) Rajaji
E) Answer not known

"சட்டமும் விதிகளும் மக்களுக்கானது மட்டுமே, மக்கள் சட்டம் மற்றும் விதிகளுக்காக இல்லை" என்று பிரபலமாக கூறியவர்?

- A) காமராஜர்
B) CN அண்ணாதுரை
C) PS குமாரசாமி ராஜா
D) ராஜாஜி
E) விடை தெரியவில்லை



147. Who organized the first May Day celebrations in Chennai in 1923?
 A) B.P. Wadia
 B) Thiru V. Kalyanasundaranar
 C) D. Varadharajalu
 D) Singaravelar
 E) Answer not known
- 1923இல் சென்னையில் முதல் மே தினக் கொண்டாட்டத்தை ஏற்பாடு செய்தவர் யார்?
 A) BP வாடியா
 B) திரு V. கல்யாணசுந்தரனார்
 C) D. வரதராஜலு
 D) சிங்காரவேலர்
 E) விடை தெரியவில்லை

148. Who is the author of the statement, "The caste feeling thus divided the Dravidian race, making the Dravidians slaves to the Aryans"?
- A) C. N Annadurai
 B) E.V. Ramasamy
 C) Maraimalai Adigal
 D) Singaravelar
 E) Answer not known
- “சாதிய உணர்வு திராவிட இனத்தை பிளவுபடுத்தி, திராவிடர்களை ஆரியர்களுக்கு அடிமையாக்கியது” என்று கூறியவர் யார்?
 A) C. N அண்ணாதுரை
 B) EV இ.ராமசாமி
 C) மறைமலை அடிகள்
 D) சிங்காரவேலர்
 E) விடை தெரியவில்லை

149. Consider the following statements.

Assertion (A) : The Company introduced an ad hoc system of judicial administration, in which the existing native systems were accommodated

Reason (R) : The company preferred a policy of non-intervention in native affairs

Codes:

- A) Both (A) and (R) are true and (R) is the correct explanation of (A)
 B) Both (A) and (R) are true but (R) is not the correct explanation of (A)
 C) (A) is true but (R) is false
 D) (A) is false but (R) is true
 E) Answer not known

பின்வரும் கூற்றுகளை கருத்தில் கொள்க.

கூற்று (A) : கம்பெனியானது ஒரு தற்காலிக நீதித்துறை நிர்வாகத்தை அறிமுகப்படுத்தியது, அதில் ஏற்கனவே உள்ள உள்ளநாட்டு அமைப்புகளுக்கு இடமளிக்கப்பட்டது.

காரணம் (R) : உள்நாட்டு விவகாரங்களில் தலையிடாத கொள்கையை கம்பெனி பின்பற்றியது.

குறியீடுகள்:

- A) (A) மற்றும் (R) இரண்டும் சரி மற்றும் (R) என்பது (A)-யின் சரியான விளக்கமாகும்
 B) (A) மற்றும் (R) இரண்டும் சரி ஆனால் (R) என்பது (A)-யின் சரியான விளக்கமல்ல
 C) (A) சரி ஆனால் (R) தவறு
 D) (A) தவறு ஆனால் (R) சரி
 E) விடை தெரியவில்லை



150. Consider the following statements regarding Judicial administration during Mughal period:

- I. Diwan- Al-Mazalim and Diwan-e-Risalat are the highest courts of appeal in criminal and civil matters respectively.
- II. The King's Court was presided over by the Sultan was the highest court of appeal.
- III. Qazi-ul-Quzat was the highest judicial officer of the State

Which of the statements given above is/are correct?

- A) I and II only
- B) II and III only
- C) I and III only
- D) All the above
- E) Answer not known

முகலாயர் காலத்தில் நீதித்துறை நிர்வாகம் தொடர்பான பின்வரும் கூற்றுகளைக் கருத்தில் கொள்க:

- I. திவான்- அல்- மஸாலிம் மற்றும் திவான்-இ- ரிசாலாத் ஆகியவை முறையே குற்றவியல் மற்றும் சிவில் விவகாரங்களில் மேல்முறையீட்டு நீதிமன்றங்கள் ஆகும்.
- II. மன்னரின் நீதிமன்றம் சுல்தான் தலைமையில் மேல்முறையீட்டு நீதிமன்றமாக இருந்தது.
- III. காஜி- உல் - குசாத் மாநிலத்தின் மிக உயர்ந்த நீதித்துறை அதிகாரியாக இருந்தார் மேற்கண்ட கூற்றுகளில் சரியானவை எவை?

- A) I மற்றும் II மட்டும்
- B) II மற்றும் III மட்டும்
- C) I மற்றும் III மட்டும்
- D) மேற்கண்ட அனைத்தும்
- E) விடை தெரியவில்லை

151. Consider the following statements.

- I. Khelo India Youth Games 2023 was inaugurated at Jawaharlal Nehru Stadium in Chennai
- II. "Kabbadi" introduced as a demosport for the first time in the history of Khelo India Youth Games
- III. The games will be hosted in the four cities of Chennai, Madurai, Tiruchirapalli and Coimbatore.

Which of the statements given above is/are incorrect?

- A) I only
- B) II only
- C) I and II only
- D) All are correct
- E) Answer not known

பின்வரும் கூற்றுகளை கருத்தில் கொள்க.

- I. கேலோ இந்தியா இளைஞர் விளையாட்டு 2023 சென்னையில் உள்ள ஜவஹர்லால் நேரு மைதானத்தில் தொடங்கப்பட்டது.
- II. கேலோ இந்தியா இளைஞர் விளையாட்டு வரலாற்றில் முதல் முறையாக "கபடி" டெமோ விளையாட்டாக அறிமுகப்படுத்தப்பட்டது.
- III. சென்னை, மதுரை, திருச்சிராப்பள்ளி மற்றும் கோயம்புத்தூர் ஆகிய நான்கு நகரங்களில் விளையாட்டுப் போட்டிகள் நடத்தப்படும்.

மேற்கண்ட கூற்றுகளில் தவறானது எது/எவை ?

- A) I மட்டும்
- B) II மட்டும்
- C) I மற்றும் II மட்டும்
- D) அனைத்தும் சரி
- E) விடை தெரியவில்லை



152. Match List-I with List-II.

List-I

(Awards)

- Kottai Ameer Communal Harmony Award
- TN CM Special Award
- C.Narayanasamy Naidu Award
- Padma Vibushan Award

List-II

(Recipients)

- Vjyayanthimala Bali
- S.Balamurugan
- Mohammed Zubair
- Pooranam

Codes:

- | | a | b | c | d |
|----|----------|----------|----------|----------|
| A) | 4 | 2 | 3 | 1 |
| B) | 3 | 4 | 2 | 1 |
| C) | 3 | 2 | 4 | 1 |
| D) | 4 | 1 | 2 | 3 |

E) Answer not known

பட்டியல்-Iஐ பட்டியல்-II உடன் பொருத்துக.

பட்டியல்-I

(விருதுகள்)

- கோட்டை அமீர் மத நல்லிணக்க விருது
- தமிழ்நாடு முதலமைச்சர் சிறப்பு விருது
- C. நாராயணசாமி நாயுடு விருது
- பத்ம விபூஷன் விருது

பட்டியல்-II

(பெறுநர்கள்)

- வைஜெயந்திமாலா பாலி
- எஸ். பாலமுருகன்
- முகமது சுபைர்
- பூரணம்

குறியீடுகள்:

- | | a | b | c | d |
|----|----------|----------|----------|----------|
| A) | 4 | 2 | 3 | 1 |
| B) | 3 | 4 | 2 | 1 |
| C) | 3 | 2 | 4 | 1 |
| D) | 4 | 1 | 2 | 3 |

E) விடை தெரியவில்லை

153. Recently Which district launched a portal named "Idukkan Kalaivom" for mobilising funds to help the flood affected people?

- | | |
|---------------------|-------------------|
| A) Chennai | B) Thoothukudi |
| C) Nagapattinam | D) Ramanathapuram |
| E) Answer not known | |

வெள்ளத்தால் பாதிக்கப்பட்ட மக்களுக்கு உதவுவதற்காக நிதி திரட்ட "இடுக்கண் களைவோம்" என்ற இணையதளத்தை சமீபத்தில் எந்த மாவட்டம் தொடங்கியுள்ளது?

- | | |
|---------------------|-----------------|
| A) சென்னை | B) தூத்துக்குடி |
| C) நாகப்பட்டினம் | D) இராமநாதபுரம் |
| E) விடை தெரியவில்லை | |



154. Consider the following statements.

- I. TN Government launches Ungalai Thedi Ungal Ooril (In your town, looking for you) Scheme
- II. This scheme aims to redress the grievances of the general public expeditiously.
- III. Under the initiative, every District collector and senior district-level officials will visit and stay in taluk for one week to inspect government offices and public grievances.

Which of the statements given above is/are incorrect?

- A) I only
- B) II only
- C) III only
- D) All are correct
- E) Answer not known

பின்வரும் கூற்றுகளை கருத்தில் கொள்க .

- I. தமிழ்நாடு அரசு உங்களைத் தேடி உங்கள் ஊரில் (உங்கள் ஊரில், உங்களைத் தேடும்) திட்டத்தை தொடங்கியது
- II. இத்திட்டம் பொதுமக்களின் குறைகளை விரைவாக நிவர்த்தி செய்வதை நோக்கமாகக் கொண்டுள்ளது.
- III. இம்முயற்சியின் கீழ், ஒவ்வொரு மாவட்ட ஆட்சியரும், மாவட்ட அளவிலான உயர் அதிகாரிகளும் ஒரு வாரம் தாலுகாவில் தங்கி அரசு அலுவலகங்கள் மற்றும் பொதுமக்கள் குறைகளை ஆய்வு செய்வார்கள்.

மேற்கண்ட கூற்றுகளில் தவறானது எது/எவை?

- A) I மட்டும்
- B) II மட்டும்
- C) III மட்டும்
- D) அனைத்தும் சரி
- E) விடை தெரியவில்லை

155. Consider the following statements.

- I. Andhra Pradesh government unveiled "Statue of Social Justice".
- II. This is a statue of Architect of the Modern India
- III. Statue alone is 206 feet tall
- IV. It is the fourth tallest statue in India.

Which of the statements given above is/are incorrect?

- A) I only
- B) I and II only
- C) II and III only
- D) IV only
- E) Answer not known

பின்வரும் கூற்றுகளை கருத்தில் கொள்க .

- I. ஆந்திரப் பிரதேச அரசு "சமூக நீதியின் சிலை"யைத் திறந்து வைத்தது.
- II. இது நவீன இந்தியாவின் கட்டமைப்பாளரின் சிலை
- III. சிலை மட்டும் 206 அடி உயரம் கொண்டது
- IV. இது இந்தியாவின் நான்காவது உயரமான சிலை ஆகும்.

மேற்கண்ட கூற்றுகளில் தவறானது எது/எவை?

- A) I மட்டும்
- B) I மற்றும் II மட்டும்
- C) II மற்றும் III மட்டும்
- D) IV மட்டும்
- E) விடை தெரியவில்லை



156. Recently ISRO's Chandrayaan - 2 mission helped the SLIM (Smart Lander for Investigating Moon) Mission to successfully land on the Moon. SLIM Mission plan belongs to which country ?

- A) Russia
B) Australia
C) Japan
D) China
E) Answer not known

சமீபத்தில் ISROவின் சந்திரயான் - 2 பணியானது SLIM (நிலவை ஆய்வு செய்வதற்கான ஸ்மார்ட் லேண்டர்) மிஷன் வெற்றிகரமாக நிலவில் தரையிறங்க உதவியது. SLIM திட்டம் எந்த நாட்டினுடைய திட்டம் ?

- A) இரஷ்யா
B) ஆஸ்திரேலியா
C) ஜப்பான்
D) சீனா
E) விடை தெரியவில்லை

157. Who is the Indian Army's first woman Subedar?

- A) Preeti Rajak
B) Karnam Malleswari
C) Lovlina Borgohain
D) Manu Bhaker
E) Answer not known

இந்திய ராணுவத்தின் முதல் பெண் சுபேதார் யார்?

- A) ப்ரீத்தி ராஜாக்
B) கர்ணம் மல்லேஸ்வரி
C) லோவ்லினா போர்கோஹைன்
D) மனு பாக்கர்
E) விடை தெரியவில்லை

158. Vijayaraghavan Committee is related to ?

- A) Make a eligible recruitments for ISRO
B) Recommend the uplift policies for women
C) Look into the creamy layer reservation among SC/ST
D) Restructure and redefine the role of DRDO
E) Answer not known

விஜயராகவன் குழு எதனுடன் தொடர்புடையது?

- A) இஸ்ரோவிற்கு தகுதியான ஆட்சேர்ப்புகளை செய்வது
B) பெண்களுக்கான மேம்பாட்டுக் கொள்கைகளை பரிந்துரை செய்வது
C) SC/ST பிரிவில் உள்ள கிரீமி லேயர் இடஒதுக்கீடு தொடர்பானது
D) டிஆர்டிஓ வின் பணியை மறுசீரமைப்பது மற்றும் மறுவரையறை செய்வது
E) விடை தெரியவில்லை

159. Consider the following statements.

- I. PM JANMAN Scheme is aimed at improving the socio-economic conditions of all tribes in India.
II. This Scheme is implemented by Ministry of Social Justice and Empowerment.

Which of the statements given above is/are correct?

- A) I only
B) II only
C) Both I and II
D) Neither I nor II
E) Answer not known



பின்வரும் கூற்றுகளை கருத்தில் கொள்க.

- I. பிரதமர் ஜன்மன் திட்டம் இந்தியாவில் உள்ள அனைத்து பழங்குடியினரின் சமூக-பொருளாதார நிலைமைகளை மேம்படுத்துவதை நோக்கமாகக் கொண்டது
 - II. இந்த திட்டம் சமூக நீதி மற்றும் அதிகாரமளித்தல் அமைச்சகத்தால் செயல்படுத்தப்படுகிறது மேற்கண்ட கூற்றுகளில் சரியானது எது/எவை?
- A) I மட்டும்
B) II மட்டும்
C) இரண்டும்
D) இரண்டுமில்லை
E) விடை தெரியவில்லை

160. Consider the following statements about Boeing Sukanya Program.

- I. The program aims to support the entry of more girl children into the aviation sector.
- II. The program will provide opportunities for girls and women to learn critical skills in Science, Technology, Engineering and Mathematics (STEM) fields and train for jobs in aviation sector

Which of the statements given above is/are incorrect?

- A) I only
B) II only
C) Both I and II
D) Neither I nor II
E) Answer not known

போயிங் சுகன்யா திட்டத்தைப் பற்றிய பின்வரும் கூற்றுகளை கருத்தில் கொள்க.

- I. விமானப் போக்குவரத்துத் துறையில் அதிக பெண் குழந்தைகளின் நுழைவை ஆதரிப்பதே இத்திட்டத்தின் நோக்கம் ஆகும்.
- II. இத்திட்டம் மாணவிகள் மற்றும் பெண்களுக்கு அறிவியல், தொழில்நுட்பம், பொறியியல் மற்றும் கணிதம் (STEM) துறைகளில் முக்கியமான திறன்களைக் கற்றுக்கொள்வதற்கும், விமானப் போக்குவரத்துத் துறையில் வேலைகளுக்குப் பயிற்சி அளிப்பதற்கும் வாய்ப்பளிக்கும்.

மேற்கண்ட கூற்றுகளில் தவறானது எது/எவை?

- A) I மட்டும்
B) II மட்டும்
C) இரண்டும்
D) இரண்டுமில்லை
E) விடை தெரியவில்லை

161. Consider the following statements.

- I. India's population living in Multidimensional poverty is estimated to have fallen 22.28 % in 2022-2023
- II. 'Survival of the Richest: The India Story' was released by the Oxfam International

Which of the statements given above is/are correct?

- A) I only
B) II only
C) Both I and II
D) Neither I nor II
E) Answer not known

பின்வரும் கூற்றுகளை கருத்தில் கொள்க.

- I. பல பரிமாண வறுமையில் வாழும் இந்திய மக்கள் தொகை 2022-2023 இல் 22.28% வீழ்ச்சியடைந்துள்ளதாக மதிப்பிடப்பட்டுள்ளது
- II. 'சர்வைவல் ஆஃப் தி ரிச்சஸ்ட்: தி இந்தியா ஸ்டோரி' ஆக்சஃபாம் இன்டர்நேஷனல் வெளியிடப்பட்டது



மேற்கண்ட கூற்றுகளில் சரியானது எது/எவை?

- A) I மட்டும்
B) II மட்டும்
C) இரண்டும்
D) இரண்டுமில்லை
E) விடை தெரியவில்லை

162. Find out the incorrectly matched pair.

(Padma Shri Awardee-2024) (Field)

- A) Seshampatti T Sivalingam – Art
B) M Badrappan – Art
C) Joshna Chinappa – Sports
D) Joe D'Cruz – Medicine
E) Answer not known

தவறாகப் பொருந்தியுள்ள இணையைக் கண்டறியவும்.

(பத்ம ஸ்ரீ விருது பெற்றவர்-2024) (துறை)

- A) சேசம்பட்டி டி சிவலிங்கம் – கலை
B) எம் பத்ரப்பன் – கலை
C) ஜோஷ்னா சின்னப்பா – விளையாட்டு
D) ஜோ டி குரூஸ் – மருத்துவம்
E) விடை தெரியவில்லை

163. Which of the following reports are released by NITI Aayog?

- I. SDG India Index
II. Export preparedness Index
III. School Education Quality Index
IV. Composite Water Management index

Codes:

- A) I, II and III only
B) II, III and IV only
C) I, III and IV only
D) All the above
E) Answer not known

நிதி ஆயோக்கால் வெளியிடப்படும் அறிக்கைகளில் இடம் பெறுபவை எது?

- I. SDG இந்தியா குறியீடு
II. ஏற்றுமதி தயார்நிலைக் குறியீடு
III. பள்ளிக் கல்வித் தரக் குறியீடு
IV. கூட்டு நீர் மேலாண்மை குறியீடு

குறியீடுகள்:

- A) I, II மற்றும் III மட்டும்
B) II, III மற்றும் IV மட்டும்
C) I, III மற்றும் IV மட்டும்
D) மேற்கண்ட அனைத்தும்
E) விடை தெரியவில்லை



164. Match List-I with List-II.

List-I
(Awards)

- Peraringnar Anna Award
- Perunthalaivar Kamarajar Award
- Mahakavi Bharathiar Award
- Tamil Thendral Thiru Vi Ka Award

Codes:

- | | a | b | c | d |
|----|----------|----------|----------|----------|
| A) | 2 | 1 | 3 | 4 |
| B) | 1 | 3 | 4 | 2 |
| C) | 3 | 1 | 2 | 4 |
| D) | 4 | 1 | 2 | 3 |

E) Answer not known

பட்டியல்-Iஐ பட்டியல்-II உடன் பொருத்துக.

பட்டியல்-I

(விருதுகள்)

- பேரறிஞர் அண்ணா விருது
- பெருந்தலைவர் காமராஜர் விருது
- மகாகவி பாரதியார் விருது
- தமிழ் தென்றல் திரு வி க விருது

குறியீடுகள்:

- | | a | b | c | d |
|----|----------|----------|----------|----------|
| A) | 2 | 1 | 3 | 4 |
| B) | 1 | 3 | 4 | 2 |
| C) | 3 | 1 | 2 | 4 |
| D) | 4 | 1 | 2 | 3 |

E) விடை தெரியவில்லை

List-II

(Recipients 2023)

- Pathamadai Paramasivam
- S. Jayaseela Stephen
- Balaraman
- Palani Bharathi

பட்டியல்-II

(2023 ஆம் ஆண்டிற்கான விருதை பெறுபவர்கள்)

- பத்தமடை பரமசிவம்
- எஸ். ஜெயசீலா ஸ்டீபன்
- பலராமன்
- பழனி பாரதி

165. REJUPAVE Technology recently seen in the news is related to

- Space Exploration
- Renewable energy
- Road construction and maintenance
- Digital Communication Technology
- Answer not known

சமீபத்தில் செய்திகளில் வெளிவந்த REJUPAVE தொழில்நுட்பம் எதனுடன் தொடர்பானது?

- விண்வெளி ஆய்வு
- புதுப்பிக்கத்தக்க ஆற்றல்
- சாலை கட்டுமானம் மற்றும் பராமரிப்பு
- டிஜிட்டல் தொலைத்தொடர்பு தொழில்நுட்பம்
- விடை தெரியவில்லை



166. Consider the following statements regarding Startup Ranking 2022 :

- I. Tamil Nadu was placed in the Best Performer category.
 - II. In the first two editions, Tamil Nadu was placed in the bottom-most category of Emerging Ecosystem.
 - III. It was released by Ministry of Skill Development and Entrepreneurship.
- Which of the statements given above is/are incorrect?

- A) I only
- B) II only
- C) Both I and II
- D) Neither I nor II
- E) Answer not known

ஸ்டார்ட்அப் தரவரிசை 2022 தொடர்பான பின்வரும் கூற்றுகளை கருத்தில் கொள்க :

- I. சிறந்த செயல்திறன் கொண்ட பிரிவில் தமிழ்நாடு இடம் பெற்றுள்ளது
 - II. முதல் இரண்டு பதிப்புகளில், வளர்ந்து வரும் சுற்றுச்சூழல் அமைப்பில் மிகக் குறைந்த பிரிவில் தமிழ்நாடு இடம் பெற்றது.
 - III. திறன் மேம்பாடு மற்றும் தொழில் முனைவோர் அமைச்சகத்தால் வெளியிடப்பட்டது.
- மேற்கண்ட கூற்றுகளில் தவறானது எது/எவை?

- A) I மட்டும்
- B) II மட்டும்
- C) இரண்டும்
- D) இரண்டுமில்லை
- E) விடை தெரியவில்லை

167. Consider the following statements regarding the constituencies in Tamil Nadu.

- I. Shozhinganallur Assembly constituency in Chengalpattu district has the highest number of electors
- II. Harbour Assembly constituency in Nagapattinam district has the lowest number of voters

Which of the statements given above is/are correct?

- A) I only
- B) II only
- C) Both I and II
- D) Neither I nor II
- E) Answer not known

தமிழ்நாட்டின் தொகுதிகள் பற்றிய பின்வரும் கூற்றுகளை கருத்தில் கொள்க.

- I. செங்கல்பட்டு மாவட்டத்தில் உள்ள சோழிங்கநல்லூர் சட்டமன்ற தொகுதியில் அதிக வாக்காளர்கள் உள்ளனர்
- II. நாகப்பட்டினம் மாவட்டத்தில் உள்ள துறைமுக சட்டமன்றத் தொகுதியில் மிகக் குறைந்த வாக்காளர்கள் உள்ளனர்

மேற்கண்ட கூற்றுகளில் சரியானது எது/எவை?

- A) I மட்டும்
- B) II மட்டும்
- C) இரண்டும்
- D) இரண்டுமில்லை
- E) விடை தெரியவில்லை

168. Where was the 19th Summit of the Non-Aligned Movement (NAM) held?

- A) New Delhi, India
- B) Baku, Azerbaijan
- C) Nairobi, Kenya
- D) Kampala, Uganda
- E) Answer not known



அணிசேரா இயக்கத்தின் (NAM) 19வது உச்சி மாநாடு எங்கு நடைபெற்றது?

- A) புது தில்லி, இந்தியா
B) பாகு, அஜர்பைஜான்
C) நைரோபி, கென்யா
D) கம்பாலா, உகாண்டா
E) விடை தெரியவில்லை

169. Consider the following statements.

- I. Tamil Nadu has 16 Ramsar sites, with the most recent addition being the Karaivetti Bird Sanctuary.
II. Tamil Nadu has 17 bird sanctuaries, with the latest addition being the Nanjarayan Tank, Tiruppur district.
III. Tamil Nadu has 18 wildlife sanctuaries, with the most recent addition being the Thanthai Periyar Wildlife Sanctuary located in the Bargur Hills of Erode.

Which of the statements given above is/are correct?

- A) I and II only
B) II and III only
C) I and III only
D) All the above
E) Answer not known

பின்வரும் கூற்றுகளை கருத்தில் கொள்க .

- I. தமிழ்நாடு 16 இராம்சார் தளங்களைக் கொண்டுள்ளது, மேலும் சமீபத்தில் கரைவெட்டி பறவைகள் சரணாலயம் சேர்க்கப்பட்டது .
II. தமிழ்நாட்டில் 17 பறவைகள் சரணாலயங்கள் உள்ளன, அதில் சமீபத்திய சேர்க்கை திருப்பூர் மாவட்டத்தில் உள்ள நஞ்சராயன் குளம் ஆகும்.
III. தமிழ்நாட்டில் 18 வனவிலங்கு சரணாலயங்கள் உள்ளன, சமீபத்தில் சேர்க்கப்பட்ட ஒன்று ஈரோட்டின் பர்சூர் மலைகளில் அமைந்துள்ள தந்தை பெரியார் வனவிலங்கு சரணாலயம் ஆகும்.

மேற்கண்ட கூற்றுகளில் சரியானது எது/எவை?

- A) I மற்றும் II மட்டும்
B) II மற்றும் III மட்டும்
C) I மற்றும் III மட்டும்
D) மேற்கண்ட அனைத்தும்
E) விடை தெரியவில்லை

170. Match List-I with List-II.

List-I

(Important Days)

- a) National Voter's Day
b) National Youth Day
c) National Girl Child Day
d) National Startup Day

List-II

(Associated dates)

1. January 16
2. January 24
3. January 25
4. January 12

Codes:

- | | a | b | c | d |
|----|------------------|----------|----------|----------|
| A) | 2 | 4 | 3 | 1 |
| B) | 3 | 4 | 2 | 1 |
| C) | 3 | 2 | 1 | 4 |
| D) | 2 | 1 | 4 | 3 |
| E) | Answer not known | | | |



பட்டியல்-Iஐ பட்டியல்-II உடன் பொருத்துக.

பட்டியல்-I

(முக்கியமான நாட்கள்)

- a) தேசிய வாக்காளர் தினம்
b) தேசிய இளைஞர் தினம்
c) தேசிய பெண் குழந்தைகள் தினம்
d) தேசிய புத்தொழில் நாள்

குறியீடுகள்:

	a	b	c	d
A)	2	4	3	1
B)	3	4	2	1
C)	3	2	1	4
D)	2	1	4	3

E) விடை தெரியவில்லை

பட்டியல்-II

(தொடர்புடைய தேதிகள்)

1. ஜனவரி 16
2. ஜனவரி 24
3. ஜனவரி 25
4. ஜனவரி 12

171. Consider the following statements regarding Statue of Social Justice:
I. Maharashtra government recently unveiled the world's tallest statue of BR Ambedkar

II. It is included in the list of the top 50 tallest statues in the world.

Which of the statements given above is/are correct?

- A) I only
B) II only
C) Both I and II
D) Neither I nor II
E) Answer not known

சமூக நீதியின் சிலை பற்றிய பின்வரும் கூற்றுகளை கருத்தில் கொள்க :

I. மகாராஷ்டிரா அரசு சமீபத்தில் பி.ஆர்.அம்பேத்கரின் உலகின் மிக உயரமான சிலையை திறந்து வைத்தது

II. இது உலகின் மிக உயரமான 50 சிலைகளின் பட்டியலில் சேர்க்கப்பட்டுள்ளது.

மேற்கண்ட கூற்றுகளில் சரியானது எது/எவை?

- A) I மட்டும்
B) II மட்டும்
C) இரண்டும்
D) இரண்டுமில்லை
E) விடை தெரியவில்லை

172. 'Conjoined Silverline' recently seen in the news is related to

- A) A recently discovered butterfly species
B) A new railway project in Kerala
C) A significant political event
D) A newly developed technology in medicine
E) Answer not known

சமீபத்தில் செய்திகளில் வெளிவந்த 'கன்ஜாய்ன்டு சில்வர்லைன்' எதனுடன் தொடர்பானது?

- A) சமீபத்தில் கண்டுபிடிக்கப்பட்ட பட்டாம்பூச்சி இனம்
B) கேரளாவில் ஒரு புதிய ரயில்வே திட்டம்
C) ஒரு முக்கியமான அரசியல் நிகழ்வு
D) மருத்துவத்தில் புதிதாக உருவாக்கப்பட்ட தொழில்நுட்பம்
E) விடை தெரியவில்லை



173. Which of the following is designated as India's first Dark Sky Park?

- A) Bandipur Tiger reserve
- B) Pench Tiger reserve
- C) Anaimalai Tiger reserve
- D) Sathyamangalam Tiger reserve
- E) Answer not known

பின்வருவனவற்றுள் எது இந்தியாவின் முதல் இரவு வான பூங்கா என்று குறிப்பிடப்பட்டுள்ளது?

- A) பந்திப்பூர் புலிகள் காப்பகம்
- B) பென்ச் புலிகள் காப்பகம்
- C) ஆனைமலை புலிகள் காப்பகம்
- D) சத்தியமங்கலம் புலிகள் காப்பகம்
- E) விடை தெரியவில்லை

174. Consider the following statements with respect to republic Day parade 2024:

- I. This year's Republic Day parade was 'women-centric'.
- II. The theme of this year's Republic Day is 'Viksit Bharat'
- III. Tamil Nadu tableau carried "Kudavolai System in Ancient Tamil Nadu - Mother of Democracy".

Which of the statements given above is/are correct?

- A) I and II only
- B) II and III only
- C) I and III only
- D) All the above
- E) Answer not known

குடியரசு தின அணிவகுப்பு 2024 தொடர்பாக பின்வரும் கூற்றுகளை கருத்தில் கொள்க:

- I. இந்த ஆண்டு குடியரசு தின அணிவகுப்பு பெண்களை மையமாக கொண்டது.
- II. இந்த ஆண்டு குடியரசு தினத்தின் கருப்பொருள் 'விக்சித் பாரத்'
- III. "பண்டைய தமிழ்நாட்டில் குடவோலை முறை - ஜனநாயகத்தின் தாய்" என்ற அணிவகுப்பை தமிழ்நாடு மேற்கொண்டது.

மேற்கண்ட கூற்றுகளில் சரியானது எது/எவை?

- A) I மற்றும் II மட்டும்
- B) II மற்றும் III மட்டும்
- C) I மற்றும் III மட்டும்
- D) மேற்கண்ட அனைத்தும்
- E) விடை தெரியவில்லை

175. What is the function of C-bot, a robot developed by CSIR?

- A) To provide healthcare assistance
- B) Surveillance over the coral reefs
- C) For monitoring wildlife in their habitats
- D) To support space exploration missions
- E) Answer not known

CSIR உருவாக்கிய ரோபோவான C-bot இன் செயல்பாடு என்ன?

- A) சுகாதார உதவி வழங்குதல்
- B) பவளப்பாறைகள் மீது கண்காணிப்பு
- C) வனவிலங்குகளை அவற்றின் வாழ்விடங்களில் கண்காணிப்பது
- D) விண்வெளி ஆய்வு பணிகளுக்கு ஆதரவளிப்பது
- E) விடை தெரியவில்லை



176. Find the ratio of Number of Members in Lok Sabha and Rajya Sabha from Tamil Nadu?

- A) Between 1 and 2
B) Between 2 and 3
C) Between 3 and 4
D) Below 1
E) Answer not known

தமிழ்நாட்டின் மக்களவை மற்றும் மாநிலங்களவையின் உறுப்பினர்களின் விகிதாச்சாரத்தைக் கண்டுபிடி.

- A) 1 மற்றும் 2க்கு இடையில்
B) 2 மற்றும் 3க்கு இடையில்
C) 3 மற்றும் 4க்கு இடையில்
D) 1க்கு கீழே
E) விடை தெரியவில்லை

177. Mother wants to divide Rs. 36 between her daughters Vinaya and Ramya in the ratio of their ages. If age of Vinaya is 15 years and age of Ramya is 12 years, find how much Ramya and Vinaya will get ?

- A) Rs.20 and Rs.16
B) Rs.16 and Rs.20
C) Rs.18 and Rs.18
D) Rs.22 and Rs.14
E) Answer not known

அம்மா ரூ.36ஐ தனது மகள்கள் வினயா மற்றும் ரம்யாவுக்கு அவர்களின் வயது விகிதத்தில் பிரித்துக் கொடுக்க \therefore விரும்புகிறார். வினயாவின் வயது 15 மற்றும் ரம்யாவின் வயது 12 ஆண்டுகள் எனில், ரம்யா மற்றும் வினயாவுக்கு எவ்வளவு கிடைக்கும் என்பதைக் காண்க?

- A) ரூ.20 மற்றும் ரூ.16
B) ரூ.16 மற்றும் ரூ.20
C) ரூ.18 மற்றும் ரூ.18
D) ரூ.22 மற்றும் ரூ.14
E) விடை தெரியவில்லை

178. I. The ratios 15 cm to 2 m and 10 sec to 3 minutes form a proportion
II. The ratios 25 g : 30 g and 40 kg : 48 kg in proportion

- A) Both Statements are True
B) Statement I is True, Statement II is false
C) Statement II is True, Statement I is false
D) Both Statements are false
E) Answer not known

I. 15 செ.மீ முதல் 2 மீ மற்றும் 10 வினாடி முதல் 3 நிமிடங்கள் வரையிலான விகிதங்கள் ஒரு விகிதச்சமத்தை உருவாக்குகின்றன

II. விகிதங்கள் 25 g : 30 g மற்றும் 40 kg : 48 kg விகிதச்சமத்தில் உள்ளன

- A) இரண்டு கூற்றுகளும் சரி
B) கூற்று I சரி, கூற்று II தவறு
C) கூற்று II சரி, கூற்று I தவறு
D) இரண்டு கூற்றுகளும் தவறு
E) விடை தெரியவில்லை

179. The temperature dropped 15 degree celsius in the last 30 days. If the rate of temperature drop remains the same, how many degrees will the temperature drop in the next ten days?

- A) Multiples of 5
B) Multiples of 7
C) Multiples of 13
D) Multiples of 10
E) Answer not known



கடந்த 30 நாட்களில் வெப்பநிலை 15 டிகிரி செல்சியஸ் குறைந்துள்ளது. வெப்பநிலை வீழ்ச்சியின் விகிதம் அப்படியே இருந்தால், அடுத்த பத்து நாட்களில் வெப்பநிலை எத்தனை டிகிரி குறையும்?

- A) 5 இன் மடங்குகள்
B) 7 இன் மடங்குகள்
C) 13 இன் மடங்குகள்
D) 10 இன் மடங்குகள்
E) விடை தெரியவில்லை

180. The electricity bill of a certain establishment is partly fixed and partly varies as the number of units of electricity consumed. When in a certain month 540 units are consumed, the bill is Rs.1800. In another month 620 units are consumed and the bill is Rs.2040. In yet another month 500 units are measured. The bill for that month would be

- A) Rs.1560
B) Rs.1680
C) Rs.1840
D) Rs.1950
E) Answer not known

ஒரு குறிப்பிட்ட நிறுவனத்தின் மின்சாரக் கட்டணம் ஓரளவு நிர்ணயம் செய்யப்பட்டு, நுகரப்படும் மின்சாரத்தின் யூனிட் எண்ணிக்கையைப் பொறுத்து ஓரளவு மாறுபடும். ஒரு குறிப்பிட்ட மாதத்தில் 540 யூனிட்கள் பயன்படுத்தப்படும்போது, பில் ரூ.1800 ஆகும். மற்றொரு மாதத்தில் 620 யூனிட்கள் பயன்படுத்தப்பட்டு பில் ரூ.2040 ஆகும். மற்றொரு மாதத்தில் 500 யூனிட்கள் அளவிடப்பட்டது. அந்த மாதத்துக்கான பில் எவ்வளவாக இருக்கும்?

- A) ரூ.1560
B) ரூ. 1680
C) ரூ. 1840
D) ரூ. 1950
E) விடை தெரியவில்லை

181. A and B are two alloys of gold and copper prepared by mixing metals in the ratio 7:2 and 7:11 respectively. If equal quantities of the alloys are melted to form a third alloy C, the ratio of gold and copper in C will be

- A) 5 : 7
B) 5 : 9
C) 7 : 5
D) 9 : 5
E) Answer not known

A மற்றும் B என்பது முறையே 7:2 மற்றும் 7:11 என்ற விகிதத்தில் உலோகங்கள் கலந்து தயாரிக்கப்பட்ட தங்கம் மற்றும் தாமிரத்தின் இரண்டு கலவைகள் ஆகும். சம அளவு உலோகக்கலவைகளை உருக்கி மூன்றாவது கலவை C உருவாக்கப்பட்டது. எனில் C இல் உள்ள தங்கம் மற்றும் தாமிரத்தின் விகிதம்

- A) 5 : 7
B) 5 : 9
C) 7 : 5
D) 9 : 5
E) விடை தெரியவில்லை

182. A sum of Rs.53 is divided among Bala, Chandru, Deepak, in such a way that Bala gets Rs.7 more than what Chandru gets and Chandru gets Rs.8 more than what Deepak gets. The ratio of their shares is

- A) 16 : 9 : 18
B) 25 : 18 : 10
C) 18 : 25 : 10
D) 15 : 8 : 30
E) Answer not known



பாலா, சந்துரு, தீபக் ஆகியோருக்கு ரூ.53 தொகையைப் பிரித்து கொடுக்கும் போது, சந்துரு பெறுவதைவிட பாலாவுக்கு ரூ.7 அதிகமாகவும், தீபக் பெறுவதை விட சந்துருவுக்கு ரூ.8 அதிகமாகவும் கிடைக்கிறது எனில் அவர்களின் பங்குகளின் விகிதம்

- A) 16 : 9 : 18
B) 25 : 18 : 10
C) 18 : 25 : 10
D) 15 : 8 : 30
E) விடை தெரியவில்லை

183. 15 litres of mixture contains 20% alcohol and the rest water. If 3 litres of water be mixed with it, the percentage of alcohol in the new mixture would be

- A) 15%
B) $16\frac{2}{3}\%$
C) 17%
D) $16\frac{1}{2}\%$
E) Answer not known

15 லிட்டர் கலவையில் 20% ஆல்கஹால் மற்றும் மீதம் நீர் உள்ளது. இதில் 3 லிட்டர் தண்ணீர் கலக்கப்பட்டால், புதிய கலவையில் உள்ள ஆல்கஹாலின் சதவீதம்

- A) 15%
B) $16\frac{2}{3}\%$
C) 17%
D) $16\frac{1}{2}\%$
E) விடை தெரியவில்லை

184. A wheel that has 6 cogs is meshed with a larger wheel of 14 cogs. When the smaller wheel has made 21 revolutions, then the number of revolutions made by the larger wheel is ?

- A) 4
B) 9
C) 12
D) 49
E) Answer not known

6 பற்கள் கொண்ட ஒரு சக்கரம் 14 பற்கள் கொண்ட பெரிய சக்கரத்துடன் இணைக்கப்பட்டுள்ளது. சிறிய சக்கரம் 21 சுற்றுகளைச் செய்திருந்தால், பெரிய சக்கரம் செய்யும் சுற்றுகளின் எண்ணிக்கை ?

- A) 4
B) 9
C) 12
D) 49
E) விடை தெரியவில்லை

185. If 15 men, working 9 hours a day, can reap a field in 16 days, in how many days will 18 men reap the field, working 8 hours a day ?

- A) 30 Days
B) 25 Days
C) 15 Days
D) 36 Days
E) Answer not known



ஒரு நாளைக்கு 9 மணி நேரம் வேலை செய்யும் 15 ஆண்கள் 16 நாட்களில் ஒரு வயலை அறுவடை செய்ய முடியும் எனில், 18 ஆண்கள் ஒரு நாளைக்கு 8 மணி நேரம் வேலை செய்து எத்தனை நாட்களில் வயலை அறுவடை செய்வார்கள்?

- A) 30 நாட்கள்
B) 25 நாட்கள்
C) 15 நாட்கள்
D) 36 நாட்கள்
E) விடை தெரியவில்லை

186. The price of 357 mangoes is Rs. 1517.25. What will be the approximate price of 49 dozens of such mangoes ?

- A) Rs.3000
B) Rs.3500
C) Rs.4000
D) Rs.2500
E) Answer not known

357 மாம்பழங்களின் விலை ரூ.1517.25. அத்தகைய 49 டஜன் மாம்பழங்களின் தோராயமான விலை என்ன?

- A) ரூ.3000
B) ரூ.3500
C) ரூ.4000
D) ரூ.2500
E) விடை தெரியவில்லை

187. If $a : 5 = b : 7 = c : 8$ then find $(a + b + c) / a$.

- A) 1
B) 2
C) 3
D) 4
E) Answer not known

$a : 5 = b : 7 = c : 8$ எனில் $(a + b + c) / a$ ஐக் காண்க.

- A) 1
B) 2
C) 3
D) 4
E) விடை தெரியவில்லை

188. 50% of $(A + B) = 20\%$ of $(A - B)$. Find the ratio of A and B

- A) 7 : 3
B) 3 : 7
C) 3 : 8
D) -7 : 3
E) Answer not known

$(A + B)$ இன் 50% = $(A - B)$ இல் 20%. A மற்றும் B இன் விகிதத்தைக் கண்டுபிடி

- A) 7 : 3
B) 3 : 7
C) 3 : 8
D) -7 : 3
E) விடை தெரியவில்லை

189. The LCM of $1\frac{1}{3}$, $1\frac{2}{3}$, $2\frac{1}{2}$ is

- A) 20
B) 5
C) $\frac{5}{3}$
D) 3
E) Answer not known



$1\frac{1}{3}$, $1\frac{2}{3}$, $2\frac{1}{2}$ இன் மீ.சி.ம

A) 20 B) 5

C) $\frac{5}{3}$ D) 3

E) விடை தெரியவில்லை

190. HCF of two numbers is 13 and their difference is 13. Find the numbers

A) 81, 94 B) 75, 88

C) 70, 83 D) 78, 91

E) Answer not known

இரண்டு எண்களின் மீ.பொ.வ 13 மற்றும் அவற்றின் வித்தியாசம் எனில் அந்த எண்களைக் கண்டுபிடி

A) 81, 94 B) 75, 88

C) 70, 83 D) 78, 91

E) விடை தெரியவில்லை

191. A rectangular room measuring 3.78 meters in length and 5.25 meters in width needs to be paved with square tiles of uniform size. What is the largest size of tile that can be used to cover the entire floor without cutting any tiles?

A) 21 cm B) 28 cm

C) 14 cm D) 35 cm

E) Answer not known

3.78 மீட்டர் நீளமும் 5.25 மீட்டர் அகலமும் கொண்ட ஒரு செவ்வக அறை சீரான அளவிலான சதுர ஓடுகளால் அமைக்கப்பட வேண்டும். எந்த ஓடுகளையும் வெட்டாமல் முழு தரையையும் மறைக்க பயன்படுத்தக்கூடிய ஓட்டின் மிகப்பெரிய அளவு எது?

A) 21 செ.மீ B) 28 செ.மீ

C) 14 செ.மீ D) 35 செ.மீ

E) விடை தெரியவில்லை

192. The HCF of A and B is C. Their LCM is

A) $\frac{AB}{C}$ B) $\frac{AC}{B}$

C) $\frac{BC}{A}$ D) $\frac{A+B}{C}$

E) Answer not known

A மற்றும் B இன் மீ.பொ.வ C ஆகும். அவற்றின் மீ.சி.ம

A) $\frac{AB}{C}$ B) $\frac{AC}{B}$

C) $\frac{BC}{A}$ D) $\frac{A+B}{C}$

E) விடை தெரியவில்லை



193. The LCM of $x^3 - a^3$ and $(x - a)^2$ is

- A) $(x^3 - a^3)(x + a)$ B) $(x^2 + ax + a^2)$
C) $(x - a)^2(x^2 + ax + a^2)$ D) $(x^3 - a^3)(x - a)^2$
E) Answer not known

$x^3 - a^3$ மற்றும் $(x - a)^2$ இன் மீ.சி.ம

- A) $(x^3 - a^3)(x + a)$ B) $(x^2 + ax + a^2)$
C) $(x - a)^2(x^2 + ax + a^2)$ D) $(x^3 - a^3)(x - a)^2$
E) விடை தெரியவில்லை

194. The LCM of $\frac{(x^2 - 9)(x - 3)}{4}$ and $\frac{(x^2 + 6x + 9)}{8}$ is

- A) $\frac{(x + 3)}{8}$ B) $\frac{(x + 3)^2(x - 3)^2}{8}$
C) $\frac{(x + 3)^2(x - 3)^2}{4}$ D) $\frac{(x + 3)(x - 3)}{4}$
E) Answer not known

$\frac{(x^2 - 9)(x - 3)}{4}$ மற்றும் $\frac{(x^2 + 6x + 9)}{8}$ இன் மீ.சி.ம

- A) $\frac{(x + 3)}{8}$ B) $\frac{(x + 3)^2(x - 3)^2}{8}$
C) $\frac{(x + 3)^2(x - 3)^2}{4}$ D) $\frac{(x + 3)(x - 3)}{4}$
E) விடை தெரியவில்லை

195. The traffic lights at three different junctions change simultaneously at morning at 10.15 am. The first one changes once in 30 seconds, the second once in 48, third once in 64 seconds. After 10.15 am which is the next time they change simultaneously?

- A) 10.25 am B) 10.31 am
C) 10.30 am D) 10.32 am
E) Answer not known

காலை 10.15 மணிக்கு மூன்று வெவ்வேறு சந்திப்புகளில் போக்குவரத்து விளக்குகள் ஒரே நேரத்தில் மாறுகின்றன. முதலாவது 30 வினாடிகளுக்கு ஒரு முறையும், இரண்டாவது 48 வினாடிகளுக்கு ஒரு முறையும், மூன்றாவது 64 வினாடிகளுக்கு ஒரு முறையும் மாறுகிறது. காலை 10.15 மணிக்குப் பிறகு அவை ஒரே நேரத்தில் மாறும் அடுத்த முறை எப்பொழுது?

- A) காலை 10.25 மணி
B) காலை 10.31 மணி
C) காலை 10.30 மணி
D) காலை 10.32 மணி
E) விடை தெரியவில்லை



196. The LCM of two numbers is 36. The numbers are in the ratio 2:3 . Find the sum of the numbers

- A) 40
B) 30
C) 24
D) 36
E) Answer not known

இரண்டு எண்களின் மீ.சி.ம 36. எண்கள் 2:3 என்ற விகிதத்தில் உள்ளன. எண்களின் கூட்டுத்தொகையைக் கண்டுபிடி.

- A) 40
B) 30
C) 24
D) 36
E) விடை தெரியவில்லை

197. The LCM of two numbers is 6 times their HCF. The sum of the HCF and LCM is 280, then LCM is equal to

- A) 40
B) 200
C) 280
D) 240
E) Answer not known

இரண்டு எண்களின் மீ.சி.ம அவற்றின் மீ.பெ.வ ஐ விட 6 மடங்கு அதிகம். மீ.பெ.வ மற்றும் மீ.சி.ம இன் கூட்டுத்தொகை 280, எனில் மீ.சி.ம என்ன?

- A) 40
B) 200
C) 280
D) 240
E) விடை தெரியவில்லை

198. The HCF of 3240, 3600 and a third number is 36 and their LCM is $2^4 \times 3^5 \times 5^2 \times 7^2$. Then the third number is

- A) $2^4 \times 5^2 \times 7^2$
B) $2^2 \times 3^5 \times 7^2$
C) $2^4 \times 3^2 \times 7^2$
D) $2^2 \times 3^5 \times 5^2 \times 7^2$
E) Answer not known

3240, 3600 இன் மீ.பொ.வ மற்றும் மூன்றாவது எண் 36 மற்றும் அவற்றின் மீ.சி.ம $2^4 \times 3^5 \times 5^2 \times 7^2$. ஆகும். பின்னர் மூன்றாவது எண் யாது?

- A) $2^4 \times 5^2 \times 7^2$
B) $2^2 \times 3^5 \times 7^2$
C) $2^4 \times 3^2 \times 7^2$
D) $2^2 \times 3^5 \times 5^2 \times 7^2$
E) விடை தெரியவில்லை

199. Five alarms commence ringing together and toll at intervals 2,4,6,8 and 10 seconds respectively. In 30 minutes, how many times they ring together?

- A) 10
B) 12
C) 15
D) 16
E) Answer not known

ஐந்து அலாரங்கள் ஒன்றாக ஒலிக்கத் தொடங்கி முறையே 2,4,6,8 மற்றும் 10 வினாடிகள் இடைவெளியில் ஒலிக்கின்றன. 30 நிமிடங்களில், அவை எத்தனை முறை ஒன்றாக ஒலிக்கின்றன?

- A) 10
B) 12
C) 15
D) 16



E) விடை தெரியவில்லை

200. Which greatest number will divide 931 and 116 leaving remainders 7 and 11 respectively?

A) 17

B) 24

C) 20

D) 21

E) Answer not known

931 மற்றும் 116 ஐ வகுத்து, மீதிகளை முறையே 7 மற்றும் 11 ஐ தரும் பெரிய எண் யாது?

A) 17

B) 24

C) 20

D) 21

E) விடை தெரியவில்லை



SHANKAR
IAS ACADEMYTM
Best Academy for Civil Services Exam Coaching

SPACE FOR ROUGH WORK

SHANKAR IAS ACADEMY
www.Padasalai.Net



SHANKAR
IAS ACADEMYTM
Best Academy for Civil Services Exam Coaching

SPACE FOR ROUGH WORK

SHANKAR IAS ACADEMY
www.Padasalai.Net



வினாத்தொகுப்பு எண் :

பதிவு எண்

2024

பொதுத் தமிழ்
(பத்தாம் வகுப்பு தரம்)

Test - 18

கால அளவு : 3.00 மணி நேரம்]

[மொத்த மதிப்பெண்கள் : 300

வினாக்களுக்கு பதிலளிக்கும் முன் கீழ்க்கண்ட அறிவுரைகளை கவனமாகப் படிக்கவும்

முக்கிய அறிவுரைகள்

- இந்த வினாத்தொகுப்பு, தேர்வு தொடங்குவதற்கு 15 நிமிடங்களுக்கு முன்னதாக உங்களுக்கு வழங்கப்படும்.
- இந்த வினாத்தொகுப்பு, **200** வினாக்களைக் கொண்டுள்ளது. விடையளிக்கத் தொடங்குமுன் இவ்வினாத் தொகுப்பில் எல்லா வினாக்களும் வரிசையாக இடம் பெற்றுள்ளனவா என்பதையும், இடையில் வெற்றுத்தாள்கள் எவையும் இல்லை என்பதையும் உறுதி செய்து கொள்ளவும். வினாத் தொகுப்பில் ஏதேனும் குறைபாடு இருப்பின், அதனை முதல் பத்து நிமிடங்களுக்குள் அறைக்கண்காணிப்பாளரிடம் தெரிவித்து, சரியாக உள்ள வேறொரு வினாத் தொகுப்பினை பெற்றுக்கொள்ள வேண்டும். தேர்வு தொடங்கிய பின்பு, இது குறித்து முறையிட்டால் வினாத் தொகுப்பு மாற்றித் தரப்படமாட்டாது.
- எல்லா வினாக்களுக்கும் விடையளிக்கவும், எல்லா வினாக்களும் சமமான மதிப்பெண்கள் கொண்டவை.
- உங்களுடைய பதிவு எண்ணை இந்தப் பக்கத்தின் வலது மேல் மூலையில் அதற்கென அமைந்துள்ள இடத்தில் நீங்கள் எழுத வேண்டும். வேறு எதையும் வினாத் தொகுப்பில் எழுதக் கூடாது.
- விடைத்தாள் ஒன்று விடைகளை குறிப்பதற்கு அறைக்கண்காணிப்பாளரால் உங்களுக்கு வழங்கப்படும். விடைகளைக் குறிப்பது உள்ளிட்ட அவசியம் பின்பற்றப்பட வேண்டிய அறிவுரைகள் விடைத்தாளிலும், தேர்வுக்கூட அனுமதிச் சீட்டிலும் வழங்கப்பட்டுள்ளன.
- உங்களுடைய வினாத்தொகுப்பு, எண்ணை (Question Booklet Number) விடைத்தாளின் முதல் பக்கத்தில் அதற்கென அமைந்துள்ள இடத்தில் **கருமை நிற மையடைய பந்துமுனைப் பேனாவினால்** குறித்துக் காட்ட வேண்டும். வினாத்தொகுப்பு எண்ணை விடைத்தாளில் சரியாகக் குறித்துக் காட்டத் தவறினாலோ அல்லது குறிக்கத் தவறினாலோ உங்களுடைய விடைத்தாள் செல்லாததாகக்கப்படும்.
- ஒவ்வொரு வினாவும் A), (B), (C), (D), (E) என ஐந்து பதில்களைக் (விடைகள்) கொண்டுள்ளது. நீங்கள் A) அல்லது B) அல்லது C) அல்லது D) இவைகளில் ஒரே ஒரு சரியான விடையைத் தெரிவு செய்து விடைத்தாளில் குறித்துக்காட்ட வேண்டும். ஒரு கேள்விக்கு ஒன்றுக்கு மேற்பட்ட சரியான விடை இருப்பதாக நீங்கள் கருதினால், மிகச்சரியானது என நீங்கள் எதைக் கருதுகிறீர்களோ அந்த விடையை விடைத்தாளில் குறித்துக்காட்ட வேண்டும். உங்களுக்கு விடை தெரியவில்லை எனில், நீங்கள் (E) என்பதை அவசியம் நிரப்ப வேண்டும். எப்படியாயினும், ஒரு கேள்விக்கு ஒரே ஒரு விடையைத் தான் தேர்ந்தெடுக்க வேண்டும். நீங்கள் ஒரு கேள்விக்கு ஒன்றுக்கு மேற்பட்ட விடையளித்தால், அவற்றுள் ஒரு விடை சரியானதாக இருந்தாலும் அந்த விடை தவறானதாகவே கருதப்படும்.
- நீங்கள் வினாத் தொகுப்பின் எந்தப் பக்கத்தையும் நீக்கவோ அல்லது கிழிக்கவோ கூடாது. தேர்வு நேரத்தில் இந்த வினாத் தொகுப்பினையோ அல்லது விடைத்தாளையோ தேர்வு அறையை விட்டு வெளியில் எடுத்துச் செல்லக் கூடாது. தேர்வு முடிந்தபின் நீங்கள் உங்களுடைய விடைத்தாளை கண்காணிப்பாளரிடம் கொடுத்து விட வேண்டும். இவ்வினாத் தொகுப்பினை தேர்வு முடிந்த பின்னர் மட்டுமே நீங்கள் எடுத்துச் செல்ல அனுமதிக்கப்படுவீர்கள்.
- குறிப்புகள் எழுதிப்பார்ப்பதற்கு வினாத்தொகுப்பின் கடைசி பக்கத்திற்கு முன் உள்ள பக்கங்களை பயன்படுத்திக் கொள்ளலாம். இதைத்தவிர வினாத்தொகுப்பின் எந்த இடத்திலும் எந்தவித குறிப்புகளையும் எழுதக்கூடாது. இந்த அறிவுரை கண்டிப்பாக பின்பற்றப்படவேண்டும்.
- வினா வரிசை எண்கள் 101 முதல் 200 வரை (பகுதி - ஆ) ஆங்கில வடிவே இறுதியானது.
- நீங்கள் மேற்கண்ட அறிவுரைகளில் எவற்றையாவது பின்பற்றத் தவறினால் தேர்வாணையம் எடுக்கும் நடவடிக்கைகளுக்கு உள்ளாக நேரிடும் என அறிவுறுத்தப்படுகிறது.

↪

[Turn over

For queries mail to For queries mail to : zerofeedback@shankariasacad.in; [Turn over

Kindly Send Me Your Key Answer to Our email id - Padasalai.net@gmail.com



பகுதி - அ — பொதுத் தமிழ் (பத்தாம் வகுப்பு தரம்)

Part A — General Tamil (SSLC Std)

வினாக்கள் : 1-200

மொத்த மதிப்பெண்கள் : 300

Test 18

Questions : 1-200

Total Marks : 300

1. பின்வருவனவற்றுள் மரபுப்பிழையான தொடரினைத் தெரிவு செய்க.
 - A) குமரன் பழம் உண்டான்.
 - B) காலையில் சேவல் கூவியது.
 - C) எங்கள் ஊரில் தென்னந்தோப்பு உள்ளது.
 - D) ஆட்டு மந்தை வருகிறது.
 - E) விடை தெரியவில்லை
2. 'தாயுமானவர்' பற்றிய பின்வரும் கூற்றுகளைக் கருத்தில் கொள்க.
 - I. இவரது பெற்றோர் : கேடிலியப்பர் - கெசவல்லி அம்மையார் மனைவி : மட்டுவார் குழலி.
 - II. நாகை மாவட்டத்திலுள்ள திருமறைக்காடு என்னும் ஊரில் பிறந்தார்.
 - III. இவரது காலம் கி.பி. பதினெட்டாம் நூற்றாண்டு.
 - IV. மதுரையை ஆண்ட விஜயரகுநாத சொக்கரிடம் கருவூலக அலுவலராகப் பணிபுரிந்தார்.
 மேற்கண்ட கூற்றுகளில் சரியானவை எவை?
 - A) I, II மற்றும் III மட்டும்
 - B) II, III மற்றும் IV மட்டும்
 - C) I, II மற்றும் IV மட்டும்
 - D) மேற்கண்ட அனைத்தும்
 - E) விடை தெரியவில்லை
3. 'கண்ணை கருத்தேயென் கற்பகமே கண்ணிறைந்த' என்னும் இப்பாடலில் இடம்பெற்றுள்ள மோனை எது?
 - A) மேற்கதுவாய் மோனை
 - B) கீழ்க்கதுவாய் மோனை
 - C) கூழை மோனை
 - D) முற்று மோனை
 - E) விடை தெரியவில்லை
4. தாயுமானவர் நினைவு இல்லம் எந்த மாவட்டத்தில் நிறுவப்பட்டுள்ளது?
 - A) திருச்சி
 - B) மதுரை
 - C) இராமநாதபுரம்
 - D) தஞ்சாவூர்
 - E) விடை தெரியவில்லை
5. "நவில்தோறும் நூல்நயம் போலும்" என வள்ளுவர் குறிப்பிடுவது யாது?
 - A) அறன் அறிதல்
 - B) அன்புடையாராக இருத்தல்
 - C) பன்புடையாளர் தொடர்பு
 - D) நட்பை ஆராயும் கருவி
 - E) விடை தெரியவில்லை
6. பின்வரும் கூற்றுகளைக் கருத்தில் கொள்க.

கூற்று : திருக்குறள் 'முப்பால்' எனப் பெயர் பெற்றது.

காரணம் : மக்கள், வாழ்வில் அடையத்தக்க உறுதிப்பொருள்களாகிய அறம், பொருள், இன்பம் என்னும் மூன்று பிரிவுகளை விரித்து உரைக்கிறது.



குறியீடுகள்:

- A) கூற்று மற்றும் காரணம் இரண்டும் சரி மற்றும் காரணம் என்பது கூற்றுக்கான சரியான விளக்கமாகும்
- B) கூற்று மற்றும் காரணம் இரண்டும் சரி ஆனால் காரணம் என்பது கூற்றுக்கான சரியான விளக்கமல்ல
- C) கூற்று சரி ஆனால் காரணம் தவறு
- D) கூற்று தவறு ஆனால் காரணம் சரி
- E) விடை தெரியவில்லை

7. 'திருக்குறள்' பற்றிய பின்வரும் கூற்றுகளைக் கருத்தில் கொள்க.
- I. வாயுறை வாழ்த்து, பொதுமறை, பொய்யா மொழி, தெய்வ நூல் முதலிய பெயர்களும் இதற்கு உண்டு.
- II. இதன் பெருமையை உணர்ந்த வீரமாமுனிவர் ஆங்கிலத்தில் மொழிபயர்த்துள்ளார்.
- III. இதனை இயற்றிய திருவள்ளுவர் கி.பி. 31 இல் பிறந்தவர் என உறுதி செய்து திருவள்ளுவர் ஆண்டு கணக்கிடப்பட்டுள்ளது.
- மேற்கண்ட கூற்றுகளில் சரியானவை எவை?
- A) I மற்றும் II மட்டும்
- B) II மற்றும் III மட்டும்
- C) I மற்றும் III மட்டும்
- D) மேற்கண்ட அனைத்தும்
- E) விடை தெரியவில்லை
8. அறம், பொருள், இன்பம் என முப்பாலும் தப்பாமல் வந்த குறள் எது?
- A) பற்றுக் பற்றற்றான் பற்றினை அப்பற்றைப் பற்றுக் பற்று விடற்கு
- B) புணர்ச்சி பழகுதல் வேண்டா உணர்ச்சிதான் நட்பாங் கிழமை தரும்
- C) அறன்ஈனும் இன்பமும் ஈனும் திறனறிந்து தீதின்றி வந்த பொருள்
- D) அழிவி னவைநீக்கி ஆறுய்த்து அழிவின்கண் அல்லல் உழப்பதாம் நட்பு
- E) விடை தெரியவில்லை
9. "வீரமாமுனிவர் தமிழ் முனிவர்களுள் ஒருவராக விளங்குகிறார்" என்ற வீரமாமுனிவரைப் பாராட்டியவர் யார்?
- A) திரு.வி.க
- B) ரா.பி.சேதுப்பிள்ளை
- C) அறிஞர் அண்ணா
- D) பாரதிதாசன்
- E) விடை தெரியவில்லை
10. வீரமாமுனிவர் இயற்றிய நகைச்சுவை நூல் எது ?
- A) சதுரகராதி
- B) தொன்னூல் விளக்கம்
- C) பரமார்த்த குரு கதை
- D) திருக்காவலூர் கலம்பகம்
- E) விடை தெரியவில்லை



11. தாயுமானவரின் பாடல்களால் ஈர்க்கப்பட்டு, அவருடைய பராபரக்கண்ணியைப் போலவே ஓசைநயமிக்க இசுலாமியப் பாடல்களை இயற்றியவர் யார்?
- A) சாகுல் அமீது
B) சுல்தான் அப்துல் காதிறு
C) தோப்பில் முகமது மீரான்
D) அப்துல் ரகுமான்
E) விடை தெரியவில்லை
12. ஆறுமுக நாவலரை 'வசனநடை கைவந்த வல்லாளர்' என்று பாராட்டியவர் யார்?
- A) மதுரை ஆதீனம்
B) திருவாவடுதுறை ஆதீனம்
C) பரிதிமாற்கலைஞர்
D) மறைமலை அடிகளார்
E) விடை தெரியவில்லை
13. ஜி.யு.போப் உயர்ந்த பண்பாட்டுக்குரிய பொறுமை, சினமின்மை, நட்பு முதலானவற்றை விளக்கும் அறநூறு செய்யுள்களை ஆய்ந்தெடுத்து கீழ்காணும் எந்த நூலாகத் தொகுத்துள்ளார்?
- A) இந்தியன் சஞ்சிகை
B) தமிழ்ச் செய்யுட் கலம்பகம்
C) சங்க இலக்கியமும் அறநூலும்
D) இந்தியாவின் தொல்பொருள் ஆய்வு
E) விடை தெரியவில்லை
14. ஜி.யு.போப் எந்தெந்த ஆண்டுகளில் திருவாசகம் மற்றும் திருக்குறளை ஆங்கிலத்தில் மொழிபெயர்த்துள்ளார்?
- A) 1900, 1908
B) 1908, 1900
C) 1900, 1886
D) 1886, 1900
E) விடை தெரியவில்லை
15. 'ஜி.யு.போப்' பற்றிய பின்வரும் கூற்றுகளுள் பொருந்தா ஒன்றினைத் தேர்ந்தெடுக்க.
- A) ஜி.யு.போப் என்றழைக்கப்படும் ஜியார்ஜ் யுக்ளோ போப், கி.பி. 1820 ஆம் ஆண்டு ஏப்ரல் 24 ஆம் நாள், பிரான்சு நாட்டின் எட்வர்டு தீவில் ஜான் போப்புக்கும், கெதரின் யுளாபுக்கும் மகனாகப் பிறந்தார்.
B) தமிழ்நாட்டில் சென்னைச் சாந்தோம் பகுதியில் சமயப்பணி ஆற்றினார்.
C) திருநெல்வேலி சமயக்கல்லூரியில் கணிதம், அறிவாய்வு, மெய்யறிவு ஆகியவற்றைக் கற்பிக்கும் கல்லூரி ஆசிரியராகவும் பணியாற்றினார்.
D) திருநெல்வேலி மாவட்டம் சாயர்புரத்தில் 1852 முதல் 1859 ஆம் ஆண்டுவரை கல்விப்பணியும் சமயப் பணியும் ஆற்றினார்.
E) விடை தெரியவில்லை
16. குற்றியலுகரம் பற்றிய பின்வரும் கூற்றுகளைக் கருத்தில் கொள்க.
- I. நெடில் தொடர்க் குற்றியலுகரம் மட்டுமே இரண்டு எழுத்துகளைப் பெற்று வரும்.
II. குறுமை + இயல் + உகரம் = குற்றியலுகரம். குறுமை என்றால் குறுகிய என்பது பொருள். இயல் என்றால் ஓசை. உகரம் என்றால் உ என்னும் எழுத்து. எனவே, குறுகிய ஓசையுடைய உகரம் குற்றியலுகரம்.



மேற்கண்ட கூற்றுகளில் சரியானது எது/எவை?

- A) I மட்டும்
B) II மட்டும்
C) இரண்டும்
D) இரண்டுமில்லை
E) விடை தெரியவில்லை

17. பின்வரும் இணைகளைக் கருத்தில் கொள்க.

(சொல்)

(நெடித்தொடர்க் குற்றியலுகரம்)

- I. ஆடு - உயிர்த்தொடர்க் குற்றியலுகரம்
II. பாலாறு - நெடித்தொடர்க் குற்றியலுகரம்
III. பட்டு - வன்தொடர்க் குற்றியலுகரம்
IV. நண்டு - மென்தொடர்க் குற்றியலுகரம்

மேற்கண்ட இணைகளில் எத்தனை இணைகள் சரியானவை?

- A) 3
B) 4
C) 1
D) 2
E) விடை தெரியவில்லை

18. கீழ்க்காணும் சொற்களின் குற்றியலுகரம் அடிப்படையில் பொருந்தாத ஒன்றினைத் தேர்ந்தெடுக்க.

- A) அஃது
B) நன்று
C) சீட்டு
D) உயர்வு
E) விடை தெரியவில்லை

19. திருக்குறள் கயல்விழியால் படிக்கப்பட்டது. இஃது எவ்வகைத் தொடர்?

- A) தன் வினைத்தொடர்
B) பிறவினைத் தொடர்
C) செய்வினைத் தொடர்
D) செய்ப்பாட்டு வினைத் தொடர்
E) விடை தெரியவில்லை

20. 'முயற்சி திருவினையாக்கும்' என்பது எவ்வகைத் தொடர் ?

- A) கட்டளைத் தொடர்
B) வினாத் தொடர்
C) விழைவுத் தொடர்
D) செய்தித் தொடர்
E) விடை தெரியவில்லை

21. 'கண்ணன் பாடம் படித்திலன்' என்பது எவ்வகைத் தொடர் ?

- A) விழைவுத்தொடர்
B) உணர்ச்சித்தொடர்
C) எதிர்மறைத் தொடர்
D) வினாத்தொடர்
E) விடை தெரியவில்லை

22. பின்வரும் இணைகளைக் கருத்தில் கொள்க.

(தொடர்)

(தொடர்வகை)

- I. நீடுழி வாழ்க! - உணர்ச்சித் தொடர்
II. இளமையில் கல் - விழைவுத் தொடர்
III. தென்னை மரத்துக்கு கிளைகள் இல்லை - எதிர்மறைத் தொடர்
IV. சிறந்த நூல்களை அரங்கேற்றுதல் பண்டைக்கால வழக்கம் - செய்தித்தொடர்



மேற்கண்ட இணைகளில் எத்தனை இணைகள் சரியானவை?

- A) 3
B) 4
C) 1
D) 2
E) விடை தெரியவில்லை

23. 'மணிமொழி நன்கு பாடினாள்' – பொருள் மாறா எதிர்மறைத் தொடராக்குக.

- A) மணிமொழி நன்கு பாடினாள்
B) மணிமொழி நன்கு பாடவில்லை
C) மணிமொழி நன்கு பாடில்ள்
D) மணிமொழி நன்கு பாடாமல் இல்லை
E) விடை தெரியவில்லை

24. நினைவாற்றலை வளர்த்துக் கொள்க - இத்தொடரினை கட்டளைத் தொடராக மாற்றுக.

- A) நினைவாற்றலை வளர்த்துக் கொள்ள வேண்டும்
B) நினைவாற்றலை வளர்த்துக் கொள்க.
C) நினைவாற்றலை வளர்த்துக் கொள்.
D) நினைவாற்றலை வளர்க்க வேண்டுமா?
E) விடை தெரியவில்லை

25. தவறாக பிரிந்துள்ள சொல்லைத் தேர்ந்தெடுக்க.

- A) நந்தமிழ் = நம் + தமிழ்
B) மன்னுயிர் = மண் + உயிர்
C) பேரின்பம் = பெருமை + இன்பம்
D) அன்றலர்ந்த = அன்று + அலர்ந்த
E) விடை தெரியவில்லை

26. பொருத்துக.

(புகழ்)

(புகழுக்குரியவர்)

- | | |
|--------------------|--------------------|
| a) சமுதாயப்புரட்சி | 1. திரு.வி.க |
| b) பொது உடைமை | 2. மறைமலையடிகள் |
| c) தனித்தமிழ் | 3. பாரதிதாசன் |
| d) பேச்சுக்கலை | 4. புதுமைப்பித்தன் |
| e) சிறுகதை | 5. அறிஞர் அண்ணா |

குறியீடுகள்:

	a	b	c	d	e
A)	3	1	2	5	4
B)	2	4	3	1	5
C)	3	2	1	5	4
D)	4	1	2	3	5

E) விடை தெரியவில்லை

27. பொருத்துக.

- | | |
|--------------------------|--------------------|
| a) நிலம், நாய் | 1. வினைத்திரிசொல் |
| b) வந்தது, படித்தான் | 2. பெயர் இயற்சொல் |
| c) களிறு, புரவி | 3. வினை இயற்சொல் |
| d) வினவினான், நோக்கினான் | 4. பெயர்த்திரிசொல் |



குறியீடுகள்:

- | | <i>a</i> | <i>b</i> | <i>c</i> | <i>d</i> |
|----|----------|----------|----------|----------|
| A) | 4 | 3 | 2 | 1 |
| B) | 2 | 3 | 4 | 1 |
| C) | 3 | 2 | 1 | 4 |
| D) | 4 | 1 | 2 | 3 |
- E) விடை தெரியவில்லை

28. இலக்கியம் பிரித்து எழுதுக.

- | | |
|-----------------|------------------|
| A) இலம் + இயம் | B) இல + கியம் |
| C) இலக்கு + அம் | D) இலக்கு + இயம் |
- E) விடை தெரியவில்லை

29. பள்ளியில் படிக்கும் குழந்தைகள் இலக்கியத்தை நன்கு அறிந்துகொள்ளும் வகையில் வினா - விடை முறையில் அமைந்த இரு இலக்கண நூல்களை இயற்றியவர் யார்?

- | | |
|---------------|------------------|
| A) ஜி.யு.போப் | B) வீரமாமுனிவர் |
| C) கால்டுவெல் | D) ஆறுமுக நாவலர் |
- E) விடை தெரியவில்லை

30. “சுப்புரத்தினம் ஓர் கவி” என்று பாரதிதாசனை தமிழ்கூறும் நல்லுலகத்துக்கு அறிமுகம் செய்து வைத்தவர் யார்?

- | | |
|-------------------|-------------------------|
| A) உ.வே.சாமிநாதர் | B) வ.சுப. மாணிக்கம் |
| C) தேசியக்கவி | D) வேங்கடசாமி நாட்டார். |
- E) விடை தெரியவில்லை

31. பாரதிதாசனின் படைப்புகளுள் பொருந்தா ஒன்றினைத் தேர்ந்தெடுக்க.

- | | |
|--------------------|----------------------|
| A) மணிமேகலை வெண்பா | B) இசையமுது |
| C) படித்த பெண்கள் | D) குழந்தை இலக்கியம் |
- E) விடை தெரியவில்லை

32. பாரதிதாசனின் பாடல் வரிகளுள் பொருந்தா ஒன்றினைத் தேர்ந்தெடுக்க.

- A) தமிழுக்கு அமுதென்று பேர் - அந்தத் தமிழ் இன்பத் தமிழ் எங்கள் உயிருக்கு நேர்!
- B) இருட்டறையில் உள்ளதா உலகம்
- C) புதியதோர் உலகு செய்வோம் கெட்ட போரிடும் உலகத்தை வேரொடு சாய்ப்போம்
- D) வள்ளுவன் தன்னை உலகினுக்கே தந்து வான்புகழ் கொண்ட தமிழ்நாடு
- E) விடை தெரியவில்லை



33. 'இனியவை நாற்பது' பற்றிய பின்வரும் கூற்றுகளுள் தவறான ஒன்றினைத் தேர்ந்தெடுக்க.
- A) இதன் ஆசிரியர் மதுரைத் தமிழாசிரியர் மகனார் பூதஞ்சேந்தனார்.
B) நன்மைதரும் இன்னாக் கருத்துகளை நாற்பது பாடல்களில் தொகுத்துரைப்பதால் இனியவை நாற்பது எனப் பெயர் பெற்றது.
C) இந்நூல் இயற்றப்பட்ட காலம் கி.பி. இரண்டாம் நூற்றாண்டு ஆகும்.
D) இந்நூலின் ஒவ்வொரு பாடலும் மூன்று அல்லது நான்கு நற்கருத்துகளை இனிமையாகக் கூறும்.
E) விடை தெரியவில்லை
34. கீழ்க்காண்பவர்களுள் யாருடைய பாடல்களில் கம்பனின் மிடுக்கையும் பாரதியின் சின்போக்கையும் ஒருமித்துக் காணலாம்?
- A) பாரதிதாசன்
B) க.சச்சிதானந்தன்
C) சுத்தானந்த பாரதியார்
D) வாணிதாசன்
E) விடை தெரியவில்லை
35. சொல்லோடு பொருளைப் பொருத்துக.
- | | |
|-------------|------------|
| (சொல்) | (பொருள்) |
| a) எயிறு | 1. பசு |
| b) மடி | 2. வறுமை |
| c) நல்குரவு | 3. பல் |
| d) பெற்றம் | 4. சோம்பல் |
- குறியீடுகள்:
- | | | | | |
|----|----------|----------|----------|----------|
| | a | b | c | d |
| A) | 4 | 3 | 2 | 1 |
| B) | 1 | 2 | 4 | 3 |
| C) | 3 | 4 | 2 | 1 |
| D) | 4 | 1 | 2 | 3 |
- E) விடை தெரியவில்லை
36. பிரபந்தம் என்பதன் பொருள் யாது?
- A) உலக ஆற்றல்
B) நன்கு கட்டப்பட்டது
C) இறைவனின் அருள்
D) இறைவனின் திருவிளையாடல்
E) விடை தெரியவில்லை
37. 'கவிஞர் சங்கத்தமிழ் நூலைப் படிக்குமாறு தம்பிக்குக் கூறினார்' – இத்தொடரினை நேர்கூற்றாக மாற்றுக.
- A) "தம்பி, சங்கத்தமிழ் நூலைப் படி" என்று கவிஞர் கூறினார்.
B) கவிஞர், 'சங்கத்தமிழ் நூலைப்படி' என்று தம்பி கூறினார்.
C) "சங்கத்தமிழ் நூலைப்படி" என்று கவிஞர் கூறினார்.
D) "தம்பி சங்கத்தமிழ் நூலைப் படிக்குமாறு" கவிஞர் கூறினார்
E) விடை தெரியவில்லை



38. 'சலவர்' இச்சொல்லின் எதிர்ச்சொல் தருக.
- A) வஞ்சகர்
B) பகைவர்
C) நல்லவர்
D) பொறை
E) விடை தெரியவில்லை
39. 'திருவள்ளுவமாலை' பற்றிய பின்வரும் கூற்றுகளைக் கருத்தில் கொள்க.
- I. இந்நூல் ஐம்பத்து மூன்று புலவர்களால் பாடப்பட்ட பாடல்களின் தொகுப்பாகும்.
II. இந்நூலில் ஐம்பத்தைந்து பாடல்கள் உள்ளன.
III. "நெடுந்தொலைவிலுள்ள பெரிய பனைமரத்தின் உருவத்தைப் புல் நுனியில் தேங்கிய சிறுபனித்துளி மிகத்தெளிவாகக் காட்டும்" என்ற அறிவியல் சிந்தனையானது இந்நூலில் இடம்பெற்றுள்ளது.
- மேற்கண்ட கூற்றுகளில் சரியானவை எவை?
- A) I மற்றும் II மட்டும்
B) II மற்றும் III மட்டும்
C) I மற்றும் III மட்டும்
D) மேற்கண்ட அனைத்தும்
E) விடை தெரியவில்லை
40. பின்வரும் கூற்றுகளைக் கருத்தில் கொள்க.
- கூற்று : புகழேந்திப் புலவர் "வெண்பாவிற்புகழேந்தி" எனப் போற்றப்படுகிறார்.
காரணம் : வெண்பா யாப்பில் காப்பியப் பொருளைத் தொடர்நிலைச் செய்யுள்களாய்ப் பாடினார்.
- குறியீடுகள்:
- A) கூற்று மற்றும் காரணம் இரண்டும் சரி மற்றும் காரணம் என்பது கூற்று சரியான விளக்கமாகும்
B) கூற்று மற்றும் காரணம் இரண்டும் சரி ஆனால் காரணம் என்பது கூற்று சரியான விளக்கமல்ல
C) கூற்று சரி ஆனால் காரணம் தவறு
D) கூற்று தவறு ஆனால் காரணம் சரி
E) விடை தெரியவில்லை
41. 'நளவெண்பா' பற்றிய பின்வரும் கூற்றுகளைக் கருத்தில் கொள்க.
- I. நளனது வரலாற்றை வெண்பாக்களால் கூறும் நூல்.
II. இந்நூல் சுயம்வர காண்டம், கலிதொடர் காண்டம், கலிநீங்கு காண்டம் என முப்பெருங் காண்டங்களைக் கொண்டது.
III. இதில் நானூற்று முப்பத்தொரு வெண்பாக்கள் உள்ளன.
- மேற்கண்ட கூற்றுகளில் சரியானவை எவை?
- A) I மற்றும் II மட்டும்
B) II மற்றும் III மட்டும்
C) I மற்றும் III மட்டும்
D) மேற்கண்ட அனைத்தும்
E) விடை தெரியவில்லை



42. சொல்லோடு பொருளைப் பொருத்துக.

(சொல்) (பொருள்)

- | | |
|-----------|------------|
| a) சேடி | 1. எருமை |
| b) புள் | 2. இளையபசு |
| c) மேதி | 3. தோழி |
| d) மடநாகு | 4. அரசவீதி |
| e) மறுகு | 5. அன்னம் |

குறியீடுகள்:

- | | a | b | c | d | e |
|----|----------|----------|----------|----------|----------|
| A) | 1 | 3 | 4 | 2 | 5 |
| B) | 3 | 5 | 1 | 2 | 4 |
| C) | 3 | 2 | 1 | 5 | 4 |
| D) | 4 | 1 | 5 | 2 | 3 |
- E) விடை தெரியவில்லை

43. பொருத்துக.

(பொருள்) (வினைமரபு)

- | | |
|---------|----------|
| a) சோறு | 1. பருகு |
| b) நீர் | 2. தின் |
| c) பழம் | 3. குடி |
| d) பால் | 4. உண் |

குறியீடுகள்:

- | | a | b | c | d |
|----|----------|----------|----------|----------|
| A) | 4 | 3 | 2 | 1 |
| B) | 1 | 2 | 4 | 3 |
| C) | 3 | 2 | 1 | 4 |
| D) | 4 | 1 | 2 | 3 |
- E) விடை தெரியவில்லை

44. பொருத்துக.

- | | |
|-------------|------------|
| a) மக்கள் | 1. போர் |
| b) வீரர் | 2. சுற்றை |
| c) விறகு | 3. கூட்டம் |
| d) சுள்ளி | 4. கட்டு |
| e) வைக்கோல் | 5. படை |

குறியீடுகள்:

- | | a | b | c | d | e |
|----|----------|----------|----------|----------|----------|
| A) | 3 | 5 | 4 | 2 | 1 |
| B) | 2 | 4 | 3 | 5 | 1 |
| C) | 3 | 2 | 1 | 4 | 5 |
| D) | 4 | 1 | 5 | 2 | 3 |
- E) விடை தெரியவில்லை



45. பின்வருவனவற்றுள் தவறான இணையைத் தேர்ந்தெடுக்க.
(விலங்கு) (இளமைப்பெயர்)
A) கீரி – பிள்ளை
B) மான் – குட்டி
C) எருமை – கன்று
D) சிங்கம் – குருளை
E) விடை தெரியவில்லை
46. பின்வரும் இணைகளைக் கருத்தில் கொள்க.
(பிறமொழிச் சொல்) (தமிழ்ச்சொல்)
I. டேட்டா பேஸ் – தரவுத்தளம்
II. மல்டி மீடியா கேம்ஸ் – பல்லாடக விளையாட்டுகள்
III. சாட்டிங் – பரிமாற்றம்
IV. வெப் சர்ச் என்ஜின் – வலைத் தேடுபொறி
V. பிளாப்பி – குறுந்தகடு
மேற்கண்ட இணைகளில் எத்தனை இணைகள் சரியானவை?
A) 3 B) 4
C) 5 D) 2
E) விடை தெரியவில்லை
47. அசலாம்பிகை அம்மையாரின் படைப்புகளுள் பொருந்தா ஒன்றினைத் தேர்ந்தெடுக்க.
A) காந்திபுராணம் B) இராமலிங்க சுவாமிகள் சரிதம்
C) அன்னப்பூரணி D) ஆத்திசூடி வெண்பா
E) விடை தெரியவில்லை
48. அசலாம்பிகை அம்மையாரை 'இக்கால ஒளவையார்' என்று பாராட்டியவர் யார்?
A) பாரதியார் B) திரு.வி.க.
C) அறிஞர் அண்ணா D) பாரதிதாசன்
E) விடை தெரியவில்லை
49. கடலூரின் பழங்காலப் பெயர் என்ன?
A) திருக்கடல்மல்லை B) திருவேங்கடநாதபுரம்
C) திருக்குருகூர் D) திருப்பாதிரிப்புலியூர்
E) விடை தெரியவில்லை
50. "தென்னாட்டின் ஜான்சிராணி" என்று காந்தியடிகளால் அழைக்கப்பெற்றவர் யார்?
A) அம்புஜத்தம்மாள் B) வேலுநாச்சியார்
C) அசலாம்பிகை அம்மையார் D) அஞ்சலையம்மாள்
E) விடை தெரியவில்லை
51. 'அம்புஜத்தம்மாள்' பற்றிய பின்வரும் கூற்றுகளைக் கருத்தில் கொள்க.
I. 'காந்தியடிகளால் தத்தெடுக்கப்பட்ட மகள்' என்று செல்லமாக அழைக்கப்பட்டார்.
II. தந்தையின் பெயரோடு, காந்தியடிகளின் பெயரையும் இணைத்துச் சீனிவாச காந்தி நிலையம் என்னும் தொண்டு நிறுவனத்தை அமைத்தார்.
III. தம் எழுபதாண்டு நினைவாக, 'நான் கண்ட பாரதம்' என்னும் அரிய நூலை எழுதியுள்ளார்.
IV. 1964ஆம் ஆண்டு தாமரைத்திரு விருது பெற்றுள்ளார்.



மேற்கண்ட கூற்றுகளில் சரியானவை எவை?

- A) I, II மற்றும் III மட்டும்
B) II, III மற்றும் IV மட்டும்
C) I, II மற்றும் IV மட்டும்
D) மேற்கண்ட அனைத்தும்
E) விடை தெரியவில்லை

52. பொருத்துக.

- | | |
|----------------------------|------------------------|
| a) இரண்டாம் வேற்றுமைத்தொகை | 1. செங்குட்டுவன் சட்டை |
| b) மூன்றாம் வேற்றுமைத்தொகை | 2. ஊர் நீங்கினான் |
| c) நான்காம் வேற்றுமைத்தொகை | 3. தலை வணங்கினான் |
| d) ஐந்தாம் வேற்றுமைத்தொகை | 4. பால் பருகினான் |
| e) ஆறாம் வேற்றுமைத்தொகை | 5. வேலன் மகன் |

குறியீடுகள்:

	<i>a</i>	<i>b</i>	<i>c</i>	<i>d</i>	<i>e</i>
A)	1	3	4	2	5
B)	2	4	3	5	1
C)	3	2	5	1	4
D)	4	3	5	2	1

E) விடை தெரியவில்லை

53. பின்வருவனவற்றுள் தவறான இணையைத் தேர்ந்தெடுக்க.

- A) உண்கலம் – பண்புத்தொகை
B) மல்லிகைப்பு – இருபெயராட்டுப் பண்புத்தொகை
C) கபிலபரணர் – உம்மைத்தொகை
D) கயல்விழி வந்தாள் – அன்மொழித்தொகை
E) விடை தெரியவில்லை

54. பொருத்துக.

- | | |
|------------------|---------------------|
| a) வினைத்தொகை | 1. நாலிரண்டு |
| b) உவமைத்தொகை | 2. செய்தொழில் |
| c) உம்மைத்தொகை | 3. பவளவாய் பேசினாள் |
| d) அன்மொழித்தொகை | 4. மதிமுகம் |

குறியீடுகள்:

	<i>a</i>	<i>b</i>	<i>c</i>	<i>d</i>
A)	4	3	2	1
B)	2	4	1	3
C)	3	2	1	4
D)	4	1	2	3

E) விடை தெரியவில்லை



55. 'சதுரக்கல்' – இலக்கணக்குறிப்பு தருக.

- A) வினைத்தொகை
B) இரண்டாம் வேற்றுமைத்தொகை
C) பண்புத்தொகை
D) நான்காம் வேற்றுமைத்தொகை
E) விடை தெரியவில்லை

56. பொருத்துக.

- a) விளித்தொடர்
b) எழுவாய்த்தொடர்
c) வேற்றுமைத்தொகாநிலைத் தொடர்
d) பெயரெச்சத் தொடர்
e) வினைமுற்றுத் தொடர்
1. வீட்டைக் கட்டினான்
2. கண்டேன் சீதையை
3. விழுந்தமரம்
4. கபிலன் வந்தான்
5. கதிரவா வா!

குறியீடுகள்:

	a	b	c	d	e
A)	5	1	3	4	2
B)	2	5	4	3	1
C)	5	4	1	3	2
D)	4	1	2	5	3
E)	விடை தெரியவில்லை				

57. 'உடம்பை வளர்த்தேன் உயிர்வளர்த்தேனே', 'ஒன்றே குலம் ஒருவனே தேவன்' ஆகிய தொடர்கள் இடம்பெற்றுள்ள நூல் எது?

- A) திருவாசகம்
B) புறநானூறு
C) திருப்பாவை
D) திருமந்திரம்
E) விடை தெரியவில்லை

58. வீரமாமுனிவர் பற்றிய தவறான கூற்றினைத் தேர்ந்தெடுக்க.

- A) இவரது இயற்பெயர் கான்ஸ்டாண்டின் ஜோசப் பெஸ்கி. இவர் இலத்தீன், கிரேக்கம், எபிரேயம், தமிழ், தெலுங்கு, சமஸ்கிருதம், இத்தாலியம் ஆகிய மொழிகளில் புலமைப் பெற்றவர்.
B) 'கிறிஸ்துவக் கம்பர்' என்று சிறப்பிக்கப்படுகிறார்.
C) இயேசு பெருமானின் வளர்ப்புத் தந்தையாகிய சூசையப்பரைத் தலைவராகக் கொண்டு தேம்பாவணி நூலைப் படைத்துள்ளார்.
D) ஞானோபதேசம், திருக்காவலூர்க் கலம்பகம், கித்தேரியம்மாள் அம்மாளை, தொன்னூல் விளக்கம் ஆகியன இவரது படைப்புகளாகும்.
E) விடை தெரியவில்லை

59. 'தேம்பாவணி' நூலில் உள்ள பாடல்களின் எண்ணிக்கை எவ்வளவு?

- A) 6351
B) 3615
C) 5613
D) 6513
E) விடை தெரியவில்லை



60. தவறான பிரிந்துள்ள சொல்லைத் தேர்ந்தெடுக்க.
A) தேசியப்பாடல் = தேசம் + பாடல்
B) ஏட்டிலக்கியம் = ஏடு + இலக்கியம்
C) நாடகம் = நாடு + அகம்
D) இயற்றமிழ் = இயல் + தமிழ்
E) விடை தெரியவில்லை
61. தமிழ்நாட்டில் முதன்முதலாக நடத்தப்பட்ட தேசிய சமுதாய நாடகம் எது?
A) தேசபக்தி
B) தேசியக்கொடி
C) கதரின் வெற்றி
D) சுதேசி
E) விடை தெரியவில்லை
62. “கூத்தாட்டவைக்குழாத் தற்றே” என்னும் தொடர் மூலம் சங்க காலத்தில் நாடக அரங்கம் இருந்த செய்தியினை உணர்த்தும் நூல் எது?
A) திருக்குறள்
B) சிலப்பதிகாரம்
C) புறநானூறு
D) தொல்காப்பியம்
E) விடை தெரியவில்லை
63. பொருத்துக.
(நாடக நூல்) (இயற்றியவர்)
a) நாடகவியல் 1. மறைமலையடிகள்
b) மதங்க சூளாமணி 2. பம்மல் சம்பந்தனார்
c) சாகுந்தலம் 3. விபுலானந்தர்
d) நாடகத்தமிழ் 4. பரிதிமாற்கலைஞர்
குறியீடுகள்:

	a	b	c	d
A)	4	3	2	1
B)	4	3	1	2
C)	3	2	1	4
D)	4	1	2	3

E) விடை தெரியவில்லை
64. ‘நாடக உலகின் இமயமலை’ என்று போற்றப்படுபவர் யார்?
A) சங்கரதாசு சுவாமிகள்
B) சுவாமி விபுலானந்தர்
C) பம்மல் சம்பந்தனார்
D) பரிதிமாற்கலைஞர்
E) விடை தெரியவில்லை
65. ‘மனோன்மணியம்’ பற்றிய பின்வரும் கூற்றுகளைக் கருத்தில் கொள்க.
I. இந்நூல் லார்ட் லிட்டன் எழுதிய மறைவழி என்னும் ஆங்கிலக் கதையைத் தழுவி இயற்றப்பட்டது.
II. பேராசிரியர் சுந்தரனார். மனோன்மணியம் என்னும் கவிதை நாடகக் காப்பியத்தைக் கி.பி. 1891 ஆம் ஆண்டில் வெளியிட்டார்.
மேற்கண்ட கூற்றுகளில் தவறானது எது/எவை?
A) I மட்டும்
B) II மட்டும்
C) இரண்டும்
D) இரண்டுமில்லை
E) விடை தெரியவில்லை



66. பின்வரும் கூற்றுகளைக் கருத்தில் கொள்க.
- I. சேக்சுபியரின் ஆங்கில நாடகங்களை தமிழில் மொழிபெயர்த்துள்ளார்.
- II. தமது நாடக அனுபவங்களையெல்லாம், நாடக மேடை நினைவுகள் என்னும் தலைப்பிலும் நடப்புக்கலையில் தேர்ச்சி பெறுவது எப்படி என்னும் தலைப்பிலும் எழுதியுள்ளார்.
- மேற்கூறிய கூற்றுகளால் அறியப்படுபவர் யார்?
- A) தமிழ் நாடகத் தந்தை
B) தமிழ்நாடகத் தலைமையாசிரியர்
C) நாடகக் காவலர்
D) நாடக உலகின் இமயமலை
E) விடை தெரியவில்லை
67. 1942ஆம் ஆண்டில் புலமைக்கடலான தமிழ் மூதாட்டி ஒளவையார் நாடகம் எங்கு தி.க. சண்முகநாரால் அரங்கேற்றப்பட்டது?
- A) மதுரை
B) தஞ்சாவூர்
C) சென்னை
D) கடலூர்
E) விடை தெரியவில்லை
68. பின்வருவனவற்றுள் தவறான கூற்றுனைத் தேர்ந்தெடுக்க.
- A) ஏழாம் நூற்றாண்டில் மகேந்திரவர்ம பல்லவன் மத்தவிலாசம் என்னும் நாடக நூலை எழுதியுள்ளார்.
- B) பதினோராம் நூற்றாண்டில் இராசராசசோழன் காலத்தில் இராசராசேச்சுவர நாடகம் நடைபெற்றதாகக் கல்வெட்டுக் குறிப்பிடுகிறது.
- C) நாயக்க மன்னர்களின் ஆட்சிக்காலத்தில் குறவஞ்சி நாடகங்கள் தோன்றின. பள்ளு நாடக வகை, உழவர்களின் வாழ்க்கையைச் சித்தரித்துள்ளன.
- D) பன்னிரண்டாம் நூற்றாண்டின் பிற்பகுதியில், நொண்டி நாடகங்கள் தோன்றின.
- E) விடை தெரியவில்லை
69. பொருத்துக.
- a) சிங்கம் கனைத்தது 1. எண் வழி
b) கண்ணன் படித்தாள் 2. கால வழி
c) இன்று வருவான் 3. திணை வழி
d) கபிலன் பேசியது 4. மரபு வழி
e) பறவைகள் பறந்தது 5. பால் வழி
- குறியீடுகள்:
- | | a | b | c | d | e |
|----|---|---|---|---|---|
| A) | 5 | 1 | 3 | 4 | 2 |
| B) | 2 | 5 | 4 | 3 | 1 |
| C) | 3 | 2 | 1 | 5 | 4 |
| D) | 4 | 5 | 2 | 3 | 1 |
- E) விடை தெரியவில்லை



70. வழுவற்ற தொடரினைத் தேர்ந்தெடுக்க.
A) மயில் கூவ குயில் அகவியது
B) பெருமழை பெய்தமையால் மரங்கள் வீழ்ந்தன
C) மாட்டை பட்டியில் கட்டு
D) வெற்றிலைத் தோப்புக்குச் சென்று வெற்றிலை பறித்து வா
E) விடை தெரியவில்லை
71. “வெற்றிலை நட்டான்” என்பது எவ்வகை ஆகுபெயர்?
A) குணவாகு பெயர்
B) சினையாகு பெயர்
C) முதலாகு பெயர்
D) தொழிலாகு பெயர்
E) விடை தெரியவில்லை
72. பொருத்துக.
a) ஊர் உறங்கியது
b) நீலம் சூடினாள்
c) டிசம்பர் அழகாகப் பூத்துள்ளது
d) தலைக்கு ஒரு பழம் கொடு
1. காலவாகு பெயர்
2. இடவாகு பெயர்
3. சினையாகு பெயர்
4. பண்பாகு பெயர்
குறியீடுகள்:

	a	b	c	d
A)	2	4	1	3
B)	1	2	4	3
C)	3	2	1	4
D)	4	1	2	3

E) விடை தெரியவில்லை
73. பொருளாகு பெயருக்குப் பொருத்தமான எடுத்துக்காட்டு எது?
A) கார்த்திகை பூத்தது
B) பொங்கல் உண்டான்
C) தாமரை முகம்
D) உலகம் அழுதது
E) விடை தெரியவில்லை
74. பின்வருவனவற்றுள் தவறான இணையைத் தேர்ந்தெடுக்க.
(தொடர்) (ஆகுபெயர்)
A) சுண்டல் விற்றான் – தொழிலாகு பெயர்
B) வெள்ளை உடுத்தினான் – குணவாகு பெயர்
C) உலகம் போற்றியது – இடவாகு பெயர்
D) இந்தியா வென்றது – பொருளாகு பெயர்
E) விடை தெரியவில்லை
75. ‘கம்பராமாயணம்’ பற்றிய பின்வரும் கூற்றுகளைக் கருத்தில் கொள்க.
I. கம்பர், இந்நூலுக்கு இராமாவதாரம் எனப் பெயரிட்டார். இது வழிநூல் எனப்படுகிறது.
II. இந்நூல் ஆறு காண்டங்களைக் கொண்டது. அவை: பாலகாண்டம், அயோத்தியா காண்டம், ஆரண்ய காண்டம், கிட்கிந்தா காண்டம், சுந்தர காண்டம், யுத்த காண்டம் என்பன.
III. இந்நூலின் பெரும் பிரிவு - காண்டம்; உட்பிரிவு - காதை



மேற்கண்ட கூற்றுகளில் சரியானவை எவை?

- A) I மற்றும் II மட்டும்
B) II மற்றும் III மட்டும்
C) I மற்றும் III மட்டும்
D) மேற்கண்ட அனைத்தும்
E) விடை தெரியவில்லை

76. வினைமுற்று, பெயர்ச்சொல் வினைச்சொல் ஆகிய இவற்றினைப் பயனிலையாகக் கொண்டு முடிவது

- A) நான்காம் வேற்றுமை
B) இரண்டாம் வேற்றுமை
C) முதல் வேற்றுமை
D) ஆறாம் வேற்றுமை
E) விடை தெரியவில்லை

77. பெயர்ச்சொல்லின் பொருளைச் செயப்படுப்பொருளாக வேறுபடுத்துவது?

- A) முதல் வேற்றுமை
B) மூன்றாம் வேற்றுமை
C) இரண்டாம் வேற்றுமை
D) ஐந்தாம் வேற்றுமை
E) விடை தெரியவில்லை

78. கிழமைப் பொருளில் வருவது

- A) மூன்றாம் வேற்றுமை
B) ஆறாம் வேற்றுமை
C) எட்டாம் வேற்றுமை
D) ஐந்தாம் வேற்றுமை
E) விடை தெரியவில்லை

79. இராமனுக்குத் தம்பி இலக்குவன், இதிலுள்ள வேற்றுமை உருபு எந்தப் பொருளில் வந்துள்ளது?

- A) கொடை
B) பகை
C) நட்பு
D) முறை
E) விடை தெரியவில்லை

80. பொருத்துக.

- a) காட்டை அழித்தான்
b) புலியைப் போன்றவன்
c) கூலியின் பொருட்டு வேலை
d) என்னுடைய வீடு
1. ஆறாம் வேற்றுமைச் சொல்லுருபு
2. பொருட்டு
3. அழித்தல்
4. ஒத்தல்

குறியீடுகள்:

- | | a | b | c | d |
|----|---|---|---|---|
| A) | 4 | 3 | 2 | 1 |
| B) | 3 | 4 | 2 | 1 |
| C) | 3 | 2 | 1 | 4 |
| D) | 4 | 1 | 2 | 3 |

- E) விடை தெரியவில்லை



81. பொருத்துக.

- | | |
|----------------------|-----------------------------|
| a) முதல் வேற்றுமை | 1. கிளையின்கண் காக்க |
| b) மூன்றாம் வேற்றுமை | 2. கல்வியில் பெரியர் கம்பர் |
| c) ஐந்தாம் வேற்றுமை | 3. மரத்தால் செய்தது |
| d) ஏழாம் வேற்றுமை | 4. அவன் யார்? |

குறியீடுகள்:

- | | a | b | c | d |
|----|----------|----------|----------|----------|
| A) | 4 | 3 | 2 | 1 |
| B) | 1 | 2 | 4 | 3 |
| C) | 3 | 2 | 1 | 4 |
| D) | 4 | 1 | 2 | 3 |
- E) விடை தெரியவில்லை

82. தமிழெண்களுக்குரிய அரபு எண்களைப் பொருத்துக.

- | | |
|------------|-------|
| a) உ + ச | 1. 14 |
| b) அ + உ | 2. 19 |
| c) று + கூ | 3. 12 |
| d) க0 | 4. 10 |
| e) க அ + க | 5. 6 |

குறியீடுகள்:

- | | a | b | c | d | e |
|----|----------|----------|----------|----------|----------|
| A) | 5 | 1 | 3 | 4 | 2 |
| B) | 2 | 4 | 3 | 1 | 5 |
| C) | 5 | 4 | 1 | 3 | 2 |
| D) | 4 | 1 | 2 | 3 | 5 |
- E) விடை தெரியவில்லை

83. திருவருட்பா பற்றிய பின்வரும் கூற்றுகளைக் கருத்தில் கொள்க.

I. திரு + அருள் + பா = திருவருட்பா. இறைவன் திருவருளைப் பெறுவதற்காகப் பாடிய பாடல் என்றும், இறைவனின் திருவருளால் பாடிய பாடல் என்றும் இருவகையாகப் பொருள் கூறலாம்.

II. இஃது ஐயாயிரத்து எண்ணூற்றுப் பதினெட்டுப் பாடல் கொண்டது.

மேற்கண்ட கூற்றுகளில் சரியானது எது/எவை?

- | | |
|--------------|-----------------|
| A) I மட்டும் | B) II மட்டும் |
| C) இரண்டும் | D) இரண்டுமில்லை |
- E) விடை தெரியவில்லை



84. பின்வருவனவற்றுள் தவறான இணையைத் தேர்ந்தெடுக்க.

(அறிவியல் கருத்து)

(இடம்பெற்றுள்ள நூல்)

- | | |
|--|---------------|
| A) செஞ்சூரியிற்றுச் செலவும் அஞ்சூரியிற்றுப் பரிப்புமும் பரிப்புச் சூழ்ந்த மண்டிலமும் | - புறநானூறு |
| B) மாதர் முகம்போல் ஒளிவிட வல்லையேல் காதலை வாழி மதி | - திருக்குறள் |
| C) வலவன் ஏவா வானவூர்தி | - அகநானூறு |
| D) சுழன்றும் ஏர்ப்பின்னது உலகம் | - திருக்குறள் |
| E) விடை தெரியவில்லை | |

85. பொருத்துக.

- | | |
|-----------------------|-----------------|
| a) இயல்புப் புணர்ச்சி | 1. பாடம் + வேளை |
| b) தோன்றல் விகாரம் | 2. பொன் + குடம் |
| c) திரிதல் விகாரம் | 3. வாழை + குலை |
| d) கெடுதல் விகாரம் | 4. தமிழ் + மண் |

குறியீடுகள்:

- | | a | b | c | d |
|----|------------------|---|---|---|
| A) | 4 | 3 | 2 | 1 |
| B) | 1 | 2 | 4 | 3 |
| C) | 3 | 2 | 1 | 4 |
| D) | 4 | 1 | 2 | 3 |
| E) | விடை தெரியவில்லை | | | |

86. 'பாரதிதாசன் பரம்பரைத் தலைமுறைக் கவிஞருள் மூத்தவர்' என்று சிறப்பிக்கப்படுபவர் யார்?

- | | |
|---------------------|--------------|
| A) தாராபாரதி | B) முடியரசன் |
| C) வாணிதாசன் | D) வண்ணதாசன் |
| E) விடை தெரியவில்லை | |

87. தேவநேயப் பாவாணரின் சிறப்புப் பெயர்களில் பொருந்தா ஒன்றினைத் தேர்ந்தெடுக்க.

- | | |
|---------------------|---------------------|
| A) தனித்தமிழ் ஊற்று | B) செந்தமிழ்த் தேனீ |
| C) செந்தமிழ் ஞாயிறு | D) இலக்கணச் செம்மல் |
| E) விடை தெரியவில்லை | |

88. சொல்லோடு பொருளை பொருத்துக.

(சொல்)

(பொருள்)

- | | |
|-------------------|--------------|
| a) பகழி | 1. தசை |
| b) களபம் | 2. அம்பு |
| c) துழாய் அலங்கல் | 3. சந்தனம் |
| d) ஊன் | 4. துளசிமாலை |



குறியீடுகள்:

- | | a | b | c | d |
|----|----------|----------|----------|----------|
| A) | 2 | 3 | 4 | 1 |
| B) | 2 | 4 | 3 | 1 |
| C) | 3 | 2 | 1 | 4 |
| D) | 4 | 1 | 2 | 3 |
- E) விடை தெரியவில்லை

89. வில்லிபுத்தூராரசை ஆதரித்த வள்ளல் யார்?

- A) வீரராகவர்
B) வக்கபாகையை ஆண்ட வரபதி ஆட்கொண்டான்
C) வள்ளல் சடகோபர்
D) சடையப்ப வள்ளல்
E) விடை தெரியவில்லை

90. முடியரசனுக்கு 'கவியரசு' என்னும் பட்டம் யாரால் வழங்கப்பட்டுள்ளது?

- A) குன்றக்குடி அடிகளார்
B) பாரதிதாசன்
C) வாணிதாசன்
D) கண்ணதாசன்
E) விடை தெரியவில்லை

91. "மன்னிப்பு" என்பது எந்த மொழிச்சொல்?

- A) தமிழ்ச்சொல்
B) சமஸ்கிருதச் சொல்
C) உருதுச் சொல்
D) இந்திச் சொல்
E) விடை தெரியவில்லை

92. 'பாவாணர்' பற்றிய பின்வரும் கூற்றுகளுள் பொருந்தா ஒன்றினைத் தேர்ந்தெடுக்க.

- A) கோவில்களில் தமிழில் வழிபாடு நடைபெற வேண்டும் எனவும், பிறப்பு இறப்புத் தொடர்பான சடங்குகள் யாவும் தமிழில் நடைபெற வேண்டும் என்று வலியுறுத்தினார்.
B) மதுரையில் 05.01.1981 அன்று நடைபெற்ற உலகத்தமிழ் மாநாட்டின் போது, மாந்தன் தோற்றமும் தமிழர் மரபும் என்னும் தலைப்பில் சொற்பொழிவாற்றித் தமிழன்னைக்குப் பெருமை சேர்த்தார்.
C) இவர் பிறந்த ஊரான சங்கரன் கோவிலில் பாவாணர் கோட்டம், அவர்தம் முழு உருவச்சிலை, அவர் பெயரில் நூலகம் ஆகியவை அமைக்கப்பட்டுள்ளன.
D) "எனக்கு வறுமையும் உண்டு; மனைவி மக்களும் உண்டு; அவற்றோடு மானமும் உண்டு" என்று கூறினார்.
E) விடை தெரியவில்லை

93. பொருத்துக.

- a) இடை + அழகு 1. மெய்முன் மெய்
b) மண் + அகல் 2. உயிர்முன் மெய்
c) கிளி + மூக்கு 3. மெய்முன் உயிர்
d) மரம் + கிளை 4. உயிர்முன் உயிர்



குறியீடுகள்:

a b c d

- A) 4 3 2 1
B) 1 2 4 3
C) 3 2 1 4
D) 4 1 2 3
E) விடை தெரியவில்லை

94. வல்லினம் மிகும்/மிகா இடங்களின் அடிப்படையில் பொருந்தா ஒன்றினைத் தேர்ந்தெடுக்க.
A) அது, இது, எது என்னும் சொற்களின் பின் வல்லினம் மிகும்.
B) ஏழாம் வேற்றுமைத்தொகையின் பின் வல்லொற்று மிகும்.
C) அ, இ என்னும் சுட்டெழுத்துகளின்பின் வல்லொற்று மிகும்.
D) அந்த, இந்த என்னும் சுட்டுத்திரிபுகளின் பின் வல்லொற்று மிகும்.
E) விடை தெரியவில்லை
95. சந்திப்பிழையற்ற தொடரினைத் தேர்ந்தெடுக்க.
A) சித்திரை திங்களில் வந்து பார்க்கும்படிச் கூறினார்.
B) வ.உ.சிதம்பரனார்ச் செய்நன்றி மறவாச் செம்மல் ஆவார்.
C) இராமன் மாயமானைத் தேடிச் சென்றான்.
D) சிரிக்க தெரியாதவர்களுக்கு பகல் பொழுதும் இருள் ஆகும்.
E) விடை தெரியவில்லை
96. மயங்கொலிப் பிழையற்ற தொடரினைத் தேர்ந்தெடுக்க.
A) 'இன்று பணிப்பொழிவு மிகுதியாக உள்ளதனால், இரவுப் பணி செய்வது 'கடினம்' எனக் கண்ணன் கூறினான்.
B) வேல்விழி கோடை விடுமுறையைக் கழிப்புடன் களிக்க விரும்பினாள்.
C) வளி சுழன்று வீசியதனால் வழி தவறிய வளவன் கல்லில் மோதிக் கீழே விழுந்து வலியால் துடித்தான்.
D) பரந்துபட்ட பறவையின்மீது பறவை பறந்து சென்றது.
E) விடை தெரியவில்லை
97. அடிமையலன் - இச்சொல்லைப் பிரிக்கும் முறை யாது?
A) அடிமை + இலன்
B) அடிமையன் + அலன்
C) அடிமை + அலன்
D) அடி + அமையலன்
E) விடை தெரியவில்லை
98. 'பிள்ளைத் தமிழில் வருகைப்பருவம்' பற்றிய பின்வரும் கூற்றுகளைக் கருத்தில் கொள்க.
I. இது நூலின் ஐந்தாவது பருவமாகும்.
II. இது பதின்மூன்றாம் திங்களில் நிகழ்வது.
III. தளர்ந்தையிட்டு வரும் குழந்தையின் சிறப்புகளை எடுத்துக்கூறி, அருகில் வருக வருக என வாய்குளிர, மனங்குளிர அழைக்கும் பாடல்களைக் கொண்டதாய் இப்பருவம் அமைந்துள்ளது.



மேற்கண்ட கூற்றுகளில் சரியானவை எவை?

- A) I மற்றும் II மட்டும்
B) II மற்றும் III மட்டும்
C) I மற்றும் III மட்டும்
D) மேற்கண்ட அனைத்தும்
E) விடை தெரியவில்லை

99. குமரகுருபரர் பற்றிய பின்வரும் கூற்றுகளைக் கருத்தில் கொள்க.

I. சண்முகசிகாமணிக் கவிராயர் - சிவகாம சுந்தரியம்மை தம்பதியினருக்கு மகனாகப் பிறந்தார்.

II. திருப்பனந்தாளிலும் காசியிலும் தம்பெயரால் மடம் நிறுவி உள்ளார்.

III. இவர் பதினேழாம் நூற்றாண்டைச் சேர்ந்தவர்

மேற்கண்ட கூற்றுகளில் சரியானவை எவை?

- A) I மற்றும் II மட்டும்
B) II மற்றும் III மட்டும்
C) I மற்றும் III மட்டும்
D) மேற்கண்ட அனைத்தும்
E) விடை தெரியவில்லை

100. 'நீரால் பருவம்' எவ்வாறு அழைக்கப்படும்?

- A) அம்மாளை
B) அம்புலி
C) கழங்கு
D) ஊசல்
E) விடை தெரியவில்லை

101. பிள்ளைத்தமிழ் இலக்கியத்தில் பயின்று வரும் பருவங்களின் எண்ணிக்கை எத்தனை?

- A) ஏழு
B) பத்து
C) பன்னிரண்டு
D) நூறு
E) விடை தெரியவில்லை

102. "நகைச்சுவை உணர்வு மட்டும் தனக்கு இல்லையெனில், எப்பொழுதோ தனது வாழ்க்கையை இழந்திருக்கக் கூடும்" என்று கூறியவர் யார்?

- A) மறைமலையடிகள்
B) பாரதியார்
C) காந்தியடிகள்
D) திரு.வி.க
E) விடை தெரியவில்லை

103. 'சிறிலக்கியம்' பிரித்தெழுதுக.

- A) சிறுமை + இலக்கியம்
B) சிறு + இலக்கியம்
C) சீர் + இலக்கியம்
D) சீர்மை + இலக்கியம்
E) விடை தெரியவில்லை

104. யாப்பு என்பதன் பொருள் யாது?

- A) அழகு
B) கட்டுதல்
C) தளை
D) சீர்
E) விடை தெரியவில்லை

105. 'ஊருணி நீர் நிறைந் தற்றே உலகவாம்

பேரறி வாளன் தரு' - இக்குறட்பாவில் பயின்று வந்துள்ள அணி யாது?

- A) எடுத்துக்காட்டு உவமை அணி
B) உவமை அணி
C) பிறிதுமொழிதல் அணி
D) தற்குறிப்பேற்ற அணி
E) விடை தெரியவில்லை



106. “சேரநாடு வேழமுடைத்து, சோழ நாடு சோறுடைத்து, பாண்டிய நாடு முத்துடைத்து, தொண்டை நாடு சான்றோருடைத்து” என்பது யாருடைய கூற்று?
- A) கம்பர்
B) இளங்கோவடிகள்
C) ஒளவையார்
D) திருத்தக்கதேவர்
E) விடை தெரியவில்லை

107. பொருத்துக.

(பாடலடிகள்)

- a) அறுசுவை உண்டி அமர்ந்தில்லாள் ஊட்ட
b) இறடிப் பொம்மல் பெறுகுவீர்
c) பசுந்தினை மூரல் பாலொடும் பெறுகுவீர்
d) உப்பிலிப் புழுக்கல்

(இடம்பெற்றுள்ள நூல்)

1. நாலடியார்
2. சீவகசிந்தாமணி
3. பெரும்பாணாற்றுப்படை
4. மலைபடுகடாம்

குறியீடுகள்:

	a	b	c	d
A)	4	3	2	1
B)	1	4	3	2
C)	3	2	1	4
D)	4	1	2	3

- E) விடை தெரியவில்லை

108. பொருத்துக.

(பழமொழி)

- a) தாயைப் போலப் பிள்ளை, நூலைப்போலச் சேலை
b) ஆடிப்பட்டம் தேடி விதை
c) தை பிறந்தால் வழி பிறக்கும்
d) மண்குதிரையை நம்பி ஆற்றில் இறங்காதே
e) பசியாமல் இருக்க வரந்தருவேன், கொஞ்சம் பழையது இருந்தால் போடு

(பொருள்)

1. அறிவுரை
2. நம்பிக்கை
3. உறவுமுறை
4. நகைக்கவை
5. உழவு

குறியீடுகள்:

	a	b	c	d	e
A)	5	1	3	4	2
B)	2	4	3	1	5
C)	3	5	2	1	4
D)	4	1	5	2	3

- E) விடை தெரியவில்லை

109. “சிந்தி; சீர்தூக்கு; செயல்படு” என்பது யாருடைய கூற்று?

- A) பெரியார்
B) அம்பேத்கர்
C) அறிகுர் அண்ணா
D) திரு.வி.க
E) விடை தெரியவில்லை



110. சரியாக நிறுத்தற்குறியிடப்பட்டுள்ள சொற்றொடரைத் தேர்ந்தெடுக்க.
- A) அனுமனைப் பார்த்து இராவணன் 'வாலி! நலமா?' எனக் கேட்டான்..
B) அனுமனைப் பார்த்து இராவணன், "வாலி நலமா?" எனக் கேட்டான்.
C) அனுமனைப் பார்த்து, "இராவணன், வாலி நலமா?" எனக் கேட்டான்.
D) "அனுமனைப் பார்த்து இராவணன், வாலி நலமா?" எனக் கேட்டான்.
E) விடை தெரியவில்லை
111. தமிழின் தொன்மையை உலகறியச் செய்தவர் யார்?
- A) பரிதிமாற்கலைஞர்
B) கால்டுவெல்
C) தேவநேயப் பாவாணர்
D) மறைமலையடிகள்
E) விடை தெரியவில்லை
112. வேறுபட்ட சொல்லைத் தேர்ந்தெடுக்க.
- A) பகலவன்
B) சூரியன்
C) மதி
D) வெய்யோன்
E) விடை தெரியவில்லை
113. 'உலகம் உருண்டை வடிவமானது' எனக்கூறிய முதல் தமிழ்க் கவிஞர் யார்?
- A) கபிலர்
B) திருவள்ளுவர்
C) ஓளவையார்
D) பரணர்
E) விடை தெரியவில்லை
114. பிரித்து எழுதுக: 'வானூர்தி'.
- A) வான் + ஊர்தி
B) வானம் + ஊர்தி
C) வானு + ஊர்தி
D) வா + ஊர்தி
E) விடை தெரியவில்லை
115. தவறாகப் பிரிந்துள்ள சொல்லைத் தேர்ந்தெடுக்க.
- A) கலந்தீமை = கலம் + தீமை
B) இவ்விரண்டும் = இவை + இரண்டும்
C) நட்பன்று = நட்பு + அன்று
D) நன்பால் = நன்மை + பால்
E) விடை தெரியவில்லை
116. ஞாயிற்றைச் சுற்றியுள்ள பாதையை ஞாயிற்று வட்டம் என்றனர் பழந்தமிழர் எனக் குறிப்பிடும் நூல் எது?
- A) பரிபாடல்
B) புறநானூறு
C) திருக்குறள்
D) சிலப்பதிகாரம்
E) விடை தெரியவில்லை
117. "பழந்தமிழரின் வானூர்தி வடிவமும், அதனை இயக்கும் முறைமையும் பற்றிய வான் பயணச் செய்திகள்" இடம்பெற்றள்ள நூல் எது?
- A) சிலப்பதிகாரம்
B) கம்பராமாயணம்
C) சீவகசிந்தாமணி
D) பெருங்கதை
E) விடை தெரியவில்லை



118. 'அறிவன்' என்னும் பெயரில் அமையப் பெற்றுள்ள கோள் எது?
A) வியாழன் B) புதன்
C) வெள்ளி D) சனி
E) விடை தெரியவில்லை
119. "வாடிய பயிரைக் கண்ட போதெல்லாம் வாடினேன்" என்று பாடியவர் யார் ?
A) வெ. இராமலிங்கனார் B) இராமலிங்க அடிகளார்
C) திருவள்ளுவர் D) கம்பர்
E) விடை தெரியவில்லை
120. பண்பில்லாதவன் பெற்ற பெருஞ்செல்வமானது எதனைப் போன்றது?
A) ஊருணியில் நீர் நிறைந்தது போன்றது
B) ஊரின் நடுவில் உள்ள பயன்தரும் மரம் போன்றது
C) பாத்திரத்தின் தன்மையால் நல்ல பால் திரிந்தது போன்றது
D) மருந்து மரம் போன்றது
E) விடை தெரியவில்லை
121. உலகம் நிலைபெற்றிருக்க காரணம் யாது?
A) அன்புடையவர் B) பண்புடையவர்
C) ஒழுக்கமுடையவர் D) அறிவுடையோர்
E) விடை தெரியவில்லை
122. நயனொடு நன்றி புரிந்த பயனுடையர் - அடிக்கோட்டி சொல்லின் பொருள் யாது?
A) எமன் B) நேர்மை
C) பண்பு D) அன்பு
E) விடை தெரியவில்லை
123. கரூர் தமிழகத்தின் முதன்மையான உள்நாட்டு வணிக மையமாக திகழ்ந்துள்ளது எனக் குறிப்பிட்டவர் யார்?
A) கிரேக்க அறிஞர் தாலமி B) மெகஸ்தனிசு
C) யுவான்சுவாங் D) செல்யூகஸ் நிகேடர்
E) விடை தெரியவில்லை
124. பின்வருவனவற்றுள் தவறான இணையைத் தேர்ந்தெடுக்க.
(பாலடிகள்) (இடம்பெற்றுள்ள நூல்)
A) வண்புகழ் மூவர் தண்பொழில் வரைப்பு - தொல்காப்பியம்
B) போந்தை வேம்பே ஆரென வருஉம்
மாபெருந் தானையர் மலைந்த புவும் - சிலப்பதிகாரம்
C) நெல்லும் உப்பும நேரே ஊரீர்
கொள்ளீ ரோவெனச் சேரிதொறும் நுவலும் - அகநானூறு
D) கலந்தந்த பொற்பரிசம்
கழித்தோணியால் கரைசேர்க்குந்து - புறநானூறு
E) விடை தெரியவில்லை



125. பின்வருவனவற்றுள் தவறான கூற்றினைத் தேர்ந்தெடுக்க.
- A) ஊட்டி மலர் உற்பத்தியில் முதலிடம் வகிக்கிறது.
B) இந்தியாவின் முதல் ஆயத்த ஆடைப் பூங்காவான நேதாஜி ஆயத்த ஆடை பூங்கா திருப்பூர் மாவட்டத்தில் அமைந்துள்ளது.
C) ஏழைகளின் ஊட்டி என்றழைக்கப்படும் ஏற்காடு சேலம் மாவட்டத்தில் அமைந்துள்ளது.
D) திண்டுக்கல் தமிழ்நாட்டின் ஹாலந்து என்று சிறப்பிக்கப்படுகிறது.
E) விடை தெரியவில்லை
126. ஆன்பொருளை என்று அழைக்கப்படும் ஆறு எது?
- A) பவானி
B) நொய்யல்
C) தாமிர பரணி
D) அமராவதி
E) விடை தெரியவில்லை
127. “கொடிகட்டிப் பறத்தல்” என்ற மரபுத்தொடர் உணர்த்தும் பொருள் யாது?
- A) எண்ணிச் செயல்படாமை
B) புகழ்பெற்று விளங்குதல்
C) இயலாத செயல்
D) ஆராய்ந்து பாராமல்
E) விடை தெரியவில்லை
128. பின்வருவனவற்றுள் தவறான இணையைத் தேர்ந்தெடுக்க.
- (மரபுத்தொடர்) (பொருள்)
- A) கானல்நீர் – இருப்பது போல் தோன்றும்; ஆனால் இருக்காது
B) கல்லில் நார் உரித்தல் – இயலாத செயல்
C) கண்ணை மூடிக்கொண்டு – எண்ணிச் செயல்படாமை
D) ஆயிரங்காலத்துப் பயிர் – நீண்டகாலமாக இருப்பது
E) விடை தெரியவில்லை
129. பொருத்துக.
- a) மட்பாண்டம் 1. தோன்றல் விகாரம்
b) மரவேர் 2. இயல்புப் புணர்ச்சி
c) மணிமுடி 3. கெடுதல் விகாரம்
d) கடைத்தெரு 4. திரிதல் விகாரம்
- குறியீடுகள்:
- | | a | b | c | d |
|----|----------|----------|----------|----------|
| A) | 4 | 3 | 2 | 1 |
| B) | 1 | 2 | 4 | 3 |
| C) | 3 | 2 | 1 | 4 |
| D) | 4 | 1 | 2 | 3 |
- E) விடை தெரியவில்லை



130. வேறுபட்ட சொல்லைத் தேர்ந்தெடுக்க.
A) பிலம் B) கரி
C) முழை D) மலைக்குகை
E) விடை தெரியவில்லை
131. செயங்கொண்டார் யாருடைய அவைக்களப் புலவராகத் திகழ்ந்தார்?
A) முதலாம் இராசராசன் B) முதலாம் குலோத்துங்கன்
C) இராசேந்திரச் சோழன் D) இரண்டாம் குலோத்துங்கன்
E) விடை தெரியவில்லை
132. கலிங்கத்துப்பரணி பற்றிய தவறான கூற்றினைத் தேர்ந்தெடுக்க.
A) தொண்ணூற்றாறு வகைச் சிற்றிலக்கியங்களுள் ஒன்று.
B) தமிழில் முதல்முதலில் எழுந்த பரணி நூல்
C) இந்நூலை 'தென்தமிழ்த் தெய்வப்பரணி' என்று பலபட்டடைச் சொக்கநாதப் புலவர் புகழ்ந்துள்ளார்.
D) கலித்தாழிசையால் பாடப்பெற்றது. 599 தாழிசைகள் கொண்டது.
E) விடை தெரியவில்லை
133. பொருத்துக.
(கவிஞர்) (இதழ்)
a) மீ.இராசேந்திரன் 1. எழுத்து
b) சி.சு.செல்லப்பா 2. குயில்
c) பாரதியார் 3. அன்னன்விடு தூது
d) பாரதிதசான் 4. இந்தியா
குறியீடுகள்:
a b c d
A) 4 3 2 1
B) 3 1 4 2
C) 3 2 1 4
D) 4 1 2 3
E) விடை தெரியவில்லை
134. மீராவின் படைப்புகளுள் பொருந்தா ஒன்றினைத் தேர்ந்தெடுக்க.
A) ஊசிகள் B) உப்புக்கடலைக் குடிக்கும் பூனை
C) மூன்றும் ஆறும் D) வா இந்தப்பக்கம்
E) விடை தெரியவில்லை
135. 'எம்.ஜி.ஆரின் தமிழ் வளர்ச்சிப் பணிகள்' பற்றிய பின்வரும் கூற்றுகளைக் கருத்தில் கொள்க.
I. தந்தை பெரியார் உருவாக்கிய எழுத்துச் சீர்திருத்தங்களுள் சிலவற்றை நடைமுறைப்படுத்தித் தமிழ் எழுத்துமுறையை எளிமைப்படுத்தினார்.
II. மதுரை மாநகரில் ஐந்தாம் உலகத் தமிழ் மாநாட்டைச் சிறப்பாக நடத்தினார்.
III. மதுரையில் ஆயிரம் ஏக்கர் பரப்பளவில் தமிழ்ப் பல்கலைக்கழகத்தைத் தோற்றுவித்தார்.
மேற்கண்ட கூற்றுகளில் சரியானவை எவை?
A) I மற்றும் II மட்டும் B) II மற்றும் III மட்டும்
C) I மற்றும் III மட்டும் D) மேற்கண்ட அனைத்தும்
E) விடை தெரியவில்லை



136. சந்திப்பிழையான தொடரினைத் தேர்ந்தெடுக்க.
A) படித்துப் பார்த்தார் B) எழுதாதப் பாடல்
C) எழுதும்படி சொன்னேன் D) பாடும்படி கேட்டுக் கொண்டார்
E) விடை தெரியவில்லை
137. பிழையற்ற தொடரினைத் தேர்ந்தெடுக்க.
A) பகைவர் நீவீர் அல்லர் B) பகைவர் நீவீர் அல்லீர்
C) பகைவீர் நீவீர் அன்று D) பகைவர் நீவீர் அல்ல
E) விடை தெரியவில்லை
138. பிழையான தொடரினைத் தேர்ந்தெடுக்க.
A) உங்களோடு வருவோர் நாம் அல்லோம்.
B) மணிமேகலை செல்வ வாழ்வை விரும்பியவள் அல்லள்.
C) அதைச் செய்தது நான் அன்று.
D) இந்த நிலத்துக்கு உரிமையாளர் நீ அல்லை.
E) விடை தெரியவில்லை
139. “படமாடக் கோயில் பகவற்குஒன்று ஈயில்” - என்ற திருமந்திரப் பாடலில் பயின்று வந்துள்ள மோனை யாது?
A) இணை B) ஒருஉ
C) பொழிப்பு D) கூழை
E) விடை தெரியவில்லை
140. குணங்குடி மஸ்தான் சாகிபுவின் இயற்பெயர் யாது?
A) சுல்தான் அகமது B) முகம்மது காசிம்
C) சுல்தான் அப்துல்காதர் D) முகம்மது கவான்
E) விடை தெரியவில்லை
141. ‘தென்னிந்தியச் சமூகச் சீர்திருத்தத்தின் தந்தை’ என்று போற்றப்படுபவர் யார்?
A) ஆபிரகாம் பண்டிதர் B) அயோத்திதாசர்
C) அம்பேத்கர் D) பெரியார்
E) விடை தெரியவில்லை
142. “சுயராஜ்ஜியத்தின் நோக்கம் அதிகாரத்தைக் கைப்பற்றுவதாக மட்டும் இருக்கக்கூடாது; மக்களின் சமூக பொருளாதார வளர்ச்சியையும் உள்ளடக்கியதாக அஃது அமைய வேண்டும். மக்கள் வாழ்க்கையில் மாற்றம் உண்டானால் ஒழிய, நாடு முன்னேற முடியாது” என்று கூறியவர் யார்?
A) அம்பேத்கர் B) தந்தை பெரியார்
C) அயோத்திதாசப் பண்டிதர் D) காந்தியடிகள்
E) விடை தெரியவில்லை
143. முதலாவது வட்டமேசை மாநாட்டில் கலந்து கொண்ட தமிழர் யார்?
A) அயோத்திதாசப் பண்டிதர்
B) தந்தை பெரியார்
C) இராவுபகதூர் இரட்டைமலை சீனிவாசன்
D) அம்பேத்கர்
E) விடை தெரியவில்லை



144. மிகச் சிறந்த சமூக ஆவணம் என வரலாற்று ஆசிரியர்களால் போற்றப்படும் நூல் எது?
A) புத்தரும் அவரின் தம்மமும்
B) இந்திய அரசியலமைப்புச் சட்டம்
C) புத்தரது ஆதிவேதம்
D) புத்தர் சரித்திரப்பா
E) விடை தெரியவில்லை
145. திருவள்ளூர், ஓளவையார் ஆகியோரின் படைப்புகளுக்குப் பெளத்தக் கோட்பாடுகளின் அடிப்படையில் புதிய விளக்கங்களை எழுதியர் யார்?
A) அயோத்திதாசர்
B) அறிஞர் அண்ணா
C) அம்பேத்கர்
D) இரட்டைமலை சீனிவாசன்
E) விடை தெரியவில்லை
146. சாகித்திய அகாதெமி விருது பெற்ற மேத்தாவின் நூல் எது?
A) ஆகாயத்துக்கு அடுத்த வீடு
B) கண்ணீர்ப்பூக்கள்
C) ஊர்வலம்
D) மகுடநிலா
E) விடை தெரியவில்லை
147. 'சிறுகதை மன்னன்' என்று போற்றப்படுபவரின் இயற்பெயர் என்ன?
A) இராமலிங்கனார்
B) சொக்கலிங்கம்
C) தர்மத்துரை
D) விருத்தாசலம்
E) விடை தெரியவில்லை
148. ஆண்டாள் இயற்றிய திருப்பாவையைத் தழுவி இயற்றப்பட்ட நூல் எது?
A) திருவெம்பாவை
B) பாவை நோன்பு
C) பாவைக்கூத்து
D) கன்னிப்பாவை
E) விடை தெரியவில்லை
149. பொருத்துக.
a) இன்பம் தருவது
b) நட்பு என்பது
c) பெருமையை அழிப்பது
d) பணிவு கொள்ளும் காலம்
e) பயனின்றி அழிவது
1. நற்பண்பில்லாதவன் பெற்ற பெருஞ்செல்வம்
2. குன்றிமணியளவு தவறு
3. செல்வம் மிகுந்த காலம்
4. சிரித்து மகிழ மட்டுமன்று
5. பண்புடையவர் நட்பு
- குறியீடுகள்:
a b c d e
A) 1 3 4 2 5
B) 5 4 2 3 1
C) 3 2 1 5 4
D) 4 1 2 3 5
E) விடை தெரியவில்லை



150. 'ஊராண்மை' என்னும் சொல்லைப் பிரித்து எழுதக் கிடைப்பது?
A) ஊர் + ஆண்மை
B) ஊராண் + மை
C) ஊ + ஆண்மை
D) ஊரு + ஆண்மை
E) விடை தெரியவில்லை
151. அறநூல்கள் பலவும் அமைந்த பாவினம் எது?
A) ஆசிரியப்பா
B) வெண்பா
C) வஞ்சிப்பா
D) கலிப்பா
E) விடை தெரியவில்லை
152. ஒரு பைசாத் தமிழன் இதழ் ஓராண்டிற்குப் பிறகு எப்படி அழைக்கப்பட்டது?
A) திராவிடன்
B) தேசபக்தன்
C) ஒரு பைசா
D) தமிழன்
E) விடை தெரியவில்லை
153. சேரனுக்கு உரிய பூ எது?
A) பனம்பூ
B) வேப்பம்பூ
C) அத்திப்பூ
D) தாழம்பூ
E) விடை தெரியவில்லை
154. கொங்கு மண்டலச் சதகம் என்னும் நூலை இயற்றியவர் யார்?
A) காளமேகப்புவர்
B) கார்மேகக் கவிஞர்
C) கண்ணதாசன்
D) வாணிதாசன்
E) விடை தெரியவில்லை
155. எதன்வழி நின்று நடத்துவதே சிறந்த ஆட்சியாகும் என வள்ளுவர் குறிப்பிடுகின்றார்?
A) காலம்
B) முறையாக ஆராய்தல்
C) நடுவு நிலைமை
D) உயிர்களை காப்பாற்றுதல்
E) விடை தெரியவில்லை
156. இருபெயரொட்டுப் பண்புத்தொகைக்கு சான்றாக அமையும் ஒன்றினைத் தேர்வு செய்க.
A) மலர்விழி
B) இரவுபகல்
C) பொற்றொடி வந்தாள்
D) பனைமரம்
E) விடை தெரியவில்லை
157. திருவாசகம் படித்தாள் - இதில் மறைந்து வந்துள்ள வேற்றுமை உருபு
A) இரண்டாம் வேற்றுமை உருபு
B) மூன்றாம் வேற்றுமை உருபு
C) நான்காம் வேற்றுமை உருபு
D) ஐந்தாம் வேற்றுமை உருபு
E) விடை தெரியவில்லை



158. “முற்காலத்தில் பாய்மரக் கப்பல்களில் பயன்படுத்தியது கூட பாய் தான்” என்பதைக் கூறும் நூல் எது?
- A) பரிபாடல்
B) அகநானூறு
C) பட்டினப்பாலை
D) புறநானூறு
E) விடை தெரியவில்லை
159. கயிறு + கட்டில் என்பதனைச் சேர்த்தெழுதக் கிடைக்கும் சொல் யாது?
- A) கயிற்றுக்கட்டில்
B) கயிர்க்கட்டில்
C) கயிறுகக்கட்டில்
D) கயிற்றுக்கட்டில்
E) விடை தெரியவில்லை
160. கலித்தொகை பற்றிய தவறான கூற்றினைத் தேர்ந்தெடுக்க.
- A) கலித்தொகையில் 150 பாடல்கள் இடம்பெற்றள்ளன.
B) எட்டுத்தொகை நூல்களுள் ஒன்று.
C) பாரதம் பாடிய பெருந்தேவனால் இந்நூல் தொகுக்கப்பட்டது.
D) கலித்தொகையில் நெய்தற்கலியைப் பாடியவர் நல்லந்துவனார் ஆவார்.
E) விடை தெரியவில்லை
161. ‘நம்பியாரூரர்’, ‘தம்பிரான் தோழார்’ என்ற சிறப்புப் பெயர்களால் அழைக்கப்பெற்றவர் யார் ?
- A) திருநாவுக்கரசர்
B) திருஞான சம்பந்தர்
C) மாணிக்கவாசகர்
D) சுந்தரர்
E) விடை தெரியவில்லை
162. ஆற்றுதல் எனப்படுவது
- A) ஏழைகளுக்கு உதவி செய்து போற்றுதல்
B) அன்புடையோரைப் பிரியாமல் வாழ்தல்
C) முன் சொன்ன வாக்கினை மறுக்காமல் காத்தல்
D) ஆற்றுதல் கூறுதல்
E) விடை தெரியவில்லை
163. பதிகம் என்பது எதனைக் குறிக்கும்?
- A) பத்து பாடல்களைக் கொண்டது
B) இருபது பாடல்களைக் கொண்டது.
C) நூறு பாடல்களைக் கொண்டது
D) ஆயிரம் பாடல்களைக் கொண்டது.
E) விடை தெரியவில்லை
164. பொருத்துக.
- a) மூன்றாம் வேற்றுமை 1. இராமனுக்குத் தம்பி இலக்குவன்
b) நான்காம் வேற்றுமை 2. பாரியினது தேர்
c) ஐந்தாம் வேற்றுமை 3. மண்ணால் குதிரை செய்தான்
d) ஆறாம் வேற்றுமை 4. ஏவுதல் கலையில் சிறந்தவன் ஏகலைவன்



குறியீடுகள்:

- | | a | b | c | d |
|----|------------------|----------|----------|----------|
| A) | 3 | 1 | 4 | 2 |
| B) | 3 | 1 | 2 | 4 |
| C) | 3 | 2 | 1 | 4 |
| D) | 3 | 4 | 1 | 2 |
| E) | விடை தெரியவில்லை | | | |

165. இயற்கை இன்ப வாழ்வு நிலையங்கள் என திரு.வி.க குறிப்பிடுவன யாவை?

- | | |
|-------------------------------|----------------------------|
| A) பத்துப்பாட்டு, எட்டுத்தொகை | B) திருக்குறள், திருவாசகம் |
| C) சிலப்பதிகாரம், மணிமேகலை | D) தேவாரம், திருவாசகம் |
| E) விடை தெரியவில்லை | |

166. பொருத்துக.

- | | |
|--------------------|------------------|
| a) இயற்கை ஓவியம் | 1. சிந்தாமணி |
| b) இயற்கை தவம் | 2. பெரிய புராணம் |
| c) இயற்கை பரிணாமம் | 3. பத்துப்பாட்டு |
| d) இயற்கை அன்பு | 4. கம்பராமாயணம் |

குறியீடுகள்:

- | | a | b | c | d |
|----|------------------|----------|----------|----------|
| A) | 4 | 3 | 2 | 1 |
| B) | 3 | 1 | 4 | 2 |
| C) | 3 | 2 | 1 | 4 |
| D) | 4 | 1 | 2 | 3 |
| E) | விடை தெரியவில்லை | | | |

167. நீதிநெறி விளக்கத்தில் உள்ள பாடல்களின் எண்ணிக்கை எவ்வளவு?

- | | |
|---------------------|--------|
| A) 100 | B) 102 |
| C) 103 | D) 104 |
| E) விடை தெரியவில்லை | |

168. 'நெல்லிக்காய் மூட்டையைக் கொட்டினாற்போல' - உவமைத்தொடர் உணர்த்தும் பொருள் யாது?

- | | |
|---------------------|----------------------|
| A) பயனற்ற செயல் | B) தற்செயல் நிகழ்வு |
| C) ஒற்றுமையின்மை | D) எதிர்பாரா நிகழ்வு |
| E) விடை தெரியவில்லை | |

169. "நோய்நாடி நோய் முதல்நாடி" என்று கூறியவர் யார்?

- | | |
|---------------------|--------------|
| A) கம்பர் | B) வள்ளுவர் |
| C) ஓளவையார் | D) திருமூலர் |
| E) விடை தெரியவில்லை | |



170. “வேர்பாரு; தழைபாரு மிஞ்சினக்கால் பற்பசெந்தூரம் பாரே” என்றனர்
A) தமிழர்கள் B) சித்தர்கள்
C) சைவர்கள் D) முன்னோர்கள்
E) விடை தெரியவில்லை
171. “கதர்பிறந்த கதை” நூலின் ஆசிரியர் யார்?
A) நேரு B) வ.உ.சிதரம்பரணார்
C) கவிமணி D) காந்தியக் கவிஞர்
E) விடை தெரியவில்லை
172. பின்வருவனவற்றுள் தவறான கூற்றினைத் தேர்ந்தெடுக்க.
A) கொன்றைக்குழல், முல்லைக்குழல், ஆம்பல்குழல் எனப் பலவகையான குழல்கள் இருப்பதாகச் சிலப்பதிகாரம் குறிப்பிடுகிறது.
B) பலா மரத்தினால் செய்யப்பட்டு விலங்குத் தோலினால் கட்டப்படும் கருவி சேகண்டி ஆகும்.
C) சங்கின் ஒலியைச் சங்கநாதம் என்பர். இலக்கியங்களில் இதனைப் பணிலம் என்றும் குறிப்பிட்டுள்ளனர்.
D) உடுக்கையின் உடல் பித்தளையால் ஆனது. வாய்ப்பகுதி ஆட்டுத்தோலால் பொருத்தப்பட்டிருக்கும்.
E) விடை தெரியவில்லை
173. பின்வருவனவற்றுள் தவறான இணையைத் தேர்ந்தெடுக்க.
(கருவி வகை) (கருவி)
A) தோல்கருவி – முரசு
B) நரம்புக்கருவி – வீணை
C) காற்றுக்கருவி – சேகண்டி
D) கஞ்சக்கருவி – சாலரா
E) விடை தெரியவில்லை
174. “சங்கொடு தாரை காளம் தழங்கொலி முழங்கு பேரி
வெங்குரல் பம்பை கண்டை வியன்துடி திமிலை தட்டி” - இப்பாடல்கள் இடம்பெற்றுள்ள நூல் எது?
A) திருவாசகம் B) திருப்பாவை
C) பெரியபுராணம் D) தேவாரம்
E) விடை தெரியவில்லை
175. திரு.வி.க இயற்றிய நூல்களுள் பொருந்தா ஒன்றினைத் தேர்ந்தெடுக்க.
A) இளமை விருந்து B) தமிழியக்கம்
C) தமிழ்ச்சோலை D) பொதுமை வேட்டல்
E) விடை தெரியவில்லை
176. ‘உள்ளங்கை நெல்லிக்கனி போல’ - உவமைத்தொடர் உணர்த்தும் பொருள் யாது?
A) தடையின்றி மிகுதியாக B) வெளிப்படைத்தன்மை
C) பயனற்ற செயல் D) ஒற்றுமையின்மை
E) விடை தெரியவில்லை



177. 'நீலகேசி' பற்றிய தவறான கூற்றினைத் தேர்ந்தெடுக்க.
- A) ஐம்பெருங்காப்பியங்களுள் ஒன்று.
B) இந்நூல் சமணசமயக் கருத்துகளை வாதங்களின் அடிப்படையில் விளக்குகிறது.
C) கடவுள் வாழ்த்து நீங்கலாகப் பத்துச் சருக்கங்களைக் கொண்டது.
D) சமயத் தத்துவங்களை விவாதிக்கும் தருக்க நூலான இதன் ஆசிரியர் பெயர் அறியப்படவில்லை.
E) விடை தெரியவில்லை
178. 'ஓர்தல்' – பொருள் தருக.
- A) நற்காட்சி
B) நல்லறிவு
C) நல்லொழுக்கம்
D) நற்பண்பு
E) விடை தெரியவில்லை
179. "கடலோடா கால்வல் நெடுந்தேர் கடலோடும்" – இக்குறட்பாவில் பயின்று வந்துள்ள அணியாது?
- A) உவமை அணி
B) எடுத்துக்காட்டு உவமை அணி
C) பிறிதுமொழிதல் அணி
D) ஏகதேச உருவக அணி
E) விடை தெரியவில்லை
180. பின்வருவனவற்றுள் தவறான இணையைத் தேர்ந்தெடுக்க.
- | (தொடர்) | (தொடர்வகை) |
|---|-------------------|
| A) கரிகாலன் கல்லணையைக் கட்டினான் | – செய்தித்தொடர் |
| B) உழவுத்தொழில் வாழ்க | – விழைவுத்தொடர் |
| C) கல்லாமை ஒழிக | – கட்டளைத்தொடர் |
| D) பழந்தமிழ் இலக்கியங்கள் பல அழிந்துவிட்டனவே! | – உணர்ச்சித்தொடர் |
| E) விடை தெரியவில்லை | |
181. பொருத்துக.
- | | |
|---|--------------------|
| a) அதிகாலையில் துயில் எழு | 1. உணர்ச்சித்தொடர் |
| b) காடு மிகவும் அழகானது | 2. விழைவுத்தொடர் |
| c) அந்தோ! பூனையின் காலில் அடிபட்டு விட்டதே! | 3. வினாத்தொடர் |
| d) முகில்கள் திரண்டால் மழை பெய்யும் அல்லவா? | 4. செய்தித்தொடர் |
- குறியீடுகள்:
- | | a | b | c | d |
|----|------------------|---|---|---|
| A) | 2 | 4 | 1 | 3 |
| B) | 2 | 4 | 3 | 1 |
| C) | 2 | 3 | 1 | 4 |
| D) | 4 | 1 | 2 | 3 |
| E) | விடை தெரியவில்லை | | | |



182. 'மாடு வயலில் புல்லை மேய்ந்தது' – இத்தொடரிலுள்ள வினைமுற்று எது?

- A) மாடு
B) வயல்
C) புல்
D) மேய்ந்தது
E) விடை தெரியவில்லை

183. காலத்தை வெளிப்படையாகக் காட்டாது செய்வரை மட்டும் வெளிப்படையாகக் காட்டும் வினைமுற்று எது?

- A) தெரிநிலை வினைமுற்று
B) குறிப்பு வினைமுற்று
C) ஏவல் வினைமுற்று
D) வியங்கோள் வினைமுற்று
E) விடை தெரியவில்லை

184. பொருத்துக.

(நூல்)

- a) தமிழகப் பழங்குடிகள்
b) குணச்சித்திரங்கள்
c) ஜெயகாந்தனோடு பல்லாண்டு
d) சாபவிமோசனம்

(நூலாசிரியர்)

1. புதுமைப்பித்தன்
2. கன்னிவாடி சீரங்கராயன்
3. பக்தவத்சல பாரதி
4. பி.ச.குப்புசாமி

குறியீடுகள்:

	a	b	c	d
A)	4	3	2	1
B)	3	2	4	1
C)	3	2	1	4
D)	4	1	2	3

E) விடை தெரியவில்லை

185. பாரதியாரின் சிறப்புப் பெயர்களுள் பொருந்தா ஒன்றினைத் தேர்ந்தெடுக்க.

- A) சிந்துக்குத் தந்தை
B) செந்தமிழ் அந்தணர்
C) புதிய அறம் பாட வந்த அறிஞன்
D) மறம் பாட வந்த மறவன்
E) விடை தெரியவில்லை

186. பொருத்துக.

(பறவை)

(ஓலிமரபு)

- a) புறா
b) வண்டு
c) கூகை
d) மயில்
e) ஆந்தை
1. முரலும்
2. அகவும்
3. குணுகும்
4. அலறும்
5. குழறும்



குறியீடுகள்:

a b c d e

A) 3 1 5 2 4

B) 5 2 4 3 1

C) 3 5 2 1 4

D) 4 1 5 2 3

E) விடை தெரியவில்லை

187. கண்ணெழுத்துகள் பற்றிக் குறிப்பிடும் நூல் எது?

A) தொல்காப்பியம்

B) சிலப்பதிகாரம்

C) பதிற்றுப்பத்து

D) மணிமேகலை

E) விடை தெரியவில்லை

188. தமிழ் எழுத்துகளில் மிகப்பெரும் சீர்திருத்தத்தைச் செய்தவர் யார்?

A) வீரமாமுனிவர்

B) பெரியார்

C) கால்டுவெல்

D) ஜி.யு.போப்

E) விடை தெரியவில்லை

189. பின்வரும் கூற்றுகளைக் கருத்தில் கொள்க.

I. தமிழ்மொழியை எழுத இருவகை எழுத்துகள் வழக்கிலிருந்தன.

II. அரச்சலூர் கல்வெட்டில் தமிழ் எழுத்தும் வட்டெழுத்தும் கலந்து எழுதப்பட்டன.

மேற்கண்ட கூற்றுகளில் சரியானது எது/எவை?

A) I மட்டும்

B) II மட்டும்

C) இரண்டும்

D) இரண்டுமில்லை

E) விடை தெரியவில்லை

190. 'கல்வெட்டுகளில் உள்ள எழுத்துகளின் அமைப்பு' பற்றிய தவறான கூற்றினைத் தேர்ந்தெடுக்க.

A) கல்வெட்டுகளில் வடமொழி எழுத்து காணப்படுவதில்லை

B) மெய்யைக் குறிக்கப் புள்ளி பயன்படுத்தவில்லை

C) எகர, ஓகரக் குறில் நெடில் வேறுபாடில்லை

D) மேற்கூறியவற்றில் எதுவுமில்லை. அனைத்துக் கூற்றுகளும் சரியானவை

E) விடை தெரியவில்லை

191. 'தமிழகத்தின் வேர்ட்ஸ்வொர்த்' என்று புகழப்படுவர் யார்?

A) பாரதிதாசன்

B) பாரதியார்

C) வண்ணதாசன்

D) வாணிதாசன்

E) விடை தெரியவில்லை

192. 'பழந்தமிழர் வழிபாட்டு மரபுகள்' என்னும் நூலின் பதிப்பாசிரியர் யார்?

A) கி.வா. ஜகந்நாதன்

B) அ.கௌரன்

C) சு.சக்திவேல்

D) செ.இராசு

E) விடை தெரியவில்லை



193. 'உறங்கினாள்' – இச்சொல்லின் வேர்ச்சொல்லைத் தேர்ந்தெடுக்க.

- A) உறங்கு
B) உறங்கி
C) உற
D) உறங்குக
E) விடை தெரியவில்லை

194. பொருத்துக.

(எழுத்து)

(இடப்பிறப்பு)

- a) உயிர்எழுத்து 1. தலை
b) வல்லின மெய் எழுத்து 2. கழுத்து
c) மெல்லின மெய் எழுத்து 3. மூக்கு
d) ஆய்த எழுத்து 4. மார்பு

குறியீடுகள்:

	a	b	c	d
A)	4	3	2	1
B)	2	4	3	1
C)	3	2	1	4
D)	4	1	2	3

E) விடை தெரியவில்லை

195. இரா. இளங்குமரனார் பற்றிய பின்வரும் கூற்றுகளைக் கருத்தில் கொள்க.

- I. இலக்கண வரலாறு, தமிழிசை இயக்கம் தமிழின் தனிப்பெருஞ்சிறப்புகள், தனித்தமிழ் இயக்கம் உள்ளிட்ட பல நூல்களை எழுதியுள்ளார்.
II. தேவநேயம் என்னும் நூலைத் தொகுத்துள்ளார்.
III. திருச்சிக்கு அருகில் அல்லூரில் திருவள்ளுவர் தவச்சாலையும், பாவாணர் நூலகமும் அமைத்துள்ளார்.

மேற்கண்ட கூற்றுகளில் சரியானவை எவை?

- A) I மற்றும் II மட்டும்
B) II மற்றும் III மட்டும்
C) I மற்றும் III மட்டும்
D) மேற்கண்ட அனைத்தும்
E) விடை தெரியவில்லை

196. பின்வருவனவற்றுள் தவறான இணையைத் தேர்ந்தெடுக்க.

- A) ழ – இது மேல்வாயை நாக்கின் ஓரங்கள் தடித்துத் தடவுதலால் பிறக்கிறது.
B) வ் – இது மேல்வாய்ப்பல்லைக் கீழ் உதடு பொருந்துவதால் பிறக்கிறது.
C) ம் – மேல் இதழும் கீழ் இதழும் பொருந்துவதால் பிறக்கின்றன.
D) ன் – மேல்வாயை நாக்கின் நுனி மிகவும் பொருந்துவதால் பிறக்கின்றன.
E) விடை தெரியவில்லை

197. பொருத்துக.

(ஆங்கிலச்சொல்)

(தமிழ்ச்சொல்)

- a) Lexicography 1. மெய்யொலி
b) Pictograph 2. கல்வெட்டு
c) Epigraph 3. சித்திர எழுத்து
d) Consonant 4. அகராதியியல்



குறியீடுகள்:

- | | a | b | c | d |
|----|------------------|----------|----------|----------|
| A) | 4 | 3 | 2 | 1 |
| B) | 1 | 2 | 4 | 3 |
| C) | 3 | 2 | 1 | 4 |
| D) | 4 | 1 | 2 | 3 |
| E) | விடை தெரியவில்லை | | | |

198. சொற்றொடராக்குக.

- A) வென்றதைப் பரணி பகைவரை ஆகும் பாடும் இலக்கியம்
B) பரணி வென்றதைப் பகைவரை பாடும் ஆகும் இலக்கியம்.
C) பகைவரை வென்றதைப் பாடும் இலக்கியம் பரணி ஆகும்.
D) பகைவரை வென்றதைப் பாடும் ஆகும் இலக்கியம் பரணி.
E) விடை தெரியவில்லை

199. “தமிழ்ச்சி” என்னும் நூலை எழுதியவர் யார்?

- A) பாரதியார்
B) வாணிதாசன்
C) பாரதிதாசன்
D) வண்ணதாசன்
E) விடை தெரியவில்லை

200. நெல் குத்தும்போது பாடப்படும் பாட்டு

- A) வள்ளைப்பாட்டு
B) கும்மிப்பாட்டு
C) தெம்மாங்குப்பாட்டு
D) தலாட்டுப்பாட்டு
E) விடை தெரியவில்லை

* * * * *



SHANKAR
IAS ACADEMYTM
Best Academy for Civil Services Exam Coaching

CCS2E/2024

Register Number

--	--	--	--	--	--	--	--	--	--

2024

Test - 19

GENERAL STUDIES / பொது அறிவு
(Degree Standard/பட்டப்படிப்பு தரம்)

Duration : Three Hours]

[Total Marks: 300

Read the following instructions carefully before you begin to answer the questions.

IMPORTANT INSTRUCTIONS

1. You will be supplied with this question booklet 15 minutes prior to the commencement of the examination.
2. This question booklet contains **200** questions. Before answering the questions, you shall check whether all the questions are printed serially and ensure that there are no blank pages in the questions booklet. **If any defect is noticed in the question booklet, it shall be reported to the invigilator within the first 10 minutes and get it replaced with a complete question booklet. If the defect is reported after the commencement of the examination, it will not be replaced.**
3. Answer all the questions. All the questions carry equal marks.
4. You must write your register number in the space provided on the top right side of this page. Do not write anything else on the question booklet.
5. An answer sheet will be supplied to you separately by the room invigilator to shade the answers. Instructions regarding filling of answers etc. which are to be followed mandatorily, are provided in the answer sheet and in the memorandum of admission Hall Ticket)
6. You shall write and shade your question booklet number in the space provided on page one of the answer sheet with **BLACK INK BALL POINT PEN**. If you do not shade correctly or fail to shade the question booklet number, your answer sheet will be invalidated.
7. Each question comprises of five responses (answers) : i.e. A), (B), C), D) and (E). You have to select **ONLY ONE** correct answer from A) or B) or C) or D) and shade the same in your answer sheet. If you feel that there are more than one correct answer, shade the one which you consider the best. **If you do not know the answer, you have to mandatorily shade (E)**. In any case, choose **ONLY ONE** answer for each question. If you shade more than one answer for a question, it will be treated as a wrong answer even if one of the given answers happens to be correct.
8. You should not remove or tear off any sheet from this question booklet. You are not allowed to take this question booklet and the answer sheet out of the examination room during the time of the examination. After the examination, you must hand over your answer sheet to the invigilator. You are allowed to take the question booklet with you only after the examination is over.
9. **You should not make any marking in the question booklet except in the sheets before the last page of the question booklet, which can be used for rough work. This should be strictly adhered to.**
10. In all matters, the English version is final.
11. Failure to comply with any of the above instructions will render you liable for such action as the Commission may decide at their discretion.

↪

[Turn over



Part B — General Studies (Degree Standard)

பகுதி - ஆ — பொது அறிவு (பட்டப்படிப்பு தரம்)

வினாக்கள் : 1-200

மொத்த மதிப்பெண்கள் : 300

Test 19

Questions : 1-200

Total Marks

: 300

1. "While language is a binding force, it is also separating one" – Which of the following committee stated this ?
- A) JVP Committee
B) Fazal Ali committee
C) Verma Committee
D) Vohra Committee
E) Answer not known
- "மொழி ஒரு பிணைப்பு சக்தியாக இருந்தாலும், அது பிரிக்கும் சக்தியாகவும் உள்ளது" – பின்வரும் எந்தக் குழு இதைக் கூறியது?
- A) ஜேவிபி குழு
B) ஃபசல் அலி குழு
C) வர்மா குழு
D) வோரா குழு
E) விடை தெரியவில்லை
2. Consider the following statements about Operation Polo.
- I. Operation Polo is a military operation carried by Hyderabad police forces.
II. The military intervention in the Hyderabad state was officially labeled as 'Police Action' by the then Home Minister, Pattabhi Sitaramayya.
- Which of the statements given above is/are incorrect?
- A) I only
B) II only
C) Both I and II
D) Neither I nor II
E) Answer not known
- ஆபரேஷன் போலோ பற்றிய பின்வரும் கூற்றுகளைக் கருத்தில் கொள்க.
- I. ஆபரேஷன் போலோ என்பது ஹைதராபாத் போலீஸ் படைகளால் மேற்கொள்ளப்பட்ட ஒரு இராணுவ நடவடிக்கையாகும்.
II. ஹைதராபாத் மாநிலத்தில் இராணுவத் தலையீட்டை 'போலீஸ் நடவடிக்கை' என்று அப்போதைய உள்துறை அமைச்சர் பட்டாபி சீதாராமையா அதிகாரப்பூர்வமாக முத்திரை குத்தினார்.
- மேற்கண்ட கூற்றுகளில் தவறானது எது/எவை?
- A) I மட்டும்
B) II மட்டும்
C) இரண்டும்
D) இரண்டுமில்லை
E) விடை தெரியவில்லை
3. Consider the following statements.
- I. Article 370 deals with permanent provisions with respect to the State of Jammu and Kashmir
II. In 2019, the Constitution (Application to Jammu and Kashmir) Order, issued by the president, withdrew the special status of J&K
- Which of the statements given above is/are incorrect?
- A) I only
B) II only
C) Both I and II
D) Neither I nor II
E) Answer not known



பின்வரும் கூற்றுகளைக் கருத்தில் கொள்க

- I. சரத்து 370 ஜம்மு மற்றும் காஷ்மீர் மாநிலம் தொடர்பான நிரந்தர விதிகளைக் கையாள்கிறது
- II. 2019 ஆம் ஆண்டில், குடியரசுத் தலைவரால் வெளியிடப்பட்ட அரசியலமைப்பு (ஜம்மு மற்றும் காஷ்மீருக்கு பொருந்தும்) உத்தரவு, ஜம்மு & காஷ்மீரின் சிறப்பு அந்தஸ்தை திரும்பப் பெற்றது

மேற்கண்ட கூற்றுகளில் தவறானது எது/எவை?

- A) I மட்டும்
- B) II மட்டும்
- C) இரண்டும்
- D) இரண்டுமில்லை
- E) விடை தெரியவில்லை

4. Who is not a member of State Reorganisation commission 1953?

- A) Sardar Vallabhai Patel
- B) Fazal Ali
- C) Hridya Nath Kunzru
- D) Kavalam Madhava Panikkar
- E) Answer not known

1953 மாநில மறுசீரமைப்பு ஆணையத்தில் உறுப்பினராக இல்லாதவர் யார்?

- A) சர்தார் வல்லபாய் படேல்
- B) ஃபசல் அலி
- C) ஹிருத்ய நாத் குன்ஸ்ரு
- D) காவலம் மாதவ பணிக்கர்
- E) விடை தெரியவில்லை

5. Arrange in chronological order

- I. Atlee announcement on India's independence
- II. Interim Government under Nehru
- III. Lord Mountbatten Plan
- IV. Quit India Movement
- V. Cabinet Mission Plan

Codes:

- A) IV-V-II-III-I
- B) V-IV-II-I-III
- C) IV-II-I-V-III
- D) IV-V-II-I-III
- E) Answer not known

காலவரிசைப்படி ஒழுங்கமைக்கவும்

- I. இந்தியாவின் சுதந்திரம் குறித்த அட்வியின் அறிவிப்பு
- II. நேருவின் கீழ் இடைக்கால அரசு
- III. மவுண்ட்பேட்டன் திட்டம்
- IV. வெள்ளையனே வெளியேறு இயக்கம்
- V. அமைச்சரவை தூதுக்குழு திட்டம்

குறியீடுகள்:

- A) IV-V-II-III-I
- B) V-IV-II-I-III
- C) IV-II-I-V-III
- D) IV-V-II-I-III
- E) விடை தெரியவில்லை

6. Consider the following statements.

- I. INA trials were held at Bombay.
- II. Vallabhai Patel appear in defence to INA soldiers
- III. Shah Nawaz Khan, P.K.Seghal, G.S.Dhillon were sent for trials.



Which of the statements given above is/are correct?

- A) I only
B) II and III only
C) III only
D) all the above
E) Answer not known

பின்வரும் கூற்றுகளைக் கருத்தில் கொள்க

- I. இந்திய தேசிய இராணுவம் தொடர்பான விசாரணை பம்பாயில் நடைபெற்றது
II. வல்லபாய் படேல் இந்திய தேசிய இராணுவ வீரர்களுக்கு ஆதரவாக ஆஜரானார்
III. ஷா நவாஸ் கான், பி.கே.செகல், ஜி.எஸ்.தில்லான் ஆகியோர் விசாரணைக்கு அனுப்பப்பட்டனர்.

மேற்கண்ட கூற்றுகளில் சரியானது எது/எவை?

- A) I மட்டும்
B) II மற்றும் III மட்டும்
C) III மட்டும்
D) மேற்கண்ட அனைத்தும்
E) விடை தெரியவில்லை

7. Consider the following statements.

- I. Simla Conference ended on June 25, 1945 ended without a resolution. .
II. This talks broke down on the right of INC and Muslim League to nominate members to the Viceroy's Council
III. Lord Wavell found a council without Muslim League representation as unworkable and abandoned the simla talks.

Which of the statements given above is/are correct?

- A) I only
B) II and III only
C) III only
D) all the above
E) Answer not known

பின்வரும் கூற்றுகளைக் கருத்தில் கொள்க

- I. சிம்லா மாநாடு ஜூன் 25, 1945 இல் எந்த ஒரு தீர்மானமும் இல்லாமல் முடிந்தது.
II. அரசுப் பிரதிநிதியின் குழுவிற்கு உறுப்பினர்களை நியமிப்பதில் இந்திய தேசிய காங்கிரஸ் மற்றும் முஸ்லிம் லீக்கிற்கு இருந்த உரிமை குறித்த பிரச்சனையால் இந்த பேச்சுவார்த்தை முறிந்தது.
III. முஸ்லீம் லீக்கின் பிரதிநிதித்துவம் இல்லாத குழு முழுமைப்பெறாது என்று வேவல் பிரபு கருதியதால் சிம்லா பேச்சுவார்த்தையைக் கைவிட்டார்.

மேற்கண்ட கூற்றுகளில் சரியானது எது/எவை?

- A) I மட்டும்
B) II மற்றும் III மட்டும்
C) III மட்டும்
D) மேற்கண்ட அனைத்தும்
E) விடை தெரியவில்லை

8. Consider the following statements.

- I. Vinobha Bhave offered Individual satyagraha near his Paunar ashram in delhi.

- II. He was the only person who participated in Inividual Satyagraha

Which of the statements given above is/are incorrect?

- A) I only
B) II only
C) Both I and II
D) Neither I nor II
E) Answer not known



பின்வரும் கூற்றுகளைக் கருத்தில் கொள்க

I. வினோபா பாவே டெல்லியில் உள்ள தனது பாவனர் ஆசிரமத்திற்கு அருகில் தனிநபர் சத்தியாகிரகம் செய்தார்.

II. தனிநபர் சத்தியாகிரகத்தில் கலந்துகொண்ட ஒரே நபர் இவர்தான் மேற்கண்ட கூற்றுகளில் தவறானது எது/எவை?

- A) I மட்டும்
B) II மட்டும்
C) இரண்டும்
D) இரண்டுமில்லை
E) விடை தெரியவில்லை

9. The "Two Nation Theory" first came from which of the following person in 1937?

- A) Mohammad Iqbal
B) Rahmat Ali
C) Jinnah
D) Sir Wazir Hasan
E) Answer not known

1937 இல் "இரு தேசக் கோட்பாடு" முதன்முதலாக பின்வரும் நபர்களில் யாரிடமிருந்து உருவானது?

- A) முகமது இக்பால்
B) ரஹ்மத் அலி
C) ஜின்னா
D) சர் வாசிர் ஹசன்
E) விடை தெரியவில்லை

10. Which Association raised the Slogan "Akhand Hindustan" ?

- A) Madras Dravidian Association
B) Hindu Mahasabha
C) Indian National Congress
D) Forward Bloc
E) Answer not known

"அகன்ற பாரதம்" என்ற முழக்கத்தை எழுப்பிய சங்கம் எது?

- A) மெட்ராஸ் திராவிடர் கழகம்
B) இந்து மகாசபை
C) இந்திய தேசிய காங்கிரஸ்
D) பார்வர்டு பிளாக்
E) விடை தெரியவில்லை

11. Which Muslim leader of Chennai supported congress ?

- A) Badruddin Tyabji
B) A.Rasul
C) Nawab Syed Mohammed Bahadur
D) Rahmatullah Sayani
E) Answer not known

காங்கிரஸை ஆதரித்த சென்னை முஸ்லிம் தலைவர் யார்?

- A) பத்ருதீன் தியாப்ஜி
B) ஏ.ரகூல்
C) நவாப் சையது முகமது பகதூர்
D) ரஹ்மத்துல்லா சயானி
E) விடை தெரியவில்லை

12. "Divide et Impera was the old Roman motto and it should be ours"- Written by governor of which province ?

- A) Madras Province
B) Bombay Province
C) Delhi Province
D) Bengal Province
E) Answer not known



“பழைய ரோமானிய லட்சியமான பிரித்தாளும் கொள்கை நம்முடையதாக இருக்க வேண்டும்” – என்று எந்த மாகாண ஆளுநரால் எழுதப்பட்டது?

- A) மெட்ராஸ் மாகாணம்
B) பம்பாய் மாகாணம்
C) டெல்லி மாகாணம்
D) வங்காள மாகாணம்
E) விடை தெரியவில்லை

13. Find out the incorrectly matched pair.

(Association)

(Founder)

- A) Punjab Hindu Sabha 1909 – Lal Chand
B) Hindu Maha Sabha 1915 – M.M.Malaviya
C) Bharat Mata Society 1907 – Nilakanda Brahmachari
D) Madras Dravidian Association 1912 – C.Natesan
E) Answer not known

தவறாகப் பொருந்திய இணையைக் கண்டறியவும்.

(சங்கம்)

(நிறுவனர்)

- A) பஞ்சாப் இந்து சபை 1909 – லால் சந்த்
B) இந்து மகா சபை 1915 – எம்.எம்.மாளவியா
C) பாரத மாதா சங்கம் 1907 – நீலகண்ட பிரம்மச்சாரி
D) சென்னை திராவிடர் கழகம் 1912 – சி.நடேசன்
E) விடை தெரியவில்லை

14. Find out the incorrectly matched pair.

(Important Events)

(Day)

- A) Day of Deliverance – 22 December 1939
B) Direct Action Day – 14 August 1946
C) Swarajya Day in TN – 09 March 1907
D) Tamil Nadu Khilafat Day – 17 April 1920
E) Answer not known

தவறாகப் பொருந்திய இணையைக் கண்டறியவும்.

(முக்கிய நிகழ்வுகள்)

(நாள்)

- A) மீட்பு நாள் – 22 டிசம்பர் 1939
B) நேரடி நடவடிக்கை நாள் – 14 ஆகஸ்ட் 1946
C) தமிழ்நாடு சுயராஜ்ய தினம் – 09 மார்ச் 1907
D) தமிழ்நாடு கிலாபத் தினம் – 17 ஏப்ரல் 1920
E) விடை தெரியவில்லை

15. ‘A dedicated band of youth must show the path of organised armed struggle in place of individual action. Most of us will have to die in the process but our sacrifice for such noble cause will not go in vain’ – Said by whom ?

- A) Kalpana Dutt
B) Anand Gupta
C) Surya Sen
D) Jatindra Nath Das
E) Answer not known



தனிநபர் நடவடிக்கைக்குப் பதிலாக ஒழுங்கமைக்கப்பட்ட ஆயுதப் போராட்டத்தின் பாதையை ஓர் அர்ப்பணிப்புள்ள இளைஞர் பட்டாளம் காட்டித்தர வேண்டும். நம்மில் பெரும்பாலோர் இந்த செயல்பாட்டில் இறக்க வேண்டியிருக்கும், ஆனால் அத்தகைய உன்னத நோக்கத்திற்கான நமது தியாகம் வீணாகாது- என்று கூறியது யார்?

- A) கல்பனா தத்
B) ஆனந்த் குப்தா
C) தூர்யா சென்
D) ஜதீந்திரநாத் தாஸ்
E) விடை தெரியவில்லை

16. Consider the following statements.

- I. Savitri Debi was a poor Brahmin widow from a Dhalghat Village who resisted offers.
II. This information was stated in the Book "Chittagong Armoury Raiders Reminiscences" written by Kalpana Dutt.

Which of the statements given above is/are incorrect?

- A) I only
B) Both I and II
C) II only
D) Neither I nor II
E) Answer not known

பின்வரும் கூற்றுகளைக் கருத்தில் கொள்க

- I. சாவித்ரி தேவி தல்காட் கிராமத்தைச் சேர்ந்த ஒரு ஏழை பிராமண விதவை, அவர் பிரிட்டிஷ் காவல் துறையின் உதவிகளை மறுத்தார்.
II. கல்பனா தத் எழுதிய "சிட்டகாங் ஆர்மரி ரைடர்ஸ் ரெமினிசென்சஸ்" என்ற புத்தகத்தில் இந்த தகவல் தெரிவிக்கப்பட்டுள்ளது.

மேற்கண்ட கூற்றுகளில் தவறானது எது/எவை?

- A) I மட்டும்
B) II மட்டும்
C) இரண்டும்
D) இரண்டுமில்லை
E) விடை தெரியவில்லை

17. Consider the following statements about Jamseji Nusserwanji Tata

- I. He is called as the father of Indian modern Industry.
II. He is the first Indian to start a cotton mill.
III. Tata Hydroelectric company was setup in 1910.
IV. Tatas founded the Indian Institute of Science, Bombay.

Which of the statements given above is/are incorrect?

- A) I and IV only
B) I and II only
C) II and IV only
D) None of the above
E) Answer not known

ஜாம்ஷெட்ஜி நுஸர்வஞ்சி டாடா பற்றிய பின்வரும் கூற்றுகளைக் கருத்தில் கொள்க

- I. அவர் இந்திய நவீன தொழிலகங்களின் தந்தை என்று அழைக்கப்படுகிறார்.
II. பருத்தி ஆலையை ஆரம்பித்த முதல் இந்தியர்.
III. டாடா நீர்மின்சக்தி நிறுவனம் 1910 இல் நிறுவப்பட்டது.
IV. டாடா பம்பாயில் இந்திய அறிவியல் கழகத்தை நிறுவினார்.

மேற்கண்ட கூற்றுகளில் தவறானவை எவை?

- A) I மற்றும் IV மட்டும்
B) I மற்றும் II மட்டும்
C) II மற்றும் IV மட்டும்
D) மேற்கண்ட எதுவுமில்லை
E) விடை தெரியவில்லை



18. Find out the incorrectly matched pair.

(Industry)	(Place)
A) First Cotton mill	- Bombay
B) Bengal Coal Company	- Raniganj
C) TISCO	- Sakchi
D) Stanes Mill	- Chennai
E) Answer not known	

தவறாகப் பொருந்தியுள்ள இணையைக் கண்டறியவும்.

(தொழிற்சாலை)	(இடம்)
A) முதல் பருத்தி ஆலை	- பம்பாய்
B) வங்காள நிலக்கரி நிறுவனம்	- ராணிகஞ்ச்
C) TISCO	- சாகி
D) ஸ்டேன்ஸ் ஆலை	- சென்னை
E) விடை தெரியவில்லை	

19. Consider the following statements

- I. M. Singaravelar was born in Thoothukudi
 - II. Along with Thiru.Vi.Ka he organized many trade unions in South India.
 - III. He was one of the main organisers of the strike in Central Indian Railways in 1928.
 - IV. He published a Tamil weekly called Thozhilaalan.
- Which of the statements given above are incorrect?
- A) I, III and IV only B) I and II only
C) I and III only D) None of the above
E) Answer not known

பின்வரும் கூற்றுகளைக் கருத்தில் கொள்க

- I. எம்.சிங்காரவேலர் தூத்துக்குடியில் பிறந்தவர்
 - II. திரு.வி.க.வுடன் இணைந்து தென்னிந்தியாவில் பல தொழிற்சங்கங்களை அமைத்தார்.
 - III. 1928இல் மத்திய இந்திய இரயில்வேயில் வேலை நிறுத்தத்தின் முக்கிய அமைப்பாளர்களில் ஒருவராக இருந்தார்.
 - IV. தொழிலாளன் என்ற தமிழ் வார இதழை வெளியிட்டார்.
- மேற்கண்ட கூற்றுகளில் தவறானவை எவை?
- A) I, III மற்றும் IV மட்டும் B) I மற்றும் II மட்டும்
C) I மற்றும் III மட்டும் D) மேற்கண்ட எதுவுமில்லை
E) விடை தெரியவில்லை

20. Ban Bradley, Lester Hutchinson and Philip Spratt were related to which of the following case?

- A) 2nd Lahore conspiracy case B) Kanpur conspiracy case
C) Meerut conspiracy case D) 1st Lahore conspiracy case
E) Answer not known



பான் பிராட்லி, லெஸ்டர் ஹட்சின்சன் மற்றும் பிலிப் ஸ்ப்ராட் ஆகியோர் பின்வரும் எந்த வழக்குடன் தொடர்புடையவர்கள்?

- A) இரண்டாவது லாகூர் சதி வழக்கு
B) கான்பூர் சதி வழக்கு
C) மீரட் சதி வழக்கு
D) முதலாவது லாகூர் சதி வழக்கு
E) விடை தெரியவில்லை

21. Consider the following statements.

- I. Udham Singh was raised at Khalsa Orphanage.
II. He assassinated Reginald Dyer in Caxton Hall on 30 March 1940.
III. Udham Singh was hanged at Cellular jail, London

Which of the statements given above is/are correct?

- A) I only
B) I and II only
C) I and III only
D) All the above
E) Answer not known

பின்வரும் கூற்றுகளைக் கருத்தில் கொள்க

- I. உதம் சிங் கால்சா அனாதை இல்லத்தில் வளர்க்கப்பட்டார்.
II. அவர் 30 மார்ச் 1940 அன்று காக்ஸ்டன் ஹாலில் ரெஜினால்ட் டயரை படுகொலை செய்தார்.

III. உதம் சிங் லண்டன் செல்லுலார் சிறையில் தூக்கிலிடப்பட்டார்

மேற்கண்ட கூற்றுகளில் சரியானது எது/எவை?

- A) I மட்டும்
B) I மற்றும் II மட்டும்
C) I மற்றும் III மட்டும்
D) மேற்கண்ட அனைத்தும்
E) விடை தெரியவில்லை

22. Which was the first secular organization in the country to devote itself to the betterment of underprivileged rural and tribal people ?

- A) Namasudra movement
B) Satya Shodak Samaj
C) Adhi dharma movement
D) Servants of India Society
E) Answer not known

பின்தங்கிய கிராமப்புற மற்றும் பழங்குடியின மக்களின் முன்னேற்றத்திற்காக தன்னை அர்ப்பணித்துக் கொண்ட நாட்டின் முதல் மதச்சார்பற்ற அமைப்பு எது?

- A) நாமசூத்ரா இயக்கம்
B) சத்ய சோதக் சமாஜ்
C) ஆதி தர்ம இயக்கம்
D) இந்தியப் பணியாளர் சங்கம்
E) விடை தெரியவில்லை

23. Consider the following statements.

- I. Madras Labour Union was formed in 1918 by M.Singaravelar
II. All India Trade Union Congress established on 30 October 1920 under chairmanship of Lajpat Rai.
III. The number of registered trade unions was 1033 in 1946-47.

Which of the statements given above is/are incorrect?

- A) I only
B) I and III only
C) III only
D) All the above
E) Answer not known



பின்வரும் கூற்றுகளைக் கருத்தில் கொள்க

- I. மெட்ராஸ் தொழிலாளர் சங்கம் 1918 இல் எம்.சிங்காரவேலரால் உருவாக்கப்பட்டது.
- II. 1920 ஆம் ஆண்டு அக்டோபர் 30 ஆம் தேதி லஜபதி ராய் தலைமையில் அகில இந்திய தொழிற்சங்க காங்கிரசால் நிறுவப்பட்டது.
- III. 1946-47ல் பதிவு செய்யப்பட்ட தொழிற்சங்கங்களின் எண்ணிக்கை 1033 ஆக இருந்தது. மேற்கண்ட கூற்றுகளில் தவறானது எது/எவை?

- A) I மட்டும்
B) I மற்றும் III மட்டும்
C) III மட்டும்
D) மேற்கண்ட அனைத்தும்
E) விடை தெரியவில்லை

24. "I can retain neither respect nor affection for such a government which have been moving from wrong to wrong in order to defend their immortality" – Voiced by whom ?

- A) B.R.Ambedkar
B) M.K.Gandhi
C) Jinnah
D) None of the above
E) Answer not known

"தங்கள் நேர்மையற்ற தன்மையைப் பாதுகாப்பதற்காக தவறுக்கு மேல் தவறு செய்யும் அரசாங்கத்தின் மீதான மரியாதையையோ பாசத்தையோ என்னால் வைத்திருக்க முடியாது" – என்று யாரால் குரல் கொடுக்கப்பட்டது?

- A) BR அம்பேத்கர்
B) M.K. காந்தி
C) ஜின்னா
D) மேற்கண்ட எதுவுமில்லை
E) விடை தெரியவில்லை

25. Who had scribbled "Quit India" on the panel of HMIS Talwar ?

- A) Nawaz khan
B) Tilak
C) R.K.Dutt
D) Balai Chand Dutt
E) Answer not known

HMIS தல்வார் குழுவில் "வெள்ளையனே வெளியேறு" என்று எழுதியவர் யார்?

- A) நவாஸ் காண்
B) திலக்
C) R.K. தத்
D) பாலாய் சந்த் தத்
E) விடை தெரியவில்லை

26. Consider the following statements.

- I. V.O.C. registered SSNC with a capital of Rs.10 Lakh divided into 40000 shares of 25 annas each.
- II. He purchased two steamships S.S.Gallia and S.S.Lawoe.
- III. Pandithurai and Haji Fakir Mohamed are the only two shareholders.

Which of the statements given above is/are incorrect?

- A) I and II only
B) II only
C) I and III only
D) None of the above
E) Answer not known



பின்வரும் கூற்றுகளைக் கருத்தில் கொள்க

- I. வ.உ.சி சுதேசி நீராவிக்கப் பல் கம்பெனியை ரூ.10 லட்சம் மூலதனத்துடன் பதிவுசெய்தார். ஒவ்வொன்றும் 25 அணாக்கள் கொண்ட 40000 பங்குகளாகப் பிரிக்கப்பட்டது.
- II. அவர் SS.காலியா மற்றும் SSலாவோ ஆகிய இரண்டு நீராவி கப்பல்களை வாங்கினார்.
- III. பாண்டித்துரை மற்றும் ஹாஜி பக்கீர் முகமது ஆகிய இருவர் மட்டுமே பங்குதாரர்கள். மேற்கண்ட கூற்றுகளில் தவறானது எது/எவை?
- A) I மற்றும் II மட்டும்
B) II மட்டும்
C) I மற்றும் III மட்டும்
D) மேற்கண்ட எதுவுமில்லை
E) விடை தெரியவில்லை

27. According to whom, the goods produced in ones own country should be given preference even if the use of such goods proved to be less satisfactory ?

- A) V.O.C
B) M.G.Ranade
C) Lala Lajpat Rai
D) Gandhi
E) Answer not known

ஒருவரது சொந்த நாட்டில் உற்பத்தி செய்யப்படும் பண்டங்களின் பயன்பாடு திருப்திகரமாக இல்லாவிட்டாலும் அவற்றுக்கு முன்னுரிமை அளிக்கப்பட வேண்டும் என்பது யாருடைய கூற்று?

- A) வ.உ.சி
B) M.G.ரானடே
C) லாலா லஜபதி ராய்
D) காந்தி
E) விடை தெரியவில்லை

28. "Concentrate on Bharat as a living mother, worship her with nine-fold bhakthi" was said by which of the following personality?

- A) Bharathiyar
B) Rabindranath Tagore
C) Aurobindo Ghose
D) Satyendranath Tagore
E) Answer not known

"பாரததத்தை வாழ்கின்ற தாயாக நினைத்து கவனம் செலுத்தி, ஒன்பது மடங்கு அதிக பக்தியுடன் அவளை வணங்குங்கள்" என்று பின்வரும் எந்த ஆளுமையால் கூறப்பட்டது?

- A) பாரதியார்
B) ரவீந்திரநாத் தாகூர்
C) அரவிந்த கோஸ்
D) சத்யேந்திரநாத் தாகூர்
E) விடை தெரியவில்லை

29. Which day is celebrated as Dhamma Chakra Pravartan Din ?

- A) 14 October
B) 6 December
C) 14 August
D) 30 September
E) Answer not known

எந்த நாள் தம்ம சக்ர பிரவர்தன் தினமாக கொண்டாடப்படுகிறது?

- A) 14 அக்டோபர்
B) 6 டிசம்பர்
C) 14 ஆகஸ்ட்
D) 30 செப்டம்பர்
E) விடை தெரியவில்லை



30. Consider the following statements.

Assertion (A) : Maulana Abul Kalam Azad Birthday is celebrate as National Education Day

Reason (R) : Maulana Abul Kalam Azad was the Education minister of the interim Government.

Codes:

- A) Both (A) and (R) are true and (R) is the correct explanation of (A)
B) Both (A) and (R) are true but (R) is not the correct explanation of (A)
C) (A) is true but (R) is false
D) (A) is false but (R) is true
E) Answer not known

பின்வரும் கூற்றுகளைக் கருத்தில் கொள்க.

கூற்று (A) : மௌலானா அபுல் கலாம் ஆசாத் பிறந்த நாள் தேசிய கல்வி தினமாக கொண்டாடப்படுகிறது.

காரணம் (R) : இடைக்கால அரசின் கல்வி அமைச்சராக மௌலானா அபுல் கலாம் ஆசாத் இருந்தார்.

குறியீடுகள்:

- A) (A) மற்றும் (R) இரண்டும் சரி மற்றும் (R) என்பது (A) இன் சரியான விளக்கம்
B) (A) மற்றும் (R) இரண்டும் சரி ஆனால் (R) என்பது (A) இன் சரியான விளக்கம் அல்ல
C) (A) சரி ஆனால் (R) தவறு
D) (A) தவறு ஆனால் (R) சரி
E) விடை தெரியவில்லை

31. Who established Kalakshetra, an academy of dance and music at Adayar ?

- A) M.S.Subbulakshmi
B) Rukmani Arundale
C) Balasarasvathi
D) J.Krishnamoorthy
E) Answer not known

அடையாறில் நடனம் மற்றும் இசைக்கான பயிற்சிப் பள்ளி கலாக்ஷேத்ராவை நிறுவியவர் யார்?

- A) எம்.எஸ்.சுப்புலட்சுமி
B) ருக்மணி அருண்டேல்
C) பாலசரஸ்வதி
D) ஜே.கிருஷ்ணமூர்த்தி
E) விடை தெரியவில்லை

32. Find out the incorrectly matched pair.

(Books) **(Author)**

- A) Artic Home in the Vedas – Dayanand Saraswathi
B) India wins freedom – Maulana Abul kalam Azad
C) The Indian Struggle – S.C.Bose
D) The Problem of Rupee – Ambedkar
E) Answer not known

தவறாகப் பொருந்திய இணையைக் கண்டறியவும்.

(புத்தகங்கள்)

(ஆசிரியர்)

- A) Artic Home in the Vedas – தயானந்த சரஸ்வதி
B) India wins freedom – மௌலானா அபுல் கலாம் ஆசாத்
C) The Indian Struggle – S.C.போஸ்
D) The Problem of Rupee – அம்பேத்கர்
E) விடை தெரியவில்லை



33. Arrange in chronological order with respect to establishment of journals:

- I. Revolt
- II. Puratchi
- III. Unmai
- IV. Viduthalai
- V. Pagutharivu
- VI. Kudiyarasu

Codes:

- | | |
|---------------------|---------------------|
| A) VI-I-II-V-IV-III | B) VI-I-II-IV-V-III |
| C) VI-II-I-V-IV-III | D) VI-I-III-V-IV-II |
| E) Answer not known | |

பத்திரிகைகளை நிறுவப்பட்டது தொடர்பானவற்றை காலவரிசைப்படுத்துங்கள்:

- I. ரிவோல்ட்
- II. புரட்சி
- III. உண்மை
- IV. விடுதலை
- V. பகுத்தறிவு
- VI. குடியரசு

குறியீடுகள்:

- | | |
|---------------------|---------------------|
| A) VI-I-II-V-IV-III | B) VI-I-II-IV-V-III |
| C) VI-II-I-V-IV-III | D) VI-I-III-V-IV-II |
| E) விடை தெரியவில்லை | |

34. Consider the following statements.

- I. 'Give me blood and I will give you freedom' said by Subash Chandra Bose during Quit India Brutal suppression
- II. Bose had addressed the people of India on the Azad Hind Radio broadcast from Japan in March 1942.

Which of the statements given above is/are correct?

- | | |
|---------------------|---------------------|
| A) I only | B) II only |
| C) Both I and II | D) Neither I nor II |
| E) Answer not known | |

பின்வரும் கூற்றுகளைக் கருத்தில் கொள்க

- I. "இரத்தத்தைக் கொடுங்கள், நான் உங்களுக்கு சுதந்திரத்தை வாங்கி தருகிறேன்" என்று சுபாஷ் சந்திர போஸ் வெள்ளையனே வெளியேறு இயக்கத்தின் கொடூரமான அடக்குமுறையின் போது கூறினார்.
- II. ஜப்பானிலிருந்து மார்ச் 1942இல் போஸ் ஆசாத் ஹிந்த் வானொலி மூலம் இந்திய மக்களுடன் தொடர்புக் கொண்டு உரையாற்றினார்.

மேற்கண்ட கூற்றுகளில் சரியானது எது/எவை?

- | | |
|---------------------|-----------------|
| A) I மட்டும் | B) II மட்டும் |
| C) இரண்டும் | D) இரண்டுமில்லை |
| E) விடை தெரியவில்லை | |



35. Consider the following statements.

- I. Rajaji marched from Triuchirappalli to Vedaranyam from March 12 to April 6.
II. He opened his Gandhi Ashram at Tiruchirappalli.

Which of the statements given above is/are incorrect?

- A) I only
B) II only
C) Both I and II
D) Neither I nor II
E) Answer not known

பின்வரும் கூற்றுகளைக் கருத்தில் கொள்க

- I. ராஜாஜி மார்ச் 12 முதல் ஏப்ரல் 6 வரை திருச்சிராப்பள்ளியிலிருந்து வேதாரண்யம் வரை நடைபயணம் மேற்கொண்டார்.

- II. திருச்சிராப்பள்ளியில் காந்தி ஆசிரமத்தைத் திறந்தார்.

மேற்கண்ட கூற்றுகளில் தவறானது எது/எவை?

- A) I மட்டும்
B) II மட்டும்
C) இரண்டும்
D) இரண்டுமில்லை
E) விடை தெரியவில்லை

36. Who wrote the Book "Kappalottiya Tamizhan" ?

- A) V.O.C
B) R.A.Padmanabhan
C) Ma.Po.Si
D) Rajaji
E) Answer not known

கப்பலோட்டிய தமிழன் என்ற நூலை எழுதியவர் யார்?

- A) வ.உ.சி
B) R.A. இராபத்மநாபன்
C) மா.பொ.சி
D) இராஜாஜி
E) விடை தெரியவில்லை

37. Consider the following statements regarding Subash Chandra Bose:

- I. He was elected as the Congress President in 1938 Haripura session.
II. Jawaharlal Nehru constituted a National Planning Committee under the chairmanship of Subhash Chandra Bose.
III. The newspaper 'Swarajya' was started by Subhash Chandra Bose.
IV. He resigned in 1939 due to differences with Mahatma Gandhi.

Which of the statements given above is/are correct?

- A) I, II and IV only
B) II, III and IV only
C) I, III and IV only
D) All the above
E) Answer not known

சுபாஷ் சந்திர போஸ் தொடர்பான பின்வரும் கூற்றுகளைக் கருத்தில் கொள்க

- I. 1938 ஹரிபுரா அமர்வில் காங்கிரஸ் தலைவராக தேர்ந்தெடுக்கப்பட்டார்.

- II. ஜவஹர்லால் நேரு சுபாஷ் சந்திரபோஸ் தலைமையில் தேசிய திட்டக்குழுவை அமைத்தார்.

- III. சுபாஷ் சந்திரபோஸ் அவர்களால் தொடங்கப்பட்ட செய்தித்தாள் 'சுயராஜ்யம்'.

- IV. மகாத்மா காந்தியுடனான கருத்து வேறுபாடு காரணமாக 1939ல் பதவி விலகினார்.

மேற்கண்ட கூற்றுகளில் சரியானவை எவை?

- A) I, II மற்றும் IV மட்டும்
B) II, III மற்றும் IV மட்டும்
C) I, III மற்றும் IV மட்டும்
D) மேற்கண்ட அனைத்தும்
E) விடை தெரியவில்லை



38. What was the purpose of Bhagat Singh and Batukeswar Dutt throwing a bomb into the Central Assembly Hall?
- A) To demand the release of political prisoners
B) To fight against the death of Lala Lajpat Rai
C) To protest the Jallianwala Bagh massacre
D) To protest against the passage of the Public Safety Bill
E) Answer not known
- பகத்சிங்கும் படுகேஷ்வர் தத்தும் மத்திய சட்ட பேரவைக்குள் குண்டு வீசியதன் நோக்கம் என்ன?
- A) அரசியல் கைதிகளின் விடுதலையை கோருதல்
B) லாலா லஜபதி ராயின் மரணத்திற்கு எதிராக போராட
C) ஜாலியன் வாலாபாக் படுகொலைக்கு எதிர்ப்பு தெரிவிக்க
D) பொது பாதுகாப்பு மசோதா நிறைவேற்றப்பட்டதற்கு எதிர்ப்பு தெரிவிக்க
E) விடை தெரியவில்லை
39. Consider the following statements regarding Lahore Session, 1929:
- I. At the Lahore session, the Congress took the resolution of complete independence. (Purna Swaraj)
II. On 31 December 1929 the tricolour flag of freedom was hoisted at Lahore on the banks of Sutlej River.
III. January 26, 1930 was fixed as the first Independence (Swarajya) Day, to be celebrated everywhere.
IV. It was also announced that civil disobedience would begin under Gandhi's leadership.
- Which of the statements given above are correct?
- A) I, II and III only
B) II, III and IV only
C) I, III and IV only
D) All the above
E) Answer not known
- லாகூர் அமர்வு, 1929 தொடர்பான பின்வரும் கூற்றுகளைக் கருத்தில் கொள்க:
- I. லாகூர் அமர்வில், காங்கிரஸ் தனது முழு சுதந்திரத்தை (பூரண சுயராஜ்யம்) இலக்காக அறிவித்தது.
II. 31 டிசம்பர் 1929 அன்று லாகூரில் சட்லஜ் நதிக்கரையில் சுதந்திரத்தின் மூவரணக் கொடி ஏற்றப்பட்டது.
III. ஜனவரி 26, 1930 முதல் சுதந்திர தினமாக (சுயராஜ்யம்) எல்லா இடங்களிலும் கொண்டாடப்பட்டது.
IV. காந்தியின் தலைமையில் சட்ட மறுப்பு இயக்கம் தொடங்கும் என்றும் அறிவிக்கப்பட்டது மேற்கண்ட கூற்றுகளில் சரியானவை எவை?
- A) I, II மற்றும் III மட்டும்
B) II, III மற்றும் IV மட்டும்
C) I, III மற்றும் IV மட்டும்
D) மேற்கண்ட அனைத்தும்
E) விடை தெரியவில்லை



40. Match List-I with List-II.

List-I
(INC Sessions)

- Belgaum session
- Haripura session
- Karachi session
- Faizpur session

Codes:

	a	b	c	d
A)	4	2	1	3
B)	2	1	3	4
C)	1	2	4	3
D)	4	1	3	2

E) Answer not known

பட்டியல்-Iஐ பட்டியல்-II உடன் பொருத்துக.

பட்டியல்-I

(INC அமர்வுகள்)

- பெல்காம் அமர்வு
- ஹரிபுரா அமர்வு
- கராச்சி அமர்வு
- பெய்ஸ்பூர் அமர்வு

குறியீடுகள்:

	a	b	c	d
A)	4	2	1	3
B)	2	1	3	4
C)	1	2	4	3
D)	4	1	3	2

E) விடை தெரியவில்லை

List-II
(Significance)

- Resolution on Fundamental Rights
- National Planning Committee
- First Session conducted in a village
- Presided by Mahatma Gandhi

பட்டியல்-II

(முக்கியத்துவம்)

- அடிப்படை உரிமைகள் மீதான தீர்மானம்
- தேசிய திட்டமிடல் குழு
- கிராமத்தில் நடத்தப்பட்ட முதல் அமர்வு
- மகாத்மா காந்தி தலைமை

41. Which of the following committees was established to collect evidence on the quantum and qualifications to be fixed for Indian voters?

- Buttler Commission
- Simon Commission
- South Borough Committee
- Mudiman Commission
- Answer not known

இந்திய வாக்காளர்களுக்கு வாக்குரிமை பெற வயது மற்றும் தகுதி பற்றி தகவல்களை சேகரிப்பதற்காக பின்வரும் எந்த குழு நிறுவப்பட்டது?

- பட்லர் ஆணையம்
- சைமன் ஆணையம்
- சவுத்பொரோ குழு
- முடிமன் ஆணையம்
- விடை தெரியவில்லை



42. Find the incorrect statement regarding Round Table Conference:
- A) Indian National Congress boycotted the First round Table Conference.
B) Gandhi Irwin pact was signed after the First Round Table Conference
C) Indian national Congress nominated Gandhi as its sole representative for the Second Round Table Conference.
D) Gandhi accepted the idea of a separate electorate for the depressed sections in the Second Round Table Conference.
E) Answer not known
- வட்ட மேசை மாநாடு தொடர்பான தவறான கூற்றினைக் கண்டறியவும்:
- A) இந்திய தேசிய காங்கிரஸ் முதல் வட்ட மேசை மாநாட்டை புறக்கணித்தது
B) காந்தி இர்வின் ஒப்பந்தம் முதல் வட்ட மேசை மாநாட்டிற்குப் பிறகு கையெழுத்தானது
C) இந்திய தேசிய காங்கிரஸ் இரண்டாவது வட்ட மேசை மாநாட்டிற்கு காந்தியை அதன் ஒரேயொரு பிரதிநிதியாக நியமித்தது.
D) இரண்டாம் வட்டமேசை மாநாட்டில் தாழ்த்தப்பட்ட பிரிவினருக்கென தனி வாக்காளர் தொகுதி என்ற கருத்தை காந்தி ஏற்றுக்கொண்டார்.
E) விடை தெரியவில்லை
43. Which of the following is incorrect with respect to Simon Commission:
- A) The commission had only white men as members.
B) The Congress at its annual session in Madras resolved to Boycott the Commission
C) The Muslim League supported the Simon Commission and its arrival
D) The commission was to recommend to the British government whether India was ready for further constitutional reforms.
E) Answer not known
- சைமன் கமிஷனைப் பொறுத்தவரை பின்வருவனவற்றில் எது தவறானது?
- A) சைமன் கமிஷனில் வெள்ளையர்கள் மட்டுமே உறுப்பினர்களாக இருந்தனர்.
B) காங்கிரஸின் சென்னையில் நடந்த அதன் வருடாந்திர அமர்வு ஆணையத்தைப் புறக்கணிக்க தீர்மானித்தது
C) சைமன் கமிஷன் மற்றும் அதன் வருகையை முஸ்லிம் லீக் ஆதரித்தது
D) சைமன் கமிஷன் அரசியலமைப்பு சீர்திருத்தங்களுக்கு இந்தியா தயாராக உள்ளதா என்பது பற்றி பிரிட்டிஷ் அரசாங்கத்திற்கு பரிந்துரை செய்ய இருந்தது.
E) விடை தெரியவில்லை
44. Consider the following statements.
- Assertion (A)** : Dr.B.R Ambedkar Launched Mahad Satyagraha
Reason (R) : He advocated for the civic rights of the untouchables regarding public tanks and wells.
- Codes:**
- A) Both (A) and (R) are true and (R) is the correct explanation of (A)
B) Both (A) and (R) are true but (R) is not the correct explanation of (A)
C) (A) is true but (R) is false
D) (A) is false but (R) is true
E) Answer not known



பின்வரும் கூற்றுகளைக் கருத்தில் கொள்க

கூற்று (A) : டாக்டர்.பி.ஆர்.அம்பேத்கர் மகத் சத்தியாக்கிரகத்தைத் தொடங்கினார்

காரணம் (R) : பொது ஊருணிகள் மற்றும் கிணறுகளில் தீண்டத்தகாதவர்களுக்கு தரவேண்டிய குடிமை உரிமைகளுக்காக அவர் வாதிட்டார்.

குறியீடுகள்:

- A) (A) மற்றும் (R) இரண்டும் சரி மற்றும் (R) என்பது (A) இன் சரியான விளக்கம்
B) (A) மற்றும் (R) இரண்டும் சரி ஆனால் (R) என்பது (A) இன் சரியான விளக்கம் அல்ல
C) (A) சரி ஆனால் (R) தவறு
D) (A) தவறு ஆனால் (R) சரி
E) விடை தெரியவில்லை

45. Which of the following parties were founded by Dr. B.R. Ambedkar?

- I. The Independent Labour Party
II. Republican Party of India
III. Scheduled Castes Federation
IV. Harijan Sevak Sangh

Codes:

- A) I, II and III only
B) II, III and IV only
C) I, III and IV only
D) All the above
E) Answer not known

பின்வரும் கட்சிகளில் டாக்டர் பி.ஆர்.அம்பேத்கர் நிறுவிய கட்சி எது?

- I. சுதந்திர தொழிலாளர் கட்சி
II. இந்திய குடியரசுக் கட்சி
III. பட்டியல் சாதிகள் கூட்டமைப்பு
IV. ஹரிஜன் சேவா சங்கம்

குறியீடுகள்:

- A) I, II மற்றும் III மட்டும்
B) II, III மற்றும் IV மட்டும்
C) I, III மற்றும் IV மட்டும்
D) மேற்கண்ட அனைத்தும்
E) விடை தெரியவில்லை

46. Consider the following statements.

- I. The Government of India Act, of 1935 introduced a new system of dyarchy for the first time.
II. Provinces were granted autonomy by 1935 act.
III. It divided the powers between the Centre and Provinces into three lists.

Which of the statements given above are correct?

- A) I and II only
B) II and III only
C) I and III only
D) All the above
E) Answer not known



பின்வரும் கூற்றுகளைக் கருத்தில் கொள்க

- I. 1935 ஆம் ஆண்டு இந்திய அரசுச் சட்டம் முதன்முறையாக இரட்டையாட்சி என்ற ஒரு புதிய முறையை அறிமுகப்படுத்தியது.
- II. 1935 சட்டத்தின் மூலம் மாகாணங்களுக்கு சுயாட்சி வழங்கப்பட்டது.
- III. இது மத்திய மற்றும் மாகாணங்களுக்கு இடையிலான அதிகாரங்களை மூன்று பட்டியல்களாகப் பிரித்தது.

மேற்கண்ட கூற்றுகளில் சரியானவை எவை?

- | | |
|--------------------------|---------------------------|
| A) I மற்றும் II மட்டும் | B) II மற்றும் III மட்டும் |
| C) I மற்றும் III மட்டும் | D) மேற்கண்ட அனைத்தும் |
| E) விடை தெரியவில்லை | |

47. Who criticized the Government of India Act 1935 as "A car with all brakes and no engine"?

- | | |
|---------------------|-----------------------|
| A) Jawaharlal Nehru | B) Mahatma Gandhi |
| C) Dr.B.R Ambedkar | D) C. Rajagopalachari |
| E) Answer not known | |

இந்திய அரசு சட்டம் 1935ஐ "அனைத்து வேகத்தடைகளையும் கொண்ட இன்ஜின் இல்லாத கார்" என்று விமர்சித்தவர் யார்?

- | | |
|---------------------|-----------------------|
| A) ஜவஹர்லால் நேரு | B) மகாத்மா காந்தி |
| C) Dr.BR அம்பேத்கர் | D) C. ராஜகோபாலாச்சாரி |
| E) விடை தெரியவில்லை | |

48. Consider the following statements with reference to Swarajists:

- I. Rajendra Prasad and Rajagopalachari were among the leaders who wanted to use councils as an arena of political struggle.
- II. Swarajists aimed to disrupt the functioning of legislative councils by entering them.

Which of the statements given above are correct?

- | | |
|---------------------|---------------------|
| A) I only | B) II only |
| C) Both I and II | D) Neither I nor II |
| E) Answer not known | |

சுயராஜ்ஜியவாதிகள் பற்றிய பின்வரும் கூற்றுகளைக் கருத்தில் கொள்க.

- I. இராஜேந்திர பிரசாத், ராஜகோபாலாச்சாரி போன்ற தலைவர்கள் பேரவைகளை அரசியல் போராட்ட களமாக பயன்படுத்த நினைத்தவர்கள்.
- II. சுயராஜ்ஜியவாதிகள் சட்ட மன்றங்களுக்குள் நுழைந்து அதன் செயல்பாட்டை சீர்குலைப்பதை நோக்கமாகக் கொண்டிருந்தனர்.

மேற்கண்ட கூற்றுகளில் சரியானது எது/எவை?

- | | |
|---------------------|-----------------|
| A) I மட்டும் | B) II மட்டும் |
| C) இரண்டும் | D) இரண்டுமில்லை |
| E) விடை தெரியவில்லை | |



49. Match List-I with List-II.

List-I
(Books)

- India divided
- The Discovery of India
- My Reminiscences
- Unhappy India

List-II
(Authoured by)

- Rajendra Prasad
- Rabindranath Tagore
- Jawaharlal Nehru
- Lala Lajpat Rai

Codes:

- | | a | b | c | d |
|----|----------|----------|----------|----------|
| A) | 4 | 3 | 2 | 1 |
| B) | 3 | 4 | 1 | 2 |
| C) | 3 | 1 | 4 | 2 |
| D) | 1 | 3 | 2 | 4 |

E) Answer not known

பட்டியல்-Iஐ பட்டியல்-II உடன் பொருத்தவும்.

பட்டியல்-I

(புத்தகங்கள்)

- India divided
- The Discovery of India
- My Reminiscences
- Unhappy India

பட்டியல்-II

(ஆசிரியர்)

- இராஜேந்திர பிரசாத்
- இரவீந்திரநாத் தாகூர்
- ஜவஹர்லால் நேரு
- லாலா லஜபதி ராய்

குறியீடுகள்:

- | | a | b | c | d |
|----|----------|----------|----------|----------|
| A) | 4 | 3 | 2 | 1 |
| B) | 3 | 4 | 1 | 2 |
| C) | 3 | 1 | 4 | 2 |
| D) | 1 | 3 | 2 | 4 |

E) விடை தெரியவில்லை

50. At which event did the All India Muslim League make its first official demand for the partition of India and the creation of a Muslim state called Pakistan?

- | | |
|--------------------------|----------------------------|
| A) Karachi Session, 1931 | B) Shimla Conference, 1945 |
| C) Lahore Session, 1932 | D) Lahore Session, 1940 |
| E) Answer not known | |

எந்த நிகழ்வில் அகில இந்திய முஸ்லீம் லீக் இந்தியாவைப் பிரித்து பாகிஸ்தான் என்ற முஸ்லீம் அரசை உருவாக்க வேண்டும் என்ற தனது முதல் அதிகாரப்பூர்வ கோரிக்கையை முன்வைத்தது?

- | | |
|-------------------------|------------------------|
| A) கராச்சி அமர்வு, 1931 | B) சிம்லா மாநாடு, 1945 |
| C) லாகூர் அமர்வு, 1932 | D) லாகூர் அமர்வு, 1940 |
| E) விடை தெரியவில்லை | |



51. Find the incorrect statement regarding conditions agreed on Gandhi Irwin Pact?

- A) Immediate release of all political prisoners not convicted of violence.
- B) Right to make salt in coastal villages for sale.
- C) Right to peaceful and non-aggressive picketing
- D) Return of confiscated land
- E) Answer not known

காந்தி இர்வின் ஒப்பந்தத்தில் ஒப்புக்கொள்ளப்பட்ட நிபந்தனைகள் பற்றிய தவறான கூற்றைக் கண்டறிக.

- A) வன்முறையில் ஈடுபட்டதாகக் குற்றம்சாட்டப்படாத அனைத்து அரசியல் கைதிகளையும் உடனடியாக விடுதலை செய்தல்.
- B) கடலோர கிராமங்களில் விற்பனைக்கு உப்பு தயாரிக்கும் உரிமை.
- C) அமைதியான மற்றும் ஆக்கிரமிப்பு இல்லாத மறியல் போராட்டத்திற்கான உரிமை
- D) கைப்பற்றப்பட்ட நிலத்தை திரும்ப அளித்ததல்
- E) விடை தெரியவில்லை

52. Find out the incorrectly matched pair.

(Books)

(Author)

- | | |
|---|---------------------------|
| A) Why I am an Atheist | – Bhagat Singh |
| B) Towards Freedom | – Jawaharlal Nehru |
| C) Chittagong Armoury Raiders Reminiscences | – Surya Sen |
| D) India wins freedom | – Maulana Abul Kalam Azad |
| E) Answer not known | |

தவறாகப் பொருந்திய இணையைக் கண்டறியவும்.

(புத்தகங்கள்)

(ஆசிரியர்)

- | | |
|---|----------------------------|
| A) Why I am an Atheist | - பகத் சிங் |
| B) Towards Freedom | - ஜவஹர்லால் நேரு |
| C) Chittagong Armoury Raiders Reminiscences | - சூர்யா சென் |
| D) India wins freedom | - மௌலானா அபுல் கலாம் ஆசாத் |
| E) விடை தெரியவில்லை | |

53. Consider the following statements.

- I. Ambedkar joined the Elphinston College, with the help of a scholarship and graduated in 1912.
- II. Ambedkar went to London to study law and economics.
- III. With the help of a scholarship from the Maharaja of Barona he went to United Kingdom and secured a post-graduate degree.

Which of the statements given above are correct?

- A) I and II only
- B) II and III only
- C) I and III only
- D) All the above
- E) Answer not known



பின்வரும் கூற்றுகளைக் கருத்தில் கொள்க

- I. அம்பேத்கர் கல்வி உதவித்தொகையின் மூலம் எல்பின்ஸ்டன் கல்லூரியில் சேர்ந்து 1912 இல் பட்டம் பெற்றார்.
- II. அம்பேத்கர் சட்டம் மற்றும் பொருளாதாரம் படிக்க லண்டன் சென்றார்.
- III. பரோடா மகாராஜாவின் உதவித்தொகையின் மூலம் அவர் ஐக்கிய இராச்சியம் சென்று முதுகலைப் பட்டம் பெற்றார்.

மேற்கண்ட கூற்றுகளில் சரியானவை எவை?

- | | |
|--------------------------|---------------------------|
| A) I மற்றும் II மட்டும் | B) II மற்றும் III மட்டும் |
| C) I மற்றும் III மட்டும் | D) மேற்கண்ட அனைத்தும் |
| E) விடை தெரியவில்லை | |

54. Which of the following book was not authored by Dr. B.R. Ambedkar?

- A) Hind Swaraj
- B) Annihilation of caste
- C) Who were the Shudras?
- D) Riddles in Hinduism
- E) Answer not known

பின்வரும் புத்தகங்களில் எது டாக்டர் பி.ஆர்.அம்பேத்கரால் எழுதப்படவில்லை?

- A) Hind Swaraj
- B) Annihilation of caste
- C) Who were the Shudras?
- D) Riddles in Hinduism
- E) விடை தெரியவில்லை

55. Consider the following statements about Leftist movements in India:

- I. The labour and peasant movements were organized by the capitalists.
- II. Jawaharlal Nehru and Subhas Chandra Bose contributed to the spread of leftist ideology.
- III. They argued that both colonial exploitation and the internal exploitation by the emerging capitalists should be fought.

Which of the statements given above are correct?

- | | |
|---------------------|--------------------|
| A) I and II only | B) II and III only |
| C) I and III only | D) All the above |
| E) Answer not known | |

இந்தியாவில் இடதுசாரி இயக்கங்கள் பற்றிய பின்வரும் கூற்றுகளைக் கருத்தில் கொள்க

- I. தொழிலாளர் மற்றும் விவசாயிகள் இயக்கங்கள் முதலாளிகளால் ஒழுங்கமைக்கப்பட்டன.
- II. ஜவஹர்லால் நேரு மற்றும் சுபாஸ் சந்திர போஸ் ஆகியோர் இடதுசாரி சித்தாந்தத்தின் பரவலுக்கு பங்களித்தனர்.
- III. காலனித்துவ சுரண்டல் மற்றும் உள்நாட்டில் முதலாளிகள் நடத்திய சுரண்டல் ஆகிய இரண்டையும் எதிர்த்துப் போராட வேண்டும் என்று அவர்கள் வாதிட்டனர்.

மேற்கண்ட கூற்றுகளில் சரியானவை எவை?

- | | |
|--------------------------|---------------------------|
| A) I மற்றும் II மட்டும் | B) II மற்றும் III மட்டும் |
| C) I மற்றும் III மட்டும் | D) மேற்கண்ட அனைத்தும் |
| E) விடை தெரியவில்லை | |



56. Which statement is false about the communal award?
- A) The British government announced it on August 1932
B) There was an encounter between Gandhi and Ambedkar in the RTC about this issue
C) It ended in a deadlock and finally the issue was left to be arbitrated by the British Prime Minister Clement Atlee.
D) Ambedkar's demands for separate electorates with reserved seats were conceded.
E) Answer not known
- வகுப்புவாரிக் கொடை பற்றிய பின்வரும் கூற்றில் எந்த கூற்று தவறானது?
- A) பிரிட்டிஷ் அரசாங்கம் ஆகஸ்ட் 1932 இல் இதை அறிவித்தது
B) இந்த விவகாரம் தொடர்பாக வட்ட மேஜை மாநாட்டில் காந்திக்கும் அம்பேத்கருக்கும் இடையே மோதல் ஏற்பட்டது
C) இது ஒரு முட்டுக்கட்டையில் முடிந்தது, இறுதியாக இந்த பிரச்சினை பிரிட்டிஷ் பிரதமர் கிளெமென்ட் அட்லியால் மத்தியஸ்தம் செய்யப்பட்டது.
D) அம்பேத்கரின் இட ஒதுக்கீட்டுடன் கூடிய தனித்தொகுதி கோரிக்கை ஏற்கப்பட்டது.
E) விடை தெரியவில்லை

57. Consider the following statements:
- I. The Communist Party of India (CPI) was formed under the leadership of M.N. Roy in Tashkent, Uzbekistan, in October 1920.
II. The Communist Party of India was formally established in 1925, with its headquarters in Bombay.

Which of the statements given above is/are incorrect?

- A) I only
B) II only
C) Both I and II
D) Neither I nor II
E) Answer not known

பின்வரும் கூற்றுகளைக் கருத்தில் கொள்க

- I. இந்திய கம்யூனிஸ்ட் கட்சி (CPI) 1920 அக்டோபரில் உஸ்பெகிஸ்தானின் தாஷ்கண்டில் எம்.என்.ராய் தலைமையில் உருவாக்கப்பட்டது.
II. இந்திய கம்யூனிஸ்ட் கட்சி 1925 ஆம் ஆண்டு முறையாக இந்தியாவில் நிறுவப்பட்டது, அதன் தலைமையகம் பம்பாயில் உள்ளது.

மேற்கண்ட கூற்றுகளில் தவறானது எது/எவை?

- A) I மட்டும்
B) II மட்டும்
C) இரண்டும்
D) இரண்டுமில்லை
E) விடை தெரியவில்லை



58. Match List-I with List-II.

List-I

(Party)

- Swaraj Party
- Labour Party
- Ghadar Party
- Congress Socialist Party

Codes:

- | | a | b | c | d |
|----|----------|----------|----------|----------|
| A) | 1 | 3 | 4 | 2 |
| B) | 2 | 4 | 1 | 3 |
| C) | 3 | 2 | 1 | 4 |
| D) | 2 | 3 | 1 | 4 |

E) Answer not known

பட்டியல்-Iஐ பட்டியல்-II உடன் பொருத்துக.

பட்டியல்-I

(கட்சி)

- சுயராஜ்ய கட்சி
- தொழிலாளர் கட்சி
- கதார் கட்சி
- காங்கிரஸ் சோசலிஸ்ட் கட்சி

குறியீடுகள்:

- | | a | b | c | d |
|----|----------|----------|----------|----------|
| A) | 1 | 3 | 4 | 2 |
| B) | 2 | 4 | 1 | 3 |
| C) | 3 | 2 | 1 | 4 |
| D) | 2 | 3 | 1 | 4 |

E) விடை தெரியவில்லை

List-II

(Members associated with it)

- Lala Hardayal
- Sathyamurthi
- Jayaprakash Narayan
- Clement atlee

பட்டியல்-II

(அதனுடன் தொடர்புடைய உறுப்பினர்கள்)

- லாலா ஹர்தயாள்
- சத்தியமூர்த்தி
- ஜெயபிரகாஷ் நாராயண்
- கிளமென்ட் அட்லி

59. Which movement is known as the first civil disobedience movement of Gandhi?

- | | |
|--------------------------|--------------------------|
| A) Champaran Satyagraha | B) Kheda Sathyagraha |
| C) Individual Satyagraha | D) Ahmedabad mill strike |
| E) Answer not known | |

காந்தியின் முதல் சட்ட மறுப்பு இயக்கம் என்று அழைக்கப்படும் இயக்கம் எது?

- | | |
|---------------------------|---------------------------------|
| A) சம்பரான் சத்தியாகிரகம் | B) கேதா சத்தியாகிரகம் |
| C) தனிநபர் சத்தியாகிரகம் | D) அகமதாபாத் மில் வேலைநிறுத்தம் |
| E) விடை தெரியவில்லை | |

60. Who is associated with the slogan "Jai Jawan Jai Kisan"?

- | | |
|---------------------|------------------------|
| A) Jawaharlal Nehru | B) Bhagat Singh |
| C) Mahatma Gandhi | D) Lal Bahadur Sashtri |
| E) Answer not known | |



"ஜெய் ஜவான் ஜெய் கிசான்" என்ற முழக்கத்துடன் தொடர்புடையவர் யார்?

- A) ஜவஹர்லால் நேரு
B) பகத் சிங்
C) மகாத்மா காந்தி
D) லால் பகதூர் சாஸ்திரி
E) விடை தெரியவில்லை

61. Consider the following statements regarding Dr.B.R Ambedkar:

- I. He participated in all three Round Table Conferences.
II. He launched a journal called Mook Nayak
III. He presented a research paper on 'Castes in India'.

Which of the statements given above are correct?

- A) I and II only
B) II and III only
C) I and III only
D) All the above
E) Answer not known

டாக்டர். பி.ஆர். அம்பேத்கர் பற்றிய பின்வரும் கூற்றுகளைக் கருத்தில் கொள்க :

- I. இவர் மூன்று வட்ட மேசை மாநாடுகளிலும் பங்கேற்றார்.
II. இவர் மூக் நாயக் என்ற பத்திரிகையைத் தொடங்கினார்
III. இவர் "இந்தியாவில் சாதிகள்" என்ற தலைப்பில் ஒரு ஆராய்ச்சிக் கட்டுரையை வழங்கினார்.
மேற்கண்ட கூற்றுகளில் சரியானவை எவை?

- A) I மற்றும் II மட்டும்
B) II மற்றும் III மட்டும்
C) I மற்றும் III மட்டும்
D) மேற்கண்ட அனைத்தும்
E) விடை தெரியவில்லை

62. Consider the following statements regarding Rajagopalachari:

- I. He became the chief minister of Madras presidency in 1937.
II. He issued the Temple Entry Authorization and Indemnity Act in 1939.
III. He served as the first Indian Governor general.
IV. He served as the President of the Indian National Congress.

Which of the statements given above are incorrect?

- A) I, II and III only
B) II, III and IV only
C) I, III and IV only
D) All the above
E) Answer not known

இராஜகோபாலாச்சாரி பற்றிய பின்வரும் கூற்றுகளைக் கருத்தில் கொள்க:

- I. 1937 ஆம் ஆண்டில் இவர் மதராஸ் மாகாணத்தின் முதல்வராக ஆனார்.
II. இவர் 1939 ஆம் ஆண்டில் கோயில் நுழைவு அங்கீகாரம் மற்றும் இழப்பீடு சட்டத்தை வெளியிட்டார்.
III. இவர் இந்தியாவின் முதல் கவர்னர் ஜெனரலாக பணியாற்றினார்.
IV. இந்திய தேசிய காங்கிரஸின் தலைவராக பணியாற்றினார்.

மேற்கண்ட கூற்றுகளில் தவறானவை எவை?

- A) I, II மற்றும் III மட்டும்
B) II, III மற்றும் IV மட்டும்
C) I, III மற்றும் IV மட்டும்
D) மேற்கண்ட அனைத்தும்
E) விடை தெரியவில்லை

63. Arrange the following events in Chronological order :

- I. Salt Satyagraha
II. Neil Statue removal Satyagraha
III. Resignation of Congress Ministries

**Codes:**

- A) I-II-III
B) I-III-II
C) II-I-III
D) III-I-II
E) Answer not known

பின்வரும் நிகழ்வுகளை காலவரிசைப்படி வரிசைப்படுத்துக:

- I. உப்பு சத்தியாகிரகம்
II. நீல் சிலை அகற்றும் சத்தியாகிரகம்
III. காங்கிரஸ் அமைச்சர்கள் ராஜினாமா

குறியீடுகள்:

- A) I-II-III
B) I-III-II
C) II-I-III
D) III-I-II
E) விடை தெரியவில்லை

64. Which of the following statements regarding the Government of India Act of 1935 is incorrect?

- A) Creation of All-India federation
B) Provincial autonomy replaced Dyarchy.
C) The federal legislature was to be bicameral.
D) Elections to the Federal Assembly were direct, whereas elections for the Council of States were indirect.
E) Answer not known

1935 ஆம் ஆண்டின் இந்திய அரசுச் சட்டம் தொடர்பான பின்வரும் கூற்றுகளில் எது தவறானது?

- A) அகில இந்திய கூட்டமைப்பு உருவாக்கம்
B) மாகாண சுயாட்சியானது இரட்டையாட்சிக்கு பதிலாக மாற்றப்பட்டது.
C) கூட்டாட்சி சட்டமன்றம் இரு அவைகளாக இருக்க வேண்டும்.
D) கூட்டாட்சி சட்டசபைக்கான தேர்தல்கள் நேரடியாகவும், மாநிலங்களைவைக்கான தேர்தல்கள் மறைமுகமாகவும் இருந்தன.
E) விடை தெரியவில்லை

65. The Poona Pact was signed between

- A) Ambedkar and Jawaharlal Nehru
B) Gandhi and Ambedkar
C) M.C Rajah and B.S Moonje
D) Madan Mohan Malaviya and Ambedkar
E) Answer not known

பூனா ஒப்பந்தம் யார் யாருக்கு இடையே கையெழுத்தானது?

- A) அம்பேத்கர் மற்றும் ஜவஹர்லால் நேரு
B) காந்தி மற்றும் அம்பேத்கர்
C) MC ராஜா மற்றும் BS மூஞ்சே
D) மதன் மோகன் மாளவியா மற்றும் அம்பேத்கர்
E) விடை தெரியவில்லை



66. Consider the following statements regarding provisions of Nehru report:
- I. India should be granted Dominion status.
 - II. Rejection of separate electorates
 - III. Linguistic provinces.
 - IV. Nineteen fundamental rights including equal rights for women, right to form unions, and universal adult suffrage.

Which of the statements given above are correct?

- | | |
|-----------------------|------------------------|
| A) I, II and III only | B) II, III and IV only |
| C) I, III and IV only | D) All the above |
| E) Answer not known | |

நேரு அறிக்கையின் விதிகள் தொடர்பான பின்வரும் கூற்றுகளைக் கருத்தில் கொள்க :

- I. இந்தியாவுக்கு தன்னாட்சி அந்தஸ்து வழங்கப்பட வேண்டும்.
- II. தனித் தொகுதிகள் நிராகரிப்பு
- III. மொழிவாரி மாகாணங்கள்.
- IV. பெண்களுக்கான சம உரிமைகள், தொழிற்சங்கங்களை உருவாக்கும் உரிமை, மற்றும் வயது வந்தோரின் பொதுவான வாக்குரிமை உள்ளிட்ட 19 அடிப்படை உரிமைகள்.

மேற்கண்ட கூற்றுகளில் சரியானவை எவை?

- | | |
|------------------------------|-------------------------------|
| A) I, II மற்றும் III மட்டும் | B) II, III மற்றும் IV மட்டும் |
| C) I, III மற்றும் IV மட்டும் | D) மேற்கண்ட அனைத்தும் |
| E) விடை தெரியவில்லை | |

67. Which Revolutionary organization was responsible for organizing the Kakori Train Conspiracy?

- A) Abhinav Bharat Society
- B) Hindustan Republican Association
- C) Ghadar Party
- D) Hindustan Socialist Republican Association
- E) Answer not known

ககோரி ரயில் சதியை ஏற்பாடு செய்ததற்கு எந்த புரட்சிகர அமைப்பு பொறுப்பேற்றது ?

- A) அபினவ் பாரத் சொசைட்டி
- B) இந்துஸ்தான் குடியரசுக் கழகம்
- C) கதர் கட்சி
- D) இந்துஸ்தான் சோசலிஸ்ட் குடியரசு கழகம்
- E) விடை தெரியவில்லை

68. Consider the following statements.

- I. Surya Sen headed the Chittagong raid on the Police armoury.
- II. Kalpana Dutt was a member of the Indian Republican Army.
- III. Both Surya Sen and Kalpana Dutt was charged with 'waging war against the King Emperor'.

Which of the statements given above are correct?

- | | |
|---------------------|--------------------|
| A) I and II only | B) II and III only |
| C) I and III only | D) All the above |
| E) Answer not known | |



பின்வரும் கூற்றுகளைக் கருத்தில் கொள்க.

- I. தூர்யா சென் தலைமையில் சிட்டகாங் போலீஸ் ஆயுதக் கிடங்கு மீது தாக்குதல் நடத்தப்பட்டது.
- II. கல்பனா தத் இந்திய குடியரசு ராணுவத்தில் உறுப்பினராக இருந்தார்.
- III. தூர்யா சென் மற்றும் கல்பனா தத் இருவரும் 'பேரரசருக்கு எதிராக போர் தொடுத்ததற்காக' குற்றம் சாட்டப்பட்டனர்.

மேற்கண்ட கூற்றுகளில் சரியானவை எவை?

- A) I மற்றும் II மட்டும்
- B) II மற்றும் III மட்டும்
- C) I மற்றும் III மட்டும்
- D) மேற்கண்ட அனைத்தும்
- E) விடை தெரியவில்லை

69. The concept of Total Revolution was advocated by

- A) M.N. Roy
- B) Bhagat Singh
- C) Jayaprakash Narayan
- D) Bipin Chandra Pal
- E) Answer not known

மொத்தப் புரட்சி என்றக் கருத்து யாரால் முன்மொழியப்பட்டது?

- A) MN ராய்
- B) பகத் சிங்
- C) ஜெயபிரகாஷ் நாராயண்
- D) பிபின் சந்திர பால்
- E) விடை தெரியவில்லை

70. Match List-I with List-II.

List-I

(First Indigenous Industry)

- a) Cotton mill
- b) Jute mill
- c) Steel Industry
- d) Paper mill

List-II

(Setup at)

1. Lucknow
2. Calcutta
3. Bombay
4. Sakchi

Codes:

- | | a | b | c | d |
|----|----------|----------|----------|----------|
| A) | 3 | 4 | 1 | 2 |
| B) | 2 | 1 | 3 | 4 |
| C) | 3 | 2 | 4 | 1 |
| D) | 1 | 2 | 3 | 4 |

E) Answer not known

பட்டியல்-Iஐ பட்டியல்-II உடன் பொருத்துக.

பட்டியல்-I

(முதல் உள்ளூட்டு தொழில்)

- a) பருத்தி ஆலை
- b) சணல் ஆலை
- c) எஃகு ஆலை
- d) காகித ஆலை

பட்டியல்-II

(அமைவு)

1. லக்னோ
2. கல்கத்தா
3. பம்பாய்
4. சாஹி



குறியீடுகள்:

- | | a | b | c | d |
|----|----------|----------|----------|----------|
| A) | 3 | 4 | 1 | 2 |
| B) | 2 | 1 | 3 | 4 |
| C) | 3 | 2 | 4 | 1 |
| D) | 1 | 2 | 3 | 4 |
- E) விடை தெரியவில்லை

71. Consider the following statements regarding Poona Pact:

- I. Poona pact was signed on September 24, 1933.
- II. It accepted the idea of separate electorate.
- III. The seats reserved for the depressed classes were increased.
- IV. The Poona Pact was accepted by the government as an amendment to the Communal Award.

Which of the statements given above are correct?

- | | |
|-----------------------|------------------------|
| A) I, II and III only | B) II, III and IV only |
| C) III and IV only | D) All the above |
- E) Answer not known

புனா ஒப்பந்தம் தொடர்பான பின்வரும் கூற்றுகளைக் கருத்தில் கொள்க:

- I. புனா ஒப்பந்தம் செப்டம்பர் 24, 1933 இல் கையெழுத்தானது.
- II. தனித் தொகுதி திட்டத்தை ஏற்றுக்கொண்டது.
- III. பிற்படுத்தப்பட்ட வகுப்பினருக்கான இடங்கள் அதிகரிக்கப்பட்டன.
- IV. புனா ஒப்பந்தம் வகுப்புவாத தொகுதி ஒதுக்கீட்டிற்கான திருத்தமாக அரசாங்கத்தால் ஏற்றுக்கொள்ளப்பட்டது.

மேற்கண்ட கூற்றுகளில் சரியானவை எவை?

- | | |
|------------------------------|-------------------------------|
| A) I, II மற்றும் III மட்டும் | B) II, III மற்றும் IV மட்டும் |
| C) III மற்றும் IV மட்டும் | D) மேற்கண்ட அனைத்தும் |
- E) விடை தெரியவில்லை

72. Who among the following was arrested in the Kanpur Conspiracy Case?

- | | |
|----------------------|-----------------|
| A) M.N. Roy | B) Bhagat Singh |
| C) Ram Prasad Bismil | D) S.A Dange |
- E) Answer not known

கீழ்க்கண்டவர்களில் யார் கான்பூர் சதி வழக்கில் கைது செய்யப்பட்டார்?

- | | |
|--------------------------|--------------|
| A) MN ராய் | B) பகத் சிங் |
| C) ராம் பிரசாத் பிஸ்மில் | D) SA டாங்கே |
- E) விடை தெரியவில்லை

73. The Communal award was announced by

- | | |
|----------------------|---------------------|
| A) Winston Churchill | B) Ramsay MacDonald |
| C) Dr.B.R Ambedkar | D) Clement Atlee |
- E) Answer not known



வகுப்புவாத தொகுதி ஒதுக்கீடு யாரால் அறிவிக்கப்பட்டது?

- A) வின்ஸ்டன் சர்ச்சில்
B) ராம்சே மெக்டொனால்ட்
C) டாக்டர். பி.ஆர். அம்பேத்கர்
D) கிளெமென்ட் அட்லீ
E) விடை தெரியவில்லை

74. In which session did Congress officially adopted the Socialistic Pattern of Society?

- A) Jaipur Session, 1948
B) Nasik Session, 1950
C) Avadi Session, 1955
D) Bhubaneshwar Session, 1964
E) Answer not known

சமூகத்தின் சமத்துவ முறையை காங்கிரஸ் எந்த அமர்வில் அதிகாரப்பூர்வமாக ஏற்றுக்கொண்டது?

- A) ஜெய்ப்பூர் அமர்வு, 1948
B) நாசிக் அமர்வு, 1950
C) ஆவடி அமர்வு, 1955
D) புவனேஷ்வர் அமர்வு, 1964
E) விடை தெரியவில்லை

75. In the 1937 elections, Congress won in how many provinces?

- A) 12 Provinces
B) 7 Provinces
C) 5 Provinces
D) 8 Provinces
E) Answer not known

1937 தேர்தலில் காங்கிரஸ் எத்தனை மாகாணங்களில் வெற்றி பெற்றது?

- A) 12 மாகாணங்கள்
B) 7 மாகாணங்கள்
C) 5 மாகாணங்கள்
D) 8 மாகாணங்கள்
E) விடை தெரியவில்லை

76. In which year official language Act was enacted?

- A) 1953
B) 1963
C) 1973
D) 1983
E) Answer not known

எந்த ஆண்டு அலுவல் மொழி சட்டம் இயற்றப்பட்டது?

- A) 1953
B) 1963
C) 1973
D) 1983
E) விடை தெரியவில்லை

77. Who was famously referred to as the 'Ambassador of Hindu-Muslim Unity'?

- A) Maulana Abul Kalan Azad
B) Jawaharlal Nehru
C) Mahatma Gandhi
D) Muhamad Ali Jinnah
E) Answer not known

'இந்து-முஸ்லிம் ஒற்றுமையின் தூதர்' என்று பிரபலமாக குறிப்பிடப்பட்டவர் யார்?

- A) மௌலானா அபுல் கலான் ஆசாத்
B) ஜவஹர்லால் நேரு
C) மகாத்மா காந்தி
D) முகமது அலி ஜின்னா
E) விடை தெரியவில்லை



78. Consider the following statements.

- I. The Meerut Conspiracy Case of 1929 was the most famous of all the communist conspiracy cases instituted by the British Government
- II. Famous Indian lawyers like K.F. Nariman and M.C. Chagla appeared in the court on behalf of the accused.
- III. Even national leaders like Gandhi and Jawaharlal Nehru visited the accused in jail.

Which of the statements given above are correct?

- | | |
|---------------------|--------------------|
| A) I and II only | B) II and III only |
| C) I and III only | D) All the above |
| E) Answer not known | |

பின்வரும் கூற்றுகளைக் கருத்தில் கொள்க.

- I. 1929ஆம் ஆண்டின் மீரட் சதி வழக்கு பிரிட்டிஷ் அரசாங்கத்தால் நிறுவப்பட்ட அனைத்து கம்யூனிச சதி வழக்குகளிலும் மிகவும் பிரபலமானது.
- II. குற்றம் சாட்டப்பட்டவர்கள் சார்பில் பிரபல இந்திய வழக்கறிஞர்கள் K.F. நாரிமன், M.C. சக்லா ஆகியோர் நீதிமன்றத்தில் ஆஜராகினர்.
- III. காந்தி, ஜவஹர்லால் நேரு போன்ற தேசிய தலைவர்கள் கூட குற்றம் சாட்டப்பட்டவர்களை சிறையில் சந்தித்தனர்.

மேற்கண்ட கூற்றுகளில் சரியானவை எவை?

- | | |
|--------------------------|---------------------------|
| A) I மற்றும் II மட்டும் | B) II மற்றும் III மட்டும் |
| C) I மற்றும் III மட்டும் | D) மேற்கண்ட அனைத்தும் |
| E) விடை தெரியவில்லை | |

79. Consider the following statements regarding Abul kalam Azad:

- I. He was the longest-serving president of the Indian National Congress (INC).
- II. He became the First Minister of Education in the Indian Government
- III. He supported India's partition.
- IV. He was awarded Bharat Ratna in 1992, posthumously.

Which of the statements given above are correct?

- | | |
|-----------------------|--------------------|
| A) I, II and III only | B) III and IV only |
| C) I, II and IV only | D) All the above |
| E) Answer not known | |

அபுல் கலாம் ஆசாத் தொடர்பான பின்வரும் கூற்றுகளைக் கருத்தில் கொள்க:

- I. இந்திய தேசிய காங்கிரஸின் (INC) மிக நீண்ட காலம் தலைவராக இருந்தவர்.
- II. இந்திய அரசின் முதல் கல்வி அமைச்சரானார்
- III. இந்தியப் பிரிவினையை ஆதரித்தார்.
- IV. 1992-ல் இவருக்கு பாரத ரத்னா விருது வழங்கப்பட்டது.

மேற்கண்ட கூற்றுகளில் சரியானவை எவை?

- | | |
|------------------------------|---------------------------|
| A) I, II மற்றும் III மட்டும் | B) III மற்றும் IV மட்டும் |
| C) I, II மற்றும் IV மட்டும் | D) மேற்கண்ட அனைத்தும் |
| E) விடை தெரியவில்லை | |



80. Which of the following is/are incorrectly matched?

(Epithets)

(Associated personality)

I. Heroine of Quit India Movement

– Aruna Asaf Ali

II. Grandmother of Indian Revolutionary Movement

– Madam Bhikaji Cama

Codes:

A) I only

B) II only

C) Both I and II

D) Neither I nor II

E) Answer not known

பின்வருவனவற்றில் எது/எவை தவறாகப் பொருந்தியுள்ளது?

(அடைமொழிகள்)

(தொடர்புடைய ஆளுமை)

I. வெள்ளையனே வெளியேறு இயக்கத்தின் நாயகி

– அருணா ஆசஃப் அலி

II. இந்தியப் புரட்சி இயக்கத்தின் பாட்டி

– மேடம் பிகாஜி காமா

குறியீடுகள்:

A) I மட்டும்

B) II மட்டும்

C) இரண்டும்

D) இரண்டுமில்லை

E) விடை தெரியவில்லை

81. Consider the following statements regarding the functions of Election Commission of India:

I. Preparation of electoral rolls for all elections to the Parliament, State-Legislatures.

II. Granting recognition to political parties.

III. Assigning election symbols to political parties and individuals contesting the election.

IV. Proclamation of final verdict in the case of election disputes.

Which of the statements given above are correct?

A) I, II and III only

B) II, III and IV only

C) I, III and IV only

D) All the above

E) Answer not known

இந்திய தேர்தல் ஆணையத்தின் பணிகள் தொடர்பான பின்வரும் கூற்றுகளைக் கருத்தில் கொள்க:

I. பாராளுமன்றம், மாநில-சட்டமன்றங்களுக்கான அனைத்து தேர்தல்களுக்கும் வாக்காளர் பட்டியல் தயாரித்தல் .

II. அரசியல் கட்சிகளுக்கு அங்கீகாரம் வழங்குதல்.

III. தேர்தலில் போட்டியிடும் அரசியல் கட்சிகள் மற்றும் தனிநபர்களுக்கு தேர்தல் சின்னங்களை ஒதுக்குதல்.

IV. தேர்தல் தகராறுகள் வழக்கில் இறுதி தீர்ப்பு அறிவிப்பு.

மேற்கண்ட கூற்றுகளில் சரியானவை எவை?

A) I, II மற்றும் III மட்டும்

B) II, III மற்றும் IV மட்டும்

C) I, III மற்றும் IV மட்டும்

D) மேற்கண்ட அனைத்தும்

E) விடை தெரியவில்லை



82. Who determine the conditions of service and tenure of the Election Commissioners and Regional Commissioners?

- A) President
- B) Parliament
- C) Chief Election Commissioner
- D) Department of Personnel and Training
- E) Answer not known

தேர்தல் ஆணையர்கள் மற்றும் பிராந்திய ஆணையர்களின் சேவை மற்றும் பதவிக்காலத்தை தீர்மானிப்பவர் யார்?

- A) குடியரசுத் தலைவர்
- B) பாராளுமன்றம்
- C) தலைமை தேர்தல் ஆணையர்
- D) பணியாளர் மற்றும் பயிற்சி துறை
- E) விடை தெரியவில்லை

83. Find the incorrect statement regarding Election commissioners:

- A) The President determines the number of Election Commissioners apart from the Chief Election Commissioner.
- B) The Chief Election Commissioner and the other Election Commissioners have equal powers.
- C) In case of a difference of opinion among the Chief Election Commissioner and other Election Commissioners, the Chief Election Commissioner's decision is final.
- D) The Election Commissioner can only be removed from office on the recommendation of the Chief Election Commissioner.
- E) Answer not known

தேர்தல் ஆணையர்கள் தொடர்பான தவறான கூற்றுகளைக் கண்டறிக:

- A) தலைமைத் தேர்தல் ஆணையரைத் தவிர தேர்தல் ஆணையர்களின் எண்ணிக்கையை குடியரசுத் தலைவர் தீர்மானிக்கிறார்.
- B) தலைமை தேர்தல் ஆணையர் மற்றும் மற்ற தேர்தல் ஆணையர்களுக்கு சம அதிகாரம் உள்ளது.
- C) தலைமைத் தேர்தல் ஆணையர் மற்றும் பிற தேர்தல் ஆணையர்களிடையே கருத்து வேறுபாடு ஏற்பட்டால், தலைமைத் தேர்தல் ஆணையரின் முடிவே இறுதியானது.
- D) தலைமை தேர்தல் ஆணையரின் பரிந்துரையின் பேரில் மட்டுமே தேர்தல் ஆணையரை பதவியில் இருந்து நீக்க முடியும்.
- E) விடை தெரியவில்லை

84. When did the first general election in India held?

- A) October 1950 and February 1951
- B) October 1951 and February 1952
- C) May 1950 and October 1950
- D) May 1951 and October 1951
- E) Answer not known



இந்தியாவில் முதல் பொதுத் தேர்தல் எப்போது நடைபெற்றது?

- A) அக்டோபர் 1950 மற்றும் பிப்ரவரி 1951
- B) அக்டோபர் 1951 மற்றும் பிப்ரவரி 1952
- C) மே 1950 மற்றும் அக்டோபர் 1950
- D) மே 1951 மற்றும் அக்டோபர் 1951
- E) விடை தெரியவில்லை

85. Consider the following statements.

- I. The Public Service Commission was established in India for the first time on October 1, 1926.
- II. Sir Ross Barker served as the first Chairman of the Commission.
- III. The functions of the Public Service Commission were laid down in the Government of India Act, 1919.

Which of the statements given above are correct?

- A) I and II only
- B) II and III only
- C) I and III only
- D) All the above
- E) Answer not known

பின்வரும் கூற்றுகளைக் கருத்தில் கொள்க.

- I. அரசுப்பணியாளர் தேர்வாணையம் இந்தியாவில் முதல் முறையாக அக்டோபர் 1, 1926 இல் நிறுவப்பட்டது.
- II. சர் ரோஸ் பார்கர் ஆணையத்தின் முதல் தலைவராக பணியாற்றினார்.
- III. அரசுப்பணியாளர் தேர்வாணையத்தின் செயல்பாடுகள் இந்திய அரசு சட்டம், 1919 இல் குறிப்பிடப்பட்டுள்ளன.

மேற்கண்ட கூற்றுகளில் சரியானவை எவை?

- A) I மற்றும் II மட்டும்
- B) II மற்றும் III மட்டும்
- C) I மற்றும் III மட்டும்
- D) மேற்கண்ட அனைத்தும்
- E) விடை தெரியவில்லை

86. Which entity is responsible for the disciplinary control and imposition of penalties on IAS officers?

- A) The State Governments
- B) The Union Government
- C) The Supreme Court of India
- D) The Central Vigilance Commission
- E) Answer not known

IAS அதிகாரிகள் மீது ஒழுங்கு கட்டுப்பாடு மற்றும் அபராதம் விதிப்பதற்கு எந்த அமைப்பு பொறுப்பாகும்?

- A) மாநில அரசுகள்
- B) மத்திய அரசு
- C) இந்திய உச்ச நீதிமன்றம்
- D) மத்திய கண்காணிப்பு ஆணையம்
- E) விடை தெரியவில்லை



87. Consider the following statements regarding Indian Police Service:

- I. Its pay scale and status are lower than those of IAS.
- II. Sardar Patel National Police academy is located at New Delhi.
- III. The Indian Police Service is managed by the Ministry of Home Affairs.

Which of the statements given above are correct?

- A) I and II only
- B) II and III only
- C) I and III only
- D) All the above
- E) Answer not known

இந்தியக் காவல்துறைப் பணி தொடர்பான பின்வரும் கூற்றுகளைக் கருத்தில் கொள்க:

- I. இதன் ஊதியம் மற்றும் அந்தஸ்து IAS ஐ விட குறைவாக உள்ளது.
- II. சர்தார் படேல் தேசிய காவல்துறை அகாடமி புது தில்லியில் அமைந்துள்ளது.
- III. இந்தியக் காவல்துறைப் பணியானது உள்துறை அமைச்சகத்தால் நிர்வகிக்கப்படுகிறது.

மேற்கண்ட கூற்றுகளில் சரியானவை எவை?

- A) I மற்றும் II மட்டும்
- B) II மற்றும் III மட்டும்
- C) I மற்றும் III மட்டும்
- D) மேற்கண்ட அனைத்தும்
- E) விடை தெரியவில்லை

88. Which of the following is/are incorrectly matched?

(Article)

(Provision)

- I. Article 315 – Establishment of Public service commission
- II. Article 316 – Removal and suspension of a member
- III. Article 317 – Appointment and term of office of members
- IV. Article 320 – Function of Public service commission

Codes:

- A) I, II and III only
- B) II and III only
- C) I, III and IV only
- D) I and IV only
- E) Answer not known

பின்வருவனவற்றில் எது/எவை தவறாகப் பொருந்தியுள்ளது?

(சரத்து)

(ஒதுக்கீடு)

- I. சரத்து 315 – அரசுப்பணித் தேர்வாணையத்தை நிறுவுதல்
- II. சரத்து 316 – ஒரு உறுப்பினரை நீக்குதல் மற்றும் இடைநீக்கம் செய்தல்
- III. சரத்து 317 – உறுப்பினர்களின் நியமனம் மற்றும் பதவிக் காலம்
- IV. சரத்து 320 – அரசுப்பணித் தேர்வாணையத்தின் பணிகள்

குறியீடுகள்:

- A) I, II மற்றும் III மட்டும்
- B) II மற்றும் III மட்டும்
- C) I, III மற்றும் IV மட்டும்
- D) I மற்றும் IV மட்டும்
- E) விடை தெரியவில்லை



89. Consider the following circumstances for the removal of the chairman and members of the UPSC:

- I. If he/she is adjudged an insolvent
- II. If he/she engages in paid employment outside their office duties during their term
- III. If the President deems him/her unfit to continue in office due to mental or physical infirmity.
- IV. The Chairman or any member of the UPSC can be removed for their misbehaviour.

Which of the statements given above are correct?

- A) I, II and III only
- B) II, III and IV only
- C) I, III and IV only
- D) All the above
- E) Answer not known

UPSC இன் தலைவர் மற்றும் உறுப்பினர்களை நீக்குவதற்கான பின்வரும் சூழ்நிலைகளைக் கருத்தில் கொள்க:

- I. இவன்/இவள் நொடித்துப் போனவர் என்று அறிவிக்கப்பட்டால்
- II. இவர்/இவள் தனது பதவிக் காலத்தில் அலுவலகப் பணிகளுக்கு வெளியே ஊதியம் பெறும் வேலையில் ஈடுபட்டால்
- III. மனநலம் அல்லது உடல் நலக்குறைவு காரணமாக இவர்/இவள் பதவியில் நீடிக்க தகுதியற்றவர் என குடியரசுத் தலைவர் கருதினால்.
- IV. UPSC இன் தலைவர் அல்லது எந்த உறுப்பினரும் அவர்களின் தவறான நடத்தைக்காக நீக்கப்படலாம்.

மேற்கண்ட கூற்றுகளில் சரியானவை எவை?

- A) I, II மற்றும் III மட்டும்
- B) II, III மற்றும் IV மட்டும்
- C) I, III மற்றும் IV மட்டும்
- D) மேற்கண்ட அனைத்தும்
- E) விடை தெரியவில்லை

90. Which of the following is/are correctly matched?

(Delimitation Commission)	(Formed in)
I. First Commission	– 1952
II. Second Commission	– 1962
III. Third Commission	– 1972
IV. Fourth Commission	– 2002

Codes:

- A) I, II and III only
- B) II and III only
- C) I and IV only
- D) All the above
- E) Answer not known

பின்வருவனவற்றில் எது சரியாகப் பொருந்தியுள்ளது?

(எல்லை வரையறை ஆணையம்)	(உருவாக்கப்பட்ட ஆண்டு)
I. முதலாம் ஆணையம்	– 1952
II. இரண்டாம் ஆணையம்	– 1962
III. மூன்றாம் ஆணையம்	– 1972
IV. நான்காம் ஆணையம்	– 2002



குறியீடுகள்:

- A) I, II மற்றும் III மட்டும்
B) II மற்றும் III மட்டும்
C) I மற்றும் IV மட்டும்
D) மேற்கண்ட அனைத்தும்
E) விடை தெரியவில்லை

91. Which of the following authorities can hold office for a term of six years or until they turn 65, whichever is earlier?

- I. Chairman and members of UPSC
II. Chairman and members of SPSC
III. Election Commissioner
IV. Comptroller and Audit general

Codes:

- A) I, II and III only
B) II, III and IV only
C) I, III and IV only
D) All the above
E) Answer not known

பின்வரும் எந்த அதிகாரிகளுக்கு ஆறு ஆண்டுகள் அல்லது 65 வயதாகும் வரை பதவியில் இருக்க முடியும்?

- I. UPSC இன் தலைவர் மற்றும் உறுப்பினர்கள்
II. SPSC இன் தலைவர் மற்றும் உறுப்பினர்கள்
III. தேர்தல் ஆணையர்
IV. கணக்காய்வாளர் மற்றும் தலைமை தணிக்கையாளர்

குறியீடுகள்:

- A) I, II மற்றும் III மட்டும்
B) II, III மற்றும் IV மட்டும்
C) I, III மற்றும் IV மட்டும்
D) மேற்கண்ட அனைத்தும்
E) விடை தெரியவில்லை

92. Which commission recommended the establishment of Public Service Commission for India in 1926?

- A) Islington Commission
B) Simon Commission
C) Lee Commission
D) Fraser Commission
E) Answer not known

1926 இல் இந்தியாவிற்கான அரசுப்பணி தேர்வாணையத்தை நிறுவ பரிந்துரைத்த ஆணையம் எது?

- A) இஸ்லிங்டன் ஆணையம்
B) சைமன் ஆணையம்
C) லீ ஆணையம்
D) ஃப்ரேசர் ஆணையம்
E) விடை தெரியவில்லை

93. Consider the following statements regarding State Public Service Commission:

- I. The Chairman and members of a State Public Service Commission are appointed by the Governor.
II. They can be removed only by the President.



Which of the statements given above is/are correct?

- A) I only
B) II only
C) Both I and II
D) Neither I nor II
E) Answer not known

மாநில அரசுப்பணியாளர் தேர்வாணையம் தொடர்பான பின்வரும் கூற்றுகளைக் கருத்தில் கொள்க:

I. மாநில அரசுப் பணியாளர் தேர்வாணையத்தின் தலைவர் மற்றும் உறுப்பினர்கள் ஆளுநரால் நியமிக்கப்படுகிறார்கள்.

II. குடியரசுத்தலைவரால் மட்டுமே இவர்களை நீக்க முடியும்.

மேற்கண்ட கூற்றுகளில் சரியானது எது/எவை?

- A) I மட்டும்
B) II மட்டும்
C) இரண்டும்
D) இரண்டுமில்லை
E) விடை தெரியவில்லை

94. Which Act first proposed the establishment of the Public Service Commission to recruit civil servants?

- A) Indian Councils Act, 1909
B) Government of India Act, 1919
C) Government of India Act, 1935
D) Indian Independence Act, 1947
E) Answer not known

அரசு ஊழியர்களை ஆட்சேர்ப்பு செய்வதற்காக அரசுப்பணியாளர் தேர்வாணையம் அமைப்பதை முதலில் முன்மொழிந்த சட்டம் எது?

- A) இந்திய கவுன்சில் சட்டம், 1909
B) இந்திய அரசு சட்டம், 1919
C) இந்திய அரசு சட்டம், 1935
D) இந்திய சுதந்திரச் சட்டம், 1947
E) விடை தெரியவில்லை

95. What is the nature of the recommendations made by the State Public Service Commission to the state government?

- A) Binding on the Government
B) Advisory and not binding
C) Only relevant for disciplinary matters
D) Subject to approval by the Governor
E) Answer not known

மாநில அரசுப் பணியாளர் தேர்வாணையம் மாநில அரசுக்கு அளித்த பரிந்துரைகளின் தன்மை என்ன?

- A) அரசாங்கத்தின் மீது பிணைப்பு
B) ஆலோசனை மற்றும் பிணைப்பு இல்லை
C) ஒழுங்கு விஷயங்களுக்கு மட்டுமே பொருத்தமானது
D) ஆளுநரின் ஒப்புதலுக்கு உட்பட்டது
E) விடை தெரியவில்லை



96. Consider the following statements regarding State Public Service Commission:
- I. The State Public Service Commission presents an annual report on its performance to the Governor.
 - II. The jurisdiction of the State Public Service Commission can be extended by an executive order from the Governor.
 - III. The Supreme Court has ruled that if the government fails to consult the State Public Service Commission, the aggrieved public servant has no court remedy.

Which of the statements given above are correct?

- A) I and II only
- B) II and III only
- C) I and III only
- D) All the above
- E) Answer not known

மாநில அரசுப் பணியாளர் தேர்வாணையம் தொடர்பான பின்வரும் கூற்றுகளைக் கருத்தில் கொள்க:

- I. மாநில அரசுப் பணியாளர் தேர்வாணையம் இதன் செயல்திறன் குறித்த வருடாந்திர அறிக்கையை ஆளுநரிடம் சமர்ப்பிக்கிறது.
- II. மாநில அரசுப் பணியாளர் தேர்வாணையத்தின் அதிகார வரம்பை ஆளுநரின் நிர்வாக உத்தரவு மூலம் நீட்டிக்க முடியும்.
- III. மாநில அரசுப் பணியாளர் தேர்வாணையத்தைக் கலந்தாலோசிக்கத் தவறினால், பாதிக்கப்பட்ட அரசு ஊழியருக்கு நீதிமன்றத் தீர்வு இல்லை என்று உச்ச நீதிமன்றம் தீர்ப்பளித்துள்ளது.

மேற்கண்ட கூற்றுகளில் சரியானவை எவை?

- A) I மற்றும் II மட்டும்
- B) II மற்றும் III மட்டும்
- C) I மற்றும் III மட்டும்
- D) மேற்கண்ட அனைத்தும்
- E) விடை தெரியவில்லை

97. Who is the first Law Officer of the Government of India?

- A) The Chief Justice of India
- B) Minister of Law and Justice
- C) Solicitor General
- D) Attorney General
- E) Answer not known

இந்திய அரசின் முதல் சட்ட அதிகாரி யார்?

- A) இந்திய தலைமை நீதிபதி
- B) சட்டம் மற்றும் நீதி அமைச்சர்
- C) பொது வழக்கறிஞர்
- D) தலைமை வழக்கறிஞர்
- E) விடை தெரியவில்லை

98. Consider the following statements regarding Attorney general:

- I. The Attorney General is appointed by the President.
- II. He/she can be removed through the same process as the Judges of Supreme court.
- III. He/she must be a person qualified to be appointed as a judge of the Supreme Court.



Which of the statements given above are correct?

- A) I and II only
B) II and III only
C) I and III only
D) All the above
E) Answer not known

தலைமை வழக்கறிஞர் தொடர்பான பின்வரும் கூற்றுகளைக் கருத்தில் கொள்க:

- I. தலைமை வழக்கறிஞர் குடியரசுத் தலைவரால் நியமிக்கப்படுகிறார்.
II. உச்சநீதிமன்ற நீதிபதிகளை நீக்குவது போலவே இவரை நீக்கவும் முடியும்..
III. இவர்/இவள் உச்ச நீதிமன்ற நீதிபதியாக நியமிக்கப்படுவதற்கு தகுதியான நபராக இருக்க வேண்டும்.

மேற்கண்ட கூற்றுகளில் சரியானவை எவை?

- A) I மற்றும் II மட்டும்
B) II மற்றும் III மட்டும்
C) I மற்றும் III மட்டும்
D) மேற்கண்ட அனைத்தும்
E) விடை தெரியவில்லை

99. Which of the following is/are correctly matched?

(Article) **(Provision)**

- I. Article 77 – Attorney General for India
II. Article 165 – Advocate General for the state
III. Article 88 – Rights of the Attorney-General with respect to the Houses of Parliament
IV. Article 108 – Powers, privileges and immunities of Attorney-General

Codes:

- A) II, III and IV only
B) II and III only
C) III and IV only
D) I, III and IV only
E) Answer not known

பின்வருவனவற்றில் எது சரியாகப் பொருந்தியுள்ளது?

(சரத்து) **(ஒதுக்கீடு)**

- I. சரத்து 77 – இந்தியாவின் தலைமை வழக்கறிஞர்
II. சரத்து 165 – மாநிலத்தின் தலைமை வழக்கறிஞர்
III. சரத்து 88 – பாராளுமன்றத்தின் அவைகள் தொடர்பாக தலைமை வழக்கறிஞரின் உரிமைகள்
IV. சரத்து 108 – தலைமை வழக்கறிஞர் அதிகாரங்கள், சலுகைகள் மற்றும் விலக்குகள்

குறியீடுகள்:

- A) II, III மற்றும் IV மட்டும்
B) II மற்றும் III மட்டும்
C) III மற்றும் IV மட்டும்
D) I, III மற்றும் IV மட்டும்
E) விடை தெரியவில்லை

100. Consider the following statements regarding Attorney general:

- I. He/she does not fall in the category of government servants.
II. He/she is debarred from private legal practise.

Which of the statements given above is/are correct?

- A) I only
B) II only
C) Both I and II
D) Neither I nor II
E) Answer not known



தலைமை வழக்கறிஞர் தொடர்பான பின்வரும் கூற்றுகளைக் கருத்தில் கொள்க:

- I. இவர்/இவள் அரசு ஊழியர்கள் பிரிவில் வருவதில்லை.
- II. தனியார் வழக்கறிஞர் பதவியில் இருந்து இவர்/இவள் விலக்கப்படுகிறார்.

மேற்கண்ட கூற்றுகளில் சரியானது எது/எவை?

- A) I மட்டும்
- B) II மட்டும்
- C) இரண்டும்
- D) இரண்டுமில்லை
- E) விடை தெரியவில்லை

101. The Comptroller and Auditor General can be removed from office in which of the following process?

- A) By the recommendation of Prime Minister.
- B) In the same manner as the Judge of Supreme court.
- C) When the government resigns or is replaced.
- D) By resignation only.
- E) Answer not known

கணக்காய்வாளர் மற்றும் தலைமை தணிக்கையாளர் பின்வரும் எந்தச் செயல்பாட்டின் மூலம் பதவியில் இருந்து நீக்க முடியும்?

- A) பிரதமரின் பரிந்துரையால்.
- B) உச்ச நீதிமன்ற நீதிபதியைப் போல.
- C) அரசாங்கம் ராஜினாமா செய்யும் போது அல்லது மாற்றப்படும் போது.
- D) ராஜினாமா மூலம் மட்டும்.
- E) விடை தெரியவில்லை

102. Consider the following statements Attorney general:

- I. He/she has the right to speak and participate in the proceedings of both Houses of Parliament.
- II. He/she does not have the right to vote in either House of Parliament.

Which of the statements given above are correct?

- A) I only
- B) II only
- C) Both I and II
- D) Neither I nor II
- E) Answer not known

தலைமை வழக்கறிஞர் பின்வரும் கூற்றுகளைக் கருத்தில் கொள்க:

- I. பாராளுமன்றத்தின் இரு அவைகளின் நடவடிக்கைகளிலும் பேசுவதற்கும் பங்கேற்பதற்கும் இவருக்கு/இவளுக்கு உரிமை உண்டு.
- II. இவருக்கு/இவளுக்கு நாடாளுமன்றத்தின் இரு அவைகளிலும் வாக்களிக்கும் உரிமை இல்லை.

மேற்கண்ட கூற்றுகளில் சரியானது எது/எவை?

- A) I மட்டும்
- B) II மட்டும்
- C) இரண்டும்
- D) இரண்டுமில்லை
- E) விடை தெரியவில்லை



103. Find out the incorrectly matched pair.

(Political Parties)

(Symbols)

- | | |
|---------------------------------------|-------------------------|
| A) Aam Aadmi Party | - Broom |
| B) National People's Party | - Book |
| C) Bahujan Samaj party | - Lion |
| D) Communist party of India(Marxist)- | Hammer, Sickle and Star |
| E) Answer not known | |

தவறாகப் பொருந்தியுள்ள இணையைக் கண்டறிக.

(அரசியல் கட்சிகள்)

(சின்னங்கள்)

- | | |
|--|---------------------------------------|
| A) ஆம் ஆத்மி கட்சி | - விளக்குமாறு |
| B) தேசிய மக்கள் கட்சி | - புத்தகம் |
| C) பகுஜன் சமாஜ் கட்சி | - சிங்கம் |
| D) இந்திய கம்யூனிஸ்ட் கட்சி (மார்க்சிஸ்ட்) | - சுத்தி, அரிவாள் மற்றும் நட்சத்திரம் |
| E) விடை தெரியவில்லை | |

104. Which of the following is not a criterion for being recognized as a state party?

- A) If it secures 6% of the valid votes polled in the state at a general election to the legislative assembly of the state and in addition, it wins 2 seats in the assembly.
- B) If it secures 6% of the valid votes polled in the state at a general election to Lok Sabha and in addition, it wins 1 seat in Lok Sabha from the state.
- C) If it wins 2 seat in the Lok Sabha for every 20 seats allotted to the state.
- D) If it secures 8% of the total valid votes in the state at a General Election to the Lok Sabha or the legislative assembly.
- E) Answer not known

பின்வருவனவற்றில் எது மாநிலக் கட்சியாக அங்கீகரிக்கப்படுவதற்கான அளவுகோல் அல்ல?

- A) மாநிலத்தின் சட்டமன்றத்திற்கான பொதுத் தேர்தலில் மாநிலத்தில் வாக்களித்த செல்லுபடியாகும் வாக்குகளில் 6% ஐப் பெற்று, மேலும் சட்டமன்றத்தில் 2 இடங்களைப் பெற வேண்டும்.
- B) மக்களவை பொதுத் தேர்தலில் மாநிலத்தில் வாக்களித்த செல்லுபடியாகும் வாக்குகளில் 6% ஐப் பெற்றால், மேலும், மாநிலத்தில் இருந்து மக்களவையில் 1 இடத்தைப் பெற வேண்டும்.
- C) மாநிலத்திற்கு ஒதுக்கப்படும் ஒவ்வொரு 20 இடங்களுக்கும் மக்களவையில் 2 இடங்களை வென்றால்.
- D) மக்களவை அல்லது சட்டப் பேரவைக்கான பொதுத் தேர்தலில் மாநிலத்தில் மொத்த செல்லுபடியாகும் வாக்குகளில் 8% பெற்றால்.
- E) விடை தெரியவில்லை



105. Consider the following statements regarding the report submitted by CAG:
- It includes examination of income and expenditure of all public Sector undertaking
 - The Public Accounts Committee examines them and reports its findings to Parliament.

Which of the statements given above is/are correct?

- I only
- II only
- Both I and II
- Neither I nor II
- Answer not known

CAG சமர்ப்பித்த அறிக்கைத் தொடர்பான பின்வரும் கூற்றுகளைக் கருத்தில் கொள்க:

- இது அனைத்து பொதுத்துறை நிறுவனங்களின் வருமானம் மற்றும் செலவினங்களை ஆராய்வதை உள்ளடக்கியது.
- பொதுக் கணக்குக் குழு அவற்றை ஆய்வு செய்து அதன் முடிவுகளை பாராளுமன்றத்துக்குத் தெரிவிக்கிறது.

மேற்கண்ட கூற்றுகளில் சரியானது எது/எவை?

- I மட்டும்
- II மட்டும்
- இரண்டும்
- இரண்டுமில்லை
- விடை தெரியவில்லை

106. Consider the following statements regarding Comptroller and Auditor General (CAG):

- He/she is the guardian of the public purse
- He is the head of the Indian Audit and Accounts Department.
- He/she audits the accounts related to all expenditure from the Consolidated Fund of India, but not from the Contingency Fund and Public Account of India.

Which of the statements given above are correct?

- I and II only
- II and III only
- I and III only
- All the above
- Answer not known

இந்திய அரசு கணக்குத் தணிக்கைத் தலைவர் (CAG) தொடர்பான பின்வரும் கூற்றுகளைக் கருத்தில் கொள்க :

- இவர்/இவள் பொது பணப்பையின் பாதுகாவலர்
- இவர் இந்திய கணக்குத் தணிக்கை மற்றும் கணக்குத் துறையின் தலைவராக உள்ளார்.
- இவர்/இவள் இந்தியாவின் ஒருங்கிணைந்த நிதியிலிருந்து அனைத்து செலவினங்கள் தொடர்பான கணக்குகளையும் தணிக்கை செய்கிறார், ஆனால் இந்தியாவின் எதிர்பாராத செலவினங்களுக்கான நிதி மற்றும் பொதுக் கணக்கிலிருந்து அல்ல.

மேற்கண்ட கூற்றுகளில் சரியானவை எவை?

- I மற்றும் II மட்டும்
- II மற்றும் III மட்டும்
- I மற்றும் III மட்டும்
- மேற்கண்ட அனைத்தும்
- விடை தெரியவில்லை



107. Consider the following statements regarding Finance Commission:
- I. Article 280 of the Constitution of India deals with the Finance Commission.
II. The commission consists of five members including its chairperson.
- Which of the statements given above is/are incorrect?
- A) I only
B) II only
C) Both I and II
D) Neither I nor II
E) Answer not known
- நிதி ஆயோக் தொடர்பான பின்வரும் கூற்றுகளைக் கருத்தில் கொள்க:
- I. இந்திய அரசியலமைப்புச் சட்டத்தின் 280வது சரத்து நிதி ஆணையத்தைப் பற்றிக் கூறுகிறது.
II. இந்த ஆணையம் அதன் தலைவர் உட்பட ஐந்து உறுப்பினர்களைக் கொண்டுள்ளது.
- மேற்கண்ட கூற்றுகளில் தவறானது எது/எவை?
- A) I மட்டும்
B) II மட்டும்
C) இரண்டும்
D) இரண்டுமில்லை
E) விடை தெரியவில்லை

108. Who was the Chairman of the Sixth Finance Commission of Tamil Nadu?
- A) Mohan Pyare
B) Krishnan
C) Jothi Nirmalaswamy
D) Shiv Das Meena
E) Answer not known
- தமிழகத்தின் ஆறாவது நிதி ஆணையத்தின் தலைவர் யார்?
- A) மோகன் பியாரே
B) கிருஷ்ணன்
C) ஜோதி நிர்மலாசுவாமி
D) ஷிவ் தாஸ் மீனா
E) விடை தெரியவில்லை

109. Match List-I with List-II.

List-I
(Finance Commission)

- a) First Finance Commission
b) Second Finance Commission
c) Fifteenth Finance Commission
d) Sixteenth Finance Commission
e) Fourth Finance Commission

List-II
(Chaired by)

1. K. Santhanam
2. Arvind Panagariya
3. K.C Neogy
4. N.K Singh
5. P.V. Rajamannar

Codes:

- | | a | b | c | d | e |
|----|----------|----------|----------|----------|----------|
| A) | 3 | 1 | 4 | 2 | 5 |
| B) | 1 | 4 | 2 | 3 | 5 |
| C) | 2 | 1 | 3 | 4 | 5 |
| D) | 1 | 2 | 3 | 4 | 5 |

- E) Answer not known



பட்டியல்-Iஐ பட்டியல்-II உடன் பொருத்துக.

பட்டியல்-I

(நிதி ஆணையக்குழு)

- முதலாம் நிதி ஆணையம்
- இரண்டாம் நிதி ஆணையம்
- பதினெந்தாம் நிதி ஆணையம்
- பதினாறாம் நிதி ஆணையம்
- நான்காம் நிதி ஆணையம்

குறியீடுகள்:

	a	b	c	d	e
A)	3	1	4	2	5
B)	1	4	2	3	5
C)	2	1	3	4	5
D)	1	2	3	4	5

E) விடை தெரியவில்லை

பட்டியல்-II

(தலைவர்)

- K. சந்தானம்
- அரவிந்த் பனகாரியா
- K.C நியோகி
- N.K சிங்
- P.V. ராஜமன்னார்

110. Which of the following accounts are not audited by the CAG?

- State Governments
- Union Territory having Legislative Assembly
- Municipalities

Codes:

- I and III only
- II and III only
- III only
- All the above
- Answer not known

பின்வரும் கணக்குகளில் எவை CAG ஆல் தணிக்கை செய்யப்படவில்லை?

- மாநில அரசுகள்
- சட்டமன்றம் கொண்ட யூனியன் பிரதேசம்
- நகராட்சிகள்

குறியீடுகள்:

- I மற்றும் III மட்டும்
- II மற்றும் III மட்டும்
- III மட்டும்
- மேற்கண்ட அனைத்தும்
- விடை தெரியவில்லை

111. How many national parties are currently recognized in India?

- Five
- Six
- Seven
- Nine
- Answer not known

இந்தியாவில் தற்போது எத்தனை தேசிய கட்சிகள் அங்கீகரிக்கப்பட்டுள்ளன?

- ஐந்து
- ஆறு
- ஏழு
- ஒன்பது
- விடை தெரியவில்லை



112. Consider the following statements.

- I. The Electronic Voting Machines (EVMs) can record a maximum of 2000 votes only.
- II. The EVMs were first used in 1982 during the by-election for the North Paravur Assembly Constituency in Kerala.
- III. The Voter Verifiable Paper Audit Trail with EVM was first used in the 2013 by-election for the Noksen Assembly Constituency in Nagaland.

Which of the statements given above are correct?

- A) I and II only
- B) II and III only
- C) I and III only
- D) All the above
- E) Answer not known

பின்வரும் கூற்றுகளைக் கருத்தில் கொள்க.

- I. மின்னணு வாக்குப்பதிவு இயந்திரங்கள் (EVM) அதிகபட்சமாக 2000 வாக்குகளை மட்டுமே பதிவு செய்ய முடியும்.
- II. 1982 ஆம் ஆண்டு கேரளாவில் வடக்கு பரவூர் சட்டமன்றத் தொகுதிக்கான இடைத்தேர்தலின் போது முதன்முதலில் மின்னணு வாக்குப்பதிவு இயந்திரங்கள் பயன்படுத்தப்பட்டன.
- III. 2013 ஆம் ஆண்டு நாகாலாந்தில் உள்ள நோக்சென் சட்டமன்றத் தொகுதிக்கான இடைத்தேர்தலில் EVM உடன் வாக்காளர் சரிபார்க்கக்கூடிய தணிக்கைக்கான தாள் முதன்முதலில் பயன்படுத்தப்பட்டது.

மேற்கண்ட கூற்றுகளில் சரியானவை எவை?

- A) I மற்றும் II மட்டும்
- B) II மற்றும் III மட்டும்
- C) I மற்றும் III மட்டும்
- D) மேற்கண்ட அனைத்தும்
- E) விடை தெரியவில்லை

113. Match List-I with List-II.

List-I

(Constitutional Bodies)

- a) CAG
- b) UPSC
- c) Finance Commission
- d) Election Commission

List-II

(Associated parts)

1. Part V
2. Part XV
3. Part XII
4. Part XIV

Codes:

- | | a | b | c | d |
|----|------------------|----------|----------|----------|
| A) | 1 | 2 | 3 | 4 |
| B) | 2 | 1 | 3 | 4 |
| C) | 3 | 2 | 1 | 4 |
| D) | 1 | 4 | 3 | 2 |
| E) | Answer not known | | | |



பட்டியல்-Iஐ பட்டியல்-II உடன் பொருத்துக.

பட்டியல்-I

(அரசியலமைப்பு அமைப்புகள்)

- CAG
- UPSC
- நிதி ஆணையம்
- தேர்தல் ஆணையம்

பட்டியல்-II

(தொடர்புடைய பகுதிகள்)

- பகுதி V
- பகுதி XV
- பகுதி XII
- பகுதி XIV

குறியீடுகள்:

- | | a | b | c | d |
|----|----------|----------|----------|----------|
| A) | 1 | 2 | 3 | 4 |
| B) | 2 | 1 | 3 | 4 |
| C) | 3 | 2 | 1 | 4 |
| D) | 1 | 4 | 3 | 2 |
- E) விடை தெரியவில்லை

114. Consider the following statements.

- National Commission for Scheduled Castes is a Constitutional body established under Article 340 of the Constitution.
- 89th Constitutional Amendment Act bifurcates the combined National Commission for SCs and STs.

Which of the statements given above is/are correct?

- I only
- II only
- Both I and II
- Neither I nor II
- Answer not known

பின்வரும் கூற்றுகளைக் கருத்தில் கொள்க.

- பட்டியலிடப்பட்ட சாதிகளுக்கான தேசிய ஆணையம் என்பது அரசியலமைப்பின் 340 வது சரத்தின் கீழ் நிறுவப்பட்ட ஒரு அரசியலமைப்பு அமைப்பாகும்.
- 89 வது அரசியலமைப்பு திருத்தச் சட்டம் SC மற்றும் ST களுக்கான ஒருங்கிணைந்த தேசிய ஆணையத்தை பிரிக்கிறது.

மேற்கண்ட கூற்றுகளில் சரியானது எது/எவை?

- I மட்டும்
- II மட்டும்
- இரண்டும்
- இரண்டுமில்லை
- விடை தெரியவில்லை

115. Consider the following statements.

- The original Constitution of India did not make any provision with respect to Special Officer for Linguistic Minorities.
- The 7th Constitutional Amendment Act of 1956 introduced a new Article 350-B into Part XVII of the Constitution.
- The word Linguistic minorities have not been defined in the Constitution

Which of the statements given above are correct?

- I and II only
- II and III only
- I and III only
- All the above
- Answer not known



பின்வரும் கூற்றுகளைக் கருத்தில் கொள்க.

- I. ஆரம்பத்தில் இந்திய அரசியலமைப்புச் சட்டம், மொழியியல் சிறுபான்மையினருக்கான சிறப்பு அதிகாரியைப் பொறுத்தவரை எந்த ஏற்பாடும் செய்யவில்லை.
- II. 1956 ஆம் ஆண்டின் 7 வது அரசியலமைப்புத் திருத்தச் சட்டம், அரசியலமைப்பின் XVII பகுதியில் ஒரு புதிய சரத்து 350-B ஐ அறிமுகப்படுத்தியது.
- III. மொழியியல் சிறுபான்மையினர் என்ற வார்த்தை அரசியலமைப்பில் வரையறுக்கப்படவில்லை

மேற்கண்ட கூற்றுகளில் சரியானவை எவை?

- | | |
|--------------------------|---------------------------|
| A) I மற்றும் II மட்டும் | B) II மற்றும் III மட்டும் |
| C) I மற்றும் III மட்டும் | D) மேற்கண்ட அனைத்தும் |
| E) விடை தெரியவில்லை | |

116. The CAG acts as a guide, friend and philosopher to which committee of the Parliament?

- A) Estimates Committee
- B) Committee on Public Undertakings
- C) Public Accounts Committee
- D) Committee on Finance
- E) Answer not known

பாராளுமன்றத்தின் எந்தக் குழுவிற்கு வழிகாட்டியாகவும், நண்பராகவும், தத்துவஞானியாகவும் CAG செயல்படுகிறது?

- | | |
|-----------------------|-------------------------------|
| A) மதிப்பீட்டுக் குழு | B) பொது நிறுவனங்களுக்கான குழு |
| C) பொது கணக்கு குழு | D) நிதிக்கான குழு |
| E) விடை தெரியவில்லை | |

117. Consider the following statements regarding Model Code of Conduct (MCC) enforced during the elections:

- I. It takes effect from the date the Election Commission announces the election schedule.
- II. Once enforced the MCC is operational till the process of elections are completed.

Which of the statements given above is/are correct?

- | | |
|---------------------|---------------------|
| A) I only | B) II only |
| C) Both I and II | D) Neither I nor II |
| E) Answer not known | |

தேர்தல்களின் போது அமல்படுத்தப்பட்ட மாதிரி நடத்தை விதிகள் (MCC) தொடர்பான பின்வரும் கூற்றுகளைக் கருத்தில் கொள்க:

- I. தேர்தல் ஆணையம் தேர்தல் அட்டவணையை அறிவிக்கும் தேதியிலிருந்து இது அமலுக்கு வருகிறது.
- II. அமலாக்கப்பட்ட நாளிலிருந்து MCC தேர்தல் செயல்முறை முடியும் வரை செயல்படும்.

மேற்கூறியவற்றுள் சரியானது எது/எவை?

- | | |
|---------------------|-----------------|
| A) I மட்டும் | B) II மட்டும் |
| C) இரண்டும் | D) இரண்டுமில்லை |
| E) விடை தெரியவில்லை | |



118. Which of the following is/are correctly matched?

(Types of Party system)	(Examples)
I. One Party system	– China
II. Two Party system	– UK
III. Multi Party system	– India

Codes:

- | | |
|---------------------|--------------------|
| A) I and II only | B) II and III only |
| C) I and III only | D) All the above |
| E) Answer not known | |

பின்வருவனவற்றில் எது சரியாகப் பொருந்தியுள்ளது?

(கட்சி அமைப்பின் வகைகள்)	(எடுத்துக்காட்டுகள்)
I. ஒரு கட்சி அமைப்பு	– சீனா
II. இரு கட்சி அமைப்பு	– இங்கிலாந்து
III. பல கட்சி அமைப்பு	– இந்தியா

குறியீடுகள்:

- | | |
|--------------------------|---------------------------|
| A) I மற்றும் II மட்டும் | B) II மற்றும் III மட்டும் |
| C) I மற்றும் III மட்டும் | D) மேற்கண்ட அனைத்தும் |
| E) விடை தெரியவில்லை | |

119. Which of the following is not a statutory functions of the UPSC?

- To advise the government on the methods of recruitment, promotion and control of public services.
- To look after the interests and right of civil servants.
- To superwisethe functioning of the state Public Service Commission
- To hear appeals from civil servants and redress their grievances
- Answer not known

பின்வருவனவற்றில் எது ஒன்றிய பொது பணியாளர் தேர்வாணயத்தின் சட்டரீதியான செயல்பாடுகள் அல்ல?

- பணியாளர் தேர்வாணயத்திற்கான ஆட்சேர்ப்பு, பதவி உயர்வு மற்றும் கட்டுப்பாடு முறைகள் குறித்து அரசுக்கு ஆலோசனை வழங்குதல்.
- அரசு ஊழியர்களின் நலன்களையும் உரிமைகளையும் கவனித்தல்.
- மாநில பணியாளர் தேர்வாணயம் செயல்பாட்டை மேற்பார்வையிடுதல்
- அரசு ஊழியர்களிடமிருந்து முறையீடுகளைக் கேட்டு அவர்களின் குறைகளை நிவர்த்தி செய்தல்
- விடை தெரியவில்லை

120. Consider the following statements.

- NITI Aayog was established on January 1, 2014.
- NITI Aayog policy thinking is shaped by bottom up approach.

Which of the statements given above is/are correct?

- | | |
|---------------------|---------------------|
| A) I only | B) II only |
| C) Both I and II | D) Neither I nor II |
| E) Answer not known | |



பின்வரும் கூற்றுகளை கருத்தில் கொள்க.

I. நிதி ஆயோக் ஜனவரி 1, 2014 அன்று நிறுவப்பட்டது.

II. நிதி ஆயோக்கின் கொள்கை சிந்தனையானது கீழிலிருந்து மேல் அணுகுமுறையால் வடிவமைக்கப்பட்டுள்ளது.

மேற்கண்ட கூற்றுகளில் சரியானது எது/எவை?

A) I மட்டும்

B) II மட்டும்

C) இரண்டும்

D) இரண்டுமில்லை

E) விடை தெரியவில்லை

121. Consider the following statements about NITI Aayog.

I. Chief Minister of any states could be the ex officio members.

II. The ex officio members would be nominated by the President.

Which of the statements given above is/are correct?

A) I only

B) II only

C) Both I and II

D) Neither I nor II

E) Answer not known

நிதி ஆயோக் பற்றிய பின்வரும் கூற்றுகளை கருத்தில் கொள்க.

I. எந்த மாநிலத்தின் முதலமைச்சரும் அதிகாரபூர்வ உறுப்பினர்களாக இருக்கலாம்.

II. அதிகாரபூர்வ உறுப்பினர்கள் குடியரசுத் தலைவரால் பரிந்துரைக்கப்படுவார்கள்.

மேற்கண்ட கூற்றுகளில் சரியானது எது/எவை?

A) I மட்டும்

B) II மட்டும்

C) இரண்டும்

D) இரண்டுமில்லை

E) விடை தெரியவில்லை

122. Which Hub ensures fulfilling the mandate of maintaining a State-of-the-Art Resource Centre in NITI Aayog ?

A) Team India Hub

B) Analytics Hub

C) Knowledge and Innovation Hub

D) None of the above

E) Answer not known

நிதி ஆயோக்கில் ஒரு அதிநவீன வள மையத்தை பராமரிப்பதற்கான ஆணையை நிறைவேற்றுவதை எந்த மையம் உறுதி செய்கிறது?

A) இந்திய அணி மையம்

B) பகுப்பாய்வு மையம்

C) அறிவு மற்றும் புதுமை மையம்

D) மேற்கண்ட எதுவுமில்லை

E) விடை தெரியவில்லை

123. Consider the following statements.

I. The Tamil Nadu State Information Commission consists only 6 members and Chief Information Commissioner.

II. The members are appointed by the governor on the recommendations of Chief Minister.

III. The members should be the acting civil servants and not a retired ones.

Which of the statements given above is/are correct?

A) I only

B) II only

C) I and II only

D) all the above

E) Answer not known



பின்வரும் கூற்றுகளை கருத்தில் கொள்க.

- I. தமிழ்நாடு மாநில தகவல் ஆணையத்தில் 6 உறுப்பினர்கள் மற்றும் தலைமை தகவல் ஆணையர் மட்டுமே உள்ளனர்.
- II. முதலமைச்சரின் பரிந்துரையின் பேரில் ஆளுநரால் உறுப்பினர்கள் நியமிக்கப்படுகிறார்கள்.
- III. உறுப்பினர்கள் செயல்படும் அரசு ஊழியர்களாக இருக்க வேண்டும், ஓய்வு பெற்றவர்களாக இருக்கக்கூடாது.

மேற்கண்ட கூற்றுகளில் சரியானது எது/எவை?

- | | |
|---------------------|-----------------------|
| A) I மட்டும் | B) II மட்டும் |
| C) இரண்டும் | D) மேற்கண்ட அனைத்தும் |
| E) விடை தெரியவில்லை | |

124. Find who is not the member of the Governing Council of Niti Aayog ?

- A) Chief Minister of Tamil Nadu
- B) Chief Minister of Puducherry
- C) Chief Minister of Chandigarh
- D) Lt.Governor of Andaman and Nicobar
- E) Answer not known

நிதி ஆயோக்கின் நிர்வாக குழுவில் கீழ்க்கண்ட நபர்களில் யார் உறுப்பினராக இல்லை?

- A) தமிழ்நாடு முதலமைச்சர்
- B) புதுச்சேரி முதலமைச்சர்
- C) சண்டிகரின் முதலமைச்சர்
- D) அந்தமான் மற்றும் நிக்கோபார் துணை நிலை ஆளுநர்
- E) விடை தெரியவில்லை

125. Consider the following statements.

- I. President of India act as a chairperson of NITI Aayog.
 - II. Vice Chairman of NITI Aayog is considered as in the rank of cabinet minister.
- Which of the statements given above is/are correct?

- | | |
|---------------------|---------------------|
| A) I only | B) II only |
| C) Both I and II | D) Neither I nor II |
| E) Answer not known | |

பின்வரும் கூற்றுகளை கருத்தில் கொள்க.

- I. இந்திய குடியரசுத்தலைவர் நிதி ஆயோக்கின் தலைவராக செயல்படுகிறார்.
- II. நிதி ஆயோக்கின் துணைத் தலைவர் கேபினட் அமைச்சர் அந்தஸ்த்தில் கருதப்படுகிறார்.

மேற்கண்ட கூற்றுகளில் சரியானது எது/எவை?

- | | |
|---------------------|-----------------------|
| A) I மட்டும் | B) II மட்டும் |
| C) இரண்டும் | D) மேற்கண்ட அனைத்தும் |
| E) விடை தெரியவில்லை | |

126. Consider the following statements.

- I. The Right to Information Act, 2005 provides only for the creation of Central Information Commission
- II. RTI Amendment Act 2019 replaces 5 years term of commissioners by Prescribed term of Central Government



Which of the statements given above is/are incorrect?

- A) I only
B) II only
C) Both I and II
D) Neither I nor II
E) Answer not known

பின்வரும் கூற்றுகளை கருத்தில் கொள்க

- I. தகவல் அறியும் உரிமைச் சட்டம், 2005 மத்திய தகவல் ஆணையத்தை உருவாக்குவதற்கு மட்டுமே விதியை வழங்குகிறது
II. தகவல் அறியும் உரிமை திருத்தச் சட்டம் 2019, ஆணையர்களின் 5 ஆண்டு காலத்துக்குப் பதிலாக மத்திய அரசின் பரிந்துரைக்கப்பட்ட பதவிக்காலம் வரை பதவி வகிக்கலாம்.

மேற்கண்ட கூற்றுகளில் தவறானது எது/எவை?

- A) I மட்டும்
B) II மட்டும்
C) இரண்டும்
D) மேற்கண்ட அனைத்தும்
E) விடை தெரியவில்லை

127. Consider the following statements of Central Vigilance Commission.

- I. It was established in 1964 as recommended by Santhanam Committee.
II. CVC is a statutory body since its establishment.
III. It consists of 3 Vigilance commissioners excluding Chief one.
IV. CVC is an investigating agency.

Which of the statements given above is/are correct?

- A) I only
B) II, III and IV only
C) I, II and IV only
D) All the above
E) Answer not known

மத்திய விஜிலென்ஸ் ஆணையத்தின் பின்வரும் கூற்றுகளைக் கருத்தில் கொள்க.

- I. இது சந்தானம் கமிட்டியின் பரிந்துரைப்படி 1964 இல் நிறுவப்பட்டது.
II. மத்திய விஜிலென்ஸ் ஆணையம் நிறுவப்பட்டதிலிருந்து ஒரு சட்டப்பூர்வ அமைப்பாகும்.
III. தலைவர் ஒருவர் அல்லாமல் 3 விஜிலென்ஸ் ஆணையர்கள் இதில் உள்ளனர்.
IV. மத்திய விஜிலென்ஸ் ஆணையம் என்பது ஒரு விசாரணை நிறுவனம்.

மேற்கண்ட கூற்றுகளில் சரியானது எது/எவை?

- A) I மட்டும்
B) II, III மற்றும் IV மட்டும்
C) I, II மற்றும் IV மட்டும்
D) மேற்கண்ட அனைத்தும்
E) விடை தெரியவில்லை

128. Consider the following statements.

- I. National Human Rights Commission consists of chairperson and 4 other members.
II. The chairperson and members hold office for a term of 5 years or until they attain the age of 65 years.
III. The chairperson should be a retired chief justice of India or judge of a supreme court.

Which of the statements given above is/are correct?

- A) I only
B) III only
C) I and II only
D) all the above
E) Answer not known



பின்வரும் கூற்றுகளைக் கருத்தில் கொள்க

- I. தேசிய மனித உரிமைகள் ஆணையத்தில் தலைவர் மற்றும் 4 உறுப்பினர்கள் உள்ளனர்.
- II. தலைவர் மற்றும் உறுப்பினர்கள் 5 ஆண்டுகள் அல்லது 65 வயதை அடையும் வரை பதவியில் இருப்பார்கள்.
- III. இதன் தலைவர் இந்தியாவின் ஓய்வுபெற்ற தலைமை நீதிபதியாகவோ அல்லது ஓய்வுபெற்ற உச்ச நீதிமன்ற நீதிபதியாகவோ இருக்க வேண்டும்.

மேற்கண்ட கூற்றுகளில் சரியானது எது/எவை?

- A) I மட்டும்
- B) III மட்டும்
- C) I மற்றும் II மட்டும்
- D) மேற்கண்ட அனைத்தும்
- E) விடை தெரியவில்லை

129. Which one is not added by the Protection of Human Rights (Amendment) Act, 2019?

- A) Increased the number of members of NHRC (persons having knowledge or practical experience in human rights) from two to three.
- B) It reduced the term of commissioners from five to three years
- C) It increased the payscale of Chairperson and Members of the Commission
- D) The functions relating to human rights in case of union territory of Delhi are to be dealt with by NHRC.
- E) Answer not known

மனித உரிமைகள் (திருத்தம்) சட்டம், 2019-ல் சேர்க்கப்படாதது எது?

- A) தேசிய மனித உரிமைகள் ஆணையம் உறுப்பினர்களின் எண்ணிக்கை (மனித உரிமைகளில் அறிவுத்திறன் அல்லது நடைமுறை அனுபவம் உள்ளவர்கள்) இரண்டிலிருந்து மூன்றாக உயர்த்தப்பட்டது.
- B) இது ஆணையர்களின் பதவிக் காலத்தை ஐந்திலிருந்து மூன்று ஆண்டுகளாகக் குறைத்தது
- C) இது ஆணையத்தின் தலைவர் மற்றும் உறுப்பினர்களின் ஊதியத்தை அதிகரித்தது
- D) டெல்லி யூனியன் பிரதேசத்தில் மனித உரிமைகள் தொடர்பான செயல்பாடுகள் தேசிய மனித உரிமைகள் ஆணையத்தால் கையாளப்பட வேண்டும்.
- E) விடை தெரியவில்லை

130. Consider the following statements.

Statement I : State Human Rights Commission inquire into the case which is already being inquired by NHRC

Statement II : State Human Rights inquire into violation of human rights in subjects mentioned in all the three lists of Seventh Schedule of Constitution.

Which of the statements given above is/are correct?

- A) I only
- B) II only
- C) Both I and II
- D) Neither I nor II
- E) Answer not known



பின்வரும் கூற்றுகளைக் கருத்தில் கொள்க

கூற்று I : ஏற்கனவே தேசிய மனித உரிமைகள் ஆணையம் விசாரித்து வரும் வழக்கை மாநில மனித உரிமைகள் ஆணையம் விசாரிக்கிறது

கூற்று II : அரசியலமைப்பின் ஏழாவது அட்டவணையின் மூன்று பட்டியல்களிலும் குறிப்பிடப்பட்டுள்ள துறைகளில் மனித உரிமை மீறல்கள் குறித்து மாநில மனித உரிமைகள் விசாரிக்கின்றன.

மேற்கண்ட கூற்றுகளில் சரியானது எது/எவை?

- A) I மட்டும்
B) II மட்டும்
C) இரண்டும்
D) இரண்டுமில்லை
E) விடை தெரியவில்லை

131. Which Section exempt the Personal Information and Privacy of an individual in Right to Information Act, 2005 ?

- A) Section 8(1)(a)
B) Section 8(1)(j)
C) Section 8(1)(c)
D) Section 8(1)(h)
E) Answer not known

தகவல் அறியும் உரிமைச் சட்டம், 2005ல் எந்தப் பிரிவு தனிநபரின் தனிப்பட்ட தகவல் மற்றும் தனியுரிமைக்கு விலக்கு அளிக்கிறது?

- A) பிரிவு 8(1)(a)
B) பிரிவு 8(1)(j)
C) பிரிவு 8(1)(c)
D) பிரிவு 8(1)(h)
E) விடை தெரியவில்லை

132. Which organization is not exempt under Right to Information Act ?

- A) Intelligence Bureau (IB)
B) Central Public Works Department (CPWD)
C) Aviation Research Centre (ARC)
D) Central Industrial Security Force (CISF)
E) Answer not known

தகவல் அறியும் உரிமைச் சட்டத்தின் கீழ் எந்த அமைப்புக்கு விலக்கு அளிக்கப்படவில்லை?

- A) புலனாய்வுப் பணியகம் (IB)
B) மத்திய பொதுப்பணித்துறை (CPWD)
C) வான்வெளி ஆராய்ச்சி நிறுவனம் (ARC)
D) மத்திய தொழில் பாதுகாப்பு படை (CISF)
E) விடை தெரியவில்லை

133. Which of the following statements about the time limit to get the Information is/are true ?

- I. 30 Days from the date of application
II. 24 hours for information concerning the life or liberty of a person
III. 40 days for Public Information Officer reply to application if 3rd Party involved.

Codes:

- A) I only
B) II only
C) I and III only
D) All the above
E) Answer not known



தகவலைப் பெறுவதற்கான காலக்கெடுவைப் பற்றிய பின்வரும் கூற்றுகளில் எது / எவை உண்மையானது?

- I. விண்ணப்பித்த நாளிலிருந்து 30 நாட்கள்
- II. ஒரு நபரின் வாழ்க்கை அல்லது சுதந்திரம் பற்றிய தகவலுக்கு 24 மணிநேரம்
- III. 3வது தரப்பினர் சம்பந்தப்பட்டிருந்தால், விண்ணப்பத்திற்கு பொது தகவல் அதிகாரி பதில் அளிக்க 40 நாட்கள்.

குறியீடுகள்:

- | | |
|--------------------------|-----------------------|
| A) I மட்டும் | B) II மட்டும் |
| C) I மற்றும் III மட்டும் | D) மேற்கண்ட அனைத்தும் |
| E) விடை தெரியவில்லை | |

134. Which commission recommended the setting up of Lokpal and Lokayukta ?

- A) First ARC Commission
- B) Second ARC Commission
- C) Santhanam Committee
- D) GVK Rao Committee
- E) Answer not known

லோக்பால் மற்றும் லோக் ஆயுத்தாவை அமைக்க பரிந்துரைத்த ஆணையம் எது?

- A) முதல் நிர்வாக சீர்திருத்த ஆணையம்
- B) இரண்டாவது நிர்வாக சீர்திருத்த ஆணையம்
- C) சந்தானம் குழு
- D) GVK ராவ் குழு
- E) விடை தெரியவில்லை

135. Which of the following is not the drawbacks of Lokpal and Lokayuktas Act, 2013?

- A) Lokpal cannot suo motu proceed against any public servant
- B) Limitation period of 7 years to file complaints
- C) Non transparent procedure for dealing with complaints against the Prime Minister
- D) Allowing anonymous complaints
- E) Answer not known

பின்வருவனவற்றில் எது லோக்பால் மற்றும் லோக் ஆயுத்தாச் சட்டம், 2013இன் குறைபாடுகள் அல்ல?

- A) லோக்பால் எந்த ஒரு பொது ஊழியர் மீதும் தானாக முன்வந்து நடவடிக்கை எடுக்க முடியாது
- B) புகார்களை தாக்கல் செய்வதற்கான வரம்பு காலம் 7 ஆண்டுகள்
- C) பிரதமருக்கு எதிரான புகார்களைக் கையாள்வதற்கான வெளிப்படையற்ற நடைமுறை
- D) பெயரிடப்படாத புகார்களை அனுமதித்தல்
- E) விடை தெரியவில்லை

136. Who does not come under the purview of Lok Pal ?

- A) First Citizen of Country
- B) Head of the Government
- C) First Law Officer
- D) Nominal Head of the State Government
- E) Answer not known



லோக் பால் வரம்பிற்குள் வராதவர் யார்?

- A) நாட்டின் முதல் குடிமகன்
- B) அரசாங்கத்தின் தலைவர்
- C) முதல் சட்ட அதிகாரி
- D) மாநில அரசாங்கத்தின் பெயரளவு தலைவர்
- E) விடை தெரியவில்லை

137. Which state first passed the act of lokayukta in India in 1970 ?

- A) Maharashtra
- B) Odisha
- C) Rajasthan
- D) Bihar
- E) Answer not known

1970இல் இந்தியாவில் லோக் ஆயுத்தா சட்டத்தை முதன்முதலில் நிறைவேற்றிய மாநிலம் எது?

- A) மகாராஷ்டிரா
- B) ஒடிசா
- C) ராஜஸ்தான்
- D) பீகார்
- E) விடை தெரியவில்லை

138. Consider the following statements.

- I. Tamil Nadu Lokayukta was created in 2018
- II. Tenure of Tamil Nadu Lokayukta is of 5 years or 70 years of age whichever is earlier
- III. Chairperson of Lokayukta is appointed by governor of a state and not eligible for reappointment
- IV. Penalty upto Rs.50,000 or 6 months imprisonment will be imposed on persons making wrong complaints.

Which of the statements given above is/are incorrect?

- A) II only
- B) III only
- C) IV only
- D) None of the above.
- E) Answer not known

பின்வரும் கூற்றுகளை கருத்தில் கொள்க.

- I. தமிழ்நாடு லோக்ஆயுத்தா 2018 இல் உருவாக்கப்பட்டது
- II. தமிழ்நாடு லோக்ஆயுத்தாவின் பதவிக்காலம் 5 ஆண்டுகள் அல்லது 70 ஆண்டுகள் எது முந்தையதோ அதுவாகும்
- III. லோக் ஆயுத்தாவின் தலைவர் ஒரு மாநிலத்தின் ஆளுநரால் நியமிக்கப்படுகிறார் மற்றும் மறு நியமனத்திற்கு தகுதியற்றவர்
- IV. தவறான புகார் அளிக்கும் நபர்களுக்கு ரூ.50,000 வரை அபராதம் அல்லது 6 மாத சிறை தண்டனை விதிக்கப்படும்.

மேற்கண்ட கூற்றுகளில் தவறானது எது/எவை?

- A) II மட்டும்
- B) III மட்டும்
- C) IV மட்டும்
- D) மேற்கண்ட எதுவுமில்லை.
- E) விடை தெரியவில்லை

139. Consider the following statements.

- I. Lokpal is derived from the Tamil word
- II. Laxmi Mall Singhvi coined the term Lokpal and Lokayukta in 1963.



Which of the statements given above is/are correct?

- A) I only
B) II only
C) Both I and II
D) Neither I nor II
E) Answer not known

பின்வரும் கூற்றுகளை கருத்தில் கொள்க

I. லோக்பால் என்பது தமிழ் வார்த்தையிலிருந்து உருவானது

II. லக்ஷ்மி மால் சிங்வி 1963 இல் லோக்பால் மற்றும் லோக் ஆயுத்தா என்ற வார்த்தையை உருவாக்கினார்.

மேற்கண்ட கூற்றுகளில் சரியானது எது/எவை?

- A) I மட்டும்
B) II மட்டும்
C) இரண்டும்
D) இரண்டுமில்லை
E) விடை தெரியவில்லை

140. Which Amendment added Part XIV A ?

- A) 42nd Amendment Act, 1976
B) 44th Amendment Act, 1978
C) 53rd Amendment Act, 1986
D) 86th Amendment Act, 2002
E) Answer not known

எந்தத் திருத்தம் XIV A பகுதியைச் சேர்த்தது?

- A) 42வது திருத்தச் சட்டம், 1976
B) 44வது திருத்தச் சட்டம், 1978
C) 53வது திருத்தச் சட்டம், 1986
D) 86வது திருத்தச் சட்டம், 2002
E) விடை தெரியவில்லை

141. Which case nullified the jurisdiction exclusion of tribunals from Supreme Court and High Court ?

- A) IR Coelho case 2007
B) Chandra kumar case 1997
C) Golaknath case 1967
D) Kesavanantha Bharati case 1973
E) Answer not known

உச்ச நீதிமன்றம் மற்றும் உயர்நீதிமன்றத்தின் அதிகார வரம்பில் இருந்து தீர்ப்பாயங்களை நீக்கிய வழக்கு எது?

- A) ஜஆர் கோயல்ஹோ வழக்கு 2007
B) சந்திர குமார் வழக்கு 1997
C) கோலக்நாத் வழக்கு 1967
D) கேசவானந்த பாரதி வழக்கு 1973
E) விடை தெரியவில்லை

142. First Past The Post electoral system was borrowed from which parliamentary system ?

- A) USA
B) Australia
C) South Africa
D) England
E) Answer not known

முதல் நிலை கடந்த வாக்கு முறை எந்த பாராளுமன்ற அமைப்பில் இருந்து கடன் வாங்கப்பட்டது?

- A) அமெரிக்கா
B) ஆஸ்திரேலியா
C) தென்னாப்பிரிக்கா
D) இங்கிலாந்து
E) விடை தெரியவில்லை



143. Find out the incorrectly matched pair.

(Article)

(Definitions)

- A) 324 – Superintendence of elections
B) 326 – Election basis on adult suffrage
C) 328 – Parliament to make provision to legislature
D) 329 – Bar to Interference by courts in electoral matters
E) Answer not known

தவறாகப் பொருந்திய இணையைக் கண்டறியவும்.

(சரத்து)

(வரையறைகள்)

- A) 324 – தேர்தல் கண்காணிப்பு
B) 326 – வயது வந்தோர் வாக்குரிமை
C) 328 – பாராளுமன்றம், சட்டமன்றத்தை ஏற்படுத்த ஒப்புதல் அளித்தல்
D) 329 – தேர்தல் விஷயங்களில் நீதிமன்றங்கள் தலையிட தடை
E) விடை தெரியவில்லை

144. Which of the Provision of Article 342A in Part XVI is true?

- A) National Commission for scheduled class
B) National Commission for scheduled Tribes
C) Power of president of India to notify a particular caste as socially and educationally backward Class
D) Appointment of commission to investigate the condition of backward classes
E) Answer not known

பகுதி XVI இல் பிரிவு 342A இன் கீழ் விளக்கப்படும் கூற்றில் எது சரியானது?

- A) தாழ்த்தப்பட்ட பிரிவினருக்கான தேசிய ஆணையம்
B) பட்டியல் பழங்குடியினருக்கான தேசிய ஆணையம்
C) ஒரு குறிப்பிட்ட சாதியை சமூக மற்றும் கல்வியில் பின்தங்கிய வகுப்பாக அறிவிக்க இந்திய குடியரசு தலைவருக்கான அதிகாரம்
D) பிற்படுத்தப்பட்ட வகுப்பினரின் நிலையை விசாரிக்க ஆணையம் நியமித்தல்
E) விடை தெரியவில்லை

145. Which of the following deals with 103rd Amendment Act, 2018 ?

- A) Constitutional status to National Commission of Backward Class
B) Addition of Article 338B
C) Addition of Article 342A
D) Advancement of economically weaker sections
E) Answer not known

எது 103 திருத்தச் சட்டம், 2018 உடன் தொடர்புடையது?

- A) தேசிய பிற்படுத்தப்பட்டோர் ஆணையத்திற்கு அரசியலமைப்பு அந்தஸ்து
B) பிரிவு 338B சேர்த்தல்
C) பிரிவு 342A சேர்த்தல்
D) பொருளாதாரத்தில் பின்தங்கிய பிரிவினரின் முன்னேற்றம்
E) விடை தெரியவில்லை



146. Match List-I with List-II.

List-I
(Doctrines)

- Doctrine of Pleasure
- Doctrine of Separation of Powers
- Doctrine of Incidental
- Doctrine of Severability

List-II
(Articles)

- Article 169
- Article 13
- Article 50
- Article 155

Codes:

- | | a | b | c | d |
|----|----------|----------|----------|----------|
| A) | 1 | 4 | 2 | 3 |
| B) | 4 | 1 | 2 | 3 |
| C) | 4 | 3 | 1 | 2 |
| D) | 4 | 2 | 3 | 1 |

E) Answer not known

பட்டியல்-Iஐ பட்டியல்-II உடன் பொருத்தவும்.

பட்டியல்-I

(கோட்பாடு)

- விருப்புரிமை கோட்பாடு
- அதிகாரப் பிரிப்பு
- தற்செயலான கோட்பாடு
- இடை மறைப்பு மற்றும் பிரிபடும் தன்மைக் கோட்பாடு

பட்டியல்-II

(சரத்து)

- சரத்து 169
- சரத்து 13
- சரத்து 50
- சரத்து 155

குறியீடுகள்:

- | | a | b | c | d |
|----|----------|----------|----------|----------|
| A) | 1 | 4 | 2 | 3 |
| B) | 4 | 1 | 2 | 3 |
| C) | 4 | 3 | 1 | 2 |
| D) | 4 | 2 | 3 | 1 |

E) விடை தெரியவில்லை

147. Which Country is not a permanent member of United Nations ?

- United States
- China
- United Kingdom
- Japan
- Answer not known

ஐக்கிய நாடுகள் சபையின் நிரந்தர உறுப்பினராக இல்லாத நாடு எது?

- அமெரிக்கா
- சீனா
- ஐக்கிய இராச்சியம்
- ஜப்பான்
- விடை தெரியவில்லை

148. Consider the following statements.

I. Countries where Tamil is an official language are Singapore, Sri Lanka

II. Countries where Tamil is Recognized as Minority Language are Canada, Malaysia, Mauritius.



Which of the statements given above is/are incorrect?

- A) I only
B) II only
C) Both I and II
D) Neither I nor II
E) Answer not known

பின்வரும் கூற்றுகளை கருத்தில் கொள்க.

- I. தமிழ் ஆட்சி மொழியாக இருக்கும் நாடுகள் சிங்கப்பூர், இலங்கை
II. தமிழ் சிறுபான்மையினர் பேசும் மொழியாக அங்கீகரிக்கப்பட்ட நாடுகள் கனடா, மலேசியா, மொரிஷியஸ்.

மேற்கண்ட கூற்றுகளில் தவறானது எது/எவை?

- A) I மட்டும்
B) II மட்டும்
C) இரண்டும்
D) இரண்டுமில்லை
E) விடை தெரியவில்லை

149. Consider the following statements.

- I. It is an informal mechanism between India, the US, Australia and Japan and interpreted as a joint effort to counter Chinas influence in the India pacific region.
II. It got operationalized in 2007 and was revived in 2017

Which of the following justifies the above statements?

- A) BRICS
B) QUAD
C) SAARC
D) BREXIT
E) Answer not known

பின்வரும் கூற்றுகளை கருத்தில் கொள்க.

- I. இது இந்தியா, அமெரிக்கா, ஆஸ்திரேலியா மற்றும் ஜப்பான் ஆகிய நாடுகளுக்கு இடையே உள்ள முறைசாரா அமைப்புமுறையாகும் மற்றும் இந்திய பசிபிக் பிராந்தியத்தில் சீனாவின் செல்வாக்கை எதிர்ப்பதற்கான கூட்டு முயற்சியாக ஏற்படுத்தப்பட்டது.
II. இது 2007 இல் செயல்பாட்டுக்கு வந்தது மற்றும் 2017 இல் புதுப்பிக்கப்பட்டது

பின்வருவனவற்றுள் எது மேற்கூறிய கூற்றுகளை விளக்குகிறது?

- A) பிரிக்ஸ்
B) குவாட்
C) சார்க்
D) பிரேக்ஸிட்
E) விடை தெரியவில்லை

150. Consider the following statements.

- I. NITI Aayog consists of 4 part time members
II. NITI Aayog follows Bharatiya approach to development.

Which of the statements given above is/are correct?

- A) I only
B) II only
C) Both I and II
D) Neither I nor II
E) Answer not known

பின்வரும் கூற்றுகளை கருத்தில் கொள்க

- I. நிதி ஆயோக் 4 பகுதி நேர உறுப்பினர்களைக் கொண்டுள்ளது
II. வளர்ச்சிக்கான பாரதிய அணுகுமுறையை நிதி ஆயோக் பின்பற்றுகிறது.



மேற்கண்ட கூற்றுகளில் சரியானது எது/எவை?

- A) I மட்டும்
B) II மட்டும்
C) இரண்டும்
D) இரண்டுமில்லை
E) விடை தெரியவில்லை

151. Consider the following statements.

Assertion (A) : February 13 is observed as National Women's Day

Reason (R) : It is to commemorate the birth anniversary of Dr. Muthulakshmi Reddy

Codes:

- A) Both (A) and (R) are true and (R) is the correct explanation of (A)
B) Both (A) and (R) are true but (R) is not the correct explanation of (A)
C) (A) is true but (R) is false
D) (A) is false but (R) is true
E) Answer not known

பின்வரும் கூற்றுகளை கருத்தில் கொள்க.

கூற்று (A) : பிப்ரவரி 13 தேசிய மகளிர் தினமாக அனுசரிக்கப்படுகிறது

காரணம் (R) : இது டாக்டர் முத்துலட்சுமி ரெட்டியின் பிறந்தநாளை நினைவுகூரும் வகையில் கொண்டாடப்படுகிறது.

குறியீடுகள்:

- A) (A) மற்றும் (R) இரண்டும் சரி மற்றும் (R) என்பது (A)-யின் சரியான விளக்கமாகும்
B) (A) மற்றும் (R) இரண்டும் சரி ஆனால் (R) என்பது (A)-யின் சரியான விளக்கமல்ல
C) (A) சரி ஆனால் (R) தவறு
D) (A) தவறு ஆனால் (R) சரி
E) விடை தெரியவில்லை

152. Consider the following statements.

I. India have currently 82 Ramsar sites

II. World Wetlands Day Theme on 2024 is 'Wetlands and Human wellbeing'

III. February 5 is celebrated as World Wetlands Day

Which of the statements given above is/are incorrect?

- A) I only
B) II only
C) III only
D) all are incorrect
E) Answer not known

பின்வரும் கூற்றுகளை கருத்தில் கொள்க.

I. இந்தியாவில் தற்போது 82 ராம்சர் தளங்கள் உள்ளன

II. 2024 ஆம் ஆண்டின் உலக ஈரநில தினத்தின் கருத்துரு 'சதுப்பு நிலங்கள் மற்றும் மனித நல்வாழ்வு'

III. பிப்ரவரி 5 உலக ஈரநில தினமாக கொண்டாடப்படுகிறது.

மேற்கண்ட கூற்றுகளில் தவறானது எது/எவை?

- A) I மட்டும்
B) II மட்டும்
C) III மட்டும்
D) அனைத்து கூற்றுகளும் தவறானவை
E) விடை தெரியவில்லை



153. Consider the following statements about Sada Tanseeq
- It is a first joint military exercise between India and Saudi-Arabia
 - It is a 8 day exercise aimed to achieve interoperability between the two forces.
- Which of the statements given above is/are correct?
- I only
 - II only
 - Both I and II
 - Neither I nor II
 - Answer not known
- சதா தன்சீக் பற்றிய பின்வரும் கூற்றுகளை கருத்தில் கொள்க
- இது இந்தியா மற்றும் சவுதி-அரேபியா இடையேயான முதல் கூட்டு இராணுவ பயிற்சியாகும்.
 - இரு படைகளுக்கும் இடையே ஒத்துழைப்பு மேம்பாடு அடைவதை நோக்கமாகக் கொண்ட 8 நாள் பயிற்சி ஆகும்.
- மேற்கண்ட கூற்றுகளில் சரியானது எது/எவை?
- I மட்டும்
 - II மட்டும்
 - இரண்டும்
 - இரண்டுமில்லை
 - விடை தெரியவில்லை
154. Consider the following statements
- His 200th Birth Anniversary was observed recently
 - His Lifepreiod was 1824 to 1883.
- Who is the above mentioned personality?
- Muthukutty
 - Rajammohan Roy
 - Vivekananda
 - Mulashankar
 - Answer not known
- பின்வரும் கூற்றுகளை கருத்தில் கொள்க
- அவரின் 200 வது பிறந்தநாள் சமீபத்தில் அனுசரிக்கப்பட்டது.
 - அவர் வாழ்ந்த காலம் 1824 முதல் 1883 வரை.
- மேலே குறிப்பிடப்பட்ட ஆளுமை யார்?
- முத்துக்குட்டி
 - ராஜாராம்மோகன் ராய்
 - விவேகானந்தர்
 - மூல்சங்கர்
 - விடை தெரியவில்லை
155. Identify the wrong Pairs about Khelo India Youth Games 2023
- Overall Championship First Place – Madhya Pradesh
 - Overall Championship Second Place – Tamil Nadu
 - Mascot – Veeramangai Velunachiyar
 - Demo Sport – Silambam
 - Answer not known
- கேலோ இந்தியா இளையோர் விளையாட்டு 2023 இல் தவறான இணையைக் கண்டறியவும்
- ஒட்டுமொத்த அளவில் முதல் இடம் – மத்திய பிரதேசம்
 - ஒட்டுமொத்த அளவில் இரண்டாம் இடம் – தமிழ்நாடு
 - சின்னம் – வீரமங்கை வேலுநாச்சியார்
 - செயல்விளக்க விளையாட்டு – சிலம்பம்
 - விடை தெரியவில்லை



156. Who acting as a chairman of Highlevel Committee on Simultaneous Elections ?
- A) Jagdeep Dhankar
B) Ram Nath Kovind
C) Droupadi Murmu
D) Devisingh Patil
E) Answer not known
- ஒரே நாடு ஒரே தேர்தல் நடத்துவதை ஆராய்வதற்கான உயர்நிலைக் குழுவின் தலைவராக செயல்படுபவர் யார்?
- A) ஜகதீப் தங்கர்
B) ராம் நாத் கோவிந்த்
C) திரௌபதி முர்மு
D) தேவி சிங் பாட்டீல்
E) விடை தெரியவில்லை
157. India recently signed 8 pacts including a bilateral investment treaty and a framework deal on India Middle East economic Corridor (IMEC) with which country ?
- A) China
B) Japan
C) UAE
D) Saudi Arabia
E) Answer not known
- இந்தியா சமீபத்தில் எந்த நாட்டுடன் இருதரப்பு முதலீட்டு ஒப்பந்தம் மற்றும் இந்திய மத்திய கிழக்கு பொருளாதார வழித்தடத்தில் (IMEC) கட்டமைப்பு ஒப்பந்தம் உட்பட 8 ஒப்பந்தங்களில் கையெழுத்திட்டது?
- A) சீனா
B) ஜப்பான்
C) ஐக்கிய அரபு எமிரகம்
D) சவுதி அரேபியா
E) விடை தெரியவில்லை
158. Public Examinations (Prevention of Unfair Means) Bill, 2024 encompasses what kind of punishment for violators?
- A) upto 5 Lakhs and minimum of 5 years imprisonment
B) upto ₹1 Crore and minimum of 3 years imprisonment
C) upto 50 Lakhs and minimum of 2 years imprisonment
D) upto ₹10 Lakhs of 1 year imprisonment
E) Answer not known
- பொதுத் தேர்வாணயம் (நியாயமற்ற வழிமுறைகளைத் தடுத்தல்) மசோதா, 2024வானது விதிமுறைகளை மீறி செயல்படுபவர்களுக்கு என்ன தண்டனையை பரிந்துரைக்கிறது?
- A) 5 லட்சம் வரை அபராதம் மற்றும் குறைந்தபட்சம் 5 ஆண்டுகள் சிறைத்தண்டனை
B) ₹ 1 கோடி வரை அபராதம் மற்றும் குறைந்தபட்சம் 3 ஆண்டுகள் சிறைத்தண்டனை
C) 50 லட்சம் வரை அபராதம் மற்றும் குறைந்தபட்சம் 2 ஆண்டுகள் சிறைத்தண்டனை
D) ₹ 10 லட்சம் வரை அபராதம் மற்றும் 1 ஆண்டு சிறைத்தண்டனை
E) விடை தெரியவில்லை
159. India totally have how many number of Particularly Vulnerable Tribal Groups ?
- A) 62
B) 85
C) 72
D) 75
E) Answer not known



இந்தியாவில் மொத்தம் எத்தனை விளிம்பு நிலையிலுள்ள பாதிக்கப்படக்கூடிய பழங்குடியின குழுக்கள் உள்ளன?

- A) 62
B) 85
C) 72
D) 75
E) விடை தெரியவில்லை

160. Paddari Tribe belongs to which Union Territory ?

- A) Chandigarh
B) Andaman and Nicobar Islands
C) Dadra and Nagar Haveli
D) Jammu and Kashmir
E) Answer not known

பதாரி பழங்குடியினர் எந்த ஒன்றிய பிரதேசத்தைச் சேர்ந்தவர்கள்?

- A) சண்டிகர்
B) அந்தமான் மற்றும் நிக்கோபார் தீவுகள்
C) தாத்ரா மற்றும் நகர் ஹவேலி
D) ஜம்மு & காஷ்மீர்
E) விடை தெரியவில்லை

161. Consider the following statements

- I. One stop centre is a child of Ministry of Social Justice and empowerment
II. This Scheme aims to assist women who facing violence in public and private spaces.

Which of the statements given above is/are incorrect?

- A) I only
B) II only
C) Both I and II
D) Neither I nor II
E) Answer not known

பின்வரும் கூற்றுகளை கருத்தில் கொள்க

- I. ஒற்றை நிறுத்த மையம் சமூக நீதி மற்றும் அதிகாரமளித்தல் அமைச்சகத்தின் கீழ் உருவாக்கப்பட்ட திட்டமாகும்.
II. இந்த திட்டம் பொது மற்றும் தனியார் இடங்களில் வன்முறையை எதிர்கொள்ளும் பெண்களுக்கு உதவுவதை நோக்கமாகக் கொண்டுள்ளது.

மேற்கண்ட கூற்றுகளில் தவறானது எது/எவை?

- A) I மட்டும்
B) II மட்டும்
C) இரண்டும்
D) இரண்டுமில்லை
E) விடை தெரியவில்லை

162. Consider the following statements

- I. The Union Cabinet recently approved the "Pradhan Mantri Matsya Kisan Samridhi Sah-Yojana (PM-MKSSY).
II. It is a Central Sector Sub-scheme under the Pradhan Mantri Matsya Sampada.
III. PM-MKSSY aims to formalize the food sector and support food manufacturing micro and small enterprises.

Which of the statements given above is/are correct?

- A) I only
B) I and II only
C) I and III only
D) all the above
E) Answer not known



பின்வரும் கூற்றுகளை கருத்தில் கொள்க

- I. மத்திய அமைச்சரவை சமீபத்தில் “பிரதான் மந்திரி மத்ஸ்ய கிசான் சம்ரிதி சஹ்-யோஜனா (PM-MKSSY) க்கு ஒப்புதல் அளித்தது.
- II. இது பிரதான் மந்திரி மத்ஸ்ய சம்பதாவின் கீழ் துணைத் திட்டமாகும்.
- III. பிரதான் மந்திரி மத்ஸ்ய கிசான் சம்ரிதி சஹ்-யோஜனா உணவுத் துறையை முறைப்படுத்துவதையும், உணவு உற்பத்தி செய்யும் குறு மற்றும் சிறு நிறுவனங்களுக்கு ஆதரவளிப்பதையும் நோக்கமாகக் கொண்டுள்ளது.

மேற்கண்ட கூற்றுகளில் சரியானது எது/எவை?

- A) I மட்டும்
- B) I மற்றும் II மட்டும்
- C) I மற்றும் III மட்டும்
- D) மேற்கண்ட அனைத்தும்
- E) விடை தெரியவில்லை

163. SARTHI (Sandbox for Agricultural and Rural Security, Technology and Insurance) digital insurance accessed through which mobile application ?

- A) AIDE
- B) FASAL BIMA SAHAAYAK
- C) SARTHI
- D) FARMER DHOSTH
- E) Answer not known

SARTHI (வேளாண்மை மற்றும் கிராமப்புற பாதுகாப்பு, தொழில்நுட்பம் மற்றும் காப்பீட்டுக்கான மணல் பெட்டி) டிஜிட்டல் காப்பீடு எந்த தொலைபேசி செயலி மூலம் அணுகப்படுகிறது?

- A) மேம்பட்ட ஊடுருவல் கண்டறிதல் தூழல்
- B) ஃபசல் பிமா சஹாயக்
- C) சார்த்தி
- D) விவசாயி தோஸ்த்
- E) விடை தெரியவில்லை

164. Consider the following statements

- I. SWATI stands for Standing for Women – A Technology and Innovation
- II. SWATI Portal launched by Indian National Science Academy (INSA).

Which of the statements given above is/are correct?

- A) I only
- B) II only
- C) Both I and II
- D) Neither I nor II
- E) Answer not known

பின்வரும் கூற்றுகளை கருத்தில் கொள்க

- I. SWATI என்பது பெண்களுக்கான அறிவியல் - தொழில்நுட்பம் மற்றும் கண்டுபிடிப்பு
- II. இந்திய தேசிய அறிவியல் அகாடமி (INSA) மூலம் SWATI போர்டல் தொடங்கப்பட்டது.

மேற்கண்ட கூற்றுகளில் சரியானது எது/எவை?

- A) I மட்டும்
- B) II மட்டும்
- C) இரண்டும்
- D) இரண்டுமில்லை
- E) விடை தெரியவில்லை



165. In Which region, Tamil Nadu launched India's first Artificial Intelligence and Machine Learning – enabled surveillance system ?

- A) Kaaniyar Range
B) Velimalai Range
C) Madukkarai Range
D) Manaparai Range
E) Answer not known

இந்தியாவின் முதல் செயற்கை நுண்ணறிவு மற்றும் இயந்திர கற்றல் - செயல்படுத்தப்பட்ட கண்காணிப்பு அமைப்பை தமிழ்நாடு எந்த பகுதியில் அறிமுகப்படுத்தியது?

- A) கணியர் மலைத்தொடர்
B) வெள்ளிமலை மலைத்தொடர்
C) மதுக்கரை மலைத்தொடர்
D) மணப்பாறை மலைத்தொடர்
E) விடை தெரியவில்லை

166. What is a Classical dance of State which introduced India first Robotic Elephant?

- A) Kuchipudi
B) Bharatanatyam
C) Kathakali
D) Kathak
E) Answer not known

இந்தியாவின் முதல் ரோபோட்டிக் யானையை அறிமுகப்படுத்திய மாநிலத்தின் பாரம்பரிய நடனம் எது?

- A) குச்சிப்புடி
B) பரதநாட்டியம்
C) கதக்களி
D) கதக்
E) விடை தெரியவில்லை

167. Consider the following statements

- I. India ranks 2nd in the world in Renewable Energy Installed Capacity.
II. India aims to achieve Net Zero Emission by 2045.

Which of the statements given above is/are correct?

- A) I only
B) II only
C) Both I and II
D) Neither I nor II
E) Answer not known

பின்வரும் கூற்றுகளை கருத்தில் கொள்க

I. புதுப்பிக்கத்தக்க எரிசக்தி நிறுவப்பட்ட திறனில் உலக அளவில் இந்தியா 2வது இடத்தில் உள்ளது.

II. 2045க்குள் நிகர பூஜ்ஜிய உமிழ்வை அடைவதை இந்தியா நோக்கமாகக் கொண்டுள்ளது.

மேற்கண்ட கூற்றுகளில் சரியானது எது/எவை?

- A) I மட்டும்
B) II மட்டும்
C) இரண்டும்
D) இரண்டுமில்லை
E) விடை தெரியவில்லை

168. Aadi Mahotsav is organized under which Ministry ?

- A) Ministry of Social Justice and empowerment
B) Ministry of Tribal Affairs
C) Ministry of Culture
D) Ministry of Minority Affairs
E) Answer not known



ஆதி மஹோத்ஸவ் எந்த அமைச்சகத்தின் கீழ் செயல்படுத்தப்படுகிறது?

- A) சமூக நீதி மற்றும் அதிகாரமளித்தல் அமைச்சகம்
- B) பழங்குடியினர் விவகார அமைச்சகம்
- C) கலாச்சார அமைச்சகம்
- D) சிறுபான்மையினர் விவகார அமைச்சகம்
- E) விடை தெரியவில்லை

169. Which is recently launched by India in 2024 to enhance climate services ?

- A) INSAT-2DS
- B) INSAT-3DS
- C) INSAT-5DS
- D) INSAT-4DS
- E) Answer not known

காலநிலை சார் சேவைகளை மேம்படுத்துவதற்காக 2024இல் இந்தியாவில் சமீபத்தில் தொடங்கப்பட்ட திட்டம் எது?

- A) இன்சாட்-2DS
- B) இன்சாட்-3DS
- C) இன்சாட்-5டிஎஸ்
- D) இன்சாட்-4டிஎஸ்
- E) விடை தெரியவில்லை

170. Which is not a feature of Lakhpati Didi Scheme ?

- A) women will provided Rs.10 Lakh per year
- B) drones will be provided to women SHG for agricultural activities
- C) women trained in skills like LED bulb making, plumbing and thers
- D) to transform the agricultural landscape while empowering women in rural communities.
- E) Answer not known

லக்பதி திதி திட்டத்தின் அம்சம் இல்லாதது எது?

- A) பெண்களுக்கு ஆண்டுக்கு ரூ.10 லட்சம் வழங்கப்படும்
- B) விவசாய பணிகளுக்காக பெண்கள் சுய உதவிக் குழுவிற்கு ட்ரோன்கள் வழங்கப்படும்
- C) LED பல்ப் தயாரித்தல், பிளம்பிங் போன்ற திறன்களில் பெண்களுக்கு பயிற்சி வழங்குதல்.
- D) கிராமப்புற சமூகங்களில் பெண்களுக்கு அதிகாரம் அளிக்கும் போது விவசாய நிலப்பரப்பை மாற்றியமைத்தல்.
- E) விடை தெரியவில்லை

171. Consider the following statements according to AISHE REPORT 2021-22.

- I. In 2021-22, the overall gross enrolment ratio (GER) in higher education for the age group 18-23 years increased to 28.4%, from 27.3% in 2020- 21
- II. The overall female enrolment increased to 2.07 crore in 2021-22.

Which of the statements given above is/are correct?

- A) I only
- B) II only
- C) Both I and II
- D) Neither I nor II
- E) Answer not known

AISHE அறிக்கை 2021-22ன் படி பின்வரும் கூற்றுகளை கருத்தில் கொள்க

- I. 2021-22இல், 18-23 வயதுக்குட்பட்ட பிரிவினரில் உயர்கல்வியில் ஒட்டுமொத்த மொத்த சேர்க்கை விகிதம் (GER) 2020-21இல் 27.3% இல் இருந்து 28.4% ஆக அதிகரித்துள்ளது.
- II. 2021-2இல் ஒட்டுமொத்த மாணவிகளின் சேர்க்கை விகிதம் 2.07 கோடியாக அதிகரித்துள்ளது.



மேற்கண்ட கூற்றுகளில் சரியானது எது/எவை?

- A) I மட்டும்
B) II மட்டும்
C) இரண்டும்
D) இரண்டுமில்லை
E) விடை தெரியவில்லை

172. Consider the following statements

- I. India ranked 81 out of 180 countries in the Corruption Perceptions Index (CPI) for 2023.
II. Corruption Perceptions Index 2023 has been released by the Transparency International

Which of the statements given above is/are correct?

- A) I only
B) II only
C) Both I and II
D) Neither I nor II
E) Answer not known

பின்வரும் கூற்றுகளை கருத்தில் கொள்க

- I. 2023க்கான ஊழல் புலனாய்வு குறியீட்டில் (CPI) 180 நாடுகளில் இந்தியா 81வது இடத்தைப் பிடித்துள்ளது.
II. டிரான்ஸ்பரன்சி இன்டர்நேஷனல் அமைப்பு 2023 ஊழல் புலனாய்வு குறியீட்டை வெளியிட்டுள்ளது

மேற்கண்ட கூற்றுகளில் சரியானது எது/எவை?

- A) I மட்டும்
B) II மட்டும்
C) இரண்டும்
D) இரண்டுமில்லை
E) விடை தெரியவில்லை

173. UDAN Scheme is related to ?

- A) Waterways
B) Airways
C) Rural Development
D) Roadways
E) Answer not known

உடான் திட்டம் தொடர்புடையது?

- A) நீர்வழி
B) வான்வழி
C) ஊரக வளர்ச்சி
D) சாலைகள்
E) விடை தெரியவில்லை

174. Consider the following statements

- I. Namo Bharat is a India first mass rapid system dedicated to regional connectivity.
II. It is available only in Delhi and Mumbai.

Which of the statements given above is/are correct?

- A) I only
B) II only
C) Both I and II
D) Neither I nor II
E) Answer not known



பின்வரும் கூற்றுகளை கருத்தில் கொள்க :

I. நமோ பாரத் என்பது பிராந்திய இணைப்புக்காக ஏற்படுத்தப்பட்ட இந்தியாவின் முதல் மிகப்பெரிய விரைவு தொடர்வண்டி அமைப்பாகும்.

II. இது டெல்லி மற்றும் மும்பையில் செயல்படுகிறது.

மேற்கண்ட கூற்றுகளில் சரியானது எது/எவை?

- A) I மட்டும்
B) II மட்டும்
C) இரண்டும்
D) இரண்டுமில்லை
E) விடை தெரியவில்லை

175. Consider the following statements

I. Swachhata Green Leaf Rating Scheme is a Hygiene and Sanitation rating system for hospitality sector.

II. It is Launched by Ministry of Health

Which of the statements given above is/are correct?

- A) I only
B) II only
C) Both I and II
D) Neither I nor II
E) Answer not known

பின்வரும் கூற்றுகளை கருத்தில் கொள்க

I. ஸ்வச்சதா பசுமை இலை மதிப்பீடு திட்டம் சுற்றுலா துறைக்கான சுகாதாரம் மற்றும் சுகாதார மதிப்பீட்டு அமைப்பாகும்.

II. இத்திட்டம் சுகாதார அமைச்சகத்தால் தொடங்கப்பட்டது

மேற்கண்ட கூற்றுகளில் சரியானது எது/எவை?

- A) I மட்டும்
B) II மட்டும்
C) இரண்டும்
D) இரண்டுமில்லை
E) விடை தெரியவில்லை

176. Find the compound interest on Rs.8000 at 15% per annum for 2 years 4 months, compounded annually.

- A) ₹11109
B) ₹3109
C) ₹11009
D) ₹3309
E) Answer not known

2 ஆண்டுகள் 4 மாதங்களுக்கு ரூ.8000-த்திற்கு ஆண்டுக்கு 15% வீதம் கூட்டு வட்டியைக் கண்டறியவும்.

- A) ₹ 11109
B) ₹ 3109
C) ₹ 11009
D) ₹ 3309
E) விடைதெரியவில்லை

177. Divide Rs.1301 between Madhu and Deepthi, so that the amount of Madhu after 7 years is equal to the amount of Deepthi after 9 years, the interest being compounded at 4% per annum.

- A) ₹ 675 and ₹ 626
B) ₹ 676 and ₹ 625
C) ₹ 678 and ₹ 623
D) ₹ 679 and ₹ 622
E) Answer not known



1301 ரூபாயை மதுவுக்கும் தீப்திக்கும் இடையில் ஆண்டுக்கு 4 சதவீத கூட்டுவட்டியில் 7 ஆண்டுகளுக்குப் பிறகு மதுவின் தொகை 9 ஆண்டுகளுக்குப் பிறகு தீப்தியின் தொகைக்கு சமமாக இருக்கும் வகையில் பிரிக்கப்படும் தொகை எவ்வளவு ?

- A) ₹ 675 மற்றும் ₹ 626
B) ₹ 676 மற்றும் ₹ 625
C) ₹ 678 மற்றும் ₹ 623
D) ₹ 679 மற்றும் ₹ 622
E) விடை தெரியவில்லை

178. A sum of money doubles itself at compound interest in 15 years. In how many years will it become eight times ?

- A) 55 years
B) 35 years
C) 45 years
D) 25 years
E) Answer not known

15 ஆண்டுகளில் கூட்டு வட்டியில் ஒரு தொகை இரட்டிப்பாகிறது. எத்தனை வருடங்களில் அது எட்டு மடங்காக மாறும்?

- A) 55 ஆண்டுகள்
B) 35 ஆண்டுகள்
C) 45 ஆண்டுகள்
D) 25 ஆண்டுகள்
E) விடை தெரியவில்லை

179. The compound interest on Rs.20480 at $6\frac{1}{4}$ % per annum for 2 years 73 days, is

- A) ₹ 2929
B) ₹ 23409
C) ₹ 3939
D) ₹ 24309
E) Answer not known

2 ஆண்டுகள் 73 நாட்களுக்கு ஆண்டுக்கு $6\frac{1}{4}$ % வீதம் ரூ.20480 மீதான கூட்டு வட்டி

எவ்வளவு ?,

- A) ₹ 2929
B) ₹ 23409
C) ₹ 3939
D) ₹ 24309
E) விடை தெரியவில்லை

180. The difference between simple and compound interest compounded annually on a certain sum of money for 2 years at 4% per annum is Re.1. The sum is

- A) ₹ 625
B) ₹ 630
C) ₹ 640
D) ₹ 650
E) Answer not known

ஆண்டுக்கு 4% வீதம் 2 ஆண்டுகளுக்கு ஒரு குறிப்பிட்ட தொகைக்கு தனி வட்டி மற்றும் கூட்டு வட்டிக்கு இடையே உள்ள வேறுபாடு ரூ.1 ஆகும். எனில் தொகை எவ்வளவு ?

- A) ₹ 625
B) ₹ 630
C) ₹ 640
D) ₹ 650
E) விடை தெரியவில்லை



181. The sum of money invested at compound interest amounts to Rs.800 in 3 years and to Rs.840 in 4 Years. The rate of interest per annum is

- A) 3% B) $2\frac{1}{4}$ %
C) 4% D) 5 %

கூட்டு வட்டியில் முதலீடு செய்யப்பட்ட தொகை 3 ஆண்டுகளில் ரூ.800 ஆகவும், 4 ஆண்டுகளில் ரூ.840 ஆகவும் இருக்கும். ஆண்டு வட்டி விகிதம் எவ்வளவு?

- A) 3% B) $2\frac{1}{4}$ %
C) 4% D) 5 %
E) விடை தெரியவில்லை

182. Find the compound interest on Rs.15,625 for 9 months at 16% per annum compounded quarterly.

- A) ₹ 1851 B) ₹ 1941
C) ₹ 1951 D) ₹ 1961
E) Answer not known

9 மாதங்களுக்கு ரூ.15,625க்கான கூட்டு வட்டியை ஆண்டுக்கு 16% விகிதத்தில் கூட்டு வட்டியைக் கண்டறியவும்.

- A) ₹ 1851 B) ₹ 1941
C) ₹ 1951 D) ₹ 1961
E) விடை தெரியவில்லை

183. The value of a motor cycle 2 years ago was ₹70000. It depreciates at the rate of 4% p.a.

Find its present value.

- A) ₹ 62212 B) ₹ 64512
C) ₹ 64412 D) ₹ 66512
E) Answer not known

2 ஆண்டுகளுக்கு முன்பு ஒரு மோட்டார் சைக்கிளின் மதிப்பு ₹70000. 4% என்ற விகிதத்தில் தேய்மானம் அடைகிறது. எனில் அதன் தற்போதைய மதிப்பு காண்க

- A) ₹ 62212 B) ₹ 64512
C) ₹ 64412 D) ₹ 66512
E) விடை தெரியவில்லை

184. In how many years will ₹3375 become ₹4096 at $13\frac{1}{3}$ % p.a if the interest is compounded half-yearly?

- A) 3.5 years B) 1.5 years
C) 4.5 years D) 2.5 years
E) Answer not known

$13\frac{1}{3}$ % சதவீத அரையாண்டு கூட்டு வட்டியில் எத்தனை ஆண்டுகளில் ₹ 3375 ஆனது ₹ 4096

ஆக மாறும்?

- A) 3.5 ஆண்டுகள் B) 1.5 ஆண்டுகள்
C) 4.5 ஆண்டுகள் D) 2.5 ஆண்டுகள்
E) விடை தெரியவில்லை



185. Find the C.I on ₹15000 for 3 years if the rates of interest are 15 % , 20 % and 25 % for the I, II and III years respectively.
A) ₹ 25875 B) ₹15875
C) ₹ 10875 D) ₹ 8675
E) Answer not known
I, II மற்றும் III ஆண்டுகளுக்கு முறையே 15 % , 20 % மற்றும் 25 % வட்டி விகிதங்களில் இருந்தால் 3 ஆண்டுகளுக்கு ₹15000 யிக்கு கூட்டு வட்டியைக் கண்டறியவும் .
A) ₹ 25875 B) ₹ 15875
C) ₹ 10875 D) ₹ 8675
E) விடைதெரியவில்லை
186. The bacteria in a culture grows by 5% in the first hour, decreases by 8% in the second hour and again increases by 10% in the third hour. Find the count of the bacteria at the end of 3 hours, if its initial count was 1.
A) 1 B) 1.06
C) 1.6 D) 1.006
E) Answer not known
ஒரு பாக்டீரியா வளர்ப்பில் முதல் ஒரு மணி நேரத்தில் 5% வளரும், இரண்டாவது மணி நேரத்தில் 8% குறைகிறது மற்றும் மூன்றாவது மணி நேரத்தில் மீண்டும் 10% அதிகரிக்கிறது. பாக்டீரியாவின் ஆரம்ப எண்ணிக்கை 1 ஆக இருந்தால், 3 மணிநேர முடிவில் பாக்டீரியாவின் எண்ணிக்கையைக் கண்டறியவும்.
A) 1 B) 1.06
C) 1.6 D) 1.006
E) விடைதெரியவில்லை
187. A man invested ₹ 4000 for a year at 8% per annum. Find the amount received by him at the end of 1 year.
A) ₹ 320 B) ₹ 4,320
C) ₹ 240 D) ₹ 4,240
E) Answer not known
ஒரு நபர் ஆண்டுக்கு 8% வீதம் ஒரு வருடத்திற்கு ₹ 4000 முதலீடு செய்தார். 1 வருட முடிவில் அவர் பெற்ற தொகையைக் கண்டறியவும்.
A) ₹ 320 B) ₹ 4,320
C) ₹ 240 D) ₹ 4,240
E) விடைதெரியவில்லை
188. Find the simple interest on ₹ 5050 for 146 days at 20% p.a
A) ₹ 202 B) ₹ 303
C) ₹ 505 D) ₹ 404
E) Answer not known
ஆண்டுக்கு 20% வட்டி விகிதத்தில் 146 நாட்களுக்கு ₹ 5050 யிக்கு தனி வட்டியைக் கண்டறியவும்
A) ₹ 202 B) ₹ 303
C) ₹ 505 D) ₹ 404
E) விடை தெரியவில்லை



189. Find the simple interest earned on ₹ 9000 invested 6 months at a rate of 6% per annum.

- A) ₹ 3240
B) ₹ 135
C) ₹ 270
D) ₹ 9270
E) Answer not known

ஆண்டுக்கு 6% என்ற விகிதத்தில் 6 மாதங்களில் முதலீடு செய்த ₹ 9000 க்கு கிடைக்கும் தனி வட்டியைக் கண்டறியவும் .

- A) ₹ 3240
B) ₹ 135
C) ₹ 270
D) ₹ 9270
E) விடைதெரியவில்லை

190. Find the simple interest on ₹18,250 for 22 days at 10% per annum

- A) ₹ 100
B) ₹ 110
C) ₹ 120
D) ₹ 132
E) Answer not known

ஆண்டுக்கு 10% வீதம் 22 நாட்களுக்கு ₹18,250 யிக்கு தனி வட்டியைக் கண்டறியவும்

- A) ₹ 100
B) ₹ 110
C) ₹ 120
D) ₹ 132
E) விடைதெரியவில்லை

191. Sathish Kumar borrowed ₹ 52,000 from a money lender at a particular rate of simple interest. After 4 years, he paid ₹ 79,040 to settle his debt. At what rate of interest he borrowed the money?

- A) 13%
B) 8%
C) 11%
D) 9%
E) Answer not known

சதீஷ் குமார், ஒரு குறிப்பிட்ட வட்டி விகிதத்தில் கடன் வழங்குபவரிடம் ₹ 52,000 கடன் வாங்கினார். 4 ஆண்டுகளுக்குப் பிறகு, அவர் தனது கடனைத் தீர்க்க ₹ 79,040 செலுத்தினார் எனில் எந்த வட்டிவீதத்திற்கு கடன் வாங்கினார்?

- A) 13%
B) 8%
C) 11%
D) 9%
E) விடைதெரியவில்லை

192. The simple interest on 7500 at 6% per annum for 5 years is

- A) ₹ 2250
B) ₹ 2520
C) ₹ 2500
D) ₹ 2200
E) Answer not known

₹.7500 மீதான 5 வருடங்களுக்கு ஆண்டுக்கு 6% விகிதத்தில் தனி வட்டியை காண்க

- A) ₹ 2250
B) ₹ 2520
C) ₹ 2500
D) ₹ 2200
E) விடைதெரியவில்லை



193. The simple interest on $x\%$ for $\frac{x}{2}$ years will be ₹2x on a principal of

A) ₹ $\frac{400}{x}$ B) ₹ 400 x

C) ₹ $\frac{200}{x}$ D) ₹ 200 x

E) Answer not known

$\frac{x}{2}$ வருடங்களுக்கு $x\%$ வட்டி விகிதத்தில் தனி வட்டியானது ₹ 2x எனில் அசல் தொகை எவ்வளவு?

A) ₹ $\frac{400}{x}$ B) ₹ 400 x

C) ₹ $\frac{200}{x}$ D) ₹ 200 x

E) விடைதெரியவில்லை

194. A woman invested ₹ 7500 for two years at 6% per annum. Find the total amount received by her at the end of 2 years.

A) ₹6600 B) ₹8900

C) ₹900 D) ₹8400

E) Answer not known

ஒரு பெண் ஆண்டுக்கு 6% வீதம் இரண்டு ஆண்டுகளுக்கு ₹ 7500 முதலீடு செய்தார். 2 வருட முடிவில் அவர் பெற்ற மொத்தத் தொகையைக் கண்டறியவும்.

A) ₹ 6600 B) ₹ 8900

C) ₹ 900 D) ₹ 8400

E) விடைதெரியவில்லை

195. Find the simple interest on ₹ 2400 from March 1, 2020 to July 1, 2020 at $7\frac{1}{2}\%$ per annum.

A) ₹90 B) ₹120

C) ₹45 D) ₹60

E) Answer not known

மார்ச் 1, 2020 முதல் ஜூலை 1, 2020 வரை ஆண்டுக்கு $7\frac{1}{2}\%$ வட்டி விகிதத்தில் ரூ.2400க்கு தனி வட்டியைக் கண்டறியவும்.

A) ₹ 90

B) ₹ 120

C) ₹ 45

D) ₹ 60

E) விடைதெரியவில்லை



196. A sum of money increases 4 times its principal at 12% per annum over certain years. Find the number of years

- A) $33\frac{1}{3}$ B) 50
C) 33 D) 25
E) Answer not known

ஒரு தொகையானது ஆண்டுக்கு 12% வீதத்தில் அதன் அசலின் 4 மடங்காக சில ஆண்டுகளில் அதிகரிக்கிறது, எனில் ஆண்டுகளின் எண்ணிக்கையைக் கண்டறியவும்.

- A) $33\frac{1}{3}$ B) 50
C) 33 D) 25
E) விடை தெரியவில்லை

197. The simple interest on a sum of money is $\frac{1}{16}$ of the principal and the rate of interest is equal to the number of years. Find the number of years?

- A) 2 years B) 4.5 years
C) 2.5 years D) 4 years
E) Answer not known

ஒரு தொகையின் மீதான தனி வட்டியானது அசலில் $\frac{1}{16}$ பங்கு ஆகும். மற்றும் வட்டி விகிதமானது ஆண்டுகளின் எண்ணிக்கைக்கு சமம் எனில் ஆண்டுகளின் எண்ணிக்கையைக் கண்டறிக.

- A) 2 ஆண்டுகள் B) 4.5 ஆண்டுகள்
C) 2.5 ஆண்டுகள் D) 4 ஆண்டுகள்
E) விடை தெரியவில்லை

198. In what time will ₹ 17800 amount to ₹ 19936 at 6% per annum?

- A) 3 years B) 2 years
C) 5 years D) 4 years
E) Answer not known

ஆண்டுக்கு 6% வட்டி விகிதத்தில் எத்தனை ஆண்டுகளில் ₹ 17800 ஆனது ₹ 19936 ஆக மாறும்?

- A) 3 ஆண்டுகள் B) 2 ஆண்டுகள்
C) 5 ஆண்டுகள் D) 4 ஆண்டுகள்
E) விடை தெரியவில்லை



199. Find the principal if the difference between C.I and S.I on it at 15% p.a for 3 years is ₹1134.

- A) ₹16600
B) ₹14600
C) ₹14400
D) ₹ 16000
E) Answer not known

3 ஆண்டுகளுக்கு ஆண்டிற்கு 15% விகிதத்தில் கூட்டு வட்டி மற்றும் தனிவட்டிக்கு இடையே உள்ள வித்தியாசம் ₹ 1134 எனில் அசலைக் கண்டறியவும்.

- A) ₹ 16600
B) ₹ 14600
C) ₹ 14400
D) ₹ 16000
E) விடைதெரியவில்லை

200. If a principal is getting doubled after 4 years, then calculate the rate of interest.

- A) 12.5%
B) 6.25%
C) 25%
D) 20%
E) Answer not known

ஒரு அசல் 4 ஆண்டுகளுக்குப் பிறகு இரட்டிப்பாகும் எனில், வட்டி விகிதத்தைக் கணக்கிடுக.

- A) 12.5%
B) 6.25%
C) 25%
D) 20%
E) விடைதெரியவில்லை



**SHANKAR
IAS ACADEMY™**
Best Academy for Civil Services Exam Coaching

SPACE FOR ROUGH WORK

SHANKAR IAS ACADEMY
www.Padasalai.Net



**SHANKAR
IAS ACADEMY™**
Best Academy for Civil Services Exam Coaching

SPACE FOR ROUGH WORK

SHANKAR IAS ACADEMY
www.Padasalai.Net



வினாத்தொகுப்பு எண் :

பதிவு எண்

2024

பொதுத் தமிழ்
(பத்தாம் வகுப்பு தரம்)

Test - 20

கால அளவு : 3.00 மணி நேரம்]

[மொத்த மதிப்பெண்கள் : 300

வினாக்களுக்கு பதிலளிக்கும் முன் கீழ்க்கண்ட அறிவுரைகளை கவனமாகப் படிக்கவும்

முக்கிய அறிவுரைகள்

- இந்த வினாத்தொகுப்பு, தேர்வு தொடங்குவதற்கு 15 நிமிடங்களுக்கு முன்னதாக உங்களுக்கு வழங்கப்படும்.
- இந்த வினாத்தொகுப்பு, **200** வினாக்களைக் கொண்டுள்ளது. விடையளிக்கத் தொடங்குமுன் இவ்வினாத் தொகுப்பில் எல்லா வினாக்களும் வரிசையாக இடம் பெற்றுள்ளனவா என்பதையும், இடையில் வெற்றுத்தாள்கள் எவையும் இல்லை என்பதையும் உறுதி செய்து கொள்ளவும். வினாத் தொகுப்பில் ஏதேனும் குறைபாடு இருப்பின், அதனை முதல் பத்து நிமிடங்களுக்குள் அறைக்கண்காணிப்பாளரிடம் தெரிவித்து, சரியாக உள்ள வேறொரு வினாத் தொகுப்பினை பெற்றுக்கொள்ள வேண்டும். தேர்வு தொடங்கிய பின்பு, இது குறித்து முறையிட்டால் வினாத் தொகுப்பு மாற்றித் தரப்படமாட்டாது.
- எல்லா வினாக்களுக்கும் விடையளிக்கவும், எல்லா வினாக்களும் சமமான மதிப்பெண்கள் கொண்டவை.
- உங்களுடைய பதிவு எண்ணை இந்தப் பக்கத்தின் வலது மேல் மூலையில் அதற்கென அமைந்துள்ள இடத்தில் நீங்கள் எழுத வேண்டும். வேறு எதையும் வினாத் தொகுப்பில் எழுதக் கூடாது.
- விடைத்தாள் ஒன்று விடைகளை குறிப்பதற்கு அறைக்கண்காணிப்பாளரால் உங்களுக்கு வழங்கப்படும். விடைகளைக் குறிப்பது உள்ளிட்ட அவசியம் பின்பற்றப்பட வேண்டிய அறிவுரைகள் விடைத்தாளிலும், தேர்வுக்கூட அனுமதிச் சீட்டிலும் வழங்கப்பட்டுள்ளன.
- உங்களுடைய வினாத்தொகுப்பு, எண்ணை (Question Booklet Number) விடைத்தாளின் முதல் பக்கத்தில் அதற்கென அமைந்துள்ள இடத்தில் கருமை நிற மையடைய பந்துமுனைப் பேனாவினால் குறித்துக் காட்ட வேண்டும். வினாத்தொகுப்பு எண்ணை விடைத்தாளில் சரியாகக் குறித்துக் காட்டத் தவறினாலோ அல்லது குறிக்கத் தவறினாலோ உங்களுடைய விடைத்தாள் செல்லாததாகக்கப்படும்.
- ஒவ்வொரு வினாவும் A), (B), (C), (D), (E) என ஐந்து பதில்களைக் (விடைகள்) கொண்டுள்ளது. நீங்கள் A) அல்லது B) அல்லது C) அல்லது D) இவைகளில் ஒரே ஒரு சரியான விடையைத் தெரிவு செய்து விடைத்தாளில் குறித்துக்காட்ட வேண்டும். ஒரு கேள்விக்கு ஒன்றுக்கு மேற்பட்ட சரியான விடை இருப்பதாக நீங்கள் கருதினால், மிகச்சரியானது என நீங்கள் எதைக் கருதுகிறீர்களோ அந்த விடையை விடைத்தாளில் குறித்துக்காட்ட வேண்டும். உங்களுக்கு விடை தெரியவில்லை எனில், நீங்கள் (E) என்பதை அவசியம் நிரப்ப வேண்டும். எப்படியாயினும், ஒரு கேள்விக்கு ஒரே ஒரு விடையைத் தான் தேர்ந்தெடுக்க வேண்டும். நீங்கள் ஒரு கேள்விக்கு ஒன்றுக்கு மேற்பட்ட விடையளித்தால், அவற்றுள் ஒரு விடை சரியானதாக இருந்தாலும் அந்த விடை தவறானதாகவே கருதப்படும்.
- நீங்கள் வினாத் தொகுப்பின் எந்தப் பக்கத்தையும் நீக்கவோ அல்லது கிழிக்கவோ கூடாது. தேர்வு நேரத்தில் இந்த வினாத் தொகுப்பினையோ அல்லது விடைத்தாளையோ தேர்வு அறையை விட்டு வெளியில் எடுத்துச் செல்லக் கூடாது. தேர்வு முடிந்தபின் நீங்கள் உங்களுடைய விடைத்தாளை கண்காணிப்பாளரிடம் கொடுத்து விட வேண்டும். இவ்வினாத் தொகுப்பினை தேர்வு முடிந்த பின்னர் மட்டுமே நீங்கள் எடுத்துச் செல்ல அனுமதிக்கப்படுவீர்கள்.
- குறிப்புகள் எழுதிப்பார்ப்பதற்கு வினாத்தொகுப்பின் கடைசி பக்கத்திற்கு முன் உள்ள பக்கங்களை பயன்படுத்திக் கொள்ளலாம். இதைத்தவிர வினாத்தொகுப்பின் எந்த இடத்திலும் எந்தவித குறிப்புகளையும் எழுதக்கூடாது. இந்த அறிவுரை கண்டிப்பாக பின்பற்றப்படவேண்டும்.
- வினா வரிசை எண்கள் 101 முதல் 200 வரை (பகுதி - ஆ) ஆங்கில வடிவே இறுதியானது.
- நீங்கள் மேற்கண்ட அறிவுரைகளில் எவற்றையாவது பின்பற்றத் தவறினால் தேர்வாணையம் எடுக்கும் நடவடிக்கைகளுக்கு உள்ளாக நேரிடும் என அறிவுறுத்தப்படுகிறது.

↪

[Turn over

For queries mail to : zerofeedback@shankariasacad.in;

[Turn over

Kindly Send Me Your Key Answer to Our email id - Padasalai.net@gmail.com



பகுதி - அ — பொதுத் தமிழ் (பத்தாம் வகுப்பு தரம்)

Part A — General Tamil (SSLC Std)

வினாக்கள் : 1-200

மொத்த மதிப்பெண்கள் : 300

Test 20

Questions : 1-200

Total Marks : 300

1. 'கவிஞர் வெ.இராமலிங்கனார்' பற்றிய பின்வரும் கூற்றுகளைக் கருத்தில் கொள்க.
I. தமிழக அரசின் முதல் அரசவைக் கவிஞராகத் திகழ்ந்தவர்
II. இவருக்கு நடுவணரசு பத்மபூஷண் விருது வழங்கிச் சிறப்பித்தது.
மேற்கண்ட கூற்றுகளில் சரியானது எது/எவை?
A) I மட்டும்
B) II மட்டும்
C) இரண்டும்
D) இரண்டுமில்லை
E) விடை தெரியவில்லை
2. வேறுபட்ட ஒன்றினைத் தேர்ந்தெடுக்க.
A) கிளி
B) கிள்ளை
C) பொருப்பு
D) தத்தை
E) விடை தெரியவில்லை
3. பின்வருவனவற்றுள் தவறான இணையைத் தேர்ந்தெடுக்க.
(பிறமொழிச்சொல்) (தமிழ்ச்சொல்)
A) பிளசர் கார் - மகிழுந்து
B) ட்ரெயின் - ரயில்
C) கஜானா - கருவூலம்
D) ஏரோப்பிளேன் - வானூர்தி
E) விடை தெரியவில்லை
4. "பெண், அடிமை வாழ்வு நடத்த நேரிடின் அவள் வயிற்றில் பிறக்கும் பிள்ளையும் அடிமையுணர்வுடன் பிறக்கும். பெண்ணுரிமை என்பது ஆணுடன் போர் புரிவதன்று. ஆணுடன் வாழ்ந்து அன்பை வளர்ப்பது பெண்ணின் உரிமைக்கடன்" என்று கூறியவர் யார்?
A) பாரதிதாசன்
B) திரு.வி.க
C) காந்தியக் கவிஞர்
D) பாரதியார்
E) விடை தெரியவில்லை
5. 'இரட்சணிய யாத்திரிகம்' பற்றிய பின்வரும் கூற்றுகளைக் கருத்தில் கொள்க.
I. இரட்சணிய யாத்திரிகம் என்பதன் பொருள் இறைவனை நோக்கிச் செல்லும் பயணம் மற்றும் ஆன்ம ஈடேற்றத்தை விரும்புவவர் என்பதும் பொருந்தும்.
II. ஜான் பன்யன் என்னும் புகழ்பெற்ற ஆங்கில நூலாசிரியர் இயற்றிய பில்கிரிம்ஸ் புரோகிரஸ் என்னும் நூலைத் தழுவி, ஹென்றி ஆல்பர்ட்டு கிருட்டினனார் வழிநூலாகத் தமிழில் இரட்சணிய யாத்திரிகம் என்னும் பெயரில் இயற்றினார்.
மேற்கண்ட கூற்றுகளில் சரியானது எது/எவை?
A) I மட்டும்
B) II மட்டும்
C) இரண்டும்
D) இரண்டுமில்லை
E) விடை தெரியவில்லை



6. கிறித்துவக் கம்பர் எனப் புகழ்பெற்ற எச்.ஏ. கிருட்டினனார் தமிழிலக்கியங்களை யாரிடம் கற்றார்?
- A) சங்கரநாராயணர்
B) மாணிக்கவாசகத்தேவர்
C) பிலவணச் சோதிடர்
D) தெய்வநாயகி அம்மாள்
E) விடை தெரியவில்லை
7. பொருத்துக.
- a) யாழ் கேட்டு மகிழ்ந்தாள்
b) நான் சமையல் கற்றேன்
c) திருவள்ளுவரைப் படித்துப்பார்
d) நாரதர் வருகிறார்
1. கருத்தாவாகு பெயர்
2. உவமையாகு பெயர்
3. காரியவாகு பெயர்
4. கருவியாகுபெயர்
- குறியீடுகள்:**
- | | <i>a</i> | <i>b</i> | <i>c</i> | <i>d</i> |
|----|----------|----------|----------|----------|
| A) | 4 | 3 | 2 | 1 |
| B) | 4 | 3 | 1 | 2 |
| C) | 3 | 2 | 1 | 4 |
| D) | 4 | 1 | 2 | 3 |
- E) விடை தெரியவில்லை
8. செய்யுளின் எல்லா அடிகளையும் முன்பின்னாக மாற்றிப் பொருள் கொண்டாலும் பொருளும் ஓசையும் சிதையாமல் வருவது?
- A) கொண்டுக்கூட்டுப் பொருள்கோள்
B) அடிமறிமாற்றுப் பொருள்கோள்
C) அளைமறிபாப்புப் பொருள்கோள்
D) மொழிமாற்றுப் பொருள்கோள்
E) விடை தெரியவில்லை
9. பின்வரும் கூற்றுகளைக் கருத்தில் கொள்க.
- I. ஆந்திரா, கர்நாடகா ஆகிய மாநிலங்களில் மகர சங்கராந்தி என அறுவடைத் திருநாள் அழைக்கப்படுகிறது.
- II. ஜப்பான், ஜாவா முதலிய நாடுகளில் அறுவடைத் திருவிழா எனவும் கொண்டாடப்படுகிறது. மேற்கண்ட கூற்றுகளில் சரியானது எது/எவை?
- A) I மட்டும்
B) II மட்டும்
C) இரண்டும்
D) இரண்டுமில்லை
E) விடை தெரியவில்லை
10. தலை சிறந்த பண்பாக வள்ளுவர் குறிப்பிடுவது யாது?
- A) அன்பு
B) பொறுமை
C) ஒழுக்கம்
D) அறிவு
E) விடை தெரியவில்லை
11. “இன்மையுள் இன்மை விருந்தொரால் வன்மையுள்” – இக்குறட்பாவில் பயின்று வந்துள்ள அணி யாது?
- A) பிறிதுமொழிதல் அணி
B) எடுத்துக்காட்டு உவமை அணி
C) உவமை அணி
D) உருவக அணி
E) விடை தெரியவில்லை



12. 'திருவள்ளூர்' பற்றிய பின்வரும் கூற்றுகளைக் கருத்தில் கொள்க.
- திருக்குறளில் அனைத்து நாட்டினரும், இனத்தினரும் தமக்கே உரியதெனக் கொண்டாடும் வகையில் பொதுமைக் கருத்துகளைப் படைத்தவர்.
 - நாயனார், தேவர், முதற்பாவலர், தெய்வப்புவலர், நான்முகனார், மாதானுபங்கி, செந்நாய் போதார், பெருநாவலர் என்னும் சிறப்புப் பெயர்களும் இவருக்கு உண்டு.
 - இவரின் காலம் கி.மு. 31 ஆம் ஆண்டு என அறிஞர் கூறுவர்.
- மேற்கண்ட கூற்றுகளில் சரியானவை எவை?
- I மற்றும் II மட்டும்
 - II மற்றும் III மட்டும்
 - I மற்றும் III மட்டும்
 - மேற்கண்ட அனைத்தும்
 - விடை தெரியவில்லை
13. கம்பர் யாருடைய அவைப்புலவராக விளங்கியவர்?
- குலோத்துங்கச் சோழன்
 - விக்கிரமச்சோழன்
 - விஜயாலயச் சோழன்
 - பராந்தகச் சோழன்
 - விடை தெரியவில்லை
14. கம்பர் இயற்றிய நூல்களுள் பொருந்தா ஒன்றினைத் தேர்ந்தெடுக்க.
- சரசுவதி அந்தாதி
 - சடகோபர் அந்தாதி
 - சடையப்ப அந்தாதி
 - திருக்கை வழக்கம்
 - விடை தெரியவில்லை
15. பற்றற்ற துறவியரினும் மேலானவராக வள்ளூர் யாரைக் குறிப்பிடுகின்றார்?
- அன்புடையோர்
 - பொறையுடையோர்
 - ஒழுக்கமுடையோர்
 - அறிவுடையோர்
 - விடை தெரியவில்லை
16. 'திருக்குறள்' பற்றிய தவறான கூற்றினைத் தேர்ந்தெடுக்க.
- திரு + குறள் = திருக்குறள். திரு - செல்வம், சிறப்பு, அழகு, மேன்மை, தெய்வத்தன்மை எனப் பல பொருள் கொண்ட ஒரு சொல். குறள் - குறுகிய அடி உடையது. ஏழுசீர்களைக் கொண்ட ஈரடி வெண்பாக்களால் ஆனது.
 - இந்நூல் அறத்துப்பால், பொருட்பால், இன்பத்துப்பால் என முப்பெரும் பிரிவுகளாக வகுக்கப்பட்டுள்ளது. அறம் 38 அதிகாரங்களையும், பொருள் 70 அதிகாரங்களையும், இன்பம் 25 அதிகாரங்களாகவும் பகுக்கப்பட்டுள்ளது.
 - இது பதினெண்மேல்கணக்கு நூல்களுள் ஒன்று. இந்நூலைப் போற்றிப் பாராட்டிய பாடல்களின் தொகுப்பே திருவள்ளுவமாலை.
 - திருக்குறளுக்கு பதின்மர் உரை எழுதியுள்ளனர். அவ்வுரைகளுள் பரிமேலழகர் உரையே சிறந்தது என்பர்.
 - விடை தெரியவில்லை
17. "திராவிட மொழிகள், திராவிட இனம், திராவிட நாகரிகம் என்னும் சொற்றொடர்களுக்கு திராவிடம் என்னும் சொல் பெயரடையாக வந்துள்ளது" எனக் கூறியவர் யார்?
- ச.அகத்தியலிங்கம்
 - கால்டுவெல்
 - பரிதிமாற்கலைஞர்
 - குமரிலபட்டர்
 - விடை தெரியவில்லை



18. திராவிட என்னும் சொல்லே தமிழ் என்னும் சொல்லிலிருந்து உருவானது எனக் கூறியவர் யார்?
A) கால்டுவெல் B) குமரிலபட்டர்
C) ஈராஸ் பாதிரியார் D) பிரான்சிஸ்
E) விடை தெரியவில்லை
19. 'இரவின் அறுவடை' என்ற சிறுகதை நூலின் ஆசிரியர் யார்?
A) புவியரசு B) முடியரசு
C) கவியரசு D) தமிழரசு
E) விடை தெரியவில்லை
20. சார்பெழுத்துகள் எத்தனை வகைப்படும்?
A) பத்து B) பன்னிரண்டு
C) பதினெட்டு D) முப்பது
E) விடை தெரியவில்லை
21. செய்யுளில் ஓசை குறையாத இடத்திலும் பெயர்ச்சொல் வினையெச்சப் பொருள் தரும் பொருட்டு அளபெடுப்பது எது?
A) இன்னிசை அளபெடை B) இசைநிறை அளபெடை
C) செய்யுளிசை அளபெடை D) சொல்லிசை அளபெடை
E) விடை தெரியவில்லை
22. 'அளபெடை' அடிப்படையில் பொருந்தா ஒன்றினைத் தேர்ந்தெடுக்க.
A) வாழ்நாட்க்கை B) சங்கு
C) நெஞ்சு D) கண்ண
E) விடை தெரியவில்லை
23. கீழ்க்காண்பவற்றுள் சொல்லிசை அளபெடை பயின்று வந்துள்ள தொடரைத் தேர்ந்தெடுக்க.
A) எச்சம் பெறாஅ விடின் B) வரனசைஇ இன்னும் உள்ளேன்
C) வெஃஃகுவார்க்கு இல்லை வீடு D) உண்பதூஉம்
E) விடை தெரியவில்லை
24. பொருத்துக.
a) ஒற்றளபெடை 1. குடிதழீஇ
b) செய்யுளிசை அளபெடை 2. அரங்கம்
c) இன்னிசை அளபெடை 3. உழாஅர்
d) சொல்லிசை அளபெடை 4. உடுப்பதூஉம்
- குறியீடுகள்:
- | | a | b | c | d |
|----|------------------|---|---|---|
| A) | 4 | 3 | 2 | 1 |
| B) | 2 | 3 | 4 | 1 |
| C) | 3 | 2 | 1 | 4 |
| D) | 4 | 1 | 2 | 3 |
| E) | விடை தெரியவில்லை | | | |



25. கழுத்திலிருந்து பிறக்கும் எழுத்துகள் எவை?
A) உயிர் எழுத்துகள், இடையினம் B) வல்லினம், மெல்லினம்
C) மெல்லினம், இடையினம் D) வல்லினம், ஆய்தம்
E) விடை தெரியவில்லை
26. நாவினது நுனி, அண்ணத்தின் நுனியைத் தொடுவதனால் தோன்றும் எழுத்துகள் எவை?
A) க், ங் B) ச், ஞ்
C) ட், ண் D) ப், ம்
E) விடை தெரியவில்லை
27. “பாரதியார் உலகக்கவி” என்று கூறியவர் யார்?
A) பாரதிதாசன் B) திரு.வி.க
C) அறிஞர் அண்ணா D) காந்தியடிகள்
E) விடை தெரியவில்லை
28. பின்வருவனவற்றுள் தவறான இணையைத் தேர்ந்தெடுக்க.
(பிறமொழிச்சொல்) (தமிழ்ச்சொல்)
A) கிரைண்டர் – மின் அரவை
B) டீ – தேநீர்
C) கூல் டிரிங்க்ஸ் – குளிர்நீர்
D) டெலிபோன் – தொலைபேசி
E) விடை தெரியவில்லை
29. “தமிழ் நாடகக் கலைக்கு ஒரு பெர்னாட்ஷா” என்று பாராட்டப்படுபவர் யார்? பாராட்டியவர் யார்?
A) அறிஞர் அண்ணா, பம்மல் சம்பந்தனார்
B) பம்மல் சம்பந்தனார், பரிதிமாற் கலைஞர்
C) அறிஞர் அண்ணா, கல்கி
D) பரிதிமாற்கலைஞர், அறிஞர் அண்ணா
E) விடை தெரியவில்லை
30. பின்வருவனவற்றுள் தவறான இணையைத் தேர்ந்தெடுக்க.
(தொடர்) (அளபெடை)
A) இலங்கு வெண்பிறைது டீசனடி யார்க்கு – ஒற்றளபெடை
B) எஃஃகிலங்கிய கையரா யின்னுயிர் – ஒற்றளபெடை
C) உறாஅர்க் குறுநோய் உரைப்பாய் – செய்யுளிசை அளபெடை
D) உடுப்பதூஉம் துய்ப்பதூஉம் இல்லார்க்கு – இசைநிறை அளபெடை
E) விடை தெரியவில்லை
31. திருக்குறளுக்கு உரை எழுதிய பதினமூன்று ஒருவரைத் தேர்ந்தெடுக்க.
A) இளம்பூரணர் B) நச்சர்
C) பேராசிரியர் D) ந.மு.வேங்கடசாமி
E) விடை தெரியவில்லை



32. “.... கிளர்வேந்தன் தன்னாடு
வாட்டான்நன் றென்றல் வனப்பு” – இத்தொடர் இடம்பெற்றுள்ள நூல் எது?
A) மூதுரை
B) கம்பராமாயணம்
C) சிறுபஞ்சமூலம்
D) பாஞ்சாலி சபதம்
E) விடை தெரியவில்லை
33. கவிமணியின் பாடல்வரிகளுள் பொருந்தா ஒன்றினைத் தேர்ந்தெடுக்க.
A) மங்கை யராகப் பிறப்பதற்கே – நல்ல
மாதவம் செய்திட வேண்டும்மமா
B) கல்லைப் பிசைந்து கனியாக்கும் செந்தமிழின்
சொல்லை மணியாகத் தொடுத்தவனும் நீதானோ
C) எங்கள் பகைவர் எங்கோ மறைந்தார்
இங்குள்ள தமிழர்கள் ஒன்றாதல் கண்டே
D) சாலைகளில் பல தொழில்கள் பெருக வேண்டும்
சபைகளிலே தமிழெழுந்து முழங்க வேண்டும்
E) விடை தெரியவில்லை
34. “முல்லைக்கோர் காடு போலும்
முத்துக்கோர் கடலே போதும்
சொல்லுக்கோர் கீரன் போலும்
தூதுக்கோர் தென்றல் போலும்
கல்விக்கோர் கம்பன் போலும்
கவிதைக்கோர் பரணர் போலும்
வில்லுக்கோர் ஓரி போலும்
விளங்கினார்; வென்றார்; நின்றார்” என்று யார் யாரைப் பாடியுள்ளார்?
A) பாரதியார், பாரதிதாசன்
B) பாரதிதாசன், பாரதியார்
C) சுரதா, மறைமலையடிகள்
D) பாரதிதாசன், வாணிதாசன்
E) விடை தெரியவில்லை
35. “பிறநாட்டு நல்லறிஞர் சாத்திரங்கள்
தமிழ்மொழியிற் பெயர்த்தல் வேண்டும்
இறவாத புகழுடைய புதுநூல்கள்
தமிழ்மொழியில் இயற்றல் வேண்டும்” என்று பாடியவர் யார்?
A) பாரதியார்
B) திரு.வி.க
C) பாரதிதாசன்
D) நாமக்கல் கவிஞர்
E) விடை தெரியவில்லை
36. “ஆங்கிலமோ பிறமொழியோ பயின்றுவிட்டால்
அன்னைமொழி பேசுதற்கு நாணுகின்ற
தீங்குடைய மனப்போக்கர் வாழும்நாட்டில்
தென்படுமோ மொழியுணர்ச்சி?” என்று பாடியவர் யார்?
A) பாரதிதாசன்
B) பாரதியார்
C) நாமக்கல் கவிஞர்
D) முடியரசன்
E) விடை தெரியவில்லை



37. “உச்சிமலையிலே ஊறும் அருவிகள்
ஒரே வழியில் கலக்குது
ஒற்றுமை யில்லா மனிதகுலம்
உயர்வு தாழ்வு வளர்க்குது” என்று பாடியவர் யார்?
A) முடியரசன்
B) கவியரசு கண்ணதாசன்
C) பட்டுக்கோட்டைக் கல்யாண சுந்தரம்
D) அப்துல் ரகுமான்
E) விடை தெரியவில்லை
38. ‘பாஞ்சாலி சபதம்’ பற்றிய பின்வரும் கூற்றுகளைக் கருத்தில் கொள்க.
I. அனைவரும் அறிந்த இதிகாசக் கதையை எளிய சொற்கள், எளிய நடை, எளிய சந்தம் ஆகியவற்றுடன் கூடிய பெண்ணூரிமைக் காப்பியமாகத் தமிழில் பாரதி வடித்துள்ளார்.
II. இது, வால்மீகியின் பாரதத்தைத் தழுவி எழுதப் பெற்றது.
III. இது சூழ்ச்சிச்சருக்கம், சூதாட்டச் சருக்கம், அடிமைச் சருக்கம், துகிலூரிதல் சருக்கம், சபதச் சருக்கம் என ஐந்து சருக்கத்தையும் நானூற்றுப் பன்னிரண்டு பாடலையும் கொண்ட குறுங்காப்பியம்.
மேற்கண்ட கூற்றுகளில் சரியானவை எவை?
A) I மற்றும் II மட்டும்
B) II மற்றும் III மட்டும்
C) I மற்றும் III மட்டும்
D) மேற்கண்ட அனைத்தும்
E) விடை தெரியவில்லை
39. அமெரிக்கக் கவிஞர் வால்ட்விட்மனின் சாயலில் வசன கவிதையினைப் படைத்துள்ளவர் யார்?
A) வாணிதாசன்
B) பாரதிதாசன்
C) புதுமைப்பித்தன்
D) பாரதியார்
E) விடை தெரியவில்லை
40. பின்வரும் கூற்றுகளைக் கருத்தில் கொள்க.
I. காரியாசான், மதுரைத் தமிழாசிரியர் மாக்காயனாரின் மாணாக்கர் எனச் சிறப்புப்பாயிரம் கூறுகிறது.
II. காரியாசான் சமண சமயத்தைச் சார்ந்தவர். இவரும் கணிமேதாவியரும் ஒருசாலை மாணாக்கராவர்.
III. சிறுபஞ்சமூலம் நூலில் பெரும்பான்மை பொது அறக்கருத்துகளும் சிறுபான்மை சமண அறக்கருத்துகளும் இடம்பெற்றுள்ளன.
மேற்கண்ட கூற்றுகளில் சரியானவை எவை?
A) I மற்றும் II மட்டும்
B) II மற்றும் III மட்டும்
C) I மற்றும் III மட்டும்
D) மேற்கண்ட அனைத்தும்
E) விடை தெரியவில்லை



41. 'கண்ணதாசன்' படைப்புகளுள் பொருந்தா ஒன்றினைத் தேர்ந்தெடுக்க.
- A) ஆட்டனத்தி ஆதிமந்தி, மாங்கனி, கல்லக்குடி மாகாவியம், இயேசுகாவியம் முதலியன அவர் படைத்த நெடுங்கவிதை நூல்கள்.
- B) இராசதண்டனை என்பது, கம்பர் - அம்பிகாபதி வரலாற்றை அடிப்படையாகக் கொண்டு, அவர் படைத்த இனிய நாடகம். இந்நூலிற்காக சாகித்திய அகாதெமி பரிசினைப் பெற்றார்.
- C) ஆயிரம்தீவு அங்கயற்கண்ணி, வேலங்குடித் திருவிழா முதலிய பல புதினங்களையும் கண்ணதாசன் படைத்துள்ளார். சேரமான் காதலி சிறந்த வரலாற்றுப் புதினமாகும்.
- D) தென்றல், முல்லை, கண்ணதாசன், தமிழ் மலர் முதலிய இதழ்கள் தொடங்கி, அவற்றுக்கு ஆசிரியாக இருந்து சிறந்த இதழ்ப்பணி ஆற்றியுள்ளார்.
- E) விடை தெரியவில்லை

42. பொருத்துக.

- a) பெயர்ப் பகாப்பதம் 1. நனி, கடி
b) வினைப் பகாப்பதம் 2. மன், பிற
c) இடைப் பகாப்பதம் 3. நாய், நீர்
d) உரிப் பகாப்பதம் 4. காண், எடு

குறியீடுகள்:

	a	b	c	d
A)	4	3	2	1
B)	3	2	4	1
C)	3	4	2	1
D)	4	1	2	3

E) விடை தெரியவில்லை

43. பொருத்துக.

- a) பொருட்பெயர்ப் பகுபதம் 1. சென்னையான்
b) இடப்பெயர்ப் பகுபதம் 2. மூக்கன்
c) காலப்பெயர்ப் பகுபதம் 3. பொன்னன்
d) சினைப்பெயர்ப் பகுபதம் 4. சித்திரையான்

குறியீடுகள்:

	a	b	c	d
A)	3	2	1	4
B)	3	1	2	4
C)	3	1	4	2
D)	4	1	2	3

E) விடை தெரியவில்லை

44. 'நாலுமிரண்டும் சொல்லுக்குறுதி' - இத்தொடர்

- A) எண்ணலளவை ஆகுபெயர் B) எடுத்தல் அளவை ஆகுபெயர்
C) நீட்டலளவை ஆகுபெயர் D) முகத்தலளவை ஆகுபெயர்
E) விடை தெரியவில்லை



45. பொருத்துக.
- | | |
|---------------------------|--------------------------|
| a) முகத்தல் அளவை ஆகுபெயர் | 1. தலைக்கு ஒரு பழம் கொடு |
| b) எடுத்தல் அளவை ஆகுபெயர் | 2. இரண்டு விட்டர் தா |
| c) எண்ணல் அளவை ஆகுபெயர் | 3. ஆறு முழம் கொடு |
| d) நீட்டல் அளவை ஆகுபெயர் | 4. பத்துக் கிலோ கொடு |
- குறியீடுகள்:
- | | a | b | c | d |
|----|----------|----------|----------|----------|
| A) | 2 | 4 | 1 | 3 |
| B) | 2 | 4 | 3 | 1 |
| C) | 3 | 2 | 1 | 4 |
| D) | 4 | 1 | 2 | 3 |
- E) விடை தெரியவில்லை
46. “பொறிவாயில் ஐந்தவித்தான் பொய்தீர் ஒழுக்க
நெறிநின்றார் நீடுவாழ் வார்” – இக்குறட்பாவில் பயின்று வந்துள்ள பொருள்கோள் எது?
- | | |
|---------------------------|----------------------------|
| A) ஆற்றுநீர்ப் பொருள்கோள் | B) மொழிமாற்றுப் பொருள்கோள் |
| C) நிரல்நிறைப் பொருள்கோள் | D) தாப்பிசைப் பொருள்கோள் |
- E) விடை தெரியவில்லை
47. “இருட்பகை இரவி இருளெனத் தம்மையும்” – இப்பாடலில் பயின்று வந்துள்ள மோனை நயம் யாது?
- | | |
|-----------------------|-----------------------|
| A) கீழ்க்கதுவாய் மோனை | B) மேற்க்கதுவாய் மோனை |
| C) ஒருஉ மோனை | D) கூழை மோனை |
- E) விடை தெரியவில்லை
48. “நீ மீண்டும் தோன்றிய பாரதியடா” எனக் பட்டுக்கோட்டை கல்யாண சுந்தரத்தைப் பாராட்டியவர் யார்?
- | | |
|---------------------|---------------|
| A) தாராபாரதி | B) பாரதிதாசன் |
| C) தோழர் ஜீவானந்தம் | D) திரு.வி.க |
- E) விடை தெரியவில்லை
49. “உண்பது நாழி: உடுப்பவை இரண்டு” – இத்தொடரில் அமையப் பெற்றுள்ள ஆகுபெயர் யாவை?
- | |
|--|
| A) நீட்டல் அளவை ஆகுபெயர், எடுத்தல் அளவை ஆகுபெயர் |
| B) முகத்தலளவை ஆகுபெயர், நீட்டல் அளவை ஆகுபெயர் |
| C) எடுத்தல் அளவை ஆகுபெயர்; எண்ணலளவை ஆகுபெயர் |
| D) எடுத்தல் அளவை ஆகுபெயர்; முகத்தலளவை ஆகுபெயர் |
- E) விடை தெரியவில்லை
50. இறைவன் தருமிக்கு அருளிய பாடலான,
“கொங்குதேர் வாழ்க்கை அஞ்சிறைத் தும்பி
காமம் செப்பாது கண்டது மொழிமோ” – என்ற பாடலடிகள் இடம்பெற்றுள்ள நூல் எது?
- | | |
|----------------|---------------|
| A) ஐங்குறுநூறு | B) குறுந்தொகை |
| C) அகநானூறு | D) புறநானூறு |
- E) விடை தெரியவில்லை



51. 'திருவிளையாடற் புராணம்' பற்றிய பின்வரும் கூற்றுகளுள் பொருந்தா ஒன்றினைத் தேர்ந்தெடுக்க.
- A) இறைவனின் அறுபத்துநான்கு திருவிளையாடலை விளக்கி எழுந்த நூல்களுள் விரிவானதும் சிறப்பானதும் ஆகும்.
- B) தொடையமுமும் பக்திச்சுவையும் மிக்க இந்நூலுக்கு ந.மு. வேங்கடசாமி உரையெழுதியுள்ளார்.
- C) இந்நூல் மதுரைக்காண்டம், புகார்க் காண்டம், திருவாலவாய்க் காண்டம் என்னும் முப்பெருங்காண்டங்களையும் படலம் என்னும் அறுபத்து நான்கு உட்பிரிவையும் உடையது.
- D) இந்நூல் விருத்தப்பாக்கள் மூவாயிரத்து முந்நூற்று அறுபத்து மூன்று உள்ளன.
- E) விடை தெரியவில்லை
52. பரஞ்சோதி முனிவரின் படைப்புகளுள் பொருந்தா ஒன்றினைத் தேர்ந்தெடுக்க.
- A) திருவிளையாடற் புராணம்
- B) மதுரைப் பதிற்றுப்பத்தந்தாதி
- C) திருத்தொண்டர் புராணம்
- D) திருவிளையாடற் போற்றிக் கலிவெண்பா
- E) விடை தெரியவில்லை
53. பின்வருவனவற்றுள் தவறான கூற்றினைத் தேர்ந்தெடுக்க.
- A) புகார் நகரத்தில் நிறுத்தப்பட்ட நாவாய்கள், அலைகளால் அலைப்புண்டு கட்டுத்தறியில் கட்டப்பட்ட யானை அசைவது போல் அசைந்தன. அவற்றின் உச்சியில் கொடிகள் ஆடின எனப் பட்டினப்பாலை கூறுகின்றது.
- B) கரிகாலனின் முன்னோர் காற்றின் போக்கை அறிந்து கலம் செலுத்தினர் என்பதைப் புறநானூற்றுப் பாடல் கூறுகிறது.
- C) முசிறி, சேர மன்னர்க்குரிய துறைமுகம். அங்குச் சுள்ளி என்னும் பெரிய ஆற்றில் யவனர்களின் மரக்கலங்கள், ஆற்றுத்துறைகள் கலங்கிப் போகும்படி வந்து நின்றன. அக்கலங்களுக்கு உரிய யவனர்கள், பொன்னைச் சுமந்து வந்து அதற்கு ஈடாக மிளகை ஏற்றிச் சென்றார்கள். இச்செய்தியை அகநானூறு தெரிவிக்கின்றது.
- D) "விளைந்து முதிர்ந்த விழுமுத்து" என பரிபாடலானது கொற்கை முத்தினை சிறப்பித்துள்ளது.
- E) விடை தெரியவில்லை
54. பின்வரும் கூற்றுகளைக் கருத்தில் கொள்க.
- I. பழந்தமிழகத்தின் வாணிகப் பொருள்களைப் பற்றிய குறிப்புகள் பட்டினப்பாலையிலும் மதுரைக்காஞ்சியிலும் காணப்படுகின்றன.
- II. தமிழகப் பொருள்கள் சீனத்தில் விற்கப்பட்டன. சீனத்துப் பட்டும் சருக்கரையும் தமிழகத்துக்கு இறக்குமதி ஆயின.
- III. கரும்பு, அதியமானின் முன்னோர் காலத்தில் சீனாவிலிருந்து கொண்டு வந்து பயிரிடப்பட்டது.
- மேற்கண்ட கூற்றுகளில் சரியானவை எவை?
- A) I மற்றும் II மட்டும்
- B) II மற்றும் III மட்டும்
- C) I மற்றும் III மட்டும்
- D) மேற்கண்ட அனைத்தும்
- E) விடை தெரியவில்லை



55. வஞ்சிப்பாவுக்கு உரிய சீர் எது?
A) காய்ச்சீர் B) கனிச்சீர்
C) மாச்சீர் D) விளச்சீர்
E) விடை தெரியவில்லை
56. கருதிய பொருளை நிலைநாட்ட சிறப்புப் பொருளைப் பொதுப்பொருளாலும் பொதுப்பொருளைச் சிறப்புப் பொருளாலும் கூறி விளக்கும் அணி எது?
A) இல்பொருள் உவமையணி B) வேற்றுப்பொருள்வைப்பணி
C) உவமையணி D) பிறிதுமொழிதல் அணி
E) விடை தெரியவில்லை
57. பொருத்துக.
a) என்பத்திரண்டு 1. உ ரு
b) தொண்ணூற்றொன்பது 2. ங 0
c) இருபத்தைந்து 3. கூ கூ
d) பதினைந்து 4. அ உ
e) முப்பது 5. க ரு
- குறியீடுகள்:**
- | | a | b | c | d | e |
|----|---|---|---|---|---|
| A) | 4 | 1 | 3 | 5 | 2 |
| B) | 2 | 4 | 3 | 1 | 5 |
| C) | 4 | 3 | 1 | 5 | 2 |
| D) | 4 | 1 | 2 | 3 | 5 |
- E) விடை தெரியவில்லை
58. “மண்ணுல கதிலே உயிர்கள்தாம் வருந்தும்
வருத்தத்தை ஒருசிறி தெனினும்
கண்ணுறப் பார்த்தும் செவியறக் கேட்டும்
கணமும்நான் சகித்திட மாட்டேன்” – என்று கூறியவர் யார்?
A) தாயுமானவர் B) வள்ளலார்
C) திருநாவுக்கரசர் D) திருமூலர்
E) விடை தெரியவில்லை
59. ‘உவமைக்கவிஞர்’ பற்றிய தவறானக் கூற்றினைத் தேர்ந்தெடுக்க.
A) இவரது இயற்பெயர் இராசகோபாலன். பாவேந்தர் பாரதிதாசன்மீது கொண்ட பற்றின் காரணமாகத் தம் பெயரைச் சுப்புரத்தினதாசன் என மாற்றிக் கொண்டார். அதன் சுருக்கமே சுரதா என ஆயிற்று.
B) தேன்மழை என்னும் கவிதை நூல், தமிழக அரசின் தமிழ் வளர்ச்சித் துறை வழங்கும் சிறந்த நூலுக்கான பரிசினைப் பெற்றுள்ளது.
C) இந்திய அரசின் கலைமாமணிப் பட்டத்தை பெற்றுள்ளார்.
D) தமிழக அரசின் பாவேந்தர் விருதினைப் பெற்றுள்ளார்.
E) விடை தெரியவில்லை



60. “தமிழ் ஒன்றே தமிழரைப் பிணைத்து ஒற்றுமைப்படுத்தவல்லது. தமிழ் ஆட்சி மொழியாகவும் கல்வி மொழியாகவுமானால் தவிர தமிழுக்கு எதிர்காலம் இல்லை என நம்பு. ஆட்சிமொழி என்றால் சட்டசபை முதல் நீதிமன்றம் வரையில் தமிழ் வழங்க வேண்டும்” என்று கூறியவர் யார்?
- A) மறைமலையடிகள்
B) தேவநேயப்பாவாணர்
C) அறிஞர் அண்ணா
D) மு.வரதராசனார்
E) விடை தெரியவில்லை
61. பரிசு பெற்றாளைப் பாராட்டினார் – அடிக்கோடிட்ட சொல்லிற்கான இலக்கணக்குறிப்பு தருக.
- A) எதிர்மறைத் தொழிற்பெயர்
B) முதனிலைத் தொழிற்பெயர்
C) முதனிலை திரிந்த தொழிற்பெயர்
D) வினையாலணையும் பெயர்
E) விடை தெரியவில்லை
62. ‘வந்தான்’ என்னும் வினைமுற்று அடிப்படையாகக் கொண்டுள்ள வினையாலணையும் பெயரினைத் தேர்ந்தெடுக்க.
- A) வாரான்
B) வந்தான்
C) வருவான்
D) வந்தவன்
E) விடை தெரியவில்லை
63. பொருத்துக.
- a) தொழிற்பெயர்
b) முதனிலை திரிந்த தொழிற்பெயர்
c) பண்புப் பெயர்
d) வினையாலணையும் பெயர்
1. நன்றி
2. அகழ்பவர்
3. தூடு
4. வருதல்
- குறியீடுகள்:
- | | a | b | c | d |
|----|---|---|---|---|
| A) | 4 | 3 | 2 | 1 |
| B) | 1 | 2 | 4 | 3 |
| C) | 4 | 3 | 1 | 2 |
| D) | 4 | 1 | 2 | 3 |
- E) விடை தெரியவில்லை
64. பின்வருவனவற்றுள் தவறான இணையைத் தேர்ந்தெடுக்க.
- | (தொடர்) | (வழு) |
|----------------------------------|-----------|
| A) என் மாமா வந்தது | – பால்வழு |
| B) நாங்கள் வந்தார்கள் | – இடவழு |
| C) கரிகலன் நாளை வந்தான் | – காலவழு |
| D) முட்டையிட்டது சேவலா பெட்டையா? | – வினாவழு |
- E) விடை தெரியவில்லை



65. பொருந்தா சொல்லைத் தேர்ந்தெடுக்க.
A) மாடு கத்தும் B) யானை பிளிறும்
C) குயில் கொஞ்சும் D) மயில் அகவும்
E) விடை தெரியவில்லை
66. இலக்கண முறைப்படி குற்றமுடையது எனினும், இலக்கண ஆசிரியர்களால் குற்றமன்று என ஏற்றுக்கொள்ளப்படுவது
A) வழு B) வழாநிலை
C) வழுவமைதி D) மேற்கூறிய அனைத்தும்
E) விடை தெரியவில்லை
67. பின்வருவனவற்றுள் தவறான கூற்றினைத் தேர்ந்தெடுக்க.
A) பண்புத்தொகையில் வல்லினம் மிகும்.
B) ஓரெழுத்து ஒரு மொழியின் பின் வல்லினம் மிகும்.
C) எழுவாய்த்தொடரில் வல்லினம் மிகும்.
D) இருபெயரொட்டுப் பண்புத்தொகையில் வல்லினம் மிகும்.
E) விடை தெரியவில்லை
68. பின்வருவனவற்றுள் தவறான கூற்றினைத் தேர்ந்தெடுக்க.
A) எட்டு, பத்து தவிரப் பிற எண்களுக்குப்பின் வல்லினம் மிகாது.
B) முற்றியலுகரத்தின் பின் வல்லினம் மிகாது.
C) இரட்டைக்கிளவி, அடுக்குத்தொடர்களில் வல்லினம் மிகாது.
D) ஈறுகெட்ட எதிர்மறைப் பெயரெச்சம் தவிரப் பிறபெயரெச்சங்களின் பின் வல்லினம் மிகாது.
E) விடை தெரியவில்லை
69. 'தமிழ்த்தென்றல்' யார்? என்னும் வினாவுக்குப் பாரதியார் என விடையளித்தல்
A) வினா வழு B) விடை வழு
C) மரபு வழு D) இடவழு
E) விடை தெரியவில்லை
70. சொல்லோடு பொருளைப் பொருத்துக.
(சொல்) (பொருள்)
a) வள் 1. வளமை
b) மல்லல் 2. ஒழுக்கம்
c) நிறை 3. தளர்ச்சி
d) மருப்பு 4. நெருக்கம்
e) ஒற்கம் 5. தந்தம்
குறியீடுகள்:
a b c d e
A) 5 1 3 4 2
B) 2 4 3 5 1
C) 3 2 1 4 5
D) 4 1 2 5 3
E) விடை தெரியவில்லை



71. 'முத்தொள்ளாயிரம்' பற்றிய பின்வரும் கூற்றுகளைக் கருத்தில் கொள்க.
I. மூவேந்தர்களைப் பற்றிய மூன்று தொள்ளாயிரம் பாடல்களைக் கொண்ட நூல் முத்தொள்ளாயிரம். ஆயினும், இந்நூல் முழுமையாகக் கிடைக்கவில்லை.
II. புறத்திரட்டு என்னும் நூல் வாயிலாக நூற்றெட்டு வெண்பாவும், பழைய உரை நூல்களில் மேற்கோள்களாக இருபத்திரண்டு வெண்பாவும் கிடைத்துள்ளன.
மேற்கண்ட கூற்றுகளில் சரியானது எது/எவை?
A) I மட்டும்
B) II மட்டும்
C) இரண்டும்
D) இரண்டுமில்லை
E) விடை தெரியவில்லை
72. 'கலிங்கத்துப்பரணி' பற்றிய பின்வரும் கூற்றுகளைக் கருத்தில் கொள்க.
I. பரணி இலக்கியங்களுள் தமிழில் தோன்றிய முதல் நூல்.
II. கலிங்க மன்னன் அனந்தபன்மன் மீது முதல் குலோத்துங்கச்சோழன் போர்தொடுத்து வெற்றி பெற்றான். இந்நூல் அவ்வெற்றியைப் பாராட்டி எழுந்தது.
III. இந்நூலில், ஐநூற்றுத் தொண்ணூற்றொன்பது தாழிசைகள் உள்ளன.
மேற்கண்ட கூற்றுகளில் சரியானவை எவை?
A) I மற்றும் II மட்டும்
B) II மற்றும் III மட்டும்
C) I மற்றும் III மட்டும்
D) மேற்கண்ட அனைத்தும்
E) விடை தெரியவில்லை
73. "எனக்கு மிக விருப்பமான இலக்கியம் ஒன்று உண்டென்றால் அது கலிங்கத்துப்பரணியே" என்று கூறியவர் யார்?
A) பாரதியார்
B) பாரதிதாசன்
C) சுரதா
D) அறிஞர் அண்ணா
E) விடை தெரியவில்லை
74. திரு.வி.க அவர்கள் எழுபது வயதாகி உடல்தளர்ந்து படுக்கையில் இருந்தபோது மு.வரதராசனாரின் உதவியுடன் வெளியிட்ட நூல் எது?
A) இராமலிங்க சுவாமிகள் திருவுள்ளம்
B) வளர்ச்சியும் வாழ்வும் அல்லது படுக்கைப் பிதற்றல்
C) தமிழ்நாடும் நம்மாழ்வாரும், நாயன்மார் வரலாறு
D) என் கடன் பணிசெய்து கிடப்பதே
E) விடை தெரியவில்லை
75. காந்தியடிகள் தமிழகம் வந்தபோதெல்லாம் அவரது மேடைப் பேச்சினை மொழிபெயர்த்தவர் யார்?
A) இராஜாஜி
B) திரு.வி.க.
C) அறிஞர் அண்ணா
D) பாரதிதாசன்
E) விடை தெரியவில்லை
76. வேறுபட்ட ஒன்றினைத் தேர்ந்தெடுக்க.
A) தாமரைமுகம்
B) தேன்மொழி
C) பவளவாய்
D) பல்முத்து
E) விடை தெரியவில்லை



77. 'படி' என்ற வேர்ச்சொல்லை அடிப்படையாகக் கொண்டு அமையப்பெற்றுள்ள வினைமுற்று சொல்லைத் தேர்ந்தெடுக்க.
- A) படித்தல்
B) படித்து
C) படித்த
D) படித்தான்
E) விடை தெரியவில்லை
78. பின்வருவனவற்றுள் சரியான கூற்றினைத் தேர்ந்தெடுக்க.
- A) என் புத்தகங்கள் இதுவன்று
B) என் புத்தகங்கள் இதுவல்ல
C) என் புத்தகம் இவையன்று
D) என் புத்தகங்கள் இவையல்ல
E) விடை தெரியவில்லை
79. தொடர்நிலைச் செய்யுளும், தூய காப்பியங்களும் இயற்றுபவர் எவ்வாறு அழைக்கப்படுகிறார்?
- A) ஆசகவி
B) மதுரகவி
C) சித்திர கவி
D) வித்தாரக்கவி
E) விடை தெரியவில்லை
80. ஆசகவி, மதுரகவி, சித்திரகவி, வித்தாரக்கவி ஆகிய இந்த நான்கு வகைக் கவிகளையும் பாடவல்லவனை தமிழறிந்தோர் எவ்வாறு போற்றுவார்?
- A) கவிஞரேறு
B) பாவலர்மணி
C) பாவலரேறு
D) கவிஞாயிறு
E) விடை தெரியவில்லை
81. பின்வரும் கூற்றுகளைக் கருத்தில் கொள்க.
- I. கவிமணி உமர்கய்யாம் பாடல்களைத் தமிழில் மொழியாக்கம் செய்துள்ளார். அப்பாடல்களின் தொகுப்பு 'உமர்கய்யாம் பாடல்கள்' என்பதாகும்.
- II. உமர்கய்யாம் பதினாராம் நூற்றாண்டில் வாழ்ந்த பாரசீகக் கவிஞர். இவரது முழுப்பெயர் கியாதுதீன் அபுல்பாத் உமர்கய்யாம் என்பதாகும்.
- III. உமர்கய்யாம் கணிதம், வானவியல் ஆகியவற்றில் புலமைமிக்கவர். இவரின் கவிதைகள் மக்கள் அடையும் இன்ப துன்பங்களையும், இறைவனது படைப்பையும் பாடுபொருளாகக் கொண்டவை.
- மேற்கண்ட கூற்றுகளில் சரியானவை எவை?
- A) I மற்றும் II மட்டும்
B) II மற்றும் III மட்டும்
C) I மற்றும் III மட்டும்
D) மேற்கண்ட அனைத்தும்
E) விடை தெரியவில்லை
82. மணிமேகலைக்குப் பசியற்றிருக்கவும் விரும்பும் உருவம் எடுக்கவும் வான்வழிச் செல்வமும் தேவையான மூன்று மந்திரங்களை வழங்கியவர் யார்?
- A) தீவதிலகை
B) மணிமேகலா தெய்வம்
C) அறவணடிகள்
D) ஆபுத்திரன்
E) விடை தெரியவில்லை



83. 'கொம்பினை யொத்த மடப்பிடி யோடும்' - அடிக் கோடிட்ட சொல்லானது யாரைக் குறிப்பிடுகின்றது?
- A) கண்ணகி
B) மணிமேகலை
C) சீதை
D) பாஞ்சாலி
E) விடை தெரியவில்லை
84. திரு.வி.க வின் கூற்றுக்களுள் பொருந்தா ஒன்றினைத் தேர்ந்தெடுக்க.
- A) நான் தனியாக வாழவில்லை; தமிழோடு வாழ்கிறேன்
B) தமிழை வளர்க்க வேண்டும் என்றால், பிறமொழியை வெறுக்க வேண்டும் என்பது பொருளன்று.
C) இளைஞர்களே! தமிழிலகின் இழிந்தநிலையை ஒருங்கள்; ஓர்ந்து உங்கள் பொறுப்பை உணருங்கள்; தமிழ்த்தாயைப் புதுப்போர்வையில் ஒப்பனை செய்து அரியாசனத்தமர்த்த சூள்கொண்டெழுங்கள், எழுங்கள்; பழந்தமிழ் வீரத்துடன் எழுங்கள்.
D) வெளித்தோற்றம் கொண்டு ஒருவரை அளவிடுதல் தவறானது. அவரின் உள்ளப் பண்பைக் கொண்டே அளவிடுதல் நலம்.
E) விடை தெரியவில்லை
85. அவருக்கு வாய்த்த மொழிநடை "மலை" எனத் தமிழிலகில் ஓங்கி உயர்ந்துள்ளது எனத் திரு.வி.க வை பாராட்டியவர் யார் ?
- A) உ.வே.சாமிநாத ஐயர்
B) அறிஞர் அண்ணா
C) தெ.பொ. மீனாட்சி சுந்தரனார்
D) மு.வரதராசனார்
E) விடை தெரியவில்லை
86. திரு.வி.க வின் படைப்புகளுள் பொருந்தா ஒன்றினைத் தேர்ந்தெடுக்க.
- A) சைவத்திறவு
B) தமிழ்நூல்களில் பெளத்தம்
C) தேசபக்தன்
D) காதலா? முடியா? சீர்திருத்தமா?
E) விடை தெரியவில்லை
87. 'ரூபாயத்' என்பது
- A) நான்கடிச் செய்யுள்
B) எட்டடிச் செய்யுள்
C) இரண்டடிச் செய்யுள்
D) ஆறடிச் செய்யுள்
E) விடை தெரியவில்லை
88. பொருத்துக.
- | (அறுசுவை) | (பயன்) |
|--------------|-----------|
| a) இனிப்பு | 1. தெளிவு |
| b) துவர்ப்பு | 2. இனிமை |
| c) கைப்பு | 3. வளம் |
| d) உவர்ப்பு | 4. ஆற்றல் |
| e) புளிப்பு | 5. மென்மை |



குறியீடுகள்:

a b c d e

A) 3 4 5 1 2

B) 2 4 5 3 1

C) 3 2 5 1 4

D) 4 1 5 2 3

E) விடை தெரியவில்லை

89. “உண்டு கொடுத்தோர் உயிர் கொடுத்தோரே” எனக் குறிப்பிடும் நூல்கள் எவை?
 A) சிலப்பதிகாரம், மணிமேகலை
 B) புறநானூறு, சிலப்பதிகாரம்
 C) திருக்குறள், சிலப்பதிகாரம்
 D) புறநானூறு, மணிமேகலை
 E) விடை தெரியவில்லை
90. மஞ்சட்காமாலை நோயினை குணப்படுத்த பயன்படுத்தப்படுவது எது?
 A) கீழ்க்காய் நெல்லி
 B) கீழாநெல்லி
 C) கீழ்வாய் நெல்லி
 D) மேற்கூறிய அனைத்தும்
 E) விடை தெரியவில்லை
91. ‘ஞானப்பச்சிலை’ என்று வள்ளலாரால் போற்றப்படுவது எது?
 A) துளசி
 B) கற்றாழை
 C) சிங்கவல்லி
 D) கையாந்தகரை
 E) விடை தெரியவில்லை
92. ‘குமரிகண்ட நோய்க்குக் குமரி கொடு’ இத்தொடரில் குமரி என்று சிறப்பிக்கப்படும் மூலிகை எது?
 A) கரிசலாங்கண்ணி
 B) குப்பைமேனி
 C) துளசி
 D) கற்றாழை
 E) விடை தெரியவில்லை
93. “மீதூண் விரும்பேல்” என்று கூறியவர் யார்?
 A) திருவள்ளுவர்
 B) ஓளவையார்
 C) திருமூலர்
 D) அகத்தியர்
 E) விடை தெரியவில்லை
94. ஒருவரின் சான்றாண்மையை அளந்தறிவதற்கான உரைகல்லாக வள்ளுவர் எதனைக் குறிப்பிட்டுள்ளார்?
 A) தீங்கு இழைத்தவர்க்கு நன்மை செய்தல்
 B) பணிவுடன் நடத்தல்
 C) தம்மைவிட ஆற்றல் குறைந்தவரிடத்து ஏற்பட்ட தோல்வியை ஒப்புக் கொள்ளுதல்
 D) வறுமை
 E) விடை தெரியவில்லை



95. சான்றோர் எதனைத் தம் கடமையாகக் கொள்வர்?
A) நல்லவை எல்லாம் B) ஒப்புரவு
C) கண்ணோட்டம் D) அன்பு
E) விடை தெரியவில்லை
96. தவறாக பிரிந்துள்ள சொல்லைத் தேர்ந்தெடுக்க.
A) கரும்பு + வில் = கருப்புவில் B) ஆறு + பாலம் = ஆறுப்பாலம்
C) கல் + சிலை = கற்சிலை D) கிணறு + தவளை = கிணற்றுத் தவளை
E) விடை தெரியவில்லை
97. 'வானொலி கேட்டு மகிழ்ந்தேன்' என்பது
A) கருவியாகு பெயர் B) கருத்தாவாகு பெயர்
C) காரியவாகு பெயர் D) உவமையாகு பெயர்
E) விடை தெரியவில்லை
98. "செல்வத்துப் பயனே ஈதல்
துய்ப்பேம் எனினே தப்புந பலவே" என்ற பாடலடிகள் அமையப் பெற்றுள்ள நூல் எது?
A) புறநானூறு B) திருமுருகாற்றுப்படை
C) நெடுநல்வாடை D) குறுந்தொகை
E) விடை தெரியவில்லை
99. இறையனார் எழுதிய களவியலுக்கு உரை கண்டவர் யார்?
A) சுந்தரர் B) நம்பியாண்டார் நம்பி
C) சேக்கிழார் D) நக்கீரர்
E) விடை தெரியவில்லை
100. 'குறுந்தொகை' பற்றிய பின்வரும் கூற்றுகளுள் பிழையான ஒன்றினைத் தேர்ந்தெடுக்க.
A) இந்நூல் எட்டுத்தொகை நூல்களுள் ஒன்று. இதில் கடவுள் வாழ்த்துடன் நானூற்றொரு பாடல்கள் உள்ளன.
B) எட்டுத்தொகை நூல்களுள் குறைந்த அடிகளைக் கொண்டுள்ளது.
C) இந்நூலைத் தொகுத்தவர் பூரிக்கோ. பாரதம் பாடிய பெருந்தேவனார் இந்நூலுக்குக் கடவுள் வாழ்த்துப் பாடியுள்ளார்.
D) இந்நூல் வாயிலாகப் பண்டைத் தமிழரின் இல்வாழ்க்கை, ஒழுக்கம், மகளிர் மாண்பு, அறவுணர்வு முதலியவற்றை அறியலாம்.
E) விடை தெரியவில்லை
101. 'நெடிலடி' என்பது
A) அடிதோறும் மூன்று சீர்களைப் பெற்று வரும்
B) அடிதோறும் நான்கு சீர்களைப் பெற்று வரும்
C) அடிதோறும் ஐந்து சீர்களைப் பெற்று வரும்
D) அடிதோறும் ஆறு சீர்களைப் பெற்று வரும்
E) விடை தெரியவில்லை



102. “பிறவிப் பெருங்கடல் நீந்துவர் நீந்தார்
இறைவன் அடிசேரா தார்” – இக்குறட்பாவில் பயின்ற வந்துள்ள அணி யாது?
A) நிரல் நிறை அணி
B) ஏகதேச உருவக அணி
C) இல்பொருள் உவமை அணி
D) எடுத்துக்காட்டு உவமை அணி
E) விடை தெரியவில்லை
103. ஒருமை பன்மை அடிப்படையில் பிழையான தொடரினைத் தேர்ந்தெடுக்க.
A) அண்ணனும் தம்பியும் பரிசு பெற்றனர்.
B) சிறுவனும் சிறுமியும் வந்தனர்.
C) பசுவின் கன்று மேய்ந்தன.
D) யானைப்படையும் குதிரைப்படையும் சென்றன.
E) விடை தெரியவில்லை
104. பின்வரும் இணைகளைக் கருத்தில் கொள்க.

(சொல்)	(பிரிதல்)	(பொருள்)
I. வருந்தாமரை	- வரும் + தாமரை	- வரும் தாமரை மலர்
II. வருந்தாமரை	- வருந்தா + மரை	- வரும் தாவும் மான்
III. வருந்தாமரை	- வருந்து + ஆ + மரை	- துன்புறும் பசுவும் மானும்
IV. வருந்தாமரை	- வரும் + தாமர் + ஐ	- வருகின்ற மாலை அணிந்தவரை

 மேற்கண்ட இணைகளில் எத்தனை இணைகள் சரியானவை?
 A) 3
 B) 4
 C) 1
 D) 2
 E) விடை தெரியவில்லை
105. கீழ்காணும் ஓரினத்தைச் சார்ந்த சொற்களுள் ஒரு சொல் மட்டும் வேறானது. அச்சொல்லைத் தேர்ந்தெடுக்க.
 A) நிற்பன
 B) ஊர்வன
 C) பரவின
 D) நடப்பன
 E) விடை தெரியவில்லை
106. ‘1000’ என்பதன் தமிழ் எண்ணுரு யாது?
 A) டி
 B) னா
 C) சூ
 D) ரூ கூ0
 E) விடை தெரியவில்லை
107. பொருத்துக.
 a) கூழை 1. 1, 3, 4 சீர்களில் வரும்
 b) மேற்க்கதுவாய் 2. 1, 2, 3, 4 சீர்களில் வரும்
 c) கீழ்க்கதுவாய் 3. 1, 2, 3 சீர்களில் வரும்
 d) முற்று 4. 1, 2, 4 சீர்களில் வரும்



குறியீடுகள்:

	a	b	c	d
A)	4	3	2	1
B)	3	1	2	4
C)	3	1	4	2
D)	4	1	2	3
E)	விடை தெரியவில்லை			

108. அளவடி என்பது எவ்வாறு அழைக்கப்படுகிறது?
A) குறளடி
B) நெடிலடி
C) நேரடி
D) சிந்தடி
E) விடை தெரியவில்லை
109. “இன்பம் விழையான் இடும்பை இயல்பென்பான்
துன்பம் உறுதல் இலன்” – இக்குறட்பாவில் பயின்று வந்துள்ள தொடை நயம் தருக.
A) கீழ்க்கதுவாய் மோனை, அடி முரண்
B) மேற்க்கதுவாய் மோனை, அடி முரண்
C) கீழ்க்கதுவாய் எதுகை, அடி முரண்
D) மேற்க்கதுவாய் எதுகை, அடி முரண்
E) விடை தெரியவில்லை
110. ‘பற்றுக் பற்றற்றான் பற்றினை அப்பற்றைப்’ – இக்குறளில் பயின்று வந்துள்ள எதுகை எது?
A) மேற்க்கதுவாய்
B) கீழ்க்கதுவாய்
C) ஒரூஉ
D) கூழை
E) விடை தெரியவில்லை
111. அண்மையில் சேர்க்கப்பட்ட திராவிட மொழிகள் எவை?
A) எருகலா, தங்கா, குறும்பா, சோழிகா
B) கோத்தா, தோடா, கொரகா, இருளா
C) கூயி, கூவி, கோண்டா, தோடா
D) குரூக், மால்தோ, பிராகுயி
E) விடை தெரியவில்லை
112. ‘தமிழியன்’ என்று தென்னக மொழிகளை பெயரிட்டு அழைத்தவர் யார்?
A) கால்டுவெல்
B) மாக்ஸ்முல்லர்
C) பிரான்சிஸ் எல்லீஸ்
D) ஹோக்கன்
E) விடை தெரியவில்லை
113. தமிழ், தெலுங்கு, கன்னடம், மலையாளம் போன்ற மொழிகளை ஒப்புமைப்படுத்தி ஆய்ந்த முதல் அறிஞர் யார்?
A) மாக்ஸ்முல்லர்
B) ஹோக்கன்
C) பிரான்சிஸ் எல்லீஸ்
D) கால்டுவெல்
E) விடை தெரியவில்லை
114. பணத்தாளில் தமிழ்மொழி இடம்பெற்றுள்ள பிறநாடுகள் எவை?
A) மொரிசியஸ், இலங்கை
B) மலேசியா, சிங்கப்பூர்
C) பர்மா, பிஜித்தீவு
D) கயானா, மடகாஸ்கர்
E) விடை தெரியவில்லை



115. ஐரோப்பிய மொழியோடு தொடர்புடையது வடமொழி என்று முதன்முதலில் குறிப்பிட்ட அறிஞர் யார்?
- A) வில்லியம் ஜோன்ஸ்
B) கால்டுவெல்
C) பிரான்சிஸ் எல்லிஸ்
D) மாக்ஸ் முல்லர்
E) விடை தெரியவில்லை
116. பொருந்தாத இணையைத் தேர்ந்தெடு.
- A) தென்திராவிடம் - கன்னடம்
B) நடுத்திராவிடம் - கூயி
C) வடத்திராவிடம் - குரூக்
D) தென்திராவிடம் - மால்தோ
E) விடை தெரியவில்லை
117. “இனிமையும் நீர்மையும் தமிழெனல் ஆகும்” எனக் கூறும் நூல் எது?
- A) நன்னூல்
B) தொல்காப்பியம்
C) பிங்கல நிகண்டு
D) புறப்பொருள் வெண்பாமாலை
E) விடை தெரியவில்லை
118. தமிழ்விடுதூது நூலின் பாட்டுடைத்தலைவன் யார்?
- A) திருச்செந்தூர் முருகப்பெருமான்
B) வைத்தியநாதபுரத்தில் வீற்றிருக்கும் முருகப்பெருமான்
C) மதுரை சொக்கநாதர்
D) காஞ்சி கைலாசநாதர்
E) விடை தெரியவில்லை
119. தமிழ்விடுதூது நூல் முதன்முதலில் எந்த ஆண்டு யாரால் பதிப்பிக்கப்பட்டது?
- A) 1934, அடியார்க்கு நல்லார்
B) 1934, உ.வே.சா
C) 1930, அடியார்க்கு நல்லார்
D) 1930, உ.வே.சா
E) விடை தெரியவில்லை
120. தூது பற்றிய பின்வரும் கூற்றுகளைக் கருத்தில் கொள்க.
- I. தூது இலக்கியம் கலிவெண்பாவால் பாடப்படும்.
II. அன்னம் முதல் வண்டு ஈறாக பத்தினுள் ஏதேனும் ஒன்றைத் தூதாக அனுப்புவர்.
III. ‘வாயில் இலக்கியம்’, ‘சந்து இலக்கியம்’ என்னும் வேறு பெயர்களும் இதற்கு உண்டு.
மேற்கண்ட கூற்றுகளில் சரியானவை எவை?
- A) I மற்றும் II மட்டும்
B) II மற்றும் III மட்டும்
C) I மற்றும் III மட்டும்
D) மேற்கண்ட அனைத்தும்
E) விடை தெரியவில்லை
121. ‘தமிழ்விடுதூது’ நூலின் ஆசிரியர் யார்?
- A) பலபட்டடைச் சொக்கநாதர்
B) என்னயினாப் புலவர்
C) அருணகிரிநாதர்
D) யார் எனத் தெரியவில்லை
E) விடை தெரியவில்லை



122. கீழ்க்காணும் சொற்றொடரில் தன்வினைத் தொடரைத் தேர்ந்தெடுக்க.
A) அப்துல் நேற்று வந்தான் B) அப்துல் நேற்று வரவழைத்தான்
C) அவனை திருந்தச் செய்தான் D) பள்ளிக்குப் புத்தகங்கள் வருவித்தார்
E) விடை தெரியவில்லை
123. சொற்றொடர் வகைச் சுட்டுக : 'நண்பா கேள்'
A) எழுவாய்த் தொடர் B) வினைமுற்றுத் தொடர்
C) வேற்றுமைத்தொடர் D) விளித்தொடர்
E) விடை தெரியவில்லை
124. கீழ்க்காணும் சொற்றொடரில் செயப்பாட்டுவினைத் தொடரைத் தேர்ந்தெடுக்க.
A) அப்துல் நேற்று வந்தான் B) என் அண்ணன் நாளை வருவான்
C) கவிதா உரை படித்தாள் D) உரை கவிதாவால் படிக்கப்பட்டது
E) விடை தெரியவில்லை
125. பிழையற்ற சொற்றொடரைத் தேர்ந்தெடுக்க.
A) அவை யாவும் இருக்கின்றன B) அவை யாவும் எடுங்கள்
C) அவை யாவையும் இருக்கின்றன D) அவை யாவற்றையும் எடுங்கள்
E) விடை தெரியவில்லை
126. "நிலமும் மரமும் உயிர்கள் நோயின்றி வாழ வேண்டும் என்னும் நோக்கில் வளர்கின்றன" என்று கூறியவர் யார் ?
A) மிளைகிழான் நல்வேட்டனார் B) கணிமேதாவியார்
C) மாங்குடி மருதனார் D) நல்லந்துவனார்
E) விடை தெரியவில்லை
127. பொருந்தாத இணையைத் தேர்ந்தெடு.
A) குண்டம் – குளிக்கும் நீர்நிலை
B) அருவி – மலைமுகட்டுத் தேக்க நீர்
C) அகழி – கோட்டைப்புறத்து நீர் அரண்
D) கூவல் – மக்கள் பருகுநீர்நிலை
E) விடை தெரியவில்லை
128. "நீரால் பருவம்" இடம்பெறும் சிற்றிலக்கியம் எது?
A) பிள்ளைத்தமிழ் B) கலம்பகம்
C) பள்ளு D) உலா
E) விடை தெரியவில்லை
129. பாரதியாரின் வழித்தோன்றலாகவும் பாரதிதாசனின் மாணவராகவும் விளங்கியவர் யார்?
A) ஈரோடு தமிழன்பன் B) வாணிதாசன்
C) கவிஞர் தமிழ்ஒளி D) முடியரசன்
E) விடை தெரியவில்லை



130. முந்நீர் என்பன யாவை?
A) ஆற்றுநீர், மழைநீர், கடல் நீர்
B) ஆற்றுநீர், ஊற்று நீர், மழைநீர்
C) ஆற்றுநீர், கடல் நீர், ஊற்று நீர்
D) கடல்நீர், ஊற்றுநீர், மழைநீர்
E) விடை தெரியவில்லை
131. 'பக்திச்சுவை நனி சொட்டச் சொட்டப் பாடிய கவி வலவ' என யார் யாரைப் போற்றினார்?
A) ஒட்டக்கூத்தர், சேக்கிழார்
B) சேக்கிழார், ஒட்டக்கூத்தர்
C) மகாவித்துவான் மீனாட்சி சுந்தரம் பிள்ளை, சேக்கிழார்
D) பலபட்டடைச் சொக்கநாதப் புலவர், சேக்கிழார்
E) விடை தெரியவில்லை
132. பெரிய புராணத்தில் 'திருநாடு' எனக் குறிப்பிடப்படும் நாடு எது?
A) சேரநாடு
B) சோழநாடு
C) பாண்டிய நாடு
D) தொண்டை நாடு
E) விடை தெரியவில்லை
133. பொருத்துக.
(சொல்) (பொருள்)
a) வாவி 1. எருமைக்கடா
b) பகடு 2. தேன்
c) சாலம் 3. பொய்கை
d) வேரி 4. ஆச்சாமரம்
குறியீடுகள்:
a b c d
A) 3 1 4 2
B) 1 2 4 3
C) 3 2 1 4
D) 4 1 2 3
E) விடை தெரியவில்லை
134. சரியான சொற்றொடரைத் தேர்ந்தெடுக்க.
A) உணவின் முதற்றே உண்டி பிண்டம்
B) பிண்டம் முதற்றே உண்டி உணவின்
C) உணவின் பிண்டம் உண்டி முதற்றே
D) உண்டி முதற்றே உணவின் பிண்டம்
E) விடை தெரியவில்லை
135. "வான் உட்கும் வடிநீண் மதில்" எனத் தொடங்கும் பாடலைப் பாடியவர் யார்? பாடப்படுவோன் யார்?
A) பிசிராந்தையார், அறிவுடை நம்பி
B) பிசிராந்தையார், கோப்பெருஞ்சோழன்
C) குடபுலவியனார், தலையாலங்கானத்துச் செருவென்ற பாண்டியன் நெடுஞ்செழியன்
D) மதுரைக் கணக்காயனார் மகனார் நக்கீரனார், ஆரியப்படை கடந்த பாண்டிய நெடுஞ்செழியன்
E) விடை தெரியவில்லை



136. பொருந்தாததைத் தேர்ந்தெடுக்க.
- A) உண்பது நாழி உடுப்பவை இரண்டே
B) உணவெனப்படுவது நிலத்தொடு நீரே
C) உண்டி கொடுத்தோர் உயிர் கொடுத்தோரே
D) உடம்பை வளர்த்தேன் உயிர் வளர்த்தேனே
E) விடை தெரியவில்லை
137. ஏறுகள் பயன்படாத இடம் பெறாத அகத்திணைகள் எவை?
- A) குறிஞ்சி, நெய்தல்
B) முல்லை, மருதம்
C) முல்லை, பாலை
D) நெய்தல், பாலை
E) விடை தெரியவில்லை
138. கீழ்க்கண்டவற்றுள் 'ஏறுதழுவதல்' பற்றிக் கூறும் இலக்கியம் சராத நூலினைத் தேர்ந்தெடுக்க.
- A) கலித்தொகை
B) சிலப்பதிகாரம்
C) புறப்பொருள் வெண்பாமாலை
D) கண்ணுடையம்மன் பள்ளு
E) விடை தெரியவில்லை
139. கூரிய கொம்புகளும் சிலிர்த்த திமில்களும் கொண்ட மூன்று எருதுகளைப் பலர் கூடி விரட்டுவது போன்ற பண்டைய ஓவியம் எங்கு காணப்படுகிறது?
- A) கரிக்கையூர்
B) கல்லாத்து மேட்டுப்பட்டி
C) சித்திரக்கல் புடவு
D) உசிலம்பட்டி
E) விடை தெரியவில்லை
140. பொருந்தாத இணையைத் தேர்ந்தெடுக்க.
- A) சமயக்கணக்கர் - சமயத் தத்துவவாதிகள்
B) பாடைமாக்கள் - பல மொழி பேசும் மக்கள்
C) ஜம்பெருங்குழு - அமைச்சர் குழு
D) எண்பேராயம் - அயல் நாட்டினர்
E) விடை தெரியவில்லை
141. ஆற்றின் நடுவே இருக்கும் மணல் திட்டு எவ்வாறு அழைக்கப்படுகிறது?
- A) வசி
B) துருத்தி
C) விலோதம்
D) கோட்டி
E) விடை தெரியவில்லை
142. பின்வரும் கூற்றுகளைக் கருத்தில் கொள்க.
- I. 1863ஆம் ஆண்டு இராபர்ட் புரூஸ்புட் என்னும் தொல்லியல் அறிஞர் சென்னைப் பல்லாவரம் செம்மண் மேட்டுப் பகுதியில் எலும்பையும் கற்கருவியையும் கண்டுபிடித்தார்.
- II. ரோமானியர்களின் பழங்காசுகள் கோவையில் கண்டெடுக்கப்பட்டுள்ளன.
- III. 1914ஆம் ஆண்டு ஆதிச்சநல்லூரில் நடத்தப்பட்ட அகழாய்வில் ஏராளமான முதுமக்கள் தாழிகள் கண்டுபிடிக்கப்பட்டன.



மேற்கண்ட கூற்றுக்களில் சரியானவை எவை?

- A) I மற்றும் II மட்டும்
B) II மற்றும் III மட்டும்
C) I மற்றும் III மட்டும்
D) மேற்கண்ட அனைத்தும்
E) விடை தெரியவில்லை

143. “பட்டிமண்டபம் ஏற்றினை, ஏற்றினை; எட்டினோடு

இரண்டும் அறியேனையே” எனும் தொடர் இடம்பெற்றுள்ள நூல் எது?

- A) சிலப்பதிகாரம்
B) மணிமேகலை
C) திருவாசகம்
D) கம்பராமாயணம்
E) விடை தெரியவில்லை

144. ரோமானிய மட்பாண்டம் எங்கு கண்டெடுக்கப்பட்டுள்ளன?

- A) பல்லாவரம்
B) கீழடி
C) அரிக்கமேடு
D) ஆதிச்சநல்லூர்
E) விடை தெரியவில்லை

145. பிரித்து எழுதுக: கண்டெடுக்கப்பட்டுள்ளன

- A) கண்டு + எடுக்கப்பட்டு + உள்ளன
B) கண்டு + எடுக்கப் + பட்டுள்ளன
C) கண்டெடுக்க + பட்டு + உள்ளன
D) கண் + டெடுக்க + பட்டு + உள்ளன
E) விடை தெரியவில்லை

146. “தென்னிந்தியாவின் அடையாளச் சின்னமாகக் காங்கேயம் மாடுகள் போற்றப்படுகின்றன” – இஃது எவ்வகைத் தொடர்?

- A) வினாத்தொடர்
B) கட்டளைத் தொடர்
C) செய்தித்தொடர்
D) உணர்ச்சித் தொடர்
E) விடை தெரியவில்லை

147. பொருத்துக.

(நூல்)

- a) தமிழர் நாகரிகமும் பண்பாடும்
b) தமிழக வரலாறும் தமிழர் பண்பாடும்
c) தொல்லியல் நோக்கில் சங்க காலம்
d) தமிழர் சாஸ்பு

(நூலாசிரியர்)

1. காராஜன்
2. சுவிய்யானந்தன்
3. மா. இராசமாணிக்கனார்
4. அ.தட்சிணாமூர்த்தி

குறியீடுகள்:

- | | a | b | c | d |
|----|---|---|---|---|
| A) | 4 | 3 | 2 | 1 |
| B) | 4 | 3 | 1 | 2 |
| C) | 3 | 2 | 1 | 4 |
| D) | 4 | 1 | 2 | 3 |

E) விடை தெரியவில்லை



148. 'ஈன்றாள் பசிகாண்பான் ஆயினும் செய்யற்க' – இக்குறளை நிறைவு செய்க.
A) ஓஓதல் வேண்டும்
B) சான்றோர் பழிக்கும் வினை
C) ஆன்ற பெருமைத் தரும்
D) அறஞ்சூழும் சூழ்ந்தவன் கேடு
E) விடை தெரியவில்லை
149. பச்சைக் களி மண்கலத்தில் நீருற்றி வைப்பதைப் போன்றதாக வள்ளுவர் குறிப்பிடுவது யாது?
A) புகழைக் கெடுக்கும் செயல்களைச் செய்தல்
B) தீய செயலால் பொருள் சேர்த்துப் பாதுகாத்தல்
C) ஆராயாமல் ஒருவரைத் தேர்வு செய்தல்
D) நுட்பமான கேள்வியறிவு இல்லாதவர்
E) விடை தெரியவில்லை
150. பின்வரும் கூற்றுகளைக் கருத்தில் கொள்க.
கூற்று : திருக்குறள் உலகப்பொதுமறை என்று அழைக்கப்படுகிறது.
காரணம் : திருக்குறள் நூலானது நாடு, இனம், சாதி குறித்த எவ்வித அடையாளத்தையும் முன்னிலைப்படுத்தாத நூலாகும்.
குறியீடுகள்:
A) கூற்று மற்றும் காரணம் இரண்டும் சரி மற்றும் காரணம் என்பது கூற்றுக்கான சரியான விளக்கமாகும்
B) கூற்று மற்றும் காரணம் இரண்டும் சரி ஆனால் காரணம் என்பது கூற்றுக்கான சரியான விளக்கமல்ல
C) கூற்று சரி ஆனால் காரணம் தவறு
D) கூற்று தவறு ஆனால் காரணம் சரி
E) விடை தெரியவில்லை
151. பின்வருவனவற்றுள் தவறான இணையைத் தேர்ந்தெடுக்க.
(ஆங்கிலச்சொல்) **(தமிழ்ச்சொல்)**
A) Excavation - அகழாய்வு
B) Epigraphy - கல்வெட்டியல்
C) Inscription - நடுகல்
D) Embossed Sculpture - புடைப்புச் சிற்பம்
E) விடை தெரியவில்லை
152. நான்கறிவு உயிரினங்கள் என்று தொல்காப்பியர் எதனைக் குறிப்பிடுகிறார்?
A) சிப்பி, நத்தை
B) நத்தை, கரையான்
C) கரையான், எறும்பு
D) நண்டு, தும்பி
E) விடை தெரியவில்லை
153. நான்கறிவுவதுவே அவற்றொரு கண்ணே - இத்தொடரில் அவற்றொரு என்பது எதனைக் குறிப்பிடுகிறது?
A) சுவைத்தல், நுகர்தல், காணல்
B) காணல், கேட்டல், நுகர்தல்
C) கற்றறிதல், கேட்டல், காணல்
D) உற்றறிதல், சுவைத்தல், நுகர்தல்
E) விடை தெரியவில்லை



154. டாக்டர் முத்துலெட்சுமி பற்றிய பின்வரும் கூற்றுகளுள் பிழையான கூற்றினைத் தேர்ந்தெடுக்க.
- A) தமிழகத்தின் முதல் பெண் மருத்துவர்
B) இந்தியப் பெண்கள் சங்கத்தின் முதல் தலைவர்
C) சென்னை மாநகராட்சியின் முதல் மேயர். சட்ட மேலவைக்குத் தேர்ந்தெடுக்கப்பட்ட முதல் பெண்மணி
D) அடையாற்றில் 1930இல் அவ்வை இல்லம், 1952இல் புற்றுநோய் மருத்துவமனை ஆகியவற்றை நிறுவியவர்
E) விடை தெரியவில்லை

155. “பட்டினத்தார் பாராட்டிய மூவர்” என்ற நூலை இயற்றியவர் யார்?
- A) இராஜேஸ்வரி அம்மையார்
B) காரைக்கால் அம்மையார்
C) நீலாம்பிகை அம்மையார்
D) சிவகாமி அம்மையார்
E) விடை தெரியவில்லை

156. பிழையான இணையைத் தேர்ந்தெடு.

(தொடர்)

(இடம்பெற்றுள்ள நூல்)

- A) கற்றோருக்குச் சென்ற இடமெல்லாம் சிறப்பு - மூதுரை
B) கல்வி கரையில் கற்பவர் நாள்சில - நாலடியார்
C) கற்றது கைமண்ணளவு கல்லாதது உலகளவு - கொன்றை வேந்தன்
D) கல்வியழகே அழகு - நாலடியார்
E) விடை தெரியவில்லை

157. பொருத்துக.

- a) மாக்கடல் 1. தொழிற்பெயர்
b) ஆக்கல் 2. உவமைத்தொகை
c) மலர்க்கை 3. உரிச்சொற்றொடர்
d) வில்வாள் 4. ஈறுகெட்ட எதிர்மறைப் பெயரெச்சம்
e) தவிர்க்கலுணர் 5. உம்மைத்தொகை

குறியீடுகள்:

- | | a | b | c | d | e |
|----|---|---|---|---|---|
| A) | 3 | 1 | 2 | 5 | 4 |
| B) | 2 | 4 | 3 | 1 | 5 |
| C) | 3 | 2 | 1 | 5 | 4 |
| D) | 4 | 1 | 2 | 5 | 3 |

- E) விடை தெரியவில்லை

158. பாரதிதாசனின் சாகித்திய அகொதெமி விருது பெற்ற நூல் எது?

- A) குடும்ப விளக்கு
B) அழகின் சிரிப்பு
C) பாண்டியன் பரிசு
D) பிசிராந்தையார் நாடகம்
E) விடை தெரியவில்லை



159. 'குடும்ப விளக்கு' பற்றிய பின்வரும் கூற்றுகளைக் கருத்தில் கொள்க.
- இருபதாம் நூற்றாண்டில் பாரதிதாசனால் படைக்கப்பட்ட மறுமலர்ச்சி இலக்கியமாகும்.
 - கற்ற பெண்ணின் குடும்பமே பல்கலைக்கழகமாக மிளிரும் என்பதைக் காட்டுகிறது.
 - இந்நூல் ஐந்து பகுதிகளாகப் பகுக்கப்பட்டுள்ளது. இதன் முதற்பகுதியில் விருந்தோம்பல் தலைப்பானது இடம்பெற்றுள்ளது.
- மேற்கண்ட கூற்றுகளில் சரியானவை எவை?
- A) I மற்றும் II மட்டும்
 - B) II மற்றும் III மட்டும்
 - C) I மற்றும் III மட்டும்
 - D) மேற்கண்ட அனைத்தும்
 - E) விடை தெரியவில்லை
160. அறிஞர் அண்ணாவின் கூற்றுகளில் பொருந்தா ஒன்றினைத் தேர்ந்தெடுக்க.
- A) இளைஞர்களுக்குப் பகுத்தறிவும் சுயமரியாதையும் தேவை.
 - B) நல்ல வரலாறுகளைப் படித்தால்தான் இளம் உள்ளத்திலே புது முறுக்கு ஏற்படும்.
 - C) உலகில் சாகாவரம் பெற்ற பொருள்கள் புத்தகங்களே!
 - D) மக்களின் மதியைக் கெடுக்கும் ஏடுகள் நமக்குத் தேவையில்லை; தமிழரைத் தட்டி எழுப்பும் தன்மான இலக்கியங்கள் தேவை.
 - E) விடை தெரியவில்லை
161. பொருத்துக.
- | | |
|--|-------------------------------------|
| a) உலகின் மிகப்பெரிய நூலகம் | 1. சரசுவதி மகால் நூலகம் |
| b) இந்தியாவின் மிகப்பெரிய நூலகம் | 2. கன்னிமாரா நூலகம் |
| c) தமிழ் நூல்கள் அதிகமாக உள்ள நூலகம் | 3. தேசிய நூலகம், கொல்கத்தா |
| d) ஓலைச்சுவடிகளைப் பாதுகாக்கும் நூலகம் | 4. லைப்ரரி ஆப் காங்கிரஸ், அமெரிக்கா |
- குறியீடுகள்:
- | | a | b | c | d |
|----|---|---|---|---|
| A) | 4 | 3 | 2 | 1 |
| B) | 1 | 2 | 4 | 3 |
| C) | 3 | 2 | 1 | 4 |
| D) | 4 | 1 | 2 | 3 |
- E) விடை தெரியவில்லை
162. பின்வரும் கூற்றுகளைக் கருத்தில் கொள்க.
- சீர்காழி இரா.அரங்கநாதன் அவர்களின் பிறந்த நாளான ஆகஸ்ட் ஒன்பதாம் நாள், தேசிய நூலக நாளாகக் கொண்டாடப்படுகிறது.
 - இந்தியாவில் நூலக விகிதத்தை உருவாக்கியவர் சீர்காழி இரா. அரங்கநாதன் ஆவார்.
- மேற்கண்ட கூற்றுகளில் சரியானது எது/எவை?
- A) I மட்டும்
 - B) II மட்டும்
 - C) இரண்டும்
 - D) இரண்டுமில்லை
 - E) விடை தெரியவில்லை



163. பொருத்துக.

- | | |
|-------------------------------|------------------------------|
| a) பாண்டியர் காலச் சிற்பங்கள் | 1. ஆயிரங்கால் மண்டபம் |
| b) நாயக்கர் காலச் சிற்பங்கள் | 2. மிக உயர்ந்த கோபுரங்கள் |
| c) விஜய நகர காலச் சிற்பங்கள் | 3. கற்சிற்பங்கள் |
| d) சோழர் காலச் சிற்பங்கள் | 4. குகைச்சிற்ப வேலைப்பாடுகள் |

குறியீடுகள்:

- | | a | b | c | d |
|----|----------|----------|----------|----------|
| A) | 4 | 3 | 2 | 1 |
| B) | 1 | 2 | 4 | 3 |
| C) | 3 | 2 | 1 | 4 |
| D) | 4 | 1 | 2 | 3 |
- E) விடை தெரியவில்லை

164. சிற்பத்தொழிலுக்குரிய உறுப்புகளைப் பற்றிக் கூறும் நூல்கள் எவை?

- | | |
|----------------------------|------------------------------|
| A) தொல்காப்பியம், நன்னூல் | B) திவாகர நிகண்டு, மணிமேகலை |
| C) சிலப்பதிகாரம், வளையாபதி | D) சீவகசிந்தாமணி, குண்டலகேசி |
- E) விடை தெரியவில்லை

165. பல்வேறு ஓசைகளை எழுப்பும் இசைக் கற்றாண்களை அமைத்தவர் யார்?

- | | |
|-------------------|-------------------|
| A) பாண்டிய மன்னர் | B) சோழ மன்னர் |
| C) நாயக்க மன்னர் | D) விஜயநகர மன்னர் |
- E) விடை தெரியவில்லை

166. உலோகப் படிமங்கள் செய்யும் பயிற்சி நிலையங்களுள் பொருந்தாதது எது?

- | | |
|----------------|--------------|
| A) மாமல்லபுரம் | B) சுவாமிமலை |
| C) கும்பகோணம் | D) மதுரை |
- E) விடை தெரியவில்லை

167. மாளிகைகளில் பல சிற்பங்களில் சுண்ணாம்புக் கலவை இருந்த செய்தியினைக் குறிப்பிடும் நூல் எது?

- | | |
|------------------|------------------|
| A) தொல்காப்பியம் | B) மணிமேகலை |
| C) சிலப்பதிகாரம் | D) சீவகசிந்தாமணி |
- E) விடை தெரியவில்லை

168. பாண்டியன் காலச் சிற்பங்கள் அமைந்துள்ள இடங்கள் யாவை?

- A) மாமல்லபுரம், காஞ்சிபுரம், திருச்சி, மலைக்கோட்டை
- B) திருமயம், பிள்ளையார்பட்டி, குன்றக்குடி, திருப்பரங்குன்றம்
- C) மதுரை மீனாட்சி அம்மன் கோவில், இராமேசுவரம் பெருங்கோவில், காஞ்சி கைலாசநாதர் கோவில்
- D) காஞ்சி கைலாசநாதர், இராமேசுவரம் பெருங்கோவில், மலைக்கோட்டை
- E) விடை தெரியவில்லை



169. பின்வருவனவற்றுள் தவறான கூற்றினைத் தேர்ந்தெடுக்க.
- A) தூண்களில் யாளி, சிங்கம், தாமரை மலர், நுட்பமான வேலைப்பாடுகள் நிறைந்த வட்டங்கள் போன்றவை பல்லவர் காலச் சிற்பங்களில் பொறிக்கப்பட்டன.
- B) பல்லவர் காலக் குடைவரைக் கோவில்களின் நுழைவு வாயிலின் இருபுறங்களிலும் காவலர்கள் நிற்பது போன்று சிற்பங்கள் படைக்கப்பட்டுள்ளன.
- C) சோழர் காலம் செப்புத்திருமேனிகளின் 'பொற்காலம்' என்று அழைக்கப்படுகிறது.
- D) கொடும்பாளூரில் முதலாம் பராந்தகச் சோழனால் கட்டப்பட்ட மூவர் கோவில் சிற்பங்கள் அழகானவை.
- E) விடை தெரியவில்லை
170. பின்வருவனவற்றுள் தவறான இணையைத் தேர்ந்தெடுக்க.
- (சொல்) (இலக்கணக்குறிப்பு)
- A) எருத்துக்கோடு – ஆறாம் வேற்றுமைத்தொகை
- B) கரைபொரு – இரண்டாம் வேற்றுமைத்தொகை
- C) மரைமுகம் – உருவகம்
- D) வருமலை – வினைத்தொகை
- E) விடை தெரியவில்லை
171. 'இராவண காவியம்' பற்றிய பின்வரும் கூற்றுகளைக் கருத்தில் கொள்க.
- I. தந்தை பெரியாரின் வேண்டுகோளுக்கிணங்க 25 நாள்களில் புலவர் குழந்தை அவர்களால் இயற்றப்பட்டது.
- II. இந்நூல் தமிழகக் காண்டம், இலங்கைக் காண்டம், விந்தக் காண்டம், பழிபுரி காண்டம், போர்க் காண்டம் என ஐந்து காண்டங்களையும் 3100 பாடல்களையும் கொண்டது.
- மேற்கண்ட கூற்றுகளில் சரியானது எது/எவை?
- A) I மட்டும் B) II மட்டும்
- C) இரண்டும் D) இரண்டுமில்லை
- E) விடை தெரியவில்லை
172. 'தொட்டு' இச்சொல்லின் வேர்ச்சொல் தருக.
- A) தொ B) தொட்
- C) தொடுக D) தொடு
- E) விடை தெரியவில்லை
173. ஆண்டாள் பற்றிய பின்வரும் கூற்றுகளுள் பொருந்தா ஒன்றினைத் தேர்ந்தெடுக்க.
- A) பன்னிரு ஆழ்வார்களுள் ஆண்டாள் மட்டுமே பெண்.
- B) ஆண்டாள் பாடியதாகத் திருப்பாவை, நாச்சியார் திருமொழி என்ற இரு தொகுதிகள் உள்ளன. நாச்சியார் திருமொழி மொத்தம் 30 பாடல்களைக் கொண்டது.
- C) இறைவனுக்குப் பாமாலை சூட்டியதோடு தான் அணிந்து மகிழ்ந்த பூமாலையையும் சூட்டியதால், "சூடிக் கொடுத்த சுடர்க்கொடி" என அழைக்கப்பெற்றார்.
- D) இவரைப் பெரியாழ்வாரின் வளர்ப்பு மகள் என்பர்.
- E) விடை தெரியவில்லை



174. தி.ஜானகிராமன் அவர்கள், தனது ஜப்பான் பயண அனுபவங்களை கீழ்க்காணும் எந்த தலைப்பில் சுதேசமித்திரன் வார இதழில் எழுதினார்?
- A) கருங்கடலும் செங்கடலும்
B) உதயசூரியன்
C) நடந்தாய் வாழி காவேரி
D) அடுத்த வீடு ஜம்பது மைல்
E) விடை தெரியவில்லை
175. நிலத்திற்குரிய தொழிலை பொருத்துக.
- a) குறிஞ்சி 1. ஏறு தழுவுதல், நிரை மேய்த்தல்
b) முல்லை 2. தேன் எடுத்தல், கிழங்கு அகழ்தல்
c) பாலை 3. நெல்லரிதல், களை பறித்தல்
d) மருதம் 4. வழிப்பறி, நிரை கவர்தல்
- குறியீடுகள்:**
- | | a | b | c | d |
|----|----------|----------|----------|----------|
| A) | 4 | 3 | 2 | 1 |
| B) | 2 | 4 | 3 | 1 |
| C) | 2 | 1 | 4 | 3 |
| D) | 4 | 1 | 2 | 3 |
- E) விடை தெரியவில்லை
176. 'முத்துத்தாமம்' இலக்கணக்குறிப்பு தருக.
- A) பண்புத்தொகை
B) வினைத்தொகை
C) இருபெயரொட்டுப் பண்புத்தொகை
D) இரண்டாம் வேற்றுமை உருபும் பயனும் உடன்தொக்கத் தொகை
E) விடை தெரியவில்லை
177. சாகித்திய அகாதெமி விருது பெற்ற ஜானகிராமனின் நூல் எது?
- A) சத்தி வைத்தியம்
B) கருங்கடலும் கலைக்கடலும்
C) நடந்தாய் வாழி காவேரி
D) சிவப்புக் ரிசூலா
E) விடை தெரியவில்லை
178. "பொதுவர்கள் பொலிஉறப் போர் அடித்திடும்" நிலப்பகுதி எது?
- A) குறிஞ்சி
B) நெய்தல்
C) முல்லை
D) மருதம்
E) விடை தெரியவில்லை
179. திருநாதர் குன்றில் உள்ள பாறையில் புடைப்புச் சிற்பங்களாக இருப்பவை எவை?
- A) விலங்கு உருவங்கள்
B) தீர்த்தங்கரர் உருவங்கள்
C) தெய்வ உருவங்கள்
D) நாட்டியம் ஆடும் பாவை உருவங்கள்
E) விடை தெரியவில்லை



180. “சாகும் வரை உள்ள நோய்” என்று வள்ளுவர் யாரைக் கூறுகிறார்?
 A) அறிவுடையாரை B) புல்லறிவுடையாரை
 C) அன்புடையாரை D) பண்புடையாரை
 E) விடை தெரியவில்லை
181. சுதந்திர இந்தியாவில் செசஸ் நாட்டுத் தூதுவராகப் பணியாற்றியவர் யார்?
 A) கேப்டன் தாசன் B) தில்லான்
 C) பசும்பொன் முத்துராலிங்கனார் D) மோகன்சிங்
 E) விடை தெரியவில்லை
182. வெறிகமழ் கழினியுள் உழுநர் வெள்ளமே – இவ்வடி உணர்த்தும் பொருள் யாது?
 A) மணம் கமழும் வயலில் உழவர் வெள்ளமாய் உழுதிருந்தனர்.
 B) வறண்ட வயலில் உழவர் வெள்ளமாய் நிறைந்திருந்தனர்.
 C) செறிவான வயலில் உழவர் வெள்ளமாய் கூடியிருந்தனர்.
 D) பசுமையான வயலில் உழவர் வெள்ளமாய் நிறைந்திருந்தனர்.
 E) விடை தெரியவில்லை
183. பொருத்துக.
 (சொல்) (இலக்கணக்குறிப்பு)
 a) நற்றவம் 1. வினைத்தொகை
 b) செய்கோலம் 2. உவமைத்தொகை
 c) தேமாங்கனி 3. வினையெச்சம்
 d) இறைஞ்சி 4. பண்புத்தொகை
 குறியீடுகள்:

	<i>a</i>	<i>b</i>	<i>c</i>	<i>d</i>
A)	4	3	2	1
B)	1	2	4	3
C)	3	2	1	4
D)	4	1	2	3

 E) விடை தெரியவில்லை
184. விருத்தப்பாக்களால் இயற்றப்பட்ட முதல் காப்பியம் எது?
 A) சிலப்பதிகாரம் B) மணிமேகலை
 C) சீவக சிந்தாமணி D) கம்பராமாயணம்
 E) விடை தெரியவில்லை
185. அச்சமில்லாத நாடாக முத்தொள்ளாயிரம் குறிப்பிடுவது யாது?
 A) சேரநாடு B) சோழ நாடு
 C) பாண்டிய நாடு D) மேற்கூறிய அனைத்தும்
 E) விடை தெரியவில்லை



186. மதுரைக்காஞ்சி பற்றிய தவறான கூற்றினைத் தேர்ந்தெடுக்க.
- A) மதுரையின் சிறப்புகளைப் பாடுவதாலும் நிலையாமையைப் பற்றிக் கூறுவதாலும் இந்நூல் மதுரைக்காஞ்சி எனப்பட்டது.
- B) பத்துப்பாட்டு நூல்களுள் ஒன்று. இந்நூல் 782 அடிகளைக் கொண்டது. அவற்றுள் 354 அடிகள் மதுரையைப் பற்றி மட்டும் சிறப்பித்துக் கூறுகின்றன.
- C) இந்நூலில் மதுரையில் வனவிலங்குச் சரணாலயம் இருந்த செய்தியானது இடம்பெற்றுள்ளது.
- D) இந்நூலின் பாட்டுடைத் தலைவன் ஆரியப்படை கடந்த பாண்டிய நெடுஞ்செழியன்
- E) விடை தெரியவில்லை
187. பின்வரும் இணைகளைக் கருத்தில் கொள்க.
- | (தொடர்) | (ஆகுபெயர்) |
|------------------------------|-------------------|
| I. வானொலி கேட்டு மகிழ்ந்தனர் | - கருவியாகு பெயர் |
| II. பைங்கூழ் வளர்ந்தது | - காரியவாகு பெயர் |
| III. முல்லையைத் தொடுத்தான் | - பொருளாகு பெயர் |
| IV. மருக்கொழுந்து நட்தான் | - சினையாகு பெயர் |
| V. கார் அறுத்தான் | - காலவாகு பெயர் |
| VI. மஞ்சள் பூசினாள் | - பண்பாகு பெயர் |
- மேற்கண்ட இணைகளில் எத்தனை இணைகள் சரியானவை?
- A) 3 B) 4
C) 5 D) 6
E) விடை தெரியவில்லை
188. 'அறிஞர் அண்ணாவைப் படித்திருக்கிறேன்' என்பது எவ்வகை ஆகுபெயர்?
- A) கருவியாகு பெயர் B) கருத்தாவாகு பெயர்
C) முதலாகு பெயர் D) பண்பாகு பெயர்
E) விடை தெரியவில்லை
189. பெரியாரின் கூற்றுகளுள் பொருந்தா ஒன்றினைத் தேர்ந்தெடுக்க.
- A) பொருளாதாரத் தன்னிறைவு அடையாத நிலையில் அனைவரும் சிக்கனத்தைக் கடைப்பிடிப்பது கட்டாயம்.
- B) இன்றைய அறிவியல் வளர்ச்சிக்கேற்ப நூல்கள் தமிழில் படைக்கப்பட வேண்டும்.
- C) இளம் வளதில் பெண்களுக்குத் திருமணம் செய்து வைக்கக் கூடாது; கைம்பெண்களுக்கு மறுமணம் செய்து வைக்கக்கூடாது.
- D) மொழி என்பது உலகின் போட்டி. போராட்டத்திற்குரிய ஒரு போர்க்கருவியாகும்.
- E) விடை தெரியவில்லை
190. பெரியார் விதைத்த விதைகளுள் பொருந்தா ஒன்றினைத் தேர்ந்தெடுக்க.
- A) கல்வியிலும் வேலைவாய்ப்பிலும் இடஒதுக்கீடு
B) பெண்களுக்கு இடஒதுக்கீடு
C) பெண்களுக்கான சொத்துரிமை
D) குழந்தைத் திருமணம்
E) விடை தெரியவில்லை



191. 'ஆக்குவது ஏதெனில் அறத்தை ஆக்குக' எனக் குறிப்பிடும் நூல் எது?
A) கலித்தொகை B) யசோதரக் காவியம்
C) பரிபாடல் D) புறநானூறு
E) விடை தெரியவில்லை
192. "குறிக்கோள் இல்லாதவன் வெறும் சதைப்பிண்டம்" என்று கூறிய புலவர் யார்?
A) ஆலந்தூர் கிழார் B) பிசிராந்தையார்
C) கபிலர் D) கணியன் பூங்குன்றனார்
E) விடை தெரியவில்லை
193. கங்கையும், இமயத்தில் பெய்யும் மழையையும் உவமைகளாக எடுத்துக் கூறும் நூல் எது?
A) அகநானூறு B) புறநானூறு
C) கலித்தொகை D) பரிபாடல்
E) விடை தெரியவில்லை
194. தனிநாயகம் அடிகள் தொடங்கி நடத்திய இதழ் எது?
A) தென்றல் B) தமிழ்ப் பண்பாடு
C) தமிழர் நாகரிகம் D) தமிழ்க் கலாச்சாரம்
E) விடை தெரியவில்லை
195. 'கல்யாண்ஜி' பற்றிய பின்வரும் கூற்றுகளைக் கருத்தில் கொள்க.
I. இயற்பெயர் - கல்யாண சுந்தரம்
II. புனைப்பெயர் - வாணிதாசன்
III. 'ஒரு சிறு இசை' என்னும் நூலிற்காக 2016 ஆம் ஆண்டு சாகித்திய அகாதெமி விருதினைப் பெற்றுள்ளார்.
மேற்கண்ட கூற்றுகளில் சரியானவை எவை?
A) I மற்றும் II மட்டும் B) II மற்றும் III மட்டும்
C) I மற்றும் III மட்டும் D) மேற்கண்ட அனைத்தும்
E) விடை தெரியவில்லை
196. 'குறுந்தொகை' நூலைப் பதிப்பித்தவர் யார்?
A) பூரிக் கோ B) பாரதம் பாடிய பெருந்தேவனார்
C) தாமோதரனார் D) செளரிப் பெருமாள் அரங்கனார்
E) விடை தெரியவில்லை
197. "நசை பெரிது உடையர்" எனத் தொடங்கும் குறுந்தொகைப் பாடலை பாடியவர் யார்?
A) தேவகுலத்தார் B) பெருங்கடுங்கோ
C) ஓதலாந்தையார் D) பேயனார்
E) விடை தெரியவில்லை
198. 'விருத்தம் என்னும் ஒண்பாவிற்ரு உயர் கம்பன்' என கம்பரை பாராட்டியவர் யார்?
A) ஒட்டக்கூத்தர் B) புகழேந்தி
C) சேக்கிழார் D) பலபட்டடைச் சொக்கநாதப் புலவர்
E) விடை தெரியவில்லை



199. கோவை, உலா மற்றும் அந்தாதி பாட வல்லவர் யார்?
- A) புகழேந்தி
B) சயங்கொண்டார்
C) ஓட்டக்கூத்தன்
D) திருத்தக்கத் தேவர்
E) விடை தெரியவில்லை
200. “எத்துணையும் பேதமுறாது எவ்வுயிரும்
தம்முயிர் போல் எண்ணி உள்ளே” என்று பாடியவர் யார்?
- A) இராமலிங்க அடிகளார்
B) கம்பர்
C) சேக்கிழார்
D) ஆண்டாள்
E) விடை தெரியவில்லை

* * * * *

Question Booklet No.:



SHANKAR
IAS ACADEMYTM
Best Academy for Civil Services Exam Coaching

CCS2E/2024

Register Number

--	--	--	--	--	--	--	--	--	--

2024**Test – 21**

GENERAL STUDIES / பொது அறிவு
(Degree Standard/பட்டப்படிப்பு தரம்)

Duration : Three Hours]

[Total Marks: 300

Read the following instructions carefully before you begin to answer the questions.

IMPORTANT INSTRUCTIONS

1. You will be supplied with this question booklet 15 minutes prior to the commencement of the examination.
2. This question booklet contains **200** questions. Before answering the questions, you shall check whether all the questions are printed serially and ensure that there are no blank pages in the questions booklet. **If any defect is noticed in the question booklet, it shall be reported to the invigilator within the first 10 minutes and get it replaced with a complete question booklet. If the defect is reported after the commencement of the examination, it will not be replaced.**
3. Answer all the questions. All the questions carry equal marks.
4. You must write your register number in the space provided on the top right side of this page. Do not write anything else on the question booklet.
5. An answer sheet will be supplied to you separately by the room invigilator to shade the answers. Instructions regarding filling of answers etc. which are to be followed mandatorily, are provided in the answer sheet and in the memorandum of admission Hall Ticket)
6. You shall write and shade your question booklet number in the space provided on page one of the answer sheet with **BLACK INK BALL POINT PEN**. If you do not shade correctly or fail to shade the question booklet number, your answer sheet will be invalidated.
7. Each question comprises of five responses (answers) : i.e. A), (B), C), D) and (E). You have to select **ONLY ONE** correct answer from A) or B) or C) or D) and shade the same in your answer sheet. If you feel that there are more than one correct answer, shade the one which you consider the best. **If you do not know the answer, you have to mandatorily shade (E)**. In any case, choose **ONLY ONE** answer for each question. If you shade more than one answer for a question, it will be treated as a wrong answer even if one of the given answers happens to be correct.
8. You should not remove or tear off any sheet from this question booklet. You are not allowed to take this question booklet and the answer sheet out of the examination room during the time of the examination. After the examination, you must hand over your answer sheet to the invigilator. You are allowed to take the question booklet with you only after the examination is over.
9. **You should not make any marking in the question booklet except in the sheets before the last page of the question booklet, which can be used for rough work. This should be strictly adhered to.**
10. In all matters, the English version is final.
11. Failure to comply with any of the above instructions will render you liable for such action as the Commission may decide at their discretion.

↪

[Turn over



Part B — General Studies (Degree Standard)

பகுதி - ஆ — பொது அறிவு (பட்டப்படிப்பு தரம்)

வினாக்கள் : 1-200

மொத்த மதிப்பெண்கள் : 300

Test 21

Questions : 1-200

Total Marks : 300

1. Which one is not added by 1st Amendment Act, 1951 ?

- A) Articles 31A and 31B
- B) Ninth Schedule
- C) Article 15(4) and Article 16(4)
- D) Article 45
- E) Answer not known

1951ல் முதலாவது திருத்த சட்டத்தால் சேர்க்கப்படாதது எது?

- A) சரத்துகள் 31A மற்றும் 31B
- B) ஒன்பதாவது அட்டவணை
- C) சரத்து 15(4) மற்றும் சரத்து 16(4)
- D) சரத்து 45
- E) விடை தெரியவில்லை

2. Match List-I with List-II.

List-I
(Article)

List-II
(Deals with)

- | | |
|--------------|---|
| a) 15 (1) | 1. No restriction for use of public wells |
| b) 15 (2)(b) | 2. State make Special provision for women |
| c) 15 (3) | 3. State should not discriminate any citizen |
| d) 15 (4) | 4. No restriction for access to public restaurants |
| e) 15(2)(a) | 5. Advancement of socially and educationally backward classes |

Codes:

- | | a | b | c | d | e |
|----|----------|----------|----------|----------|----------|
| A) | 5 | 4 | 2 | 3 | 1 |
| B) | 3 | 1 | 2 | 5 | 4 |
| C) | 5 | 2 | 4 | 3 | 1 |
| D) | 3 | 2 | 1 | 5 | 4 |

E) Answer not known

பட்டியல்-Iஐ பட்டியல்-II உடன் பொருத்துக.

பட்டியல்-I

பட்டியல்-II

(சரத்து)

(அதனுடன் தொடர்புடையது)

- | | |
|--------------|---|
| a) 15 (1) | 1. பொதுக் கிணறுகளைப் பயன்படுத்த எந்தத் தடையும் இல்லை |
| b) 15 (2)(b) | 2. பெண்களுக்கான சிறப்பு ஏற்பாடுகளை அரசு செய்கிறது |
| c) 15 (3) | 3. அரசு எந்த குடிமகனையும் பாகுபாடு காட்டக் கூடாது |
| d) 15 (4) | 4. பொது உணவகங்களை அணுகுவதற்கு எந்தத் தடையும் இல்லை |
| e) 15(2)(a) | 5. சமூக மற்றும் கல்வி ரீதியாக பின்தங்கிய வகுப்பினரின் முன்னேற்றம் |



குறியீடுகள்:

- | | a | b | c | d | e |
|----|----------|----------|----------|----------|----------|
| A) | 5 | 4 | 2 | 3 | 1 |
| B) | 3 | 1 | 2 | 5 | 4 |
| C) | 5 | 2 | 4 | 3 | 1 |
| D) | 3 | 2 | 1 | 5 | 4 |
- E) விடை தெரியவில்லை

3. Consider the following statements.

- I. President can reject the money bill
II. President cannot enjoy any veto over Constitutional Amendment Bill.
Which of the statements given above is/are incorrect?

- A) I only
B) II only
C) Both I and II
D) Neither I nor II
E) Answer not known

பின்வரும் கூற்றுகளைக் கருத்தில் கொள்க

- I. குடியரசுத்தலைவர் பண மசோதாவை நிராகரிக்க முடியும்
II. அரசியலமைப்பு திருத்த மசோதா மீது குடியரசுத்தலைவருக்கு எந்த வீட்டோ அதிகாரமும் கிடையாது

மேற்கண்ட கூற்றுகளில் தவறானது எது/எவை?

- A) I மட்டும்
B) II மட்டும்
C) இரண்டும்
D) இரண்டுமில்லை
E) விடை தெரியவில்லை

4. Joint sittings can be held for which of the following?

- I. Ordinary Bill
II. Constitutional Amendment Bill.
III. Money Bill

Codes:

- A) I only
B) II only
C) I and II only
D) I and III only
E) Answer not known

பின்வருவனவற்றில் எதற்காக கூட்டுக் கூட்டங்கள் நடத்தப்படலாம் ?

- I. சாதாரண மசோதா
II. அரசியலமைப்பு திருத்த மசோதா.
III. பண மசோதா

குறியீடுகள்:

- A) I மட்டும்
B) II மட்டும்
C) I மற்றும் II மட்டும்
D) I மற்றும் III மட்டும்
E) விடை தெரியவில்லை



5. Which is amended by a special majority of parliament and consent of states ?
- Directive Principles of State Policy
 - Election of the President
 - Lists in 7th Schedule
 - Official Language
 - Elections to state Legislature

Codes:

- | | |
|----------------------------|------------------------|
| A) I , II and IV only | B) II, III and IV only |
| C) II , III, IV and V only | D) II and III only |
| E) Answer not known | |

பாராளுமன்றத்தின் சிறப்பு பெரும்பான்மை மற்றும் மாநிலங்களின் ஒப்புதலால் திருத்தப்படுவது எது?

- அரசுக்கு வழிகாட்டும் நெறிமுறைக் கோட்பாடுகள்
- குடியரசுத் தலைவரின் தேர்தல்
- 7வது அட்டவணையிலுள்ள பட்டியல்கள்
- அலுவல் மொழி
- மாநில சட்டமன்றத் தேர்தல்கள்

குறியீடுகள்:

- | | |
|----------------------------------|-------------------------------|
| A) I, II மற்றும் IV மட்டும் | B) II, III மற்றும் IV மட்டும் |
| C) II, III, IV மற்றும் V மட்டும் | D) II மற்றும் III மட்டும் |
| E) விடை தெரியவில்லை | |

6. Who called DPSP as life giving provisions of the constitution ?

- | | |
|----------------------|-----------------------|
| A) Sir Ivor Jennings | B) Laxmi Mall Singhvi |
| C) K.C.Wheare | D) K.T.Shah |
| E) Answer not known | |

அரசுக்கு வழிகாட்டும் நெறிமுறைக் கோட்பாடுகளை அரசியலமைப்பின் உயிர் காக்கும் விதிகள் என்று அழைத்தவர் யார்?

- | | |
|------------------------|------------------------|
| A) சர் ஐவர் ஜென்னிங்ஸ் | B) லக்ஷ்மி மால் சிங்வி |
| C) KC வேர் | D) KT ஷா |
| E) விடை தெரியவில்லை | |

7. 106th Constitutional Amendment Bill, 2023 proposed to introduce which of the following articles ?

- | | |
|-----------------------|------------------------|
| A) 330A, 332A and 334 | B) 330A, 332A and 334A |
| C) 338B, 342A and 366 | D) 338B, 342 and 366 |
| E) Answer not known | |

106 வது அரசியலமைப்பு திருத்த மசோதா, 2023 பின்வரும் எந்தக் சரத்துகளை அறிமுகப்படுத்த முன்மொழியப்பட்டது ?

- | | |
|---------------------------|----------------------------|
| A) 330A, 332A மற்றும் 334 | B) 330A, 332A மற்றும் 334A |
| C) 338B, 342A மற்றும் 366 | D) 338B, 342 மற்றும் 366 |
| E) விடை தெரியவில்லை | |



8. Find out the incorrectly matched pair with respect to First Cabinet of Free India (1947).

(Members)

- A) Maulana Abul Kalam Azad
B) Dr John Mathai
C) Sardar Surjeet Singh
D) Dr.Rajendraprasad
E) Answer not known

(Port folios held)

- Education
– Railways and Transport
– Labour
– Food and Agriculture

சுதந்திர இந்தியாவின் முதல் அமைச்சரவை (1947) தொடர்பாக தவறாகப் பொருந்தியுள்ள இணையைக் கண்டறியவும்.

(உறுப்பினர்கள்)

- A) மௌலானா அபுல் கலாம் ஆசாத்
B) டாக்டர் ஜான் மத்தாய்
C) சர்தார் சுர்ஜித் சிங்
D) டாக்டர் இராஜேந்திரபிரசாத்
E) விடை தெரியவில்லை

(பதவி வகித்த இலாகாக்கள்)

- கல்வி
– இரயில்வே மற்றும் போக்குவரத்து
– தொழிலாளர்
– உணவு மற்றும் விவசாயம்

9. Match List-I with List-II.

List-I

- a) Commission of Inquiry Act
b) Central civil services (Conduct) Rules
c) Public Servants (Inquiries) Act
d) All India Service (Conduct) Rules

List-II

1. 1968
2. 1850
3. 1964
4. 1952

Codes:

- | | a | b | c | d |
|----|----------|----------|----------|----------|
| A) | 4 | 3 | 2 | 1 |
| B) | 2 | 1 | 3 | 4 |
| C) | 3 | 2 | 1 | 4 |
| D) | 4 | 2 | 3 | 1 |

- E) Answer not known

பட்டியல்-Iஐ பட்டியல்-II உடன் பொருத்துக.

பட்டியல்-I

- a) விசாரணை கமிஷன் சட்டம்
b) மத்திய சிவில் சர்வீசஸ் (நடத்தை) விதிகள்
c) பொது ஊழியர்கள் (விசாரணைகள்) சட்டம்
d) அகில இந்திய பணி (நடத்தை) விதிகள்

பட்டியல்-II

1. 1968
2. 1850
3. 1964
4. 1952

குறியீடுகள்:

- | | a | b | c | d |
|----|----------|----------|----------|----------|
| A) | 4 | 3 | 2 | 1 |
| B) | 2 | 1 | 3 | 4 |
| C) | 3 | 2 | 1 | 4 |
| D) | 4 | 2 | 3 | 1 |

- E) விடை தெரியவில்லை



10. Consider the following statements about Cantonment board
- I. It is setup under the provisions of the Cantonments Act of 2006
 - II. At present, there are 52 cantonment boards in the country.
 - III. It works under the administrative control of the Defence ministry of Central government.

Which of the statements given above is/are correct?

- A) I only
- B) I and II only
- C) I and III only
- D) All the above
- E) Answer not known

பாளைய வாரியம் பற்றிய பின்வரும் கூற்றுகளைக் கருத்தில் கொள்க

- I. இது 2006ஆம் ஆண்டின் பாளைய சட்டத்தின் விதிகளின் கீழ் அமைக்கப்பட்டுள்ளது
- II. தற்போது, நாட்டில் 52 பாளைய வாரியங்கள் உள்ளன.
- III. இது மத்திய அரசின் பாதுகாப்பு அமைச்சகத்தின் நிர்வாகக் கட்டுப்பாட்டின் கீழ் செயல்படுகிறது.

மேற்கண்ட கூற்றுகளில் சரியானது எது/எவை?

- A) I மட்டும்
- B) I மற்றும் II மட்டும்
- C) I மற்றும் III மட்டும்
- D) மேற்கண்ட அனைத்தும்
- E) விடை தெரியவில்லை

11. Consider the following statements.

Assertion (A) : Notified Area Committee is neither an elected body nor a statutory body

Reason (R) : All the members of a notified area committee including chairman are nominated by the governor.

Codes:

- A) Both (A) and (R) are true and (R) is the correct explanation of (A)
- B) Both (A) and (R) are true but (R) is not the correct explanation of (A)
- C) (A) is true but (R) is false
- D) (A) is false but (R) is true
- E) Answer not known

பின்வரும் கூற்றுகளைக் கருத்தில் கொள்க

கூற்று (A) : நகரியங்கள் தேர்ந்தெடுக்கப்பட்ட அமைப்போ அல்லது சட்டப்பூர்வமான அமைப்போ அல்ல

காரணம் (R) : நகரியங்களின் தலைவர் உட்பட அனைத்து உறுப்பினர்களும் ஆளுநரால் பரிந்துரைக்கப்படுகிறார்கள்.

குறியீடுகள்:

- A) (A) மற்றும் (R) இரண்டும் சரி மற்றும் (R) என்பது (A) இன் சரியான விளக்கம்
- B) (A) மற்றும் (R) இரண்டும் சரி ஆனால் (R) என்பது (A) இன் சரியான விளக்கம் அல்ல
- C) (A) சரி ஆனால் (R) தவறு
- D) (A) தவறு ஆனால் (R) சரி
- E) விடை தெரியவில்லை



12. Consider the following statements

- I. This Committee is constituted in 1988
- II. To consider "how best Panchayat Raj institutions could be made effective"
- III. This recommendations of the Committee became the basis for drafting an amendment bill aimed at conferring the constitutional status and protection to the Panchayat Raj institutions.

Which committee represents the above statements?

- A) GVK Rao Committee
- B) L.M.Singhvi Committee
- C) Gadgil Committee
- D) Thungon Committee
- E) Answer not known

பின்வரும் கூற்றுகளைக் கருத்தில் கொள்க

- I. இக்குழு 1988 ஆம் ஆண்டு அமைக்கப்பட்டது
- II. "சிறந்த பஞ்சாயத்து ராஜ் அமைப்புகளை எவ்வாறு திறம்பட செயல்பட வைப்பது" என்பது குறித்து பரிசீலித்தல்.
- III. இக்குழுவின் இந்தப் பரிந்துரைகள், ஊராட்சி அமைப்புகளுக்கு அரசியலமைப்புச் சட்ட அந்தஸ்து மற்றும் பாதுகாப்பு அளிக்கும் நோக்கத்துடன் ஒரு திருத்த சட்ட முன்வடிவை உருவாக்குவதற்கு அடிப்படையாக அமைந்தன.

மேற்கண்ட அறிக்கைகளை எந்தக் குழு குறிப்பிடுகிறது?

- A) GVK ராவ் குழு
- B) LM சிங்வி குழு
- C) காட்கில் குழு
- D) தூங்கான் குழு
- E) விடை தெரியவில்லை

13. Consider the following statements about Union Territories

- I. Union Territories (UT's) are federal territories and are administered by the Union Government of India.
- II. Parliament can make laws on any subject of three lists (7th Schedule) in relation to Union territories.

Which of the statements given above is/are correct?

- A) I only
- B) II only
- C) Both I and II
- D) Neither I nor II
- E) Answer not known

யூனியன் பிரதேசங்கள் பற்றிய பின்வரும் கூற்றுகளைக் கருத்தில் கொள்க

- I. கூட்டாட்சி பிரதேசங்களான யூனியன் பிரதேசங்கள் (UT's) இந்திய ஒன்றிய அரசால் நிர்வகிக்கப்படுகின்றன.
- II. யூனியன் பிரதேசங்கள் தொடர்பாக மூன்று பட்டியல்களில் (7வது அட்டவணை) உள்ள எந்த விஷயத்திலும் பாராளுமன்றம் சட்டங்களை இயற்றலாம்.

மேற்கண்ட கூற்றுகளில் சரியானது எது/எவை?

- A) I மட்டும்
- B) II மட்டும்
- C) இரண்டும்
- D) இரண்டுமில்லை
- E) விடை தெரியவில்லை



14. Find out the incorrectly matched pair.

(Acts)	(Year)
A) Protection of Civil Rights Act	– 1955
B) National Commission for Minorities Act	– 1992
C) SC and ST (Prevention of Atrocities) Act	– 1989
D) National Commission for Backward Classes Act	– 1998
E) Answer not known	

தவறாகப் பொருந்தியுள்ள இணையைக் கண்டறியவும்.

(சட்டங்கள்)	(ஆண்டு)
A) சிவில் உரிமைகள் பாதுகாப்பு சட்டம்	– 1955
B) சிறுபான்மையினருக்கான தேசிய ஆணையச் சட்டம்	– 1992
C) பட்டியலின மற்றும் பழங்குடியினர் (வன்கொடுமைகள் தடுப்பு) சட்டம்	– 1989
D) பிற்படுத்தப்பட்ட வகுப்பினருக்கான தேசிய ஆணையச் சட்டம்	– 1998
E) விடை தெரியவில்லை	

15. Which Article provides One High court for two or more states ?

A) Article 229	B) Article 231
C) Article 232	D) Article 233
E) Answer not known	

இரண்டு அல்லது அதற்கு மேற்பட்ட மாநிலங்களுக்கு ஒரு உயர் நீதிமன்றத்தை வழங்கும் சரத்து எது?

A) சரத்து 229	B) சரத்து 231
C) சரத்து 232	D) சரத்து 233
E) விடை தெரியவில்லை	

16. Consider the following statements

- I. The Proclamation of National emergency must be approved within one month by Parliament.
- II. It can be extended to only three years with an approval of the parliament for every six months.

Which of the statements given above is/are incorrect?

A) I only	B) II only
C) Both I and II	D) Neither I nor II
E) Answer not known	

பின்வரும் கூற்றுகளைக் கருத்தில் கொள்க

- I. தேசிய நெருக்கடி நிலை பிரகடனம் ஒரு மாதத்திற்குள் பாராளுமன்றத்தால் அங்கீகரிக்கப்பட வேண்டும்.
- II. இதனை ஒவ்வொரு ஆறு மாதங்களுக்கும் பாராளுமன்றத்தின் ஒப்புதலுடன் மூன்று ஆண்டுகளுக்கு மட்டுமே நீட்டிக்க முடியும்.

மேற்கண்ட கூற்றுகளில் தவறானது எது/எவை?

A) I மட்டும்	B) II மட்டும்
C) இரண்டும்	D) இரண்டுமில்லை
E) விடை தெரியவில்லை	



17. "I do not altogether deny that there is a possibility of the Articles being abused or employed for political purposes" – Who said this statement ?

- A) Alladi Krishnaswami
- B) Narendra Modi
- C) Ambedkar
- D) Jawaharlal Nehru
- E) Answer not known

"சட்டப்பிரிவுகள் துஷ்பிரயோகம் செய்யப்படவோ அல்லது அரசியல் நோக்கங்களுக்காகப் பயன்படுத்தப்படவோ வாய்ப்புள்ளது என்பதை நான் முற்றிலுமாக மறுக்கவில்லை" - இந்தக் கூற்றை யார் சொன்னது?

- A) அல்லாடி கிருஷ்ணசாமி
- B) நரேந்திர மோடி
- C) அம்பேத்கர்
- D) ஜவஹர்லால் நேரு
- E) விடை தெரியவில்லை

18. Consider the following statements

I. Comptroller and Auditor General of India is the head of the Indian Audit and Accounts department.

II. He holds office a period of 5 years or upto 65 years whichever is earlier.

Which of the statements given above is/are correct?

- A) I only
- B) II only
- C) Both I and II
- D) Neither I nor II
- E) Answer not known

பின்வரும் கூற்றுகளைக் கருத்தில் கொள்க

I. இந்தியத் தலைமைக் கணக்குத் தணிக்கையாளர் இந்தியத் தணிக்கைக் கணக்குத் துறையின் தலைவர் ஆவார்.

II. அவர் 5 ஆண்டுகள் அல்லது 65 வயது இவற்றில் எது முந்தியதோ அதுவரை அப்பதவியில் இருப்பார்.

மேற்கண்ட கூற்றுகளில் சரியானது எது/எவை?

- A) I மட்டும்
- B) II மட்டும்
- C) இரண்டும்
- D) இரண்டுமில்லை
- E) விடை தெரியவில்லை

19. Consider the following statements

I. Part V of the constitution has provisions about Attorney General of India.

II. He holds the office upto 5 years or upto 65 years which is earlier.

III. Attorney general falls in category of government servant and after the date of appointment he is debarred from private legal practice.

Which of the statements given above is/are correct?

- A) I only
- B) II only
- C) I and II only
- D) All the above
- E) Answer not known



பின்வரும் கூற்றுகளைக் கருத்தில் கொள்க

- I. அரசியலமைப்பின் ஐந்தாவது பகுதியில் இந்திய தலைமை வழக்குரைஞர் பற்றிய சரத்துக்கள் உள்ளன.
- II. அவர் 5 ஆண்டுகள் வரை அல்லது 65 வயது வரை அப்பதவியில் இருப்பார்.
- III. இந்திய தலைமை வழக்குரைஞர் அரசு ஊழியர் வகையைச் சேர்ந்தவர், மேலும் நியமனம் செய்யப்பட்ட நாளிலிருந்து அவர் தனியார் சட்ட நடைமுறையில் இருந்து விலக்கப்படுகிறார்..

மேற்கண்ட கூற்றுகளில் சரியானது எது/எவை?

- A) I மட்டும்
- B) II மட்டும்
- C) I மற்றும் II மட்டும்
- D) மேற்கண்ட அனைத்தும்
- E) விடை தெரியவில்லை

20. Find out the correctly matched pair.

(Schedules)

(Subject Matter)

- | | |
|-------------------------|---------------------|
| A) Part V Chapter III | - Parliament |
| B) Part VI Chapter V | - The High court |
| C) Part IX-A | - Panchayats |
| D) Part XII Chapter III | - Right to Property |
| E) Answer not known | |

சரியாக பொருந்தியுள்ள இணையைக் கண்டறியவும்.

(அட்டவணைகள்)

(பொருள்)

- | | |
|-----------------------------|-------------------|
| A) பகுதி V அத்தியாயம் III | - பாராளுமன்றம் |
| B) பகுதி VI அத்தியாயம் V | - உயர் நீதிமன்றம் |
| C) பகுதி IX-A | - பஞ்சாயத்துகள் |
| D) பகுதி XII அத்தியாயம் III | - சொத்துரிமை |
| E) விடை தெரியவில்லை | |

21. Consider the following statements.

Assertion (A) : The Preamble is neither a source of power to legislature nor a prohibition upon the powers of legislature.

Reason (R) : It is non-justiciable, provisions are not enforceable in courts of law.

Codes:

- A) Both (A) and (R) are true and (R) is the correct explanation of (A)
- B) Both (A) and (R) are true but (R) is not the correct explanation of (A)
- C) (A) is true but (R) is false
- D) (A) is false but (R) is true
- E) Answer not known

பின்வரும் கூற்றுகளைக் கருத்தில் கொள்க

கூற்று (A) : முகவுரையானது சட்டமன்றத்திற்கான அதிகாரத்தின் மூலமாகவோ அல்லது சட்டமன்றத்தின் அதிகாரங்கள் மீதான தடையாகவோ இல்லை.

காரணம் (R) : இது நீதிபரிபாலன தன்மையற்றது, நீதிமன்றங்களில் விதிகள் செயல்படுத்தப்படாது.



குறியீடுகள்:

- A) (A) மற்றும் (R) இரண்டும் சரி மற்றும் (R) என்பது (A) இன் சரியான விளக்கம்
B) (A) மற்றும் (R) இரண்டும் சரி ஆனால் (R) என்பது (A) இன் சரியான விளக்கம் அல்ல
C) (A) சரி ஆனால் (R) தவறு
D) (A) தவறு ஆனால் (R) சரி
E) விடை தெரியவில்லை

22. After which date, a person who born outside India shall not be a citizen of India by descent, unless his birth is registered at an Indian consulate within one year of the date of birth ?

- A) Jan 26 1950
B) Dec 3 2004
C) Dec 10 1992
D) Aug 15 1947
E) Answer not known

எந்த தேதிக்குப் பிறகு, இந்தியாவுக்கு வெளியே பிறந்த ஒருவர், பிறந்த தேதியிலிருந்து ஒரு வருடத்திற்குள் இந்திய துணைத் தூதரகத்தில் அவரது பிறப்பு பதிவு செய்யப்படாவிட்டால், அவர் வம்சாவளியில் இந்தியக் குடிமகனாக இருக்க மாட்டார்?

- A) ஜனவரி 26 1950
B) டிசம்பர் 3 2004
C) டிசம்பர் 10 1992
D) ஆகஸ்ட் 15 1947
E) விடை தெரியவில்லை

23. Consider the following statements about qualifications of District judge.

- I. He should not be in the service of central or state government
II. He should have been an advocate for 5 years
III. He should be recommended by the High court for appointment

Which of the statements given above is/are correct?

- A) I only
B) I and II only
C) I and III only
D) All the above
E) Answer not known

மாவட்ட நீதிபதியின் தகுதிகள் பற்றிய பின்வரும் கூற்றுகளைக் கருத்தில் கொள்க

- I. அவர் மத்திய அல்லது மாநில அரசுப் பணியில் இருக்கக் கூடாது
II. அவர் 5 ஆண்டுகள் வழக்கறிஞராக இருந்திருக்க வேண்டும்
III. அவரை நியமனம் செய்ய உயர்நீதிமன்றம் பரிந்துரை செய்ய வேண்டும்
மேற்கண்ட கூற்றுகளில் சரியானது எது/எவை?

- A) I மட்டும்
B) I மற்றும் II மட்டும்
C) I மற்றும் III மட்டும்
D) மேற்கண்ட அனைத்தும்
E) விடை தெரியவில்லை

24. Who is not eligible for getting free legal services ?

- A) Person in custody
B) Disabled persons
C) Corporate Entities
D) Person whose annual income does not exceed ₹1 Lakh
E) Answer not known



இலவச சட்ட சேவைகளைப் பெற யார் தகுதியற்றவர்கள்?

- A) காவலில் உள்ள நபர்
- B) ஊனமுற்ற நபர்கள்
- C) கார்ப்பரேட் நிறுவனங்கள்
- D) ஆண்டு வருமானம் ₹1 லட்சத்திற்கு மிகாமல் உள்ள நபர்
- E) விடை தெரியவில்லை

25. Consider the following statements

- I. Lok Adalat means People Court
 - II. This system is based on Marxism principles.
 - III. No appeal shall lie to any court against the award of Lok Adalat
- Which of the statements given above is/are correct?

- A) I only
- B) I and II only
- C) I and III only
- D) All the above
- E) Answer not known

பின்வரும் கூற்றுகளைக் கருத்தில் கொள்க

- I. லோக் அதாலத் என்றால் மக்கள் நீதிமன்றம்
 - II. இந்த அமைப்பு மார்க்சியக் கொள்கைகளை அடிப்படையாகக் கொண்டது.
 - III. லோக் அதாலத் தீர்ப்புக்கு எதிராக எந்த நீதிமன்றத்திலும் மேல்முறையீடு செய்யக்கூடாது
- மேற்கண்ட கூற்றுகளில் சரியானது எது/எவை?

- A) I மட்டும்
- B) I மற்றும் II மட்டும்
- C) I மற்றும் III மட்டும்
- D) மேற்கண்ட அனைத்தும்
- E) விடை தெரியவில்லை

26. Consider the following statements

- I. Lokpal and Lokayukta Act, 2014 established Lokpal for Union and Lokayukta for States.
 - II. These institutions are non statutory bodies with constitutional status.
- Which of the statements given above is/are correct?

- A) I only
- B) II only
- C) Both I and II
- D) Neither I nor II
- E) Answer not known

பின்வரும் கூற்றுகளைக் கருத்தில் கொள்க

- I. லோக்பால் மற்றும் லோக் ஆயுக்தா சட்டம், 2014, ஒன்றியங்களுக்கு லோக்பால் மற்றும் மாநிலங்களுக்கு லோக் ஆயுக்தா ஆகியவற்றை உருவாக்கியது.
 - II. இந்நிறுவனங்கள் சட்ட அந்தஸ்துடைய அமைப்புகள் அல்ல.
- மேற்கண்ட கூற்றுகளில் சரியானது எது/எவை?

- A) I மட்டும்
- B) II மட்டும்
- C) இரண்டும்
- D) இரண்டுமில்லை
- E) விடை தெரியவில்லை



27. Consider the following statements

- I. Gram Nyayalayas are established under the Gram Nyayalayas Act, 2008
II. Nyayadhikari is appointed by Governor

Which of the statements given above is/are incorrect?

- A) I only
B) II only
C) Both I and II
D) Neither I nor II
E) Answer not known

பின்வரும் கூற்றுகளைக் கருத்தில் கொள்க

- I. கிராம நியாயாலயங்கள், கிராம நியாயாலயங்கள் சட்டம், 2008ன் கீழ் நிறுவப்பட்டுள்ளன
II. நியாயாதிகாரி ஆளுநரால் நியமிக்கப்படுகிறார்

மேற்கண்ட கூற்றுகளில் தவறானது எது/எவை?

- A) I மட்டும்
B) II மட்டும்
C) இரண்டும்
D) இரண்டுமில்லை
E) விடை தெரியவில்லை

28. Consider the following statements

- I. GST Council is a statutory body.
II. GST Council recommendations are not binding on the government.

Which of the statements given above is/are incorrect?

- A) I only
B) II only
C) Both I and II
D) Neither I nor II
E) Answer not known

பின்வரும் கூற்றுகளைக் கருத்தில் கொள்க

- I. ஜிஎஸ்டி கவுன்சில் ஒரு சட்டப்பூர்வ அமைப்பு.
II. ஜிஎஸ்டி கவுன்சிலின் பரிந்துரைகள் அரசைக் கட்டுப்படுத்தாது.

மேற்கண்ட கூற்றுகளில் தவறானது எது/எவை?

- A) I மட்டும்
B) II மட்டும்
C) இரண்டும்
D) இரண்டுமில்லை
E) விடை தெரியவில்லை

29. Consider the following statements

- I. Article 280 provides for Finance Commission as quasi judicial body
II. Its recommendations are binding on the government
III. Members of Finance Commission are not eligible for reappointment

Which of the statements given above is/are correct?

- A) I only
B) I and II only
C) I and III only
D) All the above
E) Answer not known

பின்வரும் கூற்றுகளைக் கருத்தில் கொள்க

- I. சரத்து 280, நிதி ஆணையத்தை நீதித்துறை சார்புடைய அமைப்பாக செயல்பட வழிவகை செய்கிறது
II. அதன் பரிந்துரைகள் அரசைக் கட்டுப்படுத்தும்
III. நிதி ஆணைய உறுப்பினர்கள் மறு நியமனத்திற்கு தகுதியற்றவர்கள்



மேற்கண்ட கூற்றுகளில் சரியானது எது/எவை?

- A) I மட்டும்
- B) I மற்றும் II மட்டும்
- C) I மற்றும் III மட்டும்
- D) மேற்கண்ட அனைத்தும்
- E) விடை தெரியவில்லை

30. Consider the following statements

- I. Advocate General of state falls in Chapter II of Part VI
- II. Article 194 deals with powers privileges and immunities of Advocate General
- III. He does not have a right to vote in state legislature

Which of the statements given above are correct?

- A) I and II only
- B) I and III only
- C) II and III only
- D) All the above
- E) Answer not known

பின்வரும் கூற்றுகளைக் கருத்தில் கொள்க

- I. மாநிலத்தின் தலைமை வழக்குரைஞர் பகுதி VI இன் இரண்டாவது அத்தியாயத்தில் வருகிறது
- II. சரத்து 194 தலைமை வழக்குரைஞரின் அதிகார சிறப்புரிமைகள் மற்றும் விலக்குகள் பற்றிக் கூறுகிறது
- III. அவருக்கு மாநில சட்டமன்றத்தில் வாக்களிக்கும் உரிமை இல்லை

மேற்கண்ட கூற்றுகளில் சரியானவை எவை?

- A) I மற்றும் II மட்டும்
- B) I மற்றும் II I மட்டும்
- C) II மற்றும் III மட்டும்
- D) மேற்கண்ட அனைத்தும்
- E) விடை தெரியவில்லை

31. Which Year's Amendment reduced the voting age from 21 years to 18 years for Lok Sabha as well as assembly elections ?

- A) Amendment passed in 2000
- B) Amendment passed in 1996
- C) Amendment passed in 1988
- D) None of the above
- E) Answer not known

எந்த ஆண்டு மேற்கொள்ளப்பட்ட சட்டத் திருத்தம் மக்களவை மற்றும் சட்டமன்றத் தேர்தல்களில் வாக்களிக்கும் வயதை 21 வயதிலிருந்து 18 ஆகக் குறைத்தது

- A) 2000 இல் நிறைவேற்றப்பட்ட சட்டத் திருத்தம்
- B) 1996 இல் நிறைவேற்றப்பட்ட சட்டத் திருத்தம்
- C) 1988 இல் நிறைவேற்றப்பட்ட சட்டத் திருத்தம்
- D) மேற்கண்ட எதுவுமில்லை
- E) விடை தெரியவில்லை



32. In Which case, Supreme court held that even in cases where individuals are accused of serious offenses such as sedition, their rights must be respected and law enforcement agencies must act within the bounds of the law ?

- A) Indra Nehru Gandhi Case 1975
- B) Minera Mills Case 1980
- C) Bhim Singhji Case 1981
- D) S.R.Bomma Case 1994
- E) Answer not known

எந்த வழக்கில், தேசத்துரோகம் போன்ற கடுமையான குற்றங்களில் தனிநபர்கள் குற்றம் சாட்டப்பட்ட வழக்குகளில் கூட, அவர்களின் உரிமைகள் மதிக்கப்பட வேண்டும் மற்றும் சட்ட அமலாக்க நிறுவனங்கள் சட்டத்தின் வரம்புகளுக்கு உட்பட்டு செயல்பட வேண்டும் என்று உச்ச நீதிமன்றம் கூறியது?

- A) இந்திரா நேரு காந்தி வழக்கு 1975
- B) மினர்வா மில்ஸ் வழக்கு 1980
- C) பீம் சிங்ஜி வழக்கு 1981
- D) SR பொம்மை வழக்கு 1994
- E) விடை தெரியவில்லை

33. Consider the following Statements about preamble

- I. Preamble is the "Key note to the Constitution"
- II. Indian Constitution is a Cooperative Federalism
- III. DPSP and FR are the conscience of the Constitution
- IV. DPSP is a 'novel feature' of Indian Constitution.

Which of the following Personality have not stated any of these statements ?

- A) B.R.Ambedkar
- B) Granville Austin
- C) Sir Ernest Barker
- D) K.C.Wheare
- E) Answer not known

முகவுரைப் பற்றிய கூற்றுகளைக் கருத்தில் கொள்க

- I. முகவுரை "அரசியலமைப்பின் முக்கிய குறிப்பு" ஆகும்
- II. இந்திய அரசியலமைப்பு ஒரு கூட்டுறவு கூட்டாட்சி முறை ஆகும்
- III. அரசுக்கு வழிகாட்டும் நெறிமுறைக் கோட்பாடுகள் மற்றும் அடிப்படை உரிமைகள் ஆகியவை அரசியலமைப்பின் மனசாட்சி ஆகும்
- IV. அரசின் நெறிமுறைக் கோட்பாடுகள் என்பது இந்திய அரசியலமைப்பின் ஒரு 'புதுமையான அம்சம்' ஆகும்

பின்வரும் எந்த ஆளுமை இந்த கூற்றுகள் எதையும் கூறவில்லை?

- A) BR அம்பேத்கர்
- B) கிரான்வில் ஆஸ்டின்
- C) சர் எர்னஸ்ட் பார்கர்
- D) KC வீயர்
- E) விடை தெரியவில்லை

34. Which amendment made it compulsory for the president to give his assent to a Constitutional Amendment Bill ?

- A) 21st Amendment Act 1967
- B) 22nd Amendment Act 1969
- C) 23rd Amendment Act 1969
- D) 24th Amendment Act 1971
- E) Answer not known



அரசியலமைப்புத் திருத்த மசோதாவுக்கு குடியரசுத் தலைவர் தனது ஒப்புதலை வழங்குவதை எந்தத் திருத்தம் கட்டாயமாக்கியது?

- A) 21வது திருத்தச் சட்டம், 1967
B) 22வது திருத்தச் சட்டம், 1969
C) 23வது திருத்தச் சட்டம், 1969
D) 24வது திருத்தச் சட்டம், 1971
E) விடை தெரியவில்லை

35. Consider the following statements.

- I. A Gram Sabha is not necessarily formed in every Village Panchayat.
II. It is the only permanent unit in the Panchayat Raj System.
III. Those who have attained the age of 18 years and whose names are listed on the electoral roll of the same Panchayat can take part in a Grama Sabha meeting.

Which of the statements given above is/are incorrect?

- A) I only
B) II only
C) III only
D) I and II only
E) Answer not known

பின்வரும் கூற்றுகளைக் கருத்தில் கொள்க

- I. ஒவ்வொரு கிராம ஊராட்சியிலும் கிராம சபை அமைக்கப்பட வேண்டும் என்ற அவசியமில்லை.
II. ஊராட்சி அமைப்பில் இது மட்டுமே நிரந்தர அலகு ஆகும்.
III. 18 வயது நிரம்பியவர்கள் மற்றும் அதே ஊராட்சியின் வாக்காளர் பட்டியலில் பெயர் இடம் பெற்றவர்கள் கிராம சபை கூட்டத்தில் பங்கேற்கலாம்.

மேற்கண்ட கூற்றுகளில் தவறானது எது/எவை?

- A) I மட்டும்
B) II மட்டும்
C) III மட்டும்
D) I மற்றும் II மட்டும்
E) விடை தெரியவில்லை

36. Match List-I with List-II.

List-I
(Article)

- a) Article 243 B
b) Article 243 D
c) Article 243 K
d) Article 243 I

List-II

(Provisions)

1. Reservation of Seats
2. Elections to Panchayat
3. State Finance Commission
4. Constitution of Panchayats

Codes:

- | | a | b | c | d |
|----|----------|----------|----------|----------|
| A) | 4 | 2 | 3 | 1 |
| B) | 2 | 1 | 3 | 4 |
| C) | 3 | 2 | 1 | 4 |
| D) | 4 | 1 | 2 | 3 |

E) Answer not known



பட்டியல்-Iஐ பட்டியல்-II உடன் பொருத்துக

பட்டியல்-I

(சரத்து)

- a) சரத்து 243 B
b) சரத்து 243 D
c) சரத்து 243 K
d) சரத்து 243 I

பட்டியல்-II

(விதிமுறைகள்)

1. இட ஒதுக்கீடு
2. பஞ்சாயத்துக்கான தேர்தல்கள்
3. மாநில நிதி ஆணையம்
4. பஞ்சாயத்துகளை அமைத்தல்

குறியீடுகள்:

	a	b	c	d
A)	4	2	3	1
B)	2	1	3	4
C)	3	2	1	4
D)	4	1	2	3
E)	விடை தெரியவில்லை			

37. Which of the following are the features of federalism?

- I. Multiple Tiers of Government.
II. Different levels of government have their own jurisdiction over specific areas of legislation, taxation, and administration.
III. The constitution guarantees the existence and authority of each tier of government.

Codes:

- A) I and II only
B) II and III only
C) I and III only
D) All the above
E) Answer not known

பின்வருவனவற்றில் கூட்டாட்சியின் அம்சங்கள் யாவை?

- I. அரசாங்கத்தின் பல அடுக்குகள்.
II. அரசாங்கத்தின் வெவ்வேறு நிலைகள் சட்டமியற்றுதல், வரிவிதித்தல் மற்றும் நிர்வாகம் ஆகியவற்றின் குறிப்பிட்ட பகுதிகளில் தங்கள் சொந்த அதிகார வரம்பைக் கொண்டுள்ளன
III. அரசியலமைப்பு, அரசாங்கத்தின் ஒவ்வொரு அடுக்கின் இருப்புக்கும் அதிகாரத்திற்கும் உத்தரவாதம் அளிக்கிறது.

குறியீடுகள்:

- A) I மற்றும் II மட்டும்
B) II மற்றும் III மட்டும்
C) I மற்றும் III மட்டும்
D) மேற்கண்ட அனைத்தும்
E) விடை தெரியவில்லை

38. Consider the following statements.

- I. Tamilnadu is the first state to give 50% reservation for Women in Panchayat Raj institutions.
II. As per the Tamil Nadu Panchayats (Amendment) Act, 2006, 50% reservation for women is being fixed in Panchayat Raj institutions.



Which of the statements given above is/are correct?

- A) I only
B) II only
C) Both I and II
D) Neither I nor II
E) Answer not known

பின்வரும் கூற்றுகளைக் கருத்தில் கொள்க

I. பஞ்சாயத்து ராஜ் அமைப்புகளில் பெண்களுக்கு 50% இடஒதுக்கீடு வழங்கிய முதல் மாநிலம் தமிழ்நாடு.

II. தமிழ்நாடு பஞ்சாயத்துகள் (திருத்தம்) சட்டம், 2006 இன் படி, பஞ்சாயத்து ராஜ் நிறுவனங்களில் பெண்களுக்கு 50% இட ஒதுக்கீடு நிர்ணயிக்கப்படுகிறது.

மேற்கண்ட கூற்றுகளில் சரியானது எது/எவை?

- A) I மட்டும்
B) II மட்டும்
C) இரண்டும்
D) இரண்டுமில்லை
E) விடை தெரியவில்லை

39. Consider the following statements.

I. UK is the first country to allow women to vote (1893).

II. Women in India were granted the right to vote from its first general election itself.

III. In India, all the people above 18 years of age enjoy Universal Adult Franchise.

Which of the statements given above is/are correct?

- A) I and II only
B) II and III only
C) I and III only
D) All the above
E) Answer not known

பின்வரும் கூற்றுகளைக் கருத்தில் கொள்க

I. ஐக்கிய இராச்சியமானது பெண்களை வாக்களிக்க அனுமதித்த முதல் நாடு (1893)ஆகும்

II. இந்தியாவில் பெண்களுக்கு அதன் முதல் பொதுத் தேர்தலிலேயே வாக்களிக்கும் உரிமை வழங்கப்பட்டது.

III. இந்தியாவில், 18 வயதுக்கு மேற்பட்ட அனைத்து மக்களும் வயது வந்தோருக்கான வாக்குரிமையை பெறுகிறார்கள்.

மேற்கண்ட கூற்றுகளில் சரியானவை எவை?

- A) I மற்றும் II மட்டும்
B) II மற்றும் III மட்டும்
C) I மற்றும் III மட்டும்
D) மேற்கண்ட அனைத்தும்
E) விடை தெரியவில்லை

40. Consider the following statements.

Assertion (A) : April 24 is celebrated as National Panchayat Raj Day.

Reason (R) : The first Panchayat Raj in India was inaugurated in Nagaur on April 24, 1959.

Codes:

- A) Both (A) and (R) are true and (R) is the correct explanation of (A)
B) Both (A) and (R) are true but (R) is not the correct explanation of (A)
C) (A) is true but (R) is false
D) (A) is false but (R) is true
E) Answer not known



பின்வரும் கூற்றுகளைக் கருத்தில் கொள்க

கூற்று (A) : ஏப்ரல் 24 ஆனது தேசிய பஞ்சாயத்து ராஜ் தினமாக கொண்டாடப்படுகிறது.

காரணம் (R) : இந்தியாவின் முதல் பஞ்சாயத்து ராஜ் ஏப்ரல் 24, 1959 அன்று நாகெளரில் தொடங்கப்பட்டது.

குறியீடுகள்:

- A) (A) மற்றும் (R) இரண்டும் சரி மற்றும் (R) என்பது (A) இன் சரியான விளக்கம்
B) (A) மற்றும் (R) இரண்டும் சரி ஆனால் (R) என்பது (A) இன் சரியான விளக்கம் அல்ல
C) (A) சரி ஆனால் (R) தவறு
D) (A) தவறு ஆனால் (R) சரி
E) விடை தெரியவில்லை

41. Which of the following articles gives minorities the right to establish minority educational institutions?

- A) Article 19
B) Article 21-A
C) Article 29
D) Article 30
E) Answer not known

சிறுபான்மையினருக்கு சிறுபான்மை கல்வி நிறுவனங்களை நிறுவுவதற்கான உரிமையை பின்வரும் சரத்துகளில் எது வழங்குகிறது?

- A) சரத்து 19
B) சரத்து 21-A
C) சரத்து 29
D) சரத்து 30
E) விடை தெரியவில்லை

42. Consider the following statements regarding Secularism:

- I. The term secularism is derived from the Latin word
II. Article 25 - 28 of the Indian Constitution deals with Freedom of religion
III. Secularism means an attitude of intolerance towards other religions.

Which of the statements given above are correct?

- A) I and II only
B) II and III only
C) I and III only
D) All the above
E) Answer not known

மதச்சார்பின்மை பற்றிய பின்வரும் கூற்றுகளைக் கருத்தில் கொள்க:

- I. மதச்சார்பின்மை என்ற சொல் இலத்தீன் வார்த்தையிலிருந்து பெறப்பட்டது
II. இந்திய அரசியலமைப்புச் சட்டத்தின் சரத்து 25 - 28 மதச் சுதந்திரத்தைப் பற்றியது
III. மதச்சார்பின்மை என்பது மற்ற மதங்களுக்கு எதிரான சகிப்புத்தன்மையற்ற அணுகுமுறை ஆகும்

மேற்கண்ட கூற்றுகளில் சரியானவை எவை?

- A) I மற்றும் II மட்டும்
B) II மற்றும் III மட்டும்
C) I மற்றும் III மட்டும்
D) மேற்கண்ட அனைத்தும்
E) விடை தெரியவில்லை



43. Which of the following Constitutional amendments is related to Fundamental Duties?

- A) 86th Amendment Act
B) 52th Amendment Act
C) 44th Amendment Act
D) 84th Amendment Act
E) Answer not known

பின்வரும் அரசியலமைப்புத் திருத்தங்களில் எது அடிப்படைக் கடமைகளுடன் தொடர்புடையது?

- A) 86வது திருத்தச் சட்டம்
B) 52வது திருத்தச் சட்டம்
C) 44வது திருத்தச் சட்டம்
D) 84வது திருத்தச் சட்டம்
E) விடை தெரியவில்லை

44. Consider the following statements regarding Lok Sabha sessions:

- I. According to the Constitution of India, there must be a minimum of two sessions of the Lok Sabha each year.
II. According to Article 85 of the Indian Constitution, there should not be a gap of more than six months between two sessions of Parliament.

Which of the statements given above is/are incorrect?

- A) I only
B) II only
C) Both I and II
D) Neither I nor II
E) Answer not known

மக்களவை அமர்வுகள் தொடர்பான பின்வரும் கூற்றுகளைக் கருத்தில் கொள்க

- I. இந்திய அரசியலமைப்புச் சட்டத்தின்படி, ஒவ்வொரு ஆண்டும் மக்களவையில் குறைந்தபட்சம் இரண்டு அமர்வுகள் இருக்க வேண்டும்.
II. இந்திய அரசியலமைப்புச் சட்டத்தின் 85வது சரத்தின்படி, நாடாளுமன்றத்தின் இரண்டு அமர்வுகளுக்கு இடையே ஆறு மாதங்களுக்கு மேல் இடைவெளி இருக்கக் கூடாது.

மேற்கண்ட கூற்றுகளில் தவறானது எது/எவை?

- A) I மட்டும்
B) II மட்டும்
C) இரண்டும்
D) இரண்டுமில்லை
E) விடை தெரியவில்லை

45. Which Fundamental Rights are available only to citizens and not to foreigners?

- I. Article 14
II. Article 15
III. Article 19
IV. Article 28

Codes:

- A) I, II and III only
B) II and III only
C) I and IV only
D) All the above
E) Answer not known

எந்த அடிப்படை உரிமைகள் குடிமக்களுக்கு மட்டுமே கிடைக்கும், வெளிநாட்டவர்களுக்கு இல்லை?

- I. சரத்து 14
II. சரத்து 15
III. சரத்து 19
IV. சரத்து 28



குறியீடுகள்:

- A) I, II மற்றும் III மட்டும்
B) II மற்றும் III மட்டும்
C) I மற்றும் IV மட்டும்
D) மேற்கண்ட அனைத்தும்
E) விடை தெரியவில்லை

46. Which of the following statement conveys that a country is considered as Secular one?

- A) Bans religious instructions in the state – aided educational institutions.
B) Establishes an official state religion.
C) Treats all religions equally without favoring any particular one.
D) Restricts the practice of certain religions.
E) Answer not known

ஒரு நாடு மதச்சார்பற்ற நாடாகக் கருதப்படுகிறது என்பதை பின்வரும் எந்த கூற்று தெரிவிக்கிறது?

- A) அரசின் உதவி பெறும் கல்வி நிறுவனங்களில் மதக் கல்வி கற்பிப்பதைத் தடை செய்தல்.
B) அதிகாரப்பூர்வ அரசு மதத்தை நிறுவுதல்.
C) எந்தவொரு குறிப்பிட்ட மதத்தையும் ஆதரிக்காமல் அனைத்து மதங்களையும் சமமாக நடத்துகிறது.
D) சில மதங்களின் நடைமுறையை கட்டுப்படுத்துகிறது
E) விடை தெரியவில்லை

47. Who made the statement, "India will be a land of many faiths, equally honoured and respected, but of one national outlook"?

- A) Dr. B.R. Ambedkar
B) Mahatma Gandhi
C) Jawaharlal Nehru
D) Maulana Abul Kalam Azad
E) Answer not known

“இந்தியா பல நம்பிக்கைகளைக் கொண்ட நாடாக இருக்கும், சமமாக மதிக்கப்படும், கௌரவிக்கப்படும், ஆனால் ஒரே தேசிய கண்ணோட்டத்தைக் கொண்டிருக்கும்” என்ற கூற்றை கூறியவர் யார்?

- A) டாக்டர். BR அம்பேத்கர்
B) மகாத்மா காந்தி
C) ஜவஹர்லால் நேரு
D) மௌலானா அபுல் கலாம் ஆசாத்
E) விடை தெரியவில்லை

48. Match List-I with List-II.

- List-I**
(Constitutional Amendment)
a) 1st Amendment
b) 21st Amendment
c) 52nd Amendment
d) 73rd Amendment

- List-II**
(Related Schedule)
1. 8th Schedule
2. 9th Schedule
3. 10th Schedule
4. 11th Schedule

**Codes:**

- | | a | b | c | d |
|----|----------|----------|----------|----------|
| A) | 2 | 1 | 3 | 4 |
| B) | 4 | 3 | 2 | 1 |
| C) | 2 | 3 | 1 | 4 |
| D) | 4 | 1 | 2 | 3 |

E) Answer not known

பட்டியல்-Iஐ பட்டியல்-II உடன் பொருத்துக.

பட்டியல்-I**(அரசியலமைப்பு சட்டத் திருத்தம்)**

- 1வது சட்டத் திருத்தம்
- 21வது சட்டத் திருத்தம்
- 52வது சட்டத் திருத்தம்
- 73வது சட்டத் திருத்தம்

பட்டியல்-II**(தொடர்புடைய அட்டவணை)**

- 8வது அட்டவணை
- 9வது அட்டவணை
- 10வது அட்டவணை
- 11வது அட்டவணை

குறியீடுகள்:

- | | a | b | c | d |
|----|----------|----------|----------|----------|
| A) | 2 | 1 | 3 | 4 |
| B) | 4 | 3 | 2 | 1 |
| C) | 2 | 3 | 1 | 4 |
| D) | 4 | 1 | 2 | 3 |

E) விடை தெரியவில்லை

49. Consider the following statements regarding the Constitution Day of India:
- It is celebrated to commemorate the coming into effect of the Constitution of India.
 - The date of adoption of the Indian Constitution is specified in the Preamble.
- Which of the statements given above is/are incorrect?
- I only
 - II only
 - Both I and II
 - Neither I nor II
 - Answer not known

இந்தியாவின் அரசியலமைப்பு தினம் தொடர்பான பின்வரும் கூற்றுகளைக் கருத்தில் கொள்க:

I. இந்திய அரசியலமைப்புச் சட்டம் நடைமுறைக்கு வந்ததன் நினைவாக இது கொண்டாடப்படுகிறது.

II. இந்திய அரசியலமைப்பு ஏற்றுக்கொள்ளப்பட்ட தேதி முகவுரையில் குறிப்பிடப்பட்டுள்ளது.

மேற்கண்ட கூற்றுகளில் தவறானது எது/எவை?

- I மட்டும்
- II மட்டும்
- இரண்டும்
- இரண்டுமில்லை
- விடை தெரியவில்லை

50. Who stated that "the Indian Constitution is first and foremost a social document"?
- K.C Wheare
 - T.T Krishnamachari
 - Granville Austin
 - V.T Krishnamachari
 - Answer not known



"இந்திய அரசியலமைப்பு ஒரு முதன்மையாக சமூக ஆவணம்" என்று கூறியவர் யார்?

- A) KC வேர்
B) TT கிருஷ்ணமாச்சாரி
C) கிரான்வில் ஆஸ்டின்
D) VT கிருஷ்ணமாச்சாரி
E) விடை தெரியவில்லை

51. What is the significance of the S.R. Bommai v. Union of India case?

- A) It addressed the rights of minorities in educational institutions.
B) It established the procedure for the dissolution of the Lok Sabha
C) It clarified the scope and limitations of Article 356 of the Constitution.
D) It defined the powers of the Election Commission.
E) Answer not known

எஸ்.ஆர்.பொம்மை எதிர் இந்திய ஒன்றியம் வழக்கின் முக்கியத்துவம் என்ன?

- A) இது கல்வி நிறுவனங்களில் சிறுபான்மையினரின் உரிமைகளை எடுத்துரைத்தது.
B) மக்களவையை கலைப்பதற்கான நடைமுறையை இது நிறுவியது
C) அரசியலமைப்பின் 356-வது சரத்தின் நோக்கம் மற்றும் வரம்புகள் குறித்து தெளிவுபடுத்தியது.
D) இது தேர்தல் ஆணையத்தின் அதிகாரங்களை வரையறுத்துள்ளது.
E) விடை தெரியவில்லை

52. Consider the following statements.

- I. The constitution deals about citizenship from Article 5 to 10 under Part-II.
II. In India, both citizens by birth and naturalized citizens are eligible to hold the office of President.
III. Renunciation, Deprivation and Termination are the three ways of losing Indian citizenship
IV. Citizens and aliens enjoy all civil and political rights.

Which of the statements given above are correct?

- A) I, II and III only
B) II and III only
C) I and III only
D) II and IV only
E) Answer not known

பின்வரும் கூற்றுகளைக் கருத்தில் கொள்க.

- I. அரசியலமைப்பு பகுதி-II இன் கீழ் சரத்து 5 முதல் 10 வரை குடியரிமை பற்றிக் கூறுகிறது.
II. இந்தியாவில், பிறப்பின் மூலம் மற்றும் இயல்பூட்டுதல் மூலம் குடியரிமை பெற்ற இருவரும் குடியரசுத்தலைவர் பதவியை வகிக்க தகுதியுடையவர்கள்.
III. இந்திய குடியரிமையை இழப்பதற்கான மூன்று வழிகள் துறத்தல், இழக்கச் செய்தல் முடிவுக்கு கொண்டு வருதல்
IV. குடிமக்கள் மற்றும் வெளிநாட்டினர் அனைத்து உரிமையியல் மற்றும் அரசியல் உரிமைகளையும் அனுபவிக்கின்றனர்.

மேற்கண்ட கூற்றுகளில் சரியானவை எவை?

- A) I, II மற்றும் III மட்டும்
B) II மற்றும் III மட்டும்
C) I மற்றும் III மட்டும்
D) II மற்றும் IV மட்டும்
E) விடை தெரியவில்லை



53. According to the Right to Information Act, any information related to a person's life or liberty must be provided within?

- A) 24 hours
B) 30 hours
C) 48 hours
D) 36 hours
E) Answer not known

தகவல் அறியும் உரிமைச் சட்டத்தின்படி, ஒரு நபரின் வாழ்க்கை அல்லது சுதந்திரம் தொடர்பான எந்தத் தகவலும் எத்தனை மணிநேரத்தில் வழங்கப்பட வேண்டும்?

- A) 24 மணிநேரம்
B) 30 மணிநேரம்
C) 48 மணிநேரம்
D) 36 மணிநேரம்
E) விடை தெரியவில்லை

54. 105th Amendment Act made changes in which among the following Article?

- I. Article 342A
II. Article 366
III. Article 338B

Codes:

- A) I and II only
B) II and III only
C) I and III only
D) All the above
E) Answer not known

105வது சட்டத் திருத்தம் பின்வரும் எந்தப் சரத்தில் மாற்றங்களைக் கொண்டு வந்தது?

- I. சரத்து 342A
II. சரத்து 366
III. சரத்து 338B

குறியீடுகள்:

- A) I மற்றும் II மட்டும்
B) II மற்றும் III மட்டும்
C) I மற்றும் III மட்டும்
D) மேற்கண்ட அனைத்தும்
E) விடை தெரியவில்லை

55. Which of the following is not an exclusive power of Rajya Sabha?

- A) It can authorise the Parliament to establish new All-India Services
B) It can authorise the Parliament to make a law on a subject enumerated in the State List
C) It can act on its own to remove the vice president.
D) Introduce Money bill in the parliament.
E) Answer not known

பின்வருவனவற்றில் எது மாநிலங்களவையின் பிரத்தியேகமாக அதிகாரம் அல்ல?

- A) புதிய அகில இந்திய சேவைகளை நிறுவ பாராளுமன்றத்திற்கு அதிகாரம் அளிக்க முடியும்.
B) மாநிலப் பட்டியலில் பட்டியலிடப்பட்ட ஒரு துறையின் மீது சட்டம் இயற்றுவதற்கு பாராளுமன்றத்திற்கு அதிகாரம் அளிக்க முடியும்.
C) துணை குடியரசுத் தலைவரை நீக்குவதற்கு அது தன்னிச்சையாக செயல்பட முடியும்.
D) பாராளுமன்றத்தில் பண மசோதாவை அறிமுகப்படுத்த முடியும்.
E) விடை தெரியவில்லை



56. Which among the following cases declared that preamble is a part of the Constitution?

- I. Berubari Union Case 1960
- II. Kesavananda Bharati Case 1973
- III. LIC of India Case 1995

Codes:

- A) I and II only
- B) II and III only
- C) I and III only
- D) All the above
- E) Answer not known

கீழ்க்கண்ட வழக்குகளில் எது முன்னுரை, அரசியலமைப்பின் ஒரு பகுதி என்று அறிவித்தது?

- I. பெருபாரி யூனியன் வழக்கு 1960
- II. கேசவானந்த பாரதி வழக்கு 1973
- III. எல்ஐசி ஆஃப் இந்தியா வழக்கு 1995

குறியீடுகள்:

- A) I மற்றும் II மட்டும்
- B) II மற்றும் III மட்டும்
- C) I மற்றும் III மட்டும்
- D) மேற்கண்ட அனைத்தும்
- E) விடை தெரியவில்லை

57. Match List-I with List-II.

List-I

List-II

- | | |
|----------------|--|
| a) Article 129 | 1. Seat of Supreme court |
| b) Article 130 | 2. Power to punish for contempt of itself. |
| c) Article 141 | 3. Power of President to consult Supreme court. |
| d) Article 143 | 4. Law declared by Supreme Court to be binding on all courts |

Codes:

- | | a | b | c | d |
|----|----------|----------|----------|----------|
| A) | 1 | 2 | 3 | 4 |
| B) | 2 | 1 | 4 | 3 |
| C) | 3 | 2 | 1 | 4 |
| D) | 2 | 1 | 3 | 4 |

E) Answer not known

பட்டியல்-Iஐ பட்டியல்-II உடன் பொருத்துக.

பட்டியல்-I

பட்டியல்-II

- | | |
|---------------|--|
| a) சரத்து 129 | 1. உச்ச நீதிமன்றத்தின் இருக்கை |
| b) சரத்து 130 | 2. தன்னை அவமதித்ததற்காக தண்டிக்கும் அதிகாரம் |
| c) சரத்து 141 | 3. உச்ச நீதிமன்றத்தை கலந்தாலோசிக்கும் குடியரசுத் தலைவரின் அதிகாரம் |
| d) சரத்து 143 | 4. உச்சநீதிமன்றத்தால் அனைத்து நீதிமன்றங்களுக்கும் கட்டாயமானதாக அறிவிக்கப்பட்ட சட்டம் |



குறியீடுகள்:

- | | a | b | c | d |
|----|------------------|----------|----------|----------|
| A) | 1 | 2 | 3 | 4 |
| B) | 2 | 1 | 4 | 3 |
| C) | 3 | 2 | 1 | 4 |
| D) | 2 | 1 | 3 | 4 |
| E) | விடை தெரியவில்லை | | | |

58. Consider the following statements.

- I. Protection of Human Rights Act 1993 provides for both National and State level human rights commission.
- II. State Human Rights Commission can inquire violation of human rights only in the subjects of State list in seventh schedule.

Which of the statements given above is/are incorrect?

- A) I only
- B) II only
- C) Both I and II
- D) Neither I nor II
- E) Answer not known

பின்வரும் கூற்றுகளைக் கருத்தில் கொள்க.

- I. மனித உரிமைகள் பாதுகாப்புச் சட்டம், 1993 தேசிய மற்றும் மாநில அளவில் மனித உரிமைகள் ஆணையம் அமைக்க வேண்டும் என்று கூறுகிறது.
- II. மாநில மனித உரிமைகள் ஆணையம், ஏழாவது அட்டவணையில் உள்ள மாநிலப் பட்டியலில் உள்ள துறைகளில் மட்டுமே மனித உரிமை மீறல்களை விசாரிக்க முடியும்.

மேற்கண்ட கூற்றுகளில் தவறானது எது/எவை?

- A) I மட்டும்
- B) II மட்டும்
- C) இரண்டும்
- D) இரண்டுமில்லை
- E) விடை தெரியவில்லை

59. Arrange the following States in chronological order of their creation:

- I. Haryana
- II. Gujarat
- III. Uttarakhand
- IV. Telangana

Codes:

- A) I-II-III-IV
- B) I-II-IV-III
- C) II-I-III-IV
- D) II-I-IV-III
- E) Answer not known

பின்வரும் மாநிலங்களை அவற்றின் உருவாக்கத்தின் காலவரிசைப்படி வரிசைப்படுத்துக:

- I. ஹரியானா
- II. குஜராத்
- III. உத்தரகாண்ட்
- IV. தெலுங்கானா



குறியீடுகள்:

- A) I-II-III-IV
B) I-II-IV-III
C) II-I-III-IV
D) II-I-IV-III
E) விடை தெரியவில்லை

60. Which of the following provision comes under Article 359?

- A) Duty of the Union to protect States against external aggression and internal disturbance
B) Provisions as to financial emergency
C) Suspension of provisions of Article 29 during emergencies.
D) President has the power to suspend Fundamental rights during the time of emergency.
E) Answer not known

பின்வரும் எந்த விதிமுறை சரத்து 359 இன் கீழ் வருகிறது?

- A) வெளிப்புற ஆக்கிரமிப்பு மற்றும் உள் தொந்தரவுகளுக்கு எதிராக மாநிலங்களைப் பாதுகாப்பது ஒன்றியத்தின் கடமை
B) நிதி அவசரகால விதிகள்
C) நெருக்கடி நிலையின் போது சரத்து 29 இன் விதிகளை இடைநிறுத்துதல்.
D) நெருக்கடி நிலையின் போது அடிப்படை உரிமைகளை இடைநிறுத்த குடியரசுத்தலைவருக்கு அதிகாரம் உள்ளது.
E) விடை தெரியவில்லை

61. What is the main purpose of including the Directive Principles of State Policy in the Indian Constitution?

- A) To establish a parliamentary democracy
B) To establish Economic and Social Democracy
C) To promote private ownership of resources
D) Special protection of the interests of the weaker section of society
E) Answer not known

இந்திய அரசியலமைப்பில் மாநிலக் கொள்கையின் வழிகாட்டுதல் கோட்பாடுகளை உள்ளடக்கியதன் முக்கிய நோக்கம் என்ன?

- A) பாராளுமன்ற மக்களாட்சியை நிறுவுதல்
B) பொருளாதார மற்றும் சமூக மக்களாட்சியை நிறுவுதல்
C) வளங்களின் தனியார் உரிமையை மேம்படுத்துதல்
D) சமூகத்தின் பலவீனமான பிரிவினரின் நலன்களின் சிறப்புப் பாதுகாப்பு
E) விடை தெரியவில்லை

62. Vishakha vs State of Rajasthan case is related to

- A) Child labor laws
B) Domestic violence laws
C) Sexual harassment in the workplace
D) Gender equality in employment
E) Answer not known



விசாகா எதிர் ராஜஸ்தான் மாநிலம் வழக்கு எதனுடன் தொடர்புடையது?

- A) குழந்தை தொழிலாளர் சட்டங்கள்
- B) குடும்ப வன்முறை சட்டங்கள்
- C) பணியிடத்தில் பாலியல் துன்புறுத்தல்
- D) வேலைவாய்ப்பில் பாலின சமத்துவம்
- E) விடை தெரியவில்லை

63. Find out the incorrectly matched pair.

- | (Act) | (Enacted in) |
|-----------------------------|---------------------|
| A) Right to Education Act | - 2001 |
| B) The Child Labour Act | - 1986 |
| C) The Juvenile Justice Act | - 2000 |
| D) POCSO Act | - 2012 |
| E) Answer not known | |

தவறாகப் பொருந்தியுள்ள இணையைக் கண்டறிக.

- | (சட்டம்) | (இயற்றப்பட்ட ஆண்டு) |
|-------------------------------|----------------------------|
| A) கல்வி உரிமைச் சட்டம் | - 2001 |
| B) குழந்தைத் தொழிலாளர் சட்டம் | - 1986 |
| C) சிறார் நீதிச் சட்டம் | - 2000 |
| D) POCSO சட்டம் | - 2012 |
| E) விடை தெரியவில்லை | |

64. What is the tenure of the Chairperson of the National Human Rights Commission?

- A) 5 years or upto 62 years of age
- B) 5 years or upto 65 years of age
- C) 3 years or upto 65 years of age
- D) 3 years or upto 70 years of age
- E) Answer not known

தேசிய மனித உரிமைகள் ஆணையத்தின் தலைவரின் பதவிக்காலம் என்ன?

- A) 5 ஆண்டுகள் அல்லது 62 வயது வரை
- B) 5 ஆண்டுகள் அல்லது 65 வயது வரை
- C) 3 ஆண்டுகள் அல்லது 65 வயது வரை
- D) 3 ஆண்டுகள் அல்லது 70 வயது வரை
- E) விடை தெரியவில்லை

65. Consider the following statements.

- I. Part XVIII of the Constitution deals with the official language in Articles 343 to 351.
- II. In 1950, the Constitution recognised 14 regional languages which were included in the Eighth Schedule.
- III. The 92nd Constitutional Amendment Act added four languages to the Eighth Schedule of the Indian Constitution.



Which of the statements given above is/are correct?

- A) I and II only
B) II and III only
C) I and III only
D) All the above
E) Answer not known

பின்வரும் கூற்றுகளைக் கருத்தில் கொள்க.

- I. அரசியலமைப்பின் XVIII^{வது} பகுதியில், சரத்துகள் 343 முதல் 351 வரை அலுவல் மொழியுடன் தொடர்புடையது.
II. 1950ஆம் ஆண்டில், அரசியலமைப்பு 14 பிராந்திய மொழிகளை அங்கீகரித்தது, அவை எட்டாவது அட்டவணையில் சேர்க்கப்பட்டன.
III. 92வது அரசியலமைப்புத் திருத்தச் சட்டம் இந்திய அரசியலமைப்பின் எட்டாவது அட்டவணையில் நான்கு மொழிகளை இணைத்தது.

மேற்கண்ட கூற்றுகளில் சரியானவை எவை?

- A) I மற்றும் II மட்டும்
B) II மற்றும் III மட்டும்
C) I மற்றும் III மட்டும்
D) மேற்கண்ட அனைத்தும்
E) விடை தெரியவில்லை

66. Match List-I with List-II.

List-I
(Article)

- a) Article 39(b)
b) Article 39(d)
c) Article 39(A)
d) Article 48(A)

List-II
(Provision)

1. Equal pay for equal work.
2. Free Legal aid to the poor.
3. Abolished hereditary property.
4. Protection of Ecology, Environment from Pollution.

Codes:

- | | a | b | c | d |
|----|----------|----------|----------|----------|
| A) | 1 | 3 | 2 | 4 |
| B) | 2 | 1 | 4 | 3 |
| C) | 3 | 1 | 2 | 4 |
| D) | 4 | 1 | 2 | 3 |

E) Answer not known

பட்டியல்-Iஐ பட்டியல்-II உடன் பொருத்துக.

பட்டியல்-I

(சரத்து)

- a) சரத்து 39(b)
b) சரத்து 39(d)
c) சரத்து 39(A)
d) சரத்து 48(A)

பட்டியல்-II

(விதிமுறை)

1. சம வேலைக்கு சம ஊதியம்.
2. ஏழைகளுக்கு இலவச சட்ட உதவி.
3. பரம்பரை சொத்து ஒழிக்கப்பட்டது.
4. சுற்றுச்சூழலை மாசுபாட்டிலிருந்து பாதுகாத்தல்.



குறியீடுகள்:

- | | a | b | c | d |
|----|----------|----------|----------|----------|
| A) | 1 | 3 | 2 | 4 |
| B) | 2 | 1 | 4 | 3 |
| C) | 3 | 1 | 2 | 4 |
| D) | 4 | 1 | 2 | 3 |
- E) விடை தெரியவில்லை

67. Consider the following statements.

- I. A complicated system of water lift by a series of gear wheels had been installed in Fatehpur Sikri.
- II. Akbar was also credited with popularizing the device of cooling water using saltpetre

Which of the statements given above is/are incorrect?

- A) I only
- B) II only
- C) Both I and II
- D) Neither I nor II
- E) Answer not known

பின்வரும் கூற்றுகளைக் கருத்தில் கொள்க.

- I. வரிசையாக விசைச் சக்கரங்கள் பொருத்தப்பட்டச் சற்றே கடினமான நீர் இறைக்கும் இயந்திரம் பதேபூர் சிக்ரியில் நிறுவப்பட்டது.
- II. வெடியுப்பை பயன்படுத்தி நீரைக் குளிர்விக்கும் முறையைப் பரவலாக்கிய பெருமை அக்பரைச் சாரும்.

மேற்கண்ட கூற்றுகளில் தவறானது எது/எவை?

- A) I மட்டும்
- B) II மட்டும்
- C) இரண்டும்
- D) இரண்டுமில்லை
- E) விடை தெரியவில்லை

68. Consider the following statements.

- I. The tomb of Itimad-ud-daula is the first Mughal building built completely with white marble
- II. It is built by Shahjahan for the father of Mumtaz

Which of the statements given above is/are incorrect?

- A) I only
- B) II only
- C) Both I and II
- D) Neither I nor II
- E) Answer not known

பின்வரும் கூற்றுகளைக் கருத்தில் கொள்க.

- I. இதிமத் உத் தெளலாவுக்காக எழுப்பிய கல்லறையே முழுவதும் வெள்ளை நிறப் பளிங்குக் கற்களால் முகலாயர் கட்டிய முதல் கட்டடமாகும்.
- II. இது மும்தாஜின் தந்தைக்காக ஷாஜஹானால் கட்டப்பட்டது

மேற்கண்ட கூற்றுகளில் தவறானது எது/எவை?

- A) I மட்டும்
- B) II மட்டும்
- C) இரண்டும்
- D) இரண்டுமில்லை
- E) விடை தெரியவில்லை



69. Which is a not a monumental feature of Shah Jahan?
A) Bibi-ka-maqbara B) Diwan-i-khas
C) Hira Mahal D) Moti Mahal
E) Answer not known

ஷாஜகானின் நினைவுச்சின்னமாக இல்லாத அம்சம் எது?

- A) பீமிக்பாரா B) திவானி காஸ்
C) ஹுரமஹால் D) மோதி மஹால்
E) விடை தெரியவில்லை

70. Consider the following statements.

- I. Daswant and Basawan were famous musicians of Akbar Court
II. Paintings in Akbar namah depict woman dancing to the accompaniment of musical instruments.

Which of the statements given above is/are correct?

- A) I only B) II only
C) Both I and II D) Neither I nor II
E) Answer not known

பின்வரும் கூற்றுகளைக் கருத்தில் கொள்க.

- I. தஷ்வந்த், பசவன் ஆகியோர் அக்பரின் அவையை அலங்கரித்த முக்கிய இசைக்கலைஞர்கள்
II. அக்பர் நாமாவில் உள்ள ஓவியங்கள் பெண் இசைக்கருவிகளுக்கு இசைவாக நடனமாடுவதை சித்தரிக்கிறது.

மேற்கண்ட கூற்றுகளில் சரியானது எது/எவை?

- A) I மட்டும் B) II மட்டும்
C) இரண்டும் D) இரண்டுமில்லை
E) விடை தெரியவில்லை

71. Who wrote the Book Sirr – I – Akbar (the great secret)?

- A) Eldest son of Shah jahan B) Eldest son of Babur
C) Brother of Abul Fazl D) Eldest son of Akbar
E) Answer not known

‘சர்-இ-அக்பர்’ (மாபெரும் ரகசியம்) புத்தகத்தை எழுதியவர் யார்?

- A) ஷாஜகானின் மூத்த மகன் B) பாபரின் மூத்த மகன்
C) அபுல் பாசலின் சகோதரர் D) அக்பரின் மூத்த மகன்
E) விடை தெரியவில்லை

72. Find the incorrect pairs

- | (Books) | (Author) |
|-----------------------|----------------------|
| I. Tajika Neelakanthi | – Nilakantha |
| II. Alamgir Nama | – Abdul Hamid Lahori |
| III. Rajavalipataka | – Vag bhatta |
| IV. Rasagangadhara | – Jaganatha Panditha |

**Codes:**

- A) Only one pair
B) Only two pairs
C) One three pairs
D) all the pairs
E) Answer not known

தவறான இணைகளைக் கண்டறிக

(புத்தகங்கள்)	(ஆசிரியர்)
I. தஜிகனிலகந்தி	– நீலகண்டர்
II. ஆலம்கீர் நாமா	– அப்துல் ஹமீத் லஹோரி
III. ராஜவலிபதகா	– வாஃபதர்
IV. ரசகங்காதரா	– ஜெகநாத பண்டிதர்

Codes:

- A) ஒரு இணை மட்டும்
B) இரண்டு இணைகள் மட்டும்
C) மூன்று இணைகள் மட்டும்
D) அனைத்து இணைகளும்
E) விடை தெரியவில்லை

73. Which is not a feature of Gol Gumbaz ?

- A) Built of dark grey basalt and decorated plaster
B) Huge chamber of 135 ft each wall and 178 ft high
C) Six corners of the bare walls are four doomed hexagonal towers
D) Five cenotaphs are placed
E) Answer not known

கோல்கும்பாவின் அம்சம் இல்லாதது எது ?

- A) அடர் சாம்பல் நிற கற்களால் கட்டப்பட்டு மேற்பூச்சு பூசி அலங்கரிக்கப்பட்டது.
B) ஒவ்வொரு சுவரும் 135 அடி உயரமும் 178 அடி உயரமும் கொண்ட பிரமாண்டமான அறை
C) வெளி சுவர்களின் ஆறு மூலைகளில் நான்கு அறுங்கோண கோபுரங்கள் உள்ளன
D) ஐந்து கல்லறைகள் அமைக்கப்பட்டுள்ளன
E) விடை தெரியவில்லை

74. Consider the following statements.

I. During Aurangzeb reign, the number of Hindu officials decreased when compared to reign of Shah Jahan

II. Aurangzeb reimposed Jizya and introduced abwab tax.

Which of the statements given above is/are correct?

- A) I only
B) II only
C) Both I and II
D) Neither I nor II
E) Answer not known

பின்வரும் கூற்றுகளைக் கருத்தில் கொள்க.

I. ஷாஜகானின் ஆட்சியுடன் ஒப்பிடும் போது ஓளரங்கசீப் ஆட்சியில் இந்து அதிகாரிகளின் எண்ணிக்கை குறைந்துள்ளது.

II. ஓளரங்கசீப் ஜிஸியா வரியை மீண்டும் விதித்தார் மற்றும் அவாப் வரியை அறிமுகப்படுத்தினார்.



மேற்கண்ட கூற்றுகளில் சரியானது எது/எவை?

- A) I மட்டும்
B) II மட்டும்
C) இரண்டும்
D) இரண்டுமில்லை
E) விடை தெரியவில்லை

75. Match List-I with List-II.

List-I
(Foreign Traveller)

- a) Bernier
b) Tavernier
c) Mandelso
d) Peter Mundy
e) Manucci

List-II
(Profession)

1. Adventurer
2. Gem merchant
3. Writer
4. Trader
5. Physician

Codes:

- | | a | b | c | d | e |
|----|------------------|----------|----------|----------|----------|
| A) | 5 | 4 | 2 | 1 | 3 |
| B) | 4 | 5 | 2 | 3 | 1 |
| C) | 5 | 2 | 1 | 4 | 3 |
| D) | 4 | 2 | 3 | 5 | 1 |
| E) | Answer not known | | | | |

பட்டியல்-Iஐ பட்டியல்-II உடன் பொருத்துக.

பட்டியல்-I
(வெளிநாட்டு பயணி)

- a) பெர்னியர்
b) தாவர்னியர்
c) மான்டேல்சோ
d) பீட்டர் முன்டி
e) மனுச்

பட்டியல்-II
(தொழில்)

1. துணிச்சல் வீரர்
2. வைர வியாபாரி
3. எழுத்தாளர்
4. வணிகர்
5. மருத்துவர்

குறியீடுகள்:

- | | a | b | c | d | e |
|----|------------------|----------|----------|----------|----------|
| A) | 5 | 4 | 2 | 1 | 3 |
| B) | 4 | 5 | 2 | 3 | 1 |
| C) | 5 | 2 | 1 | 4 | 3 |
| D) | 4 | 2 | 3 | 5 | 1 |
| E) | விடை தெரியவில்லை | | | | |

76. Consider the following statements.

- I. During his reign Government is highly centralized
II. His currency system became the basis of the coinage under british
III. Maintained a robust highway system
IV. He built his own mausoleum in Sasaram



The above statements refers to whose reign?

- A) Shah Alam
B) Nasir-ud-din Humayun
C) Farid Khan
D) Muhammad Khurram
E) Answer not known

பின்வரும் கூற்றுகளைக் கருத்தில் கொள்க.

- I. இவரது ஆட்சியின் போது அரசாங்கம் மிகவும் மையப்படுத்தப்பட்டது
II. இவரது நாணய முறை ஆங்கிலேயர் காலத்து நாணய முறைக்கு அடிப்படையாக மாறியது
III. ஒரு வலுவான நெடுஞ்சாலை அமைப்பு பராமரிக்கப்பட்டது
IV. சசாரத்தில் தன்னுடைய கல்லறை மாடத்தைக் கட்டினார்
மேற்கண்ட கூற்றுகள் யாருடைய ஆட்சியைக் குறிக்கிறது?

- A) ஷா ஆலம்
B) நசீர்- உத் -தின் ஹுமாயூன்
C) பரித் கான்
D) முஹம்மது குர்ரம்
E) விடை தெரியவில்லை

77. Match List-I with List-II.

List-I

(Conquest of Akbar)

- a) Gondwana region
b) Gujarat
c) Chittor
d) Haldighati

List-II

(From Rulers)

1. Rana Pratap
2. Muzaffar Shah
3. Rana Uday Singh
4. Rani Durgavati

Codes:

- | | a | b | c | d |
|----|----------|----------|----------|----------|
| A) | 4 | 2 | 3 | 1 |
| B) | 2 | 1 | 3 | 4 |
| C) | 3 | 2 | 1 | 4 |
| D) | 4 | 1 | 2 | 3 |

E) Answer not known

பட்டியல்-Iஐ பட்டியல்-II உடன் பொருத்துக.

பட்டியல்-I

(அக்பரின் வெற்றி)

- a) கோண்டுவானா பகுதி
b) குஜராத்
c) சித்தூர்
d) ஹால்டிகாட்

பட்டியல்-II

(ஆட்சியாளர்களிடமிருந்து)

1. ராணா பிரதாப்
2. முசாபர் ஷா
3. ராணா உதய் சிங்
4. ராணி துர்காவதி

குறியீடுகள்:

- | | a | b | c | d |
|----|----------|----------|----------|----------|
| A) | 4 | 2 | 3 | 1 |
| B) | 2 | 1 | 3 | 4 |
| C) | 3 | 2 | 1 | 4 |
| D) | 4 | 1 | 2 | 3 |

E) விடை தெரியவில்லை



78. Find the incorrect pairs

(Post)

(Maratha Administration)

- | | |
|------------------|-------------------------|
| I. Sumant | - Foreign Secretary |
| II. Walkia-Nawis | - Finance Minister |
| III. Sachiv | - Home secretary |
| IV. Patel | - Chief village officer |

Codes:

- | | |
|---------------------|----------------------|
| A) only one pair | B) only three pairs |
| C) only two pairs | D) None of the above |
| E) Answer not known | |

பின்வருவனவற்றுள் தவறான இணையைக் கண்டறிக.

(பதவி)

(மராத்திய நிர்வாகம்)

- | | |
|-------------------|-----------------------|
| I. சுமந்த் | - வெளியுறவுச் செயலர் |
| II. வாக்கியநாவிஸ் | - நிதி அமைச்சர் |
| III. சச்சிவ் | - உள்துறை செயலாளர் |
| IV. படேல் | - தலைமை கிராம அதிகாரி |

குறியீடுகள்:

- | | |
|------------------------|--------------------------|
| A) ஒரே ஒரு இணை மட்டும் | B) மூன்று இணைகள் மட்டும் |
| C) இரண்டு இணை மட்டும் | D) மேற்கண்ட எதுவுமில்லை |
| E) விடை தெரியவில்லை | |

79. Identify the wrong statement from the following.

- A) Shivaji's Guardian was Dadaji Kondadev
B) He crowned and assumed the title Chhatrapati in 1674 at raigad fort
C) Treaty of Purandar was signed between Shivaji and Raja Jai Singh
D) Shivaji defeated Shaista Khan at 1660
E) Answer not known

பின்வருவனவற்றிலிருந்து தவறான கூற்றை அடையாளம் காண்க

- A) சிவாஜியின் பாதுகாவலர் தாதாஜி கொண்டதேவ்
B) இவர் 1674ஆம் ஆண்டில் ராயகாட் கோட்டையில் சத்ரபதி என்ற பட்டத்தை துட்டினார்
C) சிவாஜி மற்றும் ராஜா ஜெய் சிங் இடையே புரந்தர் ஒப்பந்தம் கையெழுத்தானது
D) சிவாஜி 1660இல் ஷெயிஷ்டகாளை தோற்கடித்தார்
E) விடை தெரியவில்லை

80. Consider the following statements regarding division of Chauth tax.

- I. 25 percent for ruler
II. 66 percent for Maratha officials and military heads for the maintenance of troops
III. 6 percent for the tax collectors
IV. 3 percent for Pant Sachiv

Which of the statements given above is/are incorrect?

- | | |
|---------------------|--------------------|
| A) 1 only | B) II and III only |
| C) II only | D) III and IV only |
| E) Answer not known | |



சௌத் வரியைப் பிரிப்பது தொடர்பான பின்வரும் கூற்றுகளைக் கருத்தில் கொள்க.

- I. ஆட்சியாளருக்கு 25 சதவீதம்
 - II. மராத்திய அதிகாரிகள் மற்றும் படைகளின் பராமரிப்புக்காக இராணுவத் தலைவர்களுக்கு 66 சதவீதம்
 - III. வரி வசூலிப்பவர்களுக்கு 6 சதவீதம்
 - IV. பண்டிட் சச்சிவுக்கு 3 சதவீதம்
- மேற்கண்ட கூற்றுகளில் தவறானது எது/எவை?
- A) I மட்டும்
 - B) II மற்றும் III மட்டும்
 - C) II மட்டும்
 - D) III மற்றும் IV மட்டும்
 - E) விடை தெரியவில்லை

81. Consider the following statements regarding Marathas administration:

- I. The Judicial system was perfect in Marathas
 - II. Mahars were employed in every village
 - III. Dockyard facilities were also developed.
 - IV. Brahmins were exempted from duty on things imported for their own use
- Which of the statements given above is/are incorrect?

- A) I only
- B) II and III only
- C) I and III only
- D) IV only
- E) Answer not known

மராத்திய நிர்வாகம் தொடர்பான பின்வரும் கூற்றுகளைக் கருத்தில் கொள்க:

- I. மராத்தியத்தில் நீதித்துறை முறை சிறப்பாக இருந்தது
- II. ஒவ்வொரு கிராமத்திலும் மஹர்கள் பணியமர்த்தப்பட்டனர்
- III. கப்பல்கட்டும் வசதிகளும் உருவாக்கப்பட்டன.
- IV. பிராமணர்கள் தங்கள் சொந்த உபயோகத்திற்காக இறக்குமதி செய்யப்படும் பொருட்களுக்கு வரியிலிருந்து விலக்கு அளிக்கப்பட்டனர்

மேற்கண்ட கூற்றுகளில் தவறானது எது/எவை?

- A) I மட்டும்
- B) II மற்றும் III மட்டும்
- C) I மற்றும் III மட்டும்
- D) IV மட்டும்
- E) விடை தெரியவில்லை

82. Which was not a innovation of Serfoji II?

- A) Printing Press
- B) Navavidhya for modern learning
- C) Dhanvantri Mahal
- D) Padashalas for scientific study
- E) Answer not known

இரண்டாம் சரபோஜியின் எதனை அறிமுகப்படுத்தவில்லை?

- A) அச்சுக்கூடம்
- B) நவீன கற்றலுக்கான நவவித்யா
- C) தன்வந்திரி மஹால்
- D) அறிவியல் ஆய்வுக்கான பாடசாலைகள்
- E) விடை தெரியவில்லை



83. Consider the following statements.

I. Shivaji collected two taxes, Chauth and Sardeshmukhi, from the adjoining territories of his empire.

II. Chauth (1/4) was the revenue of the district conquered by Marathas and Sardeshmukhi (10%) was the additional tax

Which of the statements given above is/are correct?

A) I only

B) II only

C) Both I and II

D) Neither I nor II

E) Answer not known

பின்வரும் கூற்றுகளைக் கருத்தில் கொள்க.

I. செளத், சர்தேஷ்முகி என இரண்டு வரிகளைத் தனது சாம்ராஜ்யத்தின் அண்டை பகுதிகளான முகலாய மாகாணங்களிடமிருந்தும் பீஜப்பூர் சுல்தானிடமிருந்து கைப்பற்றப்பட்ட பகுதிகளிலிருந்தும் சிவாஜி வசூலித்தார்.

II. மராத்தியர் கைப்பற்றிய மாவட்டத்தின் வருவாயில் நான்கில் ஒரு பங்கு 'செளத்' என வசூலிக்கப்பட்டது.

மேற்கண்ட கூற்றுகளில் சரியானது எது/எவை?

A) I மட்டும்

B) II மட்டும்

C) இரண்டும்

D) இரண்டுமில்லை

E) விடை தெரியவில்லை

84. Consider the Arrangement in Military Cavalry Hierarchy of Maratha Military Organization.

I. SariNaubat – Hazari – Jamaladar – Havildar - Naik

II. SariNaubat – Hazari – Havildar - Jamaladar – Naik

III. SariNaubat – Jamaladar – Havildar – Hazari – Naik

Which of the statements given above is/are correct?

A) I only

B) II only

C) III only

D) None of the above

E) Answer not known

மராத்திய இராணுவ அமைப்பின் இராணுவ குதிரைப்படை வரிசைமுறையை கருத்தில் கொள்க.

I. சாரிநெளபத் – ஹஜாரி – ஜமால்தார் – ஹவில்தார் – நாயக்

II. சாரிநெளபத் – ஹஜாரி – ஹவில்தார் – ஜமால்தார் – நாயக்

III. சாரிநெளபத் – ஜமால்தார் – ஹவில்தார் – ஹஜாரி – நாயக்

மேற்கண்ட கூற்றுகளில் சரியானது எது/எவை?

A) I மட்டும்

B) II மட்டும்

C) III மட்டும்

D) மேற்கண்ட எதுவுமில்லை

E) விடை தெரியவில்லை

85. Consider the following statements about Marathas:

I. Hazir Majlim was the final court of appeal

II. Peshwa is a Sanskrit Title which means First Minister

Which of the statements given above is/are incorrect?

A) I only

B) II only

C) Both I and II

D) Neither I nor II

E) Answer not known



மராத்தியர்களைப் பற்றிய பின்வரும் கூற்றுகளைக் கருத்தில் கொள்க:

- I. ஹாஜிர் மஜ்லிம் இறுதி மேல்முறையீட்டுக்கான நீதிமன்றம்
 - II. பேஷ்வா என்ற சமஸ்கிருத சொல்லின் பொருள் முதல் அமைச்சர்
- மேற்கண்ட கூற்றுகளில் தவறானது எது/எவை?
- A) I மட்டும்
 - B) II மட்டும்
 - C) இரண்டும்
 - D) இரண்டுமில்லை
 - E) விடை தெரியவில்லை

86. Consider the following statements about Delhi Sultanate:

- I. He enjoyed "Sohnai" Music
- II. He appointed teachers in makhtabs and madrasas in various cities throughout his dominions
- III. His reign period is 1489-1517 CE

Who is the referred Sultan in above statement?

- A) Bahlul Lodi
- B) Ibrahim Lodi
- C) Sikander Lodi
- D) Firuz Shah Tughlaq
- E) Answer not known

டெல்லி சுல்தானியம் பற்றிய பின்வரும் கூற்றுகளைக் கருத்தில் கொள்க:

- I. இவர் "செனாய்" இசையை ரசித்தார்
 - II. இவர் தனது ஆட்சிப் பகுதிகளில் உள்ள பல்வேறு நகரங்களில் உள்ள மக்தப்புகள் மற்றும் மதராஸாக்களில் ஆசிரியர்களை நியமித்தார்
 - III. இவரது ஆட்சிக் காலம் கிபி 1489-1517 ஆகும்
- மேற்கண்ட கூற்றுகளில் குறிப்பிடப்படும் சுல்தான் யார்?
- A) பஹ்லுல் லோடி
 - B) இப்ராஹிம் லோடி
 - C) சிக்கந்தர் லோடி
 - D) ஃபெரோஸ் ஷா துக்ளக்
 - E) விடை தெரியவில்லை

87. Who is the founder of Islamic Empire?

- A) Muhammad of Ghor
- B) Qutub din Aibak
- C) Nasir ud din Mahmud
- D) Babur
- E) Answer not known

இஸ்லாமிய சாம்ராஜ்யத்தை நிறுவியவர் யார்?

- A) முகமது கோரி
- B) குத்பதீன் ஐபக்
- C) நசீர் உத் தின் முஹம்மது
- D) பாபர்
- E) விடை தெரியவில்லை

88. Which tax was imposed on only Muslims ?

- A) Zakat
- B) Kharaj
- C) Jizya
- D) Sharb
- E) Answer not known

முஸ்லிம்களுக்கு மட்டும் விதிக்கப்பட்ட வரி எது ?

- A) ஜகாத்
- B) கராஜ்
- C) ஜிஸியா
- D) ஷார்ப்
- E) விடை தெரியவில்லை



89. Consider the following statements.

- I. Diwan-I-Bandagan
- II. Diwan-i-Khairat
- III. Dar-ul-shafa

These are established by whom?

- | | |
|------------------------|-----------------------|
| A) Ghiyasuddin Tughlaq | B) Firoz Shah Tughlaq |
| C) Alauddin Khilji | D) Sikander Lodhi |
| E) Answer not known | |

பின்வரும் கூற்றுக்களைக் கருத்தில் கொள்க:

- I. திவானி பண்டகன்
- II. திவானி -கைரத்
- III. தார் -உல் - ஷஃபா

இவை யாரால் நிறுவப்பட்டன?

- | | |
|-----------------------|-----------------------|
| A) கியாசுதீன் துக்ளக் | B) ஃபெரோஸ் ஷா துக்ளக் |
| C) அலாவுதீன் கில்ஜி | D) சிக்கந்தர் லோடி |
| E) விடை தெரியவில்லை | |

90. Find the incorrect pairs

- I. The Slaves Dynasty – 1206 to 1290
- II. The Khalji Dynasty – 1290 to 1340
- III. The Lodi Dynasty – 1415 to 1530
- IV. The Tughlaqs Dynasty – 1340 to 1414

Codes:

- | | |
|---------------------|---------------------|
| A) One pair only | B) Three pairs only |
| C) Two Pairs only | D) Four pairs |
| E) Answer not known | |

தவறான இணைகளைக் கண்டறிக

- I. அடிமை வம்சம் - 1206 முதல் 1290 வரை
- II. கில்ஜி வம்சம் - 1290 முதல் 1340 வரை
- III. லோடி வம்சம் - 1415 முதல் 1530 வரை
- IV. துக்ளக் வம்சம் - 1340 முதல் 1414 வரை

குறியீடுகள்:

- | | |
|--------------------------|--------------------------|
| A) ஒரு இணை மட்டும் | B) மூன்று இணைகள் மட்டும் |
| C) இரண்டு இணைகள் மட்டும் | D) நான்கு இணைகளும் |
| E) விடை தெரியவில்லை | |

91. Identify the wrong pair of Jain Evidence in Tamil Nadu.

- A) Vellore – Rockbeds without head rests
- B) Pudukkottai – 16 feet high sculpture of Neminatha
- C) Madurai – Image of Bahubali
- D) Kazhugumalai – Yakshas and Yaksis
- E) Answer not known



தமிழ்நாட்டில் உள்ள சமணர்களுக்கான ஆதாரங்களின் தவறான இணையை அடையாளம் காண்க.

- A) வேலூர் – தலையணைப் பகுதி இல்லாத கற்படுக்கைகள்
B) புதுக்கோட்டை – நேமிநாதரின் 16 அடி உயர் சிற்பம்
C) மதுரை – பாகுபலி சிற்பம்
D) கழுகுமலை – யக்சர்கள் மற்றும் யக்சிகள்
E) விடை தெரியவில்லை

92. A 1.03 metre Buddha Statue in *padmasana* pose is found in

- A) Madurai B) Kancheepuram
C) Thiruvavarur D) Thiruvallangadu
E) Answer not known

பத்மாசன நிலையில் 1.03 மீட்டர் புத்தர் சிலை எங்கு காணப்படுகிறது?

- A) மதுரை B) காஞ்சிபுரம்
C) திருவாரூர் D) திருவாலங்காடு
E) விடை தெரியவில்லை

93. Padshah Namah was a biography of which of the following personality?

- A) Babur B) Humayun
C) Akbar D) Shah Jahan
E) Answer not known

பாதுஷா நாமா பின்வரும் எந்த ஆளுமையின் வாழ்க்கை வரலாறு?

- A) பாபர் B) ஹுமாயூன்
C) அக்பர் D) ஷாஜகான்
E) விடை தெரியவில்லை

94. In which place both Buddhist council and Jain council held ?

- A) Rajgriha B) Pataliputra
C) Vaishali D) Vallabhi
E) Answer not known

பௌத்த சமய மாநாடு மற்றும் சமண சமய மாநாடு இரண்டும் எந்த ஒரே இடத்தில் நடைபெற்றது?

- A) ராஜகிருதம் B) பாடலிபுத்திரம்
C) வைஷாலி D) வல்லாபி
E) விடை தெரியவில்லை

95. Consider the following statements

- I. His reign is known as "The Golden age" of Mughal empire.
II. He built Fort in Agra entirely in White Marble.
III. His son translated the Bhagavad Gita and Upanishads into persian language.

The above statements referring to whom?

- A) Humayun B) Shahjahan
C) Jahangir D) Aurangzeb
E) Answer not known



பின்வரும் கூற்றுகளைக் கருத்தில் கொள்க

- I. இவரது ஆட்சி முகலாயப் பேரரசின் "பொற்காலம்" என்று அழைக்கப்படுகிறது
 - II. ஆக்ராவில் உள்ள கோட்டையை முழுக்க முழுக்க வெள்ளை பளிங்கில் கட்டினார்
 - III. இவரது மகன் பகவத் கீதை மற்றும் உபநிடதங்களை பாரசீக மொழியில் மொழிபெயர்த்தார்
- மேற்கண்ட கூற்றுகள் யாரைக் குறிப்பிடுகின்றன?

- | | |
|---------------------|---------------|
| A) ஹுமாயூன் | B) ஷாஜகான் |
| C) ஜஹாங்கீர் | D) ஒளரங்கசீப் |
| E) விடை தெரியவில்லை | |

96. Which ruler played holi and consorted with yogis ?

- | | |
|------------------------|-------------------------|
| A) Ghiyasuddin Tughlaq | B) Ibrahim Lodi |
| C) Alauddin Khilji | D) Muhammad Bin Tughlaq |
| E) Answer not known | |

எந்த ஆட்சியாளர் ஹோலி பண்டிகையில் பங்கெடுத்ததோடு நல்ல நட்புடன் இருந்தார்?

- | | |
|-----------------------|------------------------|
| A) கியாசுதீன் துக்ளக் | B) இப்ராஹிம் லோடி |
| C) அலாவுதீன் கில்ஜி | D) முகமது பின் துக்ளக் |
| E) விடை தெரியவில்லை | |

97. Consider the following statements.

- I. Image of Goddess Lakshmi stamped on his gold coins
- II. He won second battle of Tarain

The above statements depicts which ruler?

- | | |
|-------------------------|--------------------|
| A) Mohammad bin Tughlaq | B) Muhammad Ghori |
| C) Firoz shah tughlaq | D) Alauddin Khilji |
| E) Answer not known | |

பின்வரும் கூற்றுகளைக் கருத்தில் கொள்க.

- I. இவரது தங்க நாணயங்களில் லட்சுமி தேவியின் படம் பொறிக்கப்பட்டுள்ளது
- II. இவர் இரண்டாம் தரைன் போரில் வெற்றி பெற்றார்

மேற்கண்ட கூற்றுகள் எந்த ஆட்சியாளரை சித்தரிக்கின்றன ?

- | | |
|------------------------|---------------------|
| A) முகமது பின் துக்ளக் | B) முகமது கோரி |
| C) ஃபெரோஸ் ஷா துக்ளக் | D) அலாவுதீன் கில்ஜி |
| E) விடை தெரியவில்லை | |

98. Which Book depicts victories of Alauddin Khalji ?

- | | |
|---------------------|------------------|
| A) Mifta Ul Futuh | B) Kitab ul Hind |
| C) Khazain Ul Futuh | D) Padmavat |
| E) Answer not known | |

அலாவுதீன் கில்ஜியின் வெற்றிகளை விவரிக்கும் புத்தகம் எது ?

- | | |
|----------------------|----------------------|
| A) மிஃப்தா உல் ஃபுதூ | B) கிதாப் உல் ஹிந்த் |
| C) கசைன் உல் ஃபுதூ | D) பத்மாவத் |
| E) விடை தெரியவில்லை | |



99. Consider the following statements.

Assertion (A) : Mohammad Bin Tughlaq was a successful innovative ruler

Reason (R) : His plans like transfer of capital, token currency, annexation of conquered states were the major accomplishments.

Codes:

- A) Both (A) and (R) are true and (R) is the correct explanation of (A)
B) Both (A) and (R) are true but (R) is not the correct explanation of (A)
C) (A) is true but (R) is false
D) (A) is false but (R) is true
E) Answer not known

பின்வரும் கூற்றுகளைக் கருத்தில் கொள்க.

கூற்று (A) : முகமது பின் துக்ளக் ஒரு வெற்றிகரமான புதுமையான ஆட்சியாளர்.

காரணம் (R) : தலைநகர் மாற்றம், அடையாள நாணயங்கள், கைப்பற்றப்பட்ட மாநிலங்களை இணைத்தல் போன்ற அவரது திட்டங்கள் முக்கிய சாதனைகளாகும்.

குறியீடுகள்:

- A) (A) மற்றும் (R) இரண்டும் சரி மற்றும் (R) என்பது (A)-யின் சரியான விளக்கமாகும்.
B) (A) மற்றும் (R) இரண்டும் சரி ஆனால் (R) என்பது (A)-யின் சரியான விளக்கமல்ல.
C) (A) சரி ஆனால் (R) தவறு.
D) (A) தவறு ஆனால் (R) சரி.
E) விடை தெரியவில்லை

100. Tarikh-i-Mubarak Shahi by Yahiya bin Ahmad Sirhindi was composed during which reign ?

- A) Lodi Dynasty
B) Tughlaq Dynasty
C) Sayyid Dynasty
D) Khilji Dynasty
E) Answer not known

யஹியா பின் அஹ்மத் சிர்ஹிந்தியின் தாரிக் -இ -முபாரக் ஷாஹி எந்த ஆட்சிக் காலத்தில் இயற்றப்பட்டது ?

- A) லோடி வம்சம்
B) துக்ளக் வம்சம்
C) சையது வம்சம்
D) கில்ஜி வம்சம்
E) விடை தெரியவில்லை

101. Find the incorrect pairs

(Post)

(Administration)

- | | | |
|------------------|---|------------------------------|
| I. Khalisa | – | Direct control under Sultans |
| II. Hashm-i-Qalb | – | Sultan own troops |
| III. Khots | – | Soldiers |
| IV. Walis | – | Holders of Iqtas |

Codes:

- A) only one pair
B) only two pairs
C) only three pair
D) None of the above
E) Answer not known



தவறான இணைகளைக் கண்டறியவும்

(பதவி)

(நிர்வாகம்)

- | | | |
|--------------------|---|--------------------------------------|
| I. கலிஸா | - | சுல்தான்களின் கீழ் நேரடி கட்டுப்பாடு |
| II. ஹஷ்ம்-இ-கால்ப் | - | சுல்தான்களின் சொந்த படைக்குழு |
| III. கோட்கள் | - | படைவீரர் |
| IV. வாலிகள் | - | இக்தா உரிமையாளர்கள் |

குறியீடுகள்:

- A) ஒரு இணை
B) இரண்டு இணைகள் மட்டும்
C) மூன்று இணைகள் மட்டும்
D) மேற்கண்ட எதுவுமில்லை
E) விடை தெரியவில்லை

102. Which temple is not built by Raja Simha?

- A) Vaikundaperumal Temple, Kanchipuram
B) Kailasanatha Temple, Kanchipuram
C) Shore Temple, Mahabalipuram
D) None of the above
E) Answer not known

ராஜ சிம்மனால் கட்டப்படாத கோவில் எது?

- A) வைகுண்டபெருமாள் கோவில், காஞ்சிபுரம்
B) கைலாசநாதர் கோவில், காஞ்சிபுரம்
C) கடற்கரை கோயில், மகாபலிபுரம்
D) மேற்கண்ட எதுவுமில்லை
E) விடை தெரியவில்லை

103. Consider the following statements regarding Emperor Ashoka:

- I. During Ashoka's reign, Buddhism spread to various parts of Asia.
II. Ashoka gave up war after seeing many people grieving death after the Kalinga war.
III. He build hospitals for animals.
IV. Ashoka Chakra with 24 spokes in our national flag was taken from the Sarnath Pillar of Ashoka.

Which of the statements given above are correct?

- A) I, II and III only
B) II, III and IV only
C) I, II and IV only
D) All the above
E) Answer not known

பேரரசர் அசோகர் பற்றிய பின்வரும் கூற்றுகளை கருத்தில் கொள்க:

- I. அசோகரின் ஆட்சிக் காலத்தில் பௌத்தம் ஆசியாவின் பல்வேறு பகுதிகளிலும் பரவியது.
II. கலிங்கப் போரில் பிறகு பலர் இறந்ததைக் கண்டு அசோகர் போரைக் கைவிட்டார்.
III. அவர் விலங்குகளுக்காக மருத்துவமனைகளை கட்டினார்.
IV. நமது தேசியக் கொடியில் 24 ஆரங்கள் கொண்ட அசோக சக்கரம் அசோகரின் சாரநாத் தூணிலிருந்து எடுக்கப்பட்டது.



மேற்கண்ட கூற்றுகளில் சரியானவை எவை?

- A) I, II மற்றும் III மட்டும்
B) II, III மற்றும் IV மட்டும்
C) I, II மற்றும் IV மட்டும்
D) மேற்கண்ட அனைத்தும்
E) விடை தெரியவில்லை

104. Match List-I with List-II.

List-I

(Author)

- a) Dhanvantri
b) Varahamihira
c) Brahmagupta
d) Amarasimha

List-II

(Literary Works)

1. Brahmasphuta-Siddhanta
2. Amarakosha
3. Brihad Samhita
4. Ayurveda

Codes:

- | | a | b | c | d |
|----|----------|----------|----------|----------|
| A) | 4 | 3 | 1 | 2 |
| B) | 4 | 1 | 2 | 3 |
| C) | 4 | 2 | 1 | 3 |
| D) | 4 | 3 | 2 | 1 |

E) Answer not known

பட்டியல்-Iஐ பட்டியல்-II உடன் பொருத்தவும்.

பட்டியல்-I

(ஆசிரியர்)

- a) தன்வந்திரி
b) வராஹமிஹிரர்
c) பிரம்மகுப்தா
d) அமரசிம்மர்

பட்டியல்-II

(இலக்கியப் படைப்புகள்)

1. பிரம்ம ஸ்புத-சித்தாந்தா
2. அமரகோசம்
3. பிருஹத் சம்ஹிதா
4. ஆயுர்வேதம்

குறியீடுகள்:

- | | a | b | c | d |
|----|----------|----------|----------|----------|
| A) | 4 | 3 | 1 | 2 |
| B) | 4 | 1 | 2 | 3 |
| C) | 4 | 2 | 1 | 3 |
| D) | 4 | 3 | 2 | 1 |

E) விடை தெரியவில்லை

105. Consider the following statements regarding Archaeological Survey of India:

I. It was started in 1861

II. Cunningham was appointed as the first Archaeological Surveyor

III. Its headquarters is located in Chennai.

Which of the statements given above are correct?

- A) I and II only
B) II and III only
C) I and III only
D) All the above
E) Answer not known



இந்திய தொல்லியல் துறை தொடர்பான பின்வரும் கூற்றுகளைக் கவனியுங்கள்:

- I. இது 1861 இல் தொடங்கப்பட்டது
- II. கன்னிங்காம் முதல் தொல்லியல் அளவையராக நியமிக்கப்பட்டார்.
- III. இதன் தலைமையகம் சென்னையில் உள்ளது.

மேற்கண்ட கூற்றுகளில் சரியானவை எவை?

- A) I மற்றும் II மட்டும்
- B) II மற்றும் III மட்டும்
- C) I மற்றும் III மட்டும்
- D) மேற்கண்ட அனைத்தும்
- E) விடை தெரியவில்லை

106. Arrange the cities of the Harappan Civilization from north to south:

- I. Kalibangan
- II. Rakhigarhi
- III. Manda
- IV. Dholavira

Codes:

- A) I-II-III-IV
- B) II-III-I-IV
- C) III-II-I-IV
- D) II-I-IV-III
- E) Answer not known

ஹரப்பா நாகரிகத்தின் நகரங்களை வடக்கிலிருந்து தெற்காக வரிசைப்படுத்துக:

- I. காளிபங்கன்
- II. ராகிகர்ஹி
- III. மாண்டா
- IV. தோலாவிரா

குறியீடுகள்:

- A) I-II-III-IV
- B) II-III-I-IV
- C) III-II-I-IV
- D) II-I-IV-III
- E) விடை தெரியவில்லை

107. Consider the following statements:

- I. It is considered as a precursor to Indus Civilization.
- II. It is located near the Bolan Basin of Baluchistan in Pakistan.
- III. Its is a Neolithic site.
- IV. Neolithic culture existed here as early as 7000 BC as per archeological evidence.

Which one of the following site is best implied in the above statements?

- A) Kot Diji
- B) Lothal
- C) Mehrgarh
- D) Harappa
- E) Answer not known

பின்வரும் கூற்றுகளை கருத்தில் கொள்க:

- I. இது சிந்து நாகரிகத்தின் முன்னோடியாகக் கருதப்படுகிறது.
- II. இது பாகிஸ்தானில் உள்ள பலூசிஸ்தானின் போலன் பள்ளத்தாக்கின் அருகே அமைந்துள்ளது.
- III. இது ஒரு புதிய கற்கால இடம்.
- IV. தொல்லியல் சான்றுகளின்படி கிமு 7000ஆம் ஆண்டிலேயே புதிய கற்கால நாகரிகம் இங்கு இருந்தது.



மேற்கண்ட கூற்றுகளில் பின்வரும் தளங்களில் எது குறிப்பிடப்பட்டுள்ளது?

- A) கோட்டிஜி
B) லோத்தல்
C) மெஹர்கர்
D) ஹரப்பா
E) விடை தெரியவில்லை

108. Consider the following statements regarding Indus valley Civilization:

- I. The tools of Harappa were made of Copper and Bronze.
II. Horse and iron were unknown to the people of Indus.
III. The script of the Indus Valley people was pictographic.
IV. Indus script was deciphered by James Prinsep.

Which of the statements given above are correct?

- A) I, II and III only
B) II, III and IV only
C) I, III and IV only
D) All the above
E) Answer not known

சிந்து சமவெளி நாகரிகம் பற்றிய பின்வரும் கூற்றுகளை கருத்தில் கொள்க:

- I. ஹரப்பாவின் கருவிகள் செம்பு மற்றும் வெண்கலத்தால் செய்யப்பட்டவை.
II. குதிரையும் இரும்பும் சிந்து மக்களுக்குத் தெரியாது.
III. சிந்து சமவெளி மக்களின் எழுத்து முறை சித்திர எழுத்தாக இருந்தது.
IV. சிந்து எழுத்து முறை ஜேம்ஸ் பிரின்செப் என்பவரால் தெரிந்து கொள்ளப்பட்டது.

மேற்கண்ட கூற்றுகளில் சரியானவை எவை?

- A) I, II மற்றும் III மட்டும்
B) II, III மற்றும் IV மட்டும்
C) I, III மற்றும் IV மட்டும்
D) மேற்கண்ட அனைத்தும்
E) விடை தெரியவில்லை

109. Which of the following is/are correctly matched?

(Personalities)

(Remarks about Kanchi)

- I. Thirunavukkarasar – Kalviyil karaiillatha Kanchi
II. Kalidasa – Kanchi is the best of the towns
III. Hieun Tsang – Kanchi can be counted as one among the seven sacred places like Bodh Gaya and Sanchi

Codes:

- A) I only
B) II only
C) III only
D) All the above
E) Answer not known

பின்வருவனவற்றில் எது சரியாகப் பொருந்துகிறது?

(ஆளுமைகள்)

(காஞ்சி பற்றிய குறிப்புகள்)

- I. திருநாவுக்கரசர் – கல்வியில் கரையில்லாத காஞ்சி
II. காளிதாசர் – நகரங்களில் சிறந்தது காஞ்சி
III. யுவான் சுவாங் – புத்தகயா மற்றும் சாஞ்சி போன்ற ஏழு புனித தலங்களில் ஒன்றாக காஞ்சியை எண்ணலாம்.

குறியீடுகள்:

- A) I மட்டும்
B) II மட்டும்
C) III மட்டும்
D) மேற்கண்ட அனைத்தும்
E) விடை தெரியவில்லை



110. Consider the following statements with respect to Rig Vedic society:

- I. A widow could re-marry.
- II. Child marriage was not in practice.
- III. Women enjoyed equal rights in their parents property
- IV. Sati was unknown.

Which of the statements given above are correct?

- A) I, II and III only
- B) II, III and IV only
- C) I, II and IV only
- D) All the above
- E) Answer not known

ரிக்வேத கால சமுதாயம் தொடர்பான பின்வரும் கூற்றுகளை கருத்தில் கொள்க:

- I. விதவை மறுமணம் செய்து கொள்ளலாம்.
- II. குழந்தை திருமணம் நடைமுறையில் இல்லை.
- III. பெற்றோர் சொத்துக்களில் பெண்களுக்கு சம உரிமை உண்டு
- IV. சதி பற்றி அறியவில்லை.

மேற்கண்ட கூற்றுகளில் சரியானவை எவை?

- A) I, II மற்றும் III மட்டும்
- B) II, III மற்றும் IV மட்டும்
- C) I, II மற்றும் IV மட்டும்
- D) மேற்கண்ட அனைத்தும்
- E) விடை தெரியவில்லை

111. Who discovered the first Paleolithic stone tool in India in 1863?

- A) Le Mesurier
- B) John Marshall
- C) Robert Bruce Foote
- D) Alexander Cunningham
- E) Answer not known

1863 இல் இந்தியாவிலே முதன்முதலில் பழையகற்கால கருவியை கண்டுபிடித்தவர் யார்?

- A) லே மெசூரியர்
- B) ஜான் மார்ஷல்
- C) ராபர்ட் புஃபூட்
- D) அலெக்சாண்டர் கன்னிங்காம்
- E) விடை தெரியவில்லை

112. Consider the following statements regarding Chandragupta-II:

- I. He is also known as Vikramaditya
- II. Fahien, the Buddhist scholar from China, visited India during his reign
- III. He maintained friendly relationship with the rulers of southern India.

Which of the statements given above are correct?

- A) I and II only
- B) II and III only
- C) I and III only
- D) All the above
- E) Answer not known

இரண்டாம் சந்திரகுப்தர் பற்றிய பின்வரும் கூற்றுகளை கருத்தில் கொள்க

- I. விக்ரமாதித்யர் என்றும் அழைக்கப்படுகிறார்
- II. சீனாவைச் சேர்ந்த பெளத்த அறிஞரான பாஹியான் அவரது ஆட்சிக் காலத்தில் இந்தியாவுக்கு வருகை தந்தார்
- III. தென்னிந்திய ஆட்சியாளர்களுடன் நட்புறவைப் பேணி வந்தார்.



மேற்கண்ட கூற்றுகளில் சரியானவை எவை?

- A) I மற்றும் II மட்டும்
B) II மற்றும் III மட்டும்
C) I மற்றும் III மட்டும்
D) மேற்கண்ட அனைத்தும்
E) விடை தெரியவில்லை

113. Match List-I with List-II.

List-I
(Scholar)

- a) Panini
b) Patanjali
c) Aryabhatta
d) Kalidasa

List-II
(Books)

1. Surya Siddhanta
2. Malavikagnimitra
3. Mahabhashya
4. Ashtadyayi

Codes:

- | | a | b | c | d |
|----|----------|----------|----------|----------|
| A) | 4 | 3 | 1 | 2 |
| B) | 2 | 1 | 3 | 4 |
| C) | 3 | 2 | 1 | 4 |
| D) | 4 | 1 | 2 | 3 |

E) Answer not known

பட்டியல்-Iஐ பட்டியல்-II உடன் பொருத்தவும்.

பட்டியல்-I
(அறிஞர்கள்)

- a) பாணினி
b) பதஞ்சலி
c) ஆர்யபட்டர்
d) காளிதாசர்

பட்டியல்-II
(புத்தகங்கள்)

1. சூர்ய சித்தாந்தம்
2. மாளவிகாக்னிமித்ரம்
3. மஹாபாஷ்யம்
4. அஷ்டத்யாயி

குறியீடுகள்:

- | | a | b | c | d |
|----|----------|----------|----------|----------|
| A) | 4 | 3 | 1 | 2 |
| B) | 2 | 1 | 3 | 4 |
| C) | 3 | 2 | 1 | 4 |
| D) | 4 | 1 | 2 | 3 |

E) விடை தெரியவில்லை

114. Which of the following Gupta king granted Meghaverma, the ruler of Sri Lanka, permission to construct a Buddhist temple at Gaya?

- A) Chandragupta-I
B) Samudragupta
C) Chandragupta-II
D) Kumaragupta
E) Answer not known

பின்வரும் எந்த குப்த மன்னர் இலங்கையின் ஆட்சியாளரான மேகவர்மனுக்கு கயாவில் புத்த மடம் கட்ட அனுமதி அளித்தார்?

- A) முதலாம் சந்திரகுப்தர்
B) சமுத்திரகுப்தர்
C) இரண்டாம் சந்திரகுப்தர்
D) குமாரகுப்தர்
E) விடை தெரியவில்லை



115. Match List-I with List-II.

List-I
(Buddhist Council)

- First
- Second
- Third
- Fourth

List-II
(Location)

- Pataliputra
- Kundalavana
- Vaishali
- Rajgir

Codes:

	a	b	c	d
A)	3	4	2	1
B)	4	3	1	2
C)	3	1	4	2
D)	1	4	2	3

E) Answer not known

பட்டியல்-Iஐ பட்டியல்-II உடன் பொருத்தவும்.

பட்டியல்-I

(புத்த மாநாடு)

- முதலாவது
- இரண்டாவது
- மூன்றாவது
- நான்காவது

பட்டியல்-II

(இடம்)

- பாலிபுத்திரம்
- குந்தலவனம்
- வைஷாலி
- ராஜகிரதம்

குறியீடுகள்:

	a	b	c	d
A)	3	4	2	1
B)	4	3	1	2
C)	3	1	4	2
D)	1	4	2	3

E) விடை தெரியவில்லை

116. Which of the following is/are correctly matched?

(Geographical Extent) **(Settlement)**

- | | | |
|------------|---|--------------|
| I. West | - | Sutkagen-dor |
| II. East | - | Daimabad |
| III. North | - | Shortugai |
| IV. South | - | Lothal |

Codes:

A) I, II and III only

B) II, III and IV only

C) III and IV only

D) I and III only

E) Answer not known

பின்வருவனவற்றில் எது சரியாகப் பொருந்துகிறது?

(புவியியல் எல்லை)

(இடம்)

- | | | |
|-------------|---|-----------------|
| I. மேற்கு | - | சுட்காஜென்-டோர் |
| II. கிழக்கு | - | தைமாபாத் |
| III. வடக்கு | - | ஷார்டுகை |
| IV. தெற்கு | - | லோத்தல் |



குறியீடுகள்:

- A) I, II மற்றும் III மட்டும்
B) II, III மற்றும் IV மட்டும்
C) III மற்றும் IV மட்டும்
D) I மற்றும் III மட்டும்
E) விடை தெரியவில்லை

117. Consider the following statements regarding Samudragupta:

- I. He was the fourth ruler of Gupta Dynasty.
II. Harisena was the court poet of Samudragupta.
III. He was an ardent follower of Vaishnavism.
IV. His coins bear the insignia of him playing the vina(lute).

Which of the statements given above is/are correct?

- A) I, II and III only
B) I and IV only
C) III and III only
D) All the above
E) Answer not known

சமுத்திரகுப்தர் பற்றிய பின்வரும் கூற்றுகளை கருத்தில் கொள்க:

- I. குப்தர் வம்சத்தின் நான்காவது ஆட்சியாளர்.
II. ஹரிசேனர் சமுத்திரகுப்தரின் அரசவைக் புலவர்.
III. அவர் வைணவ சமயத்தின் தீவிர பற்றாளர்.
IV. அவரது நாணயங்களில் அவர் வீணை வாசித்ததற்கான அடையாளங்கள் உள்ளன.

மேற்கண்ட கூற்றுகளில் சரியானவை எவை?

- A) I, II மற்றும் III மட்டும்
B) I மற்றும் IV மட்டும்
C) III மற்றும் III மட்டும்
D) மேற்கண்ட அனைத்தும்
E) விடை தெரியவில்லை

118. The Vesara style of architecture is also referred to as

- A) Indo-Aryan style
B) The Chalukya style
C) The pallava style
D) The Chola style
E) Answer not known

வேசரா கட்டிடக்கலை எவ்வாறு குறிப்பிடப்படுகிறது?

- A) இந்தோ-ஆரிய பாணி
B) சாளுக்கிய பாணி
C) பல்லவர் பாணி
D) சோழர் பாணி
E) விடை தெரியவில்லை

119. With reference to the period of Gupta dynasty in ancient India, the towns Tamralipti, Kalyan and Chaul were well-known for which of the following one?

- A) Prominent Buddhist pilgrimage sites
B) Sites of ancient battlefields
C) ports handling foreign trade
D) capitals of powerful kingdoms
E) Answer not known



பண்டைய இந்தியாவில் குப்த வம்சத்தின் காலத்தைக் குறிப்பிடுகையில், தாமிரலிப்தி, கல்யாண் மற்றும் சால் ஆகிய நகரங்கள் பின்வருவனவற்றில் எதற்காக நன்கு அறியப்பட்டவை?

- A) முக்கிய புத்த யாத்திரை தலங்கள்
B) பண்டைய போர்க் களங்கள்
C) வெளிநாட்டு வர்த்தகத்தை கையாளும் துறைமுகங்கள்
D) சக்திவாய்ந்த ராஜ்யங்களின் தலைநகரங்கள்
E) விடை தெரியவில்லை

120. Match List-I with List-II.

List-I

(Literary works)

- a) Panchatantra stories
b) Manucharitham
c) Jambavati Kalyanam
d) Madura Vijayam

List-II

(Author)

1. Allasani Peddana
2. Gangadevi
3. Vishnu Sharma
4. Krishnadevaraya

Codes:

- | | a | b | c | d |
|----|----------|----------|----------|----------|
| A) | 1 | 4 | 2 | 3 |
| B) | 2 | 1 | 3 | 4 |
| C) | 3 | 1 | 4 | 2 |
| D) | 4 | 1 | 2 | 3 |

E) Answer not known

பட்டியல்-Iஐ பட்டியல்-II உடன் பொருத்தவும்.

பட்டியல்-I

(இலக்கியப் படைப்புகள்)

- a) பஞ்சதந்திர கதைகள்
b) மனுசரிதம்
c) ஜாம்பவதி கல்யாணம்
d) மதுரா விஜயம்

பட்டியல்-II

(ஆசிரியர்)

1. அல்லாசானி பெத்தண்ணா
2. கங்காதேவி
3. விஷ்ணு சர்மா
4. கிருஷ்ணதேவராயர்

குறியீடுகள்:

- | | a | b | c | d |
|----|----------|----------|----------|----------|
| A) | 1 | 4 | 2 | 3 |
| B) | 2 | 1 | 3 | 4 |
| C) | 3 | 1 | 4 | 2 |
| D) | 4 | 1 | 2 | 3 |

E) விடை தெரியவில்லை

121. Arrange the following events in chronological order:

- I. Foundation of Bahmani kingdom
II. Foundation of Vijayanagar kingdom
III. Coronation of Krishna Devaraya
IV. Rise of Deccan Sultanates

**Codes:**

- A) I-II-III-IV
B) I-II-IV-III
C) II-I-III-IV
D) II-I-IV-III
E) Answer not known

பின்வரும் நிகழ்வுகளை காலவரிசைப்படி ஒழுங்கமைக்கவும்:

- I. பாமினி சாம்ராஜ்யத்தின் அடித்தளம்
II. விஜயநகர பேரரசின் அடித்தளம்
III. கிருஷ்ண தேவராயரின் முடிதூட்டு விழா
IV. தக்காண சுல்தான்களின் எழுச்சி

குறியீடுகள்:

- A) I-II-III-IV
B) I-II-IV-III
C) II-I-III-IV
D) II-I-IV-III
E) விடை தெரியவில்லை

122. Consider the following statements regarding Nalanda University:

- I. Skanda Gupta founded the Nalanda University.
II. Nalanda was ransacked and destroyed by Bhaktiyar Khalji.
III. It is not a UNESCO World Heritage Site.

Which of the statements given above is/are correct?

- A) I only
B) II only
C) III only
D) I and II only
E) Answer not known

நாளந்தா பல்கலைக்கழகம் தொடர்பான பின்வரும் கூற்றுகளை கருத்தில் கொள்க:

- I. ஸ்கந்த குப்தர் நாளந்தா பல்கலைக்கழகத்தை நிறுவினார்.
II. நாளந்தா பல்கலைக்கழகம் பக்தியார் கில்ஜியால் தூறையாடப்பட்டு அழிக்கப்பட்டது.
III. இது யுனெஸ்கோவின் உலக பாரம்பரிய தளம் அல்ல.

மேற்கண்ட கூற்றுகளில் சரியானது எது/எவை?

- A) I மட்டும்
B) II மட்டும்
C) III மட்டும்
D) I மற்றும் II மட்டும்
E) விடை தெரியவில்லை

123. Match List-I with List-II.

List-I
(Features)

- a) Fire Altar
b) Giant Water Reservoir
c) First artificial port
d) Toy plough

List-II
(Location)

1. Dholavira
2. Kalibangan
3. Banawali
4. Lothal

Codes:

- | | a | b | c | d |
|----|------------------|----------|----------|----------|
| A) | 2 | 1 | 4 | 3 |
| B) | 3 | 1 | 2 | 4 |
| C) | 1 | 2 | 3 | 4 |
| D) | 4 | 1 | 2 | 3 |
| E) | Answer not known | | | |



பட்டியல்-Iஐ பட்டியல்-II உடன் பொருத்தவும்.

பட்டியல்-I

(அம்சங்கள்)

- நெருப்பு குண்டம்
- பெரிய குளம்
- முதல் செயற்கை துறைமுகம்
- பொம்மை கலப்பை

பட்டியல்-II

(இடம்)

- தோலவிரா
- காளிபங்கள்
- பனவாலி
- லோத்தல்

குறியீடுகள்:

- | | a | b | c | d |
|----|------------------|----------|----------|----------|
| A) | 2 | 1 | 4 | 3 |
| B) | 3 | 1 | 2 | 4 |
| C) | 1 | 2 | 3 | 4 |
| D) | 4 | 1 | 2 | 3 |
| E) | விடை தெரியவில்லை | | | |

124. Consider the following statements regarding Zafar Khan:

- Zafar Khan who declared independence in 1445.
- Zafar Khan took the title 'Bahman Shah'.
- He assumed the title Second Alexander on his coins.

Which of the statements given above is/are correct?

- I and II only
- II and III only
- I and III only
- All the above
- Answer not known

ஜாபர் கான் தொடர்பான பின்வரும் கூற்றுகளை கருத்தில் கொள்க:

- ஜாபர் கான் 1445 இல் சுதந்திரத்தை அறிவித்தார்.
- ஜாபர் கான் 'பாமன்ஷா' என்ற பட்டத்தை பெற்றார்.
- நாணயங்களில் தன்னுடைய பெயரை இரண்டாம் அலெக்சாண்டர் என்று பொறித்துக் கொண்டார்.

மேற்கண்ட கூற்றுகளில் சரியானவை எவை?

- I மற்றும் II மட்டும்
- II மற்றும் III மட்டும்
- I மற்றும் III மட்டும்
- மேற்கண்ட அனைத்தும்
- விடை தெரியவில்லை

125. Match List-I with List-II.

List-I

(Vijayanagara Administration)

- Dalavay
- Pradhani
- Rayasam
- Adaippam

List-II

(Designation)

- Secretary
- Commander
- Personal attendant
- Governor

**Codes:**

- | | a | b | c | d |
|----|----------|----------|----------|----------|
| A) | 3 | 2 | 4 | 1 |
| B) | 2 | 4 | 1 | 3 |
| C) | 2 | 1 | 3 | 4 |
| D) | 3 | 1 | 2 | 4 |

E) Answer not known

பட்டியல்-Iஐ பட்டியல்-II உடன் பொருத்தவும்.

பட்டியல்-I

பட்டியல்-II

(விஜயநகர் நிர்வாகம்)

(பதவி)

- | | |
|-------------|---------------------|
| a) தளவாய் | 1. செயலர் / கணக்கர் |
| b) பிரதானி | 2. தளபதி |
| c) ராயசம் | 3. தனி உதவியாளர் |
| d) அடைப்பம் | 4. ஆளுநர் |

குறியீடுகள்:

- | | a | b | c | d |
|----|----------|----------|----------|----------|
| A) | 3 | 2 | 4 | 1 |
| B) | 2 | 4 | 1 | 3 |
| C) | 2 | 1 | 3 | 4 |
| D) | 3 | 1 | 2 | 4 |

E) விடை தெரியவில்லை

126. Consider the following statements regarding Mohamad Gawan:

- I. Gawan used Portuguese chemist to teach the preparation and use of gun powder.
- II. Gawan divided the existing four provinces of the Bahmani Sultanate into eight.
- III. He placed some districts in the provinces directly under central administration.

Which of the statements given above are correct?

- | | |
|---------------------|--------------------|
| A) I and II only | B) II and III only |
| C) I and III only | D) All the above |
| E) Answer not known | |

முகமது கவான் தொடர்பான பின்வரும் கூற்றுகளை கருத்தில் கொள்க

- I. போர்ச்சுகீசிய வேதியியல் வல்லுநர்களின் வழிகாட்டுதலின் அடிப்படையில் வெடிமருந்தைப் பயன்படுத்தினார்.
- II. பாமினி அரசை நிர்வகிக்க வசதியாக நாட்டை எட்டு மாகாணங்களாகப் பிரித்தார்.
- III. சில மாவட்டங்களை கவானே தன் நேரடி கட்டுப்பாட்டில் கொண்டு வந்தார்.

மேற்கண்ட கூற்றுகளில் சரியானவை எவை?

- | | |
|--------------------------|---------------------------|
| A) I மற்றும் II மட்டும் | B) II மற்றும் III மட்டும் |
| C) I மற்றும் III மட்டும் | D) மேற்கண்ட அனைத்தும் |
| E) விடை தெரியவில்லை | |



127. The Battle of Talikota took place in

- A) 1565 B) 1578
C) 1556 D) 1526
E) Answer not known

தலைக்கோட்டைப் போர் நடந்த வருடம்

- A) 1565 B) 1578
C) 1556 D) 1526
E) விடை தெரியவில்லை

128. Which of the following works were authored by Harshavardhana?

- I. Priyadarsika
II. Rathnavali
III. Nagananda
IV. Kadambari

Codes:

- A) I, II and III only B) II, III and IV only
C) I, III and IV only D) All the above
E) Answer not known

ஹர்ஷவர்தனால் எழுதப்பட்ட படைப்புகள் எவை?

- I. பிரியதர்சிகா
II. ரத்னாவளி
III. நாகநந்தா
IV. காதம்பரி

குறியீடுகள்:

- A) I, II மற்றும் III மட்டும் B) II, III மற்றும் IV மட்டும்
C) I, III மற்றும் IV மட்டும் D) மேற்கண்ட அனைத்தும்
E) விடை தெரியவில்லை

129. Consider the following statements.

Assertion (A) : Bahman Shah attempted to exact an annual tribute from the state of Warrangal, the Reddi Kingdoms Rajamundry and Kondavidu.

Reason (R) : This led to frequent wars.

Codes:

- A) Both (A) and (R) are true and (R) is the correct explanation of (A)
B) Both (A) and (R) are true but (R) is not the correct explanation of (A)
C) (A) is true but (R) is false
D) (A) is false but (R) is true
E) Answer not known

பின்வரும் கூற்றுகளை கருத்தில் கொள்க.

கூற்று (A) : வாரங்கல் மற்றும் ரெட்டி அரசுகளான ராஜமுந்திரி, கொண்ட வீடு ஆகியவற்றிடமிருந்து வருடம்தோறும் கப்பம் பெற பாமன்ஷா முயன்றார்.

காரணம் (R) : இது பல போர்களுக்கு இட்டுச் சென்றது.



குறியீடுகள்:

- A) (A) மற்றும் (R) இரண்டும் சரி மற்றும் (R) என்பது (A)-யின் சரியான விளக்கமாகும்
 B) (A) மற்றும் (R) இரண்டும் சரி ஆனால் (R) என்பது (A)-யின் சரியான விளக்கமல்ல
 C) (A) சரி ஆனால் (R) தவறு
 D) (A) தவறு ஆனால் (R) சரி
 E) விடை தெரியவில்லை

130. Who bravely fought and defeated the Hunas on the North-Western frontier during their lifetime?

- A) Samudragupta
 B) Kumaragupta I
 C) Chandragupta-II
 D) Skandagupta
 E) Answer not known

வடமேற்கு எல்லையில் உள்ள ஹுணர்களை அவர்கள் வாழ்ந்த காலத்தில் துணிச்சலுடன் போராடி தோற்கடித்தவர் யார்?

- A) சமுத்திரகுப்தர்
 B) முதலாம் குமாரகுப்தர்
 C) இரண்டாம் சந்திரகுப்தர்
 D) ஸ்கந்தகுப்தர்
 E) விடை தெரியவில்லை

131. Which of the following is/are correctly matched?

(Material)	(Site)
I. Lapiz Lazuli	– Shortugai
II. Shell	– Nageshwar
III. Steatite	– South Rajasthan

Codes:

- A) I and II only
 B) II and III only
 C) I and III only
 D) All the above
 E) Answer not known

பின்வருவனவற்றில் எது சரியாகப் பொருந்துகிறது?

(பொருள்)	(நகரம்)
I. வைடுரியம்	– ஷார்டுகை
II. சங்கு	– நாகேஷ்வர்
III. ஸ்டீட்டைட் (நுரைக்கல்)	– தெற்கு ராஜஸ்தான்

குறியீடுகள்:

- A) I மற்றும் II மட்டும்
 B) II மற்றும் III மட்டும்
 C) I மற்றும் III மட்டும்
 D) மேற்கண்ட அனைத்தும்
 E) விடை தெரியவில்லை

132. Match List-I with List-II.

List-I	List-II
(IVC sites)	(Discovered by)
a) Harappa	1. Dr.Amrendranath
b) Mohenjodaro	2. Daya Ram Sahini
c) Rakhigarhi	3. R.D Banerjee
d) Lothal	4. S.R.Rao

**Codes:**

- | | a | b | c | d |
|----|----------|----------|----------|----------|
| A) | 4 | 3 | 2 | 1 |
| B) | 3 | 2 | 4 | 1 |
| C) | 2 | 3 | 1 | 4 |
| D) | 4 | 1 | 2 | 3 |

E) Answer not known

பட்டியல்-Iஐ பட்டியல்-II உடன் பொருத்தவும்.

பட்டியல்-I**(சிந்து சமவெளி தளங்கள்)**

- ஹரப்பா
- மொஹஞ்சதாரோ
- ராகிகர்க்கி
- லோத்தல்

குறியீடுகள்:

- | | a | b | c | d |
|----|----------|----------|----------|----------|
| A) | 4 | 3 | 2 | 1 |
| B) | 3 | 2 | 4 | 1 |
| C) | 2 | 3 | 1 | 4 |
| D) | 4 | 1 | 2 | 3 |

E) விடை தெரியவில்லை

பட்டியல்-II**(கண்டுபிடித்தவர்)**

- Dr. அம்ரேந்திரநாத்
- தயாராம் சாஹினி
- ஆர்.டி. பானர்ஜி
- எஸ்.ஆர்.ராவ்

133. Which incident forced Gandhi to start fast unto death in Yerwada Jail in September 1932 ?

- Round Table conference failed to satisfy Indian political aspirations
- Congress and muslim league had difference of opinion
- Ramsay macdonald announced the communal award
- None of the above
- Answer not known

1932 செப்டம்பரில் ஏர்வாடா சிறையில் காந்தி சாகும்வரை உண்ணாவிரதம் இருக்கத் தூண்டிய சம்பவம் எது?

- இந்திய அரசியல் எண்ணங்களை பூர்த்தி செய்வதற்கான முயற்சியில் வட்ட மேசை மாநாடு தோல்வியடைந்தது
- காங்கிரஸுக்கும் முஸ்லிம் லீக்கிற்கும் கருத்து வேறுபாடு இருந்தது
- ராம்சே மெக்டொனால்ட் வகுப்புவாத தொகுதி ஒதுக்கீட்டினை அறிவித்தார்
- மேற்கண்ட எதுவுமில்லை
- விடை தெரியவில்லை

134. Pakistan resolution was passed by the All India Muslim League on

- 26 April 1940
- 24 April 1940
- 23 March 1940
- 24 August 1940
- Answer not known



அகில இந்திய முஸ்லிம் லீக் கட்சியால் பாகிஸ்தான் தீர்மானம் எப்போது நிறைவேற்றப்பட்டது?

- A) 26 ஏப்ரல் 1940
B) 24 ஏப்ரல் 1940
C) 23 மார்ச் 1940
D) 24 ஆகஸ்ட் 1940
E) விடை தெரியவில்லை

135. Consider the following statements.

- I. T.B. Macaulay was India first law member of Governor General in Council from 1834 to 1838
II. Macaulay was on the side of Orientalist group
III. He wrote 'A Minute on Indian Culture' wrote in 1835
IV. His motto was "be Indian in taste, but English in opinion, culture and in intellect"

Which of the statements given above is/are correct?

- A) I only
B) II and III only
C) I and II only
D) All the above
E) Answer not known

பின்வரும் கூற்றுகளை கருத்தில் கொள்க.

- I. T.B. மெக்காலே 1834 முதல் 1838 வரை கவர்னர் ஜெனரலின் ஆலோசனைக் குழுவில் முதல் சட்ட உறுப்பினராக அங்கம் வகித்தவர்.
II. மெக்காலே கீழ்த்திசைக் குழுவிற்கு ஆதரவாக வாதிட்டார்.
III. 1835இல் அவர் தனது புகழ்பெற்ற "இந்தியக் கலாச்சாரம் குறித்த குறிப்புகள் எனும் குறிப்புகளை வெளியிட்டார்.
IV. விருப்பத்தில் இந்தியராய், கருத்தில், ஒழுக்கநெறிகளில், அறிவில் ஆங்கிலேயராய் இருக்கும் ஒரு மக்கள் பிரிவினரை இந்தியாவிருள்ளே உருவாக்க அவர் விரும்பியதே அவர் ஆங்கில மரபுக் குழுவை ஆதரித்ததன் காரணமாகும்.

மேற்கண்ட கூற்றுகளில் சரியானது எது/எவை?

- A) I மட்டும்
B) II மற்றும் III மட்டும்
C) I மற்றும் II மட்டும்
D) மேற்கண்ட அனைத்தும்
E) விடை தெரியவில்லை

136. Consider the following statements.

- I. British followed Anti Indian policy measure in higher official positions
II. Educated Indian middle class request to hold the civil service examinations only in India not in Britain.

Which of the statements given above is/are incorrect?

- A) I only
B) II only
C) Both I and II
D) Neither I nor II
E) Answer not known

பின்வரும் கூற்றுகளை கருத்தில் கொள்க.

- I. பிரிட்டிஷ் உயர் அதிகாரி பதவிகளில் இந்திய எதிர்ப்பு கொள்கை நடவடிக்கையை பின்பற்றியது
II. குடிமைபணி தேர்வுகளை பிரிட்டனில் நடத்தாமல் இந்தியாவில் மட்டும் நடத்த வேண்டும் என்று படித்த இந்திய நடுத்தர வர்க்கத்தினர் கோரிக்கை விடுத்துள்ளனர்.



மேற்கண்ட கூற்றுகளில் தவறானது எது/எவை?

- A) I மட்டும்
B) II மட்டும்
C) இரண்டும்
D) இரண்டுமில்லை
E) விடை தெரியவில்லை

137. Find out the incorrectly matched pair.

(Acts)	(Year)
A) Public Meetings Act	- 1907
B) Explosive substance Act	- 1908
C) Indian Press Act	- 1910
D) Newspaper (Incitement and Offences Act)	- 1912
E) Answer not known	

தவறாகப் பொருந்திய இணையைக் கண்டறியவும்.

(சட்டங்கள்)	(ஆண்டு)
A) பொதுக் கூட்டங்கள் சட்டம்	- 1907
B) வெடிபொருள் சட்டம்	- 1908
C) இந்திய பத்திரிகை சட்டம்	- 1910
D) செய்தித்தாள் (தூண்டுதல் மற்றும் குற்றச் சட்டம்)	- 1912
E) விடை தெரியவில்லை	

138. Which is not a primary reason for developing militant trend in Indian National Congress is?

- A) discrimination in congress
B) frustration with the moderate politics
C) anger against Lord Curzon for dividing Bengal
D) lack of trust in "Mendicant Policy" of moderates
E) Answer not known

இந்திய தேசிய காங்கிரஸில் போர்க்குணமிக்க போக்கை வளர்ப்பதற்கு எது முக்கிய காரணம் அல்ல?

- A) காங்கிரஸில் பாகுபாடு
B) மிதவாத அரசியலில் விரக்தி
C) வங்காளத்தைப் பிரித்ததற்காக கர்சன் பிரபு மீது கோபம்
D) மிதவாதிகளின் "மன்றாடுதல் கொள்கையில்" நம்பிக்கை இல்லாமை
E) விடை தெரியவில்லை

139. Consider the following statements.

- I. Samitis (corps of volunteers) were engaged in Mass Mobilization in Indian National Struggle.
II. It consists of Educated middle class, upper caste, Muslim peasantry and depressed classes proportionately.
III. It was eventually failed to flourish.

Which of the statements given above is/are correct?

- A) I only
B) I and II
C) Both I and III
D) All the above
E) Answer not known



பின்வரும் கூற்றுகளை கருத்தில் கொள்க.

- I. சமீதிகள் (தன்னார்வத் தொண்டர்கள்) இந்திய தேசியப் போராட்டத்தில் வெகுஜன மக்களை அணிதிரட்டுவதில் ஈடுபட்டிருந்தனர்.
 - II. சமீதிகள் படித்த நடுத்தர வர்க்கம், உயர் சாதி, முஸ்லீம் விவசாயிகள் மற்றும் தாழ்த்தப்பட்ட வகுப்பினரை கொண்டுள்ளது.
 - III. சமீதிகள் இறுதியில் செழித்தோங்கத் தவறியது.
- மேற்கண்ட கூற்றுகளில் சரியானது எது/எவை?
- A) I மட்டும்
B) I மற்றும் II
C) I மற்றும் III
D) மேற்கண்ட அனைத்தும்
E) விடை தெரியவில்லை

140. Consider the following statements.

- I. He established bomb factory along with a religious school.
 - II. Prafulla Chaki and Khudiram Bose were trained in this school.
- Which person established this School?
- A) Aurobindo ghose
B) Bipin chandra pal
C) Hemachandra Kanungo
D) Chaki and Khudiram Bose
E) Answer not known

பின்வரும் கூற்றுகளை கருத்தில் கொள்க.

- I. அவர் ஒரு மதப் பள்ளியுடன் சேர்ந்து வெடிகுண்டு தொழிற்சாலையை நிறுவினார்.
 - II. இப்பள்ளியில் பிரபுல்லா சாகி, குதிராம் போஸ் ஆகியோர் பயிற்சி பெற்றனர்.
- இந்தப் பள்ளியை நிறுவியவர் யார்?
- A) அரவிந்த கோஸ்
B) பிபின் சந்திர பால்
C) ஹேமச்சந்திர கனுங்கோ
D) சாகி மற்றும் குதிராம் போஸ்
E) விடை தெரியவில்லை

141. Which of the following is/are correctly matched?

(Personalities)	–	(Birth Year)
I. Jyotiba Govindrao Phule	–	1827
II. Narayana Guru	–	1854
III. Ayyankali	–	1863
IV. Swami Vivekananda	–	1863

Codes:

- A) I, II and III only
B) II, III and IV only
C) III and IV only
D) All the above
E) Answer not known

பின்வருவனவற்றில் எது சரியாகப் பொருந்துகிறது?

(ஆளுமைகள்)	–	(பிறந்த ஆண்டு)
I. ஜோதிபா கோவிந்தராவ் பூலே	–	1827
II. நாராயண குரு	–	1854
III. அய்யன்காளி	–	1863
IV. சுவாமி விவேகானந்தர்	–	1863



குறியீடுகள்:

- A) I, II மற்றும் III மட்டும்
B) II, III மற்றும் IV மட்டும்
C) III மற்றும் IV மட்டும்
D) மேற்கண்ட அனைத்தும்
E) விடை தெரியவில்லை

142. During childhood he faced a discrimination which lead him into a leader of an anticaste movement and he also found Association for the Protection of the Poor in 1907. Identify the Personality.

- A) B.R.Ambedkar
B) M.C.Rajah
C) Mahatma Ayyankali
D) Rettaimalai Srinivasan
E) Answer not known

குழந்தை பருவத்தில் அவர் ஒரு பாகுபாட்டை எதிர்கொண்டார், இது அவரை ஒரு சாதி எதிர்ப்பு இயக்கத்தின் தலைவராக வழிநடத்தியது, மேலும் அவர் 1907 இல் ஏழைகளின் பாதுகாப்பிற்கான சங்கத்தையும் நிறுவினார். இக்கூற்று தொடர்பான ஆளுமையை அடையாளம் காணவும்.

- A) அம்பேத்கர்
B) எம்.சி.ராஜா
C) மகாத்மா அய்யன்காளி
D) ரெட்டைமலை சீனிவாசன்
E) விடை தெரியவில்லை

143. Consider the following statements.

- I. Maulana Abul Kalam Azad led the Council Jamait-Ul-Ulema
II. This Council strives for protection of the religious and political rights of Muslims.

Which of the statements given above is/are correct?

- A) I only
B) II only
C) Both I and II
D) Neither I nor II
E) Answer not known

பின்வரும் கூற்றுகளைக் கவனியுங்கள்.

- I. மௌலானா அபுல் கலாம் ஆசாத் தலைமையில் ஜமாத்-உல்-உலமா சபை நடைபெற்றது

II. இந்த கவுன்சில் முஸ்லிம்களின் மத மற்றும் அரசியல் உரிமைகளை பாதுகாக்க பாடுபட்டது. மேற்கண்ட கூற்றுகளில் சரியானது எது/எவை?

- A) I மட்டும்
B) II மட்டும்
C) இரண்டும்
D) இரண்டுமில்லை
E) விடை தெரியவில்லை

144. Consider the following statements.

- I. First Conference of the Dravida Mahajana Sabha organized at Madras
II. Sakya Buddhist Society founded at SriLanka.
III. Oru Paisa Tamilan is a Monthly magazine.

Which of the statements given above is/are incorrect?

- A) I only
B) I and II only
C) I, II and III
D) All are correct
E) Answer not known



பின்வரும் கூற்றுகளை கருத்தில் கொள்க.

- I. திராவிட மகாஜன சபையின் முதல் மாநாடு சென்னையில் நிறுவப்பெற்றது.
- II. சாக்கிய பௌத்த சங்கம் இலங்கையில் நிறுவப்பட்டது.
- III. ஒரு பைசா தமிழன் என்பது மாத இதழ்.

மேற்கண்ட கூற்றுகளில் தவறானது எது/எவை?

- A) I மட்டும்
- B) I மற்றும் II மட்டும்
- C) I, II மற்றும் III
- D) அனைத்தும் கூற்றுகளும் சரியானவை
- E) விடை தெரியவில்லை

145. Consider the following statements.

- I. Behraramji Malabari organized a campaign for legislation against the practice of child marriage
 - II. His advocacy latter led to the passage of Age of Consent Act 1891.
- Which of the statements given above is/are correct?

- A) I only
- B) II only
- C) Both I and II
- D) Neither I nor II
- E) Answer not known

பின்வரும் கூற்றுகளை கருத்தில் கொள்க.

- I. பெர்ராம்ஜி மலபாரி குழந்தை திருமண நடைமுறைக்கு எதிரான சட்டத்திற்கான பிரச்சாரத்தை ஏற்பாடு செய்தார்
 - II. அவரது பிரச்சாரம் ஒப்புதல் வயதுச் சட்டம் 1891 இயற்றப்படுவதற்கு வழிவகுத்தது.
- மேற்கண்ட கூற்றுகளில் சரியானது எது/எவை?

- A) I மட்டும்
- B) II மட்டும்
- C) இரண்டும்
- D) இரண்டுமில்லை
- E) விடை தெரியவில்லை

146. Arrange in chronological order:

- I. Deoband Movement
- II. Aligarh Movement
- III. Rahnumai Mazdayasnan Sabha
- IV. Samarasa Vedha Sanmarga Sangam
- V. Satyasodhak Samaj

Codes:

- A) III-IV-I-V-II
- B) II-V-IV-I-III
- C) III-V-IV-II-I
- D) III-IV-V-I-II
- E) Answer not known

காலவரிசைப்படி ஒழுங்கமைக்கவும்:

- I. தியோபந்த் இயக்கம்
- II. அலிகார் இயக்கம்
- III. ரஹ்நுமாய் மஸ்தயாஸ்னன் சபா
- IV. சமரச வேத சன்மார்க்க சங்கம்
- V. சத்யசோதக் சமாஜம்



குறியீடுகள்:

- A) III-IV-IV-II
B) II-V-IV-I-III
C) III-V-IV-II-I
D) III-IV-VI-II
E) விடை தெரியவில்லை

147. Consider the following statements.

- I. Prarthana Samaj was founded by Dr. Atma Ram Pandurang in 1867.
II. Sri Ramakrishna Gopal Bhandarkar was a member of this samaj.
III. It opposes western Ideology.

Which of the statements given above is/are correct?

- A) I only
B) I and III only
C) I and II only
D) All the above
E) Answer not known

பின்வரும் கூற்றுகளை கருத்தில் கொள்க.

- I. பிரார்த்தனை சமாஜம் 1867இல் டாக்டர் ஆத்மா ராம் பாண்டூரங்கால் நிறுவப்பட்டது.
II. ஸ்ரீ ராமகிருஷ்ண கோபால் பண்டார்கர் இந்த சமாஜத்தில் உறுப்பினராக இருந்தார்.
III. இது மேற்கத்திய சித்தாந்தத்தை எதிர்க்கிறது.

மேற்கண்ட கூற்றுகளில் சரியானது எது/எவை?

- A) I மட்டும்
B) I மற்றும் III மட்டும்
C) I மற்றும் II மட்டும்
D) மேற்கண்ட அனைத்தும்
E) விடை தெரியவில்லை

148. Consider the following statements.

- I. Raja Rammohan Roy opened a temple in Calcutta with only one idol representing monotheism.
II. He laid down 'no religion should be reviled or slightly or contemptuously spoken off or alluded to'.
III. It failed to attract the people from the lower sections of society

Which of the statements given above is/are correct?

- A) I only
B) II and III only
C) I and II only
D) All the above
E) Answer not known

பின்வரும் கூற்றுகளை கருத்தில் கொள்க.

- I. ராஜா ராமமோகன் ராய் கல்கத்தாவில், ஒரு கடவுள் கோட்பாட்டை குறிக்கும் வகையில் ஒரு கோவிலை நிறுவினார். அக்கோவிலில் ஒரு திருவுருவச் சிலை மட்டும் இருந்தது.
II. இங்கு எந்த ஒரு மதத்தையும் ஏளனமாகவோ, அவமானமாகவோ பேசக்கூடாது அல்லது மறைமுகமாகக் குறிப்பிடப்படலாகாது என எழுதிவைத்தார்.
III. சமூகத்தின் கீழ்த்தட்டு மக்களைத் தன்பால் ஈர்ப்பதில் சமாஜம் தோல்வியடைந்தது.

மேற்கண்ட கூற்றுகளில் சரியானது எது/எவை?

- A) I மட்டும்
B) II மற்றும் III மட்டும்
C) I மற்றும் II மட்டும்
D) மேற்கண்ட அனைத்தும்
E) விடை தெரியவில்லை



149. Who founded Sadharan Brahmo Samaj?

- A) Ananda Mohan Bose
- B) Debendranath Tagore
- C) Ishwar Chandra Vidyasagar
- D) Keshab Chandra sen
- E) Answer not known

சதாரண பிரம்ம சமாஜத்தை நிறுவியவர் யார்?

- A) ஆனந்த மோகன் போஸ்
- B) தேபேந்திரநாத் தாகூர்
- C) ஈஸ்வர் சந்திர வித்யாசாகர்
- D) கேசப் சந்திர சென்
- E) விடை தெரியவில்லை

150. Consider the following statements.

- I. Velu Nachiyar Life period was 1730 to 1796
- II. Lt.Colonel Bon Jour stormed Kalaiyar Kovil Palace in 1772
- III. Commandant Syed provide the required military assistance to Velu Nachiyar.

Which of the statements given above is/are correct?

- A) I only
- B) II and III only
- C) I and II only
- D) all the above
- E) Answer not known

பின்வரும் கூற்றுகளை கருத்தில் கொள்க.

- I. வேலு நாச்சியார் வாழ்ந்த காலம் 1730 முதல் 1796 வரை
- II. லெப்டினன்ட் கர்னல் பான் ஜோர் 1772 இல் காளையார் கோவில் அரண்மனையைத் தாக்கினார்
- III. வேலு நாச்சியாருக்கு தேவையான ராணுவ உதவிகளை தளபதி சையத் வழங்குகினார்.

மேற்கண்ட கூற்றுகளில் சரியானது எது/எவை?

- A) I மட்டும்
- B) II மற்றும் III மட்டும்
- C) I மற்றும் II மட்டும்
- D) மேற்கண்ட அனைத்தும்
- E) விடை தெரியவில்லை

151. When was Carnatic Treaty 1801 signed?

- A) 31st July
- B) 30th June
- C) 31st March
- D) 30th April
- E) Answer not known

1801 கர்நாடக ஒப்பந்தம் எப்போது கையெழுத்தானது?

- A) ஜூலை 31
- B) ஜூன் 30
- C) மார்ச் 31
- D) ஏப்ரல் 30
- E) விடை தெரியவில்லை

152. Consider the following statements.

Assertion (A) : Odanilai is situated at Arachalur Town, Erode District

Reason (R) : Theerthagiri built a fort and fought the British without leaving the place.

**Codes:**

- A) Both (A) and (R) are true and (R) is the correct explanation of (A)
B) Both (A) and (R) are true but (R) is not the correct explanation of (A)
C) (A) is true but (R) is false
D) (A) is false but (R) is true
E) Answer not known

பின்வரும் கூற்றுகளை கருத்தில் கொள்க.

கூற்று (A) : ஈரோடு மாவட்டம், அரச்சலூர் நகரில் ஓடாநிலை உள்ளது.

காரணம் (R) : தீர்த்தகிரி ஒரு கோட்டை எழுப்பி, அந்த இடத்தை விட்டு வெளியேறாமல் ஆங்கிலேயர்களுடன் போரிட்டார்.

குறியீடுகள்:

- A) (A) மற்றும் (R) இரண்டும் சரி மற்றும் (R) என்பது (A) இன் சரியான விளக்கமாகும்
B) (A) மற்றும் (R) இரண்டும் சரி ஆனால் (R) என்பது (A) இன் சரியான விளக்கமல்ல.
C) (A) சரி ஆனால் (R) தவறு
D) (A) தவறு ஆனால் (R) சரி
E) விடை தெரியவில்லை

153. Who was not a committee member which found Kattabomman was not guilty?

- A) S.R.Lushington
B) John Casamajor
C) William Brown
D) William Oram
E) Answer not known

கட்டபொம்மன் குற்றமற்றவர் எனக் கண்டறிந்த குழுவில் இல்லாதவர் யார்?

- A) எஸ்.ஆர்.லூசிங்டன்
B) ஜான் காசமாமார்
C) வில்லியம் பிரவுன்
D) வில்லியம் ஓரம்
E) விடை தெரியவில்லை

154. Identify the Period of Vedaranyam Salt Satyagraha

- A) 12th March 1930 to 5th April 1930
B) 13th April 1930 to 28th April 1930
C) 6th April 1930 to 28th April 1930
D) None of the above
E) Answer not known

வேதாரண்யம் உப்பு சத்தியாகிரகத்தின் ஆண்டை அடையாளம் காணவும்.

- A) மார்ச் 12, 1930 முதல் ஏப்ரல் 5, 1930 வரை
B) ஏப்ரல் 13, 1930 முதல் ஏப்ரல் 28, 1930 வரை
C) ஏப்ரல் 6, 1930 முதல் ஏப்ரல் 28, 1930 வரை
D) மேற்கண்ட எதுவுமில்லை
E) விடை தெரியவில்லை

155. While arresting INA officers by British government, Congress setup a defence committee. Who is not a part of that committee ?

- A) Aruna Asaf Ali
B) Jawarlal Nehru
C) Tej Bahadur Sapru
D) Bhulabhai Desai
E) Answer not known



பிரிட்டிஷ் அரசாங்கம் INA அதிகாரிகளை கைது செய்த போது, காங்கிரஸ் ஒரு பாதுகாப்புக் குழுவை அமைத்தது. அந்தக் குழுவில் அங்கம் வகிக்காதவர் யார்?

- A) அருணா ஆசப் அலி
B) ஜவகர்லால் நேரு
C) தேஜ் பகதூர் சாப்ரு
D) புலபாய் தேசாய்
E) விடை தெரியவில்லை

156. Consider the following statements.

Assertion (A) : Indian Independence Act enacted on 15 August 1947

Reason (R) : 15 August is celebrated as Independence Day to commemorate the official transfer of power and the birth of an independent India.

Codes:

- A) Both (A) and (R) are true and (R) is the correct explanation of (A)
B) Both (A) and (R) are true but (R) is not the correct explanation of (A)
C) (A) is true but (R) is false
D) (A) is false but (R) is true
E) Answer not known

பின்வரும் கூற்றுகளை கருத்தில் கொள்க.

கூற்று (A) : இந்திய சுதந்திரச் சட்டம் 15 ஆகஸ்ட் 1947 அன்று இயற்றப்பட்டது

காரணம் (R) : அதிகாரப்பூர்வ அதிகார பரிமாற்றம் மற்றும் சுதந்திர இந்தியா பிறந்ததை நினைவுகூரும் வகையில் ஆகஸ்ட் 15 சுதந்திர தினமாக கொண்டாடப்படுகிறது.

குறியீடுகள்:

- A) (A) மற்றும் (R) இரண்டும் சரி மற்றும் (R) என்பது (A) இன் சரியான விளக்கமாகும்
B) (A) மற்றும் (R) இரண்டும் சரி ஆனால் (R) என்பது (A) இன் சரியான விளக்கமல்ல
C) (A) சரி ஆனால் (R) தவறு
D) (A) தவறு ஆனால் (R) சரி
E) விடை தெரியவில்லை

157. Consider the following statements.

Assertion (A) : Bhagat Singh, Chandra sekar Azad and Rajguru killed saunders.

Reason (R) : Because saunders attacked Arabind Ghose.

Codes:

- A) Both (A) and (R) are true and (R) is the correct explanation of (A)
B) Both (A) and (R) are true but (R) is not the correct explanation of (A)
C) (A) is true but (R) is false
D) (A) is false but (R) is true
E) Answer not known

பின்வரும் கூற்றுகளை கருத்தில் கொள்க.

கூற்று (A) : பகத் சிங், சந்திர சேகர் ஆசாத் மற்றும் ராஜ்குரு சாண்டர்ஸை கொலை செய்தனர்.

காரணம் (R) : ஏனென்றால், சாண்டர்ஸ் அரவிந்த கோஸை தாக்கினார்.



குறியீடுகள்:

- A) (A) மற்றும் (R) இரண்டும் சரி மற்றும் (R) என்பது (A) இன் சரியான விளக்கமாகும்
B) (A) மற்றும் (R) இரண்டும் சரி ஆனால் (R) என்பது (A) இன் சரியான விளக்கமல்ல
C) (A) சரி ஆனால் (R) தவறு
D) (A) தவறு ஆனால் (R) சரி
E) விடை தெரியவில்லை

158. Jatindrenath Das died in the jail after 64 days. He was arrested in which case?
A) Kakori Conspiracy Case B) Kanpur Conspiracy Case
C) Lahore Conspiracy Case D) Meerut Conspiracy Case
E) Answer not known

ஜதீந்திரநாத் தாஸ் 64 நாட்களுக்குப் பிறகு சிறையில் இறந்தார். அவர் எந்த வழக்கில் கைது செய்யப்பட்டார்?

- A) ககோரி சதி வழக்கு B) கான்பூர் சதி வழக்கு
C) லாகூர் சதி வழக்கு D) மீரட் சதி வழக்கு
E) விடை தெரியவில்லை

159. Who was the Governor of Madras Presidency when Vellore Mutiny took place in 1806 ?

- A) William Bentinck B) Sir George Barlow
C) Lord Minto I D) Lord Wellesly
E) Answer not known

1806 ஆம் ஆண்டு வேலூர் கலகம் நடந்த போது மெட்ராஸ் மாகாணத்தின் கவர்னர் யார் ?

- A) வில்லியம் பென்டிங்க் B) சர் ஜார்ஜ் பார்லோ
C) முதலாம் மிண்டோ பிரபு D) வெல்லஸ்லி பிரபு
E) விடை தெரியவில்லை

160. Who was the Governor general of India when the following Reforms happened?

- I. Widow Remarriage Act 1856
II. First Railway line connecting Bombay and Thane in 1853
III. Woods Despatch 1854

Codes:

- A) Lord Canning B) Lord Hardinge
C) Lord Dalhousie D) Lord Elgin I
E) Answer not known

பின்வரும் சீர்திருத்தங்கள் நடந்தபோது இந்தியாவின் கவர்னர் ஜெனரலாக இருந்தவர் யார்?

- I. விதவை மறுமணச் சட்டம் 1856
II. 1853 இல் பம்பாய் மற்றும் தானேவை இணைக்கும் முதல் ரயில் பாதை
III. உட்ஸ் அறிக்கை 1854

குறியீடுகள்:

- A) கானிங் பிரபு B) ஹார்டிங் பிரபு
C) டல்ஹவுசி பிரபு D) முதலாம் எல்ஜின் பிரபு
E) விடை தெரியவில்லை



161. Arrange in chronological order:

- I. Deepavali Declaration
- II. Gandhi Irwin Pact
- III. Fast unto death by Gandhi
- IV. Simon Commission
- V. First Round Table Conference

Codes:

- | | |
|---------------------|------------------|
| A) IV-II-I-III-V | B) IV-V-II-I-III |
| C) IV-I-II-V-III | D) IV-I-V-II-III |
| E) Answer not known | |

காலவரிசைப்படி வரிசைப்படுத்துக :

- I. தீபாவளி பிரகடனம்
- II. காந்தி இர்வின் ஒப்பந்தம்
- III. காந்தியின் சாகும்வரை உண்ணாவிரதம்
- IV. சைமன் குழு
- V. முதல் வட்ட மேசை மாநாடு

குறியீடுகள்:

- | | |
|---------------------|------------------|
| A) IV-II-I-III-V | B) IV-V-II-I-III |
| C) IV-I-II-V-III | D) IV-I-V-II-III |
| E) விடை தெரியவில்லை | |

162. Match List-I with List-II.

List-I

(News Paper)

- a) Madras Courier
- b) India Herald
- c) Madras Gazette
- d) The Bengal Gazette

List-II

(Founder)

1. Robert William
2. J.A. Hicky
3. Humphrey
4. Richard Johnson

Codes:

- | | a | b | c | d |
|----|----------|----------|----------|----------|
| A) | 4 | 2 | 3 | 1 |
| B) | 2 | 1 | 3 | 4 |
| C) | 3 | 2 | 1 | 4 |
| D) | 4 | 3 | 1 | 2 |

E) Answer not known

பட்டியல்-Iஐ பட்டியல்-II உடன் பொருத்துக

பட்டியல்-I

(செய்தித்தாளர்)

- a) Madras Courier
- b) India Herald
- c) Madras Gazette
- d) The Bengal Gazette

பட்டியல்-II

(நிறுவனர்)

1. ராபர்ட் வில்லியம்
2. J.A. ஹிக்கி
3. ஹும்ப்ரே
4. ரிச்சர்ட் ஜான்சன்



குறியீடுகள்:

- | | a | b | c | d |
|----|----------|----------|----------|----------|
| A) | 4 | 2 | 3 | 1 |
| B) | 2 | 1 | 3 | 4 |
| C) | 3 | 2 | 1 | 4 |
| D) | 4 | 3 | 1 | 2 |
- E) விடை தெரியவில்லை

163. First Vernacular Newspaper "Samachar Darban" was started by ?

- A) Marshman and William Ward B) Dadabhai Naoroji
C) Fardunjee Marzban D) William Ashburner
E) Answer not known

முதல் வட்டார மொழி செய்தித்தாள் "சமாச்சார் தர்பன்" யாரால் தொடங்கப்பட்டது?

- A) மார்ஷ்மேன் மற்றும் வில்லியம் வார்டு
B) தாதாபாய் நௌரோஜி
C) பர்துன்ஜீ மார்ஸ்பன்
D) வில்லியம் ஆஷ்பர்னர்
E) விடை தெரியவில்லை

164. On Which Day and by Whom National Flag Hoisted in TamilNadu after Lahore Resolution?

- A) 24 January 1932, Bhashyam
B) 26 January 1932, NMR Subbaraman
C) 26 January 1932, Arya @ Bhasyam
D) 24 January 1932, O.K.S.R.Kumaraswamy
E) Answer not known

லாகூர் தீர்மானத்திற்குப் பிறகு தமிழ்நாட்டில் எந்த நாளில், யாரால் தேசியக் கொடி ஏற்றப்பட்டது?

- A) 24 ஜனவரி 1932, பாஷ்யம்
B) 26 ஜனவரி 1932, என்எம்ஆர் சுப்பராமன்
C) 26 ஜனவரி 1932, ஆர்யா (எ) பாஷ்யம்
D) 24 ஜனவரி 1932, OKSR குமாரசாமி
E) விடை தெரியவில்லை

165. Consider the following statements.

- I. Resolution on fundamental rights and national economic policy was passed.
II. Vallabhabhai Patel Presided this INC Session

The above statements related to which INC Session ?

- A) Karachi Session, 1913 B) Kanpur Session, 1925
C) Madras Session, 1927 D) Karachi Session, 1931
E) Answer not known

பின்வரும் கூற்றுகளை கருத்தில் கொள்க.

- I. அடிப்படை உரிமைகள் மற்றும் தேசிய பொருளாதாரக் கொள்கை தொடர்பான தீர்மானம் நிறைவேற்றப்பட்டது.
II. வல்லபாய் படேல் இந்த INC அமர்வுக்கு தலைமை தாங்கினார்



மேற்கண்ட கூற்றுகள் எந்த INC அமர்வுடன் தொடர்பானது?

- A) கராச்சி அமர்வு, 1913
B) கான்பூர் அமர்வு, 1925
C) மெட்ராஸ் அமர்வு, 1927
D) கராச்சி அமர்வு, 1931
E) விடை தெரியவில்லை

166. Consider the following statements.

- I. Sindh was carved out of Bombay Presidency
II. A Federal Railway Authority was setup to control Indian Railways.
III. It abolishes the Indian Council.

The above statements enacted in which Act?

- A) Indian Independence Act, 1947
B) Government of India Act, 1935
C) Government of India Act, 1919
D) Indian Councils Act, 1909
E) Answer not known

பின்வரும் கூற்றுகளை கருத்தில் கொள்க.

- I. சிந்து பம்பாய் மாகாணத்தில் இருந்து பிரிக்கப்பட்டது
II. இந்திய இரயில்வேயை கட்டுப்படுத்த ஒரு பெடரல் இரயில்வே ஆணையம் அமைக்கப்பட்டது.

III. இது இந்திய கவுன்சிலை ஒழித்தது.

மேற்கண்ட கூற்றுகள் எந்தச் சட்டத்தில் இயற்றப்பட்டுள்ளன?

- A) இந்திய சுதந்திரச் சட்டம், 1947
B) இந்திய அரசுச் சட்டம், 1935
C) இந்திய அரசுச் சட்டம், 1919
D) இந்திய கவுன்சில் சட்டம், 1909
E) விடை தெரியவில்லை

167. Who was the father of modern India ?

- A) Rajaram Mohan Roy
B) Mahatma Gandhi
C) Megasthenes
D) Jawaharlal Nehru
E) Answer not known

நவீன இந்தியாவின் தந்தை யார்?

- A) இராஜாராம் மோகன் ராய்
B) மகாத்மா காந்தி
C) மெகஸ்தனிஸ்
D) ஜவஹர்லால் நேரு
E) விடை தெரியவில்லை

168. The year 1916 holds significant importance in Indian history for

- I. Lucknow Session of the Congress
II. Formation of Home Rule League
III. Congress-League Pact

Codes:

- A) I and II only
B) II and III only
C) I and III only
D) All the above
E) Answer not known



1916 ஆம் ஆண்டு இந்திய வரலாற்றில் எதற்காக முக்கியத்துவம் வாய்ந்தது?

- I. காங்கிரஸின் லக்னோ அமர்வு
- II. தன்னாட்சி இயக்கம் உருவாக்கம்
- III. காங்கிரஸ்-லீக் ஒப்பந்தம்

குறியீடுகள்:

- A) I மற்றும் II மட்டும்
- B) II மற்றும் III மட்டும்
- C) I மற்றும் III மட்டும்
- D) மேற்கண்ட அனைத்தும்
- E) விடை தெரியவில்லை

169. The headquarters of the Ghadar Movement was located in

- A) Vancouver, Canada
- B) Amritsar, Punjab
- C) San Francisco, USA
- D) Paris, France
- E) Answer not known

கதர் இயக்கத்தின் தலைமையகம் எங்கு அமைந்துள்ளது?

- A) வான்கவர், கனடா
- B) அமிர்தசரஸ், பஞ்சாப்
- C) சான் பிரான்சிஸ்கோ, அமெரிக்கா
- D) பாரிஸ், பிரான்ஸ்
- E) விடை தெரியவில்லை

170. Which of the following statements is incorrect regarding the Subsidiary Alliance of Lord Wellesley?

- A) The Indian king had to dissolve his own military forces and allow British troops to be stationed in his territory.
- B) The state was also responsible for covering the expenses of maintaining the British troops.
- C) The ally was free to enter into agreements with other rulers or engage in warfare.
- D) The state was to accept British residents at its headquarters.
- E) Answer not known

வெல்லஸ்லி பிரிடிவின் துணைப்படைத் திட்டம் தொடர்பாக பின்வரும் எந்த கூற்று தவறானது?

- A) இந்திய மன்னர் தனது சொந்த இராணுவப் படைகளைக் கலைத்துவிட்டு, பிரிட்டிஷ் துருப்புக்களை தனது பிரதேசத்தில் நிலைநிறுத்த அனுமதிக்க வேண்டும்.
- B) பிரிட்டிஷ் துருப்புக்களை பராமரிப்பதற்கான செலவுகளை ஈடுகட்டுவதற்கும் அரசு பொறுப்பேற்றது.
- C) மற்ற ஆட்சியாளர்களுடன் ஒப்பந்தங்களில் ஈடுபடவோ அல்லது போரில் ஈடுபடவோ சுதந்திரம் பெற்று இருந்தனர்.
- D) பிரிட்டிஷ் அலுவலரை அரசு அதன் தலைமையகத்தில் ஏற்றுக்கொள்ள வேண்டும்.
- E) விடை தெரியவில்லை

171. Who said "I do not like what some people say, that we are Indians first and Hindus afterwards or Muslims afterwards. I am not satisfied with that... I want all people to be Indians first, Indians last and nothing else but Indians."?

- A) Mahatma Gandhi
- B) Sardar Valabai Patel
- C) Maulana Abul Kalam Azad
- D) B.R Ambedkar
- E) Answer not known



"முதலில் நாம் இந்தியர்கள், பிறகு இந்துக்கள் அல்லது பிறகு முஸ்லிம்கள் என்று சிலர் சொல்வது எனக்குப் பிடிக்கவில்லை. அதில் எனக்கு திருப்தி இல்லை... மக்கள் அனைவரும் முதலும் முடிவும் இந்தியர்களாக இருக்க வேண்டும், அதைத் தவிர்த்து வேறு ஒன்றும் இல்லை இந்தியர்களாக இருக்க வேண்டும் என நான் விரும்புகிறேன். என்று கூறியவர் யார்?"

- A) மகாத்மா காந்தி
B) சர்தார் வல்லபாய் படேல்
C) மௌலானா அபுல் கலாம் ஆசாத்
D) BR அம்பேத்கர்
E) விடை தெரியவில்லை

172. In India, the first major public appearance of Mahatma Gandhi was in

- A) Rowlatt Satyagraha (1919)
B) Inauguration of Banaras Hindu University (1916)
C) Lucknow Session (1916)
D) Champaran Satyagraha (1917)
E) Answer not known

இந்தியாவில், மகாத்மா காந்தியின் முதல் பொது நிகழ்ச்சி பங்கேற்பு எது?

- A) ரௌலட் சத்தியாகிரகம் (1919)
B) பனாரஸ் இந்து பல்கலைக்கழகத்தின் துவக்கம் (1916)
C) லக்னோ அமர்வு (1916)
D) சம்பராண் சத்தியாகிரகம் (1917)
E) விடை தெரியவில்லை

173. Arrange the following in the chronological order :

- I. The Vernacular Press Act
II. The Indian Factory Act (First)
III. Lex Loci Act
IV. The Minto Morley Reforms

Codes:

- A) III-I-II-IV
B) II-III-I-IV
C) I-II-III-IV
D) II-I-III-IV
E) Answer not known

காலவரிசைப்படி பின்வருவனவற்றை வரிசைப்படுத்துக:

- I. வட்டார மொழி பத்திரிக்கை சட்டம்
II. இந்திய தொழிற்சாலை சட்டம் (முதல்)
III. லெக்ஸ் லோகி சட்டம்
IV. மிண்டோ மார்லி சீர்திருத்த சட்டம்

குறியீடுகள்:

- A) III-I-II-IV
B) II-III-I-IV
C) I-II-III-IV
D) II-I-III-IV
E) விடை தெரியவில்லை

174. The Direct action day of Muslim league was

- A) 16th August 1940
B) 3rd June 1946
C) 16th August 1946
D) 14th July 1947
E) Answer not known



முஸ்லிம் லீக்கின் நேரடி நடவடிக்கை நாள்

- A) ஆகஸ்ட் 16, 1940
B) ஜூன் 3, 1946
C) ஆகஸ்ட் 16, 1946
D) ஜூலை 14, 1947
E) விடை தெரியவில்லை

175. Which of the following statements about the Non-Cooperation Movement is/are correct?

- I. It was characterized by the involvement of non-Brahmin lower castes in Madras and Maharashtra.
II. It was marked by the lack of labour unrest in places like Assam, Bengal and Madras.

Codes:

- A) I only
B) II only
C) Both I and II
D) Neither I nor II
E) Answer not known

ஒத்துழையாமை இயக்கம் பற்றிய பின்வரும் கூற்றுகளில் சரியானது எது/எவை ?

- I. இது மதராஸ் மற்றும் மகாராஷ்டிராவில் உள்ள பிராமணர் அல்லாத தாழ்ந்த சாதியினரின் ஈடுபாட்டால் வகைப்படுத்தப்பட்டது.
II. அசாம், வங்காளம் மற்றும் மெட்ராஸ் போன்ற இடங்களில் தொழிலாளர் போராட்டம் இல்லாததை குறிக்கிறது.

குறியீடுகள்:

- A) I மட்டும்
B) II மட்டும்
C) இரண்டும்
D) இரண்டுமில்லை
E) விடை தெரியவில்லை

176. Consider the following statements.

- I. The Third Round Table Conference (RTC) took place in London in 1932 without the participation of the Indian National Congress.
II. The discussions in Third RTC led to the passing of Government of India Act 1935
III. The Government of India Act 1935 did not favour the idea of provincial autonomy

Which of the statements given above is/are correct?

- A) I and II only
B) II only
C) I only
D) I and III only
E) Answer not known

பின்வரும் கூற்றுகளை கருத்தில் கொள்க.

- I. மூன்றாம் வட்ட மேசை மாநாடு (RTC) 1932 இல் லண்டனில் இந்திய தேசிய காங்கிரஸின் பங்கேற்பு இல்லாமல் நடந்தது.
II. மூன்றாவது வட்ட மேசை மாநாட்டில் நடந்த விவாதங்கள் இந்திய அரசுச் சட்டம் 1935 இயற்றப்படுவதற்கு வழிவகுத்தது
III. இந்திய அரசுச் சட்டம் 1935 மாகாண சுயாட்சி யோசனைக்கு ஆதரவாக இல்லை



மேற்கண்ட கூற்றுகளில் சரியானது எது/எவை?

- A) I மற்றும் II மட்டும்
B) II மட்டும்
C) I மட்டும்
D) I மற்றும் III மட்டும்
E) விடை தெரியவில்லை

177. Who made the statement, "A sound body means one which bends itself to the spirit and is always a ready instrument at its service"?

- A) Mahatma Gandhi
B) Swami Vivekananda
C) Dayananda Saraswati
D) Rabindranath Tagore
E) Answer not known

“ஆரோக்கியமான உடல் என்பது உணர்வுக்கு தன்னைக் கட்டுப்படுத்திக் கொள்ளும் மற்றும் எப்போதும் அதன் சேவையில் தயாராக இருக்கும் ஒரு கருவியாகும்” என்ற கூற்றை கூறியவர் யார்?

- A) மகாத்மா காந்தி
B) சுவாமி விவேகானந்தர்
C) தயானந்த சரஸ்வதி
D) இரவீந்திரநாத் தாகூர்
E) விடை தெரியவில்லை

178. Who among the following was the founder of Phoenix Settlement?

- A) B.R Ambedkar
B) Aurobindo Ghosh
C) Mahatma Gandhi
D) C.F Andrews
E) Answer not known

பின்வருவனவற்றில் ஃபீனிக்ஸ் குடியேற்றத்தின் நிறுவனர் யார்?

- A) B.R. அம்பேத்கர்
B) அரபிந்தோ கோஷ்
C) மகாத்மா காந்தி
D) C.F. ஆண்ட்ரூஸ்
E) விடை தெரியவில்லை

179. Arrange the following battles in chronological order:

- I. Battle of Adyar
II. Battle of Arcot
III. Battle of Ambur
IV. Battle of Wandiwash

Codes:

- A) I-II-IV-III
B) II-I-IV-III
C) III-I-II-IV
D) I-III-II-IV
E) Answer not known

பின்வரும் போர்களை காலவரிசைப்படி வரிசைப்படுத்துக :

- I. அடையாறு போர்
II. ஆற்காடு போர்
III. ஆம்பூர் போர்
IV. வந்தவாசிப் போர்

குறியீடுகள்:

- A) I-II-IV-III
B) II-I-IV-III
C) III-I-II-IV
D) I-III-II-IV
E) விடை தெரியவில்லை



180. Consider the following statements.

- I. Satyendranath Tagore was the first Indian to pass the I.C.S. Examination in 1863
- II. The idea of competition for recruitment was introduced first by the Charter Act, 1833.
- III. The system of recruitment on the basis of open competitive examination was introduced in 1853.

Which of the statements given above is/are correct?

- A) I and II only
- B) II and III only
- C) I and III only
- D) All the above
- E) Answer not known

பின்வரும் கூற்றுகளை கருத்தில் கொள்க.

- I. சத்யேந்திரநாத் தாகூர் 1863 இல் ICS தேர்வில் தேர்ச்சி பெற்ற முதல் இந்தியர் ஆவார்
- II. ஆட்சேர்ப்புக்கான போட்டியின் யோசனை முதலில் பட்டயச் சட்டம், 1833 மூலம் அறிமுகப்படுத்தப்பட்டது.
- III. திறந்த போட்டித் தேர்வின் அடிப்படையில் ஆட்சேர்ப்பு முறை 1853 இல் அறிமுகப்படுத்தப்பட்டது.

மேற்கண்ட கூற்றுகளில் சரியானவை எவை?

- A) I மற்றும் II மட்டும்
- B) II மற்றும் III மட்டும்
- C) I மற்றும் III மட்டும்
- D) மேற்கண்ட அனைத்தும்
- E) விடை தெரியவில்லை

181. Match List-I with List-II.

List-I

(Wars fought)

- a) First Anglo Mysore War
- b) Battle of Buxar
- c) First Carnatic War
- d) Second Carnatic war

List-II

(Treaties signed)

1. Treaty of Allahabad
2. Treaty of Pondicherry
3. Treaty of Madras
4. Treaty of Aix-la-Chapelle

Codes:

- | | a | b | c | d |
|----|----------|----------|----------|----------|
| A) | 4 | 2 | 3 | 1 |
| B) | 2 | 1 | 3 | 4 |
| C) | 3 | 1 | 4 | 2 |
| D) | 4 | 2 | 1 | 3 |

E) Answer not known

பட்டியல்-Iஐ பட்டியல்-II உடன் பொருத்துக

பட்டியல்-I

(போர்கள்)

- a) முதல் ஆங்கிலோ மைசூர் போர்
- b) பக்சார் போர்
- c) முதல் கர்நாடகப் போர்
- d) இரண்டாம் கர்நாடகப் போர்

பட்டியல்-II

(ஒப்பந்தங்கள் கையெழுத்தானது)

1. அலகாபாத் ஒப்பந்தம்
2. பாண்டிச்சேரி ஒப்பந்தம்
3. மெட்ராஸ் ஒப்பந்தம்
4. அய்-லா-சபேல் உடன்படிக்கை



குறியீடுகள்:

- | | a | b | c | d |
|----|----------|----------|----------|----------|
| A) | 4 | 2 | 3 | 1 |
| B) | 2 | 1 | 3 | 4 |
| C) | 3 | 1 | 4 | 2 |
| D) | 4 | 2 | 1 | 3 |
- E) விடை தெரியவில்லை

182. Consider the following statements regarding composition of Constituent Assembly.

- I. Each province and Princely states are allocated seats in proportion to respective population.
- II. Representation of each community is elected by members of that community in the provincial legislative assembly.

Which of the statements given above is/are incorrect?

- | | |
|------------------|---------------------|
| A) I only | B) II only |
| C) Both I and II | D) Neither I nor II |
- E) Answer not known

அரசியலமைப்புச் சபையின் அமைப்பு தொடர்பான பின்வரும் கூற்றுகளை கருத்தில் கொள்க .

- I. ஒவ்வொரு மாகாணம் மற்றும் சுதேசி அரசுகளுக்கும் அந்தந்த மக்கள் தொகை விகிதத்தில் இடங்கள் ஒதுக்கப்படுகின்றன.
- II. மாகாண சட்டமன்றத்தில் ஒவ்வொரு சமூகத்தின் பிரதிநிதித்துவமும் அந்த சமூகத்தின் உறுப்பினர்களால் தேர்ந்தெடுக்கப்படுகிறது.

மேற்கண்ட கூற்றுகளில் தவறானது எது/எவை?

- | | |
|--------------|-----------------|
| A) I மட்டும் | B) II மட்டும் |
| C) இரண்டும் | D) இரண்டுமில்லை |
- E) விடை தெரியவில்லை

183. Who among the following had signed the Poona pact (1932) on behalf of Mahatma Gandhi?

- | | |
|-------------------------|-----------------------------|
| A) Madan Mohan Malaviya | B) Sardar Vallabhbhai Patel |
| C) Jawaharlal Nehru | D) B.R Ambedkar |
- E) Answer not known

மகாத்மா காந்தியின் சார்பாக பூனா ஒப்பந்தத்தில் (1932) கையெழுத்திட்டவர் யார்?

- | | |
|-----------------------|---------------------------|
| A) மதன் மோகன் மாளவியா | B) சர்தார் வல்லபாய் படேல் |
| C) ஜவஹர்லால் நேரு | D) BR அம்பேத்கர் |
- E) விடை தெரியவில்லை

184. Find the incorrect statement:

- A) George William Forrest can rightly be called as the "Father of National Archives of India".
 - B) The National Archives of India (NAI) is located in Calcutta.
 - C) It is one of the oldest and largest document repositories in India.
 - D) Most of the records in this archives are in English.
- E) Answer not known



தவறான கூற்றைக் கண்டறியவும்:

- A) ஜார்ஜ் வில்லியம் பாரஸ்ட் "இந்தியாவின் தேசிய ஆவணக் காப்பகங்களின் தந்தை" என்று அழைக்கப்படுகிறார்.
B) இந்திய தேசிய ஆவணக் காப்பகம் (NAI) கல்கத்தாவில் அமைந்துள்ளது.
C) இது இந்தியாவின் மிகப் பழமையான மற்றும் மிகப்பெரிய ஆவணக் களஞ்சியங்களில் ஒன்றாகும்.
D) இந்த ஆவணக் காப்பகத்தில் உள்ள பெரும்பாலான பதிவுகள் ஆங்கிலத்தில் உள்ளன.
E) விடை தெரியவில்லை

185. Consider the following statements regarding currency under colonial rule:
I. The first coinage in modern India under the crown was issued in 1862.
II. The Reserve Bank of India was formally set up in 1935
III. The first paper currency issued by RBI in January 1938 was one-rupee notes bearing the portrait of King George VI.

Which of the statements given above are correct?

- A) I and II only
B) II and III only
C) I and III only
D) All the above
E) Answer not known

காலனித்துவ ஆட்சியின் கீழ் செலவாணி தொடர்பான பின்வரும் கூற்றுகளை கருத்தில் கொள்க :

- I. அரசியாரின் கீழ் நவீன இந்தியாவில் முதல் நாணயம் 1862 இல் வெளியிடப்பட்டது.
II. இந்திய ரிசர்வ் வங்கி முறைப்படி 1935 இல் அமைக்கப்பட்டது
III. ஜனவரி 1938 இல் ரிசர்வ் வங்கி வெளியிட்ட முதல் காகித பணம் ஆறாம் ஜார்ஜ் மன்னரின் உருவப்படம் கொண்ட ஒரு ரூபாய் நோட்டுகள் ஆகும்.

மேற்கண்ட கூற்றுகளில் சரியானவை எவை?

- A) I மற்றும் II மட்டும்
B) II மற்றும் III மட்டும்
C) I மற்றும் III மட்டும்
D) மேற்கண்ட அனைத்தும்
E) விடை தெரியவில்லை

186. In which of the following cases was Bhagat Singh tried and sentenced to death?

- A) Kanpur Conspiracy Case
B) Lahore Conspiracy Case
C) Meerut Conspiracy Case
D) Delhi Conspiracy Case
E) Answer not known

பின்வரும் எந்த வழக்கில் பகத் சிங் விசாரிக்கப்பட்டு மரண தண்டனை விதிக்கப்பட்டார்?

- A) கான்பூர் சதி வழக்கு
B) லாகூர் சதி வழக்கு
C) மீரட் சதி வழக்கு
D) டெல்லி சதி வழக்கு
E) விடை தெரியவில்லை

187. Consider the following statements regarding Fransico de Almeida:

- I. He was the first Governor for the Portuguese possessions in India.
II. He captured Goa from Sulthan of Bijapur in 1510.
III. His policy was known as the Blue Water Policy.
IV. During his reign, the first printing press in India was set up in Goa.



Which of the statements given above are correct?

- A) I, II and III only
B) II and III only
C) I and III only
D) II and IV only
E) Answer not known

பிரான்சிஸ்கோ டி அல்மெய்டா பற்றிய பின்வரும் கூற்றுகளை கருத்தில் கொள்க :

- I. இந்தியாவில் போர்த்துகீசிய குடியேற்றங்களுக்கான முதல் ஆளுநராக இருந்தார்.
II. இவர் 1510 இல் பிஜாப்பூர் சுல்தானிடமிருந்து கோவாவைக் கைப்பற்றினார்.
III. இவரது கொள்கை நீல நீர் கொள்கை என்று அறியப்பட்டது.
IV. இவரது ஆட்சிக் காலத்தில், இந்தியாவின் முதல் அச்சகம் கோவாவில் அமைக்கப்பட்டது.
மேற்கண்ட கூற்றுகளில் சரியானவை எவை?

- A) I, II மற்றும் III மட்டும்
B) II மற்றும் III மட்டும்
C) I மற்றும் III மட்டும்
D) II மற்றும் IV மட்டும்
E) விடை தெரியவில்லை

188. Consider the following statements regarding Battle of Plassey:

- I. The battle of Plassey took place between the British East India Company and Shuja-ud-daula on June 23, 1757
II. The English East India Company's forces under Robert Clive defeated the forces of Nawab of Bengal.
III. As a result the East India Company received the place of 26 parganas in Bengal.

Which of the statements given above is/are incorrect?

- A) I only
B) III only
C) I and III only
D) All the above
E) Answer not known

பிளாசிப் போர் தொடர்பான பின்வரும் கூற்றுகளை கருத்தில் கொள்க :

- I. ஜூன் 23, 1757 அன்று பிரிட்டிஷ் கிழக்கிந்திய கம்பெனிக்கும் சுஜா-உத்-தௌலாவுக்கும் இடையே பிளாசி போர் நடந்தது.
II. இராபர்ட் கிளைவ் தலைமையில் ஆங்கிலேய கிழக்கிந்திய கம்பெனியின் படைகள் வங்காள நவாபின் படைகளை தோற்கடித்தது.
III. இதன் விளைவாக வங்காளத்தில் 26 பர்கானாக்களின் இடத்தை கிழக்கிந்திய கம்பெனி பெற்றது.

மேற்கண்ட கூற்றுகளில் தவறானது எது/எவை?

- A) I மட்டும்
B) III மட்டும்
C) I மற்றும் III மட்டும்
D) மேற்கண்ட அனைத்தும்
E) விடை தெரியவில்லை

189. Consider the following statements regarding Permanent Settlement:

- I. It is a brain child of Holt Mackenzie.
II. It was known by different names like Zamindari, Jagirdari, Malguzari and Biswedari.
III. All judicial powers were taken away from the Zamindars.



Which of the statements given above are correct?

- A) I and II only
B) II and III only
C) I and III only
D) All the above
E) Answer not known

நிலையான நிலவரித் திட்டம் தொடர்பான பின்வரும் கூற்றுகளை கருத்தில் கொள்க :

I. இது ஹோல்ட் மெக்கன்சியின் சிந்தனையில் உருவானது .

II. இது ஜமீந்தாரி, ஜாகிர்தாரி, மல்குசாரி மற்றும் பிஸ்வேதாரி போன்ற பல்வேறு பெயர்களால் அறியப்பட்டது.

III. அனைத்து நீதித்துறை அதிகாரங்களும் ஜமீந்தார்களிடம் இருந்து பறிக்கப்பட்டது.

மேற்கண்ட கூற்றுகளில் சரியானவை எவை?

- A) I மற்றும் II மட்டும்
B) II மற்றும் III மட்டும்
C) I மற்றும் III மட்டும்
D) மேற்கண்ட அனைத்தும்
E) விடை தெரியவில்லை

190. Consider the following statements.

Assertion (A) : Bhagat Singh and Batukeswar Dutt threw a bomb into the Central Assembly Hall on 8 April 1929.

Reason (R) : The aim was not to kill but "to make the deaf hear", and to remind the foreign government of its callous exploitation.

Codes:

- A) Both (A) and (R) are true and (R) is the correct explanation of (A)
B) Both (A) and (R) are true but (R) is not the correct explanation of (A)
C) (A) is true but (R) is false
D) (A) is false but (R) is true
E) Answer not known

பின்வரும் கூற்றுகளை கருத்தில் கொள்க.

கூற்று (A) : பகத் சிங் மற்றும் பதுகேஸ்வர் தத் ஆகியோர் ஏப்ரல் 8, 1929 அன்று மத்திய சட்டசபையில் குண்டு வீசினர்.

காரணம் (R) : கொலை செய்வதல்ல இதன் நோக்கம் ஆனால் "காது கேளாதவர்களைக் கேட்கச் செய்வதே" மற்றும் அந்நிய அரசாங்கத்தின் இரக்கமற்ற சுரண்டலை நினைவூட்டுவதே ஆகும்.

குறியீடுகள்:

- A) (A) மற்றும் (R) இரண்டும் சரி மற்றும் (R) என்பது (A) இன் சரியான விளக்கமாகும்
B) (A) மற்றும் (R) இரண்டும் சரி ஆனால் (R) என்பது (A) இன் சரியான விளக்கமல்ல
C) (A) சரி ஆனால் (R) தவறு
D) (A) தவறு ஆனால் (R) சரி
E) விடை தெரியவில்லை

191. Which of the following factors contributed to the Industrial Revolution taking place in England in the 18th century?

- I. The discovery of steam power
II. Availability of Capital for Investment
III. The regular supply of raw materials
IV. The introduction of railways

**Codes:**

- A) I, II and III only
B) II, III and IV only
C) III and IV only
D) All of the above
E) Answer not known

18 ஆம் நூற்றாண்டில் இங்கிலாந்தில் நிகழ்ந்த தொழில் புரட்சிக்கு பின்வரும் காரணிகளில் எது பங்களித்தது?

- I. நீராவி ஆற்றலின் கண்டுபிடிப்பு
II. முதலீட்டிற்கான மூலதனம் கிடைக்கும் தன்மை
III. மூலப்பொருட்களின் வழக்கமான விநியோகம்
IV. இரயில்வே அறிமுகம்

குறியீடுகள்:

- A) I, II மற்றும் III மட்டும்
B) II, III மற்றும் IV மட்டும்
C) III மற்றும் IV மட்டும்
D) மேற்கண்ட அனைத்தும்
E) விடை தெரியவில்லை

192. Which of the following was/were founded by Raja Ram Mohan Roy?

- I. Atmiya Sabha
II. Arya Samaj
III. Brahmo Samaj
IV. Vedanta College

Codes:

- A) I, II and III only
B) II, III and IV only
C) I, III and IV only
D) All of the above
E) Answer not known

பின்வருவனவற்றில் எது/எவை இராஜா ராம் மோகன் ராய் அவர்களால் நிறுவப்பட்டது?

- I. ஆத்மிய சபை
II. ஆர்ய சமாஜம்
III. பிரம்ம சமாஜம்
IV. வேத கல்லூரி

குறியீடுகள்:

- A) I, II மற்றும் III மட்டும்
B) II, III மற்றும் IV மட்டும்
C) I, III மற்றும் IV மட்டும்
D) மேற்கண்ட அனைத்தும்
E) விடை தெரியவில்லை

193. Which of the following individuals were members of the Cabinet Mission Plan of 1946?

- I. Lord Pethick-Lawrence
II. A.V. Alexander
III. Lord Wavell
IV. Stafford Cripps

Codes:

- A) I, II and III only
B) II, III and IV only
C) I, III and IV only
D) All of the above
E) Answer not known



பின்வரும் நபர்களில் யார் 1946 ஆம் ஆண்டின் கேபினட் திட்ட குழுவின் உறுப்பினர்களாக இருந்தனர்?

- I. லார்ட் பெதிக்-லாரன்ஸ்
- II. A.V. அலெக்சாண்டர்
- III. வேவல் பிரபு
- IV. ஸ்டாஃபோர்ட் கிரிப்சு

குறியீடுகள்:

- | | |
|------------------------------|-------------------------------|
| A) I, II மற்றும் III மட்டும் | B) II, III மற்றும் IV மட்டும் |
| C) I, III மற்றும் IV மட்டும் | D) மேற்கண்ட அனைத்தும் |
| E) விடை தெரியவில்லை | |

194. Find the incorrect statement:

- A) Idea of Constitution was first put forwarded by M.N. Roy in 1934.
- B) INC, first time officially demanded Constituent Assembly to frame constitution at Madras Session, 1927.
- C) Jawaharlal Nehru demanded framing of Constitution by a constituent Assembly elected on basis of adult franchise in 1938.
- D) The demand for a constituent assembly was accepted in principle by the British Government in 1940.
- E) Answer not known

தவறான கூற்றைக் கண்டறியவும்:

- A) அரசியலமைப்பின் யோசனை முதன்முதலில் 1934இல் எம்.என்.ராய் அவர்களால் முன்வைக்கப்பட்டது.
- B) INC, 1927, மெட்ராஸ் அமர்வில் அரசியலமைப்பை உருவாக்குவதற்கு முதல் முறையாக அரசியல் நிர்ணய சபையை அதிகாரப்பூர்வமாக கோரியது.
- C) ஜவஹர்லால் நேரு 1938 இல் வயது வந்தோருக்கான வாக்குரிமையின் அடிப்படையில் தேர்ந்தெடுக்கப்பட்ட அரசியலமைப்புச் சபையால் அரசியலமைப்பை உருவாக்கக் கோரினார்.
- D) அரசியல் நிர்ணய சபைக்கான கோரிக்கை 1940 இல் பிரிட்டிஷ் அரசாங்கத்தால் கொள்கையளவில் ஏற்றுக்கொள்ளப்பட்டது.
- E) விடை தெரியவில்லை

195. Arrange the following events in correct chronological order:

- I. Indigo revolt
- II. Santhal Rebellion
- III. Deccan riots
- IV. Sepoy Mutiny

Codes:

- | | |
|---------------------|----------------|
| A) I-II-IV-III | B) II-IV-I-III |
| C) IV-I-III-II | D) III-II-IV-I |
| E) Answer not known | |

பின்வரும் நிகழ்வுகளை சரியான காலவரிசைப்படி வரிசைப்படுத்துக :

- I. இண்டிகோ கிளர்ச்சி
- II. சந்தால் கலகம்
- III. டெக்கான் கலவரம்
- IV. சிப்பாய் கலகம்



குறியீடுகள்:

- A) I-II-IV-III
B) II-IV-I-III
C) IV-I-III-II
D) III-II-IV-I
E) விடை தெரியவில்லை

196. Which among the following groups/parties had supported the Congress call of boycott of the Simon commission?

- I. Muslim league
II. Justice Party
III. Hindu Mahasabha

Codes:

- A) I only
B) II only
C) I and III only
D) All the above
E) Answer not known

சைமன் கமிஷனை புறக்கணிக்க வேண்டும் என்ற காங்கிரஸ் அழைப்பை பின்வரும் குழுக்கள்/கட்சிகளில் எது ஆதரித்தது?

- I. முஸ்லிம் லீக்
II. நீதிக்கட்சி
III. இந்து மகாசபை

குறியீடுகள்:

- A) I மட்டும்
B) II மட்டும்
C) I மற்றும் III மட்டும்
D) மேற்கண்ட அனைத்தும்
E) விடை தெரியவில்லை

197. Who founded Fort William College in Calcutta?

- A) Sir William Jones
B) Lord Wellesley
C) David Hare
D) Warren Hastings
E) Answer not known

கல்கத்தாவில் வில்லியம் கோட்டை கல்லூரியை நிறுவியவர் யார்?

- A) சர் வில்லியம் ஜோன்ஸ்
B) வெல்லஸ்லி பிரபு
C) டேவிட் ஹேர்
D) வாரன் ஹேஸ்டிங்ஸ்
E) விடை தெரியவில்லை

198. The first elections in modern Indian history were conducted in

- A) 1920
B) 1916
C) 1921
D) 1925
E) Answer not known

நவீன இந்திய வரலாற்றில் முதல் தேர்தல் எப்போது நடத்தப்பட்டது?

- A) 1920
B) 1916
C) 1921
D) 1925
E) விடை தெரியவில்லை



199. Match List-I with List-II.

List-I

(Commission)

- Risley Papers
- Aitchison Commission
- Butler Committee
- Simon Commission

List-II

(Recommendations)

- Recommended the abolition of the Statutory Civil Service
- Partition of Bengal
- Abolition of Dyarchy
- Investigate and specify the relationship between between the central power and the princely states

Codes:

- | | a | b | c | d |
|----|----------|----------|----------|----------|
| A) | 1 | 4 | 2 | 3 |
| B) | 2 | 1 | 4 | 3 |
| C) | 3 | 2 | 1 | 4 |
| D) | 4 | 1 | 2 | 3 |

E) Answer not known

பட்டியல்-Iஐ பட்டியல்-II உடன் பொருத்துக.

பட்டியல்-I

(குழு)

- ரிஸ்லி ஆவணங்கள்
- அட்சிசன் குழு
- பட்லர் குழு
- சைமன் குழு

பட்டியல்-II

(பரிந்துரைகள்)

- சட்டரீதியான அரசுப் பணிகளை ஒழிக்குமாறு பரிந்துரைத்தது
- வங்கப் பிரிவினை
- இரட்டை ஆட்சியை ஒழித்தல்
- மத்திய அதிகாரத்திற்கும் சுதேச அரசுகளுக்கும் இடையில் உள்ள உறவை ஆராய்ந்து குறிப்பிடுதல்

குறியீடுகள்:

- | | a | b | c | d |
|----|----------|----------|----------|----------|
| A) | 1 | 4 | 2 | 3 |
| B) | 2 | 1 | 4 | 3 |
| C) | 3 | 2 | 1 | 4 |
| D) | 4 | 1 | 2 | 3 |

E) விடை தெரியவில்லை

200. The Swadeshi Movement was launched in response to which event?

- The Non-Cooperation Movement
- Civil Disobedience Movement
- The Partition of Bengal
- Jallianwala Bagh Massacre
- Answer not known

எந்த நிகழ்வின் பிரதிபலிப்பாக சுதேசி இயக்கம் தொடங்கப்பட்டது?

- ஒத்துழையாமை இயக்கம்
- சட்ட மறுப்பு இயக்கம்
- வங்கப் பிரிவினை
- ஜாலியன் வாலாபாக் படுகொலை
- விடை தெரியவில்லை



**SHANKAR
IAS ACADEMY™**
Best Academy for Civil Services Exam Coaching

SPACE FOR ROUGH WORK

SHANKAR IAS ACADEMY
WWW.PADASALAI.NET



**SHANKAR
IAS ACADEMY™**
Best Academy for Civil Services Exam Coaching

SPACE FOR ROUGH WORK

SHANKAR IAS ACADEMY
WWW.PADASALAI.NET

Question Booklet No.:



SHANKAR
IAS ACADEMYTM
Best Academy for Civil Services Exam Coaching

CCS2E/2024

Register Number

--	--	--	--	--	--	--	--	--	--

2024

GENERAL STUDIES
(Degree Standard)

Science Test – 1

Duration : Three Hours]

[Total Marks: 300

Read the following instructions carefully before you begin to answer the questions.

IMPORTANT INSTRUCTIONS

1. You will be supplied with this question booklet 15 minutes prior to the commencement of the examination.
2. This question booklet contains **200** questions. Before answering the questions, you shall check whether all the questions are printed serially and ensure that there are no blank pages in the questions booklet. **If any defect is noticed in the question booklet, it shall be reported to the invigilator within the first 10 minutes and get it replaced with a complete question booklet. If the defect is reported after the commencement of the examination, it will not be replaced.**
3. Answer all the questions. All the questions carry equal marks.
4. You must write your register number in the space provided on the top right side of this page. Do not write anything else on the question booklet.
5. An answer sheet will be supplied to you separately by the room invigilator to shade the answers. Instructions regarding filling of answers etc. which are to be followed mandatorily, are provided in the answer sheet and in the memorandum of admission Hall Ticket)
6. You shall write and shade your question booklet number in the space provided on page one of the answer sheet with **BLACK INK BALL POINT PEN**. If you do not shade correctly or fail to shade the question booklet number, your answer sheet will be invalidated.
7. Each question comprises of five responses (answers) : i.e. A), (B), C), D) and (E). You have to select **ONLY ONE** correct answer from A) or B) or C) or D) and shade the same in your answer sheet. If you feel that there are more than one correct answer, shade the one which you consider the best. **If you do not know the answer, you have to mandatorily shade (E)**. In any case, choose **ONLY ONE** answer for each question. If you shade more than one answer for a question, it will be treated as a wrong answer even if one of the given answers happens to be correct.
8. You should not remove or tear off any sheet from this question booklet. You are not allowed to take this question booklet and the answer sheet out of the examination room during the time of the examination. After the examination, you must hand over your answer sheet to the invigilator. You are allowed to take the question booklet with you only after the examination is over.
9. **You should not make any marking in the question booklet except in the sheets before the last page of the question booklet, which can be used for rough work. This should be strictly adhered to.**
10. In all matters, the English version is final.
11. Failure to comply with any of the above instructions will render you liable for such action as the Commission may decide at their discretion.

D

[Turn over

For queries mail to For queries mail to : zerofeedback@shankariasacad.in; [Turn overKindly Send Me Your Key Answer to Our email id - Padasalai.net@gmail.com



வினாக்கள் : 1-200

மொத்த மதிப்பெண்கள் : 300

Questions : 1-200

Science Test - 1

Total Marks : 300

1. Match the following :

(Quantities)**(Units)**

- | | |
|-----------------------|--------------|
| a) Luminous intensity | 1. Lumen |
| b) Luminous flux | 2. Steradian |
| c) Plane angle | 3. Candela |
| d) Solid angle | 4. Radian |

Codes:

- | | a | b | c | d |
|----|----------|----------|----------|----------|
| A) | 4 | 2 | 3 | 1 |
| B) | 2 | 1 | 3 | 4 |
| C) | 3 | 1 | 4 | 2 |
| D) | 4 | 1 | 2 | 3 |

E) Answer not known

பட்டியல்-Iஐ, பட்டியல்-II உடன் பொருத்துக.

பட்டியல்-I

பட்டியல்-II

(அளவுகள்)**(அலகுகள்)**

- | | |
|------------------|----------------|
| a) ஒளிச்செறிவு | 1. லுமென் |
| b) ஒளிப்பாயம் | 2. ஸ்ட்ரேடியன் |
| c) தளக் கோணம் | 3. கேண்டிலா |
| d) திண்மக் கோணம் | 4. ரேடியன் |

குறியீடுகள்:

- | | a | b | c | d |
|----|----------|----------|----------|----------|
| A) | 4 | 2 | 3 | 1 |
| B) | 2 | 1 | 3 | 4 |
| C) | 3 | 1 | 4 | 2 |
| D) | 4 | 1 | 2 | 3 |

E) விடை தெரியவில்லை

2. Which of the following is not a base quantity?

- | | |
|-----------------------|------------------------|
| A) Luminous intensity | B) Amount of substance |
| C) Temperature | D) Plane angle |
| E) Answer not known | |

பின்வருவனவற்றுள் எது அடிப்படை அளவுல்ல?

- | | |
|---------------------|------------------|
| A) ஒளிச்செறிவு | B) பொருளின் அளவு |
| C) வெப்பநிலை | D) தளக் கோணம் |
| E) விடை தெரியவில்லை | |



3. Consider the following statements.

- I. The amount of substance is indirectly proportional to the number of atoms or molecules.
II. Mole is defined as the amount of substance, which contains 6.023×10^{23} entities.

Which of the statements given above is/are incorrect?

- A) I only
B) II only
C) Both I and II
D) Neither I nor II
E) Answer not known

பின்வரும் கூற்றுகளைக் கருத்தில் கொள்க

I. பொருளின் அளவானது, அணுக்கள் அல்லது மூலக்கூறுகளின் எண்ணிக்கைக்கு எதிர்த்தகவில் இருக்கும்.

II. மோல் என்பது 6.023×10^{23} துகள்களைக் கொண்ட பொருளின் அளவைக் குறிக்கிறது.

மேற்கண்ட கூற்றுகளில் தவறானது எது/எவை?

- A) I மட்டும்
B) II மட்டும்
C) இரண்டும்
D) இரண்டுமில்லை
E) விடை தெரியவில்லை

4. Match List-I with List-II.

- List-I**
(Quantities)
a) Momentum
b) Acceleration
c) Force
d) Energy
e) Surface tension

- List-II**
(Units)
1. Nm
2. kgms^{-2}
3. kgms^{-1}
4. ms^{-2}
5. Nm^{-1}

Codes:

- | | a | b | c | d | e |
|----|----------|----------|----------|----------|----------|
| A) | 5 | 4 | 2 | 3 | 1 |
| B) | 3 | 4 | 2 | 1 | 5 |
| C) | 5 | 2 | 4 | 3 | 1 |
| D) | 3 | 1 | 2 | 4 | 5 |

E) Answer not known

பட்டியல்-Iஐ பட்டியல்-II உடன் பொருத்துக.

- | பட்டியல்-I | பட்டியல்-II |
|-------------------|-----------------------|
| (அளவுகள்) | (அலகுகள்) |
| a) உந்தம் | 1. Nm |
| b) முடுக்கம் | 2. kgms^{-2} |
| c) விசை | 3. kgms^{-1} |
| d) ஆற்றல் | 4. ms^{-2} |
| e) பரப்பு இழுவிசை | 5. Nm^{-1} |



குறியீடுகள்:

	a	b	c	d	e
A)	5	4	2	3	1
B)	3	4	2	1	5
C)	5	2	4	3	1
D)	3	1	2	4	5

E) விடை தெரியவில்லை

5. Consider the following statements.

I. Analog clocks can be driven either mechanically or electronically.

II. Quartz clock is more accurate than mechanical clock.

Which of the statements given above is/are correct?

A) I only

B) II only

C) Both I and II

D) Neither I nor II

E) Answer not known

பின்வரும் கூற்றுக்களைக் கருத்தில் கொள்க.

I. ஒப்புமை வகைக் கடிகாரங்கள் எந்திரவியல் தொழில் நுட்பம் அல்லது மின்னியல் தொழில் நுட்பத்தை அடிப்படையாகக் கொண்டு செயல்படும் வகையில் உருவாக்கப்படுகின்றன.

II. குவார்ட்ஸ் கடிகாரங்கள் இயந்திரவியல் கடிகாரங்களைவிட மிகவும் துல்லியமானவை.

மேற்கண்ட கூற்றுகளில் சரியானது எது/எவை?

A) I மட்டும்

B) II மட்டும்

C) இரண்டும்

D) இரண்டுமில்லை

E) விடை தெரியவில்லை

6. **Assertion (A)** : The weight of the object on the moon is more than that on the Earth.

Reason (R) : The pull of gravity on the Moon is 1/6 times weaker than that on the Earth.

Codes:

A) Both (A) and (R) are true and (R) is the correct explanation of (A)

B) Both (A) and (R) are true but (R) is not the correct explanation of (A)

C) (A) is true but (R) is false

D) (A) is false but (R) is true

E) Answer not known

பின்வரும் கூற்றுக்களைக் கருத்தில் கொள்க.

கூற்று (A) : நிலவிலுள்ள பொருளின் எடை பூமியில் இருப்பதை விட அதிகம்.

காரணம் (R) : நிலவின் ஈர்ப்பு விசை பூமியை விட 1/6 மடங்கு பலவீனமானது.

குறியீடுகள்:

A) (A) மற்றும் (R) இரண்டும் சரி மற்றும் (R) என்பது (A)-யின் சரியான விளக்கமாகும்

B) (A) மற்றும் (R) இரண்டும் சரி ஆனால் (R) என்பது (A)-யின் சரியான விளக்கமல்ல

C) (A) சரி ஆனால் (R) தவறு

D) (A) தவறு ஆனால் (R) சரி

E) விடை தெரியவில்லை



7. How many of the following pairs are correctly matched?

(prefix)	(power of 10)
I. Micro	– 10^{-6}
II. Nano	– 10^{-9}
III. Femto	– 10^{-12}
IV. Pico	– 10^{-15}

Codes:

- A) 1 pair only
B) 2 pairs only
C) 3 pairs only
D) All pairs
E) Answer not known

பின்வருவனவற்றில் எத்தனை இணைகள் சரியாகப் பொருந்தியுள்ளன?

(முன்னொட்டு)	(10-இன் அடுக்கு)
I. மைக்ரோ	– 10^{-6}
II. நானோ	– 10^{-9}
III. ஃபெம்டோ	– 10^{-12}
IV. பைக்கோ	– 10^{-15}

குறியீடுகள்:

- A) 1 இணை மட்டும்
B) 2 இணைகள் மட்டும்
C) 3 இணைகள் மட்டும்
D) அனைத்து இணைகளும்
E) விடை தெரியவில்லை

8. The mean distance of the centre of the sun from the centre of the earth is called as _____

- A) Parsec
B) Light year
C) Astronomical unit
D) Chandrasekar limit
E) Answer not known

புவியின் மையத்திலிருந்து சூரியனின் மையத்திற்குள்ள இடைநிலைத் தொலைவு _____ எனப்படும்.

- A) பார்செக்
B) ஒளி ஆண்டு
C) வானியல் அலகு
D) சந்திரசேகர் எல்லை
E) விடை தெரியவில்லை

9. Consider the following statements.

- I. Weight is scalar quantity and mass is vector quantity.
II. Mass remains the same everywhere but weight varies from place to place.

Which of the statements given above is/are incorrect?

- A) I only
B) II only
C) Both I and II
D) Neither I nor II
E) Answer not known

பின்வரும் கூற்றுகளைக் கருத்தில் கொள்க.

- I. எடை என்பது ஸ்கேலர் அளவு மற்றும் நிறை என்பது வெக்டர் அளவு.
II. நிறை எல்லா இடங்களிலும் ஒரே மாதிரியாக உள்ளது. ஆனால் எடை இடத்திற்கு இடம் மாறுபடும்.



மேற்கண்ட கூற்றுகளில் தவறானது எது/எவை?

- A) I மட்டும்
B) II மட்டும்
C) இரண்டும்
D) இரண்டுமில்லை
E) விடை தெரியவில்லை

10. **Assertion (A)** : The scientifically correct expression is “ The mass of the bag is 10 kg”

Reason (R) : In everyday life, we use the term weight instead of mass.

Codes:

- A) Both (A) and (R) are true and (R) is the correct explanation of (A)
B) Both (A) and (R) are true but (R) is not the correct explanation of (A)
C) (A) is true but (R) is false
D) (A) is false but (R) is true
E) Answer not known

பின்வரும் கூற்றுகளைக் கருத்தில் கொள்க.

கூற்று (A) : ஒரு பையின் நிறை 10 கி.கி என்பது அறிவியல் பூர்வமாக சரியான வெளிப்படுத்துதல் ஆகும்.

காரணம் (R) : அன்றாட வாழ்வில் நாம் நிறை என்ற வார்த்தைக்குப் பதிலாக எடை என்ற வார்த்தையைப் பயன்படுத்துகிறோம்.

குறியீடுகள்:

- A) (A) மற்றும் (R) இரண்டும் சரி மற்றும் (R) என்பது (A)-யின் சரியான விளக்கமாகும்
B) (A) மற்றும் (R) இரண்டும் சரி ஆனால் (R) என்பது (A)-யின் சரியான விளக்கமல்ல
C) (A) சரி ஆனால் (R) தவறு
D) (A) தவறு ஆனால் (R) சரி
E) விடை தெரியவில்லை

11. Find the correct statement

- A) The force acting perpendicularly on any given surface area of a body is known as thrust.
B) The effect of pressure can be increased by decreasing the thrust
C) The effect of pressure can be increased by increasing the surface area of the body.
D) The SI unit of pressure is Newton.
E) Answer not known

பின்வருவனவற்றுள் சரியான கூற்றைக் கண்டறிக.

- A) ஒரு பொருளின் ஏதேனும் ஒரு குறிப்பிட்ட பரப்பின் மீது செங்குத்தாக செயல்படும் விசை உந்து விசை எனப்படும்.
B) உந்துவிசையைக் குறைப்பதன் மூலம் அழுத்தத்தின் விளைவை அதிகரிக்கலாம்
C) உடலின் மேற்பரப்பை அதிகரிப்பதன் மூலம் அழுத்தத்தின் விளைவை அதிகரிக்க முடியும்.
D) அழுத்தத்தின் SI அலகு நியூட்டன்.
E) விடை தெரியவில்லை



12. Find out the incorrectly matched pair.

(Properties)**(Applications)**

- A) Pascal's law – Hydraulic lift
B) Surface tension – Water strider insect
C) Viscosity – Oppose motion of liquid layers
D) Friction – Automobile brake system
E) Answer not known

தவறாகப் பொருந்திய இணையைக் கண்டறியவும்.

(பண்புகள்)**(பயன்பாடுகள்)**

- A) பாஸ்கல் விதி – நீரியல் தூக்கி
B) பரப்பு இழுவிசை – நீர்ச் சிலந்தி
C) பாகுத்தன்மை – திரவ அடுக்குகளின் இயக்கத்தை எதிர்த்தல்
D) உராய்வு – வாகனங்களில் உள்ள வேகத்தடை அமைப்பு
E) விடை தெரியவில்லை

13. Which of the following liquid has high viscosity?

- A) Water B) Coconut oil
C) Ghee D) both B and C
E) Answer not known

பின்வரும் திரவங்களில் எது அதிக பாகுத்தன்மை கொண்டது?

- A) தண்ணீர் B) தேங்காய் எண்ணெய்
C) நெய் D) A மற்றும் B இரண்டும்
E) விடை தெரியவில்லை

14. **Assertion (A)** : A cycle has less friction on the road than a road roller.

Reason (R) : If the area of contact is greater, then, the friction will be greater too.

Codes:

- A) Both (A) and (R) are true and (R) is the correct explanation of (A)
B) Both (A) and (R) are true but (R) is not the correct explanation of (A)
C) (A) is true but (R) is false
D) (A) is false but (R) is true
E) Answer not known

பின்வரும் கூற்றுகளைக் கருத்தில் கொள்க.

கூற்று (A) : மிதிவண்டி, சாலை உருளியின் உருளையை விட குறைவான உராய்வைப் பெறுகிறது.

காரணம் (R) : தொடுபரப்பு அதிகமாக இருந்தால், உராய்வும் அதிகமாக இருக்கும்.

குறியீடுகள்:

- A) (A) மற்றும் (R) இரண்டும் சரி மற்றும் (R) என்பது (A)-யின் சரியான விளக்கமாகும்
B) (A) மற்றும் (R) இரண்டும் சரி ஆனால் (R) என்பது (A)-யின் சரியான விளக்கமல்ல
C) (A) சரி ஆனால் (R) தவறு
D) (A) தவறு ஆனால் (R) சரி
E) விடை தெரியவில்லை



15. The pressure applied at any point of a liquid at rest, in a closed system, will be distributed equally through all directions of the liquid. This is given by?
- A) Surface tension
B) Buoyant force
C) Pascal's law
D) Viscosity
E) Answer not known

மூடிய அமைப்பில் ஓய்வுநிலையில் உள்ள திரவத்தின் எந்தவொரு புள்ளியிலும் அளிக்கப்படும் அழுத்தமானது அத்திரவத்தின் அனைத்துப் புள்ளிகளுக்கும் சமமாக பகிர்ந்தளிக்கப்படும் என்று கூறும் விதி

- A) பரப்பு இழுவிசை
B) மிதப்பு விசை
C) பாஸ்கலின் விதி
D) பாகுத்தன்மை
E) விடை தெரியவில்லை

16. Consider the following statements.

- I. Force acting on a body away from the centre of circular path is called centrifugal force.
II. The dryer in a washing machine is an example for the application of centrifugal force.

Which of the statements given above is/are incorrect?

- A) I only
B) II only
C) Both I and II
D) Neither I nor II
E) Answer not known

பின்வரும் கூற்றுகளைக் கருத்தில் கொள்க.

- I. வட்டப்பாதையின் மையத்திலிருந்து ஒரு பொருளின் மீது வெளிப்புறமாகச் செயல்படும் விசையே மையவிலக்கு விசை எனப்படும்.
II. துணி துவைக்கும் இயந்திரத்தில் உள்ள துணி உலர்த்தியில் மையவிலக்கு விசை செயல்படுகிறது.

மேற்கண்ட கூற்றுகளில் தவறானது எது/எவை?

- A) I மட்டும்
B) II மட்டும்
C) இரண்டும்
D) இரண்டுமில்லை
E) விடை தெரியவில்லை

17. Which one of the following is most likely not a case of uniform circular motion?

- A) Motion of the Earth around the Sun
B) Motion of a toy train on a circular track.
C) Motion of a racing car on a circular track.
D) Motion of hours' hand on the dial of the clock.
E) Answer not known

பின்வருவனவற்றுள் எது சீரான வட்ட இயக்கமாக அமையாது?

- A) தூரியனைச் சுற்றும் பூமியின் இயக்கம்
B) வட்டப் பாதையில் பொம்மை ரயிலின் இயக்கம்.
C) வட்டப் பாதையில் பந்தயக் காரின் இயக்கம்.
D) கடிகாரத்தின் மணிநேர முள்ளின் இயக்கம்.
E) விடை தெரியவில்லை



18. Consider the following statements.

- I. Velocity is the rate of change of displacement and is a scalar quantity.
II. Speed is the rate of change of distance and is a vector quantity.

Which of the statements given above is/are correct?

- A) I only
B) II only
C) Both I and II
D) Neither I nor II
E) Answer not known

பின்வரும் கூற்றுகளைக் கருத்தில் கொள்க.

I. திசைவேகம் என்பது இடப்பெயர்ச்சியின் மாறுபாட்டு வீதம் மற்றும் ஒரு ஸ்கேலார் அளவாகும்.

II. வேகம் என்பது தூரத்தின் மாறுபாட்டு வீதம் மற்றும் ஒரு வெக்டர் அளவாகும்.

மேற்கண்ட கூற்றுகளில் சரியானது எது/எவை?

- A) I மட்டும்
B) II மட்டும்
C) இரண்டும்
D) இரண்டுமில்லை
E) விடை தெரியவில்லை

19. Consider the following statements.

Assertion (A) : Displacement of a body may be zero when distance travelled by it is not zero.

Reason (R) : The displacement is the shortest distance between initial and final position.

Codes:

- A) Both (A) and (R) are true and (R) is the correct explanation of (A)
B) Both (A) and (R) are true but (R) is not the correct explanation of (A)
C) (A) is true but (R) is false
D) (A) is false but (R) is true
E) Answer not known

பின்வரும் கூற்றுகளைக் கருத்தில் கொள்க.

கூற்று (A) : ஒரு பொருளின் இடப்பெயர்ச்சி சுழி ஆனால் அப்பொருள் கடந்த தூரம் சுழி இல்லை.

காரணம் (R) : இடப்பெயர்ச்சி தொடக்க நிலைக்கும் முடிவு நிலைக்கும் இடையே உள்ள குறுகிய பாதை ஆகும்.

குறியீடுகள்:

- A) (A) மற்றும் (R) இரண்டும் சரி மற்றும் (R) என்பது (A)-யின் சரியான விளக்கமாகும்
B) (A) மற்றும் (R) இரண்டும் சரி ஆனால் (R) என்பது (A)-யின் சரியான விளக்கமல்ல
C) (A) சரி ஆனால் (R) தவறு
D) (A) தவறு ஆனால் (R) சரி
E) விடை தெரியவில்லை

20. Choose the correct equation

- A) $u^2 = v^2 + 2as$
B) $s = at + \frac{1}{2} ut^2$
C) $v = u + at$
D) All of the above
E) Answer not known



சரியான சமன்பாட்டைத் தேர்ந்தெடு

A) $u^2 = v^2 + 2as$

B) $s = at + \frac{1}{2} ut^2$

C) $v = u + at$

D) மேற்கண்ட அனைத்தும்

E) விடை தெரியவில்லை

21. When a body is thrown vertically upwards in space, at the highest point, the body has

A) Maximum velocity and maximum acceleration

B) Zero velocity but it has acceleration due to the gravity

C) Maximum velocity and finite acceleration

D) Zero velocity and zero acceleration

E) Answer not known

விண்வெளியில் ஒரு பொருளை செங்குத்தாக மேல்நோக்கி எறியும்போது, பெரும் உயரத்தை அடையும்போது, பொருளானது

A) அதிகபட்ச வேகம் மற்றும் அதிகபட்ச முடுக்கம்

B) திசைவேகம் சுழியாகும் ஆனால் இது ஈர்ப்பு காரணமாக முடுக்கத்தைக் கொண்டுள்ளது

C) அதிகபட்ச வேகம் மற்றும் வரையறுக்கப்பட்ட முடுக்கம்

D) திசைவேகம் மற்றும் முடுக்கம் சுழியாகும்

E) விடை தெரியவில்லை

22. Pressure exerted by a liquid at a point is determined by

A) Depth

B) Density of the liquid

C) Acceleration due to gravity

D) All of the above

E) Answer not known

திரவங்களால் ஒரு புள்ளியில் செயல்படுத்தப்படும் அழுத்தமானது

A) ஆழம்

B) திரவத்தின் அடர்த்தி

C) புவியீர்ப்பு முடுக்கம்

D) மேற்கண்ட அனைத்தும்

E) விடை தெரியவில்லை

23. Consider the following statements.

I. Air pressure and density are higher at sea level.

II. Air pressure and density are lower at a high altitude

Which of the statements given above is/are correct?

A) I only

B) II only

C) Both I and II

D) Neither I nor II

E) Answer not known

பின்வரும் கூற்றுகளைக் கருத்தில் கொள்க.

I. கடல் மட்டத்தில் காற்றழுத்தமும் அடர்த்தியும் அதிகமாக இருக்கும்.

II. அதிக உயரத்தில் காற்றழுத்தம் மற்றும் அடர்த்தி குறைவாக இருக்கும்

மேற்கண்ட கூற்றுகளில் சரியானது எது/எவை?

A) I மட்டும்

B) II மட்டும்

C) இரண்டும்

D) இரண்டுமில்லை

E) விடை தெரியவில்லை



24. Consider the following statements.

I. Buoyant force depends as much on the density of fluids as on the volume displaced.

II. Salt water provides more buoyant force than fresh water.

Which of the statements given above is/are incorrect?

A) I only

B) II only

C) Both I and II

D) Neither I nor II

E) Answer not known

பின்வரும் கூற்றுகளைக் கருத்தில் கொள்க.

I. மிதப்பு விசையானது பாய்மங்களின் பருமனைச் சார்ந்தது போல அதன் அடர்த்தியையும் சார்ந்துள்ளது.

II. நன்னீரைவிட உப்புநீர் அதிகமான மிதப்பு விசையை ஏற்படுத்தும்.

மேற்கண்ட கூற்றுகளில் தவறானது எது/எவை?

A) I மட்டும்

B) II மட்டும்

C) இரண்டும்

D) இரண்டுமில்லை

E) விடை தெரியவில்லை

25. An empty plastic bottle closed with an airtight stopper is pushed down into a bucket filled with water. As the bottle is pushed down, there is an increasing force on the bottom. This is because,

A) More volume of liquid is displaced

B) More weight of liquid is displaced

C) Pressure increases with depth

D) All the above

E) Answer not known

நீருள்ள வானியில், காற்றுப் புகாத அடைப்பானால் மூடப்பட்ட காலி பிளாஸ்டிக் பாட்டில் ஒன்று கீழ்நோக்கி அழுத்தப்படுகிறது. பாட்டில் கீழ்நோக்கி தள்ளப்படும்போது, அதன் அடிப்பகுதியில் செயல்படும் விசையானது அதிகரிக்கிறது. இதற்கான காரணம் என்ன?

A) அதிக பருமனுள்ள நீர் வெளியேற்றப்படுகிறது

B) அதிக எடையுள்ள நீர் வெளியேற்றப்படுகிறது

C) ஆழம் அதிகரிக்கும் போது அழுத்தம் அதிகரிக்கின்றது

D) மேற்கண்ட அனைத்தும்

E) விடை தெரியவில்லை

26. In a pressure cooker, the food is cooked faster because

A) Increased pressure lowers the boiling point

B) Increased pressure raises the boiling point

C) Decreased pressure raises the boiling point

D) Increased pressure lowers the melting point

E) Answer not known

அழுத்த சமையற்கலனில் உணவு விரைவாக சமைக்கப்படுவதற்குக் காரணம், அதனுடைய

A) அதிகரிக்கப்பட்ட அழுத்தம் கொதி நிலையைக் குறைக்கிறது.

B) அதிகரிக்கப்பட்ட அழுத்தம் கொதி நிலையை உயர்த்துகிறது.

C) குறைக்கப்பட்ட அழுத்தம் கொதி நிலையை உயர்த்துகிறது.

D) அதிகரிக்கப்பட்ட அழுத்தம் உருகு நிலையைக் குறைக்கிறது.

E) விடை தெரியவில்லை



27. How many of the following pairs are correctly matched?

- | | | |
|---------------------------|---|------------------|
| I. Make-up mirror | – | Convex mirror |
| II. Rear-viewing mirror | – | Concave mirror |
| III. Reflecting telescope | – | Parabolic mirror |
| IV. Solar cookers | – | Concave mirror |

Codes:

- | | |
|---------------------|-----------------|
| A) 1 pair only | B) 2 pairs only |
| C) 3 pairs only | D) All pairs |
| E) Answer not known | |

கீழ்க்கண்ட எத்தனை இணைகள் சரியாக பொருந்தியுள்ளன?

- | | | |
|-------------------------------|---|------------|
| I. ஒப்பனை ஆடி | – | குவி ஆடி |
| II. பின்புறம் பார்க்கும் ஆடி | – | குழி ஆடி |
| III. எதிரொளிக்கும் தொலைநோக்கி | – | பரவளைய ஆடி |
| IV. சூரிய ஒளி அடுப்புகள் | – | குழி ஆடி |

குறியீடுகள்:

- | | |
|---------------------|---------------------|
| A) 1 இணை மட்டும் | B) 2 இணைகள் மட்டும் |
| C) 3 இணைகள் மட்டும் | D) அனைத்து இணைகளும் |
| E) விடை தெரியவில்லை | |

28. Which of the following has high refractive index?

- | | |
|---------------------|-----------|
| A) Air | B) Water |
| C) Diamond | D) Quartz |
| E) Answer not known | |

பின்வருவனவற்றுள் எது அதிக ஒளிவிலகல் எண் கொண்டது?

- | | |
|---------------------|---------------|
| A) காற்று | B) நீர் |
| C) வைரம் | D) குவார்ட்ஸ் |
| E) விடை தெரியவில்லை | |

29. Consider the following statements.

- I. Dispersion of light is splitting of white light into its seven constituent colours.
- II. Refraction of a light ray in a medium depends on its speed
- III. Refraction of a light ray is inversely proportional to its wavelength.
- IV. Red coloured light is deviated less while violet coloured light is deviated more.

How many of the above statement(s) is/are correct?

- | | |
|--------------------------|------------------------|
| A) One statement only | B) Two statements only |
| C) Three statements only | D) All the statements |
| E) Answer not known | |

பின்வரும் கூற்றுகளைக் கருத்தில் கொள்க.

- I. ஒளிச்சிதறல் என்பது வெண்ணிற ஒளியானது ஏழு கூறு நிறங்களாகப் பிளவுபடுவதாகும்.
- II. ஒர் ஊடகத்தில் ஒளிவிலகல் அதன் வேகத்தைப் பொறுத்தது
- III. ஒளிவிலகல் அதன் அலைநீளத்திற்கு எதிர்த்தகவில் இருக்கும்.
- IV. சிவப்பு நிற ஒளி குறைந்த விலகலையும், ஊதா நிற ஒளி அதிக விலகலையும் கொண்டிருக்கிறது.



மேற்கண்ட கூற்றுகளில் சரியானது எது / எவை?

- A) ஒரு கூற்று மட்டும்
B) இரண்டு கூற்றுகள் மட்டும்
C) மூன்று கூற்றுகள் மட்டும்
D) அனைத்து கூற்றுகளும்
E) விடை தெரியவில்லை

30. Consider the following statements.

- I. Light must travel from denser medium to rarer medium.
II. The angle of incidence inside the denser medium must be greater than that of the critical angle.

Which of the statements given above is/are correct?

- A) I only
B) II only
C) Both I and II
D) Neither I nor II
E) Answer not known

பின்வரும் கூற்றுகளைக் கருத்தில் கொள்க.

- I. ஒளியானது அடர்மிகு ஊடகத்திலிருந்து அடர்மிகு ஊடகத்திற்கு பரவ வேண்டும்.
II. அடர்மிகு ஊடகத்தினுள் படுகோணம் மாறுநிலைக் கோணத்தை விட அதிகமாக இருக்க வேண்டும்.

மேற்கண்ட கூற்றுகளில் சரியானது எது/எவை?

- A) I மட்டும்
B) II மட்டும்
C) இரண்டும்
D) இரண்டுமில்லை
E) விடை தெரியவில்லை

31. The speed of light in air is $3 \times 10^8 \text{ ms}^{-1}$ and in glass it is $2 \times 10^8 \text{ ms}^{-1}$. What is the refractive index of glass?

- A) 1.5
B) 0.66
C) 0.15
D) 6.6
E) Answer not known

காற்றில் ஒளியின் வேகம் $3 \times 10^8 \text{ மீவி}^{-1}$ மற்றும் கண்ணாடியில் $2 \times 10^8 \text{ மீவி}^{-1}$. கண்ணாடியின் ஒளிவிலகல் எண் என்ன?

- A) 1.5
B) 0.66
C) 0.15
D) 6.6
E) விடை தெரியவில்லை

32. Consider the following statements.

- I. The ability of some organisms to emit their own light is bioluminescence.
II. Bioluminescence is one of the defence mechanisms used by some organisms.

Which of the statements given above is/are incorrect?

- A) I only
B) II only
C) Both I and II
D) Neither I nor II
E) Answer not known



பின்வரும் கூற்றுகளைக் கருத்தில் கொள்க.

I. சில உயிரினங்கள் தங்கள் சொந்த ஒளியை உமிழும் திறன் உயிரி ஒளிர்ந்தல் ஆகும்.

II. உயிரி ஒளிர்ந்தல் என்பது சில உயிரினங்களால் பயன்படுத்தப்படும் தற்பாதுகாப்பு வழிமுறைகளில் ஒன்றாகும்.

மேற்கண்ட கூற்றுகளில் தவறானது எது/எவை?

- A) I மட்டும்
B) II மட்டும்
C) இரண்டும்
D) இரண்டுமில்லை
E) விடை தெரியவில்லை

33. Who is regarded as the Father of fibre optics?

- A) Thomas Edison
B) Narinder Kapany
C) Willebrord Snell
D) Sir C.V. Raman
E) Answer not known

இழை ஒளியியலின் தந்தை என்று கருதப்படுபவர் யார்?

- A) தாமஸ் எடிசன்
B) நரிந்தர் கபானி
C) வில்லிபிரார்ட் ஸ்னெல்
D) சர் சி.வி.ராமன்
E) விடை தெரியவில்லை

34. Consider the following statements.

Assertion (A) : The speed of sound decreases with increase in humidity.

Reason (R) : The density of air decreases with increase in humidity.

Codes:

- A) Both (A) and (R) are true and (R) is the correct explanation of (A)
B) Both (A) and (R) are true but (R) is not the correct explanation of (A)
C) (A) is true but (R) is false
D) (A) is false but (R) is true
E) Answer not known

பின்வரும் கூற்றுகளைக் கருத்தில் கொள்க.

கூற்று (A) : ஈரப்பதம் அதிகரிக்கும்போது ஒலியின் வேகம் குறைகிறது.

காரணம் (R) : ஈரப்பதம் அதிகரிக்கும்போது காற்றின் அடர்த்தி குறைகிறது.

குறியீடுகள்:

- A) (A) மற்றும் (R) இரண்டும் சரி மற்றும் (R) என்பது (A)-யின் சரியான விளக்கமாகும்
B) (A) மற்றும் (R) இரண்டும் சரி ஆனால் (R) என்பது (A)-யின் சரியான விளக்கமல்ல
C) (A) சரி ஆனால் (R) தவறு
D) (A) தவறு ஆனால் (R) சரி
E) விடை தெரியவில்லை

35. Consider the following statements.

I. Transverse waves are produced only in solids and liquids.

II. Light waves are transverse in nature.

Which of the statements given above is/are correct?

- A) I only
B) II only
C) Both I and II
D) Neither I nor II
E) Answer not known



பின்வரும் கூற்றுகளைக் கருத்தில் கொள்க.

- I. குறுக்கலைகள் திட மற்றும் திரவங்களில் மட்டுமே உருவாகும்.
 - II. ஒளி அலைகள் என்பவை இயற்கையில் குறுக்கலைகள் ஆகும்.
- மேற்கண்ட கூற்றுகளில் சரியானது எது/எவை?

- A) I மட்டும்
- B) II மட்டும்
- C) இரண்டும்
- D) இரண்டுமில்லை
- E) விடை தெரியவில்லை

36. Consider the following statements.

- I. Thomas Alva Edison invented the phonograph in 1877.
- II. Speed of sound, $v = n/\lambda$
- III. Frequency is the distance between two consecutive particles, which are in the same phase of vibration.
- IV. Wavelength is the number of vibrations of a particle in the medium, in one second.

Which of the statements given above is/are incorrect?

- A) I, II and III only
- B) II, III and IV only
- C) I, III and IV only
- D) All the above
- E) Answer not known

பின்வரும் கூற்றுகளைக் கருத்தில் கொள்க.

- I. தாமஸ் ஆல்வா எடிசன் 1877 இல் ஒலிப்பதிவு சாதனத்தைக் கண்டுபிடித்தார்.
- II. ஒலியின் வேகம், $v = n/\lambda$
- III. அதிர்வெண் என்பது ஒரே அதிர்வு நிலையில் உள்ள இரண்டு அடுத்தடுத்த துகள்களுக்கு இடைப்பட்ட தூரம் ஆகும்.
- IV. அலைநீளம் என்பது ஒரு வினாடியில் ஊடகத்தில் ஒரு துகளின் அதிர்வுகளின் எண்ணிக்கை ஆகும்.

மேற்கண்ட கூற்றுகளில் தவறானவை எவை?

- A) I, II மற்றும் III மட்டும்
- B) II, III மற்றும் IV மட்டும்
- C) I, III மற்றும் IV மட்டும்
- D) மேற்கண்ட அனைத்தும்
- E) விடை தெரியவில்லை

37. Consider the following statements.

- I. The sound always needs a medium to travel.
- II. The speed of sound is more in solids than in liquids.

Which of the statements given above is/are incorrect?

- A) I only
- B) II only
- C) Both I and II
- D) Neither I nor II
- E) Answer not known

பின்வரும் கூற்றுகளைக் கருத்தில் கொள்க.

- I. ஒலி பரவுவதற்கு எப்பொழுதும் ஓர் ஊடகம் தேவை.
 - II. ஒலியின் வேகம் திரவங்களை விட திடப்பொருள்களில் அதிகம்.
- மேற்கண்ட கூற்றுகளில் தவறானது எது/எவை?

- A) I மட்டும்
- B) II மட்டும்
- C) இரண்டும்
- D) இரண்டுமில்லை
- E) விடை தெரியவில்லை



38. Match List-I with List-II.

List-I

- a) Mouth Organ
b) Shehnai
c) Sitar
d) Tabla

List-II

1. Percussion instrument
2. Wind instrument
3. Stringed instrument
4. Reed instrument

Codes:

- | | a | b | c | d |
|----|----------|----------|----------|----------|
| A) | 4 | 2 | 3 | 1 |
| B) | 2 | 1 | 3 | 4 |
| C) | 3 | 2 | 1 | 4 |
| D) | 4 | 1 | 2 | 3 |

E) Answer not known

பட்டியல்-Iஐ, பட்டியல்-II உடன் பொருத்துக.

பட்டியல்-I

- a) வாயிசைக்கருவி
b) ஷெஹ்நாய்
c) சித்தார்
d) தபேலா

பட்டியல்-II

1. தாள இசைக்கருவி
2. காற்றுக் கருவி
3. கம்பி இசைக்கருவி
4. நாணல் கருவி

குறியீடுகள்:

- | | a | b | c | d |
|----|----------|----------|----------|----------|
| A) | 4 | 2 | 3 | 1 |
| B) | 2 | 1 | 3 | 4 |
| C) | 3 | 2 | 1 | 4 |
| D) | 4 | 1 | 2 | 3 |

E) விடை தெரியவில்லை

39. Consider the following statements.

I. Speed of sound in Steel is more than that of Iron at 25°C.

II. Speed of sound in Seawater is less than that of Distilled water at 25°C.

Which of the statements given above is/are correct?

- A) I only
B) II only
C) Both I and II
D) Neither I nor II
E) Answer not known

பின்வரும் கூற்றுகளைக் கருத்தில் கொள்க.

I. 25°C வெப்பநிலையில், ஒலியின் வேகமானது இரும்பை விட எஃகில் அதிகமாக இருக்கும்.

II. 25°C வெப்பநிலையில், ஒலியின் வேகமானது காய்ச்சி வடிகட்டிய நீரின் வேகத்தை விட

கடல்நீரில் குறைவாக உள்ளது.

மேற்கண்ட கூற்றுகளில் சரியானது எது/எவை?

- A) I மட்டும்
B) II மட்டும்
C) இரண்டும்
D) இரண்டுமில்லை
E) விடை தெரியவில்லை



40. Identify the characteristics of wave motion from the following statements.
- In wave motion, the energy is transferred.
 - In wave motion, the particles are transferred.
 - The velocity of the wave motion is different from the velocity of the vibrating particle.
 - The velocity of the wave motion is the same as the velocity of the vibrating particle.

How many of the above statement(s) is/are correct?

- One statement only
- Two statements only
- Three statements only
- All the statements
- Answer not known

பின்வரும் கூற்றுகளைக் கொண்டு அலை இயக்கத்தின் சிறப்பியல்புகளைக் கண்டறிக.

- அலை இயக்கத்தின் போது ஆற்றல் பரிமாற்றம் செய்யப்படுகிறது.
- அலை இயக்கத்தின் போது துகள்கள் இடமாற்றம் அடைகின்றன.
- அலை இயக்கத்தின் திசைவேகம் அதிர்வுறும் துகளின் திசைவேகத்திலிருந்து வேறுபடுகிறது.
- அலை இயக்கத்தின் திசைவேகமும் அதிர்வுறும் துகளின் திசைவேகமும் ஒன்றே.

மேற்கண்ட கூற்றுகளில் சரியானது எது/எவை?

- ஒரு கூற்று மட்டும்
- இரண்டு கூற்றுகள் மட்டும்
- மூன்று கூற்றுகள் மட்டும்
- அனைத்து கூற்றுகளும்
- விடை தெரியவில்லை

41. A sound has a frequency of 5 Hz and a speed of 25 ms⁻¹. What is the wavelength of the sound?

- 125 m
- 5 m
- 0.2 m
- 1.25 cm
- Answer not known

ஒர் ஒலியின் அதிர்வெண் 5 ஹெர்ட்ஸ் மற்றும் வேகம் 25 மீவி⁻¹ உள்ளது எனில் ஒலியின் அலைநீளம் என்ன?

- 125 மீ
- 5 மீ
- 0.2 மீ
- 1.25 செ.மீ
- விடை தெரியவில்லை

42. Consider the following statements.

I. The particles of the medium vibrate in a direction parallel to the direction of propagation of the wave.

II. Longitudinal waves are produced only in gases.

Which of the statements given above is/are correct?

- I only
- II only
- Both I and II
- Neither I nor II
- Answer not known



பின்வரும் கூற்றுகளைக் கருத்தில் கொள்க.

- I. ஊடகத்தின் துகள்கள் அலை பரவும் திசைக்கு இணையான திசையில் அதிர்கின்றன.
- II. நெட்டலைகள் வாயுக்களில் மட்டுமே உருவாகின்றன.

மேற்கண்ட கூற்றுகளில் சரியானது எது/எவை?

- A) I மட்டும்
- B) II மட்டும்
- C) இரண்டும்
- D) இரண்டுமில்லை
- E) விடை தெரியவில்லை

43. When the pitch of note by a harmonium is lowered, then the wavelength of the note

- A) First decreases and then increases
- B) Decreases
- C) Remains the same
- D) Increases
- E) Answer not known

ஒரு ஹார்மோனியம் மூலம் சுருதி குறைக்கப்படும் போது, சுர எண்ணின் அலைநீளமானது

- A) முதலில் குறைகிறது, பின்னர் அதிகரிக்கிறது
- B) குறைகிறது
- C) மாறாமல் இருக்கிறது
- D) அதிகரிக்கும்
- E) விடை தெரியவில்லை

44. Consider the following statements.

- I. Higher the frequency of sound, higher will be the pitch.
- II. Normally, the voice of a female has a higher pitch than a male.
- III. The roar of a lion is a low pitch sound.
- IV. The unit of loudness of sound is decibel (dB).

Which of the statements given above is/are correct?

- A) I, II and III only
- B) II, III and IV only
- C) I, III and IV only
- D) All the above
- E) Answer not known

பின்வரும் கூற்றுகளைக் கருத்தில் கொள்க.

- I. ஒலியின் அதிர்வெண் உயர்ந்தால், அதன் சுருதி அதிகமாக இருக்கும்.
- II. சாதாரணமாக, ஒரு பெண்ணின் குரல் ஆண் குரலை விட சுருதி அதிகமாக இருக்கும்.
- III. ஒரு சிங்கத்தின் கர்ஜனை சுருதி குறைவானதாகும்.
- IV. ஒலியின் சத்தத்தின் அலகு டெசிபல் (dB) ஆகும்.

மேற்கண்ட கூற்றுகளில் சரியானவை எவை?

- A) I, II மற்றும் III மட்டும்
- B) II, III மற்றும் IV மட்டும்
- C) I, III மற்றும் IV மட்டும்
- D) மேற்கண்ட அனைத்தும்
- E) விடை தெரியவில்லை



45. He confirmed J. C. Maxwell's electromagnetic theory by his experiments. He laid the foundation for future development of radio, telephone, telegraph and even television. He also discovered the photoelectric effect which was later explained by Albert Einstein.

Which one of the following is referred to in the above passage?

- A) Heinrich Rudolph Hertz B) Michael Faraday
C) Guglielmo Marconi D) Nikola Tesla
E) Answer not known

ஜே.சி.மேக்ஸ்வெல்லின் மின்காந்தக் கோட்பாட்டை இவர் தனது சோதனைகள் மூலம் உறுதிப்படுத்தினார். வானொலி, தொலைபேசி, தந்தி மற்றும் தொலைக்காட்சியின் எதிர்கால வளர்ச்சிக்கு இவர் அடித்தளம் அமைத்தார். பின்னர் ஆல்பர்ட் ஐன்ஸ்டீனால் விளக்கப்பட்ட ஒளிமின்னழுத்த விளைவையும் இவர் கண்டுபிடித்தார்

மேற்கண்ட பத்தியில் பின்வரும் எந்த நபர் குறிப்பிடப்பட்டுள்ளார்?

- A) ஹெய்ன்ரிக் ரூடால்ப் ஹெர்ட்ஸ் B) மைக்கேல் ஃபாரடே
C) குக்லீமோ மார்கோனி D) நிக்கோலா டெஸ்லா
E) விடை தெரியவில்லை

46. Sound travels in air:

- A) If there is no moisture in the atmosphere.
B) If particles of medium travel from one place to another.
C) If both particles as well as disturbance move from one place to another.
D) If disturbance moves.
E) Answer not known

ஒலி காற்றில் பயணிக்கிறது:

- A) வளிமண்டலத்தில் ஈரப்பதம் இல்லை என்றால்.
B) ஊடகத்தில் உள்ள துகள்கள் ஒரு இடத்திலிருந்து மற்றொரு இடத்திற்கு பயணித்தால்.
C) துகள்கள் மற்றும் இரைச்சல் இரண்டும் ஒரு இடத்திலிருந்து மற்றொரு இடத்திற்கு நகர்ந்தால்.
D) இரைச்சல் நகர்ந்தால்.
E) விடை தெரியவில்லை

47. Consider the following statements.

I. The earliest evidence for magnets are found in a region of Asia Minor called Magnesia.

II. Indians had known the property of magnet even before 200 B.C.

Which of the statements given above is/are correct?

- A) I only B) II only
C) Both I and II D) Neither I nor II
E) Answer not known

பின்வரும் கூற்றுகளைக் கருத்தில் கொள்க.

I. ஆரம்பத்தில் மெக்னிசியா என்று அழைக்கப்படும் ஆசியா மைனர் பகுதியில் காந்தங்கள் கிடைத்ததாக அறியப்பட்டுள்ளது.

II. இந்தியர்கள் 200 கி. மு.க்கு முன்பே காந்தத்தின் தன்மையை அறிந்திருந்தனர்.

மேற்கண்ட கூற்றுகளில் சரியானது எது/எவை?

- A) I மட்டும் B) II மட்டும்
C) இரண்டும் D) இரண்டுமில்லை
E) விடை தெரியவில்லை



48. Identify the wrong statement(s) with regard to Natural/Artificial magnets.
- A) Iron oxide is the strongest natural magnet.
B) Iron Sulphide is an artificial magnet.
C) Ferrite and Columbite are natural magnets.
D) Both A and B
E) Answer not known

இயற்கை / செயற்கை காந்தங்கள் தொடர்பாக தவறான கூற்றுகளை அடையாளம் காணவும்.

- A) இரும்பு ஆக்சைடு மிகவும் வலுவான இயற்கை காந்தமாகும்.
B) இரும்பு சல்பைடு ஒரு செயற்கை காந்தமாகும்.
C) பெரைட் மற்றும் கூலும்பைட் இயற்கை காந்தங்கள் ஆகும்.
D) A மற்றும் B இரண்டும்
E) விடை தெரியவில்லை

49. Identify the correct statement regarding magnetic materials.
- I. Diamagnetic materials align themselves parallel to the direction of the magnetic field.
II. Paramagnetic materials align themselves perpendicular to the direction of the magnetic field.
III. Ferromagnetic materials align themselves parallel to the direction of the magnetic field.
IV. Curie temperature is the temperature at which the paramagnetic material becomes ferromagnetic.

How many of the above statement(s) is/are correct?

- A) One statement only
B) Two statements only
C) Three statements only
D) All the statements
E) Answer not known

காந்தப் பொருட்கள் தொடர்பான சரியான கூற்றை அடையாளம் காணவும்.

- I. டயா காந்தப் பொருட்கள் காந்தப்புலத்தின் திசைக்கு இணையாக அமைகின்றன.
II. பாராகாந்தப் பொருட்கள் காந்தப்புலத்தின் திசைக்கு செங்குத்தாக தங்களை சீரமைக்கின்றன.
III. காந்தப் புலத்தின் திசைக்கு இணையாக பெரோ காந்தப் பொருட்கள் அமைகின்றன.
IV. கியூரி வெப்பநிலை என்பது பாராகாந்தப் பொருள் பெரோகாந்தப் பொருளாக மாறும் வெப்பநிலையாகும்.

மேற்கண்ட கூற்றுகளில் சரியானது எது/எவை?

- A) ஒரு கூற்று மட்டும்
B) இரண்டு கூற்றுகள் மட்டும்
C) மூன்று கூற்றுகள் மட்டும்
D) அனைத்து கூற்றுகளும்
E) விடை தெரியவில்லை

50. Consider the following statements.

- I. The strength of artificial magnets is difficult to change.
II. The properties of natural magnets are time bound.

Which of the statements given above is/are incorrect?

- A) I only
B) II only
C) Both I and II
D) Neither I nor II
E) Answer not known



பின்வரும் கூற்றுகளைக் கருத்தில் கொள்க.

- I. செயற்கை காந்தங்களின் வலிமையை மாற்றுவது கடினம்.
II. இயற்கை காந்தங்களின் பண்புகள் காலத்திற்குக் கட்டுப்பட்டவை.
மேற்கண்ட கூற்றுகளில் தவறானது எது/எவை?

- A) I மட்டும்
B) II மட்டும்
C) இரண்டும்
D) இரண்டுமில்லை
E) விடை தெரியவில்லை

51. Which of the following is/are correctly matched?

- I. Soft iron – Permanent Magnet
II. Hardened steel – Temporary Magnet
III. Neodymium – World's weakest magnet
IV. ALNICO – Cow magnet

Codes:

- A) I and II only
B) II, III and IV only
C) III and IV only
D) IV only
E) Answer not known

பின்வருவனவற்றுள் எது/எவை சரியாக பொருந்தியுள்ளன?

- I. தேனிரும்பு – நிலையான காந்தங்கள்
II. கனமான எஃகு – தற்காலிகக் காந்தங்கள்
III. நியோடியியம் – உலகின் திறன்குறைந்த காந்தங்கள்
IV. அல்நிக்கோ – பசுக்காந்தங்கள்

குறியீடுகள்:

- A) I மற்றும் II மட்டும்
B) II, III மற்றும் IV மட்டும்
C) III மற்றும் IV மட்டும்
D) IV மட்டும்
E) விடை தெரியவில்லை

52. How many of the following pairs are correctly matched?

(List I)

(List II)

- I. Hydrazine – Liquid fuel
II. Ozone – Oxidizer
III. Poly butadiene – Solid fuel
IV. Rakesh Sharma – Tamil Nadu

Codes:

- A) 1 pair only
B) 2 pairs only
C) 3 pairs only
D) All pairs
E) Answer not known

பின்வருவனவற்றுள் எது/எவை சரியாக பொருந்தியுள்ளன?

- I. ஹைட்ரேசீன் – திரவ எரிபொருள்
II. ஒசோன் – ஆக்சிகரணி
III. பாலி பியூடாடையீன் – திண்ம எரிபொருள்
IV. ராகேஷ் சர்மா – தமிழ்நாடு



குறியீடுகள்:

- A) 1 இணை மட்டும்
B) 2 இணைகள் மட்டும்
C) 3 இணைகள் மட்டும்
D) அனைத்து இணைகள்
E) விடை தெரியவில்லை

53. Consider the following statements regarding Earth's magnetism.
- The magnetic axis and the geographical axis of the earth do not coincide with each other.
 - The cause of the Earth's magnetism is its rotation.
 - The magnetic axis of the Earth is inclined at an angle of about 10° to 15° with the geographical axis.

How many of the above statement(s) is/are correct?

- A) One statement only
B) Two statements only
C) Three statements only
D) None of the above
E) Answer not known

புவிக் காந்தம் பற்றிய பின்வரும் கூற்றுக்களைக் கருத்தில் கொள்க.

- காந்த அச்ச மற்றும் புவியின் அச்ச ஒன்றுக்கொன்று இணையாக இருப்பதில்லை.
 - புவியின் காந்தப் பண்பிற்கான காரணம் அதன் சுழற்சி ஆகும்.
 - காந்த அச்சானது புவியின் அச்சிற்கு 10° முதல் 15° வரை சாய்வாக அமைந்துள்ளது.
- மேற்கண்டவற்றுள் எத்தனை கூற்று(கள்) சரியானவை?

- A) ஒரு கூற்று மட்டும்
B) இரண்டு கூற்றுக்கள் மட்டும்
C) மூன்று கூற்றுக்கள் மட்டும்
D) மேற்கண்ட எதுவுமில்லை
E) விடை தெரியவில்லை

54. Find out the incorrectly matched pair.

- A) Samarium – Artificial magnet
B) William Gilbert – De Magnete
C) 1 tesla – 1000 gauss
D) Both A and C
E) Answer not known

தவறாக பொருந்தியுள்ள இணையைக் கண்டறிக.

- A) சமாரியம் – செயற்கை காந்தம்
B) வில்லியம் கில்பர்ட் – தி மேக்னடைட்
C) ஒரு டெஸ்லா – 1000 காஸ்
D) A மற்றும் C இரண்டும்
E) விடை தெரியவில்லை

55. What will happen when a bar magnet is split horizontally?

- The strength of the magnet is reduced.
- There is a change in their polarity.
- The length of the new pieces of magnet remains unaltered.
- Each broken piece behaves like a separate bar magnet.

Which of the statements given above is/are correct?

- A) I, III and IV only
B) II, III and IV only
C) I and IV only
D) All the above
E) Answer not known



ஒரு சட்டக் காந்தத்தை செங்குத்தாகப் பிளக்கும் போது என்ன நடக்கும்?

- I. காந்தத்தின் வலிமையானது குறைகின்றது.
 - II. இவற்றின் துருவங்கள் மாறாமல் இருக்கும்.
 - III. காந்தத்தின் புதிய பகுதிகளின் நீளம் மாறாமல் இருக்கும்.
 - IV. உடைந்த பகுதிகள் ஒவ்வொன்றும் தனித்தனி சட்டக் காந்தமாக மாறும்.
- மேற்கண்ட கூற்றுகளில் சரியானவை எவை?
- A) I, III மற்றும் IV மட்டும்
B) II, III மற்றும் IV மட்டும்
C) I மற்றும் IV மட்டும்
D) மேற்கண்ட அனைத்தும்
E) விடை தெரியவில்லை

56. Who proposed the heliocentric model of the universe?

- A) Tycho Brahe
B) Nicolaus Copernicus
C) Ptolemy
D) Aryabhatta
E) Answer not known

தூரிய மையக் கொள்கையை முன்மொழிந்தவர் யார்?

- A) டைக்கோ பிராஹே
B) நிக்கோலஸ் கோபர் நிக்கஸ்
C) டாலமி
D) ஆர்யபட்டா
E) விடை தெரியவில்லை

57. Consider the following statements.

- I. Lightweight materials like titanium or aluminium are used in the frame of a rocket.
 - II. Propulsion system takes up most of the space in a rocket.
- Which of the statements given above is/are incorrect?

- A) I only
B) II only
C) Both I and II
D) Neither I nor II
E) Answer not known

பின்வரும் கூற்றுகளைக் கருத்தில் கொள்க.

- I. எடை குறைந்த டைட்டானியம் அல்லது அலுமினியம் போன்ற பொருள்களால் ராக்கெட்டின் கட்டமைப்பு உருவாக்கப்படுகின்றது.
 - II. உந்துவிசை அமைப்பு ராக்கெட்டில் உள்ள பெரும்பகுதி இடத்தை எடுத்துக் கொள்கிறது .
- மேற்கண்ட கூற்றுகளில் தவறானது எது/எவை?

- A) I மட்டும்
B) II மட்டும்
C) இரண்டும்
D) இரண்டுமில்லை
E) விடை தெரியவில்லை

58. Consider the following statements regarding Chandrayaan -1.

- I. To search for the existence of Helium-3 was an objective of Chandrayaan-1.
- II. Chandrayaan-1 has recorded images of the landing site of Apollo-11.

Which of the statements given above is/are correct?

- A) I only
B) II only
C) Both I and II
D) Neither I nor II
E) Answer not known



சந்திரயான் -1 தொடர்பான பின்வரும் கூற்றுகளைக் கருத்தில் கொள்க

- I. சந்திரயான் -1 இன் நோக்கமானது சந்திரனில் ஹீலியம் - 3 இருப்பதை ஆராய்தலாகும்.
II. அப்போலோ -11 தரையிறங்கிய இடங்களின் படங்களை சந்திரயான் -1 பதிவு செய்தது.
மேற்கண்ட கூற்றுகளில் சரியானது எது/எவை?

- A) I மட்டும்
B) II மட்டும்
C) இரண்டும்
D) இரண்டுமில்லை
E) விடை தெரியவில்லை

59. Consider the following statements.

- I. Kalam Sat is the world's smallest satellite.
II. Kalam Sat was launched by ISRO.
III. India is the second Asian country to reach Mars.
IV. India is the first nation to reach Mars in its first attempt.
How many of the above statement(s) is/are correct?

- A) One statement only
B) Two statements only
C) Three statements only
D) All the statements
E) Answer not known

பின்வரும் கூற்றுகளைக் கருத்தில் கொள்க

- I. கலாம்சாட் உலகின் மிகச்சிறிய செயற்கைக்கோள் ஆகும்.
II. கலாம்சாட் இஸ்ரோவால் விண்ணில் செலுத்தப்பட்டது..
III. செவ்வாய் கிரகத்தை அடைந்த இரண்டாவது ஆசிய நாடு இந்தியா ஆகும்.
IV. செவ்வாய் கிரகத்தை முதல் முயற்சியிலேயே அடைந்த முதல் நாடு இந்தியா ஆகும்.
மேற்கண்டவற்றுள் எத்தனை கூற்று(கள்) சரியானவை?

- A) ஒரு கூற்று மட்டும்
B) இரண்டு கூற்றுகள் மட்டும்
C) மூன்று கூற்றுகள் மட்டும்
D) அனைத்து கூற்றுகள்
E) விடை தெரியவில்லை

60. Consider the following statements.

- I. The length of the day in Uranus is longer than that of Neptune.
II. The length of the day in Mercury is shorter than that of Venus.
Which of the statements given above is/are correct?

- A) I only
B) II only
C) Both I and II
D) Neither I nor II
E) Answer not known

பின்வரும் கூற்றுகளைக் கருத்தில் கொள்க.

- I. யுரேனஸில் ஒரு நாளின் அளவானது நெப்டியூனை விட அதிகமாக உள்ளது.
II. புதனில் ஒரு நாளின் அளவானது வெள்ளியை விடக் குறைவாக உள்ளது.
மேற்கண்ட கூற்றுகளில் சரியானது எது/எவை?

- A) I மட்டும்
B) II மட்டும்
C) இரண்டும்
D) இரண்டுமில்லை
E) விடை தெரியவில்லை



61. Consider the following statements.

- I. The pole star is not visible from the southern hemisphere.
- II. Deimos and Phobos are the natural satellites of Jupiter.
- III. Jupiter rotates faster than any other planet.
- IV. Jupiter has the shortest day among the planets in our solar system.

How many of the above statement(s) is/are correct?

- A) One statement only
- B) Two statements only
- C) Three statements only
- D) All the statements
- E) Answer not known

பின்வரும் கூற்றுகளைக் கருத்தில் கொள்க.

- I. புவியின் தெற்கு அரைக்கோளத்திலிருந்து துருவ நட்சத்திரம் தெரிவதில்லை.
- II. டீமோஸ் மற்றும் போபோஸ் ஆகியவை வியாழனின் இயற்கையான துணைக்கோள்கள் ஆகும்.
- III. வியாழன் மற்ற கோள்களை விட வேகமாக சுழல்கிறது.
- IV. நமது சூரிய குடும்பத்தில் உள்ள கோள்களிலேயே வியாழன் மிகக் குறுகிய பகல் நேரத்தைக் கொண்டுள்ளது.

மேற்கண்டவற்றுள் எத்தனை கூற்று(கள்) சரியானவை?

- A) ஒரு கூற்று மட்டும்
- B) இரண்டு கூற்றுகள் மட்டும்
- C) மூன்று கூற்றுகள் மட்டும்
- D) அனைத்து கூற்றுகள்
- E) விடை தெரியவில்லை

62. Which of the following is the only moon that moves in the opposite direction to the direction in which its planet spins?

- A) Triton
- B) Hippocamp
- C) Thalassa
- D) Galatea
- E) Answer not known

கீழ்க்கண்டவற்றுள் சூரிய மண்டலத்தில் கோளின் சுழற்சிக்கு எதிர்த்திசையில் சுற்றும் ஒரே துணைக்கோள் எது?

- A) டிரைட்டான்
- B) ஹிப்போகேம்ப்
- C) தலஸ்ஸா
- D) கலாட்டியா
- E) விடை தெரியவில்லை

63. Which of the following best describes the cosmic year?

- A) The distance travelled by a star to reach its nearby star.
- B) The distance travelled by the Milky way galaxy to reach the nearby galaxy.
- C) The distance travelled by the Sun to complete one revolution around the Milky Way.
- D) The distance travelled by a natural satellite to complete one revolution around its planet.
- E) Answer not known

பின்வருவனவற்றில் எது காஸ்மிக் ஆண்டை சிறப்பாக விவரிக்கிறது?

- A) ஒரு நட்சத்திரம் அதன் அருகிலுள்ள நட்சத்திரத்தை அடைய பயணிக்கும் தொலைவு.
- B) அருகிலுள்ள மண்டலத்தை அடைய பால்வெளி மண்டலம் பயணிக்கும் தொலைவு.
- C) பால்வெளியை ஒருமுறை சுற்றிவர சூரியன் கடக்கும் தொலைவு.
- D) ஒரு இயற்கை துணைக்கோளானது தனது கிரகத்தைச் சுற்றிவர பயணிக்கும் தொலைவு.
- E) விடை தெரியவில்லை



64. An imaginary line drawn from the centre of the Sun to the centre of the planet will sweep out equal areas in equal intervals of time.

Which one of the following is referred to in the above passage?

- A) Kepler's first law of planetary motion
- B) Kepler's second law of planetary motion
- C) Kepler's third law of planetary motion
- D) Tycho Brahe's law
- E) Answer not known

கோளின் மையத்தையும் சூரியனின் மையத்தையும் இணைக்கும் கற்பனைக் கோடு சம காலங்களில் சம பரப்புகளைக் கடக்கிறது.

பின்வருவனவற்றில் எது சிறப்பாக பத்தியில் குறிப்பிடப்பட்டுள்ளது?

- A) கோள்களின் இயக்கத்திற்கான கெப்லரின் முதல் விதி
- B) கோள்களின் இயக்கத்திற்கான கெப்லரின் இரண்டாவது விதி
- C) கோள்களின் இயக்கத்திற்கான கெப்லரின் மூன்றாவது விதி
- D) டைகோ பிராஹேவின் விதி
- E) விடை தெரியவில்லை

65. The speed of rotation of coil can be increased by:

- I. Increasing the strength of current in the coil.
- II. Decreasing the number of turns in the coil.
- III. Increasing the area of the coil
- IV. Increasing the strength of the magnetic field.

Codes:

- A) I, II and III only
- B) II, III and IV only
- C) I, III and IV only
- D) All of the above
- E) Answer not known

சுருளின் சுழற்சி வேகம் கீழ்க்கண்ட காரணிகளால் அதிகரிக்கப்படலாம்:

- I. கம்பிச் சுருளிலுள்ள மின்னோட்டத்தின் வலிமையை அதிகரித்தல்.
- II. கம்பிச் சுருளின் எண்ணிக்கையை குறைத்தல்.
- III. கம்பிச் சுருளின் பரப்பளவை அதிகரித்தல்.
- IV. காந்தப்புலத்தின் வலிமையை அதிகரித்தல்.

குறியீடுகள்:

- A) I, II மற்றும் III மட்டும்
- B) II, III மற்றும் IV மட்டும்
- C) I, III மற்றும் IV மட்டும்
- D) மேற்கண்ட அனைத்தும்
- E) விடை தெரியவில்லை

66. Consider the following statements regarding effects of heat energy.

- I. Heat energy causes expansion in solids and liquids.
- II. In Gases, there is no expansion due to heat energy occurs.

Which of the statements given above is/are incorrect?

- A) I only
- B) II only
- C) Both I and II
- D) Neither I nor II
- E) Answer not known



வெப்ப ஆற்றலின் விளைவுகள் பற்றிய பின்வரும் கூற்றுகளைக் கருத்தில் கொள்க
I. வெப்ப ஆற்றல் திடப்பொருள்கள் மற்றும் திரவங்களில் விரிவாக்கத்தை ஏற்படுத்துகிறது.
II. வாயுக்களில், வெப்ப ஆற்றல் ஏற்படுவதன் காரணமாக விரிவாக்கம் ஏற்படாது.

மேற்கண்ட கூற்றுகளில் தவறானது எது/எவை?

- A) I மட்டும்
B) II மட்டும்
C) இரண்டும்
D) இரண்டுமில்லை
E) விடை தெரியவில்லை

67. Match List-I with List-II.

List-I

- a) Solid to Liquid
b) Solid to Gas
c) Liquid to Gas
d) Gas to Solid

List-II

1. Sublimation
2. Vapourisation
3. Deposition
4. Melting

Codes:

- | | a | b | c | d |
|----|----------|----------|----------|----------|
| A) | 4 | 2 | 3 | 1 |
| B) | 2 | 1 | 3 | 4 |
| C) | 3 | 2 | 1 | 4 |
| D) | 4 | 1 | 2 | 3 |

E) Answer not known

பட்டியல்-Iஐ பட்டியல்-II உடன் பொருத்துக.

பட்டியல்-I

- a) திடப்பொருள் திரவமாக மாறுதல்
b) திடப்பொருள் வாயுவாக மாறுதல்
c) திரவம் வாயுவாக மாறுதல்
d) வாயு திடப்பொருளாக மாறுதல்

பட்டியல்-II

1. பதங்கமாதல்
2. ஆவியாதல்
3. படிகல்
4. உருகுதல்

குறியீடுகள்:

- | | a | b | c | d |
|----|----------|----------|----------|----------|
| A) | 4 | 2 | 3 | 1 |
| B) | 2 | 1 | 3 | 4 |
| C) | 3 | 2 | 1 | 4 |
| D) | 4 | 1 | 2 | 3 |

E) விடை தெரியவில்லை

68. Consider the following statements regarding Conduction Process.

- I. The process of heat transfer in solids from the region of higher temperature to the region of lower temperature.
II. Actual movement of atoms or molecules are taken place in conduction.

Which of the statements given above is/are correct?

- A) I only
B) II only
C) Both I and II
D) Neither I nor II
E) Answer not known



வெப்பக்கடத்தல் முறை பற்றி பின்வரும் கூற்றுகளை கருத்தில் கொள்க.

I. திடப்பொருள்களில் அதிக வெப்ப நிலையிலுள்ள பகுதியிலிருந்து குறைந்த வெப்பநிலையிலுள்ள பகுதிக்கு அணுக்கள் அல்லது மூலக்கூறுகளின் இயக்க செயல்முறை.

II. அணுக்கள் அல்லது மூலக்கூறுகளின் உண்மையான இயக்கம் கடத்தலில் நடைபெறுகிறது.

மேற்கண்ட கூற்றுகளில் சரியானது எது/எவை?

- A) I மட்டும்
B) II மட்டும்
C) இரண்டும்
D) இரண்டுமில்லை
E) விடை தெரியவில்லை

69. Consider the following statements.

I. Radiation by heat can be transferred even through vacuum.

II. Heat transfer by radiation is in the form of Electromagnetic waves.

Which of the statements given above is/are correct?

- A) I only
B) II only
C) Both I and II
D) Neither I nor II
E) Answer not known

பின்வரும் கூற்றுகளைக் கருத்தில் கொள்க.

I. வெற்றிடத்தில் வெப்பக் கதிர்வீச்சு மூலம் வெப்ப ஆற்றல் பரவுகிறது.

II. மின்காந்த அலைகளாகப் பரவும் முறை வெப்பக் கதிர்வீச்சு என்று வரையறுக்கப்படுகிறது.

மேற்கண்ட கூற்றுகளில் சரியானது எது/எவை?

- A) I மட்டும்
B) II மட்டும்
C) இரண்டும்
D) இரண்டுமில்லை
E) விடை தெரியவில்லை

70. Consider the following statements.

I. Heat energy produces both physical and chemical changes.

II. Calorimetry is used to measure the amount of heat involved in the both process.

Which of the statements given above is/are incorrect?

- A) I only
B) II only
C) Both I and II
D) Neither I nor II
E) Answer not known

பின்வரும் கூற்றுகளைக் கருத்தில் கொள்க.

I. வெப்ப ஆற்றல் இயற்பியல் மற்றும் வேதியியல் மாற்றங்களை ஏற்படுத்துகிறது

II. இருசெயல் முறைகளிலும் உள்ள வெப்பத்தின் அளவை அளவிட கலோரிமெட்ரி பயன்படுத்தப்படுகிறது.

மேற்கண்ட கூற்றுகளில் தவறானது எது/எவை?

- A) I மட்டும்
B) II மட்டும்
C) இரண்டும்
D) இரண்டுமில்லை
E) விடை தெரியவில்லை



71. Consider the following statements.

- I. The amount of energy in food items is measured by the unit kilo calorie.
- II. The unit of energy in SI system is joule.
- III. The relation between calorie and joule is, 1 calorie = 4.186 J.
- IV. One calorie is the amount of heat energy required to raise the temperature of 1 gram of water through 1°C.

How many of the above statement(s) is/are correct?

- A) One statement only
- B) Two statements only
- C) Three statements only
- D) All the statements
- E) Answer not known

பின்வரும் கூற்றுகளைக் கருத்தில் கொள்க.

- I. உணவுப்பொருள்களில் உள்ள ஆற்றலின் அளவு கிலோ கலோரி எனும் அலகால் குறிப்பிடப்படுகிறது.
- II. ஆற்றலின் SI அலகு ஜூல்.
- III. கலோரி மற்றும் ஜூல் ஆகிய அலகுகளுக்கிடையேயான தொடர்பு பின்வருமாறு குறிப்பிடப்படுகிறது. 1 கலோரி = 4.189 J.
- IV. ஒரு கிராம் நிறையுள்ள நீரின் வெப்ப நிலையை 1°C உயர்த்தத் தேவைப்படும் வெப்ப ஆற்றலின் அளவு 1 கலோரி என வரையறுக்கப்படுகிறது.

மேற்கண்டவற்றுள் எத்தனை கூற்று(கள்) சரியானவை?

- A) ஒரு கூற்று மட்டும்
- B) இரண்டு கூற்றுகள் மட்டும்
- C) மூன்று கூற்றுகள் மட்டும்
- D) அனைத்து கூற்றுகள்
- E) விடை தெரியவில்லை

72. Consider the following statements regarding convection.

- I. In Convection, the actual movements of molecules takes place.
- II. It can happen in solids, liquids and gases.

Which of the statements given above is/are correct?

- A) I only
- B) II only
- C) Both I and II
- D) Neither I nor II
- E) Answer not known

வெப்பச்சலனம் தொடர்பான பின்வரும் கூற்றுகளைக் கருத்தில் கொள்க.

- I. வெப்பச்சலனத்தில், மூலக்கூறுகளின் உண்மையான இயக்கங்கள் நடைபெறுகின்றன.
- II. இது திட, திரவ மற்றும் வாயுக்களில் நிகழலாம்.

மேற்கண்ட கூற்றுகளில் சரியானது எது/எவை?

- A) I மட்டும்
- B) II மட்டும்
- C) இரண்டும்
- D) இரண்டுமில்லை
- E) விடை தெரியவில்லை

73. Consider the following statements regarding Heat capacity.

- I. Heat capacity is defined as the amount of heat energy required by a substance to raise its temperature by 1°C or 1 K.
- II. SI unit of heat capacity is JK⁻¹.

Which of the statements given above is/are incorrect?

- A) I only
- B) II only
- C) Both I and II
- D) Neither I nor II
- E) Answer not known



வெப்ப ஏற்புத்திறன் தொடர்பான பின்வரும் கூற்றுகளைக் கருத்தில் கொள்க.

I. ஒரு பொருளின் வெப்ப நிலையை 1°C அல்லது 1 K உயர்த்தத் தேவைப்படும் வெப்ப ஆற்றலின் அளவு அப்பொருளின் வெப்ப ஏற்புத்திறன் என வரையறுக்கப்படுகிறது.

II. வெப்ப ஏற்புத்திறனின் SI அலகு JK^{-1} ஆகும்.

மேற்கண்ட கூற்றுகளில் தவறானது எது/எவை?

- A) I மட்டும்
B) II மட்டும்
C) இரண்டும்
D) இரண்டுமில்லை
E) விடை தெரியவில்லை

74. Consider the following statements.

I. A thermostat is a device which maintains the temperature of a place or an object constant

II. The word thermostat is derived from two Latin words, 'thermo' meaning heat and 'static' meaning change.

Which of the statements given above is/are correct?

- A) I only
B) II only
C) Both I and II
D) Neither I nor II
E) Answer not known

பின்வரும் கூற்றுகளைக் கருத்தில் கொள்க.

I. ஒரு பொருளின் அல்லது இடத்தின் வெப்ப நிலையை மாறாமல் வைப்பதற்குப் பயன்படுத்தப்படும் சாதனம் வெப்பக் கட்டுப்படுத்தி (தெர்மோஸ்டாட்) ஆகும்.

II. "தெர்மோஸ்டாட்" என்ற சொல், இரண்டு லத்தீன் வார்த்தைகளிலிருந்து பெறப்பட்டது. இதில் 'தெர்மோ' எனும் சொல் வெப்பம் என்றும், 'ஸ்டாட்' எனும் சொல் வெவ்வேறு நிலையில் இருப்பது என்றும் பொருள்படும்.

மேற்கண்ட கூற்றுகளில் சரியானது எது/எவை?

- A) I மட்டும்
B) II மட்டும்
C) இரண்டும்
D) இரண்டுமில்லை
E) விடை தெரியவில்லை

75. Consider the following statements.

I. The world's first ice-calorimeter was used in the year 1782 by Antoine Lavoisier and Pierre- Simon Laplace

II. The vacuum flask was invented by Scottish scientist Sir James Dewar in 1892.

Which of the statements given above is/are correct?

- A) I only
B) II only
C) Both I and II
D) Neither I nor II
E) Answer not known

பின்வரும் கூற்றுகளைக் கருத்தில் கொள்க.

I. 1782 ஆம் ஆண்டு ஆன்டொயன் லவாய்ஸியர் மற்றும் பியரே சைமன் லாப்லாஸ் ஆகியோரால் உலகின் முதல் ஐஸ்-கலோரிமீட்டர் பயன்படுத்தப்பட்டது.

II. வெற்றிடக்குடுவை முதன் முதலில் 1892ஆம் ஆண்டு ஸ்காட்லாந்து அறிவியலாளர் சர் ஜேம்ஸ் திவார் என்பவரால் கண்டுபிடிக்கப்பட்டது.



மேற்கண்ட கூற்றுகளில் சரியானது எது/எவை?

- A) I மட்டும்
B) II மட்டும்
C) இரண்டும்
D) இரண்டுமில்லை
E) விடை தெரியவில்லை

76. Consider the following statements.

Statement 1 : In a series circuit, the current is the same through all components.

Statement 2 : In a parallel circuit, the voltage is the same across all components.

Codes:

- A) Both statements are true.
B) Both statements are false.
C) Statement 1 is true, Statement 2 is false.
D) Statement 1 is false, Statement 2 is true.
E) Answer not known

பின்வரும் கூற்றுகளைக் கருத்தில் கொள்க.

கூற்று 1 : தொடரிணைப்பில், மின்னோட்டம் அனைத்து கூறுகளிலும் ஒரே மாதிரியாக இருக்கும்.

கூற்று 2 : பக்க இணைப்பில், அனைத்து கூறுகளிலும் மின்னழுத்தம் ஒரே மாதிரியாக இருக்கும்.

குறியீடுகள்:

- A) இரண்டு கூற்றுகளும் சரி
B) இரண்டு கூற்றுகளும் தவறு
C) கூற்று 1 சரி கூற்று 2 தவறு
D) கூற்று 1 தவறு கூற்று 2 சரி
E) விடை தெரியவில்லை

77. Consider the following statements regarding electroplating.

I. Electroplating is one of the most common applications of physical effects of electric current.

II. The process of depositing a layer of one metal over the surface of another metal by passing electric current is called electroplating.

III. A coating of zinc is deposited on iron to protect it from corrosion.

IV. Chromium has a shiny appearance and It does not corrode.

Which of the statements given above is/are correct?

- A) I, II and III only
B) II, III and IV only
C) I, III and IV only
D) All the above
E) Answer not known

மின்முலாம் பூசுதல் பற்றிய பின்வரும் கூற்றுகளைக் கருத்தில் கொள்க.

I. மின்னோட்டத்தின் இயற்பியல்விளைவின் பொதுவான பயன்பாடு மின்முலாம் பூசுதல் ஆகும்.

II. மின்னோட்டத்தைப் பாயச் செய்வதன் மூலம், ஒரு உலோகத்தின் படலத்தை மற்றொரு உலோகத்தின் மேற்பரப்பில் படியவைக்கும் நிகழ்வு மின்முலாம் பூசுதல் எனப்படும்.

III. இரும்பின் மீது ஏற்படும் அரிமானம் மற்றும் துருப்பிடித்தலைத் தவிர்ப்பதற்காக அதன்மீது துத்த நாகப்படலம் பூசப்படுகிறது.

IV. குரோமியம் பளபளப்புத் தன்மையுடையது. அது எளிதில் துருப்பிடிப்பதில்லை.



மேற்கண்ட கூற்றுகளில் சரியானவை எவை?

- A) I, II மற்றும் III மட்டும்
B) II, III மற்றும் IV மட்டும்
C) I, III மற்றும் IV மட்டும்
D) மேற்கண்ட அனைத்தும்
E) விடை தெரியவில்லை

78. Consider the following statements.

- I. Electrical earthing can be defined as the process of transferring the discharge of electrical energy directly to the earth with the help of high-resistance wire.
II. The earth acts as a convenient path for the flow of electric current that leaks out from the insulation.

Which of the statements given above is/are correct?

- A) I only
B) II only
C) Both I and II
D) Neither I nor II
E) Answer not known

பின்வரும் கூற்றுகளைக் கருத்தில் கொள்க.

- I. மின்னிறக்கம் அடையும் மின்னாற்றலை அதிக மின்தடை கொண்ட கம்பியின் மூலம் புவிக்கு இடமாற்றம் செய்யும் முறையே புவித்தொடுப்பு என்று வரையறுக்கப்படுகிறது.
II. புவியானது சிறந்த மின்கடத்தி என்பதால், பழுதடைந்த மின்காப்பு உறையிலிருந்து கசியும் மின்சாரம் அதன் வழியே பாய்ந்து செல்கிறது.

மேற்கண்ட கூற்றுகளில் சரியானது எது/எவை?

- A) I மட்டும்
B) II மட்டும்
C) இரண்டும்
D) இரண்டுமில்லை
E) விடை தெரியவில்லை

79. Consider the following statements.

- I. The gold-leaf electroscope was developed in 1787 by a British scientist named William Gilbert.
II. Silver is the bad conductor of electricity.

Which of the statements given above is/are correct?

- A) I only
B) II only
C) Both I and II
D) Neither I nor II
E) Answer not known

பின்வரும் கூற்றுகளைக் கருத்தில் கொள்க.

- I. தங்க இலை நிலை மின்காட்டியை 1787 ஆம் ஆண்டு ஆங்கிலேய அறிவியல் அறிஞர் வில்லியம் கில்பெர்ட் என்பவர் வடிவமைத்தார்.
II. வெள்ளி மிகச் சிறந்த மின்கடத்தி அல்ல.

மேற்கண்ட கூற்றுகளில் சரியானது எது/எவை?

- A) I மட்டும்
B) II மட்டும்
C) இரண்டும்
D) இரண்டுமில்லை
E) விடை தெரியவில்லை



80. Consider the following statements.

- I. The force acting perpendicular to the surface is called thrust.
II. The force per unit area acting on an object concerned is called pressure.

Which of the statements given above is/are incorrect?

- A) I only
B) II only
C) Both I and II
D) Neither I nor II
E) Answer not known

பின்வரும் கூற்றுகளைக் கருத்தில் கொள்க.

- I. மேற்பரப்புக்கு செங்குத்தாக செயல்படும் விசை உந்து விசை எனப்படும்.
II. ஒரு பொருளின் ஒரு சதுர மீட்டர் புறப்பரப்பின்மீது செயல்படும் விசை 'அழுத்தம்' என வரையறுக்கப்படுகிறது.

மேற்கண்ட கூற்றுகளில் தவறானது எது/எவை?

- A) I மட்டும்
B) II மட்டும்
C) இரண்டும்
D) இரண்டுமில்லை
E) விடை தெரியவில்லை

81. Consider the following statements.

- I. The instrument used to measure atmospheric pressure is called barometer
II. A mercury barometer, first designed by an Italian Physicist Pascal.

Which of the statements given above is/are correct?

- A) I only
B) II only
C) Both I and II
D) Neither I nor II
E) Answer not known

பின்வரும் கூற்றுகளைக் கருத்தில் கொள்க

- I. வளிமண்டல அழுத்தத்தை அளவிட பயன்படும் கருவி காற்றழுத்தமானி எனப்படும்
II. ஒரு பாதரசமானியானது, முதலில் இத்தாலிய இயற்பியலாளர் பாஸ்கலால் வடிவமைக்கப்பட்டது.

மேற்கண்ட கூற்றுகளில் சரியானது எது/எவை?

- A) I மட்டும்
B) II மட்டும்
C) இரண்டும்
D) இரண்டுமில்லை
E) விடை தெரியவில்லை

82. Which of the following are the factors determining the liquid pressure?

- A) Depth (h)
B) Density of liquid (ρ)
C) Acceleration due to gravity (g)
D) All the above
E) Answer not known

பின்வருவனவற்றில் திரவ அழுத்தத்தினை நிர்ணயிக்கும் காரணிகள் யாவை?

- A) ஆழம் (h)
B) திரவத்தின் அடர்த்தி (ρ)
C) புவியீர்ப்பு முடுக்கம் (g)
D) மேற்கண்ட அனைத்தும்
E) விடை தெரியவில்லை



83. Consider the following statements.

- I. An object will sink or float in a liquid is determined by the density of the object compared to the density of the liquid.
- II. If the density of a substance is higher than the density of the liquid it will float
- III. If the substance having less density than water will sink into it.
- IV. Hydrometer is based on the principle of sinking.

Which of the statements given above is/are incorrect?

- A) I, II and III only
- B) II, III and IV only
- C) I, III and IV only
- D) All the above
- E) Answer not known

பின்வரும் கூற்றுகளைக் கருத்தில் கொள்க

- I. ஒரு பொருள் திரவத்தில் மூழ்குவதோ அல்லது மிதப்பதோ, குறிப்பிட்ட அந்த திரவத்தின் அடர்த்தியோடு அப்பொருளின் அடர்த்தியை ஒப்பிடுவதன் மூலம் நிர்ணயிக்கப்படுகிறது
- II. திரவத்தின் அடர்த்தியை விட பொருளின் அடர்த்தி குறைவாக இருப்பின், அப்பொருளானது அத்திரவத்தில் மிதக்கும்
- III. நீரை விட குறைந்த அடர்த்தி கொண்ட பொருள்கள் நீரில் மூழ்கும்.
- IV. மூழ்குதல் தத்துவத்தின் அடிப்படையில் திரவமானிகள் வேலை செய்கின்றன.

மேற்கண்ட கூற்றுகளில் தவறானவை எவை?

- A) I, II மற்றும் III மட்டும்
- B) II, III மற்றும் IV மட்டும்
- C) I, III மற்றும் IV மட்டும்
- D) மேற்கண்ட அனைத்தும்
- E) விடை தெரியவில்லை

84. Consider the following statements regarding pascal's law.

- I. The external pressure applied on an incompressible liquid is transmitted unevenly throughout the liquid is known as pascal's law.
- II. Pascal's law used in hydraulic press.

Which of the statements given above is/are correct?

- A) I only
- B) II only
- C) Both I and II
- D) Neither I nor II
- E) Answer not known

பாஸ்கல் விதி தொடர்பான பின்வரும் கூற்றுகளைக் கருத்தில் கொள்க

- I. அழுத்தமுறா திரவங்களில் செயல்படும் புறவிசையானது, திரவங்களின் அனைத்துத் திசைகளிலும் சீரற்று கடத்தப்படும் என்பதை பாஸ்கல் விதி கூறுகிறது.
- II. நீரியல் அழுத்தியின் அடிப்படையாக பாஸ்கல் விதி அமைந்துள்ளது.

மேற்கண்ட கூற்றுகளில் சரியானது எது/எவை?

- A) I மட்டும்
- B) II மட்டும்
- C) இரண்டும்
- D) இரண்டுமில்லை
- E) விடை தெரியவில்லை

85. Consider the following statements regarding density.

- I. The density of a substance is the mass per unit volume of a given substance
- II. The symbol for density is rho (ρ).

Which of the statements given above is/are correct?

- A) I only
- B) II only
- C) Both I and II
- D) Neither I nor II
- E) Answer not known



அடர்த்தி பற்றிய பின்வரும் கூற்றுகளைக் கருத்தில் கொள்க.

I. ஒரு பொருளின் அடர்த்தியை அதன் ஓரலகு பருமனுக்கான நிறை என்று குறிப்பிடலாம்.

II. அடர்த்திக்கான குறியீடு ரோ (ρ) எனப்படுகிறது

மேற்கண்ட கூற்றுகளில் சரியானது எது/எவை?

A) I மட்டும்

B) II மட்டும்

C) இரண்டும்

D) இரண்டுமில்லை

E) விடை தெரியவில்லை

86. Consider the following statements regarding Relative Density.

I. Relative density of a substance is defined as ratio of density of the substance to density of water at 4 °C.

II. Relative density can be measured using Pycnometer.

Which of the statements given above is/are incorrect?

A) I only

B) II only

C) Both I and II

D) Neither I nor II

E) Answer not known

ஒப்படர்த்தி பற்றி பின்வரும் கூற்றுகளைக் கருத்தில் கொள்க.

I. ஒரு ஒரு பொருளின் ஒப்படர்த்தி என்பது அப்பொருளின் அடர்த்தியை 4°C ல் நீரின் அடர்த்தியோடு ஒப்பிடுவதாகும்.

II. பிக்னோமீட்டர் (Pycnometer) என்ற உபகரணத்தைக் கொண்டு ஒப்படர்த்தியை அளக்க முடியும்.

மேற்கண்ட கூற்றுகளில் தவறானது எது/எவை?

A) I மட்டும்

B) II மட்டும்

C) இரண்டும்

D) இரண்டுமில்லை

E) விடை தெரியவில்லை

87. Consider the following statements regarding Lactometer.

I. An instrument used to check the purity of milk

II. The lactometer works on the principle of gravity of milk.

III. The correct lactometer reading is obtained only at the temperature of 60 °F.

IV. If more cream present in the milk the the lactometer floats high in the milk.

Which of the statements given above is/are correct?

A) I, II and III only

B) II, III and IV only

C) I, III and IV only

D) All the above

E) Answer not known

பால்மானி தொடர்பான பின்வரும் கூற்றுகளைக் கருத்தில் கொள்க.

I. பாலின் தூய்மையைக் கண்டறியப் பயன்படும் ஒரு கருவியாகும்.

II. பாலின் தன்னடர்த்தி தத்துவத்தை அடிப்படையாகக் கொண்டு பால்மானி வேலை செய்கின்றது

III. 60°F வெப்பநிலையில்தான் பால்மானி மூலம் சரியான அளவீடுகளை அளக்க முடியும்.

IV. பாலில் வெண்ணையின் அளவு அதிகமானால், பால்மானியானது பாலில் அதிகமாக மிதக்கும்.

மேற்கண்ட கூற்றுகளில் சரியானவை எவை?

A) I, II மற்றும் III மட்டும்

B) II, III மற்றும் IV மட்டும்

C) I, III மற்றும் IV மட்டும்

D) மேற்கண்ட அனைத்தும்

E) விடை தெரியவில்லை



88. If a body experiences an upward force due to the fluid surrounding, when it is partially or fully immersed in to it. We also know that pressure is more at the bottom and less at the top of the liquid. This pressure difference causes a force on the object and pushes it upward.

Which one of the following is best implied in the passage?

- A) Pascal's law
B) Archimede's principle
C) Buoyant force
D) Gravitational force
E) Answer not known

சுற்றியுள்ள ஒரு பொருள், பாய்மங்களில் முழுமையாகவோ அல்லது ஓரளவிற்கோ மூழ்கியிருக்கும்போது, அப்பொருளானது சுற்றியுள்ள பாய்மத்தினால் மேல் நோக்கிய உந்துவிசையை உணர்கிறது. மேலும் திரவங்களின் கீழ்பகுதிகளில் உள்ள அழுத்தம் மேல்பகுதியில் உள்ளதை விட அதிகமாக உள்ளது என்பதையும் பார்த்தோம். இந்த அழுத்தவேறுபாடுதான் அப்பொருள் மீது ஒரு விசையைச் செலுத்தி அப்பொருளை மேல் நோக்கி உந்துகிறது

பின்வருவனவற்றில் எது சிறப்பாக பத்தியில் குறிப்பிடப்பட்டுள்ளது?

- A) பாஸ்கல் விதி
B) ஆர்க்கிமிடின் தத்துவம்
C) மிதப்பு விசை
D) ஈர்ப்பு விசை
E) விடை தெரியவில்லை

89. Consider the following statements.

I. If a buoyant force will be more and object will sink

II. If a buoyant force is less and the object will float

Which of the statements given above is/are incorrect?

- A) I only
B) II only
C) Both I and II
D) Neither I nor II
E) Answer not known

பின்வரும் கூற்றுகளைக் கருத்தில் கொள்க.

I. மிதப்பு விசை அதிகமாக இருப்பதால், பொருள்கள் மூழ்கிவிடும்

II. மிதப்பு விசை குறைவாக இருப்பதால், பொருள்கள் மிதக்கும்

மேற்கண்ட கூற்றுகளில் தவறானது எது/எவை?

- A) I மட்டும்
B) II மட்டும்
C) இரண்டும்
D) இரண்டுமில்லை
E) விடை தெரியவில்லை

90. Consider the following statements.

I. Archimedes devised the principle of the hydrostatic balance.

II. If a body immersed in a fluid experiences a vertical upward buoyant force equal to the weight of the fluid it displaces.

Which of the statements given above is/are incorrect?

- A) I only
B) II only
C) Both I and II
D) Neither I nor II
E) Answer not known



பின்வரும் கூற்றுகளைக் கருத்தில் கொள்க.

- I. 'நீர்நிலை சமநிலையின்' (hydrostatic balance) தத்துவத்தை ஆர்க்கிமிடிஸ் உருவாக்கினார்.
- II. "ஒரு பொருளானது பாய்மங்களில் மூழ்கும் போது, அப்பொருள் இடப்பெயர்ச்சி செய்த பாய்மத்தின் எடைக்குச் சமமான செங்குத்தான மிதப்பு விசையை அது உணரும்" என்று ஆர்க்கிமிடிஸ் தத்துவம் கூறுகிறது.

மேற்கண்ட கூற்றுகளில் தவறானது எது/எவை?

- | | |
|---------------------|-----------------|
| A) I மட்டும் | B) II மட்டும் |
| C) இரண்டும் | D) இரண்டுமில்லை |
| E) விடை தெரியவில்லை | |

91. Consider the following statements regarding Laws of flotation.

- I. The weight of a floating body in a fluid is equal to the weight of the fluid displaced by the body.
- II. The centre of gravity of the floating body and the centre of buoyancy are perpendicular to each other.

Which of the statements given above is/are incorrect?

- | | |
|---------------------|---------------------|
| A) I only | B) II only |
| C) Both I and II | D) Neither I nor II |
| E) Answer not known | |

மிதவைச் விதிகள் தொடர்பான பின்வரும் கூற்றுகளைக் கருத்தில் கொள்க.

- I. பாய்மம் ஒன்றின் மீது மிதக்கும் பொருளொன்றின் எடையானது, அப்பொருளினால் வெளியேற்றப்பட்ட பாய்மத்தின் எடைக்குச் சமமாகும்.
- II. மிதக்கும் பொருளின் ஈர்ப்பு மையமும் மிதப்பு விசையின் மையமும் செங்குத்தான நேர்கோட்டில் அமையும்.

மேற்கண்ட கூற்றுகளில் தவறானது எது/எவை?

- | | |
|---------------------|-----------------|
| A) I மட்டும் | B) II மட்டும் |
| C) இரண்டும் | D) இரண்டுமில்லை |
| E) விடை தெரியவில்லை | |

92. Consider the following statements.

- I. If an electron is removed from the atom, the atom becomes negatively charged.
- II. If an electron is added in excess to an atom then the atom is positively charged.

Which of the statements given above is/are incorrect?

- | | |
|---------------------|---------------------|
| A) I only | B) II only |
| C) Both I and II | D) Neither I nor II |
| E) Answer not known | |

பின்வரும் கூற்றுகளைக் கருத்தில் கொள்க.

- I. ஓர் அணுவிலிருந்து எலக்ட்ரான் நீக்கப்பட்டால், அவ்வணு எதிர் மின்னூட்டத்தைப் பெறும்
- II. ஓர் எலக்ட்ரான் சேர்க்கப்பட்டால் அவ்வணு நேர் மின்னூட்டத்தைப் பெறும்



மேற்கண்ட கூற்றுகளில் தவறானது எது/எவை?

- A) I மட்டும்
B) II மட்டும்
C) இரண்டும்
D) இரண்டுமில்லை
E) விடை தெரியவில்லை

93. Consider the following statements.

- I. Electric charge is measured in coulomb and the symbol is C.
II. The charge of an electron is the fundamental unit with a charge equal to 1.6×10^{-19} C.

Which of the statements given above is/are correct?

- A) I only
B) II only
C) Both I and II
D) Neither I nor II
E) Answer not known

பின்வரும் கூற்றுகளைக் கருத்தில் கொள்க.

- I. மின்னூட்டம் கூலும் என்ற அலகினால் அளவிடப்படுகிறது. அதன் குறியீடு C.
II. எலக்ட்ரானின் மின்னூட்டம் அடிப்படை அலகாகக் கருதப்படுகிறது. அதன் மதிப்பு $e = 1.6 \times 10^{-19}$ C.

மேற்கண்ட கூற்றுகளில் சரியானது எது/எவை?

- A) I மட்டும்
B) II மட்டும்
C) இரண்டும்
D) இரண்டுமில்லை
E) விடை தெரியவில்லை

94. Consider the following statements.

- I. The like charges repel and unlike charges attract.
II. The force existing between the charges is called as electric force

Which of the statements given above is/are incorrect?

- A) I only
B) II only
C) Both I and II
D) Neither I nor II
E) Answer not known

பின்வரும் கூற்றுகளைக் கருத்தில் கொள்க.

- I. ஒரின் மின்னூட்டங்கள் ஒன்றையொன்று விலக்கும்; வேறின் மின்னூட்டங்கள் ஒன்றையொன்று ஈர்க்கும்
II. மின்னூட்டங்களுக்கிடையில் உருவாகும் விசை மின்விசை எனப்படும்

மேற்கண்ட கூற்றுகளில் தவறானது எது/எவை?

- A) I மட்டும்
B) II மட்டும்
C) இரண்டும்
D) இரண்டுமில்லை
E) விடை தெரியவில்லை

95. Consider the following statements.

- I. The electric lines of force are straight or curved paths along which a unit positive charge tends to move in the electric field.
II. Electric lines of force are real lines.
III. A positive charge will experience force in the opposite direction of electric field
IV. A negative charge will experience force in the direction of electric field.



Which of the statements given above is/are incorrect?

- A) I, II and III only
B) II, III and IV only
C) I, III and IV only
D) All the above
E) Answer not known

பின்வரும் கூற்றுகளைக் கருத்தில் கொள்க.

I. மின்விசைக்கோடுகள் என்பது ஒரு ஓரலகு நேர் மின்னூட்டம் மின்புலம் ஒன்றில் நகர முற்படும் திசையில் வரையப்படும் நேர் அல்லது வளைவுக் கோடுகளாகும்.

II. மின்விசைக்கோடுகள் என்பவை அசல் கோடுகள் ஆகும்

III. நேர் மின்னூட்டம் ஒன்று மின்புலத்தின் எதிர் திசையிலேயே விசையைப் பெறும்

IV. எதிர் மின்னூட்டம் ஒன்று மின் புலத்தின் திசையிலேயே விசையைப் பெறும்

மேற்கண்ட கூற்றுகளில் தவறானவை எவை?

- A) I, II மற்றும் III மட்டும்
B) II, III மற்றும் IV மட்டும்
C) I, III மற்றும் IV மட்டும்
D) மேற்கண்ட அனைத்தும்
E) விடை தெரியவில்லை

96. Which is known as the measure of the work done on unit positive charge to bring it to that point against all electrical forces.?

- A) Electromotive force
B) Electric potential
C) Electric field
D) Electric charge
E) Answer not known

அனைத்து மின்விசைகளுக்கும் எதிராக ஓரலகு நேர் மின்னூட்டம் ஒன்றை ஒரு குறிப்பிட்ட புள்ளிக்குக் கொண்டு வரச் செய்யப்படும் வேலை _____ எனப்படும்

- A) மின்னோட்ட விசை
B) மின்னழுத்தம்
C) மின்னியக்குவிசை
D) மின்னோட்டம்
E) விடை தெரியவில்லை

97. Consider the following statements.

I. Current is the rate at which charges flow past a point on a circuit.

II. The standard SI unit for current is ampere with the symbol A.

III. Ammeter is an instrument used to measure the strength of the electric current in an electric circuit

Which of the statements given above is/are correct?

- A) I and II only
B) II and III only
C) I and III only
D) All the above
E) Answer not known

பின்வரும் கூற்றுகளைக் கருத்தில் கொள்க.

I. மின்சுற்றின் ஒரு புள்ளியை ஒரு வினாடியில் கடந்து செல்லும் மின்னூட்டங்களின் மதிப்பே மின்னோட்டம் எனப்படும்.

II. மின்னோட்டத்தின் S.I அலகு ஆம்பியர்; அதன் குறியீடு A.

III. ஒரு மின்சுற்றில் அமையும் மின்னோட்டத்தின் மதிப்பை அளவிட உதவும் கருவி அம்மீட்டர் எனப்படும்.

மேற்கண்ட கூற்றுகளில் சரியானவை எவை?

- A) I மற்றும் II மட்டும்
B) II மற்றும் III மட்டும்
C) I மற்றும் III மட்டும்
D) மேற்கண்ட அனைத்தும்
E) விடை தெரியவில்லை



98. Consider the following statements.

I. The e.m.f of an electrical energy source is one volt if one joule of work is done by the source to drive one coulomb of charge completely around the circuit.

II. The electromotive force is represented as (ϵ).

Which of the statements given above is/are incorrect?

- A) I only
B) II only
C) Both I and II
D) Neither I nor II
E) Answer not known

பின்வரும் கூற்றுகளைக் கருத்தில் கொள்க.

I. மின்னாற்றல் மூலம் ஒன்று ஒரு கூலும் மின்னூட்டத்தை மின்சுற்றைச் சுற்றி அனுப்ப ஒரு ஜூல் வேலையைச் செய்தால் அதன் மின்னியக்கு விசை 1 வோல்ட் எனலாம்.

II. மின்னியக்கு விசை யின் குறியீடு ϵ .

மேற்கண்ட கூற்றுகளில் தவறானது எது/எவை?

- A) I மட்டும்
B) II மட்டும்
C) இரண்டும்
D) இரண்டுமில்லை
E) விடை தெரியவில்லை

99. Consider the following statements.

I. Voltmeter is an instrument used to measure the potential difference.

II. The SI unit for both e.m.f and potential difference is volt (V).

Which of the statements given above is/are incorrect?

- A) I only
B) II only
C) Both I and II
D) Neither I nor II
E) Answer not known

பின்வரும் கூற்றுகளைக் கருத்தில் கொள்க.

I. மின்னழுத்த வேறுபாட்டை அளவிட உதவும் கருவி வோல்ட்மீட்டர் ஆகும்.

II. மின்னழுத்த வேறுபாடு மற்றும் மின்னியக்கு விசை இவை இரண்டிற்குமே S.I அலகு வோல்ட் (V) ஆகும்.

மேற்கூறியவற்றுள் தவறானது எது/எவை?

- A) I மட்டும்
B) II மட்டும்
C) இரண்டும்
D) இரண்டுமில்லை
E) விடை தெரியவில்லை

100. Consider the following statements.

I. One ohm is the resistance of a component when the potential difference of one volt applied across the component drives a current of one ampere through it.

II. The SI unit of resistance is ohm with the symbol (Ω).

III. Usually metals have higher resistance.

Which of the statements given above is/are correct?

- A) I and II only
B) II and III only
C) I and III only
D) All the above
E) Answer not known



பின்வரும் கூற்றுகளைக் கருத்தில் கொள்க.

- I. ஒரு கடத்தியின் வழியாக 1 ஆம்பியர் மின்னோட்டம் பாயும் போது அதன் முனைகளுக்கிடையிலான மின்னழுத்த வேறுபாடு 1 வோல்ட் எனில் அந்தக் கடத்தியின் மின்தடை 1 ஓம் ஆகும்.
 - II. மின்தடையின் SI அலகு ஓம் மற்றும் அதன் குறியீடு Ω ஆகும்.
 - III. பொதுவாக உலோகங்கள் அதிக மின்தடை கொண்டுள்ளன.
- மேற்கண்ட கூற்றுகளில் சரியானவை எவை?
- A) I மற்றும் II மட்டும்
 - B) II மற்றும் III மட்டும்
 - C) I மற்றும் III மட்டும்
 - D) மேற்கண்ட அனைத்தும்
 - E) விடை தெரியவில்லை

101. Consider the following statements.

- I. In a series circuit there is more than one pathway through which the electric charge flow.
 - II. In a parallel circuit there is only one path for the electric charge to flow.
- Which of the statements given above is/are correct?
- A) I only
 - B) II only
 - C) Both I and II
 - D) Neither I nor II
 - E) Answer not known

பின்வரும் கூற்றுகளைக் கருத்தில் கொள்க.

- I. தொடரிணைப்பில் மின்னூட்டம் பாய்வதற்கு ஒன்றுக்கு மேற்பட்ட பாதைகள் உள்ளன.
 - II. பக்க இணைப்புச் சுற்றுகளில் மின்னூட்டம் பாய்வதற்கு ஒரேயொரு பாதை மட்டுமே உள்ளது.
- மேற்கண்ட கூற்றுகளில் சரியானது எது/எவை?
- A) I மட்டும்
 - B) II மட்டும்
 - C) இரண்டும்
 - D) இரண்டுமில்லை
 - E) விடை தெரியவில்லை

102. Consider the following statements.

Assertion (A) : When the flow of current is resisted generally heat is produced

Reason (R) : The electrons while moving in the wire or resistor suffer resistance.

Codes:

- A) Both (A) and (R) are true and (R) is the correct explanation of (A)
- B) Both (A) and (R) are true but (R) is not the correct explanation of (A)
- C) (A) is true but (R) is false
- D) (A) is false but (R) is true
- E) Answer not known

பின்வரும் கூற்றுகளைக் கருத்தில் கொள்க.

கூற்று (A) : மின்னோட்டத்தின் பாய்வு 'எதிர்க்கப்படும்போது', வெப்பம் உருவாகிறது.

காரணம் (R) : ஒரு கம்பியிலோ அல்லது மின்தடையத்திலோ எலக்ட்ரான்கள் இயங்கும் போது அவை தடையை எதிர்கொள்கின்றன.



குறியீடுகள்:

- A) (A) மற்றும் (R) இரண்டும் சரி மற்றும் (R) என்பது (A)-யின் சரியான விளக்கமாகும்.
B) (A) மற்றும் (R) இரண்டும் சரி ஆனால் (R) என்பது (A)-யின் சரியான விளக்கமல்ல.
C) (A) சரி ஆனால் (R) தவறு.
D) (A) தவறு ஆனால் (R) சரி.
E) விடை தெரியவில்லை

103. Consider the following statements.

- I. The process of conduction of electric current through solutions is called electrolysis.
II. The positive terminal inserted in to the solution is called cathode and the negative terminal anode.

Which of the statements given above is/are incorrect?

- A) I only
B) II only
C) Both I and II
D) Neither I nor II
E) Answer not known

பின்வரும் கூற்றுகளைக் கருத்தில் கொள்க.

- I. கரைசல்களில் மின்னோட்டம் கடத்தப்படும் நிகழ்வு 'மின்னாற்பகுப்பு' எனப்படும்.
II. கரைசலில் அமிழ்த்தப்படும் நேர் மின்வாய் 'கேதோடு' எனவும் எதிர் மின்வாய் 'ஆனோடு' எனவும் அழைக்கப்படுகின்றன.

மேற்கண்ட கூற்றுகளில் தவறானது எது/எவை?

- A) I மட்டும்
B) II மட்டும்
C) இரண்டும்
D) இரண்டுமில்லை
E) விடை தெரியவில்லை

104. Consider the following statements.

- I. Synaptic signals are produced in human body are weak electric current.
II. These are produced by electrochemical process.

Which of the statements given above is/are incorrect?

- A) I only
B) II only
C) Both I and II
D) Neither I nor II
E) Answer not known

பின்வரும் கூற்றுகளைக் கருத்தில் கொள்க.

- I. நரம்பு இணைப்பு சைகை மனித உடலில் மின்னூட்டத் துகள்களின் இயக்கத்தால் மிகவும் வலிமை குன்றிய மின்னோட்டம் உருவாகிறது.
II. இத்தகைய சைகைகள் மின் வேதிச்செயல்களால் உருவாகின்றன.

மேற்கண்ட கூற்றுகளில் தவறானது எது/எவை?

- A) I மட்டும்
B) II மட்டும்
C) இரண்டும்
D) இரண்டுமில்லை
E) விடை தெரியவில்லை

105. Consider the following statements.

- I. In DC, the flow of electric charges is unidirectional.
II. Solar cell and thermocouples are the examples of DC
Which of the statements given above is/are correct?

- A) I only
B) II only
C) Both I and II
D) Neither I nor II
E) Answer not known

பின்வரும் கூற்றுகளைக் கருத்தில் கொள்க.

- I. நேர் மின்னோட்டத்தில், மின்னூட்டங்களின் ஓட்டமானது ஒரே திசையில் உள்ளது.
II. சூரிய மின்கலங்கள் மற்றும் வெப்ப மின்னிரட்டைகள் போன்றவை நேர் மின்னோட்டத்திற்கான எடுத்துக்காட்டுகள் ஆகும்.

மேற்கண்ட கூற்றுகளில் சரியானது எது/எவை?

- A) I மட்டும்
B) II மட்டும்
C) இரண்டும்
D) இரண்டுமில்லை
E) விடை தெரியவில்லை

106. Consider the following statements.

- I. If the direction of the current in a resistor or in any other element changes its direction alternately, the current is called an alternating current.
II. Frequency is the number of complete cycle of variation, gone through by the ac in one second.

Which of the statements given above is/are incorrect?

- A) I only
B) II only
C) Both I and II
D) Neither I nor II
E) Answer not known

பின்வரும் கூற்றுகளைக் கருத்தில் கொள்க.

- I. மின் தடையத்திலோ அல்லது மின் பொருளிலோ மின்னோட்டத்தின் திசை மாறி மாறி இயங்கினால் அது மாறுதிசை மின்னோட்டம் எனப்படும்.
II. ஒரு வினாடியில் மாறு மின்னோட்டத்தில் ஏற்படும் முழு சுழற்சிகளையே அதிர்வெண் என்பர்.

மேற்கூறியவற்றுள் தவறானது எது/எவை?

- A) I மட்டும்
B) II மட்டும்
C) இரண்டும்
D) இரண்டுமில்லை
E) விடை தெரியவில்லை

107. Which of the following are not the advantages of AC over DC?

- A) Easy to carry long distance
B) Loss of energy is negligible
C) Generating AC is easier than DC
D) Electroplating is done by AC
E) Answer not known



பின்வருவனவற்றில் நேர்திசை மின்னோட்டத்திற்கு மேற்பட்ட மாறுதிசை மின்னோட்டத்தின் நன்மைகள் இல்லை?

- A) நீண்ட தூரம் கொண்டு செல்வது எளிது
B) ஆற்றல் இழப்பு வெகுவாகக் குறைகிறது
C) நேர்திசை மின்னோட்டத்தை உருவாக்குவதை விட மாறுதிசை மின்னோட்டத்தை உருவாக்குதல் எளிது.
D) மின்முலாம் மாறுதிசை மின்னோட்டம் மூலம் செய்யப்படுகிறது
E) விடை தெரியவில்லை

108. Consider the following statements.

- I. The word, 'latent' means hidden. So, latent heat means hidden heat or hidden energy.
II. Latent heat is the amount of heat energy absorbed or released by a substance during a change in its physical states with change in its temperature.

Which of the statements given above is/are incorrect?

- A) I only
B) II only
C) Both I and II
D) Neither I nor II
E) Answer not known

பின்வரும் கூற்றுகளைக் கருத்தில் கொள்க.

- I. உள்ளூறை' என்பது மறைந்திருப்பது எனப்படும். ஆகவே உள்ளூறை வெப்பம் என்பது மறை வெப்பம் அல்லது மறைந்திருக்கும் வெப்ப ஆற்றல் எனப்படும்.
II. வெப்பநிலை மாறும் நிலையில் ஒரு பொருள் தன் நிலையை மாற்றிக்கொள்ளும் போது உட்கவரும் அல்லது வெளியிடும் வெப்ப ஆற்றல் உள்ளூறை வெப்பம் ஆகும்..

மேற்கூறியவற்றுள் தவறானது எது/எவை?

- A) I மட்டும்
B) II மட்டும்
C) இரண்டும்
D) இரண்டுமில்லை
E) விடை தெரியவில்லை

109. Match List-I with List-II regarding modern periodic table.

List-I
(Group)

- a) 2
b) 13
c) 14
d) 15
e) 17

List-II
(Family)

1. Halogen
2. Carbon
3. Nitrogen
4. Alkali earth metals
5. Boron

Codes:

- | | a | b | c | d | e |
|----|------------------|----------|----------|----------|----------|
| A) | 5 | 4 | 2 | 3 | 1 |
| B) | 4 | 5 | 2 | 3 | 1 |
| C) | 5 | 2 | 4 | 3 | 1 |
| D) | 4 | 2 | 3 | 5 | 1 |
| E) | Answer not known | | | | |



நவீன கால தனிம வரிசை அட்டவணை தொடர்பான பட்டியல்-Iஐ பட்டியல்-II உடன் பொருத்துக.

பட்டியல்-I

பட்டியல்-II

(குழு)

(தொகுதிகள்)

- | | |
|-------|----------------------|
| a) 2 | 1. ஹாலஜன் / உப்பினி |
| b) 13 | 2. கார்பன் |
| c) 14 | 3. நைட்ரஜன் |
| d) 15 | 4. கார மண் உலோகங்கள் |
| e) 17 | 5. போரான் |

குறியீடுகள்:

- | | a | b | c | d | e |
|---------------------|----------|----------|----------|----------|----------|
| A) 5 | 4 | 2 | 3 | 1 | |
| B) 4 | 5 | 2 | 3 | 1 | |
| C) 5 | 2 | 4 | 3 | 1 | |
| D) 4 | 2 | 3 | 5 | 1 | |
| E) விடை தெரியவில்லை | | | | | |

110. Consider the following statements.

- I. In 1866, John Newlands arranged 56 known elements in the increasing order of their atomic mass. This is known as Law of triads.
- II. In 1817, Johann Wolfgang Dobereiner, a German chemist, suggested a method of grouping elements based on their relative atomic masses. This is known as law of octaves.

Which of the statements given above is/are incorrect?

- A) I only
- B) II only
- C) Both I and II
- D) Neither I nor II
- E) Answer not known

பின்வரும் கூற்றுகளைக் கருத்தில் கொள்க.

- I. 1866 இல், ஜான் நியூலாந்து 56 அறியப் பட்ட தனிமங்களை அவற்றின் அணு நிறையின் அடிப்படையில் ஏறு வரிசையில் ஒழுங்கமைத்தார். இது மும்மை விதி என்று அழைக்கப்படுகிறது.
- II. 1817 இல் ஜோகன் வுல்ஃப்காங் டாபர்னீர் எனும் ஜெர்மானிய வேதியலாளர் தனிமங்களை அவற்றின் அணு நிறையின் அடிப்படையில் வகைப் படுத்தும் ஒரு கருத்தை எடுத்துரைத்தார். இது "எண்ம விதி" என்று அறியப்பட்டது.

மேற்கண்ட கூற்றுகளில் தவறானது எது/எவை?

- A) I மட்டும்
- B) II மட்டும்
- C) இரண்டும்
- D) இரண்டுமில்லை
- E) விடை தெரியவில்லை

111. Consider the following regarding the features of Modern periodic table.

- I. All the elements are arranged in the increasing order of their atomic number
- II. The horizontal rows are called periods.
- III. There are 18 groups in the periodic table
- IV. There are seven periods in the periodic table.



How many of the above statement(s) is/are correct?

- A) One statement only
B) Two statements only
C) Three statements only
D) All the statements
E) Answer not known

நவீன கால தனிம வரிசை அட்டவணையின் அம்சங்களைப் பற்றி பின்வருவனவற்றைக் கருத்தில் கொள்க.

- I. அனைத்துத் தனிமங்களும் அவற்றின் அதிகரிக்கும் அணு எண்ணிற்கு ஏற்றாற்போல் அமைக்கப்பட்டுள்ளன.
II. தனிம அட்டவணையில் தனிமங்கள் கிடைமட்டமாக வரிசைப்படுத்தப்பட்ட அமைப்பு 'தொடர்கள்' என அழைக்கப்படுகிறது.
III. தனிம அட்டவணையில் 18 தொகுதிகள் உள்ளன.
IV. மொத்தம் ஏழு தொடர்கள் உள்ளன.

மேற்கண்ட கூற்றுகளில் எத்தனை கூற்றுகள் சரியானவை?

- A) ஒரு கூற்று மட்டும்
B) இரண்டு கூற்றுகள் மட்டும்
C) மூன்று கூற்றுகள் மட்டும்
D) அனைத்து கூற்றுகளும்
E) விடை தெரியவில்லை

112. Consider the following statements.

- I. Inert gases are monoatomic gases.
II. They are found in very small quantities and hence they are called as rare gases.

Which of the statements given above is/are correct?

- A) I only
B) II only
C) Both I and II
D) Neither I nor II
E) Answer not known

பின்வரும் கூற்றுகளைக் கருத்தில் கொள்க.

- I. மந்த வாயுக்கள் ஓரணு வாயுக்களாகும்.
II. இவை மிகச் சிறிய அளவிலேயே காணப்படுகின்றன. எனவே, இவை அரிய வாயுக்கள் என்றும் அழைக்கப்படுகின்றன.

மேற்கண்ட கூற்றுகளில் சரியானது எது/எவை?

- A) I மட்டும்
B) II மட்டும்
C) இரண்டும்
D) இரண்டுமில்லை
E) விடை தெரியவில்லை

113. Consider the following statements.

- I. A non-metal is an element that does not have the characters like hardness, shiny, malleable, suitable and ductile
II. All non metals are arranged in P-Block only.

Which of the statements given above is/are incorrect?

- A) I only
B) II only
C) Both I and II
D) Neither I nor II
E) Answer not known



பின்வரும் கூற்றுகளைக் கருத்தில் கொள்க.

I. அலோகமானது பளபளப்பற்ற, மென்மையான, கம்பியாக நீட்ட முடியாத, தகடாக அடிக்க முடியாத, மின்சாரத்தைக் கடத்தாத தன்மையுடையது.

II. அலோகங்கள் p தொகுதியில் மட்டுமே அமைக்கப்பட்டுள்ளன.

மேற்கண்ட கூற்றுகளில் தவறானது எது/எவை?

- A) I மட்டும்
B) II மட்டும்
C) இரண்டும்
D) இரண்டுமில்லை
E) விடை தெரியவில்லை

114. Consider the following statements regarding advantages of Alloys.

I. Alloys do not get corroded or get corroded to very less extent.

II. They are harder and stronger than pure metals

III. They have less conductance than pure metals

IV. Some alloys have lower melting point than pure metals

Which of the statements given above is/are correct?

- A) I, II and III only
B) II, III and IV only
C) I, III and IV only
D) All the above
E) Answer not known

உலோகக்கலவைகளின் நன்மைகள் தொடர்பான பின்வரும் கூற்றுகளைக் கருத்தில் கொள்க.

I. இவை விரைவில் துருப்பிடிப்பதும், அரித்துப் போவதும் இல்லை. அப்படியே அரித்தாலும் சிறிதளவே சேதமடையும்.

II. இவை தூய உலோகத்தை விட கடினமாகவும் வலிமையானதாகவும் இருக்கும்.

III. இவை தூய உலோகத்தை விட கடத்தும் தன்மை குறைந்தவை.

IV. சில உலோகக் கலவைகளின் உருகுநிலை தூய உலோகத்தின் உருகுநிலையை விடக் குறைவு.

மேற்கண்ட கூற்றுகளில் சரியானவை எவை?

- A) I, II மற்றும் III மட்டும்
B) II, III மற்றும் IV மட்டும்
C) I, III மற்றும் IV மட்டும்
D) மேற்கண்ட அனைத்தும்
E) விடை தெரியவில்லை

115. Consider the following statements.

I. Hydrogen is the heaviest, largest and first element of the periodic table

II. It behaves like alkali metals as well as halogens in its properties

Which of the statements given above is/are incorrect?

- A) I only
B) II only
C) Both I and II
D) Neither I nor II
E) Answer not known

பின்வரும் கூற்றுகளைக் கருத்தில் கொள்க.

I. ஹைட்ரஜன் என்பது தனிம வரிசை அட்டவணையின் கனமான, மிகப்பெரிய மற்றும் முதல் தனிமமாகும்.

II. இவை கார உலோகம் மற்றும் ஹாலஜனின் பண்பை தன்னுள் கொண்டுள்ளன.

மேற்கண்ட கூற்றுகளில் தவறானது எது/எவை?

- A) I மட்டும்
B) II மட்டும்
C) இரண்டும்
D) இரண்டுமில்லை
E) விடை தெரியவில்லை



116. Consider the following statements regarding advantages of modern periodic table.

- I. The table is based on atomic number
- II. Each group is an independent group and the idea of subgroups has been discarded.

Which of the statements given above is/are incorrect?

- A) I only
- B) II only
- C) Both I and II
- D) Neither I nor II
- E) Answer not known

நவீன தனிம வரிசை அட்டவணையின் சிறப்புகள் பற்றிய பின்வரும் கூற்றுகளைக் கருத்தில் கொள்க.

- I. இந்த அட்டவணை அணு எண்ணை அடிப்படையாகக் கொண்டது.
- II. ஒவ்வொரு தொகுதியும் தற்சார்பு உடையது. இதனால் துணைத் தொகுதிகள் வேண்டாம் என முடிவு செய்யப்பட்டது.

மேற்கண்ட கூற்றுகளில் தவறானது எது/எவை?

- A) I மட்டும்
- B) II மட்டும்
- C) இரண்டும்
- D) இரண்டுமில்லை
- E) விடை தெரியவில்லை

117. Consider the following statements.

- I. The smallest particle in the element that retains all its properties is the molecule
- II. The smallest particle in the compound that retains all its properties is the atom.

Which of the statements given above is/are incorrect?

- A) I only
- B) II only
- C) Both I and II
- D) Neither I nor II
- E) Answer not known

பின்வரும் கூற்றுகளைக் கருத்தில் கொள்க.

- I. ஒரு தனிமத்தின் அனைத்துப் பண்புகளையும் மிகச்சிறிய துகளான மூலக்கூறு தன்னகத்தே கொண்டுள்ளது.
- II. ஒரு சேர்மத்தின் அனைத்துப் பண்புகளையும் அணுவானது தன்னகத்தே கொண்டுள்ளது.

மேற்கண்ட கூற்றுகளில் தவறானது எது/எவை?

- A) I மட்டும்
- B) II மட்டும்
- C) இரண்டும்
- D) இரண்டுமில்லை
- E) விடை தெரியவில்லை

118. Consider the following statements regarding LPG.

- I. It is highly inflammable hydrocarbon gas.
- II. It contains mixture of methane and propane gases.

Which of the statements given above is/are incorrect?

- A) I only
- B) II only
- C) Both I and II
- D) Neither I nor II
- E) Answer not known



திரவமாக்கப்பட்ட பெட்ரோலிய வாயு தொடர்பான பின்வரும் கூற்றுகளைக் கருத்தில் கொள்க.

- I. இது மிக எளிதில் தீப்பற்றக் கூடிய ஹைட்ரோகார்பன் வாயுவாகும்.
- II. மீத்தேன் மற்றும் புரோப்பேன் வாயுக்களின் கலவையைக் கொண்டுள்ளது.

மேற்கண்ட கூற்றுகளில் தவறானது எது/எவை?

- | | |
|---------------------|-----------------|
| A) I மட்டும் | B) II மட்டும் |
| C) இரண்டும் | D) இரண்டுமில்லை |
| E) விடை தெரியவில்லை | |

119. Consider the following statements.

- I. An atom is the smallest particle of an element which exhibits all the properties of that element.
- II. Atoms of the same element or different elements combine to form a molecule.
- III. Atoms or group of atoms having a charge (positive or negative) are called ions.
- IV. Atoms are the building blocks of matter.

How many of the above statement(s) is/are correct?

Codes:

- | | |
|-----------------------|------------------------|
| A) I, II and III only | B) II, III and IV only |
| C) III and IV only | D) All of the above |
| E) Answer not known | |

பின்வரும் கூற்றுகளைக் கருத்தில் கொள்க.

- I. அணு என்பது ஒரு தனிமத்தின் அனைத்துப் பண்புகளையும் கொண்ட மிகச்சிறிய துகள் ஆகும்.
- II. ஒரே தனிமத்தின் அணுக்களோ அல்லது வெவ்வேறு தனிமங்களின் அணுக்களோ இணைந்து மூலக்கூறுகளை உருவாக்குகின்றன.
- III. மின்சுமை (நேர் அல்லது எதிர்) பெற்றுள்ள அணுக்கள் அல்லது அணுக்களின் தொகுப்பு அயனிகள் என அழைக்கப்படுகின்றது.
- IV. அணுக்களே பருப்பொருள்களின் கட்டமைப்புப் பொருள்களாகும்.

மேற்கண்ட கூற்றுகளில் சரியானவை எவை?

- | | |
|------------------------------|-------------------------------|
| A) I, II மற்றும் III மட்டும் | B) II, III மற்றும் IV மட்டும் |
| C) III மற்றும் IV மட்டும் | D) மேற்கண்ட அனைத்தும் |
| E) விடை தெரியவில்லை | |

120. Consider the following statements.

- I. Jon Jakob Berzelius, English scientist tried to name various elements based on pictorial symbols. Those symbols are difficult to draw and hence they are not used. It is only of historical importance.
- II. John Dalton devised a system using letters of alphabet rather than signs. The modified version of Berzelius system follows under the heading 'System for Determining Symbols of the Elements'.

Which of the statements given above is/are correct?

- | | |
|---------------------|---------------------|
| A) I only | B) II only |
| C) Both I and II | D) Neither I nor II |
| E) Answer not known | |



பின்வரும் கூற்றுகளைக் கருத்தில் கொள்க.

- I. ஜான் ஜேக்கப் பெர்சீலியஸ் என்ற இங்கிலாந்து நாட்டைச் சேர்ந்த அறிவியல் அறிஞர் பல்வேறு தனிமங்களை படங்களைக் கொண்டு குறித்தார். ஆனால், அப்படங்களை வரைவது அவ்வளவு எளிதாக இல்லாத காரணத்தால் அவை பயன்படுத்தப்படவில்லை. எனவே, இவை வரலாற்று முக்கியத்துவம் வாய்ந்தவையாக மட்டுமே உள்ளன.
- II. ஜான் டால்டன் தனிமங்களைக் குறிப்பதற்கு படங்களுக்குப் பதிலாக ஆங்கில எழுத்துக்களைப் பயன்படுத்தும் முறை ஒன்றை உருவாக்கினார். பெர்சீலியஸ் முறையின் மாற்றியமைக்கப்பட்ட வடிவமே 'தனிமங்களின் குறியீடுகளைத் தீர்மானிக்கும் முறை' எனப் பின்பற்றப்படுகிறது.

மேற்கண்ட கூற்றுகளில் சரியானது எது/எவை?

- A) I மட்டும்
- B) II மட்டும்
- C) இரண்டும்
- D) இரண்டுமில்லை
- E) விடை தெரியவில்லை

121. How many of the following pairs are not correctly matched?

(Element) **(Symbol)**

- I. Hydrogen – H
- II. Aluminium – Al
- III. Silicon – S
- IV. Beryllium – B

Codes:

- A) 1 pair only
- B) 2 pairs only
- C) 3 pairs only
- D) All pairs
- E) Answer not known

பின்வரும் இணைகளில் எத்தனை இணை சரியாகப் பொருந்தவில்லை?

- | (தனிமம்) | (குறியீடு) |
|-----------------|-------------------|
| I. ஹைட்ரஜன் | – H |
| II. அலுமினியம் | – Al |
| III. சிலிக்கான் | – S |
| IV. பெரிலியம் | – B |

குறியீடுகள்:

- A) 1 இணை மட்டும்
- B) 2 இணைகள் மட்டும்
- C) 3 இணைகள் மட்டும்
- D) அனைத்து இணைகள்
- E) விடை தெரியவில்லை

122. How many of the following pairs are correctly matched?

- | (Symbol) | (Name Derived From) |
|-----------------|----------------------------|
| I. Eu | – Mythologic character |
| II. Np | – Scientist |
| III. Hg | – Planet |
| IV. No | – Scientist |

Codes:

- A) 1 pair only
- B) 2 pairs only
- C) 3 pairs only
- D) All pairs
- E) Answer not known



பின்வரும் இணைகளில் எத்தனை இணை சரியாகப் பொருந்தியுள்ளது?

(குறியீடு) (குறியீடு பெயர் தருவிக்கப்பட்ட விதம்)

- I. Eu – புராண பாத்திரம்
II. Np – விஞ்ஞானி
III. Hg – கோள்
IV. No – விஞ்ஞானி

குறியீடுகள்:

- A) 1 இணை மட்டும்
B) 2 இணைகள் மட்டும்
C) 3 இணைகள் மட்டும்
D) அனைத்து இணைகளும்
E) விடை தெரியவில்லை

123. Match List-I with List-II.

List-I (Element)	List-II (Latin Name)
a) Silver	1. Stannum
b) Lead	2. Stibium
c) Antimony	3. Wolfram
d) Tungsten	4. Argentum
e) Tin	5. Plumbum

Codes:

	a	b	c	d	e
A)	5	4	2	3	1
B)	4	5	2	3	1
C)	5	2	4	3	1
D)	4	2	3	5	1

E) Answer not known

பட்டியல்-Iஐ பட்டியல்-II உடன் பொருத்துக.

பட்டியல்-I (தனிமம்)	பட்டியல்-II (இலத்தீன் பெயர்)
a) வெள்ளி	1. ஸ்டேனம்
b) காரீயம்	2. ஸ்டிபியம்
c) ஆண்டிமணி	3. உல்ஃப்ரம்
d) டங்ஸ்டன்	4. அர்ஜெண்டம்
e) வெள்ளியம்	5. பிளம்பம்

குறியீடுகள்:

	a	b	c	d	e
A)	5	4	2	3	1
B)	4	5	2	3	1
C)	5	2	4	3	1
D)	4	2	3	5	1

E) விடை தெரியவில்லை



124. Consider the following statements.

- I. Mercury is used in thermometers and barometers because of its high density and uniform expansion at different temperature.
II. Copper and Aluminium is used for making electrical wires.

Which of the statements given above is/are correct?

- A) I only
B) II only
C) Both I and II
D) Neither I nor II
E) Answer not known

பின்வரும் கூற்றுக்களைக் கருத்தில் கொள்க.

- I. அதிக அடர்த்தி கொண்டுள்ளதாலும், வெவ்வேறு வெப்பநிலையில் சீராக விரிவடையும் தன்மையைப் பெற்றிருப்பதாலும் வெப்பநிலைமானிகள் மற்றும் காற்றழுத்தமானிகளில் பாதசரம் பயன்படுத்தப்படுகிறது.
II. மின் கம்பிகள் தயாரிக்க தாமிரம் மற்றும் அலுமினியம் பயன்படுத்தப்படுகிறது.

மேற்கண்ட கூற்றுக்களில் சரியானது எது/எவை?

- A) I மட்டும்
B) II மட்டும்
C) இரண்டும்
D) இரண்டுமில்லை
E) விடை தெரியவில்லை

125. Which of the following is/are correctly matched?

(List-I)

(List-II)

- I. Calamine – Zinc carbonate
II. Caustic potash – Potassium hydroxide
III. Sand – Silica
IV. Caustic soda – Copper sulphate

Codes:

- A) I, II and III only
B) II, III and IV only
C) III and IV only
D) I and IV only
E) Answer not known

பின்வருவனவற்றில் எது சரியாகப் பொருந்தியுள்ளது?

- I. காலமைன் – துத்தநாக கார்பனேட்
II. எரி பொட்டாஷ் – பொட்டாசியம் ஹைட்ராக்சைடு
III. மணல் – சிலிக்கா
IV. எரி சோடா – தாமிர சல்பேட்

குறியீடுகள்:

- A) I, II மற்றும் III மட்டும்
B) II, III மற்றும் IV மட்டும்
C) III மற்றும் IV மட்டும்
D) I மற்றும் IV மட்டும்
E) விடை தெரியவில்லை

126. Match List-I with List-II.

List-I

List-II

(Compounds)

(Elements)

- a) Sulphur dioxide
b) Methane
c) Nitrogen dioxide
d) Ammonia
1. Carbon, Hydrogen
2. Sulphur, Oxygen
3. Nitrogen, Oxygen
4. Nitrogen, Hydrogen

**Codes:**

	a	b	c	d
A)	4	2	3	1
B)	2	1	3	4
C)	3	2	1	4
D)	4	1	2	3

E) Answer not known

பட்டியல்-Iஐ பட்டியல்-II உடன் பொருத்துக.

பட்டியல்-I**(கலவைகள்)**

- கந்தக டைஆக்சைடு
- மீத்தேன்
- நைட்ரஜன் டைஆக்சைடு
- அம்மோனியா

குறியீடுகள்:

	a	b	c	d
A)	4	2	3	1
B)	2	1	3	4
C)	3	2	1	4
D)	4	1	2	3

E) விடை தெரியவில்லை

பட்டியல்-II**(குளிமங்கள்)**

- கார்பன், ஹைட்ரஜன்
- கந்தகம், ஆக்சிஜன்
- நைட்ரஜன், ஆக்சிஜன்
- நைட்ரஜன், ஹைட்ரஜன்

127. Match List-I with List-II.

List-I**(Compounds)**

- Copper sulphate
- Ferrous sulphate
- Potassium nitrate
- Sulphuric acid
- Potassium chloride

List-II**(Common name)**

- Muriate of potash
- Saltpetre
- Oil of Vitriol
- Blue Vitriol
- Green Vitriol

Codes:

	a	b	c	d	e
A)	5	4	2	3	1
B)	4	5	2	3	1
C)	5	2	4	3	1
D)	4	2	3	5	1

E) Answer not known

பட்டியல்-Iஐ பட்டியல்-II உடன் பொருத்துக.

பட்டியல்-I**(சேர்மங்கள்)**

- தாமிர சல்பேட்
- இரும்பு சல்பேட்
- பொட்டாசியம் நைட்ரேட்
- கந்தக அமிலம்
- பொட்டாசியம் குளோரைடு

பட்டியல்-II**(பொதுப் பெயர்)**

- மூரியேட் ஆஃப் பொட்டாஷ்
- சால்ட்பீட்டர்
- விட்டிரியால் எண்ணெய்
- மயில் துத்தம்
- பச்சைத் துத்தம்



குறியீடுகள்:

- | | a | b | c | d | e |
|----|------------------|----------|----------|----------|----------|
| A) | 5 | 4 | 2 | 3 | 1 |
| B) | 4 | 5 | 2 | 3 | 1 |
| C) | 5 | 2 | 4 | 3 | 1 |
| D) | 4 | 2 | 3 | 5 | 1 |
| E) | விடை தெரியவில்லை | | | | |

128. Match List-I with List-II.

List-I

(Chemical Name)

- Sodium carbonate
- Calcium oxy chloride
- Calcium oxide
- Calcium hydroxide
- Calcium carbonate

Codes:

- | | a | b | c | d | e |
|----|----------|----------|----------|----------|----------|
| A) | 5 | 4 | 2 | 3 | 1 |
| B) | 4 | 5 | 2 | 3 | 1 |
| C) | 5 | 2 | 4 | 3 | 1 |
| D) | 4 | 2 | 3 | 5 | 1 |

E) Answer not known

பட்டியல்-Iஐ பட்டியல்-II உடன் பொருத்துக.

பட்டியல்-I

(வேதியியல் பெயர்)

- சோடியம் கார்பனேட்
- கால்சியம் ஆக்சி குளோரைடு
- கால்சியம் ஆக்சைடு
- கால்சியம் ஹைட்ராக்சைடு
- கால்சியம் கார்பனேட்

குறியீடுகள்:

- | | a | b | c | d | e |
|----|----------|----------|----------|----------|----------|
| A) | 5 | 4 | 2 | 3 | 1 |
| B) | 4 | 5 | 2 | 3 | 1 |
| C) | 5 | 2 | 4 | 3 | 1 |
| D) | 4 | 2 | 3 | 5 | 1 |

E) விடை தெரியவில்லை

List-II

(Common Name)

- Lime stone
- Bleaching powder
- Slaked lime
- Quick lime
- Washing soda

பட்டியல்-II

(பொதுப் பெயர்)

- சுண்ணாம்புக் கல்
- சலவைத் தூள்
- நீற்றிய சுண்ணாம்பு
- சுட்ட சுண்ணாம்பு
- சலவைச் சோடா



129. Consider the following statements.

Assertion (A) : Combination of reactants in their naturally occurring states (solids, liquids, gases) is referred as contact in physical states.

Reason (R) : When dry wood comes into contact with fire, it burns with the help of oxygen to form carbon dioxide, which is given out as smoke.

Codes:

- A) Both (A) and (R) are true and (R) is the correct explanation of (A)
B) Both (A) and (R) are true but (R) is not the correct explanation of (A)
C) (A) is true but (R) is false
D) (A) is false but (R) is true
E) Answer not known

பின்வரும் கூற்றுகளைக் கருத்தில் கொள்க.

கூற்று (A) : வினைபடுபொருள்கள் அவற்றின் இயல்பான நிலைகளான திண்மம், திரவம் மற்றும் வாயு நிலைகளிலிருந்து வினைபுரிவதையே இயல்பான நிலையில் சேர்தல் என்கிறோம்.

காரணம் (R) : காய்ந்த விறகுகள் நெருப்புடன் தொடர்பு கொள்ளும்போது காற்றில் உள்ள ஆக்சிஜனுடன் சேர்ந்து எரிந்து கார்பன் டைஆக்சைடை புகையாக வெளிவிடுகின்றன.

குறியீடுகள்:

- A) (A) மற்றும் (R) இரண்டும் சரி மற்றும் (R) என்பது (A)-யின் சரியான விளக்கமாகும்.
B) (A) மற்றும் (R) இரண்டும் சரி ஆனால் (R) என்பது (A)-யின் சரியான விளக்கமல்ல.
C) (A) சரி ஆனால் (R) தவறு.
D) (A) தவறு ஆனால் (R) சரி.
E) விடை தெரியவில்லை

130. Consider the following statements.

I. An unwanted change in the physical, chemical and biological properties of the environment. This is termed as pollution.

II. When the iron metal come into contact with water and oxygen, it undergoes a chemical reaction called rusting.

Which of the statements given above is/are correct?

- A) I only
B) II only
C) Both I and II
D) Neither I nor II
E) Answer not known

பின்வரும் கூற்றுகளைக் கருத்தில் கொள்க.

I. சுற்றுச்சூழலின் இயற்பியல், வேதியியல் மற்றும் உயிரியல் பண்புகளில் விரும்பத்தகாத மாற்றங்கள் ஏற்பட்டுள்ளன.

II. இரும்பாலான பொருள்கள் நீர் மற்றும் ஆக்சிஜனுடன் தொடர்புகொள்ளும்பொழுது வேதிவினைக்கு உட்படுகின்றன. இந்நிகழ்வு 'துருப்பிடித்தல்' எனப்படும்.

மேற்கண்ட கூற்றுகளில் சரியானது எது/எவை?

- A) I மட்டும்
B) II மட்டும்
C) இரண்டும்
D) இரண்டுமில்லை
E) விடை தெரியவில்லை



131. Consider the following statements.

- I. Brass vessels which contain copper as one of the constituents develop a greenish layer when exposed to air for a long time.
- II. Due to a chemical reaction between copper and moist air to form basic copper carbonate and copper hydroxide

Which of the statements given above is/are correct?

- A) I only
- B) II only
- C) Both I and II
- D) Neither I nor II
- E) Answer not known

பின்வரும் கூற்றுகளைக் கருத்தில் கொள்க.

- I. தாமிரத்தைப் பகுதிப்பொருளாகக் கொண்ட பித்தளைப் பாத்திரங்கள் நீண்ட நாட்கள் வளிமண்டலக் காற்றுடன் தொடர்புகொள்ளும்பொழுது பச்சை நிறப்படலத்தை உருவாக்குகின்றன.
- II. தாமிரமும் ஈரக்காற்றும் வேதிவினைக்குட்பட்டு காரத்தன்மை வாய்ந்த தாமிர கார்பனேட்டையும் தாமிர ஹைட்ராக்சைடையும் உருவாக்குகின்றன.

மேற்கண்ட கூற்றுகளில் சரியானது எது/எவை?

- A) I மட்டும்
- B) II மட்டும்
- C) இரண்டும்
- D) இரண்டுமில்லை
- E) விடை தெரியவில்லை

132. Consider the following statements.

- I. Catalyst - Substance which alters the speed of a chemical reaction.
- II. Precipitate - A new insoluble substance formed in a chemical reaction.
- III. Product - Substance formed in a chemical reaction.
- IV. Reactant - Substance reacting in a chemical reaction.

Which of the statements given above is/are correct?

- A) I, II and III only
- B) II, III and IV only
- C) I, III and IV only
- D) All the above
- E) Answer not known

பின்வரும் கூற்றுகளைக் கருத்தில் கொள்க.

- I. வினைவேக மாற்றி - ஒரு வேதி வினையின் வேகத்தை மாற்ற உதவும் பொருள்
- II. வீழ்படிவு - வேதி வினை மூலம் உருவாகி கரைசலின் அடியில் படையும் புதிய பொருள்
- III. வினைவிளை பொருள் - வேதிவினையில் உருவாகும் புதிய பொருள்
- IV. வினைபடு பொருள் - வேதிவினையில் ஈடுபடும் பொருள்

மேற்கண்ட கூற்றுகளில் சரியானவை எவை?

- A) I, II மற்றும் III மட்டும்
- B) II, III மற்றும் IV மட்டும்
- C) I, III மற்றும் IV மட்டும்
- D) மேற்கண்ட அனைத்தும்
- E) விடை தெரியவில்லை



133. Consider the following statements.

- I. Thermolysis is a process in which light is used to carry out chemical reactions.
- II. Photolysis is a process in which heat is used to bring about chemical reactions.

Which of the statements given above is/are correct?

- A) I only
- B) II only
- C) Both I and II
- D) Neither I nor II
- E) Answer not known

பின்வரும் கூற்றுகளைக் கருத்தில் கொள்க.

I. வெப்பவேதிவினை என்பது ஒளியின் மூலம் நிகழும் வேதி வினையாகும்.

II. ஒளிவேதிவினை என்பது வெப்பத்தின் மூலம் நிகழும் வேதி வினையாகும்.

மேற்கண்ட கூற்றுகளில் சரியானது எது/எவை?

- A) I மட்டும்
- B) II மட்டும்
- C) இரண்டும்
- D) இரண்டுமில்லை
- E) விடை தெரியவில்லை

134. Consider the following statements.

- I. Compounds obtained from non living sources such as rock, minerals etc., are called inorganic compounds.
- II. Inorganic compounds exist only in two states ie., solids, liquids.

Which of the statements given above is/are correct?

- A) I only
- B) II only
- C) Both I and II
- D) Neither I nor II
- E) Answer not known

பின்வரும் கூற்றுகளைக் கருத்தில் கொள்க.

I. பாறைகள், தாதுக்கள் போன்ற உயிரற்ற பொருள்களிலிருந்து கிடைக்கப் பெறும் சேர்மங்கள் கனிமச் சேர்மங்கள் என அழைக்கப்படுகின்றன.

II. கனிமச் சேர்மங்கள் திண்மம் மற்றும் திரவம் ஆகிய இரண்டு நிலைகளில் மட்டுமே காணப்படுகின்றன.

மேற்கண்ட கூற்றுகளில் சரியானது எது/எவை?

- A) I மட்டும்
- B) II மட்டும்
- C) இரண்டும்
- D) இரண்டுமில்லை
- E) விடை தெரியவில்லை

135. Find the incorrect statement

- A) Freezing of water will cause contraction in the volume.
- B) For same mass of ice and of water the volume of ice is less than that of water
- C) Ice is less denser than water.
- D) Due to high specific heat capacity water takes more time to become hot as well as to cool down
- E) Answer not known



பின்வருவனவற்றுள் தவறான கூற்றைக் கண்டறிக

- A) நீரை உறைய வைப்பது கனஅளவு சுருக்கத்தை ஏற்படுத்தும்.
B) சமமான நிறையுள்ள பனிக்கட்டி மற்றும் நீரினை எடுத்துக்கொண்டால், பனிக்கட்டியின் கனஅளவு நீரின் கனஅளவைவிட அதிகமாக இருக்கும்.
C) பனிக்கட்டி நீரை விட குறைவான அடர்த்தி கொண்டது.
D) அதிக தன் வெப்ப ஏற்புத்திறனால் நீரானது சூடாகவோ அல்லது குளிர்ச்சியாவோ மாற அதிக நேரத்தை எடுத்துக்கொள்கிறது.
E) விடை தெரியவில்லை

136. Match List-I with List-II.

List-I

- a) Density of pure water
b) Latent heat of fusion of ice
c) Latent heat of vaporization of water
d) Specific heat capacity

List-II

1. 540 calories/g
2. 336 J/g
3. 1 gm/cm³
4. 1 cal/ (°C·g)

Codes:

- | | a | b | c | d |
|----|----------|----------|----------|----------|
| A) | 4 | 2 | 3 | 1 |
| B) | 2 | 1 | 3 | 4 |
| C) | 4 | 1 | 2 | 3 |
| D) | 3 | 2 | 1 | 4 |

E) Answer not known

பட்டியல்-Iஐ பட்டியல்-II உடன் பொருத்துக.

பட்டியல்-I

- a) தூய நீரின் அடர்த்தி
b) உருகுதலின் உள்ளூறை வெப்பம்
c) நீர் ஆவியாதலின் உள்ளூறை வெப்பம்
d) தன்வெப்ப ஏற்புத்திறன்

பட்டியல்-II

1. 540 கலோரி/ கிராம்
2. 336 ஜூல்/ கிராம்
3. 1 கி/செ.மீ³
4. 1 கலோரி / (°C· கிராம்)

குறியீடுகள்:

- | | a | b | c | d |
|----|----------|----------|----------|----------|
| A) | 4 | 2 | 3 | 1 |
| B) | 2 | 1 | 3 | 4 |
| C) | 4 | 1 | 2 | 3 |
| D) | 3 | 2 | 1 | 4 |

E) விடை தெரியவில்லை

137. Consider the following statements.

- I. Air is present in dissolved state in all natural sources of water.
II. Carbon dioxide dissolved in water is important for snails and oysters.

Which of the statements given above is/are correct?

- A) I only
B) II only
C) Both I and II
D) Neither I nor II
E) Answer not known



பின்வரும் கூற்றுகளைக் கருத்தில் கொள்க.

I. அனைத்து இயற்கை நீர் ஆதாரங்களிலும் காற்று கரைந்துள்ளது.

II. நீரில் கரைந்த கார்பன் டை ஆக்சைடு நத்தைகள் மற்றும் சிப்பிகளுக்கு முக்கியமானது.

மேற்கண்ட கூற்றுகளில் சரியானது எது/எவை?

A) I மட்டும்

B) II மட்டும்

C) இரண்டும்

D) இரண்டுமில்லை

E) விடை தெரியவில்லை

138. What are the reasons for the high salinity of Dead sea?

A) It has many sources of water.

B) It is connected to the Red sea.

C) It is landlocked.

D) Both A and C

E) Answer not known

சாக்கடலில் அதிக உப்புத்தன்மை இருப்பதற்கான காரணங்கள் என்ன?

A) இது பல நீர் ஆதாரங்களைக் கொண்டுள்ளது.

B) இது செங்கடலுடன் இணைக்கப்பட்டுள்ளது.

C) இது நிலத்தால் சூழப்பட்டுள்ளது.

D) A மற்றும் C இரண்டும்

E) விடை தெரியவில்லை

139. Consider the following statements.

Assertion (A) : Thermal pollution adversely affects the aquatic life.

Reason (R) : Thermal pollution causes rise in temperature and increases the amount of oxygen dissolved in water.

Codes:

A) Both (A) and (R) are true and (R) is the correct explanation of (A)

B) Both (A) and (R) are true but (R) is not the correct explanation of (A)

C) (A) is true but (R) is false

D) (A) is false but (R) is true

E) Answer not known

பின்வரும் கூற்றுகளைக் கருத்தில் கொள்க.

கூற்று (A) : வெப்ப மாசுபாடு நீர்வாழ் உயிரினங்களை மோசமாக பாதிக்கிறது.

காரணம் (R) : வெப்ப மாசுபாடு வெப்பநிலையை உயர்த்துகிறது மற்றும் தண்ணீரில் கரைந்துள்ள ஆக்சிஜனின் அளவை அதிகரிக்கிறது.

குறியீடுகள்:

A) (A) மற்றும் (R) இரண்டும் சரி மற்றும் (R) என்பது (A)-யின் சரியான விளக்கமாகும்

B) (A) மற்றும் (R) இரண்டும் சரி ஆனால் (R) என்பது (A)-யின் சரியான விளக்கமல்ல

C) (A) சரி ஆனால் (R) தவறு

D) (A) தவறு ஆனால் (R) சரி

E) விடை தெரியவில்லை



142. Consider the following statements.

I. Water is a very stable compound and it never decomposes into its constituent elements.

II. Water acts as a catalyst in a number of reactions.

Which of the statements given above is/are incorrect?

A) I only

B) II only

C) Both I and II

D) Neither I nor II

E) Answer not known

பின்வரும் கூற்றுகளைக் கருத்தில் கொள்க.

I. நீர் மிகவும் நிலையான சேர்மமாகும்; மேலும் அது அதன் உட்கூறுகளாக சிதைவதில்லை.

II. நீர் பல வேதி வினைகளில் வினையூக்கியாக செயல்படுகிறது.

மேற்கண்ட கூற்றுகளில் தவறானது எது/எவை?

A) I மட்டும்

B) II மட்டும்

C) இரண்டும்

D) இரண்டுமில்லை

E) விடை தெரியவில்லை

143. Consider the following statements.

I. Density of ice at 0°C is greater than the density of water at 0°C.

II. Density of water is maximum at 4°C.

Which of the statements given above is/are correct?

A) I only

B) II only

C) Both I and II

D) Neither I nor II

E) Answer not known

பின்வரும் கூற்றுகளைக் கருத்தில் கொள்க.

I. 0 °C இல் உள்ள பனிக்கட்டியின் அடர்த்தி 0 °C இல் உள்ள நீரின் அடர்த்தியை விட அதிகமாக உள்ளது.

II. நீரின் அடர்த்தியானது 4 டிகிரி செல்சியஸில் அதிகபட்சமாக இருக்கிறது.

மேற்கண்ட கூற்றுகளில் சரியானது எது/எவை?

A) I மட்டும்

B) II மட்டும்

C) இரண்டும்

D) இரண்டுமில்லை

E) விடை தெரியவில்லை

144. Which of the following is used in LPG cylinders?

A) Methane

B) Propane

C) Ethane

D) Pentane

E) Answer not known

பின்வருவனவற்றில் எது LPG சிலிண்டர்களில் பயன்படுத்தப்படுகிறது?

A) மீத்தேன்

B) புரோப்பேன்

C) எத்தேன்

D) பென்டேன்

E) விடை தெரியவில்லை



145. Arrange the types of coal from the lowest to highest grade
- A) Lignite < Bituminous < Sub-bituminous < Anthracite
B) Sub-bituminous < Bituminous < Lignite < Anthracite
C) Lignite < Sub-bituminous < Bituminous < Anthracite
D) Sub-bituminous < Lignite < Bituminous < Anthracite
E) Answer not known

நிலக்கரி வகைகளை குறைந்த தரம் முதல் உயர்ந்த தரம் வரை வரிசைப்படுத்துங்கள்

- A) லிக்னைட் < பிட்டுமினஸ் < துணை பிட்டுமினஸ் < ஆந்த்ரசைட்
B) துணை பிட்டுமினஸ் < பிட்டுமினஸ் < லிக்னைட் < ஆந்த்ரசைட்
C) லிக்னைட் < துணை பிட்டுமினஸ் < பிட்டுமினஸ் < ஆந்த்ரசைட்
D) துணை பிட்டுமினஸ் < லிக்னைட் < பிட்டுமினஸ் < ஆந்த்ரசைட்
E) விடை தெரியவில்லை

146. Find out the incorrectly matched pair.

- A) Producer gas – CO + N₂
B) Marsh gas – CH₄
C) Syn gas – CO + H₂
D) Bio gas – C₂H₆ + CO₂
E) Answer not known

தவறாகப் பொருந்தியுள்ள இணையைக் கண்டறிக.

- A) உற்பத்தி வாயு – CO + N₂
B) சதுப்பு நில வாயு – CH₄
C) தொகுப்பு வாயு – CO + H₂
D) உயிரி வாயு – C₂H₆ + CO₂
E) விடை தெரியவில்லை

147. Which of the following the gas forms the highest percentage in CNG?

- A) Methane
B) Ethane
C) Propane
D) Butane
E) Answer not known

பின்வரும் வாயுக்களில் எது CNG இல் அதிக சதவீதத்தை உருவாக்குகிறது?

- A) மீத்தேன்
B) ஈத்தேன்
C) புரோப்பேன்
D) பியூட்டேன்
E) விடை தெரியவில்லை

148. Consider the following statements

- I. Coal when heated in the absence of air does not burn but produces many by-products.
II. Coal tar is a porous, black and the purest form of coal.
III. Coal gas has high calorific value.
IV. Ammonia is also a byproduct obtained from coal.

How many of the above statement(s) is/are correct?

- A) One statement only
B) Two statements only
C) Three statements only
D) All the statements
E) Answer not known



பின்வரும் கூற்றுகளைக் கருத்தில் கொள்க

- I. காற்றில்லாச் சூழலில் நிலக்கரியை வெப்பப்படுத்தும்பொழுது அது எரிவதில்லை. ஆனால், அநேக உப பொருள்களைத் தருகிறது.
 - II. கரி தார் நுண் துளைகளுடைய கருமையான மற்றும் மிகுந்த தூய்மையான நிலக்கரி வகையாகும்.
 - III. கரி வாயு அதிக கலோரி மதிப்பும் கொண்டது.
 - IV. அம்மோனியாவும் நிலக்கரியில் இருந்து பெறப்படும் ஒரு உபவிளைபொருளாகும்.
- மேற்கண்ட கூற்றுகளில் எத்தனை கூற்றுகள் சரியானவை?
- A) ஒரு கூற்று மட்டும்
 - B) இரண்டு கூற்றுகள் மட்டும்
 - C) மூன்று கூற்றுகள் மட்டும்
 - D) அனைத்து கூற்றுகளும்
 - E) விடை தெரியவில்லை

149. Consider the following statements.

- I. Octane rating is used for petrol and cetane rating for diesel.
 - II. The fuel with high octane number has low cetane number and vice versa.
- Which of the statements given above is/are incorrect?
- A) I only
 - B) II only
 - C) Both I and II
 - D) Neither I nor II
 - E) Answer not known

பின்வரும் கூற்றுகளைக் கருத்தில் கொள்க.

- I. பெட்ரோலுக்கு ஆக்டேன் எண் மதிப்பீடும், டீசலுக்கு சீட்டேன் எண் மதிப்பீடும் பயன்படுத்தப்படுகிறது.
 - II. உயர்ந்த ஆக்டேன் எண் பெற்றுள்ள எரிபொருளின் சீட்டேன் எண் குறைவாக இருக்கும்.
- மேற்கண்ட கூற்றுகளில் தவறானது எது/எவை?
- A) I மட்டும்
 - B) II மட்டும்
 - C) இரண்டும்
 - D) இரண்டுமில்லை
 - E) விடை தெரியவில்லை

150. How many of the following pairs are correctly matched?

- | (Compounds) | (Uses) |
|------------------------|------------------|
| I. Carbon monoxide | - Reducing agent |
| II. Calcium Carbonate | - Baking powder |
| III. Carbon disulphide | - Fungicide |
| IV. Calcium Carbide | - Welding |

Codes:

- A) 1 pair only
- B) 2 pairs only
- C) 3 pairs only
- D) All pairs
- E) Answer not known

பின்வரும் இணைகளில் எத்தனை சரியாகப் பொருந்துகிறது?

- | (சேர்மங்கள்) | (பயன்கள்) |
|-------------------------|---------------------|
| I. கார்பன் மோனாக்சைடு | - ஒடுக்கும் காரணி |
| II. கால்சியம் கார்பனேட் | - ரொட்டி தயாரித்தல் |
| III. கார்பன் டைசல்பைடு | - பூஞ்சைக் கொல்லி |
| IV. கால்சியம் கார்பைடு | - வெல்டிங் தொழில் |



குறியீடுகள்:

- A) 1 இணை மட்டும்
B) 2 இணைகள் மட்டும்
C) 3 இணைகள் மட்டும்
D) அனைத்து இணைகள்
E) விடை தெரியவில்லை

151. Which of the following is not a crystalline form of carbon?

- A) Diamond
B) Charcoal
C) Graphite
D) Fullerene
E) Answer not known

பின்வருவனவற்றில் எது கார்பனின் படிகவடிவமுடையது அல்ல?

- A) வைரம்
B) கரி
C) கிராஃபைட்
D) ஃபுல்லரின்
E) விடை தெரியவில்லை

152. _____ is the mostly recently produced allotrope of carbon which consists of honeycomb shaped hexagonal ring.

- A) Graphene
B) Fullerene
C) Graphite
D) Diamond
E) Answer not known

_____ என்பது கார்பன் அணுக்கள் அறுங்கோண வடிவில் ஒரேவரிசையில் அடுக்கப்பட்டிருக்கும்.

- A) கிராபீன்
B) புல்லெரின்
C) கிராஃபைட்
D) வைரம்
E) விடை தெரியவில்லை

153. Consider the following statements.

Assertion (A) : Polycarbonate (PC) plastics can increase or decrease certain hormones and change the way our bodies work.

Reason (R) : Bisphenol A leaks out of PC products used for food and drinks.

Codes:

- A) Both (A) and (R) are true and (R) is the correct explanation of (A)
B) Both (A) and (R) are true but (R) is not the correct explanation of (A)
C) (A) is true but (R) is false
D) (A) is false but (R) is true
E) Answer not known

பின்வரும் கூற்றுகளைக் கருத்தில் கொள்க.

கூற்று (A) : பாலிகார்பனேட் (PC) பிளாஸ்டிக்ஸ்கள் சில ஹார்மோன்களை அதிகரிக்கலாம் அல்லது குறைக்கலாம் மற்றும் நமது உடலின் செயல்படும் முறையை மாற்றலாம்.

காரணம் (R) : உணவு மற்றும் பாணங்களுக்குப் பயன்படுத்தப்படும் பாலிகார்பனேட் தயாரிப்புகளில் பிஸ்பீனால் ஏ வெளியேறுகிறது.



குறியீடுகள்:

- A) (A) மற்றும் (R) இரண்டும் சரி மற்றும் (R) என்பது (A)-யின் சரியான விளக்கமாகும்
 B) (A) மற்றும் (R) இரண்டும் சரி ஆனால் (R) என்பது (A)-யின் சரியான விளக்கமல்ல
 C) (A) சரி ஆனால் (R) தவறு
 D) (A) தவறு ஆனால் (R) சரி
 E) விடை தெரியவில்லை

154. Consider the following statements.

- I. Carbon exists only in combined state in nature.
 II. Ethanol, calcium carbonate and carbon dioxide are examples of inorganic carbon compounds.

Which of the statements given above is/are incorrect?

- A) I only
 B) II only
 C) Both I and II
 D) Neither I nor II
 E) Answer not known

பின்வரும் கூற்றுகளைக் கருத்தில் கொள்க.

- I. கார்பன் இயற்கையில் ஒருங்கிணைந்த நிலையில் மட்டுமே உள்ளது.
 II. எத்தனால், கால்சியம் கார்பனேட் மற்றும் கார்பன் டை ஆக்சைடு ஆகியவை கனிம கார்பன் சேர்மங்களுக்கு எடுத்துக்காட்டுகள்.

மேற்கண்ட கூற்றுகளில் தவறானது எது/எவை?

- A) I மட்டும்
 B) II மட்டும்
 C) இரண்டும்
 D) இரண்டுமில்லை
 E) விடை தெரியவில்லை

155. Consider the following statements

- I. Metallic nanoparticles can be used as very active catalysts.
 II. Nanomaterials are being used as conductors to produce circuits for microchips.
 III. Nanoparticle are incorporated in fabrics to prevent the growth of bacteria.
 IV. Nanochemistry is used in making space, defence and aeronautical devices.

Codes:

- A) I, II and III only
 B) II, III and IV only
 C) III and IV only
 D) All of the above
 E) Answer not known

பின்வரும் கூற்றுகளைக் கருத்தில் கொள்க.

- I. உலோக நானோ துகள்கள் அதிக செயல்திறன் உடைய வினையூக்கிகளாகப் பயன்படுத்தப்படலாம்.
 II. நுண்சில்லுகளுக்கான சுற்றுகளை உருவாக்க நானோ பொருட்கள் கடத்திகளாகப் பயன்படுத்தப்படுகின்றன.
 III. பாக்டீரியாவின் வளர்ச்சியைத் தடுக்க துணிகளில் நானோ துகள்கள் இணைக்கப்படுகின்றன.
 IV. விண்வெளி, பாதுகாப்பு மற்றும் வானூர்தி சாதனங்களை தயாரிப்பதில் நானோ வேதியியல் பயன்படுத்தப்படுகிறது.



குறியீடுகள்:

- A) I, II மற்றும் III மட்டும்
C) III மற்றும் IV மட்டும்
E) விடை தெரியவில்லை

- B) II, III மற்றும் IV மட்டும்
D) மேற்கண்ட அனைத்தும்

156. Match List-I with List-II.

List-I

(Drug)

- a) Morphine
b) Aspirin
c) Insulin
d) Penicillin
e) Human growth Hormone

List-II

(Source or process)

1. Animal
2. Microorganism
3. Plants
4. Chemical synthesis
5. Genetic engineering

Codes:

- | | a | b | c | d | e |
|----|----------|----------|----------|----------|----------|
| A) | 5 | 4 | 2 | 3 | 1 |
| B) | 3 | 4 | 1 | 2 | 5 |
| C) | 5 | 2 | 4 | 3 | 1 |
| D) | 4 | 2 | 3 | 1 | 5 |

E) Answer not known

பட்டியல்-Iஐ, பட்டியல்-II உடன் பொருத்துக.

பட்டியல்-I

(மருந்து)

- a) மார்பின்
b) ஆஸ்பிரின்
c) இன்சலின்
d) பென்சிலின்
e) மனித வளர்ச்சி ஹார்மோன்

பட்டியல்-II

(மூலங்கள் அல்லது செயல்முறை)

1. விலங்கு
2. நுண்ணுயிரி
3. தாவரங்கள்
4. இரசாயன தொகுப்பு
5. மரபணு பொறியியல்

குறியீடுகள்:

- | | a | b | c | d | e |
|----|----------|----------|----------|----------|----------|
| A) | 5 | 4 | 2 | 3 | 1 |
| B) | 3 | 4 | 1 | 2 | 5 |
| C) | 5 | 2 | 4 | 3 | 1 |
| D) | 4 | 2 | 3 | 1 | 5 |

E) விடை தெரியவில்லை

157. How many of the following pairs are correctly matched?

(Chemical)

- I. 1% iodoform solution
II. 0.2 % solution of phenol
III. 1% solution of phenol
IV. Hydrogen peroxide

(Uses)

- Disinfectant
- Disinfectant
- Antiseptic
- Disinfectant

**Codes:**

- A) 1 pair only
B) 2 pairs only
C) 3 pairs only
D) All pairs
E) Answer not known

பின்வரும் இணைகளில் எத்தனை இணை சரியாகப் பொருந்துகிறது?

(வேதி பொருட்கள்)

(பயன்பாடுகள்)

- | | |
|--------------------------|-----------------|
| I. 1% அயோடோபார்ம் கரைசல் | – கிருமிநாசினி |
| II. 0.2% பீனால் கரைசல் | – கிருமிநாசினி |
| III. 1% பீனால் கரைசல் | – புரைதடுப்பான் |
| IV. ஹைட்ரஜன் பெராக்சைடு | – கிருமிநாசினி |

குறியீடுகள்:

- A) 1 இணை மட்டும்
B) 2 இணைகள் மட்டும்
C) 3 இணைகள் மட்டும்
D) அனைத்து இணைகள்
E) விடை தெரியவில்லை

158. Consider the following statements.

I. Chloroquine is used specially to control malarial parasites and not in curing the disease.

II. Chloroquine is used as an additive with other antimalarial drugs.

Which of the statements given above is/are correct?

- A) I only
B) II only
C) Both I and II
D) Neither I nor II
E) Answer not known

பின்வரும் கூற்றுகளைக் கருத்தில் கொள்க.

I. குளோரோகுவின் மலேரியா ஒட்டுண்ணிகளைக் கட்டுப்படுத்த பிரத்யேகமாகப் பயன்படுத்தப்படுகிறது; நோயைக் குணப்படுத்த அல்ல.

II. குளோரோகுவின் மற்ற மலேரியா எதிர்ப்பு மருந்துகளுடன் ஒரு சேர்க்கையாகப் பயன்படுத்தப்படுகிறது.

மேற்கண்ட கூற்றுகளில் சரியானது எது/எவை?

- A) I மட்டும்
B) II மட்டும்
C) இரண்டும்
D) இரண்டுமில்லை
E) விடை தெரியவில்லை

159. Which of the following is/are correctly matched?

(Radio isotope)

(Diagnosis)

- | | |
|---------------|-------------------------|
| I. Iodine-131 | – Brain tumor |
| II. Sodium-24 | – Circulation disorders |
| III. Iron-59 | – Pregnancy disorder |
| IV. Cobalt-60 | – Cancer |

Codes:

- A) I, II and III only
B) II, III and IV only
C) I, II, III and IV
D) I and IV only
E) Answer not known



பின்வருவனவற்றில் எது சரியாகப் பொருந்துகிறது?

(ரேடியோ ஐசோடோப்)

(நோயறிதல்)

- | | |
|-----------------|---|
| I. அயோடின்-131 | - மூளைக் கட்டி |
| II. சோடியம் -24 | - இரத்தஉறைவு மற்றும் இரத்தசுழற்சி சீர்குலைவுகள் |
| III. இரும்பு-59 | - கருவுறுதல் குறைபாடு |
| IV. கோபால்ட்-60 | - புற்றுநோய் |

குறியீடுகள்:

- | | |
|------------------------------|-------------------------------|
| A) I, II மற்றும் III மட்டும் | B) II, III மற்றும் IV மட்டும் |
| C) I, II, III மற்றும் IV | D) I மற்றும் IV மட்டும் |
| E) விடை தெரியவில்லை | |

160. Consider the following statements.

- I. Mordant dyes have high affinity for cotton fabrics.
II. Congo red is an example for direct dye.

Which of the statements given above is/are incorrect?

- | | |
|---------------------|---------------------|
| A) I only | B) II only |
| C) Both I and II | D) Neither I nor II |
| E) Answer not known | |

பின்வரும் கூற்றுகளைக் கருத்தில் கொள்க.

- I. மறைமுக சாயங்கள் பருத்தித் துணிகளோடு அதிக ஒட்டும் கொண்டவை.
II. நேரடி சாயத்திற்கு காங்கோ சிவப்பு ஒரு எடுத்துக்காட்டு.

மேற்கண்ட கூற்றுகளில் தவறானது எது/எவை?

- | | |
|---------------------|-----------------|
| A) I மட்டும் | B) II மட்டும் |
| C) இரண்டும் | D) இரண்டுமில்லை |
| E) விடை தெரியவில்லை | |

161. Which of the following is used as an artificial sweetener?

- | | |
|-------------------------|-----------------|
| A) Curcumin | B) Saccharin |
| C) Monosodium glutamate | D) Both B and C |
| E) Answer not known | |

பின்வருவனவற்றில் எது செயற்கை இனிப்பாகப் பயன்படுத்தப்படுகிறது?

- | | |
|----------------------------|-------------------------|
| A) குர்குமின் | B) சாக்கரின் |
| C) மோனோசோடியம் குளுட்டமேட் | D) B மற்றும் C இரண்டும் |
| E) விடை தெரியவில்லை | |

162. Consider the following statements regarding alcohol test

- I. Oxidation of the alcohol results in the reduction of dichromate to chromic ion.
II. There is a colour change from green to orange.

Which of the statements given above is/are correct?

- | | |
|---------------------|---------------------|
| A) I only | B) II only |
| C) Both I and II | D) Neither I nor II |
| E) Answer not known | |



ஆல்கஹால் பரிசோதனை தொடர்பான பின்வரும் கூற்றுகளைக் கருத்தில் கொள்க.

I. ஆல்கஹாலில் ஆக்சிஜனேற்றம் அடைந்து டைக்ரோமேட்டை குரோமிக் அயனியாகக் மாற்றுகிறது.

II. பச்சை நிறத்தில் இருந்து ஆரஞ்சு நிறத்திற்கு ஒரு வண்ண மாற்றம் ஏற்படுகிறது.

மேற்கண்ட கூற்றுகளில் சரியானது எது/எவை?

- A) I மட்டும்
B) II மட்டும்
C) இரண்டும்
D) இரண்டுமில்லை
E) விடை தெரியவில்லை

163. Which of the following is not a strong bond?

- A) Ionic bond
B) Covalent bond
C) Hydrogen bond
D) Metallic bond
E) Answer not known

பின்வருவனவற்றில் எது வலுவான பிணைப்பு அல்ல?

- A) அயனி பிணைப்பு
B) சகப் பிணைப்பு
C) ஹைட்ரஜன் பிணைப்பு
D) உலோகப் பிணைப்பு
E) விடை தெரியவில்லை

164. Consider the following statements regarding Fajan's rule

I. When the size of the anion is small and that of cation is large, the bond is of more covalent character

II. Greater the charge of the cation, greater will be the covalent character

Which of the statements given above is/are correct?

- A) I only
B) II only
C) Both I and II
D) Neither I nor II
E) Answer not known

பஜானின் விதியை பற்றிய பின்வரும் கூற்றுகளைக் கருத்தில் கொள்க.

I. எதிர்மின் அயனியின் உருவ அளவு சிறியதாகவும், நேர்மின் அயனியின் உருவ அளவு பெரியதாகவும் இருக்கும் போது, பிணைப்பானது சகப்பிணைப்புத் தன்மை கொண்டதாக இருக்கும்.

II. நேர்மின் அயனியின் மின்சுமை அதிகரிக்க அதிகரிக்க சகப்பிணைப்புத் தன்மை அதிகமாக இருக்கும்.

மேற்கண்ட கூற்றுகளில் சரியானது எது/எவை?

- A) I மட்டும்
B) II மட்டும்
C) இரண்டும்
D) இரண்டுமில்லை
E) விடை தெரியவில்லை

165. Consider the following statements.

I. Oxidation is the removal of hydrogen.

II. Reduction is removal of oxygen.

III. Oxidation is gain of electrons.

IV. Reduction is loss of electrons.



Which of the statements given above is/are correct?

- A) I, II and III only
B) III and IV only
C) I and II only
D) All the above
E) Answer not known

பின்வரும் கூற்றுகளைக் கருத்தில் கொள்க.

- I. ஆக்சிஜனேற்றம் என்பது ஹைட்ரஜனை நீக்குதலாகும்.
II. ஒடுக்கம் என்பது ஆக்ஸிஜனை நீக்குதலாகும்.
III. ஆக்சிஜனேற்றம் என்பது எலக்ட்ரான்களை ஏற்றலாகும்.
IV. ஒடுக்கம் என்பது எலக்ட்ரான்களை இழத்தலாகும்.

மேற்கண்ட கூற்றுகளில் சரியானவை எவை?

- A) I, II மற்றும் III மட்டும்
B) III மற்றும் IV மட்டும்
C) I மற்றும் II மட்டும்
D) மேற்கண்ட அனைத்தும்
E) விடை தெரியவில்லை

166. Consider the following statements with regard to covalent compounds

- I. Covalent compounds exist in gaseous, liquid and solid form.
II. They are bad conductors of electricity.
III. They are soluble in polar solvents like water.

Which of the statements given above is/are correct?

- A) I and II only
B) II and III only
C) I and III only
D) All the above
E) Answer not known

சகப்பிணைப்புச் சேர்மங்கள் தொடர்பாக பின்வரும் கூற்றுகளைக் கருத்தில் கொள்க.

- I. சகப்பிணைப்புச் சேர்மங்கள் வாயு, திரவ மற்றும் திட வடிவத்தில் உள்ளன.
II. இவை அரிதில் மின்கடத்திகளாகும்.
III. நீர் போன்ற முனைவுள்ள கரைப்பான்களில் இவை எளிதில் கரையக்கூடியவை.

மேற்கண்ட கூற்றுகளில் சரியானவை எவை?

- A) I மற்றும் II மட்டும்
B) II மற்றும் III மட்டும்
C) I மற்றும் III மட்டும்
D) மேற்கண்ட அனைத்தும்
E) விடை தெரியவில்லை

167. In some compounds, the formation of a covalent bond between two atoms takes place by the sharing of two electrons, both of which comes from only one of the combining atoms.

Which one of the following is represented by the above definition?

- A) Electrovalent bond
B) Covalent bond
C) Dative bond
D) None of the above
E) Answer not known

சில சேர்மங்களில், இரண்டு அணுக்களுக்கு இடையே ஒரு சகப்பிணைப்பு உருவாக்கம் இரண்டு எலக்ட்ரான்களைப் பகிர்வதன் மூலம் நடைபெறுகிறது, இவை இரண்டும் ஒன்றிணைக்கும் அணுக்களில் ஒன்றிலிருந்து மட்டுமே வருகின்றன.

மேற்கூறிய வரையறையால் பின்வருவனவற்றில் எது குறிப்பிடப்படுகிறது?

- A) அயனிப் பிணைப்பு
B) சகப்பிணைப்பு
C) ஈதல் பிணைப்பு
D) மேற்கண்ட எதுவுமில்லை
E) விடை தெரியவில்லை



168. Match List-I with List-II.

List-I

- Proton
- Electron
- Neutron
- Structure of an Atom

List-II

- J.J. Thomson
- James Chadwick
- Rutherford
- Goldstein

Codes:

	a	b	c	d
A)	4	2	3	1
B)	2	1	3	4
C)	3	2	1	4
D)	4	1	2	3

E) Answer not known

பட்டியல்-Iஐ, பட்டியல்-II உடன் பொருத்துக.

பட்டியல்-I

- புரோட்டான்
- எலக்ட்ரான்
- நியூட்ரான்
- ஒரு அணுவின் அமைப்பு

பட்டியல்-II

- ஜேஜே தாம்சன்
- ஜேம்ஸ் சாட்விக்
- ரூதர்ஃபோர்ட்
- கோல்ட்ஸ்டைன்

குறியீடுகள்:

	a	b	c	d
A)	4	2	3	1
B)	2	1	3	4
C)	3	2	1	4
D)	4	1	2	3

E) விடை தெரியவில்லை

169. This model proposed that the shape of an atom resembles a sphere having a radius of the order of 10^{-10} m. The positively charged particles are uniformly distributed with electrons arranged in such a manner that the atom is electrically neutral. This model was also called the plum pudding model or the watermelon model.

Which one of the following is referred to in the above passage?

- Rutherford Atomic Model
- Dalton's Atomic Model
- Thomson's Atomic Model
- Bohr Atomic Model
- Answer not known

அணுவின் வடிவமானது, 10^{-10} மீ ஆரமுடைய கோளத்தை ஒத்துள்ளது என்று தாம்சன் கருதினார். எதிர்மின்சுமையுடைய துகள்கள் நேர்மின்சுமையுடைய கோளத்தில் புதைந்து காணப்படுகின்றன. எனவேதான் ஒரு அணுவானது நடுநிலைத் தன்மையுடன் உள்ளது என்றும் அவர் கருதினார். தர்பூசணிப்பழத்திலுள்ள விதைகள் எதிர்மின்சுமையுடைய எலக்ட்ரான்களாகவும் அதிலுள்ள சிவப்பு நிற சதைப்பகுதியானது நேர்மின்சுமையுடைய புரோட்டான்களாகவும் கருதப்படுகின்றன.



மேலே உள்ள பத்தியில் பின்வருவனவற்றில் எது குறிப்பிடப்பட்டுள்ளது?

- A) ரூதர்ஃபோர்ட் அணு மாதிரி
- B) டால்டனின் அணு மாதிரி
- C) தாம்சனின் அணு மாதிரி
- D) போர் அணு மாதிரி
- E) விடை தெரியவில்லை

170. How many of the following pairs are correctly matched?

(Element)	(Valency)
I. Chlorine	- 3
II. Oxygen	- 2
III. Nitrogen	- 1
IV. Carbon	- 4

Codes:

- A) 1 pair only
- B) 2 pairs only
- C) 3 pairs only
- D) All pairs
- E) Answer not known

பின்வரும் இணைகளில் எத்தனை சரியாகப் பொருந்துகிறது?

(தனிமம்)	(இணைதிறன்)
I. குளோரின்	- 3
II. ஆக்ஸிஜன்	- 2
III. நைட்ரஜன்	- 1
IV. கார்பன்	- 4

குறியீடுகள்:

- A) 1 இணை மட்டும்
- B) 2 இணைகள் மட்டும்
- C) 3 இணைகள் மட்டும்
- D) அனைத்து இணைகள்
- E) விடை தெரியவில்லை

171. Consider the following statements.

- I. Phenolphthalein becomes pink in basic solution.
- II. Methyl orange becomes red in acidic solution.

Which of the statements given above is/are incorrect?

- A) I only
- B) II only
- C) Both I and II
- D) Neither I nor II
- E) Answer not known

பின்வரும் கூற்றுகளைக் கருத்தில் கொள்க.

- I. காரக் கரைசலில், பினாப்தலீன் இளஞ்சிவப்பு நிறமாக மாறுகிறது.
- II. அமிலக் கரைசலில், மெத்தில் ஆரஞ்சு சிவப்பு நிறமாக மாறுகிறது.

மேற்கண்ட கூற்றுகளில் தவறானது எது/எவை?

- A) I மட்டும்
- B) II மட்டும்
- C) இரண்டும்
- D) இரண்டுமில்லை
- E) விடை தெரியவில்லை



172. Which of the following is/are incorrectly matched?

(Acid) **(Source)**

- | | |
|-------------------|-----------|
| I. Acetic acid | – Vinegar |
| II. Malic acid | – Apple |
| III. Oxalic acid | – Tomato |
| IV. Tartaric acid | – Ginger |

Codes:

- | | |
|-----------------------|------------------------|
| A) I, II and III only | B) II, III and IV only |
| C) III and IV only | D) I and IV only |
| E) Answer not known | |

பின்வருவனவற்றில் எது/தவறாகப் பொருந்துகிறது?

(அமிலம்) **(மூலப்பொருள்)**

- | | |
|-----------------------|-----------|
| I. அசிட்டிக் அமிலம் | – வினிகர் |
| II. மாலிக் அமிலம் | – ஆப்பிள் |
| III. ஆக்சாலிக் அமிலம் | – தக்காளி |
| IV. டார்டாரிக் அமிலம் | – இஞ்சி |

குறியீடுகள்:

- | | |
|------------------------------|-------------------------------|
| A) I, II மற்றும் III மட்டும் | B) II, III மற்றும் IV மட்டும் |
| C) III மற்றும் IV மட்டும் | D) I மற்றும் IV மட்டும் |
| E) விடை தெரியவில்லை | |

173. Consider the following statements.

- I. Ammonium hydroxide is used in the solution for cleaning windows.
II. Calcium hydroxide is used in Lime water.

Which of the statements given above is/are correct?

- | | |
|---------------------|---------------------|
| A) I only | B) II only |
| C) Both I and II | D) Neither I nor II |
| E) Answer not known | |

பின்வரும் கூற்றுகளைக் கருத்தில் கொள்க.

- I. அம்மோனியம் ஹைட்ராக்சைடு ஜன்னல்களை சுத்தம் செய்வதற்கான கரைசலில் பயன்படுத்தப்படுகிறது.

- II. சுண்ணாம்பு நீரில் கால்சியம் ஹைட்ராக்சைடு பயன்படுத்தப்படுகிறது.

மேற்கண்ட கூற்றுகளில் சரியானது எது/எவை?

- | | |
|---------------------|-----------------|
| A) I மட்டும் | B) II மட்டும் |
| C) இரண்டும் | D) இரண்டுமில்லை |
| E) விடை தெரியவில்லை | |

174. Which of the following statements made by Dalton has not undergone any change?

- A) Atoms cannot be broken.
B) Atoms combine in small, whole numbers to form compounds
C) Elements are made up of atoms.
D) All atoms of an elements are alike.
E) Answer not known



டால்டன் கூறிய பின்வரும் கூற்றுகளில் வரம்புகள் என்ன?

- A) அணுக்களை உடைக்க முடியாது.
B) அணுக்கள் சிறிய, முழு எண்களில் இணைந்து சேர்மங்களை உருவாக்குகின்றன
C) தனிமங்கள் அணுக்களால் ஆனவை.
D) ஒரு தனிமத்தின் அனைத்து அணுக்களும் ஒரே மாதிரியானவை.
E) விடை தெரியவில்லை

175. How many of the following pairs are correctly matched?

- I. Washing soda – Sodium carbonate
II. Baking soda – Sodium bicarbonate
III. Caustic soda – Sodium hydroxide
IV. Caustic potash – Potassium hydroxide

Codes:

- A) 1 pair only
B) 2 pairs only
C) 3 pairs only
D) All pairs
E) Answer not known

பின்வரும் இணைகளில் எத்தனை இணைசரியாகப் பொருந்துகிறது?

- I. சலவை சோடா – சோடியம் கார்பனேட்
II. சமையல் சோடா – சோடியம் பைகார்பனேட்
III. எரி சோடா – சோடியம் ஹைட்ராக்சைடு
IV. எரி பொட்டாஷ் – பொட்டாசியம் ஹைட்ராக்சைடு

குறியீடுகள்:

- A) 1 இணை மட்டும்
B) 2 இணைகள் மட்டும்
C) 3 இணைகள் மட்டும்
D) அனைத்து இணைகள்
E) விடை தெரியவில்லை

176. Identify the correct sequence of percentage of elements in the Earth's crust.

- A) Aluminium > Iron > Calcium > Sodium > Potassium
B) Aluminium > Calcium > Iron > Sodium > Potassium
C) Aluminium > Iron > Calcium > Potassium > Sodium
D) Aluminium > Calcium > Iron > Potassium > Sodium
E) Answer not known

பூமியின் மேலோட்டில் உள்ள தனிமங்களின் சதவீதத்தின் சரியான வரிசையை அடையாளம் காணவும்.

- A) அலுமினியம் > இரும்பு > கால்சியம் > சோடியம் > பொட்டாசியம்
B) அலுமினியம் > கால்சியம் > இரும்பு > சோடியம் > பொட்டாசியம்
C) அலுமினியம் > இரும்பு > கால்சியம் > பொட்டாசியம் > சோடியம்
D) அலுமினியம் > கால்சியம் > இரும்பு > பொட்டாசியம் > சோடியம்
E) விடை தெரியவில்லை



177. Consider the following statements.

I. Potassium reacting with oxygen at room temperature becomes Potassium Oxide.

II. Copper reacting with oxygen at room temperature becomes Cupric Oxide.

Which of the statements given above is/are incorrect?

- A) I only
B) II only
C) Both I and II
D) Neither I nor II
E) Answer not known

பின்வரும் கூற்றுகளைக் கருத்தில் கொள்க.

I. அறை வெப்பநிலையில் ஆக்ஸிஜனுடன் பொட்டாசியம் வினைபுரிந்து பொட்டாசியம் ஆக்சைடாக மாறுகிறது.

II. அறை வெப்பநிலையில் ஆக்ஸிஜனுடன் தாமிரம் வினைபுரிந்து குப்ரிக் ஆக்சைடாக மாறுகிறது.

மேற்கண்ட கூற்றுகளில் தவறானது எது/எவை?

- A) I மட்டும்
B) II மட்டும்
C) இரண்டும்
D) இரண்டுமில்லை
E) விடை தெரியவில்லை

178. Which of the following is known as azote?

- A) Oxygen
B) Nitrogen
C) Sulphur
D) Carbon dioxide
E) Answer not known

பின்வருவனவற்றில் எது அசோட் என அழைக்கப்படுகிறது?

- A) ஆக்ஸிஜன்
B) நைட்ரஜன்
C) சல்பர்
D) கார்பன் டை ஆக்சைடு
E) விடை தெரியவில்லை

179. Consider the following statements.

I. Kanada proposed the theory of "Paramanu".

II. Aristotle argued that the Universe is formed of four elements - soil, air, water & fire.

Which of the statements given above is/are incorrect?

- A) I only
B) II only
C) Both I and II
D) Neither I nor II
E) Answer not known

பின்வரும் கூற்றுகளைக் கருத்தில் கொள்க.

I. கனடா "பரமணு" கோட்பாட்டை முன்மொழிந்தார்.

II. மண், காற்று, நீர் மற்றும் நெருப்பு ஆகிய நான்கு கூறுகளால் பிரபஞ்சம் உருவாகிறது என்று அரிஸ்டாட்டில் வாதிட்டார்.

மேற்கண்ட கூற்றுகளில் தவறானது எது/எவை?

- A) I மட்டும்
B) II மட்டும்
C) இரண்டும்
D) இரண்டுமில்லை
E) விடை தெரியவில்லை



180. How many of the following pairs are incorrectly matched?

(Law)

(Given by)

- | | |
|----------------------------------|--------------------|
| I. Law of reciprocal proportions | – Jeremias Ritcher |
| II. Law of Gaseous volumes | – Gay Lussac' |
| III. Law of Multiple Proportions | – J J Thomson |

Codes:

- | | |
|---------------------|-----------------|
| A) 1 pair only | B) 2 pairs only |
| C) 3 pairs only | D) No pairs |
| E) Answer not known | |

பின்வரும் இணைகளில் எத்தனை இணைகள் தவறாகப் பொருந்துகின்றன?

(சட்டம்)

(வழங்கியது)

- | | |
|--------------------------|----------------------|
| I. தலைகீழ் விகித விதி | – ஜெரேமியாஸ் ரிச்சர் |
| II. பருமன் இணைப்பு விதி | – கே லுசாக் |
| III. பெருக்கல் விகிதவிதி | – ஜேஜே தாம்சன் |

குறியீடுகள்:

- | | |
|---------------------|---------------------|
| A) 1 இணை மட்டும் | B) 2 இணைகள் மட்டும் |
| C) 3 இணைகள் மட்டும் | D) இணைகள் இல்லை |
| E) விடை தெரியவில்லை | |

181. Consider the following statements.

- I. The alpha particles are made up of two protons and two neutrons.
- II. The gamma rays have negative charge.

Which of the statements given above is/are correct?

- | | |
|---------------------|---------------------|
| A) I only | B) II only |
| C) Both I and II | D) Neither I nor II |
| E) Answer not known | |

பின்வரும் கூற்றுகளைக் கருத்தில் கொள்க.

- I. ஆல்பா துகள்கள் இரண்டு புரோட்டான்கள் மற்றும் இரண்டு நியூட்ரான்களால் ஆனவை.
- II. காமா கதிர்கள் எதிர்மறை மின்னூட்டம் கொண்டவை.

மேற்கண்ட கூற்றுகளில் சரியானது எது/எவை?

- | | |
|---------------------|-----------------|
| A) I மட்டும் | B) II மட்டும் |
| C) இரண்டும் | D) இரண்டுமில்லை |
| E) விடை தெரியவில்லை | |

182. Consider the following statements regarding Rutherford.

- I. He was the 'Father' of nuclear physics.
- II. He discovered the nucleus of an atom using a gold foil experiment.
- III. He got the Nobel Prize in chemistry.
- IV. He was the first to produce Tritium.

Which of the statements given above is/are correct?

- | | |
|-----------------------|------------------------|
| A) I, II and III only | B) II, III and IV only |
| C) I, III and IV only | D) All the above |
| E) Answer not known | |



ருதர்ஃபோர்ட் பற்றிய பின்வரும் கூற்றுகளைக் கருத்தில் கொள்க.

- I. இவர் அணு இயற்பியலின் 'தந்தை' ஆவார்.
- II. தங்கத் தகடு சோதனையைப் பயன்படுத்தி அணுவின் கருவைக் கண்டுபிடித்தார்.
- III. வேதியியலுக்கான நோபல் பரிசு பெற்றார்.
- IV. டிரிடயத்தை முதலில் தயாரித்தவர்.

மேற்கண்ட கூற்றுகளில் சரியானவை எவை?

- | | |
|------------------------------|-------------------------------|
| A) I, II மற்றும் III மட்டும் | B) II, III மற்றும் IV மட்டும் |
| C) I, III மற்றும் IV மட்டும் | D) மேற்கண்ட அனைத்தும் |
| E) விடை தெரியவில்லை | |

183. Which of the following is true regarding Rutherford's model of an atom.

- I. There is large empty space around the nucleus.
- II. Electrons are distributed in the vacant space around the nucleus.
- III. Entire mass of an atom is concentrated in the nucleus.
- IV. The electrons move in an elliptical path.

How many of the above statement(s) is/are correct?

- | | |
|--------------------------|------------------------|
| A) One statement only | B) Two statements only |
| C) Three statements only | D) All the statements |
| E) Answer not known | |

ருதர்ஃபோர்டின் அணு மாதிரியைப் பொறுத்தவரை பின்வருவனவற்றில் எது உண்மை?

- I. அணுக்கருவைச் சுற்றி பெரிய வெற்றிடம் உள்ளது.
- II. அணுக்கருவைச் சுற்றியுள்ள காலி இடத்தில் எலக்ட்ரான்கள் உள்ளன.
- III. ஒரு அணுவின் முழு நிறை அணுக்கருவில் குவிந்துள்ளது.
- IV. எலக்ட்ரான்கள் நீள்வட்ட பாதையில் நகரும்.

மேற்கண்ட கூற்றுகளில் சரியானவை எவை?

- | | |
|-----------------------------|-----------------------------|
| A) ஒரு கூற்று மட்டும் | B) இரண்டு கூற்றுகள் மட்டும் |
| C) மூன்று கூற்றுகள் மட்டும் | D) அனைத்து கூற்றுகளும் |
| E) விடை தெரியவில்லை | |

184. Consider the following statements.

Assertion (A) : Atoms are neutral in nature.

Reason (R) : An atom contains the same number of neutrons and electrons.

Codes:

- A) Both (A) and (R) are true and (R) is the correct explanation of (A)
- B) Both (A) and (R) are true but (R) is not the correct explanation of (A)
- C) (A) is true but (R) is false
- D) (A) is false but (R) is true
- E) Answer not known

பின்வரும் கூற்றுகளைக் கருத்தில் கொள்க.

கூற்று (A) : அணுக்கள் இயற்கையில் நடுநிலையானவை.

காரணம் (R) : ஒரு அணுவில் அதே எண்ணிக்கையிலான நியூட்ரான்கள் மற்றும் எலக்ட்ரான்கள் உள்ளன.



குறியீடுகள்:

- A) (A) மற்றும் (R) இரண்டும் சரி மற்றும் (R) என்பது (A)-யின் சரியான விளக்கமாகும்
 B) (A) மற்றும் (R) இரண்டும் சரி ஆனால் (R) என்பது (A)-யின் சரியான விளக்கமல்ல
 C) (A) சரி ஆனால் (R) தவறு
 D) (A) தவறு ஆனால் (R) சரி
 E) விடை தெரியவில்லை

185. Find out the incorrectly matched pair.

- A) Isotopes – Same number of protons and electrons
 B) Isobars – Different number of nucleons
 C) Isotones – Same number of neutrons
 D) Isotopes – Different number of neutrons
 E) Answer not known

தவறாகப் பொருந்திய இணையைக் கண்டறியவும்.

- A) ஐசோடோப்புகள் – ஒத்த எண்ணிக்கையிலான புரோட்டான்கள் மற்றும் எலக்ட்ரான்கள்
 B) ஐசோபர்கள் – வேறுபட்ட எண்ணிக்கையிலான நியூக்ளியோன்கள்
 C) ஐசோடோன்கள் – ஒத்த எண்ணிக்கையிலான நியூட்ரான்கள்
 D) ஐசோடோப்புகள் – வேறுபட்ட எண்ணிக்கையிலான நியூட்ரான்கள்
 E) விடை தெரியவில்லை

186. Consider the following statements.

- I. The number of protons is called the atomic number of the element.
 II. The total number of protons and neutrons present in the nucleus is called the Mass number of the element.

Which of the statements given above is/are correct?

- A) I only
 B) II only
 C) Both I and II
 D) Neither I nor II
 E) Answer not known

பின்வரும் கூற்றுகளைக் கருத்தில் கொள்க.

- I. புரோட்டான்களின் எண்ணிக்கை தனிமத்தின் அணு எண் எனப்படும்.
 II. அணுகருவில் இருக்கும் புரோட்டான்கள் மற்றும் நியூட்ரான்களின் மொத்த எண்ணிக்கை தனிமத்தின் நிறை எண் எனப்படும்.

மேற்கண்ட கூற்றுகளில் சரியானது எது/எவை?

- A) I மட்டும்
 B) II மட்டும்
 C) இரண்டும்
 D) இரண்டுமில்லை
 E) விடை தெரியவில்லை

187. Consider the following statements.

- I. Neils Bohr's atomic model explained the stability of an atom.
 II. J.Chadwick discovered the presence of neutrons in the nucleus.

Which of the statements given above is/are incorrect?

- A) I only
 B) II only
 C) Both I and II
 D) Neither I nor II
 E) Answer not known



பின்வரும் கூற்றுகளைக் கருத்தில் கொள்க.

I. நீல்ஸ் போரின் அணு மாதிரி ஒரு அணுவின் நிலைத்தன்மையை விளக்கியது.

II. ஜே.சாட்விக் அணுக்கருவில் நியூட்ரான்கள் இருப்பதைக் கண்டுபிடித்தார்.

மேற்கண்ட கூற்றுகளில் தவறானது எது/எவை?

A) I மட்டும்

B) II மட்டும்

C) இரண்டும்

D) இரண்டுமில்லை

E) விடை தெரியவில்லை

188. Match List-I with List-II.

List-I

- a) Dalton
b) Thomson
c) Rutherford
d) Neils Bohr

List-II

1. Discovery of neutrons
2. First atomic theory
3. Plum pudding model
4. Hydrogen atom model

Codes:

- | | a | b | c | d |
|----|----------|----------|----------|----------|
| A) | 4 | 2 | 3 | 1 |
| B) | 2 | 1 | 3 | 4 |
| C) | 3 | 2 | 1 | 4 |
| D) | 4 | 1 | 2 | 3 |

E) Answer not known

பட்டியல்-Iஐ, பட்டியல்-II உடன் பொருத்துக.

பட்டியல்-I

- a) டால்டன்
b) தாம்சன்
c) ரூதர்ஃபோர்டு
d) நீல்ஸ் போர்

பட்டியல்-II

1. நியூட்ரான்களின் கண்டுபிடிப்பு
2. முதல் அணுக் கோட்பாடு
3. பிளம்புட்டிங் மாதிரி
4. ஹைட்ரஜன் அணு மாதிரி

குறியீடுகள்:

- | | a | b | c | d |
|----|----------|----------|----------|----------|
| A) | 4 | 2 | 3 | 1 |
| B) | 2 | 1 | 3 | 4 |
| C) | 3 | 2 | 1 | 4 |
| D) | 4 | 1 | 2 | 3 |

E) விடை தெரியவில்லை

189. Find out the incorrectly matched pair.

- A) Mass of proton – 1.67×10^{-24} g
B) Mass of electron – 9.31×10^{28} g
C) Charge of electron – $(-1.6) \times 10^{-19}$ C
D) Charge of proton – 1.6×10^{-19} C
E) Answer not known



தவறாகப் பொருந்திய இணையைக் கண்டறியவும்.

(பட்டியல் I)

(பட்டியல் II)

- A) புரோட்டானின் நிறை – 1.67×10^{-24} கிராம்
 B) எலக்ட்ரானின் நிறை – 9.31×10^{-28} கிராம்
 C) எலக்ட்ரானின் ஆற்றல் – $(-1.6) \times 10^{-19}$ C
 D) புரோட்டானின் ஆற்றல் – 1.6×10^{-19} C
 E) விடை தெரியவில்லை

190. What is the correct electronic configuration of potassium?

- A) 2,8,9
 B) 2,8,1
 C) 2,8,8,1
 D) 2,8,8,3
 E) Answer not known

பொட்டாசியத்தின் சரியான எலக்ட்ரான் கட்டமைப்பு என்ன?

- A) 2,8,9
 B) 2,8,1
 C) 2,8,8,1
 D) 2,8,8,3
 E) விடை தெரியவில்லை

191. Consider the following statements.

- I. Elements having entirely unfilled outermost shell show Zero valency.
 II. Elements with 4 to 7 electrons in their valence shells are metals.

Which of the statements given above is/are correct?

- A) I only
 B) II only
 C) Both I and II
 D) Neither I nor II
 E) Answer not known

பின்வரும் கூற்றுகளைக் கருத்தில் கொள்க.

I. முற்றிலும் நிரப்பப்படாத வெளிப்புற கூட்டைக் கொண்ட தனிமங்கள் பூஜ்ஜிய இணை திறன் கொண்டுள்ளன.

II. இணைதிறன் கூட்டில் 4 முதல் 7 எலக்ட்ரான்கள் கொண்ட தனிமங்கள் உலோகங்கள் ஆகும். மேற்கண்ட கூற்றுகளில் சரியானது எது/எவை?

- A) I மட்டும்
 B) II மட்டும்
 C) இரண்டும்
 D) இரண்டுமில்லை
 E) விடை தெரியவில்லை

192. Match List-I with List-II.

List-I

List-II

(Element)

(Atomic number)

- | | |
|--------------|-------|
| a) Beryllium | 1. 5 |
| b) Chlorine | 2. 17 |
| c) Neon | 3. 20 |
| d) Calcium | 4. 10 |
| e) Boron | 5. 4 |

**Codes:**

	a	b	c	d	e
A)	5	4	2	3	1
B)	4	5	2	3	1
C)	5	2	4	3	1
D)	4	2	3	5	1

E) Answer not known

பட்டியல்-Iஐ, பட்டியல்-II உடன் பொருத்துக.

பட்டியல்-I (தனிமம்)	பட்டியல்-II (அணு எண்)
a) பெரிலியம்	1. 5
b) குளோரின்	2. 17
c) நியான்	3. 20
d) கால்சியம்	4. 10
e) போரான்	5. 4

குறியீடுகள்:

	a	b	c	d	e
A)	5	4	2	3	1
B)	4	5	2	3	1
C)	5	2	4	3	1
D)	4	2	3	5	1

E) விடை தெரியவில்லை

193. Which of the following is/are correctly matched?

(Colour of the flame) (Inference)

I. Brick red	- Ca ²⁺
II. Golden Yellow	- K ⁺
III. Pink Violet	- Na ⁺
IV. Green Fleshes	- Zn ²⁺

Codes:

A) I, II and III only	B) II, III and IV only
C) III and IV only	D) I and IV only
E) Answer not known	

பின்வருவனவற்றில் எது சரியாகப் பொருந்துகிறது?

(சுடரின் நிறம்)	(காண்பவை)
I. செங்கல் சிவப்பு	- Ca ²⁺
II. பொன்னிற மஞ்சள்	- K ⁺
III. இளஞ்சிவப்பு ஊதா	- Na ⁺
IV. பச்சை	- Zn ²⁺

குறியீடுகள்:

A) I, II மற்றும் III மட்டும்	B) II, III மற்றும் IV மட்டும்
C) III மற்றும் IV மட்டும்	D) I மற்றும் IV மட்டும்
E) விடை தெரியவில்லை	



194. Consider the following statements.

- I. Calcium Sulphate Hemihydrate is commercially called Plaster of Paris.
II. Its chemical formula is $\text{CaSO}_4 \cdot \frac{2}{3} \text{H}_2\text{O}$

Which of the statements given above is/are incorrect?

- A) I only
B) II only
C) Both I and II
D) Neither I nor II
E) Answer not known

பின்வரும் கூற்றுகளைக் கருத்தில் கொள்க.

- I. கால்சியம் சல்பேட் ஹெமி ஹைட்ரேட் வணிக ரீதியாக பாரிஸ்சாந்து என்று அழைக்கப்படுகிறது.
II. இதன் வேதியியல் வாய்ப்பாடு $\text{CaSO}_4 \cdot \frac{2}{3} \text{H}_2\text{O}$ ஆகும்

மேற்கண்ட கூற்றுகளில் தவறானது எது/எவை?

- A) I மட்டும்
B) II மட்டும்
C) இரண்டும்
D) இரண்டுமில்லை
E) விடை தெரியவில்லை

195. Consider the following statements.

Assertion (A) : Sulphuric acid is called the King of Chemicals.

Reason (R) : Sulphuric acid is a highly reactive acid.

Codes:

- A) Both (A) and (R) are true and (R) is the correct explanation of (A)
B) Both (A) and (R) are true but (R) is not the correct explanation of (A)
C) (A) is true but (R) is false
D) (A) is false but (R) is true
E) Answer not known

பின்வரும் கூற்றுகளைக் கருத்தில் கொள்க.

கூற்று (A) : கந்தக அமிலம் வேதிப்பொருட்களின் அரசன் என்று அழைக்கப்படுகிறது.

காரணம் (R) : கந்தக அமிலம் அதிக வினைத்திறன் கொண்ட அமிலமாகும்.

குறியீடுகள்:

- A) (A) மற்றும் (R) இரண்டும் சரி மற்றும் (R) என்பது (A)-யின் சரியான விளக்கமாகும்
B) (A) மற்றும் (R) இரண்டும் சரி ஆனால் (R) என்பது (A)-யின் சரியான விளக்கமல்ல
C) (A) சரி ஆனால் (R) தவறு
D) (A) தவறு ஆனால் (R) சரி
E) விடை தெரியவில்லை

196. Consider the following statements.

- I. Silver does not react with sodium hydroxide.
II. All bases are not alkalis.

Which of the statements given above is/are correct?

- A) I only
B) II only
C) Both I and II
D) Neither I nor II
E) Answer not known



பின்வரும் கூற்றுகளைக் கருத்தில் கொள்க.

I. வெள்ளி, சோடியம் ஹைட்ராக்சைடுடன் வினைபுரிவதில்லை.

II. அனைத்து காரங்களும் எரிகாரங்கள் அல்ல.

மேற்கண்ட கூற்றுகளில் சரியானது எது/எவை?

A) I மட்டும்

B) II மட்டும்

C) இரண்டும்

D) இரண்டுமில்லை

E) விடை தெரியவில்லை

197. How many of the following pairs are incorrectly matched?

(Solution)

(Approximate pH)

I. Blood - 6.5

II. Gastric Juice - 2

III. Sea Water - 8.5

IV. Tomato Juice - 4.2

Codes:

A) 1 pair only

B) 2 pairs only

C) 3 pairs only

D) All pairs

E) Answer not known

பின்வரும் இணைகளில் எத்தனை இணைகள் தவறாகப் பொருந்துகின்றன?

(திரவம்)

(தோராயமான pH)

I. இரத்தம் - 6.5

II. இரைப்பை சாறு - 2

III. கடல் நீர் - 8.5

IV. தக்காளி சாறு - 4.2

குறியீடுகள்:

A) 1 இணை மட்டும்

B) 2 இணைகள் மட்டும்

C) 3 இணைகள் மட்டும்

D) அனைத்து இணைகள்

E) விடை தெரியவில்லை

198. What is Aquaregia?

A) $\text{HCl} + \text{HNO}_3$

B) $\text{H}_2\text{SO}_4 + \text{HNO}_3$

C) $\text{H}_2\text{SO}_4 + \text{HCOOH}$

D) $\text{HCl} + \text{H}_2\text{SO}_4$

E) Answer not known

இராஜதிராவகம் என்றால் என்ன?

A) $\text{HCl} + \text{HNO}_3$

B) $\text{H}_2\text{SO}_4 + \text{HNO}_3$

C) $\text{H}_2\text{SO}_4 + \text{HCOOH}$

D) $\text{HCl} + \text{H}_2\text{SO}_4$

E) விடை தெரியவில்லை

199. Consider the following statements.

I. Acids in plants and animals are inorganic acids.

II. Acids in rocks and minerals are organic acids

Which of the statements given above is/are incorrect?

A) I only

B) II only

C) Both I and II

D) Neither I nor II

E) Answer not known



பின்வரும் கூற்றுகளைக் கருத்தில் கொள்க.

I. தாவரங்கள் மற்றும் விலங்குகளில் உள்ள அமிலங்கள் கனிம அமிலங்கள்.

II. பாறைகள் மற்றும் கனிமங்களில் உள்ள அமிலங்கள் கரிம அமிலங்கள்.

மேற்கண்ட கூற்றுகளில் தவறானது எது/எவை?

A) I மட்டும்

B) II மட்டும்

C) இரண்டும்

D) இரண்டுமில்லை

E) விடை தெரியவில்லை

200. Consider the following statements.

I. Rice requires slightly alkaline soil.

II. Sugarcane requires neutral soil.

Which of the statements given above is/are correct?

A) I only

B) II only

C) Both I and II

D) Neither I nor II

E) Answer not known

பின்வரும் கூற்றுகளைக் கருத்தில் கொள்க.

I. நெல் உற்பத்திக்கு சற்று கார மண் தேவை.

II. கரும்புக்கு நடுநிலையான மண் தேவை.

மேற்கண்ட கூற்றுகளில் சரியானது எது/எவை?

A) I மட்டும்

B) II மட்டும்

C) இரண்டும்

D) இரண்டுமில்லை

E) விடை தெரியவில்லை

* * * * *

Question Booklet No.:


SHANKAR
IAS ACADEMY™

Best Academy for Civil Services Exam Coaching

CCS2E/2024

Register Number

--	--	--	--	--	--	--	--	--	--

2024
GENERAL STUDIES
(Degree Standard)
Science Test – 2

Duration : Three Hours]

[Total Marks: 300

Read the following instructions carefully before you begin to answer the questions.

IMPORTANT INSTRUCTIONS

1. You will be supplied with this question booklet 15 minutes prior to the commencement of the examination.
2. This question booklet contains **200** questions. Before answering the questions, you shall check whether all the questions are printed serially and ensure that there are no blank pages in the questions booklet. **If any defect is noticed in the question booklet, it shall be reported to the invigilator within the first 10 minutes and get it replaced with a complete question booklet. If the defect is reported after the commencement of the examination, it will not be replaced.**
3. Answer all the questions. All the questions carry equal marks.
4. You must write your register number in the space provided on the top right side of this page. Do not write anything else on the question booklet.
5. An answer sheet will be supplied to you separately by the room invigilator to shade the answers. Instructions regarding filling of answers etc. which are to be followed mandatorily, are provided in the answer sheet and in the memorandum of admission Hall Ticket)
6. You shall write and shade your question booklet number in the space provided on page one of the answer sheet with **BLACK INK BALL POINT PEN**. If you do not shade correctly or fail to shade the question booklet number, your answer sheet will be invalidated.
7. Each question comprises of five responses (answers) : i.e. A), (B), C), D) and (E). You have to select **ONLY ONE** correct answer from A) or B) or C) or D) and shade the same in your answer sheet. If you feel that there are more than one correct answer, shade the one which you consider the best. **If you do not know the answer, you have to mandatorily shade (E)**. In any case, choose **ONLY ONE** answer for each question. If you shade more than one answer for a question, it will be treated as a wrong answer even if one of the given answers happens to be correct.
8. You should not remove or tear off any sheet from this question booklet. You are not allowed to take this question booklet and the answer sheet out of the examination room during the time of the examination. After the examination, you must hand over your answer sheet to the invigilator. You are allowed to take the question booklet with you only after the examination is over.
9. **You should not make any marking in the question booklet except in the sheets before the last page of the question booklet, which can be used for rough work. This should be strictly adhered to.**
10. In all matters, the English version is final.
11. Failure to comply with any of the above instructions will render you liable for such action as the Commission may decide at their discretion.

D

[Turn over

For queries mail to For queries mail to : zerofeedback@shankariasacad.in; [Turn over
Kindly Send Me Your Key Answer to Our email id - Padasalai.net@gmail.com



வினாக்கள் : 1-200

மொத்த மதிப்பெண்கள் : 300

Science Test - 2

Questions : 1-200

Total Marks : 300

1. Consider the following statements.

- I. Virus means 'poison' in Greek.
 - II. They are belongs to non living things.
 - III. Viruses are 10,000 times greater than bacteria.
 - IV. A virus is a tiny particle made up of genetic material and protein.
- Which of the statements given above is/are incorrect?

- A) I, II and III only
- B) II, III and IV only
- C) I, III and IV only
- D) All the above
- E) Answer not known

பின்வரும் கூற்றுகளைக் கருத்தில் கொள்க.

- I. வைரஸ் என்றால் கிரேக்க மொழியில் 'விஷம்' என்று பொருள்.
 - II. இவை உயிரற்றவை.
 - III. வைரஸ்கள் பாக்டீரியாவை விட 10,000 மடங்கு பெரியவை
 - IV. வைரஸ் என்பது மரபுப் பொருள் மற்றும் புரத்தால் ஆன மிகச் சிறிய துகளாகும்.
- மேற்கண்ட கூற்றுகளில் தவறானவை எவை?

- A) I, II மற்றும் III மட்டும்
- B) II, III மற்றும் IV மட்டும்
- C) I, III மற்றும் IV மட்டும்
- D) மேற்கண்ட அனைத்தும்
- E) விடை தெரியவில்லை

2. Consider the following statements regarding non- living characteristics of virus.

- I. They can be crystallized and stored for a very long time.
 - II. They respond to heat, chemicals and radiations.
- Which of the statements given above is/are correct?

- A) I only
- B) II only
- C) Both I and II
- D) Neither I nor II
- E) Answer not known

வைரஸ்களின் உயிரற்ற பண்புகள் பற்றிய பின்வரும் கூற்றுகளைக் கருத்தில் கொள்க.

- I. இவை படிகமாக்கப்பட்டு மிக நீண்ட காலத்திற்கு சேமிக்கப்படலாம்.
- II. வெப்பம், வேதிப் பொருள் மற்றும் கதிரியக்கம் ஆகியவற்றிற்கு இவை பதில்வினை புரிகின்றன.

மேற்கண்ட கூற்றுகளில் சரியானது எது/எவை?

- A) I மட்டும்
- B) II மட்டும்
- C) இரண்டும்
- D) இரண்டுமில்லை
- E) விடை தெரியவில்லை

3. Consider the following statements.

- I. Bacteria are single-celled prokaryotes.
 - II. They are considered to be the first living organisms on earth.
- Which of the statements given above is/are incorrect?

- A) I only
- B) II only
- C) Both I and II
- D) Neither I nor II
- E) Answer not known



பின்வரும் கூற்றுகளைக் கருத்தில் கொள்க.

I. பாக்டீரியங்கள் ஒரு செல் புரோகேரியோட்டுகளாகும் .

II. புவியில் தோன்றிய முதல் உயிரினம் இவையேயாகும்.

மேற்கண்ட கூற்றுகளில் தவறானது எது/எவை ?

A) I மட்டும்

B) II மட்டும்

C) இரண்டும்

D) இரண்டுமில்லை

E) விடை தெரியவில்லை

4. Consider the following statements regarding cell structure of Bacteria.

I. A bacterium has an outer covering known as the cell wall.

II. An extra chromosomal DNA called plasmid is present in the mitochondria.

Which of the statements given above is/are incorrect?

A) I only

B) II only

C) Both I and II

D) Neither I nor II

E) Answer not known

பாக்டீரியாவின் செல் அமைப்பு பற்றிய பின்வரும் கூற்றுகளைக் கருத்தில் கொள்க.

I. பாக்டீரியாவின் வெளிப்புற உறை செல்சுவர் எனப்படும்.

II. பிளாஸ்மிட் எனப்படும் கூடுதல் குரோமோசோமல் டிஎன்ஏ மைட்டோகாண்ட்ரியாவில் காணப்படுகிறது.

மேற்கண்ட கூற்றுகளில் தவறானது எது/எவை ?

A) I மட்டும்

B) II மட்டும்

C) இரண்டும்

D) இரண்டுமில்லை

E) விடை தெரியவில்லை

5. Find out the incorrectly matched pair.

(Bacteria)

(shape)

A) Bacilli – Rod shaped

B) Spirilla – Spiral shaped

C) Coci – Ball shaped

D) Vibrio – Spherical shaped

E) Answer not known

தவறாகப் பொருந்தியுள்ள இணையைக் கண்டறியவும்.

(பாக்டீரியா)

(வடிவம்)

A) பேசில்லை – கோல் வடிவம்

B) ஸ்பைரில்லா – சுருள் வடிவம்

C) காக்கை – பந்து வடிவம்

D) விப்ரியோ – கோள வடிவம்

E) விடை தெரியவில்லை

6. Match List-I with List-II.

List-I

List-II

(Flagella)

(Bacteria)

a) Lophotrichous

1. Vibrio cholera

b) Amphitrichous

2. Rhodospirillum rubrum

c) Monotrichous

3. Pseudomonas

d) Peritrichous

4. E.coli

**Codes:**

- | | a | b | c | d |
|----|----------|----------|----------|----------|
| A) | 4 | 2 | 3 | 1 |
| B) | 2 | 1 | 3 | 4 |
| C) | 3 | 2 | 1 | 4 |
| D) | 4 | 1 | 2 | 3 |

E) Answer not known

பட்டியல்-I ஐ பட்டியல்-II உடன் பொருத்துக.

பட்டியல்-I**(கசையிழை)**

- ஒருமுனை கற்றைக் கசையிழை
- இருமுனை கற்றைக் கசையிழை
- ஒற்றைக் கசையிழை
- சுற்றுக் கசையிழை

பட்டியல்-II**(பாக்டீரியா)**

- விப்ரியோ காலரா
- ரோடோஸ்பைரில்லம் ரூப்ரம்
- சூடோமோனாஸ்
- ஈ.கோலை

குறியீடுகள்:

- | | a | b | c | d |
|----|----------|----------|----------|----------|
| A) | 4 | 2 | 3 | 1 |
| B) | 2 | 1 | 3 | 4 |
| C) | 3 | 2 | 1 | 4 |
| D) | 4 | 1 | 2 | 3 |

E) விடை தெரியவில்லை

7. Consider the following statements.

- Fungi are a group of prokaryotic organisms that lack chlorophyll.
- They may be either unicellular or multicellular.

Which of the statements given above is/are incorrect?

- I only
- II only
- Both I and II
- Neither I nor II
- Answer not known

பின்வரும் கூற்றுகளைக் கருத்தில் கொள்க.

- புஞ்சைகள் பச்சையம் இல்லாத புரோகேரியோட்டிக் உயிரினங்களின் ஒரு தொகுதி ஆகும்.
- இவை ஒரு செல் அல்லது பல செல்களால் ஆனவை.

மேற்கண்ட கூற்றுகளில் தவறானது எது/எவை?

- I மட்டும்
- II மட்டும்
- இரண்டும்
- இரண்டுமில்லை
- விடை தெரியவில்லை

8. Consider the following statements regarding cell structure of Yeast.

- Yeast aids in fermentation with the help of the enzyme Lipase.
- It respire aerobically and reproduces by budding.



Which of the statements given above is/are incorrect?

- A) I only
B) II only
C) Both I and II
D) Neither I nor II
E) Answer not known

ஈஸ்ட்டின் செல் அமைப்பு பற்றிய பின்வரும் கூற்றுகளைக் கருத்தில் கொள்க.

I. லிப்பேஸ் என்ற நொதியின் உதவியினால் ஈஸ்ட்கள் நொதித்தலில் ஈடுபடுகின்றன.

II. இது காற்றுள்ள முறையில் சுவாசிக்கின்றது மற்றும் மொட்டு விடுதல் மூலம் இனப்பெருக்கம் செய்கிறது.

மேற்கண்ட கூற்றுகளில் தவறானது எது/எவை?

- A) I மட்டும்
B) II மட்டும்
C) இரண்டும்
D) இரண்டுமில்லை
E) விடை தெரியவில்லை

9. Consider the following statements.

Assertion (A) : Algae are also known as 'grass of water'.

Reason (R) : They are rich in chlorophyll and can be seen as thin film on the surface of waterbodies like lakes and ponds.

Codes:

- A) Both (A) and (R) are true and (R) is the correct explanation of (A)
B) Both (A) and (R) are true but (R) is not the correct explanation of (A)
C) (A) is true but (R) is false
D) (A) is false but (R) is true
E) Answer not known

பின்வரும் கூற்றுகளைக் கருத்தில் கொள்க.

கூற்று (A) : ஆல்காக்கள் 'நீர்ப் புற்கள்' என்றும் அழைக்கப்படுகின்றன.

காரணம் (R) : இவை அதிக அளவில் பச்சையம் கொண்டவை. இவை ஏரிகள், குளங்கள் போன்ற நீர்நிலைகளின் மேற்பரப்பில் மெல்லிய படலமாகக் காணப்படுகின்றன.

குறியீடுகள்:

- A) (A) மற்றும் (R) இரண்டும் சரி மற்றும் (R) என்பது (A)க்கான சரியான விளக்கமாகும்
B) (A) மற்றும் (R) இரண்டும் சரி ஆனால் (R) என்பது (A)க்கான சரியான விளக்கம் அல்ல
C) (A) சரி ஆனால் (R) தவறு
D) (A) தவறு ஆனால் (R) சரி
E) விடை தெரியவில்லை

10. Consider the following statements regarding cell structure of chlamydomonas.

I. Chlamydomonas is a simple, unicellular, motile fresh water algae.

II. The cell is surrounded by a thin and firm cell wall made of cellulose

III. The cytoplasm was absent in chlamydomonas.

IV. Chlamydomonas exhibits both sexual and asexual modes of reproduction

Which of the statements given above is/are correct?

- A) I, II and III only
B) II, III and IV only
C) I, II and IV only
D) All the above
E) Answer not known



கிளாமிடோமோனாவின் செல் அமைப்பு பற்றிய பின்வரும் கூற்றுகளைக் கருத்தில் கொள்க.

- I. கிளாமிடோமோனாஸ் எளிய, ஒரு செல்லாலான, நகரும் திறன் கொண்ட ஒரு நன்னீர் பாசியாகும்.
- II. செல்லைச் சுற்றி மெல்லிய உறுதியான செல் சுவர் உள்ளது. இது செல்லுலோஸால் ஆனது.
- III. கிளாமிடோமோனாஸ் தாவரத்தில் சைட்டோபிளாசம் காணப்படுவதில்லை.
- IV. கிளாமிடோமோனாஸ் பாலின மற்றும் பாலிலா இனப்பெருக்க முறைகளை வெளிப்படுத்துகிறது

மேற்கண்ட கூற்றுகளில் சரியானவை எவை?

- A) I, II மற்றும் III மட்டும்
- B) II, III மற்றும் IV மட்டும்
- C) I, II மற்றும் IV மட்டும்
- D) மேற்கண்ட அனைத்தும்
- E) விடை தெரியவில்லை

11. Consider the following statements.

- I. A protozoan is a multi-cellular eukaryote.
 - II. They are included under the kingdom Monera.
- Which of the statements given above is/are incorrect?
- A) I only
 - B) II only
 - C) Both I and II
 - D) Neither I nor II
 - E) Answer not known

பின்வரும் கூற்றுகளைக் கருத்தில் கொள்க.

- I. புரோட்டோசோவா என்பது பல செல்களால் ஆன ஒரு யூகேரியோட் ஆகும்.
- II. இவை மொனிரா உலகத்தின் கீழ் சேர்க்கப்பட்டுள்ளன.

மேற்கண்ட கூற்றுகளில் தவறானது எது/எவை?

- A) I மட்டும்
- B) II மட்டும்
- C) இரண்டும்
- D) இரண்டுமில்லை
- E) விடை தெரியவில்லை

12. How many of the following pairs are correctly matched?

(Parasites) (Locomotion)

- I. Paramecium – Flagella
- II. Euglena – Sporozoans
- III. Amoeba – Pseudopods
- IV. Plasmodium – Ciliates

Codes:

- A) 1 pair only
- B) 2 pairs only
- C) 3 pairs only
- D) All pairs
- E) Answer not known

கீழ்க்கண்ட எத்தனை இணைகள் சரியாகப் பொருந்தியுள்ளன?

(ஒட்டுண்ணிகள்)

(இடப்பெயர்ச்சி)

- I. பாரமீசியம் – கசையிழை
- II. யூக்ளினா – ஸ்போரோசோவாக்கள்
- III. அமீபா – போலிக்கால்கள்
- IV. பிளாஸ்மோடியம் – குறுயிழைகள்



குறியீடுகள்:

- A) 1 இணை மட்டும்
B) 2 இணைகள் மட்டும்
C) 3 இணைகள் மட்டும்
D) அனைத்து இணைகளும்
E) விடை தெரியவில்லை

13. Consider the following statements.

- I. Amoeba is a unicellular microscopic organism.
II. It reproduces by means of fission and sporulation.
Which of the statements given above is/are correct?

- A) I only
B) II only
C) Both I and II
D) Neither I nor II
E) Answer not known

பின்வரும் கூற்றுகளைக் கருத்தில் கொள்க.

- I. அமீபா நுண்ணிய ஒரு செல்லாலான உயிரினமாகும்.
II. இணைவு மற்றும் ஸ்போர் உருவாக்கம் மூலம் இனப்பெருக்கம் செய்கிறது.
மேற்கண்ட கூற்றுகளில் சரியானது எது/எவை?

- A) I மட்டும்
B) II மட்டும்
C) இரண்டும்
D) இரண்டுமில்லை
E) விடை தெரியவில்லை

14. Consider the following statements.

- I. Prions have neither DNA nor RNA to transmit infection.
II. It is a harmful protein which affects brain.
Which of the statements given above is/are incorrect?

- A) I only
B) II only
C) Both I and II
D) Neither I nor II
E) Answer not known

பின்வரும் கூற்றுகளைக் கருத்தில் கொள்க.

- I. பிரியான்கள் டி.என்.ஏ அல்லது ஆர்.என்.ஏவைக் கொண்டிருப்பதில்லை. எனவே, இவை நோய்த்தொற்றை ஏற்படுத்துவதில்லை.
II. இது மூளையைத் தாக்கும் தீங்கு விளைவிக்கும் புரதமாகும்.
மேற்கண்ட கூற்றுகளில் தவறானது எது/எவை?

- A) I மட்டும்
B) II மட்டும்
C) இரண்டும்
D) இரண்டுமில்லை
E) விடை தெரியவில்லை

15. Consider the following statements.

- I. Outer protein shell of virion is known as capsid.
II. Virion can affect the living tissue.
Which of the statements given above is/are incorrect?

- A) I only
B) II only
C) Both I and II
D) Neither I nor II
E) Answer not known



பின்வரும் கூற்றுகளைக் கருத்தில் கொள்க.

I. விரியானின் வெளிப்புற புரத உறை கேப்சிட் எனப்படும்.

II. விரியான்கள் உயிருள்ள திசுக்களை பாதிக்கலாம்.

மேற்கண்ட கூற்றுகளில் தவறானது எது/எவை?

A) I மட்டும்

B) II மட்டும்

C) இரண்டும்

D) இரண்டுமில்லை

E) விடை தெரியவில்லை

16. Consider the following statements.

I. Sir Alexander Fleming discovered the antibiotic penicillin in the year 1928.

II. It is used to treat diseases such as Measles and Rubella.

Which of the statements given above is/are correct?

A) I only

B) II only

C) Both I and II

D) Neither I nor II

E) Answer not known

பின்வரும் கூற்றுகளைக் கருத்தில் கொள்க.

I. சர் அலெக்சாண்டர் பிளமிங் 1928 ஆம் ஆண்டு பெனிசிலின் என்ற எதிர் உயிர்க்கொல்லி மருந்தைக் கண்டுபிடித்தார்.

II. தட்டம்மை, ரூபெல்லா போன்ற நோய்களைக் குணப்படுத்தப் பயன்படுகிறது.

மேற்கண்ட கூற்றுகளில் சரியானது எது/எவை?

A) I மட்டும்

B) II மட்டும்

C) இரண்டும்

D) இரண்டுமில்லை

E) விடை தெரியவில்லை

17. Consider the following statements.

I. Edward Jenner was the first person to discover small pox vaccine.

II. BCG (Bacille Calmette Guerin) vaccine is given for preventing small pox

Which of the statements given above is/are incorrect?

A) I only

B) II only

C) Both I and II

D) Neither I nor II

E) Answer not known

பின்வரும் கூற்றுகளைக் கருத்தில் கொள்க.

I. பெரியம்மைக்கான தடுப்பூசியை முதன்முதலில் கண்டுபிடித்தவர் எட்வர்ட் ஜென்னர் ஆவார்.

II. BCG (Bacille Calmette Guerin) தடுப்பூசி பெரியம்மையைத் தடுக்க கொடுக்கப்படுகிறது.

மேற்கண்ட கூற்றுகளில் தவறானது எது/எவை?

A) I மட்டும்

B) II மட்டும்

C) இரண்டும்

D) இரண்டுமில்லை

E) விடை தெரியவில்லை

18. Which of the following are biofertilizers?

I. Azospirillum

II. PSM

III. NPK

IV. Azollo



How many of the above is/are correct?

- A) One only
B) Two only
C) Three only
D) All are correct
E) Answer not known

பின்வருவனவற்றுள் உயிர் உரங்கள் எவை?

- I. அசோஸ்பைரில்லம்
II. PSM
III. NPK
IV. அசோலா

மேற்கண்ட கூற்றுகளில் எத்தனை சரியானவை?

- A) ஒன்று மட்டும்
B) இரண்டு மட்டும்
C) மூன்று மட்டும்
D) அனைத்தும் சரி
E) விடை தெரியவில்லை

19. How many of the following pairs are incorrectly matched?

(Micro organism)	(Uses)
I. Rhizobium	- Nitrogen fixation
II. Trichoderma	- Controls plant pathogen
III. Baculoviruses	- Attacks anthropods
IV. Methanobacterium	- Tanning process

Codes:

- A) 1 pair only
B) 2 pairs only
C) 3 pairs only
D) All pairs
E) Answer not known

கீழ்க்கண்ட எத்தனை இணைகள் தவறாகப் பொருந்தியுள்ளன?

(நுண்ணுயிரி)	(பயன்கள்)
I. ரைசோபியம்	- நைட்ரஜன் நிலைப்படுத்தல்
II. டிரைக்கோடெர்மா	- தாவர நோய்க்கிருமியை கட்டுப்படுத்துகிறது
III. பாக்குலோ வைரஸ்கள்	- கணுக்காலிகளைத் தாக்குகின்றன
IV. மெத்தனோபாக்டீரியம்	- தோல் பதனிடுதல் முறை

குறியீடுகள்:

- A) 1 இணை மட்டும்
B) 2 இணைகள் மட்டும்
C) 3 இணைகள் மட்டும்
D) அனைத்து இணைகளும்
E) விடை தெரியவில்லை

20. Match List-I with List-II.

List-I	List-II
(Microbes)	(Uses)
a) Yeast	1. Retting
b) Pseudomonas aeruginosa	2. Digestion of food
c) Lactobacillus acidophillus	3. Synthesizing vitamin K
d) E.coli	4. Production of Alcohol

**Codes:**

- | | a | b | c | d |
|----|----------|----------|----------|----------|
| A) | 4 | 2 | 3 | 1 |
| B) | 2 | 1 | 3 | 4 |
| C) | 3 | 2 | 1 | 4 |
| D) | 4 | 1 | 2 | 3 |

E) Answer not known

பட்டியல்-Iஐ பட்டியல்-II உடன் பொருத்துக.

பட்டியல்-I**(நுண்ணுயிரிகள்)**

- ஈஸ்ட்
- சூடோமோனாஸ் ஏருஜினோஸா
- லாக்டோபேசில்லஸ் அசிட்லோபிலஸ்
- ஈ.கோலை

பட்டியல்-II**(பயன்பாடுகள்)**

- மிருதுவாக்கல்
- உணவு செரிமானம்
- வைட்டமின் K கூட்டுப் பொருளை உற்பத்தி செய்கிறது
- மது உற்பத்தி

குறியீடுகள்:

- | | a | b | c | d |
|----|----------|----------|----------|----------|
| A) | 4 | 2 | 3 | 1 |
| B) | 2 | 1 | 3 | 4 |
| C) | 3 | 2 | 1 | 4 |
| D) | 4 | 1 | 2 | 3 |

E) விடை தெரியவில்லை

21. Consider the following statements regarding Pasteurization.

I. This method was invented by Louis Pasteur in 1862.

II. Milk is heated up to 100 °C to kill the bacteria and it is cooled to 10 °C to prevent the growth of remaining bacteria.

Which of the statements given above is/are incorrect?

- | | |
|---------------------|---------------------|
| A) I only | B) II only |
| C) Both I and II | D) Neither I nor II |
| E) Answer not known | |

பதப்படுத்துதல் தொடர்பான பின்வரும் கூற்றுகளைக் கருத்தில் கொள்க

I. இந்த முறை 1862 இல் லூயிஸ் பாஸ்டர் என்பவரால் கண்டுபிடிக்கப்பட்டது.

II. இம்முறையில் பாலிலுள்ள பாக்டீரியாவைக் கொல்ல இது 100°C வரை சூடேற்றப்பட்டு, மீதமுள்ள பாக்டீரியாக்களின் வளர்ச்சியைத் தடுக்க 10°C வரை குளிர்விக்கப்படுகிறது.

மேற்கண்ட கூற்றுகளில் தவறானது எது/எவை?

- | | |
|---------------------|-----------------|
| A) I மட்டும் | B) II மட்டும் |
| C) இரண்டும் | D) இரண்டுமில்லை |
| E) விடை தெரியவில்லை | |



22. How many of the following pairs are correctly matched?

- I. TB – Bacteria
II. Rabies – Virus
III. Common Cold – Virus
IV. Malaria – Bacteria

Codes:

- A) 1 pair only
B) 2 pairs only
C) 3 pairs only
D) All pairs
E) Answer not known

பின்வரும் எத்தனை இணைகள் சரியாகப் பொருந்துகின்றன?

- I. காசநோய் – பாக்டீரியா
II. ரேபிஸ் – வைரஸ்
III. சாதாரண சளி – வைரஸ்
IV. மலேரியா – பாக்டீரியா

குறியீடுகள்:

- A) 1 இணை மட்டும்
B) 2 இணைகள் மட்டும்
C) 3 இணைகள் மட்டும்
D) அனைத்து இணைகளும்
E) விடை தெரியவில்லை

23. Match List-I with List-II.

List-I (Pigments)	List-II (Algae)
a) Phycocyanin	1. Red algae
b) Chlorophyll	2. Green algae
c) Phycoerythrin	3. Brown algae
d) Fucoxanthin	4. Blue green algae

Codes:

- | | a | b | c | d |
|----|----------|----------|----------|----------|
| A) | 4 | 2 | 1 | 3 |
| B) | 2 | 1 | 3 | 4 |
| C) | 3 | 2 | 1 | 4 |
| D) | 4 | 1 | 2 | 3 |
- E) Answer not known

பட்டியல்-Iஐ பட்டியல்-II உடன் பொருத்துக.

பட்டியல்-I (நிறமிகள்)	பட்டியல்-II (பாசி)
a) ஃபைகோசயனின்	1. சிவப்பு பாசி
b) பச்சையம்	2. பச்சை பாசி
c) ஃபைக்கோஎரித்திரின்	3. பழுப்பு பாசி
d) ஃபியூக்கோசாந்தின்	4. நீலப்பசும் பாசி



குறியீடுகள்:

- | | a | b | c | d |
|----|----------|----------|----------|----------|
| A) | 4 | 2 | 1 | 3 |
| B) | 2 | 1 | 3 | 4 |
| C) | 3 | 2 | 1 | 4 |
| D) | 4 | 1 | 2 | 3 |
- E) விடை தெரியவில்லை

24. Match List-I with List-II.

List-I

(Algae)

- Laminaria
- Gelidium
- Chlorella pyrenoidosa
- Spirulina
- Anabaena

Codes:

- | | a | b | c | d | e |
|----|----------|----------|----------|----------|----------|
| A) | 5 | 4 | 2 | 3 | 1 |
| B) | 4 | 5 | 2 | 3 | 1 |
| C) | 5 | 2 | 4 | 3 | 1 |
| D) | 4 | 2 | 3 | 5 | 1 |

E) Answer not known

பட்டியல்-I உடன் பட்டியல்-II உடன் பொருத்துக

பட்டியல்-I

(பாசி)

- லேமினேரியா
- ஜெலீடியம்
- குளோரெல்லா ஃபைரினாய்டோசா
- ஸ்பைருலினா
- அனாபீனா

குறியீடுகள்:

- | | a | b | c | d | e |
|----|----------|----------|----------|----------|----------|
| A) | 5 | 4 | 2 | 3 | 1 |
| B) | 4 | 5 | 2 | 3 | 1 |
| C) | 5 | 2 | 4 | 3 | 1 |
| D) | 4 | 2 | 3 | 5 | 1 |

E) விடை தெரியவில்லை

List-II

(Economic Importance)

- Agriculture
- Agar agar
- Single cell protein
- Space travel
- Food for animals

பட்டியல்-II

(பொருளாதார முக்கியத்துவம்)

- விவசாயம்
- அகார் அகார்
- ஒற்றை செல் புரதம்
- விண்வெளி பயணம்
- விலங்குகளுக்கான உணவு



25. Consider the following statements.

- I. The plant body of fungus consists of filament like structures called hyphae.
II. Cell wall of fungi is made up of a chemical substance called chitin.

Which of the statements given above is/are incorrect?

- A) I only
B) II only
C) Both I and II
D) Neither I nor II
E) Answer not known

பின்வரும் கூற்றுகளைக் கருத்தில் கொள்க

- I. பூஞ்சைகளின் உடலமானது ஹைபாக்கள் எனும் பூஞ்சை இழைகளால் ஆனது.
II. பூஞ்சைகளின் செல் சுவர் கைட்டின் என்ற வேதிப்பொருளால் ஆனது.

மேற்கண்ட கூற்றுகளில் தவறானது எது/எவை?

- A) I மட்டும்
B) II மட்டும்
C) இரண்டும்
D) இரண்டுமில்லை
E) விடை தெரியவில்லை

26. Consider the following statements.

Assertion (A) : Fungi are heterotrophs.

Reason (R) : Chlorophyll pigment is absent in fungi.

Codes:

- A) Both (A) and (R) are true and (R) is the correct explanation of (A)
B) Both (A) and (R) are true but (R) is not the correct explanation of (A)
C) (A) is true but (R) is false
D) (A) is false but (R) is true
E) Answer not known

பின்வரும் கூற்றுகளைக் கருத்தில் கொள்க

கூற்று (A) : பூஞ்சைகள் பிற சார்பு உயிரிகளாக உள்ளன.

காரணம் (R) : பூஞ்சைகளில் பச்சையம் கிடையாது.

குறியீடுகள்:

- A) (A) மற்றும் (R) இரண்டும் சரி மற்றும் (R) என்பது (A) இன் சரியான விளக்கம்
B) (A) மற்றும் (R) இரண்டும் சரி ஆனால் (R) என்பது (A) இன் சரியான விளக்கம் அல்ல
C) (A) சரி ஆனால் (R) தவறு
D) (A) தவறு ஆனால் (R) சரி
E) விடை தெரியவில்லை

27. How many of the following pairs are incorrectly matched?

- I. Parasite – Rhizopus
II. Saprophyte – Mycorrhizae
III. Symbionts – Cercospora personata

Codes:

- A) 1 pair only
B) 2 pairs only
C) 3 pairs only
D) None
E) Answer not known



பின்வரும் இணைகளில் எத்தனை இணைகள் தவறாகப் பொருந்தியுள்ளன?

- I. ஒட்டுண்ணி – ரைசோபஸ்
II. மட்குண்ணி – மைகோரைசா
III. இணைப்புயிரி – செர்கோஸ்போரா பெர்சனேட்டா

குறியீடுகள்:

- A) 1 இணை மட்டும்
B) 2 இணைகள் மட்டும்
C) 3 இணைகள் மட்டும்
D) எதுவுமில்லை
E) விடை தெரியவில்லை

28. How many of the following pairs are incorrectly matched?

(Fungus) (Economic importance)

- I. Cephalosporin – Antibiotic
II. Agaricus – Food
III. Ashbya gossypii – Vitamin B₂

Codes:

- A) 1 pair only
B) 2 pairs only
C) 3 pairs only
D) None
E) Answer not known

பின்வரும் இணைகளில் எத்தனை தவறாகப் பொருந்தியுள்ளன?

(பூஞ்சை) (பொருளாதார முக்கியத்துவம்)

- I. செஃபலோஸ்போரின் – நுண்ணுயிர்க் கொல்லி
II. அகாரிகஸ் – உணவு
III. ஆஷ்பியா கோஸ்பீ – வைட்டமின் B₂

குறியீடுகள்:

- A) 1 இணை மட்டும்
B) 2 இணைகள் மட்டும்
C) 3 இணைகள் மட்டும்
D) எதுவுமில்லை
E) விடை தெரியவில்லை

29. Match List-I with List-II.

List-I

(Pathogen)

- a) Fusarium oxysporum
b) Colletotrichum falcatum
c) Pyricularia oryzae
d) Albuga candida

List-II

(Disease)

1. Red rot in sugarcane
2. White rust in radish
3. Wilt disease in cotton
4. Blast disease in paddy

Codes:

- | | a | b | c | d |
|----|------------------|----------|----------|----------|
| A) | 4 | 2 | 3 | 1 |
| B) | 3 | 1 | 4 | 2 |
| C) | 3 | 2 | 1 | 4 |
| D) | 2 | 1 | 4 | 3 |
| E) | Answer not known | | | |



பட்டியல்-Iஐ பட்டியல்-II உடன் பொருத்துக.

பட்டியல்-I

(நோய்க்கிருமி)

- பியூசேரியம் ஆக்சிஸ்போரம்
- கோலிடோட்ரைக்கம் ஃபல்கேட்டம்
- பைரிகுலேரியா ஒரைசே
- அல்புகா கேண்டிடா

குறியீடுகள்:

	a	b	c	d
A)	4	2	3	1
B)	3	1	4	2
C)	3	2	1	4
D)	2	1	4	3
E)	விடை தெரியவில்லை			

பட்டியல்-II

(நோய்)

- கரும்பில் சிவப்பு அழுகள் நோய்
- முள்ளங்கியில் வெண்துரு நோய்
- பருத்தியில் வாடல் நோய்
- நெல்லில் வெடிப்பு நோய்

30. Match List-I with List-II.

List-I

(Fungus)

- Trichophyton sp.
- Microsporum furfur
- Tinea podis
- Aspergillus

Codes:

	a	b	c	d
A)	4	1	2	3
B)	2	1	3	4
C)	3	2	1	4
D)	4	1	3	2
E)	Answer not known			

List-II

(Disease in human)

- Dandruff
- Athletes foot
- Allergy to children
- Circular rash on the skin (Ringworm)

பட்டியல்-Iஐ பட்டியல்-II உடன் பொருத்துக.

பட்டியல்-I

(பூஞ்சை)

- டிரைகோஃபைட்டான் இனம்
- மைக்ரோஸ்போரம் ஃபர்ஃபர்
- டீனியா பெடிஸ்
- அஸ்பெர்ஜில்லஸ்

குறியீடுகள்:

	a	b	c	d
A)	4	1	2	3
B)	2	1	3	4
C)	3	2	1	4
D)	4	1	3	2
E)	விடை தெரியவில்லை			

பட்டியல்-II

(மனித நோய்)

- பொடுகு
- கால் பாதத்தில் ஏற்படும் நோய்
- குழந்தைகளுக்கு ஒவ்வாமை
- தோலில் தோன்றும் வட்ட வடிவமான தடிப்புகள் (உருளைப்புழுக்கள்)



31. Consider the following statements.

- I. Bryophytes are the primitive and simplest group of plants.
II. They are named as amphibians of plant kingdom.

Which of the statements given above is/are incorrect?

- A) I only
B) II only
C) Both I and II
D) Neither I nor II
E) Answer not known

பின்வரும் கூற்றுகளைக் கருத்தில் கொள்க

- I. பிரையோஃபைட்டா மிக எளிமையான உடலமைப்பைக் கொண்ட பழமையான தாவரங்களாகும்.

II. இவை தாவர உலகத்தின் இருவாழ்விகள் என்று அழைக்கப்படுகின்றன.

மேற்கண்ட கூற்றுகளில் தவறானது எது/எவை?

- A) I மட்டும்
B) II மட்டும்
C) இரண்டும்
D) இரண்டுமில்லை
E) விடை தெரியவில்லை

32. Consider the following statements regarding Bryophytes.

- I. In Bryophytes, Gametophyte generation is dominant and sporophytic generation is small.

II. They have well developed sex organs like archegonia and antheridia.

III. The female sex organ is antheridium, which contains an egg.

Which of the statements given above is/are correct?

- A) I and II only
B) II and III only
C) I and III only
D) All the above
E) Answer not known

பிரையோபைட்டுகள் தொடர்பான பின்வரும் கூற்றுகளைக் கருத்தில் கொள்க.

- I. பிரையோபைட்டுகளில், கேமீட்டோஃபைட் சந்ததி ஒங்குதன்மை கொண்டது. மேலும், ஸ்போரோஃபைட் சந்ததி கேமீட்டோஃபைட் சந்ததியைச் சார்ந்துள்ளது.

II. இவை நன்கு வளர்ச்சியடைந்த பாலின உறுப்புகளாகிய ஆந்திரிடியா மற்றும் ஆர்க்கிகோனியா ஆகியவற்றைக் கொண்டுள்ளன.

III. பெண் பாலின உறுப்பு ஆந்திரிடியம் ஆகும். இதில் ஒரு முட்டை உள்ளது.

மேற்கண்ட கூற்றுகளில் சரியானவை எவை?

- A) I மற்றும் II மட்டும்
B) II மற்றும் III மட்டும்
C) I மற்றும் III மட்டும்
D) மேற்கண்ட அனைத்தும்
E) விடை தெரியவில்லை

33. Consider the following statements.

I. Hepaticae are lower forms of bryophytes .

II. Protonemal stage is absent in anthocerotae.

Which of the statements given above is/are correct?

- A) I only
B) II only
C) Both I and II
D) Neither I nor II
E) Answer not known



பின்வரும் கூற்றுகளைக் கருத்தில் கொள்க

I. ஹெபாட்டிக்கே என்பவை பிரையோஃபைட்டாவின் கீழ்நிலைத் தாவரங்களாகும்.

II. ஆந்தோசெரட்டேயில் புரோட்டோனீமா நிலை காணப்படுவதில்லை.

மேற்கண்ட கூற்றுகளில் சரியானது எது/எவை?

A) I மட்டும்

B) II மட்டும்

C) இரண்டும்

D) இரண்டுமில்லை

E) விடை தெரியவில்லை

34. Consider the following statements.

I. Musci are higher forms of bryophytes.

II. In Musci, Protonemal is absent.

Which of the statements given above is/are correct?

A) I only

B) II only

C) Both I and II

D) Neither I nor II

E) Answer not known

பின்வரும் கூற்றுகளைக் கருத்தில் கொள்க

I. மாஸ்கள் என்பவை பிரையோஃபைட்டாவில் உள்ள உயர்நிலைத் தாவரங்களாகும்.

II. மாஸ்களில் புரோட்டோனீமா நிலை காணப்படுவதில்லை.

மேற்கண்ட கூற்றுகளில் சரியானது எது/எவை?

A) I மட்டும்

B) II மட்டும்

C) இரண்டும்

D) இரண்டுமில்லை

E) விடை தெரியவில்லை

35. Consider the following statements.

Assertion (A) : Pteridophytes are called as phanerogams.

Reason (R) : The main plant body is differentiated into true root, stem and leaves.

Codes:

A) Both (A) and (R) are true and (R) is the correct explanation of (A)

B) Both (A) and (R) are true but (R) is not the correct explanation of (A)

C) (A) is true but (R) is false

D) (A) is false but (R) is true

E) Answer not known

பின்வரும் கூற்றுகளைக் கருத்தில் கொள்க

கூற்று (A) : டெரிடோஃபைட்டுகள் பூக்கும் தாவரங்கள் ஆகும்.

காரணம் (R) : இதன் உடலானது தண்டு, வேர் மற்றும் இலை என பிரிக்கப்பட்டுள்ளது.

குறியீடுகள்:

A) (A) மற்றும் (R) இரண்டும் சரி மற்றும் (R) என்பது (A) இன் சரியான விளக்கம்

B) (A) மற்றும் (R) இரண்டும் சரி ஆனால் (R) என்பது (A) இன் சரியான விளக்கம் அல்ல

C) (A) சரி ஆனால் (R) தவறு

D) (A) தவறு ஆனால் (R) சரி

E) விடை தெரியவில்லை



36. Which of the following is not a classification of Pteridophytes?

- A) Psilopsida
B) Lycopsida
C) Cycadales
D) Pteropsida
E) Answer not known

பின்வருவனவற்றில் எது டெரிடோஃபைட்டுகளின் வகைப்பாடு அல்ல?

- A) சைலாப்சிடா
B) லைக்காப்சிடா
C) சைக்கடேல்ஸ்
D) டிரோப்சிடா
E) விடை தெரியவில்லை

37. Consider the following statements about Gymnosperms.

- I. The water conducting tissue is tracheid.
II. The food conducting tissue is sieve cell is a part of xylem.

Which of the statements given above is/are incorrect?

- A) I only
B) II only
C) Both I and II
D) Neither I nor II
E) Answer not known

ஜிம்னோஸ்பெர்ம்கள் பற்றிய கூற்றுகளைக் கருத்தில் கொள்க.

- I. நீரைக் கடத்தக் கூடிய திசுவானது ட்ரக்கீடுகளாகும்.
II. உணவுப் பொருள்களைக் கடத்தக்கூடிய திசுவானது சைலமின் ஒரு பகுதியான சல்லடை செல்லாகும்.

மேற்கண்ட கூற்றுகளில் தவறானது எது/எவை?

- A) I மட்டும்
B) II மட்டும்
C) இரண்டும்
D) இரண்டுமில்லை
E) விடை தெரியவில்லை

38. Consider the following statements.

- I. Ginkgoales are palm like small plants.
II. It produces unpleasant smell.

Which of the statements given above is/are incorrect?

- A) I only
B) II only
C) Both I and II
D) Neither I nor II
E) Answer not known

பின்வரும் கூற்றுகளைக் கருத்தில் கொள்க.

- I. ஜிங்கோயேல்ஸ் பனைமரம் போன்று நேராகவும் கிளைகள் இல்லாமலும் வளரும் சிறிய தாவரங்களாகும்.
II. இது விரும்பத்தகாத வாசனையை உருவாக்குகிறது.

மேற்கண்ட கூற்றுகளில் தவறானது எது/எவை ?

- A) I மட்டும்
B) II மட்டும்
C) இரண்டும்
D) இரண்டுமில்லை
E) விடை தெரியவில்லை



39. Consider the following statements.

- I. Coniferals possess advanced characters like angiosperms
II. Ovules are naked but, developed on flower like shoot in coniferals.
Which of the statements given above is/are incorrect?

- A) I only
B) II only
C) Both I and II
D) Neither I nor II
E) Answer not known

பின்வரும் கூற்றுகளைக் கருத்தில் கொள்க

- I. ஊசியிலையுள்ள தாவரங்கள் ஆஞ்சியோஸ்பெர்ம்கள் போன்ற மேம்பட்ட தன்மைகளைக் கொண்டுள்ளன
II. மூடப்படாத சூல்களைக் கொண்டுள்ளன. ஆனால், அவை கோனி.பெரேல்ஸில் உள்ள மஞ்சரி கூம்பிலிருந்து தோன்றுகின்றன.

மேற்கண்ட கூற்றுகளில் தவறானது எது/எவை?

- A) I மட்டும்
B) II மட்டும்
C) இரண்டும்
D) இரண்டுமில்லை
E) விடை தெரியவில்லை

40. Match List-I with List-II.

List-I
(Gymnosperms)

- a) Araucaria bidwilli
b) Ephedra
c) Pinus gerardiana
d) Agathis

List-II
(Economic importance)

1. Cures asthma
2. Ornamental plant
3. Edible
4. Packing industry

Codes:

- | | a | b | c | d |
|----|----------|----------|----------|----------|
| A) | 4 | 2 | 3 | 1 |
| B) | 2 | 1 | 3 | 4 |
| C) | 3 | 2 | 1 | 4 |
| D) | 4 | 1 | 2 | 3 |

E) Answer not known

பட்டியல்-Iஐ பட்டியல்-II உடன் பொருத்துக.

பட்டியல்-I

(ஜிம்னோஸ்பெர்ம்கள்)

- a) அராவுகேரியா பிடவில்லீ
b) எஃபிடிரின்
c) பைனஸ் ஜெரார்டியானா
d) அகாதிஸ்

குறியீடுகள்:

- | | a | b | c | d |
|----|----------|----------|----------|----------|
| A) | 4 | 2 | 3 | 1 |
| B) | 2 | 1 | 4 | 3 |
| C) | 3 | 2 | 1 | 4 |
| D) | 4 | 1 | 2 | 3 |

E) விடை தெரியவில்லை

பட்டியல்-II

(பொருளாதார முக்கியத்துவம்)

1. ஆஸ்துமாவை குணப்படுத்துகிறது
2. அலங்கார செடி
3. உண்ணக்கூடியது
4. பொருட்களை பொதிவதற்கு



41. Consider the following statements.

I. The term 'Angiosperm' is derived from two Greek words, 'angio' which means box or closed and 'sperma' which means seed.

II. They have well developed vascular tissues called xylem and phloem

Which of the statements given above is/are incorrect?

A) I only

B) II only

C) Both I and II

D) Neither I nor II

E) Answer not known

பின்வரும் கூற்றுகளைக் கருத்தில் கொள்க.

I. 'ஆஞ்சியோஸ்பெர்ம்' என்ற சொல் இரண்டு கிரேக்க வார்த்தைகளிலிருந்து பெறப்பட்டது, 'ஆஞ்சியோ' என்பதன் பொருள் பெட்டி அல்லது மூடிய பெட்டி எனப்படும். 'ஸ்பெர்மா' என்பதன் பொருள் விதை எனப்படும்.

II. இவற்றில் சைலம் மற்றும் ஃபுளோயம் எனப்படும் நன்கு வளர்ச்சியடைந்த கடத்தும் திசுக்கள் காணப்படுகின்றன.

மேற்கண்ட கூற்றுகளில் தவறானது எது/எவை?

A) I மட்டும்

B) II மட்டும்

C) இரண்டும்

D) இரண்டுமில்லை

E) விடை தெரியவில்லை

42. Consider the following statements.

I. In Monocotyledons, Plants have tap root system and leaves are with reticulate venation

II. Pollination occurs mostly by wind in monocotyledons

III. In Monocotyledons, Flowers are trimerous and not differentiated into calyx and corolla.

IV. Mango are the example of dicotyledons

Which of the statements given above is/are correct?

A) I, II and III only

B) II, III and IV only

C) I, III and IV only

D) All the above

E) Answer not known

பின்வரும் கூற்றுகளைக் கருத்தில் கொள்க.

I. ஒருவிதையிலைத் தாவரங்கள், ஆணிவேர்த் தொகுப்புடனும், வலைப்பின்னல் நரம்பமைவு கொண்ட இலைகளுடனும் காணப்படுகின்றன.

II. மகரந்தச் சேர்க்கை பெரும்பாலும் காற்றின் மூலம் ஒருவிதையிலைத் தாவரங்களில் நிகழ்கிறது.

III. ஒருவிதையிலைத் தாவரங்களில், பூக்கள் மூன்று வகைகளாகவும், அல்லி மற்றும் புல்லி இதழ்கள் பிரிக்கப்படாமல் ஒரே வட்டத்தில் அமைந்திருக்கும்.

IV. மாமரம் இருவிதையிலைத் தாவரத்திற்கு உதாரணம் ஆகும்.

மேற்கண்ட கூற்றுகளில் சரியானவை எவை?

A) I, II மற்றும் III மட்டும்

B) II, III மற்றும் IV மட்டும்

C) I, III மற்றும் IV மட்டும்

D) மேற்கண்ட அனைத்தும்

E) விடை தெரியவில்லை



43. Consider the following statements.

- I. The word 'taxonomy' was first coined by Augustin- Pyramus de Candolle.
II. Binomial name was first introduced by Gaspard Bauhin in the year of 1623.
Which of the statements given above is/are correct?

- A) I only
B) II only
C) Both I and II
D) Neither I nor II
E) Answer not known

பின்வரும் கூற்றுகளைக் கருத்தில் கொள்க

- I. 'வகைப்பாட்டியல்' என்ற வார்த்தை முதலில் அகஸ்டின்- பைரமிஸ் டி கேண்டோல் என்பவரால் உருவாக்கப்பட்டது.
II. இருசொற் பெயரிடுதல் முறையை காஸ்பர்டு பாகின் என்பவர் 1623 ஆம் ஆண்டு முதன்முதலில் அறிமுகப்படுத்தினார்.

மேற்கண்ட கூற்றுகளில் சரியானது எது/எவை?

- A) I மட்டும்
B) II மட்டும்
C) இரண்டும்
D) இரண்டுமில்லை
E) விடை தெரியவில்லை

44. Consider the following statements.

- I. Binomial system was implemented by Linnaeus in his book, Species Plantarum.
II. The system of naming the plants on scientific basis is known as Botanical nomenclature.

Which of the statements given above is/are correct?

- A) I only
B) II only
C) Both I and II
D) Neither I nor II
E) Answer not known

பின்வரும் கூற்றுகளைக் கருத்தில் கொள்க

- I. இருசொற் பெயரிடுதல் முறையை லின்னேயஸ் தனது ஸ்பீசிஸ் பிளான்டாரம் புத்தகத்தில் நடைமுறைப்படுத்தினார்.
II. அறிவியல் முறையில் தாவரங்களுக்குப் பெயர் சூட்டும் முறையை தாவரவியல் பெயரிடுதல் என்கிறோம்.

மேற்கண்ட கூற்றுகளில் சரியானது எது/எவை?

- A) I மட்டும்
B) II மட்டும்
C) இரண்டும்
D) இரண்டுமில்லை
E) விடை தெரியவில்லை

45. Match List-I with List-II.

List-I
(Medicinal plants)

- a) Kuppaimeni
b) Vilvam
c) Thoodhuvalai
d) Sotru katrazhai

List-II
(Family)

1. Rutaceae
2. Euphorbiacea
3. Liliaceae
4. Solanaceae

**Codes:**

	a	b	c	d
A)	4	2	3	1
B)	2	1	4	3
C)	3	2	1	4
D)	4	1	2	3

E) Answer not known

பட்டியல்-Iஐ பட்டியல்-II உடன் பொருத்துக.

பட்டியல்-I**(மருத்துவ தாவரங்கள்)**

- குப்பைமேனி
- வில்வம்
- தூதுவளை
- சோற்று கற்றாழை

பட்டியல்-II**(குடும்பம்)**

- ரூட்டேசி
- யூஃபோர்பியேசி
- லில்லியேசி
- சொலனேசி

குறியீடுகள்:

	a	b	c	d
A)	4	2	3	1
B)	2	1	4	3
C)	3	2	1	4
D)	4	1	2	3

E) விடை தெரியவில்லை

46. Which plant used in the treatment of tuberculosis and bronchial asthma ?

- | | |
|---------------------|--------------|
| A) Thoodhuvalai | B) Vilvam |
| C) Keezhanelli | D) Katrazhai |
| E) Answer not known | |

காசநோய் மற்றும் மூச்சுக்குழாய் ஆஸ்துமா சிகிச்சையில் பயன்படுத்தப்படும் தாவரம்

- | | |
|---------------------|------------|
| A) தூதுவளை | B) வில்வம் |
| C) கீழாநெல்லி | D) கற்றாழை |
| E) விடை தெரியவில்லை | |

47. Which plant used in the treatment of jaundice?

- | | |
|---------------------|--------------|
| A) Thoodhuvalai | B) Vilvam |
| C) Keezhanelli | D) Katrazhai |
| E) Answer not known | |

மஞ்சள் காமாலை சிகிச்சையில் பயன்படுத்தப்படும் தாவரம்

- | | |
|---------------------|------------|
| A) தூதுவளை | B) வில்வம் |
| C) கீழாநெல்லி | D) கற்றாழை |
| E) விடை தெரியவில்லை | |



48. Our body is developed from a single cell called zygote. The zygote undergoes continuous mitotic division and forms the foetus consisting multitude of cells of different shape, size and content. Foetal cells gradually attain change in structure and function.

Which one of the following is best implied in the passage?

- A) Cell Multiplication
B) Cell Fragmentation
C) Cell Differentiation
D) Cell division
E) Answer not known

நமது உடலானது கருமுட்டை (சைகோட்) என்ற ஒற்றை செல்லிலிருந்தே உருவாக்கப்படுகிறது. கருமுட்டையானது தொடர்ச்சியான பல மைட்டாசிஸ் பிளவுறுதல்களை அடைந்து வெவ்வேறு அளவு, வடிவம் மற்றும் உட்பொருள்களைக் கொண்ட திரள் செல்களாலான கருவை உருவாக்குகிறது. கருச்செல்கள் படிப்படியாக அவற்றின் அமைப்பிலும், பணியிலும் மாற்றங்களை அடைகின்றன.

பத்தியில் பின்வருவனவற்றில் எது சிறப்பாகக் குறிப்பிடப்பட்டுள்ளது?

- A) செல் பெருக்கமடைதல்
B) செல் துண்டாதல்
C) செல் மாறுபாடடைதல்
D) செல் பிரிவு
E) விடை தெரியவில்லை

49. Consider the following statements regarding the Human Eye.

I. Human eye is composed of muscular tissue, connective tissue and neural tissue.

II. It is responsible for maintaining the biological clock of the human body.

Which of the statements given above is/are incorrect?

- A) I only
B) II only
C) Both I and II
D) Neither I nor II
E) Answer not known

மனித கண் பற்றிய பின்வரும் கூற்றுகளைக் கருத்தில் கொள்க

I. மனித கண்ணானது தசைத் திசு, இணைப்புத் திசு மற்றும் நரம்புத் திசு ஆகியவற்றால் ஆனது.

II. இது மனித உடலின் உயிர்க் கடிகாரத்தைப் பேணுவதற்கு பயன்படுகிறது.

மேற்கண்ட கூற்றுகளில் தவறானது எது/எவை?

- A) I மட்டும்
B) II மட்டும்
C) இரண்டும்
D) இரண்டுமில்லை
E) விடை தெரியவில்லை

50. Consider the following statements.

I. Lens is the layer present at the back of the eye where all the images are formed.

II. Optic nerve is located at the end of the eyes, behind the retina.

Which of the statements given above is/are incorrect?

- A) I only
B) II only
C) Both I and II
D) Neither I nor II
E) Answer not known



பின்வரும் கூற்றுகளைக் கருத்தில் கொள்க

I. லென்ஸ் என்பது கண்ணின் பின் பகுதியில் அமைந்து, பிம்பங்களை உருவாக்கும் படலம் ஆகும்.

II. பார்வை நரம்பு கண்களின் முடிவில், விழித்திரைக்கு பின்னால் அமைந்துள்ளது.

மேற்கண்ட கூற்றுகளில் தவறானது எது/எவை?

A) I மட்டும்

B) II மட்டும்

C) இரண்டும்

D) இரண்டுமில்லை

E) விடை தெரியவில்லை

51. Consider the following statements about external structure of eye.

I. Conjunctiva is known as white of the eye.

II. Cornea is the transparent layer of membrane that is spread over the pupil and the iris.

III. Pupil allows light to come in.

IV. Sclera is a pigmented layer of tissues that make up the colored portion of the eye

How many of the above statement(s) is/are correct?

A) One statement only

B) Two statements only

C) Three statements only

D) All the statements

E) Answer not known

கண்ணின் வெளிப்புற அமைப்பு பற்றிய கூற்றுகளைக் கருத்தில் கொள்க

I. கஞ்சுங்கிவா கண்ணின் வெண்மை பகுதி என்று அழைக்கப்படுகிறது.

II. கார்னியா என்பது கண் பாவை மற்றும் கருவிழியின் (ஐரிஸ்) மீது படர்ந்துள்ள ஒளி ஊடுருவும் தோல் படலம் ஆகும்.

III. கண் பாவை, ஒளியை கண்ணின் உள்ளே அனுப்புகிறது.

IV. ஸ்கிரா என்பது கண்ணின் நிறமுள்ள பகுதியை உருவாக்கும் நிறமிகளாலான திசுப்படலம் ஆகும்.

மேற்கண்ட கூற்றுகளில் எத்தனை கூற்றுகள் சரியானவை?

A) ஒரு கூற்று மட்டும்

B) இரண்டு கூற்றுகள் மட்டும்

C) மூன்று கூற்றுகள் மட்டும்

D) அனைத்து கூற்றுகளும்

E) விடை தெரியவில்லை

52. Consider the following statements.

I. Vitreous Humour is a semi-solid, transparent, jelly-like.

II. It causes refraction of light before it reaches the retina.

Which of the statements given above is/are incorrect?

A) I only

B) II only

C) Both I and II

D) Neither I nor II

E) Answer not known

பின்வரும் கூற்றுகளைக் கருத்தில் கொள்க

I. விட்ரியஸ் திரவம் என்பது கண்ணின் உட்பகுதி முழுவதையும் நிறைத்துள்ள அரைத்திண்ம, ஒளி ஊடுருவும், கொழுகொழப்பான பொருளாகும்.

II. ஒளியானது விழித்திரையை அடையும்முன் அதை விலகயடையச் செய்கிறது.



மேற்கண்ட கூற்றுகளில் தவறானது எது/எவை?

- A) I மட்டும்
B) II மட்டும்
C) இரண்டும்
D) இரண்டுமில்லை
E) விடை தெரியவில்லை

53. Consider the following statements.

I. The lungs are the organs present in the chest cavity that allow our body to exchange gases

II. The right lung is slightly smaller than the left lung

Which of the statements given above is/are incorrect?

- A) I only
B) II only
C) Both I and II
D) Neither I nor II
E) Answer not known

பின்வரும் கூற்றுகளைக் கருத்தில் கொள்க

I. நுரையீரல்கள் மாற்பறையில் காணப்படும் உறுப்புகளாகும். இவற்றின் மூலம் வாயுப் பரிமாற்றம் நடைபெறுகிறது.

II. வலது நுரையீரல் இடது நுரையீரலை விட சற்று சிறியது

மேற்கண்ட கூற்றுகளில் தவறானது எது/எவை?

- A) I மட்டும்
B) II மட்டும்
C) இரண்டும்
D) இரண்டுமில்லை
E) விடை தெரியவில்லை

54. Consider the following statements.

I. During Inhalation, the diaphragm goes upward.

II. During exhalation, the muscles of the diaphragm relax.

Which of the statements given above is/are correct?

- A) I only
B) II only
C) Both I and II
D) Neither I nor II
E) Answer not known

பின்வரும் கூற்றுகளைக் கருத்தில் கொள்க

I. உட்சுவாசத்தின் போது உதரவிதானம் மேல்நோக்கி நகர்கிறது.

II. வெளிச்சுவாசத்தின் போது உதரவிதானத்தின் தசைகள் சுருங்குகின்றன

மேற்கண்ட கூற்றுகளில் சரியானது எது/எவை?

- A) I மட்டும்
B) II மட்டும்
C) இரண்டும்
D) இரண்டுமில்லை
E) விடை தெரியவில்லை

55. Consider the following statements.

I. Homeostasis is a property of human biological system where the self-regulating process tends to maintain the balance for the survival.

II. Behavioural and physiological responses are the two important regulating mechanisms that maintain the stability of homeostasis



Which of the statements given above is/are correct?

- A) I only
B) II only
C) Both I and II
D) Neither I nor II
E) Answer not known

பின்வரும் கூற்றுகளைக் கருத்தில் கொள்க

- I. உயிர் வாழ்வதற்கு ஏதுவாக மனித உடலியல் மண்டலம் சுயமாக, தன்னைத்தானே ஒழுங்குபடுத்திக் கொண்டு சமநிலையைப் பாரமரிப்பது தன்னிலை காத்தல் எனப்படும்.
II. நடத்தை சார் மற்றும் உடற்செயலியல் துலங்கல் ஆகிய ஒழுங்குபடுத்தும் செயல்முறைகள் மூலம் தன்னிலை காத்தல் நிகழ்கிறது

மேற்கண்ட கூற்றுகளில் சரியானது எது/எவை?

- A) I மட்டும்
B) II மட்டும்
C) இரண்டும்
D) இரண்டுமில்லை
E) விடை தெரியவில்லை

56. Consider the following statements.

- I. Diffusion is the movement of solvent particles across a semipermeable membrane from a dilute solution into a concentrated solution.
II. In Osmosis, the movement of liquids in and out of cells is dependent on the concentration of the solution surrounding it.

Which of the statements given above is/are correct?

- A) I only
B) II only
C) Both I and II
D) Neither I nor II
E) Answer not known

பின்வரும் கூற்றுகளைக் கருத்தில் கொள்க

- I. நீர்த்த கரைசலில் இருந்து செறிவு மிக்க கரைசலுக்கு கரைப்பான் மூலக்கூறுகள் அரை கடத்தி அல்லது தேர்வுக் கடத்து சவ்வின் வழியே இடப்பெயர்ச்சி அடையும் நிகழ்ச்சி விரவல் எனப்படும்.
II. சவ்வூடு பரவலில் செல்லிற்கு உள்ளேயும், வெளியேயும் மூலக்கூறுகள் இடம் பெயர்வது செல்களைச் சூழ்ந்துள்ள கரைசலின் செறிவைப் பொருத்ததாகும்.

மேற்கண்ட கூற்றுகளில் சரியானது எது/எவை?

- A) I மட்டும்
B) II மட்டும்
C) இரண்டும்
D) இரண்டுமில்லை
E) விடை தெரியவில்லை

57. Consider the following statements.

- I. The term osmoregulation was coined by Hober in 1902.
II. Osmoregulation is the process by which an organism regulates the water balance in its body and maintains the homeostasis of the body.

Which of the statements given above is/are correct?

- A) I only
B) II only
C) Both I and II
D) Neither I nor II
E) Answer not known



பின்வரும் கூற்றுகளைக் கருத்தில் கொள்க

- I. ஊடுபரவல் ஒழுங்குபாடு என்ற சொல்லானது 1902ஆம் ஆண்டு ஹோபர் என்பவரால் அறிமுகப்படுத்தப்பட்டது.
- II. ஒரு உயிரியானது அதன் உடலின் நீர்ச் சமநிலையை ஒழுங்குபடுத்தி அதன் தன்நிலை காத்தலைப் பராமரிக்கும் செயலே ஊடுபரவல் ஒழுங்குபாடு எனப்படும்.

மேற்கண்ட கூற்றுகளில் சரியானது எது/எவை?

- | | |
|---------------------|-----------------|
| A) I மட்டும் | B) II மட்டும் |
| C) இரண்டும் | D) இரண்டுமில்லை |
| E) விடை தெரியவில்லை | |

58. Consider the following statements.

- I. Cellular respiration is the process by which organisms break down glucose into a form that the cell can use as energy.
- II. The energy is then made available to living cells in the form of ATP.

Which of the statements given above is/are incorrect?

- | | |
|---------------------|---------------------|
| A) I only | B) II only |
| C) Both I and II | D) Neither I nor II |
| E) Answer not known | |

பின்வரும் கூற்றுகளைக் கருத்தில் கொள்க

- I. செல்களுக்குத் தேவையான ஆற்றலை அளிக்கும் வகையில் உயிரினங்கள் குளுக்கோசை உடைத்து ஆற்றலை வெளியிடும் செயலே செல் சுவாசம் எனப்படும்.
- II. இவ்வாறு வெளிப்படுத்தப்படும் ஆற்றலானது ATP வடிவில் செல்களால் பயன்படுத்தப்படுகிறது.

மேற்கண்ட கூற்றுகளில் தவறானது எது/எவை?

- | | |
|---------------------|-----------------|
| A) I மட்டும் | B) II மட்டும் |
| C) இரண்டும் | D) இரண்டுமில்லை |
| E) விடை தெரியவில்லை | |

59. Consider the following statements.

- I. Anaerobic respiration takes place in the absence of oxygen .
- II. The end products of aerobic respiration are carbon dioxide and water.

Which of the statements given above is/are incorrect?

- | | |
|---------------------|---------------------|
| A) I only | B) II only |
| C) Both I and II | D) Neither I nor II |
| E) Answer not known | |

பின்வரும் கூற்றுகளைக் கருத்தில் கொள்க

- I. காற்றில்லா சுவாசம் ஆக்சிஜன் இல்லாத சூழலில் நடைபெறுகிறது.
- II. CO₂ மற்றும் நீர் ஆகியவை விளை பொருள்களாகக் காற்றுள்ள சுவாசத்தில் கிடைக்கின்றன.

மேற்கண்ட கூற்றுகளில் தவறானது எது/எவை?

- | | |
|---------------------|-----------------|
| A) I மட்டும் | B) II மட்டும் |
| C) இரண்டும் | D) இரண்டுமில்லை |
| E) விடை தெரியவில்லை | |



60. Consider the following statements.

- I. Anabolism or constructive metabolism, is all about building and storing.
- II. Catabolism or destructive metabolism, is the process that produces the energy required for all activity in the cells.
- III. During catabolism, small molecules are changed into larger, more complex molecules of carbohydrate, protein and fat.
- IV. During anabolism cells break down large molecules to release energy.

Which of the statements given above is/are correct?

- A) I and II only
- B) III and IV only
- C) I, II and IV only
- D) All the above
- E) Answer not known

பின்வரும் கூற்றுக்களைக் கருத்தில் கொள்க

- I. வளர்மாற்றம் என்பது உருவாக்குதல் மற்றும் சேமித்தலைக் குறிக்கிறது.
- II. சிதை மாற்றம் என்பது செல்லின் செயல்பாடுகளுக்குத் தேவையான ஆற்றலை உருவாக்கும் நிகழ்ச்சி ஆகும்.
- III. சிதை மாற்றத்தின்போது கார்போஹைட்ரேட், புரதம் மற்றும் கொழுப்பின் எளிய மூலக்கூறுகள் பெரிய, சிக்கலான மூலக்கூறுகளாக மாற்றப்படுகின்றன.
- IV. வளர்மாற்றத்தின் போது பெரிய மூலக்கூறுகள் செல்களால் சிதைக்கப்பட்டு ஆற்றல் வெளியிடப்படுகிறது.

மேற்கண்ட கூற்றுக்களில் சரியானது எது/எவை?

- A) I மற்றும் II மட்டும்
- B) III மற்றும் IV மட்டும்
- C) I, II மற்றும் IV மட்டும்
- D) மேற்கண்ட அனைத்தும்
- E) விடை தெரியவில்லை

61. Match List-I with List-II.

List-I
(Joints)

- a) Pivot
- b) Condylloid
- c) Hinge
- d) Saddle

List-II
(Examples)

1. Elbow
2. Wrist
3. Sine
4. Inner ear

Codes:

- | | a | b | c | d |
|----|----------|----------|----------|----------|
| A) | 4 | 2 | 3 | 1 |
| B) | 2 | 1 | 3 | 4 |
| C) | 3 | 2 | 1 | 4 |
| D) | 4 | 1 | 2 | 3 |

E) Answer not known

பட்டியல்-Iஐ பட்டியல்-II உடன் பொருத்துக.

பட்டியல்-I

(மூட்டுகள்)

- a) முளை அச்ச மூட்டு
- b) முண்டணையா மூட்டு
- c) கீல் மூட்டு
- d) சேண மூட்டு

பட்டியல்-II

(எடுத்துக்காட்டுகள்)

1. முழங்கை
2. மணிக்கட்டு
3. முள்ளெலும்புச்சுழல்
4. உள் காது



குறியீடுகள்:

- | | a | b | c | d |
|----|----------|----------|----------|----------|
| A) | 4 | 2 | 3 | 1 |
| B) | 2 | 1 | 3 | 4 |
| C) | 3 | 2 | 1 | 4 |
| D) | 4 | 1 | 2 | 3 |
- E) விடை தெரியவில்லை

62. In male, which hormone is necessary for development of seminiferous tubules and for spermatogenesis?

- | | |
|------------------------|---------------------------------|
| A) Luteinizing Hormone | B) Follicle stimulating hormone |
| C) Lactogenic hormone | D) Growth hormone |
| E) Answer not known | |

ஆண்களில் விந்து நாளங்களின் வளர்ச்சி மற்றும் விந்தணுவாக்கத்திற்கு எந்த ஹார்மோன் அவசியமாகிறது ?

- | | |
|--------------------------|--------------------------------------|
| A) லூட்டினைசிங் ஹார்மோன் | B) பாலிக்கிள்களைத் தூண்டும் ஹார்மோன் |
| C) லாக்டோஜெனிக் ஹார்மோன் | D) வளர்ச்சி ஹார்மோன் |
| E) விடை தெரியவில்லை | |

63. Consider the following statements.

- I. The term adolescence is derived from the Latin word 'adolescere' meaning 'to grow' or 'grow to maturity'
- II. Factors like nutrition and diet and the amount of body fat also affect the onset and progression of puberty

Which of the statements given above is/are incorrect?

- | | |
|---------------------|---------------------|
| A) I only | B) II only |
| C) Both I and II | D) Neither I nor II |
| E) Answer not known | |

பின்வரும் கூற்றுகளைக் கருத்தில் கொள்க

- I. வளரிளம் பருவம் என்ற சொல்லானது 'அடோலசர்' (adolescere) என்ற இலத்தீன் மொழி வார்த்தையிலிருந்து வந்ததாகும். இதன் பொருள் 'வளர்வதற்கு' அல்லது 'முதிர்ச்சிக்கான வளர்ச்சி' எனப் பொருள்படும்.
- II. ஊட்டச்சத்து, உணவு மற்றும் உடல் கொழுப்பின் அளவு போன்ற காரணிகள் பருவமடைதல் மற்றும் வளர்ச்சியைப் பாதிக்கின்றன.

மேற்கண்ட கூற்றுகளில் தவறானது எது/எவை?

- | | |
|---------------------|-----------------|
| A) I மட்டும் | B) II மட்டும் |
| C) இரண்டும் | D) இரண்டுமில்லை |
| E) விடை தெரியவில்லை | |



64. Which of the following are secondary sexual characteristics of boys?

- I. Hair
- II. Skin
- III. Glands
- IV. Voice

Codes:

- A) 1 pair only
- B) 2 pairs only
- C) 3 pairs only
- D) All pairs
- E) Answer not known

பின்வருவனவற்றில் ஆண்களில் தோன்றும் இரண்டாம் நிலை பாலியல் பண்புகள் யாவை?

- I. முடி
- II. தோல்
- III. சுரப்பிகள்
- IV. குரல்

குறியீடுகள்:

- A) 1 இணை மட்டும்
- B) 2 இணைகள் மட்டும்
- C) 3 இணைகள் மட்டும்
- D) அனைத்து இணைகளும்
- E) விடை தெரியவில்லை

65. Which of the following are the functions of vertebral column in human?

- I. It provides support and place of attachment for the pectoral and pelvic girdle
- II. It protects the spinal cord.
- III. It helps in walking and standing erect with correct posture
- IV. It serves as an attachment for the ribs.

How many of the above statement(s) is/are correct?

- A) One statement only
- B) Two statements only
- C) Three statements only
- D) All the statements
- E) Answer not known

பின்வருவனவற்றில் மனிதனின் முள்ளெலும்புத் தொடரின் செயல்பாடுகள் யாவை?

- I. மார்பு மற்றும் இடுப்பு வளையங்கள் இணையும் இடமாகச் செயல்பட்டு அவற்றிற்கு உறுதியளிக்கிறது.
- II. இது முதுகு தண்டுவடத்தை பாதுகாக்கிறது.
- III. இது சரியான தோரணையுடன் நடக்கவும் நிமிர்ந்து நிற்கவும் உதவுகிறது.
- IV. இது விலா எலும்புகளுக்கு ஒரு இணைப்பாக செயல்படுகிறது.

மேற்கண்ட கூற்றுகளில் எத்தனை கூற்றுகள் சரியானவை?

- A) ஒரு கூற்று மட்டும்
- B) இரண்டு கூற்றுகள் மட்டும்
- C) மூன்று கூற்றுகள் மட்டும்
- D) அனைத்து கூற்றுகளும்
- E) விடை தெரியவில்லை



66. Consider the following statements.

- I. Ligament is band of strong fibrous tissue which connects bone to bone.
II. Synovial fluid reduces friction between articular cartilage in the joint.

Which of the statements given above is/are correct?

- A) I only
B) II only
C) Both I and II
D) Neither I nor II
E) Answer not known

பின்வரும் கூற்றுகளைக் கருத்தில் கொள்க

- I. தசைநார் என்பது எலும்புடன் எலும்பை இணைக்கும் வலுவான நார்த்திசுக்களின் அமைப்பாகும்.
II. சினோவியல் திரவம், மூட்டுகளில் உள்ள குருத்தெலும்புகளுக்கு இடையிலான உராய்வைக் குறைக்கிறது

மேற்கண்ட கூற்றுகளில் சரியானது எது/எவை?

- A) I மட்டும்
B) II மட்டும்
C) இரண்டும்
D) இரண்டுமில்லை
E) விடை தெரியவில்லை

67. Consider the following statements.

- I. Movement of snake is called slithering movement.
II. The body of snake consists of a large number of vertebrae.

Which of the statements given above is/are correct?

- A) I only
B) II only
C) Both I and II
D) Neither I nor II
E) Answer not known

பின்வரும் கூற்றுகளைக் கருத்தில் கொள்க.

- I. பாம்பின் இயக்கம் சறுக்கு இயக்கம் எனப்படும்.
II. பாம்பின் உடல் அதிக எண்ணிக்கையிலான முதுகெலும்புகளைக் கொண்டுள்ளது
மேற்கண்ட கூற்றுகளில் சரியானது எது /எவை?

- A) I மட்டும்
B) II மட்டும்
C) இரண்டும்
D) இரண்டுமில்லை
E) விடை தெரியவில்லை

68. Consider the following statements.

- I. Locomotion is always voluntary.
II. Locomotion requires energy
III. Movement takes place at biological level

Which of the statements given above is/are correct?

- A) I, II and III only
B) II and III only
C) I and III only
D) All the above
E) Answer not known



பின்வரும் கூற்றுகளைக் கருத்தில் கொள்க.

- I. இடம்பெயர்தல் என்பது தன்னிச்சையாக நடைபெறக் கூடியது
- II. இடம்பெயர்தலுக்கு ஆற்றல் அவசியாகிறது
- III. இடம்பெயர்தல் உயிரின நிலையில் நடைபெறுகிறது

மேற்கண்ட கூற்றுகளில் சரியானவை எவை?

- A) I, II மற்றும் III மட்டும்
- B) II மற்றும் III மட்டும்
- C) I மற்றும் III மட்டும்
- D) மேற்கண்ட அனைத்தும்
- E) விடை தெரியவில்லை

69. How many of the following pairs are correctly matched?

- I. Kharif Crops – Maize
- II. Rabi Crops – Groundnut
- III. Zaid Crops – Muskmelon

Codes:

- A) 1 pair only
- B) 2 pairs only
- C) 3 pairs only
- D) None
- E) Answer not known

பின்வருவனவற்றுள் எத்தனை இணை(கள்) சரியாகப் பொருந்தியுள்ளன?

- I. காரிப்பயிர்கள் – சோளம்
- II. ரபி பயிர்கள் – நிலக்கடலை
- III. சயாடு பயிர்கள் – முலாம்பழம்

குறியீடுகள்:

- A) 1 இணை மட்டும்
- B) 2 இணைகள் மட்டும்
- C) 3 இணைகள் மட்டும்
- D) மேற்கண்ட எதுவுமில்லை
- E) விடை தெரியவில்லை

70. Find out the correctly matched pair.

- A) Food crops – Sorghum
- B) Fodder crops – Paddy
- C) Fibre crops – Hemp
- D) Ornamental crops – Sesame
- E) Answer not known

சரியாகப் பொருந்தியுள்ள இணையைக் கண்டறிக.

- A) உணவுப் பயிர்கள் – மக்காச்சோளம்
- B) தீவனப் பயிர்கள் – நெல்
- C) நார் பயிர்கள் – சணல்
- D) அலங்காரத் தாவரங்கள் – எள்
- E) விடை தெரியவில்லை

71. Why is it essential to loosen the topsoil during crop production?

- A) It facilitates the growth of earthworm and soil microbes.
- B) It helps to add humus to the soil.
- C) It helps plants absorb water, minerals, nutrients and air
- D) All of the above
- E) Answer not known



பயிர்ப்பெருக்கத்தின் போது மண்ணின் மேல் அடுக்கினை ஏன் தளர்வடையச் செய்ய வேண்டும்?

- A) இது மண்புழு மற்றும் மண் நுண்ணுயிரிகள் வளர உதவுகிறது.
B) அங்கக மக்குகளை மண்ணிற்குள் சேர்க்கின்றன.
C) தாவரங்கள் நீர், கனிமங்கள், ஊட்டச்சத்துக்கள் மற்றும் காற்றை உறிஞ்சுவதற்கு இது உதவுகிறது
D) மேற்கண்ட அனைத்தும்
E) விடை தெரியவில்லை

72. Consider the following statements.

- I. Levelling of the field helps in uniform distribution of water during irrigation.
II. Adding manure to the soil even before sowing helps it to get properly incorporated into the soil.

Which of the statements given above is/are incorrect?

- A) I only
B) II only
C) Both I and II
D) Neither I nor II
E) Answer not known

பின்வரும் கூற்றுகளைக் கருத்தில் கொள்க.

- I. நிலத்தைச் சமப்படுத்துவதற்கும் சீரான நீர்பரவுதலுக்கும் சமப்படுத்துதல் முறையானது உதவுகிறது.
II. மண் வளத்தை அதிகரிப்பதற்காக விதைக்கும் முன்னரே நாம் மண்ணிற்கு உரமிடுகிறோம். இதனால் உரம் மண்ணுடன் நன்கு கலக்கிறது.

மேற்கண்ட கூற்றுகளில் தவறானது எது/எவை?

- A) I மட்டும்
B) II மட்டும்
C) இரண்டும்
D) இரண்டுமில்லை
E) விடை தெரியவில்லை

73. Match List-I with List-II.

List-I

- a) Sowing by hand
b) Seed Drill
c) Dibbling
d) Transplanting

List-II

1. Use of pre-grown plants
2. Modern method of sowing
3. Most economical method
4. Placing seed in a furrow

Codes:

- | | a | b | c | d |
|----|------------------|----------|----------|----------|
| A) | 4 | 2 | 3 | 1 |
| B) | 2 | 1 | 3 | 4 |
| C) | 3 | 2 | 4 | 1 |
| D) | 4 | 1 | 2 | 3 |
| E) | Answer not known | | | |



பட்டியல்-Iஐ பட்டியல்-II உடன் பொருத்துக.

பட்டியல்-I

- கையால் விதைத்தல்
- விதைக்கும் கருவி
- ஊன்றுதல்
- நாற்று நடவு

குறியீடுகள்:

	a	b	c	d
A)	4	2	3	1
B)	2	1	3	4
C)	3	2	4	1
D)	4	1	2	3

E) விடை தெரியவில்லை

பட்டியல்-II

- இளம் வளர் தாவரங்களின் பயன்பாடு
- நவீன விதைப்பு முறை
- மிகவும் சிக்கனமான முறை
- விதையை ஒரு குழியில் இடுதல்

74. Consider the following statements.

Assertion (A) : In traditional method of irrigation, efficiency is poor.

Reason (R) : There is uneven distribution of water and also leads to heavy water loss.

Codes:

- Both (A) and (R) are true and (R) is the correct explanation of (A)
- Both (A) and (R) are true but (R) is not the correct explanation of (A)
- (A) is true but (R) is false
- (A) is false but (R) is true
- Answer not known

பின்வரும் கூற்றுக்களைக் கருத்தில் கொள்க.

கூற்று (A) : பாரம்பரிய நீர்ப்பாசன முறையில், திறன் மிகக்குறைவாக உள்ளது.

காரணம் (R) : ஏனெனில், நீர் நிலத்தில் சமமாகப் பாய்வதில்லை மற்றும் அதிகளவு நீர் இழப்பையும் இவை ஏற்படுத்துகின்றன

குறியீடுகள்:

- (A) மற்றும் (R) இரண்டும் சரி மற்றும் (R) என்பது (A)-யின் சரியான விளக்கமாகும்
- (A) மற்றும் (R) இரண்டும் சரி ஆனால் (R) என்பது (A)-யின் சரியான விளக்கமல்ல
- (A) சரி ஆனால் (R) தவறு
- (A) தவறு ஆனால் (R) சரி
- விடை தெரியவில்லை

75. In which irrigation method water is released exactly at the root zone using a hose or pipe?

- Sprinkler irrigation
- Drip irrigation
- Water pumping
- None of the above
- Answer not known

எந்த பாசன முறையில் குழாய்களைப் பயன்படுத்தி நீரானது சொட்டு சொட்டாக நிலத்தில் விடப்படுகிறது?

- தெளிப்பு நீர் பாசனம்
- சொட்டு நீர் பாசனம்
- நீர் இறைத்தல்
- மேற்கண்ட எதுவுமில்லை
- விடை தெரியவில்லை



76. Consider the following statements.

- I. Insects and pathogens are also used as agents to control weeds.
II. Summer tillage is used for destroying many annual and perennial weeds.
Which of the statements given above is/are correct?

- A) I only
B) II only
C) Both I and II
D) Neither I nor II
E) Answer not known

பின்வரும் கூற்றுகளைக் கருத்தில் கொள்க.

- I. பூச்சிகள் மற்றும் நோயூக்கிகள் போன்ற உயிர்க் காரணிகள் களைகளைக் கட்டுப்படுத்தப் பயன்படுகின்றன
II. பல்வேறு ஓராண்டு மற்றும் பல ஆண்டுகள் வாழும் களைகளை அழிக்க கோடை உழவு பயன்படுத்தப்படுகிறது.

மேற்கண்ட கூற்றுகளில் சரியானது எது/எவை?

- A) I மட்டும்
B) II மட்டும்
C) இரண்டும்
D) இரண்டுமில்லை
E) விடை தெரியவில்லை

77. Consider the following statements.

- I. Mechanical method of harvesting is suitable for large-sized farms.
II. The process of separating the grains from their chaffs or pods is winnowing.
Which of the statements given above is/are incorrect?

- A) I only
B) II only
C) Both I and II
D) Neither I nor II
E) Answer not known

பின்வரும் கூற்றுகளைக் கருத்தில் கொள்க.

- I. கருவி கொண்டு அறுவடை செய்தல் என்பது பெரிய அளவிலான வேளாண் செயல்முறைக்கு பொருத்தமானதாகும்.
II. தானியங்களை அவற்றின் பதர் அல்லது கனிகளிலிருந்து பிரித்தெடுக்கும் செயல் காற்றில் தூற்றுதல் முறை ஆகும்

மேற்கண்ட கூற்றுகளில் தவறானது எது/எவை?

- A) I மட்டும்
B) II மட்டும்
C) இரண்டும்
D) இரண்டுமில்லை
E) விடை தெரியவில்லை

78. In which year the Food Corporation of India (FCI) was setup?

- A) 1976
B) 1965
C) 1956
D) 1966
E) Answer not known

இந்திய உணவுக் கழகம் (FCI) எந்த ஆண்டு ஏற்படுத்தப்பட்டது?

- A) 1976
B) 1965
C) 1956
D) 1966
E) விடை தெரியவில்லை



79. Consider the following statements.

Assertion (A) : Before storing, harvested grains should be made free from moisture.

Reason (R) : Presence of moisture increases infestations from pests and insects.

Codes:

- A) Both (A) and (R) are true and (R) is the correct explanation of (A)
B) Both (A) and (R) are true but (R) is not the correct explanation of (A)
C) (A) is true but (R) is false
D) (A) is false but (R) is true
E) Answer not known

பின்வரும் கூற்றுகளைக் கருத்தில் கொள்க.

கூற்று (A) : சேமிப்பதற்கு முன்னர் அறுவடை செய்யப்பட்ட தானியங்களில் ஈரப்பதம் இல்லாதவாறு அவை உலர்த்தப்பட வேண்டும்.

காரணம் (R) : ஈரப்பதம் இருப்பதால் சிறு பூச்சிகள் மற்றும் பூச்சிகளின் தாக்குதல்கள் அதிகரிக்கிறது.

குறியீடுகள்:

- A) (A) மற்றும் (R) இரண்டும் சரி மற்றும் (R) என்பது (A)-யின் சரியான விளக்கமாகும்
B) (A) மற்றும் (R) இரண்டும் சரி ஆனால் (R) என்பது (A)-யின் சரியான விளக்கமல்ல
C) (A) சரி ஆனால் (R) தவறு
D) (A) தவறு ஆனால் (R) சரி
E) விடை தெரியவில்லை

80. Consider the following statements.

I. Weeding problem is more in intercropping system compared to their sole crops.

II. Crop rotation helps to maintain a better balance of nutrients in the soil.

Which of the statements given above is/are correct?

- A) I only
B) II only
C) Both I and II
D) Neither I nor II
E) Answer not known

பின்வரும் கூற்றுகளைக் கருத்தில் கொள்க.

I. ஒற்றைப் பயிர் வளர்ப்பு முறையை விட கூட்டுப் பயிர் வளர்ப்பு முறையில் களைகள் அதிகமாக உள்ளன.

II. பயிர் சுழற்சி மண்ணில் நல்லதொரு கனிம ஊட்டச் சமநிலையைக் காத்திட இது உதவுகிறது.

மேற்கண்ட கூற்றுகளில் சரியானது எது/எவை?

- A) I மட்டும்
B) II மட்டும்
C) இரண்டும்
D) இரண்டுமில்லை
E) விடை தெரியவில்லை

81. Which of the following is not a leguminous plant?

- A) Alfalfa
B) Clover
C) Lentils
D) Maize
E) Answer not known



பின்வருவனவற்றில் எது லெகுமினோஸ் தாவரம் அல்ல?

- A) குதிரை மசால்
B) குளோவர்
C) மைசூர் பருப்பு
D) மக்காச்சோளம்
E) விடை தெரியவில்லை

82. Consider the following statements.

I. Seed bank is a place where seeds are stored in order to preserve species diversity.

II. Seeds may be viable for hundreds and even thousands of years.

Which of the statements given above is/are incorrect?

- A) I only
B) II only
C) Both I and II
D) Neither I nor II
E) Answer not known

பின்வரும் கூற்றுகளைக் கருத்தில் கொள்க.

I. இனப் பல்வகைத் தன்மையினைப் பாதுகாத்திடுவதற்காக விதைகளைச் சேமிக்கும் இடம் விதை வங்கி எனப்படும்

II. விதைகள் நூறு ஆண்டுகளிலிருந்து ஆயிரம் ஆண்டுகள் வரை உயிரோடு இருக்கக்கூடியவை. மேற்கண்ட கூற்றுகளில் தவறானது எது/எவை?

- A) I மட்டும்
B) II மட்டும்
C) இரண்டும்
D) இரண்டுமில்லை
E) விடை தெரியவில்லை

83. Who was the founder of the Chipko movement?

- A) Sunderlal Bahuguna
B) Chandi Prasad Bhatt
C) Gauri devi
D) Karan Singh
E) Answer not known

சிப்கோ இயக்கத்தை உருவாக்கியவர் யார்?

- A) சுந்தர்லால் பகூனா
B) சண்டி பிரசாத் பட்
C) கௌரி தேவி
D) கரண் சிங்
E) விடை தெரியவில்லை

84. Consider the following statements.

I. The Red Data Book is the file for recording rare and endangered species of plants and animals only.

II. Red Data Book is maintained by the Ministry of Environment, Forests and Climate change.

Which of the statements given above is/are correct?

- A) I only
B) II only
C) Both I and II
D) Neither I nor II
E) Answer not known



பின்வரும் கூற்றுகளைக் கருத்தில் கொள்க.

- I. சிவப்பு தரவுப் புத்தகம் என்பது அரிதான மற்றும் அழியும் தருவாயிலுள்ள விலங்குகள் மற்றும் தாவரங்களைப் பதிவு செய்வதற்கான கோப்பாகும்.
- II. சிவப்பு தரவுப் புத்தகமானது, சுற்றுச்சூழல் மற்றும் வனத்துறை அமைச்சகத்தால் பராமரிக்கப்படுகிறது.

மேற்கண்ட கூற்றுகளில் சரியானது எது/எவை?

- | | |
|---------------------|-----------------|
| A) I மட்டும் | B) II மட்டும் |
| C) இரண்டும் | D) இரண்டுமில்லை |
| E) விடை தெரியவில்லை | |

85. Consider the following statements.

- I. Lichen is a combination of a bacterium and a fungus.
 - II. Lichen is a natural bio-indicator of air pollution.
- Which of the statements given above is/are incorrect?

- | | |
|---------------------|---------------------|
| A) I only | B) II only |
| C) Both I and II | D) Neither I nor II |
| E) Answer not known | |

பின்வரும் கூற்றுகளைக் கருத்தில் கொள்க.

- I. லைக்கன்கள் என்பவை பாக்டீரியா மற்றும் பூஞ்சையின் கலவையாகும்.
 - II. லைக்கன்கள் என்பது காற்றுமாசுபடுதலின் விளைவுகளை விளக்கும் ஓர் உயிரி - சுட்டியாகும்.
- மேற்கண்ட கூற்றுகளில் தவறானது எது/எவை?

- | | |
|---------------------|-----------------|
| A) I மட்டும் | B) II மட்டும் |
| C) இரண்டும் | D) இரண்டுமில்லை |
| E) விடை தெரியவில்லை | |

86. Find out the incorrectly matched pair regarding colour codes for species in the Red Data book.

- | | |
|------------------------|----------|
| A) Endangered | - Red |
| B) Vulnerable | - Yellow |
| C) Extinct in the Wild | - Black |
| D) Not Evaluated | - White |
| E) Answer not known | |

சிவப்பு தரவுப் புத்தகத்தில் இனங்களுக்கான வண்ணக் குறியீடுகள் தொடர்பாக தவறாகப் பொருந்திய இணையைக் கண்டறிக.

- | | |
|-------------------------|-----------|
| A) ஆபத்தான நிலை | - சிவப்பு |
| B) பாதிப்பு அடைந்த நிலை | - மஞ்சள் |
| C) காடுகளில் அழிந்தவை | - கருப்பு |
| D) மதிப்பிடமுடியாத நிலை | - வெள்ளை |
| E) விடை தெரியவில்லை | |

87. Consider the following statements.

- I. There are no fixed boundaries for Wildlife Sanctuaries.
 - II. No human activities are allowed in the National Parks.
- Which of the statements given above is/are correct?

- | | |
|---------------------|---------------------|
| A) I only | B) II only |
| C) Both I and II | D) Neither I nor II |
| E) Answer not known | |



பின்வரும் கூற்றுகளைக் கருத்தில் கொள்க.

I. வனவிலங்கு சரணாலயங்களுக்கு எந்த ஒரு வரையறு எல்லைகள் இல்லை.

II. தேசிய பூங்காக்களில் மனித நடவடிக்கைகளுக்கு அனுமதி இல்லை.

மேற்கண்ட கூற்றுகளில் சரியானது எது/எவை?

- A) I மட்டும்
B) II மட்டும்
C) இரண்டும்
D) இரண்டுமில்லை
E) விடை தெரியவில்லை

88. Match List-I with List-II.

List-I

(National Park)

- a) Dudhwa National Park
b) Kanha National Park
c) Jim Corbett National Park
d) Sundarbans National Park

List-II

(State)

1. Uttarakhand
2. Madhya Pradesh
3. Uttar Pradesh
4. West Bengal

Codes:

- | | a | b | c | d |
|----|----------|----------|----------|----------|
| A) | 4 | 2 | 3 | 1 |
| B) | 2 | 1 | 3 | 4 |
| C) | 3 | 2 | 1 | 4 |
| D) | 4 | 1 | 2 | 3 |

E) Answer not known

பட்டியல்-Iஐ பட்டியல்-II உடன் பொருத்துக.

பட்டியல்-I

(தேசிய பூங்கா)

- a) துவா தேசிய பூங்கா
b) கன்ஹா தேசிய பூங்கா
c) ஜிம் கார்பெட் தேசிய பூங்கா
d) சுந்தர்பன்ஸ் தேசிய பூங்கா

பட்டியல்-II

(மாநிலம்)

1. உத்தரகாண்ட்
2. மத்தியப் பிரதேசம்
3. உத்தரப் பிரதேசம்
4. மேற்கு வங்கம்

குறியீடுகள்:

- | | a | b | c | d |
|----|----------|----------|----------|----------|
| A) | 4 | 2 | 3 | 1 |
| B) | 2 | 1 | 3 | 4 |
| C) | 3 | 2 | 1 | 4 |
| D) | 4 | 1 | 2 | 3 |

E) விடை தெரியவில்லை

89. Consider the following statements.

I. Manas biosphere reserve is in Nagaland.

II. Similipal biosphere reserve is in Odisha.

III. Nanda Devi biosphere reserve is in Himachal Pradesh.

IV. Gulf of Mannar biosphere reserve is in Tamil Nadu.

Which of the statements given above is/are correct?

- A) I, II and IV only
B) II, III and IV only
C) II and IV only
D) All the above
E) Answer not known



பின்வரும் கூற்றுகளைக் கருத்தில் கொள்க.

- I. மனாஸ் உயிர்க்கோளக் காப்பகம் நாகாலாந்தில் உள்ளது.
- II. சிமிலிபால் உயிர்க்கோளக் காப்பகம் ஒடிசாவில் உள்ளது.
- III. நந்தாதேவி உயிர்க்கோளக் காப்பகம் இமாச்சலப் பிரதேசத்தில் உள்ளது.
- IV. மன்னார் வளைகுடா உயிர்க்கோளக் காப்பகம் தமிழ்நாட்டில் உள்ளது.

மேற்கண்ட கூற்றுகளில் சரியானவை எவை?

- A) I, II மற்றும் IV மட்டும்
- B) II, III மற்றும் IV மட்டும்
- C) II மற்றும் IV மட்டும்
- D) மேற்கண்ட அனைத்தும்
- E) விடை தெரியவில்லை

90. Find out the incorrectly matched pair.

- A) Madras Wildlife Act – 1873
- B) All India Elephant Preservation Act – 1879
- C) Bengal Rhinoceros Preservation Act – 1952
- D) Wildlife Protection Act – 1972
- E) Answer not known

தவறாகப் பொருந்திய இணையைக் கண்டறிக.

- A) மெட்ராஸ் வனவிலங்கு சட்டம் – 1873
- B) அகில இந்திய யானைகள் பாதுகாப்புச் சட்டம் – 1879
- C) வங்கக் காண்டாமிருகச் சட்டம் – 1952
- D) வனவிலங்கு பாதுகாப்புச் சட்டம் – 1972
- E) விடை தெரியவில்லை

91. Consider the following statements.

- I. Zoological parks come under in-situ conservation.
- II. National parks come under ex-situ conservation.

Which of the statements given above is/are correct?

- A) I only
- B) II only
- C) Both I and II
- D) Neither I nor II
- E) Answer not known

பின்வரும் கூற்றுகளைக் கருத்தில் கொள்க.

- I. உயிரியல் பூங்காக்கள் உள்வாழிடப் பாதுகாப்பின் கீழ் வருகின்றன.
- II. தேசிய பூங்காக்கள் வெளிவாழிடப் பாதுகாப்பு பாதுகாப்பின் கீழ் வருகின்றன.

மேற்கண்ட கூற்றுகளில் சரியானது எது/எவை?

- A) I மட்டும்
- B) II மட்டும்
- C) இரண்டும்
- D) இரண்டுமில்லை
- E) விடை தெரியவில்லை

92. Consider the following statements.

- I. The oldest zoo is Schoenbrunn Zoo in Vienna.
- II. India's first Zoo was established in Tamil Nadu.

Which of the statements given above is/are incorrect?

- A) I only
- B) II only
- C) Both I and II
- D) Neither I nor II
- E) Answer not known



பின்வரும் கூற்றுகளைக் கருத்தில் கொள்க

I. வியன்னாவில் உள்ள சோஹன்பிரம் நகரில் நிறுவப்பட்ட மிருகக்காட்சி சாலையே மிகப் பழமையான மிருகக்காட்சி சாலையாகும்.

II. இந்தியாவில் முதல் மிருகக்காட்சி சாலை தமிழ்நாட்டில் நிறுவப்பட்டது மேற்கண்ட கூற்றுகளில் தவறானது எது/எவை?

- A) I மட்டும்
B) II மட்டும்
C) இரண்டும்
D) இரண்டுமில்லை
E) விடை தெரியவில்லை

93. Find out the correctly matched pair.

- A) Fani – Gujarat
B) Ockhi – Kerala
C) Phethai – Andhra Pradesh
D) Both A and C
E) Answer not known

சரியாகப் பொருந்தியுள்ள இணையைக் கண்டறிக.

- A) பானி – குஜராத்
B) ஒக்கி – கேரளா
C) பெத்தாய் – ஆந்திரப் பிரதேசம்
D) A மற்றும் C இரண்டும்
E) விடை தெரியவில்லை

94. Consider the following statements.

I. Wangari Maathai founded the Green Belt Movement.

II. Wangari Maathai was awarded the Nobel Peace Prize for 2004.

Which of the statements given above is/are correct?

- A) I only
B) II only
C) Both I and II
D) Neither I nor II
E) Answer not known

பின்வரும் கூற்றுகளைக் கருத்தில் கொள்க.

I. 'பச்சை வளைய இயக்கம்' என்ற அமைப்பை வாங்கரி மாதாய் நிறுவினார்.

II. 2004 ஆம் ஆண்டு அமைதிக்கான நோபல் பரிசு வாங்கரி மாத்தாய்க்கு வழங்கப்பட்டது

மேற்கண்ட கூற்றுகளில் சரியானது எது/எவை?

- A) I மட்டும்
B) II மட்டும்
C) இரண்டும்
D) இரண்டுமில்லை
E) விடை தெரியவில்லை

95. Match List-I with List-II.

List-I

- a) World Forest Day
b) World Water Day
c) World Nature Conservation Day
d) Ozone Day

List-II

1. July 28
2. March 22
3. March 21
4. September 16

**Codes:**

- | | a | b | c | d |
|----|----------|----------|----------|----------|
| A) | 4 | 2 | 3 | 1 |
| B) | 2 | 1 | 3 | 4 |
| C) | 3 | 2 | 1 | 4 |
| D) | 4 | 1 | 2 | 3 |

E) Answer not known

பட்டியல்-Iஐ பட்டியல்-II உடன் பொருத்துக.

பட்டியல்-I

- a) உலக காடுகள் தினம்
b) உலக நீர் தினம்
c) உலக இயற்கைப் பாதுகாப்பு தினம்
d) ஓசோன் தினம்

பட்டியல்-II

1. ஜூலை 28
2. மார்ச் 22
3. மார்ச் 21
4. செப்டம்பர் 16

குறியீடுகள்:

- | | a | b | c | d |
|----|----------|----------|----------|----------|
| A) | 4 | 2 | 3 | 1 |
| B) | 2 | 1 | 3 | 4 |
| C) | 3 | 2 | 1 | 4 |
| D) | 4 | 1 | 2 | 3 |

E) விடை தெரியவில்லை

96. Consider the following statements.

I. Project Tiger is a wildlife conservation project, initiated in India in 1973.

II. Mudumalai tiger reserve was the first National park in India to be covered under project Tiger.

Which of the statements given above is/are incorrect?

- A) I only
B) II only
C) Both I and II
D) Neither I nor II
E) Answer not known

பின்வரும் கூற்றுகளை கருத்தில் கொள்க.

I. புலிகள் பாதுகாப்புத் திட்டம் என்பது ஒரு வனவிலங்கு பாதுகாப்புத் திட்டமாகும், இது 1973 ஆம் ஆண்டு இந்தியாவில் வங்கப்புலிகளைப் பாதுகாப்பதற்காக தொடங்கப்பட்டது.

II. புலிகள் பாதுகாப்புத் திட்டத்தின் கீழ் துவங்கப்பட்ட இந்தியாவின் முதல் தேசியப் பூங்கா முதுமலை புலிகள் காப்பகம் ஆகும்.

மேற்கண்ட கூற்றுகளில் தவறானது எது/எவை?

- A) I மட்டும்
B) II மட்டும்
C) இரண்டும்
D) இரண்டுமில்லை
E) விடை தெரியவில்லை



97. A species is said to be endangered when
- The geographical range of the species is limited.
 - The population is less than 50 adult individuals.
 - The population will decrease by more than 80% in 10 years.
 - All of the above
 - Answer not known
- ஒரு இனம் அழியும் தருவாயில் உள்ளதா, இல்லையா என்று எவ்வாறு கூறப்படுகிறது
- சிற்றினங்கள் காணப்படும் புவியியல் எல்லை குறைதல்.
 - சிற்றினங்களின் எண்ணிக்கை 50க்கும் குறைவாக இருத்தல்.
 - சிற்றினங்களின் மொத்த எண்ணிக்கை குறைந்திருத்தல் அல்லது அடுத்த 10 ஆண்டுகளில் 80% க்கும் அதிகமாக குறையக்கூடிய நிலை.
 - மேற்கண்ட அனைத்தும்
 - விடை தெரியவில்லை
98. Consider the following statements.
- The efficiency of nutrient uptake is considered to be higher when nutrients are applied to leaves than soil.
 - During foliar feeding, the total absorption of nutrients takes place through Stomata.
- Which of the statements given above is/are correct?
- I only
 - II only
 - Both I and II
 - Neither I nor II
 - Answer not known
- பின்வரும் கூற்றுகளை கருத்தில் கொள்க.
- வேரின் மூலமாக தவரங்களுக்குக் கிடைக்கும் ஊட்டச்சத்துக்களை விட இலைகளின் மூலம் கிடைக்கும் ஊட்டச்சத்துக்கள் அதிகம்.
 - இலையில் தெளிப்பின் போது, ஊட்டச்சத்துக்களின் மொத்த உறிஞ்சுதல் ஸ்டோமாட்டா மூலம் நடைபெறுகிறது.
- மேற்கண்ட கூற்றுகளில் சரியானது எது/எவை?
- I மட்டும்
 - II மட்டும்
 - இரண்டும்
 - இரண்டுமில்லை
 - விடை தெரியவில்லை
99. How many of the following pairs are incorrectly matched?
- | (Wildlife Sanctuary) | (District) |
|---|-------------------|
| I. Meghamalai Wildlife Sanctuary | – Theni |
| II. Kalakad Wildlife Sanctuary | – Virudhunagar |
| III. Grizzled Squirrel Wildlife Sanctuary | – Tirunelveli |
| IV. Vedanthangal Wildlife Sanctuary | – Chengalpattu |
- Codes:**
- 1 pair only
 - 2 pairs only
 - 3 pairs only
 - All pairs
 - Answer not known



பின்வருவனவற்றுள் எத்தனை இணை(கள்) தவறாகப் பொருந்தியுள்ளன?

(வனவிலங்கு சரணாலயம்)

(மாவட்டம்)

- | | |
|---|----------------|
| I. மேகமலை வனவிலங்கு சரணாலயம் | - தேனி |
| II. களக்காடு வனவிலங்கு சரணாலயம் | - விருதுநகர் |
| III. சாம்பல் நிற அணில் வனவிலங்கு சரணாலயம் | - திருநெல்வேலி |
| IV. வேடந்தாங்கல் பறவைகள் சரணாலயம் | - செங்கல்பட்டு |

குறியீடுகள்:

- | | |
|---------------------|---------------------|
| A) 1 இணை மட்டும் | B) 2 இணைகள் மட்டும் |
| C) 3 இணைகள் மட்டும் | D) அனைத்து இணைகளும் |
| E) விடை தெரியவில்லை | |

100. Consider the following statements.

- I. Captain V. Sundaram founded the Blue Cross of India in Delhi.
II. Blue Cross opened its first animal hospital in London.

Which of the statements given above is/are incorrect?

- | | |
|---------------------|---------------------|
| A) I only | B) II only |
| C) Both I and II | D) Neither I nor II |
| E) Answer not known | |

பின்வரும் கூற்றுகளைக் கருத்தில் கொள்க

- I. கேப்டன் வி. சுந்தரம் என்பவர் இந்திய புளு கிராஸ் என்ற அமைப்பை டெல்லியில் நிறுவினார்
II. புளு கிராஸ் தனது முதல் விலங்கு மருத்துவமனையை லண்டனில் திறந்தது.

மேற்கண்ட கூற்றுகளில் தவறானது எது/எவை?

- | | |
|---------------------|-----------------|
| A) I மட்டும் | B) II மட்டும் |
| C) இரண்டும் | D) இரண்டுமில்லை |
| E) விடை தெரியவில்லை | |

101. What does CPCSEA stand for?

- A) Committee for the Prevention of Cruelty and Safeguarding Environments for Animals.
B) Committee for the Prevention of Cruelty and Scientific Experiments on Animals.
C) Committee for the Purpose of Conservation and Supervision of Experiments on Animals.
D) Committee for the Purpose of Control and Supervision of Experiments on Animals.
E) Answer not known

CPCSEA எதைக் குறிக்கிறது?

- A) Committee for the Prevention of Cruelty and Safeguarding Environments for Animals.
B) Committee for the Prevention of Cruelty and Scientific Experiments on Animals.
C) Committee for the Purpose of Conservation and Supervision of Experiments on Animals.
D) Committee for the Purpose of Control and Supervision of Experiments on Animals.
E) விடை தெரியவில்லை



102. Consider the following statements.

- I. ICAR is commonly known as the Pusa Institute.
II. IARI is financed and administered by the ICAR.

Which of the statements given above is/are correct?

- A) I only
B) II only
C) Both I and II
D) Neither I nor II
E) Answer not known

பின்வரும் கூற்றுகளைக் கருத்தில் கொள்க.

- I. ICAR பொதுவாக பூசா நிறுவனம் என்று அழைக்கப்படுகிறது.
II. IARI ஆனது ICAR ஆல் நிதியளிக்கப்பட்டு நிர்வகிக்கப்படுகிறது.

மேற்கண்ட கூற்றுகளில் சரியானது எது/எவை?

- A) I மட்டும்
B) II மட்டும்
C) இரண்டும்
D) இரண்டுமில்லை
E) விடை தெரியவில்லை

103. Which of the following is/are correctly matched?

- I. Chrysopa spp – Bio fertiliser
II. Trichoderma Viride – Bacterial bio-pesticide
III. Bacillus thuringiensis – Fungal bio-pesticide
IV. Azadirachtin – Bio repellent

Codes:

- A) I, II and III only
B) II and III only
C) IV only
D) I and IV only
E) Answer not known

பின்வருவனவற்றுள் எது/எவை சரியாக பொருந்தியுள்ளன?

- I. கிரிசோபா சிற்றினம் – உயிரி - உரங்கள்
II. டிரைக்கோடெர்மா விரிடி – பாக்டீரியா உயிரி பூச்சிக்கொல்லி
III. பேசிலஸ் துரிஞ்சியென்சிஸ் – பூஞ்சை உயிரி -பூச்சிக்கொல்லி
IV. அசாடிராக்க்டின் – உயிரி - பூச்சி விரட்டி

குறியீடுகள்:

- A) I, II மற்றும் III மட்டும்
B) II மற்றும் III மட்டும்
C) IV மட்டும்
D) I மற்றும் IV மட்டும்
E) விடை தெரியவில்லை

104. Consider the following statements.

- I. ICAR functions under the Ministry of Agriculture.
II. The union minister of agriculture serves as the president of ICAR.

Which of the statements given above is/are correct?

- A) I only
B) II only
C) Both I and II
D) Neither I nor II
E) Answer not known



பின்வரும் கூற்றுகளைக் கருத்தில் கொள்க.

I. ICAR, வேளாண் துறை அமைச்சகத்தின் கீழ் செயல்படுகிறது.

II. மத்திய வேளாண் துறை அமைச்சர் ICAR-இன் தலைவராகப் பணியாற்றுகிறார்.

மேற்கண்ட கூற்றுகளில் சரியானது எது/எவை?

A) I மட்டும்

B) II மட்டும்

C) இரண்டும்

D) இரண்டுமில்லை

E) விடை தெரியவில்லை

105. Consider the following statements.

I. Acharya Jagadish Chandra Bose Indian Botanic Garden was earlier called Royal Botanic Garden.

II. Royal Botanical Garden is located in Mumbai.

Which of the statements given above is/are incorrect?

A) I only

B) II only

C) Both I and II

D) Neither I nor II

E) Answer not known

பின்வரும் கூற்றுகளைக் கருத்தில் கொள்க.

I. ஆச்சார்யா ஜெகதீஸ் சந்திர போஸ் இந்திய தாவரவியல் தோட்டம் ஆரம்பத்தில் ராயல் – தாவரவியல் தோட்டம் என்று அழைக்கப்பட்டது.

II. ராயல் தாவரவியல் தோட்டம் மும்பையில் உள்ளது.

மேற்கண்ட கூற்றுகளில் தவறானது எது/எவை?

A) I மட்டும்

B) II மட்டும்

C) இரண்டும்

D) இரண்டுமில்லை

E) விடை தெரியவில்லை

106. Identify the wrong statement.

A) The Kingdom is the highest taxonomic category.

B) A number of related families having common characters are placed in an Order.

C) Species is the lowest taxonomic category.

D) Genus is a group of genera with several common characters.

E) Answer not known

தவறான கூற்றைக் கண்டறிக.

A) உலகம் என்பது மிகப்பெரிய வகைப்பாட்டியல் பிரிவாகும்.

B) பொதுவான பண்புகளால் ஒன்றோடொன்று தொடர்புடைய பல வகுப்புகள் அனைத்தும் ஒரு வரிசையில் வைக்கப்படுகின்றன.

C) சிற்றினம் என்பது வகைப்பாட்டியலின் கடைசியான வகையாகும்.

D) பல பொதுவான பண்புகளையுடைய, பல்வகை ஜெனிராக்கள் ஒன்றாக சேர்ந்து ஒரு பேரினத்தை உருவாக்குகின்றன.

E) விடை தெரியவில்லை



107. Consider the following statements.

- I. Germ layers are formed during the development of an embryo.
II. Hydra is a triploblastic animal.

Which of the statements given above is/are correct?

- A) I only
B) II only
C) Both I and II
D) Neither I nor II
E) Answer not known

பின்வரும் கூற்றுகளைக் கருத்தில் கொள்க.

- I. கரு மூல அடுக்குகள், கரு உருவாக்கத்தின் பொழுது உருவாக்கப்படுகின்றன.
II. ஹைட்ரா ஒரு ட்ரிப்ளோபிளாஸ்டிக் விலங்கு ஆகும்.

மேற்கண்ட கூற்றுகளில் சரியானது எது/எவை?

- A) I மட்டும்
B) II மட்டும்
C) இரண்டும்
D) இரண்டுமில்லை
E) விடை தெரியவில்லை

108. Consider the following statements.

- I. Coelom separates the digestive tract from the body wall.
II. Coelom is located within the mesoderm.

Which of the statements given above is/are incorrect?

- A) I only
B) II only
C) Both I and II
D) Neither I nor II
E) Answer not known

பின்வரும் கூற்றுகளைக் கருத்தில் கொள்க.

- I. உடற்குழியானது உடல் சுவற்றிலிருந்து உணவுப்பாதையைப் பிரிக்கிறது.
II. உடற்குழி என்பது நடு அடுக்கினுள்ளே அமைந்துள்ளது.

மேற்கண்ட கூற்றுகளில் தவறானது எது/எவை?

- A) I மட்டும்
B) II மட்டும்
C) இரண்டும்
D) இரண்டுமில்லை
E) விடை தெரியவில்லை

109. Find out the correctly matched pair.

- A) Acoelomates - Tapeworm
B) Pseudocoelomates - Roundworm
C) Eucoelomates - Earthworm
D) All of the above
E) Answer not known

சரியாக பொருந்தியுள்ள இணையைக் கண்டறிக.

- A) உடற்குழி அற்றவை - நாடாப்புழு
B) பொய்யான உடற்குழி கொண்டவை - உருளைப்புழு
C) உண்மையான உடற்குழி உடையவை - மண்புழு
D) மேற்கண்ட அனைத்தும்
E) விடை தெரியவில்லை



110. Consider the following statements.

- I. Animals which do not possess notochord are called Invertebrates
II. Animals which possess notochord or backbone are called Chordates.

Which of the statements given above is/are incorrect?

- A) I only
B) II only
C) Both I and II
D) Neither I nor II
E) Answer not known

பின்வரும் கூற்றுகளைக் கருத்தில் கொள்க.

- I. முதுகு நாண் இல்லாத விலங்குகள் முதுகு நாணற்றவை என்று அழைக்கப்படுகின்றன.
II. முதுகுநாண் உள்ள விலங்குகள் முதுகு நாணுள்ளவை என்று அழைக்கப்படுகின்றன.

மேற்கண்ட கூற்றுகளில் தவறானது எது/எவை?

- A) I மட்டும்
B) II மட்டும்
C) இரண்டும்
D) இரண்டுமில்லை
E) விடை தெரியவில்லை

111. Match List-I with List-II.

List-I

(Common name)

- a) Tapeworm
b) Roundworm
c) Snail
d) Frog
e) Crow

List-II

(Binomial name)

1. Corvus splendens
2. Ascaris lumbricoides
3. Rana hexadactyla
4. Pila globosa
5. Taenia solium

Codes:

- | | a | b | c | d | e |
|----|----------|----------|----------|----------|----------|
| A) | 5 | 4 | 2 | 3 | 1 |
| B) | 4 | 5 | 2 | 3 | 1 |
| C) | 5 | 2 | 4 | 3 | 1 |
| D) | 4 | 2 | 3 | 5 | 1 |

E) Answer not known

பட்டியல்-Iஐ பட்டியல்-II உடன் பொருத்துக.

பட்டியல்-I

(பொதுப் பெயர்)

- a) நாடாப்புழு
b) உருளைப் புழு
c) நத்தை
d) தவளை
e) காகம்

பட்டியல்-II

(இரு சொற்பெயர்)

1. கார்வஸ் ஸ்பெலன்டென்ஸ்
2. அஸ்காரிஸ் லும்ப்ரிகாய்ட்ஸ்
3. ராணா ஹெக்ஸாடாக்டைலா
4. பைலா குளோபோசா
5. டீனியா சோலியம்



குறியீடுகள்:

	a	b	c	d	e
A)	5	4	2	3	1
B)	4	5	2	3	1
C)	5	2	4	3	1
D)	4	2	3	5	1

E) விடை தெரியவில்லை

112. Which of the following is/are incorrectly matched?

- I. Phylum Porifera – Roundworms
II. Phylum Platyhelminthes – Flatworms
III. Phylum Coelenterata – Cnidaria
IV. Phylum Aschelminthes – Pore bearers

Codes:

- A) I, II and III only
B) II, III and IV only
C) III and IV only
D) I and IV only
E) Answer not known

பின்வருவனவற்றுள் எது/எவை தவறாக பொருந்தியுள்ளன?

- I. தொகுதி – துளையுடலிகள் – உருளைப்புழுக்கள்
II. தொகுதி – தட்டைப் புழுக்கள் – தட்டைப் புழுக்கள்
III. தொகுதி – குழியுடலிகள் – சீலென்டிரேட்டா
IV. தொகுதி – நிமட்டோடா – போரிஃபெரா

குறியீடுகள்:

- A) I, II மற்றும் III மட்டும்
B) II, III மற்றும் IV மட்டும்
C) III மற்றும் IV மட்டும்
D) I மற்றும் IV மட்டும்
E) விடை தெரியவில்லை

113. What is the substance which separates the outer ectoderm and the inner endoderm in Cnidaria?

- A) Coelenteron
B) Mesoglea
C) Tentacles
D) Nematocyst
E) Answer not known

சீலென்டிரேட்டாவில் உள்ள உடல் சுவற்றில் புற அடுக்கு (ectoderm) மற்றும் அக அடுக்கை (endoderm) பிரிக்கும் பொருள் எது?

- A) சீலன்ட்ரான்
B) மீசோகிளியா
C) டெண்டக்கிள்ஸ்
D) நெமடோசிஸ்ட்
E) விடை தெரியவில்லை

114. Consider the following statements.

- I. Annelida is the largest phylum of the animal kingdom.
II. Cockroaches come under Phylum Arthropoda.

Which of the statements given above is/are incorrect?

- A) I only
B) II only
C) Both I and II
D) Neither I nor II
E) Answer not known



பின்வரும் கூற்றுகளைக் கருத்தில் கொள்க.

- I. அன்னலிடா விலங்குலத்தின் மிகப்பெரிய தொகுதி ஆகும்.
II. கர்ப்பான் பூச்சிகள், தொகுதி கணுக்காலிகளின் கீழ் வருகின்றன.
மேற்கண்ட கூற்றுகளில் தவறானது எது/எவை?

- A) I மட்டும்
B) II மட்டும்
C) இரண்டும்
D) இரண்டுமில்லை
E) விடை தெரியவில்லை

115. Which is the only invertebrate that is capable of emotion, self awareness, personality and even relationships with humans?

- A) Jellyfish
B) Earthworm
C) Snail
D) Octopus
E) Answer not known

உணர்ச்சி, தன்விழிப்புணர்வு, ஆளுமை, அறிவாற்றல், தனித்தன்மை மற்றும் மனிதர்களுடனான தொடர்பு போன்ற பண்புகளைக் கொண்ட ஒரே முதுகு நாண் அற்ற உயிரினம் எது?

- A) ஜெல்லி மீன்
B) மண்பழு
C) நத்தை
D) ஆக்டோபஸ்
E) விடை தெரியவில்லை

116. Find out the incorrectly matched pair.

- | (Organism) | (Class) |
|---------------------|----------------|
| A) Hagfish | - Cyclostomata |
| B) Shark | - Pisces |
| C) Toad | - Aves |
| D) Turtle | - Reptilia |
| E) Answer not known | |

தவறாகப் பொருந்தியுள்ள இணையைக் கண்டறிக

- | (உயிரினம்) | (வகுப்பு) |
|---------------------|------------------|
| A) ஹேக் மீன் | - வட்டவாயுடையன |
| B) சுறா | - மீன்கள் |
| C) தேரை | - பறப்பன |
| D) ஆமை | - ஊர்வன |
| E) விடை தெரியவில்லை | |

117. Which one of the following pairs is not a poikilothermic animal?

- A) Reptiles and Mammals
B) Amphibians and Aves
C) Aves and Mammals
D) Fishes and Amphibians
E) Answer not known

பின்வரும் இணைகளில் எது குளிர் இரத்தப்பிராணி அல்ல?

- A) ஊர்வன மற்றும் பாலூட்டிகள்
B) இருவாழ்விகள் மற்றும் பறவைகள்
C) பறவைகள் மற்றும் பாலூட்டிகள்
D) மீன்கள் மற்றும் இருவாழ்விகள்
E) விடை தெரியவில்லை



118. Consider the following statements.

- I. Philippine goby is the smallest vertebrate.
II. The Chinese giant salamander is the largest amphibian in the world.
Which of the statements given above is/are incorrect?

- A) I only
B) II only
C) Both I and II
D) Neither I nor II
E) Answer not known

பின்வரும் கூற்றுகளைக் கருத்தில் கொள்க.

- I. பிலிப்பைன்ஸ் கோபி என்பது மிகச்சிறிய முதுகெலும்பியாகும்.
II. சீனாவின் ராட்சத சாலமண்டர் உலகின் மிகப்பெரிய இருவாழ்வி ஆகும்.
மேற்கண்ட கூற்றுகளில் தவறானது எது/எவை?

- A) I மட்டும்
B) II மட்டும்
C) இரண்டும்
D) இரண்டுமில்லை
E) விடை தெரியவில்லை

119. Consider the following statements.

- I. Crocodile is an animal with four chambered heart.
II. Acrania is an animal which has no skull.
Which of the statements given above is/are correct?

- A) I only
B) II only
C) Both I and II
D) Neither I nor II
E) Answer not known

பின்வரும் கூற்றுகளைக் கருத்தில் கொள்க.

- I. முதலைகள் இதயத்தில் நான்கு அறை கொண்ட விலங்கு ஆகும்.
II. ஏக்ரேனியா என்பது மண்டையோடற்ற விலங்கு ஆகும்.
மேற்கண்ட கூற்றுகளில் சரியானது எது/எவை?

- A) I மட்டும்
B) II மட்டும்
C) இரண்டும்
D) இரண்டுமில்லை
E) விடை தெரியவில்லை

120. Choose the incorrect option from the following regarding the characteristic features of Meristematic tissues.

- A) They undergo mitotic cell division.
B) They are living cells.
C) They do store food materials.
D) They have large nuclei and small vacuoles.
E) Answer not known

ஆக்குத்திசுக்களின் சிறப்புப் பண்புகளைப் பற்றி பின்வருவனவற்றிலிருந்து தவறானதைத் தேர்ந்தெடுக்க.

- A) மைட்டாஸிஸ் செல்பகுப்புக்கு உட்படக்கூடியவை.
B) உயிர் உள்ள செல்களால் ஆனவை.
C) இவை உணவை சேமிக்கின்றன.
D) பெரிய நியூக்ளியஸ் மற்றும் சிறிய குமிழ்களைக் கொண்டுள்ளன.
E) விடை தெரியவில்லை



121. Consider the following statements.

- I. Xylem conducts organic solutes or food materials.
- II. Phloem is a conducting tissue which conducts water upward from root to leaves.

Which of the statements given above is/are incorrect?

- A) I only
- B) II only
- C) Both I and II
- D) Neither I nor II
- E) Answer not known

பின்வரும் கூற்றுகளைக் கருத்தில் கொள்க.

- I. சைலம், கரிமக் கரைபொருட்கள் அல்லது உணவுப் பொருட்களைக் கடத்துகின்றன.
- II. புளோயம் என்ற கடத்து திசுவானது நீரினை வேரிலிருந்து தாவரத்தின் மேல் பகுதியிலுள்ள இலைகளுக்கு கடத்துகிறது.

மேற்கண்ட கூற்றுகளில் தவறானது எது/எவை?

- A) I மட்டும்
- B) II மட்டும்
- C) இரண்டும்
- D) இரண்டுமில்லை
- E) விடை தெரியவில்லை

122. Consider the following statements.

- I. Parenchyma are simple permanent tissues composed of living cells.
- II. Sclerenchyma is a living tissue found beneath the epidermis.
- III. When exposed to light, parenchyma cells may develop into chlorenchyma.
- IV. Collenchyma cells are dead and do not possess living protoplasts at maturity

Which of the statements given above is/are correct?

- A) I and III only
- B) II, III and IV only
- C) III and IV only
- D) All of the above
- E) Answer not known

பின்வரும் கூற்றுகளைக் கருத்தில் கொள்க.

- I. பாரன்கைமா உயிருள்ள செல்களால் ஆன எளிய நிலைத்த திசுக்கள் ஆகும்.
- II. ஸ்கிரென்கைமா புறத்தோலுக்குக் கீழேயுள்ள உயிருள்ள திசுவாகும்.
- III. பாரன்கைமா திசுக்கள் மீது ஒளிபடும் பொழுது அவை பசுங்கணிகங்களை உற்பத்தி செய்கின்றன. அப்பொழுது அவை குளோரன்கைமா எனப்படும்.
- IV. கோலன்கைமா செல்கள் முதிர்ந்த நிலையில் புரோட்டோபிளாஸம் அற்றுக் காணப்படும் இறந்த செல்களாகும்.

மேற்கண்ட கூற்றுகளில் சரியானது எது/எவை?

- A) I மற்றும் III மட்டும்
- B) II, III மற்றும் IV மட்டும்
- C) III மற்றும் IV மட்டும்
- D) மேற்கண்ட அனைத்தும்
- E) விடை தெரியவில்லை

123. Consider the following statements regarding permanent tissue.

- I. Cell wall is thick.
- II. Nucleus is large and prominent.
- III. Intercellular spaces present.
- IV. Cells do not normally divide



Which of the statements given above is/are correct?

- A) I, II and III only
B) II, III and IV only
C) I, III and IV only
D) All the above
E) Answer not known

நிலைத்திசு பற்றிய பின்வரும் கூற்றுகளைக் கருத்தில் கொள்க.

- I. செல் சுவர் தடித்தது.
II. நியூக்ளியஸ் பெரியது மற்றும் முக்கியத்துவம் பெற்றது.
III. செல்களுக்கு இடையே இடைவெளி உண்டு.
IV. செல்கள் சாதாரணமாக பகுப்படைவதில்லை.

மேற்கண்ட கூற்றுகளில் சரியானவை எவை?

- A) I, II மற்றும் III மட்டும்
B) II, III மற்றும் IV மட்டும்
C) I, III மற்றும் IV மட்டும்
D) மேற்கண்ட அனைத்தும்
E) விடை தெரியவில்லை

124. Identify the functions of epithelial tissues.

- I. They help in absorption of water and nutrients.
II. They are involved in the elimination of waste products.
III. They do not perform secretory function.
IV. Protects the underlying cells from drying, injury and microbial infections.

Codes:

- A) I, II and III only
B) II, III and IV only
C) I, II and IV only
D) All of the above
E) Answer not known

எபிதீலியத் திசுக்களின் செயல்பாடுகளைக் காண்க.

- I. இவை நீர் மற்றும் சத்துக்களை உறிஞ்ச உதவுகின்றன.
II. கழிவுப் பொருள்களை நீக்கும் பணியில் ஈடுபடுகின்றன
III. இவை சுரத்தலில் செயல்படுவதில்லை.
IV. காயங்கள், வறண்டு போதல் மற்றும் நோய்க்கிருமிகள் புகுதலில் இருந்து உடலைப் பாதுகாக்கின்றன.

குறியீடுகள்:

- A) I, II மற்றும் III மட்டும்
B) II, III மற்றும் IV மட்டும்
C) I, II மற்றும் IV மட்டும்
D) மேற்கண்ட அனைத்தும்
E) விடை தெரியவில்லை

125. Consider the following statements.

- I. Tendons have great strength and limited flexibility.
II. Ligaments connect bones to muscles.

Which of the statements given above is/are incorrect?

- A) I only
B) II only
C) Both I and II
D) Neither I nor II
E) Answer not known



பின்வரும் கூற்றுகளைக் கருத்தில் கொள்க.

I. தசைநாண்கள் அதிக வலிமை மற்றும் குறைந்த நெகிழ்வுடையவை.

II. தசைநார்கள் எலும்புகளை தசைகளுடன் இணைக்கின்றன.

மேற்கண்ட கூற்றுகளில் தவறானது எது/எவை?

- A) I மட்டும்
B) II மட்டும்
C) இரண்டும்
D) இரண்டுமில்லை
E) விடை தெரியவில்லை

126. Consider the following statements.

I. Red Blood corpuscles contain distinct nucleus.

II. White blood corpuscles have no nucleus.

Which of the statements given above is/are correct?

- A) I only
B) II only
C) Both I and II
D) Neither I nor II
E) Answer not known

பின்வரும் கூற்றுகளைக் கருத்தில் கொள்க.

I. சிவப்பு இரத்த அணுக்கள் தெளிவான உட்கருவைக் கொண்டவை.

II. வெள்ளை இரத்த அணுக்களுக்கு உட்கரு இல்லை.

மேற்கண்ட கூற்றுகளில் சரியானது எது/எவை?

- A) I மட்டும்
B) II மட்டும்
C) இரண்டும்
D) இரண்டுமில்லை
E) விடை தெரியவில்லை

127. Find out the correctly matched pair.

- A) Amitosis – Indirect Division
B) Mitosis – Equational Division
C) Meiosis – Reduction Division
D) Both B and C
E) Answer not known

சரியாகப் பொருந்திய இணையைக் கண்டறிக.

- A) ஏமைட்டாசிஸ் – மறைமுக பகுப்பு
B) மைட்டாசிஸ் – சம பகுப்பு
C) மியாசிஸ் – குன்றல் பகுப்பு
D) B மற்றும் C இரண்டும்
E) விடை தெரியவில்லை

128. Consider the following statements.

I. Karyokinesis is an event in Mitosis.

II. Cytokinesis is an event in Meiosis.

Which of the statements given above is/are incorrect?

- A) I only
B) II only
C) Both I and II
D) Neither I nor II
E) Answer not known



பின்வரும் கூற்றுகளைக் கருத்தில் கொள்க.

I. கேரியோகைனசிஸ் என்பது மைட்டாசிஸின் ஒரு நிலையாகும்.

II. சைட்டோபிளாச பகுப்பு என்பது மியாசிஸின் ஒரு நிலையாகும்.

மேற்கண்ட கூற்றுகளில் தவறானது எது/எவை?

A) I மட்டும்

B) II மட்டும்

C) இரண்டும்

D) இரண்டுமில்லை

E) விடை தெரியவில்லை

129. Consider the following statements.

I. Zygotene and Pachytene are the stages of the Homotypic Division.

II. Diplotene and Diakinesis are the stages of the Heterotypic Division.

Which of the statements given above is/are correct?

A) I only

B) II only

C) Both I and II

D) Neither I nor II

E) Answer not known

பின்வரும் கூற்றுகளைக் கருத்தில் கொள்க.

I. சைக்கோடீன் மற்றும் பேக்கிடீன் ஆகியவை ஹோமோடைபிக் பகுப்பாகும்.

II. டிப்ளோடீன் மற்றும் டயாகைனசிஸ் ஆகியவை ஹெட்டோரோடைபிக் பகுப்பாகும்.

மேற்கண்ட கூற்றுகளில் சரியானது எது/எவை?

A) I மட்டும்

B) II மட்டும்

C) இரண்டும்

D) இரண்டுமில்லை

E) விடை தெரியவில்லை

130. The chromosomes become uncoiled and assume long thread like structures and take up a specific orientation inside the nucleus. They form a bouquet stage.

Which one of the following is referred to in the above passage?

A) Leptotene

B) Zygotene

C) Pachytene

D) Diplotene

E) Answer not known

குரோமோசோம்கள் சுருள் பிரிந்து நீண்ட நூல் போன்ற அமைப்பைப் பெற்று உட்கருவினுள் குறிப்பிட்ட ஒருங்கமைப்பில் இருக்கின்றன. இவை பூங்கொத்து போன்ற அமைப்பு நிலையைப் பெற்றுள்ளன.

பின்வருவனவற்றில் எது சிறப்பாக பத்தியில் குறிப்பிடப்பட்டுள்ளது?

A) லெப்டோடீன்

B) சைக்கோடீன்

C) பேக்கிடீன்

D) டிப்ளோடீன்

E) விடை தெரியவில்லை

131. Consider the following statements.

I. Mitosis occurs in somatic cells.

II. Meiosis occurs in reproductive cells.

Which of the statements given above is/are incorrect?

A) I only

B) II only

C) Both I and II

D) Neither I nor II

E) Answer not known



பின்வரும் கூற்றுகளைக் கருத்தில் கொள்க.

I. உடல் செல்களில் மைட்டாசிஸ் ஏற்படுகிறது.

II. இனச் செல்களில் மியாசிஸ் ஏற்படுகிறது.

மேற்கண்ட கூற்றுகளில் தவறானது எது/எவை?

A) I மட்டும்

B) II மட்டும்

C) இரண்டும்

D) இரண்டுமில்லை

E) விடை தெரியவில்லை

132. Match List-I with List-II.

List-I

List-II

a) Sclereids

1. Xylem

b) Simple tissue

2. Collenchyma

c) Companion cell

3. Phloem

d) Tracheids

4. Sclerenchyma

Codes:

a b c d

A) 4 2 3 1

B) 2 1 3 4

C) 3 2 1 4

D) 4 1 2 3

E) Answer not known

பட்டியல்-Iஐ பட்டியல்-II உடன் பொருத்துக.

பட்டியல்-I

பட்டியல்-II

a) ஸ்கிரைடுகள்

1. சைலம்

b) எளிய திசு

2. கோலன்கைமா

c) துணை செல்

3. புளோயம்

d) டிராக்டீடுகள்

4. ஸ்கிரீரன்கைமா

குறியீடுகள்:

a b c d

A) 4 2 3 1

B) 2 1 3 4

C) 3 2 1 4

D) 4 1 2 3

E) விடை தெரியவில்லை

133. Consider the following statements.

I. Bone and cartilage are two types of areolar connective tissues.

II. Adipose tissue is a supportive connective tissue.

Which of the statements given above is/are correct?

A) I only

B) II only

C) Both I and II

D) Neither I nor II

E) Answer not known

பின்வரும் கூற்றுகளைக் கருத்தில் கொள்க.

I. எலும்பு மற்றும் குருந்தெலும்பு ஆகியவை சிற்றிட இணைப்புத் திசுவின் இருவகையாகும்

II. ஆதார இணைப்புத் திசு என்பது சிற்றிட இணைப்புத் திசு ஆகும்.



மேற்கண்ட கூற்றுகளில் சரியானது எது/எவை?

- A) I மட்டும்
B) II மட்டும்
C) இரண்டும்
D) இரண்டுமில்லை
E) விடை தெரியவில்லை

134. Consider the following statements.

I. Sclerenchyma is a Complex tissue.

II. Xylem and Phloem are permanent tissues.

Which of the statements given above is/are incorrect?

- A) I only
B) II only
C) Both I and II
D) Neither I nor II
E) Answer not known

பின்வரும் கூற்றுகளைக் கருத்தில் கொள்க.

I. ஸ்கிரென்கைமா ஒரு கூட்டுத் திசுவாகும்.

II. சைலம் மற்றும் புளோயம் ஆகியவை நிலைத்த திசுக்களாகும்.

மேற்கண்ட கூற்றுகளில் தவறானது எது/எவை?

- A) I மட்டும்
B) II மட்டும்
C) இரண்டும்
D) இரண்டுமில்லை
E) விடை தெரியவில்லை

135. Which cells are replaced with a duration between 300 and 500 days?

- A) Skin cells
B) Bone cells
C) Liver cells
D) Red blood cells
E) Answer not known

300 முதல் 500 நாட்கள் வரை எந்த செல்கள் இழப்பு மீட்பு தன்மை கொண்டவை ?

- A) தோல் செல்கள்
B) எலும்பு செல்கள்
C) கல்லீரல் செல்கள்
D) இரத்த சிவப்பணு செல்கள்
E) விடை தெரியவில்லை

136. Consider the following statements.

I. Teeth in human beings are diphyodont but not thecodont.

II. Permanent teeth are of four types in human beings.

Which of the statements given above is/are incorrect?

- A) I only
B) II only
C) Both I and II
D) Neither I nor II
E) Answer not known

பின்வரும் கூற்றுகளைக் கருத்தில் கொள்க.

I. மனிதர்களில் உள்ள பற்கள் டைபியோடாண்ட் ஆனால் தீக்கோடாண்ட் அல்ல.

II. மனிதர்களில் நிரந்தர பற்கள் நான்கு வகைப்படும்.

மேற்கண்ட கூற்றுகளில் தவறானது எது/எவை ?

- A) I மட்டும்
B) II மட்டும்
C) இரண்டும்
D) இரண்டுமில்லை
E) விடை தெரியவில்லை



137. Match List-I with List-II.

List-I

(Types of teeth)

- Incisors
- Canines
- Premolars
- Molars

List-II

(Functions)

- Tearing and piercing
- Crushing and grinding
- Cutting and biting
- Mastication

Codes:

- | | a | b | c | d |
|----|----------|----------|----------|----------|
| A) | 4 | 2 | 3 | 1 |
| B) | 2 | 1 | 3 | 4 |
| C) | 3 | 2 | 1 | 4 |
| D) | 3 | 1 | 2 | 4 |

E) Answer not known

பட்டியல்-Iஐ பட்டியல்-II உடன் பொருத்துக.

பட்டியல்-I

(பற்களின் வகைகள்)

- வெட்டும் பற்கள்
- கோரைப்பற்கள்
- முன்கடைவாய் பற்கள்
- பின்கடைவாய் பற்கள்

பட்டியல்-II

(செயல்பாடுகள்)

- கிழிக்கும் தன்மை
- நசுக்குதல் மற்றும் அரைத்தல்
- வெட்டுதல் மற்றும் கடித்தல்
- மெல்லுதல்

குறியீடுகள்:

- | | a | b | c | d |
|----|----------|----------|----------|----------|
| A) | 4 | 2 | 3 | 1 |
| B) | 2 | 1 | 3 | 4 |
| C) | 3 | 2 | 1 | 4 |
| D) | 3 | 1 | 2 | 4 |

E) விடை தெரியவில்லை

138. Consider the following statements.

- Parotid glands are the largest salivary glands, which lie in the cheeks in front of the ears.
- Submaxillary glands are the smallest glands and lie beneath the tongue.

Which of the statements given above is/are correct?

- I only
- II only
- Both I and II
- Neither I nor II
- Answer not known



பின்வரும் கூற்றுக்களைக் கருத்தில் கொள்க.

- I. பரோடிட் சுரப்பிகள் மிகப்பெரிய உமிழ்நீர் சுரப்பிகள் ஆகும்; இவை இரு கன்னங்களிலும், காதுக்குக் கீழே அமைந்துள்ளன.
- II. சப்மேக்ஸில்லரி சுரப்பிகள் மிகச்சிறிய சுரப்பிகள் ஆகும்; மேலும் இவை நாவின் அடிப்புறத்தில் அமைந்துள்ளன.

மேற்கண்ட கூற்றுக்களில் சரியானது எது/எவை ?

- A) I மட்டும்
B) II மட்டும்
C) இரண்டும்
D) இரண்டுமில்லை
E) விடை தெரியவில்லை

139. Match List-I with List-II.

List-I (Glands)	List-II (Enzymes)
a) Salivary glands	1. Trypsin
b) Gastric glands	2. Renin
c) Pancreas	3. Lipase
d) Intestinal glands	4. Ptyalin

Codes:

	a	b	c	d
A)	4	2	1	3
B)	2	1	3	4
C)	3	2	1	4
D)	4	1	2	3

E) Answer not known

பட்டியல்-Iஐ பட்டியல்-II உடன் பொருத்துக

பட்டியல்-I (சுரப்பிகள்)	பட்டியல்-II (என்சைம்கள்)
a) உமிழ்நீர் சுரப்பிகள்	1. டிரிப்சின்
b) இரைப்பை சுரப்பிகள்	2. ரெனின்
c) கணையம்	3. லிபேஸ்
d) குடல் சுரப்பிகள்	4. டயலின்

குறியீடுகள்:

	a	b	c	d
A)	4	2	1	3
B)	2	1	3	4
C)	3	2	1	4
D)	4	1	2	3

E) விடை தெரியவில்லை



140. Which of the following organ produces fibrinogen and prothrombin used for clotting of blood?

- A) Pancreas
B) Liver
C) Small intestine
D) Large intestine
E) Answer not known

இரத்தம் உறைவதற்குப் பயன்படுத்தப்படும் ஃபைப்ரினோஜென் மற்றும் புரோத்ராம்பின் ஆகியவற்றை பின்வரும் உறுப்புகளில் எது உற்பத்தி செய்கிறது?

- A) கணையம்
B) கல்லீரல்
C) சிறுகுடல்
D) பெருங்குடல்
E) விடை தெரியவில்லை

141. _____ is a muscular flap-like structure which prevents the food from entering into trachea.

- A) Glottis
B) Epiglottis
C) Oesophagus
D) None of the above
E) Answer not known

_____ என்பது ஒரு தசை மடல் போன்ற அமைப்பாகும், இது உணவு மூச்சுக்குழாயில் நுழைவதைத் தடுக்கிறது.

- A) கிளாட்டிஸ்
B) எபிகிளாட்டிஸ்
C) உணவுக்குழாய்
D) மேற்கண்ட எதுவுமில்லை
E) விடை தெரியவில்லை

142. Consider the following statements.

- I. Renin causes curdling of milk protein caesin and increases digestion of proteins.
II. Rennin converts angiotensinogen to angiotensin and regulates the absorption of water and Na⁺ from glomerular filtrate.

Which of the statements given above is/are correct?

- A) I only
B) II only
C) Both I and II
D) Neither I nor II
E) Answer not known

பின்வரும் கூற்றுகளைக் கருத்தில் கொள்க.

- I. ரெனின், பால் புரதமாகிய கேசின்னை உறைய வைக்கிறது மற்றும் புரதம் செரிமானமாவதை அதிகரிக்கிறது.
II. ரெனின் ஆன்ஜியோடென்சினோஜென்னை ஆன்ஜியோடென்சின்னாக மாற்றுகிறது; மற்றும் சிறுநீரக வடிநீர்மத்திலிருந்து நீரையும் சோடியத்தையும் சீராக உறிஞ்சச் செய்கிறது.

மேற்கண்ட கூற்றுகளில் சரியானது எது/எவை?

- A) I மட்டும்
B) II மட்டும்
C) இரண்டும்
D) இரண்டுமில்லை
E) விடை தெரியவில்லை

143. Consider the following statements regarding pancreas

- I. It acts both as an exocrine gland and as an endocrine gland.
II. Islets of Langerhans is located in the gland's lower surface.
III. α (alpha) cells secrete insulin and β (beta) cells secrete glucagon.
IV. Pancreatic juice contains lipase, trypsin and amylase.



Which of the statements given above are correct?

- A) I, II and III only
B) III and IV only
C) I and IV only
D) All of the above
E) Answer not known

கணையம் தொடர்பான பின்வரும் கூற்றுகளைக் கருத்தில் கொள்க

- I. கணையமானது நாளமுள்ள சுரப்பியாகவும் நாளமில்லா சுரப்பியாவும் செயலாற்றுகிறது..
II. இதன் கீழ்புறத்தில் லாங்கர்கான் திட்டுகள் காணப்படுகின்றன.
III. α (ஆல்பா) செல்கள் இன்சலினையும், β (பீட்டா) செல்கள் குளுகோகானையும் சுரக்கின்றன.
IV. கணைய நீர் லிப்பேஸ், டிரிப்சின் மற்றும் அமைலேஸ் ஆகியவற்றைக் கொண்டுள்ளது.
மேற்கண்ட கூற்றுகளில் சரியானவை எவை?

- A) I, II மற்றும் III மட்டும்
B) III மற்றும் IV மட்டும்
C) I மற்றும் IV மட்டும்
D) மேற்கண்ட அனைத்தும்
E) விடை தெரியவில்லை

144. Consider the following statements.

- I. Oesophagus or the food pipe is a muscular-membranous canal about 24 cm in length.
II. Oesophagus conducts food from pharynx to the stomach by peristalsis.

Which of the statements given above is/are correct?

- A) I only
B) II only
C) Both I and II
D) Neither I nor II
E) Answer not known

பின்வரும் கூற்றுகளைக் கருத்தில் கொள்க.

- I. உணவுக் குழல் 24 செ.மீ நீளமுள்ள தசைப் படல குழல் ஆகும்.
II. இது தொண்டையிலிருந்து உணவினை இரைப்பைக்கு பெரிஸ்டால்சிஸ் என்னும் குடல் தசைச் சுவரின் சீரான சுருங்குதல் மற்றும் தளர்தல் (அலைபோன்ற இயக்கம்) போன்ற நிகழ்வால் கடத்துகிறது.

மேற்கண்ட கூற்றுகளில் சரியானது எது/எவை ?

- A) I மட்டும்
B) II மட்டும்
C) இரண்டும்
D) இரண்டுமில்லை
E) விடை தெரியவில்லை

145. The minute finger like projections called villi are present in which part of small intestine?

- A) Duodenum
B) Jejunum
C) Ileum
D) Both B and C
E) Answer not known

குடல் உறிஞ்சிகள் எனப்படும் சிறிய விரல் வடிவ நீட்சிகள் சிறுகுடலின் எந்தப் பகுதியில் உள்ளது?

- A) முன் சிறுகுடல்
B) பின் சிறுகுடல்
C) நடுச் சிறுகுடல்
D) B மற்றும் C இரண்டும்
E) விடை தெரியவில்லை



146. Consider the following statements.

I. The caecum is a small blind pouchlike structure situated at the junction of the small and large intestine.

II. Vermiform appendix is a vestigial organ in human beings.

Which of the statements given above is/are incorrect?

A) I only

B) II only

C) Both I and II

D) Neither I nor II

E) Answer not known

பின்வரும் கூற்றுக்களைக் கருத்தில் கொள்க.

I. சீக்கமானது, ஓர் சிறிய முட்டுப்பைப் போன்ற அமைப்பாகும். இது சிறுகுடல் மற்றும் பெருங்குடல் இணையும் இடத்திலுள்ளது.

II. குடல்வால் மனிதனில் காணப்படும் பயனற்ற, குறிப்பிட்ட பணி ஏதுமற்ற ஓர் எச்ச உறுப்பாகும்.

மேற்கண்ட கூற்றுக்களில் தவறானது எது/எவை?

A) I மட்டும்

B) II மட்டும்

C) இரண்டும்

D) இரண்டுமில்லை

E) விடை தெரியவில்லை

147. Arrange the mechanism of urine formation sequentially

A) Glomerular filtration → Tubular reabsorption → Tubular secretion

B) Tubular reabsorption → Glomerular filtration → Tubular secretion

C) Glomerular filtration → Tubular secretion → Tubular reabsorption

D) Tubular reabsorption → Tubular secretion → Glomerular filtration

E) Answer not known

சிறுநீர் உருவாகும் முறையை வரிசையாக ஒழுங்கமைக்கவும்

A) குளோமரூலார் வடிகட்டுதல் → குழல்களில் மீள உறிஞ்சப்படுதல் → குழல்களில் சுரத்தல்

B) குழல்களில் மீள உறிஞ்சப்படுதல் → குளோமரூலார் வடிகட்டுதல் → குழல்களில் சுரத்தல்

C) குளோமரூலார் வடிகட்டுதல் → குழல்களில் சுரத்தல் → குழல்களில் மீள உறிஞ்சப்படுதல்

D) குழல்களில் மீள உறிஞ்சப்படுதல் → குழல்களில் சுரத்தல் → குளோமரூலார் வடிகட்டுதல்

E) விடை தெரியவில்லை

148. The first successful kidney transplant was performed in which country?

A) India

B) USA

C) China

D) England

E) Answer not known

முதல் வெற்றிகரமான சிறுநீரக மாற்று அறுவை சிகிச்சை எந்த நாட்டில் செய்யப்பட்டது?

A) இந்தியா

B) அமெரிக்கா

C) சீனா

D) இங்கிலாந்து

E) விடை தெரியவில்லை

149. Consider the following statements.

I. Scrotum acts a thermoregulator organ and provides an optimum temperature for the formation of sperms.

II. The sperms develop at a temperature of 1-3⁰C higher than the normal body temperature.



Which of the statements given above is/are incorrect?

- A) I only
B) II only
C) Both I and II
D) Neither I nor II
E) Answer not known

பின்வரும் கூற்றுகளைக் கருத்தில் கொள்க.

- I. விரைப்பை வெப்பசீராக்கியாக (thermoregulator) செயலாற்றும் உறுப்பாகும். விந்துக்களை உருவாக்குவதற்குத் தேவையான உகந்த வெப்பநிலையை இது வழங்குகிறது.
II. சாதாரண உடல் வெப்பநிலையை விட $1-3^{\circ}C$ அதிக வெப்பநிலையில் விந்துணுக்கள் உருவாகின்றன.

மேற்கண்ட கூற்றுகளில் தவறானது எது/எவை ?

- A) I மட்டும்
B) II மட்டும்
C) இரண்டும்
D) இரண்டுமில்லை
E) விடை தெரியவில்லை

150. How many of the following pairs are correctly matched?

- I. Glucose – Monosaccharide
II. Sucrose – Polysaccharide
III. Cellulose – Disaccharide

Codes:

- A) 1 pair only
B) 2 pairs only
C) 3 pairs only
D) None of the above
E) Answer not known

பின்வரும் இணைகளில் எத்தனை இணைகள் சரியாகப் பொருந்தியுள்ளன ?

- I. குளுக்கோஸ் - ஒற்றைச் சர்க்கரை
II. சுகரோஸ் - கூட்டுச் சர்க்கரை
III. செல்லுலோஸ் - இரட்டைச் சர்க்கரை

குறியீடுகள்:

- A) 1 இணை மட்டும்
B) 2 இணைகள் மட்டும்
C) 3 இணைகள் மட்டும்
D) மேற்கண்ட எதுவுமில்லை
E) விடை தெரியவில்லை

151. Consider the following statements.

- I. Essential amino acids are those that are biosynthesized by the body.
II. There are twelve essential amino acids.

Which of the statements given above is/are incorrect?

- A) I only
B) II only
C) Both I and II
D) Neither I nor II
E) Answer not known

பின்வரும் கூற்றுகளைக் கருத்தில் கொள்க.

- I. அத்தியாவசியமான அமினோ அமிலங்கள் உடலிலேயே உற்பத்தி செய்யப்படுகின்றன.
II. பன்னிரண்டு அத்தியாவசிய அமினோ அமிலங்கள் உள்ளன.

மேற்கண்ட கூற்றுகளில் தவறானது எது/எவை?

- A) I மட்டும்
B) II மட்டும்
C) இரண்டும்
D) இரண்டுமில்லை
E) விடை தெரியவில்லை



152. Which of the following is not a macromineral?

- A) Calcium
B) Iodine
C) Phosphorus
D) Both B and C
E) Answer not known

பின்வருவனவற்றில் எது பெரும் தனிமங்கள் அல்ல ?

- A) கால்சியம்
B) அயோடின்
C) பாஸ்பரஸ்
D) B மற்றும் C ஆகிய இரண்டும்
E) விடை தெரியவில்லை

153. Match List-I with List-II.

List-I

List-II

- | | |
|--------------|-------------------------------|
| a) Vitamin A | 1. Prevents blood clotting |
| b) Vitamin D | 2. Nyctalopia |
| c) Vitamin E | 3. Rickets |
| d) Vitamin K | 4. Reproductive abnormalities |

Codes:

- | | a | b | c | d |
|----|----------|----------|----------|----------|
| A) | 4 | 2 | 3 | 1 |
| B) | 2 | 3 | 4 | 1 |
| C) | 3 | 2 | 1 | 4 |
| D) | 4 | 1 | 2 | 3 |

E) Answer not known

பட்டியல்-Iஐ பட்டியல்-II உடன் பொருத்துக.

பட்டியல்-I

பட்டியல்-II

- | | |
|----------------|----------------------------|
| a) வைட்டமின் A | 1. இரத்த உறைதலை தடுக்கிறது |
| b) வைட்டமின் D | 2. நிக்டலோபியா |
| c) வைட்டமின் E | 3. ரிக்கெட்ஸ் |
| d) வைட்டமின் K | 4. இனப்பெருக்க கோளாறுகள் |

குறியீடுகள்:

- | | a | b | c | d |
|----|----------|----------|----------|----------|
| A) | 4 | 2 | 3 | 1 |
| B) | 2 | 3 | 4 | 1 |
| C) | 3 | 2 | 1 | 4 |
| D) | 4 | 1 | 2 | 3 |

E) விடை தெரியவில்லை

154. How many of the following pairs are correctly matched?

(Vitamins)

(Chemical name)

- | | |
|-----------------|-------------------|
| I. Vitamin B1 | - Thiamine |
| II. Vitamin B3 | - Riboflavin |
| III. Vitamin B6 | - Pyridoxine |
| IV. Vitamin B12 | - Cyanocobalamine |

Codes:

- A) 1 pair only
B) 2 pairs only
C) 3 pairs only
D) All pairs
E) Answer not known



பின்வரும் இணைகளில் எத்தனை சரியாகப் பொருந்தியுள்ளன?

(வைட்டமின்கள்)

(வேதியியல் பெயர்)

- | | |
|-------------------|-----------------|
| I. வைட்டமின் B1 | - தயாமின் |
| II. வைட்டமின் B3 | - ரிபோஃப்ளேவின் |
| III. வைட்டமின் B6 | - பைரிடாக்சின் |
| IV. வைட்டமின் B12 | - சயனோகோபாலமைன் |

குறியீடுகள்:

- | | |
|---------------------|---------------------|
| A) 1 இணை மட்டும் | B) 2 இணைகள் மட்டும் |
| C) 3 இணைகள் மட்டும் | D) அனைத்து இணைகளும் |
| E) விடை தெரியவில்லை | |

155. It is a process of heat treatment of liquid food products. This process also involves boiling of milk to a temperature of 63°C for about 30 minutes and suddenly cooling to destroy the microbes present in the milk.

Which one of the following preservation method is described in the passage?

- | | |
|---------------------|----------------|
| A) Smoking | B) Irradiation |
| C) Pasteurization | D) Canning |
| E) Answer not known | |

இது திரவ நிலையில் உள்ள உணவுப் பொருள்களை வெப்பத்தின் மூலம் பதப்படுத்தும் செயல்முறை ஆகும். இந்த முறையில்பால் 63°C வெப்பநிலையில் 30 நிமிடங்கள் கொதிக்க வைக்கப்பட்டு உடனே குளிர்நட்டப்படுகிறது. இதனால் பாலில் உள்ள நுண்ணுயிரிகள் அழிக்கப்படுகின்றன.

பின்வரும் எந்த பாதுகாப்பு முறை பத்தியில் விவரிக்கப்பட்டுள்ளது?

- | | |
|---------------------|-----------------|
| A) புகையிடுதல் | B) கதிரியக்கம் |
| C) பாஸ்டர் பதனம் | D) பதப்படுத்தல் |
| E) விடை தெரியவில்லை | |

156. Consider the following statements.

Assertion (A) : Sugar/Honey is added as a preservative to increase the shelf life.

Reason (R) : Hygroscopic nature of sugar/honey helps in reducing the water content of food and also minimizes oxidation.

Codes:

- | |
|--|
| A) Both (A) and (R) are true and (R) is the correct explanation of (A) |
| B) Both (A) and (R) are true but (R) is not the correct explanation of (A) |
| C) (A) is true but (R) is false |
| D) (A) is false but (R) is true |
| E) Answer not known |

பின்வரும் கூற்றுகளைக் கருத்தில் கொள்க.

கூற்று (A) : சர்க்கரை/தேன் ஒரு பாதுகாப்புப் பொருளாக சேர்ப்பதன் மூலம் ஆயுள் காலத்தை அதிகரிக்கச் செய்கிறது.

காரணம் (R) : சர்க்கரை/தேனின் ஈரப்பதத்தை உறிஞ்சும் தன்மையானது உணவிலுள்ள நீரின் அளவைக் குறைப்பதற்கும், உணவு ஆக்ஸிஜனேற்றம் அடைவதைக் குறைப்பதற்கும் உதவுகிறது.



குறியீடுகள்:

- A) (A) மற்றும் (R) இரண்டும் சரி மற்றும் (R) என்பது (A) இன் சரியான விளக்கமாகும்
B) (A) மற்றும் (R) இரண்டும் சரி ஆனால் (R) என்பது (A) இன் சரியான விளக்கமல்ல
C) (A) சரி ஆனால் (R) தவறு
D) (A) தவறு ஆனால் (R) சரி
E) விடை தெரியவில்லை

157. Prussic acid, a natural adulterant is present in which of the following fruits?

- A) Apples
B) Cherry
C) Guava
D) Both A and B
E) Answer not known

இயற்கையான கலப்படப் பொருளான ப்ரூசிக் அமிலம், பின்வரும் எந்தப் பழத்தில் உள்ளது?

- A) ஆப்பிள்
B) செர்ரி
C) கொய்யா
D) A மற்றும் B இரண்டும்
E) விடை தெரியவில்லை

158. How many of the following pairs are incorrectly matched?

(Vitamin)	(Diseases)
I. Vitamin B1	– Beriberi
II. Vitamin B2	– Cheilosis
III. Vitamin B3	– Dermatitis
IV. Vitamin B6	– Pellagra

Codes:

- A) 1 pair only
B) 2 pairs only
C) 3 pairs only
D) All pairs
E) Answer not known

பின்வரும் இணைகளில் எத்தனை இணைகள் தவறாகப் பொருந்தியுள்ளன ?

(வைட்டமின்)	(நோய்கள்)
I. வைட்டமின் B1	– பெரிபெரி
II. வைட்டமின் B2	– கீலியாசிஸ்
III. வைட்டமின் B3	– தோல் அழற்சி
IV. வைட்டமின் B6	– பெல்லாக்ரா

குறியீடுகள்:

- A) 1 இணை மட்டும்
B) 2 இணைகள் மட்டும்
C) 3 இணைகள் மட்டும்
D) அனைத்து இணைகளும்
E) விடை தெரியவில்லை

159. Which of the following is/are correctly matched?

(Minerals)	(Functions)
I. Calcium	– Clotting of blood
II. Sodium	– Regulates nerve and muscle activity
III. Potassium	– Maintains fluid balance
IV. Iodine	– Formation of thyroid hormones

**Codes:**

- A) I, II and III only
B) II, III and IV only
C) III and IV only
D) I and IV only
E) Answer not known

பின்வருவனவற்றில் சரியாகப் பொருந்தியுள்ளது எது/எவை ?

(தாது உப்புக்கள்)

(செயல்பாடுகள்)

- I. கால்சியம் - இரத்தம் உறைதல்
II. சோடியம் - நரம்பு மற்றும் தசைகளின் செயல்பாட்டை ஒழுங்குபடுத்துகிறது
III. பொட்டாசியம் - திரவச் சமநிலையை பராமரிக்கிறது
IV. அயோடின் - தைராய்டு ஹார்மோன்களின் உருவாக்கம்

குறியீடுகள்:

- A) I, II மற்றும் III மட்டும்
B) II, III மற்றும் IV மட்டும்
C) III மற்றும் IV மட்டும்
D) I மற்றும் IV மட்டும்
E) விடை தெரியவில்லை

160. Which of the following is not Incidental/unintentionally adulterants?

- A) Pesticide residues
B) Salmonella in fruits
C) Hydrogen peroxide in milk
D) Droppings of rodents
E) Answer not known

பின்வருவனவற்றில் தெரியாமல் சேர்க்கப்படும் கலப்படப் பொருளாக இல்லாதது எது ?

- A) பூச்சிக்கொல்லி எச்சங்கள்
B) பழங்களில் சால்மோனெல்லா
C) பாலில் ஹைட்ரஜன் பெராக்சைடு
D) கொறிக்கும் பிராணிகளின் எச்சங்கள்
E) விடை தெரியவில்லை

161. How many of the following pairs are incorrectly matched?

- I. ISI - Indian Standards Institution
II. AGMARK - Agricultural Marketing
III. FPO - Fruit Process Order
IV. FSSAI - Food Security and Standards Authority of India

Codes:

- A) 1 pair only
B) 2 pairs only
C) 3 pairs only
D) All pairs
E) Answer not known

பின்வரும் இணைகளில் எத்தனை இணைகள் தவறாகப் பொருந்தியுள்ளன ?

- I. ISI - Indian Standards Institution
II. AGMARK - Agricultural Marketing
III. FPO - Fruit Process Order
IV. FSSAI - Food Security and Standards Authority of India

குறியீடுகள்:

- A) 1 இணை மட்டும்
B) 2 இணைகள் மட்டும்
C) 3 இணைகள் மட்டும்
D) அனைத்து இணைகளும்
E) விடை தெரியவில்லை



162. The sprouting of onion and potatoes can be delayed by the process of _____
- A) Freezing
B) Irradiation
C) Salting
D) Canning
E) Answer not known

வெங்காயம் மற்றும் உருளைக்கிழங்கு முளைக்கட்டுவதை தாமதப்படுத்தும் முறை

- A) அதிக குளிர்நிலையில் பாதுகாத்தல்
B) கதிர்வீச்சு முறை
C) உப்பினைச் சேர்த்தல்
D) கலன்களில் அடைத்தல்
E) விடை தெரியவில்லை

163. Which of the following chemical is used in the ripening of mangoes and banana?
- A) Sodium bicarbonate
B) Hydrogen peroxide
C) Calcium carbide
D) Shellac
E) Answer not known

மாம்பழம் மற்றும் வாழைப்பழங்களை பழுக்க வைக்க பின்வரும் ரசாயனங்களில் எது பயன்படுகிறது ?

- A) சோடியம் பைகார்பனேட்
B) ஹைட்ரஜன் பெராக்சைடு
C) கால்சியம் கார்பைடு
D) ஷெல்லாக்
E) விடை தெரியவில்லை

164. Match List-I with List-II.

List-I

- a) World Health Day
b) World Malaria Day
c) World AIDS Day
d) World Anti -Tuberculosis Day

List-II

1. 7th April
2. 1st December
3. 24th March
4. 25th April

Codes:

- | | a | b | c | d |
|----|----------|----------|----------|----------|
| A) | 4 | 2 | 3 | 1 |
| B) | 2 | 1 | 3 | 4 |
| C) | 1 | 4 | 2 | 3 |
| D) | 4 | 1 | 2 | 3 |

- E) Answer not known

பட்டியல்-Iஐ பட்டியல்-II உடன் பொருத்துக.

பட்டியல்-I

- a) உலக சுகாதார தினம்
b) உலக மலேரியா தினம்
c) உலக எய்ட்ஸ் தினம்
d) உலக காசநோய் எதிர்ப்பு தினம்

பட்டியல்-II

1. ஏப்ரல் 7
2. டிசம்பர் 1
3. மார்ச் 24
4. ஏப்ரல் 25

குறியீடுகள்:

- | | a | b | c | d |
|----|----------|----------|----------|----------|
| A) | 4 | 2 | 3 | 1 |
| B) | 2 | 1 | 3 | 4 |
| C) | 1 | 4 | 2 | 3 |
| D) | 4 | 1 | 2 | 3 |

- E) விடை தெரியவில்லை



165. How many of the following pairs are correctly matched?

(Type of Vaccine)	(Name of the Vaccine)
I. Live attenuated	– MMR
II. Inactivated	– BCG
III. Subunit vaccines	– Hepatitis B vaccine
IV. Toxoid	– TT

Codes:

- A) 1 pair only
B) 2 pairs only
C) 3 pairs only
D) All pairs
E) Answer not known

பின்வரும் இணைகளில் எத்தனை இணைகள் சரியாகப் பொருந்தியுள்ளன ?

(தடுப்பூசி வகை)	(தடுப்பூசியின் பெயர்)
I. உயிருள்ள நோய் உண்டாகும் வீரியம் குறைக்கப்பட்டவை	– MMR
II. செயல்படாத தடுப்பான்கள்	– BCG
III. துணையலகு தடுப்பான்கள்	– ஹெபடைடிஸ் B தடுப்பான்
IV. வீரியமிழந்த நச்சு	– டெட்டனஸ் டாக்சாய்டு

குறியீடுகள்:

- A) 1 இணை மட்டும்
B) 2 இணைகள் மட்டும்
C) 3 இணைகள் மட்டும்
D) அனைத்து இணைகளும்
E) விடை தெரியவில்லை

166. Which bacteria are used in the curing of coffee beans, tea leaves and tobacco leaves ?

- A) *Aspergillus niger*
B) *Bacillus megaterium*
C) *Saccharomyces cerevisiae*
D) *Lactobacillus sp*
E) Answer not known

காபி கொட்டைகள், தேயிலை இலைகள் மற்றும் புகையிலை இலைகளை பதப்படுத்தலில் எந்த பாக்டீரியாக்கள் பயன்படுத்தப்படுகின்றன ?

- A) அஸ்பெர்ஜில்லஸ் நைஜர்
B) பேசில்லஸ் மெகாடெரியம்
C) சாக்கரோமைசஸ் செரிவிசியா
D) லாக்டோபேசில்லஸ் சிற்றினம்
E) விடை தெரியவில்லை

167. Consider the following statements.

I. Viruses are non-cellular, self replicating parasites and they remain as inert material outside their hosts.

II. Viruses cannot be crystallised.

Which of the statements given above is/are incorrect?

- A) I only
B) II only
C) Both I and II
D) Neither I nor II
E) Answer not known

பின்வரும் கூற்றுகளைக் கருத்தில் கொள்க.

I. வைரஸ்கள் செல் அமைப்பற்ற, தன்னைத்தானே பெருக்கிக்கொள்ளும் ஒட்டுண்ணிகளாகும். வைரஸ்கள் ஒம்புயிரிகளுக்கு வெளியே மந்தமான பொருள்களாகவே இருக்கின்றன

II. வைரஸ்களை படிமமாக்க முடியாது.



மேற்கண்ட கூற்றுகளில் தவறானது எது/எவை ?

- A) I மட்டும்
B) II மட்டும்
C) இரண்டும்
D) இரண்டுமில்லை
E) விடை தெரியவில்லை

168. Consider the following statements.

I. Prions are viral particles which contain only proteins and they do not contain nucleic acid.

II. Prions can induce changes in normal proteins.

Which of the statements given above is/are correct?

- A) I only
B) II only
C) Both I and II
D) Neither I nor II
E) Answer not known

பின்வரும் கூற்றுகளைக் கருத்தில் கொள்க.

I. ப்ரியான்கள் புரதங்களை மட்டுமே கொண்டுள்ளன.மேலும் அவை நியூக்ளிக் அமிலத்தைக் கொண்டிருக்கவில்லை.

II. ப்ரியான்கள் சாதாரண புரதங்களில் மாற்றங்களைத் தூண்டலாம்.

மேற்கண்ட கூற்றுகளில் சரியானது எது/எவை ?

- A) I மட்டும்
B) II மட்டும்
C) இரண்டும்
D) இரண்டுமில்லை
E) விடை தெரியவில்லை

169. Which of the following is not bacterial antibiotic?

- A) Streptomycin
B) Erythromycin
C) Bacitracin
D) Cephalosporin
E) Answer not known

பின்வருவனவற்றில் பாக்டீரியாவின் மூலம் உருவாக்கப்பட்ட நுண்ணுயிர் எதிர்பொருள் அல்லாதது எது ?

- A) ஸ்ட்ரெப்டோமைசின்
B) எரித்ரோமைசின்
C) பேசிட்ராசின்
D) செபலோஸ்போரின்
E) விடை தெரியவில்லை

170. Consider the following statements.

I. AIDS is considered a pandemic since it is widely distributed on a global scale.

II. Occurrence of goitre in Sub-Himalayan regions is an example endemic disease.

Which of the statements given above is/are correct?

- A) I only
B) II only
C) Both I and II
D) Neither I nor II
E) Answer not known



பின்வரும் கூற்றுகளைக் கருத்தில் கொள்க.

I. எய்ட்ஸ் உலகம் முழுவதும் பரவி அதிகளவு சேதத்தை ஏற்படுத்தும் பெருங்கொள்ளை நோயாகும்.

II. இமயமலைப் பகுதிகளின் அடிவாரப் பகுதியிலுள்ளவர்களுக்கு முன்கழுத்துக் கழலை ஏற்படுவது வட்டார நோயிக்கான எடுத்துக்காட்டாகும்.

மேற்கண்ட கூற்றுகளில் சரியானது எது/எவை ?

- A) I மட்டும்
B) II மட்டும்
C) இரண்டும்
D) இரண்டுமில்லை
E) விடை தெரியவில்லை

171. Which of the following is/are incorrectly matched?

(Disease)	(Causative agent)
I. Common Cold	- Zoster virus
II. Influenza	- Myxovirus
III. Measles	- Rhino virus
IV. Mumps	- Myxovirus parotidis

Codes:

- A) I and III only
B) II, III and IV only
C) III and IV only
D) I and IV only
E) Answer not known

பின்வருவனவற்றில் தவறாகப் பொருந்தியுள்ளது எது/எவை ?

(நோய்)	(பரப்பும் காரணிகள்)
I. சாதாரண சளி	- ஜோஸ்டர் வைரஸ்
II. இன்ஃப்ளூயன்ஸா	- மிக்ஸோவைரஸ்
III. தட்டம்மை	- ரைனோ வைரஸ்
IV. பொன்னுக்கு வீங்கி	- மிக்ஸோவைரஸ் பரோடிடிஸ்

குறியீடுகள்:

- A) I மற்றும் III மட்டும்
B) II, III மற்றும் IV மட்டும்
C) III மற்றும் IV மட்டும்
D) I மற்றும் IV மட்டும்
E) விடை தெரியவில்லை

172. Which vaccine is also known as Salk's vaccine?

- A) BCG vaccine
B) Oral Polio Vaccine
C) Tetanus toxoid
D) Hepatitis B vaccine
E) Answer not known

எந்த தடுப்பூசி சால்க் தடுப்பூசி என்றும் அழைக்கப்படுகிறது?

- A) BCG தடுப்பூசி
B) வாய்வழி போலியோ தடுப்பு மருந்து
C) டெட்டனஸ் டாக்ஸாய்டு
D) ஹெபடைடிஸ் பி தடுப்பூசி
E) விடை தெரியவில்லை



173. Consider the following statements.

- I. Malaria is caused by bacterial parasite Plasmodium.
- II. Malaria caused by Plasmodium falciparum is malignant and fatal.
- III. It is spread by the female Anopheles mosquito.
- IV. Use of Quinine drugs kills the stages of malaria parasite.

Which of the statements given above are correct?

- A) I, II and III only
- B) II, III and IV only
- C) I, III and IV only
- D) All the above
- E) Answer not known

பின்வரும் கூற்றுகளைக் கருத்தில் கொள்க.

- I. பிளாஸ்மோடியம் என்ற பாக்டீரியா ஒட்டுண்ணியால் மலேரியா ஏற்படுகிறது.
- II. பிளாஸ்மோடியம் பால்சிபாரத்தால் ஏற்படும் மலேரியா வீரியம் மிக்கது மற்றும் உயிருக்கு ஆபத்தானது.
- III. இது அனாபிலிஸ் என்ற பெண் கொசுவால் பரவுகிறது.
- IV. குயினின் மருந்துகளின் பயன்பாடு மலேரியா ஒட்டுண்ணியின் நிலைகளை அழிக்கிறது.

மேற்கண்ட கூற்றுகளில் சரியானவை எவை?

- A) I, II மற்றும் III மட்டும்
- B) II, III மற்றும் IV மட்டும்
- C) I, III மற்றும் IV மட்டும்
- D) மேற்கண்ட அனைத்தும்
- E) விடை தெரியவில்லை

174. Consider the following statements.

- I. Chikungunya is caused by *Aedes aegypti* mosquito.
- II. Chikungunya causes severe joint pain and hence known as break bone fever.

Which of the statements given above is/are incorrect?

- A) I only
- B) II only
- C) Both I and II
- D) Neither I nor II
- E) Answer not known

பின்வரும் கூற்றுகளைக் கருத்தில் கொள்க.

- I. சிக்குன்குனியா ஏடிஸ் எஜிப்டி என்ற கொசுவால் ஏற்படுகிறது.
- II. சிக்குன்குனியா கடுமையான மூட்டு வலியை ஏற்படுத்துகிறது; எனவே இது எலும்பு முறிப்பு காய்ச்சல் என்று அழைக்கப்படுகிறது.

மேற்கண்ட கூற்றுகளில் தவறானது எது/எவை ?

- A) I மட்டும்
- B) II மட்டும்
- C) இரண்டும்
- D) இரண்டுமில்லை
- E) விடை தெரியவில்லை

175. Consider the following statements.

- I. The process of vaccination was introduced by Edward Jenner.
- II. Louis Pasteur developed vaccine against chicken pox, cholera, anthrax, etc.

Which of the statements given above is/are correct?

- A) I only
- B) II only
- C) Both I and II
- D) Neither I nor II
- E) Answer not known



பின்வரும் கூற்றுகளைக் கருத்தில் கொள்க.

- I. தடுப்பூசி செயல்முறை எட்வர்ட் ஜென்னரால் அறிமுகப்படுத்தப்பட்டது.
- II. லூயிஸ் பாஸ்டர் சின்னம்மை, காலரா, ஆந்த்ராக்ஸ் போன்றவற்றுக்கு எதிரான தடுப்பூசியை உருவாக்கினார்.

மேற்கண்ட கூற்றுகளில் சரியானது எது/எவை ?

- A) I மட்டும்
- B) II மட்டும்
- C) இரண்டும்
- D) இரண்டுமில்லை
- E) விடை தெரியவில்லை

176. How many of the following pairs are incorrectly matched?

- | (Disease) | (Vector) |
|------------------|------------------------|
| I. Malaria | - Anopheles |
| II. Chikungunya | - Aedes aegypti |
| III. Dengue | - Aedes aegypti |
| IV. Filaria | - Wuchereria bancrofti |

Codes:

- A) 1 pair only
- B) 2 pairs only
- C) 3 pairs only
- D) All pairs
- E) Answer not known

பின்வரும் இணைகளில் எத்தனை தவறாகப் பொருந்தியுள்ளன?

- | (நோய்) | (கடத்தி) |
|--------------------|-----------------------------|
| I. மலேரியா | - அனோபிலிஸ் |
| II. சிக்குன்குனியா | - ஏடிஸ் எஜிப்தி |
| III. டெங்கு | - ஏடிஸ் எஜிப்தி |
| IV. ஃபைலேரியா | - உச்சேரேரியா பான்கிராஃப்டி |

குறியீடுகள்:

- A) 1 இணை மட்டும்
- B) 2 இணைகள் மட்டும்
- C) 3 இணைகள் மட்டும்
- D) அனைத்து இணைகளும்
- E) விடை தெரியவில்லை

177. Consider the following statements.

- I. Swine Flu is caused by influenza virus H1N1.
 - II. Avian Influenza is caused by influenza Virus H5N1.
- Which of the statements given above is/are correct?
- A) I only
 - B) II only
 - C) Both I and II
 - D) Neither I nor II
 - E) Answer not known

பின்வரும் கூற்றுகளைக் கருத்தில் கொள்க.

- I. பன்றிக்காய்ச்சல் H1N1 இன்புளுசா வைரஸ் மூலம் ஏற்படுகிறது.
- II. பறவைக் காய்ச்சல் H5N1 இன்புளுயன்ஸா வைரஸால் ஏற்படுகிறது.

மேற்கண்ட கூற்றுகளில் சரியானது எது/எவை ?

- A) I மட்டும்
- B) II மட்டும்
- C) இரண்டும்
- D) இரண்டுமில்லை
- E) விடை தெரியவில்லை



178. How many of the following pairs are correctly matched?

- I. Pomology – Fruit farming
II. Olericulture – Vegetable farming
III. Floriculture – Flower farming
IV. Apiculture – Rearing of honey bees

Codes:

- A) 1 pair only
B) 2 pairs only
C) 3 pairs only
D) All pairs
E) Answer not known

பின்வரும் இணைகளில் எத்தனை சரியாகப் பொருந்தியுள்ளன ?

- I. போமாலஜி – பழவியல்
II. ஓலரிகல்சர் – காய்கறி வளர்ப்பு
III. புளோரிகல்சர் – பூ வளர்ப்பு
IV. ஏபிகல்சர் – தேன் வளர்ப்பு

குறியீடுகள்:

- A) 1 இணை மட்டும்
B) 2 இணைகள் மட்டும்
C) 3 இணைகள் மட்டும்
D) அனைத்து இணைகளும்
E) விடை தெரியவில்லை

179. Match List-I with List-II.

List-I

- a) Wild bee
b) Little bee
c) Indian bee
d) Italian bee
e) African bee

List-II

1. *Apis mellifera*
2. *Apis florea*
3. *Apis indica*
4. *Apis dorsata*
5. *Apis adamsoni*

Codes:

- | | a | b | c | d | e |
|----|----------|----------|----------|----------|----------|
| A) | 4 | 2 | 3 | 1 | 5 |
| B) | 4 | 5 | 2 | 3 | 1 |
| C) | 1 | 2 | 4 | 3 | 5 |
| D) | 4 | 2 | 3 | 5 | 1 |

E) Answer not known

பட்டியல்-Iஐ பட்டியல்-II உடன் பொருத்துக.

பட்டியல்-I

- a) காட்டு தேன்
b) குட்டி தேன்
c) இந்திய தேன்
d) இத்தாலிய தேன்
e) ஆப்பிரிக்க தேன்

பட்டியல்-II

1. ஏபிஸ் மெல்லிபெரா
2. ஏபிஸ் புளோரியா
3. ஏபிஸ் இண்டிகா
4. ஏபிஸ் டோர்சாட்டா
5. ஏபிஸ் ஆடம்சோனி



குறியீடுகள்:

	a	b	c	d	e
A)	4	2	3	1	5
B)	4	5	2	3	1
C)	1	2	4	3	5
D)	4	2	3	5	1

E) விடை தெரியவில்லை

180. Consider the following statements regarding Pokkali culture

- I. It is the oldest and traditional method of prawn culture practiced in Kerala.
II. Prawns are cultured in these fields after the harvest of paddy.

Which of the statements given above is/are correct?

- A) I only
B) II only
C) Both I and II
D) Neither I nor II
E) Answer not known

பொக்காலி கலாச்சாரம் தொடர்பான பின்வரும் கூற்றுகளைக் கருத்தில் கொள்க.

- I. இது கேரளாவில் நடைமுறையில் உள்ள பழமையான மற்றும் பாரம்பரியமான இறால் வளர்ப்பு முறையாகும்.

II. இந்த வயல்களில் நெல் அறுவடைக்கு பின் இறால் வளர்ப்பு செய்யப்படுகிறது.

மேற்கண்ட கூற்றுகளில் சரியானது எது/எவை ?

- A) I மட்டும்
B) II மட்டும்
C) இரண்டும்
D) இரண்டுமில்லை
E) விடை தெரியவில்லை

181. Consider the following statements.

- I. Central Marine Fisheries Research Institute was established at Chennai.
II. Central Institute of Brackish Water Aquaculture was established at Cochin.

Which of the statements given above is/are correct?

- A) I only
B) II only
C) Both I and II
D) Neither I nor II
E) Answer not known

பின்வரும் கூற்றுகளைக் கருத்தில் கொள்க.

I. மத்திய கடல்சார் மீன் வளர்ப்பு ஆராய்ச்சி நிறுவனம் சென்னையில் தொடங்கப்பட்டது.

II. மத்திய உவர் நீர்வாழ் உயிரிமீன் வளர்ப்பு நிறுவனம் கொச்சியில் தொடங்கப்பட்டது.

மேற்கண்ட கூற்றுகளில் சரியானது எது/எவை ?

- A) I மட்டும்
B) II மட்டும்
C) இரண்டும்
D) இரண்டுமில்லை
E) விடை தெரியவில்லை

182. Consider the following statements.

- I. Dr. Verghese Kurein is the Father of White Revolution.
II. He was the founder of National Dairy Development Board (NDDB).
III. NDDB designed and implemented the world's largest dairy development programme called OPERATION FLOOD.



Which of the statements given above is/are correct?

- A) I, II and III
B) II and III only
C) I only
D) I and II only
E) Answer not known

பின்வரும் கூற்றுகளைக் கருத்தில் கொள்க.

- I. வெண்மை புரட்சியின் தந்தை டாக்டர் வர்கீஸ் குரியன் ஆவார்.
II. இவர் தேசிய பால்வள மேம்பாட்டு வாரியத்தின் (NDDDB) நிறுவனர் ஆவார்.
III. OPERATION FLOOD எனப்படும் உலகின் மிகப்பெரிய பால்வள மேம்பாட்டுத் திட்டத்தை தேசிய பால்வள மேம்பாட்டு வாரியம் வடிவமைத்து செயல்படுத்தியது.

மேற்கண்ட கூற்றுகளில் சரியானது எது/எவை ?

- A) I, II மற்றும் III
B) II மற்றும் III மட்டும்
C) I மட்டும்
D) I மற்றும் II மட்டும்
E) விடை தெரியவில்லை

183. Which of the following is not a freshwater cultivable fish?

- A) Catla
B) Murrels
C) Madavai
D) Tilapia
E) Answer not known

பின்வருவனவற்றில் எது நன்னீரில் வளர்க்கப்படக் கூடிய மீன் அல்ல?

- A) கடலா
B) விறால்
C) மடவை
D) ஜிலேபி மீன்கள்
E) விடை தெரியவில்லை

184. Consider the following statements.

- I. Drones are the fertile males and developed from unfertilized eggs.
II. Worker bees are sterile male bees and are the smallest members of the colony.

Which of the statements given above is/are incorrect?

- A) I only
B) II only
C) Both I and II
D) Neither I nor II
E) Answer not known

பின்வரும் கூற்றுகளைக் கருத்தில் கொள்க.

- I. ட்ரோன்கள் என்பவை இனப்பெருக்கம் செய்யும் திறனுடைய ஆண் தேனீக்களாகும்; மேலும் இவை கருவுறாத முட்டைகளிலிருந்து உருவாகின்றன.
II. வேலைக்கார தேனீக்கள் என்பவை இனப்பெருக்கத் திறனற்ற ஆண் தேனீக்கள் ஆகும்; மேலும் இவை தேன்கூட்டிலுள்ள மிகச் சிறிய உறுப்பினர்களாகும்.

மேற்கண்ட கூற்றுகளில் தவறானது எது/எவை ?

- A) I மட்டும்
B) II மட்டும்
C) இரண்டும்
D) இரண்டுமில்லை
E) விடை தெரியவில்லை

185. Consider the following statements.

- I. Formic acid is a preservative in honey.
II. Invertase is an enzyme present in honey.



Which of the statements given above is/are correct?

- A) I only
B) II only
C) Both I and II
D) Neither I nor II
E) Answer not known

பின்வரும் கூற்றுகளைக் கருத்தில் கொள்க.

I. பார்மிக் அமிலம் தேனைக் கெட்டுப்போகாமல் பாதுகாக்கிறது.

II. தேனில் இன்வர்டேஸ் என்ற நொதியும் காணப்படுகிறது.

மேற்கண்ட கூற்றுகளில் சரியானது எது/எவை ?

- A) I மட்டும்
B) II மட்டும்
C) இரண்டும்
D) இரண்டுமில்லை
E) விடை தெரியவில்லை

186. How many of the following pairs are incorrectly matched?

- I. Sahiwal – Dairy breed
II. Umblachery – Draft breed
III. Ongole – Dual purpose breed
IV. Siri – Dairy breed

Codes:

- A) 1 pair only
B) 2 pairs only
C) 3 pairs only
D) All pairs
E) Answer not known

பின்வரும் இணைகளில் எத்தனை தவறாகப் பொருந்தியுள்ளன?

- I. சாகிவால் – பால் உற்பத்தி இனங்கள்
II. உம்பிளச்சேரி – இழுவை இனங்கள்
III. ஒங்கோல் – இரு பயன்கள் தரும் இனங்கள்
IV. சிரி – பால் உற்பத்தி இனங்கள்

குறியீடுகள்:

- A) 1 இணை மட்டும்
B) 2 இணைகள் மட்டும்
C) 3 இணைகள் மட்டும்
D) அனைத்து இணைகளும்
E) விடை தெரியவில்லை

187. How many of the following pairs are incorrectly matched?

- I. CSIR – The Council of Scientific and Industrial Research
II. NBRI – National Botanical Research Institute
III. CIMAP – Central Institute for Medicinal and Aromatic Plants

Codes:

- A) 1 pair only
B) 2 pairs only
C) 3 pairs only
D) None of the above
E) Answer not known



பின்வரும் இணைகளில் எத்தனை இணைகள் தவறாகப் பொருந்தியுள்ளன ?

- I. CSIR – அறிவியல் மற்றும் தொழில்துறை ஆராய்ச்சி
II. NBRI – தேசிய தாவரவியல் ஆராய்ச்சி நிறுவனம்
III. CIMAP – மருத்துவ மற்றும் நறுமண தாவரங்களுக்கான மத்திய நிறுவனம்

குறியீடுகள்:

- A) 1 இணை மட்டும்
B) 2 இணைகள் மட்டும்
C) 3 இணைகள் மட்டும்
D) மேற்கண்ட எதுவுமில்லை
E) விடை தெரியவில்லை

188. Match List-I with List-II.

List-I

List-II

- | | |
|-------------------|----------------------------|
| a) Tulsi | 1. Catharanthus roseus |
| b) Nilavembu | 2. Wrightia tinctoria |
| c) Vetpalai | 3. Rauwolfia serpentina |
| d) Sarpagandha | 4. Ocimum sanctum |
| e) Nithya kalyani | 5. Andrographis paniculata |

Codes:

- | | a | b | c | d | e |
|----|----------|----------|----------|----------|----------|
| A) | 5 | 4 | 2 | 3 | 1 |
| B) | 1 | 5 | 3 | 2 | 4 |
| C) | 4 | 5 | 2 | 3 | 1 |
| D) | 4 | 2 | 3 | 5 | 1 |

E) Answer not known

பட்டியல்-Iஐ பட்டியல்-II உடன் பொருத்துக.

பட்டியல்-I

பட்டியல்-II

- | | |
|--------------------|----------------------------------|
| a) துளசி | 1. கேத்தராந்தஸ் ரோஸியஸ் |
| b) நிலவேம்பு | 2. ரைட்டியா டிங்டோரியா |
| c) வெட்பாலை | 3. ரவுல்பியா செர்பெண்டினா |
| d) சிவன் அவல் பொறி | 4. ஆசிமம் சாங்டம் |
| e) நித்ய கல்யாணி | 5. ஆன்ட்ரோ கிராபிஸ் பேனிகுளேட்டா |

குறியீடுகள்:

- | | a | b | c | d | e |
|----|----------|----------|----------|----------|----------|
| A) | 5 | 4 | 2 | 3 | 1 |
| B) | 1 | 5 | 3 | 2 | 4 |
| C) | 4 | 5 | 2 | 3 | 1 |
| D) | 4 | 2 | 3 | 5 | 1 |

E) விடை தெரியவில்லை



189. Consider the following statements.

I. Hydroponics is the method of growing plants without soil, using mineral nutrient solutions in water.

II. In hydroponics, roots do not perform the anchoring function.

Which of the statements given above is/are incorrect?

A) I only

B) II only

C) Both I and II

D) Neither I nor II

E) Answer not known

பின்வரும் கூற்றுகளைக் கருத்தில் கொள்க.

I. மண்ணற்ற சூழலில், நீரில் கரைந்துள்ள கனிம ஊட்டங்களைக் கொண்டு தாவரங்களை வளர்த்தல் மண்ணில்லா நீர் ஊடக தாவர வளர்ப்புமுறை (ஹைட்ரோபோனிக்ஸ்) எனப்படும்.

II. ஹைட்ரோபோனிக்ஸில், வேர்கள் இறுகப்பிடிக்கும் தன்மையைக் கொண்டிருப்பதில்லை மேற்கண்ட கூற்றுகளில் தவறானது எது/எவை ?

A) I மட்டும்

B) II மட்டும்

C) இரண்டும்

D) இரண்டுமில்லை

E) விடை தெரியவில்லை

190. Consider the following statements.

I. The aeroponic system is the high-tech type of hydroponic gardening.

II. The roots hang in the air and are misted with nutrient solution.

Which of the statements given above is/are correct?

A) I only

B) II only

C) Both I and II

D) Neither I nor II

E) Answer not known

பின்வரும் கூற்றுகளைக் கருத்தில் கொள்க.

I. வளிமண்டல வேளாண்மை (ஏரோபோனிக்ஸ்) என்றும் அழைக்கப்படும் இம்முறை அதிநவீன மண்ணில்லா வேளாண்மைத் தோட்டமாகும்.

II. இம்முறையில் தாவரத்தின் வேர்கள் தொங்கவிடப்பட்டு ஊட்டச்சத்துக்கள் காற்றில் பனிபோல தூவப்படுகின்றன.

மேற்கண்ட கூற்றுகளில் சரியானது எது/எவை ?

A) I மட்டும்

B) II மட்டும்

C) இரண்டும்

D) இரண்டுமில்லை

E) விடை தெரியவில்லை

191. Arrange the processes involved in nitrogen cycle sequentially

I. Nitrogen assimilation

II. Denitrification

III. Nitrification

IV. Ammonification

V. Nitrogen fixation

Codes:

A) V-I-II-III-IV

B) V-I-IV-III-II

C) V-I-III-II-IV

D) V-I-III-IV-II

E) Answer not known



நைட்ரஜன் சுழற்சியில் ஈடுபடும் செயல்முறைகளை வரிசையாக ஒழுங்கமைக்கவும்

- I. உட்கிரகித்தல்
- II. நைட்ரஜன் வெளியேற்றம்
- III. நைட்ரேட்டாதல்
- IV. அம்மோனியாதல்
- V. நைட்ரஜன் நிலைப்படுத்தல்

குறியீடுகள்:

- | | |
|---------------------|------------------|
| A) V-I-II-III-IV | B) V-I-IV-III-II |
| C) V-I-III-II-IV | D) V-I-III-IV-II |
| E) விடை தெரியவில்லை | |

192. Which of the following bacteria is/are involved in nitrification?

- | | |
|---------------------|-----------------|
| A) Nitrosomonas | B) Pseudomonas |
| C) Nitrobacter | D) Both A and C |
| E) Answer not known | |

பின்வரும் பாக்டீரியாக்களில் எது நைட்ரேட்டாதலில் ஈடுபட்டுள்ளது?

- | | |
|---------------------|-------------------------|
| A) நைட்ரோசோமோனாஸ் | B) துடோமோனாஸ் |
| C) நைட்ரோபாக்டர் | D) A மற்றும் C இரண்டும் |
| E) விடை தெரியவில்லை | |

193. Consider the following statements

- I. Roots are poorly developed as or absent.
- II. Plant body is greatly reduced.
- III. Air chambers provide buoyancy and mechanical support to plants.

The above adaptation is seen in which of the following plants?

- | | |
|---------------------|---------------|
| A) Hydrophytes | B) Xerophytes |
| C) Mesophytes | D) Sciophytes |
| E) Answer not known | |

பின்வரும் கூற்றுகளைக் கருத்தில் கொள்க.

- I. வேர்கள் நன்கு வளர்ச்சி அடையாமலோ அல்லது வேர்கள் இல்லாமலோ காணப்படும்.
- II. தாவர உடலும் பெரிதும் குறைக்கப்பட்டிருக்கும்.
- III. காற்று அறைகள் தாவரங்களுக்கு மிதவை மற்றும் உறுதி தன்மையையும் தருகின்றன.

மேற்காணும் தகவமைப்புகள் பின்வரும் எந்தத் தாவரங்களில் காணப்படுகிறது?

- | | |
|------------------------|--------------------------|
| A) நீர்த் தாவரங்கள் | B) வறண்ட நிலத் தாவரங்கள் |
| C) இடைநிலைத் தாவரங்கள் | D) சியோபைட்ஸ் |
| E) விடை தெரியவில்லை | |

194. Consider the following statements.

- I. Earthworm has no eyes but can sense light through light sensitive cells.
- II. Earthworms react negatively to bright light

Which of the statements given above is/are incorrect?

- | | |
|---------------------|---------------------|
| A) I only | B) II only |
| C) Both I and II | D) Neither I nor II |
| E) Answer not known | |



மேற்கண்ட கூற்றுகளில் தவறானது எது/எவை ?

- A) I மட்டும்
B) II மட்டும்
C) இரண்டும்
D) இரண்டுமில்லை
E) விடை தெரியவில்லை

198. In which year India became state member of IUCN?

- A) 1968
B) 1969
C) 1970
D) 1971
E) Answer not known

எந்த ஆண்டு இந்தியா IUCN இன் உறுப்பினரானது?

- A) 1968
B) 1969
C) 1970
D) 1971
E) விடை தெரியவில்லை

199. Consider the following statements.

- I. India has five biodiversity hotspots.
II. North-East and the Nicobar islands are among the biodiversity hotspots.

Which of the statements given above is/are correct?

- A) I only
B) II only
C) Both I and II
D) Neither I nor II
E) Answer not known

பின்வரும் கூற்றுகளைக் கருத்தில் கொள்க.

- I. இந்தியாவில் ஐந்து உயிரியல் பல்வகைத்தன்மை கொண்ட இடங்கள் உள்ளன.
II. வடகிழக்கு மற்றும் நிக்கோபார் தீவுகள் உயிரியல் பல்வகைத்தன்மை கொண்ட இடங்களில் உள்ளன.

மேற்கண்ட கூற்றுகளில் சரியானது எது/எவை ?

- A) I மட்டும்
B) II மட்டும்
C) இரண்டும்
D) இரண்டுமில்லை
E) விடை தெரியவில்லை

200. Consider the following statements regarding wastewater recycling

- I. Primary treatment involves sedimentation of heavy solids.
II. Secondary treatment involves sedimentation of biological solids.
III. Tertiary treatment involves removal of inorganic constituents.

Which of the statements given above are correct?

- A) I and III only
B) II and III only
C) I and II only
D) All the above
E) Answer not known

நீர் மறுசுழற்சி நிலைகள் தொடர்பான பின்வரும் கூற்றுகளைக் கருத்தில் கொள்க.

- I. முதல் நிலை சுத்திகரிப்பு கனமான திடப்பொருட்களின் படிவை உருவாக்குகிறது.
II. இரண்டாம் நிலை சுத்திகரிப்பு உயிரியியல் திடப்பொருட்களின் படிவை உருவாக்குகிறது.
III. மூன்றாம் நிலை சுத்திகரிப்பு கனிம உட்கூறுகளை அகற்றுவதை உள்ளடக்கியது.

மேற்கண்ட கூற்றுகளில் சரியானவை எவை?

- A) I மற்றும் III மட்டும்
B) II மற்றும் III மட்டும்
C) I மற்றும் II மட்டும்
D) மேற்கண்ட அனைத்தும்
E) விடை தெரியவில்லை

* * * * *



SHANKAR IAS ACADEMY
www.Padasalai.Net