

தொகுத்தறி மதிப்பீடு - பருவம் 1
கணக்கு - 2024 - 2025
வகுப்பு - 1

பெயர் : _____

மதிப்பெண் : 60

பிரிவு : _____

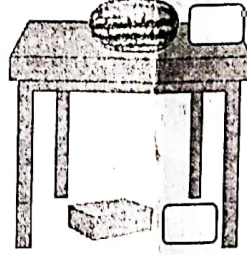
நேரம் : 2 மணி

ஒவ்வொரு வினாவின் உட்பிரிவுக்கும் (I) & (II) 3 மதிப்பெண்கள் வழங்கப்பட வேண்டும்.


I. பின்வரும் வினாக்களுக்கு விடையளி.

10x6=60

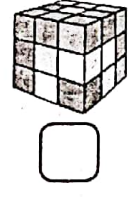
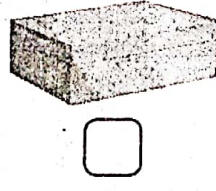

1. (I) மேசையின் மேல் உள்ள பொருளை (✓) செய்க.




(II) பெரிய பழத்தை (✓) செய்க.



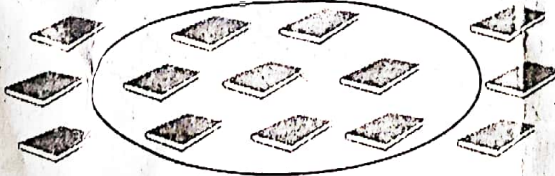
2. (I) வளைவான பொருளை (✓) செய்க.



(II) விளிம்புகள் மற்றும் மூலைகள் கொண்ட பொருளை (✓) செய்க.



3. (I) வட்டத்திற்கு உள்ளே இருக்கும் புத்தகங்களை எண்ணி எழுதுக.



(II) பறவைகளை எண்ணி எழுதுக.

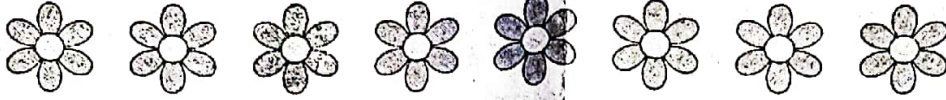


4. (i) பந்துகளை எண்ணி அதன் எண்ணிக்கை, முந்தைய எண் மற்றும் அடுத்த எண்ணை எழுதுக.



முந்தைய எண்
எண்ணிக்கை
அடுத்த எண்

- (ii) பூக்களின் எண்ணிக்கையை விட பெரிய எண் எது?



அ) 6

ஆ) 7

இ) 8

ஈ) 9

5. (i) கூட்டுக.

$$\begin{array}{r} 6 \\ + 2 \\ \hline \end{array}$$

- (ii) கூட்டுக.

$$\begin{array}{r} 5 \\ + 4 \\ \hline \end{array}$$

6. (i) கூட்டல் கணக்கை நிறைவு செய்க.

$$4 + \square = 7$$

- (ii) அருணிடம் 5 பழங்கள் உள்ளன. வருணிடம் 3 பழங்கள் உள்ளன. இருவரிடமும் உள்ள பழங்கள் மொத்தம் எத்தனை?

அ) 6

ஆ) 7

இ) 8

ஈ) 9

7. (i) கழிக்க.

$$\begin{array}{r} 8 \\ - 5 \\ \hline \end{array}$$

- (ii) கழிக்க.

$$\begin{array}{r} 9 \\ - 4 \\ \hline \end{array}$$

8. (i) கழித்தல் கணக்கை நிறைவு செய்க.

$$7 - \square = 5$$

- (ii) அமுதாவிடம் 6 வளையல்கள் உள்ளன. அவற்றில் 3 வளையல்களை தன் தங்கைக்கு கொடுத்து விட்டாள் எனில், அமுதாவிடம் மீதமுள்ள வளையல்கள் எத்தனை?

அ) 1

ஆ) 2

இ) 3

ஈ) 4

9. (i) நட்சத்திரங்களுக்கு உனக்கு பிடித்த வண்ணமிட்டு அமைப்பை உருவாக்குக.



- (ii) ஆப்பிள்களுக்கு உனக்கு பிடித்த வண்ணமிட்டு அமைப்பை உருவாக்குக.



10. எண்ணி எழுதுக.

