

தொகுத்தறி மதிப்பீடு - பருவம் 1
கணக்கு - 2024 - 2025
வகுப்பு = 2

பெயர் : _____

மதிப்பெண் : 60

பிரிவு : _____

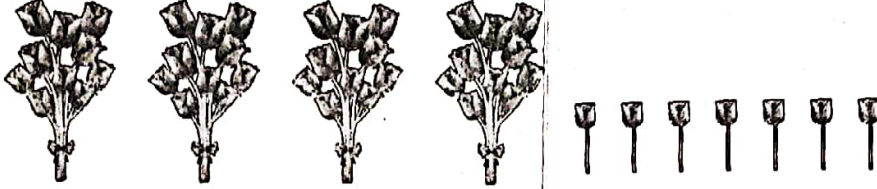
நேரம் : 2 மணி

ஒவ்வொரு வினாவின் உட்பிரிவுக்கும் (I) & (II) 3 மதிப்பெண்கள் வழங்கப்பட வேண்டும்.

I. பின்வரும் வினாக்களுக்கு விடையளி.

10x6=60

1. (I) பூக்களை எண்ணி எழுதுக.



(II) 38 ஐ இவ்வாறும் எழுதலாம்...

அ) $3 + 8$

ஆ) $8 + 3$

இ) $30 + 8$

ஈ) $80 + 3$

2. (I) கொடுக்கப்பட்டுள்ள எண்ணின் முன்னி மற்றும் தொடரியை எழுதுக.

	40	
--	----	--

(II) 47ஐ விட சிறிய எண் எது?

அ) 45

ஆ) 47

இ) 48

ஈ) 49

3. (I) கூட்டுக.

$$\begin{array}{r} 24 \\ + 15 \\ \hline \end{array}$$

(II) கூட்டுக.

$$\begin{array}{r} 32 \\ + 17 \\ \hline \end{array}$$

4. (I) கழிக்க.

$$\begin{array}{r} 47 \\ - 13 \\ \hline \end{array}$$

(II) கழிக்க.

$$\begin{array}{r} 39 \\ - 15 \\ \hline \end{array}$$

5. (I) கொடுக்கப்பட்டுள்ள பொருளை ஒத்த முப்பரிமாண உருவத்தை (✓) செய்க.









உருளை	<input type="checkbox"/>
கனசெவ்வகம்	<input type="checkbox"/>
கனசதுரம்	<input type="checkbox"/>
சுவம்பு	<input type="checkbox"/>

(II) கொடுக்கப்பட்டுள்ள முப்பரிமாண உருவத்தின் அடிப்பக்கத்தை அச்சு பதித்தால் கிடைக்கும் வடிவத்தை (✓) செய்க.



சதுரம்	<input type="checkbox"/>
செவ்வகம்	<input type="checkbox"/>
முக்கோணம்	<input type="checkbox"/>
வட்டம்	<input type="checkbox"/>

6.		
		
		

(i) அதிகமான மாணவர்கள் விரும்பும் பொம்மையை (✓) செய்க.



(ii) குறைவான மாணவர்கள் விரும்பும் பொம்மையை (✓) செய்க.



7. (i) கூட்டுக.

$$\begin{array}{r} 42 \\ + 35 \\ \hline \end{array}$$

(ii) அமுதாவிடம் 45 பூக்களும் குமுதாவிடம் 43 பூக்களும் உள்ளன. இருவரிடமும் உள்ள பூக்கள் மொத்தம் எத்தனை?

அ) 78 ஆ) 88 இ) 98 ஈ) 68

8. (i) கழிக்க.

$$\begin{array}{r} 87 \\ - 54 \\ \hline \end{array}$$

(ii) கவிதாவிடம் 78 புத்தகங்கள் உள்ளன. அவற்றில் 26 புத்தகங்களை தன் தங்கைக்கு கொடுத்து விட்டாள் எனில், கவிதாவிடம் மீதமுள்ள புத்தகங்கள் எத்தனை?

அ) 42 ஆ) 52 இ) 25 ஈ) 62

9. (i) கொடுக்கப்பட்ட பொருளை அளக்க உதவும் பொருத்தமான திட்ட அலகை (✓) செய்க.



செ.மீ	<input type="checkbox"/>
மீ	<input type="checkbox"/>
கி.மீ	<input type="checkbox"/>

(ii) பொருளின் நீளத்தை எழுதுக.



10. (i) மே மாதத்திற்கு முந்தைய மாதத்தின் பெயரை எழுதுக.

(ii) 30 நாட்கள் கொண்ட மாதங்களின் பெயர்களை எழுதுக.