

தொகுத்தறி மதிப்பீடு - பருவம் 2
கணக்கு - 2024 - 2025
வகுப்பு - 3

பெயர் : _____

மதிப்பெண்கள் : 60

பிரிவு : _____

நேரம் : 2 மணி

ஒவ்வொரு வினாவின் (i), (ii) & (iii) உட்பிரிவுக்கும் 2 மதிப்பெண்கள் வழங்கப்பட வேண்டும்.
I. பின்வரும் வினாக்களுக்கு விடையளி. $10 \times 6 = 60$

1. கோடிட்ட இடங்களை நிரப்புக.

(i) 3 பக்கங்களும் 3 முனைகளும் கொண்ட வடிவத்தின் பெயர் _____

(ii) எதிரெதிர் பக்கங்கள் சமமாக உள்ள வடிவத்தின் பெயர் _____

(iii) வளைவாக உள்ள வடிவத்தின் பெயர் _____

2. படம் குறிப்பிடும் தொடர் கூட்டல் கூற்றை எழுதுக.

(i)  _____

(ii)  _____

(iii)  _____

3. படம் குறிப்பிடும் பெருக்கல் கூற்றை எழுதுக.

(i)  = _____

(ii)  = _____

(iii)  = _____

4. கொடுக்கப்பட்டுள்ள தொடர் கூட்டல் கூற்றுகளுக்கு உரிய பெருக்கல் கூற்றுகளை எழுதுக.

(i) $4 + 4 + 4 + 4 + 4 + 4 =$ _____

(ii) $5 + 5 + 5 + 5 + 5 =$ _____

(iii) $10 + 10 + 10 + 10 + 10 + 10 =$ _____

5. பெருக்குக.

(i) 7×4

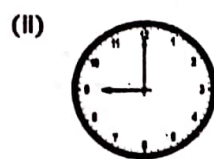
(ii) 8×10

(iii) 9×5

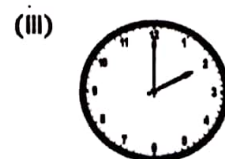
6. கடிதாரம் காட்டும் மணியை எழுதுக.



_____ மணி



_____ மணி



_____ மணி

7. (i) பின்வரும் எண்களை கூட்டி கொடுக்கப்பட்டுள்ள எண்கள் மற்றும் விடை ஒற்றை எண்ணா இரட்டை எண்ணா என எழுதுக.

$$\begin{array}{r} 259 \\ + 134 \\ \hline \end{array}$$

- (ii) பின்வரும் எண்களை கழித்துக் கொடுக்கப்பட்டுள்ள எண்கள் மற்றும் விடை ஒற்றை எண்ணா இரட்டை எண்ணா என எழுதுக.

$$\begin{array}{r} 423 \\ - 195 \\ \hline \end{array}$$

- (iii) ஓர் இரட்டை எண்ணை ஒற்றை எண்ணுடன் கூட்டினால் கிடைக்கும் எண்ணைத் தேர்ந்தெடு.

அ) ஒற்றை எண் ஆ) இரட்டை எண் இ) பூச்சியம் ஈ) கூற இயலாது

8. பெருக்குக.

(i) 24×2

(ii) 32×4

(iii) 43×4

9. (i) ஒரு மின்விசிறியில் 3 இறக்கைகள் உள்ளன எனில், 8 மின்விசிறிகளில் எத்தனை இறக்கைகள் இருக்கும்?

இறக்கைகள்

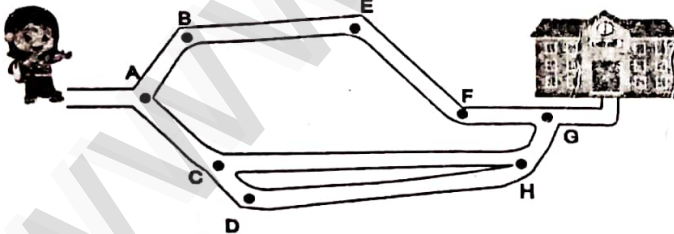
- (ii) ஒரு யானைக்கு 4 கால்கள் உள்ளன எனில், 9 யானைகளுக்கு எத்தனை கால்கள் இருக்கும்?

கால்கள்

- (iii) ஒரு பூவில் 5 இதழ்கள் உள்ளன எனில், 4 பூக்களில் எத்தனை இதழ்கள் இருக்கும்?

இதழ்கள்

10. பள்ளிக்கூடத்திற்கு செல்ல உதவும் வழித்தடங்களை வரைந்து பின்வரும் வினாக்களுக்கு விடையளி.



- (i) பள்ளிக்கூடத்திற்குச் செல்ல உதவும் ஒரு வழித்தடம்

- (ii) மிகக் குறுகிய வழித்தடம்

- (iii) மிக நீண்ட வழித்தடம்